

Multi Tasking Non Technical Staff and Havaladar CBIC and CBN Examination 2024

Roll Number	
Candidate Name	
Venue Name	iON Digital Zone iDZ 2 Sector 62
Exam Date	28/10/2024
Exam Time	9:00 AM - 11:00 AM
Subject	MTS Non Tech Havaladar CBIC and CBN Examination 2024

Section : Numerical and Mathematical Ability

Q.1 एक दुकानदार एक वस्तु के मूल्य में पहले 8% और फिर 5% की वृद्धि करता है। कुल प्रतिशत वृद्धि कितनी है?

- Ans
- 1. 12.4 %
 - 2. 10.4 %
 - 3. 11.4 %
 - 4. 13.4 %

Question Type : MCQ

Question ID : 630680486846

Option 1 ID : 6306801901585

Option 2 ID : 6306801901583

Option 3 ID : 6306801901584

Option 4 ID : 6306801901586

Status : Answered

Chosen Option : 4

Q.2 एक आदमी अपनी बाइक से 64 सेकंड में 960 मीटर की दूरी तय करता है। km/hr में उसकी चाल कितनी है?

- Ans
- 1. 15
 - 2. 54
 - 3. 64
 - 4. 50

Question Type : MCQ

Question ID : 630680629363

Option 1 ID : 6306802463526

Option 2 ID : 6306802463529

Option 3 ID : 6306802463527

Option 4 ID : 6306802463528

Status : Answered

Chosen Option : 2

Q.3 किसी धनराशि पर 21 वर्षों के लिए साधारण ब्याज, मूलधन का $\frac{7}{13}$ है। वार्षिक ब्याज की दर (प्रतिशत में) कितनी है? (दो दशमलव स्थानों तक सन्निकटित)

Ans 1. 2.56

2. 3.97

3. 3.21

4. 4.26

Question Type : MCQ

Question ID : 630680395023

Option 1 ID : 6306801540361

Option 2 ID : 6306801540363

Option 3 ID : 6306801540362

Option 4 ID : 6306801540360

Status : Answered

Chosen Option : 1

Q.4 4 वर्षों के लिए 6% वार्षिक की ब्याज दर पर उधार ली गई राशि ₹2500 पर साधारण ब्याज (₹ में) ज्ञात कीजिए।

Ans 1. 560

2. 540

3. 600

4. 640

Question Type : MCQ

Question ID : 630680591905

Option 1 ID : 6306802316090

Option 2 ID : 6306802316089

Option 3 ID : 6306802316087

Option 4 ID : 6306802316088

Status : Answered

Chosen Option : 3

Q.5 एक ठोस गोले का व्यास 3 cm है। इसे पिघलाकर 8 mm व्यास का एक तार बनाया जाता है। तार की लम्बाई कितनी होगी?

Ans

1. $32\frac{1}{4}$ cm

2. $25\frac{1}{4}$ cm

3. $26\frac{3}{8}$ cm

4. $28\frac{1}{8}$ cm

Question Type : MCQ

Question ID : 630680526653

Option 1 ID : 6306802058679

Option 2 ID : 6306802058678

Option 3 ID : 6306802058681

Option 4 ID : 6306802058680

Status : Answered

Chosen Option : 2

Q.6 6 वर्षों के लिए 6% वार्षिक की ब्याज दर पर उधार ली गई राशि ₹2000 पर साधारण ब्याज (₹ में) ज्ञात कीजिए।

Ans

1. 680

2. 660

3. 720

4. 760

Question Type : MCQ

Question ID : 630680591872

Option 1 ID : 6306802315958

Option 2 ID : 6306802315957

Option 3 ID : 6306802315955

Option 4 ID : 6306802315956

Status : Answered

Chosen Option : 3

Q.7

नीचे दी गई तालिका में वर्ष 2010 और 2011 के दौरान एक कपड़ा कंपनी की चार शाखाओं से रेडीमेड कपड़ों की बिक्री (मिलियन में) को दर्शाया गया है।

शाखा/वर्ष	2010	2011
A1	97	123
A2	105	77
A3	122	148
A4	114	132

कपड़ा कंपनी की किस शाखा की बिक्री (2010 और 2011 में संयुक्त रूप से) सबसे कम थी?

- Ans
- 1. A4
 - 2. A3
 - 3. A2
 - 4. A1

Question Type : MCQ

Question ID : 630680523736

Option 1 ID : 6306802047097

Option 2 ID : 6306802047096

Option 3 ID : 6306802047098

Option 4 ID : 6306802047095

Status : Answered

Chosen Option : 3

Q.8 पांच संख्याओं का औसत 38 है। यदि एक संख्या को हटा दिया जाए, तो उनका औसत 36 हो जाता है। हटाई गई संख्या ज्ञात कीजिए।

- Ans
- 1. 49
 - 2. 38
 - 3. 46
 - 4. 41

Question Type : MCQ

Question ID : 630680447417

Option 1 ID : 6306801746921

Option 2 ID : 6306801746924

Option 3 ID : 6306801746922

Option 4 ID : 6306801746923

Status : Answered

Chosen Option : 4

Q.9 एक शंकु का वक्र पृष्ठीय क्षेत्रफल (cm^2 में) ज्ञात कीजिए जिसके आधार का व्यास 30 cm और ऊँचाई 20 cm है। ($\pi = 3.14$)

- Ans 1. 942.1
 2. 1177.5
 3. 1000.3
 4. 1200.5

Question Type : MCQ

Question ID : 630680386873

Option 1 ID : 6306801508204

Option 2 ID : 6306801508205

Option 3 ID : 6306801508203

Option 4 ID : 6306801508202

Status : Answered

Chosen Option : 3

Q.10 40 एथलीटों और 5 प्रशिक्षकों का औसत भार 72 kg है। जब 65 kg औसत भार वाले छह और एथलीटों को समूह में शामिल किया जाता है, तो समूह का औसत भार (kg में) क्या होगा? (दो दशमलव स्थानों तक पूर्णांकित)

- Ans 1. 71.18
 2. 69.37
 3. 72.25
 4. 65.21

Question Type : MCQ

Question ID : 630680473938

Option 1 ID : 6306801851444

Option 2 ID : 6306801851445

Option 3 ID : 6306801851443

Option 4 ID : 6306801851446

Status : Answered

Chosen Option : 3

Q.11 एक दुकानदार अपनी वस्तु पर क्रय मूल्य से 12% अधिक मूल्य अंकित करता है और अंकित मूल्य पर 8.5% की छूट देता है। उसका लाभ या हानि प्रतिशत ज्ञात कीजिए।

- Ans 1. 2.48% लाभ
 2. 4.65% हानि
 3. 2.48% हानि
 4. 4.65% लाभ

Question Type : MCQ

Question ID : 630680615680

Option 1 ID : 6306802409390

Option 2 ID : 6306802409393

Option 3 ID : 6306802409391

Option 4 ID : 6306802409392

Status : Answered

Chosen Option : 1

Q.12 दिया गया बार ग्राफ पिछले पांच वर्षों के दौरान एक सोसायटी में रहने वाले निवासियों की संख्या को दर्शाता है। ग्राफ का ध्यानपूर्वक अध्ययन करें और निम्नलिखित प्रश्न का उत्तर दें।



2021 में निवासियों की संख्या में उसके पिछले वर्ष की तुलना में कितने प्रतिशत की कमी हुई है? (दो दशमलव स्थान तक सही)

- Ans
- 1. 53.42%
 - 2. 50.24%
 - 3. 44.58%
 - 4. 46.58%

Question Type : MCQ

Question ID : 630680469194

Option 1 ID : 6306801832543

Option 2 ID : 6306801832544

Option 3 ID : 6306801832546

Option 4 ID : 6306801832545

Status : Answered

Chosen Option : 4

Q.13 तीन थैलों में कंचों की संख्या का अनुपात 2 : 3 : 4 है। यदि प्रत्येक थैले में 12 कंचे और डाले जाते हैं, तो अनुपात बदलकर 8 : 11 : 14 हो जाता है। शुरुआत में कंचों की कुल संख्या कितनी थी?

- Ans
- 1. 162
 - 2. 200
 - 3. 216
 - 4. 126

Question Type : MCQ

Question ID : 630680493799

Option 1 ID : 6306801928926

Option 2 ID : 6306801928925

Option 3 ID : 6306801928928

Option 4 ID : 6306801928927

Status : Answered

Chosen Option : 1

Q.14 एक व्यापारी एक वस्तु को 25% लाभ पर बेचता है। यदि उसने इसे 15% अधिक पर खरीदा होता और ₹147 अधिक पर बेचा होता, तो उसे 30% का लाभ होता। वस्तु का क्रय मूल्य ज्ञात कीजिए।

- Ans
- 1. ₹650
 - 2. ₹525
 - 3. ₹450
 - 4. ₹600

Question Type : MCQ

Question ID : 630680435659

Option 1 ID : 6306801700564

Option 2 ID : 6306801700562

Option 3 ID : 6306801700561

Option 4 ID : 6306801700563

Status : Answered

Chosen Option : 2

Q.15 सात अवयस्कों और कुछ वयस्कों वाले एक परिवार में गेहूँ की औसत खपत 11.10 kg है। अवयस्कों के लिए औसत खपत 5.5 kg प्रति व्यक्ति है, और वयस्कों के लिए, यह 16 kg प्रति व्यक्ति है। उस परिवार में वयस्कों की संख्या ज्ञात कीजिए।

- Ans
- 1. 8
 - 2. 5
 - 3. 6
 - 4. 10

Question Type : MCQ

Question ID : 630680456321

Option 1 ID : 6306801782256

Option 2 ID : 6306801782257

Option 3 ID : 6306801782255

Option 4 ID : 6306801782258

Status : Answered

Chosen Option : 2

Q.16 तनीश A से B तक 20 km/h की चाल से, B से C तक 15 km/h की चाल से और C से D तक 30 km/h की चाल से यात्रा करता है। यदि $AB = BC = CD$ है, तो पूरी यात्रा के लिए तनीश की औसत चाल ज्ञात करें।

- Ans
- 1. 21 km/h
 - 2. 19 km/h
 - 3. 20 km/h
 - 4. 22 km/h

Question Type : MCQ

Question ID : 630680136235

Option 1 ID : 630680527618

Option 2 ID : 630680527620

Option 3 ID : 630680527619

Option 4 ID : 630680527621

Status : Answered

Chosen Option : 2

Q.17 एक टीवी सेट को ₹26,000 में बेचकर, एक विक्रेता 30% लाभ अर्जित करता है। यदि उत्पादन लागत 10% बढ़ जाती है, तो 15% का लाभ प्राप्त करने के लिए टीवी सेट का नया विक्रय मूल्य कितना होना चाहिए?

Ans 1. ₹30,300

2. ₹25,300

3. ₹28,300

4. ₹26,300

Question Type : MCQ

Question ID : 630680455843

Option 1 ID : 6306801780322

Option 2 ID : 6306801780319

Option 3 ID : 6306801780321

Option 4 ID : 6306801780320

Status : Answered

Chosen Option : 3

Q.18 एक समचतुर्भुज का क्षेत्रफल ज्ञात करें, जिसके विकर्णों की लंबाई क्रमशः 4 cm और 5 cm है।

Ans 1. 10 cm²

2. 20 cm²

3. 4.5 cm²

4. 40 cm²

Question Type : MCQ

Question ID : 63068071059

Option 1 ID : 630680274830

Option 2 ID : 630680274831

Option 3 ID : 630680274833

Option 4 ID : 630680274832

Status : Answered

Chosen Option : 4

Q.19 10 और 30 के बीच की सभी विषम संख्याओं का औसत ज्ञात करें।

Ans 1. 30

2. 40

3. 20

4. 10

Question Type : MCQ

Question ID : 630680102039

Option 1 ID : 630680396514

Option 2 ID : 630680396515

Option 3 ID : 630680396513

Option 4 ID : 630680396512

Status : Answered

Chosen Option : 2

Q.20 1.75, 5.6 और 7 का महत्तम समापवर्तक (HCF) ज्ञात करें।

Ans 1. 0.07

2. 0.7

3. 0.35

4. 3.5

Question Type : MCQ

Question ID : 63068070919

Option 1 ID : 630680274286

Option 2 ID : 630680274287

Option 3 ID : 630680274289

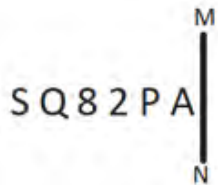
Option 4 ID : 630680274288

Status : Answered

Chosen Option : 1

Section : Reasoning Ability and Problem Solving

Q.1 यदि दर्पण को नीचे दर्शाए गए अनुसार MN पर रखा जाए, तो दी गई आकृति के सही दर्पण प्रतिबिंब का चयन कीजिए।



Ans 1. A P 2 8 Q S

2. A P S 8 Q 2

3. P A S Q 8 2

4. A P S 8 Q 2

Question Type : MCQ

Question ID : 630680525324

Option 1 ID : 6306802053382

Option 2 ID : 6306802053381

Option 3 ID : 6306802053380

Option 4 ID : 6306802053383

Status : Answered

Chosen Option : 2

Q.2 दी गई श्रृंखला में प्रश्नचिह्न (?) के स्थान पर क्या आएगा?

226 231 236 241 246 ?

Ans 1. 254

2. 251

3. 253

4. 252

Question Type : **MCQ**

Question ID : **630680816797**

Option 1 ID : **6306803208503**

Option 2 ID : **6306803208500**

Option 3 ID : **6306803208502**

Option 4 ID : **6306803208501**

Status : **Answered**

Chosen Option : **2**

Q.3 उस समुच्चय का चयन कीजिए जिसमें संख्याएं ठीक उसी प्रकार संबंधित हैं जिस प्रकार दिए गए समुच्चयों की संख्याएं संबंधित हैं।

(ध्यान दें: संख्याओं को उनके घटक अंकों में अलग-अलग किए बिना पूर्ण संख्याओं पर संक्रियाएं की जानी चाहिए। उदाहरण के लिए संख्या 13 - संख्या 13 पर संक्रियाएं जैसे 13 को जोड़ना/घटाना/गुणा करना आदि किया जा सकता है। 13 को 1 और 3 में अलग-अलग करने की और फिर 1 और 3 पर गणितीय संक्रियाएं करने की अनुमति नहीं है।)

(11, 19, 8)

(14, 29, 15)

Ans 1. (22, 25, 9)

2. (16, 28, 12)

3. (18, 21, 7)

4. (7, 35, 23)

Question Type : **MCQ**

Question ID : **630680379176**

Option 1 ID : **6306801477752**

Option 2 ID : **6306801477753**

Option 3 ID : **6306801477751**

Option 4 ID : **6306801477754**

Status : **Answered**

Chosen Option : **2**

Q.4 दिए गए विकल्पों में से उस आकृति को चुनिए जो निम्नलिखित श्रृंखला में प्रश्न चिह्न (?) के स्थान पर आ सकती है और पैटर्न को पूरा कर सकती है।

☆	P	+	2	
S	☆	S	+	?
R P	2 S	☆ 2	A S	

Ans

✗ 1.

2	
S	
+	A

✗ 2.

8	
A	
S	+

✓ 3.

8	
S	
+	A

✗ 4.

+	
S	
A	8

Question Type : MCQ

Question ID : 630680441096

Option 1 ID : 6306801722041

Option 2 ID : 6306801722039

Option 3 ID : 6306801722040

Option 4 ID : 6306801722038

Status : Answered

Chosen Option : 3

Q.5 अंग्रेजी वर्णानुक्रम के आधार पर दी गई श्रृंखला में प्रश्न चिह्न (?) के स्थान पर क्या आना चाहिए?

WSF, BUK, GWP, LYU, ?

Ans 1. RZY

2. RBZ

3. QAZ

4. PAY

Question Type : MCQ

Question ID : 630680460133

Option 1 ID : 6306801796980

Option 2 ID : 6306801796979

Option 3 ID : 6306801796981

Option 4 ID : 6306801796978

Status : Answered

Chosen Option : 3

Q.6 निम्नलिखित में से किन चिह्नों को आपस में बदलने पर दिया गया समीकरण सही हो जाएगा?

$$57 - 19 \times 18 + 9 \div 45 = 18$$

Ans 1. + और +

2. ÷ और ×

3. + और ×

4. ÷ और -

Question Type : MCQ

Question ID : 630680411981

Option 1 ID : 6306801606760

Option 2 ID : 6306801606762

Option 3 ID : 6306801606761

Option 4 ID : 6306801606759

Status : Answered

Chosen Option : 2

Q.7 दिए गए कथनों और निष्कर्षों को ध्यानपूर्वक पढ़िए। आपको मानना है कि कथनों में दी गई जानकारी सत्य है, चाहे वह सामान्यतः ज्ञात तथ्यों से अलग प्रतीत होती हो और निश्चय करना है कि दिए गए निष्कर्षों में से कौन-सा/कौन-से निष्कर्ष तार्किक रूप से कथन/कथनों का अनुसरण करता है/करते हैं।

कथन:
कुछ गिलास, कप हैं।
सभी कप, प्लेट हैं।

निष्कर्ष:
(I) कम से कम कुछ प्लेट, गिलास हैं।
(II) सभी कप, गिलास हैं।

- Ans
- 1. केवल निष्कर्ष (II) अनुसरण करता है।
 - 2. न तो निष्कर्ष (I) और न ही (II) अनुसरण करता है।
 - 3. केवल निष्कर्ष (I) अनुसरण करता है।
 - 4. निष्कर्ष (I) और (II) दोनों अनुसरण करते हैं।

Question Type : MCQ

Question ID : 630680404882

Option 1 ID : 6306801579020

Option 2 ID : 6306801579021

Option 3 ID : 6306801579019

Option 4 ID : 6306801579022

Status : Answered

Chosen Option : 3

Q.8 अंग्रेजी वर्णानुक्रम के आधार पर TCKS किसी निश्चित प्रकार से WFNV से संबंधित है। ठीक उसी प्रकार, YHPX, BKSA से संबंधित है। उसी तर्क का अनुसरण करते हुए, HPXG निम्नलिखित में से किससे संबंधित है?

- Ans
- 1. KSJL
 - 2. SKKA
 - 3. KSJA
 - 4. KSAJ

Question Type : MCQ

Question ID : 6306801108783

Option 1 ID : 6306804355680

Option 2 ID : 6306804355681

Option 3 ID : 6306804355679

Option 4 ID : 6306804355678

Status : Answered

Chosen Option : 4

Q.9 A, B, C, D, E, F और G एक वृत्ताकार मेज के चारों ओर केंद्र की ओर पीठ करके बैठे हैं (परंतु जरूरी नहीं कि वे इसी क्रम में बैठे हों)। A के दाईं ओर से गिनने पर A और D के बीच में केवल 3 व्यक्ति बैठे हैं। B, D के बाईं ओर दूसरे स्थान पर बैठा है। F, C के ठीक दाईं ओर बैठा है। E, D का निकटतम पड़ोसी नहीं है। G के सापेक्ष में F का स्थान क्या है?

- Ans
- 1. दाईं ओर से दूसरा
 - 2. बाईं ओर से दूसरा
 - 3. दाईं ओर से तीसरा
 - 4. बाईं ओर से तीसरा

Question Type : MCQ

Question ID : 630680387673

Option 1 ID : 6306801511342

Option 2 ID : 6306801511343

Option 3 ID : 6306801511344

Option 4 ID : 6306801511345

Status : Answered

Chosen Option : 3

Q.10 एक निश्चित कूट भाषा में, 'ONLY' को '2648' के रूप में कूटबद्ध किया जाता है और 'NICE' को '7534' के रूप में कूटबद्ध किया जाता है। दी गई कूट भाषा में 'N' के लिए कूट क्या है?

- Ans
- 1. 2
 - 2. 6
 - 3. 4
 - 4. 7

Question Type : MCQ

Question ID : 630680388091

Option 1 ID : 6306801512945

Option 2 ID : 6306801512943

Option 3 ID : 6306801512942

Option 4 ID : 6306801512944

Status : Answered

Chosen Option : 3

Q.11 यदि '+' और '-' को आपस में बदल दिया जाए तथा 'x' और '÷' को आपस में बदल दिया जाए, तो निम्नलिखित समीकरण में '?' के स्थान पर क्या आएगा?
 $30 - 10 \div 63 \times 9 + 15 = ?$

- Ans
- 1. 85
 - 2. 87
 - 3. 80
 - 4. 90

Question Type : MCQ

Question ID : 630680383272

Option 1 ID : 6306801493990

Option 2 ID : 6306801493989

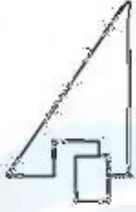
Option 3 ID : 6306801493988

Option 4 ID : 6306801493987

Status : Answered

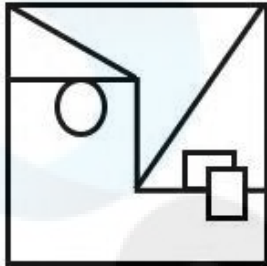
Chosen Option : 2

Q.12 उस विकल्प का चयन कीजिए जिसमें दी गई आकृति सन्निहित है (घूर्णन की अनुमति नहीं है)।

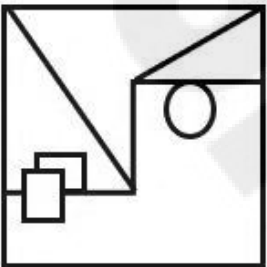


Ans

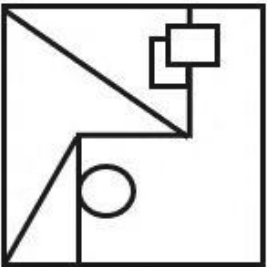
✓ 1.



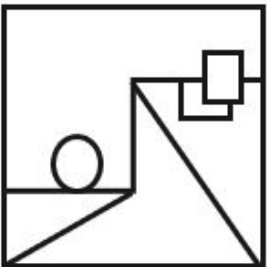
✗ 2.



✗ 3.



✗ 4.



Question Type : MCQ

Question ID : 630680524443

Option 1 ID : 6306802049872

Option 2 ID : 6306802049873

Option 3 ID : 6306802049871

Option 4 ID : 6306802049874

Status : Answered

Chosen Option : 3

Q.13 एक निश्चित तर्क का अनुसरण करते हुए 11, 45 से संबंधित है। उसी तर्क का अनुसरण करते हुए 3, 13 से संबंधित है। उसी तर्क का अनुसरण करते हुए, 6 निम्नलिखित में से किससे संबंधित है?

(ध्यान दें: संख्याओं को उनके घटक अंकों में अलग-अलग किए बिना पूर्ण संख्याओं पर संक्रियाएं की जानी चाहिए। उदाहरण के लिए संख्या 13 - संख्या 13 पर संक्रियाएं जैसे 13 को जोड़ना/घटाना/गुणा करना आदि किया जा सकता है। 13 को 1 और 3 में अलग-अलग करने की और फिर 1 और 3 पर गणितीय संक्रियाएं करने की अनुमति नहीं है।)

- Ans
- 1. 23
 - 2. 26
 - 3. 25
 - 4. 28

Question Type : MCQ

Question ID : 630680449996

Option 1 ID : 6306801757149

Option 2 ID : 6306801757146

Option 3 ID : 6306801757148

Option 4 ID : 6306801757147

Status : Answered

Chosen Option : 2

Q.14 सात लोग R, S, T, D, E, F और G एक वृत्ताकार मेज के चारों ओर केंद्र की ओर मुख करके बैठे हैं (परंतु जरूरी नहीं कि वे इसी क्रम में बैठे हों)। S के दाएँ से गिनती करने पर S और G के बीच में केवल दो लोग बैठे हैं। E के बाएँ से गिनती करने पर E और T के बीच में केवल दो लोग बैठे हैं। R, G के दाएँ से दूसरे स्थान पर बैठा है। T, R का निकटतम पड़ोसी नहीं है। D, G का निकटतम पड़ोसी नहीं है। F के ठीक बाएँ और ठीक दाएँ क्रमशः कौन-कौन बैठा है?

- Ans
- 1. T और S
 - 2. G और T
 - 3. G और S
 - 4. T और G

Question Type : MCQ

Question ID : 630680378838

Option 1 ID : 6306801476402

Option 2 ID : 6306801476399

Option 3 ID : 6306801476400

Option 4 ID : 6306801476401

Status : Answered

Chosen Option : 2

Q.15 एक निश्चित कूट भाषा में, 'paint the wall' को 'jh dw qp' लिखा जाता है और 'wall of honour' को 'fh ut dw' लिखा जाता है। उसी कूट भाषा में 'wall' को कैसे लिखा जाएगा?

Ans 1. jh

2. dw

3. qp

4. ut

Question Type : MCQ

Question ID : 630680502781

Option 1 ID : 6306801964708

Option 2 ID : 6306801964705

Option 3 ID : 6306801964706

Option 4 ID : 6306801964707

Status : Answered

Chosen Option : 2

Q.16 LRPN अंग्रेजी वर्णमाला क्रम के आधार पर एक निश्चित तरीके से SYWU से संबंधित है। IOMK उसी तरीके से PVTR से संबंधित है। उसी तर्क का अनुसरण करते हुए GMKI निम्नलिखित में से किससे संबंधित है?

Ans 1. NTPR

2. TNPR

3. NTRP

4. TNRP

Question Type : MCQ

Question ID : 630680435743

Option 1 ID : 6306801700890

Option 2 ID : 6306801700891

Option 3 ID : 6306801700889

Option 4 ID : 6306801700892

Status : Answered

Chosen Option : 2

Q.17 एक निश्चित कूट भाषा में, 'GOLF' को '6428' के रूप में कूटबद्ध किया जाता है और 'OPEN' को '7653' के रूप में कूटबद्ध किया जाता है। दी गई कूट भाषा में 'O' के लिए कूट क्या है?

Ans 1. 4

2. 7

3. 5

4. 6

Question Type : MCQ

Question ID : 630680815675

Option 1 ID : 6306803196004

Option 2 ID : 6306803196003

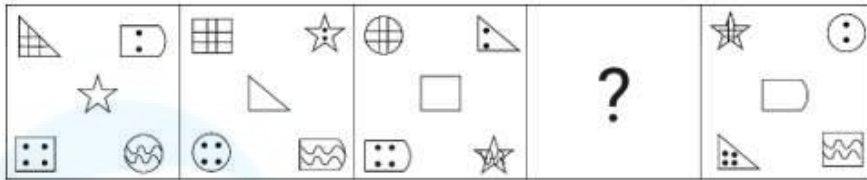
Option 3 ID : 6306803196002

Option 4 ID : 6306803196001

Status : Answered

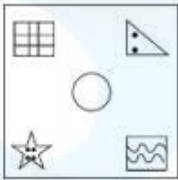
Chosen Option : 4

Q.18 दिए गए विकल्पों में से उस आकृति का चयन कीजिए जो निम्नलिखित श्रृंखला में प्रश्न चिह्न (?) के स्थान पर आ सकती है।

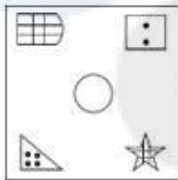


Ans

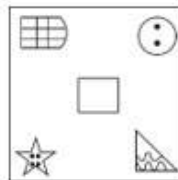
✗ 1.



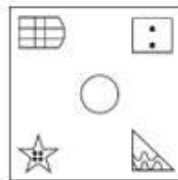
✗ 2.



✗ 3.



✓ 4.



Question Type : MCQ

Question ID : 630680525749

Option 1 ID : 6306802055080

Option 2 ID : 6306802055083

Option 3 ID : 6306802055081

Option 4 ID : 6306802055082

Status : Answered

Chosen Option : 2

Q.19 दिए गए कथनों और निष्कर्षों को ध्यानपूर्वक पढ़िए। यह मानते हुए कि कथनों में दी गई जानकारी सत्य है, चाहे वह सामान्यतः ज्ञात तथ्यों से भिन्न प्रतीत होती हो और निर्णय लीजिए कि दिए गए निष्कर्षों में से कौन-सा/कौन-से निष्कर्ष कथनों का तार्किक रूप से अनुसरण करता है/करते हैं।

कथन:

सभी कप, प्लेटें हैं।
कुछ प्लेटें, गिलास हैं।

निष्कर्ष:

(I) कुछ कप, गिलास नहीं हैं।
(II) कुछ गिलास, प्लेटें नहीं हैं।

- Ans 1. न तो निष्कर्ष (I) और न ही (II) अनुसरण करता है
 2. केवल निष्कर्ष (II) अनुसरण करता है
 3. निष्कर्ष (I) और (II) दोनों अनुसरण करते हैं
 4. केवल निष्कर्ष (I) अनुसरण करता है

Question Type : MCQ

Question ID : 630680815684

Option 1 ID : 6306803196040

Option 2 ID : 6306803196038

Option 3 ID : 6306803196039

Option 4 ID : 6306803196037

Status : Answered

Chosen Option : 3

Q.20 एक निश्चित कूट भाषा में, 'i know you' को 'mo rc tp' के रूप में लिखा जाता है और 'do they know' को 'hk mo be' के रूप में लिखा जाता है। इसी कूट भाषा में 'know' को कैसे लिखा जाएगा?

- Ans 1. be
 2. tp
 3. mo
 4. rc

Question Type : MCQ

Question ID : 630680377760

Option 1 ID : 6306801472102

Option 2 ID : 6306801472101

Option 3 ID : 6306801472100

Option 4 ID : 6306801472099

Status : Answered

Chosen Option : 3

Section : General Awareness

Q.1 निम्नलिखित में से किसने अपनी मां के नाम पर विजयनगर के पास नागलापुरम (Nagalapuram) नामक एक उपनगरीय नगर-क्षेत्र की स्थापना की?

- Ans 1. कृष्णदेव राय
 2. राम राय
 3. अच्युत देव राय
 4. सदाशिव राय

Question Type : MCQ
Question ID : 630680214215
Option 1 ID : 630680830908
Option 2 ID : 630680830907
Option 3 ID : 630680830909
Option 4 ID : 630680830910
Status : Answered
Chosen Option : 1

Q.2 'डॉल्फिन किक (Dolphin Kick)' शब्द का प्रयोग आमतौर पर किस खेल में किया जाता है?

- Ans 1. लंबी कूद (Long Jump)
 2. भाला फेंक (Javelin Throw)
 3. तैराकी (Swimming)
 4. ऊँची कूद (High Jump)

Question Type : MCQ
Question ID : 630680553405
Option 1 ID : 6306802163513
Option 2 ID : 6306802163512
Option 3 ID : 6306802163514
Option 4 ID : 6306802163515
Status : Answered
Chosen Option : 1

Q.3 गुजरात में माधवपुर मेला भगवान कृष्ण और रुक्मिणी के विवाह का जश्न मनाने के लिए _____ दिन तक चलने वाला कार्यक्रम है।

- Ans 1. तीन
 2. पाँच
 3. चार
 4. दो

Question Type : MCQ
Question ID : 630680403370
Option 1 ID : 6306801572991
Option 2 ID : 6306801572993
Option 3 ID : 6306801572992
Option 4 ID : 6306801572990
Status : Answered
Chosen Option : 2

Q.4 कर्नाटक की उम्मथत (Ummathat) लोक नृत्यांगना _____ को 2023 में पद्म श्री से सम्मानित किया गया था।

- Ans
- 1. शरण रानी बैकलीवाल (Sharan Rani Backliwal)
 - 2. रानी कर्ण नायक (Rani Karnaa Nayak)
 - 3. रानी मचैया (Rani Machaiah)
 - 4. देविका रानी (Devika Rani)

Question Type : MCQ

Question ID : 630680216137

Option 1 ID : 630680838524

Option 2 ID : 630680838525

Option 3 ID : 630680838526

Option 4 ID : 630680838523

Status : Answered

Chosen Option : 4

Q.5 निम्नलिखित में से किस वर्ष में भारत ने हॉकी में कोई भी ओलंपिक स्वर्ण पदक नहीं जीता?

- Ans
- 1. 1948
 - 2. 1960
 - 3. 1952
 - 4. 1956

Question Type : MCQ

Question ID : 630680799013

Option 1 ID : 6306803130854

Option 2 ID : 6306803130857

Option 3 ID : 6306803130855

Option 4 ID : 6306803130856

Status : Answered

Chosen Option : 2

Q.6 निम्नलिखित में से कौन-सा जल निकायों में ऊष्मीय प्रदूषण (thermal pollution) का एक चिंताजनक प्रभाव है?

- Ans
- 1. pH मानों में यादृच्छिक परिवर्तन
 - 2. मैलापन में परिवर्तन
 - 3. घुलित ऑक्सीजन की मात्रा में तेजी से कमी हो जाना
 - 4. कार्बन डाइऑक्साइड की मात्रा का बढ़ते जाना

Question Type : MCQ

Question ID : 630680404258

Option 1 ID : 6306801576535

Option 2 ID : 6306801576536

Option 3 ID : 6306801576534

Option 4 ID : 6306801576537

Status : Answered

Chosen Option : 4

Q.7 निम्नलिखित में से कौन कट्टरपंथी राष्ट्रवादियों के एक समूह गरम दल का नेता था?

- Ans
- 1. दादाभाई नौरोजी
 - 2. गोपाल कृष्ण गोखले
 - 3. सुरेंद्रनाथ बनर्जी
 - 4. बिपिन चंद्र पाल

Question Type : MCQ

Question ID : 630680210815

Option 1 ID : 630680817420

Option 2 ID : 630680817421

Option 3 ID : 630680817422

Option 4 ID : 630680817419

Status : Answered

Chosen Option : 4

Q.8 निम्नलिखित में से किस राज्य में 'रण (Rann)' के नाम से विख्यात लवणीय दलदली भूमि (salt marshes) पाई जाती है?

- Ans
- 1. गुजरात
 - 2. महाराष्ट्र
 - 3. पंजाब
 - 4. झारखंड

Question Type : MCQ

Question ID : 630680708938

Option 1 ID : 6306802777383

Option 2 ID : 6306802777384

Option 3 ID : 6306802777385

Option 4 ID : 6306802777382

Status : Answered

Chosen Option : 1

Q.9 पुष्प का कौन-सा भाग बीज के रूप में विकसित होता है?

- Ans
- 1. पंखुड़ी (Petal)
 - 2. स्त्रीकेसर (Pistil)
 - 3. बीजांड (Ovule)
 - 4. पुकेसर (Stamen)

Question Type : MCQ

Question ID : 630680540434

Option 1 ID : 6306802112819

Option 2 ID : 6306802112821

Option 3 ID : 6306802112822

Option 4 ID : 6306802112820

Status : Answered

Chosen Option : 4

Q.10 निम्नलिखित में से कौन सा खयाल कलाकार पुणे विश्वविद्यालय के ललित कला केंद्र (Lalit Kala Kendra of the University of Pune) का संस्थापक है?

- Ans
- 1. शिव कुमार शर्मा
 - 2. किशन महाराज
 - 3. रविशंकर
 - 4. भीमसेन जोशी

Question Type : MCQ

Question ID : 630680560793

Option 1 ID : 6306802192159

Option 2 ID : 6306802192157

Option 3 ID : 6306802192158

Option 4 ID : 6306802192156

Status : Not Answered

Chosen Option : --

Q.11 हिमाचल प्रदेश के लोग मुख्य रूप से सिंचाई के कार्य के लिए ग्लेशियर या वर्षा जल से गांवों तक जल लाने के लिए जल मार्ग (channels) बनाते हैं। इन जल मार्गों को स्थानीय तौर पर _____ के नाम से जाना जाता है।

- Ans
- 1. गुल या कुल (Guls or Kuls)
 - 2. खड़ीन (Khadins)
 - 3. जोहड़ (Johads)
 - 4. बाउड़ी (Baori)

Question Type : MCQ

Question ID : 630680471509

Option 1 ID : 6306801841750

Option 2 ID : 6306801841752

Option 3 ID : 6306801841753

Option 4 ID : 6306801841751

Status : Answered

Chosen Option : 1

Q.12 फरवरी 2023 में छत्तीसगढ़ के राज्यपाल के रूप में किसने शपथ ली?

- Ans
- 1. अनुसुइया उइके
 - 2. विश्वभूषण हरिचंदन
 - 3. सत्यदेव नारायण आर्य
 - 4. रमेश बैस

Question Type : MCQ

Question ID : 630680488546

Option 1 ID : 6306801908216

Option 2 ID : 6306801908215

Option 3 ID : 6306801908218

Option 4 ID : 6306801908217

Status : Answered

Chosen Option : 1

Q.13 भारत में प्रायोगिक आधार पर सूक्ष्मवित्त आंदोलन (microfinance movement) औपचारिक रूप से किस वर्ष शुरू किया गया था?

Ans 1. 1980

2. 1992

3. 2000

4. 2010

Question Type : MCQ

Question ID : 630680448155

Option 1 ID : 6306801749844

Option 2 ID : 6306801749845

Option 3 ID : 6306801749846

Option 4 ID : 6306801749847

Status : Not Answered

Chosen Option : --

Q.14 दिसंबर 2023 में, केरल के किस प्रख्यात कृषि अर्थशास्त्री को इंडियन सोसाइटी ऑफ एग्रीकल्चरल इकोनॉमिक्स (Indian Society of Agricultural Economics - ISAE) द्वारा ISAE फेलो 2023 की विशिष्ट उपाधि से सम्मानित किया गया?

Ans 1. सुलोचना गाडगिल

2. चंदा निंबकर

3. सुमन सहाय

4. डॉ. पी. इंदिरा देवी

Question Type : MCQ

Question ID : 630680571760

Option 1 ID : 6306802235946

Option 2 ID : 6306802235947

Option 3 ID : 6306802235945

Option 4 ID : 6306802235944

Status : Answered

Chosen Option : 1

Q.15 भारत की जनगणना 2011 के अनुसार, किस महानगर की जनसंख्या सबसे अधिक है?

Ans 1. दिल्ली

2. कोलकाता

3. चेन्नई

4. मुंबई

Question Type : MCQ

Question ID : 630680162090

Option 1 ID : 630680627668

Option 2 ID : 630680627669

Option 3 ID : 630680627671

Option 4 ID : 630680627670

Status : Answered

Chosen Option : 4

Q.16 निम्नलिखित में से किस राज्य में सफल फसल कटाई के अवसर पर जवारा नृत्य (Jawara dance) किया जाता है?

- Ans
- 1. पंजाब
 - 2. हरियाणा
 - 3. मध्य प्रदेश
 - 4. गुजरात

Question Type : MCQ
Question ID : 630680403241
Option 1 ID : 6306801572461
Option 2 ID : 6306801572462
Option 3 ID : 6306801572463
Option 4 ID : 6306801572464
Status : Answered
Chosen Option : 2

Q.17 निम्नलिखित में से कौन-सा जलविद्युत शक्ति संयंत्र (hydroelectric power plant) नहीं है?

- Ans
- 1. दामोदर घाटी हाइडल परियोजना (Damodar Valley Hydel Project)
 - 2. सांभर झील हाइडल परियोजना (Sambhar Lake Hydel Project)
 - 3. भाखड़ा नांगल हाइडल परियोजना (Bhakra Nangal Hydel Project)
 - 4. कोपिली हाइडल परियोजना (Kopili Hydel Project)

Question Type : MCQ
Question ID : 630680798973
Option 1 ID : 6306803130691
Option 2 ID : 6306803130693
Option 3 ID : 6306803130692
Option 4 ID : 6306803130690
Status : Not Answered
Chosen Option : --

Q.18 निम्नलिखित में से कौन भारत में भूदान यज्ञ (भूदान आंदोलन) के संस्थापक थे?

- Ans
- 1. विनोबा भावे
 - 2. वल्लभभाई पटेल
 - 3. महात्मा गाँधी
 - 4. सुभाष चंद्र बोस

Question Type : MCQ
Question ID : 630680282908
Option 1 ID : 6306801099766
Option 2 ID : 6306801099764
Option 3 ID : 6306801099765
Option 4 ID : 6306801099763
Status : Answered
Chosen Option : 1

Q.19 राष्ट्रीय बहुआयामी गरीबी सूचकांक 2023 (एक प्रगति समीक्षा) के अनुसार, 2019-2021 में ग्रामीण भारत में बहुआयामी गरीबी में जनसंख्या का अनुपात (कुल गणना अनुपात) क्या था?

- Ans
- 1. 24.12%
 - 2. 19.28%
 - 3. 12.32%
 - 4. 14.96%

Question Type : MCQ
Question ID : 630680477360
Option 1 ID : 6306801864597
Option 2 ID : 6306801864598
Option 3 ID : 6306801864600
Option 4 ID : 6306801864599
Status : Not Answered
Chosen Option : --

Q.20 निम्नलिखित में से कौन, राज्य में मंत्रिपरिषद (Council of Ministers) की बैठक की अध्यक्षता करता है?

- Ans
- 1. विधान परिषद का सभापति
 - 2. विधानसभा अध्यक्ष
 - 3. राज्य का मुख्य सचिव
 - 4. राज्य का मुख्यमंत्री

Question Type : MCQ
Question ID : 630680760434
Option 1 ID : 6306802980684
Option 2 ID : 6306802980681
Option 3 ID : 6306802980682
Option 4 ID : 6306802980683
Status : Answered
Chosen Option : 4

Q.21 भारतीय संविधान के किस अनुच्छेद में निम्नलिखित का उल्लेख है?
'राज्य के नीति निर्देशक सिद्धांत देश के शासन में मौलिक हैं और कानून बनाने में इन सिद्धांतों को लागू करना राज्य का कर्तव्य होगा।'

- Ans
- 1. अनुच्छेद 35
 - 2. अनुच्छेद 37
 - 3. अनुच्छेद 30
 - 4. अनुच्छेद 40

Question Type : MCQ
Question ID : 630680407748
Option 1 ID : 6306801589931
Option 2 ID : 6306801589932
Option 3 ID : 6306801589930
Option 4 ID : 6306801589933
Status : Answered
Chosen Option : 2

Q.22 निम्नलिखित में से कौन-सा मध्यकाय (mesosomes) का एक कार्य नहीं है?

- Ans
- 1. डीएनए (DNA) प्रतिकृति और संतति कोशिकाओं में वितरण
 - 2. श्वसन
 - 3. प्लाज्मा झिल्ली और एंजाइमी सामग्री के पृष्ठीय क्षेत्रफल को बढ़ाना
 - 4. गमन

Question Type : MCQ

Question ID : 630680328115

Option 1 ID : 6306801276429

Option 2 ID : 6306801276431

Option 3 ID : 6306801276430

Option 4 ID : 6306801276432

Status : Not Answered

Chosen Option : --

Q.23 निम्नलिखित में से किसने मौर्य कालीन भारत में अपनी यात्राओं और अनुभवों के आधार पर 'इंडिका' नामक पुस्तक लिखी?

- Ans
- 1. मेगस्थनीज
 - 2. डियोडोरस
 - 3. स्ट्रेबो
 - 4. प्लिनी

Question Type : MCQ

Question ID : 630680326418

Option 1 ID : 6306801269764

Option 2 ID : 6306801269761

Option 3 ID : 6306801269762

Option 4 ID : 6306801269763

Status : Answered

Chosen Option : 1

Q.24 Which of the following novels is based on Malgudi, a fictional town in south India?

- Ans
- 1. The Guide
 - 2. My Days
 - 3. A Suitable Boy
 - 4. Sacred Games

Question Type : MCQ

Question ID : 63068089805

Option 1 ID : 630680347995

Option 2 ID : 630680347997

Option 3 ID : 630680347994

Option 4 ID : 630680347996

Status : Answered

Chosen Option : 2

Q.25 तेरहवीं शताब्दी में निर्मित लाल और भूरे बलुआ पत्थर (buff sandstone) से बनी भारत की सबसे ऊंची मीनार कौन-सी है?

- Ans
- 1. झुलता मीनार
 - 2. शहीद मीनार
 - 3. चांद मीनार
 - 4. कुतुब मीनार

Question Type : MCQ

Question ID : 630680546756

Option 1 ID : 6306802137597

Option 2 ID : 6306802137595

Option 3 ID : 6306802137596

Option 4 ID : 6306802137594

Status : Answered

Chosen Option : 4

Section : English Language and Comprehension

Q.1 In the following passage, some words have been deleted. Read the passage carefully and select the most appropriate option to fill in the blanks.

Michael Jackson is known as the King of Pop. He _____ his own genre of music, Pop. His music is spreading its influence and popularity _____ the world.

- Ans
- 1. dominates; around
 - 2. controls; beside
 - 3. command; besides
 - 4. presides; round

Question Type : MCQ

Question ID : 630680515127

Option 1 ID : 6306802013024

Option 2 ID : 6306802013021

Option 3 ID : 6306802013022

Option 4 ID : 6306802013023

Status : Answered

Chosen Option : 1

Q.2 Select the most appropriate meaning of the given idiom.

A blue-eyed boy

- Ans
- 1. an unwelcome intruder
 - 2. a miser
 - 3. one who is favourite
 - 4. an unperceived observer

Question Type : MCQ

Question ID : 630680441750

Option 1 ID : 6306801724608

Option 2 ID : 6306801724607

Option 3 ID : 6306801724606

Option 4 ID : 6306801724609

Status : Answered

Chosen Option : 3

Q.3 Select the most appropriate ANTONYM of the underlined word in the given sentence.

A few students have condemned the latest project of preparing teaching aids as a waste of money.

- Ans 1. Applauded
 2. Contradicted
 3. Doomed
 4. Consolidated

Question Type : **MCQ**
Question ID : **630680523384**
Option 1 ID : **6306802045713**
Option 2 ID : **6306802045715**
Option 3 ID : **6306802045714**
Option 4 ID : **6306802045716**
Status : **Answered**
Chosen Option : 1

Q.4 Select the most appropriate meaning of the given idiom.

Crocodile tears

- Ans 1. To not behave in a fair way
 2. An insincere display of grief
 3. An irrevocable step
 4. To please everyone

Question Type : **MCQ**
Question ID : **630680454077**
Option 1 ID : **6306801773244**
Option 2 ID : **6306801773243**
Option 3 ID : **6306801773245**
Option 4 ID : **6306801773246**
Status : **Answered**
Chosen Option : 1

Q.5 Select the correct spelling of the underlined word in the given sentence.

The magician performed a magnificant trick.

- Ans 1. magnificent
 2. magnificante
 3. magneficent
 4. magnificient

Question Type : **MCQ**
Question ID : **630680799106**
Option 1 ID : **6306803131222**
Option 2 ID : **6306803131224**
Option 3 ID : **6306803131225**
Option 4 ID : **6306803131223**
Status : **Answered**
Chosen Option : 1

Q.6 In the following sentence the underlined part contains an error. Alternatives to the underlined part are given as options. Select the correct alternative.
Ahuja is a cleverest lawyer.

- Ans
- 1. most clever
 - 2. more clever
 - 3. cleverer
 - 4. clever

Question Type : **MCQ**
Question ID : **630680514712**
Option 1 ID : **6306802011476**
Option 2 ID : **6306802011475**
Option 3 ID : **6306802011473**
Option 4 ID : **6306802011474**
Status : **Answered**
Chosen Option : 1

Q.7 Select the option that correctly rectifies the underlined spelling error in the given sentence.

The reorganisation of daily life wrought by industrialisation had effects that weakened the material basis for the instietutions of the family and the community.

- Ans
- 1. instetutions
 - 2. instetions
 - 3. instetusion
 - 4. institutions

Question Type : **MCQ**
Question ID : **630680467647**
Option 1 ID : **6306801826520**
Option 2 ID : **6306801826519**
Option 3 ID : **6306801826521**
Option 4 ID : **6306801826518**
Status : **Answered**
Chosen Option : 4

Q.8 The following sentence has been split into four segments. Identify the segment that contains a grammatical error. If you don't find any error, mark 'No error' as your answer.

He missed the college bus / because he woke up / unpardonably lately in the morning.

- Ans
- 1. because he woke up
 - 2. unpardonably lately in the morning
 - 3. he missed the college bus
 - 4. no error

Question Type : **MCQ**
Question ID : **630680199440**
Option 1 ID : **630680773400**
Option 2 ID : **630680773401**
Option 3 ID : **630680773399**
Option 4 ID : **630680773402**
Status : **Not Answered**
Chosen Option : --

Q.9 Select the most appropriate synonym of the word 'Ceased' to fill in the blank.

He was _____ from his job because of his misconduct.

- Ans
- 1. continued
 - 2. progressed
 - 3. terminated
 - 4. commenced

Question Type : MCQ
Question ID : 630680596965
Option 1 ID : 6306802335911
Option 2 ID : 6306802335912
Option 3 ID : 6306802335909
Option 4 ID : 6306802335910
Status : Answered
Chosen Option : 3

Q.10 Select the most appropriate option that can substitute the underlined segment in the given sentence.

Wolves' teeth are larger and strong than dog's teeth.

- Ans
- 1. the stronger
 - 2. more strong
 - 3. stronger
 - 4. strongest

Question Type : MCQ
Question ID : 630680514609
Option 1 ID : 6306802011063
Option 2 ID : 6306802011064
Option 3 ID : 6306802011061
Option 4 ID : 6306802011062
Status : Answered
Chosen Option : 3

Q.11 Select the most appropriate option to fill in the blank.
The sharpshooter _____ dead a man-eating tiger after it allegedly killed nine people in the last few days.

- Ans
- 1. shot
 - 2. threw
 - 3. killed
 - 4. fixed

Question Type : MCQ
Question ID : 630680515224
Option 1 ID : 6306802013364
Option 2 ID : 6306802013363
Option 3 ID : 6306802013361
Option 4 ID : 6306802013362
Status : Answered
Chosen Option : 3

Q.12 Select the most appropriate option to substitute the underlined segment in the given sentence. If no substitution is required, select 'No substitution required'.

Manisha had a great feeling for those who were junior than her.

- Ans
- 1. junior of
 - 2. No substitution required
 - 3. junior to
 - 4. junior from

Question Type : **MCQ**

Question ID : **630680615331**

Option 1 ID : **6306802407999**

Option 2 ID : **6306802408001**

Option 3 ID : **6306802407998**

Option 4 ID : **6306802408000**

Status : **Answered**

Chosen Option : **3**

Q.13 Select the most appropriate adjective to fill in the blank.

She always wears dresses of _____ fashion.

- Ans
- 1. the latest
 - 2. latest
 - 3. late
 - 4. the latter

Question Type : **MCQ**

Question ID : **63068087145**

Option 1 ID : **630680337970**

Option 2 ID : **630680337971**

Option 3 ID : **630680337969**

Option 4 ID : **630680337972**

Status : **Answered**

Chosen Option : **1**

Q.14 Select the most appropriate synonym of the word 'Native' from the given sentence.

Mr. Smith believes that various tribes are the indigenous habitants of various corners of the world; unlike his contemporaries who have a viewpoint regarding an alien or foreign invasion.

- Ans
- 1. Invasion
 - 2. Alien
 - 3. Foreign
 - 4. Indigenous

Question Type : **MCQ**

Question ID : **630680426683**

Option 1 ID : **6306801664816**

Option 2 ID : **6306801664813**

Option 3 ID : **6306801664814**

Option 4 ID : **6306801664815**

Status : **Answered**

Chosen Option : **4**

Q.15 Select the most appropriate option that can substitute the highlighted word(s) in the given sentence.

The sceneries in Darjeeling are breathtaking.

- Ans
- 1. sceneries in Darjeeling is
 - 2. scenery in Darjeeling is
 - 3. scenery in Darjeeling were
 - 4. sceneries in Darjeeling had been

Question Type : MCQ

Question ID : 630680564285

Option 1 ID : 6306802206095

Option 2 ID : 6306802206097

Option 3 ID : 6306802206096

Option 4 ID : 6306802206098

Status : Answered

Chosen Option : 2

Q.16 Select the most appropriate option to complete the given sentence in the present perfect continuous tense.

The company _____ working towards achievements in curbing slackness and fostering development.

- Ans
- 1. is being
 - 2. have been
 - 3. has been
 - 4. are being

Question Type : MCQ

Question ID : 630680729602

Option 1 ID : 6306802859118

Option 2 ID : 6306802859117

Option 3 ID : 6306802859119

Option 4 ID : 6306802859120

Status : Not Answered

Chosen Option : --

Q.17 One of the four words in bold in the given sentence is incorrectly spelt. Select the INCORRECTLY spelt word.

The detectives uncovered a conspiracy to overthrow the government.

- Ans
- 1. detectives
 - 2. overthrow
 - 3. uncovered
 - 4. conspiracy

Question Type : MCQ

Question ID : 630680718844

Option 1 ID : 6306802816864

Option 2 ID : 6306802816867

Option 3 ID : 6306802816865

Option 4 ID : 6306802816866

Status : Answered

Chosen Option : 4

Q.18 Select the most appropriate ANTONYM of the given word.

Curse

- Ans
- 1. Comment
 - 2. Criticise
 - 3. Abuse
 - 4. Praise

Question Type : MCQ

Question ID : 630680540678

Option 1 ID : 6306802113772

Option 2 ID : 6306802113771

Option 3 ID : 6306802113773

Option 4 ID : 6306802113770

Status : Answered

Chosen Option : 4

Q.19 Select the most appropriate option to fill in the blank.

The discussion led by the scientist was very _____.

- Ans
- 1. informative
 - 2. information
 - 3. more informative
 - 4. most informative

Question Type : MCQ

Question ID : 630680514582

Option 1 ID : 6306802010956

Option 2 ID : 6306802010955

Option 3 ID : 6306802010954

Option 4 ID : 6306802010953

Status : Answered

Chosen Option : 1

Q.20 Select the most appropriate synonym of the given word.

Anticipate

- Ans
- 1. Predict
 - 2. Conceal
 - 3. Accuse
 - 4. doubt

Question Type : MCQ

Question ID : 630680404048

Option 1 ID : 6306801575678

Option 2 ID : 6306801575680

Option 3 ID : 6306801575681

Option 4 ID : 6306801575679

Status : Answered

Chosen Option : 1

Comprehension:

In the following passage, some words have been deleted. Read the passage carefully and select the most appropriate option to fill in each blank.

Worldwide illiteracy rates have (1) _____ declined in the last few decades. One of the major reasons for this decline is the sharp increase in literacy rates (2) _____ young women, which is a result of specific (3) _____ designed to increase educational opportunities for girls. (4) _____, there are still an estimated 771 million illiterate adults in the world, about two-thirds of whom are (5) _____.

SubQuestion No : 21

Q.21 Select the most appropriate option to fill in blank no. 1.

- Ans 1. consequently
 2. thirdly
 3. wearily
 4. consistently

Question Type : **MCQ**

Question ID : **630680488379**

Option 1 ID : **6306801907562**

Option 2 ID : **6306801907561**

Option 3 ID : **6306801907559**

Option 4 ID : **6306801907560**

Status : **Answered**

Chosen Option : **4**

Comprehension:

In the following passage, some words have been deleted. Read the passage carefully and select the most appropriate option to fill in each blank.

Worldwide illiteracy rates have (1) _____ declined in the last few decades. One of the major reasons for this decline is the sharp increase in literacy rates (2) _____ young women, which is a result of specific (3) _____ designed to increase educational opportunities for girls. (4) _____, there are still an estimated 771 million illiterate adults in the world, about two-thirds of whom are (5) _____.

SubQuestion No : 22

Q.22 Select the most appropriate option to fill in blank no. 2.

- Ans 1. between
 2. over
 3. among
 4. against

Question Type : **MCQ**

Question ID : **630680488380**

Option 1 ID : **6306801907564**

Option 2 ID : **6306801907565**

Option 3 ID : **6306801907563**

Option 4 ID : **6306801907566**

Status : **Answered**

Chosen Option : **1**

Comprehension:

In the following passage, some words have been deleted. Read the passage carefully and select the most appropriate option to fill in each blank.

Worldwide illiteracy rates have (1) _____ declined in the last few decades. One of the major reasons for this decline is the sharp increase in literacy rates (2) _____ young women, which is a result of specific (3) _____ designed to increase educational opportunities for girls. (4) _____, there are still an estimated 771 million illiterate adults in the world, about two-thirds of whom are (5) _____.

SubQuestion No : 23

Q.23 Select the most appropriate option to fill in blank no. 3.

- Ans
- 1. champions
 - 2. camisole
 - 3. campaigns
 - 4. companions

Question Type : **MCQ**

Question ID : **630680488381**

Option 1 ID : **6306801907569**

Option 2 ID : **6306801907567**

Option 3 ID : **6306801907570**

Option 4 ID : **6306801907568**

Status : **Answered**

Chosen Option : **3**

Comprehension:

In the following passage, some words have been deleted. Read the passage carefully and select the most appropriate option to fill in each blank.

Worldwide illiteracy rates have (1) _____ declined in the last few decades. One of the major reasons for this decline is the sharp increase in literacy rates (2) _____ young women, which is a result of specific (3) _____ designed to increase educational opportunities for girls. (4) _____, there are still an estimated 771 million illiterate adults in the world, about two-thirds of whom are (5) _____.

SubQuestion No : 24

Q.24 Select the most appropriate option to fill in blank no. 4.

- Ans
- 1. Otherwise
 - 2. However
 - 3. Thus
 - 4. Whenever

Question Type : **MCQ**

Question ID : **630680488382**

Option 1 ID : **6306801907574**

Option 2 ID : **6306801907573**

Option 3 ID : **6306801907572**

Option 4 ID : **6306801907571**

Status : **Answered**

Chosen Option : **3**

Comprehension:

In the following passage, some words have been deleted. Read the passage carefully and select the most appropriate option to fill in each blank.

Worldwide illiteracy rates have (1) _____ declined in the last few decades. One of the major reasons for this decline is the sharp increase in literacy rates (2) _____ young women, which is a result of specific (3) _____ designed to increase educational opportunities for girls. (4) _____, there are still an estimated 771 million illiterate adults in the world, about two-thirds of whom are (5) _____.

SubQuestion No : 25

Q.25 Select the most appropriate option to fill in blank no. 5.

Ans ✓ 1. women

✗ 2. man

✗ 3. child

✗ 4. woman

Question Type : **MCQ**

Question ID : **630680488383**

Option 1 ID : **6306801907577**

Option 2 ID : **6306801907575**

Option 3 ID : **6306801907576**

Option 4 ID : **6306801907578**

Status : **Answered**

Chosen Option : **1**