

## Multi Tasking Non Technical Staff and Havaladar CBIC and CBN Examination 2024

Roll Number	
Candidate Name	
Venue Name	iON Digital Zone iDZ Chitoura Road
Exam Date	28/10/2024
Exam Time	12:30 PM - 2:30 PM
Subject	MTS Non Tech Havaladar CBIC and CBN Examination 2024

### Section : Numerical and Mathematical Ability

Q.1 एक बल्लेबाज अपनी 15<sup>वीं</sup> पारी में 152 रन बनाता है, जिससे उसके औसत स्कोर में 5 रन की वृद्धि होती है। 15<sup>वीं</sup> पारी के बाद बल्लेबाज का प्रति पारी औसत स्कोर ज्ञात कीजिए।

- Ans
- 1. 41
  - 2. 85
  - 3. 82
  - 4. 77

Question Type : MCQ

Question ID : 630680484300

Option 1 ID : 6306801891556

Option 2 ID : 6306801891554

Option 3 ID : 6306801891557

Option 4 ID : 6306801891555

Status : Answered

Chosen Option : 4

Q.2 4 वर्षों के लिए 8% वार्षिक की ब्याज दर पर उधार ली गई राशि ₹3000 पर साधारण ब्याज (₹ में) ज्ञात कीजिए।

- Ans
- 1. 900
  - 2. 1000
  - 3. 920
  - 4. 960

Question Type : MCQ

Question ID : 630680591950

Option 1 ID : 6306802316269

Option 2 ID : 6306802316268

Option 3 ID : 6306802316270

Option 4 ID : 6306802316267

Status : Answered

Chosen Option : 4

Q.3 दी गई तालिका, पांच विद्यार्थियों द्वारा पांच अलग-अलग विषयों में प्राप्त अंकों को दर्शाती है। तालिका का ध्यानपूर्वक अध्ययन कीजिए और उसके बाद प्रश्न का उत्तर दीजिए।  
प्रत्येक विषय में अधिकतम अंक = 100

विषय/विद्यार्थी	A	B	C	D	E
जैकब	56	44	40	33	35
अर्जुन	90	94	62	86	74
आश्विन	66	72	64	84	92
रशद	78	42	66	48	76
नेहा	58	54	48	72	88

अश्विन द्वारा सभी विषयों में मिलाकर प्राप्त कुल अंक और नेहा द्वारा सभी विषयों में मिलाकर प्राप्त कुल अंकों के बीच कितना अंतर है?

Ans  1. 58

2. 78

3. 62

4. 52

Question Type : MCQ

Question ID : 630680476192

Option 1 ID : 6306801860000

Option 2 ID : 6306801859999

Option 3 ID : 6306801860001

Option 4 ID : 6306801860002

Status : Answered

Chosen Option : 1

Q.4 एक दुकानदार एक वस्तु को 25% के लाभ पर बेचता है और बेईमानी से वास्तविक भार से 30% कम भार वाले बाट का उपयोग करता है। उसका कुल लाभ प्रतिशत ज्ञात कीजिए।

Ans  1. 65.75%

2. 42%

3. 23%

4. 78.57%

Question Type : MCQ

Question ID : 630680287154

Option 1 ID : 6306801116523

Option 2 ID : 6306801116524

Option 3 ID : 6306801116525

Option 4 ID : 6306801116526

Status : Answered

Chosen Option : 4

Q.5 किस राशि (₹ में) पर 4% प्रति वर्ष की ब्याज दर से 2 वर्षों में ₹360 का साधारण ब्याज अर्जित होगा?

Ans  1. 4500

2. 2250

3. 9000

4. 6000

Question Type : MCQ

Question ID : 630680612181

Option 1 ID : 6306802395456

Option 2 ID : 6306802395457

Option 3 ID : 6306802395458

Option 4 ID : 6306802395459

Status : Answered

Chosen Option : 1

Q.6 यदि P का 30% = Q का 0.6 = R का  $\frac{1}{3}$  है, तो P : Q : R है:

Ans  1. 5 : 10 : 7

2. 5 : 10 : 9

3. 10 : 5 : 7

4. 10 : 5 : 9

Question Type : MCQ

Question ID : 630680464493

Option 1 ID : 6306801814009

Option 2 ID : 6306801814010

Option 3 ID : 6306801814007

Option 4 ID : 6306801814008

Status : Answered

Chosen Option : 4

Q.7 एक दुकानदार एक निश्चित वस्तु पर 38% की छूट देता है। वह नकद भुगतान करने पर ग्राहक को 15% की अतिरिक्त छूट देने की घोषणा करता है। एक ग्राहक ने उस वस्तु के लिए ₹2,108 की नकद राशि का भुगतान किया। वस्तु का अंकित मूल्य (₹ में) कितना है?

Ans  1. 4,000

2. 3,800

3. 4,200

4. 3,560

Question Type : MCQ

Question ID : 630680631412

Option 1 ID : 6306802471593

Option 2 ID : 6306802471592

Option 3 ID : 6306802471591

Option 4 ID : 6306802471594

Status : Answered

Chosen Option : 1

Q.8 एक 735 m लंबी ट्रेन 225 m लंबी सुरंग से 48 सेकंड में गुजरती है। ट्रेन की चाल ज्ञात कीजिए।

Ans  1. 72 km/h

2. 66 km/h

3. 82 km/h

4. 54 km/h

Question Type : MCQ

Question ID : 630680233070

Option 1 ID : 630680904401

Option 2 ID : 630680904404

Option 3 ID : 630680904402

Option 4 ID : 630680904403

Status : Answered

Chosen Option : 1

Q.9 40 kg, 49 kg, 56 kg, 71 kg और 37 kg वजन के पांच सदस्यों वाले परिवार का औसत वजन (kg में) ज्ञात कीजिए।

Ans  1. 52.6

2. 51.6

3. 50.6

4. 49.6

Question Type : MCQ

Question ID : 630680551661

Option 1 ID : 6306802156872

Option 2 ID : 6306802156870

Option 3 ID : 6306802156869

Option 4 ID : 6306802156871

Status : Answered

Chosen Option : 3

Q.10 वह अनुपात ज्ञात कीजिए जिसमें ₹45/kg मूल्य के टमाटरों को ₹60/kg मूल्य के टमाटरों के साथ मिलाया जा सकता है, जिससे कि मिश्रण का मूल्य ₹54/kg हो जाए।

Ans  1. 3 : 5

2. 2 : 5

3. 2 : 3

4. 3 : 7

Question Type : MCQ

Question ID : 630680449460

Option 1 ID : 6306801754965

Option 2 ID : 6306801754967

Option 3 ID : 6306801754966

Option 4 ID : 6306801754968

Status : Answered

Chosen Option : 3

Q.11 दो स्टेशनों के बीच श्रेणी I और श्रेणी II एसी ट्रेन कोच के किराए का अनुपात 5 : 3 है, और श्रेणी I और श्रेणी II एसी कोच में दो स्टेशनों के बीच यात्रा कर रहे यात्रियों की संख्या का अनुपात 3 : 10 है। यदि किसी दिन दोनों स्टेशनों के बीच यात्रा कर रहे यात्रियों से ₹37,080 वसूल किए जाते हैं, तो श्रेणी II एसी कोच के यात्रियों से वसूल की गई धनराशि की गणना कीजिए।

- Ans
- 1. ₹20,247
  - 2. ₹27,420
  - 3. ₹24,720
  - 4. ₹22,047

Question Type : MCQ

Question ID : 630680461145

Option 1 ID : 6306801800855

Option 2 ID : 6306801800857

Option 3 ID : 6306801800856

Option 4 ID : 6306801800854

Status : Answered

Chosen Option : 3

Q.12 नीचे दिया गया बार ग्राफ वर्ष 2018 से 2022 के दौरान एलआईसी कमीशन से तीन एलआईसी एजेंटों की आय (लाख रुपये में) दर्शाता है। वर्ष 2020 से 2022 के दौरान एजेंट A की कुल आय, एजेंट C की कुल आय का कितने प्रतिशत है? (दो दशमलव स्थान तक पूर्णांकित मान)



- Ans
- 1. 96.98%
  - 2. 91.38%
  - 3. 93.18%
  - 4. 98.13%

Question Type : MCQ

Question ID : 630680402575

Option 1 ID : 6306801569862

Option 2 ID : 6306801569859

Option 3 ID : 6306801569861

Option 4 ID : 6306801569860

Status : Answered

Chosen Option : 3

Q.13 8 m आंतरिक व्यास वाला एक कुआँ 12 m की गहराई तक खोदा गया है। इससे निकाली गई मिट्टी को चबूतरा बनाने के लिए कुएं के चारों ओर 8 m की चौड़ाई तक फैला दिया जाता है। चबूतरे की ऊँचाई (m में) कितनी है?

Ans  1. 1.5

2. 1.0

3. 2.2

4. 1.3

Question Type : MCQ

Question ID : 630680379328

Option 1 ID : 6306801478357

Option 2 ID : 6306801478355

Option 3 ID : 6306801478356

Option 4 ID : 6306801478358

Status : Answered

Chosen Option : 1

Q.14 21 cm त्रिज्या वाले एक अर्धगोलाकार ठोस को पिघलाकर एक बेलन बनाया जाता है जिसकी ऊँचाई 14 cm है। बेलन का आयतन  $(a \times b^a \times c^b)\pi$  द्वारा दर्शाया जाता है जहाँ a, b और c अभाज्य हैं। तो  $(a+b)c$  का मान क्या है?

Ans  1. 42

2. 66

3. 35

4. 54

Question Type : MCQ

Question ID : 630680395252

Option 1 ID : 6306801541217

Option 2 ID : 6306801541216

Option 3 ID : 6306801541218

Option 4 ID : 6306801541219

Status : Answered

Chosen Option : 3

Q.15 दिए गए व्यंजक को सरल कीजिए।  
 $(5 \times 5 + 5 - 5 \times 5 + 5 - 5 \times 5) + (5 \times 5) \div 5 (2 + 3)$

Ans  1. 25

2. 10

3. 20

4. 5

Question Type : MCQ

Question ID : 63068075994

Option 1 ID : 630680294091

Option 2 ID : 630680294090

Option 3 ID : 630680294092

Option 4 ID : 630680294089

Status : Answered

Chosen Option : 1

Q.16 एक ठोस बेलन की ऊँचाई क्या है जिसकी त्रिज्या 7 cm है और संपूर्ण पृष्ठीय क्षेत्रफल 704 cm<sup>2</sup> है? ( $\pi = \frac{22}{7}$  का प्रयोग कीजिए)

- Ans
- 1. 12 cm
  - 2. 8 cm
  - 3. 9 cm
  - 4. 7 cm

Question Type : MCQ

Question ID : 630680103195

Option 1 ID : 630680401041

Option 2 ID : 630680401039

Option 3 ID : 630680401042

Option 4 ID : 630680401040

Status : Answered

Chosen Option : 1

Q.17 एक दुकानदार ने रेफ्रिजरेटर और गीजर सेट को एक साथ ₹30,400 में बेचा, जिससे रेफ्रिजरेटर पर 25% और गीजर पर 10% का लाभ हुआ। उन्हें एक साथ ₹30,700 में बेचने पर, उसे रेफ्रिजरेटर पर 10% और गीजर पर 25% का लाभ होता। अब, यदि गीजर को 17% लाभ पर बेचा जाता है, तो गीजर का विक्रय मूल्य (₹ में) ज्ञात करें।

- Ans
- 1. 16,380
  - 2. 14,380
  - 3. 12,130
  - 4. 17,510

Question Type : MCQ

Question ID : 630680422105

Option 1 ID : 6306801646856

Option 2 ID : 6306801646855

Option 3 ID : 6306801646857

Option 4 ID : 6306801646858

Status : Answered

Chosen Option : 3

Q.18 एक दुकानदार को ₹30/kg और ₹32.5/kg भाव की चीनी किस अनुपात में मिलानी चाहिए, ताकि मिश्रण को ₹34.1/kg के भाव पर बेचकर वह 10% का लाभ कमा सके?

- Ans
- 1. 4 : 3
  - 2. 3 : 2
  - 3. 2 : 1
  - 4. 5 : 4

Question Type : MCQ

Question ID : 630680412046

Option 1 ID : 6306801607021

Option 2 ID : 6306801607020

Option 3 ID : 6306801607019

Option 4 ID : 6306801607022

Status : Answered

Chosen Option : 2

Q.19 अरुण ने 6 वर्षों के लिए साधारण ब्याज पर कुछ धनराशि ऋण के रूप में ली। साहूकार ने पहले 2 वर्षों के लिए 4% वार्षिक, अगले 3 वर्षों के लिए 8% वार्षिक और 5 वर्षों से अधिक की अवधि के लिए 12% वार्षिक दर से ब्याज लगाया। यदि अरुण ₹5,472 का भुगतान करके अपना ऋण चुकाता है, तो उसने ऋण के रूप में कितनी धनराशि (₹ में) ली थी?

- Ans  1. 3,040  
 2. 3,800  
 3. 12,436  
 4. 6,840

Question Type : MCQ

Question ID : 630680421776

Option 1 ID : 6306801645548

Option 2 ID : 6306801645549

Option 3 ID : 6306801645550

Option 4 ID : 6306801645547

Status : Answered

Chosen Option : 1

Q.20 एक कार पहली 12 km की दूरी 30 km/h की चाल से, अगली 15 km की दूरी 45 km/h की चाल से और अगली 20 km की दूरी 60 km/h की चाल से तय करती है। कार की औसत चाल ज्ञात कीजिए।

- Ans  1.  $33\frac{1}{17}$  km/h  
 2.  $44\frac{1}{16}$  km/h  
 3.  $39\frac{2}{19}$  km/h  
 4.  $47\frac{3}{26}$  km/h

Question Type : MCQ

Question ID : 630680570944

Option 1 ID : 6306802232837

Option 2 ID : 6306802232839

Option 3 ID : 6306802232838

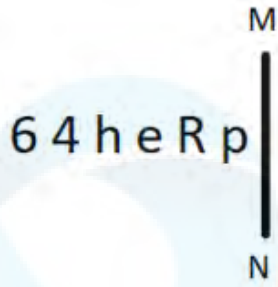
Option 4 ID : 6306802232840

Status : Answered

Chosen Option : 1

Section : Reasoning Ability and Problem Solving

Q.1 दी गई आकृति के उस सही दर्पण प्रतिबिंब को चुनिए, जो नीचे दर्शाए गए अनुसार दर्पण को MN पर रखने पर बनेगा।



Ans

- ✗ 1. q R e h 6 4  
✗ 2. q R e p 4 6  
✗ 3. q R e h 4 6  
✓ 4. q R e h 4 6

Question Type : MCQ

Question ID : 630680525262

Option 1 ID : 6306802053134

Option 2 ID : 6306802053135

Option 3 ID : 6306802053132

Option 4 ID : 6306802053133

Status : Answered

Chosen Option : 4

Q.2 दिए गए कथनों और निष्कर्षों को ध्यानपूर्वक पढ़िए। यह मानते हुए कि कथनों में दी गई जानकारी सत्य है, चाहे वह सामान्यतः ज्ञात तथ्यों से भिन्न प्रतीत होती हो और निर्णय लीजिए कि दिए गए निष्कर्षों में से कौन-सा/कौन-से निष्कर्ष कथनों का तार्किक रूप से अनुसरण करता है/करते हैं।

कथन:

कोई भी बल्ला, विकेट नहीं है।

कोई भी विकेट, दस्ताना नहीं है।

निष्कर्ष:

(I) कोई भी बल्ला, दस्ताना नहीं है।

(II) कोई भी विकेट, बल्ला नहीं है।

- Ans ✗ 1. न तो निष्कर्ष (I) और न ही निष्कर्ष (II) अनुसरण करता है  
✗ 2. निष्कर्ष (I) और निष्कर्ष (II), दोनों अनुसरण करते हैं  
✗ 3. केवल निष्कर्ष (I) अनुसरण करता है  
✓ 4. केवल निष्कर्ष (II) अनुसरण करता है

Question Type : MCQ

Question ID : 630680815686

Option 1 ID : 6306803196048

Option 2 ID : 6306803196047

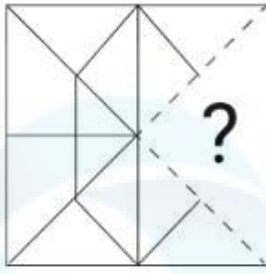
Option 3 ID : 6306803196045

Option 4 ID : 6306803196046

Status : Answered

Chosen Option : 2

Q.3 उस विकल्प आकृति का चयन कीजिए जो नीचे दी गई आकृति में पैटर्न को पूरा करने के लिए प्रश्न-चिह्न (?) के स्थान पर आएगी।

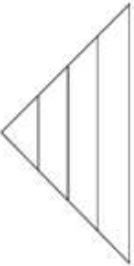


Ans

1.



2.



3.



4.



Question Type : MCQ

Question ID : 630680524708

Option 1 ID : 6306802050932

Option 2 ID : 6306802050933

Option 3 ID : 6306802050934

Option 4 ID : 6306802050931

Status : Answered

Chosen Option : 4

Q.4 एक निश्चित कूट भाषा में, 'YOUR' को '1245' के रूप में कूटबद्ध किया जाता है और 'OURS' को '4216' के रूप में कूटबद्ध किया जाता है। उस भाषा में 'Y' के लिए कूट क्या है?

- Ans
- 1. 4
  - 2. 1
  - 3. 6
  - 4. 5

Question Type : MCQ  
Question ID : 630680528920  
Option 1 ID : 6306802067671  
Option 2 ID : 6306802067670  
Option 3 ID : 6306802067669  
Option 4 ID : 6306802067668  
Status : Answered  
Chosen Option : 4

Q.5 दिए गए समीकरण को संतुलित करने के लिए किन दो चिह्नों को आपस में बदला जाना चाहिए?  
 $60 \times 10 + 12 \div 4 - 16 = 74$

- Ans
- 1. - और +
  - 2. + और ×
  - 3. - और ×
  - 4. + और ×

Question Type : MCQ  
Question ID : 630680411997  
Option 1 ID : 6306801606824  
Option 2 ID : 6306801606823  
Option 3 ID : 6306801606825  
Option 4 ID : 6306801606826  
Status : Answered  
Chosen Option : 4

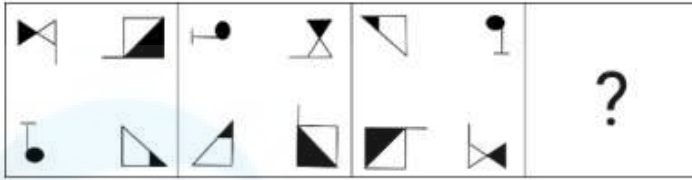
Q.6 अंग्रेजी वर्णमाला क्रम के आधार पर दी गई शृंखला में प्रश्न-चिह्न (?) के स्थान पर क्या आएगा?

RSP , TQN , VOL , XMJ , ?

- Ans
- 1. YKH
  - 2. ZKH
  - 3. YLH
  - 4. AKH

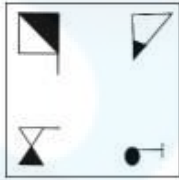
Question Type : MCQ  
Question ID : 630680459281  
Option 1 ID : 6306801793979  
Option 2 ID : 6306801793978  
Option 3 ID : 6306801793980  
Option 4 ID : 6306801793977  
Status : Answered  
Chosen Option : 2

Q.7 दिए गए विकल्पों में से उस आकृति का चयन कीजिए जो निम्नलिखित श्रृंखला में प्रश्न चिह्न (?) के स्थान पर आ सकती है।

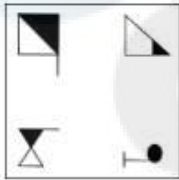


Ans

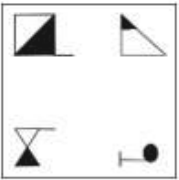
✓ 1.



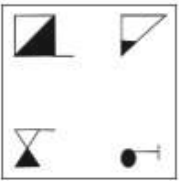
✗ 2.



✗ 3.



✗ 4.



Question Type : MCQ

Question ID : 630680525748

Option 1 ID : 6306802055076

Option 2 ID : 6306802055077

Option 3 ID : 6306802055078

Option 4 ID : 6306802055079

Status : Answered

Chosen Option : 1

Q.8 उस समुच्चय का चयन कीजिए जिसमें संख्याएँ ठीक उसी प्रकार संबंधित हैं, जिस प्रकार निम्नलिखित समुच्चयों की संख्याएँ संबंधित हैं।

(ध्यान दें: संख्याओं को उनके घटक अंकों में अलग-अलग किए बिना पूर्ण संख्याओं पर संक्रियाएं की जानी चाहिए। उदाहरण के लिए संख्या 13 - संख्या 13 पर संक्रियाएं जैसे 13 को जोड़ना/घटाना/गुणा करना आदि किया जा सकता है। 13 को 1 और 3 में अलग-अलग करने की और फिर 1 और 3 पर गणितीय संक्रियाएं करने की अनुमति नहीं है।)

(2, 70, 82)

(26, 17, 53)

- Ans
- 1. (36, 42, 90)
  - 2. (71, 78, 122)
  - 3. (79, 12, 141)
  - 4. (54, 88, 152)

Question Type : MCQ

Question ID : 6306801031207

Option 1 ID : 6306804047585

Option 2 ID : 6306804047584

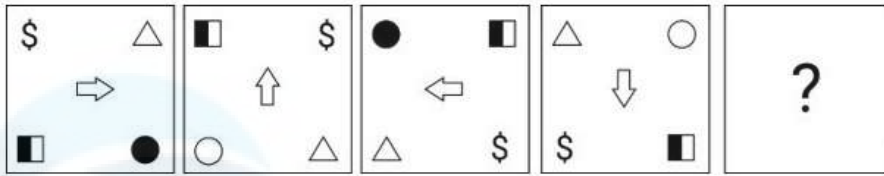
Option 3 ID : 6306804047586

Option 4 ID : 6306804047583

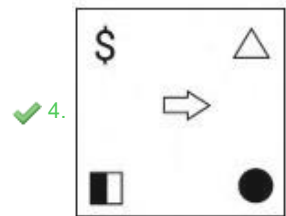
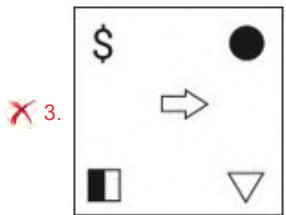
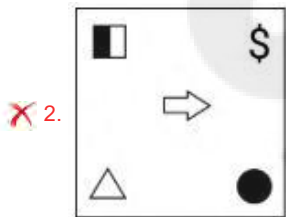
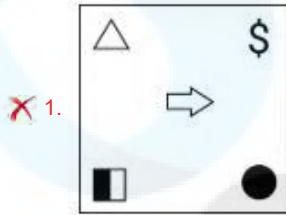
Status : Answered

Chosen Option : 4

Q.9 विकल्पों में दी गई उस आकृति की पहचान कीजिए, जिसे प्रश्न-चिह्न (?) के स्थान पर रखने पर श्रृंखला तार्किक रूप से पूर्ण हो जाएगी।



Ans



Question Type : MCQ

Question ID : 630680273248

Option 1 ID : 6306801061537

Option 2 ID : 6306801061538

Option 3 ID : 6306801061535

Option 4 ID : 6306801061536

Status : Answered

Chosen Option : 4

**Q.10** एक निश्चित कूट भाषा में, 'car struck in traffic' को 'ku cu ru nu' लिखा जाता है और 'truck struck on road' को 'pu du ku tu' लिखा जाता है। उसी कूट भाषा में 'struck' को कैसे लिखा जाएगा?

- Ans**
- 1. tu
  - 2. ku
  - 3. pu
  - 4. du

Question Type : **MCQ**

Question ID : **630680439034**

Option 1 ID : **6306801713951**

Option 2 ID : **6306801713949**

Option 3 ID : **6306801713948**

Option 4 ID : **6306801713950**

Status : **Answered**

Chosen Option : **2**

**Q.11** 5, एक निश्चित तर्क का अनुसरण करते हुए 120 से संबंधित है। 3, उसी तर्क का अनुसरण करते हुए 24 से संबंधित है। उसी तर्क का अनुसरण करते हुए, 2 निम्नलिखित में से किससे संबंधित है?

(ध्यान दें: संख्याओं को उनके घटक अंकों में अलग-अलग किए बिना पूर्ण संख्याओं पर संक्रियाएं की जानी चाहिए। उदाहरण के लिए संख्या 13 - संख्या 13 पर संक्रियाएं जैसे 13 को जोड़ना/घटाना/गुणा करना आदि किया जा सकता है। 13 को 1 और 3 में अलग-अलग करने की और फिर 1 और 3 पर गणितीय संक्रियाएं करने की अनुमति नहीं है।)

- Ans**
- 1. 11
  - 2. 6
  - 3. 7
  - 4. 13

Question Type : **MCQ**

Question ID : **630680449997**

Option 1 ID : **6306801757151**

Option 2 ID : **6306801757153**

Option 3 ID : **6306801757150**

Option 4 ID : **6306801757152**

Status : **Answered**

Chosen Option : **2**

Q.12 दिए गए कथनों और निष्कर्षों को ध्यानपूर्वक पढ़िए। यह मानते हुए कि कथनों में दी गई जानकारी सत्य है, भले ही यह सामान्यतः ज्ञात तथ्यों से भिन्न प्रतीत होती हो, तय कीजिए कि दिए गए निष्कर्षों में से कौन-सा/से निष्कर्ष कथनों का तार्किक रूप से अनुसरण करता/करते है/हैं।

कथन:

कुछ घड़ियाँ, बेल्ट हैं।  
कुछ बेल्ट, टाई हैं।

निष्कर्ष:

(I) कुछ घड़ियाँ, टाई हैं।  
(II) कुछ बेल्ट, घड़ियाँ हैं।

Ans  1. केवल निष्कर्ष II अनुसरण करता है

2. न तो निष्कर्ष I और न ही निष्कर्ष II अनुसरण करता है

3. निष्कर्ष I और II दोनों अनुसरण करते हैं

4. केवल निष्कर्ष I अनुसरण करता है

Question Type : MCQ

Question ID : 630680421801

Option 1 ID : 6306801645648

Option 2 ID : 6306801645650

Option 3 ID : 6306801645649

Option 4 ID : 6306801645647

Status : Answered

Chosen Option : 1

Q.13 श्रृंखला को तार्किक रूप से पूर्ण बनाने के लिए, कौन-सी संख्याएं उसी क्रम में प्रश्नवाचक चिह्नों (?) के स्थान पर आनी चाहिए?

19 ,33, 21, 30 ,23 ,27, ?, 24 ,?

Ans  1. 25, 27

2. 23, 25

3. 25, 26

4. 28, 25

Question Type : MCQ

Question ID : 630680402517

Option 1 ID : 6306801569628

Option 2 ID : 6306801569627

Option 3 ID : 6306801569630

Option 4 ID : 6306801569629

Status : Answered

Chosen Option : 1

Q.14 यदि '+' और '-' को आपस में बदल दिया जाए तथा 'x' और '÷' को आपस में बदल दिया जाए, तो निम्नलिखित समीकरण में प्रश्न-चिह्न (?) के स्थान पर क्या आएगा?  
 $84 - 112 \times 8 + 15 \div 3 = ?$

- Ans
- 1. 45
  - 2. 57
  - 3. 63
  - 4. 53

Question Type : MCQ

Question ID : 630680380570

Option 1 ID : 6306801483270

Option 2 ID : 6306801483268

Option 3 ID : 6306801483267

Option 4 ID : 6306801483269

Status : Answered

Chosen Option : 4

Q.15 P, Q, R, S, T और U एक गोल मेज के चारों ओर केंद्र की ओर मुख करके बैठे हैं (परंतु जरूरी नहीं कि वे इसी क्रम में बैठे हों)। P, U के ठीक दाएँ और S के ठीक बाएँ बैठा है। S, T के ठीक बाएँ बैठा है। Q, T के ठीक दाएँ और R के ठीक बाएँ बैठा है। R के ठीक दाएँ कौन बैठा है?

- Ans
- 1. T
  - 2. S
  - 3. U
  - 4. P

Question Type : MCQ

Question ID : 630680380395

Option 1 ID : 6306801482575

Option 2 ID : 6306801482578

Option 3 ID : 6306801482576

Option 4 ID : 6306801482577

Status : Answered

Chosen Option : 3

Q.16 GI23 एक निश्चित तरीके से SU31 से संबंधित है। उसी तरीके से, MO56, YA64 से संबंधित है। समान तर्क का अनुसरण करते हुए, SU78 निम्नलिखित में से किससे संबंधित है?

- Ans
- 1. GE66
  - 2. EG68
  - 3. EG86
  - 4. GE68

Question Type : MCQ

Question ID : 6306801108790

Option 1 ID : 6306804355709

Option 2 ID : 6306804355708

Option 3 ID : 6306804355706

Option 4 ID : 6306804355707

Status : Answered

Chosen Option : 3

Q.17 U, V, W, X, Y, K और A एक वृत्ताकार मेज के चारों ओर केंद्र की ओर मुख करके बैठे हैं (परंतु जरूरी नहीं कि वे इसी क्रम में बैठे हों)। X के बाईं ओर से गिनने पर W और X के बीच में केवल दो व्यक्ति बैठे हैं। U, K के बाईं ओर तीसरे स्थान पर बैठा है। V, K के ठीक दाईं ओर बैठा है। V, W के बाईं ओर से दूसरे स्थान पर बैठा है। Y, U का निकटतम पड़ोसी नहीं है। A के दाईं ओर से तीसरे स्थान पर कौन बैठा है?

- Ans
- 1. W
  - 2. K
  - 3. U
  - 4. V

Question Type : MCQ  
Question ID : 630680404831  
Option 1 ID : 6306801578818  
Option 2 ID : 6306801578816  
Option 3 ID : 6306801578817  
Option 4 ID : 6306801578815  
Status : Answered  
Chosen Option : 4

Q.18 अंग्रेजी वर्णमाला क्रम के आधार पर QBON एक निश्चित प्रकार से UFSR से संबंधित है। ठीक उसी प्रकार FCLT, JGPX से संबंधित है। उसी तर्क का पालन करते हुए, AOGS निम्नलिखित में से किससे संबंधित है?

- Ans
- 1. ERJV
  - 2. CQIU
  - 3. ESKW
  - 4. BQJW

Question Type : MCQ  
Question ID : 630680910488  
Option 1 ID : 6306803566899  
Option 2 ID : 6306803566898  
Option 3 ID : 6306803566900  
Option 4 ID : 6306803566897  
Status : Answered  
Chosen Option : 3

Q.19 एक निश्चित कूट भाषा में, 'WOLF' को '4729' के रूप में कूटबद्ध किया जाता है और 'FLEW' को '9254' के रूप में कूटबद्ध किया जाता है। उस भाषा में 'E' के लिए कूट क्या है?

- Ans
- 1. 9
  - 2. 5
  - 3. 2
  - 4. 4

Question Type : MCQ  
Question ID : 630680379158  
Option 1 ID : 6306801477679  
Option 2 ID : 6306801477681  
Option 3 ID : 6306801477682  
Option 4 ID : 6306801477680  
Status : Answered  
Chosen Option : 2

Q.20 एक निश्चित कूट भाषा में, 'PORK' को '7358' के रूप में लिखा जाता है और 'CREW' को '1693' के रूप में लिखा जाता है। उस कूट भाषा में 'R' को किस प्रकार लिखा जाता है?

Ans  1. 9

2. 6

3. 5

4. 3

Question Type : MCQ

Question ID : 630680382356

Option 1 ID : 6306801490342

Option 2 ID : 6306801490339

Option 3 ID : 6306801490341

Option 4 ID : 6306801490340

Status : Answered

Chosen Option : 4

Section : General Awareness

Q.1 यशोधरा डालमिया (Yashodhara Dalmia) किस प्रसिद्ध पुस्तक की लेखिका हैं?

Ans  1. अजंता (Ajanta)

2. पेंटिंग्स इन द कांगड़ा वैली (Paintings in the Kangra Valley)

3. द पेंटेड वर्ल्ड ऑफ द वार्लिस (The Painted World of the Warlis)

4. इंडियन आर्ट (Indian Art)

Question Type : MCQ

Question ID : 630680474200

Option 1 ID : 6306801852496

Option 2 ID : 6306801852497

Option 3 ID : 6306801852495

Option 4 ID : 6306801852494

Status : Answered

Chosen Option : 2

Q.2 निम्नलिखित में से किस संगठन ने वैदिक शिक्षा को पुनर्जीवित करने और इसे विज्ञान में आधुनिक शिक्षा के साथ जोड़ने की माँग की?

Ans  1. ब्रह्म समाज

2. सत्यशोधक समाज

3. प्रार्थना समाज

4. आर्य समाज

Question Type : MCQ

Question ID : 630680214010

Option 1 ID : 630680830087

Option 2 ID : 630680830089

Option 3 ID : 630680830088

Option 4 ID : 630680830090

Status : Answered

Chosen Option : 2

Q.3 हुमायूँ के मकबरे का निर्माण किसके द्वारा पूरा किया गया था?

- Ans
- 1. रहमत बानो बेगम (Rahmat Banu Begum)
  - 2. माह चुचक बेगम (Mah Chuchak Begum)
  - 3. बिगा बेगम (Biga Begum)
  - 4. ज़ीनत महल (Zeenat Mahal)

Question Type : MCQ

Question ID : 630680547301

Option 1 ID : 6306802139773

Option 2 ID : 6306802139772

Option 3 ID : 6306802139771

Option 4 ID : 6306802139774

Status : Answered

Chosen Option : 1

Q.4 किस अनुच्छेद के अनुसार, भारत के प्रत्येक नागरिक का यह कर्तव्य होगा कि वह संविधान का पालन करे और उसके आदर्शों और संस्थाओं, राष्ट्रीय ध्वज और राष्ट्रगान का सम्मान करे?

- Ans
- 1. 54 (b)
  - 2. 14
  - 3. 51A (a)
  - 4. 52

Question Type : MCQ

Question ID : 630680287351

Option 1 ID : 6306801117314

Option 2 ID : 6306801117311

Option 3 ID : 6306801117312

Option 4 ID : 6306801117313

Status : Answered

Chosen Option : 2

Q.5 फरवरी 2023 में, यूनिसेफ (UNICEF) इंडिया ने बाल अधिकारों के लिए राष्ट्रीय अम्बेसेडर (Ambassador) के रूप में किस प्रसिद्ध बॉलीवुड स्टार की नियुक्ति की घोषणा की?

- Ans
- 1. आयुष्मान खुराना
  - 2. पंकज कपूर
  - 3. पंकज त्रिपाठी
  - 4. आमिर खान

Question Type : MCQ

Question ID : 630680595820

Option 1 ID : 6306802331468

Option 2 ID : 6306802331471

Option 3 ID : 6306802331470

Option 4 ID : 6306802331469

Status : Answered

Chosen Option : 4

Q.6 निम्नलिखित में से कौन-सा 'आजादी का अमृत महोत्सव' के विषय (themes) में शामिल नहीं है?

- Ans  1. स्वास्थ्य@75 (Health@75)  
 2. एक्शन@75 (Actions@75)  
 3. विचार@75 (Ideas@75)  
 4. संकल्प@75 (Resolve@75)

Question Type : MCQ

Question ID : 630680798926

Option 1 ID : 6306803130511

Option 2 ID : 6306803130512

Option 3 ID : 6306803130510

Option 4 ID : 6306803130513

Status : Answered

Chosen Option : 4

Q.7 फाइलम आर्थ्रोपोडा (phylum Arthropoda) के बारे में निम्नलिखित में से कौन-सा कथन सत्य है?

- A. आर्थ्रोपोडा के जंतुओं के उपांग संयुक्त (joint appendages) होते हैं।  
B. इनमें मिश्रित आँखें (compound eyes) होती हैं।  
C. ये पृथ्वी पर सभी जंतुओं का प्रौढ़ (majority) बनाते हैं।  
D. सभी आर्थ्रोपोड में प्रजनन की विधि वानस्पतिक (vegetative) है।

- Ans  1. केवल A, B और C  
 2. केवल C और D  
 3. केवल A और C  
 4. केवल B, C और D

Question Type : MCQ

Question ID : 630680542137

Option 1 ID : 6306802119490

Option 2 ID : 6306802119492

Option 3 ID : 6306802119489

Option 4 ID : 6306802119491

Status : Answered

Chosen Option : 1

Q.8 जूनागढ़ में सुदर्शन झील का निर्माण किसने करवाया था?

- Ans  1. स्कन्दगुप्त  
 2. भानुगुप्त  
 3. पुष्यगुप्त  
 4. चन्द्रगुप्त

Question Type : MCQ

Question ID : 630680127467

Option 1 ID : 630680494130

Option 2 ID : 630680494128

Option 3 ID : 630680494129

Option 4 ID : 630680494131

Status : Answered

Chosen Option : 1

Q.9 किस राज्य में 'काट तथा दाह' कृषि को 'दहिया (Dahiya)' के नाम से जाना जाता है?

- Ans
- 1. हिमाचल प्रदेश
  - 2. आंध्र प्रदेश
  - 3. अरुणाचल प्रदेश
  - 4. मध्य प्रदेश

Question Type : MCQ

Question ID : 630680511142

Option 1 ID : 6306801997701

Option 2 ID : 6306801997698

Option 3 ID : 6306801997699

Option 4 ID : 6306801997700

Status : Answered

Chosen Option : 1

Q.10 दूसरी शताब्दी की शुरुआत में अपने ग्रंथ 'नाट्य शास्त्र' में संगीत वाद्ययंत्रों को तत्, सुषिर, अवनद्ध और घन में वर्गीकृत करने की प्रणाली को किसने समझाया?

- Ans
- 1. भरत मुनि
  - 2. स्वामी हरिदास
  - 3. सारंगदेव
  - 4. भैरव

Question Type : MCQ

Question ID : 630680482460

Option 1 ID : 6306801884315

Option 2 ID : 6306801884317

Option 3 ID : 6306801884314

Option 4 ID : 6306801884316

Status : Answered

Chosen Option : 1

Q.11 मुगल शासन के संदर्भ में निम्नलिखित कथनों पर विचार कीजिए।  
1. मनसबदारी प्रणाली अकबर द्वारा 1571 में शुरू की गई थी।  
2. पानीपत का दूसरा युद्ध 1556 में हुआ था।  
3. मेवाड़ के शासक महाराणा प्रताप सिंह बाबर के समकालीन थे।  
ऊपर दिए गए कथनों में से कौन सा/से कथन सही है/हैं?

- Ans
- 1. 1 और 2 दोनों
  - 2. 2 और 3 दोनों
  - 3. केवल 2
  - 4. 1, 2 और 3

Question Type : MCQ

Question ID : 630680176075

Option 1 ID : 630680682544

Option 2 ID : 630680682547

Option 3 ID : 630680682545

Option 4 ID : 630680682546

Status : Answered

Chosen Option : 1

Q.12 भारत ने पहली बार पैरालंपिक खेलों (Paralympic Games) में किस वर्ष भाग लिया था?

- Ans
- 1. 1980
  - 2. 1964
  - 3. 1972
  - 4. 1968

Question Type : MCQ

Question ID : 630680571885

Option 1 ID : 6306802236438

Option 2 ID : 6306802236436

Option 3 ID : 6306802236437

Option 4 ID : 6306802236439

Status : Answered

Chosen Option : 3

Q.13 निरक्षरता के उन्मूलन के लिए राष्ट्रीय साक्षरता मिशन (National Literacy Mission) द्वारा अपनाई गई प्रमुख रणनीति निम्नलिखित में से कौन-सी है?

- Ans
- 1. वैकल्पिक और अभिनव शिक्षा (Alternative and Innovative Education)
  - 2. शिक्षा गारंटी योजना (Education Guarantee Scheme)
  - 3. संपूर्ण साक्षरता अभियान (Total Literacy Campaign)
  - 4. सर्व शिक्षा अभियान (Sarva Shiksha Abhiyan)

Question Type : MCQ

Question ID : 63068069461

Option 1 ID : 630680268512

Option 2 ID : 630680268511

Option 3 ID : 630680268513

Option 4 ID : 630680268510

Status : Answered

Chosen Option : 4

Q.14 पाटली दून (Patli Dun) भारत के किस भू-आकृतिक विभाजन से संबंधित है?

- Ans
- 1. हिमालय पर्वत
  - 2. प्रायद्वीपीय पठार
  - 3. तटीय मैदान
  - 4. भारतीय मरुस्थल

Question Type : MCQ

Question ID : 630680477094

Option 1 ID : 6306801863569

Option 2 ID : 6306801863570

Option 3 ID : 6306801863571

Option 4 ID : 6306801863572

Status : Not Answered

Chosen Option : --

Q.15 जीवाश्मों से प्राप्त ईंधन केवल किस प्रकार की शैलों में संरक्षित होते हैं?

- Ans  1. अवसादी शैल  
 2. प्लूटोनिक शैल  
 3. कार्यांतरित शैल  
 4. ज्वालामुखीय शैल

Question Type : MCQ

Question ID : 630680403540

Option 1 ID : 6306801573670

Option 2 ID : 6306801573671

Option 3 ID : 6306801573672

Option 4 ID : 6306801573673

Status : Answered

Chosen Option : 1

Q.16 फुटबॉल विश्व कप, 2022 की मेजबानी किस देश ने की थी?

- Ans  1. अर्जेंटीना  
 2. फ्रांस  
 3. यू.ए.ई.  
 4. कतर

Question Type : MCQ

Question ID : 630680339372

Option 1 ID : 6306801320059

Option 2 ID : 6306801320060

Option 3 ID : 6306801320058

Option 4 ID : 6306801320057

Status : Answered

Chosen Option : 2

Q.17 निम्नलिखित में से किस शख्सियत ने पोर्टो नोवो (Porto Novo) की लड़ाई में ब्रिटिश ईस्ट इंडिया कंपनी के खिलाफ लड़ने में महत्वपूर्ण भूमिका निभाई थी?

- Ans  1. गोपाला नायकर (Gopala Nayaker)  
 2. आलमगीर द्वितीय (Alamgir-II)  
 3. हैदर अली (Hyder Ali)  
 4. महाराजा रणजीत सिंह (Maharaja Ranjit Singh)

Question Type : MCQ

Question ID : 630680176054

Option 1 ID : 630680682464

Option 2 ID : 630680682467

Option 3 ID : 630680682465

Option 4 ID : 630680682466

Status : Answered

Chosen Option : 4

Q.18 वैश्विक भुखमरी सूचकांक (Global Hunger Index - GHI) 2023 में भारत का स्थान कौन-सा है?

- Ans  1. 120  
 2. 115  
 3. 111  
 4. 105

Question Type : MCQ

Question ID : 630680477358

Option 1 ID : 6306801864592

Option 2 ID : 6306801864591

Option 3 ID : 6306801864590

Option 4 ID : 6306801864589

Status : Answered

Chosen Option : 4

Q.19 भारतीय संविधान का कौन-सा अनुच्छेद भारत के महान्यायवादी की नियुक्ति और कर्तव्यों से संबंधित है?

- Ans  1. अनुच्छेद 74  
 2. अनुच्छेद 81  
 3. अनुच्छेद 80  
 4. अनुच्छेद 76

Question Type : MCQ

Question ID : 630680799048

Option 1 ID : 6306803130994

Option 2 ID : 6306803130997

Option 3 ID : 6306803130996

Option 4 ID : 6306803130995

Status : Answered

Chosen Option : 4

Q.20 शास्त्रीय नृत्य की एक प्रसिद्ध शैली, मणिपुरी रास लीला \_\_\_\_\_ द्वारा बनाई गई थी।

- Ans  1. ऋषि भरत (Sage Bharata)  
 2. महाराजा भाग्यचंद्र (Maharaja Bhagyachandra)  
 3. सिद्धेंद्र योगी (Siddhendra Yogi)  
 4. बिरजू महाराज (Birju Maharaj)

Question Type : MCQ

Question ID : 630680465739

Option 1 ID : 6306801818993

Option 2 ID : 6306801818994

Option 3 ID : 6306801818992

Option 4 ID : 6306801818991

Status : Answered

Chosen Option : 1

Q.21 निम्नलिखित में से किस नृत्य श्रेणी को संगीत नाटक अकादमी पुरस्कार के लिए नहीं चुना जाता है?

- Ans
- 1. कथक
  - 2. कुचिपुड़ी
  - 3. मणिपुरी
  - 4. विलासिनी नाट्यम

Question Type : MCQ  
Question ID : 630680160187  
Option 1 ID : 630680620120  
Option 2 ID : 630680620121  
Option 3 ID : 630680620123  
Option 4 ID : 630680620122  
Status : Answered  
Chosen Option : 4

Q.22 रज्जुकी (chordate) में पृष्ठरज्जु (notochord) का प्राथमिक कार्य क्या होता है?

- Ans
- 1. आधार (Support)
  - 2. गमन (Locomotion)
  - 3. श्वसन (Respiration)
  - 4. पाचन (Digestion)

Question Type : MCQ  
Question ID : 630680540433  
Option 1 ID : 6306802112817  
Option 2 ID : 6306802112816  
Option 3 ID : 6306802112818  
Option 4 ID : 6306802112815  
Status : Answered  
Chosen Option : 1

Q.23 निम्नलिखित विकल्पों में से असंतुलित रासायनिक समीकरण का चयन कीजिए।

- Ans
- 1.  $3 \text{CaCl}_2 + 2 \text{Na}_3\text{PO}_4 \rightarrow \text{Ca}_3(\text{PO}_4)_2 + 6 \text{NaCl}$
  - 2.  $3 \text{Hg}(\text{OH})_2 + 2 \text{H}_3\text{PO}_4 \rightarrow \text{Hg}_3(\text{PO}_4)_2 + 6 \text{H}_2\text{O}$
  - 3.  $10 \text{KClO}_3 + 3 \text{P}_4 \rightarrow 3 \text{P}_4\text{O}_{10} + 10 \text{KCl}$
  - 4.  $6 \text{HClO}_4 + \text{P}_4\text{O}_{10} \rightarrow 4 \text{H}_3\text{PO}_4 + 6 \text{Cl}_2\text{O}_7$

Question Type : MCQ  
Question ID : 630680426399  
Option 1 ID : 6306801663687  
Option 2 ID : 6306801663686  
Option 3 ID : 6306801663685  
Option 4 ID : 6306801663688  
Status : Not Answered  
Chosen Option : --

Q.24 निम्नलिखित में से किसे फरवरी 2023 में नागरिक उड्डयन महानिदेशालय में महानिदेशक के रूप में नियुक्त किया गया था?

- Ans  1. अजय कुमार भल्ला  
 2. विक्रम देव दत्त  
 3. प्रमोद कुमार मिश्र  
 4. राजीव गौबा

Question Type : MCQ

Question ID : 630680465477

Option 1 ID : 6306801817945

Option 2 ID : 6306801817946

Option 3 ID : 6306801817944

Option 4 ID : 6306801817943

Status : Not Answered

Chosen Option : --

Q.25 सूक्ष्म वित्त संस्थानों (Micro Finance institutions) के बारे में निम्नलिखित में से कौन-सा कथन सत्य है?

- Ans  1. बड़े ऋण (jumbo loan) प्रदान कर सकते हैं।  
 2. नौकरीपेशा व्यक्ति को प्रदान की जाने वाली बैंकिंग सेवा का प्रकार।  
 3. अधिकांश सूक्ष्म वित्तीय कार्य विकासशील देशों में होते हैं।  
 4. केवल उच्च आय वाले व्यक्तियों को प्रदान की जाने वाली सेवा।

Question Type : MCQ

Question ID : 630680117738

Option 1 ID : 630680456165

Option 2 ID : 630680456162

Option 3 ID : 630680456164

Option 4 ID : 630680456163

Status : Answered

Chosen Option : 3

Section : English Language and Comprehension

Q.1 Select the most appropriate option that can substitute the underlined segment in the given sentence.

The manager complained that Sheetal's email was not up to the standard for the company.

- Ans  1. up to the mark  
 2. an uphill task  
 3. up and doing  
 4. under the nose

Question Type : MCQ

Question ID : 630680404536

Option 1 ID : 6306801577645

Option 2 ID : 6306801577644

Option 3 ID : 6306801577647

Option 4 ID : 6306801577646

Status : Answered

Chosen Option : 2

Q.2 Select the appropriate option that can substitute the underlined word in the following sentence to make it grammatically correct.

The grapes taste sweetest.

- Ans  1. more sweeter  
 2. most sweeter  
 3. sweet  
 4. sweeter

Question Type : MCQ

Question ID : 630680514634

Option 1 ID : 6306802011163

Option 2 ID : 6306802011164

Option 3 ID : 6306802011161

Option 4 ID : 6306802011162

Status : Answered

Chosen Option : 2

Q.3 Select the INCORRECTLY spelt word.

Nylon was among the first synthetic fibre made by man and is known for its toughness, strength and resistance to oil and grease.

- Ans  1. synthetic  
 2. resistance  
 3. strength  
 4. toughness

Question Type : MCQ

Question ID : 630680565458

Option 1 ID : 6306802210790

Option 2 ID : 6306802210793

Option 3 ID : 6306802210792

Option 4 ID : 6306802210791

Status : Answered

Chosen Option : 1

Q.4 Select the most appropriate option to fill in the blank.

I will not be able to \_\_\_\_\_ my assignment in time.

- Ans  1. complete  
 2. completes  
 3. completed  
 4. completing

Question Type : MCQ

Question ID : 630680274376

Option 1 ID : 6306801066016

Option 2 ID : 6306801066018

Option 3 ID : 6306801066015

Option 4 ID : 6306801066017

Status : Answered

Chosen Option : 4

**Q.5 Select the most appropriate meaning of the given idiom.**

**Hornet's nest**

- Ans**  1. A troublesome or hazardous situation  
 2. A bee's nest  
 3. A difficult task  
 4. A house built with great difficulty

Question Type : **MCQ**

Question ID : **630680791257**

Option 1 ID : **6306803100755**

Option 2 ID : **6306803100753**

Option 3 ID : **6306803100752**

Option 4 ID : **6306803100754**

Status : **Answered**

Chosen Option : **4**

**Q.6 Select the correctly spelt word to fill in the blank.**  
The play was shortened by the \_\_\_\_\_ of two scenes.

- Ans**  1. omission  
 2. ommision  
 3. insirtion  
 4. addition

Question Type : **MCQ**

Question ID : **630680319164**

Option 1 ID : **6306801241563**

Option 2 ID : **6306801241561**

Option 3 ID : **6306801241562**

Option 4 ID : **6306801241564**

Status : **Answered**

Chosen Option : **4**

**Q.7 The following sentence has been split into four segments. Identify the segment that contains an error.**  
That question is / much difficult / but this one is / very easy.

- Ans**  1. That question is  
 2. but thisone is  
 3. much difficult  
 4. very easy.

Question Type : **MCQ**

Question ID : **630680514347**

Option 1 ID : **6306802010013**

Option 2 ID : **6306802010015**

Option 3 ID : **6306802010014**

Option 4 ID : **6306802010016**

Status : **Answered**

Chosen Option : **2**

Q.8 Select the most appropriate synonym of the underlined word.  
Her amicable nature made it easy for her to forge positive relationships.

- Ans  1. Sad  
 2. Attentive  
 3. Aggressive  
 4. Friendly

Question Type : **MCQ**  
Question ID : 630680726517  
Option 1 ID : 6306802847077  
Option 2 ID : 6306802847074  
Option 3 ID : 6306802847075  
Option 4 ID : 6306802847076  
Status : **Answered**  
Chosen Option : 4

Q.9 Select the most appropriate option that can substitute the underlined segment in the given sentence.  
The intersection of nature conservation and social justice is evident in efforts to ensure that marginalised communities and other backward classes should have equal access to natural reserves.

- Ans  1. Manifest in actions to redesign  
 2. obvious in attempts to recollect  
 3. apparent in endeavours to guarantee  
 4. Unclear in initiatives to safeguard

Question Type : **MCQ**  
Question ID : 630680726581  
Option 1 ID : 6306802847326  
Option 2 ID : 6306802847329  
Option 3 ID : 6306802847328  
Option 4 ID : 6306802847327  
Status : **Not Answered**  
Chosen Option : --

Q.10 Identify the most appropriate ANTONYM of the word in brackets.

The magician's performance was (captivating) and held the audience spellbound.

- Ans  1. Enchanting  
 2. Boring  
 3. Gripping  
 4. Fascinating

Question Type : **MCQ**  
Question ID : 630680545655  
Option 1 ID : 6306802133212  
Option 2 ID : 6306802133213  
Option 3 ID : 6306802133215  
Option 4 ID : 6306802133214  
Status : **Answered**  
Chosen Option : 2

**Q.11** Select the word that has the same meaning (SYNONYM) as the underlined word in the given sentence.

The vital role played by women at home and in the struggle for freedom, advanced the case for female emancipation soon after the war was over.

- Ans
- 1. freedom
  - 2. bondage
  - 3. utility
  - 4. objectivity

Question Type : **MCQ**  
Question ID : **630680436148**  
Option 1 ID : **6306801702534**  
Option 2 ID : **6306801702533**  
Option 3 ID : **6306801702535**  
Option 4 ID : **6306801702536**  
Status : **Answered**  
Chosen Option : 1

**Q.12** The following sentence has been divided into parts. One of them may contain an error. Select the part that contains the error from the given options. If you don't find any error, mark 'No error' as your answer.

You have spoilt / the little chance you / had at succeeding.

- Ans
- 1. had at succeeding.
  - 2. You have spoilt
  - 3. the little chance you
  - 4. No error

Question Type : **MCQ**  
Question ID : **630680540675**  
Option 1 ID : **6306802113760**  
Option 2 ID : **6306802113758**  
Option 3 ID : **6306802113759**  
Option 4 ID : **6306802113761**  
Status : **Answered**  
Chosen Option : 3

**Q.13** Select the most appropriate synonym of the highlighted word.

His eloquent speech moved the audience to tears.

- Ans
- 1. Inarticulate
  - 2. Angry
  - 3. Expressive
  - 4. Vernacular

Question Type : **MCQ**  
Question ID : **630680427639**  
Option 1 ID : **6306801668621**  
Option 2 ID : **6306801668624**  
Option 3 ID : **6306801668622**  
Option 4 ID : **6306801668623**  
Status : **Answered**  
Chosen Option : 1

**Q.14** Select the option that will improve the underlined part of the given sentence. In case no improvement is needed, select 'No improvement'.

The name, Khajuraho, has probably been derived from the word 'Khajoor', meaning date palm.

- Ans
- 1. be derived into
  - 2. derive at
  - 3. No improvement
  - 4. derives into

Question Type : **MCQ**  
Question ID : **630680541122**  
Option 1 ID : **6306802115519**  
Option 2 ID : **6306802115520**  
Option 3 ID : **6306802115521**  
Option 4 ID : **6306802115518**  
Status : **Answered**  
Chosen Option : **3**

**Q.15** Select the **INCORRECTLY** spelt word.

- Ans
- 1. Relief
  - 2. Believe
  - 3. Recieve
  - 4. Thief

Question Type : **MCQ**  
Question ID : **630680566463**  
Option 1 ID : **6306802214842**  
Option 2 ID : **6306802214840**  
Option 3 ID : **6306802214841**  
Option 4 ID : **6306802214843**  
Status : **Answered**  
Chosen Option : **3**

**Q.16** Select the most appropriate option to fill in the blank.

Tom will \_\_\_\_\_ the document to the office tomorrow.

- Ans
- 1. mail
  - 2. male
  - 3. mall
  - 4. meal

Question Type : **MCQ**  
Question ID : **630680435722**  
Option 1 ID : **6306801700809**  
Option 2 ID : **6306801700810**  
Option 3 ID : **6306801700812**  
Option 4 ID : **6306801700811**  
Status : **Answered**  
Chosen Option : **1**

Q.17 The following sentence contains an error. Select the option that correctly rectifies the error.

The robbers stabbed him by a sharp knife and he started bleeding profusely on the spot.

- Ans
- 1. profusely from the spot
  - 2. but he started bleeding
  - 3. The robbers stabbed her
  - 4. with a sharp knife

Question Type : MCQ  
Question ID : 63068087110  
Option 1 ID : 630680337832  
Option 2 ID : 630680337831  
Option 3 ID : 630680337829  
Option 4 ID : 630680337830  
Status : Answered  
Chosen Option : 3

Q.18 Select the most appropriate option to fill in the blank.  
As 'brutal' is synonymous to 'harsh', 'naive' is synonymous to \_\_\_\_\_.

- Ans
- 1. worldly
  - 2. wise
  - 3. simple
  - 4. hospitable

Question Type : MCQ  
Question ID : 630680515240  
Option 1 ID : 6306802013426  
Option 2 ID : 6306802013425  
Option 3 ID : 6306802013428  
Option 4 ID : 6306802013427  
Status : Answered  
Chosen Option : 3

Q.19 Select the option that will improve the underlined part of the given sentence. In case no improvement is needed, select 'No improvement required'.

Mukta requested Nikita to share the picture taken during the wedding.

- Ans
- 1. No improvement required
  - 2. requested Nikita for share
  - 3. requesting Nikita to share
  - 4. will requests Nikita to share

Question Type : MCQ  
Question ID : 630680477626  
Option 1 ID : 6306801865659  
Option 2 ID : 6306801865656  
Option 3 ID : 6306801865657  
Option 4 ID : 6306801865658  
Status : Answered  
Chosen Option : 2

**Q.20** Select the sentence that has a grammatical error.

Ans  1.

I went to watch a play with one of my friends.

2.

A famous poet wrote that poem.

3.

He resides near an university.

4.

A dog likes sunlight.

Question Type : **MCQ**

Question ID : **630680403717**

Option 1 ID : **6306801574354**

Option 2 ID : **6306801574356**

Option 3 ID : **6306801574357**

Option 4 ID : **6306801574355**

Status : **Answered**

Chosen Option : **4**

**Comprehension:**

In the following passage, some words have been deleted. Read the passage carefully and select the most appropriate option to fill in each blank.

Saltwater crocodiles are also known as estuarine crocodiles, as they (1)\_\_\_\_\_ to live in mangrove-lined rivers. They're the (2)\_\_\_\_\_ living reptile, reaching up to seven metres in length: far larger than Indonesia's famous Komodo dragon, which tops out at three metres. (3)\_\_\_\_\_, crocodiles lived throughout the Indonesian archipelago. We have (4)\_\_\_\_\_ of attacks on humans in Bali from the early 20<sup>th</sup> century and across much of Java until the 1950s. Even Indonesia's capital, Jakarta, had crocodile's (5)\_\_\_\_\_ in many rivers running through the city.

**SubQuestion No : 21**

**Q.21** Select the most appropriate option to fill in blank no. 1.

Ans  1. defer

2. refer

3. prefer

4. differ

Question Type : **MCQ**

Question ID : **630680455636**

Option 1 ID : **6306801779460**

Option 2 ID : **6306801779459**

Option 3 ID : **6306801779458**

Option 4 ID : **6306801779461**

Status : **Answered**

Chosen Option : **4**

**Comprehension:**

In the following passage, some words have been deleted. Read the passage carefully and select the most appropriate option to fill in each blank.

Saltwater crocodiles are also known as estuarine crocodiles, as they (1) \_\_\_\_\_ to live in mangrove-lined rivers. They're the (2) \_\_\_\_\_ living reptile, reaching up to seven metres in length: far larger than Indonesia's famous Komodo dragon, which tops out at three metres. (3) \_\_\_\_\_, crocodiles lived throughout the Indonesian archipelago. We have (4) \_\_\_\_\_ of attacks on humans in Bali from the early 20<sup>th</sup> century and across much of Java until the 1950s. Even Indonesia's capital, Jakarta, had crocodile's (5) \_\_\_\_\_ in many rivers running through the city.

**SubQuestion No : 22**

**Q.22 Select the most appropriate option to fill in blank no. 2.**

- Ans  1. fattest  
 2. broadest  
 3. poorest  
 4. largest

Question Type : **MCQ**

Question ID : **630680456091**

Option 1 ID : **6306801781306**

Option 2 ID : **6306801781305**

Option 3 ID : **6306801781303**

Option 4 ID : **6306801781304**

Status : **Answered**

Chosen Option : **4**

**Comprehension:**

In the following passage, some words have been deleted. Read the passage carefully and select the most appropriate option to fill in each blank.

Saltwater crocodiles are also known as estuarine crocodiles, as they (1) \_\_\_\_\_ to live in mangrove-lined rivers. They're the (2) \_\_\_\_\_ living reptile, reaching up to seven metres in length: far larger than Indonesia's famous Komodo dragon, which tops out at three metres. (3) \_\_\_\_\_, crocodiles lived throughout the Indonesian archipelago. We have (4) \_\_\_\_\_ of attacks on humans in Bali from the early 20<sup>th</sup> century and across much of Java until the 1950s. Even Indonesia's capital, Jakarta, had crocodile's (5) \_\_\_\_\_ in many rivers running through the city.

**SubQuestion No : 23**

**Q.23 Select the most appropriate option to fill in blank no. 3.**

- Ans  1. Fanatically  
 2. acrobatically  
 3. Historically  
 4. Abysmally

Question Type : **MCQ**

Question ID : **630680456092**

Option 1 ID : **6306801781308**

Option 2 ID : **6306801781307**

Option 3 ID : **6306801781310**

Option 4 ID : **6306801781309**

Status : **Answered**

Chosen Option : **3**

**Comprehension:**

In the following passage, some words have been deleted. Read the passage carefully and select the most appropriate option to fill in each blank.

Saltwater crocodiles are also known as estuarine crocodiles, as they (1) \_\_\_\_\_ to live in mangrove-lined rivers. They're the (2) \_\_\_\_\_ living reptile, reaching up to seven metres in length: far larger than Indonesia's famous Komodo dragon, which tops out at three metres. (3) \_\_\_\_\_, crocodiles lived throughout the Indonesian archipelago. We have (4) \_\_\_\_\_ of attacks on humans in Bali from the early 20<sup>th</sup> century and across much of Java until the 1950s. Even Indonesia's capital, Jakarta, had crocodile's (5) \_\_\_\_\_ in many rivers running through the city.

**SubQuestion No : 24**

**Q.24** Select the most appropriate option to fill in blank no. 4.

- Ans  1. regiments  
 2. records  
 3. residues  
 4. recipes

Question Type : **MCQ**

Question ID : **630680456093**

Option 1 ID : **6306801781314**

Option 2 ID : **6306801781311**

Option 3 ID : **6306801781312**

Option 4 ID : **6306801781313**

Status : **Answered**

Chosen Option : **3**

**Comprehension:**

In the following passage, some words have been deleted. Read the passage carefully and select the most appropriate option to fill in each blank.

Saltwater crocodiles are also known as estuarine crocodiles, as they (1) \_\_\_\_\_ to live in mangrove-lined rivers. They're the (2) \_\_\_\_\_ living reptile, reaching up to seven metres in length: far larger than Indonesia's famous Komodo dragon, which tops out at three metres. (3) \_\_\_\_\_, crocodiles lived throughout the Indonesian archipelago. We have (4) \_\_\_\_\_ of attacks on humans in Bali from the early 20<sup>th</sup> century and across much of Java until the 1950s. Even Indonesia's capital, Jakarta, had crocodile's (5) \_\_\_\_\_ in many rivers running through the city.

**SubQuestion No : 25**

**Q.25** Select the most appropriate option to fill in blank no. 5.

- Ans  1. remembrance  
 2. relevance  
 3. resistance  
 4. residence

Question Type : **MCQ**

Question ID : **630680456094**

Option 1 ID : **6306801781317**

Option 2 ID : **6306801781315**

Option 3 ID : **6306801781318**

Option 4 ID : **6306801781316**

Status : **Answered**

Chosen Option : **4**