

## Multi Tasking Non Technical Staff and Havaladar CBIC and CBN Examination 2024

Roll Number	
Candidate Name	
Venue Name	iON Digital Zone iDZ 2 Hathipur
Exam Date	28/10/2024
Exam Time	4:00 PM - 5:30 PM
Subject	MTS Non Tech Havaladar CBIC and CBN Examination 2024

### Section : Numerical and Mathematical Ability

Q.1 यदि एक अर्धगोले का कुल पृष्ठीय क्षेत्रफल  $192\pi \text{ cm}^2$  है, तो अर्धगोले के आधार की त्रिज्या कितनी है?

- Ans
- 1. 64 cm
  - 2. 4 cm
  - 3. 8 cm
  - 4. 16 cm

Question Type : MCQ

Question ID : 630680382692

Option 1 ID : 6306801491685

Option 2 ID : 6306801491683

Option 3 ID : 6306801491684

Option 4 ID : 6306801491686

Status : Answered

Chosen Option : 3

Q.2 1100 m की एक वृत्ताकार दौड़ में, P और Q एक ही बिंदु से, एक ही समय पर और क्रमशः 36 km/h और 63 km/h की चाल से दौड़ना शुरू करते हैं। यदि वे विपरीत दिशा में दौड़ रहे हैं तो वे ट्रैक पर पहली बार कितने समय बाद मिलेंगे?

- Ans
- 1. 10 s
  - 2. 20 s
  - 3. 40 s
  - 4. 27 s

Question Type : MCQ

Question ID : 630680208550

Option 1 ID : 630680808432

Option 2 ID : 630680808431

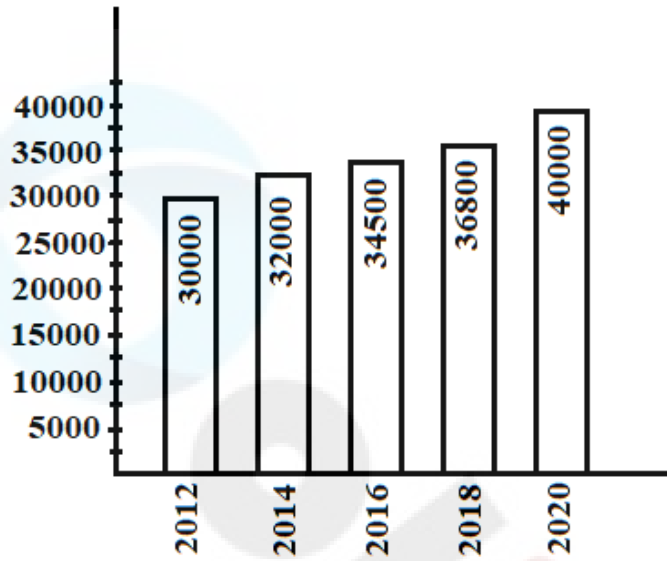
Option 3 ID : 630680808434

Option 4 ID : 630680808433

Status : Answered

Chosen Option : 3

Q.3 दंड आलेख विभिन्न वर्षों में एक कंपनी द्वारा प्रकाशित पुस्तकों की संख्या को दर्शाता है। किस वर्ष/वर्षों में प्रकाशित पुस्तकों की संख्या, उल्लिखित वर्षों में प्रकाशित पुस्तकों की औसत संख्या से अधिक है?



- Ans
- 1. 2016, 2018 और 2020
  - 2. 2014, 2016, 2018 और 2020
  - 3. केवल 2020
  - 4. 2018 और 2020

Question Type : MCQ

Question ID : 630680407278

Option 1 ID : 6306801603876

Option 2 ID : 6306801603879

Option 3 ID : 6306801603878

Option 4 ID : 6306801603877

Status : Answered

Chosen Option : 4

Q.4 ₹19.5 में एक वस्तु को बेचकर, एक विक्रेता 30% का लाभ अर्जित करता है। उसे अपना विक्रय मूल्य (₹ में) कितना बढ़ाना चाहिए, ताकि 35% का लाभ अर्जित कर सके?

- Ans
- 1. 3.75
  - 2. 2.75
  - 3. 0.75
  - 4. 1.75

Question Type : MCQ

Question ID : 630680632592

Option 1 ID : 6306802476269

Option 2 ID : 6306802476268

Option 3 ID : 6306802476266

Option 4 ID : 6306802476267

Status : Answered

Chosen Option : 1

Q.5 दूध और पानी के 30 लीटर मिश्रण, जिसमें वर्तमान में दूध और पानी का अनुपात 7 : 3 है, में कितना पानी मिलाया जाए, ताकि परिणामी मिश्रण में 40% पानी हो?

- Ans
- 1. 6 लीटर
  - 2. 5 लीटर
  - 3. 4.25 लीटर
  - 4. 3 लीटर

Question Type : MCQ

Question ID : 630680406208

Option 1 ID : 6306801583919

Option 2 ID : 6306801583918

Option 3 ID : 6306801583917

Option 4 ID : 6306801583916

Status : Not Answered

Chosen Option : --

Q.6 रीता 90 kg आलू खरीदती है और उसे 40 kg आलू के क्रय मूल्य के बराबर लाभ पर बेच देती है। उसका लाभ प्रतिशत ज्ञात कीजिये।

- Ans
- 1.  $44\frac{4}{9}\%$
  - 2.  $34\frac{4}{9}\%$
  - 3.  $44\frac{5}{9}\%$
  - 4.  $34\frac{5}{9}\%$

Question Type : MCQ

Question ID : 630680460207

Option 1 ID : 6306801797276

Option 2 ID : 6306801797274

Option 3 ID : 6306801797275

Option 4 ID : 6306801797277

Status : Answered

Chosen Option : 1

Q.7 20 cm व्यास वाले एक बेलनाकार गिलास में 9 cm की ऊंचाई तक जूस भरा है। 8 cm साइज़ का एक बर्फ का घन (ice cube) इसमें पूरी तरह से डुबोया जाता है। गिलास में जूस का स्तर कितना बढ़ जाएगा? ( $\pi = 3.142$  का प्रयोग करें और निकटतम mm तक सही उत्तर दें)

- Ans
- 1. 17 mm
  - 2. 63 mm
  - 3. 16 mm
  - 4. 163 mm

Question Type : MCQ

Question ID : 63068071107

Option 1 ID : 630680275022

Option 2 ID : 630680275025

Option 3 ID : 630680275024

Option 4 ID : 630680275023

Status : Not Answered

Chosen Option : --

Q.8 सुनीता 3 वर्षों के लिए 6.5% वार्षिक साधारण ब्याज पर ₹5,500 उधार लेती है। वह तुरंत इसे वेदांशी को 3 वर्षों के लिए 9.3% वार्षिक साधारण ब्याज पर उधार दे देती है। प्रति वर्ष लेन-देन में उसका लाभ (₹ में) ज्ञात कीजिए।

Ans  1. 154

2. 149

3. 161

4. 157

Question Type : MCQ

Question ID : 6306801108820

Option 1 ID : 6306804355867

Option 2 ID : 6306804355866

Option 3 ID : 6306804355869

Option 4 ID : 6306804355868

Status : Answered

Chosen Option : 4

Q.9 पाँच संख्याओं का माध्य 55 है। यदि इनमें से एक संख्या को हटा दिया जाए, तो माध्य 5 कम हो जाता है। कौन-सी संख्या हटाई गई है?

Ans  1. 65

2. 75

3. 55

4. 50

Question Type : MCQ

Question ID : 630680404661

Option 1 ID : 6306801578120

Option 2 ID : 6306801578121

Option 3 ID : 6306801578119

Option 4 ID : 6306801578122

Status : Answered

Chosen Option : 2

Q.10 एक राशन की दुकान में 42 परिवारों को 15 दिनों के लिए वितरित करने के लिए निश्चित मात्रा में अनाज है। यदि 30 परिवारों को 7 दिनों के लिए 48 kg अनाज वितरित किया जा सकता है, तो दुकान में पहले से ही अनाज की मात्रा ज्ञात कीजिए।

Ans  1. 112 kg

2. 84 kg

3. 96 kg

4. 144 kg

Question Type : MCQ

Question ID : 630680227106

Option 1 ID : 630680881116

Option 2 ID : 630680881117

Option 3 ID : 630680881115

Option 4 ID : 630680881118

Status : Answered

Chosen Option : 4

Q.11 एक प्रसिद्ध बास्केटबॉल लीग टीम पूरे बास्केटबॉल के आकार वाली ऐसी डमी को पेंट करने की योजना बना रही है, जिसकी त्रिज्या 7 m है। एक पेंटर को काम पर रखा गया है, जो बताता है कि 36 m<sup>2</sup> क्षेत्रफल को पेंट करने के लिए 5.4 लीटर पेंट का उपयोग किया जाएगा। कितने पेंट (लीटर में) की आवश्यकता होगी?  
(दशमलव के एक स्थान तक सन्निकटित)  $\pi = \frac{22}{7}$  लीजिए

- Ans  1. 92.4  
 2. 4106.6  
 3. 616  
 4. 95.2

Question Type : MCQ  
Question ID : 630680526560  
Option 1 ID : 6306802058309  
Option 2 ID : 6306802058308  
Option 3 ID : 6306802058306  
Option 4 ID : 6306802058307  
Status : Not Answered  
Chosen Option : --

Q.12 5 वर्षों के लिए 7% प्रति वर्ष की ब्याज दर पर उधार ली गई राशि ₹3500 पर साधारण ब्याज (₹ में) ज्ञात कीजिए।

- Ans  1. 1225  
 2. 1165  
 3. 1185  
 4. 1265

Question Type : MCQ  
Question ID : 630680591981  
Option 1 ID : 6306802316391  
Option 2 ID : 6306802316393  
Option 3 ID : 6306802316394  
Option 4 ID : 6306802316392  
Status : Answered  
Chosen Option : 1

Q.13 एक मोटर कार 60 km/h की चाल से चलना शुरू करती है और प्रत्येक दो घंटे के बाद इसकी चाल 15 km/h बढ़ जाती है। 450 km की दूरी को तय करने में इसे कितना समय लगेगा?

- Ans  1. 9 घंटे  
 2. 5 घंटे  
 3. 2 घंटे  
 4. 6 घंटे

Question Type : MCQ  
Question ID : 630680233079  
Option 1 ID : 630680904440  
Option 2 ID : 630680904438  
Option 3 ID : 630680904437  
Option 4 ID : 630680904439  
Status : Not Answered  
Chosen Option : --

Q.14 40 kg, 49 kg, 56 kg, 72 kg और 35 kg वजन के पांच सदस्यों वाले परिवार का औसत वजन (kg में) ज्ञात कीजिए।

Ans  1. 52.4

2. 50.4

3. 49.4

4. 51.4

Question Type : MCQ

Question ID : 630680551664

Option 1 ID : 6306802156884

Option 2 ID : 6306802156881

Option 3 ID : 6306802156883

Option 4 ID : 6306802156882

Status : Answered

Chosen Option : 2

Q.15 दी गई तालिका छह कॉलेजों से कंप्यूटर साइंस इंजीनियरिंग और डेटा स्ट्रक्चर्स का अध्ययन कर रहे छात्रों की संख्या दर्शाती है। निम्नलिखित प्रश्न का उत्तर देने के लिए तालिका का अध्ययन करें।

कॉलेज	CSE	DS
A1	245	320
A2	325	435
A3	235	410
A4	251	290
A5	243	207
A6	280	315

कॉलेज A5 में CSE और DS का अध्ययन कर रहे छात्रों में से कितने प्रतिशत छात्र डेटा स्ट्रक्चर्स का अध्ययन कर रहे हैं?

Ans  1. 46%

2. 54%

3. 42%

4. 52%

Question Type : MCQ

Question ID : 630680397700

Option 1 ID : 6306801550757

Option 2 ID : 6306801550759

Option 3 ID : 6306801550760

Option 4 ID : 6306801550758

Status : Answered

Chosen Option : 1

Q.16 40 kg, 49 kg, 56 kg, 68 kg और 39 kg वजन के पांच सदस्यों वाले परिवार का औसत वजन (kg में) ज्ञात कीजिए।

Ans  1. 50.4

2. 52.4

3. 51.4

4. 49.4

Question Type : MCQ

Question ID : 630680551648

Option 1 ID : 6306802156817

Option 2 ID : 6306802156820

Option 3 ID : 6306802156818

Option 4 ID : 6306802156819

Status : Answered

Chosen Option : 1

Q.17 3, 4 और 5 का लघुत्तम समापवर्त्य (LCM) ज्ञात करें।

Ans  1. 20

2. 48

3. 30

4. 60

Question Type : MCQ

Question ID : 63068078417

Option 1 ID : 630680303732

Option 2 ID : 630680303730

Option 3 ID : 630680303729

Option 4 ID : 630680303731

Status : Answered

Chosen Option : 4

Q.18 3 वर्षों के लिए 4% वार्षिक की ब्याज दर पर उधार ली गई राशि ₹3500 पर साधारण ब्याज (₹ में) ज्ञात कीजिए।

Ans  1. 360

2. 420

3. 380

4. 460

Question Type : MCQ

Question ID : 630680591964

Option 1 ID : 6306802316325

Option 2 ID : 6306802316323

Option 3 ID : 6306802316326

Option 4 ID : 6306802316324

Status : Answered

Chosen Option : 2

Q.19 दो उम्मीदवारों के बीच हुए एक चुनाव में, एक व्यक्ति को 35% मत मिले और वह 6 मतों से हार गया। यह मानते हुए कि कोई अवैध मत नहीं था, मतों की कुल संख्या कितनी थी?

- Ans
- 1. 50
  - 2. 18
  - 3. 20
  - 4. 30

Question Type : MCQ  
Question ID : 630680464549  
Option 1 ID : 6306801814234  
Option 2 ID : 6306801814231  
Option 3 ID : 6306801814232  
Option 4 ID : 6306801814233  
Status : Not Answered  
Chosen Option : --

Q.20 8.5% और 6% की दो क्रमिक छूटें देने के बाद एक कुर्सी ₹8,601 में बेची गई। अंकित मूल्य ज्ञात कीजिए।

- Ans
- 1. ₹9,612
  - 2. ₹9,000
  - 3. ₹9,848
  - 4. ₹10,000

Question Type : MCQ  
Question ID : 630680629347  
Option 1 ID : 6306802463470  
Option 2 ID : 6306802463473  
Option 3 ID : 6306802463471  
Option 4 ID : 6306802463472  
Status : Not Answered  
Chosen Option : --

Section : Reasoning Ability and Problem Solving

Q.1 यदि '+' और '-' को आपस में बदल दिया जाए तथा 'x' और '÷' को भी आपस में बदल दिया जाए तो निम्नलिखित समीकरण में प्रश्न चिह्न (?) के स्थान पर क्या आएगा?  
 $62 - 36 + 18 \div 6 \times 3 = ?$

- Ans
- 1. 107
  - 2. 62
  - 3. 27
  - 4. 17

Question Type : MCQ  
Question ID : 630680378773  
Option 1 ID : 6306801476142  
Option 2 ID : 6306801476141  
Option 3 ID : 6306801476140  
Option 4 ID : 6306801476139  
Status : Answered  
Chosen Option : 2

Q.2 दी गई आकृति के उस सही दर्पण प्रतिबिंब को चुनिए, जो नीचे दर्शाए गए अनुसार दर्पण को MN पर रखने पर बनेगा।



- Ans
- 1. R 4 7 b V S
  - 2. R 7 4 b V S
  - 3. R 4 7 b V S
  - 4. R 7 4 b V S

Question Type : MCQ

Question ID : 630680525308

Option 1 ID : 6306802053318

Option 2 ID : 6306802053317

Option 3 ID : 6306802053319

Option 4 ID : 6306802053316

Status : Answered

Chosen Option : 2

Q.3 दिए गए कथनों और निष्कर्षों को ध्यानपूर्वक पढ़िए। यह मानते हुए कि कथनों में दी गई जानकारी सत्य है, भले ही यह सामान्यतः ज्ञात तथ्यों से भिन्न प्रतीत होती हो, तय कीजिए कि दिए गए निष्कर्षों में से कौन-सा/से निष्कर्ष कथनों का तार्किक रूप से अनुसरण करता/करते है/हैं।

कथन:

सभी एक्सेल्स, वर्ड्स हैं।

सभी वर्ड्स, पावरपॉइंट्स हैं।

निष्कर्ष:

(I) सभी पावरपॉइंट्स, एक्सेल्स हैं।

(II) कम से कम कुछ वर्ड्स, एक्सेल्स हैं।

- Ans
- 1. केवल निष्कर्ष II अनुसरण करता है
  - 2. केवल निष्कर्ष I अनुसरण करता है
  - 3. न तो निष्कर्ष I और न ही निष्कर्ष II अनुसरण करता है
  - 4. निष्कर्ष I और II दोनों अनुसरण करते हैं

Question Type : MCQ

Question ID : 630680421807

Option 1 ID : 6306801645672

Option 2 ID : 6306801645671

Option 3 ID : 6306801645674

Option 4 ID : 6306801645673

Status : Answered

Chosen Option : 1

Q.4 दिए गए विकल्पों में से उस संख्या का चयन कीजिए जो निम्नलिखित श्रृंखला में प्रश्न चिह्न (?) के स्थान पर आ सकती है।

9, 45, 225, 1125, 5625, ?

Ans  1. 28125

2. 7689

3. 2799

4. 4679

Question Type : MCQ

Question ID : 630680404938

Option 1 ID : 6306801579209

Option 2 ID : 6306801579208

Option 3 ID : 6306801579210

Option 4 ID : 6306801579207

Status : Answered

Chosen Option : 1

Q.5 अंग्रेजी वर्णानुक्रम के आधार पर, MIPL एक निश्चित प्रकार से OKRN से संबंधित है। ठीक उसी प्रकार PLSO, RNUQ से संबंधित है। समान तर्क का अनुसरण करते हुए, HDKG निम्नलिखित में से किससे संबंधित है?

Ans  1. FJIM

2. FJMI

3. JFMI

4. JFIM

Question Type : MCQ

Question ID : 630680435823

Option 1 ID : 6306801701244

Option 2 ID : 6306801701243

Option 3 ID : 6306801701241

Option 4 ID : 6306801701242

Status : Answered

Chosen Option : 3

Q.6 एक निश्चित कूट भाषा में, 'VOLT' को '5731' के रूप में कूटबद्ध किया जाता है और 'LEAD' को '4186' के रूप में कूटबद्ध किया जाता है। दी गई कूट भाषा में 'L' के लिए कूट क्या है?

Ans  1. 3

2. 4

3. 8

4. 1

Question Type : MCQ

Question ID : 630680387973

Option 1 ID : 6306801512507

Option 2 ID : 6306801512508

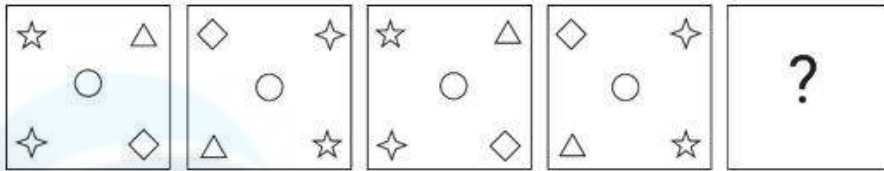
Option 3 ID : 6306801512509

Option 4 ID : 6306801512506

Status : Answered

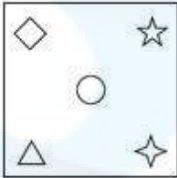
Chosen Option : 4

Q.7 विकल्पों में दी गई उस आकृति की पहचान कीजिए, जिसे प्रश्न-चिह्न (?) के स्थान पर रखने पर श्रृंखला तार्किक रूप से पूर्ण हो जाएगी।

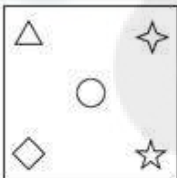


Ans

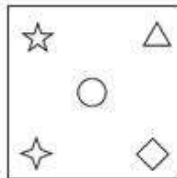
✗ 1.




✗ 2.



✓ 3.



✗ 4.



Question Type : MCQ

Question ID : 630680273626

Option 1 ID : 6306801063025

Option 2 ID : 6306801063026

Option 3 ID : 6306801063023

Option 4 ID : 6306801063024

Status : Answered

Chosen Option : 3

Q.8 एक निश्चित तर्क का अनुसरण करते हुए 35, 105 से संबंधित है। उसी तर्क का अनुसरण करते हुए 51, 153 से संबंधित है। समान तर्क का अनुसरण करते हुए 72, निम्नलिखित में से किससे संबंधित है?

(ध्यान दें: संख्याओं को उनके घटक अंकों में अलग-अलग किए बिना पूर्ण संख्याओं पर संक्रियाएं की जानी चाहिए। उदाहरण के लिए संख्या 13 - संख्या 13 पर संक्रियाएं जैसे 13 को जोड़ना/घटाना/गुणा करना आदि किया जा सकता है। 13 को 1 और 3 में अलग-अलग करने की और फिर 1 और 3 पर गणितीय संक्रियाएं करने की अनुमति नहीं है।)

Ans  1. 214

2. 216

3. 210

4. 212

Question Type : **MCQ**

Question ID : **630680441689**

Option 1 ID : **6306801724372**

Option 2 ID : **6306801724373**

Option 3 ID : **6306801724370**

Option 4 ID : **6306801724371**

Status : **Answered**

Chosen Option : **2**

Q.9 अंग्रेजी वर्णमाला क्रम के आधार पर EJIA एक निश्चित प्रकार से FKJB से संबंधित है। ठीक उसी प्रकार ZDCU, AEDV से संबंधित है। समान तर्क का अनुसरण करते हुए, OTSK निम्नलिखित में से किससे संबंधित है?

Ans  1. LTPU

2. PULT

3. PUTL

4. PTLU

Question Type : **MCQ**

Question ID : **630680386854**

Option 1 ID : **6306801508129**

Option 2 ID : **6306801508128**

Option 3 ID : **6306801508126**

Option 4 ID : **6306801508127**

Status : **Answered**

Chosen Option : **3**

Q.10 दिए गए विकल्पों में से उस आकृति को चुनिए जो निम्नलिखित श्रृंखला में प्रश्न चिह्न (?) के स्थान पर आ सकती है और पैटर्न को पूरा कर सकती है।

<input type="checkbox"/>	R	L	O	
L O 3 3	L O R <input type="checkbox"/> 3 3	R <input type="checkbox"/>		?
R	<input type="checkbox"/>	O	L	

Ans

✗ 1.

	R	
O	L	<input type="checkbox"/>
	3	

✗ 2.

	3	
O	L	R
	<input type="checkbox"/>	

✗ 3.

	L	
<input type="checkbox"/>	O	3
	R	

✓ 4.

	R	
O	L	3
	<input type="checkbox"/>	

Question Type : MCQ

Question ID : 630680441064

Option 1 ID : 6306801721911

Option 2 ID : 6306801721913

Option 3 ID : 6306801721910

Option 4 ID : 6306801721912

Status : Not Answered

Chosen Option : --

Q.11 सात सहेलियां - आशा, श्रीजा, ममता, राम्या, हेमा, जया और मोहिनी, एक वृत्ताकार मेज के चारों ओर केंद्र की ओर मुख करके बैठी हैं (परंतु जरूरी नहीं कि वे इसी क्रम में बैठी हों)। राम्या, आशा के दाएँ से चौथे स्थान पर बैठी है। ममता, राम्या के बाएँ से तीसरे स्थान पर बैठी है। श्रीजा और ममता दोनों जया की निकटतम पड़ोसी हैं। हेमा, राम्या के ठीक दाएँ बैठी है। मोहिनी के बाएँ से दूसरे स्थान पर कौन बैठी है?

- Ans
- 1. आशा
  - 2. राम्या
  - 3. श्रीजा
  - 4. हेमा

Question Type : MCQ

Question ID : 630680378913

Option 1 ID : 6306801476702

Option 2 ID : 6306801476699

Option 3 ID : 6306801476701

Option 4 ID : 6306801476700

Status : Not Answered

Chosen Option : --

Q.12 यदि '+' और '-' को आपस में बदल दिया जाए तथा 'x' और '÷' को आपस में बदल दिया जाए, तो निम्नलिखित समीकरण में '?' के स्थान पर क्या आएगा?  
 $110 + 54 \times 9 - 13 \div 2 = ?$

- Ans
- 1. 136
  - 2. 144
  - 3. 130
  - 4. 114

Question Type : MCQ

Question ID : 630680271475

Option 1 ID : 6306801054972

Option 2 ID : 6306801054974

Option 3 ID : 6306801054973

Option 4 ID : 6306801054975

Status : Answered

Chosen Option : 3

Q.13 D, E, F, L, R, S और T एक वृत्ताकार मेज के चारों ओर केंद्र की ओर मुख करके बैठे हैं (परंतु जरूरी नहीं कि वे इसी क्रम में बैठे हों)। R, D के दाएँ से दूसरे स्थान पर बैठा है। L, D के ठीक बाएँ बैठा है। T, L के बाएँ से तीसरे स्थान पर बैठा है। F, S के बाएँ से तीसरे स्थान पर बैठा है। न तो E और न ही S, R का निकटतम पड़ोसी है। R के सापेक्ष में S का स्थान क्या है?

- Ans
- 1. बाएँ से चौथा
  - 2. दाएँ से तीसरा
  - 3. दाएँ से पाँचवां
  - 4. दाएँ से दूसरा

Question Type : MCQ

Question ID : 630680412883

Option 1 ID : 6306801610356

Option 2 ID : 6306801610357

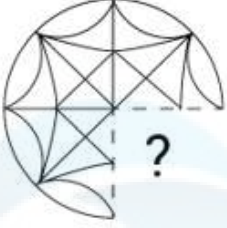
Option 3 ID : 6306801610358

Option 4 ID : 6306801610355

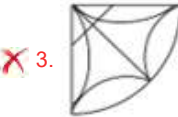
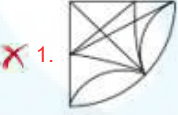
Status : Not Answered

Chosen Option : --

Q.14 उस विकल्प आकृति का चयन कीजिए जो नीचे दी गई आकृति में पैटर्न को पूरा करने के लिए प्रश्न-चिह्न (?) के स्थान पर आएगी।



Ans



Question Type : MCQ

Question ID : 630680524672

Option 1 ID : 6306802050788

Option 2 ID : 6306802050787

Option 3 ID : 6306802050790

Option 4 ID : 6306802050789

Status : Answered

Chosen Option : 4

Q.15 एक निश्चित कूट भाषा में, 'LINK' को '4175' के रूप में कूटबद्ध किया जाता है और 'NICK' को '7419' के रूप में कूटबद्ध किया जाता है। दी गई भाषा में 'C' के लिए कूट क्या है?

Ans  1. 7

2. 9

3. 1

4. 4

Question Type : MCQ

Question ID : 630680378943

Option 1 ID : 6306801476819

Option 2 ID : 6306801476822

Option 3 ID : 6306801476821

Option 4 ID : 6306801476820

Status : Answered

Chosen Option : 2

Q.16 अंग्रेजी वर्णानुक्रम के आधार पर दी गई श्रृंखला में प्रश्न चिह्न (?) के स्थान पर क्या आना चाहिए?

RJX, PNV, NRT, LVR, ?

Ans  1. JZP

2. KAP

3. JZQ

4. KZP

Question Type : MCQ

Question ID : 630680459277

Option 1 ID : 6306801793962

Option 2 ID : 6306801793963

Option 3 ID : 6306801793964

Option 4 ID : 6306801793961

Status : Answered

Chosen Option : 1

Q.17 एक निश्चित कूट भाषा में, 'mahima scored high' को 'su hu gu' लिखा जाता है और 'adi swings high' को 'lu gu nu' लिखा जाता है। उसी कूट भाषा में 'high' को कैसे लिखा जाएगा?

Ans  1. lu

2. su

3. nu

4. gu

Question Type : MCQ

Question ID : 630680439035

Option 1 ID : 6306801713953

Option 2 ID : 6306801713952

Option 3 ID : 6306801713954

Option 4 ID : 6306801713955

Status : Answered

Chosen Option : 4

Q.18 निम्नलिखित संख्या-युग्मों में, प्रथम संख्या पर कुछ गणितीय संक्रियाएँ करके दूसरी संख्या प्राप्त की जाती है। उस समुच्चय का चयन कीजिए जिसमें संख्याएँ ठीक उसी प्रकार संबंधित हैं जिस प्रकार निम्नलिखित समुच्चयों की संख्याएँ संबंधित हैं।

(ध्यान दें: संख्याओं को उनके घटक अंकों में अलग-अलग किए बिना पूर्ण संख्याओं पर संक्रियाएँ की जानी चाहिए। उदाहरण के लिए संख्या 13 - संख्या 13 पर संक्रियाएँ जैसे 13 को जोड़ना/घटाना/गुणा करना आदि किया जा सकता है। 13 को 1 और 3 में अलग-अलग करने की और फिर 1 और 3 पर गणितीय संक्रियाएँ करने की अनुमति नहीं है।)

25, 77  
28, 86

- Ans
- 1. 34, 103
  - 2. 35, 104
  - 3. 35, 103
  - 4. 34, 104

Question Type : MCQ

Question ID : 6306801027596

Option 1 ID : 6306804033074

Option 2 ID : 6306804033075

Option 3 ID : 6306804033076

Option 4 ID : 6306804033073

Status : Answered

Chosen Option : 4

Q.19 एक कूट भाषा में, 'PRETTY' को 'BIVGGK' के रूप में लिखा जाता है और 'JOYFUL' को 'OLBUFQ' के रूप में लिखा जाता है। उसी भाषा में 'EXOTIC' को किस प्रकार लिखा जाएगा?

- Ans
- 1. XCLGRV
  - 2. SCLGRV
  - 3. XBLGRV
  - 4. SBLGRV

Question Type : MCQ

Question ID : 630680465224

Option 1 ID : 6306801816933

Option 2 ID : 6306801816932

Option 3 ID : 6306801816931

Option 4 ID : 6306801816934

Status : Answered

Chosen Option : 1

Q.20 दिए गए कथन और निष्कर्षों को ध्यान से पढ़िए। यह मानते हुए कि कथन में दी गई जानकारी सत्य है, चाहे वह सामान्य रूप से ज्ञात तथ्यों से भिन्न प्रतीत होती हो, निर्धारित कीजिए कि दिए गए निष्कर्षों में से कौन-सा, कथन (कथनों) का तार्किक रूप से अनुसरण करता है/करते हैं।

कथन:

सभी चमगादड़, स्तनधारी हैं।

कोई भी स्तनधारी, मछली नहीं है।

निष्कर्ष:

(I) कोई भी चमगादड़, मछली नहीं है।

(II) कुछ मछलियाँ, स्तनधारी हैं।

- Ans
- 1. दोनों निष्कर्ष (I) और (II) अनुसरण करते हैं।
  - 2. न तो निष्कर्ष (I) और न ही (II) अनुसरण करता है।
  - 3. केवल निष्कर्ष (I) अनुसरण करता है।
  - 4. केवल निष्कर्ष (II) अनुसरण करता है।

Question Type : MCQ

Question ID : 630680832764

Option 1 ID : 6306803262040

Option 2 ID : 6306803262039

Option 3 ID : 6306803262037

Option 4 ID : 6306803262038

Status : Answered

Chosen Option : 2

Section : General Awareness

Q.1 निम्नलिखित में से क्या भारतीय संविधान की एकात्मक विशेषता (unitary feature) है?

- Ans
- 1. शक्तियों का विभाजन
  - 2. एकल नागरिकता
  - 3. लिखित संविधान
  - 4. द्विसदन पद्धति

Question Type : MCQ

Question ID : 630680587081

Option 1 ID : 6306802296865

Option 2 ID : 6306802296868

Option 3 ID : 6306802296866

Option 4 ID : 6306802296867

Status : Answered

Chosen Option : 2

Q.2 निम्नलिखित में से किस राज्य में 'लू' की परिघटना देखी जा सकती है?

- Ans
- 1. गोवा
  - 2. मणिपुर
  - 3. राजस्थान
  - 4. तमिलनाडु

Question Type : MCQ  
Question ID : 630680476077  
Option 1 ID : 6306801859586  
Option 2 ID : 6306801859583  
Option 3 ID : 6306801859584  
Option 4 ID : 6306801859585  
Status : Answered  
Chosen Option : 3

Q.3 निम्नलिखित में से कौन-सी भारत की आकस्मिकता निधि (contingency fund) की विशेषता नहीं है?

- Ans
- 1. यह अनुच्छेद 267 के तहत स्थापित की गई है।
  - 2. यह आपात स्थिति के लिए होती है।
  - 3. इसे भारत के राष्ट्रपति की ओर से जारी किया जाता है।
  - 4. इसके तहत राष्ट्रपति के भत्ते और परिलब्धियां प्रभारित की जाती हैं।

Question Type : MCQ  
Question ID : 63068089890  
Option 1 ID : 630680348336  
Option 2 ID : 630680348334  
Option 3 ID : 630680348337  
Option 4 ID : 630680348335  
Status : Answered  
Chosen Option : 4

Q.4 ब्रिटिश सरकार द्वारा लंदन में प्रथम गोलमेज सम्मेलन कब शुरू किया गया था?

- Ans
- 1. नवंबर 1932
  - 2. दिसंबर 1929
  - 3. नवंबर 1930
  - 4. दिसंबर 1931

Question Type : MCQ  
Question ID : 630680511607  
Option 1 ID : 6306801999553  
Option 2 ID : 6306801999551  
Option 3 ID : 6306801999550  
Option 4 ID : 6306801999552  
Status : Answered  
Chosen Option : 3

Q.5 भारतीय संघ की कार्यपालिका के अंतर्गत कौन नहीं आता है?

- Ans
- 1. राष्ट्रपति
  - 2. मंत्री परिषद्
  - 3. भारत के मुख्य न्यायाधीश
  - 4. प्रधानमंत्री

Question Type : MCQ  
Question ID : 630680216163  
Option 1 ID : 630680838628  
Option 2 ID : 630680838629  
Option 3 ID : 630680838630  
Option 4 ID : 630680838627  
Status : Answered  
Chosen Option : 3

Q.6 भारत को शूटिंग स्पर्धा (shooting event) में अपना पहला ओलंपिक पदक किस ओलंपिक खेल में प्राप्त हुआ था?

- Ans
- 1. एथेंस 2004
  - 2. टोक्यो 2022
  - 3. बीजिंग 2008
  - 4. लंदन 2012

Question Type : MCQ  
Question ID : 630680435728  
Option 1 ID : 6306801700835  
Option 2 ID : 6306801700834  
Option 3 ID : 6306801700836  
Option 4 ID : 6306801700833  
Status : Answered  
Chosen Option : 3

Q.7 ईस्ट इंडिया कंपनी ने \_\_\_\_\_ के प्रवर्तन (enforcement) के साथ अपनी सभी प्रशासनिक शक्तियों को खो दिया था।

- Ans
- 1. 1853 का चार्टर अधिनियम
  - 2. भारत सरकार अधिनियम, 1858
  - 3. विनियमन अधिनियम, 1773
  - 4. भारतीय परिषद अधिनियम, 1892

Question Type : MCQ  
Question ID : 630680115401  
Option 1 ID : 630680446956  
Option 2 ID : 630680446954  
Option 3 ID : 630680446955  
Option 4 ID : 630680446957  
Status : Answered  
Chosen Option : 2

Q.8 भारत की जनगणना के अनुसार, किसे साक्षर माना जाता है?

- Ans  1. 7 वर्ष से अधिक आयु का कोई व्यक्ति, जो किसी भी भाषा को समझकर पढ़ और लिख सकता है।  
 2. 5 वर्ष से अधिक आयु का कोई व्यक्ति, जो किसी भी भाषा को समझकर पढ़ और लिख सकता है।  
 3. 14 वर्ष से अधिक आयु का कोई व्यक्ति, जो किसी भी भाषा को समझकर पढ़ और लिख सकता है।  
 4. 18 वर्ष से अधिक आयु का कोई व्यक्ति, जो किसी भी भाषा को समझकर पढ़ और लिख सकता है।

Question Type : MCQ

Question ID : 630680697313

Option 1 ID : 6306802731338

Option 2 ID : 6306802731339

Option 3 ID : 6306802731340

Option 4 ID : 6306802731341

Status : Answered

Chosen Option : 1

Q.9 तीन बार ओलंपियन रह चुकी, पीटी उषा ने \_\_\_\_\_ में चार स्पर्धाओं (200 m, 400 m, 400 m बाधा दौड़ और 4 × 400 m रिले) में एशियाई गेम्स (Asian Games) का रिकॉर्ड तोड़ा।

- Ans  1. बीजिंग, 1990  
 2. हिरोशिमा, 1994  
 3. सियोल, 1986  
 4. नई दिल्ली, 1982

Question Type : MCQ

Question ID : 630680552139

Option 1 ID : 6306802158742

Option 2 ID : 6306802158743

Option 3 ID : 6306802158744

Option 4 ID : 6306802158741

Status : Answered

Chosen Option : 2

Q.10 कश्मीर के राजाओं का एक जीवंत विवरण, राजतरंगिणी, कल्हण (Kalhana) द्वारा \_\_\_\_\_ भाषा में रचा गया था।

- Ans  1. अरबी  
 2. फ़ारसी  
 3. संस्कृत  
 4. उर्दू

Question Type : MCQ

Question ID : 630680326425

Option 1 ID : 6306801269790

Option 2 ID : 6306801269789

Option 3 ID : 6306801269792

Option 4 ID : 6306801269791

Status : Answered

Chosen Option : 3

Q.11 जब कोई नदी निचले मैदान में पहुँचती है, तो यह मिट्टी का कटाव और जमाव जारी रखती है और इन दोनों कारकों के परिणामस्वरूप एक और नदी-मार्ग विकसित हो जाता है और बाद में यह U-आकार की झील बनाते हुए मुख्य नदी से अलग हो जाता है; इसे एक \_\_\_\_\_ कहा जाता है।

- Ans
- 1. मुहाना (estuary)
  - 2. खाड़ी (gulf)
  - 3. नहर (canal)
  - 4. गोखुर झील (oxbow lake)

Question Type : MCQ

Question ID : 630680404243

Option 1 ID : 6306801576476

Option 2 ID : 6306801576477

Option 3 ID : 6306801576475

Option 4 ID : 6306801576474

Status : Answered

Chosen Option : 4

Q.12 मोसले (Moseley) के अनुसार,  $\sqrt{V}$  और परमाणु क्रमांक (Z) के मध्य वक्र आलेखित करने पर एक सरल रेखा प्राप्त होती है। यहाँ 'V' क्या दर्शाता है?

- Ans
- 1. उत्सर्जित  $\alpha$ -किरणों की आवृत्ति
  - 2. उत्सर्जित X-किरणों की आवृत्ति
  - 3. उत्सर्जित  $\gamma$ -किरणों की आवृत्ति
  - 4. उत्सर्जित  $\beta$ -किरणों की आवृत्ति

Question Type : MCQ

Question ID : 630680470545

Option 1 ID : 6306801837950

Option 2 ID : 6306801837947

Option 3 ID : 6306801837949

Option 4 ID : 6306801837948

Status : Answered

Chosen Option : 3

Q.13 गणेश चतुर्थी त्योहार के दौरान गोवा में निम्नलिखित में से कौन-सा नृत्य किया जाता है?

- Ans
- 1. तरंगमेल (Tarangmel)
  - 2. धनगर (Dhangar)
  - 3. फुगड़ी (Fugdi)
  - 4. ढालो (Dhalo)

Question Type : MCQ

Question ID : 630680403238

Option 1 ID : 6306801572449

Option 2 ID : 6306801572452

Option 3 ID : 6306801572451

Option 4 ID : 6306801572450

Status : Answered

Chosen Option : 3

Q.14 दिल्ली में कुतुब मीनार के पश्चिम में स्थित सुल्तान गढ़ी का मकबरा एक दीवार वाले घेरे के भीतर किले की तरह है, जिसके कोनों पर गढ़ (bastions) हैं, और इसका \_\_\_\_\_ कब्र कक्ष भूमिगत है।

- Ans
- 1. चौकोर
  - 2. अष्टभुजाकार
  - 3. आयताकार
  - 4. पंचभुजीय

Question Type : MCQ  
Question ID : 630680511934  
Option 1 ID : 6306802000707  
Option 2 ID : 6306802000709  
Option 3 ID : 6306802000706  
Option 4 ID : 6306802000708  
Status : Answered  
Chosen Option : 4

Q.15 'क्लाइमेट स्मार्ट सिटीज असेसमेंट फ्रेमवर्क 2.0' (Climate Smart Cities Assessment Framework 2.0) भारत के कितने शहरों का मूल्यांकन करने के लिए है?

- Ans
- 1. 32
  - 2. 120
  - 3. 70
  - 4. 100

Question Type : MCQ  
Question ID : 630680481211  
Option 1 ID : 6306801879412  
Option 2 ID : 6306801879415  
Option 3 ID : 6306801879413  
Option 4 ID : 6306801879414  
Status : Answered  
Chosen Option : 4

Q.16 'आजादी का अमृत महोत्सव' की आधिकारिक यात्रा कब शुरू हुई?

- Ans
- 1. 12 मार्च 2021
  - 2. 14 अगस्त 2022
  - 3. 14 अप्रैल 2021
  - 4. 15 अगस्त 2022

Question Type : MCQ  
Question ID : 630680798927  
Option 1 ID : 6306803130516  
Option 2 ID : 6306803130515  
Option 3 ID : 6306803130517  
Option 4 ID : 6306803130514  
Status : Answered  
Chosen Option : 4

Q.17 ललिता जे. राव निम्नलिखित में से किस घराने से संबंधित हैं?

- Ans
- 1. जयपुर घराना
  - 2. किराना घराना
  - 3. आगरा घराना
  - 4. बनारस घराना

Question Type : MCQ

Question ID : 630680488141

Option 1 ID : 6306801906626

Option 2 ID : 6306801906625

Option 3 ID : 6306801906623

Option 4 ID : 6306801906624

Status : Answered

Chosen Option : 1

Q.18 निम्नलिखित में से किस प्रसिद्ध भारतीय संगीतकार की आत्मकथा का शीर्षक 'माई लाइफ, माई म्यूजिक (My Life, My Music)' है?

- Ans
- 1. बिस्मिल्लाह खॉं
  - 2. रविशंकर
  - 3. जाकिर हुसैन
  - 4. शिवकुमार शर्मा

Question Type : MCQ

Question ID : 630680388639

Option 1 ID : 6306801515021

Option 2 ID : 6306801515020

Option 3 ID : 6306801515018

Option 4 ID : 6306801515019

Status : Answered

Chosen Option : 2

Q.19 जनगणना 2011 के अनुसार निम्नलिखित राज्यों को उनके जनसंख्या घनत्व के आधार पर आरोही क्रम (ascending order) में व्यवस्थित कीजिए।

त्रिपुरा, मेघालय, मणिपुर, नागालैंड

- Ans
- 1. मेघालय-त्रिपुरा-मणिपुर-नागालैंड
  - 2. नागालैंड-मणिपुर-मेघालय-त्रिपुरा
  - 3. मेघालय-त्रिपुरा-नागालैंड-मणिपुर
  - 4. नागालैंड-त्रिपुरा-मणिपुर-मेघालय

Question Type : MCQ

Question ID : 630680488638

Option 1 ID : 6306801908573

Option 2 ID : 6306801908571

Option 3 ID : 6306801908572

Option 4 ID : 6306801908574

Status : Answered

Chosen Option : 4

Q.20 फरवरी 2023 तक की स्थिति के अनुसार, केंद्रीय सड़क परिवहन और राजमार्ग मंत्री कौन हैं?

- Ans
- 1. अश्विनी वैष्णव
  - 2. धर्मेन्द्र प्रधान
  - 3. नितिन गड़करी
  - 4. मनसुख मंडाविया

Question Type : MCQ

Question ID : 630680339485

Option 1 ID : 6306801320510

Option 2 ID : 6306801320512

Option 3 ID : 6306801320511

Option 4 ID : 6306801320509

Status : Answered

Chosen Option : 3

Q.21 निम्नलिखित में से कौन-सा विकल्प कॉलम-A के साथ कॉलम-B का सही मिलान कराता है?

- कॉलम-A (सामान्य नाम) कॉलम-B (वैज्ञानिक नाम)
- i. कटल फिश (Cuttle Fish) a. सिलुरिफॉर्मेस (Siluriformes)
  - ii. सिल्वर फिश (Silver fish) b. मोबुला (Mobula)
  - iii. डेविल फिश (Devil fish) c. सेपिया (Sepia)
  - iv. कैट फिश (Cat fish) d. लेपिस्मा (Lepisma)

- Ans
- 1. i-d, ii-c, iii-b, iv-a
  - 2. i-c, ii-d, iii-a, iv-b
  - 3. i-c, ii-d, iii-b, iv-a
  - 4. i-c, ii-a, iii-b, iv-d

Question Type : MCQ

Question ID : 630680542136

Option 1 ID : 6306802119488

Option 2 ID : 6306802119486

Option 3 ID : 6306802119487

Option 4 ID : 6306802119485

Status : Not Answered

Chosen Option : --

Q.22 चीनी बौद्ध तीर्थयात्री फा-ह्यान (Fa-Hsien) अपने घर (चीन) की वापस यात्रा \_\_\_\_\_ से शुरू की।

- Ans
- 1. अरिकामेडु
  - 2. बंगाल
  - 3. तक्षशिला
  - 4. प्रयाग

Question Type : MCQ

Question ID : 6306801041634

Option 1 ID : 6306804088791

Option 2 ID : 6306804088788

Option 3 ID : 6306804088790

Option 4 ID : 6306804088789

Status : Answered

Chosen Option : 3

Q.23 आहार में फाइबर की भूमिका निम्न में से कौन सी है?

- Ans  1. पाचन और मलत्याग नियमितता को बढ़ावा देना  
 2. त्वरित ऊर्जा प्रदान करना  
 3. भोजन का स्वाद बढ़ाना  
 4. शरीर के तापमान को विनियमित करना

Question Type : MCQ

Question ID : 630680619072

Option 1 ID : 6306802422566

Option 2 ID : 6306802422564

Option 3 ID : 6306802422565

Option 4 ID : 6306802422567

Status : Answered

Chosen Option : 3

Q.24 तिलैया बांध (Telaiya dam) भारत के किस राज्य में स्थित है?

- Ans  1. कर्नाटक  
 2. झारखंड  
 3. बिहार  
 4. मध्य प्रदेश

Question Type : MCQ

Question ID : 630680484448

Option 1 ID : 6306801892117

Option 2 ID : 6306801892115

Option 3 ID : 6306801892116

Option 4 ID : 6306801892114

Status : Answered

Chosen Option : 1

Q.25 निम्नलिखित में से कौन-सा पुरस्कार और मान्यता वेम्पति चित्रा सत्यम को नहीं मिली थी?

- Ans  1. कालिदास सम्मान  
 2. पद्म श्री  
 3. संगीत नाटक अकादमी पुरस्कार  
 4. मानद डॉक्टरेट

Question Type : MCQ

Question ID : 630680512007

Option 1 ID : 6306802001000

Option 2 ID : 6306802000999

Option 3 ID : 6306802000998

Option 4 ID : 6306802001001

Status : Answered

Chosen Option : 4

**Q.1** The following sentence has been split into four segments. Identify the segment that contains a grammatical error.

The athletes / trained tirelessness / to prepare for / the upcoming competition.

- Ans  1. The athletes  
 2. to prepare for  
 3. the upcoming competition  
 4. trained tirelessness

Question Type : **MCQ**  
Question ID : **630680711795**  
Option 1 ID : **6306802788820**  
Option 2 ID : **6306802788822**  
Option 3 ID : **6306802788823**  
Option 4 ID : **6306802788821**  
Status : **Answered**  
Chosen Option : 1

**Q.2** Select the most appropriate option to fill in the blank.

The storm caused extensive damage to homes, \_\_\_\_\_ many families homeless.

- Ans  1. to leave  
 2. is left  
 3. leave  
 4. leaving

Question Type : **MCQ**  
Question ID : **630680488664**  
Option 1 ID : **6306801908672**  
Option 2 ID : **6306801908673**  
Option 3 ID : **6306801908674**  
Option 4 ID : **6306801908671**  
Status : **Answered**  
Chosen Option : 2

**Q.3** Select the INCORRECTLY spelt word.

- Ans  1. Admissible  
 2. Admittance  
 3. Admission  
 4. Admitted

Question Type : **MCQ**  
Question ID : **630680702935**  
Option 1 ID : **6306802753493**  
Option 2 ID : **6306802753492**  
Option 3 ID : **6306802753494**  
Option 4 ID : **6306802753495**  
Status : **Answered**  
Chosen Option : 4

**Q.4** Select the option that rectifies the INCORRECT spelling in the given sentence.  
Pleasee allow me to start.

- Ans
- 1. Pleeasse
  - 2. Pleasse
  - 3. Pleeesse
  - 4. Please

Question Type : **MCQ**

Question ID : **630680454169**

Option 1 ID : **6306801773610**

Option 2 ID : **6306801773607**

Option 3 ID : **6306801773609**

Option 4 ID : **6306801773608**

Status : **Answered**

Chosen Option : **4**

**Q.5** The following sentence has been split into four segments. Identify the segment that contains a grammatical error.

He is / an expert / in / an English literature.

- Ans
- 1. an English literature
  - 2. an expert
  - 3. in
  - 4. He is

Question Type : **MCQ**

Question ID : **630680444255**

Option 1 ID : **6306801734302**

Option 2 ID : **6306801734300**

Option 3 ID : **6306801734301**

Option 4 ID : **6306801734299**

Status : **Answered**

Chosen Option : **2**

**Q.6** Select the most appropriate ANTONYM of the given word.

**Frugal**

- Ans
- 1. Thrifty
  - 2. Cheap
  - 3. Profligate
  - 4. Happy

Question Type : **MCQ**

Question ID : **630680557199**

Option 1 ID : **6306802177775**

Option 2 ID : **6306802177776**

Option 3 ID : **6306802177777**

Option 4 ID : **6306802177778**

Status : **Answered**

Chosen Option : **1**

Q.7 Select the correct spelling of the incorrectly spelt word in the given sentence.

He was suspended from the party due to his suspicious activities.

- Ans
- 1. Suspicius
  - 2. Suspeceous
  - 3. Suspitious
  - 4. Suspicious

Question Type : **MCQ**  
Question ID : **630680619765**  
Option 1 ID : **6306802425195**  
Option 2 ID : **6306802425196**  
Option 3 ID : **6306802425193**  
Option 4 ID : **6306802425194**  
Status : **Answered**  
Chosen Option : **4**

Q.8 Select the most appropriate meaning of the underlined phrase.

Those who have died cannot be brought back to life.

- Ans
- 1. Abstract
  - 2. Extract
  - 3. Retract
  - 4. Resurrect

Question Type : **MCQ**  
Question ID : **630680540244**  
Option 1 ID : **6306802112082**  
Option 2 ID : **6306802112081**  
Option 3 ID : **6306802112080**  
Option 4 ID : **6306802112083**  
Status : **Answered**  
Chosen Option : **3**

Q.9 Select the most appropriate option that can substitute the underlined segment in the given sentence.

Do you know the purpose of a fire extinguisher? It helps to put up with an engulfing fire, in case of an emergency.

- Ans
- 1. run away with
  - 2. turn over
  - 3. stand out
  - 4. put out

Question Type : **MCQ**  
Question ID : **63068054477**  
Option 1 ID : **630680209953**  
Option 2 ID : **630680209951**  
Option 3 ID : **630680209950**  
Option 4 ID : **630680209952**  
Status : **Answered**  
Chosen Option : **4**

**Q.10** The following sentence has been split into four segments. Identify the segment that contains a grammatical/spelling error.

He was lying at / his bed when he / saw the snake entering / through the window.

- Ans  1. saw the snake entering  
 2. He way lying at  
 3. his bed when he  
 4. through the window

Question Type : **MCQ**

Question ID : **630680702952**

Option 1 ID : **6306802753562**

Option 2 ID : **6306802753560**

Option 3 ID : **6306802753561**

Option 4 ID : **6306802753563**

Status : **Answered**

Chosen Option : **1**

**Q.11** The following sentence has been split into four segments. Identify the segment that contains a grammatical error.

She is learning / to play the guitar / to pursue her passion / for the music.

- Ans  1. for the music.  
 2. to play the guitar  
 3. to pursue her passion  
 4. She is learning

Question Type : **MCQ**

Question ID : **630680451084**

Option 1 ID : **6306801761437**

Option 2 ID : **6306801761435**

Option 3 ID : **6306801761436**

Option 4 ID : **6306801761434**

Status : **Answered**

Chosen Option : **1**

**Q.12** Select the most appropriate meaning of the given idiom.

**Grease someone's palm**

- Ans  1. To bribe someone  
 2. To flatter someone  
 3. To beat someone  
 4. To abuse someone

Question Type : **MCQ**

Question ID : **630680452164**

Option 1 ID : **6306801765734**

Option 2 ID : **6306801765735**

Option 3 ID : **6306801765737**

Option 4 ID : **6306801765736**

Status : **Answered**

Chosen Option : **1**

**Q.13** Select the most appropriate option that can substitute the underlined segment in the given sentence.  
The elusive moon peeked from behind the clouds, illuminating the earth with its gentle glow.

- Ans  1. encouraging the earth with  
 2. lighting up the earth with  
 3. glowing up the earth for  
 4. empowering the earth via

Question Type : **MCQ**  
Question ID : **630680324350**  
Option 1 ID : **6306801261895**  
Option 2 ID : **6306801261894**  
Option 3 ID : **6306801261896**  
Option 4 ID : **6306801261893**  
Status : **Answered**  
Chosen Option : **3**

**Q.14** Select the most appropriate synonym of the given word.

**Hermetic**

- Ans  1. Intelligible  
 2. Obnoxious  
 3. Lucid  
 4. Esoteric

Question Type : **MCQ**  
Question ID : **630680435558**  
Option 1 ID : **6306801700171**  
Option 2 ID : **6306801700170**  
Option 3 ID : **6306801700172**  
Option 4 ID : **6306801700173**  
Status : **Answered**  
Chosen Option : **4**

**Q.15** Select the sentence that has a grammatical error.

- Ans  1.  
It was a huge zoo with an elephant enclosure.  
 2.  
Alka bought new pair of shoes for the party.  
 3.  
He was an honest engineer by profession.  
 4. Suhas has a younger brother and an elder sister.

Question Type : **MCQ**  
Question ID : **630680401695**  
Option 1 ID : **6306801566554**  
Option 2 ID : **6306801566556**  
Option 3 ID : **6306801566555**  
Option 4 ID : **6306801566557**  
Status : **Answered**  
Chosen Option : **2**

Q.16 Select the most appropriate ANTONYM of the given word.

Ambrosian

- Ans  1. Vengeful  
 2. Faithful  
 3. Pleasing  
 4. Malodorous

Question Type : MCQ

Question ID : 630680444387

Option 1 ID : 6306801734827

Option 2 ID : 6306801734826

Option 3 ID : 6306801734825

Option 4 ID : 6306801734824

Status : Answered

Chosen Option : 4

Q.17 Select the correct idiom to substitute the underlined segment in the following sentence.

His remarks made the matter worse.

- Ans  1. Spilled the beans  
 2. Made a splash  
 3. Killed two birds with one stone  
 4. Added fuel to the fire

Question Type : MCQ

Question ID : 63068084487

Option 1 ID : 630680327502

Option 2 ID : 630680327503

Option 3 ID : 630680327500

Option 4 ID : 630680327501

Status : Answered

Chosen Option : 4

Q.18 Select the most appropriate ANTONYM of the underlined word.

The team's hard work and dedication garnered them the championship trophy.

- Ans  1. Implemented  
 2. Criticised  
 3. Dispersed  
 4. Liberated

Question Type : MCQ

Question ID : 630680595770

Option 1 ID : 6306802331270

Option 2 ID : 6306802331268

Option 3 ID : 6306802331269

Option 4 ID : 6306802331271

Status : Answered

Chosen Option : 3

**Q.19** Select the most appropriate option that can substitute the underlined segment in the given sentence.

A raven, which you know is black as coal, was envious of the swan, because her feathers are as white as the purest snow.

- Ans
- 1. feathers is as white as
  - 2. feathers is a white as
  - 3. feathers were as white as
  - 4. feathers was a white as

Question Type : **MCQ**

Question ID : **630680540841**

Option 1 ID : **6306802114403**

Option 2 ID : **6306802114405**

Option 3 ID : **6306802114404**

Option 4 ID : **6306802114402**

Status : **Answered**

Chosen Option : **3**

**Q.20** Select the most appropriate synonym of the given word.  
Vivid

- Ans
- 1. Soothing
  - 2. Bright
  - 3. Dull
  - 4. Varied

Question Type : **MCQ**

Question ID : **630680726522**

Option 1 ID : **6306802847097**

Option 2 ID : **6306802847096**

Option 3 ID : **6306802847095**

Option 4 ID : **6306802847094**

Status : **Answered**

Chosen Option : **2**

**Comprehension:**

In the following passage, some words have been deleted. Read the passage carefully and select the most appropriate option to fill in each blank.

Khashaba Jadhav was the independent India's first individual olympic medallist. There (1) \_\_\_\_\_ some firsts that stay in history forever. The one held by Khashaba Jadhav is one such first. He might have been referred to as the Pocket Dynamo, but his deeds dwarfed those of far (2) \_\_\_\_\_ athletes in his sport. Just a couple of years after India had become a Republic, Jadhav took part in the 1952 Olympics at Helsinki, Finland. As funding sportspersons weren't really a (3) \_\_\_\_\_ for a country just finding its feet, Jadhav's trip to Helsinki was actually funded by the public. Jadhav however, (4) \_\_\_\_\_ his way to fame, becoming independent India's first individual Olympic medal winner. He (5) \_\_\_\_\_ bronze in the bantamweight category.

**SubQuestion No : 21****Q.21 Select the most appropriate option to fill in blank 1.]**

- Ans  1. was  
 2. is  
 3. were  
 4. are

Question Type : **MCQ**Question ID : **630680205196**Option 1 ID : **630680795645**Option 2 ID : **630680795643**Option 3 ID : **630680795646**Option 4 ID : **630680795644**Status : **Answered**Chosen Option : **4****Comprehension:**

In the following passage, some words have been deleted. Read the passage carefully and select the most appropriate option to fill in each blank.

Khashaba Jadhav was the independent India's first individual olympic medallist. There (1) \_\_\_\_\_ some firsts that stay in history forever. The one held by Khashaba Jadhav is one such first. He might have been referred to as the Pocket Dynamo, but his deeds dwarfed those of far (2) \_\_\_\_\_ athletes in his sport. Just a couple of years after India had become a Republic, Jadhav took part in the 1952 Olympics at Helsinki, Finland. As funding sportspersons weren't really a (3) \_\_\_\_\_ for a country just finding its feet, Jadhav's trip to Helsinki was actually funded by the public. Jadhav however, (4) \_\_\_\_\_ his way to fame, becoming independent India's first individual Olympic medal winner. He (5) \_\_\_\_\_ bronze in the bantamweight category.

**SubQuestion No : 22****Q.22 Select the most appropriate option to fill in blank 2.]**

- Ans  1. big  
 2. small  
 3. bigger  
 4. smaller

Question Type : **MCQ**Question ID : **630680205197**Option 1 ID : **630680795648**Option 2 ID : **630680795649**Option 3 ID : **630680795647**Option 4 ID : **630680795650**Status : **Answered**Chosen Option : **2**

**Comprehension:**

In the following passage, some words have been deleted. Read the passage carefully and select the most appropriate option to fill in each blank.

Khashaba Jadhav was the independent India's first individual olympic medallist. There (1) \_\_\_\_\_ some firsts that stay in history forever. The one held by Khashaba Jadhav is one such first. He might have been referred to as the Pocket Dynamo, but his deeds dwarfed those of far (2) \_\_\_\_\_ athletes in his sport. Just a couple of years after India had become a Republic, Jadhav took part in the 1952 Olympics at Helsinki, Finland. As funding sportspersons weren't really a (3) \_\_\_\_\_ for a country just finding its feet, Jadhav's trip to Helsinki was actually funded by the public. Jadhav however, (4) \_\_\_\_\_ his way to fame, becoming independent India's first individual Olympic medal winner. He (5) \_\_\_\_\_ bronze in the bantamweight category.

**SubQuestion No : 23****Q.23 Select the most appropriate option to fill in blank 3.]**

- Ans
- 1. posteriority
  - 2. subsequence
  - 3. priority
  - 4. supremacy

Question Type : **MCQ**Question ID : **630680205198**Option 1 ID : **630680795653**Option 2 ID : **630680795654**Option 3 ID : **630680795652**Option 4 ID : **630680795651**Status : **Answered**Chosen Option : **3****Comprehension:**

In the following passage, some words have been deleted. Read the passage carefully and select the most appropriate option to fill in each blank.

Khashaba Jadhav was the independent India's first individual olympic medallist. There (1) \_\_\_\_\_ some firsts that stay in history forever. The one held by Khashaba Jadhav is one such first. He might have been referred to as the Pocket Dynamo, but his deeds dwarfed those of far (2) \_\_\_\_\_ athletes in his sport. Just a couple of years after India had become a Republic, Jadhav took part in the 1952 Olympics at Helsinki, Finland. As funding sportspersons weren't really a (3) \_\_\_\_\_ for a country just finding its feet, Jadhav's trip to Helsinki was actually funded by the public. Jadhav however, (4) \_\_\_\_\_ his way to fame, becoming independent India's first individual Olympic medal winner. He (5) \_\_\_\_\_ bronze in the bantamweight category.

**SubQuestion No : 24****Q.24 Select the most appropriate option to fill in blank 4.]**

- Ans
- 1. Lazed
  - 2. Surrendered
  - 3. buckled-under
  - 4. wrestled

Question Type : **MCQ**Question ID : **630680205199**Option 1 ID : **630680795657**Option 2 ID : **630680795655**Option 3 ID : **630680795656**Option 4 ID : **630680795658**Status : **Answered**Chosen Option : **3**

**Comprehension:**

In the following passage, some words have been deleted. Read the passage carefully and select the most appropriate option to fill in each blank.

Khashaba Jadhav was the independent India's first individual olympic medallist. There (1) \_\_\_\_\_ some firsts that stay in history forever. The one held by Khashaba Jadhav is one such first. He might have been referred to as the Pocket Dynamo, but his deeds dwarfed those of far (2) \_\_\_\_\_ athletes in his sport. Just a couple of years after India had become a Republic, Jadhav took part in the 1952 Olympics at Helsinki, Finland. As funding sportspersons weren't really a (3) \_\_\_\_\_ for a country just finding its feet, Jadhav's trip to Helsinki was actually funded by the public. Jadhav however, (4) \_\_\_\_\_ his way to fame, becoming independent India's first individual Olympic medal winner. He (5) \_\_\_\_\_ bronze in the bantamweight category.

**SubQuestion No : 25****Q.25 Select the most appropriate option to fill in blank 5.]**

- Ans  1. lulled  
 2. claimed  
 3. forgave  
 4. constructed

Question Type : **MCQ**Question ID : **630680205200**Option 1 ID : **630680795660**Option 2 ID : **630680795661**Option 3 ID : **630680795659**Option 4 ID : **630680795662**Status : **Answered**Chosen Option : **2**