

Multi Tasking Non Technical Staff and Havaladar CBIC and CBN Examination 2024

Roll Number	
Candidate Name	
Venue Name	Shubh Jassi Digital
Exam Date	29/10/2024
Exam Time	9:00 AM - 11:00 AM
Subject	MTS Non Tech Havaladar CBIC and CBN Examination 2024

Section : Numerical and Mathematical Ability

Q.1 40 kg, 49 kg, 56 kg, 70 kg और 36 kg वजन के पांच सदस्यों वाले परिवार का औसत वजन (kg में) ज्ञात कीजिए।

- Ans
- 1. 51.2
 - 2. 52.2
 - 3. 50.2
 - 4. 49.2

Question Type : MCQ

Question ID : 630680551655

Option 1 ID : 6306802156846

Option 2 ID : 6306802156848

Option 3 ID : 6306802156845

Option 4 ID : 6306802156847

Status : Answered

Chosen Option : 3

Q.2 अनिरुद्ध ने एक पुराना मोबाइल ₹18,000 में खरीदा और क्रय मूल्य का 5% उसकी मरम्मत पर खर्च किया और फिर उसे ₹21,735 में बेच दिया। अनिरुद्ध द्वारा अर्जित लाभ प्रतिशत ज्ञात कीजिए।

- Ans
- 1. 15%
 - 2. 14%
 - 3. 13%
 - 4. 16%

Question Type : MCQ

Question ID : 630680115544

Option 1 ID : 630680447528

Option 2 ID : 630680447527

Option 3 ID : 630680447526

Option 4 ID : 630680447529

Status : Answered

Chosen Option : 2

Q.3 एक बेलनाकार टंकी, जिसकी त्रिज्या 14 m है, में 7 m की गहराई तक पानी भरा है। गीली (wetted) सतह का कुल क्षेत्रफल कितना है? ($\pi = \frac{22}{7}$ का प्रयोग करें)

- Ans 1. 1232 m²
 2. 1233 m²
 3. 1230 m²
 4. 1231 m²

Question Type : MCQ

Question ID : 630680103517

Option 1 ID : 630680402313

Option 2 ID : 630680402314

Option 3 ID : 630680402311

Option 4 ID : 630680402312

Status : Answered

Chosen Option : 2

Q.4 अंकुर 20% का लाभ अर्जित करते हुए सुनीता को एक डिब्बा बेचता है। सुनीता ने इसे मोहित को 9% लाभ पर बेच दिया। मोहित ने इसे अंजलि को ₹24,525 में बेच दिया, जिससे 25% का लाभ हुआ। अंकुर ने डिब्बा किस कीमत पर (₹ में) खरीदा था?

- Ans 1. 12000
 2. 17000
 3. 15000
 4. 20000

Question Type : MCQ

Question ID : 630680112495

Option 1 ID : 630680435674

Option 2 ID : 630680435677

Option 3 ID : 630680435676

Option 4 ID : 630680435675

Status : Answered

Chosen Option : 3

Q.5 28 m आधार त्रिज्या और 40 m ऊंचाई वाले एक बेलन का क्रमशः वक्र पृष्ठीय क्षेत्रफल और संपूर्ण पृष्ठीय क्षेत्रफल ज्ञात कीजिए।

- Ans 1. 7040 m² और 11,768 m²
 2. 7040 m² और 11,968 m²
 3. 7000 m² और 11,968 m²
 4. 7040 m² और 11,008 m²

Question Type : MCQ

Question ID : 630680526611

Option 1 ID : 6306802058511

Option 2 ID : 6306802058512

Option 3 ID : 6306802058510

Option 4 ID : 6306802058513

Status : Answered

Chosen Option : 3

Q.6 दो प्राकृत संख्याओं का योग 80 है और उनका एचसीएफ (HCF) 10 है। संख्याओं के ऐसे कितने युग्म संभव हैं?

- Ans
- 1. 7
 - 2. 8
 - 3. 2
 - 4. 3

Question Type : MCQ

Question ID : 630680103824

Option 1 ID : 630680403530

Option 2 ID : 630680403528

Option 3 ID : 630680403527

Option 4 ID : 630680403529

Status : Answered

Chosen Option : 2

Q.7 यदि कोई दुकानदार किसी टी-शर्ट पर क्रय मूल्य से 20% अधिक मूल्य अंकित करता है और उस पर 10% की छूट देता है, तो उसका लाभ प्रतिशत ज्ञात कीजिए।

- Ans
- 1. 4%
 - 2. 6%
 - 3. 8%
 - 4. 9%

Question Type : MCQ

Question ID : 630680629697

Option 1 ID : 6306802464674

Option 2 ID : 6306802464675

Option 3 ID : 6306802464676

Option 4 ID : 6306802464677

Status : Answered

Chosen Option : 1

Q.8 एक पेंसिल के मूल्य में इस वर्ष ₹2 और पिछले वर्ष में ₹2 की वृद्धि हुई है। पेंसिल का वर्तमान मूल्य इसके पिछले से पिछले वर्ष के मूल्य की तुलना में 30% अधिक है। पेंसिल का वर्तमान मूल्य (₹ में) क्या है?

- Ans
- 1. 15.33
 - 2. 17.33
 - 3. 13.33
 - 4. 14.33

Question Type : MCQ

Question ID : 630680464524

Option 1 ID : 6306801814132

Option 2 ID : 6306801814134

Option 3 ID : 6306801814133

Option 4 ID : 6306801814131

Status : Answered

Chosen Option : 1

Q.9 दी गई तालिका 2015 - 2019 के दौरान एक कंपनी द्वारा चार प्रकार की कारों के उत्पादन को दर्शाती है।

वर्ष प्रकार	2015	2016	2017	2018	2019
A	90	110	96	114	120
B	94	104	91	118	130
C	86	100	87	104	110
D	70	86	76	94	100

2015 और 2019 में सभी कारों के औसत उत्पादन के बीच क्या अंतर है?

- Ans 1. 35
 2. 30
 3. 40
 4. 25

Question Type : MCQ

Question ID : 630680523793

Option 1 ID : 6306802047324

Option 2 ID : 6306802047325

Option 3 ID : 6306802047323

Option 4 ID : 6306802047326

Status : Answered

Chosen Option : 1

Q.10 एक निश्चित राशि पर 3 वर्ष और 6 माह के लिए 12.5% वार्षिक की दर से साधारण ब्याज मूलधन से ₹6,750 कम है। मूलधन ज्ञात कीजिए।

- Ans 1. ₹12,000
 2. ₹10,000
 3. ₹10,650
 4. ₹12,350

Question Type : MCQ

Question ID : 630680421266

Option 1 ID : 6306801643540

Option 2 ID : 6306801643539

Option 3 ID : 6306801643541

Option 4 ID : 6306801643542

Status : Answered

Chosen Option : 2

Q.11 एक हेल्थ क्लब में, 56% सदस्य महिलाएँ हैं और 44% सदस्य पुरुष हैं। यदि पुरुषों की औसत आयु 35 वर्ष और महिलाओं की औसत आयु 30 वर्ष है, तो सभी सदस्यों की औसत आयु (वर्ष में) ज्ञात करें।

Ans 1. 32.2

2. 32.8

3. 34.9

4. 33.5

Question Type : MCQ

Question ID : 630680460835

Option 1 ID : 6306801799625

Option 2 ID : 6306801799622

Option 3 ID : 6306801799624

Option 4 ID : 6306801799623

Status : Answered

Chosen Option : 2

Q.12 40 kg, 49 kg, 56 kg, 70 kg और 38 kg वजन के पांच सदस्यों वाले परिवार का औसत वजन (kg में) ज्ञात कीजिए।

Ans 1. 49.6

2. 50.6

3. 52.6

4. 51.6

Question Type : MCQ

Question ID : 630680551657

Option 1 ID : 6306802156855

Option 2 ID : 6306802156853

Option 3 ID : 6306802156856

Option 4 ID : 6306802156854

Status : Answered

Chosen Option : 2

Q.13 P और Q एक वृत्ताकार पथ पर विपरीत दिशाओं में चलते हैं। P, 1 मिनट में पथ के दो चक्कर पूरे करता है और Q समान समय में पथ के तीन चक्कर पूरे करता है। वे एक ही बिंदु से शुरू करते हैं और 2 मिनट तक चलते हैं। प्रारंभ समय और समाप्ति समय के बीच वे कितनी बार पथ पर मिलेंगे?

Ans 1. 11

2. 9

3. 8

4. 10

Question Type : MCQ

Question ID : 630680145254

Option 1 ID : 630680561998

Option 2 ID : 630680562000

Option 3 ID : 630680561999

Option 4 ID : 630680562001

Status : Answered

Chosen Option : 3

Q.14 5 वर्षों के लिए 7% वार्षिक की ब्याज दर पर उधार ली गई राशि ₹2000 पर साधारण ब्याज (₹ में) ज्ञात कीजिए।

- Ans 1. 740
 2. 640
 3. 700
 4. 660

Question Type : MCQ

Question ID : 630680591876

Option 1 ID : 6306802315972

Option 2 ID : 6306802315973

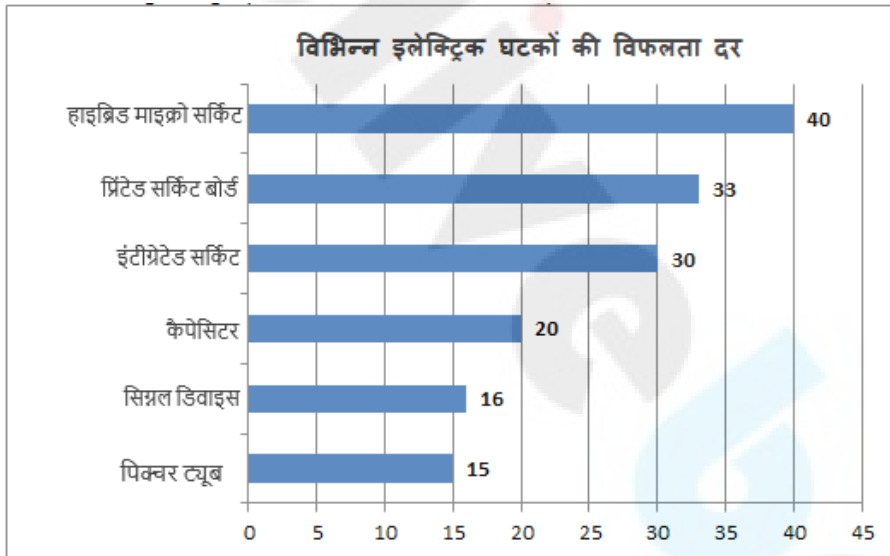
Option 3 ID : 6306802315971

Option 4 ID : 6306802315974

Status : Answered

Chosen Option : 3

Q.15 निम्नलिखित बार ग्राफ विभिन्न इलेक्ट्रिक घटकों के लिए प्रति हजार विफलता दर दर्शाता है:



प्रिंटेड सर्किट बोर्ड की विफलता दर, कैपेसिटर की विफलता दर का कितना प्रतिशत है?

- Ans 1. 65%
 2. 165%
 3. 61%
 4. 154%

Question Type : MCQ

Question ID : 630680397584

Option 1 ID : 6306801550258

Option 2 ID : 6306801550257

Option 3 ID : 6306801550260

Option 4 ID : 6306801550259

Status : Answered

Chosen Option : 1

Q.16 एक कार 45 km/h की एकसमान चाल से 210 km यात्रा करती है और फिर 70 km/h की एकसमान चाल से 420 km यात्रा करती है। पूरी यात्रा के दौरान कार की औसत चाल क्या है?

- Ans
- 1. $63\frac{1}{16}$ km/h
 - 2. $59\frac{5}{16}$ km/h
 - 3. $59\frac{1}{16}$ km/h
 - 4. $63\frac{5}{16}$ km/h

Question Type : MCQ
Question ID : 630680131138
Option 1 ID : 630680507825
Option 2 ID : 630680507822
Option 3 ID : 630680507823
Option 4 ID : 630680507824
Status : Answered
Chosen Option : 2

Q.17 2 वर्षों के लिए 6% प्रति वर्ष की ब्याज दर पर उधार ली गई राशि ₹3500 पर साधारण ब्याज (₹ में) ज्ञात कीजिए।

- Ans
- 1. 380
 - 2. 420
 - 3. 360
 - 4. 460

Question Type : MCQ
Question ID : 630680591973
Option 1 ID : 6306802316362
Option 2 ID : 6306802316359
Option 3 ID : 6306802316361
Option 4 ID : 6306802316360
Status : Answered
Chosen Option : 3

Q.18 12 cm त्रिज्या और 36 cm ऊंचाई वाले एक धातु के शंकु को पिघलाकर प्रत्येक 3 cm त्रिज्या वाले गोले बनाए जाते हैं। कितने गोले बनेंगे?

- Ans
- 1. 58
 - 2. 74
 - 3. 34
 - 4. 48

Question Type : MCQ
Question ID : 630680526650
Option 1 ID : 6306802058668
Option 2 ID : 6306802058666
Option 3 ID : 6306802058667
Option 4 ID : 6306802058669
Status : Answered
Chosen Option : 4

Q.19 एक पात्र में 72 लीटर शुद्ध दूध है। पात्र में दूध के एक-तिहाई भाग को निकालकर, उसके स्थान पर पानी मिला दिया जाता है। फिर से, मिश्रण का एक-तिहाई भाग निकालकर, उसके स्थान पर उतनी ही मात्रा में पानी मिला दिया जाता है। नए मिश्रण में दूध और पानी का अनुपात कितना है?

Ans 1. 4 : 5

2. 2 : 3

3. 3 : 4

4. 1 : 2

Question Type : MCQ

Question ID : 630680457216

Option 1 ID : 6306801785792

Option 2 ID : 6306801785790

Option 3 ID : 6306801785791

Option 4 ID : 6306801785789

Status : Answered

Chosen Option : 1

Q.20 21 और 70 के बीच की उन सभी संख्याओं का औसत ज्ञात करें, जो 3 से विभाज्य हैं और शेषफल 2 बचता है।

Ans 1. 55.4

2. 55.6

3. 45.5

4. 65.5

Question Type : MCQ

Question ID : 630680457409

Option 1 ID : 6306801786549

Option 2 ID : 6306801786550

Option 3 ID : 6306801786548

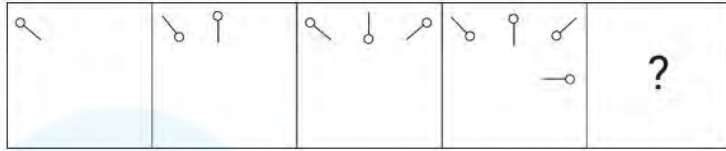
Option 4 ID : 6306801786551

Status : Answered

Chosen Option : 2

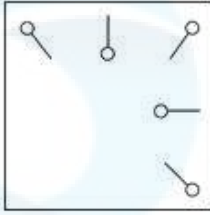
Section : Reasoning Ability and Problem Solving

Q.1 विकल्पों में दी गई उस आकृति की पहचान कीजिए जिसे ? के स्थान पर रखने पर श्रृंखला तार्किक रूप से पूर्ण हो जाएगी।

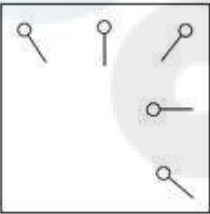


Ans

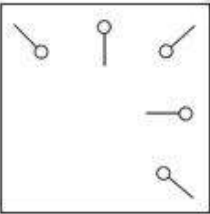
✓ 1.



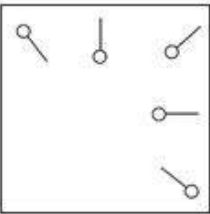
✗ 2.



✗ 3.



✗ 4.



Question Type : MCQ

Question ID : 630680233736

Option 1 ID : 630680906361

Option 2 ID : 630680906363

Option 3 ID : 630680906360

Option 4 ID : 630680906362

Status : Answered

Chosen Option : 2

Q.2 4 एक निश्चित तर्क का अनुसरण करते हुए 15 से संबंधित है। 15, उसी तर्क का अनुसरण करते हुए 48 से संबंधित है। उसी तर्क का अनुसरण करते हुए, 7 निम्नलिखित में से किससे संबंधित है?

(ध्यान दें: संख्याओं को उनके घटक अंकों में अलग-अलग किए बिना पूर्ण संख्याओं पर संक्रियाएं की जानी चाहिए। उदाहरण के लिए संख्या 13 - संख्या 13 पर संक्रियाएं जैसे 13 को जोड़ना/घटाना/गुणा करना आदि किया जा सकता है। 13 को 1 और 3 में अलग-अलग करने की और फिर 1 और 3 पर गणितीय संक्रियाएं करने की अनुमति नहीं है।)

- Ans
- 1. 28
 - 2. 23
 - 3. 21
 - 4. 24

Question Type : MCQ

Question ID : 630680449998

Option 1 ID : 6306801757157

Option 2 ID : 6306801757155

Option 3 ID : 6306801757154

Option 4 ID : 6306801757156

Status : Answered

Chosen Option : 3

Q.3 OD 11 एक निश्चित प्रकार से KH 15 से संबंधित है। ठीक उसी प्रकार ID 5, EH 9 से संबंधित है। समान तर्क का अनुसरण करते हुए LK 3 निम्नलिखित में से किससे संबंधित है?

- Ans
- 1. HO 7
 - 2. HP 7
 - 3. HO 3
 - 4. HO -3

Question Type : MCQ

Question ID : 630680423232

Option 1 ID : 6306801651289

Option 2 ID : 6306801651288

Option 3 ID : 6306801651287

Option 4 ID : 6306801651290

Status : Answered

Chosen Option : 3

Q.4 अंग्रेजी वर्णानुक्रम के आधार पर OGMI एक निश्चित प्रकार से LDJF से संबंधित है। ठीक उसी प्रकार SKQM, PHNJ से संबंधित है। उसी तर्क का अनुसरण करते हुए VNTP निम्नलिखित में से किससे संबंधित है?

- Ans
- 1. SKMQ
 - 2. KSQM
 - 3. KSMQ
 - 4. SKQM

Question Type : MCQ

Question ID : 630680435887

Option 1 ID : 6306801701498

Option 2 ID : 6306801701499

Option 3 ID : 6306801701500

Option 4 ID : 6306801701497

Status : Answered

Chosen Option : 2

Q.5 एक निश्चित कूट भाषा में, 'GOLF' को '1286' के रूप में कूटबद्ध किया जाता है और 'WOLF' को '6428' के रूप में कूटबद्ध किया जाता है। उस भाषा में 'W' के लिए कूट क्या है?

- Ans
- 1. 2
 - 2. 8
 - 3. 4
 - 4. 6

Question Type : MCQ

Question ID : 630680418968

Option 1 ID : 6306801634585

Option 2 ID : 6306801634586

Option 3 ID : 6306801634583

Option 4 ID : 6306801634584

Status : Answered

Chosen Option : 2

Q.6 दिए गए समीकरण को सही बनाने के लिए किन दो संख्याओं को आपस में बदला जाना चाहिए?
 $92 + 36 - 28 + (42 \div 3) - (22 \times 4) = 10$
(ध्यान दें: अदला-बदली पूरी संख्या की होनी चाहिए न कि दी गई संख्या के अलग-अलग अंकों की)

- Ans
- 1. 22 और 28
 - 2. 3 और 4
 - 3. 42 और 36
 - 4. 36 और 28

Question Type : MCQ

Question ID : 630680378796

Option 1 ID : 6306801476233

Option 2 ID : 6306801476232

Option 3 ID : 6306801476234

Option 4 ID : 6306801476231

Status : Answered

Chosen Option : 3

Q.7 A, B, C, D, E, F, और G, एक वृत्ताकार मेज के चारों ओर केंद्र की ओर मुख करके बैठे हैं (परंतु जरूरी नहीं कि वे इसी क्रम में बैठे हों)। A के बाईं ओर से गिनती करने पर A और B के बीच में केवल 2 व्यक्ति बैठे हैं। G और F दोनों A के निकटतम पड़ोसी हैं। C, E के ठीक बाईं ओर बैठा है। D के दाईं ओर से गिनती करने पर, D और G के बीच में केवल 2 व्यक्ति बैठे हैं। F के बाईं ओर से गिनती करने पर, E और F के बीच में कितने व्यक्ति बैठे हैं?

- Ans
- 1. 4
 - 2. 1
 - 3. 3
 - 4. 2

Question Type : MCQ

Question ID : 630680387773

Option 1 ID : 6306801511727

Option 2 ID : 6306801511724

Option 3 ID : 6306801511726

Option 4 ID : 6306801511725

Status : Answered

Chosen Option : 2

Q.8 दिए गए समीकरण को सही बनाने के लिए किन दो चिह्नों को आपस में बदला जाना चाहिए?

$$39 \div 3 - 11 + 45 \times 17 = 171$$

Ans 1. - और

2. + और

3. - और

4. + और

Question Type : **MCQ**

Question ID : **630680411993**

Option 1 ID : **6306801606809**

Option 2 ID : **6306801606807**

Option 3 ID : **6306801606808**

Option 4 ID : **6306801606810**

Status : **Answered**

Chosen Option : **3**

Q.9 दी गई श्रृंखला में प्रश्न चिह्न (?) के स्थान पर क्या आना चाहिए?

42, 48, 54, 60, 66, ?

Ans 1. 70

2. 71

3. 73

4. 72

Question Type : **MCQ**

Question ID : **630680546481**

Option 1 ID : **6306802136498**

Option 2 ID : **6306802136497**

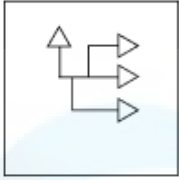
Option 3 ID : **6306802136499**

Option 4 ID : **6306802136496**

Status : **Answered**

Chosen Option : **3**

Q.10 उस विकल्प आकृति का चयन कीजिए जिसमें, दी गई आकृति (X), उसके एक भाग के रूप में सन्निकित है (घूर्णन की अनुमति नहीं है)।



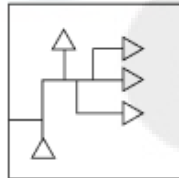
(X)

Ans

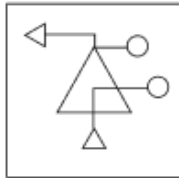
✗ 1.



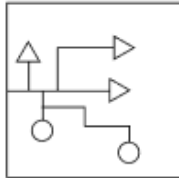
✓ 2.



✗ 3.



✗ 4.



Question Type : MCQ

Question ID : 630680487615

Option 1 ID : 6306801904532

Option 2 ID : 6306801904530

Option 3 ID : 6306801904533

Option 4 ID : 6306801904531

Status : Answered

Chosen Option : 2

Q.11 दिए गए कथनों और निष्कर्षों को ध्यानपूर्वक पढ़िए। यह मानते हुए कि कथनों में दी गई जानकारी सत्य है, चाहे वह सामान्यतः ज्ञात तथ्यों से भिन्न प्रतीत होती हो और निर्णय लीजिए कि दिए गए निष्कर्षों में से कौन-सा/कौन-से निष्कर्ष कथनों का तार्किक रूप से अनुसरण करता है/करते हैं।

कथन:

कुछ बगलगम, टॉफियाँ हैं।
कोई भी टॉफी, गेंद नहीं है।

निष्कर्ष:

(I) कम से कम कुछ टॉफियाँ, बगलगम हैं।
(II) कोई भी गेंद, बगलगम नहीं है।

- Ans
- 1. केवल निष्कर्ष (II) अनुसरण करता है।
 - 2. न तो निष्कर्ष (I) और न ही निष्कर्ष (II) अनुसरण करता है।
 - 3. केवल निष्कर्ष (I) अनुसरण करता है।
 - 4. दोनों निष्कर्ष (I) और (II) अनुसरण करते हैं।

Question Type : MCQ

Question ID : 630680410521

Option 1 ID : 6306801600805

Option 2 ID : 6306801600806

Option 3 ID : 6306801600804

Option 4 ID : 6306801600807

Status : Answered

Chosen Option : 4

Q.12 एक निश्चित कूट भाषा में, 'BEST' को '9715' के रूप में कूटबद्ध किया जाता है और 'CLUB' को '8762' के रूप में कूटबद्ध किया जाता है। दी गई कूट भाषा में 'B' के लिए कूट क्या है?

- Ans
- 1. 7
 - 2. 9
 - 3. 2
 - 4. 6

Question Type : MCQ

Question ID : 630680815670

Option 1 ID : 6306803195981

Option 2 ID : 6306803195984

Option 3 ID : 6306803195982

Option 4 ID : 6306803195983

Status : Answered

Chosen Option : 2

Q.13 अंग्रेजी वर्णानुक्रम के आधार पर, दी गई श्रृंखला में प्रश्नवाचक चिह्न (?) के स्थान पर क्या आना चाहिए?
DHC, GKF, JNI, MQL, ?

- Ans
- 1. QTO
 - 2. QVQ
 - 3. PUP
 - 4. PTO

Question Type : MCQ

Question ID : 630680338939

Option 1 ID : 6306801318347

Option 2 ID : 6306801318346

Option 3 ID : 6306801318345

Option 4 ID : 6306801318348

Status : Answered

Chosen Option : 4

Q.14 सात व्यक्ति A, B, C, D, E, F और G एक वृत्ताकार मेज के चारों ओर केंद्र की ओर मुख करके बैठे हैं (परंतु जरूरी नहीं कि वे इसी क्रम में बैठे हों)। E, F के बाएँ से चौथे स्थान पर बैठा है। A, E के बाएँ से तीसरे स्थान पर बैठा है। G, D के दाएँ से तीसरे स्थान पर बैठा है। C, D के ठीक बाएँ बैठा है। B, F के बाएँ से दूसरे स्थान पर बैठा है।
A के संदर्भ में F का स्थान कौन-सा है?

- Ans
- 1. दाएँ से चौथा
 - 2. बाएँ से दूसरा
 - 3. ठीक दाएँ ओर
 - 4. ठीक बाएँ ओर

Question Type : MCQ

Question ID : 630680395330

Option 1 ID : 6306801541524

Option 2 ID : 6306801541527

Option 3 ID : 6306801541526

Option 4 ID : 6306801541525

Status : Answered

Chosen Option : 3

Q.15 दिए गए कथनों और निष्कर्षों को ध्यानपूर्वक पढ़िए। यह मानते हुए कि कथनों में दी गई जानकारी सत्य है, भले ही वे सामान्यतः ज्ञात तथ्यों से भिन्न प्रतीत होते हों, तय कीजिए कि दिए गए निष्कर्षों में से कौन-सा/से निष्कर्ष कथनों का तार्किक रूप से अनुसरण करता है/करते हैं।

कथन:

सभी पेन, रेज़र हैं।
सभी रेज़र, क्रीम हैं।

निष्कर्ष:

(I) सभी पेन, क्रीम हैं।
(II) सभी क्रीम, रेज़र हैं।

- Ans 1. केवल निष्कर्ष I अनुसरण करता है
 2. न तो निष्कर्ष I और न ही II अनुसरण करता है
 3. निष्कर्ष I और II दोनों अनुसरण करते हैं
 4. केवल निष्कर्ष II अनुसरण करता है

Question Type : MCQ

Question ID : 630680421783

Option 1 ID : 6306801645575

Option 2 ID : 6306801645578

Option 3 ID : 6306801645577

Option 4 ID : 6306801645576

Status : Answered

Chosen Option : 4

Q.16 एक निश्चित कूट भाषा में, 'saroj learns taxes' को 'vi ti pi' लिखा जाता है और 'priya paid taxes' को 'pi vi wi' लिखा जाता है। उसी कूट भाषा में 'taxes' को कैसे लिखा जाएगा?

- Ans 1. pi
 2. vi
 3. ui
 4. wi

Question Type : MCQ

Question ID : 630680439030

Option 1 ID : 6306801713932

Option 2 ID : 6306801713933


Option 3 ID : 6306801713935

Option 4 ID : 6306801713934


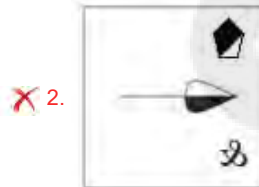
Status : Answered

Chosen Option : 2

Q.17 दिए गए विकल्पों में से उस आकृति का चयन कीजिए, जिसे प्रश्न-चिह्न (?) के स्थान पर रखने पर श्रृंखला तार्किक रूप से पूर्ण हो जाएगी।



Ans



Question Type : MCQ

Question ID : 630680276923

Option 1 ID : 6306801076189

Option 2 ID : 6306801076188

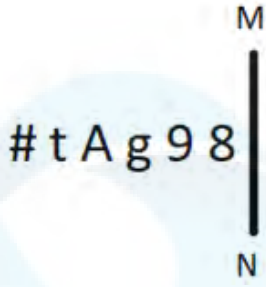
Option 3 ID : 6306801076190

Option 4 ID : 6306801076187

Status : Answered

Chosen Option : 1

Q.18 दी गई आकृति के उस सही दर्पण प्रतिबिंब को चुनिए, जो नीचे दर्शाए गए अनुसार दर्पण को MN पर रखने पर बनेगा।



Ans

✓ 1. 8 e g A t #

✗ 2. 8 e g v t #

✗ 3. 9 8 g A t #

✗ 4. 8 e g A # t

Question Type : MCQ

Question ID : 630680525269

Option 1 ID : 6306802053162

Option 2 ID : 6306802053160

Option 3 ID : 6306802053161

Option 4 ID : 6306802053163

Status : Answered

Chosen Option : 1

Q.19 निम्नलिखित संख्या-युग्म में, दूसरी संख्या, पहली संख्या पर निश्चित गणितीय संक्रियाएं करके प्राप्त की जाती है। उस समुच्चय का चयन कीजिए, जिसमें संख्याएं ठीक उसी प्रकार संबंधित हैं, जिस प्रकार निम्नलिखित समुच्चयों की संख्याएं संबंधित हैं।

(ध्यान दें: संख्याओं को उनके घटक अंकों में अलग-अलग किए बिना पूर्ण संख्याओं पर संक्रियाएं की जानी चाहिए। उदाहरण के लिए संख्या 13 - संख्या 13 पर संक्रियाएं जैसे 13 को जोड़ना/घटाना/गुणा करना आदि किया जा सकता है। 13 को 1 और 3 में अलग-अलग करने की और फिर 1 और 3 पर गणितीय संक्रियाएं करने की अनुमति नहीं है।)

23, 230

46, 460

Ans ✗ 1. 35, 620

✓ 2. 52, 520

✗ 3. 24, 120

✗ 4. 84, 410

Question Type : MCQ

Question ID : 630680399139

Option 1 ID : 6306801556515

Option 2 ID : 6306801556516

Option 3 ID : 6306801556514

Option 4 ID : 6306801556517

Status : Not Answered

Chosen Option : --

Q.20 एक निश्चित कूट भाषा में, 'TIME' को '3629' के रूप में लिखा जाता है और 'BEND' को '4582' के रूप में लिखा जाता है। उस कूट भाषा में 'E' को किस प्रकार लिखा जाता है?

- Ans
- 1. 5
 - 2. 4
 - 3. 2
 - 4. 9

Question Type : MCQ
Question ID : 630680382357
Option 1 ID : 6306801490344
Option 2 ID : 6306801490343
Option 3 ID : 6306801490345
Option 4 ID : 6306801490346
Status : Answered
Chosen Option : 4

Section : General Awareness

Q.1 1927 में, औपनिवेशिक उत्पीड़न और साम्राज्यवाद के खिलाफ सम्मेलन कहाँ आयोजित किया गया था, जिसमें जवाहरलाल नेहरू ने भारतीय राष्ट्रीय कांग्रेस की ओर से भाग लिया था?

- Ans
- 1. लोवेन (Leuven)
 - 2. ब्रसेल्स (Brussels)
 - 3. ब्रुग (Bruges)
 - 4. एंटवर्प (Antwerp)

Question Type : MCQ
Question ID : 630680184292
Option 1 ID : 630680714180
Option 2 ID : 630680714177
Option 3 ID : 630680714178
Option 4 ID : 630680714179
Status : Answered
Chosen Option : 2

Q.2 निम्नलिखित में से कौन सा पुरस्कार नृत्य में उत्कृष्टता के लिए नहीं दिया जाता है?

- Ans
- 1. कालिदास सम्मान पुरस्कार
 - 2. ललित कला अकादमी पुरस्कार
 - 3. संगीत नाटक अकादमी पुरस्कार
 - 4. पद्म श्री पुरस्कार

Question Type : MCQ
Question ID : 630680163287
Option 1 ID : 630680632352
Option 2 ID : 630680632355
Option 3 ID : 630680632353
Option 4 ID : 630680632354
Status : Answered
Chosen Option : 4

Q.3 अंडाल (Andal), सुप्रसिद्ध महिला _____ संतों में से एक थीं।

- Ans
- 1. नयनार
 - 2. सूफ़ी
 - 3. तंत्रिक
 - 4. अलवर

Question Type : MCQ

Question ID : 630680195285

Option 1 ID : 630680757616

Option 2 ID : 630680757613

Option 3 ID : 630680757614

Option 4 ID : 630680757615

Status : Answered

Chosen Option : 4

Q.4 अफ़ग़ानिस्तान में अशोक के शिलालेख, अरामाईक (Aramaic) और _____ लिपियों में लिखे गए हैं।

- Ans
- 1. ओलचिकी (Ol Chiki)
 - 2. ग्रीक (Greek)
 - 3. देवनागरी (Devanagari)
 - 4. शारदा (Sharda)

Question Type : MCQ

Question ID : 630680176023

Option 1 ID : 630680682340

Option 2 ID : 630680682342

Option 3 ID : 630680682341

Option 4 ID : 630680682343

Status : Answered

Chosen Option : 2

Q.5 जनवरी 2023 में, नौवीं बार बिहार के मुख्यमंत्री के रूप में किसने शपथ ली?

- Ans
- 1. नीतीश कुमार
 - 2. तेजस्वी यादव
 - 3. सुशील मोदी
 - 4. लालू यादव

Question Type : MCQ

Question ID : 630680595843

Option 1 ID : 6306802331563

Option 2 ID : 6306802331561

Option 3 ID : 6306802331562

Option 4 ID : 6306802331560

Status : Answered

Chosen Option : 1

Q.6 हड़प्पा सभ्यता के 'विशाल स्नानागार (The Great Bath)' के पत्थरों या ईंटों को जोड़ने के लिए मुख्य रूप से चिनाई वाली किस सामग्री का उपयोग किया जाता था?

Ans 1. जिप्सम का गारा (Gypsum Mortar)

2. मिट्टी का गारा (Mud Mortar)

3. चूने का गारा (Lime Mortar)

4. गेज का गारा (Gauged Mortar)

Question Type : MCQ

Question ID : 630680546755

Option 1 ID : 6306802137591

Option 2 ID : 6306802137590

Option 3 ID : 6306802137592

Option 4 ID : 6306802137593

Status : Answered

Chosen Option : 2

Q.7 पद्म पुरस्कार विजेता अर्जुन सिंह धुर्वे निम्नलिखित में से किस लोक नृत्य से जुड़े हैं?

Ans 1. बैगा

2. छऊ

3. गरबा

4. रासलीला

Question Type : MCQ

Question ID : 630680798909

Option 1 ID : 6306803130442

Option 2 ID : 6306803130443

Option 3 ID : 6306803130445

Option 4 ID : 6306803130444

Status : Answered

Chosen Option : 1

Q.8 परमाणु क्रमांक 59 वाला तत्व आवर्त सारणी के किस ब्लॉक में स्थित होता है?

Ans 1. p-ब्लॉक

2. f-ब्लॉक

3. d-ब्लॉक

4. s-ब्लॉक

Question Type : MCQ

Question ID : 630680470633

Option 1 ID : 6306801838305

Option 2 ID : 6306801838303

Option 3 ID : 6306801838304

Option 4 ID : 6306801838306

Status : Answered

Chosen Option : 1

Q.9 कीटो आहार (keto diet) में निम्नलिखित में से कौन से पोषक तत्वों की मात्रा होती है?

- Ans
- 1. उच्च कार्बोहाइड्रेट, उचित मात्रा में प्रोटीन और कम वसा
 - 2. उच्च प्रोटीन और वसा, कम मात्रा में कार्बोहाइड्रेट
 - 3. केवल अधिक मात्रा में विटामिन और खनिज लेना
 - 4. उच्च मात्रा में वसा, पर्याप्त प्रोटीन और कम कार्बोहाइड्रेट

Question Type : MCQ

Question ID : 630680311118

Option 1 ID : 6306801210586

Option 2 ID : 6306801210587

Option 3 ID : 6306801210588

Option 4 ID : 6306801210585

Status : Answered

Chosen Option : 4

Q.10 दुआरे राशन योजना (Duare Ration Scheme), जिसे उच्च न्यायालय द्वारा कानूनी रूप से अवैध घोषित किया गया है, निम्नलिखित में से किस राज्य द्वारा शुरू की गई थी?

- Ans
- 1. पश्चिम बंगाल
 - 2. उत्तर प्रदेश
 - 3. पंजाब
 - 4. मध्य प्रदेश

Question Type : MCQ

Question ID : 630680465536

Option 1 ID : 6306801818180

Option 2 ID : 6306801818179

Option 3 ID : 6306801818181

Option 4 ID : 6306801818182

Status : Answered

Chosen Option : 4

Q.11 कर्नाटक संगीत की निम्नलिखित हस्तियों में से कौन 'कर्नाटक संगीत की त्रिमूर्ति' को सही रूप से प्रदर्शित करता है?

- Ans
- 1. एमएस सुब्बालक्ष्मी, डीके पट्टम्मल और एमएल वसंतकुमारी
 - 2. पुरंदरदास, अन्नमाचार्य और त्यागराज
 - 3. मनाम्बुचावडी वेंकटसुब्बय्यर, त्यागराज और मुथुस्वामी दीक्षितार
 - 4. त्यागराज, मुथुस्वामी दीक्षितार और श्यामा शास्त्री

Question Type : MCQ

Question ID : 630680540640

Option 1 ID : 6306802113637

Option 2 ID : 6306802113638

Option 3 ID : 6306802113635

Option 4 ID : 6306802113636

Status : Answered

Chosen Option : 3

Q.12 गोवा में आयोजित 37वें राष्ट्रीय खेलों में महाराष्ट्र ने कितने स्वर्ण पदक जीतकर पदक तालिका में शीर्ष स्थान हासिल किया?

- Ans
- 1. 72
 - 2. 79
 - 3. 80
 - 4. 69

Question Type : MCQ
Question ID : 630680694277
Option 1 ID : 6306802719393
Option 2 ID : 6306802719394
Option 3 ID : 6306802719395
Option 4 ID : 6306802719392
Status : Answered
Chosen Option : 1

Q.13 मैग्नोलिया (Magnolia) और लॉरेल (Laurel) के पेड़ भारत में किस प्रकार के वन में पाए जाते हैं?

- Ans
- 1. पर्वतीय वन
 - 2. मैंग्रोव वन
 - 3. उष्णकटिबंधीय कंटक वन
 - 4. उष्णकटिबंधीय पर्णपाती वन

Question Type : MCQ
Question ID : 630680321621
Option 1 ID : 6306801251182
Option 2 ID : 6306801251183
Option 3 ID : 6306801251181
Option 4 ID : 6306801251184
Status : Answered
Chosen Option : 2

Q.14 निम्नलिखित में से कौन-सी भारत में एक फसल ऋतु नहीं है?

- Ans
- 1. रबी (Rabi)
 - 2. खरीफ (Kharif)
 - 3. फैंग (Fang)
 - 4. जायद (Zaid)

Question Type : MCQ
Question ID : 630680798982
Option 1 ID : 6306803130727
Option 2 ID : 6306803130728
Option 3 ID : 6306803130726
Option 4 ID : 6306803130729
Status : Answered
Chosen Option : 3

Q.15 भारत की जनगणना 2011 के अनुसार, निम्नलिखित में से किस राज्य में बाल लिंग अनुपात (0-6 वर्ष के आयु वर्ग में) सबसे अधिक है?

- Ans
- 1. केरल
 - 2. राजस्थान
 - 3. छत्तीसगढ़
 - 4. मिजोरम

Question Type : MCQ

Question ID : 630680510919

Option 1 ID : 6306801996806

Option 2 ID : 6306801996808

Option 3 ID : 6306801996807

Option 4 ID : 6306801996809

Status : Answered

Chosen Option : 1

Q.16 आईसीसी हॉल ऑफ फेम (ICC Hall of Fame) में शामिल होने वाली पहली भारतीय महिला कौन थी?

- Ans
- 1. झूलन गोस्वामी (Jhulan Goswami)
 - 2. मिताली राज (Mithali Raj)
 - 3. डायना एडुल्जी (Diana Edulji)
 - 4. पूर्णिमा राऊ (Purnima Rau)

Question Type : MCQ

Question ID : 630680543538

Option 1 ID : 6306802124958

Option 2 ID : 6306802124957

Option 3 ID : 6306802124959

Option 4 ID : 6306802124960

Status : Answered

Chosen Option : 4

Q.17 राज्य योजना बोर्ड (State Planning Board) का अध्यक्ष कौन होता है?

- Ans
- 1. विधानसभाध्यक्ष
 - 2. मुख्यमंत्री
 - 3. राज्यपाल
 - 4. महाधिवक्ता

Question Type : MCQ

Question ID : 630680511446

Option 1 ID : 6306801998916

Option 2 ID : 6306801998915

Option 3 ID : 6306801998914

Option 4 ID : 6306801998917

Status : Answered

Chosen Option : 3

Q.18 रवीन्द्र भराली (Rabindra Bharali) किस पुस्तक के लेखक हैं?

- Ans
- 1. द म्यूजिक रूम (The Music Room)
 - 2. म्यूजिक टू माय इयर्स (Music to my Ears)
 - 3. द फॉरगॉटन फॉर्म्स ऑफ हिंदुस्तान म्यूजिक (The Forgotten Forms of Hindustani Music)
 - 4. इंडी 101 (Indie 101)

Question Type : MCQ

Question ID : 630680474203

Option 1 ID : 6306801852506

Option 2 ID : 6306801852508

Option 3 ID : 6306801852507

Option 4 ID : 6306801852509

Status : Answered

Chosen Option : 3

Q.19 लॉर्ड रिपन ने मजदूरों के कल्याण के लिए कौन सा सुधार आरंभ किया था?

- Ans
- 1. कारखाना अधिनियम
 - 2. शैक्षिक सुधार
 - 3. वित्तीय विकेंद्रीकरण
 - 4. देशी प्रेस अधिनियम

Question Type : MCQ

Question ID : 630680113624

Option 1 ID : 630680440031

Option 2 ID : 630680440033

Option 3 ID : 630680440032

Option 4 ID : 630680440030

Status : Answered

Chosen Option : 4

Q.20 भारत की जनगणना 2011 के अनुसार, भारत की कुल जनसंख्या कितनी थी ?

- Ans
- 1. 1.11 बिलियन
 - 2. 1.21 बिलियन
 - 3. 98.6 बिलियन
 - 4. 1.41 बिलियन

Question Type : MCQ

Question ID : 630680113534

Option 1 ID : 630680439670

Option 2 ID : 630680439673

Option 3 ID : 630680439672

Option 4 ID : 630680439671

Status : Answered

Chosen Option : 2

Q.21 पुरी की 'रथ यात्रा' का उत्सव निम्नलिखित में से किस हिंदू देवता की पवित्र यात्रा के रूप में मनाया जाता है?

- Ans
- 1. भगवान ब्रह्मा
 - 2. भगवान जगन्नाथ
 - 3. भगवान राम
 - 4. भगवान शिव

Question Type : MCQ
Question ID : 630680157888
Option 1 ID : 630680611083
Option 2 ID : 630680611081
Option 3 ID : 630680611080
Option 4 ID : 630680611082
Status : Answered
Chosen Option : 4

Q.22 राजस्व खाते (Revenue account) में _____ से संबंधित मद शामिल होते हैं।

- Ans
- 1. अगले वित्तीय वर्ष
 - 2. पिछले वित्तीय वर्ष
 - 3. चालू वित्तीय वर्ष
 - 4. दिए गए सभी विकल्प

Question Type : MCQ
Question ID : 63068081522
Option 1 ID : 630680316121
Option 2 ID : 630680316120
Option 3 ID : 630680316122
Option 4 ID : 630680316123
Status : Answered
Chosen Option : 4

Q.23 निम्नलिखित में से कौन-सा विकल्प कॉलम-A और कॉलम-B का सही मिलान करता है?

कॉलम-A (विटामिन का नाम)

- i. विटामिन A
- ii. विटामिन D
- iii. विटामिन B1
- iv. विटामिन C

कॉलम-B (कमी से होने वाला रोग)

- a. स्कर्वी (Scurvy)
- b. बेरीबेरी (Beriberi)
- c. रिकेट्स (Rickets)
- d. रतौंधी (Night Blindness)

- Ans
- 1. i-d, ii-c, iii-a, iv-b
 - 2. i-d, ii-c, iii-b, iv-a
 - 3. i-c, ii-d, iii-a, iv-b
 - 4. i-c, ii-d, iii-b, iv-a

Question Type : MCQ
Question ID : 630680544760
Option 1 ID : 6306802129802
Option 2 ID : 6306802129805
Option 3 ID : 6306802129804
Option 4 ID : 6306802129803
Status : Answered
Chosen Option : 2

Q.24 मूल गैर-कायांतरित शैल जो एक कायांतरित शैल के निर्माण के लिए गहन भौतिक या रासायनिक परिवर्तनों से गुजरती है, उसे क्या कहा जाता है?

- Ans
- 1. लैटेराइट (Laterite)
 - 2. रेगोलिथ (Regolith)
 - 3. बेडरॉक (Bedrock)
 - 4. प्रोटोलिथ (Protolith)

Question Type : MCQ
Question ID : 630680403547
Option 1 ID : 6306801573699
Option 2 ID : 6306801573700
Option 3 ID : 6306801573701
Option 4 ID : 6306801573698
Status : Answered
Chosen Option : 1

Q.25 निम्नलिखित में से कौन-सा भारतीय संविधान में वर्णित एक मौलिक कर्तव्य नहीं है?

- Ans
- 1. संविधान का पालन करना और उसके आदर्शों और संस्थाओं, राष्ट्र ध्वज, राष्ट्रगान का आदर करना
 - 2. स्वतंत्रता के लिए हमारे राष्ट्रीय आंदोलन को प्रेरित करने वाले उच्च आदर्शों को संजोना और उनका पालन करना
 - 3. भारत की प्रभुता, एकता और अखंडता को बनाए रखना और उसकी रक्षा करना
 - 4. माता-पिता की आज्ञा का पालन करना और अपनी पारिवारिक जिम्मेदारियों का निर्वहन करना

Question Type : MCQ
Question ID : 630680406180
Option 1 ID : 6306801583800
Option 2 ID : 6306801583801
Option 3 ID : 6306801583802
Option 4 ID : 6306801583803
Status : Answered
Chosen Option : 4

Section : English Language and Comprehension

Q.1 Select the most appropriate meaning of the given idiom.

An axe to grind

- Ans
- 1. To have a selfish reason that influences the actions
 - 2. To make a supreme effort
 - 3. Bitterly hostile
 - 4. To tackle a problem in a bold and direct fashion

Question Type : MCQ
Question ID : 630680549992
Option 1 ID : 6306802150228
Option 2 ID : 6306802150231
Option 3 ID : 6306802150229
Option 4 ID : 6306802150230
Status : Answered
Chosen Option : 1

Q.2 Select the option that expresses the given sentence in simple future tense form.

I loved.

- Ans 1. I will love.
 2. I had loved.
 3. I love.
 4. I shall be loving.

Question Type : MCQ
Question ID : 63068087125
Option 1 ID : 630680337889
Option 2 ID : 630680337892
Option 3 ID : 630680337890
Option 4 ID : 630680337891
Status : Answered
Chosen Option : 2

Q.3 Select the most appropriate option to fill in the blank.

"It's really _____ to incorporate changes at the last minute," she said.

- Ans 1. difficult
 2. difficulties
 3. difficulty
 4. most difficult

Question Type : MCQ
Question ID : 630680514581
Option 1 ID : 6306802010949
Option 2 ID : 6306802010952
Option 3 ID : 6306802010950
Option 4 ID : 6306802010951
Status : Answered
Chosen Option : 4

Q.4 Select the most appropriate option that can substitute the underlined segment in the given sentence. If there is no need to substitute it, select 'No substitution required'.

She showed this plant and talked about it's medicinal properties.

- Ans 1. it's medical properties
 2. their medical properties
 3. its medicinal properties
 4. it's medical proprieties

Question Type : MCQ
Question ID : 630680490234
Option 1 ID : 6306801914846
Option 2 ID : 6306801914843
Option 3 ID : 6306801914844
Option 4 ID : 6306801914845
Status : Answered
Chosen Option : 1

Q.5 Select the option that rectifies the spelling of the underlined word in the given sentence.

She always wears a bizzare combination of clothes.

- Ans
- 1. Bizaar
 - 2. Bizare
 - 3. Bizarre
 - 4. Bizzar

Question Type : **MCQ**

Question ID : **630680556247**

Option 1 ID : **6306802174366**

Option 2 ID : **6306802174367**

Option 3 ID : **6306802174364**

Option 4 ID : **6306802174365**

Status : **Answered**

Chosen Option : **3**

Q.6 Select the most appropriate ANTONYM of the word 'yelling' in the given sentence.

The shouting and exclaiming gestures of Smita led to the whispering regarding her behaviour, and everyone in the party started monitoring her.

- Ans
- 1. shouting
 - 2. monitoring
 - 3. whispering
 - 4. exclaiming

Question Type : **MCQ**

Question ID : **630680537666**

Option 1 ID : **6306802101920**

Option 2 ID : **6306802101922**

Option 3 ID : **6306802101923**

Option 4 ID : **6306802101921**

Status : **Answered**

Chosen Option : **3**

Q.7 Select the option that can be used as a one-word substitute for the given group of words.

The act of transferring one's authority to another

- Ans 1. Delegation
 2. Agency
 3. Mediator
 4. Assignee

Question Type : **MCQ**
Question ID : **630680435208**
Option 1 ID : **6306801698754**
Option 2 ID : **6306801698755**
Option 3 ID : **6306801698756**
Option 4 ID : **6306801698757**
Status : **Answered**
Chosen Option : 1

Q.8 Select the most appropriate adjective to fill in the blank.

The judge declared that the red car went _____ than the blue car.

- Ans 1. more far
 2. far
 3. farthest
 4. farther

Question Type : **MCQ**
Question ID : **63068087142**
Option 1 ID : **630680337959**
Option 2 ID : **630680337957**
Option 3 ID : **630680337958**
Option 4 ID : **630680337960**
Status : **Answered**
Chosen Option : 3

Q.9 Select the most appropriate ANTONYM for the given word.

Merciful

- Ans 1. Cunning
 2. Mild
 3. Magical
 4. Cruel

Question Type : **MCQ**
Question ID : **630680799088**
Option 1 ID : **6306803131153**
Option 2 ID : **6306803131152**
Option 3 ID : **6306803131151**
Option 4 ID : **6306803131150**
Status : **Answered**
Chosen Option : 4

Q.10 The given sentence is divided into three segments. Select the option that has the segment with a grammatical error. If there is no error, select 'No error'.
She learnt / how to play a piano / when she was in Class 6th.

- Ans**
- 1. No error
 - 2. how to play a piano
 - 3. She learnt
 - 4. when she was in Class 6th.

Question Type : **MCQ**
Question ID : **630680199461**
Option 1 ID : **630680773482**
Option 2 ID : **630680773480**
Option 3 ID : **630680773479**
Option 4 ID : **630680773481**
Status : **Answered**
Chosen Option : 4

Q.11 Select the most appropriate synonym of the word 'isolated' from the given sentence.

A Greek mythological story says that Echo was the most beautiful nymph who lived in the lovely and lonely mountains of Greece and is believed to be garrulous too.

- Ans**
- 1. Lonely
 - 2. Garrulous
 - 3. Lovely
 - 4. Beautiful

Question Type : **MCQ**
Question ID : **630680426298**
Option 1 ID : **6306801663291**
Option 2 ID : **6306801663292**
Option 3 ID : **6306801663294**
Option 4 ID : **6306801663293**
Status : **Answered**
Chosen Option : 2

Q.12 Select the correctly spelt word.

- Ans**
- 1. Accomodate
 - 2. Recieve
 - 3. Ocassion
 - 4. Embarrassment

Question Type : **MCQ**
Question ID : **630680540054**
Option 1 ID : **6306802111316**
Option 2 ID : **6306802111319**
Option 3 ID : **6306802111318**
Option 4 ID : **6306802111317**
Status : **Answered**
Chosen Option : 4

Q.13 Select the most appropriate synonym of the given word.

Diligent

- Ans 1. Noisy
 2. Positive
 3. Industrious
 4. Lazy

Question Type : MCQ

Question ID : 630680397350

Option 1 ID : 6306801549456

Option 2 ID : 6306801549458

Option 3 ID : 6306801549459

Option 4 ID : 6306801549457

Status : Answered

Chosen Option : 3

Q.14 Select the INCORRECTLY spelt word.

- Ans 1.
Personal
 2.
Cuorse
 3.
Consider
 4.
Necessary

Question Type : MCQ

Question ID : 630680710913

Option 1 ID : 6306802785309

Option 2 ID : 6306802785310

Option 3 ID : 6306802785308

Option 4 ID : 6306802785311

Status : Answered

Chosen Option : 4

Q.15 Select the most appropriate idiom that can substitute the highlighted words in the given sentence.

His sudden departure left us in a difficult situation; it was like he suddenly took away important support from us.

- Ans 1. hit the sack
 2. got his act together
 3. pulled the rug out
 4. hit the nail on the head

Question Type : MCQ

Question ID : 630680553760

Option 1 ID : 6306802164937

Option 2 ID : 6306802164938

Option 3 ID : 6306802164935

Option 4 ID : 6306802164936

Status : Answered

Chosen Option : 2

Q.16 The following sentence has been divided into four segments. One of them contains an error. Select the segment that contains the error from the given options.
She has been speaking / to him on / the subject / many times.

Ans 1. to him on

2. She has been speaking

3. many times

4. the subject

Question Type : **MCQ**

Question ID : **630680156649**

Option 1 ID : **630680606253**

Option 2 ID : **630680606252**

Option 3 ID : **630680606255**

Option 4 ID : **630680606254**

Status : **Answered**

Chosen Option : **2**

Q.17 Select the most appropriate idiom to fill in the blank.
Despite the setbacks, the team decided to persevere and keep working on the project, believing it could be a _____ for their company.

Ans 1. needle in a haystack

2. game-changer

3. beat around the bush

4. wild goose chase

Question Type : **MCQ**

Question ID : **630680419630**

Option 1 ID : **6306801637022**

Option 2 ID : **6306801637020**

Option 3 ID : **6306801637021**

Option 4 ID : **6306801637019**

Status : **Answered**

Chosen Option : **3**

Q.18 In the following sentence the underlined part contains an error. Alternatives to the underlined part are given as options. Select the correct alternative.
The speech you made today was sillier and irrelevant.

Ans 1. silliest

2. silly

3. more silly

4. most silly

Question Type : **MCQ**

Question ID : **630680514718**

Option 1 ID : **6306802011499**

Option 2 ID : **6306802011497**

Option 3 ID : **6306802011498**

Option 4 ID : **6306802011500**

Status : **Answered**

Chosen Option : **4**

Q.19 Select the most appropriate ANTONYM of the given word.

Evasive

- Ans 1. Truthful
 2. Obscure
 3. Chaotic
 4. Elusive

Question Type : MCQ

Question ID : 630680461290

Option 1 ID : 6306801801410

Option 2 ID : 6306801801413

Option 3 ID : 6306801801411

Option 4 ID : 6306801801412

Status : Answered

Chosen Option : 1

Q.20 Select the most appropriate option that can substitute the underlined segment in the given sentence.

It is worth noting that the possible from him being voted as the class monitor is next to zero.

- Ans 1. possible of him
 2. possibly of him
 3. possibility at him
 4. possibility of him

Question Type : MCQ

Question ID : 630680539824

Option 1 ID : 6306802110401

Option 2 ID : 6306802110400

Option 3 ID : 6306802110402

Option 4 ID : 6306802110403

Status : Answered

Chosen Option : 3

Comprehension:

In the following passage, some words have been deleted. Read the passage carefully and select the most appropriate option to fill in each blank.

In a small village, lived a milkmaid _____1_____ sold the milk that she _____2_____ from her cows. She _____3_____ carry the milk in a big mud pitcher. One day, as she was walking _____4_____ the big pitcher full of milk on her head, she started to imagine all the things she wished to do with the money she would _____5_____ from selling the milk.

SubQuestion No : 21

Q.21 Select the most appropriate option to fill in blank number 1.

- Ans 1. who
 2. whose
 3. that
 4. which

Question Type : **MCQ**

Question ID : **630680624657**

Option 1 ID : **6306802444786**

Option 2 ID : **6306802444788**

Option 3 ID : **6306802444785**

Option 4 ID : **6306802444787**

Status : **Answered**

Chosen Option : **2**

Comprehension:

In the following passage, some words have been deleted. Read the passage carefully and select the most appropriate option to fill in each blank.

In a small village, lived a milkmaid _____1_____ sold the milk that she _____2_____ from her cows. She _____3_____ carry the milk in a big mud pitcher. One day, as she was walking _____4_____ the big pitcher full of milk on her head, she started to imagine all the things she wished to do with the money she would _____5_____ from selling the milk.

SubQuestion No : 22

Q.22 Select the most appropriate option to fill in blank number 2.

- Ans 1. drank
 2. brought
 3. got
 4. bought

Question Type : **MCQ**

Question ID : **630680624658**

Option 1 ID : **6306802444789**

Option 2 ID : **6306802444792**

Option 3 ID : **6306802444791**

Option 4 ID : **6306802444790**

Status : **Answered**

Chosen Option : **2**

Comprehension:

In the following passage, some words have been deleted. Read the passage carefully and select the most appropriate option to fill in each blank.

In a small village, lived a milkmaid _____1_____ sold the milk that she _____2_____ from her cows. She _____3_____ carry the milk in a big mud pitcher. One day, as she was walking _____4_____ the big pitcher full of milk on her head, she started to imagine all the things she wished to do with the money she would _____5_____ from selling the milk.

SubQuestion No : 23

Q.23 Select the most appropriate option to fill in blank number 3.

- Ans 1. would
 2. should
 3. can
 4. will

Question Type : **MCQ**

Question ID : **630680624659**

Option 1 ID : **6306802444795**

Option 2 ID : **6306802444796**

Option 3 ID : **6306802444793**

Option 4 ID : **6306802444794**

Status : **Answered**

Chosen Option : **2**

Comprehension:

In the following passage, some words have been deleted. Read the passage carefully and select the most appropriate option to fill in each blank.

In a small village, lived a milkmaid _____1_____ sold the milk that she _____2_____ from her cows. She _____3_____ carry the milk in a big mud pitcher. One day, as she was walking _____4_____ the big pitcher full of milk on her head, she started to imagine all the things she wished to do with the money she would _____5_____ from selling the milk.

SubQuestion No : 24

Q.24 Select the most appropriate option to fill in blank number 4.

- Ans 1. in
 2. on
 3. by
 4. with

Question Type : **MCQ**

Question ID : **630680624660**

Option 1 ID : **6306802444798**

Option 2 ID : **6306802444799**

Option 3 ID : **6306802444797**

Option 4 ID : **6306802444800**

Status : **Answered**

Chosen Option : **2**

Comprehension:

In the following passage, some words have been deleted. Read the passage carefully and select the most appropriate option to fill in each blank.

In a small village, lived a milkmaid _____1_____ sold the milk that she _____2_____ from her cows. She _____3_____ carry the milk in a big mud pitcher. One day, as she was walking _____4_____ the big pitcher full of milk on her head, she started to imagine all the things she wished to do with the money she would _____5_____ from selling the milk.

SubQuestion No : 25

Q.25 Select the most appropriate option to fill in blank number 5.

- Ans
- 1. dig
 - 2. catch
 - 3. earn
 - 4. throw

Question Type : **MCQ**

Question ID : **630680624661**

Option 1 ID : **6306802444804**

Option 2 ID : **6306802444802**

Option 3 ID : **6306802444801**

Option 4 ID : **6306802444803**

Status : **Answered**

Chosen Option : **2**