

## Multi Tasking Non Technical Staff and Havaladar CBIC and CBN Examination 2024

Roll Number	
Candidate Name	
Venue Name	Pawan Ganga Educational Center 2
Exam Date	29/10/2024
Exam Time	4:00 PM - 5:30 PM
Subject	MTS Non Tech Havaladar CBIC and CBN Examination 2024

### Section : Numerical and Mathematical Ability

Q.1 ₹20 में एक वस्तु को बेचकर, एक विक्रेता 10% का लाभ अर्जित करता है। उसे अपना विक्रय मूल्य (₹ में, दो दशमलव स्थान तक सन्निकटित) कितना बढ़ाना चाहिए, ताकि 30% का लाभ अर्जित कर सके?

Ans  1. 4.64

2. 5.64

3. 3.64

4. 6.64

Question Type : MCQ

Question ID : 630680632597

Option 1 ID : 6306802476287

Option 2 ID : 6306802476288

Option 3 ID : 6306802476286

Option 4 ID : 6306802476289

Status : Answered

Chosen Option : 3

Q.2 1 km की एक गोलाकार दौड़ में, दो व्यक्ति X और Y एक ही बिंदु से एक ही समय पर क्रमशः 9 km/h और 18 km/h की चाल से दौड़ना शुरू करते हैं। एक ही दिशा में दौड़ते हुए वे पहली बार शुरुआती बिंदु पर कब मिलेंगे?

Ans  1. 240 sec

2. 180 sec

3. 360 sec

4. 400 sec

Question Type : MCQ

Question ID : 630680428363

Option 1 ID : 6306801671497

Option 2 ID : 6306801671496

Option 3 ID : 6306801671498

Option 4 ID : 6306801671499

Status : Answered

Chosen Option : 3

Q.3 शुरुआती 24 मैचों में एक क्रिकेट खिलाड़ी औसतन 60 रन बनाता है। सभी 32 मैचों का कुल औसत 80 है। अंतिम 8 मैचों का औसत ज्ञात कीजिए।

Ans  1. 140

2. 130

3. 120

4. 110

Question Type : MCQ

Question ID : 630680455395

Option 1 ID : 6306801778497

Option 2 ID : 6306801778496

Option 3 ID : 6306801778495

Option 4 ID : 6306801778494

Status : Answered

Chosen Option : 1

Q.4 दो बेलनों की आधार की त्रिज्याओं और उनकी ऊँचाईयों का अनुपात क्रमशः 4 : 3 और 9 : 8 है। उनके वक्र पृष्ठीय क्षेत्रफलों का अनुपात ज्ञात कीजिए।

Ans  1. 2 : 3

2. 4 : 5

3. 5 : 6

4. 3 : 2

Question Type : MCQ

Question ID : 630680548833

Option 1 ID : 6306802145816

Option 2 ID : 6306802145818

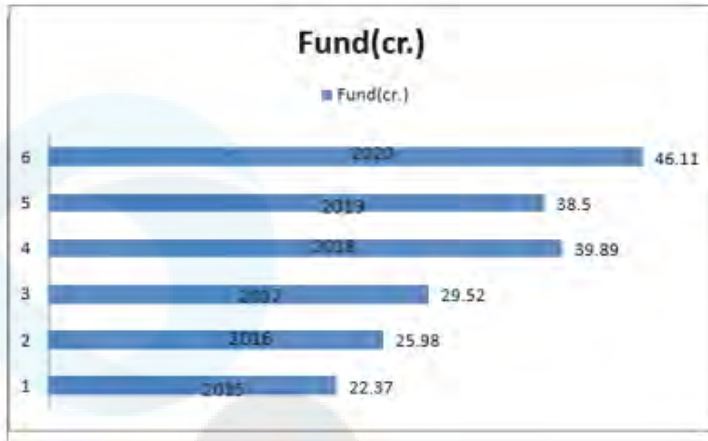
Option 3 ID : 6306802145819

Option 4 ID : 6306802145817

Status : Answered

Chosen Option : 4

Q.5 निम्नलिखित दंड आलेख 2015-2020 तक XYZ इंडिया प्राइवेट लिमिटेड के निधि प्रवाह को दर्शाता है। 2015-2017 तक निधि में वृद्धि की औसत दर का प्रतिशत (लगभग) ज्ञात कीजिए।



संदर्भ: Fund (cr.) = = निधि (करोड़ में)

- Ans
- 1. 15%
  - 2. 30%
  - 3. 32%
  - 4. 16%

Question Type : MCQ

Question ID : 630680390836

Option 1 ID : 6306801523782

Option 2 ID : 6306801523784

Option 3 ID : 6306801523783

Option 4 ID : 6306801523785

Status : Answered

Chosen Option : 3

Q.6 एक पंसारी चावल की दो किस्मों का मिश्रण ₹48 प्रति किलोग्राम पर बेचना चाहता है। इस विक्रय मूल्य तक पहुंचने के लिए उसे चावल को किस अनुपात में मिलाना चाहिए, यदि चावल की एक किस्म का मूल्य ₹42 प्रति किलोग्राम और दूसरी किस्म का मूल्य ₹60 प्रति किलोग्राम है?

- Ans
- 1. 2 : 1
  - 2. 1 : 2
  - 3. 2 : 3
  - 4. 3 : 2

Question Type : MCQ

Question ID : 630680447414

Option 1 ID : 6306801746911

Option 2 ID : 6306801746909

Option 3 ID : 6306801746910

Option 4 ID : 6306801746912

Status : Answered

Chosen Option : 1

Q.7 एक खोखले अर्धगोले का व्यास 30 cm है। इसे पानी से पूर्णतया भरा जाता है। जब प्रत्येक 0.75 cm त्रिज्या वाली गोलाकार सीसे की गोलियां अर्धगोले में डाली जाती हैं, तो पानी का 2/5वाँ भाग बाहर बह जाता है। अर्धगोले में कितनी सीसे की गोलियां डाली गईं?

Ans  1. 1575

2. 2250

3. 1380

4. 1600

Question Type : MCQ

Question ID : 630680379331

Option 1 ID : 6306801478367

Option 2 ID : 6306801478368

Option 3 ID : 6306801478369

Option 4 ID : 6306801478370

Status : Answered

Chosen Option : 1

Q.8 एक खुदरा विक्रेता किसी वस्तु की खरीद पर निम्नलिखित छूट योजनाएँ प्रदान करता है। कौन-सी योजना ग्राहक के लिए सबसे कम फायदेमंद होगी?

i. 30% की छूट।

ii. 22% की छूट के बाद 8% की छूट।

iii. 25% और 5% की क्रमिक छूट।

Ans  1. योजना i

2. योजना ii

3. योजना ii और योजना iii

4. योजना iii

Question Type : MCQ

Question ID : 630680421271

Option 1 ID : 6306801643559

Option 2 ID : 6306801643560

Option 3 ID : 6306801643562

Option 4 ID : 6306801643561

Status : Answered

Chosen Option : 3

Q.9  $2^3 \times 3^3 \times 5^2 \times 7^2$ ,  $2^4 \times 3^2 \times 5^3 \times 7^2$  और  $3 \times 5 \times 7 \times 11$  का महत्तम समापवर्तक (HCF) ज्ञात करें।

Ans  1. 1260

2. 1155

3. 105

4. 360

Question Type : MCQ

Question ID : 630680102874

Option 1 ID : 630680399756

Option 2 ID : 630680399755

Option 3 ID : 630680399757

Option 4 ID : 630680399758

Status : Answered

Chosen Option : 3

Q.10 एक विक्रेता ने ₹5 प्रति टॉफी की दर से टॉफियां खरीदी। 20% का लाभ कमाने के लिए उसे टॉफी किस कीमत पर बेचना चाहिए?

- Ans
- 1. ₹5.50
  - 2. ₹5.75
  - 3. ₹5.25
  - 4. ₹6.00

Question Type : MCQ

Question ID : 630680106793

Option 1 ID : 630680414789

Option 2 ID : 630680414790

Option 3 ID : 630680414788

Option 4 ID : 630680414791

Status : Answered

Chosen Option : 4

Q.11 एक लंबवृत्तीय बेलन का वक्र-पृष्ठीय क्षेत्रफल  $8580 \text{ cm}^2$  है। यदि बेलन की ऊँचाई 15 cm है, तो वृत्तीय आधार का व्यास (cm में) ज्ञात कीजिए।

( $\pi = \frac{22}{7}$  लीजिए)

- Ans
- 1. 182
  - 2. 152
  - 3. 91
  - 4. 137

Question Type : MCQ

Question ID : 630680383468

Option 1 ID : 6306801494770

Option 2 ID : 6306801494769

Option 3 ID : 6306801494767

Option 4 ID : 6306801494768

Status : Answered

Chosen Option : 2

Q.12 निम्नलिखित डेटा तालिका का अध्ययन कीजिए और प्रश्न का उत्तर दीजिए। प्रत्येक विषय के लिए अधिकतम अंक 100 है।

विषय	प्राप्त अंक
गणित	83
विज्ञान	51
हिंदी	68
अंग्रेजी	62
संस्कृत	71

कम उपस्थिति (poor attendance) के कारण प्रत्येक विषय में से सात अंक काटे जाने हैं। इस विद्यार्थी द्वारा प्राप्त किए गए निवल औसत अंक (net average marks) क्या होंगे?

Ans  1. 60

2. 56

3. 65

4. 67

Question Type : MCQ

Question ID : 630680396724

Option 1 ID : 6306801546982

Option 2 ID : 6306801546983

Option 3 ID : 6306801546981

Option 4 ID : 6306801546980

Status : Answered

Chosen Option : 4

Q.13 किस राशि (₹ में) पर 16% प्रति वर्ष की ब्याज दर से 4 वर्षों में ₹240 का साधारण ब्याज अर्जित होगा?

Ans  1. 800

2. 500

3. 750

4. 375

Question Type : MCQ

Question ID : 630680612179

Option 1 ID : 6306802395451

Option 2 ID : 6306802395449

Option 3 ID : 6306802395450

Option 4 ID : 6306802395448

Status : Answered

Chosen Option : 4

Q.14 साधारण ब्याज पर गोपाल द्वारा निवेश की गई धनराशि 3 वर्षों में ₹16,150 और 4 वर्षों में ₹16,540 हो जाती है। उसके द्वारा निवेश किया गया मूलधन क्या था?

- Ans  1. ₹11,150  
 2. ₹14,980  
 3. ₹16,150  
 4. ₹18,150

Question Type : MCQ

Question ID : 630680405009

Option 1 ID : 6306801579470

Option 2 ID : 6306801579467

Option 3 ID : 6306801579468

Option 4 ID : 6306801579469

Status : Answered

Chosen Option : 2

Q.15 यदि  $P (P > 0)$  वह न्यूनतम संभव संख्या है जिसे 7, 9 और 12 में से घटाए जाने पर परिणामी संख्याएँ सतत अनुपात में होंगी, तो  $P^2 + 1$  का मान ज्ञात कीजिए।

- Ans  1. 10  
 2. 8  
 3. 3  
 4. 12

Question Type : MCQ

Question ID : 630680495278

Option 1 ID : 6306801934843

Option 2 ID : 6306801934842

Option 3 ID : 6306801934841

Option 4 ID : 6306801934844

Status : Answered

Chosen Option : 2

Q.16 दो एथलीट X और Y एक वृत्ताकार पथ पर दौड़ रहे हैं जिसकी परिधि 500 m है। एथलीट X, 18 km/h की चाल से दौड़ता है और Y विपरीत दिशा में 9 km/h की चाल से दौड़ता है। कितने समय में वे पहली बार मिलेंगे?

- Ans  1. 66.66 s  
 2. 200 s  
 3. 27.77 s  
 4. 50 s

Question Type : MCQ

Question ID : 630680135793

Option 1 ID : 630680525891

Option 2 ID : 630680525890

Option 3 ID : 630680525893

Option 4 ID : 630680525892

Status : Answered

Chosen Option : 1

Q.17 एक गणित की परीक्षा में दो छात्रों ने 95, छः छात्रों ने 90, तीन छात्रों ने 80 और एक छात्र ने 50 अंक प्राप्त किए। कक्षा का औसत अंक क्या था ?

- Ans
- 1. 82
  - 2. 78.75
  - 3. 96.25
  - 4. 85

Question Type : MCQ  
Question ID : 630680164208  
Option 1 ID : 630680635967  
Option 2 ID : 630680635964  
Option 3 ID : 630680635966  
Option 4 ID : 630680635965  
Status : Answered  
Chosen Option : 4

Q.18 एक आदमी के प्रति दिन काम के घंटों में 10% की वृद्धि कर दी गई और उसके प्रति घंटा वेतन में 5% की वृद्धि कर दी गई। उसकी दैनिक आय (daily earnings) में कितने प्रतिशत की वृद्धि हुई?

- Ans
- 1. 5%
  - 2. 12.2%
  - 3. 15.5%
  - 4. 10.3%

Question Type : MCQ  
Question ID : 630680464535  
Option 1 ID : 6306801814175  
Option 2 ID : 6306801814178  
Option 3 ID : 6306801814177  
Option 4 ID : 6306801814176  
Status : Answered  
Chosen Option : 3

Q.19 अर्जुन ने ₹25 प्रति लीटर के मूल्य वाला मिश्रण बनाने के लिए तीन भिन्न-भिन्न तेलों को मिलाया। तेल की तीनों किस्मों का अनुपात 1 : 5 : 2 था। दूसरी किस्म का मूल्य (प्रति लीटर ₹ में) कितना है, यदि पहली और तीसरी किस्म का प्रति लीटर मूल्य क्रमशः ₹20 और ₹30 था?

- Ans
- 1. 26
  - 2. 28
  - 3. 25
  - 4. 24

Question Type : MCQ  
Question ID : 630680218779  
Option 1 ID : 630680849018  
Option 2 ID : 630680849015  
Option 3 ID : 630680849016  
Option 4 ID : 630680849017  
Status : Answered  
Chosen Option : 3

Q.20 2 वर्षों के लिए 4% वार्षिक की ब्याज दर पर उधार ली गई राशि ₹2500 पर साधारण ब्याज (₹ में) ज्ञात कीजिए।

Ans  1. 160

2. 200

3. 140

4. 240

Question Type : MCQ

Question ID : 630680591893

Option 1 ID : 6306802316042

Option 2 ID : 6306802316039

Option 3 ID : 6306802316041

Option 4 ID : 6306802316040

Status : Answered

Chosen Option : 2

Section : Reasoning Ability and Problem Solving

Q.1 A, B, C, D, E, F और G, एक वृत्ताकार मेज के चारों ओर केंद्र की ओर मुख करके बैठे हैं (परंतु जरूरी नहीं कि वे इसी क्रम में बैठे हों)।  
G और E के बीच में केवल C बैठा है। E, F के बाईं ओर तीसरे स्थान पर बैठा है। D, F के ठीक बाईं ओर बैठा है। B, E का निकटतम पड़ोसी नहीं है।  
A के दाईं ओर दूसरे स्थान पर कौन बैठा है?

Ans  1. D

2. B

3. C

4. F

Question Type : MCQ

Question ID : 630680815680

Option 1 ID : 6306803196024

Option 2 ID : 6306803196022

Option 3 ID : 6306803196023

Option 4 ID : 6306803196021

Status : Answered

Chosen Option : 4

Q.2 एक निश्चित कूट भाषा में, 'i am infinite' को 'la ma ra' के रूप में लिखा जाता है और 'universe is infinite' को 'ra ba ta' के रूप में लिखा जाता है। इसी कूट भाषा में 'infinite' को कैसे लिखा जाएगा?

Ans  1. ba

2. ra

3. ma

4. la

Question Type : MCQ

Question ID : 630680377763

Option 1 ID : 6306801472112

Option 2 ID : 6306801472114

Option 3 ID : 6306801472113

Option 4 ID : 6306801472111

Status : Answered

Chosen Option : 3

Q.3 दी गई श्रृंखला में प्रश्न-चिह्न (?) के स्थान पर क्या आना चाहिए?

46, 44, 40, 38, 34, 32, ?

Ans ✓ 1. 28

✗ 2. 30

✗ 3. 26

✗ 4. 24

Question Type : MCQ

Question ID : 630680402493

Option 1 ID : 6306801569537

Option 2 ID : 6306801569536

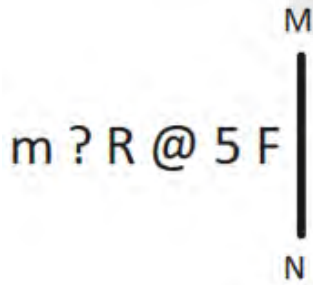
Option 3 ID : 6306801569538

Option 4 ID : 6306801569535

Status : Answered

Chosen Option : 1

Q.4 दी गई आकृति के उस सही दर्पण प्रतिबिंब को चुनिए, जो नीचे दर्शाए गए अनुसार दर्पण को MN पर रखने पर बनेगा।



Ans ✓ 1. Ɔ ɹ @ 5 Ɔ m

✗ 2. Ɔ 5 @ Ɔ Ɔ m

✗ 3. Ɔ @ 5 Ɔ m

✗ 4. F Ɔ @ Ɔ Ɔ

Question Type : MCQ

Question ID : 630680525273

Option 1 ID : 6306802053178

Option 2 ID : 6306802053179

Option 3 ID : 6306802053176

Option 4 ID : 6306802053177

Status : Answered

Chosen Option : 1

Q.5 एक निश्चित कूट भाषा में, 'BUSY' को '8642' के रूप में कूटबद्ध किया जाता है और 'SIDE' को '7536' के रूप में कूटबद्ध किया जाता है। दी गई कूट भाषा में 'S' के लिए कूट क्या है?

Ans  1. 6

2. 7

3. 4

4. 5

Question Type : MCQ

Question ID : 630680388088

Option 1 ID : 6306801512930

Option 2 ID : 6306801512932

Option 3 ID : 6306801512931

Option 4 ID : 6306801512933

Status : Answered

Chosen Option : 2

Q.6 किसी कूट भाषा में, 'JSCQ' को 'MNJH' के रूप में कूटबद्ध किया जाता है और 'BYTE' को 'ETAV' के रूप में कूटबद्ध किया जाता है। उसी भाषा में 'SEWX' को किस प्रकार कूटबद्ध किया जाएगा?

Ans  1. WZEO

2. VXDM

3. WXEM

4. VZDO

Question Type : MCQ

Question ID : 630680465309

Option 1 ID : 6306801817272

Option 2 ID : 6306801817271

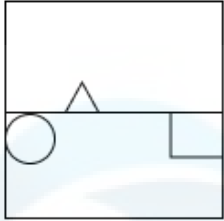
Option 3 ID : 6306801817273

Option 4 ID : 6306801817274

Status : Answered

Chosen Option : 4

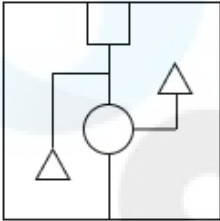
Q.7 उस विकल्प आकृति का चयन कीजिए, जिसमें दी गई आकृति (X) उसके भाग के रूप में सन्निहित है (घूर्णन की अनुमति नहीं है)।



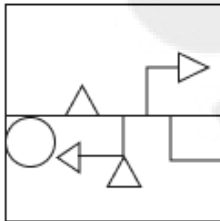
(X)

Ans

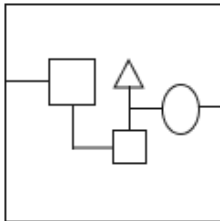
✗ 1.



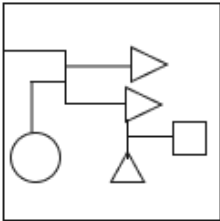
✓ 2.



✗ 3.



✗ 4.



Question Type : MCQ

Question ID : 630680487622

Option 1 ID : 6306801904559

Option 2 ID : 6306801904558

Option 3 ID : 6306801904560

Option 4 ID : 6306801904561

Status : Answered

Chosen Option : 2

Q.8 निम्नलिखित समीकरण में यदि '+' और '-' को आपस में बदल दिया जाए तथा 'x' और '÷' को आपस में बदल दिया जाए, तो समीकरण में प्रश्न चिह्न (?) के स्थान पर क्या आएगा?

$$24 \times 12 - 5 \div 2 + 7 = ?$$

Ans  1. 3

2. 5

3. 7

4. 8

Question Type : MCQ

Question ID : 630680378864

Option 1 ID : 6306801476503

Option 2 ID : 6306801476504

Option 3 ID : 6306801476505

Option 4 ID : 6306801476506

Status : Answered

Chosen Option : 2

Q.9 दिए गए कथनों और निष्कर्षों को ध्यानपूर्वक पढ़िए। यह मानते हुए कि कथनों में दी गई जानकारी सत्य है, चाहे वह सामान्यतः ज्ञात तथ्यों से भिन्न प्रतीत होती हो और निर्णय लीजिए कि दिए गए निष्कर्षों में से कौन-सा/कौन-से निष्कर्ष कथनों का तार्किक रूप से अनुसरण करता है/करते हैं।

कथन:

कुछ मग, कप हैं।

कोई भी कागज, मग नहीं है।

निष्कर्ष:

(I) कुछ कप, मग हैं।

(II) कोई भी कागज, कप नहीं है।

Ans  1. केवल निष्कर्ष (II) अनुसरण करता है

2. केवल निष्कर्ष (I) अनुसरण करता है

3. निष्कर्ष (I) और (II) दोनों अनुसरण करते हैं

4. न तो निष्कर्ष (I) और न ही (II) अनुसरण करता है

Question Type : MCQ

Question ID : 630680404844

Option 1 ID : 6306801578868

Option 2 ID : 6306801578867

Option 3 ID : 6306801578870

Option 4 ID : 6306801578869

Status : Answered

Chosen Option : 3

Q.10 निम्नलिखित में से किन चिह्नों को आपस में बदलने पर दिया गया समीकरण सही हो जाएगा?

$$25 - 63 \div 3 + 7 \times 5 = 11$$

Ans  1. - और  $\times$

2. + और -

3.  $\div$  और -

4. + और  $\div$

Question Type : **MCQ**

Question ID : **630680411982**

Option 1 ID : **6306801606765**

Option 2 ID : **6306801606766**

Option 3 ID : **6306801606763**

Option 4 ID : **6306801606764**

Status : **Answered**

Chosen Option : **2**

Q.11 विकल्पों में दी गई उस आकृति की पहचान कीजिए जिसे '?' के स्थान पर रखने पर श्रृंखला तार्किक रूप से पूर्ण हो जाएगी।

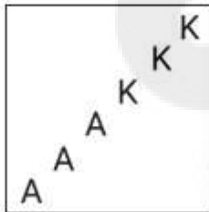


Ans

✗ 1.



✗ 2.



✓ 3.



✗ 4.



Question Type : MCQ

Question ID : 630680467809

Option 1 ID : 6306801827141

Option 2 ID : 6306801827140

Option 3 ID : 6306801827138

Option 4 ID : 6306801827139

Status : Answered

Chosen Option : 3

Q.12 किसी कूट भाषा में, 'ZHBN' को 'BEFI' के रूप में कूटबद्ध किया जाता है और 'LFWJ' को 'NCAE' के रूप में कूटबद्ध किया जाता है। उसी भाषा में 'HVDK' को किस प्रकार कूटबद्ध किया जाएगा?

- Ans  1. KTJD  
 2. KSIF  
 3. JTHD  
 4. JSHF

Question Type : MCQ

Question ID : 630680465314

Option 1 ID : 6306801817293

Option 2 ID : 6306801817292

Option 3 ID : 6306801817291

Option 4 ID : 6306801817294

Status : Answered

Chosen Option : 4

Q.13 TVRM, अंग्रेजी वर्णमाला क्रम के आधार पर एक निश्चित प्रकार से VUPN से संबंधित है। उसी प्रकार ROEP, TNCQ से संबंधित है। समान तर्क का अनुसरण करते हुए KOCB निम्नलिखित में से किससे संबंधित है?

- Ans  1. MNBC  
 2. MNAC  
 3. NMBC  
 4. NMAC

Question Type : MCQ

Question ID : 630680389913

Option 1 ID : 6306801520110

Option 2 ID : 6306801520112

Option 3 ID : 6306801520113

Option 4 ID : 6306801520111

Status : Answered

Chosen Option : 4

Q.14 अंग्रेजी वर्णमाला क्रम के आधार पर VOA H एक निश्चित प्रकार से YPBK से संबंधित है। ठीक उसी प्रकार RGDS, UHEV से संबंधित है। समान तर्क का अनुसरण करते हुए, IBXC निम्नलिखित में से किससे संबंधित है?

- Ans  1. KCZD  
 2. LCYF  
 3. NEZF  
 4. MDYG

Question Type : MCQ

Question ID : 630680929576

Option 1 ID : 6306803643145

Option 2 ID : 6306803643147

Option 3 ID : 6306803643148

Option 4 ID : 6306803643146

Status : Answered

Chosen Option : 2

Q.15 अंग्रेजी वर्णमाला क्रम के आधार पर दी गई श्रृंखला में प्रश्न चिह्न (?) के स्थान पर क्या आना चाहिए?

DEF, JKL, PQR, VWX, ?

Ans  1. BCD

2. YZB

3. UWZ

4. ZBE

Question Type : MCQ

Question ID : 630680316232

Option 1 ID : 6306801230575

Option 2 ID : 6306801230576

Option 3 ID : 6306801230573

Option 4 ID : 6306801230574

Status : Answered

Chosen Option : 1

Q.16 उस समुच्चय का चयन कीजिए जिसमें संख्याएं ठीक उसी प्रकार संबंधित हैं जिस प्रकार दिए गए समुच्चयों की संख्याएं संबंधित हैं।

(ध्यान दें: संख्याओं को उनके घटक अंकों में अलग-अलग किए बिना पूर्ण संख्याओं पर संक्रियाएं की जानी चाहिए। उदाहरण के लिए संख्या 13 - संख्या 13 पर संक्रियाएं जैसे 13 को जोड़ना/घटाना/गुणा करना आदि किया जा सकता है। 13 को 1 और 3 में अलग-अलग करने की और फिर 1 और 3 पर गणितीय संक्रियाएं करने की अनुमति नहीं है।)

(38, 31, 47)

(42, 35, 51)

Ans  1. (46, 40, 49)

2. (54, 47, 63)

3. (33, 24, 30)

4. (29, 21, 39)

Question Type : MCQ

Question ID : 630680397382

Option 1 ID : 6306801549577

Option 2 ID : 6306801549575

Option 3 ID : 6306801549576

Option 4 ID : 6306801549574

Status : Answered

Chosen Option : 2

Q.17 दिए गए कथनों और निष्कर्षों को ध्यानपूर्वक पढ़िए। यह मानते हुए कि कथनों में दी गई जानकारी सत्य है, चाहे वह सामान्यतः ज्ञात तथ्यों से भिन्न प्रतीत होती हो और निर्णय लीजिए कि दिए गए निष्कर्षों में से कौन-सा/कौन-से निष्कर्ष कथनों का तार्किक रूप से अनुसरण करता है/करते हैं।

कथन:

सभी पिल्ले, कुत्ते हैं।

सभी कुत्ते, जानवर हैं।

निष्कर्ष:

I. सभी जानवर, पिल्ले हैं।

II. कुछ कुत्ते, पिल्ले नहीं हैं।

Ans  1. निष्कर्ष I और II दोनों अनुसरण करते हैं।

2. न तो निष्कर्ष I और न ही II अनुसरण करता है।

3. केवल निष्कर्ष II अनुसरण करता है।

4. केवल निष्कर्ष I अनुसरण करता है।

Question Type : MCQ

Question ID : 630680521357

Option 1 ID : 6306802037855

Option 2 ID : 6306802037856

Option 3 ID : 6306802037854

Option 4 ID : 6306802037853

Status : Answered

Chosen Option : 4

Q.18 10, एक निश्चित तर्क का अनुसरण करते हुए 6 से संबंधित है। 14, उसी तर्क का अनुसरण करते हुए 8 से संबंधित है। उसी तर्क का अनुसरण करते हुए 24, निम्नलिखित में से किससे संबंधित है?

(ध्यान दें: संख्याओं को उनके घटक अंकों में अलग-अलग किए बिना पूर्ण संख्याओं पर संक्रियाएं की जानी चाहिए। उदाहरण के लिए संख्या 13 - संख्या 13 पर संक्रियाएं जैसे 13 को जोड़ना/घटाना/गुणा करना आदि किया जा सकता है। 13 को 1 और 3 में अलग-अलग करने की और फिर 1 और 3 पर गणितीय संक्रियाएं करने की अनुमति नहीं है।)

Ans  1. 13

2. 15

3. 16

4. 11

Question Type : MCQ

Question ID : 630680449984

Option 1 ID : 6306801757098

Option 2 ID : 6306801757099

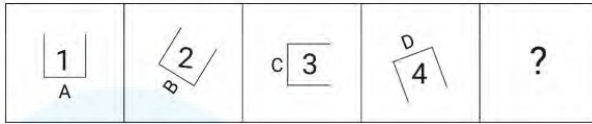
Option 3 ID : 6306801757101

Option 4 ID : 6306801757100

Status : Answered

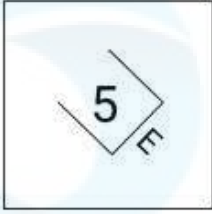
Chosen Option : 3

Q.19 विकल्पों में दी गई उस आकृति की पहचान करें, जिसे प्रश्नवाचक चिह्न (?) के स्थान पर रखने पर श्रृंखला तार्किक रूप से पूर्ण हो जाएगी।

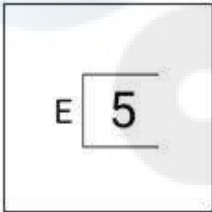


Ans

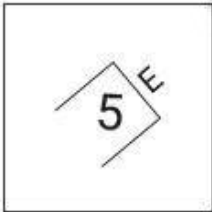
✗ 1.



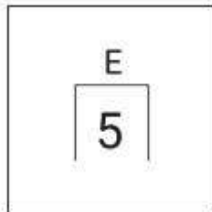
✗ 2.



✗ 3.



✓ 4.



Question Type : MCQ

Question ID : 630680237734

Option 1 ID : 630680921954

Option 2 ID : 630680921952

Option 3 ID : 630680921953

Option 4 ID : 630680921955

Status : Answered

Chosen Option : 4

Q.20 छः कर्मचारी धीरज, रोशन, सतीश, पवन, तरूण और नीरज एक वृत्ताकार मेज के चारों ओर केंद्र की ओर मुख करके बैठे हैं (परंतु जरूरी नहीं कि वे इसी क्रम में बैठे हों)। सतीश, पवन के ठीक दाएँ बैठा है। नीरज, सतीश के बाएँ से दूसरे स्थान पर बैठा है। तरूण, नीरज के ठीक बाएँ बैठा है। नीरज और रोशन के बीच में केवल तरूण बैठा है। सतीश और रोशन के बीच में कौन बैठा है?

Ans  1. धीरज

2. तरूण

3. नीरज

4. पवन

Question Type : MCQ

Question ID : 630680387049

Option 1 ID : 6306801508908

Option 2 ID : 6306801508909

Option 3 ID : 6306801508906

Option 4 ID : 6306801508907

Status : Answered

Chosen Option : 1

Section : General Awareness

Q.1 एम. बालामुरलीकृष्ण (M Balamuralikrishna) को 1991 में निम्नलिखित में से किस क्षेत्र के लिए पद्म विभूषण से सम्मानित किया गया था?

Ans  1. कर्नाटक संगीत

2. जैज़ संगीत

3. हिंदुस्तानी संगीत

4. लोक संगीत

Question Type : MCQ

Question ID : 630680488683

Option 1 ID : 6306801908748

Option 2 ID : 6306801908750

Option 3 ID : 6306801908747

Option 4 ID : 6306801908749

Status : Answered

Chosen Option : 1

Q.2 भारत की जनगणना 2011 के अनुसार, निम्नलिखित में से किस केंद्र शासित प्रदेश में लिंगानुपात प्रति 1000 पुरुषों पर 1037 महिलाएँ दर्ज किया गया था?

Ans  1. अंडमान व निकोबार द्वीप समूह

2. लक्षद्वीप

3. पुदुचेरी

4. चंडीगढ़

Question Type : MCQ

Question ID : 630680511182

Option 1 ID : 6306801997858

Option 2 ID : 6306801997861

Option 3 ID : 6306801997860

Option 4 ID : 6306801997859

Status : Answered

Chosen Option : 3

Q.3 कई जैविक प्रक्रियाएँ एंजाइमों द्वारा उत्प्रेरित होती हैं। पाचन एंजाइम कोशिका के किस भाग में मौजूद होते हैं?

- Ans
- 1. गॉल्जी संमिश्र
  - 2. सूत्रकणिका
  - 3. राइबोसोम
  - 4. लाइसोसोम

Question Type : MCQ

Question ID : 630680270014

Option 1 ID : 6306801049307

Option 2 ID : 6306801049308

Option 3 ID : 6306801049309

Option 4 ID : 6306801049310

Status : Answered

Chosen Option : 1

Q.4 297 ईसा पूर्व में कौन-सा शासक चंद्रगुप्त मौर्य का उत्तराधिकारी बना?

- Ans
- 1. कुमारगुप्त
  - 2. अशोक
  - 3. कनिष्क
  - 4. बिन्दुसार

Question Type : MCQ

Question ID : 63068070540

Option 1 ID : 630680272784

Option 2 ID : 630680272782

Option 3 ID : 630680272783

Option 4 ID : 630680272785

Status : Answered

Chosen Option : 4

Q.5 निम्नलिखित में से किस पुस्तक में लेखक ने द्वितीय विश्व युद्ध की विभीषिकाओं और त्रासदी का वर्णन किया है?

- Ans
- 1. लॉन्ग वॉक टु फ्रीडम (Long walk to freedom)
  - 2. आई नो व्हाई द केज्ड बर्ड सिंग्स (I know why the caged bird sings)
  - 3. ड्रीम्स फ्रॉम माय फादर (Dreams from my father)
  - 4. द डायरी ऑफ अ यंग गर्ल (The Diary of a young girl)

Question Type : MCQ

Question ID : 63068086116

Option 1 ID : 630680333896

Option 2 ID : 630680333897

Option 3 ID : 630680333898

Option 4 ID : 630680333899

Status : Answered

Chosen Option : 1

Q.6 निम्नलिखित में से किस अधिनियम के अंतर्गत भारत में संघीय न्यायालय की स्थापना का प्रावधान किया गया था?

- Ans
- 1. 1919 का भारत सरकार अधिनियम
  - 2. 1935 का भारत सरकार अधिनियम
  - 3. 1909 का भारतीय परिषद अधिनियम
  - 4. 1773 का रेग्युलेटिंग अधिनियम

Question Type : MCQ

Question ID : 630680682839

Option 1 ID : 6306802674101

Option 2 ID : 6306802674102

Option 3 ID : 6306802674100

Option 4 ID : 6306802674099

Status : Not Answered

Chosen Option : --

Q.7 तीजन बाई निम्नलिखित में से किस नृत्य से जुड़ी हैं?

- Ans
- 1. बगुरुम्बा
  - 2. गरबा
  - 3. पंडवानी
  - 4. झूमर

Question Type : MCQ

Question ID : 630680547166

Option 1 ID : 6306802139224

Option 2 ID : 6306802139223

Option 3 ID : 6306802139226

Option 4 ID : 6306802139225

Status : Answered

Chosen Option : 3

Q.8 निम्नलिखित में से क्या राष्ट्रीय आय में शामिल नहीं है?

- Ans
- 1. किसी व्यक्ति को दान के रूप में प्राप्त हुई आय
  - 2. एक परिवार को उनकी भूमि के उपयोग के लिए प्राप्त हुई आय
  - 3. एक परिवार को उनके उद्यमशीलता कौशल के उपयोग के लिए प्राप्त हुई आय
  - 4. किसी व्यक्ति को उसकी पूंजी के उपयोग के लिए प्राप्त हुई आय

Question Type : MCQ

Question ID : 630680111951

Option 1 ID : 630680433530

Option 2 ID : 630680433531

Option 3 ID : 630680433532

Option 4 ID : 630680433533

Status : Answered

Chosen Option : 1

Q.9 भारत की जनगणना 2011 के अनुसार, सबसे अधिक लिंगानुपात वाला राज्य कौन सा है?

- Ans  1. केरल  
 2. तमिलनाडु  
 3. कर्नाटक  
 4. आंध्र प्रदेश

Question Type : MCQ  
Question ID : 630680113513  
Option 1 ID : 630680439587  
Option 2 ID : 630680439586  
Option 3 ID : 630680439589  
Option 4 ID : 630680439588  
Status : Answered  
Chosen Option : 1

Q.10 स्वर्ण सिंह समिति के संबंध में निम्नलिखित में से कौन-सा कथन सत्य नहीं है?

- Ans  1. इसने नागरिकों के कर्तव्यों के रूप में नौ मदों का सुझाव दिया।  
 2. स्वर्ण सिंह समिति की स्थापना 1976 में की गई थी।  
 3. इस समिति की स्थापना इंदिरा गांधी की सरकार के दौरान की गई थी।  
 4. 42वां संवैधानिक संशोधन अधिनियम इसकी अनुशंसाओं पर आधारित था।

Question Type : MCQ  
Question ID : 630680799030  
Option 1 ID : 6306803130924  
Option 2 ID : 6306803130922  
Option 3 ID : 6306803130925  
Option 4 ID : 6306803130923  
Status : Answered  
Chosen Option : 1

Q.11 दो जलाशयों के बीच जहाज महल नामक एक सुंदर दो मंजिला 'शिप पैलेस' किसने बनवाया था?

- Ans  1. सुल्तान गयासुद्दीन खिलजी  
 2. सुल्तान अलाउद्दीन खिलजी  
 3. सुल्तान गयासुद्दीन तुगलक  
 4. सुल्तान मुहम्मद बिन तुगलक

Question Type : MCQ  
Question ID : 630680807781  
Option 1 ID : 6306803164754  
Option 2 ID : 6306803164756  
Option 3 ID : 6306803164755  
Option 4 ID : 6306803164757  
Status : Not Answered  
Chosen Option : --

Q.12 थर्मोहैलाइन सर्कुलेशन (Thermohaline Circulation) पूरी दुनिया में निम्नलिखित में से किस महत्वपूर्ण पर्यावरणीय कारक को सीधे प्रभावित करता है?

- Ans
- 1. हवा में प्रदूषण
  - 2. प्राकृतिक संसाधनों
  - 3. भू-आकृतियों
  - 4. जलवायु

Question Type : MCQ  
Question ID : 630680455450  
Option 1 ID : 6306801778717  
Option 2 ID : 6306801778716  
Option 3 ID : 6306801778715  
Option 4 ID : 6306801778714  
Status : Answered  
Chosen Option : 1

Q.13 अपघटकों द्वारा कार्बनिक पदार्थ को सरल यौगिकों में तोड़ने की प्रक्रिया का नाम क्या है?

- Ans
- 1. किण्वन
  - 2. श्वसन
  - 3. प्रकाश संश्लेषण
  - 4. अपघटन

Question Type : MCQ  
Question ID : 630680681873  
Option 1 ID : 6306802670671  
Option 2 ID : 6306802670669  
Option 3 ID : 6306802670668  
Option 4 ID : 6306802670670  
Status : Answered  
Chosen Option : 4

Q.14 निम्नलिखित में से किसे कुचिपुड़ी नृत्य के लिए संगीत नाटक अकादमी अमृत पुरस्कार 2022 प्राप्त हुआ?

- Ans
- 1. माखन चंद्र बोरा
  - 2. स्मिता राजेशभाई शास्त्री
  - 3. कुमकुम लाल
  - 4. चरण गिरधर चांद

Question Type : MCQ  
Question ID : 630680511996  
Option 1 ID : 6306802000957  
Option 2 ID : 6306802000956  
Option 3 ID : 6306802000955  
Option 4 ID : 6306802000954  
Status : Answered  
Chosen Option : 2

Q.15 निम्नलिखित में से किस राज्य में जॉन बील मेला (Jon Beel mela) हर वर्ष आयोजित किया जाता है?

- Ans  1. असम  
 2. अरुणाचल प्रदेश  
 3. हरियाणा  
 4. तेलंगाना

Question Type : **MCQ**  
Question ID : **630680402987**  
Option 1 ID : **6306801571521**  
Option 2 ID : **6306801571520**  
Option 3 ID : **6306801571522**  
Option 4 ID : **6306801571519**  
Status : **Not Answered**  
Chosen Option : --

Q.16 भारत के निम्नलिखित में से किस शहर में पहली सफल कपड़ा मिल स्थापित की गई थी?

- Ans  1. चेन्नई  
 2. कोलकाता  
 3. लुधियाना  
 4. मुंबई

Question Type : **MCQ**  
Question ID : **630680481894**  
Option 1 ID : **6306801882063**  
Option 2 ID : **6306801882061**  
Option 3 ID : **6306801882062**  
Option 4 ID : **6306801882060**  
Status : **Answered**  
Chosen Option : 2

Q.17 जब 1347 ई. (CE) में बहमनी साम्राज्य की स्थापना हुई थी, तब निम्नलिखित में से कौन दिल्ली का सुल्तान था?

- Ans  1. गयासुद्दीन तुगलक  
 2. बहलोल लोदी  
 3. मुबारक शाह खिलजी  
 4. मुहम्मद बिन तुगलक

Question Type : **MCQ**  
Question ID : **630680282899**  
Option 1 ID : **6306801099730**  
Option 2 ID : **6306801099727**  
Option 3 ID : **6306801099728**  
Option 4 ID : **6306801099729**  
Status : **Answered**  
Chosen Option : 4

Q.18 राज्य विधानमंडल (State Legislature) में किस सदन को निचला सदन माना जाता है?

- Ans
- 1. राज्यसभा
  - 2. लोकसभा
  - 3. विधानसभा
  - 4. विधान-परिषद

Question Type : MCQ

Question ID : 630680511444

Option 1 ID : 6306801998907

Option 2 ID : 6306801998906

Option 3 ID : 6306801998909

Option 4 ID : 6306801998908

Status : Answered

Chosen Option : 4

Q.19 केंद्र शासित प्रदेश पुदुचेरी निम्नलिखित में से किस नदी बेसिन (basin) में स्थित है?

- Ans
- 1. महानदी
  - 2. यमुना
  - 3. कृष्णा
  - 4. कावेरी

Question Type : MCQ

Question ID : 630680510900

Option 1 ID : 6306801996731

Option 2 ID : 6306801996730

Option 3 ID : 6306801996733

Option 4 ID : 6306801996732

Status : Answered

Chosen Option : 4

Q.20 बंगाल के उस समाज सुधारक का नाम बताइए, जिसने हिंदू विधवा पुनर्विवाह अधिनियम (Hindu Widows' Remarriage Act), 1856 को लागू करने (enactment) में महत्वपूर्ण भूमिका निभाई थी।

- Ans
- 1. रवीन्द्रनाथ टैगोर
  - 2. स्वामी विवेकानंद
  - 3. ईश्वरचंद्र विद्यासागर
  - 4. सत्येंद्र नाथ बोस

Question Type : MCQ

Question ID : 630680214011

Option 1 ID : 630680830091

Option 2 ID : 630680830092

Option 3 ID : 630680830094

Option 4 ID : 630680830093

Status : Answered

Chosen Option : 3

Q.21 एक 0.25 g कार्बनिक यौगिक, पूर्ण दहन के पश्चात् 0.13 g जल देता है। हाइड्रोजन का प्रतिशत संघटन (percentage composition), \_\_\_\_\_ है।

- Ans
- 1. 52.00%
  - 2. 5.78%
  - 3. 11.11%
  - 4. 4.58%

Question Type : MCQ

Question ID : 630680472235

Option 1 ID : 6306801844673

Option 2 ID : 6306801844671

Option 3 ID : 6306801844674

Option 4 ID : 6306801844672

Status : Not Answered

Chosen Option : --

Q.22 2023-24 में प्रस्तावित, आयकर अधिनियम 1961 की कौन-सी धारा 75 वर्ष और उससे अधिक आयु के वरिष्ठ नागरिकों को आयकर रिटर्न दाखिल करने से छूट देती है?

- Ans
- 1. धारा 234C
  - 2. धारा 80c
  - 3. धारा 139A
  - 4. धारा 194P

Question Type : MCQ

Question ID : 630680798960

Option 1 ID : 6306803130640

Option 2 ID : 6306803130639

Option 3 ID : 6306803130641

Option 4 ID : 6306803130638

Status : Not Answered

Chosen Option : --

Q.23 निम्नलिखित पैरा एथलीटों में से कौन-सा एथलीट ऊंची कूद स्पर्धा (High Jump event) से जुड़ा है?

- Ans
- 1. मरियप्पन थंगावेलु (Mariyappan Thangavelu)
  - 2. अजीत सिंह यादव (Ajeet Singh Yadav)
  - 3. दीपा मलिक (Deepa Malik)
  - 4. अवनि लेखरा (Avani Lekhara)

Question Type : MCQ

Question ID : 630680571864

Option 1 ID : 6306802236352

Option 2 ID : 6306802236354

Option 3 ID : 6306802236353

Option 4 ID : 6306802236355

Status : Answered

Chosen Option : 1

Q.24 चिप (Chip), कोंडोर (Condor), डफ (Duff) और ड्राइवर (Driver) \_\_\_\_\_ में प्रयुक्त होने वाले कुछ शब्द हैं।

- Ans
- 1. शतरंज
  - 2. हॉर्स पोलो
  - 3. गोल्फ
  - 4. तैराकी

Question Type : MCQ

Question ID : 630680553403

Option 1 ID : 6306802163505

Option 2 ID : 6306802163504

Option 3 ID : 6306802163506

Option 4 ID : 6306802163507

Status : Answered

Chosen Option : 2

Q.25 2023 में, भारत सरकार ने आर्द्रभूमि के इष्टतम उपयोग को प्रोत्साहित करने और स्थानीय समुदायों के लिए जैव-विविधता, कार्बन स्टॉक, पर्यावरण-पर्यटन के अवसरों और आय सृजन को बढ़ाने के लिए अगले \_\_\_\_\_ में 'अमृत धरोहर योजना' को लागू करने का प्रस्ताव रखा था।

- Ans
- 1. तीन वर्ष
  - 2. सात वर्ष
  - 3. पांच वर्ष
  - 4. दो वर्ष

Question Type : MCQ

Question ID : 630680467188

Option 1 ID : 6306801824698

Option 2 ID : 6306801824700

Option 3 ID : 6306801824699

Option 4 ID : 6306801824697

Status : Answered

Chosen Option : 3

Section : English Language and Comprehension

Q.1 Select the most appropriate option that can substitute the underlined words in the given sentence.

Raman is as worse as Raju in solving mathematical problems.

- Ans
- 1. worsen
  - 2. bad
  - 3. best
  - 4. worst

Question Type : MCQ

Question ID : 630680514574

Option 1 ID : 6306802010923

Option 2 ID : 6306802010922

Option 3 ID : 6306802010924

Option 4 ID : 6306802010921

Status : Not Answered

Chosen Option : --

**Q.2 Select the INCORRECTLY spelt word..**

**Ans** ✓ 1. Manoeuvre

✗ 2. Occurrence

✗ 3. Consistent

✗ 4. Embarrassment

Question Type : **MCQ**

Question ID : **630680587216**

Option 1 ID : **6306802297396**

Option 2 ID : **6306802297398**

Option 3 ID : **6306802297397**

Option 4 ID : **6306802297399**

Status : **Answered**

Chosen Option : 1

**Q.3 Select the option that can be used as a one-word substitute for the given group of words.**

**The method and practice of teaching**

**Ans** ✓ 1. Pedagogy

✗ 2. Learning

✗ 3. Strategy

✗ 4. Objective

Question Type : **MCQ**

Question ID : **630680597015**

Option 1 ID : **6306802336101**

Option 2 ID : **6306802336103**

Option 3 ID : **6306802336104**

Option 4 ID : **6306802336102**

Status : **Answered**

Chosen Option : 1

**Q.4 Select the most appropriate meaning of the given phrase.**  
**Feel the pinch**

**Ans** ✓ 1. Experience hardship

✗ 2. Raise quality

✗ 3. Give pain

✗ 4. Demand something

Question Type : **MCQ**

Question ID : **630680799120**

Option 1 ID : **6306803131281**

Option 2 ID : **6306803131280**

Option 3 ID : **6306803131278**

Option 4 ID : **6306803131279**

Status : **Answered**

Chosen Option : 1

**Q.5** Select the most appropriate meaning of the idiom from the options given below.  
A square peg in a round hole

- Ans  1. a person who is bankrupt  
 2. a person who is criminal by nature  
 3. a person who does not fit the job  
 4. a person who fits the job

Question Type : **MCQ**  
Question ID : **630680168554**  
Option 1 ID : **630680652830**  
Option 2 ID : **630680652831**  
Option 3 ID : **630680652828**  
Option 4 ID : **630680652829**  
Status : **Answered**  
Chosen Option : **3**

**Q.6** Select the most appropriate synonym of the given word.  
Ephemeral

- Ans  1. Durable  
 2. Permanent  
 3. Fleeting  
 4. persistent

Question Type : **MCQ**  
Question ID : **630680413228**  
Option 1 ID : **6306801611722**  
Option 2 ID : **6306801611719**  
Option 3 ID : **6306801611720**  
Option 4 ID : **6306801611721**  
Status : **Answered**  
Chosen Option : **3**

**Q.7** Select the **INCORRECTLY** spelt word.

- Ans  1. Detrimental  
 2. Transcendental  
 3. Fundementel  
 4. Regimental

Question Type : **MCQ**  
Question ID : **630680477171**  
Option 1 ID : **6306801863856**  
Option 2 ID : **6306801863854**  
Option 3 ID : **6306801863855**  
Option 4 ID : **6306801863853**  
Status : **Answered**  
Chosen Option : **3**

Q.8 Select the most appropriate ANTONYM of the underlined word in the given sentence.

Abhay's humility towards the poor and needy people of his locality is really admirable.

- Ans
- 1. Modesty
  - 2. Sincerity
  - 3. Amicability
  - 4. Arrogance

Question Type : **MCQ**  
Question ID : **630680523386**  
Option 1 ID : **6306802045722**  
Option 2 ID : **6306802045724**  
Option 3 ID : **6306802045723**  
Option 4 ID : **6306802045721**  
Status : **Answered**  
Chosen Option : **4**

Q.9 Identify the ANTONYM of the word in brackets.

The athlete's (languid) performance disappointed the fans as well as coaches.

- Ans
- 1. Listless
  - 2. Relaxed
  - 3. Lethargic
  - 4. Vigorous

Question Type : **MCQ**  
Question ID : **630680545665**  
Option 1 ID : **6306802133250**  
Option 2 ID : **6306802133251**  
Option 3 ID : **6306802133248**  
Option 4 ID : **6306802133249**  
Status : **Answered**  
Chosen Option : **2**

Q.10 Rectify the sentence by selecting the correct spelling from the options.

Despite his busy scheuduel, Rohit managed to complete the assignment on time.

- Ans
- 1. schedule
  - 2. scheudul
  - 3. schedeule
  - 4. scedhule

Question Type : **MCQ**  
Question ID : **630680710918**  
Option 1 ID : **6306802785328**  
Option 2 ID : **6306802785330**  
Option 3 ID : **6306802785329**  
Option 4 ID : **6306802785331**  
Status : **Answered**  
Chosen Option : **2**

**Q.11** Select the most appropriate option to fill in the blank.  
The arrangements of the little boy's birthday party were \_\_\_\_\_ nice. We could not help but appreciate it.

- Ans
- 1. few
  - 2. little
  - 3. many
  - 4. extremely

Question Type : **MCQ**  
Question ID : **630680515239**  
Option 1 ID : **6306802013422**  
Option 2 ID : **6306802013421**  
Option 3 ID : **6306802013424**  
Option 4 ID : **6306802013423**  
Status : **Answered**  
Chosen Option : **4**

**Q.12** Select the option that can be used as one-word substitute for the given group of words

A policy that separates people on the basis of race

- Ans
- 1. Apiary
  - 2. Apartheid
  - 3. Apostle
  - 4. Apostasy

Question Type : **MCQ**  
Question ID : **630680438007**  
Option 1 ID : **6306801709848**  
Option 2 ID : **6306801709849**  
Option 3 ID : **6306801709851**  
Option 4 ID : **6306801709850**  
Status : **Not Answered**  
Chosen Option : **--**

**Q.13** Select the appropriate option that can substitute the underlined word in the following sentence to make it grammatically correct.

This novel is more interesting of all in the library.

- Ans
- 1. interesting
  - 2. the more interesting
  - 3. the most interesting
  - 4. most interesting

Question Type : **MCQ**  
Question ID : **630680514630**  
Option 1 ID : **6306802011148**  
Option 2 ID : **6306802011147**  
Option 3 ID : **6306802011146**  
Option 4 ID : **6306802011145**  
Status : **Answered**  
Chosen Option : **4**

Q.14 Select the most appropriate option that can substitute the underlined segment in the given sentence.

This is the old tree in the colony.

- Ans  1. elder  
 2. oldest  
 3. older  
 4. most old

Question Type : MCQ

Question ID : 630680514593

Option 1 ID : 6306802010997

Option 2 ID : 6306802010999

Option 3 ID : 6306802010998

Option 4 ID : 6306802011000

Status : Answered

Chosen Option : 3

Q.15 Correct the underlined part of the sentence.

They have a few juice in the jar.

- Ans  1. little  
 2. fewer  
 3. lesser  
 4. least

Question Type : MCQ

Question ID : 630680514555

Option 1 ID : 6306802010848

Option 2 ID : 6306802010845

Option 3 ID : 6306802010846

Option 4 ID : 6306802010847

Status : Not Answered

Chosen Option : --

Q.16 In the following sentence the underlined part contains an error. Alternatives to the underlined part are given as options. Select the correct alternative.  
The house seemed much far than she expected.

- Ans  1. farer  
 2. more far  
 3. farther  
 4. farthest

Question Type : MCQ

Question ID : 630680514728

Option 1 ID : 6306802011540

Option 2 ID : 6306802011538

Option 3 ID : 6306802011537

Option 4 ID : 6306802011539

Status : Answered

Chosen Option : 3

Q.17 Select the most appropriate set of words to fill the blanks.

I was trying to \_\_\_\_\_ a pen to sign a form as my brother had been \_\_\_\_\_ Rupees 500 for breaking the traffic rules.

- Ans  1. find; fined  
 2. find; find  
 3. fined; find  
 4. fined; fined

Question Type : MCQ  
Question ID : 630680596938  
Option 1 ID : 6306802335801  
Option 2 ID : 6306802335803  
Option 3 ID : 6306802335802  
Option 4 ID : 6306802335804  
Status : Answered  
Chosen Option : 1

Q.18 Select the word that has the same meaning (SYNONYM) as the underlined word in the given sentence.

The town, where Haruki lived, stood in imminent danger of tidal waves.

- Ans  1. immaculate  
 2. prominent  
 3. eminent  
 4. impending

Question Type : MCQ  
Question ID : 630680446653  
Option 1 ID : 6306801743917  
Option 2 ID : 6306801743916  
Option 3 ID : 6306801743914  
Option 4 ID : 6306801743915  
Status : Not Answered  
Chosen Option : --

Q.19 Select the most appropriate option that can substitute the underlined segment in the given sentence. If there is no need to substitute it, select 'No substitution'.

While I was teaching the elder one, the younger one take an opportunity and ran away.

- Ans  1. the younger one took an opportunity and ran away  
 2. the younger one has taken an opportunity and ran away  
 3. the younger one will take an opportunity and ran away  
 4. No substitution

Question Type : MCQ  
Question ID : 630680498392  
Option 1 ID : 6306801947252  
Option 2 ID : 6306801947253  
Option 3 ID : 6306801947254  
Option 4 ID : 6306801947255  
Status : Answered  
Chosen Option : 1

**Q.20** Select the most appropriate option that can substitute the underlined segment in the given sentence.

This is the cheap saree in my collection.

- Ans
- 1. cheaper
  - 2. most cheapest
  - 3. more cheap
  - 4. cheapest

Question Type : **MCQ**

Question ID : **630680514598**

Option 1 ID : **6306802011017**

Option 2 ID : **6306802011018**

Option 3 ID : **6306802011020**

Option 4 ID : **6306802011019**

Status : **Answered**

Chosen Option : **2**

**Comprehension:**

In the following passage, some words have been deleted. Read the passage carefully and select the most appropriate option to fill in each blank.

There lived in a town in Russia a bootmaker named Martin. He lived in a small room, half sunk \_\_\_\_\_1\_\_\_\_\_ the level of the street, with one window which \_\_\_\_\_2\_\_\_\_\_ on the street. He had lived in the same room for many years and knew many people. There was \_\_\_\_\_3\_\_\_\_\_ a pair of boots in the town and in the country for many miles \_\_\_\_\_4\_\_\_\_\_ that had not once or twice passed \_\_\_\_\_5\_\_\_\_\_ his hands.

**SubQuestion No : 21**

**Q.21** Select the most appropriate option to fill in blank number 1.

- Ans
- 1. beyond
  - 2. inside
  - 3. below
  - 4. amidst

Question Type : **MCQ**

Question ID : **630680624695**

Option 1 ID : **6306802444934**

Option 2 ID : **6306802444933**

Option 3 ID : **6306802444935**

Option 4 ID : **6306802444936**

Status : **Answered**

Chosen Option : **2**

**Comprehension:**

In the following passage, some words have been deleted. Read the passage carefully and select the most appropriate option to fill in each blank.

There lived in a town in Russia a bootmaker named Martin. He lived in a small room, half sunk \_\_\_\_\_1\_\_\_\_\_ the level of the street, with one window which \_\_\_\_\_2\_\_\_\_\_ on the street. He had lived in the same room for many years and knew many people. There was \_\_\_\_\_3\_\_\_\_\_ a pair of boots in the town and in the country for many miles \_\_\_\_\_4\_\_\_\_\_ that had not once or twice passed \_\_\_\_\_5\_\_\_\_\_ his hands.

**SubQuestion No : 22**

**Q.22** Select the most appropriate option to fill in blank number 2.

- Ans
- 1. touched
  - 2. opened
  - 3. aimed
  - 4. arrived

Question Type : **MCQ**

Question ID : **630680624696**

Option 1 ID : **6306802444937**

Option 2 ID : **6306802444938**

Option 3 ID : **6306802444940**

Option 4 ID : **6306802444939**

Status : **Answered**

Chosen Option : **2**

**Comprehension:**

In the following passage, some words have been deleted. Read the passage carefully and select the most appropriate option to fill in each blank.

There lived in a town in Russia a bootmaker named Martin. He lived in a small room, half sunk \_\_\_\_\_1\_\_\_\_\_ the level of the street, with one window which \_\_\_\_\_2\_\_\_\_\_ on the street. He had lived in the same room for many years and knew many people. There was \_\_\_\_\_3\_\_\_\_\_ a pair of boots in the town and in the country for many miles \_\_\_\_\_4\_\_\_\_\_ that had not once or twice passed \_\_\_\_\_5\_\_\_\_\_ his hands.

**SubQuestion No : 23**

**Q.23** Select the most appropriate option to fill in blank number 3.

- Ans
- 1. always
  - 2. now
  - 3. hardly
  - 4. besides

Question Type : **MCQ**

Question ID : **630680624697**

Option 1 ID : **6306802444941**

Option 2 ID : **6306802444942**

Option 3 ID : **6306802444944**

Option 4 ID : **6306802444943**

Status : **Answered**

Chosen Option : **1**

**Comprehension:**

In the following passage, some words have been deleted. Read the passage carefully and select the most appropriate option to fill in each blank.

There lived in a town in Russia a bootmaker named Martin. He lived in a small room, half sunk \_\_\_\_\_1\_\_\_\_\_ the level of the street, with one window which \_\_\_\_\_2\_\_\_\_\_ on the street. He had lived in the same room for many years and knew many people. There was \_\_\_\_\_3\_\_\_\_\_ a pair of boots in the town and in the country for many miles \_\_\_\_\_4\_\_\_\_\_ that had not once or twice passed \_\_\_\_\_5\_\_\_\_\_ his hands.

**SubQuestion No : 24**

**Q.24** Select the most appropriate option to fill in blank number 4.

- Ans  1. around  
 2. above  
 3. below  
 4. round

Question Type : **MCQ**

Question ID : **630680624698**

Option 1 ID : **6306802444946**

Option 2 ID : **6306802444945**

Option 3 ID : **6306802444947**

Option 4 ID : **6306802444948**

Status : **Answered**

Chosen Option : **4**

**Comprehension:**

In the following passage, some words have been deleted. Read the passage carefully and select the most appropriate option to fill in each blank.

There lived in a town in Russia a bootmaker named Martin. He lived in a small room, half sunk \_\_\_\_\_1\_\_\_\_\_ the level of the street, with one window which \_\_\_\_\_2\_\_\_\_\_ on the street. He had lived in the same room for many years and knew many people. There was \_\_\_\_\_3\_\_\_\_\_ a pair of boots in the town and in the country for many miles \_\_\_\_\_4\_\_\_\_\_ that had not once or twice passed \_\_\_\_\_5\_\_\_\_\_ his hands.

**SubQuestion No : 25**

**Q.25** Select the most appropriate option to fill in blank number 5.

- Ans  1. off  
 2. through  
 3. at  
 4. in

Question Type : **MCQ**

Question ID : **630680624699**

Option 1 ID : **6306802444950**

Option 2 ID : **6306802444952**

Option 3 ID : **6306802444951**

Option 4 ID : **6306802444949**

Status : **Answered**

Chosen Option : **2**