

## Multi Tasking Non Technical Staff and Havaladar CBIC and CBN Examination 2024

Roll Number	
Candidate Name	
Venue Name	iON Digital Zone iDZ Trinity 1Shri Jairam Education Society Kokta Bypass Road.
Exam Date	30/09/2024
Exam Time	9:00 AM - 11:00 AM
Subject	MTS Non Tech Havaladar CBIC and CBN Examination 2024

### Section : Numerical and Mathematical Ability

Q.1 3 cm त्रिज्या वाले 20 एकसमान ठोस अर्धगोलों को पिघलाकर एक बड़ा ठोस अर्धगोला बनाया जाता है। यदि इस प्रक्रिया के दौरान 20% ठोस बर्बाद हो जाता है, तो बनाए गए सबसे बड़े अर्धगोले की त्रिज्या (cm में) कितनी है?

- Ans
- 1. 6
  - 2. 3
  - 3.  $6\sqrt[3]{2}$
  - 4.  $3\sqrt{2}$

Question Type : MCQ

Question ID : 630680398773

Option 1 ID : 6306801555095

Option 2 ID : 6306801555097

Option 3 ID : 6306801555094

Option 4 ID : 6306801555096

Status : Answered

Chosen Option : 3

Q.2 एक कॉलेज में, लड़कों की संख्या का 20% लड़कियों की संख्या के तीन-चौथाई के बराबर है। उस कॉलेज के लड़कों और लड़कियों का अनुपात ज्ञात कीजिए।

- Ans
- 1. 15 : 4
  - 2. 13 : 4
  - 3. 7 : 6
  - 4. 5 : 3

Question Type : MCQ

Question ID : 630680464536

Option 1 ID : 6306801814182

Option 2 ID : 6306801814180

Option 3 ID : 6306801814181

Option 4 ID : 6306801814179

Status : Answered

Chosen Option : 1

Q.3 अतुल ने ₹19,200 प्रति बोरी की दर से दो बोरी चावल बेचे। एक पर उसे 20% का लाभ हुआ और दूसरे पर उसे 20% की हानि हुई। पूरे सौदे में उसका लाभ या हानि प्रतिशत ज्ञात करें।

Ans  1. 4% हानि

2. 8% लाभ

3. 5% हानि

4. 7% लाभ

Question Type : MCQ

Question ID : 630680108523

Option 1 ID : 630680421054

Option 2 ID : 630680421055

Option 3 ID : 630680421052

Option 4 ID : 630680421053

Status : Answered

Chosen Option : 1

Q.4 एक परिवार का वर्ष के पहले तीन महीनों के दौरान औसत मासिक व्यय ₹8,600 था, अगले चार महीनों के दौरान ₹9,750 था और आखिरी पांच महीनों के दौरान ₹9,920 था। यदि वर्ष के दौरान कुल बचत ₹65,300 थी, तो परिवार की औसत मासिक आय (₹ में) कितनी थी?

Ans  1. 15,479

2. 14,597

3. 14,975

4. 15,794

Question Type : MCQ

Question ID : 630680468478

Option 1 ID : 6306801829712

Option 2 ID : 6306801829711

Option 3 ID : 6306801829710

Option 4 ID : 6306801829713

Status : Answered

Chosen Option : 2

Q.5 तीन संख्याएं 6 : 7 : 3 के अनुपात में हैं और उनका लघुत्तम समापवर्त्य (LCM) 3654 है। उनका महत्तम समापवर्तक (HCF) \_\_\_\_\_ है।

Ans  1. 29

2. 27

3. 87

4. 28

Question Type : MCQ

Question ID : 630680108517

Option 1 ID : 630680421031

Option 2 ID : 630680421030

Option 3 ID : 630680421029

Option 4 ID : 630680421028

Status : Answered

Chosen Option : 1

Q.6 एक व्यक्ति एक वस्तु को एक निश्चित मूल्य पर बेचता है और उसे 20% की हानि होती है। यदि वह वस्तु को ₹100 अधिक पर बेचे, तो उसे 30% का लाभ प्राप्त होता है। वस्तु का क्रय मूल्य (₹ में) ज्ञात कीजिए।

Ans  1. 200

2. 400

3. 250

4. 300

Question Type : MCQ

Question ID : 630680107392

Option 1 ID : 630680416935

Option 2 ID : 630680416932

Option 3 ID : 630680416933

Option 4 ID : 630680416934

Status : Answered

Chosen Option : 1

Q.7 6 वर्षों के लिए 7% प्रति वर्ष की ब्याज दर पर उधार ली गई राशि ₹3500 पर साधारण ब्याज (₹ में) ज्ञात कीजिए।

Ans  1. 1470

2. 1430

3. 1410

4. 1510

Question Type : MCQ

Question ID : 630680591982

Option 1 ID : 6306802316395

Option 2 ID : 6306802316398

Option 3 ID : 6306802316397

Option 4 ID : 6306802316396

Status : Answered

Chosen Option : 1

Q.8 5 वर्षों के लिए 7% वार्षिक की ब्याज दर पर उधार ली गई राशि ₹3000 पर साधारण ब्याज (₹ में) ज्ञात कीजिए।

Ans  1. 1090

2. 1050

3. 990

4. 1010

Question Type : MCQ

Question ID : 630680591946

Option 1 ID : 6306802316252

Option 2 ID : 6306802316251

Option 3 ID : 6306802316253

Option 4 ID : 6306802316254

Status : Answered

Chosen Option : 2

Q.9 148 m और 152 m लंबी दो ट्रेनें समानांतर पटरियों पर क्रमशः 62 km/h और 46 km/h की चाल से एक-दूसरे की ओर बढ़ रही हैं। जिस क्षण वे आपस में मिलेंगी, उससे कितने समय बाद वे एक दूसरे को पार कर लेंगी?

Ans  1. 10 सेकंड

2. 20 सेकंड

3. 15 सेकंड

4. 5 सेकंड

Question Type : MCQ

Question ID : 630680102067

Option 1 ID : 630680396625

Option 2 ID : 630680396627

Option 3 ID : 630680396626

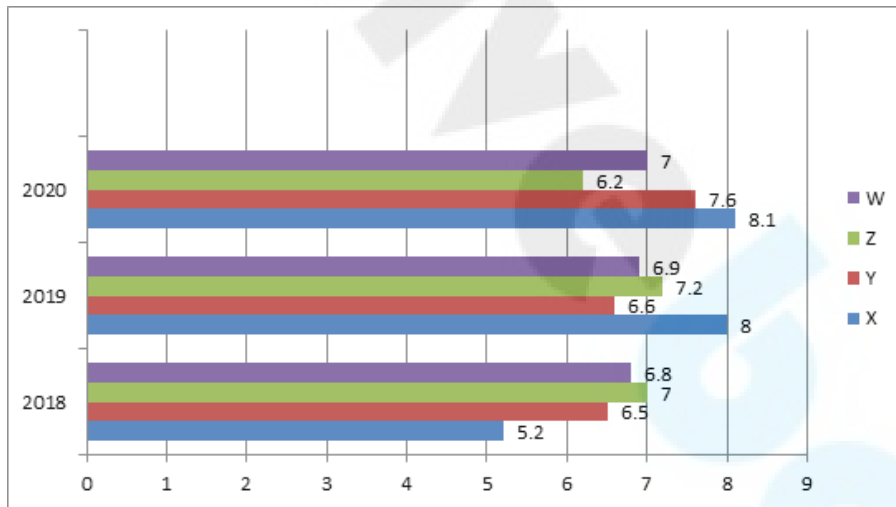
Option 4 ID : 630680396624

Status : Answered

Chosen Option : 1

Q.10 निम्नलिखित दंड आलेख 2018 - 2020 की अवधि के दौरान 4 कंपनियों X, Y, Z और W द्वारा सीमेंट के उत्पादन (10,000 टन में) को दर्शाता है। दंड आलेख का ध्यानपूर्वक अध्ययन कीजिए और प्रश्न का उत्तर दीजिए।

3 वर्षों के दौरान किस कंपनी का औसत उत्पादन अधिकतम रहा?



Ans  1. X

2. W

3. Y

4. Z

Question Type : MCQ

Question ID : 630680430674

Option 1 ID : 6306801680722

Option 2 ID : 6306801680721

Option 3 ID : 6306801680719

Option 4 ID : 6306801680720

Status : Answered

Chosen Option : 1

Q.11 A और B की औसत मासिक आय ₹3,590 है। B और C की औसत मासिक आय ₹4,250 है। A और C की औसत मासिक आय ₹6,500 है। C की मासिक आय क्या है?

Ans  1. ₹7,545

2. ₹7,160

3. ₹6,984

4. ₹8,190

Question Type : MCQ

Question ID : 630680488636

Option 1 ID : 6306801908566

Option 2 ID : 6306801908565

Option 3 ID : 6306801908564

Option 4 ID : 6306801908563

Status : Answered

Chosen Option : 2

Q.12 5% वार्षिक साधारण ब्याज की दर पर निवेश की गई एक धनराशि 6 वर्षों में बढ़कर ₹806 हो जाती है। यदि धनराशि समान रहे, तो 12% साधारण ब्याज की दर से 5 वर्षों में यह कितनी हो जाएगी?

Ans  1. ₹992

2. ₹1,120

3. ₹1,000

4. ₹985

Question Type : MCQ

Question ID : 630680401360

Option 1 ID : 6306801565241

Option 2 ID : 6306801565244

Option 3 ID : 6306801565243

Option 4 ID : 6306801565242

Status : Answered

Chosen Option : 1

Q.13 रिया अपनी सभी वस्तुओं पर 12% की छूट प्रदान करती है और नकद भुगतान करने वाले ग्राहकों को 6% का अतिरिक्त छूट प्रदान करती है। एक ग्राहक को ₹2,400 अंकित मूल्य वाले पंखे के लिए कितना भुगतान करना होगा यदि वह नकद भुगतान करता है?

Ans  1. ₹2,300.50

2. ₹1,900

3. ₹2,122.50

4. ₹1,985.28

Question Type : MCQ

Question ID : 630680131128

Option 1 ID : 630680507782

Option 2 ID : 630680507785

Option 3 ID : 630680507783

Option 4 ID : 630680507784

Status : Answered

Chosen Option : 4

Q.14 दी गई तालिका का अध्ययन कीजिए और निम्नलिखित प्रश्न का उत्तर दीजिए।

दी गई तालिका चार वर्षों के लिए किसी कंपनी में विभिन्न श्रेणियों के कर्मचारियों में शामिल किए गए नए कर्मचारियों की संख्या और इन श्रेणियों के प्रत्येक वर्ष कंपनी छोड़ने वाले कर्मचारियों की संख्या को दर्शाती है।

वर्ष	प्रबंधक		तकनीशियन		लेखाकार	
	नए शामिल	छोड़ गए	नए शामिल	छोड़ गए	नए शामिल	छोड़ गए
2001	280	120	260	50	200	100
2002	300	92	340	160	228	95
2003	310	150	450	200	254	125
2004	420	120	480	180	260	120

वर्ष 2001 और 2004 के बीच की अवधि के दौरान, कंपनी छोड़ने वाले तकनीशियनों की कुल संख्या कंपनी में शामिल होने वाले तकनीशियनों की कुल संख्या का कितना प्रतिशत (निकटतम पूर्णांक तक पूर्णांकित) है?

Ans  1. 39%

2. 35%

3. 29%

4. 24%

Question Type : MCQ

Question ID : 630680523749

Option 1 ID : 6306802047148

Option 2 ID : 6306802047147

Option 3 ID : 6306802047150

Option 4 ID : 6306802047149

Status : Answered

Chosen Option : 1

Q.15 100 अंकों की एक परीक्षा में, 50 विद्यार्थियों द्वारा प्राप्त अंकों का औसत 65 पाया गया। बाद में, यह ज्ञात होता है कि 88 के प्राप्तांक को गलती से 68 पढ़ लिया गया था। सही औसत ज्ञात कीजिए।

Ans  1. 65.40

2. 65.70

3. 65.50

4. 65.60

Question Type : MCQ

Question ID : 630680447418

Option 1 ID : 6306801746925

Option 2 ID : 6306801746928

Option 3 ID : 6306801746926

Option 4 ID : 6306801746927

Status : Answered

Chosen Option : 1

Q.16 एक समबाहु त्रिभुज का क्षेत्रफल  $\frac{\sqrt{5043}}{4} \text{ cm}^2$  है। समबाहु त्रिभुज की भुजा की लंबाई कितनी है?

Ans  1.  $\sqrt{47}$  cm

2.  $\sqrt{41}$  cm

3.  $\sqrt{23}$  cm

4.  $\sqrt{29}$  cm

Question Type : MCQ

Question ID : 630680104052

Option 1 ID : 630680404423

Option 2 ID : 630680404426

Option 3 ID : 630680404424

Option 4 ID : 630680404425

Status : Answered

Chosen Option : 2

Q.17 एक सम षट्भुज का क्षेत्रफल  $2048\sqrt{3} \text{ cm}^2$  है। षट्भुज की प्रत्येक भुजा की लंबाई

(cm में) ज्ञात करें।

Ans  1.  $32\sqrt{3}$

2.  $64\sqrt{3}$

3.  $\frac{64\sqrt{3}}{3}$

4.  $\frac{32\sqrt{3}}{3}$

Question Type : MCQ

Question ID : 630680381298

Option 1 ID : 6306801486145

Option 2 ID : 6306801486144

Option 3 ID : 6306801486143

Option 4 ID : 6306801486146

Status : Answered

Chosen Option : 3

Q.18 A और B की वर्तमान आयु का अनुपात 3 : 1 है। पांच वर्ष पहले, उनकी आयु का अनुपात 5 : 1 था। आठ वर्ष बाद A की आयु (वर्ष में) कितनी होगी?

Ans  1. 40

2. 22

3. 38

4. 30

Question Type : MCQ

Question ID : 630680493801

Option 1 ID : 6306801928934

Option 2 ID : 6306801928933

Option 3 ID : 6306801928936

Option 4 ID : 6306801928935

Status : Answered

Chosen Option : 3

Q.19 ₹43/kg और ₹67/kg मूल्य वाले चावलों को तीसरी किस्म के चावल के साथ 2 : 1 : 5 के अनुपात में मिलाया जाता है। यदि मिश्रण का मूल्य ₹96/kg है, तो तीसरी किस्म के चावल का प्रति kg मूल्य (₹ में) ज्ञात कीजिए।

- Ans
- 1. 159
  - 2. 142
  - 3. 131
  - 4. 123

Question Type : MCQ

Question ID : 630680402507

Option 1 ID : 6306801569587

Option 2 ID : 6306801569588

Option 3 ID : 6306801569589

Option 4 ID : 6306801569590

Status : Answered

Chosen Option : 4

Q.20 एक चोर, एक पुलिसकर्मी को देखता है और वह 18 m/s की चाल से भागने लगता है। 12 सेकंड बाद, पुलिसकर्मी एक निश्चित चाल से चोर के पीछे दौड़ना शुरू करता है। यदि पुलिसकर्मी चोर तक पहुंचने के लिए 864 मीटर की दूरी तय करता है, तो पुलिसकर्मी की चाल (m/s में) ज्ञात कीजिए।

- Ans
- 1. 30
  - 2. 28
  - 3. 24
  - 4. 15

Question Type : MCQ

Question ID : 630680227098

Option 1 ID : 630680881086

Option 2 ID : 630680881085

Option 3 ID : 630680881084

Option 4 ID : 630680881083

Status : Answered

Chosen Option : 1

Section : Reasoning Ability and Problem Solving

Q.1 सात व्यक्ति A, B, C, D, E, F और G एक वृत्ताकार मेज के चारों ओर केंद्र की ओर मुख करके बैठे हैं (परंतु जरूरी नहीं कि वे इसी क्रम में बैठे हों)। A, E के दाईं ओर दूसरे स्थान पर बैठा है। D और A के बीच में केवल एक व्यक्ति बैठा है। B, G के दाईं ओर तीसरे स्थान पर बैठा है। F, B का निकटतम पड़ोसी है। E के बाईं ओर से गिनती करने पर D और E के बीच में कितने व्यक्ति बैठे हैं?

- Ans
- 1. एक
  - 2. तीन
  - 3. चार
  - 4. दो

Question Type : MCQ

Question ID : 630680382731

Option 1 ID : 6306801491839

Option 2 ID : 6306801491841

Option 3 ID : 6306801491842

Option 4 ID : 6306801491840

Status : Answered

Chosen Option : 2

Q.2 निम्नलिखित समीकरण में यदि '+' और '-' को आपस में बदल दिया जाए तथा '×' और '÷' को आपस में बदल दिया जाए, तो समीकरण में प्रश्न चिह्न (?) के स्थान पर क्या आएगा?  
 $5 \div 6 \times 3 - 4 + 11 = ?$

Ans  1. 14

2. 11

3. 7

4. 3

Question Type : MCQ

Question ID : 630680378862

Option 1 ID : 6306801476498

Option 2 ID : 6306801476497

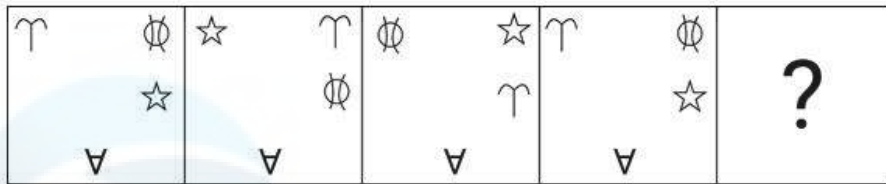
Option 3 ID : 6306801476496

Option 4 ID : 6306801476495

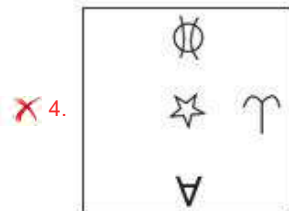
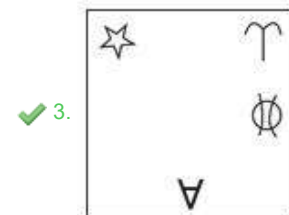
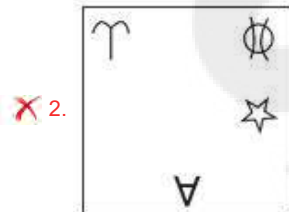
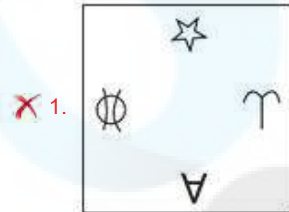
Status : Answered

Chosen Option : 4

Q.3 दिए गए विकल्पों में से उस आकृति की पहचान कीजिए जिसे प्रश्न-चिह्न (?) के स्थान पर रखे जाने पर श्रृंखला तार्किक रूप से पूर्ण हो जाएगी।



Ans



Question Type : MCQ

Question ID : 630680287254

Option 1 ID : 6306801116926

Option 2 ID : 6306801116923

Option 3 ID : 6306801116924

Option 4 ID : 6306801116925

Status : Answered

Chosen Option : 3

Q.4 किसी निश्चित कूट भाषा में, 'WING' को '2618' के रूप में कूटबद्ध किया जाता है और 'NEAT' को '3469' के रूप में कूटबद्ध किया जाता है। उस भाषा में 'N' के लिए कूट क्या है?

- Ans
- 1. 3
  - 2. 1
  - 3. 8
  - 4. 6

Question Type : MCQ

Question ID : 630680435781

Option 1 ID : 6306801701039

Option 2 ID : 6306801701038

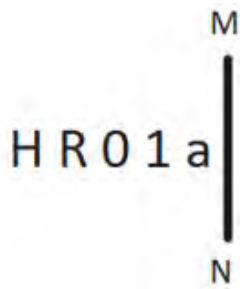
Option 3 ID : 6306801701040

Option 4 ID : 6306801701037

Status : Answered

Chosen Option : 4

Q.5 दी गई आकृति के उस सही दर्पण प्रतिबिंब को चुनिए, जो नीचे दर्शाए गए अनुसार दर्पण को MN पर रखने पर बनेगा।



- Ans
- 1. 1 a O R H
  - 2. J 9 O R H
  - 3. 6 1 O R H
  - 4. a 1 O R H

Question Type : MCQ

Question ID : 630680525252

Option 1 ID : 6306802053094

Option 2 ID : 6306802053095

Option 3 ID : 6306802053093

Option 4 ID : 6306802053092

Status : Answered

Chosen Option : 3

Q.6 एक कूट भाषा में, 'CAKE' को 'ACIG' के रूप में लिखा जाता है और 'GOLD' को 'EQJF' के रूप में लिखा जाता है। इसी कूट भाषा में भाषा में 'WIRE' को कैसे लिखा जाएगा?

Ans  1. GUPK

2. UKPG

3. GUKP

4. GPUK

Question Type : MCQ

Question ID : 630680465371

Option 1 ID : 6306801817521

Option 2 ID : 6306801817519

Option 3 ID : 6306801817520

Option 4 ID : 6306801817522

Status : Answered

Chosen Option : 2

Q.7 दिए गए विकल्पों में से उस आकृति को चुनिए जो निम्नलिखित श्रृंखला में प्रश्न चिह्न (?) के स्थान पर आ सकती है और पैटर्न को पूरा कर सकती है।

A	C	K	C	K	8	△	P	K	P	K	8	
P	↑	8	△	P	Z	▷	Z	8	↑	▷	C	?
△	▷	Z	▷	↑	A	↑	A	C	A	Z	△	

Ans

✗ 1.

↑	P	K
A	Z	▷
8	△	C

✗ 2.

↑	8	C
A	K	▷
Z	△	P

✓ 3.

↑	▷	K
A	C	8
Z	△	P

✗ 4.

△	▷	K
P	C	8
↑	A	Z

Question Type : MCQ

Question ID : 630680441065

Option 1 ID : 6306801721914

Option 2 ID : 6306801721916

Option 3 ID : 6306801721915

Option 4 ID : 6306801721917

Status : Answered

Chosen Option : 3

Q.8 अंग्रेजी वर्णानुक्रम के आधार पर दी गई श्रृंखला में ? के स्थान पर क्या आना चाहिए?

ACE, FHJ, KMO, PRT, ?

Ans  1. NOP

2. BCD

3. UWY

4. GJK

Question Type : **MCQ**

Question ID : **630680399428**

Option 1 ID : **6306801557625**

Option 2 ID : **6306801557623**

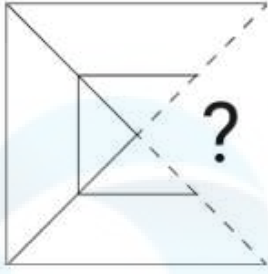
Option 3 ID : **6306801557626**

Option 4 ID : **6306801557624**

Status : **Answered**

Chosen Option : **3**

Q.9 उस विकल्प आकृति का चयन कीजिए जो पैटर्न को पूरा करने के लिए नीचे दी गई आकृति में प्रश्न चिह्न (?) के स्थान पर आएगी।

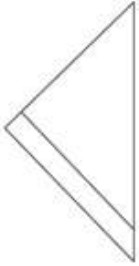


Ans

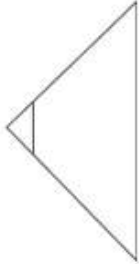
1.



2.



3.



4.



Question Type : **MCQ**

Question ID : **630680524704**

Option 1 ID : **6306802050916**

Option 2 ID : **6306802050918**

Option 3 ID : **6306802050915**

Option 4 ID : **6306802050917**

Status : **Answered**

Chosen Option : **4**

Q.10 दी गई श्रृंखला में '?' के स्थान पर क्या आना चाहिए?

-12, + 24, - 48, + 96, ?, + 384

- Ans
- 1. 96
  - 2. 108
  - 3. -192
  - 4. -108

Question Type : MCQ

Question ID : 630680799060

Option 1 ID : 6306803131042

Option 2 ID : 6306803131044

Option 3 ID : 6306803131043

Option 4 ID : 6306803131045

Status : Answered

Chosen Option : 3

Q.11 सात लोग A, B, C, D, E, F और G एक वृत्ताकार मेज के चारों ओर केंद्र की ओर मुख करके बैठे हैं (परंतु जरूरी नहीं कि वे इसी क्रम में बैठे हों)। C, E के ठीक दाएँ बैठा है। D, C के बाएँ से तीसरे स्थान पर बैठा है। B और C का निकटतम पड़ोसी A है। F, E का निकटतम पड़ोसी नहीं है।

A के सापेक्ष में G का स्थान क्या है?

- Ans
- 1. बाएँ से दूसरा
  - 2. ठीक बाएँ ओर
  - 3. बाएँ से तीसरा
  - 4. दाएँ से दूसरा

Question Type : MCQ

Question ID : 630680379511

Option 1 ID : 6306801479089

Option 2 ID : 6306801479088

Option 3 ID : 6306801479090

Option 4 ID : 6306801479087

Status : Answered

Chosen Option : 3

Q.12 एक निश्चित कूट भाषा में, 'I swim fast' को 'cp lk bs' के रूप में कूटबद्ध किया जाता है और 'may I go' को 'ap sb lk' के रूप में कूटबद्ध किया जाता है। उस कूट भाषा में 'I' को किस प्रकार कूटबद्ध किया जाता है?

- Ans
- 1. sb
  - 2. lk
  - 3. bs
  - 4. cp

Question Type : MCQ

Question ID : 630680382352

Option 1 ID : 6306801490324

Option 2 ID : 6306801490323

Option 3 ID : 6306801490326

Option 4 ID : 6306801490325

Status : Answered

Chosen Option : 2

Q.13 यदि निम्नलिखित समीकरण में '+' और '-' को आपस में बदल दिया जाए तथा 'x' और '÷' को आपस में बदल दिया जाए, तो इस समीकरण में '?' के स्थान पर क्या आएगा?

$$39 \div 3 - 24 + 60 \times 12 = ?$$

- Ans
- 1. 190
  - 2. 163
  - 3. 86
  - 4. 136

Question Type : MCQ

Question ID : 630680388342

Option 1 ID : 6306801513889

Option 2 ID : 6306801513888

Option 3 ID : 6306801513886

Option 4 ID : 6306801513887

Status : Answered

Chosen Option : 4

Q.14 7, किसी निश्चित तर्क का अनुसरण करते हुए 30 से संबंधित है। 14, समान तर्क का अनुसरण करते हुए 100 से संबंधित है। समान तर्क का अनुसरण करते हुए 22, निम्नलिखित में से किससे संबंधित है?

(ध्यान दें: संख्याओं को उनके घटक अंकों में अलग-अलग किए बिना पूर्ण संख्याओं पर संक्रियाएं की जानी चाहिए। उदाहरण के लिए संख्या 13 - संख्या 13 पर संक्रियाएं जैसे 13 को जोड़ना/घटाना/गुणा करना आदि किया जा सकता है। 13 को 1 और 3 में अलग-अलग करने की और फिर 1 और 3 पर गणितीय संक्रियाएं करने की अनुमति नहीं है।)

- Ans
- 1. 189
  - 2. 180
  - 3. 190
  - 4. 170

Question Type : MCQ

Question ID : 630680450187

Option 1 ID : 6306801757895

Option 2 ID : 6306801757896

Option 3 ID : 6306801757897

Option 4 ID : 6306801757898

Status : Answered

Chosen Option : 1

Q.15 JM12, EH15 से एक निश्चित प्रकार से संबंधित है। उसी प्रकार, QT34, LO37 से संबंधित है। समान तर्क का अनुसरण करते हुए SV 23 निम्नलिखित में से किससे संबंधित है?

- Ans
- 1. MQ27
  - 2. MP26
  - 3. NQ26
  - 4. NP27

Question Type : MCQ

Question ID : 630680438840

Option 1 ID : 6306801713175

Option 2 ID : 6306801713172

Option 3 ID : 6306801713173

Option 4 ID : 6306801713174

Status : Answered

Chosen Option : 3

Q.16 अंग्रेजी वर्णमाला क्रम के आधार पर HFLI एक निश्चित प्रकार से OMSP से संबंधित है। ठीक उसी प्रकार KIOL, RPVS से संबंधित है। समान तर्क का अनुसरण करते हुए MKQN निम्नलिखित में से किससे संबंधित है?

Ans  1. RTUX

2. TRXU

3. TRUX

4. RTXU

Question Type : MCQ

Question ID : 630680435588

Option 1 ID : 6306801700288

Option 2 ID : 6306801700285

Option 3 ID : 6306801700286

Option 4 ID : 6306801700287

Status : Answered

Chosen Option : 2

Q.17 एक कूट भाषा में, 'COLONY' को '48' के रूप में कूटबद्ध किया जाता है और 'INTERCHANGE' को '88' के रूप में कूटबद्ध किया जाता है। उसी भाषा में 'MOUNTAIN' को किस प्रकार कूटबद्ध किया जाएगा?

Ans  1. 66

2. 84

3. 86

4. 64

Question Type : MCQ

Question ID : 630680465225

Option 1 ID : 6306801816936

Option 2 ID : 6306801816935

Option 3 ID : 6306801816937

Option 4 ID : 6306801816938

Status : Answered

Chosen Option : 4

Q.18 दिए गए कथन और निष्कर्षों को ध्यान से पढ़िए। यह मानते हुए कि कथन में दी गई जानकारी सत्य है, चाहे वह सामान्य रूप से ज्ञात तथ्यों से भिन्न प्रतीत होती हो, निर्धारित कीजिए कि दिए गए निष्कर्षों में से कौन-सा, कथन (कथनों) का तार्किक रूप से अनुसरण करता है/करते हैं।

कथन:

कोई बस, कार नहीं है।  
कोई कार, ट्रक नहीं है।

निष्कर्ष:

(I) कोई कार, बस नहीं है।  
(II) कोई ट्रक, कार नहीं है।

- Ans
- 1. न तो निष्कर्ष I और न ही II अनुसरण करता है।
  - 2. केवल निष्कर्ष I अनुसरण करता है।
  - 3. दोनों निष्कर्ष I और II अनुसरण करते हैं।
  - 4. केवल निष्कर्ष II अनुसरण करता है।

Question Type : MCQ

Question ID : 630680832800

Option 1 ID : 6306803262176

Option 2 ID : 6306803262174

Option 3 ID : 6306803262173

Option 4 ID : 6306803262175

Status : Answered

Chosen Option : 3

Q.19 दिए गए कथनों और निष्कर्षों को ध्यानपूर्वक पढ़िए। यह मानते हुए कि कथनों में दी गई जानकारी सत्य है, चाहे वह सामान्यतः ज्ञात तथ्यों से भिन्न प्रतीत होती हो और निर्णय लीजिए कि दिए गए निष्कर्षों में से कौन-सा/कौन-से निष्कर्ष कथनों का तार्किक रूप से अनुसरण करता है/करते हैं।

कथन:

कुछ चूजे, मुर्गियाँ हैं।  
कोई मुर्गी, अंडा नहीं है।

निष्कर्ष:

(I) कोई चूजा, अंडा नहीं है।  
(II) सभी मुर्गियाँ, चूजे हैं।

- Ans
- 1. दोनों निष्कर्ष (I) और (II) अनुसरण करते हैं
  - 2. केवल निष्कर्ष (I) अनुसरण करता है
  - 3. केवल निष्कर्ष (II) अनुसरण करता है
  - 4. न तो निष्कर्ष (I) और न ही निष्कर्ष (II) अनुसरण करता है

Question Type : MCQ

Question ID : 630680815662

Option 1 ID : 6306803195951

Option 2 ID : 6306803195949

Option 3 ID : 6306803195950

Option 4 ID : 6306803195952

Status : Answered

Chosen Option : 4

Q.20 उस समुच्चय का चयन कीजिए जिसमें संख्याएं ठीक उसी प्रकार संबंधित हैं जिस प्रकार दिए गए समुच्चयों की संख्याएं संबंधित हैं।

(ध्यान दें: संख्याओं को उनके घटक अंकों में अलग-अलग किए बिना पूर्ण संख्याओं पर संक्रियाएं की जानी चाहिए। उदाहरण के लिए संख्या 13 - संख्या 13 पर संक्रियाएं जैसे 13 को जोड़ना/घटाना/गुणा करना आदि किया जा सकता है। 13 को 1 और 3 में अलग-अलग करने की और फिर 1 और 3 पर गणितीय संक्रियाएं करने की अनुमति नहीं है।)

(4, 35, 11)

(1, 82, 61)

Ans  1. (21, 310, 23)

2. (8, 33, 15)

3. (13, 53, 20)

4. (2, 53, 6)

Question Type : MCQ

Question ID : 630680404791

Option 1 ID : 6306801578671

Option 2 ID : 6306801578674

Option 3 ID : 6306801578673

Option 4 ID : 6306801578672

Status : Answered

Chosen Option : 2

Section : General Awareness

Q.1 1976 में, अनुच्छेद 51A के तहत भारतीय संविधान के किस भाग में मौलिक कर्तव्य शामिल किए गए थे?

Ans  1. V

2. IV A

3. VI

4. III

Question Type : MCQ

Question ID : 630680406183

Option 1 ID : 6306801583814

Option 2 ID : 6306801583813

Option 3 ID : 6306801583815

Option 4 ID : 6306801583812

Status : Answered

Chosen Option : 2

Q.2 निम्नलिखित में से कौन-सी पूँजीगत वस्तुओं (capital goods) की विशेषताओं में से एक है?

- Ans
- 1. वे निम्नस्तरीय वस्तुएँ होती हैं।
  - 2. वे घटिया वस्तुएँ होती हैं।
  - 3. वे टिकाऊ होती हैं।
  - 4. वे सस्ती होती हैं।

Question Type : MCQ

Question ID : 630680302533

Option 1 ID : 6306801176804

Option 2 ID : 6306801176803

Option 3 ID : 6306801176802

Option 4 ID : 6306801176805

Status : Answered

Chosen Option : 3

Q.3 कनक रेले, जिन्होंने नालंदा नृत्य अनुसंधान केंद्र (Nalanda Dance Research Centre) की स्थापना की, भारत के निम्नलिखित में से किस शास्त्रीय नृत्य शैली की कलाकार थीं?

- Ans
- 1. मोहिनीअट्टम
  - 2. मणिपुरी
  - 3. सल्लिया
  - 4. कथक

Question Type : MCQ

Question ID : 630680309163

Option 1 ID : 6306801202829

Option 2 ID : 6306801202832

Option 3 ID : 6306801202831

Option 4 ID : 6306801202830

Status : Answered

Chosen Option : 1

Q.4 कृषि का रबी ऋतु अक्टूबर-नवंबर में शुरू होती है और \_\_\_\_\_ में समाप्त होती है।

- Ans
- 1. मई-जून
  - 2. मार्च-अप्रैल
  - 3. जनवरी-फरवरी
  - 4. जून-जुलाई

Question Type : MCQ

Question ID : 630680511134

Option 1 ID : 6306801997666

Option 2 ID : 6306801997668

Option 3 ID : 6306801997669

Option 4 ID : 6306801997667

Status : Answered

Chosen Option : 2

Q.5 टमाटर का लाल रंग \_\_\_\_\_ की उपस्थिति के कारण होता है।

- Ans
- 1. एलिज़रीन (alizarin)
  - 2. बीटा कैरोटीन (beta carotene)
  - 3. लिमोनीन (limonene)
  - 4. लाइकोपीन (lycopene)

Question Type : MCQ  
Question ID : 630680270025  
Option 1 ID : 6306801049353  
Option 2 ID : 6306801049354  
Option 3 ID : 6306801049352  
Option 4 ID : 6306801049351  
Status : Answered  
Chosen Option : 2

Q.6 संजना बथुला (Sanjana Bathula) किस खेल से जुड़ी हैं?

- Ans
- 1. रोलर स्केटिंग (Roller skating)
  - 2. शूटिंग (Shooting)
  - 3. बैडमिंटन (Badminton)
  - 4. स्क्वाश (Squash)

Question Type : MCQ  
Question ID : 630680560698  
Option 1 ID : 6306802191772  
Option 2 ID : 6306802191775  
Option 3 ID : 6306802191774  
Option 4 ID : 6306802191773  
Status : Answered  
Chosen Option : 1

Q.7 मौर्य वंश का संस्थापक कौन था?

- Ans
- 1. विक्रमादित्य
  - 2. अशोक
  - 3. चन्द्रगुप्त मौर्य
  - 4. बिंदुसार

Question Type : MCQ  
Question ID : 630680339494  
Option 1 ID : 6306801320548  
Option 2 ID : 6306801320547  
Option 3 ID : 6306801320545  
Option 4 ID : 6306801320546  
Status : Answered  
Chosen Option : 3

Q.8 मध्यकालीन भारतीय वास्तुकला शैली के संदर्भ में, 'पच्चीकारी (Pietra Dura)' क्या है?

- Ans
- 1. ताज महल की दीवारों पर तेल चित्रण (Oil paintings)
  - 2. मुगलों द्वारा उपयोग किए जाने वाले उत्तम गुणवत्ता के वस्त्र
  - 3. मौर्य काल की मूर्तिशिल्प कला
  - 4. दीवारों को उपरतों (semi-precious stones) से बने हुए पुष्प डिजाइनों से सजाना

Question Type : MCQ

Question ID : 630680511909

Option 1 ID : 6306802000607

Option 2 ID : 6306802000609

Option 3 ID : 6306802000608

Option 4 ID : 6306802000606

Status : Answered

Chosen Option : 4

Q.9 भारत के किस हिस्से में ठंडी पर्वतीय जलवायु पाई जाती है?

- Ans
- 1. पूर्वी
  - 2. पश्चिमी
  - 3. उत्तरी
  - 4. दक्षिणी

Question Type : MCQ

Question ID : 630680456429

Option 1 ID : 6306801782689

Option 2 ID : 6306801782690

Option 3 ID : 6306801782687

Option 4 ID : 6306801782688

Status : Answered

Chosen Option : 3

Q.10 निम्नलिखित में से कौन-सा/कौन-से कथन प्रसिद्ध स्थल मौसिनराम (Mawsynram) के संबंध में सही है/हैं?

- A. यह पृथ्वी पर सबसे आर्द्र स्थान (wettest place) है।  
B. यह भारत के मेघालय राज्य में स्थित है।

- Ans
- 1. केवल B सही है।
  - 2. A और B दोनों सही हैं।
  - 3. केवल A सही है।
  - 4. न तो A और न ही B सही है।

Question Type : MCQ

Question ID : 630680476086

Option 1 ID : 6306801859616

Option 2 ID : 6306801859617

Option 3 ID : 6306801859615

Option 4 ID : 6306801859618

Status : Answered

Chosen Option : 1

Q.11 2011 की जनगणना के अनुसार किस केंद्र शासित प्रदेश की साक्षरता दर न्यूनतम थी?

- Ans
- 1. चंडीगढ़
  - 2. दिल्ली
  - 3. लक्षद्वीप
  - 4. दादरा और नगर हवेली

Question Type : MCQ

Question ID : 630680511287

Option 1 ID : 6306801998279

Option 2 ID : 6306801998278

Option 3 ID : 6306801998280

Option 4 ID : 6306801998281

Status : Answered

Chosen Option : 3

Q.12 निम्न से कौन-सा पद्म पुरस्कारों का घटता क्रम क्या है?

- Ans
- 1. पद्म श्री, पद्म विभूषण, पद्म भूषण
  - 2. पद्म भूषण, पद्म श्री, पद्म विभूषण
  - 3. पद्म श्री, पद्म भूषण, पद्म विभूषण
  - 4. पद्म विभूषण, पद्म भूषण, पद्म श्री

Question Type : MCQ

Question ID : 630680512003

Option 1 ID : 6306802000982

Option 2 ID : 6306802000984

Option 3 ID : 6306802000985

Option 4 ID : 6306802000983

Status : Answered

Chosen Option : 4

Q.13 निम्नलिखित में से किस राजवंश ने चौदहवीं शताब्दी में विजयनगर साम्राज्य की स्थापना की थी?

- Ans
- 1. सुलुव राजवंश
  - 2. अराविदु राजवंश
  - 3. तुलुव राजवंश
  - 4. संगम राजवंश

Question Type : MCQ

Question ID : 630680302805

Option 1 ID : 6306801177884

Option 2 ID : 6306801177885

Option 3 ID : 6306801177882

Option 4 ID : 6306801177883

Status : Answered

Chosen Option : 4

Q.14 सोडियम बाइकार्बोनेट (sodium bicarbonate) का रासायनिक सूत्र क्या है?

- Ans
- 1. NaCl
  - 2. NaOH
  - 3. NaHCO<sub>3</sub>
  - 4. Na<sub>2</sub>CO<sub>3</sub>

Question Type : MCQ

Question ID : 630680411172

Option 1 ID : 6306801603445

Option 2 ID : 6306801603446

Option 3 ID : 6306801603447

Option 4 ID : 6306801603444

Status : Answered

Chosen Option : 3

Q.15 महिला प्रीमियर लीग प्रतियोगिता 2023 में रॉयल चैलेंजर्स बेंगलोर की कप्तान कौन थीं?

- Ans
- 1. स्मृति मंधाना
  - 2. दीप्ति शर्मा
  - 3. शैफाली वर्मा
  - 4. हरमनप्रीत कौर

Question Type : MCQ

Question ID : 630680571836

Option 1 ID : 6306802236246

Option 2 ID : 6306802236245

Option 3 ID : 6306802236244

Option 4 ID : 6306802236247

Status : Answered

Chosen Option : 1

Q.16 हल्दी में निम्नलिखित में से कौन-सा रासायनिक यौगिक मौजूद होता है?

- Ans
- 1. टार्टरिक अम्ल (tartaric acid)
  - 2. कैप्साइसिन (capsaicin)
  - 3. करक्यूमिन (curcumin)
  - 4. कैरोटीन (carotene)

Question Type : MCQ

Question ID : 630680270027

Option 1 ID : 6306801049361

Option 2 ID : 6306801049362

Option 3 ID : 6306801049359

Option 4 ID : 6306801049360

Status : Answered

Chosen Option : 3

Q.17 निम्नलिखित में से किस अधिनियम से भारत में प्रांतीय प्रशासन में द्वैध शासन प्रणाली (system of dyarchy) की शुरुआत हुई?

- Ans  1. 1919 का भारत सरकार अधिनियम  
 2. 1909 का भारत सरकार अधिनियम  
 3. 1947 का भारत सरकार अधिनियम  
 4. 1935 का भारत सरकार अधिनियम

Question Type : MCQ

Question ID : 630680682825

Option 1 ID : 6306802674043

Option 2 ID : 6306802674044

Option 3 ID : 6306802674046

Option 4 ID : 6306802674045

Status : Answered

Chosen Option : 4

Q.18 भारत के साथ कितने देश अपनी भूमि सीमाएँ साझा करते हैं?

- Ans  1. नौ  
 2. सात  
 3. छह  
 4. आठ

Question Type : MCQ

Question ID : 63068068848

Option 1 ID : 630680266082

Option 2 ID : 630680266083

Option 3 ID : 630680266085

Option 4 ID : 630680266084

Status : Answered

Chosen Option : 2

Q.19 लोसर (Losar), किस राज्य/केंद्र शासित प्रदेश में नव वर्ष की शुरुआत के प्रतीक के रूप में मनाया जाता है?

- Ans  1. लद्दाख  
 2. केरल  
 3. नई दिल्ली  
 4. बिहार

Question Type : MCQ

Question ID : 630680449780

Option 1 ID : 6306801756266

Option 2 ID : 6306801756265

Option 3 ID : 6306801756264

Option 4 ID : 6306801756267

Status : Answered

Chosen Option : 1

Q.20 3 अगस्त 2023 को फार्मसी (संशोधन) विधेयक, 2023 को लोकसभा में पेश किया गया था, जो \_\_\_\_\_ को संशोधित करता है।

- Ans
- 1. फार्मसी अधिनियम, 1950
  - 2. फार्मसी अधिनियम, 1947
  - 3. फार्मसी अधिनियम, 1949
  - 4. फार्मसी अधिनियम, 1948

Question Type : MCQ

Question ID : 630680466783

Option 1 ID : 6306801823115

Option 2 ID : 6306801823112

Option 3 ID : 6306801823114

Option 4 ID : 6306801823113

Status : Answered

Chosen Option : 1

Q.21 31 अक्टूबर 2023 तक की स्थिति के अनुसार, 17वीं लोकसभा में सबसे वरिष्ठ सदस्य (आयु के संदर्भ में), शफीकुर रहमान बर्क (Shafiqur Rahman Barq) किस राजनीतिक दल का प्रतिनिधित्व करते हैं?

- Ans
- 1. समाजवादी पार्टी
  - 2. भारतीय जनता पार्टी
  - 3. राष्ट्रीय जनता दल
  - 4. भारतीय राष्ट्रीय कांग्रेस

Question Type : MCQ

Question ID : 630680468930

Option 1 ID : 6306801831489

Option 2 ID : 6306801831487

Option 3 ID : 6306801831490

Option 4 ID : 6306801831488

Status : Answered

Chosen Option : 4

Q.22 इंदौर घराने की स्थापना निम्नलिखित में से किसने की?

- Ans
- 1. भीमसेन जोशी
  - 2. उस्ताद अमीर खान
  - 3. तानसेन
  - 4. उस्ताद घघे खुदा बख्श

Question Type : MCQ

Question ID : 630680487678

Option 1 ID : 6306801904782

Option 2 ID : 6306801904785

Option 3 ID : 6306801904784

Option 4 ID : 6306801904783

Status : Answered

Chosen Option : 4

Q.23 पंजाब ने किस तारीख को विधान-परिषद (Legislative Council) को भंग (abolish) कर दिया था?

- Ans
- 1. 1 जनवरी 1975
  - 2. 1 जनवरी 1970
  - 3. 1 जनवरी 1971
  - 4. 1 जनवरी 1977

Question Type : **MCQ**  
Question ID : **630680146200**  
Option 1 ID : **630680565692**  
Option 2 ID : **630680565690**  
Option 3 ID : **630680565691**  
Option 4 ID : **630680565693**  
Status : **Not Answered**  
Chosen Option : --

Q.24 निम्नलिखित में से कौन-सी पुस्तक दादाभाई नौरोजी द्वारा लिखी गई है?

- Ans
- 1. पॉवर्टी एंड इंडिया (Poverty and India)
  - 2. इम्पोर्टेंट चैप्टर्स ऑफ पॉवर्टी (Important Chapters of Poverty)
  - 3. पॉवर्टी एंड अन-ब्रिटिश रूल इन इंडिया (Poverty and Un-British Rule in India)
  - 4. इकनोमिक्स हिस्ट्री ऑफ इंडिया (Economics History of India)

Question Type : **MCQ**  
Question ID : **630680511600**  
Option 1 ID : **6306801999523**  
Option 2 ID : **6306801999525**  
Option 3 ID : **6306801999524**  
Option 4 ID : **6306801999522**  
Status : **Answered**  
Chosen Option : 3

Q.25 के.एम. मुंशी का ऐतिहासिक उपन्यास 'द ग्लोरी ऑफ पाटन (The Glory of Patan)' मूल रूप से किस भारतीय भाषा में लिखा गया था?

- Ans
- 1. मलयालम
  - 2. तमिल
  - 3. गुजराती
  - 4. बंगाली

Question Type : **MCQ**  
Question ID : **630680512102**  
Option 1 ID : **6306802001381**  
Option 2 ID : **6306802001380**  
Option 3 ID : **6306802001379**  
Option 4 ID : **6306802001378**  
Status : **Answered**  
Chosen Option : 4

**Q.1** Select the most appropriate synonym of the given word.  
Energy

- Ans  1. Frailty  
 2. Power  
 3. strife  
 4. Speed

Question Type : **MCQ**

Question ID : **630680726537**

Option 1 ID : **6306802847156**

Option 2 ID : **6306802847154**

Option 3 ID : **6306802847155**

Option 4 ID : **6306802847157**

Status : **Answered**

Chosen Option : **2**

**Q.2** Select the most appropriate synonym of the word 'pursue' from the given sentence.  
Dr. Kalam's success in the field of science has inspired young Indians to dream big and chase those dreams with immense hard work.

- Ans  1. inspired  
 2. immense  
 3. chase  
 4. success

Question Type : **MCQ**

Question ID : **630680426295**

Option 1 ID : **6306801663280**

Option 2 ID : **6306801663279**

Option 3 ID : **6306801663282**

Option 4 ID : **6306801663281**

Status : **Answered**

Chosen Option : **4**

**Q.3** Select the most appropriate verb form to fill in the blank.

Arun \_\_\_\_\_ his bicycle to school every day.

- Ans  1. riding  
 2. rode  
 3. rides  
 4. ride

Question Type : **MCQ**

Question ID : **630680733753**

Option 1 ID : **6306802875837**

Option 2 ID : **6306802875838**

Option 3 ID : **6306802875835**

Option 4 ID : **6306802875836**

Status : **Answered**

Chosen Option : **3**

**Q.4** Select the most appropriate synonym of the given word.  
Ecstatic

- Ans  1. Happy  
 2. Shocked  
 3. Angry  
 4. Interested

Question Type : **MCQ**  
Question ID : **630680726521**  
Option 1 ID : **6306802847091**  
Option 2 ID : **6306802847092**  
Option 3 ID : **6306802847090**  
Option 4 ID : **6306802847093**  
Status : **Not Attempted and Marked For Review**  
Chosen Option : --

**Q.5** Select the sentence that has a grammatical error.

- Ans  1. She always eats healthy meals.  
 2. The sun rises in the east.  
 3. We watches movies every Friday night.  
 4. He works as a software developer.

Question Type : **MCQ**  
Question ID : **630680543802**  
Option 1 ID : **6306802126002**  
Option 2 ID : **6306802126001**  
Option 3 ID : **6306802126000**  
Option 4 ID : **6306802126003**  
Status : **Answered**  
Chosen Option : **3**

**Q.6** Select the option that correctly rectifies the underlined spelling error.  
The accideent on the highway caused a long traffic jam.

- Ans  1. acident  
 2. accident  
 3. accidnt  
 4. acicdent

Question Type : **MCQ**  
Question ID : **630680545748**  
Option 1 ID : **6306802133577**  
Option 2 ID : **6306802133576**  
Option 3 ID : **6306802133579**  
Option 4 ID : **6306802133578**  
Status : **Answered**  
Chosen Option : **2**

**Q.7** Select the most appropriate option to fill in the blank.  
Please listen to all announcements \_\_\_\_\_.

- Ans  1. hungrily  
 2. attentively  
 3. easily  
 4. generally

Question Type : **MCQ**  
Question ID : **630680515294**  
Option 1 ID : **6306802013629**  
Option 2 ID : **6306802013630**  
Option 3 ID : **6306802013631**  
Option 4 ID : **6306802013632**  
Status : **Answered**  
Chosen Option : **2**

**Q.8** Select the most appropriate option to fill in the blank.  
Cultural heritage is the lifeblood of any \_\_\_\_\_ and serves as a link between generations.

- Ans  1. lethargy  
 2. birthright  
 3. believe  
 4. civilisation

Question Type : **MCQ**  
Question ID : **630680515248**  
Option 1 ID : **6306802013460**  
Option 2 ID : **6306802013458**  
Option 3 ID : **6306802013457**  
Option 4 ID : **6306802013459**  
Status : **Answered**  
Chosen Option : **4**

**Q.9** Select the **INCORRECTLY** spelt word.

- Ans  1. Trifle  
 2. Surrender  
 3. Disgust  
 4. Consicstent

Question Type : **MCQ**  
Question ID : **630680129530**  
Option 1 ID : **630680501740**  
Option 2 ID : **630680501738**  
Option 3 ID : **630680501739**  
Option 4 ID : **630680501741**  
Status : **Answered**  
Chosen Option : **4**

**Q.10** Select the option that correctly rectifies the underlined spelling error.  
The rainbow only appears after a hurican.

- Ans  1. hurrecain  
 2. hurrican  
 3. hurrecane  
 4. hurricane

Question Type : **MCQ**

Question ID : **6306801106836**

Option 1 ID : **6306804347811**

Option 2 ID : **6306804347808**

Option 3 ID : **6306804347809**

Option 4 ID : **6306804347810**

Status : **Answered**

Chosen Option : **4**

**Q.11** What does it imply when people say to 'read between the lines'?

- Ans  1. To skip initial and final lines in a paragraph  
 2. To read something fast  
 3. To read with an ability to infer the meaning  
 4. To avoid detailed information

Question Type : **MCQ**

Question ID : **630680542612**

Option 1 ID : **6306802121377**

Option 2 ID : **6306802121380**

Option 3 ID : **6306802121378**

Option 4 ID : **6306802121379**

Status : **Answered**

Chosen Option : **4**

**Q.12** Select the most appropriate meaning of the given idiom.  
A piece of cake

- Ans  1. Easy to do or achieve  
 2. A slice of cake for eating  
 3. A cake that broke into pieces  
 4. A cake which is sold as a piece

Question Type : **MCQ**

Question ID : **63068066303**

Option 1 ID : **630680256128**

Option 2 ID : **630680256126**

Option 3 ID : **630680256127**

Option 4 ID : **630680256129**

Status : **Answered**

Chosen Option : **1**

**Q.13** Select the most appropriate synonym of the underlined word.  
The project's tight deadline and complex requirements made it a grueling task for the team.

- Ans  1. Accessible  
 2. Empowering  
 3. Inclusive  
 4. Challenging

Question Type : **MCQ**  
Question ID : **630680435575**  
Option 1 ID : **6306801700233**  
Option 2 ID : **6306801700234**  
Option 3 ID : **6306801700235**  
Option 4 ID : **6306801700236**  
Status : **Answered**  
Chosen Option : **4**

**Q.14** Select the most appropriate option to fill in the blank.  
Accepting how wonderful you truly are and incorporating this \_\_\_\_\_ into your attitude and personality is perhaps one of the most difficult things to do in life.

- Ans  1. glitch  
 2. insight  
 3. craziness  
 4. folly

Question Type : **MCQ**  
Question ID : **630680515254**  
Option 1 ID : **6306802013482**  
Option 2 ID : **6306802013483**  
Option 3 ID : **6306802013484**  
Option 4 ID : **6306802013481**  
Status : **Answered**  
Chosen Option : **3**

**Q.15** Select the most appropriate synonym of the underlined word.  
The detective's job was to discern the truth from the web of lies.

- Ans  1. Fabricate  
 2. Perceive  
 3. Confuse  
 4. Ignore

Question Type : **MCQ**  
Question ID : **630680726515**  
Option 1 ID : **6306802847069**  
Option 2 ID : **6306802847068**  
Option 3 ID : **6306802847067**  
Option 4 ID : **6306802847066**  
Status : **Answered**  
Chosen Option : **1**

Q.16 Select the most appropriate option to fill in the blank.

He is \_\_\_\_\_ tired to finish his homework.

- Ans
- 1. to
  - 2. most
  - 3. too
  - 4. more

Question Type : **MCQ**

Question ID : **630680490344**

Option 1 ID : **6306801915292**

Option 2 ID : **6306801915293**

Option 3 ID : **6306801915291**

Option 4 ID : **6306801915294**

Status : **Answered**

Chosen Option : **3**

Q.17 The following sentence has been split into four segments. Identify the segment that contains a phrasal verb error.

Mrs. Premalatha asked / Malini to hand down / all the / payment slips.

- Ans
- 1. all the
  - 2. Malini to hand down
  - 3. payment slips
  - 4. Mrs. Premalatha asked

Question Type : **MCQ**

Question ID : **630680540771**

Option 1 ID : **6306802114128**

Option 2 ID : **6306802114127**

Option 3 ID : **6306802114129**

Option 4 ID : **6306802114126**

Status : **Answered**

Chosen Option : **2**

Q.18 The following sentence has been split into four segments. Identify the segment that contains a grammatical error.

My secretary is disposed of / discuss everything in great detail / before she begins / the actual work.

- Ans
- 1. the actual work.
  - 2. My secretary is disposed of
  - 3. discuss everything in great detail
  - 4. before she begins

Question Type : **MCQ**

Question ID : **630680146326**

Option 1 ID : **630680566197**

Option 2 ID : **630680566194**

Option 3 ID : **630680566195**

Option 4 ID : **630680566196**

Status : **Answered**

Chosen Option : **4**

**Q.19** The following sentence has been split into four segments. Identify the segment that contains a grammatical error.

The workers had been repairing / the mall road in / town for / several days now.

- Ans
- 1. the mall road in
  - 2. several days now
  - 3. The workers had been repairing
  - 4. town for

Question Type : **MCQ**

Question ID : **630680533292**

Option 1 ID : **6306802084650**

Option 2 ID : **6306802084652**

Option 3 ID : **6306802084649**

Option 4 ID : **6306802084651**

Status : **Answered**

Chosen Option : **2**

**Q.20** The following sentence has been divided into four segments. One of them contains an error. Select the segment that contains the error from the given options.  
Neither Smith / nor Rose / were in / the classroom.

- Ans
- 1. nor Rose
  - 2. Neither Smith
  - 3. were in
  - 4. the classroom

Question Type : **MCQ**

Question ID : **630680156644**

Option 1 ID : **630680606233**

Option 2 ID : **630680606232**

Option 3 ID : **630680606234**

Option 4 ID : **630680606235**

Status : **Answered**

Chosen Option : **3**

**Comprehension:**

In the following passage, some words have been deleted. Read the passage carefully and select the most appropriate option to fill in each blank.

My next pet, Ari, was a pigeon. He became convinced that he was not a bird at all and refused to \_\_\_\_ 1 \_\_\_\_\_. If he wanted to get on a table or a chair, he stood below it, cooing until someone picked him up. He would even try to come \_\_\_\_ 2 \_\_\_\_ walks with us. This, however, we had to stop for, \_\_\_\_ 3 \_\_\_\_ you carried him on your shoulder or else you let him walk behind. If you let him walk, you had to slow down your own \_\_\_\_ 4 \_\_\_\_ to suit his, for should you get too far ahead, you would find him running after you, cooing frantically, his chest pouted out with \_\_\_\_ 5 \_\_\_\_\_.

**SubQuestion No : 21**

**Q.21** Select the most appropriate option to fill in blank number 1.

Ans  1. fly

2. file

3. read

4. flea

Question Type : **MCQ**

Question ID : **630680726575**

Option 1 ID : **6306802847305**

Option 2 ID : **6306802847303**

Option 3 ID : **6306802847302**

Option 4 ID : **6306802847304**

Status : **Answered**

Chosen Option : 1

**Comprehension:**

In the following passage, some words have been deleted. Read the passage carefully and select the most appropriate option to fill in each blank.

My next pet, Ari, was a pigeon. He became convinced that he was not a bird at all and refused to \_\_\_\_ 1 \_\_\_\_\_. If he wanted to get on a table or a chair, he stood below it, cooing until someone picked him up. He would even try to come \_\_\_\_ 2 \_\_\_\_ walks with us. This, however, we had to stop for, \_\_\_\_ 3 \_\_\_\_ you carried him on your shoulder or else you let him walk behind. If you let him walk, you had to slow down your own \_\_\_\_ 4 \_\_\_\_ to suit his, for should you get too far ahead, you would find him running after you, cooing frantically, his chest pouted out with \_\_\_\_ 5 \_\_\_\_\_.

**SubQuestion No : 22**

**Q.22** Select the most appropriate option to fill in blank number 2.

Ans  1. at

2. on

3. by

4. in

Question Type : **MCQ**

Question ID : **630680726576**

Option 1 ID : **6306802847308**

Option 2 ID : **6306802847306**

Option 3 ID : **6306802847309**

Option 4 ID : **6306802847307**

Status : **Answered**

Chosen Option : 3

**Comprehension:**

In the following passage, some words have been deleted. Read the passage carefully and select the most appropriate option to fill in each blank.

My next pet, Ari, was a pigeon. He became convinced that he was not a bird at all and refused to \_\_\_\_ 1 \_\_\_\_\_. If he wanted to get on a table or a chair, he stood below it, cooing until someone picked him up. He would even try to come \_\_\_\_ 2 \_\_\_\_ walks with us. This, however, we had to stop for, \_\_\_\_ 3 \_\_\_\_ you carried him on your shoulder or else you let him walk behind. If you let him walk, you had to slow down your own \_\_\_\_ 4 \_\_\_\_ to suit his, for should you get too far ahead, you would find him running after you, cooing frantically, his chest pouted out with \_\_\_\_ 5 \_\_\_\_\_.

**SubQuestion No : 23**

**Q.23 Select the most appropriate option to fill in blank number 3.**

- Ans
- 1. ever
  - 2. never
  - 3. either
  - 4. neither

Question Type : **MCQ**

Question ID : **630680726577**

Option 1 ID : **6306802847311**

Option 2 ID : **6306802847312**

Option 3 ID : **6306802847312**

Option 4 ID : **6306802847310**

Status : **Answered**

Chosen Option : **2**

**Comprehension:**

In the following passage, some words have been deleted. Read the passage carefully and select the most appropriate option to fill in each blank.

My next pet, Ari, was a pigeon. He became convinced that he was not a bird at all and refused to \_\_\_\_ 1 \_\_\_\_\_. If he wanted to get on a table or a chair, he stood below it, cooing until someone picked him up. He would even try to come \_\_\_\_ 2 \_\_\_\_ walks with us. This, however, we had to stop for, \_\_\_\_ 3 \_\_\_\_ you carried him on your shoulder or else you let him walk behind. If you let him walk, you had to slow down your own \_\_\_\_ 4 \_\_\_\_ to suit his, for should you get too far ahead, you would find him running after you, cooing frantically, his chest pouted out with \_\_\_\_ 5 \_\_\_\_\_.

**SubQuestion No : 24**

**Q.24 Select the most appropriate option to fill in blank number 4.**

- Ans
- 1. pace
  - 2. peace
  - 3. piece
  - 4. space

Question Type : **MCQ**

Question ID : **630680726578**

Option 1 ID : **6306802847315**

Option 2 ID : **6306802847316**

Option 3 ID : **6306802847317**

Option 4 ID : **6306802847314**

Status : **Answered**

Chosen Option : **1**

**Comprehension:**

In the following passage, some words have been deleted. Read the passage carefully and select the most appropriate option to fill in each blank.

My next pet, Ari, was a pigeon. He became convinced that he was not a bird at all and refused to \_\_\_\_ 1 \_\_\_\_\_. If he wanted to get on a table or a chair, he stood below it, cooing until someone picked him up. He would even try to come \_\_\_\_ 2 \_\_\_\_ walks with us. This, however, we had to stop for, \_\_\_\_ 3 \_\_\_\_ you carried him on your shoulder or else you let him walk behind. If you let him walk, you had to slow down your own \_\_\_\_ 4 \_\_\_\_ to suit his, for should you get too far ahead, you would find him running after you, cooing frantically, his chest pouted out with \_\_\_\_ 5 \_\_\_\_\_.

**SubQuestion No : 25**

**Q.25 Select the most appropriate option to fill in blank number 5.**

**Ans** ✓ 1. indignation

✗ 2. ignition

✗ 3. intimation

✗ 4. inclination

Question Type : **MCQ**

Question ID : **630680726579**

Option 1 ID : **6306802847318**

Option 2 ID : **6306802847319**

Option 3 ID : **6306802847321**

Option 4 ID : **6306802847320**

Status : **Answered**

Chosen Option : **4**