

Multi Tasking Non Technical Staff and Havaladar CBIC and CBN Examination 2024

Roll Number	
Candidate Name	
Venue Name	iON Digital Zone iDZ 2 Sector 62
Exam Date	30/10/2024
Exam Time	9:00 AM - 11:00 AM
Subject	MTS Non Tech Havaladar CBIC and CBN Examination 2024

Section : Numerical and Mathematical Ability

Q.1 एक गोले का भार संयुक्त रूप से इसकी त्रिज्या के घन और उस सामग्री के घनत्व के समानुपाती है जिससे इसे बनाया जाता है। दो गोलों की त्रिज्याएँ 17 : 8 तथा समग्रियों का घनत्व 3 : 4 है। यदि दूसरे गोले का भार 40 kg है, तो पहले गोले का लगभग भार क्या होगा?

Ans 1. 287.87 kg

2. 230 kg

3. 123.26 kg

4. 96 kg

Question Type : MCQ

Question ID : 630680262068

Option 1 ID : 6306801017921

Option 2 ID : 6306801017919

Option 3 ID : 6306801017920

Option 4 ID : 6306801017922

Status : Answered

Chosen Option : 3

Q.2 यदि एक व्यक्ति 6 km/h की चाल से एक निश्चित दूरी को तय करने में 36 मिनट का समय लेता है, तो उसके द्वारा तय की गई दूरी कितनी है?

Ans 1. 3 km

2. 2.5 km

3. 2 km

4. 3.6 km

Question Type : MCQ

Question ID : 630680233077

Option 1 ID : 630680904431

Option 2 ID : 630680904429

Option 3 ID : 630680904430

Option 4 ID : 630680904432

Status : Answered

Chosen Option : 4

Q.3 एक बड़ी गोलाकार गेंद के पृष्ठ को ₹2.40 प्रति cm^2 की दर से पेंट करने की

लागत ₹9,240 है। गेंद की त्रिज्या (cm में) ज्ञात करें। ($\pi = \frac{22}{7}$ का उपयोग करें।)

Ans 1. 17.5

2. 18.5

3. 16.5

4. 21

Question Type : MCQ

Question ID : 630680381314

Option 1 ID : 6306801486209

Option 2 ID : 6306801486208

Option 3 ID : 6306801486210

Option 4 ID : 6306801486207

Status : Answered

Chosen Option : 4

Q.4 एक खोखले अर्धगोले का व्यास 40 cm है। यह पानी से ऊपर तक भरा हुआ है। जब प्रत्येक 0.8 cm व्यास वाली गोलाकार काँच की गोलियाँ इस अर्धगोले में डाली जाती हैं, तो पानी का $\frac{3}{5}$ वाँ (three-fifths) भाग अर्धगोले से बाहर बह जाता है। अर्धगोले में कितनी काँच की गोलियाँ डाली गई थीं?

Ans 1. 30500

2. 35500

3. 35700

4. 37500

Question Type : MCQ

Question ID : 630680387076

Option 1 ID : 6306801509015

Option 2 ID : 6306801509016

Option 3 ID : 6306801509014

Option 4 ID : 6306801509017

Status : Answered

Chosen Option : 1

Q.5 21 cm ऊंचाई और 3 cm त्रिज्या वाले एक लंब वृत्तीय बेलन का वक्र पृष्ठीय क्षेत्रफल क्या होगा? ($\pi = \frac{22}{7}$ का

उपयोग कीजिए)

- Ans
- 1. 540 cm^2
 - 2. 396 cm^2
 - 3. 486 cm^2
 - 4. 546 cm^2

Question Type : MCQ

Question ID : 630680104064

Option 1 ID : 630680404474

Option 2 ID : 630680404472

Option 3 ID : 630680404473

Option 4 ID : 630680404471

Status : Answered

Chosen Option : 3

Q.6 21 और 49 का महत्तम समापवर्तक (HCF) ज्ञात करें।

- Ans
- 1. 2
 - 2. 1
 - 3. 3
 - 4. 7

Question Type : MCQ

Question ID : 63068071008

Option 1 ID : 630680274643

Option 2 ID : 630680274642

Option 3 ID : 630680274644

Option 4 ID : 630680274645

Status : Answered

Chosen Option : 3

Q.7 11 से 71 (दोनों को मिलाकर) तक सभी विषम संख्याओं का औसत क्या होगा?

- Ans
- 1. 41
 - 2. 39
 - 3. 31
 - 4. 47

Question Type : MCQ

Question ID : 630680136572

Option 1 ID : 630680528903

Option 2 ID : 630680528904

Option 3 ID : 630680528902

Option 4 ID : 630680528905

Status : Answered

Chosen Option : 3

Q.8 11 के प्रथम बारह गुणजों का औसत कितना है?

Ans 1. 71.5

2. 68.5

3. 69.5

4. 70.5

Question Type : MCQ

Question ID : 630680277208

Option 1 ID : 6306801077305

Option 2 ID : 6306801077308

Option 3 ID : 6306801077307

Option 4 ID : 6306801077306

Status : Answered

Chosen Option : 1

Q.9 4 वर्षों के लिए 5% प्रति वर्ष की ब्याज दर पर उधार ली गई राशि ₹3000 पर साधारण ब्याज (₹ में) ज्ञात कीजिए।

Ans 1. 640

2. 600

3. 540

4. 560

Question Type : MCQ

Question ID : 630680591935

Option 1 ID : 6306802316208

Option 2 ID : 6306802316207

Option 3 ID : 6306802316209

Option 4 ID : 6306802316210

Status : Answered

Chosen Option : 2

Q.10 ₹19.5 में एक वस्तु को बेचकर, एक विक्रेता 10% का लाभ अर्जित करता है। उसे अपना विक्रय मूल्य (₹ में, दो दशमलव स्थान तक सन्निकटित) कितना बढ़ाना चाहिए, ताकि 30% का लाभ अर्जित कर सके?

Ans 1. 5.55

2. 6.55

3. 3.55

4. 4.55

Question Type : MCQ

Question ID : 630680632588

Option 1 ID : 6306802476252

Option 2 ID : 6306802476253

Option 3 ID : 6306802476250

Option 4 ID : 6306802476251

Status : Answered

Chosen Option : 1

Q.11 4 वर्षों के लिए 5% वार्षिक की ब्याज दर पर उधार ली गई राशि ₹2500 पर साधारण ब्याज (₹ में) ज्ञात कीजिए।

Ans 1. 460

2. 500

3. 440

4. 540

Question Type : MCQ

Question ID : 630680591900

Option 1 ID : 6306802316070

Option 2 ID : 6306802316067

Option 3 ID : 6306802316069

Option 4 ID : 6306802316068

Status : Answered

Chosen Option : 2

Q.12 गगनदीप अपने सामान पर क्रय मूल्य से 50% अधिक अंकित करता है और अपने ग्राहकों को अंकित मूल्य पर 25% की छूट प्रदान करता है। गगनदीप का प्रतिशत लाभ कितना है?

Ans 1. 12.5%

2. 12.0%

3. 13.0%

4. 13.5%

Question Type : MCQ

Question ID : 630680468939

Option 1 ID : 6306801831524

Option 2 ID : 6306801831523

Option 3 ID : 6306801831525

Option 4 ID : 6306801831526

Status : Answered

Chosen Option : 1

Q.13 16 km/h की चाल निम्नलिखित विकल्पों में से किसके समान है (दशमलव के 1 स्थान तक)?

Ans 1. 4.4 m/sec

2. 8.4 m/sec

3. 2 m/sec

4. 8 m/sec

Question Type : MCQ

Question ID : 630680112237

Option 1 ID : 630680434675

Option 2 ID : 630680434677

Option 3 ID : 630680434674

Option 4 ID : 630680434676

Status : Answered

Chosen Option : 3

Q.14 निम्न तालिका 4 राज्यों की गरीबी रेखा से नीचे की जनसंख्या का प्रतिशत और पुरुष एवं महिला के अनुपात को दर्शाती है।

राज्य	गरीबी रेखा से नीचे की जनसंख्या का प्रतिशत	पुरुष एवं महिला का अनुपात	
		गरीबी रेखा से नीचे	गरीबी रेखा से ऊपर
		पुरुष : महिला	पुरुष : महिला
A	36	1 : 4	5 : 7
B	21	5 : 3	7 : 11
C	10	2 : 7	5 : 9
D	28	3 : 9	1 : 5

यदि राज्य D की कुल जनसंख्या 85,400 है, तो राज्य D में गरीबी रेखा से ऊपर महिलाओं की संख्या कितनी है?

- Ans
- 1. 48,250
 - 2. 45,230
 - 3. 41,360
 - 4. 51,240

Question Type : MCQ

Question ID : 630680523776

Option 1 ID : 6306802047257

Option 2 ID : 6306802047256

Option 3 ID : 6306802047255

Option 4 ID : 6306802047258

Status : Answered

Chosen Option : 2

Q.15 19% लाभ और 11% हानि के साथ विक्रय मूल्यों का अंतर Rs.454.50 है। वस्तु का क्रय मूल्य क्या है?

- Ans
- 1. Rs.1,515
 - 2. Rs.1,525
 - 3. Rs.1,505
 - 4. Rs.1,520

Question Type : MCQ

Question ID : 630680104277

Option 1 ID : 630680405326

Option 2 ID : 630680405323

Option 3 ID : 630680405325

Option 4 ID : 630680405324

Status : Answered

Chosen Option : 2

Q.16 एक सहकारी समिति साधारण ब्याज की वार्षिक दर 10% से बढ़ाकर 16½% कर देती है, तो एक व्यक्ति की वार्षिक आय में ₹1,077.70 की वृद्धि हो जाती है। धनराशि पर चार वर्षों के लिए 10% की दर से साधारण ब्याज (₹ में) कितना होगा?

Ans 1. 6,632

2. 9,120.3

3. 16,580

4. 8,240

Question Type : MCQ

Question ID : 630680397472

Option 1 ID : 6306801549812

Option 2 ID : 6306801549811

Option 3 ID : 6306801549810

Option 4 ID : 6306801549813

Status : Not Answered

Chosen Option : --

Q.17 एक व्यक्ति अपनी आय का 75% व्यय करता है। यदि उसकी आय में 15% की वृद्धि होती है और व्यय में 10% की कमी होती है, तो उसकी बचत में कितने प्रतिशत की वृद्धि होगी?

Ans 1. 22.5%

2. 47.5%

3. 90%

4. 67.5%

Question Type : MCQ

Question ID : 630680484426

Option 1 ID : 6306801892030

Option 2 ID : 6306801892031

Option 3 ID : 6306801892032

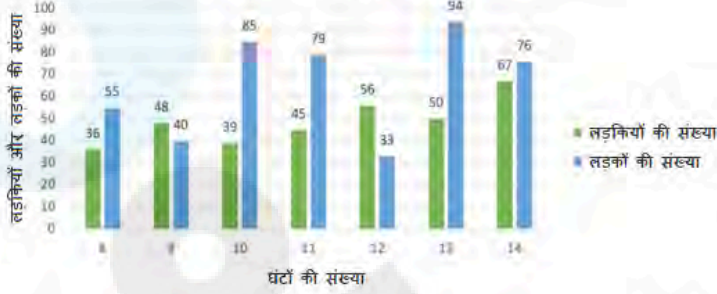
Option 4 ID : 6306801892033

Status : Answered

Chosen Option : 1

Q.18 नीचे दिए गए बार ग्राफ में एक निश्चित इलाके के लड़कों और लड़कियों की संख्या और उनके द्वारा प्रति सप्ताह वीडियो गेम खेलने में बिताए जाने वाले घंटों की संख्या को दर्शाया गया है।

बार ग्राफ प्रति सप्ताह वीडियो गेम खेलने में बिताए जाने वाले घंटों की संख्या के अनुसार एक निश्चित इलाके के लड़के और लड़कियों की संख्या को दर्शाता है



वीडियो गेम खेलने में प्रति सप्ताह 10 घंटे से अधिक समय बिताने वाले लड़कों की संख्या, वीडियो गेम खेलने में प्रति सप्ताह 13 घंटे से कम समय बिताने वाली लड़कियों की संख्या से कितना प्रतिशत (निकटतम पूर्णांक तक पूर्णांकित) अधिक/कम है?

- Ans
- 1. 34% कम
 - 2. 26% अधिक
 - 3. 26% कम
 - 4. 34% अधिक

Question Type : MCQ

Question ID : 630680523717

Option 1 ID : 6306802047022

Option 2 ID : 6306802047020

Option 3 ID : 6306802047021

Option 4 ID : 6306802047019

Status : Not Answered

Chosen Option : --

Q.19 S को हिंदी, अंग्रेजी, रसायनविज्ञान, भौतिकी और गणित में क्रमशः 78, 75, 68, 64 और 58 अंक मिलते हैं। प्रति विषय उसके औसत अंक क्या हैं?

- Ans
- 1. 66.6
 - 2. 68.8
 - 3. 66.8
 - 4. 68.6

Question Type : MCQ

Question ID : 630680815882

Option 1 ID : 6306803196863

Option 2 ID : 6306803196864

Option 3 ID : 6306803196861

Option 4 ID : 6306803196862

Status : Answered

Chosen Option : 1

Q.20 200 सदस्यों के एक समूह में, 45% किशोर हैं और शेष वयस्क हैं। पूरे समूह का औसत वजन 62 kg है। यदि किशोरों का औसत वजन 56 kg है, तो वयस्कों के औसत वजन का निकटतम पूर्णांकीय मान (integral value), _____ है।

Ans 1. 84 kg

2. 79 kg

3. 67 kg

4. 65 kg

Question Type : **MCQ**

Question ID : **630680471506**

Option 1 ID : **6306801841741**

Option 2 ID : **6306801841739**

Option 3 ID : **6306801841738**

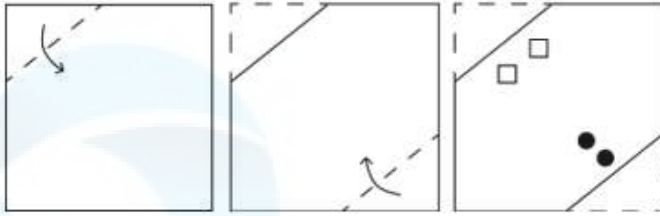
Option 4 ID : **6306801841740**

Status : **Answered**

Chosen Option : **3**

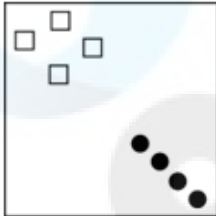
Section : Reasoning Ability and Problem Solving

Q.1 कागज़ की एक वर्गाकार शीट को दर्शाई गई दिशाओं में बिंदुदार रेखा के अनुदिश क्रमशः मोड़ा जाता है और अंतिम बार मोड़ने के बाद फिर इसमें छेद किया जाता है। खोले जाने पर यह कागज़ कैसा दिखाई देगा?




Ans

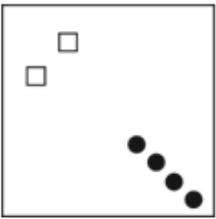
✓ 1.



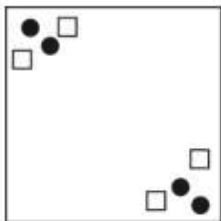
✗ 2.



✗ 3.



✗ 4.



Question Type : **MCQ**

Question ID : **630680524702**

Option 1 ID : **6306802050910**

Option 2 ID : **6306802050908**

Option 3 ID : **6306802050907**

Option 4 ID : **6306802050909**

Status : **Answered**

Chosen Option : **1**

Q.2 अंग्रेजी वर्णमाला क्रम के आधार पर FLLC एक निश्चित प्रकार से HNNE से संबंधित है। उसी प्रकार AFFW, CHHY से संबंधित है। समान तर्क का अनुसरण करते हुए, PVVM निम्नलिखित में से किससे संबंधित है?

Ans 1. RXXO

2. ROXX

3. XXRO

4. XXOR

Question Type : MCQ

Question ID : 630680386855

Option 1 ID : 6306801508130

Option 2 ID : 6306801508131

Option 3 ID : 6306801508132

Option 4 ID : 6306801508133

Status : Answered

Chosen Option : 1

Q.3 S, T, U, V, W, X और Y एक वृत्ताकार मेज के चारों ओर केंद्र की ओर मुख करके बैठे हैं (परंतु जरूरी नहीं कि वे इसी क्रम में बैठे हों)। S के दाएँ से गिनने पर S और W के बीच में केवल चार व्यक्ति बैठे हैं। W के बाएँ से गिनने पर W और Y के बीच में केवल एक व्यक्ति बैठा है। S के बाएँ से गिनने पर S और X के बीच में केवल दो व्यक्ति बैठे हैं। U के बाएँ से गिनने पर U और Y के बीच में केवल दो व्यक्ति बैठे हैं। V के बाएँ से गिनने पर U और V के बीच में केवल एक व्यक्ति बैठा है। X के ठीक दाएँ कौन बैठा है?

Ans 1. V

2. Y

3. W

4. S

Question Type : MCQ

Question ID : 630680377734

Option 1 ID : 6306801471996

Option 2 ID : 6306801471998

Option 3 ID : 6306801471997

Option 4 ID : 6306801471995

Status : Answered

Chosen Option : 3

Q.4 विकल्पों में दी गई उस आकृति की पहचान कीजिए, जिसे प्रश्न-चिह्न (?) के स्थान पर रखने पर निम्नांकित श्रृंखला तार्किक रूप से पूर्ण हो जाएगी।

Z	O	B	☆	Z	O	Y	☆	Z	\$	Y	☆	?
☆	□	%	Y	□	B	\$	□	O	A	□	Z	
Y	\$	A	\$	A	%	A	%	B	%	B	O	

Ans

✗ 1.

A	\$	Y
O	□	☆
B	%	Z

✗ 2.

A	\$	%
B	□	Z
O	Y	☆

✗ 3.

A	O	Y
%	□	☆
B	\$	Z

✓ 4.

A	\$	Y
%	□	☆
B	O	Z

Question Type : MCQ

Question ID : 630680276875

Option 1 ID : 6306801075995

Option 2 ID : 6306801075996

Option 3 ID : 6306801075998

Option 4 ID : 6306801075997

Status : Answered

Chosen Option : 4

Q.5 निम्नलिखित श्रृंखला में प्रश्न-चिह्न (?) के स्थान पर क्या आएगा?

-553, -532, -511, -490, -469, ?

- Ans
- 1. -458
 - 2. 448
 - 3. 458
 - 4. -448

Question Type : **MCQ**

Question ID : **630680799059**

Option 1 ID : **6306803131038**

Option 2 ID : **6306803131040**

Option 3 ID : **6306803131041**

Option 4 ID : **6306803131039**

Status : **Answered**

Chosen Option : **4**

Q.6 U, V, W, X, Y, Z और A एक वृत्ताकार मेज के चारों ओर केंद्र की ओर मुख करके बैठे हैं (परंतु जरूरी नहीं कि वे इसी क्रम में बैठे हों)। X, Y के बाईं ओर से तीसरे स्थान पर बैठा है। W, V के बाईं ओर से दूसरे स्थान पर बैठा है। A और W के बीच में केवल Y बैठा है। U, X का निकटतम पड़ोसी नहीं है। Z के दाईं ओर से चौथे स्थान पर कौन बैठा है?

- Ans
- 1. W
 - 2. A
 - 3. U
 - 4. Y

Question Type : **MCQ**

Question ID : **630680404832**

Option 1 ID : **6306801578821**

Option 2 ID : **6306801578820**

Option 3 ID : **6306801578822**

Option 4 ID : **6306801578819**

Status : **Answered**

Chosen Option : **2**

Q.7 किसी निश्चित कूट भाषा में, 'LIME' को '4826' के रूप में कूटबद्ध किया जाता है और 'FOLD' को '9378' के रूप में कूटबद्ध किया जाता है। उसी भाषा में 'L' के लिए क्या कूट होगा?

- Ans
- 1. 4
 - 2. 2
 - 3. 7
 - 4. 8

Question Type : **MCQ**

Question ID : **630680386586**

Option 1 ID : **6306801507054**

Option 2 ID : **6306801507056**

Option 3 ID : **6306801507055**

Option 4 ID : **6306801507057**

Status : **Answered**

Chosen Option : **4**

Q.8 यदि '+' और '-' को आपस में बदल दिया जाए तथा 'x' और '÷' को आपस में बदल दिया जाए, तो निम्नलिखित समीकरण में प्रश्न-चिह्न (?) के स्थान पर क्या आएगा?

$$12 \div 13 + 128 - 343 \times 49 = ?$$

Ans 1. 54

2. 35

3. 45

4. 53

Question Type : MCQ

Question ID : 630680272724

Option 1 ID : 6306801059458

Option 2 ID : 6306801059456

Option 3 ID : 6306801059457

Option 4 ID : 6306801059455

Status : Answered

Chosen Option : 1

Q.9 दिए गए कथनों और निष्कर्षों को ध्यानपूर्वक पढ़िए। यह मानते हुए कि कथनों में दी गई जानकारी सत्य है, चाहे वह सामान्यतः ज्ञात तथ्यों से भिन्न प्रतीत होती हो और निर्णय लीजिए कि दिए गए निष्कर्षों में से कौन-सा/कौन-से निष्कर्ष कथनों का तार्किक रूप से अनुसरण करता है/करते हैं।

कथन:

कुछ गैंडे, पक्षी हैं।

सभी पेंगुइन, पक्षी हैं।

निष्कर्ष:

(I): कुछ गैंडे, पेंगुइन हैं।

(II): सभी पक्षी, पेंगुइन हैं।

Ans 1. केवल निष्कर्ष (II) अनुसरण करता है।

2. न तो निष्कर्ष (I) और न ही (II) अनुसरण करता है।

3. निष्कर्ष (I) और (II) दोनों अनुसरण करते हैं।

4. केवल निष्कर्ष (I) अनुसरण करता है।

Question Type : MCQ

Question ID : 630680422249

Option 1 ID : 6306801647434

Option 2 ID : 6306801647432

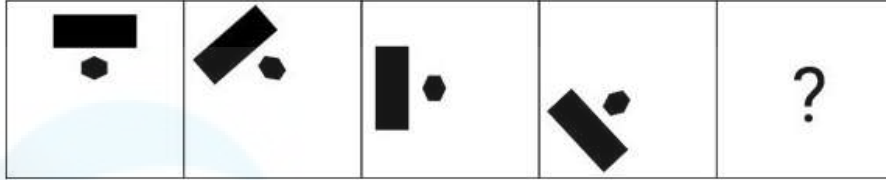
Option 3 ID : 6306801647433

Option 4 ID : 6306801647435

Status : Answered


Chosen Option : 2

Q.10 दिए गए विकल्पों में से उस आकृति का चयन कीजिए, जो प्रश्न-चिह्न (?) के स्थान पर आएगी और श्रृंखला को तार्किक रूप से पूर्ण करेगी।




Ans

✓ 1.




✗ 2.



✗ 3.



✗ 4.



Question Type : MCQ

Question ID : 630680272939

Option 1 ID : 6306801060318

Option 2 ID : 6306801060315

Option 3 ID : 6306801060317

Option 4 ID : 6306801060316

Status : Answered

Chosen Option : 1

Q.11 यदि निम्नलिखित समीकरण में '+' और '÷' को आपस में बदल दिया जाए तथा '×' और '-' को आपस में बदल दिया जाए, तो समीकरण में '?' के स्थान पर क्या आएगा?
 $24 + 3 \div 8 \times 2 - 6 = ?$

Ans 1. -6

2. 4

3. 18.75

4. 6

Question Type : MCQ

Question ID : 630680401290

Option 1 ID : 6306801564965

Option 2 ID : 6306801564966

Option 3 ID : 6306801564967

Option 4 ID : 6306801564968

Status : Answered

Chosen Option : 2

Q.12 एक निश्चित कूट भाषा में, 'RESHMA' को 'XJEPBO' के रूप में कूटबद्ध किया जाता है और 'PRITHAM' को 'JXEQFOM' के रूप में कूटबद्ध किया जाता है। उसी भाषा में 'GOURI' को किस प्रकार कूटबद्ध किया जाएगा?

Ans 1. EORLD

2. FORLD

3. FORLC

4. FDRLD

Question Type : MCQ

Question ID : 630680387909

Option 1 ID : 6306801512261

Option 2 ID : 6306801512260

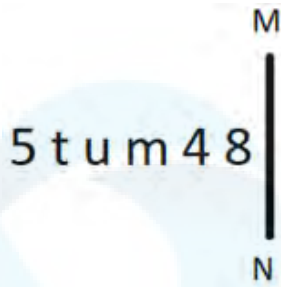
Option 3 ID : 6306801512259

Option 4 ID : 6306801512258

Status : Answered

Chosen Option : 3

Q.13 दी गई आकृति के उस सही दर्पण प्रतिबिंब को चुनिए, जो नीचे दर्शाए गए अनुसार दर्पण को MN पर रखने पर बनेगा।



Ans

1. 8 7 m u t 5

2. 8 4 w n t 2

3. 4 8 m u t 2

4. 8 4 m u t 2

Question Type : MCQ

Question ID : 630680525266

Option 1 ID : 6306802053151

Option 2 ID : 6306802053150

Option 3 ID : 6306802053149

Option 4 ID : 6306802053148

Status : Answered

Chosen Option : 4

Q.14 एक निश्चित तर्क का अनुसरण करते हुए 28, 168 से संबंधित है। उसी तर्क का अनुसरण करते हुए 39, 234 से संबंधित है। उसी तर्क का अनुसरण करते हुए, 43 निम्नलिखित में से किससे संबंधित है?

(ध्यान दें: संख्याओं को उनके घटक अंकों में अलग-अलग किए बिना पूर्ण संख्याओं पर संक्रियाएं की जानी चाहिए। उदाहरण के लिए संख्या 13 - संख्या 13 पर संक्रियाएं जैसे 13 को जोड़ना/घटाना/गुणा करना आदि किया जा सकता है। 13 को 1 और 3 में अलग-अलग करने की और फिर 1 और 3 पर गणितीय संक्रियाएं करने की अनुमति नहीं है।)

Ans 1. 222

2. 217

3. 215

4. 258

Question Type : MCQ

Question ID : 630680446755

Option 1 ID : 6306801744312

Option 2 ID : 6306801744311

Option 3 ID : 6306801744310

Option 4 ID : 6306801744313

Status : Answered

Chosen Option : 2

Q.15 अंग्रेजी वर्णानुक्रम के आधार पर दी गई श्रृंखला में प्रश्न चिह्न (?) के स्थान पर क्या आना चाहिए?

NRT, JNP, FJL, BFH, ?

Ans 1. XAD

2. XDF

3. XBD

4. XZS

Question Type : **MCQ**

Question ID : **630680458067**

Option 1 ID : **6306801789154**

Option 2 ID : **6306801789155**

Option 3 ID : **6306801789153**

Option 4 ID : **6306801789152**

Status : **Answered**

Chosen Option : **3**

Q.16 एक निश्चित कूट भाषा में, 'FRONT' को '21593' लिखा जाता है और 'OFTEN' को '52739' लिखा जाता है। उसी कूट भाषा में 'E' को कैसे लिखा जाएगा?

Ans 1. 7

2. 1

3. 2

4. 5

Question Type : **MCQ**

Question ID : **630680439105**

Option 1 ID : **6306801714234**

Option 2 ID : **6306801714235**

Option 3 ID : **6306801714232**

Option 4 ID : **6306801714233**

Status : **Answered**

Chosen Option : **1**

Q.17 नीचे दिए गए कथन/कथनों और निष्कर्षों को ध्यानपूर्वक पढ़िए। आपको मानना है कि दिए गए कथन सत्य हैं चाहे वे समान्यतः ज्ञात तथ्यों से अलग प्रतीत होते हों। आपको निश्चय करना है कि कौन-सा/कौन-से निष्कर्ष तार्किक रूप से दिए गए कथन/कथनों के अनुसार है/हैं।
कथन: सभी पक्षी, तोते हैं। सभी तोते, हरे हैं।
निष्कर्ष:
(I) सभी पक्षी, हरे हैं।
(II) कोई पक्षी, हरे नहीं है।

- Ans**
- 1. दोनों निष्कर्ष (I) और (II) कथनों के अनुसार हैं।
 - 2. केवल निष्कर्ष (II) कथनों के अनुसार है।
 - 3. न तो निष्कर्ष (I) और न ही (II) कथनों के अनुसार है।
 - 4. केवल निष्कर्ष (I) कथनों के अनुसार है।

Question Type : **MCQ**

Question ID : **630680439098**

Option 1 ID : **6306801714207**

Option 2 ID : **6306801714205**

Option 3 ID : **6306801714206**

Option 4 ID : **6306801714204**

Status : **Answered**

Chosen Option : **4**

Q.18 एक निश्चित कूट भाषा में, 'PRIZE' को '59764' लिखा जाता है और 'CAKE' को '1423' लिखा जाता है। उस कूट भाषा में 'E' को कैसे लिखा जाएगा?

- Ans**
- 1. 5
 - 2. 7
 - 3. 4
 - 4. 9

Question Type : **MCQ**

Question ID : **630680439088**

Option 1 ID : **6306801714165**

Option 2 ID : **6306801714167**

Option 3 ID : **6306801714164**

Option 4 ID : **6306801714166**

Status : **Answered**

Chosen Option : **3**

Q.19 निम्नलिखित संख्या-युग्मों में, पहली संख्या पर कुछ गणितीय संक्रियाएँ करके दूसरी संख्या प्राप्त की जाती है। उस समुच्चय का चयन कीजिए जिसमें संख्याएँ उसी प्रकार से संबंधित हैं जिस प्रकार निम्नलिखित समुच्चयों की संख्याएँ संबंधित हैं।

(ध्यान दें: संख्याओं को उनके घटक अंकों में अलग-अलग किए बिना पूर्ण संख्याओं पर संक्रियाएँ की जानी चाहिए। उदाहरण के लिए संख्या 13 - संख्या 13 पर संक्रियाएँ जैसे 13 को जोड़ना/घटाना/गुणा करना आदि किया जा सकता है। 13 को 1 और 3 में अलग-अलग करने की और फिर 1 और 3 पर गणितीय संक्रियाएँ करने की अनुमति नहीं है।)

7, 27
11, 43

- Ans 1. 15, 58
 2. 14, 58
 3. 14, 59
 4. 15, 59

Question Type : MCQ

Question ID : 6306801027612

Option 1 ID : 6306804033134

Option 2 ID : 6306804033136

Option 3 ID : 6306804033135

Option 4 ID : 6306804033133

Status : Answered

Chosen Option : 4

Q.20 अंग्रेजी वर्णानुक्रम के आधार पर NUQM एक निश्चित प्रकार से PWSO से संबंधित है। ठीक उसी प्रकार JQMI, LSOK से संबंधित है। समान तर्क का अनुसरण करते हुए FMIE निम्नलिखित में से किससे संबंधित है?

- Ans 1. OHGK
 2. HOGK
 3. HOKG
 4. OHKG

Question Type : MCQ

Question ID : 630680435881

Option 1 ID : 6306801701476

Option 2 ID : 6306801701474

Option 3 ID : 6306801701473

Option 4 ID : 6306801701475

Status : Answered

Chosen Option : 3

Section : General Awareness

Q.1 किस कुचिपुडी नर्तक/नृत्यांगना को राष्ट्रीय नृत्य शिरोमणि पुरस्कार 2022 से सम्मानित किया गया?

- Ans
- 1. अर्निदिता नियोगी अनाम
 - 2. जतिन गोस्वामी
 - 3. अपर्णा सतीसन
 - 4. अनिता शर्मा

Question Type : MCQ

Question ID : 630680512020

Option 1 ID : 6306802001052

Option 2 ID : 6306802001050

Option 3 ID : 6306802001053

Option 4 ID : 6306802001051

Status : Answered

Chosen Option : 3

Q.2 19 जुलाई 2023 को भारतीय तटरक्षक बल के 25वें महानिदेशक के रूप में किसे नियुक्त किया गया?

- Ans
- 1. बी.एस. राजू
 - 2. वी.के. सिंह
 - 3. राकेश पाल
 - 4. के. नटराजन

Question Type : MCQ

Question ID : 630680488486

Option 1 ID : 6306801907985

Option 2 ID : 6306801907984

Option 3 ID : 6306801907986

Option 4 ID : 6306801907983

Status : Answered

Chosen Option : 2

Q.3 मामल्लपुरम उत्सव (Mamallapuram Utsav) निम्नलिखित में से किस राज्य में मनाया जाता है?

- Ans
- 1. तमिलनाडु
 - 2. उत्तराखंड
 - 3. केरल
 - 4. कर्नाटक

Question Type : MCQ

Question ID : 630680402983

Option 1 ID : 6306801571506

Option 2 ID : 6306801571503

Option 3 ID : 6306801571504

Option 4 ID : 6306801571505

Status : Answered

Chosen Option : 3

Q.4 मई 2023 में, भारत के नए केंद्रीय सतर्कता आयुक्त के रूप में किसने शपथ ली?

- Ans
- 1. सुरेश एन. पटेल
 - 2. अमित खरे
 - 3. पी.के. श्रीवास्तव
 - 4. जी.सी. मुर्मू

Question Type : MCQ

Question ID : 630680488698

Option 1 ID : 6306801908809

Option 2 ID : 6306801908807

Option 3 ID : 6306801908810

Option 4 ID : 6306801908808

Status : Answered

Chosen Option : 1

Q.5 अधिकांश हड़प्पा स्थल मुख्य रूप से _____ भागों में विभाजित हैं।

- Ans
- 1. आठ
 - 2. दो
 - 3. छह
 - 4. चार

Question Type : MCQ

Question ID : 630680546808

Option 1 ID : 6306802137801

Option 2 ID : 6306802137798

Option 3 ID : 6306802137800

Option 4 ID : 6306802137799

Status : Answered

Chosen Option : 4

Q.6 2011 की जनगणना के अनुसार, निम्नलिखित में से किस केंद्र शासित प्रदेश की जनसंख्या सबसे कम थी?

- Ans
- 1. अंडमान और निकोबार द्वीप समूह
 - 2. पुदुचेरी
 - 3. चंडीगढ़
 - 4. लक्षद्वीप

Question Type : MCQ

Question ID : 630680270553

Option 1 ID : 6306801051398

Option 2 ID : 6306801051399

Option 3 ID : 6306801051400

Option 4 ID : 6306801051401

Status : Answered

Chosen Option : 1

Q.7 द गॉड ऑफ स्मॉल थिंग्स (The God of Small Things) निम्नलिखित में से किस लेखक/लेखिका द्वारा लिखित उपन्यास है?

- Ans
- 1. शशि थरूर
 - 2. रोहिंटन मिस्त्री
 - 3. फकीरा
 - 4. अरुंधति रॉय

Question Type : MCQ

Question ID : 630680409117

Option 1 ID : 6306801595379

Option 2 ID : 6306801595380

Option 3 ID : 6306801595378

Option 4 ID : 6306801595377

Status : Answered

Chosen Option : 4

Q.8 मध्यजनस्तर (mesoderm) से आस्तरित देहगुहा को आप क्या कहते हैं?

- Ans
- 1. अरीय सममिति (Radial symmetry)
 - 2. प्रगुहा (Coelom)
 - 3. त्रिकोरकी (Triploblasts)
 - 4. द्विकोरकी (Diploblasts)

Question Type : MCQ

Question ID : 630680194583

Option 1 ID : 630680754858

Option 2 ID : 630680754857

Option 3 ID : 630680754859

Option 4 ID : 630680754860

Status : Answered

Chosen Option : 2

Q.9 जीवधारियों (living organisms) और उनके पर्यावरण के बीच पारस्परिक क्रियाओं के अध्ययन को क्या कहा जाता है?

- Ans
- 1. पारिस्थितिकी (Ecology)
 - 2. जीवविज्ञान (Biology)
 - 3. रसायन विज्ञान (Chemistry)
 - 4. भूविज्ञान (Geology)

Question Type : MCQ

Question ID : 630680540560

Option 1 ID : 6306802113317

Option 2 ID : 6306802113315

Option 3 ID : 6306802113316

Option 4 ID : 6306802113318

Status : Answered

Chosen Option : 2

Q.10 मेहर के पास कोयले के दो बड़े टुकड़े थे। उसने पहले टुकड़े में आग लगा दी और दूसरे को और टुकड़ों में तोड़ दिया। सभी लागू कथनों को चुनते हुए मेहर को यह समझने में सहायता करें कि गतिविधि के अंत में कोयले के दोनों टुकड़ों में किस प्रकार के परिवर्तन हुए।

- A. कोयले के दोनों टुकड़ों में केवल भौतिक परिवर्तन हुए।
- B. कोयले के केवल पहले टुकड़े में उत्क्रमणीय (reversible) परिवर्तन हुए।
- C. कोयले के दूसरे टुकड़े में केवल भौतिक परिवर्तन हुए।
- D. कोयले के दोनों टुकड़ों में केवल रासायनिक परिवर्तन हुए।
- E. पहला प्रकरण रासायनिक परिवर्तनों का एक उदाहरण है।

- Ans
- 1. केवल B और D
 - 2. केवल C और E
 - 3. केवल A और B
 - 4. केवल D

Question Type : MCQ

Question ID : 630680474890

Option 1 ID : 6306801855177

Option 2 ID : 6306801855176

Option 3 ID : 6306801855174

Option 4 ID : 6306801855175

Status : Answered

Chosen Option : 2

Q.11 सीजर स्टाइल (Scissor style) और वेस्टर्न रोल (Western Roll) _____ में प्रयोग की जाने वाली तकनीकें हैं।

- Ans
- 1. लंबी कूद (long jump)
 - 2. ट्रिपल जंप (triple jump)
 - 3. पोल वौल्ट (pole vault)
 - 4. ऊंची कूद (high jump)

Question Type : MCQ

Question ID : 630680218571

Option 1 ID : 630680848191

Option 2 ID : 630680848194

Option 3 ID : 630680848193

Option 4 ID : 630680848192

Status : Answered

Chosen Option : 1

Q.12 1922 में असहयोग आंदोलन के तहत आक्रोशित किसानों ने किस स्थान के थाने में आग लगा दी थी?

- Ans
- 1. ढाका
 - 2. दांडी
 - 3. चौरा चौरा
 - 4. काकोरी

Question Type : MCQ

Question ID : 630680216017

Option 1 ID : 630680838045

Option 2 ID : 630680838043

Option 3 ID : 630680838044

Option 4 ID : 630680838046

Status : Answered

Chosen Option : 3

Q.13 नीचे दिए गए दलों (पार्टियों) को उनके आरक्षित चुनाव-चिन्हों के साथ सुमेलित कीजिए और निम्नलिखित में से गलत विकल्प का चयन कीजिए।

- Ans
- 1. बहुजन समाज पार्टी - हाथी
 - 2. राष्ट्रवादी कांग्रेस पार्टी - घड़ी
 - 3. अखिल भारतीय तृणमूल कांग्रेस – दरांती
 - 4. नेशनल पीपुल्स पार्टी - किताब

Question Type : MCQ

Question ID : 630680511453

Option 1 ID : 6306801998942

Option 2 ID : 6306801998944

Option 3 ID : 6306801998943

Option 4 ID : 6306801998945

Status : Answered

Chosen Option : 2

Q.14 यदि श्रम (labour) को किसी कार्य में लगाया जाए, लेकिन उसका उपयोग वास्तव में वस्तुओं और सेवाओं के उत्पादन के लिए नहीं किया जाए, तो यह _____ कहलाएगी।

- Ans
- 1. शहरी बेरोजगारी (urban unemployment)
 - 2. मौसमी बेरोजगारी (seasonal unemployment)
 - 3. प्रच्छन्न बेरोजगारी (disguised unemployment)
 - 4. शिक्षित बेरोजगारी (educated unemployment)

Question Type : MCQ

Question ID : 630680218763

Option 1 ID : 630680848961

Option 2 ID : 630680848959

Option 3 ID : 630680848960

Option 4 ID : 630680848962

Status : Answered

Chosen Option : 3

Q.15 निम्नलिखित में से किसे मौलिक कर्तव्य नहीं माना जाता है?

- Ans
- 1. धर्मनिरपेक्षता को बनाए रखना और उसकी रक्षा करना
 - 2. भारत की संप्रभुता, एकता और अखंडता को बनाए रखना और उसकी रक्षा करना
 - 3. हमारी समग्र संस्कृति की समृद्ध धरोहर को महत्व देना और संरक्षित करना
 - 4. वैज्ञानिक दृष्टिकोण, मानवतावाद तथा जाँच एवं सुधार की भावना का विकास करना

Question Type : MCQ

Question ID : 630680549090

Option 1 ID : 6306802146839

Option 2 ID : 6306802146837

Option 3 ID : 6306802146836

Option 4 ID : 6306802146838

Status : Answered

Chosen Option : 4

Q.16 अंतर्जलीय भूकंप या ज्वालामुखीय उद्गार के कारण उत्पन्न होने वाली बड़ी ज्वारीय तरंगों (Large tidal waves) को _____ कहा जाता है।

- Ans
- 1. टाइफून (typhoon)
 - 2. टॉरनेडो (tornado)
 - 3. सुनामी (tsunami)
 - 4. हरिकेन (hurricane)

Question Type : MCQ

Question ID : 630680517181

Option 1 ID : 6306802021120

Option 2 ID : 6306802021121

Option 3 ID : 6306802021122

Option 4 ID : 6306802021123

Status : Answered

Chosen Option : 1

Q.17 कलकत्ता के हिंदू कॉलेज के शिक्षक हेनरी लुइस विवियन डेरोजियो (Henry Louis Vivian Derozio) निम्नलिखित में से किस संगठन से जुड़े थे?

- Ans
- 1. परमहंस मंडली
 - 2. रहनुमाई माजदयासन सभा
 - 3. श्री नारायण धर्म परिपालन योगम
 - 4. यंग बंगाल आंदोलन

Question Type : MCQ

Question ID : 630680214249

Option 1 ID : 630680831044

Option 2 ID : 630680831046

Option 3 ID : 630680831045

Option 4 ID : 630680831043

Status : Answered

Chosen Option : 3

Q.18 मौर्य वंश के प्रांतों के संदर्भ में निम्नलिखित में से कौन-सा युग्म सही है?

- Ans
- 1. प्रच्यपथ (पूर्व) - तोशाली
 - 2. अवन्तिरथ (पश्चिम) - तक्षशिला
 - 3. दक्षिणापथ (दक्षिण)- उज्जैन
 - 4. उत्तरापथ (उत्तर) - सुवर्णगिरि

Question Type : MCQ

Question ID : 630680333511

Option 1 ID : 6306801297319

Option 2 ID : 6306801297317

Option 3 ID : 6306801297320

Option 4 ID : 6306801297318

Status : Answered

Chosen Option : 4

Q.19 15वीं सदी में दक्षिण भारत के निम्नलिखित में से किस साम्राज्य में कमलापुरम टैंक (Kamalapuram tank) का निर्माण किया गया था?

- Ans
- 1. बीजापुर
 - 2. चोल
 - 3. विजयनगर
 - 4. बीदर

Question Type : MCQ

Question ID : 630680282926

Option 1 ID : 6306801099837

Option 2 ID : 6306801099836

Option 3 ID : 6306801099838

Option 4 ID : 6306801099835

Status : Answered

Chosen Option : 2

Q.20 निम्नलिखित में से कौन-सा राष्ट्रीय जलमार्ग (NW) उद्योगमंडल (Udyogamandal) और चंपकारा (Champakara) नहरों से जुड़ा है?

- Ans
- 1. NW-25
 - 2. NW-5
 - 3. NW-10
 - 4. NW-3

Question Type : MCQ

Question ID : 630680484479

Option 1 ID : 6306801892233

Option 2 ID : 6306801892231

Option 3 ID : 6306801892232

Option 4 ID : 6306801892230

Status : Answered

Chosen Option : 3

Q.21 बास्केटबॉल में, जब 6.25 मीटर की रेखा के बाहर से बास्केट मारी जाती है तो कितने अंक दिए जाते हैं?

- Ans
- 1. दो अंक
 - 2. छह अंक
 - 3. पाँच अंक
 - 4. तीन अंक

Question Type : MCQ

Question ID : 630680458650

Option 1 ID : 6306801791472

Option 2 ID : 6306801791475

Option 3 ID : 6306801791474

Option 4 ID : 6306801791473

Status : Answered

Chosen Option : 1

Q.22 अर्थव्यवस्था में वाणिज्यिक बैंक (commercial bank) की क्या भूमिका है?

Ans 1. वित्तीय सेवाएँ प्रदान करना, जैसे कि जमाएं स्वीकार करना, धन उधार देना और भुगतान की सुविधा प्रदान करना

2. करेंसी छापना और जारी करना

3. संपूर्ण बैंकिंग प्रणाली के लिए ब्याज दरें निर्धारित करना

4. मुद्रा आपूर्ति को विनियमित करना

Question Type : MCQ

Question ID : 630680651795

Option 1 ID : 6306802551709

Option 2 ID : 6306802551707

Option 3 ID : 6306802551710

Option 4 ID : 6306802551708

Status : Answered

Chosen Option : 1

Q.23 प्रसिद्ध भारतीय संगीत हस्ती गंगूबाई हंगल को निम्नलिखित में से किस क्षेत्र में उनके योगदान के लिए पहचाना जाता है?

Ans 1. सूफी संगीत

2. गजल गायन

3. हिंदुस्तानी शास्त्रीय संगीत

4. रवीन्द्र संगीत

Question Type : MCQ

Question ID : 630680555197

Option 1 ID : 6306802170245

Option 2 ID : 6306802170244

Option 3 ID : 6306802170247

Option 4 ID : 6306802170246

Status : Answered

Chosen Option : 3

Q.24 हुट्टारी नृत्य (Huttari dance), जिसे वार्षिक परंपरा के रूप में मनाया जाता है, एक धीरे-धीरे होने वाला प्रदर्शन (leisurely performance) है जो _____ में कटाई के मौसम के दौरान किया जाता है।

Ans 1. ओडिशा

2. आंध्र प्रदेश

3. तेलंगाना

4. कर्नाटक

Question Type : MCQ

Question ID : 630680554384

Option 1 ID : 6306802167392

Option 2 ID : 6306802167390

Option 3 ID : 6306802167391

Option 4 ID : 6306802167393

Status : Answered

Chosen Option : 2

Q.25 निम्नलिखित में से कौन-सी नदी भारत में कर्क रेखा (Tropic of Cancer) के उत्तर में बहती है?

- Ans 1. महानदी
 2. पेनगंगा
 3. यमुना
 4. तापी

Question Type : MCQ

Question ID : 630680484526

Option 1 ID : 6306801892418

Option 2 ID : 6306801892420

Option 3 ID : 6306801892421

Option 4 ID : 6306801892419

Status : Answered

Chosen Option : 3

Section : English Language and Comprehension

Q.1 Select the most appropriate option that can substitute the underlined segment in the given sentence. If there is no need to substitute it, select 'No substitution required'.

Manisha set apart with her friends to explore the countryside.

- Ans 1. No substitution required
 2. set in
 3. set out
 4. set aside

Question Type : MCQ

Question ID : 630680611030

Option 1 ID : 6306802390983

Option 2 ID : 6306802390982

Option 3 ID : 6306802390981

Option 4 ID : 6306802390980

Status : Answered

Chosen Option : 1

Q.2 Select the sentence that has a grammatical error.

- Ans 1. The company came up with a brilliant marketing strategy.
 2. He came across an interesting article while researching.
 3. She always comes down with a cold in winter.
 4. We came in the meeting room quietly.

Question Type : MCQ

Question ID : 630680600852

Option 1 ID : 6306802351151

Option 2 ID : 6306802351150

Option 3 ID : 6306802351152

Option 4 ID : 6306802351153

Status : Answered

Chosen Option : 2

Q.3 Select the grammatically correct sentence from the given options.

- Ans 1. The responsibility was give to each student to keep quieter during the seminar.
 2. The responsibility was given to each student to keep quiet during the seminar.
 3. The responsibility was given to each student to keep quieter during the seminar.
 4. The responsibility is given to each student to keep quieter during the seminar.

Question Type : **MCQ**
Question ID : **630680514692**
Option 1 ID : **6306802011394**
Option 2 ID : **6306802011395**
Option 3 ID : **6306802011393**
Option 4 ID : **6306802011396**
Status : **Answered**
Chosen Option : **2**

Q.4 Select the option that correctly rectifies the underlined spelling error in the given sentence.

In the first half century after U.S. independence, a major preportion of the nation's labour force shifted from the agricultural to the manufacturing sector.

- Ans 1. proportion
 2. prepotion
 3. priposon
 4. preposion

Question Type : **MCQ**
Question ID : **630680726500**
Option 1 ID : **6306802847006**
Option 2 ID : **6306802847007**
Option 3 ID : **6306802847008**
Option 4 ID : **6306802847009**
Status : **Answered**
Chosen Option : **2**

Q.5 The given sentence is divided into four segments. Select the segment with the grammatical error.

I was surprised / to see my / daughter, Manya, riding her / new bicycle confident.

- Ans 1. I was surprised
 2. new bicycle confident
 3. to see my
 4. daughter, Manya, riding her

Question Type : **MCQ**
Question ID : **630680726466**
Option 1 ID : **6306802846870**
Option 2 ID : **6306802846873**
Option 3 ID : **6306802846871**
Option 4 ID : **6306802846872**
Status : **Answered**
Chosen Option : **1**

Q.6 Select the most appropriate synonym of the underlined word.
Ritu is a diligent girl who looks after her aged parents.

Ans 1. hardworking

2. innocent

3. lethargic

4. stupid

Question Type : **MCQ**

Question ID : **630680517440**

Option 1 ID : **6306802022158**

Option 2 ID : **6306802022157**

Option 3 ID : **6306802022156**

Option 4 ID : **6306802022159**

Status : **Answered**

Chosen Option : **2**

Q.7 Select the most appropriate meaning of the underlined word in the given sentence.

I agreed with your assessment.

Ans 1. Disagreed

2. Supported

3. Rejected

4. Doubted

Question Type : **MCQ**

Question ID : **630680452101**

Option 1 ID : **6306801765488**

Option 2 ID : **6306801765486**

Option 3 ID : **6306801765489**

Option 4 ID : **6306801765487**

Status : **Answered**

Chosen Option : **2**

Q.8 Select the most appropriate option to fill in the blank.
How long have you been _____ these contact lenses?

Ans 1. wearing

2. prevailing

3. seeing

4. swimming

Question Type : **MCQ**

Question ID : **630680515236**

Option 1 ID : **6306802013409**

Option 2 ID : **6306802013412**

Option 3 ID : **6306802013410**

Option 4 ID : **6306802013411**

Status : **Answered**

Chosen Option : **4**

Q.9 Select the most appropriate ANTONYM of the given word.

Ally

- Ans
- 1. Dreamy
 - 2. Gloomy
 - 3. Infamy
 - 4. Enemy

Question Type : MCQ

Question ID : 630680438804

Option 1 ID : 6306801713029

Option 2 ID : 6306801713028

Option 3 ID : 6306801713031

Option 4 ID : 6306801713030

Status : Answered

Chosen Option : 3

Q.10 Select the most appropriate meaning of the underlined word in the given sentence.
The military operation was part of a conspiracy against national security.

- Ans
- 1. Motivation
 - 2. Enthusiasm
 - 3. Plot
 - 4. willfulness

Question Type : MCQ

Question ID : 630680402708

Option 1 ID : 6306801570434

Option 2 ID : 6306801570435

Option 3 ID : 6306801570436

Option 4 ID : 6306801570433

Status : Answered

Chosen Option : 3

Q.11 Select the option with the correctly spelt word to fill in the blank.

The delta of river _____ looks like a bird's foot because a lot of sediment is carried into the calm sea water.

- Ans
- 1. Mississippi
 - 2. Mississipi
 - 3. Missisippi
 - 4. Mississippri

Question Type : MCQ

Question ID : 630680531835

Option 1 ID : 6306802079116

Option 2 ID : 6306802079118

Option 3 ID : 6306802079117

Option 4 ID : 6306802079119

Status : Not Answered

Chosen Option : --

Q.12 Select the option that can be used as a one-word substitute for the given group of words.

The irrational fear of snakes

- Ans**
- 1. Xenophobia
 - 2. Ophidiophobia
 - 3. Necrophobia
 - 4. Nomophobia

Question Type : **MCQ**

Question ID : **630680597000**

Option 1 ID : **6306802336047**

Option 2 ID : **6306802336045**

Option 3 ID : **6306802336046**

Option 4 ID : **6306802336048**

Status : **Answered**

Chosen Option : **4**

Q.13 The following sentence has been split into four segments. Identify the segment that contains a grammatical error.

Despite the challenges, / the team is determined to / completed / the project on time and within budget.

- Ans**
- 1. completed
 - 2. the team is determined to
 - 3. Despite the challenges
 - 4. the project on time and within budget

Question Type : **MCQ**

Question ID : **630680413377**

Option 1 ID : **6306801612330**

Option 2 ID : **6306801612329**

Option 3 ID : **6306801612328**

Option 4 ID : **6306801612331**

Status : **Answered**

Chosen Option : **3**

Q.14 Select the most appropriate idiom to replace the underlined segment in the given sentence.

We were asked to vote for the candidates by raising our hands to indicate voting for or against a proposition.

- Ans
- 1. getting out of hand
 - 2. changing hands
 - 3. a show of hands
 - 4. tipping our hands

Question Type : **MCQ**

Question ID : **630680399121**

Option 1 ID : **6306801556445**

Option 2 ID : **6306801556442**

Option 3 ID : **6306801556444**

Option 4 ID : **6306801556443**

Status : **Answered**

Chosen Option : **3**

Q.15 In the following passage, some words have been deleted. Read the passage carefully and select the most appropriate option to fill in the blanks.

Cuba is known as the sugar bowl of the world. It is part of the Caribbean _____ . This country _____ a lot of sugar in the decade of 1960s.

- Ans
- 1. sector; created
 - 2. region; produced
 - 3. area; cropped
 - 4. stretch; processed

Question Type : **MCQ**

Question ID : **630680515125**

Option 1 ID : **6306802013014**

Option 2 ID : **6306802013015**

Option 3 ID : **6306802013013**

Option 4 ID : **6306802013016**

Status : **Answered**

Chosen Option : **2**

Q.16 Select the most appropriate meaning of the underlined word in the context of the following sentence.

We should go to the Himalayas this spring.

- Ans 1. A water body
 2. A season
 3. To jump
 4. Coiled metal

Question Type : MCQ

Question ID : 630680517520

Option 1 ID : 6306802022477

Option 2 ID : 6306802022478

Option 3 ID : 6306802022476

Option 4 ID : 6306802022479

Status : Answered

Chosen Option : 1

Q.17 Select the most appropriate option to fill in the blank.

The _____ model who can be selected for this advertisement is Meera Narayan.

- Ans 1. more better
 2. most best
 3. most good
 4. best

Question Type : MCQ

Question ID : 630680514579

Option 1 ID : 6306802010943

Option 2 ID : 6306802010941

Option 3 ID : 6306802010942

Option 4 ID : 6306802010944

Status : Answered

Chosen Option : 1

Q.18 Select the INCORRECTLY spelt word.

- Ans 1. Sacrilege
 2. Committee
 3. Assesment
 4. Exaggeration

Question Type : MCQ

Question ID : 630680565006

Option 1 ID : 6306802208960

Option 2 ID : 6306802208959

Option 3 ID : 6306802208958

Option 4 ID : 6306802208961

Status : Answered

Chosen Option : 4

Q.19 Identify the preposition that needs to be omitted to correct the sentence.

They live near to the park.

Ans 1. to

2. live

3. near

4. They

Question Type : **MCQ**

Question ID : **630680549658**

Option 1 ID : **6306802149067**

Option 2 ID : **6306802149065**

Option 3 ID : **6306802149066**

Option 4 ID : **6306802149064**

Status : **Answered**

Chosen Option : **1**

Q.20 select the most appropriate idiom/phrase to fill in the blank and complete the sentence.

It was all _____. He did not really mean what he said.

Ans 1. tuck in

2. a storm in a tea cup

3. blue in the face

4. tongue in cheek

Question Type : **MCQ**

Question ID : **630680399119**

Option 1 ID : **6306801556434**

Option 2 ID : **6306801556437**

Option 3 ID : **6306801556436**

Option 4 ID : **6306801556435**

Status : **Answered**

Chosen Option : **4**

Comprehension:

In the following passage, some words have been deleted. Read the passage carefully and select the most appropriate option to fill in each blank.

A weed is an untamed plant that (1) _____ where it is not wanted, usually among gardens or crops. The majority of weeds are (2) _____. While some are toxic to horses and cattle, others harm mature crops by (3) _____ them of water, sunlight, soil and minerals. There are various ways that weeds (4) _____. They are (5) _____ transported from one location to another as trash, dust or fodder.

SubQuestion No : 21

Q.21 Select the most appropriate option to fill in blank number 1.

- Ans 1. spreads
 2. perfects
 3. evolves
 4. amends

Question Type : **MCQ**

Question ID : **630680533918**

Option 1 ID : **6306802087131**

Option 2 ID : **6306802087133**

Option 3 ID : **6306802087132**

Option 4 ID : **6306802087134**

Status : **Answered**

Chosen Option : **2**

Comprehension:

In the following passage, some words have been deleted. Read the passage carefully and select the most appropriate option to fill in each blank.

A weed is an untamed plant that (1) _____ where it is not wanted, usually among gardens or crops. The majority of weeds are (2) _____. While some are toxic to horses and cattle, others harm mature crops by (3) _____ them of water, sunlight, soil and minerals. There are various ways that weeds (4) _____. They are (5) _____ transported from one location to another as trash, dust or fodder.

SubQuestion No : 22

Q.22 Select the most appropriate option to fill in blank number 2.

- Ans 1. dangerous
 2. delicates
 3. vices
 4. grace

Question Type : **MCQ**

Question ID : **630680533919**

Option 1 ID : **6306802087135**

Option 2 ID : **6306802087137**

Option 3 ID : **6306802087136**

Option 4 ID : **6306802087138**

Status : **Answered**

Chosen Option : **1**

Comprehension:

In the following passage, some words have been deleted. Read the passage carefully and select the most appropriate option to fill in each blank.

A weed is an untamed plant that (1) _____ where it is not wanted, usually among gardens or crops. The majority of weeds are (2) _____. While some are toxic to horses and cattle, others harm mature crops by (3) _____ them of water, sunlight, soil and minerals. There are various ways that weeds (4) _____. They are (5) _____ transported from one location to another as trash, dust or fodder.

SubQuestion No : 23

Q.23 Select the most appropriate option to fill in blank number 3.

- Ans
- 1. relieving
 - 2. spoiling
 - 3. depriving
 - 4. digesting

Question Type : **MCQ**

Question ID : **630680533920**

Option 1 ID : **6306802087139**

Option 2 ID : **6306802087142**

Option 3 ID : **6306802087141**

Option 4 ID : **6306802087140**

Status : **Answered**

Chosen Option : **2**

Comprehension:

In the following passage, some words have been deleted. Read the passage carefully and select the most appropriate option to fill in each blank.

A weed is an untamed plant that (1) _____ where it is not wanted, usually among gardens or crops. The majority of weeds are (2) _____. While some are toxic to horses and cattle, others harm mature crops by (3) _____ them of water, sunlight, soil and minerals. There are various ways that weeds (4) _____. They are (5) _____ transported from one location to another as trash, dust or fodder.

SubQuestion No : 24

Q.24 Select the most appropriate option to fill in blank number 4.

- Ans
- 1. entertain
 - 2. propagate
 - 3. breach
 - 4. extension

Question Type : **MCQ**

Question ID : **630680533921**

Option 1 ID : **6306802087146**

Option 2 ID : **6306802087143**

Option 3 ID : **6306802087144**

Option 4 ID : **6306802087145**

Status : **Answered**

Chosen Option : **1**

Comprehension:

In the following passage, some words have been deleted. Read the passage carefully and select the most appropriate option to fill in each blank.

A weed is an untamed plant that (1) _____ where it is not wanted, usually among gardens or crops. The majority of weeds are (2) _____. While some are toxic to horses and cattle, others harm mature crops by (3) _____ them of water, sunlight, soil and minerals. There are various ways that weeds (4) _____. They are (5) _____ transported from one location to another as trash, dust or fodder.

SubQuestion No : 25

Q.25 Select the most appropriate option to fill in blank number 5.

- Ans
- 1. every
 - 2. consequence
 - 3. frequently
 - 4. rare

Question Type : **MCQ**

Question ID : **630680533922**

Option 1 ID : **6306802087149**

Option 2 ID : **6306802087150**

Option 3 ID : **6306802087148**

Option 4 ID : **6306802087147**

Status : **Answered**

Chosen Option : **1**