

Multi Tasking Non Technical Staff and Havaladar CBIC and CBN Examination 2024

Roll Number	
Candidate Name	
Venue Name	R K Digital Computer Centre 2
Exam Date	30/10/2024
Exam Time	12:30 PM - 2:30 PM
Subject	MTS Non Tech Havaladar CBIC and CBN Examination 2024

Section : Numerical and Mathematical Ability

Q.1 एक विक्रेता ₹5 में 6 की दर से एक निश्चित संख्या में केले खरीदता है और उन्हें ₹3 में 4 की दर पर बेच देता है। उसका हानि प्रतिशत ज्ञात कीजिए।

- Ans
- 1. 15%
 - 2. 8%
 - 3. 12%
 - 4. 10%

Question Type : MCQ

Question ID : 630680280402

Option 1 ID : 6306801089850

Option 2 ID : 6306801089847

Option 3 ID : 6306801089849

Option 4 ID : 6306801089848

Status : Answered

Chosen Option : 3

Q.2 अमन, भीम और रहमान क्रिकेट खेलते हैं, अमन के रन और भीम के रन तथा भीम के रन और रहमान के रन का अनुपात 5 : 4 है। वे मिलकर 549 रन बनाते हैं। रहमान ने कितने रन बनाए?

- Ans
- 1. 158
 - 2. 108
 - 3. 132
 - 4. 144

Question Type : MCQ

Question ID : 630680449900

Option 1 ID : 6306801756774

Option 2 ID : 6306801756771

Option 3 ID : 6306801756772

Option 4 ID : 6306801756773

Status : Answered

Chosen Option : 4

Q.3 रघु दो अलग-अलग व्यक्तियों को समान समय के लिए क्रमशः 7% वार्षिक और 8% वार्षिक दर से साधारण ब्याज पर ₹9,600 और ₹11,800 उधार देता है। यदि उसे दोनों से कुल ब्याज के रूप में ₹9,696 प्राप्त हुए थे, तो धनराशियां कितनी समयावधि के लिए उधार दी गई थीं?

- Ans 1. 10 वर्ष
 2. 6 वर्ष
 3. 12 वर्ष
 4. 8 वर्ष

Question Type : MCQ

Question ID : 6306801108822

Option 1 ID : 6306804355876

Option 2 ID : 6306804355874

Option 3 ID : 6306804355877

Option 4 ID : 6306804355875

Status : Answered

Chosen Option : 2

Q.4 निम्नलिखित तालिका पाँच विद्यार्थियों (A,B,C,D और E) द्वारा अलग-अलग विषयों में प्राप्त अंकों का प्रतिशत दर्शाती है। (अधिकतम अंक विषयों के बगल में दिए गए हैं)

विषय	उर्दू	संस्कृत	संगीत	हिंदी	अंग्रेजी
विद्यार्थी	200	200	200	200	200
A	60	80	90	60	90
B	90	70	80	70	40
C	70	90	90	80	70
D	80	60	70	90	80
E	90	50	80	80	80

विद्यार्थी A ने अंग्रेजी में, उसी विषय में विद्यार्थी E द्वारा प्राप्त किए गए अंकों की तुलना में कितने अधिक या कम अंक प्राप्त किए?

- Ans 1. 20 कम
 2. 20 अधिक
 3. 15 अधिक
 4. 15 कम

Question Type : MCQ

Question ID : 6306801108829

Option 1 ID : 6306804355905

Option 2 ID : 6306804355903

Option 3 ID : 6306804355902

Option 4 ID : 6306804355904

Status : Answered

Chosen Option : 3

Q.5 12 cm आधार त्रिज्या और 49 cm ऊंचाई वाले बेलन का वक्र पृष्ठीय क्षेत्रफल क्या होगा?

($\pi = \frac{22}{7}$ का उपयोग कीजिए)

- Ans
- 1. 3120 cm²
 - 2. 6336 cm²
 - 3. 5260 cm²
 - 4. 3696 cm²

Question Type : MCQ

Question ID : 630680388851

Option 1 ID : 6306801515866

Option 2 ID : 6306801515869

Option 3 ID : 6306801515867

Option 4 ID : 6306801515868

Status : Answered

Chosen Option : 4

Q.6 एक दुकानदार ने एक वस्तु 4% के लाभ पर बेची। यदि उसने वस्तु को 5% कम मूल्य पर खरीदा होता और ₹30 अधिक पर बेचा होता, तो उसे 12% का लाभ होता। वस्तु का क्रय मूल्य (₹ में) कितना है?

- Ans
- 1. 1,260
 - 2. 1,250
 - 3. 1,200
 - 4. 1,232

Question Type : MCQ

Question ID : 630680430615

Option 1 ID : 6306801680490

Option 2 ID : 6306801680489

Option 3 ID : 6306801680487

Option 4 ID : 6306801680488

Status : Answered

Chosen Option : 4

Q.7 एक कपड़े की दुकान पर लगे बैनर पर विज्ञापन छपा है '2 खरीदें और 5 पाएँ'। दुकानदार ने सभी कमीजों पर एक ही राशि अंकित की है। गौरव उसका रिश्तेदार था और दुकानदार ने उसे कुल बिल पर 2% की अतिरिक्त छूट दी। गौरव ने 5 कमीजें खरीदी और ₹1,274 का भुगतान किया। प्रत्येक कमीज के अंकित मूल्य की गणना करें।

Ans ✓ 1. ₹650

✗ 2. ₹520

✗ 3. ₹630

✗ 4. ₹260

Question Type : MCQ

Question ID : 630680415777

Option 1 ID : 6306801621854

Option 2 ID : 6306801621852

Option 3 ID : 6306801621853

Option 4 ID : 6306801621851

Status : Answered

Chosen Option : 3

Q.8 एक कर्मचारी का वेतन पहले 30% बढ़ाया गया और बाद में 28.5% कम कर दिया गया। उसके वेतन में निवल परिवर्तन कितना हुआ?

Ans ✓ 1. 7.05% की कमी

✗ 2. 8.05% की वृद्धि

✗ 3. 6.05% की वृद्धि

✗ 4. 9.05% की कमी

Question Type : MCQ

Question ID : 630680481180

Option 1 ID : 6306801879289

Option 2 ID : 6306801879288

Option 3 ID : 6306801879291

Option 4 ID : 6306801879290

Status : Answered

Chosen Option : 2

Q.9 $\frac{221}{488}$ का न्यूनतम पद ज्ञात करें।

Ans ✓ 1. $\frac{221}{488}$

✗ 2. $\frac{121}{288}$

✗ 3. $\frac{121}{488}$

✗ 4. $\frac{221}{288}$

Question Type : MCQ

Question ID : 630680102950

Option 1 ID : 630680400059

Option 2 ID : 630680400060

Option 3 ID : 630680400062

Option 4 ID : 630680400061

Status : Answered

Chosen Option : 4

Q.10 4 वर्षों के लिए 8% वार्षिक की ब्याज दर पर उधार ली गई राशि ₹2500 पर साधारण ब्याज (₹ में) ज्ञात कीजिए।

- Ans 1. 760
 2. 740
 3. 840
 4. 800

Question Type : MCQ

Question ID : 630680591915

Option 1 ID : 6306802316130

Option 2 ID : 6306802316129

Option 3 ID : 6306802316128

Option 4 ID : 6306802316127

Status : Answered

Chosen Option : 4

Q.11 प्रथम 9 पूर्ण संख्याओं का औसत ज्ञात कीजिए।

- Ans 1. 3
 2. 5
 3. 4.5
 4. 4

Question Type : MCQ

Question ID : 630680551669

Option 1 ID : 6306802156904

Option 2 ID : 6306802156902

Option 3 ID : 6306802156903

Option 4 ID : 6306802156901

Status : Answered

Chosen Option : 3

Q.12 किस राशि (₹ में) पर 16% प्रति वर्ष की ब्याज दर से 2 वर्षों में ₹360 का साधारण ब्याज अर्जित होगा?

- Ans 1. 1125
 2. 2250
 3. 725
 4. 1850

Question Type : MCQ

Question ID : 630680612184

Option 1 ID : 6306802395468

Option 2 ID : 6306802395470

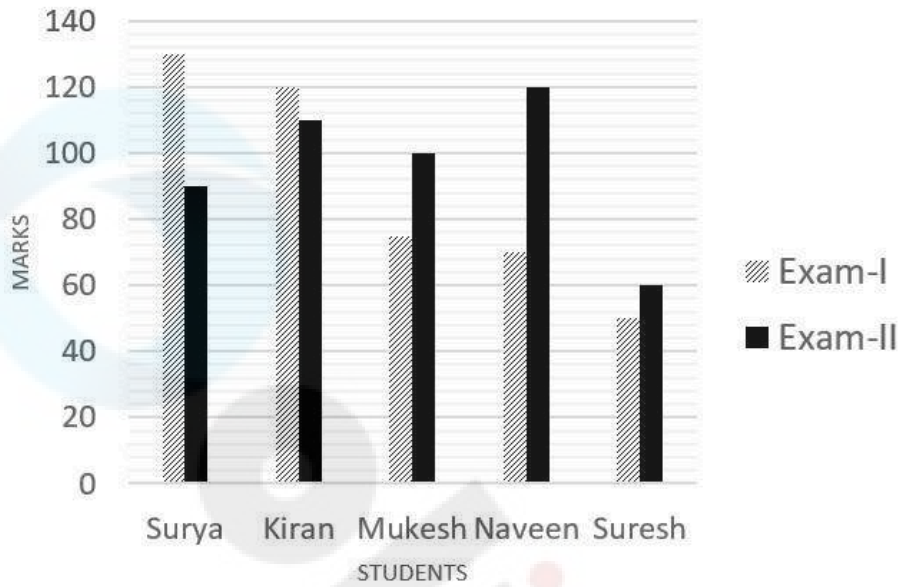
Option 3 ID : 6306802395469

Option 4 ID : 6306802395471

Status : Answered

Chosen Option : 1

Q.13 दिया गया बार ग्राफ, परीक्षा I और परीक्षा II में पांच विद्यार्थियों द्वारा प्राप्त अंकों को दर्शाता है। प्रश्न का उत्तर देने के लिए बार ग्राफ का ध्यानपूर्वक अध्ययन कीजिए।



संदर्भ: Marks = अंक, students = विद्यार्थी, Surya = सूर्या, Kiran = किरन, Mukesh = मुकेश, Naveen = नवीन, Suresh = सुरेश, Exam-I = परीक्षा-I, Exam-II = परीक्षा-II

यदि परीक्षा-I में सुरेश द्वारा प्राप्त अंकों में मूल अंक के 14% की वृद्धि की गई, तो परीक्षा-I में उसका नया अनुमानित प्रतिशत (approximate percentage) कितना होगा, यदि परीक्षा-I में अधिकतम अंक 140 थे?

- Ans
- 1. 38%
 - 2. 57%
 - 3. 41%
 - 4. 47%

Question Type : MCQ

Question ID : 630680430587

Option 1 ID : 6306801680373

Option 2 ID : 6306801680370

Option 3 ID : 6306801680372

Option 4 ID : 6306801680371

Status : Answered

Chosen Option : 3

Q.14 एक व्यक्ति ने तिरुपति से तिरुमाला तक 20 km/h की चाल से यात्रा की और 4 km/h की चाल से चलकर वापस लौटा। यदि पूरी यात्रा में 24 घंटे लगे, तो तिरुमाला और तिरुपति के बीच की दूरी (km में) ज्ञात कीजिए।

Ans 1. 25

2. 80

3. 20

4. 30

Question Type : MCQ

Question ID : 630680120228

Option 1 ID : 630680465949

Option 2 ID : 630680465946

Option 3 ID : 630680465947

Option 4 ID : 630680465948

Status : Answered

Chosen Option : 3

Q.15 वह अनुपात ज्ञात कीजिए जिसमें ₹7.20/kg मूल्य के चावल को ₹5.70/kg मूल्य के चावल के साथ मिलाया जाना चाहिए ताकि ₹6.30/kg मूल्य का मिश्रण तैयार किया जा सके।

Ans 1. 2 : 3

2. 3 : 4

3. 4 : 5

4. 1 : 3

Question Type : MCQ

Question ID : 630680287318

Option 1 ID : 6306801117180

Option 2 ID : 6306801117181

Option 3 ID : 6306801117182

Option 4 ID : 6306801117179

Status : Answered

Chosen Option : 4

Q.16 1 से 51 (इन दोनों को मिलाकर) तक की विषम संख्याओं का औसत क्या होगा?

Ans 1. 25

2. 26

3. 26.5

4. 24

Question Type : MCQ

Question ID : 630680138518

Option 1 ID : 630680536264

Option 2 ID : 630680536263

Option 3 ID : 630680536262

Option 4 ID : 630680536265

Status : Answered

Chosen Option : 2

Q.17 16 व्यक्तियों में से 14 व्यक्तियों का औसत वजन 75 kg है। शेष दो व्यक्तियों का कुल वजन सभी 16 व्यक्तियों के औसत वजन से 48 kg अधिक है। शेष दो व्यक्तियों का औसत वजन ज्ञात कीजिए।

- Ans
- 1. 54.6 kg
 - 2. 48.6 kg
 - 3. 60.6 kg
 - 4. 66.6 kg

Question Type : MCQ

Question ID : 630680469836

Option 1 ID : 6306801835100

Option 2 ID : 6306801835099

Option 3 ID : 6306801835101

Option 4 ID : 6306801835102

Status : Answered

Chosen Option : 2

Q.18 13.2 m व्यास और 14 m ऊर्ध्वाधर ऊंचाई वाले एक शंकवाकार तंबू में, गेहूं के कितने भरे थैले खाली किए जा सकते हैं, यदि प्रत्येक थैले में गेहूं भरे जाने के लिए आवश्यक स्थान 29.04 m^3 है? [$\pi = \frac{22}{7}$ का उपयोग करें]

- Ans
- 1. 28
 - 2. 21
 - 3. 25
 - 4. 22

Question Type : MCQ

Question ID : 630680526599

Option 1 ID : 6306802058462

Option 2 ID : 6306802058465

Option 3 ID : 6306802058463

Option 4 ID : 6306802058464

Status : Answered

Chosen Option : 1

Q.19 एक पुलिसकर्मी एक चोर को 50 m की दूरी पर देखता है और 7 m/s की चाल से उसका पीछा करना शुरू कर देता है, जबकि चोर 5 m/s की चाल से दौड़ता है। चोर के पकड़े जाने पर उसके द्वारा तय की गई दूरी (m में) कितनी है?

Ans 1. 175

2. 125

3. 100

4. 150

Question Type : MCQ

Question ID : 630680166144

Option 1 ID : 630680643551

Option 2 ID : 630680643549

Option 3 ID : 630680643548

Option 4 ID : 630680643550

Status : Answered

Chosen Option : 2

Q.20 लोहे की एक गोलाकार गेंद बनाई जानी है। यदि गेंद की त्रिज्या 3 cm है और लोहे का प्रति cm^3 वजन 30 g है, तो गेंद का वजन क्या होगा?

Ans 1. 108π g

2. 1040π g

3. 104π g

4. 1080π g

Question Type : MCQ

Question ID : 63068070045

Option 1 ID : 630680270818

Option 2 ID : 630680270819

Option 3 ID : 630680270821

Option 4 ID : 630680270820

Status : Not Answered

Chosen Option : --

Section : Reasoning Ability and Problem Solving

Q.1 एक निश्चित कूट भाषा में, 'PEN' को '16-05-14' लिखा जाता है और 'CAR' को '03-01-18' लिखा जाता है। उस कूट भाषा में 'KITE' को कैसे लिखा जाएगा?

Ans 1. 11-09-20-05

2. 10-09-20-05

3. 11-10-20-04

4. 10-12-20-03

Question Type : MCQ

Question ID : 630680439090

Option 1 ID : 6306801714173

Option 2 ID : 6306801714174

Option 3 ID : 6306801714172

Option 4 ID : 6306801714175

Status : Answered

Chosen Option : 1

Q.2 यदि '+' और '-' को आपस में बदल दिया जाए तथा 'x' और '÷' को आपस में बदल दिया जाए, तो निम्नलिखित समीकरण में प्रश्न-चिह्न (?) के स्थान पर क्या आएगा?
 $2 \div 90 \times 5 - 4 + 10 = ?$

Ans 1. 37

2. 30

3. 35

4. 29

Question Type : MCQ

Question ID : 630680273692

Option 1 ID : 6306801063289

Option 2 ID : 6306801063287

Option 3 ID : 6306801063288

Option 4 ID : 6306801063290

Status : Answered

Chosen Option : 2

Q.3 AFKO अंग्रेजी वर्णानुक्रम के आधार पर एक निश्चित प्रकार से CHMQ से संबंधित है। ठीक उसी प्रकार, ILRS, KNTU से संबंधित है। समान तर्क का अनुसरण करते हुए, BDGI निम्नलिखित में से किससे संबंधित है?

Ans 1. DFIK

2. SIND

3. HDJI

4. RTUI

Question Type : MCQ

Question ID : 630680397969

Option 1 ID : 6306801551892

Option 2 ID : 6306801551893

Option 3 ID : 6306801551891

Option 4 ID : 6306801551890

Status : Answered

Chosen Option : 1

Q.4 नीचे तीन कथन दिए गए हैं, जिसके बाद 1 और 2 क्रमांकित दो निष्कर्ष दिए गए हैं। यह मानते हुए कि कथनों में दी गई जानकारी सत्य है, चाहे वह सामान्यतः ज्ञात तथ्यों से भिन्न प्रतीत होती हो और निर्णय लीजिए कि दिए गए निष्कर्षों में से कौन-सा/कौन-से निष्कर्ष कथनों का तार्किक रूप से अनुसरण करता है/करते हैं।

कथन:

कुछ जीन्स, पैट हैं।
कोई पैट, शर्ट नहीं है।
कुछ शर्ट, टी-शर्ट हैं।

निष्कर्ष:

1. कुछ टी-शर्ट, शर्ट हैं।
2. कुछ टी-शर्ट, जीन्स हैं।

- Ans
- 1. केवल निष्कर्ष 2 अनुसरण करता है
 - 2. निष्कर्ष 1 और 2 दोनों अनुसरण करते हैं
 - 3. केवल निष्कर्ष 1 अनुसरण करता है
 - 4. न तो निष्कर्ष 1 और न ही 2 अनुसरण करता है

Question Type : MCQ

Question ID : 630680519822

Option 1 ID : 6306802031712

Option 2 ID : 6306802031713

Option 3 ID : 6306802031714

Option 4 ID : 6306802031715

Status : Answered

Chosen Option : 2

Q.5 निम्नलिखित में से किन चिह्नों को आपस में बदलने पर दिया गया समीकरण सही हो जाएगा?

$$96 \times 8 - 15 \div 5 + 100 = 37$$

- Ans
- 1. \times और $-$
 - 2. $-$ और $+$
 - 3. \div और \times
 - 4. \times और $+$

Question Type : MCQ

Question ID : 630680411985

Option 1 ID : 6306801606775

Option 2 ID : 6306801606777

Option 3 ID : 6306801606778

Option 4 ID : 6306801606776

Status : Answered

Chosen Option : 3

Q.6 यदि दर्पण को नीचे दिखाए गए अनुसार MN पर रखा जाए, तो दी गई आकृति के सही दर्पण प्रतिबिंब का चयन कीजिए।



- Ans
- 1. A a r e M Y
 - 2. g A r e W λ
 - 3. g A r e M Y
 - 4. Y M e r A a

Question Type : MCQ

Question ID : 630680525317

Option 1 ID : 6306802053355

Option 2 ID : 6306802053352

Option 3 ID : 6306802053354

Option 4 ID : 6306802053353

Status : Answered

Chosen Option : 3

Q.7 दिए गए कथनों और निष्कर्षों को ध्यानपूर्वक पढ़िए। यह मानते हुए कि कथनों में दी गई जानकारी सत्य है, भले ही वे सामान्यतः ज्ञात तथ्यों से भिन्न प्रतीत होते हों, तय कीजिए कि दिए गए निष्कर्षों में से कौन-सा/से निष्कर्ष कथनों का तार्किक रूप से अनुसरण करता है/करते हैं।

कथन:

सभी सेब, आम हैं।

कोई आम, कीवी नहीं है।

निष्कर्ष:

(I) कोई सेब, कीवी नहीं है।

(II) कोई कीवी, आम नहीं है।

- Ans
- 1. केवल निष्कर्ष I अनुसरण करता है
 - 2. निष्कर्ष I और II दोनों अनुसरण करते हैं
 - 3. न तो निष्कर्ष I और न ही II अनुसरण करता है
 - 4. केवल निष्कर्ष II अनुसरण करता है

Question Type : MCQ

Question ID : 630680421794

Option 1 ID : 6306801645619

Option 2 ID : 6306801645621

Option 3 ID : 6306801645622

Option 4 ID : 6306801645620

Status : Answered

Chosen Option : 2

Q.8 दिए गए विकल्पों में से उस आकृति को चुनिए जो निम्नलिखित श्रृंखला में प्रश्न चिह्न (?) के स्थान पर आ सकती है और पैटर्न को पूरा कर सकती है।

P	E	S	E	↑	O	6	♡	A	♡	D	O	
↑	A	6	P	S	D	D	S	P	6	A	↑	?
O	D	♡	A	♡	6	O	↑	E	S	E	P	

Ans

✗ 1.

D	6	S
♡	A	E
O	P	↑

✗ 2.

P	E	S
↑	O	6
A	D	♡

✗ 3.

D	6	S
♡	O	E
A	P	↑

✓ 4.

P	E	S
↑	A	6
O	D	♡

Question Type : MCQ

Question ID : 630680441076

Option 1 ID : 6306801721960

Option 2 ID : 6306801721959

Option 3 ID : 6306801721958

Option 4 ID : 6306801721961

Status : Answered

Chosen Option : 4

Q.9 एक निश्चित कूट भाषा में, 'HOME' को '5317' के रूप में कूटबद्ध किया जाता है और 'EAST' को '6528' के रूप में कूटबद्ध किया जाता है। दी गई कूट भाषा में 'E' के लिए कूट क्या है?

- Ans
- 1. 6
 - 2. 8
 - 3. 5
 - 4. 7

Question Type : MCQ

Question ID : 630680422206

Option 1 ID : 6306801647261

Option 2 ID : 6306801647263

Option 3 ID : 6306801647260

Option 4 ID : 6306801647262

Status : Answered

Chosen Option : 1

Q.10 अंग्रेजी वर्णानुक्रम के आधार पर HLTE किसी निश्चित प्रकार से DHPA से संबंधित है। ठीक उसी प्रकार, VBNW, RXJS से संबंधित है। उसी तर्क का अनुसरण करते हुए, MUXK निम्नलिखित में से किससे संबंधित है?

- Ans
- 1. IQSF
 - 2. JRUG
 - 3. IPSF
 - 4. IQTG

Question Type : MCQ

Question ID : 630680528976

Option 1 ID : 6306802067893

Option 2 ID : 6306802067894

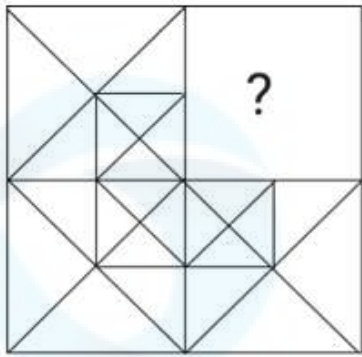
Option 3 ID : 6306802067892

Option 4 ID : 6306802067895

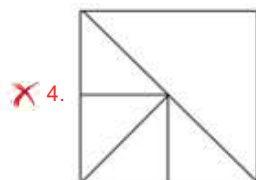
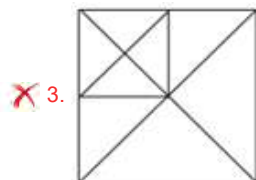
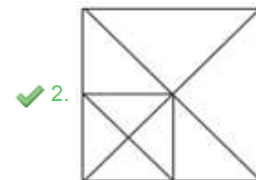
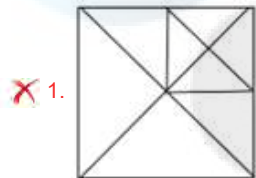
Status : Answered

Chosen Option : 1

Q.11 उस विकल्प आकृति का चयन कीजिए जो पैटर्न को पूरा करने के लिए नीचे दी गई आकृति में प्रश्न चिह्न (?) के स्थान पर आएगी।



Ans



Question Type : MCQ

Question ID : 630680525775

Option 1 ID : 6306802055187

Option 2 ID : 6306802055186

Option 3 ID : 6306802055184

Option 4 ID : 6306802055185

Status : Answered

Chosen Option : 2

Q.12 एक निश्चित तर्क का अनुसरण करते हुए 79, 164 से संबंधित है। उसी तर्क का अनुसरण करते हुए, 98, 183 से संबंधित है। उसी तर्क का अनुसरण करते हुए, 112 निम्नलिखित में से किससे संबंधित है?

(ध्यान दें: संख्याओं को उनके घटक अंकों में अलग-अलग किए बिना पूर्ण संख्याओं पर संक्रियाएं की जानी चाहिए। उदाहरण के लिए संख्या 13 - संख्या 13 पर संक्रियाएं जैसे 13 को जोड़ना/घटाना/गुणा करना आदि किया जा सकता है। 13 को 1 और 3 में अलग-अलग करने की और फिर 1 और 3 पर गणितीय संक्रियाएं करने की अनुमति नहीं है।)

- Ans
- 1. 187
 - 2. 195
 - 3. 197
 - 4. 182

Question Type : MCQ

Question ID : 630680446725

Option 1 ID : 6306801744196

Option 2 ID : 6306801744195

Option 3 ID : 6306801744194

Option 4 ID : 6306801744197

Status : Answered

Chosen Option : 1

Q.13 अंग्रेजी वर्णानुक्रम के आधार पर दी गई श्रृंखला में प्रश्न-चिह्न (?) के स्थान पर क्या आना चाहिए?
CEB, GHE, KKH, ONK, ?

- Ans
- 1. TQN
 - 2. SQO
 - 3. SQN
 - 4. TQO

Question Type : MCQ

Question ID : 630680338839

Option 1 ID : 6306801317948

Option 2 ID : 6306801317945

Option 3 ID : 6306801317946

Option 4 ID : 6306801317947

Status : Answered

Chosen Option : 3

Q.14 किसी कूट भाषा में, 'PINK' को 'WFUH' के रूप में कूटबद्ध किया जाता है और 'DORM' को 'KLYJ' के रूप में कूटबद्ध किया जाता है। उसी भाषा में 'BUGI' को किस प्रकार कूटबद्ध किया जाएगा?

- Ans
- 1. KSNE
 - 2. IRNF
 - 3. KSOE
 - 4. JROF

Question Type : MCQ

Question ID : 630680465308

Option 1 ID : 6306801817267

Option 2 ID : 6306801817269

Option 3 ID : 6306801817268

Option 4 ID : 6306801817270

Status : Answered

Chosen Option : 3

Q.15 किसी निश्चित कूट भाषा में, 'JUGS' को '3715' के रूप में कूटबद्ध किया जाता है और 'GOLD' को '6524' के रूप में कूटबद्ध किया जाता है। उसी भाषा में 'G' के लिए क्या कूट होगा?

Ans 1. 5

2. 6

3. 1

4. 4

Question Type : MCQ

Question ID : 630680386587

Option 1 ID : 6306801507060

Option 2 ID : 6306801507059

Option 3 ID : 6306801507058

Option 4 ID : 6306801507061

Status : Answered

Chosen Option : 2

Q.16 सात लोग A, B, C, D, E, F और G एक वृत्ताकार मेज के चारों ओर केंद्र की ओर मुख करके बैठे हैं (परंतु जरूरी नहीं कि वे इसी क्रम में बैठे हों)। F, C के बाएँ से दूसरे स्थान पर बैठा है। A और C का निकटतम पड़ोसी E है। G, D के दाएँ से तीसरे स्थान पर बैठा है।

G के सापेक्ष B का स्थान क्या है?

Ans 1. ठीक दाएँ ओर

2. दाएँ से तीसरा

3. दाएँ से दूसरा

4. बाएँ से दूसरा

Question Type : MCQ

Question ID : 630680379512

Option 1 ID : 6306801479092

Option 2 ID : 6306801479091

Option 3 ID : 6306801479094

Option 4 ID : 6306801479093

Status : Answered

Chosen Option : 4

Q.17 एक निश्चित तर्क का अनुसरण करते हुए 20, 401 से संबंधित है। उसी तर्क का अनुसरण करते हुए 15, 226 से संबंधित है। उसी तर्क का अनुसरण करते हुए 18, निम्नलिखित में से किससे संबंधित है?

(ध्यान दें: संख्याओं को उनके घटक अंकों में अलग-अलग किए बिना पूर्ण संख्याओं पर संक्रियाएं की जानी चाहिए। उदाहरण के लिए संख्या 13 - संख्या 13 पर संक्रियाएं जैसे 13 को जोड़ना/घटाना/गुणा करना आदि किया जा सकता है। 13 को 1 और 3 में अलग-अलग करने की और फिर 1 और 3 पर गणितीय संक्रियाएं करने की अनुमति नहीं है।)

Ans 1. 325

2. 346

3. 352

4. 364

Question Type : MCQ

Question ID : 630680809915

Option 1 ID : 6306803173231

Option 2 ID : 6306803173234

Option 3 ID : 6306803173232

Option 4 ID : 6306803173233

Status : Answered

Chosen Option : 1

Q.18 दी गई श्रृंखला में प्रश्नचिह्न (?) के स्थान पर क्या आना चाहिए?

4, 10, ?, 82, 244, 730, 2188

Ans 1. 28

2. 20

3. 21

4. 38

Question Type : MCQ

Question ID : 630680429880

Option 1 ID : 6306801677570

Option 2 ID : 6306801677568

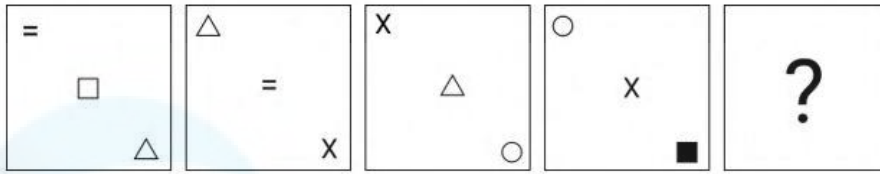
Option 3 ID : 6306801677569

Option 4 ID : 6306801677571

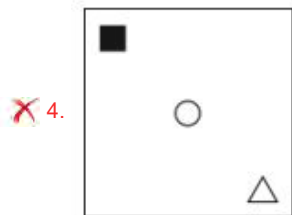
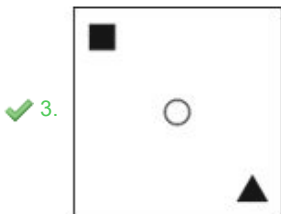
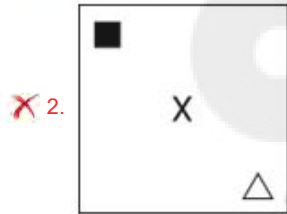
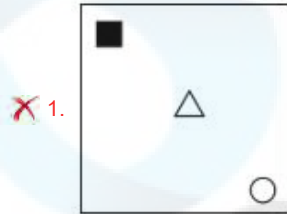
Status : Answered

Chosen Option : 1

Q.19 विकल्पों में दी गई उस आकृति की पहचान कीजिए जिसे "?" के स्थान पर रखे जाने पर श्रृंखला तार्किक रूप से पूर्ण हो जाएगी।



Ans



Question Type : MCQ

Question ID : 630680278554

Option 1 ID : 6306801082501

Option 2 ID : 6306801082504

Option 3 ID : 6306801082503

Option 4 ID : 6306801082502

Status : Answered

Chosen Option : 3

Q.20 A, B, C, D, E, F, और G, एक वृत्ताकार मेज के चारों ओर केंद्र की ओर मुख करके बैठे हैं (परंतु जरूरी नहीं कि वे इसी क्रम में बैठे हों)। E के दाईं ओर से गिनने पर, E और F के बीच में केवल 3 व्यक्ति बैठे हैं। A और D दोनों G के निकटतम पड़ोसी हैं। B, C के ठीक दाईं ओर बैठा है। B और D के बीच में केवल 1 व्यक्ति बैठा है। A के दाईं ओर से गिनने पर A और E के बीच में कितने व्यक्ति बैठे हैं?

Ans 1. 1

2. 2

3. 3

4. 4

Question Type : MCQ

Question ID : 630680387772

Option 1 ID : 6306801511720

Option 2 ID : 6306801511721

Option 3 ID : 6306801511722

Option 4 ID : 6306801511723

Status : Answered

Chosen Option : 3

Section : General Awareness

Q.1 कच्छ की खाड़ी के शीर्ष (head) पर स्थित किस बंदरगाह ने मुंबई बंदरगाह पर भार कम करने में मदद की है?

Ans 1. कांडला

2. कोच्ची

3. कोलकाता

4. हल्दिया

Question Type : MCQ

Question ID : 63068085299

Option 1 ID : 630680330701

Option 2 ID : 630680330702

Option 3 ID : 630680330703

Option 4 ID : 630680330700

Status : Answered

Chosen Option : 1

Q.2 निम्नलिखित में से कौन-सी नदी मध्य प्रदेश से होकर बहती है?

Ans 1. भीमा

2. श्योक

3. शारदा

4. बेतवा

Question Type : MCQ

Question ID : 630680510963

Option 1 ID : 6306801996984

Option 2 ID : 6306801996985

Option 3 ID : 6306801996983

Option 4 ID : 6306801996982

Status : Answered

Chosen Option : 3

Q.3 निम्नलिखित में से कौन-सा/कौन-से कथन गलत है/हैं?

A) 1833 चार्टर अधिनियम द्वारा बंगाल के गवर्नर-जनरल के पदनाम को बदलकर भारत का गवर्नर-जनरल कर दिया गया था।

B) लॉर्ड विलियम बेंटिक (Lord William Bentick) भारत के पहले गवर्नर जनरल थे।

- Ans
- 1. केवल B
 - 2. केवल A
 - 3. A और B दोनों
 - 4. न तो A न ही B

Question Type : MCQ

Question ID : 630680275917

Option 1 ID : 6306801072180

Option 2 ID : 6306801072179

Option 3 ID : 6306801072181

Option 4 ID : 6306801072182

Status : Answered

Chosen Option : 3

Q.4 रोहन बोपन्ना किस वर्ष लॉन टेनिस के पुरुष युगल वर्ग में विश्व के नंबर एक खिलाड़ी बने?

- Ans
- 1. 2017
 - 2. 2023
 - 3. 2015
 - 4. 2024

Question Type : MCQ

Question ID : 630680694282

Option 1 ID : 6306802719414

Option 2 ID : 6306802719415

Option 3 ID : 6306802719413

Option 4 ID : 6306802719412

Status : Not Answered

Chosen Option : --

Q.5 'अट्टोलू ईदु (Attolu Eidu)' निम्नलिखित में से किस केंद्र शासित प्रदेश का सांस्कृतिक त्योहार है?

- Ans
- 1. दादरा और नगर हवेली
 - 2. लक्षद्वीप
 - 3. अंडमान और निकोबार द्वीप समूह
 - 4. जम्मू और कश्मीर

Question Type : MCQ

Question ID : 630680546727

Option 1 ID : 6306802137478

Option 2 ID : 6306802137481

Option 3 ID : 6306802137479

Option 4 ID : 6306802137480

Status : Answered

Chosen Option : 2

Q.6 हिंदी उपन्यास 'झूठा सच' किसने लिखा है?

- Ans 1. श्रीलाल शुक्ल
 2. यशपाल
 3. जयशंकर प्रसाद
 4. प्रेमचंद

Question Type : MCQ
Question ID : 630680450250
Option 1 ID : 6306801758146
Option 2 ID : 6306801758143
Option 3 ID : 6306801758145
Option 4 ID : 6306801758144
Status : Answered
Chosen Option : 4

Q.7 10 अप्रैल 2023 को, भारत सरकार ने 'वाइब्रेंट विलेजेस प्रोग्राम' के माध्यम से _____ गांवों में पर्यटन अवसंरचना और सुविधाओं (tourism infrastructure and amenities) की शुरुआत की थी।

- Ans 1. पहाड़ी
 2. तटीय
 3. सीमावर्ती
 4. रेगिस्तानी

Question Type : MCQ
Question ID : 630680467189
Option 1 ID : 6306801824703
Option 2 ID : 6306801824702
Option 3 ID : 6306801824701
Option 4 ID : 6306801824704
Status : Not Answered
Chosen Option : --

Q.8 बिसागु महोत्सव (Bwisagu Festival) के दौरान निम्नलिखित में से कौन-सा लोक नृत्य आयोजित किया जाता है?

- Ans 1. बिहू नृत्य (Bihu dance)
 2. झूमर (Jhumur)
 3. बागुरुम्बा (Bagurumba)
 4. भोरताल (Bhortal)

Question Type : MCQ
Question ID : 630680465738
Option 1 ID : 6306801818990
Option 2 ID : 6306801818988
Option 3 ID : 6306801818989
Option 4 ID : 6306801818987
Status : Answered
Chosen Option : 1

Q.9 जुलाई 2023 तक की स्थिति के अनुसार, भारत के राष्ट्रीय सुरक्षा सलाहकार कौन हैं?

- Ans
- 1. संजीव सान्याल
 - 2. अजीत डोभाल
 - 3. राजनाथ सिंह
 - 4. राजीव गौबा

Question Type : MCQ

Question ID : 630680465523

Option 1 ID : 6306801818130

Option 2 ID : 6306801818127

Option 3 ID : 6306801818129

Option 4 ID : 6306801818128

Status : Answered

Chosen Option : 2

Q.10 भारत की वर्ष 2011 की जनगणना के अनुसार, निम्न में से किस केंद्र शासित प्रदेश की साक्षरता दर दूसरी सबसे अधिक है?

- Ans
- 1. दमन और दीव
 - 2. लक्षद्वीप
 - 3. अण्डमान और निकोबार
 - 4. चंडीगढ़

Question Type : MCQ

Question ID : 630680327647

Option 1 ID : 6306801274585

Option 2 ID : 6306801274588

Option 3 ID : 6306801274586

Option 4 ID : 6306801274587

Status : Answered

Chosen Option : 2

Q.11 दिए गए संकेतों के आधार पर हस्ती की पहचान कीजिए:

- i) वह एक जानी-मानी भरतनाट्यम नृत्यांगना हैं।
- ii) वह पद्म श्री 2016 पुरस्कार की प्राप्तकर्ता हैं।

- Ans
- 1. अरुणा मोहंती
 - 2. पद्मा शर्मा
 - 3. पद्मजा रेड्डी
 - 4. प्रतिभा प्रह्लाद

Question Type : MCQ

Question ID : 630680512026

Option 1 ID : 6306802001075

Option 2 ID : 6306802001077

Option 3 ID : 6306802001076

Option 4 ID : 6306802001074

Status : Answered

Chosen Option : 1

Q.12 स्मारकों को उनके संबंधित निर्माताओं के साथ सुमेलित करें।

स्मारक	निर्माता
A दिल्ली में जामा मस्जिद	1 बाबर
B इलाहाबाद का किला	2 शेरशाह
C किला-ए-कुहना मस्जिद	3 शाहजहां
D संभल में जामा मस्जिद	4 अकबर

- Ans 1. A-2, B-1, C-3, D-4
 2. A-4, B-1, C-2, D-3
 3. A-3, B-4, C-2, D-1
 4. A-3, B-2, C-4, D-1

Question Type : MCQ

Question ID : 630680183058

Option 1 ID : 630680709309

Option 2 ID : 630680709312

Option 3 ID : 630680709311

Option 4 ID : 630680709310

Status : Answered

Chosen Option : 4

Q.13 निम्नलिखित में से किस राज्य में द्विसदनीय (दो सदनों वाला) राज्य विधानमंडल (state legislature) है?

- Ans 1. गोवा
 2. कर्नाटक
 3. पंजाब
 4. पश्चिम बंगाल

Question Type : MCQ

Question ID : 630680511443

Option 1 ID : 6306801998905

Option 2 ID : 6306801998904

Option 3 ID : 6306801998903

Option 4 ID : 6306801998902

Status : Not Answered

Chosen Option : --

Q.14 राष्ट्रीय बहुआयामी गरीबी सूचकांक 2023 (एक प्रगति समीक्षा) के अनुसार, बिहार राज्य में बहुआयामी गरीबी (कुल गणना अनुपात) वाली कुल जनसंख्या का प्रतिशत कितना है?

Ans 1. 33.76%

2. 45.98%

3. 36.12%

4. 40.54%

Question Type : MCQ

Question ID : 630680477665

Option 1 ID : 6306801865808

Option 2 ID : 6306801865811

Option 3 ID : 6306801865809

Option 4 ID : 6306801865810

Status : Not Answered

Chosen Option : --

Q.15 दौलताबाद स्थित चाँद मीनार 210 फीट ऊँची, शंङाकार मीनार (tapering tower) है जो _____ मंजिलों में विभाजित है।

Ans 1. छः

2. चार

3. तीन

4. पाँच

Question Type : MCQ

Question ID : 630680807766

Option 1 ID : 6306803164697

Option 2 ID : 6306803164695

Option 3 ID : 6306803164694

Option 4 ID : 6306803164696

Status : Answered

Chosen Option : 2

Q.16 भारतीय सुधारक ज्योतिराव फुले मुख्य रूप से भारतीय समाज की किस सामाजिक बुराई के आलोचक थे?

Ans 1. जातिगत भेदभाव

2. बाल विवाह

3. गरीबी

4. सती प्रथा

Question Type : MCQ

Question ID : 630680176061

Option 1 ID : 630680682492

Option 2 ID : 630680682493

Option 3 ID : 630680682495

Option 4 ID : 630680682494

Status : Answered

Chosen Option : 1

Q.17 सायनोबैक्टीरिया (Cyanobacteria), _____ के क्षेत्र (domain) से संबंधित हैं।

- Ans 1. उत्पादकों (Producers)
 2. प्राथमिक उपभोक्ताओं (Primary Consumers)
 3. जैव अपघटकों (Decomposers)
 4. तृतीयक उपभोक्ताओं (Tertiary Consumers)

Question Type : MCQ
Question ID : 630680421840
Option 1 ID : 6306801645800
Option 2 ID : 6306801645801
Option 3 ID : 6306801645803
Option 4 ID : 6306801645802
Status : Not Answered
Chosen Option : --

Q.18 निम्नलिखित में से कौन-सा भारतीय संविधान के मौलिक कर्तव्यों की मुख्य विशेषता नहीं है?

- Ans 1. मौलिक कर्तव्य प्रकृति में नागरिक और नैतिक दोनों हैं।
 2. मौलिक अधिकारों और मौलिक कर्तव्यों में स्पष्ट अंतर है।
 3. यह न्यायोचित नहीं है।
 4. वे कानून द्वारा लागू करने योग्य हैं और उन्हें अदालत में चुनौती दी जा सकती है।

Question Type : MCQ
Question ID : 630680799031
Option 1 ID : 6306803130926
Option 2 ID : 6306803130927
Option 3 ID : 6306803130928
Option 4 ID : 6306803130929
Status : Answered
Chosen Option : 4

Q.19 संख्या 0.002609 में, सार्थक अंकों (significant figures) की संख्या _____ है।

- Ans 1. तीन
 2. छः
 3. चार
 4. सात

Question Type : MCQ
Question ID : 630680473298
Option 1 ID : 6306801848890
Option 2 ID : 6306801848888
Option 3 ID : 6306801848887
Option 4 ID : 6306801848889
Status : Answered
Chosen Option : 1

Q.20 भारतीय शास्त्रीय संगीत के किस ग्रंथ की रचना पंडित शारंग देव (Pandit Sharanga Deva) द्वारा की गई थी?

- Ans
- 1. संगीत तरंग
 - 2. संगीत समय सार
 - 3. संगीत मकरंद
 - 4. संगीत रत्नाकर

Question Type : MCQ

Question ID : 630680481955

Option 1 ID : 6306801882316

Option 2 ID : 6306801882319

Option 3 ID : 6306801882318

Option 4 ID : 6306801882317

Status : Not Answered

Chosen Option : --

Q.21 हड़प्पा, जो कि हड़प्पा संस्कृति के स्थलों में से एक था, आजादी के पहले के भारत के निम्नलिखित में से किस राज्य में पाया गया था?

- Ans
- 1. संयुक्त प्रांत
 - 2. पंजाब
 - 3. बलूचिस्तान
 - 4. सिंध

Question Type : MCQ

Question ID : 630680118789

Option 1 ID : 630680460260

Option 2 ID : 630680460261

Option 3 ID : 630680460259

Option 4 ID : 630680460258

Status : Answered

Chosen Option : 4

Q.22 एसएचजी (SHGs) के एसएपीएपी (SAPAP) में सशक्तिकरण मॉडल के तीन घटक क्या हैं?

- Ans
- 1. सामूहिक सशक्तिकरण, पूंजी निर्माण और गरीबी उन्मूलन
 - 2. सार्वजनिक संसाधन आवंटन, क्षमता निर्माण और सूक्ष्मवित्त
 - 3. सामाजिक गतिशीलता, आर्थिक विकास और शिक्षा
 - 4. सामाजिक गतिशीलता, पूंजी निर्माण और गरीब की क्षमता निर्माण

Question Type : MCQ

Question ID : 630680448150

Option 1 ID : 6306801749827

Option 2 ID : 6306801749828

Option 3 ID : 6306801749826

Option 4 ID : 6306801749829

Status : Not Answered

Chosen Option : --

Q.23 कबड्डी में अंक हासिल करने के लिए रेडर (raider) को जिस लाइन को पार करना होता है, उसके लिए किस शब्द का प्रयोग किया जाता है?

- Ans 1. बोनस लाइन (Bonus line)
2. हाफ लाइन (Half line)
3. बॉक लाइन (Baulk line)
4. सेंटर लाइन (Centre line)

Question Type : MCQ

Question ID : 630680468467

Option 1 ID : 6306801829663

Option 2 ID : 6306801829665

Option 3 ID : 6306801829664

Option 4 ID : 6306801829662

Status : Answered

Chosen Option : 4

Q.24 निम्नलिखित में से कौन-सा, अम्ल और क्षार का प्राकृतिक सूचक (natural indicator) है?

- Ans 1. चाइना रोज (China rose)
2. करी ट्री (Curry tree)
3. कवक (Fungi)
4. शैवाल (Algae)

Question Type : MCQ

Question ID : 630680588560

Option 1 ID : 6306802302715

Option 2 ID : 6306802302716

Option 3 ID : 6306802302717

Option 4 ID : 6306802302718

Status : Not Answered

Chosen Option : --

Q.25 समुद्र तल पर समुद्री खाइयाँ (oceanic trenches) या संकीर्ण अवसाद (narrow depressions) के कारण बनते हैं।

- Ans 1. सुनामी (tsunamis)
2. विवर्तनिक गतिविधि (tectonic activity)
3. थर्मोहिलिन परिसंचरण (thermohaline circulation)
4. ज्वारीय धाराओं (tidal currents)

Question Type : MCQ

Question ID : 630680455456

Option 1 ID : 6306801778741

Option 2 ID : 6306801778738

Option 3 ID : 6306801778740

Option 4 ID : 6306801778739

Status : Answered

Chosen Option : 1

Q.1 Select the INCORRECTLY spelt word.

- Ans 1. Adverse
 2. Abodomen
 3. Annoyed
 4. Abolished

Question Type : MCQ
Question ID : 6306801106829
Option 1 ID : 6306804347780
Option 2 ID : 6306804347782
Option 3 ID : 6306804347781
Option 4 ID : 6306804347783
Status : Answered
Chosen Option : 2

Q.2 Select the most appropriate option that can substitute the underlined segment without changing its meaning in the given sentence.

Entrepreneurial endeavours drive economic growth and innovation, empowering individuals to bring their ideas to fruition.

- Ans 1. ventures contribute to economic flourishing
 2. projects discourage economic prosperity
 3. pursuits manipulates economic success
 4. actions spur economic recession

Question Type : MCQ
Question ID : 630680480868
Option 1 ID : 6306801878069
Option 2 ID : 6306801878070
Option 3 ID : 6306801878072
Option 4 ID : 6306801878071
Status : Answered
Chosen Option : 4

Q.3 Select the most appropriate synonym of the underlined word in the given sentence.
James is just an old eccentric.

- Ans 1. Cranky
 2. Ordinary
 3. Follower
 4. Humble

Question Type : MCQ
Question ID : 630680396407
Option 1 ID : 6306801545737
Option 2 ID : 6306801545736
Option 3 ID : 6306801545738
Option 4 ID : 6306801545739
Status : Answered
Chosen Option : 1

Q.4 Select the most appropriate option that can substitute the underlined segment in the given sentence.

I had to choose the best of the two options available.

- Ans
- 1. better than
 - 2. good of
 - 3. better of
 - 4. best than

Question Type : **MCQ**

Question ID : **630680514613**

Option 1 ID : **6306802011080**

Option 2 ID : **6306802011078**

Option 3 ID : **6306802011079**

Option 4 ID : **6306802011077**

Status : **Answered**

Chosen Option : **4**

Q.5 Select the most appropriate option to fill in the blanks.

He is going to _____ the campaign against excessive use of _____ in local production units.

- Ans
- 1. combat
 - 2. lead
 - 3. protest
 - 4. spice

Question Type : **MCQ**

Question ID : **630680517385**

Option 1 ID : **6306802021937**

Option 2 ID : **6306802021938**

Option 3 ID : **6306802021936**

Option 4 ID : **6306802021939**

Status : **Answered**

Chosen Option : **2**

Q.6 Select the option that can be used as a one-word substitute for the highlighted group of words in the given sentence.

The tailor was called to stitch the long loose gowns worn by priests and choristers.

- Ans
- 1. frocks
 - 2. cassocks
 - 3. petticoats
 - 4. tuxedos

Question Type : **MCQ**

Question ID : **630680564303**

Option 1 ID : **6306802206168**

Option 2 ID : **6306802206167**

Option 3 ID : **6306802206169**

Option 4 ID : **6306802206170**

Status : **Answered**

Chosen Option : **2**

Q.7 Select the most appropriate ANTONYM for the underlined word in the given sentence.

He is a lazy person.

- Ans 1. casual
 2. perfect
 3. hardworking
 4. popular

Question Type : MCQ

Question ID : 630680502807

Option 1 ID : 6306801964811

Option 2 ID : 6306801964810

Option 3 ID : 6306801964809

Option 4 ID : 6306801964812

Status : Answered

Chosen Option : 3

Q.8 In the following sentence the underlined part contains an error. Alternatives to the underlined part are given as options. Select the correct alternative.
Wolfia is the tiny plant in the world.

- Ans 1. tinier
 2. more tiny
 3. most tiny
 4. tiniest

Question Type : MCQ

Question ID : 630680514706

Option 1 ID : 6306802011450

Option 2 ID : 6306802011452

Option 3 ID : 6306802011451

Option 4 ID : 6306802011449

Status : Answered

Chosen Option : 4

Q.9 Select the most appropriate ANTONYM that can substitute the underlined segment in the given sentence.

The family members described their dream home's architectural elegance.

- Ans 1. fortitude
 2. grandiosity
 3. coarseness
 4. gleam

Question Type : MCQ

Question ID : 630680799094

Option 1 ID : 6306803131177

Option 2 ID : 6306803131174

Option 3 ID : 6306803131176

Option 4 ID : 6306803131175

Status : Not Answered

Chosen Option : --

Q.10 Select the option that will improve the underlined part of the given sentence.

I started feeling tired as I had been working for a long time and so I decided to call the day.

- Ans 1. be a day for calling
 2. call it a day
 3. call off the day
 4. be called a day

Question Type : MCQ

Question ID : 63068064348

Option 1 ID : 630680248381

Option 2 ID : 630680248379

Option 3 ID : 630680248378

Option 4 ID : 630680248380

Status : Answered

Chosen Option : 3

Q.11 The following sentence has been split into four segments. Identify the segment that contains an error in phrasal verb.

Gita got onto / the book / she was reading / this morning.

- Ans 1. this morning
 2. Gita got onto
 3. the book
 4. she was reading

Question Type : MCQ

Question ID : 630680540767

Option 1 ID : 6306802114109

Option 2 ID : 6306802114106

Option 3 ID : 6306802114107

Option 4 ID : 6306802114108

Status : Answered

Chosen Option : 2

Q.12 Select the INCORRECTLY spelt word from the given sentence.

The explorer's adventuros spirit led to the discovery of an ancient civilisation.

- Ans 1. Adventuros
 2. Discovery
 3. Ancient
 4. Explorer's

Question Type : MCQ

Question ID : 630680615949

Option 1 ID : 6306802410479

Option 2 ID : 6306802410481

Option 3 ID : 6306802410480

Option 4 ID : 6306802410478

Status : Answered

Chosen Option : 1

Q.13 Select the most appropriate option that can substitute the underlined segment in the given sentence.

Sree did not go to work today, as she was feeling a bit under the weather.

- Ans**
- 1. feeling excited
 - 2. feeling ill
 - 3. feeling tired
 - 4. feeling nervous

Question Type : **MCQ**

Question ID : **630680539897**

Option 1 ID : **6306802110689**

Option 2 ID : **6306802110690**

Option 3 ID : **6306802110691**

Option 4 ID : **6306802110688**

Status : **Answered**

Chosen Option : **3**

Q.14 The following sentence has been divided into parts. One of them may contain an error. Select the part that contains the error from the given options. If you don't find any error, mark 'No error' as your answer.

After the match, / the stadium was the messiest / it's ever been.

- Ans**
- 1. After the match
 - 2. it's ever been
 - 3. No Error
 - 4. the stadium was the messiest

Question Type : **MCQ**

Question ID : **630680449854**

Option 1 ID : **6306801756587**

Option 2 ID : **6306801756589**

Option 3 ID : **6306801756590**

Option 4 ID : **6306801756588**

Status : **Answered**

Chosen Option : **3**

Q.15 Select the most appropriate option to fill in the blank.
The farmer stood by the roadside stand to sell his _____.

- Ans 1. productivity
 2. volume
 3. consequence
 4. produce

Question Type : **MCQ**
Question ID : **630680515274**
Option 1 ID : **6306802013563**
Option 2 ID : **6306802013561**
Option 3 ID : **6306802013562**
Option 4 ID : **6306802013564**
Status : **Answered**
Chosen Option : **4**

Q.16 Select the most appropriate option to fill in the blank.

Please turn off the lights _____ leaving the house.

- Ans 1. during
 2. between
 3. before
 4. amid

Question Type : **MCQ**
Question ID : **630680490359**
Option 1 ID : **6306801915353**
Option 2 ID : **6306801915352**
Option 3 ID : **6306801915351**
Option 4 ID : **6306801915354**
Status : **Answered**
Chosen Option : **3**

Q.17 Select the **INCORRECTLY** spelt word.

- Ans 1. Consensus
 2. Disapoint
 3. Conceive
 4. Disappear

Question Type : **MCQ**
Question ID : **630680554316**
Option 1 ID : **6306802167119**
Option 2 ID : **6306802167120**
Option 3 ID : **6306802167118**
Option 4 ID : **6306802167121**
Status : **Answered**
Chosen Option : **4**

Q.18 The following sentence has been split into four segments. Identify the segment that contains a grammatical error.

My mother said / that the thief / Ramesh will learnt / his lesson soon.

- Ans
- 1. My mother said
 - 2. his lesson soon.
 - 3. that the thief
 - 4. Ramesh will learnt

Question Type : **MCQ**

Question ID : **630680477465**

Option 1 ID : **6306801865017**

Option 2 ID : **6306801865020**

Option 3 ID : **6306801865018**

Option 4 ID : **6306801865019**

Status : **Answered**

Chosen Option : **4**

Q.19 Identify the most appropriate ANTONYM of the word in brackets.

Her candid remarks were a (refreshing) change from the usual diplomatic responses.

- Ans
- 1. Revitalising
 - 2. Bracing
 - 3. Invigorating
 - 4. Stale

Question Type : **MCQ**

Question ID : **630680545657**

Option 1 ID : **6306802133223**

Option 2 ID : **6306802133222**

Option 3 ID : **6306802133220**

Option 4 ID : **6306802133221**

Status : **Not Answered**

Chosen Option : **--**

Q.20 Select the most appropriate adjective to fill in the blank.

According to the chairman, his proposal was _____ than Mr. Jackson's.

- Ans
- 1. worse
 - 2. ill
 - 3. bad
 - 4. worst

Question Type : **MCQ**

Question ID : **63068087141**

Option 1 ID : **630680337955**

Option 2 ID : **630680337956**

Option 3 ID : **630680337954**

Option 4 ID : **630680337953**

Status : **Answered**

Chosen Option : **3**

Comprehension:

In the following passage, some words have been deleted. Read the passage carefully and select the most appropriate option to fill in each blank.

The Enlightenment, sometimes known as the 'Age of Reason', is described as the period of (1) _____ scientific, political, and philosophical debate that characterised European culture (2) _____ the 'long' 18th century: from the late 17th century until the end of the Napoleonic Wars in 1815. This was an era of an enormous (3) _____ in thinking and reason, which historian Roy Porter describes as 'decisive in the formation of modernity'. Centuries of custom and tradition were (4) _____ in favour of exploration, individuality, tolerance, and scientific (5) _____, all of which contributed to the formation of the 'modern world'.

SubQuestion No : 21

Q.21 Select the most appropriate option to fill in blank number 1..

- Ans
- 1. cautions
 - 2. auspicious
 - 3. malicious
 - 4. rigorous

Question Type : **MCQ**

Question ID : **630680129913**

Option 1 ID : **630680503241**

Option 2 ID : **630680503238**

Option 3 ID : **630680503240**

Option 4 ID : **630680503239**

Status : **Not Answered**

Chosen Option : --

Comprehension:

In the following passage, some words have been deleted. Read the passage carefully and select the most appropriate option to fill in each blank.

The Enlightenment, sometimes known as the 'Age of Reason', is described as the period of (1) _____ scientific, political, and philosophical debate that characterised European culture (2) _____ the 'long' 18th century: from the late 17th century until the end of the Napoleonic Wars in 1815. This was an era of an enormous (3) _____ in thinking and reason, which historian Roy Porter describes as 'decisive in the formation of modernity'. Centuries of custom and tradition were (4) _____ in favour of exploration, individuality, tolerance, and scientific (5) _____, all of which contributed to the formation of the 'modern world'.

SubQuestion No : 22

Q.22 Select the most appropriate option to fill in blank number 2..

- Ans
- 1. over with
 - 2. above
 - 3. throughout
 - 4. along with

Question Type : **MCQ**

Question ID : **630680129914**

Option 1 ID : **630680503242**

Option 2 ID : **630680503243**

Option 3 ID : **630680503245**

Option 4 ID : **630680503244**

Status : **Answered**

Chosen Option : **3**

Comprehension:

In the following passage, some words have been deleted. Read the passage carefully and select the most appropriate option to fill in each blank.

The Enlightenment, sometimes known as the 'Age of Reason', is described as the period of (1) _____ scientific, political, and philosophical debate that characterised European culture (2) _____ the 'long' 18th century: from the late 17th century until the end of the Napoleonic Wars in 1815. This was an era of an enormous (3) _____ in thinking and reason, which historian Roy Porter describes as 'decisive in the formation of modernity'. Centuries of custom and tradition were (4) _____ in favour of exploration, individuality, tolerance, and scientific (5) _____, all of which contributed to the formation of the 'modern world'.

SubQuestion No : 23**Q.23 Select the most appropriate option to fill in blank number 3..**

- Ans 1. shift
 2. secure
 3. embed
 4. shield

Question Type : **MCQ**Question ID : **630680129915**Option 1 ID : **630680503247**Option 2 ID : **630680503248**Option 3 ID : **630680503249**Option 4 ID : **630680503246**Status : **Answered**Chosen Option : **3****Comprehension:**

In the following passage, some words have been deleted. Read the passage carefully and select the most appropriate option to fill in each blank.

The Enlightenment, sometimes known as the 'Age of Reason', is described as the period of (1) _____ scientific, political, and philosophical debate that characterised European culture (2) _____ the 'long' 18th century: from the late 17th century until the end of the Napoleonic Wars in 1815. This was an era of an enormous (3) _____ in thinking and reason, which historian Roy Porter describes as 'decisive in the formation of modernity'. Centuries of custom and tradition were (4) _____ in favour of exploration, individuality, tolerance, and scientific (5) _____, all of which contributed to the formation of the 'modern world'.

SubQuestion No : 24**Q.24 Select the most appropriate option to fill in blank number 4..**

- Ans 1. demean
 2. dejected
 3. discarded
 4. defrosted

Question Type : **MCQ**Question ID : **630680129916**Option 1 ID : **630680503253**Option 2 ID : **630680503251**Option 3 ID : **630680503252**Option 4 ID : **630680503250**Status : **Not Answered**Chosen Option : **--**

Comprehension:

In the following passage, some words have been deleted. Read the passage carefully and select the most appropriate option to fill in each blank.

The Enlightenment, sometimes known as the 'Age of Reason', is described as the period of (1) _____ scientific, political, and philosophical debate that characterised European culture (2) _____ the 'long' 18th century: from the late 17th century until the end of the Napoleonic Wars in 1815. This was an era of an enormous (3) _____ in thinking and reason, which historian Roy Porter describes as 'decisive in the formation of modernity'. Centuries of custom and tradition were (4) _____ in favour of exploration, individuality, tolerance, and scientific (5) _____, all of which contributed to the formation of the 'modern world'.

SubQuestion No : 25

Q.25 Select the most appropriate option to fill in blank number 5..

- Ans
- 1. doodle
 - 2. slacken
 - 3. shirk
 - 4. endeavour

Question Type : **MCQ**

Question ID : **630680129917**

Option 1 ID : **630680503256**

Option 2 ID : **630680503255**

Option 3 ID : **630680503257**

Option 4 ID : **630680503254**

Status : **Answered**

Chosen Option : **4**