

Multi Tasking Non Technical Staff and Havaladar CBIC and CBN Examination 2024

Roll Number	
Candidate Name	
Venue Name	iON Digital Zone iDZ Keshaw Puram
Exam Date	30/10/2024
Exam Time	4:00 PM - 5:30 PM
Subject	MTS Non Tech Havaladar CBIC and CBN Examination 2024

Section : Numerical and Mathematical Ability

Q.1 किस राशि (₹ में) पर 4% प्रति वर्ष की ब्याज दर से 2 वर्षों में ₹240 का साधारण ब्याज अर्जित होगा?

Ans 1. 3000

2. 4000

3. 6000

4. 1500

Question Type : MCQ

Question ID : 630680612167

Option 1 ID : 6306802395400

Option 2 ID : 6306802395403

Option 3 ID : 6306802395402

Option 4 ID : 6306802395401

Status : Answered

Chosen Option : 2

Q.2 यदि किसी वस्तु की कीमत में क्रमशः 10% और 20% की वृद्धि होती है, तो इसकी कीमत में निवल प्रतिशत वृद्धि/कमी क्या है, यदि इसमें 25% की कमी और की जाए?

Ans 1. 1% की कमी

2. 1% की वृद्धि

3. 5% की कमी

4. 5% की वृद्धि

Question Type : MCQ

Question ID : 630680464510

Option 1 ID : 6306801814077

Option 2 ID : 6306801814078

Option 3 ID : 6306801814076

Option 4 ID : 6306801814075

Status : Answered

Chosen Option : 3

Q.3 कक्षा I में 20 वर्ष की औसत आयु के 12 विद्यार्थी हैं और कक्षा II में 23 वर्ष की औसत आयु के 16 विद्यार्थी हैं। दोनों कक्षाओं की औसत आयु (लगभग) कितनी है?

- Ans
- 1. 20.7 वर्ष
 - 2. 15.3 वर्ष
 - 3. 21.7 वर्ष
 - 4. 17.6 वर्ष

Question Type : MCQ

Question ID : 630680164211

Option 1 ID : 630680635979

Option 2 ID : 630680635976

Option 3 ID : 630680635978

Option 4 ID : 630680635977

Status : Answered

Chosen Option : 2

Q.4 यदि नौ संख्याओं का औसत 360 है, तो इन नौ संख्याओं का योग क्या है?

- Ans
- 1. 40
 - 2. 1620
 - 3. 3240
 - 4. 3420

Question Type : MCQ

Question ID : 630680481086

Option 1 ID : 6306801878924

Option 2 ID : 6306801878926

Option 3 ID : 6306801878927

Option 4 ID : 6306801878925

Status : Answered

Chosen Option : 1

Q.5 एक पुलिसकर्मी, एक चोर को 400 m की दूरी से देखता है। चोर 8 km/h की चाल से दौड़ना शुरू करता है और पुलिसकर्मी 9 km/h की चाल से उसका पीछा करता है। 18 मिनट के बाद उनके बीच की दूरी क्या है?

- Ans
- 1. 100 m
 - 2. 300 m
 - 3. 150 m
 - 4. 200 m

Question Type : MCQ

Question ID : 630680131561

Option 1 ID : 630680509490

Option 2 ID : 630680509493

Option 3 ID : 630680509491

Option 4 ID : 630680509492

Status : Answered

Chosen Option : 2

Q.6 एक आदमी शहर A से शहर B तक यात्रा करता है। निम्नलिखित तालिका में उसके द्वारा 4 घंटे में तय की गई दूरी को दर्शाया गया है।

समय	1 घंटे तक	2 घंटे तक	3 घंटे तक	4 घंटे तक
दूरी (km में)	45	82	122	157

शहर A से शहर B तक की यात्रा के दौरान, व्यक्ति अधिकतम दूरी किस घंटे में तय करता है?

- Ans
- 1. चौथे घंटे में
 - 2. दूसरे घंटे में
 - 3. तीसरे घंटे में
 - 4. पहले घंटे में

Question Type : MCQ

Question ID : 630680523732

Option 1 ID : 6306802047082

Option 2 ID : 6306802047080

Option 3 ID : 6306802047081

Option 4 ID : 6306802047079

Status : Answered

Chosen Option : 1

Q.7 16 cm व्यास और 4 cm ऊंचाई के एक ठोस बेलन को पिघलाकर समान आकार वाले 12 ठोस गोले बनाए जाते हैं। प्रत्येक गोले का व्यास कितना होगा?

- Ans
- 1. $4 \times 2^{\frac{1}{3}}$ cm
 - 2. $8 \times 2^{\frac{1}{3}}$ cm
 - 3. $6 \times 2^{\frac{1}{3}}$ cm
 - 4. $12 \times 2^{\frac{1}{3}}$ cm

Question Type : MCQ

Question ID : 630680526651

Option 1 ID : 6306802058670

Option 2 ID : 6306802058672

Option 3 ID : 6306802058671

Option 4 ID : 6306802058673

Status : Answered

Chosen Option : 1

Q.8 यदि एक लंबवृत्तीय शंकु के आधार का व्यास 14 cm और ऊँचाई 24 cm है, तो इसका संपूर्ण पृष्ठीय क्षेत्रफल (cm² में) कितना होगा?

($\pi = \frac{22}{7}$ लीजिए)

- Ans
- 1. 708
 - 2. 712
 - 3. 704
 - 4. 700

Question Type : MCQ

Question ID : 630680383464

Option 1 ID : 6306801494753

Option 2 ID : 6306801494754

Option 3 ID : 6306801494752

Option 4 ID : 6306801494751

Status : Answered

Chosen Option : 2

Q.9 कक्षा VIII के दो वर्गों (sections) A और B में क्रमशः 42 और 38 विद्यार्थी हैं। यदि वर्ग A के औसत अंक 400 हैं और वर्ग B के औसत अंक 320 हैं, तो पूरी कक्षा के औसत अंक ज्ञात कीजिए।

- Ans
- 1. 576
 - 2. 310
 - 3. 362
 - 4. 360

Question Type : MCQ

Question ID : 630680815850

Option 1 ID : 6306803196735

Option 2 ID : 6306803196736

Option 3 ID : 6306803196734

Option 4 ID : 6306803196733

Status : Answered

Chosen Option : 2

Q.10 नीचे दिए गए ग्राफ का ध्यानपूर्वक अध्ययन कीजिए और प्रश्न का उत्तर दीजिए।



अप्रैल से जुलाई तक डीजल के मूल्य में कितने प्रतिशत की वृद्धि हुई है (दशमलव के बाद एक अंक तक पूर्णांकित)?

- Ans
- 1. 89.3%
 - 2. 76.5%
 - 3. 88.8%
 - 4. 69.5%

Question Type : MCQ

Question ID : 630680399202

Option 1 ID : 6306801556755

Option 2 ID : 6306801556757

Option 3 ID : 6306801556756

Option 4 ID : 6306801556758

Status : Answered

Chosen Option : 1

Q.11 तीन घंटियाँ क्रमशः 12, 15 और 18 मिनट के अंतराल पर बजती हैं। यदि तीनों घंटियाँ 8 a.m. पर एक साथ बजती हैं, तो वे अगली बार एक साथ कब बजेगी?

- Ans
- 1. 8 a.m.
 - 2. 11 a.m.
 - 3. 3 p.m.
 - 4. 10 a.m.

Question Type : MCQ

Question ID : 630680107353

Option 1 ID : 630680416779

Option 2 ID : 630680416778

Option 3 ID : 630680416776

Option 4 ID : 630680416777

Status : Answered

Chosen Option : 2

Q.12 एक चोर 525 m की दूरी से एक पुलिसकर्मी को देखकर 18 km/h की चाल से भागने लगा। पुलिसकर्मी ने तुरंत 21 km/h की चाल से उसका पीछा किया और चोर पकड़ा गया। पुलिसकर्मी द्वारा पकड़े जाने से पहले चोर कितनी दूरी तक भागा था?

- Ans
- 1. 3100 m
 - 2. 3175 m
 - 3. 3125 m
 - 4. 3150 m

Question Type : MCQ

Question ID : 630680457044

Option 1 ID : 6306801785121

Option 2 ID : 6306801785124

Option 3 ID : 6306801785122

Option 4 ID : 6306801785123

Status : Answered

Chosen Option : 2

Q.13 राहुल एक वस्तु को उसके क्रय मूल्य से 8% अधिक पर बेचता है। यदि राहुल ने वस्तु के लिए जो भुगतान किया था, उससे 5% कम पर वस्तु को खरीदा होता और ₹8 कम पर बेचा होता, तो उसे 12% का लाभ होता। वस्तु का क्रय मूल्य ज्ञात कीजिए।

- Ans
- 1. ₹500
 - 2. ₹700
 - 3. ₹550
 - 4. ₹650

Question Type : MCQ

Question ID : 630680449876

Option 1 ID : 6306801756675

Option 2 ID : 6306801756678

Option 3 ID : 6306801756676

Option 4 ID : 6306801756677

Status : Answered

Chosen Option : 2

Q.14 एक बैग में 5 : 6 : 8 के अनुपात में 1 रुपये, 0.5 रुपये और 0.25 रुपये के सिक्के हैं। यदि बैग में कुल धनराशि ₹420 है, तो 1 रुपये, 0.5 रुपये और 0.25 रुपये के प्रकार के सिक्कों की संख्या क्रमशः ज्ञात कीजिए।

- Ans
- 1. 212,232,312
 - 2. 208,272,352
 - 3. 216,252,292
 - 4. 210,252,336

Question Type : MCQ

Question ID : 630680109175

Option 1 ID : 630680423514

Option 2 ID : 630680423513

Option 3 ID : 630680423515

Option 4 ID : 630680423512

Status : Answered

Chosen Option : 4

Q.15 एक वॉशिंग मशीन का अंकित मूल्य ₹15,000 है। एक खुदरा विक्रेता इसे 15% और एक दूसरी अस्पष्ट दर की दो क्रमिक छूट प्राप्त करने के बाद इसे ₹11,250 में खरीदता है। दूसरी छूट की दर क्या है?

- Ans
- 1. $11\frac{13}{17}\%$
 - 2. $12\frac{4}{9}\%$
 - 3. $8\frac{3}{7}\%$
 - 4. $10\frac{11}{13}\%$

Question Type : MCQ

Question ID : 630680615702

Option 1 ID : 6306802409480

Option 2 ID : 6306802409481

Option 3 ID : 6306802409478

Option 4 ID : 6306802409479

Status : Answered

Chosen Option : 2

Q.16 ₹19.5 में एक वस्तु को बेचकर, एक विक्रेता 25% का लाभ अर्जित करता है। उसे अपना विक्रय मूल्य (₹ में) कितना बढ़ाना चाहिए, ताकि 50% का लाभ अर्जित कर सके?

- Ans
- 1. 6.9
 - 2. 4.9
 - 3. 3.9
 - 4. 5.9

Question Type : MCQ

Question ID : 630680632591

Option 1 ID : 6306802476265

Option 2 ID : 6306802476263

Option 3 ID : 6306802476262

Option 4 ID : 6306802476264

Status : Answered

Chosen Option : 2

Q.17 6 वर्षों के लिए 8% वार्षिक की ब्याज दर पर उधार ली गई राशि ₹2000 पर साधारण ब्याज (₹ में) ज्ञात कीजिए।

- Ans
- 1. 960
 - 2. 1000
 - 3. 900
 - 4. 920

Question Type : MCQ

Question ID : 630680591882

Option 1 ID : 6306802315995

Option 2 ID : 6306802315996

Option 3 ID : 6306802315997

Option 4 ID : 6306802315998

Status : Answered

Chosen Option : 1

Q.18 एक साहूकार ने ₹40,000 को दो भागों में उधार दिया, एक भाग 7% वार्षिक पर और दूसरा भाग 6% वार्षिक पर। यदि धनराशि पर कुल वार्षिक साधारण ब्याज ₹2,550 है, तो 7% पर उधार दी गई धनराशि कितनी है?

Ans 1. ₹15,000

2. ₹18,000

3. ₹26,000

4. ₹21,000

Question Type : MCQ

Question ID : 630680815902

Option 1 ID : 6306803196941

Option 2 ID : 6306803196942

Option 3 ID : 6306803196944

Option 4 ID : 6306803196943

Status : Answered

Chosen Option : 2

Q.19 यदि एक गोलार्द्ध का व्यास 14 cm है, तो गोलार्द्ध का संपूर्ण पृष्ठीय क्षेत्रफल कितना है?

Ans 1. 624 cm²

2. 454 cm²

3. 554 cm²

4. 462 cm²

Question Type : MCQ

Question ID : 630680108617

Option 1 ID : 630680421415

Option 2 ID : 630680421413

Option 3 ID : 630680421414

Option 4 ID : 630680421412

Status : Answered

Chosen Option : 2

Q.20 राम और श्याम की औसत मासिक पॉकेट मनी ₹2,460 है। श्याम और मनोहर की औसत मासिक पॉकेट मनी ₹2,380 है और, मनोहर और राम की औसत मासिक पॉकेट मनी ₹2,760 है। अकेले राम की मासिक पॉकेट मनी ज्ञात कीजिए।

Ans 1. ₹2,480

2. ₹2,408

3. ₹2,840

4. ₹2,048

Question Type : MCQ

Question ID : 630680449372

Option 1 ID : 6306801754615

Option 2 ID : 6306801754614

Option 3 ID : 6306801754616

Option 4 ID : 6306801754613

Status : Answered

Chosen Option : 2

Q.1 दिए गए कथनों और निष्कर्षों को ध्यानपूर्वक पढ़िए। यह मानते हुए कि कथनों में दी गई जानकारी सत्य है, भले ही वे सामान्यतः ज्ञात तथ्यों से भिन्न प्रतीत होते हों, तय कीजिए कि दिए गए निष्कर्षों में से कौन-सा/से निष्कर्ष कथनों का तार्किक रूप से अनुसरण करता है/करते हैं।

कथन:

सभी लैपटॉप, डेस्कटॉप हैं।
कोई डेस्कटॉप, कंप्यूटर नहीं है।

निष्कर्ष:

(I) कोई लैपटॉप, कंप्यूटर नहीं है।
(II) कुछ कंप्यूटर, डेस्कटॉप हैं।

- Ans 1. केवल निष्कर्ष I अनुसरण करता है
 2. न तो निष्कर्ष I और न ही II अनुसरण करता है
 3. केवल निष्कर्ष II अनुसरण करता है
 4. निष्कर्ष I और II दोनों अनुसरण करते हैं

Question Type : MCQ

Question ID : 630680419658

Option 1 ID : 6306801637125

Option 2 ID : 6306801637128

Option 3 ID : 6306801637126

Option 4 ID : 6306801637127

Status : Answered

Chosen Option : 1

Q.2 अंग्रेजी वर्णानुक्रम के आधार पर LJPN एक निश्चित प्रकार से SQWU से संबंधित है। ठीक उसी प्रकार JHNL, QOUS से संबंधित है। समान तर्क का पालन करते हुए OMSQ निम्नलिखित में से किससे संबंधित है?

- Ans 1. TVXZ
 2. VTXZ
 3. VTZX
 4. TVZX

Question Type : MCQ

Question ID : 630680435590

Option 1 ID : 6306801700295

Option 2 ID : 6306801700294

Option 3 ID : 6306801700293

Option 4 ID : 6306801700296

Status : Answered

Chosen Option : 3

Q.3 अंग्रेजी वर्णानुक्रम के आधार पर दी गई श्रृंखला में प्रश्न चिह्न (?) के स्थान पर क्या आना चाहिए?

TQQ, PRM, LSI, HTE, ?

- Ans 1. EUB
 2. DUB
 3. DUA
 4. EUA

Question Type : MCQ

Question ID : 630680459267

Option 1 ID : 6306801793923

Option 2 ID : 6306801793921

Option 3 ID : 6306801793922

Option 4 ID : 6306801793924

Status : Answered

Chosen Option : 3

Q.4 किसी निश्चित कूट भाषा में 'GET' को '50' के रूप में कूटबद्ध किया जाता है और 'CAB' को '76' के रूप में कूटबद्ध किया जाता है। उसी भाषा में 'RUN' को किस प्रकार कूटबद्ध किया जाएगा?

- Ans 1. 31
 2. 28
 3. 30
 4. 29

Question Type : MCQ

Question ID : 630680465299

Option 1 ID : 6306801817234

Option 2 ID : 6306801817231

Option 3 ID : 6306801817233

Option 4 ID : 6306801817232

Status : Answered

Chosen Option : 2

Q.5 एक निश्चित कूट भाषा में, 'You may laugh' को 'CD EJ KO' के रूप में कूटबद्ध किया जाता है और 'May I go' को 'TK PO EJ' के रूप में कूटबद्ध किया जाता है। इसी कूट भाषा में 'may' को किस प्रकार कूटबद्ध किया जाएगा?

- Ans 1. CD
 2. EJ
 3. TK
 4. PO

Question Type : MCQ

Question ID : 630680380409

Option 1 ID : 6306801482632

Option 2 ID : 6306801482634

Option 3 ID : 6306801482631

Option 4 ID : 6306801482633

Status : Answered

Chosen Option : 2

Q.6 सात सहकर्मी (L, M, N, O, P, Q, R) एक वृत्ताकार बैठक मेज के चारों ओर केंद्र की ओर मुख करके बैठे हैं (परंतु जरूरी नहीं कि वे इसी क्रम में बैठे हों)। O, L के ठीक दाएं बैठा है, जबकि P, L के ठीक बाएं बैठा है। R और N के बीच में केवल Q बैठा है, और R का दूसरा निकटतम पड़ोसी M है, जो O का भी निकटतम पड़ोसी है।
निम्नलिखित में से कौन-से दो सहकर्मी निकटतम पड़ोसी नहीं हैं?

- Ans
- 1. Q और N
 - 2. P और N
 - 3. O और R
 - 4. R और M

Question Type : MCQ

Question ID : 630680381531

Option 1 ID : 6306801487055

Option 2 ID : 6306801487056

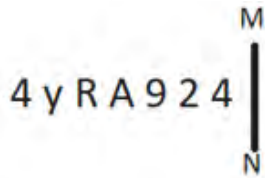
Option 3 ID : 6306801487057

Option 4 ID : 6306801487058

Status : Answered

Chosen Option : 3

Q.7 यदि दर्पण को नीचे दिखाए गए अनुसार MN पर रखा जाए, तो दी गई आकृति के सही दर्पण प्रतिबिंब का चयन कीजिए।



- Ans
- 1. 4 Y R A 9 2 4
 - 2. 4 9 2 A y R 4
 - 3. 4 Y R A 9 2 4
 - 4. 4 9 2 A Y R 4

Question Type : MCQ

Question ID : 630680525305

Option 1 ID : 6306802053306

Option 2 ID : 6306802053304

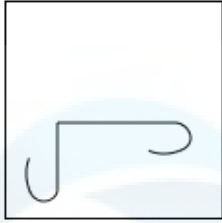
Option 3 ID : 6306802053307

Option 4 ID : 6306802053305

Status : Answered

Chosen Option : 4

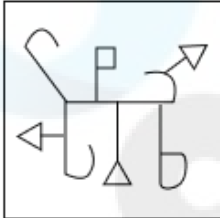
Q.8 उस विकल्प आकृति का चयन कीजिए जिसमें, दी गई आकृति (X), उसके एक भाग के रूप में सन्निहित है (घुमाने की अनुमति नहीं है)।



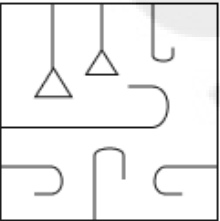
(X)

Ans

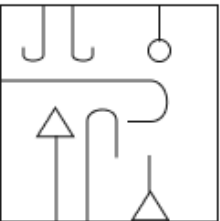
✗ 1.



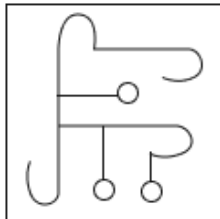
✗ 2.



✗ 3.



✓ 4.



Question Type : MCQ

Question ID : 630680487591

Option 1 ID : 6306801904470

Option 2 ID : 6306801904473

Option 3 ID : 6306801904472

Option 4 ID : 6306801904471

Status : Answered

Chosen Option : 4

Q.9 लल्ला, बबलू, महेश, अब्दुल, आरिफ, सुरेखा और किक् एक वृत्ताकार मेज के चारों ओर केंद्र की ओर मुख करके बैठे हैं (परंतु जरूरी नहीं कि वे इसी क्रम में बैठे हों)। लल्ला, बबलू के दाएँ से दूसरे स्थान पर बैठा है। महेश, अब्दुल के बाएँ से तीसरे स्थान पर बैठा है। आरिफ, अब्दुल के ठीक बाएँ बैठा है। सुरेखा, बबलू की निकटतम पड़ोसी है। किक्, सुरेखा का निकटतम पड़ोसी नहीं है। अब्दुल के दाएँ से तीसरे स्थान पर कौन बैठा है?

- Ans
- 1. बबलू
 - 2. किक्
 - 3. सुरेखा
 - 4. लल्ला

Question Type : MCQ

Question ID : 630680388241

Option 1 ID : 6306801513488

Option 2 ID : 6306801513489

Option 3 ID : 6306801513486

Option 4 ID : 6306801513487

Status : Answered

Chosen Option : 2

Q.10 एक निश्चित कूट भाषा में 'I like music' को 'mo ro go' लिखा जाता है और 'can I go' को 'ho mo bo' लिखा जाता है। उसी कूट भाषा में 'I' को कैसे लिखा जाएगा?

- Ans
- 1. ho
 - 2. bo
 - 3. go
 - 4. mo

Question Type : MCQ

Question ID : 630680419460

Option 1 ID : 6306801636531

Option 2 ID : 6306801636530

Option 3 ID : 6306801636529

Option 4 ID : 6306801636528

Status : Answered

Chosen Option : 2

Q.11 POEN अंग्रेजी वर्णमाला क्रम के आधार पर एक निश्चित तरीके से LKAJ से संबंधित है। उसी तरीके से RADIUS, NWZEQO से संबंधित है। उसी तर्क का अनुसरण करते हुए LOGIC निम्नलिखित में से किससे संबंधित है?

- Ans
- 1. GKCEY
 - 2. HKCEY
 - 3. HKCFY
 - 4. HGCFY

Question Type : MCQ

Question ID : 630680382484

Option 1 ID : 6306801490854

Option 2 ID : 6306801490852

Option 3 ID : 6306801490853

Option 4 ID : 6306801490851

Status : Answered

Chosen Option : 2

Q.12 एक निश्चित तर्क का अनुसरण करते हुए 2, 9 से संबंधित है। उसी तर्क का अनुसरण करते हुए 4, 65 से संबंधित है। उसी तर्क का अनुसरण करते हुए, 8 निम्नलिखित में से किससे संबंधित है?

(ध्यान दें: संख्याओं को उनके घटक अंकों में अलग-अलग किए बिना पूर्ण संख्याओं पर संक्रियाएं की जानी चाहिए। उदाहरण के लिए संख्या 13 - संख्या 13 पर संक्रियाएं जैसे 13 को जोड़ना/घटाना/गुणा करना आदि किया जा सकता है। 13 को 1 और 3 में अलग-अलग करने की और फिर 1 और 3 पर गणितीय संक्रियाएं करने की अनुमति नहीं है।)

- Ans
- 1. 515
 - 2. 511
 - 3. 513
 - 4. 517

Question Type : MCQ

Question ID : 630680441679

Option 1 ID : 6306801724332

Option 2 ID : 6306801724330

Option 3 ID : 6306801724331

Option 4 ID : 6306801724333

Status : Answered

Chosen Option : 3

Q.13 यदि निम्नलिखित समीकरण में '+' और '-' को आपस में बदल दिया जाए तथा '×' और '÷' को आपस में बदल दिया जाए, तो इस समीकरण में '?' के स्थान पर क्या आएगा?
 $102 - 36 + 59 \div 4 \times 2 = ?$

- Ans
- 1. 10
 - 2. 5
 - 3. 20
 - 4. 15

Question Type : MCQ

Question ID : 630680388339

Option 1 ID : 6306801513876

Option 2 ID : 6306801513877

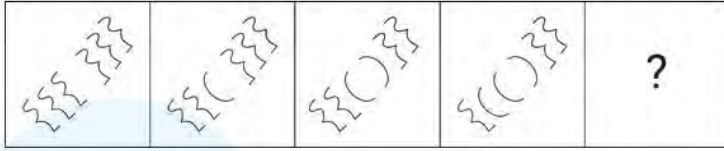
Option 3 ID : 6306801513874

Option 4 ID : 6306801513875

Status : Answered

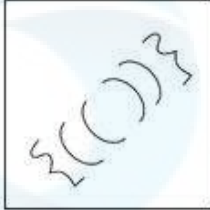
Chosen Option : 3

Q.14 विकल्पों में दी गई उस आकृति की पहचान कीजिए जिसे ? के स्थान पर रखने पर श्रृंखला तार्किक रूप से पूर्ण हो जाएगी।




Ans

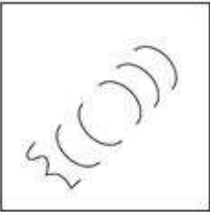
✓ 1.



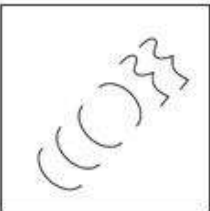
✗ 2.



✗ 3.



✗ 4.



Question Type : MCQ

Question ID : 630680233740

Option 1 ID : 630680906378

Option 2 ID : 630680906377

Option 3 ID : 630680906376

Option 4 ID : 630680906379

Status : Answered

Chosen Option : 1

Q.15 दिए गए कथनों और निष्कर्षों को ध्यानपूर्वक पढ़िए। यह मानते हुए कि कथनों में दी गई जानकारी सत्य है, चाहे वह सामान्यतः ज्ञात तथ्यों से भिन्न प्रतीत होती हो और निर्णय लीजिए कि दिए गए निष्कर्षों में से कौन-सा/कौन-से निष्कर्ष कथनों का तार्किक रूप से अनुसरण करता है/करते हैं।

कथन:

सभी दरवाजे, ताले हैं।
कुछ दरवाजे, चाबियाँ हैं।

निष्कर्ष:

(I) कुछ ताले, चाबियाँ हैं।
(II) कुछ चाबियाँ, दरवाजे हैं।

- Ans
- 1. न तो निष्कर्ष I और न ही II अनुसरण करता है
 - 2. केवल निष्कर्ष II अनुसरण करता है
 - 3. निष्कर्ष I और II दोनों अनुसरण करते हैं
 - 4. केवल निष्कर्ष I अनुसरण करता है

Question Type : MCQ

Question ID : 630680410633

Option 1 ID : 6306801601291

Option 2 ID : 6306801601289


Option 3 ID : 6306801601290

Option 4 ID : 6306801601288

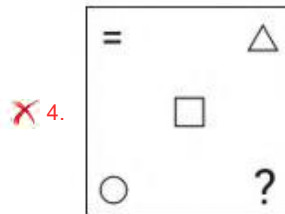
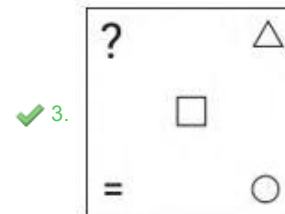
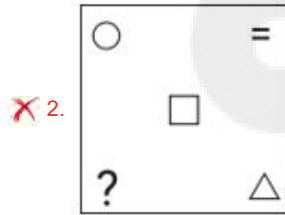
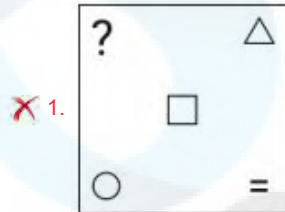
Status : Answered

Chosen Option : 2

Q.16 विकल्पों में दी गई उस आकृति की पहचान कीजिए जिसे "?" के स्थान पर रखे जाने पर श्रृंखला तार्किक रूप से पूर्ण हो जाएगी।



Ans



Question Type : MCQ

Question ID : 630680278552

Option 1 ID : 6306801082494

Option 2 ID : 6306801082495

Option 3 ID : 6306801082493

Option 4 ID : 6306801082496

Status : Answered

Chosen Option : 3

Q.17 किसी कूट भाषा में, 'XCMY' को 'AHPD' के रूप में कूटबद्ध किया जाता है और 'PGVK' को 'SLYP' के रूप में कूटबद्ध किया जाता है। उसी भाषा में 'JOCH' को किस प्रकार कूटबद्ध किया जाएगा?

- Ans
- 1. NRFK
 - 2. LTDL
 - 3. PSDN
 - 4. MTFM

Question Type : MCQ

Question ID : 630680465315

Option 1 ID : 6306801817296

Option 2 ID : 6306801817295

Option 3 ID : 6306801817298

Option 4 ID : 6306801817297

Status : Answered

Chosen Option : 4

Q.18 एक निश्चित तर्क के अनुसार 11, 57 से संबंधित है। उसी तर्क के अनुसार 14, 72 से संबंधित है। उसी तर्क के अनुसार 17, निम्नलिखित में से किससे संबंधित है?

(ध्यान दें: संख्याओं को उनके घटक अंकों में अलग-अलग किए बिना पूर्ण संख्याओं पर संक्रियाएं की जानी चाहिए। उदाहरण के लिए संख्या 13 - संख्या 13 पर संक्रियाएं जैसे 13 को जोड़ना/घटाना/गुणा करना आदि किया जा सकता है। 13 को 1 और 3 में अलग-अलग करने की और फिर 1 और 3 पर गणितीय संक्रियाएं करने की अनुमति नहीं है।)

- Ans
- 1. 83
 - 2. 85
 - 3. 89
 - 4. 87

Question Type : MCQ

Question ID : 6306801027547

Option 1 ID : 6306804032879

Option 2 ID : 6306804032878

Option 3 ID : 6306804032880

Option 4 ID : 6306804032877

Status : Answered

Chosen Option : 4

Q.19 दिए गए विकल्पों में से उस संख्या का चयन कीजिए जो निम्नलिखित श्रृंखला में प्रश्न चिह्न (?) के स्थान पर आ सकती है।

5, 16, 60, 236, 940, ?

- Ans 1. 6899
 2. 678
 3. 4678
 4. 3756

Question Type : MCQ

Question ID : 630680404939

Option 1 ID : 6306801579213

Option 2 ID : 6306801579212

Option 3 ID : 6306801579214

Option 4 ID : 6306801579211

Status : Answered

Chosen Option : 4

Q.20 निम्नलिखित समीकरण को संतुलित करने के लिए किन दो संख्याओं को आपस में बदला जाना चाहिए?

$$9 \times 2 - (150 \div 5) + 24 + (32 \div 8) \times 6 + 15 = 71$$

(ध्यान दें: अदला-बदली पूरी संख्या की होनी चाहिए, न कि दी गई संख्या के अलग-अलग अंकों की।)

- Ans 1. 5 और 6
 2. 2 और 6
 3. 9 और 6
 4. 5 और 15

Question Type : MCQ

Question ID : 630680397637

Option 1 ID : 6306801550471

Option 2 ID : 6306801550470

Option 3 ID : 6306801550473

Option 4 ID : 6306801550472

Status : Answered

Chosen Option : 2

Section : General Awareness

Q.1 नवंबर 2023 में डिजिटल भुगतान प्लेटफार्मों पर सुरक्षा जागरूकता बढ़ाने के लिए नेशनल पेमेंट्स कॉर्पोरेशन ऑफ इंडिया (National Payments Corporation of India - NPCI) द्वारा 'यूपीआई सेफ्टी अम्बेसडर (UPI Safety Ambassador)' के रूप में किसे नियुक्त किया गया है?

- Ans 1. पंकज त्रिपाठी
 2. राजकुमार राव
 3. तापसी पत्रू
 4. आयुष्मान खुराना

Question Type : MCQ

Question ID : 630680488588

Option 1 ID : 6306801908376

Option 2 ID : 6306801908377

Option 3 ID : 6306801908378

Option 4 ID : 6306801908375

Status : Answered

Chosen Option : 1

Q.2 हमें किस भारतीय राज्य में वह गुफाएँ मिलती हैं जिनका नाम इसमें पाई गई हाथियों की मूर्तियों के कारण रखा गया है?

- Ans 1. कर्नाटक
 2. ओडिशा
 3. राजस्थान
 4. महाराष्ट्र

Question Type : MCQ

Question ID : 630680538197

Option 1 ID : 6306802103977

Option 2 ID : 6306802103976

Option 3 ID : 6306802103979

Option 4 ID : 6306802103978

Status : Answered

Chosen Option : 2

Q.3 राष्ट्रपति को उसके कार्यों के निष्पादन में सहायता करने और सलाह देने के लिए प्रधानमंत्री की अध्यक्षता वाली/वाला एक _____ होगी/होगा।

- Ans 1. भारत का महान्यायवादी (Attorney General for India)
 2. मंत्री परिषद (Council of Ministers)
 3. संसद (Parliament)
 4. राज्य सभा (Council of States)

Question Type : MCQ

Question ID : 630680161067

Option 1 ID : 630680623632

Option 2 ID : 630680623633

Option 3 ID : 630680623635

Option 4 ID : 630680623634

Status : Answered

Chosen Option : 2

Q.4 ऑक्सी श्वसन (aerobic respiration) का क्रेब्स चक्र निम्नलिखित में से किस कोशिकांग के भीतर संचालित होता है?

- Ans
- 1. स्पाइरोगाइरा (Spirogyra)
 - 2. लाइसोसोम (Lysosome)
 - 3. नाभिक (Nucleus)
 - 4. माइटोकॉन्ड्रिया (Mitochondria)

Question Type : MCQ

Question ID : 630680311124

Option 1 ID : 6306801210610

Option 2 ID : 6306801210612

Option 3 ID : 6306801210611

Option 4 ID : 6306801210609

Status : Answered

Chosen Option : 3

Q.5 केंद्र सरकार के बजट को _____ के नाम से जाना जाता है।

- Ans
- 1. राज्य बजट
 - 2. केंद्रीय बजट
 - 3. वार्षिक अनावृत बजट
 - 4. संशोधित बजट

Question Type : MCQ

Question ID : 630680790525

Option 1 ID : 6306803097860

Option 2 ID : 6306803097862

Option 3 ID : 6306803097861

Option 4 ID : 6306803097863

Status : Answered

Chosen Option : 3

Q.6 निम्नलिखित में से किसने ब्रिटिश सरकार के विरुद्ध खिलाफत आन्दोलन प्रारंभ किया था?

- Ans
- 1. मौलाना मजहरुल हक और मियाँ अब्दुल अजीज
 - 2. सैयद नबीउल्लाह और एम॰ए॰ अंसारी
 - 3. सैयद रजा अली और मुहम्मद अली जिन्ना
 - 4. शौकत अली और मोहम्मद अली

Question Type : MCQ

Question ID : 630680214000

Option 1 ID : 630680830049

Option 2 ID : 630680830048

Option 3 ID : 630680830047

Option 4 ID : 630680830050

Status : Answered

Chosen Option : 4

Q.7 निम्नलिखित में से किस देश की आधिकारिक भाषा सिंहली (Sinhala) है?

- Ans 1. श्रीलंका
 2. नेपाल
 3. मालदीव
 4. म्यांमार

Question Type : MCQ

Question ID : 630680484606

Option 1 ID : 6306801892707

Option 2 ID : 6306801892709

Option 3 ID : 6306801892710

Option 4 ID : 6306801892708

Status : Answered

Chosen Option : 1

Q.8 2011 की जनगणना के अनुसार भारत के किस राज्य में जनसंख्या घनत्व सबसे अधिक है?

- Ans 1. तमिलनाडु
 2. पश्चिम बंगाल
 3. उत्तर प्रदेश
 4. बिहार

Question Type : MCQ

Question ID : 630680270188

Option 1 ID : 6306801050003

Option 2 ID : 6306801050005

Option 3 ID : 6306801050004

Option 4 ID : 6306801050006

Status : Answered

Chosen Option : 4

Q.9 किस भारतीय शहर ने 2023 में महिला एशियाई हॉकी चैंपियंस ट्रॉफी प्रतियोगिता (Women's Asian Hockey Champions Trophy event) की मेजबानी की?

- Ans 1. भोपाल
 2. नई दिल्ली
 3. रांची
 4. भुवनेश्वर

Question Type : MCQ

Question ID : 630680571116

Option 1 ID : 6306802233516

Option 2 ID : 6306802233517

Option 3 ID : 6306802233519

Option 4 ID : 6306802233518

Status : Answered

Chosen Option : 2

Q.10 निम्नलिखित कथनों में से कौन-सा कथन सत्य है?

- Ans 1. फ्लोरीन की इलेक्ट्रॉन बंधुता सबसे अधिक होती है, जबकि ब्रोमीन (bromine) की विद्युत-ऋणात्मकता सबसे अधिक होती है।
2. फ्लोरीन की इलेक्ट्रॉन बंधुता सबसे अधिक होती है, जबकि क्लोरीन (chlorine) की विद्युत-ऋणात्मकता सबसे अधिक होती है।
3. क्लोरीन की इलेक्ट्रॉन बंधुता सबसे अधिक होती है, जबकि फ्लोरीन की विद्युत-ऋणात्मकता सबसे अधिक होती है।
4. फ्लोरीन (Fluorine) की इलेक्ट्रॉन बंधुता सबसे अधिक होती है और विद्युत-ऋणात्मकता सबसे अधिक होती है।

Question Type : MCQ

Question ID : 630680102242

Option 1 ID : 630680397254

Option 2 ID : 630680397252

Option 3 ID : 630680397253

Option 4 ID : 630680397251

Status : Answered

Chosen Option : 2

Q.11 जब मृदा का pH मान 7.5 से अधिक होता है, तो उसे _____ माना जाता है।

- Ans 1. क्षारीय मृदा (alkaline soils)
2. उदासीन मृदा (neutral soils)
3. अत्यधिक अम्लीय मृदा (strongly acidic soils)
4. थोड़ी अम्लीय मृदा (slightly acidic soils)

Question Type : MCQ

Question ID : 630680403389

Option 1 ID : 6306801573066

Option 2 ID : 6306801573067

Option 3 ID : 6306801573069

Option 4 ID : 6306801573068

Status : Answered

Chosen Option : 1

Q.12 निम्नलिखित नृत्य गुरुओं में से किसे वर्ष 2000 में पद्म विभूषण से सम्मानित किया गया था?

- Ans 1. बिपिन सिंह
2. इलियाना सिटारिस्टी
3. केलुचरण महापात्र
4. बिरजू महाराज

Question Type : MCQ

Question ID : 630680433357

Option 1 ID : 6306801691396

Option 2 ID : 6306801691398

Option 3 ID : 6306801691395

Option 4 ID : 6306801691397

Status : Answered

Chosen Option : 3

Q.13 1905 में, निम्नलिखित में से किसने एम.जी. रानाडे की मदद से सर्वेंट्स ऑफ इंडिया सोसाइटी (Servants of India Society) की स्थापना की?

- Ans
- 1. महात्मा गांधी
 - 2. जवाहर लाल नेहरू
 - 3. बाल गंगाधर तिलक
 - 4. गोपाल कृष्ण गोखले

Question Type : MCQ

Question ID : 630680275683

Option 1 ID : 6306801071244

Option 2 ID : 6306801071245

Option 3 ID : 6306801071246

Option 4 ID : 6306801071243

Status : Answered

Chosen Option : 4

Q.14 किस याचिका (writ) का अर्थ 'हम आदेश देते हैं (We Command)' है?

- Ans
- 1. निषेधाज्ञा (Prohibition)
 - 2. बन्दी प्रत्यक्षीकरण (Habeas Corpus)
 - 3. परमादेश (Mandamus)
 - 4. उत्प्रेषण (Certiorari)

Question Type : MCQ

Question ID : 630680270109

Option 1 ID : 6306801049689

Option 2 ID : 6306801049688

Option 3 ID : 6306801049687

Option 4 ID : 6306801049690

Status : Answered

Chosen Option : 3

Q.15 महाराष्ट्र का सांस्कृतिक खेल 'दही-हांडी' किस त्योहार से संबंधित है?

- Ans
- 1. होली
 - 2. रामनवमी
 - 3. कृष्ण जन्माष्टमी
 - 4. गणेश चतुर्थी

Question Type : MCQ

Question ID : 630680449829

Option 1 ID : 6306801756485

Option 2 ID : 6306801756484

Option 3 ID : 6306801756486

Option 4 ID : 6306801756487

Status : Answered

Chosen Option : 3

Q.16 निम्नलिखित में से किस लेखक ने 'कामायनी', 'ध्रुवस्वामी', 'कंकाल', 'तितली', 'स्कंदगुप्त', 'लहर' और 'ममता' लिखी है?

- Ans 1. जयशंकर प्रसाद
 2. सूर्यकांत त्रिपाठी निराला
 3. कृष्णा सोबती
 4. भीष्म साहनी

Question Type : **MCQ**
Question ID : **630680124390**
Option 1 ID : **630680482410**
Option 2 ID : **630680482411**
Option 3 ID : **630680482412**
Option 4 ID : **630680482413**
Status : **Answered**
Chosen Option : 1

Q.17 निम्नलिखित में से कौन-सा नृत्य प्रदर्शन केलिकोट्टु (Kelikottu) से आरंभ होता है?

- Ans 1. भरतनाट्यम
 2. कथक
 3. कथकली
 4. ओडिसी

Question Type : **MCQ**
Question ID : **630680403224**
Option 1 ID : **6306801572394**
Option 2 ID : **6306801572393**
Option 3 ID : **6306801572395**
Option 4 ID : **6306801572396**
Status : **Answered**
Chosen Option : 1

Q.18 भरतनाट्यम नृत्य शैली को उसके वर्तमान आधुनिक संस्करण में पुनर्जीवित करने के लिए किसे जाना जाता है?

- Ans 1. टी बालासरस्वती
 2. रुक्मिणी देवी
 3. यामिनी कृष्णमूर्ति
 4. मल्लिका साराभाई

Question Type : **MCQ**
Question ID : **630680540641**
Option 1 ID : **6306802113642**
Option 2 ID : **6306802113641**
Option 3 ID : **6306802113639**
Option 4 ID : **6306802113640**
Status : **Answered**
Chosen Option : 2

Q.19 वर्ष 2022-23 में भारत से रंजक मध्यवर्तियों (dye intermediates) और अरंडी के तेल (castor oils) का प्रमुख आयातक देश कौन-सा था?

- Ans
- 1. बेल्जियम
 - 2. चीन
 - 3. ब्राजील
 - 4. जापान

Question Type : MCQ

Question ID : 630680693859

Option 1 ID : 6306802717566

Option 2 ID : 6306802717563

Option 3 ID : 6306802717565

Option 4 ID : 6306802717564

Status : Not Answered

Chosen Option : --

Q.20 टमाटर के साँस में परिरक्षक के रूप में आमतौर पर किस रासायनिक यौगिक का उपयोग किया जाता है?

- Ans
- 1. ग्रीन टी एक्सट्रैक्ट (Green Tea Extract)
 - 2. कार्नोसिक अम्ल (Carnosic Acid)
 - 3. सोडियम बेंजोएट (Sodium Benzoate)
 - 4. सिरका (Vinegar)

Question Type : MCQ

Question ID : 630680313528

Option 1 ID : 6306801219980

Option 2 ID : 6306801219977

Option 3 ID : 6306801219978

Option 4 ID : 6306801219979

Status : Answered

Chosen Option : 2

Q.21 गिंडी राष्ट्रीय उद्यान (Guindy National Park) किस राज्य में स्थित है?

- Ans
- 1. राजस्थान
 - 2. मध्य प्रदेश
 - 3. महाराष्ट्र
 - 4. तमिलनाडु

Question Type : MCQ

Question ID : 630680510993

Option 1 ID : 6306801997102

Option 2 ID : 6306801997104

Option 3 ID : 6306801997105

Option 4 ID : 6306801997103

Status : Answered

Chosen Option : 3

Q.22 ब्रेक, कैरन्स, क्यू, पॉटिंग, और किस्ड जैसे शब्द आमतौर पर किस खेल में उपयोग किए जाते हैं?

- Ans 1. पोलो (Polo)
 2. बिलियर्ड्स (Billiards)
 3. शतरंज (Chess)
 4. गोल्फ (Golf)

Question Type : MCQ
Question ID : 630680553395
Option 1 ID : 6306802163474
Option 2 ID : 6306802163473
Option 3 ID : 6306802163472
Option 4 ID : 6306802163475
Status : Answered
Chosen Option : 4

Q.23 25 अगस्त 2023 को, किस राज्य सरकार ने राज्य भर के 31,008 सरकारी विद्यालयों में पढ़ने वाले कक्षा 1 से 5 तक के विद्यार्थियों के लिए 'नाश्ता योजना (Breakfast Scheme)' शुरू की थी?

- Ans 1. तमिलनाडु
 2. झारखंड
 3. गोवा
 4. कर्नाटक

Question Type : MCQ
Question ID : 630680467046
Option 1 ID : 6306801824138
Option 2 ID : 6306801824139
Option 3 ID : 6306801824140
Option 4 ID : 6306801824137
Status : Answered
Chosen Option : 4

Q.24 मेगस्थनीज एक राजदूत था, जिसे यूनानी शासक सेल्यूकस निकेटर (Seleucus Nicator) ने किस भारतीय शासक के दरबार में भेजा था?

- Ans 1. चंद्रगुप्त
 2. पुष्यमित्र शुंग
 3. बिंदुसार
 4. अशोक

Question Type : MCQ
Question ID : 630680433798
Option 1 ID : 6306801693156
Option 2 ID : 6306801693158
Option 3 ID : 6306801693157
Option 4 ID : 6306801693155
Status : Answered
Chosen Option : 1

Q.25 मुहम्मद बिन तुगलक के समय चीन में दूत के रूप में किसे भेजा गया था?

- Ans 1. जियाउद्दीन बरनी
 2. इब्नबतूता
 3. हसन निजामी
 4. अलबरूनी

Question Type : MCQ

Question ID : 630680309313

Option 1 ID : 6306801203412

Option 2 ID : 6306801203409

Option 3 ID : 6306801203411

Option 4 ID : 6306801203410

Status : Answered

Chosen Option : 2

Section : English Language and Comprehension

Q.1 Parts of the following sentence have been given as options. Select the option that contains a grammatical error.
If you don't find any error, mark 'No error' as your answer.

Mohan is still confused about his higher studies.

- Ans 1. confused about
 2. Mohan is still
 3. No error
 4. his higher studies

Question Type : MCQ

Question ID : 630680146967

Option 1 ID : 630680568707

Option 2 ID : 630680568706

Option 3 ID : 630680568709

Option 4 ID : 630680568708

Status : Answered

Chosen Option : 1

Q.2 Select the INCORRECTLY spelt word..

- Ans 1. Culture
 2. Lecture
 3. Postuer
 4. Gesture

Question Type : MCQ

Question ID : 630680470369

Option 1 ID : 6306801837234

Option 2 ID : 6306801837232

Option 3 ID : 6306801837233

Option 4 ID : 6306801837231

Status : Answered

Chosen Option : 3

Q.3 Select the grammatically correct sentence from the given options.

- Ans** 1. The hard disc of a computer on the desk needs to be repaired at an earliest.
 2. The hard disc of the computer on the desk needs to be repaired at the earliest.
 3. A hard disc of the computer on the desk needs to be repaired at the earliest.
 4. The hard disc of a computer on a desk needs to be repaired at the earliest.

Question Type : **MCQ**
Question ID : **6306801106298**
Option 1 ID : **6306804345623**
Option 2 ID : **6306804345624**
Option 3 ID : **6306804345622**
Option 4 ID : **6306804345625**
Status : **Answered**
Chosen Option : **4**

Q.4 Select the most appropriate synonym of the given word.

Fabricate

- Ans** 1. Fascinate
 2. Floral
 3. Garments
 4. Construct

Question Type : **MCQ**
Question ID : **630680393723**
Option 1 ID : **6306801535220**
Option 2 ID : **6306801535221**
Option 3 ID : **6306801535218**
Option 4 ID : **6306801535219**
Status : **Answered**
Chosen Option : **4**

Q.5 The following sentence has been split into four segments. Identify the segment that contains a grammatical error.
The manager had / thrown up the / drunk people sitting / inside his office premises.

- Ans** 1. drunk people sitting
 2. The manager had
 3. thrown up the
 4. inside his office premises

Question Type : **MCQ**
Question ID : **630680191668**
Option 1 ID : **630680743283**
Option 2 ID : **630680743281**
Option 3 ID : **630680743282**
Option 4 ID : **630680743284**
Status : **Answered**
Chosen Option : **2**

Q.6 Select the most appropriate ANTONYM of the given word.

Piquant

- Ans 1. Bitter
 2. Delicious
 3. Delectable
 4. Bland

Question Type : **MCQ**
Question ID : **630680549059**
Option 1 ID : **6306802146715**
Option 2 ID : **6306802146712**
Option 3 ID : **6306802146714**
Option 4 ID : **6306802146713**
Status : **Answered**
Chosen Option : **1**

Q.7 Select the INCORRECTLY spelt word.

- Ans 1. Competent
 2. Protein
 3. Soliloquy
 4. Chronology

Question Type : **MCQ**
Question ID : **630680470366**
Option 1 ID : **6306801837219**
Option 2 ID : **6306801837221**
Option 3 ID : **6306801837222**
Option 4 ID : **6306801837220**
Status : **Answered**
Chosen Option : **4**

Q.8 Select the most appropriate synonym of the underlined word in the following sentence.

You must adhere to the rules of this place.

- Ans 1. Remember
 2. Strict
 3. Aware
 4. Comply

Question Type : **MCQ**
Question ID : **630680726549**
Option 1 ID : **6306802847205**
Option 2 ID : **6306802847202**
Option 3 ID : **6306802847204**
Option 4 ID : **6306802847203**
Status : **Answered**
Chosen Option : **3**

Q.9 The following sentence has been split into four segments. Identify the segment that contains an error in the usage of indefinite articles.
We have invited / our friends / for a / dinner.

- Ans
- 1. our friends
 - 2. dinner
 - 3. for a
 - 4. We have invited

Question Type : **MCQ**
Question ID : **630680195416**
Option 1 ID : **630680758134**
Option 2 ID : **630680758136**
Option 3 ID : **630680758135**
Option 4 ID : **630680758133**
Status : **Answered**
Chosen Option : **4**

Q.10 Select the most appropriate meaning of the underlined idiom in the given sentence.
My old car was pressed into service as an emergency vehicle for my ailing grandmother.

- Ans
- 1. Asking for special maintenance
 - 2. To use for a particular purpose when a special need occurs.
 - 3. Used to take someone to the hospital
 - 4. Cared for by old people

Question Type : **MCQ**
Question ID : **630680404502**
Option 1 ID : **6306801577509**
Option 2 ID : **6306801577508**
Option 3 ID : **6306801577510**
Option 4 ID : **6306801577511**
Status : **Answered**
Chosen Option : **2**

Q.11 Select the option that can be used as a one-word substitute for the highlighted group of words in the given sentence.

We went to Bowbazaar in Kolkata to see the buildings for the lodging and accommodation of soldiers.

- Ans
- 1. mints
 - 2. barracks
 - 3. hostels
 - 4. paddocks

Question Type : **MCQ**
Question ID : **630680564301**
Option 1 ID : **6306802206160**
Option 2 ID : **6306802206161**
Option 3 ID : **6306802206159**
Option 4 ID : **6306802206162**
Status : **Answered**
Chosen Option : **2**

Q.12 Select the option that can be used as a one-word substitute for the given group of words.

A word, number , or other figure that looks the same when viewed (or rotated) upside down .

Ans 1. Ambigram

2. Anadiplosis

3. Alliteration

4. Anagram

Question Type : **MCQ**

Question ID : **630680321536**

Option 1 ID : **6306801250849**

Option 2 ID : **6306801250850**

Option 3 ID : **6306801250852**

Option 4 ID : **6306801250851**

Status : **Not Answered**

Chosen Option : --

Q.13 Select the option that will improve the underlined part of the given sentence.

The sports teacher saw across the game and punished the students who were cheating in the game.

Ans 1. underneath

2. beside

3. through

4. beneath

Question Type : **MCQ**

Question ID : **630680482981**

Option 1 ID : **6306801886357**

Option 2 ID : **6306801886354**

Option 3 ID : **6306801886356**

Option 4 ID : **6306801886355**

Status : **Answered**

Chosen Option : 2

Q.14 Select the most appropriate synonym of the given word.
Fantastic

Ans 1. Graceful

2. Fanciful

3. Practical

4. Delicate

Question Type : **MCQ**

Question ID : **630680726541**

Option 1 ID : **6306802847173**

Option 2 ID : **6306802847171**

Option 3 ID : **6306802847170**

Option 4 ID : **6306802847172**

Status : **Answered**

Chosen Option : 1

Q.15 Select the most appropriate option that can substitute the underlined segment in the given sentence.

Ramya would gladly help Manya if you had asked her.

Ans 1. would have gladly helped

2. will gladly help

3. is to gladly help

4. was to have gladly helped

Question Type : **MCQ**

Question ID : **630680597056**

Option 1 ID : **6306802336265**

Option 2 ID : **6306802336267**

Option 3 ID : **6306802336268**

Option 4 ID : **6306802336266**

Status : **Answered**

Chosen Option : 1

Q.16 Select the idiom that can substitute the bracketed word segment correctly and complete the given sentence meaningfully.

The negotiations reached a point where both parties had to (confront the consequences of their actions) and make tough decisions.

Ans 1. cut corners

2. get cold feet

3. break a leg

4. face the music

Question Type : **MCQ**

Question ID : **630680545716**

Option 1 ID : **6306802133451**

Option 2 ID : **6306802133449**

Option 3 ID : **6306802133450**

Option 4 ID : **6306802133448**

Status : **Answered**

Chosen Option : 2

Q.17 Select the most appropriate adjective to fill in the blank.

After coming from a long journey he said, "It feels so _____ to be home".

Ans 1. much good

2. better

3. good

4. best

Question Type : **MCQ**

Question ID : **63068087138**

Option 1 ID : **630680337944**

Option 2 ID : **630680337942**

Option 3 ID : **630680337941**

Option 4 ID : **630680337943**

Status : **Answered**

Chosen Option : 3

Q.18 Select the most appropriate synonym of the given word.

Gregarious

- Ans 1. Reserved
 2. Introverted
 3. Isolated
 4. Sociable

Question Type : MCQ

Question ID : 630680413374

Option 1 ID : 6306801612319

Option 2 ID : 6306801612316

Option 3 ID : 6306801612318

Option 4 ID : 6306801612317

Status : Answered

Chosen Option : 2

Q.19 Select the INCORRECTLY spelt word...

- Ans 1. Masquerade
 2. Caricature
 3. Vigilante
 4. Squadroun

Question Type : MCQ

Question ID : 630680616806

Option 1 ID : 6306802413471

Option 2 ID : 6306802413468

Option 3 ID : 6306802413469

Option 4 ID : 6306802413470

Status : Answered

Chosen Option : 3

Q.20 The following sentence has been split into four segments. Identify the segment that contains a grammatical error.

The company decided / to phase up its / outdated technology / and embrace innovation.

- Ans 1. and embrace innovation.
 2. to phase up its
 3. outdated technology
 4. The company decided

Question Type : MCQ

Question ID : 630680625080

Option 1 ID : 6306802446504

Option 2 ID : 6306802446502

Option 3 ID : 6306802446503

Option 4 ID : 6306802446501

Status : Answered

Chosen Option : 3

Comprehension:

In the following passage, some words have been deleted. Read the passage carefully and select the most appropriate option to fill in each blank.

Man, it would seem, has (1)_____ from arboreal apes. They lived a happy life in tropical forests, eating coconuts when they were hungry, and throwing them at each other when they were not. They were (2)_____ occupied in gymnastics and acquired an (3)_____ which to us is truly (4)_____. But after some millions of years of this arboreal paradise, their numbers increased to the point where the supply of coconuts was no longer (5)_____.

SubQuestion No : 21

Q.21 Select the most appropriate option to fill in blank number 1.

- Ans 1. extended
 2. descended
 3. ascended
 4. recommended

Question Type : **MCQ**

Question ID : **630680147137**

Option 1 ID : **630680569360**

Option 2 ID : **630680569361**

Option 3 ID : **630680569358**

Option 4 ID : **630680569359**

Status : **Answered**

Chosen Option : **4**

Comprehension:

In the following passage, some words have been deleted. Read the passage carefully and select the most appropriate option to fill in each blank.

Man, it would seem, has (1)_____ from arboreal apes. They lived a happy life in tropical forests, eating coconuts when they were hungry, and throwing them at each other when they were not. They were (2)_____ occupied in gymnastics and acquired an (3)_____ which to us is truly (4)_____. But after some millions of years of this arboreal paradise, their numbers increased to the point where the supply of coconuts was no longer (5)_____.

SubQuestion No : 22

Q.22 Select the most appropriate option to fill in blank number 2.

- Ans 1. professionally
 2. bisectionally
 3. perpetually
 4. conspiratorially

Question Type : **MCQ**

Question ID : **630680147138**

Option 1 ID : **630680569364**

Option 2 ID : **630680569365**

Option 3 ID : **630680569362**

Option 4 ID : **630680569363**

Status : **Answered**

Chosen Option : **1**

Comprehension:

In the following passage, some words have been deleted. Read the passage carefully and select the most appropriate option to fill in each blank.

Man, it would seem, has (1)_____ from arboreal apes. They lived a happy life in tropical forests, eating coconuts when they were hungry, and throwing them at each other when they were not. They were (2)_____ occupied in gymnastics and acquired an (3)_____ which to us is truly (4)_____. But after some millions of years of this arboreal paradise, their numbers increased to the point where the supply of coconuts was no longer (5)_____.

SubQuestion No : 23

Q.23 Select the most appropriate option to fill in blank number 3.

- Ans 1. agility
 2. civility
 3. density
 4. variability

Question Type : **MCQ**

Question ID : **630680147139**

Option 1 ID : **630680569368**

Option 2 ID : **630680569366**

Option 3 ID : **630680569369**

Option 4 ID : **630680569367**

Status : **Answered**

Chosen Option : **2**

Comprehension:

In the following passage, some words have been deleted. Read the passage carefully and select the most appropriate option to fill in each blank.

Man, it would seem, has (1)_____ from arboreal apes. They lived a happy life in tropical forests, eating coconuts when they were hungry, and throwing them at each other when they were not. They were (2)_____ occupied in gymnastics and acquired an (3)_____ which to us is truly (4)_____. But after some millions of years of this arboreal paradise, their numbers increased to the point where the supply of coconuts was no longer (5)_____.

SubQuestion No : 24

Q.24 Select the most appropriate option to fill in blank number 4.

- Ans 1. disappointing
 2. frightening
 3. astonishing
 4. boring

Question Type : **MCQ**

Question ID : **630680147140**

Option 1 ID : **630680569371**

Option 2 ID : **630680569373**

Option 3 ID : **630680569370**

Option 4 ID : **630680569372**

Status : **Answered**

Chosen Option : **3**

Comprehension:

In the following passage, some words have been deleted. Read the passage carefully and select the most appropriate option to fill in each blank.

Man, it would seem, has (1)_____ from arboreal apes. They lived a happy life in tropical forests, eating coconuts when they were hungry, and throwing them at each other when they were not. They were (2)_____ occupied in gymnastics and acquired an (3)_____ which to us is truly (4)_____. But after some millions of years of this arboreal paradise, their numbers increased to the point where the supply of coconuts was no longer (5)_____.

SubQuestion No : 25

Q.25 Select the most appropriate option to fill in blank number 5.

- Ans**
- 1. adequate
 - 2. delicate
 - 3. deficient
 - 4. consecrate

Question Type : **MCQ**

Question ID : **630680147141**

Option 1 ID : **630680569377**

Option 2 ID : **630680569375**

Option 3 ID : **630680569374**

Option 4 ID : **630680569376**

Status : **Not Answered**

Chosen Option : --