

## Multi Tasking Non Technical Staff and Havaldar CBIC and CBN Examination 2023

Roll Number	
Candidate Name	
Venue Name	ANAND INTERNATIONAL COLLEGE OF ENGINEERING JAIPUR
Exam Date	01/09/2023
Exam Time	9:00 AM - 11:00 AM
Subject	MTS Non Tech Havaldar CBIC and CBN Examination 2023

### Section : Numerical and Mathematical Ability

**Q.1** एक ट्रक चालक ने तीन घंटे तक 60 km/h की चाल से गाड़ी चलाई। फिर वह एक घंटे के लिए रुक गया और कहीं नहीं गया। फिर, उसने 60 km/h की चाल से चार घंटे गाड़ी और चलाई। चालक की औसत चाल (km/h में) क्या थी?

- Ans
- 1. 50.5
  - 2. 62.4
  - 3. 42.8
  - 4. 52.5

Question ID : 264330156099

Option 1 ID : 264330611795

Option 2 ID : 264330611798

Option 3 ID : 264330611797

Option 4 ID : 264330611796

Status : Answered

Chosen Option : 1

**Q.2** दो व्यक्ति क्रमशः 77 cm और 88 cm के कदम बढ़ाते हैं। यदि वे दोनों कदम बढ़ाते हुए साथ में चलना शुरू करते हैं, तो उन्हें न्यूनतम कितनी दूरी (cm में) तय करनी चाहिए ताकि वे दोनों फिर से हम कदम (पूरे कदमों में दूरी तय कर सकें) हो जाएं?

- Ans
- 1. 616
  - 2. 968
  - 3. 828
  - 4. 560

Question ID : 264330156295

Option 1 ID : 264330612582

Option 2 ID : 264330612581

Option 3 ID : 264330612580

Option 4 ID : 264330612579

Status : Answered

Chosen Option : 1

Q.3 दो संख्याएँ A और B इस प्रकार हैं कि A के 6% और B के 4% का योग, A के 7% और B के 11% के योग का  $\frac{2}{5}$  है, तो अनुपात A : B का मान क्या है?

- Ans
- 1. 1 : 7
  - 2. 5 : 8
  - 3. 1 : 8
  - 4. 3 : 7

Question ID : 264330154088  
Option 1 ID : 264330603815  
Option 2 ID : 264330603818  
Option 3 ID : 264330603817  
Option 4 ID : 264330603816  
Status : Answered  
Chosen Option : 3

Q.4 एक धातु के गोले का व्यास 6 cm है। इसे पिघलाकर एक तार बनाया जाता है, जिसके अनुप्रस्थ काट का व्यास 0.4 cm है। तार की लंबाई (मीटर में) ज्ञात कीजिए।

- Ans
- 1. 12
  - 2. 18
  - 3. 9
  - 4. 10

Question ID : 264330153866  
Option 1 ID : 264330602928  
Option 2 ID : 264330602930  
Option 3 ID : 264330602929  
Option 4 ID : 264330602927  
Status : Answered  
Chosen Option : 1

Q.5 एक पंसारी को क्रमशः ₹128 और ₹143 प्रति किलोग्राम मूल्य के चावल की दो किस्मों को किस अनुपात में मिलाना चाहिए ताकि ₹137.75 प्रति किलोग्राम मूल्य वाला चावल का मिश्रण प्राप्त हो?

- Ans
- 1. 12:5
  - 2. 5:4
  - 3. 7:13
  - 4. 6:7

Question ID : 264330153759  
Option 1 ID : 264330602499  
Option 2 ID : 264330602501  
Option 3 ID : 264330602500  
Option 4 ID : 264330602502  
Status : Answered  
Chosen Option : 1

**Q.6** एक नाव बिंदु A से बिंदु B तक धारा के अनुकूल यात्रा करने तथा A और B के बीच स्थित एक मध्य बिंदु C पर वापस आने में 20 घंटे का समय लेती है। धारा की चाल 5 km/h है और स्थिर जल में नाव की चाल 10 km/h है। A और B के बीच की दूरी (km) में ज्ञात कीजिए।

- Ans**
- 1. 120
  - 2. 100
  - 3. 150
  - 4. 75

Question ID : 264330153854  
Option 1 ID : 264330602879  
Option 2 ID : 264330602880  
Option 3 ID : 264330602881  
Option 4 ID : 264330602882  
Status : Answered  
Chosen Option : 3

**Q.7** राजू ने रवि को 10% के लाभ पर एक वस्तु बेची। रवि ने रामू को 10% हानि पर यह वस्तु बेच दी। यदि रामू ने रवि को ₹1,485 का भुगतान किया, तो राजू ने रवि को किस मूल्य पर वस्तु बेची।

- Ans**
- 1. ₹1,500
  - 2. ₹1,600
  - 3. ₹1,200
  - 4. ₹1,650

Question ID : 264330153840  
Option 1 ID : 264330602823  
Option 2 ID : 264330602824  
Option 3 ID : 264330602825  
Option 4 ID : 264330602826  
Status : Answered  
Chosen Option : 1

**Q.8** A, B और C एक काम को क्रमशः 10, 15, 12 दिनों में कर सकते हैं। A और B प्रत्येक दिन बारी-बारी से 5 दिनों तक काम करते हैं और फिर काम छोड़ देते हैं। फिर C शामिल होकर शेष काम को पूरा करता है। C ने शेष काम को कितने दिनों में पूरा किया?

- Ans**
- 1. 2
  - 2. 3
  - 3. 4
  - 4. 1

Question ID : 264330153856  
Option 1 ID : 264330602889  
Option 2 ID : 264330602888  
Option 3 ID : 264330602887  
Option 4 ID : 264330602890  
Status : Answered  
Chosen Option : 1

Q.9 सरल कीजिए।

$$(13 \div 13 \text{ of } 13 + 13)/(13 \div 13 \times 13 + 13)$$

Ans

✗ 1.  $\frac{13}{96}$

✗ 2.  $\frac{15}{26}$

✓ 3.  $\frac{85}{169}$

✗ 4.  $\frac{1}{26}$

Question ID : 264330156088

Option 1 ID : 264330611754

Option 2 ID : 264330611752

Option 3 ID : 264330611753

Option 4 ID : 264330611751

Status : Answered

Chosen Option : 4

Q.10 37 विद्यार्थियों की एक कक्षा में 22 लड़कियां हैं। इन लड़कियों का औसत भार 46 kg है और पूरी कक्षा का औसत भार 50 kg है। उस कक्षा में लड़कों का औसत भार (kg में) कितना है? (दशमलव के 2 स्थानों तक सन्निकटित)

Ans

✗ 1. 58.25

✗ 2. 61.35

✗ 3. 60.74

✓ 4. 55.87

Question ID : 264330155728

Option 1 ID : 264330610316

Option 2 ID : 264330610318

Option 3 ID : 264330610317

Option 4 ID : 264330610315

Status : Answered

Chosen Option : 4

**Q.11** निम्नलिखित तालिका में चार अलग-अलग शहरों A, B, C, D से एक प्रवेश परीक्षा में शामिल होने वाले उम्मीदवारों की संख्या तथा उत्तीर्ण और अनुत्तीर्ण होने वाले उम्मीदवारों के अनुपात को दर्शाया गया है। तालिका का ध्यानपूर्वक अध्ययन कीजिए और प्रश्न का उत्तर दीजिए।

शहर	परीक्षा में शामिल होने वाले उम्मीदवारों की संख्या	उत्तीर्ण और अनुत्तीर्ण का अनुपात
A	660	5 : 6
B	650	2 : 3
C	500	3 : 2
D	630	4 : 5

किस शहर में प्रवेश परीक्षा में अनुत्तीर्ण होने वाले उम्मीदवारों की संख्या सबसे अधिक है और उस शहर में उसकी प्रतिशत की दर क्रमशः ज्ञात कीजिए?

- Ans**
- ✓ 1. B, 60%
  - ✗ 2. D, 60%
  - ✗ 3. C, 50%
  - ✗ 4. A, 50%

Question ID : 264330156014

Option 1 ID : 264330611457

Option 2 ID : 264330611455

Option 3 ID : 264330611458

Option 4 ID : 264330611456

Status : Answered

Chosen Option : 1

**Q.12** यदि पहली संख्या, तीसरी संख्या से 20% कम है तथा दूसरी और तीसरी संख्या का अनुपात 7 : 10 है, तो पहली और तीसरी संख्या का औसत, दूसरी संख्या से कितने प्रतिशत अधिक है?

- Ans**
- ✗ 1.  $26\frac{4}{7}$
  - ✗ 2.  $28\frac{2}{7}$
  - ✗ 3.  $24\frac{2}{7}$
  - ✓ 4.  $28\frac{4}{7}$

Question ID : 264330155958

Option 1 ID : 264330611234

Option 2 ID : 264330611232

Option 3 ID : 264330611233

Option 4 ID : 264330611231

Status : Answered

Chosen Option : 4

**Q.13** एक वस्तु का क्रय मूल्य ₹ 4,350 है। यदि इसे ₹5,680 में बेचा जाता है तो लाभ प्रतिशत (दशमलव के 1 स्थान तक सन्निकटित) क्या है?

- Ans**
- 1. 40.7%
  - 2. 28.5%
  - 3. 30.6%
  - 4. 36.8%

Question ID : 264330156475

Option 1 ID : 264330613287

Option 2 ID : 264330613290

Option 3 ID : 264330613289

Option 4 ID : 264330613288

Status : Answered

Chosen Option : 3

**Q.14** A और B किसी काम को 4 दिनों में कर सकते हैं। B और C उसी काम को 5 दिनों में कर सकते हैं। A और C उसी काम को 10 दिनों में कर सकते हैं। यदि A, B, C साथ मिलकर काम करते हैं, तो वे कितने दिनों में काम पूरा कर सकते हैं?

- Ans**
- 1.  $3\frac{7}{11}$
  - 2.  $11\frac{3}{7}$
  - 3.  $3\frac{11}{7}$
  - 4.  $11\frac{7}{3}$

Question ID : 264330156009

Option 1 ID : 264330611438

Option 2 ID : 264330611436

Option 3 ID : 264330611437

Option 4 ID : 264330611435

Status : Answered

Chosen Option : 1

**Q.15** 110 m और 85 m लंबाई की दो रेलगाड़ियां समान दिशा में क्रमशः 12 m/s और 7 m/s की चाल से चल रही हैं। तेज चाल वाली रेलगाड़ी द्वारा धीमी चाल वाली रेलगाड़ी को पार करने में लगने वाला समय (सेकंड में) ज्ञात कीजिए।

- Ans**
- 1. 19
  - 2. 35
  - 3. 39
  - 4. 29

Question ID : 264330155753

Option 1 ID : 264330610415

Option 2 ID : 264330610417

Option 3 ID : 264330610418

Option 4 ID : 264330610416

Status : Answered

Chosen Option : 1

Q.16 9.61 और 3.61 का माध्यानुपाती क्या है?

- Ans  1. 5.89  
 2. 4.87  
 3. 6.78  
 4. 3.17

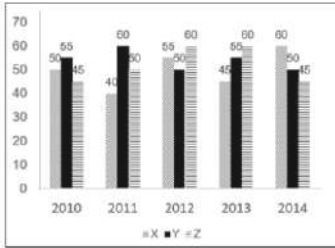
Question ID : 264330154085  
Option 1 ID : 264330603805  
Option 2 ID : 264330603804  
Option 3 ID : 264330603806  
Option 4 ID : 264330603803  
Status : Answered  
Chosen Option : 1

Q.17 गीता ने अपने बैंक खाते में एक निश्चित धनराशि जमा की, जो 3 वर्ष में 5% वार्षिक दर से ₹27,783 हो गई, ब्याज वार्षिक रूप से संयोजित हो रहा है। उसने कितनी धनराशि जमा की थी?

- Ans  1. ₹26,000  
 2. ₹25,000  
 3. ₹24,000  
 4. ₹25,500

Question ID : 264330154129  
Option 1 ID : 264330603979  
Option 2 ID : 264330603981  
Option 3 ID : 264330603982  
Option 4 ID : 264330603980  
Status : Answered  
Chosen Option : 2

Q.18 निम्न आलेख में कुछ वर्षों में तीन अलग-अलग कंपनियों X, Y और Z द्वारा टायरों के उत्पादन (लाखों में) को दर्शाया गया है।  
निर्देश: निम्नलिखित आलेख का ध्यानपूर्वक अध्ययन कीजिए और नीचे दिए गए प्रश्न का उत्तर दीजिए।



सबसे अधिक औसत उत्पादन वाली कंपनी के वार्षिक औसत उत्पादन और सबसे कम औसत उत्पादन वाली कंपनी के वार्षिक औसत उत्पादन के बीच का लाख में अंतर कितना है?

- Ans  1. 8  
 2. 6  
 3. 2  
 4. 4

Question ID : 264330153891  
Option 1 ID : 264330603030  
Option 2 ID : 264330603029  
Option 3 ID : 264330603027  
Option 4 ID : 264330603028  
Status : Answered  
Chosen Option : 2

**Q.19** दिशा ने वार्षिक साधारण ब्याज पर 9 वर्षों के लिए ₹20,000 की राशि का निवेश किया और ₹33,500 की कुल धनराशि प्राप्त की। ब्याज की दर क्या है?

- Ans**
- 1. 9%
  - 2. 7.5%
  - 3. 8.5%
  - 4. 8%

Question ID : 264330156188

Option 1 ID : 264330612151

Option 2 ID : 264330612152

Option 3 ID : 264330612153

Option 4 ID : 264330612154

Status : Answered

Chosen Option : 2

**Q.20** एक गोले का पृष्ठीय क्षेत्रफल  $616 \text{ cm}^2$  है, इसका व्यास ज्ञात कीजिए।

( $\pi = \frac{22}{7}$  का प्रयोग कीजिए)

- Ans**
- 1. 2 cm
  - 2. 14 cm
  - 3. 4 cm
  - 4. 3 cm

Question ID : 264330156369

Option 1 ID : 264330612876

Option 2 ID : 264330612875

Option 3 ID : 264330612878

Option 4 ID : 264330612877

Status : Answered

Chosen Option : 3

Section : Reasoning Ability and Problem Solving

**Q.1** छः व्यक्ति, P, Q, R, S, T और U एक सीधी पंक्ति में उत्तर की ओर मुख करके बैठे हैं। U, R के दाईं ओर से चौथे स्थान पर बैठा है। R पंक्ति के अंतिम छोर पर नहीं बैठा है। U और S का निकटतम पड़ोसी T है। Q, S के बाईं ओर से तीसरे स्थान पर बैठा है। R के ठीक दाईं ओर कौन बैठा है?

- Ans**
- 1. P
  - 2. Q
  - 3. S
  - 4. T

Question ID : 264330155549

Option 1 ID : 264330609600

Option 2 ID : 264330609599

Option 3 ID : 264330609601

Option 4 ID : 264330609602

Status : Answered

Chosen Option : 3

Q.2 दी गई श्रृंखला में प्रश्न चिन्ह '?' के स्थान पर क्या आना चाहिए?

3 9 45 261 1557 ?

- Ans  1. 9333  
 2. 9555  
 3. 8572  
 4. 9433

Question ID : 264330151451  
Option 1 ID : 264330593432  
Option 2 ID : 264330593434  
Option 3 ID : 264330593431  
Option 4 ID : 264330593433  
Status : Answered  
Chosen Option : 1

Q.3 एक निश्चित तर्क के अनुसार 38, 49 से संबंधित है। समान तर्क के अनुसार, 64, 75 से संबंधित है। समान तर्क का अनुसरण करते हुए 83 निम्नलिखित में से किससे संबंधित है?

- Ans  1. 92  
 2. 93  
 3. 95  
 4. 94

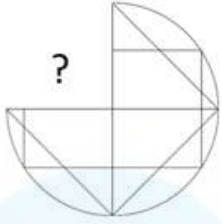
Question ID : 264330151593  
Option 1 ID : 264330593999  
Option 2 ID : 264330594000  
Option 3 ID : 264330594002  
Option 4 ID : 264330594001  
Status : Answered  
Chosen Option : 4

Q.4 यदि '+' और '-' को आपस में बदल दिया जाए तथा 'x' और '÷' को आपस में बदल दिया जाए तो निम्नलिखित समीकरण में (?) के स्थान पर क्या आएगा?  
 $32 - 512 \times 64 \div 8 + 64 = ?$

- Ans  1. 42  
 2. 22  
 3. 52  
 4. 32

Question ID : 264330155677  
Option 1 ID : 264330610113  
Option 2 ID : 264330610111  
Option 3 ID : 264330610114  
Option 4 ID : 264330610112  
Status : Answered  
Chosen Option : 4

Q.5 पैटर्न को पूरा करने वाली आकृति को पहचानिए (घूर्णन की अनुमति नहीं है)।

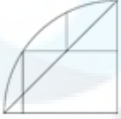


Ans

✓ 1.



✗ 2.



✗ 3.



✗ 4.



Question ID : 264330154514

Option 1 ID : 264330605522

Option 2 ID : 264330605521

Option 3 ID : 264330605519

Option 4 ID : 264330605520

Status : Answered

Chosen Option : 1

Q.6 एक निश्चित तर्क के अनुसार 287, 398 से संबंधित है। समान तर्क के अनुसार, 378, 489 से संबंधित है। समान तर्क का अनुसरण करते हुए 852 निम्नलिखित में से किससे संबंधित है?

Ans ✗ 1. 543

✗ 2. 346

✓ 3. 963

✗ 4. 643

Question ID : 264330151602

Option 1 ID : 264330594037

Option 2 ID : 264330594038

Option 3 ID : 264330594035

Option 4 ID : 264330594036

Status : Answered

Chosen Option : 3

Q.7 यदि शब्द 'FINGER' के प्रत्येक अक्षर को अंग्रेजी वर्णमाला के क्रम में व्यवस्थित किया जाए तो कितने अक्षरों का स्थान अपरिवर्तित रहेगा?

- Ans
- 1. चार
  - 2. एक
  - 3. तीन
  - 4. दो

Question ID : 264330154326

Option 1 ID : 264330604767

Option 2 ID : 264330604770

Option 3 ID : 264330604768

Option 4 ID : 264330604769

Status : Answered

Chosen Option : 1

Q.8 नीचे दिए गए कथन/कथनों और निष्कर्षों को ध्यानपूर्वक पढ़िए। आपको मानना है कि दिए गए कथन सत्य हैं चाहे वे समान्यतः ज्ञात तथ्यों से अलग प्रतीत होते हों। आपको निश्चय करना है कि कौन-सा/कौन-से निष्कर्ष तार्किक रूप से दिए गए कथन/कथनों के अनुसार है/हैं।

कथन: सभी चॉकलेट, मिठाइयां हैं। कुछ मिठाइयां, हानिकारक हैं।

निष्कर्ष:

(I) सभी चॉकलेट, हानिकारक हैं।

(II) कुछ हानिकारक, चॉकलेट हैं।

- Ans
- 1. केवल निष्कर्ष (I) कथनों के अनुसार है।
  - 2. केवल निष्कर्ष (II) कथनों के अनुसार है।
  - 3. दोनों निष्कर्ष (I) और (II) कथनों के अनुसार हैं।
  - 4. न तो निष्कर्ष (I) और न ही (II) कथनों के अनुसार है।

Question ID : 264330154433

Option 1 ID : 264330605195

Option 2 ID : 264330605196

Option 3 ID : 264330605198

Option 4 ID : 264330605197

Status : Answered

Chosen Option : 4

Q.9 अंग्रेजी वर्णमाला क्रम के आधार पर दी गई श्रृंखला में प्रश्न चिह्न (?) के स्थान पर क्या आना चाहिए?

CNT, FQU, ITV, LWW, ?

- Ans
- 1. MXZ
  - 2. NYY
  - 3. OZX
  - 4. LYX

Question ID : 264330155786

Option 1 ID : 264330610548

Option 2 ID : 264330610549

Option 3 ID : 264330610550

Option 4 ID : 264330610547

Status : Answered

Chosen Option : 3

Q.10 उस सही विकल्प को चुनिए, जिसे दी गई श्रृंखला के रिक्त स्थानों में इसी क्रम में रखने पर श्रृंखला तार्किक रूप से पूरी हो जाएगी।

X \_AL ZH \_L \_KAL DNA \_ \_QAL

- Ans
- ✓ 1. EABLF
  - ✗ 2. EBFLA
  - ✗ 3. FBPSB
  - ✗ 4. FABLE

Question ID : 264330154726

Option 1 ID : 264330606369

Option 2 ID : 264330606367

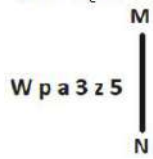
Option 3 ID : 264330606370

Option 4 ID : 264330606368

Status : Answered

Chosen Option : 1

Q.11 दी गई आकृति के उस सही दर्पण प्रतिबिंब को चुनिए, जो नीचे दर्शाए गए अनुसार दर्पण को MN पर रखने पर बनेगा।



- Ans
- ✗ 1. 2 z 3 e b M
  - ✓ 2. 2 z 3 e b W
  - ✗ 3. z 5 3 e p M
  - ✗ 4. 5 z 3 e p W

Question ID : 264330151510

Option 1 ID : 264330593668

Option 2 ID : 264330593669

Option 3 ID : 264330593670

Option 4 ID : 264330593667

Status : Answered

Chosen Option : 2

Q.12 यदि 'A' का अर्थ 'म', 'B' का अर्थ 'न', 'C' का अर्थ 'प' और 'D' का अर्थ 'क' है, तो निम्नलिखित समीकरण में प्रश्न चिन्ह (?) के स्थान पर क्या आएगा?

(87 A 29) B 14 D 24 C 14 C 6 B 5 = ?

- Ans
- ✓ 1. 62
  - ✗ 2. 68
  - ✗ 3. 56
  - ✗ 4. 74

Question ID : 264330151805

Option 1 ID : 264330594849

Option 2 ID : 264330594848

Option 3 ID : 264330594847

Option 4 ID : 264330594850

Status : Answered

Chosen Option : 1

Q.13 अक्षरों के उस संयोजन को चुनिए जिसे दी गई श्रृंखला के रिक्त स्थानों में क्रमिक रूप से रखने पर श्रृंखला पूरी हो जाएगी।

P \_ \_ PO \_ P \_ P \_ OP

- Ans
- ✓ 1. OPPOP
  - ✗ 2. OOOPP
  - ✗ 3. POOOP
  - ✗ 4. POPPO

Question ID : 264330151650  
Option 1 ID : 264330594228  
Option 2 ID : 264330594230  
Option 3 ID : 264330594229  
Option 4 ID : 264330594227  
Status : Not Answered  
Chosen Option : --

Q.14 दी गई श्रृंखला में प्रश्न चिन्ह '?' के स्थान पर क्या आना चाहिए?

16 65 261 1045 4181 ?

- Ans
- ✓ 1. 16725
  - ✗ 2. 16945
  - ✗ 3. 16892
  - ✗ 4. 16273

Question ID : 264330151475  
Option 1 ID : 264330593528  
Option 2 ID : 264330593530  
Option 3 ID : 264330593529  
Option 4 ID : 264330593527  
Status : Answered  
Chosen Option : 1

Q.15 उस शब्द-युग्म का चयन कीजिए जो नीचे दिए गए शब्दों के युग्म में व्यक्त किए गए समान संबंध का सबसे अच्छा निरूपण करता है।

(शब्दों को अर्थपूर्ण हिंदी शब्दों के रूप में माना जाना चाहिए और उन्हें शब्द में अक्षरों की संख्या/व्यंजन/स्वरों की संख्या के आधार पर एक दूसरे से संबंधित नहीं किया जाना चाहिए।)

परावर्तन : प्रकाश

- Ans
- ✗ 1. फ़िल्म : दृश्य
  - ✗ 2. भावना : संवेदना
  - ✗ 3. परितारिका : दृष्टि
  - ✓ 4. प्रतिध्वनि : ध्वनि

Question ID : 264330154638  
Option 1 ID : 264330606015  
Option 2 ID : 264330606017  
Option 3 ID : 264330606018  
Option 4 ID : 264330606016  
Status : Answered  
Chosen Option : 4

Q.16 एक निश्चित कूट भाषा में, 'BLUE' को '1542' लिखा जाता है और 'ABLE' को '1745' लिखा जाता है। उसी कूट भाषा में 'A' को कैसे लिखा जाएगा?

- Ans
- 1. 1
  - 2. 5
  - 3. 4
  - 4. 7

Question ID : 264330151690  
Option 1 ID : 264330594387  
Option 2 ID : 264330594388  
Option 3 ID : 264330594389  
Option 4 ID : 264330594390  
Status : Answered  
Chosen Option : 4

Q.17 दी गई श्रृंखला में प्रश्न चिन्ह '?' के स्थान पर क्या आना चाहिए?

9 15 33 87 ? 735 2193

- Ans
- 1. 249
  - 2. 241
  - 3. 225
  - 4. 237

Question ID : 264330151483  
Option 1 ID : 264330593562  
Option 2 ID : 264330593561  
Option 3 ID : 264330593559  
Option 4 ID : 264330593560  
Status : Not Answered  
Chosen Option : --

Q.18 यदि निम्नलिखित आकृति श्रृंखला को जारी रखना हो तो कौन-सी आकृति प्रश्न चिन्ह (?) के स्थान पर आनी चाहिए?

K	3 3	D D	U U	T	
L O U D	K T O L	O L K T	D 3 L O		?
T	U	3	K		

Ans

✓ 1.

T	K
L O D 3	
U	

✗ 2.

K	U
O L D 3	
T	

✗ 3.

K	U
3 D O L	
T	

✗ 4.

T	K
O L D 3	
U	

Question ID : 264330154764

Option 1 ID : 264330606520

Option 2 ID : 264330606522

Option 3 ID : 264330606521

Option 4 ID : 264330606519

Status : Not Answered

Chosen Option : --

**Q.19** नीचे दिए गए कथनों और निष्कर्षों को ध्यानपूर्वक पढ़िए। आपको मानना है कि दिए गए कथन सत्य हैं चाहे वे समान्यतः ज्ञात तथ्यों से अलग प्रतीत होते हों। आपको निश्चय करना है कि कौन-सा/कौन-से निष्कर्ष तार्किक रूप से दिए गए कथनों के अनुसार है/हैं।

कथन: सभी टुकड़े, कालीन हैं। कुछ कालीन, स्टील हैं। कुछ स्टील, बोतलें हैं।

निष्कर्ष I: सभी कालीन, टुकड़े हैं।  
निष्कर्ष II: कुछ कालीन, बोतलें हैं।

- Ans**
- 1. केवल निष्कर्ष (II) कथनों के अनुसार है।
  - 2. दोनों निष्कर्ष (I) और (II) कथनों के अनुसार हैं।
  - 3. केवल निष्कर्ष (I) कथनों के अनुसार है।
  - 4. न तो निष्कर्ष (I) और न ही (II) कथनों के अनुसार है।

Question ID : 264330155925  
Option 1 ID : 264330611104  
Option 2 ID : 264330611106  
Option 3 ID : 264330611103  
Option 4 ID : 264330611105  
Status : Not Answered  
Chosen Option : --

**Q.20** एक निश्चित कूट भाषा में, 'ENVY' को 'FMWX' लिखा जाता है और 'ALAS' को 'BKBR' लिखा जाता है। उस कूट भाषा में 'BODY' को कैसे लिखा जाएगा?

- Ans**
- 1. CNEX
  - 2. DNEX
  - 3. CPEY
  - 4. DNEY

Question ID : 264330155810  
Option 1 ID : 264330610645  
Option 2 ID : 264330610646  
Option 3 ID : 264330610644  
Option 4 ID : 264330610643  
Status : Not Answered  
Chosen Option : --

Section : General Awareness

**Q.1** भीतरगांव का ईंटों वाला मंदिर किस राज्य में स्थित है?

- Ans**
- 1. मध्यप्रदेश
  - 2. उत्तरप्रदेश
  - 3. झारखंड
  - 4. ओडिशा

Question ID : 264330160781  
Option 1 ID : 264330630457  
Option 2 ID : 264330630458  
Option 3 ID : 264330630455  
Option 4 ID : 264330630456  
Status : Answered  
Chosen Option : 2

Q.2 डेबिट कार्ड और क्रेडिट कार्ड में क्या अंतर है?

- Ans
- 1. डेबिट कार्ड का उपयोग ऑनलाइन लेनदेन के लिए किया जाता है, जबकि क्रेडिट कार्ड का उपयोग व्यक्तिगत खरीदारी के लिए किया जाता है।
  - 2. क्रेडिट कार्ड के लिए पिन की आवश्यकता होती है, जबकि डेबिट कार्ड के लिए हस्ताक्षर की आवश्यकता होती है।
  - 3. डेबिट कार्ड पर क्रेडिट कार्ड की तुलना में ब्याज दरें अधिक होती हैं।
  - 4. डेबिट कार्ड से सीधे बैंक खाते से पैसे निकाले जा सकते हैं, जबकि क्रेडिट कार्ड से एक निश्चित सीमा तक ऋण लिया जा सकता है।

Question ID : 264330157309

Option 1 ID : 264330616599

Option 2 ID : 264330616602

Option 3 ID : 264330616601

Option 4 ID : 264330616600

Status : Answered

Chosen Option : 3

Q.3 पूर्व-पश्चिम गलियारा, जो स्वर्णिम चतुर्भुज महा राजमार्ग का एक हिस्सा है, भारत के निम्नलिखित किन दो शहरों को जोड़ता है?

- Ans
- 1. सिलचर और पोरबंदर
  - 2. अहमदनगर और इंफाल
  - 3. जयपुर और गंगटोक
  - 4. गांधी नगर और सिलचर

Question ID : 264330161490

Option 1 ID : 264330633289

Option 2 ID : 264330633290

Option 3 ID : 264330633288

Option 4 ID : 264330633287

Status : Answered

Chosen Option : 1

Q.4 निम्नलिखित में से किस आंदोलन की शुरुआत बंगाल में हुई थी?

- Ans
- 1. आर्य समाज
  - 2. प्रार्थना समाज
  - 3. रामकृष्ण मिशन
  - 4. सत्यशोधक समाज

Question ID : 264330160891

Option 1 ID : 264330630895

Option 2 ID : 264330630897

Option 3 ID : 264330630896

Option 4 ID : 264330630898

Status : Answered

Chosen Option : 2

Q.5 संविधान (अनुसूचित जनजाति) आदेश (दूसरा संशोधन) विधेयक, 2022 ने नारिकोरवन (Narikoravan) और कुरीविकरन (Kurivikkaran) समुदायों को किस राज्य की अनुसूचित जनजातियों की सूची में शामिल किया है?

- Ans
- 1. छत्तीसगढ़
  - 2. तमिलनाडु
  - 3. बिहार
  - 4. ओडिशा

Question ID : 264330158333  
Option 1 ID : 264330620693  
Option 2 ID : 264330620694  
Option 3 ID : 264330620691  
Option 4 ID : 264330620692  
Status : Answered  
Chosen Option : 2

Q.6 निम्नलिखित में से संगीतकारों के किस समूह को 'भारत रत्न' से सम्मानित किया गया? (मई 2023 तक।)

- Ans
- 1. आशा भोंसले और किशोर कुमार
  - 2. पंडित रविशंकर और पंडित भीमसेन जोशी
  - 3. ए.आर. रहमान और हरिप्रसाद चौरसिया
  - 4. अनु मलिक और उदित नारायण

Question ID : 264330155511  
Option 1 ID : 264330609450  
Option 2 ID : 264330609447  
Option 3 ID : 264330609448  
Option 4 ID : 264330609449  
Status : Not Answered  
Chosen Option : --

Q.7 निम्नलिखित में से कौन-सा शब्द तैराकी (swimming) के खेल से संबंधित नहीं है?

- Ans
- 1. ब्रेस्टस्ट्रोक (Breaststroke)
  - 2. बैक स्ट्रोक (Back stroke)
  - 3. पेनाल्टी कॉर्नर (Penalty Corner)
  - 4. फ्रीस्टाइल (Freestyle)

Question ID : 264330158244  
Option 1 ID : 264330620337  
Option 2 ID : 264330620336  
Option 3 ID : 264330620338  
Option 4 ID : 264330620335  
Status : Answered  
Chosen Option : 3

Q.8 यक्षगान एक लोक नृत्य है जो \_\_\_\_\_ राज्य से संबंधित है।

- Ans
- 1. केरल
  - 2. हरियाणा
  - 3. राजस्थान
  - 4. कर्नाटक

Question ID : 264330159057  
Option 1 ID : 264330623587  
Option 2 ID : 264330623589  
Option 3 ID : 264330623590  
Option 4 ID : 264330623588  
Status : Answered  
Chosen Option : 3

Q.9 भारतीय संविधान का अनुच्छेद 149 \_\_\_\_\_ से संबंधित है।

- Ans
- 1. भारत के नियंत्रक एवं महालेखा परीक्षक के कर्तव्य एवं शक्तियां
  - 2. भारत के नियंत्रक एवं महालेखा परीक्षक की नियुक्ति के लिए आवश्यक योग्यताएं
  - 3. भारत के नियंत्रक एवं महालेखा परीक्षक की नियुक्ति
  - 4. भारत के नियंत्रक एवं महालेखा परीक्षक के कार्यालय का कार्यकाल

Question ID : 264330161287  
Option 1 ID : 264330632475  
Option 2 ID : 264330632477  
Option 3 ID : 264330632476  
Option 4 ID : 264330632478  
Status : Answered  
Chosen Option : 3

Q.10 निम्नलिखित में से किस राज्य में FIFA U-17 महिला विश्व कप 2022 (FIFA U-17 Women's World Cup 2022) के मैच आयोजित नहीं किए गए थे?

- Ans
- 1. गोवा
  - 2. ओडिशा
  - 3. महाराष्ट्र
  - 4. गुजरात

Question ID : 264330158223  
Option 1 ID : 264330620252  
Option 2 ID : 264330620254  
Option 3 ID : 264330620251  
Option 4 ID : 264330620253  
Status : Answered  
Chosen Option : 2

Q.11 नील नदी का पानी किसमे गिरता है?

- Ans
- 1. तांगानिका झील
  - 2. हिंद महासागर
  - 3. भूमध्य सागर
  - 4. विक्टोरिया झील

Question ID : 264330161329  
Option 1 ID : 264330632645  
Option 2 ID : 264330632643  
Option 3 ID : 264330632644  
Option 4 ID : 264330632646  
Status : Answered  
Chosen Option : 3

Q.12 सिख साहित्य के अनुसार, गुरु नानक देव की जयंती भारतीय चंद्र माह के \_\_\_\_\_ की पूर्णिमा के दिन मनाई जाती है।

Ans  1. कार्तिक

2. माघ

3. आषाढ़

4. पौष

Question ID : 264330160833

Option 1 ID : 264330630665

Option 2 ID : 264330630666

Option 3 ID : 264330630663

Option 4 ID : 264330630664

Status : Not Answered

Chosen Option : --

Q.13 निम्नलिखित में से किस संस्थान की स्थापना एम. जी. रानाडे और जी. वी. जोशी द्वारा की गई थी?

Ans  1. अभिनव भारत

2. पूना सार्वजनिक सभा

3. द बॉम्बे प्रेसीडेंसी एसोसिएशन

4. भारतीय राष्ट्रीय कांग्रेस

Question ID : 264330160883

Option 1 ID : 264330630866

Option 2 ID : 264330630864

Option 3 ID : 264330630863

Option 4 ID : 264330630865

Status : Answered

Chosen Option : 1

Q.14 पृथ्वी की पर्पटी में मौजूद सातवीं सबसे प्रचुर मात्रा में पाई जाने वाली धातु का नाम क्या है, जिसका नाम मध्ययुगीन लैटिन शब्द 'केलियम (Kalium)' से लिया गया है?

Ans  1. पोटेशियम

2. एल्युमिनियम

3. कैल्शियम

4. मैग्नीशियम

Question ID : 264330161060

Option 1 ID : 264330631572

Option 2 ID : 264330631574

Option 3 ID : 264330631573

Option 4 ID : 264330631571

Status : Answered

Chosen Option : 1

Q.15 1873 में, ब्लैक रिएक्शन तकनीक (black reaction technique) से रंगे (stained), तंत्रिका ऊतक (nerve tissue) की पहली तस्वीर किसने प्रकाशित की, जिसमें संपूर्ण तंत्रिका कोशिका का वर्णन किया गया था?

- Ans
- 1. पॉल एर्लिच (Paul Ehrlich)
  - 2. गुंटर ब्लोबेल (Gunter Blobel)
  - 3. कैमिलो गोलगी (Camillo Golgi)
  - 4. विलियम हार्वे (William Harvey)

Question ID : 264330161088  
Option 1 ID : 264330631684  
Option 2 ID : 264330631686  
Option 3 ID : 264330631685  
Option 4 ID : 264330631683  
Status : Answered  
Chosen Option : 4

Q.16 अक्टूबर 2022 में, विराट कोहली T20 क्रिकेट इतिहास में कितने रन पूरे करने वाले पहले भारतीय बने?

- Ans
- 1. 5000
  - 2. 9000
  - 3. 15000
  - 4. 11000

Question ID : 264330158362  
Option 1 ID : 264330620807  
Option 2 ID : 264330620808  
Option 3 ID : 264330620810  
Option 4 ID : 264330620809  
Status : Answered  
Chosen Option : 2

Q.17 किस नदी को 'त्संगपो'(Tsangpo) के नाम से भी जाना जाता है ?

- Ans
- 1. गण्डक नदी
  - 2. ब्रह्मपुत्र नदी
  - 3. गंगा नदी
  - 4. कावेरी नदी

Question ID : 264330160151  
Option 1 ID : 264330627946  
Option 2 ID : 264330627944  
Option 3 ID : 264330627943  
Option 4 ID : 264330627945  
Status : Answered  
Chosen Option : 2

Q.18 कमलेश्वर के निम्नलिखित में से किस उपन्यास को 2003 में साहित्य अकादमी पुरस्कार से सम्मानित किया गया था?

- Ans
- 1. एक सड़क सत्तावन गलियां
  - 2. कितने पाकिस्तान
  - 3. जलती हुई नदी
  - 4. काली आंधी

Question ID : 264330161762  
Option 1 ID : 264330634375  
Option 2 ID : 264330634376  
Option 3 ID : 264330634377  
Option 4 ID : 264330634378  
Status : Not Answered  
Chosen Option : --

Q.19 मंदारिन (Mandarin) भारत के किस पड़ोसी देश की आधिकारिक भाषा है?

- Ans
- 1. श्रीलंका
  - 2. अफ़ग़ानिस्तान
  - 3. भूटान
  - 4. चीन

Question ID : 264330161563  
Option 1 ID : 264330633580  
Option 2 ID : 264330633579  
Option 3 ID : 264330633581  
Option 4 ID : 264330633582  
Status : Answered  
Chosen Option : 1

Q.20 भारतीय संविधान के अनुच्छेद 44 का उद्देश्य क्या है?

- Ans
- 1. भारत के राज्य क्षेत्र में नागरिकों के लिए एक समान नागरिक संहिता सुनिश्चित करना (To secure for the citizen, a uniform civil code through the territory of India)
  - 2. कलात्मक या ऐतिहासिक रुचि के प्रत्येक स्मारक या स्थान की सुरक्षा करना (To protect every monument or place of artistic or historic interest)
  - 3. पर्यावरण की रक्षा और सुधार करना तथा देश के वनों और वन्यजीवों की सुरक्षा करना (To protect and improve the environment and safeguard the forests and wildlife of the country)
  - 4. राज्य की सार्वजनिक सेवाओं में न्यायपालिका को कार्यपालिका से अलग करना (To separate judiciary from the executive in the public services of the State)

Question ID : 264330162253  
Option 1 ID : 264330636339  
Option 2 ID : 264330636341  
Option 3 ID : 264330636340  
Option 4 ID : 264330636342  
Status : Answered  
Chosen Option : 1

Q.21 15 अगस्त 1947 को, भारत के पहले प्रधान मंत्री जवाहरलाल नेहरू ने दिल्ली में लाल किले के \_\_\_\_\_ के ऊपर भारतीय राष्ट्रीय ध्वज फहराया।

- Ans
- 1. कश्मीरी गेट
  - 2. अजमेरी गेट
  - 3. दिल्ली गेट
  - 4. लाहौरी गेट

Question ID : 264330161347  
Option 1 ID : 264330632715  
Option 2 ID : 264330632718  
Option 3 ID : 264330632717  
Option 4 ID : 264330632716  
Status : Answered  
Chosen Option : 2

Q.22 देश के भीतर किसी अर्थव्यवस्था में वस्तुओं और सेवाओं के कुल उत्पादन साथ ही किसी विशिष्ट अवधि के दौरान मूल्यहास को मापने के लिए निम्नलिखित में से किसका उपयोग किया जाता है?

- Ans
- 1. सकल राष्ट्रीय उत्पाद (GNP)
  - 2. निवल घरेलू उत्पाद (NDP)
  - 3. सकल घरेलू उत्पाद (GDP)
  - 4. निवल राष्ट्रीय उत्पाद (NNP)

Question ID : 264330157311  
Option 1 ID : 264330616608  
Option 2 ID : 264330616610  
Option 3 ID : 264330616607  
Option 4 ID : 264330616609  
Status : Answered  
Chosen Option : 3

Q.23 रोशन कुमारी, शोवना नारायण, माया राव और कुमुदिनी लाखिया प्रख्यात \_\_\_\_\_ कलाकार हैं।

- Ans
- 1. कथक
  - 2. मणिपुरी
  - 3. कुचिपुड़ी
  - 4. ओडिसी

Question ID : 264330160812  
Option 1 ID : 264330630579  
Option 2 ID : 264330630582  
Option 3 ID : 264330630581  
Option 4 ID : 264330630580  
Status : Answered  
Chosen Option : 4

Q.24 निम्नलिखित में से कौन 'क्रैकिंग द कोड: माई जर्नी इन बॉलीवुड ('Cracking The Code: My Journey in Bollywood') पुस्तक के सह-लेखकों में से एक है?

- Ans
- 1. राजकुमार राव
  - 2. नवाजुद्दीन सिद्दीकी
  - 3. हर्षवर्द्धन कपूर
  - 4. आयुष्मान खुराना

Question ID : 264330161906  
Option 1 ID : 264330634952  
Option 2 ID : 264330634951  
Option 3 ID : 264330634954  
Option 4 ID : 264330634953  
Status : Answered  
Chosen Option : 2

Q.25 रानी मछैया (Rani Machaiah) एक \_\_\_\_\_ लोक नर्तकी हैं जिन्हें 2023 में पद्म श्री से सम्मानित किया गया था।

- Ans
- 1. लम्बाडी
  - 2. उम्मत्त आट
  - 3. दिम्सा
  - 4. गुस्साड़ी

Question ID : 264330155487  
Option 1 ID : 264330609354  
Option 2 ID : 264330609352  
Option 3 ID : 264330609353  
Option 4 ID : 264330609351  
Status : Answered  
Chosen Option : 1

Section : English Language and Comprehension

Q.1 The following sentence has been split into four segments. Identify the segment that contains a grammatical error.  
Throughout my career as a journalist, / I covered many important stories and / interviewed numerous individuals, which allow me / to share important information and insights with my readers.

- Ans
- 1. I covered many important stories and
  - 2. to share important information and insights with my readers
  - 3. Throughout my career as a journalist,
  - 4. interviewed numerous individuals, which allow me

Question ID : 264330144182  
Option 1 ID : 264330564992  
Option 2 ID : 264330564994  
Option 3 ID : 264330564991  
Option 4 ID : 264330564993  
Status : Answered  
Chosen Option : 2

**Q.2** Select the most appropriate synonym of the bracketed word in the following sentence to fill in the blank.  
The athlete's perseverance and mental toughness \_\_\_\_\_(facilitate) her to overcome adversity and achieve her goals.

- Ans
- 1. restricted
  - 2. hindered
  - 3. enabled
  - 4. limited

Question ID : 264330152653  
Option 1 ID : 264330598216  
Option 2 ID : 264330598217  
Option 3 ID : 264330598218  
Option 4 ID : 264330598215  
Status : Answered  
Chosen Option : 1

**Q.3** Select the most appropriate meaning of the given idiom.  
Let sleeping dogs lie

- Ans
- 1. To care for the pet
  - 2. To fall sick intentionally
  - 3. To let somebody sleep
  - 4. Leave an existing situation as it is

Question ID : 264330156172  
Option 1 ID : 264330612087  
Option 2 ID : 264330612089  
Option 3 ID : 264330612088  
Option 4 ID : 264330612090  
Status : Answered  
Chosen Option : 4

**Q.4** Select the most appropriate option that can substitute the underlined segment in the given sentence.  
Professor said that I will be late for the lecture.

- Ans
- 1. he shall be late for the lecture
  - 2. he may be late for the lecture
  - 3. he is late for the lecture
  - 4. he would be late for the lecture

Question ID : 264330152712  
Option 1 ID : 264330598448  
Option 2 ID : 264330598450  
Option 3 ID : 264330598449  
Option 4 ID : 264330598447  
Status : Answered  
Chosen Option : 4

**Q.5** Select the most appropriate meaning of the given idiom.

**Call the shots**

- Ans**
- 1. To be a follower that makes less important decision
  - 2. To be in a powerless position that follows orders
  - 3. To be in a position to make decisions that influences a situation
  - 4. To be in a neutral position

Question ID : 264330153073  
Option 1 ID : 264330599857  
Option 2 ID : 264330599858  
Option 3 ID : 264330599856  
Option 4 ID : 264330599855  
Status : Answered  
Chosen Option : 3

**Q.6** Select the most appropriate option that can substitute the underlined segment in the following sentence.

Selling, purchasing, and using an illegally copied product is a criminal offence.

- Ans**
- 1. a pirated
  - 2. an obsolete
  - 3. a crooked
  - 4. an outlawed

Question ID : 264330152633  
Option 1 ID : 264330598136  
Option 2 ID : 264330598135  
Option 3 ID : 264330598138  
Option 4 ID : 264330598137  
Status : Answered  
Chosen Option : 4

**Q.7** Select the INCORRECTLY spelt word.

- Ans**
- 1. Embarass
  - 2. Definitely
  - 3. Accommodate
  - 4. Separate

Question ID : 264330152644  
Option 1 ID : 264330598181  
Option 2 ID : 264330598180  
Option 3 ID : 264330598179  
Option 4 ID : 264330598182  
Status : Answered  
Chosen Option : 3

**Q.8** The following sentence has been split into four segments. Identify the segment that contains a grammatical error.  
Harish says / that his sister / loves to play / harmonium.

- Ans  1. loves to play  
 2. harmonium  
 3. Harish says  
 4. that his sister

Question ID : 264330153165  
Option 1 ID : 264330600221  
Option 2 ID : 264330600222  
Option 3 ID : 264330600219  
Option 4 ID : 264330600220  
Status : Answered  
Chosen Option : 1

**Q.9** Select the option that can be used as a one-word substitute for the given group of words.  
A cage made for birds.  
OR  
A place for keeping the birds in a confined space.

- Ans  1. Aquarium  
 2. Aviary  
 3. Arena  
 4. Apiary

Question ID : 264330153553  
Option 1 ID : 264330601713  
Option 2 ID : 264330601714  
Option 3 ID : 264330601712  
Option 4 ID : 264330601711  
Status : Answered  
Chosen Option : 4

**Q.10** Select the most appropriate synonym of the given word.  
Repulsive

- Ans  1. Reliable  
 2. Disgusting  
 3. Attractive  
 4. Uniform

Question ID : 264330151922  
Option 1 ID : 264330595305  
Option 2 ID : 264330595304  
Option 3 ID : 264330595303  
Option 4 ID : 264330595306  
Status : Answered  
Chosen Option : 1

Q.11 Select the most appropriate option that can substitute the underlined segment in the given sentence.

Andrew will playing basketball at the college tournament.

- Ans
- 1. are play
  - 2. is playing
  - 3. is played
  - 4. are play the

Question ID : 264330153473  
Option 1 ID : 264330601407  
Option 2 ID : 264330601409  
Option 3 ID : 264330601410  
Option 4 ID : 264330601408  
Status : Answered  
Chosen Option : 2

Q.12 Select the sentence that has NO spelling errors.

- Ans
- 1. The doctor presribed some medicine to alleviate my parsistent cough, which has been boathering me for days.
  - 2. The doctor precribed some medicine to aleviate my persistent cough, which has been bothering me for days.
  - 3. The doctor prescribed some medicine to alleviate my persistent cough, which has been bothering me for days.
  - 4. The doctor prescribed some medicine to aleviate my parsistent cough, which has been boathering me for days.

Question ID : 264330152649  
Option 1 ID : 264330598201  
Option 2 ID : 264330598200  
Option 3 ID : 264330598199  
Option 4 ID : 264330598202  
Status : Not Answered  
Chosen Option : --

Q.13 Select the most appropriate ANTONYM of the given word.  
Feud

- Ans
- 1. Harmony
  - 2. Gross
  - 3. Peril
  - 4. Vigour

Question ID : 264330152677  
Option 1 ID : 264330598313  
Option 2 ID : 264330598312  
Option 3 ID : 264330598314  
Option 4 ID : 264330598311  
Status : Answered  
Chosen Option : 2

Q.14 Select the most appropriate meaning of the given idiom.  
Sell like hot cakes

- Ans
- 1. Selling cakes
  - 2. Eating hot cake
  - 3. Being ignored
  - 4. Quick sell out

Question ID : 264330152725  
Option 1 ID : 264330598501  
Option 2 ID : 264330598502  
Option 3 ID : 264330598499  
Option 4 ID : 264330598500  
Status : Answered  
Chosen Option : 3

Q.15 The given sentence contains an error. Select the option that correctly rectifies the error.  
The boy told his mother that he saw the most tall giraffe at the zoo.

- Ans
- 1. The boy told his mother that he saw the most taller giraffe at the zoo.
  - 2. The boy told his mother that he saw the tallest giraffe at the zoo.
  - 3. The boy told his mother that he saw the more taller giraffe at the zoo.
  - 4. The boy told his mother that he saw the most tallest giraffe at the zoo.

Question ID : 264330152606  
Option 1 ID : 264330598028  
Option 2 ID : 264330598030  
Option 3 ID : 264330598027  
Option 4 ID : 264330598029  
Status : Answered  
Chosen Option : 2

Q.16 Select the option that rectifies the spelling of the underlined word in the given sentence.

The sergent brought in a lot of changes as soon as he was given charge.

- Ans
- 1. sergeant
  - 2. sergeannt
  - 3. seargeant
  - 4. sergant

Question ID : 264330153156  
Option 1 ID : 264330600186  
Option 2 ID : 264330600184  
Option 3 ID : 264330600185  
Option 4 ID : 264330600183  
Status : Answered  
Chosen Option : 4

Q.17 Select the most appropriate option to fill in the blank.  
The hiring manager has already offered you the job; now, \_\_\_\_\_ to accept or decline the offer.

- Ans
- 1. a penny for your thoughts
  - 2. get your act together
  - 3. the ball is in your court
  - 4. pull your leg

Question ID : 264330151891  
Option 1 ID : 264330595184  
Option 2 ID : 264330595186  
Option 3 ID : 264330595183  
Option 4 ID : 264330595185  
Status : Answered  
Chosen Option : 3

Q.18 Select the most appropriate word to fill in the blank.  
Hardik Pandya hit four \_\_\_\_\_ fours and scored 72 runs in the match.

- Ans
- 1. constant
  - 2. consecutive
  - 3. ongoing
  - 4. continuous

Question ID : 264330153507  
Option 1 ID : 264330601541  
Option 2 ID : 264330601539  
Option 3 ID : 264330601542  
Option 4 ID : 264330601540  
Status : Answered  
Chosen Option : 4

Q.19 Parts of the following sentence have been given as options. Select the option that contains an error.

All these things happen/ because she do not / pay heed to my words.

- Ans
- 1. because she do not
  - 2. pay heed to my words
  - 3. All these things happen
  - 4. No error

Question ID : 264330155379  
Option 1 ID : 264330608932  
Option 2 ID : 264330608933  
Option 3 ID : 264330608931  
Option 4 ID : 264330608934  
Status : Answered  
Chosen Option : 1

**Q.20** Select the most appropriate option to fill in the blank.  
Oberon doesn't like the way Demetrius \_\_\_\_\_ to Helena. (Credit: A Midsummer Night's Dream)

- Ans
- 1. talking
  - 2. to talk
  - 3. talks
  - 4. talked

Question ID : 264330153511  
Option 1 ID : 264330601557  
Option 2 ID : 264330601558  
Option 3 ID : 264330601556  
Option 4 ID : 264330601555  
Status : Answered  
Chosen Option : 3

**Comprehension:**

In the following passage, some words have been deleted. Fill in the blanks with the help of the alternatives given. Select the most appropriate option for each blank.

That evening we sat in the courtyard of the hotel once more, (1) \_\_\_\_\_ the sun sink below the western isles. I told Alexi what had happened that day. I (2) \_\_\_\_\_ I could glimpse the grey stone wall of Lismore House (3) \_\_\_\_\_ its island hilltop, the red light of the setting sun glinting from the windows, and from there the wasted frame of Jonathan Blake gazing out across the sea, on nothing, his boy waiting for him to die. But it was my (4) \_\_\_\_\_, simply the image on my mind, like the image burned on to your eyes when you have (5) \_\_\_\_\_ too long at the sun, the passing footprint of a creature long gone.

**SubQuestion No : 21**

**Q.21** Select the most appropriate option to fill in blank no. 1.

- Ans
- 1. practising
  - 2. risking
  - 3. wallowing
  - 4. watching

Question ID : 264330153445  
Option 1 ID : 264330601300  
Option 2 ID : 264330601301  
Option 3 ID : 264330601302  
Option 4 ID : 264330601299  
Status : Answered  
Chosen Option : 4

**Comprehension:**

In the following passage, some words have been deleted. Fill in the blanks with the help of the alternatives given. Select the most appropriate option for each blank.

That evening we sat in the courtyard of the hotel once more, (1) \_\_\_\_\_ the sun sink below the western isles. I told Alexi what had happened that day. I (2) \_\_\_\_\_ I could glimpse the grey stone wall of Lismore House (3) \_\_\_\_\_ its island hilltop, the red light of the setting sun glinting from the windows, and from there the wasted frame of Jonathan Blake gazing out across the sea, on nothing, his boy waiting for him to die. But it was my (4) \_\_\_\_\_, simply the image on my mind, like the image burned on to your eyes when you have (5) \_\_\_\_\_ too long at the sun, the passing footprint of a creature long gone.

**SubQuestion No : 22**

**Q.22** Select the most appropriate option to fill in blank no. 2.

- Ans
- 1. translated
  - 2. groped
  - 3. imbibed
  - 4. fancied

Question ID : 264330153446

Option 1 ID : 264330601304

Option 2 ID : 264330601306

Option 3 ID : 264330601303

Option 4 ID : 264330601305

Status : Answered

Chosen Option : 2

**Comprehension:**

In the following passage, some words have been deleted. Fill in the blanks with the help of the alternatives given. Select the most appropriate option for each blank.

That evening we sat in the courtyard of the hotel once more, (1) \_\_\_\_\_ the sun sink below the western isles. I told Alexi what had happened that day. I (2) \_\_\_\_\_ I could glimpse the grey stone wall of Lismore House (3) \_\_\_\_\_ its island hilltop, the red light of the setting sun glinting from the windows, and from there the wasted frame of Jonathan Blake gazing out across the sea, on nothing, his boy waiting for him to die. But it was my (4) \_\_\_\_\_, simply the image on my mind, like the image burned on to your eyes when you have (5) \_\_\_\_\_ too long at the sun, the passing footprint of a creature long gone.

**SubQuestion No : 23**

**Q.23** Select the most appropriate option to fill in blank no. 3.

- Ans
- 1. on
  - 2. off
  - 3. for
  - 4. aside

Question ID : 264330153447

Option 1 ID : 264330601308

Option 2 ID : 264330601307

Option 3 ID : 264330601310

Option 4 ID : 264330601309

Status : Answered

Chosen Option : 1

**Comprehension:**

In the following passage, some words have been deleted. Fill in the blanks with the help of the alternatives given. Select the most appropriate option for each blank.

That evening we sat in the courtyard of the hotel once more, (1) \_\_\_\_\_ the sun sink below the western isles. I told Alexi what had happened that day. I (2) \_\_\_\_\_ I could glimpse the grey stone wall of Lismore House (3) \_\_\_\_\_ its island hilltop, the red light of the setting sun glinting from the windows, and from there the wasted frame of Jonathan Blake gazing out across the sea, on nothing, his boy waiting for him to die. But it was my (4) \_\_\_\_\_, simply the image on my mind, like the image burned on to your eyes when you have (5) \_\_\_\_\_ too long at the sun, the passing footprint of a creature long gone.

**SubQuestion No : 24**

**Q.24** Select the most appropriate option to fill in blank no. 4.

- Ans
- 1. habitat
  - 2. dribble
  - 3. fantasy
  - 4. straw

Question ID : 264330153448

Option 1 ID : 264330601314

Option 2 ID : 264330601312

Option 3 ID : 264330601313

Option 4 ID : 264330601311

Status : **Not Answered**

Chosen Option : --

**Comprehension:**

In the following passage, some words have been deleted. Fill in the blanks with the help of the alternatives given. Select the most appropriate option for each blank.

That evening we sat in the courtyard of the hotel once more, (1) \_\_\_\_\_ the sun sink below the western isles. I told Alexi what had happened that day. I (2) \_\_\_\_\_ I could glimpse the grey stone wall of Lismore House (3) \_\_\_\_\_ its island hilltop, the red light of the setting sun glinting from the windows, and from there the wasted frame of Jonathan Blake gazing out across the sea, on nothing, his boy waiting for him to die. But it was my (4) \_\_\_\_\_, simply the image on my mind, like the image burned on to your eyes when you have (5) \_\_\_\_\_ too long at the sun, the passing footprint of a creature long gone.

**SubQuestion No : 25**

**Q.25** Select the most appropriate option to fill in blank no. 5.

- Ans
- 1. resumed
  - 2. stared
  - 3. blocked
  - 4. rusted

Question ID : 264330153449

Option 1 ID : 264330601317

Option 2 ID : 264330601318

Option 3 ID : 264330601316

Option 4 ID : 264330601315

Status : **Answered**

Chosen Option : 1