

Multi Tasking Non Technical Staff and Havaladar CBIC and CBN Examination 2023

Roll Number	
Candidate Name	
Venue Name	Sri Balaji College Of Engineering And Technology
Exam Date	01/09/2023
Exam Time	4:00 PM - 6:00 PM
Subject	MTS Non Tech Havaladar CBIC and CBN Examination 2023

Section : Numerical and Mathematical Ability

Q.1 क्रमशः अर्धवार्षिक और वार्षिक रूप से ब्याज संयोजित होने पर एक वर्ष में 8% वार्षिक ब्याज की दर पर ₹1,50,000 की धनराशि पर अर्जित ब्याज का अंतर ₹ _____ होगा।

Ans 1. 240

2. 420

3. 360

4. 120

Question ID : 264330153811

Option 1 ID : 264330602710

Option 2 ID : 264330602707

Option 3 ID : 264330602708

Option 4 ID : 264330602709

Status : Answered

Chosen Option : 1

Q.2 स्वाति ₹4,200 के साथ एक व्यवसाय शुरू करती है और 5 माह बाद, बानी स्वाति के साथ उसकी भागीदार के रूप में जुड़ जाती है। एक वर्ष के बाद, लाभ को स्वाति और बानी के बीच 2 : 5 के अनुपात में बांटा जाता है। बानी ने कितनी धनराशि का योगदान दिया?

Ans 1. ₹19,000

2. ₹17,050

3. ₹16,500

4. ₹18,000

Question ID : 264330156186

Option 1 ID : 264330612146

Option 2 ID : 264330612143

Option 3 ID : 264330612145

Option 4 ID : 264330612144

Status : Answered

Chosen Option : 4

Q.3 एक वस्तु का क्रय मूल्य ₹1,120 है। ₹205 की छूट देने के बाद 15% का लाभ होता है, तो वस्तु का अंकित मूल्य कितना है?

Ans 1. ₹1,350

2. ₹1,580

3. ₹1,493

4. ₹1,760

Question ID : 264330156447

Option 1 ID : 264330613181

Option 2 ID : 264330613180

Option 3 ID : 264330613179

Option 4 ID : 264330613182

Status : Answered

Chosen Option : 3

Q.4 सरल कीजिए।

$$24 \div 6 \times \left(\frac{3}{4} \text{ of } \frac{1}{3} + \frac{5}{3} \text{ of } \frac{3}{4} \right) = ?$$

Ans 1. 6

2. 8

3. 9

4. 3

Question ID : 264330156424

Option 1 ID : 264330613088

Option 2 ID : 264330613089

Option 3 ID : 264330613087

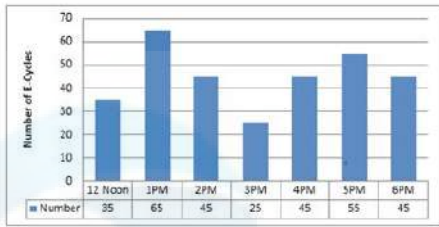
Option 4 ID : 264330613090

Status : Answered

Chosen Option : 1

Q.5 निम्न दंड आलेख में 12:00 P.M. से 6:00 P.M. तक एक मेट्रो स्टेशन पर E-साइकिल पार्किंग की संख्या को दर्शाया गया है।

यदि पार्किंग चार्ज ₹3 प्रति घंटा है, तो 2:00 P.M. से 6:00 P.M. तक पार्किंग चार्ज की कुल वसूली कितनी होगी?



संदर्भ: Number of E- cycles - E-साइकिलों की संख्या, 12 noon - दोपहर 12 बजे, Number - संख्या

- Ans
- ✓ 1. ₹645
 - ✗ 2. ₹695
 - ✗ 3. ₹655
 - ✗ 4. ₹625

Question ID : 264330154063

Option 1 ID : 264330603717

Option 2 ID : 264330603718

Option 3 ID : 264330603716

Option 4 ID : 264330603715

Status : Answered

Chosen Option : 1

Q.6 एक पंसारी को क्रमशः ₹18 प्रति किलोग्राम और ₹22 प्रति किलोग्राम की दो किस्मों की दालों को किस अनुपात में मिलाना चाहिए, ताकि ₹19.50 प्रति किलोग्राम का मिश्रण प्राप्त हो सके?

- Ans
- ✗ 1. 1 : 5
 - ✗ 2. 5 : 2
 - ✗ 3. 5 : 1
 - ✓ 4. 5 : 3

Question ID : 264330156052

Option 1 ID : 264330611608

Option 2 ID : 264330611610

Option 3 ID : 264330611607

Option 4 ID : 264330611609

Status : Answered

Chosen Option : 4

Q.7 एक व्यक्ति बिंदु A से बिंदु B तक 40 km/h की चाल से यात्रा करता है और 60 km/h की चाल से बिंदु A पर वापस आता है। यदि यात्रा में कुल 5 घंटे का समय लगता है, तो बिंदु A और बिंदु B के बीच की दूरी कितनी है?

- Ans
- ✓ 1. 120 km
 - ✗ 2. 130 km
 - ✗ 3. 125 km
 - ✗ 4. 135 km

Question ID : 264330156273

Option 1 ID : 264330612491

Option 2 ID : 264330612493

Option 3 ID : 264330612492

Option 4 ID : 264330612494

Status : Answered

Chosen Option : 1

Q.8 यदि $A : B = 3 : 4$ और $A : C = 9 : 8$, तो $A : B : C$ बराबर _____ होगा।

- Ans
- 1. $9 : 8 : 8$
 - 2. $9 : 8 : 12$
 - 3. $3 : 4 : 6$
 - 4. $9 : 12 : 8$

Question ID : 264330153874
Option 1 ID : 264330602961
Option 2 ID : 264330602960
Option 3 ID : 264330602959
Option 4 ID : 264330602962
Status : Answered
Chosen Option : 4

Q.9 यदि साधारण ब्याज पर 3 वर्ष में ₹3,650 की धनराशि ₹4,526 हो जाती है, तो वार्षिक ब्याज की दर क्या है?

- Ans
- 1. 6%
 - 2. 10%
 - 3. 12%
 - 4. 8%

Question ID : 264330156483
Option 1 ID : 264330613319
Option 2 ID : 264330613322
Option 3 ID : 264330613320
Option 4 ID : 264330613321
Status : Answered
Chosen Option : 4

Q.10 ₹3.80 प्रति किलोग्राम मूल्य वाली कितने किलोग्राम चीनी को ₹4.60 प्रति किलोग्राम मूल्य वाली 60 किलोग्राम चीनी के साथ मिलाया जाना चाहिए, ताकि परिणामी मिश्रण को ₹5.20 प्रति किलोग्राम के मूल्य पर बेचने से 30% का लाभ अर्जित किया जा सके?

- Ans
- 1. 160 kg
 - 2. 170 kg
 - 3. 180 kg
 - 4. 120 kg

Question ID : 264330156070
Option 1 ID : 264330611682
Option 2 ID : 264330611681
Option 3 ID : 264330611680
Option 4 ID : 264330611679
Status : Answered
Chosen Option : 3

Q.11 X की आय, Y की आय से 12% अधिक है। Y की आय, X की आय से कितने प्रतिशत कम है?

- Ans
- 1. $10\frac{2}{7}\%$
 - 2. $10\frac{4}{7}\%$
 - 3. $10\frac{3}{7}\%$
 - 4. $10\frac{5}{7}\%$

Question ID : 264330156216
Option 1 ID : 264330612263
Option 2 ID : 264330612265
Option 3 ID : 264330612264
Option 4 ID : 264330612266
Status : Answered
Chosen Option : 4

Q.12 $8 \times 6 \times 6$ इकाई के आयाम वाले घनाभ से $0.5 \times 0.5 \times 0.5$ इकाई आयाम के छोटे-छोटे घन काटे जाते हैं। बड़े घनाभ से कितने छोटे-छोटे घन काटे जा सकते हैं?

- Ans
- 1. 1152
 - 2. 2304
 - 3. 1552
 - 4. 576

Question ID : 264330153826
Option 1 ID : 264330602769
Option 2 ID : 264330602767
Option 3 ID : 264330602770
Option 4 ID : 264330602768
Status : Answered
Chosen Option : 2

Q.13 शुद्ध दूध वाले एक पात्र में से, 35% दूध निकालकर उसके स्थान पर पानी डाल दिया जाता है और इस प्रक्रिया को तीन बार दोहराया जाता है। तीसरी प्रक्रिया के अंत में दूध की शुद्धता कितनी होगी?

- Ans
- 1. $21\frac{23}{80}\%$
 - 2. $23\frac{37}{80}\%$
 - 3. $27\frac{37}{80}\%$
 - 4. $37\frac{21}{80}\%$

Question ID : 264330154077
Option 1 ID : 264330603771
Option 2 ID : 264330603774
Option 3 ID : 264330603772
Option 4 ID : 264330603773
Status : Answered
Chosen Option : 3

Q.14 निम्न तालिका में 2015 से 2018 तक लिबरल आर्ट्स और इंजीनियरिंग में उच्च शिक्षा प्राप्त करने के लिए एक विश्वविद्यालय में नामांकित होने वाले छात्रों की संख्या को दर्शाया गया है। तालिका का ध्यानपूर्वक अध्ययन कीजिए और निम्नलिखित प्रश्न का उत्तर दीजिए।

वर्ष	छात्रों की संख्या	
	लिबरल आर्ट्स	इंजीनियरिंग
2015	345	650
2016	549	521
2017	477	846
2018	781	695

2015 से 2018 तक लिबरल आर्ट्स में प्रति वर्ष नामांकित छात्रों की औसत संख्या इंजीनियरिंग में नामांकित छात्रों की औसत संख्या से कितनी अधिक या कम है?

- Ans**
- ✓ 1. 140, कम
 - ✗ 2. 140, अधिक
 - ✗ 3. 127, अधिक
 - ✗ 4. 127, कम

Question ID : 264330156496
Option 1 ID : 264330613371
Option 2 ID : 264330613372
Option 3 ID : 264330613374
Option 4 ID : 264330613373
Status : Answered
Chosen Option : 1

Q.15 दो अंकों की वह सबसे बड़ी संख्या ज्ञात कीजिए जिससे 219, 365, 511 को भाग देने पर क्रमशः 3, 5, 7 शेषफल बचता है।

- Ans**
- ✗ 1. 63
 - ✓ 2. 72
 - ✗ 3. 82
 - ✗ 4. 53

Question ID : 264330155983
Option 1 ID : 264330611332
Option 2 ID : 264330611334
Option 3 ID : 264330611331
Option 4 ID : 264330611333
Status : Answered
Chosen Option : 2

Q.16 एक पुरुष और एक महिला को साथ मिलकर काम पूरा करने में 12 दिन लगते हैं। एक पुरुष अकेले उस काम को 15 दिनों में पूरा कर सकता है। एक महिला अकेले उस काम को कितने दिनों में पूरा कर सकती है?

- Ans**
- ✗ 1. 45 दिन
 - ✗ 2. 12 दिन
 - ✓ 3. 60 दिन
 - ✗ 4. 30 दिन

Question ID : 264330156063
Option 1 ID : 264330611653
Option 2 ID : 264330611651
Option 3 ID : 264330611654
Option 4 ID : 264330611652
Status : Answered
Chosen Option : 3

Q.17 एक नाविक नाव चलाकर 6 घंटे में धारा के अनुकूल 36 km और धारा के प्रतिकूल 24 km की दूरी तय करता है। जब वह धारा के अनुकूल 24 km और धारा के प्रतिकूल 36 km की दूरी तय करता है तो नाविक को साढ़े 6 घंटे का समय लगता है। धारा की चाल कितनी है?

- Ans
- 1. 3 km/h
 - 2. 1.5 km/h
 - 3. 2 km/h
 - 4. 4 km/h

Question ID : 264330154057
Option 1 ID : 264330603693
Option 2 ID : 264330603692
Option 3 ID : 264330603691
Option 4 ID : 264330603694
Status : Answered
Chosen Option : 3

Q.18 एक वस्तु को ₹1,980 में बेचने पर अर्जित प्रतिशत लाभ उसी वस्तु को ₹1,620 में बेचने पर हुई हानि के प्रतिशत के बराबर है। 15% लाभ अर्जित करने के लिए वस्तु को किस मूल्य पर बेचा जाना चाहिए?

- Ans
- 1. ₹1,800
 - 2. ₹2,277
 - 3. ₹2,070
 - 4. ₹1,863

Question ID : 264330161979
Option 1 ID : 264330635246
Option 2 ID : 264330635244
Option 3 ID : 264330635243
Option 4 ID : 264330635245
Status : Answered
Chosen Option : 3

Q.19 एक गोले का पृष्ठीय क्षेत्रफल 5544 cm^2 है। यदि गोले की त्रिज्या दोगुनी कर दी जाए, तो नए गोले का पृष्ठीय क्षेत्रफल (cm^2 में) ज्ञात कीजिए।

- Ans
- 1. 20,761
 - 2. 22,176
 - 3. 20,176
 - 4. 22,761

Question ID : 264330156018
Option 1 ID : 264330611471
Option 2 ID : 264330611474
Option 3 ID : 264330611473
Option 4 ID : 264330611472
Status : Answered
Chosen Option : 2

Q.20 A और B किसी काम को क्रमशः 9 और 18 दिनों में कर सकते हैं। वे साथ मिलकर काम करने लगते हैं। कुछ दिनों के बाद A ने काम छोड़ दिया और B ने शेष काम को 15 दिनों में पूरा किया। A ने कितने दिनों के बाद काम छोड़ा?

- Ans**
- 1. 2
 - 2. 4
 - 3. 1
 - 4. 3

Question ID : 264330156010
Option 1 ID : 264330611442
Option 2 ID : 264330611439
Option 3 ID : 264330611441
Option 4 ID : 264330611440
Status : Answered
Chosen Option : 3

Section : Reasoning Ability and Problem Solving

Q.1 नीचे दिए गए कथनों और निष्कर्षों को ध्यानपूर्वक पढ़िए। आपको मानना है कि दिए गए कथन सत्य हैं चाहे वे समान्यतः ज्ञात तथ्यों से अलग प्रतीत होते हों। आपको निश्चय करना है कि कौन-सा कौन-से निष्कर्ष तार्किक रूप से दिए गए कथनों के अनुसार है।

कथन: सभी बिस्तर, चादरें हैं। कुछ चादरें, मोटी हैं। कुछ मोटी, जूंस हैं।

निष्कर्ष I: सभी चादरें, बिस्तरें हैं।
निष्कर्ष II: कुछ मोटी, चादरें हैं।

- Ans**
- 1. केवल निष्कर्ष (I) कथनों के अनुसार है।
 - 2. दोनों निष्कर्ष (I) और (II) कथनों के अनुसार हैं।
 - 3. न तो निष्कर्ष (I) और न ही (II) कथनों के अनुसार है।
 - 4. केवल निष्कर्ष (II) कथनों के अनुसार है।

Question ID : 264330155900
Option 1 ID : 264330611003
Option 2 ID : 264330611006
Option 3 ID : 264330611005
Option 4 ID : 264330611004
Status : Answered
Chosen Option : 4

Q.2 यदि निम्नलिखित आकृति श्रृंखला को जारी रखना हो तो कौन-सी आकृति प्रश्न चिन्ह (?) के स्थान पर आनी चाहिए?

Z	O	K	B	U	Z	△	K	
B	U	L	K	O	L	△	Z	K
↑	△	U	↑	O	9	B	O	?

Ans

✗ 1.

B	△
U	Z L 9
O	K

✗ 2.

B	O
△	9 L K
Z	U

✗ 3.

B	A
△	O L 9
Z	U

✓ 4.

B	U
△	K L 9
Z	A

Question ID : 264330154751

Option 1 ID : 264330606468

Option 2 ID : 264330606467

Option 3 ID : 264330606470

Option 4 ID : 264330606469

Status : Answered

Chosen Option : 2

Q.3 अक्षरों के उस संयोजन को चुनिए जिसे दी गई श्रृंखला के रिक्त स्थानों में क्रमिक रूप से रखने पर श्रृंखला पूरी हो जाएगी।

J _ JJ _ _ JM _ _ MJ

Ans ✗ 1. MJJMM

✗ 2. JJMMJ

✗ 3. JMMJM

✓ 4. MMJJJ

Question ID : 264330151649

Option 1 ID : 264330594223

Option 2 ID : 264330594226

Option 3 ID : 264330594224

Option 4 ID : 264330594225

Status : Answered

Chosen Option : 4

Q.4 यदि '+' और '-' को आपस में बदल दिया जाए और '-' और '+' को आपस में बदल दिया जाए तो निम्नलिखित समीकरण में '?' के स्थान पर क्या आएगा?
 $2 \times 4 - 1 + 6 + 8 = ?$

- Ans
- ✓ 1. -42
 - ✗ 2. -24
 - ✗ 3. -13
 - ✗ 4. -18

Question ID : 264330154660
Option 1 ID : 264330606105
Option 2 ID : 264330606104
Option 3 ID : 264330606103
Option 4 ID : 264330606106
Status : Answered
Chosen Option : 1

Q.5 यदि 6 जुलाई 2011 को बुधवार है, तो 16 फरवरी 2010 को सप्ताह का कौन-सा दिन होगा?

- Ans
- ✗ 1. सोमवार
 - ✗ 2. शनिवार
 - ✗ 3. गुरुवार
 - ✓ 4. मंगलवार

Question ID : 264330154353
Option 1 ID : 264330604876
Option 2 ID : 264330604878
Option 3 ID : 264330604877
Option 4 ID : 264330604875
Status : Answered
Chosen Option : 4

Q.6 दी गई श्रृंखला में प्रश्न चिन्ह '?' के स्थान पर क्या आना चाहिए?

10 19 ? 199 775 3079 12295

- Ans
- ✗ 1. 63
 - ✓ 2. 55
 - ✗ 3. 50
 - ✗ 4. 61

Question ID : 264330151445
Option 1 ID : 264330593410
Option 2 ID : 264330593408
Option 3 ID : 264330593407
Option 4 ID : 264330593409
Status : Answered
Chosen Option : 2

Q.7 सात व्यक्ति s, t, u, v, w, x और y एक सीधी पंक्ति में उत्तर की ओर मुख करके बैठे हैं। केवल दो व्यक्ति w के दाईं ओर बैठे हैं। केवल तीन व्यक्ति s और w के बीच में बैठे हैं। t और x का निकटतम पड़ोसी u है। x, w का निकटतम पड़ोसी नहीं है। v, t के दाईं ओर से तीसरे स्थान पर बैठा है। w और v के बीच में कौन बैठा है?

- Ans**
- 1. U
 - 2. T
 - 3. X
 - 4. Y

Question ID : 264330155546

Option 1 ID : 264330609589

Option 2 ID : 264330609588

Option 3 ID : 264330609590

Option 4 ID : 264330609587

Status : Answered

Chosen Option : 4

Q.8 अंग्रेजी वर्णमाला क्रम के आधार पर दी गई श्रृंखला में प्रश्न चिह्न (?) के स्थान पर क्या आना चाहिए?

JPX, GNU, DLR, AJO, ?

- Ans**
- 1. ZGL
 - 2. YGM
 - 3. XHL
 - 4. YIL

Question ID : 264330155787

Option 1 ID : 264330610554

Option 2 ID : 264330610552

Option 3 ID : 264330610551

Option 4 ID : 264330610553

Status : Answered

Chosen Option : 3

Q.9

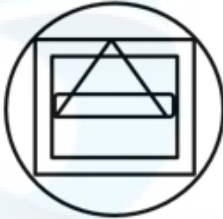
उस विकल्प आकृति को चुनिए जिसमें दी गई आकृति (X) उसके भाग के रूप में निहित है। (घूर्णन की अनुमति नहीं है)



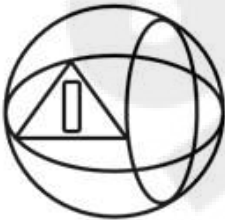
(X)

Ans

✗ 1.



✗ 2.



✗ 3.



✓ 4.



Question ID : 264330151726

Option 1 ID : 264330594531

Option 2 ID : 264330594534

Option 3 ID : 264330594533

Option 4 ID : 264330594532

Status : Answered

Chosen Option : 4

Q.10 एक निश्चित कूट भाषा में, 'DEAN' को '2458' लिखा जाता है और 'LEND' को '8352' लिखा जाता है। उसी कूट भाषा में 'L' को कैसे लिखा जाएगा?

- Ans
- 1. 8
 - 2. 2
 - 3. 5
 - 4. 3

Question ID : 264330151689
Option 1 ID : 264330594383
Option 2 ID : 264330594385
Option 3 ID : 264330594386
Option 4 ID : 264330594384
Status : Answered
Chosen Option : 4

Q.11 अंग्रेजी वर्णमाला क्रम के आधार पर दी गई श्रृंखला में प्रश्न चिह्न '?' के स्थान पर कौन-सा अक्षर-समूह आना चाहिए?

DJS, HNT, LRU, PVV, ?

- Ans
- 1. UTV
 - 2. SRV
 - 3. TZW
 - 4. USV

Question ID : 264330156298
Option 1 ID : 264330612593
Option 2 ID : 264330612591
Option 3 ID : 264330612592
Option 4 ID : 264330612594
Status : Answered
Chosen Option : 3

Q.12 दी गई श्रृंखला में प्रश्न चिह्न '?' के स्थान पर क्या आना चाहिए?

11 14 20 29 41 ?

- Ans
- 1. 61
 - 2. 64
 - 3. 54
 - 4. 56

Question ID : 264330151717
Option 1 ID : 264330594496
Option 2 ID : 264330594498
Option 3 ID : 264330594497
Option 4 ID : 264330594495
Status : Answered
Chosen Option : 4

Q.13 निम्नलिखित संख्या-युग्मों में, पहली संख्या पर कुछ गणितीय संक्रियाएँ करके दूसरी संख्या प्राप्त की जाती है। उस समुच्चय को चुनिए जिसमें संख्याएँ ठीक उसी प्रकार संबंधित हैं जिस प्रकार निम्नलिखित समुच्चयों की संख्याएँ संबंधित हैं।
(ध्यान दें: संख्याओं को उनके घटक अंकों में अलग-अलग किए बिना, पूर्ण संख्याओं पर संक्रियाएँ की जानी चाहिए। उदा. 13 – संख्या 13 पर संक्रियाएँ जैसे 13 को जोड़ना/घटाना/गुणा करना आदि किया जा सकता है। 13 को 1 और 3 में अलग-अलग करने की ओर फिर 1 और 3 पर गणितीय संक्रियाएँ करने की अनुमति नहीं है।)
16 : 95
6 : 35

- Ans**
- 1. 17 : 23
 - 2. 2 : 13
 - 3. 8 : 48
 - 4. 13 : 77

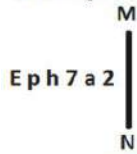
Question ID : 264330154653
Option 1 ID : 264330606075
Option 2 ID : 264330606076
Option 3 ID : 264330606077
Option 4 ID : 264330606078
Status : Answered
Chosen Option : 4

Q.14 HM 12, FK 17 से एक निश्चित प्रकार से संबंधित है। उसी प्रकार, EK 18, CI 23 से संबंधित है। समान तर्क का अनुसरण करते हुए GU 14 निम्नलिखित में से किससे संबंधित है?

- Ans**
- 1. FS 19
 - 2. IW 20
 - 3. ER 18
 - 4. ES 19

Question ID : 264330151683
Option 1 ID : 264330594362
Option 2 ID : 264330594360
Option 3 ID : 264330594361
Option 4 ID : 264330594359
Status : Answered
Chosen Option : 4

Q.15 दी गई आकृति के उस सही दर्पण प्रतिबिंब को चुनिए, जो नीचे दर्शाए गए अनुसार दर्पण को MN पर रखने पर बनेगा।



- Ans**
- 1. 2 a 7 h p E
 - 2. E p h 7 a 2
 - 3. E p h 2 a 7
 - 4. E p h 7 a 2

Question ID : 264330151509
Option 1 ID : 264330593664
Option 2 ID : 264330593665
Option 3 ID : 264330593663
Option 4 ID : 264330593666
Status : Answered
Chosen Option : 2

Q.16 नीचे दिए गए कथनों और निष्कर्षों को ध्यानपूर्वक पढ़िए। आपको मानना है कि दिए गए कथन सत्य हैं चाहे वे समान्यतः ज्ञात तथ्यों से अलग प्रतीत होते हों। आपको निश्चय करना है कि कौन-सा/कौन-से निष्कर्ष तार्किक रूप से दिए गए कथनों के अनुसार है/हैं।

कथन: कुछ तस्वीरें, फूलदान हैं। सभी फूलदान, लंबे हैं। कुछ लंबे, इमारतें हैं।

निष्कर्ष I: कुछ तस्वीरें, इमारतें हैं।

निष्कर्ष II: सभी लंबे, फूलदान हैं।

- Ans**
- 1. दोनों निष्कर्ष (I) और (II) कथनों के अनुसार हैं।
 - 2. न तो निष्कर्ष (I) और न ही (II) कथनों के अनुसार है।
 - 3. केवल निष्कर्ष (I) कथनों के अनुसार है।
 - 4. केवल निष्कर्ष (II) कथनों के अनुसार है।

Question ID : 264330155915

Option 1 ID : 264330611066

Option 2 ID : 264330611065

Option 3 ID : 264330611063

Option 4 ID : 264330611064

Status : Answered

Chosen Option : 2

Q.17 दी गई श्रृंखला में प्रश्न चिन्ह '?' के स्थान पर क्या आना चाहिए?

7 41 177 721 2897 ?

- Ans**
- 1. 11601
 - 2. 12589
 - 3. 11283
 - 4. 10631

Question ID : 264330151462

Option 1 ID : 264330593477

Option 2 ID : 264330593478

Option 3 ID : 264330593476

Option 4 ID : 264330593475

Status : Answered

Chosen Option : 1

Q.18 एक निश्चित कूट भाषा में, 'LED' को '15-22-23' लिखा जाता है और 'BMW' को '25-14-4' लिखा जाता है। उस कूट भाषा में 'QUF' को कैसे लिखा जाएगा?

- Ans**
- 1. 11-5-20
 - 2. 9-5-20
 - 3. 9-4-21
 - 4. 10-6-21

Question ID : 264330155818

Option 1 ID : 264330610676

Option 2 ID : 264330610677

Option 3 ID : 264330610675

Option 4 ID : 264330610678

Status : Answered

Chosen Option : 4

Q.19 उस समुच्चय को चुनिए जिसमें संख्याएँ ठीक उसी प्रकार संबंधित हैं जिस प्रकार निम्नलिखित समुच्चयों की संख्याएँ संबंधित हैं।

(ध्यान दें: संख्याओं को उनके घटक अंकों में अलग-अलग किए बिना, पूर्ण संख्याओं पर संक्रियाएँ की जानी चाहिए। उदा. 13 - संख्या 13 पर संक्रियाएँ जैसे 13 को जोड़ना/घटाना/गुणा करना आदि किया जा सकता है। 13 को 1 और 3 में अलग-अलग करने की ओर फिर 1 और 3 पर गणितीय संक्रियाएँ करने की अनुमति नहीं है।)

(5, 35, 7)

(9, 27, 3)

- Ans**
- 1. 6, 17, 9
 - 2. 4, 10, 5
 - 3. 16, 50, 7
 - 4. 6, 42, 7

Question ID : 264330151608

Option 1 ID : 264330594062

Option 2 ID : 264330594059

Option 3 ID : 264330594061

Option 4 ID : 264330594060

Status : Answered

Chosen Option : 4

Q.20 यदि $++$ और $-$ को आपस में बदल दिया जाए तथा \times और $+$ को आपस में बदल दिया जाए तो निम्नलिखित समीकरण में (?) के स्थान पर क्या आएगा?

$$121 \times 11 + 7 - 15 + 23 = ?$$

- Ans**
- 1. 59
 - 2. 79
 - 3. 49
 - 4. 69

Question ID : 264330155675

Option 1 ID : 264330610104

Option 2 ID : 264330610105

Option 3 ID : 264330610106

Option 4 ID : 264330610103

Status : Answered

Chosen Option : 4

Section : General Awareness

Q.1 निम्नलिखित में से कौन-सा भारत के महान्यायवादी का कर्तव्य है?

- Ans**
- 1. अंतर्राष्ट्रीय संस्थाओं में भारत का प्रतिनिधित्व करना
 - 2. कानूनी मामलों पर भारत सरकार को सलाह देना
 - 3. राज्य सरकार को सलाह देना
 - 4. उच्चतम न्यायालय में न्यायाधीश के रूप में कार्य करना

Question ID : 264330161286

Option 1 ID : 264330632474

Option 2 ID : 264330632472

Option 3 ID : 264330632471

Option 4 ID : 264330632473

Status : Answered

Chosen Option : 2

Q.2 घेंघा रोग में किस ग्रन्थि के आकार में वृद्धि हो जाने के कारण गले के अगले भाग में सूजन आ जाती है?

- Ans
- 1. अधिवक्क ग्रन्थि
 - 2. पीयूष ग्रन्थि
 - 3. थाइरॉइड ग्रन्थि
 - 4. पिनियल ग्रन्थि

Question ID : 264330161073
Option 1 ID : 264330631623
Option 2 ID : 264330631625
Option 3 ID : 264330631626
Option 4 ID : 264330631624
Status : Answered
Chosen Option : 3

Q.3 निम्नलिखित में से कौन कथक केंद्र के निदेशक थे और उन्होंने 'कलाश्रम' नाम से अपना स्वयं का नृत्य विद्यालय भी शुरू किया था?

- Ans
- 1. पंडित शंभू महाराज
 - 2. पंडित अच्छन महाराज
 - 3. पंडित बिरजू महाराज
 - 4. पंडित लच्छू महाराज

Question ID : 264330155476
Option 1 ID : 264330609308
Option 2 ID : 264330609310
Option 3 ID : 264330609307
Option 4 ID : 264330609309
Status : Answered
Chosen Option : 3

Q.4 झारखंड में मवेशियों के सम्मान में _____ दिवाली के तुरंत बाद अमावस्या के अगले दिन मनाया जाता है।

- Ans
- 1. मकर (Makar)
 - 2. सोहराय (Sohrai)
 - 3. रोहिणी (Rohini)
 - 4. भगता परब (Bhagta Parab)

Question ID : 264330160837
Option 1 ID : 264330630680
Option 2 ID : 264330630679
Option 3 ID : 264330630682
Option 4 ID : 264330630681
Status : Answered
Chosen Option : 2

Q.5 भारत सरकार की दीन दयाल उपाध्याय ग्रामीण कौशल्य योजना (DDU-GKY) योजना के अंतर्गत जनसंख्या का कौन-सा आयु वर्ग शामिल है?

- Ans
- 1. 30 से 60 वर्ष
 - 2. 25 से 60 वर्ष
 - 3. 15 से 35 वर्ष
 - 4. 14 से 40 वर्ष

Question ID : 264330161576
Option 1 ID : 264330633631
Option 2 ID : 264330633632
Option 3 ID : 264330633633
Option 4 ID : 264330633634
Status : Not Answered
Chosen Option : --

Q.6 2023 का आईपीएल फाइनल मैच निम्नलिखित में से किस शहर में आयोजित किया गया था?

- Ans
- 1. मुंबई
 - 2. अहमदाबाद
 - 3. चेन्नई
 - 4. कोलकाता

Question ID : 264330161148
Option 1 ID : 264330631926
Option 2 ID : 264330631923
Option 3 ID : 264330631924
Option 4 ID : 264330631925
Status : Answered
Chosen Option : 2

Q.7 भारत के निम्नलिखित में से किस राज्य में गर्मी के मौसम में 'लू' हवा नहीं चलती है?

- Ans
- 1. पंजाब
 - 2. राजस्थान
 - 3. हरियाणा
 - 4. गोवा

Question ID : 264330161520
Option 1 ID : 264330633408
Option 2 ID : 264330633407
Option 3 ID : 264330633409
Option 4 ID : 264330633410
Status : Answered
Chosen Option : 4

Q.8 बजट घाटा क्या है?

- Ans
- 1. रक्षा व्यय के लिए आवंटित धनराशि
 - 2. व्यय पर सरकारी राजस्व की अधिकता
 - 3. राजस्व पर सरकारी व्यय की अधिकता
 - 4. समाज कल्याण कार्यक्रमों के लिए आवंटित धनराशि

Question ID : 264330157271
Option 1 ID : 264330616449
Option 2 ID : 264330616447
Option 3 ID : 264330616448
Option 4 ID : 264330616450
Status : Answered
Chosen Option : 3

Q.9 किस भारतीय संगीतकार ने 1994 में राय कूडर के साथ 'ए मीटिंग बाय द रिवर' (A Meeting by The River) के लिए ग्रैमी पुरस्कार जीता था?

- Ans
- ✓ 1. विश्व मोहन भट्ट
 - ✗ 2. रविशंकर
 - ✗ 3. हरिप्रसाद चौरसिया
 - ✗ 4. जाकिर हुसैन

Question ID : 264330155471
Option 1 ID : 264330609288
Option 2 ID : 264330609289
Option 3 ID : 264330609290
Option 4 ID : 264330609287
Status : Answered
Chosen Option : 1

Q.10 किस नृत्य के ठीक शुरू किए जाने से पहले सेवाकली (sevakali) नामक एक अभ्यास सत्र किया जाता था, जो एक मंदिर के परिसर में किया गया था?

- Ans
- ✗ 1. कथक
 - ✗ 2. ओडिसी
 - ✗ 3. कुचिपुडी
 - ✓ 4. कथकली

Question ID : 264330159054
Option 1 ID : 264330623576
Option 2 ID : 264330623575
Option 3 ID : 264330623578
Option 4 ID : 264330623577
Status : Answered
Chosen Option : 4

Q.11 यदि एक ईट पर 7 N बल लगाया जाए और वह 5 m तक गति करती है, तो किया गया कार्य कितना होगा?

- Ans
- ✗ 1. 35 Erg
 - ✗ 2. 40 J
 - ✗ 3. 25 J
 - ✓ 4. 35 J

Question ID : 264330156582
Option 1 ID : 264330613717
Option 2 ID : 264330613718
Option 3 ID : 264330613715
Option 4 ID : 264330613716
Status : Answered
Chosen Option : 4

Q.12 राजस्व व्यय क्या है?

- Ans
- 1. ऋण चुकाने पर व्यय की गई धनराशि
 - 2. परिसंपत्तियों को खरीदने पर व्यय की गई धनराशि
 - 3. सड़कों के निर्माण पर व्यय की गई धनराशि
 - 4. दिन-प्रतिदिन के सरकारी कार्यों पर व्यय की गई धनराशि

Question ID : 264330157273
Option 1 ID : 264330616457
Option 2 ID : 264330616455
Option 3 ID : 264330616456
Option 4 ID : 264330616458
Status : Answered
Chosen Option : 4

Q.13 पवित्र पर्वत 'कैलाश' भारत के किस पड़ोसी देश में स्थित है?

- Ans
- 1. बांग्लादेश
 - 2. चीन
 - 3. पाकिस्तान
 - 4. अफ़ग़ानिस्तान

Question ID : 264330161562
Option 1 ID : 264330633578
Option 2 ID : 264330633575
Option 3 ID : 264330633576
Option 4 ID : 264330633577
Status : Answered
Chosen Option : 1

Q.14 नौजवान भारत सभा के संस्थापक कौन थे?

- Ans
- 1. अजीत सिंह
 - 2. लाला लाजपत राय
 - 3. चंद्रशेखर आजाद
 - 4. भगत सिंह

Question ID : 264330162332
Option 1 ID : 264330636655
Option 2 ID : 264330636656
Option 3 ID : 264330636657
Option 4 ID : 264330636658
Status : Answered
Chosen Option : 3

Q.15 'माई स्टोरी (My Story)' किस महिला लेखिका की आत्मकथा है?

- Ans
- 1. प्रतिभारे
 - 2. अमृता प्रीतम
 - 3. कमला दास
 - 4. आशापूर्णा देवी

Question ID : 264330160964
Option 1 ID : 264330631189
Option 2 ID : 264330631188
Option 3 ID : 264330631187
Option 4 ID : 264330631190
Status : Answered
Chosen Option : 2

Q.16 निम्नलिखित में से कौन-सा मौलिक कर्तव्यों के अंतर्गत नहीं आता है?

- Ans
- 1. राष्ट्रगान का सम्मान करना
 - 2. कर का भुगतान करना
 - 3. सद्भाव को बढ़ावा देना
 - 4. वैज्ञानिक दृष्टिकोण विकसित करना

Question ID : 264330159899
Option 1 ID : 264330626944
Option 2 ID : 264330626943
Option 3 ID : 264330626945
Option 4 ID : 264330626946
Status : Answered
Chosen Option : 2

Q.17 भित्तारी मंदिर (Bhitari temple) किस राज्य में स्थित है?

- Ans
- 1. झारखंड
 - 2. बिहार
 - 3. उत्तरप्रदेश
 - 4. ओडिशा

Question ID : 264330160780
Option 1 ID : 264330630452
Option 2 ID : 264330630454
Option 3 ID : 264330630453
Option 4 ID : 264330630451
Status : Answered
Chosen Option : 4

Q.18 _____ के सिद्धियों की सांस्कृतिक विरासत लगभग 300 वर्ष पुरानी है और उनका सिद्धि धमाल नृत्य (Siddhi Dhamal dance) एक उत्कृष्ट कला शैली है।

- Ans
- 1. गुजरात
 - 2. उत्तरप्रदेश
 - 3. मध्यप्रदेश
 - 4. राजस्थान

Question ID : 264330160795
Option 1 ID : 264330630511
Option 2 ID : 264330630514
Option 3 ID : 264330630513
Option 4 ID : 264330630512
Status : Answered
Chosen Option : 2

Q.19 निम्नलिखित में से किस स्थान पर मानसून के मौसम के दौरान सबसे कम वर्षा होती है?

- Ans
- 1. मेघालय
 - 2. लेह
 - 3. असम
 - 4. केरल

Question ID : 264330157827

Option 1 ID : 264330618670

Option 2 ID : 264330618669

Option 3 ID : 264330618668

Option 4 ID : 264330618667

Status : Answered

Chosen Option : 1

Q.20 निम्नलिखित में से किस संस्थान ने खेले इंडिया यूनिवर्सिटी गेम्स के तीसरे संस्करण में अधिकतम पदक जीते?

- Ans
- 1. यूनिवर्सिटी ऑफ केरला
 - 2. गुरु नानक देव यूनिवर्सिटी
 - 3. पंजाब यूनिवर्सिटी
 - 4. जैन यूनिवर्सिटी

Question ID : 264330161134

Option 1 ID : 264330631869

Option 2 ID : 264330631868

Option 3 ID : 264330631870

Option 4 ID : 264330631867

Status : Answered

Chosen Option : 3

Q.21 अखिल भारतीय मुस्लिम लीग ने किस वर्ष देश के उत्तर-पश्चिमी और पूर्वी क्षेत्रों में मुसलमानों के लिए 'स्वतंत्र राज्य' की मांग का प्रस्ताव पेश किया था?

- Ans
- 1. 1942
 - 2. 1939
 - 3. 1941
 - 4. 1940

Question ID : 264330161740

Option 1 ID : 264330634290

Option 2 ID : 264330634287

Option 3 ID : 264330634289

Option 4 ID : 264330634288

Status : Answered

Chosen Option : 2

Q.22 निम्नलिखित में से कौन-सा उपन्यास मुल्क राज आनंद द्वारा नहीं लिखा गया है?

Ans ✓ 1. द गाइड (The Guide)

✗ 2. कुली (Coolie)

✗ 3.

प्राइवेट लाइफ ऑफ एन इंडियन प्रिंस (Private Life of an Indian Prince)

✗ 4. द स्वोर्ड एंड द सिकल (The Sword and the Sickle)

Question ID : 264330155499

Option 1 ID : 264330609401

Option 2 ID : 264330609399

Option 3 ID : 264330609402

Option 4 ID : 264330609400

Status : Not Answered

Chosen Option : --

Q.23 शुभमन गिल अपने खेल में रिकॉर्ड बनाने की वजह से चर्चा में थे। वह कौन-सा खेल खेलते हैं?

Ans ✓ 1. क्रिकेट

✗ 2. हॉकी

✗ 3. बैडमिंटन

✗ 4. शतरंज

Question ID : 264330158354

Option 1 ID : 264330620777

Option 2 ID : 264330620776

Option 3 ID : 264330620775

Option 4 ID : 264330620778

Status : Answered

Chosen Option : 1

Q.24 निम्नलिखित में से कौन एक विश्व प्रसिद्ध 'सितार' वादक है?

Ans ✗ 1. उस्ताद शफात अहमद खान (Ustad Shafaat Ahmed Khan)

✗ 2. राजरतनम पिल्लई (Rajaratnam Pillai)

✓ 3. पंडित रविशंकर (Pandit Ravi Shankar)

✗ 4. अली अहमद हुसैन (Ali Ahmad Hussain)

Question ID : 264330155509

Option 1 ID : 264330609439

Option 2 ID : 264330609441

Option 3 ID : 264330609442

Option 4 ID : 264330609440

Status : Answered

Chosen Option : 2

Q.25 वन्य जीवन (संरक्षण) संशोधन अधिनियम, 2022 वन्य जीवों और वनस्पतियों की लुप्तप्राय प्रजातियों में अंतर्राष्ट्रीय व्यापार पर कन्वेंशन (Convention on International Trade in Endangered Species of Wild Fauna and Flora - CITES) को लागू करने का प्रयास करता है। CITES के संबंध में निम्नलिखित में से कौन-सा कथन सही है?

1. CITES सरकारों के बीच एक समझौता है जो यह सुनिश्चित करता है कि जंगली जानवरों और पौधों के नमूनों के अंतर्राष्ट्रीय व्यापार से प्रजातियों के अस्तित्व को खतरा न हो।
2. CITES के तहत, पौधों और जानवरों के नमूनों को उनके विलुप्त होने के खतरे के आधार पर पांच श्रेणियों में वर्गीकृत किया गया है।
3. कन्वेंशन के तहत देशों को परमिट के माध्यम से सभी सूचीबद्ध नमूनों के व्यापार को विनियमित करना आवश्यक है।
4. यह जीवित जीवों के नमूनों के स्वायत्तीकरण को विनियमित करने का भी प्रयास करता है।

- Ans
- 1. 1, 2 और 3
 - 2. 2, 3 और 4
 - 3. 1, 2 और 4
 - 4. 1, 3 और 4

Question ID : 264330161413

Option 1 ID : 264330632979

Option 2 ID : 264330632981

Option 3 ID : 264330632982

Option 4 ID : 264330632980

Status : Answered

Chosen Option : 4

Section : English Language and Comprehension

Q.1 The following sentence has been split into four segments. Identify the segment that contains an error.

He told me / that he goes / to the market / to buy a laptop.

- Ans
- 1. that he goes
 - 2. to buy a laptop
 - 3. to the market
 - 4. He told me

Question ID : 264330151288

Option 1 ID : 264330592788

Option 2 ID : 264330592790

Option 3 ID : 264330592789

Option 4 ID : 264330592787

Status : Answered

Chosen Option : 1

Q.2 Select the most appropriate option that can substitute the underlined segment in the given sentence.

His older brothers were quite willing that he should went to sea.

- Ans
- 1. go to
 - 2. had go to
 - 3. gone to
 - 4. have gone in

Question ID : 264330153486

Option 1 ID : 264330601459

Option 2 ID : 264330601461

Option 3 ID : 264330601460

Option 4 ID : 264330601462

Status : Answered

Chosen Option : 1

Q.3 Select the most appropriate option to fill in the blank.
The tigress that was killed by the villagers was not only a man-eater, _____ a mother.

- Ans** 1. but also
 2. but
 3. but often
 4. and

Question ID : 264330152635
Option 1 ID : 264330598143
Option 2 ID : 264330598145
Option 3 ID : 264330598146
Option 4 ID : 264330598144
Status : Answered
Chosen Option : 1

Q.4 Parts of the following sentence have been underlined and given as options. Select the option that contains a misspelt word.
A piano teacher described an interesting encounter she had with a young lady who came to inquire about music lessons.

- Ans** 1. interesting
 2. inquire
 3. piano
 4. encounter

Question ID : 264330151834
Option 1 ID : 264330594964
Option 2 ID : 264330594966
Option 3 ID : 264330594963
Option 4 ID : 264330594965
Status : Answered
Chosen Option : 4

Q.5 Select the most appropriate option that can substitute the underlined segment in the given sentence. If there is no need to substitute it, select 'No improvement required'.
It is true that learning English is essential for professionals to survived the national and international competitions.

- Ans** 1. to be survive
 2. for surviving
 3. No improvement required
 4. having to survive

Question ID : 264330153536
Option 1 ID : 264330601647
Option 2 ID : 264330601648
Option 3 ID : 264330601650
Option 4 ID : 264330601649
Status : Answered
Chosen Option : 2

Q.6 Select the most appropriate meaning of the underlined idiom.
The police inspector knows the ins and outs of the murder case.

- Ans
- 1. laws
 - 2. all the witnesses
 - 3. lawyers and judges
 - 4. full details

Question ID : 264330152753
Option 1 ID : 264330598613
Option 2 ID : 264330598611
Option 3 ID : 264330598614
Option 4 ID : 264330598612
Status : Answered
Chosen Option : 4

Q.7 Select the most appropriate option that can substitute the underlined word in the following sentence.
The energetic kitten is playful after having his breakfast.

- Ans
- 1. its
 - 2. it
 - 3. it's
 - 4. it is

Question ID : 264330152575
Option 1 ID : 264330597903
Option 2 ID : 264330597904
Option 3 ID : 264330597905
Option 4 ID : 264330597906
Status : Answered
Chosen Option : 1

Q.8 Four words of the following sentence have been underlined and given as options.
Select the option that contains a spelling error.
Ozone is a reactiev gas that is not only important in protecting us from harmful ultraviolet radiation but is also a greenhouse gas and, at high smog-level concentrations, harmful to human health and vegetation.

- Ans
- 1. radiation
 - 2. reactiev
 - 3. concentrations
 - 4. vegetation

Question ID : 264330151931
Option 1 ID : 264330595340
Option 2 ID : 264330595339
Option 3 ID : 264330595341
Option 4 ID : 264330595342
Status : Answered
Chosen Option : 2

Q.9 Select the most appropriate option that can substitute the underlined segment in the given sentence. If there is no need to substitute it, select 'No substitution required'.
Many great people born in that small village.

- Ans**
- 1. was born
 - 2. were born
 - 3. is born
 - 4. No substitution required

Question ID : 264330152729
Option 1 ID : 264330598516
Option 2 ID : 264330598517
Option 3 ID : 264330598515
Option 4 ID : 264330598518
Status : Answered
Chosen Option : 2

Q.10 Select the most appropriate meaning of the given idiom.

Call it a day

- Ans**
- 1. To be very straightforward
 - 2. To stop working
 - 3. To have the greatest day ever
 - 4. To refer to something as something else

Question ID : 264330153014
Option 1 ID : 264330599630
Option 2 ID : 264330599628
Option 3 ID : 264330599627
Option 4 ID : 264330599629
Status : Answered
Chosen Option : 2

Q.11 Select the most appropriate ANTONYM of the given word.
Empathetic

- Ans**
- 1. Merciless
 - 2. Frustrated
 - 3. Charismatic
 - 4. Lonely

Question ID : 264330151915
Option 1 ID : 264330595277
Option 2 ID : 264330595278
Option 3 ID : 264330595275
Option 4 ID : 264330595276
Status : Answered
Chosen Option : 3

Q.12 The sentence given below has spelling errors. Select the sentence without spelling errors.
We can also contribute to presarvation of water bodies by not dumping our garbage in them.

- Ans**
- 1. We can also contribut to presarvation of water bodies by not dumping our garbage in them.
 - 2. We can also contribute to presarvation of water bodies by not dumpeing our garbage in them.
 - 3. We can also contribute to preservation of water bodies by not dumping our garbage in them.
 - 4. We can also contribute to presarvation of water bodies by not dumping our garbag in them.

Question ID : 264330151840
Option 1 ID : 264330594987
Option 2 ID : 264330594989
Option 3 ID : 264330594988
Option 4 ID : 264330594990
Status : Answered
Chosen Option : 3

Q.13 Parts of the following sentence have been given as options. Select the option that contains an error.
A soothe voice must convey both confidence and intimacy, qualities which can be attributed to a few key components.

- Ans**
- 1. which can be
 - 2. few key components
 - 3. convey both confidence
 - 4. A soothe voice

Question ID : 264330153615
Option 1 ID : 264330601945
Option 2 ID : 264330601946
Option 3 ID : 264330601944
Option 4 ID : 264330601943
Status : Answered
Chosen Option : 4

Q.14 The given sentence contains an error. Select the option that correctly rectifies the error.
He was carefuller while stealing the crown jewels.

- Ans**
- 1. He was more careful while stealing the crown jewels.
 - 2. He was most careful while stealing the crown jewels.
 - 3. He was carefuller while stealing the crown jewels.
 - 4. He was most carefuller while stealing the crown jewels.

Question ID : 264330152610
Option 1 ID : 264330598044
Option 2 ID : 264330598045
Option 3 ID : 264330598043
Option 4 ID : 264330598046
Status : Answered
Chosen Option : 2

Q.15 Select the most appropriate synonym of the given word.

Hesitate

- Ans
- 1. Conceal
 - 2. Recoil
 - 3. Blabber
 - 4. Falter

Question ID : 264330151878

Option 1 ID : 264330595132

Option 2 ID : 264330595131

Option 3 ID : 264330595133

Option 4 ID : 264330595134

Status : Answered

Chosen Option : 4

Q.16 The following sentence has been split into four segments. Identify the segment that contains a grammatical error.

It is commonly believed / that Democracy is / the best form / of the government.

- Ans
- 1. It is commonly believed
 - 2. that Democracy is
 - 3. of the government
 - 4. the best form

Question ID : 264330153167

Option 1 ID : 264330600227

Option 2 ID : 264330600228

Option 3 ID : 264330600230

Option 4 ID : 264330600229

Status : Answered

Chosen Option : 1

Q.17 Select the most appropriate meaning of the underlined idiom.

The executives were running around in circles, without any success.

- Ans
- 1. Suffering huge profits and losses
 - 2. Achieving maximum mileage
 - 3. Successfully accomplishing the target
 - 4. Putting efforts into something that does not give a worthwhile result

Question ID : 264330153143

Option 1 ID : 264330600134

Option 2 ID : 264330600133

Option 3 ID : 264330600132

Option 4 ID : 264330600131

Status : Answered

Chosen Option : 4

Q.18 Select the most appropriate meaning of the given idiom.
Spill the beans

- Ans 1. Behave or speak in a rash manner
 2. Things always get worse
 3. To reveal a secret information unintentionally
 4. Excellent health

Question ID : 264330153281
Option 1 ID : 264330600681
Option 2 ID : 264330600682
Option 3 ID : 264330600679
Option 4 ID : 264330600680
Status : Answered
Chosen Option : 4

Q.19 Select the most appropriate ANTONYM of the given word.
Stern

- Ans 1. Stable
 2. Lenient
 3. Profound
 4. Sincere

Question ID : 264330152678
Option 1 ID : 264330598318
Option 2 ID : 264330598317
Option 3 ID : 264330598315
Option 4 ID : 264330598316
Status : Answered
Chosen Option : 2

Q.20 Select the most appropriate option that can substitute the underlined segment in the given sentence.

He said that I have finished my work.

- Ans 1. he had finished his work
 2. he was finished his work
 3. he has finished his work
 4. I had finished my work

Question ID : 264330152707
Option 1 ID : 264330598429
Option 2 ID : 264330598427
Option 3 ID : 264330598430
Option 4 ID : 264330598428
Status : Answered
Chosen Option : 3

Comprehension:

In the following passage, some words have been deleted. Read the passage carefully and select the most appropriate option to fill in each blank.

Photosynthesis is the _____(1) used by plants, algae and some bacteria to turn sunlight into energy. The process chemically _____(2) carbon dioxide and water into food and oxygen. The chemical reaction often _____(3) on a pigment called chlorophyll, which gives plants their green colour. Photosynthesis is also the _____(4) our planet is blanketed in an oxygen-rich atmosphere. Plants absorb carbon dioxide from the _____(5) air and release water and oxygen via microscopic pores on their leaves called stomata.

SubQuestion No : 21

Q.21 Select the most appropriate option to fill in blank number 1.

- Ans 1. chaos
 2. guess
 3. process
 4. area

Question ID : 264330153499

Option 1 ID : 264330601510

Option 2 ID : 264330601509

Option 3 ID : 264330601507

Option 4 ID : 264330601508

Status : Answered

Chosen Option : 3

Comprehension:

In the following passage, some words have been deleted. Read the passage carefully and select the most appropriate option to fill in each blank.

Photosynthesis is the _____(1) used by plants, algae and some bacteria to turn sunlight into energy. The process chemically _____(2) carbon dioxide and water into food and oxygen. The chemical reaction often _____(3) on a pigment called chlorophyll, which gives plants their green colour. Photosynthesis is also the _____(4) our planet is blanketed in an oxygen-rich atmosphere. Plants absorb carbon dioxide from the _____(5) air and release water and oxygen via microscopic pores on their leaves called stomata.

SubQuestion No : 22

Q.22 Select the most appropriate option to fill in blank number 2.

- Ans 1. crates
 2. exceeds
 3. bows
 4. converts

Question ID : 264330153500

Option 1 ID : 264330601513

Option 2 ID : 264330601512

Option 3 ID : 264330601511

Option 4 ID : 264330601514

Status : Answered

Chosen Option : 4

Comprehension:

In the following passage, some words have been deleted. Read the passage carefully and select the most appropriate option to fill in each blank.

Photosynthesis is the _____(1) used by plants, algae and some bacteria to turn sunlight into energy. The process chemically _____(2) carbon dioxide and water into food and oxygen. The chemical reaction often _____(3) on a pigment called chlorophyll, which gives plants their green colour. Photosynthesis is also the _____(4) our planet is blanketed in an oxygen-rich atmosphere. Plants absorb carbon dioxide from the _____(5) air and release water and oxygen via microscopic pores on their leaves called stomata.

SubQuestion No : 23

Q.23 Select the most appropriate option to fill in blank number 3.

- Ans
- 1. wants
 - 2. hopes
 - 3. creates
 - 4. relies

Question ID : 264330153501

Option 1 ID : 264330601516

Option 2 ID : 264330601515

Option 3 ID : 264330601518

Option 4 ID : 264330601517

Status : Answered

Chosen Option : 4

Comprehension:

In the following passage, some words have been deleted. Read the passage carefully and select the most appropriate option to fill in each blank.

Photosynthesis is the _____(1) used by plants, algae and some bacteria to turn sunlight into energy. The process chemically _____(2) carbon dioxide and water into food and oxygen. The chemical reaction often _____(3) on a pigment called chlorophyll, which gives plants their green colour. Photosynthesis is also the _____(4) our planet is blanketed in an oxygen-rich atmosphere. Plants absorb carbon dioxide from the _____(5) air and release water and oxygen via microscopic pores on their leaves called stomata.

SubQuestion No : 24

Q.24 Select the most appropriate option to fill in blank number 4.

- Ans
- 1. reason
 - 2. occasion
 - 3. goal
 - 4. sense

Question ID : 264330153502

Option 1 ID : 264330601520

Option 2 ID : 264330601521

Option 3 ID : 264330601522

Option 4 ID : 264330601519

Status : Answered

Chosen Option : 1

Comprehension:

In the following passage, some words have been deleted. Read the passage carefully and select the most appropriate option to fill in each blank.

Photosynthesis is the _____(1) used by plants, algae and some bacteria to turn sunlight into energy. The process chemically _____(2) carbon dioxide and water into food and oxygen. The chemical reaction often _____(3) on a pigment called chlorophyll, which gives plants their green colour. Photosynthesis is also the _____(4) our planet is blanketed in an oxygen-rich atmosphere. Plants absorb carbon dioxide from the _____(5) air and release water and oxygen via microscopic pores on their leaves called stomata.

SubQuestion No : 25

Q.25 Select the most appropriate option to fill in blank number 5.

- Ans 1. close
 2. surrounding
 3. afar
 4. distant

Question ID : 264330153503

Option 1 ID : 264330601526

Option 2 ID : 264330601524

Option 3 ID : 264330601525

Option 4 ID : 264330601523

Status : Answered

Chosen Option : 2