

## Multi Tasking Non Technical Staff and Havaldar CBIC and CBN Examination 2023

Roll Number	
Candidate Name	
Venue Name	iON Digital Zone iDZ Kumbalgodu
Exam Date	04/09/2023
Exam Time	9:00 AM - 11:00 AM
Subject	MTS Non Tech Havaldar CBIC and CBN Examination 2023

### Section : Numerical and Mathematical Ability

**Q.1** एक उत्पादक अपने उत्पादों को एक थोक व्यापारी को बेचने पर 10% का लाभ अर्जित करता है। थोक व्यापारी इसे खुदरा विक्रेता को बेचकर 15% का लाभ अर्जित करता है। खुदरा विक्रेता इन्हें बेचकर ग्राहक से 25% का लाभ अर्जित करता है। एक वस्तु के उत्पादन की वास्तविक लागत क्या है जिसके लिए ग्राहक ₹12,650 का भुगतान करता है?

- Ans** ✓ 1. ₹8,000  
✗ 2. ₹9,000  
✗ 3. ₹7,000  
✗ 4. ₹8,500

Question ID : 264330154123

Option 1 ID : 264330603956

Option 2 ID : 264330603958

Option 3 ID : 264330603955

Option 4 ID : 264330603957

Status : Answered

Chosen Option : 1

**Q.2** 200 m और 325 m लंबी दो रेलगाड़ियां समानांतर पटरियों पर क्रमशः 78 km/h और 60 km/h की चाल से चल रही हैं। यदि वे एक ही दिशा में चल रही हों तो तेज़ रेलगाड़ी धीमी रेलगाड़ी को कितने समय (सेकंड में) में पार करेगी ?

- Ans** ✗ 1. 115  
✗ 2. 100  
✗ 3. 110  
✓ 4. 105

Question ID : 264330156233

Option 1 ID : 264330612334

Option 2 ID : 264330612331

Option 3 ID : 264330612333

Option 4 ID : 264330612332

Status : Answered

Chosen Option : 4

**Q.3** तीन मापने वाले टेप क्रमशः 64 cm, 72 cm और 96 cm लंबे हैं। वह सबसे कम लंबाई क्या है जिसे इनमें से किसी भी टेप द्वारा सटीक रूप से (cm में) मापा जा सकता है?

- Ans** ✓ 1. 576  
✗ 2. 575  
✗ 3. 570  
✗ 4. 525

Question ID : 264330155984  
Option 1 ID : 264330611336  
Option 2 ID : 264330611337  
Option 3 ID : 264330611335  
Option 4 ID : 264330611338  
Status : Answered  
Chosen Option : 1

**Q.4** जूली और राहुल एक साथ एक कमरे की पेंटिंग का काम 12 दिनों में पूरा कर सकते हैं। यदि जूली अकेले कमरे को 20 दिनों में पेंट कर सकती है, तो राहुल अकेले कमरे को पेंट करने के समान काम को कितने दिनों में पूरा कर सकता है?

- Ans** ✗ 1. 40  
✗ 2. 25  
✓ 3. 30  
✗ 4. 35

Question ID : 264330155719  
Option 1 ID : 264330610282  
Option 2 ID : 264330610279  
Option 3 ID : 264330610280  
Option 4 ID : 264330610281  
Status : Answered  
Chosen Option : 3

**Q.5** एक टीवी सेट को ₹16,800 में बेचने पर एक विक्रेता को 20% का लाभ होता है। यदि उत्पादन लागत में 20% की वृद्धि की जाती है, तो सेट का नया विक्रय मूल्य ज्ञात कीजिए ताकि 20% का लाभ हो।

- Ans** ✗ 1. ₹18,480  
✗ 2. ₹20,480  
✓ 3. ₹20,160  
✗ 4. ₹18,160

Question ID : 264330155999  
Option 1 ID : 264330611397  
Option 2 ID : 264330611396  
Option 3 ID : 264330611398  
Option 4 ID : 264330611395  
Status : Answered  
Chosen Option : 3

Q.6 P और Q अलग-अलग काम करके एक काम को क्रमशः 12 और 18 दिनों में पूरा कर सकते हैं। लेकिन वे एक दिन छोड़कर काम करते हैं और P पहले दिन काम शुरू करता है। काम को पूरा करने में कितने दिन लगेंगे?

- Ans
- ✗ 1.  $14\frac{1}{12}$
- ✗ 2. 15
- ✓ 3.  $14\frac{1}{3}$
- ✗ 4.  $14\frac{1}{4}$

Question ID : 264330154059  
Option 1 ID : 264330603702  
Option 2 ID : 264330603700  
Option 3 ID : 264330603701  
Option 4 ID : 264330603699  
Status : Answered  
Chosen Option : 3

Q.7

पांच फ़र्म द्वारा उत्पादित अंडों की संख्या:

वर्ष	फ़र्म				
	L	M	N	O	P
2019	825	925	670	740	480
2020	928	768	781	530	864
2021	765	635	922	515	940
2022	832	526	623	618	745

वर्ष 2020 में फ़र्म M और फ़र्म P द्वारा उत्पादित दर्जनों अंडों का क्रमशः अनुपात क्या है?

- Ans
- ✗ 1. 9 : 8
- ✗ 2. 4 : 3
- ✓ 3. 8 : 9
- ✗ 4. 7 : 8

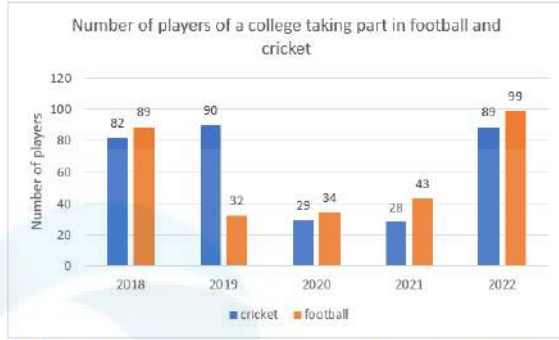
Question ID : 264330155761  
Option 1 ID : 264330610450  
Option 2 ID : 264330610449  
Option 3 ID : 264330610447  
Option 4 ID : 264330610448  
Status : Answered  
Chosen Option : 3

Q.8 एक कार डीलर 8% वार्षिक की साधारण ब्याज दर पर 2 वर्ष की अवधि के लिए एक बैंक से ₹20,000 ऋण पर लेता है। यदि वह 2 वर्ष की अवधि के अंत में पूरा ऋण चुकाता है, तो उसे कितना भुगतान करना होगा?

- Ans
- ✗ 1. ₹23,600
- ✗ 2. ₹3,200
- ✗ 3. ₹3,600
- ✓ 4. ₹23,200

Question ID : 264330156269  
Option 1 ID : 264330612476  
Option 2 ID : 264330612477  
Option 3 ID : 264330612478  
Option 4 ID : 264330612475  
Status : Answered  
Chosen Option : 4

Q.9 निम्न दंड आलेख में पांच साल में दो खेलों में भाग लेने वाले कॉलेज के खिलाड़ियों की संख्या को दर्शाया गया है।



संदर्भ: Number of players of a college taking part in football and cricket - फुटबॉल और क्रिकेट में भाग लेने वाले कॉलेज के खिलाड़ियों की संख्या, Number of players - खिलाड़ियों की संख्या, Cricket - क्रिकेट, Football - फुटबॉल

2019 और 2020 में क्रिकेट और फुटबॉल खेलने वाले खिलाड़ियों की कुल संख्या कितनी है?

- Ans
- 1. 195
  - 2. 180
  - 3. 190
  - 4. 185

Question ID : 264330154100  
Option 1 ID : 264330603865  
Option 2 ID : 264330603866  
Option 3 ID : 264330603864  
Option 4 ID : 264330603863  
Status : Answered  
Chosen Option : 4

Q.10 एक लम्ब वृत्तीय शंकु की त्रिज्या और ऊंचाई का अनुपात 3 : 4 है। यदि इसका आयतन  $301.44 \text{ m}^3$  है, तो शंकु की तिर्यक ऊंचाई ज्ञात कीजिए ( $\pi = 3.14$  का प्रयोग कीजिए)।

- Ans
- 1. 20 cm
  - 2. 5 cm
  - 3. 15 cm
  - 4. 10 cm

Question ID : 264330156370  
Option 1 ID : 264330612879  
Option 2 ID : 264330612882  
Option 3 ID : 264330612880  
Option 4 ID : 264330612881  
Status : Answered  
Chosen Option : 4

Q.11 एक कॉलेज विद्यार्थी अपनी पॉकेट मनी का 75% खर्च करता है। पॉकेट मनी में 20% की वृद्धि होने पर उसके खर्च में भी 15% की वृद्धि होती है। बचत में कितनी वृद्धि होगी।

- Ans
- 1. 55%
  - 2. 35%
  - 3. 25%
  - 4. 45%

Question ID : 264330154044  
Option 1 ID : 264330603642  
Option 2 ID : 264330603641  
Option 3 ID : 264330603640  
Option 4 ID : 264330603639  
Status : Answered  
Chosen Option : 2

Q.12 वार्षिक रूप से संयोजित किस वार्षिक ब्याज दर पर, ₹8,000 की धनराशि पर 2 वर्षों में ₹904.2 का चक्रवृद्धि ब्याज प्राप्त होगा?

- Ans
- 1. 8%
  - 2. 10%
  - 3. 5.5%
  - 4. 6%

Question ID : 264330156346  
Option 1 ID : 264330612784  
Option 2 ID : 264330612786  
Option 3 ID : 264330612785  
Option 4 ID : 264330612783  
Status : Answered  
Chosen Option : 3

Q.13  $(3+2\sqrt{2})^2$  और  $(3-2\sqrt{2})^2$  का माध्यानुपाती \_\_\_\_\_ है।

- Ans
- 1. 5
  - 2.  $3 + 2\sqrt{2}$
  - 3.  $2\sqrt{2}$
  - 4. 1

Question ID : 264330154052  
Option 1 ID : 264330603671  
Option 2 ID : 264330603674  
Option 3 ID : 264330603672  
Option 4 ID : 264330603673  
Status : Answered  
Chosen Option : 4

Q.14 सरल कीजिए।

$$108 \div 36 \times 4 + 2.5 \times 4 \div 0.5 - 10$$

- Ans
- 1. 21
  - 2. 20
  - 3. 10
  - 4. 22

Question ID : 264330156049  
Option 1 ID : 264330611597  
Option 2 ID : 264330611596  
Option 3 ID : 264330611595  
Option 4 ID : 264330611598  
Status : Answered  
Chosen Option : 4

Q.15 प्रथम 10 अभाज्य संख्याओं का औसत कितना होगा?

- Ans  1. 12.9  
 2. 13.4  
 3. 9.7  
 4. 11.9

Question ID : 264330154075  
Option 1 ID : 264330603765  
Option 2 ID : 264330603766  
Option 3 ID : 264330603764  
Option 4 ID : 264330603763  
Status : Answered  
Chosen Option : 1

Q.16 P और Q क्रमशः बिंदु A से बिंदु B तक एक ही समय पर 32 km/h और 40 km/h की चाल से चलना शुरू करते हैं। यदि यात्रा को तय करने में P को Q से 15 मिनट अधिक का समय लगता है, तो A से B की यात्रा की कुल दूरी क्या है?

- Ans  1. 32 km  
 2. 44 km  
 3. 36 km  
 4. 40 km

Question ID : 264330156366  
Option 1 ID : 264330612866  
Option 2 ID : 264330612863  
Option 3 ID : 264330612865  
Option 4 ID : 264330612864  
Status : Answered  
Chosen Option : 4

Q.17 प्रथम 69 प्राकृत संख्याओं का औसत ज्ञात कीजिए।

- Ans  1. 34  
 2. 35  
 3. 33  
 4. 36

Question ID : 264330156209  
Option 1 ID : 264330612236  
Option 2 ID : 264330612237  
Option 3 ID : 264330612235  
Option 4 ID : 264330612238  
Status : Answered  
Chosen Option : 2

**Q.18** एक मिश्रण में दूध और पानी का अनुपात 9 : 7 है। यदि इसमें दूध की मात्रा पानी से 4 लीटर अधिक है, तो मिश्रण में दूध की मात्रा (लीटर में) ज्ञात कीजिए।

- Ans**
- 1. 21
  - 2. 15
  - 3. 18
  - 4. 14

Question ID : 264330156051  
Option 1 ID : 264330611606  
Option 2 ID : 264330611605  
Option 3 ID : 264330611603  
Option 4 ID : 264330611604  
Status : Answered  
Chosen Option : 3

**Q.19** उस समबाहु त्रिभुज का क्षेत्रफल ज्ञात कीजिए, जिसकी प्रत्येक भुजा की माप 12 cm है।

- Ans**
- 1.  $\frac{36}{\sqrt{3}} \text{ cm}^2$
  - 2.  $\frac{72}{\sqrt{3}} \text{ cm}^2$
  - 3.  $3\sqrt{3} \text{ cm}^2$
  - 4.  $36\sqrt{3} \text{ cm}^2$

Question ID : 264330153893  
Option 1 ID : 264330603038  
Option 2 ID : 264330603036  
Option 3 ID : 264330603035  
Option 4 ID : 264330603037  
Status : Answered  
Chosen Option : 4

**Q.20** एक महिला तीन शेयरों में 3 : 4 : 5 के अनुपात में ₹27,600 का निवेश करती है, जो उस वर्ष के लिए उसके निवेश पर क्रमशः 20%, 15% और 5% का लाभांश देते हैं। कुल लाभांश कितना है?

- Ans**
- 1. ₹3,335
  - 2. ₹2,535
  - 3. ₹3,125
  - 4. ₹3,852

Question ID : 264330154087  
Option 1 ID : 264330603814  
Option 2 ID : 264330603811  
Option 3 ID : 264330603812  
Option 4 ID : 264330603813  
Status : Answered  
Chosen Option : 1

Q.1 यदि निम्नलिखित आकृति श्रृंखला को जारी रखना हो तो कौन-सी आकृति प्रश्न चिन्ह (?) के स्थान पर आनी चाहिए?

T	T △	△	
P □	P P	T	P ?
△△	O □ T O		

Ans

✗ 1.

O	P	T
		△

✓ 2.

□	P	T
		△

✗ 3.

	T	O
P		
		△

✗ 4.

□	P	△
		T

Question ID : 264330154758

Option 1 ID : 264330606497

Option 2 ID : 264330606498

Option 3 ID : 264330606496

Option 4 ID : 264330606495

Status : Answered

Chosen Option : 2

**Q.2** नीचे दिए गए कथनों और निष्कर्षों को ध्यानपूर्वक पढ़िए। आपको मानना है कि दिए गए कथन सत्य हैं चाहे वे समान्यतः ज्ञात तथ्यों से अलग प्रतीत होते हों। आपको निश्चय करना है कि कौन-सा/कौन-से निष्कर्ष तार्किक रूप से दिए गए कथनों के अनुसार है/हैं।

कथन: सभी कंप्यूटर, लैपटॉप हैं। कुछ लैपटॉप, भारी हैं। सभी भारी, लकड़ी हैं।

निष्कर्ष I: सभी लैपटॉप, कंप्यूटर हैं।

निष्कर्ष II: कुछ भारी, लैपटॉप हैं।

**Ans**

- ✓ 1. केवल निष्कर्ष (II) कथनों के अनुसार है।
- ✗ 2. दोनों निष्कर्ष (I) और (II) कथनों के अनुसार हैं।
- ✗ 3. केवल निष्कर्ष (I) कथनों के अनुसार है।
- ✗ 4. न तो निष्कर्ष (I) और न ही (II) कथनों के अनुसार है।

Question ID : 264330155908

Option 1 ID : 264330611036

Option 2 ID : 264330611038

Option 3 ID : 264330611035

Option 4 ID : 264330611037

Status : Answered

Chosen Option : 1

**Q.3** एक निश्चित कूट भाषा में, 'BLANCH' को '36' लिखा जाता है और 'ARAB' को '24' लिखा जाता है। उस कूट भाषा में 'CORRECT' को कैसे लिखा जाएगा?

**Ans**

- ✓ 1. 42
- ✗ 2. 41
- ✗ 3. 39
- ✗ 4. 40

Question ID : 264330155825

Option 1 ID : 264330610703

Option 2 ID : 264330610704

Option 3 ID : 264330610706

Option 4 ID : 264330610705

Status : Answered

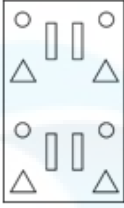
Chosen Option : 1

**Q.4** निम्नलिखित आकृतियों में एक कागज़ के टुकड़े को मोड़ने के क्रम और मुड़े हुए कागज़ को काटने के तरीके को दर्शाया गया है। खोलने पर यह कागज़ केसा दिखाई देगा?

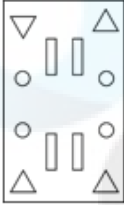


**Ans**

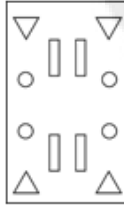
✗ 1.



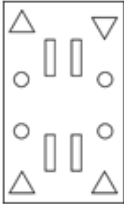
✗ 2.



✓ 3.



✗ 4.



Question ID : 264330155607

Option 1 ID : 264330609834

Option 2 ID : 264330609832

Option 3 ID : 264330609831

Option 4 ID : 264330609833

Status : Answered

Chosen Option : 3

**Q.5** यदि शब्द 'BACHELOR' के प्रत्येक अक्षर को अंग्रेज़ी वर्णमाला के क्रम में व्यवस्थित किया जाए तो कितने अक्षरों का स्थान अपरिवर्तित रहेगा?

**Ans** ✓ 1. चार

✗ 2. एक

✗ 3. पांच

✗ 4. दो

Question ID : 264330154324

Option 1 ID : 264330604760

Option 2 ID : 264330604759

Option 3 ID : 264330604761

Option 4 ID : 264330604762

Status : Answered

Chosen Option : 1

Q.6 अंग्रेजी वर्णमाला क्रम के आधार पर दी गई श्रृंखला में प्रश्न चिह्न '?' के स्थान पर कौन-सा अक्षर-समूह आना चाहिए?

EMT, ILX, MKB, QJF, ?

- Ans
- 1. UHL
  - 2. VHK
  - 3. VJL
  - 4. UIJ

Question ID : 264330156300

Option 1 ID : 264330612599

Option 2 ID : 264330612601

Option 3 ID : 264330612600

Option 4 ID : 264330612602

Status : Answered

Chosen Option : 4

Q.7 अंग्रेजी वर्णमाला क्रम के आधार पर दी गई श्रृंखला में प्रश्न चिह्न (?) के स्थान पर क्या आना चाहिए?

NBE, JXA, FTW, BPS, ?

- Ans
- 1. YMN
  - 2. YNP
  - 3. XLO
  - 4. XMP

Question ID : 264330155771

Option 1 ID : 264330610488

Option 2 ID : 264330610487

Option 3 ID : 264330610489

Option 4 ID : 264330610490

Status : Answered

Chosen Option : 3

Q.8 दी गई आकृति के उस सही दर्पण प्रतिबिंब को चुनिए, जो नीचे दर्शाए गए अनुसार दर्पण को MN पर रखने पर बनेगा।



- Ans
- 1. y R 4 6 h K a
  - 2. a K 6 h R y
  - 3. a K h R y
  - 4. y R 4 6 h K a

Question ID : 264330151528

Option 1 ID : 264330593742

Option 2 ID : 264330593739

Option 3 ID : 264330593741

Option 4 ID : 264330593740

Status : Answered

Chosen Option : 4

Q.9 दी गई श्रृंखला में प्रश्न चिन्ह '?' के स्थान पर क्या आना चाहिए?

5 15 35 75 155 ?

- Ans
- ✗ 1. 335
  - ✗ 2. 305
  - ✗ 3. 325
  - ✓ 4. 315

Question ID : 264330151456

Option 1 ID : 264330593454

Option 2 ID : 264330593451

Option 3 ID : 264330593453

Option 4 ID : 264330593452

Status : Answered

Chosen Option : 4

Q.10 नीचे दिए गए कथनों और निष्कर्षों को ध्यानपूर्वक पढ़िए। आपको मानना है कि दिए गए कथन सत्य हैं चाहे वे समान्यतः ज्ञात तथ्यों से अलग प्रतीत होते हों। आपको निश्चय करना है कि कौन-सा/कौन-से निष्कर्ष तार्किक रूप से दिए गए कथनों के अनुसार है/हैं।

कथन: सभी रस्सियाँ, काटे हैं। कुछ काटे, चम्मचे हैं। कुछ चम्मचे, चॉपस्टिक हैं।

निष्कर्ष I: कुछ रस्सियाँ, चम्मचे हैं।

निष्कर्ष II: सभी काटे, चॉपस्टिक्स हैं।

- Ans
- ✗ 1. केवल निष्कर्ष (I) कथनों के अनुसार है।
  - ✗ 2. दोनों निष्कर्ष (I) और (II) कथनों के अनुसार हैं।
  - ✗ 3. केवल निष्कर्ष (II) कथनों के अनुसार है।
  - ✓ 4. न तो निष्कर्ष (I) और न ही (II) कथनों के अनुसार है।

Question ID : 264330155927

Option 1 ID : 264330611111

Option 2 ID : 264330611114

Option 3 ID : 264330611112

Option 4 ID : 264330611113

Status : Answered

Chosen Option : 4

**Q.11** निम्नलिखित संख्या-युग्मों में, पहली संख्या पर कुछ गणितीय संक्रियाएँ करके दूसरी संख्या प्राप्त की जाती है। उस समुच्चय को चुनिए जिसमें संख्याएँ ठीक उसी प्रकार संबंधित हैं जिस प्रकार निम्नलिखित समुच्चयों की संख्याएँ संबंधित हैं।

(ध्यान दें: संख्याओं को उनके घटक अंकों में अलग-अलग किए बिना, पूर्ण संख्याओं पर संक्रियाएँ की जानी चाहिए। उदा. 13 – संख्या 13 पर संक्रियाएँ जैसे 13 को जोड़ना/घटाना/गुणा करना आदि किया जा सकता है। 13 को 1 और 3 में अलग-अलग करने की ओर फिर 1 और 3 पर गणितीय संक्रियाएँ करने की अनुमति नहीं है।)

5, 128

9, 732

- Ans**
- 1. 5, 50
  - 2. 2, 13
  - 3. 3, 30
  - 4. 4, 46

Question ID : 264330151620

Option 1 ID : 264330594110

Option 2 ID : 264330594107

Option 3 ID : 264330594108

Option 4 ID : 264330594109

Status : Answered

Chosen Option : 3

**Q.12** यदि '+' और '-' को आपस में बदल दिया जाए तथा '×' और '÷' को आपस में बदल दिया जाए तो निम्नलिखित समीकरण में (?) के स्थान पर क्या आएगा?

$$729 \times 81 - 96 + 13 + 8 = ?$$

- Ans**
- 1. 1
  - 2. 9
  - 3. 11
  - 4. 8

Question ID : 264330155680

Option 1 ID : 264330610124

Option 2 ID : 264330610125

Option 3 ID : 264330610123

Option 4 ID : 264330610126

Status : Answered

Chosen Option : 1

**Q.13** निम्नलिखित संख्या-युग्मों में, पहली संख्या पर कुछ गणितीय संक्रियाएँ करके दूसरी संख्या प्राप्त की जाती है। उस समुच्चय को चुनिए जिसमें संख्याएँ ठीक उसी प्रकार संबंधित हैं जिस प्रकार निम्नलिखित समुच्चयों की संख्याएँ संबंधित हैं।

(ध्यान दें: संख्याओं को उनके घटक अंकों में अलग-अलग किए बिना, पूर्ण संख्याओं पर संक्रियाएँ की जानी चाहिए। उदा. 13 – संख्या 13 पर संक्रियाएँ जैसे 13 को जोड़ना/घटाना/गुणा करना आदि किया जा सकता है। 13 को 1 और 3 में अलग-अलग करने की ओर फिर 1 और 3 पर गणितीय संक्रियाएँ करने की अनुमति नहीं है।)

8 : 50

4 : 30

- Ans**
- 1. 5 : 8
  - 2. 7 : 45
  - 3. 20 : 40
  - 4. 6 : 20

Question ID : 264330154646

Option 1 ID : 264330606049

Option 2 ID : 264330606047

Option 3 ID : 264330606050

Option 4 ID : 264330606048

Status : Answered

Chosen Option : 4

Q.14 यदि '+' और '-' को आपस में बदल दिया जाए तथा 'x' और '÷' को आपस में बदल दिया जाए तो निम्नलिखित समीकरण में (?) के स्थान पर क्या आएगा?  
 $39 \div 5 + 8 - 99 \times 9 = ?$

- Ans  1. 198  
 2. 158  
 3. 178  
 4. 168

Question ID : 264330154614  
Option 1 ID : 264330605922  
Option 2 ID : 264330605919  
Option 3 ID : 264330605921  
Option 4 ID : 264330605920  
Status : Answered  
Chosen Option : 1

Q.15 दी गई श्रृंखला में प्रश्न चिन्ह '?' के स्थान पर क्या आना चाहिए?

16 110 ? 5374 37616 263310 1843168

- Ans  1. 768  
 2. 792  
 3. 804  
 4. 800

Question ID : 264330151481  
Option 1 ID : 264330593551  
Option 2 ID : 264330593552  
Option 3 ID : 264330593554  
Option 4 ID : 264330593553  
Status : Answered  
Chosen Option : 1

Q.16 छः व्यक्ति, करण, दिलीप, राहुल, प्रभात, आलोक और संदीप एक सीधी पंक्ति में उत्तर की ओर मुख करके बैठे हैं। करण बाईं ओर के छोर से दूसरे स्थान पर बैठा है। दिलीप, करण के दाईं ओर से तीसरे स्थान पर बैठा है। राहुल, दिलीप के बाईं ओर दूसरे स्थान पर बैठा है। प्रभात, राहुल के दाईं ओर से तीसरे स्थान पर बैठा है। संदीप प्रभात के बाईं ओर से दूसरे स्थान पर बैठा है। करण के दाईं ओर से दूसरे स्थान पर कौन बैठा है?

- Ans  1. आलोक  
 2. राहुल  
 3. संदीप  
 4. प्रभात

Question ID : 264330161848  
Option 1 ID : 264330634719  
Option 2 ID : 264330634720  
Option 3 ID : 264330634721  
Option 4 ID : 264330634722  
Status : Answered  
Chosen Option : 3

Q.17 अंग्रेजी वर्णमाला क्रम के आधार पर DKJE, IPOJ से एक निश्चित प्रकार से संबंधित है। उसी प्रकार, GTSM, LYXR से संबंधित है। समान तर्क का अनुसरण करते हुए, RBNF निम्नलिखित में से किससे संबंधित है?

- Ans  1. WGSK  
 2. XERJ  
 3. VGQI  
 4. WEQK

Question ID : 264330151656  
Option 1 ID : 264330594253  
Option 2 ID : 264330594254  
Option 3 ID : 264330594252  
Option 4 ID : 264330594251  
Status : Answered  
Chosen Option : 1

Q.18 दी गई श्रृंखला में प्रश्न चिन्ह '?' के स्थान पर क्या आना चाहिए?

4 22 112 562 2812 ?

- Ans  1. 13684  
 2. 13423  
 3. 13948  
 4. 14062

Question ID : 264330151464  
Option 1 ID : 264330593484  
Option 2 ID : 264330593483  
Option 3 ID : 264330593485  
Option 4 ID : 264330593486  
Status : Answered  
Chosen Option : 4

Q.19 अंग्रेजी वर्णमाला क्रम के आधार पर दी गई श्रृंखला में प्रश्न चिह्न (?) के स्थान पर क्या आना चाहिए?

MAG, QXE, UUC, YRA, ?

- Ans  1. DMX  
 2. DNY  
 3. COY  
 4. CNX

Question ID : 264330155806  
Option 1 ID : 264330610628  
Option 2 ID : 264330610629  
Option 3 ID : 264330610627  
Option 4 ID : 264330610630  
Status : Answered  
Chosen Option : 3

Q.20 एक निश्चित कूट भाषा में, 'COIN' को '9735' लिखा जाता है और 'ONCE' को '3459' लिखा जाता है। उसी कूट भाषा में 'E' को कैसे लिखा जाएगा?

- Ans
- 1. 4
  - 2. 9
  - 3. 5
  - 4. 3

Question ID : 264330151693  
Option 1 ID : 264330594399  
Option 2 ID : 264330594401  
Option 3 ID : 264330594402  
Option 4 ID : 264330594400  
Status : Answered  
Chosen Option : 1

Section : General Awareness

Q.1 दिए गए विकल्पों में से कौन-सा विकल्प प्रतिध्वनि उत्पन्न करता है?

- Ans
- 1. जब ध्वनि तरंगों किसी ठोस माध्यम से होकर गुजरती हैं
  - 2. जब ध्वनि तरंगों निर्वात से होकर गुजरती हैं
  - 3. जब ध्वनि परावर्तित होती है
  - 4. जब ध्वनि तरंगों किसी तरल माध्यम से होकर गुजरती हैं

Question ID : 264330157786  
Option 1 ID : 264330618505  
Option 2 ID : 264330618503  
Option 3 ID : 264330618506  
Option 4 ID : 264330618504  
Status : Answered  
Chosen Option : 3

Q.2 गेटो सोरा (Geto Sora) ने एरेना जूनियर (बॉयज़) इंटरनेशनल बैडमिंटन चैम्पियनशिप (Arena Junior (Boys) International Badminton Championship) जीती। वह किस राज्य से हैं?

- Ans
- 1. मेघालय
  - 2. सिक्किम
  - 3. मिजोरम
  - 4. अरुणाचल प्रदेश

Question ID : 264330158369  
Option 1 ID : 264330620835  
Option 2 ID : 264330620838  
Option 3 ID : 264330620837  
Option 4 ID : 264330620836  
Status : Not Answered  
Chosen Option : --

Q.3 कालिदास सम्मान \_\_\_\_\_ की सरकार द्वारा प्रतिवर्ष प्रदान किया जाने वाला एक प्रतिष्ठित कला पुरस्कार है।

- Ans
- 1. कर्नाटक
  - 2. केरल
  - 3. राजस्थान
  - 4. मध्यप्रदेश

Question ID : 264330161911  
Option 1 ID : 264330634972  
Option 2 ID : 264330634971  
Option 3 ID : 264330634974  
Option 4 ID : 264330634973  
Status : Answered  
Chosen Option : 1

Q.4 निम्नलिखित में से कौन-सी मुद्रा की विशेषता नहीं है?

- Ans
- 1. भाजकत्व (Divisibility)
  - 2. स्थायित्व (Durability)
  - 3. नश्वरता (Perishability)
  - 4. सुवाह्यता (Portability)

Question ID : 264330157303  
Option 1 ID : 264330616577  
Option 2 ID : 264330616575  
Option 3 ID : 264330616578  
Option 4 ID : 264330616576  
Status : Answered  
Chosen Option : 3

Q.5 निम्नलिखित में से कौन-सा राज्य 37वें राष्ट्रीय खेलों की मेजबानी करेगा?

- Ans
- 1. कर्नाटक
  - 2. ओडिशा
  - 3. गोवा
  - 4. आंध्र प्रदेश

Question ID : 264330161150  
Option 1 ID : 264330631931  
Option 2 ID : 264330631934  
Option 3 ID : 264330631933  
Option 4 ID : 264330631932  
Status : Not Answered  
Chosen Option : --

Q.6 बाल विवाह निषेध अधिनियम (Child Marriage Restraint Act ) निम्नलिखित में से किस वर्ष पारित किया गया था?

- Ans
- 1. 1939
  - 2. 1949
  - 3. 1950
  - 4. 1929

Question ID : 264330161751  
Option 1 ID : 264330634332  
Option 2 ID : 264330634333  
Option 3 ID : 264330634334  
Option 4 ID : 264330634331  
Status : Not Answered  
Chosen Option : --

Q.7 'बॉर्न अगेन ऑन द माउंटेन: ए स्टोरी ऑफ लूजिंग एवरीथिंग एंड फाइंडिंग इट बैक' (Born Again on the Mountain: a story of losing everything and finding it back) किसकी आत्मकथा का शीर्षक है?

- Ans
- 1. बचंदरी पाल
  - 2. डिकी डोल्मा
  - 3. अरुणिमा सिन्हा
  - 4. संतोष यादव

Question ID : 264330155451  
Option 1 ID : 264330609207  
Option 2 ID : 264330609209  
Option 3 ID : 264330609208  
Option 4 ID : 264330609210  
Status : Answered  
Chosen Option : 3

Q.8 8 अप्रैल 1929 को निम्नलिखित में से किन दो क्रांतिकारियों ने केंद्रीय विधान सभा (Central Legislative Assembly) में बम फेंका था?

- Ans
- 1. भगत सिंह और राम प्रसाद बिस्मिल
  - 2. भगत सिंह और सुखदेव
  - 3. भगत सिंह और राजगुरु
  - 4. भगत सिंह और बटुकेश्वर दत्त

Question ID : 264330161746  
Option 1 ID : 264330634312  
Option 2 ID : 264330634314  
Option 3 ID : 264330634313  
Option 4 ID : 264330634311  
Status : Answered  
Chosen Option : 4

Q.9 राज्य चुनाव आयुक्त की नियुक्ति कौन करता है?

- Ans
- 1. मुख्यमंत्री
  - 2. राज्यपाल
  - 3. महाधिवक्ता
  - 4. अध्यक्ष

Question ID : 264330159924  
Option 1 ID : 264330627044  
Option 2 ID : 264330627043  
Option 3 ID : 264330627046  
Option 4 ID : 264330627045  
Status : Answered  
Chosen Option : 2

Q.10 भारत में, सूक्ष्म वित्त संस्थान मुख्य रूप से जनसंख्या के किस वर्ग को लक्षित करते हैं?

- Ans
- 1. आप्रवासी भारतीय (NRIs)
  - 2. कम आय वाले व्यक्ति और छोटे व्यवसाय
  - 3. उच्च आय वाले व्यक्ति
  - 4. बड़े निगम

Question ID : 264330157287  
Option 1 ID : 264330616514  
Option 2 ID : 264330616513  
Option 3 ID : 264330616511  
Option 4 ID : 264330616512  
Status : Answered  
Chosen Option : 2

Q.11 ICC 2023 ODI क्रिकेट विश्व कप में कितने देश भाग लेंगे?

- Ans
- 1. 8
  - 2. 6
  - 3. 10
  - 4. 12

Question ID : 264330158226  
Option 1 ID : 264330620264  
Option 2 ID : 264330620263  
Option 3 ID : 264330620265  
Option 4 ID : 264330620266  
Status : Answered  
Chosen Option : 3

Q.12 पूर्वी भारत में फैले कई आदिवासी समुदायों में साल के पेड़ का बहुत महत्व है। उदाहरण के लिए, \_\_\_\_\_ त्योहार झारखंड में पेड़ के सम्मान में मनाया जाता है।

- Ans
- 1. टुसु परब (Tusu Parab)
  - 2. सरहुल (Sarhul)
  - 3. करमा (Karma)
  - 4. सोहराय (Sohrai)

Question ID : 264330160836  
Option 1 ID : 264330630678  
Option 2 ID : 264330630676  
Option 3 ID : 264330630677  
Option 4 ID : 264330630675  
Status : Not Answered  
Chosen Option : --

Q.13 'विंस ऑफ फायर' किसकी आत्मकथा है?

- Ans
- 1. इंदिरा गांधी
  - 2. ए. पी. जे. अब्दुल कलाम
  - 3. रतन टाटा
  - 4. सुभाष चंद्र बोस

Question ID : 264330155491  
Option 1 ID : 264330609369  
Option 2 ID : 264330609367  
Option 3 ID : 264330609370  
Option 4 ID : 264330609368  
Status : Answered  
Chosen Option : 2

Q.14 भारत में राष्ट्रीय जलमार्ग-2 (NW-2) किस नदी पर विकसित किया गया है?

- Ans
- 1. ब्रह्मपुत्र
  - 2. गंगा
  - 3. नर्मदा
  - 4. कृष्णा

Question ID : 264330161512  
Option 1 ID : 264330633377  
Option 2 ID : 264330633378  
Option 3 ID : 264330633375  
Option 4 ID : 264330633376  
Status : Answered  
Chosen Option : 2

Q.15 भारतीय संविधान का \_\_\_\_\_ भारतीय नागरिकों के मौलिक कर्तव्यों को परिभाषित करता है।

- Ans
- 1. अनुच्छेद 51A
  - 2. अनुच्छेद 41B
  - 3. अनुच्छेद 21A
  - 4. अनुच्छेद 49C

Question ID : 264330162245  
Option 1 ID : 264330636310  
Option 2 ID : 264330636308  
Option 3 ID : 264330636307  
Option 4 ID : 264330636309  
Status : Answered  
Chosen Option : 1

Q.16 निम्नलिखित में से उस छउ नर्तक/ नर्तकी की पहचान कीजिए, जिसे संगीत नाटक अकादमी पुरस्कार-2021 (फरवरी 2023 में दिया गया)से सम्मानित किया गया?

- Ans
- 1. कुमकुम धर
  - 2. रवीन्द्र अतिबुद्धि
  - 3. भारती विठ्ठल
  - 4. भुवन कुमार

Question ID : 264330155519  
Option 1 ID : 264330609480  
Option 2 ID : 264330609482  
Option 3 ID : 264330609481  
Option 4 ID : 264330609479  
Status : Not Answered  
Chosen Option : --

Q.17 निम्नलिखित में से कौन-सी झील खारे पानी की झील है?

- Ans
- 1. सुपीरियर (Superior)
  - 2. चिल्का (Chilika)
  - 3. टिटिकाका (Titicaca)
  - 4. मलावी (Malawi)

Question ID : 264330161325  
Option 1 ID : 264330632628  
Option 2 ID : 264330632627  
Option 3 ID : 264330632630  
Option 4 ID : 264330632629  
Status : Answered  
Chosen Option : 2

Q.18 पद्म श्री पुरस्कार विजेता गुरु के. कल्याणसुंदरम पिल्लई, वह व्यक्ति जो एक प्राचीन परंपरा को जीवित रख रहे हैं, को \_\_\_\_\_ के क्षेत्र में उनके योगदान के लिए पद्म श्री 2023 से सम्मानित किया गया था।

- Ans
- 1. मोहिनीअट्टम
  - 2. भरतनाट्यम
  - 3. कथकली
  - 4. कुचिपुड़ी

Question ID : 264330160805  
Option 1 ID : 264330630552  
Option 2 ID : 264330630553  
Option 3 ID : 264330630554  
Option 4 ID : 264330630551  
Status : Answered  
Chosen Option : 1

Q.19 भारत की जनगणना 2011 के अनुसार, उन राज्य और केंद्र शासित प्रदेशों की सही जोड़ी की पहचान कीजिए जिन्होंने उच्चतम साक्षरता दर दर्ज की है।

- Ans  1. केरल और लक्षद्वीप  
 2. मिजोरम और लक्षद्वीप  
 3. गोवा और पुडुचेरी  
 4. केरल और चंडीगढ़

Question ID : 264330161558  
Option 1 ID : 264330633560  
Option 2 ID : 264330633559  
Option 3 ID : 264330633562  
Option 4 ID : 264330633561  
Status : Answered  
Chosen Option : 4

Q.20 निम्नलिखित में से किस भारतीय संगीतकार को 'गज़ल सम्राट' कहा जाता था?

- Ans  1. पंकज उधस (Pankaj Udhas)  
 2. मेहदी हसन (Mehdi Hassan)  
 3. गुलाम अली (Ghulam Ali)  
 4. जगजीत सिंह (Jagjit Singh)

Question ID : 264330161774  
Option 1 ID : 264330634425  
Option 2 ID : 264330634423  
Option 3 ID : 264330634424  
Option 4 ID : 264330634426  
Status : Answered  
Chosen Option : 4

Q.21 हिमाचल प्रदेश सरकार द्वारा डेयरी किसानों के लिए शुरू की गई योजना का नाम क्या है?

- Ans  1. दूध और धन  
 2. दुग्ध धन  
 3. संजीवनी  
 4. पशु पोषण

Question ID : 264330158327  
Option 1 ID : 264330620670  
Option 2 ID : 264330620669  
Option 3 ID : 264330620668  
Option 4 ID : 264330620667  
Status : Not Answered  
Chosen Option : --

Q.22 बंगाल की खाड़ी में स्थित विश्व का सबसे बड़ा डेल्टा सुंदरवन किस प्रकार की वनस्पति को दर्शाता है?

- Ans  1. उष्णकटिबंधीय कांटेदार वन  
 2. पर्वतीय वन  
 3. मैंग्रोव वन  
 4. अर्ध सदाबहार वन

Question ID : 264330160994  
Option 1 ID : 264330631310  
Option 2 ID : 264330631309  
Option 3 ID : 264330631308  
Option 4 ID : 264330631307  
Status : Answered  
Chosen Option : 3

Q.23 \_\_\_\_\_ की दो परंपराएं हैं: एक है संकीर्तन (जो भक्ति पहलू है) और दूसरा है रास।

- Ans
- 1. छउ
  - 2. ओडिसी
  - 3. मणिपुरी नृत्य
  - 4. सत्रिय

Question ID : 264330160791  
Option 1 ID : 264330630497  
Option 2 ID : 264330630495  
Option 3 ID : 264330630498  
Option 4 ID : 264330630496  
Status : Answered  
Chosen Option : 2

Q.24 डॉ. भूपेन्द्र कुमार हजारिका ने 2019 में \_\_\_\_\_ के क्षेत्र में भारत रत्न पुरस्कार जीता।

- Ans
- 1. साहित्य
  - 2. विज्ञान
  - 3. संगीत
  - 4. खेल

Question ID : 264330155506  
Option 1 ID : 264330609428  
Option 2 ID : 264330609427  
Option 3 ID : 264330609429  
Option 4 ID : 264330609430  
Status : Answered  
Chosen Option : 3

Q.25 अरब सागर में मुंबई उच्च क्षेत्र (Mumbai High region) \_\_\_\_\_ खनन के लिए जाना जाता है।

- Ans
- 1. कोयला
  - 2. यूरेनियम
  - 3. खनिज तेल
  - 4. तांबा

Question ID : 264330161526  
Option 1 ID : 264330633434  
Option 2 ID : 264330633431  
Option 3 ID : 264330633433  
Option 4 ID : 264330633432  
Status : Answered  
Chosen Option : 3

Q.1 Select the most appropriate ANTONYM of the given word.  
Wisdom

- Ans  1. Experience  
 2. Modesty  
 3. Stupidity  
 4. Intelligence

Question ID : 264330152657  
Option 1 ID : 264330598233  
Option 2 ID : 264330598234  
Option 3 ID : 264330598232  
Option 4 ID : 264330598231  
Status : Answered  
Chosen Option : 3

Q.2 Select the most appropriate ANTONYM of the word given in brackets to fill in the blank.  
The doctor said that the patient named Rumi is in the \_\_\_\_\_(initial) stage of lung cancer.

- Ans  1. outermost  
 2. innermost  
 3. terminal  
 4. early

Question ID : 264330152695  
Option 1 ID : 264330598385  
Option 2 ID : 264330598383  
Option 3 ID : 264330598386  
Option 4 ID : 264330598384  
Status : Answered  
Chosen Option : 3

Q.3 Select the most appropriate idiom from the given options to fill in the blank.  
We broke the traffic rules unknowingly while coming back from the party, now we have to \_\_\_\_\_ sooner or later.

- Ans  1. face the music  
 2. cry for the moon  
 3. bid defiance  
 4. look sharp

Question ID : 264330152687  
Option 1 ID : 264330598354  
Option 2 ID : 264330598351  
Option 3 ID : 264330598352  
Option 4 ID : 264330598353  
Status : Answered  
Chosen Option : 1

Q.4 Select the most appropriate meaning of the underlined idiom.  
My friend's business has grown by leaps and bounds.

- Ans
- 1. aimlessly
  - 2. rapidly
  - 3. perfectly
  - 4. slowly

Question ID : 264330152751  
Option 1 ID : 264330598606  
Option 2 ID : 264330598603  
Option 3 ID : 264330598605  
Option 4 ID : 264330598604  
Status : Answered  
Chosen Option : 2

Q.5 Select the most appropriate option that can substitute the underlined segment in the given sentence.  
Peer pressure is bound to effect most of us both positively and negatively.

- Ans
- 1. to prompt most of us
  - 2. to invoke most of us
  - 3. to impede most of us
  - 4. to affect most of us

Question ID : 264330151809  
Option 1 ID : 264330594864  
Option 2 ID : 264330594865  
Option 3 ID : 264330594866  
Option 4 ID : 264330594863  
Status : Answered  
Chosen Option : 4

Q.6 Parts of the following sentence have been underlined and given as options. Select the option that contains an error.

If he will come early, we will leave on time.

- Ans
- 1. If he
  - 2. will come
  - 3. we will
  - 4. on time

Question ID : 264330144888  
Option 1 ID : 264330567807  
Option 2 ID : 264330567808  
Option 3 ID : 264330567809  
Option 4 ID : 264330567810  
Status : Answered  
Chosen Option : 2

Q.7 Select the most appropriate meaning of the underlined idiom in the following sentence.

I ordered a dozen doughnuts, but the kind baker gave me a baker's dozen.

- Ans
- 1. A group of 12 bakers
  - 2. A group of 12
  - 3. A group of 13
  - 4. A group of 12 bakery items

Question ID : 264330153076

Option 1 ID : 264330599870

Option 2 ID : 264330599868

Option 3 ID : 264330599867

Option 4 ID : 264330599869

Status : Answered

Chosen Option : 1

Q.8 Select the most appropriate option to fill in the blank.  
He generally avoids arguments as he is \_\_\_\_\_ by nature.

- Ans
- 1. reliable
  - 2. peaceful
  - 3. quick-minded
  - 4. questionable

Question ID : 264330153549

Option 1 ID : 264330601698

Option 2 ID : 264330601696

Option 3 ID : 264330601695

Option 4 ID : 264330601697

Status : Answered

Chosen Option : 1

Q.9 Select the most appropriate option that can substitute the underlined segment in the given sentence. If there is no need to substitute it, select 'No substitution required'.  
The pandemic has challenged education systems to ensure learning continuity, substantially increasing the demands placed on teachers.

- Ans
- 1. education systems to ensuring learning
  - 2. education systems for ensure learning
  - 3. education systems in ensure learning
  - 4. No substitution required

Question ID : 264330151901

Option 1 ID : 264330595219

Option 2 ID : 264330595221

Option 3 ID : 264330595220

Option 4 ID : 264330595222

Status : Answered

Chosen Option : 2

Q.10 Select the INCORRECTLY spelt word.

- Ans
- 1. Adopt
  - 2. Advertisement
  - 3. Container
  - 4. Contantment

Question ID : 264330152945  
Option 1 ID : 264330599360  
Option 2 ID : 264330599359  
Option 3 ID : 264330599362  
Option 4 ID : 264330599361  
Status : Answered  
Chosen Option : 4

Q.11 Select the option that will improve the underlined part of the given sentence. In case no improvement is needed, select 'No improvement required'.  
Jack being the wiser and bolder among the two of us, took the lead, carrying the axe on his shoulder.

- Ans
- 1. bolder between
  - 2. boldest between
  - 3. boldest among
  - 4. No improvement required

Question ID : 264330153199  
Option 1 ID : 264330600356  
Option 2 ID : 264330600357  
Option 3 ID : 264330600355  
Option 4 ID : 264330600358  
Status : Answered  
Chosen Option : 1

Q.12 Parts of the following sentence have been underlined and given as options. Select the option that contains an error.

They had two bedrooms among them, one for the girls and one for the boys.

- Ans
- 1. bedrooms among
  - 2. had two
  - 3. them, one for
  - 4. girls and one

Question ID : 264330153210  
Option 1 ID : 264330600402  
Option 2 ID : 264330600400  
Option 3 ID : 264330600399  
Option 4 ID : 264330600401  
Status : Answered  
Chosen Option : 1

**Q.13 Select the sentence that has NO spelling errors.**

- Ans**  1. The teacher was impressed with the student's insightfull analysis of the novel, which demonstrated a deep understanding of the complex theames and motifs.
2. The teacher was impressed with the student's insightul analysis of the novel, which demonstrated a deep understanding of the complex themes and motifs.
3. The teacher was impressed with the student's insightful analysis of the novel, which demonstrated a deep understanding of the complex themes and motifs.
4. The teacher was impressed with the student's insightful analysis of the novel, which demonstrated a deep understanding of the complex themes and motifs.

Question ID : 264330152650  
Option 1 ID : 264330598205  
Option 2 ID : 264330598204  
Option 3 ID : 264330598206  
Option 4 ID : 264330598203  
Status : Answered  
Chosen Option : 3

**Q.14 Select the option that can be used as a one-word substitute for the given group of words.**

To go away suddenly and secretly in order to escape from somewhere

- Ans**  1. Excavate
2. Abscond
3. Vanish
4. Extradite

Question ID : 264330151871  
Option 1 ID : 264330595103  
Option 2 ID : 264330595106  
Option 3 ID : 264330595104  
Option 4 ID : 264330595105  
Status : Answered  
Chosen Option : 1

**Q.15 Select the INCORRECTLY spelt word.**

- Ans**  1. Argument
2. Amateur
3. Writting
4. Beginning

Question ID : 264330152646  
Option 1 ID : 264330598190  
Option 2 ID : 264330598188  
Option 3 ID : 264330598187  
Option 4 ID : 264330598189  
Status : Answered  
Chosen Option : 3

Q.16 Select the most appropriate meaning of the underlined idiom in the following sentence.

Tim joined the family business as he failed in his final degree examination. Seeing the growth of the family business now, it seems like Tim's earlier failure was a blessing in disguise.

- Ans
- 1. Something good that isn't recognised at first
  - 2. A difficult time
  - 3. A mistake
  - 4. A good decision

Question ID : 264330153047  
Option 1 ID : 264330599757  
Option 2 ID : 264330599756  
Option 3 ID : 264330599755  
Option 4 ID : 264330599758  
Status : Answered  
Chosen Option : 1

Q.17 Select the most appropriate synonym of the given word.  
Peculiar

- Ans
- 1. Jovial
  - 2. Normal
  - 3. Strange
  - 4. Neat

Question ID : 264330151923  
Option 1 ID : 264330595310  
Option 2 ID : 264330595308  
Option 3 ID : 264330595307  
Option 4 ID : 264330595309  
Status : Answered  
Chosen Option : 1

Q.18 The following sentence has been split into four segments. Identify the segment that contains a grammatical error.

Guard over / making mistakes / by carefully checking / the assigned task.

- Ans
- 1. making mistakes
  - 2. by carefully checking
  - 3. Guard over
  - 4. the assigned task

Question ID : 264330155428  
Option 1 ID : 264330609120  
Option 2 ID : 264330609121  
Option 3 ID : 264330609119  
Option 4 ID : 264330609122  
Status : Answered  
Chosen Option : 1

**Q.19** Select the option that can be used as a one-word substitute for the underlined group of words.

Many people fought to put an end to slavery during the civil war.

- Ans
- 1. abduct
  - 2. abolish
  - 3. abide
  - 4. absorb

Question ID : 264330152705

Option 1 ID : 264330598420

Option 2 ID : 264330598421

Option 3 ID : 264330598422

Option 4 ID : 264330598419

Status : Answered

Chosen Option : 1

**Q.20** The following sentence has been split into four segments. Identify the segment that contains a grammatical error and select the option which rectifies that error.

AI fiction is a constantly / evolving genre that gives us an peek / into the potential upsides and downsides / of intelligent machines.

- Ans
- 1. into a potential upside and downside
  - 2. AI fiction is an constantly
  - 3. evolving genre that gives us a peek
  - 4. of intelligent machine.

Question ID : 264330141341

Option 1 ID : 264330553702

Option 2 ID : 264330553701

Option 3 ID : 264330553699

Option 4 ID : 264330553700

Status : Answered

Chosen Option : 3

**Comprehension:**

In the following passage some words have been deleted. Read the passage carefully and select the most appropriate option to fill in each blank.

\_\_\_\_\_ (1) university or college degree has long been the traditional hallmark of a \_\_\_\_\_ (2) candidate in the professional arena. While it historically provided the most widely accepted standard of qualification and skill for professionals, many companies today \_\_\_\_\_ (3) their hiring process and considering a broader list of criteria to judge a candidate's ability. Organisations are reducing their reliance on college degrees as a sole marker of competence and instead placing greater emphasis \_\_\_\_\_ (4) the practical skills candidates have acquired through work experience. This shift in hiring is of particular relevance to India, which has the \_\_\_\_\_ (5) youth population in the world.

**SubQuestion No : 21**

**Q.21** Select the most appropriate option to fill in blank number 1.

- Ans
- 1. An
  - 2. A
  - 3. The
  - 4. That

Question ID : 264330152766

Option 1 ID : 264330598656

Option 2 ID : 264330598655

Option 3 ID : 264330598657

Option 4 ID : 264330598658

Status : Answered

Chosen Option : 2

**Comprehension:**

In the following passage some words have been deleted. Read the passage carefully and select the most appropriate option to fill in each blank.

\_\_\_\_\_ (1) university or college degree has long been the traditional hallmark of a \_\_\_\_\_ (2) candidate in the professional arena. While it historically provided the most widely accepted standard of qualification and skill for professionals, many companies today \_\_\_\_\_ (3) their hiring process and considering a broader list of criteria to judge a candidate's ability. Organisations are reducing their reliance on college degrees as a sole marker of competence and instead placing greater emphasis \_\_\_\_\_ (4) the practical skills candidates have acquired through work experience. This shift in hiring is of particular relevance to India, which has the \_\_\_\_\_ (5) youth population in the world.

**SubQuestion No : 22**

**Q.22** Select the most appropriate option to fill in blank number 2.

- Ans  1. qualified  
 2. qualification  
 3. qualify  
 4. was qualify

Question ID : 264330152767

Option 1 ID : 264330598659

Option 2 ID : 264330598661

Option 3 ID : 264330598660

Option 4 ID : 264330598662

Status : Answered

Chosen Option : 1

**Comprehension:**

In the following passage some words have been deleted. Read the passage carefully and select the most appropriate option to fill in each blank.

\_\_\_\_\_ (1) university or college degree has long been the traditional hallmark of a \_\_\_\_\_ (2) candidate in the professional arena. While it historically provided the most widely accepted standard of qualification and skill for professionals, many companies today \_\_\_\_\_ (3) their hiring process and considering a broader list of criteria to judge a candidate's ability. Organisations are reducing their reliance on college degrees as a sole marker of competence and instead placing greater emphasis \_\_\_\_\_ (4) the practical skills candidates have acquired through work experience. This shift in hiring is of particular relevance to India, which has the \_\_\_\_\_ (5) youth population in the world.

**SubQuestion No : 23**

**Q.23** Select the most appropriate option to fill in blank number 3.

- Ans  1. was changing  
 2. was changed  
 3. changing  
 4. are changing

Question ID : 264330152768

Option 1 ID : 264330598664

Option 2 ID : 264330598663

Option 3 ID : 264330598666

Option 4 ID : 264330598665

Status : Answered

Chosen Option : 2

**Comprehension:**

In the following passage some words have been deleted. Read the passage carefully and select the most appropriate option to fill in each blank.

\_\_\_\_\_ (1) university or college degree has long been the traditional hallmark of a \_\_\_\_\_ (2) candidate in the professional arena. While it historically provided the most widely accepted standard of qualification and skill for professionals, many companies today \_\_\_\_\_ (3) their hiring process and considering a broader list of criteria to judge a candidate's ability. Organisations are reducing their reliance on college degrees as a sole marker of competence and instead placing greater emphasis \_\_\_\_\_ (4) the practical skills candidates have acquired through work experience. This shift in hiring is of particular relevance to India, which has the \_\_\_\_\_ (5) youth population in the world.

**SubQuestion No : 24**

**Q.24** Select the most appropriate option to fill in blank number 4.

Ans  1. about

2. on

3. for

4. with

Question ID : 264330152769

Option 1 ID : 264330598669

Option 2 ID : 264330598667

Option 3 ID : 264330598670

Option 4 ID : 264330598668

Status : Answered

Chosen Option : 2

**Comprehension:**

In the following passage some words have been deleted. Read the passage carefully and select the most appropriate option to fill in each blank.

\_\_\_\_\_ (1) university or college degree has long been the traditional hallmark of a \_\_\_\_\_ (2) candidate in the professional arena. While it historically provided the most widely accepted standard of qualification and skill for professionals, many companies today \_\_\_\_\_ (3) their hiring process and considering a broader list of criteria to judge a candidate's ability. Organisations are reducing their reliance on college degrees as a sole marker of competence and instead placing greater emphasis \_\_\_\_\_ (4) the practical skills candidates have acquired through work experience. This shift in hiring is of particular relevance to India, which has the \_\_\_\_\_ (5) youth population in the world.

**SubQuestion No : 25**

**Q.25** Select the most appropriate option to fill in blank number 5.

Ans  1. most highest

2. largest

3. biggest

4. longest

Question ID : 264330152770

Option 1 ID : 264330598671

Option 2 ID : 264330598673

Option 3 ID : 264330598672

Option 4 ID : 264330598674

Status : Answered

Chosen Option : 3