

Multi Tasking Non Technical Staff and Havaldar CBIC and CBN Examination 2023

Roll Number	
Candidate Name	
Venue Name	Eduhive Palestra
Exam Date	04/09/2023
Exam Time	12:30 PM - 2:30 PM
Subject	MTS Non Tech Havaldar CBIC and CBN Examination 2023

Section : Numerical and Mathematical Ability

Q.1 17 पुरुषों का औसत भार 63 kg है और 36 महिलाओं का औसत भार 54 kg है। सभी पुरुषों और महिलाओं का मिलाकर औसत भार (kg में) कितना है? (निकटतम पूर्णांक तक सन्निकटित)

- Ans**
- 1. 59
 - 2. 62
 - 3. 52
 - 4. 57

Question ID : 264330155727

Option 1 ID : 264330610312

Option 2 ID : 264330610311

Option 3 ID : 264330610314

Option 4 ID : 264330610313

Status : Answered

Chosen Option : 2

Q.2 विक्रम अपने मासिक वेतन का 13% बचाता है। यदि उसका मासिक व्यय ₹5,220 है, तो उसकी मासिक बचत कितनी है?

- Ans**
- 1. ₹580
 - 2. ₹680
 - 3. ₹349
 - 4. ₹780

Question ID : 264330156430

Option 1 ID : 264330613114

Option 2 ID : 264330613112

Option 3 ID : 264330613111

Option 4 ID : 264330613113

Status : Answered

Chosen Option : 4

Q.3 6% वार्षिक साधारण ब्याज पर निवेश की गई धनराशि 5 वर्षों में बढ़कर ₹1,13,880 हो जाती है। यदि समान धनराशि 9% वार्षिक दर से 8 वर्षों के लिए निवेश की जाती है, तो साधारण ब्याज कितना होगा?

Ans ✓ 1. ₹63,072

✗ 2. ₹65,392

✗ 3. ₹60,565

✗ 4. ₹58,050

Question ID : 264330158753

Option 1 ID : 264330622371

Option 2 ID : 264330622373

Option 3 ID : 264330622374

Option 4 ID : 264330622372

Status : Answered

Chosen Option : 1

Q.4 ₹2,000 पर $2\frac{1}{2}$ वर्ष के लिए 10% वार्षिक दर से चक्रवृद्धि ब्याज (वार्षिक रूप से संयोजित) ज्ञात कीजिए।

Ans ✗ 1. ₹ 500

✗ 2. ₹ 561

✗ 3. ₹ 521

✓ 4. ₹ 541

Question ID : 264330156078

Option 1 ID : 264330611713

Option 2 ID : 264330611711

Option 3 ID : 264330611714

Option 4 ID : 264330611712

Status : Answered

Chosen Option : 4

Q.5 12 cm, 9 cm और 2 cm आयामों वाले घनाभ के आकार के धातु के एक ठोस टुकड़े को एक घन के आकार में ढाला जाता है। इस घन का पार्श्व पृष्ठीय क्षेत्रफल (cm^2 में) क्या होगा?

Ans ✗ 1. 216

✗ 2. 204

✓ 3. 144

✗ 4. 162

Question ID : 264330153793

Option 1 ID : 264330602635

Option 2 ID : 264330602638

Option 3 ID : 264330602636

Option 4 ID : 264330602637

Status : Answered

Chosen Option : 1

Q.6 यदि $A : B = 7 : 9$ और $B : C = 5 : 6$ है, तो C और A का क्रमशः अनुपात ज्ञात कीजिए।

- Ans
- ✓ 1. 54 : 35
 - ✗ 2. 15 : 14
 - ✗ 3. 35 : 54
 - ✗ 4. 14 : 15

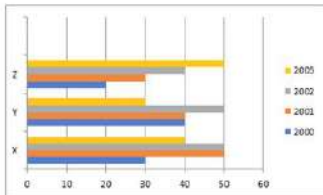
Question ID : 264330153767
Option 1 ID : 264330602532
Option 2 ID : 264330602534
Option 3 ID : 264330602531
Option 4 ID : 264330602533
Status : Answered
Chosen Option : 1

Q.7 दो संख्याएँ 6 : 7 के अनुपात में हैं। यदि इन संख्याओं के बीच का अंतर 16 है, तो वे संख्याएँ ज्ञात कीजिए।

- Ans
- ✗ 1. 80, 96
 - ✓ 2. 96, 112
 - ✗ 3. 104, 120
 - ✗ 4. 120, 136

Question ID : 264330153876
Option 1 ID : 264330602969
Option 2 ID : 264330602967
Option 3 ID : 264330602970
Option 4 ID : 264330602968
Status : Answered
Chosen Option : 2

Q.8 निम्नलिखित दंड आलेख में वर्ष 2000 - 2003 के दौरान 3 कंपनियों X, Y और Z द्वारा सीमेंट के उत्पादन को दर्शाया गया है। मात्रा लाख बोरियों में है। दंड आलेख का ध्यानपूर्वक अध्ययन कीजिए और नीचे दिए गए प्रश्न का उत्तर दीजिए।



2000 - 2003 के दौरान कंपनी X के औसत उत्पादन और उसी अवधि के दौरान कंपनी Y के उत्पादन का अनुपात (लाख बोरियों में) क्या है?

- Ans
- ✗ 1. 8 : 7
 - ✗ 2. 12 : 17
 - ✓ 3. 17 : 16
 - ✗ 4. 10 : 7

Question ID : 264330153858
Option 1 ID : 264330602895
Option 2 ID : 264330602898
Option 3 ID : 264330602897
Option 4 ID : 264330602896
Status : Answered
Chosen Option : 3

Q.9 एक पंसारी ने ₹40 प्रति किलोग्राम मूल्य वाली 50 kg चीनी खरीदी और उसे ₹30 प्रति किलोग्राम मूल्य वाली 70 kg चीनी के साथ मिला दिया। 20% का लाभ प्राप्त करने के लिए उसे मिश्रण को (प्रति किलोग्राम) किस मूल्य पर बेचना चाहिए?

- Ans
- ✓ 1. ₹41
 - ✗ 2. ₹20
 - ✗ 3. ₹60
 - ✗ 4. ₹35

Question ID : 264330155997
Option 1 ID : 264330611390
Option 2 ID : 264330611389
Option 3 ID : 264330611387
Option 4 ID : 264330611388
Status : Answered
Chosen Option : 1

Q.10 p और q का लघुत्तम समापवर्त्य (LCM) r है। p^2q और pq^2 का लघुत्तम समापवर्त्य _____ है।

- Ans
- ✗ 1. pq
 - ✗ 2. pqr^3
 - ✓ 3. pqr
 - ✗ 4. pqr^2

Question ID : 264330156247
Option 1 ID : 264330612387
Option 2 ID : 264330612390
Option 3 ID : 264330612388
Option 4 ID : 264330612389
Status : Answered
Chosen Option : 3

Q.11 A, B और C एक काम को क्रमशः 10, 15 और 20 दिनों में पूरा कर सकते हैं। वे एक दिन छोड़कर इस प्रकार काम करते हैं कि पहले दिन A, दूसरे दिन B और तीसरे दिन C काम करता है। एक बार फिर चौथे दिन A, पांचवें दिन B भी इसी क्रम में आगे काम करते हैं। यदि वे इसी प्रकार काम करते हैं, तो काम कितने दिनों में पूरा होगा?

- Ans
- ✓ 1. $13\frac{1}{2}$
 - ✗ 2. $13\frac{1}{4}$
 - ✗ 3. 15
 - ✗ 4. 14

Question ID : 264330154060
Option 1 ID : 264330603706
Option 2 ID : 264330603704
Option 3 ID : 264330603705
Option 4 ID : 264330603703
Status : Answered
Chosen Option : 1

Q.12 एक बर्तन में द्रव A और द्रव B का अनुपात 4 : 9 है। यदि बर्तन में 8 लीटर द्रव A मिलाया जाता है, तो नया अनुपात 8 : 9 हो जाता है। मूल मिश्रण में द्रव A की मात्रा (लीटर में) ज्ञात कीजिए।

- Ans**
- 1. 6
 - 2. 9
 - 3. 8
 - 4. 12

Question ID : 264330155729
Option 1 ID : 264330610322
Option 2 ID : 264330610320
Option 3 ID : 264330610321
Option 4 ID : 264330610319
Status : Answered
Chosen Option : 3

Q.13 उस घनाभ का कुल पृष्ठीय क्षेत्रफल ज्ञात कीजिए जिसके आयाम 18 m, 6 m और 3 m हैं।

- Ans**
- 1. 90 m²
 - 2. 180 m²
 - 3. 324 m²
 - 4. 360 m²

Question ID : 264330153898
Option 1 ID : 264330603056
Option 2 ID : 264330603055
Option 3 ID : 264330603058
Option 4 ID : 264330603057
Status : Answered
Chosen Option : 4

Q.14 दो रेलगाड़ियां एक स्टेशन से एक ही समय पर एक ही दिशा में 90 km/h और 80 km/h की चाल से चलती हैं। 5 घंटे बाद दोनों रेलगाड़ियों के बीच की दूरी क्या होगी?

- Ans**
- 1. 50 km
 - 2. 40 km
 - 3. 45 km
 - 4. 55 km

Question ID : 264330155971
Option 1 ID : 264330611283
Option 2 ID : 264330611284
Option 3 ID : 264330611286
Option 4 ID : 264330611285
Status : Answered
Chosen Option : 1

Q.15 एक किराना विक्रेता ₹300 प्रति किलोग्राम और ₹160 प्रति किलोग्राम की दो किस्मों की चाय को इस अनुपात में मिलाता है कि मिश्रण को ₹187 प्रति किलोग्राम की दर से बेचने पर दुकानदार 10% का लाभ अर्जित करता है। किराना विक्रेता दोनों किस्म की चाय को क्रमशः किस अनुपात में मिलाता है?

- Ans
- 1. 13 : 2
 - 2. 1 : 13
 - 3. 2 : 13
 - 4. 13 : 3

Question ID : 264330154118
Option 1 ID : 264330603935
Option 2 ID : 264330603938
Option 3 ID : 264330603936
Option 4 ID : 264330603937
Status : Answered
Chosen Option : 2

Q.16 निम्नलिखित में से किस व्यंजक का मान 0 के बराबर है?

- Ans
- 1. $(2 \times 3 - 5 - (1 + 2(3 - 2 \times 2)))$
 - 2. $(2 \times 3 - 5 - (1 - 2(3 - 2 \times 2)))$
 - 3. $(2 \times 3 - 5 + (1 + 2(3 - 2 \times 2)))$
 - 4. $(2 \times 3 + 5 - (1 - 2(3 - 2 \times 2)))$

Question ID : 264330153796
Option 1 ID : 264330602648
Option 2 ID : 264330602647
Option 3 ID : 264330602649
Option 4 ID : 264330602650
Status : Answered
Chosen Option : 3

Q.17 युग $\frac{3}{4}$ घंटे में 56 km/h की चाल से एक निश्चित दूरी तय करता है। यदि वह वही दूरी 7 घंटे में तय करना चाहता है, तो उसकी चाल (km/h में) क्या होगी?

- Ans
- 1. 16
 - 2. 20
 - 3. 12
 - 4. 14

Question ID : 264330155752
Option 1 ID : 264330610413
Option 2 ID : 264330610414
Option 3 ID : 264330610411
Option 4 ID : 264330610412
Status : Answered
Chosen Option : 3

Q.18 दी गई तालिका का अध्ययन कीजिए और नीचे दिए गए प्रश्न का उत्तर दीजिए।
तालिका में चार अलग-अलग गांवों P, Q, R, S में मतदाताओं की संख्या को दर्शाया गया है।

गांव	पंजीकृत मतदाताओं की कुल संख्या	मतदान करने वालों का प्रतिशत (पंजीकृत मतदाताओं की कुल संख्या में से)
P	1100	68
Q	1450	62
R	1200	73
S	1124	87

गांव P में मतदान न करने वालों की संख्या, गांव R में मतदान न करने वालों की संख्या से कितने प्रतिशत अधिक है?

- Ans
- ✓ 1. $8\frac{52}{81}\%$
 - ✗ 2. $6\frac{52}{81}\%$
 - ✗ 3. $7\frac{52}{81}\%$
 - ✗ 4. $9\frac{52}{81}\%$

Question ID : 264330157907
Option 1 ID : 264330618989
Option 2 ID : 264330618987
Option 3 ID : 264330618988
Option 4 ID : 264330618990

Status : Answered

Chosen Option : 1

Q.19 एक व्यक्ति एक टेबल फैन ₹2,800 में खरीदता है और उसे 12% की हानि पर बेचता है। टेबल फैन का विक्रय मूल्य क्या है?

- Ans
- ✗ 1. ₹2,466
 - ✗ 2. ₹2,468
 - ✓ 3. ₹2,464
 - ✗ 4. ₹2,462

Question ID : 264330156220
Option 1 ID : 264330612281
Option 2 ID : 264330612282
Option 3 ID : 264330612280
Option 4 ID : 264330612279

Status : Answered

Chosen Option : 3

Q.20 20 पुरुष एक काम को 40 दिनों में पूरा कर सकते हैं, और 40 महिलाएं उसी काम को 60 दिनों में पूरा कर सकती हैं। यदि 10 पुरुष और 20 महिलाएं साथ मिलकर काम करते हैं, तो काम कितने दिनों में पूरा होगा?

- Ans** ✓ 1. 48
✗ 2. 40
✗ 3. 50
✗ 4. 60

Question ID : 264330156012
Option 1 ID : 264330611449
Option 2 ID : 264330611448
Option 3 ID : 264330611450
Option 4 ID : 264330611447
Status : Answered
Chosen Option : 1

Section : Reasoning Ability and Problem Solving

Q.1 उस शब्द-युग्म का चयन कीजिए जो नीचे दिए गए शब्दों के युग्म में व्यक्त किए गए समान संबंध का सबसे अच्छा निरूपण करता है।

(शब्दों को अर्थपूर्ण हिंदी शब्दों के रूप में माना जाना चाहिए और उन्हें शब्द में अक्षरों की संख्या/व्यंजन/स्वरों की संख्या के आधार पर एक दूसरे से संबंधित नहीं किया जाना चाहिए।)

सराहना : प्रशंसा करना

- Ans** ✗ 1. रिझाना : ठुकरा देना
✓ 2. दावत देना : खातिर करना
✗ 3. सिखाना : सीखना
✗ 4. सुंदर बनाना : तरोताज़ा करना

Question ID : 264330154640
Option 1 ID : 264330606026
Option 2 ID : 264330606023
Option 3 ID : 264330606024
Option 4 ID : 264330606025
Status : Answered
Chosen Option : 2

Q.2 नीचे दिए गए कथन/कथनों और निष्कर्षों को ध्यानपूर्वक पढ़िए। आपको मानना है कि दिए गए कथन सत्य हैं चाहे वे समान्यतः ज्ञात तथ्यों से अलग प्रतीत होते हों। आपको निश्चय करना है कि कौन-सा/कौन-से निष्कर्ष तार्किक रूप से दिए गए कथन/कथनों के अनुसार है/हैं।

कथन: सभी कलाकार, लड़कियां हैं। सभी लड़कियां, खूबसूरत हैं।

निष्कर्ष:

- (I) सभी कलाकार, खूबसूरत हैं।
- (II) कुछ लड़कियां, कलाकार हैं।

Ans

- 1. केवल निष्कर्ष (II) कथनों के अनुसार है।
- 2. केवल निष्कर्ष (I) कथनों के अनुसार है।
- 3. दोनों निष्कर्ष (I) और (II) कथनों के अनुसार हैं।
- 4. न तो निष्कर्ष (I) और न ही (II) कथनों के अनुसार है।

Question ID : 264330154431

Option 1 ID : 264330605188

Option 2 ID : 264330605187

Option 3 ID : 264330605190

Option 4 ID : 264330605189

Status : Answered

Chosen Option : 3

Q.3 यदि निम्नलिखित आकृति श्रृंखला को जारी रखना हो तो कौन-सी आकृति प्रश्न चिन्ह (?) के स्थान पर आनी चाहिए?

P	E	8	↑	8	3	3	8	↑	E	↑	□	
	□			P			□		3			?
↑	A	3	□	E	A	E	A	□	8	A		

Ans

✗ 1.

□	E	↑
	L	
8	A	□

✗ 2.

□	E	↑
	□	
8	A	3

✓ 3.

□	↑	E
	L	
8	A	□

✗ 4.

□	↑	E
	□	
8	A	3

Question ID : 264330154734

Option 1 ID : 264330606399

Option 2 ID : 264330606401

Option 3 ID : 264330606402

Option 4 ID : 264330606400

Status : Answered

Chosen Option : 3

Q.4 एक निश्चित कूट भाषा में, 'LIAR' को '5148' लिखा जाता है और 'REAL' को '1582' लिखा जाता है। उसी कूट भाषा में 'E' को कैसे लिखा जाएगा?

Ans ✗ 1. 5

✓ 2. 2

✗ 3. 8

✗ 4. 1

Question ID : 264330151702

Option 1 ID : 264330594437

Option 2 ID : 264330594438

Option 3 ID : 264330594436

Option 4 ID : 264330594435

Status : Answered

Chosen Option : 2

Q.5 एक निश्चित तर्क के अनुसार 2, 40 से संबंधित है। समान तर्क के अनुसार, 5, 250 से संबंधित है। समान तर्क का अनुसरण करते हुए 7 निम्नलिखित में से किससे संबंधित है?

- Ans**
- 1. 400
 - 2. 490
 - 3. 450
 - 4. 470

Question ID : 264330151579
Option 1 ID : 264330593943
Option 2 ID : 264330593946
Option 3 ID : 264330593944
Option 4 ID : 264330593945
Status : Answered
Chosen Option : 2

Q.6 दी गई श्रृंखला में प्रश्न चिह्न '?' के स्थान पर क्या आना चाहिए?

978 967 956 945 934 ?

- Ans**
- 1. 924
 - 2. 921
 - 3. 922
 - 4. 923

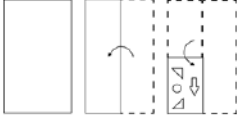
Question ID : 264330151553
Option 1 ID : 264330593842
Option 2 ID : 264330593839
Option 3 ID : 264330593840
Option 4 ID : 264330593841
Status : Answered
Chosen Option : 4

Q.7 यदि शब्द 'CATEGORY' के प्रत्येक अक्षर को अंग्रेज़ी वर्णमाला के क्रम में व्यवस्थित किया जाए तो कितने अक्षरों का स्थान अपरिवर्तित रहेगा?

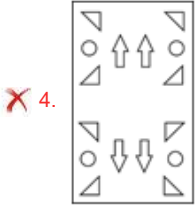
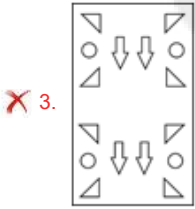
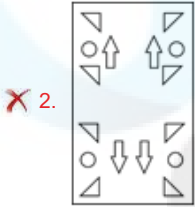
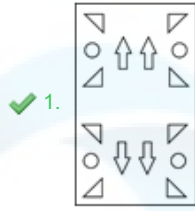
- Ans**
- 1. एक
 - 2. दो
 - 3. तीन
 - 4. किसी का भी नहीं

Question ID : 264330154327
Option 1 ID : 264330604772
Option 2 ID : 264330604771
Option 3 ID : 264330604774
Option 4 ID : 264330604773
Status : Answered
Chosen Option : 2

Q.8 निम्नलिखित आकृतियों में एक कागज़ के टुकड़े को मोड़ने के क्रम और मुड़े हुए कागज़ को काटने के तरीके को दर्शाया गया है। खोलने पर यह कागज़ कैसा दिखाई देगा?



Ans



Question ID : 264330155613

Option 1 ID : 264330609858

Option 2 ID : 264330609857

Option 3 ID : 264330609855

Option 4 ID : 264330609856

Status : Answered

Chosen Option : 1

Q.9 यदि G का अर्थ -, D का अर्थ ×, A का अर्थ +, B का अर्थ = है, तो निम्नलिखित समीकरण में प्रश्न चिह्न (?) के स्थान पर क्या आएगा?
 $19D \ 6B \ 34A \ 2G \ 27 = ?$

Ans ✗ 1. 126

✓ 2. 104

✗ 3. 83

✗ 4. 65

Question ID : 264330154688

Option 1 ID : 264330606218

Option 2 ID : 264330606217

Option 3 ID : 264330606215

Option 4 ID : 264330606216

Status : Answered

Chosen Option : 2

Q.10 यदि '+' और '*' को आपस में बदल दिया जाए और '-' और '/' को आपस में बदल दिया जाए तो निम्नलिखित समीकरण में '?' के स्थान पर क्या आएगा?
 $18 - 9 + 4 \times 3 + 5 = ?$

- Ans
- 1. 18
 - 2. 17
 - 3. 13
 - 4. 19

Question ID : 264330154670
Option 1 ID : 264330606144
Option 2 ID : 264330606145
Option 3 ID : 264330606143
Option 4 ID : 264330606146
Status : Answered
Chosen Option : 3

Q.11 दी गई श्रृंखला में प्रश्न चिन्ह '?' के स्थान पर क्या आना चाहिए?

13 52 169 520 1573 ?

- Ans
- 1. 4781
 - 2. 4732
 - 3. 4895
 - 4. 4863


Question ID : 264330151477
Option 1 ID : 264330593536
Option 2 ID : 264330593535
Option 3 ID : 264330593538
Option 4 ID : 264330593537
Status : Answered
Chosen Option : 2

Q.12 एक निश्चित कूट भाषा में, 'YJM' को '26-11-14' लिखा जाता है और 'SOP' को '20-16-17' लिखा जाता है। उस कूट भाषा में 'BTX' को कैसे लिखा जाएगा?

- Ans
- 1. 5-22-24
 - 2. 5-23-25
 - 3. 4-22-24
 - 4. 3-21-25

Question ID : 264330155822
Option 1 ID : 264330610694
Option 2 ID : 264330610693
Option 3 ID : 264330610692
Option 4 ID : 264330610691
Status : Answered
Chosen Option : 4

Q.13 दी गई आकृति के उस सही दर्पण प्रतिबिंब को चुनिए, जो नीचे दर्शाए गए अनुसार दर्पण को MN पर रखने पर बनेगा।



- Ans
- 1. a u e e h R
 - 2. a n e e h R
 - 3. a u e e h R
 - 4. a u e e h R

Question ID : 264330151512
Option 1 ID : 264330593677
Option 2 ID : 264330593678
Option 3 ID : 264330593675
Option 4 ID : 264330593676
Status : Answered
Chosen Option : 2

Q.14 दी गई श्रृंखला में प्रश्न चिन्ह '?' के स्थान पर क्या आना चाहिए?

3 20 54 ? 258 530 1074

- Ans
- 1. 118
 - 2. 122
 - 3. 128
 - 4. 124

Question ID : 264330151499
Option 1 ID : 264330593623
Option 2 ID : 264330593624
Option 3 ID : 264330593626
Option 4 ID : 264330593625
Status : Answered
Chosen Option : 2

Q.15 J, K, P, Q, R और M एक वृत्ताकार मेज के चारों ओर केंद्र की ओर मुख करके बैठे हैं। J, M के ठीक बाईं ओर बैठा है। R, J के बाईं ओर से दूसरे स्थान पर बैठा है। K, J के दाईं ओर से तीसरे स्थान पर बैठा है। P, R के ठीक दाईं ओर बैठा है। K के बाईं ओर से दूसरे स्थान पर कौन बैठा है?

- Ans
- 1. R
 - 2. M
 - 3. P
 - 4. Q

Question ID : 264330155651
Option 1 ID : 264330610007
Option 2 ID : 264330610009
Option 3 ID : 264330610008
Option 4 ID : 264330610010
Status : Answered
Chosen Option : 2

Q.16 अक्षरों के उस संयोजन को चुनिए जिसे दी गई श्रृंखला के रिक्त स्थानों में क्रमिक रूप से रखने पर श्रृंखला पूरी हो जाएगी।

R _ _ RT _ R _ R _ TR

- Ans
- 1. RTRRT
 - 2. TTTRR
 - 3. RTTTR
 - 4. TRRTR

Question ID : 264330151641

Option 1 ID : 264330594194

Option 2 ID : 264330594191

Option 3 ID : 264330594192

Option 4 ID : 264330594193

Status : Answered

Chosen Option : 4

Q.17 अक्षरों के उस संयोजन को चुनिए जिसे दी गई श्रृंखला के रिक्त स्थानों में क्रमिक रूप से रखने पर श्रृंखला तार्किक रूप से पूरी हो जाएगी।

KC_OK_PO_YSOKWW_ K_YO

- Ans
- 1. LJMST
 - 2. MDHTV
 - 3. KJNVL
 - 4. MAKOU

Question ID : 264330156319

Option 1 ID : 264330612677

Option 2 ID : 264330612676

Option 3 ID : 264330612675

Option 4 ID : 264330612678

Status : Answered

Chosen Option : 4

Q.18 निम्नलिखित संख्या-युग्मों में, पहली संख्या पर कुछ गणितीय संक्रियाएँ करके दूसरी संख्या प्राप्त की जाती है। उस समुच्चय को चुनिए जिसमें संख्याएँ ठीक उसी प्रकार संबंधित हैं जिस प्रकार निम्नलिखित समुच्चयों की संख्याएँ संबंधित हैं।

(ध्यान दें: संख्याओं को उनके घटक अंकों में अलग-अलग किए बिना, पूर्ण संख्याओं पर संक्रियाएँ की जानी चाहिए। उदा. 13 – संख्या 13 पर संक्रियाएँ जैसे 13 को जोड़ना/घटाना/गुणा करना आदि किया जा सकता है। 13 को 1 और 3 में अलग-अलग करने की और फिर 1 और 3 पर गणितीय संक्रियाएँ करने की अनुमति नहीं है।)

65, 74

87, 96

- Ans
- 1. 92, 101
 - 2. 81, 156
 - 3. 75, 123
 - 4. 63, 157

Question ID : 264330151622

Option 1 ID : 264330594115

Option 2 ID : 264330594116

Option 3 ID : 264330594117

Option 4 ID : 264330594118

Status : Answered

Chosen Option : 1

Q.19 नीचे दिए गए कथनों और निष्कर्षों को ध्यानपूर्वक पढ़िए। आपको मानना है कि दिए गए कथन सत्य हैं चाहे वे समान्यतः ज्ञात तथ्यों से अलग प्रतीत होते हों। आपको निश्चय करना है कि कौन-सा/कौन-से निष्कर्ष तार्किक रूप से दिए गए कथनों के अनुसार है/हैं।

कथन: सभी कौवे, गौरिया हैं। कुछ गौरिया, तोते हैं। सभी तोते, पीले हैं।

निष्कर्ष I: कुछ कौवे, तोते हैं।
निष्कर्ष II: कुछ पीले, तोते हैं।

- Ans**
- 1. न तो निष्कर्ष (I) और न ही (II) कथनों के अनुसार है।
 - 2. दोनों निष्कर्ष (I) और (II) कथनों के अनुसार हैं।
 - 3. केवल निष्कर्ष (I) कथनों के अनुसार है।
 - 4. केवल निष्कर्ष (II) कथनों के अनुसार है।

Question ID : 264330155929

Option 1 ID : 264330611121

Option 2 ID : 264330611122

Option 3 ID : 264330611119

Option 4 ID : 264330611120

Status : Answered

Chosen Option : 4

Q.20 अंग्रेजी वर्णमाला क्रम के आधार पर दी गई श्रृंखला में प्रश्न चिह्न (?) के स्थान पर क्या आना चाहिए?

ETM, AWO, WZQ, SCS, ?

- Ans**
- 1. MEV
 - 2. MEU
 - 3. OFU
 - 4. NFV

Question ID : 264330155807

Option 1 ID : 264330610633

Option 2 ID : 264330610632

Option 3 ID : 264330610634

Option 4 ID : 264330610631

Status : Answered

Chosen Option : 3

Section : General Awareness

Q.1 गुआ (Gua) और नोआमुंडी (Noamundi) खदानें भारत के किस राज्य में स्थित हैं ?

- Ans**
- 1. हरियाणा
 - 2. झारखंड
 - 3. राजस्थान
 - 4. असम

Question ID : 264330161527

Option 1 ID : 264330633438

Option 2 ID : 264330633436

Option 3 ID : 264330633437

Option 4 ID : 264330633435

Status : Answered

Chosen Option : 2

Q.2 बिरसा मुंडा हॉकी स्टेडियम भारत के सबसे बड़े हॉकी स्टेडियमों में से एक है। यह स्टेडियम किस राज्य में स्थित है?

- Ans
- 1. बिहार
 - 2. मध्यप्रदेश
 - 3. ओडिशा
 - 4. छत्तीसगढ़

Question ID : 264330158355
Option 1 ID : 264330620779
Option 2 ID : 264330620781
Option 3 ID : 264330620782
Option 4 ID : 264330620780
Status : Answered
Chosen Option : 3

Q.3 संविधान (अनुसूचित जाति और अनुसूचित जनजाति) आदेश (दूसरा संशोधन) विधेयक, 2022, दिसंबर 2022 में पारित किया गया था और यह किस राज्य से संबंधित है?

- Ans
- 1. उत्तरप्रदेश
 - 2. उत्तराखंड
 - 3. बिहार
 - 4. कर्नाटक

Question ID : 264330158334
Option 1 ID : 264330620695
Option 2 ID : 264330620696
Option 3 ID : 264330620698
Option 4 ID : 264330620697
Status : Answered
Chosen Option : 4

Q.4 स्वस्थ प्रतिरक्षा प्रणाली, कम प्रकाश में देखने की क्षमता (low-light vision) और स्वस्थ त्वचा के लिए कौन-सा विटामिन आवश्यक है?

- Ans
- 1. विटामिन K
 - 2. विटामिन B9
 - 3. विटामिन A
 - 4. विटामिन B2

Question ID : 264330160991
Option 1 ID : 264330631296
Option 2 ID : 264330631297
Option 3 ID : 264330631295
Option 4 ID : 264330631298
Status : Answered
Chosen Option : 2

Q.5 भारत ने निम्नलिखित में से किस देश को हराकर अपना पहला महिला जूनियर हॉकी एशिया कप खिताब (maiden Women's Junior Hockey Asia Cup title) जीता?

- Ans
- 1. चीनी ताइपी
 - 2. जापान
 - 3. दक्षिण कोरिया
 - 4. मलेशिया

Question ID : 264330161129
Option 1 ID : 264330631850
Option 2 ID : 264330631848
Option 3 ID : 264330631847
Option 4 ID : 264330631849
Status : Answered
Chosen Option : 3

Q.6 बुद्ध पूर्णिमा हिंदू महीने _____ में पूर्णिमा के दिन मनाई जाती है।

- Ans
- 1. वैसाख
 - 2. ज्येष्ठ
 - 3. भद्र
 - 4. आषाढ़

Question ID : 264330160830
Option 1 ID : 264330630651
Option 2 ID : 264330630652
Option 3 ID : 264330630654
Option 4 ID : 264330630653
Status : Answered
Chosen Option : 1

Q.7 गोविंद सागर (भाखड़ा नांगल परियोजना) किस राज्य में स्थित है?

- Ans
- 1. पंजाब
 - 2. गुजरात
 - 3. हिमाचल प्रदेश
 - 4. राजस्थान

Question ID : 264330160140
Option 1 ID : 264330627899
Option 2 ID : 264330627902
Option 3 ID : 264330627900
Option 4 ID : 264330627901
Status : Answered
Chosen Option : 3

Q.8 निदेशक सिद्धांतों को मोटे तौर पर तीन व्यापक श्रेणियों में वर्गीकृत किया गया है। निम्नलिखित में से कौन-सा इस वर्गीकरण का हिस्सा नहीं है?

- Ans
- 1. समाजवादी (Socialistic)
 - 2. गांधीवादी (Gandhian)
 - 3. सत्तावादी (Authoritative)
 - 4. उदारवादी (Liberal)

Question ID : 264330160859
Option 1 ID : 264330630767
Option 2 ID : 264330630768
Option 3 ID : 264330630770
Option 4 ID : 264330630769
Status : Answered
Chosen Option : 3

Q.9 अरब सागर निम्नलिखित में से किस महासागर का विस्तार है?

- Ans
- 1. आर्कटिक महासागर
 - 2. दक्षिणी महासागर
 - 3. प्रशांत महासागर
 - 4. हिंद महासागर

Question ID : 264330157836
Option 1 ID : 264330618705
Option 2 ID : 264330618706
Option 3 ID : 264330618703
Option 4 ID : 264330618704
Status : Answered
Chosen Option : 4

Q.10 आवर्त सारणी के समूह 1 की कौन-सी नरम धातु हवा के संपर्क में आने के कुछ सेकंड के भीतर धूमिल हो जाती है?

- Ans
- 1. फ्रेन्सियम
 - 2. बेरियम
 - 3. स्ट्रॉन्शियम
 - 4. सोडियम

Question ID : 264330161054
Option 1 ID : 264330631550
Option 2 ID : 264330631548
Option 3 ID : 264330631547
Option 4 ID : 264330631549
Status : Answered
Chosen Option : 2

Q.11 बौद्ध काल का सबसे पुराना स्तूप कौन-सा है?

- Ans
- 1. धामेक स्तूप
 - 2. महाबोधि स्तूप
 - 3. सांची स्तूप
 - 4. केसरिया स्तूप

Question ID : 264330160761
Option 1 ID : 264330630378
Option 2 ID : 264330630375
Option 3 ID : 264330630377
Option 4 ID : 264330630376
Status : Answered
Chosen Option : 3

Q.12 निम्नलिखित में से कौन-सा भारत में सूक्ष्म वित्त संस्थानों (MFIs) का एक आयाम है?

- Ans
- 1. ऋण ब्याज दरें
 - 2. शेयर बाज़ार में निवेश
 - 3. क्रेडिट कार्ड की उपलब्धता
 - 4. ग्रामीण क्षेत्रों तक पहुंच

Question ID : 264330157292
Option 1 ID : 264330616531
Option 2 ID : 264330616533
Option 3 ID : 264330616532
Option 4 ID : 264330616534
Status : Answered
Chosen Option : 1

Q.13 नटवरी नृत्य किस नृत्य शैली से संबंधित है ?

- Ans
- 1. कथकली
 - 2. कथक
 - 3. कुचिपुड़ी
 - 4. ओडिसी

Question ID : 264330159053
Option 1 ID : 264330623573
Option 2 ID : 264330623572
Option 3 ID : 264330623574
Option 4 ID : 264330623571
Status : Answered
Chosen Option : 2

Q.14 वित्तीय वर्ष (fiscal year) क्या है?

- Ans
- 1. वह वर्ष जिसमें कर की दरों में वृद्धि की जाती है
 - 2. सरकार के लिए वित्तीय रिपोर्टिंग अवधि को दर्शाने वाला वर्ष
 - 3. सरकारी राजस्व में घाटे वाला एक वर्ष
 - 4. सरकारी राजस्व में अधिशेष वाला एक वर्ष

Question ID : 264330157272
Option 1 ID : 264330616453
Option 2 ID : 264330616454
Option 3 ID : 264330616452
Option 4 ID : 264330616451
Status : Answered
Chosen Option : 3

Q.15 पुरुष हैंडबॉल खेल में बॉल का भार कितना होता है?

- Ans
- 1. 325 से 375 gm
 - 2. 425 से 475 gm
 - 3. 525 से 575 gm
 - 4. 225 से 275 gm

Question ID : 264330158248
Option 1 ID : 264330620351
Option 2 ID : 264330620353
Option 3 ID : 264330620354
Option 4 ID : 264330620352
Status : Answered
Chosen Option : 3

Q.16 निम्नलिखित में से किस वर्ष में पानीपत की तीसरी लड़ाई लड़ी गई थी?

- Ans
- 1. 1751
 - 2. 1786
 - 3. 1707
 - 4. 1761

Question ID : 264330161734
Option 1 ID : 264330634265
Option 2 ID : 264330634266
Option 3 ID : 264330634263
Option 4 ID : 264330634264
Status : Answered
Chosen Option : 4

Q.17 मेघालय की _____ जनजाति का 'का शाद मस्तीह (Ka Shad Mastieh)' या विजय नृत्य जनजाति के प्रमुख त्योहार के दौरान किया जाने वाला एक प्राचीन युद्ध नृत्य है।

- Ans
- 1. खासी (Khasi)
 - 2. जयंतिया (Jaintia)
 - 3. वार (War)
 - 4. भोई (Bhoi)

Question ID : 264330161345
Option 1 ID : 264330632708
Option 2 ID : 264330632707
Option 3 ID : 264330632710
Option 4 ID : 264330632709
Status : Answered
Chosen Option : 3

Q.18 'अनटचेबल' (Untouchable) उपन्यास किसके द्वारा लिखा गया है?

- Ans
- 1. प्रेमचंद
 - 2. बंकिम चंद्र चट्टोपाध्याय
 - 3. आर.सी. मजूमदार
 - 4. मुल्क राज आनंद

Question ID : 264330155498
Option 1 ID : 264330609398
Option 2 ID : 264330609397
Option 3 ID : 264330609396
Option 4 ID : 264330609395
Status : Answered
Chosen Option : 4

Q.19 निम्नलिखित में से 'सीता: एन इलस्ट्रेटेड रीटेलिंग ऑफ द रामायण'
('Sita: An Illustrated Retelling of the Ramayana') पुस्तक के लेखक कौन हैं?

- Ans
- 1. रविंदर सिंह
 - 2. दुर्जोय दत्ता
 - 3. देवदत्त पटनायक
 - 4. अमीश त्रिपाठी

Question ID : 264330155457
Option 1 ID : 264330609234
Option 2 ID : 264330609232
Option 3 ID : 264330609233
Option 4 ID : 264330609231
Status : Answered
Chosen Option : 4

Q.20 भारत में संसद के दोनों सदनों का चुनाव कौन कराता है?

- Ans
- 1. निर्वाचन आयोग
 - 2. संसदीय कार्य मंत्रालय
 - 3. प्रधानमंत्री
 - 4. राष्ट्रपति

Question ID : 264330160860
Option 1 ID : 264330630771
Option 2 ID : 264330630773
Option 3 ID : 264330630772
Option 4 ID : 264330630774
Status : Answered
Chosen Option : 1

Q.21 निम्नलिखित में से कौन-सी अफगानिस्तान की आधिकारिक भाषा है?

- Ans
- 1. दरी (Dari)
 - 2. बर्मी (Burmese)
 - 3. जोंगखा (Dzongkha)
 - 4. सिंहली (Sinhala)

Question ID : 264330160175
Option 1 ID : 264330628039
Option 2 ID : 264330628042
Option 3 ID : 264330628041
Option 4 ID : 264330628040
Status : Not Answered
Chosen Option : --

Q.22 पंडित रविशंकर निम्नलिखित में से किस संगीत वाद्ययंत्र को बजाने के लिए दुनिया भर में जाने जाते हैं?

- Ans
- 1. सितार
 - 2. सरोद
 - 3. मोहन वीणा
 - 4. बीन

Question ID : 264330161771
Option 1 ID : 264330634412
Option 2 ID : 264330634413
Option 3 ID : 264330634414
Option 4 ID : 264330634411
Status : Answered
Chosen Option : 1

Q.23 निम्नलिखित में से उस कुचिपुड़ी नर्तक/नर्तकी की पहचान कीजिए, जिसे वर्ष 2022 में 'पद्म श्री' से सम्मानित किया गया था।

- Ans
- 1. पद्मजा रेड्डी (Padmaja Reddy)
 - 2. डॉ. वीरास्वामी शेषैया (Dr. Veeraswamy Seshiah)
 - 3. विद्यानंद सारेक (Vidyanand Sarek)
 - 4. के.वी. राबिया (KV Rabiya)

Question ID : 264330155528
Option 1 ID : 264330609517
Option 2 ID : 264330609515
Option 3 ID : 264330609516
Option 4 ID : 264330609518
Status : Answered
Chosen Option : 1

Q.24 शंभू महाराज निम्नलिखित में से किस कथक घराने के प्रसिद्ध गुरु थे?

- Ans
- 1. बनारस
 - 2. जयपुर
 - 3. लखनऊ
 - 4. रायगढ़

Question ID : 264330160810
Option 1 ID : 264330630573
Option 2 ID : 264330630571
Option 3 ID : 264330630572
Option 4 ID : 264330630574
Status : Answered
Chosen Option : 3

Q.25 1927 में मंदिर प्रवेश आंदोलन किसने शुरू किया था?

- Ans 1. भीमराव अंबेडकर
 2. एनी बेसेंट
 3. महात्मा गांधी
 4. महादेव गोविंद रानाडे

Question ID : 264330162350
Option 1 ID : 264330636728
Option 2 ID : 264330636730
Option 3 ID : 264330636727
Option 4 ID : 264330636729
Status : Answered
Chosen Option : 4

Section : English Language and Comprehension

Q.1 Select the most appropriate synonym of the given word.
Obsession

- Ans 1. Fascination
 2. Sympathy
 3. Unconcern
 4. Discrimination

Question ID : 264330153559
Option 1 ID : 264330601737
Option 2 ID : 264330601738
Option 3 ID : 264330601735
Option 4 ID : 264330601736
Status : Answered
Chosen Option : 1

Q.2 Select the most appropriate idiom to fill in the blank.
Rajat is known for his notorious nature. He will be friendly to your face but likes

- _____.
- Ans 1. to blow his trumpet
 2. to paint the whole town red
 3. to get all bent out of the shape
 4. to stab you in the back

Question ID : 264330153562
Option 1 ID : 264330601750
Option 2 ID : 264330601749
Option 3 ID : 264330601747
Option 4 ID : 264330601748
Status : Answered
Chosen Option : 4

Q.3 The following sentence has been split into four segments. Identify the segment that contains a grammatical error.
The ball / I kicked / went highly / in the sky.

- Ans
- 1. The ball
 - 2. in the sky
 - 3. went highly
 - 4. I kicked

Question ID : 264330153184
Option 1 ID : 264330600295
Option 2 ID : 264330600298
Option 3 ID : 264330600297
Option 4 ID : 264330600296
Status : Answered
Chosen Option : 3

Q.4 Select the most appropriate idiom for the following sentence.
Shweta organises the sale of handmade pottery at a cheap rate.

- Ans
- 1. Go for a song
 - 2. Making a fuss out of something
 - 3. Hush money
 - 4. Having one's cake and eating it too

Question ID : 264330141303
Option 1 ID : 264330553548
Option 2 ID : 264330553550
Option 3 ID : 264330553547
Option 4 ID : 264330553549
Status : Answered
Chosen Option : 3

Q.5 Identify the INCORRECTLY spelt word in the following sentence and select its correct spelling from the given options.
The colours of the rainbow seemed to shine through the triangular prism as the sun hit the object.

- Ans
- 1. triangular
 - 2. rainbouw
 - 3. object
 - 4. son

Question ID : 264330153110
Option 1 ID : 264330600004
Option 2 ID : 264330600003
Option 3 ID : 264330600006
Option 4 ID : 264330600005
Status : Answered
Chosen Option : 1

Q.6 Select the most appropriate ANTONYM of the given word.
Guilty

- Ans 1. Innocent
 2. Patient
 3. Criminal
 4. Responsible

Question ID : 264330153364
Option 1 ID : 264330601008
Option 2 ID : 264330601007
Option 3 ID : 264330601010
Option 4 ID : 264330601009
Status : Answered
Chosen Option : 1

Q.7 The following sentence has been split into four segments. Identify the segment that contains a grammatical error and select the option which rectifies that error.

A lot of adulterants / are chemicals that can lead / to an range of health problems / in both children and adults.

- Ans 1. A lot of adulterant
 2. are chemical that can lead
 3. to a range of health problems
 4. in both children and adult.

Question ID : 264330141340
Option 1 ID : 264330553697
Option 2 ID : 264330553695
Option 3 ID : 264330553696
Option 4 ID : 264330553698
Status : Answered
Chosen Option : 3

Q.8 Select the most appropriate option to fill in the blank.
He is _____ of many chain snatching cases in Dariyaganj.

- Ans 1. akused
 2. acxused
 3. accused
 4. ackused

Question ID : 264330153306
Option 1 ID : 264330600779
Option 2 ID : 264330600780
Option 3 ID : 264330600782
Option 4 ID : 264330600781
Status : Answered
Chosen Option : 3

Q.9 Select the most appropriate idiom to fill in the blank.
The play I saw last night was a _____.

- Ans
- 1. hit the roof
 - 2. hit the road
 - 3. hit the hay
 - 4. smash hit

Question ID : 264330153099
Option 1 ID : 264330599961
Option 2 ID : 264330599962
Option 3 ID : 264330599959
Option 4 ID : 264330599960
Status : Answered
Chosen Option : 4

Q.10 The given sentence contains an error. Select the option that correctly rectifies the error.
That career competition was the difficultest exam he had ever given.

- Ans
- 1. That career competition was the most difficult exam he had ever given.
 - 2. That career competition was the most difficult exam than any he had ever given.
 - 3. That career competition was the difficultest exam than any he had ever given.
 - 4. That career competition was the most difficultest exam he had ever given.

Question ID : 264330152607
Option 1 ID : 264330598033
Option 2 ID : 264330598032
Option 3 ID : 264330598034
Option 4 ID : 264330598031
Status : Answered
Chosen Option : 1

Q.11 Select the most appropriate ANTONYM of the given word.
Ecstasy

- Ans
- 1. Euphoria
 - 2. Natural
 - 3. Coarse
 - 4. Despair

Question ID : 264330152676
Option 1 ID : 264330598307
Option 2 ID : 264330598308
Option 3 ID : 264330598309
Option 4 ID : 264330598310
Status : Answered
Chosen Option : 4

Q.12 Select the option that can be used as a one-word substitute for the given group of words.

Study of sound and sound waves

- Ans** 1. Acoustics
 2. Botany
 3. Physics
 4. Demography

Question ID : 264330152772
Option 1 ID : 264330598682
Option 2 ID : 264330598679
Option 3 ID : 264330598681
Option 4 ID : 264330598680
Status : Answered
Chosen Option : 1

Q.13 Select the most appropriate option to fill in the blank.

The students of class 7 gave their teacher a gift, which was _____ to her.

- Ans** 1. revealing
 2. confusing
 3. shocking
 4. surprising

Question ID : 264330152580
Option 1 ID : 264330597923
Option 2 ID : 264330597926
Option 3 ID : 264330597925
Option 4 ID : 264330597924
Status : Answered
Chosen Option : 4

Q.14 Select the option that correctly rectifies the spelling error that is underlined.

The questionnaire used by the researcher was of top quality.

- Ans** 1. questionnairee
 2. questionnaire
 3. questionnaire
 4. quesstionnaire

Question ID : 264330153422
Option 1 ID : 264330601222
Option 2 ID : 264330601221
Option 3 ID : 264330601220
Option 4 ID : 264330601219
Status : Answered
Chosen Option : 3

Q.15 Select the most appropriate meaning of the given idiom.
Barking up the wrong tree

- Ans
- 1. To make a bad situation worse
 - 2. Provoke trouble
 - 3. To be mistaken, to be looking for solutions in the wrong place
 - 4. Getting a good start is important

Question ID : 264330153280
Option 1 ID : 264330600676
Option 2 ID : 264330600677
Option 3 ID : 264330600675
Option 4 ID : 264330600678
Status : Answered
Chosen Option : 3

Q.16 Select the most appropriate option that can substitute the underlined segment in the given sentence.

The airplane flowed over the mountains, offering the passengers a breath-taking view of the majestic peaks below.

- Ans
- 1. flowed beyond
 - 2. flew beyond
 - 3. flew over
 - 4. flowed above

Question ID : 264330151858
Option 1 ID : 264330595051
Option 2 ID : 264330595054
Option 3 ID : 264330595053
Option 4 ID : 264330595052
Status : Answered
Chosen Option : 3

Q.17 Select the option that can be used as a one-word substitute for the given group of words.

A creature which depends on others

- Ans
- 1. Bacteria
 - 2. Microbes
 - 3. Virus
 - 4. Parasite

Question ID : 264330152586
Option 1 ID : 264330597948
Option 2 ID : 264330597949
Option 3 ID : 264330597947
Option 4 ID : 264330597950
Status : Answered
Chosen Option : 4

Q.18 Select the most appropriate option that can substitute the underlined segment in the given sentence.

The intrepid group of adventurers climbed the mountain despite of bad weather and road closures.

- Ans
- 1. in spite
 - 2. due to
 - 3. in view of
 - 4. despite

Question ID : 264330151854
Option 1 ID : 264330595036
Option 2 ID : 264330595038
Option 3 ID : 264330595037
Option 4 ID : 264330595035
Status : Answered
Chosen Option : 4

Q.19 Select the most appropriate option that can substitute the underlined segment in the given sentence.

They would find someone drive the wagon back across the desert.

- Ans
- 1. to drive the
 - 2. to drive
 - 3. in drive in the
 - 4. in driving

Question ID : 264330153482
Option 1 ID : 264330601443
Option 2 ID : 264330601445
Option 3 ID : 264330601446
Option 4 ID : 264330601444
Status : Answered
Chosen Option : 1

Q.20 The following sentence has been split into four segments. Identify the segment that contains a grammatical error.

Despite the setbacks and obstacles we faced, / our team rallied together and achieved our goals, / which teach us the importance of / teamwork, resilience, and determination.

- Ans
- 1. Despite the setbacks and obstacles we faced,
 - 2. our team rallied together and achieved our goals,
 - 3. which teach us the importance of
 - 4. teamwork, resilience, and determination

Question ID : 264330144181
Option 1 ID : 264330564987
Option 2 ID : 264330564988
Option 3 ID : 264330564989
Option 4 ID : 264330564990
Status : Answered
Chosen Option : 3

Comprehension:

In the following passage, some words have been deleted. Read the passage carefully and select the most appropriate option to fill in each blank.

As a boy, I was always exploring lonely places—neglected gardens and orchards, unoccupied houses, patches of scrub or wasteland, the fields outside the town, the fringes of the forest. On one of my rambles (1)_____the bungalow, I pushed my way through a thicket of lantana bushes and stumbled over a thick stone slab, twisting my ankle slightly as I fell. For some time, I sat on the grass massaging my foot. When the pain eased, I looked more (2)_____ at the stone slab and was surprised to find that it was a gravestone. It was almost entirely covered by ivy; obviously no one had been near it for years. I tugged at the ivy and some of it came away in my hands. There was some (3)_____ lettering on the grave, half-observed by grass and moss. I could make out a name—Rose—but little more. I sat there for some time, (4)_____ over my discovery. I was wondering why 'Rose' should have been buried at so lonely a spot when there was a (5)_____ not far away.

SubQuestion No : 21

Q.21 Select the most appropriate option to fill in blank number 1.

- Ans
- 1. before
 - 2. below
 - 3. behind
 - 4. by dint of

Question ID : 264330153544

Option 1 ID : 264330601676

Option 2 ID : 264330601675

Option 3 ID : 264330601678

Option 4 ID : 264330601677

Status : Answered

Chosen Option : 3

Comprehension:

In the following passage, some words have been deleted. Read the passage carefully and select the most appropriate option to fill in each blank.

As a boy, I was always exploring lonely places—neglected gardens and orchards, unoccupied houses, patches of scrub or wasteland, the fields outside the town, the fringes of the forest. On one of my rambles (1)_____the bungalow, I pushed my way through a thicket of lantana bushes and stumbled over a thick stone slab, twisting my ankle slightly as I fell. For some time, I sat on the grass massaging my foot. When the pain eased, I looked more (2)_____ at the stone slab and was surprised to find that it was a gravestone. It was almost entirely covered by ivy; obviously no one had been near it for years. I tugged at the ivy and some of it came away in my hands. There was some (3)_____ lettering on the grave, half-observed by grass and moss. I could make out a name—Rose—but little more. I sat there for some time, (4)_____ over my discovery. I was wondering why 'Rose' should have been buried at so lonely a spot when there was a (5)_____ not far away.

SubQuestion No : 22

Q.22 Select the most appropriate option to fill in blank number 2.

- Ans
- 1. closely
 - 2. frankly
 - 3. emptyly
 - 4. lawfully

Question ID : 264330153545

Option 1 ID : 264330601681

Option 2 ID : 264330601680

Option 3 ID : 264330601679

Option 4 ID : 264330601682

Status : Answered

Chosen Option : 1

Comprehension:

In the following passage, some words have been deleted. Read the passage carefully and select the most appropriate option to fill in each blank.

As a boy, I was always exploring lonely places—neglected gardens and orchards, unoccupied houses, patches of scrub or wasteland, the fields outside the town, the fringes of the forest. On one of my rambles (1)_____the bungalow, I pushed my way through a thicket of lantana bushes and stumbled over a thick stone slab, twisting my ankle slightly as I fell. For some time, I sat on the grass massaging my foot. When the pain eased, I looked more (2)_____ at the stone slab and was surprised to find that it was a gravestone. It was almost entirely covered by ivy; obviously no one had been near it for years. I tugged at the ivy and some of it came away in my hands. There was some (3)_____ lettering on the grave, half-observed by grass and moss. I could make out a name—Rose—but little more. I sat there for some time, (4)_____ over my discovery. I was wondering why 'Rose' should have been buried at so lonely a spot when there was a (5)_____ not far away.

SubQuestion No : 23

Q.23 Select the most appropriate option to fill in blank number 3.

- Ans 1. idiotic
 2. blurred
 3. nomadic
 4. sturdy

Question ID : 264330153546

Option 1 ID : 264330601686

Option 2 ID : 264330601684

Option 3 ID : 264330601685

Option 4 ID : 264330601683

Status : Answered

Chosen Option : 2

Comprehension:

In the following passage, some words have been deleted. Read the passage carefully and select the most appropriate option to fill in each blank.

As a boy, I was always exploring lonely places—neglected gardens and orchards, unoccupied houses, patches of scrub or wasteland, the fields outside the town, the fringes of the forest. On one of my rambles (1)_____the bungalow, I pushed my way through a thicket of lantana bushes and stumbled over a thick stone slab, twisting my ankle slightly as I fell. For some time, I sat on the grass massaging my foot. When the pain eased, I looked more (2)_____ at the stone slab and was surprised to find that it was a gravestone. It was almost entirely covered by ivy; obviously no one had been near it for years. I tugged at the ivy and some of it came away in my hands. There was some (3)_____ lettering on the grave, half-observed by grass and moss. I could make out a name—Rose—but little more. I sat there for some time, (4)_____ over my discovery. I was wondering why 'Rose' should have been buried at so lonely a spot when there was a (5)_____ not far away.

SubQuestion No : 24

Q.24 Select the most appropriate option to fill in blank number 4.

- Ans 1. sleeping
 2. pulling
 3. being
 4. pondering

Question ID : 264330153547

Option 1 ID : 264330601690

Option 2 ID : 264330601689

Option 3 ID : 264330601688

Option 4 ID : 264330601687

Status : Answered

Chosen Option : 4

Comprehension:

In the following passage, some words have been deleted. Read the passage carefully and select the most appropriate option to fill in each blank.

As a boy, I was always exploring lonely places—neglected gardens and orchards, unoccupied houses, patches of scrub or wasteland, the fields outside the town, the fringes of the forest.

On one of my rambles (1)_____the bungalow, I pushed my way through a thicket of lantana bushes and stumbled over a thick stone slab, twisting my ankle slightly as I fell. For some time, I sat on the grass massaging my foot. When the pain eased, I looked more (2)_____ at the stone slab and was surprised to find that it was a gravestone. It was almost entirely covered by ivy; obviously no one had been near it for years. I tugged at the ivy and some of it came away in my hands. There was some (3)_____ lettering on the grave, half-observed by grass and moss. I could make out a name—Rose—but little more. I sat there for some time, (4)_____ over my discovery. I was wondering why 'Rose' should have been buried at so lonely a spot when there was a (5)_____ not far away.

SubQuestion No : 25

Q.25 Select the most appropriate option to fill in blank number 5.

- Ans 1. kennel
 2. dormitory
 3. cemetery
 4. sanctuary

Question ID : 264330153548

Option 1 ID : 264330601691

Option 2 ID : 264330601694

Option 3 ID : 264330601693

Option 4 ID : 264330601692

Status : Answered

Chosen Option : 3