

## Multi Tasking Non Technical Staff and Havaldar CBIC and CBN Examination 2023

Roll Number	
Candidate Name	
Venue Name	Ikon Digital
Exam Date	04/09/2023
Exam Time	4:00 PM - 6:00 PM
Subject	MTS Non Tech Havaldar CBIC and CBN Examination 2023

### Section : Numerical and Mathematical Ability

**Q.1** एक नाविक धारा के विपरीत 2 घंटे में 6 km जाता है और धारा की दिशा में 7.5 मिनट में 1.5 km जाता है। स्थिर जल में 30 km जाने में उसे कितना समय (घंटों में) लगेगा?

- Ans
- 1. 3.5
  - 2. 2.5
  - 3. 3.0
  - 4. 4.0

Question ID : 264330153776

Option 1 ID : 264330602570

Option 2 ID : 264330602569

Option 3 ID : 264330602568

Option 4 ID : 264330602567

Status : Answered

Chosen Option : 4

**Q.2** यदि P अकेले किसी काम को 3 घंटे में पूरा कर सकता है और Q अकेले उसी काम को 6 घंटे में पूरा सकता है, तो वे दोनों साथ मिलकर उस काम को  $x$  मिनट में पूरा करेंगे।  $x$  का मान ज्ञात कीजिए।

- Ans
- 1. 120
  - 2. 100
  - 3. 150
  - 4. 160

Question ID : 264330155972

Option 1 ID : 264330611288

Option 2 ID : 264330611290

Option 3 ID : 264330611287

Option 4 ID : 264330611289

Status : Answered

Chosen Option : 1

Q.3 एक पुरुष एक काम को 12 दिनों में पूरा कर सकता है और एक महिला उसी काम को 10 दिनों में पूरा कर सकती है। 2 पुरुष और 3 महिलाएँ एक दिन छोड़कर काम करते हैं और पुरुष पहले दिन काम शुरू करते हैं। काम \_\_\_\_\_ दिनों में पूरा हो जाएगा।

- Ans
1.  $\frac{24}{5}$
2.  $\frac{21}{5}$
3.  $\frac{22}{3}$
4.  $\frac{22}{5}$

Question ID : 264330153815  
 Option 1 ID : 264330602723  
 Option 2 ID : 264330602724  
 Option 3 ID : 264330602725  
 Option 4 ID : 264330602726  
 Status : Not Answered  
 Chosen Option : --

Q.4 नीचे दी गई तालिका में 2022 के हर माह में एक महिला द्वारा जॉगिंग की गई दूरी को दर्शाया गया है। तालिका का अध्ययन कीजिए और नीचे दिए गए प्रश्न का उत्तर दीजिए।

माह	जनवरी	फरवरी	मार्च	अप्रैल	मई	जून	जुलाई	अगस्त	सितंबर	अक्टूबर	नवंबर	दिसंबर
जॉगिंग की गई दूरी (km में)	90	60	30	30	30	60	60	90	30	60	90	30

वर्ष 2022 में महिला द्वारा जॉगिंग की गई माध्य दूरी कितनी है?

- Ans
1. 52.5 km
2. 50 km
3. 55 km
4. 60 km

Question ID : 264330156290  
 Option 1 ID : 264330612562  
 Option 2 ID : 264330612561  
 Option 3 ID : 264330612559  
 Option 4 ID : 264330612560  
 Status : Answered  
 Chosen Option : 3

Q.5 0.08 और 0.32 के बीच का माध्यानुपाती ज्ञात कीजिए।

- Ans
1. 16
2. 1.6
3. 0.016
4. 0.16

Question ID : 264330153845  
 Option 1 ID : 264330602844  
 Option 2 ID : 264330602845  
 Option 3 ID : 264330602846  
 Option 4 ID : 264330602843  
 Status : Answered  
 Chosen Option : 4

**Q.6** सरसों के तेल का अंकित मूल्य इसके क्रय मूल्य से 10% अधिक है। इसे अंकित मूल्य से कितने प्रतिशत कम पर बेचा जाना चाहिए ताकि न लाभ हो और न हानि?

- Ans**
- 1.  $9\frac{3}{11}\%$
  - 2.  $9\frac{4}{11}\%$
  - 3.  $9\frac{1}{11}\%$
  - 4.  $9\frac{2}{11}\%$

Question ID : 264330156219

Option 1 ID : 264330612277

Option 2 ID : 264330612278

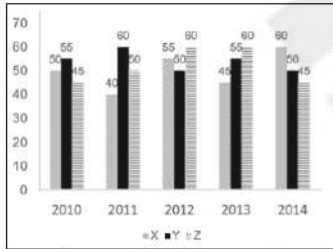
Option 3 ID : 264330612275

Option 4 ID : 264330612276

Status : Answered

Chosen Option : 3

**Q.7** निम्न आलेख में कुछ वर्षों में तीन अलग-अलग कंपनियों X, Y और Z द्वारा टायरों के उत्पादन (लाखों में) को दर्शाया गया है।  
निर्देश: निम्नलिखित आलेख का ध्यानपूर्वक अध्ययन कीजिए और नीचे दिए गए प्रश्न का उत्तर दीजिए।



2012 और 2013 में कंपनी Z का कुल उत्पादन, 2010 और 2011 में कंपनी X के कुल उत्पादन का कितना प्रतिशत है?

- Ans**
- 1. 111.1%
  - 2. 126.3%
  - 3. 75%
  - 4. 133.3%

Question ID : 264330153890

Option 1 ID : 264330603026

Option 2 ID : 264330603025

Option 3 ID : 264330603024

Option 4 ID : 264330603023

Status : Answered

Chosen Option : 4

Q.8 दिए गए व्यंजक को सरल कीजिए।

$$71 - (-3)\{-2 - (8 - 3)\} + 3\{5 + (-2)(-1)\}$$

- Ans
- 1. 119
  - 2. 50
  - 3. 71
  - 4. 30

Question ID : 264330157321  
Option 1 ID : 264330616648  
Option 2 ID : 264330616647  
Option 3 ID : 264330616649  
Option 4 ID : 264330616650  
Status : Answered  
Chosen Option : 3

Q.9 एक साइकिल सवार 10 km/h की चाल से 15 km की यात्रा करता है और फिर 20 km/h की चाल से 15 km की एक और यात्रा करता है। पूरी यात्रा में साइकिल सवार की औसत चाल क्या है? (दशमलव के दो स्थानों तक सन्निकटित)

- Ans
- 1. 13.33 km/h
  - 2. 13.74 km/h
  - 3. 12.32 km/h
  - 4. 12.72 km/h

Question ID : 264330156257  
Option 1 ID : 264330612429  
Option 2 ID : 264330612430  
Option 3 ID : 264330612427  
Option 4 ID : 264330612428  
Status : Answered  
Chosen Option : 1

Q.10 ₹3,600 को इस प्रकार बांटा जाता है कि पहले भाग का आधा, दूसरे भाग का एक-तिहाई और तीसरे भाग का पांचवा भाग समान है। तीसरे भाग का मान कितना है?

- Ans
- 1. 1000
  - 2. 1800
  - 3. 2400
  - 4. 1080

Question ID : 264330154050  
Option 1 ID : 264330603666  
Option 2 ID : 264330603664  
Option 3 ID : 264330603663  
Option 4 ID : 264330603665  
Status : Answered  
Chosen Option : 2

**Q.11** एक स्टोर एक वस्तु को ₹500 में बेचता है और 25% का लाभ अर्जित करता है। बाद में, पुरानी वस्तुओं को बेचने के लिए स्टोर वस्तु का मूल्य 20% कम कर देता है। स्टोर का नया लाभ या हानि प्रतिशत क्या है?

**Ans** ✓ 1. न लाभ, न हानि

✗ 2. 5% हानि

✗ 3. 5% लाभ

✗ 4. 2% लाभ

Question ID : 264330156264

Option 1 ID : 264330612458

Option 2 ID : 264330612456

Option 3 ID : 264330612455

Option 4 ID : 264330612457

Status : Answered

Chosen Option : 1

**Q.12** 2 वर्षों में ₹85,000 की धनराशि के लिए चक्रवृद्धि ब्याज (वार्षिक रूप से संयोजित) और साधारण ब्याज के बीच का अंतर ₹850 है। वार्षिक ब्याज की दर ज्ञात कीजिए।

**Ans** ✓ 1. 10%

✗ 2. 12%

✗ 3. 5%

✗ 4. 8%

Question ID : 264330156229

Option 1 ID : 264330612317

Option 2 ID : 264330612318

Option 3 ID : 264330612315

Option 4 ID : 264330612316

Status : Answered

Chosen Option : 1

**Q.13** The area of a trapezium is  $180 \text{ cm}^2$  and two parallel sides are 28 cm and 12 cm. The distance between these parallel sides is:

**Ans** ✗ 1. 12 cm

✗ 2. 15 cm

✗ 3. 18 cm

✓ 4. 9 cm

Question ID : 264330154138

Option 1 ID : 264330604015

Option 2 ID : 264330604018

Option 3 ID : 264330604017

Option 4 ID : 264330604016

Status : Answered

Chosen Option : 4

**Q.14** क्रमशः 120 मीटर और 150 मीटर लंबी दो रेलगाड़ियां समान दिशा में क्रमशः 70 km/h और 52 km/h की चाल से चल रही हैं। पहली रेलगाड़ी, दूसरी रेलगाड़ी को कितने समय में पार करेगी? (सेकंड में)

- Ans**  1. 54  
 2. 60  
 3. 52  
 4. 48

Question ID : 264330156008  
Option 1 ID : 264330611433  
Option 2 ID : 264330611434  
Option 3 ID : 264330611431  
Option 4 ID : 264330611432  
Status : Answered  
Chosen Option : 1

**Q.15** सुशांत ने ₹20 प्रति पेट्रोल की दर से तेल के 3 पेट्रोल, ₹21 प्रति पेट्रोल की दर से तेल के 4 पेट्रोल और ₹ 22 प्रति पेट्रोल की दर से तेल के 3 पेट्रोल खरीदे। तेल के एक पेट्रोल का औसत मूल्य कितना है?

- Ans**  1. ₹21.5  
 2. ₹21  
 3. ₹20.5  
 4. ₹20

Question ID : 264330153870  
Option 1 ID : 264330602946  
Option 2 ID : 264330602945  
Option 3 ID : 264330602944  
Option 4 ID : 264330602943  
Status : Answered  
Chosen Option : 2

**Q.16** पहले वर्ष के दौरान, एक कस्बे की जनसंख्या में 10% की वृद्धि हुई और अगले वर्ष के दौरान, जनसंख्या में 10% की कमी आई। यदि दूसरे वर्ष के अंत में कस्बे की कुल जनसंख्या 19,800 थी, तो पहले वर्ष की शुरुआत में जनसंख्या कितनी थी?

- Ans**  1. 20,800  
 2. 21,000  
 3. 21,800  
 4. 20,000

Question ID : 264330155994  
Option 1 ID : 264330611377  
Option 2 ID : 264330611376  
Option 3 ID : 264330611375  
Option 4 ID : 264330611378  
Status : Answered  
Chosen Option : 1

**Q.17** 25 लड़कों की औसत लंबाई 150 cm आंकी गई। बाद में यह ज्ञात हुआ कि औसत की गणना के लिए 160 cm के एक मान को गलती से 135 cm के रूप में कॉपी कर लिया गया था। सही औसत लंबाई (cm में) ज्ञात कीजिए।

- Ans** ✓ 1. 151  
✗ 2. 152  
✗ 3. 154  
✗ 4. 158

Question ID : 264330156097  
Option 1 ID : 264330611788  
Option 2 ID : 264330611790  
Option 3 ID : 264330611787  
Option 4 ID : 264330611789  
Status : Answered  
Chosen Option : 1

**Q.18** The ratio of principal and amount is 5 : 6 for one year. Find the rate of simple interest per annum?

- Ans** ✗ 1. 10%  
✗ 2. 11%  
✓ 3. 20%  
✗ 4. 15%

Question ID : 264330158842  
Option 1 ID : 264330622727  
Option 2 ID : 264330622729  
Option 3 ID : 264330622730  
Option 4 ID : 264330622728  
Status : Answered  
Chosen Option : 3

**Q.19** वह सबसे बड़ी संख्या कौन-सी है जिससे 627, 15630 और 3128 को भाग देने पर क्रमशः 2, 5 और 3 शेषफल बचता है?

- Ans** ✗ 1. 775  
✓ 2. 625  
✗ 3. 1225  
✗ 4. 650

Question ID : 264330156089  
Option 1 ID : 264330611757  
Option 2 ID : 264330611755  
Option 3 ID : 264330611756  
Option 4 ID : 264330611758  
Status : Answered  
Chosen Option : 2

**Q.20** Water is pouring into a cuboidal reservoir at the rate of 50 litres per minute. The volume of the reservoir is  $120 \text{ m}^3$ . How many hours will it take to fill the reservoir?

- Ans**
- 1. 35
  - 2. 40
  - 3. 45
  - 4. 30

Question ID : 264330153864  
Option 1 ID : 264330602922  
Option 2 ID : 264330602920  
Option 3 ID : 264330602919  
Option 4 ID : 264330602921  
Status : Answered  
Chosen Option : 4

Section : Reasoning Ability and Problem Solving

**Q.1** अंग्रेजी वर्णमाला क्रम के आधार पर दी गई श्रृंखला में प्रश्न चिह्न (?) के स्थान पर क्या आना चाहिए?

DQK, CPJ, BOI, ANH, ?

- Ans**
- 1. ZMG
  - 2. YNF
  - 3. XMF
  - 4. YLF

Question ID : 264330155768  
Option 1 ID : 264330610477  
Option 2 ID : 264330610478  
Option 3 ID : 264330610475  
Option 4 ID : 264330610476  
Status : Answered  
Chosen Option : 1

**Q.2** दी गई श्रृंखला में प्रश्न चिह्न '?' के स्थान पर क्या आना चाहिए?

10 52 262 1312 6562 ?

- Ans**
- 1. 31458
  - 2. 32954
  - 3. 31726
  - 4. 32812

Question ID : 264330151472  
Option 1 ID : 264330593515  
Option 2 ID : 264330593518  
Option 3 ID : 264330593516  
Option 4 ID : 264330593517  
Status : Answered  
Chosen Option : 4

Q.3 दी गई श्रृंखला में प्रश्न चिन्ह '?' के स्थान पर क्या आना चाहिए?

2 24 ? 948 5700 34212 205284

- Ans
- 1. 136
  - 2. 119
  - 3. 156
  - 4. 184

Question ID : 264330151482

Option 1 ID : 264330593556

Option 2 ID : 264330593555

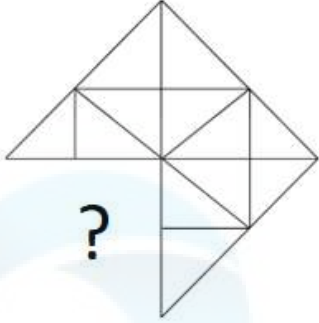
Option 3 ID : 264330593557

Option 4 ID : 264330593558

Status : Answered

Chosen Option : 1

Q.4 पैटर्न को पूरा करने वाली आकृति को पहचानिए (घूर्णन की अनुमति नहीं है)।

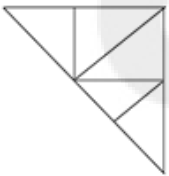


Ans

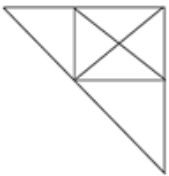
✓ 1.



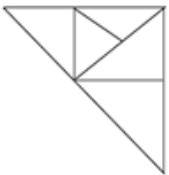
✗ 2.



✗ 3.



✗ 4.



Question ID : 264330154520

Option 1 ID : 264330605545

Option 2 ID : 264330605543

Option 3 ID : 264330605544

Option 4 ID : 264330605546

Status : Answered

Chosen Option : 1

Q.5 एक निश्चित तर्क के अनुसार 13, 174 से संबंधित है। समान तर्क के अनुसार, 15, 230 से संबंधित है। समान तर्क का अनुसरण करते हुए 17 निम्नलिखित में से किससे संबंधित है?

Ans ✓ 1. 294

✗ 2. 292

✗ 3. 293

✗ 4. 291

Question ID : 264330151596

Option 1 ID : 264330594014

Option 2 ID : 264330594012

Option 3 ID : 264330594013

Option 4 ID : 264330594011

Status : Answered

Chosen Option : 1

Q.6 यदि निम्नलिखित आकृति श्रृंखला को जारी रखना हो तो कौन-सी आकृति प्रश्न चिन्ह (?) के स्थान पर आनी चाहिए?

V =	3 Δ	V 3	0 Δ	
0	=	C	3	?
Δ 3	0 V	Δ 0	C V	

Ans

✓ 1.

V	O
I	
Δ	C

✗ 2.

O	C
3	
Δ	V

✗ 3.

C	O
I	
V	Δ

✗ 4.

V	C
O	
Δ	3

Question ID : 264330154743

Option 1 ID : 264330606437

Option 2 ID : 264330606438

Option 3 ID : 264330606435

Option 4 ID : 264330606436

Status : Answered

Chosen Option : 4

Q.7 DK 18, EM 22 से एक निश्चित प्रकार से संबंधित है। उसी प्रकार, ME 25, NG 29 से संबंधित है। समान तर्क का अनुसरण करते हुए UL 14 निम्नलिखित में से किससे संबंधित है?

Ans ✗ 1. WN 18

✗ 2. VM 19

✗ 3. XO 17

✓ 4. VN 18

Question ID : 264330151667

Option 1 ID : 264330594298

Option 2 ID : 264330594297

Option 3 ID : 264330594296

Option 4 ID : 264330594295

Status : Not Answered

Chosen Option : --

Q.8 यदि '+' और '\*' को आपस में बदल दिया जाए और '-' और '/' को आपस में बदल दिया जाए तो निम्नलिखित समीकरण में '?' के स्थान पर क्या आएगा?  
 $1 \times 1 - 1 \div 1 + 1 = ?$

- Ans
- 1. 11
  - 2. 21
  - 3. 10
  - 4. 1

Question ID : 264330154656

Option 1 ID : 264330606089

Option 2 ID : 264330606090

Option 3 ID : 264330606087

Option 4 ID : 264330606088

Status : Answered

Chosen Option : 4

Q.9 नीचे दिए गए कथनों और निष्कर्षों को ध्यानपूर्वक पढ़िए। आपको मानना है कि दिए गए कथन सत्य हैं चाहे वे समान्यतः ज्ञात तथ्यों से अलग प्रतीत होते हों। आपको निश्चय करना है कि कौन-सा/कौन-से निष्कर्ष तार्किक रूप से दिए गए कथनों के अनुसार है/हैं।

कथन: कुछ डोनट्स, चटाने हैं। सभी चटाने, कागज हैं। कुछ कागज, तेल हैं।

निष्कर्ष I: कुछ डोनट्स, कागज हैं।

निष्कर्ष II: कुछ चटाने, तेल हैं।

- Ans
- 1. केवल निष्कर्ष (I) कथनों के अनुसार है।
  - 2. न तो निष्कर्ष (I) और न ही (II) कथनों के अनुसार है।
  - 3. दोनों निष्कर्ष (I) और (II) कथनों के अनुसार हैं।
  - 4. केवल निष्कर्ष (II) कथनों के अनुसार है।

Question ID : 264330155926

Option 1 ID : 264330611107

Option 2 ID : 264330611109

Option 3 ID : 264330611110

Option 4 ID : 264330611108

Status : Answered

Chosen Option : 1

Q.10 यदि 7 मई 2000 को रविवार है, तो 15 जुलाई 2010 को सप्ताह का कौन-सा दिन होगा?

- Ans
- 1. सोमवार
  - 2. रविवार
  - 3. शुक्रवार
  - 4. गुरुवार

Question ID : 264330154331

Option 1 ID : 264330604787

Option 2 ID : 264330604788

Option 3 ID : 264330604789

Option 4 ID : 264330604790

Status : Answered

Chosen Option : 1

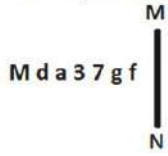
Q.11 उस सही विकल्प को चुनिए, जिसे दी गई श्रृंखला के रिक्त स्थानों में इसी क्रम में रखने पर श्रृंखला तार्किक रूप से पूरी हो जाएगी।

A\_BY CZ\_Y\_ZFY GZH\_IZ\_Y

- Ans
- 1. HCJNR
  - 2. BHDKU
  - 3. ZDEYJ
  - 4. ZJDBV

Question ID : 264330154721  
Option 1 ID : 264330606350  
Option 2 ID : 264330606348  
Option 3 ID : 264330606349  
Option 4 ID : 264330606347  
Status : Answered  
Chosen Option : 2

Q.12 दी गई आकृति के उस सही दर्पण प्रतिबिंब को चुनिए, जो नीचे दर्शाए गए अनुसार दर्पण को MN पर रखने पर बनेगा।



- Ans
- 1. ि g 7 3 6 b W
  - 2. ि g 7 3 6 b M
  - 3. ि g 7 3 6 a b M
  - 4. g f 7 3 6 P M

Question ID : 264330151530  
Option 1 ID : 264330593747  
Option 2 ID : 264330593749  
Option 3 ID : 264330593748  
Option 4 ID : 264330593750  
Status : Answered  
Chosen Option : 2

Q.13 नीचे दिए गए कथनों और निष्कर्षों को ध्यानपूर्वक पढ़िए। आपको मानना है कि दिए गए कथन सत्य हैं चाहे वे समान्यतः ज्ञात तथ्यों से अलग प्रतीत होते हों। आपको निश्चय करना है कि कौन-सा/कौन-से निष्कर्ष तार्किक रूप से दिए गए कथनों के अनुसार है/हैं।

कथन: कुछ ग्लास, गुलाबी हैं। सभी गुलाबी, बेग हैं। कुछ बेग, फूल हैं।

निष्कर्ष I: कुछ गुलाबी, ग्लास हैं।

निष्कर्ष II: कुछ फूल, बेग हैं।

- Ans
- 1. केवल निष्कर्ष (I) कथनों के अनुसार है।
  - 2. न तो निष्कर्ष (I) और न ही (II) कथनों के अनुसार है।
  - 3. दोनों निष्कर्ष (I) और (II) कथनों के अनुसार हैं।
  - 4. केवल निष्कर्ष (II) कथनों के अनुसार है।

Question ID : 264330155896  
Option 1 ID : 264330610987  
Option 2 ID : 264330610989  
Option 3 ID : 264330610990  
Option 4 ID : 264330610988  
Status : Answered  
Chosen Option : 3

Q.14 दी गई श्रृंखला में प्रश्न चिन्ह '?' के स्थान पर क्या आना चाहिए?

37 325 2917 ? 236197 2125765 19131877

- Ans
- 1. 28741
  - 2. 28953
  - 3. 27894
  - 4. 26245

Question ID : 264330151447  
Option 1 ID : 264330593417  
Option 2 ID : 264330593418  
Option 3 ID : 264330593416  
Option 4 ID : 264330593415  
Status : Not Answered  
Chosen Option : --

Q.15 यदि '+' और '-' को आपस में बदल दिया जाए तथा 'x' और '+' को आपस में बदल दिया जाए तो निम्नलिखित समीकरण में (?) के स्थान पर क्या आएगा?

$$147 \times 7 + 8 + 32 - 6 = ?$$

- Ans
- 1. 142
  - 2. 122
  - 3. 132
  - 4. 152

Question ID : 264330155676  
Option 1 ID : 264330610110  
Option 2 ID : 264330610108  
Option 3 ID : 264330610109  
Option 4 ID : 264330610107  
Status : Answered  
Chosen Option : 1

Q.16 एक निश्चित कूट भाषा में, 'MINT' को '4735' लिखा जाता है और 'TIME' को '5483' लिखा जाता है। उसी कूट भाषा में 'E' को कैसे लिखा जाएगा?

- Ans
- 1. 4
  - 2. 8
  - 3. 3
  - 4. 5

Question ID : 264330151703  
Option 1 ID : 264330594442  
Option 2 ID : 264330594439  
Option 3 ID : 264330594441  
Option 4 ID : 264330594440  
Status : Answered  
Chosen Option : 3

Q.17 उस सही विकल्प को चुनिए, जिसे दी गई श्रृंखला के रिक्त स्थानों में इसी क्रम में रखने पर श्रृंखला तार्किक रूप से पूरी हो जाएगी।

EFS\_JK\_M OPR \_US\_ YZ\_B

- Ans  1. HTBSW  
 2. HSTWS  
 3. JTBWS  
 4. JSTBW

Question ID : 264330154727

Option 1 ID : 264330606371

Option 2 ID : 264330606372

Option 3 ID : 264330606374

Option 4 ID : 264330606373

Status : Answered

Chosen Option : 3

Q.18 उस समुच्चय को चुनिए जिसमें संख्याएँ ठीक उसी प्रकार संबंधित हैं जिस प्रकार निम्नलिखित समुच्चयों की संख्याएँ संबंधित हैं।

(ध्यान दें: संख्याओं को उनके घटक अंकों में अलग-अलग किए बिना, पूर्ण संख्याओं पर संक्रियाएँ की जानी चाहिए। उदा. 13 – संख्या 13 पर संक्रियाएँ जैसे 13 को जोड़ना/घटाना/गुणा करना आदि किया जा सकता है। 13 को 1 और 3 में अलग-अलग करने की और फिर 1 और 3 पर गणितीय संक्रियाएँ करने की अनुमति नहीं है।)

(4, 55, 7)

(2, 35, 5)

- Ans  1. 12, 346, 9  
 2. 19, 122, 8  
 3. 41, 156, 7  
 4. 32, 175, 3

Question ID : 264330151617

Option 1 ID : 264330594095

Option 2 ID : 264330594096

Option 3 ID : 264330594098

Option 4 ID : 264330594097

Status : Answered

Chosen Option : 4

Q.19 Q, R, S, T, U, V, W और X एक वर्गाकार मेज के चारों ओर केन्द्र की ओर मुख करके बैठे हैं। उनमें से कुछ मेज के कोनों पर बैठे हैं जबकि कुछ भुजाओं के ठीक मध्य में बैठे हैं। X, W के बाईं ओर से दूसरे स्थान पर बैठा है। W किसी एक कोने में बैठा है। T और U का निकटतम पड़ोसी V है। R, T के बाईं ओर से तीसरे स्थान पर बैठा है। U किसी भी एक कोने में नहीं बैठा है। U न तो X और न ही W का पड़ोसी है। Q, X का पड़ोसी नहीं है। S के बाईं ओर से गिनने पर S और V के बीच में कितने व्यक्ति बैठे हैं?

- Ans  1. दो  
 2. एक  
 3. तीन  
 4. चार

Question ID : 264330155535

Option 1 ID : 264330609545

Option 2 ID : 264330609546

Option 3 ID : 264330609544

Option 4 ID : 264330609543

Status : Answered

Chosen Option : 4

Q.20 एक निश्चित कूट भाषा में, 'GLOAT' को 'EJMYR' लिखा जाता है और 'INCUR' को 'GLASP' लिखा जाता है। उस कूट भाषा में 'PANDA' को कैसे लिखा जाएगा?

- Ans
- 1. MZMCZ
  - 2. NYLBY
  - 3. NXNBY
  - 4. MYMCX

Question ID : 264330155816  
Option 1 ID : 264330610667  
Option 2 ID : 264330610668  
Option 3 ID : 264330610670  
Option 4 ID : 264330610669  
Status : Answered  
Chosen Option : 2

Section : General Awareness

Q.1 भारत की जनगणना 2011 के अनुसार, किस राज्य/केंद्र शासित प्रदेश में लिंगानुपात सबसे कम है?

- Ans
- 1. पंजाब
  - 2. लक्षद्वीप
  - 3. हरियाणा
  - 4. दमन और दीव

Question ID : 264330160154  
Option 1 ID : 264330627955  
Option 2 ID : 264330627956  
Option 3 ID : 264330627958  
Option 4 ID : 264330627957  
Status : Answered  
Chosen Option : 3

Q.2 पैराथाइरॉइड हार्मोन (parathyroid hormone) के अपर्याप्त स्तर के कारण रक्त में कैल्शियम की कमी निम्नलिखित में से किस स्थिति का कारण बनती है?

- Ans
- 1. मधुमेह (Diabetes)
  - 2. मलेरिया (Malaria)
  - 3. रक्ताल्पता (Anaemia)
  - 4. अल्पकैल्सियमरक्तता (Hypocalcemia)

Question ID : 264330156612  
Option 1 ID : 264330613837  
Option 2 ID : 264330613838  
Option 3 ID : 264330613836  
Option 4 ID : 264330613835  
Status : Answered  
Chosen Option : 4

Q.3 निम्नलिखित में से किस नेता ने बिहार में 1857 के विद्रोह का नेतृत्व किया?

- Ans
- 1. राजकुमार शुक्ल
  - 2. राजेन्द्र प्रसाद
  - 3. कुंवर सिंह
  - 4. देवी सिंह

Question ID : 264330162325

Option 1 ID : 264330636630

Option 2 ID : 264330636629

Option 3 ID : 264330636628

Option 4 ID : 264330636627

Status : Answered

Chosen Option : 3

Q.4 मध्य प्रदेश की मुख्यमंत्री सीखो-कमाओ योजना ( Learn and Earn Scheme ) के तहत सरकार निम्नलिखित में से क्या प्रदान नहीं करेगी?

- Ans
- 1. वित्तीय सहायता
  - 2. प्रशिक्षण
  - 3. लैपटॉप
  - 4. रोजगारपरक कौशल

Question ID : 264330158331

Option 1 ID : 264330620684

Option 2 ID : 264330620686

Option 3 ID : 264330620685

Option 4 ID : 264330620683

Status : Answered

Chosen Option : 3

Q.5 निम्नलिखित में से किसने अश्वशक्ति (horsepower) की एक इकाई स्थापित की जो एक घोड़े द्वारा एक मिनट में 33,000 फुट-पाउंड काम (33,000 foot - pounds of work) करने के बराबर है?

- Ans
- 1. जेम्स क्रॉल
  - 2. जेम्स ड्वाइट डाना
  - 3. जेम्स ब्लैक
  - 4. जेम्स वॉट

Question ID : 264330161401

Option 1 ID : 264330632933

Option 2 ID : 264330632934

Option 3 ID : 264330632932

Option 4 ID : 264330632931

Status : Answered

Chosen Option : 4

Q.6 \_\_\_\_\_ ग्रैमी जीतने वाली पहली भारतीय महिला हैं।

- Ans
- 1. शाल्मली खोलगडे
  - 2. पलक मुच्छल
  - 3. तन्वी शाह
  - 4. शिल्पा राव

Question ID : 264330155472  
Option 1 ID : 264330609291  
Option 2 ID : 264330609292  
Option 3 ID : 264330609293  
Option 4 ID : 264330609294  
Status : Answered  
Chosen Option : 3

Q.7 भारत में सूक्ष्म वित्त संस्थानों की संवहनीयता (sustainability) से संबंधित आयाम क्या है?

- Ans
- 1. अत्यधिक ब्याज दरें
  - 2. दाता निधि पर निर्भरता
  - 3. सीमित सामाजिक प्रभाव
  - 4. उच्च लाभ मार्जिन

Question ID : 264330157294  
Option 1 ID : 264330616541  
Option 2 ID : 264330616540  
Option 3 ID : 264330616542  
Option 4 ID : 264330616539  
Status : Not Answered  
Chosen Option : --

Q.8 एसएचजी बैंक लिंकेज आंदोलन (SHG Bank linkage movement) के महत्वपूर्ण लक्ष्य का नेतृत्व आरबीआई (RBI) के समर्थन से \_\_\_\_\_ ने किया था।

- Ans
- 1. सहकारी बैंक (Cooperative Bank)
  - 2. नाबार्ड (NABARD)
  - 3. सेबी (SEBI)
  - 4. इंडियन बैंक (Indian Bank)

Question ID : 264330161454  
Option 1 ID : 264330633146  
Option 2 ID : 264330633145  
Option 3 ID : 264330633144  
Option 4 ID : 264330633143  
Status : Not Answered  
Chosen Option : --

Q.9 भारत सरकार अधिनियम, 1935 के बारे में निम्नलिखित कथनों पर विचार कीजिए।

- 1) यह अधिनियम ब्रिटिश संसद द्वारा अधिनियमित किया गया था।
- 2) इस अधिनियम को भारत और बर्मा सरकार के लिए दो अलग-अलग अधिनियमों में विभाजित किया गया था।
- 3) यह अधिनियम 1 अप्रैल 1935 से प्रारंभ किया गया था।

नीचे दिए गए कोड का उपयोग करके सही कथन/नों का चुनाव कीजिए।

- Ans
- 1. 1, 2 और 3
  - 2. 2 और 3 दोनों
  - 3. 1 और 2 दोनों
  - 4. 1 और 3 दोनों

Question ID : 264330160879

Option 1 ID : 264330630850

Option 2 ID : 264330630849

Option 3 ID : 264330630847

Option 4 ID : 264330630848

Status : Answered

Chosen Option : 4

Q.10 भारत सरकार द्वारा ग्रामीण युवाओं को स्वरोजगार हेतु प्रशिक्षण (Training of Rural Youth for Self Employment - TRYSEM) योजना किस वर्ष शुरू की गई थी ?

- Ans
- 1. 1979
  - 2. 1965
  - 3. 2000
  - 4. 1991

Question ID : 264330161575

Option 1 ID : 264330633627

Option 2 ID : 264330633629

Option 3 ID : 264330633630

Option 4 ID : 264330633628

Status : Answered

Chosen Option : 3

Q.11 निम्नलिखित में से प्रसिद्ध क्रिकेटर सौरव गांगुली की आत्मकथा कौन-सी है?

- Ans
- 1. मेमोरीज़ ऑफ़ माई लाइफ़ एंड टाइम्स (Memories of My Life and Times)
  - 2. ए शॉट एट हिस्ट्री (A Shot at History)
  - 3. अ सेंचुरी इस नॉट इनफ़ (A Century is not enough)
  - 4. द ड्रीम ऑफ़ रिवोल्यूशन (The Dream of Revolution)

Question ID : 264330162283

Option 1 ID : 264330636462

Option 2 ID : 264330636459

Option 3 ID : 264330636461

Option 4 ID : 264330636460

Status : Answered

Chosen Option : 3

Q.12 भारत की जलवायु का वर्णन करने के लिए प्रयुक्त सामान्य शब्द क्या है?

- Ans
- 1. शुष्क जलवायु
  - 2. उष्णकटिबंधीय मानसून
  - 3. ध्रुवीय जलवायु
  - 4. रेगिस्तानी जलवायु

Question ID : 264330157825  
Option 1 ID : 264330618661  
Option 2 ID : 264330618662  
Option 3 ID : 264330618660  
Option 4 ID : 264330618659  
Status : Answered  
Chosen Option : 2

Q.13 ISSF जूनियर विश्व कप 2023 में भारत ने कितने स्वर्ण पदक जीते?

- Ans
- 1. 7
  - 2. 6
  - 3. 8
  - 4. 5

Question ID : 264330161130  
Option 1 ID : 264330631852  
Option 2 ID : 264330631851  
Option 3 ID : 264330631854  
Option 4 ID : 264330631853  
Status : Answered  
Chosen Option : 3

Q.14 वह सबसे शक्तिशाली हथियार कौन-सा है जो संसद को कार्यकारी जवाबदेही सुनिश्चित करने में सक्षम बनाता है?

- Ans
- 1. कानूनों की स्वीकृति या अस्वीकृति
  - 2. संधियों की पुष्टि
  - 3. विचार-विमर्श और चर्चा
  - 4. अविश्वास प्रस्ताव

Question ID : 264330161293  
Option 1 ID : 264330632500  
Option 2 ID : 264330632501  
Option 3 ID : 264330632499  
Option 4 ID : 264330632502  
Status : Answered  
Chosen Option : 4

Q.15 डंडारी (नृत्य) मंडलियां, कोलम (Kolam) और राज गोंड (Raj Gond) जनजातियों की भागीदारी के साथ एक पखवाड़े तक दिवाली के त्योहार के दौरान \_\_\_\_\_ का प्रदर्शन करती हैं।

- Ans
- 1. छउ (Chhau)
  - 2. राउत नाचा (Rout Nacha)
  - 3. गुसाड़ी (Ghusadi)
  - 4. बैगा परधोनी (Baiga Pardhoni)

Question ID : 264330160853  
Option 1 ID : 264330630745  
Option 2 ID : 264330630743  
Option 3 ID : 264330630744  
Option 4 ID : 264330630746  
Status : Answered  
Chosen Option : 2

Q.16 प्रसिद्ध नृत्य इतिहासकार डॉ. सुनील कोठारी को असम सरकार द्वारा 2019 में राज्य की किस नृत्य शैली को लोकप्रिय बनाने के लिए माधबदेव पुरस्कार (Madhabdev Award) से सम्मानित किया गया?

- Ans
- 1. बिहु (Bihu)
  - 2. बगुरुम्बा (Bagurumba)
  - 3. सत्रिय (Sattriya)
  - 4. ओजापाली (Ojapali)

Question ID : 264330155488  
Option 1 ID : 264330609355  
Option 2 ID : 264330609358  
Option 3 ID : 264330609356  
Option 4 ID : 264330609357  
Status : Answered  
Chosen Option : 3

Q.17 \_\_\_\_\_ का शाब्दिक अर्थ है 'जादूगरनी का नृत्य (dance of the enchantress)। यह भारतीय शास्त्रीय नृत्य प्रदर्शनों की सूची में सबसे आकर्षक नृत्य शैली में से एक है।

- Ans
- 1. कथकली
  - 2. भरतनाट्यम
  - 3. मोहिनीअट्टम
  - 4. कुचिपुड़ी

Question ID : 264330160789  
Option 1 ID : 264330630487  
Option 2 ID : 264330630489  
Option 3 ID : 264330630488  
Option 4 ID : 264330630490  
Status : Answered  
Chosen Option : 1

Q.18 टीम रेस्ट ऑफ इंडिया (Team Rest of India) ने 2023 में ईरानी कप जीता। ईरानी कप किस राज्य में आयोजित किया गया था?

- Ans  1. मध्यप्रदेश  
 2. बिहार  
 3. पश्चिम बंगाल  
 4. उत्तरप्रदेश

Question ID : 264330158353  
Option 1 ID : 264330620772  
Option 2 ID : 264330620771  
Option 3 ID : 264330620774  
Option 4 ID : 264330620773  
Status : Answered  
Chosen Option : 1

Q.19 42वां संवैधानिक संशोधन अधिनियम किस वर्ष पारित किया गया था?

- Ans  1. 1986  
 2. 1978  
 3. 1998  
 4. 1976

Question ID : 264330159898  
Option 1 ID : 264330626941  
Option 2 ID : 264330626940  
Option 3 ID : 264330626942  
Option 4 ID : 264330626939  
Status : Answered  
Chosen Option : 4

Q.20 केरल और कर्नाटक में पूर्व-मानसून वर्षा को \_\_\_\_\_ के रूप में जाना जाता है।

- Ans  1. चाय की वर्षा  
 2. केले की वर्षा  
 3. अंगूर की वर्षा  
 4. आम्र वर्षा

Question ID : 264330161515  
Option 1 ID : 264330633387  
Option 2 ID : 264330633389  
Option 3 ID : 264330633390  
Option 4 ID : 264330633388  
Status : Answered  
Chosen Option : 4

Q.21 लॉन्ग वॉक टू फ्रीडम ( Long Walk to Freedom)' आत्मकथा किस अफ्रीकी नेता द्वारा लिखी गई है?

- Ans  1. मुअम्मर गद्दाफी (Muammar Gaddafi)  
 2. नेल्सन मंडेला (Nelson Mandela)  
 3. डेसमंड टूटू (Desmond Tutu)  
 4. रॉबर्ट मुगाबे (Robert Mugabe)

Question ID : 264330160959  
Option 1 ID : 264330631170  
Option 2 ID : 264330631167  
Option 3 ID : 264330631168  
Option 4 ID : 264330631169  
Status : Answered  
Chosen Option : 2

Q.22 भारत के प्रमुख स्टेडियमों में से एक नरेंद्र मोदी क्रिकेट स्टेडियम \_\_\_\_\_ में स्थित है।

- Ans
- 1. नई दिल्ली
  - 2. बड़ौदा
  - 3. अहमदाबाद
  - 4. सूरत

Question ID : 264330158241  
Option 1 ID : 264330620324  
Option 2 ID : 264330620325  
Option 3 ID : 264330620323  
Option 4 ID : 264330620326  
Status : Answered  
Chosen Option : 3

Q.23 महाबोधि मंदिर कहां स्थित है?

- Ans
- 1. पटना
  - 2. आगरा
  - 3. वाराणसी
  - 4. बोधगया

Question ID : 264330160762  
Option 1 ID : 264330630381  
Option 2 ID : 264330630380  
Option 3 ID : 264330630379  
Option 4 ID : 264330630382  
Status : Answered  
Chosen Option : 4

Q.24 श्रीजगन्नाथ जी मेला \_\_\_\_\_ में आयोजित किया जाता है।

- Ans
- 1. संबलपुर
  - 2. कटक
  - 3. जयपुर
  - 4. अलवर

Question ID : 264330159087  
Option 1 ID : 264330623710  
Option 2 ID : 264330623708  
Option 3 ID : 264330623709  
Option 4 ID : 264330623707  
Status : Answered  
Chosen Option : 2

Q.25 किस भारतीय संगीतकार हस्ती का जन्मस्थान पश्चिम बंगाल है?

- Ans
- 1. बप्पी लहरी
  - 2. ओ. पी. नैय्यर
  - 3. इलैयाराजा
  - 4. नौशाद

Question ID : 264330162236  
Option 1 ID : 264330636271  
Option 2 ID : 264330636274  
Option 3 ID : 264330636272  
Option 4 ID : 264330636273  
Status : Answered  
Chosen Option : 3

**Q.1** The following sentence has been split into four segments. Identify the segment that contains a grammatical error.  
After I complete my training program / I will have been joining a team of astronauts / and preparing to / embark on a mission to Mars.

- Ans**
- 1. I will have been joining a team of astronauts
  - 2. After I complete my training program
  - 3. embark on a mission to Mars
  - 4. and preparing to

Question ID : 264330144176  
Option 1 ID : 264330564968  
Option 2 ID : 264330564967  
Option 3 ID : 264330564970  
Option 4 ID : 264330564969  
Status : Not Answered  
Chosen Option : --

**Q.2** The sentence given below contains some spelling errors. Select the option that has the correct spellings.  
Members of the association have successfully climbed several peaks of the Himalayan range.

- Ans**
- 1. Members of the association have successfully climbed several peaks of the Himalayan range.
  - 2. Members of the association have successfully climbed several peaks of the Himalayan range.
  - 3. Members of the association have successfully climbed several peaks of the Himalayan range.
  - 4. Members of the association have successfully climbed several peaks of the Himalayan range.

Question ID : 264330153541  
Option 1 ID : 264330601668  
Option 2 ID : 264330601670  
Option 3 ID : 264330601669  
Option 4 ID : 264330601667  
Status : Answered  
Chosen Option : 1

**Q.3** Choose the sentence that contains an error.

- Ans**
- 1. He is a doctor who specialises in the treating rare diseases.
  - 2. She is the only person who can speak five languages fluently.
  - 3. The Mona Lisa is a famous painting by Leonardo da Vinci.
  - 4. I saw the movie that won the Academy Award for Best Picture.

Question ID : 264330155180  
Option 1 ID : 264330608182  
Option 2 ID : 264330608181  
Option 3 ID : 264330608179  
Option 4 ID : 264330608180  
Status : Answered  
Chosen Option : 2

**Q.4** Select the most appropriate meaning of the given idiom.

**To cut someone some slack**

- Ans**
- 1. Avoid talking about problems till the very end
  - 2. To criticise someone very strictly
  - 3. To get the conversation going
  - 4. To not manage someone very strictly or critically

Question ID : 264330153009  
Option 1 ID : 264330599608  
Option 2 ID : 264330599607  
Option 3 ID : 264330599609  
Option 4 ID : 264330599610  
Status : Answered  
Chosen Option : 1

**Q.5** Select the option that can be used as a one-word substitute for the given group of words.

**A number which is used to divide another number**

- Ans**
- 1. Divisible
  - 2. Remainder
  - 3. Divisor
  - 4. Quotient

Question ID : 264330153456  
Option 1 ID : 264330601341  
Option 2 ID : 264330601342  
Option 3 ID : 264330601339  
Option 4 ID : 264330601340  
Status : Answered  
Chosen Option : 3

**Q.6** Select the most appropriate option to fill in the blank.

Her stories paid \_\_\_\_\_ to her mother, whom she regarded as the goddess of bravery.

- Ans**
- 1. absoluteness
  - 2. frustration
  - 3. homage
  - 4. sainthood

Question ID : 264330153552  
Option 1 ID : 264330601708  
Option 2 ID : 264330601707  
Option 3 ID : 264330601709  
Option 4 ID : 264330601710  
Status : Answered  
Chosen Option : 4

**Q.7** The following sentence has been divided into parts. One of them may contain an error. Select the part that contains the error from the given options. If you don't find any error, mark 'No error' as your answer.  
Why don't / you throw this / paper on the dust bin?

- Ans**  1. No error  
 2. paper on the dust bin  
 3. you throw this  
 4. Why don't

Question ID : 264330150527  
Option 1 ID : 264330589754  
Option 2 ID : 264330589753  
Option 3 ID : 264330589752  
Option 4 ID : 264330589751  
Status : Answered  
Chosen Option : 2

**Q.8** Select the most appropriate meaning of the given idiom.  
Beat around the bush

- Ans**  1. To avoid addressing a topic correctly  
 2. To be direct and formal  
 3. To be impatient and short-tempered  
 4. To be persistent in pursuing a goal

Question ID : 264330143943  
Option 1 ID : 264330564036  
Option 2 ID : 264330564035  
Option 3 ID : 264330564038  
Option 4 ID : 264330564037  
Status : Answered  
Chosen Option : 4

**Q.9** The given sentence contains an error. Select the option that correctly rectifies the error.  
Earlier, he was feeling better, but things took a turn for the bad.

- Ans**  1. Earlier, he was feeling better, but things took a turn for the worst.  
 2. Earlier, he was feeling good, but things took a turn for the bad.  
 3. Earlier, he was feeling better, but things took a turn for the ill.  
 4. Earlier, he was feeling well, but things took a turn for the ill.

Question ID : 264330152609  
Option 1 ID : 264330598040  
Option 2 ID : 264330598041  
Option 3 ID : 264330598042  
Option 4 ID : 264330598039  
Status : Answered  
Chosen Option : 1

**Q.10** Select the most appropriate idiom to fill in the blank.  
Our trainer asked for \_\_\_\_\_ on her for the next informative session.

- Ans
- 1. being around the bend
  - 2. going bananas
  - 3. chasing rainbows
  - 4. all eyes and ears

Question ID : 264330153561  
Option 1 ID : 264330601744  
Option 2 ID : 264330601746  
Option 3 ID : 264330601745  
Option 4 ID : 264330601743  
Status : Answered  
Chosen Option : 4

**Q.11** Select the option that can be used as a one-word substitute for the given group of words.

The action of formally accusing a public official of a serious offence

- Ans
- 1. Allegation
  - 2. Condemnation
  - 3. Summon
  - 4. Impeachment

Question ID : 264330151870  
Option 1 ID : 264330595102  
Option 2 ID : 264330595101  
Option 3 ID : 264330595100  
Option 4 ID : 264330595099  
Status : Answered  
Chosen Option : 3

**Q.12** Select the most appropriate ANTONYM of the given word.  
Break

- Ans
- 1. Breach
  - 2. Mend
  - 3. Divide
  - 4. Split

Question ID : 264330153556  
Option 1 ID : 264330601723  
Option 2 ID : 264330601724  
Option 3 ID : 264330601725  
Option 4 ID : 264330601726  
Status : Answered  
Chosen Option : 2

**Q.13** The following sentence has been split into four segments. Identify the segment that contains a spelling error.  
The conference / attempts to / trace the processes and / consequences of climate change.

- Ans**
- 1. trace the processes and
  - 2. attempts to
  - 3. The conference
  - 4. consequences of climate change

Question ID : 264330155314  
Option 1 ID : 264330608697  
Option 2 ID : 264330608696  
Option 3 ID : 264330608695  
Option 4 ID : 264330608698  
Status : Answered  
Chosen Option : 1

**Q.14** Select the INCORRECTLY spelt word in the given sentence.  
Children below the age of 14 were not allowed to partisipate in the cooking competition.

- Ans**
- 1. Children
  - 2. Partisipate
  - 3. Allowed
  - 4. Competition

Question ID : 264330153301  
Option 1 ID : 264330600759  
Option 2 ID : 264330600761  
Option 3 ID : 264330600760  
Option 4 ID : 264330600762  
Status : Answered  
Chosen Option : 2

**Q.15** Select the most appropriate synonym of the given word.  
Amicable

- Ans**
- 1. Generous
  - 2. Friendly
  - 3. Harsh
  - 4. Proud

Question ID : 264330152749  
Option 1 ID : 264330598598  
Option 2 ID : 264330598596  
Option 3 ID : 264330598595  
Option 4 ID : 264330598597  
Status : Answered  
Chosen Option : 2

**Q.16** Parts of the following sentence have been given as options. Select the option that contains an error.

I will celebrating New Year at my old residence as usual.

- Ans
- 1. I
  - 2. at my old residence as usual.
  - 3. will celebrating
  - 4. New Year

Question ID : 264330155229  
Option 1 ID : 264330608371  
Option 2 ID : 264330608374  
Option 3 ID : 264330608372  
Option 4 ID : 264330608373  
Status : Answered  
Chosen Option : 3

**Q.17** Select the word segment which substitutes the bracketed word correctly and completes the sentence meaningfully.  
Mathematics (are not) easy to learn.

- Ans
- 1. was not
  - 2. were not
  - 3. has not
  - 4. is not

Question ID : 264330152567  
Option 1 ID : 264330597872  
Option 2 ID : 264330597873  
Option 3 ID : 264330597874  
Option 4 ID : 264330597871  
Status : Answered  
Chosen Option : 4

**Q.18** Select the most appropriate ANTONYM of the given word.  
Forthcoming

- Ans
- 1. Past
  - 2. Extensive
  - 3. Adventurous
  - 4. Large

Question ID : 264330151912  
Option 1 ID : 264330595263  
Option 2 ID : 264330595264  
Option 3 ID : 264330595266  
Option 4 ID : 264330595265  
Status : Answered  
Chosen Option : 1

**Q.19** Select the option that can be used as a one-word substitute for the given group of words.

**A place of burial**

- Ans
- 1. Building
  - 2. Laboratory
  - 3. Cemetery
  - 4. Observatory

Question ID : 264330153360

Option 1 ID : 264330600994

Option 2 ID : 264330600992

Option 3 ID : 264330600991

Option 4 ID : 264330600993

Status : Answered

Chosen Option : 3

**Q.20** Select the most appropriate meaning of the given idiom.

**Blessing in disguise**

- Ans
- 1. Something that cannot be hidden from anyone
  - 2. Something that seems bad but provides some benefit
  - 3. Something that seems good but is harmful for you
  - 4. Something that remains hidden from everyone

Question ID : 264330153010

Option 1 ID : 264330599613

Option 2 ID : 264330599612

Option 3 ID : 264330599611

Option 4 ID : 264330599614

Status : Answered

Chosen Option : 2

**Comprehension:**

In the following passage, some words have been deleted. Read the passage carefully and select the most appropriate option to fill in each blank.

Once, there was a boy who became bored when he watched over the village sheep (1)\_\_\_\_\_ on the hillside. To entertain himself, he sang out, "Wolf! Wolf! The wolf is chasing the sheep!" When the villagers heard the cry, they came (2)\_\_\_\_\_ the hill to drive the wolf away. But, when they arrived, they saw no wolf. The boy was amused when seeing their angry faces. "Don't scream wolf, boy," warned the villagers, "when there is no wolf!" They angrily went back down the hill. Later, the shepherd boy cried out once again, "Wolf! Wolf! The wolf is chasing the sheep!" When the villagers came, they saw there was no wolf, they said strictly, "Save your (3)\_\_\_\_\_ cry for when there is really a wolf! Don't cry 'wolf' when there is no wolf!" Later, the boy saw a real wolf sneaking around his flock. Alarmed, he jumped on his feet and cried out as loud as he could, "Wolf! Wolf!" But the villagers thought he was (4)\_\_\_\_\_ them again, and so they didn't come to help. At sunset, the villagers went looking for the boy who hadn't returned with their sheep. When they went up the hill, they found him (5)\_\_\_\_\_ as all the sheep were dead.

**SubQuestion No : 21**

**Q.21** Select the most appropriate option to fill in blank number 1.

- Ans
- 1. grazing
  - 2. laughing
  - 3. assisting
  - 4. receiving

Question ID : 264330153531

Option 1 ID : 264330601629

Option 2 ID : 264330601627

Option 3 ID : 264330601628

Option 4 ID : 264330601630

Status : Answered

Chosen Option : 1

**Comprehension:**

In the following passage, some words have been deleted. Read the passage carefully and select the most appropriate option to fill in each blank.

Once, there was a boy who became bored when he watched over the village sheep (1)\_\_\_\_\_ on the hillside. To entertain himself, he sang out, "Wolf! Wolf! The wolf is chasing the sheep!" When the villagers heard the cry, they came (2)\_\_\_\_\_ the hill to drive the wolf away. But, when they arrived, they saw no wolf. The boy was amused when seeing their angry faces. "Don't scream wolf, boy," warned the villagers, "when there is no wolf!" They angrily went back down the hill. Later, the shepherd boy cried out once again, "Wolf! Wolf! The wolf is chasing the sheep!" When the villagers came, they saw there was no wolf, they said strictly, "Save your (3)\_\_\_\_\_ cry for when there is really a wolf! Don't cry 'wolf' when there is no wolf!" Later, the boy saw a real wolf sneaking around his flock. Alarmed, he jumped on his feet and cried out as loud as he could, "Wolf! Wolf!" But the villagers thought he was (4)\_\_\_\_\_ them again, and so they didn't come to help. At sunset, the villagers went looking for the boy who hadn't returned with their sheep. When they went up the hill, they found him (5)\_\_\_\_\_ as all the sheep were dead.

**SubQuestion No : 22**

**Q.22** Select the most appropriate option to fill in blank number 2.

- Ans
- 1. driving
  - 2. walking down
  - 3. running up
  - 4. running down

Question ID : **264330153532**  
Option 1 ID : **264330601632**  
Option 2 ID : **264330601633**  
Option 3 ID : **264330601631**  
Option 4 ID : **264330601634**  
Status : **Answered**  
Chosen Option : **3**

**Comprehension:**

In the following passage, some words have been deleted. Read the passage carefully and select the most appropriate option to fill in each blank.

Once, there was a boy who became bored when he watched over the village sheep (1)\_\_\_\_\_ on the hillside. To entertain himself, he sang out, "Wolf! Wolf! The wolf is chasing the sheep!" When the villagers heard the cry, they came (2)\_\_\_\_\_ the hill to drive the wolf away. But, when they arrived, they saw no wolf. The boy was amused when seeing their angry faces. "Don't scream wolf, boy," warned the villagers, "when there is no wolf!" They angrily went back down the hill. Later, the shepherd boy cried out once again, "Wolf! Wolf! The wolf is chasing the sheep!" When the villagers came, they saw there was no wolf, they said strictly, "Save your (3)\_\_\_\_\_ cry for when there is really a wolf! Don't cry 'wolf' when there is no wolf!" Later, the boy saw a real wolf sneaking around his flock. Alarmed, he jumped on his feet and cried out as loud as he could, "Wolf! Wolf!" But the villagers thought he was (4)\_\_\_\_\_ them again, and so they didn't come to help. At sunset, the villagers went looking for the boy who hadn't returned with their sheep. When they went up the hill, they found him (5)\_\_\_\_\_ as all the sheep were dead.

**SubQuestion No : 23**

**Q.23** Select the most appropriate option to fill in blank number 3.

- Ans
- 1. laughable
  - 2. muffled
  - 3. frightened
  - 4. funny

Question ID : **264330153533**  
Option 1 ID : **264330601637**  
Option 2 ID : **264330601638**  
Option 3 ID : **264330601636**  
Option 4 ID : **264330601635**  
Status : **Answered**  
Chosen Option : **2**

**Comprehension:**

In the following passage, some words have been deleted. Read the passage carefully and select the most appropriate option to fill in each blank.

Once, there was a boy who became bored when he watched over the village sheep (1)\_\_\_\_\_ on the hillside. To entertain himself, he sang out, "Wolf! Wolf! The wolf is chasing the sheep!" When the villagers heard the cry, they came (2)\_\_\_\_\_ the hill to drive the wolf away. But, when they arrived, they saw no wolf. The boy was amused when seeing their angry faces. "Don't scream wolf, boy," warned the villagers, "when there is no wolf!" They angrily went back down the hill. Later, the shepherd boy cried out once again, "Wolf! Wolf! The wolf is chasing the sheep!" When the villagers came, they saw there was no wolf, they said strictly, "Save your (3)\_\_\_\_\_ cry for when there is really a wolf! Don't cry 'wolf' when there is no wolf!" Later, the boy saw a real wolf sneaking around his flock. Alarmed, he jumped on his feet and cried out as loud as he could, "Wolf! Wolf!" But the villagers thought he was (4)\_\_\_\_\_ them again, and so they didn't come to help. At sunset, the villagers went looking for the boy who hadn't returned with their sheep. When they went up the hill, they found him (5)\_\_\_\_\_ as all the sheep were dead.

**SubQuestion No : 24**

**Q.24** Select the most appropriate option to fill in blank number 4.

- Ans  1. fighting  
 2. fooling  
 3. questioning  
 4. seeing

Question ID : 264330153534  
Option 1 ID : 264330601639  
Option 2 ID : 264330601642  
Option 3 ID : 264330601640  
Option 4 ID : 264330601641  
Status : Answered  
Chosen Option : 2

**Comprehension:**

In the following passage, some words have been deleted. Read the passage carefully and select the most appropriate option to fill in each blank.

Once, there was a boy who became bored when he watched over the village sheep (1)\_\_\_\_\_ on the hillside. To entertain himself, he sang out, "Wolf! Wolf! The wolf is chasing the sheep!" When the villagers heard the cry, they came (2)\_\_\_\_\_ the hill to drive the wolf away. But, when they arrived, they saw no wolf. The boy was amused when seeing their angry faces. "Don't scream wolf, boy," warned the villagers, "when there is no wolf!" They angrily went back down the hill. Later, the shepherd boy cried out once again, "Wolf! Wolf! The wolf is chasing the sheep!" When the villagers came, they saw there was no wolf, they said strictly, "Save your (3)\_\_\_\_\_ cry for when there is really a wolf! Don't cry 'wolf' when there is no wolf!" Later, the boy saw a real wolf sneaking around his flock. Alarmed, he jumped on his feet and cried out as loud as he could, "Wolf! Wolf!" But the villagers thought he was (4)\_\_\_\_\_ them again, and so they didn't come to help. At sunset, the villagers went looking for the boy who hadn't returned with their sheep. When they went up the hill, they found him (5)\_\_\_\_\_ as all the sheep were dead.

**SubQuestion No : 25**

**Q.25** Select the most appropriate option to fill in blank number 5.

- Ans  1. singing  
 2. dancing  
 3. happy  
 4. weeping

Question ID : 264330153535  
Option 1 ID : 264330601644  
Option 2 ID : 264330601645  
Option 3 ID : 264330601646  
Option 4 ID : 264330601643  
Status : Answered  
Chosen Option : 4