

Multi Tasking Non Technical Staff and Havaldar CBIC and CBN Examination 2023

Roll Number	
Candidate Name	
Venue Name	Maa Santoshi Computers Pvt. Ltd.
Exam Date	08/09/2023
Exam Time	12:30 PM - 2:30 PM
Subject	MTS Non Tech Havaldar CBIC and CBN Examination 2023

Section : Numerical and Mathematical Ability

Q.1 एक नाव धारा के अनुकूल एक निश्चित दूरी 5 घंटे में तय करती है लेकिन धारा के प्रतिकूल प्रारंभिक बिंदु पर लौटने में 8 घंटे का समय लेती है। यदि धारा की चाल 6 km/h है, तो स्थिर जल में नाव की चाल ज्ञात कीजिए।

- Ans**
- 1. 39 km/h
 - 2. 13 km/h
 - 3. 78 km/h
 - 4. 26 km/h

Question ID : 264330153884

Option 1 ID : 264330603000

Option 2 ID : 264330603001

Option 3 ID : 264330602999

Option 4 ID : 264330603002

Status : Answered

Chosen Option : 4

Q.2 10.5 cm त्रिज्या और 13 cm तिर्यक ऊंचाई वाले एक लम्ब वृत्तीय शंकु का कुल पृष्ठीय क्षेत्रफल (cm^2 में) क्या है?
($\pi = \frac{22}{7}$ लीजिए)

- Ans**
- 1. 757.5
 - 2. 775.5
 - 3. 577.5
 - 4. 787.5

Question ID : 264330153790

Option 1 ID : 264330602624

Option 2 ID : 264330602626

Option 3 ID : 264330602625

Option 4 ID : 264330602623

Status : Answered

Chosen Option : 2

Q.3 एक विद्यार्थी द्वारा पांच विषयों में निम्नलिखित अंक प्राप्त किए गए।

विषय	अंक
भूगोल	42
इतिहास	43
नागरिक शास्त्र	51
हिन्दी	54
सीएस	50

विद्यार्थी द्वारा प्राप्त किए गए न्यूनतम और अधिकतम अंकों के बीच का अंतर कितना है?

- Ans
- ✓ 1. 12
 - ✗ 2. 2
 - ✗ 3. 4
 - ✗ 4. 10

Question ID : 264330156536
Option 1 ID : 264330613531
Option 2 ID : 264330613532
Option 3 ID : 264330613534
Option 4 ID : 264330613533
Status : Answered
Chosen Option : 1

Q.4 आयशा और रजिया एक काम को क्रमशः 50 दिन और 75 दिन में पूरा कर सकती हैं। यदि दोनों एक साथ मिलकर काम करें तो काम को पूरा करने में कितने दिनों का समय लगेगा?

- Ans
- ✓ 1. 30
 - ✗ 2. 28
 - ✗ 3. 32
 - ✗ 4. 25

Question ID : 264330155718
Option 1 ID : 264330610277
Option 2 ID : 264330610276
Option 3 ID : 264330610278
Option 4 ID : 264330610275
Status : Answered
Chosen Option : 1

Q.5 एक आदमी 1800 m लंबी सड़क को 6 मिनट में पार करता है। m/sec में उसकी चाल की गणना कीजिए।

- Ans
- ✗ 1. 8
 - ✗ 2. 6
 - ✗ 3. 4
 - ✓ 4. 5

Question ID : 264330156111
Option 1 ID : 264330611846
Option 2 ID : 264330611844
Option 3 ID : 264330611845
Option 4 ID : 264330611843
Status : Answered
Chosen Option : 4

Q.6 230, 276 और 322 का महत्तम समापवर्तक ज्ञात कीजिए।

- Ans
- 1. 12
 - 2. 23
 - 3. 46
 - 4. 14

Question ID : 264330156090
Option 1 ID : 264330611761
Option 2 ID : 264330611759
Option 3 ID : 264330611762
Option 4 ID : 264330611760
Status : Answered
Chosen Option : 3

Q.7 In a certain time, a sum becomes 5 times at the rate of 6% per annum on simple interest. At what rate of interest, the same sum becomes 8 times in the same duration?

- Ans
- 1. 10.5%
 - 2. 12.5%
 - 3. 8.5%
 - 4. 5.5%

Question ID : 264330155747
Option 1 ID : 264330610392
Option 2 ID : 264330610391
Option 3 ID : 264330610393
Option 4 ID : 264330610394
Status : Not Answered
Chosen Option : --

Q.8 स्टेशन A से B तक एक बस की चाल 55 km/h है, और स्टेशन B से स्टेशन A तक वापस आते समय, बस की चाल 95 km/h है। पूरी यात्रा के दौरान बस की औसत चाल (km/h में) कितनी है?

- Ans
- 1. $67\frac{1}{3}$
 - 2. $69\frac{2}{3}$
 - 3. $72\frac{1}{3}$
 - 4. $62\frac{2}{3}$

Question ID : 264330156512
Option 1 ID : 264330613435
Option 2 ID : 264330613437
Option 3 ID : 264330613438
Option 4 ID : 264330613436
Status : Answered
Chosen Option : 2

Q.9 A और B क्रमशः 6 और 12 दिनों में एक काम कर सकते हैं। यदि वे एक दिन छोड़कर काम करते हैं और A पहले दिन काम शुरू करता है, तो काम कितने दिनों में पूरा होगा?

Ans

✗ 1. $8\frac{1}{2}$

✗ 2. 9

✗ 3. $9\frac{1}{2}$

✓ 4. 8

Question ID : 264330153855

Option 1 ID : 264330602886

Option 2 ID : 264330602883

Option 3 ID : 264330602884

Option 4 ID : 264330602885

Status : Answered

Chosen Option : 4

Q.10 45 m × 35 m आयाम के एक आयताकार क्षेत्र के बाहर 2.5 m समान चौड़ाई का एक पथ है। पथ का क्षेत्रफल (m^2 में) क्या है?

Ans

✗ 1. 525

✓ 2. 425

✗ 3. 475

✗ 4. 500

Question ID : 264330153787

Option 1 ID : 264330602611

Option 2 ID : 264330602613

Option 3 ID : 264330602614

Option 4 ID : 264330602612

Status : Answered

Chosen Option : 2

Q.11 एक कंपनी की आय में 25% की वार्षिक वृद्धि होती है। यदि वर्ष 1999 में कंपनी की आय ₹26,64,000 है, तो वर्ष 1997 में उसकी आय क्या थी?

Ans

✗ 1. ₹ 15,50,000

✓ 2. ₹ 17,04,960

✗ 3. ₹ 16,50,000

✗ 4. ₹ 17,50,000

Question ID : 264330156072

Option 1 ID : 264330611690

Option 2 ID : 264330611688

Option 3 ID : 264330611689

Option 4 ID : 264330611687

Status : Answered

Chosen Option : 2

Q.12 एक व्यक्ति ने अपनी साइकिल 17% हानि पर बेची। यदि उसने इसे ₹1,056 अधिक में बेचा होता, तो उसे 5% का लाभ होता। साइकिल का क्रय मूल्य क्या है?

- Ans**
- 1. ₹3,800
 - 2. ₹4,800
 - 3. ₹4,700
 - 4. ₹5,100

Question ID : 264330154080

Option 1 ID : 264330603783

Option 2 ID : 264330603786

Option 3 ID : 264330603784

Option 4 ID : 264330603785

Status : Answered

Chosen Option : 2

Q.13 ₹185 प्रति किलोग्राम वाले चावल को ₹95 प्रति किलोग्राम वाले चावल के साथ किस अनुपात में मिलाया जाए ताकि मिश्रण को ₹140 प्रति किलोग्राम की दर से बेचने पर 40% का लाभ हो?

- Ans**
- 1. 2 : 13
 - 2. 3 : 23
 - 3. 2 : 19
 - 4. 1 : 17

Question ID : 264330154079

Option 1 ID : 264330603782

Option 2 ID : 264330603780

Option 3 ID : 264330603779

Option 4 ID : 264330603781

Status : Answered

Chosen Option : 4

Q.14 20 पारियों में एक बल्लेबाज का औसत 41 रन है। अगली पारी में उसने 41 रन बनाए। उसका नया औसत क्या होगा?

- Ans**
- 1. 38
 - 2. 39
 - 3. 36
 - 4. 41

Question ID : 264330156212

Option 1 ID : 264330612248

Option 2 ID : 264330612249

Option 3 ID : 264330612247

Option 4 ID : 264330612250

Status : Answered

Chosen Option : 4

Q.15 तीन संख्याएँ 5 : 2 : 7 के अनुपात में हैं। उनके वर्गों का योग 3822 है। सबसे बड़ी संख्या क्या है?

- Ans
- 1. 35
 - 2. 78
 - 3. 38
 - 4. 49

Question ID : 264330154047
Option 1 ID : 264330603654
Option 2 ID : 264330603653
Option 3 ID : 264330603651
Option 4 ID : 264330603652
Status : Answered
Chosen Option : 4

Q.16 एक व्यापारी ₹3,600 में कुछ सामान खरीदता है। यदि उसका अतिरिक्त व्यय क्रय मूल्य का 5% है, तो 15% अर्जित करने के लिए सामान को किस मूल्य पर बेचा जाना चाहिए?

- Ans
- 1. ₹4,734
 - 2. ₹4,437
 - 3. ₹4,347
 - 4. ₹4,743

Question ID : 264330159025
Option 1 ID : 264330623462
Option 2 ID : 264330623459
Option 3 ID : 264330623461
Option 4 ID : 264330623460
Status : Answered
Chosen Option : 3

Q.17 यदि ₹10,200 का $1\frac{1}{2}$ वर्ष के लिए 8% वार्षिक चक्रवृद्धि ब्याज की दर से निवेश किया जाता है और जब ब्याज अर्धवार्षिक रूप से संयोजित होता है, तो परिपक्वता के बाद धनराशि ज्ञात कीजिए (दशमलव के दो स्थानों तक)।

- Ans
- 1. ₹11,743.61
 - 2. ₹11,764.28
 - 3. ₹11,473.61
 - 4. ₹11,347.28

Question ID : 264330156363
Option 1 ID : 264330612854
Option 2 ID : 264330612853
Option 3 ID : 264330612852
Option 4 ID : 264330612851
Status : Answered
Chosen Option : 3

Q.18 Among four numbers the sum of the smallest and largest is 72 more than the sum of middle two numbers . If the numbers are in the ratio 6 : 7 : 15 : 19, then the smallest number is:

- Ans 1. 168
 2. 144
 3. 216
 4. 72

Question ID : 264330154051
Option 1 ID : 264330603668
Option 2 ID : 264330603669
Option 3 ID : 264330603667
Option 4 ID : 264330603670
Status : Answered
Chosen Option : 2

Q.19 निम्नलिखित व्यंजक को सरल करने पर, हमें _____ प्राप्त होता है।

$$\frac{24\sqrt{45} - 16\sqrt{20} + \sqrt{245} - 47\sqrt{5}}{3\frac{1}{5} + 1\frac{2}{5} - 2\frac{1}{6} - 2\frac{1}{5} - 5\frac{2}{5} + 3\frac{1}{6}}$$

- Ans 1. 0
 2. 3
 3. 2
 4. 1

Question ID : 264330154114
Option 1 ID : 264330603922
Option 2 ID : 264330603919
Option 3 ID : 264330603920
Option 4 ID : 264330603921
Status : Answered
Chosen Option : 1

Q.20 एक सप्ताह के दिनों में टिकटों की बिक्री (हजारों में) को वृत्त आलेख में दर्शाया गया है।



संदर्भ: Sales – बिक्री, Monday - सोमवार, Tuesday - मंगलवार, Wednesday - बुधवार, Thursday - गुरुवार, Friday - शुक्रवार, Saturday - शनिवार, Sunday - रविवार
किन दिनों द्वारा केंद्र पर बना संयुक्त कोण शनिवार द्वारा बने कोण के बराबर है?

- Ans
- ✓ 1. रविवार, सोमवार और मंगलवार
 - ✗ 2. मंगलवार, बुधवार और गुरुवार
 - ✗ 3. सोमवार, मंगलवार और बुधवार
 - ✗ 4. बुधवार, गुरुवार और शुक्रवार

Question ID : 264330153823
Option 1 ID : 264330602758
Option 2 ID : 264330602756
Option 3 ID : 264330602755
Option 4 ID : 264330602757
Status : Answered
Chosen Option : 1

Section : Reasoning Ability and Problem Solving

Q.1 दी गई श्रृंखला में प्रश्न चिन्ह '?' के स्थान पर क्या आना चाहिए?

20 54 156 ? 1380 4134 12396

- Ans
- ✗ 1. 506
 - ✗ 2. 474
 - ✓ 3. 462
 - ✗ 4. 358

Question ID : 264330151448
Option 1 ID : 264330593422
Option 2 ID : 264330593421
Option 3 ID : 264330593420
Option 4 ID : 264330593419
Status : Answered
Chosen Option : 3

Q.2 यदि F का अर्थ -, C का अर्थ ×, D का अर्थ +, A का अर्थ = है, तो निम्नलिखित समीकरण में प्रश्न चिह्न (?) के स्थान पर क्या आएगा?
65 A 39 D 3 F 23 C 2 = ?

- Ans
- ✓ 1. 32
 - ✗ 2. 64
 - ✗ 3. 56
 - ✗ 4. 42

Question ID : 264330154689
Option 1 ID : 264330606219
Option 2 ID : 264330606222
Option 3 ID : 264330606221
Option 4 ID : 264330606220
Status : Answered
Chosen Option : 1

Q.3 उस शब्द-युग्म का चयन कीजिए जो नीचे दिए गए शब्दों के युग्म में व्यक्त किए गए समान संबंध का सबसे अच्छा निरूपण करता है।

(शब्दों को अर्धपूर्ण हिंदी शब्दों के रूप में माना जाना चाहिए और उन्हें शब्द में अक्षरों की संख्या/व्यंजन/स्वरों की संख्या के आधार पर एक दूसरे से संबंधित नहीं किया जाना चाहिए।)

पत्राचार : पत्र

- Ans
- ✗ 1. मध्यस्थता : विवाद
 - ✗ 2. उल्लंघन : सीमाएं
 - ✓ 3. वस्तु विनिमय : वस्तुएं
 - ✗ 4. वाद-विवाद : समस्याएं

Question ID : 264330154639
Option 1 ID : 264330606019
Option 2 ID : 264330606020
Option 3 ID : 264330606022
Option 4 ID : 264330606021
Status : Answered
Chosen Option : 3

Q.4 दी गई श्रृंखला में प्रश्न चिह्न '?' के स्थान पर क्या आना चाहिए?

2 16 86 436 2186 ?

- Ans
- ✗ 1. 11486
 - ✓ 2. 10936
 - ✗ 3. 10578
 - ✗ 4. 11032

Question ID : 264330151463
Option 1 ID : 264330593482
Option 2 ID : 264330593480
Option 3 ID : 264330593479
Option 4 ID : 264330593481
Status : Answered
Chosen Option : 2

Q.5 एक निश्चित तर्क के अनुसार 16, 29 से संबंधित है। समान तर्क के अनुसार, 85, 98 से संबंधित है। समान तर्क का अनुसरण करते हुए 53 निम्नलिखित में से किससे संबंधित है?

- Ans
- 1. 68
 - 2. 66
 - 3. 64
 - 4. 62

Question ID : 264330151594
Option 1 ID : 264330594006
Option 2 ID : 264330594005
Option 3 ID : 264330594004
Option 4 ID : 264330594003
Status : Answered
Chosen Option : 2

Q.6 अंग्रेजी वर्णमाला क्रम के आधार पर दी गई श्रृंखला में प्रश्न चिह्न (?) के स्थान पर क्या आना चाहिए?

LVF, IUC, FTZ, CSW, ?

- Ans
- 1. ZRT
 - 2. YQW
 - 3. ZQW
 - 4. YSX

Question ID : 264330155790
Option 1 ID : 264330610565
Option 2 ID : 264330610564
Option 3 ID : 264330610566
Option 4 ID : 264330610563
Status : Answered
Chosen Option : 1

Q.7 अबीर, बेला, दीपा, फरहीन, हीरा और गिरीश एक वृत्ताकार मेज के चारों ओर केंद्र की ओर मुख करके बैठे हैं। गिरीश, दीपा के दाईं ओर से दूसरे स्थान पर बैठा है। फरहीन, गिरीश के ठीक बाईं ओर बैठी है। बेला, फरहीन के दाईं ओर से दूसरे स्थान पर बैठी है। हीरा, दीपा का निकटतम पड़ोसी है। बेला के ठीक दाईं ओर कौन बैठा है?

- Ans
- 1. गिरीश
 - 2. दीपा
 - 3. अबीर
 - 4. हीरा

Question ID : 264330155656
Option 1 ID : 264330610030
Option 2 ID : 264330610027
Option 3 ID : 264330610029
Option 4 ID : 264330610028
Status : Answered
Chosen Option : 3

Q.8 नीचे दिए गए कथन/कथनों और निष्कर्षों को ध्यानपूर्वक पढ़िए। आपको मानना है कि दिए गए कथन सत्य हैं चाहे वे समान्यतः ज्ञात तथ्यों से अलग प्रतीत होते हों। आपको निश्चय करना है कि कौन-सा/कौन-से निष्कर्ष तार्किक रूप से दिए गए कथन/कथनों के अनुसार है/हैं।

कथन: सभी पेंसिलें, कलमें हैं। सभी कलमें, स्याही हैं।

निष्कर्ष:

- (I) सभी पेंसिलें, स्याही हैं।
- (II) कुछ स्याही, पेंसिलें हैं।

Ans ✓ 1. दोनों निष्कर्ष (I) और (II) कथनों के अनुसार हैं।

✗ 2. केवल निष्कर्ष (II) कथनों के अनुसार है।

✗ 3. न तो निष्कर्ष (I) और न ही (II) कथनों के अनुसार है।

✗ 4. केवल निष्कर्ष (I) कथनों के अनुसार है।

Question ID : 264330154427

Option 1 ID : 264330605174

Option 2 ID : 264330605172

Option 3 ID : 264330605173

Option 4 ID : 264330605171

Status : Answered

Chosen Option : 1

Q.9 यदि शब्द 'DURATION' के प्रत्येक अक्षर को अंग्रेज़ी वर्णमाला के क्रम में व्यवस्थित किया जाए तो कितने अक्षरों का स्थान अपरिवर्तित रहेगा?

Ans ✓ 1. किसी का भी नहीं

✗ 2. चार

✗ 3. एक

✗ 4. पांच

Question ID : 264330154329

Option 1 ID : 264330604781

Option 2 ID : 264330604780

Option 3 ID : 264330604782

Option 4 ID : 264330604779

Status : Answered

Chosen Option : 1

Q.10 अक्षरों के उस संयोजन को चुनिए जिसे दी गई श्रृंखला के रिक्त स्थानों में क्रमिक रूप से रखने पर श्रृंखला पूरी हो जाएगी।

J _ K _ K K J _ K _ _ K

Ans ✓ 1. KJKJK

✗ 2. KJKKJ

✗ 3. JJKJK

✗ 4. JKJKJ

Question ID : 264330151645

Option 1 ID : 264330594208

Option 2 ID : 264330594207

Option 3 ID : 264330594209

Option 4 ID : 264330594210

Status : Answered

Chosen Option : 1

Q.11 निम्नलिखित संख्या-युग्मों में, पहली संख्या पर कुछ गणितीय संक्रियाएँ करके दूसरी संख्या प्राप्त की जाती है। उस समुच्चय को चुनिए जिसमें संख्याएँ ठीक उसी प्रकार संबंधित हैं जिस प्रकार निम्नलिखित समुच्चयों की संख्याएँ संबंधित हैं।

(ध्यान दें: संख्याओं को उनके घटक अंकों में अलग-अलग किए बिना, पूर्ण संख्याओं पर संक्रियाएँ की जानी चाहिए। उदा. 13 – संख्या 13 पर संक्रियाएँ जैसे 13 को जोड़ना/घटाना/गुणा करना आदि किया जा सकता है। 13 को 1 और 3 में अलग-अलग करने की और फिर 1 और 3 पर गणितीय संक्रियाएँ करने की अनुमति नहीं है।)

2, 7

5, 16

- Ans**
- 1. 20, 58
 - 2. 14, 45
 - 3. 15, 46
 - 4. 11, 23

Question ID : 264330151625

Option 1 ID : 264330594130

Option 2 ID : 264330594128

Option 3 ID : 264330594129

Option 4 ID : 264330594127

Status : Answered

Chosen Option : 3

Q.12 अंग्रेजी वर्णमाला क्रम के आधार पर दी गई श्रृंखला में प्रश्न चिह्न (?) के स्थान पर क्या आना चाहिए?

JAS, HDV, FGY, DJB, ?

- Ans**
- 1. CNF
 - 2. CMG
 - 3. DNE
 - 4. BME

Question ID : 264330155794

Option 1 ID : 264330610580

Option 2 ID : 264330610579

Option 3 ID : 264330610582

Option 4 ID : 264330610581

Status : Answered

Chosen Option : 4

Q.13 दी गई श्रृंखला में प्रश्न चिह्न “?” के स्थान पर क्या आना चाहिए?

37 36 33 32 29 ?

- Ans**
- 1. 28
 - 2. 24
 - 3. 26
 - 4. 27

Question ID : 264330151719

Option 1 ID : 264330594506

Option 2 ID : 264330594505

Option 3 ID : 264330594504

Option 4 ID : 264330594503

Status : Answered

Chosen Option : 1

Q.14 यदि 'A' का अर्थ '+', 'B' का अर्थ 'x', 'C' का अर्थ '-' और 'D' का अर्थ '÷' है, तो निम्नलिखित समीकरण में प्रश्न चिन्ह (?) के स्थान पर क्या आएगा?
(54 A 9) C 34 D (10 B 3) C 46 D 16 = ?

- Ans
- 1. 46
 - 2. 32
 - 3. 40
 - 4. 54

Question ID : 264330151793
Option 1 ID : 264330594799
Option 2 ID : 264330594800
Option 3 ID : 264330594801
Option 4 ID : 264330594802
Status : Answered
Chosen Option : 3

Q.15 एक निश्चित कूट भाषा में, 'YOJ' को 'BRM' लिखा जाता है और 'DSP' को 'GVS' लिखा जाता है। उस कूट भाषा में 'ZMC' को कैसे लिखा जाएगा?

- Ans
- 1. CQF
 - 2. DQE
 - 3. CPF
 - 4. DPG

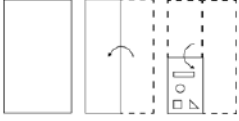
Question ID : 264330155832
Option 1 ID : 264330610732
Option 2 ID : 264330610733
Option 3 ID : 264330610734
Option 4 ID : 264330610731
Status : Answered
Chosen Option : 3

Q.16 एक निश्चित कूट भाषा में, 'good vibes only' को 'vn mj kl' लिखा जाता है और 'change is good' को 'mj ro dh' लिखा जाता है। उसी कूट भाषा में 'good' को कैसे लिखा जाएगा?

- Ans
- 1. dh
 - 2. ro
 - 3. vn
 - 4. mj

Question ID : 264330151688
Option 1 ID : 264330594381
Option 2 ID : 264330594382
Option 3 ID : 264330594380
Option 4 ID : 264330594379
Status : Answered
Chosen Option : 4

Q.17 निम्नलिखित आकृतियों में एक कागज़ के टुकड़े को मोड़ने के क्रम और मुड़े हुए कागज़ को काटने के तरीके को दर्शाया गया है। खोलने पर यह कागज़ केसा दिखाई देगा?



Ans

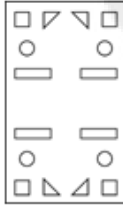
1.



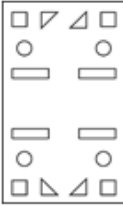
2.



3.



4.



Question ID : 264330155606

Option 1 ID : 264330609827

Option 2 ID : 264330609828

Option 3 ID : 264330609829

Option 4 ID : 264330609830

Status : Answered

Chosen Option : 3

Q.18 नीचे दिए गए कथनों और निष्कर्षों को ध्यानपूर्वक पढ़िए। आपको मानना है कि दिए गए कथन सत्य हैं चाहे वे समान्यतः ज्ञात तथ्यों से अलग प्रतीत होते हों। आपको निश्चय करना है कि कौन-सा/कौन-से निष्कर्ष तार्किक रूप से दिए गए कथनों के अनुसार है/हैं।

कथन: कुछ बिस्तर, टेलीफोन हैं। सभी टेलीफोन, तकिए हैं। कुछ तकिए, अलमारियां हैं।

निष्कर्ष I: कुछ तकिए, टेलीफोन हैं।

निष्कर्ष II: कुछ बिस्तर, तकिए हैं।

Ans

- ✗ 1. केवल निष्कर्ष (I) कथनों के अनुसार है।
- ✗ 2. केवल निष्कर्ष (II) कथनों के अनुसार है।
- ✗ 3. न तो निष्कर्ष (I) और न ही (II) कथनों के अनुसार है।
- ✓ 4. दोनों निष्कर्ष (I) और (II) कथनों के अनुसार हैं।

Question ID : 264330155914

Option 1 ID : 264330611059

Option 2 ID : 264330611060

Option 3 ID : 264330611061

Option 4 ID : 264330611062

Status : Answered

Chosen Option : 4

Q.19 यदि निम्नलिखित आकृति श्रृंखला को जारी रखना हो तो कौन-सी आकृति प्रश्न चिन्ह (?) के स्थान पर आनी चाहिए?

△	G	S	S	7	B	2	△	7	7	S	G	
	B		△			G		2				?
	7		G			S		△				

Ans

✗ 1.

↑	△	7
	S	
	2	

✗ 2.

↑	7	S
	△	
	G	

✗ 3.

↑	7	S
	△	
	2	

✓ 4.

↑	2	S
	△	
	7	

Question ID : 264330154765

Option 1 ID : 264330606524

Option 2 ID : 264330606523

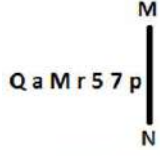
Option 3 ID : 264330606526

Option 4 ID : 264330606525

Status : Answered

Chosen Option : 4

Q.20 दी गई आकृति के उस सही दर्पण प्रतिबिंब को चुनिए, जो नीचे दर्शाए गए अनुसार दर्पण को MN पर रखने पर बनेगा।



- Ans
- ✓ 1. q 7 2 1 M 6 0
 - ✗ 2. q 7 5 1 M a 0
 - ✗ 3. q 7 5 1 M 6 0
 - ✗ 4. q 7 2 1 W e 0

Question ID : 264330151524

Option 1 ID : 264330593726

Option 2 ID : 264330593724

Option 3 ID : 264330593723

Option 4 ID : 264330593725

Status : Answered

Chosen Option : 1

Section : General Awareness

Q.1 रुक्मिणी देवी अरुंडेल का संबंध किस भारतीय शास्त्रीय नृत्य शैली से है?

- Ans
- ✗ 1. कथक
 - ✗ 2. मणिपुरी
 - ✓ 3. भरतनाट्यम
 - ✗ 4. मोहिनीअट्टम

Question ID : 264330155520

Option 1 ID : 264330609486

Option 2 ID : 264330609485

Option 3 ID : 264330609483

Option 4 ID : 264330609484

Status : Answered

Chosen Option : 3

Q.2 'विंग्स ऑफ फायर: एन आटोबायोग्राफी' किसकी आत्मकथा का शीर्षक है?

- Ans
- ✓ 1. ए.पी.जे. अब्दुल कलाम
 - ✗ 2. राजेंद्र सिंह
 - ✗ 3. ई. श्रीधरन
 - ✗ 4. सत्यभामा दास बीजू

Question ID : 264330155446

Option 1 ID : 264330609187

Option 2 ID : 264330609189

Option 3 ID : 264330609188

Option 4 ID : 264330609190

Status : Answered

Chosen Option : 1

Q.3 IUPAC नामकरण प्रणाली के अनुसार, किस क्रियात्मक समूह की विशेषता -OH समूह की उपस्थिति है, जो आमतौर पर पानी की तरह मुड़े हुए आकार (water-like bent shape) में होता है?

- Ans
- 1. ऐमीन
 - 2. कार्बोनिल
 - 3. एस्टर
 - 4. एल्कोहॉल

Question ID : 264330161051
Option 1 ID : 264330631538
Option 2 ID : 264330631536
Option 3 ID : 264330631537
Option 4 ID : 264330631535
Status : Answered
Chosen Option : 4

Q.4 भारत की जनगणना 2011 के अनुसार, किस केंद्र शासित प्रदेश में सबसे कम जनसंख्या वृद्धि दर दर्ज की गई?

- Ans
- 1. दिल्ली
 - 2. दमन और दीव
 - 3. लक्षद्वीप
 - 4. चंडीगढ़

Question ID : 264330161553
Option 1 ID : 264330633541
Option 2 ID : 264330633539
Option 3 ID : 264330633540
Option 4 ID : 264330633542
Status : Answered
Chosen Option : 3

Q.5 आर्म्स एक्ट (Arms Act) और वर्नाक्यूलर प्रेस एक्ट (Vernacular Press Act) किस वर्ष पारित किए गए थे?

- Ans
- 1. 1879
 - 2. 1878
 - 3. 1877
 - 4. 1876

Question ID : 264330160876
Option 1 ID : 264330630838
Option 2 ID : 264330630837
Option 3 ID : 264330630836
Option 4 ID : 264330630835
Status : Answered
Chosen Option : 2

Q.6 _____ कथक नृत्य शैली की एक महान हस्ती थीं, जिसे रवीन्द्रनाथ टैगोर ने 'नृत्य साम्राज्ञी (Nriitya Samragini)' (नृत्य की महारानी) के रूप में वर्णित किया था।

- Ans 1. सितारा देवी
 2. मल्लिका साराभाई
 3. रुक्मिणी देवी अरुंडेल
 4. मृणालिनी साराभाई

Question ID : 264330160811
Option 1 ID : 264330630577
Option 2 ID : 264330630576
Option 3 ID : 264330630575
Option 4 ID : 264330630578
Status : Answered
Chosen Option : 1

Q.7 'चपचार कुट (Chapchar Kut)' _____ राज्य का एक त्योहार है। यह झूम ऑपरेशन (Jhum operation) के सबसे कठिन कार्य यानी जंगल साफ़ करने (जलने के अवशेषों को साफ़ करना) के पूरा होने के बाद मार्च के दौरान मनाया जाता है।

- Ans 1. मिजोरम
 2. छत्तीसगढ़
 3. नगालैंड
 4. झारखंड

Question ID : 264330160822
Option 1 ID : 264330630622
Option 2 ID : 264330630621
Option 3 ID : 264330630619
Option 4 ID : 264330630620
Status : Answered
Chosen Option : 1

Q.8 निम्नलिखित में से कौन-सी दुनिया की सबसे ऊंची नौगम्य झील (highest navigable lake) है?

- Ans 1. ह्यूरोन (Huron)
 2. टिटिकाका (Titicaca)
 3. सुपीरियर (Superior)
 4. कोमो (Como)

Question ID : 264330161324
Option 1 ID : 264330632625
Option 2 ID : 264330632624
Option 3 ID : 264330632623
Option 4 ID : 264330632626
Status : Answered
Chosen Option : 1

Q.9 काजीरंगा राष्ट्रीय उद्यान भारत के किस राज्य में स्थित है?

- Ans
- 1. गुजरात
 - 2. कर्नाटक
 - 3. पश्चिम बंगाल
 - 4. असम

Question ID : 264330161497
Option 1 ID : 264330633317
Option 2 ID : 264330633316
Option 3 ID : 264330633318
Option 4 ID : 264330633315
Status : Answered
Chosen Option : 4

Q.10 2023 विश्व स्क्वैश चैम्पियनशिप (2023 World Squash Championship) निम्नलिखित में से किस राज्य में आयोजित की गई थी?

- Ans
- 1. तमिलनाडु
 - 2. कर्नाटक
 - 3. ओडिशा
 - 4. केरल

Question ID : 264330161143
Option 1 ID : 264330631905
Option 2 ID : 264330631903
Option 3 ID : 264330631904
Option 4 ID : 264330631906
Status : Answered
Chosen Option : 1

Q.11 मन्ना डे (Manna Dey) _____ के क्षेत्र में भारत की एक मशहूर शख्सियत थे।

- Ans
- 1. राजनीति
 - 2. विज्ञान
 - 3. खेल
 - 4. संगीत

Question ID : 264330155512
Option 1 ID : 264330609452
Option 2 ID : 264330609453
Option 3 ID : 264330609454
Option 4 ID : 264330609451
Status : Answered
Chosen Option : 4

Q.12 11वां मौलिक कर्तव्य _____ आयु वर्ग के बच्चों के लिए शिक्षा के अवसर प्रदान करता है।

- Ans 1. 6-14
 2. 5-15
 3. 2-11
 4. 6-18

Question ID : 264330159901
Option 1 ID : 264330626952
Option 2 ID : 264330626954
Option 3 ID : 264330626953
Option 4 ID : 264330626951
Status : Answered
Chosen Option : 1

Q.13 2023 आईएसएसएफ़ जूनियर विश्व कप चैंपियनशिप (2023 ISSF Junior World Cup Championships) में किस स्पर्धा में अमनप्रीत सिंह ने भारत के लिए स्वर्ण पदक जीता?

- Ans 1. पुरुषों की 25 मीटर रैपिड फायर पिस्टल
 2. पुरुषों की 10 मीटर एयर राइफल
 3. पुरुषों की 25 मीटर पिस्टल
 4. पुरुषों की 10 मीटर एयर पिस्टल टीम

Question ID : 264330161141
Option 1 ID : 264330631897
Option 2 ID : 264330631896
Option 3 ID : 264330631895
Option 4 ID : 264330631898
Status : Answered
Chosen Option : 1

Q.14 गॉलजी उपकरण में मौजूद चपटी झिल्ली से घिरी थैलियां किस नाम से जानी जाती हैं?

- Ans 1. क्रिस्टी (Cristae)
 2. पीठिका (Stroma)
 3. पटलिका (Lamellae)
 4. कुंड (Cisternae)

Question ID : 264330161083
Option 1 ID : 264330631665
Option 2 ID : 264330631666
Option 3 ID : 264330631663
Option 4 ID : 264330631664
Status : Answered
Chosen Option : 4

Q.15 मुमताज खान को 2022 में 'FIH वुमन राइजिंग स्टार ऑफ़ द ईयर' (FIH Women's Rising Star of the Year) नामित किया गया था। वह निम्नलिखित में से कौन-सा खेल खेलती हैं?

- Ans 1. ऊंची कूद (High Jump)
 2. हॉकी (Hockey)
 3. फुटबॉल (Football)
 4. तलवारबाजी (Fencing)

Question ID : 264330158360
Option 1 ID : 264330620801
Option 2 ID : 264330620800
Option 3 ID : 264330620799
Option 4 ID : 264330620802
Status : Answered
Chosen Option : 1

Q.16 राठवा (Rathwas), जो _____ राज्य के निवासी हैं, होली (रंगों का त्योहार) के अवसर पर राठवा नृत्य करते हैं।

- Ans
- 1. आंध्रप्रदेश
 - 2. गुजरात
 - 3. तेलंगाना
 - 4. महाराष्ट्र

Question ID : 264330160800
Option 1 ID : 264330630532
Option 2 ID : 264330630533
Option 3 ID : 264330630534
Option 4 ID : 264330630531
Status : Answered
Chosen Option : 4

Q.17 भारत के संविधान का कौन-सा अनुच्छेद प्रत्येक राज्य के लिए एक राज्यपाल का प्रावधान करता है?

- Ans
- 1. अनुच्छेद 157
 - 2. अनुच्छेद 156
 - 3. अनुच्छेद 173
 - 4. अनुच्छेद 153

Question ID : 264330161294
Option 1 ID : 264330632505
Option 2 ID : 264330632504
Option 3 ID : 264330632506
Option 4 ID : 264330632503
Status : Answered
Chosen Option : 4

Q.18 निम्नलिखित में से कौन-सा कर्नाटक संगीतकार भारत रत्न प्राप्त करने वाला पहला संगीतकार था?

- Ans
- 1. एम. एस. सुब्बुलक्ष्मी
 - 2. के. जे. येसुदास
 - 3. श्यामा शास्त्री
 - 4. त्यागराज

Question ID : 264330161767
Option 1 ID : 264330634395
Option 2 ID : 264330634396
Option 3 ID : 264330634397
Option 4 ID : 264330634398
Status : Answered
Chosen Option : 1

Q.19 किसी अर्थव्यवस्था में अंतिम वस्तुओं और सेवाओं पर कुल खर्च का योग करके राष्ट्रीय आय की गणना करने के लिए निम्नलिखित में से किस विधि का उपयोग किया जाता है?

- Ans
- 1. व्यय विधि
 - 2. आउटपुट/उत्पाद विधि
 - 3. मूल्य वर्धित विधि
 - 4. आय विधि

Question ID : 264330157316
Option 1 ID : 264330616628
Option 2 ID : 264330616629
Option 3 ID : 264330616630
Option 4 ID : 264330616627
Status : Answered
Chosen Option : 1

Q.20 वर्ष 2004 से 2009 तक झारखंड के पूर्व राज्यपाल रहे _____ का 2022 में लखनऊ में निधन हो गया।

- Ans
- 1. रमेश बैस (Ramesh Bais)
 - 2. सैयद अहमद (Syed Ahmed)
 - 3. कतीकाल शंकरनारायणन (Kateekal Sankaranarayanan)
 - 4. सैयद सिब्त रजी (Syed Sibtey Razi)

Question ID : 264330161405
Option 1 ID : 264330632950
Option 2 ID : 264330632949
Option 3 ID : 264330632947
Option 4 ID : 264330632948
Status : Answered
Chosen Option : 2

Q.21 Which of the following is a common financial service provided by Micro Finance Institutions?

- Ans
- 1. Credit card issuance
 - 2. Investment advisory services for high-net-worth individuals
 - 3. Mortgage loans for luxury homes
 - 4. Small loans to low-income individuals for entrepreneurial activities

Question ID : 264330157286
Option 1 ID : 264330616507
Option 2 ID : 264330616510
Option 3 ID : 264330616508
Option 4 ID : 264330616509
Status : Answered
Chosen Option : 4

Q.22 अजमेर शरीफ निम्नलिखित में से किस सूफी संत की दरगाह है?

- Ans
- 1. मोहम्मद बिन तुगलक
 - 2. मोहम्मद गोरी
 - 3. ख्वाजा मोइनुद्दीन चिश्ती
 - 4. भक्तियार खिलजी

Question ID : 264330160765
Option 1 ID : 264330630391
Option 2 ID : 264330630394
Option 3 ID : 264330630393
Option 4 ID : 264330630392
Status : Answered
Chosen Option : 3

Q.23 स्वर्ण जयंती शहरी रोज़गार योजना (SJSRY) भारत सरकार द्वारा वर्ष _____ में शुरू की गई थी।

- Ans
- 1. 1997
 - 2. 2004
 - 3. 2010
 - 4. 1990

Question ID : 264330161574
Option 1 ID : 264330633624
Option 2 ID : 264330633625
Option 3 ID : 264330633626
Option 4 ID : 264330633623
Status : Answered
Chosen Option : 1

Q.24 'ऐस अगेंस्ट ऑड्स' (Ace against Odds) किसकी आत्मकथा का शीर्षक है?

- Ans
- 1. मीराबाई चानू
 - 2. साइना नेहवाल
 - 3. मैरी कॉम
 - 4. सानिया मिर्जा

Question ID : 264330155450
Option 1 ID : 264330609206
Option 2 ID : 264330609204
Option 3 ID : 264330609203
Option 4 ID : 264330609205
Status : Answered
Chosen Option : 4

Q.25 Who was the first Woman President of Indian National Congress?

- Ans
- 1. Asaf Ali
 - 2. Sarojini Naidu
 - 3. Annie Besant
 - 4. Usha Mehta

Question ID : 264330162342
Option 1 ID : 264330636697
Option 2 ID : 264330636695
Option 3 ID : 264330636698
Option 4 ID : 264330636696
Status : Answered
Chosen Option : 3

Section : English Language and Comprehension

Q.1 Select the option that can be used as a one-word substitute for the underlined segment in the following sentence.
Hundreds of people were removed from a place by the government recently due to a war-like situation.

- Ans
- 1. terminated
 - 2. evacuated
 - 3. invaded
 - 4. assassinated

Question ID : 264330152716
Option 1 ID : 264330598463
Option 2 ID : 264330598464
Option 3 ID : 264330598465
Option 4 ID : 264330598466
Status : Answered
Chosen Option : 2

Q.2 Select the most appropriate synonym of the given word.
Grief

- Ans** 1. Jollity
 2. Pain
 3. Pleasure
 4. Content

Question ID : 264330151821
Option 1 ID : 264330594914
Option 2 ID : 264330594912
Option 3 ID : 264330594911
Option 4 ID : 264330594913
Status : Answered
Chosen Option : 2

Q.3 Select the most appropriate ANTONYM of the given word.
Nonchalant

- Ans** 1. Marvellous
 2. Caring
 3. Flexible
 4. Covert

Question ID : 264330153539
Option 1 ID : 264330601662
Option 2 ID : 264330601660
Option 3 ID : 264330601661
Option 4 ID : 264330601659
Status : Answered
Chosen Option : 2

Q.4 The following sentence has been split into four segments. Identify the segment that contains an error.
She was writing / a letter to her grandmother / when the power / gone out.

- Ans** 1. She was writing
 2. a letter to her grandmother
 3. gone out
 4. when the power

Question ID : 264330155319
Option 1 ID : 264330608715
Option 2 ID : 264330608716
Option 3 ID : 264330608718
Option 4 ID : 264330608717
Status : Answered
Chosen Option : 3

Q.5 Select the option that can be used as a one-word substitute for the given group of words.

The killing of a king

- Ans 1. Regicide
 2. Sororicide
 3. Fratricide
 4. Patricide

Question ID : 264330151868

Option 1 ID : 264330595091

Option 2 ID : 264330595092

Option 3 ID : 264330595094

Option 4 ID : 264330595093

Status : Answered

Chosen Option : 1

Q.6 Select the most appropriate meaning of the given idiom.
From scratch

- Ans 1. From utter disorder
 2. From a skin disease
 3. From the beginning
 4. From death

Question ID : 264330156173

Option 1 ID : 264330612092

Option 2 ID : 264330612091

Option 3 ID : 264330612094

Option 4 ID : 264330612093

Status : Answered

Chosen Option : 3

Q.7 Select the most appropriate option to fill in the blank.
Many soldiers marched in _____ at the international border.

- Ans 1. uniform
 2. fabric
 3. clothes
 4. dress

Question ID : 264330152583

Option 1 ID : 264330597937

Option 2 ID : 264330597938

Option 3 ID : 264330597936

Option 4 ID : 264330597935

Status : Answered

Chosen Option : 1

Q.8 Parts of the following sentence have been given as options. Select the option that contains an error.
They have less books than I have.

- Ans 1. than
 2. less books
 3. I have
 4. They have

Question ID : 264330152802
Option 1 ID : 264330598801
Option 2 ID : 264330598800
Option 3 ID : 264330598802
Option 4 ID : 264330598799
Status : Answered
Chosen Option : 2

Q.9 Select the most appropriate synonym of the bracketed word in the following sentence to fill in the blank.
The sun was setting over the mountains, painting the sky with _____(energetic) shades of orange and pink.

- Ans 1. vibrant
 2. faded
 3. bright
 4. reactive

Question ID : 264330152661
Option 1 ID : 264330598247
Option 2 ID : 264330598248
Option 3 ID : 264330598249
Option 4 ID : 264330598250
Status : Answered
Chosen Option : 1

Q.10 Select the sentence that has NO spelling errors.

- Ans 1. The elderly woman was delighted to receive a bouque of fragrant flowers from her thoughtfull grandson, who had come to visit her at the nursing home
 2. The elderly woman was delighted to receive a bouquet of fragrant flowers from her thoughtful grandson, who had come to visit her at the nursing home
 3. The elderly woman was delighted to recieve a bouquet of fragrant flowers from her thoughtfull grandson, who had come to visit her at the nursing home
 4. The elderly woman was delighted to receive a bouque of fregrant flowers from her thoughtful grandson, who had come to visit her at the nursing home

Question ID : 264330152648
Option 1 ID : 264330598198
Option 2 ID : 264330598196
Option 3 ID : 264330598197
Option 4 ID : 264330598195
Status : Answered
Chosen Option : 2

Q.11 Select the option that rectifies the spelling of the underlined word in the given sentence.

He felt priviledged to have received the country's greatest honour.

- Ans
- 1. previllaged
 - 2. privileged
 - 3. privilaged
 - 4. privilegede

Question ID : 264330153225
Option 1 ID : 264330600460
Option 2 ID : 264330600461
Option 3 ID : 264330600462
Option 4 ID : 264330600459
Status : Answered
Chosen Option : 1

Q.12 Select the most appropriate meaning of the underlined idiom.

The detective went the whole nine yards in his investigation.

- Ans
- 1. Close affinity with the law
 - 2. Taking the distant call
 - 3. Measuring every step
 - 4. Everything, all the way

Question ID : 264330153147
Option 1 ID : 264330600149
Option 2 ID : 264330600147
Option 3 ID : 264330600148
Option 4 ID : 264330600150
Status : Answered
Chosen Option : 4

Q.13 The following sentence has been split into four segments. Identify the segment that contains a grammatical error.

This scripture / has been /translated in / seventy languages.

- Ans
- 1. This scripture
 - 2. has been
 - 3. translated in
 - 4. seventy languages

Question ID : 264330155431
Option 1 ID : 264330609131
Option 2 ID : 264330609132
Option 3 ID : 264330609133
Option 4 ID : 264330609134
Status : Answered
Chosen Option : 3

Q.14 Select the most appropriate meaning of the given idiom.
Into hot water

- Ans 1. In favour with
 2. Into trouble
 3. Not on good terms
 4. Came to nothing

Question ID : 264330152574
Option 1 ID : 264330597901
Option 2 ID : 264330597900
Option 3 ID : 264330597899
Option 4 ID : 264330597902
Status : Answered
Chosen Option : 2

Q.15 Select the option that can be used as a one-word substitute for the given group of words.

One who has love for mankind

OR

One who makes an active effort to promote human welfare

- Ans 1. Patriot
 2. Autocrat
 3. Philosopher
 4. Philanthropist

Question ID : 264330153554
Option 1 ID : 264330601717
Option 2 ID : 264330601718
Option 3 ID : 264330601716
Option 4 ID : 264330601715
Status : Answered
Chosen Option : 4

Q.16 The following sentence has been divided into four parts. Identify the part that contains an error.

(A) Four divided by / (B) two is coming / (C) out to / (D) be two.

- Ans 1. B
 2. D
 3. C
 4. A

Question ID : 264330152628
Option 1 ID : 264330598116
Option 2 ID : 264330598118
Option 3 ID : 264330598117
Option 4 ID : 264330598115
Status : Answered
Chosen Option : 2

Q.17 There is a spelling error in the given sentence. Select the option that contains the INCORRECTLY spelt word.
The profesor's niece was planning a pleasant surprise for him.

- Ans 1. profesor
 2. niece
 3. pleasant
 4. planning

Question ID : 264330152835
Option 1 ID : 264330598931
Option 2 ID : 264330598932
Option 3 ID : 264330598934
Option 4 ID : 264330598933
Status : Answered
Chosen Option : 1

Q.18 Select the most appropriate option to fill in the blanks.
(Ø = No article)
____ doctor suggested doing some eye exercises and wearing ____ pair of powered glasses.

- Ans 1. A; a
 2. The; a
 3. A; Ø
 4. Ø; a

Question ID : 264330151329
Option 1 ID : 264330592945
Option 2 ID : 264330592943
Option 3 ID : 264330592946
Option 4 ID : 264330592944
Status : Answered
Chosen Option : 1

Q.19 Select the most appropriate meaning of the underlined idiom in the following sentence.

Buying a home in the city centre will cost you an arm and a leg.

- Ans 1. A small amount of money
 2. A large amount of money
 3. Nothing extra
 4. Physical pain

Question ID : 264330153048
Option 1 ID : 264330599759
Option 2 ID : 264330599760
Option 3 ID : 264330599762
Option 4 ID : 264330599761
Status : Answered
Chosen Option : 2

Q.20 Select the most appropriate option to fill in the blank.

She was known for her _____ attention to detail, always making sure everything was perfectly organised and in its proper place.

- Ans 1. fastidious
 2. tedious
 3. exact
 4. scornful

Question ID : 264330151863

Option 1 ID : 264330595073

Option 2 ID : 264330595071

Option 3 ID : 264330595074

Option 4 ID : 264330595072

Status : Answered

Chosen Option : 1

Comprehension:

In the following passage, some words have been deleted. Read the passage carefully and select the most appropriate option to fill in each blank.

Tim Cook, CEO of Apple who has recently _____ (1) India, has some _____ (2) for parents: limit the screen time for children. He says: "Kids are born _____ (3), they're digital kids now. And it is, I think, important to set some hard rails around it." Various surveys of Indian children show alarming findings. A Saurashtra University survey of _____ (4) a thousand children and their parents in Rajkot finds that 92% students prefer playing mobile games over playing outside and 78% students _____ (5) to having their phone while having meals. In another survey by Local Circles, nearly 55% of parents admit that their children aged 9-13 have access to a smartphone throughout the day.

SubQuestion No : 21

Q.21 Select the most appropriate option to fill in blank number 1.

- Ans 1. visited
 2. visit
 3. visiting
 4. visits

Question ID : 264330152760

Option 1 ID : 264330598636

Option 2 ID : 264330598635

Option 3 ID : 264330598637

Option 4 ID : 264330598638

Status : Answered

Chosen Option : 1

Comprehension:

In the following passage, some words have been deleted. Read the passage carefully and select the most appropriate option to fill in each blank.

Tim Cook, CEO of Apple who has recently _____ (1) India, has some _____ (2) for parents: limit the screen time for children. He says: "Kids are born _____ (3), they're digital kids now. And it is, I think, important to set some hard rails around it." Various surveys of Indian children show alarming findings. A Saurashtra University survey of _____ (4) a thousand children and their parents in Rajkot finds that 92% students prefer playing mobile games over playing outside and 78% students _____ (5) to having their phone while having meals. In another survey by Local Circles, nearly 55% of parents admit that their children aged 9-13 have access to a smartphone throughout the day.

SubQuestion No : 22

Q.22 Select the most appropriate option to fill in blank number 2.

- Ans 1. advice
 2. suggesting
 3. advise
 4. suggest

Question ID : 264330152761

Option 1 ID : 264330598640

Option 2 ID : 264330598642

Option 3 ID : 264330598639

Option 4 ID : 264330598641

Status : Answered

Chosen Option : 1

Comprehension:

In the following passage, some words have been deleted. Read the passage carefully and select the most appropriate option to fill in each blank.

Tim Cook, CEO of Apple who has recently _____ (1) India, has some _____ (2) for parents: limit the screen time for children. He says: "Kids are born _____ (3), they're digital kids now. And it is, I think, important to set some hard rails around it." Various surveys of Indian children show alarming findings. A Saurashtra University survey of _____ (4) a thousand children and their parents in Rajkot finds that 92% students prefer playing mobile games over playing outside and 78% students _____ (5) to having their phone while having meals. In another survey by Local Circles, nearly 55% of parents admit that their children aged 9-13 have access to a smartphone throughout the day.

SubQuestion No : 23

Q.23 Select the most appropriate option to fill in blank number 3.

- Ans 1. digital
 2. digitalised
 3. digitally
 4. digitalise

Question ID : 264330152762

Option 1 ID : 264330598643

Option 2 ID : 264330598646

Option 3 ID : 264330598644

Option 4 ID : 264330598645

Status : Answered

Chosen Option : 3

Comprehension:

In the following passage, some words have been deleted. Read the passage carefully and select the most appropriate option to fill in each blank.

Tim Cook, CEO of Apple who has recently _____ (1) India, has some _____ (2) for parents: limit the screen time for children. He says: "Kids are born _____ (3), they're digital kids now. And it is, I think, important to set some hard rails around it." Various surveys of Indian children show alarming findings. A Saurashtra University survey of _____ (4) a thousand children and their parents in Rajkot finds that 92% students prefer playing mobile games over playing outside and 78% students _____ (5) to having their phone while having meals. In another survey by Local Circles, nearly 55% of parents admit that their children aged 9-13 have access to a smartphone throughout the day.

SubQuestion No : 24

Q.24 Select the most appropriate option to fill in blank number 4.

- Ans
- 1. closer than
 - 2. bigger than
 - 3. more than
 - 4. above than

Question ID : 264330152763

Option 1 ID : 264330598650

Option 2 ID : 264330598649

Option 3 ID : 264330598648

Option 4 ID : 264330598647

Status : Answered

Chosen Option : 3

Comprehension:

In the following passage, some words have been deleted. Read the passage carefully and select the most appropriate option to fill in each blank.

Tim Cook, CEO of Apple who has recently _____ (1) India, has some _____ (2) for parents: limit the screen time for children. He says: "Kids are born _____ (3), they're digital kids now. And it is, I think, important to set some hard rails around it." Various surveys of Indian children show alarming findings. A Saurashtra University survey of _____ (4) a thousand children and their parents in Rajkot finds that 92% students prefer playing mobile games over playing outside and 78% students _____ (5) to having their phone while having meals. In another survey by Local Circles, nearly 55% of parents admit that their children aged 9-13 have access to a smartphone throughout the day.

SubQuestion No : 25

Q.25 Select the most appropriate option to fill in blank number 5.

- Ans
- 1. habituated
 - 2. will be habituating
 - 3. habituating
 - 4. are habituated

Question ID : 264330152764

Option 1 ID : 264330598653

Option 2 ID : 264330598651

Option 3 ID : 264330598652

Option 4 ID : 264330598654

Status : Answered

Chosen Option : 4

**SSC ke sabhi parikshao ke Vocabulary ki taiyari
ki sabse behatareen pustak:-**

Topper's choice For SSC, Banking, Defence, DSSSB and other exams

BLACKBOOK of ENGLISH VOCABULARY

Updated till January 2022

- One Word Substitutions
- Idioms / Phrases
- Synonyms + Antonyms + Spellings
- The Hindu Vocabulary
- Phrasal Verbs
- Special Word-Lists
- Root Words
- 100+ Practice Sets



12,000+ words (English / Hindi)

NIKHIL GUPTA