

## Multi Tasking Non Technical Staff and Havaldar CBIC and CBN Examination 2023

Roll Number	
Candidate Name	
Venue Name	iON Digital Zone IDZ Powai
Exam Date	11/09/2023
Exam Time	9:00 AM - 11:00 AM
Subject	MTS Non Tech Havaldar CBIC and CBN Examination 2023

### Section : Numerical and Mathematical Ability

Q.1 कितनी धनराशि (₹ में) पांच वर्षों में 6% वार्षिक साधारण ब्याज की दर से ₹1,800 का ब्याज अर्जित करेगी?

- Ans
- 1. 8,000
  - 2. 5,000
  - 3. 18,000
  - 4. 6,000

Question ID : 264330156484

Option 1 ID : 264330613325

Option 2 ID : 264330613324

Option 3 ID : 264330613326

Option 4 ID : 264330613323

Status : Answered

Chosen Option : 4

Q.2 यदि 16 बल्बों का विक्रय मूल्य 24 बल्बों के क्रय मूल्य के बराबर है, तो लाभ प्रतिशत क्या है?

- Ans
- 1. 25%
  - 2. 40%
  - 3. 20%
  - 4. 50%

Question ID : 264330161014

Option 1 ID : 264330631389

Option 2 ID : 264330631388

Option 3 ID : 264330631387

Option 4 ID : 264330631390

Status : Answered

Chosen Option : 4

Q.3  $2a$  और  $5a$  का चतुर्थ समानुपाती \_\_\_\_\_ है।

Ans

1.  $\frac{2a^2}{5}$

2.  $\frac{5a^2}{2}$

3.  $\frac{2a^2}{3}$

4.  $\frac{5a^2}{3}$

Question ID : 264330153809

Option 1 ID : 264330602702

Option 2 ID : 264330602701


Option 3 ID : 264330602699

Option 4 ID : 264330602700

Status : Answered

Chosen Option : 2

Q.4 निम्न दंड आलेख में बारहवीं कक्षा के 6 श्रेणीयों के छात्रों द्वारा गणित की परीक्षा (100 में से) में प्राप्त किए गए औसत अंकों को दर्शाया गया है।



संदर्भ: Average Marks Scored in Mathematics by student of 6 divisions of 12<sup>th</sup> class - 12<sup>वीं</sup> कक्षा के 6 श्रेणीयों के छात्रों द्वारा गणित में प्राप्त किए गए औसत अंक, Average marks scored - प्राप्त किए गए औसत अंक, Divisions of class 12<sup>th</sup> - कक्षा 12<sup>वीं</sup> की श्रेणीयां श्रेणी B और श्रेणी D द्वारा प्राप्त किए गए औसत अंकों का अनुपात कितना है?

Ans

1. 1 : 3

2. 9 : 13

3. 1 : 9

4. 13 : 9

Question ID : 264330154101

Option 1 ID : 264330603869

Option 2 ID : 264330603867

Option 3 ID : 264330603870

Option 4 ID : 264330603868

Status : Answered

Chosen Option : 2

**Q.5** मोहन एक काम को 24 दिनों में पूरा कर सकता है। उसने 6 दिन तक काम किया और फिर काम छोड़ दिया। इसके बाद, सोहन ने शेष काम को 21 दिनों में पूरा किया। मोहन और सोहन मिलकर इसे कितने दिनों में पूरा कर सकते हैं?

- Ans**
- 1.  $12\frac{9}{13}$  दिन
  - 2.  $12\frac{10}{13}$  दिन
  - 3.  $12\frac{12}{13}$  दिन
  - 4.  $12\frac{11}{13}$  दिन

Question ID : 264330156238

Option 1 ID : 264330612351

Option 2 ID : 264330612352

Option 3 ID : 264330612354

Option 4 ID : 264330612353

Status : Answered

Chosen Option : 3

**Q.6** 12वीं कक्षा के कुछ विद्यार्थियों का औसत भार 56 kg है। जब सात विद्यार्थी जिनका औसत भार 58 kg है, कक्षा में शामिल हुए, तो सभी विद्यार्थियों के औसत भार में 200 gm की वृद्धि हो गई। शुरुआत में कक्षा में विद्यार्थियों की संख्या ज्ञात कीजिए?

- Ans**
- 1. 63
  - 2. 56
  - 3. 49
  - 4. 77

Question ID : 264330156548

Option 1 ID : 264330613581

Option 2 ID : 264330613580

Option 3 ID : 264330613579

Option 4 ID : 264330613582

Status : Answered

Chosen Option : 1

**Q.7** ₹2,000 की धनराशि 2 वर्षों में ₹2,880 हो जाती है। वार्षिक रूप से संयोजित होने पर ब्याज की दर क्या होगी?

- Ans**
- 1. 10%
  - 2. 20%
  - 3. 12%
  - 4. 28%

Question ID : 264330154054

Option 1 ID : 264330603679

Option 2 ID : 264330603681

Option 3 ID : 264330603682

Option 4 ID : 264330603680

Status : Answered

Chosen Option : 2

Q.8 एक किले में 160 आदमियों के लिए 94 दिन का भोजन था। 10 दिनों के बाद 20 लोग किले को छोड़कर चले गए। समान उपभोग दर से भोजन कितने समय (दिनों में) चलेगा?

- Ans
- 1. 84
  - 2. 100
  - 3. 96
  - 4. 90

Question ID : 264330156495  
Option 1 ID : 264330613368  
Option 2 ID : 264330613367  
Option 3 ID : 264330613369  
Option 4 ID : 264330613370  
Status : Answered  
Chosen Option : 3

Q.9 1288, 230, 276 का लघुत्तम समापवर्त्य ज्ञात कीजिए।

- Ans
- 1. 6,440
  - 2. 19,230
  - 3. 9,660
  - 4. 19,320

Question ID : 264330156092  
Option 1 ID : 264330611770  
Option 2 ID : 264330611767  
Option 3 ID : 264330611769  
Option 4 ID : 264330611768  
Status : Answered  
Chosen Option : 4

Q.10 क्रमशः 5 cm और 6 cm आंतरिक और बाह्य त्रिज्याओं वाले एक खोखले धातु के गोले को पिघलाकर 5.2 cm आधार की त्रिज्या के एक ठोस शंकु में ढाला जाता है। शंकु की ऊंचाई (cm में, दशमलव के 1 स्थान तक सन्निकटित) क्या है?

- Ans
- 1. 14.5
  - 2. 11.8
  - 3. 13.5
  - 4. 12.8

Question ID : 264330153794  
Option 1 ID : 264330602640  
Option 2 ID : 264330602641  
Option 3 ID : 264330602642  
Option 4 ID : 264330602639  
Status : Answered  
Chosen Option : 3

**Q.11** निम्नलिखित तालिका का अध्ययन कीजिए और उसके नीचे दिए गए प्रश्न का उत्तर दीजिए।  
तालिका में व्यावसायिक पाठ्यक्रमों के अनुसार छात्रों का वितरण दर्शाया गया है।

क्रमांक	पाठ्यक्रम	संकाय			
		कला		विज्ञान	
		लड़कियां	लड़के	लड़कियां	लड़के
1.	व्यवसाय प्रबंधन	25	45	25	65
2.	टाइप राइटिंग	23	186	20	32
3.	लागत लेखांकन	25	120	12	58
4.	टाइपिंग राइटिंग और लागत लेखांकन	12	100	3	5

केवल लागत लेखांकन करने वाले कला संकाय के छात्रों का प्रतिशत कितना है (निकटतम पूर्णांक तक)?

- Ans**
- 1. 18
  - 2. 10
  - 3. 15
  - 4. 27

Question ID : 264330156351

Option 1 ID : 264330612805

Option 2 ID : 264330612803

Option 3 ID : 264330612804

Option 4 ID : 264330612806

Status : Answered

Chosen Option : 1

**Q.12** यदि निर्माता को 10% का लाभ होता है, थोक व्यापारी को 12% का लाभ होता है और खुदरा विक्रेता को 15% का लाभ होता है, तो एक मेज की उत्पादन लागत ज्ञात कीजिए, जिसका खुदरा मूल्य ₹1,771 है।

- Ans**
- 1. ₹1,150
  - 2. ₹1,050
  - 3. ₹1,350
  - 4. ₹1,250

Question ID : 264330155998

Option 1 ID : 264330611393

Option 2 ID : 264330611391

Option 3 ID : 264330611394

Option 4 ID : 264330611392

Status : Answered

Chosen Option : 4

**Q.13** 200 km लंबी सीधी सड़क के विपरीत छोरों से दो साइकिल सवार एक ही समय पर चलना शुरू करते हैं। एक साइकिल सवार 20 km/h की चाल से और दूसरा 30 km/h की चाल से यात्रा करता है। उन्हें मिलने में कितना समय लगेगा?

- Ans**
- 1. 5 घंटे
  - 2. 4 घंटे
  - 3. 5.5 घंटे
  - 4. 4.5 घंटे

Question ID : 264330156274

Option 1 ID : 264330612497

Option 2 ID : 264330612495

Option 3 ID : 264330612498

Option 4 ID : 264330612496

Status : Answered

Chosen Option : 2

Q.14 यदि रीता के वेतन में पहले वर्ष में 5% और अगले वर्ष में 2% की वृद्धि होती है, तो दो वर्ष बाद उसके वेतन में निवल प्रतिशत वृद्धि कितनी है?

- Ans
- 1. 8.1%
  - 2. 5.1%
  - 3. 6.1%
  - 4. 7.1%

Question ID : 264330156218

Option 1 ID : 264330612274

Option 2 ID : 264330612271

Option 3 ID : 264330612272

Option 4 ID : 264330612273

Status : Answered

Chosen Option : 4

Q.15  $3\frac{1}{2} - [2\frac{1}{4} \div \{1\frac{1}{4} - \frac{3}{4}(1\frac{1}{2} - \frac{1}{2} - 2\frac{1}{2})\}]$  का मान ज्ञात कीजिए।

- Ans
- 1.  $1\frac{21}{38}$
  - 2.  $2\frac{19}{18}$
  - 3.  $2\frac{21}{38}$
  - 4.  $\frac{47}{38}$

Question ID : 264330154038

Option 1 ID : 264330603618

Option 2 ID : 264330603615

Option 3 ID : 264330603616

Option 4 ID : 264330603617

Status : Answered

Chosen Option : 3

Q.16 अरविंद, बिलाल, कारमेन एक व्यवसाय में ₹49,000 का निवेश करते हैं। अरविंद, बिलाल से ₹5,000 अधिक का निवेश करता है और बिलाल, कारमेन से ₹4,000 अधिक का निवेश करता है। ₹98,000 के कुल लाभ में से बिलाल को कितनी धनराशि प्राप्त होगी?

- Ans
- 1. ₹30,500
  - 2. ₹33,200
  - 3. ₹34,400
  - 4. ₹32,000

Question ID : 264330156108

Option 1 ID : 264330611833

Option 2 ID : 264330611834

Option 3 ID : 264330611831

Option 4 ID : 264330611832

Status : Answered

Chosen Option : 4

Q.17 पानी की कुछ मात्रा में, इस मात्रा से चार गुना दूध की मात्रा मिलाई जाती है और अब मिश्रण की मात्रा 7.5 लीटर हो जाती है। मिश्रण में 90% दूध होने के लिए मिश्रण में कितना और दूध मिलाया जाना चाहिए?

- Ans  1. 7.5 लीटर  
 2. 9.5 लीटर  
 3. 6 लीटर  
 4. 9 लीटर

Question ID : 264330153800  
Option 1 ID : 264330602664  
Option 2 ID : 264330602666  
Option 3 ID : 264330602663  
Option 4 ID : 264330602665  
Status : Answered  
Chosen Option : 1

Q.18 यदि दो संख्याओं का औसत 12 है और उन्हीं दो संख्याओं का गुणनफल 119 है, तो उन दोनों संख्याओं का अंतर कितना है?

- Ans  1. 7  
 2. 10  
 3. 6  
 4. 8

Question ID : 264330156508  
Option 1 ID : 264330613420  
Option 2 ID : 264330613421  
Option 3 ID : 264330613422  
Option 4 ID : 264330613419  
Status : Answered  
Chosen Option : 2

Q.19 यदि तीन कारों द्वारा एक निश्चित दूरी तय करने में लगने वाले समय का अनुपात 2 : 3 : 5 है, तो इन कारों की चालों का अनुपात कितना होगा?

- Ans  1. 10 : 6 : 15  
 2. 15 : 9 : 8  
 3. 15 : 10 : 6  
 4. 10 : 15 : 8

Question ID : 264330156292  
Option 1 ID : 264330612567  
Option 2 ID : 264330612570  
Option 3 ID : 264330612569  
Option 4 ID : 264330612568  
Status : Answered  
Chosen Option : 3

Q.20 7 cm व्यास वाले एक गोले का आयतन ( $\text{cm}^3$  में) ज्ञात कीजिए।

( $\pi = \frac{22}{7}$  का प्रयोग कीजिए)

- Ans
- 1. 186.44
  - 2. 197.66
  - 3. 168.44
  - 4. 179.66

Question ID : 264330156368

Option 1 ID : 264330612872

Option 2 ID : 264330612871

Option 3 ID : 264330612874

Option 4 ID : 264330612873

Status : Answered

Chosen Option : 4

Section : Reasoning Ability and Problem Solving

Q.1 यदि निम्नलिखित आकृति श्रृंखला को जारी रखना हो तो कौन-सी आकृति प्रश्न चिन्ह (?) के स्थान पर आनी चाहिए?

7	V	C	7	=	C	□	=	
=	↑	Z	Z	V	=	V	3	7
3	D	↑	3	Z	↑	3	Z	?

Ans

✗ 1.

=	V	
3	7	□
Z	C	

✗ 2.

=	V	
C	Z	□
7	3	

✓ 3.

V	□	
C	Z	=
7	3	

✗ 4.

V	□	
3	7	=
Z	C	

Question ID : 264330154761

Option 1 ID : 264330606508

Option 2 ID : 264330606509

Option 3 ID : 264330606507

Option 4 ID : 264330606510

Status : Answered

Chosen Option : 3

Q.2 यदि शब्द 'CHILDREN' के प्रत्येक अक्षर को अंग्रेजी वर्णमाला के क्रम में व्यवस्थित किया जाए तो कितने अक्षरों का स्थान अपरिवर्तित रहेगा?

Ans ✓ 1. एक

✗ 2. चार

✗ 3. दो

✗ 4. तीन

Question ID : 264330154328

Option 1 ID : 264330604775

Option 2 ID : 264330604776

Option 3 ID : 264330604777

Option 4 ID : 264330604778

Status : Answered

Chosen Option : 1

Q.3 दी गई श्रृंखला में प्रश्न चिन्ह '?' के स्थान पर क्या आना चाहिए?

5 23 95 ? 1535 6143 24575

- Ans
- 1. 312
  - 2. 347
  - 3. 361
  - 4. 383

Question ID : 264330151493  
Option 1 ID : 264330593599  
Option 2 ID : 264330593600  
Option 3 ID : 264330593601  
Option 4 ID : 264330593602  
Status : Answered  
Chosen Option : 4

Q.4 नीचे दिए गए कथनों और निष्कर्षों को ध्यानपूर्वक पढ़िए। आपको मानना है कि दिए गए कथन सत्य हैं चाहे वे समान्यतः ज्ञात तथ्यों से अलग प्रतीत होते हों। आपको निश्चय करना है कि कौन-सा/कौन-से निष्कर्ष तार्किक रूप से दिए गए कथनों के अनुसार है/हैं।

कथन: सभी फोन, फूल हैं। कुछ फूल, थैले हैं। सभी थैले, भारी हैं।

निष्कर्ष I: कुछ फोन, फूल हैं।

निष्कर्ष II: सभी फूल, थैले हैं।

- Ans
- 1. केवल निष्कर्ष (I) कथनों के अनुसार है।
  - 2. केवल निष्कर्ष (II) कथनों के अनुसार है।
  - 3. न तो निष्कर्ष (I) और न ही (II) कथनों के अनुसार है।
  - 4. दोनों निष्कर्ष (I) और (II) कथनों के अनुसार हैं।

Question ID : 264330155907  
Option 1 ID : 264330611031  
Option 2 ID : 264330611032  
Option 3 ID : 264330611033  
Option 4 ID : 264330611034  
Status : Answered  
Chosen Option : 1

**Q.5** उस शब्द-युग्म का चयन कीजिए जो नीचे दिए गए शब्दों के युग्म में व्यक्त किए गए समान संबंध का सबसे अच्छा निरूपण करता है।

(शब्दों को अर्थपूर्ण हिंदी शब्दों के रूप में माना जाना चाहिए और उन्हें शब्द में अक्षरों की संख्या/व्यंजन/स्वरों की संख्या के आधार पर एक दूसरे से संबंधित नहीं किया जाना चाहिए।)

चित्र-परिचय : नक्शा

- Ans**
- ✓ 1. शब्दावली : पाठ
  - ✗ 2. वॉल्यूम : गाइडबुक
  - ✗ 3. पेशा : जीवनी
  - ✗ 4. पत्रभाग : निबंध

Question ID : 264330154642

Option 1 ID : 264330606033

Option 2 ID : 264330606031

Option 3 ID : 264330606032

Option 4 ID : 264330606034

Status : Answered

Chosen Option : 4

**Q.6** छः लोग, दीपक, गोरी, बबीता, इरा, फरहीन और हेमा एक सीधी पंक्ति में उत्तर की ओर मुख करके बैठे हैं। दीपक बाईं ओर के छोर से दूसरे स्थान पर बैठा है। गोरी, दीपक के दाईं ओर से दूसरे स्थान पर बैठी है। इरा, गोरी के दाईं ओर से दूसरे स्थान पर बैठी है। फरहीन, इरा के बाईं ओर से तीसरे स्थान पर बैठी है। बबीता, फरहीन के बाईं ओर से दूसरे स्थान पर बैठी है। दीपक के दाईं ओर से तीसरे स्थान पर कौन बैठा/बैठी है?

- Ans**
- ✗ 1. इरा
  - ✗ 2. फरहीन
  - ✓ 3. हेमा
  - ✗ 4. बबीता

Question ID : 264330155661

Option 1 ID : 264330610048

Option 2 ID : 264330610050

Option 3 ID : 264330610047

Option 4 ID : 264330610049

Status : Answered

Chosen Option : 3

**Q.7** दी गई श्रृंखला में प्रश्न चिन्ह '?' के स्थान पर क्या आना चाहिए?

4 19 79 319 1279 ?

- Ans**
- ✗ 1. 5299
  - ✗ 2. 4913
  - ✓ 3. 5119
  - ✗ 4. 4875

Question ID : 264330151459

Option 1 ID : 264330593466

Option 2 ID : 264330593464

Option 3 ID : 264330593465

Option 4 ID : 264330593463

Status : Answered

Chosen Option : 3

Q.8 दी गई श्रृंखला में प्रश्न चिन्ह '?' के स्थान पर क्या आना चाहिए?

11 59 299 1499 7499 ?

- Ans
- 1. 38499
  - 2. 37499
  - 3. 37699
  - 4. 38199

Question ID : 264330151469  
Option 1 ID : 264330593506  
Option 2 ID : 264330593503  
Option 3 ID : 264330593504  
Option 4 ID : 264330593505  
Status : Answered  
Chosen Option : 2

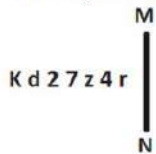
Q.9 यदि '+' और '-' को आपस में बदल दिया जाए तथा 'x' और '+' को आपस में बदल दिया जाए तो निम्नलिखित समीकरण में (?) के स्थान पर क्या आएगा?

$$23 + 2 + 41 - 84 \times 14 = ?$$

- Ans
- 1. 21
  - 2. 11
  - 3. 31
  - 4. 1

Question ID : 264330155668  
Option 1 ID : 264330610075  
Option 2 ID : 264330610076  
Option 3 ID : 264330610077  
Option 4 ID : 264330610078  
Status : Answered  
Chosen Option : 2

Q.10 दी गई आकृति के उस सही दर्पण प्रतिबिंब को चुनिए, जो नीचे दर्शाए गए अनुसार दर्पण को MN पर रखने पर बनेगा।



- Ans
- 1. K p 5 7 z 4 r
  - 2. K q 2 7 z 4 r
  - 3. K q 5 7 z 4 r
  - 4. K p 5 7 z 4 r

Question ID : 264330151506  
Option 1 ID : 264330593654  
Option 2 ID : 264330593651  
Option 3 ID : 264330593652  
Option 4 ID : 264330593653  
Status : Answered  
Chosen Option : 3

**Q.11** नीचे दिए गए कथनों और निष्कर्षों को ध्यानपूर्वक पढ़िए। आपको मानना है कि दिए गए कथन सत्य हैं चाहे वे समान्यतः ज्ञात तथ्यों से अलग प्रतीत होते हों। आपको निश्चय करना है कि कौन-सा कौन-से निष्कर्ष तार्किक रूप से दिए गए कथनों के अनुसार है/हैं।

कथन: सभी टॉर्च, गिटार हैं। कुछ गिटार, बल्ब हैं। कोई बल्ब, चूल्हा नहीं है।

निष्कर्ष I: सभी बल्ब, गिटार हैं।

निष्कर्ष II: कोई गिटार, टॉर्च नहीं है।

- Ans**
- 1. दोनों निष्कर्ष (I) और (II) कथनों के अनुसार हैं।
  - 2. केवल निष्कर्ष (I) कथनों के अनुसार है।
  - 3. केवल निष्कर्ष (II) कथनों के अनुसार है।
  - 4. न तो निष्कर्ष (I) और न ही (II) कथनों के अनुसार है।

Question ID : 264330155912

Option 1 ID : 264330611054

Option 2 ID : 264330611051

Option 3 ID : 264330611052

Option 4 ID : 264330611053

Status : Answered

Chosen Option : 4

**Q.12** अंग्रेजी वर्णमाला क्रम के आधार पर दी गई श्रृंखला में प्रश्न चिह्न (?) के स्थान पर क्या आना चाहिए?

CSP, EUQ, GWR, IYS, ?

- Ans**
- 1. KAT
  - 2. JAR
  - 3. LBT
  - 4. JBS

Question ID : 264330155783

Option 1 ID : 264330610535

Option 2 ID : 264330610537

Option 3 ID : 264330610538

Option 4 ID : 264330610536

Status : Answered

Chosen Option : 1

**Q.13** एक निश्चित कूट भाषा में, 'yes you can' को 'an cf dt' लिखा जाता है और 'you are enough' को 'sk dt hw' लिखा जाता है। उसी कूट भाषा में 'you' को कैसे लिखा जाएगा?

- Ans**
- 1. dt
  - 2. cf
  - 3. sk
  - 4. hw

Question ID : 264330151706

Option 1 ID : 264330594452

Option 2 ID : 264330594451

Option 3 ID : 264330594454

Option 4 ID : 264330594453

Status : Answered

Chosen Option : 1

**Q.14** निम्नलिखित संख्या-युग्मों में, पहली संख्या पर कुछ गणितीय संक्रियाएँ करके दूसरी संख्या प्राप्त की जाती है। उस समुच्चय को चुनिए जिसमें संख्याएँ ठीक उसी प्रकार संबंधित हैं जिस प्रकार निम्नलिखित समुच्चयों की संख्याएँ संबंधित हैं।

(ध्यान दें: संख्याओं को उनके घटक अंकों में अलग-अलग किए बिना, पूर्ण संख्याओं पर संक्रियाएँ की जानी चाहिए। उदा. 13 – संख्या 13 पर संक्रियाएँ जैसे 13 को जोड़ना/घटाना/गुणा करना आदि किया जा सकता है। 13 को 1 और 3 में अलग-अलग करने की और फिर 1 और 3 पर गणितीय संक्रियाएँ करने की अनुमति नहीं है।)

8, 128

9, 162

**Ans** ✓ 1. 14, 392

✗ 2. 11, 124

✗ 3. 13, 170

✗ 4. 12, 149

Question ID : 264330151619

Option 1 ID : 264330594106

Option 2 ID : 264330594103

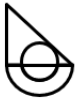
Option 3 ID : 264330594105

Option 4 ID : 264330594104

Status : Answered

Chosen Option : 1

Q.15 उस विकल्प आकृति को चुनिए जिसमें दी गई आकृति (X) उसके भाग के रूप में निहित है। (घूर्णन की अनुमति नहीं है)




(X)

Ans

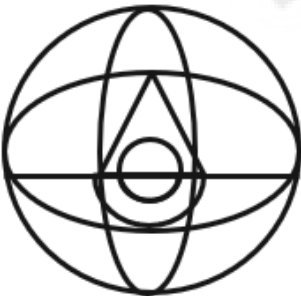
✗ 1.



✓ 2.



✗ 3.



✗ 4.



Question ID : 264330151725

Option 1 ID : 264330594527

Option 2 ID : 264330594530

Option 3 ID : 264330594529

Option 4 ID : 264330594528

Status : Answered

Chosen Option : 2

Q.16 उस सही विकल्प को चुनिए, जिसे दी गई श्रृंखला के रिक्त स्थानों में इसी क्रम में रखने पर श्रृंखला तार्किक रूप से पूरी हो जाएगी।

BK\_Y\_KUT R\_PO MKK\_HK\_E

- Ans
- ✓ 1. ZWKJF
  - ✗ 2. WKBFP
  - ✗ 3. ZKWLF
  - ✗ 4. WBHZP

Question ID : 264330154729  
Option 1 ID : 264330606382  
Option 2 ID : 264330606379  
Option 3 ID : 264330606380  
Option 4 ID : 264330606381  
Status : Answered  
Chosen Option : 1

Q.17 निम्नलिखित संख्या-युग्मों में, पहली संख्या पर कुछ गणितीय संक्रियाएँ करके दूसरी संख्या प्राप्त की जाती है। उस समुच्चय को चुनिए जिसमें संख्याएँ ठीक उसी प्रकार संबंधित हैं जिस प्रकार निम्नलिखित समुच्चयों की संख्याएँ संबंधित हैं।  
(ध्यान दें: संख्याओं को उनके घटक अंकों में अलग-अलग किए बिना, पूर्ण संख्याओं पर संक्रियाएँ की जानी चाहिए। उदा. 13 – संख्या 13 पर संक्रियाएँ जैसे 13 को जोड़ना/घटाना/गुणा करना आदि किया जा सकता है। 13 को 1 और 3 में अलग-अलग करने की और फिर 1 और 3 पर गणितीय संक्रियाएँ करने की अनुमति नहीं है।)

16 : 41  
11 : 26

- Ans
- ✗ 1. 7 : 28
  - ✗ 2. 21 : 84
  - ✗ 3. 5 : 15
  - ✓ 4. 12 : 29

Question ID : 264330154650  
Option 1 ID : 264330606065  
Option 2 ID : 264330606063  
Option 3 ID : 264330606066  
Option 4 ID : 264330606064  
Status : Answered  
Chosen Option : 4

Q.18 अक्षरों के उस संयोजन को चुनिए जिसे दी गई श्रृंखला के रिक्त स्थानों में क्रमिक रूप से रखने पर श्रृंखला पूरी हो जाएगी।

NO\_N\_\_NO\_\_ON

- Ans
- ✗ 1. NONON
  - ✗ 2. ONOON
  - ✗ 3. OOONO
  - ✓ 4. NONNN

Question ID : 264330151653  
Option 1 ID : 264330594239  
Option 2 ID : 264330594242  
Option 3 ID : 264330594240  
Option 4 ID : 264330594241  
Status : Answered  
Chosen Option : 4

Q.19 एक निश्चित कूट भाषा में, 'BACK' को '17' लिखा जाता है और 'DTDC' को '31' लिखा जाता है। उस कूट भाषा में 'JAAM' को कैसे लिखा जाएगा?

- Ans
- 1. 20
  - 2. 25
  - 3. 35
  - 4. 40

Question ID : 264330155819  
Option 1 ID : 264330610681  
Option 2 ID : 264330610679  
Option 3 ID : 264330610680  
Option 4 ID : 264330610682  
Status : Answered  
Chosen Option : 2

Q.20 यदि '+' और '-' को आपस में बदल दिया जाए और 'x' और '÷' को आपस में बदल दिया जाए तो निम्नलिखित समीकरण में '?' के स्थान पर क्या आएगा?  
 $15 - 6 + 12 \times 3 + 4 = ?$

- Ans
- 1. 9
  - 2. 5
  - 3. 7
  - 4. 10

Question ID : 264330154662  
Option 1 ID : 264330606113  
Option 2 ID : 264330606112  
Option 3 ID : 264330606114  
Option 4 ID : 264330606111  
Status : Answered  
Chosen Option : 2

Section : General Awareness

Q.1 शहरीकरण के कारण, मानव जीवनशैली में गंभीर बदलाव आया है; ऐसी स्थिति में मोटापा एक प्रमुख स्वास्थ्य समस्या है। निम्नलिखित में से कौन-सा, मोटापे का कारण है?

- Ans
- 1. पानी की अत्यधिक खपत
  - 2. उच्च कैलोरी वाले खाद्य पदार्थों का अत्यधिक सेवन
  - 3. प्रोटीन की कमी
  - 4. नियमित आहार में विटामिन की कमी

Question ID : 264330156610  
Option 1 ID : 264330613828  
Option 2 ID : 264330613827  
Option 3 ID : 264330613830  
Option 4 ID : 264330613829  
Status : Answered  
Chosen Option : 2

Q.2 भारत के राष्ट्रपति ने 2023 में गुरुचरण सिंह को \_\_\_\_\_ के क्षेत्र में उनकी विशिष्ट सेवा के लिए पद्म श्री पुरस्कार से सम्मानित किया।

- Ans  1. क्रिकेट  
 2. फुटबॉल  
 3. बैडमिंटन  
 4. टेनिस

Question ID : 264330161443  
Option 1 ID : 264330633099  
Option 2 ID : 264330633100  
Option 3 ID : 264330633101  
Option 4 ID : 264330633102  
Status : Answered  
Chosen Option : 2

Q.3 वेल्डिंग (welding) के लिए व्यापक रूप से उपयोग की जाने वाली ऐसीटिलीन (acetylene) नामक हल्की, ईथरीय गंध (ethereal odour) वाली रंगहीन गैस का प्रणालीगत नाम (systematic name) क्या है?

- Ans  1. एथीन (Ethyne)  
 2. एथिल एसीटेट (Ethyl acetate)  
 3. एज़ोइथेन (Azoethane)  
 4. एथेनॉइक एनहाइड्राइड (Ethanoic anhydride)

Question ID : 264330161050  
Option 1 ID : 264330631532  
Option 2 ID : 264330631531  
Option 3 ID : 264330631534  
Option 4 ID : 264330631533  
Status : Not Answered  
Chosen Option : --

Q.4 निम्नलिखित में से किस राज्य में पहला जनजातीय खेल महोत्सव आयोजित किया गया था?

- Ans  1. आंध्र प्रदेश  
 2. ओडिशा  
 3. छत्तीसगढ़  
 4. झारखंड

Question ID : 264330161127  
Option 1 ID : 264330631842  
Option 2 ID : 264330631839  
Option 3 ID : 264330631841  
Option 4 ID : 264330631840  
Status : Answered  
Chosen Option : 2

Q.5 निम्नलिखित में से केंद्र सरकार का विधायी अंग (legislative organ) कौन-सा है?

- Ans
- 1. कार्यकारिणी
  - 2. मंत्रिमंडल
  - 3. संसद
  - 4. सुप्रीम कोर्ट

Question ID : 264330159920  
Option 1 ID : 264330627027  
Option 2 ID : 264330627030  
Option 3 ID : 264330627028  
Option 4 ID : 264330627029  
Status : Answered  
Chosen Option : 2

Q.6 भारत में 'ऑस (Aus)', 'अमन (Aman)' और 'बोरो (Boro)' शब्द का संबंध निम्नलिखित में से किस फसल से है?

- Ans
- 1. धान
  - 2. गेहूं
  - 3. गन्ना
  - 4. चना

Question ID : 264330161510  
Option 1 ID : 264330633368  
Option 2 ID : 264330633367  
Option 3 ID : 264330633369  
Option 4 ID : 264330633370  
Status : Answered  
Chosen Option : 2

Q.7 यह प्रस्ताव किसने पेश किया कि भारत का राष्ट्रीय ध्वज 'केसरिया, सफेद और गहरे हरे रंग का समान अनुपात में क्षैतिज तिरंगा' होगा?

- Ans
- 1. जवाहर लाल नेहरू
  - 2. महात्मा गांधी
  - 3. सरदार वल्लभभाई पटेल
  - 4. डॉ राजेंद्र प्रसाद

Question ID : 264330161747  
Option 1 ID : 264330634316  
Option 2 ID : 264330634315  
Option 3 ID : 264330634317  
Option 4 ID : 264330634318  
Status : Not Answered  
Chosen Option : --

Q.8 भरतनाट्यम की शास्त्रीय नृत्य शैली \_\_\_\_\_ राज्य से संबंधित है।

- Ans
- 1. तमिलनाडु
  - 2. असम
  - 3. कर्नाटक
  - 4. राजस्थान

Question ID : 264330159049  
Option 1 ID : 264330623556  
Option 2 ID : 264330623557  
Option 3 ID : 264330623555  
Option 4 ID : 264330623558  
Status : Answered  
Chosen Option : 1

Q.9 अप्रैल 2023 में, सात्विकसाईराज रंकीरेड्डी (Satwiksairaj Rankireddy) और चिराग शेटी ने बैडमिंटन एशिया चैंपियनशिप (Badminton Asia Championships) में स्वर्ण पदक जीतने वाले पहले भारतीय पुरुष युगल जोड़ी बनकर इतिहास रचा। यह चैंपियनशिप कहां आयोजित की गई थी?

- Ans
- 1. कतर
  - 2. सिंगापुर
  - 3. दुबई
  - 4. मलेशिया

Question ID : 264330161153

Option 1 ID : 264330631943

Option 2 ID : 264330631946

Option 3 ID : 264330631944

Option 4 ID : 264330631945

Status : Answered

Chosen Option : 2

Q.10 निम्नलिखित में से उस भारतीय गायक/गायिका की पहचान कीजिए, जिसने भारत के पहले प्रधानमंत्री पंडित जवाहरलाल नेहरू के सामने 'ऐ मेरे वतन के लोगों जरा आंख में भरलो पानी...' गाना गाया था।

- Ans
- 1. आशा भोसले
  - 2. मुकेश
  - 3. लता मंगेशकर
  - 4. मोहम्मद रफ़ी

Question ID : 264330160980

Option 1 ID : 264330631252

Option 2 ID : 264330631253

Option 3 ID : 264330631251

Option 4 ID : 264330631254

Status : Answered

Chosen Option : 3

Q.11 15 अगस्त 1947 को औपनिवेशिक शासन से भारत की आजादी के समय निम्नलिखित में से कौन भारत का वायसराय था?

- Ans
- 1. लॉर्ड लिनलिथगो (Lord Linlithgow)
  - 2. लॉर्ड माउंटबेटन (Lord Mountbatten)
  - 3. लॉर्ड विलिंग्डन (Lord Willingdon)
  - 4. लॉर्ड वेवेल (Lord Wavell)

Question ID : 264330160824

Option 1 ID : 264330630629

Option 2 ID : 264330630627

Option 3 ID : 264330630630

Option 4 ID : 264330630628

Status : Answered

Chosen Option : 2

Q.12 भारत में कौन-सी नियामक संस्था सूक्ष्म वित्त संस्थानों (Micro Finance Institutions) की देखरेख और विनियमन के लिए जिम्मेदार है?

- Ans
- 1. भारतीय लघु उद्योग विकास बैंक (SIDBI)
  - 2. राष्ट्रीय कृषि और ग्रामीण विकास बैंक (NABARD)
  - 3. भारतीय प्रतिभूति और विनियम बोर्ड (SEBI)
  - 4. भारतीय रिजर्व बैंक (RBI)

Question ID : 264330157285

Option 1 ID : 264330616505

Option 2 ID : 264330616506

Option 3 ID : 264330616504

Option 4 ID : 264330616503

Status : Not Answered

Chosen Option : --

Q.13 श्री नारायण धर्म परिपालन योगम (Shree Narayana Dharma Paripalana Yogam) की स्थापना कहां की गई थी?

- Ans
- 1. कर्नाटक
  - 2. तेलंगाना
  - 3. केरल
  - 4. तमिलनाडु

Question ID : 264330160890

Option 1 ID : 264330630894

Option 2 ID : 264330630893

Option 3 ID : 264330630891

Option 4 ID : 264330630892

Status : Not Answered

Chosen Option : --

Q.14 निम्नलिखित में से कौन-सी फसल काली मिट्टी के लिए सबसे उपयुक्त है?

- Ans
- 1. कपास
  - 2. जौ
  - 3. सोयाबीन
  - 4. मक्का

Question ID : 264330161316

Option 1 ID : 264330632594

Option 2 ID : 264330632593

Option 3 ID : 264330632591

Option 4 ID : 264330632592

Status : Answered

Chosen Option : 1

Q.15 शमा भाटे (Shama Bhate) को निम्नलिखित में से किस नृत्य शैली में उनके योगदान के लिए संगीत नाटक अकादमी पुरस्कार-2021 (फरवरी 2023 में दिया गया) से सम्मानित किया गया?

- Ans
- 1. मोहिनीअट्टम
  - 2. भरतनाट्यम
  - 3. मणिपुरी
  - 4. कथक

Question ID : 264330155518  
Option 1 ID : 264330609478  
Option 2 ID : 264330609475  
Option 3 ID : 264330609477  
Option 4 ID : 264330609476  
Status : Answered  
Chosen Option : 1

Q.16 निम्नलिखित में से कौन-सा सिंधु घाटी स्थल अब पाकिस्तान में स्थित है?

- Ans
- 1. हड़प्पा
  - 2. आलमगीरपुर
  - 3. कालीबंगा
  - 4. लोथल

Question ID : 264330162697  
Option 1 ID : 264330638108  
Option 2 ID : 264330638107  
Option 3 ID : 264330638109  
Option 4 ID : 264330638110  
Status : Answered  
Chosen Option : 1

Q.17 निम्नलिखित में से उपन्यास और उसके लेखक की सही जोड़ी की पहचान कीजिए।

- Ans
- 1. द इनहेरिटेस ऑफ लॉस - अरविंद अडिगा
  - 2. द व्हाइट टाइगर - किरण देसाई
  - 3. ए सूटेबल बॉय - अमिताव घोष
  - 4. सेवन समर्स - मुल्क राज आनंद

Question ID : 264330155501  
Option 1 ID : 264330609408  
Option 2 ID : 264330609410  
Option 3 ID : 264330609407  
Option 4 ID : 264330609409  
Status : Answered  
Chosen Option : 1

Q.18 'द ग्रेट इंडियन नॉवेल' (The Great Indian Novel) \_\_\_\_\_ का एक व्यंग्य उपन्यास है।

- Ans
- 1. के.आर. नारायण
  - 2. मुंशी प्रेम चंद
  - 3. शशि थरूर
  - 4. सूर्यकान्त त्रिपाठी

Question ID : 264330155496  
Option 1 ID : 264330609388  
Option 2 ID : 264330609389  
Option 3 ID : 264330609390  
Option 4 ID : 264330609387  
Status : Answered  
Chosen Option : 1

Q.19 68वें फिल्मफेयर पुरस्कार 2023 में सर्वश्रेष्ठ पार्श्व गायक (पुरुष) का पुरस्कार (Best Playback Singer (Male) award) किसने जीता?

- Ans
- 1. अरिजीत सिंह
  - 2. शान
  - 3. अमित मिश्रा
  - 4. मोहित चौहान

Question ID : 264330155516  
Option 1 ID : 264330609468  
Option 2 ID : 264330609469  
Option 3 ID : 264330609470  
Option 4 ID : 264330609467  
Status : Not Answered  
Chosen Option : --

Q.20 निम्नलिखित में से किस राज्य ने राज्य में कम से कम 2,00,000 नए रोजगार के अवसर पैदा करने के उद्देश्य से एक समर्पित सेमीकंडक्टर नीति 2022-27 पेश की है?

- Ans
- 1. गुजरात
  - 2. आंध्र प्रदेश
  - 3. महाराष्ट्र
  - 4. केरल

Question ID : 264330161409  
Option 1 ID : 264330632964  
Option 2 ID : 264330632965  
Option 3 ID : 264330632963  
Option 4 ID : 264330632966  
Status : Not Answered  
Chosen Option : --

Q.21 बचत खाते का उद्देश्य क्या है?

- Ans  1. जमा पर ब्याज अर्जित करना  
 2. बिलों का भुगतान ऑनलाइन करना  
 3. दैनिक लेन-देन करना  
 4. बंधक ऋण प्राप्त करना

Question ID : 264330157301

Option 1 ID : 264330616568

Option 2 ID : 264330616570

Option 3 ID : 264330616567

Option 4 ID : 264330616569

Status : Answered

Chosen Option : 1

Q.22 निम्नलिखित में से कौन एक प्रसिद्ध कथक नर्तक/नर्तकी हैं जो 'पंडित बिरजू महाराज' के शिष्य/शिष्या और भारतीय लेखा परीक्षा और लेखा सेवाओं (Indian Audit and Accounts Services) में एक अधिकारी के रूप में भी काम कर चुके हैं/चुकी हैं?

- Ans  1. शोवना नारायण  
 2. पद्मा सुब्रह्मण्यम  
 3. सोनल मानसिंह  
 4. गुरु बिपिन सिंह

Question ID : 264330159063

Option 1 ID : 264330623612

Option 2 ID : 264330623614

Option 3 ID : 264330623613

Option 4 ID : 264330623611

Status : Answered

Chosen Option : 1

Q.23 भारत की निम्नलिखित प्रायद्वीपीय नदियों में से कौन-सी नदी पश्चिम की ओर बहने वाली नदी (west flowing river) है?

- Ans  1. नर्मदा  
 2. कावेरी  
 3. कृष्णा  
 4. गोदावरी

Question ID : 264330161496

Option 1 ID : 264330633314

Option 2 ID : 264330633312

Option 3 ID : 264330633313

Option 4 ID : 264330633311

Status : Answered

Chosen Option : 1

Q.24 भारत के संविधान के कौन-से अनुच्छेद का संबंध संघ एवं राज्य क्षेत्र (Union and its territory) से है?

- Ans  1. अनुच्छेद 1-4  
 2. अनुच्छेद 36-51  
 3. अनुच्छेद 12-35  
 4. अनुच्छेद 5-11

Question ID : 264330159894  
Option 1 ID : 264330626923  
Option 2 ID : 264330626926  
Option 3 ID : 264330626925  
Option 4 ID : 264330626924  
Status : Answered  
Chosen Option : 4

Q.25 भारत की जनगणना 2011 के अनुसार, महिला साक्षरता दर \_\_\_\_\_ दर्ज की गई थी।

- Ans  1. 75.35%  
 2. 55.84%  
 3. 70.24%  
 4. 65.46%

Question ID : 264330161557  
Option 1 ID : 264330633557  
Option 2 ID : 264330633555  
Option 3 ID : 264330633556  
Option 4 ID : 264330633558  
Status : Answered  
Chosen Option : 4

Section : English Language and Comprehension

Q.1 Select the most appropriate meaning of the underlined segment in the given sentence.  
After her husband passed away, Jane had to learn to bite the bullet and take care of the household on her own.

- Ans  1. Create a difficult situation  
 2. Run away from a difficult situation  
 3. Criticise someone harshly  
 4. Accept a difficult situation bravely

Question ID : 264330152922  
Option 1 ID : 264330599269  
Option 2 ID : 264330599267  
Option 3 ID : 264330599270  
Option 4 ID : 264330599268  
Status : Answered  
Chosen Option : 4

**Q.2** Select the most appropriate word to fill in the blank.  
Ministry of education has announced that students can \_\_\_\_\_ the Board Examinations twice.

- Ans  1. give  
 2. take  
 3. get  
 4. participate

Question ID : 264330153506  
Option 1 ID : 264330601536  
Option 2 ID : 264330601537  
Option 3 ID : 264330601535  
Option 4 ID : 264330601538  
Status : Answered  
Chosen Option : 1

**Q.3** Select the option that can be used as a one-word substitute for the given phrase.  
One who lends money to others at a very high rate of interest.

- Ans  1. Curator  
 2. Numismatist  
 3. Bankrupt  
 4. Usurer

Question ID : 264330152674  
Option 1 ID : 264330598301  
Option 2 ID : 264330598300  
Option 3 ID : 264330598302  
Option 4 ID : 264330598299  
Status : Answered  
Chosen Option : 4

**Q.4** Select the most appropriate option that can substitute the underlined segment in the given sentence.

I considered Geography as an easier subject.

- Ans  1. an easiest  
 2. the easier  
 3. the easy  
 4. an easy

Question ID : 264330155423  
Option 1 ID : 264330609102  
Option 2 ID : 264330609101  
Option 3 ID : 264330609100  
Option 4 ID : 264330609099  
Status : Answered  
Chosen Option : 4

**Q.5** Select the most appropriate meaning of the given idiom.  
**Pay an arm and a leg for something**

- Ans
- 1. Be devoted to unwanted things
  - 2. Give a lot of love and care to someone
  - 3. Pay a lot of attention to an incident
  - 4. Pay a lot of money for something

Question ID : 264330153438  
Option 1 ID : 264330601277  
Option 2 ID : 264330601278  
Option 3 ID : 264330601276  
Option 4 ID : 264330601275  
Status : Answered  
Chosen Option : 4

**Q.6** Parts of the following sentence have been underlined and given as options. Select the option that contains an error.  
What most off us want most is to move forward.

- Ans
- 1. move forward
  - 2. want most
  - 3. most off
  - 4. is to

Question ID : 264330153209  
Option 1 ID : 264330600398  
Option 2 ID : 264330600396  
Option 3 ID : 264330600395  
Option 4 ID : 264330600397  
Status : Answered  
Chosen Option : 3

**Q.7** Select the INCORRECTLY spelt word in the given sentence.  
The handloom shop at the Ring Road has many kinds of bags, such as paper, leather, cloth and canvass.

- Ans
- 1. Paper
  - 2. Cloth
  - 3. Leather
  - 4. Canvass

Question ID : 264330153302  
Option 1 ID : 264330600763  
Option 2 ID : 264330600765  
Option 3 ID : 264330600764  
Option 4 ID : 264330600766  
Status : Answered  
Chosen Option : 4

Q.8 Select the most appropriate meaning of the underlined idiom in the given sentence.

A man of character, he stuck to his guns even in the most difficult situations.

- Ans
- 1. To do things that would please people
  - 2. To stand firm against all difficulties and challenges
  - 3. To behave disrespectfully
  - 4. To find a treasure

Question ID : 264330152880  
Option 1 ID : 264330599113  
Option 2 ID : 264330599114  
Option 3 ID : 264330599111  
Option 4 ID : 264330599112  
Status : Answered  
Chosen Option : 2

Q.9 The following sentence has been divided into four parts. Identify the part that contains an error.

(A) Taylor, Richard, and / (B) Francis plays for / (C) the state / (D) basketball team.

- Ans
- 1. D
  - 2. C
  - 3. B
  - 4. A

Question ID : 264330152616  
Option 1 ID : 264330598067  
Option 2 ID : 264330598068  
Option 3 ID : 264330598069  
Option 4 ID : 264330598070  
Status : Answered  
Chosen Option : 3

Q.10 Select the INCORRECTLY spelt word.

- Ans
- 1. Grammar
  - 2. Familiar
  - 3. Aweful
  - 4. Pleasant

Question ID : 264330152828  
Option 1 ID : 264330598905  
Option 2 ID : 264330598903  
Option 3 ID : 264330598904  
Option 4 ID : 264330598906  
Status : Answered  
Chosen Option : 3

**Q.11** Parts of the following sentence have been given as options. Select the option that contains an error.  
The platinum is a precious metal.

- Ans
- 1. a
  - 2. is
  - 3. precious metal
  - 4. The platinum

Question ID : 264330155201  
Option 1 ID : 264330608265  
Option 2 ID : 264330608264  
Option 3 ID : 264330608266  
Option 4 ID : 264330608263  
Status : Answered  
Chosen Option : 4

**Q.12** Select the most appropriate option to fill in the blank.  
Augmented Reality (AR) continues to develop and become more \_\_\_\_\_ among a wide range of applications.

- Ans
- 1. amicable
  - 2. pervasive
  - 3. idealistic
  - 4. rare

Question ID : 264330151905  
Option 1 ID : 264330595237  
Option 2 ID : 264330595236  
Option 3 ID : 264330595238  
Option 4 ID : 264330595235  
Status : Answered  
Chosen Option : 1

**Q.13** Select the most appropriate synonym of the given word.  
Trivial

- Ans
- 1. Minor
  - 2. Fatal
  - 3. Decisive
  - 4. Formal

Question ID : 264330152683  
Option 1 ID : 264330598338  
Option 2 ID : 264330598335  
Option 3 ID : 264330598337  
Option 4 ID : 264330598336  
Status : Answered  
Chosen Option : 1

**Q.14** The following sentence has been divided into parts. One of them may contain an error. Select the part that contains the error from the given options. If you don't find any error, mark 'No error' as your answer.  
As they driven through the dark, twisting lane / down which they had walked earlier, Lucius heard / the whistling of the night air in his ears.

- Ans**
- 1. down which they had walked earlier, Lucius heard
  - 2. No error
  - 3. the whistling of the night air in his ears.
  - 4. As they driven through the dark, twisting lane

Question ID : 264330153212  
Option 1 ID : 264330600409  
Option 2 ID : 264330600410  
Option 3 ID : 264330600407  
Option 4 ID : 264330600408  
Status : Answered  
Chosen Option : 4

**Q.15** Select the most appropriate option to fill in the blank.  
All praised him when he soared in the business world, but the same people \_\_\_\_\_ him when he failed in business.

- Ans**
- 1. supported
  - 2. dramatised
  - 3. nourished
  - 4. criticised

Question ID : 264330153576  
Option 1 ID : 264330601802  
Option 2 ID : 264330601801  
Option 3 ID : 264330601799  
Option 4 ID : 264330601800  
Status : Answered  
Chosen Option : 4

**Q.16** Select the most appropriate idiom to fill in the blank.  
Please tell me about the meeting \_\_\_\_\_.

- Ans**
- 1. in a nutshell
  - 2. in a huff
  - 3. in a stew
  - 4. in a spin

Question ID : 264330152597  
Option 1 ID : 264330597992  
Option 2 ID : 264330597994  
Option 3 ID : 264330597993  
Option 4 ID : 264330597991  
Status : Not Answered  
Chosen Option : --

Q.17 Select the most appropriate ANTONYM of the given word.  
Authentic

- Ans  1. False  
 2. Wise  
 3. Moderate  
 4. Actual

Question ID : 264330152675  
Option 1 ID : 264330598304  
Option 2 ID : 264330598305  
Option 3 ID : 264330598306  
Option 4 ID : 264330598303  
Status : Answered  
Chosen Option : 1

Q.18 Select the INCORRECTLY spelt word.

- Ans  1. Territory  
 2. Excellence  
 3. Acknowlege  
 4. Business

Question ID : 264330152688  
Option 1 ID : 264330598358  
Option 2 ID : 264330598357  
Option 3 ID : 264330598356  
Option 4 ID : 264330598355  
Status : Answered  
Chosen Option : 3

Q.19 Select the most appropriate option to fill in the blank.  
A/An \_\_\_\_\_ fellow cannot become an ideal teacher.

- Ans  1. idle  
 2. honest  
 3. bright  
 4. intelligent

Question ID : 264330153355  
Option 1 ID : 264330600971  
Option 2 ID : 264330600973  
Option 3 ID : 264330600974  
Option 4 ID : 264330600972  
Status : Answered  
Chosen Option : 1

Q.20 Select the word which means the same as the group of words given.  
That which can't be read.

- Ans  1. Incurable  
 2. Illegible  
 3. Irrelevant  
 4. Inaccessible

Question ID : 264330152570  
Option 1 ID : 264330597884  
Option 2 ID : 264330597885  
Option 3 ID : 264330597886  
Option 4 ID : 264330597883  
Status : Answered  
Chosen Option : 2

**Comprehension:**

In the following passage some words have been deleted. Read the passage carefully and select the most appropriate option to fill in each blank.

The most common hazard in forests is forest fire. Forest fires are as old as the forests themselves. They pose a 1. \_\_\_\_\_ not only to the forest wealth but also to the entire regime to fauna and flora seriously disturbing the biodiversity and the ecology and environment of a region. During summer, when there is no rain for months, the forests 2. \_\_\_\_\_ littered with dry senescent leaves and twinges, which could burst into flames ignited by the slightest spark. The Himalayan forests, particularly, Garhwal Himalayas have been burning 3. \_\_\_\_\_ during the last few summers, with colossal loss of vegetation cover of that region. The youngest mountain ranges of the Himalayas are the most 4. \_\_\_\_\_ stretches of the world susceptible to forest fires. The forests of the Western are more 5. \_\_\_\_\_ vulnerable to forest fires as compared to those in the Eastern Himalayas. This is because forests of the Eastern Himalayas grow in high rain density.

**SubQuestion No : 21**

**Q.21** Select the most appropriate option to fill in blank no.1.

- Ans
- 1. mercy
  - 2. failure
  - 3. trend
  - 4. threat

Question ID : 264330151933

Option 1 ID : 264330595344

Option 2 ID : 264330595343

Option 3 ID : 264330595346

Option 4 ID : 264330595345

Status : Answered

Chosen Option : 4

**Comprehension:**

In the following passage some words have been deleted. Read the passage carefully and select the most appropriate option to fill in each blank.

The most common hazard in forests is forest fire. Forest fires are as old as the forests themselves. They pose a 1. \_\_\_\_\_ not only to the forest wealth but also to the entire regime to fauna and flora seriously disturbing the biodiversity and the ecology and environment of a region. During summer, when there is no rain for months, the forests 2. \_\_\_\_\_ littered with dry senescent leaves and twinges, which could burst into flames ignited by the slightest spark. The Himalayan forests, particularly, Garhwal Himalayas have been burning 3. \_\_\_\_\_ during the last few summers, with colossal loss of vegetation cover of that region. The youngest mountain ranges of the Himalayas are the most 4. \_\_\_\_\_ stretches of the world susceptible to forest fires. The forests of the Western are more 5. \_\_\_\_\_ vulnerable to forest fires as compared to those in the Eastern Himalayas. This is because forests of the Eastern Himalayas grow in high rain density.

**SubQuestion No : 22**

**Q.22** Select the most appropriate option to fill in blank no.2.

- Ans
- 1. become
  - 2. build
  - 3. keep
  - 4. drive

Question ID : 264330151934

Option 1 ID : 264330595348

Option 2 ID : 264330595350

Option 3 ID : 264330595349

Option 4 ID : 264330595347

Status : Answered

Chosen Option : 1

**Comprehension:**

In the following passage some words have been deleted. Read the passage carefully and select the most appropriate option to fill in each blank.

The most common hazard in forests is forest fire. Forest fires are as old as the forests themselves. They pose a 1. \_\_\_\_\_ not only to the forest wealth but also to the entire regime to fauna and flora seriously disturbing the biodiversity and the ecology and environment of a region. During summer, when there is no rain for months, the forests 2. \_\_\_\_\_ littered with dry senescent leaves and twinges, which could burst into flames ignited by the slightest spark. The Himalayan forests, particularly, Garhwal Himalayas have been burning 3. \_\_\_\_\_ during the last few summers, with colossal loss of vegetation cover of that region. The youngest mountain ranges of the Himalayas are the most 4. \_\_\_\_\_ stretches of the world susceptible to forest fires. The forests of the Western are more 5. \_\_\_\_\_ vulnerable to forest fires as compared to those in the Eastern Himalayas. This is because forests of the Eastern Himalayas grow in high rain density.

**SubQuestion No : 23**

**Q.23** Select the most appropriate option to fill in blank no.3.

- Ans
- 1. badly
  - 2. enough
  - 3. regularly
  - 4. rarely

Question ID : 264330151935

Option 1 ID : 264330595353

Option 2 ID : 264330595352

Option 3 ID : 264330595351

Option 4 ID : 264330595354

Status : Answered

Chosen Option : 3

**Comprehension:**

In the following passage some words have been deleted. Read the passage carefully and select the most appropriate option to fill in each blank.

The most common hazard in forests is forest fire. Forest fires are as old as the forests themselves. They pose a 1. \_\_\_\_\_ not only to the forest wealth but also to the entire regime to fauna and flora seriously disturbing the biodiversity and the ecology and environment of a region. During summer, when there is no rain for months, the forests 2. \_\_\_\_\_ littered with dry senescent leaves and twinges, which could burst into flames ignited by the slightest spark. The Himalayan forests, particularly, Garhwal Himalayas have been burning 3. \_\_\_\_\_ during the last few summers, with colossal loss of vegetation cover of that region. The youngest mountain ranges of the Himalayas are the most 4. \_\_\_\_\_ stretches of the world susceptible to forest fires. The forests of the Western are more 5. \_\_\_\_\_ vulnerable to forest fires as compared to those in the Eastern Himalayas. This is because forests of the Eastern Himalayas grow in high rain density.

**SubQuestion No : 24**

**Q.24** Select the most appropriate option to fill in blank no.4.

- Ans
- 1. mysterious
  - 2. vulnerable
  - 3. outrageous
  - 4. greasy

Question ID : 264330151936

Option 1 ID : 264330595355

Option 2 ID : 264330595358

Option 3 ID : 264330595356

Option 4 ID : 264330595357

Status : Answered

Chosen Option : 2

**Comprehension:**

In the following passage some words have been deleted. Read the passage carefully and select the most appropriate option to fill in each blank.

The most common hazard in forests is forest fire. Forest fires are as old as the forests themselves. They pose a 1. \_\_\_\_\_ not only to the forest wealth but also to the entire regime to fauna and flora seriously disturbing the biodiversity and the ecology and environment of a region. During summer, when there is no rain for months, the forests 2. \_\_\_\_\_ littered with dry senescent leaves and twinges, which could burst into flames ignited by the slightest spark. The Himalayan forests, particularly, Garhwal Himalayas have been burning 3. \_\_\_\_\_ during the last few summers, with colossal loss of vegetation cover of that region. The youngest mountain ranges of the Himalayas are the most 4. \_\_\_\_\_ stretches of the world susceptible to forest fires. The forests of the Western are more 5. \_\_\_\_\_ vulnerable to forest fires as compared to those in the Eastern Himalayas. This is because forests of the Eastern Himalayas grow in high rain density.

**SubQuestion No : 25**

**Q.25** Select the most appropriate option to fill in blank no.5.

- Ans
- 1. barely
  - 2. closely
  - 3. deeply
  - 4. frequently

Question ID : 264330151937

Option 1 ID : 264330595359

Option 2 ID : 264330595362

Option 3 ID : 264330595361

Option 4 ID : 264330595360

Status : Answered

Chosen Option : 4