

## Multi Tasking Non Technical Staff and Havaldar CBIC and CBN Examination 2023

Roll Number	
Candidate Name	
Venue Name	Yagyavalkya Institute of Technology
Exam Date	11/09/2023
Exam Time	12:30 PM - 2:30 PM
Subject	MTS Non Tech Havaldar CBIC and CBN Examination 2023

### Section : Numerical and Mathematical Ability

**Q.1** एक दूध विक्रेता दूध में पानी मिलाता है और मिश्रण को क्रय मूल्य पर बेचकर  $16\frac{1}{4}\%$  का लाभ कमाता है। मिश्रण में दूध और पानी का अनुपात ज्ञात कीजिए।

- Ans**
- 1. 13 : 80
  - 2. 80 : 13
  - 3. 40 : 7
  - 4. 7 : 40

Question ID : 264330153836

Option 1 ID : 264330602809

Option 2 ID : 264330602808

Option 3 ID : 264330602807

Option 4 ID : 264330602810

Status : Answered

Chosen Option : 3

**Q.2** 15 पार्सल का औसत भार 20 kg है। एक और नए पार्सल को जोड़ने से औसत भार में 250 ग्राम की वृद्धि हो जाती है। नए पार्सल का भार कितना है?

- Ans**
- 1. 24 kg
  - 2. 28 kg
  - 3. 22 kg
  - 4. 26 kg

Question ID : 264330156291

Option 1 ID : 264330612564

Option 2 ID : 264330612563

Option 3 ID : 264330612565

Option 4 ID : 264330612566

Status : Answered

Chosen Option : 1

Q.3 एक योजना में ₹12,000 का निवेश करने पर, R को बदले में ₹15,500 वापस मिलते हैं। उसका लाभ प्रतिशत क्या है?

- Ans
- 1. 27.19%
  - 2. 29.17%
  - 3. 17.92%
  - 4. 19.17%

Question ID : 264330160010  
Option 1 ID : 264330627388  
Option 2 ID : 264330627387  
Option 3 ID : 264330627390  
Option 4 ID : 264330627389  
Status : Answered  
Chosen Option : 2

Q.4 एक बिस्तर के मूल्य में पहले 32% की वृद्धि की जाती है और बाद में बिक्री में कमी के कारण इसके मूल्य में 20% की कमी की जाती है। बिस्तर के अंतिम मूल्य में निवल प्रतिशत परिवर्तन ज्ञात कीजिए।

- Ans
- 1. 5.6%
  - 2. 4.9%
  - 3. 6.2%
  - 4. 7.5%

Question ID : 264330156179  
Option 1 ID : 264330612115  
Option 2 ID : 264330612118  
Option 3 ID : 264330612116  
Option 4 ID : 264330612117  
Status : Answered  
Chosen Option : 1

Q.5 यदि  $10(8 + 4R) \div (12 \times 5) - 5 \times 2^3 = 6$ , तो R का मान क्या है?

- Ans
- 1. 67
  - 2. 68
  - 3. 86
  - 4. 76

Question ID : 264330153756  
Option 1 ID : 264330602490  
Option 2 ID : 264330602487  
Option 3 ID : 264330602488  
Option 4 ID : 264330602489  
Status : Answered  
Chosen Option : 1

Q.6 यदि ब्याज वार्षिक रूप से संयोजित होता है, तो ₹20,500 पर 2 वर्ष के लिए 10% वार्षिक दर से चक्रवृद्धि ब्याज (₹ में) कितना होगा?

- Ans
- 1. 5,403
  - 2. 4,305
  - 3. 4,350
  - 4. 4,530

Question ID : 264330153773  
Option 1 ID : 264330602556  
Option 2 ID : 264330602558  
Option 3 ID : 264330602555  
Option 4 ID : 264330602557  
Status : Answered  
Chosen Option : 2

Q.7 एक टंकी को 1 घंटे 40 मिनट में भरने के लिए 5 पाइपों की आवश्यकता होती है। यदि समान प्रकार के 4 पाइपों का उपयोग किया जाए तो उसी टंकी को भरने में कितना समय (मिनटों में) लगेगा?

- Ans
- 1. 150
  - 2. 140
  - 3. 115
  - 4. 125

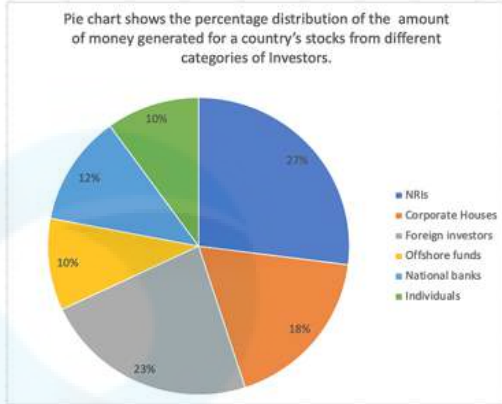
Question ID : 264330153772  
Option 1 ID : 264330602554  
Option 2 ID : 264330602551  
Option 3 ID : 264330602552  
Option 4 ID : 264330602553  
Status : Answered  
Chosen Option : 4

Q.8 यदि एक घन के आकार के डिब्बे के सबसे लंबे विकर्ण की लंबाई  $\sqrt{300}$  cm है, तो इसका आयतन ज्ञात कीजिए।

- Ans
- 1.  $1000 \text{ cm}^3$
  - 2.  $400 \text{ cm}^3$
  - 3.  $10000 \text{ cm}^3$
  - 4.  $100 \text{ cm}^3$

Question ID : 264330156084  
Option 1 ID : 264330611735  
Option 2 ID : 264330611738  
Option 3 ID : 264330611737  
Option 4 ID : 264330611736  
Status : Answered  
Chosen Option : 1

Q.9 निम्नलिखित वृत्त आलेख में अलग-अलग श्रेणियों के निवेशकों से देश के शेयरों के लिए उत्पन्न होने वाली धन की मात्रा को दर्शाया गया है।



संदर्भ: Pie chart shows the percentage distribution of the amount of money generated for a country's stocks from different categories of Investors - वृत्त आलेख में अलग-अलग श्रेणियों के निवेशकों से देश के शेयरों के लिए उत्पन्न होने वाली धन की मात्रा के प्रतिशत वितरण को दर्शाया गया है, NRIs - एनआरआई, Corporate Houses - कॉर्पोरेट घराने, Foreign investors - विदेशी निवेशक, Offshore funds - ऑफशोर फंड्स, National banks - राष्ट्रीय बैंक, Individuals - व्यक्तिगत

यदि NRIs, विदेशी निवेशकों और कॉर्पोरेट घरानों के अलावा कुल निवेश ₹456 करोड़ है, तो राष्ट्रीय बैंकों और ऑफशोर फंड्स द्वारा निवेश (करोड़ ₹ में) \_\_\_\_\_ होगा।

- Ans
- ✗ 1. 231.5
  - ✗ 2. 331.5
  - ✗ 3. 213.5
  - ✓ 4. 313.5

Question ID : 264330153783

Option 1 ID : 264330602597

Option 2 ID : 264330602595

Option 3 ID : 264330602598

Option 4 ID : 264330602596

Status : Answered

Chosen Option : 3

Q.10 साधारण ब्याज दर पर तीन वर्षों में ₹8,000 की धनराशि ₹9,800 हो जाती है। यदि ब्याज की दर स्वयं की दोगुनी हो जाए तो चार वर्ष में उसी मूलधन की धनराशि क्या होगी?

- Ans
- ✓ 1. ₹12,800
  - ✗ 2. ₹10,800
  - ✗ 3. ₹11,800
  - ✗ 4. ₹13,500

Question ID : 264330158214

Option 1 ID : 264330620216

Option 2 ID : 264330620217

Option 3 ID : 264330620215

Option 4 ID : 264330620218

Status : Answered

Chosen Option : 1

**Q.11** A और B अलग-अलग काम करते हुए एक काम को क्रमशः 16 दिनों और 28 दिनों में पूरा कर सकते हैं। यदि वे बारी-बारी से एक दिन छोड़कर काम करते हैं और B पहले दिन काम शुरू करता है, तो काम कितने दिनों में पूरा होगा?

- Ans**
- 1.  $21\frac{1}{2}$
  - 2.  $20\frac{1}{2}$
  - 3.  $19\frac{1}{2}$
  - 4.  $18\frac{1}{2}$

Question ID : 264330155758  
Option 1 ID : 264330610435  
Option 2 ID : 264330610436  
Option 3 ID : 264330610437  
Option 4 ID : 264330610438  
Status : Answered  
Chosen Option : 2

**Q.12** 23 प्रेक्षकों का माध्य 36 है। यदि पहले 12 प्रेक्षकों का माध्य 32 है और अंतिम 12 प्रेक्षकों का माध्य 39 है, तो 12वाँ प्रेक्षण ज्ञात कीजिए।

- Ans**
- 1. 25
  - 2. 23
  - 3. 26
  - 4. 24

Question ID : 264330156096  
Option 1 ID : 264330611784  
Option 2 ID : 264330611783  
Option 3 ID : 264330611785  
Option 4 ID : 264330611786  
Status : Answered  
Chosen Option : 4

**Q.13** संजय एक ही मापने वाले टेप का उपयोग करके 7000 mm, 3850 mm और 12950 mm की लंबाई सटीक रूप से मापना चाहता है। मापने वाले टेप की अधिकतम संभव लंबाई (cm में) कितनी होगी?

- Ans**
- 1. 40
  - 2. 35
  - 3. 30
  - 4. 45

Question ID : 264330155682  
Option 1 ID : 264330610133  
Option 2 ID : 264330610132  
Option 3 ID : 264330610131  
Option 4 ID : 264330610134  
Status : Answered  
Chosen Option : 2

Q.14 एक आदमी 36 घंटे में नाव चलाकर 72 km की दूरी पर जाता है और वापस आता है। उसे पता चलता है कि वह नाव चलाकर धारा की दिशा में 12 km की दूरी उतने ही समय में तय कर सकता है, जितने समय में वह धारा के विपरीत 4 km की दूरी तय कर सकता है। धारा की चाल (km/h में, दशमलव के 2 स्थानों तक सन्निकटित) \_\_\_\_\_ है।

- Ans
- 1. 3.75
  - 2. 2.33
  - 3. 2.45
  - 4. 2.67

Question ID : 264330153777  
Option 1 ID : 264330602573  
Option 2 ID : 264330602574  
Option 3 ID : 264330602572  
Option 4 ID : 264330602571  
Status : Not Answered  
Chosen Option : --

Q.15 एक शंकु के आधार का व्यास 4 m और ऊँचाई 1.5 m है। शंकु की तिर्यक ऊँचाई (m में) ज्ञात कीजिए।

- Ans
- 1. 2.1
  - 2. 2.7
  - 3. 2.5
  - 4. 2.3

Question ID : 264330156244  
Option 1 ID : 264330612375  
Option 2 ID : 264330612378  
Option 3 ID : 264330612377  
Option 4 ID : 264330612376  
Status : Answered  
Chosen Option : 3

Q.16 नेहा 8 km/h की चाल से चलती है और एक पुल को 27 मिनट में पार करती है। मीटर में पुल की लंबाई कितनी है?

- Ans
- 1. 4850
  - 2. 3000
  - 3. 2400
  - 4. 3600

Question ID : 264330156112  
Option 1 ID : 264330611850  
Option 2 ID : 264330611847  
Option 3 ID : 264330611849  
Option 4 ID : 264330611848  
Status : Answered  
Chosen Option : 4

Q.17 A, B और C एक काम को क्रमशः 10, 15 और 25 दिनों में पूरा कर सकते हैं। A, B और C यदि साथ मिलकर काम करते हैं तो उन्हें कितने दिन का समय लगेगा?

- Ans
- ✗ 1.  $4\frac{27}{31}$  दिन
  - ✗ 2.  $3\frac{11}{31}$  दिन
  - ✓ 3.  $4\frac{26}{31}$  दिन
  - ✗ 4.  $3\frac{16}{31}$  दिन

Question ID : 264330156531  
Option 1 ID : 264330613514  
Option 2 ID : 264330613512  
Option 3 ID : 264330613511  
Option 4 ID : 264330613513  
Status : Answered  
Chosen Option : 3

Q.18 रॉबिन ₹2,000 में एक पंखा खरीदता है और बाद में इसे 15% की हानि पर बेच देता है। उसने पंखे को किस मूल्य पर बेचा?

- Ans
- ✗ 1. ₹1,900
  - ✗ 2. ₹1,800
  - ✓ 3. ₹1,700
  - ✗ 4. ₹2,100

Question ID : 264330156103  
Option 1 ID : 264330611814  
Option 2 ID : 264330611812  
Option 3 ID : 264330611811  
Option 4 ID : 264330611813  
Status : Answered  
Chosen Option : 3

Q.19 यदि  $A : B = 3 : 4$  और  $B : C = 6 : 5$ , तो  $A : B : C$  बराबर \_\_\_\_\_ होगा।

- Ans
- ✓ 1. 9 : 12 : 10
  - ✗ 2. 9 : 10 : 12
  - ✗ 3. 9 : 10 : 20
  - ✗ 4. 9 : 12 : 20

Question ID : 264330153872  
Option 1 ID : 264330602954  
Option 2 ID : 264330602953  
Option 3 ID : 264330602952  
Option 4 ID : 264330602951  
Status : Answered  
Chosen Option : 1

Q.20 एक व्यक्ति दी गई तालिका के अनुसार प्रतिदिन जॉगिंग करता है।

दिन	सोमवार	मंगलवार	बुधवार	गुरुवार	शुक्रवार	शनिवार	रविवार
जॉगिंग की दूरी (किमी में)	4.5	3.5	2.5	3.0	2.0	4.0	1.5

एक सप्ताह में व्यक्ति द्वारा जॉगिंग की गई माध्य दूरी कितनी है?

- Ans
- 1. 2.5
  - 2. 3
  - 3. 3.5
  - 4. 2

Question ID : 264330154097  
Option 1 ID : 264330603854  
Option 2 ID : 264330603853  
Option 3 ID : 264330603851  
Option 4 ID : 264330603852  
Status : Answered  
Chosen Option : 2

Section : Reasoning Ability and Problem Solving

Q.1 उस सही विकल्प को चुनिए, जिसे दी गई श्रृंखला के रिक्त स्थानों में इसी क्रम में रखने पर श्रृंखला तार्किक रूप से पूरी हो जाएगी।

G\_KPN\_RPUXY\_BE\_PI\_MP

- Ans
- 1. QFDPA
  - 2. JQPFL
  - 3. JPFLC
  - 4. QJLDP

Question ID : 264330154728  
Option 1 ID : 264330606378  
Option 2 ID : 264330606375  
Option 3 ID : 264330606377  
Option 4 ID : 264330606376  
Status : Answered  
Chosen Option : 2

Q.2 अक्षरों के उस संयोजन को चुनिए जिसे दी गई श्रृंखला के रिक्त स्थानों में क्रमिक रूप से रखने पर श्रृंखला पूरी हो जाएगी।

\_TU\_T\_TT\_\_TU

- Ans
- 1. UTUTU
  - 2. TUTUU
  - 3. UUTUU
  - 4. TTUUT

Question ID : 264330151647  
Option 1 ID : 264330594216  
Option 2 ID : 264330594217  
Option 3 ID : 264330594215  
Option 4 ID : 264330594218  
Status : Answered  
Chosen Option : 4

Q.3 यदि  $4x$  और  $2y$  को आपस में बदल दिया जाए और  $3x$  और  $5y$  को आपस में बदल दिया जाए तो निम्नलिखित समीकरण में  $7y$  के स्थान पर क्या आएगा?  
 $10 - 6 - 5 \times 5 + 3 = ?$

- Ans  1. 7  
 2. 8  
 3. 4  
 4. 5

Question ID : 264330154664  
Option 1 ID : 264330606121  
Option 2 ID : 264330606122  
Option 3 ID : 264330606119  
Option 4 ID : 264330606120  
Status : Answered  
Chosen Option : 1

Q.4 उस समुच्चय को चुनिए जिसमें संख्याएँ ठीक उसी प्रकार संबंधित हैं जिस प्रकार निम्नलिखित समुच्चयों की संख्याएँ संबंधित हैं।

(ध्यान दें: संख्याओं को उनके घटक अंकों में अलग-अलग किए बिना, पूर्ण संख्याओं पर संक्रियाएँ की जानी चाहिए। उदा. 13 - संख्या 13 पर संक्रियाएँ जैसे 13 को जोड़ना/घटाना/गुणा करना आदि किया जा सकता है। 13 को 1 और 3 में अलग-अलग करने की और फिर 1 और 3 पर गणितीय संक्रियाएँ करने की अनुमति नहीं है।)

(2, 8, 32)

(5, 7, 70)

- Ans  1. 4, 12, 96  
 2. 3, 5, 15  
 3. 7, 12, 84  
 4. 6, 11, 56

Question ID : 264330151616  
Option 1 ID : 264330594092  
Option 2 ID : 264330594091  
Option 3 ID : 264330594094  
Option 4 ID : 264330594093  
Status : Answered  
Chosen Option : 1

Q.5 EH 11, CF 16 से एक निश्चित प्रकार से संबंधित है। उसी प्रकार, JV 15, HT 20 से संबंधित है। समान तर्क का अनुसरण करते हुए FN 13 निम्नलिखित में से किससे संबंधित है?

- Ans  1. DL 18  
 2. CL 18  
 3. DK 19  
 4. EM 17

Question ID : 264330151659  
Option 1 ID : 264330594266  
Option 2 ID : 264330594263  
Option 3 ID : 264330594264  
Option 4 ID : 264330594265  
Status : Answered  
Chosen Option : 1

**Q.6** शगुन, प्रज्ञा, यति, लवी, सावी और फ्रूटी एक वृत्ताकार मेज के चारों ओर केंद्र की ओर मुख करके बैठे हैं। शगुन, प्रज्ञा के बाईं ओर से दूसरे स्थान पर बैठी है। यति, शगुन के बाईं ओर से दूसरे स्थान पर बैठी है। लवी, यति के बाईं ओर से तीसरे स्थान पर बैठी है। सावी, लवी के बाईं ओर से दूसरे स्थान पर बैठी है। शगुन के बाईं ओर से तीसरे स्थान पर कौन बैठी है?

- Ans**
- 1. प्रज्ञा
  - 2. सावी
  - 3. फ्रूटी
  - 4. लवी

Question ID : 264330155653  
Option 1 ID : 264330610017  
Option 2 ID : 264330610018  
Option 3 ID : 264330610015  
Option 4 ID : 264330610016  
Status : Answered  
Chosen Option : 3

**Q.7** दी गई श्रृंखला में प्रश्न चिन्ह '?' के स्थान पर क्या आना चाहिए?

14 47 146 443 1334 ?

- Ans**
- 1. 4078
  - 2. 4001
  - 3. 4171
  - 4. 4007

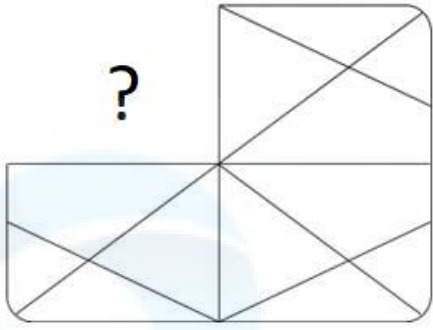
Question ID : 264330151489  
Option 1 ID : 264330593585  
Option 2 ID : 264330593583  
Option 3 ID : 264330593586  
Option 4 ID : 264330593584  
Status : Answered  
Chosen Option : 4

**Q.8** यदि '+' और '-' को आपस में बदल दिया जाए तथा 'x' और '+' को आपस में बदल दिया जाए तो निम्नलिखित समीकरण में (?) के स्थान पर क्या आएगा?  
 $216 \times 36 - 6 + 17 + 39 = ?$

- Ans**
- 1. 89
  - 2. 69
  - 3. 59
  - 4. 79

Question ID : 264330155678  
Option 1 ID : 264330610115  
Option 2 ID : 264330610117  
Option 3 ID : 264330610118  
Option 4 ID : 264330610116  
Status : Answered  
Chosen Option : 2

Q.9 पैटर्न को पूरा करने वाली आकृति को पहचानिए (घूर्णन की अनुमति नहीं है)।

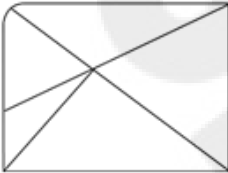


Ans

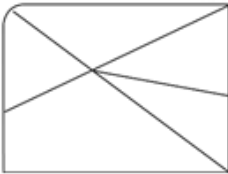
✗ 1.




✗ 2.



✗ 3.



✓ 4.



Question ID : 264330154521

Option 1 ID : 264330605549

Option 2 ID : 264330605548

Option 3 ID : 264330605547

Option 4 ID : 264330605550

Status : Answered

Chosen Option : 4

Q.10 दी गई श्रृंखला में प्रश्न चिन्ह '?' के स्थान पर क्या आना चाहिए?

7 33 137 553 2217 ?

- Ans
- 1. 8931
  - 2. 8827
  - 3. 8723
  - 4. 8873

Question ID : 264330151457  
Option 1 ID : 264330593458  
Option 2 ID : 264330593456  
Option 3 ID : 264330593455  
Option 4 ID : 264330593457  
Status : Answered  
Chosen Option : 4

Q.11 एक निश्चित कूट भाषा में, 'ARC' को '1-18-3' लिखा जाता है और 'BOY' को '2-15-25' लिखा जाता है। उस कूट भाषा में 'FAD' को कैसे लिखा जाएगा?

- Ans
- 1. 6-2-4
  - 2. 5-2-6
  - 3. 7-2-5
  - 4. 6-1-4

Question ID : 264330155817  
Option 1 ID : 264330610674  
Option 2 ID : 264330610671  
Option 3 ID : 264330610673  
Option 4 ID : 264330610672  
Status : Answered  
Chosen Option : 4

Q.12 अंग्रेजी वर्णमाला क्रम के आधार पर दी गई श्रृंखला में प्रश्न चिह्न (?) के स्थान पर क्या आना चाहिए?

HVP, JZO, LDN, NHM, ?

- Ans
- 1. MLM
  - 2. OLL
  - 3. NLN
  - 4. PLL

Question ID : 264330155799  
Option 1 ID : 264330610599  
Option 2 ID : 264330610602  
Option 3 ID : 264330610601  
Option 4 ID : 264330610600  
Status : Answered  
Chosen Option : 4

Q.13 यदि 15 फरवरी 2010 को सोमवार है, तो 7 जुलाई 2011 को सप्ताह का कौन-सा दिन होगा?

- Ans
- ✓ 1. गुरुवार
  - ✗ 2. शनिवार
  - ✗ 3. बुधवार
  - ✗ 4. सोमवार

Question ID : 264330154333

Option 1 ID : 264330604795

Option 2 ID : 264330604797

Option 3 ID : 264330604798

Option 4 ID : 264330604796

Status : Answered

Chosen Option : 1

Q.14 नीचे दिए गए कथनों और निष्कर्षों को ध्यानपूर्वक पढ़िए। आपको मानना है कि दिए गए कथन सत्य हैं चाहे वे समान्यतः ज्ञात तथ्यों से अलग प्रतीत होते हों। आपको निश्चय करना है कि कौन-सा कौन-से निष्कर्ष तार्किक रूप से दिए गए कथनों के अनुसार है हैं।

कथन: सभी कुत्ते, बिल्लियाँ हैं। कुछ बिल्लियाँ, मुर्गियाँ हैं। सभी मुर्गियाँ, गुलाबी हैं।

निष्कर्ष I: कुछ कुत्ते, बिल्लियाँ हैं।

निष्कर्ष II: कुछ बिल्लियाँ, गुलाबी हैं।

- Ans
- ✓ 1. दोनों निष्कर्ष (I) और (II) कथनों के अनुसार हैं।
  - ✗ 2. केवल निष्कर्ष (I) कथनों के अनुसार है।
  - ✗ 3. न तो निष्कर्ष (I) और न ही (II) कथनों के अनुसार है।
  - ✗ 4. केवल निष्कर्ष (II) कथनों के अनुसार है।

Question ID : 264330155923

Option 1 ID : 264330611098

Option 2 ID : 264330611095

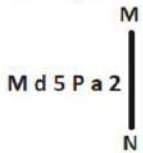
Option 3 ID : 264330611097

Option 4 ID : 264330611096

Status : Answered

Chosen Option : 1

Q.15 दी गई आकृति के उस सही दर्पण प्रतिबिंब को चुनिए, जो नीचे दर्शाए गए अनुसार दर्पण को MN पर रखने पर बनेगा।



- Ans
- ✗ 1. M d 2 P a 5
  - ✗ 2. M q 5 P a 2
  - ✓ 3. M q 2 P a 5
  - ✗ 4. M q 5 P a 2

Question ID : 264330151523

Option 1 ID : 264330593721

Option 2 ID : 264330593720

Option 3 ID : 264330593719

Option 4 ID : 264330593722

Status : Answered

Chosen Option : 3

Q.16 एक निश्चित कूट भाषा में, 'NEAR' को '4968' लिखा जाता है और 'REAP' को '9865' लिखा जाता है। उस कूट भाषा में 'P' को कैसे लिखा जाएगा?

- Ans
- 1. 6
  - 2. 8
  - 3. 9
  - 4. 5

Question ID : 264330155870  
 Option 1 ID : 264330610885  
 Option 2 ID : 264330610884  
 Option 3 ID : 264330610883  
 Option 4 ID : 264330610886  
 Status : Answered  
 Chosen Option : 4

Q.17 यदि निम्नलिखित आकृति श्रृंखला को जारी रखना हो तो कौन-सी आकृति प्रश्न चिह्न (?) के स्थान पर आनी चाहिए?

S	4	S	=	
= X 4 A D S	4 V	= X A S		?
D A X =	A X V 4			

Ans

1.

S		
= 6 4		
X V		

2.

S		
A 4 =		
X V		

3.

S		
= 6 4		
A X		

4.

S		
= A 4		
X V		

Question ID : 264330154752  
 Option 1 ID : 264330606471  
 Option 2 ID : 264330606473  
 Option 3 ID : 264330606472  
 Option 4 ID : 264330606474  
 Status : Answered  
 Chosen Option : 3

**Q.18** नीचे दिए गए कथनों और निष्कर्षों को ध्यानपूर्वक पढ़िए। आपको मानना है कि दिए गए कथन सत्य हैं चाहे वे समान्यतः ज्ञात तथ्यों से अलग प्रतीत होते हों। आपको निश्चय करना है कि कौन-सा कौन-से निष्कर्ष तार्किक रूप से दिए गए कथनों के अनुसार है/हैं।

कथन: सभी जोकर, बोटलें हैं। कुछ बोटलें, स्टील हैं। सभी स्टील, चाबियां हैं।

निष्कर्ष I: कुछ जोकर, बोटलें हैं।

निष्कर्ष II: सभी स्टील, बोटलें हैं।

- Ans**
- 1. दोनों निष्कर्ष (I) और (II) कथनों के अनुसार हैं।
  - 2. केवल निष्कर्ष (I) कथनों के अनुसार है।
  - 3. केवल निष्कर्ष (II) कथनों के अनुसार है।
  - 4. न तो निष्कर्ष (I) और न ही (II) कथनों के अनुसार है।

Question ID : 264330155905

Option 1 ID : 264330611026

Option 2 ID : 264330611023

Option 3 ID : 264330611024

Option 4 ID : 264330611025

Status : Answered

Chosen Option : 2

**Q.19** एक निश्चित तर्क के अनुसार 5, 24 से संबंधित है। समान तर्क के अनुसार, 9, 80 से संबंधित है। समान तर्क का अनुसरण करते हुए 14 निम्नलिखित में से किससे संबंधित है?

- Ans**
- 1. 198
  - 2. 195
  - 3. 197
  - 4. 196

Question ID : 264330151585

Option 1 ID : 264330593970

Option 2 ID : 264330593967

Option 3 ID : 264330593969

Option 4 ID : 264330593968

Status : Answered

Chosen Option : 2

**Q.20** दी गई श्रृंखला में प्रश्न चिन्ह '?' के स्थान पर क्या आना चाहिए?

12 18 30 54 102 ?

- Ans**
- 1. 190
  - 2. 187
  - 3. 198
  - 4. 204

Question ID : 264330151452

Option 1 ID : 264330593436

Option 2 ID : 264330593435

Option 3 ID : 264330593437

Option 4 ID : 264330593438

Status : Answered

Chosen Option : 3

Q.1 भारत की जनगणना 2011 के अनुसार निम्नलिखित में से किस राज्य की जनसंख्या सबसे कम है?

- Ans  1. सिक्किम  
 2. गोवा  
 3. मणिपुर  
 4. मिजोरम

Question ID : 264330160157  
Option 1 ID : 264330627970  
Option 2 ID : 264330627969  
Option 3 ID : 264330627968  
Option 4 ID : 264330627967  
Status : Answered  
Chosen Option : 1

Q.2 'द स्टोरी ऑफ माई एक्सपेरिमेंट्स विद ट्रुथ' ( The Story of My Experiments with Truth )  
\_\_\_\_\_ की आत्मकथा है।

- Ans  1. डॉ. राजेंद्र प्रसाद  
 2. महात्मा गांधी  
 3. जवाहर लाल नेहरू  
 4. विवेकानंद

Question ID : 264330155489  
Option 1 ID : 264330609362  
Option 2 ID : 264330609359  
Option 3 ID : 264330609360  
Option 4 ID : 264330609361  
Status : Answered  
Chosen Option : 2

Q.3 1975 में रिलीज़ हुई प्रसिद्ध फिल्म 'शोले' के संगीत निर्देशक कौन थे?

- Ans  1. मदन मोहन  
 2. जतिन-ललित  
 3. आर.डी. बर्मन  
 4. नदीम-श्रवण

Question ID : 264330155517  
Option 1 ID : 264330609474  
Option 2 ID : 264330609473  
Option 3 ID : 264330609471  
Option 4 ID : 264330609472  
Status : Not Answered  
Chosen Option : --

Q.4 चाओइट (Chaoite), बकमिन्स्टर फुलरीन (Buckminsterfullerene) और ग्राफीन (Graphene) किस तत्व से संबंधित हैं?

- Ans
- 1. ब्रोमीन
  - 2. सल्फर
  - 3. कार्बन
  - 4. आर्सेनिक

Question ID : 264330161059  
Option 1 ID : 264330631570  
Option 2 ID : 264330631568  
Option 3 ID : 264330631567  
Option 4 ID : 264330631569  
Status : Answered  
Chosen Option : 3

Q.5 शास्त्रीय नृत्य की तकनीक को लगभग 5<sup>वीं</sup> शताब्दी ईसा पूर्व में \_\_\_\_\_ द्वारा कूटीकृत किया गया था।

- Ans
- 1. चाणक्य (Chanakya)
  - 2. भरत (Bharata)
  - 3. कल्हण (Kalhana)
  - 4. शूद्रक (Sudraka)

Question ID : 264330159046  
Option 1 ID : 264330623544  
Option 2 ID : 264330623545  
Option 3 ID : 264330623546  
Option 4 ID : 264330623543  
Status : Answered  
Chosen Option : 4

Q.6 किस राज्य ने अधिवक्ताओं (advocates) की सुरक्षा के लिए विधेयक पारित किया और ऐसा करने वाला पहला राज्य बन गया?

- Ans
- 1. हिमाचल प्रदेश
  - 2. हरियाणा
  - 3. राजस्थान
  - 4. पंजाब

Question ID : 264330158337  
Option 1 ID : 264330620707  
Option 2 ID : 264330620709  
Option 3 ID : 264330620710  
Option 4 ID : 264330620708  
Status : Answered  
Chosen Option : 3

Q.7 भारत के निम्नलिखित में से किस राज्य में जलोढ़ मृदा का सर्वाधिक विस्तार पाया जाता है?

- Ans
- 1. कर्नाटक
  - 2. तेलंगाना
  - 3. उत्तरप्रदेश
  - 4. महाराष्ट्र

Question ID : 264330161528  
Option 1 ID : 264330633440  
Option 2 ID : 264330633439  
Option 3 ID : 264330633442  
Option 4 ID : 264330633441  
Status : Answered  
Chosen Option : 3

Q.8 निम्नलिखित में से 'एनिमल फार्म (Animal Farm)' उपन्यास के लेखक कौन हैं?

- Ans
- 1. रोआल्ड डाल (Roald Dahl)
  - 2. चार्ल्स डिक्सेस (Charles Dickens)
  - 3. जॉर्ज ऑरवेल (George Orwell)
  - 4. थॉमस हार्डी (Thomas Hardy)

Question ID : 264330161759  
Option 1 ID : 264330634365  
Option 2 ID : 264330634366  
Option 3 ID : 264330634363  
Option 4 ID : 264330634364  
Status : Not Answered  
Chosen Option : --

Q.9 तीसरे खेले इंडिया यूनिवर्सिटी गेम्स में किस विश्वविद्यालय ने प्रथम स्थान हासिल किया ?

- Ans
- 1. यूनिवर्सिटी ऑफ मद्रास
  - 2. यूनिवर्सिटी ऑफ मुंबई
  - 3. शिवाजी यूनिवर्सिटी
  - 4. पंजाब यूनिवर्सिटी

Question ID : 264330158230  
Option 1 ID : 264330620281  
Option 2 ID : 264330620282  
Option 3 ID : 264330620280  
Option 4 ID : 264330620279  
Status : Answered  
Chosen Option : 4

Q.10 किस भारतीय संगीतकार के नाम पर संयुक्त राज्य अमेरिका के मैसाचुसेट्स (Massachusetts) राज्य ने 1984 में 20 अप्रैल को उनके नाम पर एक दिन घोषित किया?

- Ans
- 1. अमजद अली खान
  - 2. अली अकबर खान
  - 3. बृज नारायण
  - 4. राजीव तारानाथ

Question ID : 264330161909  
Option 1 ID : 264330634964  
Option 2 ID : 264330634965  
Option 3 ID : 264330634966  
Option 4 ID : 264330634963  
Status : Answered  
Chosen Option : 1

Q.11 कौन-सी स्थिति हड्डियों में दर्द, हड्डियों के अच्छे से विकसित न होने और नरम, कमजोर हड्डियों का कारण बनती है जिससे हड्डियों में विकृति आ सकती है?

- Ans  1. सूखा रोग (Rickets)  
 2. प्लीहाभाव (Asplenia)  
 3. मस्तिष्क पक्षाघात (Cerebral Palsy)  
 4. काली खांसी (Pertussis)

Question ID : 264330161079  
Option 1 ID : 264330631647  
Option 2 ID : 264330631650  
Option 3 ID : 264330631649  
Option 4 ID : 264330631648  
Status : Answered  
Chosen Option : 1

Q.12 निम्नलिखित में से कौन-सा भारत में सूक्ष्म वित्त संस्थानों का लाभ है?

- Ans  1. महिला उद्यमियों के लिए न्यूनतम समर्थन  
 2. गरीबी उन्मूलन पर सीमित प्रभाव  
 3. वित्तीय समावेशन में वृद्धि  
 4. अनौपचारिक ऋण स्रोतों पर निर्भरता का बढ़ना

Question ID : 264330157291  
Option 1 ID : 264330616530  
Option 2 ID : 264330616528  
Option 3 ID : 264330616529  
Option 4 ID : 264330616527  
Status : Answered  
Chosen Option : 3

Q.13 विजय स्तम्भ किस राज्य में स्थित है?

- Ans  1. पंजाब  
 2. राजस्थान  
 3. उत्तरप्रदेश  
 4. गुजरात

Question ID : 264330160771  
Option 1 ID : 264330630418  
Option 2 ID : 264330630415  
Option 3 ID : 264330630417  
Option 4 ID : 264330630416  
Status : Answered  
Chosen Option : 2

Q.14 निम्नलिखित में से 'हाई-डॉंस' (Hi-Dance) नामक फ्र्यूज़न नृत्य शैली शुरू करने का श्रेय किसे दिया जाता है?

- Ans
- ✓ 1. उदय शंकर
  - ✗ 2. शशधर आचार्य
  - ✗ 3. मणि दामोदर
  - ✗ 4. कार्तिक राम

Question ID : 264330155477  
Option 1 ID : 264330609313  
Option 2 ID : 264330609311  
Option 3 ID : 264330609312  
Option 4 ID : 264330609314  
Status : Answered  
Chosen Option : 1

Q.15 लोकसभा के प्रथम अध्यक्ष कौन थे?

- Ans
- ✗ 1. अनंतशयनम अय्यंगार (Ananthasayanam Ayyangar)
  - ✗ 2. एन. एस. रेड्डी (NS Reddy)
  - ✗ 3. मीरा कुमार (Mira Kumar)
  - ✓ 4. जी. वी. मावलंकर (GV Mavalankar)

Question ID : 264330159921  
Option 1 ID : 264330627032  
Option 2 ID : 264330627034  
Option 3 ID : 264330627033  
Option 4 ID : 264330627031  
Status : Answered  
Chosen Option : 4

Q.16 निम्नलिखित में से किस शहर में खेलो इंडिया यूथ गेम्स 2019 का दूसरा संस्करण आयोजित किया गया था?

- Ans
- ✓ 1. पुणे
  - ✗ 2. मुंबई
  - ✗ 3. नई दिल्ली
  - ✗ 4. गुवाहाटी

Question ID : 264330158219  
Option 1 ID : 264330620236  
Option 2 ID : 264330620238  
Option 3 ID : 264330620235  
Option 4 ID : 264330620237  
Status : Answered  
Chosen Option : 2

Q.17 बाल विवाह निरोधक अधिनियम (Child Marriage Restraint Act) निम्नलिखित में से किस वर्ष पारित किया गया था?

Ans  1. 1878

2. 1929

3. 1856

4. 1947

Question ID : 264330162349

Option 1 ID : 264330636723

Option 2 ID : 264330636724

Option 3 ID : 264330636726

Option 4 ID : 264330636725

Status : Answered

Chosen Option : 2

Q.18 सर्वेंट्स ऑफ इंडिया सोसाइटी (Servants of India Society) की स्थापना का श्रेय किसे दिया जाता है?

Ans  1. लाला लाजपत राय

2. एम. जी. रानाडे

3. सी. आर. दास

4. गोपाल कृष्ण गोखले

Question ID : 264330162331

Option 1 ID : 264330636653

Option 2 ID : 264330636651

Option 3 ID : 264330636652

Option 4 ID : 264330636654

Status : Not Answered

Chosen Option : --

Q.19 'कानून का शासन' की अवधारणा का प्रतिपादन किसने किया?

Ans  1. ऑस्टिन

2. सी.के. दफ्तरी

3. ए.के. सेन

4. ए.वी. डायसी

Question ID : 264330159590

Option 1 ID : 264330625722

Option 2 ID : 264330625721

Option 3 ID : 264330625720

Option 4 ID : 264330625719

Status : Not Answered

Chosen Option : --

Q.20 भारत के पश्चिमी तटों पर गर्मियों के दौरान काफी मात्रा में वर्षा (substantial rainfall) का मुख्य कारण क्या है?

Ans  1. पश्चिमी घाट

2. पूर्वी घाट

3. पूर्वी पवनें

4. सिंधु नदी

Question ID : 264330161305

Option 1 ID : 264330632549

Option 2 ID : 264330632550

Option 3 ID : 264330632547

Option 4 ID : 264330632548

Status : Answered

Chosen Option : 3

Q.21 एक वर्ष के दौरान देश के भीतर उत्पादित सभी अंतिम वस्तुओं और सेवाओं का मूल्य \_\_\_\_\_ के रूप में जाना जाता है।

Ans  1. निवल घरेलू उत्पाद

2. सकल घरेलू उत्पाद

3. सकल राष्ट्रीय उत्पाद

4. निवल राष्ट्रीय उत्पाद

Question ID : 264330161457

Option 1 ID : 264330633155

Option 2 ID : 264330633156

Option 3 ID : 264330633157

Option 4 ID : 264330633158

Status : Answered

Chosen Option : 3

Q.22 एसीएफ़ (ACF) ने ग्रैंडमास्टर \_\_\_\_\_ को प्लेयर ऑफ़ द ईयर पुरस्कार से सम्मानित किया, जो 2700 एलो-रेटिंग लक्ष्य (Elo-rating mark) को तोड़ने वाले केवल छठे भारतीय हैं और 2700 से ऊपर रेटिंग पाने वाले देश के सबसे कम उम्र के ग्रैंडमास्टर हैं।

Ans  1. आदित खान

2. कोशी वरुगेसी

3. डी गुकेश

4. एन.आर विग्नेश

Question ID : 264330161439

Option 1 ID : 264330633084

Option 2 ID : 264330633083

Option 3 ID : 264330633086

Option 4 ID : 264330633085

Status : Answered

Chosen Option : 3

Q.23 लम्बाडी (Lambadi) नृत्य \_\_\_\_\_ जनजाति का लोक नृत्य है और इसकी उत्पत्ति आंध्रप्रदेश में हुई थी।

- Ans
- 1. डब्बा येरुकुला (Dabba Yerukula)
  - 2. बंजारा (Banjara)
  - 3. सुगाली (Sugali)
  - 4. नक्काला (Nakkala)

Question ID : 264330160798  
Option 1 ID : 264330630524  
Option 2 ID : 264330630523  
Option 3 ID : 264330630525  
Option 4 ID : 264330630526  
Status : Answered  
Chosen Option : 4

Q.24 महात्मा गांधी के बारे में निम्नलिखित में से कौन-सा कथन गलत है?

- Ans
- 1. 1942 में उन्होंने भारत छोड़ो आन्दोलन चलाया।
  - 2. उन्होंने 1910 में चंपारण सत्याग्रह का नेतृत्व किया।
  - 3. महात्मा गांधी का जन्म 1869 में पोरबंदर में हुआ था।
  - 4. उन्होंने 1930 में दांडी नमक मार्च का नेतृत्व किया।

Question ID : 264330160826  
Option 1 ID : 264330630638  
Option 2 ID : 264330630637  
Option 3 ID : 264330630635  
Option 4 ID : 264330630636  
Status : Answered  
Chosen Option : 2

Q.25 आजादी के बाद मुंबई बंदरगाह पर व्यापार के भार अथवा बोझ को कम करने के लिए \_\_\_\_\_ बंदरगाह विकसित किया गया था।

- Ans
- 1. विशाखापत्तनम
  - 2. चेन्नई
  - 3. कोलकाता
  - 4. कांडला

Question ID : 264330161513  
Option 1 ID : 264330633379  
Option 2 ID : 264330633380  
Option 3 ID : 264330633381  
Option 4 ID : 264330633382  
Status : Answered  
Chosen Option : 4

**Q.1** Select the most appropriate idiom to fill in the blank.  
You are an intellectual with a professional degree; you can do wonders as \_\_\_\_\_.

- Ans**
- 1. you can say it again
  - 2. you are playing with fire
  - 3. your mileage may vary
  - 4. the world is your oyster

Question ID : 264330153560  
Option 1 ID : 264330601739  
Option 2 ID : 264330601742  
Option 3 ID : 264330601741  
Option 4 ID : 264330601740  
Status : Answered  
Chosen Option : 4

**Q.2** Select the most appropriate idiom to fill in the blank.  
The deal was \_\_\_\_\_ for three months.

- Ans**
- 1. put on ice
  - 2. broken the ice
  - 3. tipped of the iceberg
  - 4. cut no ice

Question ID : 264330153102  
Option 1 ID : 264330599974  
Option 2 ID : 264330599972  
Option 3 ID : 264330599973  
Option 4 ID : 264330599971  
Status : Answered  
Chosen Option : 1

**Q.3** Select the INCORRECTLY spelt word.

- Ans**
- 1. Superficial
  - 2. Curiosity
  - 3. Vehemence
  - 4. Synagogue

Question ID : 264330153220  
Option 1 ID : 264330600441  
Option 2 ID : 264330600442  
Option 3 ID : 264330600439  
Option 4 ID : 264330600440  
Status : Answered  
Chosen Option : 2

**Q.4** Select the most appropriate ANTONYM of the given word.  
Fame

- Ans
- 1. Name
  - 2. Scandal
  - 3. Stingy
  - 4. Shame

Question ID : 264330152592  
Option 1 ID : 264330597971  
Option 2 ID : 264330597972  
Option 3 ID : 264330597973  
Option 4 ID : 264330597974  
Status : Answered  
Chosen Option : 1

**Q.5** Select the most appropriate ANTONYM of the given word.  
Cheap

- Ans
- 1. Old
  - 2. Ignorant
  - 3. Expensive
  - 4. Untangle

Question ID : 264330152717  
Option 1 ID : 264330598470  
Option 2 ID : 264330598467  
Option 3 ID : 264330598468  
Option 4 ID : 264330598469  
Status : Answered  
Chosen Option : 3

**Q.6** Select the sentence that has NO spelling errors.

- Ans
- 1. My new phone has a high-resolution screen and a powerfull procesor, which makes it perfect for streaming videos and playing games.
  - 2. My new phone has a high-resolution screen and a powerful processor, which makes it perfect for streaming videos and playing games.
  - 3. My new phone has a high-resolution screan and powerfull procesor, which makes it perfect for streeming videos and playing games.
  - 4. My new phone has a high-resolusion screen and powerful proccessor, which makes it perfect for streeming videos and playing games.

Question ID : 264330152647  
Option 1 ID : 264330598193  
Option 2 ID : 264330598192  
Option 3 ID : 264330598194  
Option 4 ID : 264330598191  
Status : Answered  
Chosen Option : 2

**Q.7** Select the most appropriate option that can substitute the underlined segment in the given sentence.

Rashmi works at the hospital, don't she?

- Ans
- 1. does she?
  - 2. has she?
  - 3. doesn't she?
  - 4. do she?

Question ID : 264330153595  
Option 1 ID : 264330601868  
Option 2 ID : 264330601867  
Option 3 ID : 264330601870  
Option 4 ID : 264330601869  
Status : Answered  
Chosen Option : 3

**Q.8** The following sentence has been split into four segments. Identify the segment that contains a grammatical error.

They decided to / travel in train / instead of driving / to New Delhi.

- Ans
- 1. instead of driving
  - 2. to New Delhi
  - 3. They decided to
  - 4. travel in train

Question ID : 264330155429  
Option 1 ID : 264330609125  
Option 2 ID : 264330609126  
Option 3 ID : 264330609123  
Option 4 ID : 264330609124  
Status : Answered  
Chosen Option : 4

**Q.9** The following sentence has been split into four segments. Identify the segment that contains an error.

I have seen / a movie / on schooling / yesterday.

- Ans
- 1. yesterday
  - 2. a movie
  - 3. on schooling
  - 4. I have seen

Question ID : 264330155322  
Option 1 ID : 264330608730  
Option 2 ID : 264330608728  
Option 3 ID : 264330608729  
Option 4 ID : 264330608727  
Status : Answered  
Chosen Option : 4

**Q.10** Select the most appropriate option that can substitute the underlined segment in the given sentence.

Kavya invited all her friends, isn't it?

- Ans
- 1. don't she?
  - 2. isn't she?
  - 3. did she?
  - 4. didn't she?

Question ID : 264330152730

Option 1 ID : 264330598522

Option 2 ID : 264330598519

Option 3 ID : 264330598520

Option 4 ID : 264330598521

Status : Answered

Chosen Option : 4

**Q.11** The given sentence contains an error. Select the option that correctly rectifies the error.

This is the eldest standing structure of Chola architecture in India.

- Ans
- 1. This is the more elder standing structure of Chola architecture in India.
  - 2. This is the more older standing structure of Chola architecture in India.
  - 3. This is the oldest standing structure of Chola architecture in India.
  - 4. This is the most old standing structure of Chola architecture in India.

Question ID : 264330152611

Option 1 ID : 264330598050

Option 2 ID : 264330598047

Option 3 ID : 264330598049

Option 4 ID : 264330598048

Status : Answered

Chosen Option : 3

**Q.12** Parts of the following sentence have been given as options. Select the option that contains an error.

Radha will have learnt cooking by the time she will have married.

- Ans
- 1. by the time
  - 2. learnt cooking
  - 3. she will have married
  - 4. Radha will have

Question ID : 264330152820

Option 1 ID : 264330598873

Option 2 ID : 264330598872

Option 3 ID : 264330598874

Option 4 ID : 264330598871

Status : Answered

Chosen Option : 3

**Q.13** Select the most appropriate ANTONYM of the given word.  
**Strengthen**

- Ans  1. Fortify  
 2. Ascend  
 3. Strain  
 4. Debilitate

Question ID : 264330151875  
Option 1 ID : 264330595119  
Option 2 ID : 264330595121  
Option 3 ID : 264330595122  
Option 4 ID : 264330595120  
Status : Answered  
Chosen Option : 4

**Q.14** Select the option that can be used as a one-word substitute for the given group of words.

**Fear of closed spaces**

- Ans  1. Xenophobia  
 2. Claustrophobia  
 3. Zoophobia  
 4. Hydrophobia

Question ID : 264330151867  
Option 1 ID : 264330595087  
Option 2 ID : 264330595090  
Option 3 ID : 264330595088  
Option 4 ID : 264330595089  
Status : Answered  
Chosen Option : 2

**Q.15** Select the most appropriate meaning of the given idiom.  
**To cross swords**

- Ans  1. To defend  
 2. To kill  
 3. To fight  
 4. To arrange

Question ID : 264330156174  
Option 1 ID : 264330612096  
Option 2 ID : 264330612095  
Option 3 ID : 264330612097  
Option 4 ID : 264330612098  
Status : Answered  
Chosen Option : 3

Q.16 Select the most appropriate meaning of the underlined idiom in the following sentence.

Riddhi believes in wearing her heart on her sleeve. That is why she has so many friends.

- Ans
- 1. To criticise everybody
  - 2. To talk aloud
  - 3. To openly and freely express one's emotions
  - 4. To wear a badge of honour

Question ID : 264330153052  
Option 1 ID : 264330599778  
Option 2 ID : 264330599775  
Option 3 ID : 264330599777  
Option 4 ID : 264330599776  
Status : Answered  
Chosen Option : 3

Q.17 Select the option that can be used as a one-word substitute for the underlined group of words.

I suppose dancing that well would require a lot of actual application.

- Ans
- 1. prevention
  - 2. perseverance
  - 3. practice
  - 4. perception

Question ID : 264330153493  
Option 1 ID : 264330601487  
Option 2 ID : 264330601490  
Option 3 ID : 264330601489  
Option 4 ID : 264330601488  
Status : Answered  
Chosen Option : 3

Q.18 The following sentence has been split into four segments. Identify the segment that contains a grammatical error.

A music / is a great way / to express / your emotions.

- Ans
- 1. to express
  - 2. your emotions
  - 3. is a great way
  - 4. A music

Question ID : 264330155414  
Option 1 ID : 264330609065  
Option 2 ID : 264330609066  
Option 3 ID : 264330609064  
Option 4 ID : 264330609063  
Status : Answered  
Chosen Option : 2

**Q.19** Select the most appropriate option to fill in the blank.  
Virtual worlds are recently new phenomena in that they \_\_\_\_\_ people to meet and socially interact with others in a variety of online environments.

- Ans  1. choose  
 2. enable  
 3. forbid  
 4. bring

Question ID : 264330151904  
Option 1 ID : 264330595234  
Option 2 ID : 264330595233  
Option 3 ID : 264330595231  
Option 4 ID : 264330595232  
Status : Answered  
Chosen Option : 2

**Q.20** Identify the INCORRECTLY spelt word in the following sentence.  
Being a doktor, my sister Meera is prepared for an emergency usually.

- Ans  1. prepared  
 2. doktor  
 3. emergency  
 4. usually

Question ID : 264330152599  
Option 1 ID : 264330598000  
Option 2 ID : 264330597999  
Option 3 ID : 264330598001  
Option 4 ID : 264330598002  
Status : Answered  
Chosen Option : 2

**Comprehension:**

In the following passage, some words have been deleted. Read the passage carefully and select the most appropriate option to fill in each blank.

A cashless India is the first step towards making the dream of digital India a reality.

Government is trying to (1)\_\_\_\_\_ a cashless environment in the country.

Demonetisation appears to be a stepping (2)\_\_\_\_\_ in that direction. To help facilitate this, government even (3)\_\_\_\_\_ its own app 'BHIM' built for the same purpose. The

(4)\_\_\_\_\_ of conducting online financial transactions is probably the biggest motivator to go digital. You will no longer need to carry wads of cash, plastic cards or even queue up for ATM withdrawals. It's also safer and easier spending option when you are travelling. Making transactions digitally makes it easy to keep track of your finances. The (5)\_\_\_\_\_ are enormous for everyone if you leave out the low-income group, which will face a huge challenge. For the rest of the country, it is constructive and simple. However, the convenience of net-banking, m-banking, card or mobile wallet transactions can make you spend more than your budget.

**SubQuestion No : 21**

**Q.21** Select the most appropriate option to fill in blank No. 1.

- Ans  1. create  
 2. determine  
 3. precede  
 4. preach

Question ID : 264330152700  
Option 1 ID : 264330598402  
Option 2 ID : 264330598400  
Option 3 ID : 264330598401  
Option 4 ID : 264330598399  
Status : Answered  
Chosen Option : 1

**Comprehension:**

In the following passage, some words have been deleted. Read the passage carefully and select the most appropriate option to fill in each blank.

A cashless India is the first step towards making the dream of digital India a reality.

Government is trying to (1)\_\_\_\_\_ a cashless environment in the country.

Demonetisation appears to be a stepping (2)\_\_\_\_\_ in that direction. To help facilitate this, government even (3)\_\_\_\_\_ its own app 'BHIM' built for the same purpose. The

(4)\_\_\_\_\_ of conducting online financial transactions is probably the biggest motivator to go digital. You will no longer need to carry wads of cash, plastic cards or even queue up for ATM withdrawals. It's also safer and easier spending option when you are travelling. Making transactions digitally makes it easy to keep track of your finances. The (5)\_\_\_\_\_ are enormous for everyone if you leave out the low-income group, which will face a huge challenge. For the rest of the country, it is constructive and simple. However, the convenience of net-banking, m-banking, card or mobile wallet transactions can make you spend more than your budget.

**SubQuestion No : 22**

**Q.22** Select the most appropriate option to fill in blank No. 2.

- Ans  1. stairs  
 2. stone  
 3. matter  
 4. method

Question ID : 264330152701  
Option 1 ID : 264330598406  
Option 2 ID : 264330598404  
Option 3 ID : 264330598403  
Option 4 ID : 264330598405

Status : Answered

Chosen Option : 1

**Comprehension:**

In the following passage, some words have been deleted. Read the passage carefully and select the most appropriate option to fill in each blank.

A cashless India is the first step towards making the dream of digital India a reality.

Government is trying to (1)\_\_\_\_\_ a cashless environment in the country.

Demonetisation appears to be a stepping (2)\_\_\_\_\_ in that direction. To help facilitate this, government even (3)\_\_\_\_\_ its own app 'BHIM' built for the same purpose. The

(4)\_\_\_\_\_ of conducting online financial transactions is probably the biggest motivator to go digital. You will no longer need to carry wads of cash, plastic cards or even queue up for ATM withdrawals. It's also safer and easier spending option when you are travelling. Making transactions digitally makes it easy to keep track of your finances. The (5)\_\_\_\_\_ are enormous for everyone if you leave out the low-income group, which will face a huge challenge. For the rest of the country, it is constructive and simple. However, the convenience of net-banking, m-banking, card or mobile wallet transactions can make you spend more than your budget.

**SubQuestion No : 23**

**Q.23** Select the most appropriate option to fill in blank No. 3.

- Ans  1. launched  
 2. submitted  
 3. followed  
 4. sensed

Question ID : 264330152702  
Option 1 ID : 264330598407  
Option 2 ID : 264330598408  
Option 3 ID : 264330598410  
Option 4 ID : 264330598409

Status : Answered

Chosen Option : 1

**Comprehension:**

In the following passage, some words have been deleted. Read the passage carefully and select the most appropriate option to fill in each blank.

A cashless India is the first step towards making the dream of digital India a reality. Government is trying to (1)\_\_\_\_\_ a cashless environment in the country. Demonetisation appears to be a stepping (2)\_\_\_\_\_ in that direction. To help facilitate this, government even (3)\_\_\_\_\_ its own app 'BHIM' built for the same purpose. The (4)\_\_\_\_\_ of conducting online financial transactions is probably the biggest motivator to go digital. You will no longer need to carry wads of cash, plastic cards or even queue up for ATM withdrawals. It's also safer and easier spending option when you are travelling. Making transactions digitally makes it easy to keep track of your finances. The (5)\_\_\_\_\_ are enormous for everyone if you leave out the low-income group, which will face a huge challenge. For the rest of the country, it is constructive and simple. However, the convenience of net-banking, m-banking, card or mobile wallet transactions can make you spend more than your budget.

**SubQuestion No : 24**

**Q.24** Select the most appropriate option to fill in blank No. 4.

- Ans  1. agony  
 2. hassle  
 3. ease  
 4. delay

Question ID : 264330152703

Option 1 ID : 264330598411

Option 2 ID : 264330598412

Option 3 ID : 264330598414

Option 4 ID : 264330598413

Status : Answered

Chosen Option : 3

**Comprehension:**

In the following passage, some words have been deleted. Read the passage carefully and select the most appropriate option to fill in each blank.

A cashless India is the first step towards making the dream of digital India a reality. Government is trying to (1)\_\_\_\_\_ a cashless environment in the country. Demonetisation appears to be a stepping (2)\_\_\_\_\_ in that direction. To help facilitate this, government even (3)\_\_\_\_\_ its own app 'BHIM' built for the same purpose. The (4)\_\_\_\_\_ of conducting online financial transactions is probably the biggest motivator to go digital. You will no longer need to carry wads of cash, plastic cards or even queue up for ATM withdrawals. It's also safer and easier spending option when you are travelling. Making transactions digitally makes it easy to keep track of your finances. The (5)\_\_\_\_\_ are enormous for everyone if you leave out the low-income group, which will face a huge challenge. For the rest of the country, it is constructive and simple. However, the convenience of net-banking, m-banking, card or mobile wallet transactions can make you spend more than your budget.

**SubQuestion No : 25**

**Q.25** Select the most appropriate option to fill in blank No. 5.

- Ans  1. attempts  
 2. severity  
 3. benefits  
 4. scenarios

Question ID : 264330152704

Option 1 ID : 264330598417

Option 2 ID : 264330598418

Option 3 ID : 264330598416

Option 4 ID : 264330598415

Status : Answered

Chosen Option : 3