

Multi Tasking Non Technical Staff and Havaldar CBIC and CBN Examination 2023

Roll Number	
Candidate Name	
Venue Name	Pariksha Desk
Exam Date	11/09/2023
Exam Time	4:00 PM - 6:00 PM
Subject	MTS Non Tech Havaldar CBIC and CBN Examination 2023

Section : Numerical and Mathematical Ability

Q.1 साधारण ब्याज पर ऋण दी गई एक निश्चित धनराशि 2 वर्षों में ₹12,600 और 4 वर्षों में ₹16,200 हो जाती है। वार्षिक प्रतिशत दर क्या है?

- Ans
- 1. $17\frac{1}{2}\%$
 - 2. $12\frac{6}{7}\%$
 - 3. 20%
 - 4. 25%

Question ID : 264330159036

Option 1 ID : 264330623504

Option 2 ID : 264330623506

Option 3 ID : 264330623503

Option 4 ID : 264330623505

Status : Answered

Chosen Option : 2

Q.2 यदि $a : b = 3 : 7$, तो $(5a + 7b) : (7a + 5b)$ का अनुपात कितना है?

- Ans
- 1. 8 : 7
 - 2. 7 : 9
 - 3. 3 : 7
 - 4. 7 : 11

Question ID : 264330154081

Option 1 ID : 264330603789

Option 2 ID : 264330603790

Option 3 ID : 264330603788

Option 4 ID : 264330603787

Status : Answered

Chosen Option : 1

Q.3 राधा, प्रतिमा और रीना एक वृत्ताकार पथ पर दौड़ना शुरू करती हैं और वे क्रमशः 50 सेकंड, 75 सेकंड और 100 सेकंड में अपना चक्कर पूरा करती हैं। कितने समय (मिनटों में) के बाद वे पहली बार प्रारंभिक बिंदु पर एक साथ मिलेंगी?

- Ans
- 1. 3
 - 2. 4
 - 3. 5
 - 4. 6

Question ID : 264330155686
Option 1 ID : 264330610147
Option 2 ID : 264330610148
Option 3 ID : 264330610149
Option 4 ID : 264330610150
Status : Answered
Chosen Option : 3

Q.4 उस समचतुर्भुज का क्षेत्रफल (cm^2 में) ज्ञात कीजिए जिसके विकर्णों की लंबाई क्रमशः 7.5 cm और 5.6 cm हैं।

- Ans
- 1. 27
 - 2. 28
 - 3. 30
 - 4. 21

Question ID : 264330153862
Option 1 ID : 264330602913
Option 2 ID : 264330602911
Option 3 ID : 264330602914
Option 4 ID : 264330602912
Status : Answered
Chosen Option : 4

Q.5 एक यात्रा की $\frac{2}{5}$ दूरी 45 km/h की चाल से तय की जाती है, और शेष दूरी 63 km/h की चाल से तय की जाती है। पूरी यात्रा के लिए औसत चाल (km/h में, निकटतम पूर्णांक तक सन्निकटित) क्या है?

- Ans
- 1. 58
 - 2. 55
 - 3. 54
 - 4. 60

Question ID : 264330156470
Option 1 ID : 264330613270
Option 2 ID : 264330613269
Option 3 ID : 264330613268
Option 4 ID : 264330613267
Status : Answered
Chosen Option : 3

Q.6 एक कंपनी ₹10,000 में कच्चा माल खरीदती है और एक उत्पाद बनाती है, जिसमें श्रम और अन्य चीजों में अतिरिक्त ₹5,000 खर्च होते हैं। उत्पाद को ₹25,000 में एक वितरक को बेचा जाता है, जो इसका मूल्य 20% अधिक अंकित करता है और इसे खुदरा विक्रेता को बेच देता है। इसके बाद खुदरा विक्रेता इसका मूल्य 25% अधिक अंकित करता है और इसे अंतिम ग्राहक को बेच देता है। कंपनी, वितरक और खुदरा विक्रेता द्वारा संयुक्त रूप से अर्जित कुल लाभ प्रतिशत कितना है?

- Ans**
- 1. 135%
 - 2. 150%
 - 3. 100%
 - 4. 125%

Question ID : 264330156266
Option 1 ID : 264330612465
Option 2 ID : 264330612466
Option 3 ID : 264330612463
Option 4 ID : 264330612464
Status : Answered
Chosen Option : 2

Q.7 एक चोर 500 m की दूरी पर एक पुलिसकर्मी को देखता है। चोर 60 km/h की चाल से दौड़ना शुरू करता है और पुलिसकर्मी 70 km/h की चाल से दौड़ते हुए उसका पीछा करता है। चोर को पकड़ने में पुलिसकर्मी को कितना समय (मिनटों में) लगा।

- Ans**
- 1. 15
 - 2. 10
 - 3. 3
 - 4. 6

Question ID : 264330153852
Option 1 ID : 264330602874
Option 2 ID : 264330602871
Option 3 ID : 264330602873
Option 4 ID : 264330602872
Status : Answered
Chosen Option : 3

Q.8 देव और गोयल साथ मिलकर किसी काम को 14 दिनों में पूरा कर सकते हैं और देव अकेले उसी काम को 27 दिनों में पूरा कर सकता है। गोयल अकेले इस काम को कितने दिनों में पूरा कर सकता है?

- Ans**
- 1. $29\frac{1}{13}$
 - 2. $32\frac{1}{13}$
 - 3. $30\frac{1}{13}$
 - 4. $21\frac{1}{13}$

Question ID : 264330155755
Option 1 ID : 264330610424
Option 2 ID : 264330610426
Option 3 ID : 264330610425
Option 4 ID : 264330610423
Status : Answered
Chosen Option : 1

Q.9 A, B और C एक काम को क्रमशः 12 दिन, 24 दिन और 36 दिन में पूरा कर सकते हैं। A पहले दिन अकेले काम करना शुरू करता है और फिर A की क्रमशः दूसरे दिन B और तीसरे दिन C सहायता करते हैं। यह पैटर्न काम पूरा होने तक दोहराया जाता है। काम कितने दिनों में समाप्त हो जाएगा?

- Ans**
- 1. 10
 - 2. 9
 - 3. $8\frac{1}{2}$
 - 4. $9\frac{1}{2}$

Question ID : 264330156310

Option 1 ID : 264330612639

Option 2 ID : 264330612641

Option 3 ID : 264330612640

Option 4 ID : 264330612642

Status : Answered

Chosen Option : 4

Q.10 उस एकल परिमेय संख्या की पहचान कीजिए जो दिए गए व्यंजक के स्थान पर आ सकती है।

$$[1^2 + 2^2 + 3^2 + 4^2] \times \frac{2}{3 \times 5} \div \left(\frac{1}{4}\right)^2$$

- Ans**
- 1. 16
 - 2. $\frac{1}{64}$
 - 3. $\frac{1}{16}$
 - 4. 64

Question ID : 264330154115

Option 1 ID : 264330603925

Option 2 ID : 264330603924

Option 3 ID : 264330603926

Option 4 ID : 264330603923

Status : Answered

Chosen Option : 4

Q.11 प्रत्येक 8 cm आधार के व्यास और 6 cm ऊंचाई वाले कुछ ठोस धात्विक लम्ब वृत्तीय शंकुओं को पिघलाकर 12 cm त्रिज्या का एक ठोस गोला बनाया जाता है। पिघलाए गए लंब वृत्तीय शंकुओं की संख्या ज्ञात कीजिए।

- Ans**
- 1. 60
 - 2. 72
 - 3. 70
 - 4. 66

Question ID : 264330156019

Option 1 ID : 264330611476

Option 2 ID : 264330611477

Option 3 ID : 264330611475

Option 4 ID : 264330611478

Status : Answered

Chosen Option : 1

Q.12 21 प्रश्न पत्रों के औसत अंक 50 हैं। पहले 11 प्रश्न पत्रों के औसत अंक 52 हैं और अंतिम 11 प्रश्न पत्रों के औसत अंक 45 हैं। 11वें प्रश्न पत्र के अंक ज्ञात कीजिए।

- Ans
- 1. 15
 - 2. 17
 - 3. 14
 - 4. 20

Question ID : 264330153834
Option 1 ID : 264330602801
Option 2 ID : 264330602802
Option 3 ID : 264330602799
Option 4 ID : 264330602800
Status : Answered
Chosen Option : 2

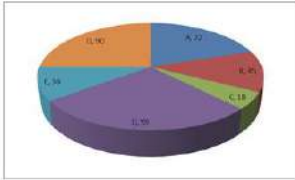
Q.13 एक साइकिल को ₹5,800 में बेचने पर, एक आदमी 45% का लाभ अर्जित करता है। साइकिल का क्रय मूल्य क्या है?

- Ans
- 1. ₹4,000
 - 2. ₹3,500
 - 3. ₹4,500
 - 4. ₹3,000

Question ID : 264330162068
Option 1 ID : 264330635599
Option 2 ID : 264330635601
Option 3 ID : 264330635602
Option 4 ID : 264330635600
Status : Answered
Chosen Option : 1

Q.14 निम्नलिखित वृत्त आलेख में वर्ष 2015 के दौरान भारत से अलग-अलग प्रकार के कपड़ों के निर्यात (डिग्री माप में) को दर्शाया गया है।

कुल निर्यात में से, कपड़े B का प्रतिशत कितना है?



- Ans
- 1. 25%
 - 2. 12.5%
 - 3. 45%
 - 4. 18%

Question ID : 264330154065
Option 1 ID : 264330603724
Option 2 ID : 264330603725
Option 3 ID : 264330603723
Option 4 ID : 264330603726
Status : Answered
Chosen Option : 2

Q.15 एक समूह के 25 विद्यार्थियों की औसत आयु 14 वर्ष है। जब शिक्षक की आयु को इसमें शामिल कर लिया जाता है, तो औसत में 1.5 वर्ष की वृद्धि हो जाती है। शिक्षक की आयु (वर्षों में) क्या है?

- Ans** 1. 53
 2. 42
 3. 46
 4. 50

Question ID : 264330156466
Option 1 ID : 264330613253
Option 2 ID : 264330613254
Option 3 ID : 264330613252
Option 4 ID : 264330613251
Status : Answered
Chosen Option : 1

Q.16 मयूर और अहम 2 : 3 के अनुपात में निवेश करके एक साझेदारी में प्रवेश करते हैं। कुल लाभ का 10% दान में जाता है। यदि अहम का हिस्सा ₹4,800 है, तो कुल अर्जित लाभ (₹ में) कितना है?

- Ans** 1. 7,200
 2. 9,000
 3. 8,500
 4. 11,000

Question ID : 264330155743
Option 1 ID : 264330610378
Option 2 ID : 264330610376
Option 3 ID : 264330610377
Option 4 ID : 264330610375
Status : Answered
Chosen Option : 3

Q.17 15% वार्षिक चक्रवृद्धि ब्याज की दर (वार्षिक रूप से संयोजित) पर ₹1,60,000 कितने वर्षों में ₹2,79,841 हो जाएंगे?

- Ans** 1. 6
 2. 3
 3. 5
 4. 4

Question ID : 264330156189
Option 1 ID : 264330612155
Option 2 ID : 264330612158
Option 3 ID : 264330612156
Option 4 ID : 264330612157
Status : Answered
Chosen Option : 3

Q.18 निम्न तालिका में पिछले 5 वर्षों के दौरान पांच परिवारों के वार्षिक व्यय को (₹ हजार में) दर्शाया गया है।

वर्ष → परिवार ↓	2017	2018	2019	2020	2021
F ₁	35	50	55	60	45
F ₂	45	35	60	55	40
F ₃	53	40	45	65	50
F ₄	40	30	35	50	45
F ₅	35	45	55	50	45

सभी वर्षों के दौरान किस परिवार का व्यय सबसे अधिक था?

- Ans
- 1. F₁
 - 2. F₃
 - 3. F₄
 - 4. F₅

Question ID : 264330154061

Option 1 ID : 264330603707

Option 2 ID : 264330603709

Option 3 ID : 264330603710

Option 4 ID : 264330603708

Status : Answered

Chosen Option : 2

Q.19 क्रमशः 210 m और 150 m लंबी दो रेलगाड़ियां A और B समानांतर पटरियों पर एक ही दिशा में चल रही हैं। यदि A और B की चाल क्रमशः 110 km/h और 128 km/h है, तो रेलगाड़ी B को रेलगाड़ी A को पार करने में कितना समय (सेकंड में) लगेगा?

- Ans
- 1. 71
 - 2. 70
 - 3. 74
 - 4. 72

Question ID : 264330156234

Option 1 ID : 264330612336

Option 2 ID : 264330612335

Option 3 ID : 264330612338

Option 4 ID : 264330612337

Status : Answered

Chosen Option : 4

Q.20 यदि T की आय उसकी बचत का 8 गुना है, तो उसका व्यय उसकी बचत का _____ गुना है।

- Ans
- 1. 5
 - 2. 6
 - 3. 8
 - 4. 7

Question ID : 264330153803
Option 1 ID : 264330602678
Option 2 ID : 264330602677
Option 3 ID : 264330602675
Option 4 ID : 264330602676
Status : Answered
Chosen Option : 4

Section : Reasoning Ability and Problem Solving

Q.1 यदि 13 मार्च 2007 को मंगलवार है, तो 14 सितंबर 2017 को सप्ताह का कौन-सा दिन होगा?

- Ans
- 1. गुरुवार
 - 2. मंगलवार
 - 3. बुधवार
 - 4. सोमवार

Question ID : 264330154335
Option 1 ID : 264330604805
Option 2 ID : 264330604804
Option 3 ID : 264330604806
Option 4 ID : 264330604803
Status : Answered
Chosen Option : 3

Q.2 एक निश्चित कूट भाषा में, 'SCAR' को '2386' लिखा जाता है और 'RACE' को '8642' लिखा जाता है। उसी कूट भाषा में 'E' को कैसे लिखा जाएगा?

- Ans
- 1. 2
 - 2. 4
 - 3. 6
 - 4. 8

Question ID : 264330151708
Option 1 ID : 264330594461
Option 2 ID : 264330594459
Option 3 ID : 264330594460
Option 4 ID : 264330594462
Status : Answered
Chosen Option : 1

Q.3 यदि '+' और '-' को आपस में बदल दिया जाए और '-' और '+' को आपस में बदल दिया जाए तो निम्नलिखित समीकरण में '?' के स्थान पर क्या आएगा?
 $10 + 2 - 6 \times 7 + 1 = ?$

- Ans
- 1. 18
 - 2. 15
 - 3. 24
 - 4. 19

Question ID : 264330154661
Option 1 ID : 264330606108
Option 2 ID : 264330606107
Option 3 ID : 264330606109
Option 4 ID : 264330606110
Status : Answered
Chosen Option : 4

Q.4 नीचे दिए गए कथनों और निष्कर्षों को ध्यानपूर्वक पढ़िए। आपको मानना है कि दिए गए कथन सत्य हैं चाहे वे सामान्यतः ज्ञात तथ्यों से अलग प्रतीत होते हों। आपको निश्चय करना है कि कौन-सा/कौन-से निष्कर्ष तार्किक रूप से दिए गए कथनों के अनुसार है/हैं।

कथन: सभी सेब, आग हैं। सभी आग, गर्म है। कुछ गर्म, केकड़े हैं।

निष्कर्ष I: कोई सेब, गर्म नहीं है।

निष्कर्ष II: कुछ केकड़े, आग हैं।

- Ans
- 1. न तो निष्कर्ष (I) और न ही (II) कथनों के अनुसार है।
 - 2. केवल निष्कर्ष (I) कथनों के अनुसार है।
 - 3. दोनों निष्कर्ष (I) और (II) कथनों के अनुसार हैं।
 - 4. केवल निष्कर्ष (II) कथनों के अनुसार है।

Question ID : 264330155918
Option 1 ID : 264330611077
Option 2 ID : 264330611075
Option 3 ID : 264330611078
Option 4 ID : 264330611076
Status : Answered
Chosen Option : 3

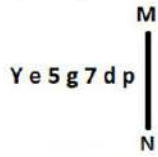
Q.5 उस सही विकल्प को चुनिए, जिसे दी गई श्रृंखला के रिक्त स्थानों में इसी क्रम में रखने पर श्रृंखला तार्किक रूप से पूरी हो जाएगी।

DFZ _ D _ CJ DF _ I _ FIH DF _ G

- Ans
- 1. KFFDL
 - 2. DLFFK
 - 3. FDFKL
 - 4. KDFLF

Question ID : 264330154724
Option 1 ID : 264330606362
Option 2 ID : 264330606361
Option 3 ID : 264330606359
Option 4 ID : 264330606360
Status : Answered
Chosen Option : 4

Q.6 दी गई आकृति के उस सही दर्पण प्रतिबिंब को चुनिए, जो नीचे दर्शाए गए अनुसार दर्पण को MN पर रखने पर बनेगा।



- Ans
- ✗ 1. qbΛg5eY
 - ✗ 2. qb∩gɹeY
 - ✗ 3. dbg7ɹeY
 - ✓ 4. qb∩gɹeY

Question ID : 264330151515

Option 1 ID : 264330593687

Option 2 ID : 264330593690

Option 3 ID : 264330593689

Option 4 ID : 264330593688

Status : Answered

Chosen Option : 4

Q.7 एक निश्चित तर्क के अनुसार 11, 123 से संबंधित है। समान तर्क के अनुसार, 20, 402 से संबंधित है। समान तर्क का अनुसरण करते हुए 13 निम्नलिखित में से किससे संबंधित है?

- Ans
- ✗ 1. 173
 - ✓ 2. 171
 - ✗ 3. 172
 - ✗ 4. 174

Question ID : 264330151582

Option 1 ID : 264330593957

Option 2 ID : 264330593955

Option 3 ID : 264330593956

Option 4 ID : 264330593958

Status : Answered

Chosen Option : 2

Q.8 दी गई श्रृंखला में प्रश्न चिन्ह '?' के स्थान पर क्या आना चाहिए?

7 16 43 ? 367 1096 3283

- Ans
- ✗ 1. 98
 - ✗ 2. 117
 - ✗ 3. 105
 - ✓ 4. 124

Question ID : 264330151490

Option 1 ID : 264330593587

Option 2 ID : 264330593589

Option 3 ID : 264330593588

Option 4 ID : 264330593590

Status : Answered

Chosen Option : 2

Q.9 निम्नलिखित आकृतियों में एक कागज़ के टुकड़े को मोड़ने के क्रम और मुड़े हुए कागज़ को काटने के तरीके को दर्शाया गया है। खोलने पर यह कागज़ केसा दिखाई देगा?

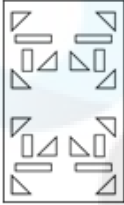


Ans

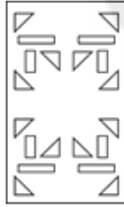
✗ 1.



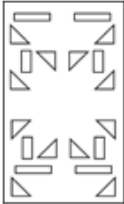
✗ 2.



✓ 3.



✗ 4.



Question ID : 264330155610

Option 1 ID : 264330609845

Option 2 ID : 264330609846

Option 3 ID : 264330609843

Option 4 ID : 264330609844

Status : Answered

Chosen Option : 3

Q.10 सात व्यक्ति, V, F, D, S, R, C और P एक सीधी पंक्ति में दक्षिण की ओर मुख करके बैठे हैं। V और P के बीच केवल दो व्यक्ति बैठे हैं। V के दाईं ओर केवल दो व्यक्ति बैठे हैं। D, S के बाईं ओर से तीसरे स्थान पर बैठा है। D और F का निकटतम पड़ोसी P है। C, S का निकटतम पड़ोसी है।

S और P के बीच कुल कितने व्यक्ति बैठे हैं?

Ans ✗ 1. दो

✓ 2. तीन

✗ 3. एक

✗ 4. चार

Question ID : 264330161694

Option 1 ID : 264330634104

Option 2 ID : 264330634105

Option 3 ID : 264330634103

Option 4 ID : 264330634106

Status : Answered

Chosen Option : 4

Q.11 अंग्रेजी वर्णमाला क्रम के आधार पर दी गई श्रृंखला में प्रश्न चिह्न (?) के स्थान पर क्या आना चाहिए?

LAT, KYS, JWR, IUQ, ?

- Ans
- 1. GRQ
 - 2. ISP
 - 3. HSP
 - 4. HQR

Question ID : 264330155777

Option 1 ID : 264330610514

Option 2 ID : 264330610512

Option 3 ID : 264330610513

Option 4 ID : 264330610511

Status : Answered

Chosen Option : 3

Q.12 यदि निम्नलिखित आकृति श्रृंखला को जारी रखना हो तो कौन-सी आकृति प्रश्न चिह्न (?) के स्थान पर आनी चाहिए?

L	I	G	Q	B	I	T	2	G	I	Q	2	
	B	6		6	G		Q	L		L	G	?
Q		T	T		L	I	6	6			T	

Ans

- 1.

6	I	T
	Q	2
L		G
- 2.

Q	2	6
	I	F
T		L
- 3.

6	G	T
	I	Q
2		L
- 4.

6	F	G
	I	T
2		L

Question ID : 264330154750

Option 1 ID : 264330606465

Option 2 ID : 264330606464

Option 3 ID : 264330606463

Option 4 ID : 264330606466

Status : Answered

Chosen Option : 4

Q.13 नीचे दिए गए कथनों और निष्कर्षों को ध्यानपूर्वक पढ़िए। आपको मानना है कि दिए गए कथन सत्य हैं चाहे वे सामान्यतः ज्ञात तथ्यों से अलग प्रतीत होते हों। आपको निश्चय करना है कि कौन-सा/कौन-से निष्कर्ष तार्किक रूप से दिए गए कथनों के अनुसार है/हैं।

कथन: सभी पेड़, मोबाइल हैं। कुछ मोबाइल, छोटे हैं। सभी छोटे, चींटियां हैं।

निष्कर्ष I: कुछ पेड़, मोबाइल हैं।

निष्कर्ष II: कुछ चींटियां, छोटे हैं।

- Ans**
- 1. न तो निष्कर्ष (I) और न ही (II) कथनों के अनुसार है।
 - 2. दोनों निष्कर्ष (I) और (II) कथनों के अनुसार हैं।
 - 3. केवल निष्कर्ष (II) कथनों के अनुसार है।
 - 4. केवल निष्कर्ष (I) कथनों के अनुसार है।

Question ID : 264330155894

Option 1 ID : 264330610981

Option 2 ID : 264330610982

Option 3 ID : 264330610980

Option 4 ID : 264330610979

Status : Answered

Chosen Option : 3

Q.14 अक्षरों के उस संयोजन को चुनिए जिसे दी गई श्रृंखला के रिक्त स्थानों में क्रमिक रूप से रखने पर श्रृंखला पूरी हो जाएगी।

ZY_Z_Z__ZZ_Z

- Ans**
- 1. YYZYZ
 - 2. ZYYZZ
 - 3. YZYZZ
 - 4. ZYZYY

Question ID : 264330151643

Option 1 ID : 264330594200

Option 2 ID : 264330594199

Option 3 ID : 264330594202

Option 4 ID : 264330594201

Status : Answered

Chosen Option : 4

Q.15 दी गई श्रृंखला में प्रश्न चिह्न '?' के स्थान पर क्या आना चाहिए?

57 62 72 77 87 ?

- Ans**
- 1. 94
 - 2. 93
 - 3. 92
 - 4. 91

Question ID : 264330151549

Option 1 ID : 264330593826

Option 2 ID : 264330593825

Option 3 ID : 264330593824

Option 4 ID : 264330593823

Status : Answered

Chosen Option : 3

Q.16 यदि A का अर्थ -, E का अर्थ ×, D का अर्थ +, G का अर्थ = है, तो निम्नलिखित समीकरण में प्रश्न चिह्न (?) के स्थान पर क्या आएगा?
21 G 14 D 1 A 2 E 8 = ?

- Ans
- 1. 17
 - 2. 19
 - 3. 25
 - 4. 11

Question ID : 264330154681
Option 1 ID : 264330606188
Option 2 ID : 264330606189
Option 3 ID : 264330606190
Option 4 ID : 264330606187
Status : Answered
Chosen Option : 2

Q.17 उस शब्द-युग्म का चयन कीजिए जो नीचे दिए गए शब्दों के युग्म में व्यक्त किए गए समान संबंध का सबसे अच्छा निरूपण करता है।

(शब्दों को अर्धपूर्ण हिंदी शब्दों के रूप में माना जाना चाहिए और उन्हें शब्द में अक्षरों की संख्या/व्यंजन/स्वरों की संख्या के आधार पर एक दूसरे से संबंधित नहीं किया जाना चाहिए।)

जीवाणु : अपघटन

- Ans
- 1. एन्टिबायोटिक : इंजेक्शन
 - 2. ज्वालामुखी : विस्फोट
 - 3. ऑक्सीजन : उपचार
 - 4. खमीर : किण्वन

Question ID : 264330154635
Option 1 ID : 264330606004
Option 2 ID : 264330606003
Option 3 ID : 264330606006
Option 4 ID : 264330606005
Status : Answered
Chosen Option : 4

Q.18 दी गई श्रृंखला में प्रश्न चिह्न '?' के स्थान पर क्या आना चाहिए?

84 88 96 108 124 ?

- Ans
- 1. 134
 - 2. 144
 - 3. 124
 - 4. 154

Question ID : 264330151543
Option 1 ID : 264330593800
Option 2 ID : 264330593801
Option 3 ID : 264330593799
Option 4 ID : 264330593802
Status : Answered
Chosen Option : 2

Q.19 एक निश्चित तर्क के अनुसार 22, 198 से संबंधित है। समान तर्क के अनुसार, 41, 369 से संबंधित है। समान तर्क का अनुसरण करते हुए 54 निम्नलिखित में से किससे संबंधित है?

- Ans 1. 486
 2. 468
 3. 286
 4. 268

Question ID : 264330151606
Option 1 ID : 264330594051
Option 2 ID : 264330594053
Option 3 ID : 264330594052
Option 4 ID : 264330594054
Status : Answered
Chosen Option : 1

Q.20 एक निश्चित कूट भाषा में, 'QUALIFY' को 'PTZKHYF' लिखा जाता है और 'PANTHER' को 'OZMSGRE' लिखा जाता है। उस कूट भाषा में 'FORCEPS' को कैसे लिखा जाएगा?

- Ans 1. ENQBDSF
 2. DNPCDSQ
 3. EMOCDRQ
 4. DMQCERP

Question ID : 264330155829
Option 1 ID : 264330610721
Option 2 ID : 264330610719
Option 3 ID : 264330610722
Option 4 ID : 264330610720
Status : Answered
Chosen Option : 1

Section : General Awareness

Q.1 निम्नलिखित में से किस महिला गायिका को भारत रत्न से सम्मानित किया गया है?

- Ans 1. उषा उथुप
 2. आशा भोसले
 3. वाणी जयराम
 4. लता मंगेशकर

Question ID : 264330160975
Option 1 ID : 264330631233
Option 2 ID : 264330631231
Option 3 ID : 264330631234
Option 4 ID : 264330631232
Status : Answered
Chosen Option : 4

Q.2 कौन-सी प्रसिद्ध भारतीय नृत्यांगना राज्यसभा सदस्य के रूप में नामांकित होने वाली पहली महिला बनीं?

- Ans
- 1. सितारा देवी
 - 2. रुक्मिणी देवी अरुंडेल
 - 3. मृणालिनी साराभाई
 - 4. कमला कुमारी

Question ID : 264330155475
Option 1 ID : 264330609304
Option 2 ID : 264330609303
Option 3 ID : 264330609306
Option 4 ID : 264330609305
Status : Not Answered
Chosen Option : --

Q.3 भारत में लोकसभा के लिए पहला आम चुनाव कब हुआ था?

- Ans
- 1. 1950-51
 - 2. 1949-50
 - 3. 1948-49
 - 4. 1951-52

Question ID : 264330160863
Option 1 ID : 264330630785
Option 2 ID : 264330630784
Option 3 ID : 264330630783
Option 4 ID : 264330630786
Status : Answered
Chosen Option : 4

Q.4 'बक्सर का युद्ध' किस वर्ष हुआ था?

- Ans
- 1. 1769 ई.
 - 2. 1764 ई.
 - 3. 1761 ई.
 - 4. 1757 ई.

Question ID : 264330162322
Option 1 ID : 264330636618
Option 2 ID : 264330636616
Option 3 ID : 264330636617
Option 4 ID : 264330636615
Status : Answered
Chosen Option : 3

Q.5 गांधी जयंती के उत्सव को चिह्नित करने के लिए, _____ इसे अंतर्राष्ट्रीय अहिंसा दिवस के रूप में मनाता है।

- Ans
- 1. दक्षिण एशियाई क्षेत्रीय सहयोग संगठन
 - 2. ग्रुप ऑफ 20
 - 3. संयुक्त राष्ट्र
 - 4. ब्रिक्स राष्ट्र

Question ID : 264330160825
Option 1 ID : 264330630632
Option 2 ID : 264330630631
Option 3 ID : 264330630633
Option 4 ID : 264330630634
Status : Answered
Chosen Option : 3

Q.6 अस्थि मज्जा में पाई जाने वाली कौन-सी कोशिका शरीर के लिए मरम्मत प्रणाली के रूप में कार्य करती है?

- Ans
- 1. मूल कोशिकाएं (Stem cells)
 - 2. वसा कोशिकाएं (Fat Cells)
 - 3. अस्थि कोशिकाएं (Bone Cells)
 - 4. मांसपेशिय कोशिकाएं (Muscle cells)

Question ID : 264330161085
Option 1 ID : 264330631671
Option 2 ID : 264330631673
Option 3 ID : 264330631672
Option 4 ID : 264330631674
Status : Answered
Chosen Option : 3

Q.7 सिरपुर तीर्थ (Sirpur Shrine) निम्नलिखित में से किस राज्य में स्थित है?

- Ans
- 1. छत्तीसगढ़
 - 2. बिहार
 - 3. ओडिशा
 - 4. उत्तरप्रदेश

Question ID : 264330160756
Option 1 ID : 264330630355
Option 2 ID : 264330630356
Option 3 ID : 264330630357
Option 4 ID : 264330630358
Status : Not Answered
Chosen Option : --

Q.8 कारक लागत (Factor cost) को _____ नाम से भी जाना जाता है।

- Ans
- 1. निवेश लागत (input cost)
 - 2. पूर्व-कारखाना लागत (ex-factory cost)
 - 3. बाज़ार लागत (market cost)
 - 4. निर्गत लागत (output cost)

Question ID : 264330161458
Option 1 ID : 264330633159
Option 2 ID : 264330633162
Option 3 ID : 264330633161
Option 4 ID : 264330633160
Status : Not Answered
Chosen Option : --

Q.9 निम्नलिखित में से किस राज्य/केंद्र शासित प्रदेश ने आत्म सुरक्षा की भावना पैदा करने और गांवों और गांवों के आसपास के बुनियादी ढांचे की सुरक्षा सुनिश्चित करने के लिए ग्राम रक्षा गार्ड योजना (Village Defence Guards scheme) की शुरुआत की?

- Ans
- 1. उत्तरप्रदेश
 - 2. राजस्थान
 - 3. जम्मू और कश्मीर
 - 4. लद्दाख

Question ID : 264330161407
Option 1 ID : 264330632958
Option 2 ID : 264330632956
Option 3 ID : 264330632955
Option 4 ID : 264330632957
Status : Answered
Chosen Option : 3

Q.10 भारत ने 2023 वर्ल्ड टेस्ट चैंपियनशिप का फाइनल ऑस्ट्रेलिया के खिलाफ खेला। यह मैच कहाँ आयोजित किया गया था?

- Ans
- 1. दुबई
 - 2. सिडनी
 - 3. कोलकाता
 - 4. लंदन

Question ID : 264330161144
Option 1 ID : 264330631910
Option 2 ID : 264330631908
Option 3 ID : 264330631909
Option 4 ID : 264330631907
Status : Answered
Chosen Option : 4

Q.11 मार्च 2023 में डी गुकेश को प्लेयर ऑफ द ईयर पुरस्कार से सम्मानित किया गया। वह कौन-सा खेल खेलते हैं?

- Ans
- 1. बैडमिंटन
 - 2. मुक्केबाज़ी
 - 3. सूकर
 - 4. शतरंज

Question ID : 264330158357
Option 1 ID : 264330620787
Option 2 ID : 264330620790
Option 3 ID : 264330620788
Option 4 ID : 264330620789
Status : Answered
Chosen Option : 3

Q.12 2023 इंटरकांटिनेंटल कप फुटबॉल चैंपियनशिप (Intercontinental Cup football championship) का फाइनल निम्नलिखित में से किस राज्य में आयोजित किया गया था?

- Ans
- 1. तेलंगाना
 - 2. कर्नाटक
 - 3. ओडिशा
 - 4. महाराष्ट्र

Question ID : 264330161151
Option 1 ID : 264330631938
Option 2 ID : 264330631935
Option 3 ID : 264330631937
Option 4 ID : 264330631936
Status : Not Answered
Chosen Option : --

Q.13 भारतीय संविधान का कौन-सा अनुच्छेद यह आदेश देता है कि राज्य को कलात्मक या ऐतिहासिक रुचि के प्रत्येक स्मारक या स्थान की रक्षा करनी चाहिए?

- Ans
- 1. अनुच्छेद 50
 - 2. अनुच्छेद 39A
 - 3. अनुच्छेद 48A
 - 4. अनुच्छेद 49

Question ID : 264330162254
Option 1 ID : 264330636344
Option 2 ID : 264330636346
Option 3 ID : 264330636345
Option 4 ID : 264330636343
Status : Not Answered
Chosen Option : --

Q.14 निम्नलिखित में से कौन-सा भारत में माइक्रोफाइनेंस संस्थान (MFI) का एक उदाहरण है?

- Ans
- 1. आईसीआईसीआई बैंक (ICICI Bank)
 - 2. बंधन बैंक (Bandhan Bank)
 - 3. भारतीय स्टेट बैंक (SBI)
 - 4. एचडीएफसी बैंक (HDFC Bank)

Question ID : 264330157296
Option 1 ID : 264330616548
Option 2 ID : 264330616549
Option 3 ID : 264330616547
Option 4 ID : 264330616550
Status : Answered
Chosen Option : 2

Q.15 निम्नलिखित में से कौन-सी महात्मा गांधी की आत्मकथा है?

- Ans
- 1. माई ट्रुथ (My Truth)
 - 2. माई कंट्री माई लाइफ (My Country My Life)
 - 3. मैटर्स ऑफ डिस्क्रिशन (Matters of Discretion)
 - 4. द स्टोरी ऑफ माई एक्सपेरिमेंट्स विद ट्रुथ (The Story of My Experiments with Truth)

Question ID : 264330161756
Option 1 ID : 264330634354
Option 2 ID : 264330634352
Option 3 ID : 264330634353
Option 4 ID : 264330634351
Status : Answered
Chosen Option : 4

Q.16 भारत की जनगणना 2011 के अनुसार, दूसरे सबसे अधिक लिंगानुपात वाला राज्य कौन-सा है?

- Ans 1. तमिलनाडु
 2. बिहार
 3. केरल
 4. असम

Question ID : 264330160159
Option 1 ID : 264330627976
Option 2 ID : 264330627978
Option 3 ID : 264330627975
Option 4 ID : 264330627977
Status : Answered
Chosen Option : 4

Q.17 निम्नलिखित में से कौन-सी गायिका आंध्र प्रदेश से है?

- Ans 1. ऊषा उत्सुप
 2. एस. जानकी
 3. अलका याग्निक
 4. आशा भोसले

Question ID : 264330162234
Option 1 ID : 264330636264
Option 2 ID : 264330636265
Option 3 ID : 264330636266
Option 4 ID : 264330636263
Status : Not Answered
Chosen Option : --

Q.18 निम्नलिखित में से कौन-सा राजस्थान का प्रसिद्ध लोक नृत्य है?

- Ans 1. पाला जात्रा
 2. चेंग लो
 3. दसकठिया
 4. कालबेलिया

Question ID : 264330159058
Option 1 ID : 264330623593
Option 2 ID : 264330623591
Option 3 ID : 264330623594
Option 4 ID : 264330623592
Status : Answered
Chosen Option : 4

Q.19 निम्नलिखित में से मुंशी प्रेमचंद द्वारा लिखित एक प्रसिद्ध उपन्यास कौन-सा है?

- Ans
- 1. गोदान
 - 2. गुनाहों का देवता
 - 3. कितने पाकिस्तान
 - 4. राग दरबारी

Question ID : 264330155502
Option 1 ID : 264330609414
Option 2 ID : 264330609413
Option 3 ID : 264330609412
Option 4 ID : 264330609411
Status : Answered
Chosen Option : 1

Q.20 भारत का निम्नलिखित में से कौन-सा राज्य दक्षिण पश्चिम मानसून से वर्षा प्राप्त करने वाला पहला राज्य है ?

- Ans
- 1. तेलंगाना
 - 2. राजस्थान
 - 3. हिमाचल प्रदेश
 - 4. केरल

Question ID : 264330161518
Option 1 ID : 264330633402
Option 2 ID : 264330633399
Option 3 ID : 264330633401
Option 4 ID : 264330633400
Status : Answered
Chosen Option : 4

Q.21 लंदन में आयोजित दूसरे गोलमेज सम्मेलन में कांग्रेस का नेतृत्व किसने किया था?

- Ans
- 1. सरोजिनी नायडू
 - 2. एनी बेसेंट
 - 3. महात्मा गांधी
 - 4. जवाहर लाल नेहरू

Question ID : 264330162335
Option 1 ID : 264330636669
Option 2 ID : 264330636670
Option 3 ID : 264330636667
Option 4 ID : 264330636668
Status : Answered
Chosen Option : 3

Q.22 निम्नलिखित में से कौन-सा कारक भारत की जलवायु को प्रभावित नहीं करता है?

- Ans
- 1. पवन
 - 2. देशान्तर
 - 3. अक्षांश
 - 4. ऊंचाई

Question ID : 264330157828
Option 1 ID : 264330618673
Option 2 ID : 264330618674
Option 3 ID : 264330618672
Option 4 ID : 264330618671
Status : Answered
Chosen Option : 1

Q.23 अलार्मेल वल्ली (Alarmel Valli) एक _____ नृत्यांगना है।

- Ans
- 1. कुचिपुड़ी
 - 2. ओडिसी
 - 3. भरतनाट्यम
 - 4. कथक

Question ID : 264330159068
Option 1 ID : 264330623632
Option 2 ID : 264330623634
Option 3 ID : 264330623631
Option 4 ID : 264330623633
Status : Not Answered
Chosen Option : --

Q.24 कपड़ा मंत्रालय 2022-23 के अनुसार, कौन-सा राज्य कपास का दूसरा सबसे बड़ा उत्पादक है?

- Ans
- 1. बिहार
 - 2. गुजरात
 - 3. मध्यप्रदेश
 - 4. महाराष्ट्र

Question ID : 264330160142
Option 1 ID : 264330627909
Option 2 ID : 264330627908
Option 3 ID : 264330627910
Option 4 ID : 264330627907
Status : Not Answered
Chosen Option : --

Q.25 रासायनिक उद्योग में कच्चे माल के रूप में व्यापक रूप से उपयोग किए जाने वाले कैल्शियम हाइड्रॉक्साइड (calcium hydroxide) के संतृप्त विलयन का सामान्य नाम क्या है?

- Ans
- 1. जला हुआ चूना (Burnt Lime)
 - 2. बुझा हुआ चूना (Slaked lime)
 - 3. चूना पत्थर (Limestone)
 - 4. कैलोमेल (Calomel)

Question ID : 264330161053
Option 1 ID : 264330631545
Option 2 ID : 264330631544
Option 3 ID : 264330631546
Option 4 ID : 264330631543
Status : Answered
Chosen Option : 2

Section : English Language and Comprehension

Q.1 Select the INCORRECTLY spelt word.

- Ans
- 1. Magnificence
 - 2. Gesture
 - 3. Abhorrent
 - 4. Jugglary

Question ID : 264330152785
Option 1 ID : 264330598733
Option 2 ID : 264330598731
Option 3 ID : 264330598734
Option 4 ID : 264330598732
Status : Answered
Chosen Option : 3

Q.2 Select the most appropriate idiom to fill in the blank.
Naina has six children, and I always _____ with their names.

- Ans
- 1. get rid of
 - 2. get cold feet
 - 3. get mixed up
 - 4. get away clean

Question ID : 264330153100
Option 1 ID : 264330599966
Option 2 ID : 264330599964
Option 3 ID : 264330599963
Option 4 ID : 264330599965
Status : Answered
Chosen Option : 3

Q.3 Select the most appropriate option to fill in the blank.
The Nile is the _____ river of the world.

- Ans
- 1. long
 - 2. longer
 - 3. more longer
 - 4. longest

Question ID : 264330153198
Option 1 ID : 264330600351
Option 2 ID : 264330600352
Option 3 ID : 264330600354
Option 4 ID : 264330600353
Status : Answered
Chosen Option : 4

Q.4 Parts of the following sentence have been given as options. Select the option that contains an error.
The blue is a beautiful colour.

- Ans
- 1. beautiful colour
 - 2. The blue
 - 3. is
 - 4. a

Question ID : 264330152790
Option 1 ID : 264330598754
Option 2 ID : 264330598751
Option 3 ID : 264330598752
Option 4 ID : 264330598753
Status : Answered
Chosen Option : 2

Q.5 Select the most appropriate option to fill in the blank.
He is a smug and very _____ person who thinks only about himself.

- Ans
- 1. diffident
 - 2. arsonist
 - 3. humble
 - 4. egoistic

Question ID : 264330153582
Option 1 ID : 264330601824
Option 2 ID : 264330601826
Option 3 ID : 264330601823
Option 4 ID : 264330601825
Status : Answered
Chosen Option : 2

Q.6 Select the most appropriate segment that can substitute the bracketed word in the following sentence.
The bridge that (connecting) the two valleys across the Brahmaputra river has recently been constructed in Arunachal Pradesh.

- Ans**
- 1. will be connecting
 - 2. will be connected
 - 3. connects
 - 4. had connected

Question ID : 264330152631
Option 1 ID : 264330598127
Option 2 ID : 264330598128
Option 3 ID : 264330598129
Option 4 ID : 264330598130
Status : Answered
Chosen Option : 3

Q.7 Select the INCORRECTLY spelt word.

- Ans**
- 1. Apparent
 - 2. Humorous
 - 3. Definite
 - 4. Necassery

Question ID : 264330153107
Option 1 ID : 264330599991
Option 2 ID : 264330599994
Option 3 ID : 264330599993
Option 4 ID : 264330599992
Status : Answered
Chosen Option : 4

Q.8 Parts of the following sentence have been given as options. Select the option that contains an error.
You shall repented tomorrow for your misdeeds.

- Ans**
- 1. shall repented
 - 2. for your misdeeds
 - 3. tomorrow
 - 4. You

Question ID : 264330152815
Option 1 ID : 264330598852
Option 2 ID : 264330598854
Option 3 ID : 264330598853
Option 4 ID : 264330598851
Status : Answered
Chosen Option : 1

Q.9 Select the most appropriate option to fill in the blank.
I _____ to many countries to find the source of true happiness.

- Ans 1. travelled
 2. travelld
 3. triveled
 4. travalled

Question ID : 264330153304
Option 1 ID : 264330600772
Option 2 ID : 264330600774
Option 3 ID : 264330600773
Option 4 ID : 264330600771
Status : Answered
Chosen Option : 1

Q.10 Select the most appropriate option to fill in the blank.

I know that I can count on my best friend to be by my side through ____ and thin.

- Ans 1. fat
 2. thick
 3. tough
 4. heavy

Question ID : 264330151861
Option 1 ID : 264330595065
Option 2 ID : 264330595064
Option 3 ID : 264330595063
Option 4 ID : 264330595066
Status : Answered
Chosen Option : 2

Q.11 Select the most appropriate meaning of the underlined idiom in the following sentence.

Irrespective of the chaos in the classroom, our class teacher stays cool as a cucumber.

- Ans 1. Scolds all the students in the classroom
 2. Behaves like a vegetable
 3. Develops a fever
 4. Stays calm and composed

Question ID : 264330153050
Option 1 ID : 264330599770
Option 2 ID : 264330599767
Option 3 ID : 264330599769
Option 4 ID : 264330599768
Status : Answered
Chosen Option : 4

Q.12 Select the word segment which substitutes the bracketed word correctly and completes the sentence meaningfully.
I (am here) since 1981.

- Ans**
- 1. had been here
 - 2. has been here
 - 3. was here
 - 4. have been here

Question ID : 264330152566
Option 1 ID : 264330597867
Option 2 ID : 264330597870
Option 3 ID : 264330597868
Option 4 ID : 264330597869
Status : Answered
Chosen Option : 4

Q.13 Select the option that can be used as a one-word substitute for the underlined group of words.

Sometimes we have to accept replacing something with something else, if we want to move forward.

- Ans**
- 1. change
 - 2. evaluation
 - 3. invasion
 - 4. invention

Question ID : 264330153492
Option 1 ID : 264330601486
Option 2 ID : 264330601485
Option 3 ID : 264330601483
Option 4 ID : 264330601484
Status : Answered
Chosen Option : 4

Q.14 Select the most appropriate option that can substitute the underlined segment in the given sentence.

She think Alex is abandoning her.

- Ans**
- 1. thinks
 - 2. was to think
 - 3. was thinking
 - 4. thought

Question ID : 264330153487
Option 1 ID : 264330601466
Option 2 ID : 264330601463
Option 3 ID : 264330601464
Option 4 ID : 264330601465
Status : Answered
Chosen Option : 1

Q.15 Select the most appropriate idiom to fill in the blank.
It's risky to invest all your savings in one company; it's like _____.

- Ans** 1. putting all your eggs in one basket
 2. biting the bullet
 3. breaking a leg
 4. going down in flames

Question ID : 264330155216
Option 1 ID : 264330608325
Option 2 ID : 264330608326
Option 3 ID : 264330608323
Option 4 ID : 264330608324
Status : Answered
Chosen Option : 4

Q.16 Select the most appropriate synonym of the given word.
Hazard

- Ans** 1. Marvel
 2. Ardent
 3. Accident
 4. Miracle

Question ID : 264330151822
Option 1 ID : 264330594917
Option 2 ID : 264330594918
Option 3 ID : 264330594915
Option 4 ID : 264330594916
Status : Answered
Chosen Option : 4

Q.17 Select the most appropriate option to fill in the blank.
When it comes to planning her wedding, Maria wants _____.

- Ans** 1. the whole nine yards
 2. down for the count
 3. the whole fifteen miles
 4. a black sheep

Question ID : 264330151884
Option 1 ID : 264330595157
Option 2 ID : 264330595158
Option 3 ID : 264330595156
Option 4 ID : 264330595155
Status : Answered
Chosen Option : 4

Q.18 Parts of the following sentence have been given as options. Select the option that contains an error.

Tuntun and her friends dance beautiful.

- Ans
- 1. dance
 - 2. beautiful
 - 3. and her friends
 - 4. Tuntun

Question ID : 264330155228
Option 1 ID : 264330608369
Option 2 ID : 264330608370
Option 3 ID : 264330608368
Option 4 ID : 264330608367
Status : Answered
Chosen Option : 2

Q.19 Select the most appropriate ANTONYM of the given word.
Dishevelled

- Ans
- 1. Rigid
 - 2. Tainted
 - 3. Assertive
 - 4. Tidy

Question ID : 264330152720
Option 1 ID : 264330598479
Option 2 ID : 264330598481
Option 3 ID : 264330598480
Option 4 ID : 264330598482
Status : Answered
Chosen Option : 2

Q.20 Select the option that can be used as a one-word substitute for the given group of words.

A small shop that sells fashionable clothes

- Ans
- 1. Couture
 - 2. Store
 - 3. Boutique
 - 4. Tailoring

Question ID : 264330152587
Option 1 ID : 264330597953
Option 2 ID : 264330597951
Option 3 ID : 264330597952
Option 4 ID : 264330597954
Status : Answered
Chosen Option : 2

Comprehension:

In the following passage, some words have been deleted. Read the passage carefully and select the most appropriate option to fill in each blank.

I do not know how the party ended. I do not want to know. I went (1)___ upstairs, and undressed and (2)___ into bed, and lay there in the burning dark while the last guest gurgled in the hall below about the wonderful evening she had spent. I lay there (3)___ the front door shut after her, and Lavinia's steps came up the stairs and passed the door to the guest room beyond. And then after a couple of centuries (4)___, the clock struck three and I (5)___ to sleep.

SubQuestion No : 21

Q.21 Select the most appropriate option to fill in blank no. 1.

- Ans
- 1. around
 - 2. over
 - 3. straight
 - 4. through

Question ID : 264330151843

Option 1 ID : 264330594995

Option 2 ID : 264330594996

Option 3 ID : 264330594997

Option 4 ID : 264330594998

Status : Answered

Chosen Option : 4

Comprehension:

In the following passage, some words have been deleted. Read the passage carefully and select the most appropriate option to fill in each blank.

I do not know how the party ended. I do not want to know. I went (1)___ upstairs, and undressed and (2)___ into bed, and lay there in the burning dark while the last guest gurgled in the hall below about the wonderful evening she had spent. I lay there (3)___ the front door shut after her, and Lavinia's steps came up the stairs and passed the door to the guest room beyond. And then after a couple of centuries (4)___, the clock struck three and I (5)___ to sleep.

SubQuestion No : 22

Q.22 Select the most appropriate option to fill in blank no. 2.

- Ans
- 1. peeped
 - 2. gnawed
 - 3. crawled
 - 4. lurched

Question ID : 264330151844

Option 1 ID : 264330594999

Option 2 ID : 264330595001

Option 3 ID : 264330595002

Option 4 ID : 264330595000

Status : Answered

Chosen Option : 3

Comprehension:

In the following passage, some words have been deleted. Read the passage carefully and select the most appropriate option to fill in each blank.

I do not know how the party ended. I do not want to know. I went (1)___ upstairs, and undressed and (2)___ into bed, and lay there in the burning dark while the last guest gurgled in the hall below about the wonderful evening she had spent. I lay there (3)___ the front door shut after her, and Lavinia's steps came up the stairs and passed the door to the guest room beyond. And then after a couple of centuries (4)___, the clock struck three and I (5)___ to sleep.

SubQuestion No : 23

Q.23 Select the most appropriate option to fill in the blank no. 3.

- Ans 1. while
 2. down
 3. still
 4. toward

Question ID : 264330151845

Option 1 ID : 264330595003

Option 2 ID : 264330595006

Option 3 ID : 264330595004

Option 4 ID : 264330595005

Status : Answered

Chosen Option : 1

Comprehension:

In the following passage, some words have been deleted. Read the passage carefully and select the most appropriate option to fill in each blank.

I do not know how the party ended. I do not want to know. I went (1)___ upstairs, and undressed and (2)___ into bed, and lay there in the burning dark while the last guest gurgled in the hall below about the wonderful evening she had spent. I lay there (3)___ the front door shut after her, and Lavinia's steps came up the stairs and passed the door to the guest room beyond. And then after a couple of centuries (4)___, the clock struck three and I (5)___ to sleep.

SubQuestion No : 24

Q.24 Select the most appropriate option to fill in blank no. 4.

- Ans 1. persisted
 2. crossed
 3. elapsed
 4. eroded

Question ID : 264330151846

Option 1 ID : 264330595007

Option 2 ID : 264330595008

Option 3 ID : 264330595009

Option 4 ID : 264330595010

Status : Answered

Chosen Option : 3

Comprehension:

In the following passage, some words have been deleted. Read the passage carefully and select the most appropriate option to fill in each blank.

I do not know how the party ended. I do not want to know. I went (1)___ upstairs, and undressed and (2)___ into bed, and lay there in the burning dark while the last guest gurgled in the hall below about the wonderful evening she had spent. I lay there (3)___ the front door shut after her, and Lavinia's steps came up the stairs and passed the door to the guest room beyond. And then after a couple of centuries (4)___, the clock struck three and I (5)___ to sleep.

SubQuestion No : 25

Q.25 Select the most appropriate option to fill in blank no. 5.

- Ans
- 1. put off
 - 2. called off
 - 3. dozed off
 - 4. took off

Question ID : 264330151847

Option 1 ID : 264330595012

Option 2 ID : 264330595011

Option 3 ID : 264330595014

Option 4 ID : 264330595013

Status : Answered

Chosen Option : 1