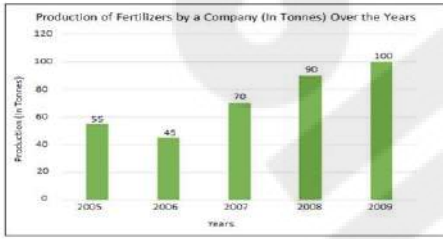


Multi Tasking Non Technical Staff and Havaldar CBIC and CBN Examination 2023

Roll Number	
Candidate Name	
Venue Name	iON Digital Zone Ganga Nagar Meerut
Exam Date	12/09/2023
Exam Time	9:00 AM - 11:00 AM
Subject	MTS Non Tech Havaldar CBIC and CBN Examination 2023

Section : Numerical and Mathematical Ability

Q.1 नीचे दिए गए दंड आलेख में कुछ वर्षों में एक कंपनी (टन में) द्वारा उर्वरकों के उत्पादन को दर्शाया गया है। दंड आलेख का अध्ययन कीजिए और उसके आधार पर प्रश्न का उत्तर दीजिए।



संदर्भ: Production of fertilizers by a company (in tonnes) over the years = कुछ वर्षों में एक कंपनी द्वारा उर्वरकों का उत्पादन (टन में), Production (in tonnes) = उत्पादन (टन में), Years - वर्ष

2006 की तुलना में 2009 में उर्वरकों के उत्पादन में प्रतिशत वृद्धि (निकटतम पूर्णांक तक सन्निकटित) कितनी थी?

- Ans
- 1. 122%
 - 2. 118%
 - 3. 120%
 - 4. 124%

Question ID : 264330153780

Option 1 ID : 264330602586

Option 2 ID : 264330602583

Option 3 ID : 264330602585

Option 4 ID : 264330602584

Status : Answered

Chosen Option : 1

Q.2 निम्नलिखित तालिका में पिछले 5 वर्षों के दौरान पांच परिवारों का वार्षिक व्यय (₹ हजार में) दर्शाया गया है। दी गई तालिका का अध्ययन कीजिए और नीचे दिए गए प्रश्न का उत्तर दीजिए।

वर्ष → परिवार ↓	2017	2018	2019	2020	2021
F ₁	35	50	55	60	45
F ₂	45	35	60	55	40
F ₃	53	40	45	65	50
F ₄	40	30	35	50	45
F ₅	35	45	55	50	45

किस वर्ष में परिवार F₄ का वार्षिक व्यय 2017 से 2021 तक परिवार F₄ के औसत व्यय के बराबर था?

- Ans**
- ✓ 1. 2017
 - ✗ 2. 2021
 - ✗ 3. 2020
 - ✗ 4. 2019

Question ID : 264330157348

Option 1 ID : 264330616756

Option 2 ID : 264330616758

Option 3 ID : 264330616757

Option 4 ID : 264330616755

Status : Answered

Chosen Option : 1

Q.3 $\frac{9(3-5)-5 \text{ of } 4 \div 10}{-3 \times 5 - 2 \times 4 \div 2}$ का मान ज्ञात कीजिए।

- Ans**
- ✗ 1. $\frac{19}{20}$
 - ✗ 2. $\frac{18}{19}$
 - ✗ 3. $\frac{13}{14}$
 - ✓ 4. $\frac{20}{19}$

Question ID : 264330154036

Option 1 ID : 264330603608

Option 2 ID : 264330603609

Option 3 ID : 264330603607

Option 4 ID : 264330603610

Status : Answered

Chosen Option : 4

Q.4 दो संख्याओं का महत्तम समापवर्तक 12 है। निम्नलिखित में से कौन-सा उनका लघुत्तम समापवर्त्य कभी नहीं हो सकता है?

Ans 1. 74

2. 24

3. 60

4. 48

Question ID : 264330156091

Option 1 ID : 264330611765

Option 2 ID : 264330611763

Option 3 ID : 264330611766

Option 4 ID : 264330611764

Status : Answered

Chosen Option : 1

Q.5 यदि एक खोखले गोले को, जिसके बाह्य और आंतरिक व्यास क्रमशः 6 cm और 4 cm हैं, को पिघलाकर 8 cm आधार व्यास का एक शंकु बनाया जाता है, तो इस शंकु की ऊँचाई कितनी है?

Ans 1. $3\frac{1}{4}$ cm

2. $5\frac{1}{4}$ cm

3. $4\frac{3}{4}$ cm

4. $2\frac{3}{4}$ cm

Question ID : 264330154110

Option 1 ID : 264330603903

Option 2 ID : 264330603905

Option 3 ID : 264330603906

Option 4 ID : 264330603904

Status : Answered

Chosen Option : 3

Q.6 हेमा ने 3 वर्ष के लिए (वार्षिक रूप से संयोजित) चक्रवृद्धि ब्याज की दर से ₹1,728 का निवेश किया। एक निर्दिष्ट अवधि के बाद उसे ₹4,096 मिले। वार्षिक ब्याज की दर ज्ञात कीजिए।

Ans 1. $30\frac{1}{2}\%$

2. $33\frac{1}{3}\%$

3. $33\frac{1}{2}\%$

4. $30\frac{1}{3}\%$

Question ID : 264330155749

Option 1 ID : 264330610402

Option 2 ID : 264330610399

Option 3 ID : 264330610401

Option 4 ID : 264330610400

Status : Answered

Chosen Option : 2

Q.7 अनिल बीना को 20% के लाभ पर एक कार बेचता है। बीना इसे करण को 25% के लाभ पर बेच देती है। यदि करण इसके लिए ₹2,25,000 का भुगतान करता है, तो अनिल के लिए कार का क्रय मूल्य ज्ञात कीजिए।

- Ans**
- 1. ₹1,75,000
 - 2. ₹1,50,000
 - 3. ₹1,25,000
 - 4. ₹2,00,000

Question ID : 264330156105

Option 1 ID : 264330611820

Option 2 ID : 264330611821

Option 3 ID : 264330611822

Option 4 ID : 264330611819

Status : Answered

Chosen Option : 2

Q.8 राम ने ₹65,500 में एक टीवी खरीदा और उसे ₹ 89,080 में बेच दिया। उसे टीवी पर कितने प्रतिशत का लाभ हुआ?

- Ans**
- 1. 36%
 - 2. 40%
 - 3. 42%
 - 4. 34%

Question ID : 264330156180

Option 1 ID : 264330612120

Option 2 ID : 264330612121

Option 3 ID : 264330612122

Option 4 ID : 264330612119

Status : Answered

Chosen Option : 1

Q.9 एक व्यक्ति की मासिक आय ₹27,000 थी और उसका मासिक व्यय ₹18,000 था। अगले वर्ष उसकी आय में 28% की वृद्धि होती है और उनके व्यय में 14% की वृद्धि होती है। उसकी बचत में प्रतिशत वृद्धि ज्ञात कीजिए।

- Ans**
- 1. 51.5%
 - 2. 61.5%
 - 3. 56%
 - 4. 50.5%

Question ID : 264330157324

Option 1 ID : 264330616662

Option 2 ID : 264330616661

Option 3 ID : 264330616659

Option 4 ID : 264330616660

Status : Not Answered

Chosen Option : --

Q.10

Find the diameter of the sphere whose volume is $381\frac{6}{7} \text{ m}^3$.

- Ans
- 1. 7 m
 - 2. 9 m
 - 3. 8 m
 - 4. 18 m

Question ID : 264330156081

Option 1 ID : 264330611726

Option 2 ID : 264330611723

Option 3 ID : 264330611725

Option 4 ID : 264330611724

Status : Answered

Chosen Option : 2

Q.11

कक्षा में लड़कों की औसत आयु 16 वर्ष थी। जब 13 वर्ष औसत आयु वाले 4 लड़कों को कक्षा में प्रवेश दिया गया, तो कक्षा की औसत आयु में 6 माह की कमी आ गई। कक्षा में शुरुआत में कितने लड़के थे?

- Ans
- 1. 20
 - 2. 25
 - 3. 18
 - 4. 22

Question ID : 264330155989

Option 1 ID : 264330611358

Option 2 ID : 264330611356

Option 3 ID : 264330611357

Option 4 ID : 264330611355

Status : Answered

Chosen Option : 1

Q.12

एक वस्तु की पतन की ऊंचाई समय के वर्ग के अनुक्रमानुपाती है। वस्तु 4 सेकंड में 80 cm नीचे गिरती है, तो 8 सेकंड में वस्तु कितनी ऊंचाई (cm में) से गिरेगी?

- Ans
- 1. 320
 - 2. 360
 - 3. 480
 - 4. 420

Question ID : 264330153848

Option 1 ID : 264330602855

Option 2 ID : 264330602856

Option 3 ID : 264330602858

Option 4 ID : 264330602857

Status : Not Answered

Chosen Option : --

Q.13 एक पुलिसकर्मी 600 m की दूरी से एक चोर को देखता है। चोर 20 km/h की चाल से दौड़ना शुरू करता है और पुलिसकर्मी 25 km/h की चाल से दौड़ते हुए उसका पीछा करता है। 6 मिनट बाद उनके बीच की दूरी (मीटर में) ज्ञात कीजिए।

- Ans**
- 1. 200
 - 2. 300
 - 3. 100
 - 4. 50

Question ID : 264330153853

Option 1 ID : 264330602877

Option 2 ID : 264330602875

Option 3 ID : 264330602878

Option 4 ID : 264330602876

Status : Answered

Chosen Option : 3

Q.14 एक स्कूल में दसवीं कक्षा के छात्रों की औसत ऊंचाई 100 cm है। लड़कों की औसत ऊंचाई 118 cm है, जबकि लड़कियों की औसत ऊंचाई 95 cm है। यदि कक्षा में 20 लड़के हैं तो लड़कियों की संख्या कितनी है?

- Ans**
- 1. 72
 - 2. 63
 - 3. 36
 - 4. 54

Question ID : 264330155694

Option 1 ID : 264330610182

Option 2 ID : 264330610181

Option 3 ID : 264330610179

Option 4 ID : 264330610180

Status : Answered

Chosen Option : 1

Q.15 100 श्रमिक प्रतिदिन 8 घंटे काम करके 2000 मीटर लंबी नहर 25 दिनों में खोद सकते हैं। ऐसी ही 2800 मीटर लंबी एक नहर को प्रतिदिन 5 घंटे काम करके 32 दिनों में खोदने के लिए आवश्यक श्रमिकों की संख्या ज्ञात कीजिए।

- Ans**
- 1. 175
 - 2. 170
 - 3. 165
 - 4. 180

Question ID : 264330155977

Option 1 ID : 264330611309

Option 2 ID : 264330611308

Option 3 ID : 264330611307

Option 4 ID : 264330611310

Status : Answered

Chosen Option : 1

Q.16 एक छात्रावास में 75 छात्र हैं। नए दाखिले के कारण, 15 नए छात्र मेस में शामिल हो गए, और मेस के दैनिक खर्च में ₹240 की वृद्धि हो गई, जबकि प्रति छात्र औसत खर्च में ₹5 की कमी आ गई। मेस का मूल व्यय (₹ में) क्या था?

- Ans
- 1. 4,350
 - 2. 3,540
 - 3. 4,530
 - 4. 3,450

Question ID : 264330153758
Option 1 ID : 264330602497
Option 2 ID : 264330602496
Option 3 ID : 264330602498
Option 4 ID : 264330602495
Status : Not Answered
Chosen Option : --

Q.17 समान चाल वाली दो रेलगाड़ियां विपरीत दिशाओं में चल रही हैं। यदि प्रत्येक रेलगाड़ी की लंबाई 120 मीटर है और वे एक-दूसरे को 8 सेकंड में पार करती हैं, तो प्रत्येक रेलगाड़ी की चाल (km/h में) क्या है?

- Ans
- 1. 45
 - 2. 50
 - 3. 60
 - 4. 54

Question ID : 264330156114
Option 1 ID : 264330611856
Option 2 ID : 264330611858
Option 3 ID : 264330611855
Option 4 ID : 264330611857
Status : Answered
Chosen Option : 4

Q.18 A किसी काम को पूरा करने में B से दोगुना कुशल है, और वे दोनों एक साथ मिलकर उस काम को 20 दिनों में पूरा कर सकते हैं। A को अकेले काम को पूरा करने में कितने दिन का समय लगेगा?

- Ans
- 1. 34 दिन
 - 2. 30 दिन
 - 3. 28 दिन
 - 4. 32 दिन

Question ID : 264330156278
Option 1 ID : 264330612514
Option 2 ID : 264330612512
Option 3 ID : 264330612511
Option 4 ID : 264330612513
Status : Answered
Chosen Option : 2

Q.19 दो संख्याओं का योग उनके अंतर के नौ गुना के बराबर है। संख्याओं का अनुपात कितना है?

- Ans
- ✓ 1. 5 : 4
 - ✗ 2. 9 : 5
 - ✗ 3. 3 : 4
 - ✗ 4. 3 : 7

Question ID : 264330154048
Option 1 ID : 264330603655
Option 2 ID : 264330603656
Option 3 ID : 264330603658
Option 4 ID : 264330603657
Status : Answered
Chosen Option : 1

Q.20 किसी धनराशि पर साधारण ब्याज मूलधन का चार गुना है। वार्षिक दर प्रतिशत और वर्षों में समय बराबर हैं। वार्षिक प्रतिशत दर ज्ञात कीजिए।

- Ans
- ✗ 1. 10%
 - ✗ 2. 12%
 - ✗ 3. 15%
 - ✓ 4. 20%

Question ID : 264330156003
Option 1 ID : 264330611412
Option 2 ID : 264330611414
Option 3 ID : 264330611411
Option 4 ID : 264330611413
Status : Answered
Chosen Option : 4

Section : Reasoning Ability and Problem Solving

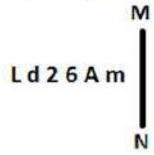
Q.1 उस सही विकल्प को चुनिए, जिसे दी गई श्रृंखला के रिक्त स्थानों में इसी क्रम में रखने पर श्रृंखला तार्किक रूप से पूरी हो जाएगी।

ZA _ J _ B _ BK DAB _ _ ABM HA _ N

- Ans
- ✗ 1. CHBNK
 - ✓ 2. BALFB
 - ✗ 3. BALPC
 - ✗ 4. FCBPL

Question ID : 264330154720
Option 1 ID : 264330606345
Option 2 ID : 264330606343
Option 3 ID : 264330606344
Option 4 ID : 264330606346
Status : Not Answered
Chosen Option : --

Q.2 दी गई आकृति के उस सही दर्पण प्रतिबिंब को चुनिए, जो नीचे दर्शाए गए अनुसार दर्पण को MN पर रखने पर बनेगा।



- Ans
- 1. $w \nabla \partial \zeta b J$
 - 2. $m A 6 \zeta b L$
 - 3. $m A \partial \zeta b J$
 - 4. $m A \partial d 2 J$

Question ID : 264330151514

Option 1 ID : 264330593683

Option 2 ID : 264330593686

Option 3 ID : 264330593685

Option 4 ID : 264330593684

Status : Answered

Chosen Option : 3

Q.3 अंग्रेजी वर्णमाला क्रम के आधार पर MEOP, KCMN से एक निश्चित प्रकार से संबंधित है। उसी प्रकार, LTDG, JRBE से संबंधित है। समान तर्क का अनुसरण करते हुए, UNTF निम्नलिखित में से किससे संबंधित है?

- Ans
- 1. SMRE
 - 2. VPUH
 - 3. SLRD
 - 4. TOSG

Question ID : 264330151681

Option 1 ID : 264330594352

Option 2 ID : 264330594351

Option 3 ID : 264330594353

Option 4 ID : 264330594354

Status : Answered

Chosen Option : 3

Q.4 यदि 12 दिसंबर 2009 को शनिवार है, तो 16 दिसंबर 2014 को सप्ताह का कौन-सा दिन होगा?

- Ans
- 1. बुधवार
 - 2. गुरुवार
 - 3. शुक्रवार
 - 4. मंगलवार

Question ID : 264330154339

Option 1 ID : 264330604821

Option 2 ID : 264330604822

Option 3 ID : 264330604819

Option 4 ID : 264330604820

Status : Answered

Chosen Option : 4

Q.5 यदि A का अर्थ -, G का अर्थ \times , D का अर्थ +, E का अर्थ = है, तो निम्नलिखित समीकरण में प्रश्न चिह्न (?) के स्थान पर क्या आएगा?
18 E 27 D 3 A 2 G 5 = ?

- Ans
- 1. 31
 - 2. 17
 - 3. 43
 - 4. 29

Question ID : 264330154684
Option 1 ID : 264330606201
Option 2 ID : 264330606199
Option 3 ID : 264330606202
Option 4 ID : 264330606200
Status : Answered
Chosen Option : 2

Q.6 अंग्रेजी वर्णमाला क्रम के आधार पर दी गई श्रृंखला में प्रश्न चिह्न (?) के स्थान पर क्या आना चाहिए?

BLS, FJQ, JHO, NFM, ?

- Ans
- 1. QCI
 - 2. SCK
 - 3. RDK
 - 4. QEJ

Question ID : 264330155796
Option 1 ID : 264330610588
Option 2 ID : 264330610590
Option 3 ID : 264330610589
Option 4 ID : 264330610587
Status : Answered
Chosen Option : 3

Q.7 दी गई श्रृंखला में प्रश्न चिह्न '?' के स्थान पर क्या आना चाहिए?

41 45 54 70 95 ?

- Ans
- 1. 131
 - 2. 133
 - 3. 132
 - 4. 130

Question ID : 264330151557
Option 1 ID : 264330593856
Option 2 ID : 264330593858
Option 3 ID : 264330593857
Option 4 ID : 264330593855
Status : Answered
Chosen Option : 1

Q.8 नीचे दिए गए कथनों और निष्कर्षों को ध्यानपूर्वक पढ़िए। आपको मानना है कि दिए गए कथन सत्य हैं चाहे वे समान्यतः ज्ञात तथ्यों से अलग प्रतीत होते हों। आपको निश्चय करना है कि कौन-सा कौन-से निष्कर्ष तार्किक रूप से दिए गए कथनों के अनुसार है/हैं।

कथन: कुछ लिपस्टिक, फाउंडेशन हैं। सभी फाउंडेशन, ब्राउन हैं। कुछ ब्राउन, हाईलाइटर हैं।

निष्कर्ष I: कुछ लिपस्टिक, ब्राउन हैं।

निष्कर्ष II: सभी फाउंडेशन, हाईलाइटर हैं।

Ans

- 1. केवल निष्कर्ष (II) कथनों के अनुसार है।
- 2. दोनों निष्कर्ष (I) और (II) कथनों के अनुसार हैं।
- 3. न तो निष्कर्ष (I) और न ही (II) कथनों के अनुसार है।
- 4. केवल निष्कर्ष (I) कथनों के अनुसार है।

Question ID : 264330155936

Option 1 ID : 264330611148

Option 2 ID : 264330611150

Option 3 ID : 264330611149

Option 4 ID : 264330611147

Status : Answered

Chosen Option : 4

Q.9 एक निश्चित कूट भाषा में, 'DRAW' को '7932' लिखा जाता है और 'WEAR' को '4729' लिखा जाता है। उसी कूट भाषा में 'E' को कैसे लिखा जाएगा?

Ans

- 1. 7
- 2. 4
- 3. 9
- 4. 2

Question ID : 264330151687

Option 1 ID : 264330594377

Option 2 ID : 264330594378

Option 3 ID : 264330594375

Option 4 ID : 264330594376

Status : Answered

Chosen Option : 2

Q.10 यदि निम्नलिखित आकृति श्रृंखला को जारी रखना हो तो कौन-सी आकृति प्रश्न चिन्ह (?) के स्थान पर आनी चाहिए?

9	5	A	9	
A	C	5	9	Z
O	Z	A	C	Z
				O
				C
				5
				?

Ans

✓ 1.

		C	
5	9	A	
		O	Z

✗ 2.

		C	
Z	9	5	
		O	A

✗ 3.

		O	
5	C	A	
		9	Z

✗ 4.

		C	
Z	A	O	
		5	9

Question ID : 264330154738

Option 1 ID : 264330606417

Option 2 ID : 264330606418

Option 3 ID : 264330606416

Option 4 ID : 264330606415

Status : Answered

Chosen Option : 1

Q.11 एक निश्चित तर्क के अनुसार 18, 54 से संबंधित है। समान तर्क के अनुसार, 21, 63 से संबंधित है। समान तर्क का अनुसरण करते हुए 72 निम्नलिखित में से किससे संबंधित है?

Ans

✓ 1. 216

✗ 2. 222

✗ 3. 220

✗ 4. 218

Question ID : 264330151592

Option 1 ID : 264330593995

Option 2 ID : 264330593998

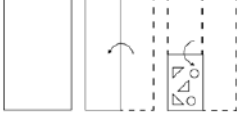
Option 3 ID : 264330593997

Option 4 ID : 264330593996

Status : Answered

Chosen Option : 1

Q.12 निम्नलिखित आकृतियों में एक कागज़ के टुकड़े को मोड़ने के क्रम और मुड़े हुए कागज़ को काटने के तरीके को दर्शाया गया है। खोलने पर यह कागज़ केसा दिखाई देगा?



Ans

- ✗ 1.
- ✗ 2.
- ✓ 3.
- ✗ 4.

Question ID : 264330155609

Option 1 ID : 264330609842

Option 2 ID : 264330609839

Option 3 ID : 264330609840

Option 4 ID : 264330609841

Status : Answered

Chosen Option : 3

Q.13 दी गई श्रृंखला में प्रश्न चिह्न '?' के स्थान पर क्या आना चाहिए?

51 53 57 59 ? 65 69

Ans

- ✓ 1. 63
- ✗ 2. 62
- ✗ 3. 64
- ✗ 4. 65

Question ID : 264330151546

Option 1 ID : 264330593812

Option 2 ID : 264330593811

Option 3 ID : 264330593813

Option 4 ID : 264330593814

Status : Answered

Chosen Option : 1

Q.14 छः लोग, विजय, हर्ष, गोलू, सतीश, करण और अवधी एक सीधी पंक्ति में उत्तर की ओर मुख करके बैठे हैं। विजय दाईं ओर के छोर से तीसरे स्थान पर बैठा है। हर्ष, विजय के बाईं ओर से तीसरे स्थान पर बैठा है। सतीश, हर्ष का निकटतम पड़ोसी है। गोलू, सतीश के दाईं ओर से तीसरे स्थान पर बैठा है। अवधी, गोलू की निकटतम पड़ोसी है। विजय के दाईं ओर से दूसरे स्थान पर कौन बैठा/बैठी है?

- Ans**
- 1. सतीश
 - 2. गोलू
 - 3. करण
 - 4. अवधी

Question ID : 264330155664
Option 1 ID : 264330610060
Option 2 ID : 264330610062
Option 3 ID : 264330610059
Option 4 ID : 264330610061
Status : Answered
Chosen Option : 4

Q.15 यदि '+' और '-' को आपस में बदल दिया जाए तथा 'x' और '÷' को आपस में बदल दिया जाए तो निम्नलिखित समीकरण में (?) के स्थान पर क्या आएगा?
 $90 \div 4 + 75 - 93 \times 3 = ?$

- Ans**
- 1. 406
 - 2. 316
 - 3. 165
 - 4. 279

Question ID : 264330154618
Option 1 ID : 264330605938
Option 2 ID : 264330605937
Option 3 ID : 264330605935
Option 4 ID : 264330605936
Status : Answered
Chosen Option : 2

Q.16 नीचे दिए गए कथन/कथनों और निष्कर्षों को ध्यानपूर्वक पढ़िए। आपको मानना है कि दिए गए कथन सत्य हैं चाहे वे समान्यतः ज्ञात तथ्यों से अलग प्रतीत होते हों। आपको निश्चय करना है कि कौन-सा/कौन-से निष्कर्ष तार्किक रूप से दिए गए कथन/कथनों के अनुसार है/हैं।
कथन: सभी कप, किताबें हैं। सभी किताबें, शर्ट हैं।
निष्कर्ष:
(I) कुछ कप, शर्ट नहीं हैं।
(II) कुछ शर्ट, कप हैं।

- Ans**
- 1. केवल निष्कर्ष (I) कथनों के अनुसार है।
 - 2. न तो निष्कर्ष (I) और न ही (II) कथनों के अनुसार है।
 - 3. केवल निष्कर्ष (II) कथनों के अनुसार है।
 - 4. दोनों निष्कर्ष (I) और (II) कथनों के अनुसार हैं।

Question ID : 264330154425
Option 1 ID : 264330605163
Option 2 ID : 264330605165
Option 3 ID : 264330605164
Option 4 ID : 264330605166
Status : Answered
Chosen Option : 3

Q.17 दी गई श्रृंखला में प्रश्न चिन्ह '?' के स्थान पर क्या आना चाहिए?

10 59 353 ? 12701 76205 457229

- Ans
- ✓ 1. 2117
 - ✗ 2. 2073
 - ✗ 3. 2149
 - ✗ 4. 2247

Question ID : 264330151487
Option 1 ID : 264330593576
Option 2 ID : 264330593575
Option 3 ID : 264330593577
Option 4 ID : 264330593578
Status : Answered
Chosen Option : 1

Q.18 उस समुच्चय को चुनिए जिसमें संख्याएँ ठीक उसी प्रकार संबंधित हैं जिस प्रकार निम्नलिखित समुच्चयों की संख्याएँ संबंधित हैं।

(ध्यान दें: संख्याओं को उनके घटक अंकों में अलग-अलग किए बिना, पूर्ण संख्याओं पर संक्रियाएँ की जानी चाहिए। उदा. 13 – संख्या 13 पर संक्रियाएँ जैसे 13 को जोड़ना/घटाना/गुणा करना आदि किया जा सकता है। 13 को 1 और 3 में अलग-अलग करने की ओर फिर 1 और 3 पर गणितीय संक्रियाएँ करने की अनुमति नहीं है।)

(25, 49, 73)

(34, 23, 12)

- Ans
- ✗ 1. 5, 35, 17
 - ✗ 2. 11, 9, 18
 - ✗ 3. 13, 15, 19
 - ✓ 4. 18, 22, 26

Question ID : 264330151610
Option 1 ID : 264330594067
Option 2 ID : 264330594068
Option 3 ID : 264330594069
Option 4 ID : 264330594070
Status : Not Answered
Chosen Option : --

Q.19 एक निश्चित कूट भाषा में, 'DOMINATE' को 'TANIMODE' लिखा जाता है और 'FAITHFUL' को 'UFHTIAFL' लिखा जाता है। उस कूट भाषा में 'HIGHWAY' को कैसे लिखा जाएगा?

- Ans
- ✗ 1. YAWHGIH
 - ✗ 2. AYWHGIH
 - ✗ 3. IGHWAYH
 - ✓ 4. AWHGIHY

Question ID : 264330155815
Option 1 ID : 264330610664
Option 2 ID : 264330610665
Option 3 ID : 264330610666
Option 4 ID : 264330610663
Status : Answered
Chosen Option : 4

Q.20 अंग्रेजी वर्णमाला क्रम के आधार पर दी गई श्रृंखला में प्रश्न चिह्न (?) के स्थान पर क्या आना चाहिए?

MF, JCU, GZR, DWO, ?

- Ans
- ✓ 1. ATL
 - ✗ 2. ZRM
 - ✗ 3. ZSL
 - ✗ 4. YSM

Question ID : 264330155770

Option 1 ID : 264330610483

Option 2 ID : 264330610484

Option 3 ID : 264330610486

Option 4 ID : 264330610485

Status : Answered

Chosen Option : 1

Section : General Awareness

Q.1 मुल्क राज आनंद _____ के लेखक हैं।

- Ans
- ✓ 1. अनटचेबल (Untouchable)
 - ✗ 2. द इनविजिबल मैन (The Invisible Man)
 - ✗ 3. ए पैसेज टू इंडिया (A Passage to India)
 - ✗ 4. द गाइड (The Guide)

Question ID : 264330160973

Option 1 ID : 264330631226

Option 2 ID : 264330631225

Option 3 ID : 264330631224

Option 4 ID : 264330631223

Status : Answered

Chosen Option : 1

Q.2 कौन 1827 में एक सूत्र प्रकाशित करने के लिए प्रसिद्ध था जो विद्युत धारा, प्रतिरोध और वोल्टता के बीच एक गणितीय संबंध दर्शाता है?

- Ans
- ✗ 1. विलियम गिल्बर्ट (William Gilbert)
 - ✗ 2. गुस्ताव किरचॉफ (Gustav Kirchhoff)
 - ✗ 3. विलियम वॉटसन (William Watson)
 - ✓ 4. जॉर्ज साइमन ओम (Georg Simon Ohm)

Question ID : 264330161047

Option 1 ID : 264330631519

Option 2 ID : 264330631521

Option 3 ID : 264330631522

Option 4 ID : 264330631520

Status : Answered

Chosen Option : 4

Q.3 समुद्री डकैती विरोधी विधेयक, 2022 (Maritime Anti-Piracy Act, 2022) के संबंध में निम्नलिखित में से कौन-सा कथन सत्य है?

- 1) संसद ने दिसंबर 2022 में समुद्री डकैती विरोधी विधेयक, 2022 को राज्यसभा से मंजूरी दे दी।
- 2) यह अधिनियम भारतीय अधिकारियों को खुले समुद्र में समुद्री डकैती के खिलाफ कार्रवाई करने में सक्षम बनाता है।
- 3) यह विशिष्ट आर्थिक क्षेत्र से परे समुद्र पर लागू होता है, जो भारत के समुद्र तट से 500 समुद्री मील से ऊपर है।
- 4) अधिनियम समुद्री डकैती को किसी निजी जहाज या विमान के चालक दल या यात्रियों द्वारा निजी उद्देश्यों के लिए किसी जहाज, विमान या व्यक्ति के खिलाफ हिंसा, हिरासत या विनाश के किसी भी अवैध कार्य के रूप में परिभाषित करता है।

- Ans
- 1. 2, 3 और 4
 - 2. 1, 2 और 4
 - 3. 1, 3 और 4
 - 4. 1, 2 और 3

Question ID : 264330161417
Option 1 ID : 264330632997
Option 2 ID : 264330632998
Option 3 ID : 264330632996
Option 4 ID : 264330632995
Status : Not Answered
Chosen Option : --

Q.4 ताजमहल के मकबरे की रूपरेखा _____ द्वारा तैयार की गई थी।

- Ans
- 1. मोहम्मद ईशा
 - 2. उस्ताद अहमद लाहौरी
 - 3. भक्तियार लाहौरी
 - 4. शाहजहां

Question ID : 264330160766
Option 1 ID : 264330630397
Option 2 ID : 264330630396
Option 3 ID : 264330630395
Option 4 ID : 264330630398
Status : Answered
Chosen Option : 1

Q.5 जेट प्रवाह किसका एक विशेष रूप है?

- Ans
- 1. मौसम वाताग्र
 - 2. वायुमंडलीय प्रदूषण
 - 3. आवधिक जल गति
 - 4. भूविक्षेपी पवनें

Question ID : 264330161304
Option 1 ID : 264330632545
Option 2 ID : 264330632543
Option 3 ID : 264330632544
Option 4 ID : 264330632546
Status : Answered
Chosen Option : 4

Q.6 कर्नाटक की रानी मचैया (Rani Machaiah) को कर्नाटक और कर्नाटक के बाहर _____ को लोकप्रिय बनाने में उनके योगदान के लिए पद्म श्री से सम्मानित किया गया था।

- Ans 1. उम्मत-आट (Ummathat)
 2. कराडी माजलू (Karadi Majalu)
 3. कामसले नृत्य (Kamsale Nritya)
 4. कुनिठा (Kunitha)

Question ID : 264330160804
Option 1 ID : 264330630548
Option 2 ID : 264330630550
Option 3 ID : 264330630549
Option 4 ID : 264330630547
Status : Answered
Chosen Option : 1

Q.7 विश्व का सबसे बड़ा ऊंट मेला निम्नलिखित में से किस शहर में आयोजित किया जाता है?

- Ans 1. उदयपुर
 2. बीकानेर
 3. पुष्कर
 4. बाड़मेर

Question ID : 264330159084
Option 1 ID : 264330623695
Option 2 ID : 264330623697
Option 3 ID : 264330623696
Option 4 ID : 264330623698
Status : Answered
Chosen Option : 3

Q.8 बिरसा मुंडा हॉकी स्टेडियम किस राज्य में बनाया गया था?

- Ans 1. ओडिशा
 2. गुजरात
 3. महाराष्ट्र
 4. झारखंड

Question ID : 264330158242
Option 1 ID : 264330620327
Option 2 ID : 264330620328
Option 3 ID : 264330620329
Option 4 ID : 264330620330
Status : Answered
Chosen Option : 1

Q.9 निम्नलिखित में से कौन-सी पहाड़ियां पूर्वांचल में स्थित हैं ?

- Ans 1. मिज़ो पहाड़ियां और नागा पहाड़ियां
 2. खासी और जयन्तिया पहाड़ियां
 3. अनाई मुडी और डोडा बेटा
 4. शेवराय पहाड़ियां और जावोडी पहाड़ियां

Question ID : 264330160150
Option 1 ID : 264330627939
Option 2 ID : 264330627940
Option 3 ID : 264330627941
Option 4 ID : 264330627942
Status : Answered
Chosen Option : 1

Q.10 निम्नलिखित में से किस देश ने मार्च 2023 में तीसरी बार IBA महिला विश्व मुक्केबाजी चैंपियनशिप (IBA Women's World Boxing Championships) की मेजबानी की?

- Ans
- 1. यूनाइटेड किंगडम
 - 2. मलेशिया
 - 3. भारत
 - 4. हंगरी

Question ID : 264330161442
Option 1 ID : 264330633095
Option 2 ID : 264330633097
Option 3 ID : 264330633098
Option 4 ID : 264330633096
Status : Answered
Chosen Option : 3

Q.11 नीला हरा शैवाल एनाबिना (Anabaena) मीठे पानी के फर्न अजोला (Azolla) की पत्तियों में रहता है, जो निम्नलिखित में से कौन-सा संबंध बनाता है?

- Ans
- 1. परजीवी
 - 2. मृतपोषी
 - 3. स्वपोषी
 - 4. सहजीवी

Question ID : 264330156603
Option 1 ID : 264330613801
Option 2 ID : 264330613800
Option 3 ID : 264330613802
Option 4 ID : 264330613799
Status : Answered
Chosen Option : 4

Q.12 निम्नलिखित में से किस राज्य ने भारत के 36वें राष्ट्रीय खेलों की मेजबानी की थी?

- Ans
- 1. गुजरात
 - 2. महाराष्ट्र
 - 3. कर्नाटक
 - 4. पंजाब

Question ID : 264330158220
Option 1 ID : 264330620239
Option 2 ID : 264330620240
Option 3 ID : 264330620241
Option 4 ID : 264330620242
Status : Answered
Chosen Option : 1

Q.13 'मिडनाइट्स चिल्ड्रेन (Midnight's Children)' निम्नलिखित में से किस लेखक का उपन्यास है?

- Ans
- 1. चेतन भगत
 - 2. सलमान रुश्दी
 - 3. विक्रम सेठ
 - 4. जेन औस्टिन

Question ID : 264330160968
Option 1 ID : 264330631203
Option 2 ID : 264330631205
Option 3 ID : 264330631204
Option 4 ID : 264330631206
Status : Answered
Chosen Option : 2

Q.14 एक व्यावसायिक बैंक का प्राथमिक कार्य क्या है?

- Ans 1. ऋण देना और जमा स्वीकार करना
 2. मुद्रा आपूर्ति का विनियमन
 3. मौद्रिक नीति का संचालन
 4. करेंसी नोट और सिक्के जारी करना

Question ID : 264330157304
Option 1 ID : 264330616581
Option 2 ID : 264330616580
Option 3 ID : 264330616582
Option 4 ID : 264330616579
Status : Answered
Chosen Option : 1

Q.15 मध्यकालीन भारत के निम्नलिखित संगीतकारों में से किसे 'तूती-ए-हिन्द (Tuti-e-Hind)' कहा जाता है और कव्वाली का जनक भी माना जाता है?

- Ans 1. पुरंदर दास
 2. स्वामी हरिदास
 3. मियां तानसेन
 4. अमीर खुसरो

Question ID : 264330161770
Option 1 ID : 264330634407
Option 2 ID : 264330634408
Option 3 ID : 264330634409
Option 4 ID : 264330634410
Status : Answered
Chosen Option : 4

Q.16 आंध्र प्रदेश राज्य में स्वदेशी आंदोलन को क्या कहा गया?

- Ans 1. गदर आंदोलन
 2. वंदे मातरम आंदोलन
 3. खिलाफत आंदोलन
 4. भारत छोड़ो आंदोलन

Question ID : 264330161739
Option 1 ID : 264330634284
Option 2 ID : 264330634286
Option 3 ID : 264330634283
Option 4 ID : 264330634285
Status : Answered
Chosen Option : 2

Q.17 निम्नलिखित में से सही जोड़ी (स्थानांतरित कृषि का नाम और संबंधित राज्य) की पहचान कीजिए।

- Ans 1. बरीगां – उत्तरप्रदेश
 2. पोडु – तमिलनाडु
 3. बेवर – मध्यप्रदेश
 4. कुरुवा – पंजाब

Question ID : 264330161509
Option 1 ID : 264330633365
Option 2 ID : 264330633366
Option 3 ID : 264330633363
Option 4 ID : 264330633364
Status : Not Answered
Chosen Option : --

Q.18 संस्कृत के ज्ञान के लिए कलकत्ता विश्वविद्यालय के संकाय से पंडिता की उपाधि किसे मिली?

- Ans
- 1. सरोजिनी नायडू
 - 2. रमाबाई सरस्वती
 - 3. रास सुंदरी देवी
 - 4. रोकया सखावत हुसैन

Question ID : 264330160887
Option 1 ID : 264330630881
Option 2 ID : 264330630882
Option 3 ID : 264330630879
Option 4 ID : 264330630880
Status : Answered
Chosen Option : 2

Q.19 छत्तीसगढ़ के श्री डोमार सिंह कुंवर (Shri Domar Singh Kunvar) को 'नाट्य नाच' (Natya Nach) में उनके योगदान के लिए वर्ष 2023 में _____ से सम्मानित किया गया।

- Ans
- 1. पद्म विभूषण
 - 2. पद्म श्री
 - 3. पद्म भूषण
 - 4. भारत रत्न

Question ID : 264330155527
Option 1 ID : 264330609513
Option 2 ID : 264330609511
Option 3 ID : 264330609512
Option 4 ID : 264330609514
Status : Answered
Chosen Option : 2

Q.20 भारतीय नागरिकों के मौलिक कर्तव्य किस देश के संविधान से अपनाए गए थे?

- Ans
- 1. जापान
 - 2. संयुक्त राज्य अमेरिका
 - 3. सोवियत संघ
 - 4. यूनाइटेड किंगडम

Question ID : 264330162244
Option 1 ID : 264330636305
Option 2 ID : 264330636303
Option 3 ID : 264330636306
Option 4 ID : 264330636304
Status : Answered
Chosen Option : 3

Q.21 _____ का बलती नृत्य (Balti dance) विशिष्ट है क्योंकि बलती भाषा में इसकी अपनी पोशाक, संगीत और गीत हैं। यह नृत्य केवल दुर्लभ अवसरों पर ही किया जाता है, जैसे दावतें या उत्सव।

- Ans
- 1. लद्दाख
 - 2. उत्तराखंड
 - 3. कश्मीर
 - 4. हिमाचल प्रदेश

Question ID : 264330160797
Option 1 ID : 264330630519
Option 2 ID : 264330630522
Option 3 ID : 264330630520
Option 4 ID : 264330630521
Status : Answered
Chosen Option : 3

Q.22 राज्य विधानमंडल (State Legislature) के किसी भी सदन का सदस्य हुए बिना कोई व्यक्ति कितने समय तक मंत्री बना रह सकता है?

- Ans
- 1. 2 महीने
 - 2. 6 महीने
 - 3. 1 वर्ष
 - 4. 15 दिन

Question ID : 264330159930
Option 1 ID : 264330627067
Option 2 ID : 264330627068
Option 3 ID : 264330627069
Option 4 ID : 264330627070
Status : Answered
Chosen Option : 2

Q.23 निम्नलिखित भारतीय संगीतकारों में से मोहन वीणा के आविष्कारक कौन हैं?

- Ans
- 1. संदीप दास
 - 2. पंडित विश्वमोहन भट्ट
 - 3. तोताराम शर्मा
 - 4. ब्रज भूषण काबरा

Question ID : 264330161778
Option 1 ID : 264330634439
Option 2 ID : 264330634440
Option 3 ID : 264330634442
Option 4 ID : 264330634441
Status : Answered
Chosen Option : 2

Q.24 निम्नलिखित में से कौन-सा सरकारी बजट में राजस्व प्राप्ति का उदाहरण है?

- Ans
- 1. अंतर्राष्ट्रीय संगठनों से धनराशि ऋण पर लेना
 - 2. किसी राज्य-स्वामित्व वाली कंपनी द्वारा ऋण का पुनर्भुगतान
 - 3. सरकारी-स्वामित्व वाली भूमि की बिक्री
 - 4. राज्य- स्वामित्व वाले उद्यम से प्राप्त लाभांश

Question ID : 264330157277
Option 1 ID : 264330616472
Option 2 ID : 264330616473
Option 3 ID : 264330616471
Option 4 ID : 264330616474
Status : Answered
Chosen Option : 3

Q.25 वैश्विक बहुआयामी गरीबी सूचकांक रिपोर्ट 2022 के अनुसार, पिछले _____ में भारत में कुल 415 मिलियन लोग बहुआयामी गरीबी से बाहर निकले हैं।

- Ans
- 1. 20 वर्ष
 - 2. 5 वर्ष
 - 3. 10 वर्ष
 - 4. 15 वर्ष

Question ID : 264330161568
Option 1 ID : 264330633602
Option 2 ID : 264330633599
Option 3 ID : 264330633600
Option 4 ID : 264330633601
Status : Answered
Chosen Option : 3

Section : English Language and Comprehension

Q.1 The following sentence has been split into four segments. Identify the segment that contains a grammatical error and select the option which rectifies that error.

The SNAP-10 A / was launched on 3 April 1965 / on a Atlas-Agena D rocket / from Vandenberg Air Force Base.

- Ans
- 1. at Vandenberg Air Force Base.
 - 2. on an Atlas-Agena D rocket
 - 3. was launch on 3 April 1965
 - 4. A SNAP-10 A

Question ID : 264330141342
Option 1 ID : 264330553704
Option 2 ID : 264330553706
Option 3 ID : 264330553703
Option 4 ID : 264330553705
Status : Answered
Chosen Option : 2

Q.2 Select the most appropriate synonym of the given word.
Laconic

- Ans
- 1. Reasonable
 - 2. Concise
 - 3. Certain
 - 4. Fanciful

Question ID : 264330152682
Option 1 ID : 264330598334
Option 2 ID : 264330598332
Option 3 ID : 264330598331
Option 4 ID : 264330598333
Status : Not Answered
Chosen Option : --

Q.3 The following sentence has been split into four segments. Identify the segment that contains a grammatical error.
The little child / wrote his name / quick / on the wall.

- Ans**
- 1. wrote his name
 - 2. on the wall
 - 3. The little child
 - 4. quick

Question ID : 264330153183
Option 1 ID : 264330600292
Option 2 ID : 264330600294
Option 3 ID : 264330600291
Option 4 ID : 264330600293
Status : Answered
Chosen Option : 4

Q.4 Select the option that can be used as a one-word substitute for the given group of words.
Pause indecisively

- Ans**
- 1. Hoist
 - 2. Hibernate
 - 3. Hesitate
 - 4. Hobble

Question ID : 264330151910
Option 1 ID : 264330595258
Option 2 ID : 264330595256
Option 3 ID : 264330595255
Option 4 ID : 264330595257
Status : Answered
Chosen Option : 4

Q.5 Select the most appropriate idiom to fill in the blank.
She told me, _____, that she was going to live in New York.

- Ans**
- 1. once in a blue moon
 - 2. blue blood
 - 3. out of the blue
 - 4. black and blue

Question ID : 264330153097
Option 1 ID : 264330599951
Option 2 ID : 264330599954
Option 3 ID : 264330599953
Option 4 ID : 264330599952
Status : Answered
Chosen Option : 3

Q.6 The following sentence has been divided into four parts. Identify the part that contains an error.

(A) It is said / (B) that fortune / (C) favour the / (D) brave.

- Ans 1. D
 2. C
 3. B
 4. A

Question ID : 264330152625
Option 1 ID : 264330598106
Option 2 ID : 264330598105
Option 3 ID : 264330598104
Option 4 ID : 264330598103
Status : Answered
Chosen Option : 2

Q.7 Select the correct spelling of the underlined word in the following sentence.

He dispised the taste of black coffee.

- Ans 1. despisid
 2. despised
 3. disspised
 4. despeded

Question ID : 264330153082
Option 1 ID : 264330599891
Option 2 ID : 264330599894
Option 3 ID : 264330599893
Option 4 ID : 264330599892
Status : Answered
Chosen Option : 2

Q.8 Select the most appropriate synonym of the bracketed word in the following sentence to fill in the blank.

The medical procedure was successful, but the patient experienced some minor _____ (troubles) during recovery.

- Ans 1. complications
 2. applications
 3. transformations
 4. obligations

Question ID : 264330152659
Option 1 ID : 264330598242
Option 2 ID : 264330598239
Option 3 ID : 264330598240
Option 4 ID : 264330598241
Status : Answered
Chosen Option : 1

Q.9 Select the most appropriate meaning of the given idiom.

Castles in the air

- Ans
- 1. Strong hope to get success
 - 2. Realistic and possible plan
 - 3. Unexpected change in the climate
 - 4. Unrealistic and impossible plan

Question ID : 264330152905

Option 1 ID : 264330599209

Option 2 ID : 264330599208

Option 3 ID : 264330599210

Option 4 ID : 264330599207

Status : Answered

Chosen Option : 4

Q.10 Select the most appropriate option to fill in the blank.
Ravi has little in _____ with his friend, Senthil.

- Ans
- 1. formal
 - 2. contention
 - 3. normal
 - 4. common

Question ID : 264330153421

Option 1 ID : 264330601217

Option 2 ID : 264330601215

Option 3 ID : 264330601216

Option 4 ID : 264330601218

Status : Answered

Chosen Option : 4

Q.11 Parts of the given sentence have been underlined. One of them contains an error. The underlined parts are given as options with some changes. Select the option that correctly rectifies the error.

This car is lesser expensive than the one I had come to buy.

- Ans
- 1. less
 - 2. came
 - 3. for
 - 4. ones

Question ID : 264330153176

Option 1 ID : 264330600263

Option 2 ID : 264330600265

Option 3 ID : 264330600266

Option 4 ID : 264330600264

Status : Answered

Chosen Option : 1

Q.12 Select the INCORRECTLY spelt word.

- Ans 1. Experience
 2. Playwright
 3. Leisure
 4. Sergeant

Question ID : 264330153597
Option 1 ID : 264330601876
Option 2 ID : 264330601875
Option 3 ID : 264330601877
Option 4 ID : 264330601878
Status : Answered
Chosen Option : 4

Q.13 Select the most appropriate ANTONYM of the given word.

Dense

- Ans 1. Closed
 2. Opaque
 3. Sparse
 4. Thick

Question ID : 264330152589
Option 1 ID : 264330597962
Option 2 ID : 264330597961
Option 3 ID : 264330597959
Option 4 ID : 264330597960
Status : Answered
Chosen Option : 3

Q.14 The following sentence has been divided into parts. One of them may contain an error. Select the part that contains the error from the given options. If you don't find any error, mark 'No error' as your answer.

The fight of the cobra and the mongoose / is a classic drama often seen in India, / and the outcome was largely the same.

- Ans 1. The fight of the cobra and the mongoose
 2. No error
 3. is a classic drama often seen in India
 4. and the outcome was largely the same

Question ID : 264330153617
Option 1 ID : 264330601951
Option 2 ID : 264330601954
Option 3 ID : 264330601953
Option 4 ID : 264330601952
Status : Answered
Chosen Option : 4

Q.15 Select the most appropriate option that can substitute the underlined segment in the given sentence.

Teenage is that phase of life when you are proposed to the world outside.

- Ans
- 1. you are excited with
 - 2. you are interrupted to
 - 3. one are proposed to
 - 4. you are exposed to

Question ID : 264330151808
Option 1 ID : 264330594861
Option 2 ID : 264330594862
Option 3 ID : 264330594859
Option 4 ID : 264330594860
Status : Answered
Chosen Option : 4

Q.16 Select the most appropriate option to fill in the blank.

Make-up was _____ she hardly wore.

- Ans
- 1. something
 - 2. anybody
 - 3. someone
 - 4. anything

Question ID : 264330153494
Option 1 ID : 264330601492
Option 2 ID : 264330601493
Option 3 ID : 264330601491
Option 4 ID : 264330601494
Status : Answered
Chosen Option : 1

Q.17 Four words of the following sentence have been underlined and given as options. Select the option that contains a spelling error.

Ongoing climate change, caused by the acumulation of greenhouse gases in the atmosphere, is happening on a timescale of decades to centuries and is driving environmental changes worldwide.

- Ans
- 1. decades
 - 2. environmental
 - 3. atmosphere
 - 4. acumulation

Question ID : 264330151929
Option 1 ID : 264330595333
Option 2 ID : 264330595334
Option 3 ID : 264330595332
Option 4 ID : 264330595331
Status : Answered
Chosen Option : 4

Q.18 Select the most appropriate meaning of the given idiom.

Bone to pick

- Ans 1. To stop trying hard
 2. To be angry about something and want to discuss it
 3. Putting in extra effort
 4. To not give up

Question ID : 264330153012
Option 1 ID : 264330599619
Option 2 ID : 264330599620
Option 3 ID : 264330599621
Option 4 ID : 264330599622
Status : Answered
Chosen Option : 2

Q.19 Select the appropriate meaning of the given idiom.

Grasping at straws

- Ans 1. Wasting time enjoying and relaxing
 2. Holding the last strands of straw
 3. Desperate attempt to succeed
 4. Futile attempts to win

Question ID : 264330152979
Option 1 ID : 264330599489
Option 2 ID : 264330599487
Option 3 ID : 264330599488
Option 4 ID : 264330599490
Status : Answered
Chosen Option : 1

Q.20 Select the most appropriate option that can substitute the underlined segment in the given sentence.

The manager asked me if I have completed my projects.

- Ans 1. if he has completed my projects
 2. if I had completed my projects
 3. if I shall have completed my projects
 4. if I has completed my projects

Question ID : 264330152713
Option 1 ID : 264330598453
Option 2 ID : 264330598454
Option 3 ID : 264330598452
Option 4 ID : 264330598451
Status : Answered
Chosen Option : 2

Comprehension:

In the following passage, some words have been deleted. Read the passage carefully and select the most appropriate option to fill in each blank.

Health is the most valuable of all earthly possessions. Without it all the rest are worth (1)_____. To enjoy good health we should refrain from excess in eating. We should eat moderately and devour whatever (2)_____ get. When you sit among many for a dinner, do not reach your hand out (3)_____ of all. A little food is sufficient for us. Sound sleep comes of a light stomach. Such a man rises (4)_____ in the morning and is at ease with himself. So to (5)_____ good health we should eat moderately, for a man who does not overeat enjoys sound sleep and rises early completely refreshed.

SubQuestion No : 21

Q.21 Select the most appropriate option to fill in blank no. 1.

- Ans
- 1. it
 - 2. all
 - 3. everything
 - 4. nothing

Question ID : 264330153371

Option 1 ID : 264330601033

Option 2 ID : 264330601031

Option 3 ID : 264330601034

Option 4 ID : 264330601032

Status : Answered

Chosen Option : 4

Comprehension:

In the following passage, some words have been deleted. Read the passage carefully and select the most appropriate option to fill in each blank.

Health is the most valuable of all earthly possessions. Without it all the rest are worth (1)_____. To enjoy good health we should refrain from excess in eating. We should eat moderately and devour whatever (2)_____ get. When you sit among many for a dinner, do not reach your hand out (3)_____ of all. A little food is sufficient for us. Sound sleep comes of a light stomach. Such a man rises (4)_____ in the morning and is at ease with himself. So to (5)_____ good health we should eat moderately, for a man who does not overeat enjoys sound sleep and rises early completely refreshed.

SubQuestion No : 22

Q.22 Select the most appropriate option to fill in blank no. 2.

- Ans
- 1. we
 - 2. it
 - 3. he
 - 4. us

Question ID : 264330153372

Option 1 ID : 264330601036

Option 2 ID : 264330601038

Option 3 ID : 264330601035

Option 4 ID : 264330601037

Status : Answered

Chosen Option : 1

Comprehension:

In the following passage, some words have been deleted. Read the passage carefully and select the most appropriate option to fill in each blank.

Health is the most valuable of all earthly possessions. Without it all the rest are worth (1)_____. To enjoy good health we should refrain from excess in eating. We should eat moderately and devour whatever (2)_____ get. When you sit among many for a dinner, do not reach your hand out (3)_____ of all. A little food is sufficient for us. Sound sleep comes of a light stomach. Such a man rises (4)_____ in the morning and is at ease with himself. So to (5)_____ good health we should eat moderately, for a man who does not overeat enjoys sound sleep and rises early completely refreshed.

SubQuestion No : 23

Q.23 Select the most appropriate option to fill in blank no. 3.

- Ans 1. first
 2. second
 3. end
 4. last

Question ID : 264330153373

Option 1 ID : 264330601039

Option 2 ID : 264330601042

Option 3 ID : 264330601041

Option 4 ID : 264330601040

Status : Answered

Chosen Option : 1

Comprehension:

In the following passage, some words have been deleted. Read the passage carefully and select the most appropriate option to fill in each blank.

Health is the most valuable of all earthly possessions. Without it all the rest are worth (1)_____. To enjoy good health we should refrain from excess in eating. We should eat moderately and devour whatever (2)_____ get. When you sit among many for a dinner, do not reach your hand out (3)_____ of all. A little food is sufficient for us. Sound sleep comes of a light stomach. Such a man rises (4)_____ in the morning and is at ease with himself. So to (5)_____ good health we should eat moderately, for a man who does not overeat enjoys sound sleep and rises early completely refreshed.

SubQuestion No : 24

Q.24 Select the most appropriate option to fill in blank no. 4.

- Ans 1. idle
 2. early
 3. late
 4. active

Question ID : 264330153374

Option 1 ID : 264330601046

Option 2 ID : 264330601045

Option 3 ID : 264330601044

Option 4 ID : 264330601043

Status : Answered

Chosen Option : 4

Comprehension:

In the following passage, some words have been deleted. Read the passage carefully and select the most appropriate option to fill in each blank.

Health is the most valuable of all earthly possessions. Without it all the rest are worth (1)_____. To enjoy good health we should refrain from excess in eating. We should eat moderately and devour whatever (2)_____ get. When you sit among many for a dinner, do not reach your hand out (3)_____ of all. A little food is sufficient for us. Sound sleep comes of a light stomach. Such a man rises (4)_____ in the morning and is at ease with himself. So to (5)_____ good health we should eat moderately, for a man who does not overeat enjoys sound sleep and rises early completely refreshed.

SubQuestion No : 25

Q.25 Select the most appropriate option to fill in blank no. 5.

- Ans 1. lose
 2. enjoy
 3. reward
 4. benefit

Question ID : 264330153375

Option 1 ID : 264330601050

Option 2 ID : 264330601049

Option 3 ID : 264330601048

Option 4 ID : 264330601047

Status : Answered

Chosen Option : 2