

Multi Tasking Non Technical Staff and Havaldar CBIC and CBN Examination 2023

Roll Number	
Candidate Name	
Venue Name	iON Digital Zone iDZ Naino Ka Bas
Exam Date	12/09/2023
Exam Time	12:30 PM - 2:30 PM
Subject	MTS Non Tech Havaldar CBIC and CBN Examination 2023 Extra Time

Section : Numerical and Mathematical Ability

Q.1 A और B एक काम को क्रमशः 18 और 36 दिनों में कर सकते हैं। वे साथ मिलकर काम करना शुरू करते हैं लेकिन 3 दिन बाद A काम करना छोड़ देता है। शेष काम को पूरा करने में B को कितना समय लगेगा?

- Ans
- 1. 30 दिन
 - 2. 22 दिन
 - 3. 27 दिन
 - 4. 24 दिन

Question ID : 264330154096

Option 1 ID : 264330603848

Option 2 ID : 264330603850

Option 3 ID : 264330603847

Option 4 ID : 264330603849

Status : Answered

Chosen Option : 1

Q.2 निम्नलिखित तालिका का ध्यानपूर्वक अध्ययन कीजिए और नीचे दिए गए प्रश्न का उत्तर दीजिए। तालिका में चार अलग-अलग वर्षों में कंपनी 1, कंपनी 2, कंपनी 3 और कंपनी 4 का कुल उत्पादन (हजारों में) दर्शाया गया है।

वर्ष	कंपनी 1 का कुल उत्पादन	कंपनी 2 का कुल उत्पादन	कंपनी 3 का कुल उत्पादन	कंपनी 4 का कुल उत्पादन
2019	65	76	64	76
2020	88	85	72	68
2021	84	75	68	96
2022	71	84	76	72

वर्ष 2019 से 2022 तक किस कंपनी का औसत उत्पादन सर्वाधिक है?

- Ans
- 1. कंपनी 1
 - 2. कंपनी 4
 - 3. कंपनी 3
 - 4. कंपनी 2

Question ID : 264330157900

Option 1 ID : 264330618959

Option 2 ID : 264330618962

Option 3 ID : 264330618961

Option 4 ID : 264330618960

Status : Answered

Chosen Option : 4

Q.3 प्रतिदिन 6 घंटे काम करके 15 व्यक्ति एक निश्चित काम को 26 दिनों में पूरा कर सकते हैं। प्रतिदिन 10 घंटे काम करके 13 व्यक्ति उसी काम को कितने दिनों में पूरा करेंगे?

- Ans**
- 1. 15
 - 2. 18
 - 3. 20
 - 4. 17

Question ID : 264330155976
Option 1 ID : 264330611305
Option 2 ID : 264330611303
Option 3 ID : 264330611304
Option 4 ID : 264330611306
Status : Answered
Chosen Option : 2

Q.4 एक टैक्सी शहर P से शहर Q तक 60 km/h की औसत चाल से जाती है। वापसी की यात्रा में, ट्रैफिक के कारण, टैक्सी की औसत चाल में 20 km/h की कमी आ जाती है। पूरी यात्रा के दौरान टैक्सी की औसत चाल (km/h में) ज्ञात कीजिए।

- Ans**
- 1. 48
 - 2. 42
 - 3. 40
 - 4. 46

Question ID : 264330155956
Option 1 ID : 264330611225
Option 2 ID : 264330611224
Option 3 ID : 264330611223
Option 4 ID : 264330611226
Status : Answered
Chosen Option : 1

Q.5 ₹8,000 पर 10% वार्षिक दर से 6 वर्ष का साधारण ब्याज ज्ञात कीजिए।

- Ans**
- 1. ₹4,200
 - 2. ₹4,800
 - 3. ₹4,400
 - 4. ₹4,600

Question ID : 264330155964
Option 1 ID : 264330611257
Option 2 ID : 264330611255
Option 3 ID : 264330611258
Option 4 ID : 264330611256
Status : Answered
Chosen Option : 2

Q.6 दो संख्याओं का गुणनफल 4107 है। यदि इन संख्याओं का महत्तम समापवर्तक 37 है, तो बड़ी संख्या कौन-सी है?

- Ans 1. 111
 2. 74
 3. 37
 4. 185

Question ID : 264330156246
Option 1 ID : 264330612385
Option 2 ID : 264330612384
Option 3 ID : 264330612383
Option 4 ID : 264330612386
Status : Answered
Chosen Option : 1

Q.7 यदि एक ठोस गोले का व्यास 42 cm है, तो गोले का पृष्ठीय क्षेत्रफल कितना है? ($\pi = \frac{22}{7}$ का प्रयोग करें)

- Ans 1. 5544 cm²
 2. 5854 cm²
 3. 6897 cm²
 4. 3256 cm²

Question ID : 264330156538
Option 1 ID : 264330613539
Option 2 ID : 264330613541
Option 3 ID : 264330613542
Option 4 ID : 264330613540
Status : Answered
Chosen Option : 1

Q.8 स्कूल A और B में छात्रों की संख्या का अनुपात 5 : 8 है। यदि स्कूल A और B में छात्रों की संख्या में क्रमशः 20% और 15% की वृद्धि हो जाती है, तो क्रमशः स्कूल A और B में छात्रों का नया अनुपात ज्ञात कीजिए।

- Ans 1. 12 : 13
 2. 15 : 13
 3. 15 : 23
 4. 13 : 15

Question ID : 264330153843
Option 1 ID : 264330602837
Option 2 ID : 264330602835
Option 3 ID : 264330602838
Option 4 ID : 264330602836
Status : Answered
Chosen Option : 3

Q.9 15 व्यक्तियों के रहने के लिए एक शंकाकार तम्बू बनाया जाता है। प्रत्येक व्यक्ति के पास जमीन पर 5 वर्ग मीटर जगह है और सांस लेने के लिए 30 घन मीटर हवा होगी। शंकाकार तम्बू की ऊंचाई कितनी है?

- Ans**
- 1. 13 m
 - 2. 22 m
 - 3. 18 m
 - 4. 15 m

Question ID : 264330156200

Option 1 ID : 264330612199

Option 2 ID : 264330612202

Option 3 ID : 264330612201

Option 4 ID : 264330612200

Status : Answered

Chosen Option : 3

Q.10 एक राजमार्ग पर दो स्थान A और B एक-दूसरे से 60 km की दूरी पर हैं। एक कार A से और दूसरी कार B से एक ही समय पर चलना शुरू करती हैं। यदि वे एक ही दिशा में चलती हैं, तो वे 6 घंटे में एक-दूसरे से मिलती हैं। यदि वे एक-दूसरे की ओर विपरीत दिशा में चलती हैं, तो वे 1 घंटे 30 मिनट में मिलती हैं। कारों की चाल ज्ञात कीजिए (km/h में)।

- Ans**
- 1. 25, 20
 - 2. 15, 18
 - 3. 15, 20
 - 4. 25, 15

Question ID : 264330156006

Option 1 ID : 264330611425

Option 2 ID : 264330611426

Option 3 ID : 264330611424

Option 4 ID : 264330611423

Status : Answered

Chosen Option : 4

Q.11 एक पुलिसकर्मी एक चोर को 249 m की दूरी से देखता है। जब पुलिसकर्मी चोर का पीछा करना शुरू करता है तो चोर भी भागने लगता है। यह मानते हुए कि चोर की चाल 4 m/s और पुलिसकर्मी की चाल 7 m/s है, पुलिसकर्मी द्वारा पकड़े जाने से पहले चोर कितनी दूरी तय कर चुका होगा?

- Ans**
- 1. 332 m
 - 2. 521 m
 - 3. 747 m
 - 4. 249 m

Question ID : 264330153881

Option 1 ID : 264330602988

Option 2 ID : 264330602987

Option 3 ID : 264330602989

Option 4 ID : 264330602990

Status : Answered

Chosen Option : 1

Q.12 एक बैंक अपनी जमा राशियों पर अर्धवार्षिक रूप से संयोजित 5% वार्षिक का चक्रवृद्धि ब्याज देता है। एक ग्राहक किसी वर्ष की 1 जनवरी और 1 जुलाई को प्रत्येक ₹2,400 की धनराशियां जमा करता है। वर्ष के अंत में उसे प्राप्त होने वाली धनराशि ज्ञात कीजिए।

- Ans** ✓ 1. ₹4,981.50
✗ 2. ₹181.50
✗ 3. ₹180.50
✗ 4. ₹4,081.50

Question ID : 264330153851
Option 1 ID : 264330602869
Option 2 ID : 264330602868
Option 3 ID : 264330602867
Option 4 ID : 264330602870
Status : Answered
Chosen Option : 1

Q.13 एक आईपीएल मैच में 22 खिलाड़ियों का औसत स्कोर 72 है। इन 22 खिलाड़ियों में से 10 खिलाड़ियों का औसत स्कोर 80 है, अगले 5 खिलाड़ियों का औसत स्कोर 75 है और बाकी 5 खिलाड़ियों का औसत स्कोर 55 है। शेष दो खिलाड़ियों का औसत स्कोर कितना है?

- Ans** ✓ 1. 67
✗ 2. 72
✗ 3. 80
✗ 4. 65

Question ID : 264330154042
Option 1 ID : 264330603634
Option 2 ID : 264330603633
Option 3 ID : 264330603631
Option 4 ID : 264330603632
Status : Answered
Chosen Option : 1

Q.14 18% की हानि के स्थान पर 12% की हानि पर एक वस्तु बेचने पर वस्तु ₹120 अधिक में बिकती है। इसका क्रय मूल्य ज्ञात कीजिए।

- Ans** ✓ 1. ₹ 2,000
✗ 2. ₹ 2,100
✗ 3. ₹ 1,800
✗ 4. ₹ 1,500

Question ID : 264330156073
Option 1 ID : 264330611694
Option 2 ID : 264330611691
Option 3 ID : 264330611692
Option 4 ID : 264330611693
Status : Answered
Chosen Option : 1

Q.15 रमन ने ₹1,00,000 में एक वस्तु खरीदी और उसे मोहित को ₹1,20,000 में बेच दिया। मोहित ने फिर वही वस्तु रश्मी को ₹1,00,000 में बेच दी। मोहित को कितने प्रतिशत हानि हुई?

- Ans
- ✓ 1. $16\frac{2}{3}\%$
 - ✗ 2. 15%
 - ✗ 3. $18\frac{1}{3}\%$
 - ✗ 4. 20%

Question ID : 264330155710
Option 1 ID : 264330610244
Option 2 ID : 264330610243
Option 3 ID : 264330610245
Option 4 ID : 264330610246
Status : Answered
Chosen Option : 1

Q.16 यदि चीनी के मूल्य में 12% की कमी होने के कारण अक्षत ₹1,200 में 7 kg चीनी अधिक खरीद सकता है, तो चीनी का वास्तविक मूल्य (₹ में) ज्ञात कीजिए। (दशमलव के 2 स्थानों तक सन्निकटित)

- Ans
- ✗ 1. 26.35
 - ✗ 2. 28.25
 - ✗ 3. 25.79
 - ✓ 4. 23.38

Question ID : 264330155732
Option 1 ID : 264330610332
Option 2 ID : 264330610331
Option 3 ID : 264330610333
Option 4 ID : 264330610334
Status : Answered
Chosen Option : 4

Q.17 संदीप एक दुकान तक 500 मीटर की दूरी 175 सेकंड में तय करता है। फिर वह एक दूसरी दुकान तक 400 मीटर की दूरी 125 सेकंड में तय करता है। उसकी औसत चाल (m/s में) क्या है?

- Ans
- ✗ 1. 3.5
 - ✓ 2. 3
 - ✗ 3. 2
 - ✗ 4. 2.5

Question ID : 264330156214
Option 1 ID : 264330612258
Option 2 ID : 264330612257
Option 3 ID : 264330612255
Option 4 ID : 264330612256
Status : Answered
Chosen Option : 2

Q.18 y varies directly as $x + 3$ and $y = 8$, when $x = 1$. x varies inversely as z and $x = 2$ when $z = 6$. Find the relation between y and z.

- Ans
- 1. $(y - 6)/z = 24$
 - 2. $(y - 6)/z = 12$
 - 3. $z (y - 6) = 12$
 - 4. $z (y - 6) = 24$

Question ID : 264330153847

Option 1 ID : 264330602853

Option 2 ID : 264330602851

Option 3 ID : 264330602852

Option 4 ID : 264330602854

Status : Answered

Chosen Option : 1

Q.19 $\frac{\left[\frac{1}{5} \div \frac{1}{5} \times \frac{1}{5}\right] \times \frac{1}{5}}{\left[\frac{1}{9} + \frac{1}{9} \times \frac{1}{9}\right] \times \frac{1}{10}} + \left(1 - \frac{6}{25}\right)$ का मान क्या है?

- Ans
- 1. 1
 - 2. 3
 - 3. 4
 - 4. 2

Question ID : 264330153754

Option 1 ID : 264330602482

Option 2 ID : 264330602480

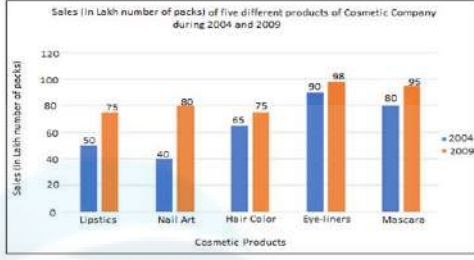
Option 3 ID : 264330602479

Option 4 ID : 264330602481

Status : Answered

Chosen Option : 3

Q.20 निम्नलिखित दंड आलेख में 2004 और 2009 के बीच एक कंपनी द्वारा पांच कॉस्मेटिक उत्पादों की बिक्री को (पैक की लाख संख्या में) दर्शाया गया है। दंड आलेख का अध्ययन कीजिए और उसके आधार पर प्रश्न का उत्तर दीजिए।



संदर्भ: Sales (in lakh number of packs) of five different products of Cosmetic company during 2004 and 2009 = 2004 और 2009 के दौरान कॉस्मेटिक कंपनी के पांच अलग-अलग उत्पादों की बिक्री (पैक की लाख संख्या में), Sales (in lakh number of packs) = बिक्री (पैक की लाख संख्या में), Cosmetic products = कॉस्मेटिक उत्पाद, Lipstics - लिपस्टिक, Nail Art - नैल आर्ट, Hair color - हैयर कलर, Eye-liners - आइ लाइनर, Mascara - मसकारा

2004 की तुलना में 2009 में सभी कॉस्मेटिक उत्पादों की मिलाकर औसत बिक्री में प्रतिशत वृद्धि (निकटतम पूर्णांक तक सन्निकटित) कितनी है?

- Ans
- 1. 33%
 - 2. 30%
 - 3. 28%
 - 4. 36%

Question ID : 264330153781

Option 1 ID : 264330602587

Option 2 ID : 264330602589

Option 3 ID : 264330602590

Option 4 ID : 264330602588

Status : Answered

Chosen Option : 2

Section : Reasoning Ability and Problem Solving

Q.1 दी गई श्रृंखला में प्रश्न चिह्न '?' के स्थान पर क्या आना चाहिए?

227 226 218 191 127 ?

- Ans
- 1. 3
 - 2. 4
 - 3. 1
 - 4. 2

Question ID : 264330151559

Option 1 ID : 264330593865

Option 2 ID : 264330593866

Option 3 ID : 264330593863

Option 4 ID : 264330593864

Status : Answered

Chosen Option : 4

Q.2 PD 17, TH 19 से एक निश्चित प्रकार से संबंधित है। उसी प्रकार, HK 23, LO 29 से संबंधित है। समान तर्क का अनुसरण करते हुए FJ 11 निम्नलिखित में से किससे संबंधित है?

- Ans** 1. JN 13
 2. IM 13
 3. IN 15
 4. HL 17

Question ID : 264330151673
Option 1 ID : 264330594319
Option 2 ID : 264330594322
Option 3 ID : 264330594320
Option 4 ID : 264330594321
Status : Answered
Chosen Option : 1

Q.3 नीचे दिए गए कथन/कथनों और निष्कर्षों को ध्यानपूर्वक पढ़िए। आपको मानना है कि दिए गए कथन सत्य हैं चाहे वे समान्यतः ज्ञात तथ्यों से अलग प्रतीत होते हों। आपको निश्चय करना है कि कौन-सा/कौन-से निष्कर्ष तार्किक रूप से दिए गए कथन/कथनों के अनुसार है/हैं।

कथन: कुछ गाय, कौवे हैं। कुछ कौवे, हाथी हैं।
निष्कर्ष:
(I) कुछ गाय, हाथी हैं।
(II) सभी कौवे, हाथी हैं।

- Ans** 1. दोनों निष्कर्ष (I) और (II) कथनों के अनुसार हैं।
 2. केवल निष्कर्ष (I) कथनों के अनुसार है।
 3. न तो निष्कर्ष (I) और न ही (II) कथनों के अनुसार है।
 4. केवल निष्कर्ष (II) कथनों के अनुसार है।

Question ID : 264330154426
Option 1 ID : 264330605170
Option 2 ID : 264330605167
Option 3 ID : 264330605169
Option 4 ID : 264330605168
Status : Answered
Chosen Option : 3

Q.4 यदि 'A' का अर्थ '×', 'B' का अर्थ '÷', 'C' का अर्थ '+' और 'D' का अर्थ '-' है, तो निम्नलिखित समीकरण में प्रश्न चिन्ह (?) के स्थान पर क्या आएगा?
27 B 3 C (54 A 2) B 5 D 55 = ?

- Ans** 1. 153
 2. 167
 3. 161
 4. 159

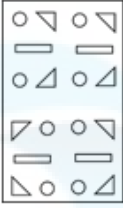
Question ID : 264330151787
Option 1 ID : 264330594776
Option 2 ID : 264330594778
Option 3 ID : 264330594775
Option 4 ID : 264330594777
Status : Answered
Chosen Option : 3

Q.5 निम्नलिखित आकृतियों में एक कागज़ के टुकड़े को मोड़ने के क्रम और मुड़े हुए कागज़ को काटने के तरीके को दर्शाया गया है। खोलने पर यह कागज़ केसा दिखाई देगा?



Ans

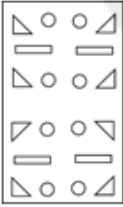
✗ 1.



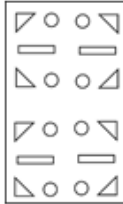
✗ 2.



✗ 3.



✓ 4.



Question ID : 264330155611

Option 1 ID : 264330609848

Option 2 ID : 264330609847

Option 3 ID : 264330609849

Option 4 ID : 264330609850

Status : Answered

Chosen Option : 4

Q.6 दी गई श्रृंखला में प्रश्न चिह्न '?' के स्थान पर क्या आना चाहिए?

108 103 98 93 88 ?

Ans

✓ 1. 83

✗ 2. 82

✗ 3. 84

✗ 4. 81

Question ID : 264330151550

Option 1 ID : 264330593829

Option 2 ID : 264330593828

Option 3 ID : 264330593830

Option 4 ID : 264330593827

Status : Answered

Chosen Option : 1

Q.7 एक निश्चित तर्क के अनुसार 2, 5 से संबंधित है। समान तर्क के अनुसार, 6, 37 से संबंधित है। समान तर्क का अनुसरण करते हुए 9 निम्नलिखित में से किससे संबंधित है?

- Ans
- 1. 84
 - 2. 83
 - 3. 82
 - 4. 81

Question ID : 264330151595
Option 1 ID : 264330594010
Option 2 ID : 264330594009
Option 3 ID : 264330594008
Option 4 ID : 264330594007
Status : Answered
Chosen Option : 3

Q.8 एक निश्चित कूट भाषा में, 'CRAFT' को 'DSBGL' लिखा जाता है और 'FRIDAY' को 'GSJEBZ' लिखा जाता है। उस कूट भाषा में 'MANGO' को कैसे लिखा जाएगा?

- Ans
- 1. MCOGP
 - 2. NCOGQ
 - 3. NBOHP
 - 4. MBPGQ

Question ID : 264330155811
Option 1 ID : 264330610649
Option 2 ID : 264330610647
Option 3 ID : 264330610650
Option 4 ID : 264330610648
Status : Answered
Chosen Option : 3

Q.9 एक निश्चित कूट भाषा में, 'DROP' को '9375' लिखा जाता है और 'POND' को '7839' लिखा जाता है। उसी कूट भाषा में 'N' को कैसे लिखा जाएगा?

- Ans
- 1. 3
 - 2. 8
 - 3. 7
 - 4. 9

Question ID : 264330151710
Option 1 ID : 264330594467
Option 2 ID : 264330594470
Option 3 ID : 264330594468
Option 4 ID : 264330594469
Status : Answered
Chosen Option : 2

Q.10 यदि '+' और '-' को आपस में बदल दिया जाए तथा '×' और '÷' को आपस में बदल दिया जाए तो निम्नलिखित समीकरण में (?) के स्थान पर क्या आएगा?
 $83 + 17 ÷ 4 - 64 × 16 = ?$

- Ans
- 1. 9
 - 2. 19
 - 3. 18
 - 4. 29

Question ID : 264330155670
Option 1 ID : 264330610086
Option 2 ID : 264330610085
Option 3 ID : 264330610083
Option 4 ID : 264330610084
Status : Answered
Chosen Option : 2

Q.11 दी गई श्रृंखला में प्रश्न चिन्ह '?' के स्थान पर क्या आना चाहिए?

8 27 84 255 768 ?

- Ans
- 1. 2271
 - 2. 2307
 - 3. 2235
 - 4. 2297

Question ID : 264330151497
Option 1 ID : 264330593616
Option 2 ID : 264330593618
Option 3 ID : 264330593615
Option 4 ID : 264330593617
Status : Answered
Chosen Option : 2

Q.12 यदि 4 दिसंबर 1987 को शुक्रवार है, तो 12 दिसंबर 2009 को सप्ताह का कौन-सा दिन होगा?

- Ans
- 1. शुक्रवार
 - 2. बुधवार
 - 3. रविवार
 - 4. शनिवार

Question ID : 264330154357
Option 1 ID : 264330604892
Option 2 ID : 264330604891
Option 3 ID : 264330604894
Option 4 ID : 264330604893
Status : Answered
Chosen Option : 4

Q.13 नीचे दिए गए कथनों और निष्कर्षों को ध्यानपूर्वक पढ़िए। आपको मानना है कि दिए गए कथन सत्य हैं चाहे वे सामान्यतः ज्ञात तथ्यों से अलग प्रतीत होते हों। आपको निश्चय करना है कि कौन-सा/कौन-से निष्कर्ष तार्किक रूप से दिए गए कथनों के अनुसार है/हैं।

कथन: कुछ अक्षर, कुर्सियाँ हैं। कुछ कुर्सियाँ, ऊँची हैं। सभी ऊँची, इमारतें हैं।

निष्कर्ष I: कुछ अक्षर, इमारतें हैं।

निष्कर्ष II: कुछ ऊँची, इमारतें हैं।

- Ans**
- 1. दोनों निष्कर्ष (I) और (II) कथनों के अनुसार हैं।
 - 2. केवल निष्कर्ष (II) कथनों के अनुसार है।
 - 3. न तो निष्कर्ष (I) और न ही (II) कथनों के अनुसार है।
 - 4. केवल निष्कर्ष (I) कथनों के अनुसार है।

Question ID : 264330155924

Option 1 ID : 264330611102

Option 2 ID : 264330611100

Option 3 ID : 264330611101

Option 4 ID : 264330611099

Status : Answered

Chosen Option : 2

Q.14 अंग्रेजी वर्णमाला क्रम के आधार पर दी गई श्रृंखला में प्रश्न चिह्न (?) के स्थान पर क्या आना चाहिए?

JVC, LXD, NZE, PBF, ?

- Ans**
- 1. QDH
 - 2. SCH
 - 3. RDG
 - 4. QCF

Question ID : 264330155772

Option 1 ID : 264330610493

Option 2 ID : 264330610494

Option 3 ID : 264330610492

Option 4 ID : 264330610491

Status : Answered

Chosen Option : 3

Q.15 अंग्रेजी वर्णमाला क्रम के आधार पर दी गई श्रृंखला में प्रश्न चिह्न (?) के स्थान पर क्या आना चाहिए?

BPR, FRV, JTZ, NVD, ?

- Ans**
- 1. QXG
 - 2. RXH
 - 3. SXI
 - 4. QYG

Question ID : 264330155780

Option 1 ID : 264330610524

Option 2 ID : 264330610526

Option 3 ID : 264330610523

Option 4 ID : 264330610525

Status : Answered

Chosen Option : 2

Q.16 यदि निम्नलिखित आकृति श्रृंखला को जारी रखना हो तो कौन-सी आकृति प्रश्न चिह्न (?) के स्थान पर आनी चाहिए?

A	<input type="checkbox"/>	<input type="checkbox"/>	A	E	D	D	E		
	E	3		C	E	<input type="checkbox"/>	C	A	<input type="checkbox"/>
C	D		D	3	A	8	8	C	?

Ans

✓ 1.

<input type="checkbox"/>		8
	D	A
E	☆	

✗ 2.

<input type="checkbox"/>		8
	E	D
A	☆	

✗ 3.

<input type="checkbox"/>		☆
	D	A
C	8	

✗ 4.

☆		8
	E	C
A	<input type="checkbox"/>	

Question ID : 264330154766

Option 1 ID : 264330606530

Option 2 ID : 264330606528

Option 3 ID : 264330606527

Option 4 ID : 264330606529

Status : Answered

Chosen Option : 1

Q.17 अंग्रेजी वर्णमाला क्रम के आधार पर दी गई श्रृंखला में प्रश्न चिह्न (?) के स्थान पर क्या आना चाहिए?

ZKP, DHR, HET, LBV, ?

Ans

✓ 1. PYX

✗ 2. RYX

✗ 3. QZY

✗ 4. QYZ

Question ID : 264330155802

Option 1 ID : 264330610612

Option 2 ID : 264330610613

Option 3 ID : 264330610611

Option 4 ID : 264330610614

Status : Answered

Chosen Option : 1

Q.18 रंजन, परी, यश, चारू, रीतू और गुंजन एक वृत्ताकार मेज के चारों ओर केंद्र की ओर मुख करके बैठे हैं। रंजन, परी के बाईं ओर से तीसरे स्थान पर बैठा है। यश, रंजन के बाईं ओर से दूसरे स्थान पर बैठा है। चारू, रंजन के दाईं ओर से दूसरे स्थान पर बैठी है। रीतू, चारू की निकटतम पड़ोसी है। परी के दाईं ओर से दूसरे स्थान पर कौन बैठा/बैठी है?

- Ans**
- ✓ 1. गुंजन
 - ✗ 2. यश
 - ✗ 3. चारू
 - ✗ 4. रीतू

Question ID : 264330155655

Option 1 ID : 264330610023

Option 2 ID : 264330610025

Option 3 ID : 264330610026

Option 4 ID : 264330610024

Status : Answered

Chosen Option : 1

Q.19 उस समुच्चय को चुनिए जिसमें संख्याएँ ठीक उसी प्रकार संबंधित हैं जिस प्रकार निम्नलिखित समुच्चयों की संख्याएँ संबंधित हैं।

(ध्यान दें: संख्याओं को उनके घटक अंकों में अलग-अलग किए बिना, पूर्ण संख्याओं पर संक्रियाएँ की जानी चाहिए। उदा. 13 - संख्या 13 पर संक्रियाएँ जैसे 13 को जोड़ना/घटाना/गुणा करना आदि किया जा सकता है। 13 को 1 और 3 में अलग-अलग करने की ओर फिर 1 और 3 पर गणितीय संक्रियाएँ करने की अनुमति नहीं है।)

(32, 99, 67)

(22, 77, 55)

- Ans**
- ✓ 1. 23, 87, 64
 - ✗ 2. 53, 98, 33
 - ✗ 3. 12, 45, 14
 - ✗ 4. 35, 87, 12

Question ID : 264330151613

Option 1 ID : 264330594080

Option 2 ID : 264330594082

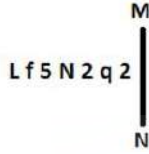
Option 3 ID : 264330594079

Option 4 ID : 264330594081

Status : Answered

Chosen Option : 1

Q.20 दी गई आकृति के उस सही दर्पण प्रतिबिंब को चुनिए, जो नीचे दर्शाए गए अनुसार दर्पण को MN पर रखने पर बनेगा।



- Ans
- 1. q 2 5 N 2 f L
 - 2. 5 p 5 N 2 f J
 - 3. 5 p 2 N 2 f J
 - 4. 5 p 2 N 5 f J

Question ID : 264330151522

Option 1 ID : 264330593716

Option 2 ID : 264330593717

Option 3 ID : 264330593718

Option 4 ID : 264330593715

Status : Answered

Chosen Option : 2

Section : General Awareness

Q.1 1931 में भारतीय राष्ट्रीय कांग्रेस द्वारा कौन-सा ध्वज अपनाया गया था?

- Ans
- 1. खादी द्वारा निर्मित चरखा चिन्ह वाला तिरंगा ध्वज
 - 2. कपड़े से निर्मित नीले रंग का ध्वज
 - 3. चरखा चिन्ह वाला एक रंग का ध्वज
 - 4. कपड़े द्वारा निर्मित चरखे वाला दो रंग का ध्वज

Question ID : 264330160880

Option 1 ID : 264330630853

Option 2 ID : 264330630852

Option 3 ID : 264330630851

Option 4 ID : 264330630854

Status : Answered

Chosen Option : 1

Q.2 जब किसी अर्थव्यवस्था की 'सीमा-पार आर्थिक गतिविधियों (trans-boundary economic activities)' और मूल्यहास पर विचार किया जाता है, तो समग्र आकलन (aggregate measure) को _____ के रूप में जाना जाता है।

- Ans
- 1. GDP
 - 2. NNP
 - 3. GNP
 - 4. PCI

Question ID : 264330166033

Option 1 ID : 264330651208

Option 2 ID : 264330651209

Option 3 ID : 264330651207

Option 4 ID : 264330651210

Status : Answered

Chosen Option : 2

Q.3 पथ या सड़क विक्रेताओं (street vendors) के वित्तीय समावेशन के लिए भारत सरकार द्वारा शुरू की गई योजना का नाम क्या है, जिसकी वर्षगांठ का समारोह 9 जुलाई से 31 जुलाई 2022 तक आयोजित किया गया था?

- Ans
- 1. पीएम आवासनिधि योजना (PM AVASNidhi Scheme)
 - 2. पीएम स्वाधीन योजना (PM SVAdhin Scheme)
 - 3. पीएम स्वनिधि योजना (PM SVANidhi Scheme)
 - 4. पीएम स्वाधार योजना (PM SVAdhar Scheme)

Question ID : 264330161411
Option 1 ID : 264330632971
Option 2 ID : 264330632973
Option 3 ID : 264330632972
Option 4 ID : 264330632974
Status : Answered
Chosen Option : 3

Q.4 भारत में राष्ट्रीय खेल दिवस किस तिथि को मनाया जाता है?

- Ans
- 1. 6 दिसंबर
 - 2. 29 अगस्त
 - 3. 14 नवंबर
 - 4. 1 सितंबर

Question ID : 264330158233
Option 1 ID : 264330620294
Option 2 ID : 264330620291
Option 3 ID : 264330620293
Option 4 ID : 264330620292
Status : Answered
Chosen Option : 2

Q.5 तमिलनाडु के _____ ने मार्च 2023 में दूसरी एएफआई राष्ट्रीय कूद प्रतियोगिता (AFI National Jumps Competition) में पुरुषों की लंबी कूद में राष्ट्रीय रिकॉर्ड बनाया।

- Ans
- 1. सुरेश बाबू
 - 2. मुरली श्रीशंकर
 - 3. जेस्विन एल्लिन्न
 - 4. अनीस याहिया

Question ID : 264330161440
Option 1 ID : 264330633090
Option 2 ID : 264330633087
Option 3 ID : 264330633088
Option 4 ID : 264330633089
Status : Answered
Chosen Option : 2

Q.6 नीति आयोग (NITI Aayog) की पहली बहुआयामी गरीबी सूचकांक (MPI) 2021 रिपोर्ट के अनुसार, भारत में कौन-सा राज्य चौथे स्थान पर है?

- Ans 1. मध्य प्रदेश
 2. मेघालय
 3. असम
 4. हिमाचल प्रदेश

Question ID : 264330166020
Option 1 ID : 264330651157
Option 2 ID : 264330651156
Option 3 ID : 264330651155
Option 4 ID : 264330651158
Status : Not Answered
Chosen Option : --

Q.7 हमारे पहले प्रधान मंत्री कौन थे?

- Ans 1. जवाहर लाल नेहरू
 2. इंदिरा गांधी
 3. राजेन्द्र प्रसाद
 4. गुलजारीलाल नंदा

Question ID : 264330159912
Option 1 ID : 264330626997
Option 2 ID : 264330626995
Option 3 ID : 264330626996
Option 4 ID : 264330626998
Status : Answered
Chosen Option : 1

Q.8 निम्नलिखित युग्मों में से कौन-सा युग्म दो अदिश राशियों को दर्शाता है?

- Ans 1. दूरी और चाल
 2. विद्युत क्षेत्र और बल
 3. रेखीय संवेग और त्वरण
 4. संवेग और कोणीय वेग

Question ID : 264330157781
Option 1 ID : 264330618486
Option 2 ID : 264330618485
Option 3 ID : 264330618483
Option 4 ID : 264330618484
Status : Answered
Chosen Option : 3

Q.9 स्टैच्यू ऑफ यूनिटी निम्नलिखित में से किस राज्य में स्थित है?

- Ans
- 1. राजस्थान
 - 2. गुजरात
 - 3. पंजाब
 - 4. महाराष्ट्र

Question ID : 264330160774
Option 1 ID : 264330630429
Option 2 ID : 264330630428
Option 3 ID : 264330630427
Option 4 ID : 264330630430
Status : Answered
Chosen Option : 2

Q.10 'विंग्स ऑफ फायर (Wings of Fire)' भारत के किस पूर्व राष्ट्रपति की आत्मकथा है?

- Ans
- 1. ए. पी. जे. अब्दुल कलाम
 - 2. वी. वी. गिरि
 - 3. शंकर दयाल शर्मा
 - 4. जाकिर हुसैन

Question ID : 264330160963
Option 1 ID : 264330631184
Option 2 ID : 264330631185
Option 3 ID : 264330631186
Option 4 ID : 264330631183
Status : Answered
Chosen Option : 1

Q.11 भारतीय संविधान की कौन-सी अनुसूची संघ और राज्यों (Union and the states) के बीच शक्तियों के विभाजन से संबंधित है?

- Ans
- 1. दूसरी
 - 2. पांचवीं
 - 3. नौवीं
 - 4. सातवीं

Question ID : 264330159896
Option 1 ID : 264330626931
Option 2 ID : 264330626932
Option 3 ID : 264330626934
Option 4 ID : 264330626933
Status : Answered
Chosen Option : 4

Q.12 भारत के निम्नलिखित पार्श्व गायकों में से किसे 2009 में पद्म श्री और 2016 में पद्म भूषण प्राप्त हुआ?

- Ans
- 1. उदित नारायण झा
 - 2. कुमार शानू भट्टाचार्य
 - 3. सोनू निगम
 - 4. अभिजीत भट्टाचार्य

Question ID : 264330161769
Option 1 ID : 264330634405
Option 2 ID : 264330634404
Option 3 ID : 264330634406
Option 4 ID : 264330634403
Status : Not Answered
Chosen Option : --

Q.13 निम्नलिखित में से कौन-सी पर्वतमाला राजस्थान राज्य से सम्बंधित है?

- Ans
- 1. विंध्य पर्वतमाला
 - 2. सतपुड़ा पर्वतमाला
 - 3. सह्याद्रि पर्वतमाला
 - 4. अरावली पर्वतमाला

Question ID : 264330161530
Option 1 ID : 264330633449
Option 2 ID : 264330633447
Option 3 ID : 264330633450
Option 4 ID : 264330633448
Status : Answered
Chosen Option : 4

Q.14 निम्नलिखित में से 'रिवोल्यूशन 2020' (Revolution 2020) पुस्तक के लेखक कौन हैं?

- Ans
- 1. चेतन भगत
 - 2. सिद्धार्थ सरमा
 - 3. उमर अहमद
 - 4. जाँय गोस्वामी

Question ID : 264330155459
Option 1 ID : 264330609239
Option 2 ID : 264330609241
Option 3 ID : 264330609240
Option 4 ID : 264330609242
Status : Answered
Chosen Option : 1

Q.15 निम्नलिखित में से क्या प्रयोज्य आय (disposable income) को दर्शाता है?

- Ans
- 1. किसी अर्थव्यवस्था में व्यवसायों और निगमों द्वारा अर्जित कुल आय
 - 2. करों और अन्य कटौतियों से पहले व्यक्तियों और परिवारों द्वारा अर्जित कुल आय
 - 3. व्यक्तियों द्वारा अपने स्वयं के व्यवसाय या स्वरोजगार के माध्यम से अर्जित आय
 - 4. करों और अन्य कटौतियों के बाद व्यक्तियों और परिवारों द्वारा अर्जित आय

Question ID : 264330157319
Option 1 ID : 264330616639
Option 2 ID : 264330616640
Option 3 ID : 264330616642
Option 4 ID : 264330616641
Status : Not Answered
Chosen Option : --

Q.16 FIFA U-17 महिला विश्व कप 2022 में कितने देशों ने भाग लिया?

- Ans 1. 16
 2. 14
 3. 18
 4. 12

Question ID : 264330158227
Option 1 ID : 264330620269
Option 2 ID : 264330620268
Option 3 ID : 264330620270
Option 4 ID : 264330620267
Status : Answered
Chosen Option : 2

Q.17 निम्नलिखित में से किस राज्य में शीत ऋतु के दौरान वर्षा होती है?

- Ans 1. महाराष्ट्र
 2. तमिलनाडु
 3. झारखंड
 4. राजस्थान

Question ID : 264330161308
Option 1 ID : 264330632561
Option 2 ID : 264330632562
Option 3 ID : 264330632559
Option 4 ID : 264330632560
Status : Answered
Chosen Option : 2

Q.18 निम्नलिखित में से कौन-सा विटामिन/पोषक तत्व नवजात शिशु के मस्तिष्क और रीढ़ की हड्डी के प्रमुख जन्म दोषों को रोकता है?

- Ans 1. विटामिन E
 2. विटामिन A
 3. फोलिक अम्ल
 4. विटामिन C

Question ID : 264330156611
Option 1 ID : 264330613833
Option 2 ID : 264330613831
Option 3 ID : 264330613834
Option 4 ID : 264330613832
Status : Answered
Chosen Option : 4

Q.19 प्रसिद्ध _____ लोक नृत्य कलाकार डोमार सिंह कुंवर (Domar Singh Kunwar), जिन्होंने पांच दशकों से अधिक समय तक नृत्य की परंपरा को संरक्षित करने के लिए अपना जीवन समर्पित किया है, को पद्म श्री 2023 से सम्मानित किया गया।

- Ans
- 1. पंडवानी (Pandwani)
 - 2. नाट्य नाचा (Natya Nacha)
 - 3. राऊत नाचा (Raut Nacha)
 - 4. सूवा (Soowa)

Question ID : 264330160803
Option 1 ID : 264330630544
Option 2 ID : 264330630543
Option 3 ID : 264330630545
Option 4 ID : 264330630546
Status : Not Answered
Chosen Option : --

Q.20 निम्नलिखित में से किस संगीत निर्देशक ने वर्ष 2009 में ऑस्कर पुरस्कार जीता?

- Ans
- 1. बप्पी लहरी
 - 2. राजेश रोशन
 - 3. ए.आर. रहमान
 - 4. विशाल भारद्वाज

Question ID : 264330155503
Option 1 ID : 264330609417
Option 2 ID : 264330609416
Option 3 ID : 264330609415
Option 4 ID : 264330609418
Status : Answered
Chosen Option : 3

Q.21 राष्ट्रीय बहुआयामी गरीबी सूचकांक 2021 के अनुसार, किस राज्य की जनसंख्या का बहुआयामी गरीब प्रतिशत सबसे कम है?

- Ans
- 1. केरल
 - 2. मध्यप्रदेश
 - 3. राजस्थान
 - 4. उत्तरप्रदेश

Question ID : 264330160169
Option 1 ID : 264330628018
Option 2 ID : 264330628015
Option 3 ID : 264330628016
Option 4 ID : 264330628017
Status : Answered
Chosen Option : 1

Q.22 कौन-सा त्योहार छत्तीसगढ़ और ओडिशा की मिश्रित समृद्ध संस्कृति को सामने लाता है?

- Ans
- 1. रथयात्रा (Rath Yatra)
 - 2. माधवपुर मेला (Madhavpur fair)
 - 3. बस्तर गोंचा (Bastar Goncha)
 - 4. शूलिनी मेला (Shoolini fair)

Question ID : 264330159083

Option 1 ID : 264330623693

Option 2 ID : 264330623694

Option 3 ID : 264330623692

Option 4 ID : 264330623691

Status : Answered

Chosen Option : 1

Q.23 निम्नलिखित में से कुचिपुड़ी की श्री साईं नटराज अकादमी (Sri Sai Nataraja Academy of Kuchipudi) के संस्थापक सदस्य कौन थे जो कुचिपुड़ी में प्रशिक्षण और उच्च शिक्षा प्रदान करती है?

- Ans
- 1. कौशल्या रेड्डी
 - 2. पी रमादेवी
 - 3. यामिनी कृष्णमूर्ति
 - 4. अपर्णा सतीसन

Question ID : 264330155483

Option 1 ID : 264330609336

Option 2 ID : 264330609337

Option 3 ID : 264330609335

Option 4 ID : 264330609338

Status : Answered

Chosen Option : 3

Q.24 भारत रक्षा अधिनियम (Defence of India Act) कब लागू किया गया था?

- Ans
- 1. 1920
 - 2. 1921
 - 3. 1918
 - 4. 1915

Question ID : 264330160878

Option 1 ID : 264330630845

Option 2 ID : 264330630846

Option 3 ID : 264330630844

Option 4 ID : 264330630843

Status : Not Answered

Chosen Option : --

Q.25 वसंत ऋतु के आगमन पर _____ गांव 'बागुरुम्बा (Bagurumba)' के मधुर गायन से झूम उठता है।

- Ans
- 1. कार्बी (Karbi)
 - 2. खासी (Khasi)
 - 3. गारो (Garo)
 - 4. बोडो (Bodo)

Question ID : 264330160796
Option 1 ID : 264330630518
Option 2 ID : 264330630515
Option 3 ID : 264330630517
Option 4 ID : 264330630516
Status : Marked For Review
Chosen Option : 1

Section : English Language and Comprehension

Q.1 Select the most appropriate idiom to fill in the blank.
Rahul speaks easily in front of a small group, but he seems _____ before a large audience.

- Ans
- 1. ill-disposed to
 - 2. man of ill repute
 - 3. think ill of
 - 4. ill at ease

Question ID : 264330153103
Option 1 ID : 264330599978
Option 2 ID : 264330599975
Option 3 ID : 264330599976
Option 4 ID : 264330599977
Status : Answered
Chosen Option : 2

Q.2 Parts of the given sentence have been underlined. One of them contains an error. The underlined parts are given as options with some changes. Select the option that correctly rectifies the error.
Sohan is the older brother of my best friend.

- Ans
- 1. to my
 - 2. elder
 - 3. good
 - 4. an

Question ID : 264330153173
Option 1 ID : 264330600253
Option 2 ID : 264330600252
Option 3 ID : 264330600254
Option 4 ID : 264330600251
Status : Answered
Chosen Option : 2

Q.3 Select the most appropriate meaning of the given idiom.
Beat around the bush

- Ans
- 1. To avoid people
 - 2. To have patience
 - 3. To talk about important things
 - 4. To avoid talking about what is important

Question ID : 264330152723
Option 1 ID : 264330598492
Option 2 ID : 264330598491
Option 3 ID : 264330598493
Option 4 ID : 264330598494
Status : Answered
Chosen Option : 4

Q.4 Identify and correct the INCORRECTLY spelt word in the given sentence.
Sliding each bead from one side to the other, the student used the abacus to count out the number of days in a week.

- Ans
- 1. number
 - 2. beed
 - 3. Slaiding
 - 4. abacuss

Question ID : 264330153598
Option 1 ID : 264330601882
Option 2 ID : 264330601880
Option 3 ID : 264330601879
Option 4 ID : 264330601881
Status : Answered
Chosen Option : 1

Q.5 Select the most appropriate meaning of the underlined segment in the given sentence.
I can't believe you let the cat out of the bag about my surprise party!

- Ans
- 1. Ask a question
 - 2. Make a joke
 - 3. Keep a secret
 - 4. Reveal a secret

Question ID : 264330152684
Option 1 ID : 264330598342
Option 2 ID : 264330598341
Option 3 ID : 264330598339
Option 4 ID : 264330598340
Status : Answered
Chosen Option : 4

Q.6 There is a spelling error in the given sentence. Select the option that contains the **INCORRECTLY** spelt word.
As per manager's opinion, the laser sprinkler malfunctioned.

- Ans 1. malfunctioned
 2. laser
 3. sprinkler
 4. opinion

Question ID : 264330152840
Option 1 ID : 264330598954
Option 2 ID : 264330598952
Option 3 ID : 264330598953
Option 4 ID : 264330598951
Status : Answered
Chosen Option : 1

Q.7 Select the most appropriate option that can substitute the underlined word in the following sentence.
They serve stuffed garlic bread and molten chocolate in the birthday party of their son, Parth, last week.

- Ans 1. are serving
 2. served
 3. be served
 4. serves

Question ID : 264330152576
Option 1 ID : 264330597910
Option 2 ID : 264330597909
Option 3 ID : 264330597908
Option 4 ID : 264330597907
Status : Answered
Chosen Option : 2

Q.8 Select the most appropriate idiom for the following sentence.
He made the business profitable from unprofitable in about a year of joining.

- Ans 1. Still waters run deep
 2. Throw up
 3. Where there is a will, there is a way
 4. Easy come, easy go

Question ID : 264330141304
Option 1 ID : 264330553553
Option 2 ID : 264330553552
Option 3 ID : 264330553554
Option 4 ID : 264330553551
Status : Answered
Chosen Option : 3

Q.9 Parts of the following sentence have been underlined and given as options. Select the option that contains a misspelt word.

Obesity is rapidly becoming the leading cause of prevantable deaths in the United States.

- Ans
- 1. rapidly
 - 2. obesity
 - 3. prevantable
 - 4. leading

Question ID : 264330151837
Option 1 ID : 264330594976
Option 2 ID : 264330594975
Option 3 ID : 264330594978
Option 4 ID : 264330594977
Status : Answered
Chosen Option : 3

Q.10 Parts of the following sentence have been underlined and given as options. Select the option that contains an error.

We think of the past history of the world as fixed but of the future as undecided and open to a wealth off possibilities.

- Ans
- 1. as fixed
 - 2. as undecided
 - 3. wealth off
 - 4. of the past

Question ID : 264330153203
Option 1 ID : 264330600372
Option 2 ID : 264330600374
Option 3 ID : 264330600373
Option 4 ID : 264330600371
Status : Answered
Chosen Option : 3

Q.11 Select the most appropriate ANTONYM of the given word.
Amiable

- Ans
- 1. Unfriendly
 - 2. Joyful
 - 3. Sad
 - 4. Restless

Question ID : 264330151914
Option 1 ID : 264330595271
Option 2 ID : 264330595274
Option 3 ID : 264330595272
Option 4 ID : 264330595273
Status : Answered
Chosen Option : 1

Q.12 Select the most appropriate option that can substitute the underlined segment in the given sentence. If there is no need to substitute it, select 'No improvement required'.
Newton, after seeing the apple falling from a tree, began to wonder whether if it moved towards the earth and not upwards towards the sky.

- Ans
- 1. No improvement required
 - 2. began to wonder why
 - 3. began to wondering if
 - 4. began his wondering how

Question ID : 264330152668
Option 1 ID : 264330598278
Option 2 ID : 264330598275
Option 3 ID : 264330598276
Option 4 ID : 264330598277
Status : Answered
Chosen Option : 2

Q.13 Select the most appropriate synonym of the given word.
Barbed

- Ans
- 1. Spiteful
 - 2. Kind
 - 3. Passive
 - 4. Gentle

Question ID : 264330151880
Option 1 ID : 264330595140
Option 2 ID : 264330595139
Option 3 ID : 264330595142
Option 4 ID : 264330595141
Status : Answered
Chosen Option : 1

Q.14 Parts of the following sentence have been underlined and given as options. Select the option that contains an error.

When I bought the book, I thought it will be interesting.

- Ans
- 1. thought
 - 2. will
 - 3. bought
 - 4. When

Question ID : 264330153190
Option 1 ID : 264330600321
Option 2 ID : 264330600322
Option 3 ID : 264330600320
Option 4 ID : 264330600319
Status : Answered
Chosen Option : 2

Q.15 Parts of the following sentence have been given as options. Select the option that contains an error.

My teacher told me that / all that / glitters was not gold.

- Ans
- 1. all that
 - 2. glitters was not gold
 - 3. My teacher told me that
 - 4. No error

Question ID : 264330155378
Option 1 ID : 264330608928
Option 2 ID : 264330608929
Option 3 ID : 264330608927
Option 4 ID : 264330608930
Status : Answered
Chosen Option : 2

Q.16 Select the most appropriate synonym of the given word.
Peril

- Ans
- 1. Joke
 - 2. Entertainment
 - 3. Danger
 - 4. Ignorance

Question ID : 264330152748
Option 1 ID : 264330598591
Option 2 ID : 264330598592
Option 3 ID : 264330598593
Option 4 ID : 264330598594
Status : Answered
Chosen Option : 3

Q.17 Select the most appropriate option that can substitute the underlined segment in the given sentence. If there is no need to substitute it, select 'No improvement required'.
Very early in the morning, at the beginning of January, Opu was lying in bed waiting for the sun having rose.

- Ans
- 1. waited for the sun rising
 - 2. waiting for the sun to rise
 - 3. No improvement required
 - 4. waited for the sun having rose

Question ID : 264330152669
Option 1 ID : 264330598281
Option 2 ID : 264330598280
Option 3 ID : 264330598282
Option 4 ID : 264330598279
Status : Answered
Chosen Option : 2

Q.18 Select the option that can be used as a one-word substitute for the given group of words.

Endless period of time

- Ans 1. Eternity
 2. Frailty
 3. Longevity
 4. Impurity

Question ID : 264330153639
Option 1 ID : 264330602030
Option 2 ID : 264330602027
Option 3 ID : 264330602029
Option 4 ID : 264330602028
Status : Answered
Chosen Option : 1

Q.19 Select the option that can be used as a one-word substitute for the given group of words.

A person who is kept captive for fulfilment of demands of money or conditions.

- Ans 1. Hostage
 2. Scion
 3. Doyen
 4. Bait

Question ID : 264330151811
Option 1 ID : 264330594874
Option 2 ID : 264330594872
Option 3 ID : 264330594873
Option 4 ID : 264330594871
Status : Answered
Chosen Option : 1

Q.20 Choose the sentence that contains an error.

- Ans 1. He is chef who specialises in Italian cuisine.
 2. The Earth revolves around the Sun.
 3. I love the taste of fresh strawberries in the summer.
 4. She is the winner of the Nobel Peace Prize.

Question ID : 264330155181
Option 1 ID : 264330608186
Option 2 ID : 264330608183
Option 3 ID : 264330608184
Option 4 ID : 264330608185
Status : Marked For Review
Chosen Option : 1

Comprehension:

In the following passage, some words have been deleted. Read the passage carefully and select the most appropriate option to fill in each blank.

Education should be free to all because it is a (1)___ human right. It is essential for the (2)___ of a fully functioning society and for the advancement of humanity. While some argue that education should not be free because it has value or that free education would be a (3)___ on taxpayers, the reality is that education is a public good that (4)___ everyone in society. Not only does education provide individuals with the skills and knowledge they need to participate in the workforce, but it also improves social cohesion and creates more (5)___ citizens.

SubQuestion No : 21

Q.21 Select the most appropriate option to fill in blank number 1.

- Ans 1. fundamental
 2. precious
 3. joyful
 4. lovely

Question ID : 264330153569

Option 1 ID : 264330601773

Option 2 ID : 264330601772

Option 3 ID : 264330601774

Option 4 ID : 264330601771

Status : Answered

Chosen Option : 1

Comprehension:

In the following passage, some words have been deleted. Read the passage carefully and select the most appropriate option to fill in each blank.

Education should be free to all because it is a (1)___ human right. It is essential for the (2)___ of a fully functioning society and for the advancement of humanity. While some argue that education should not be free because it has value or that free education would be a (3)___ on taxpayers, the reality is that education is a public good that (4)___ everyone in society. Not only does education provide individuals with the skills and knowledge they need to participate in the workforce, but it also improves social cohesion and creates more (5)___ citizens.

SubQuestion No : 22

Q.22 Select the most appropriate option to fill in blank number 2.

- Ans 1. distribution
 2. enthusiasm
 3. celebration
 4. development

Question ID : 264330153570

Option 1 ID : 264330601777

Option 2 ID : 264330601778

Option 3 ID : 264330601775

Option 4 ID : 264330601776

Status : Answered

Chosen Option : 4

Comprehension:

In the following passage, some words have been deleted. Read the passage carefully and select the most appropriate option to fill in each blank.

Education should be free to all because it is a (1)___ human right. It is essential for the (2)___ of a fully functioning society and for the advancement of humanity. While some argue that education should not be free because it has value or that free education would be a (3)___ on taxpayers, the reality is that education is a public good that (4)___ everyone in society. Not only does education provide individuals with the skills and knowledge they need to participate in the workforce, but it also improves social cohesion and creates more (5)___ citizens.

SubQuestion No : 23

Q.23 Select the most appropriate option to fill in blank number 3.

- Ans
- 1. blessing
 - 2. contentment
 - 3. burden
 - 4. focus

Question ID : 264330153571

Option 1 ID : 264330601779

Option 2 ID : 264330601781

Option 3 ID : 264330601782

Option 4 ID : 264330601780

Status : Answered

Chosen Option : 3

Comprehension:

In the following passage, some words have been deleted. Read the passage carefully and select the most appropriate option to fill in each blank.

Education should be free to all because it is a (1)___ human right. It is essential for the (2)___ of a fully functioning society and for the advancement of humanity. While some argue that education should not be free because it has value or that free education would be a (3)___ on taxpayers, the reality is that education is a public good that (4)___ everyone in society. Not only does education provide individuals with the skills and knowledge they need to participate in the workforce, but it also improves social cohesion and creates more (5)___ citizens.

SubQuestion No : 24

Q.24 Select the most appropriate option to fill in blank number 4.

- Ans
- 1. emphasises
 - 2. benefits
 - 3. burdens
 - 4. sections

Question ID : 264330153572

Option 1 ID : 264330601784

Option 2 ID : 264330601786

Option 3 ID : 264330601785

Option 4 ID : 264330601783

Status : Answered

Chosen Option : 2

Comprehension:

In the following passage, some words have been deleted. Read the passage carefully and select the most appropriate option to fill in each blank.

Education should be free to all because it is a (1)___ human right. It is essential for the (2)___ of a fully functioning society and for the advancement of humanity. While some argue that education should not be free because it has value or that free education would be a (3)___ on taxpayers, the reality is that education is a public good that (4)___ everyone in society. Not only does education provide individuals with the skills and knowledge they need to participate in the workforce, but it also improves social cohesion and creates more (5)___ citizens.

SubQuestion No : 25

Q.25 Select the most appropriate option to fill in blank number 5.

- Ans
- 1. easy going
 - 2. apprehensive
 - 3. authentic
 - 4. productive

Question ID : 264330153573

Option 1 ID : 264330601790

Option 2 ID : 264330601787

Option 3 ID : 264330601788

Option 4 ID : 264330601789

Status : Answered

Chosen Option : 4