

Multi Tasking Non Technical Staff and Havaldar CBIC and CBN Examination 2023

Roll Number	
Candidate Name	
Venue Name	iON Digital Zone iDZ 2 Bhauti
Exam Date	12/09/2023
Exam Time	4:00 PM - 6:00 PM
Subject	MTS Non Tech Havaldar CBIC and CBN Examination 2023

Section : Numerical and Mathematical Ability

Q.1 दी गई तालिका का अध्ययन कीजिए और नीचे दिए गए प्रश्न का उत्तर दीजिए।
तालिका में तीन दिनों में चार प्रिंटर द्वारा प्रिंट किए गए पृष्ठों की संख्या को दर्शाया गया है।

दिन	प्रिंटर			
	M	N	O	P
शुक्रवार	880	885	877	898
शनिवार	972	989	990	786
रविवार	980	790	782	690

यदि सभी प्रिंटरों द्वारा मिलाकर सोमवार को प्रिंट किए गए पृष्ठों की कुल संख्या, सभी प्रिंटरों द्वारा मिलाकर शुक्रवार को प्रिंट किए गए पृष्ठों की कुल संख्या से 15% अधिक थी, तो सभी प्रिंटरों द्वारा मिलाकर सोमवार को प्रिंट किए गए पृष्ठों की कुल संख्या कितनी थी?

- Ans
- 1. 4580
 - 2. 4128
 - 3. 4026
 - 4. 4071

Question ID : 264330157908

Option 1 ID : 264330618991

Option 2 ID : 264330618993

Option 3 ID : 264330618994

Option 4 ID : 264330618992

Status : Marked For Review

Chosen Option : 4

Q.2 आदित्य ने ₹630 प्रति थैले के मूल्य से दो थैले बेचे। एक थैले पर उसे 33% का लाभ होता है और दूसरे पर उसे 33% की हानि होती है। पूरे लेनदेन पर उसका लाभ या हानि प्रतिशत ज्ञात कीजिए।

- Ans
- 1. 10.89% हानि
 - 2. 12.37% हानि
 - 3. 10.89% लाभ
 - 4. 12.37% लाभ

Question ID : 264330155735

Option 1 ID : 264330610346

Option 2 ID : 264330610344

Option 3 ID : 264330610343

Option 4 ID : 264330610345

Status : Marked For Review

Chosen Option : 1

Q.3 निम्नलिखित व्यंजक को सरल कीजिए।
 $12 \times 6 \div \{[18 \div (6 - 3)] - 3\} + 6$

- Ans
- 1. 96
 - 2. 30
 - 3. 84
 - 4. 20

Question ID : 264330155945
Option 1 ID : 264330611182
Option 2 ID : 264330611181
Option 3 ID : 264330611179
Option 4 ID : 264330611180
Status : Marked For Review
Chosen Option : 2

Q.4 लखनऊ शताब्दी एक्सप्रेस वाराणसी से 3:30 p.m. पर निकलती है और उसी दिन 8:30 p.m. पर लखनऊ पहुँचती है। रेलगाड़ी की औसत चाल 140 km/h है। वाराणसी से लखनऊ की दूरी (km में) कितनी है?

- Ans
- 1. 675
 - 2. 700
 - 3. 725
 - 4. 750

Question ID : 264330156230
Option 1 ID : 264330612322
Option 2 ID : 264330612321
Option 3 ID : 264330612320
Option 4 ID : 264330612319
Status : Answered
Chosen Option : 2

Q.5 बहुपदों $(x^3 - 8)$, $(x^3 - 6x^2 + 12x - 8)$ और $(x^3 - 4x^2 + 4x)$ का महत्तम समापवर्तक ज्ञात कीजिए।

- Ans
- 1. $(x - 1)$
 - 2. $(x - 2)$
 - 3. $(x - 8)$
 - 4. $(x - 4)$

Question ID : 264330156204
Option 1 ID : 264330612215
Option 2 ID : 264330612216
Option 3 ID : 264330612218
Option 4 ID : 264330612217
Status : Answered
Chosen Option : 2

Q.6 10%, 15% और 20% की क्रमिक छूट के समतुल्य एकल छूट ज्ञात कीजिए।

- Ans
- 1. 42.20%
 - 2. 40.80%
 - 3. 39.20%.
 - 4. 38.80%

Question ID : 264330156362
Option 1 ID : 264330612847
Option 2 ID : 264330612848
Option 3 ID : 264330612849
Option 4 ID : 264330612850
Status : Answered
Chosen Option : 4

Q.7 एक नाव द्वारा धारा के प्रतिकूल x km की दूरी तय करने में लिया गया समय उसी नाव द्वारा धारा के अनुकूल समान दूरी तय करने में लिए गए समय का दुगुना है। नाव और धारा की चालों का योग 90 km/h है। धारा की चाल ____ km/h है।

- Ans
- 1. 22.5
 - 2. 37.5
 - 3. 27.5
 - 4. 33.5

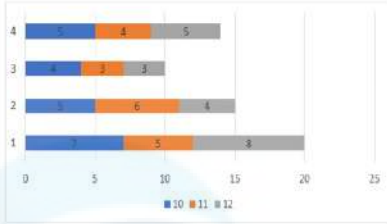
Question ID : 264330153813
Option 1 ID : 264330602716
Option 2 ID : 264330602717
Option 3 ID : 264330602718
Option 4 ID : 264330602715
Status : Answered
Chosen Option : 1

Q.8 1 cm त्रिज्या वाले एक स्टील के गोले को पिघलाकर 4 mm व्यास वाले तार में ढाला जाता है, तो तार की लंबाई कितनी है?

- Ans
- 1. $37\frac{1}{7}$ cm
 - 2. $31\frac{1}{3}$ cm
 - 3. $35\frac{1}{7}$ cm
 - 4. $33\frac{1}{3}$ cm

Question ID : 264330154109
Option 1 ID : 264330603901
Option 2 ID : 264330603899
Option 3 ID : 264330603902
Option 4 ID : 264330603900
Status : Marked For Review
Chosen Option : 4

Q.9 दंड आलेख में दिए गए चार अलग-अलग विद्यालयों 1, 2, 3 और 4 में कक्षा 10वीं, 11वीं और 12वीं में अनुत्तीर्ण होने वाले छात्रों के प्रतिशत पर विचार कीजिए।



विद्यालय 1 और विद्यालय 3 में प्रति कक्षा अनुत्तीर्ण होने वाले छात्रों के औसत प्रतिशत के बीच का अंतर _____ है।

Ans

✗ 1. $\frac{11}{3}$

✗ 2. $\frac{8}{3}$

✓ 3. $\frac{10}{3}$

✗ 4. $\frac{13}{3}$

Question ID : 264330153820

Option 1 ID : 264330602744

Option 2 ID : 264330602745

Option 3 ID : 264330602743

Option 4 ID : 264330602746

Status : Marked For Review

Chosen Option : 3

Q.10 एक विषय में, प्रैक्टिकल के लिए 40 अंक और थ्योरी के लिए 110 अंक हैं। एक अन्य विषय में, प्रैक्टिकल के लिए अंक 60 और थ्योरी के लिए अंक 40 हैं। यदि R को प्रैक्टिकल में औसतन 40 अंक और थ्योरी में औसतन 60 अंक मिलते हैं, तो उसके प्रति विषय औसत अंक _____ हैं।

Ans

✓ 1. 100

✗ 2. 60

✗ 3. 40

✗ 4. 80

Question ID : 264330153799

Option 1 ID : 264330602659

Option 2 ID : 264330602660

Option 3 ID : 264330602662

Option 4 ID : 264330602661

Status : Marked For Review

Chosen Option : 1

Q.11 17 और किसी अज्ञात संख्या का माध्यानुपात 51 है। वह अज्ञात संख्या क्या है?

- Ans
- 1. 17
 - 2. 51
 - 3. 151
 - 4. 153

Question ID : 264330154127
Option 1 ID : 264330603973
Option 2 ID : 264330603971
Option 3 ID : 264330603974
Option 4 ID : 264330603972
Status : Marked For Review
Chosen Option : 4

Q.12 पुरुषों की एक निश्चित संख्या किसी काम को 60 दिनों में पूरा करती है। यदि 8 पुरुष और बुला लिए जाएं, तो काम सामान्य से 10 दिन कम में समाप्त हो सकता है। मूल रूप से पुरुषों की संख्या कितनी थी?

- Ans
- 1. 50
 - 2. 30
 - 3. 60
 - 4. 40

Question ID : 264330156534
Option 1 ID : 264330613525
Option 2 ID : 264330613523
Option 3 ID : 264330613526
Option 4 ID : 264330613524
Status : Marked For Review
Chosen Option : 4

Q.13 यदि 7, x , 13, 16 और 9 का औसत 10 है, तो x का मान क्या है?

- Ans
- 1. 8
 - 2. 4
 - 3. 5
 - 4. 6

Question ID : 264330155952
Option 1 ID : 264330611207
Option 2 ID : 264330611210
Option 3 ID : 264330611208
Option 4 ID : 264330611209
Status : Marked For Review
Chosen Option : 3

Q.14 उस घनाभ का आयतन ज्ञात कीजिए जिसके आयाम 34 m, 7 m और 4 m हैं।

- Ans
- 1. 1904 m³
 - 2. 238 m³
 - 3. 476 m³
 - 4. 952 m³

Question ID : 264330153896
Option 1 ID : 264330603047
Option 2 ID : 264330603050
Option 3 ID : 264330603049
Option 4 ID : 264330603048
Status : Marked For Review
Chosen Option : 4

Q.15 एक वृत्ताकार डिस्क का भार, उसकी त्रिज्या के वर्ग और उसकी मोटाई के गुणनफल के अनुक्रमानुपाती है। दो समरूप/समान डिस्क की मोटाइयों का अनुपात 16 : 9 है। यदि पहली डिस्क का भार दूसरी डिस्क के भार से चार गुना है तो उनकी त्रिज्याओं का अनुपात क्या है?

- Ans
- 1. 1 : 2
 - 2. 2 : 1
 - 3. 3 : 2
 - 4. 2 : 3

Question ID : 264330153771
Option 1 ID : 264330602548
Option 2 ID : 264330602550
Option 3 ID : 264330602549
Option 4 ID : 264330602547
Status : Marked For Review
Chosen Option : 4

Q.16 एक विक्रेता ने एक सोफे का मूल्य उसके क्रय मूल्य से 25% अधिक अंकित किया। यदि वह ग्राहक को अंकित मूल्य पर 12% की छूट देता है, तो उसका लाभ प्रतिशत क्या है, साथ ही यदि सोफे का क्रय मूल्य ₹15,000 है, तो उसे कितनी धनराशि का लाभ हुआ?

- Ans
- 1. 10%; ₹1,500
 - 2. 9%; ₹1,480
 - 3. 9.5%; ₹1,600
 - 4. 8%; ₹1,350

Question ID : 264330156183
Option 1 ID : 264330612134
Option 2 ID : 264330612133
Option 3 ID : 264330612132
Option 4 ID : 264330612131
Status : Marked For Review
Chosen Option : 1

Q.17 चक्रवृद्धि ब्याज पर ₹15,000 की धनराशि पहले वर्ष, दूसरे वर्ष और तीसरे वर्ष के लिए क्रमशः 4%, 5%, 6% वार्षिक दर से 3 वर्ष के लिए ऋण पर दी गई थी, जो वार्षिक रूप से संयोजित होती है। 3 वर्ष का चक्रवृद्धि ब्याज ज्ञात कीजिए।

- Ans
- ✗ 1. ₹2,382.60
 - ✓ 2. ₹2,362.80
 - ✗ 3. ₹2,380.60
 - ✗ 4. ₹2,380.80

Question ID : 264330153850

Option 1 ID : 264330602863

Option 2 ID : 264330602864

Option 3 ID : 264330602865

Option 4 ID : 264330602866

Status : Marked For Review

Chosen Option : 2

Q.18 एक निश्चित धनराशि पर 10% वार्षिक दर से दो वर्ष और तीन वर्ष के साधारण ब्याज में ₹500 का अंतर है। वह धनराशि ज्ञात कीजिए।

- Ans
- ✓ 1. ₹5,000
 - ✗ 2. ₹5,500
 - ✗ 3. ₹4,500
 - ✗ 4. ₹6,000

Question ID : 264330156560

Option 1 ID : 264330613628

Option 2 ID : 264330613629

Option 3 ID : 264330613627

Option 4 ID : 264330613630

Status : Marked For Review

Chosen Option : 1

Q.19 A और B किसी काम को 10 दिनों में कर सकते हैं। B और C उसी काम को 15 दिनों में कर सकते हैं। यदि A, C से दुगुना अच्छा काम करता है, तो ज्ञात कीजिए कि B अकेले इस काम को कितने समय में पूरा कर सकता है (दिनों में)।

- Ans
- ✗ 1. 25
 - ✗ 2. 10
 - ✓ 3. 30
 - ✗ 4. 20

Question ID : 264330156011

Option 1 ID : 264330611444

Option 2 ID : 264330611443

Option 3 ID : 264330611445

Option 4 ID : 264330611446

Status : Marked For Review

Chosen Option : 3

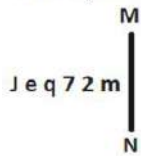
Q.20 50 विद्यार्थियों की एक कक्षा में 30 लड़कियां हैं जिन्होंने औसतन 88 अंक प्राप्त किए हैं। यदि कक्षा के औसत अंक 78 है, तो लड़कों के औसत अंक कितने हैं?

- Ans**
- 1. 80
 - 2. 72
 - 3. 63
 - 4. 83

Question ID : 264330156468
Option 1 ID : 264330613260
Option 2 ID : 264330613261
Option 3 ID : 264330613262
Option 4 ID : 264330613259
Status : Marked For Review
Chosen Option : 3

Section : Reasoning Ability and Problem Solving

Q.1 दी गई आकृति के उस सही दर्पण प्रतिबिंब को चुनिए, जो नीचे दर्शाए गए अनुसार दर्पण को MN पर रखने पर बनेगा।



- Ans**
- 1. m 7 2 p e J
 - 2. w 7 2 b e l
 - 3. m 7 2 p e l
 - 4. m 7 2 p e l

Question ID : 264330151511
Option 1 ID : 264330593672
Option 2 ID : 264330593673
Option 3 ID : 264330593674
Option 4 ID : 264330593671
Status : Marked For Review
Chosen Option : 4

Q.2 अंग्रेजी वर्णमाला क्रम के आधार पर दी गई श्रृंखला में प्रश्न चिह्न (?) के स्थान पर क्या आना चाहिए?

MCT, JEU, GGV, DIW, ?

- Ans**
- 1. BKZ
 - 2. AKX
 - 3. CJY
 - 4. BIY

Question ID : 264330155804
Option 1 ID : 264330610622
Option 2 ID : 264330610621
Option 3 ID : 264330610619
Option 4 ID : 264330610620
Status : Marked For Review
Chosen Option : 2

Q.3 एक निश्चित कूट भाषा में, 'just do it' को 'ct ns kw' लिखा जाता है और 'do your best' को 'mb kw du' लिखा जाता है। उसी कूट भाषा में 'do' को कैसे लिखा जाएगा?

- Ans**
- ✓ 1. kw
 - ✗ 2. ns
 - ✗ 3. ct
 - ✗ 4. mb

Question ID : 264330151698
Option 1 ID : 264330594419
Option 2 ID : 264330594421
Option 3 ID : 264330594422
Option 4 ID : 264330594420
Status : Marked For Review
Chosen Option : 1

Q.4 एक निश्चित कूट भाषा में, 'TOP' को '22-17-18' लिखा जाता है और 'BIZ' को '4-11-28' लिखा जाता है। उस कूट भाषा में 'MAR' को कैसे लिखा जाएगा?

- Ans**
- ✓ 1. 15-3-20
 - ✗ 2. 16-5-20
 - ✗ 3. 15-5-21
 - ✗ 4. 14-4-21

Question ID : 264330155824
Option 1 ID : 264330610699
Option 2 ID : 264330610702
Option 3 ID : 264330610701
Option 4 ID : 264330610700
Status : Marked For Review
Chosen Option : 1

Q.5 एक निश्चित तर्क के अनुसार 78, 69 से संबंधित है। समान तर्क के अनुसार, 57, 48 से संबंधित है। समान तर्क का अनुसरण करते हुए 94 निम्नलिखित में से किससे संबंधित है?

- Ans**
- ✓ 1. 85
 - ✗ 2. 82
 - ✗ 3. 84
 - ✗ 4. 83

Question ID : 264330151603
Option 1 ID : 264330594042
Option 2 ID : 264330594039
Option 3 ID : 264330594041
Option 4 ID : 264330594040
Status : Marked For Review
Chosen Option : 1

Q.6 दी गई श्रृंखला में प्रश्न चिह्न '?' के स्थान पर क्या आना चाहिए?

15 26 48 81 125 ?

- Ans
- 1. 155
 - 2. 180
 - 3. 194
 - 4. 169

Question ID : 264330151716

Option 1 ID : 264330594493

Option 2 ID : 264330594492

Option 3 ID : 264330594494

Option 4 ID : 264330594491

Status : Marked For Review

Chosen Option : 2

Q.7 यदि '+' और '-' को आपस में बदल दिया जाए तथा 'x' और '÷' को आपस में बदल दिया जाए तो निम्नलिखित समीकरण में (?) के स्थान पर क्या आएगा?

$$29 \div 6 + 5 - 98 \times 2 = ?$$

- Ans
- 1. 220
 - 2. 218
 - 3. 219
 - 4. 217

Question ID : 264330154617

Option 1 ID : 264330605934

Option 2 ID : 264330605932

Option 3 ID : 264330605933

Option 4 ID : 264330605931

Status : Marked For Review

Chosen Option : 2

Q.8 निम्नलिखित संख्या-युग्मों में, पहली संख्या पर कुछ गणितीय संक्रियाएँ करके दूसरी संख्या प्राप्त की जाती है। उस समुच्चय को चुनिए जिसमें संख्याएँ ठीक उसी प्रकार संबंधित हैं जिस प्रकार निम्नलिखित समुच्चयों की संख्याएँ संबंधित हैं।
(ध्यान दें: संख्याओं को उनके घटक अंकों में अलग-अलग किए बिना, पूर्ण संख्याओं पर संक्रियाएँ की जानी चाहिए। उदा. 13 - संख्या 13 पर संक्रियाएँ जैसे 13 को जोड़ना/घटाना/गुणा करना आदि किया जा सकता है। 13 को 1 और 3 में अलग-अलग करने की ओर फिर 1 और 3 पर गणितीय संक्रियाएँ करने की अनुमति नहीं है।)

12 : 44

8 : 28

- Ans
- 1. 10 : 38
 - 2. 15 : 35
 - 3. 7 : 28
 - 4. 9 : 32

Question ID : 264330154645

Option 1 ID : 264330606044

Option 2 ID : 264330606045

Option 3 ID : 264330606043

Option 4 ID : 264330606046

Status : Marked For Review

Chosen Option : 4

Q.9 दी गई श्रृंखला में प्रश्न चिह्न '?' के स्थान पर क्या आना चाहिए?

92 91 87 78 62 ?

Ans 1. 36

2. 37

3. 38

4. 35

Question ID : 264330151558

Option 1 ID : 264330593860

Option 2 ID : 264330593861

Option 3 ID : 264330593862

Option 4 ID : 264330593859

Status : Marked For Review

Chosen Option : 2

Q.10 यदि निम्नलिखित आकृति श्रृंखला को जारी रखना हो तो कौन-सी आकृति प्रश्न चिह्न (?) के स्थान पर आनी चाहिए?

N O S E	O N E S	V E X O	E V O X	?
△	X	N	△	
X	V V	△△	S S	N

Ans

1.

X	S	V	△
	E		
N			O

2.

X	△	V	N
	O		
E			S

3.

S	O	△	E
	V		
N			X

4.

X	O	△	N
	V		
E			S

Question ID : 264330154739

Option 1 ID : 264330606420

Option 2 ID : 264330606421

Option 3 ID : 264330606419

Option 4 ID : 264330606422

Status : Marked For Review

Chosen Option : 4

Q.11 यदि शब्द COMPUTER के प्रत्येक अक्षर को अंग्रेजी वर्णमाला के क्रम में व्यवस्थित किया जाए तो कितने अक्षरों का स्थान अपरिवर्तित रहेगा?

- Ans
- 1. तीन
 - 2. किसी का भी नहीं
 - 3. दो
 - 4. एक

Question ID : 264330156444
Option 1 ID : 264330613170
Option 2 ID : 264330613167
Option 3 ID : 264330613169
Option 4 ID : 264330613168
Status : Marked For Review
Chosen Option : 4

Q.12 यदि $++$ और $-$ को आपस में बदल दिया जाए तथा \times और $++$ को आपस में बदल दिया जाए तो निम्नलिखित समीकरण में (?) के स्थान पर क्या आएगा?
 $105 \times 7 + 43 - 37 + 3 = ?$

- Ans
- 1. 73
 - 2. 63
 - 3. 83
 - 4. 53

Question ID : 264330155666
Option 1 ID : 264330610068
Option 2 ID : 264330610067
Option 3 ID : 264330610069
Option 4 ID : 264330610070
Status : Marked For Review
Chosen Option : 3

Q.13 दी गई श्रृंखला में प्रश्न चिह्न '?' के स्थान पर क्या आना चाहिए?

124 114 104 94 84 ?

- Ans
- 1. 73
 - 2. 71
 - 3. 72
 - 4. 74

Question ID : 264330151551
Option 1 ID : 264330593833
Option 2 ID : 264330593831
Option 3 ID : 264330593832
Option 4 ID : 264330593834
Status : Marked For Review
Chosen Option : 4

Q.14 A, B, C, D, E, F, G और H एक वर्गाकार मेज के चारों ओर केन्द्र की ओर मुख करके बैठे हैं। उनमें से कुछ मेज के कोनों पर बैठे हैं जबकि कुछ भुजाओं के ठीक मध्य में बैठे हैं। H, B के बाईं ओर से तीसरे स्थान पर बैठा है। H किसी भी कोने में नहीं बैठा है। C, F के दाईं ओर से तीसरे स्थान पर बैठा है। C किसी एक कोने में बैठा है। D और E का निकटतम पड़ोसी H है। A, B का पड़ोसी नहीं है। E, A के ठीक बगल में बैठा है।
A के बाईं ओर से गिनने पर A और H के बीच में कितने व्यक्ति बैठे हैं?

- Ans**
- 1. छः
 - 2. चार
 - 3. तीन
 - 4. पांच

Question ID : 264330155538

Option 1 ID : 264330609558

Option 2 ID : 264330609556

Option 3 ID : 264330609555

Option 4 ID : 264330609557

Status : Marked For Review

Chosen Option : 4

Q.15 नीचे दिए गए कथनों और निष्कर्षों को ध्यानपूर्वक पढ़िए। आपको मानना है कि दिए गए कथन सत्य हैं चाहे वे समान्यतः ज्ञात तथ्यों से अलग प्रतीत होते हों। आपको निश्चय करना है कि कौन-सा/कौन-से निष्कर्ष तार्किक रूप से दिए गए कथनों के अनुसार है/हैं।

कथन: सभी मिट्टी, धातु है। कुछ धातु, ईंटें हैं। सभी ईंटें, दवाइयां हैं।

निष्कर्ष I: कुछ मिट्टी, ईंटें हैं।

निष्कर्ष II: सभी धातु, दवाइयां हैं।

- Ans**
- 1. दोनों निष्कर्ष (I) और (II) कथनों के अनुसार हैं।
 - 2. न तो निष्कर्ष (I) और न ही (II) कथनों के अनुसार है।
 - 3. केवल निष्कर्ष (I) कथनों के अनुसार है।
 - 4. केवल निष्कर्ष (II) कथनों के अनुसार है।

Question ID : 264330155934

Option 1 ID : 264330611142

Option 2 ID : 264330611141

Option 3 ID : 264330611139

Option 4 ID : 264330611140

Status : Marked For Review

Chosen Option : 3

Q.16 नीचे दिए गए कथन/कथनों और निष्कर्षों को ध्यानपूर्वक पढ़िए। आपको मानना है कि दिए गए कथन सत्य हैं चाहे वे समान्यतः ज्ञात तथ्यों से अलग प्रतीत होते हों। आपको निश्चय करना है कि कौन-सा/कौन-से निष्कर्ष तार्किक रूप से दिए गए कथन/कथनों के अनुसार है/हैं।
कथन: सभी कारे, बिल्लियां हैं। सभी पंखे, बिल्लियां हैं।
निष्कर्ष:
(I) सभी कारे, पंखे हैं।
(II) कुछ पंखे, कारे हैं।

- Ans**
- 1. केवल निष्कर्ष (II) कथनों के अनुसार है।
 - 2. दोनों निष्कर्ष (I) और (II) कथनों के अनुसार हैं।
 - 3. न तो निष्कर्ष (I) और न ही (II) कथनों के अनुसार है।
 - 4. केवल निष्कर्ष (I) कथनों के अनुसार है।

Question ID : 264330154430

Option 1 ID : 264330605184

Option 2 ID : 264330605186

Option 3 ID : 264330605185

Option 4 ID : 264330605183

Status : Marked For Review

Chosen Option : 3

Q.17 अंग्रेजी वर्णमाला क्रम के आधार पर DTGB, FVID से एक निश्चित प्रकार से संबंधित है। उसी प्रकार, VRCK, XTEM से संबंधित है। समान तर्क का अनुसरण करते हुए, JAHM निम्नलिखित में से किससे संबंधित है?

- Ans**
- 1. KBJP
 - 2. MCKP
 - 3. LCJO
 - 4. LDKO

Question ID : 264330151661

Option 1 ID : 264330594273

Option 2 ID : 264330594271

Option 3 ID : 264330594272

Option 4 ID : 264330594274

Status : Marked For Review

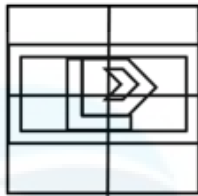
Chosen Option : 3

Q.18 उस विकल्प आकृति को चुनिए जिसमें दी गई आकृति (X) उसके भाग के रूप में निहित है। (पूर्ण की अनुमति नहीं है)



Ans

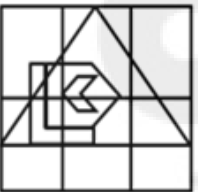
✓ 1.



✗ 2.



✗ 3.



✗ 4.



Question ID : 264330151727

Option 1 ID : 264330594537

Option 2 ID : 264330594535

Option 3 ID : 264330594538

Option 4 ID : 264330594536

Status : Marked For Review

Chosen Option : 1

Q.19 अक्षरों के उस संयोजन को चुनिए जिसे दी गई श्रृंखला के रिक्त स्थानों में क्रमिक रूप से रखने पर श्रृंखला पूरी हो जाएगी।

BA_B_B__BB_B

Ans

✓ 1. BABAA

✗ 2. BAABB

✗ 3. ABABB

✗ 4. AABAB

Question ID : 264330151637

Option 1 ID : 264330594178

Option 2 ID : 264330594175

Option 3 ID : 264330594177

Option 4 ID : 264330594176

Status : Marked For Review

Chosen Option : 1

Q.20 अंग्रेजी वर्णमाला क्रम के आधार पर दी गई श्रृंखला में प्रश्न चिह्न (?) के स्थान पर क्या आना चाहिए?

EVO, HSR, KPU, NMX, ?

- Ans
- ✓ 1. QJA
 - ✗ 2. PIB
 - ✗ 3. RIC
 - ✗ 4. PHB

Question ID : 264330155797

Option 1 ID : 264330610594

Option 2 ID : 264330610592

Option 3 ID : 264330610591

Option 4 ID : 264330610593

Status : Marked For Review

Chosen Option : 1

Section : General Awareness

Q.1 छोटी आंत के कम कार्यात्मक होने से कुअवशोषण विकार (malabsorption disorder) हो सकता है जिससे दस्त, कुपोषण, वजन घटना आदि हो सकता है। इस विशेष स्थिति को _____ के नाम से जाना जाता है।

- Ans
- ✗ 1. अल्पग्लूकोज रक्तता (hypoglycaemia)
 - ✗ 2. डाउन सिंड्रोम (Down syndrome)
 - ✗ 3. अतिग्लूकोसरक्तता (hyperglycaemia)
 - ✓ 4. लघु अंत्र संलक्षण (short bowel syndrome)

Question ID : 264330156613

Option 1 ID : 264330613842

Option 2 ID : 264330613840

Option 3 ID : 264330613841

Option 4 ID : 264330613839

Status : Marked For Review

Chosen Option : 4

Q.2 उस्ताद अल्लाह रक्खा (Ustad Allah Rakha) और उस्ताद ज़ाकिर हुसैन (Ustad Zakir Hussain) दोनों भारत के प्रसिद्ध _____ वादक हैं।

- Ans
- ✗ 1. वीणा
 - ✗ 2. सारंगी
 - ✗ 3. बांसुरी
 - ✓ 4. तबला

Question ID : 264330155505

Option 1 ID : 264330609424

Option 2 ID : 264330609426

Option 3 ID : 264330609425

Option 4 ID : 264330609423

Status : Marked For Review

Chosen Option : 4

Q.3 निम्नलिखित में से कौन-सा उपन्यास भारत के विभाजन पर आधारित है और खुशवंत सिंह द्वारा लिखा गया था?

- Ans 1. ट्रेन टू पाकिस्तान
 2. द ग्रेट इंडियन नॉवेल
 3. अनटचेबल
 4. नारकोपोलिस

Question ID : 264330161760
Option 1 ID : 264330634367
Option 2 ID : 264330634369
Option 3 ID : 264330634368
Option 4 ID : 264330634370
Status : Marked For Review
Chosen Option : 1

Q.4 व्यावसायिक बैंकों की आय का मुख्य स्रोत क्या है?

- Ans 1. शेयर बाजार में निवेश से लाभ
 2. सरकारी अनुदान
 3. ऋण और अग्रिम राशि पर अर्जित ब्याज
 4. ग्राहकों से दान

Question ID : 264330157308
Option 1 ID : 264330616598
Option 2 ID : 264330616595
Option 3 ID : 264330616597
Option 4 ID : 264330616596
Status : Marked For Review
Chosen Option : 3

Q.5 लच्छू महाराज एक प्रसिद्ध _____ नर्तक हैं।

- Ans 1. भरतनाट्यम
 2. कथक
 3. ओडिसी
 4. कुचिपुड़ी

Question ID : 264330159067
Option 1 ID : 264330623627
Option 2 ID : 264330623629
Option 3 ID : 264330623630
Option 4 ID : 264330623628
Status : Answered
Chosen Option : 2

Q.6 उस भौगोलिक विशेषता का क्या नाम है जो भारत और श्रीलंका के बीच सीमा का कार्य करती है?

- Ans 1. बोस्पोरस जलडमरूमध्य (Bosporus Strait)
 2. जिब्राल्टर जलडमरूमध्य (Strait of Gibraltar)
 3. डार्डनेल्स जलडमरूमध्य (Dardanelles Strait)
 4. पाक जलडमरूमध्य (Palk Strait)

Question ID : 264330161328
Option 1 ID : 264330632639
Option 2 ID : 264330632641
Option 3 ID : 264330632642
Option 4 ID : 264330632640
Status : Answered
Chosen Option : 4

Q.7 भारतीय संविधान में निदेशक सिद्धांतों की प्रेरणा किस देश के संविधान से ली गई थी?

- Ans
- 1. अमेरिकी संविधान
 - 2. यूनाइटेड किंगडम का संविधान
 - 3. आयरलैंड का संविधान
 - 4. ऑस्ट्रेलिया का संविधान

Question ID : 264330162252
Option 1 ID : 264330636335
Option 2 ID : 264330636336
Option 3 ID : 264330636337
Option 4 ID : 264330636338
Status : Answered
Chosen Option : 3

Q.8 कौन-सी संस्था भारत में सूक्ष्म वित्त संस्थानों को वित्तीय सहयोग और सहायता प्रदान करती है?

- Ans
- 1. भारतीय बैंक संघ (IBA)
 - 2. कारपोरेट कार्य मंत्रालय
 - 3. भारतीय लघु उद्योग विकास बैंक (SIDBI)
 - 4. आर्थिक कार्य विभाग (DEA)

Question ID : 264330157295
Option 1 ID : 264330616544
Option 2 ID : 264330616545
Option 3 ID : 264330616543
Option 4 ID : 264330616546
Status : Answered
Chosen Option : 3

Q.9 37वें राष्ट्रीय खेलों के शुभंकर का नाम क्या है?

- Ans
- 1. ऑली (Oily)
 - 2. जेली (Jelly)
 - 3. पंडी (Pandi)
 - 4. मोगा (Moga)

Question ID : 264330161138
Option 1 ID : 264330631885
Option 2 ID : 264330631884
Option 3 ID : 264330631886
Option 4 ID : 264330631883
Status : Answered
Chosen Option : 1

Q.10 निम्नलिखित में से 'अनटचेबल (अछूत)' उपन्यास के लेखक कौन हैं?

- Ans
- 1. अमिताव घोष
 - 2. मुल्कराज आनंद
 - 3. सलमान रुश्दी
 - 4. विक्रम सेठ

Question ID : 264330155453
Option 1 ID : 264330609216
Option 2 ID : 264330609217
Option 3 ID : 264330609218
Option 4 ID : 264330609215
Status : Answered
Chosen Option : 4

Q.11 जब एक पत्थर ऊपर की ओर फेंका जाता है तो किस प्रकार का ऊर्जा रूपांतरण होगा?

- Ans
- 1. गतिज ऊर्जा यांत्रिक ऊर्जा में बदल जाएगी
 - 2. यांत्रिक ऊर्जा गतिज ऊर्जा में बदल जाएगी
 - 3. गतिज ऊर्जा गुरुत्वीय स्थितिज ऊर्जा में बदल जाएगी
 - 4. स्थितिज ऊर्जा गुरुत्वीय ऊर्जा में बदल जाएगी

Question ID : 264330156581
Option 1 ID : 264330613711
Option 2 ID : 264330613712
Option 3 ID : 264330613714
Option 4 ID : 264330613713
Status : Answered
Chosen Option : 4

Q.12 टाटा आयरन एंड स्टील कंपनी लिमिटेड (TISCO) की शुरुआत वर्ष _____ में झारखंड राज्य के साकची में हुई थी।

- Ans
- 1. 1951
 - 2. 1975
 - 3. 1989
 - 4. 1907

Question ID : 264330161514
Option 1 ID : 264330633384
Option 2 ID : 264330633386
Option 3 ID : 264330633385
Option 4 ID : 264330633383
Status : Answered
Chosen Option : 4

Q.13 राष्ट्रीय सामाजिक सहायता कार्यक्रम (National Social Assistance Programme - NSAP) भारत सरकार के किस मंत्रालय द्वारा संचालित एक कल्याणकारी कार्यक्रम है?

- Ans 1. ग्रामीण विकास मंत्रालय
 2. जनजातीय कार्य मंत्रालय
 3. गृह मंत्रालय
 4. कृषि एवं किसान कल्याण मंत्रालय

Question ID : 264330161570
Option 1 ID : 264330633609
Option 2 ID : 264330633610
Option 3 ID : 264330633608
Option 4 ID : 264330633607
Status : Answered
Chosen Option : 1

Q.14 निम्नलिखित में से किसने गणेश चतुर्थी को महाराष्ट्र में सार्वजनिक उत्सव के रूप में लोकप्रिय बनाया?

- Ans 1. खुदीराम बोस
 2. लोकमान्य बाल गंगाधर तिलक
 3. लाला लाजपत राय
 4. विनायक दामोदर सावरकर

Question ID : 264330160828
Option 1 ID : 264330630643
Option 2 ID : 264330630644
Option 3 ID : 264330630645
Option 4 ID : 264330630646
Status : Answered
Chosen Option : 2

Q.15 1984 में स्थापित, राष्ट्र-स्तरीय लता मंगेशकर पुरस्कार _____ सरकार के संस्कृति विभाग द्वारा प्रतिवर्ष सुगम संगीत के क्षेत्र में उत्कृष्टता को बढ़ावा देने के लिए दिया जाता है।

- Ans 1. मध्यप्रदेश
 2. कर्नाटक
 3. गोवा
 4. राजस्थान

Question ID : 264330155468
Option 1 ID : 264330609277
Option 2 ID : 264330609275
Option 3 ID : 264330609276
Option 4 ID : 264330609278
Status : Answered
Chosen Option : 1

Q.16 सकरात उत्सव (Sakraat festival) _____ में 'बुदिगली (Budigali)' या 'कलासी (Kalasi)' नृत्य के साथ मनाया जाता है, जहां महिलाएं अपने सिर पर सजावटी बर्तन लेकर इस नृत्य में भाग लेती हैं।

- Ans 1. ओडिशा
 2. मणिपुर
 3. मध्यप्रदेश
 4. नगालैंड

Question ID : 264330160801
Option 1 ID : 264330630536
Option 2 ID : 264330630535
Option 3 ID : 264330630537
Option 4 ID : 264330630538
Status : Answered
Chosen Option : 3

Q.17 पद्म श्री पुरस्कार विजेता (2016) गुलाबो सपेरा को _____ नृत्य की रानी के रूप में जाना जाता है।

- Ans 1. कालबेलिया
 2. चरी
 3. भवई
 4. कच्छी घोड़ी

Question ID : 264330155524
Option 1 ID : 264330609499
Option 2 ID : 264330609501
Option 3 ID : 264330609500
Option 4 ID : 264330609502
Status : Answered
Chosen Option : 1

Q.18 मनिका बत्रा ने एशियन कप टूर्नामेंट (Asian Cup tournament) में कांस्य पदक जीता। वह किस खेल से संबंधित है?

- Ans 1. जूडो
 2. शतरंज
 3. टेबल टेनिस
 4. जिमनास्टिक

Question ID : 264330158371
Option 1 ID : 264330620846
Option 2 ID : 264330620845
Option 3 ID : 264330620843
Option 4 ID : 264330620844
Status : Answered
Chosen Option : 3

Q.19 ताजमहल का निर्माण किसने करवाया था?

- Ans 1. शाहजहाँ
 2. जहांगीर
 3. हुमायूँ
 4. अकबर

Question ID : 264330160768
Option 1 ID : 264330630406
Option 2 ID : 264330630404
Option 3 ID : 264330630403
Option 4 ID : 264330630405
Status : Answered
Chosen Option : 1

Q.20 जून 2023 तक भारतीय संविधान लोकसभा में अधिकतम _____ सदस्यों की अनुमति देता है।

- Ans 1. 543
 2. 546
 3. 550
 4. 545

Question ID : 264330160864
Option 1 ID : 264330630787
Option 2 ID : 264330630789
Option 3 ID : 264330630790
Option 4 ID : 264330630788
Status : Answered
Chosen Option : 3

Q.21 अखिल भारतीय फॉरवर्ड ब्लॉक पार्टी की स्थापना किसने की?

- Ans 1. रासबिहारी बोस
 2. चन्द्रशेखर आजाद
 3. सुभाष चंद्र बोस
 4. भगत सिंह

Question ID : 264330162330
Option 1 ID : 264330636650
Option 2 ID : 264330636648
Option 3 ID : 264330636649
Option 4 ID : 264330636647
Status : Answered
Chosen Option : 3

Q.22 भारतीय उद्योगपतियों ने व्यावसायिक गतिविधियों को प्रतिबंधित करने वाली औपनिवेशिक नीतियों के खिलाफ प्रतिक्रिया व्यक्त की और 1927 में एक संगठन बनाया। इसे क्या कहा गया?

- Ans 1. कॉन्फ़ेडरेशन ऑफ इंडियन इंडस्ट्रीज़ (CII)
 2. इंडियन इंडस्ट्रियल एंड कमर्शियल कॉंग्रेस (IICC)
 3. ऑर्गनाइज़ेशन ऑफ इंडस्ट्रीज़ ऑफ इंडिया (OII)
 4. फ़ेडरेशन ऑफ द इंडियन चैंबर ऑफ कॉमर्स एंड इंडस्ट्रीज़ (FICCI)

Question ID : 264330161742
Option 1 ID : 264330634297
Option 2 ID : 264330634295
Option 3 ID : 264330634296
Option 4 ID : 264330634298
Status : Answered
Chosen Option : 4

Q.23 दिसंबर 2022 में, भारत सरकार ने गृह प्रवेश योजना (Grih Pravesh scheme) की शुरूआत की। इस योजना का लक्ष्य _____ क्षेत्रों के निवासियों को लाभ प्रदान करना था।

- Ans
- 1. केवल आदिवासी
 - 2. ग्रामीण और शहरी दोनों
 - 3. केवल शहरी
 - 4. केवल ग्रामीण

Question ID : 264330158324
Option 1 ID : 264330620657
Option 2 ID : 264330620658
Option 3 ID : 264330620656
Option 4 ID : 264330620655
Status : Answered
Chosen Option : 1

Q.24 आम्र वर्षा (Mango showers) का संबंध किन दो राज्यों से है?

- Ans
- 1. उत्तरप्रदेश और बिहार
 - 2. केरल और कर्नाटक
 - 3. आंध्रप्रदेश और कर्नाटक
 - 4. केरल और आंध्रप्रदेश

Question ID : 264330160146
Option 1 ID : 264330627925
Option 2 ID : 264330627926
Option 3 ID : 264330627924
Option 4 ID : 264330627923
Status : Answered
Chosen Option : 2

Q.25 निम्नलिखित में से किस शहर में FIFA U-17 महिला विश्व कप 2022 का फाइनल आयोजित किया गया था?

- Ans
- 1. मार्गी
 - 2. नवी मुंबई
 - 3. अहमदाबाद
 - 4. भुवनेश्वर

Question ID : 264330158224
Option 1 ID : 264330620257
Option 2 ID : 264330620255
Option 3 ID : 264330620258
Option 4 ID : 264330620256
Status : Marked For Review
Chosen Option : 3

Q.1 The following sentence has been divided into four parts. Identify the part that contains an error.

(A) It is a / (B) state of chaos / (C) since the / (D) chairman resigned.

- Ans 1. A
 2. B
 3. D
 4. C

Question ID : 264330152624
Option 1 ID : 264330598102
Option 2 ID : 264330598101
Option 3 ID : 264330598099
Option 4 ID : 264330598100
Status : Marked For Review
Chosen Option : 4

Q.2 There is a spelling error in the given sentence. Select the option that contains the INCORRECTLY spelt word.

He was in despare because of the expiry of his licence.

- Ans 1. despare
 2. expiry
 3. licence
 4. because

Question ID : 264330152838
Option 1 ID : 264330598943
Option 2 ID : 264330598945
Option 3 ID : 264330598946
Option 4 ID : 264330598944
Status : Marked For Review
Chosen Option : 3

Q.3 Select the most appropriate meaning of the underlined idiom in the given sentence.
The two neighbours will probably stop fighting when pigs fly.

- Ans 1. Something that is impossible
 2. When it rains
 3. When there is magic
 4. When their families meet

Question ID : 264330161581
Option 1 ID : 264330633653
Option 2 ID : 264330633652
Option 3 ID : 264330633651
Option 4 ID : 264330633654
Status : Marked For Review
Chosen Option : 1

Q.4 Select the most appropriate synonym of the given word.
Enchanted

- Ans 1. Repelling
 2. Appealing
 3. Cursed
 4. Disgusted

Question ID : 264330152594
Option 1 ID : 264330597982
Option 2 ID : 264330597981
Option 3 ID : 264330597980
Option 4 ID : 264330597979
Status : **Marked For Review**
Chosen Option : 2

Q.5 Choose the most appropriate meaning of the underlined idiom in the given sentence.

As soon as Rohan learned that he had topped the examination, he was on cloud nine.

- Ans 1. Very tense
 2. Very confused
 3. Very happy
 4. Very sad

Question ID : 264330153324
Option 1 ID : 264330600852
Option 2 ID : 264330600854
Option 3 ID : 264330600851
Option 4 ID : 264330600853
Status : **Marked For Review**
Chosen Option : 3

Q.6 The following sentence has been divided into four parts. Identify the part that contains an error.

(A) One of / (B) my brothers write / (C) novels for / (D) leisure.

- Ans 1. D
 2. C
 3. A
 4. B

Question ID : 264330152617
Option 1 ID : 264330598073
Option 2 ID : 264330598072
Option 3 ID : 264330598071
Option 4 ID : 264330598074
Status : **Marked For Review**
Chosen Option : 4

Q.7 Select the option that rectifies the spelling of the underlined word in the given sentence.

The politician guaranted that he would create jobs if elected.

- Ans
- 1. guarranteed
 - 2. guaranteed
 - 3. gurranted
 - 4. gauaranteed

Question ID : 264330153227
Option 1 ID : 264330600469
Option 2 ID : 264330600467
Option 3 ID : 264330600468
Option 4 ID : 264330600470
Status : **Marked For Review**
Chosen Option : 2

Q.8 Select the most appropriate meaning of the given idiom.
By the skin of your teeth

- Ans
- 1. To be less affected by criticisms and rebuffs
 - 2. Very protective
 - 3. Saved by others
 - 4. By a very narrow margin

Question ID : 264330155284
Option 1 ID : 264330608579
Option 2 ID : 264330608581
Option 3 ID : 264330608580
Option 4 ID : 264330608582
Status : **Marked For Review**
Chosen Option : 1

Q.9 Select the INCORRECTLY spelt word.

- Ans
- 1. Conjuror
 - 2. Indispensible
 - 3. Paraphernalia
 - 4. Handkerchiefs

Question ID : 264330152962
Option 1 ID : 264330599423
Option 2 ID : 264330599426
Option 3 ID : 264330599425
Option 4 ID : 264330599424
Status : **Marked For Review**
Chosen Option : 1

Q.10 Select the most appropriate ANTONYM of the given word.
Demolish

- Ans**
- 1. Criticise
 - 2. Appreciate
 - 3. Construct
 - 4. Invite

Question ID : 264330152742
Option 1 ID : 264330598569
Option 2 ID : 264330598570
Option 3 ID : 264330598567
Option 4 ID : 264330598568
Status : **Marked For Review**
Chosen Option : 3

Q.11 The following sentence has been split into four segments. Identify the segment that contains a grammatical error.
By the time I turn thirty / I would had visited every / continent in the world and have gained / a wealth of knowledge and experience.

- Ans**
- 1. a wealth of knowledge and experience
 - 2. By the time I turn thirty
 - 3. I would had visited every
 - 4. continent in the world and have gained

Question ID : 264330144177
Option 1 ID : 264330564974
Option 2 ID : 264330564971
Option 3 ID : 264330564972
Option 4 ID : 264330564973
Status : **Marked For Review**
Chosen Option : 2

Q.12 Parts of the following sentence have been given as options. Select the option that contains an error.
Tushar is junior than all his colleagues.

- Ans**
- 1. his colleagues
 - 2. Tushar
 - 3. is
 - 4. junior than all

Question ID : 264330152800
Option 1 ID : 264330598794
Option 2 ID : 264330598791
Option 3 ID : 264330598792
Option 4 ID : 264330598793
Status : **Marked For Review**
Chosen Option : 4

Q.13 Select the most appropriate option that can substitute the underlined segment in the following sentence.

His research on the migratory patterns of the birds is run-of-the-mill.

- Ans
- 1. trash
 - 2. absurd
 - 3. average
 - 4. one in a million

Question ID : 264330152634
Option 1 ID : 264330598141
Option 2 ID : 264330598142
Option 3 ID : 264330598139
Option 4 ID : 264330598140
Status : Marked For Review
Chosen Option : 3

Q.14 Select the most appropriate option to fill in the blank.

The old man distributed his property _____ his ten grandchildren equally.

- Ans
- 1. between
 - 2. among
 - 3. towards
 - 4. within

Question ID : 264330152731
Option 1 ID : 264330598523
Option 2 ID : 264330598524
Option 3 ID : 264330598526
Option 4 ID : 264330598525
Status : Marked For Review
Chosen Option : 2

Q.15 Select the most appropriate meaning of the given idiom.

The apple of one's eye

- Ans
- 1. Very cheerful
 - 2. Very dear
 - 3. Very pleasing
 - 4. Very nice

Question ID : 264330155393
Option 1 ID : 264330608985
Option 2 ID : 264330608983
Option 3 ID : 264330608986
Option 4 ID : 264330608984
Status : Marked For Review
Chosen Option : 2

Q.16 Select the most appropriate option that can substitute the underlined segment in the given sentence.
Pandemics have often been caused by a disease that spreads by physical touch or contact.

- Ans
- 1. are robust
 - 2. are vigorous
 - 3. are fastidious
 - 4. are contagious

Question ID : 264330153386
Option 1 ID : 264330601088
Option 2 ID : 264330601090
Option 3 ID : 264330601087
Option 4 ID : 264330601089
Status : Marked For Review
Chosen Option : 4

Q.17 Select the option that can be used as a one-word substitute for the given group of words.
The arrangement of events or dates in the order of their occurrence

- Ans
- 1. Entomology
 - 2. Theology
 - 3. Psychology
 - 4. Chronology

Question ID : 264330152773
Option 1 ID : 264330598686
Option 2 ID : 264330598684
Option 3 ID : 264330598683
Option 4 ID : 264330598685
Status : Marked For Review
Chosen Option : 4

Q.18 Select the most appropriate option to fill in the blank.

Her dedication to her work was _____ what anyone had expected.

- Ans
- 1. over
 - 2. beside
 - 3. beyond
 - 4. through

Question ID : 264330151862
Option 1 ID : 264330595069
Option 2 ID : 264330595068
Option 3 ID : 264330595070
Option 4 ID : 264330595067
Status : Marked For Review
Chosen Option : 3

Q.19 The following sentence has been split into four segments. Identify the segment that contains a grammatical error.

Henry is known / as an excellent writer / and good communicator / in English.

- Ans 1. Henry is known
 2. and good communicator
 3. as an excellent writer
 4. in English

Question ID : 264330155413
Option 1 ID : 264330609059
Option 2 ID : 264330609061
Option 3 ID : 264330609060
Option 4 ID : 264330609062
Status : Marked For Review
Chosen Option : 2

Q.20 Select the most appropriate ANTONYM of the given word.
Harmony

- Ans 1. Clarity
 2. Unity
 3. Conflict
 4. Adaptability

Question ID : 264330152743
Option 1 ID : 264330598574
Option 2 ID : 264330598572
Option 3 ID : 264330598573
Option 4 ID : 264330598571
Status : Marked For Review
Chosen Option : 3

Comprehension:

In the following passage, some words have been deleted. Read the passage carefully and select the most appropriate option to fill in each blank.

Medical hand practices have been an integral part of healthcare for centuries, but with technological advancements, machines are (1)_____ taking over. Robotic surgeries, for instance, have become increasingly popular, allowing surgeons to perform complex (2)_____ with minimal invasive techniques. Machine learning and artificial intelligence have transformed medical diagnosis by analysing large amounts of patient data and providing highly detailed medical images. However, there are still challenges to overcome in the use of these technologies in healthcare. For example, the cost of purchasing and maintaining medical machines can be high, and there are concerns around the ethical use of AI in medicine. Nonetheless, it is clear that medical hand practices are (3)_____ to machines, and these developments have the potential to revolutionise the healthcare industry. Additionally, the use of telemedicine and remote monitoring devices allows patients to receive medical care from the (4)_____ of their homes, particularly beneficial for those in rural or remote areas. Furthermore, medical machines provide healthcare professionals with real-time information, (5)_____ them to make informed decisions and adjust treatment plans accordingly.

SubQuestion No : 21

Q.21 Select the most appropriate option to fill in blank no. 1.

- Ans 1. gradually
 2. sincerely
 3. deliberately
 4. partially

Question ID : 264330153645

Option 1 ID : 264330602048

Option 2 ID : 264330602050

Option 3 ID : 264330602049

Option 4 ID : 264330602047

Status : Answered

Chosen Option : 1

Comprehension:

In the following passage, some words have been deleted. Read the passage carefully and select the most appropriate option to fill in each blank.

Medical hand practices have been an integral part of healthcare for centuries, but with technological advancements, machines are (1)_____ taking over. Robotic surgeries, for instance, have become increasingly popular, allowing surgeons to perform complex (2)_____ with minimal invasive techniques. Machine learning and artificial intelligence have transformed medical diagnosis by analysing large amounts of patient data and providing highly detailed medical images. However, there are still challenges to overcome in the use of these technologies in healthcare. For example, the cost of purchasing and maintaining medical machines can be high, and there are concerns around the ethical use of AI in medicine. Nonetheless, it is clear that medical hand practices are (3)_____ to machines, and these developments have the potential to revolutionise the healthcare industry. Additionally, the use of telemedicine and remote monitoring devices allows patients to receive medical care from the (4)_____ of their homes, particularly beneficial for those in rural or remote areas. Furthermore, medical machines provide healthcare professionals with real-time information, (5)_____ them to make informed decisions and adjust treatment plans accordingly.

SubQuestion No : 22

Q.22 Select the most appropriate option to fill in blank no. 2.

- Ans 1. diagnosis
 2. procedures
 3. analysis
 4. therapies

Question ID : 264330153646

Option 1 ID : 264330602051

Option 2 ID : 264330602054

Option 3 ID : 264330602052

Option 4 ID : 264330602053

Status : Answered

Chosen Option : 3

Comprehension:

In the following passage, some words have been deleted. Read the passage carefully and select the most appropriate option to fill in each blank.

Medical hand practices have been an integral part of healthcare for centuries, but with technological advancements, machines are (1)_____ taking over. Robotic surgeries, for instance, have become increasingly popular, allowing surgeons to perform complex (2)_____ with minimal invasive techniques. Machine learning and artificial intelligence have transformed medical diagnosis by analysing large amounts of patient data and providing highly detailed medical images. However, there are still challenges to overcome in the use of these technologies in healthcare. For example, the cost of purchasing and maintaining medical machines can be high, and there are concerns around the ethical use of AI in medicine. Nonetheless, it is clear that medical hand practices are (3)_____ to machines, and these developments have the potential to revolutionise the healthcare industry. Additionally, the use of telemedicine and remote monitoring devices allows patients to receive medical care from the (4)_____ of their homes, particularly beneficial for those in rural or remote areas. Furthermore, medical machines provide healthcare professionals with real-time information, (5)_____ them to make informed decisions and adjust treatment plans accordingly.

SubQuestion No : 23

Q.23 Select the most appropriate option to fill in blank no. 3.

- Ans 1. depleting
 2. evolving
 3. stagnating
 4. diminishing

Question ID : 264330153647
Option 1 ID : 264330602055
Option 2 ID : 264330602057
Option 3 ID : 264330602058
Option 4 ID : 264330602056
Status : Answered
Chosen Option : 2

Comprehension:

In the following passage, some words have been deleted. Read the passage carefully and select the most appropriate option to fill in each blank.

Medical hand practices have been an integral part of healthcare for centuries, but with technological advancements, machines are (1)_____ taking over. Robotic surgeries, for instance, have become increasingly popular, allowing surgeons to perform complex (2)_____ with minimal invasive techniques. Machine learning and artificial intelligence have transformed medical diagnosis by analysing large amounts of patient data and providing highly detailed medical images. However, there are still challenges to overcome in the use of these technologies in healthcare. For example, the cost of purchasing and maintaining medical machines can be high, and there are concerns around the ethical use of AI in medicine. Nonetheless, it is clear that medical hand practices are (3)_____ to machines, and these developments have the potential to revolutionise the healthcare industry. Additionally, the use of telemedicine and remote monitoring devices allows patients to receive medical care from the (4)_____ of their homes, particularly beneficial for those in rural or remote areas. Furthermore, medical machines provide healthcare professionals with real-time information, (5)_____ them to make informed decisions and adjust treatment plans accordingly.

SubQuestion No : 24

Q.24 Select the most appropriate option to fill in blank no. 4.

- Ans 1. inconvenience
 2. locality
 3. range
 4. comfort

Question ID : 264330153648
Option 1 ID : 264330602060
Option 2 ID : 264330602061
Option 3 ID : 264330602062
Option 4 ID : 264330602059
Status : Answered
Chosen Option : 4

Comprehension:

In the following passage, some words have been deleted. Read the passage carefully and select the most appropriate option to fill in each blank.

Medical hand practices have been an integral part of healthcare for centuries, but with technological advancements, machines are (1)_____ taking over. Robotic surgeries, for instance, have become increasingly popular, allowing surgeons to perform complex (2)_____ with minimal invasive techniques. Machine learning and artificial intelligence have transformed medical diagnosis by analysing large amounts of patient data and providing highly detailed medical images. However, there are still challenges to overcome in the use of these technologies in healthcare. For example, the cost of purchasing and maintaining medical machines can be high, and there are concerns around the ethical use of AI in medicine. Nonetheless, it is clear that medical hand practices are (3)_____ to machines, and these developments have the potential to revolutionise the healthcare industry. Additionally, the use of telemedicine and remote monitoring devices allows patients to receive medical care from the (4)_____ of their homes, particularly beneficial for those in rural or remote areas. Furthermore, medical machines provide healthcare professionals with real-time information, (5)_____ them to make informed decisions and adjust treatment plans accordingly.

SubQuestion No : 25

Q.25 Select the most appropriate option to fill in blank no. 5.

- Ans
- 1. neglecting
 - 2. adapting
 - 3. enabling
 - 4. reimagining

Question ID : 264330153649

Option 1 ID : 264330602065

Option 2 ID : 264330602063

Option 3 ID : 264330602066

Option 4 ID : 264330602064

Status : **Marked For Review**

Chosen Option : 3