

Multi Tasking Non Technical Staff and Havaldar CBIC and CBN Examination 2023

Roll Number	
Candidate Name	
Venue Name	iON Digital Zone iDZ Naino Ka Bas
Exam Date	13/09/2023
Exam Time	4:00 PM - 6:00 PM
Subject	MTS Non Tech Havaldar CBIC and CBN Examination 2023

Section : Numerical and Mathematical Ability

Q.1 $[[2^4(20 \times 5 + 10) \div 11] - (2^3 \times 15 \div 20) - (9 \times 16)]$ का मान क्या है?

- Ans 1. 10
 2. 8
 3. 12
 4. 16

Question ID : 264330156459

Option 1 ID : 264330613225

Option 2 ID : 264330613224

Option 3 ID : 264330613223

Option 4 ID : 264330613226

Status : Answered

Chosen Option : 1

Q.2 A किसी काम को 10 दिनों में पूरा कर सकता है। वह 4 दिन काम करता है और फिर काम करना बंद कर देता है। B शेष काम को 9 दिनों में पूरा करता है। A और B साथ मिलकर उस काम को कितने दिनों में पूरा कर सकते हैं?

- Ans 1. 6 दिन
 2. 5 दिन
 3. 7 दिन
 4. 4 दिन

Question ID : 264330156276

Option 1 ID : 264330612505

Option 2 ID : 264330612504

Option 3 ID : 264330612506

Option 4 ID : 264330612503

Status : Answered

Chosen Option : 1

Q.3 एक कार 84 km/h की चाल से 60 km की दूरी तय करती है। यदि पूरी यात्रा की औसत चाल 72 km/h है, तो यात्रा के अगले 60 km के लिए कार की चाल कितनी होनी चाहिए ?

Ans 1. 68 km/h

2. 63 km/h

3. 75 km/h

4. 78 km/h

Question ID : 264330157894

Option 1 ID : 264330618936

Option 2 ID : 264330618937

Option 3 ID : 264330618938

Option 4 ID : 264330618935

Status : Answered

Chosen Option : 2

Q.4 A, B और C ने एक व्यवसाय शुरू किया। A की पूंजी C की पूंजी का 7 गुना है और B की पूंजी A की पूंजी का 2 गुना है। यदि लाभ ₹7,920 है, तो C का हिस्सा (₹ में) ज्ञात कीजिए।

Ans 1. 360

2. 350

3. 365

4. 355

Question ID : 264330156225

Option 1 ID : 264330612301

Option 2 ID : 264330612299

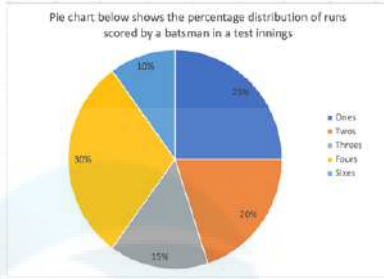
Option 3 ID : 264330612302

Option 4 ID : 264330612300

Status : Answered

Chosen Option : 1

Q.5 निम्नलिखित वृत्त आलेख में एक टेस्ट की पारियों में एक बल्लेबाज द्वारा बनाए गए रनों के प्रतिशत वितरण को दर्शाया गया है।



संदर्भ: Pie chart below shows the percentage distribution of runs scored by a batsman in a test innings - वृत्त आलेख एक टेस्ट की पारियों में एक बल्लेबाज द्वारा बनाए गए रनों के प्रतिशत वितरण को दर्शाता है, Ones - एक रन, Twos - दो रन, Threes - तीन रन, Fours - चौके, Sixes - छक्के

यदि बल्लेबाज ने कुल 360 रन बनाए हैं, तो उसने कितने चौके और छक्के मारे?

- Ans**
- 1. 30 और 3
 - 2. 25 और 8
 - 3. 31 और 2
 - 4. 27 और 6

Question ID : 264330153784
Option 1 ID : 264330602600
Option 2 ID : 264330602599
Option 3 ID : 264330602602
Option 4 ID : 264330602601
Status : Answered
Chosen Option : 4

Q.6 एक व्यक्ति 5 वर्ष के लिए 5% वार्षिक साधारण ब्याज दर पर ₹5,000 का निवेश करता है। 5 वर्ष के अंत में, वह पूरी धनराशि को उसी ब्याज दर पर अगले 3 वर्षों के लिए फिर से निवेश करता है। 8 वर्ष के अंत में व्यक्ति द्वारा अर्जित कुल ब्याज कितना होगा?

- Ans**
- 1. ₹2,323.50
 - 2. ₹2,156.50
 - 3. ₹2,187.50
 - 4. ₹2,256.50

Question ID : 264330156270
Option 1 ID : 264330612482
Option 2 ID : 264330612480
Option 3 ID : 264330612479
Option 4 ID : 264330612481
Status : Answered
Chosen Option : 3

Q.7 32 व्यक्तियों का औसत व्यय ₹6,000 है और अन्य 40 व्यक्तियों का औसत व्यय ₹3,300 है। पूरे समूह का औसत व्यय कितना है?

- Ans
- ✗ 1. ₹4,800
 - ✗ 2. ₹4,162
 - ✓ 3. ₹4,500
 - ✗ 4. ₹4,650

Question ID : 264330153869
Option 1 ID : 264330602942
Option 2 ID : 264330602941
Option 3 ID : 264330602939
Option 4 ID : 264330602940
Status : Answered
Chosen Option : 3

Q.8 एक माइक्रोवेव और एक डिश वॉशिंग मशीन प्रत्येक को ₹27,000 के मूल्य पर बेचा गया। यदि माइक्रोवेव को 25% के लाभ पर और डिश वॉशिंग मशीन को 25% की हानि पर बेचा गया, तो पूरे लेन-देन पर कुल लाभ% या हानि% क्या है?

- Ans
- ✗ 1. 5.50% हानि
 - ✗ 2. 7.75% लाभ
 - ✗ 3. 8.25% लाभ
 - ✓ 4. 6.25% हानि

Question ID : 264330156285
Option 1 ID : 264330612542
Option 2 ID : 264330612540
Option 3 ID : 264330612541
Option 4 ID : 264330612539
Status : Answered
Chosen Option : 4

Q.9 निम्न तालिका में वर्ष 1984-85 से 1989-90 के लिए राष्ट्रीय आय और देश की जनसंख्या को दर्शाया गया है।

वर्ष	राष्ट्रीय आय (करोड़ में)	जनसंख्या (करोड़ में)
1984-85	₹229.225	74.0
1985-86	₹261.174	75.0
1986-87	₹291.556	77.0
1987-88	₹329.200	78.5
1988-89	₹389.500	80.0
1989-90	₹434.500	81.5

1987-88, 1988-89 और 1989-90 के वर्षों के लिए औसत राष्ट्रीय आय (करोड़ में) कितनी थी?

- Ans
- ✓ 1. ₹384.4
 - ✗ 2. ₹398.2
 - ✗ 3. ₹392.4
 - ✗ 4. ₹396.2

Question ID : 264330156281
Option 1 ID : 264330612523
Option 2 ID : 264330612526
Option 3 ID : 264330612524
Option 4 ID : 264330612525
Status : Answered
Chosen Option : 1

Q.10 11 cm लंबाई, 8 cm चौड़ाई और 6 cm ऊंचाई वाले एक ठोस धातु के घनाभ को पिघलाकर 14 cm ऊंचाई वाला एक शंकु बनाया जाता है। इस प्रकार बने शंकु की त्रिज्या क्या है?

- Ans**
- 1. 8 cm
 - 2. 9 cm
 - 3. 6 cm
 - 4. 7 cm

Question ID : 264330154140
Option 1 ID : 264330604024
Option 2 ID : 264330604026
Option 3 ID : 264330604023
Option 4 ID : 264330604025
Status : Answered
Chosen Option : 3

Q.11 एक बोटल के मूल्य में पहले 15% की वृद्धि की जाती है और बाद में बिक्री में कमी के कारण इसके मूल्य में 24% की कमी की जाती है। बोटल के अंतिम मूल्य में निवल प्रतिशत परिवर्तन ज्ञात कीजिए।

- Ans**
- 1. 12.6% की वृद्धि
 - 2. 13.9% की वृद्धि
 - 3. 12.6% की कमी
 - 4. 13.9% की कमी

Question ID : 264330155734
Option 1 ID : 264330610342
Option 2 ID : 264330610340
Option 3 ID : 264330610341
Option 4 ID : 264330610339
Status : Answered
Chosen Option : 3

Q.12 यदि ब्याज अर्धवार्षिक रूप से संयोजित होता है, तो ₹500 पर 2 वर्षों में 20% वार्षिक की दर से चक्रवृद्धि ब्याज (₹ में) ज्ञात कीजिए।

- Ans**
- 1. 232.05
 - 2. 225.08
 - 3. 264.05
 - 4. 132.05

Question ID : 264330155748
Option 1 ID : 264330610397
Option 2 ID : 264330610396
Option 3 ID : 264330610398
Option 4 ID : 264330610395
Status : Answered
Chosen Option : 1

Q.13 तीन अंकों की वह सबसे बड़ी संख्या कौन-सी है जिसे 4, 8 और 9 से भाग देने पर कोई शेषफल नहीं बचेगा?

- Ans
- 1. 924
 - 2. 932
 - 3. 963
 - 4. 936

Question ID : 264330155685
Option 1 ID : 264330610143
Option 2 ID : 264330610144
Option 3 ID : 264330610146
Option 4 ID : 264330610145
Status : Answered
Chosen Option : 4

Q.14 एक घन का सबसे लंबा विकर्ण $6\sqrt{3}$ cm है। घन का कुल पृष्ठीय क्षेत्रफल ज्ञात कीजिए।

- Ans
- 1. 216 cm^2
 - 2. 36 cm^2
 - 3. 648 cm^2
 - 4. 324 cm^2

Question ID : 264330153897
Option 1 ID : 264330603051
Option 2 ID : 264330603052
Option 3 ID : 264330603053
Option 4 ID : 264330603054
Status : Answered
Chosen Option : 2

Q.15 एक दुकानदार ने एक ओवन ₹25,000 में खरीदा और इसे ₹29,500 में बेच दिया। उसने अतिरिक्त खर्च के रूप में ₹1,500 खर्च किए। उसका हानि या लाभ प्रतिशत क्या है (निकटतम पूर्णांक तक सन्निकटित)?

- Ans
- 1. 11% का लाभ
 - 2. 13% का लाभ
 - 3. 13% की हानि
 - 4. 11% की हानि

Question ID : 264330163011
Option 1 ID : 264330639362
Option 2 ID : 264330639360
Option 3 ID : 264330639359
Option 4 ID : 264330639361
Status : Answered
Chosen Option : 2

Q.16 एक मोटर नाव किसी चाल से यात्रा करते हुए धारा के प्रतिकूल 28 km और धारा के अनुकूल 40 km की दूरी 11 घंटे में तय करती है। उसी चाल से वह धारा के अनुकूल 30 km और धारा के प्रतिकूल 16 km की यात्रा 7 घंटे में तय करती है। धारा की चाल क्या है?

- Ans
- 1. 1 km/h
 - 2. 4 km/h
 - 3. 3 km/h
 - 4. 2 km/h

Question ID : 264330154094
Option 1 ID : 264330603840
Option 2 ID : 264330603842
Option 3 ID : 264330603841
Option 4 ID : 264330603839
Status : Answered
Chosen Option : 3

Q.17 एक बाइक एक पुल को 75 km/h की चाल से पार करती है। यदि बाइक को पुल पार करने में 20 मिनट का समय लगता है, तो पुल की लंबाई (km में) कितनी है?

- Ans
- 1. 30
 - 2. 25
 - 3. 45
 - 4. 20

Question ID : 264330155751
Option 1 ID : 264330610409
Option 2 ID : 264330610408
Option 3 ID : 264330610410
Option 4 ID : 264330610407
Status : Answered
Chosen Option : 2

Q.18 1 से 73 तक की प्राकृत संख्याओं का औसत क्या है?

- Ans
- 1. 30
 - 2. 34
 - 3. 28
 - 4. 37

Question ID : 264330155726
Option 1 ID : 264330610308
Option 2 ID : 264330610309
Option 3 ID : 264330610307
Option 4 ID : 264330610310
Status : Answered
Chosen Option : 4

Q.19 P एक काम का $\frac{1}{5}$ भाग 12 दिनों में पूरा कर सकता है और Q उसी काम का $\frac{1}{6}$ भाग 8 दिनों में पूरा कर सकता है। P और Q दोनों साथ मिलकर उस काम को कितने दिनों में पूरा कर सकते हैं?

- Ans
- 1. $24\frac{2}{3}$
 - 2. $25\frac{4}{5}$
 - 3. $22\frac{4}{5}$
 - 4. $26\frac{2}{3}$

Question ID : 264330155975

Option 1 ID : 264330611299

Option 2 ID : 264330611302

Option 3 ID : 264330611301

Option 4 ID : 264330611300

Status : Answered

Chosen Option : 4

Q.20 संख्या 3, 9, 8 का चतुर्थ समानुपाती ज्ञात कीजिए।

- Ans
- 1. 24
 - 2. 20
 - 3. 10
 - 4. 12

Question ID : 264330153878

Option 1 ID : 264330602977

Option 2 ID : 264330602975

Option 3 ID : 264330602976

Option 4 ID : 264330602978

Status : Answered

Chosen Option : 1

Section : Reasoning Ability and Problem Solving

Q.1 यदि \rightarrow और \leftarrow को आपस में बदल दिया जाए और \times और \div को आपस में बदल दिया जाए तो निम्नलिखित समीकरण में '?' के स्थान पर क्या आएगा?
 $12 \div 6 \times 5 - 7 + 2 = ?$

- Ans
- 1. -14
 - 2. -46
 - 3. -31
 - 4. -13

Question ID : 264330154657

Option 1 ID : 264330606091

Option 2 ID : 264330606092

Option 3 ID : 264330606094

Option 4 ID : 264330606093

Status : Answered

Chosen Option : 3

Q.2 अंग्रेजी वर्णमाला क्रम के आधार पर दी गई श्रृंखला में प्रश्न चिह्न (?) के स्थान पर क्या आना चाहिए?

WAP, VEO, UIN, TMM, ?

Ans 1. RPM

2. QPN

3. QSN

4. SQL

Question ID : 264330155793

Option 1 ID : 264330610575

Option 2 ID : 264330610578

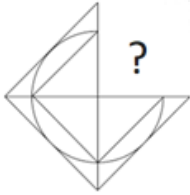
Option 3 ID : 264330610577

Option 4 ID : 264330610576

Status : Answered

Chosen Option : 4

Q.3 पैटर्न को पूरा करने वाली आकृति को पहचानिए (घूर्णन की अनुमति नहीं है)।



Ans

1.



2.



3.



4.



Question ID : 264330154515

Option 1 ID : 264330605526

Option 2 ID : 264330605525

Option 3 ID : 264330605524

Option 4 ID : 264330605523

Status : Answered

Chosen Option : 3

Q.4 नीचे दिए गए कथनों और निष्कर्षों को ध्यानपूर्वक पढ़िए। आपको मानना है कि दिए गए कथन सत्य हैं चाहे वे सामान्यतः ज्ञात तथ्यों से अलग प्रतीत होते हों। आपको निश्चय करना है कि कौन-सा कौन-से निष्कर्ष तार्किक रूप से दिए गए कथनों के अनुसार है।

कथन: कुछ लेपटॉप, पेंसिलें हैं। कुछ पेंसिलें, रूलर हैं। सभी रूलर, सफ़ेद हैं।

निष्कर्ष I: कुछ पेंसिलें, लेपटॉप हैं।

निष्कर्ष II: सभी रूलर, पेंसिलें हैं।

- Ans**
- 1. दोनों निष्कर्ष (I) और (II) कथनों के अनुसार हैं।
 - 2. न तो निष्कर्ष (I) और न ही (II) कथनों के अनुसार है।
 - 3. केवल निष्कर्ष (II) कथनों के अनुसार है।
 - 4. केवल निष्कर्ष (I) कथनों के अनुसार है।

Question ID : 264330155892

Option 1 ID : 264330610974

Option 2 ID : 264330610973

Option 3 ID : 264330610972

Option 4 ID : 264330610971

Status : Answered

Chosen Option : 4

Q.5 दी गई श्रृंखला में प्रश्न चिह्न “?” के स्थान पर क्या आना चाहिए?

22 24 28 30 34 ?

- Ans**
- 1. 38
 - 2. 42
 - 3. 40
 - 4. 36

Question ID : 264330151720

Option 1 ID : 264330594510

Option 2 ID : 264330594508

Option 3 ID : 264330594507

Option 4 ID : 264330594509

Status : Answered

Chosen Option : 4

Q.6 एक निश्चित तर्क के अनुसार 4, 14 से संबंधित है। समान तर्क के अनुसार, 7, 26 से संबंधित है। समान तर्क का अनुसरण करते हुए 9 निम्नलिखित में से किससे संबंधित है?

- Ans**
- 1. 35
 - 2. 36
 - 3. 34
 - 4. 37

Question ID : 264330151604

Option 1 ID : 264330594044

Option 2 ID : 264330594045

Option 3 ID : 264330594043

Option 4 ID : 264330594046

Status : Answered

Chosen Option : 3

Q.7 दी गई श्रृंखला में प्रश्न चिन्ह '?' के स्थान पर क्या आना चाहिए?

14 43 130 391 1174 ?

- Ans
- ✗ 1. 3416
 - ✗ 2. 2476
 - ✓ 3. 3523
 - ✗ 4. 3519

Question ID : 264330151479
Option 1 ID : 264330593543
Option 2 ID : 264330593544
Option 3 ID : 264330593546
Option 4 ID : 264330593545
Status : Answered
Chosen Option : 3

Q.8 यदि 15 जुलाई 2010 को गुरुवार है, तो 5 जून 2022 को सप्ताह का कौन-सा दिन होगा?

- Ans
- ✗ 1. सोमवार
 - ✗ 2. बुधवार
 - ✓ 3. रविवार
 - ✗ 4. मंगलवार

Question ID : 264330154354
Option 1 ID : 264330604880
Option 2 ID : 264330604882
Option 3 ID : 264330604879
Option 4 ID : 264330604881
Status : Answered
Chosen Option : 3

Q.9 यदि निम्नलिखित आकृति श्रृंखला को जारी रखना हो तो कौन-सी आकृति प्रश्न चिन्ह (?) के स्थान पर आनी चाहिए?

T	□	O	Y	♡	↑	T	N	
O	N	L	Y	♡	□	A	↑	T 2 O N A ↑ △ Y
♡	↑	T	N	A	Y	♡	2	?

Ans

✗ 1.

△	Y
T	K ♡ 2
A	N

✗ 2.

♡	2
△	A ↑ N
T	Y

✓ 3.

A	Y
♡	K T 2
△	N

✗ 4.

A	Y
♡	△ ↑ 2
T	N

Question ID : 264330154748

Option 1 ID : 264330606457

Option 2 ID : 264330606456

Option 3 ID : 264330606455

Option 4 ID : 264330606458

Status : Answered

Chosen Option : 3

Q.10 नीचे दिए गए कथनों और निष्कर्षों को ध्यानपूर्वक पढ़िए। आपको मानना है कि दिए गए कथन सत्य हैं चाहे वे समान्यतः ज्ञात तथ्यों से अलग प्रतीत हों। आपको निश्चय करना है कि कौन-सा/कौन-से निष्कर्ष तार्किक रूप से दिए गए कथनों के अनुसार है/हैं।

कथन: सभी कौए, केले हैं। कुछ केले, गुलाबी हैं। सभी गुलाबी, सफेद हैं।

निष्कर्ष I: कुछ कौए, केले हैं।

निष्कर्ष II: सभी केले, गुलाबी हैं।

Ans

- ✓ 1. केवल निष्कर्ष (I) कथनों के अनुसार है।
- ✗ 2. न तो निष्कर्ष (I) और न ही (II) कथनों के अनुसार है।
- ✗ 3. केवल निष्कर्ष (II) कथनों के अनुसार है।
- ✗ 4. दोनों निष्कर्ष (I) और (II) कथनों के अनुसार हैं।

Question ID : 264330155916

Option 1 ID : 264330611067

Option 2 ID : 264330611069

Option 3 ID : 264330611068

Option 4 ID : 264330611070

Status : Answered

Chosen Option : 1

Q.11 दी गई श्रृंखला में प्रश्न चिन्ह '?' के स्थान पर क्या आना चाहिए?

11 91 811 ? 65611 590491 5314411

Ans

- ✗ 1. 7921
- ✗ 2. 7129
- ✗ 3. 7912
- ✓ 4. 7291

Question ID : 264330151442

Option 1 ID : 264330593395

Option 2 ID : 264330593397

Option 3 ID : 264330593398

Option 4 ID : 264330593396

Status : Answered

Chosen Option : 4

Q.12 एक निश्चित तर्क के अनुसार 2, 7 से संबंधित है। समान तर्क के अनुसार, 4, 63 से संबंधित है। समान तर्क का अनुसरण करते हुए 9 निम्नलिखित में से किससे संबंधित है?

Ans

- ✗ 1. 731
- ✓ 2. 728
- ✗ 3. 729
- ✗ 4. 730

Question ID : 264330151586

Option 1 ID : 264330593974

Option 2 ID : 264330593971

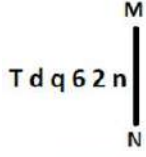
Option 3 ID : 264330593972

Option 4 ID : 264330593973

Status : Answered

Chosen Option : 2

Q.13 दी गई आकृति के उस सही दर्पण प्रतिबिंब को चुनिए, जो नीचे दर्शाए गए अनुसार दर्पण को MN पर रखने पर बनेगा।



- Ans
- ✗ 1. n 2 ̂ p b L
 - ✗ 2. u 5 6 p b T
 - ✓ 3. n 5 ̂ p b T
 - ✗ 4. n 5 ̂ d q T

Question ID : 264330151504

Option 1 ID : 264330593645

Option 2 ID : 264330593644

Option 3 ID : 264330593646

Option 4 ID : 264330593643

Status : Answered

Chosen Option : 3

Q.14 अक्षरों के उस संयोजन को चुनिए जिसे दी गई श्रृंखला के रिक्त स्थानों में क्रमिक रूप से रखने पर श्रृंखला पूरी हो जाएगी।

DE _ D _ D _ E _ _ ED

- Ans
- ✗ 1. DEDEE
 - ✗ 2. EDDED
 - ✓ 3. DEDDD
 - ✗ 4. DDEDE

Question ID : 264330151652

Option 1 ID : 264330594236

Option 2 ID : 264330594237

Option 3 ID : 264330594238

Option 4 ID : 264330594235

Status : Answered

Chosen Option : 3

Q.15 उस शब्द-युग्म का चयन कीजिए जो नीचे दिए गए शब्दों के युग्म में व्यक्त किए गए समान संबंध का सबसे अच्छा निरूपण करता है।

(शब्दों को अर्थपूर्ण हिंदी शब्दों के रूप में माना जाना चाहिए और उन्हें शब्द में अक्षरों की संख्या/व्यंजन/स्वरों की संख्या के आधार पर एक दूसरे से संबंधित नहीं किया जाना चाहिए।)

घोड़ा : घोड़ी

- Ans
- ✗ 1. बत्तख : हंस
 - ✓ 2. लोमड़ी : मादा लोमड़ी
 - ✗ 3. गधा : टट्टू
 - ✗ 4. कुत्ता : पिल्ला

Question ID : 264330154632

Option 1 ID : 264330605992

Option 2 ID : 264330605991

Option 3 ID : 264330605994

Option 4 ID : 264330605993

Status : Answered

Chosen Option : 2

Q.16 अंग्रेजी वर्णमाला क्रम के आधार पर दी गई श्रृंखला में प्रश्न चिह्न (?) के स्थान पर क्या आना चाहिए?

PVC, SUF, VTI, YSL, ?

- Ans
- 1. DRP
 - 2. CQR
 - 3. CSP
 - 4. BRO

Question ID : 264330155791
Option 1 ID : 264330610568
Option 2 ID : 264330610570
Option 3 ID : 264330610567
Option 4 ID : 264330610569
Status : Answered
Chosen Option : 4

Q.17 एक निश्चित कूट भाषा में, 'TUNE' को '4368' लिखा जाता है और 'UNIT' को '8423' लिखा जाता है। उसी कूट भाषा में 'I' को कैसे लिखा जाएगा?

- Ans
- 1. 2
 - 2. 4
 - 3. 8
 - 4. 3

Question ID : 264330151701
Option 1 ID : 264330594432
Option 2 ID : 264330594434
Option 3 ID : 264330594433
Option 4 ID : 264330594431
Status : Answered
Chosen Option : 1

Q.18 यदि D का अर्थ -, C का अर्थ \times , F का अर्थ +, B का अर्थ = है, तो निम्नलिखित समीकरण में प्रश्न चिह्न (?) के स्थान पर क्या आएगा?
 $28 B 72 F 6 D 8 C 4 = ?$

- Ans
- 1. 8
 - 2. 14
 - 3. 26
 - 4. 18

Question ID : 264330154692
Option 1 ID : 264330606231
Option 2 ID : 264330606232
Option 3 ID : 264330606234
Option 4 ID : 264330606233
Status : Answered
Chosen Option : 1

Q.19 एक निश्चित कूट भाषा में, 'people talk about' को 'ki li ni' लिखा जाता है और 'let them talk' को 'si ki hi' लिखा जाता है। उसी कूट भाषा में 'talk' को कैसे लिखा जाएगा?

- Ans
- 1. li
 - 2. ni
 - 3. ki
 - 4. hi

Question ID : 264330155635
Option 1 ID : 264330609944
Option 2 ID : 264330609945
Option 3 ID : 264330609943
Option 4 ID : 264330609946
Status : Answered
Chosen Option : 3

Q.20 सात व्यक्ति, W, D, J, S, H, G और Y एक सीधी पंक्ति में दक्षिण की ओर मुख करके बैठे हैं। G, S के बाईं ओर से दूसरे स्थान पर बैठा है। D और H का निकटतम पड़ोसी G है। Y, D के दाईं ओर से तीसरे स्थान पर बैठा है। W के दाईं ओर केवल दो व्यक्ति बैठे हैं।

पंक्ति के अंतिम दाईं छोर पर कौन बैठा है?

- Ans
- 1. J
 - 2. G
 - 3. W
 - 4. Y

Question ID : 264330161692
Option 1 ID : 264330634096
Option 2 ID : 264330634097
Option 3 ID : 264330634098
Option 4 ID : 264330634095
Status : Answered
Chosen Option : 1

Section : General Awareness

Q.1 प्रधानमंत्री रोजगार प्रोत्साहन योजना (PMRPY) की शुरुआत किस वर्ष की गई थी?

- Ans
- 1. 2018
 - 2. 2016
 - 3. 2022
 - 4. 2015

Question ID : 264330161505
Option 1 ID : 264330633347
Option 2 ID : 264330633350
Option 3 ID : 264330633348
Option 4 ID : 264330633349
Status : Not Answered
Chosen Option : --

Q.2 भारत ने ODI क्रिकेट विश्व कप 2011 का फाइनल किस देश के विरुद्ध खेला था?

- Ans 1. श्रीलंका
 2. ऑस्ट्रेलिया
 3. इंग्लैंड
 4. पाकिस्तान

Question ID : 264330158229
Option 1 ID : 264330620278
Option 2 ID : 264330620277
Option 3 ID : 264330620276
Option 4 ID : 264330620275
Status : Not Answered
Chosen Option : --

Q.3 'मालगुडी डेज़' के लेखक कौन है?

- Ans 1. आर. के. नारायण
 2. रवीन्द्रनाथ टैगोर
 3. चेतन भगत
 4. विक्रम सेठ

Question ID : 264330155497
Option 1 ID : 264330609392
Option 2 ID : 264330609394
Option 3 ID : 264330609391
Option 4 ID : 264330609393
Status : Answered
Chosen Option : 1

Q.4 निम्नलिखित में से कौन-सा ब्रिटिश भारत में महात्मा गांधी के नेतृत्व में पहला सत्याग्रह आंदोलन था?

- Ans 1. बारडोली सत्याग्रह
 2. चम्पारण सत्याग्रह
 3. रॉलेट सत्याग्रह
 4. खेड़ा सत्याग्रह

Question ID : 264330161750
Option 1 ID : 264330634329
Option 2 ID : 264330634330
Option 3 ID : 264330634327
Option 4 ID : 264330634328
Status : Answered
Chosen Option : 1

Q.5 लाल किला कहां स्थित है?

- Ans
- 1. इंदौर
 - 2. अहमदाबाद
 - 3. दिल्ली
 - 4. लखनऊ

Question ID : 264330160769
Option 1 ID : 264330630407
Option 2 ID : 264330630409
Option 3 ID : 264330630410
Option 4 ID : 264330630408
Status : Answered
Chosen Option : 3

Q.6 अमृता प्रीतम के निम्नलिखित में से किस उपन्यास पर आधारित फिल्म ने राष्ट्रीय फिल्म पुरस्कार जीता?

- Ans
- 1. रसीदी टिकट
 - 2. पिंजर
 - 3. नागमणि
 - 4. विलेज नंबर 36

Question ID : 264330161764
Option 1 ID : 264330634386
Option 2 ID : 264330634383
Option 3 ID : 264330634384
Option 4 ID : 264330634385
Status : Not Answered
Chosen Option : --

Q.7 किस भारतीय संगीतकार को 2001 में भारत रत्न से सम्मानित किया गया था?

- Ans
- 1. बिस्मिल्लाह खान
 - 2. हरिप्रसाद चौरसिया
 - 3. शिवकुमार शर्मा
 - 4. भीमसेन जोशी

Question ID : 264330155460
Option 1 ID : 264330609244
Option 2 ID : 264330609246
Option 3 ID : 264330609243
Option 4 ID : 264330609245
Status : Not Answered
Chosen Option : --

Q.8 निम्नलिखित में से कौन-सा राज्य 2023 जनजातीय खेल महोत्सव में पुरुष और महिला दोनों श्रेणियों में समग्र चैंपियन बना?

- Ans
- 1. झारखंड
 - 2. छत्तीसगढ़
 - 3. ओडिशा
 - 4. कर्नाटक

Question ID : 264330161131
Option 1 ID : 264330631856
Option 2 ID : 264330631857
Option 3 ID : 264330631858
Option 4 ID : 264330631855
Status : Not Answered
Chosen Option : --

Q.9 डॉ. तीजन बाई, जिन्हें पद्म विभूषण (2019) से सम्मानित किया गया था, _____ राज्य की एक प्रसिद्ध भारतीय लोक गायिका और कलाकार हैं।

- Ans
- 1. हिमाचल प्रदेश
 - 2. असम
 - 3. राजस्थान
 - 4. छत्तीसगढ़

Question ID : 264330155525
Option 1 ID : 264330609503
Option 2 ID : 264330609504
Option 3 ID : 264330609505
Option 4 ID : 264330609506
Status : Answered
Chosen Option : 4

Q.10 गोवा सरकार ने नवंबर 2022 में निम्नलिखित में से किसके लिए एक नई योजना की शुरूआत की?

- Ans
- 1. गोवा दर्शन
 - 2. इतिहास दर्शन
 - 3. भारत दर्शन
 - 4. देव दर्शन

Question ID : 264330158326
Option 1 ID : 264330620665
Option 2 ID : 264330620666
Option 3 ID : 264330620663
Option 4 ID : 264330620664
Status : Answered
Chosen Option : 1

Q.11 निम्नलिखित में से कौन-सी भारतीय राजनीतिक दलीय प्रणाली की विशेषता नहीं है?

- Ans 1. एकदलीय प्रणाली
 2. बहुदलीय प्रणाली
 3. प्रभावी विपक्ष का अभाव
 4. गुटबाजी और दलबदल

Question ID : 264330159913
Option 1 ID : 264330627002
Option 2 ID : 264330626999
Option 3 ID : 264330627001
Option 4 ID : 264330627000
Status : Answered
Chosen Option : 1

Q.12 रोहिणी भाटे, पंडित मुन्नलाल शुक्ला, कुमुदिनी लाखिया और उमा शर्मा निम्नलिखित में से किस शास्त्रीय नृत्य शैली के प्रसिद्ध व्याख्याता हैं?

- Ans 1. भरतनाट्यम
 2. कुचिपुड़ी
 3. कथकली
 4. कथक

Question ID : 264330160788
Option 1 ID : 264330630483
Option 2 ID : 264330630484
Option 3 ID : 264330630485
Option 4 ID : 264330630486
Status : Not Answered
Chosen Option : --

Q.13 _____ नृत्य की मूल शब्दावली में युद्ध तकनीकों का नाट्य स्वरूप, पक्षियों और जानवरों की शैलीगत चालें और गांव की गृहिणियों के कामकाज पर आधारित गतिविधियां शामिल हैं और ज्यादातर पूर्वी भारत में पुरुष नर्तकों द्वारा प्रस्तुत की जाती हैं।

- Ans 1. मणिपुरी
 2. छउ
 3. कथकली
 4. सत्रिय

Question ID : 264330161890
Option 1 ID : 264330634890
Option 2 ID : 264330634888
Option 3 ID : 264330634889
Option 4 ID : 264330634887
Status : Not Answered
Chosen Option : --

Q.14 निम्नलिखित में से क्या सूक्ष्म वित्त संस्थानों की एक विशेषता है?

- Ans 1. वंचित लोगों को वित्तीय सेवा
 2. कॉर्पोरेट को वित्तीय सेवा
 3. केंद्रीय मंत्रियों को वित्तीय सेवा
 4. सरकारी कर्मचारियों को वित्तीय सेवा

Question ID : 264330161455
Option 1 ID : 264330633147
Option 2 ID : 264330633148
Option 3 ID : 264330633150
Option 4 ID : 264330633149
Status : Not Answered
Chosen Option : --

Q.15 निम्नलिखित में से कौन-सा बंदरगाह ओडिशा में स्थित है?

- Ans 1. कांडला बंदरगाह
 2. पारादीप बंदरगाह
 3. तूतीकोरिन बंदरगाह
 4. हल्दिया बंदरगाह

Question ID : 264330161492
Option 1 ID : 264330633297
Option 2 ID : 264330633298
Option 3 ID : 264330633295
Option 4 ID : 264330633296
Status : Not Answered
Chosen Option : --

Q.16 पर्युषण पर्व (Paryushana Parva) निम्नलिखित में से किस समुदाय का त्योहार है?

- Ans 1. हिंदू
 2. ईसाई
 3. जैन
 4. पारसी

Question ID : 264330159079
Option 1 ID : 264330623675
Option 2 ID : 264330623677
Option 3 ID : 264330623678
Option 4 ID : 264330623676
Status : Answered
Chosen Option : 3

Q.17 ऋतुराज गायकवाड़ (Raturaj Gaikwad) लिस्ट-ए क्रिकेट (List-A cricket) में एक ओवर में कितने छक्के लगाने वाले पहले बल्लेबाज बने?

- Ans 1. 6
 2. 4
 3. 5
 4. 7

Question ID : 264330158366
Option 1 ID : 264330620825
Option 2 ID : 264330620823
Option 3 ID : 264330620824
Option 4 ID : 264330620826
Status : Answered
Chosen Option : 4

Q.18 1600 के वर्षों के दौरान लैटिन शब्द 'सेलुला (cellula)' से 'सेल (कोशिका)' शब्द किसने बनाया, जिसका अर्थ है 'छोटा कमरा (small room)'?

- Ans
- 1. थियोडोर श्वान (Theodor Schwann)
 - 2. रॉबर्ट हुक (Robert Hooke)
 - 3. लिन मार्गुलिस (Lynn Margulis)
 - 4. लुई पाश्चर (Louis Pasteur)

Question ID : 264330161081
Option 1 ID : 264330631656
Option 2 ID : 264330631655
Option 3 ID : 264330631658
Option 4 ID : 264330631657
Status : Not Answered
Chosen Option : --

Q.19 मोहिनीअट्टम एक शास्त्रीय नृत्य शैली है जो _____ से संबंधित है।

- Ans
- 1. मणिपुर
 - 2. तमिलनाडु
 - 3. ओडिशा
 - 4. केरल

Question ID : 264330159050
Option 1 ID : 264330623562
Option 2 ID : 264330623560
Option 3 ID : 264330623559
Option 4 ID : 264330623561
Status : Answered
Chosen Option : 2

Q.20 मोहोरोविकिक (मोहो) असंबद्धता _____ को अलग करती है।

- Ans
- 1. पृथ्वी का वायुमंडल और जलमंडल
 - 2. पृथ्वी का स्थलमंडल और दुर्बलतामंडल
 - 3. पृथ्वी की पर्पटी और मैटल
 - 4. पृथ्वी की पर्पटी और आंतरिक क्रोड

Question ID : 264330157831
Option 1 ID : 264330618684
Option 2 ID : 264330618683
Option 3 ID : 264330618685
Option 4 ID : 264330618686
Status : Not Answered
Chosen Option : --

Q.21 भारत में निम्नलिखित में से किस प्रकार के वनों में ऊंट पाए जाते हैं?

- Ans
- 1. पर्वतीय वन
 - 2. कांटेदार वन और झाड़ियां
 - 3. मैंग्रोव वन
 - 4. उष्णकटिबंधीय सदाबहार वन

Question ID : 264330161498
Option 1 ID : 264330633322
Option 2 ID : 264330633319
Option 3 ID : 264330633320
Option 4 ID : 264330633321
Status : Answered
Chosen Option : 4

Q.22 निम्नलिखित ब्रिटिश गवर्नर-जनरलों में से किसके अधीन ईस्ट इंडिया कंपनी द्वारा ब्रिटिश भारत में 'सर्वोच्चता (paramountcy)' की नई नीति की शुरुआत की गई थी?

- Ans
- 1. लॉर्ड वैलेस्ली
 - 2. लॉर्ड हेस्टिंग्स
 - 3. लॉर्ड एमहर्स्ट
 - 4. लॉर्ड कार्नवालिस

Question ID : 264330161738
Option 1 ID : 264330634280
Option 2 ID : 264330634279
Option 3 ID : 264330634281
Option 4 ID : 264330634282
Status : Not Answered
Chosen Option : --

Q.23 एक छोटी अवधि के दौरान किसी पिंड पर लगने वाले बल को _____ के रूप में जाना जाता है।

- Ans
- 1. आवेग
 - 2. दाब
 - 3. पृष्ठ तनाव
 - 4. तनन प्रतिबल

Question ID : 264330157783
Option 1 ID : 264330618491
Option 2 ID : 264330618492
Option 3 ID : 264330618493
Option 4 ID : 264330618494
Status : Answered
Chosen Option : 3

Q.24 निम्नलिखित कथन किसने कहा?
"मुद्रा वही है जो मुद्रा का काम करे (Money is what money does)"

- Ans 1. प्रो. सेलिगमैन (Prof. Seligman)
 2. प्रो. वाकर (Prof. Walker)
 3. प्रो. रॉबर्टसन (Prof. Robertson)
 4. प्रो. कोल (Prof. Cole)

Question ID : 264330166032
Option 1 ID : 264330651206
Option 2 ID : 264330651203
Option 3 ID : 264330651205
Option 4 ID : 264330651204
Status : Not Answered
Chosen Option : --

Q.25 जब भारत के संविधान में मौलिक कर्तव्यों को शामिल किया गया तब भारत के प्रधान मंत्री कौन था?

- Ans 1. जवाहर लाल नेहरू
 2. इंदिरा गांधी
 3. राजीव गांधी
 4. अटल बिहारी वाजपेयी

Question ID : 264330159900
Option 1 ID : 264330626948
Option 2 ID : 264330626949
Option 3 ID : 264330626947
Option 4 ID : 264330626950
Status : Not Answered
Chosen Option : --

Section : English Language and Comprehension

Q.1 Select the option that can be used as a one-word substitute for the given group of words.
Not fit for eating

- Ans 1. Inedible
 2. Ineligible
 3. Ineluctable
 4. Inept

Question ID : 264330151907
Option 1 ID : 264330595245
Option 2 ID : 264330595243
Option 3 ID : 264330595244
Option 4 ID : 264330595246
Status : Answered
Chosen Option : 1

Q.2 Select the most appropriate option to fill in the blank.
He is first _____ to his job and then to his family.

- Ans 1. enabled
 2. committed
 3. convinced
 4. confirmed

Question ID : 264330153550
Option 1 ID : 264330601702
Option 2 ID : 264330601701
Option 3 ID : 264330601699
Option 4 ID : 264330601700
Status : Answered
Chosen Option : 2

Q.3 The given sentence contains an error. Select the option that correctly rectifies the error.
He is the better-looking hero in the entire film industry.

- Ans 1. He is the best-looking hero more than the entire film industry.
 2. He is the best-looking hero in the entire film industry.
 3. He is the good-looking hero than the entire film industry.
 4. He is the good-looking hero in the entire film industry.

Question ID : 264330152608
Option 1 ID : 264330598038
Option 2 ID : 264330598036
Option 3 ID : 264330598037
Option 4 ID : 264330598035
Status : Answered
Chosen Option : 2

Q.4 Select the most appropriate option that can substitute the underlined segment in the given sentence.
They said that he is not going to call them.

- Ans 1. he shall not call them
 2. they are not going to call them
 3. he was not going to call them
 4. he has not gone to call them

Question ID : 264330152711
Option 1 ID : 264330598445
Option 2 ID : 264330598446
Option 3 ID : 264330598443
Option 4 ID : 264330598444
Status : Answered
Chosen Option : 3

Q.5 The following sentence has been split into four segments. Identify the segment that contains an error.

If he had paid / attention to the announcement, / he had not / missed the train.

- Ans** 1. he had not
 2. If he had paid
 3. missed the train
 4. attention to the announcement

Question ID : 264330143054
Option 1 ID : 264330560493
Option 2 ID : 264330560491
Option 3 ID : 264330560494
Option 4 ID : 264330560492
Status : Answered
Chosen Option : 1

Q.6 Select the most appropriate ANTONYM of the given word.
Align

- Ans** 1. Disrupt
 2. Position
 3. Coincide
 4. Centre

Question ID : 264330152590
Option 1 ID : 264330597963
Option 2 ID : 264330597964
Option 3 ID : 264330597966
Option 4 ID : 264330597965
Status : Not Answered
Chosen Option : --

Q.7 Select the most appropriate meaning of the given idiom.
Child's play

- Ans** 1. Weakness
 2. Just behaviour
 3. In someone's role
 4. Something very easy

Question ID : 264330151827
Option 1 ID : 264330594936
Option 2 ID : 264330594935
Option 3 ID : 264330594938
Option 4 ID : 264330594937
Status : Answered
Chosen Option : 4

Q.8 Select the most appropriate meaning of the given idiom.

Spill the beans

- Ans
- 1. To cry over what is done
 - 2. To do things in a fair way
 - 3. To tell a secret
 - 4. To believe something as it seems

Question ID : 264330153011

Option 1 ID : 264330599615

Option 2 ID : 264330599616

Option 3 ID : 264330599617

Option 4 ID : 264330599618

Status : Answered

Chosen Option : 3

Q.9 Select the most appropriate option that can substitute the underlined segment in the given sentence.

The development of skills can contribute to structural transformation and economic growth in enhance employability and labour productivity and helping countries to become more competitive.

- Ans
- 1. by enhancing employability
 - 2. for enhanced employability
 - 3. about enhancing employability
 - 4. by enhanced employability

Question ID : 264330151900

Option 1 ID : 264330595218

Option 2 ID : 264330595217

Option 3 ID : 264330595215

Option 4 ID : 264330595216

Status : Answered

Chosen Option : 1

Q.10 Select the option that rectifies the spelling of the underlined word in the given sentence.

One of her colleagues had agreed to act as the arbitatore in finalising the contract.

- Ans
- 1. arbitor
 - 2. arbitraitor
 - 3. arbitrator
 - 4. arbitetator

Question ID : 264330153226

Option 1 ID : 264330600465

Option 2 ID : 264330600466

Option 3 ID : 264330600463

Option 4 ID : 264330600464

Status : Answered

Chosen Option : 3

Q.11 Select the most appropriate synonym of the given word.
Pretend

- Ans 1. Benign
 2. Feign
 3. Align
 4. Reign

Question ID : 264330151826
Option 1 ID : 264330594934
Option 2 ID : 264330594933
Option 3 ID : 264330594931
Option 4 ID : 264330594932
Status : Not Answered
Chosen Option : --

Q.12 Select the option that rectifies the spelling of the underlined word in the given sentence.

The tour company has included all the activities that you have requested in your itinerary.

- Ans 1. itinerarey
 2. itinerary
 3. itenerarey
 4. itenerary

Question ID : 264330153228
Option 1 ID : 264330600472
Option 2 ID : 264330600474
Option 3 ID : 264330600471
Option 4 ID : 264330600473
Status : Answered
Chosen Option : 2

Q.13 The following sentence has been split into four segments. Identify the segment that contains a grammatical error and select the option which rectifies that error.

The space agency wanted / to test with a chimp / before orbiting a astronaut / in a Mercury capsule.

- Ans 1. The space agency want
 2. before orbiting an astronaut
 3. in an Mercury capsule.
 4. to test with an chimp

Question ID : 264330141339
Option 1 ID : 264330553691
Option 2 ID : 264330553692
Option 3 ID : 264330553693
Option 4 ID : 264330553694
Status : Answered
Chosen Option : 2

Q.14 Select the most appropriate option that can substitute the underlined segment in the given sentence.

If you need any help tomorrow, let him knows.

- Ans
- 1. let me know
 - 2. let him known
 - 3. let them knew
 - 4. let us known

Question ID : 264330153596
Option 1 ID : 264330601873
Option 2 ID : 264330601872
Option 3 ID : 264330601871
Option 4 ID : 264330601874
Status : Answered
Chosen Option : 1

Q.15 Select the most appropriate meaning of the underlined idiom.

The entrepreneur decided to throw caution to the wind.

- Ans
- 1. Take a risk
 - 2. Take the best option
 - 3. In extreme windy conditions
 - 4. Think innovatively

Question ID : 264330153146
Option 1 ID : 264330600145
Option 2 ID : 264330600143
Option 3 ID : 264330600146
Option 4 ID : 264330600144
Status : Answered
Chosen Option : 1

Q.16 Select the most appropriate meaning of the underlined idiom.

The mother requested the nurse to keep an eye on the baby while she went for tea.

- Ans
- 1. Watch for the arrival or appearance
 - 2. Watch and take care
 - 3. Keep informed
 - 4. Mistreat

Question ID : 264330151832
Option 1 ID : 264330594956
Option 2 ID : 264330594958
Option 3 ID : 264330594955
Option 4 ID : 264330594957
Status : Answered
Chosen Option : 2

Q.17 Select the most appropriate option that can substitute the underlined segment in the given sentence.

Everyone likes in watch a magic show.

- Ans
- 1. liked in watch
 - 2. likes to watching
 - 3. like in watching
 - 4. likes to watch

Question ID : 264330153472
Option 1 ID : 264330601406
Option 2 ID : 264330601404
Option 3 ID : 264330601405
Option 4 ID : 264330601403
Status : Answered
Chosen Option : 4

Q.18 Parts of the following sentence have been underlined and given as options. Select the option that contains a misspelt word.

For every endeavour-whether in the area of career, academics, music, sports or even in spirituality, it is a long ardous journey.

- Ans
- 1. career
 - 2. academics
 - 3. ardous
 - 4. endeavour

Question ID : 264330151836
Option 1 ID : 264330594972
Option 2 ID : 264330594973
Option 3 ID : 264330594974
Option 4 ID : 264330594971
Status : Answered
Chosen Option : 1

Q.19 Select the most appropriate option that can substitute the underlined segment in the given sentence.

Helena loves to dig and played in the dirt like any other child.

- Ans
- 1. playing with in dirt
 - 2. plays of dirt
 - 3. play in the dirt
 - 4. playing on dirt

Question ID : 264330153485
Option 1 ID : 264330601458
Option 2 ID : 264330601457
Option 3 ID : 264330601456
Option 4 ID : 264330601455
Status : Answered
Chosen Option : 3

Q.20 Select the most appropriate synonym of the given word.

Tedious

- Ans
- 1. Dynamic
 - 2. Hostile
 - 3. Dreary
 - 4. Carefree

Question ID : 264330152681

Option 1 ID : 264330598327

Option 2 ID : 264330598330

Option 3 ID : 264330598329

Option 4 ID : 264330598328

Status : Answered

Chosen Option : 3

Comprehension:

In the following passage, some words have been deleted. Read the passage carefully and select the most appropriate option to fill in each blank.

There will only be two types of human beings in the future: the minority having enormous brains and (1)_____ bodies, and the majority with tiny brains and muscular bodies. The size of the average brain will (2)_____ diminish; not because of our innate laziness, but because of our over-concern about our physical appearance. In the old days, most people dreamt of having shelter and a stable food supply. As we no longer struggle for the basic (3)_____, our dreams focus instead on the search for physical beauty, how to obtain and maintain the 'ideal body shape' and healthy life the media promotes. Physical beauty will become the main goal of the majority. They'll do exercises every day, taking (4)_____ to maintain their shape while not noticing that their brains are shrinking. Actually, there is no doubt that they'll work (5)_____ hard to make their brains smaller.

SubQuestion No : 21

Q.21 Select the most appropriate option to fill in blank number 1.

- Ans
- 1. cute
 - 2. minute
 - 3. tiny
 - 4. minor

Question ID : 264330153054

Option 1 ID : 264330599780

Option 2 ID : 264330599782

Option 3 ID : 264330599779

Option 4 ID : 264330599781

Status : Answered

Chosen Option : 3

Comprehension:

In the following passage, some words have been deleted. Read the passage carefully and select the most appropriate option to fill in each blank.

There will only be two types of human beings in the future: the minority having enormous brains and (1)_____ bodies, and the majority with tiny brains and muscular bodies. The size of the average brain will (2)_____ diminish; not because of our innate laziness, but because of our over-concern about our physical appearance. In the old days, most people dreamt of having shelter and a stable food supply. As we no longer struggle for the basic (3)_____, our dreams focus instead on the search for physical beauty, how to obtain and maintain the 'ideal body shape' and healthy life the media promotes. Physical beauty will become the main goal of the majority. They'll do exercises every day, taking (4)_____ to maintain their shape while not noticing that their brains are shrinking. Actually, there is no doubt that they'll work (5)_____ hard to make their brains smaller.

SubQuestion No : 22

Q.22 Select the most appropriate option to fill in blank number 2.

- Ans
- 1. properly
 - 2. slightly
 - 3. gradually
 - 4. appropriately

Question ID : 264330153055

Option 1 ID : 264330599783

Option 2 ID : 264330599785

Option 3 ID : 264330599784

Option 4 ID : 264330599786

Status : Answered

Chosen Option : 3

Comprehension:

In the following passage, some words have been deleted. Read the passage carefully and select the most appropriate option to fill in each blank.

There will only be two types of human beings in the future: the minority having enormous brains and (1)_____ bodies, and the majority with tiny brains and muscular bodies. The size of the average brain will (2)_____ diminish; not because of our innate laziness, but because of our over-concern about our physical appearance. In the old days, most people dreamt of having shelter and a stable food supply. As we no longer struggle for the basic (3)_____, our dreams focus instead on the search for physical beauty, how to obtain and maintain the 'ideal body shape' and healthy life the media promotes. Physical beauty will become the main goal of the majority. They'll do exercises every day, taking (4)_____ to maintain their shape while not noticing that their brains are shrinking. Actually, there is no doubt that they'll work (5)_____ hard to make their brains smaller.

SubQuestion No : 23

Q.23 Select the most appropriate option to fill in blank number 3.

- Ans
- 1. necessities
 - 2. identities
 - 3. facilities
 - 4. amenities

Question ID : 264330153056

Option 1 ID : 264330599789

Option 2 ID : 264330599790

Option 3 ID : 264330599788

Option 4 ID : 264330599787

Status : Answered

Chosen Option : 2

Comprehension:

In the following passage, some words have been deleted. Read the passage carefully and select the most appropriate option to fill in each blank.

There will only be two types of human beings in the future: the minority having enormous brains and (1)_____ bodies, and the majority with tiny brains and muscular bodies. The size of the average brain will (2)_____ diminish; not because of our innate laziness, but because of our over-concern about our physical appearance. In the old days, most people dreamt of having shelter and a stable food supply. As we no longer struggle for the basic (3)_____, our dreams focus instead on the search for physical beauty, how to obtain and maintain the 'ideal body shape' and healthy life the media promotes. Physical beauty will become the main goal of the majority. They'll do exercises every day, taking (4)_____ to maintain their shape while not noticing that their brains are shrinking. Actually, there is no doubt that they'll work (5)_____ hard to make their brains smaller.

SubQuestion No : 24

Q.24 Select the most appropriate option to fill in blank number 4.

- Ans
- 1. preservatives
 - 2. additives
 - 3. nutrients
 - 4. nutrition

Question ID : 264330153057

Option 1 ID : 264330599794

Option 2 ID : 264330599793

Option 3 ID : 264330599791

Option 4 ID : 264330599792

Status : Answered

Chosen Option : 4

Comprehension:

In the following passage, some words have been deleted. Read the passage carefully and select the most appropriate option to fill in each blank.

There will only be two types of human beings in the future: the minority having enormous brains and (1)_____ bodies, and the majority with tiny brains and muscular bodies. The size of the average brain will (2)_____ diminish; not because of our innate laziness, but because of our over-concern about our physical appearance. In the old days, most people dreamt of having shelter and a stable food supply. As we no longer struggle for the basic (3)_____, our dreams focus instead on the search for physical beauty, how to obtain and maintain the 'ideal body shape' and healthy life the media promotes. Physical beauty will become the main goal of the majority. They'll do exercises every day, taking (4)_____ to maintain their shape while not noticing that their brains are shrinking. Actually, there is no doubt that they'll work (5)_____ hard to make their brains smaller.

SubQuestion No : 25

Q.25 Select the most appropriate option to fill in blank number 5.

- Ans
- 1. extremely
 - 2. so
 - 3. impishly
 - 4. rarely

Question ID : 264330153058

Option 1 ID : 264330599797

Option 2 ID : 264330599795

Option 3 ID : 264330599798

Option 4 ID : 264330599796

Status : Answered

Chosen Option : 2