

## Multi Tasking Non Technical Staff and Havaldar CBIC and CBN Examination 2023

Roll Number	
Candidate Name	
Venue Name	ANAND INTERNATIONAL COLLEGE OF ENGINEERING JAIPUR
Exam Date	14/09/2023
Exam Time	9:00 AM - 11:00 AM
Subject	MTS Non Tech Havaldar CBIC and CBN Examination 2023

### Section : Numerical and Mathematical Ability

**Q.1** श्री कालरा ने अपने बेटे की शिक्षा के खर्चों को पूरा करने के लिए ₹1.35.000 ऋण पर लिए। यदि वार्षिक रूप से संयोजित ब्याज की दर 12% वार्षिक है, तो 2 वर्ष 3 माह के बाद उन्हें ऋण चुकता करने के लिए कितनी धनराशि कमाना होगी?

- Ans** ✓ 1. ₹1,74,424.32  
✗ 2. ₹1,49,920.32  
✗ 3. ₹1,50,640.40  
✗ 4. ₹1,74,760

Question ID : 264330154131

Option 1 ID : 264330603988

Option 2 ID : 264330603989

Option 3 ID : 264330603990

Option 4 ID : 264330603987

Status : Answered

Chosen Option : 3

**Q.2** एक आदमी ने 72 मिनट में 7.5 km की दूरी तय करने का निर्णय लिया। उसने दो-तिहाई दूरी 5 km/h की चाल से और शेष दूरी को कुछ अलग चाल से तय करने का निर्णय लिया। दो तिहाई दूरी तय करने के बाद चाल ज्ञात कीजिए।

- Ans** ✗ 1. 14.3 km/h  
✗ 2. 10 km/h  
✓ 3. 12.5 km/h  
✗ 4. 15.5 km/h

Question ID : 264330156361

Option 1 ID : 264330612845

Option 2 ID : 264330612843

Option 3 ID : 264330612844

Option 4 ID : 264330612846

Status : Answered

Chosen Option : 2

**Q.3** 6 कुशल श्रमिक एक काम को 4 दिनों में पूरा कर सकते हैं। तीन दिनों के बाद 3 और कुशल श्रमिक उनके साथ शामिल हो जाते हैं। शेष काम को पूरा करने में उन्हें अब कितने दिन का समय लगेगा?

- Ans**
- 1.  $\frac{1}{3}$
  - 2.  $\frac{2}{3}$
  - 3.  $\frac{3}{4}$
  - 4.  $\frac{1}{2}$

Question ID : 264330155760

Option 1 ID : 264330610443

Option 2 ID : 264330610446

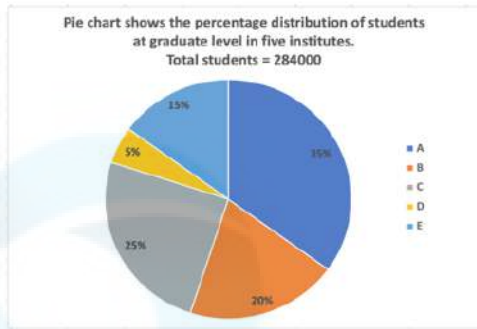
Option 3 ID : 264330610445

Option 4 ID : 264330610444

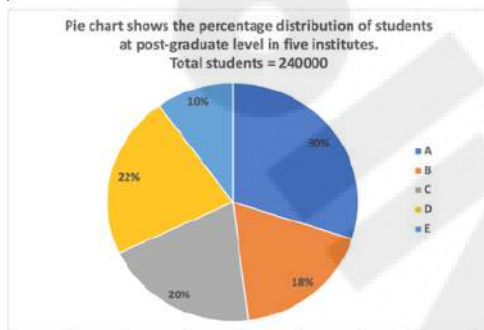
Status : Answered

Chosen Option : 2

Q.4 निम्नलिखित वृत्त आलेख में एक शहर के पांच अलग-अलग संस्थानों में स्नातक और स्नातकोत्तर स्तर के छात्रों के प्रतिशत वितरण को दर्शाया गया है।



संदर्भ: Pie-charts shows the percentage distribution of students at graduate level in five institutes - वृत्त आलेख पांच संस्थानों में स्नातक स्तर पर छात्रों के प्रतिशत वितरण को दर्शाता है, Total students - कुल छात्र



संदर्भ: Pie-charts shows the percentage distribution of students at post-graduate level in five institutes - वृत्त आलेख पांच संस्थानों में स्नातकोत्तर स्तर पर छात्रों के प्रतिशत वितरण को दर्शाता है, Total students - कुल छात्र

स्नातक स्तर पर संस्थान A, C और E से और स्नातकोत्तर स्तर पर संस्थान B और D से छात्रों की कुल संख्या कितनी है?

- Ans
- 1. 300090
  - 2. 309000
  - 3. 300900
  - 4. 390000

Question ID : 264330153786

Option 1 ID : 264330602608

Option 2 ID : 264330602610

Option 3 ID : 264330602609

Option 4 ID : 264330602607

Status : Answered

Chosen Option : 2

**Q.5** तीन संख्याएँ 1 : 2 : 3 के अनुपात में हैं। प्रत्येक संख्या में 5 जोड़ने पर अनुपात 2 : 3 : 4 हो जाता है। सबसे छोटी संख्या कौन-सी है?

- Ans**
- 1. 15
  - 2. 20
  - 3. 12
  - 4. 5

Question ID : 264330154049  
Option 1 ID : 264330603660  
Option 2 ID : 264330603659  
Option 3 ID : 264330603661  
Option 4 ID : 264330603662  
Status : Answered  
Chosen Option : 4

**Q.6** एक निश्चित धनराशि का एक निश्चित अवधि के लिए 12% वार्षिक साधारण ब्याज की दर पर निवेश किया जाता है। यदि अवधि के अंत में धनराशि मूलधन का चार गुना हो जाती है, तो निवेश की अवधि क्या है?

- Ans**
- 1. 20 वर्ष
  - 2. 25 वर्ष
  - 3. 24 वर्ष
  - 4. 22 वर्ष

Question ID : 264330156271  
Option 1 ID : 264330612483  
Option 2 ID : 264330612486  
Option 3 ID : 264330612485  
Option 4 ID : 264330612484  
Status : Answered  
Chosen Option : 2

**Q.7** दो शहरों के बीच की दूरी 9 घंटे में 60 kmph की चाल से तय की जाती है। चाल (km/h में) कितनी बढ़ाई जानी चाहिए ताकि यात्रा के समय में 1 घंटे की बचत की जा सके?

- Ans**
- 1. 15
  - 2. 12.5
  - 3. 7.5
  - 4. 10

Question ID : 264330156489  
Option 1 ID : 264330613344  
Option 2 ID : 264330613346  
Option 3 ID : 264330613343  
Option 4 ID : 264330613345  
Status : Answered  
Chosen Option : 3

Q.8 The diameter of the base of a cylindrical vessel is 30 cm and its height is 56 cm. Find its curved surface area (in  $\text{cm}^2$ ).

Ans  1. 5280

2. 6280

3. 6080

4. 5080

Question ID : 264330153863

Option 1 ID : 264330602917

Option 2 ID : 264330602918

Option 3 ID : 264330602916

Option 4 ID : 264330602915

Status : Answered

Chosen Option : 1

Q.9 A और B एक काम को क्रमशः 30 दिन और 40 दिन में पूरा कर सकते हैं। वे साथ मिलकर काम करना शुरू करते हैं लेकिन एक निश्चित समय के बाद, A काम छोड़ देता है और B शेष काम को 25 दिनों में पूरा करता है। A कितने दिनों के बाद काम छोड़ता है?

Ans  1.  $6\frac{1}{7}$

2.  $5\frac{3}{7}$

3.  $6\frac{3}{7}$

4.  $5\frac{2}{7}$

Question ID : 264330155757

Option 1 ID : 264330610431

Option 2 ID : 264330610433

Option 3 ID : 264330610434

Option 4 ID : 264330610432

Status : Answered

Chosen Option : 3

Q.10 एक घनाभ की लंबाई, चौड़ाई और ऊंचाई 6 : 4 : 3 के अनुपात में है। यदि घनाभ का कुल पृष्ठीय क्षेत्रफल  $972 \text{ cm}^2$  है, तो घनाभ के विकर्ण की लंबाई (cm में) क्या है?

Ans  1.  $3\sqrt{65}$

2.  $5\sqrt{65}$

3.  $5\sqrt{61}$

4.  $3\sqrt{61}$

Question ID : 264330153792

Option 1 ID : 264330602632

Option 2 ID : 264330602631

Option 3 ID : 264330602634

Option 4 ID : 264330602633

Status : Answered

Chosen Option : 4

Q.11 दी गई तालिका का अध्ययन कीजिए और दिए गए प्रश्न का उत्तर दीजिए।

तालिका में एक विश्वविद्यालय में अलग-अलग क्षेत्रों में उपस्थित और उत्तीर्ण होने वाले छात्रों की संख्या को दर्शाया गया है।

वर्ष	चिकित्सा		इंजीनियरिंग		कॉमर्स		प्रबंधन	
	उपस्थित	उत्तीर्ण	उपस्थित	उत्तीर्ण	उपस्थित	उत्तीर्ण	उपस्थित	उत्तीर्ण
2010	300	250	460	256	380	352	365	322
2011	345	320	440	365	401	354	314	314
2012	280	240	384	327	460	400	378	344
2013	310	230	390	290	430	392	387	353
2014	450	380	415	358	388	352	270	227
2015	380	286	486	456	366	315	290	257

2011 में उपस्थित होने वाले कुल छात्रों में से कितने प्रतिशत छात्र चिकित्सा क्षेत्र में उपस्थित हुए?

- Ans
- 1. 25%
  - 2. 21%
  - 3. 23%
  - 4. 20%

Question ID : 264330156241  
Option 1 ID : 264330612366  
Option 2 ID : 264330612364  
Option 3 ID : 264330612365  
Option 4 ID : 264330612363  
Status : Answered  
Chosen Option : 3

Q.12 लड़के और लड़कियों की एक कक्षा में, लड़कियों की संख्या लड़कों की संख्या से दोगुनी है। यदि 20 और लड़के कक्षा में शामिल हो जाते हैं, तो लड़कियों और लड़कों का अनुपात 1 : 1 हो जाता है। शुरुआत में कक्षा में कुल कितने विद्यार्थी थे?

- Ans
- 1. 60
  - 2. 45
  - 3. 90
  - 4. 75

Question ID : 264330153807  
Option 1 ID : 264330602692  
Option 2 ID : 264330602691  
Option 3 ID : 264330602694  
Option 4 ID : 264330602693  
Status : Answered  
Chosen Option : 1

Q.13 अतुल एक ग्राहक को P% लाभ पर माल बेचता है। यदि ग्राहक के लिए माल का क्रय मूल्य ₹1,50,000 है और अतुल ₹30,000 का लाभ अर्जित करता है, तो P का मान क्या है?

- Ans
- 1. 25
  - 2. 22
  - 3. 28
  - 4. 20

Question ID : 264330159631  
Option 1 ID : 264330625885  
Option 2 ID : 264330625884  
Option 3 ID : 264330625886  
Option 4 ID : 264330625883  
Status : Answered  
Chosen Option : 1

Q.14  $6\frac{4}{5} \div \left[ 4\frac{1}{4} \div \left\{ 5\frac{1}{3} \times \frac{3}{8} + \left( 3\frac{1}{2} + \frac{2}{3} \right) \times \frac{4}{5} \right\} \right]$  को सरल कीजिए।

- Ans
- 1.  $7\frac{8}{15}$
  - 2.  $7\frac{8}{25}$
  - 3.  $8\frac{8}{15}$
  - 4.  $8\frac{8}{25}$

Question ID : 264330153752  
Option 1 ID : 264330602474  
Option 2 ID : 264330602472  
Option 3 ID : 264330602473  
Option 4 ID : 264330602471  
Status : Answered  
Chosen Option : 2

Q.15 8 लीटर की मात्रा वाले मिश्रण 1 में 80% दूध है और 6 लीटर की मात्रा वाले मिश्रण 2 में 60% दूध है। दोनों मिश्रण मिला दिए जाते हैं। अंतिम मिश्रण में दूध का प्रतिशत ज्ञात कीजिए।

- Ans
- 1.  $\frac{800}{9}$
  - 2.  $\frac{600}{7}$
  - 3.  $\frac{500}{7}$
  - 4.  $\frac{500}{9}$

Question ID : 264330153801  
Option 1 ID : 264330602670  
Option 2 ID : 264330602668  
Option 3 ID : 264330602669  
Option 4 ID : 264330602667  
Status : Answered  
Chosen Option : 3

Q.16 अमित ने 60 मील प्रति घंटे की चाल से 6 घंटे और 40 मील प्रति घंटे की चाल से 6 घंटे गाड़ी चलाई। पूरी यात्रा में उसकी औसत चाल (मील प्रति घंटे में) क्या थी?

- Ans
- 1. 48
  - 2. 50
  - 3. 46
  - 4. 44

Question ID : 264330156215  
Option 1 ID : 264330612261  
Option 2 ID : 264330612262  
Option 3 ID : 264330612260  
Option 4 ID : 264330612259  
Status : Answered  
Chosen Option : 2

Q.17 एक गहना 3 बार बेचा गया और कुल मिलाकर इसके मूल्य में 80% की वृद्धि हुई, पहला विक्रेता क्रमशः 20% लाभ अर्जित करता है और दूसरा विक्रेता 25% लाभ अर्जित करता है, तीसरे विक्रेता द्वारा अर्जित लाभ का प्रतिशत ज्ञात कीजिए?

- Ans
- 1. 15%
  - 2. 20%
  - 3. 10%
  - 4. 5%

Question ID : 264330153839  
Option 1 ID : 264330602819  
Option 2 ID : 264330602821  
Option 3 ID : 264330602822  
Option 4 ID : 264330602820  
Status : Answered  
Chosen Option : 2

Q.18 एक पुलिसकर्मी 250 m की दूरी से एक चोर को देखता है। जब पुलिसकर्मी चोर का पीछा करना शुरू करता है तो चोर भी भागने लगता है। मान लीजिए कि चोर की चाल 10 km/h है और पुलिसकर्मी की चाल 12.5 km/h है। पकड़े जाने से पहले चोर कितनी दूर भाग चुका होगा?

- Ans
- 1. 1 km
  - 2. 2 km
  - 3. 3 km
  - 4. 4 km

Question ID : 264330156347  
Option 1 ID : 264330612787  
Option 2 ID : 264330612788  
Option 3 ID : 264330612789  
Option 4 ID : 264330612790  
Status : Answered  
Chosen Option : 1

Q.19 दो संख्याओं का अनुपात 7 : 11 है और उनका लघुत्तम समापवर्त्य 462 है। इन दोनों संख्याओं के बीच का अंतर क्या है?

- Ans
- 1. 30
  - 2. 24
  - 3. 28
  - 4. 26

Question ID : 264330155688  
Option 1 ID : 264330610158  
Option 2 ID : 264330610155  
Option 3 ID : 264330610157  
Option 4 ID : 264330610156  
Status : Answered  
Chosen Option : 2

**Q.20** रिकी अपने वेतन का 35% किराने के सामान पर, 15% ऋण पर, 14% बिजली के बिल पर और 6% अन्य पर खर्च करता है। यदि एक माह के अंत में उसकी बचत ₹2,400 है, तो उसका प्रति माह वेतन (₹ में) कितना है?

- Ans** ✓ 1. 8,000  
 ✗ 2. 5,828  
 ✗ 3. 4,000  
 ✗ 4. 6,000

Question ID : 264330156431  
 Option 1 ID : 264330613116  
 Option 2 ID : 264330613117  
 Option 3 ID : 264330613118  
 Option 4 ID : 264330613115  
 Status : Answered  
 Chosen Option : 1

Section : Reasoning Ability and Problem Solving

**Q.1** उस विकल्प आकृति को चुनिए जिसमें दी गई आकृति (X) उसके भाग के रूप में निहित है। (घूर्णन की अनुमति नहीं है)



**Ans**

- ✗ 1.
- ✗ 2.
- ✗ 3.
- ✓ 4.

Question ID : 264330151732  
 Option 1 ID : 264330594555  
 Option 2 ID : 264330594556  
 Option 3 ID : 264330594558  
 Option 4 ID : 264330594557  
 Status : Answered  
 Chosen Option : 4

**Q.2** यदि T का अर्थ '4', 'J' का अर्थ '2', 'K' का अर्थ '3' और 'L' का अर्थ '1' है, तो निम्नलिखित समीकरण में प्रश्न चिन्ह (?) के स्थान पर क्या आएगा?  
(95 K 19) J 7 L 15 I (10 J 4) = ?

- Ans**
- 1. 70
  - 2. 40
  - 3. 60
  - 4. 50

Question ID : 264330151795  
Option 1 ID : 264330594810  
Option 2 ID : 264330594808  
Option 3 ID : 264330594807  
Option 4 ID : 264330594809  
Status : Answered  
Chosen Option : 3

**Q.3** एक निश्चित तर्क के अनुसार 428, 317 से संबंधित है। समान तर्क के अनुसार, 285, 174 से संबंधित है। समान तर्क का अनुसरण करते हुए 597 निम्नलिखित में से किससे संबंधित है?

- Ans**
- 1. 368
  - 2. 486
  - 3. 386
  - 4. 468

Question ID : 264330151597  
Option 1 ID : 264330594016  
Option 2 ID : 264330594018  
Option 3 ID : 264330594015  
Option 4 ID : 264330594017  
Status : Answered  
Chosen Option : 3

**Q.4** एक निश्चित कूट भाषा में, 'NAIL' को '2637' लिखा जाता है और 'LANE' को '3278' लिखा जाता है। उसी कूट भाषा में 'E' को कैसे लिखा जाएगा?

- Ans**
- 1. 2
  - 2. 8
  - 3. 3
  - 4. 7

Question ID : 264330151699  
Option 1 ID : 264330594426  
Option 2 ID : 264330594424  
Option 3 ID : 264330594425  
Option 4 ID : 264330594423  
Status : Answered  
Chosen Option : 2

**Q.5** नीचे दिए गए कथनों और निष्कर्षों को ध्यानपूर्वक पढ़िए। आपको मानना है कि दिए गए कथन सत्य हैं चाहे वे समान्यतः ज्ञात तथ्यों से अलग प्रतीत होते हों। आपको निश्चय करना है कि कौन-सा/कौन-से निष्कर्ष तार्किक रूप से दिए गए कथनों के अनुसार है/हैं।

कथन: सभी टुक, बाइकें हैं। सभी बाइकें, ठेले हैं। कुछ ठेले, कलमें हैं।

निष्कर्ष I: कुछ टुक, ठेले हैं।

निष्कर्ष II: कोई बाइकें, कलमें नहीं हैं।

**Ans**

1. केवल निष्कर्ष (II) कथनों के अनुसार है।
2. केवल निष्कर्ष (I) कथनों के अनुसार है।
3. दोनों निष्कर्ष (I) और (II) कथनों के अनुसार हैं।
4. न तो निष्कर्ष (I) और न ही (II) कथनों के अनुसार है।

Question ID : 264330155922

Option 1 ID : 264330611092

Option 2 ID : 264330611091

Option 3 ID : 264330611094

Option 4 ID : 264330611093

Status : Answered

Chosen Option : 2

**Q.6** उस समुच्चय को चुनिए जिसमें संख्याएँ ठीक उसी प्रकार संबंधित हैं जिस प्रकार निम्नलिखित समुच्चयों की संख्याएँ संबंधित हैं।

(ध्यान दें: संख्याओं को उनके घटक अंकों में अलग-अलग किए बिना, पूर्ण संख्याओं पर संक्रियाएँ की जानी चाहिए। उदा. 13 - संख्या 13 पर संक्रियाएँ जैसे 13 को जोड़ना/घटाना/गुणा करना आदि किया जा सकता है। 13 को 1 और 3 में अलग-अलग करने की ओर फिर 1 और 3 पर गणितीय संक्रियाएँ करने की अनुमति नहीं है।)

(14, 42, 7)

(12, 34, 5)

**Ans**

1. 25, 131, 2
2. 17, 102, 5
3. 43, 144, 29
4. 36, 702, 2

Question ID : 264330151612

Option 1 ID : 264330594075

Option 2 ID : 264330594077

Option 3 ID : 264330594078

Option 4 ID : 264330594076

Status : Answered

Chosen Option : 1

**Q.7** यदि '+' और '-' को आपस में बदल दिया जाए तथा '×' और '÷' को आपस में बदल दिया जाए तो निम्नलिखित समीकरण में (?) के स्थान पर क्या आएगा?

$357 \times 7 + 19 \div 2 - 38 = ?$

**Ans**

1. 61
2. 71
3. 41
4. 51

Question ID : 264330155679

Option 1 ID : 264330610120

Option 2 ID : 264330610121

Option 3 ID : 264330610122

Option 4 ID : 264330610119

Status : Answered

Chosen Option : 4

Q.8 अक्षरों के उस संयोजन को चुनिए जिसे दी गई श्रृंखला के रिक्त स्थानों में क्रमिक रूप से रखने पर श्रृंखला तार्किक रूप से पूरी हो जाएगी।

PYJ\_ S\_LM \_YNM YY\_M B\_RM

- Ans
- ✓ 1. MYVPY
  - ✗ 2. MHAPV
  - ✗ 3. HAPPY
  - ✗ 4. PMGHY

Question ID : 264330156317

Option 1 ID : 264330612668

Option 2 ID : 264330612669

Option 3 ID : 264330612667

Option 4 ID : 264330612670

Status : Not Attempted and Marked For Review

Chosen Option : --

Q.9 RN 12, PL 16 से एक निश्चित प्रकार से संबंधित है। उसी प्रकार, EJ 17, CH 21 से संबंधित है। समान तर्क का अनुसरण करते हुए FL 15 निम्नलिखित में से किससे संबंधित है?

- Ans
- ✗ 1. HN 18
  - ✗ 2. DK 19
  - ✗ 3. CI 20
  - ✓ 4. DJ 19

Question ID : 264330151670

Option 1 ID : 264330594309

Option 2 ID : 264330594307

Option 3 ID : 264330594310

Option 4 ID : 264330594308

Status : Answered

Chosen Option : 4

Q.10 अक्षरों के उस संयोजन को चुनिए जिसे दी गई श्रृंखला के रिक्त स्थानों में क्रमिक रूप से रखने पर श्रृंखला पूरी हो जाएगी।

\_ FFEF \_ \_ FF \_ F \_

- Ans
- ✓ 1. EFEEF
  - ✗ 2. EEEFE
  - ✗ 3. EFFE F
  - ✗ 4. EFFEE

Question ID : 264330151654

Option 1 ID : 264330594243

Option 2 ID : 264330594244

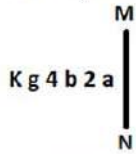
Option 3 ID : 264330594246

Option 4 ID : 264330594245

Status : Answered

Chosen Option : 1

Q.11 दी गई आकृति के उस सही दर्पण प्रतिबिंब को चुनिए, जो नीचे दर्शाए गए अनुसार दर्पण को MN पर रखने पर बनेगा।



- Ans
- ✓ 1. K g 4 b 2 a
  - ✗ 2. a 2 b 4 g K
  - ✗ 3. K g 4 b 2 a
  - ✗ 4. K g 4 b 2 a

Question ID : 264330151518

Option 1 ID : 264330593700

Option 2 ID : 264330593699

Option 3 ID : 264330593701

Option 4 ID : 264330593702

Status : Answered

Chosen Option : 1

Q.12 किरण, पीहू, सिया, लीना, रीना और जिया एक वृत्ताकार मेज के चारों ओर केंद्र की ओर मुख करके बैठे हैं। किरण, पीहू के दाईं ओर से तीसरे स्थान पर बैठी है। सिया, किरण के दाईं ओर से दूसरे स्थान पर बैठी है। लीना, सिया के बाईं ओर से तीसरे स्थान पर बैठी है। रीना, लीना की निकटतम पड़ोसी है। जिया के ठीक बाईं ओर कौन बैठी है?

- Ans
- ✗ 1. लीना
  - ✗ 2. सिया
  - ✓ 3. किरण
  - ✗ 4. पीहू

Question ID : 264330155652

Option 1 ID : 264330610014

Option 2 ID : 264330610012

Option 3 ID : 264330610011

Option 4 ID : 264330610013

Status : Answered

Chosen Option : 3

Q.13 दी गई श्रृंखला में प्रश्न चिन्ह '?' के स्थान पर क्या आना चाहिए?

14 85 511 3067 18403 ?

- Ans
- ✗ 1. 110119
  - ✗ 2. 110279
  - ✗ 3. 110581
  - ✓ 4. 110419

Question ID : 264330151486

Option 1 ID : 264330593571

Option 2 ID : 264330593572

Option 3 ID : 264330593574

Option 4 ID : 264330593573

Status : Not Answered

Chosen Option : --

Q.14 यदि निम्नलिखित आकृति श्रृंखला को जारी रखना हो तो कौन-सी आकृति प्रश्न चिन्ह (?) के स्थान पर आनी चाहिए?

X	9	B	☆	T	L	9	X	
	☆		L		X		B	?
B	L	T	X	T	9	9	B	☆
							T	☆
								L

Ans

✓ 1.

☆		B
	T	
L	9	X

✗ 2.

L		B
	T	
☆	X	9

✗ 3.

X		B
	9	
L	T	☆

✗ 4.

L		T
	☆	
X	B	9

Question ID : 264330154744

Option 1 ID : 264330606440

Option 2 ID : 264330606442

Option 3 ID : 264330606439

Option 4 ID : 264330606441

Status : Not Answered

Chosen Option : --

Q.15 एक निश्चित कूट भाषा में, 'MENTOR' को 'EMOUPS' लिखा जाता है और 'OCTAGON' को 'COUBHPO' लिखा जाता है। उस कूट भाषा में 'PENCIL' को कैसे लिखा जाएगा?

- Ans
- ✗ 1. EPLICN
  - ✗ 2. PLICNE
  - ✓ 3. EPODJM
  - ✗ 4. LINCENP

Question ID : 264330155828

Option 1 ID : 264330610717

Option 2 ID : 264330610718

Option 3 ID : 264330610716

Option 4 ID : 264330610715

Status : Not Answered

Chosen Option : --

Q.16 दी गई श्रृंखला में प्रश्न चिह्न '?' के स्थान पर क्या आना चाहिए?

26 37 59 92 136 ?

- Ans
- 1. 192
  - 2. 193
  - 3. 191
  - 4. 190

Question ID : 264330151555  
Option 1 ID : 264330593849  
Option 2 ID : 264330593850  
Option 3 ID : 264330593848  
Option 4 ID : 264330593847  
Status : Answered  
Chosen Option : 3

Q.17 दी गई श्रृंखला में प्रश्न चिह्न '?' के स्थान पर क्या आना चाहिए?

3 21 111 561 2811 ?

- Ans
- 1. 13468
  - 2. 12952
  - 3. 12786
  - 4. 14061

Question ID : 264330151471  
Option 1 ID : 264330593513  
Option 2 ID : 264330593512  
Option 3 ID : 264330593511  
Option 4 ID : 264330593514  
Status : Not Answered  
Chosen Option : --

Q.18 यदि 5 मई 2010 को बुधवार है, तो 5 जून 2022 को सप्ताह का कौन-सा दिन होगा?

- Ans
- 1. रविवार
  - 2. बुधवार
  - 3. मंगलवार
  - 4. सोमवार

Question ID : 264330154338  
Option 1 ID : 264330604815  
Option 2 ID : 264330604818  
Option 3 ID : 264330604817  
Option 4 ID : 264330604816  
Status : Not Answered  
Chosen Option : --

Q.19 अंग्रेजी वर्णमाला क्रम के आधार पर दी गई श्रृंखला में प्रश्न चिह्न '?' के स्थान पर कौन-सा अक्षर-समूह आना चाहिए?

YFD, VJA, SNX, PRU, ?

- Ans
- 1. MXS
  - 2. NWR
  - 3. NWS
  - 4. MVR

Question ID : 264330156301

Option 1 ID : 264330612606

Option 2 ID : 264330612603

Option 3 ID : 264330612604

Option 4 ID : 264330612605

Status : Answered

Chosen Option : 4

Q.20 नीचे दिए गए कथनों और निष्कर्षों को ध्यानपूर्वक पढ़िए। आपको मानना है कि दिए गए कथन सत्य हैं चाहे वे समान्यतः ज्ञात तथ्यों से अलग प्रतीत होते हों। आपको निश्चय करना है कि कौन-सा/कौन-से निष्कर्ष तार्किक रूप से दिए गए कथनों के अनुसार है/हैं।

कथन: कुछ चार्जर, धातु हैं। सभी धातु, कठोर हैं। कुछ कठोर, स्टूल हैं।

निष्कर्ष I: सभी चार्जर, धातु हैं।

निष्कर्ष II: कुछ स्टूल, कठोर हैं।

- Ans
- 1. दोनों निष्कर्ष (I) और (II) कथनों के अनुसार हैं।
  - 2. केवल निष्कर्ष (I) कथनों के अनुसार है।
  - 3. केवल निष्कर्ष (II) कथनों के अनुसार है।
  - 4. न तो निष्कर्ष (I) और न ही (II) कथनों के अनुसार है।

Question ID : 264330155902

Option 1 ID : 264330611014

Option 2 ID : 264330611011

Option 3 ID : 264330611012

Option 4 ID : 264330611013

Status : Answered

Chosen Option : 3

Section : General Awareness

Q.1 कर्नाटक का कोलार क्षेत्र निम्नलिखित में से किस खनिज के लिए प्रसिद्ध है?

- Ans
- 1. तांबा
  - 2. कोयला
  - 3. सोना
  - 4. पेट्रोलियम

Question ID : 264330161523

Option 1 ID : 264330633419

Option 2 ID : 264330633420

Option 3 ID : 264330633421

Option 4 ID : 264330633422

Status : Answered

Chosen Option : 3

Q.2 सत्रिय शास्त्रीय नृत्य का संबंध किस राज्य से है ?

- Ans
- 1. मध्यप्रदेश
  - 2. महाराष्ट्र
  - 3. कर्नाटक
  - 4. असम

Question ID : 264330159051  
Option 1 ID : 264330623564  
Option 2 ID : 264330623565  
Option 3 ID : 264330623563  
Option 4 ID : 264330623566  
Status : Answered  
Chosen Option : 4

Q.3 निम्नलिखित में से किस भारतीय संगीतकार का संबंध तबले से है?

- Ans
- 1. जाकिर हुसैन
  - 2. पंडित रविशंकर
  - 3. इलैयाराजा
  - 4. उस्ताद बिस्मिल्लाह खान

Question ID : 264330160976  
Option 1 ID : 264330631236  
Option 2 ID : 264330631237  
Option 3 ID : 264330631238  
Option 4 ID : 264330631235  
Status : Answered  
Chosen Option : 1

Q.4 \_\_\_\_\_ आत्मकथा लिखने वाली पहली भारतीय महिला थीं और बंगाली में लिखने वाली भी पहली महिला थीं। उनकी पुस्तक का शीर्षक 'आमार जीवन (Aamar Jiban)' था, जो 1876 में प्रकाशित हुई थी।

- Ans
- 1. मणिकुंतला सेन
  - 2. सरला देवी चौधुरानी
  - 3. शांतिसुधा घोष
  - 4. राससुंदरी देवी

Question ID : 264330161927  
Option 1 ID : 264330635038  
Option 2 ID : 264330635035  
Option 3 ID : 264330635036  
Option 4 ID : 264330635037  
Status : Answered  
Chosen Option : 3

Q.5 'हिंदू महाकाव्य 'महाभारत' का एक प्रस्तुतीकरण, 'द पैलेस ऑफ इल्यूजन्स (The Palace of Illusions)', निम्नलिखित में से किस उपन्यासकार द्वारा लिखा गया था?

- Ans
- 1. इंदु सुंदरेसन
  - 2. देवी यशोधरन
  - 3. प्रतिभा राय
  - 4. चित्रा बनर्जी दिवाकरुनि

Question ID : 264330161761

Option 1 ID : 264330634372

Option 2 ID : 264330634373

Option 3 ID : 264330634371

Option 4 ID : 264330634374

Status : Answered

Chosen Option : 3

Q.6 86वें संवैधानिक संशोधन अधिनियम, 2002 द्वारा निम्नलिखित में से कौन-सा मौलिक कर्तव्य भारतीय संविधान में जोड़ा गया था?

- Ans
- 1. जीवित जीवों के लिए दया भाव रखते हुए प्राकृतिक पर्यावरण जिसके अंतर्गत वन, झील, नदी और वन्यजीव आते हैं, की रक्षा और संवर्द्धन करना
  - 2. छः से चौदह वर्ष की आयु के बीच के अपने बच्चे या, स्थिति अनुसार, प्रतिपाल्य को शिक्षा के अवसर प्रदान करना
  - 3. संविधान का पालन करना और उसके आदर्शों, संस्थाओं, राष्ट्रीय ध्वज और राष्ट्रीय गान का आदर करना।
  - 4. स्वतंत्रता के लिए हमारे राष्ट्रीय आंदोलन को प्रेरित करने वाले उच्च आदेशों को हृदय में संजोए रखना और उनका पालन करना

Question ID : 264330162247

Option 1 ID : 264330636318

Option 2 ID : 264330636317

Option 3 ID : 264330636315

Option 4 ID : 264330636316

Status : Answered

Chosen Option : 2

Q.7 शैल कायांतरण के दौरान निम्नलिखित में से कौन-सी चट्टानें बनती हैं?

- Ans
- 1. बेसाल्ट (Basalt)
  - 2. पिंडशीला (Conglomerate)
  - 3. बालुकाश्म (Sandstone)
  - 4. स्लेट (Slate)

Question ID : 264330157829

Option 1 ID : 264330618676

Option 2 ID : 264330618678

Option 3 ID : 264330618677

Option 4 ID : 264330618675

Status : Answered

Chosen Option : 4

Q.8 जी. कृष्णकुमार (G Krishnakumar) को 2023 में निम्नलिखित में से किसका अध्यक्ष नियुक्त किया गया था?

- Ans
- 1. इंडियन ऑयल कॉर्पोरेशन लिमिटेड
  - 2. भारत पेट्रोलियम कॉर्पोरेशन लिमिटेड
  - 3. हिंदुस्तान पेट्रोलियम कॉर्पोरेशन लिमिटेड
  - 4. तेल और प्राकृतिक गैस निगम लिमिटेड

Question ID : 264330158349  
Option 1 ID : 264330620758  
Option 2 ID : 264330620756  
Option 3 ID : 264330620757  
Option 4 ID : 264330620755  
Status : Answered  
Chosen Option : 1

Q.9 यूपीएससी (UPSC) का पूरा नाम क्या है?

- Ans
- 1. यूनियन पब्लिक सर्विस कमिशन (Union Public Service Commission)
  - 2. यूनियन प्राइवेट सर्विस कमेटी (Union Private Service Committee)
  - 3. यूनाइटेड पावर एंड सिक्योरिटी कमिशन (United Power & Security Commission)
  - 4. यूनाइटेड पब्लिक सिक्योरिटी कमिशन (United Public Security Commission)

Question ID : 264330159909  
Option 1 ID : 264330626985  
Option 2 ID : 264330626984  
Option 3 ID : 264330626986  
Option 4 ID : 264330626983  
Status : Answered  
Chosen Option : 1

Q.10 नीति आयोग (NITI Aayog) की पहली बहुआयामी गरीबी सूचकांक (MPI) 2021 रिपोर्ट के अनुसार, भारत में कौन-सा राज्य पहले स्थान पर है?

- Ans
- 1. छत्तीसगढ़
  - 2. उत्तर प्रदेश
  - 3. झारखंड
  - 4. बिहार

Question ID : 264330166019  
Option 1 ID : 264330651154  
Option 2 ID : 264330651153  
Option 3 ID : 264330651152  
Option 4 ID : 264330651151  
Status : Answered  
Chosen Option : 4

Q.11 विवेकानन्द रॉक मेमोरियल कहाँ स्थित है?

- Ans
- 1. पोर्ट ब्लेयर
  - 2. चेन्नई
  - 3. विशाखापत्तनम
  - 4. कन्याकुमारी

Question ID : 264330160776  
Option 1 ID : 264330630437  
Option 2 ID : 264330630435  
Option 3 ID : 264330630438  
Option 4 ID : 264330630436  
Status : Answered  
Chosen Option : 3

Q.12 भारत की जनगणना 2011 के अनुसार बिहार में जनसंख्या घनत्व कितना दर्ज किया गया था?

- Ans
- 1. 980 व्यक्ति प्रति वर्ग किमी
  - 2. 1320 व्यक्ति प्रति वर्ग किमी
  - 3. 1050 व्यक्ति प्रति वर्ग किमी
  - 4. 1106 व्यक्ति प्रति वर्ग किमी

Question ID : 264330161551  
Option 1 ID : 264330633534  
Option 2 ID : 264330633531  
Option 3 ID : 264330633533  
Option 4 ID : 264330633532  
Status : Answered  
Chosen Option : 4

Q.13 कौन-सा घाटा सरकार की ऋण-ग्रहण आवश्यकताओं को दर्शाता है?

- Ans
- 1. राजकोषीय घाटा
  - 2. पूंजीगत घाटा
  - 3. प्राथमिक घाटा
  - 4. राजस्व घाटा

Question ID : 264330161582  
Option 1 ID : 264330633658  
Option 2 ID : 264330633657  
Option 3 ID : 264330633655  
Option 4 ID : 264330633656  
Status : Answered  
Chosen Option : 4

Q.14 मानव शरीर द्वारा कार्बोहाइड्रेट का उपयोग \_\_\_\_\_ के रूप में किया जाता है।

- Ans
- 1. अमीनो अम्ल
  - 2. फाइबर
  - 3. न्यूक्लियोटाइड
  - 4. ग्लूकोज

Question ID : 264330157808  
Option 1 ID : 264330618593  
Option 2 ID : 264330618591  
Option 3 ID : 264330618594  
Option 4 ID : 264330618592  
Status : Answered  
Chosen Option : 2

Q.15 तलवारबाजी (Fencing) में, दो तलवारबाजों के बीच प्रतियोगिता को क्या कहा जाता है?

- Ans  1. बौट (bout)  
 2. पारी (parry)  
 3. रिपोस्ट (riposte)  
 4. रीमाईस (remise)

Question ID : 264330161162  
Option 1 ID : 264330631982  
Option 2 ID : 264330631979  
Option 3 ID : 264330631980  
Option 4 ID : 264330631981  
Status : Answered  
Chosen Option : 3

Q.16 दिसंबर 2022 में पीटी उषा को किस संघ का अध्यक्ष चुना गया?

- Ans  1. हरियाणा ओलंपिक संघ  
 2. भारतीय ओलंपिक संघ  
 3. भारतीय राष्ट्रीय राइफल संघ  
 4. भारतीय बैडमिंटन संघ

Question ID : 264330158370  
Option 1 ID : 264330620841  
Option 2 ID : 264330620842  
Option 3 ID : 264330620840  
Option 4 ID : 264330620839  
Status : Answered  
Chosen Option : 2

Q.17 निम्नलिखित में से कौन-सा मुद्रा का कार्य नहीं है?

- Ans  1. विनिमय का माध्यम  
 2. संचय मूल्य  
 3. वस्तु विनिमय प्रणाली  
 4. लेखा की इकाई

Question ID : 264330157298  
Option 1 ID : 264330616555  
Option 2 ID : 264330616556  
Option 3 ID : 264330616558  
Option 4 ID : 264330616557  
Status : Answered  
Chosen Option : 3

Q.18 भारत सरकार ने राष्ट्रीय खेल आयोजनों में उत्कृष्ट उपलब्धि को मान्यता देने के लिए किस वर्ष अर्जुन पुरस्कार देने की शुरुआत की थी?

- Ans  1. 1962  
 2. 1964  
 3. 1961  
 4. 1963

Question ID : 264330158236  
Option 1 ID : 264330620303  
Option 2 ID : 264330620306  
Option 3 ID : 264330620304  
Option 4 ID : 264330620305  
Status : Answered  
Chosen Option : 4

Q.19 भारतीय नाट्य के निम्नलिखित प्रदर्शनों का मिलान कीजिए, जिन्हें विविध घटकों के माध्यम से प्रस्तुत किया गया है।

- 1) आंगिक (a) वेशभूषा और श्रृंगार
- 2) वाचिक (b) मानसिक या मनोवैज्ञानिक अवस्थाओं का चित्रण
- 3) आहार्य (c) बोले गए शब्द
- 4) सात्विक (d) हावभाव और अन्य शारीरिक गतिविधियां

Ans ✓ 1. 1-d, 2-c, 3-a, 4-b

✗ 2. 1-c, 2-b, 3-d, 4-a

✗ 3. 1-a, 2-b, 3-d, 4-c

✗ 4. 1-c, 2-a, 3-b, 4-d

Question ID : 264330159048

Option 1 ID : 264330623554

Option 2 ID : 264330623551

Option 3 ID : 264330623553

Option 4 ID : 264330623552

Status : Answered

Chosen Option : 1

Q.20 इन सूचीबद्ध भौतिक राशियों में से सदिश राशि की पहचान कीजिए?

Ans ✗ 1. घनत्व

✗ 2. द्रव्यमान

✗ 3. ऊर्जा

✓ 4. गुरुत्वाकर्षण तीव्रता

Question ID : 264330157782

Option 1 ID : 264330618487

Option 2 ID : 264330618488

Option 3 ID : 264330618490

Option 4 ID : 264330618489

Status : Answered

Chosen Option : 4

Q.21 किस अधिनियम के तहत भारत पर ब्रिटिश साम्राज्य का शासन स्थापित किया गया था?

Ans ✗ 1. भारत सरकार अधिनियम 1833 (Government of India Act 1833)

✗ 2. 1773 का रेगुलेटिंग एक्ट (Regulating Act of 1773)

✗ 3. 1813 का चार्टर एक्ट (Charter Act of 1813)

✓ 4. भारत सरकार अधिनियम 1858 (Government of India Act 1858)

Question ID : 264330162319

Option 1 ID : 264330636605

Option 2 ID : 264330636604

Option 3 ID : 264330636603

Option 4 ID : 264330636606

Status : Answered

Chosen Option : 2

Q.22 एन राजम (N Rajam) कौन-से संगीत वाद्ययंत्र के वादक हैं?

- Ans
- 1. संतूर
  - 2. गिटार
  - 3. सितार
  - 4. वायलिन

Question ID : 264330155465  
Option 1 ID : 264330609265  
Option 2 ID : 264330609266  
Option 3 ID : 264330609263  
Option 4 ID : 264330609264  
Status : Answered  
Chosen Option : 4

Q.23 'अटला ताड़ी (Atla Taddi)', विवाहित और अविवाहित महिलाओं द्वारा क्रमशः लंबे और सुखी वैवाहिक जीवन और एक उपयुक्त वर के लिए देवी गौरी का आशीर्वाद पाने के लिए मनाया जाने वाला त्योहार, \_\_\_\_\_ में मनाया जाता है।

- Ans
- 1. आंध्रप्रदेश
  - 2. छत्तीसगढ़
  - 3. ओडिशा
  - 4. केरल

Question ID : 264330160817  
Option 1 ID : 264330630599  
Option 2 ID : 264330630601  
Option 3 ID : 264330630602  
Option 4 ID : 264330630600  
Status : Answered  
Chosen Option : 1

Q.24 निम्नलिखित में से कौन एक प्रसिद्ध नर्तक और 2000 में 'पद्म विभूषण' प्राप्त करने वाले ओडिशा के पहले व्यक्ति थे?

- Ans
- 1. केलुचरण महापात्र
  - 2. गंगाधर प्रधान
  - 3. मायाधर राऊत
  - 4. प्रभात स्वैन

Question ID : 264330155478  
Option 1 ID : 264330609316  
Option 2 ID : 264330609317  
Option 3 ID : 264330609315  
Option 4 ID : 264330609318  
Status : Answered  
Chosen Option : 1

Q.25 गांधी जी ने किसकी सलाह पर भारत के लोगों को जानने के लिए ब्रिटिश भारत में एक वर्ष तक यात्रा की?

- Ans
- 1. कृष्णशंकर पंड्या
  - 2. मोहम्मद अली जिन्ना
  - 3. श्रीमद राजचन्द्र
  - 4. गोपाल कृष्ण गोखले

Question ID : 264330161744  
Option 1 ID : 264330634306  
Option 2 ID : 264330634304  
Option 3 ID : 264330634305  
Option 4 ID : 264330634303  
Status : Answered  
Chosen Option : 4

Section : English Language and Comprehension

Q.1 Select the most appropriate meaning of the underlined idiom in the given sentence.

Today's question paper felt like a cakewalk.

- Ans
- 1. Very tasty
  - 2. Very difficult
  - 3. Very sweet
  - 4. Very easy

Question ID : 264330152878  
Option 1 ID : 264330599103  
Option 2 ID : 264330599104  
Option 3 ID : 264330599106  
Option 4 ID : 264330599105  
Status : Answered  
Chosen Option : 4

Q.2 Select the most appropriate option that can substitute the underlined segment in the given sentence.

He push the bushes aside and went a little farther.

- Ans
- 1. pushed with bush
  - 2. pushing the bush
  - 3. pushed the bushes
  - 4. pushes in bush

Question ID : 264330153471  
Option 1 ID : 264330601399  
Option 2 ID : 264330601400  
Option 3 ID : 264330601402  
Option 4 ID : 264330601401  
Status : Answered  
Chosen Option : 3

**Q.3** Select the most appropriate option to fill in the blank.  
Dr. APJ Abdul Kalam was a great man with a high level of \_\_\_\_\_.

- Ans  1. intellect  
 2. wise boredom  
 3. clever fatigue  
 4. intelligent humour

Question ID : 264330153508  
Option 1 ID : 264330601544  
Option 2 ID : 264330601545  
Option 3 ID : 264330601546  
Option 4 ID : 264330601543  
Status : Answered  
Chosen Option : 4

**Q.4** Select the word which means the same as the group of words given.  
One who is all powerful.

- Ans  1. Omniscient  
 2. Optimist  
 3. Omnipotent  
 4. Omnipresent

Question ID : 264330152571  
Option 1 ID : 264330597889  
Option 2 ID : 264330597890  
Option 3 ID : 264330597888  
Option 4 ID : 264330597887  
Status : Answered  
Chosen Option : 3

**Q.5** Select the most appropriate synonym of the underlined word.  
The girl was manacled and locked in the room.

- Ans  1. fettered  
 2. unfastened  
 3. unbinded  
 4. liberated

Question ID : 264330153521  
Option 1 ID : 264330601598  
Option 2 ID : 264330601597  
Option 3 ID : 264330601596  
Option 4 ID : 264330601595  
Status : Answered  
Chosen Option : 1

**Q.6** Select the most appropriate synonym of the given word.  
**Plunge**

- Ans**
- 1. Rush
  - 2. Transgress
  - 3. Fly
  - 4. Dive

Question ID : 264330151877  
Option 1 ID : 264330595130  
Option 2 ID : 264330595129  
Option 3 ID : 264330595127  
Option 4 ID : 264330595128  
Status : Answered  
Chosen Option : 2

**Q.7** Select the option that can be used as a one-word substitute for the given group of words.  
**Copying someone else's work and trying to submit it as your own**

- Ans**
- 1. Extempore
  - 2. Polygamy
  - 3. Plagiarism
  - 4. Preamble

Question ID : 264330152771  
Option 1 ID : 264330598675  
Option 2 ID : 264330598678  
Option 3 ID : 264330598676  
Option 4 ID : 264330598677  
Status : Answered  
Chosen Option : 3

**Q.8** Parts of the following sentence have been given as options. Select the option that contains an error.  
**Ravi will go to the England.**

- Ans**
- 1. the England
  - 2. Ravi
  - 3. will
  - 4. go to

Question ID : 264330152792  
Option 1 ID : 264330598762  
Option 2 ID : 264330598759  
Option 3 ID : 264330598760  
Option 4 ID : 264330598761  
Status : Answered  
Chosen Option : 4

**Q.9** Parts of the following sentence have been given as options. Select the option that contains an error.  
When Nisha will have finished her task?

- Ans
- 1. her task
  - 2. have
  - 3. finished
  - 4. When Nisha will

Question ID : 264330152817  
Option 1 ID : 264330598862  
Option 2 ID : 264330598860  
Option 3 ID : 264330598861  
Option 4 ID : 264330598859  
Status : Answered  
Chosen Option : 2

**Q.10** Select the most appropriate ANTONYM of the underlined word.  
Addiction of drugs proved detrimental for his health.

- Ans
- 1. Impartial
  - 2. Beneficial
  - 3. Potential
  - 4. Differential

Question ID : 264330151819  
Option 1 ID : 264330594906  
Option 2 ID : 264330594904  
Option 3 ID : 264330594905  
Option 4 ID : 264330594903  
Status : Answered  
Chosen Option : 2

**Q.11** Select the most appropriate option that can substitute the underlined segment in the given sentence.  
Ramesh is owning a beautiful house in Noida.

- Ans
- 1. was owned
  - 2. owns
  - 3. did owned
  - 4. has owning

Question ID : 264330152710  
Option 1 ID : 264330598440  
Option 2 ID : 264330598439  
Option 3 ID : 264330598442  
Option 4 ID : 264330598441  
Status : Answered  
Chosen Option : 2

Q.12 Select the INCORRECTLY spelt word in the given sentence.

All the members of my family are planning to visit Jammu and Kashmir this Novembur.

- Ans  1. Planning  
 2. Novembur  
 3. Visit  
 4. Members

Question ID : 264330153300  
Option 1 ID : 264330600756  
Option 2 ID : 264330600755  
Option 3 ID : 264330600758  
Option 4 ID : 264330600757  
Status : Answered  
Chosen Option : 2

Q.13 The following sentence contains some errors. Select the option that correctly rectifies the error.

The forses that genarate conditions conduciive to crime and riots are stronger in urban communities than in rurral areas.

- Ans  1. The forsec that generate conditions conduciive to crime and riots are stronger in urban communities than in rurral areas.  
 2. The forces that generate conditions conducive to crime and riots are stronger in urban communities than in rural areas.  
 3. The forces that genereta conditions conduciive to crime and riotts are stronger in urban communities than in rural areas.  
 4. The forces that genarete conditions conduciive to crime and riots are stronger in urban communities than in ruraal areas.

Question ID : 264330152693  
Option 1 ID : 264330598375  
Option 2 ID : 264330598377  
Option 3 ID : 264330598378  
Option 4 ID : 264330598376  
Status : Answered  
Chosen Option : 2

Q.14 The following sentence has been split into four segments. Identify the segment that contains an error.

My father told me / that in his childhood / he was walking / to school every day.

- Ans  1. he was walking  
 2. My father told me  
 3. that in his childhood  
 4. to school every day

Question ID : 264330155325  
Option 1 ID : 264330608741  
Option 2 ID : 264330608739  
Option 3 ID : 264330608740  
Option 4 ID : 264330608742  
Status : Answered  
Chosen Option : 3

Q.15 Select the most appropriate meaning of the given idiom.

Beauty of it

- Ans
- 1. Cause for dispute
  - 2. Make things worse
  - 3. Quite ordinary
  - 4. Good points

Question ID : 264330151830

Option 1 ID : 264330594948

Option 2 ID : 264330594950

Option 3 ID : 264330594947

Option 4 ID : 264330594949

Status : Answered

Chosen Option : 4

Q.16 Select the most appropriate option that can rectify the underlined segment in the given sentence. If there is no need to rectify it, select 'no rectification needed'.

I used a variety of sources to find the more cheap flight.

- Ans
- 1. no rectification needed
  - 2. cheapest
  - 3. cheaper
  - 4. cheap

Question ID : 264330153462

Option 1 ID : 264330601366

Option 2 ID : 264330601365

Option 3 ID : 264330601363

Option 4 ID : 264330601364

Status : Answered

Chosen Option : 2

Q.17 Select the INCORRECTLY spelt word.

- Ans
- 1. Weather
  - 2. Tomatos
  - 3. Vehicle
  - 4. Professor

Question ID : 264330153153

Option 1 ID : 264330600174

Option 2 ID : 264330600172

Option 3 ID : 264330600171

Option 4 ID : 264330600173

Status : Answered

Chosen Option : 2

Q.18 Select the most appropriate option that can substitute the underlined segment in the given sentence.

I found my teacher's points casual and informal in the group discussion.

- Ans
- 1. foot the bill
  - 2. fair and square
  - 3. flesh and blood
  - 4. free and easy

Question ID : 264330144124  
Option 1 ID : 264330564759  
Option 2 ID : 264330564762  
Option 3 ID : 264330564761  
Option 4 ID : 264330564760  
Status : Answered  
Chosen Option : 2

Q.19 Select the most appropriate meaning of the underlined idiom.  
We prefer going to movies once in a blue moon.

- Ans
- 1. Very amazingly
  - 2. Very often
  - 3. Very diligently
  - 4. Very rarely

Question ID : 264330151833  
Option 1 ID : 264330594962  
Option 2 ID : 264330594959  
Option 3 ID : 264330594961  
Option 4 ID : 264330594960  
Status : Answered  
Chosen Option : 4

Q.20 Select the most appropriate response in the given situation of the eve of a battle to fill in the blank.

The commander: "Honourable Emperor, all the troops have lined up for the battle and are awaiting your orders." Emperor Chandragupta Maurya:  
"\_\_\_\_\_."

- Ans
- 1. We will march at dawn.
  - 2. You should learn how to talk to an emperor.
  - 3. We are ready for the pilgrimage.
  - 4. We will be playing cards.

Question ID : 264330152642  
Option 1 ID : 264330598173  
Option 2 ID : 264330598174  
Option 3 ID : 264330598172  
Option 4 ID : 264330598171  
Status : Answered  
Chosen Option : 1

**Comprehension:**

In the following passage some words have been deleted. Fill in the blanks with the help of the alternatives given. Select the most appropriate option for each number.

Modern football (1) \_\_\_\_\_ in Britain in the 19th century. Since before medieval times, 'folk football' games had been played in towns and villages according to local customs and with a (2) \_\_\_\_\_ of rules. Industrialisation and (3) \_\_\_\_\_, which reduced the amount of leisure time and space available to the working class, combined with a history of legal prohibitions against particularly (4) \_\_\_\_\_ and destructive forms of folk football to undermine the game's status from the early 19th century onward. However, football was taken up as a winter game between residence houses at public (independent) schools such as Winchester, Charterhouse and Eton. Each school had its own rules; some allowed limited handling of the ball and others did not. The (5) \_\_\_\_\_ in rules made it difficult for public schoolboys entering university to continue playing except with former schoolmates.

**SubQuestion No : 21**

**Q.21** Select the most appropriate option to fill in blank no. 1.

- Ans  1. terminated  
 2. originated  
 3. culminated  
 4. fragmented

Question ID : 264330153430

Option 1 ID : 264330601245

Option 2 ID : 264330601246

Option 3 ID : 264330601244

Option 4 ID : 264330601243

Status : Answered

Chosen Option : 2

**Comprehension:**

In the following passage some words have been deleted. Fill in the blanks with the help of the alternatives given. Select the most appropriate option for each number.

Modern football (1) \_\_\_\_\_ in Britain in the 19th century. Since before medieval times, 'folk football' games had been played in towns and villages according to local customs and with a (2) \_\_\_\_\_ of rules. Industrialisation and (3) \_\_\_\_\_, which reduced the amount of leisure time and space available to the working class, combined with a history of legal prohibitions against particularly (4) \_\_\_\_\_ and destructive forms of folk football to undermine the game's status from the early 19th century onward. However, football was taken up as a winter game between residence houses at public (independent) schools such as Winchester, Charterhouse and Eton. Each school had its own rules; some allowed limited handling of the ball and others did not. The (5) \_\_\_\_\_ in rules made it difficult for public schoolboys entering university to continue playing except with former schoolmates.

**SubQuestion No : 22**

**Q.22** Select the most appropriate option to fill in blank no. 2.

- Ans  1. maximum  
 2. minimum  
 3. variance  
 4. optimum

Question ID : 264330153431

Option 1 ID : 264330601247

Option 2 ID : 264330601248

Option 3 ID : 264330601250

Option 4 ID : 264330601249

Status : Answered

Chosen Option : 2

**Comprehension:**

In the following passage some words have been deleted. Fill in the blanks with the help of the alternatives given. Select the most appropriate option for each number.

Modern football (1)\_\_\_\_\_in Britain in the 19th century. Since before medieval times, 'folk football' games had been played in towns and villages according to local customs and with a (2)\_\_\_\_\_of rules. Industrialisation and (3)\_\_\_\_\_, which reduced the amount of leisure time and space available to the working class, combined with a history of legal prohibitions against particularly (4)\_\_\_\_\_and destructive forms of folk football to undermine the game's status from the early 19th century onward. However, football was taken up as a winter game between residence houses at public (independent) schools such as Winchester, Charterhouse and Eton. Each school had its own rules; some allowed limited handling of the ball and others did not. The (5)\_\_\_\_\_in rules made it difficult for public schoolboys entering university to continue playing except with former schoolmates.

**SubQuestion No : 23**

**Q.23** Select the most appropriate option to fill in blank no. 3.

- Ans  1. standardisation  
 2. normalisation  
 3. implementation  
 4. urbanisation

Question ID : 264330153432

Option 1 ID : 264330601253

Option 2 ID : 264330601252

Option 3 ID : 264330601254

Option 4 ID : 264330601251

Status : Answered

Chosen Option : 4

**Comprehension:**

In the following passage some words have been deleted. Fill in the blanks with the help of the alternatives given. Select the most appropriate option for each number.

Modern football (1)\_\_\_\_\_in Britain in the 19th century. Since before medieval times, 'folk football' games had been played in towns and villages according to local customs and with a (2)\_\_\_\_\_of rules. Industrialisation and (3)\_\_\_\_\_, which reduced the amount of leisure time and space available to the working class, combined with a history of legal prohibitions against particularly (4)\_\_\_\_\_and destructive forms of folk football to undermine the game's status from the early 19th century onward. However, football was taken up as a winter game between residence houses at public (independent) schools such as Winchester, Charterhouse and Eton. Each school had its own rules; some allowed limited handling of the ball and others did not. The (5)\_\_\_\_\_in rules made it difficult for public schoolboys entering university to continue playing except with former schoolmates.

**SubQuestion No : 24**

**Q.24** Select the most appropriate option to fill in blank no. 4.

- Ans  1. undercurrents  
 2. traces  
 3. calm  
 4. violent

Question ID : 264330153433

Option 1 ID : 264330601256

Option 2 ID : 264330601258

Option 3 ID : 264330601255

Option 4 ID : 264330601257

Status : Answered

Chosen Option : 4

**Comprehension:**

In the following passage some words have been deleted. Fill in the blanks with the help of the alternatives given. Select the most appropriate option for each number.

Modern football (1) \_\_\_\_\_ in Britain in the 19th century. Since before medieval times, 'folk football' games had been played in towns and villages according to local customs and with a (2) \_\_\_\_\_ of rules. Industrialisation and (3) \_\_\_\_\_, which reduced the amount of leisure time and space available to the working class, combined with a history of legal prohibitions against particularly (4) \_\_\_\_\_ and destructive forms of folk football to undermine the game's status from the early 19th century onward. However, football was taken up as a winter game between residence houses at public (independent) schools such as Winchester, Charterhouse and Eton. Each school had its own rules; some allowed limited handling of the ball and others did not. The (5) \_\_\_\_\_ in rules made it difficult for public schoolboys entering university to continue playing except with former schoolmates.

**SubQuestion No : 25**

**Q.25** Select the most appropriate option to fill in blank no. 5.

- Ans  1. grouse  
 2. variance  
 3. grunt  
 4. control

Question ID : 264330153434

Option 1 ID : 264330601259

Option 2 ID : 264330601261

Option 3 ID : 264330601262

Option 4 ID : 264330601260

Status : Answered

Chosen Option : 2