

## Multi Tasking Non Technical Staff and Havaldar CBIC and CBN Examination 2023

Roll Number	
Candidate Name	
Venue Name	ION DIGITAL ZONE IDZ TUPUDANA
Exam Date	14/09/2023
Exam Time	4:00 PM - 6:00 PM
Subject	MTS Non Tech Havaldar CBIC and CBN Examination 2023

### Section : Numerical and Mathematical Ability

**Q.1** ₹500 प्रति किलोग्राम वाले कॉफी पाउडर को ₹750 प्रति किलोग्राम वाले कॉफी पाउडर के साथ किस अनुपात में मिलाया जाए ताकि मिश्रण का मूल्य ₹600 प्रति किलोग्राम हो जाए?

- Ans**
- 1. 5 : 2
  - 2. 4 : 3
  - 3. 3 : 2
  - 4. 3 : 1

Question ID : 264330155955

Option 1 ID : 264330611221

Option 2 ID : 264330611220

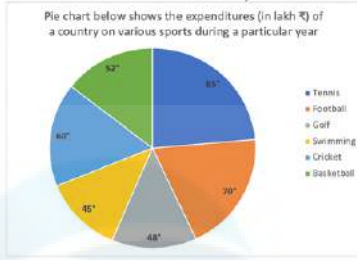
Option 3 ID : 264330611219

Option 4 ID : 264330611222

Status : Answered

Chosen Option : 3

Q.2 नीचे दिए गए वृत्त आलेख में एक विशिष्ट वर्ष के दौरान विभिन्न खेलों पर एक देश के व्यय (लाख ₹ में) को दर्शाया गया है। वृत्त आलेख का ध्यानपूर्वक अध्ययन कीजिए और इसके नीचे दिए गए प्रश्नों के उत्तर दीजिए।



संदर्भ: Pie chart below shows the expenditures (in lakh ₹) of a country on various sports during a particular year - वृत्त आलेख एक विशिष्ट वर्ष के दौरान विभिन्न खेलों पर एक देश के व्यय (लाख ₹ में) को दर्शाता है, Tennis - टेनिस, Football - फुटबॉल, Golf - गोल्फ, Swimming - तैराकी, Cricket - क्रिकेट, Basketball - बास्केटबॉल

टेनिस, फुटबॉल और क्रिकेट पर मिलाकर कुल व्यय गोल्फ, तैराकी और बास्केटबॉल पर मिलाकर कुल व्यय से कितना प्रतिशत (दशमलब के एक स्थान तक सन्निकटित) अधिक या कम है?

- Ans
- 1. अधिक, 29.6%
  - 2. कम, 29.6%
  - 3. कम, 48.3%
  - 4. अधिक, 48.3%

Question ID : 264330153785

Option 1 ID : 264330602605

Option 2 ID : 264330602606

Option 3 ID : 264330602604

Option 4 ID : 264330602603

Status : Answered

Chosen Option : 1

Q.3 स्मिता, पिहू से तेज है। स्मिता और पिहू प्रत्येक 48 km चलते हैं। उनकी चालों का योग 14 km/hr है, और उनके द्वारा लिए गए समय का योग 28 घंटे है। स्मिता की चाल क्या है?

- Ans
- 1. 12.5 km/hr
  - 2. 8 km/hr
  - 3. 10 km/hr
  - 4. 12 km/hr

Question ID : 264330156192

Option 1 ID : 264330612169

Option 2 ID : 264330612167

Option 3 ID : 264330612168

Option 4 ID : 264330612170

Status : Answered

Chosen Option : 4

Q.4 30 आदमी एक काम को 10 दिनों में पूरा कर सकते हैं। उन्होंने काम करना शुरू किया और छः दिनों के बाद 10 और आदमी उनके साथ शामिल हो गए। कुल काम कितने दिनों में पूरा होगा?

- Ans
- 1. 8
  - 2. 9
  - 3. 7
  - 4. 6

Question ID : 264330156240  
Option 1 ID : 264330612361  
Option 2 ID : 264330612362  
Option 3 ID : 264330612360  
Option 4 ID : 264330612359  
Status : Answered  
Chosen Option : 2

Q.5 5.5% वार्षिक के साधारण ब्याज पर एक धनराशि 4 वर्षों में ₹7,503 हो जाती है। धनराशि (₹ में) ज्ञात कीजिए।

- Ans
- 1. 6,150
  - 2. 5,980
  - 3. 5,350
  - 4. 5,520

Question ID : 264330155745  
Option 1 ID : 264330610386  
Option 2 ID : 264330610385  
Option 3 ID : 264330610383  
Option 4 ID : 264330610384  
Status : Answered  
Chosen Option : 1

Q.6  $12^{35}$ ,  $3^{12}$  और  $4^{12}$  का चतुर्थ समानुपाती ज्ञात कीजिए।

- Ans
- 1.  $4^{24}$
  - 2.  $12^{-11}$
  - 3.  $12^{-23}$
  - 4.  $3^{24}$

Question ID : 264330154053  
Option 1 ID : 264330603677  
Option 2 ID : 264330603675  
Option 3 ID : 264330603676  
Option 4 ID : 264330603678  
Status : Answered  
Chosen Option : 3

Q.7 एक आदमी अपने घर से एक सब्जी बाजार 15 km/h की चाल से जाता है और 10 km/h की चाल से वापस आता है। यदि पूरी यात्रा में 2 घंटे 30 मिनट का समय लगा, तो उसके घर से सब्जी बाजार की दूरी (km में) ज्ञात कीजिए।

- Ans
- 1. 12
  - 2. 20
  - 3. 18
  - 4. 15

Question ID : 264330155992  
Option 1 ID : 264330611368  
Option 2 ID : 264330611370  
Option 3 ID : 264330611369  
Option 4 ID : 264330611367  
Status : Answered  
Chosen Option : 4

Q.8 यदि चक्रवृद्धि ब्याज 12% वार्षिक दर से अर्ध-वार्षिक रूप से देय है, तो एक वर्ष के बाद ₹12,500 की राशि पर देय राशि (₹ में) कितनी होगी?

- Ans
- 1. 14,540
  - 2. 14,450
  - 3. 15,440
  - 4. 14,045

Question ID : 264330153774  
Option 1 ID : 264330602562  
Option 2 ID : 264330602559  
Option 3 ID : 264330602560  
Option 4 ID : 264330602561  
Status : Answered  
Chosen Option : 4

Q.9 यदि  $A : B : C = 3 : 4 : 5$ , तो  $\sqrt{A^2 + B^2} : \sqrt{C^2 - B^2}$  \_\_\_\_\_ है।

- Ans
- 1. 3 : 2
  - 2. 3 : 5
  - 3. 5 : 3
  - 4. 4 : 5

Question ID : 264330154084  
Option 1 ID : 264330603800  
Option 2 ID : 264330603799  
Option 3 ID : 264330603801  
Option 4 ID : 264330603802  
Status : Answered  
Chosen Option : 3

Q.10 यदि एक हानि, विक्रय मूल्य का  $\frac{1}{8}$  है, तो हानि प्रतिशत क्या है?

- Ans
- 1.  $8\frac{5}{9}\%$
  - 2.  $7\frac{4}{9}\%$
  - 3.  $10\frac{1}{9}\%$
  - 4.  $11\frac{1}{9}\%$

Question ID : 264330162069

Option 1 ID : 264330635604

Option 2 ID : 264330635606

Option 3 ID : 264330635603

Option 4 ID : 264330635605

Status : Answered

Chosen Option : 4

Q.11 एक कारखाने का मालिक उसके द्वारा निर्मित उत्पाद पर 12% अर्जित करता है। दुकानदार उसी वस्तु पर 10% का लाभ अर्जित करता है। यदि दुकानदार उत्पाद को ₹ 98.56 में बेचता है, तो कारखाने के मालिक के लिए उत्पाद का क्रय मूल्य ₹ \_\_\_ है।

- Ans
- 1. 90
  - 2. 84
  - 3. 88
  - 4. 80

Question ID : 264330153804

Option 1 ID : 264330602680

Option 2 ID : 264330602681

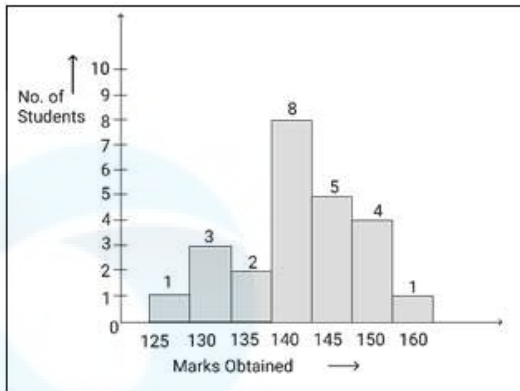
Option 3 ID : 264330602679

Option 4 ID : 264330602682

Status : Answered

Chosen Option : 4

Q.12 दिए गए आलेख का अध्ययन कीजिए और दिए गए प्रश्न का उत्तर दीजिए।



संदर्भ: No. of Students - छात्रों की संख्या, Marks Obtained - प्राप्तांक

कितने छात्रों ने 125 से अधिक अंक प्राप्त किए?

- Ans
- ✓ 1. 23
  - ✗ 2. 19
  - ✗ 3. 15
  - ✗ 4. 17

Question ID : 264330156242

Option 1 ID : 264330612370

Option 2 ID : 264330612369

Option 3 ID : 264330612367

Option 4 ID : 264330612368

Status : Answered

Chosen Option : 1

Q.13 निम्नलिखित व्यंजक का मान ज्ञात कीजिए।

$$\frac{[27 - (6 \div 3) \times 4] + 18}{84 - 8 \div 4 \times 8 - 2}$$

- Ans
- ✓ 1.  $\frac{37}{66}$
  - ✗ 2.  $\frac{29}{20}$
  - ✗ 3.  $\frac{8}{9}$
  - ✗ 4.  $\frac{33}{7}$

Question ID : 264330156176

Option 1 ID : 264330612106

Option 2 ID : 264330612104

Option 3 ID : 264330612103

Option 4 ID : 264330612105

Status : Answered

Chosen Option : 1

**Q.14** 228 m लंबी एक रेलगाड़ी 125 km/h की चाल से चल रही है। रेलगाड़ी जिस दिशा में जा रही है उसी दिशा में 17 km/h की चाल से दौड़ रहे एक व्यक्ति को पार करने में रेलगाड़ी को कितना समय (सेकंड में) लगेगा?

- Ans**
- 1. 9.2
  - 2. 7.6
  - 3. 6.2
  - 4. 8.5

Question ID : 264330155754  
Option 1 ID : 264330610419  
Option 2 ID : 264330610421  
Option 3 ID : 264330610422  
Option 4 ID : 264330610420  
Status : Answered  
Chosen Option : 2

**Q.15** दो संख्याओं का अनुपात 3 : 4 है। यदि इन दोनों संख्याओं का योग 70 है, तो उनका लघुत्तम समापवर्त्य ज्ञात कीजिए।

- Ans**
- 1. 84
  - 2. 96
  - 3. 108
  - 4. 120

Question ID : 264330155689  
Option 1 ID : 264330610159  
Option 2 ID : 264330610160  
Option 3 ID : 264330610161  
Option 4 ID : 264330610162  
Status : Answered  
Chosen Option : 4

**Q.16** एरिन अकेले किसी काम को 6 दिनों में कर सकती है और सेल्वी अकेले उसी काम को 8 दिनों में कर सकती है। एरिन और सेल्वी ने ₹7,200 में यह काम हाथ में लिया। केविन की मदद से उन्होंने 3 दिनों में काम पूरा कर लिया। केविन को कितनी धनराशि का भुगतान किया जाना है?

- Ans**
- 1. ₹900
  - 2. ₹800
  - 3. ₹700
  - 4. ₹600

Question ID : 264330156118  
Option 1 ID : 264330611873  
Option 2 ID : 264330611874  
Option 3 ID : 264330611871  
Option 4 ID : 264330611872  
Status : Answered  
Chosen Option : 1

Q.17 एक वर्ग और एक समचतुर्भुज का आधार समान है तथा समचतुर्भुज,  $45^\circ$  के कोण पर झुका हुआ है। वर्ग के क्षेत्रफल और समचतुर्भुज के क्षेत्रफल का अनुपात कितना होगा?

- Ans
- 1.  $\sqrt{3}:1$
  - 2.  $\sqrt{2}:\sqrt{3}$
  - 3.  $\sqrt{2}:1$
  - 4.  $1:\sqrt{3}$

Question ID : 264330154105

Option 1 ID : 264330603883

Option 2 ID : 264330603885

Option 3 ID : 264330603886

Option 4 ID : 264330603884

Status : Answered

Chosen Option : 3

Q.18 P और Q का कुल वेतन ₹6,40,000 है। P और Q अपने-अपने वेतन का क्रमशः 60% और 40% बचाते हैं। यदि उनके व्यय समान हैं, तो P के वेतन और Q के वेतन का अनुपात क्या है?

- Ans
- 1. 3 : 2
  - 2. 3 : 4
  - 3. 4 : 3
  - 4. 2 : 3

Question ID : 264330153762

Option 1 ID : 264330602511

Option 2 ID : 264330602513

Option 3 ID : 264330602514

Option 4 ID : 264330602512

Status : Answered

Chosen Option : 1

Q.19 ₹140 प्रति किलोग्राम और ₹90 प्रति किलोग्राम के चावल को किस अनुपात में मिलाया जाए ताकि दो किस्म के चावल के मिश्रण का मूल्य ₹110 प्रति किलोग्राम हो जाए?

- Ans
- 1. 2 : 3
  - 2. 1 : 3
  - 3. 3 : 2
  - 4. 1 : 2

Question ID : 264330154120

Option 1 ID : 264330603944

Option 2 ID : 264330603946

Option 3 ID : 264330603943

Option 4 ID : 264330603945

Status : Answered

Chosen Option : 1

**Q.20** एक बंद लकड़ी का बक्सा बाहर से 10 cm लंबा, 8 cm चौड़ा और 6 cm ऊंचा है। यदि लकड़ी की मोटाई 0.5 cm है, तो बक्सा बनाने के लिए आवश्यक लकड़ी का आयतन कितना है?

- Ans**
- 1.  $150 \text{ cm}^3$
  - 2.  $230 \text{ cm}^3$
  - 3.  $165 \text{ cm}^3$
  - 4.  $300 \text{ cm}^3$

Question ID : **264330154107**  
Option 1 ID : **264330603891**  
Option 2 ID : **264330603894**  
Option 3 ID : **264330603893**  
Option 4 ID : **264330603892**  
Status : **Not Answered**  
Chosen Option : --

Section : Reasoning Ability and Problem Solving

**Q.1** यदि '+' और '-' को आपस में बदल दिया जाए तथा '×' और '÷' को आपस में बदल दिया जाए तो निम्नलिखित समीकरण में (?) के स्थान पर क्या आएगा?  
 $37 - 18 \div 6 + 325 \times 25 = ?$

- Ans**
- 1. 152
  - 2. 142
  - 3. 122
  - 4. 132

Question ID : **264330155673**  
Option 1 ID : **264330610095**  
Option 2 ID : **264330610097**  
Option 3 ID : **264330610096**  
Option 4 ID : **264330610098**  
Status : **Answered**  
Chosen Option : 4

**Q.2** दी गई श्रृंखला में प्रश्न चिन्ह '?' के स्थान पर क्या आना चाहिए?

20 104 524 2624 13124 ?

- Ans**
- 1. 65282
  - 2. 64586
  - 3. 63457
  - 4. 65624

Question ID : **264330151461**  
Option 1 ID : **264330593473**  
Option 2 ID : **264330593472**  
Option 3 ID : **264330593471**  
Option 4 ID : **264330593474**  
Status : **Answered**  
Chosen Option : 4

Q.3 दी गई श्रृंखला में प्रश्न चिन्ह '?' के स्थान पर क्या आना चाहिए?

18 41 110 ? 938 2801 8390

- Ans
- 1. 325
  - 2. 317
  - 3. 339
  - 4. 291

Question ID : 264330151488  
Option 1 ID : 264330593581  
Option 2 ID : 264330593580  
Option 3 ID : 264330593582  
Option 4 ID : 264330593579  
Status : Answered  
Chosen Option : 2

Q.4 मीना, सरोज, गोल्डी, प्रीति, पूनम और बेबी एक वृत्ताकार मेज के चारों ओर केंद्र की ओर मुख करके बैठे हैं। मीना, सरोज के ठीक बाईं ओर बैठी है। गोल्डी, सरोज के दाईं ओर से तीसरे स्थान पर बैठा है। प्रीति, गोल्डी के बाईं ओर से दूसरे स्थान पर बैठी है। पूनम, गोल्डी के ठीक दाईं ओर बैठी है। बेबी के बाईं ओर से दूसरे स्थान पर कौन बैठा/बैठी है?

- Ans
- 1. पूनम
  - 2. गोल्डी
  - 3. सरोज
  - 4. प्रीति

Question ID : 264330155649  
Option 1 ID : 264330610002  
Option 2 ID : 264330610001  
Option 3 ID : 264330609999  
Option 4 ID : 264330610000  
Status : Answered  
Chosen Option : 3

Q.5 अंग्रेजी वर्णमाला क्रम के आधार पर BNFT, FRJX से एक निश्चित प्रकार से संबंधित है। उसी प्रकार, JOEA, NSIE से संबंधित है। समान तर्क का अनुसरण करते हुए, HERK निम्नलिखित में से किससे संबंधित है?

- Ans
- 1. LIVO
  - 2. LJVP
  - 3. JHVP
  - 4. KHUN

Question ID : 264330151679  
Option 1 ID : 264330594346  
Option 2 ID : 264330594343  
Option 3 ID : 264330594345  
Option 4 ID : 264330594344  
Status : Answered  
Chosen Option : 1

Q.6 एक निश्चित तर्क के अनुसार 5, 20 से संबंधित है। समान तर्क के अनुसार, 7, 26 से संबंधित है। समान तर्क का अनुसरण करते हुए 2 निम्नलिखित में से किससे संबंधित है?

- Ans
- 1. 13
  - 2. 10
  - 3. 12
  - 4. 11

Question ID : 264330151581  
Option 1 ID : 264330593954  
Option 2 ID : 264330593951  
Option 3 ID : 264330593953  
Option 4 ID : 264330593952  
Status : Answered  
Chosen Option : 4

Q.7 अक्षरों के उस संयोजन को चुनिए जिसे दी गई श्रृंखला के रिक्त स्थानों में क्रमिक रूप से रखने पर श्रृंखला पूरी हो जाएगी।

w \_ x \_ xxw \_ x \_ \_ x

- Ans
- 1. XWXWX
  - 2. WWXWX
  - 3. WXWXW
  - 4. XWWWXW

Question ID : 264330151655  
Option 1 ID : 264330594249  
Option 2 ID : 264330594248  
Option 3 ID : 264330594250  
Option 4 ID : 264330594247  
Status : Answered  
Chosen Option : 1

Q.8 अंग्रेजी वर्णमाला क्रम के आधार पर दी गई श्रृंखला में प्रश्न चिह्न (?) के स्थान पर क्या आना चाहिए?

ZHS, YER, XBQ, WYP, ?

- Ans
- 1. WWN
  - 2. WVN
  - 3. VWO
  - 4. VVO

Question ID : 264330155789  
Option 1 ID : 264330610562  
Option 2 ID : 264330610559  
Option 3 ID : 264330610561  
Option 4 ID : 264330610560  
Status : Answered  
Chosen Option : 4

Q.9 दी गई श्रृंखला में प्रश्न चिन्ह '?' के स्थान पर क्या आना चाहिए?

19 40 103 292 859 ?

- Ans
- 1. 2490
  - 2. 2560
  - 3. 2508
  - 4. 2536

Question ID : 264330151454  
Option 1 ID : 264330593443  
Option 2 ID : 264330593446  
Option 3 ID : 264330593444  
Option 4 ID : 264330593445  
Status : Answered  
Chosen Option : 1

Q.10 यदि 11 जून 1987 को गुरुवार है, तो 4 दिसंबर 1989 को सप्ताह का कौन-सा दिन होगा?

- Ans
- 1. मंगलवार
  - 2. सोमवार
  - 3. बुधवार
  - 4. शनिवार

Question ID : 264330154332  
Option 1 ID : 264330604792  
Option 2 ID : 264330604793  
Option 3 ID : 264330604794  
Option 4 ID : 264330604791  
Status : Answered  
Chosen Option : 2

Q.11 यदि निम्नलिखित आकृति श्रृंखला को जारी रखना हो तो कौन-सी आकृति प्रश्न चिन्ह (?) के स्थान पर आनी चाहिए?

B	Y	6	6	Y	△	△	6	=	=	6	B	?
△		↑	↑		B	B		↑	↑		△	

Ans

✗ 1.  $B = 6$   
△ ↑

✗ 2.  $C = 6$   
△ ↑

✓ 3.  $B = C$   
△ ↑

✗ 4.  $△ C ↑$   
B =

Question ID : 264330154746

Option 1 ID : 264330606449

Option 2 ID : 264330606448

Option 3 ID : 264330606450

Option 4 ID : 264330606447

Status : Not Answered

Chosen Option : --

Q.12 यदि '+' और 'x' को आपस में बदल दिया जाए और '-' और '-' को आपस में बदल दिया जाए तो निम्नलिखित समीकरण में '?' के स्थान पर क्या आएगा?  
 $7 + 7 \times 3 - 4 + 5 = ?$

Ans ✗ 1. -4

✗ 2. -1

✓ 3. -6

✗ 4. -2

Question ID : 264330154659

Option 1 ID : 264330606099

Option 2 ID : 264330606102

Option 3 ID : 264330606100

Option 4 ID : 264330606101

Status : Answered

Chosen Option : 3

**Q.13** नीचे दिए गए कथनों और निष्कर्षों को ध्यानपूर्वक पढ़िए। आपको मानना है कि दिए गए कथन सत्य हैं चाहे वे समान्यतः ज्ञात तथ्यों से अलग प्रतीत होते हों। आपको निश्चय करना है कि कौन-सा/कौन-से निष्कर्ष तार्किक रूप से दिए गए कथनों के अनुसार है/हैं।

कथन: सभी बाल्टियां, प्लास्टिक हैं। कुछ प्लास्टिक, चम्मचें हैं। सभी चम्मचें, कांटे हैं।

निष्कर्ष I: कुछ प्लास्टिक, बाल्टियां हैं।

निष्कर्ष II: कुछ प्लास्टिक, कांटे हैं।

- Ans**
- 1. न तो निष्कर्ष (I) और न ही (II) कथनों के अनुसार है।
  - 2. दोनों निष्कर्ष (I) और (II) कथनों के अनुसार हैं।
  - 3. केवल निष्कर्ष (II) कथनों के अनुसार है।
  - 4. केवल निष्कर्ष (I) कथनों के अनुसार है।

Question ID : 264330155928

Option 1 ID : 264330611117

Option 2 ID : 264330611118

Option 3 ID : 264330611116

Option 4 ID : 264330611115

Status : Answered

Chosen Option : 2

**Q.14** एक निश्चित कूट भाषा में, 'FLOWERY' को 'FYREWOL' लिखा जाता है और 'LINGUIST' को 'LTSIUGNT' लिखा जाता है। उस कूट भाषा में 'MANIFEST' को कैसे लिखा जाएगा?

- Ans**
- 1. TESFINAM
  - 2. MTSEFINA
  - 3. MSTEGJMA
  - 4. SEFINAMT

Question ID : 264330155814

Option 1 ID : 264330610659

Option 2 ID : 264330610661

Option 3 ID : 264330610662

Option 4 ID : 264330610660

Status : Answered

Chosen Option : 2

**Q.15** अंग्रेजी वर्णमाला क्रम के आधार पर दी गई श्रृंखला में प्रश्न चिह्न (?) के स्थान पर क्या आना चाहिए?

BSL, EUM, HWN, KYO, ?

- Ans**
- 1. NAP
  - 2. MBP
  - 3. MBQ
  - 4. NBR

Question ID : 264330155775

Option 1 ID : 264330610504

Option 2 ID : 264330610506

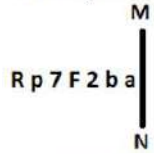
Option 3 ID : 264330610503

Option 4 ID : 264330610505

Status : Answered

Chosen Option : 1

Q.16 दी गई आकृति के उस सही दर्पण प्रतिबिंब को चुनिए, जो नीचे दर्शाए गए अनुसार दर्पण को MN पर रखने पर बनेगा।



- Ans
- 1. a d 5 7 7 q R
  - 2. R p 7 F 2 b a
  - 3. R p 7 F 2 b a
  - 4. R p 7 F 2 b a

Question ID : 264330151520

Option 1 ID : 264330593710

Option 2 ID : 264330593708

Option 3 ID : 264330593709

Option 4 ID : 264330593707

Status : Answered

Chosen Option : 2

Q.17 उस विकल्प आकृति को चुनिए जिसमें दी गई आकृति (x) उसके भाग के रूप में निहित है। (पूर्ण की अनुमति नहीं है)



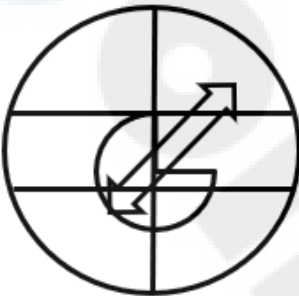
(X)

Ans


✗ 1.



✗ 2.



✗ 3.



✓ 4.



Question ID : 264330151729

Option 1 ID : 264330594546

Option 2 ID : 264330594543

Option 3 ID : 264330594545

Option 4 ID : 264330594544

Status : Answered

Chosen Option : 4

**Q.18** एक निश्चित कूट भाषा में, 'how are you' को 'aj ts el' लिखा जाता है और 'show them how' को 'wn el pd' लिखा जाता है। उसी कूट भाषा में 'how' को कैसे लिखा जाएगा?

- Ans**
- 1. pd
  - 2. el
  - 3. wn
  - 4. aj

Question ID : 264330151711  
Option 1 ID : 264330594471  
Option 2 ID : 264330594473  
Option 3 ID : 264330594474  
Option 4 ID : 264330594472  
Status : Answered  
Chosen Option : 2

**Q.19** नीचे दिए गए कथन/कथनों और निष्कर्षों को ध्यानपूर्वक पढ़िए। आपको मानना है कि दिए गए कथन सत्य हैं चाहे वे समान्यतः ज्ञात तथ्यों से अलग प्रतीत होते हों। आपको निश्चय करना है कि कौन-सा/कौन-से निष्कर्ष तार्किक रूप से दिए गए कथन/कथनों के अनुसार है/हैं।

कथन: सभी ट्रक, मक्खियां हैं। कुछ स्कूटर, मक्खियां हैं।

निष्कर्ष:

- (I) सभी ट्रक, स्कूटर हैं।
- (II) कुछ स्कूटर, ट्रक हैं।

- Ans**
- 1. दोनों निष्कर्ष (I) और (II) कथनों के अनुसार हैं।
  - 2. केवल निष्कर्ष (II) कथनों के अनुसार है।
  - 3. केवल निष्कर्ष (I) कथनों के अनुसार है।
  - 4. न तो निष्कर्ष (I) और न ही (II) कथनों के अनुसार है।

Question ID : 264330154429  
Option 1 ID : 264330605182  
Option 2 ID : 264330605180  
Option 3 ID : 264330605179  
Option 4 ID : 264330605181  
Status : Answered  
Chosen Option : 4

**Q.20** एक निश्चित तर्क के अनुसार 14, 57 से संबंधित है। समान तर्क के अनुसार, 22, 89 से संबंधित है। समान तर्क का अनुसरण करते हुए 52 निम्नलिखित में से किससे संबंधित है?

- Ans**
- 1. 208
  - 2. 204
  - 3. 209
  - 4. 206

Question ID : 264330151607  
Option 1 ID : 264330594057  
Option 2 ID : 264330594055  
Option 3 ID : 264330594058  
Option 4 ID : 264330594056  
Status : Answered  
Chosen Option : 3

Q.1 \_\_\_\_\_ उस्ताद जिन्होंने 1940 के दशक के अंत में इस कला शैली को पुनर्जीवित किया जिसमें केलुचरण महापात्र और रघुनाथ दत्ता शामिल हैं।

Ans  1. ओडिसी

2. छउ

3. मणिपुरी

4. सत्रिय

Question ID : 264330160813

Option 1 ID : 264330630585

Option 2 ID : 264330630586

Option 3 ID : 264330630583

Option 4 ID : 264330630584

Status : Answered

Chosen Option : 1

Q.2 लता मंगेशकर द्वारा गाए गए प्रसिद्ध गीत "ऐ मेरे वतन के लोगों" के संगीत निर्देशक कौन थे?

Ans  1. किशोर कुमार

2. राजेश रोशन

3. आनंद राज आनंद

4. सी रामचन्द्र

Question ID : 264330155514

Option 1 ID : 264330609462

Option 2 ID : 264330609459

Option 3 ID : 264330609460

Option 4 ID : 264330609461

Status : Not Answered

Chosen Option : --

Q.3 'ट्रुथ, लव एंड ए लिटिल मैलिस (Truth, Love and a Little Malice)' आत्मकथा निम्नलिखित में से किस लेखक द्वारा लिखी गई है?

Ans  1. प्रतिभा रे

2. अमृता प्रीतम

3. चेतन भगत

4. खुशवंत सिंह

Question ID : 264330160962

Option 1 ID : 264330631181

Option 2 ID : 264330631179

Option 3 ID : 264330631182

Option 4 ID : 264330631180

Status : Not Answered

Chosen Option : --

Q.4 2023 में, कोरिया-भारत राजनयिक संबंधों के 50 साल पूरे होने के उपलक्ष्य में \_\_\_\_\_ में तीन दिवसीय अखिल भारतीय ताइक्वांडो चैम्पियनशिप (All-India Taekwondo Championship) आयोजित की गई थी।

- Ans
- 1. मिजोरम
  - 2. बेंगलुरु
  - 3. कोलकाता
  - 4. नई दिल्ली

Question ID : 264330161154  
Option 1 ID : 264330631950  
Option 2 ID : 264330631947  
Option 3 ID : 264330631949  
Option 4 ID : 264330631948  
Status : Not Answered  
Chosen Option : --

Q.5 इंडिया गेट किस शहर में स्थित है?

- Ans
- 1. अहमदाबाद
  - 2. मुंबई
  - 3. दिल्ली
  - 4. लखनऊ

Question ID : 264330160775  
Option 1 ID : 264330630433  
Option 2 ID : 264330630432  
Option 3 ID : 264330630431  
Option 4 ID : 264330630434  
Status : Answered  
Chosen Option : 3

Q.6 भारत में जंगली गधे और ऊंट किस प्रकार के वनों में पाए जाते हैं?

- Ans
- 1. मैग्रोव वन
  - 2. उष्णकटिबंधीय सदाबहार वन
  - 3. कांटेदार वन और झाड़ियां
  - 4. पर्वतीय वन

Question ID : 264330161499  
Option 1 ID : 264330633323  
Option 2 ID : 264330633325  
Option 3 ID : 264330633324  
Option 4 ID : 264330633326  
Status : Answered  
Chosen Option : 1

Q.7 हिंदू कैलेंडर के अनुसार, होली \_\_\_\_\_ को मनाई जाती है।

- Ans
- 1. चैत्र पूर्णिमा
  - 2. माघ पूर्णिमा
  - 3. फाल्गुन पूर्णिमा
  - 4. पौष पूर्णिमा

Question ID : 264330160827  
Option 1 ID : 264330630641  
Option 2 ID : 264330630640  
Option 3 ID : 264330630639  
Option 4 ID : 264330630642  
Status : Answered  
Chosen Option : 3

Q.8 विटामिन B1 की कमी से कौन-सा पोषण संबंधी विकार होता है जिससे परिधीय तंत्रिकाओं (peripheral nerves) और क्षय (wasting) की समस्याएं उत्पन्न होती हैं?

- Ans
- 1. पर्निसियस एनीमिया (Pernicious anaemia)
  - 2. सूखा रोग (Rickets)
  - 3. बेरीबेरी (Beriberi)
  - 4. शुष्काक्षिपाक (Xerophthalmia)

Question ID : 264330161075

Option 1 ID : 264330631631

Option 2 ID : 264330631632

Option 3 ID : 264330631633

Option 4 ID : 264330631634

Status : Answered

Chosen Option : 3

Q.9 वैयक्तिक आय (personal income) के संबंध में प्रयोज्य आय (disposable income) के बारे में निम्नलिखित में से कौन-सा सत्य है?

- Ans
- 1. करों और कटौतियों के आधार पर प्रयोज्य आय वैयक्तिक आय से अधिक या कम हो सकती है।
  - 2. प्रयोज्य आय हमेशा वैयक्तिक आय से अधिक होती है।
  - 3. प्रयोज्य आय हमेशा वैयक्तिक आय से कम होती है।
  - 4. प्रयोज्य आय वैयक्तिक आय के बराबर होती है।

Question ID : 264330161589

Option 1 ID : 264330633686

Option 2 ID : 264330633683

Option 3 ID : 264330633684

Option 4 ID : 264330633685

Status : Answered

Chosen Option : 3

Q.10 निम्नलिखित में से कौन-सा ऊष्मामिति (calorimetry) की प्रक्रिया का सबसे अच्छा वर्णन करता है?

- Ans
- 1. बल की मात्रा का मापन
  - 2. संपीड़न सामर्थ्य की मात्रा का मापन
  - 3. स्थानांतरित ऊष्मा ऊर्जा की मात्रा का मापन
  - 4. बिजली की मात्रा का मापन

Question ID : 264330161330

Option 1 ID : 264330632647

Option 2 ID : 264330632649

Option 3 ID : 264330632650

Option 4 ID : 264330632648

Status : Answered

Chosen Option : 3

Q.11 मलयालम कवि वल्लथोल नारायण मेनन (Vallathol Narayana Menon ) और नृत्यांगना और गुरु कल्याणीकुट्टी अम्मा (Kalyanikutti Amma) के प्रयासों ने \_\_\_\_\_ नृत्य शैली को फिर से चलन में लाया और एक नया जीवनदान दिया।

- Ans
- 1. भरतनाट्यम
  - 2. कथकली
  - 3. मोहिनीअट्टम
  - 4. कुचिपुड़ी

Question ID : 264330160790  
Option 1 ID : 264330630492  
Option 2 ID : 264330630491  
Option 3 ID : 264330630494  
Option 4 ID : 264330630493  
Status : Not Answered  
Chosen Option : --

Q.12 'प्लेइंग इट माई वे (Playing It My Way)' आत्मकथा निम्नलिखित में से किस क्रिकेट खिलाड़ी द्वारा लिखी गई है?

- Ans
- 1. सौरव गांगुली
  - 2. किरण मोरे
  - 3. युवराज सिंह
  - 4. सचिन तेंदुलकर

Question ID : 264330160960  
Option 1 ID : 264330631172  
Option 2 ID : 264330631174  
Option 3 ID : 264330631173  
Option 4 ID : 264330631171  
Status : Answered  
Chosen Option : 3

Q.13 किस भारतीय धावक ने फ्लैंडर्स कप 2023 एथलेटिक्स मीट (Flanders Cup 2023 athletics meet) में पुरुषों की 100 और 200 मीटर दौड़ में एक-एक स्वर्ण पदक जीता?

- Ans
- 1. मोहम्मद अफ़सल पी (Mohammed Afsal P)
  - 2. जिन्सन जॉनसन (Jinson Johnson)
  - 3. अमलान बोरगोहेन (Amlan Borgohain)
  - 4. तेजस शिरसे (Tejas Shirse)

Question ID : 264330161132  
Option 1 ID : 264330631859  
Option 2 ID : 264330631861  
Option 3 ID : 264330631860  
Option 4 ID : 264330631862  
Status : Not Answered  
Chosen Option : --

Q.14 भारत के संविधान का कौन-सा अनुच्छेद सभी बच्चों को छः वर्ष की आयु पूरी करने तक प्रारंभिक बाल्यावस्था देखभाल और शिक्षा का प्रावधान करता है?

- Ans
- 1. अनुच्छेद 38
  - 2. अनुच्छेद 40
  - 3. अनुच्छेद 45
  - 4. अनुच्छेद 39

Question ID : 264330159906  
Option 1 ID : 264330626974  
Option 2 ID : 264330626972  
Option 3 ID : 264330626971  
Option 4 ID : 264330626973  
Status : Answered  
Chosen Option : 3

Q.15 1901 में 'पॉवर्टी एंड अन-ब्रिटिश रूल इन इंडिया (Poverty and Un-British Rule in India)' पुस्तक किसने लिखी, जिसमें ब्रिटिश शासन के आर्थिक प्रभाव की अत्यधिक आलोचना की गई थी?

- Ans
- 1. फिरोजशाह मेहता
  - 2. बदरुद्दीन तैयबजी
  - 3. डब्ल्यू. सी. बोर्नर्जी
  - 4. दादाभाई नौरोजी

Question ID : 264330161748  
Option 1 ID : 264330634319  
Option 2 ID : 264330634321  
Option 3 ID : 264330634320  
Option 4 ID : 264330634322  
Status : Answered  
Chosen Option : 4

Q.16 ज्यूरिच डायमंड लीग (Zurich Diamond League) में स्वर्ण जीतने वाले पहले भारतीय भाला फेंक (javelin) खिलाड़ी कौन बने?

- Ans
- 1. रोहित यादव
  - 2. साहिल सिलवाल
  - 3. नीरज चोपड़ा
  - 4. शिवपाल यादव

Question ID : 264330158363  
Option 1 ID : 264330620814  
Option 2 ID : 264330620813  
Option 3 ID : 264330620812  
Option 4 ID : 264330620811  
Status : Answered  
Chosen Option : 3

Q.17 निम्नलिखित में से किस भारतीय पार्श्व गायक को 2001 में भारत रत्न प्राप्त हुआ?

- Ans
- 1. आशा भोसले
  - 2. गीता दत्त
  - 3. लता मंगेशकर
  - 4. के.एस. चित्रा

Question ID : 264330161773  
Option 1 ID : 264330634419  
Option 2 ID : 264330634421  
Option 3 ID : 264330634420  
Option 4 ID : 264330634422  
Status : Answered  
Chosen Option : 3

Q.18 कौन-सा वक्र बेरोजगारी की दर और मौद्रिक मजदूरी परिवर्तन की दर के बीच संबंध की जांच करता है?

- Ans
- 1. अनधिमान वक्र
  - 2. पूर्ति वक्र
  - 3. मांग वक्र
  - 4. फिलिप्स वक्र

Question ID : 264330161456  
Option 1 ID : 264330633151  
Option 2 ID : 264330633154  
Option 3 ID : 264330633153  
Option 4 ID : 264330633152  
Status : Answered  
Chosen Option : 4

Q.19 नीति आयोग के राष्ट्रीय बहुआयामी गरीबी सूचकांक 2021 के अनुसार, निम्नलिखित में से किस राज्य की कुल जनसंख्या का 1% से भी कम बहुआयामी गरीब है?

- Ans
- 1. केरल
  - 2. तेलंगाना
  - 3. महाराष्ट्र
  - 4. पंजाब

Question ID : 264330161569  
Option 1 ID : 264330633603  
Option 2 ID : 264330633605  
Option 3 ID : 264330633606  
Option 4 ID : 264330633604  
Status : Not Answered  
Chosen Option : --

Q.20 भारतीय रिज़र्व बैंक की \_\_\_\_\_ के तहत जावक प्रेषण (outward remittances) ने वित्त वर्ष 2023 की पहली तिमाही में मजबूत वापसी की क्योंकि भारतीयों ने अंतरराष्ट्रीय यात्रा, करीबी रिश्तेदारों के रखरखाव और उपहारों पर खर्च बढ़ाया।

- Ans
- 1. तरल प्रेषण योजना
  - 2. उदारीकृत प्रेषण योजना
  - 3. नियमित प्रेषण योजना
  - 4. विदेशी प्रेषण योजना

Question ID : 264330161403  
Option 1 ID : 264330632941  
Option 2 ID : 264330632939  
Option 3 ID : 264330632940  
Option 4 ID : 264330632942  
Status : Not Answered  
Chosen Option : --

Q.21 गुरु निरंजन राउत और गुरु रामहरि दास को \_\_\_\_\_ नृत्य और संगीत के क्षेत्र में उनके योगदान के लिए गुरु केलुचरण महापात्र पुरस्कार 2022 प्रदान किया गया था।

- Ans
- 1. कथक
  - 2. कुचिपुड़ी
  - 3. ओडिसी
  - 4. सत्रिय

Question ID : 264330155484  
Option 1 ID : 264330609342  
Option 2 ID : 264330609341  
Option 3 ID : 264330609340  
Option 4 ID : 264330609339  
Status : Not Answered  
Chosen Option : --

Q.22 प्रधानमंत्री मुद्रा योजना (PMMY) योजना गैर-कॉर्पोरेट, गैर-कृषि लघु और सूक्ष्म उद्यमियों को \_\_\_\_\_ तक ऋण प्रदान करती है। (अप्रैल 2023 तक)।

- Ans
- 1. 2.5 लाख
  - 2. 10 लाख
  - 3. 1 लाख
  - 4. 5 लाख

Question ID : 264330161578  
Option 1 ID : 264330633640  
Option 2 ID : 264330633642  
Option 3 ID : 264330633639  
Option 4 ID : 264330633641  
Status : Not Answered  
Chosen Option : --

Q.23 भारत में सर्वाधिक वर्षा का मुख्य कारण क्या है?

- Ans
- 1. पश्चिम गारो हिल्स
  - 2. पूर्वी खासी हिल्स
  - 3. दक्षिण-पश्चिम मानसून
  - 4. उत्तर-पूर्वी मानसून

Question ID : 264330157824

Option 1 ID : 264330618658

Option 2 ID : 264330618655

Option 3 ID : 264330618657

Option 4 ID : 264330618656

Status : Answered

Chosen Option : 3

Q.24 निम्नलिखित में से कौन-सा एक संवैधानिक निकाय नहीं है?

- Ans
- 1. नीति आयोग
  - 2. वित्त आयोग
  - 3. निर्वाचन आयोग
  - 4. संघ लोक सेवा आयोग

Question ID : 264330160861

Option 1 ID : 264330630775

Option 2 ID : 264330630778

Option 3 ID : 264330630776

Option 4 ID : 264330630777

Status : Answered

Chosen Option : 1

Q.25 1906 में अखिल भारतीय मुस्लिम लीग की स्थापना कहां हुई थी?

- Ans
- 1. लाहौर
  - 2. दिल्ली
  - 3. ढाका
  - 4. आगरा

Question ID : 264330162333

Option 1 ID : 264330636659

Option 2 ID : 264330636662

Option 3 ID : 264330636660

Option 4 ID : 264330636661

Status : Answered

Chosen Option : 3

**Q.1** The following sentence has been split into four segments. Identify the segment that contains a grammatical error.  
When I was in high school / I participated in several extracurricular activities / such as the debate team and the school newspaper / which help me developed my communication and writing skills.

- Ans**
- 1. When I was in high school
  - 2. such as the debate team and the school newspaper
  - 3. I participated in several extracurricular activities
  - 4. which help me developed my communication and writing skills

Question ID : 264330144180  
Option 1 ID : 264330564983  
Option 2 ID : 264330564985  
Option 3 ID : 264330564984  
Option 4 ID : 264330564986  
Status : Answered  
Chosen Option : 4

**Q.2** Select the most appropriate option that can substitute the underlined segment in the given sentence.  
The rise in temperature is playing havoc with India's rainfall which is pertinent for India's agriculture sector.

- Ans**
- 1. rainfall who is pertinent
  - 2. rainfall which was mendicant
  - 3. rainfall which is decant
  - 4. rainfall which is significant

Question ID : 264330151807  
Option 1 ID : 264330594855  
Option 2 ID : 264330594856  
Option 3 ID : 264330594858  
Option 4 ID : 264330594857  
Status : Answered  
Chosen Option : 4

**Q.3** Select the most appropriate option to fill in the blank.  
Winning the championship was a dream come true for the team, but being awarded the MVP trophy was \_\_\_\_\_.

- Ans**
- 1. the icing on the cake
  - 2. a cold turkey
  - 3. the silver lining
  - 4. the bird in the bush

Question ID : 264330151886  
Option 1 ID : 264330595165  
Option 2 ID : 264330595163  
Option 3 ID : 264330595166  
Option 4 ID : 264330595164  
Status : Answered  
Chosen Option : 1

**Q.4** Select the most appropriate option that can substitute the underlined segment in the given sentence.  
Simon is afraid of closed space.

- Ans
- 1. has ecophobia
  - 2. has xenophobia
  - 3. has claustrophobia
  - 4. has hydrophobia

Question ID : 264330153512  
Option 1 ID : 264330601559  
Option 2 ID : 264330601560  
Option 3 ID : 264330601561  
Option 4 ID : 264330601562  
Status : Answered  
Chosen Option : 3

**Q.5** Select the most appropriate idiom to fill in the blank.  
If Peter said he would get that book for you, he will do it. He always \_\_\_\_\_.

- Ans
- 1. keeps him at arm's length
  - 2. keeps under his hat
  - 3. keeps his word
  - 4. keeps his shirt on

Question ID : 264330153101  
Option 1 ID : 264330599969  
Option 2 ID : 264330599967  
Option 3 ID : 264330599968  
Option 4 ID : 264330599970  
Status : Answered  
Chosen Option : 3

**Q.6** Select the most appropriate idiom to fill in the blank.  
Sameera has been in \_\_\_\_\_ since she got selected for a highly paid job at a multinational company.

- Ans
- 1. the dark
  - 2. a cold day in July
  - 3. seventh heaven
  - 4. all the rage

Question ID : 264330152780  
Option 1 ID : 264330598712  
Option 2 ID : 264330598711  
Option 3 ID : 264330598714  
Option 4 ID : 264330598713  
Status : Answered  
Chosen Option : 3

**Q.7** The following sentence has been divided into four parts. Identify the part that contains an error.

(A) The twins are / (B) often told that / (C) they are resembling / (D) each other.

- Ans
- 1. A
  - 2. B
  - 3. C
  - 4. D

Question ID : 264330152613

Option 1 ID : 264330598055

Option 2 ID : 264330598058

Option 3 ID : 264330598056

Option 4 ID : 264330598057

Status : Answered

Chosen Option : 4

**Q.8** Select the most appropriate option that can substitute the underlined segment in the given sentence. If there is no need to substitute it, select 'No improvement required'.  
A wonder in the plant kingdom, the Great Banyan Tree of the AJC Bose Botanical Garden at Shibpur in Howrah, occupies a unique position in the world records.

- Ans
- 1. occupying a unique position in
  - 2. No improvement required
  - 3. being occupied a unique position of
  - 4. occupies an unique position in

Question ID : 264330152667

Option 1 ID : 264330598271

Option 2 ID : 264330598274

Option 3 ID : 264330598272

Option 4 ID : 264330598273

Status : Answered

Chosen Option : 2

**Q.9** The sentence given below has spelling errors. Select the sentence without spelling errors.  
Knowledge and awareness about my own self has to preceede my knowledge of things other than me.

- Ans
- 1. Knowledge and awareness about my own self has to preceede my knowledge of things other than me.
  - 2. Knowlegde and awareness about my own self has to preceede my knowlegde of things other than me.
  - 3. Knowledge and awarenes about my own self has to preceede my knowledge of things other than me.
  - 4. Knowledge and awareness about my own self has to precede my knowledge of things other than me.

Question ID : 264330151838

Option 1 ID : 264330594982

Option 2 ID : 264330594979

Option 3 ID : 264330594980

Option 4 ID : 264330594981

Status : Answered

Chosen Option : 4

Q.10 Select the most appropriate synonym of the given word.  
Magnificent

- Ans  1. Justify  
 2. Glorious  
 3. Highest  
 4. Modest

Question ID : 264330152595  
Option 1 ID : 264330597984  
Option 2 ID : 264330597986  
Option 3 ID : 264330597985  
Option 4 ID : 264330597983  
Status : Answered  
Chosen Option : 2

Q.11 Select the most appropriate ANTONYM of the underlined word.  
We requested grandmother to extend her visit.

- Ans  1. Bewail  
 2. Curtail  
 3. Imperil  
 4. Assail

Question ID : 264330151820  
Option 1 ID : 264330594908  
Option 2 ID : 264330594907  
Option 3 ID : 264330594910  
Option 4 ID : 264330594909  
Status : Answered  
Chosen Option : 2

Q.12 Select the most appropriate option that can substitute the underlined segment in the given sentence.

It has raining very hard and he has a very large umbrella to keep off the rain-drops.

- Ans  1. is raining  
 2. shall rain  
 3. rained  
 4. will be rainy

Question ID : 264330153481  
Option 1 ID : 264330601439  
Option 2 ID : 264330601441  
Option 3 ID : 264330601440  
Option 4 ID : 264330601442  
Status : Answered  
Chosen Option : 1

**Q.13** The sentence given below contains some spelling errors. Select the option that has the correct spellings.  
Applications of subjects like Physics and chemmistry in our dayly life also have higher visibilty than those of Biology.

- Ans
- 1. Applicacions of subjects like Physics and chemmistry in our daily life also have higher visibilty than those of Biology.
  - 2. Appliications of subjects like Physics and chemistry in our dayly life also have higher visibilty than those of Biology.
  - 3. Applicacions of subjects like Physiks and Cemistry in our dayly life also have higher visibilty than those of Biology.
  - 4. Applications of subjects like Physics and Chemistry in our daily life also have higher visibilty than those of Biology.

Question ID : 264330153542

Option 1 ID : 264330601673

Option 2 ID : 264330601672

Option 3 ID : 264330601674

Option 4 ID : 264330601671

Status : Answered

Chosen Option : 4

**Q.14** Parts of the following sentence have been given as options. Select the option that contains an error.  
The cholera is a frightful disease.

- Ans
- 1. frightful disease
  - 2. is
  - 3. The cholera
  - 4. a

Question ID : 264330152791

Option 1 ID : 264330598758

Option 2 ID : 264330598756

Option 3 ID : 264330598755

Option 4 ID : 264330598757

Status : Answered

Chosen Option : 3

**Q.15** Select the most appropriate option to fill in the blank.  
The scratches on her hands were clear signs of domestic violence, \_\_\_\_\_ and said that she got scratched by barbed wire fencing.

- Ans
- 1. and poverty
  - 2. done a while ago
  - 3. yet she lied
  - 4. which was enough evidence

Question ID : 264330152640

Option 1 ID : 264330598165

Option 2 ID : 264330598163

Option 3 ID : 264330598164

Option 4 ID : 264330598166

Status : Answered

Chosen Option : 3

Q.16 Select the most appropriate option that can substitute the underlined segment in the given sentence.

Rahul's sister says that my brother is the best dancer in the city.

- Ans
- 1. her brother was the best dancer in the city
  - 2. her brother is the best dancer in the city
  - 3. my brother was the best dancer in the city
  - 4. his brother was the best dancer in the city

Question ID : 264330152709

Option 1 ID : 264330598436

Option 2 ID : 264330598437

Option 3 ID : 264330598435

Option 4 ID : 264330598438

Status : Answered

Chosen Option : 4

Q.17 Parts of the given sentence have been underlined. One of them contains an error. The underlined parts are given as options with some changes. Select the option that correctly rectifies the error.

The weather is cold tonight than it was yesterday.

- Ans
- 1. are
  - 2. were
  - 3. colder
  - 4. its

Question ID : 264330153175

Option 1 ID : 264330600259

Option 2 ID : 264330600262

Option 3 ID : 264330600260

Option 4 ID : 264330600261

Status : Answered

Chosen Option : 3

Q.18 Select the most appropriate meaning of the underlined segment in the given sentence.

I hope you break a leg at your performance tonight!

- Ans
- 1. Give up
  - 2. Hurt yourself
  - 3. Perform well
  - 4. Make a mistake

Question ID : 264330152925

Option 1 ID : 264330599281

Option 2 ID : 264330599279

Option 3 ID : 264330599280

Option 4 ID : 264330599282

Status : Answered

Chosen Option : 3

**Q.19** Select the option that correctly rectifies the underlined spelling error in the given sentence.  
Little children are afraid to go to school because of the agressive seniors who tend to bully them.

- Ans**  1. Aggressive  
 2. Aggressive  
 3. Agressive  
 4. Agrressive

Question ID : 264330155315  
Option 1 ID : 264330608700  
Option 2 ID : 264330608699  
Option 3 ID : 264330608701  
Option 4 ID : 264330608702  
Status : Answered  
Chosen Option : 2

**Q.20** Select the most appropriate synonym of the underlined word in the given sentence.  
Shiya had more grit than her other siblings.

- Ans**  1. level  
 2. courage  
 3. power  
 4. gap

Question ID : 264330152722  
Option 1 ID : 264330598490  
Option 2 ID : 264330598489  
Option 3 ID : 264330598487  
Option 4 ID : 264330598488  
Status : Answered  
Chosen Option : 2

**Comprehension:**

In the following passage some words have been deleted. Fill in the blanks with the help of the alternatives given. Select the most appropriate option for each number.

Each essay is set (1)\_\_\_\_\_ against its background and made simpler by providing (2)\_\_\_\_\_ summary and critical commentary, short notes on textual issues, and (3)\_\_\_\_\_ of important critical and theoretical issues under the heading essay topics. (4)\_\_\_\_\_ of the most commonly used terms in the literature is given at the end and meant to serve as ready reference. This book will cater the (5)\_\_\_\_\_ of students of literature and teachers teaching this course.

**SubQuestion No : 21**

**Q.21** Select the most appropriate option to fill in blank number 1.

- Ans**  1. in  
 2. off  
 3. on  
 4. at

Question ID : 264330153584  
Option 1 ID : 264330601830  
Option 2 ID : 264330601829  
Option 3 ID : 264330601827  
Option 4 ID : 264330601828  
Status : Answered  
Chosen Option : 2

**Comprehension:**

In the following passage some words have been deleted. Fill in the blanks with the help of the alternatives given. Select the most appropriate option for each number.

Each essay is set (1)\_\_\_\_\_ against its background and made simpler by providing (2)\_\_\_\_\_ summary and critical commentary, short notes on textual issues, and (3)\_\_\_\_\_ of important critical and theoretical issues under the heading essay topics. (4)\_\_\_\_\_ of the most commonly used terms in the literature is given at the end and meant to serve as ready reference. This book will cater the (5)\_\_\_\_\_ of students of literature and teachers teaching this course.

**SubQuestion No : 22**

**Q.22** Select the most appropriate option to fill in blank number 2.

- Ans  1. that  
 2. its  
 3. there  
 4. this

Question ID : 264330153585

Option 1 ID : 264330601832

Option 2 ID : 264330601833

Option 3 ID : 264330601834

Option 4 ID : 264330601831

Status : Answered

Chosen Option : 2

**Comprehension:**

In the following passage some words have been deleted. Fill in the blanks with the help of the alternatives given. Select the most appropriate option for each number.

Each essay is set (1)\_\_\_\_\_ against its background and made simpler by providing (2)\_\_\_\_\_ summary and critical commentary, short notes on textual issues, and (3)\_\_\_\_\_ of important critical and theoretical issues under the heading essay topics. (4)\_\_\_\_\_ of the most commonly used terms in the literature is given at the end and meant to serve as ready reference. This book will cater the (5)\_\_\_\_\_ of students of literature and teachers teaching this course.

**SubQuestion No : 23**

**Q.23** Select the most appropriate option to fill in blank number 3.

- Ans  1. chats  
 2. discussions  
 3. thinking  
 4. mindset

Question ID : 264330153586

Option 1 ID : 264330601835

Option 2 ID : 264330601836

Option 3 ID : 264330601837

Option 4 ID : 264330601838

Status : Answered

Chosen Option : 2

**Comprehension:**

In the following passage some words have been deleted. Fill in the blanks with the help of the alternatives given. Select the most appropriate option for each number.

Each essay is set (1)\_\_\_\_\_ against its background and made simpler by providing (2)\_\_\_\_\_ summary and critical commentary, short notes on textual issues, and (3)\_\_\_\_\_ of important critical and theoretical issues under the heading essay topics. (4)\_\_\_\_\_ of the most commonly used terms in the literature is given at the end and meant to serve as ready reference. This book will cater the (5)\_\_\_\_\_ of students of literature and teachers teaching this course.

**SubQuestion No : 24**

**Q.24** Select the most appropriate option to fill in blank number 4.

- Ans  1. glossary  
 2. grammar  
 3. data  
 4. figures

Question ID : 264330153587

Option 1 ID : 264330601839

Option 2 ID : 264330601840

Option 3 ID : 264330601842

Option 4 ID : 264330601841

Status : Answered

Chosen Option : 3

**Comprehension:**

In the following passage some words have been deleted. Fill in the blanks with the help of the alternatives given. Select the most appropriate option for each number.

Each essay is set (1)\_\_\_\_\_ against its background and made simpler by providing (2)\_\_\_\_\_ summary and critical commentary, short notes on textual issues, and (3)\_\_\_\_\_ of important critical and theoretical issues under the heading essay topics. (4)\_\_\_\_\_ of the most commonly used terms in the literature is given at the end and meant to serve as ready reference. This book will cater the (5)\_\_\_\_\_ of students of literature and teachers teaching this course.

**SubQuestion No : 25**

**Q.25** Select the most appropriate option to fill in blank number 5.

- Ans  1. desires  
 2. feelings  
 3. whims  
 4. needs

Question ID : 264330153588

Option 1 ID : 264330601846

Option 2 ID : 264330601843

Option 3 ID : 264330601845

Option 4 ID : 264330601844

Status : Answered

Chosen Option : 4