

Phase-XI/2023/Selection Posts and Selection Posts/Ladakh/2023

Roll Number	
Candidate Name	
Venue Name	
Exam Date	28/06/2023
Exam Time	2:30 PM - 3:30 PM
Subject	Selection Post Graduate Level

Section : General Intelligence

Q.1 उस विकल्प का चयन करें जो उन अक्षरों को निरूपित करता है, जिन्हें नीचे दिए गए रिक्त स्थानों में क्रमिक रूप से बाएं से दाएं रखने पर अक्षर श्रृंखला पूर्ण हो जाएगी।
_AA_F_ANFA___AAN

- Ans
- 1. FNAAF
 - 2. AAFNA
 - 3. FAAFNA
 - 4. FANANF

Question ID : 26433067729

Status : Answered

Chosen Option : 1

Q.2 एक निश्चित कूट भाषा में, 'CLIMATE' को '763' के रूप में लिखा जाता है, 'GLOBAL' को '649' के रूप में लिखा जाता है। उसी भाषा में, 'CREEP' को कैसे लिखा जाएगा?

- Ans
- 1. 47
 - 2. 74
 - 3. 547
 - 4. 475

Question ID : 264330122371

Status : Answered

Chosen Option : 3

Q.3 उस विकल्प का चयन कीजिए, जिसका तीसरे शब्द से ठीक वही संबंध है, जो संबंध दूसरे शब्द का पहले शब्द से है।
(शब्दों को अर्थपूर्ण हिंदी शब्दों के रूप में माना जाना चाहिए और शब्द में अक्षरों/ व्यंजनों/स्वरों की संख्या के आधार पर वे एक दूसरे से संबंधित नहीं किए जाने चाहिए)
निकाल देना : सम्मिलित करना :: प्राथमिक (Elementary) : ?

- Ans
- 1. शुरुआती (Beginners)
 - 2. विकसित (Advanced)
 - 3. बुनियादी (Basic)
 - 4. प्रारंभिक (Preliminary)

Question ID : 26433068409

Status : Answered

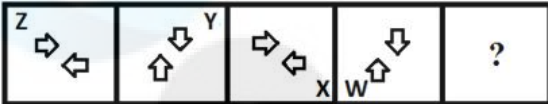
Chosen Option : 2

Q.4 अक्षरों के उस संयोजन का चयन कीजिए जिसे दी गई श्रृंखला के रिक्त स्थानों में क्रमिक रूप से रखने पर श्रृंखला पूर्ण हो जाएगी।
AC_E_A_DEF_CD_F

- Ans
- 1. DCFAE
 - 2. DFCAE
 - 3. DCAEF
 - 4. ADFCE

Question ID : 26433078822
Status : Answered
Chosen Option : 2

Q.5 नीचे दी गई आकृति श्रृंखला में प्रश्न-चिह्न (?) के स्थान पर आने वाली आकृति का चयन कीजिए।



Ans

- 1.
- 2.
- 3.
- 4.

Question ID : 26433056949
Status : Answered
Chosen Option : 4

Q.6 गणितीय चिह्नों के उस सही संयोजन का चयन कीजिए जिसे * चिह्नों के स्थान पर रखने पर दिया गया समीकरण संतुष्ट हो जाएगा।

$$5 * 14 * 11 * 9 * 10 * 82$$

- Ans
- 1. x, +, -, x, =
 - 2. x, +, -, +, =
 - 3. x, x, -, +, =
 - 4. x, -, -, +, =

Question ID : 26433097201
Status : Answered
Chosen Option : 2

Q.7 एक निश्चित कूट भाषा में, 'FANG' को '24' लिखा जाता है और 'CRAZY' को '69' लिखा जाता है। उस भाषा में 'PLAY' को कैसे लिखा जाएगा?

- Ans
- 1. 52
 - 2. 45
 - 3. 50
 - 4. 48

Question ID : 264330143369
Status : Answered
Chosen Option : 3

Q.8 उस विकल्प का चयन कीजिए जो दिए गए शब्दों के सही क्रम को निरूपित करता है जैसे कि वे अंग्रेजी शब्दकोश में होते हैं।

1. Emigrant
2. Emissary
3. Embolden
4. Embezzle
5. Eminence
6. Empathize
7. Emphatic

- Ans
- 1. 4,3,2,1,6,7,5
 - 2. 4,2,3,1,5,6,7
 - 3. 4,3,1,5,2,6,7
 - 4. 4,3,2,5,1,7,6

Question ID : 26433097399
Status : Answered
Chosen Option : 3

Q.9 एक निश्चित कूट भाषा में, 'SINGER' को '96' और 'CRACK' को '104' के रूप में कूटबद्ध किया जाता है। उसी भाषा में 'JACKAL' को किस प्रकार कूटबद्ध किया जाएगा?

- Ans
- 1. 130
 - 2. 128
 - 3. 111
 - 4. 122

Question ID : 264330143391
Status : Answered
Chosen Option : 1

Q.10 एक निश्चित कूट भाषा में 'SPECIAL' को 'KBJBFOR' और 'PENSION' को 'MPJRMFO' लिखा जाता है। उस भाषा में 'RELEASE' को कैसे लिखा जाएगा?

- Ans
- 1. QFKFBRF
 - 2. FTBFKFKQ
 - 3. FRZFKFKQ
 - 4. FRBFKFKQ

Question ID : 264330122202
Status : Answered
Chosen Option : 4

Q.11 एक निश्चित कूट भाषा में, 'COLDER' को '105' के रूप में लिखा जाता है और 'MOUSE' को '62' के रूप में लिखा जाता है। उसी भाषा में 'PLIGHT' को कैसे लिखा जाएगा?

Ans ✓ 1. 90

✗ 2. 80

✗ 3. 102

✗ 4. 82

Question ID : 26433069610

Status : Answered

Chosen Option : 1

Q.12 उस सही विकल्प का चयन कीजिए, जो निम्नलिखित शब्दों की व्यवस्था को तार्किक और अर्थपूर्ण क्रम में दर्शाता है।

1. प्राथमिक
2. निम्न माध्यमिक
3. बालवाड़ी
4. विश्वविद्यालय
5. उच्च माध्यमिक

Ans ✓ 1. 3, 1, 2, 5, 4

✗ 2. 3, 2, 1, 5, 4

✗ 3. 3, 1, 2, 4, 5

✗ 4. 3, 1, 5, 2, 4

Question ID : 264330129559

Status : Answered

Chosen Option : 1

Q.13 निम्नलिखित में से कौन-सी संख्या दी गई श्रृंखला में प्रश्न चिह्न (?) को प्रतिस्थापित करेगी?
4, 7, 17, 38, 72, 123, 193, 286, 408, ?

Ans ✓ 1. 561

✗ 2. 512

✗ 3. 516

✗ 4. 521

Question ID : 264330143334

Status : Answered

Chosen Option : 1

Q.14 उस विकल्प का चयन कीजिए जो तीसरे शब्द से उसी प्रकार संबंधित है जिस प्रकार दूसरा शब्द पहले शब्द से संबंधित है।

(शब्दों को अर्थपूर्ण हिंदी शब्दों के रूप में माना जाना चाहिए और शब्द में अक्षरों/ व्यंजनों/स्वरों की संख्या के आधार पर वे एक दूसरे से संबंधित नहीं किए जाने चाहिए)

डर : भय :: हर्ष : ?

Ans ✗ 1. शांति

✓ 2. आनंद

✗ 3. उदासी

✗ 4. शांत

Question ID : 26433067985

Status : Answered

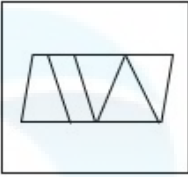
Chosen Option : 2

Q.15 उस विकल्प का चयन कीजिए, जिसमें दी गई आकृति सन्नहित है। (घूर्णन की अनुमति नहीं है)

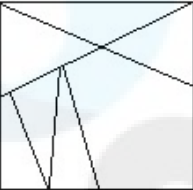


Ans

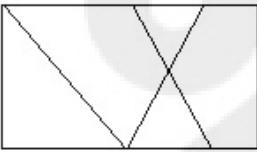
✗ 1.



✗ 2.



✗ 3.



✓ 4.



Question ID : 26433080448

Status : Answered

Chosen Option : 4

Q.16 दर्पण को नीचे दिखाए अनुसार MN पर रखे जाने पर, दिए गए संयोजन के सही दर्पण प्रतिबिंब का चयन कीजिए।



Ans

✗ 1.



✓ 2.



✗ 3.



✗ 4.



Question ID : 264330143446

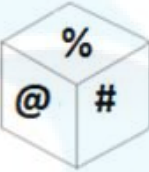
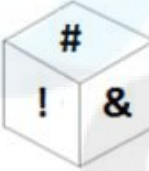


Status : Answered

Chosen Option : 2

Q.17 यदि दी गई शीट को मोड़कर एक घन बनाया जाता है, तो दी गई आकृतियों में से कौन-सी आकृति बनना संभव नहीं है?

#	\$!
&		
@		
%		

Ans

- ✗ 1. 
- ✓ 2. 
- ✗ 3. 
- ✗ 4. 

Question ID : 264330143437

Status : Answered

Chosen Option : 2

Q.18 उस विकल्प का चयन कीजिए जो दिए गए शब्दों के उस सही क्रम को दर्शाता है जैसे कि वे अंग्रेजी शब्दकोश में दिखाई देते हैं?

1. Dash
2. Damage
3. Darkness
4. Damp
5. Danger
6. Dancer

Ans ✓ 1. 2, 4, 6, 5, 3, 1

✗ 2. 2, 4, 5, 6, 3, 1

✗ 3. 4, 2, 6, 5, 3, 1

✗ 4. 2, 4, 1, 5, 3, 6

Question ID : 264330117380

Status : Answered

Chosen Option : 1

Q.19 निम्नलिखित में से कौन-सी संख्या दी गई श्रृंखला में प्रश्न चिह्न (?) को प्रतिस्थापित करेगी?
5, 8, 19, 36, 75, ?

- Ans 1. 148
 2. 146
 3. 184
 4. 164

Question ID : 264330143333
Status : Answered
Chosen Option : 1

Q.20 इस प्रश्न में तीन कथन दिए गए हैं, जिसके बाद दो निष्कर्ष I और II दिए गए हैं। कथनों को सत्य मानते हुए, भले ही वे सामान्य रूप से ज्ञात तथ्यों से भिन्न प्रतीत होते हों, यह निर्णय लीजिए कि कौन-सा/से निष्कर्ष कथनों का तार्किक रूप से अनुसरण करता है/करते हैं।

कथन:
कुछ फूल फल हैं।
सभी फल सब्जियां हैं।
कुछ सब्जियां स्वास्थ्यकर हैं।
निष्कर्ष:
I. सभी फल स्वास्थ्यकर हैं।
II. कुछ सब्जियां फूल हैं।

- Ans 1. केवल निष्कर्ष I अनुसरण करता है।
 2. केवल निष्कर्ष II अनुसरण करता है।
 3. निष्कर्ष I और II दोनों अनुसरण करते हैं।
 4. न तो निष्कर्ष I और न ही II अनुसरण करता है।

Question ID : 264330143342
Status : Answered
Chosen Option : 2

Q.21 इस प्रश्न में, तीन कथन और उसके बाद दो निष्कर्ष I और II दिए गए हैं। कथनों को सत्य मानते हुए, भले ही वे सामान्यतः ज्ञात तथ्यों से भिन्न प्रतीत होते हों, निर्णय लें कि कौन-सा/से निष्कर्ष तार्किक रूप से कथनों का अनुसरण करता/करते है/हैं।

कथन:
I. कोई भी फॉरेस्ट, जंगल नहीं है।
II. सभी पहाड़ियाँ, जंगल हैं।
III. सभी बाग, पहाड़ियाँ हैं।

निष्कर्ष:
I. सभी बाग, जंगल हैं।
II. कोई भी फॉरेस्ट, पहाड़ी नहीं है।

- Ans 1. केवल निष्कर्ष I अनुसरण करता है
 2. न तो निष्कर्ष I और न ही II अनुसरण करता है
 3. निष्कर्ष I और II दोनों अनुसरण करते हैं
 4. केवल निष्कर्ष II अनुसरण करता है

Question ID : 264330104067
Status : Answered
Chosen Option : 3

Q.22 उस विकल्प का चयन करें जो पांचवें अक्षर-समूह से उसी प्रकार संबंधित है जिस प्रकार दूसरा अक्षर-समूह पहले अक्षर-समूह से संबंधित है और चौथा अक्षर-समूह तीसरे अक्षर-समूह से संबंधित है।
CAMERA : MACARE :: BEYOND : YEBDNO :: DEBATE : ?

- Ans
- 1. BEDEAT
 - 2. BDETEA
 - 3. BEDTEA
 - 4. BEDETA

Question ID : 26433068518
Status : Answered
Chosen Option : 4

Q.23 उस विकल्प का चयन करें जो उन अक्षरों को निरूपित करता है, जिन्हें नीचे दिए गए रिक्त स्थानों में क्रमिक रूप से बाएं से दाएं रखने पर अक्षर श्रृंखला पूर्ण हो जाएगी।
F _ L O R F W L _ R _ W _ O R F _ L O _

- Ans
- 1. W O F L W R
 - 2. L F O W R W
 - 3. O W F L R W
 - 4. F W O L R F

Question ID : 26433067733
Status : Answered
Chosen Option : 1

Q.24 'A # B' का अर्थ है कि 'A, B का भाई है'
'A @ B' का अर्थ है कि 'A, B का पिता है'
'A & B' का अर्थ है कि 'A, B की माता है'
'A % B' का अर्थ है कि 'A, B की पत्नी है'
यदि 'P & Q # R % S @ T # U' है, तो P का U से क्या संबंध है?

- Ans
- 1. माता
 - 2. दादी
 - 3. पौत्री
 - 4. नानी

Question ID : 264330143357
Status : Answered
Chosen Option : 4

Q.25 तस्वीर में दिख रहे एक व्यक्ति की ओर इंगित करते हुए सनी नाम के एक लड़के ने कहा "वह मेरी बहन की माता के पति का भाई है"। तस्वीर वाले व्यक्ति के साथ सनी का क्या संबंध है?

- Ans
- 1. दादा
 - 2. भाई
 - 3. भतीजा
 - 4. पुत्र

Question ID : 26433070275
Status : Answered
Chosen Option : 3

Q.1 आंध्र प्रदेश पुनर्गठन अधिनियम किस वर्ष पारित किया गया था?

- Ans 1. 2014 में
 2. 2015 में
 3. 2013 में
 4. 2012 में

Question ID : 264330113439
Status : Answered
Chosen Option : 1

Q.2 प्रारंभ में निम्नलिखित में से कौन कर्नाटक के चालुक्यों के अधीनस्थ थे?

- Ans 1. सातवाहन
 2. राष्ट्रकूट
 3. पाल
 4. प्रतिहार

Question ID : 26433089865
Status : Answered
Chosen Option : 1

Q.3 'लॉन्ग वॉक टू फ्रीडम' _____ के द्वारा लिखी गई है।

- Ans 1. दलाई लामा
 2. नेल्सन मंडेला
 3. आंग सान सु की
 4. महात्मा गांधी

Question ID : 26433064622
Status : Answered
Chosen Option : 2

Q.4 भारतीय और पश्चिमी संस्कृति के मिश्रण का प्रतिनिधित्व करने वाले एक संस्कृत कॉलेज के प्रधानाचार्य _____ थे।

- Ans 1. देवेन्द्रनाथ टैगोर
 2. केशव चंद्र सेन
 3. राजा राम मोहन राय
 4. ईश्वर चंद्र विद्यासागर

Question ID : 264330132691
Status : Answered
Chosen Option : 1

Q.5 निम्नलिखित में से कौन सा अनुष्ठानिक नृत्य मध्य प्रदेश की कामड़ जनजाति द्वारा किया जाता है?

- Ans 1. घपाल
 2. पैका
 3. तेराताली
 4. मुनारी

Question ID : 26433072630
Status : Not Answered
Chosen Option : --

Q.6 वर्ष 2022 के लिए, खेल के क्षेत्र में पद्म भूषण पुरस्कार _____ को प्रदान किया गया था।

- Ans
- 1. शंकरनारायण मेनन चुंडायिल
 - 2. सुमित अंतिल
 - 3. देवेन्द्र झाझरिया
 - 4. ब्रह्मानंद सांखवलकर

Question ID : 26433086888
Status : Answered
Chosen Option : 3

Q.7 वे पौधे जो सूर्य के तीव्र प्रकाश में उगने के लिए अनुकूलित होते हैं, वो क्या कहलाते हैं?

- Ans
- 1. आद्योद्भिद (Protophytes)
 - 2. नवोद्भिद (Neophytes)
 - 3. मरुद्भिद (Xerophyte)
 - 4. आतपोद्भिद (Heliophytes)

Question ID : 26433066710
Status : Answered
Chosen Option : 4

Q.8 2020 में किस जलाशय को अंतरराष्ट्रीय महत्व की आर्द्रभूमियों की सूची में 'रामसर साइट' घोषित किया गया है?

- Ans
- 1. चिल्का झील
 - 2. सुर सरोवर
 - 3. सरसाई नावर झील
 - 4. पोंग डैम झील

Question ID : 264330143305
Status : Answered
Chosen Option : 1

Q.9 हरियाणा राज्य में रजिया सुल्तान का मकबरा किस निर्माण सामग्री से निर्मित है?

- Ans
- 1. लाल बलुआ पत्थर
 - 2. संगमरमर
 - 3. पकी हुई ईंटें
 - 4. ग्रेनाइट

Question ID : 264330132428
Status : Not Answered
Chosen Option : --

Q.10 पूर्व मीमांसा स्कूल ऑफ फिलॉसफी की स्थापना प्राचीन भारत में _____ द्वारा की गई थी।

- Ans
- 1. कपिल
 - 2. पतंजलि
 - 3. व्यास
 - 4. जैमिनी

Question ID : 264330111366
Status : Answered
Chosen Option : 4

Q.11 भारत में निम्नलिखित में से कौन-सा एक संवैधानिक निकाय नहीं है?

- Ans 1. राष्ट्रीय मानवाधिकार आयोग (National human rights commission)
 2. वित्त आयोग (Finance commission)
 3. राष्ट्रीय अनुसूचित जाति आयोग (National commission for SCs)
 4. राज्य लोक सेवा आयोग (State public service commission)

Question ID : 264330111535

Status : Answered

Chosen Option : 2

Q.12 मानव विकास सूचकांक (HDI) रिपोर्ट 2021-22 के अनुसार भारत के सभी पड़ोसी देशों में से कितने देशों को एचडीआई (HDI) की 'अत्यंत उच्च मानव विकास' श्रेणी में रैंकिंग मिली है?

- Ans 1. 1
 2. 3
 3. 0
 4. 2

Question ID : 264330109522

Status : Not Answered

Chosen Option : --

Q.13 हाइड्रोजन आबंध की प्रबलता किसके द्वारा निर्धारित की जाती है?

- Ans 1. एक अणु के विद्युत ऋणात्मक परमाणु के एकाकी इलेक्ट्रॉन युग्म और दूसरे अणु के ऑक्सीजन परमाणु के बीच अन्योन्यक्रिया
 2. एक अणु के विद्युत धनात्मक परमाणु के एकाकी इलेक्ट्रॉन युग्म और दूसरे अणु के हाइड्रोजन परमाणु के बीच अन्योन्यक्रिया
 3. एक अणु के विद्युत ऋणात्मक परमाणु के एकाकी इलेक्ट्रॉन युग्म और दूसरे अणु के हाइड्रोजन परमाणु के बीच अन्योन्यक्रिया
 4. ध्रुवीय अणु के एकाकी इलेक्ट्रॉन युग्म और दूसरे अणु के हाइड्रोजन परमाणु के बीच अन्योन्यक्रिया

Question ID : 264330143313

Status : Answered

Chosen Option : 3

Q.14 निम्नलिखित में से कौन-सी नदी सिंधु नदी की सहायक नदी नहीं है?

- Ans 1. जास्कर
 2. हुंजा
 3. गिलगित
 4. रिंद

Question ID : 264330109865

Status : Answered

Chosen Option : 1

Q.15 मकरविलाक्कु उत्सव निम्नलिखित में से किस भारतीय राज्य में मनाया जाता है?

- Ans 1. आंध्र प्रदेश
 2. केरल
 3. तमिलनाडु
 4. कर्नाटक

Question ID : 26433064690

Status : Not Answered

Chosen Option : --

Q.16 शाहिद परवेज खान, बुधादित्य मुखर्जी, अनुष्का शंकर और हर शंकर भट्टाचार्य निम्नलिखित में से किस वाद्य यंत्र के प्रसिद्ध वादक हैं?

- Ans 1. सितार
 2. सुरबहार
 3. मोहन वीणा
 4. वीणा

Question ID : 264330143394
Status : Answered
Chosen Option : 1

Q.17 वर्ष 2011 की जनगणना के अनुसार भारत में कुल महिला साक्षरता दर _____ थी।

- Ans 1. 65.46%
 2. 56.8%
 3. 43.5%
 4. 85.45%

Question ID : 264330109512
Status : Answered
Chosen Option : 1

Q.18 जनवरी 2023 के अनुसार निम्नलिखित में से कौन भारत के खादी और ग्रामोद्योग आयोग (KVIC) का अध्यक्ष है?

- Ans 1. मनोज कुमार
 2. मनोज कुमार सिंह
 3. डॉ. शिरीश केदारे
 4. नागेंद्र रघुवंशी

Question ID : 264330132604
Status : Not Answered
Chosen Option : --

Q.19 यकृत, प्लीहा और अस्थि मज्जा की जालीय अंतः कला कोशिकाओं (reticuloendothelial cells) के भीतर आयरन के अत्यधिक जमाव के कारण कौन-सा रोग होता है?

- Ans 1. अपसंवेदन (Paraesthesia)
 2. त्वक्शोथ (Dermatitis)
 3. हीमोसाइडरोसिस (Hemosiderosis)
 4. राइबोफ्लेविनहीनता (Ariboflavinosis)

Question ID : 26433092196
Status : Answered
Chosen Option : 3

Q.20 यूक्रेन पर 2022 के रूसी आक्रमण के बीच भारतीय नागरिकों को निकालने के लिए भारत सरकार द्वारा चलाए गए निकासी अभियान का नाम क्या है?

- Ans 1. ऑपरेशन तबस
 2. ऑपरेशन एकेरियस
 3. ऑपरेशन ईगल
 4. ऑपरेशन गंगा

Question ID : 26433055032
Status : Answered
Chosen Option : 4

Q.21 वन अनुसंधान संस्थान, देहरादून की स्थापना इम्पीरियल वन अनुसंधान संस्थान के रूप में की गई थी। किस वर्ष इसे "इम्पीरियल वन अनुसंधान संस्थान" के रूप में स्थापित किया गया था?

- Ans 1. 1906
 2. 1905
 3. 1908
 4. 1907

Question ID : 26433089209
Status : Not Answered
Chosen Option : --

Q.22 उच्च न्यायालय और सर्वोच्च न्यायालय के न्यायाधीश (वेतन और सेवा की शर्तें) संशोधन विधेयक, 2021 को कानून और न्याय मंत्री किरेन रिजिजू द्वारा _____ में लोकसभा में पेश किया गया था।

- Ans 1. दिसंबर 2021
 2. अक्टूबर 2021
 3. नवंबर 2021
 4. सितंबर 2021

Question ID : 264330122340
Status : Not Answered
Chosen Option : --

Q.23 1953 में महारानी एलिजाबेथ-II के राज्याभिषेक समारोह में प्रस्तुति देने के लिए निम्नलिखित में से किस नृत्यांगना को बुलाया गया था?

- Ans 1. कमला लक्ष्मी नारायणन
 2. मृणालिनी साराभाई
 3. रुक्मिणी देवी अरुंडेल
 4. सितारा देवी

Question ID : 264330110268
Status : Answered
Chosen Option : 2

Q.24 निम्नलिखित में से कौन-सा खिलाड़ी विलियर्ड्स से जुड़ा है?

- Ans 1. संकल्प गुप्ता
 2. पंकज आडवाणी
 3. सौरभ चौधरी
 4. मनिका बत्रा

Question ID : 264330109667
Status : Answered
Chosen Option : 2

Q.25 भारत का निम्नलिखित में से कौन सा भाग कूका आंदोलन से प्रभावित हुआ था?

- Ans 1. पंजाब
 2. बिहार
 3. झारखंड
 4. बंगाल

Question ID : 26433089143
Status : Answered
Chosen Option : 1

Q.1 किसी व्यक्ति को दो बिचौलियों के माध्यम से जमीन का एक टुकड़ा बेचा गया, जिसमें प्रत्येक बिचौलिए को 25% का लाभ प्राप्त हुआ। यदि व्यक्ति ने ₹6,25,000 में जमीन खरीदी, तो जमीन की मूल कीमत (₹ में) क्या थी?

- Ans
- 1. 4,25,000
 - 2. 3,75,000
 - 3. 3,50,000
 - 4. 4,00,000

Question ID : 264330129412
Status : Answered
Chosen Option : 4

Q.2 एक कार पहले 180 km की दूरी 20 km/h की चाल से तय करती है। यह अगले 210 km की दूरी 35 km/h की चाल से तय करती है। कार की औसत चाल (km/h में) ज्ञात कीजिए।

- Ans
- 1. 55
 - 2. 26
 - 3. 27.5
 - 4. 15

Question ID : 264330102322
Status : Answered
Chosen Option : 2

Q.3 ΔPQR में S और T क्रमशः PQ और PR भुजाओं पर इस प्रकार बिन्दु हैं कि ΔPST , ΔPRQ के समरूप हैं। यदि $m\angle PQR = 47^\circ$ है तो $m\angle STR$ ज्ञात करें।

- Ans
- 1. 133°
 - 2. 130°
 - 3. 120°
 - 4. 123°

Question ID : 264330131413
Status : Answered
Chosen Option : 1

Q.4 यदि $x > 1$ और $x^2 + \frac{1}{x^2} = 2\sqrt{5}$ है, तो $x^4 - \frac{1}{x^4}$ का मान क्या होगा?

- Ans
- 1. $8\sqrt{6}$
 - 2. $8\sqrt{5}$
 - 3. $4\sqrt{30}$
 - 4. $4\sqrt{5}$

Question ID : 264330101341
Status : Not Answered
Chosen Option : --

Q.5 5% वार्षिक साधारण ब्याज की दर से ₹3,000 के ब्याज की तुलना में ₹2,460 का साधारण ब्याज 162 कम होगा। लिया गया समय वर्ष में ज्ञात कीजिए।

- Ans
- 1. 3
 - 2. 4
 - 3. 5
 - 4. 6

Question ID : 26433080187
Status : Marked For Review
Chosen Option : 4

Q.6 रामू अकेले एक दीवार को 15 दिनों में बना सकता है, जबकि रावण अकेले इसे 10 दिनों में बना सकता है। रामू ने 5 दिन काम किया। फिर अगले 3 दिनों के लिए रावण और रामू ने साथ मिलकर काम किया। शेष दीवार को बनाने में रामू को और कितने दिन लगेंगे?

- Ans
- 1. 10.5
 - 2. 7.5
 - 3. 2.5
 - 4. 5.5

Question ID : 26433081608
Status : Answered
Chosen Option : 3

Q.7 माना M, 16 और 9 के बीच के माध्यानुपाती को व्यक्त करता है और N, 9 और 15 के तृतीय समानुपाती को व्यक्त करता है। $5M + 3N$ का मान ज्ञात कीजिए।

- Ans
- 1. 125
 - 2. 300
 - 3. 135
 - 4. 225

Question ID : 264330143417
Status : Answered
Chosen Option : 3

Q.8 एक सेल में, एक दुकान निम्नलिखित योजना के अनुसार छूट दे रही है:
कपड़ों पर 10%, किराना पर 12%, स्टेशनरी पर 15% और फूटवियर पर 20% की छूट।
अंजलि ने चाय का एक पैकेट, एक नोटबुक और बाथरूम स्लीपर खरीदे जिनका अंकित मूल्य क्रमशः ₹450, ₹100 और ₹850 है। उसे कितनी राशि (₹ में) चुकानी होगी?

- Ans
- 1. 1116
 - 2. 1471
 - 3. 1261
 - 4. 1161

Question ID : 264330103326
Status : Answered
Chosen Option : 4

Q.9 यदि $2a + b = 10$ और $2ab = 9$ है, तो $2a - b$ का मान क्या है?

- Ans
- 1. 10
 - 2. 4
 - 3. 8
 - 4. 6

Question ID : 26433083019
Status : Answered
Chosen Option : 3

Q.10 साधारण ब्याज पर उधार दी गई एक निश्चित राशि 3 वर्षों में ₹13,000 और 5 वर्षों में ₹15,000 हो जाती है। वार्षिक दर प्रतिशत ज्ञात कीजिए।

- Ans
- 1. 14%
 - 2. 15%
 - 3. 10%
 - 4. 12%

Question ID : 26433081034
Status : Answered
Chosen Option : 3

Q.11 पिछले वर्ष के दौरान, एक इलेक्ट्रॉनिक वस्तु की कीमत में 10% की वृद्धि हुई, और इस वर्ष उसी वस्तु की कीमत में 10% की कमी आई। यदि वर्तमान में इलेक्ट्रॉनिक वस्तु की कीमत ₹66,000 है, तो पिछले वर्ष की शुरुआत में संबंधित इलेक्ट्रॉनिक वस्तु की कीमत क्या थी? (एक दशमलव स्थान तक पूर्णांकित)

- Ans
- 1. ₹72,432.4
 - 2. ₹82,345.4
 - 3. ₹91,262.5
 - 4. ₹66,666.7

Question ID : 26433080007
Status : Answered
Chosen Option : 4

Q.12 यदि सात अंकों की संख्या $965x475$, 9 से विभाज्य है, तो x का मान क्या होगा?

- Ans
- 1. 0
 - 2. 2
 - 3. 6
 - 4. 3

Question ID : 264330126166
Status : Answered
Chosen Option : 1

Q.13 निम्नलिखित रैखिक समीकरण-निकाय का हल क्या होगा?

$$3x - 9y + 4z = 5$$

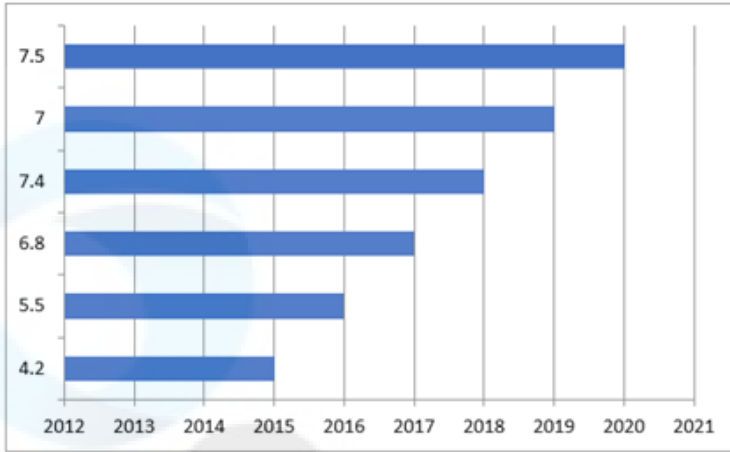
$$2x + 7y + z = 12$$

$$3x - z = 0$$

- Ans
- 1. $x = \frac{143}{150}, y = \frac{31}{30}, z = \frac{143}{51}$
 - 2. $x = \frac{143}{150}, y = \frac{31}{37}, z = \frac{143}{50}$
 - 3. $x = \frac{143}{150}, y = \frac{31}{30}, z = \frac{143}{50}$
 - 4. $x = \frac{137}{150}, y = \frac{31}{30}, z = \frac{143}{50}$

Question ID : 264330126543
Status : Not Answered
Chosen Option : --

Q.14 निम्नांकित दंड-आरेख का अध्ययन कीजिए और दिए गए प्रश्न का उत्तर दीजिए।
भारत की एक कंपनी रेडीमेड कपड़ों का निर्यात करती है। दंड-आरेख 2015 से 2020 तक 6 वर्षों में कपड़ों के निर्यात (करोड़ों रुपये में) को दर्शाता है।



वर्ष 2015 से 2020 के दौरान कपड़ों का औसत निर्यात (करोड़ों रुपये में) ज्ञात कीजिए।

- Ans
- 1. 6.4
 - 2. 6.2
 - 3. 5.2
 - 4. 5.4

Question ID : 264330129951
Status : Answered
Chosen Option : 1

Q.15 यदि $2P = 3Q = 4R = 5S$ है, तो $P : Q : R : S$ ज्ञात कीजिए

- Ans
- 1. 30 : 20 : 12 : 15
 - 2. 20 : 30 : 15 : 12
 - 3. 12 : 20 : 30 : 15
 - 4. 30 : 20 : 15 : 12

Question ID : 26433061667
Status : Answered
Chosen Option : 4

Q.16 अरुण 660 मिनट में 225.5 km की दूरी तय करने के लिए कार चला रहा है। उसकी चाल km/h में कितनी है?

- Ans
- 1. 21.5
 - 2. 20.5
 - 3. 20.2
 - 4. 22

Question ID : 264330103337
Status : Answered
Chosen Option : 2

Q.17 अजय को 20 पेन बेचते समय एक दुकानदार को 4 पेन के क्रय मूल्य की हानि हो रही है। यदि दुकानदार ने 20 पेन 10% कम कीमत पर खरीदे होते और 20 पेन अजय को विक्रय मूल्य से 25% अधिक पर बेचे होते, तो उसे कितने प्रतिशत का लाभ होता (दशमलव के 1 स्थान तक पूर्णांकित)?

- Ans 1. 11.1
 2. 8.0
 3. 12.5
 4. 10.0

Question ID : 264330130299
Status : Not Answered
Chosen Option : --

Q.18 यदि ABC की भुजा BC का मध्य-बिंदु M है, और ABM का क्षेत्रफल 19 cm^2 है, तो ABC का क्षेत्रफल क्या है?

- Ans 1. 40 cm^2
 2. 42 cm^2
 3. 36 cm^2
 4. 38 cm^2

Question ID : 26433083001
Status : Answered
Chosen Option : 4

Q.19 10 पार्सलों का औसत भार 28.6 kg है। एक नया पार्सल शामिल करने से औसत भार में 0.6 kg की कमी हो जाती है। नए पार्सल का भार (kg में) कितना है?

- Ans 1. 22
 2. 23
 3. 20
 4. 21

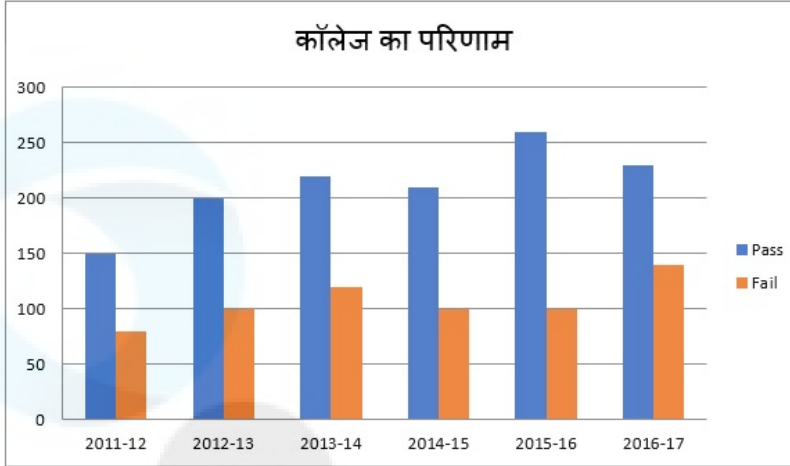
Question ID : 264330129390
Status : Answered
Chosen Option : 1

Q.20 एक कंपनी तीन अलग-अलग उत्पादों - गिलास, प्लेट और कटोरे का निर्माण करती है। प्लेटों की संख्या, गिलासों की संख्या की दोगुनी है। निर्मित गिलासों की संख्या, कटोरों की संख्या की दोगुनी है। यदि कंपनी द्वारा निर्मित कुल इकाइयाँ 2380 हैं, तो प्लेटों की संख्या और कटोरों की संख्या के बीच अंतर कितना है?

- Ans 1. 1360
 2. 1020
 3. 1120
 4. 680

Question ID : 26433058210
Status : Answered
Chosen Option : 2

Q.21 दिया गया दण्ड आरेख एक कॉलेज में विद्यार्थियों के परिणामों (रिज़ल्ट) को दर्शाता है। आरेख का अध्ययन कीजिए और नीचे दिए गए प्रश्न का उत्तर दीजिए।



Pass - उत्तीर्ण Fail - अनुत्तीर्ण

दिए गए आंकड़ों में अनुत्तीर्ण विद्यार्थियों की संख्या कितनी बार समान है?

- Ans
- 1. 1
 - 2. 2
 - 3. 3
 - 4. 4

Question ID : 264330122700
Status : Answered
Chosen Option : 3

Q.22 यदि $\tan \theta + \sec \theta = a$, तो $\sec \theta$ क्या है?

- Ans
- 1. $\frac{1}{2a}$
 - 2. $\frac{a^2 + 1}{2a}$
 - 3. $\frac{a - 1}{2a}$
 - 4. $\frac{a^2 - 1}{2a}$

Question ID : 264330126224
Status : Answered
Chosen Option : 4

Q.23 $\cos 1^\circ \cdot \cos 2^\circ \cdot \cos 3^\circ \cdots \cos 177^\circ \cdot \cos 178^\circ \cdot \cos 179^\circ$ का मान क्या है?

- Ans
- 1. 1
 - 2. $\frac{1}{2}$
 - 3. $\frac{1}{\sqrt{2}}$
 - 4. 0

Question ID : 26433080387
Status : Answered
Chosen Option : 4

Q.24 एक घन की भुजा (मीटर में) क्या होगी, जिसमें अधिकतम 10 मीटर लंबाई की लोहे की छड़ रखी जा सकती है?

- Ans
- 1. 5.57
 - 2. 7.75
 - 3. 7.57
 - 4. 5.77

Question ID : 26433081751
Status : Answered
Chosen Option : 4

Q.25 पति और पत्नी की वर्तमान आयु का अनुपात 5 : 4 है। 6 वर्ष बाद उनकी आयु का अनुपात 6 : 5 हो जाएगा। उनकी शादी के समय उनकी आयु का अनुपात 4 : 3 था। उन्होंने कितने वर्ष पहले शादी की?

- Ans
- 1. 4 वर्ष
 - 2. 6 वर्ष
 - 3. 8 वर्ष
 - 4. 10 वर्ष

Question ID : 264330129977
Status : Answered
Chosen Option : 2

Section : English Language

Q.1 Select the option that expresses the given sentence in direct speech.
The ticket collector asked the passengers where their tickets were.

- Ans
- 1. The ticket collector said to the passengers, "Where your tickets were?"
 - 2. The ticket collector said to the passengers, "Where were your tickets?"
 - 3. The ticket collector said to the passengers, "Where are your tickets?"
 - 4. The ticket collector demanded the passengers, "Show me your tickets"

Question ID : 264330132827
Status : Answered
Chosen Option : 3

Q.2 Select the most appropriate ANTONYM of the underlined word in the given sentence.

The library sessions were conducive for healthy discussions.

- Ans
- 1. Invaluable
 - 2. Unfavourable
 - 3. Integrated
 - 4. Exclusive

Question ID : 26433073872
Status : Answered
Chosen Option : 3

Q.3 Select the sentence that has the most appropriate meaning of the given idiom.

Kill two birds with one stone

- Ans
- 1. He ruined his chances of getting into college as he got distracted while studying for two different entrance tests and not perfecting even a single one.
 - 2. Today's fishing session was a success as both the fishermen were working together.
 - 3. He was so unlucky that he never won a single coin toss in the entire tournament.
 - 4. Maya decided to clean the house but at the end of the day, she realised it was a great workout.

Question ID : 26433089734
Status : Answered
Chosen Option : 4

Q.4 Select the most appropriate meaning of the given idiom.

A cock and bull story

- Ans
- 1. A true story
 - 2. A children's story
 - 3. A story of animals
 - 4. A foolish and concocted story

Question ID : 26433088140
Status : Answered
Chosen Option : 4

Q.5 Select the grammatically correct sentence.

- A.I would like to spend an evening near pool with a cup of coffee.
- B.I would like to spend an evening near pool with cup of coffee.
- C.I would like to spend a evening near a pool with a cup of coffee.
- D.I would like to spend an evening near a pool with a cup of coffee.

- Ans
- 1. C
 - 2. A
 - 3. B
 - 4. D

Question ID : 26433073536
Status : Answered
Chosen Option : 2

Q.6 Select the most appropriate option that can substitute the underlined segment in the given sentence. If there is no need to substitute it, select 'No substitution required'.

Ria sits right besides Shimona in the craft class.

- Ans
- 1. besides to
 - 2. beside
 - 3. be side
 - 4. No substitution required

Question ID : 26433060073
Status : Answered
Chosen Option : 2

Q.7 Select the most appropriate option to fill in the blank.

_____ being an officer, he lives in a very tiny apartment.

- Ans
- 1. Except
 - 2. Instead
 - 3. Unlike
 - 4. Despite

Question ID : 26433060982
Status : Answered
Chosen Option : 4

Q.8 Select the most appropriate option to fill in the blank.

That night the dinner was special, and the _____ himself came out to read out the menu list.

- Ans
- 1. guest
 - 2. chef
 - 3. public
 - 4. servant

Question ID : 26433098880
Status : Answered
Chosen Option : 2

Q.9 Select the most appropriate synonym for the highlighted word.

There were a plethora of options available to the applicant.

- Ans
- 1. destructive
 - 2. excess
 - 3. insufficient
 - 4. recess

Question ID : 264330120719
Status : Answered
Chosen Option : 2

Q.10 The following sentence has been split into four segments. Identify the segment that contains a grammatical error.

Kids learn / a lot by / their / school activities and homework.

- Ans
- 1. their
 - 2. Kids learn
 - 3. a lot by
 - 4. school activities and homework.

Question ID : 26433096146
Status : Answered
Chosen Option : 3

Q.11 Select the option that expresses the given sentence in active voice.
Why was such a letter written by your brother?

- Ans
- 1. Why is your brother writing such a letter?
 - 2. Why did your brother write such a letter?
 - 3. Why has your brother written such a letter?
 - 4. Why your brother wrote such a letter?

Question ID : 264330133302
Status : Answered
Chosen Option : 2

Q.12 Select the most appropriate ANTONYM of the underlined word in the following sentence.

Suraj has always shown a willingness to accept and respect the differences in others' lives with impartiality and avoid prejudice.

- Ans
- 1. Avoid
 - 2. Differences
 - 3. Willingness
 - 4. Impartiality

Question ID : 26433073642
Status : Answered
Chosen Option : 4

Q.13 Select the INCORRECTLY spelt word.

- Ans
- 1. Though
 - 2. Psychic
 - 3. Suddenness
 - 4. Truthfully

Question ID : 26433088413
Status : Answered
Chosen Option : 3

Q.14 Select the correct indirect narration of the given sentence.
He said to me, "My phone is switched off."

- Ans
- 1. He told me that his phone was switched off.
 - 2. He told me that our phone had switch off.
 - 3. He told me that his phone was switch off.
 - 4. He told me that my phone was switched off.

Question ID : 264330132786
Status : Answered
Chosen Option : 1

Q.15 Select the option that can be used as a one-word substitute for the underlined part of the given sentence.

Dogs are known for possession of the quality of being faithful.

- Ans
- 1. fidelity
 - 2. creditability
 - 3. honesty
 - 4. genuineness

Question ID : 26433072479
Status : Answered
Chosen Option : 2

Comprehension:

In the following passage, some words have been deleted. Read the passage carefully and select the most appropriate option to fill in each blank.

The earliest kind of print technology was developed in China. This was a system of hand (1)_____. From AD 594 onwards, (2)_____ in China were printed by (3)_____ paper, against the inked surface (4)_____ woodblocks. As both sides of (5)_____ thin, porous sheet could not be printed, the traditional Chinese 'accordion book' was folded and stitched at the side.

SubQuestion No : 16

Q.16 Select the most appropriate option for blank number 1.

- Ans
- 1. inking
 - 2. reading
 - 3. writing
 - 4. printing

Question ID : 264330132855
Status : Answered
Chosen Option : 4

Comprehension:

In the following passage, some words have been deleted. Read the passage carefully and select the most appropriate option to fill in each blank.

The earliest kind of print technology was developed in China. This was a system of hand (1)_____. From AD 594 onwards, (2)_____ in China were printed by (3)_____ paper, against the inked surface (4)_____ woodblocks. As both sides of (5)_____ thin, porous sheet could not be printed, the traditional Chinese 'accordion book' was folded and stitched at the side.

SubQuestion No : 17

Q.17 Select the most appropriate option for blank number 2.

- Ans
- 1. book
 - 2. books
 - 3. page
 - 4. paper

Question ID : 264330132856
Status : Answered
Chosen Option : 2

Comprehension:

In the following passage, some words have been deleted. Read the passage carefully and select the most appropriate option to fill in each blank.

The earliest kind of print technology was developed in China. This was a system of hand (1)_____. From AD 594 onwards, (2)_____ in China were printed by (3)_____ paper, against the inked surface (4)_____ woodblocks. As both sides of (5)_____ thin, porous sheet could not be printed, the traditional Chinese 'accordion book' was folded and stitched at the side.

SubQuestion No : 18

Q.18 Select the most appropriate option for blank number 3.

- Ans
- 1. rubbing
 - 2. writing
 - 3. rub
 - 4. write

Question ID : 264330132857
Status : Answered
Chosen Option : 1

Comprehension:

In the following passage, some words have been deleted. Read the passage carefully and select the most appropriate option to fill in each blank.

The earliest kind of print technology was developed in China. This was a system of hand (1)_____. From AD 594 onwards, (2)_____ in China were printed by (3)_____ paper, against the inked surface (4)_____ woodblocks. As both sides of (5)_____ thin, porous sheet could not be printed, the traditional Chinese 'accordion book' was folded and stitched at the side.

SubQuestion No : 19

Q.19 Select the most appropriate option for blank number 4.

- Ans
- 1. in
 - 2. of
 - 3. by
 - 4. from

Question ID : 264330132858
Status : Answered
Chosen Option : 1

Comprehension:

In the following passage, some words have been deleted. Read the passage carefully and select the most appropriate option to fill in each blank.

The earliest kind of print technology was developed in China. This was a system of hand (1)_____. From AD 594 onwards, (2)_____ in China were printed by (3)_____ paper, against the inked surface (4)_____ woodblocks. As both sides of (5)_____ thin, porous sheet could not be printed, the traditional Chinese 'accordion book' was folded and stitched at the side.

SubQuestion No : 20

Q.20 Select the most appropriate option for blank number 5.

- Ans
- 1. a
 - 2. by
 - 3. the
 - 4. from

Question ID : 264330132859

Status : Answered

Chosen Option : 3

Comprehension:

Read the given passage and answer the questions that follow.

Satyajit Ray's films are rich in sociological elements which portray themes like faulty social structures, childhood experiences, poverty-stricken India, rural life, complexities in relationships and politics, religion, gender and on. Films like Devi or The Goddess and Mahapurush or The Godman show how religion becomes a breeding ground of superstitions and how the blind faith of people in 'Godmen', without analysing the reality, leave people trapped in the end. In Pather Panchali or Song of the Road, Ray shows how Apu and Durga enjoy their childhood despite their poverty. The innocence and mirth of childhood offers a sharp contrast with the disconsolate faces of other adults in the family who are affected by the present harsh situations. A critique of autocracy is found in his film HIRAK RAJAR DESHE or In the Country of the Diamond King which is an overall political satire. Although Satyajit Ray's films are deeply rooted in Bengali culture, they have a universal significance, and much of it is perhaps because his film making is heavily inspired by neo-realist principles.

SubQuestion No : 21

Q.21 According to the passage, how has Mahapurush been translated?

- Ans
- 1. Great man
 - 2. The one man
 - 3. Great being
 - 4. Godman

Question ID : 264330134172

Status : Answered

Chosen Option : 4

Comprehension:

Read the given passage and answer the questions that follow.

Satyajit Ray's films are rich in sociological elements which portray themes like faulty social structures, childhood experiences, poverty-stricken India, rural life, complexities in relationships and politics, religion, gender and on. Films like Devi or The Goddess and Mahapurush or The Godman show how religion becomes a breeding ground of superstitions and how the blind faith of people in 'Godmen', without analysing the reality, leave people trapped in the end. In Pather Panchali or Song of the Road, Ray shows how Apu and Durga enjoy their childhood despite their poverty. The innocence and mirth of childhood offers a sharp contrast with the disconsolate faces of other adults in the family who are affected by the present harsh situations. A critique of autocracy is found in his film HIRAK RAJAR DESHE or In the Country of the Diamond King which is an overall political satire. Although Satyajit Ray's films are deeply rooted in Bengali culture, they have a universal significance, and much of it is perhaps because his film making is heavily inspired by neo-realist principles.

SubQuestion No : 22

Q.22 According to the passage, which of the following was a major inspiration for Satyajit Ray?

- Ans
- 1. Comics
 - 2. Early Bengali cinema
 - 3. The society
 - 4. Neo realism

Question ID : 264330134174

Status : Answered

Chosen Option : 2

Comprehension:

Read the given passage and answer the questions that follow.

Satyajit Ray's films are rich in sociological elements which portray themes like faulty social structures, childhood experiences, poverty-stricken India, rural life, complexities in relationships and politics, religion, gender and on. Films like Devi or The Goddess and Mahapurush or The Godman show how religion becomes a breeding ground of superstitions and how the blind faith of people in 'Godmen', without analysing the reality, leave people trapped in the end. In Pather Panchali or Song of the Road, Ray shows how Apu and Durga enjoy their childhood despite their poverty. The innocence and mirth of childhood offers a sharp contrast with the disconsolate faces of other adults in the family who are affected by the present harsh situations. A critique of autocracy is found in his film HIRAK RAJAR DESHE or In the Country of the Diamond King which is an overall political satire. Although Satyajit Ray's films are deeply rooted in Bengali culture, they have a universal significance, and much of it is perhaps because his film making is heavily inspired by neo-realist principles.

SubQuestion No : 23

Q.23 Which film by Satyajit Ray deals with the portrayal of childhood?

- Ans
- 1. Devi
 - 2. HIRAK RAJAR DESHE
 - 3. Pather Panchali
 - 4. Mahapurush

Question ID : 264330134175

Status : Answered

Chosen Option : 3

Comprehension:

Read the given passage and answer the questions that follow.

Satyajit Ray's films are rich in sociological elements which portray themes like faulty social structures, childhood experiences, poverty-stricken India, rural life, complexities in relationships and politics, religion, gender and on. Films like Devi or The Goddess and Mahapurush or The Godman show how religion becomes a breeding ground of superstitions and how the blind faith of people in 'Godmen', without analysing the reality, leave people trapped in the end. In Pather Panchali or Song of the Road, Ray shows how Apu and Durga enjoy their childhood despite their poverty. The innocence and mirth of childhood offers a sharp contrast with the disconsolate faces of other adults in the family who are affected by the present harsh situations. A critique of autocracy is found in his film HIRAK RAJAR DESHE or In the Country of the Diamond King which is an overall political satire. Although Satyajit Ray's films are deeply rooted in Bengali culture, they have a universal significance, and much of it is perhaps because his film making is heavily inspired by neo-realist principles.

SubQuestion No : 24

Q.24 Which of the following is NOT a theme of any of Satyajit Ray's movies, according to the passage?

- Ans**
- 1. Rural life
 - 2. Complexities in relationships
 - 3. Faulty social structures
 - 4. Motivational life stories

Question ID : 264330134176

Status : Answered

Chosen Option : 4

Comprehension:

Read the given passage and answer the questions that follow.

Satyajit Ray's films are rich in sociological elements which portray themes like faulty social structures, childhood experiences, poverty-stricken India, rural life, complexities in relationships and politics, religion, gender and on. Films like Devi or The Goddess and Mahapurush or The Godman show how religion becomes a breeding ground of superstitions and how the blind faith of people in 'Godmen', without analysing the reality, leave people trapped in the end. In Pather Panchali or Song of the Road, Ray shows how Apu and Durga enjoy their childhood despite their poverty. The innocence and mirth of childhood offers a sharp contrast with the disconsolate faces of other adults in the family who are affected by the present harsh situations. A critique of autocracy is found in his film HIRAK RAJAR DESHE or In the Country of the Diamond King which is an overall political satire. Although Satyajit Ray's films are deeply rooted in Bengali culture, they have a universal significance, and much of it is perhaps because his film making is heavily inspired by neo-realist principles.

SubQuestion No : 25

Q.25 Which film by Satyajit Ray deals with the theme of autocracy?

- Ans**
- 1. Devi
 - 2. Mahapurush
 - 3. HIRAK RAJAR DESHE
 - 4. Pather Panchali

Question ID : 264330134173

Status : Answered

Chosen Option : 3