

## Phase-XI/2023/Selection Posts and Selection Posts/Ladakh/2023

Roll Number	
Candidate Name	
Venue Name	
Exam Date	30/06/2023
Exam Time	9:00 AM - 10:00 AM
Subject	Selection Post Graduate Level

### Section : General Intelligence

Q.1 एक निश्चित कूट भाषा में, 'SOUTH' को '83' के रूप में लिखा जाता है और 'CONVOY' को '94' के रूप में लिखा जाता है। उसी भाषा में 'SYSTEM' को कैसे लिखा जाएगा?

Ans ✓ 1. 101

✗ 2. 108

✗ 3. 98

✗ 4. 93

Question ID : 26433069612

Status : Answered

Chosen Option : 1

Q.2 एक पुरुष की तस्वीर की ओर इंगित करते हुए मुस्कान नाम की एक महिला ने कहा "वह मेरे पिता के दादा का इकलौता पोता है"। तस्वीर वाले व्यक्ति के साथ मुस्कान का क्या संबंध है?

Ans ✗ 1. माता

✓ 2. पुत्री

✗ 3. भाभी

✗ 4. बहन

Question ID : 26433070274

Status : Answered

Chosen Option : 2

Q.3 उस विकल्प का चयन करें जो उन अक्षरों को निरूपित करता है, जिन्हें नीचे दिए गए रिक्त स्थानों में क्रमिक रूप से बाएं से दाएं रखने पर अक्षर श्रृंखला पूर्ण हो जाएगी।

C \_ L L A \_ \_ O L \_ A R C O \_ L \_ R

Ans ✗ 1. RALOCR

✓ 2. ORCLLA

✗ 3. COLLAR

✗ 4. CLLROL

Question ID : 26433067728

Status : Answered

Chosen Option : 2

Q.4 एक निश्चित कूट भाषा में 'Broken' को '1171410413' लिखा जाता है, 'Bottle' को '1141919114' लिखा जाता है, उसी कूट भाषा में 'Sample' को कैसे लिखा जाएगा?

Ans ✗ 1. 1711215114

✓ 2. 1801215114

✗ 3. 1801214114

✗ 4. 1811114103

Question ID : 264330143380

Status : Answered

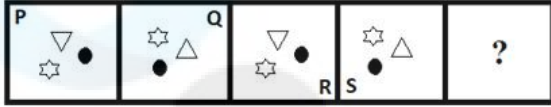
Chosen Option : 2

Q.5 निम्नलिखित में से कौन-सी संख्या दी गई श्रेणी में प्रश्न चिह्न (?) को प्रतिस्थापित करेगी?  
11, 21, 16, 26, ?, 31

- Ans
- 1. 29
  - 2. 27
  - 3. 21
  - 4. 25

Question ID : 26433056430  
Status : Answered  
Chosen Option : 3

Q.6 नीचे दी गई आकृति श्रृंखला में प्रश्न-चिह्न (?) के स्थान पर आने वाली आकृति का चयन कीजिए।



Ans

- 1.
- 2.
- 3.
- 4.

Question ID : 26433056948  
Status : Answered  
Chosen Option : 3

Q.7 उस विकल्प का चयन करें, जो उन अक्षरों को दर्शाता है, जिन्हें निम्न रिक्त स्थानों में बाएँ से दाएँ रखने पर अक्षर-श्रृंखला पूर्ण हो जाएगी।  
x\_y y \_y x x \_y yy \_ x y \_ y \_

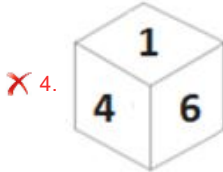
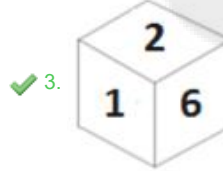
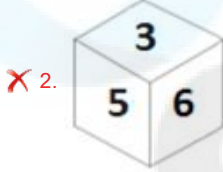
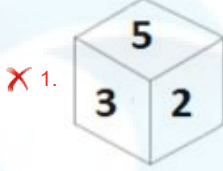
- Ans
- 1. xyxyy
  - 2. xyxyx
  - 3. xyxyy
  - 4. xxxyy

Question ID : 26433080455  
Status : Answered  
Chosen Option : 1

Q.8 यदि दी गई शीट को मोड़कर एक घन बनाया जाता है, तो दी गई आकृतियों में से कौन-सी आकृति बनना संभव है?

3	1	6
	5	
	4	
	2	

Ans



Question ID : 264330143436

Status : Answered

Chosen Option : 3

Q.9 उस सही विकल्प का चयन कीजिए, जो निम्नलिखित शब्दों की व्यवस्था को तार्किक और अर्थपूर्ण क्रम में दर्शाता है।

1. घटना
2. गर्दन
3. जाँघ
4. सिर
5. पैर की अंगुली
6. कमर

Ans ✓ 1. 5, 1, 3, 6, 2, 4

✗ 2. 5, 1, 6, 3, 2, 4

✗ 3. 5, 1, 3, 6, 4, 2

✗ 4. 5, 3, 1, 6, 2, 4

Question ID : 264330129560

Status : Answered

Chosen Option : 3

Q.10 तीन कथन और उसके बाद तीन निष्कर्ष I, II और III दिए गए हैं। कथनों को सत्य मानते हुए, भले ही वे सामान्य रूप से ज्ञात तथ्यों से भिन्न प्रतीत होते हों, तय कीजिए कि कौन-सा/से निष्कर्ष इन कथनों का तार्किक रूप से अनुसरण करता है/करते हैं।

कथन:

कुछ भेंट, उपहार हैं।  
कुछ उपहार, बॉक्स हैं।  
सभी उपहार, मेज़ें हैं।

निष्कर्ष:

I. कुछ भेंट, मेज़ें हैं।  
II. कुछ मेज़ें, बॉक्स हैं।  
III. सभी भेंट, बॉक्स हैं।

- Ans
- 1. केवल निष्कर्ष III अनुसरण करता है
  - 2. केवल निष्कर्ष I अनुसरण करता है
  - 3. केवल निष्कर्ष I और II अनुसरण करते हैं
  - 4. केवल निष्कर्ष II और III अनुसरण करते हैं

Question ID : 264330143352

Status : Answered

Chosen Option : 3

Q.11 एक निश्चित कूट भाषा में 'DIFFRENT' को 'EHGESDOS' लिखा जाता है और 'COMBINE' को 'DNNAJMF' लिखा जाता है। उसी भाषा में 'LETTER' को कैसे लिखा जाएगा?

- Ans
- 1. MUDFSQ
  - 2. MDUSFQ
  - 3. NDFSUS
  - 4. NEVTGR

Question ID : 26433070265

Status : Answered

Chosen Option : 2

Q.12 गणितीय चिह्नों के उस सही संयोजन का चयन कीजिए जिसे \* चिह्नों के स्थान पर रखने पर दिया गया समीकरण संतुष्ट हो जाएगा।

$9 * 13 * 4 * 15 * 5 * 64$

- Ans
- 1. +, x, +, +, =
  - 2. -, x, +, +, =
  - 3. +, x, x, +, =
  - 4. +, x, -, +, =

Question ID : 26433097203

Status : Answered

Chosen Option : 1

Q.13 इस प्रश्न में, तीन कथन और उसके बाद दो निष्कर्ष I और II दिए गए हैं। कथनों को सत्य मानते हुए, भले ही वे सामान्यतः ज्ञात तथ्यों से भिन्न प्रतीत होते हों, निर्णय लें कि कौन-सा/से निष्कर्ष तार्किक रूप से कथनों का अनुसरण करता/करते है/हैं।

कथन:

- I. कुछ पिन, सुइयाँ हैं।
- II. सभी पिन, कीलें हैं।
- III. सभी सुइयाँ, स्क्रू हैं।

निष्कर्ष:

- I. कोई भी कील, स्क्रू नहीं है।
- II. कुछ सुइयाँ, कीलें हैं।

- Ans
- 1. न तो निष्कर्ष I और न ही II अनुसरण करता है
  - 2. केवल निष्कर्ष I अनुसरण करता है
  - 3. केवल निष्कर्ष II अनुसरण करता है
  - 4. दोनों निष्कर्ष I और II अनुसरण करते हैं

Question ID : 264330104069

Status : Answered

Chosen Option : 3

Q.14 उस विकल्प का चयन करें जो तीसरे शब्द से उसी प्रकार संबंधित है जैसे दूसरा शब्द पहले शब्द से संबंधित है। (शब्दों को अर्थपूर्ण हिंदी शब्दों के रूप में माना जाना चाहिए और शब्द आपस में अक्षरों की संख्या/व्यंजन/स्वरों की संख्या के आधार पर एक दूसरे से संबंधित नहीं होने चाहिए)  
उत्साह (Mettle) : संकोच (Diffidence) :: अनिष्टकर (Noxious) : ?

- Ans
- 1. विनाशकारी
  - 2. हानिरहित
  - 3. घातक
  - 4. लाभदायक

Question ID : 264330143389

Status : Answered

Chosen Option : 4

Q.15 उस विकल्प का चयन कीजिए, जो तीसरे पद से उसी प्रकार संबंधित है, जिस प्रकार दूसरा पद पहले पद से और छठा पद पाँचवें पद से संबंधित है।  
7 : 51 :: 12 : ? :: 14 : 198

- Ans
- 1. 146
  - 2. 144
  - 3. 148
  - 4. 141

Question ID : 26433057064

Status : Answered

Chosen Option : 1

Q.16 उस विकल्प का चयन कीजिए, जिसका तीसरे शब्द से ठीक वही संबंध है, जो संबंध दूसरे शब्द का पहले शब्द से है।

(शब्दों को अर्थपूर्ण हिंदी शब्दों के रूप में माना जाना चाहिए और शब्द में अक्षरों/ व्यंजनों/स्वरों की संख्या के आधार पर वे एक दूसरे से संबंधित नहीं किए जाने चाहिए)  
बहिर्मुखी : अंतर्मुखी :: धार्मिक : ?

- Ans
- 1. आशावादी
  - 2. नास्तिक
  - 3. निराशावादी
  - 4. आत्ममुग्ध

Question ID : 26433068408

Status : Answered

Chosen Option : 2

Q.17 उस विकल्प आकृति का चयन करें, जो दी गई आकृति में उसके भाग के रूप में अंतर्निहित है (घुमाव की अनुमति नहीं है)।

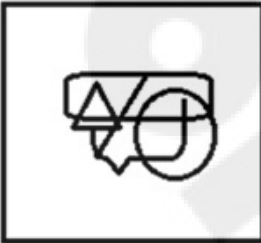


Ans

✗ 1.



✗ 2.



✗ 3.



✓ 4.



Question ID : 26433078910

Status : Answered

Chosen Option : 4

Q.18 एक कूट भाषा में, 'MUMBAI' को 'N46' के रूप में लिखा जाता है और 'KOLKATA' को 'L60' के रूप में लिखा जाता है। इसी कूट भाषा में 'LUCKNOW' को कैसे लिखा जाएगा?

Ans ✗ 1. Q97

✗ 2. M82

✓ 3. M87

✗ 4. K85

Question ID : 264330120821

Status : Answered

Chosen Option : 3

Q.19 दर्पण को नीचे दिखाए अनुसार MN पर रखे जाने पर, दिए गए संयोजन के सही दर्पण प्रतिबिंब का चयन कीजिए।

M G 7 a 6 4 p Z

M  
|  
N

Ans

- ✓ 1. Σ q 4 6 a 7 GM
- ✗ 2. Z p 4 6 a 7 GM
- ✗ 3. W 6 1 g e 4 b 5
- ✗ 4. M G 7 a 6 4 p Z

Question ID : 264330143449

Status : Answered

Chosen Option : 1

Q.20 उस विकल्प का चयन कीजिए जो तीसरे शब्द से उसी प्रकार संबंधित है जिस प्रकार दूसरा शब्द पहले शब्द से संबंधित है।  
(शब्दों को अर्थपूर्ण हिंदी शब्दों के रूप में माना जाना चाहिए और शब्द में अक्षरों/ व्यंजनों/स्वरों की संख्या के आधार पर वे एक दूसरे से संबंधित नहीं किए जाने चाहिए)  
कुर्सी : स्टूल :: ज़ीना (लेडर) : ?

Ans

- ✗ 1. शेल्फ
- ✗ 2. मेज
- ✓ 3. सीढ़ी
- ✗ 4. अलमारी

Question ID : 26433067984

Status : Answered

Chosen Option : 3

Q.21 उस विकल्प का चयन कीजिए जो दिए गए शब्दों के उस सही क्रम को निरूपित करता है जिस क्रम में वे अंग्रेजी शब्दकोश में आते हैं।

- 1- Labial
- 2- Labefaction
- 3- Laboratory
- 4- Label
- 5- Labile

Ans

- ✗ 1. 2, 4, 5, 1, 3
- ✗ 2. 4, 2, 1, 5, 3
- ✓ 3. 2, 4, 1, 5, 3
- ✗ 4. 4, 2, 5, 1, 3

Question ID : 26433079446

Status : Answered

Chosen Option : 3

Q.22 'Z + Q' का अर्थ है कि 'Z, Q का भाई है',  
'Z × Q' का अर्थ है कि 'Z, Q का पिता है',  
'Z ÷ Q' का अर्थ है कि 'Z, Q की माता है'।  
निम्न में से किस विकल्प का अर्थ है कि 'A, B का पुत्र है'?

- Ans
- 1. B + A × I
  - 2. B + A ÷ I
  - 3. B × I × A
  - 4. B × A + I

Question ID : 264330143370  
Status : Answered  
Chosen Option : 3

Q.23 उस विकल्प का चयन कीजिए जो दिए गए शब्दों के उस सही क्रम को निरूपित करता है जिस क्रम में वे अंग्रेजी शब्दकोश में आते हैं।

- 1- Refine
- 2- Reflect
- 3- Referendum
- 4- Refill
- 5- Refinery

- Ans
- 1. 4, 2, 1, 3, 5
  - 2. 4, 3, 5, 1, 2
  - 3. 3, 4, 1, 5, 2
  - 4. 4, 1, 2, 5, 3

Question ID : 26433079448  
Status : Answered  
Chosen Option : 3

Q.24 एक निश्चित कूट भाषा में 'free prison' को 'float-away microphone' के रूप में कूटबद्ध किया जाता है, 'prison and' को 'microphone cucumber' के रूप में कूटबद्ध किया जाता है और 'free and' को 'float-away cucumber' के रूप में कूटबद्ध किया जाता है। 'free' के लिए कूट शब्द क्या होगा?

- Ans
- 1. float-away
  - 2. microphone
  - 3. cucumber
  - 4. float

Question ID : 264330118657  
Status : Answered  
Chosen Option : 1

Q.25 उस विकल्प का चयन करें जो उन अक्षरों को निरूपित करता है, जिन्हें नीचे दिए गए रिक्त स्थानों में क्रमिक रूप से बाएं से दाएं रखने पर अक्षर श्रृंखला पूर्ण हो जाएगी।

DK\_YD\_N\_\_KNYD\_NY\_KN\_

- Ans
- 1. KKDNYKD
  - 2. DNYDKDD
  - 3. KDYNKYD
  - 4. NKYDKDY

Question ID : 26433067732  
Status : Answered  
Chosen Option : 4

Q.1 2022 में, निम्नलिखित में से किस योजना के तहत यह घोषणा की गई थी कि NEP 2020 के सभी घटकों को प्रदर्शित करने के लिए देश भर के 14,500 से अधिक स्कूलों को विकसित किया जाएगा?

Ans  1. पीएम स्कूल्स फॉर राइजिंग इंडिया

2. राष्ट्रीय माध्यमिक शिक्षा अभियान

3. सर्व शिक्षा अभियान

4. बेटी बचाओ बेटी पढ़ाओ

Question ID : 264330130833

Status : Answered

Chosen Option : 1

Q.2 निम्नलिखित में से किस स्थान पर अहमद शाह अल वली बहमनी के मकबरे का निर्माण किया गया है?

Ans  1. अशतूर

2. आगरा

3. फतेहपुर सीकरी

4. अजमेर

Question ID : 264330132435

Status : Answered

Chosen Option : 1

Q.3 भारतीय संविधान के किस भाग में राज्य विधानमंडल के संगठन, संरचना और शक्तियों का वर्णन है?

Ans  1. भाग V

2. भाग VI

3. भाग III

4. भाग IV

Question ID : 264330111546

Status : Answered

Chosen Option : 2

Q.4 वसुंधरा दोरास्वामी को निम्नलिखित में से किसमें उनके योगदान के लिए वर्ष 2019 के लिए संगीत नाटक अकादमी अवार्ड (अकादमी पुरस्कार) से सम्मानित किया गया?

Ans  1. भरतनाट्यम

2. कुचिपुड़ी

3. कथक

4. ओडिसी

Question ID : 264330130893

Status : Answered

Chosen Option : 1

Q.5 निम्नलिखित में से किसने कहा था कि "अंग्रेजी शिक्षा ने हमें गुलाम बना लिया है"?

Ans  1. मुहम्मद अली जिन्ना

2. मुहम्मद इकबाल

3. महात्मा गांधी

4. राजा राममोहन राय

Question ID : 26433085293

Status : Answered

Chosen Option : 4

Q.6 ईस्टर सप्ताह के निम्नलिखित में से किस दिन मनाया जाता है?

- Ans  1. रविवार  
 2. मंगलवार  
 3. सोमवार  
 4. बुधवार

Question ID : 26433064682  
Status : Answered  
Chosen Option : 4

Q.7 'मोक्ष' भारत के निम्नलिखित शास्त्रीय नृत्य रूपों में से किससे संबंधित है?

- Ans  1. सलिया  
 2. भरतनाट्यम  
 3. ओडिसी  
 4. कथक

Question ID : 26433086630  
Status : Answered  
Chosen Option : 2

Q.8 \_\_\_\_\_ ने 67वें राष्ट्रीय पुरस्कार में फिल्म 'विश्वासम' में अपनी संगीत एल्बम के लिए सर्वश्रेष्ठ संगीत निर्देशक का राष्ट्रीय पुरस्कार जीता।

- Ans  1. मणि शर्मा  
 2. अनिरुद्ध रवि चंदर  
 3. डी इम्मान  
 4. एम.एम. कीरावणी

Question ID : 264330143403  
Status : Not Answered  
Chosen Option : --

Q.9 वर्ष 2011 की जनगणना के अनुसार भारत में किस राज्य/केंद्र शासित प्रदेश की साक्षरता दर का प्रतिशत सबसे अधिक है?

- Ans  1. महाराष्ट्र  
 2. लक्षद्वीप  
 3. केरल  
 4. दिल्ली

Question ID : 264330109508  
Status : Answered  
Chosen Option : 3

Q.10 तिब्बत स्वायत्त क्षेत्र, चीन, मानसरोवर झील के पश्चिम में और कैलाश पर्वत के दक्षिण में स्थित खारे पानी की झील कौन-सी है?

- Ans  1. रावोक झील  
 2. यमद्रोक त्सो झील  
 3. राक्षसताल झील  
 4. बासुम त्सो झील

Question ID : 264330143306  
Status : Answered  
Chosen Option : 3

Q.11 When will you find the magnetic field stronger?

- Ans
- 1. When the poles are together
  - 2. When the lines are together
  - 3. When the field lines are not seen
  - 4. When field lines are crowded

Question ID : 264330143315  
Status : Answered  
Chosen Option : 1

Q.12 यूजीन ओडम \_\_\_\_\_ के लिए प्रसिद्ध है।

- Ans
- 1. जंतु शरीर क्रिया विज्ञान में योगदान
  - 2. जंतु हार्मोनल संतुलन में योगदान
  - 3. पारिस्थितिकी में योगदान
  - 4. प्लांट स्ट्रेस रेगुलेशन में योगदान

Question ID : 26433082213  
Status : Not Answered  
Chosen Option : --

Q.13 हिंदुस्तान रिपब्लिकन एसोसिएशन ने 1928 में किसके नेतृत्व में समाजवादी विचारों को अपनाया?

- Ans
- 1. भगत सिंह
  - 2. राम प्रसाद बिस्मिल
  - 3. राजगुरु
  - 4. चंद्रशेखर आजाद

Question ID : 264330132676  
Status : Answered  
Chosen Option : 1

Q.14 ब्राह्मणों को भूमि दान करने वाले सर्वप्रथम कौन थे?

- Ans
- 1. कुषाण
  - 2. शक
  - 3. सातवाहन
  - 4. गुप्त

Question ID : 264330110201  
Status : Answered  
Chosen Option : 3

Q.15 भारत के राष्ट्रपति के निर्वाचक मंडल का हिस्सा निम्नलिखित में से कौन नहीं है?

- Ans
- 1. लोकसभा के निर्वाचित सदस्य
  - 2. राज्यसभा के निर्वाचित सदस्य
  - 3. राज्यों के राज्यपाल
  - 4. राज्यों की विधान सभाओं के निर्वाचित सदस्य

Question ID : 264330109841  
Status : Answered  
Chosen Option : 3

Q.16 हिन्दू धार्मिक स्थल 'चंद्रनाथ पहाड़ी' निम्नलिखित में से किस देश में स्थित है?

- Ans
- 1. श्रीलंका
  - 2. भूटान
  - 3. नेपाल
  - 4. बांग्लादेश

Question ID : 264330113313  
Status : Answered  
Chosen Option : 3

Q.17 मस्कट में महिला हॉकी एशिया कप 2022 में भारत का नेतृत्व किसने किया?

- Ans
- 1. सविता पुनिया
  - 2. निक्की प्रधान
  - 3. दीप ग्रेस एक्का
  - 4. रानी रामपाल

Question ID : 26433081882  
Status : Answered  
Chosen Option : 1

Q.18 'सिक्स मशीन: आई डॉट लाइक क्रिकेट... आई लव इट' \_\_\_\_\_ के द्वारा लिखी गई पुस्तक है।

- Ans
- 1. अंद्रे रसेल
  - 2. कीरोन पोलार्ड
  - 3. क्रिस गेल
  - 4. एम एस धोनी

Question ID : 26433064624  
Status : Answered  
Chosen Option : 3

Q.19 निम्नलिखित में से किस वंश के राजा ने मोढेरा का सूर्य मंदिर बनवाया था?

- Ans
- 1. राष्ट्रकूट
  - 2. परमार
  - 3. तोमर
  - 4. सोलंकी

Question ID : 26433089131  
Status : Answered  
Chosen Option : 2

Q.20 निम्नलिखित में से कौन-सा राज्य उष्णकटिबंधीय कंटीले वनों से संबंधित है?

- Ans
- 1. मध्य प्रदेश
  - 2. अंडमान व निकोबार द्वीप समूह
  - 3. मिजोरम
  - 4. पश्चिम बंगाल

Question ID : 264330109869  
Status : Not Answered  
Chosen Option : --

Q.21 नवंबर 2022 में भारत से निम्नलिखित में से किसे भार एवं माप के लिए अंतरराष्ट्रीय समिति (CIPM) के सदस्य के रूप में चुना गया था?

- Ans
- 1. अमर्त्य सेन
  - 2. सी.आर. राव
  - 3. ज्यॉं ट्रेज
  - 4. वेणु गोपाल अचंता

Question ID : 264330132605  
Status : Answered  
Chosen Option : 4

Q.22 निम्नलिखित में से किस खेल में 'लेग बाई' शब्द का प्रयोग किया जाता है?

- Ans
- 1. क्रिकेट
  - 2. हॉकी
  - 3. फुटबॉल
  - 4. वॉलीबॉल

Question ID : 26433071563  
Status : Answered  
Chosen Option : 1

Q.23 संसद के शीतकालीन सत्र में, जो 29 नवंबर 2021 से 22 दिसंबर 2021 तक आयोजित किया गया था, विधेयक पारित किए गए (एक विनियोग विधेयक को छोड़कर)।

- Ans
- 1. 10
  - 2. 16
  - 3. 6
  - 4. 3

Question ID : 264330122341  
Status : Not Answered  
Chosen Option : --

Q.24 ईस्ट वेस्ट कॉरिडोर भारत में किन दो शहरों को जोड़ता है?

- Ans
- 1. उदयपुर और औरंगाबाद
  - 2. जोरहाट और दावकी
  - 3. कोलकाता और दिल्ली
  - 4. सिलचर और पोरबंदर

Question ID : 26433089225  
Status : Answered  
Chosen Option : 2

Q.25 2000 में पद्म विभूषण से सम्मानित हुए उड़ीसा के प्रथम नर्तक का नाम बताएं।

- Ans
- 1. गुरु बिपिन सिंह
  - 2. गुरु केलुचरण महापात्र
  - 3. गुरु मायाधर राउत
  - 4. गुरु श्यामा चरण पति

Question ID : 264330112685  
Status : Not Answered  
Chosen Option : --

Q.1 एक फुटबॉल टीम ने कुल जितने गेम खेले उनमें 10 में जीत हासिल की। यह कुल गेम का 40% था। कुल मिलाकर कितने गेम खेले गये?

- Ans
- 1. 15
  - 2. 45
  - 3. 35
  - 4. 25

Question ID : 26433061199  
Status : Answered  
Chosen Option : 4

Q.2 एक संख्या में 25% की वृद्धि की जाती है, और बाद में 15% की कमी की जाती है। शुद्ध वृद्धि या कमी का प्रतिशत ज्ञात कीजिए।

- Ans
- 1. 7.23% की वृद्धि
  - 2. 9.18% की कमी
  - 3. 6.25% की वृद्धि
  - 4. 7.93% की कमी

Question ID : 26433080006  
Status : Answered  
Chosen Option : 3

Q.3 एक साहूकार ने पाया कि वार्षिक ब्याज दर 18% से घटकर 15% होने पर, उसकी वार्षिक आय Rs.750 कम हो जाती है। उसकी धनराशि कितनी है?

- Ans
- 1. Rs.25,000
  - 2. Rs.25,500
  - 3. Rs.5,000
  - 4. Rs.2,500

Question ID : 26433081035  
Status : Answered  
Chosen Option : 1

Q.4 Rs.320 पर  $1\frac{1}{2}\%$  के वार्षिक ब्याज दर से  $2\frac{1}{2}$  वर्षों के बाद साधारण ब्याज कितना होगा?

- Ans
- 1. Rs.14
  - 2. Rs.12
  - 3. Rs.11
  - 4. Rs.15

Question ID : 26433075674  
Status : Answered  
Chosen Option : 2

Q.5 यदि  $x + y = \sqrt{13}$  और  $x - y = \sqrt{11}$  है, तो  $xy(x^2 + y^2)$  का मान ज्ञात कीजिए।

- Ans
- 1.  $\sqrt{6}$
  - 2. 6
  - 3.  $\sqrt{10}$
  - 4. 10

Question ID : 26433058452  
Status : Not Answered  
Chosen Option : --

Q.6 एक थोक व्यापारी द्वारा बेची जा रही प्रत्येक वस्तु का अंकित मूल्य ₹400 था। थोक व्यापारी स्टॉक-क्लीयरेंस बिक्री की पेशकश कर रहा था, जिसके तहत प्रत्येक चार वस्तुओं के लिए भुगतान किये जाने पर एक वस्तु मुफ्त दी जा रही थी। इसके अलावा, ₹15,000 से अधिक की खरीदारी करने वाले किसी भी व्यक्ति को '4 खरीदें, 1 मुफ्त पाएं' योजना मूल्य पर देय राशि पर 5% की छूट की पेशकश की जा रही थी। रामेश्वर ने खरीदारी की जिसके लिए 5% छूट लागू करने से पहले देय राशि ₹ 16,000 थी। इस लेनदेन में रामेश्वर को अंततः दी जाने वाली प्रभावी छूट का प्रतिशत कितना था?

- Ans
- 1. 28.75%
  - 2. 30%
  - 3. 24%
  - 4. 25%

Question ID : 264330103269  
Status : Answered  
Chosen Option : 1

Q.7  $\Delta ABC$  में, BC के समानांतर एक रेखा खींची गई है, जो भुजाओं AB और AC को बिंदु S और T पर काटती है, जहाँ AB = 8.3 cm, BC = 16.6 cm और BS = 5.3 cm है। ST की लंबाई (cm में) ज्ञात कीजिए।

- Ans
- 1. 18
  - 2. 12
  - 3. 24
  - 4. 6

Question ID : 264330130422  
Status : Answered  
Chosen Option : 4

Q.8 तीन संख्याएं 28 की  $\frac{1}{4}^{th}$ , 18 की  $\frac{2}{3}^{rd}$  और 35 की  $\frac{2}{5}^{th}$  के रूप में दी गई हैं। इन संख्याओं का चतुर्थ समानुपाती क्या होगा?

- Ans
- 1. 20
  - 2. 24
  - 3. 26
  - 4. 30

Question ID : 264330143416  
Status : Answered  
Chosen Option : 2

Q.9 एक ट्रेन प्लेटफॉर्म पर खड़े व्यक्ति को पार करने में 7 सेकंड का समय लेती है और दूसरी ट्रेन जिसकी लंबाई पहली ट्रेन से दोगुनी है और विपरीत दिशा में चलती है, व्यक्ति को पार करने में 10 सेकंड का समय लेती है। ट्रेनों द्वारा एक दूसरे को पार करने में कितना समय (सेकंड में, निकटतम पूर्णांक तक) लगा होगा?

- Ans
- 1. 10
  - 2. 12
  - 3. 8
  - 4. 9

Question ID : 264330103562  
Status : Answered  
Chosen Option : 4

Q.10 एक बेलन का आयतन  $1650 \text{ m}^3$  है, जबकि इसके आधार का पृष्ठीय क्षेत्रफल  $78\frac{4}{7} \text{ m}^2$  है। उस बेलन की ऊँचाई ज्ञात कीजिए।

- Ans
- 1. 14 m
  - 2. 21 m
  - 3. 7.5 m
  - 4. 2.1 m

Question ID : 26433063909  
Status : Answered  
Chosen Option : 2

Q.11 राखी अपनी बेटी शिखा से 20 वर्ष बड़ी है। 6 वर्ष बाद राखी की आयु शिखा की आयु से दोगुनी हो जाएगी। इसलिए, राखी की वर्तमान आयु \_\_\_\_ वर्ष है।

- Ans
- 1. 42
  - 2. 36
  - 3. 37
  - 4. 34

Question ID : 264330126622  
Status : Answered  
Chosen Option : 4

Q.12 एक दुकानदार ने कुल ₹2,540 में वस्तु A और B खरीदी। उसने A को 15% के लाभ पर बेचा और B को 25% की हानि पर बेचा। A का विक्रय मूल्य B की तुलना में ₹109 अधिक था। पूरे लेनदेन में उसका लाभ या हानि प्रतिशत (एक दशमलव स्थान पर पूर्णांकित) था:

- Ans
- 1. हानि, 8.3%
  - 2. हानि, 9.5%
  - 3. लाभ, 9.5%
  - 4. लाभ, 8.3%

Question ID : 264330109337  
Status : Not Answered  
Chosen Option : --

Q.13 10 वस्तुओं का क्रय मूल्य 8 वस्तुओं के विक्रय मूल्य के बराबर है। लाभ प्रतिशत ज्ञात कीजिए।

- Ans
- 1. 25%
  - 2. 11.11%
  - 3. 15.2%
  - 4. 13.3%

Question ID : 26433092025  
Status : Answered  
Chosen Option : 1

Q.14 यदि  $x \neq y$  है, तो  $(x^4 - y^4)$ ,  $(x + y)$  और  $(x - y)$  का चतुर्थानुपाती ज्ञात कीजिए।

- Ans
- 1.  $(x^2 - y^2)^{-1}$
  - 2.  $(x^2 - y^2)^{-2}$
  - 3.  $(x^2 + y^2)^{-2}$
  - 4.  $(x^2 + y^2)^{-1}$

Question ID : 26433061675  
Status : Answered  
Chosen Option : 4

Q.15 S ने अपना फोन ₹15,500 में बेचा, जिसे उसने ₹12,000 में खरीदा था। तो बताइए कि उसका प्रतिशत लाभ क्या था?

- Ans
- 1. 32.67%
  - 2. 22.67%
  - 3. 29.17%
  - 4. 26.67%

Question ID : 264330126108  
Status : Answered  
Chosen Option : 3

Q.16 यदि  $\triangle ABC \sim \triangle DEF$ ,  $\angle A = 47^\circ$ , और  $\angle E = 63^\circ$  है, तो  $\angle C$  का माप क्या है?

- Ans
- 1.  $37^\circ$
  - 2.  $47^\circ$
  - 3.  $63^\circ$
  - 4.  $70^\circ$

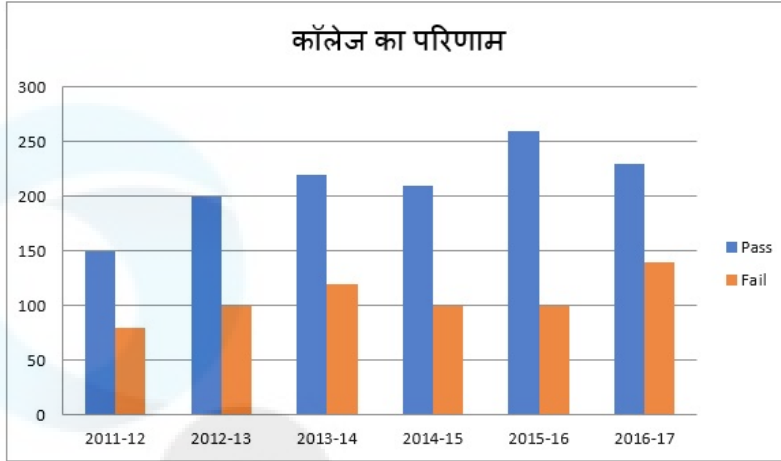
Question ID : 26433082107  
Status : Answered  
Chosen Option : 4

Q.17 गोरी और गोपाल अकेले एक कार्य को क्रमशः 9 और 21 दिन में कर सकते हैं। यदि वे दोनों गोपाल से शुरू करते हुए एकांतर दिनमें कार्य करते हैं, तो कार्य कितने दिन में पूरा होगा ?

- Ans
- 1.  $12\frac{3}{7}$
  - 2. 13
  - 3.  $13\frac{3}{7}$
  - 4. 11

Question ID : 26433080055  
Status : Answered  
Chosen Option : 1

Q.18 दिया गया दण्ड आरेख एक कॉलेज में विद्यार्थियों के परिणामों (रिज़ल्ट) को दर्शाता है। आरेख का अध्ययन कीजिए और नीचे दिए गए प्रश्न का उत्तर दीजिए।



Pass - उत्तीर्ण Fail - अनुत्तीर्ण

दिए गए आंकड़ों के अनुसार पिछले 5 वर्षों में कॉलेज में अनुत्तीर्ण विद्यार्थियों की औसत संख्या ज्ञात कीजिए।

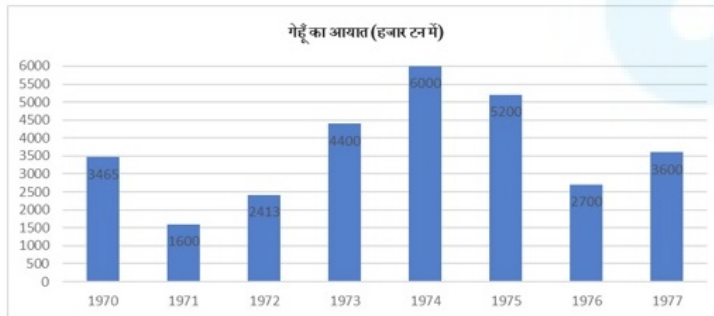
- Ans
- 1. 180
  - 2. 90
  - 3. 80
  - 4. 160

Question ID : 264330122701

Status : Answered

Chosen Option : 2

Q.19 दिए गए ग्राफ का ध्यानपूर्वक अध्ययन कीजिए और नीचे दिए गए प्रश्न के उत्तर दीजिए।



गेहूँ का सर्वाधिक आयात किस वर्ष हुआ?

- Ans
- 1. 1975
  - 2. 1973
  - 3. 1974
  - 4. 1972

Question ID : 264330122571

Status : Answered

Chosen Option : 3

Q.20 यदि  $x > 1$  और  $x^4 + \frac{1}{x^4} = 79$  है, तो  $x - \frac{1}{x}$  का मान क्या होगा?

- Ans
- 1.  $2\sqrt{2}$
  - 2.  $\sqrt{11}$
  - 3.  $\sqrt{10}$
  - 4.  $\sqrt{7}$

Question ID : 264330101340  
Status : Answered  
Chosen Option : 4

Q.21 यदि  $1 + \sin^2 \theta = a \cos^2 \theta$  है, तो  $\sec^4 \theta - \tan^4 \theta$  ज्ञात करें।

- Ans
- 1.  $a^2$
  - 2.  $a$
  - 3.  $a^{-1}$
  - 4.  $a^{-2}$

Question ID : 26433079984  
Status : Answered  
Chosen Option : 1

Q.22 समीकरण  $\cos^2 \theta + \sin \theta + 1 = 0$  का मान निम्नलिखित में से किसके मध्य स्थित है?

- Ans
- 1.  $\left(\frac{5\pi}{4}, \frac{7\pi}{4}\right)$
  - 2.  $\left(\frac{\pi}{4}, \frac{3\pi}{4}\right)$
  - 3.  $\left(\frac{3\pi}{4}, \frac{5\pi}{4}\right)$
  - 4.  $\left(-\frac{\pi}{4}, \frac{\pi}{4}\right)$

Question ID : 26433058937  
Status : Answered  
Chosen Option : 4

Q.23 R1 और R2 मात्रा के दो अलग-अलग प्रकार के चावल, जिनकी कीमत क्रमशः ₹60 प्रति kg और ₹75 प्रति kg है, को मिलाकर एक मिश्रण बनाया जाता है जिसकी कीमत ₹65 प्रति kg है। R1 और R2 को किस अनुपात में मिलाया गया है?

- Ans
- 1. 2 : 1
  - 2. 4 : 3
  - 3. 3 : 4
  - 4. 3 : 2

Question ID : 264330126559  
Status : Answered  
Chosen Option : 1

Q.24 निम्नलिखित में से कौन-सी एक अभाज्य संख्या है?

- Ans  1. 193  
 2. 177  
 3. 161  
 4. 171

Question ID : 264330129984  
Status : Answered  
Chosen Option : 1

Q.25 यदि  $ab + bc + ca = 0$  है, तो  $\frac{1}{a^2 - bc} + \frac{1}{b^2 - ca} + \frac{1}{c^2 - ab}$  का मान ज्ञात कीजिए।

- Ans  1. 1  
 2.  $\frac{1}{abc}$   
 3. 0  
 4. ab

Question ID : 26433061774  
Status : Not Answered  
Chosen Option : --

Section : English Language

Q.1 Select the option that expresses the given sentence in direct speech.

Mrs. Mane said that she regretted having supplied us with an inferior brand of TV set and was ready to apologise for that.

- Ans  1. Mrs. Mane said, "I regret to supply you with an inferior brand of TV set and I am ready to apologise for that."  
 2. Mrs. Mane said, "I regret having supplied you with an inferior brand of TV set and I am ready to apologise for that."  
 3. Mrs. Mane said, "I am regretting having supplied you with an inferior brand of TV set and I am ready to apologise for that."  
 4. Mrs. Mane said, "I regret supplying you with an inferior brand of TV set and I am ready to apologise for that."

Question ID : 264330117440  
Status : Answered  
Chosen Option : 2

Q.2 Select the most appropriate synonym for the highlighted word.

The moral values in this nation were at their nadir during the autocrat's rule.

- Ans  1. highest point  
 2. lowest point  
 3. equatorial  
 4. medial point

Question ID : 264330120720  
Status : Answered  
Chosen Option : 2

**Q.3** The following sentence has been split into four segments. Identify the segment that contains a grammatical error.  
If you live / in a foreign country, / you should / try and learn language.

- Ans
- 1. If you live
  - 2. try and learn language
  - 3. you should
  - 4. in a foreign country

Question ID : 264330120576  
Status : Answered  
Chosen Option : 2

**Q.4** Select the option that expresses the given sentence in reported speech.  
Rohit said, "The board game is mine."

- Ans
- 1. Rohit said that he was the board game.
  - 2. Rohit said that the board game were hers.
  - 3. Rohit said that the board game was his.
  - 4. Rohit said that the board game was me.

Question ID : 264330137235  
Status : Answered  
Chosen Option : 3

**Q.5** Select the most appropriate option to fill in the blank.

Their conviction and determination helped Kimirica overcome \_\_\_\_\_ odds and become India's largest manufacturer of luxury hotel toiletries and guest room amenities.

- Ans
- 1. undefeated
  - 2. inviolable
  - 3. unstoppable
  - 4. insurmountable

Question ID : 26433060951  
Status : Answered  
Chosen Option : 1

**Q.6** The following sentence has been split into four segments. Identify the segment that contains a grammatical error.

There are more than two million / job-seekers who are already / completed their fitness test / for the post since 2020.

- Ans
- 1. for the post since 2020
  - 2. completed their fitness test
  - 3. There are more than two million
  - 4. job-seekers who are already

Question ID : 26433091954  
Status : Answered  
Chosen Option : 4

Q.7 Select the most appropriate ANTONYM of the underlined word in the following sentence.

Rather than being deceitful, we need to be truthful and work together to stop the unrestrained growth of corruption in all areas of our society.

- Ans
- 1. Unrestrained
  - 2. Deceitful
  - 3. Growth
  - 4. Stop

Question ID : 26433073643  
Status : Answered  
Chosen Option : 2

Q.8 Select the most appropriate meaning of the underlined phrase.

Julia has the habit of comparing apples to oranges.

- Ans
- 1. Blaming others for her mistakes
  - 2. Choosing things after careful scrutiny
  - 3. Purchasing different fruits for different purposes
  - 4. Comparing two things that cannot be compared

Question ID : 26433089349  
Status : Answered  
Chosen Option : 4

Q.9 Select the sentence that has the most appropriate meaning of the given idiom.

Die a dog's death

- Ans
- 1. The old businessman died in peace after meeting his whole family on his deathbed.
  - 2. The doctor who used illegal methods to conduct experiments on humans must die a shameful death.
  - 3. Yesterday, a poor vegetable seller died in an unfortunate accident.
  - 4. Wars compel people to starve to death and they are helpless.

Question ID : 26433089733  
Status : Answered  
Chosen Option : 2

Q.10 Select the option that can be used as a one-word substitute for the underlined group of words in the given sentence.

The two women chatted in a friendly and peaceable manner, as if they'd known one another for a lifetime.

- Ans
- 1. absurdly
  - 2. assuredly
  - 3. apparently
  - 4. amicably

Question ID : 26433073858  
Status : Answered  
Chosen Option : 4

Q.11 Select the option that expresses the given sentence in active voice.  
By whom was this done?

- Ans
- 1. Who has done this?
  - 2. Who was doing this?
  - 3. Who did this?
  - 4. Who has been doing this?

Question ID : 264330133301  
Status : Answered  
Chosen Option : 3

Q.12 Select the INCORRECTLY spelt word.

- Ans
- 1. Prophet
  - 2. Systematically
  - 3. Mosquitose
  - 4. Professor

Question ID : 26433088411  
Status : Answered  
Chosen Option : 3

Q.13 Select the most appropriate option that can substitute the underlined segment in the given sentence.

The volunteers of the organisation refused point blank of do what was requested.

- Ans
- 1. refused in point blank of doing
  - 2. refused point blankedly to do
  - 3. refused point blank doing
  - 4. refused point blank to do

Question ID : 26433091969  
Status : Answered  
Chosen Option : 2

Q.14 Select the most appropriate option that can substitute the underlined segment in the given sentence. If there is no need to substitute it, select 'No substitution'.

The patient was suggested to cut off on the daily intake of carbs.

- Ans
- 1. cut about
  - 2. No substitution
  - 3. cut for
  - 4. cut down

Question ID : 26433073166  
Status : Answered  
Chosen Option : 4

**Q.15** Select the most appropriate ANTONYM of the underlined word in the following sentence.

It is a fact that Pradip's bigotry results out of his lack of appreciation for another group's activities, and disregard of others' belief systems.

- Ans
- 1. System
  - 2. Bigotry
  - 3. Disregard
  - 4. Lack

Question ID : 26433073644  
Status : Answered  
Chosen Option : 3

**Comprehension:**

In the following passage, some words have been deleted. Read the passage carefully and select the most appropriate option to fill in each blank.  
Agriculture, with its (1)\_\_\_\_\_ sectors, is unquestionably the largest livelihood provider in India, more so in the vast rural areas. It also (2)\_\_\_\_\_ a significant figure to the Gross Domestic Product (GDP). Sustainable agriculture, in (3)\_\_\_\_\_ food security, rural employment and environmentally sustainable technologies, such as soil conservation, sustainable natural resource management and biodiversity protection, are essential (4)\_\_\_\_\_ holistic rural development. Indian agriculture and allied activities (5)\_\_\_\_\_ witnessed a green revolution, a white revolution, a yellow revolution and a blue revolution.

SubQuestion No : 16

**Q.16** Select the most appropriate option to fill in blank no. 1.

- Ans
- 1. allied
  - 2. social
  - 3. secured
  - 4. another

Question ID : 264330132889  
Status : Answered  
Chosen Option : 1

**Comprehension:**

In the following passage, some words have been deleted. Read the passage carefully and select the most appropriate option to fill in each blank.  
Agriculture, with its (1)\_\_\_\_\_ sectors, is unquestionably the largest livelihood provider in India, more so in the vast rural areas. It also (2)\_\_\_\_\_ a significant figure to the Gross Domestic Product (GDP). Sustainable agriculture, in (3)\_\_\_\_\_ food security, rural employment and environmentally sustainable technologies, such as soil conservation, sustainable natural resource management and biodiversity protection, are essential (4)\_\_\_\_\_ holistic rural development. Indian agriculture and allied activities (5)\_\_\_\_\_ witnessed a green revolution, a white revolution, a yellow revolution and a blue revolution.

SubQuestion No : 17

**Q.17** Select the most appropriate option to fill in blank no. 2.

- Ans
- 1. insist
  - 2. assume
  - 3. contributes
  - 4. insight

Question ID : 264330132890  
Status : Answered  
Chosen Option : 3

**Comprehension:**

In the following passage, some words have been deleted. Read the passage carefully and select the most appropriate option to fill in each blank.

Agriculture, with its (1)\_\_\_\_\_ sectors, is unquestionably the largest livelihood provider in India, more so in the vast rural areas. It also (2)\_\_\_\_\_ a significant figure to the Gross Domestic Product (GDP). Sustainable agriculture, in (3)\_\_\_\_\_ food security, rural employment and environmentally sustainable technologies, such as soil conservation, sustainable natural resource management and biodiversity protection, are essential (4)\_\_\_\_\_ holistic rural development. Indian agriculture and allied activities (5)\_\_\_\_\_ witnessed a green revolution, a white revolution, a yellow revolution and a blue revolution.

**SubQuestion No : 18****Q.18** Select the most appropriate option to fill in blank no. 3.

- Ans
- 1. spite of
  - 2. condition of
  - 3. time of
  - 4. terms of

Question ID : 264330132891

Status : Answered

Chosen Option : 4

**Comprehension:**

In the following passage, some words have been deleted. Read the passage carefully and select the most appropriate option to fill in each blank.

Agriculture, with its (1)\_\_\_\_\_ sectors, is unquestionably the largest livelihood provider in India, more so in the vast rural areas. It also (2)\_\_\_\_\_ a significant figure to the Gross Domestic Product (GDP). Sustainable agriculture, in (3)\_\_\_\_\_ food security, rural employment and environmentally sustainable technologies, such as soil conservation, sustainable natural resource management and biodiversity protection, are essential (4)\_\_\_\_\_ holistic rural development. Indian agriculture and allied activities (5)\_\_\_\_\_ witnessed a green revolution, a white revolution, a yellow revolution and a blue revolution.

**SubQuestion No : 19****Q.19** Select the most appropriate option to fill in blank no. 4.

- Ans
- 1. for
  - 2. as
  - 3. on
  - 4. in

Question ID : 264330132892

Status : Answered

Chosen Option : 1

**Comprehension:**

In the following passage, some words have been deleted. Read the passage carefully and select the most appropriate option to fill in each blank.

Agriculture, with its (1)\_\_\_\_\_ sectors, is unquestionably the largest livelihood provider in India, more so in the vast rural areas. It also (2)\_\_\_\_\_ a significant figure to the Gross Domestic Product (GDP). Sustainable agriculture, in (3)\_\_\_\_\_ food security, rural employment and environmentally sustainable technologies, such as soil conservation, sustainable natural resource management and biodiversity protection, are essential (4)\_\_\_\_\_ holistic rural development. Indian agriculture and allied activities (5)\_\_\_\_\_ witnessed a green revolution, a white revolution, a yellow revolution and a blue revolution.

**SubQuestion No : 20****Q.20** Select the most appropriate option to fill in blank no. 5.

- Ans
- 1. have
  - 2. will
  - 3. being
  - 4. be

Question ID : 264330132893

Status : Answered

Chosen Option : 1

**Comprehension:**

Read the given passage and answer the questions that follow.

People often become helpless while dealing with anxiety. Anxiety can be caused by several factors, some of which can emerge from hypertension, the inability to share one's thoughts, sudden contextual differences, broken relationships, work stress, and so on. The fear of missing out, also known as FOMO, leading to anxiety issues is mostly prevalent among youngsters nowadays. Meditation, physical exercises, and proper sleep cycles, among other such productive habits, can help cure anxiety. Most importantly, one must respect and love oneself, which in turn will help in boosting self-confidence and positive energy. A person can be one's own therapist if he/she sits back for a while contemplating and meditating. A deep breath, a calm mind, and a healthy body helps to inculcate positivity, which otherwise gets cancelled out due to several blocks of negativity created by limited mindsets.

**SubQuestion No : 21**

**Q.21 Which of the following is NOT a productive habit, according to the passage?**

- Ans**
- 1. Proper sleep cycles
  - 2. Meditation
  - 3. Physical exercise
  - 4. Brushing teeth

Question ID : 264330134168

Status : Answered

Chosen Option : 4

**Comprehension:**

Read the given passage and answer the questions that follow.

People often become helpless while dealing with anxiety. Anxiety can be caused by several factors, some of which can emerge from hypertension, the inability to share one's thoughts, sudden contextual differences, broken relationships, work stress, and so on. The fear of missing out, also known as FOMO, leading to anxiety issues is mostly prevalent among youngsters nowadays. Meditation, physical exercises, and proper sleep cycles, among other such productive habits, can help cure anxiety. Most importantly, one must respect and love oneself, which in turn will help in boosting self-confidence and positive energy. A person can be one's own therapist if he/she sits back for a while contemplating and meditating. A deep breath, a calm mind, and a healthy body helps to inculcate positivity, which otherwise gets cancelled out due to several blocks of negativity created by limited mindsets.

**SubQuestion No : 22**

**Q.22 What is the primary inference that can be made by reading this passage?**

- Ans**
- 1. Anxiety can be defeated by a positive attitude and productive practices.
  - 2. Anxiety is very harmful for our emotional as well as physical health and cannot be dealt with individually.
  - 3. FOMO is the main reason why people experience anxiety.
  - 4. There is no clinical cure to anxiety and one must always live with it.

Question ID : 264330134170

Status : Answered

Chosen Option : 1

**Comprehension:**

Read the given passage and answer the questions that follow.

People often become helpless while dealing with anxiety. Anxiety can be caused by several factors, some of which can emerge from hypertension, the inability to share one's thoughts, sudden contextual differences, broken relationships, work stress, and so on. The fear of missing out, also known as FOMO, leading to anxiety issues is mostly prevalent among youngsters nowadays. Meditation, physical exercises, and proper sleep cycles, among other such productive habits, can help cure anxiety. Most importantly, one must respect and love oneself, which in turn will help in boosting self-confidence and positive energy. A person can be one's own therapist if he/she sits back for a while contemplating and meditating. A deep breath, a calm mind, and a healthy body helps to inculcate positivity, which otherwise gets cancelled out due to several blocks of negativity created by limited mindsets.

**SubQuestion No : 23**

**Q.23 What is the full form of FOMO?**

- Ans**
- 1. Fear of Missing Out
  - 2. Fear of Managing Overstress
  - 3. Fear of Moping on
  - 4. Fear of Moving Out

Question ID : 264330134167

Status : Answered

Chosen Option : 1

**Comprehension:**

Read the given passage and answer the questions that follow.

People often become helpless while dealing with anxiety. Anxiety can be caused by several factors, some of which can emerge from hypertension, the inability to share one's thoughts, sudden contextual differences, broken relationships, work stress, and so on. The fear of missing out, also known as FOMO, leading to anxiety issues is mostly prevalent among youngsters nowadays. Meditation, physical exercises, and proper sleep cycles, among other such productive habits, can help cure anxiety. Most importantly, one must respect and love oneself, which in turn will help in boosting self-confidence and positive energy. A person can be one's own therapist if he/she sits back for a while contemplating and meditating. A deep breath, a calm mind, and a healthy body helps to inculcate positivity, which otherwise gets cancelled out due to several blocks of negativity created by limited mindsets.

**SubQuestion No : 24**

**Q.24 The given passage is mainly based \_\_\_\_\_.**

- Ans**
- 1. On Anxiety
  - 2. On FOMO
  - 3. On Negativity
  - 4. On Positivity

Question ID : 264330134166

Status : Answered

Chosen Option : 1

**Comprehension:**

Read the given passage and answer the questions that follow.

People often become helpless while dealing with anxiety. Anxiety can be caused by several factors, some of which can emerge from hypertension, the inability to share one's thoughts, sudden contextual differences, broken relationships, work stress, and so on. The fear of missing out, also known as FOMO, leading to anxiety issues is mostly prevalent among youngsters nowadays. Meditation, physical exercises, and proper sleep cycles, among other such productive habits, can help cure anxiety. Most importantly, one must respect and love oneself, which in turn will help in boosting self-confidence and positive energy. A person can be one's own therapist if he/she sits back for a while contemplating and meditating. A deep breath, a calm mind, and a healthy body helps to inculcate positivity, which otherwise gets cancelled out due to several blocks of negativity created by limited mindsets.

**SubQuestion No : 25**

**Q.25 Which of the following best defines the word 'inculcate' as used in the passage?**

- Ans**
- 1. Cancel
  - 2. Scream
  - 3. Develop
  - 4. Break

Question ID : 264330134169

Status : Answered

Chosen Option : 3