

## Phase-XI/2023/Selection Posts and Selection Posts/Ladakh/2023

Roll Number	
Candidate Name	
Venue Name	
Exam Date	27/06/2023
Exam Time	2:30 PM - 3:30 PM
Subject	Selection Post Higher Secondary Level

### Section : General Intelligence

Q.1 उस विकल्प का चयन करें जो दिए गए शब्दों के उस सही क्रम को दर्शाता है जिस क्रम में वे अंग्रेजी शब्दकोश में आते हैं।

1. Patent
2. Paternalism
3. Patchwork
4. Paternity
5. Paternal

Ans  1. 2, 4, 5, 1, 3  
 2. 4, 1, 5, 2, 3  
 3. 3, 5, 1, 4, 2  
 4. 3, 1, 5, 2, 4

Question ID : 26433057886

Status : Answered

Chosen Option : 4

Q.2 गणितीय चिह्नों के उस सही संयोजन का चयन कीजिए, जिसे क्रमिक रूप से \* चिह्नों के स्थान पर रखने पर दिया गया समीकरण संतुलित हो जाएगा।

$$15 * 5 * 16 * 15 * 2 * 61$$

Ans  1. +, x, +, +, =  
 2. -, x, +, +, =  
 3. +, x, -, +, =  
 4. +, x, +, -, =

Question ID : 26433097196

Status : Answered

Chosen Option : 4

Q.3 उस विकल्प का चयन करें जो तीसरे शब्द से उसी प्रकार संबंधित है जिस प्रकार दूसरा शब्द पहले शब्द से संबंधित है। (शब्दों को अर्थपूर्ण अंग्रेजी/हिन्दी शब्दों के रूप में माना जाना चाहिए और इन्हें शब्द में अक्षरों की संख्या/व्यंजनों की संख्या/स्वरों की संख्या के आधार पर एक दूसरे से संबद्ध नहीं किया जाना चाहिए।)

समय : सेकंड :: द्रव्यमान : ?

Ans  1. माल  
 2. माप  
 3. पैमाना  
 4. किलोग्राम

Question ID : 264330142463

Status : Answered

Chosen Option : 4

Q.4 'B + D' का अर्थ है 'B, D का ससुर है'।  
'B & D' का अर्थ है 'B, D का भाई है'।  
'B # D' का अर्थ है 'B, D की पत्नी है'।  
'B \$ D' का अर्थ है 'B, D का पुत्र है'।  
'B @ D' का अर्थ है 'B, D की माता है'।  
यदि O अपने माता-पिता की इकलौती संतान है, तो निम्नलिखित में से कौन-सा विकल्प दिए गए व्यंजक के संदर्भ में सही है?  
M # L & N @ O \$ P + R

- Ans
- 1. R, O की पत्नी है।
  - 2. N, का केवल एक पुत्र है और एक पुत्री है
  - 3. L और P सहोदर हैं।
  - 4. N, R की माता है।

Question ID : 264330142504  
Status : Answered  
Chosen Option : 1

Q.5 उस विकल्प का चयन करें, जो पाँचवें अक्षर-समूह से उसी प्रकार संबंधित है, जिस प्रकार दूसरा अक्षर-समूह पहले अक्षर-समूह से संबंधित है और चौथा अक्षर-समूह तीसरे अक्षर-समूह से संबंधित है।  
CART : UTDG :: DREW : XGUH :: ENDS : ?

- Ans
- 1. TFQI
  - 2. TGRJ
  - 3. TFQJ
  - 4. TGQI

Question ID : 26433056190  
Status : Answered  
Chosen Option : 1

Q.6 उस विकल्प का चयन करें जो पाँचवें अक्षर-समूह से उसी प्रकार संबंधित है जिस प्रकार दूसरा अक्षर-समूह पहले अक्षर-समूह से संबंधित है और चौथा अक्षर-समूह तीसरे अक्षर-समूह से संबंधित है।  
ADMIRE: BCOGUB :: THANKS : UGCLNP :: RESULT : ?

- Ans
- 1. SDTROQ
  - 2. SDUROQ
  - 3. SDURPQ
  - 4. SDUSOQ


Question ID : 26433057261  
Status : Answered  
Chosen Option : 4

Q.7 उस विकल्प का चयन करें, जो पाँचवें अक्षर-समूह से उसी तरह संबंधित है, जैसे दूसरा अक्षर-समूह पहले अक्षर-समूह से और चौथा अक्षर-समूह तीसरे अक्षर-समूह से संबंधित है।  
THEME : VFEOC : : WORLD : YMRNB : : OTHER : ?

- Ans
- 1. QSHGQ
  - 2. PSHHP
  - 3. QRHGP
  - 4. PRGHP

Question ID : 26433068312  
Status : Answered  
Chosen Option : 3

Q.8 दर्पण को नीचे दिखाए अनुसार MN पर रखे जाने पर, दिए गए संयोजन के सही दर्पण प्रतिबिंब का चयन कीजिए।

R G 2 a 6 5 p F 

Ans

1. R G 2 a 6 5 p F
2. F p 5 6 a 2 G R
3. R 2 6 a 5 p F
4. F p 5 6 a 2 G R

Question ID : 264330142419

Status : Answered

Chosen Option : 2

Q.9 उस सही विकल्प का चयन कीजिए जो दिए गए शब्दों की व्यवस्था को उसी क्रम में इंगित करता है जिस क्रम में वे अंग्रेजी शब्दकोश में दिखाई देते हैं।

1. Lenient
2. Lessons
3. Liberalization
4. Literal
5. License

Ans

1. 4,1,3,2,5
2. 2,1,3,5,4
3. 1,2,3,5,4
4. 5,2,3,4,1

Question ID : 26433057963

Status : Answered

Chosen Option : 3

Q.10 एक निश्चित कूट भाषा में, 'PLANT' को 'QMAMS' और 'TREES' को 'USEDR' के रूप में लिखा जाता है। इसी कूट भाषा में 'SHRUB' को किस प्रकार से लिखा जाएगा?

Ans

1. TIRAT
2. TIRTV
3. TIRTA
4. TIRTB

Question ID : 26433068637

Status : Answered

Chosen Option : 3

Q.11 यदि,

'C% D' का अर्थ है 'C, D का भाई है',  
'C & D' का अर्थ है 'C, D की माता है',  
'C × D' का अर्थ है 'C, D का पति है',  
'C # D' का अर्थ है 'C, D की बहन है',  
'C \$ D' का अर्थ है 'C, D का पुत्र है',  
'C @ D' का अर्थ है 'C, D के पिता है',  
तो निम्न व्यंजक में, P का U से क्या संबंध है?  
P # Q % R & D \$ T @ U

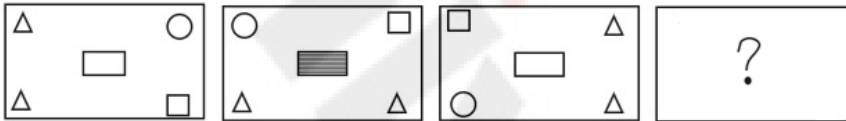
- Ans
- 1. बहन
  - 2. सास
  - 3. मौसी
  - 4. पोती

Question ID : 264330142506

Status : Answered

Chosen Option : 3

Q.12 दिए गए विकल्पों में से उस चित्र का चयन कीजिए, जो निम्नलिखित शृंखला में प्रश्नचिह्न (?) को प्रतिस्थापित कर सकता है।



Ans

- 1.
- 2.
- 3.
- 4.

Question ID : 264330142413

Status : Answered

Chosen Option : 1

Q.13 एक निश्चित कूट भाषा में 'FICTION' को 'C70' के रूप में कूटबद्ध किया जाता है और 'DUSTILY' को 'A106' के रूप में कूटबद्ध किया जाता है। उसी कूट भाषा में 'ENDGAME' को किस प्रकार कूटबद्ध किया जाएगा?

- Ans
- 1. B32
  - 2. U63
  - 3. B44
  - 4. Y78

Question ID : 264330118646  
Status : Not Answered  
Chosen Option : --

Q.14 इस प्रश्न में, तीन कथन और उसके बाद दो निष्कर्ष I और II दिए गए हैं। कथनों को सत्य मानते हुए, भले ही वे सामान्यतः ज्ञात तथ्यों से भिन्न प्रतीत होते हों, निर्णय लें कि कौन-सा/से निष्कर्ष तार्किक रूप से कथनों का अनुसरण करता/करते हैं/हैं।

कथन:

- I. सभी ग्रह, क्षुद्रग्रह हैं।
- II. सभी कक्षा, क्षुद्रग्रह हैं।
- III. कोई भी तारा, क्षुद्रग्रह नहीं है।

निष्कर्ष:

- I. कोई भी ग्रह, तारा नहीं है।
- II. कोई भी तारा, कक्षा नहीं है।

- Ans
- 1. दोनों निष्कर्ष I और II अनुसरण करते हैं
  - 2. केवल निष्कर्ष I अनुसरण करता है
  - 3. केवल निष्कर्ष II अनुसरण करता है
  - 4. न तो निष्कर्ष I और न ही II अनुसरण करता है

Question ID : 264330104060  
Status : Answered  
Chosen Option : 1

Q.15 एक निश्चित कूट भाषा में, 'COIN' को '615928' लिखा जाता है और 'MINT' को '2692840' लिखा जाता है। उसी भाषा में 'HERO' को क्या लिखा जाएगा?

- Ans
- 1. 16536
  - 2. 1653615
  - 3. 81018
  - 4. 8101830

Question ID : 264330142448  
Status : Answered  
Chosen Option : 2

Q.16 दी गई श्रेणी में प्रश्नवाचक चिह्न (?) के स्थान पर विकल्पों में से कौन सी संख्या आएगी?

9, 45, 180, ?, 1080, 1080

- Ans
- 1. 540
  - 2. 360
  - 3. 520
  - 4. 480

Question ID : 264330142408  
Status : Answered  
Chosen Option : 1

Q.17 दी गई श्रेणी में प्रश्नवाचक चिह्न (?) के स्थान पर विकल्पों में से कौन सी संख्या आएगी?

136, 204, 306, ?, 688.5

Ans  1. 459

2. 476

3. 419

4. 446

Question ID : 264330142409

Status : Answered

Chosen Option : 1

Q.18 निम्नलिखित शब्दों को तार्किक और अर्थपूर्ण क्रम में व्यवस्थित कीजिए।

1. पेड़
2. कोपल (Sprout)
3. पौधा
4. बीज
5. नवांकुर (Seedling)

Ans  1. 2, 4, 3, 5, 1

2. 4, 2, 5, 3, 1

3. 4, 5, 2, 3, 1

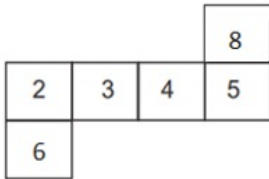
4. 2, 4, 5, 3, 1

Question ID : 26433091417

Status : Answered

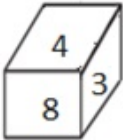
Chosen Option : 2

Q.19 यदि दी गई शीट को मोड़कर एक घन बनाया जाता है, तो दी गई आकृतियों में से कौन-सी आकृति बनना संभव नहीं है?



Ans

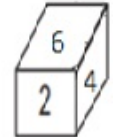
1.



2.



3.



4.



Question ID : 264330142440

Status : Answered

Chosen Option : 3

Q.20 अक्षरों के उस संयोजन का चयन कीजिए जिसे दी गई श्रृंखला के रिक्त स्थानों में बाएं से दाएं क्रमिक रूप से रखने पर अक्षर श्रृंखला पूरी हो जाएगी।  
P Q \_ \_ T \_ \_ R S T P \_ R \_ T \_ Q \_ S T

- Ans
- 1. SRPQQSRP
  - 2. RSPQSQRP
  - 3. RSPQQSPR
  - 4. SRPQQSPR

Question ID : 264330142488  
Status : Answered  
Chosen Option : 3

Q.21 दिए गए कथनों और निष्कर्षों को ध्यानपूर्वक पढ़िए। यह मानते हुए कि कथनों में दी गई जानकारी सत्य है, भले ही वह सामान्य रूप से ज्ञात तथ्यों से भिन्न प्रतीत होती हो, यह तय कीजिए कि दिए गए निष्कर्षों में से कौन-सा/से निष्कर्ष कथनों का तार्किक रूप से अनुसरण करता है/करते हैं।

कथन:  
कुछ रत्न पत्थर हैं।  
कुछ रत्न चट्टानें हैं।  
सभी चट्टानें हीरे हैं।

निष्कर्ष:  
I. कुछ हीरे चट्टानें हैं।  
II. कुछ पत्थर चट्टानें हैं।  
III. कुछ रत्न हीरे हैं।

- Ans
- 1. केवल निष्कर्ष I और II अनुसरण करते हैं
  - 2. केवल निष्कर्ष I अनुसरण करता है
  - 3. केवल निष्कर्ष II और III अनुसरण करते हैं
  - 4. केवल निष्कर्ष I और III अनुसरण करते हैं

Question ID : 264330142509  
Status : Answered  
Chosen Option : 4

Q.22 एक निश्चित कूट भाषा में, 'CACTUS' को 'ACTCSU' लिखा जाता है और 'DESERT' को 'EDESTR' लिखा जाता है। उस भाषा में 'SAFARI' कैसे लिखा जाएगा?

- Ans
- 1. AARFIS
  - 2. ASAFIR
  - 3. ARAIFS
  - 4. ASAFRI

Question ID : 264330103791  
Status : Answered  
Chosen Option : 2

Q.23 अक्षरों के उस संयोजन का चयन कीजिए जिसे दी गई श्रृंखला के रिक्त स्थानों में क्रमिक रूप से रखने पर श्रृंखला पूर्ण हो जाएगी।  
ABZ, BCY, CDX, DEW, \_ \_ \_

- Ans
- 1. EGV
  - 2. EFG
  - 3. EFV
  - 4. EGH

Question ID : 26433078819  
Status : Answered  
Chosen Option : 3

Q.24 P % Q का अर्थ है, 'P, Q का भाई है'।  
'P + Q' का अर्थ है, 'P, Q की पुत्री है'।  
'P = Q' का अर्थ है, 'P, Q का पुत्र है'।  
'P # Q' का अर्थ है, 'P, Q की पत्नी है'।  
यदि L % M + N # R = S है, तो L का S से क्या संबंध है?

- Ans
- 1. पुत्र
  - 2. नाती
  - 3. भाई
  - 4. पोता

Question ID : 264330122205  
Status : Answered  
Chosen Option : 4

Q.25 एक निश्चित कूट भाषा में, 'INDIA' को 'KPFKC' और 'CHINA' को 'EJKPC' के रूप में लिखा जाता है।  
इसी कूट भाषा में 'JAPAN' को किस प्रकार से लिखा जाएगा?

- Ans
- 1. LCRCP
  - 2. LCRCO
  - 3. LCRQP
  - 4. LCREP

Question ID : 26433068638  
Status : Answered  
Chosen Option : 1

Section : General Awareness

Q.1 स्तंभों को मिलाइए।

फाइलम

जन्तु

i. प्रोटोजोआ

a. गोलकृमि (Roundworm)

ii. निमैटोडा

b. अमीबा (Amoeba)

iii. आर्थ्रोपोडा

c. सितारा मछली (Star fish)

iv. इकाइनोडर्मेटा

d. तिलचट्टा (Cockroach)

- Ans
- 1. i - b, ii - a, iii - d, iv - c
  - 2. i - b, ii - a, iii - c, iv - d
  - 3. i - a, ii - b, iii - c, iv - d
  - 4. i - a, ii - b, iii - d, iv - c

Question ID : 26433054031  
Status : Answered  
Chosen Option : 1

Q.2 निम्नलिखित में से किस राज्य ने दिसंबर में जयपुर में विजय हजारे ट्रॉफी 2021 जीती?

- Ans
- 1. हरियाणा
  - 2. हिमाचल प्रदेश
  - 3. पंजाब
  - 4. तमिलनाडु

Question ID : 26433090652  
Status : Answered  
Chosen Option : 4

Q.3 हिंदू कैलेंडर के किस दिन होली का त्योहार मनाया जाता है?

- Ans
- 1. फाल्गुन अमावस्या
  - 2. चैत्र सप्तमी
  - 3. चैत्र पूर्णिमा
  - 4. फाल्गुन पूर्णिमा

Question ID : 264330141649  
Status : Not Answered  
Chosen Option : --

Q.4 जल में हाइड्रोजन और ऑक्सीजन के द्रव्यमान का अनुपात क्या है?

- Ans
- 1. 1 : 8
  - 2. 2 : 5
  - 3. 2 : 3
  - 4. 1 : 4

Question ID : 26433055756  
Status : Answered  
Chosen Option : 4

Q.5 भारत के उष्णकटिबंधीय सदाबहार वनों के बारे में निम्नलिखित में से कौन-सी विशेषता गलत है?

- Ans
- 1. इन जंगलों में पेड़ 60 m या उससे अधिक की ऊँचाई तक पहुँचते हैं।
  - 2. ये वन अच्छी तरह से स्तरीकृत हैं।
  - 3. वे गर्म और आर्द्र क्षेत्रों में पाए जाते हैं।
  - 4. इन वनों में वार्षिक वर्षा 150 cm से कम होती है।

Question ID : 264330142266  
Status : Not Answered  
Chosen Option : --

Q.6 संगीत जगत से जुड़ी किस प्रसिद्ध हस्ती ने 'मूनवॉक' संस्मरण लिखा है?

- Ans
- 1. स्टीव वंडर
  - 2. माइकल जैक्सन
  - 3. कर्ट कोबेन
  - 4. बॉब डिलेन

Question ID : 26433064621  
Status : Not Answered  
Chosen Option : --

Q.7 भारत में, विधान सभा या विधान परिषद के अधिवेशन के दौरान, यदि गणपूर्ति (quorum) नहीं है, तो सदन या अधिवेशन को स्थगित करना \_\_\_\_\_ का कर्तव्य होगा।

- Ans
- 1. सभापति/राज्यपाल
  - 2. अध्यक्ष/मुख्यमंत्री
  - 3. अध्यक्ष/सभापति
  - 4. राज्यपाल/मुख्यमंत्री

Question ID : 264330110133  
Status : Not Answered  
Chosen Option : --

Q.8 भारत सरकार की अन्नपूर्णा योजना का उद्देश्य क्या है ?

- Ans
- 1. सभी को भोजन उपलब्ध कराना
  - 2. वरिष्ठ नागरिकों को खाद्यान्न उपलब्ध कराना
  - 3. बच्चों को खाद्यान्न उपलब्ध कराना
  - 4. महिलाओं को खाद्यान्न उपलब्ध कराना

Question ID : 264330110662  
Status : Answered  
Chosen Option : 1

Q.9 वर्ष 2011 की जनगणना के अनुसार भारत में औसत पुरुष साक्षरता दर \_\_\_\_\_ थी।

- Ans
- 1. 82.14%
  - 2. 70.2%
  - 3. 65.21%
  - 4. 95.6%

Question ID : 264330109511  
Status : Answered  
Chosen Option : 1

Q.10 1978 के 44वें संशोधन अधिनियम द्वारा भारतीय संविधान में मूल सूची के कितने निर्देशक तत्वों में संशोधन किया गया था?

- Ans
- 1. एक
  - 2. दो
  - 3. तीन
  - 4. चार

Question ID : 264330113404  
Status : Not Answered  
Chosen Option : --

Q.11 कुमुदिनी लाखिया किस भारतीय शास्त्रीय नृत्य शैली की प्रतिपादक हैं?

- Ans
- 1. ओडिसी
  - 2. सल्लिया
  - 3. कुचिपुड़ी
  - 4. कथक

Question ID : 264330141651  
Status : Not Answered  
Chosen Option : --

Q.12 कराराधान कानून (संशोधन) अधिनियम, 2021, \_\_\_\_\_ के आयकर अधिनियम में संशोधन करता है।

- Ans
- 1. 1995
  - 2. 1988
  - 3. 1961
  - 4. 1974

Question ID : 26433090630  
Status : Not Answered  
Chosen Option : --

Q.13 निम्नलिखित में से किसने 1920 में कैसर-ए-हिंद का अपना पदक वापस लौटा दिया था?

- Ans
- 1. महात्मा गाँधी
  - 2. रविद्रनाथ टैगोर
  - 3. सरोजिनी नायडू
  - 4. एस सुब्रमण्यम अय्यर

Question ID : 26433071416  
Status : Answered  
Chosen Option : 1

Q.14 निम्नलिखित में से भारत के प्राकृतिक बंदरगाह का चयन कीजिए।

- Ans
- 1. दीनदयाल बंदरगाह
  - 2. चेन्नई बंदरगाह
  - 3. मुंबई बंदरगाह
  - 4. कोलकाता बंदरगाह

Question ID : 26433082184  
Status : Not Answered  
Chosen Option : --

Q.15 बहमनी साम्राज्य की स्थापना अलाउद्दीन बहमन शाह ने \_\_\_\_\_ में की थी।

- Ans
- 1. 1347
  - 2. 1346
  - 3. 1336
  - 4. 1345

Question ID : 26433081943  
Status : Not Answered  
Chosen Option : --

Q.16 निम्नलिखित में से किस वास्तुकार ने गेटवे ऑफ इंडिया को डिजाइन किया था?

- Ans
- 1. हर्बर्ट बेकर (Herbert Baker)
  - 2. जॉर्ज विट्टे (George Wittet)
  - 3. लॉरी बेकर (Lauri Baker)
  - 4. हेनरी इरविन (Henry Irwin)

Question ID : 264330130885  
Status : Answered  
Chosen Option : 4

Q.17 निम्नलिखित में से किस खिलाड़ी को मेजर ध्यानचंद खेल रत्न पुरस्कार 2022 से सम्मानित किया गया है?

- Ans
- 1. श्री बिमल प्रफुल्ल घोष
  - 2. श्री राज सिंह
  - 3. श्री शरत कमल अचंता
  - 4. श्री दिनेश जवाहर लाड

Question ID : 264330130855  
Status : Not Answered  
Chosen Option : --

Q.18 दिसंबर 2022 में निम्नलिखित में से कौन भारतीय ओलंपिक एसोसिएशन की पहली महिला अध्यक्ष बन गई है?

- Ans
- 1. साइना नेहवाल
  - 2. मैरी कॉम
  - 3. पी.टी. उषा
  - 4. कुंजारानी देवी

Question ID : 264330132595  
Status : Answered  
Chosen Option : 3

Q.19 निम्नलिखित में से किस वर्ष में भारतीय टीम ने एकदिवसीय अंतर्राष्ट्रीय (ODI) क्रिकेट विश्व कप जीता?

- Ans
- 1. 2019
  - 2. 2007
  - 3. 2015
  - 4. 2011

Question ID : 264330103808  
Status : Answered  
Chosen Option : 4

Q.20 छाया में उगाए जाने वाले पौधे \_\_\_\_\_ कहलाते हैं।

- Ans
- 1. एकबीजपत्री
  - 2. बालुकोद्भिद्
  - 3. छायारागी पादप
  - 4. लवणमृदोद्भिद्

Question ID : 26433066642  
Status : Answered  
Chosen Option : 3

Q.21 बारदोली छीड़ा का दूसरा नाम क्या है?

- Ans
- 1. लू
  - 2. आम्र वर्षा
  - 3. काल बैसाखी
  - 4. मंजरी वर्षा

Question ID : 264330141932  
Status : Not Answered  
Chosen Option : --

Q.22 ज्योति प्रसाद अग्रवाला \_\_\_\_\_ राज्य 'रूपकोंवर' नाम से लोकप्रिय संगीतकार थे।

- Ans  1. असम  
 2. गुजरात  
 3. राजस्थान  
 4. मध्य प्रदेश

Question ID : 264330141603  
Status : Not Answered  
Chosen Option : --

Q.23 राजा और राधा रेड्डी को \_\_\_\_\_ नृत्य में उनके योगदान के लिए संगीत नाटक अकादमी पुरस्कार से सम्मानित किया गया।

- Ans  1. कथक  
 2. सत्रीया  
 3. कथकली  
 4. कुचिपुड़ी

Question ID : 264330110266  
Status : Not Answered  
Chosen Option : --

Q.24 निम्नलिखित में से कौन-सा ग्रंथ मौर्य साम्राज्य के काल के प्रशासनिक और सैन्य संगठन का सूक्ष्म विवरण देता है?

- Ans  1. शुलब सूत्र  
 2. बृहत् संहिता  
 3. अर्थशास्त्र  
 4. नितिसार

Question ID : 264330111367  
Status : Not Answered  
Chosen Option : --

Q.25 भारतीय संविधान का निम्नलिखित में से कौन सा अनुच्छेद यह प्रावधान करता है कि दिल्ली राष्ट्रीय राजधानी क्षेत्र के लिए एक विधान सभा होगी?

- Ans  1. अनुच्छेद 233AA  
 2. अनुच्छेद 231AA  
 3. अनुच्छेद 239AA  
 4. अनुच्छेद 237AA

Question ID : 264330113422  
Status : Not Answered  
Chosen Option : --

Section : Quantitative Aptitude

Q.1 ₹2 लाख के मूलधन पर 3 वर्ष के लिए 8% वार्षिक की दर से साधारण ब्याज कितना होगा?

- Ans
- 1. ₹40,000
  - 2. ₹36,000
  - 3. ₹48,000
  - 4. ₹32,000

Question ID : 26433074291  
Status : Answered  
Chosen Option : 3

Q.2 मोहन एक मेज को ₹800 के एमआरपी (MRP) पर 10% की छूट पर खरीदता है। यदि वह इसे ₹900 में बेचता है, तो लाभ प्रतिशत \_\_\_\_\_ होगा।

- Ans
- 1. 20% लाभ
  - 2. 15% लाभ
  - 3. 25% लाभ
  - 4. 30% लाभ

Question ID : 26433099598  
Status : Answered  
Chosen Option : 3

Q.3 अभय किसी काम को 22 दिन में कर सकता है। निधि अभय से 28% अधिक कार्यकुशल है। समान काम करने में निधि को \_\_\_\_\_ दिन लगेंगे।

- Ans
- 1.  $16\frac{3}{17}$
  - 2.  $17\frac{1}{16}$
  - 3.  $16\frac{1}{17}$
  - 4.  $17\frac{3}{16}$

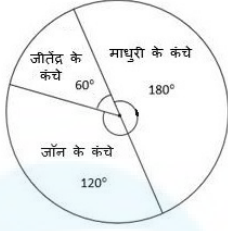
Question ID : 26433081478  
Status : Answered  
Chosen Option : 4

Q.4 एक टेस्ट में 50 छात्रों का औसत स्कोर 44 है। कुल छात्रों में से 40% छात्र लड़कियां हैं और शेष लड़के हैं। लड़कों का औसत स्कोर, लड़कियों के औसत स्कोर की तुलना में 20% कम है। लड़कियों का औसत स्कोर क्या है?

- Ans
- 1. 52
  - 2. 54
  - 3. 50
  - 4. 48

Question ID : 264330104156  
Status : Answered  
Chosen Option : 3

Q.5 दिए गए पाई-चार्ट का अध्ययन करें और उसके बाद दिए गए प्रश्न का उत्तर दें।



यदि पाई-चार्ट 3 व्यक्तियों के बीच 36 कंचों के वितरण को दर्शाता है, तो माधुरी के पास कितने कंचे हैं?

- Ans
- 1. 8
  - 2. 16
  - 3. 18
  - 4. 12

Question ID : 264330141224  
Status : Answered  
Chosen Option : 3

Q.6 A, B के अनुक्रमानुपाती है। जब  $A = 52$ ,  $B = 91$  है। तो  $B = 126$  होने पर A का मान ज्ञात कीजिए।

- Ans
- 1. 70
  - 2. 76
  - 3. 84
  - 4. 72

Question ID : 264330103275  
Status : Answered  
Chosen Option : 4

Q.7 एक मालगाड़ी, स्थिर चाल से यात्रा करते हुए, एक ही दिशा में (ट्रेन की दिशा में) चल रहे दो व्यक्तियों को क्रमशः 11.6 सेकंड और 11.8 सेकंड में पार करती है। पहला व्यक्ति 5.85 km/h की चाल से चल रहा था, जबकि दूसरा 6.3 km/h की चाल से चल रहा था। ट्रेन की चाल (km/h में) क्या थी?

- Ans
- 1. 32.5
  - 2. 32.6
  - 3. 32.2
  - 4. 32.4

Question ID : 264330103282  
Status : Not Answered  
Chosen Option : --

Q.8 7 cm त्रिज्या वाले एक अर्धगोले को पिघलाकर चार छोटे समान गोले बनाए जाते हैं। इन गोलों की त्रिज्या ज्ञात करें?

- Ans
- 1. 3 cm
  - 2. 4 cm
  - 3. 3.5 cm
  - 4. 4.5 cm

Question ID : 26433081740  
Status : Not Answered  
Chosen Option : --

Q.9 मान लें कि A,B,C,  $\Delta XYZ$  की भुजाओं क्रमशः XY,YZ और XZ के मध्य-बिंदु हैं। यदि  $\Delta XYZ$  का क्षेत्रफल  $8464 \text{ cm}^2$  है, तो  $\Delta ABC$  का क्षेत्रफल ( $\text{cm}^2$  में) ज्ञात करें।

- Ans
- 1. 1812
  - 2. 3112
  - 3. 1516
  - 4. 2116

Question ID : 264330126537  
Status : Answered  
Chosen Option : 4

Q.10 यदि किसी भिन्न के अंश में 12% की वृद्धि की जाती है और उसके हर में 8% की कमी की जाती है, तो इससे एक नया भिन्न  $\frac{16}{17}$  प्राप्त होता है। मूल भिन्न क्या है?

- Ans
- 1.  $\frac{28}{23}$
  - 2.  $\frac{119}{92}$
  - 3.  $\frac{23}{28}$
  - 4.  $\frac{92}{119}$

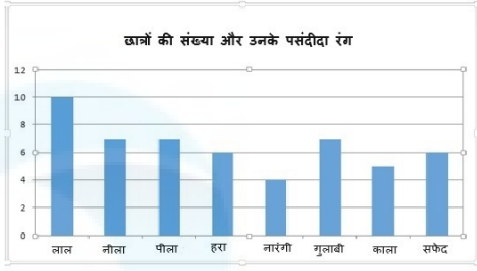
Question ID : 26433080300  
Status : Not Answered  
Chosen Option : --

Q.11 एक बैंक में Rs.84,000 की राशि 15% साधारण ब्याज की दर से 3 वर्ष की अवधि के लिए जमा की जाती है। कितना साधारण ब्याज (Rs. में) प्राप्त होगा?

- Ans
- 1. Rs.39,800
  - 2. Rs.38,700
  - 3. Rs.37,800
  - 4. Rs.37,200

Question ID : 26433075070  
Status : Answered  
Chosen Option : 3

Q.12 दिए गए दंड आरेख में एक कक्षा के कई छात्रों के पसंदीदा रंगों को दिखाया गया है। मान लीजिए कि छात्रों को A और B दो समूहों में विभाजित किया गया है जहाँ समूह A के छात्र लाल, हरा, नारंगी या गुलाबी रंग में से एक को पसंदीदा रंग के रूप में चुनते हैं जबकि समूह B के छात्र अन्य चारों रंगों में से किसी को भी अपने पसंदीदा रंग के रूप में चुनते हैं। दंड आरेख के अनुसार समूह A में समूह B की तुलना में कितने अधिक छात्र थे?



- Ans
- 1. 2
  - 2. 0
  - 3. 1
  - 4. 3

Question ID : 26433076126  
Status : Answered  
Chosen Option : 1

Q.13 यदि 20% दूध वाले 36 लीटर विलयन को 10% दूध वाले 48 लीटर विलयन में मिलाया जाता है, तो परिणामी विलयन में दूध की प्रतिशत मात्रा क्या होगी?

- Ans
- 1. 13.36%
  - 2. 15.48%
  - 3. 12.38%
  - 4. 14.28%

Question ID : 264330126558  
Status : Answered  
Chosen Option : 4

Q.14 A, B और C अकेले कार्य करते हुए एक कार्य को क्रमशः 20 दिन, 30 दिन और 60 दिन में पूरा कर सकते हैं। यदि प्रत्येक एकांतर दिन A को B और C प्रत्येक द्वारा सहायता प्रदान की जाती है, तो कार्य कितनी जल्दी पूरा किया जा सकता है?

- Ans
- 1.  $\frac{53}{4}$  दिन
  - 2.  $\frac{37}{4}$  दिन
  - 3.  $\frac{40}{3}$  दिन
  - 4.  $\frac{28}{3}$  दिन

Question ID : 26433076111  
Status : Answered  
Chosen Option : 1

Q.15 यदि  $4 \tan A = 3$  है, तो  $\cos^2 A - \sin^2 A$  किसके बराबर है?

Ans

1.  $\frac{3}{5}$

2.  $\frac{1}{5}$

3.  $\frac{7}{25}$

4.  $\frac{9}{25}$

Question ID : 264330141580

Status : Answered

Chosen Option : 3

Q.16 मोहन 18935 को एक निश्चित संख्या से विभाजित करता है। यदि उसे भागफल और शेषफल क्रमशः 102 और 65 प्राप्त होते हैं, तो भाजक \_\_\_\_\_ है।

Ans

1. 165

2. 155

3. 185

4. 175

Question ID : 26433090295

Status : Answered

Chosen Option : 3

Q.17 राहुल की उम्र और उसके पुत्र अमन की उम्र का अनुपात 9 : 1 है और उनकी उम्रों का गुणनफल 144 है। चार वर्ष बाद उनकी उम्रों का योग कितना होगा?

Ans

1. 40

2. 48

3. 46

4. 44

Question ID : 264330124002

Status : Answered

Chosen Option : 2

Q.18  $52 \times 52 - 48 \times 48$  को सरल करें।

Ans

1. 424

2. 400

3. 386

4. 326

Question ID : 264330141411

Status : Answered

Chosen Option : 2

Q.19  $\triangle ABC$  में, P और Q क्रमशः भुजा AB और AC के मध्य बिंदु हैं। R, रेखाखंड PQ पर एक ऐसा बिंदु है कि  $PR : RQ = 1 : 4$  है। यदि  $PR = 5 \text{ cm}$  है, तो  $BC = ?$

- Ans
- 1. 48 cm
  - 2. 50 cm
  - 3. 46 cm
  - 4. 44 cm

Question ID : 264330141578  
Status : Answered  
Chosen Option : 2

Q.20 A एक वस्तु, B को 16% के लाभ पर बेचता है, B इसे C को 15% की हानि पर बेचता है, और C इसे D को 20% के लाभ पर बेचता है। यदि C और A द्वारा अर्जित लाभ के बीच का अंतर ₹248 है, तो B को हुई हानि की गणना करें (₹ में)।

- Ans
- 1. 1160
  - 2. 1025
  - 3. 1250
  - 4. 1075

Question ID : 264330104178  
Status : Not Answered  
Chosen Option : --

Q.21 निम्नलिखित में से कौन-सी संख्या 4 से विभाज्य नहीं है?

- Ans
- 1. 67547172
  - 2. 80936292
  - 3. 56783294
  - 4. 73568916

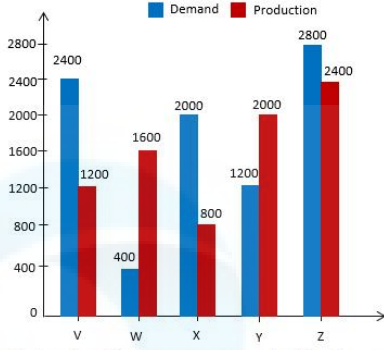
Question ID : 264330122063  
Status : Answered  
Chosen Option : 3

Q.22 दो स्थानों के बीच की दूरी 1200 km है। इस दूरी को तय करने के लिए, एक व्यक्ति X दूसरे व्यक्ति Y से 5 घंटे कम लेता है, जिसकी औसत गति X की तुलना में 40 km/h कम है। यात्रा को पूरा करने के लिए Y द्वारा लिया गया समय क्या है?

- Ans
- 1. 16 घंटे
  - 2. 14 घंटे
  - 3. 18 घंटे
  - 4. 15 घंटे

Question ID : 26433061315  
Status : Answered  
Chosen Option : 4

Q.23 निम्नलिखित आलेख पांच कंपनियों V, W, X, Y और Z की मांग (demand) और उत्पादन (production) को दर्शाता है।



यदि कंपनी W के उत्पादन का K% कंपनी Z के उत्पादन के बराबर है, तो K, \_\_\_\_\_ के बराबर है।

- Ans
- 1. 40
  - 2. 45
  - 3. 155
  - 4. 150

Question ID : 26433075524  
Status : Answered  
Chosen Option : 4

Q.24 चांदी की एक पूजा की थाली के सेट को ₹10,000 के अंकित मूल्य पर 10% और 5% की क्रमिक छूट के साथ बेचा जाता है। भुगतान नकद किए जाने पर, अतिरिक्त 5% की छूट दी जाती है। नकद भुगतान पर वस्तु का विक्रय मूल्य ज्ञात करें।

- Ans
- 1. ₹8,122.50
  - 2. ₹8,100.50
  - 3. ₹8,200.50
  - 4. ₹8,212.50

Question ID : 264330103407  
Status : Answered  
Chosen Option : 1

Q.25 यदि एक दुकानदार एक कैलकुलेटर के Rs.500 के अंकित मूल्य पर 7% प्रत्येक की दो क्रमिक छूट देता है, तो कैलकुलेटर का विक्रय मूल्य क्या है?

- Ans
- 1. Rs.440.85
  - 2. Rs.435.00
  - 3. Rs.432.45
  - 4. Rs.430.25

Question ID : 26433073085  
Status : Answered  
Chosen Option : 3

**Q.1** Select the most appropriate antonym of the given word.

**Keen**

- Ans**
- 1. Subtle
  - 2. Perceptive
  - 3. Accurate
  - 4. Insensitive

Question ID : 26433060978  
Status : Answered  
Chosen Option : 4

**Q.2** Select the most appropriate ANTONYM of the underlined word.  
The old man was not only infirm but also blind and was unable to move around by himself.

- Ans**
- 1. Diffident
  - 2. Robust
  - 3. Anaemic
  - 4. Hospitable

Question ID : 26433073370  
Status : Answered  
Chosen Option : 3

**Q.3** Select the most appropriate ANTONYM of the given word from the following sentence.  
**Artificial**  
My uncle, who is a native of Australia, is a logical thinker and says that natural and unnatural stones both look beautiful in gold jewellery.

- Ans**
- 1. Logical
  - 2. Native
  - 3. Unnatural
  - 4. Natural

Question ID : 26433072812  
Status : Answered  
Chosen Option : 4

**Q.4** Select the most appropriate option to fill in the blank.  
Every cloud has a \_\_\_\_\_ lining.

- Ans**
- 1. diffused
  - 2. grey
  - 3. silver
  - 4. blue

Question ID : 26433098873  
Status : Answered  
Chosen Option : 3

**Q.5** Select the option that expresses the given sentence in direct speech.  
Bibiya asked the doctor if she could get the discharge in the morning.

- Ans
- 1. Bibiya asked the doctor, "Can I get the discharge in the morning?"
  - 2. Bibiya asked the doctor, "How can I get the discharge in the morning?"
  - 3. Bibiya asked the doctor, "Could I have got the discharge in the morning?"
  - 4. Bibiya asked the doctor, "If I can get the discharge in the morning?"

Question ID : 264330136455  
Status : Answered  
Chosen Option : 1

**Q.6** Select the most appropriate option to fill in the blank.  
Plastic pollution is \_\_\_\_\_ the oceans' ecosystem, but humanity doesn't take serious action against it.

- Ans
- 1. deciding
  - 2. aiming
  - 3. affecting
  - 4. making

Question ID : 26433097028  
Status : Answered  
Chosen Option : 3

**Q.7** Select the option that expresses the given sentence in passive voice.

He ordered the police to pursue the robber and his gang.

- Ans
- 1. Pursue the robber and gang were the orders by police.
  - 2. Order the police to pursue the robber gang.
  - 3. The police were ordered to pursue the robber and his gang.
  - 4. The robber and gang were pursued.

Question ID : 26433093197  
Status : Answered  
Chosen Option : 3

**Q.8** Select the option that can be used as a one-word substitute for the given group of words.

Social organisation where males are heads of families

- Ans
- 1. Matriarchy
  - 2. Polygamy
  - 3. Hierarchy
  - 4. Patriarchy

Question ID : 26433073907  
Status : Answered  
Chosen Option : 4

Q.9 Select the most appropriate meaning of the given idiom.

I don't buy it

- Ans
- 1. I do not like to buy
  - 2. Purchasing should be controlled
  - 3. I am not convinced
  - 4. Only good decisions can be agreed on

Question ID : 26433089005  
Status : Marked For Review  
Chosen Option : 3

Q.10 Select the most appropriate synonym of the given word.  
Instant

- Ans
- 1. Immediate
  - 2. Gradual
  - 3. Precise
  - 4. Anticipated

Question ID : 26433063114  
Status : Answered  
Chosen Option : 1

Q.11 Parts of the following sentence have been underlined and given as options. Select the option that contains a spelling error.

How simple for the English businessman to word a cable that would be intelligible to Italian, Turkish and Chinese firms? If statesmen could discuss directly and accurately the problems.

- Ans
- 1. statesmen
  - 2. intelligible
  - 3. businessman
  - 4. firms

Question ID : 26433088430  
Status : Answered  
Chosen Option : 3

Q.12 Select the option that will improve the underlined part of the given sentence.  
It is wrong to make accusations without will have any proof.

- Ans
- 1. without has any proof
  - 2. without having any proof
  - 3. without to be have any proof
  - 4. without being have any proof

Question ID : 264330142374  
Status : Answered  
Chosen Option : 2

**Q.13** The following sentence has been split into four segments. Identify the segment that contains a grammatical error.  
We must / take care / of one other / in times of crisis.

- Ans
- 1. in times of crisis
  - 2. take care
  - 3. We must
  - 4. of one other

Question ID : 264330142378  
Status : Answered  
Chosen Option : 4

**Q.14** Parts of the following sentence have been underlined and given as options. Select the option that contains a spelling error.

It remains for us to apply the tools of selection, rejection or compresion in order to understand.

- Ans
- 1. understand
  - 2. selection
  - 3. rejection
  - 4. compresion

Question ID : 26433088427  
Status : Answered  
Chosen Option : 4

**Q.15** Select the option that expresses the given sentence in direct speech.  
Liam asked if we could proceed with the award ceremony.

- Ans
- 1. Liam said, "Should we proceed with the award ceremony?"
  - 2. Liam said, "Could we please proceed with the award ceremony?"
  - 3. Liam said, "Can we proceed with the award ceremony?"
  - 4. Liam said, "Will we proceed with the award ceremony?"

Question ID : 264330133423  
Status : Answered  
Chosen Option : 3

**Comprehension:**

In the following passage, some words have been deleted. Read the passage carefully and select the most appropriate option to fill in each blank.  
Bottled water demonstrates how much humans (1)\_\_\_\_\_ nature, reflecting the tremendous value they place on it. On the other hand, bottled water indicates (2)\_\_\_\_\_ for nature's complexities, displaying the irony that may lead to the mutual annihilation of humanity and the (3)\_\_\_\_\_. The finest example is the (4)\_\_\_\_\_ of bottled water, which is the commercialisation of natural resources. Holding bottled water, it is clear to see a gorgeous image of a lake and a small (5)\_\_\_\_\_ of blue and green plastic around its neck.

**SubQuestion No : 16**

**Q.16** Select the most appropriate option to fill in blank number 1.

- Ans
- 1. glorify
  - 2. satisfy
  - 3. beautify
  - 4. commodify

Question ID : 26433099006  
Status : Answered  
Chosen Option : 2

**Comprehension:**

In the following passage, some words have been deleted. Read the passage carefully and select the most appropriate option to fill in each blank.

Bottled water demonstrates how much humans (1)\_\_\_\_\_ nature, reflecting the tremendous value they place on it. On the other hand, bottled water indicates (2)\_\_\_\_\_ for nature's complexities, displaying the irony that may lead to the mutual annihilation of humanity and the (3)\_\_\_\_\_. The finest example is the (4)\_\_\_\_\_ of bottled water, which is the commercialisation of natural resources. Holding bottled water, it is clear to see a gorgeous image of a lake and a small (5)\_\_\_\_\_ of blue and green plastic around its neck.

**SubQuestion No : 17**

**Q.17** Select the most appropriate option to fill in blank number 2.

- Ans
- 1. admiration
  - 2. acceptance
  - 3. affectation
  - 4. contempt

Question ID : 26433099007  
Status : Answered  
Chosen Option : 4

**Comprehension:**

In the following passage, some words have been deleted. Read the passage carefully and select the most appropriate option to fill in each blank.

Bottled water demonstrates how much humans (1)\_\_\_\_\_ nature, reflecting the tremendous value they place on it. On the other hand, bottled water indicates (2)\_\_\_\_\_ for nature's complexities, displaying the irony that may lead to the mutual annihilation of humanity and the (3)\_\_\_\_\_. The finest example is the (4)\_\_\_\_\_ of bottled water, which is the commercialisation of natural resources. Holding bottled water, it is clear to see a gorgeous image of a lake and a small (5)\_\_\_\_\_ of blue and green plastic around its neck.

**SubQuestion No : 18**

**Q.18** Select the most appropriate option to fill in blank number 3.

- Ans
- 1. trash
  - 2. humans
  - 3. environment
  - 4. collections

Question ID : 26433099008  
Status : Answered  
Chosen Option : 3

**Comprehension:**

In the following passage, some words have been deleted. Read the passage carefully and select the most appropriate option to fill in each blank.

Bottled water demonstrates how much humans (1)\_\_\_\_\_ nature, reflecting the tremendous value they place on it. On the other hand, bottled water indicates (2)\_\_\_\_\_ for nature's complexities, displaying the irony that may lead to the mutual annihilation of humanity and the (3)\_\_\_\_\_. The finest example is the (4)\_\_\_\_\_ of bottled water, which is the commercialisation of natural resources. Holding bottled water, it is clear to see a gorgeous image of a lake and a small (5)\_\_\_\_\_ of blue and green plastic around its neck.

**SubQuestion No : 19**

**Q.19** Select the most appropriate option to fill in the blank number 4.

- Ans
- 1. recycling
  - 2. recollecting
  - 3. sale
  - 4. corruption

Question ID : 26433099009  
Status : Answered  
Chosen Option : 1

**Comprehension:**

In the following passage, some words have been deleted. Read the passage carefully and select the most appropriate option to fill in each blank.

Bottled water demonstrates how much humans (1)\_\_\_\_\_ nature, reflecting the tremendous value they place on it. On the other hand, bottled water indicates (2)\_\_\_\_\_ for nature's complexities, displaying the irony that may lead to the mutual annihilation of humanity and the (3)\_\_\_\_\_. The finest example is the (4)\_\_\_\_\_ of bottled water, which is the commercialisation of natural resources. Holding bottled water, it is clear to see a gorgeous image of a lake and a small (5)\_\_\_\_\_ of blue and green plastic around its neck.

**SubQuestion No : 20****Q.20 Select the most appropriate option to fill in blank number 5.**

- Ans
- 1. beam
  - 2. group
  - 3. piece
  - 4. bunch

Question ID : 26433099010

Status : Answered

Chosen Option : 3

**Comprehension:**

Read the given passage and answer the questions that follow.

Virtual learning refers to an environment where students study a digital-based curriculum taught by instructors that lecture online via video or audio. This instruction can take place either in a self-paced (asynchronous) environment or in a real-time (synchronous) environment. There are many reasons why people choose virtual learning over instruction in a traditional classroom. For example, the flexibility of virtual learning makes it an appropriate choice for full-time workers who would like to continue their education or cannot attend in-person classes.

The virtual learning environment is also a good choice for people who enjoy self-learning. Some virtual learning options have classes to attend at scheduled times, while others allow you to learn at your own pace. With this self-paced option, you have a lot of autonomy with the intensity and overall cadence of your learning while still enjoying the benefits of guided lessons.

Virtual learning gives students access to coursework from anywhere, at any time, making learning super convenient. Asynchronous classes also give an immense amount of flexibility for lectures and studying. Even with the flexibility of the course, online courses are associated with higher retention rates and graduation rates. A study conducted by Arizona State University found that students taking virtual classes benefit from increased access and cost savings of as much as 50 percent.

**SubQuestion No : 21****Q.21 Which of the following is the best description of the tone of the passage?**

- Ans
- 1. Dogmatic
  - 2. Biased
  - 3. Technical
  - 4. Cynical

Question ID : 264330121016

Status : Not Answered

Chosen Option : --

**Comprehension:**

Read the given passage and answer the questions that follow.

Virtual learning refers to an environment where students study a digital-based curriculum taught by instructors that lecture online via video or audio. This instruction can take place either in a self-paced (asynchronous) environment or in a real-time (synchronous) environment. There are many reasons why people choose virtual learning over instruction in a traditional classroom. For example, the flexibility of virtual learning makes it an appropriate choice for full-time workers who would like to continue their education or cannot attend in-person classes.

The virtual learning environment is also a good choice for people who enjoy self-learning. Some virtual learning options have classes to attend at scheduled times, while others allow you to learn at your own pace. With this self-paced option, you have a lot of autonomy with the intensity and overall cadence of your learning while still enjoying the benefits of guided lessons.

Virtual learning gives students access to coursework from anywhere, at any time, making learning super convenient. Asynchronous classes also give an immense amount of flexibility for lectures and studying. Even with the flexibility of the course, online courses are associated with higher retention rates and graduation rates. A study conducted by Arizona State University found that students taking virtual classes benefit from increased access and cost savings of as much as 50 percent.

**SubQuestion No : 22**

**Q.22 What is the most appropriate ANTONYM of the word 'retention' from the passage?**

Ans  1. Preventive

2. Relinquishment

3. Perception

4. Retaining

Question ID : 264330121019

Status : Not Answered

Chosen Option : --

**Comprehension:**

Read the given passage and answer the questions that follow.

Virtual learning refers to an environment where students study a digital-based curriculum taught by instructors that lecture online via video or audio. This instruction can take place either in a self-paced (asynchronous) environment or in a real-time (synchronous) environment. There are many reasons why people choose virtual learning over instruction in a traditional classroom. For example, the flexibility of virtual learning makes it an appropriate choice for full-time workers who would like to continue their education or cannot attend in-person classes.

The virtual learning environment is also a good choice for people who enjoy self-learning. Some virtual learning options have classes to attend at scheduled times, while others allow you to learn at your own pace. With this self-paced option, you have a lot of autonomy with the intensity and overall cadence of your learning while still enjoying the benefits of guided lessons.

Virtual learning gives students access to coursework from anywhere, at any time, making learning super convenient. Asynchronous classes also give an immense amount of flexibility for lectures and studying. Even with the flexibility of the course, online courses are associated with higher retention rates and graduation rates. A study conducted by Arizona State University found that students taking virtual classes benefit from increased access and cost savings of as much as 50 percent.

**SubQuestion No : 23**

**Q.23 What is the most appropriate ANTONYM of the word 'autonomy' from the passage?**

Ans  1. Dependence

2. Liberty

3. Availability

4. Preference

Question ID : 264330121017

Status : Answered

Chosen Option : 1

**Comprehension:**

Read the given passage and answer the questions that follow.

Virtual learning refers to an environment where students study a digital-based curriculum taught by instructors that lecture online via video or audio. This instruction can take place either in a self-paced (asynchronous) environment or in a real-time (synchronous) environment. There are many reasons why people choose virtual learning over instruction in a traditional classroom. For example, the flexibility of virtual learning makes it an appropriate choice for full-time workers who would like to continue their education or cannot attend in-person classes.

The virtual learning environment is also a good choice for people who enjoy self-learning. Some virtual learning options have classes to attend at scheduled times, while others allow you to learn at your own pace. With this self-paced option, you have a lot of autonomy with the intensity and overall cadence of your learning while still enjoying the benefits of guided lessons.

Virtual learning gives students access to coursework from anywhere, at any time, making learning super convenient. Asynchronous classes also give an immense amount of flexibility for lectures and studying. Even with the flexibility of the course, online courses are associated with higher retention rates and graduation rates. A study conducted by Arizona State University found that students taking virtual classes benefit from increased access and cost savings of as much as 50 percent.

**SubQuestion No : 24**

**Q.24** Which of the following options represent the structure of the passage?

- Ans**
- 1. Chronological
  - 2. Spatial
  - 3. Compare and Contrast
  - 4. Descriptive

Question ID : 264330121018  
Status : Not Answered  
Chosen Option : --

**Comprehension:**

Read the given passage and answer the questions that follow.

Virtual learning refers to an environment where students study a digital-based curriculum taught by instructors that lecture online via video or audio. This instruction can take place either in a self-paced (asynchronous) environment or in a real-time (synchronous) environment. There are many reasons why people choose virtual learning over instruction in a traditional classroom. For example, the flexibility of virtual learning makes it an appropriate choice for full-time workers who would like to continue their education or cannot attend in-person classes.

The virtual learning environment is also a good choice for people who enjoy self-learning. Some virtual learning options have classes to attend at scheduled times, while others allow you to learn at your own pace. With this self-paced option, you have a lot of autonomy with the intensity and overall cadence of your learning while still enjoying the benefits of guided lessons.

Virtual learning gives students access to coursework from anywhere, at any time, making learning super convenient. Asynchronous classes also give an immense amount of flexibility for lectures and studying. Even with the flexibility of the course, online courses are associated with higher retention rates and graduation rates. A study conducted by Arizona State University found that students taking virtual classes benefit from increased access and cost savings of as much as 50 percent.

**SubQuestion No : 25**

**Q.25** Which of the following most accurately states the central idea of the passage?

- Ans**
- 1. Self-paced learning
  - 2. Virtual learning and its advantages
  - 3. Flexible learning environment
  - 4. Guided learning environment

Question ID : 264330121015  
Status : Answered  
Chosen Option : 2