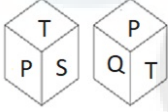


Phase-XI/2023/Selection Posts and Selection Posts/Ladakh/2023

Roll Number	
Candidate Name	
Venue Name	
Exam Date	28/06/2023
Exam Time	11:45 AM - 12:45 PM
Subject	Selection Post Higher Secondary Level

Section : General Intelligence

Q.1 एक पासे की दो अलग-अलग स्थितियां दर्शाई गई हैं, जिसके 6 फलकों पर P, Q, R, S, T, U में से एक-एक अक्षर अंकित है। उस अक्षर का चयन कीजिए जो 'Q' दर्शाने वाले फलक के विपरीत फलक पर होगा।



- Ans
- 1. R
 - 2. U
 - 3. T
 - 4. S

Question ID : 264330142441
Status : Answered
Chosen Option : 4

Q.2 उस विकल्प का चयन करें जो पांचवें पद से उसी प्रकार संबंधित है जिस प्रकार दूसरा पद पहले पद से संबंधित है और चौथा पद तीसरे पद से संबंधित है।
LOGO : PHPM :: MOCK : LDPN :: DEAR : ?

- Ans
- 1. SBFE
 - 2. SBEF
 - 3. SCFE
 - 4. EFBS

Question ID : 26433067392
Status : Not Answered
Chosen Option : --

Q.3 अक्षरों के उस संयोजन का चयन कीजिए जिसे दी गई श्रृंखला के रिक्त स्थानों में बाएं से दाएं क्रमिक रूप से रखने पर अक्षर श्रृंखला पूरी हो जाएगी।
A _ E _ I A C _ G _ _ _ E G I A C E _ _

- Ans
- 1. CGIEACIG
 - 2. CGE IACGI
 - 3. C E G I A C I G
 - 4. C G E I A I G C

Question ID : 264330142490
Status : Answered
Chosen Option : 2

Q.4 उस विकल्प का चयन कीजिए जो तीसरे शब्द से उसी प्रकार संबंधित है जिस प्रकार दूसरा शब्द पहले शब्द से संबंधित है।
(शब्दों को अर्थपूर्ण अंग्रेजी/हिन्दी शब्दों के रूप में माना जाना चाहिए और इन्हें शब्द में अक्षरों की संख्या/ व्यंजनों की संख्या/स्वरों की संख्या के आधार पर एक दूसरे से संबद्ध नहीं किया जाना चाहिए।)
पुत्र (Son) : पुत्री (Daughter) :: लोमड़ी (Fox) : ?

- Ans
- 1. डायन (Witch)
 - 2. बछेड़ी (Filly)
 - 3. हिरणी (Doe)
 - 4. विक्सन (Vixen)

Question ID : 264330142482
Status : Answered
Chosen Option : 4

Q.5 एक निश्चित कूट भाषा में, 'HAPPY' को 'SZKKB' और 'SOUND' को 'HLFMW' के रूप में लिखा जाता है। इसी कूट भाषा में 'SNORE' को किस प्रकार से लिखा जाएगा?

- Ans
- 1. HMLIV
 - 2. MHLIV
 - 3. HMLEV
 - 4. HMLUV

Question ID : 26433068635
Status : Not Answered
Chosen Option : --

Q.6 उस विकल्प का चयन करें जो दिए गए शब्दों के उस सही क्रम को दर्शाता है जिस क्रम में वे अंग्रेजी शब्दकोश में आते हैं।

1. Goodness
2. Gooseberry
3. Goodbye
4. Goodwill
5. Goodies

- Ans
- 1. 1, 2, 3, 4, 5
 - 2. 2, 4, 5, 1, 3
 - 3. 3, 5, 1, 4, 2
 - 4. 4, 1, 5, 2, 3

Question ID : 26433057884
Status : Answered
Chosen Option : 3

Q.7 एक निश्चित कूट भाषा में 'VIOLENT' को '104' के रूप में कूटबद्ध किया जाता है और 'UPDATED' को '78' के रूप में कूटबद्ध किया जाता है। उसी कूट भाषा में 'TOUCHED' को किस प्रकार कूटबद्ध किया जाएगा?

- Ans
- 1. 83
 - 2. 93
 - 3. 26
 - 4. 65

Question ID : 264330118650
Status : Answered
Chosen Option : 1

Q.8 दिए गए कथनों और निष्कर्षों को ध्यानपूर्वक पढ़िए। यह मानते हुए कि कथनों में दी गई जानकारी सत्य है, भले ही वह सामान्य रूप से ज्ञात तथ्यों से भिन्न प्रतीत होती हो, यह तय कीजिए कि दिए गए निष्कर्षों में से कौन-सा/से निष्कर्ष कथनों का तार्किक रूप से अनुसरण करता है/करते हैं।

कथन:

सभी डायनासोर विलुप्त हैं।
कोई भी बाघ विलुप्त नहीं है।
कुछ बाघ सर्वाहारी हैं।

निष्कर्ष:

- I. कुछ सर्वाहारी डायनासोर हैं।
- II. कोई भी बाघ डायनासोर नहीं है।
- III. कुछ बाघ डायनासोर हैं।

- Ans
- 1. केवल निष्कर्ष II और III अनुसरण करते हैं
 - 2. केवल निष्कर्ष I और III अनुसरण करते हैं
 - 3. केवल निष्कर्ष I और II अनुसरण करते हैं
 - 4. केवल निष्कर्ष II अनुसरण करता है

Question ID : 264330142510

Status : Answered

Chosen Option : 2

Q.9 उस विकल्प का चयन कीजिए जो तीसरे पद से उसी प्रकार संबंधित है जिस प्रकार दूसरा पद पहले पद से संबंधित है और छठा पद पाँचवें पद से संबंधित है।
22 : 52 :: 17 : ? :: 42 : 92

- Ans
- 1. 44
 - 2. 42
 - 3. 34
 - 4. 48

Question ID : 264330142400

Status : Answered

Chosen Option : 2

Q.10 'M+O' का अर्थ है कि 'M, O के पिता है'
'M-O' का अर्थ है कि 'M, O की माता है'
'M×O' का अर्थ है कि 'M, O का भाई है'
'M÷O' का अर्थ है कि 'M, O की बहन है'

'W+T+S' का क्या अर्थ है?

- Ans
- 1. W, S की बहन है
 - 2. W, S के पिता के पिता (दादा) है
 - 3. W, S का भाई है
 - 4. W, S के पिता है

Question ID : 264330142501

Status : Answered

Chosen Option : 2

Q.11 एक निश्चित कूट भाषा में, 'SUPER' को '61' और 'COLOR' को '77' के रूप में कूटबद्ध किया जाता है। उसी भाषा में 'CENTER' को किस प्रकार कूटबद्ध किया जाएगा?

- Ans
- 1. 98
 - 2. 103
 - 3. 88
 - 4. 65

Question ID : 264330142483
Status : Answered
Chosen Option : 1

Q.12 उस विकल्प का चयन करें जो तीसरे शब्द से उसी प्रकार संबंधित है जिस प्रकार दूसरा शब्द पहले शब्द से संबंधित है। (शब्दों को अर्थपूर्ण अंग्रेजी/हिन्दी शब्दों के रूप में माना जाना चाहिए और इन्हें शब्द में अक्षरों की संख्या/व्यंजनों की संख्या/स्वरों की संख्या के आधार पर एक दूसरे से संबद्ध नहीं किया जाना चाहिए।)

हंगामा : शांति :: उदासी : ?

- Ans
- 1. आनंद
 - 2. अंधकार
 - 3. छाया
 - 4. अस्पष्टता

Question ID : 264330142462
Status : Answered
Chosen Option : 1

Q.13 अक्षरों के उस संयोजन का चयन कीजिए जिसे दी गई श्रृंखला के रिक्त स्थानों में क्रमिक रूप से रखने पर श्रृंखला पूर्ण हो जाएगी।
BA, DC, _ E, H _ , JI, _ K

- Ans
- 1. GGL
 - 2. FGL
 - 3. GFL
 - 4. LGF

Question ID : 26433078820
Status : Answered
Chosen Option : 2

Q.14 उस सही विकल्प का चयन करें जो निम्नलिखित मानव शरीर अंगों का ऊपर से नीचे की ओर सही क्रम इंगित करता है।

1. कमर
2. गर्दन
3. पैर
4. छाती
5. आंखें

- Ans
- 1. 2, 1, 4, 5, 3
 - 2. 2, 5, 1, 4, 3
 - 3. 5, 2, 4, 1, 3
 - 4. 5, 4, 2, 1, 3

Question ID : 264330129473
Status : Answered
Chosen Option : 2

Q.15 एक निश्चित कूट भाषा में, 'PAWS' को '59' और 'CLAW' को '39' के रूप में लिखा जाता है। इसी कूट भाषा में 'TOES' को किस प्रकार से लिखा जाएगा?

Ans 1. 39

2. 59

3. 29

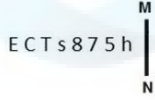
4. 69

Question ID : 26433068639

Status : Answered

Chosen Option : 3

Q.16 जब दर्पण को MN पर दिखाए गए अनुसार रखा गया है, तो दिए गए संयोजन के सही दर्पण प्रतिबिंब का चयन कीजिए।



Ans 1. ECTs875h

2. h578tEc

3. h578tEc

4. ECTs875h

Question ID : 264330142430

Status : Answered

Chosen Option : 1

Q.17 गणितीय चिह्नों के उस सही संयोजन का चयन कीजिए, जिसे क्रमिक रूप से * चिह्नों के स्थान पर रखने पर दिया गया समीकरण संतुलित हो जाएगा।

$$2 * 16 * 11 * 12 * 4 * 355$$

Ans 1. $\times, \times, +, +, =$

2. $-, \times, +, +, =$

3. $\times, -, +, +, =$

4. $\times, +, +, +, =$

Question ID : 26433097197

Status : Answered

Chosen Option : 1

Q.18 A + B' का अर्थ है, 'A, B का भाई है'
'A - B' का अर्थ है, 'A, B की माता है'
'A × B' का अर्थ है, 'A, B का पति है'
'A ÷ B' का अर्थ है, 'A, B की बहन है'
'A @ B' का अर्थ है, 'A, B का पुत्र है'
यदि P - Q + R @ S + T है, तो P का T से क्या संबंध है?

Ans 1. पुत्र

2. देवर

3. भाभी

4. पति

Question ID : 264330122204

Status : Not Answered

Chosen Option : --

Q.19 एक निश्चित कूट भाषा में 'DISHRAG' को '132' के रूप में कूटबद्ध किया जाता है और 'ENVELOPE' को '188' के रूप में कूटबद्ध किया जाता है। उसी कूट भाषा में 'IMMINENT' को किस प्रकार कूटबद्ध किया जाएगा?

Ans 1. 194

2. 139

3. 107

4. 167

Question ID : 264330118645

Status : Answered

Chosen Option : 2

Q.20 गणितीय चिह्नों के उस सही संयोजन का चयन कीजिए, जिसे क्रमिक रूप से * चिह्नों के स्थान पर रखने पर दिया गया समीकरण संतुलित हो जाएगा।

$$11 * 4 * 12 * 14 * 7 * 530$$

Ans 1. ×, ×, +, +, =

2. +, ×, +, +, =

3. ×, -, +, +, =

4. -, ×, +, +, =

Question ID : 26433097195

Status : Answered

Chosen Option : 3

Q.21 उस विकल्प का चयन करें, जो पाँचवें अक्षर-समूह से उसी प्रकार संबंधित है, जिस प्रकार दूसरा अक्षर-समूह पहले अक्षर-समूह से संबंधित है और चौथा अक्षर-समूह तीसरे अक्षर-समूह से संबंधित है।
GROUNDED : UORGDEDN :: SPECIALS : CEPSSLAI :: BOOKENDS : ?

Ans 1. KOOBSDNE

2. KOOBDSNE

3. KOBODSNE

4. KOBOSDNE

Question ID : 26433056184

Status : Answered

Chosen Option : 3

Q.22 यदि,

'B% D' का अर्थ है 'B, D की बहन है',

'B & D' का अर्थ है 'B, D का पिता है',

'B × D' का अर्थ है 'B, D का पति है',

'B # D' का अर्थ है 'B, D का भाई है',

'B \$ D' का अर्थ है 'B, D की पत्नी है',

'B @ D' का अर्थ है 'B, D की सास है',

तो दिए गए व्यंजक में A का K से क्या संबंध है?

A × B @ C \$ D # E & K

Ans 1. भाई

2. दादा

3. भाई/बहन

4. चाचा

Question ID : 264330142505

Status : Answered

Chosen Option : 2

Q.23 तीन कथन दिए गए हैं, जिसके बाद तीन निष्कर्ष I, II और III दिए गए हैं। कथनों को सत्य मानते हुए, भले ही वे सामान्य रूप से ज्ञात तथ्यों से भिन्न प्रतीत होते हों, निर्धारित करें कि कौन-सा/से निष्कर्ष कथनों का तार्किक रूप से अनुसरण करता है/करते हैं।

कथन:

कुछ पेज शब्द हैं।

सभी पेज किताबें हैं।

सभी शब्द रजिस्टर हैं।

निष्कर्ष:

I. कुछ किताबें रजिस्टर हैं।

II. कुछ किताबें शब्द हैं।

III. सभी पेज रजिस्टर हैं।

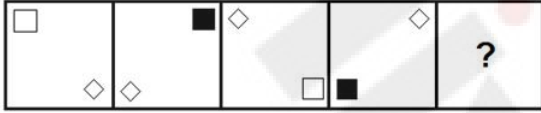
- Ans
- 1. सभी निष्कर्ष अनुसरण करते हैं।
 - 2. केवल निष्कर्ष I और III अनुसरण करते हैं।
 - 3. केवल निष्कर्ष I और II अनुसरण करते हैं।
 - 4. केवल निष्कर्ष II और III अनुसरण करते हैं।

Question ID : 26433095998

Status : Answered


Chosen Option : 1

Q.24 प्रस्तुत विकल्पों में से वह आकृति चुनिए, जो निम्नलिखित श्रृंखला में प्रश्न-चिह्न (?) को प्रतिस्थापित कर सके।

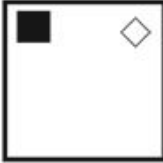


Ans

1.



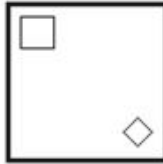
2.



3.



4.



Question ID : 26433055941

Status : Not Answered

Chosen Option : --

Q.25 उस विकल्प का चयन कीजिए जो उन अक्षरों का निरूपण करते हैं, जिन्हें नीचे दिए गए रिक्त स्थान में क्रमिक रूप से बाएं से दाएं रखे जाने पर अक्षर श्रृंखला पूर्ण हो जाए।
J_K_ON_LKM_N_L_MO_

- Ans
- 1. LMJOJKN
 - 2. LMOJJK
 - 3. LMJLMJO
 - 4. LMOKNKJ

Question ID : 26433069626
Status : Not Answered
Chosen Option : --

Section : General Awareness

Q.1 दिल्ली और पटना के बीच चलने वाली गर्म, शुष्क विषादग्रस्त हवाओं का नाम बताइए।

- Ans
- 1. काल बैसाखी
 - 2. आम्रवर्षा
 - 3. लू
 - 4. मंजरी वर्षा

Question ID : 264330141931
Status : Answered
Chosen Option : 2

Q.2 निम्नलिखित में से कौन सा पारंपरिक नृत्य मुख्य रूप से नवरात्रि के दौरान किया जाता है?

- Ans
- 1. दुम्हल
 - 2. रास लीला
 - 3. गरबा
 - 4. नाटी

Question ID : 264330141615
Status : Answered
Chosen Option : 3

Q.3 निम्नलिखित कथन किस पंचवर्षीय योजना में उद्धृत किया गया था?

"वर्तमान परिस्थितियों में आर्थिक और सामाजिक परिवर्तन की अंतः प्रेरणा का उदय तो निर्धनता और आय, संपत्ति तथा अवसरों की असमानताओं से होता है"।

- Ans
- 1. दूसरी पंचवर्षीय योजना
 - 2. चौथी पंचवर्षीय योजना
 - 3. पहली पंचवर्षीय योजना
 - 4. तीसरी पंचवर्षीय योजना

Question ID : 264330109877
Status : Answered
Chosen Option : 1

Q.4 अंतरराष्ट्रीय क्रिकेट में डकवर्थ-लुईस फॉर्मूला पहली बार कब इस्तेमाल किया गया था?

- Ans
- 1. 1 जनवरी 1996
 - 2. 1 जनवरी 1997
 - 3. 1 जनवरी 1999
 - 4. 1 जनवरी 1998

Question ID : 26433059368
Status : Answered
Chosen Option : 2

Q.5 मौर्यों द्वारा नागार्जुनी गुफाएं निम्नलिखित में से किस संप्रदाय को दान की गई थीं?

- Ans 1. जैन
 2. आजीविका
 3. लोकायत
 4. बौद्ध

Question ID : 264330110200
Status : Answered
Chosen Option : 2

Q.6 भारत के निर्वाचन आयोग की स्थापना _____ में हुई थी।

- Ans 1. 1950
 2. 1953
 3. 1952
 4. 1951

Question ID : 264330110807
Status : Answered
Chosen Option : 4

Q.7 भजन सोपौरी का नाम किस वाद्य-यंत्र से संबंधित है?

- Ans 1. सरोद
 2. सितार
 3. सुरबहार
 4. संतूर

Question ID : 264330141607
Status : Answered
Chosen Option : 2

Q.8 भारत में बेरोजगारी दर की गणना करने की विधि को निम्नलिखित में से कौन-सा सही ढंग से परिभाषित करता है?

- Ans 1. जनसंख्या में नियोजित व्यक्तियों का प्रतिशत
 2. श्रम बल में व्यक्तियों के बीच बेरोजगार व्यक्तियों का प्रतिशत
 3. कुल जनसंख्या में बेरोजगार व्यक्तियों का प्रतिशत
 4. श्रम बल में व्यक्तियों का प्रतिशत

Question ID : 264330109518
Status : Answered
Chosen Option : 3

Q.9 1976 के 42वें संशोधन अधिनियम द्वारा भारतीय संविधान में कितने निर्देशक तत्व जोड़े या संशोधित किए गए?

- Ans 1. पांच
 2. चार
 3. दो
 4. तीन

Question ID : 264330113403
Status : Answered
Chosen Option : 2

Q.10 प्रसिद्ध नृत्यांगना यामिनी कृष्णमूर्ति ने वर्ष 1990 में _____ में यामिनी स्कूल ऑफ़ डांस खोला।

- Ans
- 1. चेन्नई
 - 2. मुम्बई
 - 3. हैदराबाद
 - 4. दिल्ली

Question ID : 264330110265
Status : Answered
Chosen Option : 1

Q.11 निम्नलिखित में से किस विकल्प के खाद्य पदार्थों का उपयोग प्राकृतिक खाद्य परिरक्षकों के रूप में किया जा सकता है?

- Ans
- 1. अदरक, लहसुन, केला और इमली
 - 2. सिरका, अदरक, सेब और केला
 - 3. लहसुन, सेब, नमक और इमली
 - 4. लहसुन, नींबू, चीनी और सिरका

Question ID : 26433054933
Status : Answered
Chosen Option : 1

Q.12 मार्च 2022 में अपना 435वां टेस्ट विकेट लेकर अनिल कुंबले के बाद टेस्ट में भारत का दूसरा सबसे ज्यादा विकेट लेने वाला गेंदबाज कौन बना?

- Ans
- 1. इशांत शर्मा
 - 2. मोहम्मद शमी
 - 3. युजवेंद्र चहल
 - 4. रविचंद्रन अश्विन

Question ID : 264330122349
Status : Answered
Chosen Option : 3

Q.13 हिंदुस्तान पेट्रोलियम कॉर्पोरेशन लिमिटेड की विशाखापत्तनम-स्थित तेल रिफाइनरी की क्षमता कितनी है?

- Ans
- 1. 8.3 मिलियन मीट्रिक टन प्रति वर्ष
 - 2. 5.5 मिलियन मीट्रिक टन प्रति वर्ष
 - 3. 9.69 मिलियन मीट्रिक टन प्रति वर्ष
 - 4. 6.5 मिलियन मीट्रिक टन प्रति वर्ष

Question ID : 26433089208
Status : Answered
Chosen Option : 2

Q.14 कौन-सा पत्थर लोहे जैसी सभी आधार धातुओं को सोने में बदल सकता है?

- Ans
- 1. पारस पत्थर
 - 2. जेड
 - 3. तांबा पत्थर
 - 4. पन्ना

Question ID : 26433064766
Status : Answered
Chosen Option : 4

Q.15 निम्नलिखित में से किस शासक को दिल्ली में पुराना किला के निर्माण का श्रेय दिया जाता है?

- Ans
- 1. कुतुबुद्दीन और इल्तुतमिश
 - 2. बाबर और अकबर
 - 3. हुमायूँ और शेरशाह
 - 4. शाहजहाँ और जहाँगीर

Question ID : 264330130883
Status : Answered
Chosen Option : 1

Q.16 +2.5 डायोप्टर क्षमता वाले उत्तल लेंस की फोकस दूरी क्या होगी?

- Ans
- 1. 20 cm
 - 2. 5 cm
 - 3. 40 cm
 - 4. 10 cm

Question ID : 264330109883
Status : Answered
Chosen Option : 1

Q.17 निम्नलिखित में से किसने 1930 में दलित वर्ग संघ की स्थापना की थी?

- Ans
- 1. जयप्रकाश नारायण
 - 2. महात्मा गांधी
 - 3. स्वामी सहजानंद सरस्वती
 - 4. डॉ. बी. आर. अम्बेडकर

Question ID : 264330106581
Status : Answered
Chosen Option : 1

Q.18 निम्नलिखित में से कौन-सा उपन्यास सलमान रश्दी ने लिखा है?

- Ans
- 1. ए बैंड इन द रिवर
 - 2. द सैटेनिक वर्सेज
 - 3. इन ए फ्री स्टेट
 - 4. एन एरिया ऑफ डार्कनेस

Question ID : 26433054256
Status : Answered
Chosen Option : 1

Q.19 पूर्व मध्य काल में, _____ पर नियंत्रण पाने के लिए एक प्रसिद्ध त्रिपक्षीय युद्ध लड़ा गया था।

- Ans
- 1. पाटलिपुत्र
 - 2. मान्यखेत
 - 3. कन्नौज
 - 4. मुद्गिरी

Question ID : 26433085232
Status : Answered
Chosen Option : 4

Q.20 ग्रेगोरियन कैलेंडर के अनुसार वसंत ऋतु किस महीने में आती है?

- Ans
- 1. जुलाई-अगस्त
 - 2. मई-जून
 - 3. मार्च-अप्रैल
 - 4. जनवरी-फरवरी

Question ID : 264330110646
Status : Answered
Chosen Option : 4

Q.21 संविधान (एक सौ सत्ताईसवां संशोधन) विधेयक, 2021, अगस्त 2021 में _____ द्वारा लोकसभा में पेश किया गया था।

- Ans
- 1. ग्रामीण विकास मंत्री
 - 2. अल्पसंख्यक मामलों के मंत्री
 - 3. सामाजिक न्याय एवं अधिकारिता मंत्री
 - 4. जनजातीय मामलों के मंत्री

Question ID : 26433090631
Status : Answered
Chosen Option : 2

Q.22 प्रो कबड्डी लीग सीजन 8 का डिफेंडर ऑफ द सीजन अवार्ड किस कबड्डी खिलाड़ी को मिला?

- Ans
- 1. मोहित गोयत
 - 2. नवीन कुमार
 - 3. मोहम्मदरेज़ा चियानेह शादलोई
 - 4. प्रदीप नरवाल

Question ID : 26433061861
Status : Answered
Chosen Option : 1

Q.23 निम्नलिखित में से कौन-सा भारत में एक संवैधानिक निकाय नहीं है?

- Ans
- 1. राज्य लोक सेवा आयोग
 - 2. भारतीय संघ लोक सेवा आयोग
 - 3. राज्य मानवाधिकार आयोग
 - 4. भारतीय निर्वाचन आयोग

Question ID : 264330120509
Status : Answered
Chosen Option : 1

Q.24 निम्नलिखित में से किसने अपनी पुस्तक 'द पैराडाइज ऑफ फूड' के लिए साहित्य में जेसीबी पुरस्कार 2022 जीता है?

- Ans
- 1. खालिद जावेद
 - 2. ए.एस. पन्नीरसेल्वन
 - 3. रामचंद्र गुहा
 - 4. अमिताभ बागची

Question ID : 264330132596
Status : Answered
Chosen Option : 2

Q.25 मुसलमानों द्वारा मनाया जाने वाला कौन-सा त्यौहार बारावफ़ात के नाम से भी जाना जाता है?

- Ans
- 1. ईद-उल-जुहा
 - 2. शब-ए-बारात
 - 3. मुहर्रम
 - 4. मिलाद-उन-नबी

Question ID : 26433054262
Status : Answered
Chosen Option : 2

Section : Quantitative Aptitude

Q.1 संख्या 7@5471 को 9 से पूरी तरह विभाजित करने के लिए '@' का न्यूनतम मान ज्ञात कीजिए।

- Ans
- 1. 4
 - 2. 6
 - 3. 1
 - 4. 3

Question ID : 264330129982
Status : Answered
Chosen Option : 3

Q.2 * का न्यूनतम मान क्या है ताकि संख्या 457643*4, 18 से विभाज्य हो?

- Ans
- 1. 9
 - 2. 3
 - 3. 4
 - 4. 5

Question ID : 26433092167
Status : Answered
Chosen Option : 1

Q.3 एक डीलर चावल को 15% के लाभ पर बेचता है और वास्तविक वजन से 15% कम वजन का उपयोग करता है। उसका लाभ प्रतिशत ज्ञात कीजिए।

- Ans
- 1. 35.3%
 - 2. 53.3%
 - 3. 37.5%
 - 4. 26%

Question ID : 26433092143
Status : Answered
Chosen Option : 1

Q.4 एक त्रिभुज PQR में, यदि QR = 3 cm, PR = 5 cm और $\sin P = \frac{3}{5}$ है, तो $\angle Q$ निम्न में से किसके बराबर है?

- Ans
- 1. $\frac{\pi}{6}$
 - 2. $\frac{\pi}{3}$
 - 3. $\frac{\pi}{2}$
 - 4. $\frac{\pi}{4}$

Question ID : 26433058419
Status : Not Answered
Chosen Option : --

Q.5 ग्राफ का ध्यानपूर्वक अध्ययन करें।



Wheat imports (in thousand tonnes) = गेहूँ का आयात (हजार टन में)

अपने पूर्ववर्ती वर्ष की तुलना में किस वर्ष आयात में सबसे अधिक वृद्धि दर्ज की गई?

- Ans
- 1. 1972
 - 2. 1974
 - 3. 1975
 - 4. 1973

Question ID : 26433096367
Status : Answered
Chosen Option : 2

Q.6 एक निश्चित दूरी का दो-तिहाई भाग 15 km/h की चाल से, एक-पाँचवाँ भाग 25 km/h की चाल से और शेष भाग 50 km/h की चाल से तय किया जाता है। पूरी यात्रा के लिए औसत चाल (km/h में) ज्ञात करें (दशमलव के बाद दो स्थानों तक पूर्णांकित करें)।

- Ans
- 1. 25.25
 - 2. 20.25
 - 3. 22.65
 - 4. 18.15

Question ID : 264330126505
Status : Answered
Chosen Option : 3

Q.7 यदि $x = 14$, $y = 15$ और $z = 17$ है, तो $x^3 + y^3 + z^3 - 3xyz$ का मान ज्ञात कीजिए।

- Ans 1. 322
 2. 333
 3. 222
 4. 312

Question ID : 264330141412
Status : Answered
Chosen Option : 1

Q.8 माया एक कार्य का $\frac{7}{10}$ भाग 15 दिनों में पूरा करती है और फिर शेष कार्य को सुरेश की सहायता से 4 दिनों में पूरा करती है। माया और सुरेश पूरे कार्य को कितने दिनों में पूरा कर सकते हैं?

- Ans 1. $\frac{32}{3}$
 2. $\frac{40}{3}$
 3. $\frac{35}{3}$
 4. $\frac{38}{3}$

Question ID : 26433096378
Status : Not Answered
Chosen Option : --

Q.9 एक वस्तु का अंकित मूल्य ₹y प्रति kg दिया गया। क्रमशः 8% और 12.5% की दो क्रमिक छूटों के बाद, खुदरा विक्रेता ने इसे ₹3,059 प्रति kg में खरीदा। y का मान क्या था?

- Ans 1. 3750
 2. 3800
 3. 3900
 4. 3840

Question ID : 264330103265
Status : Not Answered
Chosen Option : --

Q.10 एक पुलिसकर्मी, चोर का पीछा करता है, जो उससे 1 km आगे है। चोर और पुलिसकर्मी क्रमशः 8 km/h और 10.5 km/h की चाल से दौड़ते हैं। पुलिसकर्मी द्वारा पकड़े जाने से पहले चोर कितनी दूरी (km में) तय करता है?

- Ans 1. 2.5
 2. 4.4
 3. 3.6
 4. 3.2

Question ID : 26433063238
Status : Not Answered
Chosen Option : --

Q.11 यदि $x : y = 2 : 1$ है, तो $(2x + 3y) : (4x + 7y)$ का मान ज्ञात कीजिए।

- Ans
- 1. 3 : 15
 - 2. 3 : 5
 - 3. 7 : 5
 - 4. 7 : 15

Question ID : 264330141380
Status : Not Answered
Chosen Option : --

Q.12 एक दुकानदार अपने माल का अंकित मूल्य, क्रय मूल्य से 50% अधिक रखता है। यदि वह अंकित मूल्य पर 5%, 10% और 20% की क्रमिक छूट देता है, तो उसका लाभ प्रतिशत क्या है?

- Ans
- 1. $1\frac{2}{5}\%$
 - 2. $1\frac{3}{5}\%$
 - 3. $2\frac{1}{5}\%$
 - 4. $2\frac{3}{5}\%$

Question ID : 264330126184
Status : Not Answered
Chosen Option : --

Q.13 q के किस मान के लिए समीकरण-निकाय $38x + qy + 171 = 0$ और $46x + 414y + 207 = 0$ के अनंत हल होंगे?

- Ans
- 1. 345
 - 2. 342
 - 3. 350
 - 4. 380

Question ID : 264330126547
Status : Not Answered
Chosen Option : --

Q.14 10 पुरुष एक कार्य को 12 दिन में, और 10 महिलाएँ उसी कार्य को 6 दिन में पूरा कर सकती हैं। यदि वे एक साथ कार्य करते हों, तो कार्य को पूरा करने में कितने दिन लगेंगे?

- Ans
- 1. 6 दिन
 - 2. 4 दिन
 - 3. 9 दिन
 - 4. 12 दिन

Question ID : 26433091941
Status : Not Answered
Chosen Option : --

Q.15 ₹ 8,000 के लिए 5% वार्षिक ब्याज दर पर $3\frac{1}{2}$ वर्षों का साधारण ब्याज कितना है?

- Ans
- 1. Rs.1,200
 - 2. Rs.1,250
 - 3. Rs.1,350
 - 4. Rs.1,400

Question ID : 26433073088

Status : Not Answered

Chosen Option : --

Q.16 एक व्यापारी नीचे उल्लिखित दो योजनाओं में से किसी एक के तहत वस्तु बेचने की पेशकश करता है:
योजना 1: व्यापारी प्रत्येक इकाई की बिक्री पर 20% और 12.5% की दो क्रमिक छूट प्रदान करने की पेशकश करता है।
योजना 2: व्यापारी खरीदार को 'y इकाइयों के लिए भुगतान करें, z इकाइयों को मुफ्त में प्राप्त करें' के विकल्प की पेशकश करता है।
खरीदार को यह पता चलता है कि अगर उसे (y + z) इकाई खरीदने की जरूरत है, तो इससे कोई फर्क नहीं पड़ता कि वह दोनों में से कौन-सी योजना चुनता है।
निम्नलिखित में से कौन-सा विकल्प (y, z) का सही क्रमित युग्म देता है?

- Ans
- 1. (10, 7)
 - 2. (7, 10)
 - 3. (7, 3)
 - 4. (3, 7)

Question ID : 264330103266

Status : Not Answered

Chosen Option : --

Q.17 यदि $\tan 15\theta = \cot 15\theta$ ($0^\circ < \theta < 10^\circ$) है, तो θ का मान _____ है।

- Ans
- 1. 9°
 - 2. 3°
 - 3. 6°
 - 4. 1°

Question ID : 264330141583

Status : Not Answered

Chosen Option : --

Q.18 निम्नलिखित तालिका वर्षों में एक कंपनी द्वारा निर्मित कारों की बिक्री दर्शाती है। तालिका में दिए गए डेटा के आधार पर निम्नलिखित प्रश्न का उत्तर दें। बेची गई विभिन्न प्रकार की कारों की संख्या (हजार में)

वर्ष	प्रकार			
	A	B	C	D
2018	70	80	90	85
2019	50	55	70	75
2020	21	43	78	80
2021	22	40	76	85

सभी चार वर्षों की औसत बिक्री, किस प्रकार की कार के लिए न्यूनतम है?

- Ans
- 1. C
 - 2. B
 - 3. D
 - 4. A

Question ID : 264330130411
Status : Not Answered
Chosen Option : --

Q.19 निम्नलिखित संख्याओं का चौथा अनुपात ज्ञात कीजिए।

$\frac{1}{3}$ of 6, $\frac{4}{5}$ of 15, $\frac{3}{7}$ of 21.

- Ans
- 1. 54
 - 2. 56
 - 3. 50
 - 4. 52

Question ID : 26433093249
Status : Not Answered
Chosen Option : --

Q.20 रमन 18 kg चावल ₹35 प्रति kg और 30 kg चावल ₹39 प्रति kg की दर से खरीदता है। कुल चावल का औसत मूल्य (₹ में) प्रति kg ज्ञात कीजिए।

- Ans
- 1. 37.5
 - 2. 39
 - 3. 38.5
 - 4. 38

Question ID : 264330102321
Status : Not Answered
Chosen Option : --

Q.21 21 cm व्यास वाले एक अर्धगोले का आयतन (cm^3 में) कितना होगा?
($\pi = \frac{22}{7}$ लें)

- Ans
- 1. 1925.5
 - 2. 2255.5
 - 3. 2625.5
 - 4. 2425.5

Question ID : 264330103346
Status : Not Answered
Chosen Option : --

Q.22 $\triangle ABC \approx \triangle LMN$ है और उनके परिमाण क्रमशः 72 cm और 48 cm हैं। यदि $LM = 8$ cm है, तो AB की लंबाई (cm में) ज्ञात करें।

- Ans
- 1. 12
 - 2. 10
 - 3. 8
 - 4. 14

Question ID : 264330126613
Status : Not Answered
Chosen Option : --

Q.23 एक कक्षा में मॉक टेस्ट किया गया। सभी टेस्ट देने वाले छात्रों के अंक निम्नलिखित हैं। उस विषय का औसत अंक क्या है जिसमें सभी छात्रों के औसत अंक सबसे अधिक है?

नाम	अंग्रेजी	हिन्दी	विज्ञान	ललित कला	इतिहास
अर्जुन	115	119	132	140	138
कपिल	118	128	134	135	133
सीमा	130	112	111	118	108

- Ans
- 1. 133.33
 - 2. 129.33
 - 3. 126
 - 4. 131

Question ID : 264330131409
Status : Not Answered
Chosen Option : --

Q.24 एक संग्रहालय में प्रवेश शुल्क में 25% की कमी करने पर, संग्रहालय में आने वाले लोगों की संख्या में 50% की वृद्धि हुई। प्रवेश शुल्क संग्रहण में प्रतिशत वृद्धि या कमी की गणना करें।

- Ans
- 1. 10% वृद्धि
 - 2. 12.5% कमी
 - 3. 12.5% वृद्धि
 - 4. 10% कमी

Question ID : 26433081552
Status : Not Answered
Chosen Option : --

Q.25 धारा की दिशा में जा रही एक नौका की चाल 48 km/h है, जबकि धारा के विपरीत जाने में उसकी चाल 32 km/h है। स्थिर जल में नौका की चाल क्या है?

- Ans
- 1. 80 km/h
 - 2. 40 km/h
 - 3. 30 km/h
 - 4. 20 km/h

Question ID : 264330141222
Status : Not Answered
Chosen Option : --

Section : English Language

Q.1 Select the option that expresses the given sentence in indirect speech.
She asked, "Where do you live?"

- Ans
- 1. She asked me where I had been living.
 - 2. She asked me where I lived.
 - 3. She asked me where I had lived.
 - 4. She told me where I lived.

Question ID : 264330133426
Status : Answered
Chosen Option : 1

Q.2 Select the option that expresses the given sentence in reported speech.
I said, "They never help anybody".

- Ans
- 1. I said them never helped anybody.
 - 2. I said they never help anybody.
 - 3. I said nobody helped them.
 - 4. I said that they never helped anybody.

Question ID : 264330120581
Status : Answered
Chosen Option : 3

Q.3 Select the most appropriate option that can substitute the underlined segment in the given sentence.

The policemen thoroughly examined the room where the theft had happened.

- Ans
- 1. restricted
 - 2. inspected
 - 3. groped
 - 4. scrambled

Question ID : 26433089346
Status : Answered
Chosen Option : 2

Q.4 Select the most appropriate option to fill in the blank.

One is sure _____ what one sees.

- Ans
- 1. around
 - 2. with
 - 3. about
 - 4. without

Question ID : 26433093481
Status : Answered
Chosen Option : 1

Q.5 Select the most appropriate meaning of the given idiom.

Pull yourself together

- Ans
- 1. Work overtime
 - 2. Fight violently
 - 3. Help the needy
 - 4. Calm down

Question ID : 26433089347
Status : Answered
Chosen Option : 1

Q.6 Sentences of a paragraph are given below in jumbled order. Arrange the sentences in the correct order to form a meaningful and coherent paragraph.

- A.I was taking a stroll along the beach, when I came across a heap of plastic waste.
- B.Realising the importance of removing the waste, I joined them
- C.Some children came to clean the beach, seeing the dumped waste.
- D.The adjacent industry had dumped the waste, which was floating, into the water, therefore polluting the sea water.

- Ans
- 1. DCAB
 - 2. BADC
 - 3. ADCB
 - 4. ADBC

Question ID : 26433072377
Status : Answered
Chosen Option : 1

Q.7 Select the most appropriate ANTONYM of the underlined word.

Her collection consists of rare stamps.

- Ans
- 1. Common
 - 2. Disposed
 - 3. Unique
 - 4. Essential

Question ID : 26433073444
Status : Answered
Chosen Option : 1

Q.8 The following sentence has been split into four segments. Identify the segment that contains a grammatical error.
He is as concerned as me / regarding / the renewed / examination schedule.

- Ans
- 1. the renewed
 - 2. examination schedule
 - 3. regarding
 - 4. He is as concerned as me

Question ID : 264330142377
Status : Answered
Chosen Option : 1

Q.9 Select the INCORRECTLY spelt word.

- Ans
- 1. Whether
 - 2. Zodiac
 - 3. Communiqe
 - 4. Inflammatory

Question ID : 26433088407
Status : Answered
Chosen Option : 1

Q.10 Select the most appropriate option that can substitute the words in the brackets in the given sentence.

Ten years have passed since my father (is dead).

- Ans
- 1. died
 - 2. had died
 - 3. was dead
 - 4. had been dead

Question ID : 26433061028
Status : Answered
Chosen Option : 4

Q.11 Select the most appropriate option that can substitute the underlined segment in the given sentence.

The old man now cherishes only broken memories.

- Ans
- 1. fragmented
 - 2. rectified
 - 3. compact
 - 4. unified

Question ID : 26433089345
Status : Answered
Chosen Option : 2

Q.12 Select the option that expresses the given sentence in active voice.

Ice-cream is liked by her.

- Ans
- 1. She loves ice-cream.
 - 2. She likes ice-cream.
 - 3. She like ice-cream.
 - 4. She like to eat ice-cream.

Question ID : 26433088475
Status : Answered
Chosen Option : 3

Q.13 Select the option that can be used as a one-word substitute for the given group of words.

A building containing interesting, rare, and old objects

- Ans
- 1. Museum
 - 2. Auditorium
 - 3. Stockroom
 - 4. Mansion

Question ID : 26433073905
Status : Answered
Chosen Option : 3

Q.14 Select the INCORRECTLY spelt word.

- Ans
- 1. Unnatural
 - 2. Vengeance
 - 3. Vaccant
 - 4. Unconscious

Question ID : 26433088408
Status : Answered
Chosen Option : 2

Q.15 Select the most appropriate ANTONYM of the given word.
Humble

- Ans
- 1. Compliant
 - 2. Meek
 - 3. Pompous
 - 4. Brilliant

Question ID : 264330135892
Status : Answered
Chosen Option : 2

Comprehension:

In the following passage, some words have been deleted. Read the passage carefully and select the most appropriate option to fill in each blank.

A healthy diet is (1) _____ in fibre, whole grains, fresh fruits and vegetables, "good" or unsaturated fats, and omega-3 fatty acids. These dietary components turn down inflammation, which can (2) _____ tissue, joints, artery walls and organs. Going easy on processed foods is another (3) _____ of healthy eating. Sweets, foods made with highly refined grains, and sugar-sweetened beverages can (4) _____ spikes in blood sugar that can lead to early hunger. High blood sugar is (5) _____ the development of diabetes, obesity, heart disease and even dementia.

SubQuestion No : 16

Q.16 Select the most appropriate option to fill in blank number 1.

- Ans
- 1. prosperous
 - 2. easy
 - 3. wealthy
 - 4. rich

Question ID : 26433098983
Status : Answered
Chosen Option : 2

Comprehension:

In the following passage, some words have been deleted. Read the passage carefully and select the most appropriate option to fill in each blank.

A healthy diet is (1) _____ in fibre, whole grains, fresh fruits and vegetables, "good" or unsaturated fats, and omega-3 fatty acids. These dietary components turn down inflammation, which can (2) _____ tissue, joints, artery walls and organs. Going easy on processed foods is another (3) _____ of healthy eating. Sweets, foods made with highly refined grains, and sugar-sweetened beverages can (4) _____ spikes in blood sugar that can lead to early hunger. High blood sugar is (5) _____ the development of diabetes, obesity, heart disease and even dementia.

SubQuestion No : 17

Q.17 Select the most appropriate option to fill in blank number 2.

- Ans
- 1. damage
 - 2. casualty
 - 3. revive
 - 4. resuscitate

Question ID : 26433098984
Status : Answered
Chosen Option : 2

Comprehension:

In the following passage, some words have been deleted. Read the passage carefully and select the most appropriate option to fill in each blank.

A healthy diet is (1) _____ in fibre, whole grains, fresh fruits and vegetables, "good" or unsaturated fats, and omega-3 fatty acids. These dietary components turn down inflammation, which can (2) _____ tissue, joints, artery walls and organs. Going easy on processed foods is another (3) _____ of healthy eating. Sweets, foods made with highly refined grains, and sugar-sweetened beverages can (4) _____ spikes in blood sugar that can lead to early hunger. High blood sugar is (5) _____ the development of diabetes, obesity, heart disease and even dementia.

SubQuestion No : 18

Q.18 Select the most appropriate option to fill in blank number 3.

- Ans
- 1. compartment
 - 2. ground
 - 3. element
 - 4. cause

Question ID : 26433098985
Status : Answered
Chosen Option : 3

Comprehension:

In the following passage, some words have been deleted. Read the passage carefully and select the most appropriate option to fill in each blank.

A healthy diet is (1) _____ in fibre, whole grains, fresh fruits and vegetables, "good" or unsaturated fats, and omega-3 fatty acids. These dietary components turn down inflammation, which can (2) _____ tissue, joints, artery walls and organs. Going easy on processed foods is another (3) _____ of healthy eating. Sweets, foods made with highly refined grains, and sugar-sweetened beverages can (4) _____ spikes in blood sugar that can lead to early hunger. High blood sugar is (5) _____ the development of diabetes, obesity, heart disease and even dementia.

SubQuestion No : 19

Q.19 Select the most appropriate option to fill in blank number 4.

- Ans 1. provision
 2. cause
 3. amend
 4. reason

Question ID : 26433098986

Status : Answered

Chosen Option : 4

Comprehension:

In the following passage, some words have been deleted. Read the passage carefully and select the most appropriate option to fill in each blank.

A healthy diet is (1) _____ in fibre, whole grains, fresh fruits and vegetables, "good" or unsaturated fats, and omega-3 fatty acids. These dietary components turn down inflammation, which can (2) _____ tissue, joints, artery walls and organs. Going easy on processed foods is another (3) _____ of healthy eating. Sweets, foods made with highly refined grains, and sugar-sweetened beverages can (4) _____ spikes in blood sugar that can lead to early hunger. High blood sugar is (5) _____ the development of diabetes, obesity, heart disease and even dementia.

SubQuestion No : 20

Q.20 Select the most appropriate option to fill in blank number 5.

- Ans 1. made of
 2. linked to
 3. affiliated to
 4. source of

Question ID : 26433098987

Status : Answered

Chosen Option : 4

Comprehension:

Read the given passage and answer the questions that follow.

Like we pollute the earth, we pollute the water; we also pollute the subtle environment through our negative feelings and emotions. We have become a victim of our environment.

We are not in control of our mind. How to handle our mind? How to be in the present moment? How to be happy and grateful? This we have not learnt. This is the most unfortunate thing.

Then what is the solution? This is where we miss a very fundamental principle that governs our environment, our mind, our emotions and our life in general.

Our body has the capacity to sustain much longer, the vibration of bliss and peace than it does negative emotions because positivity is in the centre of our existence. Just like in the structure of atom, protons and neutrons are in the centre of the atom and electrons are only the periphery, same is with our lives; the centre core of our existence is bliss, positivity and joy but it is surrounded by a cloud of negative ions. Through the help of the breath we can easily get over our negative emotions in a short period of time.

This life has so much to offer to you. You can see this once you take some time off, rejuvenating the soul. Your soul is hungry for a smile from you.

Everyone wants to be successful in life. But without knowing what is success, you want to be successful. What is the sign of success? Because money gives you freedom so that you can do whatever you want. You may have a big bank balance, but, you have stomach aches, ulcers, you may have to go for the bypass surgery; can't eat this, can't do this, can't do that.

Look at all those who claim to be successful-are they successful? No, they are miserable.

Then, what is sign of success? It is confidence, compassion, generosity and a smile that none can snatch away, being really happy and being able to be more free. These are the signs of a successful person.

Take some time off to look a little deep into yourself and calm the mind down. Thus, erasing all the impressions that we are carrying in our minds and experience the presence, the divine that is very core of our existence.

SubQuestion No : 21

Q.21 Select the option that is NOT true, according to the passage.

Ans ✓ 1. Human beings are in control of their mind.

✗ 2. Life has so much to offer.

✗ 3. One should take out time to look deep into oneself.

✗ 4. Money gives freedom to do whatever we want to do.

Question ID : 264330121866

Status : Answered

Chosen Option : 4

Comprehension:

Read the given passage and answer the questions that follow.

Like we pollute the earth, we pollute the water; we also pollute the subtle environment through our negative feelings and emotions. We have become a victim of our environment.

We are not in control of our mind. How to handle our mind? How to be in the present moment? How to be happy and grateful? This we have not learnt. This is the most unfortunate thing. Then what is the solution? This is where we miss a very fundamental principle that governs our environment, our mind, our emotions and our life in general.

Our body has the capacity to sustain much longer, the vibration of bliss and peace than it does negative emotions because positivity is in the centre of our existence. Just like in the structure of atom, protons and neutrons are in the centre of the atom and electrons are only the periphery, same is with our lives; the centre core of our existence is bliss, positivity and joy but it is surrounded by a cloud of negative ions. Through the help of the breath we can easily get over our negative emotions in a short period of time.

This life has so much to offer to you. You can see this once you take some time off, rejuvenating the soul. Your soul is hungry for a smile from you.

Everyone wants to be successful in life. But without knowing what is success, you want to be successful. What is the sign of success? Because money gives you freedom so that you can do whatever you want. You may have a big bank balance, but, you have stomach aches, ulcers, you may have to go for the bypass surgery; can't eat this, can't do this, can't do that.

Look at all those who claim to be successful-are they successful? No, they are miserable.

Then, what is sign of success? It is confidence, compassion, generosity and a smile that none can snatch away, being really happy and being able to be more free. These are the signs of a successful person.

Take some time off to look a little deep into yourself and calm the mind down. Thus, erasing all the impressions that we are carrying in our minds and experience the presence, the divine that is very core of our existence.

SubQuestion No : 22

Q.22 Select the most appropriate option that depicts the central theme of the passage.

- Ans**
- 1. Man has polluted life and environment both.
 - 2. Being happy and content are the keys to a successful life.
 - 3. God is the supreme power.
 - 4. Positive and negative emotions are a part of life.

Question ID : 264330121863

Status : Not Answered

Chosen Option : --

Comprehension:

Read the given passage and answer the questions that follow.

Like we pollute the earth, we pollute the water; we also pollute the subtle environment through our negative feelings and emotions. We have become a victim of our environment.

We are not in control of our mind. How to handle our mind? How to be in the present moment? How to be happy and grateful? This we have not learnt. This is the most

unfortunate thing. Then what is the solution? This is where we miss a very fundamental principle that governs our environment, our mind, our emotions and our life in general.

Our body has the capacity to sustain much longer, the vibration of bliss and peace than it does negative emotions because positivity is in the centre of our existence. Just like in the structure of atom, protons and neutrons are in the centre of the atom and electrons are only the periphery, same is with our lives; the centre core of our existence is bliss, positivity and joy but it is surrounded by a cloud of negative ions. Through the help of the breath we can easily get over our negative emotions in a short period of time.

This life has so much to offer to you. You can see this once you take some time off, rejuvenating the soul. Your soul is hungry for a smile from you.

Everyone wants to be successful in life. But without knowing what is success, you want to be successful. What is the sign of success? Because money gives you freedom so that you can do whatever you want. You may have a big bank balance, but, you have stomach aches, ulcers, you may have to go for the bypass surgery; can't eat this, can't do this, can't do that.

Look at all those who claim to be successful-are they successful? No, they are miserable.

Then, what is sign of success? It is confidence, compassion, generosity and a smile that none can snatch away, being really happy and being able to be more free. These are the signs of a successful person.

Take some time off to look a little deep into yourself and calm the mind down. Thus, erasing all the impressions that we are carrying in our minds and experience the presence, the divine that is very core of our existence.

SubQuestion No : 23

Q.23 Select the most suitable title for the passage.

Ans ✓ 1. Core of Human Existence

✗ 2. How to be Successful?

✗ 3. Environment Pollution

✗ 4. Earth and Environment

Question ID : 264330121862

Status : Answered

Chosen Option : 3

Comprehension:

Read the given passage and answer the questions that follow.

Like we pollute the earth, we pollute the water; we also pollute the subtle environment through our negative feelings and emotions. We have become a victim of our environment.

We are not in control of our mind. How to handle our mind? How to be in the present moment? How to be happy and grateful? This we have not learnt. This is the most

unfortunate thing. Then what is the solution? This is where we miss a very fundamental principle that governs our environment, our mind, our emotions and our life in general.

Our body has the capacity to sustain much longer, the vibration of bliss and peace than it does negative emotions because positivity is in the centre of our existence. Just like in the structure of atom, protons and neutrons are in the centre of the atom and electrons are only the periphery, same is with our lives; the centre core of our existence is bliss, positivity and joy but it is surrounded by a cloud of negative ions. Through the help of the breath we can easily get over our negative emotions in a short period of time.

This life has so much to offer to you. You can see this once you take some time off, rejuvenating the soul. Your soul is hungry for a smile from you.

Everyone wants to be successful in life. But without knowing what is success, you want to be successful. What is the sign of success? Because money gives you freedom so that you can do whatever you want. You may have a big bank balance, but, you have stomach aches, ulcers, you may have to go for the bypass surgery; can't eat this, can't do this, can't do that.

Look at all those who claim to be successful-are they successful? No, they are miserable.

Then, what is sign of success? It is confidence, compassion, generosity and a smile that none can snatch away, being really happy and being able to be more free. These are the signs of a successful person.

Take some time off to look a little deep into yourself and calm the mind down. Thus, erasing all the impressions that we are carrying in our minds and experience the presence, the divine that is very core of our existence.

SubQuestion No : 24

Q.24 Select the most appropriate **ANTONYM** for 'Periphery'.

Ans 1. Clatter

2. Centre

3. Troops

4. Divine

Question ID : **264330121865**

Status : **Answered**

Chosen Option : **1**

Comprehension:

Read the given passage and answer the questions that follow.

Like we pollute the earth, we pollute the water; we also pollute the subtle environment through our negative feelings and emotions. We have become a victim of our environment.

We are not in control of our mind. How to handle our mind? How to be in the present moment? How to be happy and grateful? This we have not learnt. This is the most unfortunate thing.

Then what is the solution? This is where we miss a very fundamental principle that governs our environment, our mind, our emotions and our life in general.

Our body has the capacity to sustain much longer, the vibration of bliss and peace than it does negative emotions because positivity is in the centre of our existence. Just like in the structure of atom, protons and neutrons are in the centre of the atom and electrons are only the periphery, same is with our lives; the centre core of our existence is bliss, positivity and joy but it is surrounded by a cloud of negative ions. Through the help of the breath we can easily get over our negative emotions in a short period of time.

This life has so much to offer to you. You can see this once you take some time off, rejuvenating the soul. Your soul is hungry for a smile from you.

Everyone wants to be successful in life. But without knowing what is success, you want to be successful. What is the sign of success? Because money gives you freedom so that you can do whatever you want. You may have a big bank balance, but, you have stomach aches, ulcers, you may have to go for the bypass surgery; can't eat this, can't do this, can't do that.

Look at all those who claim to be successful-are they successful? No, they are miserable.

Then, what is sign of success? It is confidence, compassion, generosity and a smile that none can snatch away, being really happy and being able to be more free. These are the signs of a successful person.

Take some time off to look a little deep into yourself and calm the mind down. Thus, erasing all the impressions that we are carrying in our minds and experience the presence, the divine that is very core of our existence.

SubQuestion No : 25

Q.25 According to the passage, what is the human soul hungry for?

- Ans**
- 1. A smile
 - 2. Success
 - 3. More wealth
 - 4. A positive feeling

Question ID : 264330121864

Status : Answered

Chosen Option : 4