

## Phase-XI/2023/Selection Posts and Selection Posts/Ladakh/2023

Roll Number	
Candidate Name	
Venue Name	
Exam Date	30/06/2023
Exam Time	11:45 AM - 12:45 PM
Subject	Selection Post Higher Secondary Level

### Section : General Intelligence

Q.1 'A + B' का अर्थ है 'A, B का पुत्र है'।  
'A - B' का अर्थ है 'A, B की माता है'।  
'A × B' का अर्थ है 'A, B का पिता है'।  
'A ÷ B' का अर्थ है 'A, B की बहन है'।  
यदि  $J ÷ K × L + M - N$  है, तो निम्नलिखित में से कौन सा कथन सही नहीं है?

- Ans
- 1. J, L की माता है।
  - 2. K, N का पिता है।
  - 3. L, N का भाई है।
  - 4. K, M का पति है।

Question ID : 264330103771

Status : Answered

Chosen Option : 1

Q.2 उस विकल्प का चयन करें, जो तीसरे शब्द से उसी प्रकार संबंधित है, जिस प्रकार दूसरा शब्द, पहले शब्द से संबंधित है। (शब्दों को अर्थपूर्ण हिंदी शब्दों के रूप में माना जाना चाहिए और शब्दों को उनमें अक्षरों की संख्या / व्यंजनों की संख्या / स्वरों की संख्या के आधार पर एक दूसरे से संबंधित नहीं किया जाना चाहिए।)  
ऑमलेट : अंडा :: धातु : ?

- Ans
- 1. कुल्हाड़ी
  - 2. अयस्क
  - 3. रबड़क्षीर
  - 4. लकड़ी

Question ID : 26433056587

Status : Answered

Chosen Option : 2

Q.3 दी गई श्रेणी में प्रश्नवाचक चिह्न (?) के स्थान पर विकल्पों में से कौन सी संख्या आएगी?

287, 195, 286, 189, 284, 184, 281, 180, ?

- Ans
- 1. 197
  - 2. 265
  - 3. 277
  - 4. 177

Question ID : 264330142404

Status : Answered

Chosen Option : 3

Q.4 उस विकल्प का चयन करें जो पांचवें शब्द से उसी प्रकार संबंधित है जिस प्रकार दूसरा शब्द पहले शब्द से संबंधित है और चौथा शब्द तीसरे शब्द से संबंधित है। (शब्दों को अर्थपूर्ण अंग्रेजी/हिन्दी शब्दों के रूप में माना जाना चाहिए और इन्हें शब्द में अक्षरों की संख्या/व्यंजनों की संख्या/स्वरों की संख्या के आधार पर एक दूसरे से संबद्ध नहीं किया जाना चाहिए।)

APPOINT : APPOINTMENT :: ARRANGE : ARRANGEMENT :: ADJUST : ?

- Ans
- 1. ACKNOWLEDGEMENT
  - 2. ANNOUNCEMENT
  - 3. ADVANCEMENT
  - 4. ADJUSTMENT

Question ID : 264330142470  
Status : Answered  
Chosen Option : 4

Q.5 अक्षरों के उस संयोजन का चयन कीजिए जिसे दी गई श्रृंखला के रिक्त स्थानों में बाएं से दाएं क्रमिक रूप से रखने पर अक्षर श्रृंखला पूरी हो जाएगी।  
G \_ \_ A B G H I \_ \_ G \_ I \_ B \_ H I \_ B

- Ans
- 1. IHABHAGA
  - 2. HIBAHAAAG
  - 3. IHABHAAAG
  - 4. HIABHAGA

Question ID : 264330142487  
Status : Answered  
Chosen Option : 4

Q.6 अक्षरों के उस संयोजन का चयन कीजिए जिसे दी गई श्रृंखला के रिक्त स्थानों में क्रमिक रूप से रखने पर श्रृंखला पूर्ण हो जाएगी।  
CFL, EIK, GLJ, IOI, \_ \_ \_

- Ans
- 1. KRH
  - 2. KRK
  - 3. JRH
  - 4. KQH

Question ID : 26433078821  
Status : Answered  
Chosen Option : 1

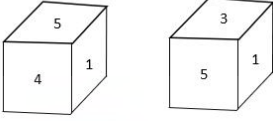
Q.7 उस सही विकल्प का चयन करें जो निम्नलिखित शब्दों की व्यवस्था को तार्किक और अर्थपूर्ण क्रम में दर्शाता है।

1. महीना
2. दिन
3. दशक
4. वर्ष
5. शताब्दी

- Ans
- 1. 3, 5, 4, 1, 2
  - 2. 3, 5, 1, 4, 2
  - 3. 5, 3, 4, 1, 2
  - 4. 5, 4, 3, 1, 2

Question ID : 264330129474  
Status : Answered  
Chosen Option : 3

Q.8 एक ही पासे की दो अलग-अलग स्थितियाँ दिखाई गई हैं, जिसके छह फलक 1 से 6 तक संख्यांकित हैं। '1' दर्शाने वाले फलक के विपरीत फलक पर अपेक्षित संख्याओं का योग कितना होगा?



- Ans
- 1. 6
  - 2. 7
  - 3. 8
  - 4. 5

Question ID : 264330142442  
Status : Answered  
Chosen Option : 3

Q.9 दी गई श्रेणी में प्रश्नवाचक चिह्न (?) के स्थान पर विकल्पों में से कौन सी संख्या आएगी?

18, 54, 29, 87, 62, 186, ?

- Ans
- 1. 156
  - 2. 154
  - 3. 174
  - 4. 161

Question ID : 264330142401  
Status : Answered  
Chosen Option : 4

Q.10 'F + C' का अर्थ है कि 'F, C की बहन है',  
'F - C' का अर्थ है कि 'F, C का पति है',  
'F × C' का अर्थ है कि 'F, C के पिता है',  
'F ÷ C' का अर्थ है कि 'F, C की पुत्री है'।

यदि 'R + T ÷ P × Q' है, तो P का R से क्या रिश्ता है?

- Ans
- 1. बहन
  - 2. भाई
  - 3. माता
  - 4. पिता

Question ID : 264330142500  
Status : Answered  
Chosen Option : 4

Q.11 एक निश्चित कूट भाषा में, 'ALUMNUS' को 'ZOFMMFH' लिखा जाता है और 'EMINENT' को 'VNRNVMG' लिखा जाता है। उसी भाषा में 'HAPPENS' को कैसे लिखा जाएगा?

- Ans
- 1. SZKPVMH
  - 2. SZLQVMH
  - 3. SZKQVMH
  - 4. SZLPVMH

Question ID : 26433097291  
Status : Answered  
Chosen Option : 1

Q.12 एक कूट भाषा में 'STATE' को '19-20-1-20-5' लिखा जाता है और 'HOME' को '8-15-13-5' लिखा जाता है। इसी भाषा में 'TELEVISION' कैसे लिखा जाएगा?

- Ans
- 1. 19-4-11-4-21-8-18-0-14-13
  - 2. 5-20-5-12-9-22-1-19-14-15
  - 3. 20-5-12-5-22-9-19-9-15-14
  - 4. 21-6-13-6-23-10-20-2-16-15

Question ID : 26433068446  
Status : Answered  
Chosen Option : 3

Q.13 एक कूट भाषा में 'BOARD' को '40' और 'TIME' को '47' लिखा जाता है। इसी भाषा में 'CUDDLE' कैसे लिखा जाएगा?

- Ans
- 1. 30
  - 2. 35
  - 3. 49
  - 4. 33

Question ID : 26433068447  
Status : Answered  
Chosen Option : 3

Q.14 उस विकल्प का चयन कीजिए जो पांचवें पद से उसी प्रकार संबंधित है जिस प्रकार दूसरा पद पहले पद से और चौथा पद तीसरे पद से संबंधित है।  
SHIRT : RGISU :: KNIFE : JMIGF :: CHAIR : ?

- Ans
- 1. BGAJS
  - 2. CGAJS
  - 3. CGBJS
  - 4. BGBJS

Question ID : 264330142457  
Status : Answered  
Chosen Option : 1

Q.15 एक निश्चित कूट भाषा में, 'MATURE' को '7 26 14 22 9 6' के रूप में कूटबद्ध किया जाता है और 'OUTPUT' को '7 6 12 7 6 11' के रूप में कूटबद्ध किया जाता है। उसी भाषा में 'REMOVE' को किस रूप में कूटबद्ध किया जाएगा?

- Ans
- 1. 9 12 22 12 22 5
  - 2. 14 22 9 22 5 12
  - 3. 12 22 9 5 12 22
  - 4. 22 14 9 22 12 5

Question ID : 264330142445  
Status : Answered  
Chosen Option : 2

Q.16 जब दर्पण को MN पर दिखाए गए अनुसार रखा गया है, तो दिए गए संयोजन के सही दर्पण प्रतिबिंब का चयन कीजिए।

MUD23x87

M  
N

- Ans
- 1. 78xε2QUM
  - 2. 78x3ΣDUM
  - 3. 78xε2QNM
  - 4. 78xεΣDUM

Question ID : 264330142428

Status : Answered

Chosen Option : 4

Q.17 उस विकल्प का चयन करें जो दिए गए शब्दों के उस सही क्रम का निरूपण करता है जैसे कि वे एक अंग्रेजी शब्दकोश में दिखाई देंगे।

1. Bachelor
2. Backdoor
3. Bacteria
4. Backbone
5. Badgered

- Ans
- 1. 2,1,3,4,5
  - 2. 1,2,3,4,5
  - 3. 1,3,2,4,5
  - 4. 1,4,2,3,5

Question ID : 264330142447

Status : Answered

Chosen Option : 4

Q.18 उस विकल्प का चयन करें, जो पाँचवें अक्षर-समूह से उसी प्रकार संबंधित है, जिस प्रकार दूसरा अक्षर-समूह पहले अक्षर-समूह से संबंधित है और चौथा अक्षर-समूह तीसरे अक्षर-समूह से संबंधित है।  
ISLE : GNVL :: JUMP : ROXM :: KATE : ?

- Ans
- 1. GVDM
  - 2. GVEM
  - 3. GVDN
  - 4. GVEN

Question ID : 26433056192

Status : Answered

Chosen Option : 3

Q.19 एक निश्चित कूट भाषा में 'OFFCUTS' को 'LUUXDEF' और 'PARADOX' को 'KZIZUJA' लिखा जाता है। उसी कूट भाषा में 'NAILING' को कैसे लिखा जाएगा?

- Ans
- 1. CSAWQMI
  - 2. VTGDEF
  - 3. MZROPKR
  - 4. BJMUROL

Question ID : 264330118648

Status : Answered

Chosen Option : 3

Q.20 उस सही विकल्प का चयन कीजिए जो दिए गए शब्दों की व्यवस्था को उसी क्रम में इंगित करता है जिस क्रम में वे अंग्रेजी शब्दकोश में दिखाई देते हैं।

1. Glacier
2. Gloomy
3. Glossy
4. Glorious
5. Glitter

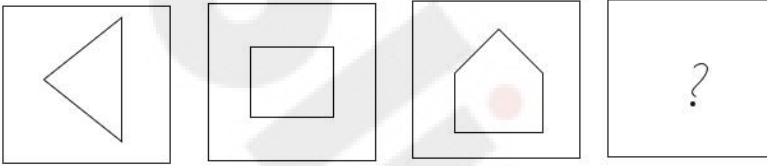
Ans  1. 1,3,2,4,5  
 2. 1,2,4,3,5  
 3. 1,5,2,4,3  
 4. 1,5,4,2,3

Question ID : 26433057964

Status : Answered

Chosen Option : 4

Q.21 उस आकृति का चयन कीजिए जो निम्नलिखित श्रृंखला में प्रश्नवाचक चिह्न (?) को प्रतिस्थापित करेगी।



Ans

- 1.
- 2.
- 3.
- 4.

Question ID : 264330142412

Status : Answered

Chosen Option : 2

Q.22 दिए गए कथनों और निष्कर्षों को ध्यानपूर्वक पढ़ें। यह मानते हुए कि कथनों में दी गई जानकारी सत्य है, भले ही वह सामान्य रूप से ज्ञात तथ्यों से भिन्न प्रतीत होती हो, निर्णय लें कि दिए गए निष्कर्षों में से कौन-सा/से निष्कर्ष कथनों का तार्किक रूप से अनुसरण करता/करते है/हैं।

कथन :

- सभी धाराएं, नदियां हैं।
- सभी तालाब, नदियां हैं।
- सभी नदियां, महासागर हैं।

निष्कर्ष :

- I. कुछ महासागर, धाराएं हैं।
- II. सभी तालाब, महासागर हैं।
- III. कुछ महासागर, नदियां नहीं हैं।

- Ans
- 1. निष्कर्ष I, II और III अनुसरण करते हैं
  - 2. केवल निष्कर्ष I और III अनुसरण करते हैं
  - 3. केवल निष्कर्ष II और III अनुसरण करते हैं
  - 4. केवल निष्कर्ष I और II अनुसरण करते हैं

Question ID : 264330142511

Status : Answered

Chosen Option : 4

Q.23 यदि,

- 'A % Z' का अर्थ है 'A, Z का पुत्र है',
  - 'A & Z' का अर्थ है 'A, Z के पिता है',
  - 'A × Z' का अर्थ है 'A, Z की बहन है',
  - 'A # Z' का अर्थ है 'A, Z की माता है',
  - 'A \$ Z' का अर्थ है 'A, Z की पुत्री है',
  - 'A @ Z' का अर्थ है 'A, Z की पुत्रवधू है',
- तो दिए गए व्यंजक में, C का D से क्या संबंध है?  
C \$ A # E & B % G @ D

- Ans
- 1. भाई
  - 2. बहन
  - 3. पत्नी
  - 4. पुत्री

Question ID : 264330142507

Status : Answered

Chosen Option : 4

Q.24 इस प्रश्न में, तीन कथन और उसके बाद दो निष्कर्ष I और II दिए गए हैं। कथनों को सत्य मानते हुए, भले ही वे सामान्यतः ज्ञात तथ्यों से भिन्न प्रतीत होते हों, निर्णय लें कि कौन-सा/से निष्कर्ष तार्किक रूप से कथनों का अनुसरण करता/करते है/हैं।

कथन:

- I. सभी कलमें, स्केच हैं।
- II. सभी स्केच, पुस्तकें हैं।
- III. कुछ पुस्तकें, रंग हैं।

निष्कर्ष:

- I. कुछ पुस्तकें, कलमें हैं।
- II. कुछ रंग, स्केच हैं।

- Ans
- 1. न तो निष्कर्ष I और न ही II अनुसरण करता है
  - 2. दोनों निष्कर्ष I और II अनुसरण करते हैं
  - 3. केवल निष्कर्ष II अनुसरण करता है
  - 4. केवल निष्कर्ष I अनुसरण करता है

Question ID : 264330104059

Status : Answered

Chosen Option : 4

Q.25 निम्नलिखित में से कौन-से चिह्नों को परस्पर बदला जाना चाहिए ताकि दिया गया समीकरण सही हो जाए?

$$288 \times 72 + 36 \div 12 - 6 = 20770$$

- Ans
- 1. - और +
  - 2. × और -
  - 3. + और ×
  - 4. + और +

Question ID : 26433057930  
Status : Answered  
Chosen Option : 1

Section : General Awareness

Q.1 शिव को समर्पित कदारिया महादेव मंदिर, जिसका निर्माण 999 में चंदेल वंश द्वारा किया गया था, वास्तुकला की निम्नलिखित में से किस शैली का एक उदाहरण है?

- Ans
- 1. द्रविड़ शैली
  - 2. अहोम शैली
  - 3. पगोड़ा शैली
  - 4. नागर शैली

Question ID : 264330141648  
Status : Answered  
Chosen Option : 1

Q.2 आज़ादी के अमृत महोत्सव के अवसर पर भारत सरकार के निम्नलिखित में से किस विभाग ने जनवरी 2023 में 'नारी समागम और स्पर्धा' - एक महिला खेल प्रतियोगिता का आयोजन किया?

- Ans
- 1. गृह मामलों का विभाग
  - 2. खेल, कला और संस्कृति विभाग
  - 3. कार्मिक और प्रशिक्षण विभाग
  - 4. वित्त विभाग

Question ID : 264330132593  
Status : Answered  
Chosen Option : 2

Q.3 \_\_\_\_\_ के नेतृत्व में "सर्वोच्चता" की एक नई नीति शुरू की गई थी। इस नीति में कंपनी ने दावा किया कि उसकी सत्ता सर्वोपरि या सर्वोच्च है, इसलिए उसकी शक्ति भारतीय राज्यों की तुलना में अधिक है।

- Ans
- 1. रॉबर्ट क्लाइव
  - 2. थॉमस मुनरो
  - 3. लार्ड हेस्टिंग्स
  - 4. चार्ल्स कार्नवालिस

Question ID : 26433082067  
Status : Answered  
Chosen Option : 3

Q.4 निम्नलिखित में से कौन अहमदाबाद शहर में नृत्य, नाटक, संगीत और कठपुतली में छात्रों को प्रशिक्षित करने पर ध्यान केंद्रित करने वाली संस्था 'दर्पण एकेडमी ऑफ परफॉर्मिंग आर्ट्स' की संस्थापक और निदेशक थीं?

- Ans
- 1. अमला शंकर
  - 2. मृणालिनी साराभाई
  - 3. पद्मिनी चेतूर
  - 4. सितारा देवी

Question ID : 264330110263  
Status : Answered  
Chosen Option : 2

Q.5 निम्नलिखित में से कौन कीटवर्ग से संबंधित नहीं है?

- Ans
- 1. तिलचट्टा
  - 2. मच्छर
  - 3. बिच्छू
  - 4. सिल्वरफ़िश

Question ID : 26433064138  
Status : Answered  
Chosen Option : 4

Q.6 निम्नलिखित में से कौन, दिसंबर 2021 में US में जूनियर स्कैश ओपन जीतने वाली पहली भारतीय लड़की है?

- Ans
- 1. सुनयना कुरुविला
  - 2. आकांक्षा सालुंखे
  - 3. दीपिका कार्तिक
  - 4. अनाहत सिंह

Question ID : 26433092458  
Status : Answered  
Chosen Option : 4

Q.7 भारतीय संविधान में कितने मौलिक कर्तव्य हैं?

- Ans
- 1. 12
  - 2. 10
  - 3. 9
  - 4. 11

Question ID : 264330110782  
Status : Answered  
Chosen Option : 4

Q.8 जुलाई 2021 में केंद्रीय कानून और न्याय मंत्री के रूप में किसे नियुक्त किया गया था?

- Ans
- 1. नरेंद्र सिंह तोमर
  - 2. एम एन पांडेय
  - 3. राजनाथ सिंह
  - 4. किरेन रिजिजु

Question ID : 26433081855  
Status : Answered  
Chosen Option : 4

Q.9 निम्नलिखित में से कौन सी उत्तरी भारत में रबी की फसल है?

- Ans
- 1. मक्का
  - 2. चावल
  - 3. कपास
  - 4. सरसों

Question ID : 26433092870  
Status : Answered  
Chosen Option : 4

Q.10 निम्नलिखित में से किस संगीतकार को 1999 में भारत के सर्वोच्च नागरिक सम्मान 'भारत रत्न' से सम्मानित किया गया था?

- Ans
- 1. पंडित रवि शंकर
  - 2. पंडित राम नारायण
  - 3. उस्ताद अमजद अली खान बंगाश
  - 4. उस्ताद ज़ाकिर हुसैन

Question ID : 264330141606  
Status : Answered  
Chosen Option : 1

Q.11 भारत के राष्ट्रपति की सहायता करने और उन्हें सलाह देने के लिए प्रधान मंत्री के साथ एक \_\_\_\_\_ होगा/होगी।

- Ans
- 1. राज्य सभा
  - 2. भारत का महात्यायवादी
  - 3. महाधिवक्ता
  - 4. मंत्रिमंडल

Question ID : 264330110596  
Status : Answered  
Chosen Option : 4

Q.12 निम्नलिखित में से कौन 'तारीख-ए-फ़िरोज़ शाही' पुस्तक के लेखक थे?

- Ans
- 1. बदरुद्दीन मुहम्मद
  - 2. ज़ियाउद्दीन बरनी
  - 3. अबुल फ़ज़ल
  - 4. मिन्हास-उस-सिराज

Question ID : 26433090576  
Status : Answered  
Chosen Option : 2

Q.13 फुटबॉल मैच में दो गोल-पोस्टों के बीच की दूरी कितनी होती है?

- Ans
- 1. 8.32 m
  - 2. 9.32 m
  - 3. 6.32 m
  - 4. 7.32 m

Question ID : 26433054704  
Status : Answered  
Chosen Option : 1

Q.14 झेलम नदी निम्नलिखित में से किस उद्गम स्थल से निकलती है?

- Ans  1. चेमायुंगडुंग ग्लेशियर  
 2. मानसरोवर झील  
 3. वेरीनाग झरना  
 4. राकस झील

Question ID : 26433089235  
Status : Answered  
Chosen Option : 3

Q.15 दिए गए विकल्पों में से वामन ग्रह की पहचान करें।

- Ans  1. नेपच्यून  
 2. प्लूटो  
 3. बुध  
 4. मंगल

Question ID : 264330141927  
Status : Answered  
Chosen Option : 2

Q.16 प्याज के ऊतक को छीलने, काटने या कुचलने से कौन-सा एंजाइम निकलता है, जिससे हमारी आँखों में आँसू आ जाते हैं?

- Ans  1. जाइलेनेज़ (Xylanases)  
 2. एलिनेज़ (Allinases)  
 3. बोर्डिलेज़ (Bordelaises)  
 4. पेक्टिनेज़ (Pectinases)

Question ID : 26433055146  
Status : Answered  
Chosen Option : 2

Q.17 यू.एन.एफ.पी.ए. के हालिया अनुमानों के अनुसार 2022 में भारत की 68 प्रतिशत जनसंख्या \_\_\_\_\_ वर्ष की आयु के बीच है।

- Ans  1. 10 और 19  
 2. 15 और 64  
 3. 10 और 24  
 4. 15 और 29

Question ID : 264330111347  
Status : Answered  
Chosen Option : 2

Q.18 निम्नलिखित में से किस भारतीय संगीतकार की आत्मकथा का शीर्षक 'राग माला' है?

- Ans  1. विश्व मोहन भट्ट  
 2. अमजद अली खान  
 3. जाकिर हुसैन  
 4. रवि शंकर

Question ID : 26433054842  
Status : Answered  
Chosen Option : 1

Q.19 गणेश चतुर्थी हिंदू कैलेंडर के \_\_\_\_\_ महीने में मनाई जाती है।

- Ans
- 1. वैशाख
  - 2. कार्तिक
  - 3. आषाढ़
  - 4. भाद्रपद

Question ID : 26433064328  
Status : Answered  
Chosen Option : 3

Q.20 कार्बन डाइऑक्साइड में कार्बन और ऑक्सीजन के द्रव्यमान का अनुपात क्या है?

- Ans
- 1. 3 : 13
  - 2. 3 : 1
  - 3. 3 : 2
  - 4. 3 : 8

Question ID : 26433059454  
Status : Answered  
Chosen Option : 4

Q.21 निम्नलिखित में से कौन-सा प्राचीन भारत का सबसे पुराना ग्रंथ है?

- Ans
- 1. मनु स्मृति
  - 2. अर्थशास्त्र
  - 3. ऋग्वेद
  - 4. महाभाष्य

Question ID : 264330111364  
Status : Answered  
Chosen Option : 1

Q.22 भारत में संघ की कार्यपालिका शक्ति \_\_\_\_\_ को प्राप्त है।

- Ans
- 1. उप राष्ट्रपति
  - 2. राष्ट्रपति
  - 3. प्रधानमंत्री
  - 4. मुख्य न्यायमूर्ति

Question ID : 26433055542  
Status : Answered  
Chosen Option : 2

Q.23 निम्नलिखित में से किस महिला व्यक्तित्व को ओलंपिक में 'डबल मेडलिस्ट' होने का सम्मान प्राप्त है?

- Ans
- 1. कर्णम मल्लेश्वरी
  - 2. साइना नेहवाल
  - 3. साक्षी मलिक
  - 4. पी. वी. सिंधु

Question ID : 26433092455  
Status : Answered  
Chosen Option : 4

Q.24 निम्नलिखित में से कौन सा नृत्य युग्म केरल से संबंधित है?

- Ans
- 1. मोहिनीअट्टम और कथक
  - 2. सल्लिया और भरतनाट्यम
  - 3. कथकली और मोहिनीअट्टम
  - 4. कथकली और कुचिपुड़ी

Question ID : 264330141616  
Status : Answered  
Chosen Option : 3

Q.25 वर्ष 2011 की जनगणना के अनुसार किस केंद्र शासित प्रदेश का लिंगानुपात सबसे अधिक है?

- Ans
- 1. अंडमान और निकोबार द्वीप समूह
  - 2. पुदुचेरी
  - 3. दिल्ली
  - 4. दमन और दीव

Question ID : 264330109505  
Status : Answered  
Chosen Option : 1

Section : Quantitative Aptitude

Q.1 एक व्यापारी ₹1,800 में एक स्मार्टवॉच खरीदता है और उसका सूची मूल्य इस प्रकार निर्धारित करता है कि 10% की छूट देने के बाद भी वह 22% का लाभ अर्जित करता है। स्मार्टवॉच का सूची मूल्य (₹ में) कितना है?

- Ans
- 1. 2440
  - 2. 2180
  - 3. 2450
  - 4. 2520

Question ID : 264330102351  
Status : Answered  
Chosen Option : 1

Q.2 दो उम्मीदवारों के बीच हुए एक चुनाव में, 80% मतदाताओं ने अपना वोट डाला, जिसमें से 10% वोट अवैध घोषित कर दिए गए। एक उम्मीदवार को 9,936 वोट मिले जो कुल वैध वोट का 60% था। उस चुनाव में नामांकित मतदाताओं की कुल संख्या ज्ञात कीजिए।

- Ans
- 1. 23000
  - 2. 24000
  - 3. 24320
  - 4. 25500

Question ID : 26433083032  
Status : Answered  
Chosen Option : 1

Q.3 दिया गया ग्राफ 2016-2020 की अवधि के दौरान चार शहरों में काटे गए वृक्षों की संख्या (सौ में) को दर्शाता है।



Chandigarh = चंडीगढ़, Ahmadabad = अहमदाबाद, Pune = पुणे, Kolkata = कोलकाता

2019 में सभी चार शहरों में काटे गए वृक्षों की औसत संख्या ज्ञात करें (दशमलव भाग की उपेक्षा करें)।

- Ans
- 1. 1792
  - 2. 1972
  - 3. 1800
  - 4. 1952

Question ID : 264330100285  
Status : Answered  
Chosen Option : 2

Q.4  $\left(\frac{9}{8} + \frac{8}{9}\right)^2 - \left(\frac{9}{8} - \frac{8}{9}\right)^2$  को हल करें।

- Ans
- 1. 1
  - 2. 8
  - 3. 4
  - 4. 2

Question ID : 264330141410  
Status : Answered  
Chosen Option : 3

Q.5 साधारण ब्याज की एक निश्चित वार्षिक दर पर कितनी राशि 2 वर्षों में Rs. 2,600 और 3 वर्षों में Rs. 2,700 हो जाती है?

- Ans
- 1. Rs. 2,600
  - 2. Rs. 2,300
  - 3. Rs. 2,200
  - 4. Rs. 2,400

Question ID : 26433064916  
Status : Answered  
Chosen Option : 4

Q.6 एक व्यक्ति की मासिक आय ₹80,000 थी और उसका मासिक खर्च ₹45,000 था। अगले वर्ष उसकी आय 16% बढ़ी और उसका खर्च 8% बढ़ा। उसकी बचत में प्रतिशत वृद्धि को ज्ञात करें (दो दशमलव स्थान तक सही)।

- Ans
- 1. 26.29%
  - 2. 30.25%
  - 3. 25.35%
  - 4. 44.36%

Question ID : 264330141378  
Status : Answered  
Chosen Option : 1

Q.7 p के किस मान के लिए समीकरण-निकाय  $18x + 36y + 45 = 0$  और  $px - 54y + 67 = 0$  का कोई हल नहीं होगा?

- Ans
- 1. -36
  - 2. 54
  - 3. 27
  - 4. -27

Question ID : 264330126546  
Status : Answered  
Chosen Option : 4

Q.8 एक कार 60 km/h की प्रारंभिक चाल से चलना शुरू करती है, इसकी चाल में हर घंटे 10 km/h की वृद्धि होती है। 1210 km की दूरी तय करने में उसे कितने घंटे लगेंगे?

- Ans
- 1. 8
  - 2. 11
  - 3. 12
  - 4. 10

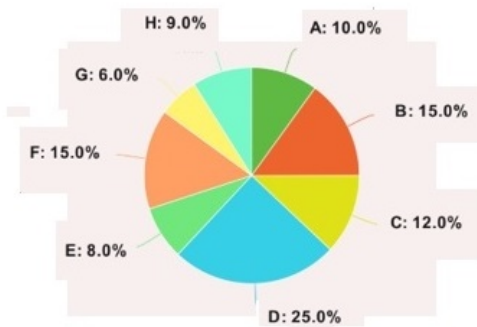
Question ID : 264330103425  
Status : Answered  
Chosen Option : 2

Q.9 दो संख्याएं एक तीसरी संख्या से क्रमशः 16% और 30% कम हैं। दोनों संख्याओं का अनुपात क्या है?

- Ans
- 1. 5 : 7
  - 2. 6 : 5
  - 3. 8 : 5
  - 4. 5 : 8

Question ID : 264330103543  
Status : Answered  
Chosen Option : 2

Q.10 निम्न पाई चार्ट 1995 में एक कारखाने की विभिन्न श्रेणियों A, B, C, D, E, F, G और H के श्रमिकों की संख्या को दर्शाता है।



पाई चार्ट की श्रेणी D के लिए केंद्रीय कोण (कोणीय मान) क्या है?

- Ans
- 1.  $60^\circ$
  - 2.  $90^\circ$
  - 3.  $30^\circ$
  - 4.  $80^\circ$

Question ID : 26433066388  
Status : Answered  
Chosen Option : 2

Q.11 एक त्रिभुज का क्षेत्रफल \_\_\_\_\_ है , जिसकी भुजाएं 3 cm, 5 cm और 6 cm हैं।

- Ans
- 1.  $2\sqrt{14}$  cm<sup>2</sup>
  - 2.  $\sqrt{14}$  cm<sup>2</sup>
  - 3.  $3\sqrt{14}$  cm<sup>2</sup>
  - 4.  $4\sqrt{14}$  cm<sup>2</sup>

Question ID : 26433081618  
Status : Answered  
Chosen Option : 1

Q.12 प्रति वर्ष किस दर से Rs.550 पर 3 वर्षों में साधारण ब्याज Rs.33 होगा?

- Ans
- 1. 5%
  - 2. 2%
  - 3. 6%
  - 4. 3%

Question ID : 26433075498  
Status : Answered  
Chosen Option : 2

Q.13 अपने घर पहुँचने के लिए अनिता ने ऑटोरिक्षा से 35 km/h की चाल से 11 मिनट यात्रा की। उसने टैक्सी से 55 km/h की चाल से 11 मिनट यात्रा की और अंत में उसने बस से 42 km/h की चाल से 11 मिनट यात्रा की और घर पहुँच गई। पूरी यात्रा के लिए उसकी औसत चाल ज्ञात कीजिए।

- Ans
- 1. 44 km/h
  - 2. 64 km/h
  - 3. 34 km/h
  - 4. 54 km/h

Question ID : 26433063889  
Status : Answered  
Chosen Option : 1

Q.14 दो त्रिभुज PRS और DEF समरूप हैं, जिनके परिमाण क्रमशः 36 cm और 40 cm हैं। यदि DE की लंबाई 10 cm है, तो PR की लंबाई (cm में) क्या है?

- Ans
- 1. 8
  - 2. 15
  - 3. 12
  - 4. 9

Question ID : 264330130043  
Status : Answered  
Chosen Option : 4

Q.15 दो संख्याएँ 7:6 के अनुपात में हैं। यदि उनके वर्गों के बीच का अंतर 637 है, तो वे संख्याएँ कौन सी हैं?

- Ans
- 1. 14 और 12
  - 2. 43 और 36
  - 3. 49 और 12
  - 4. 49 और 42

Question ID : 264330141372  
Status : Answered  
Chosen Option : 4

Q.16 मुस्कान ₹400 में दो kg दाल खरीदती है और इसे ₹440 में बेचती है। वह 1 kg की जगह 850 gm वाले वजन का भी उपयोग करती हैं। मुस्कान का वास्तविक लाभ प्रतिशत कितना है?

- Ans
- 1.  $25\frac{15}{17}\%$
  - 2. 27%
  - 3.  $29\frac{7}{17}\%$
  - 4. 30%

Question ID : 264330123976  
Status : Answered  
Chosen Option : 3

Q.17 निम्नलिखित में से कौन सी संख्या  $(6^{61} + 6^{62} + 6^{63} + 6^{64})$  को पूर्ण रूप से विभाजित करेगी?

- Ans
- 1. 7
  - 2. 13
  - 3. 11
  - 4. 10

Question ID : 26433086268  
Status : Answered  
Chosen Option : 1

Q.18 निम्नलिखित में से कौन-सा 11 से पूर्णतः विभाज्य है?

- Ans
- 1. 57463822
  - 2. 57463823
  - 3. 57464044
  - 4. 57464054

Question ID : 264330129983  
Status : Answered  
Chosen Option : 3

Q.19 60 km/h की चाल से चल रही एक कार का चालक आधी दूरी तय करने के बाद चाल को धीमी करके 40 km/h करने का निर्णय लेता है। कार की औसत चाल (km/h में) क्या है?

- Ans
- 1. 42
  - 2. 48
  - 3. 36
  - 4. 30

Question ID : 26433091530  
Status : Answered  
Chosen Option : 2

Q.20 विक्टोरिया ने ऐसी वस्तुएँ खरीदीं जिनका संयुक्त अंकित मूल्य \$4,00,000 था। उसे नकद में किए गए भुगतान के हिस्से पर 10% की छूट और क्रेडिट कार्ड के माध्यम से किए गए भुगतान के हिस्से पर 2% अधिभार की पेशकश की गई थी। यदि विक्टोरिया ने कुल \$3,78,000 का भुगतान किया, तो उसने क्रेडिट कार्ड के माध्यम से अधिभार सहित कितना भुगतान किया?

- Ans
- 1. \$1,53,000
  - 2. \$1,63,200
  - 3. \$1,58,100
  - 4. \$1,47,900

Question ID : 264330103268  
Status : Answered  
Chosen Option : 3

Q.21 13 विद्यार्थियों के औसत अंक 67 हैं। यदि पहले सात विद्यार्थियों के औसत अंक 61 हैं और अंतिम सात विद्यार्थियों के औसत अंक 65 हैं, तो सातवें विद्यार्थी के अंक क्या हैं?

- Ans
- 1. 9
  - 2. 6
  - 3. 7
  - 4. 11

Question ID : 264330126172  
Status : Answered  
Chosen Option : 4

Q.22 मोहन 14817 को एक निश्चित संख्या से विभाजित करता है। यदि उसे भागफल और शेषफल क्रमशः 98 और 117 प्राप्त होते हैं, तो भाजक \_\_\_\_\_ है।

- Ans
- 1. 150
  - 2. 145
  - 3. 140
  - 4. 155

Question ID : 26433090296  
Status : Answered  
Chosen Option : 1

Q.23 cosec  $41^\circ - \sec 49^\circ$  का मान ज्ञात कीजिए।

Ans

1.  $\frac{1}{2}$

2. 0

3.  $\frac{1}{4}$

4. 1

Question ID : 264330141579

Status : Answered

Chosen Option : 2

Q.24  $9 \text{ cm} \times 12 \text{ cm} \times 20 \text{ cm}$  विमाओं वाले घनाभ का विकर्ण (cm में) है:

Ans

1. 9

2. 25

3. 20

4. 12

Question ID : 26433082930

Status : Answered

Chosen Option : 2

Q.25 निम्नलिखित आरेख पांच महीने के लिए एक कंपनी के राजस्व (मिलियन अमरीकी डॉलर में) को दर्शाता है। उत्पाद Y का औसत राजस्व (मिलियन अमरीकी डॉलर में) क्या है?



Revenue for April-August = अप्रैल-अगस्त के लिए राजस्व

April = अप्रैल

May = मई

June = जून

July = जुलाई

August = अगस्त

Product X = उत्पाद X

Product Y = उत्पाद Y

Product Z = उत्पाद Z

Ans ✓ 1. 210

✗ 2. 212.5

✗ 3. 211.2

✗ 4. 209

Question ID : 26433096362

Status : Answered

Chosen Option : 1

Section : English Language

Q.1 Select the option that expresses the given sentence in active voice.  
A diamond necklace was to be bought by my wife.

Ans ✗ 1. My wife was to buy a necklace of diamond.

✗ 2. My wife were to buy a diamond necklace.

✓ 3. My wife was to buy a diamond necklace.

✗ 4. My wife was buying a diamond necklace.

Question ID : 26433084725

Status : Answered

Chosen Option : 3

Q.2 Select the most appropriate ANTONYM of the underlined word.  
My cousin's fanatical views made him very unpopular with his friends.

Ans ✗ 1. Apathetic

✗ 2. Impartial

✗ 3. Weary

✓ 4. Moderate

Question ID : 26433073369

Status : Answered

Chosen Option : 1

**Q.3** Select the most appropriate synonym of the given word.

**Paranoia**

- Ans
- 1. Faith
  - 2. Assurance
  - 3. Anxiety
  - 4. Belief

Question ID : 26433060979  
Status : Answered  
Chosen Option : 3

**Q.4** Select the most appropriate option to fill in the blank.  
It is only a rope, she \_\_\_\_\_ herself, though it looked very much like a snake.

- Ans
- 1. remembered
  - 2. reassured
  - 3. replied
  - 4. retained

Question ID : 26433098875  
Status : Answered  
Chosen Option : 2

**Q.5** Select the most appropriate option to fill in the blank.  
\_\_\_\_\_ for an hour made me lose my breath.

- Ans
- 1. Sitting
  - 2. Eating
  - 3. Sleeping
  - 4. Walking

Question ID : 26433098877  
Status : Answered  
Chosen Option : 4

**Q.6** Select the most appropriate ANTONYM of the given word from the following sentence.  
**Elegant**  
The table cloth on my brother's study table was classic and splendid, yet my mother found it very awkward and odd.

- Ans
- 1. Splendid
  - 2. Awkward
  - 3. Odd
  - 4. Classic

Question ID : 26433072813  
Status : Answered  
Chosen Option : 2

Q.7 Select the most appropriate synonym of the underlined word.

We always love to get the updated version of gadgets we use.

- Ans
- 1. Corrected
  - 2. Old
  - 3. Latest
  - 4. Refurbished

Question ID : 26433089383  
Status : Answered  
Chosen Option : 3

Q.8 Select the most appropriate option to fill in the blank.  
Ravi \_\_\_\_\_ to my house yesterday.

- Ans
- 1. came
  - 2. left
  - 3. go
  - 4. come

Question ID : 26433098872  
Status : Answered  
Chosen Option : 1

Q.9 Select the INCORRECTLY spelt word.

- Ans
- 1. Persuasive
  - 2. Valorous
  - 3. Violence
  - 4. Tyranny

Question ID : 26433088410  
Status : Answered  
Chosen Option : 3

Q.10 Select the option that can be used as a one-word substitute for the given group of words.

Something which lasts forever

- Ans
- 1. Memorable
  - 2. Eternal
  - 3. Transitory
  - 4. Pertinent

Question ID : 26433073906  
Status : Answered  
Chosen Option : 2

Q.11 Select the option that expresses the given sentence in direct speech.  
Anant said that he was feeling sleepy.

- Ans
- 1. Anant said, "He was feeling sleepy."
  - 2. Anant said, "I was feeling sleepy."
  - 3. Anant said, "I am feeling sleepy."
  - 4. "I was feeling sleepy," says Anant.

Question ID : 264330134143  
Status : Answered  
Chosen Option : 3

**Q.12** Select the option that expresses the given sentence in direct speech.

**Bidding farewell to me, my juniors wished me a bright and successful career ahead.**

- Ans**
- 1. Bidding farewell to me, my juniors wish me, "Wish you a bright and successful career ahead."
  - 2. Bidding farewell to me, my juniors said to themselves, "Wish you a bright and successful career ahead."
  - 3. Bidding farewell to me, my juniors said to me, "Wish you a bright and successful career ahead."
  - 4. Bidding farewell to me, my juniors inquired, "Wish you a bright and successful career ahead."

Question ID : 26433099083  
Status : Answered  
Chosen Option : 3

**Q.13** Select the most appropriate meaning of the given idiom.

**Hand and glove**

- Ans**
- 1. Enemy
  - 2. Oppressive
  - 3. Intimate
  - 4. Discourage

Question ID : 26433086332  
Status : Answered  
Chosen Option : 3

**Q.14** The following sentence has been split into four segments. Identify the segment that contains a grammatical error.

**After that long afternoon, / when I quietly entered her room / to hand over the packet to her, / she asked me to sit reluctant**

- Ans**
- 1. After that long afternoon,
  - 2. she asked me to sit reluctant
  - 3. to hand over the packet to her,
  - 4. when I quietly entered her room

Question ID : 26433055585  
Status : Answered  
Chosen Option : 2

**Q.15** Identify the sentence that contains no spelling errors.

- Ans**
- 1. Drones are employed for a variety of purposes, including transporting commodities, acisting in search and rescue efforts, etc.
  - 2. Drones are employed for a variety of purposes, including transporting comodities, assisting in search and resque efforts, etc.
  - 3. Drones are employed for a variety of purposes, including transporting commodities, assisting in search and resque efforts, etc.
  - 4. Drones are employed for a variety of purposes, including transporting commodities, assisting in search and rescue efforts, etc.

Question ID : 26433088540  
Status : Answered  
Chosen Option : 4

**Comprehension:**

In the following passage, some words have been deleted. Read the passage carefully and select the most appropriate option to fill in each blank.

Many parents think of overweight children as 'cute' and cuddly. However, obesity must not be (1)\_\_\_\_\_ as a healthy sign. (2)\_\_\_\_\_ obese children grow up, they will be more prone (3)\_\_\_\_\_ health problems like high blood pressure (4)\_\_\_\_\_ diabetes. Today, overweight children are becoming a common (5)\_\_\_\_\_ in many countries.

**SubQuestion No : 16**

**Q.16** Select the most appropriate option to fill in blank number 1.

- Ans
- 1. wasted
  - 2. casted
  - 3. seen
  - 4. keen

Question ID : 26433099099  
Status : Answered  
Chosen Option : 3

**Comprehension:**

In the following passage, some words have been deleted. Read the passage carefully and select the most appropriate option to fill in each blank.

Many parents think of overweight children as 'cute' and cuddly. However, obesity must not be (1)\_\_\_\_\_ as a healthy sign. (2)\_\_\_\_\_ obese children grow up, they will be more prone (3)\_\_\_\_\_ health problems like high blood pressure (4)\_\_\_\_\_ diabetes. Today, overweight children are becoming a common (5)\_\_\_\_\_ in many countries.

**SubQuestion No : 17**

**Q.17** Select the most appropriate option to fill in blank number 2.

- Ans
- 1. Then
  - 2. There
  - 3. Here
  - 4. When

Question ID : 26433099100  
Status : Answered  
Chosen Option : 4

**Comprehension:**

In the following passage, some words have been deleted. Read the passage carefully and select the most appropriate option to fill in each blank.

Many parents think of overweight children as 'cute' and cuddly. However, obesity must not be (1)\_\_\_\_\_ as a healthy sign. (2)\_\_\_\_\_ obese children grow up, they will be more prone (3)\_\_\_\_\_ health problems like high blood pressure (4)\_\_\_\_\_ diabetes. Today, overweight children are becoming a common (5)\_\_\_\_\_ in many countries.

**SubQuestion No : 18**

**Q.18** Select the most appropriate option to fill in blank number 3.

- Ans
- 1. on
  - 2. for
  - 3. to
  - 4. the

Question ID : 26433099101  
Status : Answered  
Chosen Option : 3

**Comprehension:**

In the following passage, some words have been deleted. Read the passage carefully and select the most appropriate option to fill in each blank.

Many parents think of overweight children as 'cute' and cuddly. However, obesity must not be (1)\_\_\_\_\_ as a healthy sign. (2)\_\_\_\_\_ obese children grow up, they will be more prone (3)\_\_\_\_\_ health problems like high blood pressure (4)\_\_\_\_\_ diabetes. Today, overweight children are becoming a common (5)\_\_\_\_\_ in many countries.

**SubQuestion No : 19**

**Q.19 Select the most appropriate option to fill in blank number 4.**

- Ans**  1. either  
 2. or  
 3. nor  
 4. if

Question ID : 26433099102  
Status : Answered  
Chosen Option : 2

**Comprehension:**

In the following passage, some words have been deleted. Read the passage carefully and select the most appropriate option to fill in each blank.

Many parents think of overweight children as 'cute' and cuddly. However, obesity must not be (1)\_\_\_\_\_ as a healthy sign. (2)\_\_\_\_\_ obese children grow up, they will be more prone (3)\_\_\_\_\_ health problems like high blood pressure (4)\_\_\_\_\_ diabetes. Today, overweight children are becoming a common (5)\_\_\_\_\_ in many countries.

**SubQuestion No : 20**

**Q.20 Select the most appropriate option to fill in blank number 5.**

- Ans**  1. solution  
 2. find  
 3. thing  
 4. sight

Question ID : 26433099103  
Status : Answered  
Chosen Option : 3

**Comprehension:**

Read the given passage and answer the question that follows.

Time is the essence of life. It is the wealth given to us by God. Everyday all of us get 24 hours; nothing less, nothing more. Now, it is up to us how we use it. People who know how to make the best use of every moment easily open the doors of success in their lives and those who misuse time get failures one after the other. There is a saying that, "Spent time and spent words cannot come back." Everybody is tied by the limits of time. Work wins appreciation only when it gets completed in a requisite time frame. Beyond the time allotted, work loses all its utility, however good may have been its quality. Just as falling of rains after the crops have dried up have no use; likewise, when the time is past the deadline, the work loses its importance and value. When iron is hot it can be cast into whichever shape we want. Once it gets cold nothing can be made out of it, however much we may beat the same. In the same way, a person who has learnt to wisely use his time and has understood how to cast himself according to the need of the time has actually learnt the true mantra of life. Shakespeare wrote in one of his plays, "I wasted time, and now doth time waste me." It is true that a person who wastes even a little bit of time loses wonderful opportunities that he could have otherwise availed of by utilising that time. All the great leaders have one thing in common. They wisely utilise every moment of their time. When other people are busy in wasting time in laziness, great men are busy in making plans for the future. There is no person in history who wasted his time and still managed to achieve greatness. Therefore, there is great need to manage time wisely. "Careful Time Management" refers to careful planning of time and sincere execution of this plan. This is the only mantra to attain success in any endeavour. A simple change in outlook and some modification in one's daily routine can result in a big jump forward towards greater achievements.

**SubQuestion No : 21**

**Q.21** Select the most appropriate synonym of the word 'endeavour' given in the second paragraph.

- Ans
- 1. Drop
  - 2. Quit
  - 3. Idle
  - 4. Attempt

Question ID : 264330121507

Status : Answered

Chosen Option : 4

**Comprehension:**

Read the given passage and answer the question that follows.

Time is the essence of life. It is the wealth given to us by God. Everyday all of us get 24 hours; nothing less, nothing more. Now, it is up to us how we use it. People who know how to make the best use of every moment easily open the doors of success in their lives and those who misuse time get failures one after the other. There is a saying that, "Spent time and spent words cannot come back." Everybody is tied by the limits of time. Work wins appreciation only when it gets completed in a requisite time frame. Beyond the time allotted, work loses all its utility, however good may have been its quality. Just as falling of rains after the crops have dried up have no use; likewise, when the time is past the deadline, the work loses its importance and value. When iron is hot it can be cast into whichever shape we want. Once it gets cold nothing can be made out of it, however much we may beat the same. In the same way, a person who has learnt to wisely use his time and has understood how to cast himself according to the need of the time has actually learnt the true mantra of life. Shakespeare wrote in one of his plays, "I wasted time, and now doth time waste me." It is true that a person who wastes even a little bit of time loses wonderful opportunities that he could have otherwise availed of by utilising that time. All the great leaders have one thing in common. They wisely utilise every moment of their time. When other people are busy in wasting time in laziness, great men are busy in making plans for the future. There is no person in history who wasted his time and still managed to achieve greatness. Therefore, there is great need to manage time wisely. "Careful Time Management" refers to careful planning of time and sincere execution of this plan. This is the only mantra to attain success in any endeavour. A simple change in outlook and some modification in one's daily routine can result in a big jump forward towards greater achievements.

**SubQuestion No : 22**

**Q.22** What should be done in order to achieve success in whatever you do?

- Ans
- 1. Keeping your routine same
  - 2. Keeping your outlook fixed
  - 3. Planning of one's time
  - 4. Doing quality work

Question ID : 264330121504

Status : Answered

Chosen Option : 3

**Comprehension:**

Read the given passage and answer the question that follows.

Time is the essence of life. It is the wealth given to us by God. Everyday all of us get 24 hours; nothing less, nothing more. Now, it is up to us how we use it. People who know how to make the best use of every moment easily open the doors of success in their lives and those who misuse time get failures one after the other. There is a saying that, "Spent time and spent words cannot come back." Everybody is tied by the limits of time. Work wins appreciation only when it gets completed in a requisite time frame. Beyond the time allotted, work loses all its utility, however good may have been its quality. Just as falling of rains after the crops have dried up have no use; likewise, when the time is past the deadline, the work loses its importance and value. When iron is hot it can be cast into whichever shape we want. Once it gets cold nothing can be made out of it, however much we may beat the same. In the same way, a person who has learnt to wisely use his time and has understood how to cast himself according to the need of the time has actually learnt the true mantra of life. Shakespeare wrote in one of his plays, "I wasted time, and now doth time waste me." It is true that a person who wastes even a little bit of time loses wonderful opportunities that he could have otherwise availed of by utilising that time. All the great leaders have one thing in common. They wisely utilise every moment of their time. When other people are busy in wasting time in laziness, great men are busy in making plans for the future. There is no person in history who wasted his time and still managed to achieve greatness. Therefore, there is great need to manage time wisely. "Careful Time Management" refers to careful planning of time and sincere execution of this plan. This is the only mantra to attain success in any endeavour. A simple change in outlook and some modification in one's daily routine can result in a big jump forward towards greater achievements.

**SubQuestion No : 23****Q.23 What do great leaders have in common?**

- Ans
- 1. They learn from failures.
  - 2. They follow a fixed daily routine.
  - 3. They plan and use their time wisely.
  - 4. They are not tied by limits of time.

Question ID : 264330121505  
Status : Answered  
Chosen Option : 3

**Comprehension:**

Read the given passage and answer the question that follows.

Time is the essence of life. It is the wealth given to us by God. Everyday all of us get 24 hours; nothing less, nothing more. Now, it is up to us how we use it. People who know how to make the best use of every moment easily open the doors of success in their lives and those who misuse time get failures one after the other. There is a saying that, "Spent time and spent words cannot come back." Everybody is tied by the limits of time. Work wins appreciation only when it gets completed in a requisite time frame. Beyond the time allotted, work loses all its utility, however good may have been its quality. Just as falling of rains after the crops have dried up have no use; likewise, when the time is past the deadline, the work loses its importance and value. When iron is hot it can be cast into whichever shape we want. Once it gets cold nothing can be made out of it, however much we may beat the same. In the same way, a person who has learnt to wisely use his time and has understood how to cast himself according to the need of the time has actually learnt the true mantra of life. Shakespeare wrote in one of his plays, "I wasted time, and now doth time waste me." It is true that a person who wastes even a little bit of time loses wonderful opportunities that he could have otherwise availed of by utilising that time. All the great leaders have one thing in common. They wisely utilise every moment of their time. When other people are busy in wasting time in laziness, great men are busy in making plans for the future. There is no person in history who wasted his time and still managed to achieve greatness. Therefore, there is great need to manage time wisely. "Careful Time Management" refers to careful planning of time and sincere execution of this plan. This is the only mantra to attain success in any endeavour. A simple change in outlook and some modification in one's daily routine can result in a big jump forward towards greater achievements.

**SubQuestion No : 24****Q.24 Identify the tone of the passage.**

- Ans
- 1. Realistic
  - 2. Impractical
  - 3. Sarcastic
  - 4. Aggressive

Question ID : 264330121506  
Status : Answered  
Chosen Option : 1

**Comprehension:**

Read the given passage and answer the question that follows.

Time is the essence of life. It is the wealth given to us by God. Everyday all of us get 24 hours; nothing less, nothing more. Now, it is up to us how we use it. People who know how to make the best use of every moment easily open the doors of success in their lives and those who misuse time get failures one after the other. There is a saying that, "Spent time and spent words cannot come back." Everybody is tied by the limits of time. Work wins appreciation only when it gets completed in a requisite time frame. Beyond the time allotted, work loses all its utility, however good may have been its quality. Just as falling of rains after the crops have dried up have no use; likewise, when the time is past the deadline, the work loses its importance and value. When iron is hot it can be cast into whichever shape we want. Once it gets cold nothing can be made out of it, however much we may beat the same. In the same way, a person who has learnt to wisely use his time and has understood how to cast himself according to the need of the time has actually learnt the true mantra of life. Shakespeare wrote in one of his plays, "I wasted time, and now doth time waste me." It is true that a person who wastes even a little bit of time loses wonderful opportunities that he could have otherwise availed of by utilising that time. All the great leaders have one thing in common. They wisely utilise every moment of their time. When other people are busy in wasting time in laziness, great men are busy in making plans for the future. There is no person in history who wasted his time and still managed to achieve greatness. Therefore, there is great need to manage time wisely. "Careful Time Management" refers to careful planning of time and sincere execution of this plan. This is the only mantra to attain success in any endeavour. A simple change in outlook and some modification in one's daily routine can result in a big jump forward towards greater achievements.

**SubQuestion No : 25**

**Q.25** Select the most appropriate **ANTONYM** of the word 'laziness' given in the second paragraph.

- Ans**
- 1. Lethargic
  - 2. Indolent
  - 3. Inactive
  - 4. Industrious

Question ID : 264330121503

Status : Answered

Chosen Option : 4