

## Phase-XI/2023/Selection Posts and Selection Posts/Ladakh/2023

Roll Number	
Candidate Name	
Venue Name	
Exam Date	28/06/2023
Exam Time	5:15 PM - 6:15 PM
Subject	Selection Post Matriculation Level

### Section : General Intelligence

Q.1 उस विकल्प का चयन कीजिए जो तीसरे शब्द से उसी प्रकार संबंधित है जिस प्रकार दूसरा शब्द पहले शब्द से संबंधित है। (शब्दों को अर्थपूर्ण हिंदी शब्दों के रूप में माना जाना चाहिए और शब्द में अक्षरों की संख्या/व्यंजनों/स्वरों की संख्या के आधार पर वे एक-दूसरे से संबंधित नहीं होने चाहिए।)

योद्धा : युद्धक्षेत्र :: जुआरी : ?

- Ans
- 1. जुआखाना (Casino)
  - 2. गराज (Garage)
  - 3. खेत (Field)
  - 4. कारखाना (Factory)

Question ID : 264330142867

Status : Answered

Chosen Option : 1

Q.2 उस विकल्प का चयन करें जो चौथे पद से उसी प्रकार संबंधित है जिस प्रकार पहला पद दूसरे पद से संबंधित है और पाँचवां पद छठे पद से संबंधित है।  
7 : 58 :: ? : 370 :: 12 : 153

- Ans
- 1. 18
  - 2. 20
  - 3. 19
  - 4. 21

Question ID : 26433040802

Status : Answered

Chosen Option : 3

Q.3 निम्नलिखित में से कौन-सा अक्षर-समूह दी गई श्रृंखला में प्रश्नचिह्न (?) के स्थान पर आएगा?  
BW, DV, ET, GS, HQ, JP, ?

- Ans
- 1. LN
  - 2. JN
  - 3. KN
  - 4. MN

Question ID : 26433057204

Status : Answered

Chosen Option : 3

Q.4 उस विकल्प का चयन कीजिए जो उन अक्षरों का निरूपण करते हैं, जिन्हें नीचे दिए गए रिक्त स्थान में क्रमिक रूप से बाएं से दाएं रखे जाने पर अक्षर श्रृंखला पूर्ण हो जाए।  
\_BC\_C\_A\_CDC\_AB\_D\_B

- Ans
- 1. ADBBBCA
  - 2. AABBBCCD
  - 3. DBBBBCC
  - 4. ADBBBCC

Question ID : 26433069624

Status : Answered

Chosen Option : 4

Q.5 'A # B' का अर्थ है 'A, B का भाई है'।  
'A @ B' का अर्थ है 'A, B की पुत्री है'।  
'A & B' का अर्थ है 'A, B का पति है'।  
'A % B' का अर्थ है 'A, B की पत्नी है'।  
यदि D @ N @ H & Y @ F % V है, तो Y, D से किस प्रकार संबंधित है?

- Ans
- 1. बुआ
  - 2. सास
  - 3. माँ
  - 4. नानी

Question ID : 264330142906

Status : Not Answered

Chosen Option : --

Q.6 जब दर्पण को MN पर दिखाए गए अनुसार रखा गया है, तो दिए गए संयोजन के सही दर्पण प्रतिबिंब का चयन कीजिए।

L Q d 5 8 9 2 K



- Ans
- 1. K 2 8 9 5 d Q R
  - 2. K 2 8 5 9 d Q R
  - 3. K 2 8 9 5 d Q R
  - 4. K 2 8 5 9 d Q R

Question ID : 264330143262

Status : Answered

Chosen Option : 4

Q.7 इस प्रश्न में तीन कथन दिए गए हैं, जिसके बाद दो निष्कर्ष I और II दिए गए हैं। कथनों को सत्य मानते हुए, भले ही वे सर्वज्ञात तथ्यों से भिन्न प्रतीत होते हों, निर्णय कीजिए कि कौन-सा/से निष्कर्ष कथनों का तार्किक रूप से अनुसरण करता है/अनुसरण करते हैं।

कथन:

सभी कैडीज, जेम्स हैं।

सभी जेम्स, केक हैं।

कुछ केक, मिठाई हैं।

निष्कर्ष:

I. सभी कैडीज, केक हैं।

II. कुछ जेम्स, मिठाई हैं।

Ans  1. केवल निष्कर्ष II अनुसरण करता है।

2. केवल निष्कर्ष I अनुसरण करता है।

3. न तो निष्कर्ष I और न ही II अनुसरण करता है।

4. निष्कर्ष I और II दोनों अनुसरण करते हैं।

Question ID : 26433070377

Status : Answered

Chosen Option : 4

Q.8 उस विकल्प का चयन करें जो दिए गए शब्दों के उस सही क्रम को दर्शाता है, जिस क्रम में वे अंग्रेजी शब्दकोश में दिखाई देते हैं।

1. Base
2. Barrier
3. Basin
4. Basic
5. Batter
6. Battle

Ans  1. 2, 1, 4, 3, 6, 5

2. 2, 1, 4, 3, 5, 6

3. 2, 4, 3, 6, 5, 1

4. 2, 1, 3, 4, 6, 5

Question ID : 264330142923

Status : Answered

Chosen Option : 2

Q.9 उस विकल्प का चयन कीजिए जो पाँचवें पद से उसी प्रकार संबंधित है जिस प्रकार दूसरा पद पहले पद से संबंधित है और चौथा पद तीसरे पद से संबंधित है।

HISTORY : HIOTSRY :: FEATURE : FEUTARE :: JOURNAL : ?

Ans  1. JOUNRAL

2. JORNUAL

3. JONRUAL

4. JORUNAL

Question ID : 264330142838

Status : Answered

Chosen Option : 3

Q.10 उस विकल्प का चयन कीजिए जो तीसरे शब्द से उसी प्रकार संबंधित है जिस प्रकार दूसरा शब्द पहले शब्द से संबंधित है। (शब्दों को अर्थपूर्ण हिंदी शब्दों के रूप में माना जाना चाहिए और शब्द में अक्षरों की संख्या/व्यंजनों/स्वरों की संख्या के आधार पर वे एक-दूसरे से संबंधित नहीं होने चाहिए।)

कलम : लिखना :: फावड़ा : ?

- Ans
- 1. बढ़ाना (Amplify)
  - 2. देखना (View)
  - 3. खोदना (Scoop)
  - 4. भरना (Feed)

Question ID : 264330142868

Status : Answered

Chosen Option : 3

Q.11 तीन कथन दिए गए हैं, जिसके बाद तीन निष्कर्ष I, II और III दिए गए हैं। कथनों को सत्य मानते हुए, भले ही वे सामान्य रूप से ज्ञात तथ्यों से भिन्न प्रतीत होते हों, निश्चित करें कि कौन-सा/से निष्कर्ष कथनों का तार्किक रूप से अनुसरण करता है/करते हैं।

कथन:

सभी बोटल, इमारतें हैं।  
कुछ इमारतें, छोटी हैं।  
कुछ छोटी, लड़कियां हैं।

निष्कर्ष:

I. कुछ इमारतें, बोटल हैं।  
II. सभी इमारतें, छोटी हैं।  
III. कुछ लड़कियां, छोटी हैं।

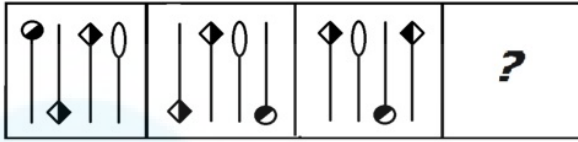
- Ans
- 1. केवल निष्कर्ष I और II अनुसरण करते हैं।
  - 2. सभी निष्कर्ष अनुसरण करते हैं।
  - 3. केवल निष्कर्ष I और III अनुसरण करते हैं।
  - 4. केवल निष्कर्ष II और III अनुसरण करते हैं।

Question ID : 26433092645

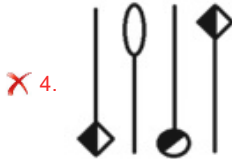
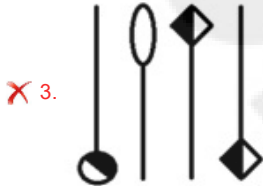
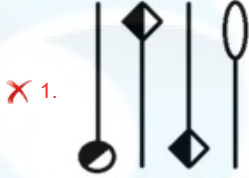
Status : Answered

Chosen Option : 3

Q.12 उत्तर आकृतियों में से उस सही आकृति का चयन कीजिए, जो प्रश्नचिह्न (?) को प्रतिस्थापित करेगी।



Ans



Question ID : 264330143267

Status : Answered

Chosen Option : 2

Q.13 \* चिह्नों को प्रतिस्थापित करने और दिए गए समीकरण को संतुलित करने के लिए गणितीय चिह्नों के सही संयोजन का चयन कीजिए।  
 $59 * 11 * 11 * 48 * 1 * 12$

Ans ✗ 1. -, +, +, x, =

✗ 2. x, -, +, +, =

✗ 3. -, +, +, x, =

✓ 4. +, +, -, x, =

Question ID : 264330142885

Status : Answered

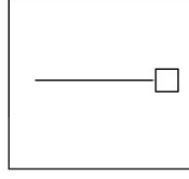
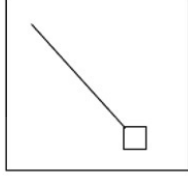
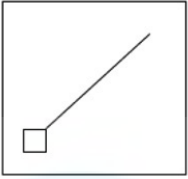
Chosen Option : 4

Q.14 'A # B' का अर्थ है 'A, B का पिता है।'  
'A @ B' का अर्थ है 'A, B का भाई है।'  
'A & B' का अर्थ है 'A, B का पति है।'  
'A % B' का अर्थ है 'A, B की माता है।'  
यदि D # L @ M & N % P @ T है, तो L का P से क्या संबंध है?

- Ans
- 1. भतीजा
  - 2. साला
  - 3. चाची
  - 4. चाचा

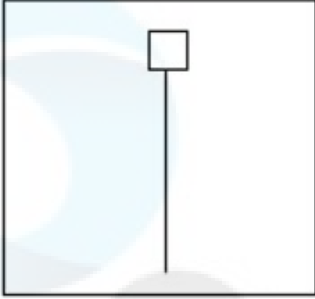
Question ID : 26433091635  
Status : Not Answered  
Chosen Option : --

Q.15 उस आकृति का चयन करें, जो निम्नलिखित शृंखला में प्रश्न-चिह्न (?) को प्रतिस्थापित करेगी।

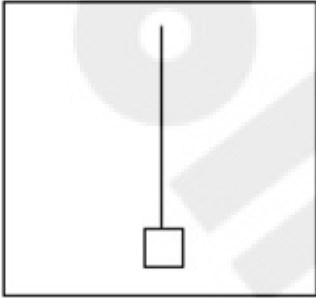


Ans

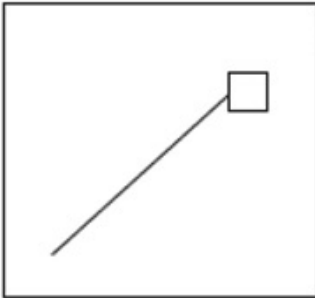
✗ 1.



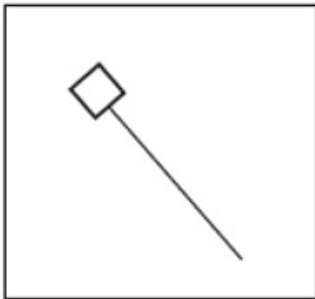
✓ 2.



✗ 3.



✗ 4.



Question ID : 264330143273  
Status : Answered  
Chosen Option : 2

Q.16 उस विकल्प का चयन करें जो उन अक्षरों का निरूपण करता है, जिन्हें नीचे श्रृंखला में दिए गए रिक्त स्थानों पर बाएं से दाएं क्रमिक रूप से रखने पर श्रृंखला पूर्ण हो जाएगी।

\_ T \_ O E \_ U \_ E \_ \_ O \_ U O

- Ans
- 1. EUEOTUET
  - 2. EUTOTUEU
  - 3. EUTOTUET
  - 4. EUTUTUET

Question ID : 264330142852  
Status : Answered  
Chosen Option : 3

Q.17 कौन-सा अक्षर-समूह प्रश्न-चिह्न (?) को प्रतिस्थापित करेगा और दी गई श्रृंखला को पूरा करेगा?  
BIRD, DMTG, ?, HUXM, JYZP

- Ans
- 1. FRWJ
  - 2. FQVJ
  - 3. FQWJ
  - 4. FRVJ

Question ID : 264330142910  
Status : Answered  
Chosen Option : 2

Q.18 \* चिह्नों को क्रमानुसार प्रतिस्थापित करने और दिए गए समीकरण को संतुलित करने के लिए गणितीय चिह्नों के सही संयोजन का चयन करें।

$$\sqrt{256} * 9 * 26 * 33 * (18 * 2) * (63 * 9)$$

- Ans
- 1. +, +, =, -, x, +, +
  - 2. x, +, =, +, x, -, +
  - 3. x, +, -, +, x, =, +
  - 4. +, -, +, +, =, x, +

Question ID : 26433057656  
Status : Not Answered  
Chosen Option : --

Q.19 यहाँ तीन कथनों के बाद तीन निष्कर्ष I, II और III दिए गए हैं। कथनों को सत्य मानते हुए, भले ही वे सामान्यतः ज्ञात तथ्यों से भिन्न प्रतीत होते हों, यह तय कीजिए कि कौन सा/से निष्कर्ष इन कथनों का तार्किक रूप से अनुसरण करता/करते है/हैं।

कथन:

सभी कुत्ते, बिल्लियाँ हैं।  
कोई भी चमगादड़, बिल्ली नहीं है।  
कुछ चूहे, चमगादड़ हैं।

निष्कर्ष:

I. कुछ बिल्लियाँ, चूहे हैं।  
II. कुछ कुत्ते, चमगादड़ हैं।  
III. कोई भी कुत्ता, चमगादड़ नहीं है।

- Ans
- 1. निष्कर्ष I और II दोनों अनुसरण करते हैं।
  - 2. केवल निष्कर्ष III अनुसरण करता है।
  - 3. केवल निष्कर्ष I अनुसरण करता है।
  - 4. निष्कर्ष I और III दोनों अनुसरण करते हैं।

Question ID : 264330142875  
Status : Answered  
Chosen Option : 2

Q.20 उस विकल्प का चयन कीजिए जो पाँचवें पद से उसी प्रकार संबंधित है जैसे दूसरा पद पहले पद से और चौथा पद तीसरे पद से संबंधित है।  
CORRECT : ROCRTCE :: WRONGLY : ORWNYLG :: NEUTRAL : ?

- Ans
- 1. LARTUEN
  - 2. ENUTRLA
  - 3. RALTNEW
  - 4. UENTLAR

Question ID : 264330142845  
Status : Answered  
Chosen Option : 4

Q.21 उस विकल्प का चयन कीजिए जो दिए गए शब्दों को तार्किक और सार्थक ढंग से सही क्रम व्यवस्था में दर्शाता है।  
1. पखवाड़ा  
2. वर्ष  
3. महीना  
4. दशक  
5. सप्ताह

- Ans
- 1. 2, 4, 5, 3, 1
  - 2. 4, 2, 3, 1, 5
  - 3. 4, 2, 3, 5, 1
  - 4. 2, 4, 3, 5, 1

Question ID : 264330125996  
Status : Answered  
Chosen Option : 3

Q.22 उस विकल्प का चयन करें, जो दिए गए शब्दों की सही व्यवस्था को उस क्रम में इंगित करता है, जिस क्रम में वे अंग्रेजी शब्दकोश में दिखाई देते हैं।  
1. Reduce  
2. Refer  
3. Redress  
4. Reedy  
5. Redeem

- Ans
- 1. 4, 3, 5, 2, 1
  - 2. 5, 1, 4, 3, 2
  - 3. 4, 5, 1, 2, 3
  - 4. 5, 3, 1, 4, 2

Question ID : 264330126647  
Status : Answered  
Chosen Option : 4

Q.23 एक निश्चित कूट भाषा में 'CARRY' को 'DBSSZ' लिखा जाता है और 'DELAY' को 'EFMBZ' लिखा जाता है। उस भाषा में 'FAITH' को कैसे लिखा जाएगा?

- Ans
- 1. GBJUI
  - 2. KCJVI
  - 3. GCKVJ
  - 4. HBKUJ

Question ID : 26433056559  
Status : Answered  
Chosen Option : 1

Q.24 उस विकल्प का चयन करें जो चौथे पद से उसी प्रकार संबंधित है जिस प्रकार पहला पद दूसरे पद से संबंधित है और पाँचवां पद छठे पद से संबंधित है।  
28 : 841 :: ? : 324 :: 2 : 9

- Ans
- 1. 19
  - 2. 7
  - 3. 22
  - 4. 17

Question ID : 26433040800  
Status : Answered  
Chosen Option : 4

Q.25 'A + B' का अर्थ है 'A, B की बहन है'।  
'A - B' का अर्थ है 'A, B की माँ है'।  
'A × B' का अर्थ है 'A, B का पति है'।  
'A ÷ B' का अर्थ है 'A, B का ससुर है'।  
यदि  $U \div V - W + X \times Y$ , तो निम्नलिखित में से कौन-सा कथन सही नहीं है?

- Ans
- 1. Y, W की बहन है।
  - 2. W, U की पोती/नतिनी है।
  - 3. V, X की माँ है।
  - 4. W, Y की ननद/भाभी/देवरानी/जेठानी है।

Question ID : 26433095990  
Status : Not Answered  
Chosen Option : --

Section : General Awareness

Q.1 स्वामी दयानंद के कुछ अनुयायियों ने D.A.V. नामक स्कूलों और कॉलेजों का एक नेटवर्क शुरू किया।  
D.A.V. में 'A' का पूर्ण रूप क्या है?

- Ans
- 1. Anglo (एंग्लो)
  - 2. Author (ऑथर)
  - 3. Angel (ऐंजेल)
  - 4. Accept (एक्सेप्ट)

Question ID : 26433082080  
Status : Answered  
Chosen Option : 1

Q.2 भारत के संविधान द्वारा केंद्र और राज्यों दोनों में किस प्रकार की सरकार स्थापित की जाती है?

- Ans
- 1. संघीय
  - 2. राष्ट्रपतीय
  - 3. समाजवादी
  - 4. संसदीय

Question ID : 26433086772  
Status : Answered  
Chosen Option : 4

Q.3 2 अक्टूबर 2021 को किस भारतीय राज्य ने CLAP मिशन शुरू किया?

- Ans
- 1. उत्तर प्रदेश
  - 2. आंध्र प्रदेश
  - 3. हिमाचल प्रदेश
  - 4. अरुणाचल प्रदेश

Question ID : 26433086870  
Status : Not Answered  
Chosen Option : --

Q.4 दिसंबर 2021 में, 200 टेस्ट विकेट लेने वाले तीसरे सबसे तेज भारतीय तेज गेंदबाज कौन बने?

- Ans
- 1. मोहम्मद शमी
  - 2. भुवनेश्वर कुमार
  - 3. जसप्रीत बुमराह
  - 4. इशांत शर्मा

Question ID : 264330142689  
Status : Answered  
Chosen Option : 1

Q.5 'जोंगखा (Dzongkha)' किस देश की राजभाषा है?

- Ans
- 1. भूटान
  - 2. बांग्लादेश
  - 3. म्यांमार
  - 4. मालदीव

Question ID : 264330113310  
Status : Answered  
Chosen Option : 1

Q.6 एक बहुकोशिकीय तंतुमय हरा शैवाल कौन-सा है, जिसमें बेलनाकार कोशिकाओं की पतली अशाखित श्रृंखलाएं होती हैं और जो धाराओं और तालाबों की सतह के पास तैरते हुए समूहों के रूप में पाया जाता है?

- Ans
- 1. एक्टोकार्पस
  - 2. क्लोरेला
  - 3. स्पाइरोगाइरा
  - 4. लैमिनेरिया

Question ID : 264330142711  
Status : Marked For Review  
Chosen Option : 4

Q.7 ब्रिटिश भारत के निम्नलिखित में से किस समाज सुधारक को लोकहितवादी के नाम से जाना जाता है?

- Ans
- 1. गोपाल गणेश अगरकर
  - 2. गोपाल हरि देशमुख
  - 3. दाबोदा पांडुरंग
  - 4. बालशास्त्री जम्भेकर

Question ID : 26433065570  
Status : Answered  
Chosen Option : 2

Q.8 प्राचीन भारतीय इतिहास के किस काल में मिट्टी के बर्तनों का पता लगाया गया था?

- Ans  1. नवपाषाण  
 2. ताम्रपाषाण  
 3. पुरापाषाण  
 4. मध्यपाषाण

Question ID : 264330108991  
Status : Answered  
Chosen Option : 1

Q.9 हॉकी में, यदि अंपायर एक बाजू उठाकर क्षैतिज रूप से दिशा का संकेत करता है, तो इसका आशय क्या है?

- Ans  1. बुल्ली  
 2. फ्री हिट  
 3. बनाए गए गोल  
 4. अवधि

Question ID : 26433054701  
Status : Answered  
Chosen Option : 2

Q.10 निम्नलिखित में से किसने 'वर्ल्ड कोरियोग्राफी अवार्ड 2020' जीता था?

- Ans  1. प्रभु देवा  
 2. फराह खान  
 3. गीता कपूर  
 4. सुरेश मुकुंद

Question ID : 26433097102  
Status : Answered  
Chosen Option : 4

Q.11 निम्नलिखित में से कौन-सा कथन भारतीय रेगिस्तान की विशिष्ट विशेषताओं के बारे में गलत है?

- Ans  1. यह अरावली पहाड़ियों के उत्तर पश्चिम में स्थित है।  
 2. यहां प्रति वर्ष 250 mm वर्षा होती है।  
 3. इसमें रेत के टीले हैं।  
 4. इसे मरुस्थली के नाम से भी जाना जाता है।

Question ID : 264330142781  
Status : Answered  
Chosen Option : 2

Q.12 30°-40° अक्षांशों के बीच उपोष्णकटिबंधीय अक्षांशों में महाद्वीपों के पश्चिमी तट के साथ किस प्रकार की जलवायु होती है, जो दक्षिण पूर्व और दक्षिण पश्चिमी ऑस्ट्रेलिया में तट के साथ मध्य कैलिफोर्निया, मध्य चिली को कवर करती है?

- Ans  1. भूमध्य जलवायु  
 2. आर्द्र उपोष्णकटिबंधीय जलवायु  
 3. उपोष्णकटिबंधीय मैदानी जलवायु  
 4. समुद्री पश्चिमी तट जलवायु

Question ID : 264330142720  
Status : Answered  
Chosen Option : 2

Q.13 1948 में, अर्नेस्ट मैके ने उल्लेख किया कि हड़प्पा शहर, लोथल में, जल निकासी व्यवस्था के लिए नालियों को \_\_\_\_\_ ईंटों से बनाया गया था।

- Ans
- 1. पकी
  - 2. मिट्टी की
  - 3. लाल
  - 4. बलुआ पत्थर की

Question ID : 26433072652  
Status : Answered  
Chosen Option : 1

Q.14 2011 की जनगणना के अनुसार, भारत में कुल जनसंख्या का कितना प्रतिशत ग्रामीण क्षेत्रों में रहता है?

- Ans
- 1. 58.8%
  - 2. 68.8%
  - 3. 66.8%
  - 4. 67.8%

Question ID : 264330142775  
Status : Answered  
Chosen Option : 2

Q.15 निम्नलिखित में से किसने 2022 में राज्य के बजट में महिलाओं के लिए 'सुषमा स्वराज पुरस्कार' की घोषणा की?

- Ans
- 1. अशोक गहलोत
  - 2. अमरिंदर सिंह
  - 3. योगी आदित्यनाथ
  - 4. मनोहर लाल खट्टर

Question ID : 26433061838  
Status : Answered  
Chosen Option : 3

Q.16 कृष्णा और तुंगभद्रा के बीच की भूमि, रायचूर दोआब, विजयनगर और \_\_\_\_\_ के राजाओं के बीच संघर्ष का कारण थी।

- Ans
- 1. मालवा
  - 2. बंगाल
  - 3. बहमनी
  - 4. गोलकुंडा

Question ID : 26433081942  
Status : Answered  
Chosen Option : 3

Q.17 निम्नलिखित में से किस राज्य में गुरुंग समुदाय द्वारा तमु लोसार त्यौहार नये साल के तौर पर मनाया जाता है?

- Ans
- 1. गोवा
  - 2. सिक्किम
  - 3. असम
  - 4. मध्य प्रदेश

Question ID : 264330141231  
Status : Answered  
Chosen Option : 1

Q.18 भारत का चुनाव आयोग अपने इतिहास में पहली बार किस वर्ष बहुसदस्यीय निकाय बना?

- Ans
- 1. 2004
  - 2. 1995
  - 3. 2014
  - 4. 1989

Question ID : 264330114492  
Status : Answered  
Chosen Option : 2

Q.19 \_\_\_\_\_ एक भ्रूणीय मध्य रेखा संरचना है जो कॉर्डेटा संघ के सभी सदस्यों में पाई जाती है और जो आसपास के ऊतकों के लिए मध्य रेखा संकेतों के स्रोत के रूप में और विकासशील भ्रूण के एक प्रमुख कंकाल तत्व के रूप में कार्य करती है।

- Ans
- 1. गुदा
  - 2. पुच्छ पख
  - 3. तंत्रिका रज्जु
  - 4. पृष्ठ रज्जु

Question ID : 264330142713  
Status : Answered  
Chosen Option : 3

Q.20 हाउ आई बिकेम ए हिंदू' \_\_\_\_\_ की आत्मकथा है।

- Ans
- 1. कमला सुरैया
  - 2. किरण बेदी
  - 3. सीता राम गोयल
  - 4. परमहंस योगानंद

Question ID : 264330141362  
Status : Answered  
Chosen Option : 2

Q.21 हिदेकी युकावा (Hideki Yukawa) को किस खोज के लिए 1949 में नोबेल पुरस्कार प्रदान किया गया था?

- Ans
- 1. ब्रह्मांडीय विकिरण की कैस्केड प्रक्रिया
  - 2. तापीय आयनीकरण
  - 3. इलेक्ट्रॉनिक आवेश का मापन
  - 4. परमाणु बलों का सिद्धांत

Question ID : 264330142737  
Status : Answered  
Chosen Option : 3

Q.22 निम्नलिखित में से कौन-सा भारत के लघु औद्योगिक क्षेत्र का उदाहरण नहीं है?

- Ans
- 1. हुगली क्षेत्र
  - 2. दुर्ग-रायपुर क्षेत्र
  - 3. उत्तरी मालाबार क्षेत्र
  - 4. अंबाला-अमृतसर क्षेत्र

Question ID : 264330142798  
Status : Answered  
Chosen Option : 2

Q.23 निम्नलिखित में से किसे मेजर ध्यानचंद खेल रत्न पुरस्कार 2021 से सम्मानित किया गया?

- Ans
- 1. प्रमोद भगत
  - 2. हरविंदर सिंह
  - 3. शरद कुमार
  - 4. अमित रोहिदास

Question ID : 26433072906  
Status : Answered  
Chosen Option : 1

Q.24 शहनाई को शादी के मंडप से कॉन्सर्ट हॉल तक ले जाने का श्रेय निम्नलिखित में से किसे जाता है?

- Ans
- 1. राजेंद्र प्रसन्ना
  - 2. उस्ताद बिस्मिल्लाह खॉं
  - 3. अली अहमद हुसैन खॉं
  - 4. अनंत लाल

Question ID : 264330141394  
Status : Answered  
Chosen Option : 2

Q.25 सुरूपा सेन एक मशहूर \_\_\_\_\_ नृत्यांगना हैं।

- Ans
- 1. कथकली
  - 2. कथक
  - 3. भरतनाट्यम्
  - 4. ओड़िसी

Question ID : 264330141228  
Status : Answered  
Chosen Option : 3

Section : Quantitative Aptitude

Q.1  $\frac{625}{2401}$  और  $\frac{49}{25}$  का माध्यानुपाती ज्ञात करें।

- Ans
- 1.  $\frac{7}{5}$
  - 2.  $\frac{25}{49}$
  - 3.  $\frac{49}{25}$
  - 4.  $\frac{5}{7}$

Question ID : 264330103409  
Status : Answered  
Chosen Option : 4

Q.2 मेधा बाइक से 27 km/h की गति से 81 km, साइकिल से 6 km/h की गति से 12 km और कार से 45 km/h की गति से 270 km की दूरी तय करती है। पूरी यात्रा के लिए उसकी औसत गति ज्ञात कीजिए।

- Ans
- 1. 35 km/h
  - 2. 36 km/h
  - 3. 33 km/h
  - 4. 34 km/h

Question ID : 264330142246  
Status : Answered  
Chosen Option : 2

Q.3 प्रथम 38 प्राकृत संख्याओं का औसत ज्ञात कीजिए।

- Ans
- 1. 16.5
  - 2. 20.5
  - 3. 19
  - 4. 19.5

Question ID : 264330102319  
Status : Answered  
Chosen Option : 3

Q.4 एक दुकानदार ने एक वस्तु को 25% लाभ पर बेचा। इसे ₹225 अधिक में बेचने पर उसे 40% का लाभ प्राप्त होता। वस्तु का क्रय मूल्य क्या था?

- Ans
- 1. ₹1,200
  - 2. ₹1,500
  - 3. ₹1,350
  - 4. ₹1,800

Question ID : 26433087359  
Status : Answered  
Chosen Option : 2

Q.5 13 आदमी एक कार्य को 7 दिनों में पूरा कर सकते हैं। 3 दिनों के बाद, 4 और पुरुष उनके साथ जुड़ गए। शेष कार्य को अब वे कितने दिनों में पूरा करेंगे?

- Ans
- 1.  $3\frac{4}{17}$  दिन
  - 2.  $3\frac{2}{17}$  दिन
  - 3.  $3\frac{3}{17}$  दिन
  - 4.  $3\frac{1}{17}$  दिन

Question ID : 264330142250  
Status : Answered  
Chosen Option : 4

Q.6 यदि  $a : b : c = 4 : 7 : 9$  और  $b : c : d = 28 : 36 : 21$  है, तो  $a : b : c : d$  क्या होगा?

- Ans
- 1.  $4 : 7 : 9 : 11$
  - 2.  $12 : 21 : 27 : 17$
  - 3.  $8 : 14 : 18 : 21$
  - 4.  $16 : 28 : 36 : 21$

Question ID : 264330142256  
Status : Not Answered  
Chosen Option : --

Q.7 चार संख्याओं का औसत 44 था। पाँचवीं संख्या  $y$  को शामिल करने के साथ, नया औसत 42 हो गया।  $y$  का मान क्या है?

- Ans
- 1. 36
  - 2. 32
  - 3. 34
  - 4. 40

Question ID : 264330103237  
Status : Answered  
Chosen Option : 3

Q.8 राजेश अपने सामान पर क्रय मूल्य से 30% अधिक मूल्य अंकित करता है लेकिन नकद भुगतान पर 12% की छूट देता है। यदि वह सामान को ₹3,500 में बेचता है, तो उसका क्रय मूल्य (दशमलव के एक स्थान तक) ज्ञात कीजिए।

- Ans
- 1. ₹3,090.5
  - 2. ₹3,059.4
  - 3. ₹3,095.9
  - 4. ₹3,054.9

Question ID : 26433099035  
Status : Answered  
Chosen Option : 2

Q.9 X और Y की कुल बचत उनकी कुल आय की 40% है। उनका औसत व्यय ₹21,000 है। X और Y का कुल वेतन कितना है?

- Ans
- 1. ₹70,000
  - 2. ₹60,000
  - 3. ₹65,000
  - 4. ₹55,000

Question ID : 26433081557  
Status : Answered  
Chosen Option : 1

Q.10 एक व्यक्ति 11 km की दूरी 3 km/h की चाल से, 21 km की दूरी 5 km/h की चाल से और 37 km की दूरी 10 km/h की चाल से तय करता है। पूरी यात्रा की औसत चाल ज्ञात कीजिए।

- Ans
- 1.  $5 \frac{135}{347}$  km/h
  - 2.  $5 \frac{347}{335}$  km/h
  - 3.  $5 \frac{235}{247}$  km/h
  - 4.  $5 \frac{335}{347}$  km/h

Question ID : 26433074221  
Status : Not Answered  
Chosen Option : --

Q.11 एक आदमी एक साइकिल को 10% नुकसान पर ₹990 में बेचता है। 24% लाभ कमाने के लिए उसे साइकिल कितनी कीमत (₹ में) पर बेचनी चाहिए?

- Ans
- 1. 1,364
  - 2. 1,380
  - 3. 1,664
  - 4. 1,640

Question ID : 264330142588  
Status : Answered  
Chosen Option : 1

Q.12 अन्विता की मासिक आय ₹28,500 थी और उसका मासिक खर्च ₹22,500 था। अगले वर्ष उसकी आय में 16% की वृद्धि हुई और उसके व्यय में 10% की वृद्धि हुई। उसकी बचत में प्रतिशत वृद्धि ज्ञात कीजिए।

- Ans
- 1. 35.5 प्रतिशत
  - 2. 35.8 प्रतिशत
  - 3. 38.5 प्रतिशत
  - 4. 21.05 प्रतिशत

Question ID : 26433074334  
Status : Not Answered  
Chosen Option : --

Q.13 21 cm त्रिज्या वाले लोहे के एक ठोस गोले को पिघलाकर 84 cm ऊँचाई वाला एक शंकु बनाया जाता है। शंकु की त्रिज्या क्या होगी?

- Ans
- 1. 28 cm
  - 2. 24 cm
  - 3. 32 cm
  - 4. 21 cm

Question ID : 264330142754  
Status : Answered  
Chosen Option : 4

Q.14 8 cm व्यास की एक गोलाकार गेंद को दो बराबर भागों में काटा जाता है। इस तरह के एक हिस्से के वक्रित क्षेत्रफल को हरे रंग से रंगना है, जबकि दूसरे हिस्से को लाल रंग से रंगना है। दोनों गोलार्धों के आधारों को नीले रंग से रंगना है। नीले रंग से रंगने की लागत ₹2/cm<sup>2</sup> है, जबकि वक्रित क्षेत्रफल को रंगने की लागत ₹3/cm<sup>2</sup> है। गोलार्धों को रंगने की लागत (₹ में) क्या होगा?  
 $\pi = 3.14$  लीजिए

- Ans
- 1. ₹803.84
  - 2. ₹492.92
  - 3. ₹401.92
  - 4. ₹451.92

Question ID : 26433081652  
Status : Not Answered  
Chosen Option : --

Q.15 रवि ने एक बैंक से ₹1,380 उधार लिए, जिसे उसने 6% वार्षिक साधारण ब्याज की दर से 6 वर्षों में चुका दिया। यदि भुगतान छह समान किस्तों में किया गया था, तो प्रत्येक किस्त की राशि कितनी थी?

- Ans
- 1. ₹220
  - 2. ₹180
  - 3. ₹190
  - 4. ₹200

Question ID : 26433099599  
Status : Not Answered  
Chosen Option : --

Q.16 15 पुरुष एक कार्य को 15 दिनों में पूरा कर सकते हैं, जबकि 18 महिलाएं उसी कार्य को 15 दिनों में पूरा करती हैं। 20 पुरुष और 9 महिलाएं मिलकर इस कार्य को कितने दिनों में पूरा करेंगे? (दिनों की संख्या को पूरा करने के लिए पूर्णांकित कीजिए)

- Ans
- 1. 8
  - 2. 15
  - 3. 5
  - 4. 12

Question ID : 26433092029  
Status : Answered  
Chosen Option : 1

Q.17 संख्या 974581297426 निम्न में से किससे विभाज्य है?

- Ans
- 1. 6
  - 2. 9
  - 3. 11
  - 4. 4

Question ID : 264330126162  
Status : Answered  
Chosen Option : 3

Q.18 यदि एक विक्रेता 12 पाठ्यपुस्तकों को बेचकर 4 पाठ्यपुस्तकों के विक्रय मूल्य के बराबर लाभ अर्जित करता है, तो उसका लाभ प्रतिशत क्या है?

- Ans
- 1. 30%
  - 2. 25%
  - 3. 50%
  - 4.  $16\frac{2}{3}\%$

Question ID : 26433082678  
Status : Answered  
Chosen Option : 3

Q.19 दिल्ली से चंडीगढ़ जाने में 60 km/h की औसत गति से 4 घंटे का समय लगता है। एक व्यक्ति को 50 km/h की औसत गति से दिल्ली से चंडीगढ़ जाने में कितना समय लगेगा?

- Ans
- 1. 4 घंटे 30 मिनट
  - 2. 4 घंटे 40 मिनट
  - 3. 5 घंटे
  - 4. 4 घंटे 48 मिनट

Question ID : 264330142277  
Status : Answered  
Chosen Option : 4

Q.20 12 और 36 का तृतीयानुपाती \_\_\_\_\_ है।

- Ans
- 1. 96
  - 2. 12
  - 3. 36
  - 4. 108

Question ID : 26433073021  
Status : Answered  
Chosen Option : 1

Q.21 कौन-सा वार्षिक भुगतान (₹ में) ₹1,500 के ऋण को 10 वर्षों में 5% वार्षिक साधारण ब्याज की दर से चुकाएगा? (दो दशमलव स्थानों तक सही)

- Ans
- 1. 111.44
  - 2. 122.44
  - 3. 125.44
  - 4. 123.44

Question ID : 264330102357  
Status : Not Answered  
Chosen Option : --

Q.22 ₹1,35,000 पर 6 साल के लिए  $6\frac{3}{4}\%$  प्रति वर्ष की दर से साधारण ब्याज ज्ञात कीजिए।

- Ans
- 1. ₹54,575
  - 2. ₹54,675
  - 3. ₹54,875
  - 4. ₹54,475

Question ID : 264330142244  
Status : Answered  
Chosen Option : 2

Q.23 निम्नलिखित में से कौन-सी संख्या 120 द्वारा विभाज्य है?

- Ans
- 1. 170360
  - 2. 140240
  - 3. 156200
  - 4. 170280

Question ID : 264330142591  
Status : Answered  
Chosen Option : 3

Q.24 15% और 35% की दो क्रमागत छूटों के लिए शुद्ध छूट कितनी है?

- Ans
- 1. 25%
  - 2. 50%
  - 3. 44.57%
  - 4. 44.75%

Question ID : 264330122074  
Status : Answered  
Chosen Option : 3

Q.25 यदि एक परीक्षा में रोहन द्वारा प्राप्त अंक पवन के अंक से 36% कम है, तो पवन द्वारा प्राप्त अंक रोहन द्वारा प्राप्त अंकों से कितने प्रतिशत अधिक है?

- Ans
- 1. 56.25%
  - 2. 26.47%
  - 3. 63.25%
  - 4. 52.47%

Question ID : 26433063681  
Status : Not Answered  
Chosen Option : --

**Q.1** Select the most appropriate option to fill in the blank.

A fire \_\_\_\_\_ out in the basement of the house.

- Ans
- 1. burned
  - 2. breaking
  - 3. burnt
  - 4. broke

Question ID : 26433060084  
Status : Answered  
Chosen Option : 1

**Q.2** Select the most appropriate meaning of the given idiom.

To go down in flames

- Ans
- 1. To mend permanently
  - 2. To take risks whole heartedly
  - 3. To burn completely
  - 4. To fail miserably at something

Question ID : 26433091742  
Status : Answered  
Chosen Option : 4

**Q.3** Select the INCORRECTLY spelt word.

- Ans
- 1. Credulous
  - 2. Corporeale
  - 3. Diminutives
  - 4. Sagacious

Question ID : 26433060196  
Status : Not Answered  
Chosen Option : --

**Q.4** Select the option that can be used as a one-word substitute for the given group of words.

The supervisor in the examination hall.

- Ans
- 1. Teacher
  - 2. Invigilator
  - 3. Monitor
  - 4. Principal

Question ID : 26433060102  
Status : Answered  
Chosen Option : 2

**Q.5** Choose the most appropriate ANTONYM of the underlined word in the given sentence.

The melancholy song brought tears to my eyes.

- Ans
- 1. Ecstasy
  - 2. Seclusion
  - 3. Aesthetic
  - 4. Tremendousness

Question ID : 26433071838  
Status : Answered  
Chosen Option : 3

**Q.6** Select the most appropriate option that can substitute the underlined segment in the given sentence. If there is no need to substitute it, select 'No substitution'.

For a little while Binod was the media's blue-eyed boy.

- Ans
- 1. big-name boy
  - 2. green-eyed boy
  - 3. No substitution
  - 4. blue-shirt boy

Question ID : 26433087931  
Status : Answered  
Chosen Option : 3

**Q.7** Select the option that expresses the given sentence in active voice.  
The gardening is done by Anil.

- Ans
- 1. Anil been done the gardening
  - 2. Anil is be done the gardening
  - 3. Anil does the gardening
  - 4. Anil had been done the gardening

Question ID : 264330132873  
Status : Answered  
Chosen Option : 3

**Q.8** Select the most appropriate meaning of the underlined idiom.

Those were only crocodile tears.

- Ans
- 1. A weeping sign
  - 2. Mild regret
  - 3. Pretended sadness
  - 4. Very gloomy

Question ID : 26433088143  
Status : Answered  
Chosen Option : 1

**Q.9** Select the INCORRECTLY spelt word.

- Ans
- 1. Admirable
  - 2. Cautious
  - 3. Impious
  - 4. Renonce

Question ID : 26433087935  
Status : Answered  
Chosen Option : 4

Q.10 Select the INCORRECTLY spelt word.

- Ans
- 1. Location
  - 2. Leftinant
  - 3. Longevity
  - 4. Ludicrous

Question ID : 26433088537  
Status : Answered  
Chosen Option : 2

Q.11 Select the most appropriate option to fill in the blank.

The weather report shows the \_\_\_\_\_ of rainfall.

- Ans
- 1. mobility
  - 2. validity
  - 3. probability
  - 4. tranquillity

Question ID : 26433060086  
Status : Answered  
Chosen Option : 3

Q.12 Select the correct direct narration of the given sentence.  
They said that they would go the next day.

- Ans
- 1. They said, "We will go tomorrow."
  - 2. They said, "We will be go tomorrow."
  - 3. They said, "I will have went tomorrow."
  - 4. They said, "I would go tomorrow."

Question ID : 264330132788  
Status : Answered  
Chosen Option : 1

Q.13 Select the most appropriate meaning of the given idiom.

Ruffle someone's feathers

- Ans
- 1. Do something very easily
  - 2. Be relaxed and in control
  - 3. Make someone annoyed
  - 4. Make more of an effort

Question ID : 264330132896  
Status : Answered  
Chosen Option : 3

Q.14 Select the most appropriate option to fill in the blank.

Rome grew from a small town on the Tiber River in central Italy into a \_\_\_\_\_ empire that ultimately embraced England.

- Ans
- 1. vast
  - 2. lofty
  - 3. voluminous
  - 4. bountiful

Question ID : 26433060958  
Status : Answered  
Chosen Option : 2

**Q.15** Select the most appropriate ANTONYM of the given word.

**Humane**

- Ans**  1. merciless  
 2. forgiving  
 3. cordial  
 4. generous

Question ID : 26433059804  
Status : Not Answered  
Chosen Option : --

**Comprehension:**

In the following passage, some words have been deleted. Read the passage carefully and select the most appropriate option to fill in each blank.

Shark Tank has struck a chord with the aspiring, hardworking people who have a (1)\_\_\_\_\_ and a stake in India's future in a very short period since its (2)\_\_\_\_\_. What is particularly exciting to observe are the stories from across India (3)\_\_\_\_\_ centre stage to carve out their individuality via entrepreneurial (4)\_\_\_\_\_. The Sharks have made incredible (5)\_\_\_\_\_ with new ventures ranging from gadget start-ups to food firms.

**SubQuestion No : 16**

**Q.16** Select the most appropriate option to fill in blank number 1.

- Ans**  1. vision  
 2. consistency  
 3. perception  
 4. priority

Question ID : 26433096168  
Status : Not Answered  
Chosen Option : --

**Comprehension:**

In the following passage, some words have been deleted. Read the passage carefully and select the most appropriate option to fill in each blank.

Shark Tank has struck a chord with the aspiring, hardworking people who have a (1)\_\_\_\_\_ and a stake in India's future in a very short period since its (2)\_\_\_\_\_. What is particularly exciting to observe are the stories from across India (3)\_\_\_\_\_ centre stage to carve out their individuality via entrepreneurial (4)\_\_\_\_\_. The Sharks have made incredible (5)\_\_\_\_\_ with new ventures ranging from gadget start-ups to food firms.

**SubQuestion No : 17**

**Q.17** Select the most appropriate option to fill in blank number 2.

- Ans**  1. formation  
 2. birth  
 3. debut  
 4. departure

Question ID : 26433096169  
Status : Not Answered  
Chosen Option : --

**Comprehension:**

In the following passage, some words have been deleted. Read the passage carefully and select the most appropriate option to fill in each blank.

Shark Tank has struck a chord with the aspiring, hardworking people who have a (1)\_\_\_\_\_ and a stake in India's future in a very short period since its (2)\_\_\_\_\_. What is particularly exciting to observe are the stories from across India (3)\_\_\_\_\_ centre stage to carve out their individuality via entrepreneurial (4)\_\_\_\_\_. The Sharks have made incredible (5)\_\_\_\_\_ with new ventures ranging from gadget start-ups to food firms.

**SubQuestion No : 18**

**Q.18** Select the most appropriate option to fill in blank number 3.

- Ans
- 1. reinventing
  - 2. measuring
  - 3. gratifying
  - 4. taking

Question ID : 26433096170  
Status : Not Answered  
Chosen Option : --

**Comprehension:**

In the following passage, some words have been deleted. Read the passage carefully and select the most appropriate option to fill in each blank.

Shark Tank has struck a chord with the aspiring, hardworking people who have a (1)\_\_\_\_\_ and a stake in India's future in a very short period since its (2)\_\_\_\_\_. What is particularly exciting to observe are the stories from across India (3)\_\_\_\_\_ centre stage to carve out their individuality via entrepreneurial (4)\_\_\_\_\_. The Sharks have made incredible (5)\_\_\_\_\_ with new ventures ranging from gadget start-ups to food firms.

**SubQuestion No : 19**

**Q.19** Select the most appropriate option to fill in blank number 4.

- Ans
- 1. integrity
  - 2. limitation
  - 3. collaboration
  - 4. enthusiasm

Question ID : 26433096171  
Status : Not Answered  
Chosen Option : --

**Comprehension:**

In the following passage, some words have been deleted. Read the passage carefully and select the most appropriate option to fill in each blank.

Shark Tank has struck a chord with the aspiring, hardworking people who have a (1)\_\_\_\_\_ and a stake in India's future in a very short period since its (2)\_\_\_\_\_. What is particularly exciting to observe are the stories from across India (3)\_\_\_\_\_ centre stage to carve out their individuality via entrepreneurial (4)\_\_\_\_\_. The Sharks have made incredible (5)\_\_\_\_\_ with new ventures ranging from gadget start-ups to food firms.

**SubQuestion No : 20**

**Q.20** Select the most appropriate option to fill in blank number 5.

- Ans
- 1. accounts
  - 2. association
  - 3. promises
  - 4. agreements

Question ID : 26433096172  
Status : Not Answered  
Chosen Option : --

**Comprehension:**

Read the given passage and answer the questions that follow.

When it comes to nutrition, 'power foods' are those with a high concentration of nutrients, such fibre and potassium. A growing number of fitness trainers advise their customers to include these items in their regular diets in order to boost muscle growth. Power foods can be incorporated into your diet in a variety of ways. Of course, careful preparation, the use of season-fresh items and identifying your preferred flavour among power meals are the keys to enjoying these dishes.

Even if you're not a gourmet cook, you may find some of the best power food combos in your own pantry. Onions and chickpeas are an excellent pairing. In order for the body to deliver oxygen to all of its numerous parts, it needs iron. The symptoms of an iron deficiency include anaemia, fatigue, mental fog and exhaustion.

Bananas and yoghurt are another popular power food pairing. After a long football game, this is the ideal post-game snack. Exercising reduces blood sugar by reducing the amount of glucose in the bloodstream. Yoghurt is rich in protein and bananas are rich in carbohydrates, both of which aid in refuelling and preventing muscular stiffness after a workout.

Green tea is the best source of catechins, antioxidants that can protect cells from oxidative damage, in the beverage market. Adding a squeeze of lemon to green tea, say Purdue University researchers, increases the body's ability to absorb catechins. So, the next time you have friends around, serve them iced green tea with mint and lemon juice in a pitcher.

**SubQuestion No : 21****Q.21 Identify the tone of the passage.****Ans**  1. Deductive 2. Informative 3. Assertive 4. Imperative

Question ID : 264330102437

Status : Not Answered

Chosen Option : --

**Comprehension:**

Read the given passage and answer the questions that follow.

When it comes to nutrition, 'power foods' are those with a high concentration of nutrients, such fibre and potassium. A growing number of fitness trainers advise their customers to include these items in their regular diets in order to boost muscle growth. Power foods can be incorporated into your diet in a variety of ways. Of course, careful preparation, the use of season-fresh items and identifying your preferred flavour among power meals are the keys to enjoying these dishes.

Even if you're not a gourmet cook, you may find some of the best power food combos in your own pantry. Onions and chickpeas are an excellent pairing. In order for the body to deliver oxygen to all of its numerous parts, it needs iron. The symptoms of an iron deficiency include anaemia, fatigue, mental fog and exhaustion.

Bananas and yoghurt are another popular power food pairing. After a long football game, this is the ideal post-game snack. Exercising reduces blood sugar by reducing the amount of glucose in the bloodstream. Yoghurt is rich in protein and bananas are rich in carbohydrates, both of which aid in refuelling and preventing muscular stiffness after a workout.

Green tea is the best source of catechins, antioxidants that can protect cells from oxidative damage, in the beverage market. Adding a squeeze of lemon to green tea, say Purdue University researchers, increases the body's ability to absorb catechins. So, the next time you have friends around, serve them iced green tea with mint and lemon juice in a pitcher.

**SubQuestion No : 22****Q.22 Who says that adding a squeeze of lemon to green tea increases the body's ability to absorb catechins?****Ans**  1. Kentucky University researchers 2. Purdue University researchers 3. Western Cape University researchers 4. Harvard University researchers

Question ID : 264330102436

Status : Not Answered

Chosen Option : --

**Comprehension:**

Read the given passage and answer the questions that follow.

When it comes to nutrition, 'power foods' are those with a high concentration of nutrients, such fibre and potassium. A growing number of fitness trainers advise their customers to include these items in their regular diets in order to boost muscle growth. Power foods can be incorporated into your diet in a variety of ways. Of course, careful preparation, the use of season-fresh items and identifying your preferred flavour among power meals are the keys to enjoying these dishes.

Even if you're not a gourmet cook, you may find some of the best power food combos in your own pantry. Onions and chickpeas are an excellent pairing. In order for the body to deliver oxygen to all of its numerous parts, it needs iron. The symptoms of an iron deficiency include anaemia, fatigue, mental fog and exhaustion.

Bananas and yoghurt are another popular power food pairing. After a long football game, this is the ideal post-game snack. Exercising reduces blood sugar by reducing the amount of glucose in the bloodstream. Yoghurt is rich in protein and bananas are rich in carbohydrates, both of which aid in refuelling and preventing muscular stiffness after a workout.

Green tea is the best source of catechins, antioxidants that can protect cells from oxidative damage, in the beverage market. Adding a squeeze of lemon to green tea, say Purdue University researchers, increases the body's ability to absorb catechins. So, the next time you have friends around, serve them iced green tea with mint and lemon juice in a pitcher.

**SubQuestion No : 23****Q.23 Identify a suitable title for the passage.**

- Ans
- 1. Easy to Prepare Snacks
  - 2. Food Choices
  - 3. Foods for Enjoyment
  - 4. Foods for Fitness

Question ID : 264330102434

Status : Not Answered

Chosen Option : --

**Comprehension:**

Read the given passage and answer the questions that follow.

When it comes to nutrition, 'power foods' are those with a high concentration of nutrients, such fibre and potassium. A growing number of fitness trainers advise their customers to include these items in their regular diets in order to boost muscle growth. Power foods can be incorporated into your diet in a variety of ways. Of course, careful preparation, the use of season-fresh items and identifying your preferred flavour among power meals are the keys to enjoying these dishes.

Even if you're not a gourmet cook, you may find some of the best power food combos in your own pantry. Onions and chickpeas are an excellent pairing. In order for the body to deliver oxygen to all of its numerous parts, it needs iron. The symptoms of an iron deficiency include anaemia, fatigue, mental fog and exhaustion.

Bananas and yoghurt are another popular power food pairing. After a long football game, this is the ideal post-game snack. Exercising reduces blood sugar by reducing the amount of glucose in the bloodstream. Yoghurt is rich in protein and bananas are rich in carbohydrates, both of which aid in refuelling and preventing muscular stiffness after a workout.

Green tea is the best source of catechins, antioxidants that can protect cells from oxidative damage, in the beverage market. Adding a squeeze of lemon to green tea, say Purdue University researchers, increases the body's ability to absorb catechins. So, the next time you have friends around, serve them iced green tea with mint and lemon juice in a pitcher.

**SubQuestion No : 24****Q.24 Identify the central theme of the passage.**

- Ans
- 1. Usefulness of bananas and yoghurt
  - 2. Food and lifestyle
  - 3. Impact of consuming green tea
  - 4. Maintenance of unhealthy food habits

Question ID : 264330102435

Status : Not Answered

Chosen Option : --

**Comprehension:**

Read the given passage and answer the questions that follow.

When it comes to nutrition, 'power foods' are those with a high concentration of nutrients, such fibre and potassium. A growing number of fitness trainers advise their customers to include these items in their regular diets in order to boost muscle growth. Power foods can be incorporated into your diet in a variety of ways. Of course, careful preparation, the use of season-fresh items and identifying your preferred flavour among power meals are the keys to enjoying these dishes.

Even if you're not a gourmet cook, you may find some of the best power food combos in your own pantry. Onions and chickpeas are an excellent pairing. In order for the body to deliver oxygen to all of its numerous parts, it needs iron. The symptoms of an iron deficiency include anaemia, fatigue, mental fog and exhaustion.

Bananas and yoghurt are another popular power food pairing. After a long football game, this is the ideal post-game snack. Exercising reduces blood sugar by reducing the amount of glucose in the bloodstream. Yoghurt is rich in protein and bananas are rich in carbohydrates, both of which aid in refuelling and preventing muscular stiffness after a workout.

Green tea is the best source of catechins, antioxidants that can protect cells from oxidative damage, in the beverage market. Adding a squeeze of lemon to green tea, say Purdue University researchers, increases the body's ability to absorb catechins. So, the next time you have friends around, serve them iced green tea with mint and lemon juice in a pitcher.

**SubQuestion No : 25**

**Q.25** Select the most appropriate **ANTONYM** of the given word.  
**Absorb**

- Ans**  1. Dissipate  
 2. Emit  
 3. Ingest  
 4. Blot

Question ID : 264330102438

Status : Not Answered

Chosen Option : --