

## Selection Post Phase IX 2021 Matriculation level

Roll Number	
Candidate Name	
Venue Name	
Exam Date	10/02/2022
Exam Time	9:00 AM - 10:00 AM
Subject	Selection Post Matriculation Level

### Section : General Intelligence

Q.1 एक निश्चित कूट भाषा में, 'HEADLIGHT' को 'JGCFNKIJV' लिखा जाता है। उसी कूट भाषा में 'INADVISABLE' को किस प्रकार लिखा जाएगा?

- Ans
- ☒ 1. KQDEXKUDEOG
  - ☒ 2. KQCFXLUDENG
  - ☒ 3. KPDFXLUCDNG
  - ☒ 4. KPCFXKUCDNG

Question ID : 65497838400

Status : Answered

Chosen Option : 4

Q.2 उस विकल्प का चयन कीजिए, जिसका तीसरी संख्या से वही संबंध है, जो दूसरी संख्या का पहली संख्या से है और छठी संख्या का पांचवीं संख्या से है।

65 : 192 :: 78 : ? :: 93 : 220

- Ans
- ☒ 1. 234
  - ☒ 2. 223
  - ☒ 3. 205
  - ☒ 4. 198

Question ID : 65497838307

Status : Not Answered

Chosen Option : --

Q.3 आठ व्यक्ति A, B, C, D, E, F, G और H एक वृत्ताकार मेज के परितः मेज के केंद्र की ओर मुख करके बैठे हैं। A, F के दाईं ओर ठीक बगल में बैठा है। D, A के दाईं ओर दूसरे स्थान पर बैठा है। C, D के बाईं ओर चौथे स्थान पर बैठा है। B, H और E के बीच में बैठा है। E, G के दाईं ओर चौथे स्थान पर बैठा है। A के बाईं ओर दूसरे स्थान पर कौन बैठा है?

- Ans
- ☒ 1. F
  - ☒ 2. C
  - ☒ 3. E
  - ☒ 4. D

Question ID : 65497838811

Status : Answered

Chosen Option : 2

Q.4 चार अक्षर-समूह दिए गए हैं, जिनमें से तीन किसी तरह से संगत हैं और एक असंगत है। उस अक्षर-समूह का चयन करें, जो अन्य से असंगत है।

- Ans
- ☒ 1. MNP
  - ☒ 2. WXZ
  - ☒ 3. GHJ
  - ☒ 4. TUV

Question ID : 65497838902

Status : Answered

Chosen Option : 4

Q.5 जब दर्पण को निम्नांकित चित्र के अनुसार PQ पर रखा गया हो, तो दिए गए संयोजन का दर्पण में निर्मित प्रतिबिंब चयनित करें।

S A N 7 I T I Z 2 E R

P  
Q

- Ans
- ☒ 1. 2 V N I I I Z 2 E R
  - ☒ 2. 2 V N I I I Z 2 E R
  - ☒ 3. R E 2 Z I T I 7 N A 2
  - ☒ 4. R E 2 Z I T I 7 N A 2

Question ID : 65497839128

Status : Answered

Chosen Option : 3

Q.6 एक निश्चित कूट भाषा में, 'DOME' को '74' के रूप में कूटबद्ध किया जाता है और 'PLACE' को '74' के रूप में कूटबद्ध किया जाता है। उसी भाषा में, 'FLOOD' को किस रूप में कूटबद्ध किया जाएगा?

- Ans
- ☒ 1. 104
  - ☒ 2. 100
  - ☒ 3. 91
  - ☒ 4. 70

Question ID : 65497839216

Status : Answered

Chosen Option : 1

Q.7 एक निश्चित कूट भाषा में, 'SHARP' को 'LOATN' के रूप में लिखा जाता है। उसी भाषा में 'VAPID' को कैसे लिखा जाएगा?

- Ans
- ☒ 1. ERPHE
  - ☒ 2. WZPZM
  - ☒ 3. ERTHE
  - ☒ 4. WZLZM

Question ID : 65497838401

Status : Not Answered

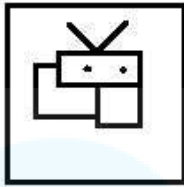
Chosen Option : --

Q.8 उस विकल्प का चयन करें, जिसमें दी गई आकृति अंतर्निहित है (आकृति को घुमाने की अनुमति नहीं है)।

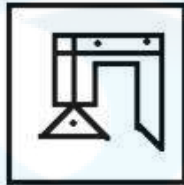


Ans

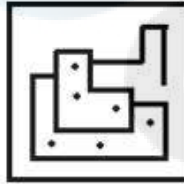
✗ 1.



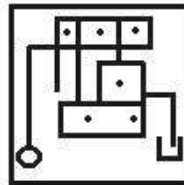
✗ 2.



✗ 3.



✓ 4.



Question ID : 65497838821

Status : Answered

Chosen Option : 4

Q.9 अक्षरों के उस संयोजन का चयन कीजिए, जिसे दी गई श्रृंखला के रिक्त स्थानों में क्रमबद्ध रूप से रखने पर श्रृंखला पूर्ण हो जाएगी।

A B \_ \_ K \_ \_ D E K \_ B \_ \_ K

Ans

✗ 1. EDABAED

✗ 2. DEBBAK

✓ 3. DEABADE

✗ 4. EDBABED

Question ID : 65497838291

Status : Answered

Chosen Option : 3

Q.10 दिए गए कथन और निष्कर्ष सावधानीपूर्वक पढ़ें। कथनों में दी गई जानकारी को सत्य मानते हुए, चाहे यह सामान्यतः ज्ञात तथ्यों से असंगत प्रतीत होती हो, यह निर्धारित करें, कि दिए गए निष्कर्षों में से कौन सा/से निष्कर्ष कथनों का तार्किक रूप से अनुसरण करता है/करते हैं।

कथन:  
सभी खिलाड़ी, अभिनेता हैं।  
कुछ लेखक, अभिनेता हैं।

निष्कर्ष:  
(I) सभी खिलाड़ी, लेखक हैं।  
(II) कुछ लेखक, खिलाड़ी हैं।

- Ans
- ☒ 1. केवल निष्कर्ष II अनुसरण करता है।
  - ☒ 2. केवल निष्कर्ष I अनुसरण करता है।
  - ☒ 3. या तो निष्कर्ष I या II अनुसरण करता है।
  - ☒ 4. न तो निष्कर्ष I न ही II अनुसरण करता है।

Question ID : 65497839119

Status : Answered

Chosen Option : 4

Q.11 विनोद, रिया के दादा हैं। रिया, निखिल की पुत्री है। गौरी, निखिल की पत्नी है। सोहन, निखिल का भाई है। सोहन का रिया से क्या संबंध है?

- Ans
- ☒ 1. पिता के पिता
  - ☒ 2. पुत्र
  - ☒ 3. भाई
  - ☒ 4. पिता का भाई

Question ID : 65497838508

Status : Answered

Chosen Option : 4

Q.12 संजू का आठ सदस्यों का परिवार है। बिनोद परिवार का ज्येष्ठ पुरुष सदस्य है और उसका विवाह नर्मदा के साथ हुआ है। हयाति, नर्मदा की बहू और सुविद और अलेक्या की भाभी हैं। संजू और बिनोद के अलावा, सुविद परिवार का एकमात्र पुरुष सदस्य है। अलेक्या संजू की दो बेटियों, सरयू और दक्षि की बुआ है। दक्षि का सुविद के भाई से क्या संबंध है?

- Ans
- ☒ 1. बेटी
  - ☒ 2. बहन
  - ☒ 3. भाभी
  - ☒ 4. बहू

Question ID : 65497838814

Status : Not Answered

Chosen Option : --

Q.13 एक निश्चित कूट भाषा में, 'TABLE' को '10177625' के रूप में कूटबद्ध किया जाता है। उसी भाषा में 'GLOBAL' को किस रूप में कूटबद्ध किया जाएगा?

- Ans
- ☒ 1. 1267101712
  - ☒ 2. 2171027671
  - ☒ 3. 1776021721
  - ☒ 4. 1767201712

Question ID : 65497838806

Status : Not Answered

Chosen Option : --

Q.14 दिए गए कथनों और निष्कर्षों को ध्यानपूर्वक पढ़ें। कथनों में दी गई जानकारी को सत्य मानते हुए विचार करें, भले ही वह सामान्यतः ज्ञात तथ्यों से भिन्न प्रतीत होती हो, और तय करें कि दिए गए निष्कर्षों में से कौन से कथनों का तार्किक रूप से पालन करते हैं?

कथन:

कोई पक्षी तोता नहीं है।

कुछ कबूतर पक्षी हैं।

सभी कौवे तोते हैं।

निष्कर्ष:

I. कोई पक्षी कबूतर नहीं है।

II. सभी तोते निश्चित रूप से पक्षी नहीं हैं।

- Ans ☒ 1. निष्कर्ष I और II दोनों पालन करते हैं।
- ☒ 2. केवल निष्कर्ष II पालन करता है।
- ☒ 3. केवल निष्कर्ष I पालन करता है।
- ☒ 4. न तो निष्कर्ष I और न ही II पालन करता है।

Question ID : 65497838309

Status : Answered

Chosen Option : 2

Q.15 छह व्यक्ति L, M, N, O, P और Q एक सीधी पंक्ति में पूर्व की ओर मुख करके बैठे हैं। P के बाईं ओर केवल दो व्यक्ति बैठे हैं, जो L के बाईं ओर तीसरे स्थान पर बैठा है। M और N किसी भी सिरे पर नहीं बैठे हैं। M और P, Q के निकटतम पड़ोसी हैं। बाएं सिरे से दूसरे स्थान पर कौन बैठा है?

- Ans ☒ 1. Q
- ☒ 2. M
- ☒ 3. N
- ☒ 4. O

Question ID : 65497838300

Status : Not Attempted and Marked For Review

Chosen Option : --

Q.16 उस विकल्प का चयन करें जो तीसरे पद से उसी प्रकार संबंधित है जिस प्रकार दूसरा पद पहले पद से संबंधित है।

SALT : UDFS :: LOCK : ?

- Ans ☒ 1. JLWJ
- ☒ 2. NLWL
- ☒ 3. NRWJ
- ☒ 4. NWRJ

Question ID : 65497838802

Status : Answered

Chosen Option : 3

Q.17 दिए गए विकल्पों में से वह संख्या चुनें जो निम्नलिखित श्रेणी में प्रश्नचिह्न (?) के स्थान पर आ सकती है।

5, 8, 12, 20, 37, 70, ?

- Ans ☒ 1. 183
- ☒ 2. 138
- ☒ 3. 182
- ☒ 4. 128

Question ID : 65497838918

Status : Answered

Chosen Option : 4

Q.18 एक निश्चित कूट भाषा में, 'TIGER' को 'SGJMY' लिखा जाता है, और 'HORSE' को 'FUUSM' लिखा जाता है। उसी कूट भाषा में 'PANDA' को किस प्रकार लिखा जाएगा?

- Ans
- ☒ 1. BERFU
  - ☒ 2. CERFV
  - ☒ 3. BFQEU
  - ☒ 4. CFQEU

Question ID : 65497838295  
Status : Not Answered  
Chosen Option : --

Q.19 किन दो चिन्हों को परस्पर बदलने से निम्नलिखित समीकरण संतुलित हो जाएगा?

$$25 - 48 + 6 \div 12 \times 2 = 41$$

- Ans
- ☒ 1. + और -
  - ☒ 2. × और ÷
  - ☒ 3. ÷ और +
  - ☒ 4. - और +

Question ID : 65497839124  
Status : Answered  
Chosen Option : 3

Q.20 उस सही विकल्प का चयन करें जो दिए गए शब्दों को उस क्रम में दर्शाता है जिस क्रम में वे अंग्रेज़ी शब्दकोश में दिखाई देते हैं।

- 1. Nutriment
- 2. Numerable
- 3. Numerology
- 4. Nuisance
- 5. Numerical
- 6. Nucleolus

- Ans
- ☒ 1. 4, 6, 2, 1, 5, 3
  - ☒ 2. 6, 4, 2, 5, 3, 1
  - ☒ 3. 4, 6, 1, 2, 3, 5
  - ☒ 4. 6, 4, 2, 1, 3, 5

Question ID : 65497838799  
Status : Answered  
Chosen Option : 2

Q.21 वह विकल्प चुनें जो तीसरे पद से उसी प्रकार संबंधित है जिस प्रकार दूसरा पद, पहले पद से संबंधित है।

SECURITY : MKCIRUNE :: UNBIASED : ?

- Ans
- ☒ 1. OTBSAIKX
  - ☒ 2. OTVOUYJ
  - ☒ 3. AHABISKX
  - ☒ 4. OTABISYJ

Question ID : 65497839109  
Status : Answered  
Chosen Option : 4

Q.22 श्रेणी 547, 568, 589, .....में 15वीं संख्या कौन सी होगी?

- Ans ☒ 1. 894  
☒ 2. 883  
☒ 3. 862  
☒ 4. 841

Question ID : 65497838815

Status : Answered

Chosen Option : 4

Q.23 दिए गए विकल्पों में से वह आकृति चुनें जो निम्नांकित श्रृंखला में प्रश्नचिह्न (?) को प्रतिस्थापित कर सकती है।

1		1	1	1	1	1	?
◇	○	◇	○	◇	○	◇	○
&	S	8	&	S	8	&	S

Ans

- ☒ 1. 

&	◇	1
S		○
8		
- ☒ 2. 

&	◇	1
S		
8		○
- ☒ 3. 

&	◇	1
S		○
	8	
- ☒ 4. 

&	○	1
S		◇
8		

Question ID : 65497838922

Status : Not Answered

Chosen Option : --

Q.24 एक निश्चित कूट भाषा में, 'please have food' को '644' के रूप में कूटबद्ध किया जाता है, 'are you coming' को '336' के रूप में कूटबद्ध किया जाता है, और 'keep it ready' को '425' के रूप में कूटबद्ध किया जाता है। उसी भाषा में, 'they were most welcome' को किस रूप में कूटबद्ध किया जाएगा?

- Ans ☒ 1. 3122  
☒ 2. 4447  
☒ 3. 3347  
☒ 4. 4456

Question ID : 65497839217

Status : Answered

Chosen Option : 2

Q.25 दिए गए विकल्पों में से उस अक्षर-समूह का चयन करें, जो निम्नलिखित श्रृंखला में प्रश्न चिह्न (?) के स्थान पर आ सकता है।

OMU, NOT, MQS, LSR, ?

- Ans
- ☐ 1. JUQ
  - ☐ 2. KVO
  - ☐ 3. JVP
  - ☒ 4. KUQ

Question ID : 65497838900  
Status : Answered  
Chosen Option : 4

Section : English Language

Q.1 Select the most appropriate ANTONYM of the given word.

Manufacture

- Ans
- ☐ 1. Build
  - ☐ 2. Fabricate
  - ☐ 3. Produce
  - ☒ 4. Destroy

Question ID : 65497839136  
Status : Answered  
Chosen Option : 4

Q.2 Select the option that can be used as a one-word substitute for the given group of words.

A group of people, especially traders or pilgrims, travelling together across a desert

- Ans
- ☐ 1. Parade
  - ☒ 2. Caravan
  - ☐ 3. Procession
  - ☐ 4. Convoy

Question ID : 65497839140  
Status : Answered  
Chosen Option : 2

Q.3 Select the option that expresses the given sentence in indirect speech.

The airport official said, "The daily footfall of passengers has increased significantly since last year."

- Ans
- ☐ 1. The airport official said that the daily footfall of passengers has increased significantly since last year.
  - ☐ 2. The airport official said that the daily footfall of passengers was increased significantly since last year.
  - ☐ 3. The airport official told that the daily footfall of passengers has increased significantly since the previous year.
  - ☒ 4. The airport official said that the daily footfall of passengers had increased significantly since the previous year.

Question ID : 65497838926  
Status : Answered  
Chosen Option : 4



**Q.4** Select the most appropriate synonym of the given word.

**Chaos**

- Ans** ☒ 1. Disability  
☒ 2. Disharmony  
☒ 3. Disappearance  
☒ 4. Disagreement

Question ID : **65497838317**  
Status : **Answered**  
Chosen Option : **2**

**Q.5** Select the most appropriate option to fill in the blank.

It has been \_\_\_\_\_ a pleasure to meet you!

- Ans** ☒ 1. such  
☒ 2. much  
☒ 3. so  
☒ 4. more

Question ID : **65497838315**  
Status : **Answered**  
Chosen Option : **1**

**Q.6** Select the most appropriate synonym of the given word.

**Reliable**

- Ans** ☒ 1. Stable  
☒ 2. False  
☒ 3. Weak  
☒ 4. Dishonest

Question ID : **65497838828**  
Status : **Answered**  
Chosen Option : **1**

**Q.7** Select the most appropriate meaning of the given idiom.

**Make a bee line**

- Ans** ☒ 1. go straight to  
☒ 2. put the bees in a line  
☒ 3. stand in a queue  
☒ 4. look for freebies

Question ID : **65497838832**  
Status : **Answered**  
Chosen Option : **3**

**Q.8 Select the most appropriate meaning of the given idiom.**

**Pain in the neck**

- Ans ☒ 1. To suffer pain because of overexertion of neck muscles
- ☒ 2. To relieve someone from a painful condition
- ☒ 3. Someone or something that is very annoying
- ☒ 4. To be unable to deal with someone stronger

Question ID : 65497838321

Status : Answered

Chosen Option : 3

**Q.9 Select the most appropriate ANTONYM of the given word.**

**Moist**

- Ans ☒ 1. Wet
- ☒ 2. Sweaty
- ☒ 3. Dry
- ☒ 4. Damp

Question ID : 65497838931

Status : Answered

Chosen Option : 3

**Q.10 Select the INCORRECTLY spelt word.**

- Ans ☒ 1. Millipede
- ☒ 2. Milliner
- ☒ 3. Million
- ☒ 4. Millenium

Question ID : 65497839143

Status : Answered

Chosen Option : 4

**Q.11 Select the INCORRECTLY spelt word.**

- Ans ☒ 1. Propose
- ☒ 2. Protien
- ☒ 3. Protect
- ☒ 4. Protest

Question ID : 65497839142

Status : Answered

Chosen Option : 2

**Q.12 Select the option that can be used as a one-word substitute for the given group of words.**

**The young one of a cow**

- Ans ☒ 1. Foal
- ☒ 2. Cub
- ☒ 3. Calf
- ☒ 4. Lamb

Question ID : 65497838935

Status : Answered

Chosen Option : 3

Q.13 Select the most appropriate option to fill in the blank.

He always had a close \_\_\_\_\_ with his grandfather.

- Ans
- ☒ 1. company
  - ☒ 2. unity
  - ☒ 3. regard
  - ☒ 4. affinity

Question ID : 65497838826

Status : Answered

Chosen Option : 4

Q.14 Select the INCORRECTLY spelt word.

- Ans
- ☒ 1. Welfare
  - ☒ 2. Partner
  - ☒ 3. Appeal
  - ☒ 4. Address

Question ID : 65497838427

Status : Answered

Chosen Option : 1

Q.15 Select the option that expresses the given sentence in passive voice.

His mother is staring at him.

- Ans
- ☒ 1. He was being stared by his mother.
  - ☒ 2. He was stared at by his mother.
  - ☒ 3. He is being stared at by his mother.
  - ☒ 4. He is stared at by his mother.

Question ID : 65497838823

Status : Answered

Chosen Option : 3

### Comprehension:

Read the given passage and answer the questions that follow.

Have you ever failed at something so miserably that the thought of attempting to do it again was the last thing you wanted to do?

If your answer is yes, then you are not a robot. Unlike robots, we human beings have feelings, emotions and dreams. We are all meant to grow and stretch despite our circumstances and our limitations. Flourishing and trying to make our dreams come true is great when life is going our way. But what happens when it's not? What happens when you fail despite all your hard work? Do you stay down and accept the defeat or do you get up again and again until you are satisfied? If you have a tendency to keep going, then you have what experts call grit. Falling down or failing is one of the most agonising, embarrassing and scariest human experiences. But, it is also one of the most educational, empowering and essential parts of living a successful and fulfilling life. Did you know that perseverance is one of the seven qualities that have been described as the keys to personal success and betterment in society? The other six are: curiosity, gratitude, optimism, self-control, social intelligence and zest. Thomas Edison is a model for grit for trying 1,000 plus times to invent the light bulb. If you are reading this with the lights on in your room, you know well he succeeded. When asked why he kept going despite his hundreds of failures, he merely stated that they were not failures. They were hundreds of ways not to create a light bulb. This statement not only revealed his grit but also his optimism for looking at the bright side.

Grit can be learnt to help you become more successful. One of the techniques that help is mindfulness. Mindfulness is a practice that helps the individual stay in the moment by bringing awareness of his or her experience without judgment. This practice has been used to quiet the noise of their fears and doubts. Through the simple practice of mindfulness, individuals have the ability to stop the self-sabotaging downward spiral of hopelessness, despair and frustration.

#### SubQuestion No : 16

Q.16 Which of the following statements is NOT true?

- Ans
- ☒ 1. Failing leads to embarrassment.
  - ☒ 2. Optimism can help overcome failure.
  - ☒ 3. One should give up if one fails repeatedly.
  - ☒ 4. Failure empowers and educates.

Question ID : 65497839153

Status : Answered

Chosen Option : 3

**Comprehension:**

Read the given passage and answer the questions that follow.

Have you ever failed at something so miserably that the thought of attempting to do it again was the last thing you wanted to do?

If your answer is yes, then you are not a robot. Unlike robots, we human beings have feelings, emotions and dreams. We are all meant to grow and stretch despite our circumstances and our limitations. Flourishing and trying to make our dreams come true is great when life is going our way. But what happens when it's not? What happens when you fail despite all your hard work? Do you stay down and accept the defeat or do you get up again and again until you are satisfied? If you have a tendency to keep going, then you have what experts call grit. Falling down or failing is one of the most agonising, embarrassing and scariest human experiences. But, it is also one of the most educational, empowering and essential parts of living a successful and fulfilling life. Did you know that perseverance is one of the seven qualities that have been described as the keys to personal success and betterment in society? The other six are: curiosity, gratitude, optimism, self-control, social intelligence and zest. Thomas Edison is a model for grit for trying 1,000 plus times to invent the light bulb. If you are reading this with the lights on in your room, you know well he succeeded. When asked why he kept going despite his hundreds of failures, he merely stated that they were not failures. They were hundreds of ways not to create a light bulb. This statement not only revealed his grit but also his optimism for looking at the bright side.

Grit can be learnt to help you become more successful. One of the techniques that help is mindfulness. Mindfulness is a practice that helps the individual stay in the moment by bringing awareness of his or her experience without judgment. This practice has been used to quiet the noise of their fears and doubts. Through the simple practice of mindfulness, individuals have the ability to stop the self-sabotaging downward spiral of hopelessness, despair and frustration.

**SubQuestion No : 17**

**Q.17 Which of the following qualities would you find in a robot?**

- Ans**
- ☒ 1. Feelings
  - ☒ 2. Precision
  - ☒ 3. Dreams
  - ☒ 4. Emotions

Question ID : **65497839151**

Status : **Answered**

Chosen Option : **2**

**Comprehension:**

Read the given passage and answer the questions that follow.

Have you ever failed at something so miserably that the thought of attempting to do it again was the last thing you wanted to do?

If your answer is yes, then you are not a robot. Unlike robots, we human beings have feelings, emotions and dreams. We are all meant to grow and stretch despite our circumstances and our limitations. Flourishing and trying to make our dreams come true is great when life is going our way. But what happens when it's not? What happens when you fail despite all your hard work? Do you stay down and accept the defeat or do you get up again and again until you are satisfied? If you have a tendency to keep going, then you have what experts call grit. Falling down or failing is one of the most agonising, embarrassing and scariest human experiences. But, it is also one of the most educational, empowering and essential parts of living a successful and fulfilling life. Did you know that perseverance is one of the seven qualities that have been described as the keys to personal success and betterment in society? The other six are: curiosity, gratitude, optimism, self-control, social intelligence and zest. Thomas Edison is a model for grit for trying 1,000 plus times to invent the light bulb. If you are reading this with the lights on in your room, you know well he succeeded. When asked why he kept going despite his hundreds of failures, he merely stated that they were not failures. They were hundreds of ways not to create a light bulb. This statement not only revealed his grit but also his optimism for looking at the bright side.

Grit can be learnt to help you become more successful. One of the techniques that help is mindfulness. Mindfulness is a practice that helps the individual stay in the moment by bringing awareness of his or her experience without judgment. This practice has been used to quiet the noise of their fears and doubts. Through the simple practice of mindfulness, individuals have the ability to stop the self-sabotaging downward spiral of hopelessness, despair and frustration.

**SubQuestion No : 18**

**Q.18 Thomas Edison is a role model for:**

- Ans**
- ☒ 1. despair
  - ☒ 2. intelligence
  - ☒ 3. self-control
  - ☒ 4. determination

Question ID : **65497839152**

Status : **Answered**

Chosen Option : **4**

### Comprehension:

Read the given passage and answer the questions that follow.

Have you ever failed at something so miserably that the thought of attempting to do it again was the last thing you wanted to do?

If your answer is yes, then you are not a robot. Unlike robots, we human beings have feelings, emotions and dreams. We are all meant to grow and stretch despite our circumstances and our limitations. Flourishing and trying to make our dreams come true is great when life is going our way. But what happens when it's not? What happens when you fail despite all your hard work? Do you stay down and accept the defeat or do you get up again and again until you are satisfied? If you have a tendency to keep going, then you have what experts call grit. Falling down or failing is one of the most agonising, embarrassing and scariest human experiences. But, it is also one of the most educational, empowering and essential parts of living a successful and fulfilling life. Did you know that perseverance is one of the seven qualities that have been described as the keys to personal success and betterment in society? The other six are: curiosity, gratitude, optimism, self-control, social intelligence and zest. Thomas Edison is a model for grit for trying 1,000 plus times to invent the light bulb. If you are reading this with the lights on in your room, you know well he succeeded. When asked why he kept going despite his hundreds of failures, he merely stated that they were not failures. They were hundreds of ways not to create a light bulb. This statement not only revealed his grit but also his optimism for looking at the bright side.

Grit can be learnt to help you become more successful. One of the techniques that help is mindfulness. Mindfulness is a practice that helps the individual stay in the moment by bringing awareness of his or her experience without judgment. This practice has been used to quiet the noise of their fears and doubts. Through the simple practice of mindfulness, individuals have the ability to stop the self-sabotaging downward spiral of hopelessness, despair and frustration.

### SubQuestion No : 19

Q.19 What do you understand by 'mindfulness'?

- Ans
- ☒ 1. Peaceful meditation in quiet surroundings
  - ☒ 2. Consciousness of one's fears and doubts
  - ☒ 3. Awareness of experience without judgment
  - ☒ 4. Slipping into despair and frustration

Question ID : 65497839154

Status : Answered

Chosen Option : 3

**Comprehension:**

Read the given passage and answer the questions that follow.

Have you ever failed at something so miserably that the thought of attempting to do it again was the last thing you wanted to do?

If your answer is yes, then you are not a robot. Unlike robots, we human beings have feelings, emotions and dreams. We are all meant to grow and stretch despite our circumstances and our limitations. Flourishing and trying to make our dreams come true is great when life is going our way. But what happens when it's not? What happens when you fail despite all your hard work? Do you stay down and accept the defeat or do you get up again and again until you are satisfied? If you have a tendency to keep going, then you have what experts call grit. Falling down or failing is one of the most agonising, embarrassing and scariest human experiences. But, it is also one of the most educational, empowering and essential parts of living a successful and fulfilling life. Did you know that perseverance is one of the seven qualities that have been described as the keys to personal success and betterment in society? The other six are: curiosity, gratitude, optimism, self-control, social intelligence and zest. Thomas Edison is a model for grit for trying 1,000 plus times to invent the light bulb. If you are reading this with the lights on in your room, you know well he succeeded. When asked why he kept going despite his hundreds of failures, he merely stated that they were not failures. They were hundreds of ways not to create a light bulb. This statement not only revealed his grit but also his optimism for looking at the bright side.

Grit can be learnt to help you become more successful. One of the techniques that help is mindfulness. Mindfulness is a practice that helps the individual stay in the moment by bringing awareness of his or her experience without judgment. This practice has been used to quiet the noise of their fears and doubts. Through the simple practice of mindfulness, individuals have the ability to stop the self-sabotaging downward spiral of hopelessness, despair and frustration.

**SubQuestion No : 20**

**Q.20** Select the word from the passage that means the same as 'grit'.

- Ans
- ☒ 1. Optimism
  - ☒ 2. Curiosity
  - ☒ 3. Gratitude
  - ☒ 4. Perseverance

Question ID : 65497839155

Status : Answered

Chosen Option : 4

**Comprehension:**

In the following passage some words have been deleted. Read the passage carefully and select the most appropriate option to fill in each blank.

Mirabai Chanu, (1)\_\_\_\_\_ Indian weight lifter who recently set a new world record of 119 kg in April 2021, has improved her (2)\_\_\_\_\_ best to a total of 205 kg. She has proved that she is stronger (3)\_\_\_\_\_ mentally and physically. Chanu did not crumble (4)\_\_\_\_\_ pressure. She is now full of confidence as she now comes within the (5)\_\_\_\_\_ to take the medal in the Olympics.

**SubQuestion No : 21**

**Q.21** Select the most appropriate option to fill in blank no. 1.

- Ans
- ☒ 1. any
  - ☒ 2. a
  - ☒ 3. the
  - ☒ 4. one

Question ID : 65497838329

Status : Answered

Chosen Option : 3



**Comprehension:**

In the following passage some words have been deleted. Read the passage carefully and select the most appropriate option to fill in each blank.

Mirabai Chanu, (1)\_\_\_\_\_ Indian weight lifter who recently set a new world record of 119 kg in April 2021, has improved her (2)\_\_\_\_\_ best to a total of 205 kg. She has proved that she is stronger (3)\_\_\_\_\_ mentally and physically. Chanu did not crumble (4)\_\_\_\_\_ pressure. She is now full of confidence as she now comes within the (5)\_\_\_\_\_ to take the medal in the Olympics.

**SubQuestion No : 22**

**Q.22 Select the most appropriate option to fill in blank no. 2.**

- Ans ☒ 1. private  
☒ 2. personal  
☒ 3. subjective  
☒ 4. public

Question ID : 65497838330

Status : Answered

Chosen Option : 3

**Comprehension:**

In the following passage some words have been deleted. Read the passage carefully and select the most appropriate option to fill in each blank.

Mirabai Chanu, (1)\_\_\_\_\_ Indian weight lifter who recently set a new world record of 119 kg in April 2021, has improved her (2)\_\_\_\_\_ best to a total of 205 kg. She has proved that she is stronger (3)\_\_\_\_\_ mentally and physically. Chanu did not crumble (4)\_\_\_\_\_ pressure. She is now full of confidence as she now comes within the (5)\_\_\_\_\_ to take the medal in the Olympics.

**SubQuestion No : 23**

**Q.23 Select the most appropriate option to fill in blank no. 3.**

- Ans ☒ 1. each  
☒ 2. every  
☒ 3. both  
☒ 4. either

Question ID : 65497838331

Status : Answered

Chosen Option : 3

**Comprehension:**

In the following passage some words have been deleted. Read the passage carefully and select the most appropriate option to fill in each blank.

Mirabai Chanu, (1)\_\_\_\_\_ Indian weight lifter who recently set a new world record of 119 kg in April 2021, has improved her (2)\_\_\_\_\_ best to a total of 205 kg. She has proved that she is stronger (3)\_\_\_\_\_ mentally and physically. Chanu did not crumble (4)\_\_\_\_\_ pressure. She is now full of confidence as she now comes within the (5)\_\_\_\_\_ to take the medal in the Olympics.

**SubQuestion No : 24**

**Q.24 Select the most appropriate option to fill in blank no. 4.**

- Ans ☒ 1. between  
☒ 2. along  
☒ 3. under  
☒ 4. above

Question ID : 65497838332

Status : Answered

Chosen Option : 3

**Comprehension:**

In the following passage some words have been deleted. Read the passage carefully and select the most appropriate option to fill in each blank.

Mirabai Chanu, (1)\_\_\_\_\_ Indian weight lifter who recently set a new world record of 119 kg in April 2021, has improved her (2)\_\_\_\_\_ best to a total of 205 kg. She has proved that she is stronger (3)\_\_\_\_\_ mentally and physically. Chanu did not crumble (4)\_\_\_\_\_ pressure. She is now full of confidence as she now comes within the (5)\_\_\_\_\_ to take the medal in the Olympics.

**SubQuestion No : 25**

**Q.25** Select the most appropriate option to fill in blank no. 5.

- Ans ☒ 1. range  
☐ 2. extent  
☐ 3. width  
☐ 4. extreme

Question ID : 65497838333

Status : Answered

Chosen Option : 2

**Section : Quantitative Aptitude**

**Q.1** एक वस्तु पर ₹240 का मूल्य अंकित किया जाता है और ₹220 में बेचा जाता है। वस्तु पर दी गई प्रतिशत छूट कितनी है? (दो दशमलव स्थानों तक पूर्णांकित)

- Ans ☐ 1. 9.09%  
☒ 2. 8.33%  
☐ 3. 8.09%  
☐ 4. 9.33%

Question ID : 65497838855

Status : Answered

Chosen Option : 2

**Q.2** 3 अंकों की वह बड़ी से बड़ी संख्या ज्ञात कीजिए, जो बिना किसी अंक के दोहराव के 0, 1, 2, 3, 5, अंकों का उपयोग करके बनाई गई हो और 3 से विभाज्य हो।

- Ans ☐ 1. 532  
☐ 2. 510  
☒ 3. 531  
☐ 4. 513

Question ID : 65497839156

Status : Answered

Chosen Option : 3

**Q.3** P ने Q को 32% के लाभ पर एक कैमरा बेचा। जबकि, Q ने इसे R को 20% की हानि पर बेच दिया। यदि R ने कैमरे के लिए ₹6,464 का भुगतान किया, तो इसके लिए P द्वारा भुगतान की गई राशि लगभग (₹ में) कितनी थी?

- Ans ☒ 1. 6,121  
☐ 2. 8,050  
☐ 3. 5,850  
☐ 4. 7,080

Question ID : 65497839269

Status : Answered

Chosen Option : 1

Q.4 शांत जल में एक नाव की चाल 15 km/h है और धारा की चाल 3 km/h है। नाव को धारा की दिशा में 36 km जाने में कितना समय (घंटे में) लगेगा?

- Ans
- ☒ 1. 2.5
  - ☒ 2. 3
  - ☒ 3. 1.5
  - ☒ 4. 2

Question ID : 65497839176  
Status : Answered  
Chosen Option : 4

Q.5 एक व्यक्ति का मासिक वेतन ₹36,890 से बढ़कर ₹47,980 हो जाता है। उसके मासिक वेतन में हुई प्रतिशत वृद्धि (निकटतम पूर्णांक तक) ज्ञात कीजिए।

- Ans
- ☒ 1. 30%
  - ☒ 2. 35%
  - ☒ 3. 32%
  - ☒ 4. 25%

Question ID : 65497839163  
Status : Answered  
Chosen Option : 1

Q.6 किसी राशि पर, 2 वर्ष का साधारण ब्याज ₹9,600 होता है, जबकि वार्षिक तौर पर संयोजित होने वाला चक्रवृद्धि ब्याज ₹10,176 होता है। वार्षिक ब्याज दर क्या होगी?

- Ans
- ☒ 1. 9%
  - ☒ 2. 12%
  - ☒ 3. 10%
  - ☒ 4. 15%

Question ID : 65497838153  
Status : Answered  
Chosen Option : 2

Q.7 यदि सात अंकों वाली संख्या  $7x634y2$ , 88 से विभाज्य है, तो  $y$  के सबसे बड़े मान के लिए  $x$  और  $y$  के मानों का अंतर क्या होगा?

- Ans
- ☒ 1. 2
  - ☒ 2. 4
  - ☒ 3. 6
  - ☒ 4. 8

Question ID : 65497838341  
Status : Answered  
Chosen Option : 1

Q.8 यदि  $(x + \frac{1}{2})^2 + (3x + \frac{2}{3})^2 + (x - \frac{1}{6})^2 = \frac{1}{12}(9x + 2)(2x + 1)(6x - 1)$ , है, तो x का मान क्या होगा?

- Ans
- ✓ 1.  $-\frac{1}{5}$
  - ✗ 2.  $-\frac{1}{2}$
  - ✗ 3.  $-\frac{1}{3}$
  - ✗ 4.  $-\frac{1}{4}$

Question ID : 65497838363

Status : Answered

Chosen Option : 1

Q.9 एक परीक्षा में, एक विद्यार्थी के प्रति प्रश्न-पत्र के औसत अंक 72 थे। यदि उसे गणित में 25 अंक कम और विज्ञान में 17 अंक अधिक प्राप्त हुए होते, तो उसके प्रति प्रश्न-पत्र औसत अंक 71 होते। परीक्षा में कितने प्रश्न-पत्र थे?

- Ans
- ✗ 1. 6
  - ✓ 2. 8
  - ✗ 3. 10
  - ✗ 4. 9

Question ID : 65497838344

Status : Not Answered

Chosen Option : --

Q.10 रोहित एक वस्तु को एक निश्चित मूल्य पर बेचता है। यदि वह इसे उस मूल्य के 72% पर बेचता, तो उसे 20% की हानि होती। यदि वह वस्तु को वास्तविक विक्रय मूल्य से 20% अधिक पर बेचता है, तो उसका लाभ प्रतिशत ज्ञात करें।

- Ans
- ✓ 1.  $33\frac{1}{3}\%$
  - ✗ 2.  $28\frac{2}{3}\%$
  - ✗ 3. 24%
  - ✗ 4. 30%

Question ID : 65497838453

Status : Answered

Chosen Option : 1

Q.11 यदि 1: 6000000 पैमाने के एक मानचित्र पर दो शहरों - A और B के बीच की दूरी 5 cm है, तो A और B के बीच की वास्तविक दूरी (km में) ज्ञात कीजिए।

- Ans
- ✗ 1. 3000
  - ✓ 2. 300
  - ✗ 3. 120
  - ✗ 4. 30

Question ID : 65497838966

Status : Answered

Chosen Option : 3

Q.12 P, Q और R ने 4,000 मीटर की एक साइकिल स्पर्धा में भाग लिया। P, Q की तुलना में दो गुना तेज साइकिल चलाता है और R, Q की तुलना में  $\frac{1}{2}$  गुना तेज साइकिल चलाता है। यदि R, 40 मिनट में स्पर्धा पूर्ण करता है, तो P की चाल (km/h में) क्या है?

- Ans
- ☒ 1. 30
  - ☒ 2. 24
  - ☐ 3. 18
  - ☐ 4. 20

Question ID : 65497838361  
Status : Answered  
Chosen Option : 2

Q.13 अनु अपनी आय का 80% खर्च करता है। यदि उसकी आय में 12% की वृद्धि होती है और बचत में 10% की कमी होती है, तो खर्च में कितने प्रतिशत की वृद्धि हुई?

- Ans
- ☒ 1. 17.5%
  - ☐ 2. 12.5%
  - ☐ 3. 18%
  - ☐ 4. 15%

Question ID : 65497839164  
Status : Answered  
Chosen Option : 1

Q.14 यदि  $(5a + b) : (a + b) = 7 : 5$  है, तो  $b : a$  का मान ज्ञात कीजिए।

- Ans
- ☐ 1. 5 : 3
  - ☒ 2. 9 : 1
  - ☐ 3. 1 : 9
  - ☐ 4. 3 : 5

Question ID : 65497838863  
Status : Answered  
Chosen Option : 2

Q.15 यदि  $x^4 + \frac{1}{x^4} = 34$  है, जहां  $x > 0$  है, तो  $x + \frac{1}{x}$  का मान ज्ञात कीजिए।

- Ans
- ☐ 1. 4.25
  - ☐ 2.  $4\sqrt{2}$
  - ☒ 3.  $2\sqrt{2}$
  - ☐ 4. 4

Question ID : 65497838874  
Status : Answered  
Chosen Option : 3

Q.16 A और B एक साथ मिलकर किसी कार्य को 16 दिन में पूरा कर सकते हैं। यदि A अकेले इस कार्य को 48 दिनों में पूरा कर सकता है, तो इस कार्य को अकेले B कितने दिनों में पूरा कर सकता है?

- Ans
- ☐ 1. 12
  - ☐ 2. 16
  - ☐ 3. 20
  - ☒ 4. 24

Question ID : 65497838971

Status : Answered

Chosen Option : 4

Q.17 एक दुकानदार ने दो वस्तुएँ बेचीं। उसने एक वस्तु ₹29,337 में बेची और 27% का लाभ अर्जित किया। दूसरी वस्तु को उसने ₹14,206.50 में बेचा और उसे 23% की हानि हुई। उसका कुल लाभ या हानि प्रतिशत (निकटतम पूर्णांक तक) क्या है?

- Ans
- ☐ 1. 8% लाभ
  - ☐ 2. 7% हानि
  - ☐ 3. 4% हानि
  - ☒ 4. 5% लाभ

Question ID : 65497838352

Status : Not Attempted and Marked For Review

Chosen Option : --

Q.18 एक परीक्षा में 80 प्रश्न हैं, जिसमें अनीता ने पहले 55 प्रश्नों में से 60% के सही उत्तर दिए। पूरी परीक्षा में 70% पाने के लिए, उसे शेष प्रश्नों में से कितने प्रतिशत प्रश्नों के सही उत्तर देने होंगे?

- Ans
- ☒ 1. 92%
  - ☐ 2. 80%
  - ☐ 3. 85%
  - ☐ 4. 78%

Question ID : 65497838145

Status : Answered

Chosen Option : 1

Q.19 एक घन का पार्श्व पृष्ठीय क्षेत्रफल  $576 \text{ cm}^2$  है। इसका आयतन ( $\text{cm}^3$  में) ज्ञात कीजिए।

- Ans
- ☐ 1. 4096
  - ☐ 2. 2744
  - ☒ 3. 1728
  - ☐ 4.  $384\sqrt{6}$

Question ID : 65497838974

Status : Answered

Chosen Option : 3

Q.20 एक निश्चित धनराशि पर 9% वार्षिक दर से एक निश्चित समय T वर्ष में प्राप्त साधारण ब्याज, धनराशि के  $\frac{9}{16}$  वें भाग के बराबर है। T का मान (वर्ष में) क्या होगा?

Ans

✓ 1.  $6\frac{1}{4}$

✗ 2.  $7\frac{1}{2}$

✗ 3.  $7\frac{1}{4}$

✗ 4.  $6\frac{1}{2}$

Question ID : 65497839171

Status : Answered

Chosen Option : 1

Q.21 एक मेज का क्रय मूल्य ₹2,250 है, जो अंकित मूल्य से 25% कम है। यदि इस वस्तु को अंकित मूल्य पर 18% की छूट पर बेचा जाता है, तो प्रतिशत लाभ या हानि ज्ञात कीजिए। (दो दशमलव स्थानों तक पूर्णांकित)

Ans

✗ 1. 9.33% की हानि

✗ 2. 8.33% का लाभ

✓ 3. 9.33% का लाभ

✗ 4. 8.33% की हानि

Question ID : 65497838958

Status : Answered

Chosen Option : 3

Q.22 एक कक्षा में लड़कों और लड़कियों की संख्या का अनुपात 3 : 5 है। अंग्रेजी में सभी लड़कों और लड़कियों के औसत अंक 67.5 है। यदि लड़कों के औसत अंक 60 है, तो लड़कियों के औसत अंक क्या हैं?

Ans

✗ 1. 72.5

✗ 2. 76

✓ 3. 72

✗ 4. 70.5

Question ID : 65497838445

Status : Answered

Chosen Option : 3

Q.23 P किसी कार्य को 48 दिन में कर सकता है और Q उसी कार्य के आधे भाग को 30 दिन में कर सकता है। यदि वे दोनों एक साथ कार्य करते हैं, तो वे कार्य का  $\frac{3}{8}$ वां भाग कितने दिन में पूरा कर सकते हैं?

Ans

✗ 1. 24

✗ 2. 8

✓ 3. 10

✗ 4. 12

Question ID : 65497838868

Status : Answered

Chosen Option : 3



Q.24 ₹90,900 की धनराशि पर 10% वार्षिक दर से  $2\frac{1}{2}$  वर्ष में प्राप्त चक्रवृद्धि ब्याज (र में, निकटतम दहाई तक) ज्ञात कीजिए, यदि ब्याज की गणना वार्षिक चक्रवृद्धि आधार पर की जाती है?

- Ans
- ☒ 1. 23,634
  - ☒ 2. 22,954
  - ☒ 3. 24,460
  - ☒ 4. 24,590

Question ID : 65497839172  
Status : Answered  
Chosen Option : 4

Q.25 यदि 20, 25,  $(p + 1)$ ,  $(2p + 5)$  और  $(p + 11)$  का औसत 22 है, तो  $p$  का मान क्या होगा?

- Ans
- ☒ 1. 12
  - ☒ 2. 18
  - ☒ 3. 16
  - ☒ 4. 8

Question ID : 65497839261  
Status : Answered  
Chosen Option : 1

Section : General awareness

Q.1 ममता बनर्जी, मार्च-अप्रैल 2021 में हुए विधानसभा चुनावों में नंदीग्राम सीट से किस व्यक्ति से हारी थीं?

- Ans
- ☒ 1. मुकुल रॉय
  - ☒ 2. सुवेंदु अधिकारी
  - ☒ 3. तथागत रॉय
  - ☒ 4. दिलीप घोष

Question ID : 65497838898  
Status : Answered  
Chosen Option : 2

Q.2 भारतीय संविधान के अनुच्छेद 124 और 217 निम्नलिखित में से किससे संबंधित हैं?

- Ans
- ☒ 1. मुख्यमंत्री की नियुक्ति
  - ☒ 2. न्यायाधीशों की नियुक्ति
  - ☒ 3. राज्यपाल की नियुक्ति
  - ☒ 4. UPSC अध्यक्ष की नियुक्ति

Question ID : 65497839198  
Status : Answered  
Chosen Option : 2

Q.3 इफाल का युद्ध इनमें से किस वर्ष में जीता गया था?

- Ans
- ☒ 1. 1912
  - ☒ 2. 1956
  - ☒ 3. 1944
  - ☒ 4. 1934

Question ID : 65497838376  
Status : Answered  
Chosen Option : 3



Q.4 'यक्षगान', \_\_\_\_\_ की एक लोकप्रिय नृत्य-नाटक शैली है।

- Ans
- ☒ 1. उत्तरी भारत
  - ☒ 2. पूर्वी भारत
  - ☒ 3. दक्षिणी भारत
  - ☒ 4. पश्चिमी भारत

Question ID : 65497838977  
Status : Answered  
Chosen Option : 3

Q.5 देवमाली पर्वत शिखर कहां स्थित है?

- Ans
- ☒ 1. ओडिशा
  - ☒ 2. असम
  - ☒ 3. झारखंड
  - ☒ 4. केरल

Question ID : 65497839189  
Status : Not Attempted and Marked For Review  
Chosen Option : --

Q.6 'डालखाई (Dalkhai)' नृत्य किस राज्य से संबंधित है?

- Ans
- ☒ 1. पंजाब
  - ☒ 2. ओडिशा
  - ☒ 3. उत्तर प्रदेश
  - ☒ 4. बिहार

Question ID : 65497839182  
Status : Not Attempted and Marked For Review  
Chosen Option : --

Q.7 निम्न में से कौन 'The Turbulent Years: 1980 – 1996 (द टर्बुलेंट इयर्स: 1980 – 1996)' के लेखक हैं?

- Ans
- ☒ 1. पी. वी. नरसिम्हा राव
  - ☒ 2. प्रणब मुखर्जी
  - ☒ 3. कमलनाथ
  - ☒ 4. मनमोहन सिंह

Question ID : 65497838890  
Status : Answered  
Chosen Option : 2

Q.8 गांधी जी द्वारा आरंभ की गई दांडी यात्रा के समय भारत का वायसराय कौन था?

- Ans
- ☒ 1. लॉर्ड लिनलिथगो
  - ☒ 2. लॉर्ड विलिंगडन
  - ☒ 3. लॉर्ड इरविन
  - ☒ 4. लॉर्ड रीडिंग

Question ID : 65497838889  
Status : Answered  
Chosen Option : 3

Q.9 उस राष्ट्रीय जनजातीय प्रवासन सहायता पोर्टल का नाम क्या है, जिसे जनवरी 2021 में केंद्रीय जनजातीय मामलों के मंत्री श्री अर्जुन मुंडा द्वारा आरंभ किया गया था?

- Ans
- ☐ 1. श्रमदान
  - ☐ 2. शक्ति
  - ☐ 3. श्रमभक्ति
  - ☒ 4. श्रमशक्ति

Question ID : 65497838389  
Status : Answered  
Chosen Option : 4

Q.10 'द थ्री खान्स: एंड द इमर्जेस ऑफ न्यू इंडिया (The Three Khans: And the Emergence of New India)' नामक पुस्तक के/की लेखक/लेखिका इनमें से कौन हैं?

- Ans
- ☐ 1. उदय भाटिया
  - ☒ 2. कावेरी बमजई
  - ☐ 3. चेतन भगत
  - ☐ 4. द्विकल खन्ना

Question ID : 65497838381  
Status : Not Attempted and Marked For Review  
Chosen Option : --

Q.11 हीरो इंडियन सुपर लीग, 2020-2021 के फाइनल मैच में कौन-सी टीम हारी थी?

- Ans
- ☐ 1. एफ.सी. गोवा (FC Goa)
  - ☒ 2. ए.टी.के. मोहन बागान FC (ATK Mohun Bagan FC)
  - ☐ 3. चेन्नईयिन एफ.सी. (Chennaiyin FC)
  - ☐ 4. बेंगलुरु एफ.सी. (Bengaluru FC)

Question ID : 65497838386  
Status : Not Attempted and Marked For Review  
Chosen Option : --

Q.12 ITNS चालान संख्या \_\_\_\_\_ का उपयोग अनुषंगी लाभ कर के भुगतान के लिए होता है।

- Ans
- ☐ 1. 281
  - ☐ 2. 282
  - ☒ 3. 283
  - ☐ 4. 284

Question ID : 65497838879  
Status : Not Answered  
Chosen Option : --

Q.13 स्थायी पर्यटन और स्वस्थ तटीय प्रबंधन की योजना बनाने के लिए, पर्यावरण, वन और जलवायु परिवर्तन मंत्रालय ने BEAMS (बीम्स) नामक एकीकृत तटीय प्रबंधन योजना की परिकल्पना की है। BEAMS (बीम्स) का पूर्ण रूप क्या है?

- Ans
- ☒ 1. Beach Enrolment and Aesthetics Management Services (बीच एनरोलमेंट एंड एस्थेटिक्स मैनेजमेंट सर्विसेस)
  - ☒ 2. Beach Environment and Aesthetics Management Services (बीच एनवायरनमेंट एंड एस्थेटिक्स मैनेजमेंट सर्विसेस)
  - ☒ 3. Best Environment and Aesthetics Management Schemes (बेस्ट एनवायरनमेंट एंड एस्थेटिक्स मैनेजमेंट स्कीम्स)
  - ☒ 4. Best Environment and Aesthetics Management Services (बेस्ट एनवायरनमेंट एंड एस्थेटिक्स मैनेजमेंट सर्विसेस)

Question ID : 65497838372

Status : Not Answered

Chosen Option : --

Q.14 निम्न में से किस राज्य में NSDL पेमेंट्स बैंक का मुख्यालय स्थित है?

- Ans
- ☒ 1. कर्नाटक
  - ☒ 2. महाराष्ट्र
  - ☒ 3. तमिलनाडु
  - ☒ 4. सिक्किम

Question ID : 65497838367

Status : Answered

Chosen Option : 2

Q.15 निम्नलिखित में से किस भारतीय राज्य में एक सींग वाले गैडों की आबादी सर्वाधिक है?

- Ans
- ☒ 1. अरुणाचल प्रदेश
  - ☒ 2. मेघालय
  - ☒ 3. असम
  - ☒ 4. मणिपुर

Question ID : 65497839186

Status : Answered

Chosen Option : 3

Q.16 निम्न में से कौन सा राज्य/केंद्र शासित प्रदेश अरावली पर्वतमाला से सटा नहीं है?

- Ans
- ☒ 1. दिल्ली
  - ☒ 2. पंजाब
  - ☒ 3. हरियाणा
  - ☒ 4. गुजरात

Question ID : 65497838884

Status : Answered

Chosen Option : 4

Q.17 भारत के संविधान के किस अनुच्छेद के अंतर्गत भारतीय राष्ट्रपति राष्ट्रीय आपातकाल की घोषणा कर सकते हैं, यदि उन्हें लगता है कि देश की सुरक्षा को गंभीर खतरा है?

- Ans
- ☒ 1. 352
  - ☒ 2. 350
  - ☒ 3. 351
  - ☒ 4. 348

Question ID : 65497838995

Status : Answered

Chosen Option : 1

Q.18 सितंबर 2021 तक प्राप्त जानकारी के अनुसार, भारतीय पुरुष हॉकी टीम ने ग्रीष्मकालीन ओलंपिक खेलों में कितनी बार रजत पदक जीता है?

- Ans ☒ 1. कभी नहीं  
☒ 2. एक  
☒ 3. दो  
☒ 4. तीन

Question ID : 65497839201  
Status : Answered  
Chosen Option : 1

Q.19 सितंबर 2021 में, निम्न में से किसे पंजाब का मुख्यमंत्री नियुक्त किया गया था?

- Ans ☒ 1. नवजोत सिंह सिद्धू  
☒ 2. चरणजीत सिंह चन्नी  
☒ 3. अमरिंदर सिंह  
☒ 4. ओ. पी. सोनी

Question ID : 65497838486  
Status : Answered  
Chosen Option : 2

Q.20 अमोनियम क्लोराइड में हाइड्रोजन के कितने परमाणु होते हैं?

- Ans ☒ 1. तीन  
☒ 2. चार  
☒ 3. दो  
☒ 4. एक

Question ID : 65497838983  
Status : Answered  
Chosen Option : 2

Q.21 निम्नलिखित में से किसे अकबर ने 'खान-ए-खाना' की उपाधि दी थी?

- Ans ☒ 1. फ़ैज़ी  
☒ 2. मिर्जा अब्दुल रहीम खान  
☒ 3. अबुल फज़ल  
☒ 4. तानसेन

Question ID : 65497839194  
Status : Answered  
Chosen Option : 2

Q.22 अगस्त 2021 में, वर्ल्ड रिसोर्सिज इंस्टिट्यूट (WRI), भारत और \_\_\_\_\_ ने संयुक्त रूप से 'फोरम फॉर डीकार्बोनाइजिंग ट्रांसपोर्ट' (Forum for Decarbonizing Transport) शुभारंभ किया था।

- Ans ☒ 1. विज्ञान एवं प्रौद्योगिकी विभाग, भारत सरकार  
☒ 2. नीति (NITI) आयोग  
☒ 3. पर्यावरण मंत्रालय, भारत सरकार  
☒ 4. परिवहन मंत्रालय, भारत सरकार

Question ID : 65497838999  
Status : Not Answered  
Chosen Option : --

Q.23 \_\_\_\_\_ एक ब्राह्मण को दी गई भूमि थी, जिसे सामान्यतः राजा को भू-राजस्व और अन्य देय राशियों का भुगतान करने से छूट दी जाती थी, और जिसे अक्सर स्थानीय लोगों से इन बकाया राशियों को एकत्र करने का अधिकार दिया जाता था।

- Ans
- ☒ 1. दक्षिणा
  - ☒ 2. नमस्कारम
  - ☒ 3. अग्रहार
  - ☒ 4. आहुति

Question ID : 65497838989

Status : Not Attempted and Marked For Review

Chosen Option : --

Q.24 पश्चिम बंगाल के बाद, बांग्लादेश की सबसे लंबी सीमा निम्न में से किस भारतीय राज्य के साथ जुड़ी है?

- Ans
- ☒ 1. मिज़ोरम
  - ☒ 2. मेघालय
  - ☒ 3. असम
  - ☒ 4. त्रिपुरा

Question ID : 65497838987

Status : Answered

Chosen Option : 4

Q.25 Which of the following does NOT come under the purview of 'paper taxes'?

- Ans
- ☒ 1. Estate duty
  - ☒ 2. Excise tax
  - ☒ 3. Wealth tax
  - ☒ 4. Gift tax

Question ID : 65497839184

Status : Answered

Chosen Option : 4