

Selection Post Phase IX 2021 Matriculation level

Roll Number	
Candidate Name	
Venue Name	
Exam Date	14/03/2022
Exam Time	9:00 AM - 10:00 AM
Subject	Selection Post Matriculation Level

Section : General Intelligence

Q.1 दिए गए समीकरण को संतुलित करने के लिए किन दो संख्याओं (अंकों को नहीं) को परस्पर बदला जाना चाहिए?

$$48 + 12 \times 8 - 24 \div 8 = 114$$

- Ans
- ☒ 1. 24 और 12
 - ☒ 2. 12 और 8
 - ☒ 3. 48 और 8
 - ☒ 4. 48 और 24

Question ID : 65497841736

Status : Answered

Chosen Option : 4

Q.2 पांच व्यक्ति K, L, P, N और O एक सीधी पंक्ति में बैठे हैं, सभी का मुख एक ही दिशा में है। L, N के दाएँ दूसरे स्थान पर बैठा है। K, P के दाएँ तीसरे स्थान पर बैठा है। O, K के बगल में बैठा है। P के ठीक बाएँ कौन बैठा है?

- Ans
- ☒ 1. N
 - ☒ 2. O
 - ☒ 3. K
 - ☒ 4. L

Question ID : 65497841625

Status : Answered

Chosen Option : 4

Q.3 अक्षरों के उस संयोजन का चयन कीजिए जिसे दी गई श्रृंखला के रिक्त स्थानों में क्रमिक रूप से रखने पर श्रृंखला पूर्ण हो जाएगी।

Z K _ R _ Z _ M R _ Z K M _ T _ K M _ T

- Ans
- ☒ 1. M T K T R Z R
 - ☒ 2. M T K Z R Z R
 - ☒ 3. M T K T R T R
 - ☒ 4. Z T K T R Z R

Question ID : 65497841616

Status : Answered

Chosen Option : 1

Q.4 दिए गए कथनों और निष्कर्षों को ध्यानपूर्वक पढ़िए। यह मानते हुए कि कथनों में दी गई जानकारी सही है, भले ही वह सामान्य रूप से ज्ञात तथ्यों से भिन्न प्रतीत होती हो और तय करें कि दिए गए निष्कर्षों में से कौन कथन/कथनों का तार्किक रूप से अनुसरण करता/करते हैं।

कथन:

कोई लिली गुलाब नहीं है।
सभी गुलाब चमेली हैं।

निष्कर्ष:

- I. कोई लिली चमेली नहीं है।
- II. कोई चमेली लिली नहीं है।
- III. कुछ चमेली गुलाब हैं।
- IV. सभी चमेली गुलाब हैं।

Ans ☒ 1. केवल निष्कर्ष III अनुसरण करता है।
☒ 2. केवल निष्कर्ष I अनुसरण करता है।
☒ 3. निष्कर्ष I और IV दोनों अनुसरण करते हैं।
☒ 4. निष्कर्ष I और II दोनों अनुसरण करते हैं।

Question ID : 65497841834

Status : Answered

Chosen Option : 1

Q.5 आठ मित्र A, B, C, D, E, F, G और H एक वृत्ताकार मेज के परितः केंद्र की ओर मुख करके बैठे हैं। केवल B, H और D के बीच में है। केवल C, H और E के बीच में है। E, D के दायीं ओर चौथे स्थान पर है। B, E के दायीं ओर तीसरे स्थान पर है। केवल F, G और A के बीच में है। G, D के निकटस्थ स्थान पर नहीं है। B के दायीं ओर दूसरे स्थान पर कौन बैठा है?

Ans ☒ 1. H
☒ 2. A
☒ 3. C
☒ 4. F

Question ID : 65497841422

Status : Not Answered

Chosen Option : --

Q.6 एक निश्चित कूट भाषा में, 'PRESUME' को 'EEMPRSU' लिखा जाता है। उसी कूट भाषा में 'NOCTURNAL' को कैसे लिखा जाएगा?

Ans ☒ 1. ACNLTORTU
☒ 2. ACLNNOUTR
☒ 3. ACLNNORTU
☒ 4. ACLNNTORU

Question ID : 65497841723

Status : Answered

Chosen Option : 2

Q.7 उस विकल्प का चयन कीजिए जो तीसरी संख्या से उसी प्रकार से संबंधित है, जिस प्रकार दूसरी संख्या पहली संख्या से संबंधित है और छठी संख्या पाँचवीं संख्या से संबंधित है।

7 : 9 :: 8 : ? :: 6 : 2

Ans ☒ 1. 26
☒ 2. 22
☒ 3. 28
☒ 4. 25

Question ID : 65497841837

Status : Answered

Chosen Option : 1

Q.8 दिए गए विकल्पों में से उस संख्या का चयन कीजिए जो निम्नलिखित श्रेणी में प्रश्नवाचक चिह्न (?) के स्थान पर आ सकती है।

50, 66, 87, 113, 144, ?

- Ans
- ☒ 1. 200
 - ☒ 2. 180
 - ☒ 3. 170
 - ☒ 4. 190

Question ID : 65497841632
Status : Answered
Chosen Option : 3

Q.9 एक निश्चित कूट भाषा में, 'BREAK' को '259222616' के रूप में कोडित किया जाता है। उसी भाषा में 'FEVER' को कैसे कोडित किया जाएगा?

- Ans
- ☒ 1. 21225229
 - ☒ 2. 21226228
 - ☒ 3. 21235239
 - ☒ 4. 20225219

Question ID : 65497841522
Status : Answered
Chosen Option : 1

Q.10 दिए गए विकल्पों में से उस संख्या का चयन कीजिए जो निम्नलिखित श्रेणी में प्रश्नवाचक चिह्न (?) के स्थान पर आ सकती है।

12, 18, 30, 54, 102, ?

- Ans
- ☒ 1. 180
 - ☒ 2. 204
 - ☒ 3. 146
 - ☒ 4. 198

Question ID : 65497841733
Status : Answered
Chosen Option : 4

Q.11 दिए गए संयोजन के सही दर्पण प्रतिबिंब का चयन करें जब दर्पण को दिखाए अनुसार 'PQ' पर रखा गया है।

W R G N P | P
Q

- Ans
- ☒ 1. P N G R W
 - ☒ 2. P H G R W
 - ☒ 3. M B C I B
 - ☒ 4. P H G R M

Question ID : 65497841433
Status : Answered
Chosen Option : 2

Q.12 विक्रांत की एक तस्वीर की ओर इशारा करते हुए, शशि ने कहा, "वह मेरे पिता की माँ के पति की बेटी का पति है"। विक्रांत की पत्नी का शशि के पिता से क्या संबंध है?

- Ans
- ☒ 1. बेटी
 - ☒ 2. माँ
 - ☒ 3. बहन
 - ☒ 4. भांजी

Question ID : 65497841423

Status : Answered

Chosen Option : 3

Q.13 सही विकल्प का चयन करें जो दिए गए शब्दों की व्यवस्था को उसी क्रम में दर्शाता है जिस क्रम में वे अंग्रेजी शब्दकोश में दिखाई देते हैं।

1. Serene
2. Serious
3. Service
4. Severe
5. Seepage

- Ans
- ☒ 1. 5, 1, 3, 2, 4
 - ☒ 2. 4, 1, 2, 3, 5
 - ☒ 3. 5, 1, 2, 3, 4
 - ☒ 4. 5, 2, 1, 3, 4

Question ID : 65497841411

Status : Answered

Chosen Option : 3

Q.14 उस विकल्प का चयन करें जो तीसरे शब्द से उसी प्रकार संबंधित है जैसे दूसरा शब्द पहले शब्द से संबंधित है।

ऑर्थोपेडिक : अस्थि भंग :: डर्मेटोलॉजिस्ट : ?

- Ans
- ☒ 1. टिनिटस
 - ☒ 2. गठिया
 - ☒ 3. कंजक्टीवाइटिस
 - ☒ 4. सोरायसिस

Question ID : 65497841413

Status : Answered

Chosen Option : 3

Q.15 उस विकल्प का चयन कीजिए जो तीसरे पद से उसी प्रकार संबंधित है जैसे दूसरा पद पहले पद से संबंधित है।

NECTAR : FHQUDW :: PLEASE : ?

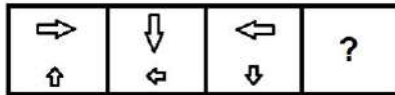
- Ans
- ☒ 1. HOSDVH
 - ☒ 2. HORDVG
 - ☒ 3. HOSHVD
 - ☒ 4. HPSEVH

Question ID : 65497841720

Status : Answered

Chosen Option : 2

Q.16 दिए गए विकल्पों में से उस आकृति का चयन कीजिए जो नीचे दी गई श्रृंखला में प्रश्नवाचक चिह्न (?) के स्थान पर आ सकती है।



Ans

- ✗ 1.
- ✗ 2.
- ✗ 3.
- ✓ 4.

Question ID : 65497841737

Status : Answered

Chosen Option : 4

Q.17 दिए गए विकल्पों में से उस अक्षर-समूह का चयन कीजिए, जो निम्नलिखित श्रृंखला में प्रश्नवाचक चिह्न (?) के स्थान पर आ सकता है।

BER, EAT, HWV, ?, NOZ

- Ans ✗ 1. LSY
- ✗ 2. LSX
- ✓ 3. KSX
- ✗ 4. KTX

Question ID : 65497841817

Status : Answered

Chosen Option : 4

Q.18 एक निश्चित कोड में, P + Q का अर्थ 'Q, P का पुत्र है'; P @ Q का अर्थ 'Q, P की पुत्री है'; P \$ Q का अर्थ 'Q, P का भाई है'; P % Q का अर्थ 'P, Q का पिता है' और P # Q का अर्थ 'P, Q की माता है'। निम्नलिखित में से कौन सा विकल्प सही है?

- Ans ✓ 1. K + L \$ M @ N का अर्थ N, K की पोती है।
- ✗ 2. C @ D \$ F % G का अर्थ G, C का पोता है।
- ✗ 3. G % H # K \$ L का अर्थ L, G का दामाद है।
- ✗ 4. A + B \$ C % D का अर्थ A, D का नाना है।

Question ID : 65497841832

Status : Not Answered

Chosen Option : --

Q.19 एक निश्चित कूट भाषा में, 'CONSULT' को 'FOQRVWX' लिखा जाता है। उसी कूट भाषा में 'MAGNETS' को कैसे लिखा जाएगा?

- Ans
- ☒ 1. DHPJVQW
 - ☒ 2. DHJPVQW
 - ☒ 3. DHJPQVW
 - ☒ 4. DHPJQVW

Question ID : 65497841824

Status : Not Answered

Chosen Option : --

Q.20 एक निश्चित कूट भाषा में, 'PLASTIC' को 'OKZRSBH' लिखा जाता है। उस भाषा में 'NORMAL' कैसे लिखा जाएगा?

- Ans
- ☒ 1. ONSLZK
 - ☒ 2. MNQNZM
 - ☒ 3. MNPRZK
 - ☒ 4. MNQLZK

Question ID : 65497841415

Status : Not Answered

Chosen Option : --

Q.21 एक निश्चित कूट भाषा में, 'SUN' को '384228' के रूप में कोडित किया जाता है। उसी कूट भाषा में 'PRICE' को कैसे कोडित किया जाएगा?

- Ans
- ☒ 1. 323618812
 - ☒ 2. 323416610
 - ☒ 3. 303618810
 - ☒ 4. 323618610

Question ID : 65497841726

Status : Answered

Chosen Option : 4

Q.22 उस सही विकल्प का चयन कीजिए जो निम्नलिखित शब्दों को तार्किक और सार्थक क्रम में व्यवस्थित करता है।

1. कैलिफोर्निया
2. उत्तरी अमेरिका
3. विश्व
4. संयुक्त राज्य अमेरिका
5. ब्रह्मांड

- Ans
- ☒ 1. 1, 4, 3, 2, 5
 - ☒ 2. 4, 2, 1, 3, 5
 - ☒ 3. 1, 2, 4, 5, 3
 - ☒ 4. 1, 4, 2, 3, 5

Question ID : 65497841716

Status : Answered

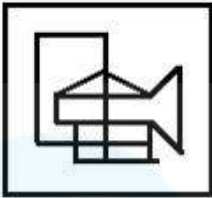
Chosen Option : 4

Q.23 उस विकल्प का चयन कीजिए जिसमें दी गई आकृति अंतर्निहित है (घूर्णन की अनुमति नहीं है)।



Ans

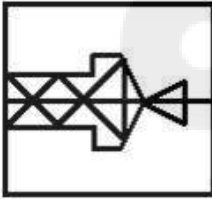
✗ 1.



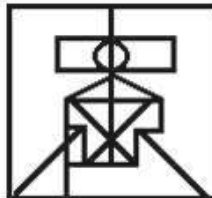
✗ 2.



✗ 3.



✓ 4.



Question ID : 65497841840

Status : Answered

Chosen Option : 4

Q.24 एक निश्चित कूट भाषा में, 'RUST' को '7539' और 'SORE' को '3472' कोडित किया जाता है। उसी कूट भाषा में 'TRUE' को कैसे कोडित किया जाएगा?

Ans ✗ 1. 9725

✗ 2. 4732

✓ 3. 9752

✗ 4. 4372

Question ID : 65497841826

Status : Not Answered

Chosen Option : --

Q.25 दिए गए कथनों और निष्कर्षों को ध्यानपूर्वक पढ़िए। यह मानते हुए कि कथनों में दी गई जानकारी सही है, भले ही वह सामान्य रूप से ज्ञात तथ्यों से भिन्न प्रतीत होती हो, यह तय करें कि दिए गए निष्कर्षों में से कौन सा/से निष्कर्ष कथन/कथनों का तार्किक रूप से अनुसरण करता/करते है/हैं।

कथन:

कुछ पार्क मैदान हैं।

कुछ मैदान मकान हैं।

निष्कर्ष:

I. कुछ मकान पार्क हैं।

II. कुछ मैदान पार्क हैं।

- Ans
- ☒ 1. केवल निष्कर्ष II अनुसरण करता है
 - ☐ 2. निष्कर्ष I और II दोनों अनुसरण करते हैं
 - ☐ 3. केवल निष्कर्ष I अनुसरण करता है
 - ☐ 4. या तो निष्कर्ष I या II अनुसरण करता है

Question ID : 65497841731

Status : Not Answered

Chosen Option : --

Section : English Language

Q.1 Select the most appropriate synonym of the given word.

BLEND

- Ans
- ☐ 1. divide
 - ☐ 2. part
 - ☐ 3. separate
 - ☒ 4. merge

Question ID : 65497841642

Status : Answered

Chosen Option : 3

Q.2 Select the most appropriate option to fill in the blank.

You have packed your warm clothes, _____?

- Ans
- ☐ 1. have you
 - ☐ 2. did you
 - ☒ 3. haven't you
 - ☐ 4. didn't you

Question ID : 65497841437

Status : Answered

Chosen Option : 3

Q.3 Select the option that expresses the given sentence in indirect speech.

He said to me, " Please drop me home in your car."

- Ans
- ☐ 1. He said to me please drop me home in your car.
 - ☐ 2. I told him to drop me home in my car.
 - ☒ 3. He requested me to drop him home in my car.
 - ☐ 4. He asked me to drop him home in your car.

Question ID : 65497841843

Status : Answered

Chosen Option : 3

Q.4 Select the misspelt word.

- Ans ☒ 1. cricketer
☒ 2. presentor
☒ 3. mentor
☒ 4. superior

Question ID : 65497841855
Status : Answered
Chosen Option : 2

Q.5 Select the most appropriate ANTONYM of the given word.

Somber

- Ans ☒ 1. Boastful
☒ 2. Doleful
☒ 3. Cheerful
☒ 4. Mournful

Question ID : 65497841747
Status : Answered
Chosen Option : 2

Q.6 Select the INCORRECTLY spelt word.

- Ans ☒ 1. Hostage
☒ 2. Hostel
☒ 3. Hostile
☒ 4. Hospitality

Question ID : 65497841446
Status : Not Answered
Chosen Option : --

Q.7 Select the option that expresses the given sentence in passive voice.

The green leaves of plants absorb the carbon dioxide.

- Ans ☒ 1. The carbon dioxide is absorbed by the green leaves of plants.
☒ 2. The carbon dioxide is being absorbed by the green leaves of plants.
☒ 3. The carbon dioxide absorbs the green leaves of plants.
☒ 4. The green leaves are absorbed by the carbon dioxide of plants.

Question ID : 65497841434
Status : Answered
Chosen Option : 1

Q.8 Select the most appropriate meaning of the given idiom.

follow suit

- Ans ☒ 1. try a costume
☒ 2. do the same as others
☒ 3. go after someone
☒ 4. get on well with others

Question ID : 65497841646
Status : Answered
Chosen Option : 2

Q.9 Select the option that can be used as a one-word substitute for the given group of words.

a low area of land between hills

- Ans ☒ 1. valley
☒ 2. plateau
☒ 3. beach
☒ 4. gulf

Question ID : 65497841852
Status : Answered
Chosen Option : 1

Q.10 Select the most appropriate meaning of the given idiom.

Swim with the tide

- Ans ☒ 1. Accept your fault
☒ 2. Do something again and again
☒ 3. Agree with the popular opinion
☒ 4. Going for a swim during the high tide

Question ID : 65497841443
Status : Answered
Chosen Option : 3

Q.11 Select the option that can be used as a one-word substitute for the given group of words.

A place where government records are kept

- Ans ☒ 1. Godown
☒ 2. Library
☒ 3. Warehouse
☒ 4. Archive

Question ID : 65497841751
Status : Answered
Chosen Option : 4

Q.12 Select the INCORRECTLY spelt word.

- Ans ☒ 1. Dislodge
☒ 2. Disuade
☒ 3. Diligent
☒ 4. Divulge

Question ID : 65497841754
Status : Answered
Chosen Option : 1

Q.13 Select the most appropriate antonym of the given word.

restore

- Ans ☒ 1. repeat
☒ 2. damage
☒ 3. claim
☒ 4. remove

Question ID : 65497841848
Status : Answered
Chosen Option : 4

Q.14 Select the most appropriate synonym of the given word.

Conflict

- Ans ☒ 1. Surrender
☒ 2. Agreement
☒ 3. Battle
☒ 4. Attack

Question ID : 65497841439
Status : Answered
Chosen Option : 2

Q.15 Select the most appropriate option to fill in the blank.

The guard insisted _____ seeing the ID card of the visitor.

- Ans ☒ 1. on
☒ 2. with
☒ 3. for
☒ 4. to

Question ID : 65497841640
Status : Answered
Chosen Option : 1

Comprehension:

Read the given passage and answer the questions that follow.

What writers struggle to express through numerous newspaper columns, the cartoon manages in a pointed one-liner. Little wonder then, that the first thing most of us like to see when we pick up a newspaper is the cartoon. Simple though it may seem, making a cartoon is an art that requires a combination of hard work, training and a good sense of humour. Cartoonists say that the cartoons that make us laugh the most are in fact the cartoons that are hardest to make. Even celebrated cartoonists like RK Laxman admit that making a cartoon is not a piece of cake. Laxman says he has to wait for over six hours, which includes spending a lot of time scanning newspapers and television channels before any idea strikes him. So how does one become a cartoonist? Which one of us has the talent to make it? How can we master the rib-tickling strokes and the witty one-liners? How can we make people smile or laugh? There are few colleges or schools for cartoonists. Most cartoonists come from art colleges, while some learn the craft on their own. Most established cartoonists are of the view that no institute can teach you to make a cartoon. "You can pick up the craft, you may learn to sketch and draw in institutes, but no one can teach anyone how to make a good cartoon," says Uday Shanker, a cartoonist with Navbharat Times. While basics, like drawing and sketching can be learnt in an art college, and are important skills, these alone, do not make a good cartoonist. Because it's a question of one's creativity and sense of humour; two qualities one simply may not have. The advice that established cartoonists give is that just because you can sketch, don't take it for granted that you will become a successful cartoonist.

SubQuestion No : 16

Q.16 It can be inferred from the passage that:

- Ans ☒ 1. any good artist can become a cartoonist
- ☒ 2. making cartoons is a combination of art and wit
- ☒ 3. all cartoonists get ideas from newspapers
- ☒ 4. creativity can be acquired in institutes

Question ID : 65497841766

Status : Not Answered

Chosen Option : --

Comprehension:

Read the given passage and answer the questions that follow.

What writers struggle to express through numerous newspaper columns, the cartoon manages in a pointed one-liner. Little wonder then, that the first thing most of us like to see when we pick up a newspaper is the cartoon. Simple though it may seem, making a cartoon is an art that requires a combination of hard work, training and a good sense of humour. Cartoonists say that the cartoons that make us laugh the most are in fact the cartoons that are hardest to make. Even celebrated cartoonists like RK Laxman admit that making a cartoon is not a piece of cake. Laxman says he has to wait for over six hours, which includes spending a lot of time scanning newspapers and television channels before any idea strikes him. So how does one become a cartoonist? Which one of us has the talent to make it? How can we master the rib-tickling strokes and the witty one-liners? How can we make people smile or laugh? There are few colleges or schools for cartoonists. Most cartoonists come from art colleges, while some learn the craft on their own. Most established cartoonists are of the view that no institute can teach you to make a cartoon. "You can pick up the craft, you may learn to sketch and draw in institutes, but no one can teach anyone how to make a good cartoon," says Uday Shanker, a cartoonist with Navbharat Times. While basics, like drawing and sketching can be learnt in an art college, and are important skills, these alone, do not make a good cartoonist. Because it's a question of one's creativity and sense of humour; two qualities one simply may not have. The advice that established cartoonists give is that just because you can sketch, don't take it for granted that you will become a successful cartoonist.

SubQuestion No : 17

Q.17 What is the advice given by established cartoonists?

- Ans ☒ 1. Knowledge of current affairs is important for a cartoonist.
- ☒ 2. Everyone has the talent to become a good cartoonist.
- ☒ 3. Do not assume you can become a cartoonist just because you can sketch.
- ☒ 4. Cartoons that make us laugh should have pointed one-liners.

Question ID : 65497841764

Status : Not Answered

Chosen Option : --

Comprehension:

Read the given passage and answer the questions that follow.

What writers struggle to express through numerous newspaper columns, the cartoon manages in a pointed one-liner. Little wonder then, that the first thing most of us like to see when we pick up a newspaper is the cartoon. Simple though it may seem, making a cartoon is an art that requires a combination of hard work, training and a good sense of humour. Cartoonists say that the cartoons that make us laugh the most are in fact the cartoons that are hardest to make. Even celebrated cartoonists like RK Laxman admit that making a cartoon is not a piece of cake. Laxman says he has to wait for over six hours, which includes spending a lot of time scanning newspapers and television channels before any idea strikes him. So how does one become a cartoonist? Which one of us has the talent to make it? How can we master the rib-tickling strokes and the witty one-liners? How can we make people smile or laugh? There are few colleges or schools for cartoonists. Most cartoonists come from art colleges, while some learn the craft on their own. Most established cartoonists are of the view that no institute can teach you to make a cartoon. "You can pick up the craft, you may learn to sketch and draw in institutes, but no one can teach anyone how to make a good cartoon," says Uday Shanker, a cartoonist with Navbharat Times. While basics, like drawing and sketching can be learnt in an art college, and are important skills, these alone, do not make a good cartoonist. Because it's a question of one's creativity and sense of humour; two qualities one simply may not have. The advice that established cartoonists give is that just because you can sketch, don't take it for granted that you will become a successful cartoonist.

SubQuestion No : 18

Q.18 According to the author what is the first thing most of us like to see in a newspaper?

Ans ☒ 1. Cartoon

☐ 2. Craft

☐ 3. Art

☐ 4. Headlines

Question ID : 65497841762

Status : Not Answered

Chosen Option : --

Comprehension:

Read the given passage and answer the questions that follow.

What writers struggle to express through numerous newspaper columns, the cartoon manages in a pointed one-liner. Little wonder then, that the first thing most of us like to see when we pick up a newspaper is the cartoon. Simple though it may seem, making a cartoon is an art that requires a combination of hard work, training and a good sense of humour. Cartoonists say that the cartoons that make us laugh the most are in fact the cartoons that are hardest to make. Even celebrated cartoonists like RK Laxman admit that making a cartoon is not a piece of cake. Laxman says he has to wait for over six hours, which includes spending a lot of time scanning newspapers and television channels before any idea strikes him. So how does one become a cartoonist? Which one of us has the talent to make it? How can we master the rib-tickling strokes and the witty one-liners? How can we make people smile or laugh? There are few colleges or schools for cartoonists. Most cartoonists come from art colleges, while some learn the craft on their own. Most established cartoonists are of the view that no institute can teach you to make a cartoon. "You can pick up the craft, you may learn to sketch and draw in institutes, but no one can teach anyone how to make a good cartoon," says Uday Shanker, a cartoonist with Navbharat Times. While basics, like drawing and sketching can be learnt in an art college, and are important skills, these alone, do not make a good cartoonist. Because it's a question of one's creativity and sense of humour; two qualities one simply may not have. The advice that established cartoonists give is that just because you can sketch, don't take it for granted that you will become a successful cartoonist.

SubQuestion No : 19

Q.19 Which of the following is most important in the making of a good cartoonist?

Ans ☐ 1. Drawing skill

☐ 2. Hard work

☒ 3. Sense of humour

☐ 4. Training

Question ID : 65497841763

Status : Not Answered

Chosen Option : --

Comprehension:

Read the given passage and answer the questions that follow.

What writers struggle to express through numerous newspaper columns, the cartoon manages in a pointed one-liner. Little wonder then, that the first thing most of us like to see when we pick up a newspaper is the cartoon. Simple though it may seem, making a cartoon is an art that requires a combination of hard work, training and a good sense of humour. Cartoonists say that the cartoons that make us laugh the most are in fact the cartoons that are hardest to make. Even celebrated cartoonists like RK Laxman admit that making a cartoon is not a piece of cake. Laxman says he has to wait for over six hours, which includes spending a lot of time scanning newspapers and television channels before any idea strikes him. So how does one become a cartoonist? Which one of us has the talent to make it? How can we master the rib-tickling strokes and the witty one-liners? How can we make people smile or laugh? There are few colleges or schools for cartoonists. Most cartoonists come from art colleges, while some learn the craft on their own. Most established cartoonists are of the view that no institute can teach you to make a cartoon. "You can pick up the craft, you may learn to sketch and draw in institutes, but no one can teach anyone how to make a good cartoon," says Uday Shanker, a cartoonist with Navbharat Times. While basics, like drawing and sketching can be learnt in an art college, and are important skills, these alone, do not make a good cartoonist. Because it's a question of one's creativity and sense of humour; two qualities one simply may not have. The advice that established cartoonists give is that just because you can sketch, don't take it for granted that you will become a successful cartoonist.

SubQuestion No : 20

Q.20 "making a cartoon is not a piece of cake." This means that creating cartoons is:

Ans ✓ 1. a tough challenge

✗ 2. a basic skill

✗ 3. a rare talent

✗ 4. a very simple task

Question ID : 65497841765

Status : Not Answered

Chosen Option : --

Comprehension:

In the following passage some words have been deleted. Fill in the blanks with the help of the alternatives given. Select the most appropriate option for each number.

Until the 3rd century AD, the town of Baia was the most coveted destination for wealthy Roman citizens, senators, and emperors.

Now, it's hidden (1) _____ the sand and pebbles in the waters of the Gulf of Pozzuoli, just a few kilometers (2) _____ Naples, Italy, and the only residents are fish and seahorses.

The slow (3) _____ of land from volcanic activity caused the land to submerge, and in 1969, divers (4) _____ the ruins of two marble statues by chance. About 15,000 divers, snorkelers, and tourists visit the (5) _____ all year round to travel back in time and swim through ancient streets, mosaics, statues, and the remains of a seaside resort.

SubQuestion No : 21

Q.21 Select the most appropriate option to fill in the blank No. 1.

Ans ✗ 1. beyond

✓ 2. beneath

✗ 3. besides

✗ 4. beside

Question ID : 65497841654

Status : Not Answered

Chosen Option : --

Comprehension:

In the following passage some words have been deleted. Fill in the blanks with the help of the alternatives given. Select the most appropriate option for each number.

Until the 3rd century AD, the town of Baia was the most coveted destination for wealthy Roman citizens, senators, and emperors.

Now, it's hidden (1) _____ the sand and pebbles in the waters of the Gulf of Pozzuoli, just a few kilometers (2) _____ Naples, Italy, and the only residents are fish and seahorses.

The slow (3) _____ of land from volcanic activity caused the land to submerge, and in 1969, divers (4) _____ the ruins of two marble statues by chance. About 15,000 divers, snorkelers, and tourists visit the (5) _____ all year round to travel back in time and swim through ancient streets, mosaics, statues, and the remains of a seaside resort.

SubQuestion No : 22

Q.22 Select the most appropriate option to fill in the blank No. 2.

- Ans
- ☒ 1. to
 - ☒ 2. for
 - ☒ 3. with
 - ☒ 4. from

Question ID : 65497841655

Status : Not Answered

Chosen Option : --

Comprehension:

In the following passage some words have been deleted. Fill in the blanks with the help of the alternatives given. Select the most appropriate option for each number.

Until the 3rd century AD, the town of Baia was the most coveted destination for wealthy Roman citizens, senators, and emperors.

Now, it's hidden (1) _____ the sand and pebbles in the waters of the Gulf of Pozzuoli, just a few kilometers (2) _____ Naples, Italy, and the only residents are fish and seahorses.

The slow (3) _____ of land from volcanic activity caused the land to submerge, and in 1969, divers (4) _____ the ruins of two marble statues by chance. About 15,000 divers, snorkelers, and tourists visit the (5) _____ all year round to travel back in time and swim through ancient streets, mosaics, statues, and the remains of a seaside resort.

SubQuestion No : 23

Q.23 Select the most appropriate option to fill in the blank No. 3.

- Ans
- ☒ 1. movement
 - ☒ 2. moved
 - ☒ 3. move
 - ☒ 4. mover

Question ID : 65497841656

Status : Not Answered

Chosen Option : --

Comprehension:

In the following passage some words have been deleted. Fill in the blanks with the help of the alternatives given. Select the most appropriate option for each number.

Until the 3rd century AD, the town of Baia was the most coveted destination for wealthy Roman citizens, senators, and emperors.

Now, it's hidden (1) _____ the sand and pebbles in the waters of the Gulf of Pozzuoli, just a few kilometers (2) _____ Naples, Italy, and the only residents are fish and seahorses.

The slow (3) _____ of land from volcanic activity caused the land to submerge, and in 1969, divers (4) _____ the ruins of two marble statues by chance. About 15,000 divers, snorkelers, and tourists visit the (5) _____ all year round to travel back in time and swim through ancient streets, mosaics, statues, and the remains of a seaside resort.

SubQuestion No : 24

Q.24 Select the most appropriate option to fill in the blank No. 4.

- Ans
- ☒ 1. concealed
 - ☒ 2. searched
 - ☒ 3. invented
 - ☒ 4. discovered

Question ID : 65497841657

Status : Not Answered

Chosen Option : --

Comprehension:

In the following passage some words have been deleted. Fill in the blanks with the help of the alternatives given. Select the most appropriate option for each number.

Until the 3rd century AD, the town of Baia was the most coveted destination for wealthy Roman citizens, senators, and emperors.

Now, it's hidden (1) _____ the sand and pebbles in the waters of the Gulf of Pozzuoli, just a few kilometers (2) _____ Naples, Italy, and the only residents are fish and seahorses.

The slow (3) _____ of land from volcanic activity caused the land to submerge, and in 1969, divers (4) _____ the ruins of two marble statues by chance. About 15,000 divers, snorkelers, and tourists visit the (5) _____ all year round to travel back in time and swim through ancient streets, mosaics, statues, and the remains of a seaside resort.

SubQuestion No : 25

Q.25 Select the most appropriate option to fill in the blank No. 5.

- Ans
- ☒ 1. situation
 - ☒ 2. sight
 - ☒ 3. station
 - ☒ 4. site

Question ID : 65497841658

Status : Not Answered

Chosen Option : --

Section : Quantitative Aptitude

Q.1 आरोही क्रम में छह क्रमिक विषम संख्याओं का औसत 42 है। यदि अगली पाँच क्रमिक विषम संख्याओं को शामिल कर लिया जाए, तो सभी संख्याओं का औसत कितना होगा?

- Ans
- ☒ 1. 53
 - ☒ 2. 51
 - ☒ 3. 49
 - ☒ 4. 47

Question ID : 65497841770

Status : Answered

Chosen Option : 2

Q.2 ₹x की धनराशि 15% प्रति वर्ष की दर से 2 वर्षों में ₹49,247 हो जाती है, जिस पर, व्याज 8-मासिक चक्रवृद्धि होता है। x का मूल्य क्या है?

- Ans
- ☒ 1. ₹42,000
 - ☒ 2. ₹38,000
 - ☒ 3. ₹37,000
 - ☒ 4. ₹36,000

Question ID : 65497841477
Status : Answered
Chosen Option : 1

Q.3 राजू 75 वस्तुएँ खरीदता है, प्रत्येक का मूल्य समान है। वह उनमें से एक-तिहाई को 40% के लाभ पर और शेष के 20% को 20% के लाभ पर बेचता है। वह शेष वस्तुओं को 7 वस्तुओं के क्रय मूल्य के बराबर हानि पर बेचता है। पूरे लेन-देन में उसका लाभ/हानि प्रतिशत क्या है?

- Ans
- ☒ 1. हानि, $6\frac{2}{3}\%$
 - ☒ 2. लाभ, 8%
 - ☒ 3. लाभ, $6\frac{2}{3}\%$
 - ☒ 4. हानि, 8%

Question ID : 65497841473
Status : Answered
Chosen Option : 3

Q.4 शांत जल में एक नाव की चाल 25 km/h है। शांत जल में एक निश्चित दूरी को तय करने में, धारा के अनुकूल उतनी ही दूरी तय करने की तुलना में $33\frac{1}{3}\%$ अधिक समय लगता है। नाव को धारा के अनुकूल 75 km जाने में कितना समय (hrs में) लगेगा?

- Ans
- ☒ 1. 1.8
 - ☒ 2. 3
 - ☒ 3. 2.25
 - ☒ 4. 2

Question ID : 65497841482
Status : Answered
Chosen Option : 3

Q.5 पुरुषों की एक निश्चित संख्या एक कार्य को 48 दिन में पूरा कर सकती है। यदि उनके साथ 30 और पुरुष होते, तो कार्य को पूरा करने में 18 दिन कम लगते। प्रारंभ में पुरुषों की संख्या कितनी है?

- Ans
- ☒ 1. 50
 - ☒ 2. 72
 - ☒ 3. 54
 - ☒ 4. 60

Question ID : 65497841786
Status : Answered
Chosen Option : 1

Q.6 यदि 5-अंकीय संख्या $284xy$, 3 और 77 द्वारा विभाज्य है, तो $(8x - y)$ का मान क्या होगा?

- Ans
- ☒ 1. 5
 - ☐ 2. 9
 - ☐ 3. 7
 - ☐ 4. 4

Question ID : 65497841462

Status : Answered

Chosen Option : 1

Q.7 एक कार एक निश्चित दूरी को एक समान चाल से 19.2 h में तय कर सकती है। यदि चाल में 8 km/h की वृद्धि कर दी जाए तो वह उसी दूरी को 18 h में तय करती है। दूरी (km में) कितनी है?

- Ans
- ☐ 1. 2034
 - ☐ 2. 2403
 - ☒ 3. 2304
 - ☐ 4. 2340

Question ID : 65497841685

Status : Answered

Chosen Option : 4

Q.8 आठ वर्ष पहले, A, B और C की औसत आयु 22 वर्ष थी। अब से 2 वर्ष बाद A और C की औसत आयु 32.5 वर्ष होगी। अब से 3 वर्ष बाद B की आयु (वर्षों में) क्या होगी?

- Ans
- ☐ 1. 39
 - ☒ 2. 32
 - ☐ 3. 37
 - ☐ 4. 31

Question ID : 65497841465

Status : Answered

Chosen Option : 2

Q.9 अनिल की आय ₹45,000 है। वह अपनी आय का 16% बचाता है। यदि उसकी आय में 5% की कमी होती है और व्यय में 2% की वृद्धि होती है, तो उसकी बचत में _____ की कमी होगी।

- Ans
- ☐ 1. ₹3,026
 - ☒ 2. ₹3,006
 - ☐ 3. ₹2,996
 - ☐ 4. ₹3,016

Question ID : 65497841469

Status : Answered

Chosen Option : 2

Q.10 एक वस्तु को उसके वास्तविक विक्रय मूल्य के $\frac{9}{11}$ पर बेचने पर, व्यापारी को 10% की हानि होती है। यदि वस्तु को उसके वास्तविक विक्रय मूल्य से 8% कम पर बेचा जाता है, तो लाभ का प्रतिशत कितना होगा?

Ans

✗ 1. $1\frac{1}{2}$

✓ 2. $1\frac{1}{5}$

✗ 3. $1\frac{1}{4}$

✗ 4. $1\frac{1}{3}$

Question ID : 65497841778

Status : Answered

Chosen Option : 4

Q.11 यदि $2x^2 + 5x - 1 = 0$ है, तो $x^3 - \frac{1}{8x^3}$ का मान क्या होगा?

Ans

✗ 1. $\frac{125}{8}$

✗ 2. $-\frac{125}{8}$

✗ 3. $\frac{145}{4}$

✓ 4. $-\frac{155}{8}$

Question ID : 65497841484

Status : Answered

Chosen Option : 1

Q.12 चावल की प्रति kg कीमत में 18% की वृद्धि कर दी गई और खरीदे गए चावल की मात्रा में 22% की कमी कर दी गई। चावल पर व्यय की जाने वाली राशि में कितने प्रतिशत परिवर्तन हुआ?

Ans

✓ 1. 7.96% कमी

✗ 2. 12.64% कमी

✗ 3. 19.25% वृद्धि

✗ 4. 11.2% वृद्धि

Question ID : 65497841672

Status : Answered

Chosen Option : 3

Q.13 एक क्लब के 54 सदस्यों का औसत वजन 67.5 kg है। यदि 72.5 kg औसत वजन वाले 6 सदस्य क्लब को छोड़ देते हैं और 62.5 kg औसत वजन वाले 2 नए सदस्य क्लब में शामिल हो जाते हैं, तो क्लब के वर्तमान सदस्यों का औसत वजन (kg में) कितना है?

- Ans
- ☒ 1. 67.2
 - ☒ 2. 66.7
 - ☒ 3. 64.5
 - ☒ 4. 65.8

Question ID : 65497841566

Status : Answered

Chosen Option : 3

Q.14 ₹5,120 की धनराशि, 15% प्रति वर्ष चक्रवृद्धि ब्याज दर से, जब ब्याज 10 मासिक रूप से संयोजित होता है, $2\frac{1}{2}$ वर्ष में कितनी (₹ में) हो जाएगी?

- Ans
- ☒ 1. 9,270
 - ☒ 2. 7,290
 - ☒ 3. 7,920
 - ☒ 4. 9,720

Question ID : 65497841680

Status : Not Answered

Chosen Option : --

Q.15 एक व्यक्ति एक निश्चित मूल्य पर एक वस्तु को बेचता है। यदि वह उसे इस विक्रय मूल्य के 35% पर बेचता है, तो उसे 22% की हानि होती है। यदि वह इसे इसके वास्तविक विक्रय मूल्य पर बेचता है, तो उसका लाभ प्रतिशत कितना है?

- Ans
- ☒ 1. 13%
 - ☒ 2. 25%
 - ☒ 3. 15%
 - ☒ 4. 20%

Question ID : 65497841574

Status : Answered

Chosen Option : 3

Q.16 A और B की मासिक आय का अनुपात 5 : 8 है, प्रति माह A ₹7,400 की बचत करता है और B ₹6,500 की बचत करता है। यदि A और B के मासिक व्यय का अनुपात 1 : 2 हो, तो B की मासिक आय कितनी होगी?

- Ans
- ☒ 1. ₹33,200
 - ☒ 2. ₹34,100
 - ☒ 3. ₹43,500
 - ☒ 4. ₹39,200

Question ID : 65497841882

Status : Answered

Chosen Option : 4

Q.17 A, B और C तीन बॉक्स हैं जिनमें 3 : 5 : 7 के अनुपात में संगमरमर हैं। संगमरमरों की कुल संख्या 150 है। यदि A से B में 12 संगमरमर स्थानांतरित कर दिए जाते हैं और B से C में 8 संगमरमर स्थानांतरित कर दिए जाते हैं, तो संगमरमरों के नए अनुपात A : B : C का मान कितना होगा?

- Ans
- ✓ 1. 3 : 9 : 13
 - ✗ 2. 3 : 13 : 9
 - ✗ 3. 13 : 3 : 9
 - ✗ 4. 9 : 13 : 3

Question ID : 65497841781

Status : Answered

Chosen Option : 2

Q.18 एक व्यक्ति अपनी आय का 70% भाग व्यय करता है। उसकी आय में 28% की वृद्धि हुई लेकिन व्यय पूर्ववत् रहा। तो उसकी बचत में कितने प्रतिशत की वृद्धि हुई? (एक दशमलव स्थान तक पूर्णांकित)?

- Ans
- ✗ 1. 97.9%
 - ✗ 2. 200.5%
 - ✓ 3. 93.3%
 - ✗ 4. 100.4%

Question ID : 65497841878

Status : Answered

Chosen Option : 3

Q.19 एक वॉशिंग मशीन का अंकित मूल्य ₹18,725 है। एक व्यापारी अंकित मूल्य पर 20% और $x\%$ की दो क्रमिक छूट देकर उसे ₹14,231 में बेच देता है। x का मान कितना है?

- Ans
- ✓ 1. 5
 - ✗ 2. 6
 - ✗ 3. 4
 - ✗ 4. 10

Question ID : 65497841773

Status : Answered

Chosen Option : 2

Q.20 A, एक कार्य का 50% भाग 20 दिन में पूरा कर सकता है और B उसी कार्य का $66\frac{2}{3}\%$ भाग 40 दिन में पूरा कर सकता है। दोनों ने 6 दिन तक साथ कार्य किया। शेष कार्य को अकेले C ने 12 दिन में पूर्ण किया। उसी कार्य को A, B और C एक साथ करने पर कितने दिनों में पूर्ण कर लेंगे?

- Ans
- ✓ 1. $9\frac{3}{5}$ दिन
 - ✗ 2. $8\frac{3}{5}$ दिन
 - ✗ 3. $10\frac{3}{5}$ दिन
 - ✗ 4. $7\frac{3}{5}$ दिन

Question ID : 65497841887

Status : Not Answered

Chosen Option : --

Q.21 9-अंकों वाली एक संख्या $4856327xy$ 9 से विभाज्य है, और $x - y = 6$ है। $\sqrt{4x + 2y}$ का मान कितना है?

- Ans
- ☒ 1. 3
 - ☒ 2. 7
 - ☒ 3. 4
 - ☒ 4. 6

Question ID : 65497841665

Status : Not Answered

Chosen Option : --

Q.22 यदि $\sqrt{x} - \frac{1}{\sqrt{x}} = \sqrt{7}$ हो, तो $x^3 + \frac{1}{x^3}$ का मान कितना है?

- Ans
- ☒ 1. 729
 - ☒ 2. 756
 - ☒ 3. 679
 - ☒ 4. 702

Question ID : 65497841893

Status : Not Answered

Chosen Option : --

Q.23 यदि एक शंकु के आधार का व्यास 24 cm है और इसका वक्र पृष्ठीय क्षेत्रफल $1395\frac{3}{7}\text{cm}^2$ है, तो इसका आयतन (cm^3 में) ज्ञात कीजिए।

मान लीजिए $\pi = \frac{22}{7}$

- Ans
- ☒ 1. 5280
 - ☒ 2. 5782
 - ☒ 3. 5287
 - ☒ 4. 5728

Question ID : 65497841789

Status : Not Answered

Chosen Option : --

Q.24 एक दुकानदार, अपने सामान पर क्रय मूल्य से 20% अधिक अंकित करता है। वह 40% सामान को अंकित मूल्य पर और शेष को अंकित मूल्य पर 30% छूट देकर बेचता है। उसका लाभ/हानि का प्रतिशत कितना होगा?

- Ans
- ☒ 1. 2.3% हानि
 - ☒ 2. 3.3% लाभ
 - ☒ 3. 1.6% हानि
 - ☒ 4. 3.6% लाभ

Question ID : 65497841874

Status : Not Answered

Chosen Option : --

Q.25 ₹x की धनराशि, 8% वार्षिक चक्रवृद्धि व्याज दर से $2\frac{3}{4}$ वर्ष में ₹38,637 हो जाती है। x का मान कितना है?

- Ans
- ☐ 1. 30,200
 - ☐ 2. 30,175
 - ☐ 3. 31,375
 - ☒ 4. 31,250

Question ID : 65497841886

Status : Not Answered

Chosen Option : --

Section : General awareness

Q.1 'लाल सलाम - ए नोवेल' इनमें से किस केन्द्रीय मंत्री द्वारा लिखा गया है, जिसमें एक ऐसे युवा अधिकारी की कहानी है, जो एक ऐसी व्यवस्था के खिलाफ चुनौतियों का सामना करता है जो गुपचुप राजनीति और भ्रष्टाचार में डूबी हुई है?

- Ans
- ☐ 1. हरदीप सिंह पुरी
 - ☐ 2. निर्मला सीतारमण
 - ☐ 3. अश्विनी वैष्णव
 - ☒ 4. स्मृति जुबिन ईरानी

Question ID : 65497841708

Status : Answered

Chosen Option : 1

Q.2 भारत सरकार की प्रधान मंत्री जीवन ज्योति बीमा योजना (PMJJBY) _____ आयु वर्ग के उन लोगों के लिए शुरू की गई है, जिनके पास बैंक खाता है और जो ऑटो-डेबिट में शामिल होने/सक्षम करने के लिए अपनी सहमति देते हैं।

- Ans
- ☐ 1. 18 से 55 वर्ष
 - ☐ 2. 19 से 55 वर्ष
 - ☐ 3. 21 से 60 वर्ष
 - ☒ 4. 18 से 50 वर्ष

Question ID : 65497841489

Status : Answered

Chosen Option : 4

Q.3 निम्नलिखित में से कौन-सा शहर, गोमती नदी के तट पर स्थित है?

- Ans
- ☐ 1. भोपाल
 - ☐ 2. अलीगढ़
 - ☐ 3. कानपुर
 - ☒ 4. लखनऊ

Question ID : 65497841904

Status : Answered

Chosen Option : 4

Q.4 भारत जनगणना 2011 के अनुसार, 2001 से 2011 के बीच निम्न में से किस राज्य में जनसंख्या वृद्धि का प्रतिशत सबसे कम था?

- Ans ☒ 1. हिमाचल प्रदेश
- ☒ 2. उत्तराखंड
- ☒ 3. पंजाब
- ☒ 4. हरियाणा

Question ID : 65497841498
Status : Answered
Chosen Option : 1

Q.5 निम्नलिखित में से कौन-सा फ्रांसीसी यात्री, अपने द्वारा देखी गई स्थितियों को अक्सर भारत की तुलना, यूरोप की स्थिति से करते हुए लेखन करता था। वह राजकुमार द्वारा शुकोह के चिकित्सक के रूप में मुगल दरबार से भी निकटता से संबंधित था?

- Ans ☒ 1. डुआर्टे बारबोसा (Duarte Barbosa)
- ☒ 2. फ्रांस्वा बर्नियर (François Bernier)
- ☒ 3. जॉन-बैप्टिस्ट तैवर्नियर (Jean-Baptiste Tavernier)
- ☒ 4. जेसुइट रॉबर्टो नोबिली (Jesuit Roberto Nobili)

Question ID : 65497841501
Status : Answered
Chosen Option : 2

Q.6 1928 में, कांग्रेस पार्टी की नेहरू रिपोर्ट किसने लिखी थी, जो डोमिनियन स्टेटस प्रदान करने के आधार पर स्वतंत्र भारत के लिए भावी संविधान थी?

- Ans ☒ 1. मोतीलाल नेहरू
- ☒ 2. कमला नेहरू
- ☒ 3. जवाहर लाल नेहरू
- ☒ 4. स्वरूप रानी नेहरू

Question ID : 65497841910
Status : Answered
Chosen Option : 1

Q.7 निम्नलिखित में से कौन-सा राज्य बांग्लादेश के साथ सबसे लंबी भूमि सीमा साझा करता है?

- Ans ☒ 1. मेघालय
- ☒ 2. असम
- ☒ 3. त्रिपुरा
- ☒ 4. पश्चिम बंगाल

Question ID : 65497841703
Status : Answered
Chosen Option : 4

Q.8 वे जड़ें जो पेड़ के तने से निकलती हैं और जो पेड़ को सहारा देने में मदद करती हैं, _____ कहलाती हैं।

- Ans ☒ 1. पुश्ता जड़ें
- ☒ 2. कंदयुक्त जड़ें
- ☒ 3. रेंगने वाली जड़ें
- ☒ 4. रेशेदार जड़ें

Question ID : 65497841799
Status : Answered
Chosen Option : 1

Q.9 निम्नलिखित में से किस पुस्तक को बुकर पुरस्कार 2021 से सम्मानित किया गया?

- Ans ☒ 1. द प्रॉमिस
- ☒ 2. क्लारा एंड द सन
- ☒ 3. समबडीज डॉटर : अ मेमॉएर
- ☒ 4. क्लाउड कुकू लैंड

Question ID : 65497841812
Status : Answered
Chosen Option : 1

Q.10 निम्नलिखित में से कौन सा राज्य मांडो महोत्सव के लिए जाना जाता है?

- Ans ☒ 1. गोवा
- ☒ 2. केरल
- ☒ 3. मणिपुर
- ☒ 4. नागालैंड

Question ID : 65497841895
Status : Answered
Chosen Option : 1

Q.11 'संकल्प (SANKALP)', _____ की एक केंद्र प्रायोजित योजना है, जो एक परिणाम-केंद्रित योजना है जो व्यावसायिक शिक्षा और प्रशिक्षण में सरकार की कार्यान्वयन रणनीति में इनपुट से परिणाम में बदलाव को चिह्नित करती है।

- Ans ☒ 1. कौशल विकास और उद्यमशीलता मंत्रालय
- ☒ 2. शिक्षा मंत्रालय
- ☒ 3. युवा कार्यक्रम और खेल मंत्रालय
- ☒ 4. विज्ञान और प्रौद्योगिकी मंत्रालय

Question ID : 65497841898
Status : Answered
Chosen Option : 2

Q.12 पुरातात्विक निष्कर्षों के आधार पर, निम्नलिखित में से कौन-सा नृत्य मौजूदा भारतीय शास्त्रीय नृत्यों में सबसे पुराना माना जाता है?

- Ans ☒ 1. मणिपुरी
- ☒ 2. कथक
- ☒ 3. कुचिपुड़ी
- ☒ 4. ओडिसी

Question ID : 65497841486
Status : Answered
Chosen Option : 3

Q.13 निम्नलिखित में से किस भारतीय को प्रतिष्ठित रॉयल अल्बर्ट हॉल, लंदन में प्रस्तुति देने वाले पहले भारतीय होने का सम्मान प्राप्त है?

- Ans ☒ 1. जगजीत सिंह
- ☒ 2. दिलीप कुमार
- ☒ 3. अमिताभ बच्चन
- ☒ 4. लता मंगेशकर

Question ID : 65497841505
Status : Answered
Chosen Option : 2

Q.14 कंप्यूटर प्रौद्योगिकी निम्नलिखित में से किस वैज्ञानिक सिद्धांत पर आधारित है?

- Ans
- ☒ 1. अतिचालकता
 - ☒ 2. विकिरण के उद्दीप्त उत्सर्जन द्वारा प्रकाश प्रवर्धन
 - ☒ 3. डिजिटल लॉजिक
 - ☒ 4. प्रकाश विद्युत प्रभाव

Question ID : 65497841696
Status : Answered
Chosen Option : 3

Q.15 संविधान (एक सौवां संशोधन) अधिनियम, 2016 _____ से संबंधित है।

- Ans
- ☒ 1. वस्तु एवं सेवा कर
 - ☒ 2. राष्ट्रीय न्यायिक नियुक्ति आयोग
 - ☒ 3. हैदराबाद - कर्नाटक क्षेत्र के लिए एक अलग विकास बोर्ड की स्थापना
 - ☒ 4. एक निश्चित अवधि के बाद सीटों के आरक्षण और विशेष प्रतिनिधित्व को समाप्त करने

Question ID : 65497841713
Status : Answered
Chosen Option : 2

Q.16 प्रथम खेलो इंडिया यूनिवर्सिटी गेम्स का आयोजन निम्नलिखित में से किस राज्य में किया गया था?

- Ans
- ☒ 1. ओडिशा
 - ☒ 2. पंजाब
 - ☒ 3. हरियाणा
 - ☒ 4. असम

Question ID : 65497841510
Status : Answered
Chosen Option : 3

Q.17 भारत के संविधान का निम्नलिखित में से कौन सा अनुच्छेद धर्म की स्वतंत्रता के अधिकार से संबंधित है?

- Ans
- ☒ 1. अनुच्छेद 25 से 28
 - ☒ 2. अनुच्छेद 36 से 39
 - ☒ 3. अनुच्छेद 29 से 31
 - ☒ 4. अनुच्छेद 32 से 35

Question ID : 65497841915
Status : Answered
Chosen Option : 1

Q.18 भगवान बुद्ध का जन्म _____ में हुआ था।

- Ans
- ☒ 1. कुमिल्ला, बांग्लादेश
 - ☒ 2. लुंबिनी, नेपाल
 - ☒ 3. बामियान, अफ़ग़ानिस्तान
 - ☒ 4. बिहार, भारत

Question ID : 65497841806
Status : Answered
Chosen Option : 2

Q.19 लखनऊ में अखिल भारतीय किसान सभा की स्थापना, जिसमें स्वामी सहजानंद सरस्वती अध्यक्ष के रूप में थे, किस वर्ष में हुई थी?

- Ans
- ☐ 1. 1930
 - ☐ 2. 1932
 - ☐ 3. 1942
 - ☒ 4. 1936

Question ID : 65497841707
Status : Answered
Chosen Option : 2

Q.20 रॉयटर्स इंस्टीट्यूट फॉर द स्टडी ऑफ जर्नलिज्म द्वारा अपनी डिजिटल न्यूज रिपोर्ट 2021 में किए गए एक सर्वेक्षण के निष्कर्षों के अनुसार, सर्वेक्षित 46 बाजारों में से भारत किस स्थान (रैंक) पर है?

- Ans
- ☐ 1. 30वें
 - ☒ 2. 31वें
 - ☐ 3. 28वें
 - ☐ 4. 29वें

Question ID : 65497841695
Status : Not Answered
Chosen Option : --

Q.21 1988 के 61वें संविधान संशोधन अधिनियम ने मतदान की आयु को _____ वर्ष से घटाकर 18 वर्ष कर दिया।

- Ans
- ☐ 1. 30
 - ☒ 2. 21
 - ☐ 3. 25
 - ☐ 4. 20

Question ID : 65497841814
Status : Answered
Chosen Option : 2

Q.22 कांच महल निम्नलिखित में से किस जिले में स्थित है?

- Ans
- ☐ 1. कटक
 - ☐ 2. विशाखापत्तनम
 - ☐ 3. हैदराबाद
 - ☒ 4. आगरा

Question ID : 65497841794
Status : Not Answered
Chosen Option : --

Q.23 वायुमंडल में ओजोन परत पृथ्वी की सतह को सूर्य से किस विकिरण से बचाती है?

- Ans
- ☐ 1. गामा किरणों
 - ☐ 2. अवरक्त प्रकाश
 - ☐ 3. X-किरणों
 - ☒ 4. पराबैंगनी (UV) प्रकाश

Question ID : 65497841494
Status : Answered
Chosen Option : 4

Q.24 निम्नलिखित में से कौन-सा कथन, DNA के संबंध में गलत है?

- Ans
- ☒ 1. DNA वह अणु है जो सभी सजीव कोशिकाओं में वंशानुगत सामग्री है।
 - ☒ 2. DNA एक बहुत बड़ा अणु है, जो न्यूक्लियोटाइड नामक छोटी इकाइयों से बना होता है।
 - ☒ 3. DNA में पाए जाने वाले क्षार केवल तीन किस्मों में आते हैं: एडेनिन, साइटोसिन और ग्वानिन।
 - ☒ 4. जीन (Genes) DNA से बने होते हैं, और इसी प्रकार जीनोम भी।

Question ID : 65497841903

Status : Answered

Chosen Option : 3

Q.25 भारतीय कपास निगम (CCI) की स्थापना _____ वर्ष में हुई थी।

- Ans
- ☒ 1. 1970
 - ☒ 2. 1969
 - ☒ 3. 1971
 - ☒ 4. 1972

Question ID : 65497841803

Status : Not Answered

Chosen Option : --