

## Selection Post Phase IX 2021 Matriculation level

Roll Number	
Candidate Name	
Venue Name	
Exam Date	16/03/2022
Exam Time	12:00 PM - 1:00 PM
Subject	Selection Post Matriculation Level

### Section : General Intelligence

**Q.1** दिए गए संयोजन की उस स्थिति के सही दर्पण प्रतिबिंब का चयन कीजिए, जब दर्पण को 'PQ' द्वारा दर्शाई गई स्थिति पर रखा जाता है।

4 5 w E v b

P  
|  
Q

Ans

- ✓ 1. 4 2 w E v b
- ✗ 2. 4 5 w E v b
- ✗ 3. 4 2 w E v b
- ✗ 4. 4 2 w E v b

Question ID : 65497841739

Status : Answered

Chosen Option : 1

**Q.2** उस विकल्प का चयन कीजिए जिसमें दी गई आकृति अंतर्निहित है (घूर्णन की अनुमति नहीं है)।



Ans

- ✗ 1.
- ✗ 2.
- ✗ 3.
- ✓ 4.

Question ID : 65497841636

Status : Answered

Chosen Option : 4

Q.3 उस विकल्प का चयन कीजिए, जिसका तीसरे पद से वही संबंध है, जो दूसरे पद का पहले पद से है।

CURSOR : TQUTWE :: MOSTLY : ?

- Ans
- ☐ 1. UPNRKW
  - ☐ 2. OQUVNB
  - ☐ 3. OMTSYL
  - ☒ 4. ANVUQO

Question ID : 65497841618

Status : Answered

Chosen Option : 4

Q.4 एक निश्चित कूट भाषा में, 'MUSICIAN' को 'NTTHDHBM' लिखा जाता है। उसी कूट भाषा में 'FRUSTATE' को किस प्रकार लिखा जाएगा?

- Ans
- ☒ 1. GQVRUZUD
  - ☐ 2. EQTRSZSD
  - ☐ 3. RFSUATET
  - ☐ 4. GSVTUBUF

Question ID : 65497841518

Status : Answered

Chosen Option : 1

Q.5 'A + B' का अर्थ है - 'A, B का पति है';  
'A = B' का अर्थ है - 'A, B की पुत्री है'।  
यदि 'H + E = M + R' है, तो R का H से क्या संबंध है?

- Ans
- ☒ 1. सास
  - ☐ 2. मां
  - ☐ 3. पिता
  - ☐ 4. बहू

Question ID : 65497841730

Status : Answered

Chosen Option : 1

Q.6 किन दो संख्याओं को (अंकों को नहीं) आपस में बदलने पर दिया गया समीकरण संतुलित हो जाएगा?

$$70 + 30 \times 16 - 60 \div 6 = 164$$

- Ans
- ☒ 1. 30 और 6
  - ☐ 2. 30 और 60
  - ☐ 3. 70 और 30
  - ☐ 4. 16 और 60

Question ID : 65497841634

Status : Answered

Chosen Option : 1

Q.7 छह व्यक्ति P, Q, R, S, T और U एक सीधी पंक्ति में, सभी एक ही दिशा की ओर मुख करके बैठे हैं। Q, P के बाईं ओर ठीक बगल में बैठा है। R, दाएं सिरे से दूसरे स्थान पर बैठा है। Q, R के बाईं ओर तीसरे स्थान पर बैठा है। T, S के बाईं ओर तीसरे स्थान पर बैठा है। पंक्ति में U का स्थान कौन सा है?

- Ans
- ☒ 1. S के बाईं ओर ठीक बगल में
  - ☒ 2. R के दाईं ओर ठीक बगल में
  - ☒ 3. Q और S के बीच
  - ☒ 4. P के दाईं ओर ठीक बगल में

Question ID : 65497841728

Status : Answered


Chosen Option : 2

Q.8 दिए गए विकल्पों में से उस आकृति का चयन कीजिए जो नीचे दी गई श्रृंखला में प्रश्नवाचक चिह्न (?) के स्थान पर आ सकती है।




Ans


☒ 1.




☒ 2.



☒ 3.



☒ 4.



Question ID : 65497841635

Status : Answered

Chosen Option : 3

Q.9 एक निश्चित कूट भाषा में, 'her name is Smita' को 'Ps Bs Ns Rs' लिखा जाता है, 'my name is Ravi' को 'Gs Bs Ns Ts' लिखा जाता है, और 'Myself Smita' को 'Ds Rs' लिखा जाता है। उसी कूट भाषा में 'her' को किस प्रकार लिखा जाएगा?

- Ans
- ☒ 1. Rs
  - ☒ 2. Ps
  - ☒ 3. Bs
  - ☒ 4. Ns

Question ID : 65497841722

Status : Answered

Chosen Option : 2

Q.10 दिए गए कथनों और निष्कर्षों को ध्यानपूर्वक पढ़ें। कथनों में दी गई जानकारी को सत्य मानें, भले ही वह सामान्यतः ज्ञात तथ्यों से भिन्न प्रतीत होती हो, और तय करें कि दिए गए निष्कर्षों में से कौन से कथनों का तार्किक रूप से पालन करते हैं।

कथन:

सभी चार्जर फोन हैं।  
कोई फोन घड़ी नहीं है।

निष्कर्ष:

- I. सभी फोन चार्जर हैं।
- II. कोई चार्जर घड़ी नहीं है।
- III. कोई घड़ी फोन नहीं है।

- Ans
- ☒ 1. केवल निष्कर्ष I और III पालन करते हैं
  - ☒ 2. केवल निष्कर्ष III पालन करता है
  - ☒ 3. केवल निष्कर्ष I और II पालन करते हैं
  - ☒ 4. केवल निष्कर्ष II और III पालन करते हैं

Question ID : 65497841630

Status : Answered

Chosen Option : 4

Q.11 एक निश्चित कूट भाषा में, 'CAR' को '66' लिखा जाता है और 'PLOY' को '272' लिखा जाता है। उसी कूट भाषा में 'CLASS' को किस प्रकार लिखा जाएगा?

- Ans
- ☒ 1. 270
  - ☒ 2. 280
  - ☒ 3. 250
  - ☒ 4. 260

Question ID : 65497841521

Status : Not Answered

Chosen Option : --

Q.12 एक निश्चित कूट भाषा में, 'my wish' को 'rt bt' लिखा जाता है, 'my fault' को 'mt rt' लिखा जाता है, और 'his fault' को 'mt kt' लिखा जाता है। उसी कूट भाषा में 'his wish' को किस प्रकार लिखा जाएगा?

- Ans
- ☒ 1. kt mt
  - ☒ 2. rt mt
  - ☒ 3. kt bt
  - ☒ 4. kt rt

Question ID : 65497841621

Status : Answered

Chosen Option : 3

Q.13 अक्षरों के उस संयोजन का चयन कीजिए, जिसे दी गई श्रृंखला के रिक्त स्थानों में क्रमिक रूप से रखने पर श्रृंखला पूर्ण हो जाएगी।

HY \_ R \_ HY \_ RB \_ YU \_ BH \_ U \_ B

- Ans
- ☒ 1. UBURRYR
  - ☒ 2. UBUHRYU
  - ☒ 3. UBUHRYB
  - ☒ 4. UBUHRYR

Question ID : 65497841514

Status : Answered

Chosen Option : 4

Q.14 उस विकल्प का चयन कीजिए, जिसका तीसरी संख्या से वही संबंध है, जो दूसरी संख्या का पहली संख्या से है और छठी संख्या का पांचवीं संख्या से है।

14 : 197 :: 18 : ? :: 16 : 257

Ans ☒ 1. 325

☐ 2. 217

☐ 3. 526

☐ 4. 126

Question ID : 65497841633

Status : Answered

Chosen Option : 1

Q.15 एक निश्चित कूट भाषा में, 'USE' को '135' लिखा जाता है, और 'BY' को '54' लिखा जाता है। उसी कूट भाषा में 'PART' को किस प्रकार लिखा जाएगा?

Ans ☐ 1. 210

☐ 2. 240

☐ 3. 200

☒ 4. 220

Question ID : 65497841725

Status : Not Answered

Chosen Option : --

Q.16 एक निश्चित कूट भाषा में, 'GOLF' को '40' लिखा जाता है, और 'DOSE' को '43' लिखा जाता है। उसी कूट भाषा में 'FISH' को किस प्रकार लिखा जाएगा?

Ans ☒ 1. 42

☐ 2. 48

☐ 3. 57

☐ 4. 38

Question ID : 65497841622

Status : Answered

Chosen Option : 1

Q.17 दिए गए विकल्पों में से उस संख्या का चयन कीजिए, जो निम्नलिखित श्रेणी में प्रश्न चिह्न (?) के स्थान पर आ सकती है।

55, 59, 68, 84, 109, ?

Ans ☐ 1. 160

☒ 2. 145

☐ 3. 175

☐ 4. 130

Question ID : 65497841530

Status : Answered

Chosen Option : 2

Q.18 'A + B' का अर्थ है - A, B का भाई है';  
'A = B' का अर्थ है - A, B की पुत्री है।';  
'A @ B' का अर्थ है - A, B की पत्नी है।'  
यदि 'U + Y = T @ G' है, तो निम्नलिखित में से कौन सा कथन सही है?

- Ans
- ☒ 1. T, U की मामी है।
  - ☒ 2. T, U की बहन है।
  - ☒ 3. G, U का पिता है।
  - ☒ 4. G, Y का चाचा है।

Question ID : 65497841526

Status : Answered

Chosen Option : 3

Q.19 उस सही विकल्प का चयन कीजिए, जो निम्नलिखित शब्दों को तार्किक और सार्थक क्रम में दर्शाता है।

1. कलाई
2. नाक
3. मस्तक
4. घुटना
5. कंधा

- Ans
- ☒ 1. 4, 2, 5, 1, 3
  - ☒ 2. 3, 1, 5, 2, 4
  - ☒ 3. 4, 1, 2, 5, 3
  - ☒ 4. 4, 1, 5, 2, 3

Question ID : 65497841614

Status : Answered

Chosen Option : 4

Q.20 उस विकल्प का चयन कीजिए, जिसका तीसरे पद से वही संबंध है, जो दूसरे पद का पहले पद से है।

LODGE : KNCFD :: NEPTUNE : ?

- Ans
- ☒ 1. MDOSTMD
  - ☒ 2. MDQSVMD
  - ☒ 3. ODOTOD
  - ☒ 4. MFORTMD

Question ID : 65497841613

Status : Answered

Chosen Option : 1

Q.21 उस सही विकल्प का चयन कीजिए, जो दिए गए शब्दों के उस क्रम को दर्शाता है, जिस क्रम में वे अंग्रेजी शब्दकोश में मौजूद होते हैं।

1. Derive
2. Dexterity
3. Deceit
4. Decode
5. Decision

- Ans
- ☒ 1. 3, 4, 5, 1, 2
  - ☒ 2. 5, 3, 4, 1, 2
  - ☒ 3. 3, 5, 4, 2, 1
  - ☒ 4. 3, 5, 4, 1, 2

Question ID : 65497841717

Status : Answered

Chosen Option : 4

Q.22 उस विकल्प का चयन कीजिए, जिसका तीसरे शब्द से वही संबंध है, जो दूसरे शब्द का पहले शब्द से है।

पुराना : आधुनिक :: घमंडी : ?

- Ans
- ☒ 1. कंजूस
  - ☒ 2. आतुर
  - ☒ 3. शालीन
  - ☒ 4. संशयी

Question ID : 65497841719

Status : Answered

Chosen Option : 3

Q.23 प्रीति, उमंग, श्रीना, पलक और अमृता एक सीधी पंक्ति में उत्तर की ओर मुख करके बैठे हैं। पलक बाएं सिरे पर बैठी है। उमंग, श्रीना के दाईं ओर तीसरे स्थान पर बैठी है। प्रीति, अमृता के बाईं ओर ठीक बगल में बैठी है। उमंग के बाईं ओर ठीक बगल में कौन बैठी है?

- Ans
- ☒ 1. प्रीति
  - ☒ 2. पलक
  - ☒ 3. श्रीना
  - ☒ 4. अमृता

Question ID : 65497841523

Status : Answered

Chosen Option : 4

Q.24 दिए गए विकल्पों में से उस संख्या का चयन कीजिए, जो निम्नलिखित श्रेणी में प्रश्न चिह्न (?) के स्थान पर आ सकती है।

30, 38, 65, 129, 254, ?

- Ans
- ☒ 1. 450
  - ☒ 2. 440
  - ☒ 3. 470
  - ☒ 4. 420

Question ID : 65497841631

Status : Answered

Chosen Option : 3

Q.25 दिए गए कथनों और निष्कर्षों को ध्यानपूर्वक पढ़ें। कथनों में दी गई जानकारी को सत्य मानें, भले ही वह सामान्यतः ज्ञात तथ्यों से भिन्न प्रतीत होती हो, और तय करें कि दिए गए निष्कर्षों में से कौन से कथनों का तार्किक रूप से पालन करते हैं।

कथन:

कुछ अधिकारी लिपिक हैं।  
सभी लिपिक कर्मचारी हैं।

निष्कर्ष:

- I. कुछ कर्मचारी अधिकारी हैं।
- II. कोई कर्मचारी अधिकारी नहीं है।

- Ans
- ☒ 1. निष्कर्ष I और II दोनों पालन करते हैं
  - ☒ 2. या तो निष्कर्ष I या II पालन करता है
  - ☒ 3. केवल निष्कर्ष I पालन करता है
  - ☒ 4. केवल निष्कर्ष II पालन करता है

Question ID : 65497841629

Status : Answered

Chosen Option : 3

Q.1 Select the INCORRECTLY spelt word.

- Ans ☒ 1. Forword  
☒ 2. Fortunate  
☒ 3. Fossil  
☒ 4. Fortify

Question ID : 65497841549  
Status : Answered  
Chosen Option : 1

Q.2 Select the most appropriate indirect form of the given sentence.

Avika said, "I am preparing for my Science test."

- Ans ☒ 1. Avika said that I was preparing for my Science test.  
☒ 2. Avika said that she was preparing for her Science test.  
☒ 3. Avika said that I am preparing for my Science test.  
☒ 4. Avika said that she is preparing for her Science test.

Question ID : 65497841639  
Status : Answered  
Chosen Option : 2

Q.3 Select the most appropriate word for the given group of words.

pictures given in a book to explain things

- Ans ☒ 1. ornamentation  
☒ 2. demonstration  
☒ 3. illustration  
☒ 4. decoration

Question ID : 65497841649  
Status : Answered  
Chosen Option : 2

Q.4 Select the most appropriate antonym of the given word.

INDUSTRIOUS

- Ans ☒ 1. hardworking  
☒ 2. enthusiastic  
☒ 3. energetic  
☒ 4. inactive

Question ID : 65497841645  
Status : Answered  
Chosen Option : 4

Q.5 Select the most appropriate option to fill in the blank.

This story has been taken \_\_\_\_\_ the Arabian Nights.

- Ans ☒ 1. with  
☒ 2. from  
☒ 3. by  
☒ 4. of

Question ID : 65497841538  
Status : Answered  
Chosen Option : 2



**Q.6** Select the most appropriate synonym of the given word.

**Conceit**

- Ans ☒ 1. Humility  
☒ 2. Vanity  
☒ 3. Gravity  
☒ 4. Modesty

Question ID : **65497841745**  
Status : **Not Answered**  
Chosen Option : --

**Q.7** Select the most appropriate meaning of the given idiom.

**Take pains**

- Ans ☒ 1. Follow others  
☒ 2. Try hard  
☒ 3. Remain true  
☒ 4. Make a noise

Question ID : **65497841544**  
Status : **Answered**  
Chosen Option : **3**

**Q.8** Select the most appropriate word for the given group of words.

**the sound made by a hen**

- Ans ☒ 1. squeak  
☒ 2. quack  
☒ 3. cluck  
☒ 4. Squawk

Question ID : **65497841648**  
Status : **Not Answered**  
Chosen Option : --

**Q.9** Select the most appropriate option to fill in the blank.

**It is their problem. Let \_\_\_\_\_ solve it themselves.**

- Ans ☒ 1. them  
☒ 2. us  
☒ 3. her  
☒ 4. it

Question ID : **65497841743**  
Status : **Answered**  
Chosen Option : **1**

**Q.10 Select the most appropriate meaning of the given idiom.**

**A house of cards**

- Ans ☒ 1. A lavish lifestyle  
☒ 2. A gambling casino  
☒ 3. A dishonest livelihood  
☒ 4. An insecure situation

Question ID : **65497841749**  
Status : **Answered**  
Chosen Option : **3**

**Q.11 Select the most appropriate synonym of the given word.**

**Gloomy**

- Ans ☒ 1. Lively  
☒ 2. Bright  
☒ 3. Dull  
☒ 4. Hopeful

Question ID : **65497841540**  
Status : **Answered**  
Chosen Option : **3**

**Q.12 Select the correctly spelt word.**

- Ans ☒ 1. entrepreneur  
☒ 2. entreperneur  
☒ 3. entreprenuer  
☒ 4. enterpreneur

Question ID : **65497841652**  
Status : **Answered**  
Chosen Option : **1**

**Q.13 Select the option that expresses the given sentence in passive voice.**

**The farmers harvested the crops.**

- Ans ☒ 1. The crops are harvested by the farmers.  
☒ 2. The crops were harvested by the farmers.  
☒ 3. The crops have been harvested by the farmers.  
☒ 4. The crops were being harvested by the farmers.

Question ID : **65497841740**  
Status : **Answered**  
Chosen Option : **2**

**Q.14 Select the INCORRECTLY spelt word.**

- Ans ☒ 1. Foreign  
☒ 2. Client  
☒ 3. Servival  
☒ 4. Curious

Question ID : **65497841753**  
Status : **Answered**  
Chosen Option : **3**

Q.15 Select the most appropriate antonym of the given word.

**TIMID**

- Ans
- ☒ 1. shy
  - ☒ 2. fearful
  - ☒ 3. bold
  - ☒ 4. humble

Question ID : 65497841644

Status : Answered

Chosen Option : 3

**Comprehension:**

Read the following passage and answer the questions given after it.

India was one of the first places where human civilization started. Around 5000 years BC this civilization was located around the Indus River. Hence, it is known as Indus Valley civilization. It is also known as Harappan Civilization because records show one of the city's names was Harappa. It was 1 of 1500 cities in the Indus River Valley, another well-known city being Mohenjo-Daro. It wasn't until 1920 that the civilization was discovered at all. There were four known major cities, Harappa, Mohenjo-Daro, Mehrgarh, and Lothal. Mohenjo-daro was not only the largest city of the Indus Valley Civilization but also one of the world's earliest major urban centers. Much of the cities were made from clay bricks baked in a furnace known as a kiln. The cities were advanced for their time, having their own wells and water drainage systems as well as having grid-style roads in the cities. They were also noted for clusters of large, nonresidential buildings. But most people did not live in the urban areas and instead lived in the local farming villages. Though little is known about the Indus Valley people, we do know a little about their farming habits. They had domesticated peas, wheat, melons, dates, sesame seeds, as well as cotton. They had advanced knowledge of the process of drying wheat, and a large granary was discovered, a building whose sole purpose is to hold and dry large amounts of wheat. They also created some large structures, one of the largest being a public pool known as the Great Bath that was 40 feet long, 10 feet deep, and 20 feet wide.

SubQuestion No : 16

Q.16 Which discovery indicated that people of Indus valley stored large amount of grain?

- Ans
- ☒ 1. the Great Bath
  - ☒ 2. clusters of non residential buildings
  - ☒ 3. brick houses
  - ☒ 4. the granary

Question ID : 65497841663

Status : Answered

Chosen Option : 4

**Comprehension:**

Read the following passage and answer the questions given after it.

India was one of the first places where human civilization started. Around 5000 years BC this civilization was located around the Indus River. Hence, it is known as Indus Valley civilization. It is also known as Harappan Civilization because records show one of the city's names was Harappa. It was 1 of 1500 cities in the Indus River Valley, another well-known city being Mohenjo-Daro. It wasn't until 1920 that the civilization was discovered at all. There were four known major cities, Harappa, Mohenjo-Daro, Mehrgarh, and Lothal. Mohenjo-daro was not only the largest city of the Indus Valley Civilization but also one of the world's earliest major urban centers. Much of the cities were made from clay bricks baked in a furnace known as a kiln. The cities were advanced for their time, having their own wells and water drainage systems as well as having grid-style roads in the cities. They were also noted for clusters of large, nonresidential buildings. But most people did not live in the urban areas and instead lived in the local farming villages. Though little is known about the Indus Valley people, we do know a little about their farming habits. They had domesticated peas, wheat, melons, dates, sesame seeds, as well as cotton. They had advanced knowledge of the process of drying wheat, and a large granary was discovered, a building whose sole purpose is to hold and dry large amounts of wheat. They also created some large structures, one of the largest being a public pool known as the Great Bath that was 40 feet long, 10 feet deep, and 20 feet wide.

**SubQuestion No : 17**

**Q.17 Which of the following crops were NOT grown by people of Indus Valley?**

- Ans ☒ 1. wheat  
☒ 2. sugarcane  
☒ 3. cotton  
☒ 4. peas

Question ID : 65497841664

Status : **Answered**

Chosen Option : 2

**Comprehension:**

Read the following passage and answer the questions given after it.

India was one of the first places where human civilization started. Around 5000 years BC this civilization was located around the Indus River. Hence, it is known as Indus Valley civilization. It is also known as Harappan Civilization because records show one of the city's names was Harappa. It was 1 of 1500 cities in the Indus River Valley, another well-known city being Mohenjo-Daro. It wasn't until 1920 that the civilization was discovered at all. There were four known major cities, Harappa, Mohenjo-Daro, Mehrgarh, and Lothal. Mohenjo-daro was not only the largest city of the Indus Valley Civilization but also one of the world's earliest major urban centers. Much of the cities were made from clay bricks baked in a furnace known as a kiln. The cities were advanced for their time, having their own wells and water drainage systems as well as having grid-style roads in the cities. They were also noted for clusters of large, nonresidential buildings. But most people did not live in the urban areas and instead lived in the local farming villages. Though little is known about the Indus Valley people, we do know a little about their farming habits. They had domesticated peas, wheat, melons, dates, sesame seeds, as well as cotton. They had advanced knowledge of the process of drying wheat, and a large granary was discovered, a building whose sole purpose is to hold and dry large amounts of wheat. They also created some large structures, one of the largest being a public pool known as the Great Bath that was 40 feet long, 10 feet deep, and 20 feet wide.

**SubQuestion No : 18**

**Q.18 Which of the following statements shows that the cities of Indus Valley were well planned?**

- Ans ☒ 1. There were clusters of large nonresidential buildings.  
☒ 2. The structures were made of baked bricks.  
☒ 3. The cities had grid-style roads and water drainage system.  
☒ 4. There were wells for water in the cities.

Question ID : 65497841662

Status : **Marked For Review**

Chosen Option : 3

**Comprehension:**

Read the following passage and answer the questions given after it.

India was one of the first places where human civilization started. Around 5000 years BC this civilization was located around the Indus River. Hence, it is known as Indus Valley civilization. It is also known as Harappan Civilization because records show one of the city's names was Harappa. It was 1 of 1500 cities in the Indus River Valley, another well-known city being Mohenjo-Daro. It wasn't until 1920 that the civilization was discovered at all. There were four known major cities, Harappa, Mohenjo-Daro, Mehrgarh, and Lothal. Mohenjo-daro was not only the largest city of the Indus Valley Civilization but also one of the world's earliest major urban centers. Much of the cities were made from clay bricks baked in a furnace known as a kiln. The cities were advanced for their time, having their own wells and water drainage systems as well as having grid-style roads in the cities. They were also noted for clusters of large, nonresidential buildings. But most people did not live in the urban areas and instead lived in the local farming villages. Though little is known about the Indus Valley people, we do know a little about their farming habits. They had domesticated peas, wheat, melons, dates, sesame seeds, as well as cotton. They had advanced knowledge of the process of drying wheat, and a large granary was discovered, a building whose sole purpose is to hold and dry large amounts of wheat. They also created some large structures, one of the largest being a public pool known as the Great Bath that was 40 feet long, 10 feet deep, and 20 feet wide.

**SubQuestion No : 19**

**Q.19 The passage belongs to the subject area of**

- Ans ☒ 1. geography  
☒ 2. architecture  
☒ 3. history  
☒ 4. civics

Question ID : 65497841660

Status : Answered

Chosen Option : 3

**Comprehension:**

Read the following passage and answer the questions given after it.

India was one of the first places where human civilization started. Around 5000 years BC this civilization was located around the Indus River. Hence, it is known as Indus Valley civilization. It is also known as Harappan Civilization because records show one of the city's names was Harappa. It was 1 of 1500 cities in the Indus River Valley, another well-known city being Mohenjo-Daro. It wasn't until 1920 that the civilization was discovered at all. There were four known major cities, Harappa, Mohenjo-Daro, Mehrgarh, and Lothal. Mohenjo-daro was not only the largest city of the Indus Valley Civilization but also one of the world's earliest major urban centers. Much of the cities were made from clay bricks baked in a furnace known as a kiln. The cities were advanced for their time, having their own wells and water drainage systems as well as having grid-style roads in the cities. They were also noted for clusters of large, nonresidential buildings. But most people did not live in the urban areas and instead lived in the local farming villages. Though little is known about the Indus Valley people, we do know a little about their farming habits. They had domesticated peas, wheat, melons, dates, sesame seeds, as well as cotton. They had advanced knowledge of the process of drying wheat, and a large granary was discovered, a building whose sole purpose is to hold and dry large amounts of wheat. They also created some large structures, one of the largest being a public pool known as the Great Bath that was 40 feet long, 10 feet deep, and 20 feet wide.

**SubQuestion No : 20**

**Q.20 Which was the largest city of the Indus Valley civilization?**

- Ans ☒ 1. Harappa  
☒ 2. Mehrgarh  
☒ 3. Lothal  
☒ 4. Mohenjo-Daro

Question ID : 65497841661

Status : Answered

Chosen Option : 1

**Comprehension:**

In the following passage, some words have been deleted. Read the passage carefully and select the most appropriate option to fill in each blank.

After the Hunga Tonga–Hunga Ha’apai volcano erupted on 15 January, a devastating tsunami (1) \_\_\_\_\_ Tonga, a Pacific island. Communications were (2) \_\_\_\_\_ because there was only one undersea cable (3) \_\_\_\_\_ connected Tonga to the outside world. Meanwhile, several countries (4) \_\_\_\_\_ ships and flights to the country. Hundreds of volunteers spent days (5) \_\_\_\_\_ away ash by hand at the airport’s runway so that the emergency planes could land.

**SubQuestion No : 21**

**Q.21** Select the most appropriate option to fill in blank no.1.

- Ans ☒ 1. hitting  
☒ 2. hit  
☒ 3. is hitting  
☒ 4. was hitting

Question ID : 65497841552

Status : Answered

Chosen Option : 2

**Comprehension:**

In the following passage, some words have been deleted. Read the passage carefully and select the most appropriate option to fill in each blank.

After the Hunga Tonga–Hunga Ha’apai volcano erupted on 15 January, a devastating tsunami (1) \_\_\_\_\_ Tonga, a Pacific island. Communications were (2) \_\_\_\_\_ because there was only one undersea cable (3) \_\_\_\_\_ connected Tonga to the outside world. Meanwhile, several countries (4) \_\_\_\_\_ ships and flights to the country. Hundreds of volunteers spent days (5) \_\_\_\_\_ away ash by hand at the airport’s runway so that the emergency planes could land.

**SubQuestion No : 22**

**Q.22** Select the most appropriate option to fill in blank no. 2.

- Ans ☒ 1. injured  
☒ 2. hurt  
☒ 3. polluted  
☒ 4. damaged

Question ID : 65497841553

Status : Answered

Chosen Option : 4

**Comprehension:**

In the following passage, some words have been deleted. Read the passage carefully and select the most appropriate option to fill in each blank.

After the Hunga Tonga–Hunga Ha’apai volcano erupted on 15 January, a devastating tsunami (1) \_\_\_\_\_ Tonga, a Pacific island. Communications were (2) \_\_\_\_\_ because there was only one undersea cable (3) \_\_\_\_\_ connected Tonga to the outside world. Meanwhile, several countries (4) \_\_\_\_\_ ships and flights to the country. Hundreds of volunteers spent days (5) \_\_\_\_\_ away ash by hand at the airport’s runway so that the emergency planes could land.

**SubQuestion No : 23**

**Q.23** Select the most appropriate option to fill in blank no. 3.

- Ans ☒ 1. what  
☒ 2. that  
☒ 3. who  
☒ 4. this

Question ID : 65497841554

Status : Answered

Chosen Option : 2

**Comprehension:**

In the following passage, some words have been deleted. Read the passage carefully and select the most appropriate option to fill in each blank.

After the Hunga Tonga–Hunga Ha’apai volcano erupted on 15 January, a devastating tsunami (1) \_\_\_\_\_ Tonga, a Pacific island. Communications were (2) \_\_\_\_\_ because there was only one undersea cable (3) \_\_\_\_\_ connected Tonga to the outside world. Meanwhile, several countries (4) \_\_\_\_\_ ships and flights to the country. Hundreds of volunteers spent days (5) \_\_\_\_\_ away ash by hand at the airport’s runway so that the emergency planes could land.

SubQuestion No : 24

Q.24 Select the most appropriate option to fill in blank no. 4.

- Ans
- ☒ 1. flew
  - ☒ 2. drove
  - ☒ 3. sent
  - ☒ 4. dropped

Question ID : 65497841555

Status : Answered

Chosen Option : 3

**Comprehension:**

In the following passage, some words have been deleted. Read the passage carefully and select the most appropriate option to fill in each blank.

After the Hunga Tonga–Hunga Ha’apai volcano erupted on 15 January, a devastating tsunami (1) \_\_\_\_\_ Tonga, a Pacific island. Communications were (2) \_\_\_\_\_ because there was only one undersea cable (3) \_\_\_\_\_ connected Tonga to the outside world. Meanwhile, several countries (4) \_\_\_\_\_ ships and flights to the country. Hundreds of volunteers spent days (5) \_\_\_\_\_ away ash by hand at the airport’s runway so that the emergency planes could land.

SubQuestion No : 25

Q.25 Select the most appropriate option to fill in blank no. 5

- Ans
- ☒ 1. clears
  - ☒ 2. clearing
  - ☒ 3. cleared
  - ☒ 4. clear

Question ID : 65497841556

Status : Answered

Chosen Option : 2

Section : Quantitative Aptitude

Q.1 यदि  $x - y = 4$  और  $x^3 - y^3 = 316$ , जहाँ  $y > 0$  है, तो  $x^2 - y^2$  का मान कितना होगा?

- Ans
- ☒ 1. 32
  - ☒ 2. 24
  - ☒ 3. 48
  - ☒ 4. 40

Question ID : 65497841689

Status : Not Answered

Chosen Option : --

Q.2 जब  $(2^{18} - 1)$  को 9 से विभाजित किया जाता है, तो शेषफल कितना होगा?

- Ans
- ☒ 1. 2
  - ☒ 2. 8
  - ☒ 3. 1
  - ☒ 4. 0

Question ID : 65497841768  
Status : Not Answered  
Chosen Option : --

Q.3 एक व्यक्ति को 108 km की दूरी 9 h में तय करनी है। यदि वह दूरी का  $\frac{2}{3}$  भाग  $\frac{5}{9}$  समय में तय कर लेता है, तो शेष दूरी को शेष समय में तय करने के लिए उसकी चाल (km/h में) कितनी होनी चाहिए?

- Ans
- ☒ 1.
  - ☒ 2. 12
  - ☒ 3. 9
  - ☒ 4. 8

Question ID : 65497841583  
Status : Not Answered  
Chosen Option : --

Q.4 ₹2,400 क्रय मूल्य वाली एक वस्तु पर 20% की छूट देने के उपरांत 16% लाभ प्राप्त करने के लिए दुकानदार को उस पर कितना मूल्य (₹ में) अंकित करना चाहिए?

- Ans
- ☒ 1. 3,525
  - ☒ 2. 3,390
  - ☒ 3. 3,275
  - ☒ 4. 3,480

Question ID : 65497841670  
Status : Answered  
Chosen Option : 4

Q.5 सुनीता की आय ₹48,000 है। वह अपनी आय का 15% बचत करती है। यदि उसका व्यय 20% बढ़ जाता है और उसकी आय में 15% की वृद्धि हो जाती है, तो उसकी बचत में कितनी वृद्धि/कमी होगी?

- Ans
- ☒ 1. ₹960 की कमी
  - ☒ 2. ₹860 की वृद्धि
  - ☒ 3. ₹1,060 की कमी
  - ☒ 4. ₹1,000 की वृद्धि

Question ID : 65497841572  
Status : Answered  
Chosen Option : 1



Q.6 एक समूह में बच्चों की एक निश्चित संख्या का औसत वजन 37 kg था। यदि 38.5 kg के औसत वजन वाले 12 बच्चे समूह में शामिल कर लिए जाते हैं, तो सभी बच्चों का औसत वजन 0.45 kg बढ़ जाता है। प्रारंभ में, समूह में बच्चों की कितनी संख्या थी?

- Ans
- ☒ 1. 23
  - ☒ 2. 28
  - ☐ 3. 18
  - ☐ 4. 13

Question ID : 65497841771  
Status : Answered  
Chosen Option : 2

Q.7 A, B और C तीन संख्याएँ हैं। A, C से 45% अधिक है, और B, A और C के योगफल से 20% कम है। A, B से लगभग कितने प्रतिशत कम है?

- Ans
- ☒ 1. 26%
  - ☐ 2. 25.4%
  - ☐ 3. 35.2%
  - ☐ 4. 25%

Question ID : 65497841570  
Status : Marked For Review  
Chosen Option : 4

Q.8 'A' एक कार्य को 20 दिन में पूर्ण कर सकता है और 'B' उसी कार्य का  $\frac{2}{3}$  भाग 16 दिन में पूर्ण कर सकता है। उन्होंने 10 दिन तक एक साथ कार्य किया। शेष कार्य को केवल 'C' ने 12 दिन में पूर्ण किया। केवल 'C' उस पूरे कार्य को कितने दिनों में पूर्ण करेगा?

- Ans
- ☐ 1. 36 दिन
  - ☐ 2. 40 दिन
  - ☒ 3. 48 दिन
  - ☐ 4. 24 दिन

Question ID : 65497841683  
Status : Answered  
Chosen Option : 3

Q.9 5 बार  $x$  और 7 बार  $y$  हो तो उसका औसत 37 है। इसके अलावा, 7 बार  $x$  और 5 बार  $y$  हो तो उसका औसत 35 है।  $\frac{x}{y}$  का मान ज्ञात कीजिए।

- Ans
- ☒ 1. 5
  - ☐ 2.
  - ☐ 3. 4
  - ☐ 4. 8

Question ID : 65497841769  
Status : Not Answered  
Chosen Option : --

Q.10 यदि एक व्यक्ति की चाल 6 km/h है तो वह अपने गंतव्य पर 32 min देरी से पहुँचता है, और यदि उसकी चाल 7 km/h है तो वह समय से 18 min पहले पहुँच जाता है। उसके आरंभिक बिंदु से उसके गंतव्य की दोगुनी दूरी (km में) ज्ञात कीजिए।

- Ans
- ✓ 1. 70
  - ✗ 2. 65
  - ✗ 3. 55
  - ✗ 4. 60

Question ID : 65497841788  
Status : Answered  
Chosen Option : 1

Q.11 व्याज की गणना वार्षिक चक्रवृद्धि आधार पर करने पर, ₹18,400 की एक धनराशि पर 10% वार्षिक दर से एक निश्चित समयावधि का चक्रवृद्धि व्याज ₹3,864 है। दोगुनी धनराशि पर, समान दर पर दोगुनी समयावधि का साधारण व्याज (₹ में) ज्ञात कीजिए।

- Ans
- ✓ 1. 14,720
  - ✗ 2. 7,360
  - ✗ 3. 11,820
  - ✗ 4. 10,785

Question ID : 65497841784  
Status : Not Answered  
Chosen Option : --

Q.12 यदि 9 अंकों की संख्या  $9843x678y$ , 72 से विभाज्य है, तो  $(x^2 + y^2 + xy)$  का मान ज्ञात कीजिए।

- Ans
- ✓ 1. 61
  - ✗ 2. 43
  - ✗ 3. 29
  - ✗ 4. 41

Question ID : 65497841563  
Status : Not Answered  
Chosen Option : --

Q.13 A और B की आय का अनुपात 3 : 7 है। A की आय में ₹4,500 की वृद्धि होने और B की आय में ₹6,750 की कमी होने पर उनकी आय का अनुपात 6 : 11 हो जाता है। उनकी वर्तमान आय का (₹ में) योग कितना होगा?

- Ans
- ✗ 1. 2,04,000
  - ✓ 2. 1,70,000
  - ✗ 3. 1,87,000
  - ✗ 4. 1,53,000

Question ID : 65497841678  
Status : Not Answered  
Chosen Option : --

Q.14 यदि एक वस्तु को ₹991.20 में बेचा जाता है, तो 12% का लाभ होता है। 15% लाभ प्राप्त करने के लिए, इसे कितने (₹ में) में बेचा जाना चाहिए?

- Ans
- ☒ 1. 1170.75
  - ☒ 2. 1701.75
  - ☒ 3. 1017.75
  - ☒ 4. 1107.75

Question ID : 65497841777

Status : Answered

Chosen Option : 3

Q.15 एक आयताकार पार्क की लंबाई 180 m और चौड़ाई 120 m है। पार्क के केंद्र में 502.4 m परिधि वाला एक वृत्ताकार लॉन है। लॉन के क्षेत्रफल को छोड़कर, पार्क का क्षेत्रफल  $m^2$  में कितना होगा?  
( $\pi = 3.14$  लीजिए)

- Ans
- ☒ 1. 1504
  - ☒ 2. 1450
  - ☒ 3. 1405
  - ☒ 4. 1540

Question ID : 65497841687

Status : Not Answered

Chosen Option : --

Q.16 कुछ टॉफियां ₹10 में 11 की दर से खरीदी जाती हैं, और दूसरे बैच में उतनी ही टॉफियां ₹6 में 5 की दर से खरीदी जाती हैं। यदि पूरी टॉफियों को ₹2/टॉफी के दर पर बेचा जाता है, तो इस पूरे सौदे में हुआ प्रतिशत लाभ/हानि (दशमलव के एक स्थान तक पूर्णांकित) कितना है?

- Ans
- ☒ 1. 95.2% हानि
  - ☒ 2. 85.5% हानि
  - ☒ 3. 85.5% लाभ
  - ☒ 4. 89.7% लाभ

Question ID : 65497841779

Status : Not Answered

Chosen Option : --

Q.17 ₹4800 के अंकित मूल्य वाली एक वस्तु को 15%, 5% और p% की तीन क्रमिक छूट देकर, ₹3100.80 में बेचा जाता है। p का मान ज्ञात कीजिए।

- Ans
- ☒ 1. 18
  - ☒ 2. 15
  - ☒ 3. 20
  - ☒ 4. 25

Question ID : 65497841671

Status : Not Answered

Chosen Option : --

Q.18 यदि  $x$  कुर्सियों का क्रय मूल्य, 16 कुर्सियों के विक्रय मूल्य के बराबर है और प्रतिशत लाभ 12.5% है।  $x$  का मान ज्ञात कीजिए।

- Ans
- ☒ 1.
  - ☒ 2. 18
  - ☒ 3. 24
  - ☒ 4. 20

Question ID : 65497841573  
Status : Not Answered  
Chosen Option : --

Q.19 18 व्यक्ति प्रतिदिन 8 h कार्य करते हुए एक निश्चित कार्य को 15 दिन में पूर्ण कर सकते हैं। उसी कार्य को कितने व्यक्ति प्रतिदिन 9 h कार्य करते हुए 12 दिन में पूर्ण कर सकते हैं?

- Ans
- ☒ 1. 18
  - ☒ 2. 20
  - ☒ 3. 15
  - ☒ 4. 25

Question ID : 65497841684  
Status : Not Answered  
Chosen Option : --

Q.20 7, 11, 16, 21 में से प्रत्येक में  $x$  जोड़ने पर इस क्रम में प्राप्त संख्याएँ समानुपाती होती हैं।  $x$  का मान कितना होगा?

- Ans
- ☒ 1. 24
  - ☒ 2. 29
  - ☒ 3. 21
  - ☒ 4. 31

Question ID : 65497841679  
Status : Not Answered  
Chosen Option : --

Q.21 एक पुस्तकालय में शनिवार को औसतन 219 और सप्ताह के अन्य दिनों में औसतन 281 आगंतुक आते हैं। शुक्रवार से शुरू होने वाले 31 दिन के महीने में प्रतिदिन आगंतुकों की औसत संख्या ज्ञात कीजिए।

- Ans
- ☒ 1. 269
  - ☒ 2. 277
  - ☒ 3. 273
  - ☒ 4. 271

Question ID : 65497841565  
Status : Not Answered  
Chosen Option : --

Q.22 A और B ने एक ही परीक्षा में क्रमशः 488 अंक और 376 अंक प्राप्त किए। यदि A ने 61% अंक प्राप्त किए, तो B द्वारा प्राप्त अंकों का प्रतिशत कितना है?

- Ans
- ☒ 1. 49%
  - ☒ 2. 51%
  - ☒ 3. 48%
  - ☒ 4. 47%

Question ID : 65497841776  
Status : Not Answered  
Chosen Option : --

Q.23 अखिलेश ने साधारण ब्याज की एक निश्चित दर पर ₹50,000 की धनराशि उधार ली, और उस राशि को समान, किंतु वार्षिक चक्रवृद्धि आधार पर गणनीय, ब्याज दर पर राकेश को उधार दे दी। 2 वर्ष की समाप्ति पर, राकेश ने अपना उधार चुकाया और फिर अखिलेश ने अपना उधार चुका दिया। इस प्रक्रिया में, अखिलेश को ₹180 का लाभ हुआ। प्रभाविता वार्षिक ब्याज की दर कितनी थी?

- Ans
- ☒ 1. 6%
  - ☒ 2. 7.5%
  - ☒ 3. 8%
  - ☒ 4. 5%

Question ID : 65497841580  
Status : Not Answered  
Chosen Option : --

Q.24 यदि  $a + b + c = 8$  और  $ab + bc + ca = 11$  है, तो  $\left(\frac{a^3 + b^3 + c^3 - 3abc}{4}\right)$  का मान ज्ञात कीजिए।

- Ans
- ☒ 1. 65
  - ☒ 2. 60
  - ☒ 3. 62
  - ☒ 4. 56

Question ID : 65497841790  
Status : Not Answered  
Chosen Option : --

Q.25 एक निश्चित धनराशि पर 8.4% वार्षिक साधारण ब्याज की दर से  $2\frac{3}{4}$  वर्ष में प्राप्त मिश्रधन, समान धनराशि पर 16% वार्षिक दर से  $7\frac{1}{2}$  वर्ष में प्राप्त साधारण ब्याज से ₹2325 अधिक है। धनराशि (₹ में) ज्ञात कीजिए।

- Ans
- ☒ 1. 78,000
  - ☒ 2. 80,000
  - ☒ 3. 70,000
  - ☒ 4. 75,000

Question ID : 65497841578  
Status : Not Answered  
Chosen Option : --

Q.1 दिवंगत महारानी विक्टोरिया के स्मारक के रूप में कोलकाता में विक्टोरिया मेमोरियल हॉल के निर्माण की परिकल्पना ब्रिटिश भारत के इनमें से किस वायसराय ने की थी?

- Ans
- ☒ 1. लॉर्ड कैनिंग
  - ☒ 2. लॉर्ड मिंटो द्वितीय
  - ☒ 3. लॉर्ड कर्जन
  - ☒ 4. लॉर्ड एल्लिन द्वितीय

Question ID : 65497841692

Status : Not Answered

Chosen Option : --

Q.2 1793 में बंगाल में स्थाई बंदोबस्त या इस्तमरारी बंदोबस्त लागू किए जाने के दौरान वहां का गवर्नर जनरल कौन था?

- Ans
- ☒ 1. वारेन हेस्टिंग्स
  - ☒ 2. रॉबर्ट क्लाइव
  - ☒ 3. जॉन कार्टियर्स
  - ☒ 4. चार्ल्स कॉर्नवालिस

Question ID : 65497841706

Status : Answered

Chosen Option : 4

Q.3 निम्नलिखित में से कौन सा शब्द जल में मौजूद घुले हुए लवणों की मात्रा को संदर्भित करता है?

- Ans
- ☒ 1. कैलोरीसिटी (Caloricity)
  - ☒ 2. क्रिप्टिसिटी (Crypticity)
  - ☒ 3. श्यानता (Viscosity)
  - ☒ 4. लवणता (Salinity)

Question ID : 65497841800

Status : Answered

Chosen Option : 3

Q.4 कन्नौज के शासक हर्षवर्धन के दरबारी कवि बाणभट्ट द्वारा रचित, उनकी जीवनी - हर्षचरित किस भाषा में है?

- Ans
- ☒ 1. खरोष्ठी
  - ☒ 2. अरामेइक
  - ☒ 3. संस्कृत
  - ☒ 4. पाली

Question ID : 65497841704

Status : Answered

Chosen Option : 3

Q.5 भारत और दुनिया भर में वंचित बच्चों के लिए शिक्षा की गुणवत्ता में सुधार हेतु अग्रणी कार्य के लिए, किस नागरिक समाज संगठन को 2021 के इंदिरा गांधी शांति, निरस्त्रीकरण एवं विकास पुरस्कार से सम्मानित किया गया?

- Ans
- ☒ 1. उड़ान इंडिया फाउंडेशन
  - ☒ 2. के.सी. महिंद्रा एजुकेशन ट्रस्ट
  - ☒ 3. प्रथम
  - ☒ 4. ई-विद्यालोक

Question ID : 65497841710

Status : Answered

Chosen Option : 2

Q.6 लवणीय और क्षारीय मृदा को स्थानीय रूप से थुर, रेह, कल्लर और \_\_\_\_\_ मृदा के रूप में जाना जाता है।

- Ans
- ☐ 1. भांगर
  - ☐ 2. रेगुर
  - ☐ 3. खादर
  - ☒ 4. ऊसर

Question ID : 65497841701  
Status : Answered  
Chosen Option : 2

Q.7 क्रिकेटर महेंद्र सिंह धोनी के जीवन पर आधारित पुस्तक 'एमएसडी: द मैन, द लीडर (MSD: The Man, The Leader)' किसके द्वारा लिखित है?

- Ans
- ☒ 1. विश्वदीप घोष
  - ☐ 2. इंदानिल राय
  - ☐ 3. सी. राजशेखर राव
  - ☐ 4. भारत सुंदरसन

Question ID : 65497841606  
Status : Answered  
Chosen Option : 3

Q.8 जनवरी 2022 में अल्फाबेट और गूगल के मुख्य कार्यकारी अधिकारी, सुंदर पिचाई को निम्नलिखित में से कौन सा पुरस्कार प्राप्त हुआ?

- Ans
- ☐ 1. पद्म श्री
  - ☐ 2. भारत रत्न
  - ☒ 3. पद्म भूषण
  - ☐ 4. पद्म विभूषण

Question ID : 65497841811  
Status : Answered  
Chosen Option : 3

Q.9 भारतीय संविधान का भाग I निम्नलिखित में से किससे संबंधित है?

- Ans
- ☐ 1. उद्देशिका (Preamble)
  - ☒ 2. संघ और उसके क्षेत्र (The Union and its Territory)
  - ☐ 3. नागरिकता (Citizenship)
  - ☐ 4. मौलिक अधिकार (Fundamental Rights)

Question ID : 65497841711  
Status : Answered  
Chosen Option : 2

Q.10 भारत में संविधान (प्रथम संशोधन) अधिनियम किस वर्ष लागू हुआ?

- Ans
- ☐ 1. 1952
  - ☐ 2. 1950
  - ☒ 3. 1951
  - ☐ 4. 1954

Question ID : 65497841611  
Status : Answered  
Chosen Option : 1

Q.11 निम्नलिखित में से किस संविधान संशोधन अधिनियम के अधिनियमित होने के बाद 1956 में भारत संघ के राज्यों को एक महत्वपूर्ण तरीके से पुनर्गठित किया गया था?

- Ans
- ✓ 1. सातवें
  - ✗ 2. पांचवें
  - ✗ 3. छठे
  - ✗ 4. आठवें

Question ID : 65497841712  
Status : Not Answered  
Chosen Option : --

Q.12 कृष्णा नदी निम्नलिखित में से किस राज्य में बंगाल की खाड़ी में मिलती है?

- Ans
- ✗ 1. ओड़िशा
  - ✓ 2. आंध्र प्रदेश
  - ✗ 3. पश्चिम बंगाल
  - ✗ 4. तमिलनाडु

Question ID : 65497841700  
Status : Answered  
Chosen Option : 2

Q.13 निम्नलिखित में से कौन सा त्योहार मलयाली माह - मेदम के पहले दिन होता है, जो ग्रेगोरियन कैलेंडर के अनुसार 14 या 15 अप्रैल को होता है?

- Ans
- ✓ 1. विषु
  - ✗ 2. गोवि
  - ✗ 3. नुकाहार्ई
  - ✗ 4. गुड़ी पड़वा

Question ID : 65497841691  
Status : Not Answered  
Chosen Option : --

Q.14 न्यूज ब्रॉडकास्टर्स एसोसिएशन (NBA), जो भारत में विभिन्न करंट अफेयर्स और न्यूज टेलीविजन ब्रॉडकास्टर्स का एक निजी संघ है, ने अपना नाम बदलकर \_\_\_\_\_ करने का फैसला किया है।

- Ans
- ✗ 1. डिजिटल न्यूज ब्रॉडकास्टर्स एसोसिएशन (DNBA)
  - ✓ 2. न्यूज ब्रॉडकास्टर्स एंड डिजिटल एसोसिएशन (NBDA)
  - ✗ 3. न्यूज ब्रॉडकास्टर्स कॉर्पोरेशन लिमिटेड (NBCL)
  - ✗ 4. न्यूज ब्रॉडकास्टर्स कॉर्पोरेशन (NBC)

Question ID : 65497841593  
Status : Answered  
Chosen Option : 2

Q.15 निम्नलिखित में से कौन सा मोलस्का संघ का एक उदाहरण है?

- Ans
- ✓ 1. ऑक्टोपस
  - ✗ 2. टिड्डी
  - ✗ 3. झींगा
  - ✗ 4. बिच्छू

Question ID : 65497841697  
Status : Answered  
Chosen Option : 1



Q.16 सविनय अवज्ञा आंदोलन के समर्थन में, तमिलनाडु में त्रिचिनापल्ली से तंजौर के तट पर स्थित वेदारण्यम तक नमक सत्याग्रह का नेतृत्व निम्नलिखित में से किसने किया था?

- Ans ☒ 1. चक्रवर्ती राजगोपालाचारी  
☐ 2. पी. कृष्ण पिल्लई  
☐ 3. कोयापल्ली केलप्पन  
☐ 4. मोहनदास करमचन्द गांधी

Question ID : 65497841605  
Status : Answered  
Chosen Option : 2

Q.17 कितने भारतीय राज्यों की भू-सीमाएं पाकिस्तान से जुड़ी हैं?

- Ans ☐ 1. पांच  
☐ 2. सात  
☒ 3. चार  
☐ 4. छह

Question ID : 65497841601  
Status : Answered  
Chosen Option : 1

Q.18 अति उच्च चुंबकीय क्षेत्र उत्पादन की तकनीक निम्नलिखित में से किस वैज्ञानिक सिद्धांत पर आधारित है?

- Ans ☐ 1. डिजिटल लॉजिक  
☐ 2. प्रकाश वैद्युत प्रभाव  
☒ 3. अतिचालकता  
☐ 4. विकिरण के उत्तेजित उत्सर्जन द्वारा प्रकाश का प्रवर्धन

Question ID : 65497841594  
Status : Answered  
Chosen Option : 2

Q.19 दिल्ली सल्तनत के उस विभाग का क्या नाम था, जिसकी स्थापना साम्राज्य के सैन्य संगठन की देखभाल के लिए की गई थी?

- Ans ☐ 1. दीवान-ए-इंशा  
☒ 2. दीवान-ए-अर्ज  
☐ 3. दीवान-ए-रसालत  
☐ 4. दीवान-ए-अदालत

Question ID : 65497841807  
Status : Not Answered  
Chosen Option : --

Q.20 \_\_\_\_\_ के दशकों को भारत में जनसंख्या विस्फोट की अवधि के रूप में जाना जाता है।

- Ans ☐ 1. 1981 से 2001 तक  
☐ 2. 1921 से 1951 तक  
☐ 3. 1901 से 1921 तक  
☒ 4. 1951 से 1981 तक

Question ID : 65497841804  
Status : Answered  
Chosen Option : 1

Q.21 वेम्पति चित्रा सत्यम निम्नलिखित में से किस शास्त्रीय नृत्य शैली से संबंधित थे?

- Ans
- ☒ 1. भरतनाट्यम
  - ☒ 2. कथक
  - ☒ 3. कुचिपुड़ी
  - ☒ 4. मणिपुरी

Question ID : 65497841792

Status : Not Answered

Chosen Option : --

Q.22 टाइफाइड बुखार की पुष्टि निम्नलिखित में से किस परीक्षण द्वारा की जा सकती है?

- Ans
- ☒ 1. स्मीयर परीक्षण (Smear Examination)
  - ☒ 2. सी रिएक्टिव प्रोटीन (सी.आर.पी.) परीक्षण [C Reactive Protein (CRP) Test]
  - ☒ 3. विवैक्स परीक्षण (Vivax Test)
  - ☒ 4. विडाल परीक्षण (Widal Test)

Question ID : 65497841699

Status : Answered

Chosen Option : 2

Q.23 राष्ट्रीय माध्यमिक शिक्षा अभियान के तहत शिक्षा मंत्रालय (MoE) की इनमें से कौन सी पहल, देश में माध्यमिक स्तर पर विद्यालयी छात्रों की कलात्मक प्रतिभा को पोषित एवं प्रदर्शित करके शिक्षा में कलाओं को बढ़ावा देना है?

- Ans
- ☒ 1. कला उत्सव
  - ☒ 2. कला संवर्धन और विकास
  - ☒ 3. कला मेला
  - ☒ 4. कला और कौशल पहल

Question ID : 65497841796

Status : Answered

Chosen Option : 2

Q.24 निम्नलिखित में से किस खिलाड़ी ने जनवरी 2022 में ऑस्ट्रेलियन ओपन टेनिस टूर्नामेंट जीता?

- Ans
- ☒ 1. कैस्पर रूड (Casper Ruud)
  - ☒ 2. डेनिल मेदवेदेव (Daniil Medvedev)
  - ☒ 3. अलेक्जेंडर ज्वेरेव (Alexander Zverev)
  - ☒ 4. राफेल नडाल (Rafael Nadal)

Question ID : 65497841816

Status : Answered

Chosen Option : 4

Q.25 भारत सरकार के शिक्षा मंत्रालय द्वारा सृजित 'स्वच्छ विद्यालय पुरस्कार', विद्यालयों में स्वच्छता एवं शुचिता पूर्ण व्यवहार में उत्कृष्टता को मान्यता, प्रेरणा एवं प्रशंसा प्रदान करने हेतु शुरू किया गया है। इस पुरस्कार को तीन स्तरों पर वर्गीकृत किया गया है; निम्नलिखित में से कौन सा इनमें से एक नहीं है?

- Ans
- ☒ 1. ब्लॉक
  - ☒ 2. राज्य
  - ☒ 3. राष्ट्रीय
  - ☒ 4. जिला

Question ID : 65497841592

Status : Answered

Chosen Option : 1