

Selection Post Phase IX 2021 Matriculation level

Roll Number	
Candidate Name	
Venue Name	
Exam Date	02/02/2022
Exam Time	3:00 PM - 4:00 PM
Subject	Selection Post Matriculation Level

Section : General Intelligence

Q.1 एक निश्चित कूट भाषा में, 'LOCKER' को '158861215' के रूप में कूटबद्ध किया जाता है। उसी भाषा में 'AUGUST' को कैसे कूटबद्ध किया जाएगा?

- Ans
- ☒ 1. 23162442424
 - ☒ 2. 17221810184
 - ☒ 3. 17161871824
 - ☒ 4. 23222410244

Question ID : 65497839010

Status : Answered

Chosen Option : 3

Q.2 दिए गए विकल्पों में से उस अक्षर-समूह का चयन करें, जो निम्नलिखित श्रृंखला में प्रश्न चिह्न (?) के स्थान पर आ सकता है।

RSU, NXO, JCI, ?, BMY

- Ans
- ☒ 1. FHC
 - ☒ 2. EHD
 - ☒ 3. EIC
 - ☒ 4. FID

Question ID : 65497838696

Status : Answered

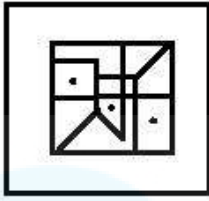
Chosen Option : 1

Q.3 उस विकल्प का चयन करें, जिसमें दी गई आकृति अंतर्निहित है (आकृति को घुमाने की अनुमति नहीं है)।

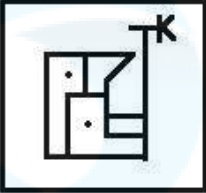


Ans

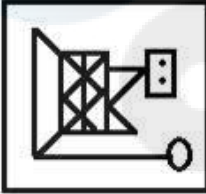
✓ 1.



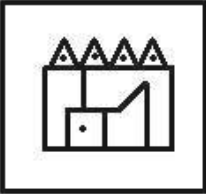
✗ 2.



✗ 3.



✗ 4.



Question ID : 65497839025

Status : Answered

Chosen Option : 1

Q.4 दिए गए विकल्पों में से उस आकृति का चयन करें जो नीचे दी गई श्रृंखला में प्रश्नवाचक चिह्न (?) को प्रतिस्थापित कर सकती है।

◇	@	○	6	6	○	&	8	8	&	
○	6	◇	@	&	8	6	○	@	◇	?
8	&	&	8	◇	@	@	◇	6	○	

Ans

- ✗ 1.

&	8
6	○
@	◇
- ✓ 2.

@	◇
8	&
○	6
- ✗ 3.

@	◇
6	&
○	8
- ✗ 4.

&	8
6	@
○	◇

Question ID : 65497838718

Status : Not Answered

Chosen Option : --

Q.5 यदि '+' का अर्थ घटाना है, '÷' का अर्थ जोड़ना है, '<' का अर्थ गुणा है, और '>' का अर्थ भाग है, तो दिए गए व्यंजक का मान ज्ञात कीजिए।

$$66 \div 11 < 9 > (12 > 4) + 5$$

Ans

- ✓ 1. 94
- ✗ 2. 104
- ✗ 3. 105
- ✗ 4. 110

Question ID : 65497838512

Status : Answered

Chosen Option : 1

Q.6 दिए गए संयोजन के सही दर्पण प्रतिबिंब का चयन कीजिए, जबकि दर्पण को चित्र में दिखाए गए अनुसार PQ पर रखा गया है।

BINOMIAL $\begin{array}{c} P \\ | \\ Q \end{array}$

- Ans
- ☒ 1. IAMIONIB
 - ☒ 2. IAMOINIB
 - ☒ 3. IAIMONIB
 - ☒ 4. IAIMONIB

Question ID : 65497838516

Status : Answered

Chosen Option : 3

Q.7 छः मित्र- नेहा, प्रिया, सीता, सरोज, मयंक और विपिन एक वृत्ताकार मेज के परितः मेज के केंद्र की ओर मुख करके बैठे हैं, लेकिन उनका इसी क्रम में होना अनिवार्य नहीं है। विपिन और मयंक के बीच केवल सीता बैठी है। प्रिया, मयंक के बाईं ओर दूसरे स्थान पर बैठी है। सरोज, विपिन के दाईं ओर ठीक बगल में बैठा है। सीता के बाईं ओर दूसरे स्थान पर कौन बैठा/बैठी है?

- Ans
- ☒ 1. विपिन
 - ☒ 2. प्रिया
 - ☒ 3. नेहा
 - ☒ 4. सरोज

Question ID : 65497838810

Status : Not Answered

Chosen Option : --

Q.8 एक निश्चित कूट भाषा में, 'DELIGHT' को 'ZBACRYX' के रूप में लिखा जाता है, और 'STRANGE' को 'YATUXZY' के रूप में लिखा जाता है। उसी भाषा में 'STUMBLE' को किस रूप में लिखा जाएगा?

- Ans
- ☒ 1. KQGOSZM
 - ☒ 2. YFGSOZM
 - ☒ 3. YVQASYZ
 - ☒ 4. YRVSAZY

Question ID : 65497838805

Status : Not Answered

Chosen Option : --

Q.9 यदि फरवरी को 'अप्रैल' कहा जाता है, अप्रैल को 'जून' कहा जाता है, जून को 'अगस्त' कहा जाता है, अगस्त को 'अक्टूबर' कहा जाता है, और अक्टूबर को 'दिसंबर' कहा जाता है, तो हम किस महीने में स्वतंत्रता दिवस मनाते हैं?

- Ans
- ☒ 1. अक्टूबर
 - ☒ 2. जून
 - ☒ 3. दिसंबर
 - ☒ 4. अगस्त

Question ID : 65497838298

Status : Answered

Chosen Option : 1

Q.10 वन्मयी ने कहा कि वह अपनी माँ के इकलौते भाई के पुत्र की माँ के ससुर से मिली थी। वह किससे मिली थी?

- Ans
- ☒ 1. भाई
 - ☒ 2. पिता
 - ☒ 3. नाना
 - ☒ 4. चचेरा भाई

Question ID : 65497839118

Status : Answered

Chosen Option : 2

Q.11 A, B, C, D, E, F, G और H एक वृत्ताकार मेज के परितः केंद्र की ओर मुख करके बैठे हैं, लेकिन उनका इसी क्रम में होना अनिवार्य नहीं है। E, C के बाईं ओर दूसरे स्थान पर बैठा है। C, A और G दोनों का निकटतम पड़ोसी है। G, E का निकटतम पड़ोसी है। E और H के बीच केवल दो व्यक्ति बैठे हैं। B, D का निकटतम पड़ोसी है। B और F के बीच केवल एक व्यक्ति बैठा है। उपरोक्त व्यवस्था में H के संबंध में D का स्थान ज्ञात कीजिए।

- Ans
- ☒ 1. बाईं ओर तीसरा
 - ☒ 2. दाईं ओर निकटतम स्थान
 - ☒ 3. बाईं ओर चौथा
 - ☒ 4. दाईं ओर दूसरा

Question ID : 65497839015

Status : Not Answered

Chosen Option : --

Q.12 दिए गए विकल्पों में से उस संख्या का चयन कीजिए, जो निम्नलिखित श्रेणी में प्रश्न चिह्न (?) के स्थान पर आ सकती है।

4, 7, 21, 24, 72, 75, ?

- Ans
- ☒ 1. 275
 - ☒ 2. 105
 - ☒ 3. 225
 - ☒ 4. 78

Question ID : 65497839019

Status : Answered

Chosen Option : 3

Q.13 उस विकल्प का चयन करें जो तीसरी संख्या से उसी प्रकार संबंधित है जिस प्रकार दूसरी संख्या पहली संख्या से संबंधित है और छठी संख्या पाँचवीं संख्या से संबंधित है।

6: 21 :: 4: ? :: 8 : 36

- Ans
- ☒ 1. 15
 - ☒ 2. 17
 - ☒ 3. 10
 - ☒ 4. 13

Question ID : 65497838817

Status : Answered

Chosen Option : 3

Q.14 एक निश्चित कूट भाषा में, 'SEAT' को '6319' के रूप में कूटबद्ध किया जाता है, और 'ROSE' को '4863' के रूप में कूटबद्ध किया जाता है। उसी भाषा में 'TEAR' को कैसे कूटबद्ध किया जाएगा?

- Ans
- ☒ 1. 9134
 - ☒ 2. 9438
 - ☒ 3. 9314
 - ☒ 4. 9348

Question ID : 65497838910

Status : Answered

Chosen Option : 3

Q.15 दिए गए कथनों और निष्कर्षों को ध्यानपूर्वक पढ़ें। यह मानते हुए कि कथनों में दी गई जानकारी सत्य है, भले ही वह सामान्य रूप से ज्ञात तथ्यों से भिन्न प्रतीत होती हो, निर्णय लें कि दिए गए निष्कर्षों में से कौन सा/से निष्कर्ष कथनों का तार्किक रूप से अनुसरण करता/ते है/हैं।

कथन:

कोई भी पुस्तक, उपन्यास नहीं है।
सभी उपन्यास, शोध-पत्रिका हैं।

निष्कर्ष:

- I. कोई भी पुस्तक, शोध-पत्रिका नहीं है।
- II. कोई भी शोध-पत्रिका, पुस्तक नहीं है।
- III. कुछ शोध-पत्रिकाएँ, उपन्यास हैं।
- IV. सभी शोध-पत्रिकाएँ, उपन्यास हैं।

- Ans
- ☒ 1. केवल निष्कर्ष I अनुसरण करता है
 - ☒ 2. केवल निष्कर्ष III अनुसरण करता है
 - ☒ 3. निष्कर्ष I और II दोनों अनुसरण करते हैं
 - ☒ 4. निष्कर्ष I और IV दोनों अनुसरण करते हैं

Question ID : 65497838819

Status : Answered

Chosen Option : 2

Q.16 एक निश्चित कूट भाषा में, 'GOAT' को '112' के रूप में कूटबद्ध किया जाता है, और 'LEAF' को '74' के रूप में कूटबद्ध किया जाता है। उसी भाषा में 'PRIDE' को कैसे कूटबद्ध किया जाएगा?

- Ans
- ☒ 1. 104
 - ☒ 2. 140
 - ☒ 3. 204
 - ☒ 4. 240

Question ID : 65497838911

Status : Not Answered

Chosen Option : --

Q.17 दिए गए विकल्पों में से उस संख्या का चयन करें जो निम्नलिखित श्रेणी में प्रश्नवाचक चिह्न (?) के स्थान पर आ सकती है।

3, 5, 7, 12, 37, 69, 357, ?

- Ans
- ☒ 1. 416
 - ☒ 2. 461
 - ☒ 3. 656
 - ☒ 4. 665

Question ID : 65497838714

Status : Not Answered

Chosen Option : --

Q.18 अक्षरों के उस संयोजन का चयन करें जो दी गई श्रृंखला के रिक्त स्थानों में क्रमिक रूप से रखे जाने पर श्रृंखला को पूर्ण करेगा।

Q_L_PQP_BPQ_LB_Q_L_P

- Ans
- ☒ 1. P, Q, L, P, B, P, B
 - ☒ 2. P, Q, P, L, P, B, P
 - ☒ 3. P, P, P, B, B, L, Q
 - ☒ 4. P, B, L, P, P, P, B

Question ID : 65497838801
Status : Answered
Chosen Option : 4

Q.19 उस अक्षर-समूह की पहचान करें, जो निम्नलिखित श्रृंखला से संबंधित नहीं है।

HSMN, KPPK, NMTG, QJVE

- Ans
- ☒ 1. QJVE
 - ☒ 2. HSMN
 - ☒ 3. NMTG
 - ☒ 4. KPPK

Question ID : 65497838698
Status : Answered
Chosen Option : 3

Q.20 उस विकल्प का चयन कीजिए, जिसका तीसरे अक्षर-समूह से वही संबंध है, जो दूसरे अक्षर-समूह का पहले अक्षर-समूह से है।

RMS : SLU :: MSV : ?

- Ans
- ☒ 1. OQY
 - ☒ 2. ORY
 - ☒ 3. QTX
 - ☒ 4. NRX

Question ID : 65497838497
Status : Answered
Chosen Option : 4

Q.21 वह सही विकल्प चुनें जो दिए गए शब्दों का वही क्रम प्रदर्शित करता है जिस क्रम में वे अंग्रेजी शब्दकोश में आते हैं।

1. Lateralize
2. Language
3. Laborious
4. Lamentable
5. Luggage
6. Ladder

- Ans
- ☒ 1. 3, 6, 4, 2, 1, 5
 - ☒ 2. 3, 2, 4, 6, 5, 1
 - ☒ 3. 3, 6, 5, 4, 2, 1
 - ☒ 4. 3, 6, 2, 4, 1, 5

Question ID : 65497839003
Status : Answered
Chosen Option : 1

Q.22 एक निश्चित कूट भाषा में FISH को 12-18-38-16 लिखा जाता है और CRAB को 6-36-2-4 लिखा जाता है। उसी कूट भाषा में FROG को किस प्रकार लिखा जाएगा?

- Ans
- ☒ 1. 14-36-32-12
 - ☒ 2. 12-38-32-14
 - ☒ 3. 12-36-30-14
 - ☒ 4. 14-36-30-14

Question ID : 65497838299
Status : Answered
Chosen Option : 3

Q.23 'जलयानों' का 'बेड़े' से वही संबंध है, जो 'चींटियों' का '_____' से है।

- Ans
- ☒ 1. माधस्थल
 - ☒ 2. झुंड
 - ☒ 3. बांबी
 - ☒ 4. बत्तखों का झुंड

Question ID : 65497839006
Status : Answered
Chosen Option : 2

Q.24 दिए गए कथनों और निष्कर्षों को ध्यानपूर्वक पढ़ें। कथनों में दी गई जानकारी को सत्य मानते हुए विचार करें, भले ही वह सामान्यतः ज्ञात तथ्यों से भिन्न प्रतीत होती हो, और तय करें कि दिए गए निष्कर्षों में से कौन से कथनों का तार्किक रूप से पालन करते हैं?

कथन:

- 1. कुछ चूहे कबूतर हैं।
- 2. सभी कबूतर आम हैं।

निष्कर्ष:

- I. सभी आम कबूतर हैं।
- II. कुछ चूहे आम हैं।

- Ans
- ☒ 1. केवल निष्कर्ष I पालन करता है।
 - ☒ 2. न तो निष्कर्ष I और न ही II पालन करता है।
 - ☒ 3. निष्कर्ष I और II दोनों पालन करते हैं।
 - ☒ 4. केवल निष्कर्ष II पालन करता है।

Question ID : 65497838507
Status : Answered
Chosen Option : 4

Q.25 यदि 'A @ B' का अर्थ है - 'A, B का पिता है', 'A # B' का अर्थ है - 'A, B का भाई है', 'A % B' का अर्थ है - 'A, B की बहन है' और 'A \$ B' का अर्थ है - 'A, B की मां है।' तो निम्नलिखित में से किस व्यंजक का अर्थ है - 'A, S का पिता है'?

- Ans
- ☒ 1. A # S \$ N @ E % M
 - ☒ 2. N @ A # M \$ E % S
 - ☒ 3. M @ N \$ S % E # A
 - ☒ 4. E # M % N \$ A @ S

Question ID : 65497838202
Status : Not Answered
Chosen Option : --

Q.1 Select the most appropriate meaning of the given idiom.

Bottom line

- Ans ☒ 1. An impossible task
- ☒ 2. The most important fact
- ☒ 3. An awkward situation
- ☒ 4. A hidden agenda

Question ID : **65497838831**
Status : **Not Answered**
Chosen Option : --

Q.2 Select the **INCORRECTLY** spelt word.

- Ans ☒ 1. Match
- ☒ 2. Maternal
- ☒ 3. Mechanism
- ☒ 4. Meterial

Question ID : **65497839040**
Status : **Answered**
Chosen Option : 4

Q.3 Select the option that expresses the given sentence in passive voice.

They have decorated the hall beautifully.

- Ans ☒ 1. The hall has been decorated beautifully by them.
- ☒ 2. The hall is decorated beautifully by them.
- ☒ 3. The hall is being decorated beautifully by them.
- ☒ 4. The hall was decorated beautifully by them.

Question ID : **65497839027**
Status : **Answered**
Chosen Option : 1

Q.4 Select the most appropriate synonym of the given word.

Triumph

- Ans ☒ 1. Failure
- ☒ 2. Victory
- ☒ 3. Disaster
- ☒ 4. Sorrow

Question ID : **65497839032**
Status : **Answered**
Chosen Option : 2

Q.5 Select the **INCORRECTLY** spelt word.

- Ans ☒ 1. Stagered
- ☒ 2. Strived
- ☒ 3. Stressed
- ☒ 4. Stooped

Question ID : **65497838531**
Status : **Answered**
Chosen Option : 4

Q.6 Select the most appropriate **ANTONYM** of the given word.

Delay

- Ans**
- ☒ 1. Hold
 - ☒ 2. Postpone
 - ☒ 3. Restrict
 - ☒ 4. Advance

Question ID : **65497838727**

Status : **Answered**

Chosen Option : **4**

Q.7 Select the most appropriate option to fill in the blank.

Electric gadgets make house chores _____.

- Ans**
- ☒ 1. handy
 - ☒ 2. helpful
 - ☒ 3. suitable
 - ☒ 4. convenient

Question ID : **65497839030**

Status : **Answered**

Chosen Option : **4**

Q.8 Select the option that can be used as a one-word substitute for the given group of words.

A remark that expresses approval or admiration

- Ans**
- ☒ 1. Compliment
 - ☒ 2. Critique
 - ☒ 3. Complement
 - ☒ 4. Censure

Question ID : **65497838528**

Status : **Answered**

Chosen Option : **1**

Q.9 Select the option that can be used as a one-word substitute for the given group of words.

Vertebrate animals that crawl on the ground

- Ans**
- ☒ 1. Insects
 - ☒ 2. Mammals
 - ☒ 3. Amphibians
 - ☒ 4. Reptiles

Question ID : **65497838731**

Status : **Answered**

Chosen Option : **2**

Q.10 Select the option that expresses the given sentence in direct speech.

Rajiv requested his friend to remove his shoes before entering his house.

- Ans ☒ 1. Rajiv said to his friend, "Please remove your shoes before entering my house."
☒ 2. Rajiv said to his friend, "Remove his shoes before entering my house."
☒ 3. Rajiv said to his friend, "Please remove his shoes before entering your house."
☒ 4. Rajiv said to his friend, "You must remove his shoes before entering his house."

Question ID : 65497838722
Status : Answered
Chosen Option : 1

Q.11 Select the most appropriate ANTONYM of the given word.

Enrich

- Ans ☒ 1. Garnish
☒ 2. Displease
☒ 3. Deplete
☒ 4. Grace

Question ID : 65497838524
Status : Answered
Chosen Option : 3

Q.12 Select the most appropriate option to fill in the blank.

When the patient recovered, he was _____ from the hospital.

- Ans ☒ 1. liberated
☒ 2. discharged
☒ 3. acquitted
☒ 4. dismissed

Question ID : 65497838825
Status : Answered
Chosen Option : 2

Q.13 Select the most appropriate meaning of the given idiom.

To be ill at ease

- Ans ☒ 1. to feel uncomfortable or worried in a situation
☒ 2. to make a patient in a hospital feel comfortable
☒ 3. to be very sick
☒ 4. to stand with legs kept slightly wide

Question ID : 65497839036
Status : Not Answered
Chosen Option : --

Q.14 Select the INCORRECTLY spelt word.

- Ans ☒ 1. Restore
☒ 2. Shrewed
☒ 3. Edible
☒ 4. Prosper

Question ID : 65497838529
Status : Answered
Chosen Option : 2

Q.15 Select the most appropriate synonym of the given word.

Elegant

- Ans ☒ 1. Frightful
☒ 2. Joyful
☒ 3. Graceful
☒ 4. Faithful

Question ID : 65497838827

Status : Answered

Chosen Option : 3

Comprehension:

Read the given passage and answer the questions that follow.

Happiness is the primary goal of human existence. Philosophers have wrestled with the concept of happiness. Legislators create laws to support citizens' rights to pursue happiness. Television, radio, and print advertisers assure consumers that various products will guarantee happiness. Clearly, everyone, from writers and philosophers to legislators and the average person on the street thinks a great deal about happiness. What makes happiness so important to human existence?

It not only does happiness feel good, but it appears to provide a variety of psychological and physical benefits. Happiness plays a significant role in enhancing good health, strengthening the immune system, promoting longevity, improving productivity and performance, and increasing resilience. Happy people work hard, play hard, have an active social life, experience good health and live longer.

However, good news abounds in the study of happiness. Fortunately, humans experience happiness from a wide range of stimuli, from traveling to an exotic destination to redecorating one's home or from winning a game of soccer to eating a delicious meal. Simply watching a favourite television show or laughing at a funny joke can boost a depressed mood. While the happiness produced by such experiences tends to be short lived, certain conditions do promote a more long-lasting and durable state of happiness as a lifestyle: a wide social network, believing in a meaningful reason for one's existence, and establishing goals and achieving them.

Surprisingly, income is not a primary factor in determining a person's level of happiness once the basic needs of food, clothing, and shelter have been met. More important is one's social network and having close friends and family is vital to one's overall level of happiness. Even sharing one's home with an animal companion can make a person happier.

SubQuestion No : 16

Q.16 Which of the following can stimulate long lasting happiness?

- Ans ☒ 1. Social networking
☒ 2. Winning a game
☒ 3. Travelling
☒ 4. Delicious food

Question ID : 65497838540

Status : Not Answered

Chosen Option : --

Comprehension:

Read the given passage and answer the questions that follow.

Happiness is the primary goal of human existence. Philosophers have wrestled with the concept of happiness. Legislators create laws to support citizens' rights to pursue happiness. Television, radio, and print advertisers assure consumers that various products will guarantee happiness. Clearly, everyone, from writers and philosophers to legislators and the average person on the street thinks a great deal about happiness. What makes happiness so important to human existence?

Not only does happiness feel good, but it appears to provide a variety of psychological and physical benefits. Happiness plays a significant role in enhancing good health, strengthening the immune system, promoting longevity, improving productivity and performance, and increasing resilience. Happy people work hard, play hard, have an active social life, experience good health and live longer.

However, good news abounds in the study of happiness. Fortunately, humans experience happiness from a wide range of stimuli, from traveling to an exotic destination to redecorating one's home or from winning a game of soccer to eating a delicious meal. Simply watching a favourite television show or laughing at a funny joke can boost a depressed mood. While the happiness produced by such experiences tends to be short lived, certain conditions do promote a more long-lasting and durable state of happiness as a lifestyle: a wide social network, believing in a meaningful reason for one's existence, and establishing goals and achieving them.

Surprisingly, income is not a primary factor in determining a person's level of happiness once the basic needs of food, clothing, and shelter have been met. More important is one's social network and having close friends and family is vital to one's overall level of happiness. Even sharing one's home with an animal companion can make a person happier.

SubQuestion No : 17

Q.17 Those who are happy _____.

- Ans**
- ☒ 1. have a weak immune system
 - ☒ 2. lead a long and healthy life
 - ☒ 3. make laws to protect happiness
 - ☒ 4. use products that guarantee happiness

Question ID : 65497838541

Status : **Not Answered**

Chosen Option : --

Comprehension:

Read the given passage and answer the questions that follow.

Happiness is the primary goal of human existence. Philosophers have wrestled with the concept of happiness. Legislators create laws to support citizens' rights to pursue happiness. Television, radio, and print advertisers assure consumers that various products will guarantee happiness. Clearly, everyone, from writers and philosophers to legislators and the average person on the street thinks a great deal about happiness. What makes happiness so important to human existence?

Not only does happiness feel good, but it appears to provide a variety of psychological and physical benefits. Happiness plays a significant role in enhancing good health, strengthening the immune system, promoting longevity, improving productivity and performance, and increasing resilience. Happy people work hard, play hard, have an active social life, experience good health and live longer.

However, good news abounds in the study of happiness. Fortunately, humans experience happiness from a wide range of stimuli, from traveling to an exotic destination to redecorating one's home or from winning a game of soccer to eating a delicious meal. Simply watching a favourite television show or laughing at a funny joke can boost a depressed mood. While the happiness produced by such experiences tends to be short lived, certain conditions do promote a more long-lasting and durable state of happiness as a lifestyle: a wide social network, believing in a meaningful reason for one's existence, and establishing goals and achieving them.

Surprisingly, income is not a primary factor in determining a person's level of happiness once the basic needs of food, clothing, and shelter have been met. More important is one's social network and having close friends and family is vital to one's overall level of happiness. Even sharing one's home with an animal companion can make a person happier.

SubQuestion No : 18

Q.18 Which of the following quotes is most apt for the passage?

- Ans ☒ 1. Happiness is a form of courage.
- ☒ 2. You can find happiness even in little things of life.
- ☒ 3. Happiness and sadness run parallel to each other.
- ☒ 4. If you want happiness for a lifetime, help someone.

Question ID : 65497838543

Status : Not Answered

Chosen Option : --

Comprehension:

Read the given passage and answer the questions that follow.

Happiness is the primary goal of human existence. Philosophers have wrestled with the concept of happiness. Legislators create laws to support citizens' rights to pursue happiness. Television, radio, and print advertisers assure consumers that various products will guarantee happiness. Clearly, everyone, from writers and philosophers to legislators and the average person on the street thinks a great deal about happiness. What makes happiness so important to human existence?

Not only does happiness feel good, but it appears to provide a variety of psychological and physical benefits. Happiness plays a significant role in enhancing good health, strengthening the immune system, promoting longevity, improving productivity and performance, and increasing resilience. Happy people work hard, play hard, have an active social life, experience good health and live longer.

However, good news abounds in the study of happiness. Fortunately, humans experience happiness from a wide range of stimuli, from traveling to an exotic destination to redecorating one's home or from winning a game of soccer to eating a delicious meal. Simply watching a favourite television show or laughing at a funny joke can boost a depressed mood. While the happiness produced by such experiences tends to be short lived, certain conditions do promote a more long-lasting and durable state of happiness as a lifestyle: a wide social network, believing in a meaningful reason for one's existence, and establishing goals and achieving them.

Surprisingly, income is not a primary factor in determining a person's level of happiness once the basic needs of food, clothing, and shelter have been met. More important is one's social network and having close friends and family is vital to one's overall level of happiness. Even sharing one's home with an animal companion can make a person happier.

SubQuestion No : 19

Q.19 Which of the following statements is NOT true?

Ans ✓ 1. Achievement of goals provides momentary happiness.

✗ 2. Laughing can elevate one's mood

✗ 3. Close friends and family contribute to happiness.

✗ 4. Being happy has physical and psychological benefits.

Question ID : 65497838542

Status : Not Answered

Chosen Option : --

Comprehension:

Read the given passage and answer the questions that follow.

Happiness is the primary goal of human existence. Philosophers have wrestled with the concept of happiness. Legislators create laws to support citizens' rights to pursue happiness. Television, radio, and print advertisers assure consumers that various products will guarantee happiness. Clearly, everyone, from writers and philosophers to legislators and the average person on the street thinks a great deal about happiness. What makes happiness so important to human existence?

Not only does happiness feel good, but it appears to provide a variety of psychological and physical benefits. Happiness plays a significant role in enhancing good health, strengthening the immune system, promoting longevity, improving productivity and performance, and increasing resilience. Happy people work hard, play hard, have an active social life, experience good health and live longer.

However, good news abounds in the study of happiness. Fortunately, humans experience happiness from a wide range of stimuli, from traveling to an exotic destination to redecorating one's home or from winning a game of soccer to eating a delicious meal. Simply watching a favourite television show or laughing at a funny joke can boost a depressed mood. While the happiness produced by such experiences tends to be short lived, certain conditions do promote a more long-lasting and durable state of happiness as a lifestyle: a wide social network, believing in a meaningful reason for one's existence, and establishing goals and achieving them.

Surprisingly, income is not a primary factor in determining a person's level of happiness once the basic needs of food, clothing, and shelter have been met. More important is one's social network and having close friends and family is vital to one's overall level of happiness. Even sharing one's home with an animal companion can make a person happier.

SubQuestion No : 20

Q.20 According to the writer, what is the primary goal of human life?

- Ans ☒ 1. Long life
☒ 2. Happiness
☒ 3. Good health
☒ 4. Social life

Question ID : 65497838539

Status : Not Answered

Chosen Option : --

Comprehension:

In the following passage, some words have been deleted. Read the passage carefully and select the most appropriate option to fill in each blank.

A woman has been called a hero after fighting a mountain lion that (1) _____ her five-year-old son. She dragged her little (2) _____ away from the big cat and beat it with (3) _____ fists in her garden. The boy had bites (4) _____ cuts to his head and body. He is now in a local (5) _____. He is expected to make a full recovery.

SubQuestion No : 21

Q.21 Select the most appropriate option to fill in blank No. 1.

- Ans ☒ 1. attacking
☒ 2. is attaching
☒ 3. attacked
☒ 4. attack

Question ID : 65497838839

Status : Answered

Chosen Option : 3

Comprehension:

In the following passage, some words have been deleted. Read the passage carefully and select the most appropriate option to fill in each blank.

A woman has been called a hero after fighting a mountain lion that (1) _____ her five-year-old son. She dragged her little (2) _____ away from the big cat and beat it with (3) _____ fists in her garden. The boy had bites (4) _____ cuts to his head and body. He is now in a local (5) _____. He is expected to make a full recovery.

SubQuestion No : 22

Q.22 Select the most appropriate option to fill in blank No. 2.

- Ans ☒ 1. baby
☒ 2. daughter
☒ 3. boy
☒ 4. girl

Question ID : 65497838840

Status : Answered

Chosen Option : 3

Comprehension:

In the following passage, some words have been deleted. Read the passage carefully and select the most appropriate option to fill in each blank.

A woman has been called a hero after fighting a mountain lion that (1) _____ her five-year-old son. She dragged her little (2) _____ away from the big cat and beat it with (3) _____ fists in her garden. The boy had bites (4) _____ cuts to his head and body. He is now in a local (5) _____. He is expected to make a full recovery.

SubQuestion No : 23

Q.23 Select the most appropriate option to fill in blank No. 3.

- Ans ☒ 1. his
☒ 2. their
☒ 3. her
☒ 4. our

Question ID : 65497838841

Status : Answered

Chosen Option : 3

Comprehension:

In the following passage, some words have been deleted. Read the passage carefully and select the most appropriate option to fill in each blank.

A woman has been called a hero after fighting a mountain lion that (1) _____ her five-year-old son. She dragged her little (2) _____ away from the big cat and beat it with (3) _____ fists in her garden. The boy had bites (4) _____ cuts to his head and body. He is now in a local (5) _____. He is expected to make a full recovery.

SubQuestion No : 24

Q.24 Select the most appropriate option to fill in blank No. 4.

- Ans ☒ 1. also
☒ 2. or
☒ 3. but
☒ 4. and

Question ID : 65497838842

Status : Answered

Chosen Option : 4

Comprehension:

In the following passage, some words have been deleted. Read the passage carefully and select the most appropriate option to fill in each blank.

A woman has been called a hero after fighting a mountain lion that (1) _____ her five-year-old son. She dragged her little (2) _____ away from the big cat and beat it with (3) _____ fists in her garden. The boy had bites (4) _____ cuts to his head and body. He is now in a local (5) _____. He is expected to make a full recovery.

SubQuestion No : 25

Q.25 Select the most appropriate option to fill in blank No. 5.

- Ans ☒ 1. post office
☒ 2. school
☒ 3. fire-station
☒ 4. hospital

Question ID : 65497838843

Status : Answered

Chosen Option : 4

Section : Quantitative Aptitude

Q.1 $\sqrt{4p^3 + 14p + 6}$ का वह मान ज्ञात कीजिए, जिसके लिए 6 अंकों की संख्या 602p0p, 9 से पूर्णतः विभाज्य हो।

- Ans ☒ 1. 22
☒ 2. 24
☒ 3. 26
☒ 4. 28

Question ID : 65497838851

Status : Not Answered

Chosen Option : --

Q.2 साधारण ब्याज पर निवेश की गई एक निश्चित धनराशि 15 वर्ष में स्वयं की 5 गुनी हो जाती है। उसी धनराशि को साधारण ब्याज की समान दर पर स्वयं की 12 गुनी होने में कितना समय (वर्ष और माह में) लगेगा?

- Ans ☒ 1. 40 वर्ष 6 माह
☒ 2. 39 वर्ष 9 माह
☒ 3. 42 वर्ष 4 माह
☒ 4. 41 वर्ष 3 माह

Question ID : 65497839274

Status : Answered

Chosen Option : 4

Q.3 A किसी कार्य को 10 दिनों में कर सकता है। उसने 6 दिन तक कार्य किया और फिर छोड़ दिया। शेष कार्य B द्वारा 8 दिनों में किया जाता है। B अकेले उस कार्य का 65% कितने दिनों में कर सकता है?

- Ans ☒ 1. $13\frac{1}{2}$
☒ 2. 13
☒ 3. 12
☒ 4. 14

Question ID : 65497838767

Status : Answered

Chosen Option : 2

Q.4 ₹6,300 की राशि, साधारण ब्याज की एक निश्चित प्रतिशत वार्षिक दर पर $3\frac{1}{2}$ वर्ष में ₹8,085 हो जाती है। उसी दर पर $4\frac{1}{2}$ वर्ष के लिए ₹8,000 की राशि पर प्राप्त साधारण ब्याज (₹ में) कितना होगा?

- Ans
- ☒ 1. 1,632
 - ☒ 2. 2,992
 - ☒ 3. 2,880
 - ☒ 4. 2,448

Question ID : 65497838559
Status : Answered
Chosen Option : 2

Q.5 एक निश्चित धनराशि साधारण ब्याज पर एक निश्चित वार्षिक दर से $3\frac{1}{2}$ वर्षों में ₹8,192 और 6 वर्षों में ₹9,472 हो जाती है। वार्षिक ब्याज दर और धनराशि क्रमशः _____ और _____ हैं।

- Ans
- ☒ 1. 8.5%; ₹6,400
 - ☒ 2. 8%; ₹6,400
 - ☒ 3. 8%; ₹6,500
 - ☒ 4. 8.5%; ₹6,000

Question ID : 65497838458
Status : Answered
Chosen Option : 2

Q.6 यदि $A : B = 1.2 : 2.5$ और $B : C = 1 : 1.4$ है, तो $A : B : C$ का मान ज्ञात कीजिए।

- Ans
- ☒ 1. 6 : 15 : 35
 - ☒ 2. 12 : 25 : 35
 - ☒ 3. 1.2 : 2.5 : 4
 - ☒ 4. 3 : 5 : 4

Question ID : 65497839067
Status : Answered
Chosen Option : 2

Q.7 X की आय, Y की आय से 15% कम है और Z की आय, X और Y की संयुक्त आय से 60% कम है। Z की आय, X की आय से कितने प्रतिशत (एक दशमलव स्थान तक) कम है?

- Ans
- ☒ 1. 14.9%
 - ☒ 2. 14.7%
 - ☒ 3. 12.9%
 - ☒ 4. 12.6%

Question ID : 65497838551
Status : Answered
Chosen Option : 3

Q.8 एक दुकानदार ₹60 प्रति kg, ₹80 प्रति kg और ₹120 प्रति kg मूल्य वाली चाय की तीन किस्मों को 5 : 8 : 7 के अनुपात में मिलाता है। 25% लाभ अर्जित करने के लिए उसे चाय के इस मिश्रण को प्रति kg किस मूल्य (₹ में) पर बेचना चाहिए?

- Ans
- ☒ 1. 86.67
 - ☒ 2. 100.33
 - ☒ 3. 104.50
 - ☒ 4. 111.25

Question ID : 65497838862

Status : Answered

Chosen Option : 4

Q.9 126 m व्यास वाले एक वृत्ताकार उद्यान के परितः निर्मित 1.4 m की एकसमान चौड़ाई वाले वृत्ताकार रास्ते का क्षेत्रफल (m^2 में) ज्ञात कीजिए। ($\pi = \frac{22}{7}$ लीजिए)

- Ans
- ☒ 1. 604.56
 - ☒ 2. 556.16
 - ☒ 3. 564.96
 - ☒ 4. 560.56

Question ID : 65497838770

Status : Not Answered

Chosen Option : --

Q.10 यदि $1.7\% \text{ of } 800 \times 2.5\% \text{ of } a = 382.5$ है, तो a का मान क्या होगा?

- Ans
- ☒ 1. 1125
 - ☒ 2. 1100
 - ☒ 3. 1075
 - ☒ 4. 1150

Question ID : 65497839266

Status : Answered

Chosen Option : 1

Q.11 60 विद्यार्थियों (लड़के और लड़कियाँ) की एक कक्षा में 60% लड़कियाँ हैं। एक परीक्षा में, लड़कों के औसत प्राप्तांक 52 और लड़कियों के औसत प्राप्तांक 65 है। संपूर्ण कक्षा के औसत प्राप्तांक क्या है?

- Ans
- ☒ 1. 56.9
 - ☒ 2. 59.8
 - ☒ 3. 61.5
 - ☒ 4. 58.7

Question ID : 65497838343

Status : Not Answered

Chosen Option : --

Q.12 A और B एक कार्य को क्रमशः 24 दिन और 48 दिन में पूर्ण कर सकते हैं। एक साथ मिलकर कार्य करते हुए, उन्होंने C की मदद से, उस कार्य को 12 दिन में पूर्ण किया। C को अकेले उस कार्य के $\frac{5}{6}$ भाग को पूर्ण करने में कितना समय (दिनों में) लगेगा?

- Ans
- ☐ 1. 54
 - ☐ 2. 48
 - ☐ 3. 36
 - ☒ 4. 40

Question ID : 65497839072
Status : Answered
Chosen Option : 4

Q.13 एक अलमारी को 25% लाभ पर बेचा गया। यदि इसे ₹360 कम में बेचा जाता, तो केवल लाभ 5% होता। अलमारी का विक्रय मूल्य (₹ में) कितना होना चाहिए, ताकि 40% का लाभ प्राप्त किया जा सके?

- Ans
- ☐ 1. 2,150
 - ☐ 2. 1,800
 - ☒ 3. 2,520
 - ☐ 4. 3,020

Question ID : 65497838963
Status : Answered
Chosen Option : 3

Q.14 यदि 150 का $(3x - 10)\%$, 300 के $x\%$ से 15 अधिक है, तो 220 का $(2x + 5)\%$, 250 के $(x + 10)\%$ से कितना प्रतिशत अधिक है?

- Ans
- ☐ 1. 35%
 - ☐ 2. 28.4%
 - ☒ 3. 32%
 - ☐ 4. 24.2%

Question ID : 65497838450
Status : Answered
Chosen Option : 3

Q.15 एक व्यक्ति ने एक पेन ड्राइव ₹1,674 में बेचा और उसे 7% की हानि हुई। 11% का लाभ अर्जित करने के लिए इसे किस मूल्य (₹ में) पर बेचा जाना चाहिए?

- Ans
- ☐ 1. 1,800
 - ☐ 2. 1,965
 - ☐ 3. 2,000
 - ☒ 4. 1,998

Question ID : 65497838351
Status : Answered
Chosen Option : 4

Q.16 एक निश्चित धनराशि को A, B और C के बीच इस प्रकार बांटा जाता है कि A और C के हिस्सों का अनुपात 7 : 5 है तथा C और B के हिस्सों का अनुपात 8 : 3 है। यदि A और B के हिस्सों का अंतर ₹984 है, तो योग (र में) ज्ञात कीजिए।

- Ans
- ☒ 1. 2,592
 - ☒ 2. 2,640
 - ☒ 3. 2,664
 - ☒ 4. 2,520

Question ID : 65497838762
Status : Answered
Chosen Option : 3

Q.17 एक संग्रहालय में रविवार को औसतन 340 और अन्य दिनों में औसतन 160 आगंतुक आते हैं। रविवार से शुरू होने वाले जून के महीने के लिए प्रतिदिन आगंतुकों की औसत संख्या ज्ञात कीजिए।

- Ans
- ☒ 1. 184
 - ☒ 2. 210
 - ☒ 3. 190
 - ☒ 4. 200

Question ID : 65497838955
Status : Not Answered
Chosen Option : --

Q.18 एक आयताकार खेत की चौड़ाई इसकी लंबाई से 7.5 m कम है। आयत की चौड़ाई का एक तिहाई, उसकी लंबाई के एक चौथाई के बराबर है। इसकी लंबाई और चौड़ाई का औसत (m में, निकटतम पूर्णांक तक) ज्ञात कीजिए।

- Ans
- ☒ 1. 25
 - ☒ 2. 30
 - ☒ 3. 26
 - ☒ 4. 23

Question ID : 65497838854
Status : Answered
Chosen Option : 3

Q.19 एक दुकानदार एक वस्तु को उसके अंकित मूल्य पर 5% की छूट देकर ₹319.20 में बेचता है। यदि उसने छूट नहीं दी होती, तो उसे 12% का लाभ होता। वस्तु का क्रय मूल्य (र में) ज्ञात कीजिए।

- Ans
- ☒ 1. 240
 - ☒ 2. 250
 - ☒ 3. 280
 - ☒ 4. 300

Question ID : 65497838754
Status : Answered
Chosen Option : 4

Q.20 यदि $x^{\frac{1}{2}} - y^{\frac{1}{2}} = z^{\frac{1}{2}}$ है, तो $(x - y - z)^3 - 27xyz$ का मान ज्ञात कीजिए।

- Ans
- ☐ 1. 1
 - ☐ 2. -1
 - ☒ 3. 0
 - ☐ 4. 27

Question ID : 65497839078
Status : Not Answered
Chosen Option : --

Q.21 280 m लंबी रेलगाड़ी, 54 km/h की चाल से चल रही है। रेलगाड़ी उसकी समान दिशा में 12 km/h की चाल से जा रहे व्यक्ति को कितने समय (सेकंड में) में पार करेगी?

- Ans
- ☐ 1. 20
 - ☐ 2. 25
 - ☒ 3. 24
 - ☐ 4. 28

Question ID : 65497838564
Status : Answered
Chosen Option : 3

Q.22 $98.2^2 - 88.2^2$ का मान ज्ञात कीजिए।

- Ans
- ☐ 1. 1846
 - ☐ 2. 100
 - ☒ 3. 1864
 - ☐ 4. 186.4

Question ID : 65497838873
Status : Answered
Chosen Option : 3

Q.23 एक इलेक्ट्रॉनिक स्टोर एक टेलीविजन सेट पर ₹86,500 का मूल्य अंकित करता है और इस पर 9% की छूट देता है। टेलीविजन सेट का विक्रय मूल्य (₹ में) ज्ञात कीजिए।

- Ans
- ☐ 1. ₹77,520
 - ☒ 2. ₹78,715
 - ☐ 3. ₹76,480
 - ☐ 4. ₹79,570

Question ID : 65497839059
Status : Answered
Chosen Option : 2

Q.24 यदि आठ अंकों की संख्या $9534x37y$, 24 से विभाज्य है, तो x के सबसे बड़े मान के लिए $(3x + y)$ का मान क्या होगा?

- Ans
- ☒ 1. 32
 - ☒ 2. 30
 - ☒ 3. 21
 - ☒ 4. 24

Question ID : 65497838544
Status : Answered
Chosen Option : 2

Q.25 1000 km की एक यात्रा में, एक व्यक्ति कुल दूरी के पहले $\frac{5}{8}$ भाग के लिए 50 km/h की चाल से गाड़ी चलाता है। यदि वह पूरी दूरी को 19 घंटे (विराम समय शामिल नहीं है) में तय करता है, तो शेष यात्रा के दौरान उसकी चाल (km/h में, 1 दशमलव स्थान तक पूर्णांकित) ज्ञात कीजिए।

- Ans
- ☒ 1. 57.7
 - ☒ 2. 65.8
 - ☒ 3. 60.2
 - ☒ 4. 55.5

Question ID : 65497838871
Status : Answered
Chosen Option : 1

Section : General awareness

Q.1 हिमाचल प्रदेश की लाहौल घाटी निम्नलिखित में से किस नदी का उद्गम स्थल है?

- Ans
- ☒ 1. झेलम नदी
 - ☒ 2. ब्यास नदी
 - ☒ 3. चेनाब नदी
 - ☒ 4. रावी नदी

Question ID : 65497838783
Status : Not Answered
Chosen Option : --

Q.2 भारत में सूचना प्रौद्योगिकी क्रांति के आलोक/उत्थान में, निम्न में से कौन-सी पूंजी सबसे प्रमुख स्थान पर रही है?

- Ans
- ☒ 1. सामग्री
 - ☒ 2. मशीनरी
 - ☒ 3. संयंत्र
 - ☒ 4. मानव पूंजी

Question ID : 65497838572
Status : Answered
Chosen Option : 3

Q.3 भारत में निम्न में से किस स्थान पर दिन और रात के तापमान में सबसे अधिक अंतर होता है?

- Ans
- ☒ 1. पोर्ट ब्लेयर
 - ☒ 2. तिरुवनंतपुरम
 - ☒ 3. थार
 - ☒ 4. पहलगाम

Question ID : 65497838577
Status : Answered
Chosen Option : 3

Q.4 शेर शाह सूरी का मकबरा _____ में स्थित है।

- Ans
- ☒ 1. बक्सर
 - ☒ 2. जहानाबाद
 - ☒ 3. सासाराम
 - ☒ 4. गया

Question ID : 65497838570
Status : Not Answered
Chosen Option : --

Q.5 भारत ने 2021 में टोक्यो में आयोजित ओलंपिक खेलों में इनमें से किस श्रेणी में कोई पदक नहीं जीता है?

- Ans
- ☒ 1. जिमनास्टिक्स
 - ☒ 2. मुक्केबाज़ी
 - ☒ 3. एथलेटिक्स
 - ☒ 4. भारोत्तोलन

Question ID : 65497838588
Status : Answered
Chosen Option : 3

Q.6 असम में निम्न में से कौन सी राजनीतिक पार्टी ने राज्य में 2021 के विधानसभा चुनावों से पहले, सत्तारूढ़ पार्टी के खिलाफ 'महाजोत' का नेतृत्व किया था?

- Ans
- ☒ 1. समाजवादी पार्टी
 - ☒ 2. बहुजन समाज पार्टी
 - ☒ 3. जनता दल
 - ☒ 4. भारतीय राष्ट्रीय कांग्रेस

Question ID : 65497838795
Status : Not Answered
Chosen Option : --

Q.7 ओलंपिक खेलों में, 'लेजर' निम्न में से किस खेल की श्रेणी है?

- Ans
- ☒ 1. तलवारबाजी
 - ☒ 2. गोल्फ
 - ☒ 3. नौकायन
 - ☒ 4. घुड़सवारी

Question ID : 65497838896
Status : Not Answered
Chosen Option : --

Q.8 संसद की सदस्यता हेतु अर्हता का मुद्दा भारतीय संविधान के इनमें से किस अनुच्छेद के दायरे के अंतर्गत आता है?

- Ans
- ☒ 1. 83
 - ☒ 2. 81
 - ☒ 3. 84
 - ☒ 4. 82

Question ID : 65497838791
Status : Not Answered
Chosen Option : --

Q.9 My Archaeological Mission to India and Pakistan (माई आर्कियोलॉजिकल मिशन टू इंडिया एंड पाकिस्तान) के लेखक इनमें से कौन हैं?

- Ans
- ☒ 1. आर. इ. एम. व्हीलर
 - ☒ 2. जी. एफ. डेल्स
 - ☒ 3. अलेक्जेंडर कर्निघम
 - ☒ 4. जॉन मार्शल

Question ID : 65497838886
Status : Not Answered
Chosen Option : --

Q.10 निम्न में से कौन सा विमाहीन है?

- Ans
- ☒ 1. अनुदैर्घ्य प्रतिबल (Longitudinal stress)
 - ☒ 2. अनुदैर्घ्य विकृति (Longitudinal strain)
 - ☒ 3. विरूपक बल (Deforming force)
 - ☒ 4. अपरूपण प्रतिबल (Shear stress)

Question ID : 65497838882
Status : Not Answered
Chosen Option : --

Q.11 अगस्त 2021 में इंग्लिश चैनल में भारत और _____ की नौ सेनाओं के बीच 'कोकण 2021' नामक द्विपक्षीय नौसैनिक अभ्यास का आयोजन किया गया था।

- Ans
- ☒ 1. रूस
 - ☒ 2. जर्मनी
 - ☒ 3. यूनाइटेड किंगडम
 - ☒ 4. मालदीव

Question ID : 65497839102
Status : Not Answered
Chosen Option : --

Q.12 निम्नलिखित में से किसने पूर्वोत्तर से भारत के स्वतंत्रता संग्राम में भाग लिया था?

- Ans
- ☒ 1. अंजलाई अम्मल
 - ☒ 2. रानी गाइदिनलिउ
 - ☒ 3. मालती चौधरी
 - ☒ 4. सुचेता कृपलानी

Question ID : 65497839093
Status : Not Answered
Chosen Option : --

Q.13 अकेले, बिना रुके दुनिया का परिभ्रमण करने वाले पहले भारतीय कौन थे?

- Ans
- ☒ 1. रत्नाकर दांडेकर
 - ☒ 2. मनोहर प्रह्लाद अवती
 - ☒ 3. अभिलाष टॉमी
 - ☒ 4. दिलीप डोंडे

Question ID : 65497838891

Status : Not Answered

Chosen Option : --

Q.14 सिकंदरा, जो आगरा का उपनगरीय क्षेत्र है, _____ के मकबरे से जुड़ा है।

- Ans
- ☒ 1. जहांगीर
 - ☒ 2. अकबर
 - ☒ 3. शिवाजी
 - ☒ 4. बाबर

Question ID : 65497838785

Status : Answered

Chosen Option : 1

Q.15 _____ को स्वतंत्रता आंदोलन की 'ग्रेड ओल्ड लेडी' कहा जाता है।

- Ans
- ☒ 1. सरोजिनी नायडू
 - ☒ 2. अरुणा आसफ अली
 - ☒ 3. उषा मेहता
 - ☒ 4. विजय लक्ष्मी पंडित

Question ID : 65497838582

Status : Answered

Chosen Option : 4

Q.16 'मितव्ययता का विरोधाभास' (paradox of thrift) की अवधारणा निम्न में से किसने दी थी?

- Ans
- ☒ 1. जॉन मेनार्ड कीन्स
 - ☒ 2. एडम स्मिथ
 - ☒ 3. अमर्त्य सेन
 - ☒ 4. अभिजीत बनर्जी

Question ID : 65497839083

Status : Not Answered

Chosen Option : --

Q.17 Long Walk to Freedom (लॉन्ग वॉक टू फ्रीडम) किसकी आत्मकथा है?

- Ans
- ☒ 1. बराक ओबामा
 - ☒ 2. नेल्सन मंडेला
 - ☒ 3. हो चि मिन्ह
 - ☒ 4. रवींद्रनाथ टैगोर

Question ID : 65497839094

Status : Answered

Chosen Option : 1

Q.18 सोडियम पेरोक्साइड के एक अणु में कितने ऑक्सीजन परमाणु होते हैं?

- Ans
- ☒ 1. एक
 - ☒ 2. चार
 - ☒ 3. दो
 - ☒ 4. तीन

Question ID : 65497838779

Status : Not Answered

Chosen Option : --

Q.19 'बल' को 'द्रव्यमान' से विभाजित करने पर _____ प्राप्त होता है।

- Ans
- ☒ 1. वेग
 - ☒ 2. समय
 - ☒ 3. विस्थापन
 - ☒ 4. त्वरण

Question ID : 65497838574

Status : Answered

Chosen Option : 4

Q.20 बैंकिंग के संदर्भ में, MICR (एम.आई.सी.आर.) में 'M' अक्षर का पूर्ण रूप इनमें से कौन सा है?

- Ans
- ☒ 1. Magnetic (मैग्नेटिक)
 - ☒ 2. Mixed (मिक्स्ड)
 - ☒ 3. Monetary (मॉनेटरी)
 - ☒ 4. Mutual (स्पूचुअल)

Question ID : 65497838877

Status : Not Answered

Chosen Option : --

Q.21 निम्न में से कौन सा इंग्लिश क्रिकेटर अगस्त 2021 में लॉर्ड्स में हुए उस टेस्ट मैच का हिस्सा नहीं था, जिसे भारत ने 151 रन से जीता था?

- Ans
- ☒ 1. जेम्स एंडरसन
 - ☒ 2. स्टुअर्ट ब्रॉड
 - ☒ 3. मोईन अली
 - ☒ 4. मार्क वुड

Question ID : 65497839099

Status : Not Answered

Chosen Option : --

Q.22 निम्न में से किस नदी का उद्गम स्थल महाराष्ट्र में है?

- Ans
- ☒ 1. महानदी
 - ☒ 2. नर्मदा
 - ☒ 3. गोदावरी
 - ☒ 4. ताप्ती

Question ID : 65497839088

Status : Not Answered

Chosen Option : --

Q.23 कल्पतरु उत्सव का आयोजन प्रत्येक वर्ष पहली _____ को होता है।

- Ans
- ☒ 1. अप्रैल
 - ☒ 2. मार्च
 - ☒ 3. फरवरी
 - ☒ 4. जनवरी

Question ID : 65497838773

Status : Not Answered

Chosen Option : --

Q.24 भारतीय संविधान का अनुच्छेद 32 _____ से संबंधित है।

- Ans
- ☒ 1. संवैधानिक उपचार का अधिकार
 - ☒ 2. धार्मिक स्वतंत्रता का अधिकार
 - ☒ 3. स्वतंत्रता का अधिकार
 - ☒ 4. समानता का अधिकार

Question ID : 65497838586

Status : Not Answered

Chosen Option : --

Q.25 2015 में शुरू हुआ 'हरिता हरम', जिसका मुख्य उद्देश्य राज्य के हरित आवरण को बढ़ाना है, _____ सरकार का प्रमुख कार्यक्रम है।

- Ans
- ☒ 1. तेलंगाना
 - ☒ 2. तमिलनाडु
 - ☒ 3. कर्नाटक
 - ☒ 4. केरल

Question ID : 65497838899

Status : Not Answered

Chosen Option : --