

## Selection Post Phase IX 2021 Matriculation level

Roll Number	
Candidate Name	
Venue Name	
Exam Date	07/02/2022
Exam Time	12:00 PM - 1:00 PM
Subject	Selection Post Matriculation Level

### Section : General Intelligence

Q.1 दिए गए समीकरण को संतुलित करने के लिए किन दो चिह्नों को आपस में बदला जाना चाहिए।

$$12+156\div 13\times 6-100=50$$

- Ans ☒ 1. + और  $\times$   
☒ 2. + और -  
☒ 3. - और  $\times$   
☒ 4.  $\div$  और  $\times$

Question ID : 65497838614

Status : Answered

Chosen Option : 1

Q.2 एक निश्चित कूट भाषा में, 'ALGORITHM' को 'AGLOYHIMT' के रूप में लिखा जाता है। उसी भाषा में 'MALICIOUS' को कैसे लिखा जाएगा?

- Ans ☒ 1. ALIMJISOU  
☒ 2. MLAIXUIO  
☒ 3. AILMJIOSU  
☒ 4. MALIXUIO

Question ID : 65497839008

Status : Answered

Chosen Option : 2

Q.3 'प्यास' का 'पानी' से वही संबंध है, जो 'बीमारी' का '\_\_\_\_\_' से है।

- Ans ☒ 1. दवा  
☒ 2. चिकित्सक  
☒ 3. अस्पताल  
☒ 4. अन्वेषण

Question ID : 65497838496

Status : Answered

Chosen Option : 1

Q.4 उस विकल्प का चयन कीजिए, जिसका तीसरी संख्या से वही संबंध है, जो दूसरी संख्या का पहली संख्या से है और छठी संख्या का पांचवीं संख्या से है।

53 : 15 :: 84 : ? :: 62 : 12

- Ans
- ☒ 1. 46
  - ☒ 2. 34
  - ☒ 3. 32
  - ☒ 4. 42

Question ID : 65497838001  
Status : Answered  
Chosen Option : 3

Q.5 एक निश्चित कूट भाषा में, 'SLATE' को 'TNDXJ' लिखा जाता है, और 'STARK' को 'TVDVP' लिखा जाता है। उसी कूट भाषा में 'BLEAT' को किस प्रकार लिखा जाएगा?

- Ans
- ☒ 1. CMGFY
  - ☒ 2. CNHEY
  - ☒ 3. CMHEZ
  - ☒ 4. CMGFZ

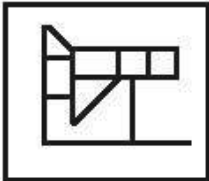
Question ID : 65497838498  
Status : Answered  
Chosen Option : 2

Q.6 उस विकल्प का चयन करें, जिसमें दी गई आकृति अंतर्निहित है (आकृति को घुमाने की अनुमति नहीं है)।

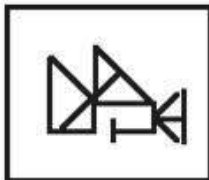


Ans

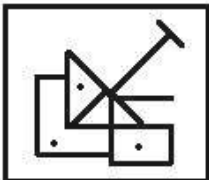
☒ 1.



☒ 2.



☒ 3.



☒ 4.



Question ID : 65497838515  
Status : Answered  
Chosen Option : 4

Q.7 उस सही विकल्प का चयन कीजिए, जो दिए गए शब्दों के उस क्रम को दर्शाता है, जिस क्रम में वे अंग्रेज़ी शब्दकोश में मौजूद होते हैं।

1. Estranged
2. Estate
3. Establish
4. Esteem
5. Estimate

Ans ☒ 1. 4, 2, 3, 1, 5  
☒ 2. 4, 3, 2, 1, 5  
☒ 3. 3, 4, 2, 5, 1  
☒ 4. 3, 2, 4, 5, 1

Question ID : 65497838493

Status : Answered

Chosen Option : 4

Q.8 दिए गए विकल्पों में से उस संख्या का चयन कीजिए, जो निम्नलिखित श्रेणी में प्रश्न चिह्न (?) के स्थान पर आ सकती है।

4, 8, 16, 64, 36, 216, 64, ?

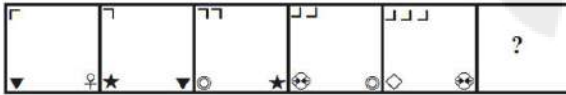
Ans ☒ 1. 432  
☒ 2. 729  
☒ 3. 343  
☒ 4. 512

Question ID : 65497838509


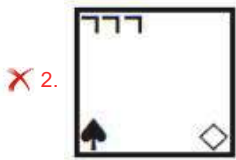
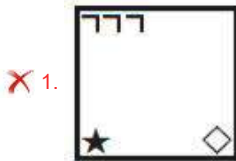
Status : Answered

Chosen Option : 4

Q.9 दिए गए विकल्पों में से वह आकृति चुनें जो निम्नांकित श्रृंखला में प्रश्नचिह्न (?) को प्रतिस्थापित कर सकती है।



Ans



Question ID : 65497839024

Status : Answered

Chosen Option : 2

Q.10 एक निश्चित कूट भाषा में, 'GARDEN' को '719425' के रूप में कूटबद्ध किया जाता है, और 'KINLEY' को '235327' के रूप में कूटबद्ध किया जाता है। उसी भाषा में 'SLUMBER' को कैसे कूटबद्ध किया जाएगा?

- Ans ☒ 1. 10354229  
☒ 2. 19313259  
☒ 3. 10334259  
☒ 4. 19313229

Question ID : 65497839011  
Status : Answered  
Chosen Option : 3

Q.11 G, H, I, J, K और L एक पंक्ति में दक्षिण की ओर मुख करके बैठे हैं। H, I के बाईं ओर ठीक बगल में बैठा है। I, G के बाईं ओर चौथे स्थान पर बैठा है। K, L और J का पड़ोसी है। वह व्यक्ति, जो J के दाईं ओर तीसरे स्थान पर है, किसी एक सिरे पर है। K के दाईं ओर कौन बैठा है?

- Ans ☒ 1. J  
☒ 2. I  
☒ 3. L  
☒ 4. H

Question ID : 65497838505  
Status : Not Attempted and Marked For Review  
Chosen Option : --

Q.12 दिए गए कथनों और निष्कर्षों को ध्यानपूर्वक पढ़ें। यह मानते हुए कि कथनों में दी गई जानकारी सत्य है, भले ही वह सामान्य रूप से ज्ञात तथ्यों से भिन्न प्रतीत होती हो, निर्णय लें कि दिए गए निष्कर्षों में से कौन सा/से निष्कर्ष कथनों का तार्किक रूप से अनुसरण करता/ते है/हैं।

कथन:  
सभी आयत, समलंब हैं।  
सभी वृत्त, समलंब हैं।

निष्कर्ष:  
I. कुछ आयतों के वृत्त होने की संभावना है।  
II. कुछ समलंब, आयत हैं।

- Ans ☒ 1. केवल निष्कर्ष I अनुसरण करता है  
☒ 2. केवल निष्कर्ष II अनुसरण करता है  
☒ 3. निष्कर्ष I और II दोनों अनुसरण करते हैं  
☒ 4. न तो निष्कर्ष I और न ही निष्कर्ष II अनुसरण करता है

Question ID : 65497838609  
Status : Answered  
Chosen Option : 2

Q.13 उस विकल्प का चयन करें जो तीसरे पद से उसी प्रकार संबंधित है जिस प्रकार दूसरा पद पहले पद से संबंधित है।

EIGHT: ICLEX :: DETAIL : ?

- Ans ☒ 1. EAZHEP  
☒ 2. EZIEPP  
☒ 3. EZAHP  
☒ 4. EIZPEP

Question ID : 65497838599  
Status : Not Attempted and Marked For Review  
Chosen Option : --

Q.14 चार अक्षर-समूह दिए गए हैं, जिनमें से तीन किसी तरह से संगत हैं और एक असंगत है। उस अक्षर-समूह का चयन करें, जो अन्य से असंगत है।

- Ans
- ☐ 1. VXZ
  - ☐ 2. QSU
  - ☐ 3. HJL
  - ☒ 4. MOP

Question ID : 65497839004

Status : Answered

Chosen Option : 4

Q.15 एक निश्चित कूट भाषा में, 'DENTIST' को 'GHQTKUV' लिखा जाता है, और 'TEACHER' को 'WHDCJGT' लिखा जाता है। उसी कूट भाषा में 'BROTHER' को किस प्रकार लिखा जाएगा?

- Ans
- ☐ 1. EURWNKX
  - ☐ 2. GTQVJGT
  - ☒ 3. EURTJGT
  - ☐ 4. EURGLIV

Question ID : 65497837989

Status : Answered

Chosen Option : 3

Q.16 छह लड़कियां एक वृत्ताकार व्यवस्था में केंद्र की ओर मुख करके बैठी हैं। प्रीति, डॉली के दाईं ओर ठीक बगल में बैठी है। आशी, निशा और नव्या के बीच में बैठी है। डिंपी, डॉली और निशा के बीच में बैठी है। नव्या के दाईं ओर ठीक बगल में कौन बैठी है?

- Ans
- ☐ 1. प्रीति
  - ☐ 2. डॉली
  - ☒ 3. आशी
  - ☐ 4. निशा

Question ID : 65497837994

Status : Answered

Chosen Option : 3

Q.17 एक निश्चित कूट भाषा में, LION को 12-9-15-14 लिखा जाता है और GOAT को 7-15-1-20 लिखा जाता है। उसी कूट भाषा में LAMB को किस प्रकार लिखा जाएगा?

- Ans
- ☐ 1. 11-1-12-2
  - ☒ 2. 12-1-13-2
  - ☐ 3. 12-2-14-3
  - ☐ 4. 11-1-12-3

Question ID : 65497838501

Status : Answered

Chosen Option : 2

Q.18 दयाकर, जो सुकुमार की संतान है, का विवाह प्रिया के साथ हुआ है। बैदेही, सुकुमार की बेटी है। सुकुमार, गरिमा के दादा हैं। बैदेही अविवाहित है। रघु, दयाकर का इकलौता बेटा है। प्रिया के दो बच्चे हैं और उनमें से एक का विवाह निकिता के साथ हुआ है। दयाकर का निकिता से क्या संबंध है?

- Ans
- ☒ 1. पिता
  - ☒ 2. पति
  - ☒ 3. बेटा
  - ☒ 4. ससुर

Question ID : 65497838710

Status : Not Attempted and Marked For Review

Chosen Option : --

Q.19 रीता, कविता की मां है। कविता, निशु की मां है। पंकज, निशु की मां का भाई है।

रीता का पंकज से क्या संबंध है?

- Ans
- ☒ 1. मां
  - ☒ 2. बहन
  - ☒ 3. पुत्री
  - ☒ 4. दादी

Question ID : 65497838302

Status : Answered

Chosen Option : 1

Q.20 दिए गए विकल्पों में से उस अक्षर-समूह का चयन करें, जो निम्नलिखित श्रृंखला में प्रश्न चिह्न (?) के स्थान पर आ सकता है।

BYE, CVG, ERI, ?, LGM

- Ans
- ☒ 1. HMK
  - ☒ 2. GMI
  - ☒ 3. HLK
  - ☒ 4. GLJ

Question ID : 65497839002

Status : Answered

Chosen Option : 1

Q.21 अक्षरों के उस संयोजन का चयन कीजिए, जिसे दी गई श्रृंखला के रिक्त स्थानों में क्रमबद्ध रूप से रखने पर श्रृंखला पूर्ण हो जाएगी।

\_cb\_a\_b\_a\_b\_c\_da

- Ans
- ☒ 1. adcdcdba
  - ☒ 2. adcdcab
  - ☒ 3. adcdcadb
  - ☒ 4. adcdcdab

Question ID : 65497837985

Status : Answered

Chosen Option : 4

Q.22 एक निश्चित कूट भाषा में, 'Y' को 225 और 'Q' को 1017 लिखा जाता है। उसी कूट भाषा में 'T' को किस प्रकार लिखा जाएगा?

- Ans
- ☒ 1. 216
  - ☒ 2. 720
  - ☒ 3. 621
  - ☒ 4. 618

Question ID : 65497838500

Status : Answered

Chosen Option : 2

Q.23 दिए गए कथनों और निष्कर्षों को ध्यानपूर्वक पढ़ें। कथनों में दी गई जानकारी को सत्य मानते हुए विचार करें, भले ही वह सामान्यतः ज्ञात तथ्यों से भिन्न प्रतीत होती हो, और तय करें कि दिए गए निष्कर्षों में से कौन से कथनों का तार्किक रूप से पालन करते हैं?

कथन:

सभी कैलकुलेटर कंपास हैं।

सभी कंपास घड़ियां हैं।

कुछ घड़ियां बैग हैं।

निष्कर्ष:

I. कुछ बैग कंपास हैं।

II. कुछ घड़ियां कैलकुलेटर हैं।

III. कुछ कंपास कैलकुलेटर हैं।

- Ans
- ☒ 1. केवल निष्कर्ष II और III पालन करते हैं।
  - ☒ 2. केवल निष्कर्ष I और II पालन करते हैं।
  - ☒ 3. सभी निष्कर्ष I, II और III पालन करते हैं।
  - ☒ 4. केवल निष्कर्ष I और III पालन करते हैं।

Question ID : 65497838003

Status : Answered

Chosen Option : 1

Q.24 जब दर्पण को निम्नांकित चित्र के अनुसार PQ पर रखा गया हो, तो दिए गए संयोजन का दर्पण में निर्मित सही प्रतिबिंब चयनित करें।

T2URBuLEncE



- Ans
- ☒ 1. T2URBuLEncE
  - ☒ 2. EcnELBUT2
  - ☒ 3. EcnELBUT2
  - ☒ 4. EcnELBUT2

Question ID : 65497838618

Status : Answered

Chosen Option : 2

Q.25 दिए गए विकल्पों में से वह संख्या चुनें जो निम्नलिखित श्रेणी में प्रश्नचिह्न (?) के स्थान पर आ सकती है।

3, 23, 33, 43, 58, 88, ?

Ans ☒ 1. 153

☒ 2. 135

☒ 3. 163

☒ 4. 136

Question ID : 65497839020

Status : Not Attempted and  
Marked For Review

Chosen Option : --

Section : English Language

Q.1 Select the most appropriate ANTONYM of the given word.

Humble

Ans ☒ 1. Arrogant

☒ 2. Poor

☒ 3. Meek

☒ 4. Modest

Question ID : 65497838626

Status : Answered

Chosen Option : 1

Q.2 Select the option that can be used as a one-word substitute for the given group of words.

A place where bread and cakes are made

Ans ☒ 1. Eatery

☒ 2. Pantry

☒ 3. Bakery

☒ 4. Larder

Question ID : 65497838630

Status : Answered

Chosen Option : 3

Q.3 Select the most appropriate option to fill in the blank.

He isn't very fond of reading, \_\_\_\_\_?

Ans ☒ 1. aren't he

☒ 2. has he

☒ 3. isn't it

☒ 4. is he

Question ID : 65497838520

Status : Answered

Chosen Option : 4



**Q.4** Select the option that can be used as a one-word substitute for the given group of words.

The young one of a sheep

- Ans
- ☒ 1. Kitten
  - ☒ 2. Cub
  - ☒ 3. Kid
  - ☒ 4. Lamb

Question ID : 65497839037

Status : Answered

Chosen Option : 4

**Q.5** Select the INCORRECTLY spelt word.

- Ans
- ☒ 1. Electnone
  - ☒ 2. Eleven
  - ☒ 3. Edge
  - ☒ 4. Efficient

Question ID : 65497838633

Status : Answered

Chosen Option : 1

**Q.6** Select the option that expresses the given sentence in direct speech.

The stranger asked where he could spend the night.

- Ans
- ☒ 1. The stranger said, "Where I could spend the night?"
  - ☒ 2. The stranger said, "Where I can spend the night?"
  - ☒ 3. The stranger said, "Where can I spend the night?"
  - ☒ 4. The stranger said, "Where he could spend the night?"

Question ID : 65497839028

Status : Answered

Chosen Option : 3

**Q.7** Select the most appropriate meaning of the given idiom.

Learn the ropes

- Ans
- ☒ 1. To learn how to do a job or activity
  - ☒ 2. To pretend one is trained in something
  - ☒ 3. To have a talent for magic tricks
  - ☒ 4. To be good with rope exercises

Question ID : 65497838015

Status : Answered

Chosen Option : 3

**Q.8** Select the most appropriate **ANTONYM** of the given word.

**Filthy**

- Ans** ☒ 1. Soiled  
☒ 2. Clean  
☒ 3. Dirty  
☒ 4. Black

Question ID : **65497839033**  
Status : **Answered**  
Chosen Option : **2**

**Q.9** Select the most appropriate synonym of the given word.

**Recapitulate**

- Ans** ☒ 1. Enlarge  
☒ 2. Prolong  
☒ 3. Summarize  
☒ 4. Elaborate

Question ID : **65497838011**  
Status : **Answered**  
Chosen Option : **3**

**Q.10** Select the option that expresses the given sentence in passive voice.

**We accept all credit cards.**

- Ans** ☒ 1. All credit cards are accepted by us.  
☒ 2. All credit cards are being accepted by us.  
☒ 3. All credit cards were accepted by us.  
☒ 4. All credit cards have been accepted by us.

Question ID : **65497838517**  
Status : **Answered**  
Chosen Option : **1**

**Q.11** Select the most appropriate word to fill in the blank.

**I don't have enough money to \_\_\_\_\_ photography as a serious hobby.**

- Ans** ☒ 1. assist  
☒ 2. enliven  
☒ 3. untie  
☒ 4. pursue

Question ID : **65497838009**  
Status : **Answered**  
Chosen Option : **1**

**Q.12 Select the most appropriate synonym of the given word.**

**Jostle**

- Ans**
- ☒ 1. Control
  - ☒ 2. Swallow
  - ☒ 3. Hinder
  - ☒ 4. Shove

Question ID : **65497838522**

Status : **Not Attempted and Marked For Review**

Chosen Option : --

**Q.13 Select the wrongly spelt word.**

- Ans**
- ☒ 1. eleborate
  - ☒ 2. election
  - ☒ 3. electric
  - ☒ 4. elastic

Question ID : **65497839243**

Status : **Answered**

Chosen Option : 1

**Q.14 Select the most appropriate meaning of the given idiom.**

**Take a toll**

- Ans**
- ☒ 1. To take notice
  - ☒ 2. To harm or damage
  - ☒ 3. To warn someone
  - ☒ 4. To ring a bell

Question ID : **65497838526**

Status : **Answered**

Chosen Option : 4

**Q.15 Select the INCORRECTLY spelt word.**

- Ans**
- ☒ 1. Resistance
  - ☒ 2. Seperate
  - ☒ 3. Resplendent
  - ☒ 4. Pendant

Question ID : **65497838224**

Status : **Answered**

Chosen Option : 2

**Comprehension:**

In the following passage some words have been deleted. Read the passage carefully and select the most appropriate option for each blank.

Radio Talk is a kind of writing that is in some ways (1)\_\_\_\_\_ to a magazine or feature article. However, in this case, the radio talk is (2)\_\_\_\_\_ written for the radio. Although talks are usually based on one's (3)\_\_\_\_\_ experiences yet they must be of general interest to a wider (4)\_\_\_\_\_. The key is to have an interesting opening so that it grabs the listener's (5)\_\_\_\_\_.

**SubQuestion No : 16**

**Q.16 Select the most appropriate option to fill in blank no. 1.**

Ans ☒ 1. similar

☐ 2. varied

☐ 3. unlike

☐ 4. singular

Question ID : 65497838023

Status : Answered

Chosen Option : 1

**Comprehension:**

In the following passage some words have been deleted. Read the passage carefully and select the most appropriate option for each blank.

Radio Talk is a kind of writing that is in some ways (1)\_\_\_\_\_ to a magazine or feature article. However, in this case, the radio talk is (2)\_\_\_\_\_ written for the radio. Although talks are usually based on one's (3)\_\_\_\_\_ experiences yet they must be of general interest to a wider (4)\_\_\_\_\_. The key is to have an interesting opening so that it grabs the listener's (5)\_\_\_\_\_.

**SubQuestion No : 17**

**Q.17 Select the most appropriate option to fill in blank no. 2.**

Ans ☒ 1. specifically

☐ 2. automatically

☐ 3. questionably

☐ 4. incidentally

Question ID : 65497838024

Status : Answered

Chosen Option : 2

**Comprehension:**

In the following passage some words have been deleted. Read the passage carefully and select the most appropriate option for each blank.

Radio Talk is a kind of writing that is in some ways (1)\_\_\_\_\_ to a magazine or feature article. However, in this case, the radio talk is (2)\_\_\_\_\_ written for the radio. Although talks are usually based on one's (3)\_\_\_\_\_ experiences yet they must be of general interest to a wider (4)\_\_\_\_\_. The key is to have an interesting opening so that it grabs the listener's (5)\_\_\_\_\_.

**SubQuestion No : 18**

**Q.18 Select the most appropriate option to fill in blank no. 3.**

Ans ☒ 1. personal

☐ 2. public

☐ 3. alien

☐ 4. indifferent

Question ID : 65497838025

Status : Answered

Chosen Option : 2

**Comprehension:**

In the following passage some words have been deleted. Read the passage carefully and select the most appropriate option for each blank.

Radio Talk is a kind of writing that is in some ways (1)\_\_\_\_\_ to a magazine or feature article. However, in this case, the radio talk is (2)\_\_\_\_\_ written for the radio. Although talks are usually based on one's (3)\_\_\_\_\_ experiences yet they must be of general interest to a wider (4)\_\_\_\_\_. The key is to have an interesting opening so that it grabs the listener's (5)\_\_\_\_\_.

**SubQuestion No : 19**

**Q.19** Select the most appropriate option to fill in blank no. 4.

**Ans** ✓ 1. audience

✗ 2. congregation

✗ 3. company

✗ 4. crowd

Question ID : 65497838026

Status : Answered

Chosen Option : 1

**Comprehension:**

In the following passage some words have been deleted. Read the passage carefully and select the most appropriate option for each blank.

Radio Talk is a kind of writing that is in some ways (1)\_\_\_\_\_ to a magazine or feature article. However, in this case, the radio talk is (2)\_\_\_\_\_ written for the radio. Although talks are usually based on one's (3)\_\_\_\_\_ experiences yet they must be of general interest to a wider (4)\_\_\_\_\_. The key is to have an interesting opening so that it grabs the listener's (5)\_\_\_\_\_.

**SubQuestion No : 20**

**Q.20** Select the most appropriate option to fill in blank no. 5.

**Ans** ✗ 1. disregard

✗ 2. indifference

✓ 3. attention

✗ 4. neglect

Question ID : 65497838027

Status : Answered

Chosen Option : 3

**Comprehension:**

Read the given passage and answer the questions that follow.

One would imagine that at the very sight of the panther, deer, antelopes and its other preys would just run for their lives. Nothing of the sort! They all stand their ground and make such a loud noise that the panther is left with no other choice except to leave quietly. I have seen a tiny chital baby standing in the middle of an opening in the forest, stamping its feet on the ground and shooing away a tiger. With the white of its erect tail showing, it kept up its shrill call until the tiger made itself scarce. No tiger in its senses would attempt to catch such an impertinent brat, just as you would not dream of catching an offending crow cawing away in your veranda.

While the panther sticks to cover and hugs the edge of the forest, the game animals, on the other hand, like to assemble right out in open vast grazing grounds. Open spaces which the panther carefully avoids, are what the game animals deliberately seek.

It is difficult to describe the pandemonium kicked up by various animals when they spot or suspect a panther around. The chital strikes a shrill note, the kakar emits a deafening bark and the sambar rings a bell. The peacock on its perch, the jungle fowl on the ground, and the monkey on treetops, all join in the chorus of condemnation of the panther. They curse the panther in their own inimitable language. The resulting confusion of sounds is so irritating to the sharp ears of the panther that it is left with no other option except to go away.

The panther has thus to deal with its ever alert and watchful associate who show no mercy and expect none. It is a fight between finesse and flight, between clever attack and skilful defence.

Contrary to the common belief, the panther never springs upon its prey suddenly. It stalks as close to its victim as it can manage, and then makes the final dash by rushing at it at a lightning speed.

**SubQuestion No : 21**

**Q.21 How do smaller animals force the panther to back off?**

- Ans** ☒ 1. By always being watchful and alert
- ☒ 2. By raising a shrill chorus of sounds
- ☒ 3. By assembling in the open grasslands
- ☒ 4. By attacking it collectively

Question ID : 65497838643

Status : **Not Answered**

Chosen Option : --

**Comprehension:**

Read the given passage and answer the questions that follow.

One would imagine that at the very sight of the panther, deer, antelopes and its other preys would just run for their lives. Nothing of the sort! They all stand their ground and make such a loud noise that the panther is left with no other choice except to leave quietly. I have seen a tiny chital baby standing in the middle of an opening in the forest, stamping its feet on the ground and shooping away a tiger. With the white of its erect tail showing, it kept up its shrill call until the tiger made itself scarce. No tiger in its senses would attempt to catch such an impertinent brat, just as you would not dream of catching an offending crow cawing away in your veranda.

While the panther sticks to cover and hugs the edge of the forest, the game animals, on the other hand, like to assemble right out in open vast grazing grounds. Open spaces which the panther carefully avoids, are what the game animals deliberately seek.

It is difficult to describe the pandemonium kicked up by various animals when they spot or suspect a panther around. The chital strikes a shrill note, the kakar emits a deafening bark and the sambar rings a bell. The peacock on its perch, the jungle fowl on the ground, and the monkey on treetops, all join in the chorus of condemnation of the panther. They curse the panther in their own inimitable language. The resulting confusion of sounds is so irritating to the sharp ears of the panther that it is left with no other option except to go away.

The panther has thus to deal with its ever alert and watchful associate who show no mercy and expect none. It is a fight between finesse and flight, between clever attack and skilful defence.

Contrary to the common belief, the panther never springs upon its prey suddenly. It stalks as close to its victim as it can manage, and then makes the final dash by rushing at it at a lightning speed.

**SubQuestion No : 22**

**Q.22** Which of these animals produces a deafening bark to ward off panthers?

- Ans
- ☒ 1. Chital
  - ☒ 2. Sambar
  - ☒ 3. Monkey
  - ☒ 4. Kakar

Question ID : 65497838642

Status : Not Answered

Chosen Option : --

**Comprehension:**

Read the given passage and answer the questions that follow.

One would imagine that at the very sight of the panther, deer, antelopes and its other preys would just run for their lives. Nothing of the sort! They all stand their ground and make such a loud noise that the panther is left with no other choice except to leave quietly. I have seen a tiny chital baby standing in the middle of an opening in the forest, stamping its feet on the ground and shooping away a tiger. With the white of its erect tail showing, it kept up its shrill call until the tiger made itself scarce. No tiger in its senses would attempt to catch such an impertinent brat, just as you would not dream of catching an offending crow cawing away in your veranda.

While the panther sticks to cover and hugs the edge of the forest, the game animals, on the other hand, like to assemble right out in open vast grazing grounds. Open spaces which the panther carefully avoids, are what the game animals deliberately seek.

It is difficult to describe the pandemonium kicked up by various animals when they spot or suspect a panther around. The chital strikes a shrill note, the kakar emits a deafening bark and the sambar rings a bell. The peacock on its perch, the jungle fowl on the ground, and the monkey on treetops, all join in the chorus of condemnation of the panther. They curse the panther in their own inimitable language. The resulting confusion of sounds is so irritating to the sharp ears of the panther that it is left with no other option except to go away.

The panther has thus to deal with its ever alert and watchful associate who show no mercy and expect none. It is a fight between finesse and flight, between clever attack and skilful defence.

Contrary to the common belief, the panther never springs upon its prey suddenly. It stalks as close to its victim as it can manage, and then makes the final dash by rushing at it at a lightning speed.

**SubQuestion No : 23**

**Q.23 'Impertinent brat' in the passage refers to the:**

- Ans**
- ☒ 1. crow
  - ☒ 2. deer
  - ☒ 3. baby chital
  - ☒ 4. antelope

Question ID : **65497838641**

Status : **Not Answered**

Chosen Option : --



**Comprehension:**

Read the given passage and answer the questions that follow.

One would imagine that at the very sight of the panther, deer, antelopes and its other preys would just run for their lives. Nothing of the sort! They all stand their ground and make such a loud noise that the panther is left with no other choice except to leave quietly. I have seen a tiny chital baby standing in the middle of an opening in the forest, stamping its feet on the ground and shooping away a tiger. With the white of its erect tail showing, it kept up its shrill call until the tiger made itself scarce. No tiger in its senses would attempt to catch such an impertinent brat, just as you would not dream of catching an offending crow cawing away in your veranda.

While the panther sticks to cover and hugs the edge of the forest, the game animals, on the other hand, like to assemble right out in open vast grazing grounds. Open spaces which the panther carefully avoids, are what the game animals deliberately seek.

It is difficult to describe the pandemonium kicked up by various animals when they spot or suspect a panther around. The chital strikes a shrill note, the kakar emits a deafening bark and the sambar rings a bell. The peacock on its perch, the jungle fowl on the ground, and the monkey on treetops, all join in the chorus of condemnation of the panther. They curse the panther in their own inimitable language. The resulting confusion of sounds is so irritating to the sharp ears of the panther that it is left with no other option except to go away.

The panther has thus to deal with its ever alert and watchful associate who show no mercy and expect none. It is a fight between finesse and flight, between clever attack and skilful defence.

Contrary to the common belief, the panther never springs upon its prey suddenly. It stalks as close to its victim as it can manage, and then makes the final dash by rushing at it at a lightning speed.

**SubQuestion No : 24**

**Q.24** What is the common belief about how a panther attacks its prey?

- Ans** ☒ 1. It runs at the victim at a great speed.
- ☒ 2. It suddenly leaps upon its prey.
- ☒ 3. It creeps up close to its prey.
- ☒ 4. It chases its prey for long distances.

Question ID : 65497838644

Status : Not Answered

Chosen Option : --

### Comprehension:

Read the given passage and answer the questions that follow.

One would imagine that at the very sight of the panther, deer, antelopes and its other preys would just run for their lives. Nothing of the sort! They all stand their ground and make such a loud noise that the panther is left with no other choice except to leave quietly. I have seen a tiny chital baby standing in the middle of an opening in the forest, stamping its feet on the ground and shooping away a tiger. With the white of its erect tail showing, it kept up its shrill call until the tiger made itself scarce. No tiger in its senses would attempt to catch such an impertinent brat, just as you would not dream of catching an offending crow cawing away in your veranda.

While the panther sticks to cover and hugs the edge of the forest, the game animals, on the other hand, like to assemble right out in open vast grazing grounds. Open spaces which the panther carefully avoids, are what the game animals deliberately seek.

It is difficult to describe the pandemonium kicked up by various animals when they spot or suspect a panther around. The chital strikes a shrill note, the kakar emits a deafening bark and the sambar rings a bell. The peacock on its perch, the jungle fowl on the ground, and the monkey on treetops, all join in the chorus of condemnation of the panther. They curse the panther in their own inimitable language. The resulting confusion of sounds is so irritating to the sharp ears of the panther that it is left with no other option except to go away.

The panther has thus to deal with its ever alert and watchful associate who show no mercy and expect none. It is a fight between finesse and flight, between clever attack and skilful defence.

Contrary to the common belief, the panther never springs upon its prey suddenly. It stalks as close to its victim as it can manage, and then makes the final dash by rushing at it at a lightning speed.

#### SubQuestion No : 25

Q.25 What does the phrase 'stand their ground' mean?

- Ans ☒ 1. Hide silently till the attacker moves away
- ☒ 2. Stay in position to face the enemy boldly
- ☒ 3. Stand still being unable to move in fear
- ☒ 4. Try to escape as fast as possible

Question ID : 65497838645

Status : Not Answered

Chosen Option : --

### Section : Quantitative Aptitude

Q.1 पाँच संख्याओं का औसत 30 है। यदि एक संख्या को हटा दिया जाए, तो औसत 31 हो जाता है। हटाई गई संख्या क्या है?

- Ans ☒ 1. 24
- ☒ 2. 30
- ☒ 3. 26
- ☒ 4. 31

Question ID : 65497839056

Status : Answered

Chosen Option : 3

Q.2 175 m लंबी एक रेलगाड़ी अपनी लंबाई से दोगुने लंबे एक प्लेटफॉर्म को 27 सेकंड में पार करती है। रेलगाड़ी की चाल (km/h में) ज्ञात कीजिए।

- Ans ☒ 1. 84
- ☒ 2. 70
- ☒ 3. 63
- ☒ 4. 56

Question ID : 65497838666

Status : Answered

Chosen Option : 2

Q.3 यदि एक दुकानदार ₹72,580 अंकित मूल्य वाले एक गद्दे पर 50% और 20% की दो क्रमिक छूट देता है, तो उसका विक्रय मूल्य (₹ में) और छूट (₹ में) क्रमशः ज्ञात कीजिए।

- Ans
- ✓ 1. 29,032 और 43,548
  - ✗ 2. 36,290 और 29,032
  - ✗ 3. 29,032 और 36,290
  - ✗ 4. 43,548 और 29,032

Question ID : 65497839060  
Status : Answered  
Chosen Option : 1

Q.4 यदि छः क्रमागत विषम प्राकृत संख्याओं का औसत 24 है, तो छः संख्याओं में से चार छोटी संख्याओं का औसत क्या है?

- Ans
- ✗ 1. 24
  - ✗ 2. 21
  - ✗ 3. 20
  - ✓ 4. 22

Question ID : 65497838038  
Status : Answered  
Chosen Option : 3

Q.5 ₹24,500 की धनराशि पर 8% वार्षिक ब्याज की दर से दो वर्ष में प्राप्त साधारण ब्याज और चक्रवृद्धि ब्याज का अंतर (₹ में, निकटतम रूप तक पूर्णांकित) ज्ञात कीजिए। चक्रवृद्धि ब्याज वार्षिक रूप से संयोजित होता है।

- Ans
- ✗ 1. 257
  - ✗ 2. 175
  - ✗ 3. 225
  - ✓ 4. 157

Question ID : 65497838969  
Status : Answered  
Chosen Option : 4

Q.6 A ने एक वस्तु ₹1,100 में खरीदी और उसे B को 5% की हानि पर बेच दिया। B ने वह वस्तु, C को k% के लाभ पर ₹1,254 में बेच दी। k का मान ज्ञात करें।

- Ans
- ✗ 1. 15
  - ✓ 2. 20
  - ✗ 3. 25
  - ✗ 4. 12

Question ID : 65497838046  
Status : Answered  
Chosen Option : 2

Q.7 यदि संख्या  $583a4a$ , 6 से विभाज्य है, तो  $a$  के सभी संभावित मानों का योग क्या है?

- Ans
- ✓ 1. 10
  - ✗ 2. 8
  - ✗ 3. 12
  - ✗ 4. 14

Question ID : 65497838035

Status : Answered

Chosen Option : 1

Q.8 निम्नलिखित व्यंजक का सरलीकृत रूप क्या है?

$$\left(x - \frac{1}{y}\right)^3 + \left(x + \frac{1}{y}\right)^3$$

- Ans
- ✓ 1.  $2x\left(x^2 + \frac{3}{y^2}\right)$
  - ✗ 2.  $-2x\left(x^2 + \frac{3}{y^2}\right)$
  - ✗ 3.  $x\left(x^2 - \frac{3}{y^2}\right)$
  - ✗ 4.  $2x\left(x^2 - \frac{1}{y^2}\right)$

Question ID : 65497838057

Status : Answered

Chosen Option : 1

Q.9 अंजू ने एक वस्तु अपने मित्र राकेश को 14% की हानि पर बेची। यदि राकेश ने इसे ₹2,537 में बेचा और 18% का लाभ प्राप्त किया तो अंजू के लिए वस्तु का मूल क्रय मूल्य (₹ में) क्या था?

- Ans
- ✗ 1. ₹2,450
  - ✗ 2. ₹2,150
  - ✓ 3. ₹2,500
  - ✗ 4. ₹2,560

Question ID : 65497838554

Status : Answered

Chosen Option : 3

Q.10 एक टैंक को एक पाइप द्वारा 18 घंटों में भरा जाता है, लेकिन इसके तल में एक रिसाव होने के कारण इसे भरने में 6 घंटे अधिक लगते हैं। टैंक के दो-तिहाई भरा होने पर रिसाव वाला बिंदु इसे \_\_\_\_\_ घंटों में खाली कर देगा।

- Ans
- ✗ 1. 72
  - ✗ 2. 60
  - ✗ 3. 36
  - ✓ 4. 48

Question ID : 65497838562

Status : Answered

Chosen Option : 4

Q.11 छह संख्याओं का औसत 120 है। यदि छठी संख्या, शेष पाँच संख्याओं के योग की एक-चौथाई है, तो छठी संख्या निम्नलिखित में से कौन सी है?

- Ans
- ☐ 1. 148
  - ☐ 2. 150
  - ☐ 3. 108
  - ☒ 4. 144

Question ID : 65497838546  
Status : Answered  
Chosen Option : 4

Q.12 एक घन के विकर्ण का वर्ग  $2346 \text{ cm}^2$  है। घन का पूर्ण पृष्ठीय क्षेत्रफल ( $\text{cm}^2$ ) में ज्ञात कीजिए।

- Ans
- ☐ 1. 4296
  - ☒ 2. 4692
  - ☐ 3. 4629
  - ☐ 4. 4269

Question ID : 65497839076  
Status : Answered  
Chosen Option : 2

Q.13 एक बैग में हरे, लाल और नीले रंग के कचे हैं। उनकी संख्याओं का अनुपात क्रमशः 5 : 4 : 6 है। यदि बैग में 135 कचे हैं, तो नीले कचों की संख्या और लाल कचों की संख्या का अंतर ज्ञात कीजिए।

- Ans
- ☐ 1. 12
  - ☒ 2. 18
  - ☐ 3. 6
  - ☐ 4. 9

Question ID : 65497839068  
Status : Answered  
Chosen Option : 2

Q.14 A, एक कार्य का एक-तिहाई भाग 5 दिनों में समाप्त कर सकता है, और B उसी कार्य का 50% भाग 15 दिनों में समाप्त कर सकता है। यदि वे एक साथ कार्य करते हैं, तो वे 50% कार्य को कितने दिनों में समाप्त करेंगे?

- Ans
- ☐ 1. 10
  - ☐ 2. 4
  - ☒ 3. 5
  - ☐ 4. 8

Question ID : 65497839073  
Status : Answered  
Chosen Option : 3

Q.15 80 नोटबुक बेचने पर, अमृता को 10 नोटबुक के विक्रय मूल्य के बराबर राशि की हानि होती है। उसकी प्रतिशत हानि (निकटतम पूर्णांक तक) ज्ञात कीजिए।

- Ans
- ✓ 1. 11%
  - ✗ 2. 13%
  - ✗ 3. 10%
  - ✗ 4. 9%

Question ID : 65497839064  
Status : Answered  
Chosen Option : 1

Q.16 ₹5,580 की एक धनराशि को P, Q और R के बीच क्रमशः 7:11:13 के अनुपात में बांटा गया है। सबसे बड़े हिस्से के एक तिहाई और सबसे छोटे हिस्से के  $\frac{2}{5}$  भाग का अंतर (र में) ज्ञात कीजिए।

- Ans
- ✗ 1. 288
  - ✗ 2. 504
  - ✓ 3. 276
  - ✗ 4. 516

Question ID : 65497838961  
Status : Answered  
Chosen Option : 3

Q.17 यदि दो संख्याएँ  $\frac{4}{5}$  :  $\frac{5}{6}$  के अनुपात में हैं, तो पहली संख्या, दूसरी संख्या से कितने प्रतिशत अधिक या कम है?

- Ans
- ✓ 1. 4% कम
  - ✗ 2.  $18\frac{2}{11}\%$  कम
  - ✗ 3. 4% अधिक
  - ✗ 4. 20% कम

Question ID : 65497838042  
Status : Answered  
Chosen Option : 1

Q.18 k का वह अधिकतम मान ज्ञात कीजिए, जिसके लिए 6 अंकों की संख्या 450k1k, 3 से पूर्णतः विभाज्य हो।

- Ans
- ✗ 1. 6
  - ✓ 2. 7
  - ✗ 3. 9
  - ✗ 4. 8

Question ID : 65497838646  
Status : Answered  
Chosen Option : 2

Q.19 एक वस्तु का अंकित मूल्य ₹735 था। रवि ने इसके अंकित मूल्य पर 20% का बढ़टा (छूट) देते हुए इसे बेचा और 47% लाभ अर्जित किया। वस्तु का क्रय मूल्य (₹ में) क्या था?

- Ans
- ☒ 1. 420
  - ☒ 2. 400
  - ☒ 3. 375
  - ☒ 4. 450

Question ID : 65497838549  
Status : Answered  
Chosen Option : 2

Q.20 एक निश्चित धनराशि 8.5% वार्षिक साधारण ब्याज की दर पर  $3\frac{1}{2}$  वर्ष में ₹12,456 हो जाती है। समान धनराशि पर समान ब्याज दर पर  $6\frac{1}{4}$  वर्ष में प्राप्त साधारण ब्याज ज्ञात कीजिए।

- Ans
- ☒ 1. ₹3,060
  - ☒ 2. ₹5,046
  - ☒ 3. ₹5,100
  - ☒ 4. ₹5,240

Question ID : 65497838661  
Status : Answered  
Chosen Option : 1

Q.21 एक गांव की जनसंख्या में प्रतिवर्ष 6.25% की वृद्धि होती है। यदि गांव की वर्तमान जनसंख्या 4046 है, तो 2 वर्ष पूर्व इसकी जनसंख्या कितनी थी?

- Ans
- ☒ 1. 3648
  - ☒ 2. 3584
  - ☒ 3. 3456
  - ☒ 4. 3328

Question ID : 65497838653  
Status : Answered  
Chosen Option : 2

Q.22 संख्याओं 64, 81, 85 और 109 प्रत्येक में से  $x$  को घटाने पर प्राप्त होने वाली संख्याएं इसी क्रम में समानुपाती हैं।  $(x+3)$  और  $(2x-1)$  के बीच माध्यानुपाती कितना होगा?

- Ans
- ☒ 1. 18
  - ☒ 2. 30
  - ☒ 3. 20
  - ☒ 4. 15

Question ID : 65497838557  
Status : Not Answered  
Chosen Option : --



Q.23 ब्याज पर उधार दी गई एक धनराशि, ब्याज अर्ध-वार्षिक रूप से संयोजित होता है, एक वर्ष में ₹54,000 और दो वर्षों में ₹65,340 हो जाती है। वार्षिक ब्याज दर ज्ञात करें।

- Ans
- ☒ 1. 16%
  - ☒ 2. 20%
  - ☒ 3. 10%
  - ☒ 4. 12%

Question ID : 65497838050  
Status : Answered  
Chosen Option : 3

Q.24 एक व्यक्ति अपनी सामान्य चाल की तीन-चौथाई चाल से चलते हुए अपने कार्यालय 4 मिनट देरी से पहुंचता है। वह आमतौर पर अपने कार्यालय तक पहुँचने में कितना समय (मिनटों में) लेता है?

- Ans
- ☒ 1. 11
  - ☒ 2. 12
  - ☒ 3. 14
  - ☒ 4. 10

Question ID : 65497838055  
Status : Answered  
Chosen Option : 2

Q.25 यदि  $a + b + c = 3$ ,  $ab + bc + ca = -10$  और  $abc = -24$  है, तो  $\frac{a^2}{bc} + \frac{b^2}{ac} + \frac{c^2}{ab}$  का मान क्या होगा?

- Ans
- ☒ 1.  $-\frac{15}{8}$
  - ☒ 2.  $-\frac{39}{8}$
  - ☒ 3.  $\frac{15}{8}$
  - ☒ 4.  $\frac{63}{8}$

Question ID : 65497838568  
Status : Answered  
Chosen Option : 2

Section : General awareness

Q.1 निम्नलिखित में से कौन एक विकेटकीपर बल्लेबाज के रूप में भारत का प्रतिनिधित्व करता है?

- Ans
- ☒ 1. रवींद्र जडेजा
  - ☒ 2. जसप्रीत बुमराह
  - ☒ 3. रिद्धिमान साहा
  - ☒ 4. मयंक अग्रवाल

Question ID : 65497839302  
Status : Answered  
Chosen Option : 1



Q.2 भारतीय वित्तीय प्रणाली कोड में कितने अक्षरांकीय वर्ण (alpha-numeric characters) होते हैं?

- Ans
- ☐ 1. 10
  - ☐ 2. 9
  - ☐ 3. 12
  - ☒ 4. 11

Question ID : 65497838674

Status : Not Answered

Chosen Option : --

Q.3 नवंबर 2020 में, निम्नलिखित में से किसे 2020-21 की अवधि के लिए न्यूज़ ब्रॉडकास्टर्स एसोसिएशन के अध्यक्ष के रूप में नियुक्त किया गया था?

- Ans
- ☐ 1. संदीप चौधरी
  - ☒ 2. रजत शर्मा
  - ☐ 3. ज़ोहरा चटर्जी
  - ☐ 4. नसीम ज़ैदी

Question ID : 65497838083

Status : Answered

Chosen Option : 3

Q.4 मार्च 2021 में, मिशन सागर 4 के अंतर्गत, आईएनएस (INS) जलाश्व, द्वीप राष्ट्र को 1000 मीट्रिक टन \_\_\_\_\_ पहुंचाने के लिए पोर्ट अंजुआन, कोमोरोस पहुंचा था।

- Ans
- ☐ 1. गेहूं
  - ☐ 2. चीनी
  - ☐ 3. चाय
  - ☒ 4. चावल

Question ID : 65497838592

Status : Not Answered

Chosen Option : --

Q.5 बगदाद के खलीफा मुस्तानसिर बिल्लाह (Mustansir Billah) ने इल्तुतमिश को 'सुल्तान-ए-आज़म' (महान सुल्तान) और 'नासिर-अमीर-अल-मोमिन' (वफ़ादारों के नेता के प्रतिनिधि) की उपाधियाँ कब प्रदान कीं?

- Ans
- ☐ 1. 1224 ईस्वी
  - ☐ 2. 1210 ईस्वी
  - ☒ 3. 1229 ईस्वी
  - ☐ 4. 1220 ईस्वी

Question ID : 65497838583

Status : Answered

Chosen Option : 2

Q.6 अगस्त 2021 में, \_\_\_\_\_ के तेजू हवाई अड्डे से वाणिज्यिक उड़ानों का संचालन शुरू किया गया।

- Ans
- ☐ 1. हिमाचल प्रदेश
  - ☐ 2. मिज़ोरम
  - ☐ 3. सिक्किम
  - ☒ 4. अरुणाचल प्रदेश

Question ID : 65497839101

Status : Answered

Chosen Option : 2

Q.7 सम्राट अकबर ने 1585 में अपनी राजधानी लाहौर स्थानांतरित की। उसने राजधानी को लाहौर से पुनः आगरा में कब स्थानांतरित किया?

- Ans
- ☒ 1. 1591
  - ☒ 2. 1595
  - ☒ 3. 1588
  - ☒ 4. 1599

Question ID : 65497838684  
Status : Answered  
Chosen Option : 1

Q.8 नीले आसमान के लिए अंतरराष्ट्रीय स्वच्छ वायु दिवस \_\_\_\_\_ को मनाया जाता है।

- Ans
- ☒ 1. 7 सितंबर
  - ☒ 2. 23 मई
  - ☒ 3. 13 अक्टूबर
  - ☒ 4. 30 जुलाई

Question ID : 65497838066  
Status : Not Answered  
Chosen Option : --

Q.9 निम्न में से कौन सा, उभयलिंगी प्राणी नहीं है?

- Ans
- ☒ 1. केंचुआ
  - ☒ 2. जोंक
  - ☒ 3. थल घोंघा
  - ☒ 4. रानी मधुमक्खी

Question ID : 65497839085  
Status : Answered  
Chosen Option : 4

Q.10 रामप्पा मंदिर के नाम से लोकप्रिय, रुद्रेश्वर \_\_\_\_\_ में स्थित है।

- Ans
- ☒ 1. आंध्र प्रदेश
  - ☒ 2. तेलंगाना
  - ☒ 3. केरल
  - ☒ 4. कर्नाटक

Question ID : 65497839079  
Status : Answered  
Chosen Option : 4

Q.11 भारत के सर्वोच्च न्यायालय की पहली बैठक इनमें से किस वर्ष में आयोजित हुई थी?

- Ans
- ☒ 1. 1952
  - ☒ 2. 1947
  - ☒ 3. 1957
  - ☒ 4. 1950

Question ID : 65497839097  
Status : Not Answered  
Chosen Option : --

Q.12 खेलो इंडिया यूथ गेम्स के चौथे संस्करण का आयोजन \_\_\_\_\_ में किया जाएगा।

- Ans ☒ 1. हरियाणा  
☒ 2. पंजाब  
☒ 3. कर्नाटक  
☒ 4. असम

Question ID : 65497838283  
Status : Answered  
Chosen Option : 1

Q.13 स्रोत पर एकत्रित कर जमा करने के लिए भारतीय करदाताओं द्वारा किस ITNS/आईटीएनएस (इनकम टैक्स न्यू सीरीज) चालान का उपयोग किया जाता है?

- Ans ☒ 1. ITNS 282  
☒ 2. ITNS 284  
☒ 3. ITNS 283  
☒ 4. ITNS 281

Question ID : 65497838573  
Status : Not Answered  
Chosen Option : --

Q.14 निम्न में से कौन सा रासायनिक यौगिक नहीं है?

- Ans ☒ 1. जल  
☒ 2. साधारण नमक  
☒ 3. वायु  
☒ 4. बेकिंग सोडा

Question ID : 65497838676  
Status : Answered  
Chosen Option : 3

Q.15 पंडित निखिल बनर्जी \_\_\_\_\_ के प्रतिपादकों में से एक थे।

- Ans ☒ 1. वीणा  
☒ 2. सितार  
☒ 3. बांसुरी  
☒ 4. संतूर

Question ID : 65497838672  
Status : Not Answered  
Chosen Option : --

Q.16 मुगल साम्राज्य के संदर्भ में, 'हरम' शब्द निम्न में से किसे संदर्भित करता है?

- Ans ☒ 1. मुगलों की दक्कन नीति  
☒ 2. संगमरमर के स्मारकों के निर्माण की पहल  
☒ 3. कराधान प्रणाली  
☒ 4. मुगलों की घरेलू दुनिया

Question ID : 65497839091  
Status : Answered  
Chosen Option : 3

Q.17 1952 में आयोजित पहले लोकसभा चुनाव से गणना करते हुए, 2019 लोकसभा चुनाव की क्रम संख्या कितनी होगी?

- Ans
- ☒ 1. 16वीं
  - ☒ 2. 19वीं
  - ☒ 3. 17वीं
  - ☒ 4. 18वीं

Question ID : 65497838688  
Status : Answered  
Chosen Option : 3

Q.18 निम्न में से कौन भारत में आर्थिक सर्वेक्षण के प्रमुख लेखक (principal author) हैं?

- Ans
- ☒ 1. वित्त मंत्री
  - ☒ 2. मुख्य आर्थिक सलाहकार
  - ☒ 3. प्रधान मंत्री
  - ☒ 4. राज्यपाल

Question ID : 65497838061  
Status : Answered  
Chosen Option : 2

Q.19 इनमें से किसे 2019 के आम चुनावों के बाद लोकसभा में भारतीय राष्ट्रीय कांग्रेस के नेता के रूप में नियुक्त किया गया था?

- Ans
- ☒ 1. ओम बिरला
  - ☒ 2. अधीर रंजन चौधरी
  - ☒ 3. आनंद शर्मा
  - ☒ 4. मनीष तिवारी

Question ID : 65497838584  
Status : Answered  
Chosen Option : 2

Q.20 निम्न में से किस नदी का उद्गम स्थल, त्र्यंबकेश्वर के पास स्थित है?

- Ans
- ☒ 1. नर्मदा
  - ☒ 2. कावेरी
  - ☒ 3. कृष्णा
  - ☒ 4. गोदावरी

Question ID : 65497838679  
Status : Not Answered  
Chosen Option : --

Q.21 निम्नलिखित में से किसने 'मातोश्री' पुस्तक लिखी, जो मराठा रानी अहिल्याबाई होल्कर के जीवन पर आधारित है?

- Ans
- ☒ 1. के.सी. पंत
  - ☒ 2. सुमित्रा महाजन
  - ☒ 3. चेतन भगत
  - ☒ 4. अरुंधति सुब्रमण्यम

Question ID : 65497838075  
Status : Answered  
Chosen Option : 2

Q.22 दिए गए भारतीय शहरों को सुदूरतम दक्षिणी भाग से शुरू करते हुए, दक्षिण से उत्तर की ओर के क्रम में व्यवस्थित करें।

- A) मदुरई
- B) सेलम
- C) कर्नूल
- D) तिरुपति

Ans ☒ 1. ABCD  
☒ 2. BCAD  
☒ 3. BADC  
☒ 4. ABDC

Question ID : 65497838578

Status : Not Answered

Chosen Option : --

Q.23 इनमें से कौन भारत के अंतिम वायसराय थे?

Ans ☒ 1. लॉर्ड कैनिंग  
☒ 2. लॉर्ड कर्जन  
☒ 3. लॉर्ड इर्विन  
☒ 4. लॉर्ड माउंटबेटन

Question ID : 65497838070

Status : Answered

Chosen Option : 4

Q.24 तमिलनाडु, आंध्र प्रदेश और केरल में पाई जाने वाली लाल लैटेराइट मिट्टी \_\_\_\_\_ जैसी फसलों के लिए अधिक उपयुक्त होती है।

Ans ☒ 1. गेहूं  
☒ 2. कपास  
☒ 3. काजू  
☒ 4. चावल

Question ID : 65497839089

Status : Answered

Chosen Option : 2

Q.25 निम्न में से किस भारतीय शतरंज खिलाड़ी ने स्पिलिमबर्गो ओपन शतरंज टूर्नामेंट, 2021 जीता था?

Ans ☒ 1. आर. वैशाली  
☒ 2. निहाल सरीन  
☒ 3. श्रीनाथ नारायणन  
☒ 4. रौनक साधवानी

Question ID : 65497838080

Status : Not Answered

Chosen Option : --