

Selection Post Phase IX 2021 Matriculation level

Roll Number	
Candidate Name	
Venue Name	
Exam Date	07/02/2022
Exam Time	3:00 PM - 4:00 PM
Subject	Selection Post Matriculation Level

Section : General Intelligence

Q.1 उस विकल्प का चयन कीजिए, जिसका तीसरे अक्षर-समूह से वही संबंध है, जो दूसरे अक्षर-समूह का पहले अक्षर-समूह से है।

SNR : QMP :: PGH : ?

Ans ☒ 1. NTF

☒ 2. RTJ

☒ 3. NSG

☒ 4. MTF

Question ID : 65497838089

Status : Answered

Chosen Option : 1

Q.2 सात व्यक्ति, गिरि, मृणाली, अनीता, दिविजा, जगन, टियाना और हेमा, एक ही परिवार से संबंधित हैं। मृणाली, जगन की बहू हैं। टियाना, दिविजा की दादी हैं। हेमा, जगन की साली है। गिरि के दो बच्चे हैं, अनीता और दिविजा। टियाना, हेमा की इकलौती बहन है। मृणाली का कोई बेटा नहीं है। दिविजा का जगन से क्या संबंध है?

Ans ☒ 1. पोती

☒ 2. बहू

☒ 3. बेटी

☒ 4. बहन

Question ID : 65497838712

Status : Answered

Chosen Option : 1

Q.3 दिए गए समीकरण को सही करने के लिए किन दो चिह्नों को आपस में बदला जाना चाहिए?

$$31 + 69 \div 23 \times 5 - 83 = 99$$

Ans ☒ 1. - और ×

☒ 2. + और ×

☒ 3. - और +

☒ 4. + और ×

Question ID : 65497838104

Status : Not Attempted and Marked For Review

Chosen Option : --

Q.4 'विनम्र' का, 'सौम्य' से वही संबंध है, जो 'विपुल' का ' _____ ' से है।

- Ans
- ☒ 1. छोटा
 - ☒ 2. साधारण
 - ☒ 3. विशाल
 - ☒ 4. नन्हा

Question ID : 65497838904

Status : Answered

Chosen Option : 3

Q.5 दिए गए विकल्पों में से उस अक्षर-समूह का चयन करें, जो निम्नलिखित श्रृंखला में प्रश्न चिह्न (?) के स्थान पर आ सकता है।

EIM, QUY, CGK, ?

- Ans
- ☒ 1. DHL
 - ☒ 2. LPT
 - ☒ 3. OSW
 - ☒ 4. SWA

Question ID : 65497838492

Status : Answered

Chosen Option : 3

Q.6 वह सही विकल्प चुनें जो दिए गए शब्दों का वही क्रम प्रदर्शित करता है जिस क्रम में वे अंग्रेजी शब्दकोश में आते हैं।

- 1. Graduate
- 2. Gypsum
- 3. Geosciences
- 4. Gradient
- 5. Gymnasium
- 6. Geographical

- Ans
- ☒ 1. 3, 6, 1, 4, 5, 2
 - ☒ 2. 3, 1, 6, 5, 4, 2
 - ☒ 3. 6, 3, 4, 1, 5, 2
 - ☒ 4. 6, 4, 3, 5, 1, 2

Question ID : 65497838901

Status : Answered

Chosen Option : 3

Q.7 पांच अक्षर-समूह दिए गए हैं, जिनमें से चार किसी तरह से संगत हैं और एक असंगत है। उस अक्षर-समूह का चयन करें, जो अन्य से असंगत है।

WXZ, RSU, MNP, KLM, EFH

- Ans
- ☒ 1. WXZ
 - ☒ 2. RSU
 - ☒ 3. EFH
 - ☒ 4. KLM

Question ID : 65497838494

Status : Answered

Chosen Option : 4

Q.8 एक निश्चित कूट भाषा में, 'PHASE' को 'AEHPS' के रूप में लिखा जाता है। उसी भाषा में 'TONIC' को किस रूप में लिखा जाएगा?

- Ans ☒ 1. CINOT
☒ 2. NCOIT
☒ 3. CONTI
☒ 4. CIONT

Question ID : 65497838706

Status : Answered

Chosen Option : 2

Q.9 आठ व्यक्ति A, B, C, D, E, F, G और H एक परिवार से संबंधित हैं, जिसमें दो विवाहित जोड़ों सहित तीन पीढ़ियां शामिल हैं। B, C की मां है। E, C के इकलौते पुत्र की बहन है। A, G के दादाजी हैं, जो D की पुत्री है। D, A की पुत्रवधू है। H, F का चाचा है, जो C का पुत्र है। F का B से क्या संबंध है?

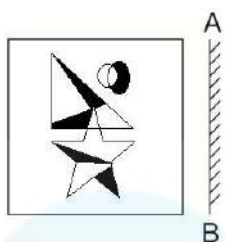
- Ans ☒ 1. भतीजा
☒ 2. पोता
☒ 3. पुत्र
☒ 4. भाई

Question ID : 65497837998

Status : Answered


Chosen Option : 2

Q.10 दी गई आकृति के सही दर्पण प्रतिबिंब का चयन कीजिए, जबकि दर्पण को चित्र में दिखाए गए अनुसार 'AB' पर रखा गया है।



Ans

✗ 1.



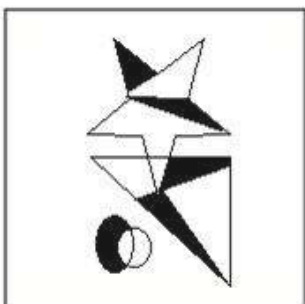
✓ 2.



✗ 3.



✗ 4.



Question ID : 65497838108

Status : Answered

Chosen Option : 2

Q.11 उस विकल्प का चयन करें, जिसमें दी गई आकृति अंतर्निहित है (आकृति को घुमाने की अनुमति नहीं है)।

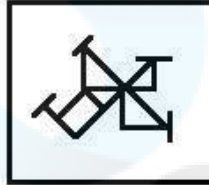


Ans

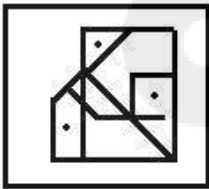
✗ 1.



✓ 2.



✗ 3.



✗ 4.



Question ID : 65497838923

Status : Answered

Chosen Option : 4

Q.12 अक्षरों के उस संयोजन का चयन कीजिए, जिसे दी गई श्रृंखला के रिक्त स्थानों में क्रमबद्ध रूप से रखने पर श्रृंखला पूर्ण हो जाएगी।

_cc_d_ch_c_h__ch

Ans

✗ 1. dhdcddc

✗ 2. hddcdcc

✓ 3. dhcdcdc

✗ 4. dhcdccd

Question ID : 65497838087

Status : Answered

Chosen Option : 3

Q.13 दिए गए कथनों और निष्कर्षों को ध्यानपूर्वक पढ़ें। कथनों में दी गई जानकारी को सत्य मानते हुए विचार करें, भले ही वह सामान्यतः ज्ञात तथ्यों से भिन्न प्रतीत होती हो, और तय करें कि दिए गए निष्कर्षों में से कौन से कथनों का तार्किक रूप से पालन करते हैं?

कथन:

सभी गेंद रैकेट हैं।
सभी रैकेट बल्ले हैं।
सभी बल्ले पैड हैं।

निष्कर्ष:

I. कोई गेंद पैड नहीं है।
II. सभी बल्ले रैकेट हैं।

Ans ☒ 1. न तो निष्कर्ष I और न ही II पालन करता है।

☒ 2. केवल निष्कर्ष I पालन करता है।

☒ 3. निष्कर्ष I और II दोनों पालन करते हैं।

☒ 4. केवल निष्कर्ष II पालन करता है।

Question ID : 65497838105

Status : Answered

Chosen Option : 1

Q.14 श्रेणी 199, 208, 217,, 406 में कितने पद हैं?

Ans ☒ 1. 24

☒ 2. 22

☒ 3. 17

☒ 4. 19

Question ID : 65497838917

Status : Answered

Chosen Option : 1

Q.15 P, Q, R, S, T, V, W, Y और Z एक वृत्त के परितः केंद्र की ओर मुख करके बैठे हैं। Z, R के दाईं ओर दूसरे स्थान पर है, जो P के दाईं ओर चौथे स्थान पर है। S, R और Z के बीच में बैठा है। S, Q के बाईं ओर तीसरे स्थान पर है। V, P के बाईं ओर दूसरे स्थान पर है, जो W और Q के बीच में है। Y, R और T के बीच में बैठा है। Z के दाईं ओर दूसरे स्थान पर कौन बैठा है?

Ans ☒ 1. W

☒ 2. T

☒ 3. Q

☒ 4. P

Question ID : 65497838913

Status : Answered

Chosen Option : 3

Q.16 एक निश्चित कूट भाषा में, 'CACTUS' को 'GCGVYU' लिखा जाता है और 'DAHLIA' को 'HCLNMC' लिखा जाता है। उसी कूट भाषा में 'ORCHID' को किस प्रकार लिखा जाएगा?

Ans ☒ 1. STHJNF

☒ 2. STGJMF

☒ 3. STHIMF

☒ 4. STGKNE

Question ID : 65497838091

Status : Answered

Chosen Option : 2

Q.17 एक निश्चित कूट भाषा में, 'HASTY' को '2782619' के रूप में कूटबद्ध किया जाता है। उसी भाषा में 'BLAME' को कैसे कूटबद्ध किया जाएगा?

- Ans
- ☒ 1. 2523262215
 - ☒ 2. 2213261225
 - ☒ 3. 2515261422
 - ☒ 4. 2214261525

Question ID : 65497838908

Status : Not Attempted and Marked For Review

Chosen Option : --

Q.18 दिए गए कथनों और निष्कर्षों को ध्यानपूर्वक पढ़ें। कथनों में दी गई जानकारी को सत्य मानते हुए विचार करें, भले ही वह सामान्यतः ज्ञात तथ्यों से भिन्न प्रतीत होती हो, और तय करें कि दिए गए निष्कर्षों में से कौन से कथनों का तार्किक रूप से पालन करते हैं?

कथन:

1. कुछ खिलौने गुड़ियां हैं।
2. सभी गुड़ियां सुंदर हैं।
3. सभी कारें खिलौने हैं।

निष्कर्ष:

- I. सभी कारें सुंदर हैं।
- II. कुछ खिलौने सुंदर हैं।

- Ans
- ☒ 1. केवल निष्कर्ष I पालन करता है।
 - ☒ 2. निष्कर्ष I और II दोनों ही पालन करते हैं।
 - ☒ 3. न तो निष्कर्ष I और न ही II पालन करता है।
 - ☒ 4. केवल निष्कर्ष II पालन करता है।

Question ID : 65497838099

Status : Answered

Chosen Option : 4

Q.19 यदि केक को 'ब्रेड' कहा जाता है, ब्रेड को 'पेस्ट्री' कहा जाता है, पेस्ट्री को 'कॉफी' कहा जाता है, और कॉफी को 'कुकीज़' कहा जाता है, तो किस उत्पाद में कैफीन होता है?

- Ans
- ☒ 1. पेस्ट्री
 - ☒ 2. ब्रेड
 - ☒ 3. कुकीज़
 - ☒ 4. कॉफी

Question ID : 65497838196

Status : Answered

Chosen Option : 3

Q.20 एक निश्चित कूट भाषा में, 'SLICE' को '222418310' के रूप में कूटबद्ध किया जाता है, और 'FRIGHT' को '2192018921' के रूप में कूटबद्ध किया जाता है। उसी भाषा में 'PLUNGE' को किस रूप में कूटबद्ध किया जाएगा?

- Ans
- ☒ 1. 22023537
 - ☒ 2. 50215137
 - ☒ 3. 52013157
 - ☒ 4. 22205337

Question ID : 65497838707

Status : Not Attempted and Marked For Review

Chosen Option : --

Q.21 एक निश्चित कूट भाषा में, 'SIGN' को '3614' के रूप में कूटबद्ध किया जाता है और 'RISK' को '7639' के रूप में कूटबद्ध किया जाता है। उसी भाषा में 'KING' को किस रूप में कूटबद्ध किया जाएगा?

Ans ☒ 1. 9641

☐ 2. 9614

☐ 3. 3641

☐ 4. 3461

Question ID : 65497838197

Status : Answered


Chosen Option : 1

Q.22 दिए गए विकल्पों में से उस आकृति का चयन कीजिए, जो प्रश्न चिह्न (?) के स्थान पर आ सकती है और पैटर्न को पूर्ण कर सकती है।
(आकृति को घुमाने की अनुमति नहीं है)

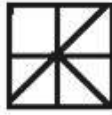


Ans

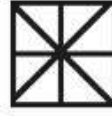
☐ 1.



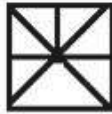
☐ 2.



☒ 3.



☐ 4.



Question ID : 65497838514

Status : Answered

Chosen Option : 3

Q.23 छह मित्र J, K, L, M, N और O एक वृत्ताकार मेज के परितः केंद्र के विपरीत दिशा में मुख करके बैठे हैं। M और J, L के निकटतम पड़ोसी नहीं हैं। L, N के दाईं ओर दूसरे स्थान पर बैठा है। K, L के बाईं ओर निकटतम स्थान पर बैठा है। N के दाईं ओर तीसरे स्थान पर कौन बैठा है?

Ans ☒ 1. O

☐ 2. M

☐ 3. K

☐ 4. J

Question ID : 65497838096

Status : Not Answered

Chosen Option : --

Q.24 उस विकल्प का चयन कीजिए, जिसका तीसरी संख्या से वही संबंध है, जो दूसरी संख्या का पहली संख्या से है और छठी संख्या का पांचवीं संख्या से है।

486 : 9 :: 464 : ? :: 352 : 5

Ans ☒ 1. 8

☒ 2. 7

☒ 3. 9

☒ 4. 6

Question ID : 65497838103

Status : Answered

Chosen Option : 2

Q.25 उस संख्या की पहचान करें, जो निम्नलिखित श्रेणी से संबंधित नहीं है।

209, 160, 124, 95, 83, 74

Ans ☒ 1. 83

☒ 2. 160

☒ 3. 95

☒ 4. 124

Question ID : 65497838510

Status : Answered

Chosen Option : 1

Section : English Language

Q.1 Select the most appropriate synonym of the given word.

Condone

Ans ☒ 1. Forgive

☒ 2. Rejoice

☒ 3. Punish

☒ 4. Scold

Question ID : 65497838113

Status : Answered

Chosen Option : 4

Q.2 Select the most appropriate synonym of the given word.

Release

Ans ☒ 1. Hold

☒ 2. Free

☒ 3. Capture

☒ 4. Keep

Question ID : 65497838930

Status : Answered

Chosen Option : 2

Q.3 Select the most appropriate meaning of the given idiom.

On the back burner

- Ans ☒ 1. To temporarily not deal with some matter because it is not urgent
- ☐ 2. To be unable to complete a task because of a back problem
- ☐ 3. To carry a heavy burden successfully and without complaining
- ☐ 4. To cook a special dish slowly by placing it on the back burner

Question ID : 65497838117

Status : Answered

Chosen Option : 1

Q.4 Select the most appropriate option to fill in the blank.

The king often went on a hunting _____ in the nearby forest.

- Ans ☐ 1. march
- ☒ 2. expedition
- ☐ 3. tour
- ☐ 4. journey

Question ID : 65497838928

Status : Answered

Chosen Option : 3

Q.5 Select the INCORRECTLY spelt word.

- Ans ☐ 1. Insult
- ☒ 2. Esteam
- ☐ 3. Revere
- ☐ 4. Scorn

Question ID : 65497838428

Status : Answered

Chosen Option : 2

Q.6 Select the INCORRECTLY spelt word.

- Ans ☐ 1. Bedridden
- ☒ 2. Addittional
- ☐ 3. Adapt
- ☐ 4. Adept

Question ID : 65497838123

Status : Answered

Chosen Option : 2

Q.7 Select the option that expresses the given sentence in active voice.

Let the children be given enough time to read.

- Ans ☐ 1. Let us gave the children enough time to read.
- ☒ 2. Give the children enough time to read.
- ☐ 3. Let the time give enough children to read.
- ☐ 4. You should have given the children enough time to read.

Question ID : 65497838925

Status : Answered

Chosen Option : 2

Q.8 Select the option that can be used as a one-word substitute for the given group of words.

A given space, time or position

- Ans
- ☒ 1. Shot
 - ☒ 2. Stuff
 - ☒ 3. Slot
 - ☒ 4. Stock

Question ID : **65497838527**
Status : **Answered**
Chosen Option : **3**

Q.9 Select the **INCORRECTLY** spelt word.

- Ans
- ☒ 1. Gourmet
 - ☒ 2. Gracious
 - ☒ 3. Graceful
 - ☒ 4. Goverment

Question ID : **65497838938**
Status : **Answered**
Chosen Option : **4**

Q.10 Select the most appropriate **ANTONYM** of the given word.

Fasten

- Ans
- ☒ 1. Release
 - ☒ 2. Attach
 - ☒ 3. Catch
 - ☒ 4. Connect

Question ID : **65497838523**
Status : **Answered**
Chosen Option : **1**

Q.11 Select the most appropriate **ANTONYM** of the given word.

Recede

- Ans
- ☒ 1. Lessen
 - ☒ 2. Enlarge
 - ☒ 3. Reduce
 - ☒ 4. Diminish

Question ID : **65497838116**
Status : **Not Answered**
Chosen Option : **--**

Q.12 Select the option that can be used as a one-word substitute for the given group of words.

The belief that people cannot change or avoid what happens

- Ans ☒ 1. Heroism
☒ 2. Fatalism
☒ 3. Truism
☒ 4. Populism

Question ID : 65497838120
Status : Answered
Chosen Option : 1

Q.13 Select the option that expresses the given sentence in indirect speech.

The gardener said, "These roses will bloom early."

- Ans ☒ 1. The gardener said that these roses will bloom early.
☒ 2. The gardener said that those roses will bloom early.
☒ 3. The gardener said that these roses would bloom early.
☒ 4. The gardener said that those roses would bloom early.

Question ID : 65497838518
Status : Answered
Chosen Option : 1

Q.14 Select the most appropriate meaning of the given idiom.

More or less

- Ans ☒ 1. exactly
☒ 2. sometimes more, sometimes less
☒ 3. approximately
☒ 4. correctly

Question ID : 65497838934
Status : Answered
Chosen Option : 3

Q.15 Select the most appropriate option to fill in the blank.

The ancient Indian texts _____ trees and plants to be animate beings that should never be harmed.

- Ans ☒ 1. extract
☒ 2. consider
☒ 3. inspect
☒ 4. reflect

Question ID : 65497838111
Status : Answered
Chosen Option : 2

Comprehension:

Read the given passage and answer the questions that follow.

Do you know that fashion accounts for around 10% of greenhouse gas emissions from human activity?

It is imperative that we educate ourselves about the ways in which we can reduce the impact our wardrobe has on the climate.

We are a society that is addicted to mindless consumerism. Each of us needs to think deeply about the ways and means through which we can reduce our carbon footprint on the environment. Let us begin with our wardrobe. What is it that leads us to over-purchase? Is there an underlying reason for our compulsive buying?

Psychologists say that underlying the impulse to buy is our need for self-esteem, status and belonging. They also say that the impulse to shop is difficult to control with the emergence of online shopping 24/7 over the internet.

One way to beat this is to simply ration the time you spend looking at clothes online. Another way is to open vintage or second-hand clothes stores. The latter can be more successful as it still gives the buyer the thrill of buying and experiencing the sense of reward and fulfillment. In doing so, one slows down the fast-fashion cycle by giving a second life to clothes.

Besides buying less, one can extend the life of our clothes by mending and repairing them.

Websites like Love your Clothes encourage this and also offer tips on how to do this.

Finally, how one disposes one's worn out clothes at the end of their useful life is also very important. Dumping them only adds to the huge landfills or to increased harmful emissions through incineration. The most environmentally sound way of disposing them is to send them for recycling. Some major manufacturers have now started using recycled fabrics, but it is often hard for consumers to find places to take their old clothes.

SubQuestion No : 16

Q.16 The main idea of this text is that one must:

- Ans
- ☐ 1. restrict online shopping only to weekends
 - ☐ 2. take courses in stitching and repairing clothes
 - ☐ 3. make manufacturers manage landfills
 - ☒ 4. act on ways to reduce one's carbon footprint

Question ID : 65497838134

Status : Answered

Chosen Option : 2

Comprehension:

Read the given passage and answer the questions that follow.

Do you know that fashion accounts for around 10% of greenhouse gas emissions from human activity?

It is imperative that we educate ourselves about the ways in which we can reduce the impact our wardrobe has on the climate.

We are a society that is addicted to mindless consumerism. Each of us needs to think deeply about the ways and means through which we can reduce our carbon footprint on the environment. Let us begin with our wardrobe. What is it that leads us to over-purchase? Is there an underlying reason for our compulsive buying?

Psychologists say that underlying the impulse to buy is our need for self-esteem, status and belonging. They also say that the impulse to shop is difficult to control with the emergence of online shopping 24/7 over the internet.

One way to beat this is to simply ration the time you spend looking at clothes online. Another way is to open vintage or second-hand clothes stores. The latter can be more successful as it still gives the buyer the thrill of buying and experiencing the sense of reward and fulfillment. In doing so, one slows down the fast-fashion cycle by giving a second life to clothes.

Besides buying less, one can extend the life of our clothes by mending and repairing them.

Websites like Love your Clothes encourage this and also offer tips on how to do this.

Finally, how one disposes one's worn out clothes at the end of their useful life is also very important. Dumping them only adds to the huge landfills or to increased harmful emissions through incineration. The most environmentally sound way of disposing them is to send them for recycling. Some major manufacturers have now started using recycled fabrics, but it is often hard for consumers to find places to take their old clothes.

SubQuestion No : 17

Q.17 Manufacturers can contribute to the environment by motivating people to return their worn out clothes for:

- Ans**
- ☒ 1. washing
 - ☒ 2. burning
 - ☒ 3. advertising
 - ☒ 4. recycling

Question ID : 65497838135

Status : Answered

Chosen Option : 4

Comprehension:

Read the given passage and answer the questions that follow.

Do you know that fashion accounts for around 10% of greenhouse gas emissions from human activity?

It is imperative that we educate ourselves about the ways in which we can reduce the impact our wardrobe has on the climate.

We are a society that is addicted to mindless consumerism. Each of us needs to think deeply about the ways and means through which we can reduce our carbon footprint on the environment. Let us begin with our wardrobe. What is it that leads us to over-purchase? Is there an underlying reason for our compulsive buying?

Psychologists say that underlying the impulse to buy is our need for self-esteem, status and belonging. They also say that the impulse to shop is difficult to control with the emergence of online shopping 24/7 over the internet.

One way to beat this is to simply ration the time you spend looking at clothes online. Another way is to open vintage or second-hand clothes stores. The latter can be more successful as it still gives the buyer the thrill of buying and experiencing the sense of reward and fulfillment. In doing so, one slows down the fast-fashion cycle by giving a second life to clothes.

Besides buying less, one can extend the life of our clothes by mending and repairing them.

Websites like Love your Clothes encourage this and also offer tips on how to do this.

Finally, how one disposes one's worn out clothes at the end of their useful life is also very important. Dumping them only adds to the huge landfills or to increased harmful emissions through incineration. The most environmentally sound way of disposing them is to send them for recycling. Some major manufacturers have now started using recycled fabrics, but it is often hard for consumers to find places to take their old clothes.

SubQuestion No : 18

Q.18 According to the passage, we can all contribute towards a healthy environment by rethinking about our:

- Ans**
- ☒ 1. garden
 - ☒ 2. kitchen
 - ☒ 3. wardrobe
 - ☒ 4. bedroom

Question ID : 65497838131

Status : Answered

Chosen Option : 3

Comprehension:

Read the given passage and answer the questions that follow.

Do you know that fashion accounts for around 10% of greenhouse gas emissions from human activity?

It is imperative that we educate ourselves about the ways in which we can reduce the impact our wardrobe has on the climate.

We are a society that is addicted to mindless consumerism. Each of us needs to think deeply about the ways and means through which we can reduce our carbon footprint on the environment. Let us begin with our wardrobe. What is it that leads us to over-purchase? Is there an underlying reason for our compulsive buying?

Psychologists say that underlying the impulse to buy is our need for self-esteem, status and belonging. They also say that the impulse to shop is difficult to control with the emergence of online shopping 24/7 over the internet.

One way to beat this is to simply ration the time you spend looking at clothes online. Another way is to open vintage or second-hand clothes stores. The latter can be more successful as it still gives the buyer the thrill of buying and experiencing the sense of reward and fulfillment. In doing so, one slows down the fast-fashion cycle by giving a second life to clothes.

Besides buying less, one can extend the life of our clothes by mending and repairing them.

Websites like Love your Clothes encourage this and also offer tips on how to do this.

Finally, how one disposes one's worn out clothes at the end of their useful life is also very important. Dumping them only adds to the huge landfills or to increased harmful emissions through incineration. The most environmentally sound way of disposing them is to send them for recycling. Some major manufacturers have now started using recycled fabrics, but it is often hard for consumers to find places to take their old clothes.

SubQuestion No : 19

Q.19 Select the option that does NOT correctly complete the given sentence.

Psychologists state that addictive buying can be a result of the _____.

- Ans
- ☒ 1. availability of internet and round-the clock shopping
 - ☒ 2. lack of a sense of belonging
 - ☒ 3. new craze for vintage clothes
 - ☒ 4. feeling of inferiority and want

Question ID : 65497838132

Status : Not Answered

Chosen Option : --

Comprehension:

Read the given passage and answer the questions that follow.

Do you know that fashion accounts for around 10% of greenhouse gas emissions from human activity?

It is imperative that we educate ourselves about the ways in which we can reduce the impact our wardrobe has on the climate.

We are a society that is addicted to mindless consumerism. Each of us needs to think deeply about the ways and means through which we can reduce our carbon footprint on the environment. Let us begin with our wardrobe. What is it that leads us to over-purchase? Is there an underlying reason for our compulsive buying?

Psychologists say that underlying the impulse to buy is our need for self-esteem, status and belonging. They also say that the impulse to shop is difficult to control with the emergence of online shopping 24/7 over the internet.

One way to beat this is to simply ration the time you spend looking at clothes online. Another way is to open vintage or second-hand clothes stores. The latter can be more successful as it still gives the buyer the thrill of buying and experiencing the sense of reward and fulfillment. In doing so, one slows down the fast-fashion cycle by giving a second life to clothes.

Besides buying less, one can extend the life of our clothes by mending and repairing them.

Websites like Love your Clothes encourage this and also offer tips on how to do this.

Finally, how one disposes one's worn out clothes at the end of their useful life is also very important. Dumping them only adds to the huge landfills or to increased harmful emissions through incineration. The most environmentally sound way of disposing them is to send them for recycling. Some major manufacturers have now started using recycled fabrics, but it is often hard for consumers to find places to take their old clothes.

SubQuestion No : 20

Q.20 Love your Clothes is an organisation that works for a sustainable environment by teaching people how to _____ their clothes.

- Ans
- ☒ 1. buy
 - ☒ 2. fold
 - ☒ 3. repair
 - ☒ 4. iron

Question ID : 65497838133

Status : Answered

Chosen Option : 3

Comprehension:

In the following passage some words have been deleted. Read the passage carefully and select the most appropriate option to fill each blank.

There is a fantastic body of evidence which indicates that (1)_____ brings down the stress chemical and it enhances (2)_____ happiness chemical. The videos of medicos (3)_____ in hospital corridors have helped us (4)_____ in these gloomy times. Indeed optimism and (5)_____ are the need of the hour.

SubQuestion No : 21

Q.21 Select the most appropriate option to fill in blank no. 1.

- Ans
- ☒ 1. playfully
 - ☒ 2. playfulness
 - ☒ 3. played
 - ☒ 4. plays

Question ID : 65497838125

Status : Answered

Chosen Option : 4

Comprehension:

In the following passage some words have been deleted. Read the passage carefully and select the most appropriate option to fill each blank.

There is a fantastic body of evidence which indicates that (1)_____ brings down the stress chemical and it enhances (2)_____ happiness chemical. The videos of medicos (3)_____ in hospital corridors have helped us (4)_____ in these gloomy times. Indeed optimism and (5)_____ are the need of the hour.

SubQuestion No : 22

Q.22 Select the most appropriate option to fill in blank no. 2.

- Ans ☒ 1. an
☒ 2. the
☐ 3. one
☐ 4. a

Question ID : 65497838126

Status : Answered

Chosen Option : 2

Comprehension:

In the following passage some words have been deleted. Read the passage carefully and select the most appropriate option to fill each blank.

There is a fantastic body of evidence which indicates that (1)_____ brings down the stress chemical and it enhances (2)_____ happiness chemical. The videos of medicos (3)_____ in hospital corridors have helped us (4)_____ in these gloomy times. Indeed optimism and (5)_____ are the need of the hour.

SubQuestion No : 23

Q.23 Select the most appropriate option to fill in blank no. 3.

- Ans ☒ 1. dancing
☐ 2. hiding
☐ 3. operating
☐ 4. crying

Question ID : 65497838127

Status : Answered

Chosen Option : 3

Comprehension:

In the following passage some words have been deleted. Read the passage carefully and select the most appropriate option to fill each blank.

There is a fantastic body of evidence which indicates that (1)_____ brings down the stress chemical and it enhances (2)_____ happiness chemical. The videos of medicos (3)_____ in hospital corridors have helped us (4)_____ in these gloomy times. Indeed optimism and (5)_____ are the need of the hour.

SubQuestion No : 24

Q.24 Select the most appropriate option to fill in blank no. 4.

- Ans ☒ 1. get by
☐ 2. get in
☐ 3. get off
☐ 4. get to

Question ID : 65497838128

Status : Answered

Chosen Option : 3

Comprehension:

In the following passage some words have been deleted. Read the passage carefully and select the most appropriate option to fill each blank.

There is a fantastic body of evidence which indicates that (1)_____ brings down the stress chemical and it enhances (2)_____ happiness chemical. The videos of medicos (3)_____ in hospital corridors have helped us (4)_____ in these gloomy times. Indeed optimism and (5)_____ are the need of the hour.

SubQuestion No : 25

Q.25 Select the most appropriate option to fill in blank no. 5.

- Ans ☒ 1. relativity
☒ 2. negativity
☒ 3. uncertainty
☒ 4. positivity

Question ID : 65497838129

Status : Answered

Chosen Option : 4

Section : Quantitative Aptitude

Q.1 सूरज ने ₹12.50 प्रति वस्तु की दर से 90 वस्तुएं खरीदीं। उसने उनमें से 60% वस्तुओं को ₹15 प्रति वस्तु की दर से और शेष में से 50% वस्तुओं को ₹10.50 प्रति वस्तु की दर से बेचा। इस पूरे संव्यवहार में 20% का लाभ प्राप्त करने के लिए उसे शेष वस्तुओं को प्रति वस्तु किस मूल्य (₹ में) पर बेचना चाहिए?

- Ans ☒ 1. 19
☒ 2. 19.50
☒ 3. 18.60
☒ 4. 18

Question ID : 65497838759

Status : Answered

Chosen Option : 2

Q.2 एक दुकानदार ने एक सोफा-सेट, एक सेंटर टेबल और एक डाइनिंग टेबल क्रमशः ₹15,000, ₹3,000 और ₹7,000 में खरीदा। उसने सोफा-सेट को 20% लाभ पर और सेंटर टेबल को 15% लाभ पर बेच दिया। पूरे लेन-देन पर 18% का लाभ पाने के लिए उसे डाइनिंग टेबल को कितने लाभ-प्रतिशत पर बेचना चाहिए?

- Ans ☒ 1. 17.5%
☒ 2. 12.5%
☒ 3. 15%
☒ 4. 12%

Question ID : 65497838249

Status : Answered

Chosen Option : 2

Q.3 II संख्याओं का औसत 55 है। यदि 70% संख्याओं में से प्रत्येक में 3 की कमी की जाती है और शेष संख्याओं में से प्रत्येक में 5 की वृद्धि की जाती है, तो इस प्रकार प्राप्त परिणामी संख्याओं का औसत ज्ञात कीजिए।

- Ans ☒ 1. 53.5
☒ 2. 54.1
☒ 3. 54.4
☒ 4. 53.8

Question ID : 65497838751

Status : Answered

Chosen Option : 3

Q.4 एक दुकानदार ने कंपनी A की 6 शर्ट 10% लाभ पर ₹4,290 में बेचीं और कंपनी B की 8 शर्ट 14% लाभ पर ₹6,156 में बेचीं। उसका लाभ प्रतिशत कितना था? (दो दशमलव स्थान तक)

- Ans
- ☒ 1. 12.75%
 - ☒ 2. 12.5%
 - ☒ 3. 12.32%
 - ☒ 4. 12%

Question ID : 65497838148
Status : Answered
Chosen Option : 3

Q.5 यदि $321a9246b$ एक ऐसी संख्या है जो 72 से विभाज्य है, तो $a^2 - b^2$ का मान ज्ञात करें।

- Ans
- ☒ 1. 12
 - ☒ 2. 10
 - ☒ 3. 8
 - ☒ 4. 9

Question ID : 65497838137
Status : Answered
Chosen Option : 4

Q.6 अरविंद साइकिल द्वारा 4 km/h की चाल से चलते हुए 15 मिनट की देरी से अपने विद्यालय पहुँचता है। यदि वह $4\frac{1}{2} \text{ km/h}$ की चाल से चले, तो वह अपने विद्यालय 10 मिनट पहले पहुँच जाएगा। उसके घर से विद्यालय की दूरी (km में) क्या है?

- Ans
- ☒ 1. 16
 - ☒ 2. 15
 - ☒ 3. 12
 - ☒ 4. 14

Question ID : 65497838157
Status : Answered
Chosen Option : 2

Q.7 A एक कार्य को पूरा करने के लिए 84 घंटे का समय लेता है। B उसी कार्य को A द्वारा लिए गए समय के एक चौथाई समय में पूरा करता है। वे 12 घंटे की अवधि में उस कार्य के कितने भाग को पूरा कर लेंगे?

- Ans
- ☒ 1. $\frac{5}{7}$
 - ☒ 2. $\frac{11}{21}$
 - ☒ 3. $\frac{1}{7}$
 - ☒ 4. $\frac{5}{21}$

Question ID : 65497838970
Status : Answered
Chosen Option : 1

Q.8 निम्नलिखित में k का मान ज्ञात करें।

$$880 \text{ का } 45\% - 450 \text{ का } k\% = 500 \text{ का } 61.2\%$$

- Ans
- ☒ 1. 24
 - ☒ 2. 20
 - ☒ 3. 25
 - ☒ 4. 18

Question ID : 65497838143

Status : Answered

Chosen Option : 2

Q.9 एक दुकानदार, साड़ियों के अंकित मूल्य पर 8% की छूट देते हुए प्रत्येक साड़ी को ₹529 में बेचता है। यदि वह छूट न देता तो उसे क्रय मूल्य पर 15% का लाभ प्राप्त होता। प्रत्येक साड़ी का क्रय मूल्य (₹ में) क्या है?

- Ans
- ☒ 1. 540
 - ☒ 2. 450
 - ☒ 3. 480
 - ☒ 4. 500

Question ID : 65497838550

Status : Answered

Chosen Option : 4

Q.10 दो बसें क्रमशः 40 km/h और 50 km/h की चाल से समान दूरी तय करती हैं। यदि धीमी चलने वाली बस तेज चलने वाली बस से एक घंटा अधिक समय लेती है, तो उन में से प्रत्येक बस द्वारा तय की गई दूरी (km में) ज्ञात करें।

- Ans
- ☒ 1. 216
 - ☒ 2. 210
 - ☒ 3. 225
 - ☒ 4. 200

Question ID : 65497838156

Status : Answered

Chosen Option : 4

Q.11 A और B की आय का अनुपात 5 : 7 है, और उनके व्यय का अनुपात 3 : 4 है। यदि A और B क्रमशः ₹5,000 और ₹9,000 की बचत करते हैं, तो A की आय और B की बचत के दोगुने के बीच कितना अंतर (₹ में) होगा?

- Ans
- ☒ 1. 14,000
 - ☒ 2. 15,000
 - ☒ 3. 19,000
 - ☒ 4. 17,000

Question ID : 65497838558

Status : Not Attempted and Marked For Review

Chosen Option : --

Q.12 एक कक्षा में, परीक्षा में लड़कियों का औसत प्राप्तांक 75 और लड़कों का औसत प्राप्तांक 64 है। पूरी कक्षा का औसत प्राप्तांक 68.4 है। कक्षा में लड़कियों का प्रतिशत क्या है?

- Ans
- ☒ 1. 66.6%
 - ☒ 2. 40%
 - ☒ 3. 45%
 - ☒ 4. 50%

Question ID : 65497838140
Status : Not Answered
Chosen Option : --

Q.13 चार वर्ष पूर्व, A और B की आयु का अनुपात 3 : 5 था। छः वर्ष बाद, A और B की आयु का अनुपात 2 : 3 होगा। A और B की वर्तमान आयु का योग (वर्ष में) क्या होगा?

- Ans
- ☒ 1. 65
 - ☒ 2. 90
 - ☒ 3. 95
 - ☒ 4. 88

Question ID : 65497839165
Status : Answered
Chosen Option : 4

Q.14 ₹12,000 की राशि पर 8% वार्षिक दर से 2 वर्ष में प्राप्त चक्रवृद्धि ब्याज, यदि ब्याज वार्षिक तौर पर संयोजित होता है, और साधारण ब्याज का अंतर (₹ में, निकटतम पूर्णांक तक) कितना होगा?

- Ans
- ☒ 1. 98
 - ☒ 2. 76
 - ☒ 3. 77
 - ☒ 4. 97

Question ID : 65497839173
Status : Answered
Chosen Option : 3

Q.15 एक परिधान कंपनी पोशाकों के सूची मूल्य पर 20% और 48% की दो क्रमिक छूट प्रदान करती है। ₹6000 सूची मूल्य वाली एक पोशाक का अंतिम विक्रय मूल्य (₹ में) ज्ञात कीजिए।

- Ans
- ☒ 1. 1,920
 - ☒ 2. 2,850
 - ☒ 3. 2,496
 - ☒ 4. 2,304

Question ID : 65497838957
Status : Answered
Chosen Option : 3

Q.16 यदि $a + b = 2$ तथा $ab = 4$ है, तो $a^4 + b^4 + ab^3 + ba^3$ का मान ज्ञात कीजिए।

- Ans ☒ 1. -32
☐ 2. 24
☐ 3. 18
☐ 4. -16

Question ID : 65497838976

Status : Not Answered

Chosen Option : --

Q.17 निम्न का मान ज्ञात करें।

$$(x - 2y)^3 - 6xy(x - 2y)$$

- Ans ☐ 1. $x^3 - 8y^3 + 12x^2y - 24xy^2$
☒ 2. $x^3 - 8y^3 - 12x^2y + 24xy^2$
☐ 3. $x^3 - 8y^3$
☐ 4. $x^3 - 8x^2y + 16xy^2 - 8y^3$

Question ID : 65497838159

Status : Not Answered

Chosen Option : --

Q.18 यदि 10, 16 और x का चतुर्थानुपाती 80 है, तो x का मान ज्ञात कीजिए।

- Ans ☒ 1. 50
☐ 2. 108
☐ 3. 128
☐ 4. 2

Question ID : 65497838965

Status : Answered

Chosen Option : 1

Q.19 संख्या 341k145k में k के सभी संभावित मानों का योग ज्ञात कीजिए ताकि संख्या 3 से विभाज्य हो।

- Ans ☐ 1. 15
☒ 2. 18
☐ 3. 12
☐ 4. 9

Question ID : 65497838136

Status : Answered

Chosen Option : 4

Q.20 10 पुरुष और 8 महिलाएं, एक कार्य को $7\frac{1}{2}$ दिनों में कर सकते हैं जबकि 6 पुरुष और 9 महिलाएं उसी कार्य को 10 दिनों में कर सकते हैं। 35 महिलाएं उसी कार्य को कितने दिनों में पूरा कर लेंगी?

- Ans
- ☐ 1. 10
 - ☐ 2. 7
 - ☒ 3. 6
 - ☐ 4. 8

Question ID : 65497838563

Status : Not Answered

Chosen Option : --

Q.21 एक वर्ष के लिए ₹3,750 की धनराशि पर चक्रवृद्धि ब्याज ज्ञात कीजिए, जबकि ब्याज 16% की वार्षिक दर पर अर्ध-वार्षिक तौर पर संयोजित होता है।

- Ans
- ☐ 1. ₹640
 - ☐ 2. ₹600
 - ☒ 3. ₹624
 - ☐ 4. ₹650

Question ID : 65497838151

Status : Answered

Chosen Option : 4

Q.22 एक आयताकार बाग की लंबाई और चौड़ाई का अनुपात, 14 : 11 है और इसका परिमाण 800 m है। इसका क्षेत्रफल, एक वृत्ताकार खेत के क्षेत्रफल के बराबर है। वृत्ताकार खेत की परिधि (m में) क्या है? ($\pi = \frac{22}{7}$)

- Ans
- ☐ 1. 660
 - ☐ 2. 682
 - ☒ 3. 704
 - ☐ 4. 693

Question ID : 65497838566

Status : Answered

Chosen Option : 1

Q.23 एक धनराशि एक वर्ष में ₹16800 और डेढ़ वर्ष में ₹17472 हो जाती है, जबकि ब्याज अर्ध-वार्षिक तौर पर संयोजित होता है। वार्षिक ब्याज दर ज्ञात कीजिए।

- Ans
- ☐ 1. 16%
 - ☐ 2. 12%
 - ☐ 3. 4%
 - ☒ 4. 8%

Question ID : 65497838051

Status : Answered

Chosen Option : 3

Q.24 एक दौड़ में 6 धावकों द्वारा लिया गया औसत समय 1 मिनट 50 सेकंड है। विजेता ने दौड़ को 1 मिनट 20 सेकंड में पूरा किया। अन्य 5 धावकों द्वारा लिया गया औसत समय क्या है?

- Ans
- ☒ 1. 1 मिनट 55 सेकंड
 - ☒ 2. 1 मिनट 52 सेकंड
 - ☒ 3. 1 मिनट 50 सेकंड
 - ☒ 4. 1 मिनट 56 सेकंड

Question ID : 65497838241
Status : Answered
Chosen Option : 3

Q.25 यदि नोटबुक्स की कीमत में 15% की वृद्धि होती है, तो उस धनराशि से कितनी नोटबुक्स खरीदी जा सकती हैं, जो 253 नोटबुक्स खरीदने के लिए पर्याप्त थी?

- Ans
- ☒ 1. 218
 - ☒ 2. 224
 - ☒ 3. 220
 - ☒ 4. 215

Question ID : 65497838043
Status : Not Answered
Chosen Option : --

Section : General awareness

Q.1 ब्रह्मपुत्र नदी निम्न में से किस राज्य से होकर नहीं बहती है?

- Ans
- ☒ 1. ओडिशा
 - ☒ 2. पश्चिम बंगाल
 - ☒ 3. अरुणाचल प्रदेश
 - ☒ 4. असम

Question ID : 65497838169
Status : Answered
Chosen Option : 2

Q.2 भारत के स्वदेशी विमान वाहक (IAC) 'विक्रान्त', जिसका अगस्त 2021 में पहला परीक्षण किया गया था, का निर्माण करने वाला शिपयार्ड _____ में स्थित है।

- Ans
- ☒ 1. कोच्चि
 - ☒ 2. मझगांव
 - ☒ 3. विशाखापत्तनम
 - ☒ 4. काकीनाड़ा

Question ID : 65497839000
Status : Answered
Chosen Option : 3

Q.3 भारतीय खाद्य निगम (FCI) के माध्यम से सरकार द्वारा खरीदे गए गेहूं और चावल जैसे खाद्यान्नों के स्टॉक को _____ स्टॉक कहा जाता है।

- Ans
- ☒ 1. पब्लिक
 - ☒ 2. कॉर्पोरेशन
 - ☒ 3. यूटिलिटी
 - ☒ 4. बफर

Question ID : 65497838981
Status : Answered
Chosen Option : 3

Q.4 भारतीय संविधान के निम्न में से किस अनुच्छेद में यह उल्लिखित है कि भारत का एक राष्ट्रपति होगा?

- Ans
- ☒ 1. अनुच्छेद 98
 - ☒ 2. अनुच्छेद 52
 - ☒ 3. अनुच्छेद 45
 - ☒ 4. अनुच्छेद 78

Question ID : 65497838178
Status : Answered
Chosen Option : 2

Q.5 निम्न में से किस दर के अंतर्गत अनुसूचित वाणिज्यिक बैंक भारतीय रिजर्व बैंक से रातोंरात धन उधार ले सकते हैं?

- Ans
- ☒ 1. बैंक दर
 - ☒ 2. सीमांत स्थायी सुविधा
 - ☒ 3. रेपो दर
 - ☒ 4. नकद आरक्षित अनुपात

Question ID : 65497838163
Status : Answered
Chosen Option : 3

Q.6 कर्नाटक में स्थित इनमें से किस मंदिर को 8वीं शताब्दी में रानी लोकमहादेवी द्वारा बनवाया गया था?

- Ans
- ☒ 1. पापनाथ मंदिर
 - ☒ 2. विरूपाक्ष मंदिर
 - ☒ 3. जैन नारायण मंदिर
 - ☒ 4. गलगनाथ मंदिर

Question ID : 65497838162
Status : Not Answered
Chosen Option : --

Q.7 ऑपरेशन _____ उस पुलिस कार्रवाई का कोड नाम था, जो नए-नए स्वतंत्र हुए भारत गणराज्य द्वारा सितंबर 1948 में हैदराबाद की रियासत के विरुद्ध की गई थी।

- Ans
- ☒ 1. पोलो
 - ☒ 2. स्माइल
 - ☒ 3. विजय
 - ☒ 4. लोटस

Question ID : 65497838581
Status : Answered
Chosen Option : 1

Q.8 तेभागा आंदोलन, एक स्वदेशी किसान आंदोलन, 1946 और 1947 के बीच कहाँ हुआ था?

- Ans
- ☒ 1. मणिपुर
 - ☒ 2. कर्नाटक
 - ☒ 3. बंगाल
 - ☒ 4. महाराष्ट्र

Question ID : 65497838991

Status : Answered

Chosen Option : 2

Q.9 निम्न में से किसके माध्यम से जीवन व्यक्त (प्रकट) नहीं होता है?

- Ans
- ☒ 1. दौड़ता हुआ घोड़ा (galloping horse)
 - ☒ 2. भौंकता हुआ कुत्ता (barking dog)
 - ☒ 3. लुढ़कता हुआ पत्थर (rolling stone)
 - ☒ 4. फूलों की घाटी (valley of flowers)

Question ID : 65497838575

Status : Answered

Chosen Option : 3

Q.10 गन्ना फीडस्टॉक को सरलता से _____ में किण्वित किया जाता है।

- Ans
- ☒ 1. मेथेनॉल
 - ☒ 2. एथेनॉल
 - ☒ 3. प्रोपेनॉल
 - ☒ 4. ब्यूटेनॉल

Question ID : 65497838166

Status : Not Answered

Chosen Option : --

Q.11 निम्नलिखित में से कौन सा विटामिन आश्रित कार्बोक्सिलेज (vitamin dependent carboxylase) यकृत में पाया जाता है?

- Ans
- ☒ 1. विटामिन A
 - ☒ 2. विटामिन D
 - ☒ 3. विटामिन K
 - ☒ 4. विटामिन C

Question ID : 65497838168

Status : Answered

Chosen Option : 4

Q.12 'ऑफ गिफ्टेड वॉयस: द लाइफ एंड आर्ट ऑफ एम.एस. सुब्बुलक्ष्मी' (Of Gifted Voice: The Life and Art of M.S. Subbulakshmi) नामक पुस्तक के लेखक कौन हैं?

- Ans
- ☒ 1. सुमित्रा महाजन
 - ☒ 2. चेतन भगत
 - ☒ 3. केशव देसिराजू
 - ☒ 4. एस.एम. खान

Question ID : 65497838177

Status : Answered

Chosen Option : 3

Q.13 फरवरी 2021 में, इनमें से किस राज्य की कैबिनेट की ओर से मुख्यमंत्री विज्ञान प्रतिभा परीक्षा योजना को स्वीकृति प्रदान की गई है?

- Ans
- ☒ 1. राजस्थान
 - ☒ 2. हिमाचल प्रदेश
 - ☒ 3. उत्तर प्रदेश
 - ☒ 4. दिल्ली

Question ID : 65497838185
Status : Answered
Chosen Option : 4

Q.14 सितंबर 2021 में, आर. राजा ऋत्विक् 70वें ग्रैंडमास्टर बने। वे किस राज्य से संबंधित हैं?

- Ans
- ☒ 1. तेलंगाना
 - ☒ 2. चेन्नई
 - ☒ 3. आंध्र प्रदेश
 - ☒ 4. महाराष्ट्र

Question ID : 65497838182
Status : Answered
Chosen Option : 1

Q.15 निम्न में से किस वर्ष में, क्रिकेट में टाई को ब्रेक करने हेतु बॉल आउट (bowl-out) पद्धति के स्थान पर सुपर ओवर शुरू हुआ था?

- Ans
- ☒ 1. 2000
 - ☒ 2. 2018
 - ☒ 3. 1997
 - ☒ 4. 2008

Question ID : 65497838487
Status : Not Answered
Chosen Option : --

Q.16 मसानजोर बांध इनमें से किस नदी पर स्थित है?

- Ans
- ☒ 1. रूपनारायण
 - ☒ 2. सुबर्णरेखा
 - ☒ 3. अजय
 - ☒ 4. मयूराक्षी

Question ID : 65497838986
Status : Not Answered
Chosen Option : --

Q.17 निम्न में से कौन-सा खिलाड़ी क्रिकेट के खेल में ऑफ-ब्रेक गेंदबाज और ऑलराउंडर है?

- Ans
- ☒ 1. मोईन अली
 - ☒ 2. जोस बटलर
 - ☒ 3. जेम्स एंडरसन
 - ☒ 4. सैम कर्न

Question ID : 65497838997
Status : Not Answered
Chosen Option : --

Q.18 निम्न में से कौन सा विषय संघ सूची के अंतर्गत आता है?

- Ans
- ☒ 1. बाज़ार और मेले
 - ☒ 2. शिक्षा
 - ☒ 3. भारत की रक्षा
 - ☒ 4. पुलिस

Question ID : 65497838587

Status : Not Answered

Chosen Option : --

Q.19 निम्न में से कौन सा राज्य 'पंखिड़ा' के गायन से संबंधित है, जो किसानों द्वारा खेतों में काम करते हुए गाया जाता है?

- Ans
- ☒ 1. पंजाब
 - ☒ 2. हिमाचल प्रदेश
 - ☒ 3. राजस्थान
 - ☒ 4. हरियाणा

Question ID : 65497838569

Status : Not Answered

Chosen Option : --

Q.20 किसानों को उनकी वांछित भाषा में 'सही समय पर सही जानकारी' प्राप्त करने की सुविधा प्रदान करने के लिए, जुलाई 2021 में _____ नामक डिजिटल प्लेटफॉर्म का शुभारंभ हुआ था।

- Ans
- ☒ 1. किसान संतान
 - ☒ 2. किसान साथी
 - ☒ 3. किसान खबर
 - ☒ 4. किसान सारथी

Question ID : 65497838591

Status : Not Answered

Chosen Option : --

Q.21 सितंबर 2021 में, निम्न में से किस बैंक ने अभिनेता पंकज त्रिपाठी को अपना पहला ब्रांड एंबेसडर नियुक्त किया था?

- Ans
- ☒ 1. भारतीय रिजर्व बैंक
 - ☒ 2. फिनो पेमेंट्स बैंक
 - ☒ 3. यस बैंक
 - ☒ 4. आई.सी.आई.सी.आई. बैंक

Question ID : 65497838164

Status : Not Answered

Chosen Option : --

Q.22 निम्न में से किस वर्ष, महात्मा गांधी ने भारत में संवैधानिक सुधार पर चर्चा करने के लिए दूसरे गोलमेज सम्मेलन में भारत का प्रतिनिधित्व किया था?

- Ans
- ☒ 1. 1931
 - ☒ 2. 1939
 - ☒ 3. 1942
 - ☒ 4. 1919

Question ID : 65497838172

Status : Not Answered

Chosen Option : --

Q.23 निम्न में से किस अफ्रीकी देश की तट रेखा हिंद महासागर के साथ जुड़ी नहीं है?

- Ans
- ☒ 1. केन्या
 - ☒ 2. तंजानिया
 - ☒ 3. सोमालिया
 - ☒ 4. इथियोपिया

Question ID : 65497838579

Status : Not Answered

Chosen Option : --

Q.24 निम्न में से कौन राष्ट्रकूट साम्राज्य के दंतिदुर्ग के उत्तराधिकारी थे?

- Ans
- ☒ 1. गोविन्द तृतीय
 - ☒ 2. इंद्र तृतीय
 - ☒ 3. अशोक
 - ☒ 4. कृष्ण प्रथम

Question ID : 65497838174

Status : Not Answered

Chosen Option : --

Q.25 पर्वतारोही एडमंड हिलेरी की राष्ट्रियता क्या थी?

- Ans
- ☒ 1. ऑस्ट्रेलियाई
 - ☒ 2. स्कॉटिश
 - ☒ 3. नॉर्वेजियन
 - ☒ 4. न्यूजीलैंड

Question ID : 65497838992

Status : Not Answered

Chosen Option : --