

Selection Post Phase IX 2021 Matriculation level

Roll Number	
Candidate Name	
Venue Name	
Exam Date	09/02/2022
Exam Time	9:00 AM - 10:00 AM
Subject	Selection Post Matriculation Level

Section : General Intelligence

Q.1 एक निश्चित कूट भाषा में, 'PARK' को '3749' के रूप में कूटबद्ध किया जाता है, और 'RACE' को '4762' के रूप में कूटबद्ध किया जाता है। उसी भाषा में 'CARE' को कैसे कूटबद्ध किया जाएगा?

Ans ☒ 1. 6724

☒ 2. 6742

☒ 3. 7642

☒ 4. 7624

Question ID : 65497839012

Status : Answered

Chosen Option : 2

Q.2 एक निश्चित कूट भाषा में, 'BHOPAL' को 'OBHLPAL' लिखा जाता है, और 'KANPUR' को 'NKARPU' लिखा जाता है। उसी कूट भाषा में 'INDORE' को किस प्रकार लिखा जाएगा?

Ans ☒ 1. DINEOR

☒ 2. DNIOR

☒ 3. NIDROE

☒ 4. ERINDO

Question ID : 65497838294

Status : Answered

Chosen Option : 1

Q.3 अक्षरों के उस संयोजन का चयन करें जो दी गई श्रृंखला के रिक्त स्थानों में क्रमिक रूप से रखे जाने पर श्रृंखला को पूर्ण करेगा।

u _ a _ c _ k _ b a _ c c _ u _ a a _ c k

Ans ☒ 1. backakbc

☒ 2. bacuakak

☒ 3. bauuakbc

☒ 4. bacuakbc

Question ID : 65497839209

Status : Answered

Chosen Option : 4

Q.4 दिए गए समीकरण को संतुलित करने के लिए किन दो चिह्नों को आपस में बदला जाना चाहिए?

$$306 \div 17 + 4 - 50 \times 8 = 30$$

- Ans
- ☒ 1. + और ×
 - ☒ 2. + और -
 - ☒ 3. × और -
 - ☒ 4. + और ×

Question ID : 65497838716

Status : Not Answered

Chosen Option : --

Q.5 चेतना, विलास के बेटे की बेटी है। सुहास, राज का बेटा है। कपिला, विलास की पत्नी है। चेतना, सुहास की बहन है। प्राजक्ता, चेतना की माँ है। कपिला का राज से क्या संबंध है?

- Ans
- ☒ 1. माँ
 - ☒ 2. बहन
 - ☒ 3. चाची
 - ☒ 4. पत्नी

Question ID : 65497839322

Status : Answered

Chosen Option : 1

Q.6 दिए गए विकल्पों में से उस संख्या का चयन कीजिए, जो निम्नलिखित श्रेणी में प्रश्न चिह्न (?) के स्थान पर आ सकती है।

248, 257, 250, 259, 252, ?

- Ans
- ☒ 1. 258
 - ☒ 2. 272
 - ☒ 3. 268
 - ☒ 4. 261

Question ID : 65497837999

Status : Answered

Chosen Option : 4

Q.7 एक निश्चित कूट भाषा में, 'you can go' को 'sat nat pat' के रूप में लिखा जाता है, 'they can join' को 'pat gat zat' के रूप में लिखा जाता है, और 'they are ready' को 'dat zat yat' के रूप में लिखा जाता है। उसी भाषा में 'join' को किस रूप में लिखा जाएगा?

- Ans
- ☒ 1. pat
 - ☒ 2. dat
 - ☒ 3. gat
 - ☒ 4. zat

Question ID : 65497839213

Status : Answered

Chosen Option : 3

Q.8 'सहायता' का 'मदद' से वही संबंध है, जो 'अपशिष्ट' का ' _____ ' से है।

- Ans
- ☒ 1. कंप्यूटर
 - ☒ 2. कचरा
 - ☒ 3. शुद्धता
 - ☒ 4. मैमोरी

Question ID : 65497837986

Status : Answered

Chosen Option : 2

Q.9 दिए गए विकल्पों में से उस संख्या का चयन करें जो निम्नलिखित श्रेणी में प्रश्नवाचक चिह्न (?) के स्थान पर आ सकती है।

1, 5, 10, 23, 63, 167, ?

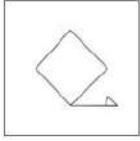
- Ans
- ☒ 1. 862
 - ☒ 2. 826
 - ☒ 3. 369
 - ☒ 4. 396

Question ID : 65497838612

Status : Not Answered

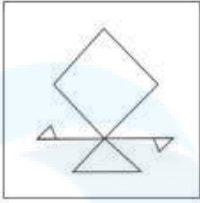
Chosen Option : --

Q.10 उस विकल्प का चयन करें, जिसमें दी गई आकृति अंतर्निहित है (आकृति को घुमाने की अनुमति नहीं है)।

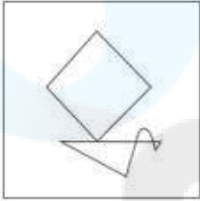


Ans

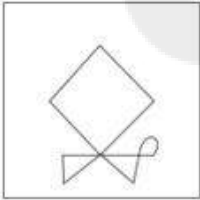
✗ 1.



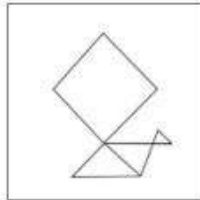
✗ 2.



✗ 3.



✓ 4.



Question ID : 65497838005

Status : Answered

Chosen Option : 4

Q.11 एक निश्चित कूट भाषा में, 'FROG' को 92 और 'DUCK' को 78 लिखा जाता है। उसी कूट भाषा में 'BEAR' को किस प्रकार लिखा जाएगा?

Ans

✗ 1. 82

✗ 2. 78

✓ 3. 52

✗ 4. 64

Question ID : 65497837990

Status : Answered

Chosen Option : 3

Q.12 उस सही विकल्प का चयन कीजिए, जो दिए गए शब्दों के उस क्रम को दर्शाता है, जिस क्रम में वे अंग्रेज़ी शब्दकोश में मौजूद होते हैं।

1. REPRESSIVE
2. REPROACH
3. REPRIMAND
4. REPRISAL
5. REPRIEVE

Ans ☒ 1. 2, 5, 1, 4, 3
☒ 2. 2, 5, 1, 3, 4
☒ 3. 3, 5, 1, 4, 2
☒ 4. 1, 5, 3, 4, 2

Question ID : 65497837983

Status : Answered

Chosen Option : 4

Q.13 छः बच्चे G, H, I, J, K और L एक वृत्त के परितः केंद्र के विपरीत दिशा में मुख करके बैठे हैं। G, K के बाईं ओर दूसरे स्थान पर बैठा है। H, G के दाईं ओर निकटतम स्थान पर बैठा है और J के बाईं ओर तीसरे स्थान पर बैठा है। I, J के बाईं ओर निकटतम स्थान पर बैठा है। G के बाईं ओर निकटतम स्थान पर कौन बैठा है?

Ans ☒ 1. L
☒ 2. I
☒ 3. J
☒ 4. K

Question ID : 65497837995

Status : Not Answered

Chosen Option : --

Q.14 एक निश्चित कूट भाषा में, 'Z' को 261 लिखा जाता है, 'R' को 189 लिखा जाता है और 'J' को 1017 लिखा जाता है। उसी कूट भाषा में 'P' को किस प्रकार लिखा जाएगा?

Ans ☒ 1. 1512
☒ 2. 1607
☒ 3. 1611
☒ 4. 1119

Question ID : 65497838297

Status : Answered

Chosen Option : 3

Q.15 उस विकल्प का चयन करें जो तीसरे पद से उसी प्रकार संबंधित है जिस प्रकार दूसरा पद पहले पद से संबंधित है।

TRACK : MFFYE :: GLOBE : ?

Ans ☒ 1. GDTRQ
☒ 2. GTDQR
☒ 3. GTERS
☒ 4. GETSR

Question ID : 65497838701

Status : Not Answered

Chosen Option : --

Q.16 जब दर्पण को निम्नांकित चित्र के अनुसार PQ पर रखा गया हो, तो दिए गए संयोजन का दर्पण में निर्मित सही प्रतिबिंब चयनित करें।

TA4NGE2NT
P
Q

Ans

- ✗ 1. LV4NEG5NL
✗ 2. TN5GENT4AT
✓ 3. TN5GENT4AT
✗ 4. LV4NEG5NL

Question ID : 65497838720

Status : Answered

Chosen Option : 3

Q.17 पांच व्यक्ति- ऋतिक, अमन, विजय, पीयूष और नितिन एक वृत्ताकार मेज के परितः केंद्र के विपरीत दिशा की ओर मुख करके बैठे हैं। पीयूष, ऋतिक के बाईं ओर ठीक बगल में बैठा है। विजय और अमन, ऋतिक के ठीक बगल में नहीं बैठे हैं। अमन, विजय के दाईं ओर ठीक बगल में बैठा है। नितिन के दाईं ओर ठीक बगल में कौन बैठा है?

Ans

- ✗ 1. ऋतिक
✓ 2. विजय
✗ 3. पीयूष
✗ 4. अमन

Question ID : 65497839218

Status : Not Answered

Chosen Option : --

Q.18 एक निश्चित कूट भाषा में, 'FLOWER' को '166' के रूप में कूटबद्ध किया जाता है, और 'SHIFT' को '73' के रूप में कूटबद्ध किया जाता है। उसी भाषा में 'VOLUME' को कैसे कूटबद्ध किया जाएगा?

Ans

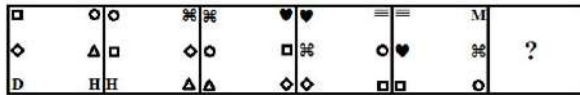
- ✓ 1. 222
✗ 2. 184
✗ 3. 212
✗ 4. 148

Question ID : 65497839013

Status : Not Answered


Chosen Option : --

Q.19 दिए गए विकल्पों में से उस आकृति का चयन करें जो निम्नलिखित श्रृंखला में प्रश्नवाचक चिह्न (?) को प्रतिस्थापित कर सकती है।



Ans

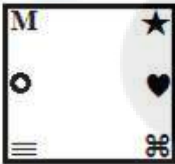
✓ 1.



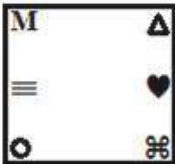
✗ 2.



✗ 3.



✗ 4.



Question ID : 65497838616

Status : Not Answered

Chosen Option : --

Q.20 दिए गए विकल्पों में से उस अक्षर-समूह का चयन करें, जो निम्नलिखित श्रृंखला में प्रश्न चिह्न (?) के स्थान पर आ सकता है।

ILP, KHV, MDB, OZH, ?

Ans ✗ 1. RVN

✓ 2. QVN

✗ 3. RWM

✗ 4. QWM

Question ID : 65497838594

Status : Answered

Chosen Option : 2

Q.21 दिए गए कथनों और निष्कर्षों को ध्यानपूर्वक पढ़ें। यह मानते हुए कि कथनों में दी गई जानकारी सत्य है, भले ही वह सामान्य रूप से ज्ञात तथ्यों से भिन्न प्रतीत होती हो, निर्णय लें कि दिए गए निष्कर्षों में से कौन सा/से निष्कर्ष कथनों का तार्किक रूप से अनुसरण करता/ते है/हैं।

कथन:

कोई भी रेलगाड़ी, कार नहीं है।
कोई भी ऑटो, रेलगाड़ी नहीं है।

निष्कर्ष:

I. कोई भी कार, ऑटो नहीं है।
II. सभी ऑटो, कारें हैं।

Ans ☒ 1. न तो निष्कर्ष I और न ही निष्कर्ष II अनुसरण करता है।

☒ 2. केवल निष्कर्ष I अनुसरण करता है।

☒ 3. केवल निष्कर्ष II अनुसरण करता है।

☒ 4. या तो निष्कर्ष I या निष्कर्ष II अनुसरण करता है।

Question ID : 65497838711

Status : Answered

Chosen Option : 1

Q.22 दिए गए कथनों और निष्कर्षों को ध्यानपूर्वक पढ़ें। यह मानते हुए कि कथनों में दी गई जानकारी सत्य है, भले ही वह सामान्य रूप से ज्ञात तथ्यों से भिन्न प्रतीत होती हो, निर्णय लें कि दिए गए निष्कर्षों में से कौन सा/से निष्कर्ष कथनों का तार्किक रूप से अनुसरण करता/ते है/हैं।

कथन:

सभी फुटबॉल, हॉकी स्टिक हैं।
सभी हॉकी स्टिक, स्टंप हैं।
कोई भी स्टंप, रिंग नहीं है।

निष्कर्ष:

I. कुछ स्टंप, फुटबॉल हैं।
II. कोई भी हॉकी स्टिक, रिंग नहीं है।
III. कुछ फुटबॉल, रिंग हैं।

Ans ☒ 1. सभी निष्कर्ष I, II और III अनुसरण करते हैं।

☒ 2. केवल निष्कर्ष I और III अनुसरण करते हैं।

☒ 3. केवल निष्कर्ष II और III अनुसरण करते हैं।

☒ 4. केवल निष्कर्ष I और II अनुसरण करते हैं।

Question ID : 65497839227

Status : Answered

Chosen Option : 4

Q.23 उस विकल्प का चयन करें जो तीसरी संख्या से उसी प्रकार संबंधित है जिस प्रकार दूसरी संख्या पहली संख्या से संबंधित है और छठी संख्या पाँचवीं संख्या से संबंधित है।

17 : 255 :: 21 : ? :: 24 : 528

Ans ☒ 1. 399

☒ 2. 419

☒ 3. 499

☒ 4. 319

Question ID : 65497839225

Status : Answered

Chosen Option : 1

Q.24 चार अक्षर-समूह दिए गए हैं, जिनमें से तीन किसी तरह से संगत हैं और एक असंगत है। उस अक्षर-समूह का चयन करें, जो अन्य से असंगत है।

- Ans
- ☒ 1. LQX
 - ☒ 2. HMT
 - ☒ 3. DKP
 - ☒ 4. BGN

Question ID : 65497838596
Status : Not Answered
Chosen Option : --

Q.25 L, M का पिता है। K, L से विवाहित है। R, K की बहन है। D, N का पुत्र है। K, N की सास है। L का केवल एक पुत्र है और कोई पुत्री नहीं है। R, P से विवाहित है। S, P की पुत्री है। D का L से क्या संबंध है?

- Ans
- ☒ 1. पोता
 - ☒ 2. चाचा
 - ☒ 3. भतीजा
 - ☒ 4. पुत्र

Question ID : 65497838304
Status : Answered
Chosen Option : 1

Section : English Language

Q.1 Select the most appropriate ANTONYM of the given word.

Eliminate

- Ans
- ☒ 1. Exclude
 - ☒ 2. Add
 - ☒ 3. Cancel
 - ☒ 4. Ignore

Question ID : 65497838728
Status : Answered
Chosen Option : 2

Q.2 Select the option that expresses the given sentence in indirect speech.

She said to me, "I am busy today."

- Ans
- ☒ 1. She told me that she was busy that day.
 - ☒ 2. She said me that she was busy that day.
 - ☒ 3. She said to me that she was busy today.
 - ☒ 4. She told me that I am busy today.

Question ID : 65497838620
Status : Answered
Chosen Option : 1

Q.3 Select the most appropriate synonym of the given word.

Camouflage

- Ans
- ☒ 1. Reveal
 - ☒ 2. Open
 - ☒ 3. Show
 - ☒ 4. Mask

Question ID : **65497838012**
Status : **Answered**
Chosen Option : **4**

Q.4 Select the most appropriate ANTONYM of the given word.

Obstruct

- Ans
- ☒ 1. Block
 - ☒ 2. Hinder
 - ☒ 3. Curb
 - ☒ 4. Allow

Question ID : **65497838625**
Status : **Answered**
Chosen Option : **4**

Q.5 Select the wrongly spelt word.

- Ans
- ☒ 1. Voilence
 - ☒ 2. Secretion
 - ☒ 3. Yield
 - ☒ 4. Fiend

Question ID : **65497838019**
Status : **Answered**
Chosen Option : **4**

Q.6 Select the option that can be used as a one-word substitute for the given group of words.

A room where food, crockery and cutlery are kept

- Ans
- ☒ 1. Bakery
 - ☒ 2. Pantry
 - ☒ 3. Gallery
 - ☒ 4. Dispensary

Question ID : **65497838732**
Status : **Answered**
Chosen Option : **1**

Q.7 Select the most appropriate meaning of the given idiom.

Have your back against the wall

- Ans ☒ 1. To be humiliated and bullied by a superior at work
- ☒ 2. To be in a desperate situation with very few options
- ☒ 3. To have a strong group of people supporting you
- ☒ 4. To be able to successfully tackle a difficult task

Question ID : 65497838016

Status : Answered

Chosen Option : 1

Q.8 Select the most appropriate synonym of the given word.

Lure

- Ans ☒ 1. Reject
- ☒ 2. Free
- ☒ 3. Attract
- ☒ 4. Push

Question ID : 65497839235

Status : Answered

Chosen Option : 3

Q.9 Select the correct passive form of the given sentence.

You can see several neem trees along the road to Connaught place.

- Ans ☒ 1. Many are seeing several neem trees along the road to Connaught Place.
- ☒ 2. Neem trees had been seen along the road to Connaught Place.
- ☒ 3. Several neem trees can be seen along the road to Connaught Place.
- ☒ 4. Several neem trees were to be seen along the road to Connaught Place.

Question ID : 65497838007

Status : Answered

Chosen Option : 3

Q.10 Select the wrongly spelt word.

- Ans ☒ 1. production
- ☒ 2. adrese
- ☒ 3. primate
- ☒ 4. technology

Question ID : 65497839039

Status : Answered

Chosen Option : 2

Q.11 Select the INCORRECTLY spelt word.

- Ans ☒ 1. Glacier
- ☒ 2. Glitter
- ☒ 3. Gingar
- ☒ 4. Girdle

Question ID : 65497838735

Status : Answered

Chosen Option : 3

Q.12 Select the option that can be used as a one-word substitute for the given group of words.

A person who studies the Earth and the materials of which it is made

- Ans** ☒ 1. Geologist
 ☒ 2. Biologist
 ☒ 3. Anthropologist
 ☒ 4. Zoologist

Question ID : **65497838629**
Status : **Answered**
Chosen Option : **1**

Q.13 Select the most appropriate option to fill in the blank.

I _____ out of the bed when I heard a noise in the room.

- Ans** ☒ 1. took
 ☒ 2. sprang
 ☒ 3. rose
 ☒ 4. skipped

Question ID : **65497839233**
Status : **Answered**
Chosen Option : **3**

Q.14 Select the most appropriate word to fill in the blank.

The new school is really wonderful as it is activity- based and believes in _____ learning.

- Ans** ☒ 1. experiential
 ☒ 2. ministerial
 ☒ 3. superficial
 ☒ 4. theoretical

Question ID : **65497838010**
Status : **Answered**
Chosen Option : **1**

Q.15 Select the most appropriate meaning of the given idiom.

Spill the beans

- Ans** ☒ 1. To give away a secret
 ☒ 2. To postpone a plan
 ☒ 3. To spoil something
 ☒ 4. To not save anything

Question ID : **65497839239**
Status : **Answered**
Chosen Option : **1**

Comprehension:

Read the given passage and answer the questions that follow.

The film industry is facing the challenge of the television screen which, because of its ready availability and nearness to entertainment seekers, is becoming very popular, particularly in the West where television programmes are as indispensable to people as newspaper material. Sustained entertainment for multitudes lasting two or three hours is possible only in big cinema halls. Scenic beauty, background effects and colour techniques which have made the products of cinema industry so attractive and delightful may not be reproduced by television programme organisers, and therefore, this important invention in the field of wireless communication, in spite of having become a big rival of the cinema, may not succeed in replacing it.

The motion picture has also stepped into the international sphere as an agent of goodwill and co-operation among nations. Cultural contacts which tend to reduce tension in the world and bring harmony in international relations have been established through the medium of films.

The more people understand and appreciate the past history, present aims, customs, habits and beliefs of men and women in foreign lands, the more will they realise that their interests can best be served by establishing friendly relations with them and by removing those irritants which breed distrust, lack of co-operation and the desire to punish those whose views and attitudes are such as they do not like. As cultural agents movies can cement ties of love and brotherhood among nations and teach them to confer on each other the benefits of all the rich and glorious achievements of the present enlightened age. In recent years, artists of the film world have been visiting foreign lands with a view to presenting before the audience in those countries the best products of their cultural heritage. Film festivals which many European and Asian countries have been organising from time to time have also proved to be of immense value in reducing social barriers, colour prejudices and other causes of friction between nations.

SubQuestion No : 16

Q.16 Select the word from the passage which means the same as 'Crucial'.

- Ans**
- ☒ 1. Glorious
 - ☒ 2. Immense
 - ☒ 3. Indispensable
 - ☒ 4. Delightful

Question ID : **65497838747**

Status : **Answered**

Chosen Option : **4**

Comprehension:

Read the given passage and answer the questions that follow.

The film industry is facing the challenge of the television screen which, because of its ready availability and nearness to entertainment seekers, is becoming very popular, particularly in the West where television programmes are as indispensable to people as newspaper material. Sustained entertainment for multitudes lasting two or three hours is possible only in big cinema halls. Scenic beauty, background effects and colour techniques which have made the products of cinema industry so attractive and delightful may not be reproduced by television programme organisers, and therefore, this important invention in the field of wireless communication, in spite of having become a big rival of the cinema, may not succeed in replacing it.

The motion picture has also stepped into the international sphere as an agent of goodwill and co-operation among nations. Cultural contacts which tend to reduce tension in the world and bring harmony in international relations have been established through the medium of films.

The more people understand and appreciate the past history, present aims, customs, habits and beliefs of men and women in foreign lands, the more will they realise that their interests can best be served by establishing friendly relations with them and by removing those irritants which breed distrust, lack of co-operation and the desire to punish those whose views and attitudes are such as they do not like. As cultural agents movies can cement ties of love and brotherhood among nations and teach them to confer on each other the benefits of all the rich and glorious achievements of the present enlightened age. In recent years, artists of the film world have been visiting foreign lands with a view to presenting before the audience in those countries the best products of their cultural heritage. Film festivals which many European and Asian countries have been organising from time to time have also proved to be of immense value in reducing social barriers, colour prejudices and other causes of friction between nations.

SubQuestion No : 17

Q.17 Through the medium of films:

- Ans** ☒ 1. harmony in international relations can be achieved
- ☐ 2. lack of cooperation is encouraged
- ☐ 3. ties of love and brotherhood can be severed
- ☐ 4. distrust between nations is strengthened

Question ID : **65497838745**

Status : **Answered**

Chosen Option : **3**

Comprehension:

Read the given passage and answer the questions that follow.

The film industry is facing the challenge of the television screen which, because of its ready availability and nearness to entertainment seekers, is becoming very popular, particularly in the West where television programmes are as indispensable to people as newspaper material. Sustained entertainment for multitudes lasting two or three hours is possible only in big cinema halls. Scenic beauty, background effects and colour techniques which have made the products of cinema industry so attractive and delightful may not be reproduced by television programme organisers, and therefore, this important invention in the field of wireless communication, in spite of having become a big rival of the cinema, may not succeed in replacing it.

The motion picture has also stepped into the international sphere as an agent of goodwill and co-operation among nations. Cultural contacts which tend to reduce tension in the world and bring harmony in international relations have been established through the medium of films.

The more people understand and appreciate the past history, present aims, customs, habits and beliefs of men and women in foreign lands, the more will they realise that their interests can best be served by establishing friendly relations with them and by removing those irritants which breed distrust, lack of co-operation and the desire to punish those whose views and attitudes are such as they do not like. As cultural agents movies can cement ties of love and brotherhood among nations and teach them to confer on each other the benefits of all the rich and glorious achievements of the present enlightened age. In recent years, artists of the film world have been visiting foreign lands with a view to presenting before the audience in those countries the best products of their cultural heritage. Film festivals which many European and Asian countries have been organising from time to time have also proved to be of immense value in reducing social barriers, colour prejudices and other causes of friction between nations.

SubQuestion No : 18

Q.18 According to the passage, what is the prime reason for the popularity of the television?

- Ans
- ☒ 1. Interesting programmes
 - ☒ 2. Achievements of the present age
 - ☒ 3. Easy availability and access
 - ☒ 4. Sustained entertainment

Question ID : 65497838743

Status : Answered

Chosen Option : 3

Comprehension:

Read the given passage and answer the questions that follow.

The film industry is facing the challenge of the television screen which, because of its ready availability and nearness to entertainment seekers, is becoming very popular, particularly in the West where television programmes are as indispensable to people as newspaper material. Sustained entertainment for multitudes lasting two or three hours is possible only in big cinema halls. Scenic beauty, background effects and colour techniques which have made the products of cinema industry so attractive and delightful may not be reproduced by television programme organisers, and therefore, this important invention in the field of wireless communication, in spite of having become a big rival of the cinema, may not succeed in replacing it.

The motion picture has also stepped into the international sphere as an agent of goodwill and co-operation among nations. Cultural contacts which tend to reduce tension in the world and bring harmony in international relations have been established through the medium of films.

The more people understand and appreciate the past history, present aims, customs, habits and beliefs of men and women in foreign lands, the more will they realise that their interests can best be served by establishing friendly relations with them and by removing those irritants which breed distrust, lack of co-operation and the desire to punish those whose views and attitudes are such as they do not like. As cultural agents movies can cement ties of love and brotherhood among nations and teach them to confer on each other the benefits of all the rich and glorious achievements of the present enlightened age. In recent years, artists of the film world have been visiting foreign lands with a view to presenting before the audience in those countries the best products of their cultural heritage. Film festivals which many European and Asian countries have been organising from time to time have also proved to be of immense value in reducing social barriers, colour prejudices and other causes of friction between nations.

SubQuestion No : 19

Q.19 Which of the following statements is NOT true?

- Ans** ☒ 1. Television is likely to replace cinema in view of its increasing popularity.
- ☐ 2. Films provide an opportunity to understand the beliefs and customs.
- ☐ 3. Film festivals help in bringing nations closer to each other.
- ☐ 4. Artists from the film world visit foreign lands to showcase their cultural heritage.

Question ID : **65497838746**

Status : **Answered**

Chosen Option : **2**

Comprehension:

Read the given passage and answer the questions that follow.

The film industry is facing the challenge of the television screen which, because of its ready availability and nearness to entertainment seekers, is becoming very popular, particularly in the West where television programmes are as indispensable to people as newspaper material. Sustained entertainment for multitudes lasting two or three hours is possible only in big cinema halls. Scenic beauty, background effects and colour techniques which have made the products of cinema industry so attractive and delightful may not be reproduced by television programme organisers, and therefore, this important invention in the field of wireless communication, in spite of having become a big rival of the cinema, may not succeed in replacing it.

The motion picture has also stepped into the international sphere as an agent of goodwill and co-operation among nations. Cultural contacts which tend to reduce tension in the world and bring harmony in international relations have been established through the medium of films.

The more people understand and appreciate the past history, present aims, customs, habits and beliefs of men and women in foreign lands, the more will they realise that their interests can best be served by establishing friendly relations with them and by removing those irritants which breed distrust, lack of co-operation and the desire to punish those whose views and attitudes are such as they do not like. As cultural agents movies can cement ties of love and brotherhood among nations and teach them to confer on each other the benefits of all the rich and glorious achievements of the present enlightened age. In recent years, artists of the film world have been visiting foreign lands with a view to presenting before the audience in those countries the best products of their cultural heritage. Film festivals which many European and Asian countries have been organising from time to time have also proved to be of immense value in reducing social barriers, colour prejudices and other causes of friction between nations.

SubQuestion No : 20

Q.20 Which of the following does NOT make the cinema more attractive than the television?

- Ans ☒ 1. Background effects
☒ 2. Large audiences
☒ 3. Colour techniques
☒ 4. Scenic beauty

Question ID : 65497838744

Status : Answered

Chosen Option : 3

Comprehension:

In the following passage, some words have been deleted. Read the passage carefully and select the most appropriate option to fill in each blank.

Nike gave its office workers a week-long holiday to help them de-stress (1) _____ worries over the COVID-19 pandemic. The sportswear giant (2) _____ its offices so workers could "enjoy additional time off (3) _____ and recover". A senior manager at Nike (4) _____, "Our senior leaders are all sending a clear message – take the time to unwind, de-stress and spend (5) _____ with your loved ones." Nike's stores did not close. Store workers worked as usual.

SubQuestion No : 21

Q.21 Select the most appropriate option to fill in blank No. 1.

- Ans ☒ 1. from
☒ 2. about
☒ 3. of
☒ 4. with

Question ID : 65497839247

Status : Answered

Chosen Option : 1

Comprehension:

In the following passage, some words have been deleted. Read the passage carefully and select the most appropriate option to fill in each blank.

Nike gave its office workers a week-long holiday to help them de-stress (1) _____ worries over the COVID-19 pandemic. The sportswear giant (2) _____ its offices so workers could "enjoy additional time off (3) _____ and recover". A senior manager at Nike (4) _____, "Our senior leaders are all sending a clear message – take the time to unwind, de-stress and spend (5) _____ with your loved ones." Nike's stores did not close. Store workers worked as usual.

SubQuestion No : 22

Q.22 Select the most appropriate option to fill in blank No. 2.

- Ans
- ☒ 1. closing
 - ☒ 2. closed
 - ☐ 3. closes
 - ☐ 4. close

Question ID : 65497839248

Status : Answered

Chosen Option : 2

Comprehension:

In the following passage, some words have been deleted. Read the passage carefully and select the most appropriate option to fill in each blank.

Nike gave its office workers a week-long holiday to help them de-stress (1) _____ worries over the COVID-19 pandemic. The sportswear giant (2) _____ its offices so workers could "enjoy additional time off (3) _____ and recover". A senior manager at Nike (4) _____, "Our senior leaders are all sending a clear message – take the time to unwind, de-stress and spend (5) _____ with your loved ones." Nike's stores did not close. Store workers worked as usual.

SubQuestion No : 23

Q.23 Select the most appropriate option to fill in blank No. 3.

- Ans
- ☐ 1. rested
 - ☒ 2. to rest
 - ☐ 3. rest
 - ☐ 4. to resting

Question ID : 65497839249

Status : Answered

Chosen Option : 2

Comprehension:

In the following passage, some words have been deleted. Read the passage carefully and select the most appropriate option to fill in each blank.

Nike gave its office workers a week-long holiday to help them de-stress (1) _____ worries over the COVID-19 pandemic. The sportswear giant (2) _____ its offices so workers could "enjoy additional time off (3) _____ and recover". A senior manager at Nike (4) _____, "Our senior leaders are all sending a clear message – take the time to unwind, de-stress and spend (5) _____ with your loved ones." Nike's stores did not close. Store workers worked as usual.

SubQuestion No : 24

Q.24 Select the most appropriate option to fill in blank No. 4.

- Ans
- ☒ 1. said
 - ☐ 2. told
 - ☐ 3. spoke
 - ☐ 4. talked

Question ID : 65497839250

Status : Answered

Chosen Option : 1

Comprehension:

In the following passage, some words have been deleted. Read the passage carefully and select the most appropriate option to fill in each blank.

Nike gave its office workers a week-long holiday to help them de-stress (1) _____ worries over the COVID-19 pandemic. The sportswear giant (2) _____ its offices so workers could "enjoy additional time off (3) _____ and recover". A senior manager at Nike (4) _____, "Our senior leaders are all sending a clear message – take the time to unwind, de-stress and spend (5) _____ with your loved ones." Nike's stores did not close. Store workers worked as usual.

SubQuestion No : 25

Q.25 Select the most appropriate option to fill in blank No. 5.

- Ans
- ☒ 1. hours
 - ☒ 2. money
 - ☒ 3. time
 - ☒ 4. days

Question ID : 65497839251

Status : Answered

Chosen Option : 3

Section : Quantitative Aptitude

Q.1 एक खेत की आकृति समचतुर्भुजाकार है। इसका परिमाप 584 m है और इसके एक विकर्ण की लंबाई 220 m है। खेत का क्षेत्रफल (m² में) ज्ञात कीजिए

- Ans
- ☒ 1. 21,120
 - ☒ 2. 21,450
 - ☒ 3. 20,900
 - ☒ 4. 21,010

Question ID : 65497838668

Status : Not Answered

Chosen Option : --

Q.2 एक संख्या में पहले 35% की वृद्धि की जाती है और फिर पुनः 25% की वृद्धि की जाती है। इस प्रकार प्राप्त संख्या में 40% की कमी की जाती है। संख्या में हुई शुद्ध वृद्धि या कमी का प्रतिशत कितना है

- Ans
- ☒ 1. 1.25% की कमी
 - ☒ 2. 20% की वृद्धि
 - ☒ 3. 12.5% की कमी
 - ☒ 4. 1.25% की वृद्धि

Question ID : 65497838755

Status : Answered

Chosen Option : 4

Q.3 वह छोटी से छोटी संख्या ज्ञात कीजिए, जिसे 3029 में जोड़ने पर प्राप्त संख्या 18 से पूर्णतः विभाज्य हो।

- Ans
- ✓ 1. 13
 - ✗ 2. 9
 - ✗ 3. 22
 - ✗ 4. 4

Question ID : 65497838748
Status : Answered
Chosen Option : 1

Q.4 एक व्यक्ति ने एक वस्तु को ₹9,700 में बेचा और 25% का लाभ अर्जित किया। यदि उसने इसे ₹8,400 में बेचा होता तो उसे होने वाला प्रतिशत लाभ या हानि (निकटतम पूर्णांक तक) ज्ञात कीजिए।

- Ans
- ✗ 1. हानि, 8%
 - ✗ 2. हानि, 9%
 - ✗ 3. लाभ, 9%
 - ✓ 4. लाभ, 8%

Question ID : 65497839065
Status : Answered
Chosen Option : 4

Q.5 A एक काम को 8 दिनों में कर सकता है और B उसी काम को 12 दिनों में कर सकता है। यदि वे उस पर 3 दिन कार्य करते हैं, तो कार्य का कितना भाग शेष रह जाता है?

- Ans
- ✗ 1. $\frac{5}{8}$
 - ✗ 2. $\frac{19}{24}$
 - ✓ 3. $\frac{3}{8}$
 - ✗ 4. $\frac{17}{20}$

Question ID : 65497838052
Status : Answered
Chosen Option : 3

Q.6 एक विक्रेता एक रेफ्रिजरेटर को उसके क्रय मूल्य के $\frac{18}{25}$ मूल्य पर बेचता है। उसे होने वाली प्रतिशत हानि या लाभ ज्ञात कीजिए।

- Ans
- ✓ 1. हानि, 28%
 - ✗ 2. लाभ, 28%
 - ✗ 3. लाभ, 25%
 - ✗ 4. हानि, 25%

Question ID : 65497839270
Status : Answered
Chosen Option : 1

Q.7 एक व्यक्ति x km/h की चाल से एक निश्चित दूरी तय करता है और 56 km/h की चाल से प्रारंभिक बिंदु पर लौटता है। यदि पूरी यात्रा के दौरान उसकी औसत चाल 63 km/h है, तो x का मान ज्ञात कीजिए।

- Ans
- ☒ 1. 80
 - ☒ 2. 75
 - ☒ 3. 70
 - ☒ 4. 72

Question ID : 65497838768
Status : Answered
Chosen Option : 4

Q.8 एक परीक्षा में, शिल्पा ने 72.5% अंक प्राप्त किए। उसकी सहेली, जिसने 78% अंक प्राप्त किए हैं, उससे 88 अंक अधिक प्राप्त करती है। परीक्षा का पूर्णांक ज्ञात कीजिए।

- Ans
- ☒ 1. 1500
 - ☒ 2. 1450
 - ☒ 3. 1800
 - ☒ 4. 1600

Question ID : 65497838654
Status : Answered
Chosen Option : 4

Q.9 एक निश्चित धनराशि पर 12.5% वार्षिक साधारण ब्याज की दर पर 5 वर्ष में प्राप्त मिश्रधन, समान धनराशि पर समान दर पर 10 वर्ष में प्राप्त साधारण ब्याज से ₹1,725 अधिक है। धनराशि (₹ में) ज्ञात कीजिए।

- Ans
- ☒ 1. 5,200
 - ☒ 2. 4,800
 - ☒ 3. 4,600
 - ☒ 4. 4,500

Question ID : 65497838764
Status : Not Answered
Chosen Option : --

Q.10 एक निश्चित धनराशि पर 8% वार्षिक साधारण ब्याज की दर पर $7\frac{1}{2}$ वर्ष में प्राप्त मिश्रधन, धनराशि के दोगुने से ₹3,000 कम है। धनराशि (₹ में) ज्ञात कीजिए।

- Ans
- ☒ 1. 6,500
 - ☒ 2. 7,200
 - ☒ 3. 7,000
 - ☒ 4. 7,500

Question ID : 65497838662
Status : Not Answered
Chosen Option : --

Q.11 16 छात्रों के एक समूह की औसत लंबाई 164 cm थी। 153 cm, 158 cm, 166 cm और 145 cm लंबाई वाले चार छात्रों ने समूह छोड़ दिया। 167 cm की औसत लंबाई वाले नौ नए छात्र, शेष छात्रों के समूह में शामिल हो गए। समूह में छात्रों की नई औसत लंबाई (cm) में, निकटतम पूर्ण संख्या में) ज्ञात कीजिए।

- Ans**
- ☐ 1. 164
 - ☐ 2. 170
 - ☐ 3. 166
 - ☒ 4. 167

Question ID : 65497839262

Status : **Not Attempted and Marked For Review**

Chosen Option : --

Q.12 यदि 30 वस्तुओं का विक्रय मूल्य, 45 वस्तुओं के क्रय मूल्य के बराबर है, तो हानि या लाभ प्रतिशत क्या होगा?

- Ans**
- ☐ 1. 40% हानि
 - ☐ 2. 25% लाभ
 - ☒ 3. 50% लाभ
 - ☐ 4. 30% हानि

Question ID : 65497838350

Status : **Answered**

Chosen Option : 3

Q.13 दो ट्रेनें A और B, दो स्टेशनों क्रमशः P और Q से एक साथ एक-दूसरे की ओर नियत चालों से चलना शुरू करती हैं। एक-दूसरे को पार करने के बाद, A को Q तक पहुंचने में 20 घंटे लगते हैं और B को P तक पहुंचने में 5 घंटे लगते हैं। यदि ट्रेन A की चाल 55 km/h है, तो ट्रेन B की चाल (km/h में) ज्ञात कीजिए।

- Ans**
- ☐ 1. 105
 - ☐ 2. 100
 - ☐ 3. 112
 - ☒ 4. 110

Question ID : 65497839279

Status : **Not Answered**

Chosen Option : --

Q.14 25 महिलाएं 6 दिनों में किसी कार्य का एक-तिहाई भाग पूरा कर सकती हैं। कार्य को 5 दिनों में पूरा करने के लिए कितनी महिलाओं को नियोजित किया जाना चाहिए?

- Ans**
- ☐ 1. 50
 - ☐ 2. 60
 - ☐ 3. 30
 - ☒ 4. 90

Question ID : 65497838665

Status : **Answered**

Chosen Option : 4

Q.15 0.6, 0.12, 0.04 का चतुर्थानुपाती क्या है?

- Ans
- ☒ 1. 0.1
 - ☒ 2. 0.68
 - ☒ 3. 0.008
 - ☒ 4. 0.08

Question ID : 65497838047
Status : Not Answered
Chosen Option : --

Q.16 एक दुकानदार 18% और 15% की क्रमिक छूट प्रदान करता है और वस्तु को ₹34,850 में बेचता है। इसका अंकित मूल्य (₹ में) क्या है?

- Ans
- ☒ 1. 46,350
 - ☒ 2. 51,500
 - ☒ 3. 50,000
 - ☒ 4. 47,500

Question ID : 65497838039
Status : Not Answered
Chosen Option : --

Q.17 यदि $\frac{x}{y} + \frac{y}{x} = 1$, और $x, y \neq 0$ हैं, तो $x^6 + y^6 + 2x^3y^3$ का मान ज्ञात करें।

- Ans
- ☒ 1. 0
 - ☒ 2. 1
 - ☒ 3. $3x^3y^3$
 - ☒ 4. x^3y^3

Question ID : 65497838058
Status : Not Answered
Chosen Option : --

Q.18 एक निश्चित धनराशि 9% वार्षिक साधारण ब्याज की दर पर $8\frac{1}{2}$ वर्ष में ₹15,179 हो जाती है। समान धनराशि पर समान ब्याज दर पर $5\frac{1}{2}$ वर्ष में प्राप्त साधारण ब्याज (₹ में) ज्ञात कीजिए।

- Ans
- ☒ 1. 4,158
 - ☒ 2. 4,257
 - ☒ 3. 4,356
 - ☒ 4. 4,455

Question ID : 65497838763
Status : Not Answered
Chosen Option : --

Q.19 कक्षा में लड़कों और लड़कियों की संख्याओं का अनुपात 4:3 है। यदि 5 और लड़के कक्षा में शामिल होते हैं, और 3 लड़कियां कक्षा छोड़ देती हैं, तो लड़के और लड़कियों की संख्याओं का अनुपात 11 : 6 हो जाता है। अब कक्षा में लड़कियों की संख्या कितनी है?

- Ans
- ☐ 1. 27
 - ☐ 2. 21
 - ☐ 3. 24
 - ☒ 4. 18

Question ID : 65497838660
Status : Answered
Chosen Option : 4

Q.20 यदि निम्नलिखित संख्याओं का औसत 14 है तो p का मान क्या होगा?

27, 32, 14, 0, p, 10, 15

- Ans
- ☐ 1. 1
 - ☐ 2. 7
 - ☒ 3. 0
 - ☐ 4. 5

Question ID : 65497839057
Status : Answered
Chosen Option : 3

Q.21 यदि 8-अंकीय संख्या $63k4021p$, 72 से विभाज्य है, तो $(5k - 3p)$ का मान ज्ञात कीजिए।

- Ans
- ☐ 1. 2
 - ☐ 2. -7
 - ☒ 3. 7
 - ☐ 4. -2

Question ID : 65497839259
Status : Not Answered
Chosen Option : --

Q.22 $22.2 \times 22.2 + 124.32 + 2.8 \times 2.8$ का मान ज्ञात कीजिए।

- Ans
- ☐ 1. 25
 - ☒ 2. 625
 - ☐ 3. 48
 - ☐ 4. 550

Question ID : 65497839281
Status : Not Answered
Chosen Option : --

Q.23 एक दुकानदार एक वस्तु को उसके सूची मूल्य पर 25% की छूट देकर ₹462 में बेचता है। यदि उसने कोई छूट नहीं दी होती, तो उसे 10% का लाभ होता। वस्तु का क्रय मूल्य (₹ में) ज्ञात कीजिए।

- Ans
- ✓ 1. 560
 - ✗ 2. 540
 - ✗ 3. 580
 - ✗ 4. 550

Question ID : 65497838652
Status : Answered
Chosen Option : 1

Q.24 $(1095 \text{ का } 16.4\%) - (324 \text{ का } 3.5\%)$ का मान ज्ञात कीजिए।

- Ans
- ✗ 1. 165.2
 - ✓ 2. 168.24
 - ✗ 3. 169.75
 - ✗ 4. 166.5

Question ID : 65497838756
Status : Not Answered
Chosen Option : --

Q.25 32 संख्याओं में से, पहली 16 संख्याओं का औसत 54 है और अंतिम 15 संख्याओं का औसत 57 है। यदि 17वीं संख्या को हटा दिया जाए, तो शेष संख्याओं का औसत (दशमलव के बाद एक स्थान तक) क्या होगा?

- Ans
- ✗ 1. 58.7
 - ✗ 2. 57.9
 - ✓ 3. 55.5
 - ✗ 4. 54.6

Question ID : 65497838342
Status : Answered
Chosen Option : 3

Section : General awareness

Q.1 निम्नलिखित में से कौन 'इंडिया ग्राउ एट नाइट (India grows at night)' के लेखक हैं?

- Ans
- ✗ 1. शशि थरूर
 - ✓ 2. गुरचरण दास
 - ✗ 3. जवाहर लाल नेहरू
 - ✗ 4. पी.वी. नरसिम्हा राव

Question ID : 65497839299
Status : Answered
Chosen Option : 1

Q.2 सितंबर 2021 में, निम्न में से किसे उत्तराखंड का राज्यपाल नियुक्त किया गया था?

- Ans
- ☒ 1. बेबी रानी मौर्य
 - ☒ 2. जगदीश मुखी
 - ☒ 3. गुरमीत सिंह
 - ☒ 4. आर.एन. रवि

Question ID : 65497838082

Status : Answered

Chosen Option : 2

Q.3 अगस्त 2021 में, निम्न में से किसे कैशिफाई के पहले ब्रांड एंबेसडर के रूप में नियुक्त किया गया था?

- Ans
- ☒ 1. सलमान खान
 - ☒ 2. राजकुमार राव
 - ☒ 3. अक्षय कुमार
 - ☒ 4. सोनू सूद

Question ID : 65497838074

Status : Answered

Chosen Option : 2

Q.4 999 CE में, शिव को समर्पित कंदरिया महादेव मंदिर का निर्माण _____ वंश के राजा धंगदेव द्वारा कराया गया था।

- Ans
- ☒ 1. पश्चिम गंग
 - ☒ 2. चोल
 - ☒ 3. पूर्वी गंग
 - ☒ 4. चंदेल

Question ID : 65497838786

Status : Not Answered

Chosen Option : --

Q.5 मान लीजिए कि आप हर महीने के पहले दिन ₹100 कमाते हैं और इस बैलेंस को महीने के बाकी दिनों में समान रूप से कम करते हैं, तो महीने के प्रारंभ और अंत में आपका नकदी बैलेंस (₹ में) _____ होता है।

- Ans
- ☒ 1. 100 और 0
 - ☒ 2. 0 और 100
 - ☒ 3. 50 और 0
 - ☒ 4. 50 और 50

Question ID : 65497839285

Status : Not Answered

Chosen Option : --

Q.6 ऊर्जा की विमा को द्रव्यमान से विभाजित करने पर प्राप्त राशि का वर्गमूल _____ के वर्ग मूल बराबर होता है।

- Ans
- ☒ 1. त्वरण
 - ☒ 2. वेग
 - ☒ 3. विस्थापन
 - ☒ 4. समय

Question ID : 65497839290

Status : Not Attempted and Marked For Review

Chosen Option : --

Q.7 नारियल किस राजनीतिक दल का आरक्षित चिह्न है?

- Ans
- ☐ 1. तेलुगु देशम
 - ☐ 2. नागा पीपल्स फ्रंट
 - ☐ 3. ऑल इंडिया फॉरवर्ड ब्लॉक
 - ☒ 4. गोवा फॉरवर्ड पार्टी

Question ID : 65497838689

Status : Answered

Chosen Option : 4

Q.8 निम्न में से कौन सी असम की सबसे बड़ी मीठे पानी की एक झील होने के साथ-साथ महत्वपूर्ण पक्षी क्षेत्र होने के अलावा राज्य का एकमात्र रामसर स्थल है?

- Ans
- ☐ 1. लोकताक झील
 - ☒ 2. दीपोर बिल या दीपोर बील
 - ☐ 3. उमियम झील
 - ☐ 4. वार्ड की झील

Question ID : 65497838068

Status : Answered

Chosen Option : 1

Q.9 निम्नलिखित में से किस मंत्री ने खेलो इंडिया योजना की पहली महापरिषद की बैठक की अध्यक्षता की?

- Ans
- ☐ 1. केंद्रीय वाणिज्य मंत्री
 - ☐ 2. केंद्रीय शिक्षा मंत्री
 - ☐ 3. केंद्रीय रक्षा मंत्री
 - ☒ 4. केंद्रीय खेल मंत्री

Question ID : 65497839304

Status : Answered

Chosen Option : 4

Q.10 निम्न में से कौन सा स्मारक फतेहपुर-सीकरी में स्थित नहीं है?

- Ans
- ☐ 1. जोधा बाई का महल
 - ☒ 2. गरीब नवाज दरगाह
 - ☐ 3. पंचमहल
 - ☐ 4. बुलंद दरवाज़ा

Question ID : 65497838774

Status : Not Answered

Chosen Option : --

Q.11 छत्तीसगढ़ का उच्च न्यायालय कहां स्थित है?

- Ans
- ☐ 1. रायपुर
 - ☐ 2. रायगढ़
 - ☐ 3. भिलाई
 - ☒ 4. बिलासपुर

Question ID : 65497838790

Status : Answered

Chosen Option : 3

Q.12 रवींद्रनाथ टैगोर बीच किस शहर में स्थित है?

- Ans ☒ 1. कारवार
☐ 2. मुंबई
☐ 3. तूतिकोरिन
☐ 4. पारादीप

Question ID : 65497838681
Status : Not Answered
Chosen Option : --

Q.13 बौद्ध धर्म के संदर्भ में, 'महायान' का अर्थ _____ है।

- Ans ☐ 1. महान विजय
☐ 2. महान बलिदान
☒ 3. महान वाहन
☐ 4. महान युद्ध

Question ID : 65497839294
Status : Answered
Chosen Option : 2

Q.14 श्रीकालहस्ती मंदिर, _____ राज्य में स्थित है।

- Ans ☐ 1. कर्नाटक
☒ 2. आंध्र प्रदेश
☐ 3. तेलंगाना
☐ 4. तमिलनाडु

Question ID : 65497838671
Status : Not Answered
Chosen Option : --

Q.15 चिनाब नदी का ऋग्वैदिक नाम _____ था।

- Ans ☐ 1. वितस्ता
☐ 2. सिंधु
☒ 3. अस्किनी
☐ 4. परुष्णि

Question ID : 65497838683
Status : Not Answered
Chosen Option : --

Q.16 कर्क मछली (Crayfish) और किलनी (ticks) को क्रमशः _____ में वर्गीकृत किया गया है।

- Ans ☒ 1. परुषकवची और अष्टपाद (Crustacean and Arachnida)
☐ 2. परुषकवची और कीट (Crustacean and Insecta)
☐ 3. अष्टपाद और अयुतपाद (Arachnida and Myriapoda)
☐ 4. अयुतपाद और कीट (Myriapoda and Insecta)

Question ID : 65497838677
Status : Not Answered
Chosen Option : --

Q.17 मार्च-अप्रैल 2021 के दौरान, पश्चिम बंगाल विधानसभा चुनावों में टी.एम.सी. (तृणमूल कांग्रेस) के बाद निम्न में से किस राजनीतिक दल ने सर्वाधिक मत प्राप्त किए थे?

- Ans
- ☒ 1. CPM
 - ☒ 2. CPI
 - ☒ 3. INC
 - ☒ 4. BJP

Question ID : 65497838693

Status : Answered

Chosen Option : 4

Q.18 भारत के आयकर विभाग द्वारा जारी किए गए पैन (PAN) कार्ड में कितने वर्णों/संप्रतीकों का अक्षरांकीय कोड होता है?

- Ans
- ☒ 1. 8
 - ☒ 2. 9
 - ☒ 3. 12
 - ☒ 4. 10

Question ID : 65497838776

Status : Answered

Chosen Option : 4

Q.19 आउटडोर पोलो टीम में _____ खिलाड़ी होते हैं।

- Ans
- ☒ 1. 13
 - ☒ 2. 9
 - ☒ 3. 8
 - ☒ 4. 4

Question ID : 65497838078

Status : Answered

Chosen Option : 1

Q.20 प्राकृतिक भूकंप ज्यादातर _____ में होते हैं।

- Ans
- ☒ 1. आयनमंडल
 - ☒ 2. स्थलमंडल
 - ☒ 3. जलमंडल
 - ☒ 4. क्षोभमंडल

Question ID : 65497838781

Status : Answered

Chosen Option : 2

Q.21 पादपों में श्वसन प्रक्रिया के दौरान, निम्न में से कौन सा उत्पाद के रूप में मुक्त नहीं होता है?

- Ans
- ☒ 1. ऑक्सीजन
 - ☒ 2. कार्बन डाइऑक्साइड
 - ☒ 3. ऊर्जा
 - ☒ 4. जल

Question ID : 65497838778

Status : Answered

Chosen Option : 1

Q.22 2021 में, निम्न में से किस संस्थान ने डिजिटल रूपांतरण केंद्र के लिए बैंक ऑफ अमेरिका के साथ साझेदारी की है?

- Ans
- ☒ 1. आईआईएम (IIM) दिल्ली
 - ☒ 2. आईआईएम (IIM) अहमदाबाद
 - ☒ 3. आईआईएम (IIM) इंदौर
 - ☒ 4. आईआईएम (IIM) लखनऊ

Question ID : 65497838063

Status : Not Answered

Chosen Option : --

Q.23 दोआब में खेती में सुधार लाने के लिए, मुहम्मद बिन तुगलक ने एक पृथक कृषि विभाग की स्थापना की थी, इसे किस नाम से जाना जाता था?

- Ans
- ☒ 1. दीवान-ए-इश्तियाक
 - ☒ 2. दीवान-ए-अर्ज़
 - ☒ 3. दीवान-ए-अमीर-कोही
 - ☒ 4. दीवान-ए-मुस्तखराज

Question ID : 65497838073

Status : Not Answered

Chosen Option : --

Q.24 नीरज चोपड़ा द्वारा 2021 में टोक्यो में आयोजित ओलंपिक खेलों में स्वर्ण पदक जीतने वाले श्रो में भाले द्वारा तय की गई दूरी _____ के बीच थी।

- Ans
- ☒ 1. 86.5 m और 87.0 m
 - ☒ 2. 87.0 m और 87.5 m
 - ☒ 3. 87.5 m और 88.0 m
 - ☒ 4. 86.0 m और 86.5 m

Question ID : 65497839098

Status : Marked For Review

Chosen Option : 1

Q.25 निम्नलिखित में से किसने 7 सितंबर 2021 को वीडियो कॉन्फ्रेंसिंग के माध्यम से शिक्षक पर्व का उद्घाटन भाषण दिया?

- Ans
- ☒ 1. अमर्त्य सेन
 - ☒ 2. नरेंद्र मोदी
 - ☒ 3. सी.एन.आर. राव
 - ☒ 4. धर्मेन्द्र प्रधान

Question ID : 65497839307

Status : Answered

Chosen Option : 4