

## Combined Graduate Level Examination Tier II 2022

Roll Number	
Candidate Name	
Venue Name	iON Digital Zone iDZ Laxman Nagar
Exam Date	02/03/2023
Exam Time	9:00 AM - 12:00 PM
Subject	CGLE 2022 Tier II Paper I

### Section : Mathematical Abilities

Q.1  $\Delta PQR$  में,  $PQ=QR$  है और  $\Delta PQR$  में  $O$  इस प्रकार से एक अंतः बिंदु है कि  $\angle OPR = \angle ORP$  है।

निम्नलिखित कथनों पर विचार कीजिए:

(i)  $\Delta POR$  एक समद्विबाहु त्रिभुज है।

(ii)  $O$  बिंदु  $\Delta PQR$  का केन्द्रक है।

(iii)  $\Delta PQO$ ,  $\Delta RQO$  के सर्वांगसम है।

उपरोक्त कथनों में से कौन से कथन सही हैं?

Ans ☒ 1. केवल (i) और (iii)

☒ 2. केवल (ii) और (iii)

☒ 3. केवल (i) और (ii)

☒ 4. केवल (ii)

Question ID : 264330121758

Status : Answered

Chosen Option : 1

Q.2 एक कांच के पात्र में 6 सफेद, 8 काले, 4 लाल और 3 नीले कंचे हैं। यदि पात्र में से एक कंचा यादृच्छिक रूप से चुना जाता है, तो इसके काले या नीले रंग के होने की क्या प्रायिकता है?

Ans

☒ 1.  $\frac{5}{21}$

☒ 2.  $\frac{1}{7}$

☒ 3.  $\frac{8}{21}$

☒ 4.  $\frac{11}{21}$

Question ID : 264330121737

Status : Answered

Chosen Option : 4

Q.3 क्रमशः 2 cm, 3 cm और 4 cm व्यास के तीन नल हैं। उनके माध्यम से प्रवाहित जल का अनुपात उनके व्यास के वर्ग के अनुपात के बराबर है। सबसे बड़ा नल अकेले एक खाली टंकी को 81 मिनट में भर सकता है। यदि सभी नलों को एक साथ खोल दिया जाए, तो टंकी को भरने में कितना समय (मिनट में) लगेगा?

- Ans
- ☒ 1.  $34\frac{20}{29}$
  - ☒ 2.  $54\frac{20}{29}$
  - ☒ 3.  $64\frac{20}{29}$
  - ☒ 4.  $44\frac{20}{29}$

Question ID : 264330122816

Status : Answered

Chosen Option : 4

Q.4 यदि  $\tan(A + B) = \sqrt{3}$  और  $\tan(A - B) = \frac{1}{\sqrt{3}}$ ;  $0^\circ < (A + B) < 90^\circ$ ;  $A > B$ , तो A और B के मान क्रमशः \_\_\_\_\_ हैं।

- Ans
- ☒ 1.  $30^\circ$  और  $30^\circ$
  - ☒ 2.  $60^\circ$  और  $30^\circ$
  - ☒ 3.  $15^\circ$  और  $45^\circ$
  - ☒ 4.  $45^\circ$  और  $15^\circ$

Question ID : 264330126431

Status : Answered

Chosen Option : 4

Q.5 एक वृत्त, चतुर्भुज ABCD की चारों भुजाओं को स्पर्श करता है। यदि  $AB = 18$  cm,  $BC = 21$  cm और  $AD = 15$  cm है, तो CD की लंबाई क्या होगी?

- Ans
- ☒ 1. 18 cm
  - ☒ 2. 14 cm
  - ☒ 3. 16 cm
  - ☒ 4. 12 cm

Question ID : 264330121661

Status : Answered

Chosen Option : 1

Q.6 संख्या 5769116 निम्नलिखित में से किस संख्या से विभाज्य है?

- Ans
- ☒ 1. 5
  - ☒ 2. 12
  - ☒ 3. 8
  - ☒ 4. 4

Question ID : 264330126419

Status : Answered

Chosen Option : 4

Q.7 दो जहाज एक प्रकाशस्तंभ के सम्मुख इस प्रकार हैं कि वे तीनों संरेख हैं। प्रकाशस्तंभ के शीर्ष से दो जहाजों के अवनमन कोण  $30^\circ$  और  $60^\circ$  हैं। यदि जहाजों के बीच की दूरी  $230\sqrt{3}$  m है, तो प्रकाशस्तंभ की ऊँचाई (m में) ज्ञात कीजिए।

- Ans
- ☒ 1. 165.2
  - ☒ 2. 172.5
  - ☒ 3. 180.5
  - ☒ 4. 175.4

Question ID : 264330122824  
Status : Answered  
Chosen Option : 2

Q.8 यदि  $\frac{1}{x} + x = 4$  है, तो  $\frac{1}{x^2} + x^2$  ज्ञात कीजिए।

- Ans
- ☒ 1. 5
  - ☒ 2. 15
  - ☒ 3. 7
  - ☒ 4. 14

Question ID : 26433074357  
Status : Answered  
Chosen Option : 4

Q.9 दो संख्याएँ, तीसरी संख्या से क्रमशः 10% और 25% अधिक हैं। उन दोनों संख्याओं का अनुपात \_\_\_\_\_ है।

- Ans
- ☒ 1. 19 : 25
  - ☒ 2. 22 : 25
  - ☒ 3. 18 : 25
  - ☒ 4. 23 : 25

Question ID : 26433056318  
Status : Answered  
Chosen Option : 2

Q.10 दो कर्मचारियों की आय का अनुपात 7 : 4 है, और उनके व्यय का अनुपात 3 : 1 है। यदि उनमें से प्रत्येक ₹4,800 की प्रति माह बचत करता है, तो उनकी मासिक आय का योग (₹ में) ज्ञात कीजिए।

- Ans
- ☒ 1. 21120
  - ☒ 2. 21150
  - ☒ 3. 18150
  - ☒ 4. 20120

Question ID : 264330121745  
Status : Answered  
Chosen Option : 1

Q.11 यदि किसी गोले की त्रिज्या 48% कम कर दी जाए, तो उसका पृष्ठीय क्षेत्रफल कितने प्रतिशत कम हो जाएगा?

- Ans
- ☒ 1. 78.98%
  - ☒ 2. 72.96%
  - ☒ 3. 86.26%
  - ☒ 4. 82.91%

Question ID : 264330121658  
Status : Answered  
Chosen Option : 2

Q.12 एक आदमी Rs.5,000 में एक मशीन खरीदता है। एक वर्ष के बाद, वह इसे Rs.6000 में बेचता है। दो वर्ष बाद, वह फिर से उसी मशीन को Rs.8,000 में खरीदता है और Rs.10,000 में बेचता है। दोनों लेन-देन के लिए उसका समग्र लाभ प्रतिशत ज्ञात कीजिए।

- Ans
- ☒ 1. 18.75%
  - ☒ 2. 15.23%
  - ☒ 3. 20.23%
  - ☒ 4. 23.08%

Question ID : 26433058403  
Status : Answered  
Chosen Option : 4

Q.13 एक आदमी शांत जल में 10 km/h की चाल से नाव चला सकता है। यदि नदी 4.5 km/h की चाल से बह रही है, तो उसे एक स्थान तक जाने और आरंभिक बिन्दु तक वापस आने में 2 घंटे का समय लगता है। वह स्थान कितनी दूरी (km में) पर स्थित है (दो दशमलव स्थान तक पूर्णांकित)?

- Ans
- ☒ 1. 6.25
  - ☒ 2. 5.50
  - ☒ 3. 7.98
  - ☒ 4. 8.98

Question ID : 264330121725  
Status : Answered  
Chosen Option : 3

Q.14 निम्नलिखित में से m के किस मान से समीकरण निकाय  $17x+my+102=0$  और  $23x+299y+138=0$  के असंख्य हल प्राप्त होंगे?

- Ans
- ☒ 1. 220
  - ☒ 2. 219
  - ☒ 3. 221
  - ☒ 4. 223

Question ID : 264330121748  
Status : Answered  
Chosen Option : 3

Q.15 A, B और C ने निश्चित निवेश किए तथा उनकी कालावधि का अनुपात क्रमशः 3 : 2 : 7 है। A, B और C के लाभ का अनुपात क्रमशः 4 : 3 : 14 है। A, B और C के निवेश का अनुपात क्या है?

- Ans
- ☒ 1. 8:9:12
  - ☒ 2. 1:3:4
  - ☒ 3. 2:3:11
  - ☒ 4. 7:9:11

Question ID : 264330121715  
Status : Answered  
Chosen Option : 1

Q.16 एक मोटर-साइकिल को उसके अंकित मूल्य पर 44% की छूट देकर ₹87,500 में बेचा जाता है। मोटर-साइकिल का अंकित मूल्य (₹ में) कितना है?

- Ans
- ☒ 1. 1,56,100
  - ☒ 2. 1,55,500
  - ☒ 3. 1,56,250
  - ☒ 4. 1,58,225

Question ID : 264330121708

Status : Answered

Chosen Option : 3

Q.17 दो संख्याओं का गुणनफल 1500 है और उनका म.स.प (HCF) 10 है। ऐसे संभावित युग्मों की संख्या \_\_\_\_\_ है/हैं।

- Ans
- ☒ 1. 4
  - ☒ 2. 3
  - ☒ 3. 2
  - ☒ 4. 1

Question ID : 26433090276

Status : Answered

Chosen Option : 3

Q.18 एक आयताकार पार्क 120 m लंबा और 104 m चौड़ा है। पार्क की सीमा के साथ-साथ एक 1-m चौड़ा रास्ता चलता है, जो पार्क के क्षेत्र के पूरी तरह से भीतर रहता है। इस प्रकार, रास्ते के बाहरी किनारे, पार्क की चारदीवारी के साथ चलते हैं। रास्ते के अंदर के किनारों को नगण्य मोटाई की एक सफेद रेखा पोती जानी है। यदि प्रत्येक मीटर पर सफेद रेखा पोतने पर ₹2.50 का खर्च आता है, तो रास्ते के अंदर के किनारों को पूरी तरह से पोतने के लिए कितना खर्च आएगा (₹ में)?

- Ans
- ☒ 1. 1100
  - ☒ 2. 1120
  - ☒ 3. 1080
  - ☒ 4. 1090

Question ID : 264330122873

Status : Answered

Chosen Option : 1

Q.19 एक टोकरी में 350 अंडे हैं। यदि 12% अंडे सड़े हुए हैं, तो कितने अंडे बेचे जाने के लिए बचे हैं?

- Ans
- ☒ 1. 308
  - ☒ 2. 410
  - ☒ 3. 310
  - ☒ 4. 408

Question ID : 26433066357

Status : Answered

Chosen Option : 1

Q.20 3 वर्ष में ₹8,000 पर दो बैंकों के साधारण ब्याज का अंतर ₹800 है। यदि दो बैंकों में ब्याज की प्रतिवर्ष दर R1 तथा R2 है, तो R1 - R2 का मान क्या है? (जहाँ R1 > R2)

Ans

✗ 1.  $2\frac{1}{3}\%$

✗ 2.  $1\frac{1}{3}\%$

✓ 3.  $3\frac{1}{3}\%$

✗ 4.  $5\frac{1}{3}\%$

Question ID : 264330121648

Status : Answered

Chosen Option : 3

Q.21 प्रथम पाँच प्राकृतिक संख्याओं के घनों का औसत ज्ञात कीजिए।

Ans

✗ 1. 35

✗ 2. 40

✓ 3. 45

✗ 4. 50

Question ID : 26433073075

Status : Answered

Chosen Option : 3

Q.22 दिए गए व्यंजक का मान ज्ञात कीजिए।

$$\sqrt{8 + \sqrt{1681}}$$

Ans

✗ 1. 6

✓ 2. 7

✗ 3. 4

✗ 4. 5

Question ID : 264330121642

Status : Answered

Chosen Option : 2

Q.23 दिए गए व्यंजक का मान बताइए।

$$30 - [40 - \{56 - (25 - 13 - 12)\}]$$

Ans

✓ 1. 46

✗ 2. 38

✗ 3. 22

✗ 4. 14

Question ID : 264330122828

Status : Answered

Chosen Option : 1

Q.24 निम्नलिखित संख्याओं का अंकगणितीय/समांतर माध्य \_\_\_\_\_ होगा।  
23, 17, 20, 19, 21

- Ans
- ☐ 1. 23
  - ☐ 2. 21
  - ☐ 3. 19
  - ☒ 4. 20

Question ID : 264330126395  
Status : Answered  
Chosen Option : 4

Q.25 निम्नलिखित का मान निकालिए।  
 $\sin 25^\circ \sin 65^\circ - \cos 25^\circ \cos 65^\circ$ .

- Ans
- ☐ 1. 4
  - ☒ 2. 0
  - ☐ 3. 40
  - ☐ 4. 1

Question ID : 264330126427  
Status : Answered  
Chosen Option : 2

Q.26 यदि ब्याज अर्ध-वार्षिक रूप से चक्रवृद्धि होता है, तो ₹8,000 की राशि पर 20% वार्षिक की दर से 1 वर्ष का चक्रवृद्धि ब्याज ज्ञात करें।

- Ans
- ☐ 1. ₹1,685
  - ☐ 2. ₹1,675
  - ☐ 3. ₹1,690
  - ☒ 4. ₹1,680

Question ID : 264330126383  
Status : Answered  
Chosen Option : 4

Q.27 A, B, C तीन बिंदु इस प्रकार हैं कि AB = 9 cm, BC = 11 cm और AC = 20 cm है। बिंदु A, B, C से गुजरने वाले वृत्तों की संख्या क्या है?

- Ans
- ☐ 1. 2
  - ☐ 2. 3
  - ☐ 3. 1
  - ☒ 4. 0

Question ID : 264330126437  
Status : Answered  
Chosen Option : 4

Q.28 लकड़ी के 21 cm की भुजा वाले घन से काटे जा सकने वाले सबसे बड़े गोले का आयतन कितना है? ( $\pi = \frac{22}{7}$ )

- Ans
- ☐ 1.  $3851 \text{ cm}^3$
  - ☒ 2.  $4851 \text{ cm}^3$
  - ☐ 3.  $6858 \text{ cm}^3$
  - ☐ 4.  $5821 \text{ cm}^3$

Question ID : 264330123009  
Status : Answered  
Chosen Option : 2

Q.29 दिए गए बंटन का बहुलक ज्ञात कीजिए (दो दशमलव स्थान तक पूर्णांकित)।

वर्ग	5 - 10	10 - 15	15 - 20	20 - 25	25 - 30	30 - 35
अन्तराल						
बारंबारता	8	7	6	9	11	10

Ans ☒ 1. 40.25

☒ 2. 28.33

☒ 3. 30.33

☒ 4. 35.25

Question ID : 264330121734

Status : Answered

Chosen Option : 2

Q.30 किसी पात्र में 40 लीटर दूध रखा है। इस पात्र से 4 लीटर दूध निकाल लिया गया और उतना ही पानी उसमें मिला दिया गया। यह प्रक्रिया दो बार और की गई। पात्र में अब कितना दूध है?

Ans ☒ 1. 34.23 लीटर

☒ 2. 29.16 लीटर

☒ 3. 30 लीटर

☒ 4. 32 लीटर

Question ID : 26433057120

Status : Answered

Chosen Option : 2

Section : Reasoning and General Intelligence

Q.1 A # B' का अर्थ है 'A, B का भाई है'।  
'A @ B' का अर्थ है 'A, B की पुत्री है'।  
'A & B' का अर्थ है 'A, B का पति है'।  
'A % B' का अर्थ है 'A, B की पत्नी है'।  
यदि W % D # G @ B & M @ I है, तो D, M से किस प्रकार संबंधित है?

Ans ☒ 1. दादाजी

☒ 2. पोता

☒ 3. पुत्र

☒ 4. पिता

Question ID : 264330126292

Status : Answered

Chosen Option : 3

Q.2 नीचे दी गई पाँच आकृतियों में से चार किसी प्रकार से एक समान हैं और एक असंगत है। उस असंगत आकृति का चयन करें।



Ans

✓ 1.



✗ 2.



✗ 3.



✗ 4.



Question ID : 264330128889

Status : Answered

Chosen Option : 1

Q.3 दिए गए संख्या-युग्मों में दूसरी संख्या पहली संख्या पर कुछ गणितीय संक्रिया(एँ) करके प्राप्त की जाती है। एक संख्या-युग्म को छोड़कर शेष सभी संख्या-युग्मों में समान संक्रिया(ओं) का पालन किया जाता है। वह विषम संख्या-युग्म ज्ञात करें।

Ans ✗ 1. 1 : 4

✗ 2. 5 : 128

✗ 3. 3 : 30

✓ 4. 7 : 352

Question ID : 264330126254

Status : Answered

Chosen Option : 4

Q.4 दिए गए प्रत्येक अक्षर के लिए एक संख्या निर्दिष्ट की गई है। इन संख्याओं की निम्नलिखित चार संभावित क्रम व्यवस्थाओं में से उस विकल्प का चयन कीजिए जो एक सार्थक शब्द बना सकता है।  
E = 1, Z = 2, L = 3, P = 4, U = 5, Z = 6

Ans ✗ 1. 1,5,3,4,2,6

✗ 2. 6,1,4,3,5,2

✗ 3. 4,5,1,6,2,3

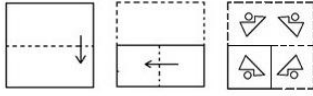
✓ 4. 4,5,6,2,3,1

Question ID : 264330121088

Status : Answered

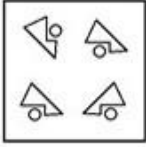
Chosen Option : 4

Q.5 नीचे एक कागज के एक टुकड़े को मोड़ने का क्रम और मुड़े हुए कागज को काटने का तरीका दर्शाया गया है। दिए गए विकल्पों में से वह आकृति चुनें जो कागज के खुले हुए रूप से सर्वाधिक मिलती-जुलती हो।

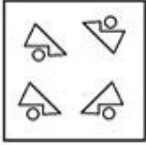


Ans

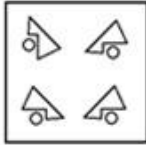
✗ 1.



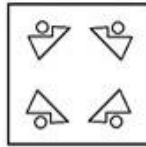
✗ 2.



✗ 3.



✓ 4.



Question ID : 264330126303

Status : Answered

Chosen Option : 4

Q.6 तीन कथन और उनके बाद चार निष्कर्ष क्रमांक 1, 2, 3 और 4 दिए गए हैं। कथनों को सत्य मानते हुए, भले ही वे सामान्य रूप से ज्ञात तथ्यों से भिन्न प्रतीत होते हों, निर्णय करें कि कौन सा निष्कर्ष तार्किक रूप से कथनों का अनुसरण नहीं करता है।

कथन:

सभी P, G हैं।

कुछ G, B हैं।

सभी B, C हैं।

निष्कर्ष:

1) सभी P के C होने की संभावना है।

2) कुछ P, B हैं।

3) कुछ C, G हैं।

4) कुछ G, P हैं।

Ans

✗ 1. केवल निष्कर्ष 1 अनुसरण नहीं करता है।

✓ 2. केवल निष्कर्ष 2 अनुसरण नहीं करता है।

✗ 3. केवल निष्कर्ष 3 अनुसरण नहीं करता है।

✗ 4. केवल निष्कर्ष 4 अनुसरण नहीं करता है।

Question ID : 26433069182

Status : Answered

Chosen Option : 2

Q.7 निम्नलिखित शब्दों में तीन शब्द किसी न किसी प्रकार एक समान हैं और इसलिए एक समूह का निर्माण करते हैं। कौन-सा शब्द उस समूह से संबंधित नहीं है? (शब्दों को अर्थपूर्ण अंग्रेजी शब्दों के रूप में माना जाना चाहिए और शब्द में अक्षरों की संख्या / व्यंजनों / स्वरों की संख्या के आधार पर उन्हें समूहबद्ध नहीं किया जाना चाहिए।)

- Ans
- ☒ 1. एक्सेल
  - ☒ 2. कीनोट (Keynote)
  - ☒ 3. पावर पॉइंट
  - ☒ 4. वर्ड

Question ID : 26433065633

Status : Answered

Chosen Option : 2

Q.8 इस प्रश्न में, एक कथन के बाद दो निष्कर्ष दिए गए हैं। दोनों में से कौन-सा/से निष्कर्ष सत्य है/हैं?

कथन:  $M < K > I < J > H = G \leq F$

निष्कर्ष: I.  $H = F$

II.  $J > G$

- Ans
- ☒ 1. केवल निष्कर्ष II सत्य है।
  - ☒ 2. केवल निष्कर्ष I सत्य है।
  - ☒ 3. निष्कर्ष I और II दोनों सत्य हैं।
  - ☒ 4. न तो निष्कर्ष I और न ही II सत्य है।

Question ID : 26433057325

Status : Answered

Chosen Option : 1

Q.9 निम्नलिखित में से कौन से अक्षर-समूह को, # और % को प्रतिस्थापित करना चाहिए ताकि :: के बाईं ओर के अक्षर-समूह युग्म के बीच का पैटर्न और संबंध वैसा ही हो जैसा कि :: के दाईं ओर के अक्षर-समूह युग्म का है?  
# : DKR :: PCL : %

- Ans
- ☒ 1. # = COQ, % = OGH
  - ☒ 2. # = BNP, % = NFJ
  - ☒ 3. # = FHT, % = NFJ
  - ☒ 4. # = BNQ, % = NFM

Question ID : 264330121405

Status : Answered

Chosen Option : 4

Q.10 इस प्रश्न में दो कथन I और II दिए गए हैं। ये कथन स्वतंत्र कारण हो सकते हैं या स्वतंत्र कारणों या एक उभयनिष्ठ कारण के प्रभाव हो सकते हैं। एक कथन, दूसरे कथन का प्रभाव हो सकता है। दोनों कथनों को पढ़िए और सही उत्तर का चयन कीजिए।

I. इस वर्ष कॉलेज X ने प्रवेश परीक्षा के लिए कट-ऑफ अंकों को 60 से घटाकर 50 कर दिया।

II. पिछले दो वर्षों में, कॉलेज X में छात्र संघ कॉलेज कैटीन में भोजन की गुणवत्ता और स्वास्थ्य तथा स्वच्छता मानकों के संबंध में कॉलेज प्रशासन के साथ सक्रिय रूप से बातचीत कर रहा है।


- Ans
- ☒ 1. I कारण है और II इसका संभावित प्रभाव है
  - ☒ 2. I और II दोनों स्वतंत्र कारण हैं
  - ☒ 3. I और II दोनों स्वतंत्र कारणों के प्रभाव हैं
  - ☒ 4. II कारण है और I इसका संभावित प्रभाव है

Question ID : 264330121453

Status : Answered


Chosen Option : 2

Q.11 नीचे दी गई पाँच आकृतियों में से चार किसी प्रकार से एक समान हैं और एक असंगत है। उस असंगत आकृति का चयन करें।




Ans

✗ 1.




✗ 2.



✗ 3.



✓ 4.



Question ID : 264330128895

Status : Answered

Chosen Option : 4

Q.12 जब दर्पण को चित्र के अनुसार 'PQ' पर रखा जाता है तो दिए गए संयोजन का दर्पण में निर्मित सही प्रतिबिंब चयनित कीजिए।

mS5aT7raKr

Ans

✗ 1. mS5aT7raKr

✓ 2. rK1T622m

✗ 3. mS5aT7raKr

✗ 4. m22aT7raKr

Question ID : 264330126296

Status : Answered

Chosen Option : 2

Q.13 नीचे एक प्रश्न और उसके बाद दो कथन क्रमांक (I) और (II) दिए गए हैं। आपको यह तय करना है कि कथनों में दिया गया डाटा प्रश्न का उत्तर देने के लिए पर्याप्त है या नहीं। दोनों कथनों का अध्ययन कीजिए और उपयुक्त उत्तर का चयन कीजिए।

प्रश्न: छह व्यक्ति दो समानांतर पंक्तियों में बैठे हैं। पंक्ति 1 में - J, K और L उत्तर की ओर मुख करके बैठे हैं, और पंक्ति 2 में - F, G और H दक्षिण की ओर मुख करके बैठे हैं। एक पंक्ति में बैठे व्यक्ति का मुख दूसरी पंक्ति में बैठे व्यक्ति की ओर है। G के समक्ष कौन बैठा है?

कथन:

- (I) H का मुख K की ओर है; L का मुख H के निकटतम पड़ोसी की ओर है।  
(II) G पंक्ति के किसी एक अंतिम छोर पर बैठा है; J, L के ठीक बाएं बैठा है।

- Ans ☒ 1. या तो कथन I में दिया गया डाटा अकेले या कथन II में दिया गया डाटा अकेले प्रश्न का उत्तर देने के लिए पर्याप्त है
- ☒ 2. कथन I और II दोनों में दिया गया डाटा मिलकर प्रश्न का उत्तर देने के लिए पर्याप्त है
- ☒ 3. कथन II में दिया गया डाटा अकेले प्रश्न का उत्तर देने के लिए पर्याप्त है जबकि कथन I में दिया गया डाटा प्रश्न का उत्तर देने के लिए पर्याप्त नहीं है
- ☒ 4. कथन I में दिया गया डाटा अकेले प्रश्न का उत्तर देने के लिए पर्याप्त है जबकि कथन II में दिया गया डाटा प्रश्न का उत्तर देने के लिए पर्याप्त नहीं है

Question ID : 264330121195

Status : Answered

Chosen Option : 2

Q.14 एक कक्षा में सभी 32 विद्यार्थी एक पंक्ति में उत्तर की ओर अभिमुख होकर खड़े हैं। आकाश दायें छोर से 12वें स्थान पर है जबकि प्रिया बाएं छोर से 18वें स्थान पर है। आकाश और प्रिया के बीच कितने लोग खड़े हैं?

- Ans ☒ 1. दो
- ☒ 2. पाँच
- ☒ 3. तीन
- ☒ 4. चार

Question ID : 264330121142

Status : Answered

Chosen Option : 1

Q.15 इस प्रश्न में एक कथन के बाद दो कार्रवाईयों क्रमांक I और II दी गई हैं। आपको कथन में दी गई सभी बातों को सत्य मानना है और कथन में दी गई जानकारी के आधार पर यह तय करना है कि कौन-सी कार्रवाई/कार्रवाईयों करने के लिए तार्किक रूप से अनुसरण करती है/हैं।

कथन: शहर के लोगों की एक बड़ी संख्या का मलेरिया रोग से पीड़ित होने का पता चला है।

कार्रवाईयों:

I. शहर के नगरपालिका अधिकारियों को शहर में व्यापक धूमन करने के लिए तत्काल कदम उठाने चाहिए।

II. क्षेत्र के लोगों को मच्छरों के काटने से बचने के लिए कदम उठाने की सलाह दी जानी चाहिए।

- Ans ☒ 1. न तो I न ही II अनुसरण करता है
- ☒ 2. केवल I अनुसरण करता है
- ☒ 3. I और II दोनों अनुसरण करते हैं
- ☒ 4. केवल II अनुसरण करता है

Question ID : 264330123207

Status : Answered

Chosen Option : 4

Q.16 दिए गए विकल्पों में से वह संख्या चुनिए, जो निम्नलिखित शृंखला में प्रश्न-चिह्न (?) को प्रतिस्थापित कर सके।  
58, 179, ?, 492, 688

- Ans ☒ 1. 323
- ☒ 2. 313
- ☒ 3. 300
- ☒ 4. 269

Question ID : 26433074538

Status : Answered

Chosen Option : 1

Q.17 A # B' का अर्थ है 'A, B का भाई है'।  
'A @ B' का अर्थ है 'A, B की पुत्री है'।  
'A & B' का अर्थ है 'A, B का पति है'।  
'A % B' का अर्थ है 'A, B की पत्नी है'।  
यदि D @ N @ H & Y @ F % V है, तो N, F से किस प्रकार संबंधित है?

- Ans
- ☐ 1. भांजी
  - ☐ 2. पुत्रवधू
  - ☐ 3. पुत्री
  - ☒ 4. पुत्री की पुत्री

Question ID : 264330126287

Status : Answered

Chosen Option : 4

Q.18 नीचे एक प्रश्न दिया गया है जिसके बाद दो कथन I और II दिए गए हैं। दोनों कथनों को ध्यानपूर्वक पढ़कर तय कीजिए कि इनमें से कौन सा कथन, प्रश्न का उत्तर देने के लिए पर्याप्त है।  
छ: व्यक्ति - K, M, N, P, Q और R एक गोल मेज के परितः केंद्र के अभिमुख होकर बैठे हैं। K के ठीक दाएं कौन बैठा है?  
(I) K, M के बाईं ओर तीसरे स्थान पर बैठा है। K और N के बीच केवल एक व्यक्ति बैठा है। R, N के ठीक बाएं बैठा है।  
(II) K, Q के दाईं ओर दूसरे स्थान पर बैठा है। K और M के बीच केवल दो व्यक्ति बैठे हैं। P, R के बाईं ओर दूसरे स्थान पर बैठा है।

- Ans
- ☐ 1. कथन II का डेटा अकेले प्रश्न का उत्तर देने के लिए पर्याप्त है जबकि कथन I का डेटा पर्याप्त नहीं है।
  - ☐ 2. कथन I और II के डेटा मिलकर प्रश्न का उत्तर देने के लिए पर्याप्त हैं।
  - ☒ 3. या तो कथन I का डेटा या कथन II का डेटा प्रश्न का उत्तर देने के लिए पर्याप्त है।
  - ☐ 4. कथन I का डेटा अकेले प्रश्न का उत्तर देने के लिए पर्याप्त है जबकि कथन II का डेटा पर्याप्त नहीं है।

Question ID : 264330121435

Status : Answered

Chosen Option : 3

Q.19 एक निश्चित कोड भाषा में, 'PAINT' को '80' और 'DROP' को '59' लिखा जाता है। उसी भाषा में 'MARKET' को कैसे लिखा जाएगा?

- Ans
- ☐ 1. 85
  - ☐ 2. 90
  - ☐ 3. 95
  - ☒ 4. 100

Question ID : 264330126266

Status : Answered

Chosen Option : 4

Q.20 निर्देश: एक कथन के बाद दो अनुमान I और II दिए गए हैं। यह मानते हुए कि दिया गया कथन सत्य है, भले ही यह सामान्य रूप से ज्ञात तथ्यों से भिन्न प्रतीत होता हो, तय करें कि दिए गए अनुमानों में से कौन सा /से अनुमान कथन का तार्किक रूप से अनुसरण करता है/करते हैं।

कथन:

राष्ट्रीय द्रुतगामी मार्ग -A, सबसे चौड़ा द्रुतगामी मार्ग है और कुछ लोग इसका इस्तेमाल करते हैं। जब लोग कोई खाली और चौड़ी सड़क देखते हैं, तब वे तेज गति से वाहन चलाते हैं, जिससे दुर्घटनाएं होती हैं।

अनुमान:

- I. सभी दुर्घटनाएं अत्यधिक गति के कारण होती हैं।
- II. तेज गति से दुर्घटना का खतरा बढ़ जाता है।

Ans

☒ 1. न तो I और न ही II अनुसरण करता है

☒ 2. I और II, दोनों अनुसरण करते हैं

☒ 3. केवल II अनुसरण करता है

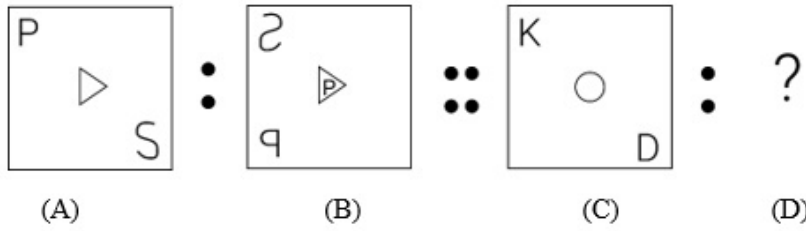
☒ 4. केवल I अनुसरण करता है

Question ID : 264330128900

Status : Answered

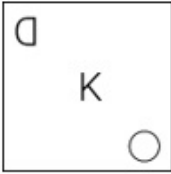
Chosen Option : 3

Q.21 आकृति A एक निश्चित पैटर्न में आकृति B से संबंधित है। उसी पैटर्न का अनुसरण करते हुए, आकृति C, आकृति D से संबंधित है। पैटर्न का अध्ययन कीजिए और उस आकृति का चयन कीजिए जिसे D के स्थान पर रखा जाना चाहिए।

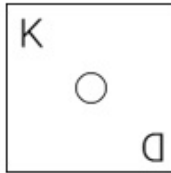


Ans

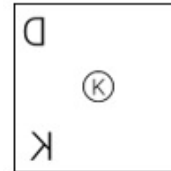
✗ 1.



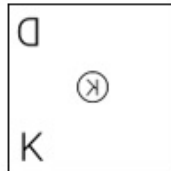
✗ 2.



✓ 3.



✗ 4.



Question ID : 264330121471

Status : Answered

Chosen Option : 3

Q.22 एक निश्चित भाषा में, शब्द CLOCK को 4 - 13 - 17 - 4 - 12 के रूप में लिखा जाता है। आप उसी भाषा में PHONE को कैसे लिखेंगे?

Ans

✗ 1. 17 - 10 - 16 - 15 - 6

✓ 2. 17 - 9 - 17 - 15 - 6

✗ 3. 16 - 9 - 15 - 16 - 5

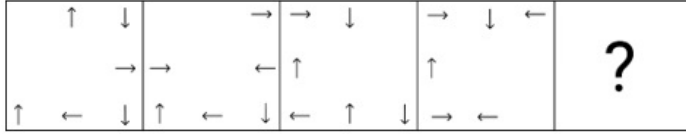
✗ 4. 17 - 9 - 16 - 17 - 6

Question ID : 26433078842

Status : Answered

Chosen Option : 2

Q.23 दिए गए विकल्पों में से उस आकृति का चयन करें जो निम्नलिखित श्रृंखला में प्रश्न चिह्न (?) को प्रतिस्थापित कर सकती है।



Ans

- ✗ 1.
- ✗ 2.
- ✗ 3.
- ✓ 4.

Question ID : 264330101258

Status : Answered

Chosen Option : 4

Q.24 उस समुच्चय का चयन कीजिए जिसमें संख्याएँ उसी प्रकार संबंधित हैं जिस प्रकार निम्नलिखित समुच्चयों की संख्याएँ संबंधित हैं।

(नोट: संख्याओं को उसके घटक अंकों में विभाजित किए बिना, पूर्ण संख्याओं पर संक्रियाएँ की जानी चाहिए। उदाहरण के लिए 13 - इसमें 13 पर जोड़ने / घटाने / गुणा करने आदि जैसी संक्रियाओं को 13 में किया जा सकता है। 13 को 1 और 3 में विभाजित करने और फिर 1 और 3 पर गणितीय संक्रियाएँ करने की अनुमति नहीं है)

(11, 33, 17), (18, 44, 21)

- Ans ✗ 1. (7, 32, 9)
- ✗ 2. (15, 34, 19)
- ✗ 3. (12, 40, 18)
- ✓ 4. (16, 43, 22)

Question ID : 264330126247

Status : Answered

Chosen Option : 4

Q.25 छः मित्र A, B, C, D, E और F एक वृत्त में केंद्र की ओर अभिमुख होकर खड़े हैं। B, F और C के बीच में है, A, E और D के बीच में है और F, D के ठीक बाईं ओर है। A और F के बीच में कौन है?

- Ans ✗ 1. E
- ✓ 2. D
- ✗ 3. C
- ✗ 4. B

Question ID : 26433081996

Status : Answered

Chosen Option : 2

Q.26 गणितीय चिह्नों के उस सही संयोजन का चयन करें, जिसे दिए गए समीकरण में \* चिह्नों के स्थान पर क्रमिक रूप से रखे जाने पर समीकरण संतुलित हो जाए।

$$21 * 3 * 36 * 2 * 23 = 68$$

Ans ☒ 1.  $\div \times + -$

☒ 2.  $\times - \div +$

☒ 3.  $+ \times - \div$


☒ 4.  $\div - \times +$

Question ID : 26433068105

Status : Answered

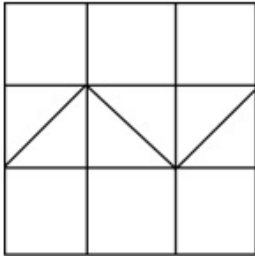
Chosen Option : 2

Q.27 उस विकल्प का चयन करें, जिसमें निम्न आकृति सन्निहित है। (घूर्णन की अनुमति नहीं है)

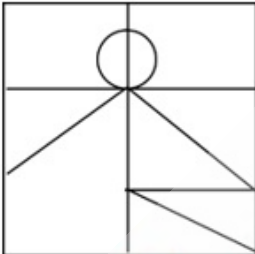


Ans

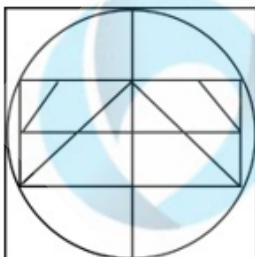
☒ 1.



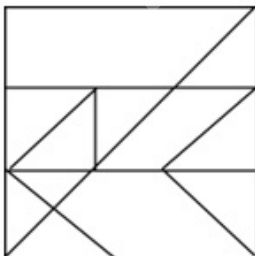
☒ 2.



☒ 3.



☒ 4.



Question ID : 264330121391

Status : Answered

Chosen Option : 1

Q.28 यदि + का अर्थ - है, - का अर्थ  $\times$  है,  $\times$  का अर्थ  $\div$  है, और  $\div$  का अर्थ + है, तो निम्नलिखित व्यंजक का मान क्या होगा?

$$5 \div 5 + 5 - 10 \times 10 = ?$$

- Ans
- ☒ 1. 5
  - ☐ 2. 15
  - ☐ 3. 10
  - ☐ 4. 4

Question ID : 26433068611

Status : Answered

Chosen Option : 1

Q.29 उस विकल्प का चयन करें जो उन अक्षरों का प्रतिनिधित्व करता है, जिन्हें निम्नलिखित रिक्त स्थानों में बाएं से दाएं रखे जाने पर अक्षर-श्रृंखला पूरी हो जाएगी।

Q W \_ R T Q \_ F R \_ Q W \_ \_ T \_ \_ H R T

- Ans
- ☐ 1. E W T H S Q W
  - ☐ 2. F W T G R Q X
  - ☒ 3. E W T G R Q W
  - ☐ 4. E X T G R Q X

Question ID : 264330126276

Status : Answered

Chosen Option : 3

Q.30 विकल्पों में से उस आकृति का चयन करें जो प्रश्न चिह्न (?) का स्थान लेकर पैटर्न को पूरा कर सकती है।



Ans

- ☐ 1.
- ☐ 2.
- ☐ 3.
- ☒ 4.

Question ID : 26433068218

Status : Answered

Chosen Option : 4

Q.1 Identify the INCORRECTLY spelt word in the given sentence.  
One part of the philosophy of life's meaning consists of the systematic attempt to identify what people have in mind when they think about the topic.

- Ans
- ☒ 1. attempt
  - ☒ 2. think
  - ☒ 3. systemetic
  - ☒ 4. philosophy

Question ID : 26433061584

Status : Answered

Chosen Option : 3

Q.2 Sentences of a paragraph are given below in jumbled order. Arrange the sentences in the correct order to form a meaningful and coherent paragraph.

- A. Tigers are the largest members of the cat family. They are found in many parts of Asia.
- B. They mostly live in dark forests and sleep during the day. They come out for hunting pigs and deer by night.
- C. It is assumed that, probably, around 3,000 tigers live in the wild. This species looks spectacular and grand and they are very graceful in their movements.
- D. It is almost impossible for us to see them against a jungle background, especially when they are standing still, because of their striped coats. Unlike, most cats, the tiger likes bathing very much.

- Ans
- ☒ 1. CDBA
  - ☒ 2. ADBC
  - ☒ 3. ACBD
  - ☒ 4. ABCD

Question ID : 26433070701

Status : Answered

Chosen Option : 4

Q.3 Select the option that expresses the given sentence in active voice.  
My request should be considered.

- Ans
- ☒ 1. Please have consider my request.
  - ☒ 2. Please consider my request.
  - ☒ 3. Please do consider mine request.
  - ☒ 4. Consider my request.

Question ID : 26433058534

Status : Answered

Chosen Option : 2

Q.4 Replace the underlined word with its synonym to make the sentence more meaningful.  
Narcotic drug addiction is in vogue these days, as it is the most popular form of substance abuse.

- Ans
- ☒ 1. standard
  - ☒ 2. fashion
  - ☒ 3. demand
  - ☒ 4. obscurity

Question ID : 264330122757

Status : Answered

Chosen Option : 2

Q.5 Select the most appropriate ANTONYM of the underlined word.

The colossal building stood amidst the ruins bearing signs of Victorian architecture.

- Ans ☒ 1. Tiny  
☒ 2. Enormous  
☒ 3. Extraordinary  
☒ 4. Quaint

Question ID : 26433070537  
Status : Answered  
Chosen Option : 1

Q.6 Select the most appropriate meaning of the highlighted idiom.

The youth involved in the accident escaped by the skin of his teeth.

- Ans ☒ 1. Deficiency of funds  
☒ 2. Barely managed to escape  
☒ 3. Always taking calculated decisions  
☒ 4. Very arrogant

Question ID : 264330120744  
Status : Marked For Review  
Chosen Option : 2

Q.7 Select the option that expresses the given sentence in reported speech.

Raghav said to Meera, "Are you upset with me?"

- Ans ☒ 1. Raghav asked Meera if she was upset with her.  
☒ 2. Raghav asked Meera if she was upset with him.  
☒ 3. Raghav asked Meera if she was upset with me.  
☒ 4. Raghav asked Meera why she was upset with him.

Question ID : 26433059501  
Status : Answered  
Chosen Option : 2

Q.8 Select the most appropriate option to fill in the blank.

The house they bought was \_\_\_\_\_ spacious than their previous house.

- Ans ☒ 1. most  
☒ 2. mostly  
☒ 3. more  
☒ 4. as

Question ID : 26433061505  
Status : Answered  
Chosen Option : 3

Q.9 Select the option that expresses the given sentence in active voice.

The task has been completed.

- Ans ☒ 1. Someone will be completing the task.  
☒ 2. Someone has been completing the task.  
☒ 3. Someone completes the task.  
☒ 4. Someone has completed the task.

Question ID : 264330123913  
Status : Answered  
Chosen Option : 4

Q.10 Select the appropriate idiom that can replace the underlined phrase in the following sentence.

My father's office is at a close distance from home.

- Ans
- ☒ 1. at sixes and sevens
  - ☒ 2. a part and parcel
  - ☒ 3. at a stone's throw
  - ☒ 4. from hand to mouth

Question ID : 26433099085  
Status : Answered  
Chosen Option : 3

Q.11 Select the most appropriate ANTONYM of the underlined word.

The new Principal of the school is stern, yet he understands the needs of his subordinates.

- Ans
- ☒ 1. Desolate
  - ☒ 2. Lenient
  - ☒ 3. Noxious
  - ☒ 4. Flippant

Question ID : 26433070532  
Status : Answered  
Chosen Option : 1

Q.12 Select the option that expresses the given sentence in reported speech.  
Shikha said, "The heavy rain this week has spoiled all my travel plans."

- Ans
- ☒ 1. Shikha said that the heavy rain this week had spoiled all her travel plans.
  - ☒ 2. Shikha told me that the heavy rain that week had spoiled all her travel plans.
  - ☒ 3. Shikha said that the heavy rain that week had spoiled all her travel plans.
  - ☒ 4. Shikha said that the heavy rain that week has spoiled all her travel plans.

Question ID : 26433059496  
Status : Answered  
Chosen Option : 3

Q.13 Select the most appropriate option to fill in the blank.  
A good leader should be ready to \_\_\_\_\_ criticism.

- Ans
- ☒ 1. carry
  - ☒ 2. settle
  - ☒ 3. face
  - ☒ 4. meet

Question ID : 26433058502  
Status : Answered  
Chosen Option : 3

Q.14 Select the INCORRECTLY spelt word.

- Ans
- ☒ 1. Descendant
  - ☒ 2. Deceased
  - ☒ 3. Desedent
  - ☒ 4. Decimate

Question ID : 26433060474  
Status : Not Answered  
Chosen Option : --

Q.15 For the four-sentence (S1 to S4) paragraph below, sentences S1 and S4 are given. From the options P, Q, R and S select the appropriate sentences for S2 and S3, respectively.

(S1) The men and women took their places after the initial mingling, and immediately a surge of conversation filled the room.

(S2)

(S3)

(S4) One or two of the women were actually bouncing up and down on the sofa cushions.

(P) So, the two parties had to lean forward, their elbows on their knees.

(Q) At the beginning they mingled awkwardly, clutching their drinks, and walking here and there.

(R) Several people made a last-minute dash to the bathroom before the conversation could start.

(S) The men's chairs were far enough away from the women's couches.

Ans ☒ 1. Q, S

☒ 2. R, Q

☒ 3. P, R

☒ 4. S, P

Question ID : 26433065209

Status : Marked For Review

Chosen Option : 2

Q.16 Sentences of a paragraph are given below in jumbled order. Arrange the sentences in the correct order to form a meaningful and coherent paragraph.

A) Healthy, strong trees act as carbon sinks, offsetting carbon and reducing the effects of climate change.

B) Trees help to clean the air we breathe. Through their leaves and bark, they absorb harmful pollutants and release clean oxygen for us to breathe.

C) Increasing levels of carbon dioxide caused by deforestation and fossil fuel combustion trap heat in the atmosphere.

D) In urban environments, trees absorb pollutant gases like nitrogen oxides, ozone, and carbon monoxide, and sweep up particles like dust and smoke.

Ans ☒ 1. BDCA

☒ 2. DBAC

☒ 3. ABCD

☒ 4. CDAB

Question ID : 26433065239

Status : Marked For Review

Chosen Option : 4

Q.17 Select the option that can be used as a one-word substitute for the given group of words.

A person who admires himself or herself too much, especially their appearance

Ans ☒ 1. Narcissist

☒ 2. Dictator

☒ 3. Selfish

☒ 4. Egoist

Question ID : 26433060822

Status : Answered

Chosen Option : 4

Q.18 The following sentence has been split into four segments. Identify the segment that contains a grammatical error.

My father give up / smoking when / I was twelve / years old.

- Ans ☒ 1. My father give up  
☒ 2. smoking when  
☒ 3. years old  
☒ 4. I was twelve

Question ID : 264330123923

Status : Answered

Chosen Option : 1

Q.19 Select the option that expresses the given sentence in indirect speech.

My brother said to me, "Don't play in the rain."

- Ans ☒ 1. My brother forbade me to play in the rain.  
☒ 2. My brother said to me don't play in the rain.  
☒ 3. My brother refused me to not play in the rain.  
☒ 4. My brother assured me not to play in the rain.

Question ID : 26433065167

Status : Answered

Chosen Option : 1

Q.20 The following sentence has been divided into parts. One of them may contain an error. Select the part that contains the error from the given options. If you don't find any error, mark 'No error' as your answer.

He lived close to / the train station, / yet travelled by bus.

- Ans ☒ 1. No error  
☒ 2. the train station  
☒ 3. yet travelled by bus  
☒ 4. He lived close to

Question ID : 26433061471

Status : Marked For Review

Chosen Option : 4

Q.21 Sentences of a paragraph are given below in jumbled order. Arrange the sentences in the correct order to form a meaningful and coherent paragraph.

- a. Many fitness trainers encourage their clients to include these foods in their diet to build muscle.  
b. Power foods can be included in your everyday diet in a variety of ways.  
c. The secret to getting the most out of power foods is, of course, knowing how to cook them properly, buying seasonal produce and recognising your preferred flavour profile.  
d. Power foods are high in nutrients such as fibre, potassium and minerals.

- Ans ☒ 1. d, a, b, c  
☒ 2. a, d, b, c  
☒ 3. d, b, c, a  
☒ 4. b, c, a, d

Question ID : 264330123664

Status : Answered

Chosen Option : 1

Q.22 Sentences of a paragraph are given below in jumbled order. Arrange the sentences in the correct order to form a meaningful and coherent paragraph.

A. The principles that emerged from those trials, known as the Nuremberg Code, are broadly applicable to many types of health-related research involving human participants, including clinical trials.

B. The growing breadth and complexity of contemporary health challenges have produced a range of difficult questions that cannot always be adequately addressed by relying exclusively on existing policies, guidelines or codes of conduct.

C. Recent formal efforts to articulate international standards of ethics applicable to health and health care can be traced to the Nuremberg trials of 1947, during which the horrors of Nazi medical experiments came to light.

D. Ethical questions related to health, health care and public health cover topics as diverse as moral issues around reproduction, state obligations in the provision of health care services and appropriate measures to control infectious disease.

Ans ☒ 1. DCAB

☐ 2. ACDB

☐ 3. DACB

☐ 4. DABC

Question ID : 26433060487

Status : Answered

Chosen Option : 1

Q.23 Select the most appropriate option to fill in the blank.  
Vishal is going to read the story \_\_\_\_\_.

Ans ☐ 1. allow

☐ 2. allowed

☒ 3. aloud

☐ 4. load

Question ID : 264330123032

Status : Answered

Chosen Option : 3

Q.24 Select the most appropriate option to fill in the blank.  
The friends decided to play cards to \_\_\_\_\_ time while waiting for the cab.

Ans ☐ 1. ease

☐ 2. move

☒ 3. kill

☐ 4. ignore

Question ID : 26433058504

Status : Answered

Chosen Option : 1

Q.25 Select the option that expresses the given sentence in passive voice.  
We can buy books online from Amazon.

Ans ☐ 1. Books were to be bought online from Amazon.

☒ 2. Books can be bought online from Amazon.

☐ 3. Books are bought online from Amazon.

☐ 4. Books could be bought online from Amazon.

Question ID : 26433059195

Status : Answered

Chosen Option : 2

Q.26 Select the option that can be used as a one-word substitute for the given group of words.

Willful destruction

- Ans ☒ 1. Disaster  
☒ 2. Sabotage  
☒ 3. Combustion  
☒ 4. Calamity

Question ID : 26433072320

Status : Marked For Review

Chosen Option : 2

Q.27 Given below are four jumbled sentences. Select the option that gives their correct logical sequence.

- A. They stand undefeated in the realms of Shakespeare and Homer.  
B. India is a country where people are full of immense prolixity and exemplary storytelling.  
C. Additionally, the philosophical discourse and discussions on various dilemmas of life associated with the Bhagavad Gita are highly appreciated by scholars from all over the world.  
D. Mahabharata and Ramayana are two great examples of colossal works that unquestionably enjoy the virtue of being peak sources for the cultural ethos of the country.

- Ans ☒ 1. BACD  
☒ 2. DACB  
☒ 3. BDAC  
☒ 4. ACBD

Question ID : 264330120997

Status : Marked For Review

Chosen Option : 3

Q.28 Select the most appropriate option that can substitute the underlined segment in the given sentence. If there is no need to substitute it, select 'No substitution required'.

Edward II is tragic than some other plays by the dramatist.

- Ans ☒ 1. less tragic than  
☒ 2. as least tragic as  
☒ 3. the most tragic  
☒ 4. No substitution required

Question ID : 26433058620

Status : Answered

Chosen Option : 1

Q.29 Select the correct homonym from the given options to fill in the blank.  
Which \_\_\_\_\_ does the minister take to reach the Assembly?

- Ans ☒ 1. rot  
☒ 2. riot  
☒ 3. route  
☒ 4. root

Question ID : 264330120788

Status : Answered

Chosen Option : 3

**Comprehension:**

In the following passage, some words have been deleted. Read the passage carefully and select the most appropriate option to fill in each blank.

The Maasais live in (1)\_\_\_\_\_ very beautiful part of Africa. They live on the wide plains in southern and northern Kenya and northern Tanzania. The area (2)\_\_\_\_\_ of miles of rolling grass land, on which you can find thorny bushes and rocky hills. The people move from one place to another according to the seasons, looking for grasses and other plants (3)\_\_\_\_\_ which their cattle can graze. They have no permanent home. When they want to settle in a place for some time, they build a kind of camp called a 'Manyatta', where a few families live for a (4)\_\_\_\_\_ weeks or months. Then they move on again, taking their few belongings with them, and burning the old 'Manyatta' to the ground.

**SubQuestion No : 30**

**Q.30** Select the most appropriate option to fill in blank number 1.

- Ans
- ☒ 1. their
  - ☒ 2. some
  - ☒ 3. a
  - ☒ 4. that

Question ID : 264330128950

Status : Answered

Chosen Option : 3

**Comprehension:**

In the following passage, some words have been deleted. Read the passage carefully and select the most appropriate option to fill in each blank.

The Maasais live in (1)\_\_\_\_\_ very beautiful part of Africa. They live on the wide plains in southern and northern Kenya and northern Tanzania. The area (2)\_\_\_\_\_ of miles of rolling grass land, on which you can find thorny bushes and rocky hills. The people move from one place to another according to the seasons, looking for grasses and other plants (3)\_\_\_\_\_ which their cattle can graze. They have no permanent home. When they want to settle in a place for some time, they build a kind of camp called a 'Manyatta', where a few families live for a (4)\_\_\_\_\_ weeks or months. Then they move on again, taking their few belongings with them, and burning the old 'Manyatta' to the ground.

**SubQuestion No : 31**

**Q.31** Select the most appropriate option to fill in blank number 2.

- Ans
- ☒ 1. measures
  - ☒ 2. considers
  - ☒ 3. surrounds
  - ☒ 4. consists

Question ID : 264330128951

Status : Answered

Chosen Option : 4

**Comprehension:**

In the following passage, some words have been deleted. Read the passage carefully and select the most appropriate option to fill in each blank.

The Maasais live in (1)\_\_\_\_\_ very beautiful part of Africa. They live on the wide plains in southern and northern Kenya and northern Tanzania. The area (2)\_\_\_\_\_ of miles of rolling grass land, on which you can find thorny bushes and rocky hills. The people move from one place to another according to the seasons, looking for grasses and other plants (3)\_\_\_\_\_ which their cattle can graze. They have no permanent home. When they want to settle in a place for some time, they build a kind of camp called a 'Manyatta', where a few families live for a (4)\_\_\_\_\_ weeks or months. Then they move on again, taking their few belongings with them, and burning the old 'Manyatta' to the ground.

**SubQuestion No : 32**

**Q.32** Select the most appropriate option to fill in blank number 3.

Ans  1. on

 2. by

 3. at

 4. with

Question ID : 264330128952

Status : Answered

Chosen Option : 1

**Comprehension:**

In the following passage, some words have been deleted. Read the passage carefully and select the most appropriate option to fill in each blank.

The Maasais live in (1)\_\_\_\_\_ very beautiful part of Africa. They live on the wide plains in southern and northern Kenya and northern Tanzania. The area (2)\_\_\_\_\_ of miles of rolling grass land, on which you can find thorny bushes and rocky hills. The people move from one place to another according to the seasons, looking for grasses and other plants (3)\_\_\_\_\_ which their cattle can graze. They have no permanent home. When they want to settle in a place for some time, they build a kind of camp called a 'Manyatta', where a few families live for a (4)\_\_\_\_\_ weeks or months. Then they move on again, taking their few belongings with them, and burning the old 'Manyatta' to the ground.

**SubQuestion No : 33**

**Q.33** Select the most appropriate option to fill in blank number 4.

Ans  1. few

 2. little

 3. least

 4. significant

Question ID : 264330128953

Status : Answered

Chosen Option : 1

### Comprehension:

Read the following passage and answer the questions given after it.

From January 28 to February 4, 2023, a Chinese-operated, large white high-altitude balloon was seen in North American airspace, including Alaska, western Canada, and the contiguous United States. The American and Canadian militaries asserted that the balloon was for surveillance, while the Chinese government maintained it was a civilian meteorological research airship that had been blown off course. Analysts said that the balloon's flight path and structural characteristics made it dissimilar from those which have typically been used for meteorological research. The U.S. Department of State said that the balloon was capable of locating electronic communication devices, including mobile phones and radios, and that American U-2 reconnaissance aircraft deployed to track the balloon in the air revealed that the balloon carried antennas and other equipment "clearly for intelligence surveillance and inconsistent with the equipment on board weather balloons." The State Department said that the spy balloon was part of a global Chinese military-directed surveillance effort in which Chinese spy balloons have flown over more than 40 nations in five continents.

On February 4, the U.S. Air Force shot down the balloon over U.S. territorial waters off the coast of South Carolina, on the order of U.S. President Joe Biden. Debris from the wreckage was recovered and sent to the FBI Laboratory in Quantico, Virginia, for analysis. The incident increased U.S.-China tensions. The incident prompted U.S. Secretary of State Antony Blinken to delay a diplomatic visit to Beijing, which was set to be his first since 2018. It also further strained Canada-China relations, as Canada summoned the Chinese ambassador because of the violation of Canadian airspace. On February 3, the U.S. Department of Defense announced that a second Chinese balloon was passing over Latin America, which China also said belonged to it. On February 10, the Air Force shot down another aerial object over U.S. territory at the order of President Biden.

### SubQuestion No : 34

Q.34 The passage is mainly about

- Ans ☒ 1. a Chinese spy balloon flying over US and Canadian territories
- ☐ 2. China's global military-directed surveillance
- ☐ 3. the strained relations between US and China
- ☐ 4. Chinese balloons flying all over the world

Question ID : 264330128805

Status : Answered

Chosen Option : 1

### Comprehension:

Read the following passage and answer the questions given after it.

From January 28 to February 4, 2023, a Chinese-operated, large white high-altitude balloon was seen in North American airspace, including Alaska, western Canada, and the contiguous United States. The American and Canadian militaries asserted that the balloon was for surveillance, while the Chinese government maintained it was a civilian meteorological research airship that had been blown off course. Analysts said that the balloon's flight path and structural characteristics made it dissimilar from those which have typically been used for meteorological research. The U.S. Department of State said that the balloon was capable of locating electronic communication devices, including mobile phones and radios, and that American U-2 reconnaissance aircraft deployed to track the balloon in the air revealed that the balloon carried antennas and other equipment "clearly for intelligence surveillance and inconsistent with the equipment on board weather balloons." The State Department said that the spy balloon was part of a global Chinese military-directed surveillance effort in which Chinese spy balloons have flown over more than 40 nations in five continents.

On February 4, the U.S. Air Force shot down the balloon over U.S. territorial waters off the coast of South Carolina, on the order of U.S. President Joe Biden. Debris from the wreckage was recovered and sent to the FBI Laboratory in Quantico, Virginia, for analysis. The incident increased U.S.-China tensions. The incident prompted U.S. Secretary of State Antony Blinken to delay a diplomatic visit to Beijing, which was set to be his first since 2018. It also further strained Canada-China relations, as Canada summoned the Chinese ambassador because of the violation of Canadian airspace. On February 3, the U.S. Department of Defense announced that a second Chinese balloon was passing over Latin America, which China also said belonged to it. On February 10, the Air Force shot down another aerial object over U.S. territory at the order of President Biden.

### SubQuestion No : 35

Q.35 The word 'contiguous' means

- Ans
- ☒ 1. spreading
  - ☒ 2. separated
  - ☒ 3. adjoining
  - ☒ 4. far off

Question ID : 264330128806

Status : Not Answered

Chosen Option : --

### Comprehension:

Read the following passage and answer the questions given after it.

From January 28 to February 4, 2023, a Chinese-operated, large white high-altitude balloon was seen in North American airspace, including Alaska, western Canada, and the contiguous United States. The American and Canadian militaries asserted that the balloon was for surveillance, while the Chinese government maintained it was a civilian meteorological research airship that had been blown off course. Analysts said that the balloon's flight path and structural characteristics made it dissimilar from those which have typically been used for meteorological research. The U.S. Department of State said that the balloon was capable of locating electronic communication devices, including mobile phones and radios, and that American U-2 reconnaissance aircraft deployed to track the balloon in the air revealed that the balloon carried antennas and other equipment "clearly for intelligence surveillance and inconsistent with the equipment on board weather balloons." The State Department said that the spy balloon was part of a global Chinese military-directed surveillance effort in which Chinese spy balloons have flown over more than 40 nations in five continents.

On February 4, the U.S. Air Force shot down the balloon over U.S. territorial waters off the coast of South Carolina, on the order of U.S. President Joe Biden. Debris from the wreckage was recovered and sent to the FBI Laboratory in Quantico, Virginia, for analysis. The incident increased U.S.-China tensions. The incident prompted U.S. Secretary of State Antony Blinken to delay a diplomatic visit to Beijing, which was set to be his first since 2018. It also further strained Canada-China relations, as Canada summoned the Chinese ambassador because of the violation of Canadian airspace. On February 3, the U.S. Department of Defense announced that a second Chinese balloon was passing over Latin America, which China also said belonged to it. On February 10, the Air Force shot down another aerial object over U.S. territory at the order of President Biden.

### SubQuestion No : 36

Q.36 How did US make sure that the Balloon flying over its territory was a 'spy' balloon?

Ans ☒ 1. it got the samples of the balloon checked in a lab

☒ 2. it's reconnaissance aircraft saw the antennas and equipment of the balloon

☒ 3. the FBI lab confirmed that it was a spy balloon

☒ 4. the analysts studied its flight path and said so

Question ID : 264330128807

Status : Answered

Chosen Option : 2

### Comprehension:

Read the following passage and answer the questions given after it.

From January 28 to February 4, 2023, a Chinese-operated, large white high-altitude balloon was seen in North American airspace, including Alaska, western Canada, and the contiguous United States. The American and Canadian militaries asserted that the balloon was for surveillance, while the Chinese government maintained it was a civilian meteorological research airship that had been blown off course. Analysts said that the balloon's flight path and structural characteristics made it dissimilar from those which have typically been used for meteorological research. The U.S. Department of State said that the balloon was capable of locating electronic communication devices, including mobile phones and radios, and that American U-2 reconnaissance aircraft deployed to track the balloon in the air revealed that the balloon carried antennas and other equipment "clearly for intelligence surveillance and inconsistent with the equipment on board weather balloons." The State Department said that the spy balloon was part of a global Chinese military-directed surveillance effort in which Chinese spy balloons have flown over more than 40 nations in five continents.

On February 4, the U.S. Air Force shot down the balloon over U.S. territorial waters off the coast of South Carolina, on the order of U.S. President Joe Biden. Debris from the wreckage was recovered and sent to the FBI Laboratory in Quantico, Virginia, for analysis. The incident increased U.S.-China tensions. The incident prompted U.S. Secretary of State Antony Blinken to delay a diplomatic visit to Beijing, which was set to be his first since 2018. It also further strained Canada-China relations, as Canada summoned the Chinese ambassador because of the violation of Canadian airspace. On February 3, the U.S. Department of Defense announced that a second Chinese balloon was passing over Latin America, which China also said belonged to it. On February 10, the Air Force shot down another aerial object over U.S. territory at the order of President Biden.

### SubQuestion No : 37

Q.37 Read the statements given below.

- A. The US Air Force shot down the Chinese balloon over US territorial waters.  
B. Tensions between China and US have increased and the visit of the U.S. Secretary of State to Beijing has been postponed.

- Ans ☒ 1. A is true and B is false.  
☒ 2. Both A and B are true and B is the correct reason for A.  
☒ 3. A is false and B is true.  
☒ 4. Both A and B are true but B is not the correct reason for A.

Question ID : 264330128808

Status : Answered

Chosen Option : 2

### Comprehension:

Read the given passage and answer the questions that follow.

We sit in the last row, bumped about but free of stares. The bus rolls out of the dull crossroads of the city, and we are soon in the open countryside, with fields of sunflowers as far as the eye can see, their heads all facing us. Where there is no water, the land reverts to the desert. While still on level ground, we see in the distance the tall range of the Mount Bogda, abrupt like a shining prism laid horizontally on the desert surface. It is over 5,000 metres high, and the peaks are under permanent snow, in powerful contrast to the flat desert all around. Heaven lake lies part of the way up this range, about 2,000 metres above sea level, at the foot of one of the highest snow-peaks.

As the bus climbs, the sky, brilliant before, grows overcast. I have brought nothing warm to wear. It is all down at the hotel in Urumqi. Rain begins to fall. The man behind me is eating overpoweringly smelly goat's cheese. The bus window leaks inhospitably but reveals a beautiful view. We have passed quickly from the desert through arable land to pasture and the ground is now green with grass, the slopes dark with pine. A few cattle drink at a clear stream flowing past moss-covered stones; it is a Constable landscape. The stream changes into a white torrent, and as we climb higher I wish more and more that I had brought with me something warmer than the pair of shorts that have served me so well in the desert. The stream (which, we are told, rises in Heaven Lake) disappears, and we continue our slow ascent. About noon, we arrive at Heaven Lake, and look for a place to stay at the foot, which is the resort area. We get a room in a small cottage, and I am happy to note that there are thick quilts on the bed.

Standing outside the cottage, we survey our surroundings. Heaven Lake is long, sardine-shaped and fed by snowmelt from a stream at its head. The lake is an intense blue, surrounded on all sides by green mountain walls, dotted with distant sheep. At the head of the lake, beyond the delta of the inflowing stream, is a massive snow-capped peak which dominates the vista; it is part of a series of peaks that culminate, a little out of view, in Mount Bogda itself.

For those who live in the resort, there is a small mess-hall by the shore. We eat here sometimes, and sometimes buy food from the vendors outside, who sell kabab and naan until the last buses leave. The kababs, cooked on skewers over charcoal braziers, are particularly good; highly spiced and well-done. Horse's milk is available too from the local Kazakh herdsmen, but I decline this. I am so affected by the cold that Mr. Cao, the relaxed young man who runs the mess, lends me a spare pair of trousers, several sizes too large but more than comfortable. Once I am warm again, I feel a pre-dinner spurt of energy—dinner will be long in coming—and I ask him whether the lake is good for swimming in.

#### SubQuestion No : 38

Q.38 Select an appropriate title for the passage.

- Ans
- ☒ 1. Peasant Life
  - ☒ 2. Journey to Mount Bogda
  - ☒ 3. Shorts to Trousers
  - ☒ 4. Lake Heaven

Question ID : 264330128932

Status : Answered

Chosen Option : 2

### Comprehension:

Read the given passage and answer the questions that follow.

We sit in the last row, bumped about but free of stares. The bus rolls out of the dull crossroads of the city, and we are soon in the open countryside, with fields of sunflowers as far as the eye can see, their heads all facing us. Where there is no water, the land reverts to the desert. While still on level ground, we see in the distance the tall range of the Mount Bogda, abrupt like a shining prism laid horizontally on the desert surface. It is over 5,000 metres high, and the peaks are under permanent snow, in powerful contrast to the flat desert all around. Heaven lake lies part of the way up this range, about 2,000 metres above sea level, at the foot of one of the highest snow-peaks.

As the bus climbs, the sky, brilliant before, grows overcast. I have brought nothing warm to wear. It is all down at the hotel in Urumqi. Rain begins to fall. The man behind me is eating overpoweringly smelly goat's cheese. The bus window leaks inhospitably but reveals a beautiful view. We have passed quickly from the desert through arable land to pasture and the ground is now green with grass, the slopes dark with pine. A few cattle drink at a clear stream flowing past moss-covered stones; it is a Constable landscape. The stream changes into a white torrent, and as we climb higher I wish more and more that I had brought with me something warmer than the pair of shorts that have served me so well in the desert. The stream (which, we are told, rises in Heaven Lake) disappears, and we continue our slow ascent. About noon, we arrive at Heaven Lake, and look for a place to stay at the foot, which is the resort area. We get a room in a small cottage, and I am happy to note that there are thick quilts on the bed.

Standing outside the cottage, we survey our surroundings. Heaven Lake is long, sardine-shaped and fed by snowmelt from a stream at its head. The lake is an intense blue, surrounded on all sides by green mountain walls, dotted with distant sheep. At the head of the lake, beyond the delta of the inflowing stream, is a massive snow-capped peak which dominates the vista; it is part of a series of peaks that culminate, a little out of view, in Mount Bogda itself.

For those who live in the resort, there is a small mess-hall by the shore. We eat here sometimes, and sometimes buy food from the vendors outside, who sell kabab and naan until the last buses leave. The kababs, cooked on skewers over charcoal braziers, are particularly good; highly spiced and well-done. Horse's milk is available too from the local Kazakh herdsmen, but I decline this. I am so affected by the cold that Mr. Cao, the relaxed young man who runs the mess, lends me a spare pair of trousers, several sizes too large but more than comfortable. Once I am warm again, I feel a pre-dinner spurt of energy—dinner will be long in coming—and I ask him whether the lake is good for swimming in.

#### SubQuestion No : 39

Q.39 What is the protagonist wearing in the bus?

- Ans
- ☐ 1. Long sleeved shirt
  - ☐ 2. A dhoti
  - ☒ 3. A pair of shorts
  - ☐ 4. Trousers

Question ID : 264330128930

Status : Answered

Chosen Option : 3

### Comprehension:

Read the given passage and answer the questions that follow.

We sit in the last row, bumped about but free of stares. The bus rolls out of the dull crossroads of the city, and we are soon in the open countryside, with fields of sunflowers as far as the eye can see, their heads all facing us. Where there is no water, the land reverts to the desert. While still on level ground, we see in the distance the tall range of the Mount Bogda, abrupt like a shining prism laid horizontally on the desert surface. It is over 5,000 metres high, and the peaks are under permanent snow, in powerful contrast to the flat desert all around. Heaven lake lies part of the way up this range, about 2,000 metres above sea level, at the foot of one of the highest snow-peaks.

As the bus climbs, the sky, brilliant before, grows overcast. I have brought nothing warm to wear. It is all down at the hotel in Urumqi. Rain begins to fall. The man behind me is eating overpoweringly smelly goat's cheese. The bus window leaks inhospitably but reveals a beautiful view. We have passed quickly from the desert through arable land to pasture and the ground is now green with grass, the slopes dark with pine. A few cattle drink at a clear stream flowing past moss-covered stones; it is a Constable landscape. The stream changes into a white torrent, and as we climb higher I wish more and more that I had brought with me something warmer than the pair of shorts that have served me so well in the desert. The stream (which, we are told, rises in Heaven Lake) disappears, and we continue our slow ascent. About noon, we arrive at Heaven Lake, and look for a place to stay at the foot, which is the resort area. We get a room in a small cottage, and I am happy to note that there are thick quilts on the bed.

Standing outside the cottage, we survey our surroundings. Heaven Lake is long, sardine-shaped and fed by snowmelt from a stream at its head. The lake is an intense blue, surrounded on all sides by green mountain walls, dotted with distant sheep. At the head of the lake, beyond the delta of the inflowing stream, is a massive snow-capped peak which dominates the vista; it is part of a series of peaks that culminate, a little out of view, in Mount Bogda itself.

For those who live in the resort, there is a small mess-hall by the shore. We eat here sometimes, and sometimes buy food from the vendors outside, who sell kabab and naan until the last buses leave. The kababs, cooked on skewers over charcoal braziers, are particularly good; highly spiced and well-done. Horse's milk is available too from the local Kazakh herdsmen, but I decline this. I am so affected by the cold that Mr. Cao, the relaxed young man who runs the mess, lends me a spare pair of trousers, several sizes too large but more than comfortable. Once I am warm again, I feel a pre-dinner spurt of energy—dinner will be long in coming—and I ask him whether the lake is good for swimming in.

#### SubQuestion No : 40

Q.40 What is the tone of the passage?

- Ans
- ☒ 1. Agitated
  - ☒ 2. Serene
  - ☒ 3. Angry
  - ☒ 4. Romantic

Question ID : 264330128931

Status : Answered

Chosen Option : 2

### Comprehension:

Read the given passage and answer the questions that follow.

We sit in the last row, bumped about but free of stares. The bus rolls out of the dull crossroads of the city, and we are soon in the open countryside, with fields of sunflowers as far as the eye can see, their heads all facing us. Where there is no water, the land reverts to the desert. While still on level ground, we see in the distance the tall range of the Mount Bogda, abrupt like a shining prism laid horizontally on the desert surface. It is over 5,000 metres high, and the peaks are under permanent snow, in powerful contrast to the flat desert all around. Heaven lake lies part of the way up this range, about 2,000 metres above sea level, at the foot of one of the highest snow-peaks.

As the bus climbs, the sky, brilliant before, grows overcast. I have brought nothing warm to wear. It is all down at the hotel in Urumqi. Rain begins to fall. The man behind me is eating overpoweringly smelly goat's cheese. The bus window leaks inhospitably but reveals a beautiful view. We have passed quickly from the desert through arable land to pasture and the ground is now green with grass, the slopes dark with pine. A few cattle drink at a clear stream flowing past moss-covered stones; it is a Constable landscape. The stream changes into a white torrent, and as we climb higher I wish more and more that I had brought with me something warmer than the pair of shorts that have served me so well in the desert. The stream (which, we are told, rises in Heaven Lake) disappears, and we continue our slow ascent. About noon, we arrive at Heaven Lake, and look for a place to stay at the foot, which is the resort area. We get a room in a small cottage, and I am happy to note that there are thick quilts on the bed.

Standing outside the cottage, we survey our surroundings. Heaven Lake is long, sardine-shaped and fed by snowmelt from a stream at its head. The lake is an intense blue, surrounded on all sides by green mountain walls, dotted with distant sheep. At the head of the lake, beyond the delta of the inflowing stream, is a massive snow-capped peak which dominates the vista; it is part of a series of peaks that culminate, a little out of view, in Mount Bogda itself.

For those who live in the resort, there is a small mess-hall by the shore. We eat here sometimes, and sometimes buy food from the vendors outside, who sell kabab and naan until the last buses leave. The kababs, cooked on skewers over charcoal braziers, are particularly good; highly spiced and well-done. Horse's milk is available too from the local Kazakh herdsmen, but I decline this. I am so affected by the cold that Mr. Cao, the relaxed young man who runs the mess, lends me a spare pair of trousers, several sizes too large but more than comfortable. Once I am warm again, I feel a pre-dinner spurt of energy—dinner will be long in coming—and I ask him whether the lake is good for swimming in.

#### SubQuestion No : 41

Q.41 Select the most appropriate ANTONYM of the word 'accept' from the passage.

- Ans
- ☐ 1. Reject
  - ☒ 2. Decline
  - ☐ 3. Turn down
  - ☐ 4. Refuse

Question ID : 264330128933

Status : Answered

Chosen Option : 2

### Comprehension:

Read the following passage and answer the questions given after it.

The number of Indian students going abroad for higher studies has increased by 68.79 per cent in the past year, according to data provided by the Minister of State in the Ministry of Education, Subhas Sarkar. As per the data provided by him in the Lok Sabha, the number of Indians enrolled in foreign varsities increased from 4.44 lakh in 2021 to 7.5 lakh in 2022. He clarified that while the Bureau of Immigration and Ministry of Home Affairs maintain departure and arrival data of Indians, there is no index for capturing the category of Indians going abroad for higher education.

"Purpose of Indians going abroad for higher education is captured manually based either on their verbal disclosure or the type of visa of the destination country produced by them at the time of immigration clearance," Sarkar said.

According to the data provided by the ministry, the number of Indian nationals increased from 4.54 lakh in 2017 to 5.17 lakh in 2018. There was a significant increase in 2019 as well, with 5.86 lakh students flying out of the country. However, during the Covid pandemic, the number of Indian nationals in foreign varsities saw a drastic dip as only 2.59 lakh students were registered. While the number continued to remain low, it saw a slight increase in 2021 with 4.44 lakh registrations. However, the number has significantly jumped to 7.5 lakh in 2022. The increase in the number of Indian nationals abroad corresponds with the latest immigration reports from some of the popular study-abroad destinations such as the US, UK, and Australia. For the UK, the Immigration Statistics Report states that 127,731 visas were granted to Indian students in September 2022, an increase of 93,470 (+273 per cent) against 34,261 in 2019. Similarly, in the US, the number of Indian students has more than doubled, and the Open Doors Report 2022 has predicted that the number of Indian students heading to America is likely to surpass those from China in 2022-23.

### SubQuestion No : 42

Q.42 The passage is mainly about

- Ans
- ✓ 1. Indians going abroad for higher studies
  - ✗ 2. Indians going to America for higher studies
  - ✗ 3. Indians enrolled in foreign universities
  - ✗ 4. immigration of Indians to UK, US, and Australia

Question ID : 264330128820

Status : Answered

Chosen Option : 1

### Comprehension:

Read the following passage and answer the questions given after it.

The number of Indian students going abroad for higher studies has increased by 68.79 per cent in the past year, according to data provided by the Minister of State in the Ministry of Education, Subhas Sarkar. As per the data provided by him in the Lok Sabha, the number of Indians enrolled in foreign varsities increased from 4.44 lakh in 2021 to 7.5 lakh in 2022. He clarified that while the Bureau of Immigration and Ministry of Home Affairs maintain departure and arrival data of Indians, there is no index for capturing the category of Indians going abroad for higher education.

"Purpose of Indians going abroad for higher education is captured manually based either on their verbal disclosure or the type of visa of the destination country produced by them at the time of immigration clearance," Sarkar said.

According to the data provided by the ministry, the number of Indian nationals increased from 4.54 lakh in 2017 to 5.17 lakh in 2018. There was a significant increase in 2019 as well, with 5.86 lakh students flying out of the country. However, during the Covid pandemic, the number of Indian nationals in foreign varsities saw a drastic dip as only 2.59 lakh students were registered. While the number continued to remain low, it saw a slight increase in 2021 with 4.44 lakh registrations. However, the number has significantly jumped to 7.5 lakh in 2022. The increase in the number of Indian nationals abroad corresponds with the latest immigration reports from some of the popular study-abroad destinations such as the US, UK, and Australia. For the UK, the Immigration Statistics Report states that 127,731 visas were granted to Indian students in September 2022, an increase of 93,470 (+273 per cent) against 34,261 in 2019. Similarly, in the US, the number of Indian students has more than doubled, and the Open Doors Report 2022 has predicted that the number of Indian students heading to America is likely to surpass those from China in 2022-23.

### SubQuestion No : 43

Q.43 In 2019, how many Indian students went abroad?

Ans ☒ 1. 5.86 lakh

☐ 2. 4.44 lakh

☐ 3. 5.17 lakh

☐ 4. 4.54 lakh

Question ID : 264330128821

Status : Answered

Chosen Option : 1

### Comprehension:

Read the following passage and answer the questions given after it.

The number of Indian students going abroad for higher studies has increased by 68.79 per cent in the past year, according to data provided by the Minister of State in the Ministry of Education, Subhas Sarkar. As per the data provided by him in the Lok Sabha, the number of Indians enrolled in foreign varsities increased from 4.44 lakh in 2021 to 7.5 lakh in 2022. He clarified that while the Bureau of Immigration and Ministry of Home Affairs maintain departure and arrival data of Indians, there is no index for capturing the category of Indians going abroad for higher education.

"Purpose of Indians going abroad for higher education is captured manually based either on their verbal disclosure or the type of visa of the destination country produced by them at the time of immigration clearance," Sarkar said.

According to the data provided by the ministry, the number of Indian nationals increased from 4.54 lakh in 2017 to 5.17 lakh in 2018. There was a significant increase in 2019 as well, with 5.86 lakh students flying out of the country. However, during the Covid pandemic, the number of Indian nationals in foreign varsities saw a drastic dip as only 2.59 lakh students were registered. While the number continued to remain low, it saw a slight increase in 2021 with 4.44 lakh registrations. However, the number has significantly jumped to 7.5 lakh in 2022. The increase in the number of Indian nationals abroad corresponds with the latest immigration reports from some of the popular study-abroad destinations such as the US, UK, and Australia. For the UK, the Immigration Statistics Report states that 127,731 visas were granted to Indian students in September 2022, an increase of 93,470 (+273 per cent) against 34,261 in 2019. Similarly, in the US, the number of Indian students has more than doubled, and the Open Doors Report 2022 has predicted that the number of Indian students heading to America is likely to surpass those from China in 2022-23.

### SubQuestion No : 44

Q.44 How do we know the number of students getting visas for studies in UK?

- Ans
- ☐ 1. from the records of the Bureau of Immigration
  - ☐ 2. from the Ministry of Education
  - ☒ 3. from the Immigration Statistics Report
  - ☐ 4. from the records of Ministry of Home Affairs

Question ID : 264330128822

Status : Answered

Chosen Option : 1

### Comprehension:

Read the following passage and answer the questions given after it.

The number of Indian students going abroad for higher studies has increased by 68.79 per cent in the past year, according to data provided by the Minister of State in the Ministry of Education, Subhas Sarkar. As per the data provided by him in the Lok Sabha, the number of Indians enrolled in foreign varsities increased from 4.44 lakh in 2021 to 7.5 lakh in 2022. He clarified that while the Bureau of Immigration and Ministry of Home Affairs maintain departure and arrival data of Indians, there is no index for capturing the category of Indians going abroad for higher education.

"Purpose of Indians going abroad for higher education is captured manually based either on their verbal disclosure or the type of visa of the destination country produced by them at the time of immigration clearance," Sarkar said.

According to the data provided by the ministry, the number of Indian nationals increased from 4.54 lakh in 2017 to 5.17 lakh in 2018. There was a significant increase in 2019 as well, with 5.86 lakh students flying out of the country. However, during the Covid pandemic, the number of Indian nationals in foreign varsities saw a drastic dip as only 2.59 lakh students were registered. While the number continued to remain low, it saw a slight increase in 2021 with 4.44 lakh registrations. However, the number has significantly jumped to 7.5 lakh in 2022. The increase in the number of Indian nationals abroad corresponds with the latest immigration reports from some of the popular study-abroad destinations such as the US, UK, and Australia. For the UK, the Immigration Statistics Report states that 127,731 visas were granted to Indian students in September 2022, an increase of 93,470 (+273 per cent) against 34,261 in 2019. Similarly, in the US, the number of Indian students has more than doubled, and the Open Doors Report 2022 has predicted that the number of Indian students heading to America is likely to surpass those from China in 2022-23.

### SubQuestion No : 45

Q.45 Which of the following countries is not very popular with Indian students for studies?

- Ans
- ☒ 1. China
  - ☐ 2. UK
  - ☐ 3. Australia
  - ☐ 4. USA

Question ID : 264330128823

Status : Answered

Chosen Option : 1

### Section : General Awareness

Q.1 वह कौन सा अधिनियम है जिसे 'मॉर्ले-मिंटो सुधार' के नाम से भी जाना जाता है?

- Ans
- ☐ 1. भारत शासन अधिनियम, 1912
  - ☐ 2. रॉलेट एक्ट, 1919
  - ☐ 3. भारत शासन अधिनियम, 1935
  - ☒ 4. भारतीय परिषद अधिनियम, 1909

Question ID : 26433055625

Status : Answered

Chosen Option : 1

Q.2 18 V की बैटरी से जलने वाला एक विद्युत बल्ब 3 A विद्युत धारा लेता है। बल्ब का प्रतिरोध क्या होगा?

- Ans
- ☐ 1. 4  $\Omega$
  - ☐ 2. 3  $\Omega$
  - ☒ 3. 6  $\Omega$
  - ☐ 4. 2  $\Omega$

Question ID : 264330109882

Status : Answered

Chosen Option : 3

Q.3 आप उस प्रकार की औषध को क्या कहते हैं जो प्राकृतिक संदेशवाहक की नकल करके ग्राही को सक्रिय कर देती है?

- Ans
- ☒ 1. अवसादक
  - ☒ 2. प्रति अवसादक
  - ☒ 3. ऐगोनिस्ट
  - ☒ 4. विरोधी

Question ID : 264330123847  
Status : Answered  
Chosen Option : 2

Q.4 निम्नलिखित में से किसे पूंजीगत व्यय माना जाता है?

- Ans
- ☒ 1. स्कूल की इमारत का निर्माण
  - ☒ 2. पेंशन
  - ☒ 3. सब्सिडी
  - ☒ 4. वेतन का भुगतान

Question ID : 264330123883  
Status : Answered  
Chosen Option : 3

Q.5 भारतीय संविधान के किस भाग में कल्याणकारी राज्य का विचार है?

- Ans
- ☒ 1. मूल अधिकार
  - ☒ 2. राज्य की नीति के निदेशक तत्व
  - ☒ 3. प्रस्तावना
  - ☒ 4. मूल कर्तव्य

Question ID : 264330110801  
Status : Answered  
Chosen Option : 2

Q.6 वर्ष 2011 की जनगणना के अनुसार किस राज्य की साक्षरता दर सबसे कम है?

- Ans
- ☒ 1. महाराष्ट्र
  - ☒ 2. अरुणाचल प्रदेश
  - ☒ 3. केरल
  - ☒ 4. बिहार

Question ID : 264330109506  
Status : Answered  
Chosen Option : 4

Q.7 सही कथन की पहचान कीजिए।

- Ans
- ☒ 1. विशिष्ट प्रतिरोध तार के अनुप्रस्थ-काट क्षेत्रफल पर निर्भर करता है।
  - ☒ 2. तार का प्रतिरोध तार की लंबाई और अनुप्रस्थ-काट पर निर्भर करता है।
  - ☒ 3. तार का प्रतिरोध तार की लंबाई और घनत्व पर निर्भर करता है।
  - ☒ 4. विशिष्ट प्रतिरोध सभी सुचालकों के लिए समान होता है।

Question ID : 264330109879  
Status : Answered  
Chosen Option : 1

Q.8 दिल्ली सल्तनत काल में तबाकत-ए-नसिरि की रचना किसने की थी?

- Ans
- ☐ 1. हसन निजामी
  - ☐ 2. ज़ियाउद्दीन बरानी
  - ☐ 3. अमीर खुसरो
  - ☒ 4. मिनाज-उस-सिराज

Question ID : 264330109013  
Status : Not Answered  
Chosen Option : --

Q.9 किस वैज्ञानिक ने सुझाव दिया कि चुम्बक को भी धारावाही चालक पर समान और विपरीत बल लगाना चाहिए?

- Ans
- ☐ 1. जोसेफ हेनरी (Joseph Henry)
  - ☒ 2. आंद्रे मैरी एम्पीयर (Andre Marie Ampere)
  - ☐ 3. माइकल फैराडे (Michael Faraday)
  - ☐ 4. विलियम गिल्बर्ट (William Gilbert)

Question ID : 264330123853  
Status : Answered  
Chosen Option : 3

Q.10 भीमबेटका, पुरापाषाण काल का एक प्रसिद्ध स्थल, भारत के किस राज्य में स्थित है?

- Ans
- ☐ 1. उत्तर प्रदेश
  - ☐ 2. बिहार
  - ☒ 3. मध्य प्रदेश
  - ☐ 4. राजस्थान

Question ID : 264330108990  
Status : Answered  
Chosen Option : 3

Q.11 भारत में पहली बार प्राक्कलन समिति का गठन किस वर्ष में किया गया?

- Ans
- ☐ 1. 1949 में
  - ☒ 2. 1950 में
  - ☐ 3. 1948 में
  - ☐ 4. 1947 में

Question ID : 26433064723  
Status : Answered  
Chosen Option : 4

Q.12 राष्ट्रीय खेल पुरस्कार 2022 के संबंध में सूची-I और सूची-II का मिलान कीजिए।

सूची-I

- a. अर्जुन पुरस्कार
- b. द्रोणाचार्य पुरस्कार नियमित
- c. द्रोणाचार्य पुरस्कार आजीवन
- d. ध्यानचंद पुरस्कार

सूची-II

- i) जीवनजोत सिंह तेजा
- ii) सीमा पुनिया
- iii) अश्विनी अकुंजी
- iv) दिनेश जवाहर लाड

- Ans
- ☒ 1. a-ii, b-i, c-iii, d-iv
  - ☒ 2. a-ii, b-i, c-iv, d-iii
  - ☒ 3. a-i, b-ii, c-iv, d-iii
  - ☒ 4. a-i, b-ii, c-iii, d-iv

Question ID : 264330122943

Status : Not Answered

Chosen Option : --

Q.13 कौन सा विकल्प, सितंबर 2022 में जारी, एचडीआई (HDI) के अवरोही क्रम में देशों को सही ढंग से दर्शाता है?

- Ans
- ☒ 1. नाइजर - जापान - डेनमार्क - स्विट्जरलैंड
  - ☒ 2. डेनमार्क - जापान - स्विट्जरलैंड - नाइजर
  - ☒ 3. स्विट्जरलैंड - डेनमार्क - जापान - नाइजर
  - ☒ 4. जापान - स्विट्जरलैंड - डेनमार्क - नाइजर

Question ID : 264330121483

Status : Answered

Chosen Option : 3

Q.14 भारत में, राष्ट्रीय निवेश कोष के संबंध में निम्नलिखित में से कौन-सा कथन सही है?

कथन:

- I. इसे 2005 में बनाया गया।
- II. इसकी वार्षिक आय के 75% का उपयोग स्वास्थ्य, शिक्षा और रोजगार को प्रोत्साहित करने वाली योजनाओं में किया जाना था।
- III. इसे 2018 में भंग कर दिया गया।

- Ans
- ☒ 1. केवल कथन I और III
  - ☒ 2. केवल कथन I
  - ☒ 3. केवल कथन I और II
  - ☒ 4. केवल कथन II

Question ID : 26433059344

Status : Not Answered

Chosen Option : --

Q.15 निम्नलिखित में से किस विटामिन की कमी से घावों से अत्यधिक रक्तस्राव होता है?

- Ans
- ☒ 1. विटामिन K
  - ☒ 2. विटामिन D
  - ☒ 3. विटामिन A
  - ☒ 4. विटामिन E

Question ID : 26433064115

Status : Answered

Chosen Option : 1

Q.16 भारतीय भौतिक विज्ञानी सत्येंद्र नाथ बोस द्वारा दिए गए क्वांटम सूत्रीकरण (फॉर्मूलेशन) के आधार पर अल्बर्ट आइंस्टीन ने किस वर्ष में पदार्थ की एक नई अवस्था, बोस-आइंस्टीन कंडेन्सेट (BEC) का अनुमान लगाया था?

- Ans
- ☒ 1. 1930
  - ☒ 2. 1919
  - ☒ 3. 1924
  - ☒ 4. 1935

Question ID : 264330123872  
Status : Not Answered  
Chosen Option : --

Q.17 2022 में अटल पेंशन योजना (एपीवाई) में किए गए परिवर्तनों के संबंध में निम्नलिखित में से कौन-सा/से कथन सही है/हैं?

- A. नए मानदंड के अनुसार कोई भी नागरिक, जो आयकरदाता है या रहा है, 1 अक्टूबर 2022 के बाद एपीवाई में शामिल होने का पात्र नहीं होगा।
- B. अभिदाताओं को 80 साल की उम्र में ₹1,000 या ₹2,000 या ₹3,000 या ₹4,000 या ₹5,000 की न्यूनतम मासिक पेंशन की गारंटी मिलेगी।
- C. नए नियमों के अनुसार अभिदाता केवल मासिक आधार पर एपीवाई में योगदान कर सकते हैं।

- Ans
- ☒ 1. केवल A
  - ☒ 2. केवल A और C
  - ☒ 3. A, B और C
  - ☒ 4. केवल B और C

Question ID : 264330122937  
Status : Not Answered  
Chosen Option : --

Q.18 निम्नलिखित में से किसका गठन भारतीय संविधान के अनुच्छेद 280 के तहत किया गया है?

- Ans
- ☒ 1. महाधिवक्ता
  - ☒ 2. वित्त आयोग
  - ☒ 3. केंद्रीय सतर्कता आयोग
  - ☒ 4. राष्ट्रीय महिला आयोग

Question ID : 264330110588  
Status : Answered  
Chosen Option : 2

Q.19 उस प्रकार के मौसम की पहचान करें जो भारत के चार मौसमों का हिस्सा नहीं है।

- Ans
- ☒ 1. सर्दी का मौसम
  - ☒ 2. गर्मी का मौसम
  - ☒ 3. दक्षिण पश्चिम मानसून का मौसम
  - ☒ 4. दक्षिण पूर्व मानसून का मौसम

Question ID : 264330123844  
Status : Answered  
Chosen Option : 3

Q.20 भारत के सेवानिवृत्त राष्ट्रपति के लाभों के संबंध में निम्नलिखित में से कौन-सा कथन सही है?

- A. भारत के पूर्व राष्ट्रपति भी ₹2.5 लाख की मासिक पेंशन के हकदार होंगे।  
B. वे एक निजी सचिव, एक निजी सहायक, एक अतिरिक्त निजी सचिव, दो चपरासी, और प्रति वर्ष ₹1 लाख तक के कार्यालय व्यय सहित एक सचिवीय स्टाफ के हकदार हैं।  
C. वे रेल, हवाई या स्टीमर द्वारा एक व्यक्ति के साथ भारत में कहीं भी उच्चतम श्रेणी की निःशुल्क यात्रा के भी हकदार हैं।

Ans ☒ 1. केवल A और B

☒ 2. A, B और C

☒ 3. केवल A और C

☒ 4. केवल B और C

Question ID : 264330121543

Status : Not Answered

Chosen Option : --

Q.21 पहचानें कि भारत में कृषि के संबंध में निम्नलिखित में से कौन से कथन सही हैं।

1. भारत में रबी की फ़सलें अक्टूबर से दिसंबर तक बोई जाती हैं और अप्रैल से जून तक काटी जाती हैं।  
2. भारत में रबी के दौरान उगाई जाने वाली महत्वपूर्ण फ़सलें धान, मक्का, चना, सोयाबीन और सरसों हैं।  
3. ऑस, अमन और बोरो असम, पश्चिम बंगाल और ओडिशा में धान की तीन फ़सलें हैं।

Ans ☒ 1. 1, 2 और 3

☒ 2. केवल 2 और 3

☒ 3. केवल 1 और 3

☒ 4. केवल 1 और 2

Question ID : 264330121513

Status : Answered

Chosen Option : 1

Q.22 निम्नलिखित में से कौन-सा 1897 में खोजा गया पहला B विटामिन था?

Ans ☒ 1. फोलेट

☒ 2. बायोटिन

☒ 3. राइबोफ्लेविन

☒ 4. थायमीन

Question ID : 264330123820

Status : Answered

Chosen Option : 4

Q.23 यौन संचारित रोग (STD) के संबंध में निम्नलिखित में से कौन सा/से विकल्प सही है/हैं?

कथन A: यौन संचारित रोग (STDs) किसी संक्रमित व्यक्ति से किसी असंक्रमित व्यक्ति में यौन संपर्क के माध्यम से संचारित होने वाला संक्रमण हैं।

कथन B: HIV, HPV और हेपेटाइटिस B विषाणु, STD के लिए जिम्मेदार है।

Ans ☒ 1. कथन A और B दोनों गलत हैं

☒ 2. कथन A और B दोनों सही हैं

☒ 3. केवल कथन B सही है

☒ 4. केवल कथन A सही है

Question ID : 264330121164

Status : Answered

Chosen Option : 2

Q.24 पहचानिए कि निम्नलिखित में से कौन से कथन सही हैं?

1. हिंदुस्तान कॉपर लिमिटेड {Hindustan Copper Limited (HCL)} को 9 नवंबर 1967 को निगमित किया गया था।
2. खेतड़ी कॉपर कॉम्प्लेक्स {The Khetri Copper Complex (KCC)} राजस्थान में स्थित है।
3. मिनरल एक्सप्लोरेशन कंसल्टेंसी लिमिटेड (Mineral Exploration Consultancy Ltd.) का मुख्यालय जयपुर में स्थित है।

- Ans
- ☐ 1. केवल 1 और 3
  - ☐ 2. केवल 2 और 3
  - ☒ 3. केवल 1 और 2
  - ☐ 4. 1, 2 और 3

Question ID : 264330121532

Status : Answered

Chosen Option : 4

Q.25 जनवरी 2021 में इकोनॉमिस्ट इंटेलिजेंस यूनिट द्वारा जारी एशिया-प्रशांत व्यक्तिगत स्वास्थ्य सूचकांक (एशिया-पैसिफिक पर्सनलाइज्ड हेल्थ इंडेक्स) में भारत की रैंक क्या थी?

- Ans
- ☒ 1. 10वीं
  - ☐ 2. 12वीं
  - ☐ 3. 9वीं
  - ☐ 4. 11वीं

Question ID : 26433072901

Status : Not Answered

Chosen Option : --

Section : Computer Knowledge Module

Q.1 निम्नलिखित में से कौन सा कथन गलत है?

- Ans
- ☐ 1. ट्रोजन उपयोगकर्ता के संपर्क से फैलता है जैसे ईमेल अटैचमेंट खोलना या इंटरनेट से फ़ाइल डाउनलोड करना और निष्पादित करना।
  - ☐ 2. दूषित उपयोगकर्ताओं को सिस्टम तक पहुंच प्रदान करने के लिए कुछ ट्रोजन बैकडोर बनाते हैं।
  - ☒ 3. ट्रोजन स्वयं को दोहराता है और अन्य फ़ाइलों को संक्रमित करता है।
  - ☐ 4. ट्रोजन एक वैध सॉफ्टवेयर की तरह दिखता है।

Question ID : 264330128774

Status : Marked For Review

Chosen Option : 1

Q.2 जबकि \_\_\_\_\_ में, डेटा ग्राहक की मशीन से सर्वर तक जाता है।

- Ans
- ☐ 1. डाउनलोड करना
  - ☒ 2. अपलोडिंग
  - ☐ 3. फॉरवर्डिंग
  - ☐ 4. ब्राउज़िंग

Question ID : 264330128752

Status : Answered

Chosen Option : 2

Q.3 \_\_\_\_\_ cookies track you and expose your privacy.

- Ans
- ✓ 1. Third-party
  - ✗ 2. Zombi
  - ✗ 3. Persistent
  - ✗ 4. Session

Question ID : 264330128757  
Status : Answered  
Chosen Option : 1

Q.4 गूगल सर्च इंजन में वर्तमान पेज को पुनः लोड करने के लिए निम्नलिखित में से कौन सा कीबोर्ड शॉर्टकट है?

- Ans
- ✓ 1. F5
  - ✗ 2. F1
  - ✗ 3. F7
  - ✗ 4. F3

Question ID : 264330128778  
Status : Not Answered  
Chosen Option : --

Q.5 एमएस-वर्ड 365 में केवल विशिष्ट पेजों को चुनने के लिए प्रिंट सेटिंग्स के निम्नलिखित में से कौन से विकल्प का उपयोग किया जाता है?

- Ans
- ✓ 1. कस्टम प्रिंट (Custom Print)
  - ✗ 2. प्रिंट करंट पेज (Print Current Page)
  - ✗ 3. प्रिंट आल पेजेज (Print All Pages)
  - ✗ 4. प्रिंट सेलेक्शन (Print Selection)

Question ID : 264330128773  
Status : Answered  
Chosen Option : 1

Q.6 CPU के साथ सीधे संचार करने वाली मेमोरी इकाई को \_\_\_\_\_ मेमोरी कहा जाता है।

- Ans
- ✗ 1. सहायक
  - ✗ 2. बैकअप
  - ✓ 3. मुख्य
  - ✗ 4. कैश

Question ID : 264330128765  
Status : Answered  
Chosen Option : 4

Q.7 \_\_\_\_\_ उपयोगिता की सूची प्रदर्शित करता है जो कंप्यूटर सिस्टम को कॉन्फ़िगर करता है और सॉफ्टवेयर और हार्डवेयर स्थापित करता है।

Ans

- ☐ 1. कार्यपट्टी
- ☐ 2. सहायता और समर्थन
- ☐ 3. रन
- ☒ 4. नियंत्रण कक्ष

Question ID : 264330128750

Status : Answered

Chosen Option : 4

Q.8 एमएस-वर्ड 365 में शेडिंग (Shading) विकल्प का उपयोग \_\_\_\_\_ के लिए किया जाता है।

Ans

- ☐ 1. सेलेक्टेड टेक्स्ट का रंग बदलने
- ☐ 2. सेलेक्टेड टेक्स्ट के चारों ओर का रंग बदलने
- ☒ 3. सेलेक्टेड टेक्स्ट के पीछे का रंग बदलने
- ☐ 4. टेक्स्ट को हाइलाइट करके टेक्स्ट पॉप बनाने

Question ID : 264330128775

Status : Answered

Chosen Option : 3

Q.9 वीडियो ग्राफिक ऐरे कनेक्टर वे होते हैं जो मॉनिटर को कंप्यूटर के वीडियो कार्ड से जोड़ते हैं और इसमें \_\_\_\_\_ छेद होते हैं।

Ans

- ☐ 1. 18
- ☐ 2. 10
- ☒ 3. 15
- ☐ 4. 12

Question ID : 264330128766

Status : Not Answered

Chosen Option : --

Q.10 \_\_\_\_\_ is a type of malware that is often disguised as legitimate software.

Ans

- ☒ 1. Trojan
- ☐ 2. Ransomware
- ☐ 3. Keylogger
- ☐ 4. Roolkit

Question ID : 264330128728

Status : Answered

Chosen Option : 1

Q.11 एमएस-एक्सेल 365 में निम्नलिखित में से कौन सा विकल्प स्क्रीन के शीर्ष पर और टाइटल बार के नीचे दिखाई देता है और इसमें डेटा-इंटेंस स्प्रेडशीट बनाने के लिए आवश्यक सभी कमांड, फार्मूला और फीचर शामिल होते हैं?

Ans

- ✓ 1. रिबन (Ribbon)
- ✗ 2. स्टेटस बार (Status bar)
- ✗ 3. रूलर (Ruler)
- ✗ 4. स्क्रॉल बार (Scroll bars)

Question ID : 264330128749

Status : Marked For Review

Chosen Option : 3

Q.12 \_\_\_\_\_ is a high-speed device used in CPU that is utilised to store data temporarily during processing.

Ans

- ✗ 1. Auxiliary Memory
- ✗ 2. Arithmetic and Logic Unit (ALU)
- ✗ 3. Control Unit
- ✓ 4. Registers

Question ID : 264330128760

Status : Answered

Chosen Option : 4

Q.13 \_\_\_\_\_ is a passage to connect two networks that may work on different networking models.

Ans

- ✗ 1. Hub
- ✓ 2. Gateway
- ✗ 3. Switch
- ✗ 4. Router

Question ID : 264330128767

Status : Not Answered

Chosen Option : --

Q.14 एमएस-एक्सेल 365 में, यदि कॉलम A और रो (row) 10 के सेल में एक वैल्यू को किसी फंक्शन या फार्मूले में संदर्भित किया जाना है, तो निम्नलिखित में से कौन-सा सही विकल्प है,?

Ans

- ✗ 1. 10A
- ✗ 2. A10
- ✓ 3. A:10
- ✗ 4. A-10

Question ID : 264330128751

Status : Not Answered

Chosen Option : --

Q.15 निम्नलिखित में से कौन-सा ई-मेल सेवा प्रदाता का उदाहरण नहीं है?

- I. आउटलुक (Outlook)
- II. जीमेल (Gmail)
- III. यांडेक्स (Yandex)

Ans

- ☒ 1. केवल III
- ☒ 2. I और III
- ☒ 3. सभी ई-मेल सेवा प्रदाता हैं
- ☒ 4. केवल I

Question ID : 264330128756

Status : Answered

Chosen Option : 1

Q.16 निम्नलिखित में से कौन सा लेजर प्रिंटर के बारे में गलत है?

Ans

- ☒ 1. कई फोंट और आकारों का समर्थन करता है
- ☒ 2. यह एक पृष्ठ पर वर्ण बनाने के लिए बिंदु बनाने के लिए लेजर रोशनी का उपयोग करता है।
- ☒ 3. तेज़ गति
- ☒ 4. एक बार में कई कॉपी मुद्रित कर सकते हैं

Question ID : 264330128784

Status : Marked For Review

Chosen Option : 4

Q.17 The instruction that is not to be executed immediately is placed in the \_\_\_\_\_.

Ans

- ☒ 1. Current Instruction Register (CIR)
- ☒ 2. Instruction Buffer Register (IBR)
- ☒ 3. Program Counter (PC)
- ☒ 4. Memory Address Register (MAR)

Question ID : 264330128779

Status : Not Answered

Chosen Option : --

Q.18 माइक्रोसॉफ्ट वर्ड में चयनित टेक्स्ट के लिए हाइपरलिंक डालने के लिए निम्नलिखित में से किस कीबोर्ड शॉर्टकट का उपयोग किया जाता है?

Ans

- ☒ 1. कंट्रोल + H
- ☒ 2. कंट्रोल + K
- ☒ 3. कंट्रोल + M
- ☒ 4. कंट्रोल + Z

Question ID : 264330128763

Status : Answered

Chosen Option : 2

Q.19 \_\_\_\_\_ is also known as electronic disk.

Ans

- ☒ 1. USB Hard Drives
- ☒ 2. Network Storage Servers
- ☒ 3. Solid-State Drive
- ☒ 4. USB Sticks

Question ID : 264330128762

Status : Not Answered

Chosen Option : --

Q.20 Which among the following statements is incorrect?

Ans

- ☒ 1. Cache memory is faster than main memory.
- ☒ 2. The size of cache is usually small.
- ☒ 3. Cache memory stores data in permanent use.
- ☒ 4.

Cache memory keeps the programs that can be run in a short amount of time.

Question ID : 264330128761

Status : Marked For Review

Chosen Option : 3

## Combined Graduate Level Examination Tier II 2022

Roll Number	
Candidate Name	
Venue Name	iON Digital Zone iDZ Dohna
Exam Date	03/03/2023
Exam Time	9:00 AM - 12:00 PM
Subject	CGLE 2022 Tier II Paper I

### Section : Mathematical Abilities

Q.1 ₹25,000 की राशि पर तीन वर्ष बाद 12 प्रतिशत वार्षिक दर से चक्रवृद्धि ब्याज कितना होगा, जब ब्याज वार्षिक रूप से चक्रवृद्धि होता है?

- Ans
- ☒ 1. ₹9,824.00
  - ☒ 2. ₹10,520.00
  - ☒ 3. ₹10,123.20
  - ☒ 4. ₹9,956.86

Question ID : 264330126380

Status : Answered

Chosen Option : 3

Q.2 दिए गए व्यंजक का मान बताइए।  
[76 - {90 ÷ 5 × (24 - 36 ÷ 3)}]

- Ans
- ☒ 1. 71.5
  - ☒ 2. 4
  - ☒ 3. 75.5
  - ☒ 4. 77.5

Question ID : 264330122829

Status : Answered

Chosen Option : 2

Q.3 निम्नलिखित संख्याओं की मधिका \_\_\_\_\_ होगी।  
32, 25, 33, 27, 35, 29 और 30

- Ans
- ☒ 1. 27
  - ☒ 2. 32
  - ☒ 3. 30
  - ☒ 4. 29

Question ID : 264330126393

Status : Answered

Chosen Option : 3

Q.4 संख्या 2918245 निम्नलिखित में से किस संख्या से विभाज्य है?

- Ans
- ☒ 1. 3
  - ☒ 2. 11
  - ☒ 3. 9
  - ☒ 4. 12

Question ID : 264330126417

Status : Answered

Chosen Option : 2

Q.5 कोई माल तीन व्यापारियों के हाथों से क्रमिक रूप से गुजरता है और उनमें से प्रत्येक व्यापारी अपने माल को अपने क्रय मूल्य के 30% के लाभ पर बेचता है। यदि अंतिम व्यापारी ने माल को Rs.300 में बेचा, तो पहले व्यापारी ने इसे कितने में खरीदा था?

- Ans ☒ 1. Rs.136.55 (लगभग)  
☒ 2. Rs.330.55 (लगभग)  
☒ 3. Rs.137.55 (लगभग)  
☒ 4. Rs.240.55 (लगभग)

Question ID : 26433061256  
Status : Not Answered  
Chosen Option : --

Q.6 एक टैंक से दो इनलेट A और B जुड़े हुए हैं। A और B टैंक को क्रमशः 32 h और 28 h में भर सकते हैं। यदि दोनों पाइपों को A से शुरू करते हुए, बारी-बारी से, 1 h के लिए खोला जाता है, तो टैंक कितने समय (घंटों में, निकटतम पूर्णांक) में भर जाएगा?

- Ans ☒ 1. 36  
☒ 2. 22  
☒ 3. 24  
☒ 4. 30

Question ID : 264330122817  
Status : Not Answered  
Chosen Option : --

Q.7 एक परीक्षा में राजेश, राकेश और रमेश द्वारा प्राप्त अंकों का अनुपात 2 : 4 : 9 है। यदि राजेश ने परीक्षा में 30 अंक प्राप्त किए हैं, तो राकेश और रमेश द्वारा प्राप्त अंक क्या हैं?

- Ans ☒ 1. राकेश = 40, रमेश = 90  
☒ 2. राकेश = 90, रमेश = 40  
☒ 3. राकेश = 60, रमेश = 135  
☒ 4. राकेश = 120, रमेश = 180

Question ID : 26433058140  
Status : Answered  
Chosen Option : 3

Q.8  $x^2 - 8x + 15$  और  $x^2 - 5x + 6$  का ल.स.प(LCM) \_\_\_\_\_ है।

- Ans ☒ 1.  $(x + 6)(x + 1)(x - 3)$   
☒ 2.  $(x - 2)(x - 3)(x - 5)$   
☒ 3.  $(x - 6)^2(x + 1)(x - 3)$   
☒ 4.  $(x - 6)(x + 1)(x - 3)$

Question ID : 26433090279  
Status : Answered  
Chosen Option : 2

Q.9 3 kg चावल का मूल्य ₹180 है। 8 kg चावल का मूल्य 5 kg दाल के मूल्य के बराबर है। 15 kg दाल का मूल्य 2 kg चाय के मूल्य के बराबर है। 3 kg चाय का मूल्य 6 kg अखरोट के मूल्य के बराबर है। 10 kg अखरोट का मूल्य (₹ में) क्या है?

Ans ☒ 1. 3600

☐ 2. 2800

☐ 3. 2400

☐ 4. 3200

Question ID : 264330121746

Status : Not Answered

Chosen Option : --

Q.10 यदि एक सम बहुभुज का बहिष्कोण  $18^\circ$  है, तो इस बहुभुज में विकर्णों की संख्या क्या होगी?

Ans ☐ 1. 180

☒ 2. 170

☐ 3. 140

☐ 4. 150

Question ID : 264330121662

Status : Answered

Chosen Option : 1

Q.11 एक पिरामिड का संपूर्ण पृष्ठीय क्षेत्रफल क्या है जिसका आधार 8 cm भुजा वाला एक वर्ग है और पिरामिड की ऊँचाई 3 cm है?

Ans ☐ 1.  $121 \text{ cm}^2$

☒ 2.  $144 \text{ cm}^2$

☐ 3.  $169 \text{ cm}^2$

☐ 4.  $184 \text{ cm}^2$

Question ID : 264330121659

Status : Not Answered

Chosen Option : --

Q.12 यदि दो समरूप त्रिभुजों के क्षेत्रफलों का अनुपात 196 : 625 है, तो संगत भुजाओं का अनुपात क्या होगा?

Ans ☐ 1. 13:25

☐ 2. 13:20

☐ 3. 14:20

☒ 4. 14:25

Question ID : 264330126438

Status : Answered

Chosen Option : 4

Q.13 18 cm की आंतरिक त्रिज्या का एक अर्द्धगोलीय कटोरा द्रव से भरा हुआ है। इस द्रव को 3 cm त्रिज्या और 6 cm ऊँचाई वाली बेलनाकार बोतलों में भरा जाना है। प्याला खाली करने के लिए कितनी बोतलों की आवश्यकता होगी?

Ans ☐ 1. 70

☐ 2. 68

☒ 3. 72

☐ 4. 66

Question ID : 264330126451

Status : Answered

Chosen Option : 3

Q.14 सुरेश, दिनेश और रमेश 3 : 6 : 8 के अनुपात में धनराशि का निवेश करके एक व्यवसाय में साझेदार बनते हैं। यदि उनके निवेश में क्रमशः 5%, 15% और 20% की वृद्धि की जाती है, तो एक वर्ष के लिए उनके लाभ का अनुपात क्या हो जाएगा?

- Ans
- ☒ 1. 19:46:64
  - ☒ 2. 7:46:64
  - ☒ 3. 35:46:64
  - ☒ 4. 21:46:64

Question ID : 264330121716  
Status : Not Answered  
Chosen Option : --

Q.15 दिए गए व्यंजक का मान ज्ञात कीजिए।

$$\sqrt{20 - \sqrt{20 - \sqrt{20 - \sqrt{20 - \dots \infty}}}}$$

- Ans
- ☒ 1. 5
  - ☒ 2. 6
  - ☒ 3. 2
  - ☒ 4. 4

Question ID : 264330121643  
Status : Not Answered  
Chosen Option : --

Q.16 दो प्रत्याशियों ने एक चुनाव लड़ा। उनमें से एक ने 64% मत प्राप्त किए और 434 मतों से जीत गया। कुल पड़े मतों की संख्या ज्ञात कीजिए।

- Ans
- ☒ 1. 1550
  - ☒ 2. 1345
  - ☒ 3. 1684
  - ☒ 4. 1680

Question ID : 26433066299  
Status : Not Answered  
Chosen Option : --

Q.17 एक कमरे की चौड़ाई 'b' उसकी ऊँचाई की दोगुनी और उसकी लंबाई की आधी है। कमरे के सबसे लंबे विकर्ण की लंबाई ज्ञात कीजिए।

- Ans
- ☒ 1.  $\frac{\sqrt{21} b}{2}$
  - ☒ 2.  $\frac{b}{2}$
  - ☒ 3.  $\frac{\sqrt{19} b}{2}$
  - ☒ 4.  $\frac{\sqrt{20} b}{2}$

Question ID : 26433058918  
Status : Not Answered  
Chosen Option : --

Q.18 एक नाव धारा के अनुकूल 35 km की दूरी 2 घंटे में तय करती है और धारा के प्रतिकूल समान दूरी 7 घंटे में तय करती है। शांत जल में नाव की चाल (km/h में) ज्ञात कीजिए।

- Ans
- ☒ 1. 18.25
  - ☒ 2. 10.55
  - ☒ 3. 11.25
  - ☒ 4. 28.75

Question ID : 264330121726  
Status : Not Answered  
Chosen Option : --

Q.19 एक निश्चित धनराशि पर 8 वर्ष में 21% वार्षिक दर से अर्जित साधारण ब्याज का उसी धनराशि पर 21 वर्ष में समान दर से अर्जित साधारण ब्याज से अनुपात क्या है?

- Ans
- ☒ 1. 21:5
  - ☒ 2. 21:8
  - ☒ 3. 8:21
  - ☒ 4. 5:21

Question ID : 264330122692  
Status : Answered  
Chosen Option : 3

Q.20 व्यंजक  $(1+x)(1+x^2)(1+x^4)(1+x^8)(1-x)$  को सरल कीजिए।

- Ans
- ☒ 1.  $1 - x^{16}$
  - ☒ 2.  $1 - x^{40}$
  - ☒ 3.  $1 - x^{32}$
  - ☒ 4.  $1 - x^{42}$

Question ID : 26433074496  
Status : Not Answered  
Chosen Option : --

Q.21 ABCD एक चक्रीय चतुर्भुज है और BC संबंधित वृत्त का व्यास है जिस पर A और D भी स्थित हैं।  $\angle BCA = 19^\circ$  और  $\angle CAD = 32^\circ$  है।  $\angle ACD$  का माप ज्ञात करें।

- Ans
- ☒ 1.  $41^\circ$
  - ☒ 2.  $40^\circ$
  - ☒ 3.  $39^\circ$
  - ☒ 4.  $38^\circ$

Question ID : 264330122883  
Status : Not Answered  
Chosen Option : --

Q.22 A, 7 में से 5 बार सच बोलता है और B, 9 में से 8 बार सच बोलता है। इसकी क्या प्रायिकता होगी कि वे एक ही तथ्य को कहने में एक दूसरे का खंडन करेंगे?

Ans

✗ 1.  $\frac{1}{4}$

✗ 2.  $\frac{1}{9}$

✓ 3.  $\frac{1}{3}$

✗ 4.  $\frac{1}{7}$

Question ID : 264330121653

Status : Not Answered

Chosen Option : --

Q.23 17.75 m ऊंचे एक सीधे खड़े खंभे के शीर्ष से, एक सीधी खड़ी मीनार के शीर्ष का उन्नयन कोण  $60^\circ$  था। यदि मीनार 57.75 m ऊंची थी, तो खंभे के आधार से मीनार का आधार कितनी दूरी (m में) पर था?

Ans

✓ 1.  $\frac{40\sqrt{3}}{3}$

✗ 2.  $\frac{77}{4}\sqrt{3}$

✗ 3.  $\frac{151\sqrt{3}}{6}$

✗ 4.  $40\sqrt{3}$

Question ID : 264330122894

Status : Answered

Chosen Option : 1

Q.24 तीन व्यक्तियों के औसत वजन में तब 4 kg की वृद्धि होती है, जब उनमें से एक व्यक्ति, जिसका वजन 100 kg है, को दूसरे व्यक्ति द्वारा प्रतिस्थापित किया जाता है। नए व्यक्ति का वजन क्या है?

Ans

✗ 1. 103 kg

✓ 2. 112 kg

✗ 3. 107 kg

✗ 4. 104 kg

Question ID : 26433058126

Status : Not Answered

Chosen Option : --

Q.25 निम्नलिखित आंकड़ों का मानक विचलन ज्ञात कीजिए (दो दशमलव स्थान तक पूर्णांकित)।  
5, 3, 4, 7

Ans

✓ 1. 1.48

✗ 2. 4.12

✗ 3. 2.45

✗ 4. 3.21

Question ID : 264330121735

Status : Not Answered

Chosen Option : --

Q.26 शीवा के पास कुछ सुर्गियां और कुछ बकरियां हैं। यदि जानवरों के सिरों की कुल संख्या 100 है और जानवरों के पैरों की कुल संख्या 348 है, तो शीवा के पास कुल कितनी बकरियां हैं?

Ans ☒ 1. 74

☐ 2. 55

☐ 3. 76

☐ 4. 80

Question ID : 264330121744

Status : Answered

Chosen Option : 1

Q.27 निम्नलिखित विकल्पों में से गलत सूत्र का चयन कीजिए।

Ans ☐ 1.  $\operatorname{cosec}^2 \theta - \cot^2 \theta = 1$

☐ 2.  $\sec^2 \theta - \tan^2 \theta = 1$

☒ 3.  $\sec^2 \theta + \cos^2 \theta = 1$

☐ 4.  $\sin^2 \theta + \cos^2 \theta = 1$

Question ID : 264330126432

Status : Answered

Chosen Option : 3

Q.28 एक क्षैतिज तल पर एक इमारत के आधार से 70 m की दूरी पर उसके शीर्ष का उन्नयन कोण  $60^\circ$  पाया जाता है। इमारत की ऊंचाई ज्ञात कीजिए।

Ans ☐ 1.  $70\sqrt{2}$  m

☒ 2.  $70\sqrt{3}$  m

☐ 3.  $60\sqrt{3}$  m

☐ 4.  $50\sqrt{3}$  m

Question ID : 264330126425

Status : Answered

Chosen Option : 2

Q.29 एक कार के अंकित मूल्य पर दी गई 12%, 18% और 25% की क्रमिक छूट किस एकल छूट के समतुल्य है?

Ans ☐ 1. 40.25%

☐ 2. 42.65%

☒ 3. 45.88%

☐ 4. 35.28%

Question ID : 264330121709

Status : Not Answered

Chosen Option : --

Q.30 20 संख्याओं का औसत 32 है। यदि दो संख्याएँ 29 और 31 हैं, तो शेष संख्याओं का औसत क्या है (दशमलव के दो स्थानों तक सही उत्तर दें)?

- Ans ☒ 1. 32.22  
☒ 2. 34.44  
☒ 3. 31.24  
☒ 4. 30.22

Question ID : 26433073076  
Status : Not Answered  
Chosen Option : --

Section : Reasoning and General Intelligence

Q.1 A # B' का अर्थ है 'A, B का भाई है'।  
'A @ B' का अर्थ है 'A, B की पुत्री है'।  
'A & B' का अर्थ है 'A, B का पति है'।  
'A % B' का अर्थ है 'A, B की पत्नी है'।  
यदि D @ N @ H & Y @ F % V है, तो V, H से किस प्रकार संबंधित है?

- Ans ☒ 1. दादाजी  
☒ 2. पिता  
☒ 3. ससुर  
☒ 4. दामाद

Question ID : 264330126288  
Status : Answered  
Chosen Option : 3

Q.2 तीन कथन और उनके बाद दो निष्कर्ष क्रमांक I और II दिए गए हैं। कथनों को सत्य मानते हुए, भले ही वे सामान्य रूप से ज्ञात तथ्यों से भिन्न प्रतीत होते हों, निर्णय करें कि कौन सा/से निष्कर्ष तार्किक रूप से कथनों का अनुसरण करता/करते है/हैं।  
कथन:  
कुछ कविताएँ घोड़े हैं।  
सभी घोड़े खिलौने हैं।  
सभी खिलौने जहाज हैं।  
निष्कर्ष:  
I. सभी खिलौने के कविता होने की संभावना है।  
II. कुछ घोड़े जहाज हैं।

- Ans ☒ 1. न तो निष्कर्ष I और न ही निष्कर्ष II अनुसरण करता है।  
☒ 2. निष्कर्ष I और II दोनों ही अनुसरण करते हैं।  
☒ 3. या तो निष्कर्ष I या II अनुसरण करता है।  
☒ 4. केवल निष्कर्ष I अनुसरण करता है।

Question ID : 26433069186  
Status : Answered  
Chosen Option : 1

Q.3 छः मित्र J, K, L, M, N और O एक वृत्ताकार मेज के परितः केंद्र की ओर मुख करके बैठे हैं। N, M के ठीक बगल में नहीं बैठा है। M, J के ठीक बाएँ बैठा है। J, L के सम्मुख बैठा है जो कि K के ठीक दाएँ बैठा है। L के बाईं ओर दूसरे स्थान पर कौन बैठा है?

- Ans ☒ 1. O  
☒ 2. M  
☒ 3. K  
☒ 4. N

Question ID : 26433081999  
Status : Answered  
Chosen Option : 4

Q.4 इस प्रश्न में, कथन के बाद दो निष्कर्ष दिए गए हैं। दोनों में से कौन-सा/से निष्कर्ष सत्य है/हैं?

कथन:  $A = B \geq C \leq D > G < E < F$

निष्कर्ष:

I.  $B > F$

II.  $C < A$

Ans ☒ 1. निष्कर्ष I और II दोनों सत्य हैं।

☒ 2. न तो निष्कर्ष I और न ही II सत्य है।

☒ 3. केवल निष्कर्ष I सत्य है।

☒ 4. केवल निष्कर्ष II सत्य है।

Question ID : 26433069223

Status : Not Answered

Chosen Option : --

Q.5 निम्नलिखित शब्दों में तीन शब्द किसी न किसी प्रकार एक समान हैं और इसलिए एक समूह का निर्माण करते हैं। कौन-सा शब्द उस समूह से संबंधित नहीं है? (शब्दों को अर्थपूर्ण अंग्रेजी शब्दों के रूप में माना जाना चाहिए और शब्द में अक्षरों की संख्या / व्यंजनों / स्वरों की संख्या के आधार पर उन्हें समूहबद्ध नहीं किया जाना चाहिए।)

Ans ☒ 1. पियानो

☒ 2. पिकॉलो

☒ 3. शहनाई

☒ 4. बांसुरी

Question ID : 26433065634

Status : Answered

Chosen Option : 1

Q.6 इस प्रश्न में दो कथन I और II दिए गए हैं। ये कथन स्वतंत्र कारण हो सकते हैं या स्वतंत्र कारणों या एक उभयनिष्ठ कारण के प्रभाव हो सकते हैं। एक कथन, दूसरे कथन का प्रभाव हो सकता है। दोनों कथनों को पढ़िए और सही उत्तर का चयन कीजिए।

I. देश X ने पिछले 5 वर्षों में अपने कच्चे तेल के आयात में 6% की कमी की है।

II. देश X में ऑटोमोबाइल उद्योग ने इस वर्ष अपने विकास मार्जिन में 13% की तीव्र गिरावट देखी है।

Ans ☒ 1. II कारण है और I इसका संभावित प्रभाव है

☒ 2. I और II दोनों स्वतंत्र कारण हैं

☒ 3. I और II दोनों स्वतंत्र कारणों के प्रभाव हैं

☒ 4. I कारण है और II इसका संभावित प्रभाव है

Question ID : 264330121454

Status : Not Answered

Chosen Option : --

Q.7 दिए गए प्रत्येक अक्षर के लिए एक संख्या निर्दिष्ट की गई है। इन संख्याओं की निम्नलिखित चार संभावित क्रम व्यवस्थाओं में से उस विकल्प का चयन कीजिए जो एक सार्थक शब्द बना सकता है।

$E = 1, N = 2, T = 3, S = 4, T = 5, D = 6, U = 7$

Ans ☒ 1. 2,1,4,6,3,5,7

☒ 2. 4,3,7,6,1,2,5

☒ 3. 4,3,7,1,6,5,2

☒ 4. 2,1,4,3,6,7,5

Question ID : 264330121089

Status : Answered

Chosen Option : 4

Q.8 दिए गए संख्या-युग्मों में दूसरी संख्या पहली संख्या पर कुछ गणितीय संक्रिया(एँ) करके प्राप्त की जाती है। एक संख्या-युग्म को छोड़कर शेष सभी संख्या-युग्मों में समान संक्रिया(ओं) का पालन किया जाता है। वह विषम संख्या-युग्म ज्ञात करें।

- Ans
- ☐ 1. 6 : 21
  - ☐ 2. 2 : 9
  - ☐ 3. 10 : 33
  - ☒ 4. 8 : 29

Question ID : 264330126255

Status : Answered

Chosen Option : 4

Q.9 उस समुच्चय का चयन कीजिए जिसमें संख्याएँ एक-दूसरे से उसी प्रकार संबंधित हैं जिस प्रकार निम्नलिखित समुच्चय की संख्याएँ आपस में संबंधित हैं।

(नोट: संख्याओं को उसके घटक अंकों में विभाजित किए बिना, पूर्ण संख्याओं पर गणितीय संक्रियाएँ की जानी चाहिए। उदाहरण के लिए 13 - संख्या 13 पर गणितीय संक्रियाएँ जैसे कि जोड़ना / घटाना / गुणा करना आदि को 13 से किया जा सकता है। 13 को 1 और 3 में तोड़ना और फिर 1 और 3 पर गणितीय संक्रियाएँ करने की अनुमति नहीं है)

(7, 3, 43)  
(5, 2, 21)

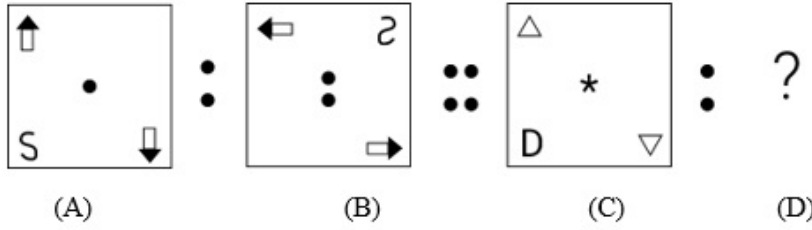
- Ans
- ☐ 1. (15, 6, 34)
  - ☐ 2. (12, 3, 43)
  - ☒ 3. (11, 5, 111)
  - ☐ 4. (13, 23, 131)

Question ID : 264330126249

Status : Answered

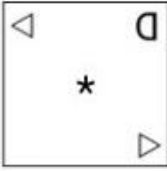
Chosen Option : 3

Q.10 आकृति A एक निश्चित पैटर्न में आकृति B से संबंधित है। उसी पैटर्न का अनुसरण करते हुए, आकृति C, आकृति D से संबंधित है। पैटर्न का अध्ययन कीजिए और उस आकृति का चयन कीजिए जिसे D के स्थान पर रखा जाना चाहिए।

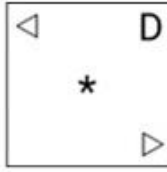


Ans

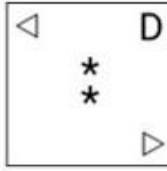
✗ 1.



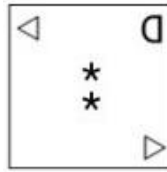
✗ 2.



✗ 3.



✓ 4.



Question ID : 264330121472

Status : Answered

Chosen Option : 4

Q.11 निम्नलिखित में से कौन से अक्षर-समूह को, # और % को प्रतिस्थापित करना चाहिए ताकि :: के बाईं ओर के अक्षर-समूह युग्म के बीच का पैटर्न और संबंध वैसा ही हो जैसा कि :: के दाईं ओर के अक्षर-समूह युग्म का है?  
# : CLQ :: NDK : %

Ans

✓ 1. # = AOO, % = PAM

✗ 2. # = AJS, % = MAM

✗ 3. # = DIS, % = PBN

✗ 4. # = EIT, % = QBN

Question ID : 264330121406

Status : Not Answered

Chosen Option : --

Q.12 जब दर्पण को चित्र के अनुसार 'PQ' पर रखा जाता है तो दिए गए संयोजन का दर्पण में निर्मित सही प्रतिबिंब चयनित कीजिए।

ad2niCvh6iOvr  $\begin{matrix} P \\ | \\ Q \end{matrix}$

- Ans
- ☒ 1. 9q5u!c\me!0\l
  - ☒ 2. ad2niCvh6iOvr
  - ☒ 3. 1\0!94\c!u7pe
  - ☒ 4. 1v0i\h6iOvr9q5u!c\me!0\l

Question ID : 264330126297

Status : Answered

Chosen Option : 4

Q.13 निर्देश: एक कथन के बाद दो अनुमान I और II दिए गए हैं। यह मानते हुए कि दिया गया कथन सत्य है, भले ही यह सामान्य रूप से ज्ञात तथ्यों से भिन्न प्रतीत होता हो, तय करें कि दिए गए अनुमानों में से कौन सा /से अनुमान कथन का तार्किक रूप से अनुसरण करता है/करते हैं।

कथन:

कृषि उत्पादन में कीटनाशकों का अत्यधिक उपयोग करने से वे मिट्टी और जल को दूषित करते हैं, फसलों में उनका अंश रह जाता है और आखिरकार वे खाद्य श्रृंखला में प्रवेश करते हैं, जिससे मानवों के लिए खतरा पैदा हो जाता है।

अनुमान:

I. कृषि उत्पादन में कीटनाशकों का अत्यधिक उपयोग किया जाना, लोगों के लिए अच्छा नहीं है।

II. कृषि उत्पादन में कीटनाशकों का अत्यधिक उपयोग करने से जल पर बुरा प्रभाव पड़ सकता है।

- Ans
- ☒ 1. I और II, दोनों अनुसरण करते हैं
  - ☒ 2. न तो I और न ही II अनुसरण करता है
  - ☒ 3. केवल II अनुसरण करता है
  - ☒ 4. केवल I अनुसरण करता है

Question ID : 264330128901

Status : Answered

Chosen Option : 1

Q.14 A # B' का अर्थ है 'A, B का भाई है'।  
'A @ B' का अर्थ है 'A, B की पुत्री है'।  
'A & B' का अर्थ है 'A, B का पति है'।  
'A % B' का अर्थ है 'A, B की पत्नी है'।  
यदि S % D # F @ G & H @ J है, तो F, H से किस प्रकार संबंधित है?

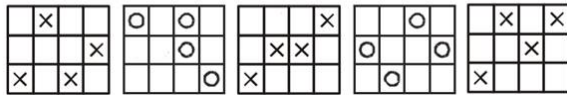
- Ans
- ☒ 1. माँ
  - ☒ 2. पुत्री की पुत्री
  - ☒ 3. पुत्री
  - ☒ 4. पुत्रवधू

Question ID : 264330126293

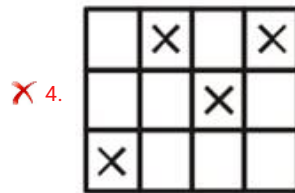
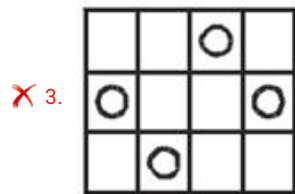
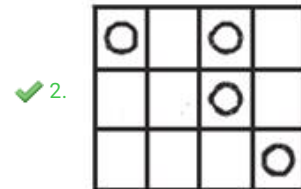
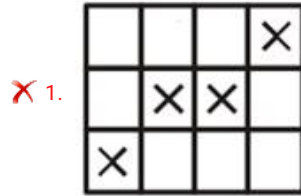
Status : Answered

Chosen Option : 3

Q.15 नीचे दी गई पाँच आकृतियों में से चार किसी प्रकार से एक समान हैं और एक असंगत है। उस असंगत आकृति का चयन करें।



Ans



Question ID : 264330128896

Status : Not Answered

Chosen Option : --

Q.16 इस प्रश्न में एक कथन के बाद दो कार्यवाहियाँ क्रमांक I और II दी गई हैं। आपको कथन में दी गई सभी बातों को सत्य मानना है और कथन में दी गई जानकारी के आधार पर यह तय करना है कि कौन-सी कार्यवाई/कार्यवाहियाँ करने के लिए तार्किक रूप से अनुसरण करती है/हैं।

कथन: शहरी क्षेत्रों में ग्रामीणों के प्रवास में भारी वृद्धि हुई है, क्योंकि बार-बार फसल खराब होने से उन्हें वित्तीय समस्याओं का सामना करना पड़ रहा है।

कार्यवाहियाँ:

I. ग्रामीणों को उनके गांवों में आय का एक वैकल्पिक स्रोत प्रदान किया जाना चाहिए ताकि वे वहीं रहें।

II. उनके अस्तित्व को सुनिश्चित करने के लिए, विस्थापित ग्रामीणों को शहरी क्षेत्रों में आवास के सभी विकल्पों तक पहुंच प्रदान की जानी चाहिए।

Ans ✗ 1. I और II दोनों अनुसरण करते हैं

✗ 2. न तो I न ही II अनुसरण करता है

✗ 3. केवल II अनुसरण करता है

✓ 4. केवल I अनुसरण करता है

Question ID : 264330123208

Status : Not Answered

Chosen Option : --

Q.17 यदि + का अर्थ - है, - का अर्थ  $\times$  है,  $\times$  का अर्थ  $\div$  है, और  $\div$  का अर्थ + है, तो निम्नलिखित व्यंजक का मान क्या होगा?

$$45 \times 9 \div 12 - 5 + 3$$

- Ans
- ☒ 1. 34
  - ☒ 2. 27
  - ☒ 3. 36
  - ☒ 4. 62

Question ID : 26433076710

Status : Answered

Chosen Option : 4

Q.18 उस विकल्प का चयन करें जो उन अक्षरों का प्रतिनिधित्व करता है, जिन्हें निम्नलिखित रिक्त स्थानों में बाएं से दाएं रखे जाने पर अक्षर-श्रृंखला पूरी हो जाएगी।

\_ V J R W B \_ \_ R W B V L \_ \_ B V \_ \_ W

- Ans
- ☒ 1. B W K R W M R
  - ☒ 2. B V K R W M R
  - ☒ 3. A W K R X N R
  - ☒ 4. A V K R W M R

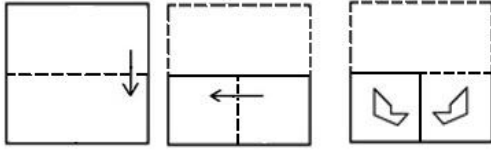
Question ID : 264330126277

Status : Answered

Chosen Option : 2

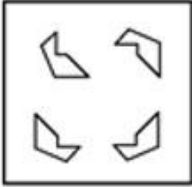
Q.19

नीचे एक कागज के एक टुकड़े को मोड़ने का क्रम और मुड़े हुए कागज को काटने का तरीका दर्शाया गया है। दिए गए विकल्पों में से वह आकृति चुनें जो कागज के खुले हुए रूप से सर्वाधिक मिलती-जुलती हो।

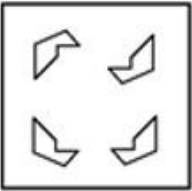


Ans

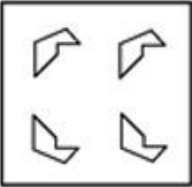
✗ 1.



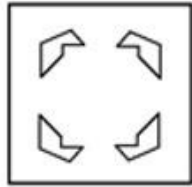
✗ 2.



✗ 3.



✓ 4.

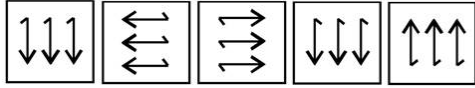


Question ID : 264330126304

Status : Answered

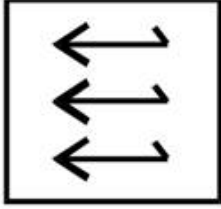
Chosen Option : 4

Q.20 नीचे दी गई पाँच आकृतियों में से चार किसी प्रकार से एक समान हैं और एक असंगत है। उस असंगत आकृति का चयन करें।

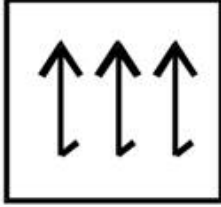


Ans

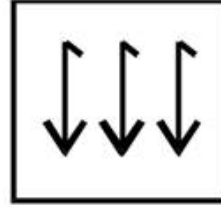
✗ 1.



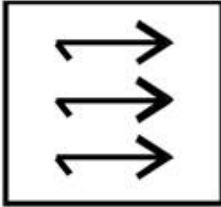
✗ 2.



✓ 3.



✗ 4.



Question ID : 264330128890

Status : Answered

Chosen Option : 1

Q.21 एक निश्चित कूट भाषा में, 'CROSS' को '66' लिखा जाता है और 'CHART' को '90' लिखा जाता है। उसी भाषा में 'SYMBOL' को कैसे लिखा जाएगा?

Ans ✗ 1. 88

✓ 2. 82

✗ 3. 93

✗ 4. 76

Question ID : 264330126267

Status : Answered

Chosen Option : 2

Q.22 नीचे एक प्रश्न और उसके बाद दो कथन क्रमांक (I) और (II) दिए गए हैं। आपको यह तय करना है कि कथनों में दिया गया डाटा प्रश्न का उत्तर देने के लिए पर्याप्त है या नहीं। दोनों कथनों का अध्ययन कीजिए और उपयुक्त उत्तर का चयन कीजिए।

प्रश्न: A, B, C और D एक वृत्ताकार मेज के परितः केंद्र की ओर मुख करके बैठे हैं। A के ठीक दाएं कौन बैठा है?

कथन:

(I) C, A के ठीक बाएं बैठा है; C और D के बीच में केवल एक व्यक्ति बैठा है।

(II) A और B के बीच में केवल एक व्यक्ति बैठा है; C, B के ठीक दाएं बैठा है।

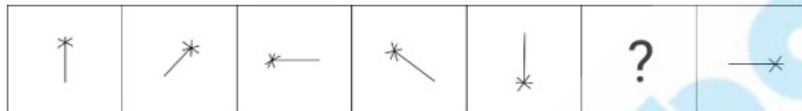
- Ans ☒ 1. कथन II में दिया गया डाटा अकेले प्रश्न का उत्तर देने के लिए पर्याप्त है जबकि कथन I में दिया गया डाटा प्रश्न का उत्तर देने के लिए पर्याप्त नहीं है
- ☒ 2. कथन I और II दोनों में दिया गया डाटा मिलकर प्रश्न का उत्तर देने के लिए पर्याप्त है
- ☒ 3. कथन I में दिया गया डाटा अकेले प्रश्न का उत्तर देने के लिए पर्याप्त है जबकि कथन II में दिया गया डाटा प्रश्न का उत्तर देने के लिए पर्याप्त नहीं है
- ☒ 4. या तो कथन I में दिया गया डाटा अकेले या कथन II में दिया गया डाटा अकेले प्रश्न का उत्तर देने के लिए पर्याप्त है

Question ID : 264330121196

Status : Not Answered

Chosen Option : --

Q.23 दिए गए विकल्पों में से उस आकृति का चयन करें जो निम्नलिखित श्रृंखला में प्रश्न चिह्न (?) को प्रतिस्थापित कर सकती है।




Ans

☒ 1.



☒ 2.



☒ 3.



☒ 4.



Question ID : 264330101259

Status : Answered

Chosen Option : 1

Q.24 गणितीय चिह्नों के उस सही संयोजन का चयन करें, जिसे दिए गए समीकरण में \* चिह्नों के स्थान पर क्रमिक रूप से रखे जाने पर समीकरण संतुलित हो जाए।  
 $33 * 4 * 15 * 3 * 61 = 188$

- Ans
- ☒ 1. + - ÷ ×
  - ☒ 2. × - ÷ +
  - ☒ 3. + × ÷ -
  - ☒ 4. ÷ × - +

Question ID : 26433068106  
 Status : Answered  
 Chosen Option : 2

Q.25 एक निश्चित कूट में, COMPAQ शब्द को DQNRBS के रूप में लिखा जाता है और SONY को TQOA के रूप में लिखा जाता है। इसी कूट में MOTOROLA को कैसे लिखा जाता है?

- Ans
- ☒ 1. NPUPSPMB
  - ☒ 2. OPUPUPIB
  - ☒ 3. INUNSNMB
  - ☒ 4. NQUQSQMC

Question ID : 26433078843  
 Status : Answered  
 Chosen Option : 4

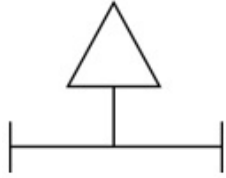
Q.26 विकल्पों में से उस आकृति का चयन कीजिए, जो निम्न आकृति में प्रश्नचिह्न (?) के स्थान पर आकर पैटर्न को पूर्ण करेगी।



- Ans
- ☒ 1.
  - ☒ 2.
  - ☒ 3.
  - ☒ 4.

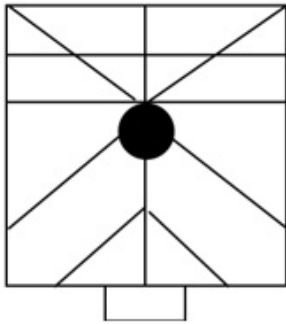
Question ID : 26433068221  
 Status : Answered  
 Chosen Option : 1

Q.27 उस विकल्प का चयन करें, जिसमें निम्न आकृति सन्निहित है। (घूर्णन की अनुमति नहीं है)

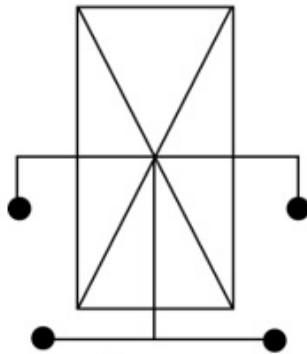


Ans

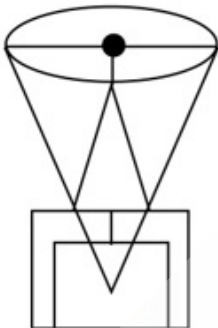
✗ 1.



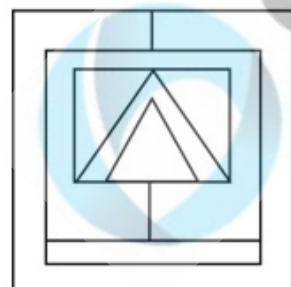
✗ 2.



✗ 3.



✓ 4.



Question ID : 264330121392  
Status : Answered  
Chosen Option : 4

Q.28 उत्तर की ओर अभिमुख लोगों की एक पंक्ति में, प्रिंस दायें छोर से 5वें स्थान पर है। अमित दायें छोर से 15वें स्थान पर है। अमित, प्रिंस और आदित्य के ठीक बीच में है। यदि आदित्य पंक्ति के बायें छोर से छठे स्थान पर है, तो पंक्ति में कितने व्यक्ति हैं?

- Ans
- ☒ 1. 29
  - ☒ 2. 30
  - ☒ 3. 32
  - ☒ 4. 31

Question ID : 264330121143  
Status : Not Answered  
Chosen Option : --

Q.29 दिए गए विकल्पों में से वह संख्या चुनिए, जो निम्नलिखित शृंखला में प्रश्न-चिह्न (?) को प्रतिस्थापित कर सके।  
189, 532, 316, ?, 377

- Ans
- ☒ 1. 405
  - ☒ 2. 291
  - ☒ 3. 441
  - ☒ 4. 384

Question ID : 26433074539  
Status : Not Answered  
Chosen Option : --

Q.30 नीचे एक प्रश्न दिया गया है जिसके बाद दो कथन I और II दिए गए हैं। दोनों कथनों को ध्यानपूर्वक पढ़कर तय कीजिए कि इनमें से कौन सा कथन, प्रश्न का उत्तर देने के लिए पर्याप्त है।  
छह व्यक्ति - A, B, C, D, E और F एक सीधी पंक्ति में उत्तर की ओर अभिमुख होकर बैठे हैं। D के ठीक बाएं कौन बैठा है?  
(I) A पंक्ति के किसी एक छोर से दूसरे स्थान पर बैठा है। A और B के बीच केवल दो व्यक्ति बैठे हैं। E, C के ठीक दाएं बैठा है।  
(II) C पंक्ति के बाएं छोर से तीसरे स्थान पर बैठा है। C और F के बीच केवल एक व्यक्ति बैठा है। E, F के दाईं ओर तीसरे स्थान पर बैठा है।

- Ans
- ☒ 1. कथन I और II के डेटा मिलकर प्रश्न का उत्तर देने के लिए पर्याप्त हैं।
  - ☒ 2. कथन II का डेटा अकेले प्रश्न का उत्तर देने के लिए पर्याप्त है जबकि कथन I का डेटा पर्याप्त नहीं है।
  - ☒ 3. कथन I का डेटा अकेले प्रश्न का उत्तर देने के लिए पर्याप्त है जबकि कथन II का डेटा पर्याप्त नहीं है।
  - ☒ 4. कथन I और II के डेटा मिलकर भी प्रश्न का उत्तर देने के लिए पर्याप्त नहीं हैं।

Question ID : 264330121436  
Status : Not Answered  
Chosen Option : --

Section : English Language and Comprehension

Q.1 Select the option that can be used as a one-word substitute for the given group of words.  
Someone who is reserved and shy.

- Ans
- ☒ 1. Extrovert
  - ☒ 2. Talkative
  - ☒ 3. Chauffeur
  - ☒ 4. Introvert

Question ID : 26433060823  
Status : Answered  
Chosen Option : 4

Q.2 Given below are four jumbled sentences. Select the option that gives their correct logical sequence.

- A. When faced with uncertainty, humans look out for the action of others and become a victim of ineffective rational thinking during compelling, confusing situations.
- B. According to him, in an emergency, we tend to forget that everybody else observing the event is also likely to be looking out for social evidence.
- C. Robert B. Cialdini explains this reaction with a psychological phenomenon called 'pluralistic ignorance'.
- D. Since we all prefer to appear poised and unflustered among others, we are likely to search for answers placidly, with brief, camouflaged glances at those around us.

- Ans
- ☒ 1. ABCD
  - ☒ 2. BCDA
  - ☒ 3. ACBD
  - ☒ 4. ABDC

Question ID : 264330120998  
Status : Answered  
Chosen Option : 3

Q.3 Select the most appropriate option to replace the underlined word in the given sentence.  
Hritik is slow than Heer.

- Ans
- ☒ 1. much slow
  - ☒ 2. slower
  - ☒ 3. slowest
  - ☒ 4. slowliest

Question ID : 26433059000  
Status : Answered  
Chosen Option : 2

Q.4 Identify the pair of synonyms from the underlined words in the given sentence.  
It was a fairly foul day, as omens could be seen in abundance from the threshold of his border town ever since the dawn struck.

- Ans
- ☒ 1. fairly, abundance
  - ☒ 2. threshold, dawn
  - ☒ 3. foul, omens
  - ☒ 4. day, border

Question ID : 264330121033  
Status : Answered  
Chosen Option : 3

Q.5 Select the INCORRECTLY spelt word.

- Ans
- ☒ 1. Groan
  - ☒ 2. Guarentee
  - ☒ 3. Gravely
  - ☒ 4. Greave

Question ID : 26433060478  
Status : Answered  
Chosen Option : 4

Q.6 Select the option that expresses the given sentence in indirect speech.

"So help me heaven!", the man cried, "I shall never lie again."

- Ans
- ☐ 1. The man cries out to heaven to help him not to lie again ever.
  - ☐ 2. The man requested heaven to help him and see that he lie again.
  - ☐ 3. The man called heaven and ordered to help him and see to it that she never lies again.
  - ☒ 4. The man called upon heaven to witness his resolve that he would never lie again.

Question ID : 26433065171

Status : Answered

Chosen Option : 4

Q.7 Sentences of a paragraph are given below in jumbled order. Arrange the sentences in the correct order to form a meaningful and coherent paragraph.

- A. The temperature of the world has increased, resulting in global warming.
- B. The melting of the ice caps will increase the sea level, thereby drowning many islands and coastal regions.
- C. The increased amount of carbon emission is considered as the reason behind global warming.
- D. The increase in the global temperature is melting the polar ice caps.

- Ans
- ☒ 1. ACDB
  - ☐ 2. BADC
  - ☐ 3. ABCD
  - ☐ 4. ACBD

Question ID : 26433072379

Status : Answered

Chosen Option : 1

Q.8 Select the option that expresses the given sentence in active voice.  
The canons are being fired continuously by them.

- Ans
- ☐ 1. The canons fire continuously.
  - ☐ 2. They have fired the canons continuously.
  - ☒ 3. They are firing the canons continuously.
  - ☐ 4. They fired canons continuously.

Question ID : 26433058535

Status : Answered

Chosen Option : 3

Q.9 Select the sentence that contains no spelling errors.

- Ans
- ☐ 1. The grandour of the ancient Roman Empire is visible in many monumants in Italy and Greece.
  - ☐ 2. The granduer of the ancient Roman Empire is visible in many monuments in Italy and Greece.
  - ☐ 3. The granduor of the ancient Roman Empire is visible in many monuments in Italy and Greece.
  - ☒ 4. The grandeur of the ancient Roman Empire is visible in many monuments in Italy and Greece.

Question ID : 26433070689

Status : Answered

Chosen Option : 1

Q.10 Sentences of a paragraph are given below in jumbled order. Arrange the sentences in the correct order to form a meaningful and coherent paragraph.

A. On the afternoon of that eventful day, I stood on the porch, dumb, expectant and guessed vaguely from my mother's signs and from the hurrying to and fro in the house that something unusual was about to happen, so I went to the door and waited on the steps.

B. I did not know what the future held of marvel or surprise for me and anger and bitterness had preyed upon me continually for weeks and a deep languor had succeeded this passionate struggle.

C. The most important day I remember in all my life is the one on which my teacher, Anne Mansfield Sullivan, came to me and I am filled with wonder when I consider the immeasurable contrasts between the two lives which it connects and it was the third of March, 1887, three months before I was seven years old.

D. The afternoon sun penetrated the mass of honeysuckle that covered the porch, and fell on my upturned face and my fingers lingered almost unconsciously on the familiar leaves and blossoms which had just come forth to greet the sweet southern spring.

Ans ☒ 1. CBAD

☒ 2. CDAB

☒ 3. CADB

☒ 4. DABC

Question ID : 26433060488

Status : Answered

Chosen Option : 3

Q.11 Select the option that expresses the given sentence in direct speech.

Hira inquired how I was doing being all alone in my house.

Ans ☒ 1. Hira said to me, "Are you doing fine being all alone in your house."

☒ 2. Hira said to me, "How are you doing being all alone in my house."

☒ 3. Hira said to me, "How you are doing being all alone in your house?"

☒ 4. Hira said to me, "How are you doing being all alone in your house?"

Question ID : 26433059502

Status : Answered

Chosen Option : 4

Q.12 Select the option that expresses the given sentence in reported speech.

Joey said to the girl, "How are you doing?"

Ans ☒ 1. Joey asked the girl that how was she doing.

☒ 2. Joey asked the girl how she was doing.

☒ 3. Joey asked the girl if she was doing fine.

☒ 4. Joey asked the girl how was she doing.

Question ID : 26433059497

Status : Answered

Chosen Option : 2

Q.13 Select the correct homonym from the given options to fill in the blank.

The wind\_\_\_\_\_ so powerfully that the door closed.

Ans ☒ 1. blew

☒ 2. blue

☒ 3. blow

☒ 4. blues

Question ID : 264330120789

Status : Answered

Chosen Option : 1

Q.14 Select the option that expresses the given sentence in passive voice.  
Marvel Comics created Superman.

- Ans ☒ 1. Marvel Comics is creating Superman.
- ☒ 2. Superman was created by Marvel Comics.
- ☒ 3. Superman is created by Marvel Comics.
- ☒ 4. Superman was created.

Question ID : 26433059192  
Status : Answered  
Chosen Option : 2

Q.15 Select the option that can be used as a one-word substitute for the given group of words.

Photographers who follow celebrities to get their pictures to sell them

- Ans ☒ 1. Interviewer
- ☒ 2. Paparazzi
- ☒ 3. Reporter
- ☒ 4. Editor

Question ID : 26433072322  
Status : Answered  
Chosen Option : 2

Q.16 Select the most appropriate ANTONYM of the underlined word.

The placid conversation between the two cricketers on a TV show aroused much controversy.

- Ans ☒ 1. Informal
- ☒ 2. Sardonic
- ☒ 3. Inappropriate
- ☒ 4. Angry

Question ID : 26433070533  
Status : Answered  
Chosen Option : 2

Q.17 Select the most appropriate meaning of the highlighted idiom.  
The team members seem to be running around in circles.

- Ans ☒ 1. Hardly any time to breathe
- ☒ 2. To be extremely successful
- ☒ 3. To be very active but with few results
- ☒ 4. Very dynamic and hardworking

Question ID : 264330120745  
Status : Answered  
Chosen Option : 1

Q.18 The following sentence has been split into four segments. Identify the segment that contains a grammatical error.  
We should sorted out / the problem ourselves / rather than depending / on the third party.

- Ans
- ☒ 1. the problem ourselves
  - ☒ 2. on the third party
  - ☒ 3. We should sorted out
  - ☒ 4. rather than depending

Question ID : 264330123921  
Status : Answered  
Chosen Option : 3

Q.19 The following sentence has been divided into parts. One of them may contain an error. Select the part that contains the error from the given options. If you don't find any error, mark 'No error' as your answer.

Dan needed help / to get the / tight coat of him.

- Ans
- ☒ 1. to get the
  - ☒ 2. No error
  - ☒ 3. tight coat of him
  - ☒ 4. Dan needed help

Question ID : 26433061474  
Status : Answered  
Chosen Option : 4

Q.20 Sentences of a paragraph are given below in jumbled order. Arrange the sentences in the correct order to form a meaningful and coherent paragraph.

- A.Road accidents have become very common in India.
- B.Condition of roads in India is pathetic.
- C.Increasing number of vehicles leave little space on roads.
- D.Roads are narrow and remain congested most of the time.

- Ans
- ☒ 1. CDBA
  - ☒ 2. BDCA
  - ☒ 3. BCDA
  - ☒ 4. ACBD

Question ID : 26433070564  
Status : Answered  
Chosen Option : 4

Q.21 Select the most appropriate synonym of the word given in brackets to fill in the blank.  
The doctor has \_\_\_\_\_ (advised) medicine for the treatment of the disease.

- Ans
- ☒ 1. prescribed
  - ☒ 2. proscribed
  - ☒ 3. presented
  - ☒ 4. prevented

Question ID : 264330123047  
Status : Answered  
Chosen Option : 1

Q.22 Identify the option that arranges the given parts in the correct order to form a meaningful paragraph.

- A. Then a nurse and a doctor came
- B. After the terrible accident
- C. A car took Raman to the hospital
- D. The two men carried him to a bed and put him in it carefully

Ans ☒ 1. DCBA  
☒ 2. BCDA  
☒ 3. ABCD  
☒ 4. ACDB

Question ID : 26433072688

Status : Answered

Chosen Option : 2

Q.23 Sentences of a paragraph are given below in jumbled order. Arrange the sentences in the correct order to form a meaningful and coherent paragraph.

- A. She shot the movie on the widest canvas possible using the same kind of equipment that captured Star Wars landscapes, and applied a muted colour grading to every frame.
- B. She said last year that she wanted the ensemble film to look like "a faded postcard".
- C. Polley lends the central conversation a visual gravitas normally reserved for epics.
- D. Women Talking, adapted by the writer-director Sarah Polley from Miriam Toews's 2018 novel, is vibrant cinema.

Ans ☒ 1. CABD  
☒ 2. DCAB  
☒ 3. DABC  
☒ 4. DBCA

Question ID : 264330122797

Status : Answered

Chosen Option : 2

Q.24 Select the option that expresses the given sentence in passive voice.  
The mistress appointed him monitor.

Ans ☒ 1. He was appointed monitor by the mistress.  
☒ 2. He had been appointed as monitor.  
☒ 3. Monitor had been appointed as mistress.  
☒ 4. He appointed mistress as monitor.

Question ID : 264330123919

Status : Answered

Chosen Option : 1

Q.25 Select the most appropriate option to fill in the blank.

Tia wanted a dog that was \_\_\_\_\_ than Larry's dog.

Ans ☒ 1. smartest and strongest  
☒ 2. smarter and stronger  
☒ 3. smarty and strong  
☒ 4. smart and strong

Question ID : 26433061503

Status : Answered

Chosen Option : 2

Q.26 Select the most appropriate ANTONYM of the underlined word.

The reputed officer was removed from his post as he was having a clandestine affair.

- Ans ☒ 1. Overt  
☐ 2. Casual  
☐ 3. Amorous  
☐ 4. Surreptitious

Question ID : 26433070538  
Status : Answered  
Chosen Option : 1

Q.27 Select the most appropriate meaning of the highlighted idiom.  
It was a Catch 22 situation for the manager.

- Ans ☐ 1. A positive outcome in a tough situation  
☒ 2. A difficult situation in which the solution to a problem is impossible  
☐ 3. Worthy successor to the throne  
☐ 4. Hailed as the ultimate champion

Question ID : 264330120742  
Status : Answered  
Chosen Option : 2

Q.28 Select the most appropriate option to fill in the blank.  
Many students do not \_\_\_\_\_ attention in botany class.

- Ans ☐ 1. trace  
☐ 2. exhibit  
☒ 3. pay  
☐ 4. drive

Question ID : 26433058505  
Status : Answered  
Chosen Option : 3

Q.29 Select the most appropriate option to fill in the blank.  
The management wants to \_\_\_\_\_ restrictions at the workplace.

- Ans ☒ 1. impose  
☐ 2. settle  
☐ 3. break  
☐ 4. encourage

Question ID : 26433058503  
Status : Answered  
Chosen Option : 3

**Comprehension:**

In the following passage, some words have been deleted. Read the passage carefully and select the most appropriate option to fill in each blank.

The effects of plastic bags on the environment are really (1)\_\_\_\_\_ devastating because there is no disposal method that will really help eliminate the problem. The biggest problem with them is that once they have been (2)\_\_\_\_\_, they end up in the trash, which then ends up in the landfill or is burned. The indefinite period of time that it takes for the average plastic bag to break (3)\_\_\_\_\_ can be literally hundreds of years. Throughout the world, plastic bags are responsible for suffocation and deaths of woodland animals as well as (4)\_\_\_\_\_ soil nutrients. The land litter that is made up of plastic bags has the potential to kill over and over again. It has been estimated that one bag has the potential to inadvertently kill one animal per every three months due to unintentional digestion or inhalation. There are always alternatives to plastic bags and the search for more alternatives continues.

**SubQuestion No : 30**

**Q.30** Select the most appropriate option to fill in blank number 1.

- Ans
- ☒ 1. vaguely
  - ☒ 2. randomly
  - ☒ 3. quite
  - ☒ 4. seldom

Question ID : 264330128955

Status : Answered

Chosen Option : 1

**Comprehension:**

In the following passage, some words have been deleted. Read the passage carefully and select the most appropriate option to fill in each blank.

The effects of plastic bags on the environment are really (1)\_\_\_\_\_ devastating because there is no disposal method that will really help eliminate the problem. The biggest problem with them is that once they have been (2)\_\_\_\_\_, they end up in the trash, which then ends up in the landfill or is burned. The indefinite period of time that it takes for the average plastic bag to break (3)\_\_\_\_\_ can be literally hundreds of years. Throughout the world, plastic bags are responsible for suffocation and deaths of woodland animals as well as (4)\_\_\_\_\_ soil nutrients. The land litter that is made up of plastic bags has the potential to kill over and over again. It has been estimated that one bag has the potential to inadvertently kill one animal per every three months due to unintentional digestion or inhalation. There are always alternatives to plastic bags and the search for more alternatives continues.

**SubQuestion No : 31**

**Q.31** Select the most appropriate option to fill in blank number 2.

- Ans
- ☒ 1. moulded
  - ☒ 2. soiled
  - ☒ 3. disinfected
  - ☒ 4. recycled

Question ID : 264330128956

Status : Answered

Chosen Option : 1

**Comprehension:**

In the following passage, some words have been deleted. Read the passage carefully and select the most appropriate option to fill in each blank.

The effects of plastic bags on the environment are really (1)\_\_\_\_\_ devastating because there is no disposal method that will really help eliminate the problem. The biggest problem with them is that once they have been (2)\_\_\_\_\_, they end up in the trash, which then ends up in the landfill or is burned. The indefinite period of time that it takes for the average plastic bag to break (3)\_\_\_\_\_ can be literally hundreds of years. Throughout the world, plastic bags are responsible for suffocation and deaths of woodland animals as well as (4)\_\_\_\_\_ soil nutrients. The land litter that is made up of plastic bags has the potential to kill over and over again. It has been estimated that one bag has the potential to inadvertently kill one animal per every three months due to unintentional digestion or inhalation. There are always alternatives to plastic bags and the search for more alternatives continues.

**SubQuestion No : 32**

Q.32 Select the most appropriate option to fill in blank number 3.

- Ans
- ☒ 1. out
  - ☒ 2. even
  - ☒ 3. down
  - ☒ 4. through

Question ID : 264330128957

Status : Answered

Chosen Option : 3

**Comprehension:**

In the following passage, some words have been deleted. Read the passage carefully and select the most appropriate option to fill in each blank.

The effects of plastic bags on the environment are really (1)\_\_\_\_\_ devastating because there is no disposal method that will really help eliminate the problem. The biggest problem with them is that once they have been (2)\_\_\_\_\_, they end up in the trash, which then ends up in the landfill or is burned. The indefinite period of time that it takes for the average plastic bag to break (3)\_\_\_\_\_ can be literally hundreds of years. Throughout the world, plastic bags are responsible for suffocation and deaths of woodland animals as well as (4)\_\_\_\_\_ soil nutrients. The land litter that is made up of plastic bags has the potential to kill over and over again. It has been estimated that one bag has the potential to inadvertently kill one animal per every three months due to unintentional digestion or inhalation. There are always alternatives to plastic bags and the search for more alternatives continues.

**SubQuestion No : 33**

Q.33 Select the most appropriate option to fill in blank number 4.

- Ans
- ☒ 1. converting
  - ☒ 2. demanding
  - ☒ 3. inhibiting
  - ☒ 4. accumulating

Question ID : 264330128958

Status : Answered

Chosen Option : 3

**Comprehension:**

Read the given passage and answer the questions that follow.

My grandmother, like everybody's grandmother, was an old woman. She had been old and wrinkled for the twenty years that I had known her. People said that she once had been young and pretty and had even had a husband, but that was hard to believe. My grandfather's portrait hung above the mantelpiece in the drawing room. He wore a big turban and loose fitting clothes. His long, white beard covered the best part of his chest and he looked at least a hundred years old. He did not look the sort of person who would have a wife or children. He looked as if he could only have lots and lots of grandchildren. As my grandmother being young and pretty, the thought was almost revolting. She often told us of the games she used to play as a child. That seemed quite absurd and undignified on her part and we treated it like the fables of the Prophets she used to tell us.

**SubQuestion No : 34**

**Q.34 Select the most appropriate ANTONYM of the given word.  
Revolting**

- Ans ☒ 1. Peace  
☒ 2. Attractive  
☒ 3. Unpleasant  
☒ 4. Rebel

Question ID : 264330128923

Status : Answered

Chosen Option : 1

**Comprehension:**

Read the given passage and answer the questions that follow.

My grandmother, like everybody's grandmother, was an old woman. She had been old and wrinkled for the twenty years that I had known her. People said that she once had been young and pretty and had even had a husband, but that was hard to believe. My grandfather's portrait hung above the mantelpiece in the drawing room. He wore a big turban and loose fitting clothes. His long, white beard covered the best part of his chest and he looked at least a hundred years old. He did not look the sort of person who would have a wife or children. He looked as if he could only have lots and lots of grandchildren. As my grandmother being young and pretty, the thought was almost revolting. She often told us of the games she used to play as a child. That seemed quite absurd and undignified on her part and we treated it like the fables of the Prophets she used to tell us.

**SubQuestion No : 35**

**Q.35 Select the most appropriate inference drawn from the passage .**

- Ans ☒ 1. Grandmother had a husband.  
☒ 2. People said that the grandmother was pretty.  
☒ 3. Grandmother loved to talk of her childhood.  
☒ 4. The author looked upon his grandmother as an old woman like every grandmother.

Question ID : 264330128921

Status : Not Answered

Chosen Option : --

**Comprehension:**

Read the given passage and answer the questions that follow.

My grandmother, like everybody's grandmother, was an old woman. She had been old and wrinkled for the twenty years that I had known her. People said that she once had been young and pretty and had even had a husband, but that was hard to believe. My grandfather's portrait hung above the mantelpiece in the drawing room. He wore a big turban and loose fitting clothes. His long, white beard covered the best part of his chest and he looked at least a hundred years old. He did not look the sort of person who would have a wife or children. He looked as if he could only have lots and lots of grandchildren. As my grandmother being young and pretty, the thought was almost revolting. She often told us of the games she used to play as a child. That seemed quite absurd and undignified on her part and we treated it like the fables of the Prophets she used to tell us.

**SubQuestion No : 36**

**Q.36** Select an appropriate title for the given passage.

- Ans ☒ 1. The Grandchildren  
☒ 2. Grandmothers  
☒ 3. My Grandmother  
☒ 4. My Grandfather

Question ID : 264330128920

Status : Answered

Chosen Option : 3

**Comprehension:**

Read the given passage and answer the questions that follow.

My grandmother, like everybody's grandmother, was an old woman. She had been old and wrinkled for the twenty years that I had known her. People said that she once had been young and pretty and had even had a husband, but that was hard to believe. My grandfather's portrait hung above the mantelpiece in the drawing room. He wore a big turban and loose fitting clothes. His long, white beard covered the best part of his chest and he looked at least a hundred years old. He did not look the sort of person who would have a wife or children. He looked as if he could only have lots and lots of grandchildren. As my grandmother being young and pretty, the thought was almost revolting. She often told us of the games she used to play as a child. That seemed quite absurd and undignified on her part and we treated it like the fables of the Prophets she used to tell us.

**SubQuestion No : 37**

**Q.37** Select the most appropriate fact from the given options.

- Ans ☒ 1. The author was twenty years old when he wrote the story.  
☒ 2. Grandma was twenty years old.  
☒ 3. The author and grandma lived for twenty years.  
☒ 4. The author was twenty when grandma died.

Question ID : 264330128922

Status : Answered

Chosen Option : 3

### Comprehension:

Read the following passage and answer the questions given after it.

Amidst a maze of rocks tucked in the Aravalli mountain ranges of Haryana, a team of archaeologists discovered cave paintings they believe belong to the Upper Palaeolithic age. The cave paintings have been discovered just outside the national capital and a stone's throw away from a holy grove called Mangar Bani- the region's only surviving patch of primary forest.

While the residents of the villages have been familiar with the paintings for ages, the Haryana government's museum and archaeology department took note of them just recently.

A fact-finding team was sent to the area in the last week of June. The team came across cave paintings comprising images of human figurines, animals, foliage, and geometric drawings. While some have faded over time, others are still very visible. They also discovered rock art and open-air ceremonial sites.

Banani Bhattacharyya, deputy director of the department of archaeology and museums informed, "So far, cave paintings in Delhi-NCR have only been found here. The paintings are yet to be dated but at least some of them belong to the Upper Palaeolithic period in all likelihood. We are viewing the paintings in continuation with the Soanian culture which has been found in Shivalik hills, Narmada and Aravallis."

Most of the cave paintings found were in ochre colour, but some were in white. As per experts, cave paintings in white are usually from a later stage (early contemporary era), while Stone Age paintings are more often than not in ochre. "Stone age paintings generally use red and ochre colours. Stones of these colour used to be available locally and inhabitants crushed the stones for preparing the colour for paintings," added Bhattacharyya.

The Upper Paleolithic Age began around 40,000 years ago and lasted till around 10,000 years ago. While yet to be established through archaeological dating, Bhattacharyya says the Mangar cave art is 20,000-40,000 years old. Bhattacharyya claimed that the discovery is extremely significant. "Starting from the Lower Palaeolithic to Middle Palaeolithic then Upper Palaeolithic, we see the evolution here. We have found significant remains from Lower Palaeolithic till Middle and Upper Palaeolithic period too," she explained. "Though tools from the Palaeolithic Age have been identified earlier in parts of the Aravallis, it is for the first time that cave paintings and rock art of a large magnitude have been found in Haryana," she added.

### SubQuestion No : 38

**Q.38 Which of the following statement is NOT correct according to the passage?**

- Ans
- ☒ 1. The cave men crushed the locally available stones for preparing the colour for paintings.
  - ☒ 2. The Mangar cave art is 20,000-40,000 years old.
  - ☒ 3. The paintings comprise images of human figurines, animals, foliage, and geometric drawings.
  - ☒ 4. The paintings in red belong to early contemporary era.

Question ID : 264330128813

Status : Answered

Chosen Option : 4

### Comprehension:

Read the following passage and answer the questions given after it.

Amidst a maze of rocks tucked in the Aravalli mountain ranges of Haryana, a team of archaeologists discovered cave paintings they believe belong to the Upper Palaeolithic age. The cave paintings have been discovered just outside the national capital and a stone's throw away from a holy grove called Mangar Bani- the region's only surviving patch of primary forest.

While the residents of the villages have been familiar with the paintings for ages, the Haryana government's museum and archaeology department took note of them just recently.

A fact-finding team was sent to the area in the last week of June. The team came across cave paintings comprising images of human figurines, animals, foliage, and geometric drawings. While some have faded over time, others are still very visible. They also discovered rock art and open-air ceremonial sites.

Banani Bhattacharyya, deputy director of the department of archaeology and museums informed, "So far, cave paintings in Delhi-NCR have only been found here. The paintings are yet to be dated but at least some of them belong to the Upper Palaeolithic period in all likelihood. We are viewing the paintings in continuation with the Soanian culture which has been found in Shivalik hills, Narmada and Aravallis."

Most of the cave paintings found were in ochre colour, but some were in white. As per experts, cave paintings in white are usually from a later stage (early contemporary era), while Stone Age paintings are more often than not in ochre. "Stone age paintings generally use red and ochre colours. Stones of these colour used to be available locally and inhabitants crushed the stones for preparing the colour for paintings," added Bhattacharyya.

The Upper Paleolithic Age began around 40,000 years ago and lasted till around 10,000 years ago. While yet to be established through archaeological dating, Bhattacharyya says the Mangar cave art is 20,000-40,000 years old. Bhattacharyya claimed that the discovery is extremely significant. "Starting from the Lower Palaeolithic to Middle Palaeolithic then Upper Palaeolithic, we see the evolution here. We have found significant remains from Lower Palaeolithic till Middle and Upper Palaeolithic period too," she explained. "Though tools from the Palaeolithic Age have been identified earlier in parts of the Aravallis, it is for the first time that cave paintings and rock art of a large magnitude have been found in Haryana," she added.

### SubQuestion No : 39

Q.39 The cave paintings found in Aravalli hills are significant mainly because

- Ans
- ☒ 1. they are the only prehistoric cave paintings found in Aravalli Hills.
  - ☒ 2. they depict the evolution from Lower to Upper Paleolithic period.
  - ☒ 3. they are found in such a large magnitude for the first time.
  - ☒ 4. they have been discovered just outside the national capital, Delhi

Question ID : 264330128810

Status : Answered

Chosen Option : 3

### Comprehension:

Read the following passage and answer the questions given after it.

Amidst a maze of rocks tucked in the Aravalli mountain ranges of Haryana, a team of archaeologists discovered cave paintings they believe belong to the Upper Palaeolithic age. The cave paintings have been discovered just outside the national capital and a stone's throw away from a holy grove called Mangar Bani- the region's only surviving patch of primary forest.

While the residents of the villages have been familiar with the paintings for ages, the Haryana government's museum and archaeology department took note of them just recently.

A fact-finding team was sent to the area in the last week of June. The team came across cave paintings comprising images of human figurines, animals, foliage, and geometric drawings. While some have faded over time, others are still very visible. They also discovered rock art and open-air ceremonial sites.

Banani Bhattacharyya, deputy director of the department of archaeology and museums informed, "So far, cave paintings in Delhi-NCR have only been found here. The paintings are yet to be dated but at least some of them belong to the Upper Palaeolithic period in all likelihood. We are viewing the paintings in continuation with the Soanian culture which has been found in Shivalik hills, Narmada and Aravallis."

Most of the cave paintings found were in ochre colour, but some were in white. As per experts, cave paintings in white are usually from a later stage (early contemporary era), while Stone Age paintings are more often than not in ochre. "Stone age paintings generally use red and ochre colours. Stones of these colour used to be available locally and inhabitants crushed the stones for preparing the colour for paintings," added Bhattacharyya.

The Upper Paleolithic Age began around 40,000 years ago and lasted till around 10,000 years ago. While yet to be established through archaeological dating, Bhattacharyya says the Mangar cave art is 20,000-40,000 years old. Bhattacharyya claimed that the discovery is extremely significant. "Starting from the Lower Palaeolithic to Middle Palaeolithic then Upper Palaeolithic, we see the evolution here. We have found significant remains from Lower Palaeolithic till Middle and Upper Palaeolithic period too," she explained. "Though tools from the Palaeolithic Age have been identified earlier in parts of the Aravallis, it is for the first time that cave paintings and rock art of a large magnitude have been found in Haryana," she added.

### SubQuestion No : 40

**Q.40** The archaeological findings in the Mangar Forest consist of all the following except

- Ans
- ☒ 1. ceremonial sites
  - ☒ 2. tools
  - ☒ 3. cave paintings
  - ☒ 4. rock art

Question ID : 264330128812

Status : Answered

Chosen Option : 2

### Comprehension:

Read the following passage and answer the questions given after it.

Amidst a maze of rocks tucked in the Aravalli mountain ranges of Haryana, a team of archaeologists discovered cave paintings they believe belong to the Upper Palaeolithic age. The cave paintings have been discovered just outside the national capital and a stone's throw away from a holy grove called Mangar Bani- the region's only surviving patch of primary forest.

While the residents of the villages have been familiar with the paintings for ages, the Haryana government's museum and archaeology department took note of them just recently.

A fact-finding team was sent to the area in the last week of June. The team came across cave paintings comprising images of human figurines, animals, foliage, and geometric drawings. While some have faded over time, others are still very visible. They also discovered rock art and open-air ceremonial sites.

Banani Bhattacharyya, deputy director of the department of archaeology and museums informed, "So far, cave paintings in Delhi-NCR have only been found here. The paintings are yet to be dated but at least some of them belong to the Upper Palaeolithic period in all likelihood. We are viewing the paintings in continuation with the Soanian culture which has been found in Shivalik hills, Narmada and Aravallis."

Most of the cave paintings found were in ochre colour, but some were in white. As per experts, cave paintings in white are usually from a later stage (early contemporary era), while Stone Age paintings are more often than not in ochre. "Stone age paintings generally use red and ochre colours. Stones of these colour used to be available locally and inhabitants crushed the stones for preparing the colour for paintings," added Bhattacharyya.

The Upper Paleolithic Age began around 40,000 years ago and lasted till around 10,000 years ago. While yet to be established through archaeological dating, Bhattacharyya says the Mangar cave art is 20,000-40,000 years old. Bhattacharyya claimed that the discovery is extremely significant. "Starting from the Lower Palaeolithic to Middle Palaeolithic then Upper Palaeolithic, we see the evolution here. We have found significant remains from Lower Palaeolithic till Middle and Upper Palaeolithic period too," she explained. "Though tools from the Palaeolithic Age have been identified earlier in parts of the Aravallis, it is for the first time that cave paintings and rock art of a large magnitude have been found in Haryana," she added.

### SubQuestion No : 41

Q.41 Most of the cave paintings found in Mangar forest are in Haryana are in which colour?

- Ans
- ☐ 1. red
  - ☐ 2. black
  - ☐ 3. white
  - ☒ 4. ochre

Question ID : 264330128811

Status : Answered

Chosen Option : 4

### Comprehension:

Read the following passage and answer the questions given after it.

Total area sown under Rabi crops has increased by 3.25% from 697.98 lakh hectares in 2021-22 to 720.68 lakh hectares in 2022-23. This is 22.71 lakh hectares more this year compared to corresponding period of 2021-22. Comparing with normal sown area (average of the last five years), the increase is to the tune of 13.71% from 633.80 to 720.68 lakh hectares.

The increase in area is across all crops, - highest being in rice. Out of 22.71 lakh hectares increase in all Rabi crops, increase in rice area is 11.20 lakh hectares from 35.05 lakh hectares in 2021-22 to 46.25 lakh hectares in 2022-23. However, this is lower than normal sown area of 47.71 lakh hectares. Maximum increase in area under rice is in states of Telangana and West Bengal.

Area under oilseeds increased by 7.31% from 102.36 lakh hectares during 2021-22 to 109.84 lakh hectares this year. The increase in area under oilseeds at the rate of 7.31% is more than double the rate of increase of 3.25% in all crops together. Rajasthan, Madhya Pradesh and Chhattisgarh accounted for major expansion in area of oilseeds.

Rapeseed & Mustard contributed maximum in increasing oilseeds area during this Rabi season. Mustard area increased by 6.77 lakh hectares from 91.25 lakh hectares in 2021-22 to 98.02 lakh hectares in 2022-23. Thus, out of 7.49 lakh hectares increase in area under oilseeds, rapeseed & mustard alone accounted for 6.44 lakh hectares.

Pulse production is being focused to make country self-sufficient in these commodities.

Area under pulses increased by 0.56 lakh hectares from 167.31 to 167.86 lakh hectares.

Mung bean and lentil accounted for increase in area under pulses.

The United Nations General Assembly has declared the year 2023 as the International Year of Millets and India is at the forefront in celebrating the event in a big way. In order to create awareness about the benefits of millets as superfood and to meet its growing demand around the world, the Government is promoting millet production through the NFSM-Nutri Cereals component of National Food Security Mission programme in 212 districts of 14 states. Coarse cum Nutri-cereals saw an increase of 2.08 lakh hectares in area under cultivation from 51.42 lakh hectares in 2021-22 to 53.49 lakh hectares in 2022-23.

### SubQuestion No : 42

Q.42 The main theme of the passage is

- Ans
- ☒ 1. increase in the area of oilseeds like mustard
  - ☒ 2. increase in the area of Rabi crops in 2022-23
  - ☒ 3. area under rabi crop in last five years
  - ☒ 4. increase in the production of pulses

Question ID : 264330128825

Status : Answered

Chosen Option : 2

### Comprehension:

Read the following passage and answer the questions given after it.

Total area sown under Rabi crops has increased by 3.25% from 697.98 lakh hectares in 2021-22 to 720.68 lakh hectares in 2022-23. This is 22.71 lakh hectares more this year compared to corresponding period of 2021-22. Comparing with normal sown area (average of the last five years), the increase is to the tune of 13.71% from 633.80 to 720.68 lakh hectares.

The increase in area is across all crops, - highest being in rice. Out of 22.71 lakh hectares increase in all Rabi crops, increase in rice area is 11.20 lakh hectares from 35.05 lakh hectares in 2021-22 to 46.25 lakh hectares in 2022-23. However, this is lower than normal sown area of 47.71 lakh hectares. Maximum increase in area under rice is in states of Telangana and West Bengal.

Area under oilseeds increased by 7.31% from 102.36 lakh hectares during 2021-22 to 109.84 lakh hectares this year. The increase in area under oilseeds at the rate of 7.31% is more than double the rate of increase of 3.25% in all crops together. Rajasthan, Madhya Pradesh and Chhattisgarh accounted for major expansion in area of oilseeds.

Rapeseed & Mustard contributed maximum in increasing oilseeds area during this Rabi season. Mustard area increased by 6.77 lakh hectares from 91.25 lakh hectares in 2021-22 to 98.02 lakh hectares in 2022-23. Thus, out of 7.49 lakh hectares increase in area under oilseeds, rapeseed & mustard alone accounted for 6.44 lakh hectares.

Pulse production is being focused to make country self-sufficient in these commodities.

Area under pulses increased by 0.56 lakh hectares from 167.31 to 167.86 lakh hectares.

Mung bean and lentil accounted for increase in area under pulses.

The United Nations General Assembly has declared the year 2023 as the International Year of Millets and India is at the forefront in celebrating the event in a big way. In order to create awareness about the benefits of millets as superfood and to meet its growing demand around the world, the Government is promoting millet production through the NFSM-Nutri Cereals component of National Food Security Mission programme in 212 districts of 14 states. Coarse cum Nutri-cereals saw an increase of 2.08 lakh hectares in area under cultivation from 51.42 lakh hectares in 2021-22 to 53.49 lakh hectares in 2022-23.

### SubQuestion No : 43

Q.43 Which state recorded the maximum increase in sown area of the rice crop?

- Ans ☒ 1. Telangana  
☒ 2. Chhattisgarh  
☒ 3. Madhya Pradesh  
☒ 4. Rajasthan

Question ID : 264330128826

Status : Answered

Chosen Option : 1

### Comprehension:

Read the following passage and answer the questions given after it.

Total area sown under Rabi crops has increased by 3.25% from 697.98 lakh hectares in 2021-22 to 720.68 lakh hectares in 2022-23. This is 22.71 lakh hectares more this year compared to corresponding period of 2021-22. Comparing with normal sown area (average of the last five years), the increase is to the tune of 13.71% from 633.80 to 720.68 lakh hectares.

The increase in area is across all crops, - highest being in rice. Out of 22.71 lakh hectares increase in all Rabi crops, increase in rice area is 11.20 lakh hectares from 35.05 lakh hectares in 2021-22 to 46.25 lakh hectares in 2022-23. However, this is lower than normal sown area of 47.71 lakh hectares. Maximum increase in area under rice is in states of Telangana and West Bengal.

Area under oilseeds increased by 7.31% from 102.36 lakh hectares during 2021-22 to 109.84 lakh hectares this year. The increase in area under oilseeds at the rate of 7.31% is more than double the rate of increase of 3.25% in all crops together. Rajasthan, Madhya Pradesh and Chhattisgarh accounted for major expansion in area of oilseeds.

Rapeseed & Mustard contributed maximum in increasing oilseeds area during this Rabi season. Mustard area increased by 6.77 lakh hectares from 91.25 lakh hectares in 2021-22 to 98.02 lakh hectares in 2022-23. Thus, out of 7.49 lakh hectares increase in area under oilseeds, rapeseed & mustard alone accounted for 6.44 lakh hectares.

Pulse production is being focused to make country self-sufficient in these commodities.

Area under pulses increased by 0.56 lakh hectares from 167.31 to 167.86 lakh hectares.

Mung bean and lentil accounted for increase in area under pulses.

The United Nations General Assembly has declared the year 2023 as the International Year of Millets and India is at the forefront in celebrating the event in a big way. In order to create awareness about the benefits of millets as superfood and to meet its growing demand around the world, the Government is promoting millet production through the NFSM-Nutri Cereals component of National Food Security Mission programme in 212 districts of 14 states. Coarse cum Nutri-cereals saw an increase of 2.08 lakh hectares in area under cultivation from 51.42 lakh hectares in 2021-22 to 53.49 lakh hectares in 2022-23.

### SubQuestion No : 44

Q.44 Match the following crops with the area.

Crop area in 2022-23

- a. millets 1. 98.02 lakh hectares
- b. pulses 2. 53.49 lakh hectares
- c. mustard 3. 167.86 lakh hectares

- Ans
- ☒ 1. a-1, b-3, c-2
  - ☒ 2. a -3, b-1, c-2
  - ☒ 3. a-2, b-1, c-3
  - ☒ 4. a-2, b-3, c-1

Question ID : 264330128828

Status : Answered

Chosen Option : 4

### Comprehension:

Read the following passage and answer the questions given after it.

Total area sown under Rabi crops has increased by 3.25% from 697.98 lakh hectares in 2021-22 to 720.68 lakh hectares in 2022-23. This is 22.71 lakh hectares more this year compared to corresponding period of 2021-22. Comparing with normal sown area (average of the last five years), the increase is to the tune of 13.71% from 633.80 to 720.68 lakh hectares.

The increase in area is across all crops, - highest being in rice. Out of 22.71 lakh hectares increase in all Rabi crops, increase in rice area is 11.20 lakh hectares from 35.05 lakh hectares in 2021-22 to 46.25 lakh hectares in 2022-23. However, this is lower than normal sown area of 47.71 lakh hectares. Maximum increase in area under rice is in states of Telangana and West Bengal.

Area under oilseeds increased by 7.31% from 102.36 lakh hectares during 2021-22 to 109.84 lakh hectares this year. The increase in area under oilseeds at the rate of 7.31% is more than double the rate of increase of 3.25% in all crops together. Rajasthan, Madhya Pradesh and Chhattisgarh accounted for major expansion in area of oilseeds.

Rapeseed & Mustard contributed maximum in increasing oilseeds area during this Rabi season. Mustard area increased by 6.77 lakh hectares from 91.25 lakh hectares in 2021-22 to 98.02 lakh hectares in 2022-23. Thus, out of 7.49 lakh hectares increase in area under oilseeds, rapeseed & mustard alone accounted for 6.44 lakh hectares.

Pulse production is being focused to make country self-sufficient in these commodities. Area under pulses increased by 0.56 lakh hectares from 167.31 to 167.86 lakh hectares. Mung bean and lentil accounted for increase in area under pulses.

The United Nations General Assembly has declared the year 2023 as the International Year of Millets and India is at the forefront in celebrating the event in a big way. In order to create awareness about the benefits of millets as superfood and to meet its growing demand around the world, the Government is promoting millet production through the NFSM-Nutri Cereals component of National Food Security Mission programme in 212 districts of 14 states. Coarse cum Nutri-cereals saw an increase of 2.08 lakh hectares in area under cultivation from 51.42 lakh hectares in 2021-22 to 53.49 lakh hectares in 2022-23.

### SubQuestion No : 45

Q.45 On which of the following crops, is the Indian Government specially focussing this year?

- Ans
- ☒ 1. rice
  - ☒ 2. pulses
  - ☒ 3. millets
  - ☒ 4. oilseeds

Question ID : 264330128827

Status : Answered

Chosen Option : 2

### Section : General Awareness

Q.1 वर्ष 2022 के लिए बीसीसीआई पुरस्कारों के संबंध में सूची-I और सूची-II का मिलान कीजिए।

#### सूची-I

- a) ऋषभ पंत
- b) जसप्रीत बुमराह
- c) सूर्य कुमार यादव
- d) श्रेयस अय्यर

#### सूची-II

- i) वर्ष 2022 के लिए टेस्ट मैचों में सर्वश्रेष्ठ बल्लेबाज
- ii) वर्ष 2022 के लिए टेस्ट मैचों में सर्वश्रेष्ठ गेंदबाज
- iii) वर्ष 2022 के लिए एक दिवसीय अंतरराष्ट्रीय मैचों में सर्वश्रेष्ठ बल्लेबाज
- iv) वर्ष 2022 के लिए टी20 मैचों में सर्वश्रेष्ठ बल्लेबाज

- Ans
- ☒ 1. a-ii, b-i, c-iii, d-iv
  - ☒ 2. a-i, b-ii, c-iv, d-iii
  - ☒ 3. a-i, b-ii, c-iii, d-iv
  - ☒ 4. a-ii, b-i, c-iv, d-iii

Question ID : 264330122944

Status : Not Answered

Chosen Option : --

Q.2 1853 में बंबई और ठाणे के बीच पहली बार ट्रेन द्वारा तय की गई दूरी (लगभग km में) कितनी थी?

- Ans
- ☒ 1. 25
  - ☒ 2. 38
  - ☒ 3. 51
  - ☒ 4. 34

Question ID : 26433099168

Status : Answered

Chosen Option : 4

Q.3 भारतीय संविधान में 2022 के संशोधन के माध्यम से निम्नलिखित में से किस समुदाय को भारत सरकार द्वारा अनुसूचित जनजाति का दर्जा दिया गया है?

- A. नरीकोरवन समुदाय
- B. हट्टी समुदाय
- C. कडु कुरुबा समुदाय
- D. कापू समुदाय

- Ans
- ☒ 1. केवल A और D
  - ☒ 2. केवल A, B और C
  - ☒ 3. A, B, C और D
  - ☒ 4. केवल B, C और D

Question ID : 264330122807

Status : Answered

Chosen Option : 3

Q.4 भारतीय संविधान का कौन-सा अनुच्छेद यह बताता है कि एक भारतीय नागरिक को किसी भी रेस्तरां, सड़क या सार्वजनिक स्थान का उपयोग करने का अधिकार है?

- Ans
- ☒ 1. अनुच्छेद 16 (1)
  - ☒ 2. अनुच्छेद 15 (2)
  - ☒ 3. अनुच्छेद 17 (1)
  - ☒ 4. अनुच्छेद 14 (2)

Question ID : 264330110575

Status : Answered

Chosen Option : 4

Q.5 भारत सरकार द्वारा दिसंबर 2022 में लघु बचत योजनाओं में किए गए परिवर्तनों के संबंध में निम्नलिखित में से कौन-सा/से कथन सही है/हैं?

- A. पाँच वर्षीय राष्ट्रीय बचत प्रमाणपत्र की ब्याज दर 6.8 प्रतिशत से बढ़ाकर 7 प्रतिशत कर दी गई है।
- B. वरिष्ठ नागरिक बचत योजनाओं पर ब्याज दर 7.6 प्रतिशत से बढ़ाकर 8 प्रतिशत कर दी गई।
- C. सार्वजनिक भविष्य निधि, सुकन्या समृद्धि खाता और बचत जमा पर ब्याज दर 7.5% से 9% कर दी गई है।

- Ans
- ☒ 1. केवल A और B
  - ☒ 2. A, B और C
  - ☒ 3. केवल A और C
  - ☒ 4. केवल B और C

Question ID : 264330122938

Status : Not Answered

Chosen Option : --

Q.6 निम्नलिखित में से कौन सी पुस्तक रोमन लेखक वरिष्ठ प्लिनी (Pliny the Elder) द्वारा लिखी गई थी?

- Ans ☒ 1. नेचुरल हिस्ट्री  
☐ 2. जियोग्राफिका  
☐ 3. इंडिका  
☐ 4. पेरिप्लस ऑफ दि एरिथ्रियन सी

Question ID : 264330123889

Status : Answered

Chosen Option : 1

Q.7 जन्तुओं के किस समूह का नाम उनकी काँटेदार त्वचा के कारण रखा गया है और उनमें विशिष्ट जल संवहन नाल तंत्र पाया जाता है, जो उनके चलन में सहायक है?

- Ans ☐ 1. एस्केहेल्मिन्थीज (Aschelminthes)  
☐ 2. हेमीकोर्डेटा (Hemichordata)  
☒ 3. इकाइनोडर्मेटा (Echinodermata)  
☐ 4. मोलस्का (Mollusca)

Question ID : 264330123821

Status : Answered

Chosen Option : 1

Q.8 वर्ष 1962 में, किसने 'द हिस्ट्री ऑफ ओशन बेसिन्स' (The History of Ocean Basins) प्रकाशित किया, जिसने प्लेट विवर्तनिकी के सिद्धांत को रेखांकित किया, जिसे बाद में 'सागर नितल प्रसरण' कहा गया?

- Ans ☐ 1. लुई बाउरे (Louis Bauer)  
☐ 2. अल्फ्रेड वेगेनर (Alfred Wegener)  
☒ 3. हैरी हैमंड हेस (Harry Hammond Hess)  
☐ 4. जॉर्ज एडवर्ड बैकस (George Edward Backus)

Question ID : 264330123855

Status : Answered

Chosen Option : 2

Q.9 यौगिकों के एक वर्ग की पहचान कीजिए, जिसमें एक कार्यात्मक समूह -OH होता है।

- Ans ☐ 1. एथेन  
☐ 2. कीटोन  
☐ 3. ऐल्डिहाइड  
☒ 4. ऐल्कोहॉल

Question ID : 26433064739

Status : Answered

Chosen Option : 4

Q.10 आवृत्तियों के अवरोही क्रम में विकिरणों का सही क्रम क्या है?

- Ans ☒ 1. X-किरणें > अवरक्त > सूक्ष्म तरंगें > रेडियो तरंगें  
☐ 2. अवरक्त > सूक्ष्म तरंगें > X-किरणें > रेडियो तरंगें  
☐ 3. अवरक्त > सूक्ष्म तरंगें > रेडियो तरंगें > X-किरणें  
☐ 4. रेडियो तरंगें > X-किरणें > सूक्ष्म तरंगें > अवरक्त

Question ID : 264330109880

Status : Not Answered

Chosen Option : --

Q.11 ऑस्ट्रियाई वैज्ञानिक क्रिश्चियन डॉपलर द्वारा डॉपलर प्रभाव की खोज किस वर्ष में की गई थी, जो एक पर्यवेक्षक के संदर्भ में एक गतिमान स्रोत द्वारा उत्पन्न किसी भी प्रकार की ध्वनि या प्रकाश तरंग की आवृत्ति में परिवर्तन का वर्णन करता है?

- Ans
- ☐ 1. 1844
  - ☐ 2. 1846
  - ☐ 3. 1840
  - ☒ 4. 1842

Question ID : 264330123837  
Status : Not Answered  
Chosen Option : --

Q.12 पहचानें कि निम्नलिखित में से कौन से कथन सही हैं।

1. आईसीएआर-मूंगफली अनुसंधान निदेशालय (ICAR-Directorate of Groundnut Research) का मुख्यालय जूनागढ़ में स्थित है।
2. आईसीएआर-तोरिया और सरसों अनुसंधान निदेशालय (ICAR-Directorate of Rapeseed & Mustard Research) का मुख्यालय भरतपुर में स्थित है।
3. आईसीएआर-सोयाबीन अनुसंधान निदेशालय (ICAR-Directorate of Soybean Research) का मुख्यालय इंदौर में स्थित है।

- Ans
- ☐ 1. केवल 2 और 3
  - ☐ 2. केवल 1 और 2
  - ☒ 3. 1, 2 और 3
  - ☐ 4. केवल 1 और 3

Question ID : 264330121514  
Status : Answered  
Chosen Option : 3

Q.13 निम्नलिखित में से कौन अपरद को सरल अकार्बनिक पदार्थों में निम्नीकृत कर सकता है?

- Ans
- ☐ 1. लाइकेन
  - ☒ 2. कवकीय एंजाइम
  - ☐ 3. पादपप्लवक
  - ☐ 4. शैवाल

Question ID : 264330123848  
Status : Answered  
Chosen Option : 1

Q.14 वर्ष 1787 में किस नियम का अध्ययन किया गया था, जिसमें कहा गया था कि गैस का आयतन उसके परम तापमान के साथ बढ़ता है तथा उसका परम तापमान घटने पर उसका आयतन भी घट जाता है?

- Ans
- ☐ 1. डाल्टन का नियम
  - ☐ 2. अवोगाद्रो का नियम
  - ☐ 3. बॉयल का नियम
  - ☒ 4. चार्ल्स का नियम

Question ID : 264330123825  
Status : Answered  
Chosen Option : 3

Q.15 वर्ष 2011 की जनगणना के अनुसार निम्न में से किस राज्य की प्रजनन दर भारत में सर्वाधिक है?

- Ans ☒ 1. पंजाब  
☒ 2. बिहार  
☒ 3. महाराष्ट्र  
☒ 4. केरल

Question ID : 264330109502

Status : Answered

Chosen Option : 2

Q.16 स्तंभों का मिलान करें।

खनिज	भंडार क्षेत्र
(A) बॉक्साइट	(I) लोहरदगा
(B) अभ्रक	(II) भीलवाड़ा
(C) कोयला	(III) झुंझुनू
(D) तांबा	(IV) झरिया

- Ans ☒ 1. A-II, B-I, C-III, D-IV  
☒ 2. A-IV, B-III, C-I, D-II  
☒ 3. A-I, B-II, C-IV, D-III  
☒ 4. A-II, B-III, C-IV, D-I

Question ID : 264330121533

Status : Answered

Chosen Option : 4

Q.17 रक्त में हीमोग्लोबिन बनाने के लिए निम्न में से क्या आवश्यक है?

- Ans ☒ 1. कैल्शियम  
☒ 2. प्रोटीन  
☒ 3. आयरन  
☒ 4. वसा

Question ID : 26433064425

Status : Answered

Chosen Option : 3

Q.18 छात्रों के लिए, कक्षा 3 तक मूलभूत साक्षरता और संख्यात्मक योग्यता प्राप्त करने के लिए 2021 में शुरू की गई योजना का नाम बताएं?

- Ans ☒ 1. सुगम (SUGAM)  
☒ 2. निपुण (NIPUN) भारत  
☒ 3. सफल (SAFAL)  
☒ 4. निष्ठा (NISHTHA) 2.0

Question ID : 264330123894

Status : Not Answered

Chosen Option : --

Q.19 निम्नलिखित में से कौन-सा एक अप्रत्यक्ष कर है?

- Ans ☒ 1. वस्तु एवं सेवा कर  
☒ 2. संपत्ति कर  
☒ 3. उपहार कर  
☒ 4. पूंजीगत लाभ कर

Question ID : 264330123884

Status : Answered

Chosen Option : 1

Q.20 निम्नलिखित में से कौन सा/से कथन भारत के पड़ोसी देशों के संदर्भ में सही है/हैं?

(A) भारत ने 2022 में क्षीयमान अर्थव्यवस्था को सहारा देने के लिए लगभग 4 बिलियन डॉलर के अनुदान से मालदीव को सहारा दिया।  
(B) श्रीलंका, भूटान और बांग्लादेश की तुलना में डॉलर के संदर्भ में भारत का सकल घरेलू उत्पाद (GDP) सबसे अधिक है।

- Ans ☒ 1. A और B दोनों  
☒ 2. केवल B  
☒ 3. न तो A और न ही B  
☒ 4. केवल A

Question ID : 264330121484

Status : Not Answered

Chosen Option : --

Q.21 भारत के संविधान का कौन सा अनुच्छेद उच्च न्यायालय को रिट (writ) जारी करने का अधिकार देता है?

- Ans ☒ 1. अनुच्छेद 143  
☒ 2. अनुच्छेद 226  
☒ 3. अनुच्छेद 32  
☒ 4. अनुच्छेद 132

Question ID : 264330110115

Status : Answered

Chosen Option : 3

Q.22 नीचे वनीकरण के संबंध में कुछ कथन दिए गए हैं।

A. वनीकरण से बाढ़ को रोका जा सकता है।  
B. वनीकरण हमारे पारितंत्र को संतुलित कर सकता है।

उपरोक्त में से कौन सा/से कथन सही है/हैं?

- Ans ☒ 1. केवल B  
☒ 2. केवल A  
☒ 3. A और B दोनों  
☒ 4. A और B दोनों गलत हैं

Question ID : 264330121633

Status : Answered

Chosen Option : 3

Q.23 भारत में, निम्नलिखित में से कौन सा विधेयक राज्यसभा में पुरःस्थापित नहीं किया जा सकता है?

- Ans
- ☒ 1. साधारण विधेयक
  - ☒ 2. संविधान संशोधन विधेयक
  - ☒ 3. धन विधेयक
  - ☒ 4. संविधान संशोधन और साधारण विधेयक दोनों

Question ID : 264330109842

Status : Answered

Chosen Option : 1

Q.24 भारत में, निम्न में से क्या राष्ट्रीय विनिर्माण नीति का एक उद्देश्य नहीं है?

- Ans
- ☒ 1. वैश्विक प्रतिस्पर्धा, घरेलू मूल्यवर्धन, तकनीकी गहराई और विकास की पर्यावरणीय स्थिरता को बढ़ाना।
  - ☒ 2. 2022 तक GOP में विनिर्माण का सेक्टरल हिस्सा बढ़ाकर कम से कम 25% करना।
  - ☒ 3. 2022 तक विनिर्माण वस्तुओं के निर्यात को दोगुना करना।
  - ☒ 4. रोजगार सृजन की दर में वृद्धि करना ताकि 2022 तक 100 मिलियन अतिरिक्त रोजगार सृजित किए जा सकें।

Question ID : 26433059318

Status : Not Answered

Chosen Option : --

Q.25 जफर खाँ दिल्ली सल्तनत के निम्नलिखित में से किस शासक का प्रसिद्ध सेनापति था?

- Ans
- ☒ 1. बलबन
  - ☒ 2. मुहम्मद बिन तुगलक
  - ☒ 3. अलाउद्दीन खिलजी
  - ☒ 4. इल्तुतमिश

Question ID : 264330109011

Status : Not Answered

Chosen Option : --

Section : Computer Knowledge Module

Q.1 निम्नलिखित में से कौन सा फंक्शन एमएस-एक्सेल 365 में उपलब्ध मैथ (Math) और ट्रिगनोमेट्रिक (trigonometric) फंक्शन है?

- Ans
- ☒ 1. टेक्स्ट फंक्शन (Text function)
  - ☒ 2. फाइनेंसियल फंक्शन (Financial function)
  - ☒ 3. लॉजिकल फंक्शन (Logical function)
  - ☒ 4. एबीएस फंक्शन (ABS function)

Question ID : 264330128771

Status : Answered

Chosen Option : 3

Q.2 वेब ब्राउजर पर वर्तमान वेबपेज को बुकमार्क करने के लिए निम्नलिखित में से किस कीबोर्ड शॉर्टकट का उपयोग किया जाता है?

- Ans
- ☐ 1. कंट्रोल + B
  - ☒ 2. कंट्रोल + D
  - ☐ 3. कंट्रोल + N
  - ☐ 4. कंट्रोल + I

Question ID : 264330128783

Status : Not Answered

Chosen Option : --

Q.3 \_\_\_\_\_ मेमोरी का उपयोग कभी-कभी CPU को तीव्र गति से वर्तमान प्रोग्राम और डेटा उपलब्ध कराकर प्रसंस्करण की गति को बढ़ाने के लिए किया जाता है।

- Ans
- ☒ 1. कैश
  - ☐ 2. बैकअप
  - ☐ 3. सहायक
  - ☐ 4. मुख्य

Question ID : 264330128785

Status : Answered

Chosen Option : 1

Q.4 \_\_\_\_\_ वे नियम हैं जो दूरसंचार सम्पर्क में कई स्तरों पर मौजूद हैं।

- Ans
- ☐ 1. बैंडविड्थ
  - ☒ 2. प्रोटोकॉल
  - ☐ 3. डोमेन नाम
  - ☐ 4. नेटवर्क सरफेस यूनिट

Question ID : 264330128772

Status : Answered

Chosen Option : 1

Q.5 \_\_\_\_\_ केंद्रीय प्रक्रमन एकक (CPU) का सबसे पुराना प्रकार है।

- Ans
- ☐ 1. क्वाड कोर
  - ☐ 2. ट्रिपल कोर
  - ☐ 3. डुअल कोर
  - ☒ 4. सिंगल कोर

Question ID : 264330128780

Status : Not Answered

Chosen Option : --

Q.6 निम्नलिखित में से कौन सा कथन द्वितीयक मेमोरी के बारे में गलत है?

Ans

- ✓ 1. यह एक अस्थिर मेमोरी है।
- ✗ 2. कंप्यूटर द्वितीयक मेमोरी के बिना चल सकता है।
- ✗ 3. इसे बैकअप मेमोरी के रूप में जाना जाता है।
- ✗ 4. बिजली न होने पर भी डेटा स्थायी रूप से संग्रहीत होता है।

Question ID : 264330128781

Status : Answered

Chosen Option : 1

Q.7 \_\_\_\_\_ वायरस एक सिस्टम की मेमोरी में अंतर्निहित होते हैं यह इसलिए कि यदि मूल वायरस को हटा दिया जाता है तो इसे पुनः सक्रिय किया जा सकता है।

Ans

- ✓ 1. निवासी
- ✗ 2. फ़ाइल
- ✗ 3. बहुरूपी
- ✗ 4. रूलकिट

Question ID : 264330128734

Status : Not Answered

Chosen Option : --

Q.8 कुछ कुकीज़ प्रयोगकर्ता द्वारा हटाने के बाद स्वचालित रूप से पुनः बन जाती हैं। इन्हें \_\_\_\_\_ कुकीज़ कहा जाता है।

Ans

- ✗ 1. सत्र
- ✗ 2. दृढ़
- ✓ 3. जॉबी
- ✗ 4. तृतीय पक्ष

Question ID : 264330128777

Status : Answered

Chosen Option : 2

Q.9 कंप्यूटर की निम्नलिखित पीढ़ियों में से किसमें ट्रांजिस्टर की तकनीक का उपयोग सबसे पहली बार किया गया था?

Ans

- ✗ 1. तीसरा
- ✗ 2. प्रथम
- ✗ 3. चौथा
- ✓ 4. दूसरा

Question ID : 264330128739

Status : Answered

Chosen Option : 4

Q.10 वेब ब्राउजर (web browser) में, वेब पेजों को प्रदर्शित करने के लिए निम्नलिखित में से कौन उत्तरदायी है?

Ans

- ☒ 1. सर्च इंजन (Search Engine)
- ☒ 2. रेंडरिंग इंजन (Rendering engine)
- ☒ 3. सर्वर (Server)
- ☒ 4. पेज इंजन (Page engine)

Question ID : 264330128738

Status : Answered

Chosen Option : 1

Q.11 निम्नलिखित में से किस पोर्ट को लाइन प्रिंटर पोर्ट के नाम से भी जाना जाता है?

Ans

- ☒ 1. डिस्प्ले
- ☒ 2. हाई डेफिनिशन मीडिया इंटरफेस
- ☒ 3. वीडियो ग्राफिक ऐरे
- ☒ 4. समानांतर

Question ID : 264330128786

Status : Not Answered

Chosen Option : --

Q.12 जीमेल (Gmail) में एक नया ईमेल संदेश बनाने के लिए निम्नलिखित में से कौन सा विकल्प दबाया जा सकता है?

Ans

- ☒ 1. कंपोज (Compose)
- ☒ 2. आउटबाउंड (Outbound)
- ☒ 3. सेटिंग (Settings)
- ☒ 4. ड्राफ्ट (Drafts)

Question ID : 264330128776

Status : Answered

Chosen Option : 1

Q.13 एक बार जब \_\_\_\_\_ कंप्यूटर सिस्टम की एक बड़ी संख्या को संक्रमित कर देता है, यह या तो विज्ञापन प्रदर्शित करके या "पे पर क्लिक" तंत्र का उपयोग करके अपने ग्राहकों को उनके प्रदर्शित विज्ञापनों पर क्लिक की संख्या के सामने चार्ज करने के लिए राजस्व उत्पन्न करता है।

Ans

- ☒ 1. स्पाइवेयर
- ☒ 2. विषाणु
- ☒ 3. एडवेयर
- ☒ 4. कीड़े

Question ID : 264330128788

Status : Answered

Chosen Option : 1

Q.14 \_\_\_\_\_ को प्रोटोकॉल रूपांतरण के रूप में भी जाना जाता है।

- Ans
- ✓ 1. गेटवे
  - ✗ 2. केंद्र
  - ✗ 3. स्विच
  - ✗ 4. ब्रिज

Question ID : 264330128787  
Status : Not Answered  
Chosen Option : --

Q.15 निम्नलिखित में से किस डिवाइस को विजुअल डिस्प्ले यूनिट (VDU) के रूप में भी जाना जाता है?

- Ans
- ✗ 1. चित्रांवीक्षक
  - ✗ 2. ट्रैक बॉल
  - ✗ 3. मुद्रक
  - ✓ 4. मॉनिटर

Question ID : 264330128744  
Status : Answered  
Chosen Option : 4

Q.16 MS-Word 2010 में क्विक एक्सेस टूलबार (Quick Access Toolbar) के बारे में निम्नलिखित में से कौन सा/से कथन गलत है/हैं?

P: क्विक एक्सेस टूलबार (Quick Access Toolbar) में डिफॉल्ट रूप से सेव (Save), अनडू (Undo), और रीडू (Redo) बटन होते हैं।

Q: क्विक एक्सेस टूलबार (Quick Access Toolbar) में डिफॉल्ट रूप से कट (Cut), अनडू (Undo), और रीडू (Redo) बटन होते हैं।

R: आप क्विक एक्सेस टूलबार (Quick Access Toolbar) पर और भी बटन लगा सकते हैं।

S: क्विक एक्सेस टूलबार (Quick Access Toolbar) पर "शो बिलो द रिबन" (show below the Ribbon) के लिए कोई विकल्प नहीं है।

- Ans
- ✗ 1. केवल P, Q, R
  - ✗ 2. केवल Q और R
  - ✗ 3. P, Q, R, S सभी
  - ✓ 4. केवल Q और S

Question ID : 264330128735  
Status : Not Answered  
Chosen Option : --

Q.17 \_\_\_\_\_ एक प्रकार का समर्पित फाइल संग्रह इकाई है जो लोकल-एरिया नेटवर्क (LAN) यूजर्स को एक मानक ईथरनेट कनेक्शन के माध्यम से केंद्रीकृत, समेकित डिस्क स्टोरेज प्रदान करता है।

- Ans
- ✗ 1. USB हार्ड ड्राइव
  - ✗ 2. ठोस अवस्था ड्राइव (SSD)
  - ✓ 3. नेटवर्क अटैचड स्टोरेज (NAS)
  - ✗ 4. USB स्टिक

Question ID : 264330128782  
Status : Answered  
Chosen Option : 3

Q.18 निम्नलिखित में से कौन-सा फॉन्ट इफेक्ट एमएस-वर्ड 2010 फॉन्ट डायलॉग बॉक्स (font dialog box) में उपलब्ध नहीं होता है?

Ans

- ☒ 1. सुपरस्क्रिप्ट (Superscript)
- ☒ 2. स्माल कैप (Small Cap)
- ☒ 3. डबल स्ट्राइकथ्रू (Double Strikethrough)
- ☒ 4. इक्वलाइज कैरेक्टर हाइट (Equalize Character Height)

Question ID : 264330128693

Status : Not Answered

Chosen Option : --

Q.19 निम्नलिखित में से कौन सा कथन गलत है?

Ans

☒ 1.

नौवाहन फलक से, आप अपने कंप्यूटर की फाइल और फोल्डर संरचना देख सकते हैं और फाइलों और फोल्डरों तक पहुँच सकते हैं।

☒ 2.

विंडोज एक्सप्लोरर की दाहिनी विंडो को नौवाहन फलक कहा जाता है।

☒ 3. नौवाहन फलक, एक त्वरित पहुँच क्षेत्र होता है।

☒ 4.

नौवाहन फलक विंडोज एक्सप्लोरर के माध्यम से नौवाहन को आसान करने के लिए है।

Question ID : 264330128770

Status : Not Answered

Chosen Option : --

Q.20 एमएस-एक्सेल 365 की वर्कशीट में प्रत्येक सेल की पहचान एक सेल \_\_\_\_\_ के द्वारा की जाती है।

Ans

☒ 1. राउंडिंग

☒ 2. साइज

☒ 3. रेफरेंस

☒ 4. कलर

Question ID : 264330128769

Status : Answered

Chosen Option : 3

## Combined Graduate Level Examination Tier II 2022

Roll Number	
Candidate Name	
Venue Name	Maa Santoshi Computers Pvt. Ltd.
Exam Date	06/03/2023
Exam Time	9:00 AM - 12:00 PM
Subject	CGLE 2022 Tier II Paper I

### Section : Mathematical Abilities

Q.1  $\cos 120^\circ$  का सटीक मान ज्ञात कीजिए।

- Ans
- ☒ 1. 1
  - ☒ 2. 0
  - ☒ 3.  $-0.5$
  - ☒ 4. 0.5

Question ID : 264330126428  
Status : Answered  
Chosen Option : 3

Q.2 संख्या 1254216 निम्नलिखित में से किस संख्या से विभाज्य है?

- Ans
- ☒ 1. 8
  - ☒ 2. 5
  - ☒ 3. 11
  - ☒ 4. 16

Question ID : 264330126418  
Status : Answered  
Chosen Option : 1

Q.3 एक समलंब की दो समानांतर भुजाओं की लम्बाई के बीच का अंतर 12 cm है। इन दोनों समानांतर भुजाओं के बीच की लंबवत दूरी 60 cm है। यदि समलंब का क्षेत्रफल  $1380 \text{ cm}^2$  है, तो प्रत्येक समांतर भुजा की लंबाई (cm में) ज्ञात कीजिए।

- Ans
- ☒ 1. 31, 19
  - ☒ 2. 27, 15
  - ☒ 3. 29, 17
  - ☒ 4. 24, 12

Question ID : 264330121753  
Status : Not Answered  
Chosen Option : --

Q.4 यदि ₹6,500 की राशि अर्धवार्षिक रूप से चक्रवृद्धि होने वाले 10% वार्षिक चक्रवृद्धि ब्याज पर 2 वर्षों के लिए उधार ली जा रही है, तो मिश्रधन (केवल पूर्णांक मान) ज्ञात कीजिए।

- Ans
- ☒ 1. ₹8,150
  - ☒ 2. ₹7,650
  - ☒ 3. ₹8,250
  - ☒ 4. ₹7,900

Question ID : 264330126382  
Status : Answered  
Chosen Option : 2

Q.5 5 cm त्रिज्या वाले एक वृत्त के अंदर बने वर्ग का परिमाप क्या है?

- Ans
- ☒ 1.  $40\sqrt{2}$  cm
  - ☒ 2.  $10\sqrt{2}$  cm
  - ☒ 3.  $20\sqrt{2}$  cm
  - ☒ 4.  $30\sqrt{2}$  cm

Question ID : 264330121657

Status : Answered

Chosen Option : 3

Q.6 5 वर्षों में Rs. X की राशि पर साधारण ब्याज, मूलधन का  $\frac{2}{5}$  है। ब्याज की वार्षिक दर क्या है?

- Ans
- ☒ 1. 12%
  - ☒ 2. 5%
  - ☒ 3. 10%
  - ☒ 4. 8%

Question ID : 264330126377

Status : Answered

Chosen Option : 4

Q.7 यदि  $\triangle ABC$ , B पर समकोण है, AB = 12 cm और  $\angle CAB = 60^\circ$  है, तो BC की लंबाई ज्ञात कीजिए।

- Ans
- ☒ 1.  $12\sqrt{3}$  cm
  - ☒ 2.  $24\sqrt{3}$  cm
  - ☒ 3.  $12\sqrt{2}$  cm
  - ☒ 4. 12 cm

Question ID : 264330126426

Status : Answered

Chosen Option : 1

Q.8 सलोनी द्वारा चार पेपरों में प्राप्त औसत अंक 51 है, और पांचवें पेपर में उसे 56 अंक प्राप्त हुए हैं। सभी पाँच पेपरों में उसका नया औसत ज्ञात कीजिए।

- Ans
- ☒ 1. 52
  - ☒ 2. 51
  - ☒ 3. 49
  - ☒ 4. 50

Question ID : 26433073077

Status : Answered

Chosen Option : 1

Q.9 रेशमा साइकिल से 45 km की दूरी 15 km/h की चाल से, कार से 80 km की दूरी 40 km/h की चाल से और पैदल चलकर बाकी 6 km की दूरी 2 km/h की चाल से तय करती है। पूरी यात्रा के लिए उसकी औसत चाल ज्ञात कीजिए। (2 दशमलव स्थान तक पूर्णांकित)

- Ans
- ☒ 1. 43.50 km/h
  - ☒ 2. 16.38 km/h
  - ☒ 3. 18.36 km/h
  - ☒ 4. 15.25 km/h

Question ID : 264330126387  
Status : Answered  
Chosen Option : 4

Q.10 एक पिरामिड का आधार एक समबाहु त्रिभुज है, जिसकी प्रत्येक भुजा की लम्बाई 8 cm है। इसका तिर्यक कोर (Slant edge) 24 cm है। पिरामिड का सम्पूर्ण पृष्ठीय क्षेत्रफल ( $\text{cm}^2$  में) कितना है?

- Ans
- ☒ 1.  $(24\sqrt{3} + 36\sqrt{35})$
  - ☒ 2.  $(16\sqrt{3} + 48\sqrt{35})$
  - ☒ 3.  $(16\sqrt{3} + 24\sqrt{35})$
  - ☒ 4.  $(12\sqrt{3} + 24\sqrt{35})$

Question ID : 264330121751  
Status : Not Answered  
Chosen Option : --

Q.11 एक समबाहु त्रिभुज PQR का केंद्रक L है। यदि PQ = 6 cm, तो PL की लंबाई क्या है?

- Ans
- ☒ 1.  $4\sqrt{3}$  cm
  - ☒ 2.  $5\sqrt{3}$  cm
  - ☒ 3.  $2\sqrt{3}$  cm
  - ☒ 4.  $3\sqrt{3}$  cm

Question ID : 264330126439  
Status : Answered  
Chosen Option : 3

Q.12 छह वर्ष पहले, A और B की आयु का अनुपात 7 : 5 था। अब से 4 वर्ष बाद, उनकी आयु का अनुपात 11 : 9 होगा। वर्तमान में A की आयु कितनी है?

- Ans
- ☒ 1.  $22\frac{1}{2}$  वर्ष
  - ☒ 2.  $24\frac{1}{2}$  वर्ष
  - ☒ 3.  $23\frac{1}{2}$  वर्ष
  - ☒ 4.  $21\frac{1}{2}$  वर्ष

Question ID : 264330121655  
Status : Answered  
Chosen Option : 3

Q.13 निम्नलिखित आंकड़ों का बहुलक क्या होगा?  
13,15,31,12,27,13,27,30,27,28 और 16

Ans ☒ 1. 27

☐ 2. 28

☐ 3. 30

☐ 4. 31

Question ID : 264330126394

Status : Answered

Chosen Option : 1

Q.14 A और B मिलकर एक कार्य को 48 दिन में पूरा कर सकते हैं। A, B का 4 गुना कार्यकुशल है। B अकेले कार्य को कितने दिन में पूरा कर सकता है?

Ans ☐ 1. 220 दिन

☐ 2. 320 दिन

☒ 3. 240 दिन

☐ 4. 120 दिन

Question ID : 264330121649

Status : Answered

Chosen Option : 3

Q.15 तीन छात्रों A, B और C द्वारा एक समस्या को हल करने की प्रायिकता क्रमशः  $\frac{3}{7}$ ,  $\frac{5}{9}$  और  $\frac{1}{5}$  है। समस्या के हल होने की प्रायिकता क्या होगी?

Ans ☐ 1.  $\frac{155}{315}$

☐ 2.  $\frac{32}{315}$

☐ 3.  $\frac{64}{315}$

☒ 4.  $\frac{251}{315}$

Question ID : 264330121654

Status : Not Answered

Chosen Option : --

Q.16 एक नमूना आंकड़ों का माध्य = 60 और माध्यिका = 48 है। इस बंटन का बहुलक ज्ञात कीजिए।

Ans ☐ 1. 18

☒ 2. 24

☐ 3. 36

☐ 4. 48

Question ID : 264330121731

Status : Answered

Chosen Option : 2

Q.17 यदि एक बेलन का वक्र पृष्ठीय क्षेत्रफल  $126\pi \text{ cm}^2$  है और इसकी ऊँचाई 14 cm है, तो बेलन का आयतन क्या होगा?

Ans

✗ 1.  $128\frac{1}{2} \pi \text{ cm}^3$

✗ 2.  $137\frac{1}{2} \pi \text{ cm}^3$

✗ 3.  $125\frac{1}{2} \pi \text{ cm}^3$

✓ 4.  $283\frac{1}{2} \pi \text{ cm}^3$

Question ID : 26433061088

Status : Not Answered

Chosen Option : --

Q.18 निम्नलिखित में से m के किस मान से समीकरण निकाय  $18x-72y+13=0$  और  $7x-my-17=0$  का कोई हल नहीं होगा?

Ans

✓ 1. 28

✗ 2. 9

✗ 3. 24

✗ 4. 12

Question ID : 264330121747

Status : Not Answered

Chosen Option : --

Q.19 निम्नलिखित को सरल (हल) कीजिए।

$$\frac{\sqrt{10 + \sqrt{25 + \sqrt{108 + \sqrt{154 + \sqrt{225}}}}}}{\sqrt{16 + 19.25 \times 4^2}}$$

Ans

✗ 1.  $\frac{7}{18}$

✗ 2.  $\frac{1}{9}$

✓ 3.  $\frac{2}{9}$

✗ 4.  $\frac{5}{18}$

Question ID : 264330121706

Status : Not Answered

Chosen Option : --

Q.20 यदि 80 लीटर दूध के विलयन में 60% दूध है, तो विलयन में दूध को 80% बनाने के लिए कितना दूध मिलाना चाहिए?

- Ans
- ☐ 1. 70 लीटर
  - ☒ 2. 80 लीटर
  - ☐ 3. 50 लीटर
  - ☐ 4. 60 लीटर

Question ID : 26433058959  
Status : Answered  
Chosen Option : 2

Q.21 श्रीमती दीपा देवी अपने वेतन का 30% बचाती हैं। यदि उन्हें वेतन के रूप में प्रति माह Rs.42,000 मिलते हैं, तो उनका मासिक व्यय क्या है?

- Ans
- ☐ 1. Rs.29,100
  - ☒ 2. Rs.29,400
  - ☐ 3. Rs.29,300
  - ☐ 4. Rs.29,200

Question ID : 26433066356  
Status : Answered  
Chosen Option : 2

Q.22 10% और 10% की दो क्रमिक छूटें \_\_\_\_\_ एकल छूट के बराबर होगी।

- Ans
- ☐ 1. 20%
  - ☐ 2. 18%
  - ☐ 3. 21%
  - ☒ 4. 19%

Question ID : 26433056314  
Status : Answered  
Chosen Option : 4

Q.23 एक सम बहुभुज के विकर्णों की संख्या ज्ञात कीजिए, जिसके अंतःकोणों का योग  $2700^\circ$  है।

- Ans
- ☐ 1. 121
  - ☐ 2. 117
  - ☒ 3. 119
  - ☐ 4. 127

Question ID : 264330121663  
Status : Not Answered  
Chosen Option : --

Q.24 एक बेईमान व्यापारी अपने माल पर 50% अधिक मूल्य अंकित करता है और फिर उसके अंकित मूल्य पर 20% की छूट देता है। इसके अतिरिक्त, वह एक दोषपूर्ण तराजू का उपयोग करता है जो 900 gm के लिए 1 kg दिखाता है। उसका शुद्ध लाभ प्रतिशत (निकटतम पूर्णांक तक) क्या होगा?

- Ans
- ☐ 1. 27
  - ☐ 2. 24
  - ☐ 3. 36
  - ☒ 4. 33

Question ID : 26433063209  
Status : Answered  
Chosen Option : 4

Q.25 यदि  $4x^2 + y^2 = 40$  और  $xy = 6$  है, तो  $2x + y$  का मान ज्ञात कीजिए।

- Ans
- ☒ 1. 4
  - ☒ 2. 6
  - ☒ 3. 8
  - ☒ 4. 5

Question ID : 26433082109  
Status : Answered  
Chosen Option : 3

Q.26 दिए गए व्यंजक का मान बताइए।

$$3 - (-6) \{-2 - 9 - 3\} \div 7\{1 + (-2)(-1)\}$$

- Ans
- ☒ 1. 15
  - ☒ 2. -1
  - ☒ 3. 7
  - ☒ 4. 1

Question ID : 264330122831  
Status : Answered  
Chosen Option : 2

Q.27 A, B और C ने 3 : 4 : 8 के अनुपात में पूंजी निवेश की। व्यापार अवधि के अंत में, उन्हें 2 : 3 : 5 के अनुपात में लाभ प्राप्त हुआ। उनके निवेशित समय का अनुपात क्या है?

- Ans
- ☒ 1. 16 : 21 : 18
  - ☒ 2. 13 : 18 : 15
  - ☒ 3. 16 : 18 : 15
  - ☒ 4. 15 : 16 : 13

Question ID : 264330121645  
Status : Answered  
Chosen Option : 3

Q.28 25 पैसे, 50 पैसे, Rs.2 और Rs.5 के सिक्कों की संख्याओं का अनुपात क्रमशः 5 : 4 : 3 : 1 है। यदि सिक्कों की कुल राशि Rs.285 है, तो 25 पैसे और Rs.5 के सिक्कों की संख्या के बीच अंतर क्या होगा?

- Ans
- ☒ 1. 30
  - ☒ 2. 60
  - ☒ 3. 80
  - ☒ 4. 40

Question ID : 26433061149  
Status : Answered  
Chosen Option : 3

Q.29  $24\sqrt{3}$  फीट ऊंचे एक सीधे खड़े खंभे के शिखर से एक सीधी खड़ी मीनार के शिखर का उन्नयन कोण  $60^\circ$  था। यदि खंभे का आधार मीनार के आधार से 60 फीट की दूरी पर था, तो मीनार की ऊंचाई (फीट में) क्या थी?

- Ans
- ☒ 1.  $44\sqrt{3}$
  - ☒ 2.  $60\sqrt{3}$
  - ☒ 3.  $36\sqrt{3}$
  - ☒ 4.  $84\sqrt{3}$

Question ID : 264330122895

Status : Answered

Chosen Option : 4

Q.30 यदि  $x$  और  $y$  का महत्तम समापवर्तक (HCF) 15 है, तो  $36x^2 - 81y^2$  और  $81x^2 - 9y^2$  का HCF \_\_\_\_\_ से विभाज्य होगा।

- Ans
- ☒ 1. 180
  - ☒ 2. 90
  - ☒ 3. 135
  - ☒ 4. 120

Question ID : 26433085413

Status : Not Answered

Chosen Option : --

Section : Reasoning and General Intelligence

Q.1 तीन कथन दिए गए हैं, जिसके बाद तीन निष्कर्ष I, II और III दिए गए हैं। कथनों को सत्य मानते हुए, भले ही वे सामान्य रूप से ज्ञात तथ्यों से भिन्न प्रतीत होते हों, तय करें कि दिए गए निष्कर्षों में से कौन सा/से निष्कर्ष कथनों का तार्किक रूप से अनुसरण करता है/करते हैं।

कथन:

- I. सभी फोन, लैपटॉप हैं।
- II. सभी पेन-ड्राइव, फोन हैं।
- III. सभी पेन-ड्राइव, पेन हैं।

निष्कर्ष:

- I. सभी पेन, फोन हैं।
- II. सभी लैपटॉप, पेन हैं।
- III. सभी पेन-ड्राइव, लैपटॉप हैं।


- Ans
- ☒ 1. केवल निष्कर्ष I और II अनुसरण करते हैं
  - ☒ 2. केवल निष्कर्ष III अनुसरण करता है
  - ☒ 3. केवल निष्कर्ष II और III अनुसरण करते हैं
  - ☒ 4. केवल निष्कर्ष I और III अनुसरण करते हैं

Question ID : 26433097424

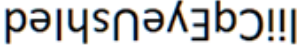
Status : Answered

Chosen Option : 4

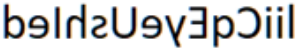
Q.2 जब दर्पण को चित्र के अनुसार 'PQ' पर रखा जाता है तो दिए गए संयोजन का दर्पण में निर्मित सही प्रतिबिंब चयनित कीजिए।


liiCqEyeUshled 

Ans

☒ 1. 

☒ 2. liiCqEyeUshled

☒ 3. 

☒ 4. 

Question ID : 264330126298

Status : Answered

Chosen Option : 3

Q.3 'A # B' का अर्थ है 'A, B का भाई है'।

'A @ B' का अर्थ है 'A, B की पुत्री है'।

'A & B' का अर्थ है 'A, B का पति है'।

'A % B' का अर्थ है 'A, B की पत्नी है'।

यदि D @ N @ H & Y @ F % V है, तो Y, D से किस प्रकार संबंधित है?

Ans

☒ 1. माता

☒ 2. बुआ

☒ 3. नानी

☒ 4. सास

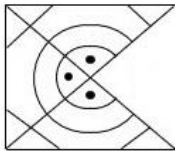
Question ID : 264330126289

Status : Answered

Chosen Option : 3

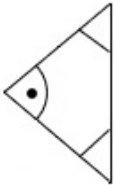
Q.4 विकल्पों में से उस आकृति का चयन कीजिए, जो प्रश्न-चिह्न(?) को प्रतिस्थापित

कर सकती है और दिए गए पैटर्न को पूरा कर सकती है।

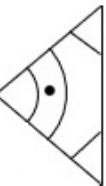


Ans

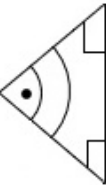
✗ 1.



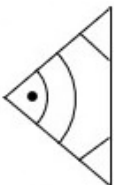
✗ 2.



✗ 3.



✓ 4.



Question ID : 26433083131

Status : Answered

Chosen Option : 4

Q.5 निम्नलिखित में से कौन से अक्षर-समूह को, # और % को प्रतिस्थापित करना चाहिए ताकि :: के बाईं ओर के अक्षर-समूह युग्म के बीच का पैटर्न और संबंध वैसा ही हो जैसा कि :: के दाईं ओर के अक्षर-समूह युग्म का है?  
# : KNF :: QCV : %

Ans ✗ 1. # = HQC, % = NFS

✗ 2. # = IPD, % = OET

✗ 3. # = HPD, % = NFS

✓ 4. # = MLH, % = OET

Question ID : 264330121407

Status : Not Answered

Chosen Option : --

Q.6 इस प्रश्न में, एक प्रश्न के बाद (I) और (II) से संख्यांकित दो कथन दिए गए हैं। आपको यह निर्णय लेना है कि कथन/कथनों में दिया गया डेटा प्रश्न का उत्तर देने के लिए पर्याप्त है या नहीं। दोनों कथनों को पढ़िए और सावधानीपूर्वक अपने उत्तर का चयन कीजिए।

प्रश्न: P, Q, R, S, T, U और V, 7 व्यक्ति एक पंक्ति में खड़े हैं और सभी उत्तर की ओर अभिमुख हैं (जरूरी नहीं कि इसी क्रम में हों)। T के दाईं ओर दूसरे स्थान पर कौन खड़ा है?

कथन:

(I) U दाएं छोर से तीसरे स्थान पर और R के बाईं ओर दूसरे स्थान पर खड़ा है।

(II) Q, T के ठीक दाएं खड़ा है। Q, P के बाईं ओर दूसरे स्थान पर खड़ा है।

Ans ☒ 1. कथन I और II के डेटा मिलकर भी प्रश्न का उत्तर देने के लिए पर्याप्त नहीं हैं।

☒ 2. कथन I का डेटा अकेले प्रश्न का उत्तर देने के लिए पर्याप्त है जबकि कथन II का डेटा अकेले प्रश्न का उत्तर देने के लिए पर्याप्त नहीं है।

☒ 3. कथन II का डेटा अकेले प्रश्न का उत्तर देने के लिए पर्याप्त है जबकि कथन I का डेटा अकेले प्रश्न का उत्तर देने के लिए पर्याप्त नहीं है।

☒ 4. कथन I और II के डेटा मिलकर प्रश्न का उत्तर देने के लिए पर्याप्त हैं।

Question ID : 264330121304

Status : Not Answered

Chosen Option : --

Q.7 एक कूट भाषा में, 'PLUMAGE' को 'GICOWNR' लिखा जाता है और 'CRUSH' को 'JUWTE' लिखा जाता है। उसी भाषा में 'TRIBAL' को कैसे लिखा जाएगा?

Ans ☒ 1. NCBJT V

☒ 2. NCBKT V

☒ 3. NCDJT V

☒ 4. NCDKT V

Question ID : 26433068943

Status : Answered

Chosen Option : 4

Q.8 इस तालिका में, दिए गए अक्षरों के लिए संख्या कूट दर्शाए गए हैं। संख्याओं के उस संयोजन का चयन कीजिए जिससे कि अक्षरों को तदनुसार व्यवस्थित करने से एक सार्थक शब्द बनाया जा सके।

L	P	C	E	I	N
1	2	3	4	5	6

Ans ☒ 1. 6,5,3,4,1,2

☒ 2. 2,4,6,3,5,1

☒ 3. 3,4,1,5,2,6

☒ 4. 2,4,6,3,1,5

Question ID : 264330121090

Status : Answered

Chosen Option : 2

Q.9 'A # B' का अर्थ है 'A, B का भाई है'।

'A @ B' का अर्थ है 'A, B की पुत्री है'।

'A & B' का अर्थ है 'A, B का पति है'।

'A % B' का अर्थ है 'A, B की पत्नी है'।

यदि S % D # F @ G & H @ J है, तो F, J से किस प्रकार संबंधित है?

Ans ☒ 1. पुत्री की पुत्री

☒ 2. भांजी

☒ 3. पुत्रवधू

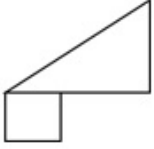
☒ 4. पुत्री

Question ID : 264330126294

Status : Answered

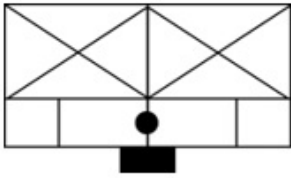
Chosen Option : 1

Q.10 उस विकल्प का चयन करें, जिसमें निम्न आकृति सन्निहित है। (घूर्णन की अनुमति नहीं है)

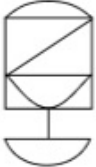


Ans

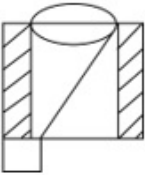
✓ 1.



✗ 2.



✗ 3.



✗ 4.



Question ID : 264330121394

Status : Answered

Chosen Option : 1

Q.11 एक निश्चित कूट भाषा में, 'MADRAS' को '112' लिखा जाता है और 'JAMMU' को '82' लिखा जाता है। उसी भाषा में 'PUNJAB' को कैसे लिखा जाएगा?

Ans ✗ 1. 109

✗ 2. 115

✗ 3. 112

✓ 4. 104

Question ID : 264330126263

Status : Not Answered

Chosen Option : --

Q.12 दिए गए संख्या-युग्मों में दूसरी संख्या पहली संख्या पर कुछ गणितीय संक्रिया(एँ) करके प्राप्त की जाती है। एक संख्या-युग्म को छोड़कर शेष सभी संख्या-युग्मों में समान संक्रिया(ओं) का पालन किया जाता है। वह विषम संख्या-युग्म ज्ञात करें।

Ans ✗ 1. 15 : 34

✗ 2. 7 : 18

✗ 3. 1 : 6

✓ 4. 18 : 42

Question ID : 264330126256

Status : Answered

Chosen Option : 4

Q.13 उस आकृति का चयन कीजिए जो निम्नलिखित आकृति श्रृंखला में प्रश्न चिह्न (?) के स्थान पर आएगी।



Ans

- ✗ 1.
- ✓ 2.
- ✗ 3.
- ✗ 4.

Question ID : 264330100891

Status : Answered

Chosen Option : 2

Q.14 निर्देश: एक कथन के बाद दो अनुमान I और II दिए गए हैं। यह मानते हुए कि दिया गया कथन सत्य है, भले ही यह सामान्य रूप से ज्ञात तथ्यों से भिन्न प्रतीत होता हो, तय करें कि दिए गए अनुमानों में से कौन सा /से अनुमान कथन का तार्किक रूप से अनुसरण करता है/करते हैं।

कथन:

कई विद्यार्थियों को मोबाइल गेम्स खेलने की आदत पड़ गई है और इसी कारण वे खराब शैक्षिक प्रदर्शन करते हैं।

अनुमान:

- I. कई विद्यार्थी मोबाइल गेम्स के कारण पढ़ाई पर ध्यान नहीं दे रहे हैं।
- II. मोबाइल गेम्स के कारण ही विद्यार्थी परीक्षा में अनुत्तीर्ण होते हैं।

Ans

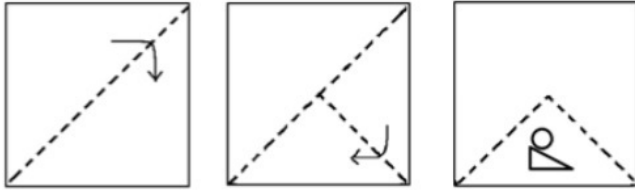
- ✗ 1. न तो I और न ही II अनुसरण करता है
- ✗ 2. I और II, दोनों अनुसरण करते हैं
- ✓ 3. केवल I अनुसरण करता है
- ✗ 4. केवल II अनुसरण करता है

Question ID : 264330128902

Status : Answered

Chosen Option : 2

Q.15 नीचे एक कागज के एक टुकड़े को मोड़ने का क्रम और मुड़े हुए कागज को काटने का तरीका दर्शाया गया है। दिए गए विकल्पों में से वह आकृति चुनें जो कागज के खुले हुए रूप से सर्वाधिक मिलती-जुलती हो।



Ans

✗ 1.



✗ 2.



✗ 3.



✓ 4.



Question ID : 264330126305

Status : Answered

Chosen Option : 3

Q.16 यदि  $\div$  का अर्थ - है,  $-$  का अर्थ  $\times$  है,  $\times$  का अर्थ  $+$  है,  $+$  का अर्थ  $\div$  है, तो प्रश्न-चिह्न (?) के स्थान पर क्या आएगा?

$$77 \div 7 \times 17 - 49 + 7 = ?$$

Ans

✗ 1. 169

✗ 2. 145

✗ 3. 119

✓ 4. 189

Question ID : 26433068118

Status : Answered

Chosen Option : 4

Q.17 इस प्रश्न में दो कथन I और II दिए गए हैं। ये कथन स्वतंत्र कारण या स्वतंत्र कारणों या एक उभयनिष्ठ कारण के प्रभाव हो सकते हैं। एक कथन दूसरे कथन का प्रभाव हो सकता है। दोनों कथनों को पढ़ें और सही उत्तर का चयन करें।

I. पिछले तीन वर्षों से, राज्य M ने राज्य की कृषि उपज में तीव्र और वास्तविक गिरावट दर्ज की है।

II. पिछले पांच वर्षों में, राज्य M में कुल औसत वर्षा में 6% की वृद्धि हुई है, जिससे किसानों को राहत मिली है।

- Ans
- ☒ 1. I और II दोनों स्वतंत्र कारण हैं
  - ☒ 2. II कारण है और I इसका संभावित प्रभाव है
  - ☒ 3. I कारण है और II इसका संभावित प्रभाव है
  - ☒ 4. I और II दोनों स्वतंत्र कारणों के प्रभाव हैं

Question ID : 264330123145

Status : Not Answered

Chosen Option : --

Q.18 उस विकल्प का चयन करें जो उन अक्षरों का प्रतिनिधित्व करता है, जिन्हें निम्नलिखित रिक्त स्थानों में बाएं से दाएं रखे जाने पर अक्षर-श्रृंखला पूरी हो जाएगी।

F I R \_ D F \_ \_ E D F \_ T \_ D F I \_ E \_

- Ans
- ☒ 1. E I S I E U E
  - ☒ 2. E G S J E U E
  - ☒ 3. E H S I E U D
  - ☒ 4. E I S I E U D

Question ID : 264330126279

Status : Answered

Chosen Option : 4

Q.19 A, B, C, D, E, F और G में से प्रत्येक की परीक्षा सोमवार से शुरू होने वाले और रविवार को समाप्त होने वाले एक ही सप्ताह के अलग-अलग दिनों में है। A की परीक्षा बुधवार को है। A और B के बीच केवल एक व्यक्ति की परीक्षा है। D की परीक्षा B के ठीक पहले वाले दिन है। F और B के बीच केवल एक व्यक्ति की परीक्षा है। G की परीक्षा A से पहले किसी एक दिन लेकिन C के बाद किसी एक दिन है। G की परीक्षा किस दिन है?

- Ans
- ☒ 1. बुधवार
  - ☒ 2. मंगलवार
  - ☒ 3. शुक्रवार
  - ☒ 4. सोमवार

Question ID : 264330121144

Status : Not Answered

Chosen Option : --

Q.20 इस प्रश्न में, कथन के बाद दो निष्कर्ष दिए गए हैं। दोनों में से कौन-सा/से निष्कर्ष सत्य है/हैं?

कथन:  $Z > F \geq A = B > G > S < E$

निष्कर्ष:

I.  $Z < A$

II.  $G < F$

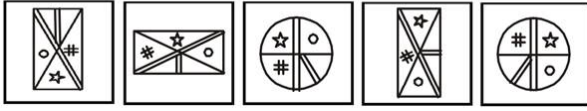
- Ans
- ☒ 1. न तो निष्कर्ष I और न ही II सत्य है।
  - ☒ 2. निष्कर्ष I और II दोनों सत्य हैं।
  - ☒ 3. केवल निष्कर्ष I सत्य है।
  - ☒ 4. केवल निष्कर्ष II सत्य है।

Question ID : 26433069224

Status : Answered

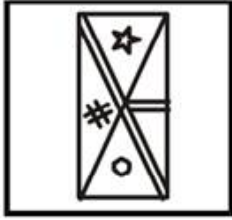
Chosen Option : 3

Q.21 नीचे दी गई पाँच आकृतियों में से चार किसी प्रकार से एक समान हैं और एक असंगत है। उस असंगत आकृति का चयन करें।



Ans

✓ 1.



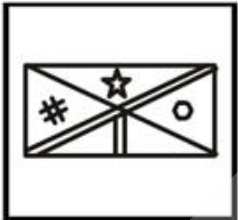
✗ 2.



✗ 3.



✗ 4.



Question ID : 264330128897

Status : Not Answered

Chosen Option : --

Q.22 एक स्थिति दी गई है, जिसके बाद दो निष्कर्ष I और II दिए गए हैं। स्थिति और दोनों निष्कर्षों को ध्यानपूर्वक पढ़ें और सही उत्तर का चयन करें।

स्थिति:

पिछले 15 वर्षों से, दुनिया के मिट्टी के बर्तनों के बाजार में 75% उत्पाद देश K से आते हैं। हालांकि, देश K के मिट्टी के बर्तन उद्योग में पिछले 3 वर्षों से हर साल रोजगार में 5-9% की लगातार गिरावट आ रही है।

निष्कर्ष:

I. रोजगार घटने के बाद भी, देश K के पास अंतरराष्ट्रीय बाजार में समान रूप से योगदान जारी रखने के लिए पर्याप्त कुम्हार हैं।

II. देश K में मिट्टी के बर्तनों की स्थानीय मांग में काफी कमी आई है, जिससे कुम्हारों के बीच रुचि कम हो गई है।

Ans

✗ 1. केवल निष्कर्ष II निकाला जा सकता है

✗ 2. निष्कर्ष I और II दोनों निकाले जा सकते हैं

✗ 3. न तो निष्कर्ष I निकाला जा सकता है और न ही II निकाला जा सकता है

✓ 4. केवल निष्कर्ष I निकाला जा सकता है

Question ID : 264330121678

Status : Answered

Chosen Option : 4

Q.23 4 मित्र A, B, C और D एक सीधी रेखा में खड़े हैं, हालांकि यह जरूरी नहीं कि वे इसी क्रम में हों। A और B कम से कम 1 व्यक्ति के आगे हैं। B, C और D के बीच में खड़ा है। D सबसे अंत में नहीं खड़ा है। पहले स्थान पर कौन खड़ा है?

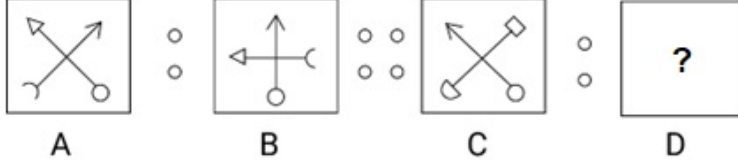
- Ans
- ☒ 1. C
  - ☒ 2. B
  - ☒ 3. D
  - ☒ 4. A

Question ID : 26433085694

Status : Answered

Chosen Option : 1

Q.24 आकृति A एक निश्चित पैटर्न के अनुसार B से संबंधित है। उसी पैटर्न का अनुसरण करते हुए आकृति C, D से संबंधित है। पैटर्न का अध्ययन करें और उस आकृति का चयन करें, जिसे D के स्थान पर रखा जाना चाहिए।



Ans

- ☒ 1.
- ☒ 2.
- ☒ 3.
- ☒ 4.

Question ID : 264330121401

Status : Answered

Chosen Option : 3

Q.25 उस समुच्चय का चयन कीजिए जिसमें संख्याएँ एक-दूसरे से उसी प्रकार संबंधित हैं जिस प्रकार निम्नलिखित समुच्चय की संख्याएँ आपस में संबंधित हैं।

(नोट: संख्याओं को उसके घटक अंकों में विभाजित किए बिना, पूर्ण संख्याओं पर गणितीय संक्रियाएं की जानी चाहिए। उदाहरण के लिए 13 - संख्या 13 पर गणितीय संक्रियाएं जैसे कि जोड़ना / घटाना / गुणा करना आदि को 13 से किया जा सकता है। 13 को 1 और 3 में तोड़ना और फिर 1 और 3 पर गणितीय संक्रियाएँ करने की अनुमति नहीं है)

(8, 1, 46)

(9, 4, 22)

- Ans
- ☒ 1. (4,2,5)
  - ☒ 2. (7,3,13)
  - ☒ 3. (7,6,13)
  - ☒ 4. (8,5,43)

Question ID : 264330126250

Status : Answered

Chosen Option : 2

Q.26 दिए गए विकल्पों में से वह संख्या चुनिए, जो निम्नलिखित श्रृंखला में प्रश्न-चिह्न (?) को प्रतिस्थापित कर सके।  
48, 75, 108, ?, 192

Ans ☒ 1. 112

☒ 2. 147

☒ 3. 153

☒ 4. 126

Question ID : 26433074541

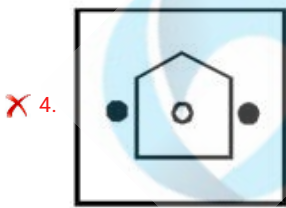
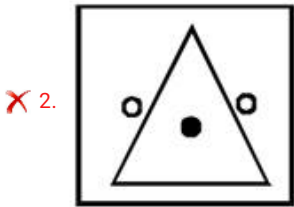
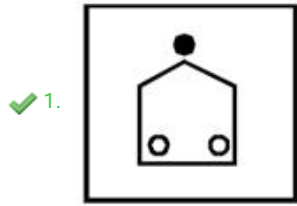
Status : Answered

Chosen Option : 2

Q.27 नीचे दी गई पाँच आकृतियों में से चार किसी प्रकार से एक समान हैं और एक असंगत है। उस असंगत आकृति का चयन करें।



Ans



Question ID : 264330128892

Status : Not Answered

Chosen Option : --

Q.28 गणितीय चिह्नों के उस सही संयोजन का चयन करें, जिसे दिए गए समीकरण में \* चिह्नों के स्थान पर क्रमिक रूप से रखे जाने पर समीकरण संतुलित हो जाए।  
 $268 * 4 * 8 * 5 * 14 = 41$

- Ans
- ☒ 1.  $\div \times + -$
  - ☒ 2.  $\div - \times +$
  - ☒ 3.  $+ \times - \div$
  - ☒ 4.  $\times \div + -$

Question ID : 26433068108

Status : Answered

Chosen Option : 2

Q.29 नीचे एक प्रश्न और उसके बाद दो कथन क्रमांक (I) और (II) दिए गए हैं। आपको यह तय करना है कि कथनों में दिया गया डाटा प्रश्न का उत्तर देने के लिए पर्याप्त है या नहीं। दोनों कथनों का अध्ययन कीजिए और उपयुक्त उत्तर का चयन कीजिए।

प्रश्न: उस पंक्ति में कुल कितने व्यक्ति खड़े हैं जिसमें सभी व्यक्तियों का मुख उत्तर की ओर है?

कथन:

(I) A बाएं छोर से चौथे स्थान पर है; M, A के दाईं ओर दूसरे स्थान पर है; और R बाएं छोर से दूसरे स्थान पर है।

(II) M दाएं छोर से चौथे स्थान पर है; M और B के बीच में केवल दो व्यक्ति खड़े हैं।

- Ans
- ☒ 1. कथन I में दिया गया डाटा अकेले प्रश्न का उत्तर देने के लिए पर्याप्त है जबकि कथन II में दिया गया डाटा प्रश्न का उत्तर देने के लिए पर्याप्त नहीं है
  - ☒ 2. कथन II में दिया गया डाटा अकेले प्रश्न का उत्तर देने के लिए पर्याप्त है जबकि कथन I में दिया गया डाटा प्रश्न का उत्तर देने के लिए पर्याप्त नहीं है
  - ☒ 3. कथन I और II दोनों में दिया गया डाटा मिलकर प्रश्न का उत्तर देने के लिए पर्याप्त है
  - ☒ 4. या तो कथन I में दिया गया डाटा अकेले या कथन II में दिया गया डाटा अकेले प्रश्न का उत्तर देने के लिए पर्याप्त है

Question ID : 264330121197

Status : Not Answered

Chosen Option : --

Q.30 निम्नलिखित शब्दों में तीन शब्द किसी न किसी प्रकार एक समान हैं और इसलिए एक समूह का निर्माण करते हैं। कौन-सा शब्द उस समूह से संबंधित नहीं है? (शब्दों को अर्थपूर्ण अंग्रेजी शब्दों के रूप में माना जाना चाहिए और शब्द में अक्षरों की संख्या / व्यंजनों / स्वरों की संख्या के आधार पर उन्हें समूहबद्ध नहीं किया जाना चाहिए।)

- Ans
- ☒ 1. सील
  - ☒ 2. चमगादड़
  - ☒ 3. चिकन
  - ☒ 4. कृतक

Question ID : 26433065635

Status : Answered

Chosen Option : 1

Section : English Language and Comprehension

Q.1 Sentences of a paragraph are given below in jumbled order. Arrange the sentences in the correct order to form a meaningful and coherent paragraph.

A. Fort Hare was more than that: it was a beacon for African scholars from all over Southern Central and Eastern Africa.

B. Until 1960, the University College of Fort Hare, in the municipality of Alice, about twenty miles due east from Healdtown, was the only residential center of higher education for blacks in South Africa.

C. For young black South Africans like myself, it was Oxford and Cambridge, Harvard and Yale, all rolled into one.

D. The regent was anxious for me to attend Fort Hare and I was gratified to be accepted there. I felt that I was being groomed for success in the world.

Ans ☒ 1. CABD

☒ 2. BACD

☒ 3. BDAC

☒ 4. BCAD

Question ID : 26433060108

Status : Answered

Chosen Option : 2

Q.2 Select the option that will improve the underlined part of the given sentence.

Riya ran as fastly as a cheetah and saved the child from falling.

Ans ☒ 1. fastest

☒ 2. faster

☒ 3. fasting

☒ 4. fast

Question ID : 26433059045

Status : Answered

Chosen Option : 4

Q.3 Choose the correct spelling of the underlined word in the given sentence.

The committee could not reach a consence even after a six-hour long meeting yesterday.

Ans ☒ 1. consensus

☒ 2. conscientios

☒ 3. conscius

☒ 4. cautius

Question ID : 26433059842

Status : Answered

Chosen Option : 2

Q.4 Select the correct collocation from the options and complete the sentence.

Rahul is \_\_\_\_\_ Coding.

Ans ☒ 1. strong of

☒ 2. experienced in

☒ 3. skilled on

☒ 4. experienced of

Question ID : 26433089399

Status : Answered

Chosen Option : 2

**Q.5** Select the option that expresses the given sentence in active voice.  
A new book on games will be released by the publishers next week.

- Ans
- ☒ 1. The publishers will publish a new book on games next week.
  - ☒ 2. The publishers will release a new book on games next week.
  - ☒ 3. The publishers will be releasing a new book next week.
  - ☒ 4. The publishers would release a new book next week.

Question ID : 26433058363  
Status : Answered  
Chosen Option : 2

**Q.6** Select the option that expresses the given sentence in reported speech.  
She asked, "Are you meeting my partners next week?"

- Ans
- ☒ 1. She asked if we were meeting her partners next week.
  - ☒ 2. She asked if we meet her partners next week.
  - ☒ 3. She asked if we were meeting her partners the following week.
  - ☒ 4. She asked about our meeting her partners next week.

Question ID : 26433059119  
Status : Answered  
Chosen Option : 3

**Q.7** The following sentence has been split into four segments. Identify the segment that contains a grammatical error.  
She watched / the thief who / steal the purse / in the bus.

- Ans
- ☒ 1. in the bus
  - ☒ 2. She watched
  - ☒ 3. steal the purse
  - ☒ 4. the thief who

Question ID : 264330123922  
Status : Answered  
Chosen Option : 2

**Q.8** Select the option that expresses the given sentence in active voice.  
A new gallery is being built inside the city stadium.

- Ans
- ☒ 1. They will build a new gallery inside the city stadium.
  - ☒ 2. They were building a new gallery inside the city stadium.
  - ☒ 3. They have been building a new gallery inside the city stadium.
  - ☒ 4. They are building a new gallery inside the city stadium.

Question ID : 264330123910  
Status : Answered  
Chosen Option : 4

**Q.9** Select the option that expresses the given sentence in indirect speech.

I said to Mohan, "He has a green book."

- Ans
- ☒ 1. I told Mohan that he had a green book.
  - ☒ 2. I told Mohan that he have a green book.
  - ☒ 3. I told Mohan that he had had a green book.
  - ☒ 4. I told Mohan that he has a green book.

Question ID : 26433084730  
Status : Answered  
Chosen Option : 4

Q.10 Select the option that expresses the given sentence in direct speech.  
I warned Rita not to be late the next day.

- Ans
- ☒ 1. I warning Rita, "Not be late tomorrow".
  - ☒ 2. I warned Rita, "Not be late tomorrow".
  - ☒ 3. I warned Rita, "Don't be late tomorrow".
  - ☒ 4. I warned to Rita, "Don't be late tomorrow".

Question ID : 26433070764  
Status : Answered  
Chosen Option : 3

Q.11 Select the most appropriate ANTONYM of the underlined word.

The manager decided to resign from his post as the bank was declared to be insolvent.

- Ans
- ☒ 1. Bankrupt
  - ☒ 2. Affluent
  - ☒ 3. Independent
  - ☒ 4. Commercial

Question ID : 26433070534  
Status : Answered  
Chosen Option : 4

Q.12 Select the most appropriate homonym to fill in the blank.  
\_\_\_\_\_ knowledge in this field is really profound.

- Ans
- ☒ 1. Their
  - ☒ 2. Dare
  - ☒ 3. There
  - ☒ 4. They're

Question ID : 26433058518  
Status : Answered  
Chosen Option : 3

Q.13 Select the option that can be used as a one-word substitute for the given group of words.

One who is a boot licker and flatterer.

- Ans
- ☒ 1. Gold-digger
  - ☒ 2. Manipulative
  - ☒ 3. Sycophant
  - ☒ 4. Gregarious

Question ID : 26433055975  
Status : Answered  
Chosen Option : 3

Q.14 Select the option that expresses the given sentence in passive voice.  
The Event Management team organised the wedding.

- Ans ☒ 1. The wedding was organised by the Event Management team.  
☐ 2. The Event Management has organised the wedding.  
☐ 3. The Event Management team is organising the wedding.  
☐ 4. The wedding is organised by the Event Management team.

Question ID : 26433059193  
Status : Answered  
Chosen Option : 1

Q.15 Select the most appropriate collocating word to fill in the blank.

Mentally strong people do not\_\_\_\_\_ to suicide over trivial issues.

- Ans ☐ 1. Fall in  
☒ 2. Give in  
☐ 3. Conceive on  
☐ 4. Make up

Question ID : 26433058374  
Status : Answered  
Chosen Option : 4

Q.16 Select the most appropriate synonym of the underlined word.

Bullying is a rather unacknowledged social evil.

- Ans ☐ 1. Notable  
☒ 2. Unidentified  
☐ 3. Infamous  
☐ 4. Named

Question ID : 264330122756  
Status : Answered  
Chosen Option : 3

Q.17 Select the INCORRECTLY spelt word.

- Ans ☐ 1. Abhorrent  
☒ 2. Acede  
☐ 3. Abscess  
☐ 4. Abseil

Question ID : 264330123969  
Status : Not Answered  
Chosen Option : --

Q.18 Select the most appropriate option to fill in the blank.

The movie was released\_\_\_\_\_ expected.

- Ans ☒ 1. later than  
☐ 2. most later than  
☐ 3. later then  
☐ 4. more later than

Question ID : 26433061504  
Status : Answered  
Chosen Option : 1

Q.19 Identify the option that arranges the given parts in the correct order to form a meaningful paragraph.

- A. In speed, in comfort, in beauty, in equipment she was a masterpiece.
- B. It was the envy and admiration of the maritime nations of the world.
- C. The Titanic was the Queen Alary of her day and the pride of the White Star Line.
- D. Everything about her was attractive and fascinating.

Ans ☒ 1. CDAB  
☒ 2. ABCD  
☒ 3. DCAB  
☒ 4. CBAD

Question ID : 26433072690

Status : Answered

Chosen Option : 1

Q.20 The following sentence has been split into four segments. Identify the segment that contains a grammatical error.

The postman / delivers the letters / through hand, / door to door.

Ans ☒ 1. through hand  
☒ 2. The postman  
☒ 3. door to door  
☒ 4. delivers the letters

Question ID : 264330123940

Status : Answered

Chosen Option : 4

Q.21 Sentences of a paragraph are given below in jumbled order. Arrange the sentences in the correct order to form a meaningful and coherent paragraph.

- A. Helping parents become savvier at picking care options and tossing retention bonuses to caregivers are others.
- B. These fixes, importantly, can make child care more affordable for parents and offer life rafts to centres haemorrhaging workers.
- C. The most proposed government solution for child care involves building on top of this flawed system is offering more vouchers to purchase private child care.
- D. But they do little to address the structural needs: improved quality for kids, better wages and working conditions for workers, and more choices in the low-income neighbourhoods.

Ans ☒ 1. CABD  
☒ 2. BADC  
☒ 3. CBDA  
☒ 4. CDBA

Question ID : 264330122798

Status : Answered

Chosen Option : 3

Q.22 Select the most appropriate homonym to fill in the blank.  
The farmers grow \_\_\_\_\_ in their fields.

Ans ☒ 1. maze  
☒ 2. maize  
☒ 3. mays  
☒ 4. mase

Question ID : 26433058529

Status : Not Answered

Chosen Option : --

Q.23 Select the most appropriate meaning of the given idiom.

Achilles' Heel

- Ans
- ☒ 1. Fast runner
  - ☒ 2. Irrelevant thing
  - ☒ 3. Costly item
  - ☒ 4. Vulnerable point

Question ID : 26433072306

Status : Answered

Chosen Option : 1

Q.24 Select the option that can be used as a one-word substitute for the given group of words.

The science and art of growing vegetables, fruits and flowers

- Ans
- ☒ 1. Horticulture
  - ☒ 2. Herpetology
  - ☒ 3. Herbing
  - ☒ 4. Hapology

Question ID : 26433072446

Status : Answered

Chosen Option : 1

Q.25 Sentences of a paragraph are given below in jumbled order. Arrange the sentences in the correct order to form a meaningful and coherent paragraph.

P. Perhaps no definition of democracy is more popular and universally acceptable than what is given by Abraham Lincoln.

Q. He defines democracy as "a government of the people, by the people and for the people".

R. Certainly, democracy is the most representative form of government.

S. To bind the people and take the nation ahead on the path of progress, democracy is the most suitable form of government for India.

- Ans
- ☒ 1. SRQP
  - ☒ 2. PQRS
  - ☒ 3. PSRQ
  - ☒ 4. QRSP

Question ID : 264330121859

Status : Answered

Chosen Option : 3

Q.26 Select the most appropriate meaning of the highlighted idiom

The actress' daughter is just a chip off the old block

- Ans
- ☒ 1. To chip off the edges
  - ☒ 2. Similar to one's parents in behaviour
  - ☒ 3. To console the dreary
  - ☒ 4. To get into the enemy's territory

Question ID : 264330120746

Status : Answered

Chosen Option : 2

Q.27 Parts of a sentence/paragraph are given below. While the first and the last parts (A and F) are in the correct order, the parts in between are jumbled up. Arrange the parts in the correct order to form a meaningful and coherent sentence/paragraph.

- A. I love
- B. so that
- C. every morning
- D. for a walk
- E. to go
- F. I can keep myself fit and healthy.

Ans ☒ 1. E, D, C, B

☒ 2. C, B, D, E

☒ 3. B, C, D, E

☒ 4. D, E, B, C

Question ID : 26433072504

Status : Answered

Chosen Option : 1

Q.28 Sentences of a paragraph are given below in jumbled order. Arrange the sentences in the correct order to form a meaningful and coherent paragraph.

- A. We reached there at about 10 a.m.
- B. The first ride we took was the Fury Wheel. It was really big, all of us were yelling and crying!
- C. Yesterday, my friends and I went on a short picnic to an amusement park.
- D. Even though we had reached on time there was a serpentine queue for the tickets. I took the entrance ticket.

Ans ☒ 1. CDBA

☒ 2. CADB

☒ 3. ADCB

☒ 4. ABCD

Question ID : 26433058356

Status : Answered

Chosen Option : 2

Q.29 Select the most appropriate ANTONYM for the word 'often' in the following sentence. Usually at Christmas, uncle often brings lovely and cherished gifts for us.

Ans ☒ 1. lovely

☒ 2. seldom

☒ 3. cherished

☒ 4. usually

Question ID : 26433058563

Status : Answered

Chosen Option : 4

**Comprehension:**

In the following passage, some words have been deleted. Read the passage carefully and select the most appropriate option to fill in each blank.

The phrase non-governmental or non-profit is commonly used to refer to the various organisations that (1)\_\_\_\_\_ civil society. In general, such organisations are distinguished by the (2)\_\_\_\_\_ that they operate for reasons other than financial gain. Surveys indicate that NGOs have a high degree of public (3)\_\_\_\_\_, which can make them a useful proxy for the concerns of society and stakeholders. NGOs range from small pressure groups on specific environmental concerns or human rights (4)\_\_\_\_\_, to educational charities, women's refuges, cultural associations, religious organisations, legal foundations, humanitarian assistance programmes – and the list could go on – to large international organisations with hundreds or even thousands of branches or members around the world.

**SubQuestion No : 30**

**Q.30** Select the most appropriate option to fill in blank number 1.

Ans ☒ 1. comprise

☐ 2. comprised

☐ 3. comprising

☐ 4. comprises

Question ID : 264330128960

Status : Answered

Chosen Option : 1

**Comprehension:**

In the following passage, some words have been deleted. Read the passage carefully and select the most appropriate option to fill in each blank.

The phrase non-governmental or non-profit is commonly used to refer to the various organisations that (1)\_\_\_\_\_ civil society. In general, such organisations are distinguished by the (2)\_\_\_\_\_ that they operate for reasons other than financial gain. Surveys indicate that NGOs have a high degree of public (3)\_\_\_\_\_, which can make them a useful proxy for the concerns of society and stakeholders. NGOs range from small pressure groups on specific environmental concerns or human rights (4)\_\_\_\_\_, to educational charities, women's refuges, cultural associations, religious organisations, legal foundations, humanitarian assistance programmes – and the list could go on – to large international organisations with hundreds or even thousands of branches or members around the world.

**SubQuestion No : 31**

**Q.31** Select the most appropriate option to fill in blank number 2.

Ans ☐ 1. clue

☐ 2. value

☐ 3. lie

☒ 4. fact

Question ID : 264330128961

Status : Answered

Chosen Option : 4

**Comprehension:**

In the following passage, some words have been deleted. Read the passage carefully and select the most appropriate option to fill in each blank.

The phrase non-governmental or non-profit is commonly used to refer to the various organisations that (1)\_\_\_\_\_ civil society. In general, such organisations are distinguished by the (2)\_\_\_\_\_ that they operate for reasons other than financial gain. Surveys indicate that NGOs have a high degree of public (3)\_\_\_\_\_, which can make them a useful proxy for the concerns of society and stakeholders. NGOs range from small pressure groups on specific environmental concerns or human rights (4)\_\_\_\_\_, to educational charities, women's refuges, cultural associations, religious organisations, legal foundations, humanitarian assistance programmes – and the list could go on – to large international organisations with hundreds or even thousands of branches or members around the world.

**SubQuestion No : 32**

**Q.32** Select the most appropriate option to fill in blank number 3.

Ans ☒ 1. thought

☒ 2. belief

☒ 3. idea

☒ 4. trust

Question ID : 264330128962

Status : Answered

Chosen Option : 1

**Comprehension:**

In the following passage, some words have been deleted. Read the passage carefully and select the most appropriate option to fill in each blank.

The phrase non-governmental or non-profit is commonly used to refer to the various organisations that (1)\_\_\_\_\_ civil society. In general, such organisations are distinguished by the (2)\_\_\_\_\_ that they operate for reasons other than financial gain. Surveys indicate that NGOs have a high degree of public (3)\_\_\_\_\_, which can make them a useful proxy for the concerns of society and stakeholders. NGOs range from small pressure groups on specific environmental concerns or human rights (4)\_\_\_\_\_, to educational charities, women's refuges, cultural associations, religious organisations, legal foundations, humanitarian assistance programmes – and the list could go on – to large international organisations with hundreds or even thousands of branches or members around the world.

**SubQuestion No : 33**

**Q.33** Select the most appropriate option to fill in blank number 4.

Ans ☒ 1. evaluation

☒ 2. prohibitions

☒ 3. discrimination

☒ 4. violations

Question ID : 264330128963

Status : Answered

Chosen Option : 1

### Comprehension:

Read the following passage and answer the questions given after it.

The Indian Space Research Organisation (ISRO) announced another successful mission. ISRO chairman S. Somanath said that three small satellites successfully separated and were injected into orbit.

ISRO had launched three small satellites powered by its SSLV-D2 launch vehicle from Satish Dhawan Space Centre at Sriharikota on February 10, 2023 at 09:18 AM IST. The launch vehicle was carrying EOS-07, Janus-1 & AzaadiSAT-2 satellites and aimed to inject them into a 450 km circular orbit. The launch took place at the first launch pad at SDSC SHAR, Sriharikota.

The SSLV-D2 had to take a 15 minutes flight to inject EOS-07, Janus-1 and AzaadiSAT-2 satellites into 450 km circular lower orbit. "It is configured with three solid propulsion stages and a velocity terminal module. It is a 34 m tall, 2 m diameter vehicle having a lift-off mass of 120 t," said ISRO. The EOS-07 satellite weighs 156.3 kg and is made by ISRO.

About 13 minutes into its flight, the SSLV rocket ejected EOS-07 and soon after that the other two satellites Janus-1 and AzaadiSAT-2 were ejected – all at an altitude of 450 km, said ISRO.

With the new rocket in its portfolio, ISRO will have three rockets – Polar Satellite Launch Vehicle (PSLV) and its variants (cost about Rs 200 crore), Geosynchronous Satellite Launch Vehicle (GSLV-MkII cost about Rs 272 crore and LVM3 Rs 434 crore) and SSLV (Development cost of three rockets about Rs 56 crore each) and production cost may go down later.

"New experiments include mm-Wave Humidity Sounder and Spectrum Monitoring Payload. Janus-1, a 10.2 kg satellite belongs to ANTARIS, USA. A 8.7 kg satellite AzaadiSAT-2 is a combined effort of about 750 girl students across India guided by Space Kidz India, Chennai," it added.

SSLV caters to the launch of up to 500 kg satellites to Low Earth Orbits on 'launch-on-demand' basis. "It provides low-cost access to Space, offers low turn-around time and flexibility in accommodating multiple satellites, and demands minimal launch infrastructure," as per a statement by ISRO

### SubQuestion No : 34

Q.34 Which satellite was injected into the orbit first?

- Ans ☒ 1. EOS-07
- ☐ 2. AzaadiSAT-2
- ☐ 3. Janus 1
- ☐ 4. Antaris

Question ID : 264330128792

Status : Answered

Chosen Option : 1

### Comprehension:

Read the following passage and answer the questions given after it.

The Indian Space Research Organisation (ISRO) announced another successful mission. ISRO chairman S. Somanath said that three small satellites successfully separated and were injected into orbit.

ISRO had launched three small satellites powered by its SSLV-D2 launch vehicle from Satish Dhawan Space Centre at Sriharikota on February 10, 2023 at 09:18 AM IST. The launch vehicle was carrying EOS-07, Janus-1 & AzaadiSAT-2 satellites and aimed to inject them into a 450 km circular orbit. The launch took place at the first launch pad at SDSC SHAR, Sriharikota.

The SSLV-D2 had to take a 15 minutes flight to inject EOS-07, Janus-1 and AzaadiSAT-2 satellites into 450 km circular lower orbit. "It is configured with three solid propulsion stages and a velocity terminal module. It is a 34 m tall, 2 m diameter vehicle having a lift-off mass of 120 t," said ISRO. The EOS-07 satellite weighs 156.3 kg and is made by ISRO.

About 13 minutes into its flight, the SSLV rocket ejected EOS-07 and soon after that the other two satellites Janus-1 and AzaadiSAT-2 were ejected — all at an altitude of 450 km, said ISRO.

With the new rocket in its portfolio, ISRO will have three rockets — Polar Satellite Launch Vehicle (PSLV) and its variants (cost about Rs 200 crore), Geosynchronous Satellite Launch Vehicle (GSLV-MkII cost about Rs 272 crore and LVM3 Rs 434 crore) and SSLV (Development cost of three rockets about Rs 56 crore each) and production cost may go down later.

"New experiments include mm-Wave Humidity Sounder and Spectrum Monitoring Payload. Janus-1, a 10.2 kg satellite belongs to ANTARIS, USA. A 8.7 kg satellite AzaadiSAT-2 is a combined effort of about 750 girl students across India guided by Space Kidz India, Chennai," it added.

SSLV caters to the launch of up to 500 kg satellites to Low Earth Orbits on 'launch-on-demand' basis. "It provides low-cost access to Space, offers low turn-around time and flexibility in accommodating multiple satellites, and demands minimal launch infrastructure," as per a statement by ISRO

### SubQuestion No : 35

Q.35 After reading the passage it can be inferred that it is

- Ans
- ☒ 1. a magazine article
  - ☒ 2. a government release
  - ☒ 3. an editorial
  - ☒ 4. a news item

Question ID : 264330128790

Status : Answered

Chosen Option : 4

### Comprehension:

Read the following passage and answer the questions given after it.

The Indian Space Research Organisation (ISRO) announced another successful mission. ISRO chairman S. Somanath said that three small satellites successfully separated and were injected into orbit.

ISRO had launched three small satellites powered by its SSLV-D2 launch vehicle from Satish Dhawan Space Centre at Sriharikota on February 10, 2023 at 09:18 AM IST. The launch vehicle was carrying EOS-07, Janus-1 & AzaadiSAT-2 satellites and aimed to inject them into a 450 km circular orbit. The launch took place at the first launch pad at SDSC SHAR, Sriharikota.

The SSLV-D2 had to take a 15 minutes flight to inject EOS-07, Janus-1 and AzaadiSAT-2 satellites into 450 km circular lower orbit. "It is configured with three solid propulsion stages and a velocity terminal module. It is a 34 m tall, 2 m diameter vehicle having a lift-off mass of 120 t," said ISRO. The EOS-07 satellite weighs 156.3 kg and is made by ISRO.

About 13 minutes into its flight, the SSLV rocket ejected EOS-07 and soon after that the other two satellites Janus-1 and AzaadiSAT-2 were ejected – all at an altitude of 450 km, said ISRO.

With the new rocket in its portfolio, ISRO will have three rockets – Polar Satellite Launch Vehicle (PSLV) and its variants (cost about Rs 200 crore), Geosynchronous Satellite Launch Vehicle (GSLV-MkII cost about Rs 272 crore and LVM3 Rs 434 crore) and SSLV (Development cost of three rockets about Rs 56 crore each) and production cost may go down later.

"New experiments include mm-Wave Humidity Sounder and Spectrum Monitoring Payload. Janus-1, a 10.2 kg satellite belongs to ANTARIS, USA. A 8.7 kg satellite AzaadiSAT-2 is a combined effort of about 750 girl students across India guided by Space Kidz India, Chennai," it added.

SSLV caters to the launch of up to 500 kg satellites to Low Earth Orbits on 'launch-on-demand' basis. "It provides low-cost access to Space, offers low turn-around time and flexibility in accommodating multiple satellites, and demands minimal launch infrastructure," as per a statement by ISRO

#### SubQuestion No : 36

Q.36 Match the satellites with their weight.

Satellites Weight

- a. EOS-07 1. 10.2 kg
- b. AzaadiSAT-2 2. 156.3
- c. Janus 1 3. 8.7 kg

Ans ☒ 1. a-2, b-3, c-1

☒ 2. a-2, b-1, c-3

☒ 3. a -3, b -1, c -2

☒ 4. a-1, b -3, c-2

Question ID : 264330128793

Status : Answered

Chosen Option : 1

### Comprehension:

Read the following passage and answer the questions given after it.

The Indian Space Research Organisation (ISRO) announced another successful mission. ISRO chairman S. Somanath said that three small satellites successfully separated and were injected into orbit.

ISRO had launched three small satellites powered by its SSLV-D2 launch vehicle from Satish Dhawan Space Centre at Sriharikota on February 10, 2023 at 09:18 AM IST. The launch vehicle was carrying EOS-07, Janus-1 & AzaadiSAT-2 satellites and aimed to inject them into a 450 km circular orbit. The launch took place at the first launch pad at SDSC SHAR, Sriharikota.

The SSLV-D2 had to take a 15 minutes flight to inject EOS-07, Janus-1 and AzaadiSAT-2 satellites into 450 km circular lower orbit. "It is configured with three solid propulsion stages and a velocity terminal module. It is a 34 m tall, 2 m diameter vehicle having a lift-off mass of 120 t," said ISRO. The EOS-07 satellite weighs 156.3 kg and is made by ISRO.

About 13 minutes into its flight, the SSLV rocket ejected EOS-07 and soon after that the other two satellites Janus-1 and AzaadiSAT-2 were ejected – all at an altitude of 450 km, said ISRO.

With the new rocket in its portfolio, ISRO will have three rockets – Polar Satellite Launch Vehicle (PSLV) and its variants (cost about Rs 200 crore), Geosynchronous Satellite Launch Vehicle (GSLV-MkII cost about Rs 272 crore and LVM3 Rs 434 crore) and SSLV (Development cost of three rockets about Rs 56 crore each) and production cost may go down later.

"New experiments include mm-Wave Humidity Sounder and Spectrum Monitoring Payload. Janus-1, a 10.2 kg satellite belongs to ANTARIS, USA. A 8.7 kg satellite AzaadiSAT-2 is a combined effort of about 750 girl students across India guided by Space Kidz India, Chennai," it added.

SSLV caters to the launch of up to 500 kg satellites to Low Earth Orbits on 'launch-on-demand' basis. "It provides low-cost access to Space, offers low turn-around time and flexibility in accommodating multiple satellites, and demands minimal launch infrastructure," as per a statement by ISRO

### SubQuestion No : 37

Q.37 What is the passage mainly about?

- Ans    ☒ 1. launch of three small satellites in orbit by ISRO
- ☐ 2. development of SSLV rocket by ISRO
- ☐ 3. efforts to cut costs of satellites by ISRO
- ☐ 4. new experiments on satellites by ISRO

Question ID : 264330128791

Status : Answered

Chosen Option : 1

### Comprehension:

Read the following passage and answer the questions given after it.

Wetlands are amongst the most productive ecosystems on the Earth and provide many important services to human society. They exhibit enormous diversity according to their genesis, geographical location, water regime and chemistry, dominant species, and soil and sediment characteristics. Globally, the areal extent of wetland ecosystems ranges from 917 million hectares (m ha) to more than 1275 m ha. One of the first widely used wetland classifications systems, devised by Cowardin et al., 1979, categorized wetlands into marine (coastal wetlands), estuarine (including deltas, tidal marshes, and mangrove swamps), lacustrine (lakes), riverine (along rivers and streams), and palustrine (marshes, swamps and bogs) based on their hydrological, ecological and geological characteristics. Ramsar Convention on Wetlands was an international treaty signed in 1971. Overall, 1052 sites in Europe; 289 sites in Asia; 359 sites in Africa; 175 sites in South America; 211 sites in North America; and 79 sites in Oceania region have been identified as Ramsar sites or wetlands of International importance.

As per the Ramsar Convention definition most of the natural water bodies (such as rivers, lakes, coastal lagoons, mangroves, peat land, coral reefs) and man-made wetlands (such as ponds, farm ponds, irrigated fields, sacred groves, salt pans, reservoirs, gravel pits, sewage farms and canals) in India constitute the wetland ecosystem distributed in different geographical regions ranging from Himalayas to Deccan plateau. As of February, 2022, India has 49 Ramsar sites covering an area of 10,93,636 hectares, the highest in South Asia.

As per the estimates, India has about 757.06 thousand wetlands with a total wetland area of 15.3 m ha, accounting for nearly 4.7% of the total geographical area of the country. Out of this, areas under inland wetlands accounts for 69%, coastal wetlands 27%, and other wetlands (smaller than 2.25 ha) 4%.

Gujarat has the highest proportion (17.5%) and Mizoram has the lowest proportion (0.66%) of the area under wetlands. Among Union Territories, Lakshadweep has the highest proportion (around 96%) and Chandigarh has the least proportion (3%) of geographical area under wetlands.

### SubQuestion No : 38

**Q.38 Under which category of wetlands, are delta and mangrove swamps included?**

**Ans**

✓ 1. estuarine

✗ 2. lacustrine

✗ 3. marine

✗ 4. palustrine

Question ID : 264330128831

Status : Answered

Chosen Option : 1

### Comprehension:

Read the following passage and answer the questions given after it.

Wetlands are amongst the most productive ecosystems on the Earth and provide many important services to human society. They exhibit enormous diversity according to their genesis, geographical location, water regime and chemistry, dominant species, and soil and sediment characteristics. Globally, the areal extent of wetland ecosystems ranges from 917 million hectares (m ha) to more than 1275 m ha. One of the first widely used wetland classifications systems, devised by Cowardin et al., 1979, categorized wetlands into marine (coastal wetlands), estuarine (including deltas, tidal marshes, and mangrove swamps), lacustrine (lakes), riverine (along rivers and streams), and palustrine (marshes, swamps and bogs) based on their hydrological, ecological and geological characteristics. Ramsar Convention on Wetlands was an international treaty signed in 1971. Overall, 1052 sites in Europe; 289 sites in Asia; 359 sites in Africa; 175 sites in South America; 211 sites in North America; and 79 sites in Oceania region have been identified as Ramsar sites or wetlands of International importance.

As per the Ramsar Convention definition most of the natural water bodies (such as rivers, lakes, coastal lagoons, mangroves, peat land, coral reefs) and man-made wetlands (such as ponds, farm ponds, irrigated fields, sacred groves, salt pans, reservoirs, gravel pits, sewage farms and canals) in India constitute the wetland ecosystem distributed in different geographical regions ranging from Himalayas to Deccan plateau. As of February, 2022, India has 49 Ramsar sites covering an area of 10,93,636 hectares, the highest in South Asia.

As per the estimates, India has about 757.06 thousand wetlands with a total wetland area of 15.3 m ha, accounting for nearly 4.7% of the total geographical area of the country. Out of this, areas under inland wetlands accounts for 69%, coastal wetlands 27%, and other wetlands (smaller than 2.25 ha) 4%.

Gujarat has the highest proportion (17.5%) and Mizoram has the lowest proportion (0.66%) of the area under wetlands. Among Union Territories, Lakshadweep has the highest proportion (around 96%) and Chandigarh has the least proportion (3%) of geographical area under wetlands.

### SubQuestion No : 39

Q.39 Match the continents with the number of Ramsar sites.

continents no. of Ramsar sites

a. North America 1. 1052 sites

b. Europe 2. 211 sites

c. Africa 3. 289 sites

d. Asia 4. 359 sites

Ans ☒ 1. a -4, b -1, c -2, d -3

☒ 2. a -3, b -4, c -1, d -2

☒ 3. a -2, b -1, c -4, d -3

☒ 4. a -2, b -3, c -4, d -1

Question ID : 264330128832

Status : Answered

Chosen Option : 3

### Comprehension:

Read the following passage and answer the questions given after it.

Wetlands are amongst the most productive ecosystems on the Earth and provide many important services to human society. They exhibit enormous diversity according to their genesis, geographical location, water regime and chemistry, dominant species, and soil and sediment characteristics. Globally, the areal extent of wetland ecosystems ranges from 917 million hectares (m ha) to more than 1275 m ha. One of the first widely used wetland classifications systems, devised by Cowardin et al., 1979, categorized wetlands into marine (coastal wetlands), estuarine (including deltas, tidal marshes, and mangrove swamps), lacustrine (lakes), riverine (along rivers and streams), and palustrine (marshes, swamps and bogs) based on their hydrological, ecological and geological characteristics. Ramsar Convention on Wetlands was an international treaty signed in 1971. Overall, 1052 sites in Europe; 289 sites in Asia; 359 sites in Africa; 175 sites in South America; 211 sites in North America; and 79 sites in Oceania region have been identified as Ramsar sites or wetlands of International importance.

As per the Ramsar Convention definition most of the natural water bodies (such as rivers, lakes, coastal lagoons, mangroves, peat land, coral reefs) and man-made wetlands (such as ponds, farm ponds, irrigated fields, sacred groves, salt pans, reservoirs, gravel pits, sewage farms and canals) in India constitute the wetland ecosystem distributed in different geographical regions ranging from Himalayas to Deccan plateau. As of February, 2022, India has 49 Ramsar sites covering an area of 10,93,636 hectares, the highest in South Asia.

As per the estimates, India has about 757.06 thousand wetlands with a total wetland area of 15.3 m ha, accounting for nearly 4.7% of the total geographical area of the country. Out of this, areas under inland wetlands accounts for 69%, coastal wetlands 27%, and other wetlands (smaller than 2.25 ha) 4%.

Gujarat has the highest proportion (17.5%) and Mizoram has the lowest proportion (0.66%) of the area under wetlands. Among Union Territories, Lakshadweep has the highest proportion (around 96%) and Chandigarh has the least proportion (3%) of geographical area under wetlands.

### SubQuestion No : 40

Q.40 In India, what kind of wetlands occupy the largest area?

- Ans
- ☒ 1. inland wetlands
  - ☐ 2. small wetlands
  - ☐ 3. mangrove swamps
  - ☐ 4. coastal wetlands

Question ID : 264330128833

Status : Answered

Chosen Option : 4

### Comprehension:

Read the following passage and answer the questions given after it.

Wetlands are amongst the most productive ecosystems on the Earth and provide many important services to human society. They exhibit enormous diversity according to their genesis, geographical location, water regime and chemistry, dominant species, and soil and sediment characteristics. Globally, the areal extent of wetland ecosystems ranges from 917 million hectares (m ha) to more than 1275 m ha. One of the first widely used wetland classifications systems, devised by Cowardin et al., 1979, categorized wetlands into marine (coastal wetlands), estuarine (including deltas, tidal marshes, and mangrove swamps), lacustrine (lakes), riverine (along rivers and streams), and palustrine (marshes, swamps and bogs) based on their hydrological, ecological and geological characteristics. Ramsar Convention on Wetlands was an international treaty signed in 1971. Overall, 1052 sites in Europe; 289 sites in Asia; 359 sites in Africa; 175 sites in South America; 211 sites in North America; and 79 sites in Oceania region have been identified as Ramsar sites or wetlands of International importance.

As per the Ramsar Convention definition most of the natural water bodies (such as rivers, lakes, coastal lagoons, mangroves, peat land, coral reefs) and man-made wetlands (such as ponds, farm ponds, irrigated fields, sacred groves, salt pans, reservoirs, gravel pits, sewage farms and canals) in India constitute the wetland ecosystem distributed in different geographical regions ranging from Himalayas to Deccan plateau. As of February, 2022, India has 49 Ramsar sites covering an area of 10,93,636 hectares, the highest in South Asia.

As per the estimates, India has about 757.06 thousand wetlands with a total wetland area of 15.3 m ha, accounting for nearly 4.7% of the total geographical area of the country. Out of this, areas under inland wetlands accounts for 69%, coastal wetlands 27%, and other wetlands (smaller than 2.25 ha) 4%.

Gujarat has the highest proportion (17.5%) and Mizoram has the lowest proportion (0.66%) of the area under wetlands. Among Union Territories, Lakshadweep has the highest proportion (around 96%) and Chandigarh has the least proportion (3%) of geographical area under wetlands.

### SubQuestion No : 41

Q.41 Which of the following questions cannot be answered after reading the above passage?

- Ans
- ☒ 1. How many Ramsar sites are there in the world?
  - ☒ 2. Why are wetlands important for human societies?
  - ☒ 3. How much area is covered by wetlands in India?
  - ☒ 4. What is the classification of wetlands?

Question ID : 264330128830

Status : Answered

Chosen Option : 2

### Comprehension:

Read the given passage and answer the questions that follow.

The sage of science, Einstein, was sitting in a depressive and pensive mood one evening. His eyes were brimming with tears. The pain was evident on his face. He peeped out of the window of his room. The sun had set a few minutes back. The sky was filled with a reddish glow. At this sunset, he felt that it was humanity that had sunk into devilish darkness and the reddish glow in the sky was the blood of humanity spilling all over the sky from earth. With tired steps, he walked back to his chair and settled down. It was the 9th of August 1945. Three days back, he had felt the same agony as if someone had torn him apart. He was deeply hurt and depressed when he heard on the radio that America had dropped an atom bomb on the Japanese city, Hiroshima. Today, within three days another bomb was dropped on another city, Nagasaki and lakhs of people had been killed.

He had heard that the blast released so much energy that it had paled all past destructions in comparison and death had played out a pitiable dance of destruction. The flames that broke out of the bomb were burning, melting, and exploding buildings. Scared of the heat of the bomb, people had jumped into lakes and rivers, but the water was boiling and the people too were burnt and killed. The animals in the water were already boiled to death. Animals, trees, herbs, fragrant flowering plants were all turned into ashes. The atomic energy destruction had just not stopped there. It had entered the atmosphere there and had spread radiation that would affect people for generations to come and would also bring about destructive irreversible biological change in animals and plants.

As the news of the atomic attack reached Einstein, and he became aware of the glaring horror of the abuse of atomic energy, his distress and restlessness knew no bounds. He could not control himself and picked up his violin to turn his mind on to other things. While playing the violin, he tried to dissolve his distress in its sad notes, but couldn't. He was burning on the embers of destruction; his heart was filled with an ocean of agony and tears just continued streaming uncontrollably out of his eyes. Night had fallen. His daughter came up and asked him to eat something as he had not taken anything for the last four days. His voice was restrained and he said, "I don't feel like eating."

He could not sleep that night. Lying down, he was thinking how he had drawn the attention of the then American President Roosevelt towards the destructive powers of an atomic bomb. He had thought that this would be used to scare Hitler and put an end to the barbarism that Hitler was up to. However, Roosevelt kept him in the dark and made false promises. Eventually, he had abused Einstein's equation of  $E = mc^2$  that resulted in the destructive experiments. His actions had made science and scientists as murderers.

Einstein kept on thinking for a long time. Eventually, he slipped into sleep. When he woke up at dawn, there was a new dawn in him too. The atomic threat had transformed his heart.

#### SubQuestion No : 42

Q.42 Select the most appropriate ANTONYM of 'set' from the passage.

- Ans
- ☒ 1. Level
  - ☒ 2. Rise
  - ☒ 3. Get up
  - ☒ 4. Stand

Question ID : 264330128928

Status : Answered

Chosen Option : 2

### Comprehension:

Read the given passage and answer the questions that follow.

The sage of science, Einstein, was sitting in a depressive and pensive mood one evening. His eyes were brimming with tears. The pain was evident on his face. He peeped out of the window of his room. The sun had set a few minutes back. The sky was filled with a reddish glow. At this sunset, he felt that it was humanity that had sunk into devilish darkness and the reddish glow in the sky was the blood of humanity spilling all over the sky from earth. With tired steps, he walked back to his chair and settled down. It was the 9th of August 1945. Three days back, he had felt the same agony as if someone had torn him apart. He was deeply hurt and depressed when he heard on the radio that America had dropped an atom bomb on the Japanese city, Hiroshima. Today, within three days another bomb was dropped on another city, Nagasaki and lakhs of people had been killed.

He had heard that the blast released so much energy that it had paled all past destructions in comparison and death had played out a pitiable dance of destruction. The flames that broke out of the bomb were burning, melting, and exploding buildings. Scared of the heat of the bomb, people had jumped into lakes and rivers, but the water was boiling and the people too were burnt and killed. The animals in the water were already boiled to death. Animals, trees, herbs, fragrant flowering plants were all turned into ashes. The atomic energy destruction had just not stopped there. It had entered the atmosphere there and had spread radiation that would affect people for generations to come and would also bring about destructive irreversible biological change in animals and plants.

As the news of the atomic attack reached Einstein, and he became aware of the glaring horror of the abuse of atomic energy, his distress and restlessness knew no bounds. He could not control himself and picked up his violin to turn his mind on to other things. While playing the violin, he tried to dissolve his distress in its sad notes, but couldn't. He was burning on the embers of destruction; his heart was filled with an ocean of agony and tears just continued streaming uncontrollably out of his eyes. Night had fallen. His daughter came up and asked him to eat something as he had not taken anything for the last four days. His voice was restrained and he said, "I don't feel like eating."

He could not sleep that night. Lying down, he was thinking how he had drawn the attention of the then American President Roosevelt towards the destructive powers of an atomic bomb. He had thought that this would be used to scare Hitler and put an end to the barbarism that Hitler was up to. However, Roosevelt kept him in the dark and made false promises. Eventually, he had abused Einstein's equation of  $E = mc^2$  that resulted in the destructive experiments. His actions had made science and scientists as murderers.

Einstein kept on thinking for a long time. Eventually, he slipped into sleep. When he woke up at dawn, there was a new dawn in him too. The atomic threat had transformed his heart.

#### SubQuestion No : 43

Q.43 Why did Einstein refuse to eat?

- Ans
- ☒ 1. As he felt happy
  - ☒ 2. As he felt guilty
  - ☒ 3. As he felt worried
  - ☒ 4. As he felt sick

Question ID : 264330128926

Status : Answered

Chosen Option : 3

### Comprehension:

Read the given passage and answer the questions that follow.

The sage of science, Einstein, was sitting in a depressive and pensive mood one evening. His eyes were brimming with tears. The pain was evident on his face. He peeped out of the window of his room. The sun had set a few minutes back. The sky was filled with a reddish glow. At this sunset, he felt that it was humanity that had sunk into devilish darkness and the reddish glow in the sky was the blood of humanity spilling all over the sky from earth. With tired steps, he walked back to his chair and settled down. It was the 9th of August 1945. Three days back, he had felt the same agony as if someone had torn him apart. He was deeply hurt and depressed when he heard on the radio that America had dropped an atom bomb on the Japanese city, Hiroshima. Today, within three days another bomb was dropped on another city, Nagasaki and lakhs of people had been killed.

He had heard that the blast released so much energy that it had paled all past destructions in comparison and death had played out a pitiable dance of destruction. The flames that broke out of the bomb were burning, melting, and exploding buildings. Scared of the heat of the bomb, people had jumped into lakes and rivers, but the water was boiling and the people too were burnt and killed. The animals in the water were already boiled to death. Animals, trees, herbs, fragrant flowering plants were all turned into ashes. The atomic energy destruction had just not stopped there. It had entered the atmosphere there and had spread radiation that would affect people for generations to come and would also bring about destructive irreversible biological change in animals and plants.

As the news of the atomic attack reached Einstein, and he became aware of the glaring horror of the abuse of atomic energy, his distress and restlessness knew no bounds. He could not control himself and picked up his violin to turn his mind on to other things. While playing the violin, he tried to dissolve his distress in its sad notes, but couldn't. He was burning on the embers of destruction; his heart was filled with an ocean of agony and tears just continued streaming uncontrollably out of his eyes. Night had fallen. His daughter came up and asked him to eat something as he had not taken anything for the last four days. His voice was restrained and he said, "I don't feel like eating."

He could not sleep that night. Lying down, he was thinking how he had drawn the attention of the then American President Roosevelt towards the destructive powers of an atomic bomb. He had thought that this would be used to scare Hitler and put an end to the barbarism that Hitler was up to. However, Roosevelt kept him in the dark and made false promises. Eventually, he had abused Einstein's equation of  $E = mc^2$  that resulted in the destructive experiments. His actions had made science and scientists as murderers.

Einstein kept on thinking for a long time. Eventually, he slipped into sleep. When he woke up at dawn, there was a new dawn in him too. The atomic threat had transformed his heart.

#### SubQuestion No : 44

Q.44 What is the central theme of the passage?

- Ans
- ☐ 1. Einstein and his life
  - ☐ 2. Science and its bad side
  - ☒ 3. Atomic war and its consequences
  - ☐ 4. Einstein and his love for music

Question ID : 264330128927

Status : Answered

Chosen Option : 3

### Comprehension:

Read the given passage and answer the questions that follow.

The sage of science, Einstein, was sitting in a depressive and pensive mood one evening. His eyes were brimming with tears. The pain was evident on his face. He peeped out of the window of his room. The sun had set a few minutes back. The sky was filled with a reddish glow. At this sunset, he felt that it was humanity that had sunk into devilish darkness and the reddish glow in the sky was the blood of humanity spilling all over the sky from earth. With tired steps, he walked back to his chair and settled down. It was the 9th of August 1945. Three days back, he had felt the same agony as if someone had torn him apart. He was deeply hurt and depressed when he heard on the radio that America had dropped an atom bomb on the Japanese city, Hiroshima. Today, within three days another bomb was dropped on another city, Nagasaki and lakhs of people had been killed. He had heard that the blast released so much energy that it had paled all past destructions in comparison and death had played out a pitiable dance of destruction. The flames that broke out of the bomb were burning, melting, and exploding buildings. Scared of the heat of the bomb, people had jumped into lakes and rivers, but the water was boiling and the people too were burnt and killed. The animals in the water were already boiled to death. Animals, trees, herbs, fragrant flowering plants were all turned into ashes. The atomic energy destruction had just not stopped there. It had entered the atmosphere there and had spread radiation that would affect people for generations to come and would also bring about destructive irreversible biological change in animals and plants. As the news of the atomic attack reached Einstein, and he became aware of the glaring horror of the abuse of atomic energy, his distress and restlessness knew no bounds. He could not control himself and picked up his violin to turn his mind on to other things. While playing the violin, he tried to dissolve his distress in its sad notes, but couldn't. He was burning on the embers of destruction; his heart was filled with an ocean of agony and tears just continued streaming uncontrollably out of his eyes. Night had fallen. His daughter came up and asked him to eat something as he had not taken anything for the last four days. His voice was restrained and he said, "I don't feel like eating." He could not sleep that night. Lying down, he was thinking how he had drawn the attention of the then American President Roosevelt towards the destructive powers of an atomic bomb. He had thought that this would be used to scare Hitler and put an end to the barbarism that Hitler was up to. However, Roosevelt kept him in the dark and made false promises. Eventually, he had abused Einstein's equation of  $E = mc^2$  that resulted in the destructive experiments. His actions had made science and scientists as murderers. Einstein kept on thinking for a long time. Eventually, he slipped into sleep. When he woke up at dawn, there was a new dawn in him too. The atomic threat had transformed his heart.

#### SubQuestion No : 45

Q.45 Select an appropriate title for the passage.

- Ans
- ☒ 1. Einstein and his Violin
  - ☒ 2. War and Destruction
  - ☒ 3. Atom Bombs
  - ☒ 4. Death in Hiroshima

Question ID : 264330128925

Status : Answered

Chosen Option : 1

#### Section : General Awareness

Q.1 दिल्ली और पटना के बीच चलने वाली गर्म, शुष्क पीड़ादायक पवनों का नाम बताइए।

- Ans
- ☒ 1. फूलों वाली बौछार
  - ☒ 2. काल बैसाखी
  - ☒ 3. आम्रवर्षा
  - ☒ 4. लू

Question ID : 264330123841

Status : Answered

Chosen Option : 4

Q.2 निम्नलिखित में से कौन 1915 के अधिवेशन के दौरान भारतीय राष्ट्रीय कांग्रेस के अध्यक्ष थे?

- Ans ☒ 1. सत्येंद्र प्रसन्न सिन्हा
- ☒ 2. अबिका चरण मजूमदार
- ☒ 3. मदन मोहन मालवीय
- ☒ 4. भूपेंद्र नाथ बोस

Question ID : 264330123887

Status : Answered

Chosen Option : 2

Q.3 निम्नलिखित में से कौन सा/से कथन सत्य है/हैं?

- (A) COP28 को नई दिल्ली, भारत में आयोजित करने का प्रस्ताव है।
- (B) पहला संयुक्त राष्ट्र जलवायु परिवर्तन सम्मेलन 1995 में आयोजित किया गया था।
- (C) पहला संयुक्त राष्ट्र जलवायु परिवर्तन सम्मेलन पेरिस, फ्रांस में आयोजित किया गया था।

- Ans ☒ 1. B और C
- ☒ 2. केवल B
- ☒ 3. केवल A
- ☒ 4. A और B

Question ID : 264330121480

Status : Answered

Chosen Option : 1

Q.4 स्तंभों का मिलान करें।

संस्थाएं

मुख्यालय

- (A) आईसीएआर-केन्द्रीय शुष्क बागवानी संस्थान  
(ICAR-Central Institute for Arid Horticulture)
- (B) आईसीएआर-केन्द्रीय कपास अनुसंधान संस्थान  
(ICAR-Central Institute of Cotton Research)
- (C) आईसीएआर-राष्ट्रीय चावल अनुसंधान संस्थान  
(ICAR-National Rice Research Institute)
- (D) आईसीएआर-भारतीय बागवानी अनुसंधान संस्थान  
(ICAR-Indian Institute of Horticultural Research)

- (I) बीकानेर
- (II) नागपुर
- (III) कटक
- (IV) बेंगलुरु

- Ans ☒ 1. A-I, B-II, C-III, D-IV
- ☒ 2. A-IV, B-III, C-II, D-I
- ☒ 3. A-IV, B-III, C-I, D-II
- ☒ 4. A-I, B-II, C-IV, D-III

Question ID : 264330121515

Status : Not Answered

Chosen Option : --

Q.5 निम्नलिखित में से किसने जनवरी 2022 में सर्वश्रेष्ठ विकसित एड-टेक (ed-tech) समाधान प्रदान करने के लिए NEAT 3.0 लॉन्च किया?

- Ans
- ☒ 1. इलेक्ट्रॉनिक्स और सूचना प्रौद्योगिकी मंत्रालय
  - ☒ 2. सामाजिक न्याय और अधिकारिता मंत्रालय
  - ☒ 3. शिक्षा मंत्रालय
  - ☒ 4. विधि और न्याय मंत्रालय

Question ID : 26433082822  
Status : Answered  
Chosen Option : 3

Q.6 पुष्यमित्र, जो कि अंतिम मौर्य सम्राट बृहद्रथ का सेनापति था, ने राजा की हत्या कर दी और एक नए राजवंश की स्थापना की। निम्नलिखित में से उसका वंश कौन-सा था?

- Ans
- ☒ 1. कण्व
  - ☒ 2. सातवाहन
  - ☒ 3. शुंग
  - ☒ 4. चेदि

Question ID : 264330123891  
Status : Answered  
Chosen Option : 3

Q.7 एकसमान त्वरण के बारे में निम्नलिखित में से कौन-सा कथन सही है?

- Ans
- ☒ 1. स्थिर चाल से गतिमान वस्तु एकसमान त्वरण का उदाहरण है।
  - ☒ 2. स्प्रिंग की गति एकसमान त्वरण का उदाहरण है।
  - ☒ 3. मुक्त रूप से गिरने वाली वस्तु एकसमान त्वरण का उदाहरण है।
  - ☒ 4. घर्षण रहित सतह पर गतिमान वस्तु एकसमान त्वरण प्राप्त कर सकती है।

Question ID : 26433054900  
Status : Answered  
Chosen Option : 1

Q.8 अगस्त 2021 में, श्रम एवं रोजगार मंत्रालय ने असंगठित श्रमिकों (UWs) का राष्ट्रीय डेटाबेस बनाने के लिए \_\_\_\_\_ पोर्टल लॉन्च किया।

- Ans
- ☒ 1. eShram (ई-श्रम)
  - ☒ 2. eRozgaar (ई-रोजगार)
  - ☒ 3. eUmang (ई-उमंग)
  - ☒ 4. eGyan (ई-ज्ञान)

Question ID : 264330123896  
Status : Answered  
Chosen Option : 1

Q.9 उस समूह की पहचान कीजिए जिसमें आने वाले पादपों की शारीरिक संरचना स्पष्ट नहीं होती है, इन पादपों को सामान्यतः शैवाल कहा जाता है और ये पौधे मुख्य रूप से जलीय होते हैं।

- Ans
- ☒ 1. ब्रायोफाइट्स
  - ☒ 2. इंजियोस्पर्म
  - ☒ 3. थैलोफाइट्स
  - ☒ 4. टेरिडोफाइट्स

Question ID : 26433055772  
Status : Answered  
Chosen Option : 1

Q.10 1935 में निम्नलिखित में से किसने शैवाल की संरचना और उनके प्रजनन तंत्र की व्याख्या की थी?

- Ans
- ☒ 1. एम.ओ.पी. अयंगर (MOP Iyengar)
  - ☒ 2. कैरलस लिनिअस (Carolus Linnaeus)
  - ☒ 3. विलियम हेनरी (William Henry)
  - ☒ 4. एफ.ई. फ्रिच (FE Fritsch)

Question ID : 264330123824

Status : Not Answered

Chosen Option : --

Q.11 स्तंभों का मिलान करें।

ऋतु	भारतीय कैलेंडर के अनुसार महीना
(A) बसंत	(I) चैत्र-वैशाख
(B) ग्रीष्म	(II) आश्विन-कार्तिक
(C) वर्षा	(III) श्रावण-भाद्र
(D) शरद	(IV) ज्येष्ठ-आषाढ़

- Ans
- ☒ 1. A-II, B-III, C-IV, D-I
  - ☒ 2. A-I, B-IV, C-III, D-II
  - ☒ 3. A-IV, B-I, C-III, D-II
  - ☒ 4. A-IV, B-III, C-I, D-II

Question ID : 264330121529

Status : Answered

Chosen Option : 2

Q.12 बहु-राज्य सहकारी समिति (संशोधन) विधेयक, 2022 के संबंध में निम्नलिखित में से कौन-सा/से कथन सही है/हैं?

- A. लोकसभा ने इस विधेयक को संसद की संयुक्त समिति के पास भेज दिया, जिसमें निचले सदन के 21 सदस्य और उच्च सदन के 10 सदस्य शामिल थे।
- B. इस विधेयक में चुनावी सुधार लाने के लिए एक 'सहकारी निर्वाचन प्राधिकरण' स्थापित करने का भी प्रस्ताव है।
- C. विधेयक में एक अनुच्छेद - 63A भी है, जो 'रुग्ण बहु-राज्य सहकारी समितियों' के पुनरुद्धार के लिए 'सहकारी पुनर्वास, पुनर्निर्माण और विकास निधि की स्थापना' से संबंधित है।

- Ans
- ☒ 1. A, B और C
  - ☒ 2. केवल A और C
  - ☒ 3. केवल B और C
  - ☒ 4. केवल A और B

Question ID : 264330122934

Status : Not Answered

Chosen Option : --

Q.13 भारत में, दिवाला और शोधन अक्षमता संहिता 2016 के अनुसार, कंपनियों को दिवाला समाधान की प्रक्रिया कितने दिनों में पूरी करनी होगी?

- Ans ☒ 1. 180  
☒ 2. 170  
☒ 3. 150  
☒ 4. 120

Question ID : 26433059320  
Status : Not Answered  
Chosen Option : --

Q.14 प्रेरित धारा उच्चतम होती है जब कुंडली की गति की दिशा \_\_\_\_\_ होती है।

- Ans ☒ 1. चुंबकीय क्षेत्र के लंबवत  
☒ 2. चुंबकीय क्षेत्र के लंबवत नहीं  
☒ 3. विद्युत स्रोत के लंबवत  
☒ 4. विद्युत के लंबवत

Question ID : 264330123852  
Status : Not Answered  
Chosen Option : --

Q.15 राष्ट्रीय खेल 2022 में पदक तालिका के संबंध में सूची-I और सूची-II का मिलान कीजिए।

सूची-I (टीम)

- a) सर्विसेज टीम  
b) महाराष्ट्र  
c) हरियाणा  
d) कर्नाटक

सूची-II (पदक)

- i) सर्वाधिक पदक (स्वर्ण, रजत, कांस्य सहित)  
ii) पूरे खेलों में सर्वाधिक स्वर्ण पदक  
iii) पदक तालिका में तीसरा स्थान (स्वर्ण पदकों की संख्या के अनुसार)  
iv) पदक तालिका में चौथा स्थान (स्वर्ण पदकों की संख्या के अनुसार)

- Ans ☒ 1. a-ii, b-i, c-iii, d-iv  
☒ 2. a-ii, b-i, c-iv, d-iii  
☒ 3. a-i, b-ii, c-iv, d-iii  
☒ 4. a-i, b-ii, c-iii, d-iv

Question ID : 264330122947  
Status : Not Answered  
Chosen Option : --

Q.16 वैश्विक तापन के संबंध में निम्नलिखित कथन दिए गए हैं।

A. वैश्विक तापन मानव गतिविधियों, मुख्य रूप से जीवाश्म ईंधन के जलने के कारण पूर्व-औद्योगिक काल से देखी गई पृथ्वी की सतह का दीर्घकालिक तापन है, जो पृथ्वी के वायुमंडल में ऊष्मा-अवशोषण करने वाले ग्रीनहाउस गैस के स्तर को बढ़ाता है।

B. वैश्विक तापन जलवायु परिवर्तन का कारण बनती है, जो व्यापक बाढ़ और चरम मौसम के रूप में पृथ्वी पर जीवन के लिए गंभीर खतरा उत्पन्न करती है।

इनमें से कौन से कथन सही हैं?

- Ans ☒ 1. A और B दोनों  
☒ 2. A और B दोनों गलत हैं  
☒ 3. केवल A  
☒ 4. केवल B

Question ID : 264330121159  
Status : Answered  
Chosen Option : 1

Q.17 प्लेटीहेल्मिंथीज़ में पाई जाने वाली एक विशेष उत्सर्जी कोशिका कौन-सी है, जो किडनी की तरह काम करती है तथा निस्यंदन के माध्यम से अपशिष्ट पदार्थ को हटाती है?

- Ans
- ☐ 1. स्टेम कोशिका
  - ☐ 2. स्पंज कोशिका
  - ☐ 3. वसा कोशिका
  - ☒ 4. फ्लेम कोशिका

Question ID : 264330123822  
Status : Not Answered  
Chosen Option : --

Q.18 भारत में, केंद्र और राज्य सरकारों की सभी प्राप्तियों और व्यय की संपरीक्षा करने की जिम्मेदारी निम्नलिखित में से किसकी होती है?

- Ans
- ☐ 1. भारत के महान्यायवादी (Attorney General for India)
  - ☐ 2. संघ लोक सेवा आयोग (Union Public Service Commission)
  - ☐ 3. महाधिवक्ता (Advocate General)
  - ☒ 4. नियंत्रक एवं महालेखापरीक्षक (Comptroller and Auditor-General)

Question ID : 264330110129  
Status : Answered  
Chosen Option : 4

Q.19 भारतीय संविधान के अनुच्छेद 32 और 226 के तहत कितने प्रकार की रिट जारी की जा सकती है?

- Ans
- ☐ 1. छः
  - ☒ 2. पाँच
  - ☐ 3. सात
  - ☐ 4. चार

Question ID : 264330110791  
Status : Answered  
Chosen Option : 2

Q.20 भारतीय रिज़र्व बैंक ने \_\_\_\_\_ को एनबीएफसी-एमएफआई (NBFC-MFI) के लिए एक व्यापक नियामक ढाँचा पेश किया था।

- Ans
- ☐ 1. 10 दिसंबर 2015
  - ☐ 2. 8 दिसंबर 2013
  - ☒ 3. 2 दिसंबर 2011
  - ☐ 4. 5 दिसंबर 2012

Question ID : 264330123880  
Status : Not Answered  
Chosen Option : --

Q.21 नोबेल पुरस्कार विजेता ग्लेन टी. सीबोर्ग के सम्मान में अमेरिकी शोधकर्ताओं द्वारा किस कृत्रिम तत्व को अस्थायी रूप से सीबोर्गियम नाम दिया गया है?

- Ans
- ☐ 1. तत्व 97
  - ☒ 2. तत्व 106
  - ☐ 3. तत्व 103
  - ☐ 4. तत्व 90

Question ID : 264330123826  
Status : Not Answered  
Chosen Option : --

Q.22 हाइड्रोजन आवर्त सारणी के किन दो समूहों के गुणों से मेल खाता है?

- Ans
- ☒ 1. समूह 1 और समूह 3
  - ☒ 2. समूह 2 और समूह 17
  - ☒ 3. समूह 2 और समूह 4
  - ☒ 4. समूह 1 और समूह 17

Question ID : 26433086702

Status : Answered

Chosen Option : 2

Q.23 माल की पर्याप्त आपूर्ति सुनिश्चित करने हेतु अलाउद्दीन खिलजी के अधीन किस अधिकारी के लिए व्यापारियों का रजिस्टर बनाए रखना आवश्यक था?

- Ans
- ☒ 1. शहाना-ए-मंडी
  - ☒ 2. मुहतसिब
  - ☒ 3. नज़ीर
  - ☒ 4. रईस परवाना

Question ID : 264330109012

Status : Answered

Chosen Option : 1

Q.24 भारतीय संविधान का अनुच्छेद 148 \_\_\_\_\_ के एक स्वतंत्र कार्यालय का उपबंध करता है।

- Ans
- ☒ 1. भारत के महान्यायवादी
  - ☒ 2. भारत के राष्ट्रपति
  - ☒ 3. राज्य के महाधिवक्ता
  - ☒ 4. भारत के नियंत्रक-महालेखापरीक्षक

Question ID : 264330113408

Status : Answered

Chosen Option : 4

Q.25 राष्ट्रीय जनगणना में भारत के भीतर \_\_\_\_\_ समूहों की पहचान नहीं की जाती है।

- Ans
- ☒ 1. अनुसूचित जाति
  - ☒ 2. नृजातीय
  - ☒ 3. जनजातीय
  - ☒ 4. धार्मिक

Question ID : 264330109503

Status : Answered

Chosen Option : 2

Section : Computer Knowledge Module

Q.1 निम्नलिखित में से कौन सा कीबोर्ड शॉर्टकट Windows 10 होम स्क्रीन चयनित वस्तु के लिए प्रॉपर्टी खोलता है?

- Ans
- ☒ 1. Alt + Enter
  - ☒ 2. Ctrl + Enter
  - ☒ 3. Alt + Shift + Spacebar
  - ☒ 4. Ctrl + Shift + Spacebar

Question ID : 264330128703

Status : Answered

Chosen Option : 1

Q.2 \_\_\_\_\_ Which of the following is also known as a flash drive?

- Ans
- ☒ 1. Disk Array
  - ☒ 2. Pen drive
  - ☒ 3. SSD
  - ☒ 4. HDD

Question ID : 264330128702  
Status : Answered  
Chosen Option : 2

Q.3 Which among the following registers in Instruction Cycle holds the last instruction fetched?

- Ans
- ☒ 1. Memory Address Register (MAR)
  - ☒ 2. Memory Buffer Register (MBR)
  - ☒ 3. Program Counter (PC)
  - ☒ 4. Instruction Register (IR)

Question ID : 264330128759  
Status : Answered  
Chosen Option : 2

Q.4 निम्नलिखित में से कौन सा सेंट्रल प्रोसेसिंग यूनिट (CPU) के बारे में गलत है?

- Ans
- ☒ 1.  
कंट्रोल यूनिट उस क्रम को नियंत्रित करती है जिसमें निर्देश डालते हैं और प्रोसेसर से निकलते हैं और निर्देशों को कैसे निष्पादित किया जाता है।
  - ☒ 2.  
अरिथमेटिक लॉजिक यूनिट (ALU) को कम्प्यूटर का गणितीय मस्तिष्क भी कहा जाता है।
  - ☒ 3.  
कंट्रोल यूनिट संचालन क्रम को निर्देशित और प्रबंधित करती है।
  - ☒ 4.  
अरिथमेटिक लॉजिक यूनिट (ALU) इनपुट लेने, इसे संकेत में बदलने और आगे के संचालन के लिए इसे संग्रहीत करने के लिए जिम्मेदार है।

Question ID : 264330128700  
Status : Answered  
Chosen Option : 4

Q.5 एक \_\_\_\_\_ या तो मालवेयर या हार्डवेयर हो सकता है। इस मालवेयर का मुख्य मकसद यूजर द्वारा कीबोर्ड पर प्रेस की गई कीज को रिकॉर्ड करना है।

- Ans
- ☒ 1. ट्रोजन
  - ☒ 2. रूलकिट
  - ☒ 3. वर्म
  - ☒ 4. कीलॉगर

Question ID : 264330128748  
Status : Answered  
Chosen Option : 4

Q.6 निम्नलिखित में से किस कुंजिपटल शॉर्टकट का उपयोग विंडोज एक्सप्लोरर खोलने के लिए किया जा सकता है?

- Ans
- ☒ 1. विंडोज की + R
  - ☒ 2. विंडोज की + W
  - ☒ 3. विंडोज की + X
  - ☒ 4. विंडोज की + E

Question ID : 264330128690

Status : Answered

Chosen Option : 1

Q.7 एक \_\_\_\_\_ पोर्ट एक बार में एक बाइट के एक बिट को बिट्स की सिंगल स्ट्रीम के रूप में ट्रांसमिट करता है। यह धीमी गति से डेटा को लंबी दूरी पर प्रसारित करने के लिए है।

- Ans
- ☒ 1. समानांतर
  - ☒ 2. यूनिवर्सल सीरियल बस
  - ☒ 3. डिस्प्ले
  - ☒ 4. सीरियल

Question ID : 264330128706

Status : Answered

Chosen Option : 4

Q.8 निम्नलिखित में से कौन सा कथन गलत है?

- Ans
- ☒ 1. अपलोडिंग डिवाइस से वेबसर्वर पर डेटा कॉपी करने की एक प्रक्रिया है।
  - ☒ 2. कुछ भी डाउनलोड करने के लिए वेबसर्वर में मेमोरी की आवश्यकता होती है।
  - ☒ 3. डेटा अपलोड करने के समय प्रयोगकर्ता के डिवाइस से वेब सर्वर पर जाता है।
  - ☒ 4. डाउनलोडिंग वेबसर्वर से मशीन पर फाइल कॉपी करने की एक प्रक्रिया है।

Question ID : 264330128692

Status : Answered

Chosen Option : 1

Q.9 \_\_\_\_\_ एक रीडिंग इकाई है जो मुद्रित पाठ्य को कैरेक्टर दर कैरेक्टर स्कैन करके पढ़ता है।

- Ans
- ☒ 1. ऑप्टिकल कैरेक्टर रीडर (OCR)
  - ☒ 2. ट्रैक बॉल
  - ☒ 3. मैग्नेटिक इंक कार्ड रीडर (MICR)
  - ☒ 4. डिजिटाइज़र

Question ID : 264330128764

Status : Answered

Chosen Option : 1

Q.10 निम्नलिखित में से कौन सा कैश मेमरी के बारे में गलत है?

Ans ☒ 1.

यह उन प्रोग्रामों को रखता है जिन्हें कम समय में रन किया जा सकता है।

☒ 2.

यह सी.पी.यु. और मुख्य मेमोरी के बीच हाई स्पीड बफर के रूप में कार्य करता है।

☒ 3. यह मुख्य मेमरी से धीमी होती है।

☒ 4. यह अस्थायी उपयोग में डाटा को संग्रहीत करता है।

Question ID : 264330128701

Status : Answered

Chosen Option : 3

Q.11 \_\_\_\_\_ एक सांसारिक प्रोग्राम या कोड है जो स्वयं को सॉफ्टवेयर के दूसरे भाग से जोड़ता है, और फिर उस सॉफ्टवेयर के चलने पर खुद को पुनः पेश करता है।

Ans

☒ 1. विषाणु

☒ 2. ट्रोजन

☒ 3. एडवेयर

☒ 4. स्पाइवेयर

Question ID : 264330128754

Status : Answered

Chosen Option : 1

Q.12 \_\_\_\_\_ server acts as a set of components accessible to the software developer through an API defined by the platform itself.

Ans

☒ 1. File Transfer Protocol (FTP)

☒ 2. Application

☒ 3. Mail

☒ 4. Database

Question ID : 264330128697

Status : Answered

Chosen Option : 1

Q.13 \_\_\_\_\_ एक नेटवर्किंग डिवाइस है जो कई कंप्यूटरों या संचार उपकरणों को जोड़ने के दौरान नेटवर्क ट्रैफिक को फिल्टर करता है।

Ans

☒ 1. वितरक

☒ 2. रूटर

☒ 3. रिपीटर

☒ 4. स्विच

Question ID : 264330128707

Status : Answered

Chosen Option : 4

Q.14 निम्नलिखित में से कौन-सा बटन एमएस-वर्ड 2010 में डिफॉल्ट रूप से क्विक एक्सेस टूल बार (Quick Access Toolbar) में मौजूद होता है?

- Ans
- ✓ 1. सेव (Save), अन्डू (Undo), रीडू (Redo),
  - ✗ 2. अन्डू (Undo), रीडू (Redo), कट (Cut)
  - ✗ 3. पेस्ट (Paste), रीडू (Redo), कॉपी (Copy)
  - ✗ 4. अन्डू (Undo), रीडू (Redo), नेम (Name)

Question ID : 264330128695  
Status : Answered  
Chosen Option : 1

Q.15 एमएस-एक्सेल 2010 में शीघ्रता से एक नई, ब्लैंक वर्कबुक (blank workbook) बनाने के लिए निम्नलिखित में से किस शॉर्टकट कुंजी (key) का उपयोग किया जाता है?

- Ans
- ✗ 1. Ctrl+W
  - ✗ 2. Alt+Shift+W
  - ✓ 3. Ctrl+N
  - ✗ 4. Alt+Shift+N

Question ID : 264330128689  
Status : Answered  
Chosen Option : 3

Q.16 एमएस-वर्ड 365 डॉक्यूमेंट को बंद करने के लिए निम्नलिखित में से किस कीबोर्ड शॉर्टकट का उपयोग किया जाता है?

- Ans
- ✓ 1. Alt + F4
  - ✗ 2. Ctrl + F3
  - ✗ 3. Alt + F3
  - ✗ 4. Shift + F5

Question ID : 264330128753  
Status : Answered  
Chosen Option : 1

Q.17 Which of the following Internet protocol specifies how data is exchanged over the Internet and how it should be broken into IP packets?

- Ans
- ✓ 1. TCP
  - ✗ 2. SMTP
  - ✗ 3. HTTP
  - ✗ 4. PPP

Question ID : 264330128758  
Status : Answered  
Chosen Option : 1

Q.18 Consider the following statement about MATCH() function of MS-Excel 2010:

P: It searches for a specified item in a range of cells, and then returns the relative position of that item in the range.

Q: The MATCH function syntax is MATCH(lookup\_value, lookup\_array, [match\_type])

R: All the arguments in a MATCH() function are required.

Which of the following statement(s) is/are true

- Ans
- ☒ 1. Only P and R
  - ☒ 2. Only Q
  - ☒ 3. Only P and Q
  - ☒ 4. All P, Q, R

Question ID : 264330128691

Status : Answered

Chosen Option : 1

Q.19 जीमेल (Gmail) में, जब आप कोई मेल प्राप्त करते हैं और उसी मेल के जवाब में और केवल मूल प्रेषक को मेल भेजना चाहते हैं, तो आप किसका उपयोग करते हैं?

- Ans
- ☒ 1. रिप्लाई (Reply)
  - ☒ 2. फॉरवर्ड (Forward)
  - ☒ 3. रिप्लाई ऑल (Reply All)
  - ☒ 4. रिप्लाई (Reply) और फॉरवर्ड (Forward) दोनों

Question ID : 264330128696

Status : Answered

Chosen Option : 1

Q.20 निम्नलिखित में से कौन सी चुंबकीय डिस्क नहीं है?

- Ans
- ☒ 1. डिस्क पैक
  - ☒ 2. विंचेस्टर डिस्क
  - ☒ 3. डी. वी. डी.
  - ☒ 4. ज़िप डिस्क

Question ID : 264330128705

Status : Answered

Chosen Option : 4

## Combined Graduate Level Examination Tier II 2022

Roll Number	
Candidate Name	
Venue Name	iON Digital Zone iDZ Dholi Magri
Exam Date	07/03/2023
Exam Time	9:00 AM - 12:00 PM
Subject	CGLE 2022 Tier II Paper I

### Section : Mathematical Abilities

Q.1 यदि  $a \cot \theta + b \operatorname{cosec} \theta = p$  और  $b \cot \theta + a \operatorname{cosec} \theta = q$  है, तो  $p^2 - q^2$  निम्न में से किसके बराबर है?

Ans

☐ 1.  $a^2 + b^2$

☐ 2.  $a^2 - b^2$

☒ 3.  $b^2 - a^2$

☐ 4.  $b - a$

Question ID : 264330126422

Status : Answered

Chosen Option : 2

Q.2 एक समलंब चतुर्भुज ABCD में, AB और DC एक दूसरे के समानांतर हैं तथा उनके बीच की लंबवत दूरी 8 m है। साथ ही,  $(AD) = (BC) = 10$  m, और  $(AB) = 15$  m  $<$   $(DC)$  है। समलंब चतुर्भुज ABCD का परिमाप (m में) क्या होगा?

Ans

☐ 1. 66

☐ 2. 58

☐ 3. 50

☒ 4. 62

Question ID : 264330122874

Status : Answered

Chosen Option : 4

Q.3  $\frac{0.7 \times 0.7 \times 0.7 + 0.3 \times 0.3 \times 0.3}{0.7 \times 0.7 - 0.7 \times 0.3 + 0.3 \times 0.3}$  का मान \_\_\_\_\_ है।

Ans

☐ 1. 3

☒ 2. 1

☐ 3. -1

☐ 4. 2

Question ID : 26433066408

Status : Answered

Chosen Option : 2

Q.4 यदि  $2^x + 3^y = 17$  तथा  $2^{x+2} - 3^{y+1} = 5$  है, तो:

- Ans
- ☒ 1.  $x = 3, y = 3$
  - ☒ 2.  $x = 1, y = 2$
  - ☒ 3.  $x = 1, y = 3$
  - ☒ 4.  $x = 3, y = 2$

Question ID : 264330121656

Status : Answered

Chosen Option : 4

Q.5 P, Q और R अकेले कार्य करते हुए किसी कार्य को क्रमशः 5 दिन, 10 दिन और 15 दिन में पूरा कर सकते हैं। P और Q पहले दिन कार्य करते हैं, P और R दूसरे दिन कार्य करते हैं तथा P और Q तीसरे दिन कार्य करते हैं तथा इसी क्रम में कार्य करते हैं जब तक कार्य पूरा नहीं हो जाता। कार्य कितने दिन में पूरा होगा?

- Ans
- ☒ 1.  $\frac{7}{2}$
  - ☒ 2.  $\frac{9}{2}$
  - ☒ 3.  $\frac{13}{2}$
  - ☒ 4.  $\frac{5}{2}$

Question ID : 264330121728

Status : Answered

Chosen Option : 3

Q.6 उन बिंदुओं के निर्देशांक ज्ञात कीजिए जिनमें आरेख  $57x - 19y = 399$  निर्देशांक अक्षों को काटता है।

- Ans
- ☒ 1. x-अक्ष पर (7,0) और y-अक्ष पर (0,21)
  - ☒ 2. x-अक्ष पर (-7,0) और y-अक्ष पर (0,-21)
  - ☒ 3. x-अक्ष पर (7,0) और y-अक्ष पर (0,-21)
  - ☒ 4. x-अक्ष पर (-7,0) और y-अक्ष पर (0,21)

Question ID : 264330121743

Status : Answered

Chosen Option : 3

Q.7 रजनीश ने एक बैंक से ₹1,500 की राशि उधार ली और दो समान वार्षिक किश्तों में ब्याज सहित पूरी राशि चुका दी, जहां रजनीश ने बैंक से उधार लेने के एक वर्ष बाद पहली किश्त का भुगतान किया। यदि ब्याज की दर 40% वार्षिक थी और ब्याज वार्षिक रूप से चक्रवृद्धि होता था, तो रजनीश द्वारा भुगतान की गई प्रत्येक किश्त का मूल्य (₹ में) ज्ञात करें।

- Ans
- ☒ 1. 1125
  - ☒ 2. 1225
  - ☒ 3. 1470
  - ☒ 4. 1350

Question ID : 264330122844

Status : Answered

Chosen Option : 2

Q.8 एक क्लियरेंस सेल में, एक दुकानदार 45% की छूट देता है। यदि किसी ग्राहक ने सेल के दौरान ₹330 में एक शर्ट खरीदी, तो उस शर्ट का अंकित मूल्य क्या है?

- Ans ☒ 1. ₹600  
☐ 2. ₹650  
☐ 3. ₹500  
☐ 4. ₹550

Question ID : 26433058790  
Status : Answered  
Chosen Option : 1

Q.9 प्रति दिन 10 घंटे काम करते हुए, 6 व्यक्ति एक निश्चित समय में एक दीवार बना सकते हैं। 12 व्यक्ति प्रति दिन कितने घंटे/मिनट काम करके उतने ही समय में दीवार का निर्माण कर सकते हैं?

- Ans ☐ 1. 10 घंटे  
☐ 2. 20 घंटे  
☐ 3. 7 घंटे 30 मिनट  
☒ 4. 5 घंटे

Question ID : 26433061599  
Status : Answered  
Chosen Option : 4

Q.10 निम्नलिखित संख्या समुच्चयों का औसत ज्ञात करें।  
693, 456, 876, 532, 934, 691, 596, 398, 682

- Ans ☒ 1. 650.89  
☐ 2. 725.90  
☐ 3. 550.50  
☐ 4. 750.80

Question ID : 26433061239  
Status : Answered  
Chosen Option : 1

Q.11 A ने ₹75,000 के निवेश के साथ एक व्यवसाय शुरू किया और 5 महीने बाद ₹80,000 के निवेश के साथ B भी इस व्यवसाय में शामिल हो जाता है। 1 वर्ष के बाद उन्हें ₹4,08,800 का लाभ प्राप्त होता है। A और B का हिस्सा (₹ में) ज्ञात कीजिए।

- Ans ☐ 1. 2,48,000 and 1,60,800  
☐ 2. 2,49,500 and 1,59,300  
☒ 3. 2,52,000 and 1,56,800  
☐ 4. 2,50,000 and 1,58,800

Question ID : 264330121714  
Status : Answered  
Chosen Option : 3

Q.12 350m लंबी एक मालगाड़ी 1250 m लंबी सुरंग को 80 सेकंड में पार करती है। मालगाड़ी की चाल क्या है?

- Ans ☐ 1. 56 km/h  
☐ 2. 64 km/h  
☐ 3. 78 km/h  
☒ 4. 72 km/h

Question ID : 264330126389  
Status : Answered  
Chosen Option : 4

Q.13 तीन अंकों की सबसे बड़ी संख्या जो 3, 5 और 9 से विभाजित होने पर समान शेषफल 2 देती है, \_\_\_\_\_ है।

- Ans
- ☒ 1. 984
  - ☒ 2. 992
  - ☒ 3. 998
  - ☒ 4. 999

Question ID : 26433085415  
Status : Answered  
Chosen Option : 2

Q.14 दिए गए डेटा का बहुलक ज्ञात कीजिए।  
5, 7, 9, 7, 3, 7, 5, 7, 8, 6, 7

- Ans
- ☒ 1. 7
  - ☒ 2. 3
  - ☒ 3. 5
  - ☒ 4. 6

Question ID : 264330122996  
Status : Answered  
Chosen Option : 1

Q.15 एक प्रिज्म और एक पिरामिड का समान आधार और समान ऊंचाई है। प्रिज्म और पिरामिड के आयतनों का अनुपात ज्ञात कीजिए।

- Ans
- ☒ 1. 1:3
  - ☒ 2. 2:3
  - ☒ 3. 3:1
  - ☒ 4. 3:2

Question ID : 264330121752  
Status : Not Answered  
Chosen Option : --

Q.16 यदि किसी सम बहुभुज का एक अंतःकोण किसी सम दसभुज के एक अंतःकोण का  $\frac{15}{16}$  गुना है, तो बहुभुज के विकर्णों की संख्या ज्ञात कीजिए।

- Ans
- ☒ 1. 2
  - ☒ 2. 14
  - ☒ 3. 35
  - ☒ 4. 20

Question ID : 264330121756  
Status : Answered  
Chosen Option : 3

Q.17 यदि दो एल.ई.डी. टी.वी. और एक मोबाइल फोन की कीमत ₹31,000 है, जबकि दो मोबाइल फोन और एक एल.ई.डी. टी.वी. की कीमत ₹35,000 है, तो एक मोबाइल फोन की कीमत ज्ञात करें।

Ans

- ✓ 1. ₹13,000  
✗ 2. ₹12,500  
✗ 3. ₹13,500  
✗ 4. ₹12,000

Question ID : 26433063394  
Status : Answered  
Chosen Option : 1

Q.18 बेलन का आयतन क्या होगा यदि बेलन की त्रिज्या 10 cm और ऊँचाई 20 cm हो? ( $\pi = 3.14$  लें)

Ans

- ✓ 1. 6280 cm<sup>3</sup>  
✗ 2. 6260 cm<sup>3</sup>  
✗ 3. 5280 cm<sup>3</sup>  
✗ 4. 5306 cm<sup>3</sup>

Question ID : 26433058253  
Status : Answered  
Chosen Option : 1

Q.19 11 विभिन्न प्रेक्षणों के एक समुच्चय की माधिका 73.2 है। यदि समुच्चय के सबसे बड़े पांच प्रेक्षणों में से प्रत्येक में 3 की वृद्धि की जाती है, तो इस नए समुच्चय की माधिका :

Ans

- ✓ 1. मूल समुच्चय की माधिका के समान ही रहती है  
✗ 2. मूल समुच्चय की माधिका की 3 गुना हो जाती है  
✗ 3. 3 बढ़ जाती है  
✗ 4. 3 घट जाती है

Question ID : 264330121733  
Status : Answered  
Chosen Option : 3

Q.20 680 मीटर ऊँची एक इमारत के शीर्ष से एक टावर के शीर्ष का उन्नयन कोण 45° है तथा उसी इमारत के आधार से उस टावर के शीर्ष का उन्नयन कोण 60° है। टावर की ऊँचाई ( मीटर में) क्या है?

Ans

- ✗ 1.  $310(3 + \sqrt{3})$   
✗ 2.  $310(3 - \sqrt{3})$   
✓ 3.  $340(3 + \sqrt{3})$   
✗ 4.  $340(3 - \sqrt{3})$

Question ID : 264330121759  
Status : Answered  
Chosen Option : 4

Q.21  $(\sin \theta + \operatorname{cosec} \theta)^2 + (\cos \theta + \sec \theta)^2 = ?$

- Ans
- ☐ 1.  $5 + \tan^2 \theta - \cot^2 \theta$
  - ☐ 2.  $7 + \tan^2 \theta - \cot^2 \theta$
  - ☐ 3.  $5 + \tan^2 \theta + \cot^2 \theta$
  - ☒ 4.  $7 + \tan^2 \theta + \cot^2 \theta$

Question ID : 264330126430  
Status : Not Answered  
Chosen Option : --

Q.22 PQRS एक चक्रीय चतुर्भुज है। यदि  $\angle P$ ,  $\angle R$  का तीन गुना और  $\angle S$ ,  $\angle Q$  का चार गुना है, तो  $\angle S + \angle R$  का योग क्या होगा?

- Ans
- ☒ 1.  $189^\circ$
  - ☐ 2.  $169^\circ$
  - ☐ 3.  $171^\circ$
  - ☐ 4.  $187^\circ$

Question ID : 264330121660  
Status : Answered  
Chosen Option : 1

Q.23 Rs.60 प्रति kg की लागत वाले कितने kg चावल को Rs.42 प्रति kg की लागत वाले 24 kg चावल के साथ मिलाया जाना चाहिए, ताकि परिणामी मिश्रण को Rs.56 प्रति kg की दर से बेचने पर 12% का लाभ हो सके?

- Ans
- ☐ 1. 20 kg
  - ☐ 2. 21.2 kg
  - ☒ 3. 19.2 kg
  - ☐ 4. 22 kg

Question ID : 26433056302  
Status : Not Answered  
Chosen Option : --

Q.24 यदि  $x = \sqrt{64} + \sqrt{121} - \sqrt{169}$  है, तो  $x^2$  का मान ज्ञात करें।

- Ans
- ☒ 1. 36
  - ☐ 2. 49
  - ☐ 3. 25
  - ☐ 4. 16

Question ID : 264330122832  
Status : Answered  
Chosen Option : 1

Q.25 दिया गया है कि  $\triangle ABC \cong \triangle PQR$ ,  $AB = 5$  cm,  $\angle B = 40^\circ$ , और  $\angle A = 80^\circ$ । निम्नलिखित में से कौन-सा विकल्प सही है?

- Ans
- ☐ 1.  $PQ = 5$  cm और  $\angle P = 60^\circ$
  - ☒ 2.  $PQ = 5$  cm और  $\angle R = 60^\circ$
  - ☐ 3.  $QR = 5$  cm और  $\angle R = 60^\circ$
  - ☐ 4.  $QR = 5$  cm और  $\angle Q = 60^\circ$

Question ID : 264330126434  
Status : Answered  
Chosen Option : 2

Q.26 निम्नलिखित में से कौन सी संख्या 11 से विभाज्य है?

- Ans ☒ 1. 5214341  
☐ 2. 6598321  
☐ 3. 5648741  
☐ 4. 2378965

Question ID : 264330121707  
Status : Answered  
Chosen Option : 1

Q.27 यदि  $(A + B)$  का 20% =  $(A - B)$  का 30% है, तो B का कितना प्रतिशत A के बराबर है?

- Ans ☐ 1. 100%  
☒ 2. 500%  
☐ 3. 300%  
☐ 4. 400%

Question ID : 26433058905  
Status : Answered  
Chosen Option : 2

Q.28 यदि चार अंकों की संख्या  $463y$ , 7 से विभाज्य है, तो  $y$  का मान क्या होगा?

- Ans ☐ 1. 5  
☒ 2. 4  
☐ 3. 6  
☐ 4. 3

Question ID : 264330122833  
Status : Answered  
Chosen Option : 2

Q.29 एक राशि साधारण ब्याज पर 9 वर्ष में स्वतः की तिगुनी हो जाती है। ब्याज की वार्षिक दर ज्ञात कीजिए।

- Ans ☒ 1.  $22\frac{2}{9}\%$   
☐ 2.  $33\frac{1}{3}\%$   
☐ 3.  $27\frac{1}{9}\%$   
☐ 4.  $38\frac{2}{9}\%$

Question ID : 264330126378  
Status : Answered  
Chosen Option : 2

Q.30 एक व्यक्ति 8 शॉट में से 5 बार निशाना लगा सकता है। यदि वह 10 शॉट फायर करता है, तो इसकी क्या प्रायिकता होगी कि वह दो बार निशाना लगा लेगा?

Ans

✗ 1.  $\frac{1165 \times 3^8}{8^{10}}$

✗ 2.  $\frac{1175 \times 3^8}{8^{10}}$

✗ 3.  $\frac{1135 \times 3^8}{8^{10}}$

✓ 4.  $\frac{1125 \times 3^8}{8^{10}}$

Question ID : 264330121651

Status : Not Answered

Chosen Option : --

Section : Reasoning and General Intelligence

Q.1 गणितीय चिह्नों के उस सही संयोजन का चयन करें, जिसे दिए गए समीकरण में \* चिह्नों के स्थान पर क्रमिक रूप से रखे जाने पर समीकरण संतुलित हो जाए।

$$11 * 7 * 345 * 5 * 31 = 115$$

Ans

✗ 1.  $\div \times + -$

✓ 2.  $\times + \div -$

✗ 3.  $\div - + \times$


✗ 4.  $+ \times \div -$

Question ID : 26433068109

Status : Answered


Chosen Option : 2

Q.2 नीचे दी गई पाँच आकृतियों में से चार किसी प्रकार से एक समान हैं और एक असंगत है। उस असंगत आकृति का चयन करें।



Ans


✓ 1.




✗ 2.



✗ 3.



✗ 4.



Question ID : 264330128893

Status : Answered

Chosen Option : 1

Q.3 एक निश्चित कूट भाषा में, 'POLISH' को '89' लिखा जाता है और 'CLIP' को '72' लिखा जाता है। उसी भाषा में 'CONTROL' को कैसे लिखा जाएगा?

Ans ✗ 1. 106

✗ 2. 89

✓ 3. 99

✗ 4. 92

Question ID : 264330126265

Status : Answered

Chosen Option : 4

Q.4 निम्नलिखित में से कौन से अक्षर-समूह को, # और % को प्रतिस्थापित करना चाहिए ताकि :: के बाईं ओर के अक्षर-समूह युग्म के बीच का पैटर्न और संबंध वैसा ही हो जैसा कि :: के दाईं ओर के अक्षर-समूह युग्म का है?  
# : KNE :: PQV : %

- Ans
- ☒ 1. # = HQD, % = MT V
  - ☒ 2. # = NOB, % = SR Y
  - ☒ 3. # = NKF, % = MT U
  - ☒ 4. # = MOB, % = RT T

Question ID : 264330121404

Status : Answered

Chosen Option : 2

Q.5 इस प्रश्न में, एक कथन के बाद दो निष्कर्ष दिए गए हैं। दोनों में से कौन-सा/से निष्कर्ष सत्य है/हैं?

कथन:  $Z = E \geq R > G < Y > Q = F$

निष्कर्ष:

I.  $R < F$

II.  $R \geq Z$

- Ans
- ☒ 1. केवल निष्कर्ष I सत्य है।
  - ☒ 2. न तो निष्कर्ष I और न ही II सत्य है।
  - ☒ 3. निष्कर्ष I और II दोनों सत्य हैं।
  - ☒ 4. केवल निष्कर्ष II सत्य है।

Question ID : 26433057324

Status : Answered

Chosen Option : 2

Q.6 निर्देश: एक कथन के बाद दो अनुमान I और II दिए गए हैं। यह मानते हुए कि दिया गया कथन सत्य है, भले ही यह सामान्य रूप से ज्ञात तथ्यों से भिन्न प्रतीत होता हो, तय करें कि दिए गए अनुमानों में से कौन सा /से अनुमान कथन का तार्किक रूप से अनुसरण करता है/करते हैं।

कथन:

टीम-X और टीम-Y के बीच एक फुटबॉल मैच में, टीम-Y द्वारा किए गए गोलों की कुल संख्या 5 थी, जिनमें से 3 गोल बाएँ पैर वाले खिलाड़ी द्वारा किए गए थे।

अनुमान:

I. बाएँ पैर वाला खिलाड़ी गोल करने में माहिर था।

II. टीम-Y के 60% खिलाड़ी बाएँ पैर वाले हैं।

- Ans
- ☒ 1. केवल I अनुसरण करता है
  - ☒ 2. केवल II अनुसरण करता है
  - ☒ 3. I और II, दोनों अनुसरण करते हैं
  - ☒ 4. न तो I और न ही II अनुसरण करता है

Question ID : 264330128899

Status : Answered

Chosen Option : 1

Q.7 तीन कथन दिए गए हैं, जिनके बाद I, II और III से क्रमांकित तीन निष्कर्ष दिए गए हैं। कथनों को सत्य मानते हुए, भले ही वे सामान्य रूप से ज्ञात तथ्यों से भिन्न प्रतीत होते हों, निर्णय लीजिए कि कौन-सा/से निष्कर्ष कथनों का तार्किक रूप से अनुसरण करता/करते है/हैं।

कथन:

कुछ चूड़ियाँ, कंगन हैं।

सभी चेन, अंगूठियाँ हैं।

कुछ कंगन, चेन हैं।

निष्कर्ष:

(I) कुछ चूड़ियाँ, अंगूठियाँ हैं।

(II) कुछ चेन, चूड़ियाँ हैं।

(III) कुछ अंगूठियाँ, कंगन हैं।

- Ans
- ☒ 1. निष्कर्ष I और III दोनों अनुसरण करते हैं।
  - ☒ 2. केवल निष्कर्ष I अनुसरण करता है।
  - ☒ 3. केवल निष्कर्ष III अनुसरण करता है।
  - ☒ 4. निष्कर्ष I और II दोनों अनुसरण करते हैं।

Question ID : 26433068963

Status : Answered

Chosen Option : 1

Q.8 उस समुच्चय का चयन कीजिए जिसमें संख्याएँ उसी प्रकार संबंधित हैं जिस प्रकार निम्नलिखित समुच्चयों की संख्याएँ संबंधित हैं।

(नोट: संख्याओं को उसके घटक अंकों में विभाजित किए बिना, पूर्ण संख्याओं पर संक्रियाएँ की जानी चाहिए। उदाहरण के लिए 13 - इसमें 13 पर जोड़ने / घटाने / गुणा करने आदि जैसी संक्रियाओं को 13 में किया जा सकता है। 13 को 1 और 3 में विभाजित करने और फिर 1 और 3 पर गणितीय संक्रियाएँ करने की अनुमति नहीं है)

(18, 39, 60), (27, 48, 69)

- Ans
- ☒ 1. (17, 28, 49)
  - ☒ 2. (35, 56, 77)
  - ☒ 3. (24, 64, 96)
  - ☒ 4. (31, 52, 84)

Question ID : 264330126246

Status : Not Answered

Chosen Option : --

Q.9 इस प्रश्न में दो कथन I और II दिए गए हैं। ये कथन स्वतंत्र कारण या स्वतंत्र कारणों या एक उभयनिष्ठ कारण के प्रभाव हो सकते हैं। एक कथन दूसरे कथन का प्रभाव हो सकता है। दोनों कथनों को पढ़ें और सही उत्तर का चयन करें।

I. पिछले दो वर्षों में कंपनी P के 22% कर्मचारियों को नौकरी से निकाला गया।

II. पिछले दो वर्षों में कंपनी P ने अपनी कई प्रमुख संपत्तियों को बेच दिया है।

- Ans
- ☒ 1. I कारण है और II इसका संभावित प्रभाव है।
  - ☒ 2. II कारण है और I इसका संभावित प्रभाव है।
  - ☒ 3. I और II दोनों एक उभयनिष्ठ कारण के प्रभाव हैं।
  - ☒ 4. I और II दोनों स्वतंत्र कारण हैं।

Question ID : 264330123146

Status : Answered

Chosen Option : 2

Q.10 जब दर्पण को नीचे दिए गए संयोजन के दाईं ओर रखा जाता है तो संयोजन का दर्पण में निर्मित सही प्रतिबिंब का चयन कीजिए।

E d T 5 8 9 ghi



Ans

✗ 1. idp 0 8 2 T b 3

✗ 2. !p6 9 8 5 1 q 3

✗ 3. idp 0 8 2 T d 3

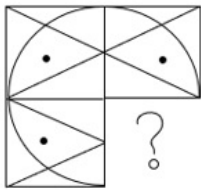
✓ 4. idp 0 8 2 T b 3

Question ID : 264330102480

Status : Answered

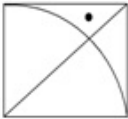
Chosen Option : 4

Q.11 विकल्पों में से उस आकृति का चयन कीजिए, जो प्रश्न-चिह्न(?) को प्रतिस्थापित कर सकती है और दिए गए पैटर्न को पूरा कर सकती है।

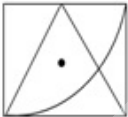


Ans

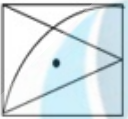
✗ 1.



✗ 2.



✗ 3.



✓ 4.



Question ID : 26433083132

Status : Answered

Chosen Option : 4

Q.12 यदि + का अर्थ - है, - का अर्थ  $\times$  है,  $\times$  का अर्थ  $\div$  है, और  $\div$  का अर्थ + है, तो निम्नलिखित व्यंजक का मान क्या होगा?

$$3 \div 6 + 3 - 4 \times 4 = ?$$

Ans ☒ 1. 6

☐ 2. 8

☐ 3. 4

☐ 4. 5

Question ID : 26433068610

Status : Answered

Chosen Option : 1

Q.13 सात व्यक्ति एक वृत्ताकार 'खाने की मेज' के परितः केंद्र की ओर अभिमुख होकर बैठे हैं। S, Y के ठीक बाएँ तथा R के दाईं ओर तीसरे स्थान पर बैठा है। R, A के ठीक बाएँ तथा P के ठीक दाएँ बैठा है। A, D के ठीक बाएँ बैठा है। Q, P के ठीक बाएँ बैठा है। यदि D, Y के साथ तथा P, Q के साथ अपना स्थान बदल लेता है, तो D के ठीक दाएँ कौन बैठा होगा?

Ans ☐ 1. S

☐ 2. Q

☐ 3. R

☒ 4. P

Question ID : 26433081995

Status : Answered

Chosen Option : 4

Q.14 नीचे एक प्रश्न दिया गया है जिसके बाद दो कथन I और II दिए गए हैं। दोनों कथनों को ध्यानपूर्वक पढ़कर तय कीजिए कि इनमें से कौन सा कथन, प्रश्न का उत्तर देने के लिए पर्याप्त है।

छः व्यक्ति - K, M, N, P, Q और R एक गोल मेज के परितः केंद्र की ओर अभिमुख होकर बैठे हैं। P के बाईं ओर दूसरे स्थान पर कौन बैठा है?

(I) K, P के ठीक दाएँ बैठा है। P और Q के बीच केवल दो व्यक्ति बैठे हैं। R, M के दाईं ओर दूसरे स्थान पर बैठा है।

(II) N और M के बीच केवल दो व्यक्ति बैठे हैं। Q, M का निकटतम पड़ोसी है। Q और K के बीच केवल एक व्यक्ति बैठा है।

Ans ☒ 1. कथन I का डेटा अकेले प्रश्न का उत्तर देने के लिए पर्याप्त है जबकि कथन II का डेटा पर्याप्त नहीं है।

☐ 2. कथन I और II के डेटा मिलकर भी प्रश्न का उत्तर देने के लिए पर्याप्त नहीं है।

☐ 3. कथन II का डेटा अकेले प्रश्न का उत्तर देने के लिए पर्याप्त है जबकि कथन I का डेटा पर्याप्त नहीं है।

☐ 4. कथन I और II के डेटा मिलकर प्रश्न का उत्तर देने के लिए पर्याप्त हैं।

Question ID : 264330121434

Status : Answered

Chosen Option : 1

Q.15 नीचे एक प्रश्न और उसके बाद दो कथन क्रमांक (I) और (II) दिए गए हैं। आपको यह तय करना है कि कथनों में दिया गया डाटा प्रश्न का उत्तर देने के लिए पर्याप्त है या नहीं। दोनों कथनों का अध्ययन कीजिए और उपयुक्त उत्तर का चयन कीजिए।

प्रश्न: चार व्यक्ति A, B, C और D एक सीधी पंक्ति में दक्षिण की ओर मुख करके बैठे हैं। दाएँ छोर पर कौन बैठा है?

कथन:

(I) B और D के बीच में केवल दो व्यक्ति बैठे हैं; A, B के ठीक बाएं बैठा है।

(II) B और C के बीच में केवल एक व्यक्ति बैठा है; A, C के ठीक दाएं बैठा है।

- Ans ☒ 1. कथन II में दिया गया डाटा अकेले प्रश्न का उत्तर देने के लिए पर्याप्त है जबकि कथन I में दिया गया डाटा प्रश्न का उत्तर देने के लिए पर्याप्त नहीं है
- ☒ 2. कथन I में दिया गया डाटा अकेले प्रश्न का उत्तर देने के लिए पर्याप्त है जबकि कथन II में दिया गया डाटा प्रश्न का उत्तर देने के लिए पर्याप्त नहीं है
- ☒ 3. कथन I और II दोनों में दिया गया डाटा मिलकर प्रश्न का उत्तर देने के लिए पर्याप्त है
- ☒ 4. या तो कथन I में दिया गया डाटा अकेले या कथन II में दिया गया डाटा अकेले प्रश्न का उत्तर देने के लिए पर्याप्त है

Question ID : 264330121194

Status : Answered

Chosen Option : 2

Q.16 A # B' का अर्थ है 'A, B का भाई है'।

'A @ B' का अर्थ है 'A, B की पुत्री है'।

'A & B' का अर्थ है 'A, B का पति है'।

'A % B' का अर्थ है 'A, B की पत्नी है'।

यदि D @ N @ H & Y @ F % V है, तो Y, D से किस प्रकार संबंधित है?

- Ans ☒ 1. नानी
- ☒ 2. पुत्री की पुत्री
- ☒ 3. भांजी
- ☒ 4. माँ

Question ID : 264330126286

Status : Answered

Chosen Option : 1

Q.17 दिए गए विकल्पों में से उस आकृति का चयन करें जो निम्नलिखित श्रृंखला में प्रश्न चिह्न (?) को प्रतिस्थापित कर सकती है।

+	☞		A	∞		B	A	≠		?
	\$		☞	≠		C		∞		
∞	≠	∞	≠	\$	\$	A	B			

Ans

✗ 1.

A	B	C
∞		D

✓ 2.

∞		D
A	B	C

✗ 3.

E	C	B
		A
		∞

✗ 4.

	D	C
		B
∞		A

Question ID : 264330101257

Status : Answered

Chosen Option : 2

Q.18 A # B' का अर्थ है 'A, B का भाई है'।  
'A @ B' का अर्थ है 'A, B की पुत्री है'।  
'A & B' का अर्थ है 'A, B का पति है'।  
'A % B' का अर्थ है 'A, B की पत्नी है'।  
यदि Z % X # C @ V & B @ N है, तो Z, B से किस प्रकार संबंधित है?

Ans

✗ 1. पुत्री

✓ 2. पुत्रवधू

✗ 3. सास

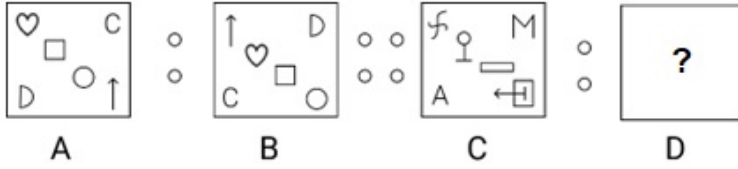
✗ 4. माता

Question ID : 264330126291

Status : Answered

Chosen Option : 2

Q.19 आकृति A एक निश्चित पैटर्न के अनुसार B से संबंधित है। उसी पैटर्न का अनुसरण करते हुए आकृति C, D से संबंधित है। पैटर्न का अध्ययन करें और उस आकृति का चयन करें, जिसे D के स्थान पर रखा जाना चाहिए।



Ans

- ✗ 1.
- ✗ 2.
- ✗ 3.
- ✓ 4.

Question ID : 264330121403

Status : Answered

Chosen Option : 4

Q.20 निम्नलिखित चार त्रिकों में से तीन एक निश्चित तरीके से समान हैं क्योंकि वे आपस में समान गणितीय संक्रियाएं करके निर्मित हुए हैं और इस प्रकार वे एक समूह बनाते हैं। विकल्पों में दिए त्रिकों में से कौन-सा त्रिक उस समूह से संबंधित नहीं है?

- ✗ 1. 2 : 3 : 4
- ✗ 2. 9 : 17 : 81
- ✓ 3. 7 : 15 : 49
- ✗ 4. 11 : 21 : 121

Question ID : 264330126248

Status : Answered

Chosen Option : 3

Q.21 अमित अपनी कक्षा में ऊपर से 7वें और नीचे से 26वें स्थान पर है। कक्षा में कितने छात्र हैं?

- ✓ 1. 32
- ✗ 2. 27
- ✗ 3. 31
- ✗ 4. 33

Question ID : 264330121141

Status : Answered

Chosen Option : 1

Q.22 एक कूट भाषा में 'SLAIN' को 'PKCNU' लिखा जाता है और 'DENT' को 'VPGF' लिखा जाता है। उसी भाषा में 'CUBOID' को कैसे लिखा जाएगा?

- Ans ☒ 1. FKQDWE  
☒ 2. EWDPKE  
☒ 3. FJQDWE  
☒ 4. FKQDVF

Question ID : 26433068947  
Status : Answered  
Chosen Option : 1

Q.23 नीचे दी गयी जानकारी दिए गए अक्षरों के लिए संख्या कूट दर्शाती हैं। संख्याओं के उस संयोजन का चयन कीजिए जिससे कि अक्षरों को तदनुसार व्यवस्थित करने से एक सार्थक शब्द बनाया जा सके।

R = 1, E = 2, A = 3, C = 4, T = 5, I = 6, V = 7, E = 8

- Ans ☒ 1. 4,1,2,3,5,6,7,8  
☒ 2. 4,3,1,5,6,7,8,2  
☒ 3. 7,2,1,3,8,4,5,6  
☒ 4. 4,1,2,3,5,8,7,6

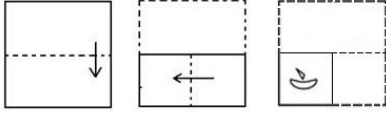
Question ID : 264330121087  
Status : Answered  
Chosen Option : 1

Q.24 निम्नलिखित शब्दों में तीन शब्द किसी न किसी प्रकार एक समान हैं और इसलिए एक समूह का निर्माण करते हैं। कौन-सा शब्द उस समूह से संबंधित नहीं है? (शब्दों को अर्थपूर्ण अंग्रेजी शब्दों के रूप में माना जाना चाहिए और शब्द में अक्षरों की संख्या / व्यंजनों / स्वरों की संख्या के आधार पर उन्हें समूहबद्ध नहीं किया जाना चाहिए)

- Ans ☒ 1. इंजीनियर (Engineer)  
☒ 2. डॉक्टर (Doctor)  
☒ 3. बढ़ई (Carpenter)  
☒ 4. अध्यापक (Teacher)

Question ID : 26433065632  
Status : Answered  
Chosen Option : 3

Q.25 नीचे एक कागज के एक टुकड़े को मोड़ने का क्रम और मुड़े हुए कागज को काटने का तरीका दर्शाया गया है।  
दिए गए विकल्पों में से वह आकृति चुनें जो कागज के खुले हुए रूप से सर्वाधिक मिलती-जुलती हो।

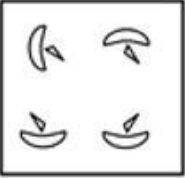


Ans

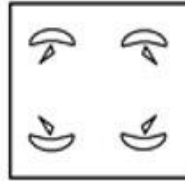
✗ 1.



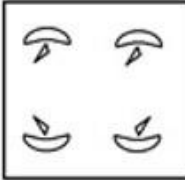
✗ 2.



✓ 3.



✗ 4.

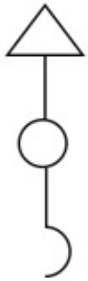


Question ID : 264330126302

Status : Answered

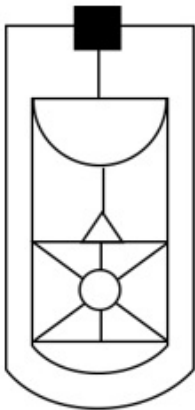
Chosen Option : 3

Q.26 उस विकल्प का चयन करें, जिसमें निम्न आकृति सन्निहित है। (घूर्णन की अनुमति नहीं है)

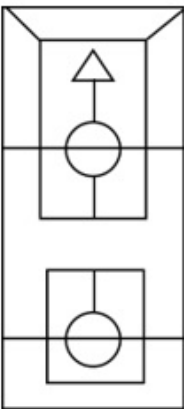


Ans

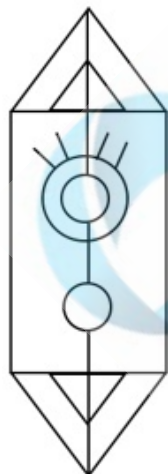
✗ 1.




✗ 2.



✓ 3.



✗ 4.



Q.27 दिए गए विकल्पों में से वह संख्या चुनिए, जो निम्नलिखित श्रृंखला में प्रश्न-चिह्न (?) को प्रतिस्थापित कर सके।  
242, 288, ?, 392, 450

Ans ☒ 1. 338

☐ 2. 375

☐ 3. 316

☐ 4. 324

Question ID : 26433074537

Status : Answered

Chosen Option : 1

Q.28 इस प्रश्न में एक कथन के बाद दो कार्यवाहियाँ क्रमांक I और II दी गई हैं। आपको कथन में दी गई सभी बातों को सत्य मानना है और कथन में दी गई जानकारी के आधार पर यह तय करना है कि कौन-सी कार्यवाई/कार्यवाहियाँ करने के लिए तार्किक रूप से अनुसरण करती है/हैं।

कथन: किसी कंपनी के तकनीकी अनुभाग में कुछ गंभीर त्रुटियाँ पाई गई।

कार्यवाही:

I. तकनीकी त्रुटियों की जाँच के लिए एक कुशल तकनीकी टीम नियुक्त की जानी चाहिए।

II. अनियमितताओं में शामिल सभी कर्मचारियों को कारण स्पष्टीकरण नोटिस जारी किया जाना चाहिए।

Ans ☐ 1. केवल I अनुसरण करता है

☒ 2. I और II दोनों अनुसरण करते हैं

☐ 3. केवल II अनुसरण करता है

☐ 4. न तो I न ही II अनुसरण करता है

Question ID : 264330123206

Status : Answered

Chosen Option : 2

Q.29 उस विकल्प का चयन करें जो उन अक्षरों का प्रतिनिधित्व करता है, जिन्हें निम्नलिखित रिक्त स्थानों में बाएं से दाएं रखे जाने पर अक्षर-श्रृंखला पूरी हो जाएगी।

S C R \_ W S \_ R \_ W \_ C \_ G W S \_ R H \_

Ans ☐ 1. G D F S R C W

☐ 2. H D F S R C W

☒ 3. E C F S R C W

☐ 4. E D F S R D W

Question ID : 264330126280

Status : Answered

Chosen Option : 3

Q.30 नीचे दी गई पाँच आकृतियों में से चार किसी प्रकार से एक समान हैं और एक असंगत है। उस असंगत आकृति का चयन करें।

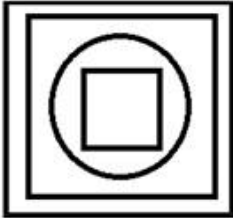


Ans

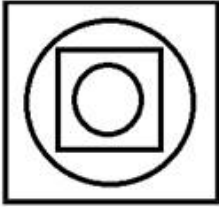
✓ 1.



✗ 2.



✗ 3.



✗ 4.



Question ID : 264330128894

Status : Answered

Chosen Option : 1

Section : English Language and Comprehension

Q.1 Sentences of a paragraph are given below in jumbled order. Arrange the sentences in the correct order to form a meaningful and coherent paragraph.

A. No country has yet achieved the combination of very high human development with a light ecological footprint and the impacts of climate change and biodiversity loss are growing.

B. Compounded by a climate emergency, political polarization and challenged multilateralism, continued conflicts, and forced displacement, the number of people living in poverty rose in 2020 for the first time since 1998 by an estimated 119-124 million and inequalities are growing, and the traditional social contract is no longer working for many.

C. The challenge of reaching Agenda 2030 was already significant, even before the COVID-19 pandemic hit.

D. Today's development challenges are dynamic, interconnected puzzles of multidimensional risk that require systemic solutions and multilateral cooperation is vital in addressing these shared challenges that cross boundaries of geography and time.

Ans ☒ 1. ABDC

☒ 2. CBDA

☒ 3. BCDA

☒ 4. DBAC

Question ID : 26433060241

Status : Answered

Chosen Option : 3

Q.2 Select the option that can be used as a one-word substitute for the given group of words.

The one who loves mankind

Ans ☒ 1. Optimist

☒ 2. Misogynist

☒ 3. Pessimist

☒ 4. Philanthropist

Question ID : 26433060818

Status : Answered

Chosen Option : 4

Q.3 The following sentence has been split into four segments. Identify the segment that contains a grammatical error.

Everybody stared / when me / entered the / drawing room.

Ans ☒ 1. when me

☒ 2. entered the

☒ 3. Everybody stared

☒ 4. drawing room

Question ID : 26433061482

Status : Answered

Chosen Option : 3

Q.4 Identify the INCORRECTLY spelt word in the given sentence.

The board reviewing the courses offered by the afiliated college found that the quality of academic programs was usually good but somewhat irregular.

Ans ☒ 1. afiliated

☒ 2. academic

☒ 3. irregular

☒ 4. review

Question ID : 26433061583

Status : Answered

Chosen Option : 1

Q.5 Select the most appropriate ANTONYM of the underlined word.

Aunt May thought that Uncle Ken's job as a manager at Firpo's hotel in Shimla was a stable one.

- Ans ☒ 1. Mutable  
☒ 2. Durable  
☒ 3. Lucrative  
☒ 4. Permanent

Question ID : 26433070536  
Status : Answered  
Chosen Option : 3

Q.6 Select the most appropriate option to fill in the blank.  
When the victim narrated his version of the incident, the jury was \_\_\_\_\_ .

- Ans ☒ 1. excruciatingly satisfied  
☒ 2. completely satisfied  
☒ 3. perfectly satisfied  
☒ 4. honestly satisfied

Question ID : 264330121886  
Status : Answered  
Chosen Option : 2

Q.7 Sentences of a paragraph are given below. While the first and the last sentences (S1 and S6) are in the correct order, the sentences in between are jumbled up. Arrange the sentences in the correct order to form a meaningful and coherent paragraph.

S1. In Dr. Babasaheb Ambedkar  
A. but also an elder statesman and national leader  
B. we have not only a crusader against the caste system,  
C. a valiant fighter for the cause of the downtrodden in India  
D. whose contribution in the form of the Constitution of India  
S6. will be cherished forever by posterity.

- Ans ☒ 1. CABD  
☒ 2. DABC  
☒ 3. ABCD  
☒ 4. BACD

Question ID : 26433063576  
Status : Answered  
Chosen Option : 2

Q.8 The following sentence has been split into four segments. Identify the segment that contains a grammatical error.

Daniel sat on / his new bike / and went afar / a ride .

- Ans ☒ 1. Daniel sat on  
☒ 2. his new bike  
☒ 3. a ride  
☒ 4. and went afar

Question ID : 26433061470  
Status : Answered  
Chosen Option : 4

Q.9 Select the most appropriate option to fill in the blank.  
The security guard needs a \_\_\_\_\_ of shoes.

- Ans
- ☒ 1. pear
  - ☒ 2. pare
  - ☒ 3. payor
  - ☒ 4. pair

Question ID : 26433058531

Status : Answered

Chosen Option : 4

Q.10 Identify the INCORRECTLY spelt word in the given sentence.  
If she had begun earlier, she might have succeeded in finishing the extremely intricate project before the deadline.

- Ans
- ☒ 1. succeeded
  - ☒ 2. deadline
  - ☒ 3. earlier
  - ☒ 4. intricate

Question ID : 26433059972

Status : Answered

Chosen Option : 1

Q.11 Select the most appropriate option that can substitute the underlined segment in the given sentence. If there is no need to substitute it, select 'No substitution required'.

Bloomberg Businessweek is not more popular than some other business magazines in the US.

- Ans
- ☒ 1. No substitution required
  - ☒ 2. the most popular than
  - ☒ 3. so popular than
  - ☒ 4. as more popular than

Question ID : 26433058619

Status : Answered

Chosen Option : 4

Q.12 Select the most appropriate ANTONYM of the underlined word.

The audience sneered at the monologue uttered by the veteran actor.

- Ans
- ☒ 1. Lauded
  - ☒ 2. Unleashed
  - ☒ 3. Waved
  - ☒ 4. Ascribed

Question ID : 26433070531

Status : Not Answered

Chosen Option : --

Q.13 Select the most appropriate option to fill in the blank.  
The committee will \_\_\_\_\_ a survey on the government schemes.

- Ans
- ☒ 1. hold
  - ☒ 2. fight
  - ☒ 3. conduct
  - ☒ 4. originate

Question ID : 26433058500  
Status : Answered  
Chosen Option : 3

Q.14 Select the option that expresses the given sentence in indirect speech.  
She said impatiently, "I don't need any help."

- Ans
- ☒ 1. She said impatiently she don't need any help.
  - ☒ 2. She said impatiently that I don't need any help.
  - ☒ 3. She said impatiently that she doesn't need any help.
  - ☒ 4. She said impatiently that she didn't need any help.

Question ID : 26433059181  
Status : Answered  
Chosen Option : 4

Q.15 Sentences of a paragraph are given in jumbled order. Arrange the sentences in the correct order to form a meaningful and coherent paragraph.

- A. Instead, they are constrictors, meaning they squeeze their prey to death before swallowing it whole.
- B. Agile on water but awkward on land, the green anaconda is one of the largest snakes in the world.
- C. Most people assume that anacondas are very poisonous, but they are actually non-venomous.
- D. At 29 feet long and 550 pounds, these snakes are huge!

- Ans
- ☒ 1. BDCA
  - ☒ 2. DABC
  - ☒ 3. BACD
  - ☒ 4. BCAD

Question ID : 26433070665  
Status : Answered  
Chosen Option : 4

Q.16 Select the option that expresses the given sentence in active voice.

The story of his uncle's mysterious disappearance was first heard by Rajat in his childhood

- Ans
- ☒ 1. The story Rajat first heard in his childhood was about his uncle's mysterious disappearance.
  - ☒ 2. Rajat's first story that uncle heard in his childhood was about his mysterious disappearance.
  - ☒ 3. The story uncle heard first time was about Rajat's mysterious disappearance in his childhood.
  - ☒ 4. Rajat first heard the story of his uncle's mysterious disappearance in his childhood.

Question ID : 26433055599  
Status : Answered  
Chosen Option : 4

Q.17 Select the option that expresses the given sentence in direct speech.  
Harry said that he would not be in town on Friday.

- Ans
- ☒ 1. Harry saying, "I will not be in town on Friday".
  - ☒ 2. Harry said, "I can't be in town on Friday".
  - ☒ 3. Harry said, "I will not be in town on Friday".
  - ☒ 4. Harry said, "I must not be in town on Friday".

Question ID : 26433070765  
Status : Answered  
Chosen Option : 3

Q.18 Sentences of a paragraph are given below in jumbled order. Arrange the sentences in the correct order to form a meaningful and coherent paragraph.

- P. The prices of cooking gas, pulses and vegetables have registered a sharp rise.  
Q. In recent years the prices of essential commodities have gone up sharply.  
R. The low-income groups and the salaried classes are the worst sufferers.  
S. Living has become quite a costly affair these days.

- Ans
- ☒ 1. QSRP
  - ☒ 2. PQRS
  - ☒ 3. SRQP
  - ☒ 4. RPSQ

Question ID : 264330121860  
Status : Not Answered  
Chosen Option : --

Q.19 Select the option that can be used as a one-word substitute for the given group of words.

An arched structure in a garden having climbing plants

- Ans
- ☒ 1. Pergola
  - ☒ 2. Shed
  - ☒ 3. Path
  - ☒ 4. Shelter

Question ID : 26433070721  
Status : Answered  
Chosen Option : 1

Q.20 Select the option that expresses the given sentence in direct speech.

The mother said that the kids were playing.

- Ans
- ☒ 1. T he mother has said, "T he kids were playing".
  - ☒ 2. T he mother said, "T he kids have been playing".
  - ☒ 3. T he mother said, "T he kids are playing".
  - ☒ 4. T he mother told, "T he kids had been playing".

Question ID : 26433063615  
Status : Answered  
Chosen Option : 3

Q.21 Select the option that expresses the given sentence in active voice.  
A new invention has been made by him.

- Ans ☒ 1. He had been making a new invention.  
☒ 2. He has made a new invention.  
☒ 3. He was making a new invention.  
☒ 4. He were making a new invention.

Question ID : 264330123912  
Status : Answered  
Chosen Option : 2

Q.22 Select the most appropriate option to fill in the blank.

Nowadays, online shopping is easier \_\_\_\_\_ shopping in a market.

- Ans ☒ 1. than  
☒ 2. like  
☒ 3. as  
☒ 4. then

Question ID : 26433061501  
Status : Answered  
Chosen Option : 1

Q.23 Sentences of a paragraph are given below in jumbled order. Arrange the sentences in the correct order to form a meaningful and coherent paragraph.

- A. I was almost drowned a dozen times; was nearly boiled alive and just missed being cremated.  
B. Now, my well-being is simply the result of a careful and measured mode of living and perhaps the most astonishing thing is that three times in my youth I was rendered by illness a hopeless physical wreck and given up by physicians.  
C. More than this, through ignorance, and light-heartedness, I got into all sorts of difficulties, dangers and scrapes from which I extricated myself as by enchantment.  
D. But as I recall these incidents to my mind I feel convinced that my preservation was not altogether accidental.

- Ans ☒ 1. BCAD  
☒ 2. CADB  
☒ 3. BADC  
☒ 4. DCAB

Question ID : 264330123966  
Status : Answered  
Chosen Option : 2

Q.24 Select the option that expresses the given sentence in passive voice.  
The courier boy did not deliver the parcel.

- Ans ☒ 1. The parcel did not deliver by the courier boy.  
☒ 2. The parcel had not delivered by the courier boy.  
☒ 3. The parcel had not been delivered by the courier boy.  
☒ 4. The parcel was not delivered by the courier boy.

Question ID : 26433058494  
Status : Answered  
Chosen Option : 4

Q.25 Select the most appropriate meaning of the given idiom.

Water under the bridge

- Ans
- ☐ 1. A seasoned crop with a heavy demand
  - ☐ 2. Promises that are made to someone and never fulfilled
  - ☐ 3. Difficult situations in one's life
  - ☒ 4. Past events that are not important anymore

Question ID : 26433089764

Status : Answered

Chosen Option : 2

Q.26 Select the most appropriate meaning of the underlined word in a sentence.

Even though James won the election, he has not brought any of his campaign promises to fruition.

- Ans
- ☐ 1. disappointment
  - ☒ 2. accomplishment
  - ☐ 3. nourishment
  - ☐ 4. concealment

Question ID : 26433055999

Status : Answered

Chosen Option : 4

Q.27 Select the correct homonym from the given options to fill in the blank.

The athlete's \_\_\_\_\_ was badly injured due to a fall on the track.

- Ans
- ☐ 1. tow
  - ☐ 2. toad
  - ☐ 3. to
  - ☒ 4. toe

Question ID : 264330120787

Status : Answered

Chosen Option : 1

Q.28 Select the most appropriate meaning of the highlighted idiom.

The employee took the manager's remark with a pinch of salt

- Ans
- ☐ 1. Ever ready to condemn someone
  - ☐ 2. Going for the truth
  - ☒ 3. Doubt the truth or value of something
  - ☐ 4. Distasteful and boring

Question ID : 264330120743

Status : Answered

Chosen Option : 1

Q.29 Sentences of a paragraph are given below in jumbled order. Arrange the sentences in the correct order to form a meaningful and coherent paragraph.

A) The Sustainable Development Goals (SDGs) were adopted by all United Nations Member States in 2015 to end poverty, reduce inequality and build more peaceful, prosperous societies by 2030.

B) The SDGs cannot be achieved without the realisation of child rights.

C) Also known as the Global Goals, the SDGs are a call to action to create a world where no one is left behind.

D) As world leaders work to deliver on the 2030 promise, children around the globe are standing up to secure their right to good health, quality education, a clean planet and more.

Ans ☒ 1. ADCB

☒ 2. ABDC

☒ 3. ACBD

☒ 4. ADBC

Question ID : 264330122779

Status : Answered

Chosen Option : 4

#### Comprehension:

In the following passage, some words have been deleted. Read the passage carefully and select the most appropriate option to fill in each blank.

The Sun is the star at the center of (1) \_\_\_\_\_ Solar System. It is a nearly perfect ball of hot plasma. The Sun has inspired us since ancient times. It's central to mythology and religion in (2) \_\_\_\_\_ around the world. It keeps our planet warm enough for living things to grow. It gives us light so we can see. It is by far the most important (3) \_\_\_\_\_ of energy for life on Earth. It is about a hundred times as wide (4) \_\_\_\_\_ the Earth. If there were no sun, many things wouldn't occur like photosynthesis or the presence of oxygen, which would have caused no existence of life.

SubQuestion No : 30

Q.30 Select the most appropriate option to fill in blank number 1.

Ans ☒ 1. huge

☒ 2. the

☒ 3. a

☒ 4. typical

Question ID : 264330128945

Status : Answered

Chosen Option : 4

#### Comprehension:

In the following passage, some words have been deleted. Read the passage carefully and select the most appropriate option to fill in each blank.

The Sun is the star at the center of (1) \_\_\_\_\_ Solar System. It is a nearly perfect ball of hot plasma. The Sun has inspired us since ancient times. It's central to mythology and religion in (2) \_\_\_\_\_ around the world. It keeps our planet warm enough for living things to grow. It gives us light so we can see. It is by far the most important (3) \_\_\_\_\_ of energy for life on Earth. It is about a hundred times as wide (4) \_\_\_\_\_ the Earth. If there were no sun, many things wouldn't occur like photosynthesis or the presence of oxygen, which would have caused no existence of life.

SubQuestion No : 31

Q.31 Select the most appropriate option to fill in blank number 2.

Ans ☒ 1. processes

☒ 2. types

☒ 3. cultures

☒ 4. scenes

Question ID : 264330128946

Status : Answered

Chosen Option : 3

**Comprehension:**

In the following passage, some words have been deleted. Read the passage carefully and select the most appropriate option to fill in each blank.

The Sun is the star at the center of (1) \_\_\_\_\_ Solar System. It is a nearly perfect ball of hot plasma. The Sun has inspired us since ancient times. It's central to mythology and religion in (2) \_\_\_\_\_ around the world. It keeps our planet warm enough for living things to grow. It gives us light so we can see. It is by far the most important (3) \_\_\_\_\_ of energy for life on Earth. It is about a hundred times as wide (4) \_\_\_\_\_ the Earth. If there were no sun, many things wouldn't occur like photosynthesis or the presence of oxygen, which would have caused no existence of life.

**SubQuestion No : 32**

**Q.32** Select the most appropriate option to fill in blank number 3.

Ans ☒ 1. source

☐ 2. control

☐ 3. gesture

☐ 4. symbol

Question ID : 264330128947

Status : Answered

Chosen Option : 1

**Comprehension:**

In the following passage, some words have been deleted. Read the passage carefully and select the most appropriate option to fill in each blank.

The Sun is the star at the center of (1) \_\_\_\_\_ Solar System. It is a nearly perfect ball of hot plasma. The Sun has inspired us since ancient times. It's central to mythology and religion in (2) \_\_\_\_\_ around the world. It keeps our planet warm enough for living things to grow. It gives us light so we can see. It is by far the most important (3) \_\_\_\_\_ of energy for life on Earth. It is about a hundred times as wide (4) \_\_\_\_\_ the Earth. If there were no sun, many things wouldn't occur like photosynthesis or the presence of oxygen, which would have caused no existence of life.

**SubQuestion No : 33**

**Q.33** Select the most appropriate option to fill in blank number 4.

Ans ☐ 1. like

☐ 2. than

☐ 3. about

☒ 4. as

Question ID : 264330128948

Status : Answered

Chosen Option : 4

**Comprehension:**

Read the given passage and answer the questions that follow.

As the Sun inches closer to its peak activity in its solar cycle, an explosion has been picked up behind the north-eastern limb of the star in our solar system. Solar observatories saw bits and pieces of the explosion, which remain obscured in view from Earth's orbit.

The explosion was spotted on 31 July at around 2309 UT and Earth-orbiting satellites registered a long-lasting C9.3-class solar flare. "The intensity is probably an underestimate because it was partially eclipsed by the edge of the sun. Nasa's Solar Dynamics Observatory (SDO) saw hot debris flying away from the blast site," space weather, which tracks the solar activity, reported.

While the explosion was powerful, experts have predicted that Earth is not in the line of fire from the Sun. Scientists are expected to get a view of the active region later this week as it comes to sight. Earth is not in the line of fire. The explosion is significant because it may herald an active region set to emerge over the sun's north-eastern limb later this week. A new sunspot group could bring an end to weeks of relative quiet," space weather said in its report.

**SubQuestion No : 34**

**Q.34** Select the most appropriate synonym of the given word from the passage.  
**Peak**

- Ans
- ☒ 1. Glance
  - ☒ 2. Bottom
  - ☒ 3. Point
  - ☒ 4. Zenith

Question ID : 264330128910

Status : Answered

Chosen Option : 4

**Comprehension:**

Read the given passage and answer the questions that follow.

As the Sun inches closer to its peak activity in its solar cycle, an explosion has been picked up behind the north-eastern limb of the star in our solar system. Solar observatories saw bits and pieces of the explosion, which remain obscured in view from Earth's orbit.

The explosion was spotted on 31 July at around 2309 UT and Earth-orbiting satellites registered a long-lasting C9.3-class solar flare. "The intensity is probably an underestimate because it was partially eclipsed by the edge of the sun. Nasa's Solar Dynamics Observatory (SDO) saw hot debris flying away from the blast site," space weather, which tracks the solar activity, reported.

While the explosion was powerful, experts have predicted that Earth is not in the line of fire from the Sun. Scientists are expected to get a view of the active region later this week as it comes to sight. Earth is not in the line of fire. The explosion is significant because it may herald an active region set to emerge over the sun's north-eastern limb later this week. A new sunspot group could bring an end to weeks of relative quiet," space weather said in its report.

**SubQuestion No : 35**

**Q.35** Select the most appropriate synonym of the given word from the passage.  
**Partially**

- Ans
- ☒ 1. Frankly
  - ☒ 2. Completely
  - ☒ 3. Supportively
  - ☒ 4. Partly

Question ID : 264330128912

Status : Answered

Chosen Option : 4

**Comprehension:**

Read the given passage and answer the questions that follow.

As the Sun inches closer to its peak activity in its solar cycle, an explosion has been picked up behind the north-eastern limb of the star in our solar system. Solar observatories saw bits and pieces of the explosion, which remain obscured in view from Earth's orbit.

The explosion was spotted on 31 July at around 2309 UT and Earth-orbiting satellites registered a long-lasting C9.3-class solar flare. "The intensity is probably an underestimate because it was partially eclipsed by the edge of the sun. Nasa's Solar Dynamics Observatory (SDO) saw hot debris flying away from the blast site," space weather, which tracks the solar activity, reported.

While the explosion was powerful, experts have predicted that Earth is not in the line of fire from the Sun. Scientists are expected to get a view of the active region later this week as it comes to sight. Earth is not in the line of fire. The explosion is significant because it may herald an active region set to emerge over the sun's north-eastern limb later this week. A new sunspot group could bring an end to weeks of relative quiet," space weather said in its report.

**SubQuestion No : 36**

**Q.36 Select the most appropriate synonym of the given word from the passage.**  
**Debris**

- Ans
- ☒ 1. Liquid
  - ☒ 2. Specks
  - ☒ 3. Detritus
  - ☒ 4. Rays

Question ID : 264330128913

Status : Answered

Chosen Option : 1

**Comprehension:**

Read the given passage and answer the questions that follow.

As the Sun inches closer to its peak activity in its solar cycle, an explosion has been picked up behind the north-eastern limb of the star in our solar system. Solar observatories saw bits and pieces of the explosion, which remain obscured in view from Earth's orbit.

The explosion was spotted on 31 July at around 2309 UT and Earth-orbiting satellites registered a long-lasting C9.3-class solar flare. "The intensity is probably an underestimate because it was partially eclipsed by the edge of the sun. Nasa's Solar Dynamics Observatory (SDO) saw hot debris flying away from the blast site," space weather, which tracks the solar activity, reported.

While the explosion was powerful, experts have predicted that Earth is not in the line of fire from the Sun. Scientists are expected to get a view of the active region later this week as it comes to sight. Earth is not in the line of fire. The explosion is significant because it may herald an active region set to emerge over the sun's north-eastern limb later this week. A new sunspot group could bring an end to weeks of relative quiet," space weather said in its report.

**SubQuestion No : 37**

**Q.37 Select the most appropriate synonym of the given word from the passage.**  
**Spotted**

- Ans
- ☒ 1. Splotchy
  - ☒ 2. Placed
  - ☒ 3. Speckled
  - ☒ 4. Witnessed

Question ID : 264330128911

Status : Answered

Chosen Option : 2

### Comprehension:

Read the following passage and answer the questions given after it.

Tens of thousands of people who lost their homes in a catastrophic earthquake huddled around campfires in the bitter cold and clamoured for food and water on Thursday, three days after the temblor hit Turkey and Syria and killed more than 19,300 on Monday, 6th February, 2023.

Emergency crews used pick axes, shovels and jackhammers to dig through twisted metal and concrete - and occasionally still pulled out survivors.

In the Turkish city of Antakya, dozens scrambled for aid in front of a truck distributing children's coats and other supplies. Many of those who lost their homes found shelter in tents, stadiums and other temporary accommodation, but others slept outdoors.

In Antakya, over 100 bodies were awaiting identification in a makeshift morgue outside a hospital.

Authorities called off search-and-rescue operations in the cities of Kilis and Sanliurfa, where destruction was not as severe as in other impacted regions.

The U.N. is authorised to deliver aid through only one border crossing, and road damage has prevented that thus far. U.N. Officials pleaded for humanitarian concerns to take precedence over wartime politics.

The scale of loss and suffering remained massive. Turkish authorities said on Thursday that the death toll had risen to more than 16,100 in the country, with more than 64,000 injured.

In Syria, which includes government-held and rebel-held areas, more than 3,100 have been reported dead and more than 5,000 injured.

Rescue teams urged quiet in the hope of hearing stifled pleas for help, and the Syrian paramedic group known as the White Helmets noted that every second could mean saving a life. But more and more often, the teams pulled out dead bodies.

It was not clear how many people were still unaccounted for in both countries.

Turkey's disaster-management agency said more than 110,000 rescue personnel were now taking part in the effort and more than 5,500 vehicles, including tractors, cranes, bulldozers and excavators had been shipped.

The Foreign Ministry said 95 countries have offered help. More than half of that number have sent a total of nearly 6,500 rescuers. Another 2,400 more are still expected to arrive. International aid for Syria was far more sparse.

Efforts there have been hampered by the civil war and the isolation of the rebel-held region along the border that is surrounded by Russia-backed government forces.

### SubQuestion No : 38

Q.38 How many foreign rescue workers are engaged in the rescue work?

- Ans
- ☒ 1. 110,000 rescue workers
  - ☒ 2. 6500 rescue workers
  - ☒ 3. 2400 rescue workers
  - ☒ 4. 5000 rescue workers

Question ID : 264330128801

Status : Answered

Chosen Option : 2

**Comprehension:**

Read the following passage and answer the questions given after it.

Tens of thousands of people who lost their homes in a catastrophic earthquake huddled around campfires in the bitter cold and clamoured for food and water on Thursday, three days after the temblor hit Turkey and Syria and killed more than 19,300 on Monday, 6th February, 2023.

Emergency crews used pick axes, shovels and jackhammers to dig through twisted metal and concrete - and occasionally still pulled out survivors.

In the Turkish city of Antakya, dozens scrambled for aid in front of a truck distributing children's coats and other supplies. Many of those who lost their homes found shelter in tents, stadiums and other temporary accommodation, but others slept outdoors.

In Antakya, over 100 bodies were awaiting identification in a makeshift morgue outside a hospital.

Authorities called off search-and-rescue operations in the cities of Kilis and Sanliurfa, where destruction was not as severe as in other impacted regions.

The U.N. is authorised to deliver aid through only one border crossing, and road damage has prevented that thus far. U.N. Officials pleaded for humanitarian concerns to take precedence over wartime politics.

The scale of loss and suffering remained massive. Turkish authorities said on Thursday that the death toll had risen to more than 16,100 in the country, with more than 64,000 injured.

In Syria, which includes government-held and rebel-held areas, more than 3,100 have been reported dead and more than 5,000 injured.

Rescue teams urged quiet in the hope of hearing stifled pleas for help, and the Syrian paramedic group known as the White Helmets noted that every second could mean saving a life. But more and more often, the teams pulled out dead bodies.

It was not clear how many people were still unaccounted for in both countries.

Turkey's disaster-management agency said more than 110,000 rescue personnel were now taking part in the effort and more than 5,500 vehicles, including tractors, cranes, bulldozers and excavators had been shipped.

The Foreign Ministry said 95 countries have offered help. More than half of that number have sent a total of nearly 6,500 rescuers. Another 2,400 more are still expected to arrive. International aid for Syria was far more sparse.

Efforts there have been hampered by the civil war and the isolation of the rebel-held region along the border that is surrounded by Russia-backed government forces.

**SubQuestion No : 39**

**Q.39 Match the words with their meaning.**

**Words meanings**

- a. clamoured 1. checked**
- b. scrambled 2. screamed**
- c. hampered 3. jostled**

**Ans**

✓ 1. a-2, b-3, c-1

✗ 2. a -3, b -1, c-2

✗ 3. a-2, b-1, c-3

✗ 4. a-1, b-3, c-2

Question ID : 264330128803

Status : **Answered**

Chosen Option : 1

### Comprehension:

Read the following passage and answer the questions given after it.

Tens of thousands of people who lost their homes in a catastrophic earthquake huddled around campfires in the bitter cold and clamoured for food and water on Thursday, three days after the temblor hit Turkey and Syria and killed more than 19,300 on Monday, 6th February, 2023.

Emergency crews used pick axes, shovels and jackhammers to dig through twisted metal and concrete - and occasionally still pulled out survivors.

In the Turkish city of Antakya, dozens scrambled for aid in front of a truck distributing children's coats and other supplies. Many of those who lost their homes found shelter in tents, stadiums and other temporary accommodation, but others slept outdoors.

In Antakya, over 100 bodies were awaiting identification in a makeshift morgue outside a hospital.

Authorities called off search-and-rescue operations in the cities of Kilis and Sanliurfa, where destruction was not as severe as in other impacted regions.

The U.N. is authorised to deliver aid through only one border crossing, and road damage has prevented that thus far. U.N. Officials pleaded for humanitarian concerns to take precedence over wartime politics.

The scale of loss and suffering remained massive. Turkish authorities said on Thursday that the death toll had risen to more than 16,100 in the country, with more than 64,000 injured.

In Syria, which includes government-held and rebel-held areas, more than 3,100 have been reported dead and more than 5,000 injured.

Rescue teams urged quiet in the hope of hearing stifled pleas for help, and the Syrian paramedic group known as the White Helmets noted that every second could mean saving a life. But more and more often, the teams pulled out dead bodies.

It was not clear how many people were still unaccounted for in both countries.

Turkey's disaster-management agency said more than 110,000 rescue personnel were now taking part in the effort and more than 5,500 vehicles, including tractors, cranes, bulldozers and excavators had been shipped.

The Foreign Ministry said 95 countries have offered help. More than half of that number have sent a total of nearly 6,500 rescuers. Another 2,400 more are still expected to arrive. International aid for Syria was far more sparse.

Efforts there have been hampered by the civil war and the isolation of the rebel-held region along the border that is surrounded by Russia-backed government forces.

### SubQuestion No : 40

Q.40 The passage highlights all the following except

- Ans
- ☒ 1. the rescue work being carried out in Turkey and Syria
  - ☒ 2. the suffering of people in the earthquake hit areas of Turkey and Syria
  - ☒ 3. Syria's rebel-held areas and the Civil war going on there
  - ☒ 4. the foreign aid being offered to Turkey and Syria

Question ID : 264330128800

Status : Answered

Chosen Option : 3

### Comprehension:

Read the following passage and answer the questions given after it.

Tens of thousands of people who lost their homes in a catastrophic earthquake huddled around campfires in the bitter cold and clamoured for food and water on Thursday, three days after the temblor hit Turkey and Syria and killed more than 19,300 on Monday, 6th February, 2023.

Emergency crews used pick axes, shovels and jackhammers to dig through twisted metal and concrete - and occasionally still pulled out survivors.

In the Turkish city of Antakya, dozens scrambled for aid in front of a truck distributing children's coats and other supplies. Many of those who lost their homes found shelter in tents, stadiums and other temporary accommodation, but others slept outdoors.

In Antakya, over 100 bodies were awaiting identification in a makeshift morgue outside a hospital.

Authorities called off search-and-rescue operations in the cities of Kilis and Sanliurfa, where destruction was not as severe as in other impacted regions.

The U.N. is authorised to deliver aid through only one border crossing, and road damage has prevented that thus far. U.N. Officials pleaded for humanitarian concerns to take precedence over wartime politics.

The scale of loss and suffering remained massive. Turkish authorities said on Thursday that the death toll had risen to more than 16,100 in the country, with more than 64,000 injured.

In Syria, which includes government-held and rebel-held areas, more than 3,100 have been reported dead and more than 5,000 injured.

Rescue teams urged quiet in the hope of hearing stifled pleas for help, and the Syrian paramedic group known as the White Helmets noted that every second could mean saving a life. But more and more often, the teams pulled out dead bodies.

It was not clear how many people were still unaccounted for in both countries.

Turkey's disaster-management agency said more than 110,000 rescue personnel were now taking part in the effort and more than 5,500 vehicles, including tractors, cranes, bulldozers and excavators had been shipped.

The Foreign Ministry said 95 countries have offered help. More than half of that number have sent a total of nearly 6,500 rescuers. Another 2,400 more are still expected to arrive. International aid for Syria was far more sparse.

Efforts there have been hampered by the civil war and the isolation of the rebel-held region along the border that is surrounded by Russia-backed government forces.

### SubQuestion No : 41

Q.41 Why is the International aid much lesser in Syria than in Turkey?

- Ans
- ☒ 1. Because the UN is allowed only one border crossing and Syria is not allowing that.
  - ☒ 2. Because Syria is a war –torn country and there are areas under rebels.
  - ☒ 3. Because the roads have been damaged there
  - ☒ 4. Because the destruction was not as severe in Syria as in Turkey.

Question ID : 264330128802

Status : Answered

Chosen Option : 3

### Comprehension:

Read the following passage and answer the questions given after it.

Notwithstanding logistical challenges posed by COVID19 pandemic, India continues to expand its rice exports footprint in the African, Asian and European Union markets, thus having the largest share in global rice trade. The robust global demand also helped India's growth in rice exports.

In 2020-21, India's rice exports (Basmati and Non-Basmati) rose by a huge 87 per cent to 17.72 Million Tonne (MT) from 9.49 MT achieved in 2019-20.

In terms of value realisation, India's rice exports rose by 38 per cent to USD 8815 million in 2020-21 from USD 6397 million reported in 2019-20. In terms of Rupees, India's rice export grew by 44 per cent to Rs 65298 crore in 2020-21 from Rs 45379 crore in the previous year. In the first seven months of the current financial year (2021-22), India's rice exports rose by more than 33 per cent to 11.79 MT from 8.91 MT achieved during April-October, 2020-21. It is anticipated that India's rice exports in 2021-22 would likely surpass the record feet of 17.72 MT achieved in 2020-21.

In 2020-21, India shipped non-basmati rice to nine countries - Timor-Leste, Puerto Rico, Brazil, Papua New Guinea, Zimbabwe, Burundi, Eswatini, Myanmar and Nicaragua, where exports were carried out for the first time or earlier the shipment was smaller in volume.

India's Non-Basmati rice exports was valued at USD 4796 million (Rs 35448 crore) in 2020-21, with Basmati Rice exports a close second at USD 4018 million (Rs 29,849 crore).

In terms of volume of Basmati rice exports in 2020-21, top ten countries - Saudi Arabia, Iran, Iraq, Yemen, United Arab Emirates, United States of America, Kuwait, United Kingdom, Qatar and Oman have a share of close to 80 per cent in total shipments of aromatic long grained rice from India.

Top ten countries - Nepal, Benin, Bangladesh, Senegal, Togo, Cote D'Ivoire, Guinea, Malaysia, Iraq, United Arab Emirates - have a share of 57 per cent in India's total exports of non-Basmati rice in 2020-21 in terms of volume.

### SubQuestion No : 42

Q.42 What is the estimate of rice export in the year 2021-22?

- Ans
- ☒ 1. It may fall below the 17.72 MT rice export achieved in 2020-21.
  - ☒ 2. It will not pass beyond the 17.72 MT rice export achieved in 2020-21.
  - ☒ 3. It will remain the same as the 17.72 MT rice export achieved in 2020-21.
  - ☒ 4. It will exceed the 17.72 MT rice export achieved in 2020-21.

Question ID : 264330128818

Status : Answered

Chosen Option : 4

### Comprehension:

Read the following passage and answer the questions given after it.

Notwithstanding logistical challenges posed by COVID19 pandemic, India continues to expand its rice exports footprint in the African, Asian and European Union markets, thus having the largest share in global rice trade. The robust global demand also helped India's growth in rice exports.

In 2020-21, India's rice exports (Basmati and Non-Basmati) rose by a huge 87 per cent to 17.72 Million Tonne (MT) from 9.49 MT achieved in 2019-20.

In terms of value realisation, India's rice exports rose by 38 per cent to USD 8815 million in 2020-21 from USD 6397 million reported in 2019-20. In terms of Rupees, India's rice export grew by 44 per cent to Rs 65298 crore in 2020-21 from Rs 45379 crore in the previous year. In the first seven months of the current financial year (2021-22), India's rice exports rose by more than 33 per cent to 11.79 MT from 8.91 MT achieved during April-October, 2020-21. It is anticipated that India's rice exports in 2021-22 would likely surpass the record feet of 17.72 MT achieved in 2020-21.

In 2020-21, India shipped non-basmati rice to nine countries - Timor-Leste, Puerto Rico, Brazil, Papua New Guinea, Zimbabwe, Burundi, Eswatini, Myanmar and Nicaragua, where exports were carried out for the first time or earlier the shipment was smaller in volume. India's Non-Basmati rice exports was valued at USD 4796 million (Rs 35448 crore) in 2020-21, with Basmati Rice exports a close second at USD 4018 million (Rs 29,849 crore). In terms of volume of Basmati rice exports in 2020-21, top ten countries - Saudi Arabia, Iran, Iraq, Yemen, United Arab Emirates, United States of America, Kuwait, United Kingdom, Qatar and Oman have a share of close to 80 per cent in total shipments of aromatic long grained rice from India.

Top ten countries - Nepal, Benin, Bangladesh, Senegal, Togo, Cote D'Ivoire, Guinea, Malaysia, Iraq, United Arab Emirates - have a share of 57 per cent in India's total exports of non-Basmati rice in 2020-21 in terms of volume.

### SubQuestion No : 43

Q.43 Which of the following questions cannot be answered on the basis of the above passage?

- Ans
- ☒ 1. How much Basmati rice was exported by India in 2020-21?
  - ☐ 2. Which top 10 countries buy Non-Basmati rice from India?
  - ☐ 3. What was the value of Basmati rice export from India?
  - ☐ 4. How much rice (Basmati and Non Basmati) was exported by India in 2020-21?

Question ID : 264330128815

Status : Answered

Chosen Option : 2

### Comprehension:

Read the following passage and answer the questions given after it.

Notwithstanding logistical challenges posed by COVID19 pandemic, India continues to expand its rice exports footprint in the African, Asian and European Union markets, thus having the largest share in global rice trade. The robust global demand also helped India's growth in rice exports.

In 2020-21, India's rice exports (Basmati and Non-Basmati) rose by a huge 87 per cent to 17.72 Million Tonne (MT) from 9.49 MT achieved in 2019-20.

In terms of value realisation, India's rice exports rose by 38 per cent to USD 8815 million in 2020-21 from USD 6397 million reported in 2019-20. In terms of Rupees, India's rice export grew by 44 per cent to Rs 65298 crore in 2020-21 from Rs 45379 crore in the previous year. In the first seven months of the current financial year (2021-22), India's rice exports rose by more than 33 per cent to 11.79 MT from 8.91 MT achieved during April-October, 2020-21. It is anticipated that India's rice exports in 2021-22 would likely surpass the record feet of 17.72 MT achieved in 2020-21.

In 2020-21, India shipped non-basmati rice to nine countries - Timor-Leste, Puerto Rico, Brazil, Papua New Guinea, Zimbabwe, Burundi, Eswatini, Myanmar and Nicaragua, where exports were carried out for the first time or earlier the shipment was smaller in volume.

India's Non-Basmati rice exports was valued at USD 4796 million (Rs 35448 crore) in 2020-21, with Basmati Rice exports a close second at USD 4018 million (Rs 29,849 crore).

In terms of volume of Basmati rice exports in 2020-21, top ten countries - Saudi Arabia, Iran, Iraq, Yemen, United Arab Emirates, United States of America, Kuwait, United Kingdom, Qatar and Oman have a share of close to 80 per cent in total shipments of aromatic long grained rice from India.

Top ten countries - Nepal, Benin, Bangladesh, Senegal, Togo, Cote D'Ivoire, Guinea, Malaysia, Iraq, United Arab Emirates - have a share of 57 per cent in India's total exports of non-Basmati rice in 2020-21 in terms of volume.

### SubQuestion No : 44

Q.44 Which of the following countries imported rice from India for the first time?

- Ans
- ☒ 1. Brazil
  - ☐ 2. Iraq
  - ☐ 3. Bangladesh
  - ☐ 4. United Arab Emirates

Question ID : 264330128816

Status : Answered

Chosen Option : 2

### Comprehension:

Read the following passage and answer the questions given after it.

Notwithstanding logistical challenges posed by COVID19 pandemic, India continues to expand its rice exports footprint in the African, Asian and European Union markets, thus having the largest share in global rice trade. The robust global demand also helped India's growth in rice exports.

In 2020-21, India's rice exports (Basmati and Non-Basmati) rose by a huge 87 per cent to 17.72 Million Tonne (MT) from 9.49 MT achieved in 2019-20.

In terms of value realisation, India's rice exports rose by 38 per cent to USD 8815 million in 2020-21 from USD 6397 million reported in 2019-20. In terms of Rupees, India's rice export grew by 44 per cent to Rs 65298 crore in 2020-21 from Rs 45379 crore in the previous year. In the first seven months of the current financial year (2021-22), India's rice exports rose by more than 33 per cent to 11.79 MT from 8.91 MT achieved during April-October, 2020-21. It is anticipated that India's rice exports in 2021-22 would likely surpass the record feet of 17.72 MT achieved in 2020-21.

In 2020-21, India shipped non-basmati rice to nine countries - Timor-Leste, Puerto Rico, Brazil, Papua New Guinea, Zimbabwe, Burundi, Eswatini, Myanmar and Nicaragua, where exports were carried out for the first time or earlier the shipment was smaller in volume. India's Non-Basmati rice exports was valued at USD 4796 million (Rs 35448 crore) in 2020-21, with Basmati Rice exports a close second at USD 4018 million (Rs 29,849 crore). In terms of volume of Basmati rice exports in 2020-21, top ten countries - Saudi Arabia, Iran, Iraq, Yemen, United Arab Emirates, United States of America, Kuwait, United Kingdom, Qatar and Oman have a share of close to 80 per cent in total shipments of aromatic long grained rice from India.

Top ten countries - Nepal, Benin, Bangladesh, Senegal, Togo, Cote D Ivoire, Guinea, Malaysia, Iraq, United Arab Emirates - have a share of 57 per cent in India's total exports of non-Basmati rice in 2020-21 in terms of volume.

### SubQuestion No : 45

Q.45 Which of the following countries imports Basmati rice from India?

- Ans ☒ 1. Bangladesh  
☒ 2. Kuwait  
☒ 3. Malaysia  
☒ 4. Nepal

Question ID : 264330128817

Status : Answered

Chosen Option : 2

### Section : General Awareness

Q.1 ठंड के मौसम में, उत्तर भारत में अत्यधिक ठंड के मुख्य कारणों के संबंध में निम्नलिखित कथनों पर विचार करें और पहचानें कि कौन से कथन सही हैं।

1. पंजाब, हरियाणा और राजस्थान जैसे राज्य समुद्र के समकारी प्रभाव से दूर होने के कारण महाद्वीपीय जलवायु का अनुभव करते हैं।
2. निकटवर्ती हिमालय की श्रेणियों में हिमपात के कारण शीत लहर की स्थिति उत्पन्न हो जाती है।
3. फरवरी के आसपास, कैस्पियन सागर और तुर्कमेनिस्तान से आने वाली ठंडी पवनें भारत के उत्तर-पश्चिमी भागों में पाला और कोहरे के साथ शीत लहर लाती हैं।

- Ans ☒ 1. केवल 1 और 3  
☒ 2. केवल 1 और 2  
☒ 3. 1, 2 और 3  
☒ 4. केवल 2 और 3

Question ID : 264330121531

Status : Not Answered

Chosen Option : --

Q.2 बलबन की उपाधि किसने धारण की थी?

- Ans ☒ 1. उलुग खान  
☒ 2. फरीद खान  
☒ 3. कबीर खान  
☒ 4. अयाज खान

Question ID : 264330109009  
Status : Answered  
Chosen Option : 2

Q.3 1911 में अल्फा क्षय के अर्द्धआयुकाल और उत्सर्जित अल्फा कणों की ऊर्जा के बीच एक प्रयोगसिद्ध संबंध किसने खोजा था?

- Ans ☒ 1. गीगर और नट्टल (Geiger and Nuttall)  
☒ 2. चैडविक और लॉरेंस (Chadwick and Lawrence)  
☒ 3. फर्मी और मीटनेर (Fermi and Meitner)  
☒ 4. सोडी और एस्टन (Soddy and Aston)

Question ID : 264330123835  
Status : Not Answered  
Chosen Option : --

Q.4 सरकार का हस्तक्षेप, चाहे वह मांग का विस्तार करने के लिए हो अथवा इसे कम करने के लिए, \_\_\_\_\_ कहलाता है।

- Ans ☒ 1. स्थिरीकरण कार्य  
☒ 2. अनिश्चितता कार्य  
☒ 3. लेन-देन कार्य  
☒ 4. पुनः आबंटन कार्य

Question ID : 264330123882  
Status : Answered  
Chosen Option : 4

Q.5 भारत में, राज्य के महाधिवक्ता की नियुक्ति कौन करता है?

- Ans ☒ 1. भारत का राष्ट्रपति  
☒ 2. राज्य का मुख्यमंत्री  
☒ 3. राज्य का राज्यपाल  
☒ 4. भारत का प्रधान मंत्री

Question ID : 264330113409  
Status : Answered  
Chosen Option : 3

Q.6 पंजाब में वर्षा का कारण बनने वाले भूमध्य सागर से उत्पन्न होने वाले शीतोष्ण कटिबंधीय चक्रवातों से किन फसलों को लाभ होता है?

- Ans ☒ 1. खरीफ की फसल  
☒ 2. जायद फसल  
☒ 3. नकदी फसल  
☒ 4. रबी की फसल

Question ID : 264330123843  
Status : Not Answered  
Chosen Option : --

Q.7

स्तंभों का मिलान कीजिए।

स्तंभ-A

स्तंभ-B

i. विद्युत धारा

a. हेनरी

ii. विभवांतर

b. फैरड

iii. धारिता

c. वोल्ट

iv. प्रेरकत्व

d. ऐम्पियर

Ans ☒ 1. i-b, ii-a, iii-c, iv-d

☒ 2. i-a, ii-b, iii-c, iv-d

☒ 3. i-d, ii-c, iii-b, iv-a

☒ 4. i-a, ii-c, iii-b, iv-d

Question ID : 264330109881

Status : Answered

Chosen Option : 3

Q.8 निम्नलिखित में से कौन सा/से विकल्प संयुक्त राष्ट्र के सतत विकास लक्ष्यों में से एक है/हैं?

(A) शून्य भुखमरी

(B) जलवायु कार्रवाई (Climate Action)

(C) जल के नीचे जीवन (Life Below Water)

(D) गुणवत्तापरक शिक्षा

Ans ☒ 1. A, B, C और D

☒ 2. A और B

☒ 3. B और C

☒ 4. A, C और D

Question ID : 264330121482

Status : Answered

Chosen Option : 1

Q.9 विश्व स्वास्थ्य संगठन (WHO) का संविधान कब लागू हुआ था - यह वह तिथि है जिसे अब हम प्रत्येक वर्ष विश्व स्वास्थ्य दिवस के रूप में मनाते हैं?

Ans ☒ 1. 5 अप्रैल 1948

☒ 2. 6 अप्रैल 1948

☒ 3. 8 अप्रैल 1948

☒ 4. 7 अप्रैल 1948

Question ID : 264330123819

Status : Answered

Chosen Option : 3

Q.10

स्तंभों का मिलान करें।

काट एवं दाह कृषि	संबद्ध राज्य
(A) दहिया	(I) झारखंड
(B) कुरुवा	(II) ओडिशा
(C) बरीगाँ	(III) आंध्र प्रदेश
(D) पेंडा	(IV) मध्य प्रदेश

- Ans
- ☒ 1. A-III, B-I, C-II, D-IV
  - ☒ 2. A-IV, B-II, C-I, D-III
  - ☒ 3. A-IV, B-III, C-I, D-II
  - ☒ 4. A-IV, B-I, C-II, D-III

Question ID : 264330121512

Status : Not Answered

Chosen Option : --

Q.11 Which of the following statements is/are CORRECT with respect to Draft Information Technology (Intermediary Guidelines and Digital Media Ethics Code) Rules, 2021, proposed in 2022?

- A. Online games will have to register with a self-regulatory body, and only games cleared by the body will be allowed to legally operate in India.
- B. Online gaming companies will not be allowed to engage in betting on the outcome of games, the proposed rules say.
- C. According to the rules, there could be more than one self-regulatory body.

- Ans
- ☒ 1. A and B only
  - ☒ 2. A, B and C
  - ☒ 3. A and C only
  - ☒ 4. B and C only

Question ID : 264330122808

Status : Answered

Chosen Option : 2

Q.12 वर्ष 2011 की जनगणना के अनुसार भारत की जनसंख्या \_\_\_\_\_ है।

- Ans
- ☒ 1. 1.5 बिलियन
  - ☒ 2. 1.11 बिलियन
  - ☒ 3. 1.21 बिलियन
  - ☒ 4. 1.4 बिलियन

Question ID : 264330109499

Status : Answered

Chosen Option : 3

Q.13 103वें संविधान संशोधन अधिनियम की वैधता पर उच्चतम न्यायालय के फैसले के बारे में निम्नलिखित में से कौन-सा कथन सही है?

- A. इस केस के लिए, भारत के उच्चतम न्यायालय की संवैधानिक पीठ में 5 न्यायाधीश शामिल थे।
- B. संवैधानिक बेंच ने 3-2 बहुमत के साथ ईडब्ल्यूएस (EWS) आरक्षण के 10% को बरकरार रखा है।
- C. उच्चतम न्यायालय के फैसले के अनुसार, 103वां संविधान संशोधन वैध है, हालांकि यह भारतीय संविधान के मूल ढांचे का उल्लंघन कर रहा है।

Ans ☒ 1. केवल A और B

☒ 2. केवल B और C

☒ 3. A, B और C

☒ 4. केवल A और C

Question ID : 264330121542

Status : Answered

Chosen Option : 3

Q.14 बीमारी के दौरान पोषण देखभाल, कार्यकलापों का एक संगठित समूह है, जिसमें निम्नलिखित में से किसके अलावा अन्य सभी शामिल हैं?

Ans ☒ 1. पोषण संबंधी समस्याओं का निदान

☒ 2. पोषण संबंधी आवश्यकताओं को पूरा करने के लिए पोषण हस्तक्षेप की योजना बनाना और प्राथमिकता देना

☒ 3. मनोवैज्ञानिक तनाव का आकलन

☒ 4. पोषण की स्थिति का आकलन

Question ID : 26433055780

Status : Answered

Chosen Option : 3

Q.15 आप उन दवाओं को क्या कहते हैं जो ग्राही की सतह पर आबंधित होकर इसके प्राकृतिक कार्य में विरोध उत्पन्न करती हैं?

Ans ☒ 1. विरोधी

☒ 2. अवसादक

☒ 3. प्रति अवसादक

☒ 4. क्रिया प्रेरक

Question ID : 264330123846

Status : Answered

Chosen Option : 2

Q.16 भारत में पहली बार 'उक्त में से कोई नहीं' (NOTA) कब लागू किया गया था?

Ans ☒ 1. 2015

☒ 2. 2004

☒ 3. 2010

☒ 4. 2013

Question ID : 26433069894

Status : Answered

Chosen Option : 2

Q.17 भरत जन के नाम पर इंडिया का नाम 'भारत' रखा गया। निम्नलिखित में से किस वेद में इस जन का सर्वप्रथम उल्लेख मिलता है?

- Ans ☒ 1. ऋग्वेद  
☐ 2. सामवेद  
☐ 3. यजुर्वेद  
☐ 4. अथर्ववेद

Question ID : 264330123892  
Status : Answered  
Chosen Option : 4

Q.18 कॉलम सुमेलित करें।

पोषक तत्व	उदाहरण
a. प्रोटीन	i. कैल्शियम, फास्फोरस
b. कार्बोहाइड्रेट	ii. कोलेस्ट्रॉल
c. वसा	iii. शर्करा
d. खनिज पदार्थ	iv. मायोसिन

- Ans ☐ 1. a-iii, b-iv, c-ii, d-i  
☒ 2. a-iv, b-iii, c-ii, d-i  
☐ 3. a-i, b-ii, c-iii, d-iv  
☐ 4. a-i, b-iii, c-ii, d-iv

Question ID : 264330121163  
Status : Answered  
Chosen Option : 1

Q.19 सही कथन की पहचान कीजिए।

- Ans ☐ 1. न्यूटन शक्ति का मात्रक है।  
☐ 2. जूल बल का मात्रक है।  
☐ 3. जूल शक्ति का मात्रक है।  
☒ 4. न्यूटन बल का मात्रक है।

Question ID : 264330109878  
Status : Answered  
Chosen Option : 4

Q.20 निम्नलिखित में से किस अनुच्छेद में पूरे भारत में एक समान सिविल संहिता का उल्लेख है?

- Ans ☐ 1. अनुच्छेद 50  
☐ 2. अनुच्छेद 39  
☐ 3. अनुच्छेद 40  
☒ 4. अनुच्छेद 44

Question ID : 264330110112  
Status : Answered  
Chosen Option : 4

Q.21 भारत सरकार की नई एकीकृत खाद्य सुरक्षा योजना के संबंध में निम्नलिखित में से कौन-सा/से कथन सही है/हैं?

- A. यह नई एकीकृत खाद्य सुरक्षा योजना 1 जनवरी 2023 से शुरू की गई है।
- B. भारत सरकार ने राष्ट्रीय खाद्य सुरक्षा अधिनियम के तहत 80 करोड़ से अधिक लाभार्थियों को खाद्यान्न आपूर्ति करने का लक्ष्य रखा।
- C. पहली बार इस खाद्यान्न आपूर्ति कार्यक्रम को प्रभावी क्रियान्वयन के लिए सामाजिक न्याय मंत्रालय के अधीन लाया गया।

Ans ☒ 1. केवल A और C

☒ 2. A, B और C

☒ 3. केवल B और C

☒ 4. केवल A और B

Question ID : 264330122936

Status : Answered

Chosen Option : 2

Q.22 मान लीजिए कि अमेरिकी डॉलर और भारतीय रुपये के बीच विनिमय दर \$1 = ₹55 है। अब यदि यह विनिमय दर बढ़कर \$1 = ₹60 हो जाती है, तो इस स्थिति में अमेरिकी डॉलर की तुलना में भारतीय रुपये का ----- हुआ है।

Ans ☒ 1. विमुद्रीकरण

☒ 2. मूल्यवर्धन

☒ 3. अधिमूल्यन

☒ 4. अवमूल्यन

Question ID : 26433059307

Status : Answered

Chosen Option : 4

Q.23 भारत के उच्चतम न्यायालय ने फरवरी 2020 में दिल्ली दंगों से संबंधित जांच के लिए दिल्ली विधान सभा की शांति और सद्भाव समिति द्वारा जारी समन को रद्द करने के लिए ----- की याचिका को खारिज कर दिया।

Ans ☒ 1. स्नेपचैट

☒ 2. फेसबुक

☒ 3. ट्विटर

☒ 4. इंस्टाग्राम

Question ID : 264330123898

Status : Answered

Chosen Option : 3

Q.24 1845 में किस जर्मन रसायनज्ञ ने दो कार्बन परमाणु वाले एक प्राकृतिक उत्पाद 'एसिटिक अम्ल' के संश्लेषण के लिए एक विधि प्रकाशित की?

Ans ☒ 1. मार्सेलिन बर्थेलोट

☒ 2. फ्रेडरिक वोहलर

☒ 3. जोसेफ गेलुसाक

☒ 4. हरमन कोल्बे

Question ID : 26433055758

Status : Not Answered

Chosen Option : --

Q.25 पूर्वी गोदावरी क्षेत्र में कोया विद्रोह किस वर्ष हुआ था?

- Ans ☒ 1. 1879-1880
- ☐ 2. 1882-1883
- ☐ 3. 1874-1875
- ☐ 4. 1887-1888

Question ID : 264330123888

Status : Not Answered

Chosen Option : --

Section : Computer Knowledge Module

Q.1 एमएस-वर्ड 2010 में पैराग्राफ की लाइन स्पेसिंग (line spacing) के संबंध में निम्नलिखित कथनों पर विचार कीजिए।

P: लाइन स्पेसिंग (line spacing), किसी पैराग्राफ में टेक्स्ट की लाइनों के बीच लंबवत स्पेस का परिमाण निर्धारित करती है।

Q: लाइन स्पेसिंग (line spacing), किसी पैराग्राफ में टेक्स्ट की लाइनों के बीच विकर्णवत स्पेस का परिमाण निर्धारित करती है

निम्नलिखित में से कौन सा/से कथन सही है/हैं?

- Ans ☐ 1. केवल Q
- ☒ 2. केवल P
- ☐ 3. न तो P और न ही Q
- ☐ 4. P और Q दोनों

Question ID : 264330128715

Status : Answered

Chosen Option : 3

Q.2 MS-Excel 2010 वर्कशीट में करंट रो (current row) की सभी सेलों को सेलेक्ट करने के लिए निम्नलिखित में से किस शॉर्टकट कुंजी(key) का उपयोग किया जाता है?

- Ans ☐ 1. Ctrl + Spacebar
- ☐ 2. Shift + Page down
- ☐ 3. Shift + Page up
- ☒ 4. Shift + Spacebar

Question ID : 264330128729

Status : Answered

Chosen Option : 3

Q.3 \_\_\_\_\_ उपलब्ध या उपभोग की गई सूचना क्षमता की बिट-दर है जो आमतौर पर प्रति सेकंड बिट्स के मीट्रिक गुणकों में व्यक्त की जाती है।

- Ans ☐ 1. प्रोटोकॉल
- ☐ 2. गति
- ☐ 3. आवृत्ति
- ☒ 4. बैंडविड्थ

Question ID : 264330128732

Status : Answered

Chosen Option : 4

Q.4 \_\_\_\_\_ records everything you type on your PC in order to obtain your log-in name, passwords and other sensitive information.

- Ans
- ☒ 1. Worms
  - ☒ 2. Keyloggers
  - ☒ 3. Ransomware
  - ☒ 4. Virus

Question ID : 264330128768

Status : Answered

Chosen Option : 2

Q.5 \_\_\_\_\_ पहला ब्राउज़र था जो अलग विंडो में छवियों को प्रदर्शित करने के बजाय टेक्स्ट के साथ छवियों को इनलाइन प्रदर्शित करता था।

- Ans
- ☒ 1. मौज़ेक
  - ☒ 2. ओपेरा
  - ☒ 3. लिंक्स
  - ☒ 4. मोज़िल्ला

Question ID : 264330128737

Status : Answered

Chosen Option : 1

Q.6 निम्नलिखित में से कौन सा कथन गलत है?

- Ans
- ☒ 1. चुंबकीय टेप में क्षैतिज पंक्तियाँ होती हैं जिन्हें चैनल या ट्रैक कहा जाता है।
  - ☒ 2. एक चुंबकीय टेप में ऊर्ध्वाधर स्तंभ होते हैं जिन्हें फ्रेम कहा जाता है।
  - ☒ 3. चुंबकीय टेप में कोई एड्रेसिंग नहीं होती है।
  - ☒ 4. मैग्नेटिक टेप ड्राइवर डेटा के भंडारण के लिए उपयुक्त नहीं होते हैं जिन्हें रैंडमली एक्सेस करने की आवश्यकता होती है।

Question ID : 264330128742

Status : Answered

Chosen Option : 3

Q.7 \_\_\_\_\_ तारों का एक सेट है, जो समानांतर में बिट्स के एक समूह को वहन करता है और एक संबद्ध नियंत्रण योजना है। यह एक कंप्यूटर सिस्टम के दो या दो से अधिक उपकरणों के बीच संचार पथ प्रदान करता है।

- Ans
- ☒ 1. रजिस्टर (Register)
  - ☒ 2. कैश (Cache)
  - ☒ 3. बस (Buses)
  - ☒ 4. कंट्रोल यूनिट (Control Unit)

Question ID : 264330128740

Status : Answered

Chosen Option : 3

Q.8 निम्नलिखित में से कौन-सा, लिब्रे ऑफिस सॉफ्टवेयर सूट (LibreOffice Software Suite) प्रोग्राम नहीं है?

- Ans
- ☒ 1. लिब्रे ऑफिस कैल्क (LibreOffice Calc)
  - ☒ 2. लिब्रे ऑफिस इम्प्रेस (LibreOffice Impress)
  - ☒ 3. लिब्रे ऑफिस एक्सेल (LibreOffice Excel)
  - ☒ 4. लिब्रे ऑफिस राइटर (LibreOffice Writer)

Question ID : 264330128733

Status : Answered

Chosen Option : 1

Q.9 \_\_\_\_\_ उपयोगिता की सूची प्रदर्शित करता है जो कंप्यूटर सिस्टम को कॉन्फिगर करता है और सॉफ्टवेयर और हार्डवेयर स्थापित करता है।

- Ans
- ☒ 1. सहायता और समर्थन
  - ☒ 2. रन
  - ☒ 3. नियंत्रण कक्ष
  - ☒ 4. कार्यपट्टी

Question ID : 264330128730

Status : Answered

Chosen Option : 2

Q.10 निम्नलिखित में से किस प्रकार के कंप्यूटर को नोटबुक के नाम से भी जाना जाता है?

- Ans
- ☒ 1. माइक्रो कंप्यूटर
  - ☒ 2. वर्क स्टेशन
  - ☒ 3. मल्टी कोर
  - ☒ 4. लैपटॉप कंप्यूटर

Question ID : 264330128699

Status : Answered

Chosen Option : 1

Q.11 निम्नलिखित में से कौन-सा विकल्प, माइक्रोसॉफ्ट द्वारा निर्मित और विकसित किया गया एक वेब ब्राउज़र (web browser) है?

- Ans
- ☒ 1. एज़ (Edge)
  - ☒ 2. क्रोम (Chrome)
  - ☒ 3. ओपेरा (Opera)
  - ☒ 4. ब्रेव (Brave)

Question ID : 264330128698

Status : Answered

Chosen Option : 1

Q.12 डिलीट किए गए ईमेल को स्टोर करने के लिए निम्नलिखित में से किस फोल्डर का उपयोग किया जाता है?

- Ans
- ✓ 1. ट्रेश (Trash)
  - ✗ 2. स्पैम (Spam)
  - ✗ 3. इनबॉक्स (Inbox)
  - ✗ 4. ड्राफ्ट्स (Drafts)

Question ID : 264330128736  
Status : Answered  
Chosen Option : 1

Q.13 \_\_\_\_\_ एक्टिव मैमोरी का एड्रेस रखता है।

- Ans
- ✗ 1. निर्देश रजिस्टर
  - ✗ 2. प्रोग्राम काउंटर
  - ✓ 3. मेमरी एड्रेस रजिस्टर
  - ✗ 4. स्टैक सूचक

Question ID : 264330128745  
Status : Answered  
Chosen Option : 3

Q.14 \_\_\_\_\_ एक नेटवर्किंग डिवाइस है जो कई कंप्यूटरों या संचार उपकरणों को जोड़ने के दौरान नेटवर्क ट्रैफिक को फिल्टर करता है।

- Ans
- ✓ 1. स्विच
  - ✗ 2. राउटर
  - ✗ 3. गेटवे
  - ✗ 4. रिपीटर

Question ID : 264330128747  
Status : Answered  
Chosen Option : 2

Q.15 Which among the following statements is incorrect for input devices?

- Ans
- ✗ 1. Input devices accepts user data.
  - ✗ 2. Optical Mark Reader is an input device.
  - ✓ 3. Input devices are also called as peripheral device.
  - ✗ 4. Input devices helps computer in receiving data.

Question ID : 264330128704  
Status : Answered  
Chosen Option : 1

Q.16 MS-Excel 2010 में नीचे दिया गया फंक्शन क्या रिटर्न करेगा?

=MATCH(12,{10,13,30,40,60},1)

- Ans
- ☒ 1. 1
  - ☐ 2. 0
  - ☐ 3. 2
  - ☐ 4. #N/A

Question ID : 264330128731  
Status : Answered  
Chosen Option : 1

Q.17 In MS-Word 365, Ctrl + E is the keyboard shortcut to \_\_\_\_\_.

- Ans
- ☐ 1. display the file menu options
  - ☐ 2. justify the selected text
  - ☒ 3. centre align the selected text
  - ☐ 4. right align the selected text

Question ID : 264330128743  
Status : Answered  
Chosen Option : 3

Q.18 Which among the following is not a magnetic storage?

- Ans
- ☒ 1. Memory Card
  - ☐ 2. Floppy Drive
  - ☐ 3. Winchester disk
  - ☐ 4. Magnetic Tape

Question ID : 264330128741  
Status : Answered  
Chosen Option : 3

Q.19 निम्नलिखित में से किसका उदाहरण क्रिप्टोलॉकर है?

- Ans
- ☐ 1. स्पाइवेयर
  - ☒ 2. रैंसमवेयर
  - ☐ 3. कीडे
  - ☐ 4. एडवेयर

Question ID : 264330128694  
Status : Answered  
Chosen Option : 4

Q.20 निम्नलिखित में से किस पोर्ट को माउस पोर्ट भी कहा जाता है?

Ans ☒ 1. PS/2

☐ 2. हाई डेफिनिशन मीडिया इंटरफेस

☐ 3. वीडियो ग्राफिक ऐरे

☐ 4. फायरवायर

Question ID : 264330128746

Status : Answered

Chosen Option : 1

