

Roll Number	
Candidate Name	
Venue Name	
Exam Date	12/10/2020
Exam Time	10:00 AM - 11:00 AM
Subject	CHSL Tier 1

Section : English Language (Basic Knowledge)

Q.1 Select the wrongly spelt word.

- Ans
- 1. Awfully
 - 2. Unduly
 - 3. Faithfully
 - 4. Unruly

Question ID : 424429408
Status : Answered
Chosen Option : 3

Q.2 Select the most appropriate synonym of the given word.

ASSERTION

- Ans
- 1. Continuation
 - 2. Rejection
 - 3. Discussion
 - 4. Declaration

Question ID : 424429427
Status : Answered
Chosen Option : 4

Q.3 Select the most appropriate meaning of the given idiom.

Up in arms

- Ans
- 1. Angry about something
 - 2. Throw up arms in joy
 - 3. Give up fighting and surrender
 - 4. Divide into armed groups

Question ID : 424429422
Status : Answered
Chosen Option : 1

Q.4 Select the correct passive form of the given sentence.

The police beat a number of protestors last night.

- Ans
- 1. A number of protestors has been beaten by the police the night before.
 - 2. A number of protestors were being beaten by the police last night.
 - 3. A number of protestors were beaten by the police the night before.
 - 4. A number of protestors had been beaten by the police last night.

Question ID : 424429415

Status : Answered

Chosen Option : 3

Comprehension:

In the following passage some words have been deleted. Fill in the blanks with the help of the alternatives given. Select the most appropriate option for each blank.

Smartphones have become an essential part of our lives and their (1)_____ usage is now impacting human behaviour. We need to (2)_____ think about digital detox! Yes, the concept of disconnecting with (3)_____ virtual world is not just a fad. It's the need of the hour today. The Global Brand Director of the smartphone Vivo in his speech nudged all smartphone users (4)_____ a step backward and think. He said, "Let's (5)_____ our mobiles and pledge to be closer and nearer to our loved ones."

SubQuestion No : 5

Q.5 Select the most appropriate option for blank number 1.

- Ans
- 1. exceedingly
 - 2. excessive
 - 3. exceeding
 - 4. exceed

Question ID : 424429410

Status : Answered

Chosen Option : 2

Comprehension:

In the following passage some words have been deleted. Fill in the blanks with the help of the alternatives given. Select the most appropriate option for each blank.

Smartphones have become an essential part of our lives and their (1)_____ usage is now impacting human behaviour. We need to (2)_____ think about digital detox! Yes, the concept of disconnecting with (3)_____ virtual world is not just a fad. It's the need of the hour today. The Global Brand Director of the smartphone Vivo in his speech nudged all smartphone users (4)_____ a step backward and think. He said, "Let's (5)_____ our mobiles and pledge to be closer and nearer to our loved ones."

SubQuestion No : 6

Q.6 Select the most appropriate option for blank number 2.

- Ans
- 1. serious
 - 2. seriously
 - 3. series
 - 4. seriousness

Question ID : 424429411

Status : Answered

Chosen Option : 2

Comprehension:

In the following passage some words have been deleted. Fill in the blanks with the help of the alternatives given. Select the most appropriate option for each blank.

Smartphones have become an essential part of our lives and their (1)_____ usage is now impacting human behaviour. We need to (2)_____ think about digital detox! Yes, the concept of disconnecting with (3)_____ virtual world is not just a fad. It's the need of the hour today. The Global Brand Director of the smartphone Vivo in his speech nudged all smartphone users (4)_____ a step backward and think. He said, "Let's (5)_____ our mobiles and pledge to be closer and nearer to our loved ones."

SubQuestion No : 7

Q.7 Select the most appropriate option for blank number 3.

- Ans
- 1. the
 - 2. any
 - 3. many
 - 4. a

Question ID : 424429412

Status : Answered

Chosen Option : 4

Comprehension:

In the following passage some words have been deleted. Fill in the blanks with the help of the alternatives given. Select the most appropriate option for each blank.

Smartphones have become an essential part of our lives and their (1)_____ usage is now impacting human behaviour. We need to (2)_____ think about digital detox! Yes, the concept of disconnecting with (3)_____ virtual world is not just a fad. It's the need of the hour today. The Global Brand Director of the smartphone Vivo in his speech nudged all smartphone users (4)_____ a step backward and think. He said, "Let's (5)_____ our mobiles and pledge to be closer and nearer to our loved ones."

SubQuestion No : 8

Q.8 Select the most appropriate option for blank number 4.

- Ans
- 1. takes
 - 2. to take
 - 3. taken
 - 4. to taking

Question ID : 424429413

Status : Answered

Chosen Option : 2

Comprehension:

In the following passage some words have been deleted. Fill in the blanks with the help of the alternatives given. Select the most appropriate option for each blank.

Smartphones have become an essential part of our lives and their (1)_____ usage is now impacting human behaviour. We need to (2)_____ think about digital detox! Yes, the concept of disconnecting with (3)_____ virtual world is not just a fad. It's the need of the hour today. The Global Brand Director of the smartphone Vivo in his speech nudged all smartphone users (4)_____ a step backward and think. He said, "Let's (5)_____ our mobiles and pledge to be closer and nearer to our loved ones."

SubQuestion No : 9

Q.9 Select the most appropriate option for blank number 5.

- Ans
- 1. switch in
 - 2. switch off
 - 3. switch over
 - 4. switch up

Question ID : 424429414
Status : Answered
Chosen Option : 2

Q.10 Select the most appropriate synonym of the given word.

GUILE

- Ans
- 1. Intuition
 - 2. Surfeit
 - 3. Deceit
 - 4. Sincerity

Question ID : 424429428
Status : Answered
Chosen Option : 3

Q.11 Given below are four jumbled sentences. Select the option that gives their correct order.

A. This test is conducted on the fully automated Driving Test Track designed by Maruti Suzuki.

B. Each of these specific skills are to be tested and need to be completed successfully in under seven minutes by the candidate.

C. It is a fully-automated track having six segments to test specific driving skills.

D. The Regional Transport Offices of Delhi have recently introduced the new driving test.

- Ans
- 1. DBAC
 - 2. ADBC
 - 3. DACB
 - 4. BADC

Question ID : 424429405
Status : Answered
Chosen Option : 3

Q.12 Select the correct indirect form of the given sentence.

“Do you attend the film festival at Goa every year?” he asked.

- Ans
- 1. He asks me if I attend the film festival at Goa every year.
 - 2. He asked me if I attended the film festival at Goa every year.
 - 3. He had asked me if I was attending the film festival at Goa every year.
 - 4. He is asking me if I attended the film festival at Goa every year.

Question ID : 424429416
Status : Answered
Chosen Option : 2

Q.13 Select the most appropriate word to fill in the blank in the given sentence.

If the video clip of the murder had not been shared on social media, the world would likely have remained _____ of the tragedy.

- Ans
- 1. unconfirmed
 - 2. renowned
 - 3. unaware
 - 4. recognised

Question ID : 424429429
Status : Answered
Chosen Option : 1

Q.14 Select the word which means the same as the group of words given.

Something that is genuine

- Ans
- 1. Authentic
 - 2. Unreal
 - 3. Academic
 - 4. Majestic

Question ID : 424429425
Status : Answered
Chosen Option : 1

Q.15 In the given sentence identify the segment which contains the grammatical error.

When I met Akbar Padamsee, one of a pioneers of Indian art, he was 87 but still alert and active.

- Ans
- 1. he was 87
 - 2. When I met
 - 3. one of a pioneers of Indian art
 - 4. but still alert and active

Question ID : 424429417
Status : Answered
Chosen Option : 3

Q.16 Select the most appropriate ANTONYM of the given word.

DEMOLISH

- Ans
- 1. Abolish
 - 2. Construct
 - 3. Cherish
 - 4. Obstruct

Question ID : 424429406
Status : Answered
Chosen Option : 2

Q.17 Select the most appropriate meaning of the given idiom.

Stir up a hornet's nest

- Ans
- 1. Provoke trouble
 - 2. Lead a revolt
 - 3. Destroy a nest
 - 4. Call for dialogue

Question ID : 424429423
Status : Answered
Chosen Option : 1

Q.18 Select the most appropriate option to substitute the underlined segment in the given sentence. If there is no need to substitute it, select 'No improvement'.

It is reported that everyday India witnessing the death of over 2000 babies aged less than one year.

- Ans
- 1. India witness the death
 - 2. No improvement
 - 3. India will be witness the death
 - 4. India witnesses the death

Question ID : 424429421
Status : Answered
Chosen Option : 4

Q.19 In the given sentence identify the segment which contains the grammatical error.

Your skill lie in cheering up people who are stressed out, wound up or generally just annoyed.

- Ans
- 1. Your skill lie
 - 2. who are stressed out, wound up
 - 3. or generally just annoyed
 - 4. in cheering up people

Question ID : 424429418
Status : Answered
Chosen Option : 1

Q.20 Select the most appropriate ANTONYM of the given word.

SURVEILLANCE

- Ans 1. Neglect
 2. Attack
 3. Vigilance
 4. Endurance

Question ID : 424429407
Status : Answered
Chosen Option : 1

Q.21 Select the word which means the same as the group of words given.

That which is no longer useful

- Ans 1. Redundant
 2. Abundant
 3. Reluctant
 4. Dominant

Question ID : 424429426
Status : Answered
Chosen Option : 1

Q.22 Select the wrongly spelt word.

- Ans 1. Popularly
 2. Sincearly
 3. Beggarly
 4. Jocularly

Question ID : 424429424
Status : Answered
Chosen Option : 2

Q.23 Select the most appropriate word to fill in the blank in the given sentence.

Padamse worked like a mathematician and was a true _____ who experimented with numerous mediums.

- Ans 1. literary
 2. visionary
 3. adversary
 4. voluntary

Question ID : 424429430
Status : Answered
Chosen Option : 3

Q.24 Select the most appropriate option to substitute the underlined segment in the given sentence. If there is no need to substitute it, select 'No improvement'.

Lenovo has launched ThinkPad XI Fold, the world's first foldable laptop which is claimed to be so durable as its other devices.

- Ans
- 1. to be as durable as
 - 2. to be most durable as
 - 3. to be very durable as
 - 4. No improvement

Question ID : 424429420
Status : Answered
Chosen Option : 1

Q.25 Given below are four jumbled sentences. Select the option that gives their correct order.

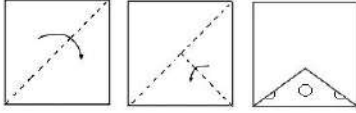
- A. The most well-known among them is the Purple Frog needing immediate protection.
- B. The Secret Life of Frogs is the first ever film on the Amphibians of India.
- C. The film has been shot extensively in the Western Ghats.
- D. It showcases unique species of frogs which are critically endangered.

- Ans
- 1. DCBA
 - 2. BCDA
 - 3. BCAD
 - 4. CBDA

Question ID : 424429419
Status : Answered
Chosen Option : 2

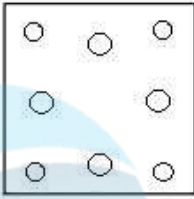
Section : General Intelligence

Q.1 नीचे दी गई आकृतियों में कागज के एक टुकड़े को मोड़ने का क्रम और काटने की विधि दी गई है। यह कागज खोलने पर कैसा दिखाई देगा?

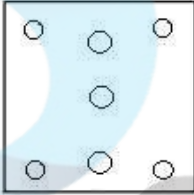


Ans

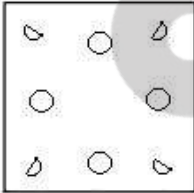
✓ 1.



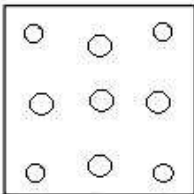
✗ 2.



✗ 3.



✗ 4.



Question ID : 424429453

Status : Answered

Chosen Option : 1

Q.2 उन गणितीय चिहनों के सही संयोजन का चुनाव करें, जिन्हें A की जगह क्रमिक रूप से बाएं से दाएं रखने पर समीकरण संतुलित हो जाएगा।

26 A 2 A 3 A 3 A 13

Ans

✓ 1. $\div, \times, =, \times$

✗ 2. $\times, \div, +, =$

✗ 3. $\div, \times, =, -$

✗ 4. $\times, =, -, \div$

Question ID : 424429432

Status : Answered

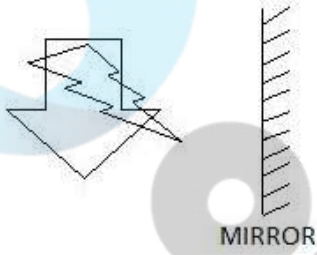
Chosen Option : 1

Q.3 किसी निश्चित कूट भाषा में, 'BROWSE' को 'GUYQTD' लिखा जाता है। उसी भाषा में 'AMALGAM' को क्या लिखा जाएगा?

- Ans
- 1. DPMDGCP
 - 2. OCINCOC
 - 3. CONCICO
 - 4. PMDGCPD

Question ID : 424429439
Status : Answered
Chosen Option : 2

Q.4 दी गई आकृति के सही दर्पण-प्रतिबिंब का चयन करें।



Ans

- 1.
- 2.
- 3.
- 4.

Question ID : 424429454
Status : Answered
Chosen Option : 4

Q.5 चार अक्षर-समूह दिए गए हैं, जिनमें से तीन किसी न किसी तरह से संगत हैं और एक असंगत है। उस असंगत अक्षर-समूह का चयन करें।

- Ans
- 1. TVW
 - 2. DFH
 - 3. FHJ
 - 4. LNP

Question ID : 424429444
Status : Answered
Chosen Option : 1

Q.6 अक्षरों के उस संगोजन का चयन करें, जिसे अक्षर श्रृंखला में रिक्त स्थानों पर क्रमिक रूप बाएं से दाएं से भरे जाने पर श्रृंखला पूरी हो जाएगी।

aba_ccdab_b__dababc__

- Ans
- 1. baccdd
 - 2. bacacd
 - 3. abdccd
 - 4. caccdd

Question ID : 424429443
Status : Answered
Chosen Option : 1

Q.7 चार संख्याएं दी गई हैं, जिन में से तीन किसी न किसी तरह से संगत हैं और एक असंगत है। उस असंगत संख्या का चयन करें।

- Ans
- 1. 255
 - 2. 212
 - 3. 124
 - 4. 268

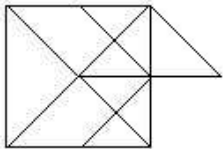
Question ID : 424429437
Status : Answered
Chosen Option : 1

Q.8 जॉन पिछले महीने तक ₹80 प्रति लीटर की दर से पेट्रोल खरीद रहा था। अब वह इसे ₹85 प्रति लीटर की दर से खरीदता है। पिछले महीने की तुलना में पेट्रोल की दर में कितने प्रतिशत की वृद्धि हुई?

- Ans
- 1. 10%
 - 2. 8.35%
 - 3. 6.25%
 - 4. 5.5%

Question ID : 424429431
Status : Answered
Chosen Option : 3

Q.9 दी गई आकृति में कितने त्रिभुज हैं?



- Ans
- 1. 21
 - 2. 22
 - 3. 20
 - 4. 18

Question ID : 424429451
Status : Not Attempted and Marked For Review
Chosen Option : --

Q.10 निम्नलिखित शब्दों को एक तार्किक और अर्थपूर्ण क्रम में व्यवस्थित करें।

1. फ्लैट
2. गली
3. कमरा
4. अपार्टमेंट
5. शहर

- Ans
- 1. 3, 4, 1, 2, 5
 - 2. 5, 4, 3, 2, 1
 - 3. 3, 1, 4, 2, 5
 - 4. 3, 5, 1, 4, 2

Question ID : 424429438

Status : Answered

Chosen Option : 3

Q.11 उस विकल्प का चयन करें, जिसका तीसरे शब्द से वही संबंध है जो दूसरे शब्द का पहले शब्द से है।

कार्य : जूल :: क्षेत्रफल : ?

- Ans
- 1. परिमाण
 - 2. लंबाई
 - 3. हेक्टेयर
 - 4. रेडियन

Question ID : 424429442

Status : Answered

Chosen Option : 3

Q.12 किसी निश्चित कूट भाषा में, N को 30 और COT को 78 लिखा जाता है। उसी भाषा में PET को क्या लिखा जाएगा?

- Ans
- 1. 100
 - 2. 41
 - 3. 70
 - 4. 84

Question ID : 424429440

Status : Not Attempted and Marked For Review

Chosen Option : --

Q.13 उस विकल्प का चुनाव करें, जिसमें संख्याओं का आपस में वही, जो दिए गए समुच्चय की संख्याओं के बीच है।

(7, 15, 31)

- Ans
- 1. (6, 13, 21)
 - 2. (5, 625, 6)
 - 3. (2, 17, 14)
 - 4. (3, 7, 15)

Question ID : 424429434
Status : Answered
Chosen Option : 4

Q.14 दिशा का वेतन प्रतिमा के वेतन से ₹3000 अधिक है। दिशा और प्रतिमा के वेतन का अनुपात क्रमशः 17 : 15 है। प्रतिमा का वेतन कितना है?

- Ans
- 1. ₹22,500
 - 2. ₹27,250
 - 3. ₹26,750
 - 4. ₹25,500

Question ID : 424429436
Status : Answered
Chosen Option : 1

Q.15 एक ही पासे की तीन अलग-अलग स्थितियाँ दिखाई गई हैं। उस संख्या का चयन करें, जो संख्या 1 वाले फलक के विपरीत फलक पर होगी।



- Ans
- 1. 6
 - 2. 3
 - 3. 5
 - 4. 4

Question ID : 424429449
Status : Answered
Chosen Option : 1

Q.16 उस विकल्प का चयन करें, जिस में संख्याओं का आपस में वही संबंध है, जो दिए गए संख्या-युग्म की संख्याओं के बीच है।

8 : 49

- Ans
- 1. 12 : 121
 - 2. 15 : 210
 - 3. 9 : 87
 - 4. 13 : 170

Question ID : 424429433
Status : Answered
Chosen Option : 1

Q.17 उस विकल्प का चयन करें, जिसका तीसरे अक्षर-समूह से वही संबंध है, जो दूसरे अक्षर-समूह का पहले अक्षर-समूह से है।

GOAT : DQYW :: TRES : ?

- Ans
- 1. QTCV
 - 2. RSDW
 - 3. HUMO
 - 4. PSBU

Question ID : 424429441
Status : Answered
Chosen Option : 1

Q.18 उस विकल्प का चयन करें, जिसमें शब्दों का आपस में वही संबंध है, जो दिए गए शब्द-युग्म के शब्दों के बीच है।

गाय : दूध

- Ans
- 1. चील : झपटना
 - 2. बकरी : मिमियाना
 - 3. चिड़िया : उड़ना
 - 4. मुर्गी : अंडा

Question ID : 424429445
Status : Answered
Chosen Option : 4

Q.19 दिए गए कथनों और निष्कर्षों को ध्यान से पढ़ें। यह मानते हुए कि कथनों में दी गई जानकारी सही है, भले ही वह आम तौर पर स्थापित तथ्यों से भिन्न दिखाई देती है, तब कीजिए कि कौन सा/से निष्कर्ष तर्कसंगत रूप से इन कथनों का अनुसरण करता/करते हैं/हैं।

कथन:

1. सभी फलियाँ, मांस हैं।
2. सभी रोटियाँ, मांस हैं।

निष्कर्ष:

- I. कुछ फलियाँ, रोटियाँ हैं।
- II. कुछ रोटियाँ, फलियाँ हैं।

- Ans
- 1. निष्कर्ष I और II दोनों अनुसरण करते हैं।
 - 2. केवल निष्कर्ष I अनुसरण करता है।
 - 3. निष्कर्ष I या II में से कोई एक अनुसरण करता है।
 - 4. निष्कर्ष I और II में से कोई भी अनुसरण नहीं करता है।


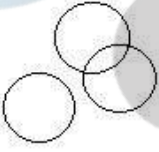
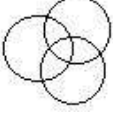

Question ID : 424429448
Status : Answered
Chosen Option : 4

Q.20 चार अक्षर-समूह दिए गए हैं, जिनमें से तीन किसी न किसी तरह से संगत हैं और एक असंगत है। उस असंगत अक्षर-समूह का चयन करें।

- Ans
- 1. ADZW
 - 2. NOML
 - 3. TUGD
 - 4. EGV T

Question ID : 424429446
Status : Answered
Chosen Option : 3

Q.21 उस वेन आरेख का चयन करें, जो दिए गए वर्गों के बीच के संबंध को सर्वोत्तम ढंग से दर्शाता है।
रेंगनेवाले जंतु, स्तनधारी, छिपकली

- Ans
- 1. 
 - 2. 
 - 3. 
 - 4. 

Question ID : 424429455
Status : Answered
Chosen Option : 1

Q.22 चार शब्द दिए गए हैं, जिनमें से तीन किसी न किसी तरह से संगत हैं और एक असंगत है। असंगत शब्द का चयन करें।

- Ans
- 1. मिमियाना
 - 2. उछलना
 - 3. हिनहिनाना
 - 4. चहचहाना

Question ID : 424429447
Status : Answered
Chosen Option : 2

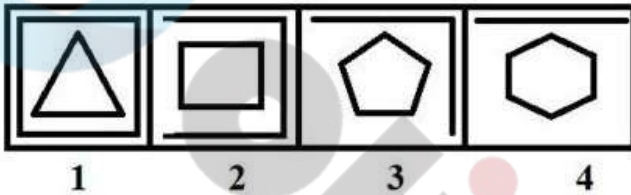
Q.23 उस विकल्प का चुनाव करें, जिसमें संख्याओं का आपस में वही संबंध है, जो दिए गए समुच्चय की संख्याओं के बीच है।

(3, 68, 5)

- Ans
- ✓ 1. (2, 10, 1)
 - ✗ 2. (5, 95, 8)
 - ✗ 3. (4, 64, 5)
 - ✗ 4. (2, 72, 10)

Question ID : 424429435
Status : Answered
Chosen Option : 1

Q.24 उस आकृति का चयन करें, जो आकृति श्रृंखला में अगले क्रम पर आएगी:

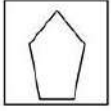


Ans

- ✗ 1.
- ✓ 2.
- ✗ 3.
- ✗ 4.

Question ID : 424429450
Status : Answered
Chosen Option : 2

Q.25 उस विकल्प का चयन करें, जिस में दी गई प्रश्न आकृति अंतर्निहित है। (घुमाने की अनुमति नहीं है)



Ans

✗ 1.



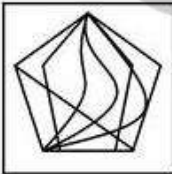
✗ 2.



✗ 3.



✓ 4.



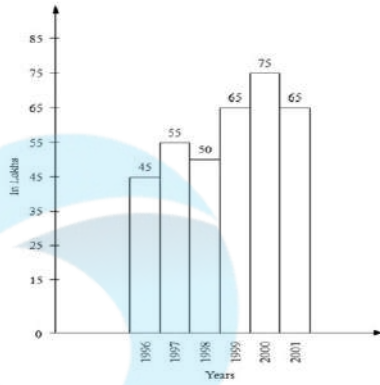
Question ID : 424429452
Status : Answered
Chosen Option : 4

Section : Quantitative Aptitude(Basic Arithmetic Skill)

Q.1 दिए गए ग्राफ में एक कंपनी को 1996-2001 अवधि के दौरान हुए वार्षिक प्रतिशत लाभ को दर्शाया गया है।

ग्राफ का ध्यानपूर्वक अध्ययन करें और पूछे गए प्रश्न का उत्तर दें।

$$\% \text{ लाभ} = \frac{\text{आय} - \text{व्यय}}{\text{व्यय}} \times 100$$



किस वर्ष कंपनी को अधिकतम लाभ हुआ?

- Ans
- 1. 1996
 - 2. 2001
 - 3. 2000
 - 4. 1999

Question ID : 424429477

Status : Answered

Chosen Option : 3

Q.2 $8\text{cosec}^2\theta + 25\text{sin}^2\theta$ का न्यूनतम मान क्या होगा?

- Ans
- 1. $20\sqrt{2}$
 - 2. $30\sqrt{2}$
 - 3. $40\sqrt{2}$
 - 4. $10\sqrt{2}$

Question ID : 424429475

Status : Answered

Chosen Option : 1

Q.3 शैक्षणिक सत्र 2018-2019 के लिए, कविता की उसके स्कूल में उपस्थिति 216 दिन थी। उसकी उपस्थिति की गणना करने पर, यह देखा गया कि उसकी उपस्थिति 90% थी। स्कूल के कुल कार्य दिवसों की संख्या ज्ञात करें।

- Ans
- 1. 250
 - 2. 240
 - 3. 195
 - 4. 194

Question ID : 424429461

Status : Answered

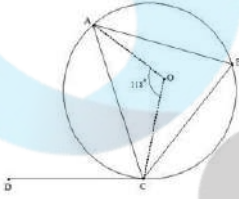
Chosen Option : 2

Q.4 $\triangle XYZ$ में L और M, क्रमशः भुजाओं XY और XZ का मध्य बिंदु हैं। R रेखाखंड LM पर इस प्रकार स्थित है कि, $LR : RM = 1 : 2$ है, यदि $LR = 3$ cm है, तो YZ का मान ज्ञात करें।

- Ans
- 1. 17 cm
 - 2. 16 cm
 - 3. 18 cm
 - 4. 19 cm

Question ID : 424429467
Status : Answered
Chosen Option : 3

Q.5 दी गई आकृति में, BC एक जीवा है तथा CD, बिंदु C से खींची जाने वाली एक स्पर्शरेखा है। यदि $\angle AOC = 118^\circ$, तो $\angle ACD$ का मान ज्ञात करें।



- Ans
- 1. 65°
 - 2. 59°
 - 3. 56°
 - 4. 63°

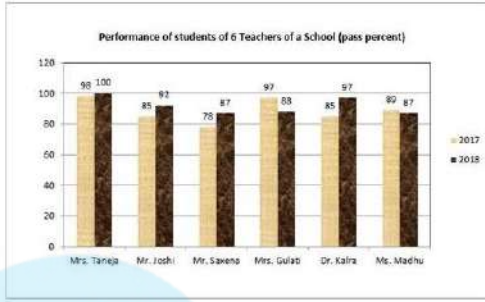
Question ID : 424429466
Status : Answered
Chosen Option : 2

Q.6 किसी आयत का विकर्ण 15 cm तथा लंबाई 12 cm है। आयत का क्षेत्रफल ज्ञात करें।

- Ans
- 1. 108 cm^2
 - 2. 112 cm^2
 - 3. 114 cm^2
 - 4. 116 cm^2

Question ID : 424429458
Status : Answered
Chosen Option : 1

Q.7 दिया गया बाफ सीनियर सेकेडरी बोर्ड परीक्षा में किसी स्कूल के छह शिक्षकों द्वारा पढ़ाए गए छात्रों के उत्तीर्ण प्रतिशत को दर्शाता है।



उस शिक्षक की पहचान करें, जिनके छात्रों ने अधिकतम सुधार दिखाया है।

- Ans
- 1. श्रीमती तनेजा
 - 2. श्री जोशी
 - 3. श्री सक्सेना
 - 4. डॉ. कालरा

Question ID : 424429479

Status : Not Answered

Chosen Option : --

Q.8 यदि $a + b + c = 2$, $\frac{1}{a} + \frac{1}{b} + \frac{1}{c} = 0$, $ac = \frac{4}{b}$ और $a^3 + b^3 + c^3 = 28$ है, तो $a^2 + b^2 + c^2$ का मान ज्ञात करें।

- Ans
- 1. 12
 - 2. 8
 - 3. 6
 - 4. 10

Question ID : 424429471

Status : Answered

Chosen Option : 2

Q.9 ₹6,300 को X, Y, Z के बीच इस प्रकार बांटा जाता है कि $X : Y = 7 : 5$ और $Y : Z = 4 : 3$ होता है।

Y के हिस्से में कितनी धनराशि आयी?

- Ans
- 1. ₹1,800
 - 2. ₹2,400
 - 3. ₹2,000
 - 4. ₹2,200

Question ID : 424429463

Status : Answered

Chosen Option : 3

Q.10 निम्न का मान क्या होगा?

$$-15 + 90 \div [89 - \{9 \times 8 + (33 - 3 \times 7)\}]$$

- Ans
- 1. 3
 - 2. 2
 - 3. 4
 - 4. 5

Question ID : 424429473
Status : Answered
Chosen Option : 1

Q.11 यदि $\cos(x - y) = \frac{\sqrt{3}}{2}$ और $\sin(x + y) = \frac{1}{2}$ है, तो x ($0 < x < 90$) का मान क्या होगा?

- Ans
- 1. 30°
 - 2. 15°
 - 3. 45°
 - 4. 60°

Question ID : 424429476
Status : Answered
Chosen Option : 1

Q.12 यदि $\cot A = k$ है, तो $\sin A$ का मान बताइए।

(मान लें कि A न्यून कोण है)

- Ans
- 1. $\frac{1}{k}$
 - 2. $-\frac{1}{k}$
 - 3. $\frac{1}{\sqrt{1+k^2}}$
 - 4. $\frac{k^2}{\sqrt{1+k^2}}$

Question ID : 424429470
Status : Answered
Chosen Option : 3

Q.13 बिंदु M, 15 cm परित्रिज्या (circumradius) वाले, किसी $\triangle ABC$ के परिवृत्त का परिकेंद्र है। मान लें कि $BC = 24$ cm तथा ML, BC पर लंब है, तो ML की लंबाई क्या होगी?

- Ans
- 1. 10 cm
 - 2. 9 cm
 - 3. 12 cm
 - 4. 8 cm

Question ID : 424429468
Status : Answered
Chosen Option : 2

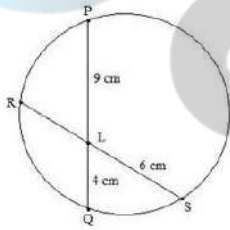
Q.14 यदि $\frac{\cos\theta + \sin\theta}{\cos\theta - \sin\theta} = 8$ है, तो $\cot\theta$ का मान ज्ञात करें।

Ans

- 1. $\frac{9}{7}$
- 2. $\frac{6}{5}$
- 3. $\frac{8}{7}$
- 4. $\frac{7}{6}$

Question ID : 424429474
Status : Answered
Chosen Option : 1

Q.15 दी गई आकृति में, जीवाएं PQ और RS एक दूसरे को बिंदु L पर काटती हैं। RL की लंबाई ज्ञात करें।



Ans

- 1. 3 cm
- 2. 6 cm
- 3. 8 cm
- 4. 2 cm

Question ID : 424429465
Status : Answered
Chosen Option : 2

Q.16 निम्न में से कौन सी संख्या 11 से पूर्णतः विभाज्य है?

Ans

- 1. 107611
- 2. 809781
- 3. 963391
- 4. 116571

Question ID : 424429472
Status : Answered
Chosen Option : 3

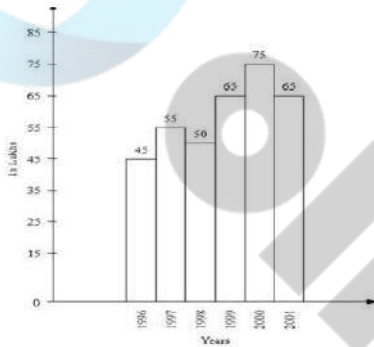
Q.17 15 आदमी एक काम को 10 दिन में पूरा कर सकते हैं। इसी काम को 20 आदमी कितने दिन में पूरा कर पाएंगे?

- Ans
- 1. 6.5 दिन
 - 2. 8.5 दिन
 - 3. 5.5 दिन
 - 4. 7.5 दिन

Question ID : 424429456
Status : Answered
Chosen Option : 4

Q.18 दिए गए ग्राफ में एक कंपनी को 1996-2001 अवधि के दौरान हुए वार्षिक प्रतिशत लाभ को दर्शाया गया है। ग्राफ का ध्यानपूर्वक अध्ययन करें और पूछे गए प्रश्न का उत्तर दें।

$$\% \text{ लाभ} = \frac{\text{आय} - \text{व्यय}}{\text{व्यय}} \times 100$$



वर्ष 1996 के दौरान, कंपनी का व्यय ₹30 करोड़ था। उस वर्ष कंपनी की आय (₹ करोड़ों में) कितनी हुई?

- Ans
- 1. 43.5
 - 2. 44.5
 - 3. 45
 - 4. 44

Question ID : 424429480
Status : Answered
Chosen Option : 1

Q.19 10% वार्षिक साधारण ब्याज की दर से, कितने वर्षों में ₹3,500 की धनराशि ₹4,500 हो जाएगी?

- Ans
- 1. $2\frac{6}{7}$ years
 - 2. $2\frac{5}{7}$ years
 - 3. $2\frac{3}{7}$ years
 - 4. $2\frac{4}{7}$ years

Question ID : 424429464
Status : Answered
Chosen Option : 1

Q.20 यदि $x - 2y = 3$ और $xy = 5$ है, तो $x^2 - 4y^2$ का मान ज्ञात करें।

- Ans
- 1. 23
 - 2. 20
 - 3. 21
 - 4. 22

Question ID : 424429469
Status : Answered
Chosen Option : 3

Q.21 एक बाइक का सूची-मूल्य, इसके क्रय मूल्य से 15% अधिक रखा गया है। इसे 20% की छूट पर बेचा जाता है। डीलर के हानि या लाभ प्रतिशत की गणना करें।

- Ans
- 1. लाभ 8%
 - 2. लाभ 9%
 - 3. हानि 9%
 - 4. हानि 8%

Question ID : 424429460
Status : Answered
Chosen Option : 4

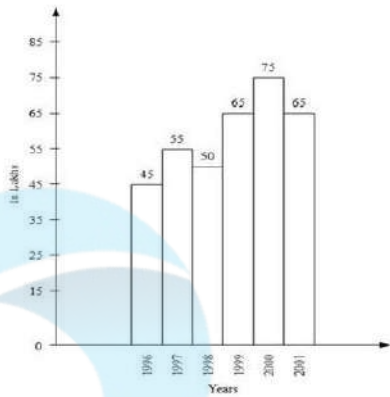
Q.22 एक मोटरसाइकिल को ₹70000 में बेचने पर राम को 25% लाभ प्राप्त होता है। यदि उसे 30% लाभ प्राप्त करना हो तो मोटरसाइकिल को किस मूल्य पर बेचना चाहिए?

- Ans
- 1. ₹72,800
 - 2. ₹72,700
 - 3. ₹72,600
 - 4. ₹72,900

Question ID : 424429462
Status : Answered
Chosen Option : 1

Q.23 दिए गए ग्राफ में एक कंपनी को 1996-2001 अवधि के दौरान हुए वार्षिक प्रतिशत लाभ को दर्शाया गया है। ग्राफ का ध्यानपूर्वक अध्ययन करें और पूछे गए प्रश्न का उत्तर दें।

$$\% \text{ लाभ} = \frac{\text{आय} - \text{व्यय}}{\text{व्यय}} \times 100$$



किस अवधि में कंपनी के लाभ में सबसे तेज वृद्धि हुई?

- Ans
- 1. 1996-1997
 - 2. 2000-2001
 - 3. 1998-1999
 - 4. 1997-1998

Question ID : 424429478

Status : Answered

Chosen Option : 3

Q.24 25 व्यक्तियों के समूह की औसत आयु 28 वर्ष है। 25 वर्ष औसत आयु वाले 5 नए व्यक्ति इस समूह में शामिल हो गए। अब सभी व्यक्तियों की औसत आयु ज्ञात करें।

- Ans
- 1. 28.5 वर्ष
 - 2. 26.5 वर्ष
 - 3. 29.5 वर्ष
 - 4. 27.5 वर्ष

Question ID : 424429459

Status : Answered

Chosen Option : 4

Q.25 रिचा A से B की यात्रा 15 km/h की चाल से, B से C की यात्रा 20 km/h की चाल से तथा C से D की यात्रा 30 km/h की चाल से तय करती है। यदि AB = BC = CD, तो रिचा की औसत चाल ज्ञात करें।

- Ans
- 1. 17 km/h
 - 2. 20 km/h
 - 3. 18 km/h
 - 4. 19 km/h

Question ID : 424429457

Status : Answered

Chosen Option : 2

Q.1 हड़प नीति किसने लागू की थी?

- Ans
- 1. लॉर्ड कैनिंग
 - 2. लॉर्ड वैलेस्ली
 - 3. लॉर्ड डलहौजी
 - 4. लॉर्ड लिटन

Question ID : 424429497

Status : Answered

Chosen Option : 3

Q.2 कंप्यूटर में, निम्नलिखित में से कौन सी इकाई डेटा संसाधन(प्रोसेसिंग) के लिए ज़िम्मेदार होती है तथा कंप्यूटर के इलेक्ट्रॉनिक मस्तिष्क के नाम से भी जानी जाती है?

- Ans
- 1. हार्ड डिस्क
 - 2. रैम (RAM)
 - 3. की-बोर्ड
 - 4. सेंट्रल प्रोसेसिंग यूनिट (सी.पी.यू.)

Question ID : 424429481

Status : Answered

Chosen Option : 4

Q.3 कलकत्ता में भारतीय सांख्यिकी संस्थान (आई.एस.आई.) की स्थापना किसने की थी?

- Ans
- 1. जे.एम. सेनगुप्ता
 - 2. शुभेदु शेखर बोस
 - 3. प्रशांत चंद्र महालनोबिस
 - 4. आर.एन. मुकर्जी

Question ID : 424429488

Status : Answered

Chosen Option : 3

Q.4 भारत में हर साल संविधान दिवस किस दिन मनाया जाता है?

- Ans
- 1. 2 अक्टूबर
 - 2. 15 अक्टूबर
 - 3. 30 नवंबर
 - 4. 26 नवंबर

Question ID : 424429501

Status : Answered

Chosen Option : 4

Q.5 निम्नलिखित में से किस वन को 'मानसून वन' के नाम से भी जाना जाता है?

- Ans
- 1. मोन्टेन वन
 - 2. मैग्रोव वन
 - 3. उष्णकटिबंधीय पर्णपाती वन
 - 4. उष्णकटिबंधीय सदाबहार वन

Question ID : 424429494

Status : Not Attempted and Marked For Review

Chosen Option : --

Q.6 निम्नलिखित में से किस भारतीय अभिनेत्री को मानसिक स्वास्थ्य के बारे में जागरूकता फैलाने के लिए विश्व आर्थिक मंच द्वारा दिए जाने वाले '2020 क्रिस्टल अवार्ड' के लिए चुना गया था?

- Ans
- 1. कंगना रनौत
 - 2. प्रियंका चोपड़ा
 - 3. दीपिका पादुकोन
 - 4. विद्या बालन

Question ID : 424429500
Status : Answered
Chosen Option : 3

Q.7 'आतिश-ए-चिनार' (फ्लेमिंग ऑफ चीनार), निम्नलिखित में से किस राजनेता की आत्मकथा है?

- Ans
- 1. बेनजीर भुट्टो
 - 2. ए.पी.जे. अब्दुल कलाम
 - 3. शेख मुहम्मद अब्दुल्ला
 - 4. एम. हिदायतुल्लाह

Question ID : 424429499
Status : Not Answered
Chosen Option : --

Q.8 लोहे को जंग से बचाने के लिए इस पर जस्ते (zinc) की सुरक्षात्मक परत चढ़ाई जाती है, इस प्रक्रिया को किस नाम से जाना जाता है?

- Ans
- 1. गैल्वेनीकरण
 - 2. एनीलिंग
 - 3. प्रगलन/स्मेल्टिंग
 - 4. वेल्डिंग

Question ID : 424429491
Status : Answered
Chosen Option : 1

Q.9 भारतीय संविधान के किस अनुच्छेद में यह उल्लेख किया गया है कि लोकसभा में एक अध्यक्ष और एक उपाध्यक्ष आवश्यक रूप से होना चाहिए?

- Ans
- 1. अनुच्छेद 85
 - 2. अनुच्छेद 93
 - 3. अनुच्छेद 97
 - 4. अनुच्छेद 100

Question ID : 424429502
Status : Answered
Chosen Option : 1

Q.10 पंकज आडवाणी 'आई.बी.एस.एफ. वर्ल्ड बिलियर्ड्स चैंपियनशिप' कितनी बार जीत चुके हैं?

- Ans
- 1. 21
 - 2. 20
 - 3. 24
 - 4. 22

Question ID : 424429505
Status : Not Answered
Chosen Option : --

Q.11 निम्नलिखित में से कौन-सा सुमेलित नहीं है?

- Ans
- 1. जल विज्ञान - समुद्र विज्ञान
 - 2. भूमि विज्ञान - पादप भूगोल
 - 3. मानव विज्ञान - सांस्कृतिक भूगोल
 - 4. जनसांख्यिकी - जनसंख्या भूगोल

Question ID : 424429496

Status : Not Attempted and Marked For Review

Chosen Option : --

Q.12 2 दिसंबर 2019 को, कौन भारतीय नौसेना की पहली महिला पायलट बनीं?

- Ans
- 1. शिवांगी
 - 2. भावना कंठ
 - 3. सरला ठकराल
 - 4. पुनीता अरोड़ा

Question ID : 424429486

Status : Answered

Chosen Option : 1

Q.13 निम्नलिखित में से किस कंपनी को, सितंबर 2019 में 'कार्बन न्यूट्रल नाउ' वर्ग में यू.एन. ग्लोबल क्लाइमेट एक्शन अवार्ड के लिए चुना गया?

- Ans
- 1. इन्फोसिस
 - 2. विप्रो
 - 3. ऑर्गेनिक इंडिया
 - 4. रिलायंस हेल्थ

Question ID : 424429487

Status : Not Answered

Chosen Option : --

Q.14 'आईसीसी क्रिकेटर ऑफ द ईयर' के लिए 'सर गारफील्ड सोबर्स ट्रॉफी' जीतने वाले पहले खिलाड़ी कौन है?

- Ans
- 1. सचिन तेंदुलकर
 - 2. रविचंद्रन अश्विन
 - 3. महेन्द्र सिंह धोनी
 - 4. विराट कोहली

Question ID : 424429504

Status : Not Answered

Chosen Option : --

Q.15 राजस्थान के 'कालबेलिया' लोक गीतों और लोक नृत्यों को यूनेस्को की अमूर्त सांस्कृतिक विरासत की प्रतिनिधि सूची में किस वर्ष शामिल किया गया था?

- Ans
- 1. 2010
 - 2. 2017
 - 3. 2012
 - 4. 2015

Question ID : 424429484

Status : Not Answered

Chosen Option : --

Q.16 मध्यमण्डल (मीज़ोस्फीयर) के संदर्भ में निम्नलिखित में से कौन सा कथन सही नहीं है?

- Ans
- 1. यह वायुमंडल का तीसरा स्तर है।
 - 2. यह प्रत्यक्षतः समताप मंडल के ऊपर है।
 - 3. इस स्तर में बढ़ती हुए ऊँचाई के साथ साथ तापमान अत्यंत तीव्रता से बढ़ता है।
 - 4. अंतरिक्ष से इस स्तर में प्रवेश करने पर उल्कापिंड जल जाते हैं।

Question ID : 424429495

Status : Answered

Chosen Option : 4

Q.17 मनुष्य के हृदय की अलिंद की दीवार एक बहुत ही महत्वपूर्ण पेप्टाइड हार्मोन का स्राव करती है। वह हार्मोन है?

- Ans
- 1. ADH (ए.डी.एच)
 - 2. ANF (ए.एन.एफ)
 - 3. GIP (जी.आई.पी)
 - 4. CCK (सी.सी.के)

Question ID : 424429492

Status : Not Answered

Chosen Option : --

Q.18 भूकंप को मापने में प्रयुक्त तीव्रता के पैमाने की सीमा क्या है?

- Ans
- 1. 1 से 12
 - 2. 1 से 5
 - 3. 1 से 15
 - 4. 1 से 7

Question ID : 424429482

Status : Answered

Chosen Option : 4

Q.19 'सागा दावा' प्रसिद्ध बौद्ध त्योहारों में से एक है। यह निम्नलिखित में से किस राज्य में मनाया जाता है?

- Ans
- 1. सिक्किम
 - 2. ओडिशा
 - 3. झारखंड
 - 4. केरल

Question ID : 424429483

Status : Not Answered

Chosen Option : --

Q.20 भामिदीप्ती साईं प्रणीत का संबंध किस खेल से है?

- Ans
- 1. बैडमिंटन
 - 2. टेनिस
 - 3. हॉकी
 - 4. क्रिकेट

Question ID : 424429503

Status : Not Answered

Chosen Option : --

Q.21 निम्नलिखित में से किस बॉलीवुड दिग्गज को 2018 में 66वें दादा साहब फाल्के पुरस्कार के लिए चुना गया?

- Ans
- 1. शत्रुघ्न सिन्हा
 - 2. आशुतोष राणा
 - 3. नाना पाटेकर
 - 4. अमिताभ बच्चन

Question ID : 424429485
Status : Answered
Chosen Option : 4

Q.22 इंसुलिन की कमी के कारण निम्नलिखित में से कौन सी बीमारी होती है?

- Ans
- 1. संधिवात गठिया (आर.ए.)
 - 2. त्वग्काठिन्य (स्क्लेरोडर्मा)
 - 3. मधुमेह (डायबिटीज मेलिटस)
 - 4. बहुविध ऊतक दृढ़न (मल्टिपल स्क्लेरोसिस)

Question ID : 424429490
Status : Answered
Chosen Option : 3

Q.23 इकोनॉमिस्ट इंटेलिजेंस यूनिट (ई.आई.यू.) के अनुसार, 2019 में विश्वव्यापी कैंसर तैयारी सूचकांक (आई.सी.पी.) में भारत का कौन सा स्थान है?

- Ans
- 1. 15वाँ
 - 2. 28वाँ
 - 3. 19वाँ
 - 4. 10वाँ

Question ID : 424429489
Status : Answered
Chosen Option : 4

Q.24 देश के 10% क्षेत्रफल में फैली हुई भारत की सबसे बड़ी नदीय द्रोणी कौन-सी है?

- Ans
- 1. महानदी
 - 2. कृष्णा
 - 3. नर्मदा
 - 4. गोदावरी

Question ID : 424429493
Status : Not Answered
Chosen Option : --

Q.25 निम्नलिखित में से किसने, भारत छोड़ो आंदोलन के दौरान बॉम्बे के गोवालिया टैंक मैदान में भारतीय राष्ट्रीय कांग्रेस का ध्वज फहराया था?

- Ans
- 1. अरुणा आसफ अली
 - 2. कनकलता बरुआ
 - 3. लक्ष्मी सहगल
 - 4. भीकाजी रूस्तम कामा

Question ID : 424429498
Status : Answered
Chosen Option : 1

Roll Number	
Candidate Name	
Venue Name	
Exam Date	12/10/2020
Exam Time	1:00 PM - 2:00 PM
Subject	CHSL Tier 1

Section : English Language (Basic Knowledge)

Q.1 Select the most appropriate synonym of the given word.

AGILE

- Ans 1. Nimble
 2. Visible
 3. Docile
 4. Guile

Question ID : 8161612456
Status : Answered
Chosen Option : 3

Q.2 Select the most appropriate meaning of the given idiom.

Actions speak louder than words

- Ans 1. What you can see may not be true
 2. What you do is your own business
 3. What you don't say is what you are
 4. What you do reveals the real you

Question ID : 8161612452
Status : Answered
Chosen Option : 3

Q.3 Select the wrongly spelt word.

- Ans 1. Appreciate
 2. Judiciary
 3. Virtual
 4. Ambassador

Question ID : 8161612453
Status : Answered
Chosen Option : 4

Q.4 Select the most appropriate synonym of the given word.

FURTIVE

- Ans
- 1. Positive
 - 2. Secretive
 - 3. Adhesive
 - 4. Abortive

Question ID : 8161612457

Status : Answered

Chosen Option : 2

Comprehension:

In the following passage some words have been deleted. Fill in the blanks with the help of the alternatives given. Select the most appropriate option for each blank.

The choices we make in life determine who we are. One's life is (1)_____ marked by the exemplary choices one has made (2)_____ one's journey. The mega icon Ratan Tata has described his journey (3)_____ being a seven-year-old boy who played his (4)_____ the freedom struggle to being moved by the plight of a family on a two-wheeler which became the genesis of the world's most (5)_____ car the Tata Nano.

SubQuestion No : 5

Q.5 Select the most appropriate option for blank number 1.

- Ans
- 1. rarely
 - 2. often
 - 3. seldom
 - 4. never

Question ID : 8161612439

Status : Answered

Chosen Option : 4

Comprehension:

In the following passage some words have been deleted. Fill in the blanks with the help of the alternatives given. Select the most appropriate option for each blank.

The choices we make in life determine who we are. One's life is (1)_____ marked by the exemplary choices one has made (2)_____ one's journey. The mega icon Ratan Tata has described his journey (3)_____ being a seven-year-old boy who played his (4)_____ the freedom struggle to being moved by the plight of a family on a two-wheeler which became the genesis of the world's most (5)_____ car the Tata Nano.

SubQuestion No : 6

Q.6 Select the most appropriate option for blank number 2.

- Ans
- 1. upon
 - 2. toward
 - 3. into
 - 4. along

Question ID : 8161612440

Status : Answered

Chosen Option : 1

Comprehension:

In the following passage some words have been deleted. Fill in the blanks with the help of the alternatives given. Select the most appropriate option for each blank.

The choices we make in life determine who we are. One's life is (1)_____ marked by the exemplary choices one has made (2) _____ one's journey. The mega icon Ratan Tata has described his journey (3)_____ being a seven-year-old boy who played his (4) _____ the freedom struggle to being moved by the plight of a family on a two-wheeler which became the genesis of the world's most (5)_____ car the Tata Nano.

SubQuestion No : 7**Q.7 Select the most appropriate option for blank number 3.**

- Ans
- 1. from
 - 2. above
 - 3. though
 - 4. for

Question ID : 8161612441

Status : Answered

Chosen Option : 1

Comprehension:

In the following passage some words have been deleted. Fill in the blanks with the help of the alternatives given. Select the most appropriate option for each blank.

The choices we make in life determine who we are. One's life is (1)_____ marked by the exemplary choices one has made (2) _____ one's journey. The mega icon Ratan Tata has described his journey (3)_____ being a seven-year-old boy who played his (4) _____ the freedom struggle to being moved by the plight of a family on a two-wheeler which became the genesis of the world's most (5)_____ car the Tata Nano.

SubQuestion No : 8**Q.8 Select the most appropriate option for blank number 4.**

- Ans
- 1. part with
 - 2. part of
 - 3. part in
 - 4. part from

Question ID : 8161612442

Status : Answered

Chosen Option : 4

Comprehension:

In the following passage some words have been deleted. Fill in the blanks with the help of the alternatives given. Select the most appropriate option for each blank.

The choices we make in life determine who we are. One's life is (1)_____ marked by the exemplary choices one has made (2) _____ one's journey. The mega icon Ratan Tata has described his journey (3)_____ being a seven-year-old boy who played his (4) _____ the freedom struggle to being moved by the plight of a family on a two-wheeler which became the genesis of the world's most (5)_____ car the Tata Nano.

SubQuestion No : 9

Q.9 Select the most appropriate option for blank number 5.

- Ans
- 1. economical
 - 2. economize
 - 3. economist
 - 4. economic

Question ID : 8161612443

Status : Answered

Chosen Option : 2

Q.10 Select the most appropriate word to fill in the blank in the given sentence.

Those earning less than Rs.10,000 are _____ from paying income tax.

- Ans
- 1. collected
 - 2. exempted
 - 3. accepted
 - 4. adjusted

Question ID : 8161612458

Status : Answered

Chosen Option : 2

Q.11 Select the most appropriate option to substitute the underlined segment in the given sentence. If there is no need to substitute it, select 'No improvement'.

India has lost a veteran actor with the deceased of Shriram Lagoo.

- Ans
- 1. No improvement
 - 2. bereavement
 - 3. expired
 - 4. demise

Question ID : 8161612448

Status : Answered

Chosen Option : 4

Q.12 Select the word which means the same as the group of words given.

Having no moral principles

- Ans
- 1. Unaware
 - 2. Mischievous
 - 3. Ethical
 - 4. Unscrupulous

Question ID : 8161612455

Status : Answered

Chosen Option : 4

Q.13 Select the most appropriate option to substitute the underlined segment in the given sentence. If there is no need to substitute it, select 'No improvement'.

The rising prices of essential food items have placed an weighty burden on the poor.

- Ans
- 1. lightest
 - 2. trivial
 - 3. enormous
 - 4. No improvement

Question ID : 8161612436

Status : Answered

Chosen Option : 3

Q.14 In the given sentence identify the segment which contains the grammatical error.

My hotel in Goa had a wonderful view of the sea in the window.

- Ans
- 1. of the sea
 - 2. My hotel in Goa
 - 3. in the window
 - 4. had a wonderful view

Question ID : 8161612446

Status : Answered

Chosen Option : 3

Q.15 Select the most appropriate word to fill in the blank in the given sentence.

The teacher _____ the student for cheating.

- Ans
- 1. rebuked
 - 2. refused
 - 3. praised
 - 4. invoked

Question ID : 8161612459

Status : Answered

Chosen Option : 1

Q.16 Given below are four jumbled sentences. Select the option that gives their correct order.

A. In order to buy that bicycle, he plans to win some prize money by teaching an illiterate person how to read and write.

B. He needs a bicycle to win the bicycle race which would help pay off his father's debt.

C. The film 'Douch' is about a young Iranian village boy.

D. But the only illiterate person is a 90 year old woman who is ill-tempered and doesn't wish to learn anything.

- Ans
- 1. CABD
 - 2. DABC
 - 3. ADBC
 - 4. CBAD

Question ID : 8161612447

Status : Answered

Chosen Option : 4

Q.17 Select the correct indirect form of the given sentence.

Sitab asked his mother, "Has it been snowing all night?"

- Ans
- 1. Sitab asked his mother if it is snowing all night.
 - 2. Sitab asked his mother if it had been snowing all night.
 - 3. Sitab asked his mother if it has snowed all night.
 - 4. Sitab asked his mother if it was snowing all night.

Question ID : 8161612434

Status : Answered

Chosen Option : 2

Q.18 Given below are four jumbled sentences. Select the option that gives their correct order.

A. Behind them come camels carrying drums and small guns.

B. The Emperor is escorted by two decorated elephants who head the procession.

C. At the end come the platoons of soldiers in rows of two.

D. First of all, there is a volley of guns announcing Emperor Bahadur Shah's entry into the mosque.

- Ans
- 1. ABDC
 - 2. DBAC
 - 3. BCDA
 - 4. DCBA

Question ID : 8161612435

Status : Answered

Chosen Option : 2

Q.19 Select the wrongly spelt word.

- Ans 1. Embarassment
 2. Announcement
 3. Resettlement
 4. Undergarment

Question ID : 8161612454
Status : Answered
Chosen Option : 1

Q.20 Select the word which means the same as the group of words given.

Using right and left hand equally well

- Ans 1. Inexpert
 2. Left-handed
 3. Ambidextrous
 4. Unskilled

Question ID : 8161612437
Status : Answered
Chosen Option : 3

Q.21 Select the correct passive form of the given sentence.

The Delhi Police has shot an educational video on Traffic Rules for school students.

- Ans 1. An educational video on Traffic Rules for school students has been shot by the Delhi Police.
 2. An educational video on Traffic Rules for school students was being shot by the Delhi Police.
 3. An educational video on Traffic Rules for school students is being shot by the Delhi Police.
 4. An educational video on Traffic Rules for school students had been shot by the Delhi Police.

Question ID : 8161612444
Status : Answered
Chosen Option : 1

Q.22 Select the most appropriate meaning of the given idiom.

A piece of cake

- Ans
- 1. Something amusing
 - 2. Something serious
 - 3. Something difficult
 - 4. Something easy

Question ID : 8161612451
Status : Answered
Chosen Option : 4

Q.23 Select the most appropriate ANTONYM of the given word.

ENIGMA

- Ans
- 1. Make-believe
 - 2. Clarity
 - 3. Mystery
 - 4. Charade

Question ID : 8161612450
Status : Answered
Chosen Option : 2

Q.24 In the given sentence identify the segment which contains the grammatical error.

Freedom of expression meaning the right to express one's own convictions and beliefs.

- Ans
- 1. meaning the right
 - 2. to express one's own
 - 3. Freedom of expression
 - 4. convictions and beliefs

Question ID : 8161612445
Status : Answered
Chosen Option : 4

Q.25 Select the most appropriate ANTONYM of the given word.

RESERVED

- Ans
- 1. Forgiving
 - 2. Reticent
 - 3. Cowardly
 - 4. Friendly

Question ID : 8161612449
Status : Answered
Chosen Option : 4

Q.1 उस विकल्प आकृति का चयन करें, जो निम्नलिखित श्रृंखला में प्रश्नवाचक चिह्न (?) के स्थान पर आ सकती है।

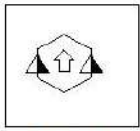


FIGURE 1

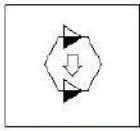


FIGURE 2

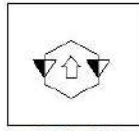


FIGURE 3



FIGURE 4

Ans

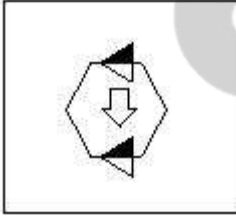
1.



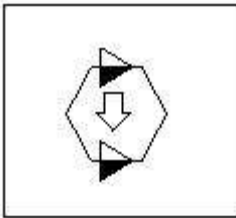
2.



3.



4.



Question ID : 8161612479

Status : Answered

Chosen Option : 3

Q.2 उस विकल्प का चयन करें जो तीसरे पद से उसी प्रकार संबंधित हो जिस प्रकार दूसरा पद पहले पद से संबंधित है।

EASY : IETZ :: LAKE : _____

Ans 1. PBKL

2. PELI

3. MELI

4. MBLI

Question ID : 8161612476

Status : Answered

Chosen Option : 2

Q.3 उस विकल्प का चयन करें, जिसमें संख्याओं में वही संबंध है, जो संबंध दिए गए संख्या-युग्म की संख्याओं में है।

34 : 210

- Ans
- 1. 54 : 100
 - 2. 38 : 236
 - 3. 47 : 282
 - 4. 66 : 402

Question ID : 8161612462

Status : Answered

Chosen Option : 4

Q.4 दिए गए कथनों और निष्कर्षों को ध्यान से पढ़ें। यह मानते हुए कि कथनों में दी गई जानकारी सत्य है, अले ही वह सामान्य रूप से ज्ञात तथ्यों से भिन्न प्रतीत होती हो, निर्णय लें कि दिए गए निष्कर्षों में से कौनसा/से निष्कर्ष कथनों का तार्किक रूप से अनुसरण करता/करते हैं।

कथन:

1. सभी तोते, कबूतर हैं।
2. कोई कबूतर, मेज़ नहीं है।

निष्कर्ष:

- I. सभी कबूतर, मेज़ें हैं।
- II. कोई भी तोता, मेज़ नहीं है।

- Ans
- 1. केवल निष्कर्ष II अनुसरण करता है।
 - 2. निष्कर्ष I और II दोनों अनुसरण करते हैं।
 - 3. या तो निष्कर्ष I या II अनुसरण करता है।
 - 4. केवल निष्कर्ष I अनुसरण करता है।

Question ID : 8161612477

Status : Answered

Chosen Option : 1

Q.5 निम्नलिखित श्रेणी को पूरा करें।

7, 16, 34, 70, _____, _____

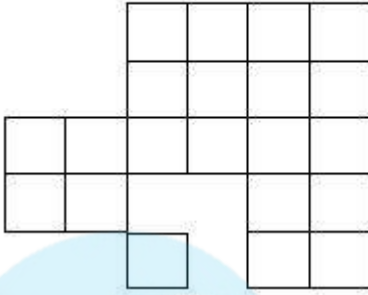
- Ans
- 1. 144, 286
 - 2. 142, 294
 - 3. 142, 286
 - 4. 144, 292

Question ID : 8161612465

Status : Answered

Chosen Option : 1

Q.6 दी गई आकृति में कितने वर्ग हैं?



- Ans
- 1. 29
 - 2. 33
 - 3. 32
 - 4. 34

Question ID : 8161612480

Status : Marked For Review

Chosen Option : 4

Q.7 किसी निश्चित कूटभाषा में, NIB को 112 और COB को 122 लिखा जाता है। उसी कूटभाषा में JET को क्या लिखा जाएगा?

- Ans
- 1. 92
 - 2. 119
 - 3. 102
 - 4. 81

Question ID : 8161612469

Status : Answered

Chosen Option : 1

Q.8 किसी निश्चित कूटभाषा में, 'LOCKER' को 'OLXPVI' लिखा जाता है। उसी कूटभाषा में 'GLOBAL' को क्या लिखा जाएगा?

- Ans
- 1. UPMZAP
 - 2. JOREDO
 - 3. HUYTRE
 - 4. TOLYZO

Question ID : 8161612468

Status : Answered

Chosen Option : 4

Q.9 चार अक्षर-समूह दिए गए हैं, जिनमें से तीन किसी न किसी प्रकार संगत हैं और एक असंगत है। उस असंगत अक्षर-समूह का चयन करें।

- Ans
- 1. WVUT
 - 2. MLKJ
 - 3. PONL
 - 4. TSRQ

Question ID : 8161612475
Status : Answered
Chosen Option : 3

Q.10 उस विकल्प का चयन करें, जिसमें संख्याओं में वही संबंध है, जो संबंध दिए गए समुच्चय की संख्याओं में है।
(9, 217, 8)

- Ans
- 1. (5, 625, 6)
 - 2. (2, 76, 5)
 - 3. (3, 49, 2)
 - 4. (4, 37, 3)

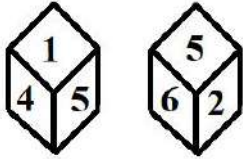
Question ID : 8161612464
Status : Answered
Chosen Option : 4

Q.11 उस अक्षर-युग्म का चयन करें, जो निम्नलिखित श्रृंखला में प्रश्नवाचक चिह्न (?) के स्थान पर हो सकती है।
AZ, CX, EV, ? IR

- Ans
- 1. GT
 - 2. HT
 - 3. FT
 - 4. GS

Question ID : 8161612474
Status : Answered
Chosen Option : 1

Q.12 एक ही पासे की दो स्थितियाँ दर्शायी गई हैं। उस संख्या का चयन करें जो संख्या 5 दर्शाने वाले फलक के विपरीत फलक पर होगी।



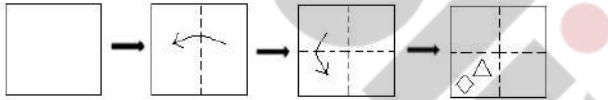
- Ans
- 1. 1
 - 2. 6
 - 3. 3
 - 4. 4

Question ID : 8161612478

Status : Answered

Chosen Option : 3

Q.13 कागज़ के एक टुकड़े को मोड़ने का क्रम और मोड़े गए कागज़ को काटने की विधि निम्नलिखित आकृतियों में दर्शायी गई है। कागज़ को खोलने पर यह कैसा दिखाई देगा?



- Ans
- 1.
 - 2.
 - 3.
 - 4.

Question ID : 8161612482

Status : Answered

Chosen Option : 4

Q.14 दिए गए शब्दों को तार्किक और अर्थपूर्ण क्रम में व्यवस्थित करें।

1. कंधा
2. जांघ
3. पेट
4. छाती
5. चेहरा
6. गर्दन

- Ans
- 1. 2, 4, 6, 1, 3, 2
 - 2. 5, 6, 3, 4, 1, 2
 - 3. 5, 6, 1, 4, 3, 2
 - 4. 5, 6, 1, 2, 3, 4

Question ID : 8161612467

Status : Answered

Chosen Option : 3

Q.15 X, A की माँ है। Y, B की बुआ है। R, B के पिता हैं। A और Z बहनें हैं। B, Z का भाई है। R का X से क्या संबंध है?

- Ans
- 1. पिता
 - 2. ससुर
 - 3. पति
 - 4. बेटा

Question ID : 8161612473

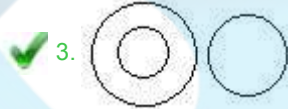
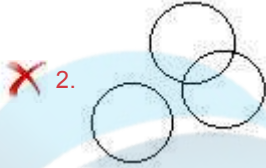
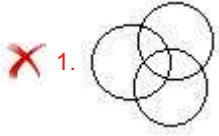
Status : Answered

Chosen Option : 3

Q.16 उस वेन आरेख का चयन करें, जो नीचे दिए गए वर्गों के बीच संबंध को सर्वोत्तम ढंग से दर्शाता है।

चंडीगढ़, भारत, सियोल

Ans



Question ID : 8161612484

Status : Answered

Chosen Option : 3

Q.17 उस विकल्प का चयन करें, जो तीसरे अक्षर-समूह से उसी प्रकार संबंधित है जिस प्रकार दूसरा अक्षर-समूह पहले अक्षर-समूह से संबंधित है।

LAME : OXPB :: TREE : ?

Ans ✓ 1. WOHB

✗ 2. VNGB

✗ 3. QUBH


✗ 4. UMFA

Question ID : 8161612470

Status : Answered

Chosen Option : 1

Q.18 उस विकल्प का चयन करें, जिस में दी गई आकृति अंतर्निहित है। (घुमाने की अनुमति नहीं है)



Ans

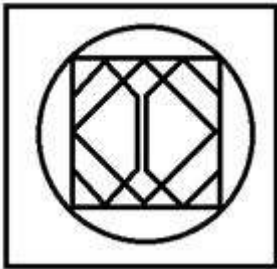
✗ 1.



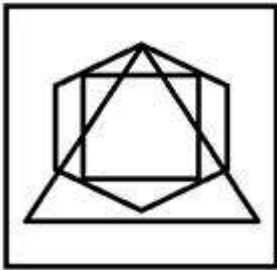
✗ 2.



✓ 3.



✗ 4.



Question ID : 8161612481

Status : Answered

Chosen Option : 3

Q.19 11 विद्यार्थियों वाली एक कक्षा में 6 लड़के हैं। कक्षा का मॉनिटर बनाने के लिए यादृच्छिक रूप से एक विद्यार्थी को चुना जाना है। किसी लड़की के कक्षा का मॉनिटर होने की प्रायिकता क्या है?

Ans

1. $\frac{7}{11}$

2. $\frac{6}{11}$

3. $\frac{5}{11}$

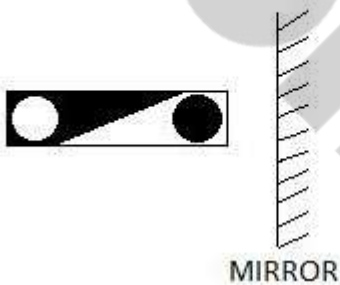
4. 1

Question ID : 8161612460

Status : Answered

Chosen Option : 3

Q.20 दी गई आकृति की सही दर्पण छवि का चयन करें।



Ans



Question ID : 8161612483

Status : Answered

Chosen Option : 3

Q.21 उस अक्षर संयोजन का चयन करें, जिसे दी गई अक्षर-श्रृंखला के रिक्त स्थान में बाएं से दाएं क्रमिक रूप से रखने पर श्रृंखला पूरी हो जाएगी।

_ _ bc _ daabc _ _ a _ _ ccd

- Ans
- 1. cacdcab
 - 2. acccdcb
 - 3. aaccdab
 - 4. accdaac

Question ID : 8161612472

Status : Answered

Chosen Option : 3

Q.22 उस विकल्प का चयन करें, जिसमें संख्याओं में वही संबंध है, जो संबंध दिए गए समुच्चय की संख्याओं में है।

(5, 6, 61)

- Ans
- 1. (3, 8, 24)
 - 2. (5, 2, 49)
 - 3. (3, 4, 25)
 - 4. (9, 4, 26)

Question ID : 8161612463

Status : Answered

Chosen Option : 3

Q.23 यदि '+' का अर्थ 'से विभाजित', '-' का अर्थ 'में जोड़ा गया', '×' का अर्थ 'से घटाया गया', और '÷' का अर्थ 'से गुणा' है, तो निम्नलिखित व्यंजक का मान ज्ञात करें।

$[(32 \times 24) - (4 \div 3)] + (3 - 2) \div 3$

- Ans
- 1. 8
 - 2. 10
 - 3. 6
 - 4. 12

Question ID : 8161612461

Status : Answered

Chosen Option : 4

Q.24 शिखा की तस्वीर दिखाते हुए पारुल ने कहा, "वह मेरे पिता के इकलौते बेटे की दादी हैं।" शिखा पारुल से कैसे संबंधित है?

- Ans
- 1. दादी
 - 2. मां
 - 3. बहू
 - 4. बहन

Question ID : 8161612471
Status : Answered
Chosen Option : 1

Q.25 चार संख्या-युग्म दिए गए हैं, जिनमें से तीन किसी न किसी प्रकार संगत हैं और एक असंगत है। उस असंगत संख्या-युग्म का चयन करें।

- Ans
- 1. 4-17
 - 2. 7-50
 - 3. 6-35
 - 4. 5-26

Question ID : 8161612466
Status : Answered
Chosen Option : 3

Section : Quantitative Aptitude(Basic Arithmetic Skill)

Q.1 यदि $a + b = 11$ और $ab = 15$ है, तो $a^2 + b^2$ का मान बताइए।

- Ans
- 1. 90
 - 2. 93
 - 3. 91
 - 4. 92

Question ID : 8161612498
Status : Answered
Chosen Option : 3

Q.2 $\frac{\tan 60^\circ - \tan 15^\circ}{1 + \tan 60^\circ \tan 15^\circ}$ का मान बताइए।

Ans 1. 1

2. $\frac{1}{2}$

3. $\frac{\sqrt{3}}{2}$

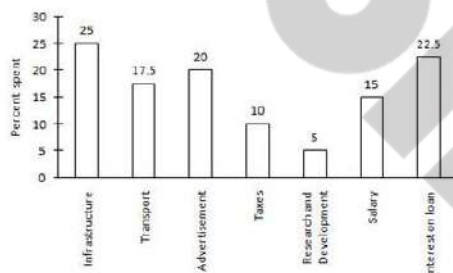
4. $\frac{1}{\sqrt{2}}$

Question ID : 8161612503

Status : Answered

Chosen Option : 1

Q.3 दिया गया ग्राफ एक कंपनी के कुल व्यय के प्रतिशत बंटन को प्रस्तुत करता है। ग्राफ का अध्ययन करें और दिए गए प्रश्न का उत्तर दीजिए।



‘ऋणों पर दिए गए ब्याज (Interest on loan)’ का व्यय, ‘परिवहन (Transport)’ पर हुए व्यय से कितना प्रतिशत अधिक है?

Ans 1. 4%

2. 5%

3. 3%

4. 2%

Question ID : 8161612506

Status : Answered

Chosen Option : 2

Q.4 एक व्यक्ति ने अपनी यात्रा तीन भागों, 18 km, 20 km और 27 km में पूरी की। उसने ये दूरियाँ क्रमशः 6 km/h, 5 km/h तथा 9 km/h की चाल से तय की। पूरी यात्रा के दौरान उसकी औसत चाल कितनी थी?

Ans 1. 5.5 km/h

2. 6.5 km/h

3. 7.5 km/h

4. 4.5 km/h

Question ID : 8161612486

Status : Answered

Chosen Option : 2

Q.5 प्रतिदिन 8 घंटे कार्य करने वाले 30 पुरुष एक तालाब को 16 दिनों में खोद सकते हैं। 32 पुरुषों को उसी तालाब को 20 दिनों में खोदने के लिए प्रतिदिन कितने घंटे कार्य करना होगा?

- Ans
- 1. प्रतिदिन 6 घंटे
 - 2. प्रतिदिन 5 घंटे
 - 3. प्रतिदिन 7 घंटे
 - 4. प्रतिदिन 8 घंटे

Question ID : 8161612485

Status : Answered

Chosen Option : 1

Q.6 यदि $3 \sec^2 x - 4 = 0$ है, तो x ($0 < x < 90^\circ$) का मान बताइए।

- Ans
- 1. 30°
 - 2. 15°
 - 3. 45°
 - 4. 60°

Question ID : 8161612505

Status : Answered

Chosen Option : 1

Q.7 XYZ एक त्रिभुज है। यदि माध्यिकाएं ZL और YM एक-दूसरे को बिंदु G पर प्रतिच्छेदित करती हैं, तो $(\Delta GLM$ का क्षेत्रफल : ΔXYZ का क्षेत्रफल) का मान ज्ञात कीजिए।

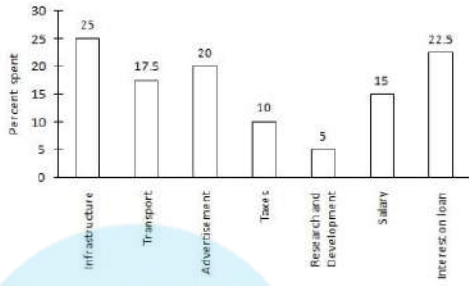
- Ans
- 1. 1 : 11
 - 2. 1 : 12
 - 3. 1 : 10
 - 4. 1 : 14

Question ID : 8161612497

Status : Answered

Chosen Option : 2

Q.8 दिया गया ग्राफ एक कंपनी के कुल व्यय के प्रतिशत बंटन को निरूपित करता है। ग्राफ का अध्ययन करें और दिए गए प्रश्न का उत्तर दीजिए।



'आधारभूत ढाँचे (Infrastructure)' व 'परिवहन (Transport)' पर हुए कुल व्यय का, 'करों (Taxes)' व 'ऋणों पर दिए गए ब्याजों (Interest on Loans)' पर हुए कुल व्यय से क्या अनुपात है?

- Ans
- 1. 14 : 13
 - 2. 15 : 13
 - 3. 16 : 13
 - 4. 17 : 13

Question ID : 8161612508

Status : Answered

Chosen Option : 4

Q.9 एक धनराशि का साधारण ब्याज, $12\frac{2}{4}\%$ वार्षिक दर पर कितने वर्षों में मूलधन के बराबर हो जाएगा?

- Ans
- 1. 7 वर्ष
 - 2. 6 वर्ष
 - 3. 8 वर्ष
 - 4. 5 वर्ष

Question ID : 8161612493

Status : Answered

Chosen Option : 3

Q.10 एक विक्रेता कोई बाइक ₹2500 में बेचने पर 20% की हानि उठाता है। वह बाइक को कितने मूल्य पर बेचता कि उसे 30% की हानि होती?

- Ans
- 1. ₹2187.5
 - 2. ₹2185.5
 - 3. ₹2186.5
 - 4. ₹2188.5

Question ID : 8161612491

Status : Answered

Chosen Option : 1

Q.11 यदि $x + y + z = 10$, $x^3 + y^3 + z^3 = 75$ और $xyz = 15$ है, तो $x^2 + y^2 + z^2 - xy - yz - zx$ का मान बताइए।

- Ans
- 1. 5
 - 2. 3
 - 3. 6
 - 4. 4

Question ID : 8161612499

Status : Answered

Chosen Option : 3

Q.12 $2.1 + 2.25 \div [63 - \{7.5 \times 8 + (13 - 2.5 \times 5)\}]$ का मान बताइए।

- Ans
- 1. 3.0
 - 2. 2.8
 - 3. 2.9
 - 4. 3.1

Question ID : 8161612502

Status : Answered

Chosen Option : 4

Q.13 किसी आयताकार मैदान की लंबाई और चौड़ाई के मध्य 5 : 2 का अनुपात है। यदि उस मैदान का परिमाण 238 m है, तो मैदान की लंबाई ज्ञात कीजिए।

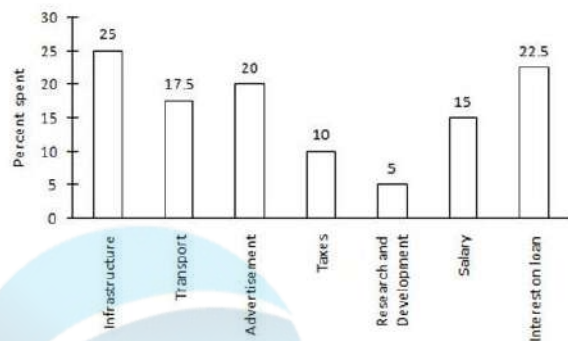
- Ans
- 1. 84 m
 - 2. 85 m
 - 3. 83 m
 - 4. 82 m

Question ID : 8161612487

Status : Answered

Chosen Option : 2

Q.14 The given graph represents the percentage distribution of the total expenditure of a company. Study the graph and answer the question that follows.



The total expenditure of the company is how many times the total expenditure on 'Research and Development' and 'Salary'?

- Ans**
- 1. 6.75
 - 2. 5.75
 - 3. 8.75
 - 4. 7.75

Question ID : 8161612507

Status : Answered

Chosen Option : 2

Q.15 PQR एक ऐसा समद्विबाहु त्रिभुज है कि $PQ = QR = 10$ cm और $\Delta PQR = 90^\circ$ है। भुजा PR पर बिंदु Q से खींचे जाने वाले लंब की लंबाई बताइए।

- Ans**
- 1. $5\sqrt{2}$ cm
 - 2. $4\sqrt{2}$ cm
 - 3. $7\sqrt{2}$ cm
 - 4. $6\sqrt{2}$ cm

Question ID : 8161612496

Status : Answered

Chosen Option : 1

Q.16 यदि $4\cos^2\theta - 3\sin^2\theta + 2 = 0$ है, तो $\tan\theta$ का मान बताइए (जहां $0 \leq \theta < 90^\circ$)।

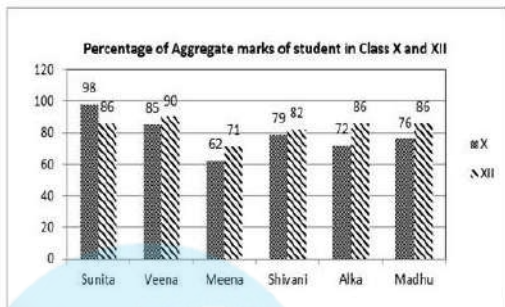
- Ans**
- 1. $\sqrt{6}$
 - 2. 1
 - 3. $\frac{1}{\sqrt{3}}$
 - 4. $\sqrt{2}$

Question ID : 8161612504

Status : Answered

Chosen Option : 3

Q.17 निम्न ग्राफ, दोस्तों के एक समूह की 2 बोर्ड परीक्षाओं में कुल अंकों में प्रदर्शन को दर्शाता है। ग्राफ के आधार पर, उस लड़की की पहचान करें, जिसने कक्षा X से कक्षा XII तक अधिकतम सुधार किया है।



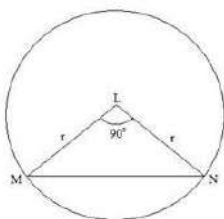
- Ans
- ✓ 1. अलका
 - ✗ 2. मधु
 - ✗ 3. वीना
 - ✗ 4. मीना

Question ID : 8161612509

Status : Answered

Chosen Option : 1

Q.18 दिए गए चित्र में, वृत्त का केंद्र L है और ML, LN पर लंब है। यदि त्रिभुज MLN का क्षेत्रफल 36 है, तो वृत्त का क्षेत्रफल कितना होगा?



- Ans
- ✗ 1. 70π
 - ✓ 2. 72π
 - ✗ 3. 68π
 - ✗ 4. 66π

Question ID : 8161612495

Status : Answered

Chosen Option : 2

Q.19 $(77^{77} + 77)$ को 78 से विभाजित करने पर शेषफल कितना बचेगा?

- Ans
- ✗ 1. 77
 - ✗ 2. 75
 - ✓ 3. 76
 - ✗ 4. 74

Question ID : 8161612501

Status : Answered

Chosen Option : 3

Q.20 मोहन अपनी वस्तुओं को बेचने के लिए उन पर 20% की छूट देता है, लेकिन वह अपनी प्रत्येक वस्तु पर मूल्य को 35% वृद्धि करके अंकित करता है। उसका लाभ प्रतिशत ज्ञात कीजिए।

- Ans
- 1. 8%
 - 2. 10%
 - 3. 9%
 - 4. 7%

Question ID : 8161612489
Status : Answered
Chosen Option : 1

Q.21 एक क्रिकेट खिलाड़ी का 20 मैचों में औसत स्कोर 35 है। यदि पहले 12 मैचों का औसत स्कोर 45 है, तो अंतिम 8 मैचों का औसत स्कोर ज्ञात कीजिए।

- Ans
- 1. 16
 - 2. 20
 - 3. 22
 - 4. 18

Question ID : 8161612488
Status : Answered
Chosen Option : 2

Q.22 ₹3,600 की धनराशि सीमा, कोमल एवं रीता में इस प्रकार बांटी गई कि सीमा और कोमल के हिस्सों का अनुपात 1.5 : 2 तथा कोमल और रीता के हिस्सों का अनुपात 2 : 2.5 है। रीता का हिस्सा ज्ञात कीजिए।

- Ans
- 1. ₹1,500
 - 2. ₹1,400
 - 3. ₹1,300
 - 4. ₹1,200

Question ID : 8161612492
Status : Answered
Chosen Option : 1

Q.23 यदि $a - b = 4$ और $a^3 - b^3 = 88$ है, तो $a^2 - b^2$ का मान क्या होगा?

- Ans
- 1. $8\sqrt{6}$
 - 2. $6\sqrt{6}$
 - 3. $7\sqrt{6}$
 - 4. $9\sqrt{6}$

Question ID : 8161612500
Status : Answered
Chosen Option : 1

Q.24 एक धावक 40 km/h की चाल से दौड़ रहा है। यदि वह 30 km/h की चाल से दौड़े, तो उसकी चाल में कितने प्रतिशत की कमी हुई?

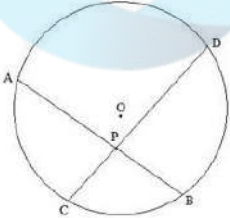
- Ans
- 1. 30%
 - 2. 20%
 - 3. 15%
 - 4. 25%

Question ID : 8161612490

Status : Answered

Chosen Option : 4

Q.25 दिए गए चित्र में, वृत्त का केंद्र O है। इसकी दो जीवाएं AB और CD एक दूसरे को वृत्त के भीतर बिंदु P पर प्रतिच्छेदित करती हैं। यदि AB = 15 cm, PB = 9 cm, CP = 3 cm हैं, तो PD की लंबाई ज्ञात कीजिए।



- Ans
- 1. 20 cm
 - 2. 16 cm
 - 3. 22 cm
 - 4. 18 cm

Question ID : 8161612494

Status : Answered

Chosen Option : 4

Section : General Awareness

Q.1 कंप्यूटिंग के क्षेत्र में, ENIAC का पूर्ण रूप क्या है?

- Ans
- 1. इलेक्ट्रॉनिक न्यूमेरिकल इंटीग्रेटेड एडवांस कंप्यूटर (Electronic Numerical Integrated Advanced Computer)
 - 2. इलेक्ट्रॉनिक न्युमरल्स इंटीग्रेशन एंड कंप्यूटिंग (Electronic Numerals Integration and Computing)
 - 3. इलेक्ट्रॉनिक नंबर्स इंटीग्रेशन एंड कंप्यूटर (Electronic Numbers Integration and Computer)
 - 4. इलेक्ट्रॉनिक न्यूमेरिकल इंटीग्रेटर एंड कंप्यूटर (Electronic Numerical Integrator and Computer)

Question ID : 8161612511

Status : Answered

Chosen Option : 1

Q.2 _____ के वास्तुकार ने नई दिल्ली के लोटस टेम्पल को डिजाइन किया गया था।

- Ans
- 1. जापान
 - 2. जर्मनी
 - 3. संयुक्त अरब अमीरात
 - 4. ईरान

Question ID : 8161612513

Status : Answered

Chosen Option : 4

Q.3 _____, भूटान का राष्ट्रीय खेल है।

- Ans
- 1. तीरंदाजी
 - 2. शूटिंग
 - 3. ताइक्वांडो
 - 4. रेस्लिंग

Question ID : 8161612534

Status : Answered

Chosen Option : 1

Q.4 इनमें से कौन-सा देश, मानव अंतरिक्ष मिशन गगनयान के लिए चुने गए अंतरिक्ष यात्रियों के स्वास्थ्य की निगरानी के लिए भारतीय उड़ान सर्जनों को प्रशिक्षित करता है?

- Ans
- 1. संयुक्त राज्य अमेरिका
 - 2. रूस
 - 3. फ्रांस
 - 4. चीन

Question ID : 8161612514

Status : Answered

Chosen Option : 1

Q.5 दिसंबर 2019 में, किस देश के अंतरिक्ष स्टेशन से इथियोपिया का पहला उपग्रह लॉन्च किया गया था?

- Ans
- 1. रूस
 - 2. चीन
 - 3. भारत
 - 4. संयुक्त राज्य अमेरिका

Question ID : 8161612515

Status : Not Answered

Chosen Option : --

Q.6 दिसंबर 2019 में, कितने पश्चिम अफ्रीकी देशों ने अपनी उभयनिष्ठ मुद्रा (common currency) का नाम 'सीएफए फ्रैंक (CFA Franc)' से बदलकर 'ईको (Eco)' करने की सहमति जताई थी?

- Ans
- 1. 6
 - 2. 5
 - 3. 7
 - 4. 8

Question ID : 8161612516

Status : Not Answered

Chosen Option : --

Q.7 अक्टूबर 2019 में, किसने BCCI के 39वें अध्यक्ष के रूप में कार्यभार संभाला है?

- Ans
- 1. सी.के. खन्ना
 - 2. सौरव गांगुली
 - 3. शशांक मनोहर
 - 4. अनुराग ठाकुर

Question ID : 8161612533

Status : Answered

Chosen Option : 2

Q.8 हैदराबाद शहर के संस्थापक कौन थे?

- Ans
- 1. सेखाबत जंग
 - 2. निजाम-उल-मुल्क
 - 3. सलाबत जंग
 - 4. नासिर जंग

Question ID : 8161612527

Status : Answered

Chosen Option : 3

Q.9 सामान्यतः F7 की (key) का उपयोग माइक्रोसॉफ्ट वर्ड (Microsoft Word), आउटलुक (Outlook), आदि जैसे माइक्रोसॉफ्ट प्रोग्राम में _____ किया जाता है।

- Ans
- 1. हेल्प (help) ओपन करने के लिए
 - 2. विभिन्न ऐप्स में कंटेंट खोजने के लिए
 - 3. फ़ाइल और फ़ोल्डरों का नाम बदलने के लिए
 - 4. स्पेलिंग और ग्रामर को जाँचने के लिए

Question ID : 8161612510

Status : Not Answered

Chosen Option : --

Q.10 राजीव गांधी खेल रत्न पुरस्कार 2019 के लिए कितने लोगों को चुना गया है?

- Ans
- 1. 3
 - 2. 2
 - 3. 4
 - 4. 1

Question ID : 8161612532

Status : Answered

Chosen Option : 2

Q.11 'चाणक्य' उपन्यास जिसे 2019 में साहित्य अकादमी पुरस्कार से सम्मानित किया गया था, किस भाषा में लिखा गया था?

- Ans
- 1. असमिया
 - 2. गुजराती
 - 3. हिंदी
 - 4. बंगाली

Question ID : 8161612529

Status : Not Answered

Chosen Option : --

Q.12 25°C (77°F) पर आसुत जल में ध्वनि की अनुमानित गति कितनी होती है?

- Ans
- 1. 3980 m/s
 - 2. 1598 m/s
 - 3. 1284 m/s
 - 4. 1498 m/s

Question ID : 8161612520

Status : Not Answered

Chosen Option : --

Q.13 गुप्त काल का प्रसिद्ध दशावतार मंदिर, जिसे उत्तर भारत के प्राचीनतम पंचायतन मंदिरों में से एक माना जाता है, _____ में स्थित है।

- Ans
- 1. भीतरगाँव
 - 2. तिगवा
 - 3. नचना-कुठारा
 - 4. देवगढ़

Question ID : 8161612526

Status : Answered

Chosen Option : 1

Q.14 भारत में कौन-सा बैंक मुद्रा नोट छापता है?

- Ans
- 1. आईसीआईसीआई बैंक
 - 2. NABARD (नाबार्ड)
 - 3. भारतीय स्टेट बैंक
 - 4. भारतीय रिजर्व बैंक

Question ID : 8161612518

Status : Answered

Chosen Option : 4

Q.15 भारत में निर्मित प्रथम कच्चे तेल के पाइपलाइन का नाम क्या है?

- Ans
- 1. हजीरा-विजयपुर-जगदीशपुर (HBJ) गैस पाइपलाइन
 - 2. नहरकटिया-नोनमती-बरौनी पाइपलाइन
 - 3. कांडला-भटिंडा पाइपलाइन
 - 4. मुंबई हाई-मुंबई-अंकलेश्वर-कोयली पाइपलाइन

Question ID : 8161612522

Status : Answered

Chosen Option : 4

Q.16 सरकारिया आयोग ने अपनी रिपोर्ट कब प्रस्तुत की थी?

- Ans
- 1. 1984
 - 2. 1985
 - 3. 1986
 - 4. 1988

Question ID : 8161612531

Status : Answered

Chosen Option : 3

Q.17 अपसौरिका (Aphelion) की परिघटना के दौरान, पृथ्वी और सूर्य के बीच की अनुमानित दूरी कितनी होती है?

- Ans
- 1. 142 million km
 - 2. 147 million km
 - 3. 152 million km
 - 4. 137 million km

Question ID : 8161612524

Status : Not Answered

Chosen Option : --

Q.18 वायुमंडलीय ओजोन का अधिकांश भाग वायुमंडल की किस परत में पाया जाता है?

- Ans
- 1. समतापमण्डल (Stratosphere)
 - 2. तापमण्डल (Thermosphere)
 - 3. मध्यमण्डल (Mesosphere)
 - 4. क्षोभमण्डल (Troposphere)

Question ID : 8161612523

Status : Answered

Chosen Option : 1

Q.19 इनमें से कौन-सा टिन (Tin) का प्रतीक है?

- Ans
- 1. Sn
 - 2. Si
 - 3. Ti
 - 4. Ta

Question ID : 8161612521

Status : Answered

Chosen Option : 1

Q.20 भटियाली (Bhatiali), निम्नलिखित में से किस राज्य का लोक संगीत है?

- Ans
- 1. पश्चिम बंगाल
 - 2. तमिलनाडु
 - 3. कर्नाटक
 - 4. केरल

Question ID : 8161612512

Status : Answered

Chosen Option : 1

Q.21 भारतीय संविधान के किस अनुच्छेद में, राज्य में विधानसभा के गठन का प्रावधान है?

- Ans
- 1. 165
 - 2. 163
 - 3. 167
 - 4. 168

Question ID : 8161612530

Status : Answered

Chosen Option : 1

Q.22 भारत के जीडीपी (GDP) में अर्थव्यवस्था के किस क्षेत्र की हिस्सेदारी सबसे अधिक है?

- Ans
- 1. कृषि
 - 2. विनिर्माण
 - 3. सेवा
 - 4. औद्योगिक

Question ID : 8161612517

Status : Answered

Chosen Option : 3

Q.23 निम्नलिखित में से पौधे के किस हिस्से में विभेदित काय (differentiated body) नहीं होता है?

- Ans
- 1. थैलोफाइटा (Thallophyta)
 - 2. टेरिडोफाइटा (Pteridophyta)
 - 3. अनावृतबीजी (Gymnosperms)
 - 4. ब्रायोफाइटा (Bryophyta)

Question ID : 8161612519

Status : Not Answered

Chosen Option : --

Q.24 2004 में हिंद महासागर सुनामी की तीव्रता कितनी थी?

- Ans
- 1. 7.4
 - 2. 9.1
 - 3. 8.6
 - 4. 8.9

Question ID : 8161612525

Status : Not Answered

Chosen Option : --

Q.25 मिस यूनिवर्स 2019 किस देश की मूल निवासी हैं?

- Ans
- 1. जमैका
 - 2. ऑस्ट्रेलिया
 - 3. फ्रांस
 - 4. दक्षिण अफ्रीका

Question ID : 8161612528

Status : Answered

Chosen Option : 4

Roll Number	
Candidate Name	
Venue Name	
Exam Date	12/10/2020
Exam Time	4:00 PM - 5:00 PM
Subject	CHSL Tier 1

Section : English Language (Basic Knowledge)

Q.1 Select the most appropriate option to substitute the underlined segment in the given sentence. If there is no need to substitute it, select No improvement.

As much as a hundred children gathered to celebrate Independence Day.

- Ans
- 1. As long as
 - 2. No improvement
 - 3. As high as
 - 4. As many as

Question ID : 4244291631
Status : Answered
Chosen Option : 4

Q.2 Select the most appropriate meaning of the given idiom.

A dime a dozen

- Ans
- 1. Phenomenal
 - 2. Expensive
 - 3. Very common
 - 4. Uncommon

Question ID : 4244291635
Status : Answered
Chosen Option : 3

Q.3 Select the most appropriate meaning of the given idiom.

Couch Potato

- Ans
- 1. Skinny
 - 2. Overweight
 - 3. Hyperactive
 - 4. Lazy person

Question ID : 4244291634
Status : Answered
Chosen Option : 4

Q.4 Select the most appropriate word to fill in the blank.

For thousands of years, humans have been _____ the earth, making scars upon the land.

- Ans
- 1. redecorating
 - 2. remaking
 - 3. damaging
 - 4. distracting

Question ID : 4244291642
Status : Answered
Chosen Option : 3

Comprehension:

In the following passage some words have been deleted. Fill in the blanks with the help of the alternatives given. Select the most appropriate option for each blank.

We do not want to condemn the 'word'. It is, after all, a mighty instrument; it is the means by (1)_____ we tell each other of our emotions, the way in which we influence others. Words can do (2)_____ good but also cause terrible injuries. It is true that at first there was the deed; the word came later. It was in some respects a cultural progress (3)_____ the deed became word. But the word was (4)_____ a spell, a magical act, and it (5)_____ much of its power.

SubQuestion No : 5

Q.5 Select the most appropriate option for blank No. 1.

- Ans
- 1. that
 - 2. whose
 - 3. what
 - 4. which

Question ID : 4244291623
Status : Answered
Chosen Option : 1

Comprehension:

In the following passage some words have been deleted. Fill in the blanks with the help of the alternatives given. Select the most appropriate option for each blank.

We do not want to condemn the 'word'. It is, after all, a mighty instrument; it is the means by (1)_____ we tell each other of our emotions, the way in which we influence others. Words can do (2)_____ good but also cause terrible injuries. It is true that at first there was the deed; the word came later. It was in some respects a cultural progress (3)_____ the deed became word. But the word was (4)_____ a spell, a magical act, and it (5)_____ much of its power.

SubQuestion No : 6

Q.6 Select the most appropriate option for blank no. 2

- Ans
- 1. miserable
 - 2. immeasurable
 - 3. numerable
 - 4. countable

Question ID : 4244291624
Status : Answered
Chosen Option : 3

Comprehension:

In the following passage some words have been deleted. Fill in the blanks with the help of the alternatives given. Select the most appropriate option for each blank.

We do not want to condemn the 'word'. It is, after all, a mighty instrument; it is the means by (1)_____ we tell each other of our emotions, the way in which we influence others. Words can do (2)_____ good but also cause terrible injuries. It is true that at first there was the deed; the word came later. It was in some respects a cultural progress (3)_____ the deed became word. But the word was (4)_____ a spell, a magical act, and it (5)_____ much of its power.

SubQuestion No : 7

Q.7 Select the most appropriate option for blank no. 3

- Ans
- 1. such
 - 2. however
 - 3. which
 - 4. when

Question ID : 4244291625

Status : Answered

Chosen Option : 4

Comprehension:

In the following passage some words have been deleted. Fill in the blanks with the help of the alternatives given. Select the most appropriate option for each blank.

We do not want to condemn the 'word'. It is, after all, a mighty instrument; it is the means by (1)_____ we tell each other of our emotions, the way in which we influence others. Words can do (2)_____ good but also cause terrible injuries. It is true that at first there was the deed; the word came later. It was in some respects a cultural progress (3)_____ the deed became word. But the word was (4)_____ a spell, a magical act, and it (5)_____ much of its power.

SubQuestion No : 8

Q.8 Select the most appropriate option for blank no. 4

- Ans
- 1. quickly
 - 2. lastly
 - 3. originally
 - 4. firstly

Question ID : 4244291626

Status : Not Answered

Chosen Option : --

Comprehension:

In the following passage some words have been deleted. Fill in the blanks with the help of the alternatives given. Select the most appropriate option for each blank.

We do not want to condemn the 'word'. It is, after all, a mighty instrument; it is the means by (1)_____ we tell each other of our emotions, the way in which we influence others. Words can do (2)_____ good but also cause terrible injuries. It is true that at first there was the deed; the word came later. It was in some respects a cultural progress (3)_____ the deed became word. But the word was (4)_____ a spell, a magical act, and it (5)_____ much of its power.

SubQuestion No : 9

Q.9 Select the most appropriate option for blank no. 5

- Ans
- 1. have retained
 - 2. has retained
 - 3. retained
 - 4. will retained

Question ID : 4244291627

Status : Answered

Chosen Option : 3

Q.10 Given below are four sentences in jumbled order. Out of the given options pick the one that gives their correct order.

- A. At the metro station he noticed a homeless man.
- B. He decided to travel to office by the metro train.
- C. He sent his damaged car to the garage for repairs.
- D. Johnny had a car accident.

- Ans
- 1. DCBA
 - 2. DBAC
 - 3. DACB
 - 4. DBCA

Question ID : 4244291629

Status : Answered

Chosen Option : 1

Q.11 Select the most appropriate option to substitute the underlined segment in the given sentence. If there is no need to substitute it, select No improvement.

So much as you behave like this, the decision of the management against you cannot be revoked.

- Ans
- 1. As long to
 - 2. As much to
 - 3. As long as
 - 4. No improvement

Question ID : 4244291630

Status : Answered

Chosen Option : 3

Q.12 Select the word which means the same as the group of words given.

Combine to form a whole

- Ans
- 1. Scatter
 - 2. Create
 - 3. Integrate
 - 4. Disjoin

Question ID : 4244291638
Status : Answered
Chosen Option : 3

Q.13 Given below are four sentences in jumbled order. Out of the given options pick the one that gives their correct order.

- A. A boy tended his master's dogs near a pond.
- B. However, he realized that the way he talked to them never made them happy.
- C. Soon he found the tending and his life there very boring.
- D. All he could do to kill the boredom was by talking to the dogs.

- Ans
- 1. ABCD
 - 2. ACDB
 - 3. DCAB
 - 4. ADBC

Question ID : 4244291628
Status : Answered
Chosen Option : 2

Q.14 In the sentence identify the segment which contains the grammatical error.

Behavior modification techniques are often used to the training of police dogs.

- Ans
- 1. Behavior modification techniques
 - 2. of police dogs
 - 3. to the training
 - 4. are often used

Question ID : 4244291621
Status : Answered
Chosen Option : 1

Q.15 Select the word which means the same as the group of words given.

Steal or misappropriate money

- Ans
- 1. Overcharge
 - 2. Raid
 - 3. Embezzle
 - 4. Manipulate

Question ID : 4244291639
Status : Answered
Chosen Option : 3

Q.16 Select the correct passive form of the given sentence.

The mechanic repaired my bike.

- Ans
- 1. My bike has been repaired by the mechanic
 - 2. My bike was repaired by the mechanic.
 - 3. The bike was being repaired by my mechanic.
 - 4. The bike is repaired by my mechanic.

Question ID : 4244291618
Status : Answered
Chosen Option : 2

Q.17 Select the most appropriate antonym of the given word.

Disillusioned

- Ans
- 1. Soured
 - 2. Embittered
 - 3. Disappointed
 - 4. Enthusiastic

Question ID : 4244291632
Status : Answered
Chosen Option : 4

Q.18 Select the most appropriate synonym of the given word.

Diligent

- Ans
- 1. Inattentive
 - 2. Lethargic
 - 3. Weary
 - 4. Untiring

Question ID : 4244291640
Status : Answered
Chosen Option : 2

Q.19 Select the most appropriate word to fill in the blank.

There should be _____ punishment for rule breakers.

- Ans
- 1. too
 - 2. many
 - 3. severe
 - 4. much

Question ID : 4244291643
Status : Answered
Chosen Option : 1

Q.20 Select the wrongly spelt word.

- Ans
- 1. Esteem
 - 2. Respectfull
 - 3. Subtle
 - 4. Mimic

Question ID : 4244291636
Status : Answered
Chosen Option : 2

Q.21 In the sentence identify the segment which contains a grammatical error.

Our twenty-first century society expects all relevant information to simply be handing to us.

- Ans
- 1. to simply be
 - 2. expects all relevant information
 - 3. handing to us.
 - 4. Our twenty-first century society

Question ID : 4244291620
Status : Answered
Chosen Option : 1

Q.22 Select the most appropriate antonym of the given word.

Timid

- Ans
- 1. Sincere
 - 2. Bold
 - 3. Punctual
 - 4. Dubious

Question ID : 4244291633
Status : Answered
Chosen Option : 2

Q.23 Select the correct indirect form of the given sentence.

Vishnu said, "I am going to the theater this evening."

- Ans
- 1. Vishnu said that he would go to the theater that evening.
 - 2. Vishnu said that I am going to the theater this evening.
 - 3. Vishnu said that he was going to the theater this evening.
 - 4. Vishnu said that he was going to the theater that evening.

Question ID : 4244291619
Status : Answered
Chosen Option : 4

Q.24 Select the most appropriate synonym of the given word.

Insidious

- Ans
- 1. Callous
 - 2. Benevolent
 - 3. Crafty
 - 4. Sincere

Question ID : 4244291641
Status : Answered
Chosen Option : 3

Q.25 Select the wrongly spelt word.

- Ans
- 1. Consequence
 - 2. Fixation
 - 3. Musician
 - 4. Providance

Question ID : 4244291637
Status : Answered
Chosen Option : 4

Section : General Intelligence

Q.1 निम्नलिखित श्रेणी में प्रश्न-चिह्न (?) के स्थान पर आने वाली संख्या का चयन करें।
1, 8, 9, 64, 25, 216, ?

- Ans
- 1. 256
 - 2. 343
 - 3. 128
 - 4. 49

Question ID : 4244291647
Status : Answered
Chosen Option : 4

Q.2 चार अक्षर-समूह दिए गए हैं, जिनमें से तीन किसी न किसी तरह से संगत हैं और एक असंगत है। असंगत अक्षर-समूह का चयन करें।

- Ans
- 1. JPZ
 - 2. MQS
 - 3. DLP
 - 4. FHN

Question ID : 4244291659
Status : Answered
Chosen Option : 2

Q.3 उस विकल्प का चयन करें जिसमें संख्याओं के बीच वही संबंध है जो दिए गए संख्या-युग्म की संख्याओं के बीच है।

42 : 18

- Ans
- 1. 19 : 5
 - 2. 10 : 9
 - 3. 31 : 29
 - 4. 71 : 45

Question ID : 4244291646

Status : Not Answered

Chosen Option : --

Q.4 जो संबंध 'पाइथागोरस' का 'ज्यामिति' से है, वही संबंध 'केप्लर' का '_____' से है।

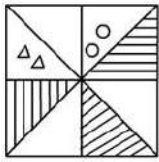
- Ans
- 1. भूगोल
 - 2. प्रकाशिकी
 - 3. खगोलशास्त्र
 - 4. इलेक्ट्रॉनिक्स

Question ID : 4244291655

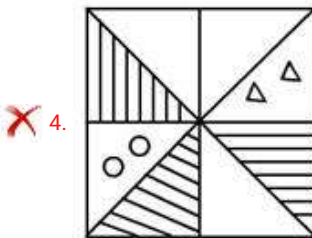
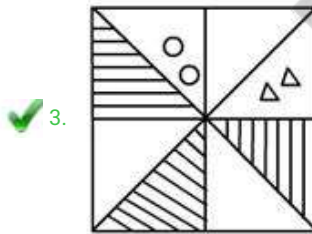
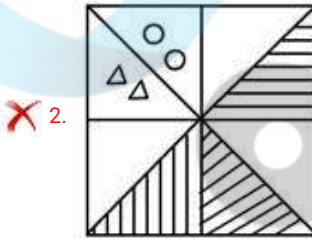
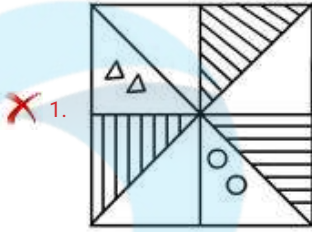
Status : Answered

Chosen Option : 4

Q.5 आकृति के दाईं ओर दर्पण रखे जाने पर दी गई आकृति का सही दर्पण प्रतिबिंब कौन सा होगा?



Ans



Question ID : 4244291667

Status : Answered

Chosen Option : 3

Q.6 B, A का इकलौता पुत्र है। C, D की माँ है। A, C की माँ है। बताएं कि B का D से क्या संबंध है?

Ans

✗ 1. भाई

✓ 2. मामा

✗ 3. चाचा

✗ 4. पिता

Question ID : 4244291657

Status : Answered

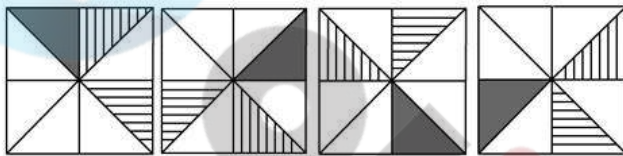
Chosen Option : 2

Q.7 बस से यात्रा करते समय एक व्यक्ति ऑटो रिक्शा को किराए पर भुगतान के 10 गुना से ₹60 अधिक खर्च करता है। उसके द्वारा खर्च की गई कुल राशि ऑटो रिक्शा के लिए भुगतान किए गए किराये की 13 गुना है। बताएं कि उसने बस और ऑटो पर कुल मिलाकर कितनी राशि खर्च की?

- Ans
- 1. ₹390
 - 2. ₹30
 - 3. ₹60
 - 4. ₹570

Question ID : 4244291644
 Status : Answered
 Chosen Option : 1

Q.8 उस आकृति का चयन करें, जो निम्नलिखित आकृति श्रेणी में अगले स्थान पर आयेगी।



Ans

- 1.
- 2.
- 3.
- 4.

Question ID : 4244291663
 Status : Answered
 Chosen Option : 1

Q.9 उस विकल्प का चयन करें, जिसमें दी गई आकृति अंतर्निहित (embedded) है। (घुमाने की अनुमति नहीं है)



Ans

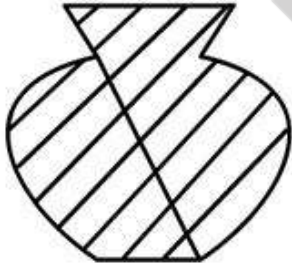
✓ 1.



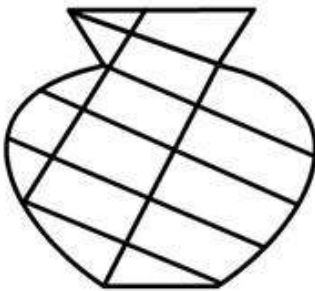
✗ 2.



✗ 3.



✗ 4.



Question ID : 4244291665

Status : Answered

Chosen Option : 1

Q.10 निम्नलिखित में से संख्याओं का कौन-सा क्रम, नीचे दिए गए समीकरण को संतुलित करेगा?

$$36 \times 5 - 18 \div 6 + 2 = 78$$

- Ans
- 1. $18 \times 5 - 36 \div 2 + 6$
 - 2. $36 \times 2 - 18 \div 6 + 5$
 - 3. $5 \times 2 - 18 \div 6 + 36$
 - 4. $5 \times 6 - 36 \div 18 + 2$

Question ID : 4244291645

Status : Answered

Chosen Option : 1

Q.11 नीचे दिए गए कथनों और निष्कर्षों को ध्यानपूर्वक पढ़ें। यह मानते हुए कि कथन में दी गई जानकारी सही है, भले ही यह सामान्य रूप से ज्ञात तथ्यों से भिन्न प्रतीत होती हो, यह निर्धारित करें कि दिए गए निष्कर्षों में से कौन सा/से, कथनों का तार्किक रूप से अनुसरण करता है / करते हैं।

कथन:

1. कुछ लड़के हॉकी खेलते हैं।
2. कुछ लड़कियां बैडमिंटन नहीं खेलती हैं।
3. प्रत्येक व्यक्ति या तो हॉकी खेलता है या बैडमिंटन खेलता है।

निष्कर्ष:

- I. लड़के बैडमिंटन नहीं खेलते हैं।
- II. कुछ लड़कियां हॉकी खेलती हैं।
- III. कोई भी ऐसा नहीं है जो हॉकी और बैडमिंटन दोनों खेलता है।

- Ans
- 1. केवल निष्कर्ष III अनुसरण करता है।
 - 2. केवल निष्कर्ष I अनुसरण करता है।
 - 3. केवल निष्कर्ष II अनुसरण करता है।
 - 4. केवल निष्कर्ष II और III अनुसरण करते हैं।

Question ID : 4244291661

Status : Not Answered

Chosen Option : --

Q.12 अक्षरों के उस संयोजन का चयन करें, जिसे अक्षर श्रृंखला में रिक्त स्थानों पर क्रमिक रूप से भरे जाने पर श्रृंखला पूरी हो जाएगी।

ab _ _ _ bca _ _ _ acb _ _ _ aac _ _ _

- Ans
- 1. aacbcaabbc
 - 2. cbaabcabca
 - 3. aabcabccab
 - 4. cabaabcabc

Question ID : 4244291656

Status : Answered

Chosen Option : 1

Q.13 चार संख्या-युग्म दिए गए हैं, जिनमें से तीन किसी न किसी तरह से समान हैं और एक असंगत है। उस असंगत संख्या-युग्म का चयन करें।

- Ans
- 1. 16 : 40
 - 2. 28 : 70
 - 3. 320 : 480
 - 4. 120 : 300

Question ID : 4244291650

Status : Answered

Chosen Option : 3

Q.14 उस विकल्प का चयन करें, जिसमें संख्याओं का आपस में वही संबंध है जो दिए गए समुच्चय की संख्याओं के मध्य है।

(3, 6, 30)

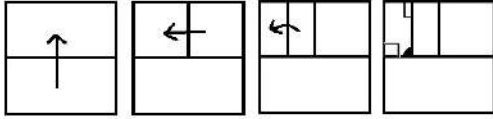
- Ans
- 1. (5, 20, 420)
 - 2. (4, 12, 132)
 - 3. (2, 4, 22)
 - 4. (-4, 24, 342)

Question ID : 4244291648

Status : Answered

Chosen Option : 2

Q.15 निम्न आकृतियों में एक कागज़ को मोड़ने का क्रम और मुड़े हुए कागज़ को काटने की विधि दर्शाई गई है। कागज़ को पुनः खोलने पर यह कैसा दिखाई देगा?

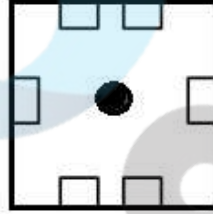


Ans

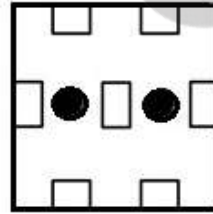
✗ 1.



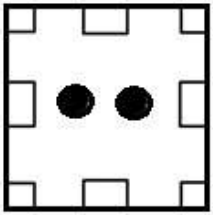
✗ 2.



✓ 3.



✗ 4.



Question ID : 4244291666

Status : Answered

Chosen Option : 4

Q.16 किसी निश्चित कूट भाषा में, BLINK को 2226 और ALL को 1312 लिखा जाता है। उसी भाषा में EYES को क्या लिखा जाएगा?

Ans

✓ 1. 1044

✗ 2. 5448

✗ 3. 3219

✗ 4. 6513

Question ID : 4244291653

Status : Not Answered

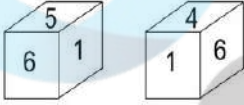
Chosen Option : --

Q.17 किसी निश्चित कूट भाषा में, TRAIN को FHYQL लिखा जाता है। उसी भाषा में CHEQUE को क्या लिखा जाएगा?

- Ans 1. WRUIEU
 2. XSVJFV
 3. OTQCGQ
 4. VQTHDT

Question ID : 4244291652
Status : Answered
Chosen Option : 1


Q.18 एक ही पासे की दो भिन्न-भिन्न स्थितियों को दर्शाया गया है। यदि संख्या '3' के विपरीत वाले फलक पर विषम संख्या है, तो उस संख्या का चयन करें, जो संख्या '2' वाले फलक के विपरीत फलक पर होगी।



- Ans 1. 1
 2. 5
 3. 3
 4. 6

Question ID : 4244291662
Status : Answered
Chosen Option : 4

Q.19 निम्नलिखित आकृति में कितने वर्ग हैं?



- Ans 1. 18
 2. 17
 3. 16
 4. 15

Question ID : 4244291664
Status : Answered
Chosen Option : 1

Q.20 उस विकल्प का चयन करें, जिसका तीसरे अक्षर-समूह से वही संबंध है, जो दूसरे अक्षर-समूह का पहले अक्षर-समूह से है।

CLOCK : CNSIS :: WATCH : ?

- Ans
- 1. WBVFL
 - 2. WCVEJ
 - 3. WCXIP
 - 4. WBWHO

Question ID : 4244291654

Status : Answered

Chosen Option : 3

Q.21 उस विकल्प का चयन करें, जिसमें शब्दों का आपस में वही संबंध है जो दिए गए शब्द-युग्म के शब्दों में है।

सहारा : अफ्रीका

- Ans
- 1. थार : ऑस्ट्रेलिया
 - 2. गोबी : एशिया
 - 3. सैंडी : अमेरिका
 - 4. गिब्सन : यूरोप

Question ID : 4244291658

Status : Answered

Chosen Option : 2

Q.22 निम्नलिखित श्रेणी में प्रश्न-चिह्न (?) के स्थान पर आने वाली संख्या का चयन करें।

2, 7, 5, 2, 3, 1, ?

- Ans
- 1. 2
 - 2. -1
 - 3. 4
 - 4. 0

Question ID : 4244291649

Status : Answered

Chosen Option : 3

Q.23 निम्नलिखित शब्दों को तार्किक और अर्थपूर्ण क्रम में व्यवस्थित करें।

I. सप्तभुज

II. अष्टभुज

III. नवभुज

IV. षट्भुज

Ans 1. III, II, IV, I

2. III, II, I, IV

3. IV, III, I, II

4. IV, I, II, III

Question ID : 4244291651

Status : Answered

Chosen Option : 4

Q.24 अरविंद, अपने मासिक वेतन का आधा हिस्सा अपनी पत्नी को घरेलू खर्च के लिए देता है। वह अपने व्यक्तिगत खर्चों पर ₹2,500 खर्च करता है। वह अपने मासिक वेतन के 3/7 भाग की प्रति माह बचत करता है। अरविंद का प्रति माह वेतन क्या है?

Ans 1. ₹28,000

2. ₹25,000

3. ₹35,000

4. ₹30,000

Question ID : 4244291660

Status : Answered

Chosen Option : 3

Q.25 उस वेन आरेख का चयन करें, जो निम्नलिखित के बीच संबंध को सर्वोत्तम ढंग से निरूपित करता है:

ऑस्ट्रेलिया, सिडनी, एम्स्टर्डम

Ans



Question ID : 4244291668

Status : Answered

Chosen Option : 3

Section : Quantitative Aptitude(Basic Arithmetic Skill)

Q.1 समकोण त्रिभुज में समकोण बनाने वाली दो भुजाओं की लंबाई 21 cm और 20 cm है। इस त्रिभुज के परिवृत्त की त्रिज्या क्या है?

Ans 1. 12 cm

2. 14.5 cm

3. 15.5 cm

4. 14 cm

Question ID : 4244291681

Status : Answered

Chosen Option : 2

Q.2 350 m लंबी रेलगाड़ी, 250 m लंबे पुल को 20 सेकंड में पार करती है। रेलगाड़ी की चाल (km/h में) क्या है?

Ans 1. 95

2. 88

3. 72

4. 108

Question ID : 4244291670

Status : Answered

Chosen Option : 4

Q.3



उपरोक्त ग्राफ, व्यक्तियों A, B, C और D के प्रति माह वेतन, व्यय, कर और बचत (रुपये में) के विवरण को निरूपित करते हैं। ग्राफ का अध्ययन कीजिए और प्रश्न का उत्तर दीजिए।

वेतन के प्रतिशत के रूप में सबसे कम 'कर' निम्न में से किसका है?

- Ans
- 1. A
 - 2. D
 - 3. C
 - 4. B

Question ID : 4244291693

Status : Answered

Chosen Option : 1

Q.4

$[0.9 - \{2.3 - 3.2 - (7.1 - 5.4 - 3.5)\}]$ का मान ज्ञात करें।

- Ans
- 1. 2.6
 - 2. 1.8
 - 3. 0
 - 4. 0.18

Question ID : 4244291686

Status : Answered

Chosen Option : 3

Q.5

एक दिन में 10 घंटे कार्य करते हुए, श्याम किसी कार्य को 12 दिन में पूरा कर सकता है। 8 दिन में कार्य को पूरा करने के लिए उसे एक दिन में कितने घंटे कार्य करना चाहिए?

- Ans
- 1. 15
 - 2. 14
 - 3. 16
 - 4. 12

Question ID : 4244291669

Status : Answered

Chosen Option : 1

Q.6 यदि $2x + y = 6$ और $xy = 4$ है, तो $8x^3 + y^3$ का मान है:

- Ans
- 1. 16
 - 2. 64
 - 3. 48
 - 4. 72

Question ID : 4244291682
Status : Answered
Chosen Option : 4

Q.7 तीन संख्याओं का योगफल 79 है। यदि पहली संख्या और दूसरी संख्या का अनुपात 4 : 7 है और दूसरी संख्या और तीसरी संख्या का अनुपात 4 : 5 है, तो दूसरी संख्या है:

- Ans
- 1. 15
 - 2. 35
 - 3. 12
 - 4. 28

Question ID : 4244291676
Status : Answered
Chosen Option : 4

Q.8 $\sin^2 45^\circ + \cos^2 45^\circ$ का मान है:

- Ans
- 1. 0
 - 2. 2
 - 3. -1
 - 4. 1

Question ID : 4244291689
Status : Answered
Chosen Option : 4

Q.9 किशोर को कोई वस्तु ₹7,160 में बेचने पर 20% की हानि हुई। 30% लाभ प्राप्त करने के लिए उसे इस वस्तु को किस मूल्य पर बेचना चाहिए था?

- Ans
- 1. ₹10,678
 - 2. ₹11,635
 - 3. ₹8,988
 - 4. ₹12,007

Question ID : 4244291675
Status : Answered
Chosen Option : 2

Q.10 उस वृत्त की त्रिज्या क्या है, जिसका क्षेत्रफल, 15 cm और 8 cm त्रिज्या वाले दो वृत्तों के क्षेत्रफलों के योगफल के बराबर है।

- Ans
- 1. 15 cm
 - 2. 14 cm
 - 3. 17 cm
 - 4. 13 cm

Question ID : 4244291671

Status : Answered

Chosen Option : 3

Q.11 यदि $x^2 + \frac{1}{x^2} = 38$ है, तो $\left|x - \frac{1}{x}\right|$ का मान है:

- Ans
- 1. 9
 - 2. 5
 - 3. 6
 - 4. 4

Question ID : 4244291683

Status : Answered

Chosen Option : 3

Q.12 यदि $\tan \theta = \frac{20}{21}$ है, तो $\frac{\sin \theta - \cos \theta}{\sin \theta + \cos \theta}$ का मान है:

- Ans
- 1. $-\frac{29}{31}$
 - 2. $\frac{27}{21}$
 - 3. $\frac{29}{35}$
 - 4. $-\frac{1}{41}$

Question ID : 4244291688

Status : Answered

Chosen Option : 4

Q.13 कोई व्यक्ति किसी बैंक में ₹8,000 जमा करता है, जो वार्षिक 8% साधारण व्याज का भुगतान करता है। 8 वर्ष बाद मिश्रधन होगा:

- Ans
- 1. ₹12,545
 - 2. ₹10,784
 - 3. ₹12,600
 - 4. ₹13,120

Question ID : 4244291677
Status : Answered
Chosen Option : 4

Q.14 3 वर्ष पहले पति, पत्नी और उसके बच्चे की औसत आयु 26 वर्ष थी और 5 वर्ष पहले पत्नी और बच्चे की औसत आयु 20 वर्ष थी। पति की वर्तमान आयु है:

- Ans
- 1. 39 वर्ष
 - 2. 45 वर्ष
 - 3. 42 वर्ष
 - 4. 37 वर्ष

Question ID : 4244291672
Status : Answered
Chosen Option : 4

Q.15 एक सीलिंग फैन का अंकित मूल्य ₹3,250 है और दुकानदार इस पर 8% की छूट देता है। सीलिंग फैन का विक्रय मूल्य है:

- Ans
- 1. ₹2,590
 - 2. ₹3,270
 - 3. ₹2,990
 - 4. ₹3,070

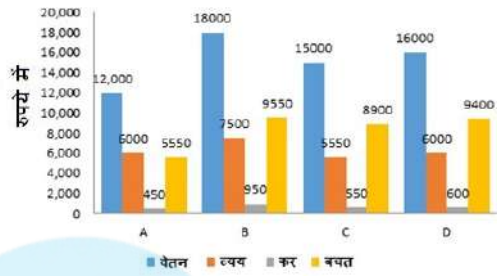
Question ID : 4244291673
Status : Answered
Chosen Option : 3

Q.16 यदि x का 22% = y का 30% है, तो $y : x$ बराबर है:

- Ans
- 1. 17 : 16
 - 2. 11 : 15
 - 3. 15 : 14
 - 4. 15 : 11

Question ID : 4244291674
Status : Answered
Chosen Option : 2

Q.17



उपरोक्त ग्राफ, व्यक्तियों A, B, C और D के प्रति माह वेतन, व्यय, कर और बचत (रुपये में) के विवरण को निरूपित करता है।

ग्राफ का अध्ययन करें और प्रश्न का उत्तर दें।

वेतन के प्रतिशत के रूप में सबसे अधिक बचत निम्न में से किसकी है?

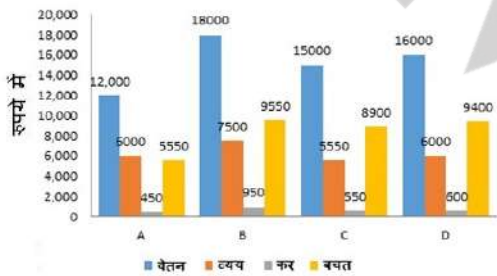
- Ans
- 1. D
 - 2. B
 - 3. C
 - 4. A

Question ID : 4244291690

Status : Answered

Chosen Option : 3

Q.18



उपरोक्त ग्राफ, व्यक्तियों A, B, C और D के प्रति माह वेतन, व्यय, कर और बचत (रुपये में) के विवरण को निरूपित करते हैं।

ग्राफ का अध्ययन करें और प्रश्न का उत्तर दें।

वेतन के प्रतिशत के रूप में सबसे अधिक 'कर' निम्न में से किसका है?

- Ans
- 1. D
 - 2. B
 - 3. C
 - 4. A

Question ID : 4244291692

Status : Answered

Chosen Option : 2

Q.19 13 cm और 5 cm त्रिज्या के दो सकेन्द्रित वृत्त हैं। बड़े वृत्त के जीवा की लंबाई ज्ञात करें, जो छोटे वृत्त को स्पर्श करती है।

- Ans
- 1. 24 cm
 - 2. 10 cm
 - 3. 15 cm
 - 4. 13 cm

Question ID : 4244291678
Status : Answered
Chosen Option : 1

Q.20 8 cm त्रिज्या वाले एक वृत्त की दो समांतर स्पर्शरेखाओं के बीच की दूरी ज्ञात करें।

- Ans
- 1. 16 cm
 - 2. 12 cm
 - 3. 4 cm
 - 4. 8 cm

Question ID : 4244291679
Status : Answered
Chosen Option : 1

Q.21 यदि किसी त्रिभुज की तीन भुजाएँ 11 cm, 12 cm और 13 cm हैं, तो दिए गए त्रिभुज का क्षेत्रफल (cm^2 में) क्या है?

- Ans
- 1. $13\sqrt{26}$
 - 2. $6\sqrt{105}$
 - 3. $15\sqrt{13}$
 - 4. $17\sqrt{42}$

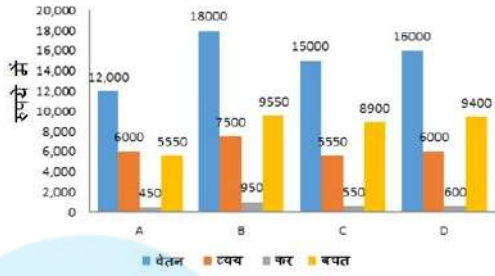
Question ID : 4244291680
Status : Answered
Chosen Option : 2

Q.22 जब पूर्णांक n को 5 से विभाजित किया जाता है, तो शेषफल 3 प्राप्त होता है। यदि $8n$ को 5 से विभाजित किया जाता है, तो शेषफल क्या होगा?

- Ans
- 1. 4
 - 2. 2
 - 3. 3
 - 4. 1

Question ID : 4244291685
Status : Answered
Chosen Option : 1

Q.23



उपरोक्त ग्राफ, व्यक्तियों A, B, C और D के प्रति माह वेतन, व्यय, कर और बचत (रुपये में) के विवरण को निरूपित करते हैं।

ग्राफ का अध्ययन करें और प्रश्न का उत्तर दें।

वेतन के प्रतिशत के रूप में सबसे कम व्यय निम्न में से किसका है?

- Ans
- 1. A
 - 2. C
 - 3. B
 - 4. D

Question ID : 4244291691

Status : Answered

Chosen Option : 2

Q.24 यदि दो संख्याओं का योगफल 11 है और उनके वर्गों का योगफल 65 है, तो उनके घनों का योगफल होगा:

- Ans
- 1. 615
 - 2. 407
 - 3. 355
 - 4. 576

Question ID : 4244291684

Status : Answered

Chosen Option : 2

Q.25 यदि $\sin x = \frac{12}{37}$ है, तो $\tan x$ का मान है:

- Ans
- 1. $\frac{35}{12}$
 - 2. $\frac{37}{12}$
 - 3. $\frac{12}{35}$
 - 4. $\frac{35}{37}$

Question ID : 4244291687

Status : Answered

Chosen Option : 3

Q.1 निम्नलिखित में से कौन हिंदुस्तानी शास्त्रीय संगीत शैली में एक प्रसिद्ध तबला वादक नहीं है?

- Ans
- 1. जाकिर हुसैन
 - 2. लतीफ अहमद
 - 3. स्वप्न चौधरी
 - 4. अमजद अली

Question ID : 4244291697
Status : Answered
Chosen Option : 3

Q.2 आर्द्रभूमि पर 'रामसर संधि' भारत में किस वर्ष लागू हुई थी?

- Ans
- 1. 1984
 - 2. 1978
 - 3. 1982
 - 4. 1991

Question ID : 4244291709
Status : Answered
Chosen Option : 1

Q.3 1576 में मेवाड़ के किस राजपूत शासक ने हल्दीघाटी का युद्ध लड़ा और फिर अपने घोड़े चेतक पर मैदान छोड़कर भाग गए?

- Ans
- 1. राणा अमर सिंह
 - 2. राजा मान सिंह
 - 3. महाराजा उदय सिंह
 - 4. महाराणा प्रताप

Question ID : 4244291711
Status : Answered
Chosen Option : 4

Q.4 निम्नलिखित में से किसे अब पृथ्वी के सौर मंडल का ग्रह नहीं माना जाता है?

- Ans
- 1. वरुण ग्रह
 - 2. मंगल ग्रह
 - 3. अरुण ग्रह
 - 4. प्लूटो

Question ID : 4244291707
Status : Answered
Chosen Option : 4

Q.5 फ़ायरवॉल (कंप्यूटिंग के संदर्भ में) के संबंध में निम्नलिखित में से कौन-सा कथन सही नहीं है?

- Ans
- 1. यह सॉफ्टवेयर और हार्डवेयर दोनों डिवाइसों का संयोजन है।
 - 2. इसका इस्तेमाल प्रायः कंप्यूटर नेटवर्क को अनधिकृत पहुंच से बचाने के लिए किया जाता है।
 - 3. यह वैध संचार के पारगमन की अनुमति नहीं देता है।
 - 4. यह नियमों के आधार पर नेटवर्क प्रसारण की अनुमति देता है।

Question ID : 4244291695
Status : Not Answered
Chosen Option : --

Q.6 सभी विभिन्न खेलों के कोचों के बीच सर्वश्रेष्ठ कोच को दिया जाने वाला पुरस्कार, निम्नलिखित में किस नाम से जाना जाता है?

- Ans
- 1. फाल्के पुरस्कार
 - 2. अर्जुन पुरस्कार
 - 3. अशोक चक्र पुरस्कार
 - 4. द्रोणाचार्य पुरस्कार

Question ID : 4244291716
Status : Answered
Chosen Option : 4

Q.7 उस बल का नाम क्या है, जिससे पृथ्वी सब वस्तुओं को अपनी ओर खींचती है?

- Ans
- 1. गुरुत्वाकर्षण
 - 2. प्रतिरोध
 - 3. धक्का (Thrust)
 - 4. वायुदाब

Question ID : 4244291703
Status : Answered
Chosen Option : 1

Q.8 जनवरी 2020 तक की स्थिति की अनुसार, भारतीय सेना के प्रमुख कौन थे?

- Ans
- 1. राकेश कुमार सिंह भदौरिया
 - 2. बिपिन रावत
 - 3. करमबीर सिंह
 - 4. मनोज मुकुंद नरवणे

Question ID : 4244291698
Status : Answered
Chosen Option : 4

Q.9 मानव शरीर का निम्नलिखित में से कौन सा भाग रक्त द्वारा शरीर के शेष भागों से लाई गई कार्बन डाइऑक्साइड का निष्कर्षण करता है?

- Ans
- 1. वायु नली (ट्रैकिआ)
 - 2. स्वर-यंत्र (लैरिक्स)
 - 3. श्वास नलिका (ब्रॉन्काई)
 - 4. वायु कोष्ठिका (एल्वियोली)

Question ID : 4244291705
Status : Answered
Chosen Option : 4

Q.10 किस अमेरिकी राष्ट्रपति को नोबेल शांति पुरस्कार प्रदान किया गया?

- Ans
- 1. बराक ओबामा
 - 2. अब्राहम लिंकन
 - 3. जॉर्ज वाशिंगटन
 - 4. बिल क्लिंटन

Question ID : 4244291713
Status : Answered
Chosen Option : 2

Q.11 भारत के प्रमुख जैव विविधता वाले स्थल कौन-से हैं?

- (A) पश्चिमी घाट
(B) उत्तर पूर्व भारत
(C) सुंदरलैंड

- Ans
- 1. A, B और C
 - 2. केवल A
 - 3. केवल B
 - 4. A और B

Question ID : 4244291708
Status : Answered
Chosen Option : 2

Q.12 किस खिलाड़ी के सम्मान में प्रतिवर्ष 29 अगस्त को भारत का राष्ट्रीय खेल दिवस मनाया जाता है?

- Ans
- 1. बलबीर सिंह सीनियर
 - 2. मिल्खा सिंह
 - 3. लेस्ली वॉल्टर क्लॉडियस
 - 4. मेजर ध्यानचंद सिंह

Question ID : 4244291717
Status : Answered
Chosen Option : 4

Q.13 मुगल बादशाह शाहजहाँ ने अपनी पत्नी _____ की याद में ताज महल बनवाया था।

- Ans
- 1. रोशनआरा
 - 2. नूरजहाँ
 - 3. जहाँआरा
 - 4. मुमताज महल

Question ID : 4244291696
Status : Answered
Chosen Option : 4

Q.14 'माई एक्सपेरिमेंट्स विद ट्रुथ (My Experiments with Truth)' पुस्तक किसने लिखी है?

- Ans
- 1. रबीन्द्रनाथ टैगोर
 - 2. एम.के. गांधी
 - 3. जवाहर लाल नेहरू
 - 4. अमिताव घोष

Question ID : 4244291712
Status : Answered
Chosen Option : 2

Q.15 'रंगोली बिहू' असम के प्रमुख त्योहारों में से एक है, जिसे _____ के महीने में मनाया जाता है।

- Ans
- 1. अप्रैल
 - 2. जून
 - 3. मार्च
 - 4. अक्तूबर

Question ID : 4244291699
Status : Not Answered
Chosen Option : --

Q.16 'परिवर्तन वक्र (transformation curve)' को _____ के रूप में भी जाना जाता है।

- Ans
- 1. आपूर्ति वक्र (supply curve)
 - 2. तटस्थता वक्र (indifference curve)
 - 3. उत्पादन संभावना वक्र (production possibility curve)
 - 4. मांग वक्र (demand curve)

Question ID : 4244291702
Status : Answered
Chosen Option : 3

Q.17 वर्तमान सरकार द्वारा शुरू की गई निम्नलिखित में कौन-सी योजना अपने उद्देश्य से सुमेलित है?

- Ans
- 1. सागरमाला योजना - बंदरगाहों पर सामानों की बिक्री को नियमित करना
 - 2. सुमन (SUMAN) योजना - गर्भवती महिलाओं के लिए निःशुल्क दवा
 - 3. आशा योजना - मरीजों की सेवा करने के लिए वार्ड अनुकर्मियों (बॉय) के लिए लाभकारी मूल्य
 - 4. उज्ज्वला योजना - सड़क मार्ग प्रकाश-व्यवस्था

Question ID : 4244291700

Status : Not Answered

Chosen Option : --

Q.18 भारत के संविधान की प्रारूप समिति के अध्यक्ष कौन थे?

- Ans
- 1. बी.आर. अंबेडकर
 - 2. सरदार वल्लभभाई पटेल
 - 3. मोहम्मद सादुल्लाह
 - 4. के.एम. मुंशी

Question ID : 4244291714

Status : Answered

Chosen Option : 1

Q.19 भारत के मुख्य न्यायाधीश की नियुक्ति कौन करता है?

- Ans
- 1. भारत के राष्ट्रपति
 - 2. सर्वोच्च न्यायालय और उच्च न्यायालय के वरिष्ठ न्यायाधीशों के परामर्श से भारत के राष्ट्रपति
 - 3. सर्वोच्च न्यायालय और उच्च न्यायालय के न्यायाधीश
 - 4. सर्वोच्च न्यायालय के वरिष्ठ न्यायाधीशों के परामर्श से भारत के राष्ट्रपति

Question ID : 4244291715

Status : Answered

Chosen Option : 1

Q.20 गुजरात की सीमा किस पड़ोसी देश के साथ लगती है?

- Ans
- 1. बांग्लादेश
 - 2. नेपाल
 - 3. भूटान
 - 4. पाकिस्तान

Question ID : 4244291706

Status : Answered

Chosen Option : 4

Q.21 आदिवासी त्योहार 'भगता परब', जो वसंत और गर्मियों की अवधि के बीच मनाया जाता है, _____ राज्य में आरंभ हुआ था।

- Ans
- 1. महाराष्ट्र
 - 2. मिज़ोरम
 - 3. मध्य प्रदेश
 - 4. झारखंड

Question ID : 4244291694
Status : Answered
Chosen Option : 4

Q.22 उस विकल्प का चयन करें, जो क्रिकेट टीम के कप्तान और विश्व कप जीत के वर्ष का सही ढंग से मिलान करता है।

- Ans
- 1. माइकल क्लार्क - 2007
 - 2. इमरान खान - 1996
 - 3. कपिल देव - 1983
 - 4. रिकी पॉटिंग - 2011

Question ID : 4244291718
Status : Answered
Chosen Option : 3

Q.23 सभी जीवों में पोषण की प्रक्रिया में पहले चरण के दौरान ग्लूकोज़ के छह-कार्बन अणुओं में से विखंडित हुए तीन कार्बन अणुओं को क्या कहा जाता है?

- Ans
- 1. मीथेन
 - 2. ब्यूटेन
 - 3. पाइरूवेट
 - 4. ईथेन

Question ID : 4244291704
Status : Answered
Chosen Option : 3

Q.24 _____ का अर्थ वह धन है जो पहले ही व्यय किया जा चुका है और जिसे पुनः प्राप्त नहीं किया जा सकता है।

- Ans
- 1. अध्यारोपित लागत
 - 2. निमग्न लागत
 - 3. विकल्प लागत
 - 4. प्रतिस्थापन लागत

Question ID : 4244291701
Status : Not Answered
Chosen Option : --

Q.25 'भारत छोड़ो आंदोलन' कब शुरू किया गया था?

Ans 1. अगस्त 1942

2. अक्टूबर 1905

3. अप्रैल 1919

4. फरवरी 1928

Question ID : 4244291710

Status : Answered

Chosen Option : 1

OnlineGuru

Roll Number	
Candidate Name	
Venue Name	
Exam Date	13/10/2020
Exam Time	10:00 AM - 11:00 AM
Subject	CHSL Tier 1

Section : English Language (Basic Knowledge)

Q.1 Select the most appropriate ANTONYM of the given word.

MALIGNANT

- Ans
- 1. Indignant
 - 2. Hesitant
 - 3. Benign
 - 4. Fatal

Question ID : **8161612146**
Status : **Not Answered**
Chosen Option : -

Q.2 Select the most appropriate word to fill in the blank in the given sentence.

This winter _____ weather conditions have led people to remain indoors.

- Ans
- 1. averse
 - 2. inverse
 - 3. traverse
 - 4. adverse

Question ID : **8161612156**
Status : **Not Answered**
Chosen Option : -

Q.3 Select the most appropriate word to fill in the blank in the given sentence.

Some people think that the credit card culture encourages people to shop compulsively and merely _____ debts.

- Ans
- 1. simulate
 - 2. formulate
 - 3. stimulate
 - 4. accumulate

Question ID : **8161612155**
Status : **Answered**
Chosen Option : **2**

Q.4 In the given sentence identify the segment which contains the grammatical error.

A Royal Bengal tigress and her three cubs was poison and their carcasses left to rot in the Wildlife Sanctuary in Goa.

- Ans**
- 1. A Royal Bengal tigress
 - 2. in the Wildlife Sanctuary in Goa
 - 3. and their carcasses left to rot
 - 4. and her three cubs was poison

Question ID : **8161612134**

Status : **Answered**

Chosen Option : **4**

Comprehension:

In the following passage some words have been deleted. Fill in the blanks with the help of the alternatives given. Select the most appropriate option for each blank.

One complaint parents and teachers have about children these days is that they are simply not interested in (1)____. In his weekly column 'Down in Jungle land' Ranjit Lal, an (2)____ offers some useful suggestions. Keeping a dog or cat as a pet (3)____ to be made mandatory. Regular visits to national parks and (4)____ are another way to get children hooked. Treks in wilderness areas are even (5)____ as children can then engage with all kinds of life-forms on their turf.

SubQuestion No : 5

Q.5

Select the most appropriate option for blank number 1.

- Ans**
- 1. unnaturalness
 - 2. naturalist
 - 3. natural
 - 4. nature

Question ID : **8161612136**

Status : **Answered**

Chosen Option : **1**

Comprehension:

In the following passage some words have been deleted. Fill in the blanks with the help of the alternatives given. Select the most appropriate option for each blank.

One complaint parents and teachers have about children these days is that they are simply not interested in (1)____. In his weekly column 'Down in Jungle land' Ranjit Lal, an (2)____ offers some useful suggestions. Keeping a dog or cat as a pet (3)____ to be made mandatory. Regular visits to national parks and (4)____ are another way to get children hooked. Treks in wilderness areas are even (5)____ as children can then engage with all kinds of life-forms on their turf.

SubQuestion No : 6

Q.6 **Select the most appropriate option for blank number 2.**

- Ans**
- 1. environment
 - 2. environs
 - 3. environmentalist
 - 4. environmental

Question ID : **8161612137**

Status : **Answered**

Chosen Option : **1**

Comprehension:

In the following passage some words have been deleted. Fill in the blanks with the help of the alternatives given. Select the most appropriate option for each blank.

One complaint parents and teachers have about children these days is that they are simply not interested in (1)____. In his weekly column 'Down in Jungle land' Ranjit Lal, an (2)____ offers some useful suggestions. Keeping a dog or cat as a pet (3)____ to be made mandatory. Regular visits to national parks and (4)____ are another way to get children hooked. Treks in wilderness areas are even (5)____ as children can then engage with all kinds of life-forms on their turf.

SubQuestion No : 7

Q.7 Select the most appropriate option for blank number 3.

- Ans
- 1. must
 - 2. can
 - 3. will
 - 4. needs

Question ID : **8161612138**

Status : **Not Answered**

Chosen Option : -

Comprehension:

In the following passage some words have been deleted. Fill in the blanks with the help of the alternatives given. Select the most appropriate option for each blank.

One complaint parents and teachers have about children these days is that they are simply not interested in (1)____. In his weekly column 'Down in Jungle land' Ranjit Lal, an (2)____ offers some useful suggestions. Keeping a dog or cat as a pet (3)____ to be made mandatory. Regular visits to national parks and (4)____ are another way to get children hooked. Treks in wilderness areas are even (5)____ as children can then engage with all kinds of life-forms on their turf.

SubQuestion No : 8

Q.8 Select the most appropriate option for blank number 4.

- Ans
- 1. sanctuaries
 - 2. sanctorum
 - 3. sanctity
 - 4. sanctuary

Question ID : **8161612139**

Status : **Not Answered**

Chosen Option : -

Comprehension:

In the following passage some words have been deleted. Fill in the blanks with the help of the alternatives given. Select the most appropriate option for each blank.

One complaint parents and teachers have about children these days is that they are simply not interested in (1)____. In his weekly column 'Down in Jungle land' Ranjit Lal, an (2)____ offers some useful suggestions. Keeping a dog or cat as a pet (3)____ to be made mandatory. Regular visits to national parks and (4)____ are another way to get children hooked. Treks in wilderness areas are even (5)____ as children can then engage with all kinds of life-forms on their turf.

SubQuestion No : 9

Q.9 Select the most appropriate option for blank number 5.

- Ans
- 1. best
 - 2. better
 - 3. good
 - 4. worse

Question ID : 8161612140

Status : Answered

Chosen Option : 3

Q.10 Select the word which means the same as the group of words given.

Very careful and precise

- Ans
- 1. Tremulous
 - 2. Tumultuous
 - 3. Meticulous
 - 4. Garrulous

Question ID : 8161612151

Status : Not Answered

Chosen Option : -

Q.11 Select the most appropriate option to substitute the underlined segment in the given sentence. If there is no need to substitute it, select 'No improvement'.

The Arabian Sea region is very important for India as several major ports are locating there.

- Ans
- 1. have been locating
 - 2. No improvement
 - 3. was locating
 - 4. are located

Question ID : 8161612144

Status : Answered

Chosen Option : 1

Q.12 In the given sentence identify the segment which contains the grammatical error.

Scientist have recently announced that a more effective antidote for snakebite venom has been made.

- Ans
- 1. Scientist have
 - 2. for snakebite venom has been made
 - 3. recently announced
 - 4. that a more effective antidote

Question ID : 8161612133
Status : Not Answered
Chosen Option : -

Q.13 Select the most appropriate meaning of the given idiom.

Bite off more than one can chew

- Ans
- 1. To taste something while cooking
 - 2. To eat quickly and run away
 - 3. To take on more than one can deal with
 - 4. To cheat someone and get away

Question ID : 8161612148
Status : Not Answered
Chosen Option : -

Q.14 Select the most appropriate synonym of the given word.

ENRAGE

- Ans
- 1. Infuriate
 - 2. Alleviate
 - 3. Placate
 - 4. Moderate

Question ID : 8161612153
Status : Not Answered
Chosen Option : -

Q.15 Select the correct passive form of the given sentence.

Rains lashed Delhi and brought the temperature down by a few degrees.

- Ans
- 1. Delhi had been lashed by rain and the temperature had been brought down by a few degrees.
 - 2. Delhi was being lashed by rain and the temperature was being brought down by a few degrees.
 - 3. Delhi was lashed by rains and the temperature was brought down by a few degrees.
 - 4. Delhi is being lashed by rain and the temperature was brought down by a few degrees.

Question ID : 8161612131
Status : Answered
Chosen Option : 3

Q.16 Select the INCORRECTLY spelt word.

- Ans
- 1. Acceptable
 - 2. Beginning
 - 3. Accomodate
 - 4. Quizzes

Question ID : 8161612150
Status : Answered
Chosen Option : 4

Q.17 Select the most appropriate synonym of the given word.

OPULENT

- Ans
- 1. Virulent
 - 2. Distant
 - 3. Luxurious
 - 4. Shabby

Question ID : 8161612154
Status : Not Answered
Chosen Option : -

Q.18 Select the word which means the same as the group of words given.

A natural skill at doing something

- Ans
- 1. Snack
 - 2. Stack
 - 3. Knack
 - 4. Quack

Question ID : 8161612152
Status : Not Answered
Chosen Option : -

Q.19 Given below are four jumbled sentences. Select the option that gives their correct order.

- A. Some returned in the 80's but they were not allowed to reclaim or buy land.
- B. In the 70's many Vietnamese living in Cambodia faced deportation after a change in government.
- C. Their only solution was to live in wooden homes floating on the lake.
- D. Even today they can be found living on the lake surviving on fishing and tourism.

- Ans
- 1. CBDA
 - 2. ABDC
 - 3. BACD
 - 4. DACB

Question ID : 8161612142
Status : Not Answered
Chosen Option : -

Q.20 Select the most appropriate meaning of the given idiom.

Like talking to a brick wall

- Ans
- 1. Fascinated
 - 2. Frightened
 - 3. Curious
 - 4. Inattentive

Question ID : 8161612147
Status : Not Answered
Chosen Option : -

Q.21 Select the most appropriate option to substitute the underlined segment in the given sentence. If there is no need to substitute it, select 'No improvement'.

Sele, is a near extinct language, spoken for just five villages in Nepal, which lie close to Tibet.

- Ans
- 1. spoken out
 - 2. spoken in
 - 3. No improvement
 - 4. spoken of

Question ID : 8161612143
Status : Answered
Chosen Option : 4

Q.22 Select the INCORRECTLY spelt word.

- Ans
- 1. Fattening
 - 2. Decieve
 - 3. Dessert
 - 4. Business

Question ID : 8161612149
Status : Answered
Chosen Option : 3

Q.23 Select the most appropriate ANTONYM of the given word.

DIVERSE

- Ans
- 1. Practical
 - 2. Farcical
 - 3. Identical
 - 4. Parallel

Question ID : 8161612145
Status : Not Answered
Chosen Option : -

Q.24 Given below are four jumbled sentences. Select the option that gives their correct order.

- A. For example, our project files were kept pending for a few years.
B. However, such hindrances did not stop us from tirelessly working towards the establishment of 450 clinics.
C. We initially constructed over 150 clinics.
D. But very soon many roadblocks were put in our path of expansion.

- Ans
- 1. DCAB
 - 2. ABDC
 - 3. CDAB
 - 4. CBDA

Question ID : 8161612141
Status : Answered
Chosen Option : 4

Q.25 Select the correct indirect form of the given sentence.

Ravi asked, "Ritu, how many sets of class 12 practice papers have you finished?"

- Ans
- 1. Ravi asked Ritu how many sets of class 12 practice papers she had finished.
 - 2. Ravi asked Ritu how many sets of class 12 practice papers had she been finishing.
 - 3. Ravi asked Ritu how many sets of class 12 practice papers she has been finishing.
 - 4. Ravi asked Ritu how many sets of class 12 practice papers was she finishing.

Question ID : 8161612132
Status : Answered
Chosen Option : 2

Section : General Intelligence

Q.1 चार शब्द दिए गए हैं, जिनमें से तीन किसी प्रकार संगत हैं, और एक असंगत है। उस असंगत शब्द का चयन करें।

- Ans
- 1. आंत्र ज्वर (टाइफाइड)
 - 2. डेंगू
 - 3. अवसाद (डिप्रेशन)
 - 4. मलेरिया

Question ID : 8161612173
Status : Answered
Chosen Option : 3

Q.2 ₹504 की धनराशि को क्रमशः 7 : 8 : 9 के अनुपात में तीन व्यक्तियों A, B और C के बीच विभाजित किया जाना है। B और C को कुल कितनी धनराशि प्राप्त होगी?

- Ans
- 1. ₹268
 - 2. ₹317
 - 3. ₹357
 - 4. ₹419

Question ID : 8161612157
Status : Answered
Chosen Option : 3

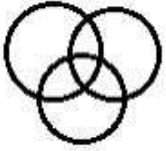
Q.3 उस विकल्प का चयन करें जो तीसरे अक्षर-समूह से उसी प्रकार संबंधित है जिस प्रकार दूसरा अक्षर-समूह पहले अक्षर-समूह से संबंधित है।

LZ : OA :: UR : ?

- Ans
- 1. FI
 - 2. HB
 - 3. GK
 - 4. FS

Question ID : 8161612167
Status : Answered
Chosen Option : 1

Q.4 दिया गया वेन आरेख किस विकल्प का सर्वश्रेष्ठ निरूपण है?



- Ans
- 1. लेखाकार, साहित्यकार, मनुष्य
 - 2. माँ, बहनें, बेटियाँ
 - 3. माँ, महिलाएँ, चाचियाँ
 - 4. पिता, नर्स, पुरुष

Question ID : 8161612181
Status : Answered
Chosen Option : 3

Q.5 चार संख्या-युग्म दिए गए हैं, जिनमें से तीन किसी प्रकार से संगत हैं और एक असंगत है। उस असंगत संख्या-युग्म का चयन करें।

- Ans
- 1. 3 : 27
 - 2. 7 : 343
 - 3. 11 : 1331
 - 4. 12 : 1757

Question ID : 8161612163
Status : Answered
Chosen Option : 4

Q.6 निम्नलिखित में से कौन सा विकल्प दिए गए शब्दों के उस सही क्रम को दर्शाता है, जिस क्रम में वे अंग्रेज़ी शब्दकोश में दिखाई देंगे?

1. Mankind
2. Manner
3. Manuscript
4. Management
5. Making

- Ans
- 1. 5, 1, 4, 2, 3
 - 2. 4, 1, 2, 3, 5
 - 3. 5, 4, 1, 2, 3
 - 4. 5, 4, 2, 1, 3

Question ID : 8161612164
Status : Answered
Chosen Option : 3

Q.7 दिए गए संख्या-समूह के दाईं ओर दर्पण रखे जाने पर, संख्या-समूह की सही दर्पण छवि का चयन करें।

9 5 6 4 3 7

- Ans
- 1. 7 8 4 9 5 0
 - 2. 7 8 4 0 5 0
 - 3. 7 8 4 0 5 6
 - 4. 7 8 4 3 7 0

Question ID : 8161612180
Status : Answered
Chosen Option : 2

Q.8 उस संख्या का चयन करें जो निम्नलिखित श्रेणी में प्रश्न चिह्न (?) के स्थान पर आएगी।

88, 95, 106, 119, 136, 155, 178, ?

- Ans
- 1. 197
 - 2. 207
 - 3. 217
 - 4. 249

Question ID : 8161612162
Status : Answered
Chosen Option : 2

Q.9 उस विकल्प का चयन करें जिसमें संख्याओं के बीच वही संबंध है, जो संबंध दिए गए समुच्चय की संख्याओं के बीच है।

(15, 556, 331)

- Ans
- 1. (12, 228, 74)
 - 2. (9, 159, 78)
 - 3. (4, 331, 305)
 - 4. (17, 495, 104)

Question ID : 8161612160
Status : Not Answered
Chosen Option : -

Q.10 'मानव-जाति' 'स्तनधारियों' से उसी प्रकार संबंधित है जिस प्रकार 'सांप' _____ से संबंधित है।

- Ans
- 1. सरीसृप
 - 2. उभयचर
 - 3. अकशेरुकी
 - 4. स्तनधारी

Question ID : 8161612168
Status : Answered
Chosen Option : 1

Q.11 एक निश्चित कूटभाषा में, 'TENDER' को '185414520' लिखा जाता है। उसी कूटभाषा में 'REQUESTED' को क्या लिखा जाएगा?

- Ans
- 1. 65101852117516
 - 2. 45203952017558
 - 3. 45201952117518
 - 4. 45221942116518

Question ID : 8161612166
Status : Answered
Chosen Option : 3

Q.12 दिए गए कथनों और निष्कर्षों को ध्यान से पढ़ें। यह मानते हुए कि कथनों में दी गई जानकारी सही है, भले ही वह आम तौर पर स्थापित तथ्यों से भिन्न दिखाई देती है, तय कीजिए कि कौन सा/से निष्कर्ष तर्कसंगत रूप से इन कथनों का अनुसरण करता/करते है/हैं।

कथन:

1. कुछ कंप्यूटर फोन हैं।
2. सभी फोन टेलीविजन हैं।

निष्कर्ष:

- I. कुछ फोन कंप्यूटर हैं।
- II. कुछ टेलीविजन कंप्यूटर हैं।
- III. कोई भी टेलीविजन कंप्यूटर नहीं है।

Ans

1. या तो निष्कर्ष II या निष्कर्ष III अनुसरण करता है।
2. केवल निष्कर्ष I और III अनुसरण करते हैं।
3. केवल निष्कर्ष I और II अनुसरण करते हैं।
4. केवल निष्कर्ष III अनुसरण करता है।

Question ID : 8161612174

Status : Answered

Chosen Option : 3

Q.13 उस अक्षर-समूह का चयन करें, जो निम्नलिखित श्रेणी में प्रश्न चिह्न (?) के स्थान पर आ सकता है।

EQM, GRL, ISK, KTJ, ?

Ans

1. MTJ
2. MUI
3. NUS
4. MVR

Question ID : 8161612169

Status : Answered

Chosen Option : 2

Q.14 उस विकल्प का चयन करें जिसमें संख्याओं के बीच वही संबंध है, जो संबंध दिए गए समुच्चय की संख्याओं के बीच है।

(15, 49, 201)

Ans

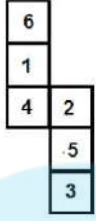
1. (18, 58, 290)
2. (17, 55, 220)
3. (24, 76, 307)
4. (29, 91, 369)

Question ID : 8161612161

Status : Answered

Chosen Option : 4

Q.15 दी गई शीट को मोड़कर एक घन बनाया गया है। इस प्रकार बने घन में, संख्या '5' अंकित फलक के विपरीत फलक पर कौन सी संख्या होगी?



- Ans
- 1. 6
 - 2. 4
 - 3. 1
 - 4. 2

Question ID : 8161612175

Status : Answered

Chosen Option : 3

Q.16 उस विकल्प का चयन करें जो तीसरी संख्या से उसी प्रकार संबंधित है, जिस प्रकार दूसरी संख्या पहली संख्या से संबंधित है।

88 : 308 :: 126 : ?

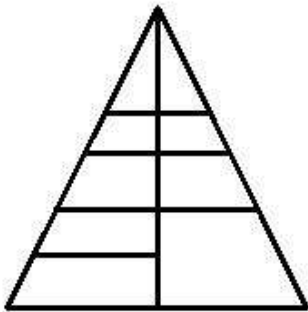
- Ans
- 1. 379
 - 2. 441
 - 3. 450
 - 4. 456

Question ID : 8161612159

Status : Answered

Chosen Option : 2

Q.17 दी गई आकृति में कितने त्रिभुज निहित हैं?



- Ans
- 1. 13
 - 2. 14
 - 3. 11
 - 4. 12

Question ID : 8161612177

Status : Answered

Chosen Option : 1

Q.18 उस विकल्प आकृति का चयन करें जो दी गई आकृति X में अंतर्निहित है।
(घुमाने की अनुमति नहीं है)



Figure X

Ans



1.



2.



3.



4.

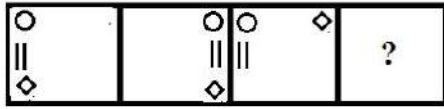


Question ID : 8161612178

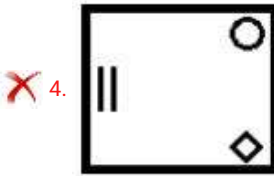
Status : Answered

Chosen Option : 4

Q.19 उस विकल्प आकृति का चयन करें जो नीचे दी गई आकृति-श्रृंखला में प्रश्न चिह्न (?) के स्थान पर आएगी।



Ans



Question ID : 8161612176

Status : Answered

Chosen Option : 1

Q.20 यदि चिहनों और संख्याओं को परस्पर निम्नलिखित रूप से बदल दिया जाए, तो कौन सा समीकरण सही होगा?

परस्पर बदलाव:

चिह्न: + और -

संख्याएँ: 15 और 5

Ans

✓ 1. $4 \times 30 - 15 \div 5 + 12 = 21$

✗ 2. $12 \times 30 - 15 \div 5 + 4 = 37$

✗ 3. $4 \times 30 - 15 \div 5 + 12 = 27$

✗ 4. $4 \times 30 - 5 \div 15 + 14 = 21$

Question ID : 8161612158

Status : Answered

Chosen Option : 1

Q.21 एक निश्चित कूटभाषा में, 'SECTION' को 'PHZQLRK' लिखा जाता है। उसी कूटभाषा में 'HOSTELS' को क्या लिखा जाएगा?

- Ans
- 1. FSPQHIQ
 - 2. EQPSHIP
 - 3. ERPQHIP
 - 4. ERPRGIP

Question ID : 8161612165
Status : Answered
Chosen Option : 3

Q.22 उस विकल्प का चयन करें जिसमें शब्दों के बीच वही संबंध है, जो संबंध दिए गए युग्म के शब्दों के बीच है।
भार : किलोग्राम

- Ans
- 1. प्रतिरोध : ओम
 - 2. ऊंचाई : लंबाई
 - 3. दूरी : हर्ट्ज़
 - 4. समय : घड़ी

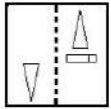
Question ID : 8161612171
Status : Answered
Chosen Option : 1

Q.23 चार अक्षर-समूह दिए गए हैं, जिनमें से तीन किसी प्रकार संगत हैं, और एक असंगत है। उस असंगत अक्षर-समूह का चयन करें।

- Ans
- 1. BGL
 - 2. AFK
 - 3. PUZ
 - 4. NSW

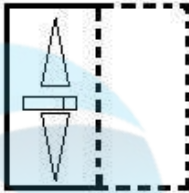
Question ID : 8161612172
Status : Answered
Chosen Option : 4

Q.24 उस विकल्प का चयन करें जो यह दर्शाता है कि, दी गई कागज़ की पारदर्शी शीट को बिंदुदार रेखा से मोड़ा जाए, तो यह कैसी दिखाई देगी।

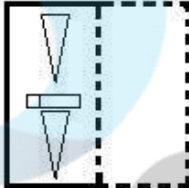


Ans

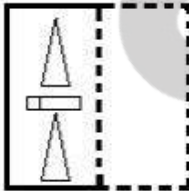
✗ 1.



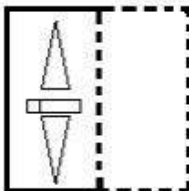
✗ 2.



✗ 3.



✓ 4.



Question ID : 8161612179

Status : Answered

Chosen Option : 4

Q.25 $A \times B$ का अर्थ है 'A, B की पत्नी है';
 $A \div B$ का अर्थ है 'A, B के पिता हैं'।
 निम्नलिखित में से किस व्यंजक का अर्थ है 'R, S के दादा हैं'?

Ans

✓ 1. $R \div J \div S \times U$

✗ 2. $J \times S \div R \times U$

✗ 3. $S \div U \times J \div R$

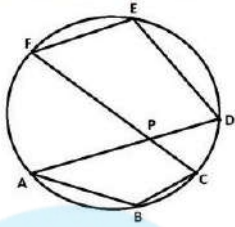
✗ 4. $S \times U \times R \div J$

Question ID : 8161612170

Status : Answered

Chosen Option : 1

Q.1 दी गई आकृति में, $\angle ABC = 95^\circ$ $\angle FED = 115^\circ$ (स्केल नहीं करना है)। तो कोण $\angle APC$ _____ के बराबर होगा।



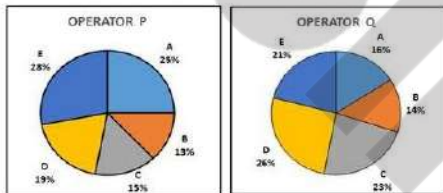
- Ans
- 1. 135°
 - 2. 155°
 - 3. 150°
 - 4. 120°

Question ID : 8161612191

Status : Not Answered

Chosen Option : -

Q.2 दिए गए पाई चार्ट में दो नेटवर्क ऑपरेटरों P और Q के शहर A, B, C, D, E में ग्राहकों का प्रतिशत दर्शाया गया है।



पाई चार्ट में दी गई जानकारी के आधार पर, यदि ऑपरेटर P के ग्राहकों की संख्या 3.6 लाख हैं, और ऑपरेटर Q के ग्राहकों की संख्या 4.2 लाख हैं, तो शहर C में, ऑपरेटरों के ग्राहकों की संख्या के बीच के धनात्मक अंतर की गणना करें।

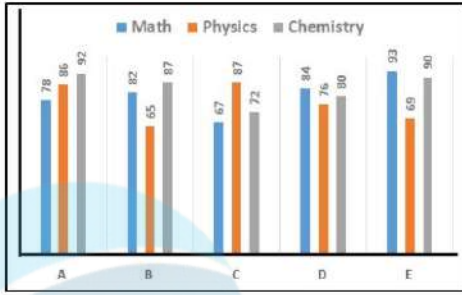
- Ans
- 1. 44,500
 - 2. 42,600
 - 3. 52,000
 - 4. 48,000

Question ID : 8161612204

Status : Not Answered

Chosen Option : -

Q.3 निम्नलिखित ग्राफ गणित, भौतिकी और रसायन विज्ञान में पांच छात्रों A, B, C, D, E के प्रदर्शन की जानकारी देता है।



दी गई जानकारी के आधार पर - यह मानते हुए कि यह प्रदर्शन प्रश्नपत्र की कठिनाई के स्तर पर निर्भर करता है, निम्नलिखित में से कौन सा कथन सही है?

Ans 1.

C के लिए, गणित सबसे कठिन है और रसायन विज्ञान सबसे आसान है

2.

D के लिए, सभी विषयों की कठिनाई का स्तर एक समान है

3. E और A के मुकाबले B के लिए गणित आसान है

4. B और E के मुकाबले C के लिए भौतिकी आसान है

Question ID : 8161612205

Status : Answered

Chosen Option : 3

Q.4

यदि $a=7$ है तो, $\left(a^{\frac{2}{3}} + 2a^{\frac{1}{3}} + 3a^{\frac{1}{3}} + 2a^{\frac{1}{6}} + 1\right)\left(a^{\frac{1}{3}} - 2a^{\frac{1}{6}} + 1\right) - a^{\frac{1}{3}}\left(a^{\frac{1}{3}} - 2\right)$ का मान ज्ञात करें।

Ans 1. 0

2. $\sqrt{7}$

3. 7

4. 1

Question ID : 8161612197

Status : Answered

Chosen Option : 1

Q.5

निम्न में से कौन-सी संख्या 6 से विभाज्य है?

Ans 1. 23,408

2. 43,923

3. 1,00,246

4. 3,49,722

Question ID : 8161612198

Status : Answered

Chosen Option : 4

Q.6 यदि $117 \cos^2 A + 129 \sin^2 A = 120$ है और $170 \cos^2 B + 158 \sin^2 B = 161$ है, तो $\operatorname{Cosec}^2 A \operatorname{Sec}^2 B$ का मान ज्ञात करें।

- Ans
- 1. 16
 - 2. 9
 - 3. 1
 - 4. 4

Question ID : 8161612201
Status : Not Answered
Chosen Option : -

Q.7 A, B को 20% लाभ पर एक वस्तु बेचता है, B, C को 10% लाभ पर यही वस्तु बेच देता है और उसे ₹1,32,000.0 प्राप्त होते हैं। अगर C ने यही वस्तु A से खरीदी होती, तो उसने B को जिस राशि का भुगतान किया था उससे 5% कम का भुगतान उसे करना होता। उस स्थिति में A ने कितना लाभ कमाया होता?

- Ans
- 1. ₹24,540
 - 2. ₹25,540
 - 3. ₹24,450
 - 4. ₹25,400

Question ID : 8161612188
Status : Answered
Chosen Option : 2

Q.8 5 पुरुष और 8 महिलाएँ किसी काम को 34 दिनों में पूरा कर सकते हैं, जबकि 4 पुरुषों और 18 महिलाओं को उसी काम को पूरा करने में 28 दिनों का समय लगता है। 3 पुरुषों और 5 महिलाओं को इसी काम को पूरा करने में कितने दिनों का समय लगेगा?

- Ans
- 1. 64
 - 2. 72
 - 3. 56
 - 4. 36

Question ID : 8161612182
Status : Answered
Chosen Option : 3

Q.9 क्रमागत 35 प्राकृतिक संख्याओं का औसत N है। अगर पहली 10 संख्याओं को निकाल दिया जाए और आगे की 10 संख्याओं को शामिल कर लिया जाए, तो यह औसत M हो जाता है, यदि $M^2 - N^2 = 600$ है तो $3M$ और $5N$ का औसत _____ होगा।

- Ans
- 1. 100
 - 2. 120
 - 3. 115
 - 4. 90

Question ID : 8161612185
Status : Answered
Chosen Option : 2

Q.10 ₹12,000 की राशि साधारण ब्याज, पर किसी ब्याज दर पर उधार ली गई। चार महीनों के बाद, इसमें ₹6,000 और जोड़े गए और कुल मूलधन पर ब्याज की दर को पिछली दर के मुकाबले दोगुना कर दिया गया। साल के अंत में, ब्याज के रूप में ₹2,800 का भुगतान किया गया, प्रारंभ में लगाई गई ब्याज दर की गणना करें?

- Ans
- 1. 10%
 - 2. 12%
 - 3. 14%
 - 4. 16%

Question ID : 8161612190

Status : Answered

Chosen Option : 1

Q.11 एक व्यक्ति ने ₹12 लाख में एक कार खरीदी और इसकी 80% लागत का बीमा करवाया। उसने कार को 15% की हानि उठाकर बेच दिया लेकिन उसके साथ दुर्घटना हो जाने के कारण वह खरीदार को कार नहीं दे पाया। दुर्घटना के कारण, कार को बहुत नुकसान हुआ और बीमा कंपनी ने बीमित राशि के 90% का भुगतान कर दिया। इन दोनों लेनदेनों में शुद्ध अंतर की गणना करें।

- Ans
- 1. ₹1.38 लाख
 - 2. ₹92 लाख
 - 3. ₹1.56 लाख
 - 4. ₹88 लाख

Question ID : 8161612187

Status : Not Answered

Chosen Option : -

Q.12 यदि $2^{x+y-2z} = 8^{8z-5-y}$, $5^{4y-6z} = 25^{y+z}$, $3^{4x-3z} = 9^{x+z}$ है तो $2x + 3y + 5z$ का मान बताइए।

- Ans
- 1. 32
 - 2. 56
 - 3. 44
 - 4. 28

Question ID : 8161612196

Status : Answered

Chosen Option : 2

Q.13 दो रेलवे स्टेशनों के बीच की दूरी 1176 km है। इस दूरी को तय करने में एक एक्सप्रेस ट्रेन को पैसंजर ट्रेन के मुकाबले 5 घंटे कम लगते हैं, जबकि पैसंजर ट्रेन की औसत चाल एक्सप्रेस ट्रेन की तुलना में 70 km/h कम है। इस यात्रा को पूरा करने में पैसंजर ट्रेन द्वारा लिए जाने वाले समय की गणना करें।

- Ans
- 1. 23 घंटे
 - 2. 17 घंटे
 - 3. 18 घंटे
 - 4. 12 घंटे

Question ID : 8161612183

Status : Not Answered

Chosen Option : -

Q.14

यदि $A = \left[\frac{3}{7} \text{ of } 4 \frac{1}{5} \div \frac{18}{25} + \frac{17}{24} \right] \text{ of } \left[\frac{289}{16} \div \left(\frac{3}{4} + \frac{2}{3} \right)^2 \right]$ है तो $8A$ का मान ज्ञात करें।

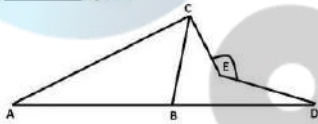
- Ans
- 1. 132
 - 2. 321
 - 3. 213
 - 4. 231

Question ID : 8161612199

Status : Answered

Chosen Option : 4

Q.15 यदि दिए गए चित्र में $\angle ACB + \angle BAC = 80^\circ$; $\angle BDE = 35^\circ$; $\angle BCE = 45^\circ$ है, तो चिह्नित कोण $\angle CED$ का मान _____ होगा।



- Ans
- 1. 120°
 - 2. 160°
 - 3. 150°
 - 4. 135°

Question ID : 8161612192

Status : Answered

Chosen Option : 4

Q.16

$\frac{1}{(9-4\sqrt{5})^2} + \frac{1}{(9+4\sqrt{5})^2}$ का मान ज्ञात करें।

- Ans
- 1. 286
 - 2. 322
 - 3. 424
 - 4. 246

Question ID : 8161612195

Status : Not Answered

Chosen Option : -

Q.17 $\left[\frac{\sqrt{3} + 2\sin P}{1 - 2\cos P} \right]^3 + \left[\frac{1 + 2\cos P}{\sqrt{3} - 2\sin P} \right]^3$ का मान ज्ञात करें।

- Ans
- 1. $\sin P \cos P$
 - 2. $2\sin P \cos P$
 - 3. 1
 - 4. 0

Question ID : 8161612200

Status : Answered

Chosen Option : 4

Q.18 यदि 2145 : x :: 3003 : 42 है, तो y का वह मान क्या होगा कि x : 2508 :: y : 11704 हो?

- Ans
- 1. 140
 - 2. 156
 - 3. 96
 - 4. 212

Question ID : 8161612189

Status : Answered

Chosen Option : 1

Q.19 एक व्यक्ति ₹10 प्रति वस्तु के हिसाब से 40 वस्तुएं खरीदता है। वह इसमें से कुछ वस्तुएं 25% के लाभ पर और बाकी वस्तुएं 10% की हानि पर बेच देता है। इस लेन-देन में उसे कुल 4% का लाभ होता है। उसके द्वारा हानि उठाकर बेची गई वस्तुओं की संख्या ज्ञात करें।

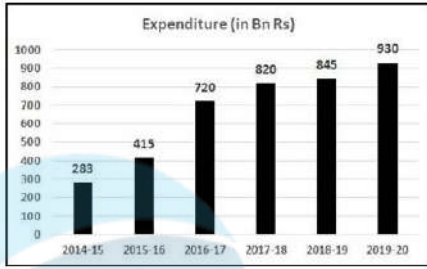
- Ans
- 1. 24
 - 2. 16
 - 3. 22
 - 4. 18

Question ID : 8161612186

Status : Not Answered

Chosen Option : -

Q.20 निम्नलिखित ग्राफ भारत सरकार द्वारा शिक्षा के क्षेत्र पर वर्ष 2014-15 से 2019-20 तक किए गए व्यय को दर्शाता है।



यदि सरकार 2016-17, 2017-18, 2018-19 में हुए औसत व्यय में 30% की वृद्धि करने की योजना बनाती है तो 2020-21 में खर्च की जाने वाली अनुमानित राशि (अरब रुपयों में) _____ होगी।

- Ans 1. ₹1,033.5
 2. ₹1,087.3
 3. ₹1,162.6
 4. ₹1,129.5

Question ID : 8161612203

Status : Not Answered

Chosen Option : -

Q.21 2 cm व्यास वाली धातु की गोलाकार गेंदों को पिघलाकर 6 cm त्रिज्या और 5 cm ऊंचाई वाला एक बेलनाकार बर्तन बनाया जाना है, इसके लिए आवश्यक गेंदों की न्यूनतम संख्या की गणना करें।

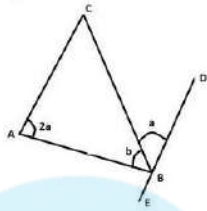
- Ans 1. 125
 2. 115
 3. 135
 4. 105

Question ID : 8161612184

Status : Answered

Chosen Option : 1

Q.22 दिए गए चित्र में, यदि AC और DE समानांतर हैं तथा $\angle CAB = 38^\circ$ है, तो $\angle ABC + 5\angle CBD$ का मान _____ होगा।



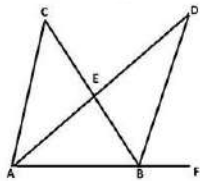
- Ans
- 1. 196°
 - 2. 218°
 - 3. 178°
 - 4. 158°

Question ID : 8161612193

Status : Answered

Chosen Option : 2

Q.23 दिए गए चित्र में, AD कोण $\angle CAB$ का द्विभाजक है और BD कोण $\angle CBF$ का द्विभाजक है। यदि C पर बने कोण का माप 34° है, तो कोण $\angle ADB$ का माप _____ होगा।



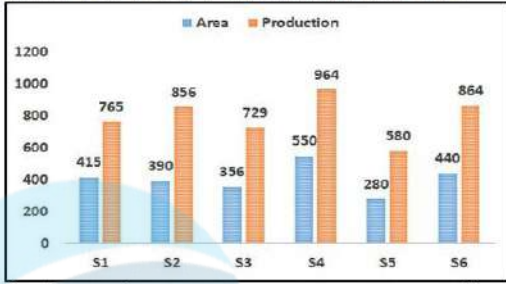
- Ans
- 1. 17°
 - 2. 34°
 - 3. 16°
 - 4. 32°

Question ID : 8161612194

Status : Not Answered

Chosen Option : -

Q.24 निम्नलिखित ग्राफ 6 स्थानों S1, S2, S3, S4, S5, S6 पर उपलब्ध कृषि भूमि में धान का उत्पादन दर्शाता है (क्षेत्रफल सैंकड़ा हेक्टेयर में और उत्पादन हजार टन में है)।



दी गई सूचना के आधार पर, उत्पादन अनुपात (उत्पादन और भूमि का अनुपात) क्रमशः उच्चतम और निम्नतम कितना-कितना है?

- Ans
- 1. S3, S6
 - 2. S2, S1
 - 3. S2, S4
 - 4. S5, S3

Question ID : 8161612206

Status : Not Answered

Chosen Option : -

Q.25 यदि $A = 2(\sin^6 \theta + \cos^6 \theta) - 3(\sin^4 \theta + \cos^4 \theta)$ है तो $\cos \alpha = \sqrt{\frac{3+A}{5+A}}$ करने के लिए 3α का मान ज्ञात करें।

- Ans
- 1. 135°
 - 2. 45°
 - 3. 180°
 - 4. 90°

Question ID : 8161612202

Status : Answered

Chosen Option : 1

Section : General Awareness

Q.1 जूनियर विंबलडन के बाँयज़ सिंगल्स खिताब जीतने वाले पहले एशियाई खिलाड़ी कौन थे?

- Ans
- 1. महेश भूपति
 - 2. सुमित नागल
 - 3. रामनाथन कृष्णन
 - 4. विजय अमृतराज

Question ID : 8161612229

Status : Answered

Chosen Option : 2

Q.2 भारत का वह सबसे ऊँचा जलप्रपात (झरना) कौन-सा है, जिसकी ऊंचाई 1,493 फीट है?

- Ans 1. कुंचिकल जलप्रपात, कर्नाटक
 2. बरकाना जलप्रपात, कर्नाटक
 3. थालैयर जलप्रपात, तमिलनाडु
 4. मीनमुट्टी जलप्रपात, केरल

Question ID : 8161612220
Status : Answered
Chosen Option : 3

Q.3 धातुओं और उनके अयस्कों के संदर्भ में, निम्नलिखित में से कौन-सा युग्म सही नहीं है?

- Ans 1. एल्युमिनियम (Al) - क्रायोलाइट
 2. पारा (Hg) - ग्रीनोकाइट
 3. कोबाल्ट (Co) - स्मेलाइट
 4. सोना (Au) - कैलावेराइट (Calaverite)

Question ID : 8161612216
Status : Answered
Chosen Option : 4

Q.4 निम्नलिखित किस भारतीय राज्य की विधानसभा द्वारा 9 जनवरी 2020 को राष्ट्रीय चिह्न और राज्य पुष्प - फॉक्सटेल ऑर्किड (राइनोकोस्टीलिस रेदुसा) युक्त एक पुनर्प्रारूपित लोगो (logo) को अपनाया गया?

- Ans 1. केरल विधानसभा
 2. छत्तीसगढ़ विधानसभा
 3. झारखंड विधानसभा
 4. अरुणाचल प्रदेश विधानसभा

Question ID : 8161612212
Status : Answered
Chosen Option : 1

Q.5 वित्तीय वर्ष 2018-2019 के लिए, किस कंपनी को भारत में सबसे अधिक लाभ कमाने वाली PSU के रूप में स्थान मिला?

- Ans 1. ऑयल एंड नेचुरल गैस कॉर्पोरेशन (तेल और प्राकृतिक गैस निगम)
 2. पावर ग्रिड कॉर्पोरेशन
 3. इंडियन ऑयल
 4. पावर फाइनेंस कॉर्पोरेशन

Question ID : 8161612215
Status : Not Answered
Chosen Option : -

Q.6 तिब्बत से निकलने वाली वह कौन-सी नदी है, जो अरुणाचल प्रदेश से होकर भारत में प्रवेश करती है?

- Ans
- 1. कावेरी नदी
 - 2. गोदावरी नदी
 - 3. चंबल नदी
 - 4. ब्रह्मपुत्र नदी

Question ID : 8161612221
Status : Answered
Chosen Option : 4

Q.7 आईपीएल (IPL) 2019 में, किसे 'मोस्ट वैल्यूएबल प्लेयर ऑफ़ द सीरीज (Most Valuable Player of the Series)' से नवाजा गया?

- Ans
- 1. शुभमन (Shubman) गिल
 - 2. आंद्रे रसेल
 - 3. डेविड वार्नर
 - 4. के.एल. राहुल

Question ID : 8161612230
Status : Answered
Chosen Option : 2

Q.8 भारत में किसे 'सार्वजनिक क्षेत्र के उपक्रमों के जनक' के रूप में जाना जाता है?

- Ans
- 1. वी. कृष्णमूर्ति
 - 2. शशि शिवरामकृष्ण
 - 3. प्रशान्त चन्द्र महालनोबिस
 - 4. अशोक देसाई

Question ID : 8161612214
Status : Not Answered
Chosen Option : -

Q.9 भारत में कौन-सा अभयारण्य लुप्तप्राय एस्टुरीन क्रोकोडाइल (Estuarine Crocodiles) संरक्षण के लिए प्रसिद्ध है?

- Ans
- 1. भितरकनिका वन्यजीव अभयारण्य, ओडिशा
 - 2. इंदिरा गांधी वन्यजीव अभयारण्य
 - 3. चिनार वन्यजीव अभयारण्य, केरल
 - 4. दांदेली वन्यजीव अभयारण्य, कर्नाटक

Question ID : 8161612222
Status : Not Answered
Chosen Option : -

Q.10 मानवाधिकार के क्षेत्र में संयुक्त राष्ट्र पुरस्कार (United Nations Award) जीतने वाले एकमात्र भारतीय कौन हैं?

- Ans
- 1. वर्गीज कुरियन
 - 2. काशीराम
 - 3. बाबा आमटे
 - 4. इला भट्ट

Question ID : 8161612225
Status : Not Answered
Chosen Option : -

Q.11 1929 में, सार्वजनिक सुरक्षा विधेयक (Public Safety Bill) के विरोध में भगत सिंह के साथ किसने केंद्रीय विधानसभा में बम फेंका?

- Ans
- 1. सुभाष चंद्र बोस
 - 2. चंद्रशेखर आजाद
 - 3. राजगुरु
 - 4. बटुकेश्वर दत्त

Question ID : 8161612224
Status : Answered
Chosen Option : 3

Q.12 कौन-सा नियम (सिद्धांत) प्रतिपादित करता है कि नियत दाब पर एक आदर्श गैस का आयतन प्रत्यक्ष रूप से निरपेक्ष तापमान का समानुपाती होता है?

- Ans
- 1. जूल का नियम
 - 2. बॉयल का नियम
 - 3. चार्ल्स का नियम
 - 4. अवोगाद्रो का नियम

Question ID : 8161612218
Status : Answered
Chosen Option : 3

Q.13 CBSE और NCERT, नई दिल्ली द्वारा 30 अक्टूबर 2019 को सीनियर स्कूल (उच्चतर विद्यालय) के छात्रों के लिए एक अभिक्षमता परीक्षा (एप्टीट्यूड टेस्ट) शुरू की गई। इस परीक्षा का नाम क्या है?

- Ans
- 1. उड़ान
 - 2. आकांक्षा
 - 3. तमन्ना
 - 4. लक्ष्य

Question ID : 8161612213
Status : Not Answered
Chosen Option : -

Q.14 PROM का पूर्ण रूप क्या है?

- Ans
- 1. प्रोग्राम रीड-आउटपुट मेमोरी (Program read-output memory)
 - 2. प्रोग्राम रीड-ओनली मेमोरी (Program read-only memory)
 - 3. प्राइमरी रीड-ओनली मेमोरी (Primary read-only memory)
 - 4. प्रोग्रामेबल रीड-ओनली मेमोरी (Programmable read-only memory)

Question ID : 8161612207

Status : Answered

Chosen Option : 3

Q.15 किस भारतीय सामाजिक कार्यकर्ता और राजनीतिज्ञ ने ब्राह्मणवाद के विरुद्ध स्वाभिमान आंदोलन (Self-Respect Movement) या द्रविड़ आंदोलन (Dravidian Movement) का नेतृत्व किया?

- Ans
- 1. इरोड वेंकटप्पा रामासामी (Erode Venkatappa Ramasamy)
 - 2. पी. थियागराय चेट्टी (P Theagaraya Chetty)
 - 3. सी. राजगोपालाचारी (C Rajagopalachari)
 - 4. सी. अन्नादुरै (C Annadurai)

Question ID : 8161612228

Status : Not Answered

Chosen Option : -

Q.16 अगस्त 2019 को रामबीर सिंह खोखर ने किस खेल में अपने योगदान के लिए आजीवन श्रेणी (lifetime category) में 'द्रोणाचार्य पुरस्कार' जीता?

- Ans
- 1. फुटबॉल
 - 2. मुक्केबाज़ी
 - 3. हॉकी
 - 4. कबड्डी

Question ID : 8161612231

Status : Answered

Chosen Option : 2

Q.17 भारत के किस राज्य में गारो-खासी पर्वत श्रेणी स्थित है?

- Ans
- 1. सिक्किम
 - 2. मेघालय
 - 3. मिजोरम
 - 4. ओडिशा

Question ID : 8161612219

Status : Answered

Chosen Option : 3

Q.18 निम्नलिखित में से कौन-सा नेत्रविकार 'मंददृष्टि' (लेजी आई) के नाम से जाना जाता है?

- Ans
- 1. हाइपरमेट्रोपिया
 - 2. प्रेस्बायोपिया
 - 3. मायोपिया
 - 4. एंब्लियोपिया

Question ID : 8161612217
Status : Answered
Chosen Option : 2

Q.19 दिसंबर 1929 के काँग्रेस अधिवेशन की अध्यक्षता _____ ने की थी, जिसमें 'पूर्ण स्वराज' का प्रस्ताव पारित किया गया।

- Ans
- 1. सुभाष चंद्र बोस
 - 2. सी.आर. दास
 - 3. जवाहर लाल नेहरू
 - 4. वल्लभभाई पटेल

Question ID : 8161612208
Status : Answered
Chosen Option : 4

Q.20 'मयूरभंज छऊ' भारत के किस राज्य का लोक नृत्य है?

- Ans
- 1. ओडिशा
 - 2. राजस्थान
 - 3. कर्नाटक
 - 4. महाराष्ट्र

Question ID : 8161612209
Status : Answered
Chosen Option : 1

Q.21 'क्विचोटे' (Quichotte) नामक उपन्यास को '2019 बुकर पुरस्कार' के लिए चुना गया था। इसके लेखक/लेखिका कौन हैं?

- Ans
- 1. अमिताव घोष
 - 2. विक्रम सेठ
 - 3. अरुंधति राय
 - 4. सलमान रुश्दी

Question ID : 8161612226
Status : Not Answered
Chosen Option : -

Q.22 UNESCO (युनेस्को) द्वारा किस वर्ष में योग को 'अमूर्त सांस्कृतिक विरासत' सूची में शामिल किया गया?

- Ans
- 1. 2014
 - 2. 2015
 - 3. 2016
 - 4. 2018

Question ID : 8161612210
Status : Answered
Chosen Option : 4

Q.23 किसने भारतीय संविधान की प्रस्तावना (उद्देशिका) को 'भारतीय संविधान की राजनीतिक कुंडली' के रूप में वर्णित किया?

- Ans
- 1. एन.ए. पालकीवाला
 - 2. ठाकुरदास भार्गव
 - 3. कन्हैयालाल माणिकलाल मुंशी
 - 4. भीमराव रामजी आंबेडकर

Question ID : 8161612227
Status : Not Answered
Chosen Option : -

Q.24 7 जनवरी 2020 को उत्तर प्रदेश के कितने जिलों ने ब्लॉक स्तर पर 'मिशन इन्द्रधनुष 2.0' का दूसरा चरण शुरू किया?

- Ans
- 1. 25
 - 2. 35
 - 3. 40
 - 4. 30

Question ID : 8161612211
Status : Not Answered
Chosen Option : -

Q.25 किस युद्ध में अहमद शाह अब्दाली ने मराठाओं को हाराया था?

- Ans
- 1. खानवा का युद्ध
 - 2. पानीपत का तीसरा युद्ध
 - 3. तराइन का पहला युद्ध
 - 4. बक्सर का युद्ध

Question ID : 8161612223
Status : Not Answered
Chosen Option : -

Roll Number	
Candidate Name	
Venue Name	
Exam Date	13/10/2020
Exam Time	1:00 PM - 2:00 PM
Subject	CHSL Tier 1

Section : English Language (Basic Knowledge)

Q.1 Select the INCORRECTLY spelt word.

- Ans
- 1. Boutique
 - 2. Lacquer
 - 3. Placque
 - 4. Rogue

Question ID : 8161612657
Status : Answered
Chosen Option : 4

Q.2 Select the option that will improve the underlined part of the sentence. In case no improvement is needed, select 'No improvement'.

As we've been neighbours, I have known Mrs. Shashi Singh since more than 16 years.

- Ans
- 1. No improvement
 - 2. for more than 16 years
 - 3. from more than 16 years
 - 4. by more than 16 years

Question ID : 8161612652
Status : Answered
Chosen Option : 2

Q.3 Identify the segment in the given sentence which contains the grammatical error.

If India will win this match they will win the series.

- Ans
- 1. the series
 - 2. they will win
 - 3. If India will win
 - 4. this match

Question ID : 8161612649
Status : Answered
Chosen Option : 3

Q.4 Select the word which means the same as the group of words given.

A collection of drawings, documents, etc. That represent a person's, especially an artist's, work

- Ans
- 1. Dossier
 - 2. Profile
 - 3. Portfolio
 - 4. Sketch

Question ID : 8161612659

Status : Answered

Chosen Option : 2

Comprehension:

In the following passage some words have been deleted. Fill in the blanks with the help of the alternatives given. Select the most appropriate option for each blank.

Hampi is a UNESCO World Heritage Site in India located near Hospet town in the Karnataka state, India. (1)_____ the attractions of Hampi (2)_____ beautiful temples, ruins of palaces (3)_____ of aquatic structures, ancient market streets, royal pavilions, bastions, royal platforms, treasury buildings...the list is practically (4)_____. Most of the visitors to Hampi arrive at the well-connected Hospet Junction railway station, (5)_____ about 13km from Hampi. Roads to Hampi are in great shape. Driving all the way to Hampi from the neighbouring cities is not a bad idea either.

SubQuestion No : 5

Q.5 Select the most appropriate option to fill in blank number 1.

- Ans
- 1. Along
 - 2. Among
 - 3. Aside
 - 4. Away

Question ID : 8161612641

Status : Answered

Chosen Option : 2

Comprehension:

In the following passage some words have been deleted. Fill in the blanks with the help of the alternatives given. Select the most appropriate option for each blank.

Hampi is a UNESCO World Heritage Site in India located near Hospet town in the Karnataka state, India. (1)_____ the attractions of Hampi (2)_____ beautiful temples, ruins of palaces (3)_____ of aquatic structures, ancient market streets, royal pavilions, bastions, royal platforms, treasury buildings...the list is practically (4)_____. Most of the visitors to Hampi arrive at the well-connected Hospet Junction railway station, (5)_____ about 13km from Hampi. Roads to Hampi are in great shape. Driving all the way to Hampi from the neighbouring cities is not a bad idea either.

SubQuestion No : 6

Q.6 Select the most appropriate option to fill in blank number 2.

- Ans
- 1. was
 - 2. is
 - 3. were
 - 4. are

Question ID : 8161612642

Status : Answered

Chosen Option : 4

Comprehension:

In the following passage some words have been deleted. Fill in the blanks with the help of the alternatives given. Select the most appropriate option for each blank.

Hampi is a UNESCO World Heritage Site in India located near Hospet town in the Karnataka state, India. (1)_____ the attractions of Hampi (2)_____ beautiful temples, ruins of palaces (3)_____ of aquatic structures, ancient market streets, royal pavilions, bastions, royal platforms, treasury buildings...the list is practically (4)_____. Most of the visitors to Hampi arrive at the well-connected Hospet Junction railway station, (5)_____ about 13km from Hampi. Roads to Hampi are in great shape. Driving all the way to Hampi from the neighbouring cities is not a bad idea either.

SubQuestion No : 7

Q.7 Select the most appropriate option to fill in blank number 3.

- Ans
- 1. revenues
 - 2. remains
 - 3. returns
 - 4. refunds

www.HaryanaJobs.in

Question ID : 8161612643

Status : Answered

Chosen Option : 2

Comprehension:

In the following passage some words have been deleted. Fill in the blanks with the help of the alternatives given. Select the most appropriate option for each blank.

Hampi is a UNESCO World Heritage Site in India located near Hospet town in the Karnataka state, India. (1)_____ the attractions of Hampi (2)_____ beautiful temples, ruins of palaces (3)_____ of aquatic structures, ancient market streets, royal pavilions, bastions, royal platforms, treasury buildings...the list is practically (4)_____. Most of the visitors to Hampi arrive at the well-connected Hospet Junction railway station, (5)_____ about 13km from Hampi. Roads to Hampi are in great shape. Driving all the way to Hampi from the neighbouring cities is not a bad idea either.

SubQuestion No : 8

Q.8 Select the most appropriate option to fill in blank number 4.

- Ans
- 1. finite
 - 2. written
 - 3. endless
 - 4. finished

Question ID : 8161612644

Status : Answered

Chosen Option : 3

Comprehension:

In the following passage some words have been deleted. Fill in the blanks with the help of the alternatives given. Select the most appropriate option for each blank.

Hampi is a UNESCO World Heritage Site in India located near Hospet town in the Karnataka state, India. (1)_____ the attractions of Hampi (2)_____ beautiful temples, ruins of palaces (3)_____ of aquatic structures, ancient market streets, royal pavilions, bastions, royal platforms, treasury buildings...the list is practically (4)_____. Most of the visitors to Hampi arrive at the well-connected Hospet Junction railway station, (5)_____ about 13km from Hampi. Roads to Hampi are in great shape. Driving all the way to Hampi from the neighbouring cities is not a bad idea either.

SubQuestion No : 9

Q.9 Select the most appropriate option to fill in blank number 5.

- Ans
- 1. located
 - 2. fitted
 - 3. settled
 - 4. placed

Question ID : 8161612645

Status : Answered

Chosen Option : 1

Q.10 Given below are four jumbled sentences. Select the option that gives their correct order.

A. "Today, respect is shown in different ways," she said, "students have a more questioning bent of mind."

B. Vidya Subramaniam occupies a small but privileged place in the dance world that has seen the old guard giving place to the new.

C. Back in the day, respect meant not sitting on even the same level as one's gurus but that's no longer true, especially for those who live in Western milieus.

D. For instance, she spoke of how the very idea of 'respect' has changed over time.

- Ans
- 1. BCAD
 - 2. BDCA
 - 3. DCAB
 - 4. DBAC

Question ID : 8161612650
Status : Answered
Chosen Option : 2

Q.11 Select the correctly spelt word.

- Ans
- 1. Intention
 - 2. Transishion
 - 3. Fassion
 - 4. Injecshun

Question ID : 8161612656
Status : Answered
Chosen Option : 1

Q.12 Select the most appropriate synonym of the given word.

CONSTRAINT

- Ans
- 1. Concern
 - 2. Control
 - 3. Hazard
 - 4. Burden

Question ID : 8161612660
Status : Answered
Chosen Option : 4

Q.13 Select the most appropriate meaning of the given idiom.

Fit as a fiddle

- Ans
- 1. Playing a musical instrument
 - 2. Healthy and strong
 - 3. Of the right size
 - 4. Singing happily

Question ID : 8161612655
Status : Answered
Chosen Option : 2

Q.14 Given below are four jumbled sentences. Select the option that gives their correct order.

- A. He put it down to dry and went to count his coins.
- B. When he came back, it seemed like the teapot had moved.
- C. Akito walked into an old curiosity shop and bought a teapot and took it home.
- D. Later that day, he cleaned the teapot till it shone like the sun.

- Ans
- 1. CDAB
 - 2. BCDA
 - 3. CABD
 - 4. ABDC

Question ID : 8161612636
Status : Answered
Chosen Option : 1

Q.15 Select the word which means the same as the group of words given.

A group of ships sailing together

- Ans
- 1. Fleet
 - 2. Vessels
 - 3. Navy
 - 4. Cruisers

Question ID : 8161612658
Status : Not Answered
Chosen Option : --

Q.16 Identify the segment in the given sentence which contains the grammatical error.

I don't recognise none of the politicians who have been invited to be the speakers today.

- Ans
- 1. invited to be
 - 2. the speakers today
 - 3. I don't recognise none of
 - 4. the politicians who have been

Question ID : 8161612648
Status : Answered
Chosen Option : 1

Q.17 Select the most appropriate synonym of the given word.

FOLIAGE

- Ans 1. Greenery
 2. Firmness
 3. Urgency
 4. Foolishness

Question ID : 8161612638
Status : Not Answered
Chosen Option : --

Q.18 Select the most appropriate option to fill in the blank in the given sentence.

A _____ of small stones is called a mosaic.

- Ans 1. Mound
 2. Structure
 3. Design
 4. Pattern

Question ID : 8161612639
Status : Answered
Chosen Option : 4

Q.19 Select the option that is the passive form of the given sentence.

She did not forget me even though I have been away for a year.

- Ans 1. Though I have been away for a year she has not forgot me.
 2. I have not been forgotten even though I have been away for a year.
 3. Even though I have been away for a year she did not forget me.
 4. Even though I have been away for a year she had not been forgotten.

Question ID : 8161612646
Status : Answered
Chosen Option : 2

Q.20 Select the most appropriate meaning of the underlined idiom in the given sentence.

It took Rohan a long time to get the hang of the machine in the new factory.

- Ans 1. Clean and dry
 2. Bring someone to run
 3. Learn how to use
 4. Put up safely

Question ID : 8161612654
Status : Answered
Chosen Option : 3

Q.21 Select the most appropriate ANTONYM of the given word.

DISCLOSE

- Ans
- 1. Disguise
 - 2. Complete
 - 3. Disrupt
 - 4. Conceal

Question ID : 8161612653
Status : Not Answered
Chosen Option : --

Q.22 Select the most appropriate option to fill in the blank in the given sentence.

Timers at traffic signals, that help motorists save fuel by switching off their engines while waiting, will soon be phased out due to technical _____.

- Ans
- 1. glitches
 - 2. illuminations
 - 3. streamers
 - 4. symbols

Question ID : 8161612661
Status : Answered
Chosen Option : 1

Q.23 Select the most appropriate ANTONYM of the given word.

ALTRUISTIC

- Ans
- 1. Outstanding
 - 2. Selfish
 - 3. Serene
 - 4. Soft-spoken

Question ID : 8161612637
Status : Answered
Chosen Option : 2

Q.24 Select the option that is the direct form of the given sentence.

Brinda told her doctor that she was leaving for Boston the next day.

- Ans
- 1. Brinda told her doctor, "I was leaving for Boston tomorrow".
 - 2. Brinda told to her doctor, "I will be leaving for Boston the next day".
 - 3. Brinda said to her doctor, "I am leaving for Boston tomorrow."
 - 4. Brinda had told her doctor, "She was leaving for Boston the next day".

Question ID : 8161612647
Status : Answered
Chosen Option : 3

Q.25 Select the option that will improve the underlined part of the sentence. In case no improvement is needed, select 'No improvement'.

Finally, Ananya found her pet kitten over the top branch of a tree in their garden.

- Ans
- 1. across the top branch in the tree
 - 2. No improvement
 - 3. in a top branch of a tree
 - 4. on the top branch of the tree

Question ID : 8161612651
Status : Answered
Chosen Option : 4

Section : General Intelligence

Q.1 उस अक्षर का चयन करें जो निम्नलिखित श्रेणी में प्रश्न चिह्न (?) के स्थान पर आ सकता है।

K, B, N, D, Q, F, T, H, ?

- Ans
- 1. K
 - 2. W
 - 3. V
 - 4. J

Question ID : 8161612674
Status : Answered
Chosen Option : 2

Q.2 चार अक्षर-समूह दिए गए हैं, जिनमें से तीन किसी प्रकार संगत हैं और एक असंगत है। उस असंगत अक्षर-समूह का चयन करें।

- Ans
- 1. BGQ
 - 2. LRX
 - 3. FLR
 - 4. NTZ

Question ID : 8161612677
Status : Answered
Chosen Option : 1

Q.3 चार संख्या-युग्म दिए गए हैं, जिनमें से तीन किसी प्रकार संगत हैं और एक असंगत है। उस असंगत संख्या-युग्म का चयन करें।

- Ans
- 1. 17 : 306
 - 2. 11 : 142
 - 3. 14 : 210
 - 4. 22 : 506

Question ID : 8161612668
Status : Answered
Chosen Option : 2

Q.4 उस विकल्प का चयन करें जिसमें संख्याएँ उसी प्रकार संबंधित हैं जिस प्रकार दिए गए समुच्चय में संख्याएँ संबंधित हैं।

(13, 17, 442)

- Ans
- 1. (17, 21, 367)
 - 2. (18, 15, 540)
 - 3. (11, 19, 628)
 - 4. (15, 14, 415)

Question ID : 8161612666

Status : Answered

Chosen Option : 2

Q.5 उस विकल्प का चयन करें जिसमें शब्दों के बीच वही संबंध है, जो संबंध दिए गए शब्द-युग्म के शब्दों के बीच है।

गेहूँ : अनाज

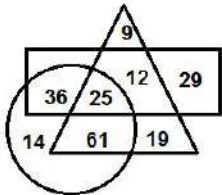
- Ans
- 1. विजेता : पुरस्कार
 - 2. दालचीनी : मसाले
 - 3. शहर : यातायात
 - 4. चाय : कॉफी

Question ID : 8161612676

Status : Answered

Chosen Option : 2

Q.6 दिए गए वेन आरेख में, यदि 'वृत्त' 'वरिष्ठ वकीलों' को दर्शाता है, 'त्रिभुज' 'पिताओं' को दर्शाता है और 'आयत' 'भारतीयों' को दर्शाता है, तो कितने भारतीय वरिष्ठ वकील ऐसे हैं जो पिता नहीं हैं?



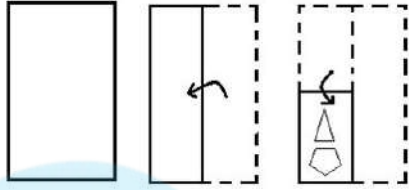
- Ans
- 1. 12
 - 2. 36
 - 3. 25
 - 4. 61

Question ID : 8161612686

Status : Answered

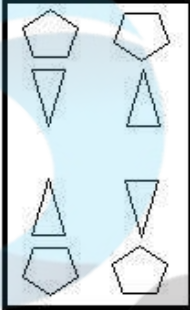
Chosen Option : 2

Q.7 नीचे दी गई आकृतियों में एक काराज को मोड़ने का क्रम और मुड़े हुए काराज को काटने का ढंग दर्शाया गया है। विकल्प आकृतियों में से चयन करें कि पुनः खोले जाने पर यह काराज कैसा दिखाई देगा?




Ans

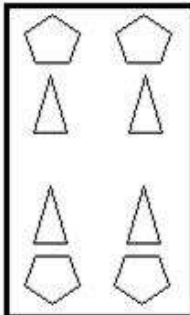
✗ 1.



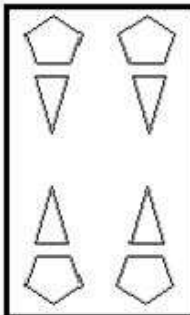
✗ 2.



✗ 3.



✓ 4.



Question ID : 8161612684
 Status : Answered
 Chosen Option : 4

Q.8 उस संख्या का चयन करें जो निम्नलिखित श्रेणी में प्रश्न चिह्न (?) के स्थान पर आ सकती है।

65, 70, 80, 95, 115, ?, 170

- Ans
- 1. 140
 - 2. 130
 - 3. 165
 - 4. 145

Question ID : 8161612667

Status : Answered

Chosen Option : 1

Q.9 दी गई आकृति में कितने त्रिभुज हैं?



- Ans
- 1. 15
 - 2. 11
 - 3. 13
 - 4. 14

Question ID : 8161612682

Status : Answered

Chosen Option : 3

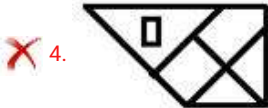
Q.10 उस विकल्प-आकृति का चयन करें जो दी गई आकृति X में अंतर्निहित है।

(घुमाने की अनुमति नहीं है)



Figure X

Ans



Question ID : 8161612683

Status : Answered

Chosen Option : 2

Q.11 क्रमिक रूप से * चिह्नों को बदलने और निम्नलिखित समीकरण को संतुलित करने के लिए गणितीय चिह्नों के सही संयोजन का चयन करें।

$$11 * 15 * 78 * 6 * 18 * 160$$

Ans

✓ 1. $\times, +, \div, -, =$

✗ 2. $+, \times, -, \div, =$

✗ 3. $+, \times, \div, -, =$

✗ 4. $\times, +, -, \div, =$

Question ID : 8161612663

Status : Answered

Chosen Option : 1

Q.12 उस विकल्प का चयन करें जिसमें संख्याएँ उसी प्रकार संबंधित हैं जिस प्रकार दिए गए समुच्चय में संख्याएँ संबंधित हैं।

(789, 501, 645)

- Ans
- ✗ 1. (645, 705, 573)
 - ✗ 2. (701, 538, 600)
 - ✓ 3. (455, 573, 514)
 - ✗ 4. (224, 640, 330)

Question ID : 8161612665
Status : Answered
Chosen Option : 3

Q.13 उस विकल्प-आकृति का चयन करें जो नीचे दी गई आकृति-श्रृंखला में प्रश्न चिह्न (?) के स्थान पर आ सकती है।



Ans

- ✗ 1.
- ✓ 2.
- ✗ 3.
- ✗ 4.

Question ID : 8161612681
Status : Answered
Chosen Option : 2

Q.14 चार शब्द दिए गए हैं, जिनमें से तीन किसी प्रकार संगत हैं और एक असंगत है। उस असंगत शब्द का चयन करें।

- Ans
- 1. कांटा
 - 2. चाकू
 - 3. चम्मच
 - 4. फावड़ा

Question ID : 8161612678

Status : Answered

Chosen Option : 4

Q.15 एक निश्चित कूट भाषा में 'BEAUTY' को 'ZUVBFC' के रूप में लिखा जाता है। उसी कूट भाषा में 'MARTYR' को क्या लिखा जाएगा?

- Ans
- 1. SZUSBN
 - 2. SYUSDM
 - 3. TXURBN
 - 4. SZUQDN

Question ID : 8161612670

Status : Answered

Chosen Option : 1

Q.16 दिए गए कथनों और निष्कर्षों को ध्यान से पढ़ें। यह मानते हुए कि कथनों में दी गई जानकारी सही है, भले ही वह आम तौर पर स्थापित तथ्यों से भिन्न दिखाई देती है, तब कौन सा/से निष्कर्ष तर्कसंगत रूप से इन कथनों का अनुसरण करता/करते हैं/हैं।

कथन:

सभी लड़के रोबोट हैं।

सभी लड़कियां रोबोट हैं।

निष्कर्ष:

I. कुछ रोबोट लड़के हैं।

II. कोई भी रोबोट लड़की नहीं है।

III. कुछ रोबोट लड़कियां हैं।

- Ans
- 1. केवल निष्कर्ष I और III अनुसरण करते हैं।
 - 2. सभी निष्कर्ष I, II और III अनुसरण करते हैं।
 - 3. केवल निष्कर्ष I और II अनुसरण करते हैं।
 - 4. केवल निष्कर्ष III अनुसरण करता है।

Question ID : 8161612679

Status : Answered

Chosen Option : 1

Q.17 उस विकल्प का चयन करें जो तीसरी संख्या से उसी प्रकार संबंधित है जिस प्रकार दूसरी संख्या पहली संख्या से संबंधित है और छठी संख्या पाँचवीं संख्या से संबंधित है।

8 : 81 :: 12 : ? :: 11 : 144

- Ans
- 1. 196
 - 2. 256
 - 3. 144
 - 4. 169

Question ID : 8161612664
Status : Answered
Chosen Option : 4

Q.18 'नागालैंड', 'कोहिमा' से उसी प्रकार संबंधित है जिस प्रकार 'असम', '_____' से संबंधित है।

- Ans
- 1. दिसपुर
 - 2. असमिया
 - 3. ईटानगर
 - 4. कोंकणी

Question ID : 8161612673
Status : Answered
Chosen Option : 1

Q.19 A + B का अर्थ है 'A, B की माँ हैं';
A - B का अर्थ है 'A, B की बहन हैं';
A × B का अर्थ है 'A, B का पुत्र है';
A ÷ B का अर्थ है 'A, B के पिता हैं'।

यदि $K + U - T \times R \div M$ है, तो K का M से क्या संबंध है?

- Ans
- 1. बहन
 - 2. नानी
 - 3. पत्नी
 - 4. माँ

Question ID : 8161612675
Status : Answered
Chosen Option : 4

Q.20 कौन सा विकल्प दिए गए शब्दों को उस सही क्रम में दर्शाता है, जिस क्रम में वे अंग्रेज़ी शब्दकोश में दिखाई देंगे?

1. Dovetail
2. Domestic
3. Dominate
4. Donate
5. Dorsal

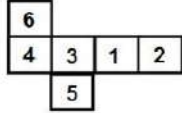
- Ans
- 1. 2, 3, 4, 1, 5
 - 2. 1, 3, 5, 4, 2
 - 3. 2, 3, 4, 5, 1
 - 4. 2, 4, 3, 5, 1

Question ID : 8161612669

Status : Answered

Chosen Option : 3

Q.21 दी गई शीट को मोड़कर एक घन बनाया गया है। इस प्रकार बनाए गए घन में निम्नलिखित में से कौन सा संख्या-युग्म विपरीत फलकों पर होगा?



- Ans
- 1. 2 और 3
 - 2. 1 और 6
 - 3. 1 और 5
 - 4. 6 और 3

Question ID : 8161612680

Status : Answered

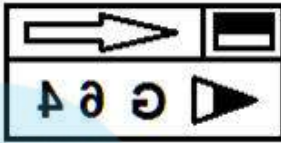
Chosen Option : 1

Q.22 एक दर्पण को दी गई आकृति के दाईं ओर रखे जाने पर दी गई आकृति के सही दर्पण छवि का चयन करें।

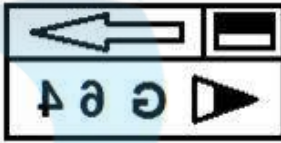


Ans

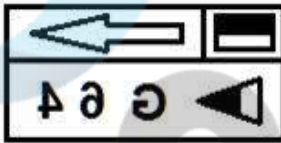
✗ 1.



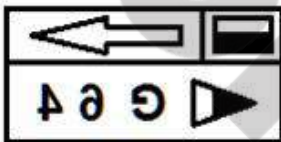
✓ 2.



✗ 3.



✗ 4.



Question ID : 8161612685

Status : Answered

Chosen Option : 2

Q.23 यदि 29 जनवरी 2003 को बुधवार हो, तो 26 फरवरी 2005 को सप्ताह का कौन सा दिन होगा?

Ans

✓ 1. शनिवार

✗ 2. रविवार

✗ 3. शुक्रवार

✗ 4. गुरुवार

Question ID : 8161612662

Status : Not Attempted and
Marked For Review

Chosen Option : --

Q.24 उस विकल्प का चयन करें जो तीसरे अक्षर-समूह से उसी प्रकार संबंधित है जिस प्रकार दूसरा अक्षर-समूह पहले अक्षर-समूह से संबंधित है।

KRZ : HOW :: CUX : ?

- Ans
- 1. ZTV
 - 2. YTU
 - 3. ZRU
 - 4. YSU

Question ID : 8161612672

Status : Answered

Chosen Option : 3

Q.25 एक निश्चित कूट भाषा में, 'REQUIRE' को '100' के रूप में कूटबद्ध किया जाता है। उसी भाषा में 'ARRANGE' को किस रूप में कूटबद्ध किया जाएगा?

- Ans
- 1. 68
 - 2. 88
 - 3. 77
 - 4. 71

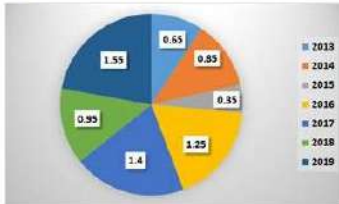
Question ID : 8161612671

Status : Answered

Chosen Option : 1

Section : Quantitative Aptitude(Basic Arithmetic Skill)

Q.1 निम्नलिखित पाई चार्ट 2013 से 2019 तक एक कंपनी द्वारा किए गए आयात-निर्यात की मात्रा के अनुपात को दर्शाता है।



अगर 2016 में आयात ₹250 मिलियन और 2016 और 2017 को मिलाकर कुल निर्यात ₹500 मिलियन हुआ तो 2017 में कितना आयात हुआ?

- Ans
- 1. ₹420 मिलियन
 - 2. ₹520 मिलियन
 - 3. ₹320 मिलियन
 - 4. ₹620 मिलियन

Question ID : 8161612710

Status : Not Answered

Chosen Option : --

Q.2 यदि $x^4 + \frac{1}{x^4} = \frac{257}{16}$ है, तो $\frac{8}{13} \left(x^3 + \frac{1}{x^3} \right)$ का मान ज्ञात करें, जहाँ $x > 0$ है।

Ans 1. 4

2. 5

3. 6

4. 8

Question ID : 8161612702

Status : Answered

Chosen Option : 2

Q.3 एक गोले को किसी घन में इस तरह समाविष्ट किया गया है कि वह घन के सभी फलकों को स्पर्श करता है। अगर घन और गोले के आयतन का अनुपात 'a' है और गोले तथा घन के पृष्ठीय क्षेत्रफल का अनुपात 'b' है, तो ab का मान क्या होगा?

Ans 1. 1

2. $\frac{\pi^2}{36}$

3. 4

4. $\frac{36}{\pi^2}$

Question ID : 8161612689

Status : Not Answered

Chosen Option : --

Q.4 अगर $\sec A = \frac{\sqrt{11}}{3}$ है, तो $\frac{\operatorname{Cosec}^2 A + \tan^2 A}{\sin^2 A + \cot^2 A}$ का मान ज्ञात कीजिए।

Ans 1. $\frac{4}{9}$

2. $\frac{11}{9}$

3. $\frac{9}{4}$

4. $\frac{2}{11}$

Question ID : 8161612705

Status : Answered

Chosen Option : 2

Q.5 अगर $\frac{(1+\sin\theta-\cos\theta)}{(1+\sin\theta+\cos\theta)} + \frac{(1+\sin\theta+\cos\theta)}{(1+\sin\theta-\cos\theta)} = 4$ है, तो निम्नलिखित में से कौन सा मान θ के लिए सही होगा?

- Ans
- 1. 30°
 - 2. 90°
 - 3. 45°
 - 4. 60°

Question ID : 8161612707
Status : Answered
Chosen Option : 1

Q.6 अगर $a+b=8$ और $a+a^2b+b+ab^2=128$ है तो a^3+b^3 का धनात्मक मान क्या होगा?

- Ans
- 1. 152
 - 2. 344
 - 3. 96
 - 4. 224

Question ID : 8161612700
Status : Answered
Chosen Option : 1

Q.7 ₹4,000 की राशि 5% वार्षिक ब्याज दर पर एक वर्ष के लिए दी जाती है और ब्याज की गणना छमाही चक्रवृद्धि के आधार पर की जाती है। इसी प्रकार ₹2,000 की राशि 40% वार्षिक ब्याज दर पर एक वर्ष के लिए दी जाती है और ब्याज की गणना त्रैमासिक चक्रवृद्धि के आधार पर की जाती है। कुल प्राप्त ब्याज लगभग _____ होगा।

- Ans
- 1. ₹1,333.30
 - 2. ₹1,130.70
 - 3. ₹1,888.80
 - 4. ₹1,444.40

Question ID : 8161612695
Status : Not Answered
Chosen Option : --

Q.8 एक व्यक्ति अपनी 40 वस्तुओं पर लागत मूल्य से 20% प्रतिशत अधिक मूल्य अंकित करता है। वह अंकित मूल्य से 10% छूट पर 10 वस्तुओं, और 15% की छूट पर 20 वस्तुओं को बेचता है। फिर भी अगर उस व्यक्ति को कुछ लाभ अर्जित करना हो तो वह बची हुई वस्तुओं पर अधिकतम कितनी (लगभग) छूट की पेशकश कर सकता है?

- Ans
- 1. 28%
 - 2. 25%
 - 3. 26%
 - 4. 21%

Question ID : 8161612691
Status : Not Answered
Chosen Option : --

Q.9 अगर एक घन के प्रत्येक कोर में 10% की वृद्धि की जाए, तो इसके पृष्ठीय क्षेत्रफल में कितने प्रतिशत की वृद्धि होगी?

- Ans
- 1. 20%
 - 2. 22%
 - 3. 19%
 - 4. 21%

Question ID : 8161612692
Status : Answered
Chosen Option : 4

Q.10 एक त्रिभुज की भुजाएँ 25, 39, 34 इकाई हैं। अगर वर्ग का क्षेत्रफल इस त्रिभुज के क्षेत्रफल से 21 इकाई अधिक है तो वर्ग की भुजा क्या है?

- Ans
- 1. 21 इकाई
 - 2. 22 इकाई
 - 3. 25 इकाई
 - 4. 18 इकाई

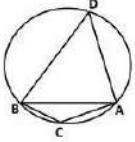
Question ID : 8161612698
Status : Not Answered
Chosen Option : --

Q.11 $45 - 5 \text{ of } (6.3 \div 9) + 7 \times 0.5$ का मान ज्ञात कीजिए।

- Ans
- 1. 42
 - 2. 50
 - 3. 45
 - 4. 40

Question ID : 8161612704
Status : Answered
Chosen Option : 3

Q.12 अगर निम्न आकृति में (आकृति माप के अनुसार नहीं है), $\angle ACB = 135^\circ$ है और वृत्त की विज्या $2\sqrt{2}$ cm, है तो जीवा AB की लम्बाई क्या है?



- Ans
- 1. $4\sqrt{2}$ cm
 - 2. 6 cm
 - 3. 4 cm
 - 4. $3\sqrt{2}$ cm

Question ID : 8161612697

Status : Answered

Chosen Option : 3

Q.13 संख्याएं 24, 45, a, 35, 59, 83, 46, b, 29, 74 क्रमानुसार इस प्रकार व्यवस्थित की गई हैं कि वे एक क्रम में दिखती हैं। जब प्रत्येक संख्या में इसकी क्रम संख्या जोड़ी जाती है तो निर्मित नई संख्या का औसत 55 होता है। तो अज्ञात संख्याओं (a और b) का औसत क्या होगा?

- Ans
- 1. 38
 - 2. 50
 - 3. 58
 - 4. 62

Question ID : 8161612690

Status : Not Answered

Chosen Option : --

Q.14 A किसी कार्य को एक निश्चित दिनों में पूरा करता है। B को स्वतंत्र रूप से उसी कार्य को पूरा करने में 45% ज्यादा दिन लगते हैं। दोनों साथ मिलकर 58 दिनों तक उस कार्य को करते हैं और शेष कार्य को B अकेले 29 दिनों में पूरा कर लेता है। अगर A अकेले कार्य करे तो वह उस कार्य को कितने दिनों में पूरा कर सकेगा?

- Ans
- 1. 98 दिन
 - 2. 120 दिन
 - 3. 118 दिन
 - 4. 110 दिन

Question ID : 8161612687

Status : Answered

Chosen Option : 3

Q.15 एक गृह-सज्जा कंपनी चादर, घड़ी, बाल हैंगिंग, पर्दा और बाल स्टिकर जैसे पांच विभिन्न उत्पादों का निर्माण करती है। निम्नलिखित बार-ग्राफ में 2018 और 2019 के दौरान उत्पादित इन पाँचों उत्पादों की बिक्री (संख्या लाख पैकों में) दिखाई गई है।



इस सूचना के आधार पर किस उत्पाद की बिक्री में 2018 के मुकाबले 2019 में 55% की वृद्धि हुई?

- Ans
- 1. चादर
 - 2. बाल हैंगिंग
 - 3. बाल स्टिकर
 - 4. पर्दा

Question ID : 8161612708

Status : Answered

Chosen Option : 4

Q.16 यदि $A = \frac{(0.1)^3 + (0.2)^3 + (0.3)^3 + 3(0.005 + 0.016 + 0.027) + 0.036}{(0.1)^2 + (0.2)^2 + (0.3)^2 + 0.04 + 0.06 + 0.12}$ है, तो 60A मान जात कीजिए।

- Ans
- 1. 30
 - 2. 36
 - 3. 60
 - 4. 20

Question ID : 8161612701

Status : Answered

Chosen Option : 2

Q.17 तेल का एक सौदागर ₹236 प्रति लीटर की दर से खरीदे गए 50 लीटर तेल को बेचकर न्यूनतम ₹2100 का लाभ कमाना चाहता है। इसके लिए वह तेल में कुछ लीटर नकली तेल मिलाता है जिसका क्रय मूल्य ₹180 प्रति लीटर है और वह इसे ₹250 प्रति लीटर की दर पर बेचता है। इसके लिए उसे कितने लीटर नकली तेल की आवश्यकता होगी?

- Ans
- 1. 16 लीटर
 - 2. 18 लीटर
 - 3. 22 लीटर
 - 4. 20 लीटर

Question ID : 8161612693

Status : Not Answered

Chosen Option : --

Q.18 अगर संख्या $59a44b$, 36 से विभाज्य है तो $a + b$ का अधिकतम मान _____ होगा।

- Ans 1. 14
 2. 16
 3. 10
 4. 12

Question ID : 8161612703

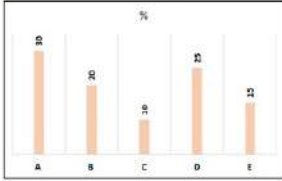
Status : Answered

Chosen Option : 1

Q.19 पहला ग्राफ ग्रेड 1 से ग्रेड 5 तक के कुल विद्यार्थियों (लड़के और लड़कियाँ हजारों में) की संख्या दर्शाता है।



और नीचे का बार ग्राफ उस कक्षा में पढ़ने वाले कुल विद्यार्थियों की संख्या में पाँच विद्यालयों की प्रतिशत हिस्सेदारी को दर्शाता है।



इस सूचना के आधार पर अगर D विद्यालय में लड़के और लड़कियों का अनुपात 3:1 है तो D विद्यालय में पढ़ने वाले लड़कों की संख्या कितनी है?

- Ans 1. 26250
 2. 22450
 3. 28750
 4. 25550

Question ID : 8161612711

Status : Answered

Chosen Option : 1

Q.20 स्थान H और O के बीच की दूरी D इकाई है। एक व्यक्ति H से O की दूरी, एक सुनिश्चित समय में औसत S इकाई की चाल से तय करता है। अगर वह व्यक्ति 60 km/h की चाल से चलता है तो वह सामान्य से 20 मिनट ज्यादा समय लगाता है, और अगर वह 75 km/h की चाल से चलता है तो वह सामान्य से 44 मिनट पहले दूरी तय कर लेता है। D और S के आंकिक मानों का योग क्या है?

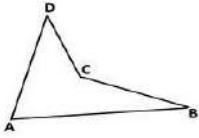
- Ans 1. 384
 2. 344
 3. 358
 4. 376

Question ID : 8161612688

Status : Not Answered

Chosen Option : --

Q.21 निम्न आकृति में (आकृति माप के अनुसार नहीं है) अगर $\angle DAB + \angle CBA = 90^\circ$ हो, $BC = AD$, $AB = 20$ cm, $CD = 10$ cm हो तो चतुर्भुज ABCD का क्षेत्रफल क्या होगा?



- Ans
- 1. 100 cm^2
 - 2. 150 cm^2
 - 3. 120 cm^2
 - 4. 75 cm^2

Question ID : 8161612699

Status : Not Answered

Chosen Option : --

Q.22 अगर $\cos A, \sin A, \cot A$ गुणोत्तर श्रेणी में है तो $\tan^6 A - \tan^2 A$ का मान क्या होगा।

- Ans
- 1. 1
 - 2. $\frac{1}{3}$
 - 3. $\frac{1}{2}$
 - 4. 3

Question ID : 8161612706

Status : Answered

Chosen Option : 1

Q.23 एक व्यक्ति और उसके पिता की आयु का अनुपात 4 : 5 है और उस व्यक्ति और उसके पुत्र की आयु का अनुपात 6 : 1 है। चार वर्ष पहले ये अनुपात क्रमशः 11 : 14 और 11 : 1 थे। तो अब से 12 वर्ष बाद पिता और दादा की आयु का अनुपात क्या होगा?

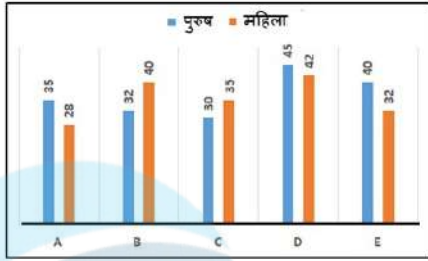
- Ans
- 1. 18 : 5
 - 2. 14 : 3
 - 3. 18 : 7
 - 4. 12 : 5

Question ID : 8161612694

Status : Answered

Chosen Option : 1

Q.24 निम्नलिखित ग्राफ पांच स्थान A, B, C, D और E में पुरुष और महिलाओं की जनसंख्या (हजार में) को दर्शाता है।



इस सूचना के आधार पर पाँचों स्थानों में मौजूद महिलाओं की संख्या इन स्थानों के पुरुषों की संख्या का लगभग कितना प्रतिशत है?

- Ans
- 1. 99%
 - 2. 97%
 - 3. 94%
 - 4. 95%

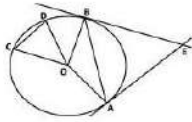
Question ID : 8161612709

Status : Not Answered

Chosen Option : --

Q.25 निम्न आकृति में (आकृति माप के अनुसार नहीं है), जीवा AB इस प्रकार खींची जाती है कि उसके द्वारा केंद्र

O पर निर्मित कोण, जीवा CD द्वारा निर्मित कोण का दोगुना होता है और कोण $\angle AEB = 2\angle AOB$ है, तो कोण $\angle COD$ _____ के बराबर होगा।



- Ans
- 1. 45°
 - 2. 60°
 - 3. 75°
 - 4. 30°

Question ID : 8161612696

Status : Not Answered

Chosen Option : --

Section : General Awareness

Q.1 मानव शरीर में थाइरॉइड ग्रंथि के पीछे कितनी पैराथाइरॉइड ग्रंथियां होती हैं?

- Ans
- 1. पांच
 - 2. चार
 - 3. तीन
 - 4. छह

Question ID : 8161612722

Status : Answered

Chosen Option : 3

Q.2 निम्नलिखित में से किस भारतीय लेखक/लेखिका को 'रबींद्रनाथ टैगोर साहित्य पुरस्कार 2019' से सम्मानित किया गया?

- Ans
- 1. शशि थरूर
 - 2. अरुंधति रॉय
 - 3. रामचंद्र गुहा
 - 4. राणा दासगुप्ता

Question ID : 8161612730
Status : Not Answered
Chosen Option : --

Q.3 'भारत वन स्थिति रिपोर्ट 2019' के अनुसार, किस राज्य ने देश में वन क्षेत्र में सर्वोच्च वृद्धि के लिए पहला स्थान हासिल किया?

- Ans
- 1. मध्य प्रदेश
 - 2. ओडिशा
 - 3. आंध्र प्रदेश
 - 4. कर्नाटक

Question ID : 8161612717
Status : Not Answered
Chosen Option : --

Q.4 भारत में 'पिछड़ा और अल्पसंख्यक समुदाय कर्मचारी महासंघ (BAMCEF)' की स्थापना कब हुई थी?

- Ans
- 1. 1980
 - 2. 1982
 - 3. 1979
 - 4. 1978

Question ID : 8161612733
Status : Not Answered
Chosen Option : --

Q.5 निम्नलिखित में से कौन-सा ज्वालामुखी के सबसे विस्फोटक प्रकार का उदाहरण है?

- Ans
- 1. बाढ़ बेसाल्ट ज्वालामुखी
 - 2. शील्ड (ढाल) ज्वालामुखी
 - 3. सिंडर शंकु (राख शंकु) ज्वालामुखी
 - 4. कॉल्डेरा (कुण्ड) ज्वालामुखी

Question ID : 8161612725
Status : Not Answered
Chosen Option : --

Q.6 वह कौन-सा चोल शासक था, जो 'गंगा विजेता (Victor of the Ganges) के नाम से प्रसिद्ध है?

- Ans
- 1. विजयालय चोल
 - 2. राजेंद्र चोल प्रथम
 - 3. गण्डरादित्य चोल
 - 4. परान्तक चोल प्रथम

Question ID : 8161612728
Status : Not Answered
Chosen Option : --

Q.7 1930 में मानव ABO रक्त समूह प्रणाली का वर्णन करने के लिए, किस वैज्ञानिक को नोबेल पुरस्कार से सम्मानित किया गया था?

- Ans
- 1. जॉर्ज वाल्ड
 - 2. अल्बर्ट क्लाउड
 - 3. कार्ल लैंडस्टेनर
 - 4. रॉजर गुडलेमिन

Question ID : 8161612723
Status : Answered
Chosen Option : 3

Q.8 सिनबार (HgS) किस धातु का अयस्क है?

- Ans
- 1. चांदी
 - 2. पारा
 - 3. एल्यूमीनियम
 - 4. सोना

Question ID : 8161612721
Status : Answered
Chosen Option : 2

Q.9 JavaScript (जावास्क्रिप्ट) प्रोग्रामिंग भाषा किस वर्ष प्रचलन (अस्तित्व) में आई?

- Ans
- 1. 1995
 - 2. 2000
 - 3. 1990
 - 4. 1999

Question ID : 8161612713
Status : Not Answered
Chosen Option : --

Q.10 पूर्व में भारत की सीमा किन-किन देशों से लगती है?

- Ans
- 1. भूटान और अफगानिस्तान
 - 2. चीन, नेपाल और भूटान
 - 3. पाकिस्तान और अफगानिस्तान
 - 4. म्यांमार और बांग्लादेश

Question ID : 8161612724
Status : Answered
Chosen Option : 4

Q.11 भारत के योजना आयोग द्वारा कितने कृषि-जलवायु क्षेत्रों (ACZ) को अभिलक्षित किया गया है?

- Ans
- 1. 30
 - 2. 10
 - 3. 15
 - 4. 20

Question ID : 8161612726
Status : Not Answered
Chosen Option : --

Q.12 'सत्रीया' भारत के किस राज्य का एक पारंपरिक हिंदू शास्त्रीय नृत्य है?

- Ans
- 1. मणिपुर
 - 2. गोवा
 - 3. असम
 - 4. ओडिशा

Question ID : 8161612714
Status : Answered
Chosen Option : 4

Q.13 Microsoft Office (माइक्रोसॉफ्ट ऑफिस) में कौन-सी फंक्शन की (function key) प्रिंट प्रिव्यू विंडो (Print Preview window) प्रदर्शित करती है?

- Ans
- 1. Shift + F2
 - 2. Alt + F2
 - 3. Alt + Ctrl + F2
 - 4. Ctrl + F2

Question ID : 8161612712
Status : Not Answered
Chosen Option : --

Q.14 27 नवंबर, 2019 को PSLV C-47 द्वारा प्रक्षेपित कार्टोसेट-3 (Cartosat-3) उपग्रह के मिशन का जीवनकाल कितना है?

- Ans
- 1. 3 वर्ष
 - 2. 2 वर्ष
 - 3. 5 वर्ष
 - 4. 4 वर्ष

Question ID : 8161612718
Status : Not Answered
Chosen Option : --

Q.15 मार्च 2018 तक, UNESCO (युनेस्को) द्वारा जारी मानवता की अमूर्त सांस्कृतिक विरासत की प्रतिनिधि सूची में भारत के कितने मूलतत्वों को जगह दी गई थी?

- Ans
- 1. 13
 - 2. 14
 - 3. 15
 - 4. 18

Question ID : 8161612715
Status : Answered
Chosen Option : 4

Q.16 भारत का वह कौन-सा प्रसिद्ध जीवाश्म स्थल है, जहां डायनासोर का एक पूर्ण कंकाल पाया गया था?

- Ans
- 1. जंस्कार घाटी, कश्मीर
 - 2. मनेन्द्रगढ़, छत्तीसगढ़
 - 3. वडधम, महाराष्ट्र
 - 4. हथनोरा, मध्य प्रदेश

Question ID : 8161612727
Status : Not Answered
Chosen Option : --

Q.17 फिक्की (FICCI) इंडिया स्पोर्ट्स अवार्ड्स 2019 में किसे 'फीमेल स्पोर्ट्सपर्सन ऑफ द ईयर' से सम्मानित किया गया?

- Ans
- 1. पी.वी. सिंधु
 - 2. रानी रामपाल
 - 3. गीता फोगाट
 - 4. मैरी कॉम

Question ID : 8161612736
Status : Answered
Chosen Option : 2

Q.18 नवंबर 2016 में जारी किए गए किस भारतीय नोट के पीछे मंगलयान का चित्र है?

- Ans
- 1. ₹200
 - 2. ₹2,000
 - 3. ₹100
 - 4. ₹500

Question ID : 8161612719
Status : Answered
Chosen Option : 2

Q.19 'महाराजा रणजीत सिंह गोल्ड कप' निम्न में से किस खेल से संबंधित है?

- Ans
- 1. पोलो
 - 2. हॉकी
 - 3. क्रिकेट
 - 4. फुटबॉल

Question ID : 8161612734
Status : Not Answered
Chosen Option : --

Q.20 भारत में पहली बार संविधान सभा के चुनाव कब हुए थे?

- Ans
- 1. 1947
 - 2. 1946
 - 3. 1949
 - 4. 1948

Question ID : 8161612732
Status : Not Answered
Chosen Option : --

Q.21 भारत-चीन के बीच होने वाले संयुक्त सैन्य प्रशिक्षण अभ्यास के 8वें संस्करण 'हैंड-इन-हैंड 2019', का आयोजन किस राज्य में किया गया था?

- Ans
- 1. मणिपुर
 - 2. मेघालय
 - 3. महाराष्ट्र
 - 4. केरल

Question ID : 8161612716
Status : Answered
Chosen Option : 2

Q.22 अक्टूबर 2019 में, निम्नलिखित में से किस कंपनी को महारत्न का दर्जा दिया गया?

- Ans 1. Hindustan Petroleum Corporation Limited (हिंदुस्तान पेट्रोलियम कॉर्पोरेशन लिमिटेड)
2. GAIL (India) Limited (गैल (इंडिया) लिमिटेड)
3. Bharat Petroleum Corporation Limited (भारत पेट्रोलियम कॉर्पोरेशन लिमिटेड)
4. Steel Authority of India limited (भारतीय इस्पात प्राधिकरण लिमिटेड)

Question ID : 8161612720

Status : Not Answered

Chosen Option : --

Q.23 निम्नलिखित कथन किस प्रसिद्ध व्यक्तित्व का है?

“अपनी पहली जीत के बाद कभी आराम मत कीजिए, क्योंकि दूसरे मौके पर अगर आप असफल हुए तो पहले से कहीं अधिक लोग ये कहने के लिए तैयार बैठे हैं कि पहली जीत महज भाग्य की बात थी। (Don't take rest after your first victory because if you fail in second, more lips are waiting to say that your first victory was just luck)?”

- Ans 1. ए.पी.जे. अब्दुल कलाम
2. अमर्त्य सेन
3. होमी भाभा
4. अटल बिहारी वाजपेयी

Question ID : 8161612731

Status : Answered

Chosen Option : 1

Q.24 1829 में, भारत के किस गवर्नर जनरल ने सती प्रथा को अपराध घोषित करते हुए इसे समाप्त कर दिया?

- Ans 1. लॉर्ड विलियम बैंटिक
2. लॉर्ड डलहौजी
3. लॉर्ड वेलेस्ली
4. लॉर्ड कॉर्नवालिस

Question ID : 8161612729

Status : Answered

Chosen Option : 1

Q.25 2019 में, किस पूर्व भारतीय क्रिकेटर को ईस्ट बंगाल फुटबॉल क्लब द्वारा 'भारत गौरव पुरस्कार' से सम्मानित किया गया था?

- Ans 1. सुनील गावस्कर
2. राहुल द्रविड़
3. सचिन तेंदुलकर
4. कपिल देव

Question ID : 8161612735

Status : Not Answered

Chosen Option : --

Roll Number	
Candidate Name	
Venue Name	
Exam Date	13/10/2020
Exam Time	4:00 PM - 5:00 PM
Subject	CHSL Tier 1

Section : English Language (Basic Knowledge)

Q.1 Select the synonym of the given word.

Nebulous

- Ans
- 1. Stable
 - 2. Faith
 - 3. Vague
 - 4. Dearly

Question ID : 8161612255
Status : Answered
Chosen Option : 3

Q.2 Select the most appropriate ANTONYM of the given word.

METROPOLITAN

- Ans
- 1. Provincial
 - 2. Federal
 - 3. Insular
 - 4. National

Question ID : 8161612247
Status : Answered
Chosen Option : 4

Q.3 Select the correctly spelt word.

- Ans
- 1. Memmoir
 - 2. Studiuous
 - 3. Restaurent
 - 4. Business

Question ID : 8161612250
Status : Answered
Chosen Option : 4

Q.4 Select the most appropriate option to fill in the blank in the given sentence.

A _____ of small stones is called a mosaic.

- Ans
- 1. structure
 - 2. pattern
 - 3. design
 - 4. mound

Question ID : 8161612257

Status : Answered

Chosen Option : 4

Comprehension:

In the following passage some words have been deleted. Fill in the blanks with the help of the alternatives given. Select the most appropriate option for each blank.

A city, predominantly made of red sandstone, Fatehpur Sikri (1)_____ founded in the 16th century by the Mughal Emperor, Akbar. It is essentially a fortified city (2)_____ had been the capital of Akbar (3)_____ fifteen years. Now a UNESCO world heritage site (4)_____ a famous tourist attraction, it is a fine (5)_____ of Mughal architecture.

SubQuestion No : 5

Q.5 Select the most appropriate option to fill in blank number 1.

- Ans
- 1. is
 - 2. was
 - 3. had
 - 4. were

Question ID : 8161612237

Status : Answered

Chosen Option : 2

Comprehension:

In the following passage some words have been deleted. Fill in the blanks with the help of the alternatives given. Select the most appropriate option for each blank.

A city, predominantly made of red sandstone, Fatehpur Sikri (1)_____ founded in the 16th century by the Mughal Emperor, Akbar. It is essentially a fortified city (2)_____ had been the capital of Akbar (3)_____ fifteen years. Now a UNESCO world heritage site (4)_____ a famous tourist attraction, it is a fine (5)_____ of Mughal architecture.

SubQuestion No : 6

Q.6 Select the most appropriate option to fill in blank number 2.

- Ans
- 1. what
 - 2. who
 - 3. which
 - 4. where

Question ID : 8161612238

Status : Answered

Chosen Option : 4

Comprehension:

In the following passage some words have been deleted. Fill in the blanks with the help of the alternatives given. Select the most appropriate option for each blank.

A city, predominantly made of red sandstone, Fatehpur Sikri (1)_____ founded in the 16th century by the Mughal Emperor, Akbar. It is essentially a fortified city (2)_____ had been the capital of Akbar (3)_____ fifteen years. Now a UNESCO world heritage site (4)_____ a famous tourist attraction, it is a fine (5)_____ of Mughal architecture.

SubQuestion No : 7

Q.7 Select the most appropriate option to fill in blank number 3.

- Ans
- 1. by
 - 2. for
 - 3. from
 - 4. since

Question ID : 8161612239

Status : Answered

Chosen Option : 2

Comprehension:

In the following passage some words have been deleted. Fill in the blanks with the help of the alternatives given. Select the most appropriate option for each blank.

A city, predominantly made of red sandstone, Fatehpur Sikri (1)_____ founded in the 16th century by the Mughal Emperor, Akbar. It is essentially a fortified city (2)_____ had been the capital of Akbar (3)_____ fifteen years. Now a UNESCO world heritage site (4)_____ a famous tourist attraction, it is a fine (5)_____ of Mughal architecture.

SubQuestion No : 8

Q.8 Select the most appropriate option to fill in blank number 4.

- Ans
- 1. if
 - 2. but
 - 3. nor
 - 4. and

Question ID : 8161612240

Status : Answered

Chosen Option : 4

Comprehension:

In the following passage some words have been deleted. Fill in the blanks with the help of the alternatives given. Select the most appropriate option for each blank.

A city, predominantly made of red sandstone, Fatehpur Sikri (1)_____ founded in the 16th century by the Mughal Emperor, Akbar. It is essentially a fortified city (2)_____ had been the capital of Akbar (3)_____ fifteen years. Now a UNESCO world heritage site (4)_____ a famous tourist attraction, it is a fine (5)_____ of Mughal architecture.

SubQuestion No : 9

Q.9 Select the most appropriate option to fill in blank number 5.

- Ans
- 1. example
 - 2. infrastructure
 - 3. ruin
 - 4. organization

Question ID : 8161612241
Status : Answered
Chosen Option : 1

Q.10 Select the most appropriate meaning of the idiom.

To have a gut feeling

- Ans
- 1. To suffer from inflammation
 - 2. To have pain in the abdomen
 - 3. To experience discomfort
 - 4. To feel an instinct or intuition

Question ID : 8161612249
Status : Not Attempted and Marked For Review
Chosen Option : -

Q.11 Select the most appropriate option to fill in the blank in the given sentence.

The performances of the notable dancers and guest artists _____ the audience.

- Ans
- 1. absorbed
 - 2. enthralled
 - 3. immersed
 - 4. occupied

Question ID : 8161612256
Status : Answered
Chosen Option : 2

Q.12 Select the most appropriate meaning of the underlined idiom in the given sentence.

Akshay is likely to take the heat for having miscalculated the expenses.

- Ans
- 1. enjoy warm climate
 - 2. receive criticism
 - 3. feel very hot
 - 4. scold everyone

Question ID : 8161612248
Status : Answered
Chosen Option : 2

Q.13 Identify the segment in the given sentence which contains the grammatical error.

We noticed that most of the shoppers in the mall looking for packets of ready to cook food.

- Ans
- 1. We noticed that
 - 2. most of the shoppers
 - 3. packets of ready to cook food
 - 4. in the mall looking for

Question ID : 8161612234
Status : Answered
Chosen Option : 2

Q.14 Select the most appropriate synonym of the given word.

RIND

- Ans
- 1. Shade
 - 2. Peel
 - 3. Petal
 - 4. Leaf

Question ID : 8161612254
Status : Not Answered
Chosen Option : -

Q.15 Select the most appropriate option to substitute the underlined segment in the given sentence. If there is no need to substitute it, select No improvement.

Since it falls on the floor, her dog, a black Labrador, gulped the biscuit down.

- Ans
- 1. As it have fallen
 - 2. Because it is falling
 - 3. No improvement
 - 4. Since it fell

Question ID : 8161612245
Status : Not Attempted and Marked For Review
Chosen Option : -

Q.16 Select the word which means the same as the group of words given.

Tending to associate with others of one's kind

- Ans
- 1. Congruous
 - 2. Harmonious
 - 3. Gregarious
 - 4. Genial

Question ID : 8161612253
Status : Answered
Chosen Option : 3

Q.17 Select the most appropriate option to substitute the underlined segment in the given sentence. If there is no need to substitute it, select No improvement.

This is a class who is expected to do exceptionally well in the quiz next week.

- Ans
- 1. which is expected to do
 - 2. No improvement
 - 3. that is expecting to done
 - 4. which are expecting to be doing

Question ID : 8161612244
Status : Answered
Chosen Option : 1

Q.18 Select the option that is the passive form of the given sentence.

The police brought a search warrant when they raided his house.

- Ans
- 1. A search warrant was brought by the police when they raided his house.
 - 2. The police had raided his house and brought a search warrant.
 - 3. A search warrant had been brought when the police raided his house.
 - 4. A search warrant was brought when they raided his house by the police.

Question ID : 8161612232
Status : Answered
Chosen Option : 1

Q.19 Given below are four jumbled sentences. Select the option that gives their correct order.

- A. They grew cabbages and carrots in their back yard.
- B. The family was very poor and was always hungry because there was a war on.
- C. They also had a chicken, which provided the family with eggs, but still they were hungry.
- D. Their country had been invaded by a foreign army.

- Ans
- 1. CADB
 - 2. DABC
 - 3. CDAB
 - 4. BDAC

Question ID : 8161612242
Status : Answered
Chosen Option : 4

Q.20 Select the most appropriate ANTONYM of the given word.

INSTANT

- Ans
- 1. Diverse
 - 2. Similar
 - 3. Gradual
 - 4. Prompt

Question ID : 8161612246
Status : Answered
Chosen Option : 4

Q.21 Given below are four jumbled sentences. Select the option that gives their correct order.

- A. I sow a seed.
- B. I saw the sapling.
- C. I saw the sprout.
- D. I saw the plant.

- Ans
- 1. ABCD
 - 2. CABD
 - 3. DBAC
 - 4. ACBD

Question ID : 8161612243
Status : Answered
Chosen Option : 1

Q.22 Select the word which means the same as the group of words given.

Lasting for a very short time

- Ans
- 1. Ephemeral
 - 2. Endless
 - 3. Illusory
 - 4. Infinite

Question ID : 8161612252
Status : Answered
Chosen Option : 1

Q.23 Select the option that is the direct form of the given sentence.

Nidhi exclaimed that it was a beautiful painting.

- Ans
- 1. Nidhi said to the artist in surprise, "How beautiful you made that painting!"
 - 2. Nidhi told him in wonder, "How beautiful!"
 - 3. Nidhi said to the artist, "That looks like a beautiful painting!"
 - 4. Nidhi exclaimed, "What a beautiful painting!"

Question ID : 8161612233
Status : Answered
Chosen Option : 4

Q.24 Select the INCORRECTLY spelt word.

- Ans
- 1. Excess
 - 2. Supportors
 - 3. Inclusion
 - 4. Discriminatory

Question ID : 8161612251
Status : Answered
Chosen Option : 4

Q.25 Identify the segment in the given sentence which contains the grammatical error.

Most of voters in Taiwan seem to have once again voted for the democratic party and President Tsai Ing-wen.

- Ans
- 1. once again voted for
 - 2. the democratic party
 - 3. in Taiwan seem to have
 - 4. Most of voters

Question ID : 8161612235
Status : Answered
Chosen Option : 3

Section : General Intelligence

Q.1 दर्पण को आकृति के दाईं और रखे जाने पर दी गई आकृति के सही दर्पण प्रतिबिंब का चयन करें।



Ans

X 1.




X 2.



✓ 3.



X 4.



Question ID : 8161612281

Status : Answered

Chosen Option : 3

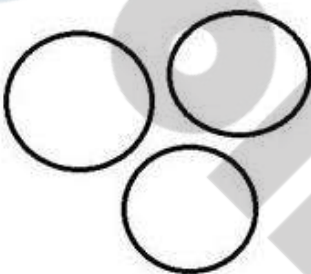
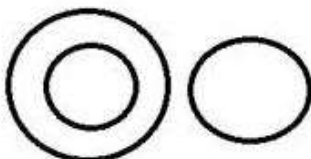
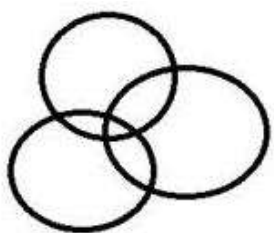
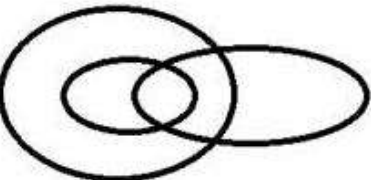
Q.2 निम्नलिखित श्रेणी में आगे आनेवाली संख्या का चयन करें।
6, 9, 13, 21, 38, 71, ?

- Ans
- 1. 121
 - 2. 99
 - 3. 129
 - 4. 101

Question ID : 8161612263
Status : Answered
Chosen Option : 3

Q.3 Select the Venn diagram that best represents the relationship between the following classes.
Doctors, Neurosurgeons, Female

Ans

1. 
2. 
3. 
4. 

Question ID : 8161612282
Status : Answered
Chosen Option : 4

Q.4 दिए गए पैटर्न का ध्यानपूर्वक अध्ययन करें और उस संख्या का चयन करें जिससे प्रश्न चिह्न (?) को बदला जा सकता है।

(1, 2, 2) (7, 35, 5) (12, 96, ?)

- Ans
- 1. 7
 - 2. 8
 - 3. 9
 - 4. 11

Question ID : 8161612264

Status : Answered

Chosen Option : 2

Q.5 दी गई आकृति में कितने त्रिभुज हैं?



- Ans
- 1. 15
 - 2. 12
 - 3. 10
 - 4. 8

Question ID : 8161612278

Status : Answered

Chosen Option : 3

Q.6 दिए गए कथनों और निष्कर्षों को ध्यान से पढ़ें। यह मानते हुए कि कथनों में दी गई जानकारी सही है, भले ही वह आमतौर पर स्थापित तथ्यों से भिन्न दिखाई देती हो, यह निर्णय लें कि कौनसा/से निष्कर्ष तर्कसंगत रूप से इन कथनों का अनुसरण करता/करते है/हैं।

कथन:

- I. कुछ पुरुष पशु हैं।
- II. सभी वृक्ष नदियाँ हैं।
- III. सभी पशु वृक्ष हैं।

निष्कर्ष:

- I. कुछ पुरुष नदियाँ हैं।
- II. सभी नदियाँ पशु हैं।
- III. सभी नदियाँ पुरुष हैं।
- IV. सभी पुरुष वृक्ष हैं।

- Ans
1. केवल निष्कर्ष I और II अनुसरण करते हैं।
 2. केवल निष्कर्ष IV अनुसरण करता है।
 3. केवल निष्कर्ष III और II अनुसरण करते हैं।
 4. केवल निष्कर्ष I अनुसरण करता है।

Question ID : 8161612275

Status : Answered

Chosen Option : 4

Q.7 राजीव के तसवीर की ओर संकेत करते हुए, एक महिला नीना ने कहा, "उसकी बहन के पिता मेरे ससुर के इकलौते पुत्र हैं।" नीना का राजीव से क्या संबंध है?

- Ans
1. पोती/नातिन
 2. माँ
 3. बहन
 4. दादी

Question ID : 8161612271

Status : Answered

Chosen Option : 2

Q.8 एक लिखित कूटभाषा में IF को 225 के रूप में लिखा जाता है और BUT को 1849 के रूप में लिखा जाता है। उसी कूटभाषा में SLIP को क्या लिखा जाएगा?

- Ans
1. 3136
 2. 3163
 3. 6313
 4. 1336

Question ID : 8161612267

Status : Not Attempted and Marked For Review


Chosen Option : -

Q.9 उस विकल्प का चयन करें जिसमें दी गई आकृति अंतर्निहित है। (घुमाने की अनुमति नहीं है)



Ans


✗ 1.




✗ 2.



✓ 3.



✗ 4.



Question ID : 8161612279

Status : Answered

Chosen Option : 3

Q.10 चार अक्षर-समूह दिए गए हैं, जिनमें से तीन किसी प्रकार से संगत हैं और एक असंगत है। उस असंगत अक्षर-समूह का चयन करें।

Ans

✗ 1. ADGPI

✗ 2. ECVMU

✗ 3. OMKLU

✓ 4. VDCKA

Question ID : 8161612273

Status : Answered

Chosen Option : 4

Q.11 एक लड़के के पास दो रुपये, पांच रुपये, दस रुपये और बीस रुपये के नोटों के रूप में कुल ₹740 है। यदि प्रत्येक मूल्यवर्ग के नोटों की संख्या समान है तो लड़के के पास कुल कितने नोट हैं?

- Ans
- 1. 80
 - 2. 40
 - 3. 60
 - 4. 20

Question ID : 8161612260
Status : Answered
Chosen Option : 1

Q.12 Select the option that is related to the third term in the same way as the second term is related to the first term.

AIDS : VIRUS :: MALARIA : ?

- Ans
- 1. Virus
 - 2. Nematodes
 - 3. Parasite
 - 4. Bacteria

Question ID : 8161612269
Status : Answered
Chosen Option : 3

Q.13 उस विकल्प का चयन करें, जिसमें समुच्चय की संख्याओं में आपस में वही संबंध हो, जो संबंध दिए गए समुच्चय की संख्याओं में है।
(6, 42, 1890)

- Ans
- 1. (7, 23, 1069)
 - 2. (2, 6, 54)
 - 3. (9, 102, 1190)
 - 4. (4, 20, 420)

Question ID : 8161612262
Status : Not Attempted and Marked For Review
Chosen Option : -

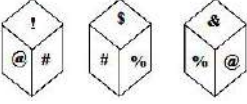
Q.14 Select the option in which the words in the word-pair shares the same relationship as that shared by the given word-pair.

Tiger : Felidae

- Ans
- 1. Elephant : Canidae
 - 2. Rabbit : Bovidae
 - 3. Lion : Leporidae
 - 4. Whale : Cetacea

Question ID : 8161612272
Status : Answered
Chosen Option : 3

Q.15 एक पासे की तीन विभिन्न स्थितियाँ दिखाई गई हैं। उस प्रतीक का चयन करें, जो '!' चिह्नित फलक के विपरीत फलक पर होगा।



- Ans
- 1. &
 - 2. \$
 - 3. #
 - 4. %

Question ID : 8161612276
Status : Answered
Chosen Option : 4

Q.16 नीचे दिए गए विकल्पों में से लुप्त संख्या ज्ञात कीजिए।

16	30	18
4	34	?
10	32	40

- Ans
- 1. 58
 - 2. 62
 - 3. 22
 - 4. 38

Question ID : 8161612261
Status : Answered
Chosen Option : 2

Q.17 उस सही विकल्प का चयन करें जो निम्नलिखित शब्दों का तार्किक और अर्थसंगत क्रम सूचित करता हो।

1. राज्य
2. बाम
3. ज़िला
4. शहर
5. देश

- Ans
- 1. 1,3,5,2,4
 - 2. 4,3,5,2,1
 - 3. 1,3,5,4,2
 - 4. 2,4,3,1,5

Question ID : 8161612265
Status : Answered
Chosen Option : 4

Q.18 उस विकल्प का चयन करें, जो तीसरे पद से उसी प्रकार संबंधित है, जिस प्रकार दूसरा पद पहले पद से संबंधित है।

EASY : DDNF :: MAKE : ?

- Ans
- 1. LDFL
 - 2. NXPX
 - 3. LFDL
 - 4. XXPN

Question ID : 8161612268

Status : Answered

Chosen Option : 1

Q.19 एक निश्चित कूटभाषा में, KNOWLEDGE को DEEGKLNOW के रूप में लिखा जाता है। उसी कूटभाषा में SERIAL को क्या लिखा जाएगा?

- Ans
- 1. AELIRS
 - 2. AEILRM
 - 3. AEIRLM
 - 4. AEILRS

Question ID : 8161612266

Status : Not Attempted and Marked For Review

Chosen Option : -

Q.20 अक्षरों के उस संयोजन का चयन करें जो निम्न लिखित अक्षर-श्रृंखला में दिए गए रिक्त स्थानों में क्रमिक रूप से रखे जाने पर श्रृंखला को पूरा करेगा।

abcc _ ab _ de _ ccd eab _ de

- Ans
- 1. ddeccdbddcc
 - 2. ddecdbccdcda
 - 3. ddeccdbdccc
 - 4. ccdabdcddde

Question ID : 8161612270

Status : Answered

Chosen Option : 3

Q.21 राहुल की आयु अमर की आयु की तीन गुनी है। तीन वर्ष पहले अंबर की आयु राहुल की आयु से आधी थी। अब से चार वर्ष बाद, राहुल की आयु 43 वर्ष हो जाएगी। अमर और अंबर की वर्तमान आयु क्या हैं?

- Ans
- 1. 38, 21
 - 2. 39, 21
 - 3. 13, 18
 - 4. 13, 21

Question ID : 8161612258

Status : Answered

Chosen Option : 3

Q.22 निम्नलिखित श्रृंखला में प्रश्न चिह्न (?) के स्थान पर आने वाले अक्षर समूह का चयन करें।

JAM, KEL, LIK, ?, NUI

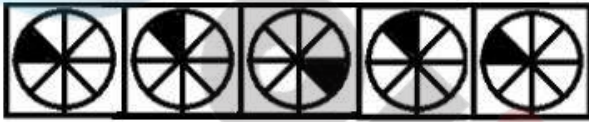
- Ans
- 1. MOJ
 - 2. JEM
 - 3. MEJ
 - 4. MAJ

Question ID : 8161612274

Status : Answered

Chosen Option : 1

Q.23 नीचे दी गई आकृति-श्रृंखला में आगे आने वाली आकृति का चयन करें।



- Ans
- 1.
 - 2.
 - 3.
 - 4.

Question ID : 8161612277


Status : Answered

Chosen Option : 4

Q.24 दी गई आकृतियों में कागज़ के एक टुकड़े को मोड़ने का क्रम और मोड़े हुए कागज़ को काटने का ढंग दर्शाया गया है।
पुनः खोले जाने पर कागज़ कैसा दिखाई देगा?



Ans



Question ID : 8161612280

Status : Answered

Chosen Option : 2

Q.25 दिए गए समीकरण को संतुलित करने के लिए किन दो गणितीय चिह्नों को आपस में बदलना होगा?
 $4 - 7 \times 28 + 12 \div 3 = 4$

Ans

1. \times और \div

2. $-$ और \div

3. \times और $-$

4. \times और $+$

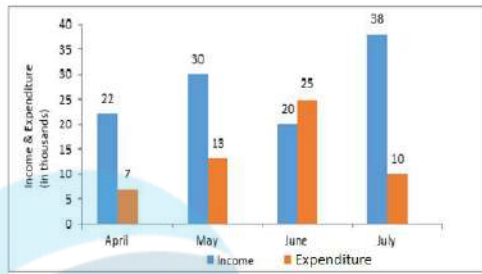
Question ID : 8161612259

Status : Answered

Chosen Option : 3

Section : Quantitative Aptitude(Basic Arithmetic Skill)

Q.1 नीचे दिया गया बार ग्राफ, लगातार चार महीनों, अप्रैल से जुलाई, 2019 के दौरान किसी व्यक्ति की आय और व्यय को दर्शाता है।



कुल आय (Income) को ध्यान में रखते हुए, कुल आय (Income) और कुल व्यय (Expenditure) के बीच का प्रतिशत अंतर ज्ञात कीजिए।

- Ans
- 1. 65%
 - 2. 60%
 - 3. 50%
 - 4. 70%

Question ID : 8161612306

Status : Answered

Chosen Option : 3

Q.2 $(72 + 34) \div 2 + \{[(75 \div 15) + 6] \times 2\}$ का मान ज्ञात कीजिए।

- Ans
- 1. 75
 - 2. 78
 - 3. 74
 - 4. 86

Question ID : 8161612300

Status : Answered

Chosen Option : 1

Q.3 2 साल बाद, एक निश्चित राशि पर चक्रवृद्धि ब्याज और प्राप्त राशि, क्रमशः ₹820 और ₹8,820 हैं। यदि ब्याज की दर वार्षिक रूप से चक्रवृद्धि की गई है, तो ब्याज की वह दर क्या है?

- Ans
- 1. 8%
 - 2. 7%
 - 3. 5%
 - 4. 6%

Question ID : 8161612291

Status : Answered

Chosen Option : 3

Q.4 एक वृत्त में दो बराबर और समानांतर जीवाएँ परस्पर 6 cm दूर हैं और उस वृत्त के केंद्र के विपरीत पक्षों में स्थित हैं। यदि प्रत्येक जीवा की लंबाई 8 cm है, तो वृत्त की विज्या ज्ञात कीजिए।

- Ans
- 1. 5 cm
 - 2. 3 cm
 - 3. 7 cm
 - 4. 2 cm

Question ID : 8161612293
Status : Answered
Chosen Option : 1

Q.5 72 km/h की चाल से चल रही एक ट्रेन, 36 सेकंड में एक विद्युत पोल को पार कर जाती है। ट्रेन की लंबाई (मीटरों में) ज्ञात कीजिए।

- Ans
- 1. 360 m
 - 2. 460 m
 - 3. 720 m
 - 4. 620 m

Question ID : 8161612284
Status : Answered
Chosen Option : 3

Q.6 यदि $a : b = 3 : 5$ और $b : c = 2 : 3$ है, तो समानुपात $a : b : c$ निम्नलिखित में से किसके बराबर होगा?

- Ans
- 1. 3 : 10 : 15
 - 2. 6 : 10 : 15
 - 3. 3 : 5 : 3
 - 4. 3 : 10 : 3

Question ID : 8161612290
Status : Answered
Chosen Option : 2

Q.7 यदि 35 संख्याओं का औसत 22 है, पहली 17 संख्याओं का औसत 19 है, और अंतिम 17 संख्याओं का औसत 20 है, तो 18वीं संख्या ज्ञात करें।

- Ans
- 1. 107
 - 2. 133
 - 3. 132
 - 4. 108

Question ID : 8161612286
Status : Answered
Chosen Option : 1

Q.8 व्यंजक $3x^2 - 5x - 8$ के गुणखंड ज्ञात कीजिए।

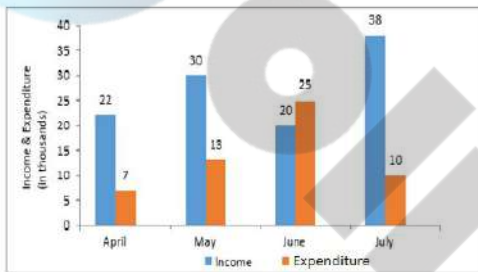
- Ans
- 1. $(x + 1)$ और $(3x - 8)$
 - 2. $(x - 1)$ और $(3x + 8)$
 - 3. $(x - 1)$ और $(3x - 8)$
 - 4. $(x + 1)$ और $(3x + 8)$

Question ID : 8161612297

Status : Answered

Chosen Option : 1

Q.9 नीचे दिया गया बार ग्राफ, लगातार चार महीनों, अप्रैल से जुलाई, 2019 के दौरान किसी व्यक्ति की आय और व्यय को दर्शाता है।



उस व्यक्ति का औसत व्यय (Expenditure) कितना है?

- Ans
- 1. ₹13,750
 - 2. ₹17,520
 - 3. ₹15,570
 - 4. ₹17,250

Question ID : 8161612305

Status : Answered

Chosen Option : 1

Q.10 यदि $a + b = 10$ और ab का $\frac{3}{7} = 9$ है, तो $a^3 + b^3$ का मान ज्ञात करें।

- Ans
- 1. 370
 - 2. 270
 - 3. 350
 - 4. 360

Question ID : 8161612296

Status : Answered

Chosen Option : 1

Q.11 यदि $\tan x = \frac{m}{n}$ और $0^\circ \leq x \leq 90^\circ$, तो $(\sin x + \cos x)$ का मान ज्ञात करें।

Ans

1. $\frac{1}{\sqrt{m^2 - n^2}}$

2. $\frac{m+n}{\sqrt{m^2+n^2}}$

3. $\sqrt{m^2 - n^2}$

4. $\frac{1}{\sqrt{m^2+n^2}}$

Question ID : 8161612301

Status : Answered

Chosen Option : 2

Q.12 यदि 2794p561, 9 से विभाज्य है, तो p का मान _____ होगा।

Ans

1. 2

2. 4

3. 0

4. 3

Question ID : 8161612299

Status : Answered

Chosen Option : 1

Q.13 $\frac{\cot x}{1+\operatorname{cosec} x} + \frac{1+\operatorname{cosec} x}{\cot x}$ का मान _____ के बराबर होगा।

Ans

1. $2\sin x$

2. $2\operatorname{cosec} x$

3. $2\sec x$

4. $2\cos x$

Question ID : 8161612302

Status : Answered

Chosen Option : 3

Q.14 यदि $xy = 16$ और $x^2 + y^2 = 32$ है, तो $(x+y)$ का मान ज्ञात कीजिए।

Ans

1. ± 6

2. ± 4

3. ± 8

4. ± 10

Question ID : 8161612298

Status : Answered

Chosen Option : 3

Q.15 यदि रवि एक पुराने स्कूटर को ₹18,000 में बेचता है, तो उसे 10% की हानि होती है। यदि वह इसे 15% का लाभ प्राप्त करने के लिए बेचे, तो उसका विक्रय मूल्य ज्ञात कीजिए।

- Ans
- 1. ₹22,000
 - 2. ₹20,000
 - 3. ₹23,000
 - 4. ₹24,000

Question ID : 8161612289

Status : Answered

Chosen Option : 3

Q.16 किसी $\triangle ABC$ में, DE, BC के समानांतर है जहाँ बिंदु D और E, क्रमशः भुजा AB तथा AC पर हैं और $AD = 4\text{cm}$, $DB = 8\text{ cm}$, $AE = 3\text{ cm}$ है। EC की लम्बाई क्या है?

- Ans
- 1. 7 cm
 - 2. 5 cm
 - 3. 9 cm
 - 4. 6 cm

Question ID : 8161612294

Status : Answered

Chosen Option : 4

Q.17 यदि किसी संख्या का 40%, उसके 60% से 30 कम है, तो उस संख्या का 20% कितना होगा?

- Ans
- 1. 30
 - 2. 40
 - 3. 60
 - 4. 50

Question ID : 8161612288

Status : Answered

Chosen Option : 1

Q.18 \circ केंद्र वाले किसी वृत्त के बाहर स्थित बिंदु A से, दो स्पर्शरेखाएँ AP और AQ खींची जाती हैं। यदि $\angle PAQ = 80^\circ$ है, तो $\angle POQ$ का मान ज्ञात कीजिए।

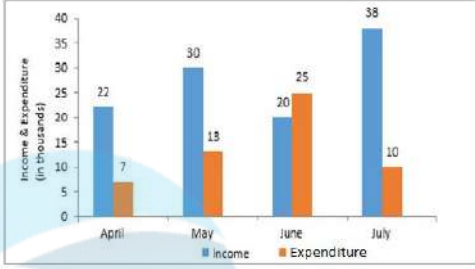
- Ans
- 1. 80°
 - 2. 90°
 - 3. 70°
 - 4. 100°

Question ID : 8161612292

Status : Answered

Chosen Option : 4

Q.19 नीचे दिया गया बार ग्राफ, लगातार चार महीनों, अप्रैल से जुलाई, 2019 के दौरान किसी व्यक्ति की आय और व्यय को दर्शाता है।



उस व्यक्ति की औसत आय (Income) कितनी है?

- Ans
- 1. ₹25,500
 - 2. ₹20,500
 - 3. ₹17,500
 - 4. ₹27,500

Question ID : 8161612304

Status : Answered

Chosen Option : 4

Q.20 नल A, एक टैंक को 6 घंटे में भर सकता है, नल B, उसी टैंक को 8 घंटे में भर सकता है और नल C, उसी टैंक को 4 घंटे में खाली कर सकता है। यदि सभी तीनों नलों A, B और C को एक साथ खोल दिया जाए, तो टैंक को भरने में कितना समय (घंटों में) लगेगा?

- Ans
- 1. 24
 - 2. 20
 - 3. 30
 - 4. 28

Question ID : 8161612283

Status : Answered

Chosen Option : 1

Q.21 यदि $\sin x - \cos x = 0$ है, तो $(\sin^3 x - \cos^3 x)$ का मान ज्ञात कीजिए।

- Ans
- 1. 2
 - 2. 4
 - 3. 0
 - 4. 1

Question ID : 8161612303

Status : Answered

Chosen Option : 3

Q.22 एक पुस्तक का अंकित मूल्य और क्रय मूल्य क्रमशः ₹850 और ₹748 हैं। छूट का प्रतिशत ज्ञात कीजिए।

- Ans
- 1. 10%
 - 2. 15%
 - 3. 8%
 - 4. 12%

Question ID : 8161612287
Status : Answered
Chosen Option : 4

Q.23 यदि एक घनाभ की भुजाओं की माप 8 cm, 6 cm और 10 cm हैं, तो घनाभ का आयतन (cm^3 में) ज्ञात कीजिए।

- Ans
- 1. 540
 - 2. 480
 - 3. 840
 - 4. 680

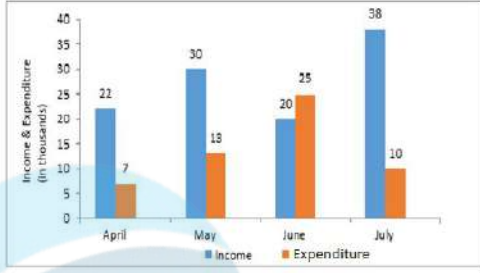
Question ID : 8161612285
Status : Answered
Chosen Option : 2

Q.24 ΔPQR में, भुजाओं PQ और PR के मध्य बिंदु क्रमशः S और T हैं। यदि $\angle QPR = 75^\circ$ और $\angle PRQ = 40^\circ$ हैं, तो $\angle TSQ$ का मान बताइए।

- Ans
- 1. 120°
 - 2. 115°
 - 3. 135°
 - 4. 105°

Question ID : 8161612295
Status : Answered
Chosen Option : 2

Q.25 नीचे दिया गया बार ग्राफ, लगातार चार महीनों, अप्रैल से जुलाई, 2019 के दौरान किसी व्यक्ति की आय और व्यय को दर्शाता है।



उसका कुल व्यय (Expenditure), कुल आय (Income) का कितना प्रतिशत है?

- Ans
- 1. 30%
 - 2. 50%
 - 3. 20%
 - 4. 40%

Question ID : 8161612307

Status : Answered

Chosen Option : 2

Section : General Awareness

Q.1 दिसंबर 2019 में, कौन-सा खिलाड़ी ला लीगा (स्पेनिश क्लब फुटबॉल का शीर्ष स्तर) का पहला भारतीय ब्रांड एंबेसडर बना?

- Ans
- 1. महेंद्र सिंह धोनी
 - 2. सचिन तेंदुलकर
 - 3. विराट कोहली
 - 4. रोहित शर्मा

Question ID : 8161612331

Status : Answered

Chosen Option : 3

Q.2 कौन-सा भारतीय पर्वत विशालकाय पिरामिड जैसा दिखाई देता है और इसका एक समतल शिखर क्षेत्र तथा दो चोटियाँ हैं?

- Ans
- 1. नंदा देवी
 - 2. कामेट पर्वत
 - 3. साल्तोरो कांगड़ी
 - 4. मामोस्तोंग कांगड़ी

Question ID : 8161612322

Status : Not Answered

Chosen Option : -

Q.3 2012 से 2016 तक, किस भारतीय अर्थशास्त्री को विश्व बैंक का मुख्य अर्थशास्त्री नियुक्त किया गया था?

- Ans
- 1. इंद्रप्रसाद गोरधनभाई पटेल
 - 2. जगदीश भगवती
 - 3. रघुराम राजन
 - 4. कौशिक बसु

Question ID : 8161612316
Status : Not Answered
Chosen Option : -

Q.4 भारतीय राष्ट्रीय कांग्रेस ने लाहौर अधिवेशन में 'पूर्ण स्वराज' (पूर्ण स्वतंत्रता) का प्रस्ताव किस तिथि को पारित किया था?

- Ans
- 1. 21 दिसंबर 1929
 - 2. 19 दिसंबर 1929
 - 3. 15 दिसंबर 1929
 - 4. 26 दिसंबर 1929

Question ID : 8161612325
Status : Not Answered
Chosen Option : -

Q.5 2011 की जनगणना के अनुसार, भारत का सबसे कम आबादी वाला राज्य कौन-सा है?

- Ans
- 1. केरल
 - 2. तमिलनाडु
 - 3. ओडिशा
 - 4. सिक्किम

Question ID : 8161612320
Status : Answered
Chosen Option : 4

Q.6 निम्नलिखित में से कौन-सा मंदिर वास्तुकला की पंचायतन शैली में निर्मित है?

- Ans
- 1. बृहदेश्वर मंदिर
 - 2. दशावतार मंदिर
 - 3. सूर्य मंदिर
 - 4. काशी विश्वनाथ मंदिर

Question ID : 8161612311
Status : Not Answered
Chosen Option : -

Q.7 मोतीलाल नेहरू (अध्यक्ष) एवं आठ अन्य कांग्रेस नेताओं ने भारत के संविधान का प्रारूप किस वर्ष तैयार किया था?

- Ans
- 1. 1925
 - 2. 1928
 - 3. 1930
 - 4. 1950

Question ID : 8161612328
Status : Answered
Chosen Option : 4

Q.8 भारत में पहला एनालॉग कंप्यूटर किसने अभिकल्पित (डिज़ाइन) किया था?

- Ans
- 1. देव कुमार बोस
 - 2. सुबोध चंद्र दासगुप्ता
 - 3. बिमल कुमार भट्टाचार्य
 - 4. समरेंद्र कुमार मित्रा

Question ID : 8161612309
Status : Not Answered
Chosen Option : -

Q.9 29 दिसंबर 2019 को झारखंड के 11वें मुख्यमंत्री के रूप में किसने शपथ ली थी?

- Ans
- 1. आलमगीर आलम
 - 2. शिवू सोरेन
 - 3. रघुबर दास
 - 4. हेमंत सोरेन

Question ID : 8161612312
Status : Answered
Chosen Option : 4

Q.10 निम्नलिखित प्रमुख नेताओं में से किस ने 'सिटिज़न दिल्ली: माई लाइफ़, माई टाइम्स' पुस्तक लिखी है?

- Ans
- 1. अरुण जेटली
 - 2. अरविंद केजरीवाल
 - 3. हर्षवर्धन
 - 4. शीला दीक्षित

Question ID : 8161612326
Status : Answered
Chosen Option : 2

Q.11 कौन-सा ग्रह, सल्फ्यूरिक एसिड के घने सफ़ेद और पीले बादलों से बना है?

- Ans
- 1. अरुण ग्रह (यूरेनस)
 - 2. नेपच्यून
 - 3. शुक्र ग्रह
 - 4. मंगल ग्रह

Question ID : 8161612318
Status : Answered
Chosen Option : 1

Q.12 निम्नलिखित में से किस स्मारक को भारतीय भूवैज्ञानिक सर्वेक्षण (GSI) द्वारा राष्ट्रीय भू-विरासत स्मारक के रूप में अधिसूचित नहीं किया गया है?

- Ans
- 1. नोमिरा, ओडिशा के पिलो लावा में लोह खनिज पट्टी
 - 2. तमिलनाडु के विल्लुपुरम ज़िले का जिंजी दुर्ग
 - 3. प्रायद्वीपीय नीस लालबासा, कर्नाटक
 - 4. पुंगरो, नागालैंड के पास नागाहिल ओफ़ियोलाइट स्थल

Question ID : 8161612323
Status : Not Answered
Chosen Option : -

Q.13 किस वैज्ञानिक ने तत्वों की आवर्त सारणी को परमाणु द्रव्यमानों के बढ़ते क्रम में व्यवस्थित किया था?

- Ans
- 1. रॉबर्ट बॉयल
 - 2. हेनरी मोसेली
 - 3. दिमित्री मेंडेलीव
 - 4. विलियम रामसे

Question ID : 8161612319
Status : Answered
Chosen Option : 3

Q.14 कौन-सा उपकरण, भूकंप के दौरान सतह पर पहुँचने वाली तरंगों को मापता है?

- Ans
- 1. सीस्मोग्राफ़
 - 2. मैनोमीटर
 - 3. बैरोग्राफ़
 - 4. क्रोनोमीटर

Question ID : 8161612321
Status : Answered
Chosen Option : 1

Q.15 फ़रवरी 2019 में, भारत के किस पूर्व बैडमिंटन खिलाड़ी को 'स्पोर्ट्स स्टार लाइफ़टाइम अचीवमेंट अवॉर्ड' से सम्मानित किया गया था?

- Ans
- 1. प्रकाश पादुकोण
 - 2. सनवे थॉमस
 - 3. पुलेला गोपीचंद
 - 4. चेतन आनंद

Question ID : 8161612332
Status : Not Answered
Chosen Option : -

Q.16 भारत के संविधान के अनुच्छेद 49 में क्या प्रावधान है?

- Ans
- 1. अंतरराष्ट्रीय शांति एवं सुरक्षा को बढ़ावा देना
 - 2. बच्चों के लिए निशुल्क एवं अनिवार्य शिक्षा का प्रावधान
 - 3. स्मारकों एवं स्थानों तथा प्राकृतिक महत्व की वस्तुओं का संरक्षण
 - 4. कारखानों और खदानों में बच्चों के रोज़गार (14 वर्ष से कम आयु) का निषेध

Question ID : 8161612329
Status : Answered
Chosen Option : 4

Q.17 'ऑइल ऑफ विट्रिओल' ('Oil of vitriol') का रासायनिक नाम क्या है?

- Ans
- 1. मिथाइल एल्कोहल
 - 2. कैल्शियम हाइड्रॉक्साइड
 - 3. सल्फ़्यूरिक एसिड
 - 4. सोडियम क्लोराइड

Question ID : 8161612317
Status : Not Answered
Chosen Option : -

Q.18 'ग्लोबल फ़ायरपॉवर नेशंस इंडेक्स 2019' के अनुसार, सैन्य शक्ति के रूप में भारत का विश्व में कौन सा स्थान था?

- Ans
- 1. 9वाँ
 - 2. 5वाँ
 - 3. 3रा
 - 4. 4था

Question ID : 8161612314
Status : Answered
Chosen Option : 4

Q.19 DASD में 'A' का पूर्ण रूप क्या है?

- Ans 1. ऐक्सेस (Access)
 2. एराउंड (Around)
 3. ऐक्सेसिबल (Accessible)
 4. एरिथ्मेटिक (Arithmetic)

Question ID : 8161612308
Status : Answered
Chosen Option : 4

Q.20 दिसंबर 2019 को किस देश के प्रधानमंत्री ने प्रति वर्ष दिए जाने वाले 'गांधी नागरिकता शिक्षा पुरस्कार' आरंभ करने की घोषणा की थी।

- Ans 1. भूटान
 2. पुर्तगाल
 3. जापान
 4. फ्रांस

Question ID : 8161612313
Status : Not Answered
Chosen Option : -

Q.21 कौन-सा त्योहार तिब्बती नव वर्ष के आरंभ का प्रतीक है?

- Ans 1. सागा दावा त्योहार
 2. लोसर त्योहार
 3. ओंगकोर त्योहार
 4. शॉटन त्योहार

Question ID : 8161612310
Status : Not Answered
Chosen Option : -

Q.22 निम्नलिखित में से कौन सा युग्म सुमेलित नहीं है?

- Ans 1. एयरपोर्ट अथॉरिटी ऑफ़ इंडिया - नवरत्न
 2. इंडियन ऑयल कॉर्पोरेशन लिमिटेड - महारत्न
 3. हिंदुस्तान एयरोनॉटिक्स लिमिटेड - नवरत्न
 4. भारत संचार निगम लिमिटेड - मिनीरत्न

Question ID : 8161612315
Status : Not Answered
Chosen Option : -

Q.23 मुगल दरबार के वृत्तांत किस भाषा में लिखे गए थे?

- Ans
- 1. संस्कृत
 - 2. फ़ारसी
 - 3. उर्दू
 - 4. हिंदी

Question ID : 8161612324
Status : Answered
Chosen Option : 2

Q.24 'राजीव गांधी खेल रत्न पुरस्कार' की स्थापना कब की गई थी?

- Ans
- 1. 1991-92
 - 2. 1985-86
 - 3. 2002-03
 - 4. 1993-94

Question ID : 8161612330
Status : Answered
Chosen Option : 1

Q.25 राजस्थान में बाल विवाह उन्मूलन के लिए कार्य करने हेतु कौन बाल अधिकार कार्यकर्त्री 'चेजमेकर अवॉर्ड 2019' (बिल एंड मेलिंडा गेट्स फ़ाउंडेशन द्वारा दिया जाने वाला) प्राप्त करने वाली प्रथम भारतीय बनीं?

- Ans
- 1. आयुषी ढोलकिया
 - 2. रिद्धिमा पांडेय
 - 3. पायल जांगिड़
 - 4. कंचन उपाध्याय

Question ID : 8161612327
Status : Not Answered
Chosen Option : -

Roll Number	
Candidate Name	
Venue Name	
Exam Date	14/10/2020
Exam Time	10:00 AM - 11:00 AM
Subject	CHSL Tier 1

Section : English Language (Basic Knowledge)

Q.1 Select the most appropriate option to substitute the underlined segment in the given sentence. If there is no need to substitute it, select No improvement.

Gitanjali did not had school yesterday because it was a second Saturday.

- Ans
- 1. does not have
 - 2. No improvement
 - 3. did not have
 - 4. was not having

Question ID : 8161612345
Status : Answered
Chosen Option : 1

Q.2 Select the most appropriate word to fill in the blank.

Around one hundred _____ across the world participated in the conference.

- Ans
- 1. delegates
 - 2. talents
 - 3. clever
 - 4. intelligent

Question ID : 8161612357
Status : Answered
Chosen Option : 1

Q.3 Select the option that expresses the given sentence in direct speech.

Bharati told Rakesh to call her when he reached there.

- Ans
- 1. "Call me when you reach there", Bharati told Rakesh.
 - 2. "Call her when you have reached here", Bharati told Rakesh.
 - 3. "Call me when you reached there", Bharati says to Rakesh.
 - 4. "Call him when you are reaching there", Bharati told Rakesh.

Question ID : 8161612334
Status : Answered
Chosen Option : 3

Q.4 Select the most appropriate meaning of the underlined idiom in the given sentence.

To restart his cash-strapped company he decided to apply for a bank loan.

- Ans
- 1. expanding
 - 2. impoverished
 - 3. improving
 - 4. expensive

Question ID : 8161612349
Status : Not Answered
Chosen Option : --

Comprehension:

In the following passage some words have been deleted. Fill in the blanks with the help of the alternatives given. Select the most appropriate option for each blank.

Champaner-Pavagadh Archaeological Park, a UNESCO World Heritage Site, is located in Panchmahal district in Gujarat, India. (1)_____ is situated near the historical (2)_____ of Champaner, a city which was founded by Vanraj Chavda, the (3)_____ prominent king of the Chavda Dynasty, in the 8th century. He named it (4)_____ the name of his friend and general Champa, also known later as Champaraj. The heritage site is dotted with forts with bastions ranging (5)_____ the hills of Pavagadh, and extending into the city of Champaner.

SubQuestion No : 5

Q.5 Select the most appropriate option to fill in blank number 1.

- Ans
- 1. That
 - 2. They
 - 3. It
 - 4. Which

Question ID : 8161612338
Status : Answered
Chosen Option : 4

Comprehension:

In the following passage some words have been deleted. Fill in the blanks with the help of the alternatives given. Select the most appropriate option for each blank.

Champaner-Pavagadh Archaeological Park, a UNESCO World Heritage Site, is located in Panchmahal district in Gujarat, India. (1)_____ is situated near the historical (2)_____ of Champaner, a city which was founded by Vanraj Chavda, the (3)_____ prominent king of the Chavda Dynasty, in the 8th century. He named it (4)_____ the name of his friend and general Champa, also known later as Champaraj. The heritage site is dotted with forts with bastions ranging (5)_____ the hills of Pavagadh, and extending into the city of Champaner.

SubQuestion No : 6

Q.6 Select the most appropriate option to fill in blank number 2.

- Ans
- 1. tower
 - 2. garden
 - 3. city
 - 4. fort

Question ID : 8161612339
Status : Answered
Chosen Option : 3

Comprehension:

In the following passage some words have been deleted. Fill in the blanks with the help of the alternatives given. Select the most appropriate option for each blank.

Champaner-Pavagadh Archaeological Park, a UNESCO World Heritage Site, is located in Panchmahal district in Gujarat, India. (1)_____ is situated near the historical (2)_____ of Champaner, a city which was founded by Vanraj Chavda, the (3)_____ prominent king of the Chavda Dynasty, in the 8th century. He named it (4)_____ the name of his friend and general Champa, also known later as Champaraj. The heritage site is dotted with forts with bastions ranging (5)_____ the hills of Pavagadh, and extending into the city of Champaner.

SubQuestion No : 7

Q.7 Select the most appropriate option to fill in blank number 3.

- Ans
- 1. more
 - 2. main
 - 3. chief
 - 4. most

Question ID : 8161612340

Status : Answered

Chosen Option : 4

Comprehension:

In the following passage some words have been deleted. Fill in the blanks with the help of the alternatives given. Select the most appropriate option for each blank.

Champaner-Pavagadh Archaeological Park, a UNESCO World Heritage Site, is located in Panchmahal district in Gujarat, India. (1)_____ is situated near the historical (2)_____ of Champaner, a city which was founded by Vanraj Chavda, the (3)_____ prominent king of the Chavda Dynasty, in the 8th century. He named it (4)_____ the name of his friend and general Champa, also known later as Champaraj. The heritage site is dotted with forts with bastions ranging (5)_____ the hills of Pavagadh, and extending into the city of Champaner.

SubQuestion No : 8

Q.8 Select the most appropriate option to fill in blank number 4.

- Ans
- 1. from
 - 2. on
 - 3. at
 - 4. after

Question ID : 8161612341

Status : Answered

Chosen Option : 3

Comprehension:

In the following passage some words have been deleted. Fill in the blanks with the help of the alternatives given. Select the most appropriate option for each blank.

Champaner-Pavagadh Archaeological Park, a UNESCO World Heritage Site, is located in Panchmahal district in Gujarat, India. (1)_____ is situated near the historical (2)_____ of Champaner, a city which was founded by Vanraj Chavda, the (3)_____ prominent king of the Chavda Dynasty, in the 8th century. He named it (4)_____ the name of his friend and general Champa, also known later as Champaraj. The heritage site is dotted with forts with bastions ranging (5)_____ the hills of Pavagadh, and extending into the city of Champaner.

SubQuestion No : 9

Q.9 Select the most appropriate option to fill in blank number 5.

- Ans
- 1. to
 - 2. above
 - 3. from
 - 4. away

Question ID : 8161612342

Status : Not Answered

Chosen Option : --

Q.10 Select the word which means the same as the group of words given.

A person who is blamed for something that someone else has done

- Ans
- 1. Competitor
 - 2. Enemy
 - 3. Opponent
 - 4. Scapegoat

Question ID : 8161612353

Status : Answered

Chosen Option : 3

Q.11 Select the most appropriate ANTONYM of the given word.

NEAT

- Ans
- 1. Messy
 - 2. Clear
 - 3. Sharp
 - 4. Strong

Question ID : 8161612347

Status : Answered

Chosen Option : 1

Q.12 Identify the segment in the sentence, which contains the grammatical error.

Yesterday I searched in every my cupboard for the shirt I couldn't find.

- Ans
- 1. I couldn't find
 - 2. in every my cupboard
 - 3. for the shirt
 - 4. Yesterday I searched

Question ID : 8161612336
Status : Answered
Chosen Option : 2

Q.13 Select the correctly spelt word.

- Ans
- 1. Witness
 - 2. Wisdum
 - 3. Wimper
 - 4. Welth

Question ID : 8161612351
Status : Answered
Chosen Option : 1

Q.14 Select the most appropriate option to fill in the blank.

According to experts, some sectors remain _____ during these difficult times, including banking and financial services, FMCG, food and technology.

- Ans
- 1. repugnant
 - 2. resilient
 - 3. redundant
 - 4. repentant

Question ID : 8161612358
Status : Not Answered
Chosen Option : --

Q.15 Select the most appropriate synonym of the given word.

AURA

- Ans
- 1. Colour
 - 2. Shriek
 - 3. Halo
 - 4. Noise

Question ID : 8161612355
Status : Not Answered
Chosen Option : --

Q.16 Given below are four jumbled sentences. Out of the given options pick the one that gives their correct order.

A. According to the EPR, the corporation expects such manufacturers to develop a collect back system for plastic waste.

B. The Municipal Corporation has introduced the extended producers responsibility (EPR) for producers and generators of plastic waste.

C. The producers are persons engaged in manufacture, or import of carry bags, multi-layered packaging and sheets, and persons using them.

D. They must formulate a plan to collect re-usable waste generated from their products within a prescribed timeframe.

- Ans
- 1. ACBD
 - 2. DBCA
 - 3. CADB
 - 4. BCAD

Question ID : 8161612344

Status : Not Answered

Chosen Option : --

Q.17 Identify the segment in the sentence, which contains the grammatical error.

Despite of her tiredness Meera went into the kitchen to make some dinner for the children.

- Ans
- 1. for the children
 - 2. Meera went into the kitchen
 - 3. to make some dinner
 - 4. Despite of her tiredness

Question ID : 8161612335

Status : Answered

Chosen Option : 2

Q.18 Select the most appropriate option to substitute the underlined segment in the given sentence. If there is no need to substitute it, select No improvement.

The firing of the missile not only killed innocent persons and also created political furore.

- Ans
- 1. not only kill innocent persons and also
 - 2. not only killed innocent persons but also
 - 3. No improvement
 - 4. but killed innocent person and also

Question ID : 8161612346

Status : Answered

Chosen Option : 2

Q.19 Select the most appropriate meaning of the idiom.

Pull yourself together

- Ans
- 1. Talk about fitness
 - 2. Be friendly with everyone
 - 3. Use a rope ladder
 - 4. Regain composure

Question ID : 8161612350
Status : Answered
Chosen Option : 4

Q.20 Given below are four jumbled sentences. Out of the given options pick the one that gives their correct order.

- A. Then he would give one leap, two leaps, through the snow, and sit up again on his hind legs and look all around.
- B. A grey hare lived in the woods near a village.
- C. Then he would prick up the other, jerk his whiskers, snuff, and sit up on his hind legs.
- D. During the winter, when night came, he would prick up one ear and listen.

- Ans
- 1. BCDA
 - 2. CDBA
 - 3. ABCD
 - 4. BDCA

Question ID : 8161612343
Status : Not Answered
Chosen Option : --

Q.21 Select the word which means the same as the group of words given.

Act of giving up the throne

- Ans
- 1. Abdication
 - 2. Renunciation
 - 3. Resignation
 - 4. Abandonment

Question ID : 8161612354
Status : Not Answered
Chosen Option : --

Q.22 Select the most appropriate synonym of the given word.

MANDIBLE

- Ans
- 1. Human
 - 2. Praise
 - 3. Glory
 - 4. Jaw

Question ID : 8161612356
Status : Answered
Chosen Option : 2

Q.23 Select the **INCORRECTLY** spelt word.

- Ans 1. Tumulttous
 2. Trousseau
 3. Belligerent
 4. Pharmaceutical

Question ID : 8161612352
Status : Answered
Chosen Option : 3

Q.24 Select the most appropriate **ANTONYM** of the given word.

RESPONSIBLE

- Ans 1. irresponsible
 2. illresponsible
 3. disresponsible
 4. unresponsible

Question ID : 8161612348
Status : Answered
Chosen Option : 1

Q.25 Select the option that expresses the given sentence in passive voice.

Sujata shared the results of her experiment with her colleagues.

- Ans 1. The results of her experiment can be shared with her colleagues by Sujata.
 2. The results of her experiment were shared with her colleagues by Sujata.
 3. The results of her experiment are being shared with her colleagues by Sujata.
 4. Her colleagues shared the results of her experiment with Sujata.

Question ID : 8161612333
Status : Answered
Chosen Option : 2

Section : General Intelligence

Q.1 दिए गए शब्दों को एक तार्किक और सार्थक क्रम में व्यवस्थित करने वाले सही विकल्प का चयन करें।

1. डेसी
2. मिली
3. किलो
4. हेक्टो
5. सेंटी
6. डेका

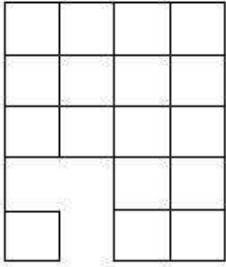
- Ans
- 1. 4, 3, 5, 1, 2, 6
 - 2. 2, 5, 1, 6, 4, 3
 - 3. 1, 2, 6, 5, 4, 3
 - 4. 2, 1, 5, 6, 4, 3

Question ID : 8161612366

Status : Answered

Chosen Option : 4

Q.2 निम्न आकृति में कितने वर्ग हैं?



- Ans
- 1. 25
 - 2. 26
 - 3. 27
 - 4. 28

Question ID : 8161612379

Status : Not Answered

Chosen Option : --

Q.3 यदि '+' का अर्थ 'से भाग देना' है, '-' का अर्थ 'में जोड़ना' है, '×' का अर्थ 'से घटाना' है और '÷' का अर्थ 'से गुणा करना' है, तो निम्नलिखित व्यंजक का मान क्या होगा?

$$[[(12 \times 8) - (2 \div 3)] + (3 - 2)] \div 2$$

- Ans
- 1. 4
 - 2. 5
 - 3. 12
 - 4. 3

Question ID : 8161612360

Status : Not Answered

Chosen Option : --

Q.4 एक पासे में उसके आसन्न फलकों पर 1, 2, 3, और 4 डॉट्स दक्षिणावर्त क्रम में अंकित हैं तथा 5 और 6 डॉट्स क्रमशः इसके शीर्ष और सबसे निचले तल पर अंकित हैं। यदि डॉट संख्या 1 इसके सबसे ऊपर वाले फलक पर आ जाए, उस स्थिति में सबसे निचले फलक पर कितने डॉट्स होंगे?



- Ans
- 1. 3
 - 2. 6
 - 3. 4
 - 4. 2

Question ID : 8161612377
Status : Not Answered
Chosen Option : --

Q.5 एक निश्चित कूटभाषा में, यदि 'BURMUD' को 'RKHCKT' लिखा जाता है, तो 'ANGLE' को उसी कूटभाषा में क्या लिखा जाएगा?

- Ans
- 1. QDWBU
 - 2. PCVAT
 - 3. REXCV
 - 4. HOPLY

[Click Here](#)

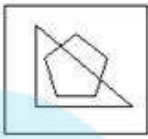
Question ID : 8161612367
Status : Answered
Chosen Option : 1

Q.6 निम्न में से किस विकल्प में दी गई आकृति अंतर्निहित है? (आकृति को घुमाने की अनुमति नहीं है)



Ans

✓ 1.



✗ 2.



✗ 3.



✗ 4.

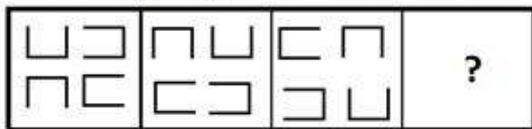


Question ID : 8161612380

Status : Answered

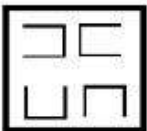
Chosen Option : 1

Q.7 निम्न आकृति-श्रृंखला में आगे आनेवाली आकृति का चयन करें।



Ans

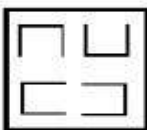
✓ 1.



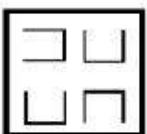
✗ 2.



✗ 3.



✗ 4.



Question ID : 8161612378

Status : Answered

Chosen Option : 1

Q.8 निम्नलिखित वर्गों के बीच संबंध का सर्वोत्तम निरूपण करनेवाले वेन आरेख का चयन करें।
बहर्ने, माताएं, पुरुष।

Ans



Question ID : 8161612383

Status : Answered

Chosen Option : 3

Q.9 नीचे चार अक्षर-समूह दिए गए हैं, इनमें से तीन किसी प्रकार संगत हैं जब कि एक अक्षर-समूह असंगत है। उस असंगत अक्षर-समूह का चयन करें।

Ans

- ✓ 1. CGF
✗ 2. QTP
✗ 3. MPL
✗ 4. DGC

Question ID : 8161612374

Status : Answered

Chosen Option : 1

Q.10 यदि '+' का अर्थ '-' है, 'x' का अर्थ '+' है, '-' का अर्थ '=' है और '=' का अर्थ 'x' है, तो निम्नलिखित व्यंजक का मान क्या होगा?

$$18 + 3 - 5 \times 6 + 4$$

Ans

- ✗ 1. 15.5
✓ 2. 32
✗ 3. 30
✗ 4. 13.5

Question ID : 8161612362

Status : Answered

Chosen Option : 2

Q.11 यदि A, B की माँ है, X, Y का पिता है, H, J का भाई है, L, Y के पिता का भाई है, B, L की बहन है और J, A का पति है। तो J का Y से क्या संबंध है?

- Ans
- 1. दादा
 - 2. दामाद
 - 3. भतीजा
 - 4. बेटा

Question ID : 8161612372
Status : Answered
Chosen Option : 4

Q.12 दिए गए कथनों और निष्कर्षों को ध्यान से पढ़ें। यह मानते हुए कि कथनों में दी गई जानकारी सही है, भले ही वह आमतौर पर स्थापित तथ्यों से भिन्न दिखाई देती हो, यह निर्णय लें कि कौनसा/से निष्कर्ष तर्क संगत रूप से इन कथनों का अनुसरण करता/करते है/हैं।

कथन:

1. कोई भी मक्खन जैम नहीं है।
2. केला मक्खन है।

निष्कर्ष:

- I. केला जैम नहीं है।
- II. केला जैम हो भी सकता है या नहीं भी हो सकता है।

- Ans
- 1. केवल निष्कर्ष I अनुसरण करता है।
 - 2. केवल निष्कर्ष II अनुसरण करता है।
 - 3. निष्कर्ष I और निष्कर्ष II दोनों अनुसरण करते हैं।
 - 4. न तो निष्कर्ष I और न ही निष्कर्ष II अनुसरण करता है।

Question ID : 8161612376
Status : Answered
Chosen Option : 1

Q.13 चार संख्या-युग्म दिए गए हैं, जिनमें से तीन किसी प्रकार से संगत हैं, और एक संख्या-युग्म असंगत है। उस असंगत संख्या-युग्म का चयन करें।

- Ans
- 1. 16 - 30
 - 2. 13 - 16
 - 3. 32 - 45
 - 4. 12 - 15

Question ID : 8161612365
Status : Answered
Chosen Option : 1

Q.14 उस शब्द-युग्म का चयन करें, जिसमें शब्दों के बीच वही संबंध है, जो संबंध दिए गए शब्द-युग्म के शब्दों के बीच है।

मंदिर : चर्च

Ans

- ✓ 1. महाविद्यालय : विश्वविद्यालय
✗ 2. विश्वविद्यालय : छात्र
✗ 3. होटल : कार्यालय
✗ 4. महाविद्यालय : नाटकघर

Question ID : 8161612370

Status : Answered

Chosen Option : 1

Q.15 उस संख्या-युग्म का चयन करें जिसमें दी गई संख्याओं का आपस में वही संबंध है, जो नीचे दिए गए संख्या-युग्म की संख्याओं में है।

44 : 408

Ans

- ✗ 1. 82 : 740
✓ 2. 53 : 489
✗ 3. 61 : 549
✗ 4. 77 : 715

Question ID : 8161612361

Status : Answered

Chosen Option : 4

Q.16 दिए गए पैटर्न का ध्यानपूर्वक अध्ययन करें और उस संख्या का चयन करें जो इस में प्रश्न-चिह्न (?) के स्थान पर आ सकती है।

6 4 100

7 5 144

9 ? 169

Ans

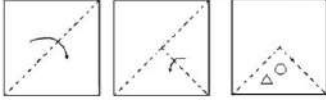
- ✓ 1. 4
✗ 2. 7
✗ 3. 3
✗ 4. 6

Question ID : 8161612363

Status : Answered

Chosen Option : 1

Q.17 दी गई आकृतियों में कागज़ के एक टुकड़े को मोड़ने का क्रम और मोड़े हुए कागज़ को काटने की विधि दर्शायी गई है। कागज़ को पुनः खोलने पर यह कैसा दिखाई देगा?



Ans

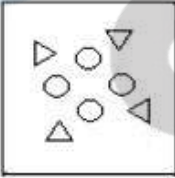
✗ 1.



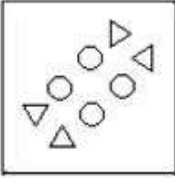
✓ 2.



✗ 3.



✗ 4.



Question ID : 8161612381

Status : Not Answered

Chosen Option : --

Q.18 नीचे चार शब्द दिए गए हैं, इनमें से तीन किसी प्रकार संगत हैं जब कि एक शब्द असंगत है। उस असंगत शब्द का चयन करें।

Ans

✗ 1. कुल्हाड़ी

✗ 2. माइक्रोस्कोप

✗ 3. बंदूक

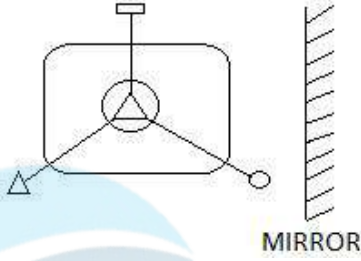
✓ 4. आवाज बढ़ाना

Question ID : 8161612375

Status : Answered

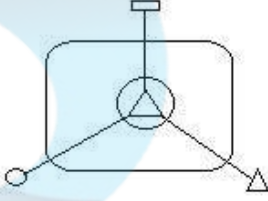
Chosen Option : 4

Q.19 दी गई आकृति के सही दर्पण प्रतिबिंब का चयन करें।

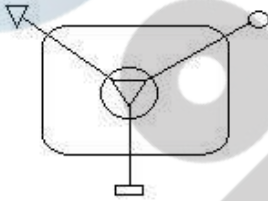


Ans

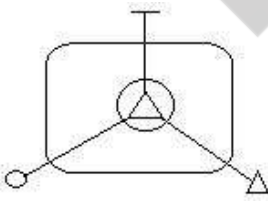
✓ 1.



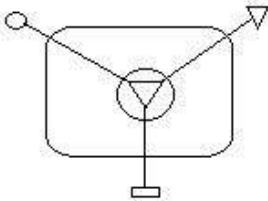
✗ 2.



✗ 3.



✗ 4.



Question ID : 8161612382

Status : Answered

Chosen Option : 1

Q.20 उस शब्द-युग्म का चयन करें जिसके दोनों शब्द आपस में उसी प्रकार संबंधित हैं जिस प्रकार प्रश्न में दिए गए शब्द-युग्म के शब्द संबंधित हैं।
कागज़ : लुगदी

Ans

✗ 1. नाशपाती : फल

✗ 2. सड़क : लेटेक्स

✓ 3. लिनेन : पटसन

✗ 4. पंखा : ब्लेड

Question ID : 8161612373

Status : Answered

Chosen Option : 3

Q.21 एक निश्चित कूटभाषा में, यदि O = 20 और LIT = 46 है, तो उसी कूटभाषा में PIG को किस प्रकार कूटबद्ध किया जाएगा?

- Ans
- 1. 41
 - 2. 37
 - 3. 53
 - 4. 46

Question ID : 8161612368

Status : Answered

Chosen Option : 2

Q.22 उस संख्या का चयन करें जो निम्नलिखित श्रेणी में प्रश्न चिह्न (?) के स्थान पर आ सकती है।
216, ?, 64, 27, 8

- Ans
- 1. 144
 - 2. 169
 - 3. 121
 - 4. 125

Question ID : 8161612364

Status : Answered

Chosen Option : 4

Q.23 उस विकल्प का चयन करें, जो तीसरे अक्षर-समूह से उसी प्रकार से संबंधित है, जिस प्रकार से दूसरा अक्षर-समूह, पहले अक्षर-समूह से संबंधित है।
TALP : UXQO :: DUXR : ?

- Ans
- 1. FSDR
 - 2. ESBQ
 - 3. ERCQ
 - 4. FQBP

Question ID : 8161612369

Status : Answered

Chosen Option : 3

Q.24 अक्षरों के उस संयोजन का चयन करें जो निम्न अक्षर श्रृंखला में दिए गए रिक्त स्थानों में क्रमिक रूप से रखे जाने पर श्रृंखला को पूरा करेगा।

_ k _ mmk _ ikiim _ ki _ i _ mkk

- Ans
- 1. iikmkkim
 - 2. kiikmkkik
 - 3. miikmkiim
 - 4. iikimimmk

Question ID : 8161612371

Status : Answered

Chosen Option : 1

Q.25

- Ans 1.
 2.
 3.
 4.

Question ID : 8161612359
Status : Answered
Chosen Option : 1

Section : Quantitative Aptitude(Basic Arithmetic Skill)

Q.1

- Ans 1.
 2.
 3.
 4.

Question ID : 8161612396
Status : Answered
Chosen Option : 2

Q.2

- Ans 1.
 2.
 3.
 4.

Question ID : 8161612389
Status : Answered
Chosen Option : 4

Q.3

- Ans 1.
 2.
 3.
 4.

Question ID : 8161612397
Status : Answered
Chosen Option : 3

Q.4

- Ans
- 1.
 - 2.
 - 3.
 - 4.

Question ID : 8161612407
Status : Answered
Chosen Option : 2

Q.5

- Ans
- 1.
 - 2.
 - 3.
 - 4.

Question ID : 8161612394
Status : Answered
Chosen Option : 1

Q.6

- Ans
- 1.
 - 2.
 - 3.
 - 4.

Question ID : 8161612403
Status : Answered
Chosen Option : 3

Q.7

- Ans
- 1.
 - 2.
 - 3.
 - 4.

Question ID : 8161612398
Status : Answered
Chosen Option : 1

Q.8

- Ans
- 1.
 - 2.
 - 3.
 - 4.

Question ID : 8161612401
Status : Answered
Chosen Option : 2

Q.9

- Ans
- 1.
 - 2.
 - 3.
 - 4.

Question ID : 8161612393
Status : Answered
Chosen Option : 4

Q.10

- Ans
- 1.
 - 2.
 - 3.
 - 4.

Question ID : 8161612404
Status : Not Answered
Chosen Option : --

Q.11

- Ans
- 1.
 - 2.
 - 3.
 - 4.

Question ID : 8161612386
Status : Answered
Chosen Option : 1

Q.12

- Ans
- 1.
 - 2.
 - 3.
 - 4.

Question ID : 8161612406
Status : Answered
Chosen Option : 2

Q.13

- Ans
- 1.
 - 2.
 - 3.
 - 4.

Question ID : 8161612385
Status : Answered
Chosen Option : 1

Q.14

- Ans
- 1.
 - 2.
 - 3.
 - 4.

Question ID : 8161612399
Status : Answered
Chosen Option : 1

Q.15

- Ans
- 1.
 - 2.
 - 3.
 - 4.

Question ID : 8161612408
Status : Not Answered
Chosen Option : --

Q.16

- Ans
- 1.
 - 2.
 - 3.
 - 4.

Question ID : 8161612391
Status : Answered
Chosen Option : 4

Q.17

- Ans
- 1.
 - 2.
 - 3.
 - 4.

Question ID : 8161612400
Status : Answered
Chosen Option : 2

Q.18

- Ans
- 1.
 - 2.
 - 3.
 - 4.

Question ID : 8161612390
Status : Answered
Chosen Option : 2

Q.19

- Ans
- 1.
 - 2.
 - 3.
 - 4.

Question ID : 8161612384
Status : Answered
Chosen Option : 3

Q.20

- Ans 1.
 2.
 3.
 4.

Question ID : 8161612392
Status : Answered
Chosen Option : 2

Q.21

- Ans 1.
 2.
 3.
 4.

Question ID : 8161612388
Status : Answered
Chosen Option : 2

Q.22

- Ans 1.
 2.
 3.
 4.

Question ID : 8161612395
Status : Answered
Chosen Option : 4

Q.23

- Ans 1.
 2.
 3.
 4.

Question ID : 8161612387
Status : Answered
Chosen Option : 1

Q.24

- Ans
- 1.
 - 2.
 - 3.
 - 4.

Question ID : 8161612402
Status : Answered
Chosen Option : 2

Q.25

- Ans
- 1.
 - 2.
 - 3.
 - 4.

Question ID : 8161612405
Status : Answered
Chosen Option : 3

Section : General Awareness

Q.1 निम्नलिखित में से कौन-सा एक उपकरण है, जिसे कंप्यूटर मॉनीटर या उसी तरह के डिस्प्ले स्क्रीन पर इमेज की गति को नियंत्रित करने के लिए कई दिशाओं में घुमाया जा सकता है?

- Ans
- 1. ऑप्टिकल मार्क रीडर
 - 2. जॉयस्टिक
 - 3. विजुअल डिस्प्ले यूनिट
 - 4. एमआईडीआई डिवाइस (MIDI Devices)

Question ID : 8161612409
Status : Not Answered
Chosen Option : --

Q.2 किसने अपनी पुस्तक 'सेलेस्टियल बॉडीज' के लिए '2019 मैन बुकर अंतरराष्ट्रीय पुरस्कार' जीता?

- Ans
- 1. जोख अलर्थी
 - 2. एना बर्न्स
 - 3. सलमान रुश्दी
 - 4. अरुंधति राय

Question ID : 8161612428
Status : Answered
Chosen Option : 1

Q.3 निम्नलिखित में से कौन बिजली का अच्छा चालक नहीं है?

- Ans
- 1. ब्रोमीन
 - 2. ग्रेफाइट
 - 3. चांदी
 - 4. तांबा

Question ID : 8161612420
Status : Answered
Chosen Option : 1

Q.4 लाखों साल पहले, भारतीय उपमहाद्वीप मुख्य भूमि से अलग हो गया था। इसे किस महासागर के नाम से जाना जाता है?

- Ans
- 1. प्रोमिथियस (Prometheus)
 - 2. टाइफॉन (Typhon)
 - 3. एजीना (Aegina)
 - 4. टेथिस (Tethys)

Question ID : 8161612421
Status : Answered
Chosen Option : 4

Q.5 1938 और 1939 में, किसे भारतीय राष्ट्रीय कांग्रेस के अध्यक्ष के रूप में चुना गया था?

- Ans
- 1. सी. राजगोपालाचारी
 - 2. सुभाष चंद्र बोस
 - 3. राजेन्द्र प्रसाद
 - 4. एनी बेसेंट

Question ID : 8161612426
Status : Answered
Chosen Option : 1

Q.6 निम्नलिखित में से किसने जनवरी 2020 में भारत और ऑस्ट्रेलिया के बीच खेले गई तीन मैचों की एकदिवसीय अंतरराष्ट्रीय (ODI) श्रृंखला के निर्णायक तीसरे एकदिवसीय मैच में 'मैन-ऑफ-द-मैच' पुरस्कार जीता?

- Ans
- 1. स्टीवन स्मिथ
 - 2. डेविड वार्नर
 - 3. विराट कोहली
 - 4. रोहित शर्मा

Question ID : 8161612432
Status : Answered
Chosen Option : 4

Q.7 निम्नलिखित में से कौन-सा भारतीय राज्य है जिसकी सीमा नेपाल से नहीं लगती है?

- Ans
- 1. पश्चिम बंगाल
 - 2. उत्तराखंड
 - 3. असम
 - 4. सिक्किम

Question ID : 8161612424
Status : Answered
Chosen Option : 3

Q.8 किस देश के प्रधानमंत्री ने 15 जनवरी 2020 को अपने देश के राष्ट्रपति द्वारा संवैधानिक सुधारों के लिए आमंत्रण के बाद, अपने मंत्रिमंडल के साथ अपने पद से इस्तीफा दे दिया?

- Ans
- 1. चीन
 - 2. रूस
 - 3. इटली
 - 4. श्रीलंका

Question ID : 8161612415
Status : Answered
Chosen Option : 2

Q.9 किस रक्त समूह को 'सर्व-ग्राही' कहा जाता है?

- Ans
- 1. AB+
 - 2. O-
 - 3. O+
 - 4. A+

Question ID : 8161612418
Status : Answered
Chosen Option : 3

Q.10 'मोहीनीअट्टम', एक पारंपरिक नृत्य है। इस नृत्य की उत्पत्ति भारत के किस राज्य में हुई थी?

- Ans
- 1. केरल
 - 2. असम
 - 3. पश्चिम बंगाल
 - 4. आंध्र प्रदेश

Question ID : 8161612411
Status : Answered
Chosen Option : 1

Q.11 निम्नलिखित में से किसे महाभियोग की प्रक्रिया द्वारा हटाया जा सकता है?

- Ans
- 1. भारत के राज्यपाल
 - 2. भारत के मुख्यमंत्री
 - 3. भारत के प्रधानमंत्री
 - 4. भारत के राष्ट्रपति

Question ID : 8161612429
Status : Answered
Chosen Option : 4

Q.12 देशभक्ति गीत 'सारे जहां से अच्छा' के रचयिता कौन हैं?

- Ans
- 1. बिस्मिल अज़ीमाबादी
 - 2. बंकिम चंद्र चटर्जी
 - 3. अल्लामा मोहम्मद इकबाल
 - 4. रविंद्रनाथ टैगोर

Question ID : 8161612412
Status : Not Answered
Chosen Option : --

Q.13 जून 2019 में, किस टीम ने 'एफआईएच (FIH) श्रृंखला का फ़ाइनल हॉकी टूर्नामेंट' जीता?

- Ans
- 1. स्पेन
 - 2. जर्मनी
 - 3. पाकिस्तान
 - 4. भारत

Question ID : 8161612431
Status : Not Answered
Chosen Option : --

Q.14 निम्नलिखित में से वह कौन-सी आर्थिक प्रणाली है, जिसमें पूंजीगत वस्तुओं का स्वामित्व निजी व्यक्तियों या व्यवसायों के पास होता है और वस्तुओं और सेवाओं का उत्पादन सामान्य बाजार में आपूर्ति और मांग पर आधारित होता है?

- Ans
- 1. राज्य अर्थव्यवस्था
 - 2. पूंजीवादी अर्थव्यवस्था
 - 3. मिश्रित अर्थव्यवस्था
 - 4. साम्यवादी अर्थव्यवस्था

Question ID : 8161612416
Status : Not Answered
Chosen Option : --

Q.15 किसे 'बीबीसी स्पोर्ट्स पर्सनैलिटी ऑफ द ईयर 2019' पुरस्कार से सम्मानित किया गया?

- Ans
- 1. केन विलियमसन
 - 2. कीलियान एम्बाप्प
 - 3. वैन रूनी
 - 4. बेन स्टोक्स

Question ID : 8161612427
Status : Answered
Chosen Option : 1

Q.16 निम्नलिखित में से कौन-सा कथन यौगिकों के बारे में सही नहीं है?

- Ans
- 1. यौगिक में पदार्थों की मात्रा का संयोजन अनिश्चित होता है।
 - 2. घटकों को केवल रासायनिक या विद्युत रासायनिक अभिक्रियाओं से ही अलग किया जा सकता है।
 - 3. प्रत्येक नए पदार्थ की रचना हमेशा निर्धारित होती है।
 - 4. तत्व नए यौगिक बनाने के लिए अभिक्रिया करते हैं।

Question ID : 8161612419
Status : Answered
Chosen Option : 3

Q.17 'हेनले पासपोर्ट सूचकांक 2020' के अनुसार, किस देश के पास दुनिया का सबसे शक्तिशाली पासपोर्ट है?

- Ans
- 1. यूनाइटेड किंगडम
 - 2. जापान
 - 3. संयुक्त राज्य अमेरिका
 - 4. चीन

Question ID : 8161612414
Status : Answered
Chosen Option : 2

Q.18 जनवरी 2020 तक की स्थिति के अनुसार, निम्नलिखित में से भारत के मुख्य चुनाव आयुक्त कौन थे?

- Ans
- 1. एच.एस. ब्रह्मा
 - 2. सुनील अरोड़ा
 - 3. ओम प्रकाश रावत
 - 4. वी.एस. संपत

Question ID : 8161612413
Status : Answered
Chosen Option : 2

Q.19 निम्नलिखित में से कौन-सी परत हमारे वायुमंडल की ऊपरी सीमा है, जो थर्मोस्फीयर के ऊपर से लेकर 10,000 कि.मी. (6,200 मील) तक फैली हुई है?

- Ans
- 1. आयनमंडल (आयनोस्फेयर)
 - 2. मध्यमंडल (मेसोस्फेयर)
 - 3. बाह्यमंडल (एक्सोस्फेयर)
 - 4. क्षोभमंडल (ट्रोपोस्फेयर)

Question ID : 8161612423
Status : Answered
Chosen Option : 1

Q.20 राम नाथ कोविंद ने 25 जुलाई 2017 को भारत के _____ राष्ट्रपति के रूप में पद ग्रहण किया था।

- Ans
- 1. 14वें
 - 2. 15वें
 - 3. 13वें
 - 4. 12वें

Question ID : 8161612430
Status : Answered
Chosen Option : 1

Q.21 निम्नलिखित में से कौन एक भारतीय भारोत्तोलक (weightlifter) नहीं है?

- Ans
- 1. दीपिका पल्लीकल
 - 2. मीराबाई चानू
 - 3. कर्णम मल्लेश्वरी
 - 4. राखी हलदर

Question ID : 8161612433
Status : Answered
Chosen Option : 4

Q.22 निम्नलिखित में से कौन-सा एनालॉग सूचनाओं को डिजिटल रूप में बदलता है?

- Ans
- 1. गेमपैड
 - 2. बारकोड रीडर
 - 3. डिजिटाइज़र
 - 4. ऑप्टिकल मार्क रीडिंग

Question ID : 8161612410
Status : Not Answered
Chosen Option : --

Q.23 महात्मा गांधी ने किस वर्ष चंपारण सत्याग्रह का आरंभ किया था?

- Ans
- 1. 1927
 - 2. 1922
 - 3. 1917
 - 4. 1914

Question ID : 8161612425
Status : Answered
Chosen Option : 3

Q.24 निम्नलिखित में से कौन 'निवल राष्ट्रीय आय' को बेहतर तरीके से परिभाषित करता है?

- Ans
- 1. GNP + Depreciation (जी.एन.पी.+मूल्यहास)
 - 2. GNP – Depreciation (जी.एन.पी.-मूल्यहास)
 - 3. NDP – Depreciation (एन.डी.पी.-मूल्यहास)
 - 4. GDP – Depreciation (जी.डी.पी.-मूल्यहास)

Question ID : 8161612417
Status : Not Answered
Chosen Option : --

Q.25 निम्नलिखित में से किस हिमालयी क्षेत्र को 'शिवालिक' के नाम से जाना जाता है?

- Ans
- 1. आंतरिक हिमालय
 - 2. मध्य हिमालय
 - 3. महान हिमालय
 - 4. बाह्य हिमालय

Question ID : 8161612422
Status : Answered
Chosen Option : 2

Roll Number	
Candidate Name	
Venue Name	
Exam Date	14/10/2020
Exam Time	1:00 PM - 2:00 PM
Subject	CHSL Tier 1

Section : English Language (Basic Knowledge)

Q.1 Given below are four jumbled sentences. Out of the given options pick the one that gives their correct order.

- A. It is also very sad that ill-treatment is meted out to one of your gifts, and everyone indulges in excess!"
B. "I can't take it anymore," he complained. "People abuse me and exploit me, and there is no respect for me – no realisation that I am your prasadam to men!
C. An ancient story tells us that the God of Food came before the Divine Presence, battered, exhausted, and downcast.
D. The Lord smiled and said to him, "Those who abuse you and indulge in excess are destroying themselves."

- Ans 1. CBAD
 2. CABD
 3. ACDB
 4. BADC

Question ID : 424429517
Status : Not Answered
Chosen Option : –

Q.2 Select the INCORRECTLY spelt word.

- Ans 1. Separate
 2. Symphony
 3. Marriage
 4. Intriging

Question ID : 424429525
Status : Not Answered
Chosen Option : –

Q.3 Select the correct passive form of the given sentence.

I use baking soda to remove stains from my clothes.

- Ans 1. I have been using baking soda to remove stains from my clothes.
 2. Baking soda was used by me to remove stains from my clothes.
 3. Baking soda is being used by me to remove stains from my clothes.
 4. Baking soda is used by me to remove stains from my clothes.

Question ID : 424429506
Status : Answered
Chosen Option : 3

Q.4 Select the correct indirect form of the given sentence.

Aanya said, "I've made a rose and honey vanilla dessert for you."

- Ans
- 1. Aanya told me that she would make a rose and honey vanilla dessert for her.
 - 2. Aanya told me that she is making a rose and honey vanilla dessert for me.
 - 3. Aanya told me that she had made a rose and honey vanilla dessert for me.
 - 4. Aanya said to me that she was making a rose and honey vanilla dessert for me.

Question ID : 424429507

Status : Answered

Chosen Option : 3

Comprehension:

In the following passage some words have been deleted. Fill in the blanks with the help of the alternatives given. Select the most appropriate option for each blank.

One fireman died while 14 others had a narrow escape when a part of the factory-cum-outlet of a well-known battery (1)_____ firm where they were battling a major (2)_____ collapsed following a series of sudden explosions in west Delhi. The brave fireman who had joined the department last year and got married (3)_____, was buried under a pile of debris following explosions which were (4)_____ by a compressor burst. The fireman died due to (5)_____ bleeding and smoke inhalation. It took firemen five hours to pull his body out of the debris.

SubQuestion No : 5

Q.5 Select the most appropriate option for blank number 1.

- Ans
- 1. manufactures
 - 2. manufacturable
 - 3. manufacturing
 - 4. manufactured

Question ID : 424429511

Status : Answered

Chosen Option : 3

Comprehension:

In the following passage some words have been deleted. Fill in the blanks with the help of the alternatives given. Select the most appropriate option for each blank.

One fireman died while 14 others had a narrow escape when a part of the factory-cum-outlet of a well-known battery (1)_____ firm where they were battling a major (2)_____ collapsed following a series of sudden explosions in west Delhi. The brave fireman who had joined the department last year and got married (3)_____, was buried under a pile of debris following explosions which were (4)_____ by a compressor burst. The fireman died due to (5)_____ bleeding and smoke inhalation. It took firemen five hours to pull his body out of the debris.

SubQuestion No : 6

Q.6 Select the most appropriate option for blank number 2.

- Ans
- 1. blaze
 - 2. fracture
 - 3. trouble
 - 4. ruin

Question ID : 424429512

Status : Answered

Chosen Option : 3

Comprehension:

In the following passage some words have been deleted. Fill in the blanks with the help of the alternatives given. Select the most appropriate option for each blank.

One fireman died while 14 others had a narrow escape when a part of the factory-cum-outlet of a well-known battery (1)_____ firm where they were battling a major (2)_____ collapsed following a series of sudden explosions in west Delhi. The brave fireman who had joined the department last year and got married (3)_____, was buried under a pile of debris following explosions which were (4)_____ by a compressor burst. The fireman died due to (5)_____ bleeding and smoke inhalation. It took firemen five hours to pull his body out of the debris.

SubQuestion No : 7

Q.7 Select the most appropriate option for blank number 3.

- Ans
- 1. recently
 - 2. evidently
 - 3. eventually
 - 4. generously

Question ID : 424429513

Status : Answered

Chosen Option : 3

Comprehension:

In the following passage some words have been deleted. Fill in the blanks with the help of the alternatives given. Select the most appropriate option for each blank.

One fireman died while 14 others had a narrow escape when a part of the factory-cum-outlet of a well-known battery (1)_____ firm where they were battling a major (2)_____ collapsed following a series of sudden explosions in west Delhi. The brave fireman who had joined the department last year and got married (3)_____, was buried under a pile of debris following explosions which were (4)_____ by a compressor burst. The fireman died due to (5)_____ bleeding and smoke inhalation. It took firemen five hours to pull his body out of the debris.

SubQuestion No : 8

Q.8 Select the most appropriate option for blank number 4.

- Ans
- 1. amazed
 - 2. advocated
 - 3. horrified
 - 4. triggered

Question ID : 424429514

Status : Answered

Chosen Option : 4

Comprehension:

In the following passage some words have been deleted. Fill in the blanks with the help of the alternatives given. Select the most appropriate option for each blank.

One fireman died while 14 others had a narrow escape when a part of the factory-cum-outlet of a well-known battery (1)_____ firm where they were battling a major (2)_____ collapsed following a series of sudden explosions in west Delhi. The brave fireman who had joined the department last year and got married (3)_____, was buried under a pile of debris following explosions which were (4)_____ by a compressor burst. The fireman died due to (5)_____ bleeding and smoke inhalation. It took firemen five hours to pull his body out of the debris.

SubQuestion No : 9

Q.9 Select the most appropriate option for blank number 5.

- Ans
- 1. lavish
 - 2. towering
 - 3. excessive
 - 4. exorbitant

Question ID : 424429515
Status : Answered
Chosen Option : 3

Q.10 Select the most appropriate synonym of the given word.

PREJUDICE

- Ans
- 1. Tolerance
 - 2. Advantage
 - 3. Bias
 - 4. Justice

Question ID : 424429528
Status : Answered
Chosen Option : 3

Q.11 Select the INCORRECTLY spelt word.

- Ans
- 1. Allegation
 - 2. Disapprove
 - 3. Permanent
 - 4. Grammer

Question ID : 424429524
Status : Answered
Chosen Option : 4

Q.12 Select the most appropriate meaning of the given idiom.

Add insult to injury

- Ans
- 1. Hurt someone physically
 - 2. Say words that are very offensive
 - 3. Play a prank on someone
 - 4. Make a bad situation even worse

Question ID : 424429522
Status : Answered
Chosen Option : 4

Q.13 Select the most appropriate option to substitute the underlined segment in the given sentence. If there is no need to substitute it, select 'No improvement'.

She is quite capable of looking after herself, aren't she?

- Ans
- 1. wasn't she
 - 2. No improvement
 - 3. isn't she
 - 4. won't she

Question ID : 424429518
Status : Answered
Chosen Option : 3

Q.14 Given below are four jumbled sentences. Pick the option that gives their correct order.

- A. When we wish to achieve something, we cannot expect success in a moment.
- B. It is the same with any great achievement.
- C. It took several years to build Rome and bring it to the state of glory.
- D. Rome, the greatest city of ancient world was not built in a short time.

- Ans
- 1. CDAB
 - 2. BACD
 - 3. DCBA
 - 4. ABCD

Question ID : 424429516
Status : Answered
Chosen Option : 3

Q.15 In the given sentence, identify the segment which contains the grammatical error.

The performance of our players is worst than I had expected.

- Ans
- 1. The performance
 - 2. our players
 - 3. I had
 - 4. worst than

Question ID : 424429508
Status : Not Answered
Chosen Option : -

Q.16 Select the most appropriate meaning of the given idiom.

Jump on the bandwagon

- Ans
- 1. Do an activity that is fun
 - 2. Get engaged in an activity that is very important
 - 3. Do something because circumstances force you to
 - 4. Get involved in an activity because it is likely to succeed

Question ID : 424429523
Status : Answered
Chosen Option : 4

Q.17 Select the most appropriate synonym of the given word.

PERSECUTION

- Ans
- 1. Oppression
 - 2. Perfection
 - 3. Stimulation
 - 4. Affliction

Question ID : 424429529
Status : Answered
Chosen Option : 1

Q.18 Select the most appropriate word to fill in the blank.

The scientist, who is known for his _____ ideas on space travel, is much admired.

- Ans
- 1. anarchist
 - 2. revolutionary
 - 3. ridiculous
 - 4. malicious

Question ID : 424429530
Status : Answered
Chosen Option : 2

Q.19 In the given sentence, identify the segment which contains the grammatical error.

A panel has been formed to look within the security needs of college students.

- Ans
- 1. of college students
 - 2. to look within
 - 3. has been formed
 - 4. the security needs

Question ID : 424429509
Status : Answered
Chosen Option : 2

Q.20 Select the most appropriate word to fill in the blank.

I found the scene of some people making fun of a beggar quite _____.

- Ans
- 1. repulsive
 - 2. destructive
 - 3. sociable
 - 4. admirable

Question ID : 424429531
Status : Answered
Chosen Option : 1

Q.21 Select the word which means the same as the group of words given.

Movement of people or animals from one area to another

- Ans
- 1. Migration
 - 2. Diversification
 - 3. Acclimatisation
 - 4. Population

Question ID : 424429526
Status : Answered
Chosen Option : 1

Q.22 Select the most appropriate ANTONYM of the given word.

PROVOKE

- Ans
- 1. Stimulate
 - 2. Encourage
 - 3. Appease
 - 4. Beckon

Question ID : 424429521
Status : Answered
Chosen Option : 4

Q.23 Select the most appropriate ANTONYM of the given word.

DISAPPROVE

- Ans
- 1. Oppose
 - 2. Commend
 - 3. Refuse
 - 4. Neglect

Question ID : 424429520
Status : Answered
Chosen Option : 2

Q.24 Select the most appropriate option to substitute the underlined segment in the given sentence. If there is no need to substitute it, select 'No improvement'.

Doctors at the AIIMS Trauma Centre managed to save the life of 12 year old archer Shivangini, whose were struck by an arrow in the neck during a practice session.

- Ans
- 1. No improvement
 - 2. who was striked
 - 3. which was struck
 - 4. who was struck

Question ID : 424429519
Status : Answered
Chosen Option : 2

Q.25 Select the word which means the same as the group of words given.

One who tells future from the stars

- Ans
- 1. Miser
 - 2. Personification
 - 3. Astrologer
 - 4. Philanthropist

Question ID : 424429527
Status : Answered
Chosen Option : 3

Section : General Intelligence

Q.1 दी गई आकृति के दर्पण प्रतिबिंब का चयन करें जब दर्पण को आकृति के दाईं ओर रखा जाए।



Ans

✓ 1.



✗ 2.



✗ 3.



✗ 4.



Question ID : 424429555

Status : Answered

Chosen Option : 1

Q.2 उस विकल्प का चयन करें, जिसका तीसरे पद से वही संबंध है, जो दूसरे पद का पहले पद से है।

JUST : IWPX :: AWAY : ?

Ans

✗ 1.

WYAA

✗ 2.

AAYW

✗ 3.

AYWC

✓ 4.

ZYXC

Question ID : 424429542

Status : Not Answered

Chosen Option : -

Q.3 उस विकल्प का चयन करें, जिसमें दी गई प्रश्न-आकृति अंतर्निहित है। (घुमाने की अनुमति नहीं है)



Ans

1.



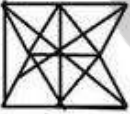
2.



3.



4.



Question ID : 424429553

Status : Answered

Chosen Option : 2

Q.4 एक किराने की दुकान में सब्जियों की संख्या फलों की संख्या से तीन गुनी है। निम्नलिखित में से कौन सी संख्या दुकान में फलों और सब्जियों की कुल संख्या का सही निरूपण करती है?

Ans 1. 42

2. 60

3. 39

4. 50

Question ID : 424429532

Status : Answered

Chosen Option : 2

Q.5 चार अक्षर-समूह दिए गए हैं, जिनमें से तीन किसी न किसी तरह से संगत हैं और एक असंगत है। उस असंगत अक्षर-समूह का चयन करें।

Ans 1. AMANA

2. EVOLV

3. OMANI

4. UGALI

Question ID : 424429547

Status : Answered

Chosen Option : 2

Q.6 उस आकृति का चयन करें, जो दी गई आकृति श्रृंखला में अगले क्रम पर आएगी।



Ans

✗ 1.



✗ 2.



✗ 3.



✓ 4.



Question ID : 424429551

Status : Answered

Chosen Option : 4

Q.7 किसी निश्चित कूट भाषा में, SITUATION को 133 और RIGHT को 67 लिखा जाता है। उसी भाषा में CONSTITUTION को क्या लिखा जाएगा?

Ans

✗ 1. 167

✓ 2. 184

✗ 3. 132

✗ 4. 179

Question ID : 424429541

Status : Answered

Chosen Option : 2

Q.8 निम्नलिखित श्रेणी में प्रश्न-चिह्न(?) के स्थान पर आने वाली संख्या का चयन करें।

8, 11, 15, 23, 40, 73, ?

- Ans
- 1. 93
 - 2. 131
 - 3. 113
 - 4. 122

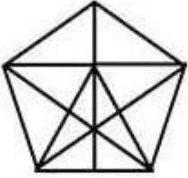
Question ID : 424429537
Status : Not Answered
Chosen Option : -

Q.9 शिखा का परिचय कराते हुए अरविंद ने कहा, "इनकी माँ की इकलौती बेटी, मेरे बेटे की पत्नी है"। अरविंद का शिखा से क्या संबंध है?

- Ans
- 1. माँ
 - 2. चाचा
 - 3. पिता
 - 4. ससुर

Question ID : 424429545
Status : Answered
Chosen Option : 4

Q.10 दी गई आकृति में कितने त्रिभुज हैं?



- Ans
- 1. 27
 - 2. 38
 - 3. 25
 - 4. 20

Question ID : 424429552
Status : Answered
Chosen Option : 2

Q.11 निम्नलिखित श्रेणी में प्रश्न-चिह्न(?) के स्थान पर आने वाली संख्या का चयन करें।

8, 17, 9, 19, 10, 21, ?, ?

Ans 1. 11, 24

2. 11, 23

3. 11, 22

4. 10, 23

Question ID : 424429534

Status : Answered

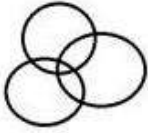
Chosen Option : 2

Q.12 उस वेन आरेख का चयन करें, जो दिए गए वर्गों के बीच के संबंध को सर्वोत्तम ढंग से दर्शाता है।

पशु, गायें, कुत्ते

Ans

1. 

2. 

3. 

4. 

Question ID : 424429556

Status : Answered

Chosen Option : 1

Q.13 चार शब्द दिए गए हैं, जिनमें से तीन किसी न किसी तरह से संगत हैं और एक असंगत है। उस असंगत शब्द का चयन करें।

Ans

1. ओएस्टर (Oyster)

2. कॉड (Cod)

3. सालमन (Salmon)

4. शार्क (Shark)

Question ID : 424429548

Status : Answered

Chosen Option : 1

Q.14 दिए गए कथनों और निष्कर्षों को ध्यान से पढ़ें। यह मानते हुए कि कथनों में दी गई जानकारी सही है, भले ही वह आम तौर पर स्थापित तथ्यों से भिन्न लगती हो, तब कीजिए कि कौन सा/से निष्कर्ष तर्कसंगत रूप से इन कथनों का अनुसरण करता है / करते हैं।

कथन:

- I. कुछ पुस्तकें, मेजें हैं।
- II. सभी मेजें, कुर्सियाँ हैं।

निष्कर्ष:

- I. सभी पुस्तकें, कुर्सियाँ हैं।
- II. कुछ पुस्तकें, कुर्सियाँ हैं।
- III. कुछ मेजें, पुस्तकें हैं।
- IV. सभी कुर्सियाँ, पुस्तकें हैं।

- Ans
1. केवल निष्कर्ष II, III और IV अनुसरण करते हैं।
 2. केवल निष्कर्ष I और IV अनुसरण करते हैं।
 3. केवल निष्कर्ष II और III अनुसरण करते हैं।
 4. केवल निष्कर्ष I अनुसरण करता है।

Question ID : 424429549

Status : Answered

Chosen Option : 3

Q.15 अक्षरों के उस संयोजन का चयन करें, जिसके अक्षरों को दी गई अक्षर-श्रृंखला में रिक्त स्थानों पर क्रमिक रूप से भरे जाने पर श्रृंखला पूरी हो जाएगी।

a _ ccde _ _ bc _ _ eaabc _ _ aabc _ _ ee

- Ans
1. abbaacdeecdecd
 2. acbdecdeaacecd
 3. abcdecdeecdeaa
 4. abeaacdeecdecd

Question ID : 424429544

Status : Answered

Chosen Option : 4

Q.16 किसी निश्चित कूट भाषा में, 'LIFE' को 'MOGI' लिखा जाता है। उसी भाषा में 'SOUP' को क्या लिखा जाएगा?

- Ans
1. TUOQ
 2. TATU
 3. TUVO
 4. TUAQ

Question ID : 424429540

Status : Answered

Chosen Option : 4

Q.17 उस शब्द-युग्म का चयन करें, जिसमें दो शब्दों का आपस में वही संबंध है, जो नीचे दिए गए शब्द-युग्म के शब्दों के बीच है।

भेड़ : झुंड

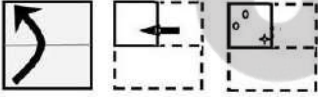
- Ans
- 1. आदमी : मानव
 - 2. मछली : समूह
 - 3. शहर : जिला
 - 4. नदी : समुद्र

Question ID : 424429546

Status : Answered

Chosen Option : 3

Q.18 नीचे दी गई आकृतियों में कागज के एक टुकड़े को मोड़ने का क्रम और काटने की विधि को दिखाया गया है। यह कागज खोलने पर कैसा दिखाई देगा?



Ans

- 1.
- 2.
- 3.
- 4.

Question ID : 424429554

Status : Answered

Chosen Option : 2

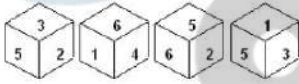
Q.19 उस विकल्प का चयन करें, जिसमें समुच्चय की संख्याओं के बीच परस्पर वही संबंध है, जो नीचे दिए गए समुच्चय की संख्याओं के बीच है।

(2, 41, 7)

- Ans
- 1. (6, 36, 9)
 - 2. (8, 81, 11)
 - 3. (4, 57, 11)
 - 4. (9, 92, 11)

Question ID : 424429536
Status : Not Answered
Chosen Option : -

Q.20 एक ही पासे की चार अलग-अलग स्थितियाँ दिखाई गई हैं। उस संख्या का चयन करें, जो संख्या 5 वाले फलक के विपरीत फलक पर होगी?



- Ans
- 1. 2
 - 2. 1
 - 3. 6
 - 4. 4

Question ID : 424429550
Status : Answered
Chosen Option : 4

Q.21 उस सही विकल्प का चयन करें, जो निम्नलिखित शब्दों को एक तार्किक और अर्थपूर्ण क्रम में व्यवस्थित करता है।

1. कुहनी
2. कंधे
3. आँखें
4. पैर
5. घुटना

- Ans
- 1. 3, 1, 2, 5, 4
 - 2. 5, 4, 3, 1, 2
 - 3. 3, 5, 4, 1, 2
 - 4. 3, 2, 1, 5, 4

Question ID : 424429539
Status : Answered
Chosen Option : 4

Q.22 उस विकल्प का चयन करें, जो तीसरी संख्या से उसी प्रकार संबंधित है, जिस प्रकार दूसरी संख्या पहली संख्या से संबंधित है।

10 : 1010 :: 11 : ?

- Ans
- 1. 131
 - 2. 132
 - 3. 1320
 - 4. 1342

Question ID : 424429535

Status : Answered

Chosen Option : 4

Q.23 निम्नलिखित समीकरण को संतुलित करने के लिए, किन दो चिह्नों को आपस में बदला जाना चाहिए?

$$6 + 7 \times 8 - 21 \div 7 = 47$$

- Ans
- 1. + और ×
 - 2. ÷ और -
 - 3. + और -
 - 4. ÷ और ×

Question ID : 424429533

Status : Answered

Chosen Option : 1

Q.24 उस विकल्प का चयन करें, जिसका चौथे शब्द से वही संबंध है, जो पहले शब्द का दूसरे शब्द से है।

बाघ : बिल्ली :: ? : कुत्ता

- Ans
- 1. तेंदुआ
 - 2. लोमड़ी
 - 3. शेर
 - 4. बनविलाव (Lynx)

Question ID : 424429543

Status : Answered

Chosen Option : 2

Q.25 चार संख्याएँ दी गई हैं, जिनमें से तीन किसी न किसी तरह से संगत हैं और एक असंगत है। उस असंगत संख्या का चयन करें।

Ans 1. 529

2. 8

3. 49

4. 9

Question ID : 424429538

Status : Answered

Chosen Option : 2

Section : Quantitative Aptitude(Basic Arithmetic Skill)

Q.1 यदि A और B न्यून कोण हैं और $\sec A = 3; \cot B = 4$ है, तो $\frac{\operatorname{Cosec}^2 A + \sin^2 B}{\cot^2 A + \sec^2 B}$ का मान ज्ञात कीजिए।

Ans 1. $\frac{25}{261}$

2. $\frac{322}{323}$

3. $\frac{1}{261}$

4. 2

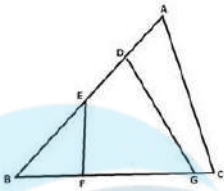
Question ID : 424429575

Status : Not Answered

Chosen Option : -

Q.2 दी गई आकृति में, यदि $AD = 3$, $DE = 4$, $AB = 12$, $BF = 2$, $FG = 6$, $BC = 10$ है, तो $\frac{M}{N}$ का मान ज्ञात कीजिए।

(मान लें: M चतुर्भुज $FGDE$ का क्षेत्रफल है और N त्रिभुज ABC का क्षेत्रफल है।)



Ans

1. $\frac{25}{49}$

2. $\frac{31}{60}$

3. $\frac{1}{3}$

4. $\frac{1}{2}$

Question ID : 424429568

Status : Not Answered

Chosen Option : -

Q.3 $\left[5\frac{4}{9} \div \left(\frac{11}{4} - \frac{13}{6} \right)^2 \right] \div \left[7\frac{3}{11} \text{ of } 8\frac{4}{5} \div 1\frac{5}{7} - \frac{4}{3} \right]^2$ का मान ज्ञात कीजिए।

Ans

1. $\frac{1}{61}$

2. $\frac{1}{81}$

3. $\frac{1}{71}$

4. $\frac{1}{91}$

Question ID : 424429574

Status : Not Answered

Chosen Option : -

Q.4 $5\sqrt{3} + 7\sqrt{2} - \sqrt{6} - \frac{23}{\sqrt{2} + \sqrt{3} + \sqrt{6}}$ का मान ज्ञात कीजिए।

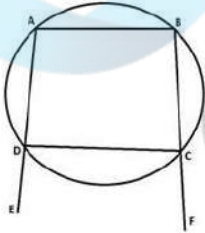
- Ans
- 1. 0
 - 2. 10
 - 3. 12
 - 4. 16

Question ID : 424429572

Status : Not Answered

Chosen Option : -

Q.5 दी गई आकृति में, वृत्त की जीवाओं AD और BC को क्रमशः E और F तक बढ़ाया जाता है।



यदि $\angle CDE = 85^\circ$; $\angle DCF = 94^\circ$ है, तो $\angle ABF + \angle EAB$ का मान ज्ञात कीजिए।

- Ans
- 1. 194°
 - 2. 179°
 - 3. 182°
 - 4. 168°

Question ID : 424429567

Status : Answered

Chosen Option : 2

Q.6 यदि $x + y = 14$; $x^3 + y^3 = 1064$ है, तो $(x - y)^2$ का मान ज्ञात कीजिए।

- Ans
- 1. 100
 - 2. 64
 - 3. 81
 - 4. 36

Question ID : 424429570

Status : Answered

Chosen Option : 4

Q.7 17 क्रमागत संख्याओं का योग 289 है। उन 10 अन्य क्रमागत संख्याओं का योग क्या होगा, जिनकी पहली संख्या पहले समुच्चय की क्रमागत संख्याओं के औसत से 5 अधिक है।

- Ans
- 1. 315
 - 2. 265
 - 3. 300
 - 4. 285

Question ID : 424429560
Status : Not Answered
Chosen Option : -

Q.8 नीचे दिया गया बार ग्राफ चार अलग-अलग कंपनियों A, B, C और D द्वारा एक बस्तु के उत्पादन के आंकड़ों को (हजार टन में) दर्शाता है।



दिए गए पांच वर्षों में, औसत उत्पादन क्रमशः कंपनी _____ में सबसे अधिक है और कंपनी _____ में सबसे कम है।

- Ans
- 1. D; A
 - 2. A; B
 - 3. C; A
 - 4. B; C

Question ID : 424429581
Status : Answered
Chosen Option : 1

Q.9 यदि 27 लोग एक दिन में 8 घंटे काम करते हुए 12 दिनों में एक कार्य को पूरा कर सकते हैं, तो 18 लोग एक दिन में 9 घंटे काम कर के उसी काम को कितने दिनों में पूरा करेंगे?

- Ans
- 1. 15 दिन
 - 2. 20 दिन
 - 3. 16 दिन
 - 4. 18 दिन

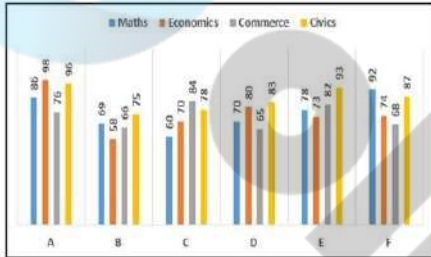
Question ID : 424429557
Status : Answered
Chosen Option : 3

Q.10 यदि $\frac{3^{a+3} \times 4^{a+6} \times 25^{a+1}}{27^{a-1} \times 8^{a-2} \times 125^{a+4}} = \frac{4}{15^{26}}$ है, तो $\sqrt{a+9}$ का मान ज्ञात कीजिए।

- Ans
- 1. 6
 - 2. 5
 - 3. 8
 - 4. 4

Question ID : 424429571
Status : Answered
Chosen Option : 4

Q.11 नीचे दिए गए बार ग्राफ में उल्लिखित विषयों में विद्यार्थियों A, B, C, D, E और F के प्राप्तांक (100 में से) दर्शाए गए हैं।



उक्त जानकारी के अनुसार, किस विषय में केवल 2 विद्यार्थियों ने औसत से अधिक अंक प्राप्त किए हैं?

- Ans
- 1. अर्थशास्त्र (Economics)
 - 2. गणित (Maths)
 - 3. नागरिक शास्त्र (Civics)
 - 4. वाणिज्य (Commerce)

Question ID : 424429579
Status : Not Answered
Chosen Option : -

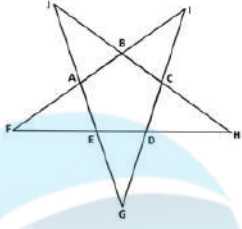
Q.12 यदि $\tan^4 x - \tan^2 x = 1$ है, तो $\sin^4 x + \sin^2 x$ का मान ज्ञात कीजिए।

- Ans
- 1. $\frac{3}{4}$
 - 2. $\frac{3}{2}$
 - 3. $\frac{1}{2}$
 - 4. 1

Question ID : 424429577
Status : Answered
Chosen Option : 4

Q.13 ABCDE एक सम पंचभुज है। इसकी भुजाओं को बढ़ाया जाता है जैसा कि आकृति में दर्शाया गया है।

$\frac{\angle ABC + 2\angle EGD + 3\angle BAJ}{6}$ का मान ज्ञात कीजिए।



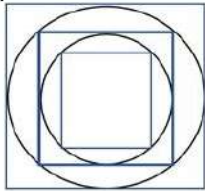
- Ans
- 1. 45°
 - 2. 66°
 - 3. 75°
 - 4. 30°

Question ID : 424429569

Status : Not Answered

Chosen Option : -

Q.14



दी गई आकृति में सबसे बड़े वर्ग के क्षेत्रफल का सबसे छोटे वर्ग के क्षेत्रफल से अनुपात क्या है?

- Ans
- 1. 4 : 1
 - 2. 2 : 1
 - 3. 3 : 1
 - 4. $\sqrt{2} : 1$

Question ID : 424429566

Status : Answered

Chosen Option : 1

Q.15 $1.2\text{m} \times 0.75\text{m}$ के आयताकार पाइप से पानी 15 km/h की दर से $180\text{m} \times 140\text{m}$ के एक टैंक में प्रवाहित होता है। कितने समय में पानी 4m की ऊंचाई तक भर जाएगा?

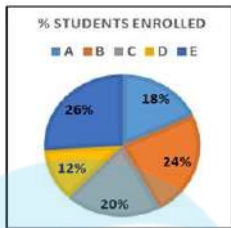
- Ans
- 1. 6 घंटे 42 मिनट
 - 2. 5 घंटे 46 मिनट
 - 3. 7 घंटे 28 मिनट
 - 4. 8 घंटे 12 मिनट

Question ID : 424429559

Status : Not Answered

Chosen Option : -

Q.16 दिए गए पाई चार्ट में एक विश्वविद्यालय में पाठ्यक्रम A, B, C, D और E के लिए नामांकित छात्रों का प्रतिशत दर्शाया गया है और तालिका में कुल नामांकित छात्रों में से उत्तीर्ण होने वाले छात्रों का प्रतिशत दर्शाया गया है।



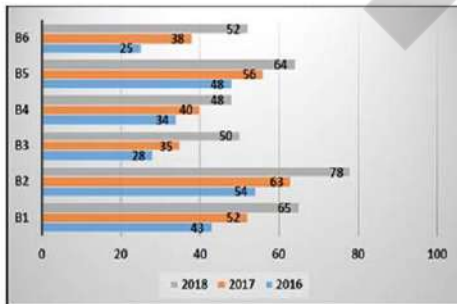
Courses	% passed out
A	76
B	82
C	80
D	90
E	75

यदि छात्रों की कुल संख्या 60000 है, तो पाठ्यक्रम A, C में उत्तीर्ण न होने वाले कुल छात्रों की संख्या ज्ञात कीजिए।

- Ans
- 1. 7628
 - 2. 7852
 - 3. 4992
 - 4. 8254

Question ID : 424429580
Status : Answered
Chosen Option : 3

Q.17 दिए गए ग्राफ में, उल्लिखित वर्षों के दौरान एक बैंक की छः शाखाओं B1, B2, B3, B4, B5 और B6 द्वारा ऋणों पर ब्याज के संग्रह (₹ करोड़ में) के आंकड़े दर्शाए गए हैं।



दी गयी जानकारी के आधार पर, वर्ष 2016 से 2017 तक, किस शाखा द्वारा किए गए संग्रह की दर उच्चतम है?

- Ans
- 1. B6
 - 2. B3
 - 3. B1
 - 4. B4

Question ID : 424429578
Status : Answered
Chosen Option : 1

Q.18 यदि 8-अंकीय संख्या $1a765b12$, 72 से विभाज्य है, तो $(2a + 3b)$ का न्यूनतम मान है।

- Ans
- 1. 9
 - 2. 11
 - 3. 12
 - 4. 10

Question ID : 424429573
Status : Answered
Chosen Option : 2

Q.19 एक ट्रेन 126 km/h की चाल से स्टेशनों P और Q के बीच की दूरी तय करती है, जबकि विपरीत दिशा में यह 90 km/h की चाल से लौटती है। दूसरी ट्रेन, पहली ट्रेन की औसत चाल पर समान दूरी तय करती है। 525 km की दूरी तय करने के लिए दूसरी ट्रेन द्वारा लिया गया समय ज्ञात कीजिए।

- Ans
- 1. 5 घंटे
 - 2. 4 घंटे
 - 3. 4 घंटे 20 मिनट
 - 4. 5 घंटे 20 मिनट

Question ID : 424429558
Status : Not Answered
Chosen Option : -

Q.20 ₹9 प्रति वस्तु के बजाय, ₹12 प्रति वस्तु की दर से बेची गई कुछ वस्तुओं के विक्रय मूल्यों के बीच अंतर ₹150 है। यदि इन वस्तुओं का क्रय मूल्य ₹250 है, तो यदि अर्जित लाभ 20% है, तो 21 वस्तुओं का विक्रय मूल्य ज्ञात करें।

- Ans
- 1. ₹125
 - 2. ₹130
 - 3. ₹136
 - 4. ₹126

Question ID : 424429563
Status : Answered
Chosen Option : 4

Q.21 समीकरण $\frac{A \tan 62^\circ \sec 28^\circ \cot 38^\circ}{\cos 62^\circ \tan 11^\circ} = 1$ सही करने के लिए A का निम्नलिखित में से कौन सा मान उपयुक्त होगा?

Ans

1. $\frac{\tan 38^\circ}{\tan 79^\circ \tan 28^\circ}$
2. $\frac{\tan 38^\circ \tan 79^\circ}{\tan 28^\circ}$
3. $\frac{\tan 28^\circ \tan 79^\circ}{\tan 38^\circ}$
4. $\frac{\tan 28^\circ \tan 38^\circ}{\tan 79^\circ}$

Question ID : 424429576

Status : Not Answered

Chosen Option : -

Q.22 यदि 24% की एकल छूट, 20% और x% की दो क्रमिक छूटों के बराबर है, तो x का मान ज्ञात कीजिए।

Ans

1. 5%
2. 8%
3. 4%
4. 6%

Question ID : 424429561

Status : Answered

Chosen Option : 1

Q.23 ₹18,144 को तीन व्यक्तियों A, B और C में 3 : 5 : 8 के अनुपात में विभाजित करने पर B को प्राप्त धनराशि A की तुलना में कितनी अधिक होगी?

Ans

1. ₹2,268
2. ₹2,178
3. ₹2,464
4. ₹2,386

Question ID : 424429564

Status : Answered

Chosen Option : 1

Q.24 एक व्यक्ति साधारण ब्याज की किसी दर पर एक निश्चित धनराशि ऋण के रूप में लेता है। तीन वर्षों के बाद, ऋण की धनराशि दोगुनी और ब्याज दर 2% कम हो जाती है। 5 वर्षों के बाद, यदि पूरी धनराशि पर दिया गया कुल ब्याज ₹13,600 है, जो उस पहली धनराशि के ब्याज के बराबर है जो $11\frac{1}{2}$ वर्षों के लिए ऋण के रूप में ली गई थी, तो लिए गए आरंभिक ऋण की राशि ज्ञात कीजिए।

- Ans
- 1. ₹12,000
 - 2. ₹10,000
 - 3. ₹12,500
 - 4. ₹13,600

Question ID : 424429565

Status : Not Answered

Chosen Option : -

Q.25 फलों के एक टोकरी में प्रत्येक 25 फलों में से एक फल खराब है। खराब हो चुके फलों का 60% विक्रय हुआ। यदि विक्रेता ने 48 खराब फलों का विक्रय किया, तो टोकरी में फलों की संख्या ज्ञात कीजिए।

- Ans
- 1. 2400
 - 2. 1200
 - 3. 3000
 - 4. 2000

Question ID : 424429562

Status : Answered

Chosen Option : 2

Section : General Awareness

Q.1 टेराकोटा मंदिरों के लिए प्रसिद्ध विष्णुपुर कहाँ स्थित है?

- Ans
- 1. राजस्थान
 - 2. पश्चिम बंगाल
 - 3. असम
 - 4. गुजरात

Question ID : 424429585

Status : Answered

Chosen Option : 2

Q.2 कंप्यूटिंग के संदर्भ में URL का पूर्ण रूप क्या है?

- Ans
- 1. Uniform Resource Locator (यूनिफॉर्म रिसोर्स लोकेटर)
 - 2. Unified Resource Locator (यूनिफाइड रिसोर्स लोकेटर)
 - 3. Undistributed Resource Locator (अनडिस्ट्रीब्यूटेड रिसोर्स लोकेटर)
 - 4. Uniform Region Locator (यूनिफार्म रीजन लोकेटर)

Question ID : 424429583

Status : Answered

Chosen Option : 2

Q.3 निम्नलिखित में से किस टीम ने वर्ष 2018-19 में संतोष ट्रॉफी जीती?

- Ans 1. सर्विसेज
 2. मिज़ोरम
 3. पंजाब
 4. रेलवे

Question ID : 424429605
Status : Answered
Chosen Option : 1

Q.4 'अकबर नामा' किसने लिखा था?

- Ans 1. अमीर खुसरो
 2. बीरबल
 3. अबुल फज़ल
 4. अकबर

Question ID : 424429598
Status : Answered
Chosen Option : 3

Q.5 15 जनवरी 2020 तक प्राप्त जानकारी के अनुसार, ATP रैंकिंग में नंबर एक रैंक पाने वाला पुरुष टेनिस खिलाड़ी कौन था?

- Ans 1. डेनियल मेदवेदेव
 2. रोजर फ़ेडरर
 3. राफ़ेल नडाल
 4. नोवाक जोकोविच

Question ID : 424429606
Status : Answered
Chosen Option : 1

Q.6 निम्नलिखित में से कौन-सी जगह चिकनकारी कढ़ाई के लिए प्रसिद्ध है?

- Ans 1. रायपुर
 2. रांची
 3. लखनऊ
 4. इंदौर

Question ID : 424429584
Status : Answered
Chosen Option : 3

Q.7 निम्नलिखित में क्या रबी की एक फसल है?

- Ans
- 1. ज्वार
 - 2. तुअर
 - 3. बाजरा
 - 4. गेहूँ

Question ID : 424429594
Status : Answered
Chosen Option : 4

Q.8 अक्टूबर 2019 तक प्राप्त जानकारी के अनुसार कितने भारतीय बायोस्फीयर रिजर्व, बायोस्फीयर रिजर्व के यूनेस्को विश्व नेटवर्क में शामिल हैं?

- Ans
- 1. 14
 - 2. 11
 - 3. 9
 - 4. 17

Question ID : 424429597
Status : Answered
Chosen Option : 3

Q.9 भारत में राष्ट्रीय आय का अनुमान तैयार करने का उत्तरदायित्व निम्नलिखित में से किसका है?

- Ans
- 1. IRDA (आई.आर.डी.ए)
 - 2. नीति (NITI) आयोग
 - 3. वित्त आयोग
 - 4. केंद्रीय सांख्यिकी संगठन

Question ID : 424429590
Status : Answered
Chosen Option : 4

Q.10 निम्नलिखित में से कौन-सी तृतीयक आर्थिक गतिविधि है?

- Ans
- 1. बुनाई करना
 - 2. शिकार करना
 - 3. खेती करना
 - 4. व्यापार करना

Question ID : 424429589
Status : Answered
Chosen Option : 4

Q.11 निम्नलिखित में से किस अभिनेत्री ने 'मोशन पिक्चर - ड्रामा में सर्वश्रेष्ठ प्रदर्शन' के लिए 'गोल्डन ग्लोब 2020' पुरस्कार जीता?

- Ans
- 1. बेनी फेल्डस्टीन
 - 2. सिंधिया एरिवो
 - 3. चार्लीज़ थेरॉन
 - 4. रेनी ज़ेल्वेगर

Question ID : 424429588
Status : Answered
Chosen Option : 4

Q.12 निम्नलिखित में कौन-सा दर्रा पीर पंजाल पर्वत श्रृंखला से होकर मनाली और लेह को सड़क मार्ग से जोड़ता है?

- Ans
- 1. बनिहाल दर्रा
 - 2. रोहतांग दर्रा
 - 3. नाथुला दर्रा
 - 4. बरलाचला दर्रा

Question ID : 424429596
Status : Answered
Chosen Option : 4

Q.13 निम्नलिखित में किस इकाई का प्रयोग प्रकाश की तीव्रता मापने के लिए किया जाता है?

- Ans
- 1. कैन्डेला
 - 2. मोल
 - 3. एम्पियर
 - 4. केल्विन

Question ID : 424429592
Status : Answered
Chosen Option : 1

Q.14 14 जनवरी 2020 को उच्चतम न्यायालय में नागरिकता (संशोधन) अधिनियम (CAA) के खिलाफ याचिका दायर करने के लिए केरल सरकार द्वारा भारतीय संविधान के किस अनुच्छेद का प्रयोग किया गया था?

- Ans
- 1. अनुच्छेद 131
 - 2. अनुच्छेद 23
 - 3. अनुच्छेद 368
 - 4. अनुच्छेद 17

Question ID : 424429586
Status : Not Answered
Chosen Option : -

Q.15 जनवरी 2020 में, गोवा में महिला उद्यमिता के लिए यशस्विनी योजना शुरू की गई। इस योजना का उद्देश्य महिला स्वयं सहायता समूहों (SHGs) को _____ तक का ब्याज मुक्त ऋण उपलब्ध कराना है।

- Ans
- 1. ₹ 50 लाख
 - 2. ₹ 1 लाख
 - 3. ₹ 5 लाख
 - 4. ₹ 10 लाख

Question ID : 424429587
Status : Not Answered
Chosen Option : -

Q.16 न्यूट्रॉन की खोज का श्रेय निम्नलिखित में से किसे दिया जाता है?

- Ans
- 1. जे चैडविक
 - 2. ई रदरफोर्ड
 - 3. जेजे थॉमसन
 - 4. जेम्स पी जूल

Question ID : 424429591
Status : Answered
Chosen Option : 1

Q.17 थार रेगिस्तान, जिसे ग्रेट इंडियन डेजर्ट भी कहा जाता है, यह _____ की पहाड़ियों के पश्चिमी सीमांत की ओर स्थित है।

- Ans
- 1. उदगलकल (Udgalakal)
 - 2. जावडी
 - 3. शेवरॉय
 - 4. अरावली

Question ID : 424429595
Status : Answered
Chosen Option : 4

Q.18 नागरिकों को दिया जाना वाला सर्वोच्च भारतीय सम्मान 'भारत रत्न', पाने वाला पहला गैर-भारतीय कौन था?

- Ans
- 1. नेल्सन मंडेला
 - 2. मिखाइल गोर्बाचेव
 - 3. जोसिप ब्रोज़ टीटो
 - 4. अब्दुल ग़फ़ार खान

Question ID : 424429600
Status : Answered
Chosen Option : 4

Q.19 निम्नलिखित में से कौन-सा स्वतंत्रता सेनानी 'काकोरी रेल लूट कांड' में शामिल नहीं था?

- Ans
- 1. चंद्रशेखर आज़ाद
 - 2. राम प्रसाद बिस्मिल
 - 3. भगत सिंह
 - 4. अशफ़ाक़उल्ला ख़ां

Question ID : 424429599
Status : Answered
Chosen Option : 1

Q.20 निम्नलिखित में से किसने वर्ष 2019 में ICC का 'स्परिट ऑफ क्रिकेट अवार्ड' जीता?

- Ans
- 1. फाफ डू प्लेसिस
 - 2. महेन्द्र सिंह धोनी
 - 3. क्रिस गेल
 - 4. विराट कोहली

Question ID : 424429601
Status : Answered
Chosen Option : 4

Q.21 टेलीफोन लाइनों के ज़रिए कंप्यूटर फ़ाइलों को प्राप्त करने और भेजने के लिए, निम्नलिखित में से किसका उपयोग किया जाता है?

- Ans
- 1. फ्लॉपी डिस्क
 - 2. MICR (एम.आई.सी.आर) डिवाइस
 - 3. मोडेम
 - 4. लाइट पेन

Question ID : 424429582
Status : Answered
Chosen Option : 3

Q.22 15 जनवरी 2020 तक प्राप्त जानकारी के अनुसार, निम्नलिखित में से किस देश की टीम 'ICC मेंस T20I टीम रैंकिंग' में पहले स्थान पर है?

- Ans
- 1. इंग्लैंड
 - 2. भारत
 - 3. ऑस्ट्रेलिया
 - 4. पाकिस्तान

Question ID : 424429604
Status : Not Answered
Chosen Option : -

Q.23 निम्नलिखित में से कौन-सा तत्व ब्रह्मांड में सर्वाधिक मात्रा में पाया जाता है?

- Ans
- 1. सिलिकॉन
 - 2. हाइड्रोजन
 - 3. ऑक्सीजन
 - 4. नाइट्रोजन

Question ID : 424429593
Status : Answered
Chosen Option : 4

Q.24 भारत के राष्ट्रपति द्वारा राज्यसभा के कितने सदस्यों को मनोनीत किया जा सकता है?

- Ans
- 1. 12 सदस्य
 - 2. 10 सदस्य
 - 3. 14 सदस्य
 - 4. 16 सदस्य

Question ID : 424429602
Status : Answered
Chosen Option : 1

Q.25 निम्नलिखित में से कौन-सा शब्द संविधान (42वां संशोधन) अधिनियम, 1976 द्वारा प्रस्तावना में जोड़ा गया था?

- Ans
- 1. समानता
 - 2. न्याय
 - 3. स्वतंत्रता
 - 4. समाजवादी

Question ID : 424429603
Status : Answered
Chosen Option : 2

Roll Number	
Candidate Name	
Venue Name	
Exam Date	14/10/2020
Exam Time	4:00 PM - 5:00 PM
Subject	CHSL Tier 1

Section : English Language (Basic Knowledge)

Q.1 Select the correct direct form of the given sentence.

Balaji said that he had already paid the instalment when the notice came to him.

- Ans 1. Balaji said, "He has already paid the instalment when the notice came to him."
 2. Balaji said, "I had already paid the instalment when the notice came to me."
 3. Balaji said, "I have already paid the instalment when the notice will come to me."
 4. Balaji said, "I already paid the instalment when the notice had come to me."

Question ID : 8161612738
Status : Answered
Chosen Option : 2

Q.2 Identify the segment in the given sentence, which contains the grammatical error.

Did you tell to your mother that you saw her friend at the theater?

- Ans 1. Did you tell to
 2. at the theater
 3. your mother that
 4. you saw her friend

Question ID : 8161612740
Status : Answered
Chosen Option : 1

Q.3 Select the most appropriate option to substitute the underlined segment in the given sentence. If there is no need to substitute it, select No improvement.

There are too less space for Naveen to park his car in front of the shop.

- Ans 1. was so few space
 2. were too little space
 3. No improvement
 4. was too little space

Question ID : 8161612750
Status : Answered
Chosen Option : 4

Q.4 Given below are four jumbled sentences. Out of the given options pick the one that gives their correct order.

- A. One of them said "Let us use our combined knowledge to bring this animal to life."
- B. On the way, the three friends passed through a forest.
- C. Seeing the bones, the friends thought of testing their knowledge and skills.
- D. Under a tree in the forest, they saw the bones of an animal.

- Ans
- 1. BCAD
 - 2. ADCB
 - 3. BDCA
 - 4. CABD

Question ID : 8161612747
Status : Answered
Chosen Option : 3

Comprehension:

In the following passage some words have been deleted. Fill in the blanks with the help of the alternatives given. Select the most appropriate option for each blank.

'Staged tourism' whether it is of the tiger or the snow leopard kind, is driven by the desire of visitors to see specific animals. This often (1)_____ pressure on a certain area, with hordes (2)_____ tourists rushing to a spot. In (3)_____ case of tigers, it is quite possible (4)_____ the animal is stressed by the (5)_____ caused by a bunch of excited tourists.

SubQuestion No : 5

Q.5 Select the most appropriate option to fill in blank number 1.

- Ans
- 1. gives
 - 2. makes
 - 3. does
 - 4. puts

Question ID : 8161612742
Status : Answered
Chosen Option : 1

Comprehension:

In the following passage some words have been deleted. Fill in the blanks with the help of the alternatives given. Select the most appropriate option for each blank.

'Staged tourism' whether it is of the tiger or the snow leopard kind, is driven by the desire of visitors to see specific animals. This often (1)_____ pressure on a certain area, with hordes (2)_____ tourists rushing to a spot. In (3)_____ case of tigers, it is quite possible (4)_____ the animal is stressed by the (5)_____ caused by a bunch of excited tourists.

SubQuestion No : 6

Q.6 Select the most appropriate option to fill in blank number 2.

- Ans
- 1. by
 - 2. with
 - 3. from
 - 4. of

Question ID : 8161612743
Status : Answered
Chosen Option : 4

Comprehension:

In the following passage some words have been deleted. Fill in the blanks with the help of the alternatives given. Select the most appropriate option for each blank.

'Staged tourism' whether it is of the tiger or the snow leopard kind, is driven by the desire of visitors to see specific animals. This often (1)_____ pressure on a certain area, with hordes (2)_____ tourists rushing to a spot. In (3)_____ case of tigers, it is quite possible (4)_____ the animal is stressed by the (5)_____ caused by a bunch of excited tourists.

SubQuestion No : 7

Q.7 Select the most appropriate option to fill in blank number 3.

- Ans
- 1. a
 - 2. that
 - 3. the
 - 4. this

Question ID : 8161612744

Status : Answered

Chosen Option : 3

Comprehension:

In the following passage some words have been deleted. Fill in the blanks with the help of the alternatives given. Select the most appropriate option for each blank.

'Staged tourism' whether it is of the tiger or the snow leopard kind, is driven by the desire of visitors to see specific animals. This often (1)_____ pressure on a certain area, with hordes (2)_____ tourists rushing to a spot. In (3)_____ case of tigers, it is quite possible (4)_____ the animal is stressed by the (5)_____ caused by a bunch of excited tourists.

SubQuestion No : 8

Q.8 Select the most appropriate option to fill in blank number 4.

- Ans
- 1. how
 - 2. that
 - 3. what
 - 4. why

Question ID : 8161612745

Status : Answered

Chosen Option : 2

Comprehension:

In the following passage some words have been deleted. Fill in the blanks with the help of the alternatives given. Select the most appropriate option for each blank.

'Staged tourism' whether it is of the tiger or the snow leopard kind, is driven by the desire of visitors to see specific animals. This often (1)_____ pressure on a certain area, with hordes (2)_____ tourists rushing to a spot. In (3)_____ case of tigers, it is quite possible (4)_____ the animal is stressed by the (5)_____ caused by a bunch of excited tourists.

SubQuestion No : 9

Q.9 Select the most appropriate option to fill in blank number 5.

- Ans
- 1. dismissal
 - 2. disappointment
 - 3. disturbance
 - 4. disbelief

Question ID : 8161612746
Status : Answered
Chosen Option : 3

Q.10 Select the correctly spelt word.

- Ans
- 1. Changeable
 - 2. Insignificant
 - 3. Immpending
 - 4. Unsustainable

Question ID : 8161612755
Status : Answered
Chosen Option : 1

Q.11 Select the word which means the same as the group of words given.

One who studies the elections and voting trends

- Ans
- 1. Reviewer
 - 2. Sociologist
 - 3. Psephologist
 - 4. Researcher

Question ID : 8161612758
Status : Answered
Chosen Option : 3

Q.12 Select the most appropriate ANTONYM of the given word.

HARSH

- Ans
- 1. Energetic
 - 2. Lenient
 - 3. Fragile
 - 4. Robust

Question ID : 8161612751
Status : Answered
Chosen Option : 2

Q.13 Identify the segment in the given sentence which contains the grammatical error.

You had better not to try and feed the animals in the zoo, it is forbidden.

- Ans
- 1. and feed the animals
 - 2. it is forbidden
 - 3. in the zoo
 - 4. You had better not to try

Question ID : 8161612739
Status : Answered
Chosen Option : 4

Q.14 Select the most appropriate synonym of the given word.

ROTUND

- Ans
- 1. Range
 - 2. Rolled
 - 3. Rocky
 - 4. Round

Question ID : 8161612759
Status : Answered
Chosen Option : 4

Q.15 Select the most appropriate ANTONYM of the given word.

ARROGANCE

- Ans
- 1. Familiarity
 - 2. Humility
 - 3. Honesty
 - 4. Ignorance

Question ID : 8161612752
Status : Answered
Chosen Option : 2

Q.16 Select the most appropriate synonym of the given word.

MANDATE

- Ans 1. Official order
 2. Last trip
 3. Broken promise
 4. Man-made

Question ID : 8161612760
Status : Answered
Chosen Option : 1

Q.17 Select the most appropriate meaning of the underlined idiom in the given sentence.

Sandeep received a new lease of life after moving to Pune.

- Ans 1. became energetic again
 2. started taking healthy food
 3. looked for a group of friends
 4. started looking for a job

Question ID : 8161612753
Status : Answered
Chosen Option : 4

Q.18 Select the most appropriate meaning of the underlined idiom in the given sentence.

If someone is an old hand, then he/she is:

- Ans 1. experienced
 2. weak
 3. aged
 4. forgetful

Question ID : 8161612754
Status : Answered
Chosen Option : 1

Q.19 Select the most appropriate option to fill in the blank in the given sentence.

The area is _____ close circuit television surveillance.

- Ans 1. about
 2. over
 3. into
 4. under

Question ID : 8161612761
Status : Answered
Chosen Option : 4

Q.20 Select the word which means the same as the group of words given.

A large bedroom for a number of people in a school or institution

- Ans
- 1. Lodge
 - 2. Dormitory
 - 3. Hostel
 - 4. Residence

Question ID : 8161612757
Status : Answered
Chosen Option : 2

Q.21 Select the most appropriate option to fill in the blank in the given sentence.

Students who are capable of understanding and managing their 'emotional intelligence' do better at school in _____ to their peers who lack the ability.

- Ans
- 1. difference
 - 2. similarity
 - 3. resemblance
 - 4. comparison

Question ID : 8161612762
Status : Answered
Chosen Option : 4

Q.22 Select the most appropriate option to substitute the underlined segment in the given sentence. If there is no need to substitute it, select No improvement.

Lata told to her team leader that she would be leaving office early as she had some urgent personal work.

- Ans
- 1. Lata tell to her team leader
 - 2. Lata telling to her team leader
 - 3. Lata told her team leader
 - 4. No improvement

Question ID : 8161612749
Status : Answered
Chosen Option : 3

Q.23 Given below are four jumbled sentences. Out of the given options pick the one that gives their correct order.

- A. It was known as Lolark Ghat earlier and was renamed in honour of the saint.
- B. In 1941, industrialist B.D. Birla undertook the renovation of the ghat.
- C. Among the seven ghats that are associated with his life, the Tulsi Ghat is most special.
- D. The glorious city of Kashi, famous for its ghats along the Ganges river, is where the 17th century saint-poet, Tulsidas, lived.

- Ans
- 1. ABDC
 - 2. CDBA
 - 3. BDCA
 - 4. DCAB

Question ID : 8161612748
Status : Answered
Chosen Option : 4

Q.24 Select the INCORRECTLY spelt word.

- Ans
- 1. Succumb
 - 2. Success
 - 3. Surrender
 - 4. Succulent

Question ID : 8161612756
Status : Answered
Chosen Option : 3

Q.25 Select the correct passive form of the given sentence.

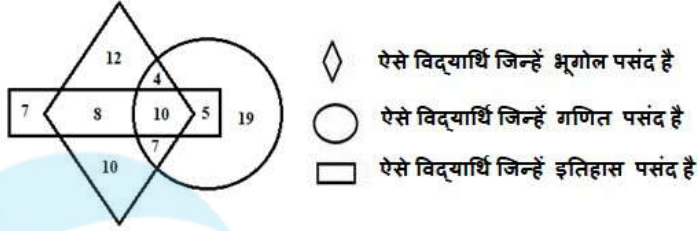
Please make a cup of coffee for me.

- Ans
- 1. Can you please make a cup of coffee for me?
 - 2. A cup of coffee can be made for me by you.
 - 3. I request you to make a cup of coffee for me.
 - 4. Let a cup of coffee be made for me.

Question ID : 8161612737
Status : Answered
Chosen Option : 4

Section : General Intelligence

Q.1 निम्नलिखित आरेख पर ध्यान दें।



कितने विद्यार्थियों को भूगोल और गणित दोनों पसंद हैं, किंतु इतिहास पसंद नहीं है?

- Ans
- 1. 4
 - 2. 11
 - 3. 7
 - 4. 21

Question ID : 8161612787

Status : Answered

Chosen Option : 2

Q.2 यदि किसी निश्चित कूट भाषा में, PATNA 260 और GOA 69 लिखा जाता है। तो उसी भाषा में RANCHI को क्या लिखा जाएगा?

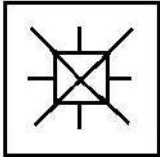
- Ans
- 1. 620
 - 2. 360
 - 3. 135
 - 4. 318

Question ID : 8161612772

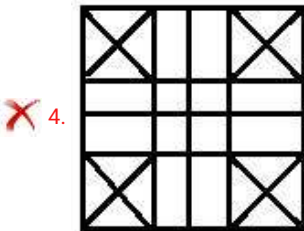
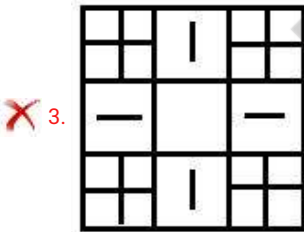
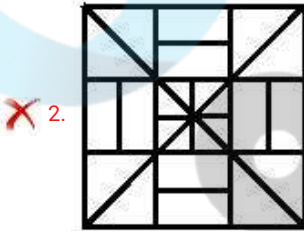
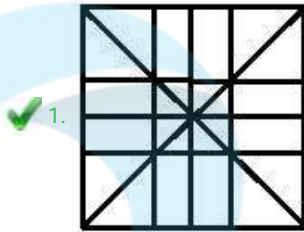
Status : Answered

Chosen Option : 4

Q.3 उस विकल्प का चयन करें जिसमें दी गई आकृति अंतर्निहित है। (घुमाने की अनुमति नहीं है)



Ans



Question ID : 8161612782

Status : Answered

Chosen Option : 1

Q.4 किसी निश्चित कूट भाषा में, TIGER को ROEIP लिखा जाता है। उसी भाषा में LION को क्या लिखा जाएगा?

Ans ✗ 1. JOMR

✓ 2. JOUL

✗ 3. JOIL

✗ 4. JOUR

Question ID : 8161612771

Status : Answered

Chosen Option : 1

Q.5 Three different positions of the same dice are shown below. Which symbol is on the face opposite the face showing ‘?’



- Ans
- 1. *
 - 2. #
 - 3. +
 - 4. \$

Question ID : 8161612781

Status : Answered

Chosen Option : 3

Q.6 उस संख्या का चयन करें, जो निम्नलिखित श्रृंखला में प्रश्न-चिह्न (?) के स्थान पर आ सकती हो।
0, 1, 1, 3, 2, ?, 3, 13, 4, 21

- Ans
- 1. 7
 - 2. 0
 - 3. 3
 - 4. 2

Question ID : 8161612768

Status : Answered

Chosen Option : 1

Q.7 दिए गए कथनों और निष्कर्षों को ध्यान से पढ़ें। यह मानते हुए कि कथनों में दी गई जानकारी सही है, भले ही वह आम तौर पर स्थापित तथ्यों से भिन्न दिखाई देती हो, निर्णय लें कि कौन सा/से निष्कर्ष तर्कसंगत रूप से इन कथनों का अनुसरण करता है / करते हैं।

कथन:

1. कुछ मछलियाँ, घोड़े हैं।
2. कुछ घोड़े, पतंगें हैं।

निष्कर्ष:

- I. कुछ घोड़े, मछलियाँ हैं।
- II. कुछ पतंगें, मछलियाँ हैं।
- III. कुछ पतंगें, घोड़े हैं।

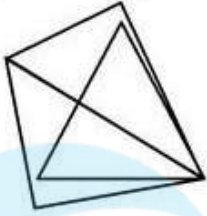
- Ans
- 1. निष्कर्ष I, II और III सभी अनुसरण करते हैं।
 - 2. केवल निष्कर्ष II और निष्कर्ष IV अनुसरण करते हैं।
 - 3. केवल निष्कर्ष I और निष्कर्ष III अनुसरण करते हैं।
 - 4. केवल निष्कर्ष I और निष्कर्ष II अनुसरण करते हैं।

Question ID : 8161612780

Status : Answered

Chosen Option : 3

Q.8 दी गई आकृति में कितने त्रिभुज हैं?



- Ans
- 1. 7
 - 2. 6
 - 3. 5
 - 4. 3

Question ID : 8161612783

Status : **Marked For Review**

Chosen Option : 3

Q.9 उस विकल्प का चयन करें जिसमें दी गई आकृति अंतर्निहित है। (घुमाने की अनुमति नहीं है)



Ans

- 1.
- 2.
- 3.
- 4.

Question ID : 8161612784

Status : **Answered**

Chosen Option : 4

Q.10 चार शब्द दिए गए हैं, जिनमें से तीन किसी न किसी प्रकार संगत हैं और एक असंगत है। उस असंगत शब्द का चयन करें।

- Ans
- 1. तोड़ना
 - 2. सृजन करना
 - 3. निर्माण
 - 4. एकत्र करना

Question ID : 8161612779
Status : Answered
Chosen Option : 1

Q.11 उस विकल्प का चयन करें, जिसका तीसरे शब्द से वही संबंध है, जो संबंध दूसरे शब्द का पहले शब्द से है।
विद्यालय : शिक्षा :: अस्पताल : ?

- Ans
- 1. डॉक्टर
 - 2. पुस्तकें
 - 3. रोग
 - 4. चिकित्सा

Question ID : 8161612777
Status : Answered
Chosen Option : 4

Q.12 चार अक्षर-समूह दिए गए हैं, जिनमें से तीन किसी न किसी प्रकार संगत हैं और एक असंगत है। उस असंगत अक्षर-समूह का चयन करें।

- Ans
- 1. UQNL
 - 2. YADH
 - 3. VXAE
 - 4. LNQU

Question ID : 8161612774
Status : Answered
Chosen Option : 1

Q.13 दिए गए समीकरण को संतुलित करने के लिए किन दो संख्याओं को आपस में बदलना होगा?
 $3 \times 9 + 5 - 18 \div 7 = 24$

- Ans
- 1. 5 और 7
 - 2. 3 और 5
 - 3. 9 और 7
 - 4. 18 और 9

Question ID : 8161612764
Status : Answered
Chosen Option : 3

Q.14 अक्षरों के उस संयोजन का चयन करें, जिसे अक्षर श्रृंखला में रिक्त स्थानों पर क्रमिक रूप से भरे जाने पर श्रृंखला पूरी हो जाएगी।

a _ dda _ cb _ _ cac _ da _

- Ans
- 1. cbcaddabdc
 - 2. bdddcbdacc
 - 3. bddacbdcbd
 - 4. bddaccbbdd

Question ID : 8161612775

Status : Not Answered

Chosen Option : --

Q.15 उस विकल्प का चयन करें, जिसका तीसरे अक्षर-समूह से वही संबंध है, जो संबंध दूसरे अक्षर-समूह का पहले अक्षर-समूह से है।

PURPLE : OWOTGK :: GREEN : ?

- Ans
- 1. FTBJI
 - 2. FTBII
 - 3. FTBIJ
 - 4. FTBBI

Question ID : 8161612773

Status : Answered

Chosen Option : 2

Q.16 उस समुच्चय का चयन करें, जिसमें संख्याओं के बीच वही संबंध है, जो संबंध नीचे दिए गए समुच्चय की संख्याओं के बीच है।

(8, 6, 9)

- Ans
- 1. (5, 3, 3)
 - 2. (4, 2, 6)
 - 3. (3, 3, 6)
 - 4. (2, 1, 3)

Question ID : 8161612767

Status : Not Answered

Chosen Option : --

Q.17 चार संख्या-युग्म दिए गए हैं, जिनमें से तीन किसी न किसी प्रकार संगत हैं और एक असंगत है। उस असंगत संख्या-युग्म का चयन करें।

- Ans
- 1. 21 : 484
 - 2. 30 : 961
 - 3. 25 : 676
 - 4. 24 : 529

Question ID : 8161612769

Status : Answered

Chosen Option : 4

Q.18 आज अरुण अपना जन्मदिन मना रहा है। अपने अगले जन्मदिन पर, वह अपनी 12 वर्ष पहले की आयु की दोगुनी आयु का हो जाएगा। अरुण की वर्तमान आयु कितनी है?

- Ans
- 1. 25 वर्ष
 - 2. 24 वर्ष
 - 3. 27 वर्ष
 - 4. 26 वर्ष

Question ID : 8161612763
Status : Not Answered
Chosen Option : --

Q.19 किसी निश्चित कूट भाषा में, 'STYLE' को '181924114' लिखा जाता है। उसी भाषा में 'FIRST' को क्या लिखा जाएगा?

- Ans
- 1. 58171820
 - 2. 69181920
 - 3. 58181920
 - 4. 58171819

Question ID : 8161612770
Status : Answered
Chosen Option : 4

Q.20 उस विकल्प का चयन करें, जिसका तीसरी संख्या से वही संबंध है, जो संबंध दूसरी संख्या का पहली संख्या से है।
3 : 25 :: 1 : ?

- Ans
- 1. 8
 - 2. 10
 - 3. 6
 - 4. 9

Question ID : 8161612765
Status : Answered
Chosen Option : 4

Q.21 दर्पण को दी गई आकृति के दाईं ओर रखे जाने पर, निम्नलिखित में से कौन सा विकल्प दी गई आकृति की सही दर्पण छवि है?

aeugh!#%428ghr

- Ans
- 1.
 - 2.
 - 3.
 - 4.

Question ID : 8161612786
Status : Answered
Chosen Option : 1

Q.22 A, M का पति है, जो N की भाभी है। N, R और U की बेटी है। M, U की पुत्रवधू है। A, U से कैसे संबंधित है?

- Ans
- 1. पिता
 - 2. बेटा
 - 3. भाई
 - 4. साला

Question ID : 8161612776
Status : Answered
Chosen Option : 2

Q.23 नीचे दी गई आकृतियों में कागज को मोड़ने का क्रम और काटने की विधि दर्शाई गई है। यह कागज खोले जाने पर कैसा दिखाई देगा?



- Ans
- 1.
 - 2.
 - 3.
 - 4.

Question ID : 8161612785
Status : Answered
Chosen Option : 3

Q.24 उस समुच्चय का चयन करें, जिसमें संख्याओं के बीच वही संबंध है, जो संबंध नीचे दिए गए समुच्चय की संख्याओं के बीच है।

(6, 18, 162)

- Ans
- 1. (3, 18, 36)
 - 2. (5, 15, 80)
 - 3. (4, 12, 34)
 - 4. (4, 8, 32)

Question ID : 8161612766
Status : Answered
Chosen Option : 2

Q.25 चार अक्षर-समूह दिए गए हैं, जिनमें से तीन किसी न किसी प्रकार संगत हैं और एक असंगत है। उस असंगत अक्षर-समूह का चयन करें।

- Ans
- 1. BIZ
 - 2. ABY
 - 3. CUX
 - 4. MOW

Question ID : 8161612778
Status : Not Answered
Chosen Option : --

Section : Quantitative Aptitude(Basic Arithmetic Skill)

Q.1 यदि $\cos x = -\frac{1}{2}$ है, तो x का मान ज्ञात करें।

- Ans
- 1. $\frac{4\pi}{3}$
 - 2. $\frac{2\pi}{3}$
 - 3. $\frac{5\pi}{2}$
 - 4. $\frac{3\pi}{2}$

Question ID : 8161612808
Status : Marked For Review
Chosen Option : 2

Q.2 यदि किसी भी त्रिभुज में, कोण 1 : 2 : 1 के अनुपात में हैं, तो इसकी भुजाओं का अनुपात क्या होगा?

- Ans
- 1. $1 : \sqrt{2} : 1$
 - 2. $1 : 2 : 3$
 - 3. $2 : 1 : 2$
 - 4. $1 : 2 : 1$

Question ID : 8161612799

Status : Answered

Chosen Option : 1

Q.3 Ramu works 4 times as fast as Somu. If Somu can complete a work in 20 days independently, then the number of days in which Ramu and Somu together can complete the work is:

- Ans
- 1. 3 days
 - 2. 5 days
 - 3. 4 days
 - 4. 6 days

Question ID : 8161612788

Status : Answered

Chosen Option : 3

Q.4 दिए गए ग्राफ में 4 वर्षों के दौरान, 4 शहरों में कारों की बिक्री (हजारों में) दर्शाई गई है। ग्राफ का अध्ययन करें और प्रश्न का उत्तर दें।



	2016	2017	2018	2019
City-1	4.3	3.5	3.9	4.1
city-2	3.6	3.9	4.2	4.3
city-3	5.2	4.3	4.9	4.9
city-4	4.5	4.6	5.1	4.9

किस शहर (city) में और किस वर्ष में बिक्री का प्रतिशत सबसे अधिक है?

- Ans
- 1. शहर-4; 2017
 - 2. शहर-2; 2018
 - 3. शहर-3; 2016
 - 4. शहर-1; 2019

Question ID : 8161612812

Status : Not Answered

Chosen Option : --

Q.5 पांच अंकों की वह बड़ी से बड़ी संख्या क्या होगी, जो 81 द्वारा पूर्णतः विभाज्य हो?

- Ans
- 1. 99991
 - 2. 99876
 - 3. 99989
 - 4. 99954

Question ID : 8161612804
Status : Answered
Chosen Option : 4

Q.6 यदि $a + b = 27$ और $a^3 + b^3 = 5427$ है, तो ab का मान ज्ञात करें।

- Ans
- 1. 176
 - 2. 135
 - 3. 143
 - 4. 149

Question ID : 8161612801
Status : Answered
Chosen Option : 1

Q.7 यदि $x = 255$, $y = 256$, $z = 257$ है, तो $x^3 + y^3 + z^3 - 3xyz$ का मान ज्ञात करें।

- Ans
- 1. 1876
 - 2. 1378
 - 3. 2304
 - 4. 1984

Question ID : 8161612802
Status : Answered
Chosen Option : 3

Q.8 5 क्रमागत विषम संख्याओं का औसत 75 है। निम्न में से किस संख्या को जोड़ने पर औसत 76 हो जाएगा?

- Ans
- 1. 81
 - 2. 79
 - 3. 77
 - 4. 76

Question ID : 8161612791
Status : Answered
Chosen Option : 1

Q.9 8 माह की अवधि के लिए $18\frac{2}{3}\%$ वार्षिक ब्याज दर से ₹74,000 का साधारण ब्याज ज्ञात करें।

- Ans
- 1. ₹8,956.74
 - 2. ₹9,208.88
 - 3. ₹8,458.96
 - 4. ₹9,486.32

Question ID : 8161612796

Status : Answered

Chosen Option : 2

Q.10 एक धावक 10 मिनट में 900 m की दूरी तय करता है। किमी/घंटे (km/h) में उसकी चाल क्या है?

- Ans
- 1. 3.6 km/h
 - 2. 5.4 km/h
 - 3. 6.9 km/h
 - 4. 4.8 km/h

Question ID : 8161612789

Status : Answered

Chosen Option : 2

Q.11 $\sqrt[3]{15625} - \sqrt{x} = 4$ में x का मान ज्ञात करें।

- Ans
- 1. 81
 - 2. 441
 - 3. 625
 - 4. 343

Question ID : 8161612805

Status : Answered

Chosen Option : 2

Q.12 सचिन ने 6 चौकों और 4 छक्कों की मदद से 120 रन बनाए। उसने कुल स्कोर के कितने प्रतिशत रन विकेटों के बीच में दौड़कर बनाए?

- Ans
- 1. 45%
 - 2. $33\frac{1}{3}\%$
 - 3. $46\frac{4}{9}\%$
 - 4. 60%

Question ID : 8161612793

Status : Answered

Chosen Option : 4

Q.13 किसी वस्तु का अंकित मूल्य ₹x था और इसे $(x - 40)\%$ की छूट पर बेचा गया। यदि ग्राहक ने ₹ $(x - 32)$ का भुगतान किया, तो वस्तु का अंकित मूल्य ज्ञात करें।

- Ans
- 1. ₹50
 - 2. ₹75
 - 3. ₹80
 - 4. ₹60

Question ID : 8161612792

Status : Answered

Chosen Option : 3

Q.14 एक वृत्त में, PQ और RS दो व्यास हैं, जो एक दूसरे के लंबवत हैं। PR जीवा की लंबाई ज्ञात करें।

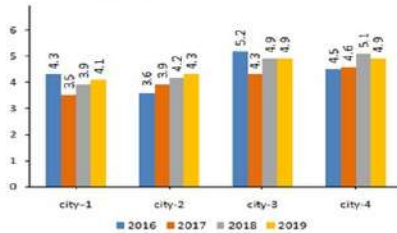
- Ans
- 1. $\frac{PQ}{2}$
 - 2. $\sqrt{2}$ PQ
 - 3. $\frac{PQ}{\sqrt{2}}$
 - 4. 2 PQ

Question ID : 8161612797

Status : Answered

Chosen Option : 3

Q.15 दिए गए ग्राफ में 4 वर्षों के दौरान 4 शहरों में कारों की बिक्री (हजारों में) दर्शाई गई है। ग्राफ का अध्ययन करें और प्रश्न का उत्तर दें।



	2016	2017	2018	2019
City-1	4.3	3.5	3.9	4.1
city-2	3.6	3.9	4.2	4.3
city-3	5.2	4.3	4.9	4.9
city-4	4.5	4.6	5.1	4.9

किस शहर (city) में सबसे ज्यादा बिक्री हुई है?

- Ans
- 1. शहर-1
 - 2. शहर-3
 - 3. शहर-4
 - 4. शहर-2

Question ID : 8161612809

Status : Answered

Chosen Option : 2

Q.16 एक समबाहु त्रिभुज का क्षेत्रफल ज्ञात करें, जिसकी भुजाएँ 12 cm हैं।

- Ans
- 1. $36\sqrt{3}$
 - 2. 38
 - 3. $29\sqrt{5}$
 - 4. $45\sqrt{2}$

Question ID : 8161612800

Status : Answered

Chosen Option : 1

Q.17 एक आयत की परिमाप और लंबाई का अनुपात 8 : 1 है और इसका क्षेत्रफल 1323 cm^2 है। इसकी लंबाई ज्ञात करें।

- Ans
- 1. 25 cm
 - 2. 21 cm
 - 3. 23 cm
 - 4. 22 cm

Question ID : 8161612790

Status : Answered

Chosen Option : 2

Q.18 20 cm व्यास वाले एक वृत्त में दो समानांतर जीवाएँ खींची गई हैं। एक जीवा की लंबाई 16 cm तथा दोनों जीवाओं के बीच की दूरी 12 cm है। दूसरी जीवा की लंबाई ज्ञात करें।

- Ans
- 1. 18 cm
 - 2. 12 cm
 - 3. 16 cm
 - 4. 20 cm

Question ID : 8161612798

Status : Answered

Chosen Option : 3

Q.19

दिए गए ग्राफ में 4 वर्षों के दौरान, 4 शहरों में कारों की बिक्री (हजारों में) दर्शाई गई है। ग्राफ का अध्ययन करें और प्रश्न का उत्तर दें।



	2016	2017	2018	2019
City-1	4.3	3.5	3.9	4.1
city-2	3.6	3.9	4.2	4.3
city-3	5.2	4.3	4.9	4.9
city-4	4.5	4.6	5.1	4.9

किस वर्ष में बिक्री सबसे अधिक हुई है?

- Ans
- 1. 2016
 - 2. 2018
 - 3. 2017
 - 4. 2019

Question ID : 8161612810

Status : Answered

Chosen Option : 4

Q.20 एक व्यक्ति ने किसी वस्तु को ₹3,200 में खरीद कर इसे 12% की हानि पर बेच दिया। वस्तु का विक्रय मूल्य क्या है?

- Ans
- 1. ₹3,428
 - 2. ₹2,856
 - 3. ₹3,012
 - 4. ₹2,816

Question ID : 8161612794

Status : Answered

Chosen Option : 4

Q.21 यदि $x + \frac{1}{x} = 8$, तो $\frac{5x}{x^2+1-6x}$ का मान ज्ञात करें।

- Ans
- 1. 6
 - 2. 6.5
 - 3. 2.5
 - 4. 5

Question ID : 8161612803

Status : Answered

Chosen Option : 3

Q.22 यदि $\sin \theta - \cos \theta = \frac{7}{17}$, तो $\sin \theta + \cos \theta$ का मान ज्ञात करें।

- Ans
- 1. $\frac{23}{17}$
 - 2. $\frac{8}{13}$
 - 3. $\frac{8}{17}$
 - 4. $\frac{23}{13}$

Question ID : 8161612806

Status : Answered

Chosen Option : 1

Q.23 दिए गए ग्राफ में 4 वर्षों के दौरान, 4 शहरों में कारों की बिक्री (हजारों में) दर्शाई गई है। ग्राफ का अध्ययन करें और प्रश्न का उत्तर दें।



	2016	2017	2018	2019
City-1	4.3	3.5	3.9	4.1
city-2	3.6	3.9	4.2	4.3
city-3	5.2	4.3	4.9	4.9
city-4	4.3	4.6	5.1	4.9

2019 में, सभी चार शहरों (cities) में हुई बिक्री की औसत संख्या क्या है?

- Ans
- 1. 4280
 - 2. 4178
 - 3. 3980
 - 4. 4550

Question ID : 8161612811

Status : Answered

Chosen Option : 4

Q.24 यदि $\sin x + \operatorname{cosec} x = 2$ है, तो $\sin^{17} x + \operatorname{cosec}^{18} x$, _____ के बराबर होगा।

- Ans
- 1. 4
 - 2. 0
 - 3. 2
 - 4. 1

Question ID : 8161612807

Status : Answered

Chosen Option : 3

Q.25 दो संख्याएं, तीसरी संख्या से क्रमशः 25% और 65% अधिक हैं। उन दोनों संख्याओं का अनुपात क्या होगा?

- Ans 1. 25 : 33
 2. 16 : 17
 3. 16 : 19
 4. 25 : 42

Question ID : 8161612795
Status : Answered
Chosen Option : 1

Section : General Awareness

Q.1 स्थलाकृतिक मानचित्रों में रेलवे लाइनों और टेलीफोन लाइनों को किस रंग में दर्शाया जाता है?

- Ans 1. पीला
 2. काला
 3. लाल
 4. नीला

Question ID : 8161612827
Status : Not Answered
Chosen Option : --

Q.2 'Avesta', also called 'Zend-Avesta', is the sacred book of:

- Ans 1. Judaism
 2. Buddhism
 3. Zoroastrianism
 4. Jainism

Question ID : 8161612816
Status : Not Answered
Chosen Option : --

Q.3 पंचायत गठन का चुनाव, उसके विघटन की तिथि से _____ की अवधि समाप्त होने से पहले पूरा हो जाना चाहिए।

- Ans 1. दो महीने
 2. आठ महीने
 3. एक वर्ष
 4. छह महीने

Question ID : 8161612834
Status : Answered
Chosen Option : 4

Q.4 An industrial economy is best defined as an economy whose 50% or more produce value comes from the _____ sector.

- Ans
- 1. tertiary
 - 2. banking
 - 3. secondary
 - 4. primary

Question ID : 8161612820
Status : Answered
Chosen Option : 4

Q.5 जनवरी 2020 तक की बात करें, तो यूपीएससी (UPSC) के अध्यक्ष कौन हैं?

- Ans
- 1. गुरबचन जगत
 - 2. डेविड आर सिम्लिह
 - 3. अरविंद सक्सेना
 - 4. पी.सी. होंटा

Question ID : 8161612817
Status : Answered
Chosen Option : 3

Q.6 निम्नलिखित में से कौन सी हिमालय पर्वतमाला लेह के उत्तरी भाग से तिब्बती सीमा तक फैली हुई है जिसमें दिगर ला और खारदुंग ला दर्रे शामिल हैं?

- Ans
- 1. जांस्कर पर्वतमाला
 - 2. पीर पंजाल पर्वतमाला
 - 3. लद्दाख पर्वतमाला
 - 4. धौलाधार पर्वतमाला

Question ID : 8161612825
Status : Not Answered
Chosen Option : --

Q.7 'यूएनडीपी (UNDP) की 'मानव विकास रिपोर्ट (HDR)' निम्नलिखित में किन तीन संकेतकों के संयोजन के माध्यम से विकास को मापती है?

- Ans
- 1. स्वास्थ्य, शिक्षा और जीवन स्तर
 - 2. स्वास्थ्य, शिक्षा और औसत वेतन
 - 3. स्वास्थ्य, औद्योगिक विकास और जीवन स्तर
 - 4. स्वास्थ्य, शिक्षा और कृषि विकास

Question ID : 8161612821
Status : Answered
Chosen Option : 1

Q.8 निम्नलिखित में से किस देश की संसद ने 7 जनवरी 2020 को संयुक्त राज्य अमेरिका के सभी सैन्य बलों को आतंकवादी के रूप में नामित करने वाला विधेयक पारित किया?

- Ans
- 1. क्यूबा
 - 2. इराक
 - 3. ईरान
 - 4. उत्तर कोरिया

Question ID : 8161612819
Status : Answered
Chosen Option : 3

Q.9 जनवरी 2020 तक की बात करें, तो निम्नलिखित में से वह कौन हैं, जो पहली भारतीय महिला पैरा-एथलीट तथा 'राजीव गांधी खेल रत्न पुरस्कार' से सम्मानित होने वाली सबसे बुजुर्ग महिला बनीं?

- Ans
- 1. करमज्योति दलाल
 - 2. दीपा मलिक
 - 3. मानसी जोशी
 - 4. राम्या षण्मगम

Question ID : 8161612831
Status : Answered
Chosen Option : 2

Q.10 'हेनली पासपोर्ट सूचकांक 2020' के अनुसार, विश्व में भारतीय पासपोर्ट का स्थान (रैंक) क्या है?

- Ans
- 1. 38वां
 - 2. 74वां
 - 3. 84वां
 - 4. 26वां

Question ID : 8161612818
Status : Answered
Chosen Option : 3

Q.11 निम्नलिखित में से कौन-सी एक ऐसी प्रणाली है, जिसे इलेक्ट्रॉनिक संगीत वाद्ययंत्रों के बीच सूचना प्रसारित करने के लिए डिज़ाइन किया गया है?

- Ans
- 1. विज़ुअल डिस्प्ले यूनिट (Visual Display Unit)
 - 2. एम.आई.डी.आई.(MIDI) डिवाइस
 - 3. बार कोड रीडर (Bar code reader)
 - 4. ऑप्टिकल मार्क रीडर (Optical Mark Reader)

Question ID : 8161612814
Status : Not Answered
Chosen Option : --

Q.12 निम्नलिखित में से कौन एक भारतीय शतरंज ग्रैंडमास्टर नहीं है?

- Ans
- 1. कोनेरू हम्पी (Koneru Humpy)
 - 2. रानी रामपाल
 - 3. डी हरिका (हरिका द्रोणवल्ली (Harika Dronavalli))
 - 4. पृथु गुप्ता

Question ID : 8161612837

Status : Answered

Chosen Option : 2

Q.13 निम्नलिखित में से किस शटलर ने अगस्त 2019 में, 'बी.डब्ल्यू.एफ (BWF) बैडमिंटन विश्व चैंपियनशिप' का खिताब जीतकर प्रकाश पादुकोण के बाद दूसरा भारतीय पुरुष शटलर बनने का इतिहास रचा?

- Ans
- 1. अजय जयराम
 - 2. किदांबी श्रीकांत
 - 3. बी साई प्रणीत
 - 4. एच.एस. प्रणय

Question ID : 8161612835

Status : Not Answered

Chosen Option : --

Q.14 जनवरी 2020 में, भारत और ऑस्ट्रेलिया के बीच खेरी गई तीन मैचों की एकदिवसीय श्रृंखला में 'मैन ऑफ़ द सीरीज़' पुरस्कार किसने जीता?

- Ans
- 1. जसप्रीत बुमराह
 - 2. मिशेल स्टार्क
 - 3. डेविड वार्नर
 - 4. विराट कोहली

Question ID : 8161612836

Status : Not Answered

Chosen Option : --

Q.15 निम्नलिखित में से किसे 'लाफिंग गैस (हास्य गैस)' कहा जाता है?

- Ans
- 1. नाइट्रस ऑक्साइड
 - 2. कार्बन डाइऑक्साइड
 - 3. कार्बन मोनोऑक्साइड
 - 4. सल्फर डाइऑक्साइड

Question ID : 8161612822

Status : Answered

Chosen Option : 1

Q.16 2011 की जनगणना के अनुसार, निम्नलिखित में से कौन-सा राज्य, भारत में सबसे अधिक घनी आबादी वाला राज्य है?

- Ans
- 1. बिहार
 - 2. पश्चिम बंगाल
 - 3. गोवा
 - 4. महाराष्ट्र

Question ID : 8161612826
Status : Answered
Chosen Option : 1

Q.17 2017 में, भारत और चीन के मध्य डोकलाम पर क्षेत्रीय विवाद हुआ था। यह डोकलाम क्षेत्र _____ त्रि-जंक्शन (त्रि-संगम) के कोने में स्थित है।

- Ans
- 1. भूटान, पश्चिम बंगाल और चीन
 - 2. भूटान, सिक्किम और चीन
 - 3. पाकिस्तान, जम्मू और कश्मीर तथा चीन
 - 4. भूटान, अरुणाचल प्रदेश और चीन

Question ID : 8161612828
Status : Answered
Chosen Option : 3

Q.18 प्रत्येक वर्ष मकर संक्रांति के अवसर पर 13 से 15 जनवरी तक 'गंगा सागर मेला' कहां लगता है?

- Ans
- 1. उत्तर प्रदेश
 - 2. पश्चिम बंगाल
 - 3. बिहार
 - 4. उत्तराखंड

Question ID : 8161612815
Status : Not Answered
Chosen Option : --

Q.19 छोटी आंत की भीतरी दीवारों (आंतरिक भित्ति) में हजारों अंगुलियों के आकार की अधोसंरचनाएं पाई जाती हैं। इन्हें क्या कहा जाता है?

- Ans
- 1. लंप्स (Lumps)
 - 2. बिनाइन (Benign)
 - 3. विल्ली (Villi)
 - 4. मायोमॉस (Myomas)

Question ID : 8161612823
Status : Answered
Chosen Option : 3

Q.20 निम्नलिखित में से किसे, उनके लघु कथा संग्रह 'चेकबुक' के लिए 29वें सरस्वती सम्मान से सम्मानित किया गया?

- Ans 1. वासुदेव मोहि
 2. गोविंद मिश्रा
 3. के शिव रेड्डी
 4. एस.एल. भयरप्पा

Question ID : 8161612832
Status : Answered
Chosen Option : 1

Q.21 चूंकि, क्लिनिकल थर्मामीटर केवल मानव शरीर के तापमान को मापने के लिए डिज़ाइन किया गया है, इसलिए यह 35°C से _____ तक की सीमा का तापमान प्रदर्शित करता है।

- Ans 1. 44°C
 2. 48°C
 3. 46°C
 4. 42°C

Question ID : 8161612824
Status : Not Answered
Chosen Option : --

Q.22 भारत के संविधान का कौन-सा अनुच्छेद मौलिक अधिकारों के प्रवर्तन के लिए संवैधानिक उपचार प्रदान करता है?

- Ans 1. अनुच्छेद 38
 2. अनुच्छेद 32
 3. अनुच्छेद 40
 4. अनुच्छेद 36

Question ID : 8161612833
Status : Answered
Chosen Option : 2

Q.23 1939 में, भारत के स्वतंत्रता संघर्ष के दौरान, निम्नलिखित में कौन अखिल भारतीय राज्य लोक सम्मेलन के अध्यक्ष बने थे?

- Ans 1. विनोबा भावे
 2. जवाहरलाल नेहरू
 3. सी राजगोपालाचारी
 4. श्यामा प्रसाद मुखर्जी

Question ID : 8161612830
Status : Not Answered
Chosen Option : --

Q.24 निम्नलिखित में से कौन 'फ्रंटियर गांधी' के नाम से प्रसिद्ध है?

- Ans
- 1. अब्दुल गफ़्फ़ार खान
 - 2. अशफ़ाक़ उल्ला खान
 - 3. मौलाना अबुल कलाम आज़ाद
 - 4. हसरत मोहानी

Question ID : 8161612829

Status : Answered

Chosen Option : 1

Q.25 निम्नलिखित में से कौन-सा एक ऐसा इनपुट डिवाइस है, जिसका उपयोग कंप्यूटर या अन्य इलेक्ट्रॉनिक उपकरणों में मोशन डेटा (motion data) डालने के लिए किया जाता है?

- Ans
- 1. प्लॉटर (Plotter)
 - 2. ट्रैकबॉल (Trackball)
 - 3. मॉनिटर (Monitor)
 - 4. जॉयस्टिक (Joystick)

Question ID : 8161612813

Status : Not Answered

Chosen Option : --

Roll Number	
Candidate Name	
Venue Name	
Exam Date	15/10/2020
Exam Time	10:00 AM - 11:00 AM
Subject	CHSL Tier 1

Section : English Language (Basic Knowledge)

Q.1 Select the most appropriate option to fill in the blank in the given sentence.

Over 7,50,000 people from 192 countries have pledged to go vegan for a month which, they say, would reduce carbon _____ by 45000 tons.

- Ans
- 1. exclusion
 - 2. inclusion
 - 3. omission
 - 4. emission

Question ID : 8161612862
Status : Answered
Chosen Option : 4

Q.2 Select the most appropriate synonym of the given word.

HOLISTIC

- Ans
- 1. Dissimilar
 - 2. Superficial
 - 3. Sketchy
 - 4. Comprehensive

Question ID : 8161612861
Status : Answered
Chosen Option : 4

Q.3 Select the most appropriate ANTONYM of the given word.

AGITATE

- Ans
- 1. Argue
 - 2. Calm
 - 3. Excite
 - 4. Impress

Question ID : 8161612852
Status : Answered
Chosen Option : 2

Q.4 Select the option that is the passive form of the given sentence.

The Principal gave her a warning about coming late to school every day.

- Ans
- 1. She was giving a warning by the Principal about coming late to school every day.
 - 2. She gives a warning to the Principal about coming late to school every day.
 - 3. She was given a warning about coming late to school every day by the Principal.
 - 4. She has given a warning by the Principal about coming late to school every day.

Question ID : 8161612838

Status : Answered

Chosen Option : 3

Comprehension:

In the following passage some words have been deleted. Fill in the blanks with the help of the alternatives given. Select the most appropriate option for each blank.

Simply put, happiness is satisfaction of mind. However, different individuals (1)_____ different perceptions of how to achieve (2)_____. For some, happiness lies (3)_____ wealth; for others, it is in (4)_____ and position; yet happiness is (5)_____ to most.

SubQuestion No : 5

Q.5 Select the most appropriate option to fill in blank number 1.

- Ans
- 1. had
 - 2. having
 - 3. has
 - 4. have

Question ID : 8161612843

Status : Answered

Chosen Option : 4

Comprehension:

In the following passage some words have been deleted. Fill in the blanks with the help of the alternatives given. Select the most appropriate option for each blank.

Simply put, happiness is satisfaction of mind. However, different individuals (1)_____ different perceptions of how to achieve (2)_____. For some, happiness lies (3)_____ wealth; for others, it is in (4)_____ and position; yet happiness is (5)_____ to most.

SubQuestion No : 6

Q.6 Select the most appropriate option to fill in blank number 2.

- Ans
- 1. happiness
 - 2. dream
 - 3. money
 - 4. fame

Question ID : 8161612844

Status : Answered

Chosen Option : 1

Comprehension:

In the following passage some words have been deleted. Fill in the blanks with the help of the alternatives given. Select the most appropriate option for each blank.

Simply put, happiness is satisfaction of mind. However, different individuals (1)_____ different perceptions of how to achieve (2)_____. For some, happiness lies (3)_____ wealth; for others, it is in (4)_____ and position; yet happiness is (5)_____ to most.

SubQuestion No : 7

Q.7 Select the most appropriate option to fill in blank number 3.

- Ans
- 1. on
 - 2. in
 - 3. over
 - 4. about

Question ID : 8161612845

Status : Answered

Chosen Option : 1

Comprehension:

In the following passage some words have been deleted. Fill in the blanks with the help of the alternatives given. Select the most appropriate option for each blank.

Simply put, happiness is satisfaction of mind. However, different individuals (1)_____ different perceptions of how to achieve (2)_____. For some, happiness lies (3)_____ wealth; for others, it is in (4)_____ and position; yet happiness is (5)_____ to most.

SubQuestion No : 8

Q.8 Select the most appropriate option to fill in blank number 4.

- Ans
- 1. mind
 - 2. happiness
 - 3. satisfaction
 - 4. rank

Question ID : 8161612846

Status : Answered

Chosen Option : 4

Comprehension:

In the following passage some words have been deleted. Fill in the blanks with the help of the alternatives given. Select the most appropriate option for each blank.

Simply put, happiness is satisfaction of mind. However, different individuals (1)_____ different perceptions of how to achieve (2)_____. For some, happiness lies (3)_____ wealth; for others, it is in (4)_____ and position; yet happiness is (5)_____ to most.

SubQuestion No : 9

Q.9 Select the most appropriate option to fill in blank number 5.

- Ans
- 1. probable
 - 2. elusive
 - 3. fashionable
 - 4. creative

Question ID : 8161612847

Status : Answered

Chosen Option : 2

Q.10 Select the most appropriate word to fill in the blank in the given sentence.

He is your brother, _____?

- Ans
- 1. isn't it
 - 2. isn't he
 - 3. is it
 - 4. is he

Question ID : 8161612863
Status : Answered
Chosen Option : 2

Q.11 Select the INCORRECTLY spelt word.

- Ans
- 1. Corruption
 - 2. Discrimination
 - 3. Embodiment
 - 4. Identification

Question ID : 8161612857
Status : Answered
Chosen Option : 2

Q.12 Identify the segment in the given sentence which contains the grammatical error.

Aryan told Sriram, "Don't worry I can be able to climb that tree to reach the fruit."

- Ans
- 1. Don't worry
 - 2. I can be able to
 - 3. climb that tree
 - 4. to reach the fruit

Question ID : 8161612840
Status : Answered
Chosen Option : 2

Q.13 Select the most appropriate option to substitute the underlined segment in the given sentence. If there is no need to substitute it, select No improvement.

His uncle advised Naveen to keep away from involving himself in the controversy.

- Ans
- 1. No improvement
 - 2. from keep away in
 - 3. that he keeps away for
 - 4. for keep away from

Question ID : 8161612850
Status : Answered
Chosen Option : 1

Q.14 Select the most appropriate option to substitute the underlined segment in the given sentence. If there is no need to substitute it, select No improvement.

There is a double-digit growth in salaries of vocational jobs now and the trend are likely to continue in the coming years.

- Ans
- 1. No improvement
 - 2. is likely for continuing
 - 3. is likely to continue
 - 4. is like to be continued

Question ID : 8161612851
Status : Answered
Chosen Option : 3

Q.15 Given below are four jumbled sentences. Select the option that gives their correct order.

- A. While an average person lives up to 72 years of age, the life expectancy of doctors is only about 59 years, the shocking IMA study concluded.
- B. The sudden death of Dr. Meena Kumar at an International Conference in London after suffering a cardiac arrest has alarmed the medical community.
- C. She was a well-known medico recognised for her services as a consultant neurologist with a career of over 25 years.
- D. Her death brings to the fore the fact that even doctors have risky life-styles and a hard life, a study by the Indian Medical Association conducted on doctors, said.

- Ans
- 1. DABC
 - 2. CABD
 - 3. ABDC
 - 4. BCDA

Question ID : 8161612848
Status : Answered
Chosen Option : 4

Q.16 Identify the segment in the given sentence which contains the grammatical error.

Have I ever told you what lovely pickles my grandmother used to made when she was in Visakhapatnam?

- Ans
- 1. when she was in
 - 2. Have I ever told you
 - 3. used to made
 - 4. what lovely pickles

Question ID : 8161612841
Status : Answered
Chosen Option : 3

Q.17 Select the word which means the same as the group of words given.

Relating to the healing of diseases

- Ans
- 1. Preventive
 - 2. Immunity
 - 3. Inoculation
 - 4. Therapeutic

Question ID : 8161612859
Status : Answered
Chosen Option : 4

Q.18 Select the correctly spelt word.

- Ans
- 1. Bouquet
 - 2. Secquence
 - 3. Acquirum
 - 4. Frequensy

Question ID : 8161612856
Status : Answered
Chosen Option : 1

Q.19 Select the most appropriate ANTONYM of the given word.

HEINOUS

- Ans
- 1. Biased
 - 2. Unhealthy
 - 3. Unwilling
 - 4. Agreeable

Question ID : 8161612853
Status : Answered
Chosen Option : 4

Q.20 Select the most appropriate meaning of the underlined idiom in the given sentence.

Anu jumped the gun and announced their plans at the dinner table.

- Ans
- 1. ate quickly
 - 2. started shooting
 - 3. acted hastily
 - 4. shouted loudly

Question ID : 8161612854
Status : Answered
Chosen Option : 3

Q.21 Select the most appropriate meaning of the idiom

Looking for a needle in a haystack.

- Ans
- 1. Be interested in sewing and embroidery
 - 2. Suddenly deciding to do farming
 - 3. Attempting something impossible
 - 4. Searching for small things to do

Question ID : 8161612855
Status : Answered
Chosen Option : 4

Q.22 Select the most appropriate synonym of the given word.

LURK

- Ans
- 1. Sing
 - 2. Prowl
 - 3. Vibrate
 - 4. Tremble

Question ID : 8161612860
Status : Answered
Chosen Option : 2

Q.23 Given below are four jumbled sentences. Select the option that gives their correct order.

- A. So, clearly, where you get your news from matters, since you can't possibly be expected to verify and authenticate every bit of 'news' you receive.
- B. Are you really sure those apparently sound bits of medical advice you received as forwards would pass muster with your doctor?
- C. Yet, we do often forward these in the belief that we are doing a good deed to our friends and relatives.
- D. Being educated is no guarantee against falling prey to fake news.

- Ans
- 1. DBCA
 - 2. CADB
 - 3. ACBD
 - 4. BACD

Question ID : 8161612849
Status : Answered
Chosen Option : 1

Q.24 Select the word which means the same as the group of words given.

A group of people who have come together in a religious building for worship and prayer

- Ans
- 1. Throng
 - 2. Crowd
 - 3. Multitude
 - 4. Congregation

Question ID : 8161612858
Status : Answered
Chosen Option : 4

Q.25 Select the option that is the direct form of the given sentence.

The child asked his mother if he could swim in the pool there.

- Ans
- 1. The child said to his mother, "Will I swim in the pool here?"
 - 2. The child asked his mother, "May I swim in the pool here?"
 - 3. The child asked to his mother, "Can he swim in the pool there?"
 - 4. The child asked his mother, "Could he swim in the pool there?"

Question ID : 8161612839
Status : Answered
Chosen Option : 3

Section : General Intelligence

Q.1 नीचे दी गई श्रृंखला में प्रश्न-चिह्न (?) के स्थान पर आने वाले अक्षर का चयन करें।

F, I, M, ?, X

- Ans
- 1. T
 - 2. R
 - 3. S
 - 4. Q

Question ID : 8161612871
Status : Answered
Chosen Option : 2

Q.2 नीचे दिए गए समीकरण को संतुलित करने के लिए किन दो चिह्नों को आपस में बदला जाना चाहिए?

$$78 \div 6 \times 4 - 3 + 9 = 10$$

- Ans
- 1. - और \times
 - 2. \times और \div
 - 3. + और -
 - 4. \div और +

Question ID : 8161612865
Status : Answered
Chosen Option : 1

Q.3 चार अक्षर-समूह दिए गए हैं, जिनमें से तीन किसी प्रकार संगत हैं और एक असंगत है। उस असंगत अक्षर-समूह का चयन करें।

- Ans
- 1. ADHM
 - 2. ILPU
 - 3. ORVA
 - 4. YVRO

Question ID : 8161612880

Status : Answered

Chosen Option : 4

Q.4 दर्पण को आकृति के दाईं ओर रखे जाने पर, दी गई आकृति के सही दर्पण प्रतिबिंब का चयन करें।



Ans

- 1.
- 2.
- 3.
- 4.

Question ID : 8161612887

Status : Answered

Chosen Option : 4

Q.5 उस विकल्प का चयन करें जिसमें संख्याएँ उसी प्रकार संबंधित हैं जिस प्रकार दिए गए समुच्चय की संख्याएँ संबंधित हैं।

(11, 57, 8)

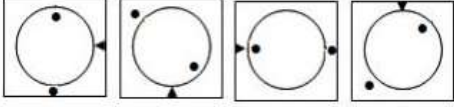
- Ans
- 1. (18, 89, 15)
 - 2. (15, 81, 12)
 - 3. (15, 38, 13)
 - 4. (12, 64, 10)

Question ID : 8161612868

Status : Answered

Chosen Option : 2

Q.6 नीचे दी गई श्रृंखला में अगले क्रम में आने वाली विकल्प-आकृति का चयन करें।



Ans

- 1.
- 2.
- 3.
- 4.

Question ID : 8161612883

Status : Answered

Chosen Option : 2

Q.7 चार अक्षर-समूह दिए गए हैं, जिनमें से तीन किसी प्रकार संगत हैं और एक असंगत है। उस असंगत अक्षर-समूह का चयन करें।

1. NKHEB
2. SPMJG
3. FHLQR
4. UROLI

Question ID : 8161612879

Status : Answered

Chosen Option : 3

Q.8 उस विकल्प का चयन करें जिसमें शब्दों के बीच वही संबंध है जो दिए गए शब्द-युग्म के शब्दों के बीच है।

सिरिंज : पिस्टन

1. बल्ब : प्रकाश
2. वाहन : यात्री
3. गुब्बारा : हवा
4. टायर : ट्यूब

Question ID : 8161612878

Status : Answered

Chosen Option : 4

Q.9 नीचे दी गई श्रृंखला में प्रश्न-चिह्न (?) के स्थान पर आने वाले अक्षर-समूह का चयन करें।

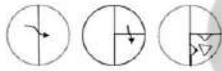
PGD, SEE, VCF, ?, ?

- Ans
- 1. YAD, BYH
 - 2. ZBD, CYI
 - 3. YAH, BZH
 - 4. YAG, BYH

Question ID : 8161612876
Status : Answered
Chosen Option : 4

Q.10 नीचे दी गई आकृतियों में एक कागज को मोड़ने के क्रम और मुड़े हुए कागज को काटने का ढंग दर्शाया गया है।

खोले जाने पर यह कागज कैसा दिखाई देगा?



Ans

- 1.
- 2.
- 3.
- 4.

Question ID : 8161612886
Status : Answered
Chosen Option : 1

Q.11 एक महिला का परिचय देते हुए, रमन ने कहा, "ये मेरे पिताजी के ससुर की पत्नी हैं"। उस महिला का रमन से क्या संबंध है?

- Ans
- 1. सास
 - 2. दादी
 - 3. मौसी
 - 4. नानी

Question ID : 8161612877
Status : Answered
Chosen Option : 4

Q.12 यदि '+' का अर्थ '+' है, 'x' का अर्थ '-' है, '-' का अर्थ '+' है और '-' का अर्थ 'x' है। तो निम्नलिखित व्यंजक का मान ज्ञात कीजिए।

$$18 + 2 - 5 \times 6 \div 4 = ?$$

- Ans
- 1. 47
 - 2. 43
 - 3. 45
 - 4. 12.5

Question ID : 8161612870
Status : Answered
Chosen Option : 2

Q.13 एक ही पासे की चार अलग-अलग स्थितियाँ दर्शायी गई हैं। उस संख्या का चयन करें जो संख्या '6' वाले फलक के विपरीत फलक पर होगी।



- Ans
- 1. 3
 - 2. 5
 - 3. 1
 - 4. 2

Question ID : 8161612882
Status : Answered
Chosen Option : 1

Q.14 किसी निश्चित कूट भाषा में, HIMACHAL को LAHCAMIH लिखा जाता है। उसी भाषा में MAGNETIC को क्या लिखा जाएगा?

- Ans
- 1. CITENGAM
 - 2. GAMNECIT
 - 3. CIETNGAM
 - 4. ETICNGAM

Question ID : 8161612872
Status : Answered
Chosen Option : 1

Q.15 उस विकल्प का चयन करें जिसमें संख्याओं के बीच वही संबंध है, जो दिए गए संख्या-युग्म की संख्याओं में है।

12 : 64

Ans 1. 11 : 56

2. 13 : 65

3. 16 : 76

4. 14 : 72

Question ID : 8161612866

Status : Not Attempted and
Marked For Review

Chosen Option : --

Q.16 उस विकल्प का चयन करें जिसका तीसरे अक्षर-समूह से वही संबंध है, जो दूसरे अक्षर-समूह का पहले अक्षर-समूह से है।

STOP : HGLK :: LAMB : ?

Ans 1. NCOD

2. JYKZ

3. OZNY

4. PYOX

Question ID : 8161612874

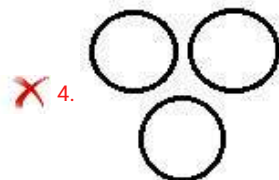
Status : Answered

Chosen Option : 3

Q.17 उस वेन आरेख का चयन करें जो दिए गए वर्गों के बीच के संबंध को सर्वोत्तम ढंग से दर्शाता है।

फल, खाद्य पदार्थ, कुकीज़

Ans



Question ID : 8161612888

Status : Answered

Chosen Option : 3

Q.18 उस विकल्प का चयन करें जिसमें दी गई आकृति अंतर्निहित है। (घुमाने की अनुमति नहीं है)

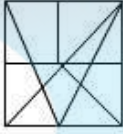


Ans

1.



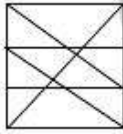
2.



3.



4.



Question ID : 8161612885

Status : Answered

Chosen Option : 3

Q.19 किसी निश्चित कूट भाषा में, TIFFIN को 67 के रूप में कूटबद्ध किया जाता है और BOX को 44 के रूप में कूटबद्ध किया जाता है। उसी भाषा में CARDBOARD को किस रूप में कूटबद्ध किया जाएगा?

Ans

1. 64

2. 67

3. 66

4. 69

Question ID : 8161612873

Status : Answered

Chosen Option : 3

Q.20 'अंपायर' का 'पिच' से वही संबंध है जो 'मेकेनिक' का '_____ ' से है।

Ans

1. गैराज

2. मशीन

3. मरम्मत

4. पान (स्पैनर)

Question ID : 8161612875

Status : Answered

Chosen Option : 1

Q.21 दिए गए पैटर्न का सावधानीपूर्वक अध्ययन करें, और उस संख्या का चयन करें, जो इसमें प्रश्नवाचक चिह्न (?) के स्थान पर आ सकती है।

150	25	100
132	22	88
162	?	108

- Ans
- 1. 30
 - 2. 24
 - 3. 29
 - 4. 27

Question ID : 8161612864

Status : Answered

Chosen Option : 4

Q.22 दिए गए कथनों और निष्कर्षों को ध्यानपूर्वक पढ़ें। यह मानते हुए कि कथनों में दी गई जानकारी सही है, भले ही वह आम तौर पर स्थापित तथ्यों से भिन्न प्रतीत होती है, निर्णय करें कि कौन सा/से निष्कर्ष तर्कसंगत रूप से इन कथनों का अनुसरण करता है / करते हैं।

कथन:

1. सभी कारें, मोटरें हैं।
2. सभी मोटरें, साइकिलें हैं।

निष्कर्ष:

- I. सभी साइकिलें, कारें हैं।
- II. सभी कारें, साइकिलें हैं।

- Ans
- 1. न तो निष्कर्ष I और न ही निष्कर्ष II अनुसरण करता है।
 - 2. केवल निष्कर्ष I अनुसरण करता है।
 - 3. निष्कर्ष I और II दोनों अनुसरण करते हैं।
 - 4. केवल निष्कर्ष II अनुसरण करता है।

Question ID : 8161612881

Status : Answered

Chosen Option : 4

Q.23 उस विकल्प का चयन करें जिसमें संख्याएँ उसी प्रकार संबंधित हैं जिस प्रकार दिए गए समुच्चय की संख्याएँ संबंधित हैं।

(26, 63, 124)

- Ans
- 1. (126, 217, 344)
 - 2. (125, 216, 343)
 - 3. (63, 123, 213)
 - 4. (63, 124, 215)

Question ID : 8161612867

Status : Answered

Chosen Option : 4

Q.24 नीचे दी गई श्रृंखला में प्रश्न-चिह्न (?) के स्थान पर आने वाली संख्या का चयन करें।

2, 2, 6, 10, 22, 42, ?


- Ans
- 1. 64
 - 2. 86
 - 3. 82
 - 4. 84

Question ID : 8161612869

Status : Answered

Chosen Option : 2

Q.25 नीचे दी गई आकृति में कितने त्रिभुज विद्यमान हैं?



- Ans
- 1. 12
 - 2. 16
 - 3. 14
 - 4. 18

Question ID : 8161612884

Status : Answered

Chosen Option : 2

Section : Quantitative Aptitude(Basic Arithmetic Skill)

Q.1 5 cm त्रिज्या वाले एक वृत्त में, दो बराबर लंबाई वाली समांतर जीवाएं एक दूसरे से 6 cm की दूरी पर, वृत्त के केंद्र के विपरीत भागों में स्थित हैं। प्रत्येक जीवा की लंबाई (cm में) ज्ञात करें।

- Ans
- 1. 12
 - 2. 8
 - 3. 6
 - 4. 10

Question ID : 8161612899

Status : Answered

Chosen Option : 2

Q.2 पांच विषयों में रवि का औसत प्राप्तांक 150 है, लेकिन गणना करते समय वृद्धि के कारण गणित में मिले 43 अंक को 23 पढ़ लिया गया। सही औसत ज्ञात करें।

- Ans
- 1. 160
 - 2. 150
 - 3. 154
 - 4. 148

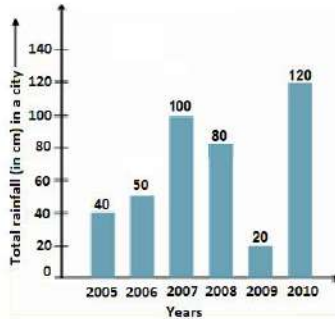
Question ID : 8161612892
Status : Answered
Chosen Option : 3

Q.3 $\triangle ABC$ में, $\angle ABC = 2\angle CAB$, यदि भुजा BC को बिंदु D तक बढ़ाया जाता है और $\angle ACD = 126^\circ$ है, तो $\angle CAB$ का माप क्या होगा?

- Ans
- 1. 84°
 - 2. 36°
 - 3. 42°
 - 4. 63°

Question ID : 8161612900
Status : Answered
Chosen Option : 3

Q.4 दिया गया ग्राफ एक शहर में छह वर्षों के दौरान हुई वर्षा (cm में) को दर्शाता है। ग्राफ का अध्ययन करें और दिए गए प्रश्न का उत्तर दें।



किन दो क्रमागत वर्षों में वर्षा का अंतर न्यूनतम था?

- Ans
- 1. 2008 - 2009
 - 2. 2007 - 2008
 - 3. 2005 - 2006
 - 4. 2006 - 2007

Question ID : 8161612911
Status : Answered
Chosen Option : 3

Q.5 अगर एक टीवी सेट का अंकित मूल्य ₹24,500 है, तो इस पर 12% की छूट के बाद इसका विक्रय मूल्य क्या होगा?

- Ans
- 1. ₹21,650
 - 2. ₹21,460
 - 3. ₹21,640
 - 4. ₹21,560

Question ID : 8161612893

Status : Answered

Chosen Option : 4

Q.6 यदि a और b दो धनात्मक वास्तविक संख्याएँ इस प्रकार हैं कि $a + b = 20$ और $ab = 4$ है, तो $a^3 + b^3$ का मान ज्ञात करें।

- Ans
- 1. 8240
 - 2. 8000
 - 3. 7760
 - 4. 240

Question ID : 8161612904

Status : Answered

Chosen Option : 3

Q.7 $\frac{\cos x}{1+\sin x} + \frac{1+\sin x}{\cos x}$ का मान ज्ञात करें।

- Ans
- 1. $2\cos x$
 - 2. $2\operatorname{cosec} x$
 - 3. $2\sin x$
 - 4. $2\sec x$

Question ID : 8161612908

Status : Answered

Chosen Option : 4

Q.8 दिए गए बार ग्राफ में, लगातार चार वर्षों-2016-2019 की अवधि के दौरान, एक विद्यालय की 10वीं और 12वीं

कक्षा का उत्तीर्ण प्रतिशत दर्शाया गया है।



चारों वर्षों का 12वीं कक्षा के अनुत्तीर्ण छात्रों का औसत प्रतिशत ज्ञात करें।

- Ans
- 1. 23%
 - 2. 25.25%
 - 3. 23.75%
 - 4. 25.75%

Question ID : 8161612912

Status : Answered

Chosen Option : 3

Q.9 नल A एक टैंक को 6 घंटे में भर सकता है, जबकि नल B इसी टैंक को 10 घंटे में खाली कर सकता है। यदि दोनों नलों को एक साथ खोल दिया जाए, तो टैंक को भरने में कितना समय (घंटों में) लगेगा?

- Ans
- 1. 18
 - 2. 15
 - 3. 16
 - 4. 20

Question ID : 8161612889

Status : Answered

Chosen Option : 2

Q.10 15 पेनों का क्रय मूल्य, 20 पेनों के विक्रय मूल्य के बराबर है। हानि या लाभ प्रतिशत क्या है।

- Ans
- 1. 20% हानि
 - 2. 25% हानि
 - 3. 25% लाभ
 - 4. 20% लाभ

Question ID : 8161612895

Status : Answered

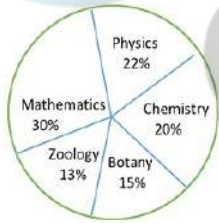
Chosen Option : 2

Q.11 ΔPQR में, भुजा QR , बिंदु S तक इस प्रकार बढ़ाई गई है कि $RS = PR$ है। यदि $\angle QPS = 110^\circ$ और $\angle PRQ = 70^\circ$, तो $\angle PQR$ का मान ज्ञात करें।

- Ans 1. 35°
 2. 40°
 3. 45°
 4. 50°

Question ID : 8161612901
Status : Answered
Chosen Option : 1

Q.12 दिए गए पाई-चार्ट और तालिका का ध्यानपूर्वक अध्ययन करें और दिये गए प्रश्न का उत्तर दें। पाई-चार्ट में किसी विश्वविद्यालय के पाँच विभिन्न विषयों में प्रवक्ताओं के प्रतिशत-वार वितरण को दर्शाया गया है। प्रवक्ताओं की कुल संख्या 500 है।



पुरुष और महिला प्रवक्ताओं का अनुपात:

प्रवक्ता	पुरुष : महिला
गणित (Mathematics)	7 : 3
भौतिक विज्ञान (Physics)	2 : 3
रसायन विज्ञान (Chemistry)	4 : 1
वनस्पति विज्ञान (Botany)	3 : 5
प्राणि विज्ञान (Zoology)	2 : 5

भौतिक विज्ञान (Physics) में पुरुष प्रवक्ताओं की संख्या ज्ञात करें।

- Ans 1. 46
 2. 44
 3. 42
 4. 40

Question ID : 8161612913
Status : Answered
Chosen Option : 2

Q.13 यदि $\cos x = \frac{p}{q}$ और $0^\circ < x < 90^\circ$ है, तो $\tan x$ का मान है।

- Ans
- 1. $\frac{\sqrt{q^2-p^2}}{q}$
 - 2. $\frac{q}{\sqrt{q^2-p^2}}$
 - 3. $\frac{p}{\sqrt{p^2-q^2}}$
 - 4. $\frac{\sqrt{q^2-p^2}}{p}$

Question ID : 8161612907

Status : Answered

Chosen Option : 4

Q.14 यदि ₹800 की राशि को रवि, मोहन और गोविंद में 2 : 5 : 3 के अनुपात में बांटा जाता है, तो मोहन और गोविंद को मिली राशि का योग क्या होगा?

- Ans
- 1. ₹240
 - 2. ₹400
 - 3. ₹640
 - 4. ₹560

Question ID : 8161612896

Status : Answered

Chosen Option : 3

Q.15 मोहन स्कूटर से 30 km/h की चाल से 2.5 km की दूरी तय करता है। मोहन द्वारा इस दूरी को तय करने में लगा समय मिनटों में क्या होगा?

- Ans
- 1. 5
 - 2. 8
 - 3. 6
 - 4. 10

Question ID : 8161612890

Status : Answered

Chosen Option : 1

Q.16 एक वृत्त का केंद्र O है। उसके बाहर स्थित किसी बिंदु A से दो स्पर्शरेखाएँ AP और AQ खींची जाती हैं। यदि $\angle POQ = 118^\circ$ है, तो $\angle PAQ$ की माप क्या होगी?

- Ans
- 1. 112°
 - 2. 98°
 - 3. 62°
 - 4. 72°

Question ID : 8161612898
Status : Answered
Chosen Option : 3

Q.17 व्यंजक $2x^2 - 5x - 12$ के गुणनखंड क्या होंगे?

- Ans
- 1. $(x - 4)$ और $(2x - 3)$
 - 2. $(x - 4)$ और $(2x + 3)$
 - 3. $(x + 4)$ और $(2x + 3)$
 - 4. $(x + 4)$ और $(2x - 3)$

Question ID : 8161612903
Status : Answered
Chosen Option : 2

Q.18 एक आयत का क्षेत्रफल $a^2 - b^2$ है और इसकी लंबाई $a + b$ है, इसकी चौड़ाई कितनी होगी?

- Ans
- 1. ab
 - 2. $a - b$
 - 3. $a + b$
 - 4. $2ab$

Question ID : 8161612902
Status : Answered
Chosen Option : 2

Q.19 अगर 7129p465, 9 द्वारा विभाज्य है, तो p का मान ज्ञात करें।

- Ans
- 1. 2
 - 2. 3
 - 3. 0
 - 4. 4

Question ID : 8161612905
Status : Answered
Chosen Option : 1

Q.20 ₹4,000 का चक्रवृद्धि ब्याज, तीन वर्षों के बाद ₹630.50 हो जाता है, तो वार्षिक रूप से चक्रवृद्धि ब्याज दर क्या होगी?

- Ans
- 1. 6%
 - 2. 7%
 - 3. 8%
 - 4. 5%

Question ID : 8161612897
Status : Answered
Chosen Option : 4

Q.21 $27 + [3(50 - 20) + 168 \div 4 + 2 - 11 \times 2]$ का मान ज्ञात करें।

- Ans
- 1. 149
 - 2. 139
 - 3. 245
 - 4. 239

Question ID : 8161612906
Status : Answered
Chosen Option : 2

Q.22 यदि $\sin x - \cos x = 0, 0^\circ < x < 90^\circ$ तो $(\sec x + \operatorname{cosec} x)^2$ का मान ज्ञात करें।

- Ans
- 1. 8
 - 2. 10
 - 3. 4
 - 4. 6

Question ID : 8161612909
Status : Answered
Chosen Option : 1

Q.23 एक गोलाकार शंकु की विज्या 6 cm तथा इसकी ऊंचाई 7 cm है। तो इस शंकु का आयतन cm^3 में क्या होगा?

(मान लें $\pi = \frac{22}{7}$)

- Ans
- 1. 188
 - 2. 264
 - 3. 216
 - 4. 154

Question ID : 8161612891
Status : Answered
Chosen Option : 2

Q.24 एक कक्षा में, यदि विद्यार्थियों में से 60%, लड़के हैं तथा लड़कियों की संख्या 36 है, तो लड़कों की संख्या ज्ञात करें।

- Ans
- 1. 58
 - 2. 65
 - 3. 60
 - 4. 54

Question ID : 8161612894
Status : Answered
Chosen Option : 4

Q.25 दिए गए बार ग्राफ में, लगातार चार वर्षों-2016-2019 की अवधि के दौरान, एक विद्यालय की 10वीं और 12वीं कक्षा का उत्तीर्ण प्रतिशत दर्शाया गया है।



चारों वर्षों का 10वीं कक्षा का औसत उत्तीर्ण प्रतिशत ज्ञात करें।

- Ans
- 1. 63.25%
 - 2. 65.75%
 - 3. 63.75%
 - 4. 65.25%

Question ID : 8161612910
Status : Answered
Chosen Option : 3

Section : General Awareness

Q.1 गाथागीत (ballad singing) की एक शैली 'दस्कथिया' (Daskathia) किस राज्य में प्रचलित है?

- Ans
- 1. सिक्किम
 - 2. तेलंगाना
 - 3. ओड़िशा
 - 4. गोवा

Question ID : 8161612916
Status : Answered
Chosen Option : 3

Q.2 'टैगोर संस्कृति एवं सभ्यता अध्ययन केंद्र' भारत के किस प्रदेश में स्थित है?

- Ans
- 1. पश्चिम बंगाल
 - 2. आंध्र प्रदेश
 - 3. हिमाचल प्रदेश
 - 4. मध्य प्रदेश

Question ID : 8161612917

Status : Answered

Chosen Option : 1

Q.3 किस वर्ष, सरोजिनी नायडू द्वारा भारतीय राष्ट्रीय कांग्रेस अधिवेशन की अध्यक्षता की गई थी?

- Ans
- 1. 1945
 - 2. 1915
 - 3. 1935
 - 4. 1925

Question ID : 8161612931

Status : Answered

Chosen Option : 4

Q.4 अगस्त 2019 में, सब-जूनियर बॉएज (अंडर-14) श्रेणी में 'सुब्रतो कप अंतरराष्ट्रीय फुटबॉल टूर्नामेंट' का डायमंड जुबली एडिशन किसने जीता था?

- Ans
- 1. मिज़ोरम के सैदान सेकेंडरी स्कूल ने
 - 2. मणिपुर की यूनिवर्सिटी अकादमी ने
 - 3. चंडीगढ़ के गवर्नमेंट मॉडल हाई स्कूल ने
 - 4. बांग्लादेश की क्रिडा शिक्षा प्रतिष्ठान ने

Question ID : 8161612937

Status : Answered

Chosen Option : 4

Q.5 निम्नलिखित में से वह कौन-सा टीका (vaccine) है जिसे सीएसआईआर (CSIR), विज्ञान और प्रौद्योगिकी मंत्रालय द्वारा विकसित किया गया है, जिसके टीकाकरण से जोह्ने रोग (Johne's disease) से संक्रमित होने वाले भेड़, बकरी, गाय और भैंस को रोगमुक्त करके उनके दूध और मांस उत्पादन में वृद्धि की जा सकती है?

- Ans
- 1. डिफरेंशिएटिंग इन्फेक्टेड वैक्सिनेटेड एनीमल्स (DIVA)
 - 2. जेडी वैक्सीन (JD Vaccine)
 - 3. संक्रामक गोजातीय राइनोट्रैचाइटिस वैक्सीन (Infectious Bovine Rhinotracheitis vaccine)
 - 4. पोर्सिन पार्वोवायरस वैक्सीन (Porcine Parvovirus vaccine)

Question ID : 8161612925

Status : Answered

Chosen Option : 3

Q.6 जनवरी 2020 में, गोवा राज्य सरकार द्वारा क्या सुनिश्चित करने के लिए 'स्वास्थ्य सखी परियोजना' प्रारंभ की गई?

- Ans
- 1. महिलाओं का स्वास्थ्य और कल्याण
 - 2. नवजात बच्चियों का संपूर्ण स्वास्थ्य
 - 3. नवजात शिशुओं का संपूर्ण स्वास्थ्य
 - 4. ग्रामीण पुरुषों या महिलाओं का स्वास्थ्य और कल्याण

Question ID : 8161612919
Status : Answered
Chosen Option : 1

Q.7 निम्नलिखित में से कौन-सा भारत का पर्यावरणीय आंदोलन / संघर्ष, सीधे तौर पर पेड़ों की कटाई रोकने से संबंधित है?

- Ans
- 1. टिहरी बांध संघर्ष
 - 2. साइलेंट वैली बचाओ आंदोलन
 - 3. चिपको आंदोलन
 - 4. नर्मदा बचाओ आंदोलन

Question ID : 8161612927
Status : Answered
Chosen Option : 3

Q.8 जनवरी 2020 में, किसे झारखंड विधानसभा अध्यक्ष के रूप में चुना गया था?

- Ans
- 1. स्टीफन मरांडी
 - 2. द्रौपदी मुर्मू
 - 3. रबींद्र नाथ महतो
 - 4. चंपई सोरेन

Question ID : 8161612918
Status : Answered
Chosen Option : 3

Q.9 कौन-सी परत (मंडल) पृथ्वी की सतह से शुरू होकर 8 से 14.5 km (5 से 9 मील) ऊपर तक विस्तारित होती है? वायुमंडल का यह हिस्सा सबसे घना होता है तथा इस क्षेत्र में लगभग सभी मौसम होते हैं।

- Ans
- 1. आयनमंडल (आयनोस्फियर)
 - 2. मध्यमंडल (मेसोस्फियर)
 - 3. क्षोभमंडल (ट्रोपोस्फियर)
 - 4. समतापमंडल (स्ट्रेटोस्फियर)

Question ID : 8161612928
Status : Answered
Chosen Option : 3

Q.10 निम्नलिखित में से कौन-सा कथन सही है?

- Ans 1. राष्ट्रपति अपना त्यागपत्र उप-राष्ट्रपति को सौंपते हैं।
 2. राष्ट्रपति अपना त्यागपत्र भारत के मुख्य न्यायाधीश को सौंपते हैं।
 3. राष्ट्रपति अपना त्यागपत्र लोकसभा अध्यक्ष को सौंपते हैं।
 4. राष्ट्रपति अपना त्यागपत्र प्रधानमंत्री को सौंपते हैं।

Question ID : 8161612935
Status : Answered
Chosen Option : 1

Q.11 'बेस्ट मोशन पिक्चर-ड्रामा' के लिए किस फिल्म को गोल्डन ग्लोब 2020 पुरस्कार से नवाजा गया?

- Ans 1. The Two Popes (द टू पोप्स)
 2. 1917
 3. The Irishman (द आयरिशमैन)
 4. Joker (जोकर)

Question ID : 8161612920
Status : Answered
Chosen Option : 2

Q.12 8 सितंबर 2016 को _____ सांविधिक संशोधन अधिनियम, 2016 के माध्यम से संसद द्वारा माल और सेवा कर (GST) लागू किया गया।

- Ans 1. 105वें
 2. 101वें
 3. 107वें
 4. 103वें

Question ID : 8161612922
Status : Answered
Chosen Option : 1

Q.13 निम्नलिखित में से कौन-सी एक ऐसी मेमोरी है, जो रैम (RAM) के समान है? जिसका उपयोग कंप्यूटर द्वारा रैम (RAM) और सीपीयू (CPU) के बीच डेटा को स्थानांतरित करने के लिए किया जाता है।

- Ans 1. ROM (रोम)
 2. I Beam (आई बीम)
 3. Cache (कैश)
 4. Hypertext Link (हाइपरटेक्स्ट लिंक)

Question ID : 8161612915
Status : Answered
Chosen Option : 1

Q.14 साल, सागौन, नीम और शीशम (फर्नीचर, परिवहन और निर्माण सामग्री बनाने के लिए उपयोगी) जैसी सख्त लकड़ी वाले वृक्ष किस प्रकार के वन में पाए जाते हैं?

- Ans
- 1. शंकुधारी वन (Coniferous Forests)
 - 2. उष्णकटिबंधीय पर्णपाती वन (Tropical Deciduous Forests)
 - 3. समशीतोष्ण पर्णपाती वन (Temperate Deciduous Forests)
 - 4. भूमध्यसागरीय पेड़-पौधे (Mediterranean Vegetation)

Question ID : 8161612929
Status : Answered
Chosen Option : 2

Q.15 15 जनवरी 2020 तक की स्थिति के अनुसार, डब्ल्यू.टी.ए. (WTA) रैंकिंग में नंबर एक महिला टेनिस खिलाड़ी कौन हैं?

- Ans
- 1. सेरेना विलियम्स (Serena Williams)
 - 2. सिमोना हालेप (Simona Halep)
 - 3. एश्ले बार्टी (Ashleigh Barty)
 - 4. कैरोलिना प्लीस्कवा (Karolína Plíšková)

Question ID : 8161612938
Status : Answered
Chosen Option : 2

Q.16 कंप्यूटिंग के संदर्भ में, एक बाइट (byte) कितने बिट्स (bits) के बराबर होता है?

- Ans
- 1. 4
 - 2. 8
 - 3. 16
 - 4. 24

Question ID : 8161612914
Status : Answered
Chosen Option : 2

Q.17 संविधान के 91वें संशोधन अधिनियम, 2003 के अनुसार किसी राज्य के मंत्रिपरिषद में मुख्यमंत्री सहित मंत्रियों की कुल संख्या, उस राज्य की विधानसभा के सदस्यों की कुल संख्या के _____ से अधिक नहीं होनी चाहिए।

- Ans
- 1. 10%
 - 2. 15%
 - 3. 25%
 - 4. 20%

Question ID : 8161612934
Status : Answered
Chosen Option : 1

Q.18 निम्नलिखित में से किसे 'ICC वीमेन ODI क्रिकेटर ऑफ द ईयर 2019' से सम्मानित किया गया?

- Ans
- 1. चनिदा सुथिर्यंग (Chanida Sutthiruang)
 - 2. एलिस पेरी (Ellyse Perry)
 - 3. स्मृति मंधाना
 - 4. एलिसा हीली (Alyssa Healy)

Question ID : 8161612933
Status : Answered
Chosen Option : 3

Q.19 निम्नलिखित में से किसे 'मोशन पिक्चर - ड्रामा में किसी अभिनेता द्वारा सर्वश्रेष्ठ प्रदर्शन' के लिए 'गोल्डन ग्लोब 2020' पुरस्कार से सम्मानित किया गया?

- Ans
- 1. जॉकिन फोनिक्स
 - 2. जॉन डेविड वाशिंगटन
 - 3. जोनाथन प्राइस
 - 4. लुकास हेजेज

Question ID : 8161612932
Status : Answered
Chosen Option : 1

Q.20 भारत में मौद्रिक नीति कौन बनाता है?

- Ans
- 1. भारतीय रिजर्व बैंक
 - 2. नीति (NITI) आयोग
 - 3. सांख्यिकी और कार्यक्रम कार्यान्वयन मंत्रालय
 - 4. भारतीय वित्त आयोग

Question ID : 8161612921
Status : Answered
Chosen Option : 1

Q.21 15 जनवरी 2020 तक, किस देश की क्रिकेट टीम, ICC मेन्स ODI टीम रैंकिंग में पहले स्थान पर काबिज थी?

- Ans
- 1. दक्षिण अफ्रीका
 - 2. भारत
 - 3. न्यूजीलैंड
 - 4. इंग्लैंड

Question ID : 8161612936
Status : Answered
Chosen Option : 4

Q.22 महात्मा गांधी द्वारा 'दीन बंधु' की उपाधि किसको दी गई थी?

- Ans
- 1. सी.एफ. एंड्रयूज
 - 2. अब्दुल गफ्फार खान
 - 3. राजेन्द्र प्रसाद
 - 4. रबींद्रनाथ टैगोर

Question ID : 8161612930
Status : Answered
Chosen Option : 1

Q.23 निम्नलिखित में से कौन हृदय से गुदों तक रक्त पहुंचाती है?

- Ans
- 1. वृक्क शिरा
 - 2. वेना कावा
 - 3. कोरोनरी धमनी
 - 4. वृक्क धमनी

Question ID : 8161612924
Status : Answered
Chosen Option : 2

Q.24 रॉबर्ट के खेतों की मिट्टी रेतीली है। उसके खेत के लिए आदर्श फसल कौन-सी होगी?

- Ans
- 1. चना
 - 2. मक्का
 - 3. गेहूँ
 - 4. पत्ता गोभी

Question ID : 8161612923
Status : Answered
Chosen Option : 2

Q.25 तिब्बत में परिवहन के तौर पर निम्नलिखित में से किस जानवर का उपयोग किया जाता है?

- Ans
- 1. बैल
 - 2. याक
 - 3. ऊंट
 - 4. लामा (Llama)

Question ID : 8161612926
Status : Answered
Chosen Option : 2

Roll Number	
Candidate Name	
Venue Name	
Exam Date	15/10/2020
Exam Time	1:00 PM - 2:00 PM
Subject	CHSL Tier 1

Section : English Language (Basic Knowledge)

Q.1 Select the most appropriate segment to substitute the underlined segment of the given sentence.

In the jungle, I saw a group of lions.

- Ans 1. a pride of lions
 2. a school of lions
 3. a herd of lions
 4. a flock of lions

Question ID : 8161612951
Status : Answered
Chosen Option : 4

Q.2 In the given sentence identify the segment which contains the grammatical error.

The Commonwealth Games had a grand opening ceremony with spectacular cultural performings.

- Ans 1. a grand opening
 2. The Commonwealth Games had
 3. cultural performings.
 4. with spectacular

Question ID : 8161612941
Status : Answered
Chosen Option : 3

Q.3 Select the most appropriate synonym of the given word.

INTEGRATE

- Ans 1. Disappear
 2. Unite
 3. Increase
 4. Divide

Question ID : 8161612961
Status : Answered
Chosen Option : 2

Q.4 Select the word which means the same as the group of words given.

A situation in which many people leave a place at the same time

- Ans
- 1. Navigation
 - 2. Immigration
 - 3. Mitigation
 - 4. Exodus

Question ID : 8161612959

Status : **Not Answered**

Chosen Option : --

Comprehension:

In the following passage some words have been deleted. Fill in the blanks with the help of the alternatives given. Select the most appropriate option for each blank.

Increasing levels of air pollution are (1)_____ for higher incidence of respiratory diseases and other illnesses. Various studies carried out in Delhi reflect the correlation between air pollution and its (2)_____ impacts.

To tackle the problem of air pollution, a number of measures have been taken in the past, such as switching to (3)_____ fuels, tightening vehicular emission limits, phasing out of old vehicles and maintenance of in-use vehicles, closing or relocating (4)_____ industries, plantation activities etc. However, a lot more still needs to be done if the capital desires to (5)_____ clean air.

SubQuestion No : 5

Q.5 Select the most appropriate option for blank number 1.

- Ans
- 1. responsive
 - 2. responding
 - 3. responsibility
 - 4. responsible

Question ID : 8161612944

Status : **Answered**

Chosen Option : 4

Comprehension:

In the following passage some words have been deleted. Fill in the blanks with the help of the alternatives given. Select the most appropriate option for each blank.

Increasing levels of air pollution are (1)_____ for higher incidence of respiratory diseases and other illnesses. Various studies carried out in Delhi reflect the correlation between air pollution and its (2)_____ impacts.

To tackle the problem of air pollution, a number of measures have been taken in the past, such as switching to (3)_____ fuels, tightening vehicular emission limits, phasing out of old vehicles and maintenance of in-use vehicles, closing or relocating (4)_____ industries, plantation activities etc. However, a lot more still needs to be done if the capital desires to (5)_____ clean air.

SubQuestion No : 6

Q.6 Select the most appropriate option for blank number 2.

- Ans
- 1. illness
 - 2. rough
 - 3. long
 - 4. health

Question ID : 8161612945

Status : Answered

Chosen Option : 4

Comprehension:

In the following passage some words have been deleted. Fill in the blanks with the help of the alternatives given. Select the most appropriate option for each blank.

Increasing levels of air pollution are (1)_____ for higher incidence of respiratory diseases and other illnesses. Various studies carried out in Delhi reflect the correlation between air pollution and its (2)_____ impacts.

To tackle the problem of air pollution, a number of measures have been taken in the past, such as switching to (3)_____ fuels, tightening vehicular emission limits, phasing out of old vehicles and maintenance of in-use vehicles, closing or relocating (4)_____ industries, plantation activities etc. However, a lot more still needs to be done if the capital desires to (5)_____ clean air.

SubQuestion No : 7

Q.7 Select the most appropriate option for blank number 3.

- Ans
- 1. immaculate
 - 2. guiltless
 - 3. cleaner
 - 4. righteous

Question ID : 8161612946

Status : Not Answered

Chosen Option : --

Comprehension:

In the following passage some words have been deleted. Fill in the blanks with the help of the alternatives given. Select the most appropriate option for each blank.

Increasing levels of air pollution are (1)_____ for higher incidence of respiratory diseases and other illnesses. Various studies carried out in Delhi reflect the correlation between air pollution and its (2)_____ impacts.

To tackle the problem of air pollution, a number of measures have been taken in the past, such as switching to (3)_____ fuels, tightening vehicular emission limits, phasing out of old vehicles and maintenance of in-use vehicles, closing or relocating (4)_____ industries, plantation activities etc. However, a lot more still needs to be done if the capital desires to (5)_____ clean air.

SubQuestion No : 8

Q.8 Select the most appropriate option for blank number 4.

- Ans
- 1. pollution
 - 2. pollute
 - 3. polluted
 - 4. polluting

Question ID : 8161612947

Status : Answered

Chosen Option : 3

Comprehension:

In the following passage some words have been deleted. Fill in the blanks with the help of the alternatives given. Select the most appropriate option for each blank.

Increasing levels of air pollution are (1)_____ for higher incidence of respiratory diseases and other illnesses. Various studies carried out in Delhi reflect the correlation between air pollution and its (2)_____ impacts.

To tackle the problem of air pollution, a number of measures have been taken in the past, such as switching to (3)_____ fuels, tightening vehicular emission limits, phasing out of old vehicles and maintenance of in-use vehicles, closing or relocating (4)_____ industries, plantation activities etc. However, a lot more still needs to be done if the capital desires to (5)_____ clean air.

SubQuestion No : 9

Q.9 Select the most appropriate option for blank number 5.

- Ans
- 1. breather
 - 2. breathe
 - 3. breathes
 - 4. breathed

Question ID : 8161612948

Status : Answered

Chosen Option : 4

Q.10 Select the correct indirect form of the given sentence.

Roshan said to me, "Sandeep made a new year greeting card for his teacher".

- Ans
- 1. Roshan said Sandeep had made a new year greeting card for his teacher.
 - 2. Roshan was saying that Sandeep made a new year greeting card for his teacher.
 - 3. Roshan told me that Sandeep had made a new year greeting card for his teacher.
 - 4. Sandeep made a new year greeting card for his teacher said Roshan.

Question ID : 8161612940
Status : Answered
Chosen Option : 3

Q.11 Select the most appropriate ANTONYM of the given word.

INCITE

- Ans
- 1. Instigate
 - 2. Appeal
 - 3. Provoke
 - 4. Restrain

Question ID : 8161612954
Status : Answered
Chosen Option : 2

Q.12 Select the most appropriate option to substitute the underlined segment in the given sentence. If there is no need to substitute it, select 'No improvement'.

Why did the teacher ask all four of you to stay back in class in the break?

- Ans
- 1. asking four of you
 - 2. No improvement
 - 3. asked of four of you
 - 4. ask you all four

Question ID : 8161612952
Status : Answered
Chosen Option : 4

Q.13 Select the wrongly spelt word.

- Ans
- 1. Attacked
 - 2. Clarify
 - 3. Provision
 - 4. Promote

Question ID : 8161612957
Status : Answered
Chosen Option : 1

Q.14 Select the most appropriate ANTONYM of the given word.

DISABLE

- Ans 1. Permit
 2. Refuse
 3. Disapprove
 4. Disallow

Question ID : 8161612953
Status : Answered
Chosen Option : 1

Q.15 Given below are four jumbled sentences. Select the option that gives their correct order.

- A. In India, forests are huge catchment areas for rivers and streams as they help in storing water.
B. If these forests continue to be felled indiscriminately, rivers and streams will dry up leading to drought.
C. Due to this many states are facing shortage of water in the summer months.
D. Unfortunately, these dense forest areas are disappearing.

- Ans 1. ABCD
 2. CADB
 3. DCBA
 4. ADCB

Question ID : 8161612950
Status : Answered
Chosen Option : 4

Q.16 Given below are four jumbled sentences. Select the option that gives their correct order.

- A. However, in today's ever changing world, power looms are replacing the traditional handloom textiles.
B. Handloom refers to the use of wooden frames of various kinds by skilled artisans to weave fabric from natural fibres.
C. One of the most prominent among Indian handlooms are Banarasi textiles.
D. Banarasi textiles are made with gleaming gold threads and weaving techniques as old as time.

- Ans 1. BDAC
 2. DBCA
 3. BCDA
 4. CDAB

Question ID : 8161612949
Status : Answered
Chosen Option : 3

Q.17 Select the most appropriate words to fill in the blank in the given sentence.

I dislike people with _____ who say something and do something else.

- Ans
- 1. double standards
 - 2. many roles
 - 3. multiple relations
 - 4. strange achievements

Question ID : 8161612964
Status : Answered
Chosen Option : 1

Q.18 Select the most appropriate meaning of the given idiom.

Not mince (your) words

- Ans
- 1. State your opinion clearly
 - 2. Not to have clarity
 - 3. Eat a lot clumsily
 - 4. Say words that are confusing

Question ID : 8161612955
Status : Not Answered
Chosen Option : --

Q.19 Select the word which means the same as the group of words given.

To laugh at something in a cruel way

- Ans
- 1. Deprive
 - 2. Decide
 - 3. Defy
 - 4. Deride

Question ID : 8161612960
Status : Not Answered
Chosen Option : --

Q.20 Select the most appropriate word to fill in the blank in the given sentence.

The _____ entered the house in disguise saying his uncle lived there and robbed the place.

- Ans
- 1. technicality
 - 2. technique
 - 3. technical
 - 4. technician

Question ID : 8161612963
Status : Answered
Chosen Option : 4

Q.21 In the given sentence identify the segment which contains the grammatical error.

My domestic help was taking ill the day I had a party in my house.

- Ans
- 1. My domestic help
 - 2. the day I had a party
 - 3. was taking ill
 - 4. in my house

Question ID : 8161612942
Status : Not Answered
Chosen Option : --

Q.22 Select the most appropriate meaning of the given idiom.

Rub the wrong way

- Ans
- 1. Rub incorrectly
 - 2. Rub well without oil
 - 3. Annoy someone
 - 4. Please someone

Question ID : 8161612956
Status : Answered
Chosen Option : 1

Q.23 Select the wrongly spelt word.

- Ans
- 1. Interfear
 - 2. Electorate
 - 3. Acrimony
 - 4. Selection

Question ID : 8161612958
Status : Answered
Chosen Option : 1

Q.24 Select the correct passive form of the given sentence.

I use jaggery to sweeten my tea in winters.

- Ans
- 1. In winters jaggery was used by me to sweeten my tea.
 - 2. Jaggery is being used by me to sweeten my tea in winters.
 - 3. I have been using jaggery to sweeten my tea in winters.
 - 4. Jaggery is used by me to sweeten my tea in winters.

Question ID : 8161612939
Status : Answered
Chosen Option : 4

Q.25 Select the most appropriate synonym of the given word.

TOLERANCE

- Ans
- 1. Aggression
 - 2. Endurance
 - 3. Oppression
 - 4. Impatience

Question ID : 8161612962
Status : Answered
Chosen Option : 2

Section : General Intelligence

Q.1 'Algebra' is related to 'Maths' in the same way as 'Optics' is related to '_____'.
.

- Ans
- 1. Geography
 - 2. Electronics
 - 3. Biology
 - 4. Physics

Question ID : 8161612976
Status : Answered
Chosen Option : 4

Q.2 In a certain code language, SYNC is coded as 4417 and MINT is coded as 2234. How will NOSE be coded as in that language?

- Ans
- 1. 1758
 - 2. 2924
 - 3. 3419
 - 4. 5729

Question ID : 8161612974
Status : Not Answered
Chosen Option : --

Q.3 Four letter-clusters have been given, out of which three are alike in some manner and one is different. Select the odd letter-cluster.

- Ans
- 1. ABDGN
 - 2. DHPFL
 - 3. BDHPF
 - 4. CFLXV

Question ID : 8161612980
Status : Not Answered
Chosen Option : --

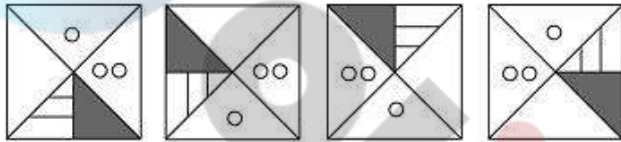
Q.4 Select the combination of letters that when sequentially placed in the blanks of the given letter series will complete the series.

ab _ a _ _ ba _ _ a _ _ ac

- Ans**
- 1. acaacba
 - 2. abccaba
 - 3. cabbacb
 - 4. cbaabcb

Question ID : 8161612977
Status : Answered
Chosen Option : 1

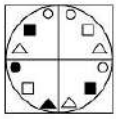
Q.5 Select the figure that will come next in the following figure series.



- Ans**
- 1.
 - 2.
 - 3.
 - 4.

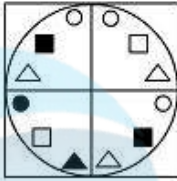
Question ID : 8161612984
Status : Answered
Chosen Option : 4

Q.6 Select the correct mirror image of the given figure when the mirror is placed to the right side of the figure.

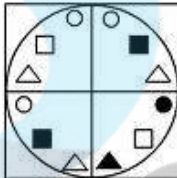


Ans

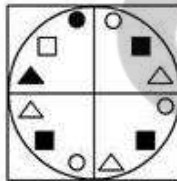
1.



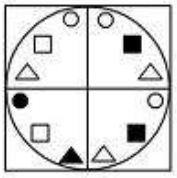
2.



3.



4.




Question ID : 8161612988

Status : Not Answered

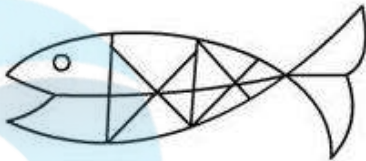
Chosen Option : --

Q.7 Select the option in which the given figure is embedded.



Ans

1.



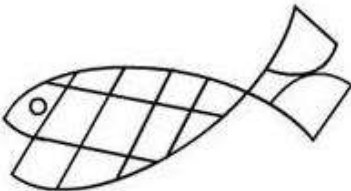
2.



3.



4.



Question ID : 8161612986

Status : Answered

Chosen Option : 2

Q.8 Select the option in which the numbers share the same relationship as that shared by the given pair of numbers.

8 : 36

Ans

1. 4 : 8

2. 12 : 78

3. 10 : 42

4. 6 : 24

Question ID : 8161612967

Status : Answered

Chosen Option : 4

Q.9 If 'DESIGN' is coded as 'OHTJFE' in a code language, then, how will 'STRONG' be coded as in the same code language?

- Ans
- 1. HOPSVU
 - 2. TUSPOH
 - 3. DOPSKJ
 - 4. HOPSUT

Question ID : 8161612981
Status : Answered
Chosen Option : 3

Q.10 Which of the following sequential order of operations will replace the '**' signs and make the equation $12 * 3 * 6 * 8 * 4 = -4$ correct?

- Ans
- 1. -, ×, +, +
 - 2. ÷, ×, +, -
 - 3. ×, -, +, +
 - 4. +, +, ×, -

Question ID : 8161612966
Status : Answered
Chosen Option : 1

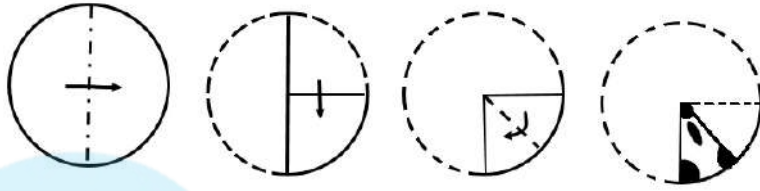
Q.11 Arrange the following words in a logical and meaningful order.

- I. Millimeter
- II. Decameter
- III. Decimeter
- IV. Centimeter

- Ans
- 1. I, III, IV, II
 - 2. I, IV, III, II
 - 3. III, II, I, IV
 - 4. II, III, I, IV

Question ID : 8161612972
Status : Answered
Chosen Option : 4

Q.12 The sequence of folding a piece of paper and the manner in which the folded paper has been cut is shown in the following figures. How would this paper look when unfolded?



Ans


1.




2.



3.



4.

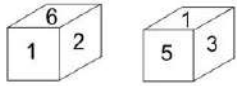


Question ID : 8161612987

Status : Not Answered

Chosen Option : --

Q.13 Two different positions of the same dice are shown. Assuming that the sum of opposite faces is an odd number, select the number that will be on the face opposite to the one having the number '2'.



- Ans
- 1. 4
 - 2. 3
 - 3. 1
 - 4. 5

Question ID : 8161612983
Status : Not Answered
Chosen Option : --

Q.14 In a certain code language, BOARD is written as CMDNI. How will WHITE be written as in that language?

- Ans
- 1. VFJQB
 - 2. XJMQZ
 - 3. XFLPJ
 - 4. VJFPZ

Question ID : 8161612973
Status : Answered
Chosen Option : 3

Q.15 Select the number that can replace the question mark (?) in the following series.

5, 9, 10, 28, 17, 65, ?

- Ans
- 1. 26
 - 2. 93
 - 3. 32
 - 4. 78

Question ID : 8161612970
Status : Not Answered
Chosen Option : --

Q.16 Four number-pairs have been given, out of which three are alike in some manner and one is different. Select the number-pair that is different from the rest.

- Ans
- 1. 16 : 125
 - 2. 576 : 3375
 - 3. 289 : 5832
 - 4. 25 : 216

Question ID : 8161612969
Status : Answered
Chosen Option : 3

Q.17 Select the option that is related to the third letter-cluster in the same way as the second letter-cluster is related to the first letter-cluster.

DASH : FYUF :: BOARD : ?

- Ans**
- 1. DMCPF
 - 2. ZQYTB
 - 3. DQYBF
 - 4. ZPCLZ

Question ID : 8161612975
Status : Answered
Chosen Option : 1

Q.18 Select the number that can replace the question mark (?) in the following series.

589, 572, 557, 544, 533, ?


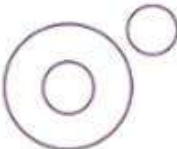
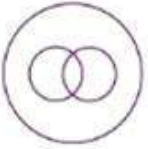
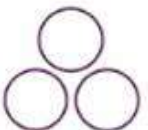
- Ans**
- 1. 522
 - 2. 524
 - 3. 523
 - 4. 525

Question ID : 8161612968
Status : Answered
Chosen Option : 2

Q.19 Select the Venn diagram that best illustrates the relationship between the following:

Omnivore, Bear, Cattle

Ans

- 1. 
- 2. 
- 3. 
- 4. 

Question ID : 8161612989
Status : Not Answered
Chosen Option : --

Q.20 Four numbers have been given, out of which three are alike in some manner and one is different. Select the number that is different from the rest.

- Ans
- 1. 853
 - 2. 421
 - 3. 651
 - 4. 725

Question ID : 8161612971
Status : Answered
Chosen Option : 2

Q.21 Read the given statements and conclusions carefully. Assuming that the information given in the statements is true, even if it appears to be at variance with commonly known facts, decide which of the given conclusions logically follow(s) from the statements.

Statements:

1. Some students are listeners.
2. Some listeners are observers.
3. Many students are not observers.

Conclusions:

- I. Some students are observers.
- II. Some observers are not students.
- III. Some observers are listeners.

- Ans
- 1. Only conclusions I and III follow.
 - 2. Only conclusion III follows.
 - 3. Only conclusion I follows.
 - 4. Only conclusion II follows.

Question ID : 8161612982
Status : Answered
Chosen Option : 3

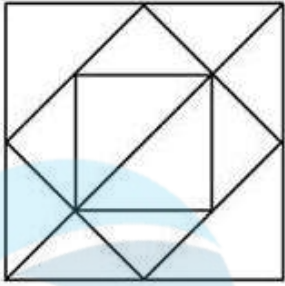
Q.22 Select the option in which the words share the same relationship as that shared by the given pair of words.

Fish : Pisciculture

- Ans
- 1. Silkworm : Sericulture
 - 2. Earthworm : Horticulture
 - 3. Goat : Apiculture
 - 4. Honeybee : Citriculture

Question ID : 8161612979
Status : Not Answered
Chosen Option : --

Q.23 How many triangles are present in the following figure?



- Ans
- 1. 18
 - 2. 15
 - 3. 14
 - 4. 16

Question ID : 8161612985
Status : Not Answered
Chosen Option : --

Q.24 What is the relation of Ramesh with his mother's son-in-law's wife's sister?

- Ans
- 1. Father
 - 2. Husband
 - 3. Father-in-law
 - 4. Brother

Question ID : 8161612978
Status : Not Answered
Chosen Option : --

Q.25 Three persons A, B and C had ₹360 altogether. A transferred half of the amount he had to B, and C transferred half of the amount he had to A. After the transfer, all of them have equal amounts. What is the total amount B had before the transfer?

- Ans
- 1. ₹180
 - 2. ₹240
 - 3. ₹0
 - 4. ₹120

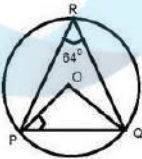
Question ID : 8161612965
Status : Not Answered
Chosen Option : --

Q.1 If $\sin x = \frac{2}{3}$, then find the value of $\cos 3x$.

- Ans
- 1. 0.5678
 - 2. -0.8765
 - 3. 0.6735
 - 4. -0.5797

Question ID : 8161613009
Status : Not Answered
Chosen Option : --

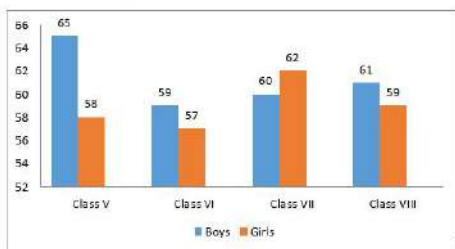
Q.2 In the given figure O is the centre of the circle. If angle $\angle PRQ = 64^\circ$, then what is the measure of angle $\angle OPQ$?



- Ans
- 1. 32°
 - 2. 26°
 - 3. 60°
 - 4. 64°

Question ID : 8161612999
Status : Answered
Chosen Option : 2

Q.3 The following graph shows the number of boys and girls in Class V, Class VI, Class VII and Class VIII. Study the graph and answer the question.



What is the average number of girls in all the classes?

- Ans
- 1. 60
 - 2. 59
 - 3. 57
 - 4. 58

Question ID : 8161613013
Status : Not Answered
Chosen Option : --

Q.4 If $x=2+\sqrt{3}$, then find the value of $x^4 - 8x^3 + 16x^2$.

- Ans
- 1. 2
 - 2. 1
 - 3. 0
 - 4. -1

Question ID : 8161613003
Status : Not Answered
Chosen Option : --

Q.5 The difference between two numbers is 3 and the difference between their cubes is 999. Find the difference between their squares.

- Ans
- 1. 18
 - 2. 36
 - 3. 63
 - 4. 81

Question ID : 8161613005
Status : Not Answered
Chosen Option : --

Q.6 A student multiplied a number with $\frac{3}{4}$ instead of $\frac{4}{3}$. What is the error percentage?

- Ans
- 1. 43.75%
 - 2. 67.45%
 - 3. 59.67%
 - 4. 39.34%

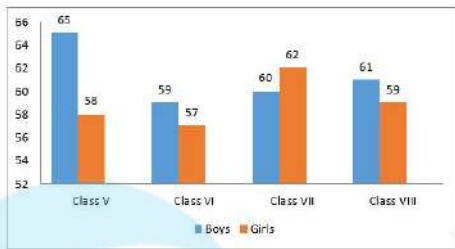
Question ID : 8161612995
Status : Answered
Chosen Option : 1

Q.7 The sum of two numbers is 47 and their product is 550. Find the sum of their squares.

- Ans
- 1. 1109
 - 2. 876
 - 3. 986
 - 4. 1209

Question ID : 8161613004
Status : Answered
Chosen Option : 1

Q.8 The following graph shows the number of boys and girls in Class V, Class VI, Class VII and Class VIII. Study the graph and answer the question.



Which class has the maximum number of students?

- Ans**
- 1. Class VII
 - 2. Class VI
 - 3. Class VIII
 - 4. Class V

Question ID : 8161613011
Status : Answered
Chosen Option : 4

Q.9 What is the least 5-digit number that is divisible 91?

- Ans**
- 1. 10283
 - 2. 10010
 - 3. 10101
 - 4. 10192

Question ID : 8161613006
Status : Answered
Chosen Option : 2

Q.10 In how many years and months will a sum of ₹24 becomes ₹56 at 16% simple interest per annum?

- Ans**
- 1. 7 years 8 months
 - 2. 6 years 11 months
 - 3. 6 years 5 months
 - 4. 8 years 4 months

Question ID : 8161612998
Status : Answered
Chosen Option : 4

Q.11 Find the value of $\sin^2 35 + \sin^2 55$.

- Ans
- 1. 1
 - 2. 0
 - 3. -1
 - 4. $\frac{1}{2}$

Question ID : 8161613010
Status : Answered
Chosen Option : 1

Q.12 In a bag, white marbles and red marbles are in the ratio of 3 : 5. If the number of red marbles are 150, then how many white marbles are there?

- Ans
- 1. 90
 - 2. 120
 - 3. 60
 - 4. 30

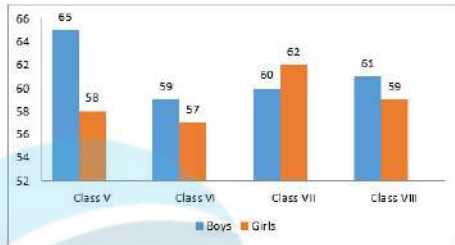
Question ID : 8161612997
Status : Answered
Chosen Option : 1

Q.13 In a grocery store, an item with an MRP of ₹1,100 is on a discount counter with a special price of ₹979. What is the percentage of discount given for that item?

- Ans
- 1. 10%
 - 2. 11%
 - 3. 12%
 - 4. 9%

Question ID : 8161612994
Status : Answered
Chosen Option : 3

Q.14 The following graph shows the number of boys and girls in Class V, Class VI, Class VII and Class VIII. Study the graph and answer the question.



In which class, the percentage increase in the number of boys as compared to its previous class is least?

- Ans**
- 1. Class V
 - 2. Class VII
 - 3. Class VI
 - 4. Class VIII

Question ID : 8161613012

Status : Not Answered

Chosen Option : --

Q.15 A car is running at a speed of 64 km/h to cover a certain distance in 40 min. At what speed should the car run to reduce the time of the journey to 30 min?

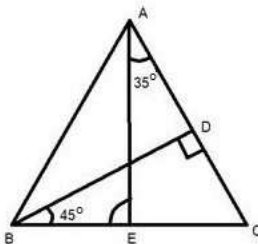
- Ans**
- 1. 85.33 km/h
 - 2. 54 km/h
 - 3. 74.65 km/h
 - 4. 84.78 km/h

Question ID : 8161612991

Status : Answered

Chosen Option : 1

Q.16 In the given figure BD perpendicular to AC then what will be the measure of angle AEB?



- Ans**
- 1. 60°
 - 2. 80°
 - 3. 100°
 - 4. 45°

Question ID : 8161613002

Status : Not Answered

Chosen Option : --

Q.17 Find the equation of a circle whose diameter has end points (4, 3) and (-2, 1).

- Ans
- 1. $x^2 + y^2 - 2x + 4y = 5$
 - 2. $x^2 + y^2 - 2x - 4y = 5$
 - 3. $x^2 + y^2 - 2x - 4y = 3$
 - 4. $x^2 + y^2 - 6x + 2y = 3$

Question ID : 8161613000
Status : Not Answered
Chosen Option : --

Q.18 Find the positive number which when decreased by 20 is equal to 2925 times the reciprocal of the number.

- Ans
- 1. 35
 - 2. 65
 - 3. 55
 - 4. 45

Question ID : 8161613007
Status : Answered
Chosen Option : 2

Q.19 If a saree is sold for ₹3,060, the seller will face 15% loss, at what price should he sell the saree to gain a 20% profit?

- Ans
- 1. ₹4,320
 - 2. ₹4,650
 - 3. ₹3,440
 - 4. ₹3,600

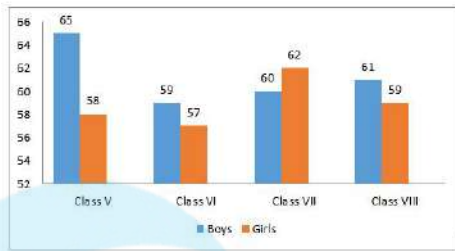
Question ID : 8161612996
Status : Answered
Chosen Option : 1

Q.20 The average of sales of a furniture shop in the years 2015, 2016, 2017, 2018 is ₹16300, and that for years 2016, 2017, 2018, 2019 is ₹18450. If the sales in 2019 are ₹9200, then what are the sales in 2015?

- Ans
- 1. ₹865
 - 2. ₹600
 - 3. ₹560
 - 4. ₹768

Question ID : 8161612993
Status : Not Answered
Chosen Option : --

Q.21 The following graph shows the number of boys and girls in Class V, Class VI, Class VII and Class VIII. Study the graph and answer the question.



What is the overall percentage increase in boys when compared to girls? (Correct to two decimal places)

- Ans
- 1. 3.67%
 - 2. 5.67%
 - 3. 4.75%
 - 4. 6.12%

Question ID : 8161613014

Status : Not Answered

Chosen Option : --

Q.22 A can do a work in 12 days and B can do the same work in 16 days. If they work on it together for 4 days, then the fraction of the work that is left is:

- Ans
- 1. $\frac{9}{16}$
 - 2. $\frac{3}{5}$
 - 3. $\frac{5}{12}$
 - 4. $\frac{7}{8}$

Question ID : 8161612990

Status : Answered

Chosen Option : 3

Q.23 If $\tan\theta + \cot\theta = 6$, then find the value of $\tan^2\theta + \cot^2\theta$.

- Ans
- 1. 26
 - 2. 24
 - 3. 36
 - 4. 34

Question ID : 8161613008

Status : Answered

Chosen Option : 4

Q.24 The breadth of a rectangle is four times of its length. If the area of the rectangle is 1764, then what is the breadth of the rectangle?

- Ans
- 1. 21
 - 2. 84
 - 3. 44
 - 4. 56

Question ID : **8161612992**
Status : **Not Answered**
Chosen Option : --

Q.25 The angles of a triangle are in the ratio 3 : 4 : 5. The triangle is:

- Ans
- 1. isosceles angled triangle
 - 2. acute angled triangle
 - 3. right angled triangle
 - 4. obtuse angled triangle

Question ID : **8161613001**
Status : **Answered**
Chosen Option : 3

Section : General Awareness

Q.1 In which year did the Dalai Lama cross over into India and take asylum?

- Ans
- 1. 1962
 - 2. 1952
 - 3. 1957
 - 4. 1959

Question ID : **8161613026**
Status : **Answered**
Chosen Option : 1

Q.2 The centre of a cyclone is a calm area. It is called the _____ of the storm.

- Ans
- 1. heart
 - 2. arm
 - 3. head
 - 4. eye

Question ID : **8161613025**
Status : **Not Answered**
Chosen Option : --

Q.3 Who among the following was the first recipient of the Rajiv Gandhi Khel Ratna Award?

- Ans 1. Viswanathan Anand
 2. PT Usha
 3. Sachin Tendulkar
 4. Vijay Amritraj

Question ID : **8161613039**
Status : **Answered**
Chosen Option : **1**

Q.4 In terms of area, which is the smallest Union Territory of India?

- Ans 1. Lakshadweep
 2. Jammu and Kashmir
 3. Ladakh
 4. Daman and Diu

Question ID : **8161613027**
Status : **Answered**
Chosen Option : **1**

Q.5 Which of the following consists of an electronic writing area and a special 'pen' that works with it?

- Ans 1. Graphics Tablet
 2. Abacus
 3. Trackball
 4. Plotters

Question ID : **8161613015**
Status : **Answered**
Chosen Option : **1**

Q.6 As of January 2020, who among the following has the distinction of having the highest career batting average in Twenty20 Internationals?

- Ans 1. Chris Gayle
 2. Virat Kohli
 3. Rohit Sharma
 4. Brendon McCullum

Question ID : **8161613038**
Status : **Answered**
Chosen Option : **3**

Q.7 Which of the following is a very high-speed semiconductor memory which can speed up the CPU?

- Ans
- 1. Primary Memory
 - 2. Main Memory
 - 3. Secondary Memory
 - 4. Cache Memory

Question ID : 8161613016
Status : Answered
Chosen Option : 1

Q.8 Which female Indian boxer won silver in the AIBA Women's World Boxing Championships in October 2019 in the light flyweight category (48 kg)?

- Ans
- 1. Jamuna Boro
 - 2. MC Mary Kom
 - 3. Manju Rani
 - 4. Lovlina Borgohain

Question ID : 8161613021
Status : Answered
Chosen Option : 3

Q.9 Which of the following nations won the FIFA World Cup most number of times?

- Ans
- 1. Germany (including West Germany)
 - 2. Argentina
 - 3. Brazil
 - 4. France

Question ID : 8161613037
Status : Not Answered
Chosen Option : --

Q.10 JP Nadda was elected as the President of the Bharatiya Janata Party (BJP) on 20 January 2020. He is the ____ president of the BJP.

- Ans
- 1. tenth
 - 2. twelfth
 - 3. ninth
 - 4. eleventh

Question ID : 8161613019
Status : Not Answered
Chosen Option : --

Q.11 India is located to the North of the _____.

- Ans
- 1. Tropic of Cancer
 - 2. Equator
 - 3. Prime Meridian
 - 4. Tropic of Capricorn

Question ID : 8161613029
Status : Answered
Chosen Option : 2

Q.12 What is the traditional bamboo dance of Mizoram called?

- Ans
- 1. Cheraw dance
 - 2. Yak Chaam
 - 3. Maanch
 - 4. Thang ta

Question ID : 8161613018
Status : Not Answered
Chosen Option : --

Q.13 The first Five-Year Plan's main emphasis was to improve the condition of agriculture in India. The plan began in the year:

- Ans
- 1. 1953
 - 2. 1952
 - 3. 1951
 - 4. 1949

Question ID : 8161613023
Status : Answered
Chosen Option : 3

Q.14 Which of the following cities is home to one of the famous Swaminarayan Akshardham temples in India?

- Ans
- 1. Mysore
 - 2. Madurai
 - 3. Vadodara
 - 4. New Delhi

Question ID : 8161613017
Status : Answered
Chosen Option : 4

Q.15 What is the Palk Strait?

- Ans
- 1. It is the boundary line between India and Pakistan.
 - 2. It is the boundary line between northeastern India and China.
 - 3. It is the border line between China and India in the western side.
 - 4. It is a water body that separates India and Sri Lanka.

Question ID : 8161613030
Status : Not Answered
Chosen Option : --

Q.16 Which of the following group of scientists was awarded the 2019 Nobel Prize in Chemistry "for the development of lithium-ion batteries"?

- Ans
- 1. Fraser Stoddart, Jean-Pierre Sauvage and Ben Feringa
 - 2. John B Goodenough, M Stanley Whittingham and Akira Yoshino
 - 3. Kip Thorne, Rainer Weiss and Barry Barish
 - 4. Joachim Frank, Richard Henderson and Jacques Dubochet

Question ID : 8161613034
Status : Not Answered
Chosen Option : --

Q.17 Which of the following statements is correct?

- Ans
- 1. The Governor can dissolve the Legislative Assembly of a State.
 - 2. The Speaker of the Lok Sabha can dissolve the Lok Sabha.
 - 3. The President can dissolve the Rajya Sabha.
 - 4. The Vice-President can dissolve the Legislative Council of a State.

Question ID : 8161613035
Status : Answered
Chosen Option : 2

Q.18 _____ was an important member of the Hindustan Republican Association, who along with his associates executed the train dacoity at Kakori.

- Ans
- 1. Khudiram Bose
 - 2. Jatin Banerjee
 - 3. Ashfaqulla Khan
 - 4. Sohan Singh Bhakna

Question ID : 8161613032
Status : Answered
Chosen Option : 3

Q.19 Who among the following headed the nine-judge constitutional bench that declared the right to privacy as a fundamental right?

- Ans
- 1. HJ Kania
 - 2. Dipak Misra
 - 3. JS Khehar
 - 4. TS Thakur

Question ID : 8161613036
Status : Not Answered
Chosen Option : --

Q.20 Who among the following was awarded the Nobel Prize in Literature 2019 "for an influential work that with linguistic ingenuity has explored the periphery and the specificity of human experience"?

- Ans
- 1. Michel Mayor
 - 2. Olga Tokarczuk
 - 3. Abiy Ahmed Ali
 - 4. Peter Handke

Question ID : 8161613033
Status : Not Answered
Chosen Option : --

Q.21 Reserve Bank of India, which acts as a banker to the Central Government, was established on:

- Ans
- 1. 1st April 1945
 - 2. 1st April 1935
 - 3. 1st April 1950
 - 4. 1st April 1948

Question ID : 8161613022
Status : Answered
Chosen Option : 3

Q.22 How many women candidates were elected to the 17th Lok Sabha?

- Ans
- 1. 72
 - 2. 78
 - 3. 70
 - 4. 76

Question ID : 8161613020
Status : Answered
Chosen Option : 3

Q.23 As of October 2019, what is the total number of wildlife sanctuaries in India?

- Ans
- 1. 564
 - 2. 551
 - 3. 543
 - 4. 547

Question ID : 8161613028
Status : Not Answered
Chosen Option : --

Q.24 The famous Chinese traveller Hieun Tsang visited India during which Emperor's reign?

- Ans
- 1. Samudragupta
 - 2. Harshavardhana
 - 3. Ashoka
 - 4. Chandragupta I

Question ID : 8161613031
Status : Not Answered
Chosen Option : --

Q.25 Who among the following invented the aeroplane?

- Ans
- 1. Alexander Graham Bell
 - 2. Orville and Wilbur Wright
 - 3. Auguste and Louis Lumière
 - 4. Louis Pasteur and Alexander Fleming

Question ID : 8161613024
Status : Answered
Chosen Option : 2

Roll Number	
Candidate Name	
Venue Name	
Exam Date	15/10/2020
Exam Time	4:00 PM - 5:00 PM
Subject	CHSL Tier 1

Section : English Language (Basic Knowledge)

Q.1 Select the correct indirect form of the given sentence.

Neeta said, "Let me see how Pragya performs in her preboard examinations."

- Ans 1. Neeta said that she wanted to see how Pragya performed in her preboard examinations.
2. Neeta said I would see how Pragya performed in her preboard examinations.
3. Neeta wanted to see how Pragya would perform in her preboard examinations.
4. Neeta wants to see Pragya's performance in her preboard examinations.

Question ID : 424429608

Status : Answered

Chosen Option : 1

Q.2 Select the word which means the same as the group of words given.

An unforeseen happening which creates some damage

- Ans 1. Magical
2. Mishap
3. Menace
4. Mystery

Question ID : 424429627

Status : Not Answered

Chosen Option : --

Q.3 Select the word which means the same as the group of words given.

Come in the way of

- Ans 1. Indulge
2. Deprive
3. Hamper
4. Facilitate

Question ID : 424429628

Status : Answered

Chosen Option : 4

Q.4 Select the most appropriate option to substitute the underlined segment in the given sentence. If there is no need to substitute it, select No improvement.

She was looking troubled when the teacher asked her to submit the homework.

- Ans
- 1. is look trouble
 - 2. No improvement
 - 3. had been trouble
 - 4. was troubling

Question ID : 424429620
Status : Answered
Chosen Option : 4

Comprehension:

In the following passage some words have been deleted. Fill in the blanks with the help of the alternatives given. Select the most appropriate option for each blank.

A recent census of waterbirds conducted as a part of Asian Waterbird Census (1)_____ an increase in their population in Najafgarh Jheel this year. The census also showed a (2)_____ in the number of threatened species. Last year, the number of waterbird species were thirty-one which climbed to fifty- four this year, while the threatened variety (3)_____ from four to six in the same duration. The region also saw a healthy monsoon in 2019, which would have (4)_____ impacted the quality of habitat, making it (5)_____ to more birds.

SubQuestion No : 5

Q.5 Select the most appropriate option for blank number 1.

- Ans
- 1. reaped
 - 2. played
 - 3. recorded
 - 4. responded

Question ID : 424429612
Status : Answered
Chosen Option : 4

Comprehension:

In the following passage some words have been deleted. Fill in the blanks with the help of the alternatives given. Select the most appropriate option for each blank.

A recent census of waterbirds conducted as a part of Asian Waterbird Census (1)_____ an increase in their population in Najafgarh Jheel this year. The census also showed a (2)_____ in the number of threatened species. Last year, the number of waterbird species were thirty-one which climbed to fifty- four this year, while the threatened variety (3)_____ from four to six in the same duration. The region also saw a healthy monsoon in 2019, which would have (4)_____ impacted the quality of habitat, making it (5)_____ to more birds.

SubQuestion No : 6

Q.6 Select the most appropriate option for blank number 2.

- Ans
- 1. growth
 - 2. slowdown
 - 3. wealth
 - 4. health

Question ID : 424429613
Status : Answered
Chosen Option : 1

Comprehension:

In the following passage some words have been deleted. Fill in the blanks with the help of the alternatives given. Select the most appropriate option for each blank.

A recent census of waterbirds conducted as a part of Asian Waterbird Census (1)_____ an increase in their population in Najafgarh Jheel this year. The census also showed a (2)_____ in the number of threatened species. Last year, the number of waterbird species were thirty-one which climbed to fifty- four this year, while the threatened variety (3)_____ from four to six in the same duration. The region also saw a healthy monsoon in 2019, which would have (4)_____ impacted the quality of habitat, making it (5)_____ to more birds.

SubQuestion No : 7

Q.7 Select the most appropriate option for blank number 3.

- Ans
- 1. rose
 - 2. is risen
 - 3. rises
 - 4. had risen

Question ID : 424429614

Status : Answered

Chosen Option : 1

Comprehension:

In the following passage some words have been deleted. Fill in the blanks with the help of the alternatives given. Select the most appropriate option for each blank.

A recent census of waterbirds conducted as a part of Asian Waterbird Census (1)_____ an increase in their population in Najafgarh Jheel this year. The census also showed a (2)_____ in the number of threatened species. Last year, the number of waterbird species were thirty-one which climbed to fifty- four this year, while the threatened variety (3)_____ from four to six in the same duration. The region also saw a healthy monsoon in 2019, which would have (4)_____ impacted the quality of habitat, making it (5)_____ to more birds.

SubQuestion No : 8

Q.8 Select the most appropriate option for blank number 4.

- Ans
- 1. decently
 - 2. deftly
 - 3. dutily
 - 4. directly

Question ID : 424429615

Status : Answered

Chosen Option : 4

Comprehension:

In the following passage some words have been deleted. Fill in the blanks with the help of the alternatives given. Select the most appropriate option for each blank.

A recent census of waterbirds conducted as a part of Asian Waterbird Census (1)_____ an increase in their population in Najafgarh Jheel this year. The census also showed a (2)_____ in the number of threatened species. Last year, the number of waterbird species were thirty-one which climbed to fifty- four this year, while the threatened variety (3)_____ from four to six in the same duration. The region also saw a healthy monsoon in 2019, which would have (4)_____ impacted the quality of habitat, making it (5)_____ to more birds.

SubQuestion No : 9

Q.9 Select the most appropriate option for blank number 5.

- Ans
- 1. unattractive
 - 2. possible
 - 3. attractive
 - 4. impossible

Question ID : 424429616
Status : Answered
Chosen Option : 2

Q.10 Select the INCORRECTLY spelt word.

- Ans
- 1. Implicatted
 - 2. Pressurised
 - 3. Coercion
 - 4. Suppression

Question ID : 424429626
Status : Answered
Chosen Option : 3

Q.11 Four jumbled sentences are given. Select the option that gives their correct order.

- A. The minimum temperature in the national capital dropped yesterday as cold north westerly winds continued to blow in from the hills.
- B. North India has been witnessing a harsh winter this year.
- C. However, experts said the minimum temperatures would increase over the next few days due to a cloud cover.
- D. A favourable outcome of the wind factor was that there was a slight decrease in air pollution levels due to the wind speeds.

- Ans
- 1. CDAB
 - 2. BADC
 - 3. ABDC
 - 4. BCDA

Question ID : 424429617
Status : Answered
Chosen Option : 2

Q.12 Select the most appropriate option to substitute the underlined segment in the given sentence. If there is no need to substitute it, select No improvement.

"Did you tell your parents that you would going for a movie with me this evening?" My friend asked me.

- Ans
- 1. then you were being gone
 - 2. when you will going
 - 3. this that you was going
 - 4. that you are going

Question ID : 424429619
Status : Answered
Chosen Option : 4

Q.13 Select the most appropriate ANTONYM of the given word

IMPROMPTU

- Ans
- 1. Planned
 - 2. Fast
 - 3. Unplanned
 - 4. Appropriate

Question ID : 424429622
Status : Answered
Chosen Option : 3

Q.14 Select the most appropriate meaning of the given idiom.

Eat humble pie

- Ans
- 1. Make noise while eating
 - 2. Eat something which is not tasty
 - 3. Eat less food
 - 4. Admit that you are wrong

Question ID : 424429623
Status : Answered
Chosen Option : 4

Q.15 Select the correct passive form of given sentence.

We can buy diamonds, but we cannot buy sympathy.

- Ans
- 1. Diamonds can be bought and sympathy cannot be brought.
 - 2. Diamonds can be bought but sympathy cannot be brought.
 - 3. Diamonds can be bought but sympathy can be brought.
 - 4. Diamonds cannot be bought but sympathy cannot be brought.

Question ID : 424429607
Status : Answered
Chosen Option : 1

Q.16 Select the most appropriate word to fill in the blank in the given sentence.

Today's _____ are only interested in watching movies with the stories they can relate to the cinema.

- Ans
- 1. audiences
 - 2. accountants
 - 3. politics
 - 4. personalities

Question ID : 424429632
Status : Answered
Chosen Option : 1

Q.17 Select the most appropriate synonym of the given word.

MASQUERADED

- Ans
- 1. Managed
 - 2. Dropped
 - 3. Acted
 - 4. Disappeared

Question ID : 424429629
Status : Answered
Chosen Option : 4

Q.18 In the given sentence identify the segment which contains the grammatical error.

The neighbourhood were getting disturbed with the loud music that was playing at the wedding party in the big bungalow.

- Ans
- 1. at the wedding party
 - 2. in the big bungalow
 - 3. that was playing
 - 4. The neighbourhood were getting disturbed

Question ID : 424429610
Status : Answered
Chosen Option : 4

Q.19 Select the most appropriate meaning of the given idiom.

To fall on deaf ears

- Ans
- 1. To be paid attention
 - 2. To be ignored
 - 3. To be aware of what is going on
 - 4. To be listened carefully

Question ID : 424429624
Status : Answered
Chosen Option : 2

Q.20 In the given sentence identify the segment which contains the grammatical error.

The park was well lighted at night but it was deserted, so it was a bit scared.

- Ans
- 1. but it was deserted
 - 2. The park was well lighted
 - 3. so it was a bit scared
 - 4. at night

Question ID : 424429609
Status : Not Answered
Chosen Option : --

Q.21 Select the INCORRECTLY spelt word.

- Ans
- 1. Appreciation
 - 2. Escalation
 - 3. Irritable
 - 4. Irational

Question ID : 424429625
Status : Answered
Chosen Option : 1

Q.22 Select the most appropriate ANTONYM of the given word

FRAGILE

- Ans
- 1. Strong
 - 2. Fancy
 - 3. Slow
 - 4. Fast

Question ID : 424429621
Status : Answered
Chosen Option : 2

Q.23 Four jumbled sentences are given. Select the option that gives their correct order.

- A. Saranda forests, in Singhbum, are a huge catchment for rivers and streams in this state.
- B. If these forests are opened up for mining purposes the remaining rivers and streams will dry up.
- C. The state of Jharkand faces water scarcity every summer.
- D. These forests are India's largest contiguous Sal forests and the current plan says mining should not be allowed in the dense forest as rivers are drying up.

- Ans
- 1. CBAD
 - 2. CADB
 - 3. BADC
 - 4. ACDB

Question ID : 424429618
Status : Answered
Chosen Option : 2

Q.24 Select the most appropriate word to fill in the blank in the given sentence.

The flyover was closed in October last year for repairs but its reopening has been _____ as it will be ready only in March this year.

- Ans
- 1. delayed
 - 2. built
 - 3. broken
 - 4. repaired

Question ID : 424429631
Status : Answered
Chosen Option : 1

Q.25 Select the most appropriate synonym of the given word.

INTERSPERSED

- Ans
- 1. Scattered
 - 2. Met
 - 3. Collected
 - 4. Wore

Question ID : 424429630
Status : Not Answered
Chosen Option : --

Section : General Intelligence

Q.1 उस विकल्प का चयन करें जो तीसरी संख्या से उसी प्रकार संबंधित है जिस प्रकार दूसरी संख्या पहली संख्या से संबंधित है।

11 : 143 :: 23 : ?

- Ans
- 1. 529
 - 2. 572
 - 3. 470
 - 4. 667

Question ID : 424429635
Status : Answered
Chosen Option : 2

Q.2 उस विकल्प का चयन करें जिसमें संख्याओं के मध्य वही संबंध है जो दिए गए समुच्चय की संख्याओं के मध्य है।

(4, 67, 20)

- Ans
- 1. (5, 28, 56)
 - 2. (3, 30, 12)
 - 3. (7, 52, 104)
 - 4. (6, 219, 44)

Question ID : 424429637
Status : Answered
Chosen Option : 2

Q.3 किसी निश्चित कूट भाषा में, 'PROCTOR' को 'RUSBURW' के रूप में लिखा जाता है। इसी कूट भाषा में 'HOSTING' को कैसे लिखा जाएगा?

- Ans
- 1. VRKTJRL
 - 2. VQKSLSL
 - 3. VRKSJQL
 - 4. WXKSJQN

Question ID : 424429641
Status : Answered
Chosen Option : 1

Q.4 चार शब्द दिए गए हैं, जिनमें से तीन किसी प्रकार समान हैं और एक असंगत है। उस असंगत शब्द का चयन करें।

- Ans
- 1. दीनार
 - 2. डॉलर
 - 3. ओस्लो
 - 4. युआन

Question ID : 424429649
Status : Answered
Chosen Option : 3

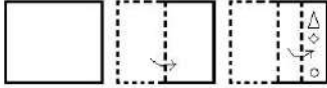
Q.5 उस विकल्प का चयन करें जिसमें शब्दों के बीच परस्पर वही संबंध है, जो संबंध दिए गए शब्द-युग्म के शब्दों के बीच है।

एशिया : चीन

- Ans
- 1. अफ्रीका : महाद्वीप
 - 2. थाईलैंड : बैंकाक
 - 3. एशिया : मलेशिया
 - 4. एशिया : अंटार्कटिका

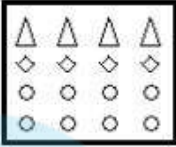
Question ID : 424429647
Status : Answered
Chosen Option : 3

Q.6 नीचे दी गई आकृतियों में कागज़ के एक टुकड़े को मोड़ने का क्रम और मुड़े हुए कागज़ को काटने का ढंग दर्शाया गया है। विकल्प आकृतियों में से चयन करें कि खोले जाने पर यह कागज़ कैसा दिखेगा?



Ans

✗ 1.



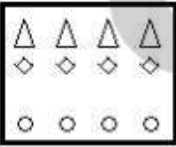
✗ 2.



✗ 3.



✓ 4.



Question ID : 424429655

Status : Answered

Chosen Option : 4

Q.7 उस विकल्प का चयन करें जिसमें संख्याओं के मध्य बही संबंध है जो दिए गए समुच्चय की संख्याओं के मध्य है।

(16, 88, 296)

Ans

✗ 1. (14, 77, 385)

✗ 2. (20, 110, 250)

✗ 3. (28, 140, 518)

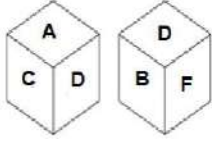
✓ 4. (12, 66, 222)

Question ID : 424429636

Status : Answered

Chosen Option : 4

Q.8 एक ही पासे की दो स्थितियाँ दर्शायी गई हैं, जिसके छः फलक अक्षर A, B, C, D, E और F से चिह्नित हैं। अक्षर 'D' चिह्नित फलक के विपरीत फलक पर कौन सा अक्षर होगा?



- Ans
- 1. E
 - 2. A
 - 3. F
 - 4. C

Question ID : 424429651
Status : Answered
Chosen Option : 1

Q.9 एक लड़के की तस्वीर की ओर संकेत करते हुए विकास ने कहा, "उसके पिता की माँ सुनीता मेरी पत्नी की बहन की माँ है। सुनीता का विकास से क्या संबंध है?"

- Ans
- 1. मामी/मौसी
 - 2. सास
 - 3. नानी
 - 4. माँ

Question ID : 424429646
Status : Answered
Chosen Option : 1

Q.10 अक्षरों के उस संयोजन का चयन करें जिसे दी गई अक्षर-श्रृंखला में रिक्त स्थानों में बाएँ से दाएँ रखने पर श्रृंखला पूर्ण हो जाएगी।

L _ U K _ A _ K L A _ K L _ U K

- Ans
- 1. ALUUA
 - 2. KLAUL
 - 3. LUUAL
 - 4. AUUAL

Question ID : 424429645
Status : Answered
Chosen Option : 1

Q.11 चार अक्षर-समूह दिए गए हैं, जिनमें से तीन किसी प्रकार समान हैं और एक असंगत है। उस असंगत अक्षर-समूह का चयन करें।

- Ans
- 1. EYC
 - 2. CUZ
 - 3. DPT
 - 4. BDH

Question ID : 424429648
Status : Answered
Chosen Option : 4

Q.12 दिए गए समीकरण को संतुलित करने के लिए किन दो संख्याओं को परस्पर बदला जाना चाहिए?

$$7 + 24 \times 3 - 72 \div 18 = 58$$

- Ans
- ✓ 1. 18 और 24
 - ✗ 2. 7 और 18
 - ✗ 3. 3 और 7
 - ✗ 4. 72 और 24

Question ID : 424429634

Status : Answered

Chosen Option : 3

Q.13 उस विकल्प-आकृति का चयन करें जिसमें दी गई आकृति X अंतर्निहित है। (घुमाने की अनुमति नहीं है)



Figure X

Ans

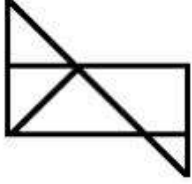
- ✓ 1.
- ✗ 2.
- ✗ 3.
- ✗ 4.

Question ID : 424429654

Status : Answered

Chosen Option : 1

Q.14 दी गई आकृति में कुल कितने त्रिभुज हैं?



- Ans
- 1. 7
 - 2. 5
 - 3. 8
 - 4. 6

Question ID : 424429653
Status : Answered
Chosen Option : 1

Q.15 'पर्दा', 'कपड़ा' से उसी प्रकार संबंधित है जिस प्रकार 'आभूषण' '_____' से संबंधित है।

- Ans
- 1. बहुमूल्य
 - 2. सौंदर्य
 - 3. स्वर्णकार
 - 4. स्वर्ण

Question ID : 424429644
Status : Answered
Chosen Option : 4

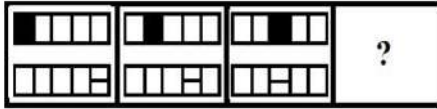
Q.16 उस सही विकल्प का चयन करें जो निम्नलिखित शब्दों को तार्किक और अर्थपूर्ण क्रम में व्यवस्थित करता है।

1. नवजात शिशु
2. वृद्ध व्यक्ति
3. किशोर
4. वयस्क
5. बाल्यावस्था

- Ans
- 1. 5, 1, 3, 4, 2
 - 2. 1, 5, 3, 2, 4
 - 3. 5, 1, 4, 3, 2
 - 4. 1, 5, 3, 4, 2

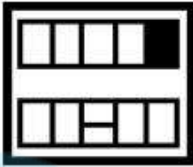
Question ID : 424429640
Status : Answered
Chosen Option : 4

Q.17 उस आकृति का चयन करें जो नीचे दी गई आकृति-श्रृंखला में प्रश्न-चिह्न (?) के स्थान पर आ सकती है।



Ans

1.




2.



3.



4.



Question ID : 424429652

Status : Answered

Chosen Option : 2

Q.18 X, Y से 5 वर्ष बड़ा है। X और Y की वर्तमान आयु का योग 33 वर्ष है। 7 वर्षों के बाद Y की आयु कितनी होगी?

Ans

1. 20 वर्ष

2. 22 वर्ष

3. 14 वर्ष

4. 21 वर्ष

Question ID : 424429633

Status : Answered

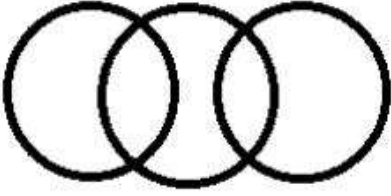
Chosen Option : 4

Q.19 उस वेन आरेख का चयन करें जो निम्नलिखित शब्दों के बीच संबंधों को सर्वोत्तम ढंग से दर्शाता है।

स्नातक, परास्नातक, बहनें

Ans

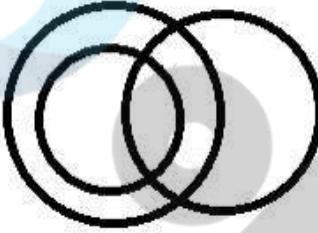
✗ 1.




✗ 2.



✓ 3.



✗ 4.



Question ID : 424429657

Status : Answered

Chosen Option : 3

Q.20 किसी निश्चित कूट भाषा में 'VARIOUS' को '519812254418' के रूप में कूटबद्ध किया जाता है। इसी कूट भाषा में 'PENSION' को कैसे कूटबद्ध किया जाएगा?

Ans

✓ 1.

11251388122513

✗ 2.

11241398122514

✗ 3.

16251488122812

✗ 4.

16551388120513

Question ID : 424429642

Status : Answered

Chosen Option : 1

Q.21 एक ऊर्ध्वाधर दर्पण को दिए गए अक्षर-समूह के दाईं ओर रखे जाने पर अक्षर-समूह के सही दर्पण प्रतिबिंब का चयन करें।

R h f g b q

Ans

1. p d g f h R

2. b q g f h R

3. p d g f h R

4. p d g f h R

Question ID : 424429656

Status : Answered

Chosen Option : 4

Q.22 उस विकल्प का चयन करें जो तीसरे अक्षर-समूह से उसी प्रकार संबंधित है जिस प्रकार दूसरा अक्षर-समूह पहले अक्षर-समूह से संबंधित है।

TZS : WCV :: KQP : ?

Ans

1. NTP

2. NSP

3. MTS

4. NTS

Question ID : 424429643

Status : Answered

Chosen Option : 4

Q.23 उस संख्या का चयन करें जो निम्नलिखित श्रृंखला में प्रश्न-चिह्न (?) के स्थान पर आ सकती है।

114, 121, 138, 175, 242, ?

Ans

1. 349

2. 347

3. 356

4. 345

Question ID : 424429638

Status : Answered

Chosen Option : 1

Q.24 दिए गए कथनों और निष्कर्षों को ध्यानपूर्वक पढ़ें। यह मानते हुए कि कथनों में दी गई जानकारी सत्य है, भले ही यह आम तौर पर जात तथ्यों से भिन्न प्रतीत होती हो, यह निर्णय लें कि निष्कर्षों में से कौनसा/से निष्कर्ष तार्किक रूप से कथनों का अनुसरण करता/ते है/हैं।

कथन:

1. सभी बोतलें जग हैं।
2. कुछ जग ग्लास हैं।

निष्कर्ष:

- I. कुछ जग बोतलें हैं।
- II. कुछ ग्लास जग हैं।
- III. सभी ग्लास बोतलें हैं।

Ans

1. केवल निष्कर्ष I अनुसरण करता है।
2. केवल निष्कर्ष II अनुसरण करता है।
3. केवल निष्कर्ष II और III अनुसरण करते हैं।
4. केवल निष्कर्ष I और II अनुसरण करते हैं।

Question ID : 424429650

Status : Answered

Chosen Option : 4

Q.25 चार संख्या-युग्म दिए गए हैं, जिनमें से तीन किसी प्रकार एक समान हैं और एक असंगत है। असंगत संख्या-युग्म का चयन करें।

Ans

1. 14 : 112
2. 25 : 200
3. 22 : 166
4. 15 : 120

Question ID : 424429639

Status : Answered

Chosen Option : 3

Section : Quantitative Aptitude(Basic Arithmetic Skill)

Q.1 10, 12, 15 का चतुर्थानुपाती क्या है?

Ans

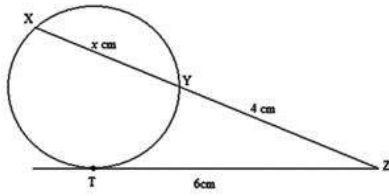
1. 24
2. 18
3. 22
4. 20

Question ID : 424429665

Status : Answered

Chosen Option : 2

Q.2 दी गई आकृति में, XYZ एक छेदक रेखा है और ZT स्पर्शरेखा है। x का मान क्या है?



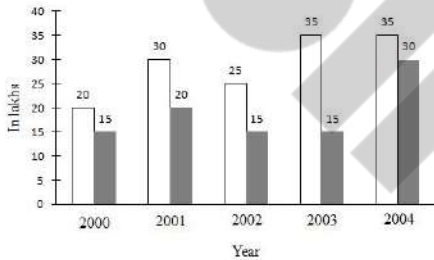
- Ans
- 1. 7
 - 2. 5
 - 3. 8
 - 4. 9

Question ID : 424429668

Status : Answered

Chosen Option : 2

Q.3 In the given bar graph, the white bar shows the income and the black bar shows the expenditure of a company. Study the graph and answer the question that follows.



The expenditure from 2001 to 2002 decreased by:

- Ans
- 1. $36\frac{1}{3}\%$
 - 2. $33\frac{1}{3}\%$
 - 3. $35\frac{1}{3}\%$
 - 4. $34\frac{1}{3}\%$

Question ID : 424429681

Status : Answered

Chosen Option : 2

Q.4 जात है कि पांच संख्याओं का माध्य 28 है। यदि उनमें से एक संख्या को निकाल दिया जाए, तो माध्य में 5 की कमी हो जाती है। निकाली गई संख्या जात कीजिए।

- Ans
- 1. 47
 - 2. 45
 - 3. 48
 - 4. 46

Question ID : 424429661

Status : Answered

Chosen Option : 3

Q.5 दो वर्गों के क्षेत्रफलों का अनुपात 16 : 1 है। उनके परिमाणों के मध्य अनुपात ज्ञात कीजिए।

- Ans
- 1. 8 : 1
 - 2. 3 : 1
 - 3. 12 : 1
 - 4. 4 : 1

Question ID : 424429660
Status : Answered
Chosen Option : 4

Q.6 $225 - [42 - \{25 - (18 - 18 + 13)\}]$ का मान ज्ञात कीजिए।

- Ans
- 1. 222
 - 2. 221
 - 3. 244
 - 4. 223

Question ID : 424429675
Status : Answered
Chosen Option : 2

Q.7 यदि $a = 355, b = 356, c = 357$ है, तो $a^3 + b^3 + c^3 - 3abc$ का मान ज्ञात कीजिए।

- Ans
- 1. 3208
 - 2. 3204
 - 3. 3202
 - 4. 3206

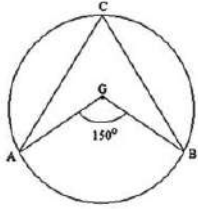
Question ID : 424429673
Status : Answered
Chosen Option : 1

Q.8 यदि $\sec\theta - \tan\theta = 3$ है, तो $\cos\theta$ का मान ज्ञात कीजिए।

- Ans
- 1. $\frac{4}{9}$
 - 2. $\frac{3}{7}$
 - 3. $\frac{2}{5}$
 - 4. $\frac{3}{5}$

Question ID : 424429677
Status : Answered
Chosen Option : 4

Q.9 दी गई आकृति में वृत्त का केंद्र 'G' है। यदि $\angle AGB = 150^\circ$ है, तो कोण ACB का माप ज्ञात कीजिए।



- Ans
- 1. 75°
 - 2. 60°
 - 3. 50°
 - 4. 65°

Question ID : 424429667
Status : Answered
Chosen Option : 1

Q.10 4 cm त्रिज्या वाले अर्धवृत्त के भीतर बनाए जा सकने वाले विशालतम विभुज का क्षेत्रफल (cm^2 में) क्या होगा?

- Ans
- 1. $18 cm^2$
 - 2. $12 cm^2$
 - 3. $14 cm^2$
 - 4. $16 cm^2$

Question ID : 424429670
Status : Answered
Chosen Option : 4

Q.11 यदि $x + y = 15$ और $xy = 14$ है, तो $x - y$ का मान ज्ञात कीजिए।

- Ans
- 1. 14
 - 2. 12
 - 3. 11
 - 4. 13

Question ID : 424429671
Status : Answered
Chosen Option : 4

Q.12 यदि 15 व्यक्तियों को 10 एकड़ भूमि जोतने में 6 दिन लगते हैं, तो 50 एकड़ भूमि को 10 दिनों में जोतने के लिए कितने व्यक्तियों की आवश्यकता होगी?

- Ans
- 1. 45
 - 2. 55
 - 3. 50
 - 4. 40

Question ID : 424429658
Status : Answered
Chosen Option : 1

Q.13 यदि $\tan^2 x - 3\sec^2 x + 3 = 0$ है, $x (0 \leq x \leq 90^\circ)$, का मान ज्ञात कीजिए।

- Ans
- 1. 30°
 - 2. 0°
 - 3. 45°
 - 4. 60°

Question ID : 424429678
Status : Answered
Chosen Option : 2

Q.14 निम्नलिखित में से कौन सी संख्या 3 से पूर्णतः विभाज्य है?

- Ans
- 1. 8703572
 - 2. 8703593
 - 3. 8765001
 - 4. 8703541

Question ID : 424429674
Status : Answered
Chosen Option : 3

Q.15 ₹5,000 के मूलधन का कितने वर्षों में 10% के वार्षिक ब्याज दर पर साधारण ब्याज ₹2,000 हो जाएगा?

- Ans
- 1. 6 वर्ष
 - 2. 4 वर्ष
 - 3. 5 वर्ष
 - 4. 3 वर्ष

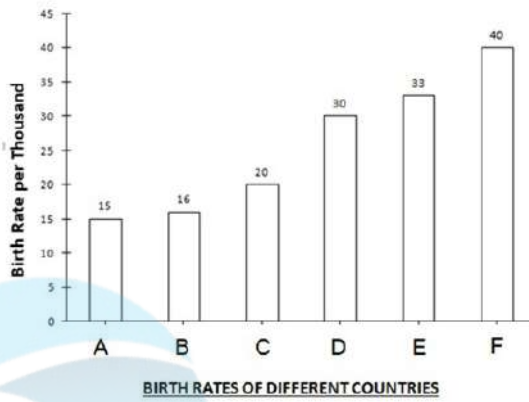
Question ID : 424429666
Status : Answered
Chosen Option : 2

Q.16 राकेश 8 km/h की चाल से चलते हुए एक पुल को 30 मिनट में पार करता है। पुल की लंबाई कितनी है?

- Ans
- 1. 4 km
 - 2. 5 km
 - 3. 2 km
 - 4. 3 km

Question ID : 424429659
Status : Answered
Chosen Option : 1

Q.17 नीचे दिए गए बार-ग्राफ का ध्यानपूर्वक अध्ययन करें और दिए गए प्रश्न का उत्तर दीजिए:



देश C की जन्म दर (Birth rate), देश E की जन्म दर (Birth rate) की लगभग कितने प्रतिशत है?

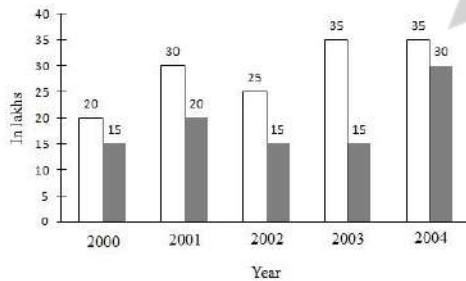
- Ans
- 1. 75%
 - 2. 70%
 - 3. 60%
 - 4. 65%

Question ID : 424429682

Status : Answered

Chosen Option : 3

Q.18 दिए गए बार ग्राफ में, सफेद बार (bar) एक कंपनी की आय तथा काला बार उसका व्यय दर्शाता है। ग्राफ का अध्ययन कीजिए और उसके बाद दिए गए प्रश्न का उत्तर दीजिए।



2001 में होने वाली आय, किस वर्ष के व्यय के बराबर थी?

- Ans
- 1. 2003
 - 2. 2004
 - 3. 2002
 - 4. 2000

Question ID : 424429679

Status : Answered

Chosen Option : 2

Q.19 त्रिभुज XYZ में, यदि G केंद्रक है और XL एक माध्यिका है जिसकी लंबाई 18 cm है, तो XG की लंबाई है:

- Ans
- 1. 16 cm
 - 2. 10 cm
 - 3. 12 cm
 - 4. 14 cm

Question ID : 424429669

Status : Answered

Chosen Option : 3

Q.20 रीता की आय रिचा से 15% कम है। रिचा की आय रीता की आय से कितने प्रतिशत अधिक है?

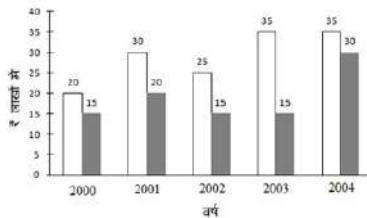
- Ans
- 1. $14\frac{11}{17}\%$
 - 2. $15\frac{11}{17}\%$
 - 3. $17\frac{11}{17}\%$
 - 4. $16\frac{11}{17}\%$

Question ID : 424429663

Status : Answered

Chosen Option : 3

Q.21 दिए गए बार ग्राफ में, सफेद बार (bar) एक कंपनी की आय तथा काला बार उसका व्यय दर्शाता है। ग्राफ का अध्ययन कीजिए और उसके बाद दिए गए प्रश्न का उत्तर दीजिए।



2001 की तुलना में कंपनी की 2002 में हुई आय में कितने प्रतिशत की कमी हुई है?

- Ans
- 1. $16\frac{2}{3}\%$
 - 2. 22%
 - 3. $24\frac{1}{3}\%$
 - 4. 18%

Question ID : 424429680

Status : Answered

Chosen Option : 1

Q.22 $\frac{\cos^2 30^\circ - \sin^2 30^\circ}{\sin^2 15^\circ + \cos^2 15^\circ}$ का मान ज्ञात कीजिए।

- Ans
- 1. $\frac{1}{2}$
 - 2. 0
 - 3. $1 - \sqrt{3}$
 - 4. 1

Question ID : 424429676
Status : Answered
Chosen Option : 3

Q.23 एक कंबल को 15% और 20% की छूटों पर ₹680 में बेचा गया। कंबल का अंकित मूल्य ज्ञात कीजिए।

- Ans
- 1. ₹800
 - 2. ₹1000
 - 3. ₹900
 - 4. ₹950

Question ID : 424429662
Status : Answered
Chosen Option : 2

Q.24 एक व्यक्ति अपना फर्नीचर 25% के लाभ पर बेचता है। यदि उसने इसे 15% की हानि पर बेचा होता, तो उसे ₹800 कम प्राप्त होते। फर्नीचर का क्रय मूल्य ज्ञात कीजिए।

- Ans
- 1. ₹1,500
 - 2. ₹2,000
 - 3. ₹2,500
 - 4. ₹3,000

Question ID : 424429664
Status : Answered
Chosen Option : 2

Q.25 यदि $2a + 3b = 8$ और $ab = 5$ है, तो $4a^2 + 9b^2$ का मान ज्ञात कीजिए।

- Ans
- 1. 4
 - 2. 6
 - 3. 8
 - 4. 2

Question ID : 424429672
Status : Answered
Chosen Option : 1

Q.1 निम्नलिखित में से किसने जनवरी 2020 में पार्टनर नाडिया किचेनोक के साथ 'डब्ल्यू.टी.ए. (WTA) होबार्ट इंटरनेशनल' टेनिस ट्रॉफी जीता?

- Ans
- 1. रश्मि चक्रवर्ती
 - 2. सानिया मिर्जा
 - 3. अंकिता रेना
 - 4. करमन कौर थांडी

Question ID : 424429706

Status : Answered

Chosen Option : 2

Q.2 निम्नलिखित में से किस राज्य / केंद्र शासित प्रदेश में आपको एक सींग वाले गेंडे (भारतीय राइनो) के प्राकृतिक आवास मिलने की अधिक संभावना है?

- Ans
- 1. लद्दाख
 - 2. सिक्किम
 - 3. असम
 - 4. जम्मू और कश्मीर

Question ID : 424429696

Status : Answered

Chosen Option : 3

Q.3 'ऑपरेशन फ्लड' निम्नलिखित में से किससे संबंधित है?

- Ans
- 1. भारत का खनन उद्योग
 - 2. भारत का दुग्ध उद्योग
 - 3. भारत का मुर्गी पालन उद्योग
 - 4. भारत का कृषि उद्योग

Question ID : 424429690

Status : Not Answered

Chosen Option : --

Q.4 वाल्मीकि टाइगर रिजर्व कहां स्थित है?

- Ans
- 1. लखीमपुर खीरी, उत्तर प्रदेश
 - 2. पश्चिम चंपारण, बिहार
 - 3. चंद्रपुर, महाराष्ट्र
 - 4. रणथंभौर, राजस्थान

Question ID : 424429695

Status : Answered

Chosen Option : 2

Q.5 जनवरी 2020 तक की स्थिति के अनुसार, निम्नलिखित में से किसे फीफा विश्व कप (FIFA World Cup) के पूरे इतिहास में एक ही टूर्नामेंट में सबसे अधिक गोल करने का गौरव प्राप्त हुआ था?

- Ans
- 1. जस्ट फॉरेन
 - 2. डिएगो माराडोना
 - 3. जिनेदिन जिदान
 - 4. पेले

Question ID : 424429701

Status : Not Answered

Chosen Option : --

Q.6 विभिन्न विद्युतीय सुरक्षा उपकरणों में से, विद्युत धारा के उष्मीय प्रभाव पर आधारित विद्युतीय सुरक्षा उपकरण को क्या कहा जाता है?

- Ans
- 1. संधारित्र (Capacitor)
 - 2. फ्यूज (Fuse)
 - 3. रक्षी रिले (Protective relay)
 - 4. वृद्धि रक्षक (surge Protector)

Question ID : 424429692

Status : Answered

Chosen Option : 2

Q.7 जनवरी 2020 तक की स्थिति के अनुसार, भारत के राष्ट्रीय मानवाधिकार आयोग के अध्यक्ष कौन थे?

- Ans
- 1. जस्टिस सिरिएक जोसेफ
 - 2. जस्टिस पिनाकी चंद्र घोष
 - 3. जस्टिस प्रफुल्ल चंद्र पंत
 - 4. जस्टिस एच. एल. दत्त

Question ID : 424429687

Status : Not Answered

Chosen Option : --

Q.8 _____ एक छोटा, पोर्टेबल फ्लैश मेमोरी कार्ड है, जो कंप्यूटर के यू.एस.बी (USB) पोर्ट में लगाया जाता है तथा पोर्टेबल हार्ड ड्राइव के रूप में कार्य करता है।

- Ans
- 1. सीडी-रोम (CD-ROM)
 - 2. फ्लैश ड्राइव (Flash drive)
 - 3. डीवीडी-रोम (DVD-ROM)
 - 4. सीडी-आरडब्ल्यू (CD-RW)

Question ID : 424429683

Status : Answered

Chosen Option : 2

Q.9 निम्नलिखित में से किन वैज्ञानिकों के समूह को फिजियोलॉजी या मेडिसिन में "उनकी इस खोज कि कोशिकाएं ऑक्सीजन की उपलब्धता के प्रति कैसे संवेदन दर्शाती हैं और उनके साथ अनुकूलित होती हैं" (for their discoveries of how cells sense and adapt to oxygen availability) के लिए 2019 के नोबेल पुरस्कार से सम्मानित किया गया?

- Ans
- 1. जॉन बी गूडेनोफ, एम स्टेनली व्हीटिंगहैम एवं अकीरा योशिनो
 - 2. फ्रेजर स्टोडार्ट, जीन-पियरे सॉवेज और बेन फ्रेंरिंगा
 - 3. किप थोर्न, रेनर वीस एवं बैरी बैरिश
 - 4. विलियम जी कैलिन जूनियर, सर पीटर जे रैटक्लिफ एवं ग्रेग एल सेमेंजा

Question ID : 424429702

Status : Answered

Chosen Option : 1

Q.10 जनवरी 2020 तक की स्थिति के अनुसार, किसे वन डे इंटरनेशनल में सबसे अधिक करियर बल्लेबाजी का औसत रखने का गौरव प्राप्त है?

- Ans
- 1. रयान टेन डोसेथ
 - 2. स्टीवन स्मिथ
 - 3. विराट कोहली
 - 4. सचिन तेंदुलकर

Question ID : 424429707
Status : Answered
Chosen Option : 3

Q.11 महमूद गजनी ने भारत पर कितनी बार आक्रमण किया?

- Ans
- 1. 17
 - 2. 5
 - 3. 7
 - 4. 15

Question ID : 424429700
Status : Answered
Chosen Option : 1

Q.12 प्रति वर्ष 29 अगस्त को किसकी जयंती, 'राष्ट्रीय खेल दिवस' के रूप में मनाई जाती है?

- Ans
- 1. दिलीप सरदेसाई
 - 2. ध्यानचंद
 - 3. पी.टी. उषा
 - 4. रणजीतसिंहजी विभाजी जडेजा

Question ID : 424429705
Status : Answered
Chosen Option : 2

Q.13 'केंद्रीय उपकरण (उपस्कर) पहचान रजिस्टर' क्या है?

- Ans
- 1. अपराधियों की अवैध गतिविधियों की पहचान करने और उनका पता लगाने के लिए भारत सरकार द्वारा शुरू किया गया एक पोर्टल
 - 2. आय और कॉर्पोरेट कर अनुपालन को लागू करने के लिए भारत सरकार द्वारा शुरू किया गया एक पोर्टल
 - 3. अवैध अप्रवासियों की गतिविधियों की पहचान करने और उनका पता लगाने के लिए भारत सरकार द्वारा शुरू किया गया एक पोर्टल
 - 4. मोबाइल फोन को ब्लॉक करने और उनका पता लगाने के लिए भारत सरकार द्वारा शुरू किया गया एक पोर्टल

Question ID : 424429689
Status : Answered
Chosen Option : 4

Q.14 जुलाई 2018 में यूरोपीय अंतरिक्ष एजेंसी के मार्स एक्सप्रेस ऑर्बिटर पर एक रडार उपकरण का उपयोग करके मंगल पर तरल पानी का पता लगाया गया था। इस खोज के लिए उपयोग किए जाने वाले उपकरण को क्या कहा जाता है?

- Ans
- 1. मार्स ऑर्बिटर (Mars Orbiter)
 - 2. मार्सिस (MARSIS)
 - 3. मार्स होप (Mars Hope)
 - 4. मैरीनर 4 (MARINER 4)

Question ID : 424429694
Status : Answered
Chosen Option : 1

Q.15 _____ कंप्यूटर में अन्य प्रकार के स्टोरेज की तुलना में, पढ़ने और लिखने (to read from and write to) के लिए सबसे तेज़ है।

- Ans
- 1. सीडी-रोम (CD-ROM)
 - 2. फ्लॉपी डिस्क (Floppy disk)
 - 3. हार्ड डिस्क (Hard disk)
 - 4. रैम (RAM)

Question ID : 424429684
Status : Answered
Chosen Option : 3

Q.16 भारत के संविधान के अनुच्छेद 80 के अनुसार, राज्यसभा के सदस्यों की अधिकतम संख्या कितनी हो सकती है?

- Ans
- 1. 235
 - 2. 250
 - 3. 240
 - 4. 245

Question ID : 424429704
Status : Answered
Chosen Option : 2

Q.17 कौन-सा कथन सबसे अच्छी तरह यह बताता है कि शिलांग में प्रतिवर्ष लगभग 200 से.मी. वर्षा क्यों होती है, जबकि चेरापूंजी, जो इससे लगभग 30 कि.मी. दूर है (इनके बीच की सीधी दूरी), वहां प्रतिवर्ष 1250 से.मी.से अधिक वर्षा होती है?

- Ans
- 1. अत्यधिक वर्षों की कटाई और प्रदूषण के कारण शिलांग का औसत तापमान बढ़ा है।
 - 2. चेरापूंजी खासी पहाड़ियों के किनारे पर स्थित है, और शिलांग खासी पहाड़ियों की हवा बहने की दिशा की ओर स्थित है। इस प्रकार, यहां हवा तो बहती है किंतु वर्षा नहीं होती है।
 - 3. चेरापूंजी खासी पहाड़ियों की हवा बहने की दिशा की ओर स्थित है, और मानसून की बंगाल की खाड़ी से वर्षा प्राप्त करता है, जबकि शिलांग खासी पहाड़ियों के किनारे पर स्थित है, जो वर्षा आच्छादन क्षेत्र उत्पन्न करता है।
 - 4. चेरापूंजी में हिमालय से आने वाले जल-वर्षा वाले बादलों से वर्षा होती है, जबकि शिलांग में मानसून की मालाबार शाखा से वर्षा होती है।

Question ID : 424429698
Status : Answered
Chosen Option : 3

Q.18 भारत में शहीद उधम सिंह की 120वीं जयंती कब मनाई गई?

- Ans
- 1. 26 अक्टूबर 2019
 - 2. 26 सितंबर 2019
 - 3. 26 दिसंबर 2019
 - 4. 26 नवंबर 2019

Question ID : 424429688
Status : Answered
Chosen Option : 3

Q.19 निम्नलिखित में से किस वाद्य यंत्र का संबंध संगीतकार पालघाट मणि अय्यर से था?

- Ans
- 1. मृदंगम
 - 2. बांसुरी
 - 3. सितार
 - 4. शहनाई

Question ID : 424429686
Status : Not Answered
Chosen Option : --

Q.20 विश्व का सबसे बड़ा डेल्टा कौन-सा है?

- Ans
- 1. अमेज़न डेल्टा
 - 2. सिंधु नदी डेल्टा
 - 3. गंगा-ब्रह्मपुत्र डेल्टा
 - 4. डेन्यूब डेल्टा

Question ID : 424429693
Status : Answered
Chosen Option : 3

Q.21 गिनी गुणांक का प्रयोग किसके लिए किया जाता है?

- Ans
- 1. आय समानता को मापने के लिए
 - 2. लाभ-हानि को मापने के लिए
 - 3. आय असमानता को मापने के लिए
 - 4. आय वितरण को मापने के लिए

Question ID : 424429691
Status : Answered
Chosen Option : 4

Q.22 भारत और पाकिस्तान के स्वतंत्र राज्यों के निर्माण की देखरेख करने वाला अंतिम भारतीय वायसराय कौन था?

- Ans
- 1. लॉर्ड इरविन
 - 2. लॉर्ड हेस्टिंग्स
 - 3. लॉर्ड कैनिंग
 - 4. लॉर्ड माउंटबेटन

Question ID : 424429699
Status : Answered
Chosen Option : 4

Q.23 प्रति वर्ष 'विश्व पर्यावरण दिवस' कब मनाया जाता है?

- Ans
- 1. 5 मार्च
 - 2. 5 जून
 - 3. 5 अप्रैल
 - 4. 5 मई

Question ID : 424429697

Status : Answered

Chosen Option : 2

Q.24 निम्नलिखित में से कौन-सा पार्क, यूनेस्को की विश्व विरासत सूची में भारत का पहला 'मिश्रित विश्व विरासत स्थल' है?

- Ans
- 1. कान्हा राष्ट्रीय उद्यान
 - 2. गिर राष्ट्रीय उद्यान
 - 3. नागरहोल राष्ट्रीय उद्यान
 - 4. कंचनजंगा राष्ट्रीय उद्यान

Question ID : 424429685

Status : Answered

Chosen Option : 1

Q.25 भारत के संविधान के किस अनुच्छेद में यह वर्णित है कि एक मंत्रिपरिषद होगी, जिसका प्रमुख प्रधानमंत्री होगा?

- Ans
- 1. अनुच्छेद 74 (1)
 - 2. अनुच्छेद 44
 - 3. अनुच्छेद 34
 - 4. अनुच्छेद 21 (1)

Question ID : 424429703

Status : Answered

Chosen Option : 1

Roll Number	
Candidate Name	
Venue Name	
Exam Date	16/10/2020
Exam Time	10:00 AM - 11:00 AM
Subject	CHSL Tier 1

Section : English Language (Basic Knowledge)

Q.1 Select the word which means the same as the group of words given.

One whom it is impossible to defeat

- Ans
- 1. Dissatisfied
 - 2. Invincible
 - 3. Inimitable
 - 4. Cowardly

Question ID : 424429728
Status : Answered
Chosen Option : 2

Q.2 Select the correct indirect form of the given sentence.

The manager said, "I want you to attend the conference."

- Ans
- 1. The manager said that she want me to attend the conference.
 - 2. The manager said I am wanting you to attend the conference.
 - 3. The manager told to me I am to go to attend the conference.
 - 4. The manager said that she wanted me to attend the conference.

Question ID : 424429709
Status : Answered
Chosen Option : 4

Q.3 Select the INCORRECTLY spelt word.

- Ans
- 1. Immediate
 - 2. Massage
 - 3. Messenger
 - 4. Amass

Question ID : 424429727
Status : Answered
Chosen Option : 3

Q.4 Given below are four jumbled sentences. Out of the given options, pick the one that gives their correct order.

A. While the most common belief is that these traits remain fixed, research studies show otherwise!

B. One such research study suggests that we can change our traits provided we want to change them.

C. We all possess certain personality traits that set us apart from the rest.

D. These traits, a mix of good and bad, define how we respond to situations and people.

Ans ✓ 1. CDAB

✗ 2. CBDA

✗ 3. ACDB

✗ 4. BCAD

Question ID : 424429719

Status : Answered

Chosen Option : 1

Comprehension:

In the following passage, some words have been deleted. Fill in the blanks with the help of the alternatives given. Select the most appropriate option for each blank.

Red okra from Karnataka. Black rice from Gujarat. Red corn from Tamil Nadu. What you would (1)_____ as exotic varieties of food today are (2)_____ indigenous crops that belong to a specific region. Many such (3)_____ crops have gone extinct. Many more are on the brink. But with Indian households (4)_____ more conscious about healthy eating and the natural benefits of consuming local food, (5)_____ among both consumers and farmers is increasing.

SubQuestion No : 5

Q.5 Select the most appropriate option for blank number 1.

Ans ✗ 1. describing

✗ 2. describes

✗ 3. described

✓ 4. describe

Question ID : 424429713

Status : Answered

Chosen Option : 4

Comprehension:

In the following passage, some words have been deleted. Fill in the blanks with the help of the alternatives given. Select the most appropriate option for each blank.

Red okra from Karnataka. Black rice from Gujarat. Red corn from Tamil Nadu. What you would (1)_____ as exotic varieties of food today are (2)_____ indigenous crops that belong to a specific region. Many such (3)_____ crops have gone extinct. Many more are on the brink. But with Indian households (4)_____ more conscious about healthy eating and the natural benefits of consuming local food, (5)_____ among both consumers and farmers is increasing.

SubQuestion No : 6

Q.6 Select the most appropriate option for blank number 2.

- Ans
- 1. openly
 - 2. surprisingly
 - 3. mostly
 - 4. incredibly

Question ID : 424429714

Status : Answered

Chosen Option : 4

Comprehension:

In the following passage, some words have been deleted. Fill in the blanks with the help of the alternatives given. Select the most appropriate option for each blank.

Red okra from Karnataka. Black rice from Gujarat. Red corn from Tamil Nadu. What you would (1)_____ as exotic varieties of food today are (2)_____ indigenous crops that belong to a specific region. Many such (3)_____ crops have gone extinct. Many more are on the brink. But with Indian households (4)_____ more conscious about healthy eating and the natural benefits of consuming local food, (5)_____ among both consumers and farmers is increasing.

SubQuestion No : 7

Q.7 Select the most appropriate option for blank number 3.

- Ans
- 1. foreign
 - 2. native
 - 3. new
 - 4. global

Question ID : 424429715

Status : Answered

Chosen Option : 2

Comprehension:

In the following passage, some words have been deleted. Fill in the blanks with the help of the alternatives given. Select the most appropriate option for each blank.

Red okra from Karnataka. Black rice from Gujarat. Red corn from Tamil Nadu. What you would (1)_____ as exotic varieties of food today are (2)_____ indigenous crops that belong to a specific region. Many such (3)_____ crops have gone extinct. Many more are on the brink. But with Indian households (4)_____ more conscious about healthy eating and the natural benefits of consuming local food, (5)_____ among both consumers and farmers is increasing.

SubQuestion No : 8

Q.8 Select the most appropriate option for blank number 4.

- Ans
- 1. became
 - 2. have become
 - 3. becoming
 - 4. becomes

Question ID : 424429716

Status : Answered

Chosen Option : 3

Comprehension:

In the following passage, some words have been deleted. Fill in the blanks with the help of the alternatives given. Select the most appropriate option for each blank.

Red okra from Karnataka. Black rice from Gujarat. Red corn from Tamil Nadu. What you would (1)_____ as exotic varieties of food today are (2)_____ indigenous crops that belong to a specific region. Many such (3)_____ crops have gone extinct. Many more are on the brink. But with Indian households (4)_____ more conscious about healthy eating and the natural benefits of consuming local food, (5)_____ among both consumers and farmers is increasing.

SubQuestion No : 9

Q.9 Select the most appropriate option for blank number 5.

- Ans
- 1. intelligence
 - 2. awareness
 - 3. apprehension
 - 4. experience

Question ID : 424429717

Status : Answered

Chosen Option : 2

Q.10 Select the most appropriate synonym of the given word.

DEplete

- Ans
- 1. Increase
 - 2. Complete
 - 3. Reduce
 - 4. Raise

Question ID : 424429730

Status : Answered

Chosen Option : 3

Q.11 Given below are four jumbled sentences. Out of the given options, pick the one that gives their correct order.

- A. Vijay the bus conductor was always there in one of these trucks.
- B. He had now quit his old job and joined politics.
- C. In the week before the elections, trucks bumped up and down the dirty streets of Laxmangarh, full of young men holding microphones and shouting: "Stand up to the rich!"
- D. That was the thing about Vijay; each time you saw him, he had done better for himself.

- Ans
- 1. CBAD
 - 2. ABCD
 - 3. CABD
 - 4. DABC

Question ID : 424429718
Status : Answered
Chosen Option : 3

Q.12 Select the most appropriate option to substitute the underlined segment in the given sentence. If there is no need to substitute it, select 'No improvement'.

The teacher said that all that students who did not complete the task in the given time should attempt it again.

- Ans
- 1. those
 - 2. them
 - 3. this
 - 4. No improvement

Question ID : 424429720
Status : Answered
Chosen Option : 1

Q.13 Select the most appropriate option to substitute the underlined segment in the given sentence. If there is no need to substitute it, select 'No improvement'.

My doctor knew that I would eventually recover and do the kind of work I would be doing before.

- Ans
- 1. would have been doing
 - 2. No improvement
 - 3. had been doing
 - 4. would have done

Question ID : 424429721
Status : Answered
Chosen Option : 1

Q.14 In the given sentence, identify the segment which contains the grammatical error.

According to environment activists, demolition of unauthorised apartment complexes are became a lesson for land encroachers.

- Ans
- 1. demolition of unauthorised apartment complexes
 - 2. According to
 - 3. are became
 - 4. for land encroachers

Question ID : 424429711
Status : Answered
Chosen Option : 3

Q.15 Select the correct passive form of the given sentence.

My friend narrated a very interesting story at the International Storytelling Festival.

- Ans
- 1. A very interesting story has been narrated by my friend at the International Storytelling Festival.
 - 2. A very interesting story was being narrated by my friend at the International Storytelling Festival.
 - 3. A very interesting story was narrated by my friend at the International Storytelling Festival.
 - 4. A very interesting story is being narrated by my friend at the International Storytelling Festival.

Question ID : 424429708
Status : Answered
Chosen Option : 3

Q.16 Select the most appropriate meaning of the given idiom.

Let off the hook

- Ans
- 1. Made to pay for one's actions
 - 2. Not made to wait for a long time
 - 3. Not allowed to take part in an activity
 - 4. Allowed to escape from blame

Question ID : 424429724
Status : Answered
Chosen Option : 4

Q.17 Select the most appropriate ANTONYM of the given word.

OPTIONAL

- Ans
- 1. Fanciful
 - 2. Original
 - 3. Compulsory
 - 4. Elective

Question ID : 424429722
Status : Answered
Chosen Option : 3

Q.18 Select the most appropriate ANTONYM of the given word.

INCOHERENT

- Ans
- 1. Inconsistent
 - 2. Puzzling
 - 3. Intelligible
 - 4. Delightful

Question ID : 424429723
Status : Answered
Chosen Option : 4

Q.19 Select the word which means the same as the group of words given.

Soon passing out or of a short duration

- Ans
- 1. Extempore
 - 2. Fluke
 - 3. Evanescent
 - 4. Frostbite

Question ID : 424429729
Status : Answered
Chosen Option : 1

Q.20 Select the most appropriate meaning of the given idiom.

Parthian shot

- Ans
- 1. Praise
 - 2. Say goodbye
 - 3. Parting hit
 - 4. Victory

Question ID : 424429725
Status : Answered
Chosen Option : 4

Q.21 Select the most appropriate word to fill in the blank.

The student has made a _____ to the police about a false video of her that is being circulated by some miscreants.

- Ans
- 1. complain
 - 2. complainant
 - 3. complaining
 - 4. complaint

Question ID : 424429733
Status : Answered
Chosen Option : 1

Q.22 Select the **INCORRECTLY** spelt word.

- Ans 1. Dimention
 2. Jostle
 3. Illiterate
 4. Ideology

Question ID : 424429726
Status : Answered
Chosen Option : 1

Q.23 In the given sentence, identify the segment which contains the grammatical error.

A Delhi bound aircraft has to make an emergency landing at Mumbai airport as a woman passenger suddenly developed a serious breathing problem.

- Ans 1. has to make
 2. as a woman passenger
 3. suddenly developed
 4. a serious breathing problem

Question ID : 424429710
Status : Answered
Chosen Option : 3

Q.24 Select the most appropriate synonym of the given word.

DEROGATORY

- Ans 1. Appreciative
 2. Favourable
 3. Sarcastic
 4. Lethargic

Question ID : 424429731
Status : Answered
Chosen Option : 2

Q.25 Select the most appropriate word to fill in the blank.

You've cleared the _____ examination, haven't you?

- Ans 1. conclusion
 2. frequent
 3. entrance
 4. ability

Question ID : 424429732
Status : Answered
Chosen Option : 3

Q.1 निम्नलिखित श्रृंखला में प्रश्नचिह्न (?) का स्थान ले सकने वाली संख्या का चयन करें।

5, 5, 15, 75, 525, ?

Ans 1. 1050

2. 1575

3. 2625

4. 4725

Question ID : 424429739

Status : Answered

Chosen Option : 4

Q.2 एक निश्चित कूटभाषा में, 458693 को 367784 के रूप में कूटबद्ध किया गया है। उसी भाषा में 742351 को कैसे कूटबद्ध किया जाएगा?

Ans 1. 651462

2. 651442

3. 863442

4. 655442

Question ID : 424429743

Status : Answered

Chosen Option : 2

Q.3 जब लक्ष्मी ने महेश को देखा, तो उसने कहा, "वह मेरी पुत्री के पिता के ससुर का पुत्र है"। महेश का लक्ष्मी से क्या संबंध है?

Ans 1. भाई

2. भतीजा/भांजा

3. मामा/मौसा

4. पुत्र

Question ID : 424429747

Status : Answered

Chosen Option : 1

Q.4 चार अक्षर-समूहों के युग्म दिए गए हैं, इनमें से तीन किसी न किसी प्रकार से समान हैं जब कि चौथा अन्य से अलग है। अन्य से अलग अक्षर-समूह युग्म का चयन करें।

Ans 1. KITE : TIEK

2. FIRU : RIUF

3. MANY : NAYM

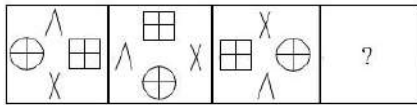
4. LICK : ILCK

Question ID : 424429749

Status : Answered

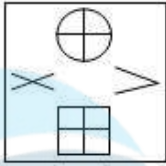
Chosen Option : 4

Q.5 उस उत्तर आकृति का चयन करें जो निम्नलिखित प्रश्न आकृति में प्रश्न चिह्न (?) के स्थान पर आएगी।

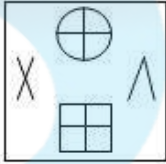


Ans

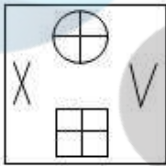
✗ 1.



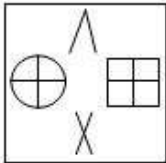
✓ 2.



✗ 3.



✗ 4.



Question ID : 424429753

Status : Answered

Chosen Option : 2

Q.6 चार संख्याएं दी गई हैं, जिनमें से तीन किसी तरह से समान हैं और एक असंगत है। असंगत संख्या का चयन करें।

Ans

✓ 1. 2306

✗ 2. 1331

✗ 3. 1728

✗ 4. 2197

Question ID : 424429740

Status : Answered

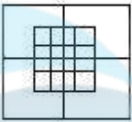
Chosen Option : 1

Q.7 उस उत्तर आकृति का चयन करें जिसमें प्रश्न आकृति अंतर्निहित है।
(घुमाने की अनुमति नहीं है)

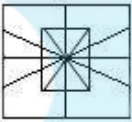


Ans

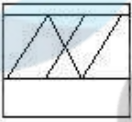
✗ 1.



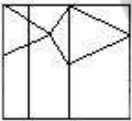
✓ 2.



✗ 3.



✗ 4.



Question ID : 424429755

Status : Answered

Chosen Option : 2

Q.8 यदि प्रश्न आकृति में एक दर्पण को रेखा PQ पर रखा जाता है, तो कौन सी उत्तर आकृति प्रश्न आकृति का सही दर्पण प्रतिबिंब है?



Ans

✓ 1.



✗ 2.



✗ 3.



✗ 4.



Question ID : 424429757

Status : Answered

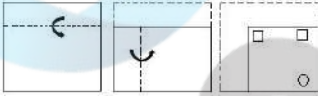
Chosen Option : 1

Q.9 एक परिवार में, श्रीमान और श्रीमती गजानन की पाँच पुत्रियाँ हैं और प्रत्येक पुत्री का एक भाई है। परिवार में कितने व्यक्ति हैं?

- Ans
- 1. 6
 - 2. 9
 - 3. 5
 - 4. 8

Question ID : 424429734
Status : Answered
Chosen Option : 4

Q.10 दिए गए प्रश्नचित्र में कागज को मोड़ने का क्रम और मोड़े गए कागज को काटने की विधि दर्शायी गई है। कागज को पुनः खोलने पर यह कैसा दिखाई देगा?



Ans

- 1.
- 2.
- 3.
- 4.

Question ID : 424429756
Status : Answered
Chosen Option : 2

Q.11 उस विकल्प का चयन करें जिसका तीसरी संख्या से वही संबंध है जो दूसरी संख्या का पहली संख्या से है।

215 : 125 :: 415 : ?

- Ans
- 1. 154
 - 2. 625
 - 3. 145
 - 4. 250

Question ID : 424429736
Status : Answered
Chosen Option : 3

Q.12 दिए गए समीकरण को संतुलित करने के लिए किन दो चिह्नों को परस्पर बदला जाना चाहिए?

$(560 \div 80) + 90 \times 8 - 38 = 600$

- Ans
- 1. + और ÷
 - 2. × और +
 - 3. + और -
 - 4. ÷ और -

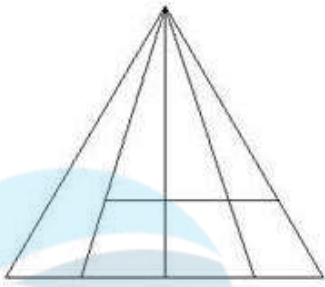
Question ID : 424429735
Status : Answered
Chosen Option : 2

Q.13 Four words have been given, out of which three are alike in some manner and one is different. Select the odd one.

- Ans
- 1. Wardrobe
 - 2. Dining Table
 - 3. Water Filter
 - 4. Study Table

Question ID : 424429750
Status : Answered
Chosen Option : 3

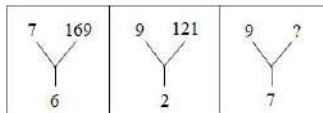
Q.14 Find the number of triangles in the given figure.



- Ans
- 1. 16
 - 2. 21
 - 3. 13
 - 4. 18

Question ID : 424429754
Status : Answered
Chosen Option : 1

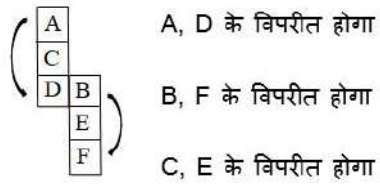
Q.15 दिए गए पैटर्न का ध्यानपूर्वक अध्ययन करें और उस संख्या का चयन करें जो इसमें प्रश्न चिह्न (?) के स्थान पर आएगी।



- Ans
- 1. 256
 - 2. 196
 - 3. 81
 - 4. 289

Question ID : 424429737
Status : Answered
Chosen Option : 1

Q.16 उस उत्तर आकृति का चयन करें, जो दी गई शीट को रेखाओं पर मोड़कर बनायी जा सकती है।

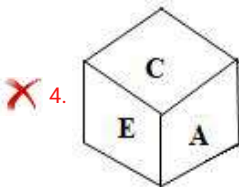
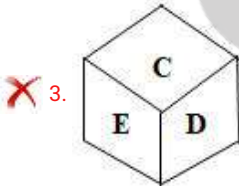
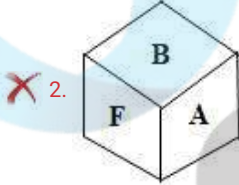


A, D के विपरीत होगा

B, F के विपरीत होगा

C, E के विपरीत होगा

Ans



Question ID : 424429752

Status : Answered

Chosen Option : 1

Q.17 निम्नलिखित शब्दों को तार्किक और सार्थक अनुक्रम में व्यवस्थित करें।

1. क्विंटल
2. किलो ग्राम
3. ग्राम
4. मिली ग्राम
5. टन

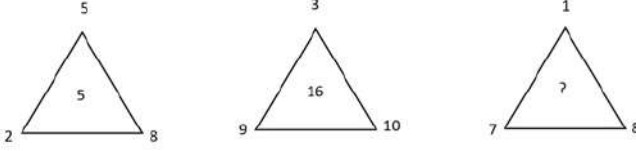
- Ans
- ✗ 1. 4-3-2-5-1
- ✓ 2. 4-3-2-1-5
- ✗ 3. 4-2-3-1-5
- ✗ 4. 4-2-3-5-1

Question ID : 424429741

Status : Answered

Chosen Option : 2

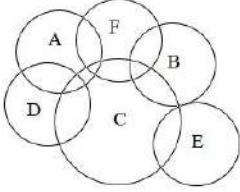
Q.18 निम्नलिखित आकृति श्रृंखला में प्रश्नचिह्न (?) का स्थान ले सकने वाली संख्या का चयन करें।



- Ans
- 1. 5
 - 2. 14
 - 3. 16
 - 4. 11

Question ID : 424429738
Status : Answered
Chosen Option : 2

Q.19 दिए गए वेन आरेख में विभिन्न भागों द्वारा विभिन्न जानवरों को दर्शाया गया है। 'A' कुत्तों को दर्शाता है, 'B' बिल्लियों को दर्शाता है, 'C' मछलियों को दर्शाता है, 'D' नेवलों को दर्शाता है, 'E' चूहों को दर्शाता है और 'F' खरगोशों को दर्शाता है। कौन सा विकल्प केवल कुत्तों, मछलियों और नेवलों के समूह को दर्शाता है?



- Ans
- 1. A
 - 2. C
 - 3. D
 - 4. F

Question ID : 424429758
Status : Not Answered
Chosen Option : --

Q.20 उस विकल्प का चयन करें जिसका तीसरे शब्द से वही संबंध है जो दूसरे शब्द का पहले शब्द से है।

कार : गैराज :: हवाई जहाज : ?

- Ans
- 1. हैंगर
 - 2. आकाश
 - 3. विमान-चालक
 - 4. विमान दौड़ पट्टी

Question ID : 424429748
Status : Answered
Chosen Option : 1

Q.21 उस अक्षर का चयन करें जो निम्नलिखित श्रेणी में प्रश्न चिह्न (?) के स्थान पर आएगा।

A, D, B, F, D, I, G, ?, K

- Ans
- 1. J
 - 2. N
 - 3. M
 - 4. E

Question ID : 424429746
Status : Answered
Chosen Option : 3

Q.22 उस विकल्प का चयन करें जिसका तीसरे पद से वही संबंध है जो दूसरे पद का पहले पद से है।

KLEN : EKNL :: GHIS : ?

- Ans
- 1. IHSG
 - 2. IHGS
 - 3. IGHS
 - 4. IGSH

Question ID : 424429745
Status : Answered
Chosen Option : 4

Q.23 एक निश्चित कूट भाषा में NEPOLIAN को MCQKGBP के रूप में लिखा जाता है। उसी कूटभाषा में MOHANDEV को कैसे लिखा जाएगा?

- Ans
- 1. NQGCLBFX
 - 2. NQICMBFX
 - 3. LMICMBXF
 - 4. LMICMBFX

Question ID : 424429742
Status : Answered
Chosen Option : 4

Q.24 नीचे दिए गए कथनों और निष्कर्षों को ध्यानपूर्वक पढ़ें। यह मानते हुए कि कथनों में दी गयी जानकारी सत्य है, भले ही यह आम तौर पर स्थापित तथ्यों से भिन्न प्रतीत होती हो, यह निर्णय करें कि दिए गए निष्कर्षों में से कौन से निष्कर्ष कथन का तार्किक रूप से अनुसरण करते हैं।

कथन:

1. सभी वर्ग आयत हैं।
2. सभी आयत बहुभुज हैं।

निष्कर्ष:

- I. वर्ग बहुभुज नहीं है।
- II. वर्ग आयत और बहुभुज दोनों हैं।

Ans

1. निष्कर्ष I और II दोनों अनुसरण करते हैं।
2. न तो निष्कर्ष I और न ही II अनुसरण करता है।
3. केवल निष्कर्ष II अनुसरण करता है।
4. केवल निष्कर्ष I अनुसरण करता है।

Question ID : 424429751

Status : Answered

Chosen Option : 3

Q.25 अक्षरों के उस संयोजन का चयन करें जो निम्न अक्षर श्रृंखला में दिए गए रिक्त स्थानों में बाएं से दाएं क्रमिक रूप से रखे जाने पर श्रृंखला को पूरा करेंगे।

a _ cd _ cba _ bcddc _ a

Ans

1. aaba
2. adcb
3. bdab
4. babd

Question ID : 424429744

Status : Answered

Chosen Option : 3

Section : Quantitative Aptitude(Basic Arithmetic Skill)

Q.1 यदि a और b दो ऐसी धनात्मक वास्तविक संख्याएँ हैं कि $4a^2 + b^2 = 20$ और $ab = 4$ है, तो $2a + b$ का मान क्या होगा?

Ans

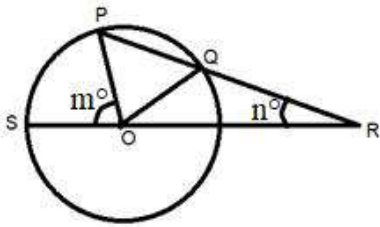
1. 6
2. 5
3. 80
4. 8

Question ID : 424429773

Status : Answered

Chosen Option : 1

Q.2



दी गई आकृति में, यदि $OQ = QR$ है, तो m का मान ज्ञात करें।

- Ans
- 1. $3n^\circ$
 - 2. n°
 - 3. $4n^\circ$
 - 4. $2n^\circ$

Question ID : 424429769

Status : Answered

Chosen Option : 1

Q.3 150 m लंबी एक रेलगाड़ी 90 km/h की चाल से चल रही है। यह रेलगाड़ी 300 m लंबे प्लेटफॉर्म को कितने समय (सेकंड में) में पार कर जाएगी?

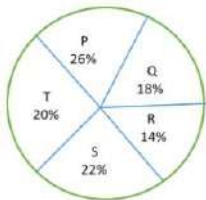
- Ans
- 1. 50
 - 2. 12
 - 3. 6
 - 4. 18

Question ID : 424429760

Status : Answered

Chosen Option : 4

Q.4 नीचे दिया गया पाई-चार्ट पाँच विभिन्न विद्यालयों P, Q, R, S और T में विद्यार्थियों की संख्या के प्रतिशत-वार वितरण को दर्शाता है। सभी पाँचों विद्यालयों में छात्रों की कुल संख्या 8,400 है।



विद्यालय T में विद्यार्थियों की संख्या, दोनों विद्यालयों Q और S में विद्यार्थियों की कुल संख्या का कितना प्रतिशत है।

- Ans
- 1. 40%
 - 2. 50%
 - 3. 45%
 - 4. 55%

Question ID : 424429780

Status : Answered

Chosen Option : 2

Q.5 यदि एक वृत्त का व्यास, वृत्त की दो जीवाओं में से प्रत्येक को समद्विभाजित करता है, तो दोनों जीवाएं _____।

- Ans
- 1. 30° पर प्रतिच्छेदित करती हैं
 - 2. 60° पर प्रतिच्छेदित करती हैं
 - 3. 90° पर प्रतिच्छेदित करती हैं
 - 4. एक-दूसरे के समानांतर हैं

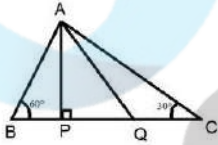
www.HaryanaJobs.in

Question ID : 424429768

Status : Answered

Chosen Option : 4

Q.6



दो गई आकृति में AP, BC के अभिलंबवत है और रेखा AQ, कोण PAC की समद्विभाजक है। कोण PAQ का मान बताइए।

- Ans
- 1. 30°
 - 2. 50°
 - 3. 60°
 - 4. 45°

Question ID : 424429771

Status : Answered

Chosen Option : 1

Q.7 $72 - 3(2 + 24 \div 4 \times 3 - 2 \times 2) + 8$ का मान बताइए।

- Ans
- 1. 32
 - 2. 72
 - 3. 24
 - 4. 36

Question ID : 424429776

Status : Answered

Chosen Option : 1

Q.8 यदि $\cos(A+B) = 0$ और $\sin(A-B) = \frac{1}{2}$ है, तो B का मान बताइए।

(दिया है $0^\circ < A, B < 90^\circ$)

- Ans
- 1. 90°
 - 2. 30°
 - 3. 45°
 - 4. 60°

Question ID : 424429777

Status : Answered

Chosen Option : 4

Q.9 एक वर्गाकार मैदान का क्षेत्रफल 7200 m^2 है। इसके विकर्ण की लंबाई क्या होगी?

- Ans
- 1. 1800 m
 - 2. 60 m
 - 3. 180 m
 - 4. 120 m

Question ID : 424429761

Status : Answered

Chosen Option : 2

Q.10 मोटरसाइकिल के मूल्य में प्रतिवर्ष 4% का हास होता है। यदि इसका वर्तमान मूल्य ₹75,000 है, तो 2 वर्ष बाद इसका मूल्य क्या होगा?

- Ans
- 1. ₹70,120
 - 2. ₹69,000
 - 3. ₹69,120
 - 4. ₹72,000

Question ID : 424429764

Status : Answered

Chosen Option : 3

Q.11 यदि $\cos^2\theta + \cos^4\theta = 1$ है, तो $\sin\theta + \sin^2\theta$ का मान बताइए।

- Ans
- 1. $\frac{1}{2}$
 - 2. 0
 - 3. 1
 - 4. 2

Question ID : 424429779

Status : Answered

Chosen Option : 3

Q.12 यदि 'a' एक प्राकृत संख्या है, तो $(7a^2 + 7a)$ इनमें से किस संख्या से सदैव विभाज्य है?

- Ans
- 1. केवल 7
 - 2. 7 और 14 दोनों
 - 3. केवल 14
 - 4. केवल 21

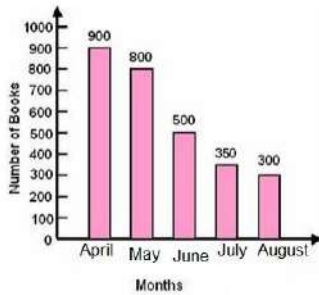
Question ID : 424429775
Status : Answered
Chosen Option : 2

Q.13 राजू एक कार्य को 20 दिन में पूरा कर सकता है। उसने इस पर 5 दिन कार्य किया। उसके बाद शेष कार्य को जैकब ने अकेले ही 15 दिन में पूरा किया। वे दोनों एक साथ मिलकर उस कार्य को कितने दिन में पूरा कर सकते हैं?

- Ans
- 1. 20 दिन
 - 2. 12 दिन
 - 3. 10 दिन
 - 4. 16 दिन

Question ID : 424429759
Status : Answered
Chosen Option : 3

Q.14 निम्न ग्राफ में, एक पुस्तक विक्रेता द्वारा 2019 में पांच महीनों अप्रैल (April), मई (May), जून (June), जुलाई (July) और अगस्त (August) के दौरान बेची गई पुस्तकों की संख्या (Number of Books) दर्शाई गई है। ग्राफ का अध्ययन कीजिए और दिए गए प्रश्न का उत्तर दीजिए।



इन पांचों महीनों के दौरान बेची गई पुस्तकों की कुल संख्या है:

- Ans
- 1. 2950
 - 2. 2850
 - 3. 2900
 - 4. 2800

Question ID : 424429782
Status : Answered
Chosen Option : 2

Q.15 एक व्यक्ति ने कुल मिलाकर ₹9,000 का निवेश तीन भागों में 3%, 4% और 6% वार्षिक साधारण ब्याज पर किया। वर्ष के अंत में, उसे तीनों से ब्याज के रूप में बराबर रकम प्राप्त हुई। उसने 6% वार्षिक ब्याज पर कितनी धनराशि का निवेश किया था?

- Ans
- ✓ 1. ₹2,000
 - ✗ 2. ₹5,000
 - ✗ 3. ₹3,000
 - ✗ 4. ₹4,000

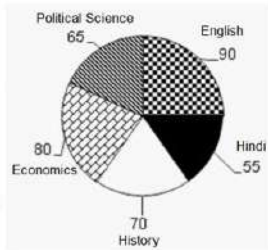
Question ID : 424429767
Status : Answered
Chosen Option : 1

Q.16 यदि $a + b = 8$ और $ab = 12$ है, तो $a^3 + b^3$ का मान बताइए।

- Ans
- ✓ 1. 224
 - ✗ 2. 288
 - ✗ 3. 96
 - ✗ 4. 512

Question ID : 424429772
Status : Answered
Chosen Option : 1

Q.17 निम्न चार्ट में, छात्रों द्वारा एक परीक्षा में विभिन्न विषयों - अंग्रेजी (English), हिंदी (Hindi), इतिहास (History), अर्थशास्त्र (Economics) तथा राजनीति विज्ञान (Political Science) में प्राप्त किए गए अंकों (डिग्री में) को दर्शाया गया है। परीक्षा में कुल प्राप्त किए गए अंक 600 हैं। चार्ट का अध्ययन करें और दिए गए प्रश्न का उत्तर दीजिए।

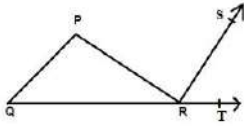


इतिहास (History) के प्राप्तांकों और हिंदी (Hindi) के प्राप्तांकों में कितना अंतर है?

- Ans
- ✗ 1. 30
 - ✗ 2. 40
 - ✗ 3. 15
 - ✓ 4. 25

Question ID : 424429783
Status : Answered
Chosen Option : 4

Q.18



दी गई आकृति में, PQR एक त्रिभुज है जिसमें कोण P : कोण Q : कोण R = 3 : 2 : 1 है, और PR, RS के अभिलंबवत हैं। कोण TRS का माप बताइए।

- Ans
- 1. 30°
 - 2. 60°
 - 3. 50°
 - 4. 45°

Question ID : 424429770

Status : Answered

Chosen Option : 2

Q.19 एक दुकानदार एक वस्तु पर 20% की छूट देने के बावजूद 25% का लाभ अर्जित करता है। उसने उस वस्तु के लिए कितना भुगतान किया था, यदि उसका अंकित मूल्य ₹800 है?

- Ans
- 1. ₹492
 - 2. ₹640
 - 3. ₹800
 - 4. ₹512

Question ID : 424429763

Status : Answered

Chosen Option : 4

Q.20 तीन संख्याओं का अनुपात 3 : 4 : 5 है और उनका लघुत्तम समापवर्त्य (LCM) 1800 है, तो दूसरी संख्या ज्ञात कीजिए।

- Ans
- 1. 150
 - 2. 120
 - 3. 30
 - 4. 90

Question ID : 424429766

Status : Answered

Chosen Option : 2

Q.21 यदि $x + \frac{1}{x} = 4$ है, तो $x^4 + \left(\frac{1}{x}\right)^4$ का मान बताइए।

- Ans
- 1. 194
 - 2. 196
 - 3. 16
 - 4. 14

Question ID : 424429774
Status : Answered
Chosen Option : 1

Q.22 यदि $\operatorname{cosec} \theta = \frac{(x^2+y^2)}{(x^2-y^2)}$ है, तो $\tan \theta$ का मान क्या होगा?

- Ans
- 1. $\frac{(x^2 - y^2)}{2xy}$
 - 2. $\frac{(x^2 - y^2)}{(x^2 + y^2)}$
 - 3. $\frac{(x^2 + y^2)}{2xy}$
 - 4. $\frac{2xy}{(x^2 - y^2)}$

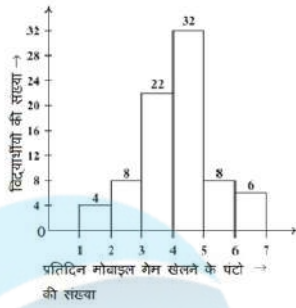
Question ID : 424429778
Status : Answered
Chosen Option : 1

Q.23 यदि किसी वस्तु पर मिलने वाला लाभ विक्रय मूल्य का $\frac{1}{5}$ है, तो प्रतिशत लाभ की गणना कीजिए।

- Ans
- 1. 16%
 - 2. 20%
 - 3. 80%
 - 4. 25%

Question ID : 424429765
Status : Answered
Chosen Option : 4

Q.24 निम्न ग्राफ का अध्ययन कीजिए और दिए गए प्रश्न का उत्तर दीजिए।



कितने विद्यार्थी ऐसे हैं जो प्रतिदिन 5 घंटे या 5 घंटे से अधिक का समय मोबाइल गेम खेलने में लगाते हैं?

- Ans
- 1. 8
 - 2. 14
 - 3. 46
 - 4. 6

Question ID : 424429781

Status : Answered

Chosen Option : 2

Q.25 600 कर्मचारियों वाली कंपनी में, पुरुष कर्मचारियों की औसत आयु 42 वर्ष है और महिला कर्मचारियों की औसत आयु 41 वर्ष है। यदि सभी कर्मचारियों की औसत आयु 41 वर्ष और 9 माह है, तो महिला कर्मचारियों की संख्या बताइए।

- Ans
- 1. 450
 - 2. 350
 - 3. 150
 - 4. 250

Question ID : 424429762

Status : Answered

Chosen Option : 3

Section : General Awareness

Q.1 रामवीर सिंह खोखर को _____ के लिए 'द्रोणाचार्य पुरस्कार' प्राप्त हुआ था।

- Ans
- 1. रेस्लिंग
 - 2. एथलेटिक्स
 - 3. फुटबॉल
 - 4. कबड्डी

Question ID : 424429806

Status : Answered

Chosen Option : 3

Q.2 भारत रत्न पुरस्कार का शुभारंभ किस वर्ष किया गया था?

- Ans
- 1. 1953
 - 2. 1956
 - 3. 1954
 - 4. 1950

Question ID : 424429803
Status : Answered
Chosen Option : 3

Q.3 पुष्यमित्र शुंग द्वारा मारा जाने वाला अंतिम मौर्य शासक कौन था?

- Ans
- 1. बृहद्रथ
 - 2. दशरथ
 - 3. बिन्दुसार
 - 4. देववर्मन

Question ID : 424429800
Status : Answered
Chosen Option : 3

Q.4 पृथ्वी के वायुमंडल में दूसरी सबसे अधिक मात्रा किस गैस की है?

- Ans
- 1. ऑक्सीजन
 - 2. कार्बन डाइऑक्साइड
 - 3. हाइड्रोजन
 - 4. नाइट्रोजन

Question ID : 424429794
Status : Answered
Chosen Option : 4

Q.5 तत्कालीन मद्रास प्रांत के भाषाई पुनर्गठन के बाद एक अलग आंध्र राज्य का गठन किस वर्ष किया गया था?

- Ans
- 1. 1952
 - 2. 1956
 - 3. 1950
 - 4. 1947

Question ID : 424429805
Status : Not Answered
Chosen Option : --

Q.6 दिसंबर 2019 में निम्नलिखित राज्य में से किस राज्य द्वारा 'दिशा अधिनियम' पारित किया गया था?

- Ans
- 1. तेलंगाना
 - 2. कर्नाटक
 - 3. तमिलनाडु
 - 4. आंध्र प्रदेश

Question ID : 424429789
Status : Answered
Chosen Option : 4

Q.7 निम्नलिखित में से कौन-सा प्रोग्राम लॉजिक का एक आरेखात्मक निरूपण (diagrammatic representation) है?

- Ans
- 1. प्रोसेस
 - 2. डाटा
 - 3. लीजेंड
 - 4. फ्लोचार्ट

Question ID : 424429784
Status : Answered
Chosen Option : 4

Q.8 निम्नलिखित में से कौन-सी एक ई-कॉमर्स वेबसाइट नहीं है?

- Ans
- 1. फ्लिपकार्ट (Flipkart)
 - 2. गूगल मैप (Google Maps)
 - 3. स्विगी (Swiggy)
 - 4. ऊबर (Uber)

Question ID : 424429785
Status : Answered
Chosen Option : 2

Q.9 बाथोलिथ, निम्नलिखित में से किसका प्रकार है?

- Ans
- 1. आग्नेय चट्टान
 - 2. घाटी
 - 3. द्वितीयक प्रदूषक
 - 4. महासागर धारा

Question ID : 424429799
Status : Not Answered
Chosen Option : --

Q.10 निम्नलिखित में से क्या पृथ्वी के चुंबकीय क्षेत्र के लिए उत्तरदायी है?

- Ans
- 1. आंतरिक क्रोड (inner core)
 - 2. पर्पटी (crust)
 - 3. बाह्य क्रोड (outer core)
 - 4. प्रावार (mantle)

Question ID : 424429797
Status : Answered
Chosen Option : 4

Q.11 जीएसटी काउंसिल की अध्यक्षता कौन करता है?

- Ans
- 1. प्रधानमंत्री
 - 2. केंद्रीय वित्तमंत्री
 - 3. सेबी (SEBI) के अध्यक्ष
 - 4. आरबीआई गवर्नर

Question ID : 424429791
Status : Answered
Chosen Option : 1

Q.12 अंतरराष्ट्रीय खगोलीय संघ (IAU) ने सितंबर 2019 में, क्षुद्र ग्रह 2006 VP32 (संख्या-300128) का नाम एक प्रसिद्ध भारतीय के नाम पर रखा। वह भारतीय कौन है?

- Ans
- 1. विश्वनाथन आनंद
 - 2. हम्सा पद्मनाभन
 - 3. एपीजे अब्दुल कलाम
 - 4. पंडित जसराज

Question ID : 424429790
Status : Answered
Chosen Option : 4

Q.13 भारत में किस नदी को 'दिहांग' भी कहा जाता है?

- Ans
- 1. ब्रह्मपुत्र
 - 2. ताप्ती
 - 3. सिंधु
 - 4. गंगा

Question ID : 424429796
Status : Answered
Chosen Option : 1

Q.14 भारत ने सियोल, दक्षिण कोरिया में आयोजित 1986 के एशियाई खेलों में कितने स्वर्ण पदक जीते थे?

- Ans
- 1. 9
 - 2. 6
 - 3. 8
 - 4. 5

Question ID : 424429808

Status : Not Answered

Chosen Option : --

Q.15 किस बल के कारण गतिमान वस्तुएं (वायु और जल का प्रवाह) उत्तरी गोलार्ध में दाईं ओर और दक्षिणी गोलार्ध में बाईं ओर विक्षेपित होती हैं?

- Ans
- 1. अंतर्जनित बल
 - 2. चुंबकीय बल
 - 3. कॉरिऑलिस बल
 - 4. प्रयुक्त बल

Question ID : 424429798

Status : Answered

Chosen Option : 3

Q.16 गुरुनानक की जन्मस्थली जिसे आज ननकाना साहिब के नाम से जाना जाता है, पहले _____ कहा जाता था।

- Ans
- 1. राय भोई दी तलवंडी
 - 2. उमरकोट
 - 3. लूनी
 - 4. रोड़ा

Question ID : 424429786

Status : Answered

Chosen Option : 1

Q.17 'ढिमसा' निम्नलिखित में से किस भारतीय राज्य का एक जनजातीय नृत्य है?

- Ans
- 1. अरुणाचल प्रदेश
 - 2. हिमाचल प्रदेश
 - 3. मध्य प्रदेश
 - 4. आंध्र प्रदेश

Question ID : 424429787

Status : Answered

Chosen Option : 2

Q.18 निम्नलिखित में से 'द ब्लू अम्ब्रेला (The Blue Umbrella)' पुस्तक के लेखक कौन है?

- Ans 1. रस्किन बॉन्ड
 2. विक्रम सेठ
 3. सुकेतु मेहता
 4. विक्रम चंद्र

Question ID : 424429802
Status : Not Answered
Chosen Option : --

Q.19 किसी पौधे के किस भाग में मेसोफाइल कोशिकाएं (mesophyll cells) पाई जाती हैं?

- Ans 1. पत्ती
 2. बीज
 3. तना
 4. जड़

Question ID : 424429795
Status : Not Answered
Chosen Option : --

Q.20 भारत के 47वें मुख्य न्यायाधीश कौन हैं?

- Ans 1. शरद अरविंद बोबडे
 2. एनवी रमण
 3. रंजन गोगोई
 4. दीपक मिश्रा

Question ID : 424429788
Status : Answered
Chosen Option : 1

Q.21 मनिका बत्रा किस खेल से जुड़ी हैं?

- Ans 1. जिमनास्टिक
 2. क्रिकेट
 3. टेबल टेनिस
 4. बैडमिंटन

Question ID : 424429807
Status : Answered
Chosen Option : 1

Q.22 भारतीय राष्ट्रीय गीत 'वंदे मातरम' पहली बार किसी राजनीतिक अवसर पर कब गाया गया था?

- Ans 1. भारतीय राष्ट्रीय कांग्रेस अधिवेशन 1896
 2. भारतीय राष्ट्रीय कांग्रेस अधिवेशन 1900
 3. भारतीय राष्ट्रीय कांग्रेस अधिवेशन 1903
 4. भारतीय राष्ट्रीय कांग्रेस अधिवेशन 1911

Question ID : 424429801

Status : Not Answered

Chosen Option : --

Q.23 अनुच्छेद _____ के तहत संविधान, चुनाव आयोग को संसद और राज्य विधानसभाओं के लिए चुनाव कराने के लिए बाध्य करता है।

- Ans 1. 298
 2. 324
 3. 330
 4. 312

Question ID : 424429804

Status : Answered

Chosen Option : 2

Q.24 ध्वनि, निम्नलिखित में से किस माध्यम से तीव्रता से गुजरती है?

- Ans 1. तरल
 2. गैस
 3. ठोस
 4. निर्वात

Question ID : 424429793

Status : Answered

Chosen Option : 3

Q.25 उच्च _____ सूचकांक, आय वितरण में असमानता को दर्शाता है।

- Ans 1. एनडीपी
 2. जीडीपी
 3. Gini (गिनी)
 4. सीपीआई

Question ID : 424429792

Status : Answered

Chosen Option : 1

Roll Number	
Candidate Name	
Venue Name	
Exam Date	16/10/2020
Exam Time	1:00 PM - 2:00 PM
Subject	CHSL Tier 1

Section : English Language (Basic Knowledge)

Q.1 Select the most appropriate synonym of the given word.

ROWDY

- Ans
- 1. Charming
 - 2. Calm
 - 3. Amenable
 - 4. Boisterous

Question ID : 8161613063
Status : Answered
Chosen Option : 4

Q.2 In the sentence identify the segment which contains a grammatical error.

I learnt to adapt quickly to new schools because we moved to new places quite frequent.

- Ans
- 1. we moved to new places
 - 2. to new schools
 - 3. I learnt to adapt quickly
 - 4. quite frequent

Question ID : 8161613043
Status : Answered
Chosen Option : 4

Q.3 Select the most appropriate synonym of the given word.

BARREN

- Ans
- 1. Fertile
 - 2. Fruitful
 - 3. Desolate
 - 4. Bountiful

Question ID : 8161613062
Status : Answered
Chosen Option : 3

Q.4 Select the most appropriate meaning of the given idiom.

Once in a blue moon

- Ans
- 1. Happening only once in a lifetime
 - 2. Happening only rarely
 - 3. An incident that is scary
 - 4. An unforgettable experience

Question ID : 8161613056

Status : Answered

Chosen Option : 2

Comprehension:

In the following passage some words have been deleted. Fill in the blanks with the help of the alternatives given. Select the most appropriate option for each blank.

To close the day on a high note, we decided to spend the rest of (1)_____ evening at a 100-year-old historic watering hole in downtown Juneau. We wanted to (2)_____ our bear sightings and how it feels to be in the wild. While raising a toast and reminiscing (3)_____ our time in the woods, I felt a deeper connection with nature. It was a (4)_____ experience to walk for miles with no particular reason or intention other than absorbing (5)_____ solitude of the jungle, open to the sky.

SubQuestion No : 5

Q.5 Select the most appropriate option for blank No. 1.

- Ans
- 1. theirs
 - 2. our
 - 3. their
 - 4. ours

Question ID : 8161613045

Status : Answered

Chosen Option : 2

Comprehension:

In the following passage some words have been deleted. Fill in the blanks with the help of the alternatives given. Select the most appropriate option for each blank.

To close the day on a high note, we decided to spend the rest of (1)_____ evening at a 100-year-old historic watering hole in downtown Juneau. We wanted to (2)_____ our bear sightings and how it feels to be in the wild. While raising a toast and reminiscing (3)_____ our time in the woods, I felt a deeper connection with nature. It was a (4)_____ experience to walk for miles with no particular reason or intention other than absorbing (5)_____ solitude of the jungle, open to the sky.

SubQuestion No : 6

Q.6 Select the most appropriate option for blank No. 2.

- Ans
- 1. celebrated
 - 2. celebrates
 - 3. celebration
 - 4. celebrate

Question ID : 8161613046

Status : Answered

Chosen Option : 4

Comprehension:

In the following passage some words have been deleted. Fill in the blanks with the help of the alternatives given. Select the most appropriate option for each blank.

To close the day on a high note, we decided to spend the rest of (1)_____ evening at a 100-year-old historic watering hole in downtown Juneau. We wanted to (2)_____ our bear sightings and how it feels to be in the wild. While raising a toast and reminiscing (3)_____ our time in the woods, I felt a deeper connection with nature. It was a (4)_____ experience to walk for miles with no particular reason or intention other than absorbing (5)_____ solitude of the jungle, open to the sky.

SubQuestion No : 7

Q.7 Select the most appropriate option for blank No. 3.

- Ans
- 1. for
 - 2. in
 - 3. with
 - 4. about

Question ID : 8161613047

Status : Answered

Chosen Option : 1

Comprehension:

In the following passage some words have been deleted. Fill in the blanks with the help of the alternatives given. Select the most appropriate option for each blank.

To close the day on a high note, we decided to spend the rest of (1)_____ evening at a 100-year-old historic watering hole in downtown Juneau. We wanted to (2)_____ our bear sightings and how it feels to be in the wild. While raising a toast and reminiscing (3)_____ our time in the woods, I felt a deeper connection with nature. It was a (4)_____ experience to walk for miles with no particular reason or intention other than absorbing (5)_____ solitude of the jungle, open to the sky.

SubQuestion No : 8

Q.8 Select the most appropriate option for blank No. 4.

- Ans
- 1. sincere
 - 2. dismal
 - 3. profound
 - 4. comical

Question ID : 8161613048

Status : Answered

Chosen Option : 3

Comprehension:

In the following passage some words have been deleted. Fill in the blanks with the help of the alternatives given. Select the most appropriate option for each blank.

To close the day on a high note, we decided to spend the rest of (1)_____ evening at a 100-year-old historic watering hole in downtown Juneau. We wanted to (2)_____ our bear sightings and how it feels to be in the wild. While raising a toast and reminiscing (3)_____ our time in the woods, I felt a deeper connection with nature. It was a (4)_____ experience to walk for miles with no particular reason or intention other than absorbing (5)_____ solitude of the jungle, open to the sky.

SubQuestion No : 9

Q.9 Select the most appropriate option for blank No. 5.

- Ans
- 1. much
 - 2. the
 - 3. some
 - 4. a

Question ID : 8161613049

Status : Answered

Chosen Option : 4

Q.10 Given below are four jumbled sentences. Out of the given options pick the one that gives their correct order.

- A. He flew down, searched for her until he found her and then asked her to become his wife.
- B. A hawk flying about in the sky one day decided that he would like to marry a hen whom he often saw on earth.
- C. The hawk was delighted and flew away after giving her a ring as an engagement present, and telling her to take good care of it.
- D. She at once gave her consent on the condition that he would wait until she could grow wings like his, so that she might also fly high.

- Ans
- 1. BADC
 - 2. ADCB
 - 3. BCDA
 - 4. BDCA

Question ID : 8161613051

Status : Answered

Chosen Option : 4

Q.11 Select the correct passive form of the given sentence.

We are arranging an exhibition of sarees from different states of India at Dilli Haat.

- Ans
- 1. An exhibition of sarees from different states of India will be arranged by us at Dilli Haat.
 - 2. An exhibition of sarees from different states of India has been arranged by us at Dilli Haat.
 - 3. An exhibition of sarees from different states of India was arranged by us at Dilli Haat.
 - 4. An exhibition of sarees from different states of India is being arranged by us at Dilli Haat.

Question ID : 8161613040

Status : Answered

Chosen Option : 4

Q.12 Select the most appropriate ANTONYM of the given word.

CONCEALED

- Ans
- 1. Discussed
 - 2. Revealed
 - 3. Hidden
 - 4. Masked

Question ID : 8161613054
Status : Answered
Chosen Option : 2

Q.13 Select the most appropriate ANTONYM of the given word.

ADMONISH

- Ans
- 1. Attack
 - 2. Belittle
 - 3. Harden
 - 4. Applaud

Question ID : 8161613055
Status : Answered
Chosen Option : 4

Q.14 Select the word which means the same as the given group of words.

Someone who freely gives money and help to people who need it

- Ans
- 1. Impressionist
 - 2. Philanthropist
 - 3. Philologist
 - 4. Receptionist

Question ID : 8161613061
Status : Answered
Chosen Option : 2

Q.15 Select the most appropriate option to substitute the underlined segment in the given sentence. If there is no need to substitute it, select 'No improvement'.

Rohit Sharma have declared the best batsman of 2019.

- Ans
- 1. is declaring
 - 2. had declared
 - 3. has been declared
 - 4. No improvement

Question ID : 8161613052
Status : Answered
Chosen Option : 3

Q.16 Select the word which means the same as the given group of words.

Arrangement of events or dates in the order in which they happen

- Ans
- 1. Archaeology
 - 2. Ecology
 - 3. Geology
 - 4. Chronology

Question ID : 8161613060
Status : Answered
Chosen Option : 4

Q.17 Select the most appropriate word to fill in the blank.

I had a stroke at an early age, but what I thought was a great _____ at that time changed my life for the better.

- Ans
- 1. setback
 - 2. lowliness
 - 3. significance
 - 4. moodiness

Question ID : 8161613064
Status : Answered
Chosen Option : 3

Q.18 Select the most appropriate meaning of the given idiom.

To leave someone in the lurch.

- Ans
- 1. To come to compromise with someone
 - 2. To put someone at ease
 - 3. Constant source of annoyance to someone
 - 4. To desert someone in his difficulties

Question ID : 8161613057
Status : Answered
Chosen Option : 4

Q.19 Select the most appropriate option to substitute the underlined segment in the given sentence. If there is no need to substitute it, select 'No improvement'.

We've had a long day. We should rest now, shouldn't we?

- Ans
- 1. hadn't we
 - 2. haven't we
 - 3. won't we
 - 4. No improvement

Question ID : 8161613053
Status : Answered
Chosen Option : 2

Q.20 Select the most appropriate word to fill in the blank.

There was a range of _____ that kept tourists engaged during the International Film Festival in Goa.

- Ans
- 1. moments
 - 2. activities
 - 3. conversions
 - 4. employments

Question ID : 8161613065
Status : Answered
Chosen Option : 1

Q.21 In the sentence identify the segment which contains a grammatical error.

The environment protection policy need to become stricter if we wish to combat climate change.

- Ans
- 1. The environment protection policy
 - 2. need to become stricter
 - 3. if we wish to
 - 4. combat climate change

Question ID : 8161613042
Status : Answered
Chosen Option : 2

Q.22 Select the INCORRECTLY spelt word.

- Ans
- 1. Bunglow
 - 2. Irritant
 - 3. Balloon
 - 4. Adulteration

Question ID : 8161613058
Status : Answered
Chosen Option : 1

Q.23 Given below are four jumbled sentences. Out of the given options pick the one that gives their correct order.

A. Some such common events that bring us happiness for a short time include passing an exam, getting a job, going on a vacation or buying a dream house.

B. Happiness is more difficult to achieve than peace as we keep striving for it daily.

C. Peace, on the other hand, is sustainable for many years, costs less energy, and doesn't depend on external events such as these.

D. Events that we struggle for in our daily lives to bring us happiness only come randomly, stay for a short time and subside.

Ans 1. BACD

2. BDAC

3. ACDB

4. BCAD

Question ID : 8161613050

Status : Answered

Chosen Option : 2

Q.24 Select the correct indirect form of the given sentence.

Roopa said to me, "Please accompany me to the market."

Ans 1. Roopa said to me that you must accompany me to the market.

2. Roopa said please accompany me to the market.

3. Roopa is requesting me to accompany her to the market.

4. Roopa requested me to accompany her to the market.

Question ID : 8161613041

Status : Answered

Chosen Option : 4

Q.25 Select the INCORRECTLY spelt word.

Ans 1. Existence

2. Arguement

3. Distance

4. Commitment

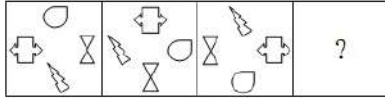
Question ID : 8161613059

Status : Answered

Chosen Option : 2

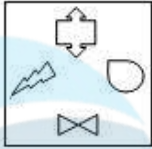
Section : General Intelligence

Q.1 उस उत्तर आकृति का चयन करें जो निम्नलिखित प्रश्न आकृति में प्रश्न-चिह्न (?) के स्थान पर आएगी।

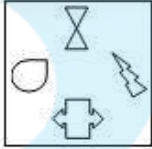


Ans

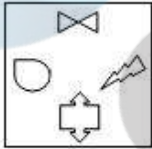
✗ 1.



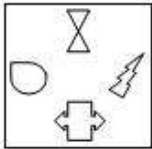
✓ 2.



✗ 3.



✗ 4.



Question ID : 8161613085

Status : Answered

Chosen Option : 2

Q.2 दिए गए समीकरण को संतुलित करने के लिए किन दो चिह्नों या संख्याओं को परस्पर बदला जाना चाहिए?

$$(56 \div 7) + 5 \times 8 - 12 = 60$$

Ans

✗ 1. \times और $+$

✗ 2. 7 और 5

✓ 3. 8 और 12

✗ 4. $+$ और \div

Question ID : 8161613067

Status : Answered

Chosen Option : 3

Q.3 उस अक्षर का चयन करें जो निम्नलिखित श्रृंखला में प्रश्न चिह्न (?) के स्थान पर आएगा।

A, D, C, G, F, K, J, ?

- Ans
- 1. L
 - 2. P
 - 3. T
 - 4. O

Question ID : 8161613078

Status : Answered

Chosen Option : 2

Q.4 यदि प्रश्न आकृति में एक दर्पण को रेखा PQ पर रखा जाता है, तो कौन सी उत्तर आकृति प्रश्न आकृति का सही दर्पण प्रतिबिम्ब है?



- Ans
- 1.
 - 2.
 - 3.
 - 4.

Question ID : 8161613089

Status : Answered

Chosen Option : 1

Q.5 यदि किसी कोडित भाषा में 'UNIQ' को 'SJCI' लिखा जाता है, तो उसी कोडित भाषा में 'MODE' किस प्रकार से लिखा जाएगा:

- Ans
- 1. KKXW
 - 2. KKXV
 - 3. KKXT
 - 4. KKXX

Question ID : 8161613080

Status : Answered

Chosen Option : 1

Q.6 उस विकल्प का चयन करें जिसका तीसरी संख्या से वही संबंध है जो दूसरी संख्या का पहली संख्या से है।

236 : 263 :: 768 : ?

Ans 1. 788

2. 876

3. 786

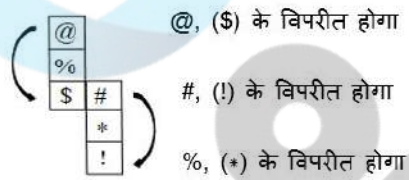
4. 778

Question ID : 8161613068

Status : Answered

Chosen Option : 3

Q.7 उस उत्तर आकृति का चयन करें, जिसे दी गई शीट को रेखाओं पर मोड़कर बनाया जा सकता है।

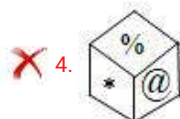
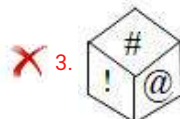
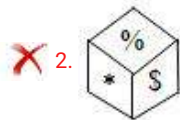
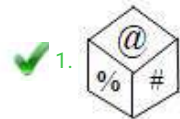


@, (\$) के विपरीत होगा

#, (!) के विपरीत होगा

%, (*) के विपरीत होगा

Ans



Question ID : 8161613084

Status : Answered

Chosen Option : 1

Q.8 निम्नलिखित शब्दों को एक तार्किक और सार्थक अनुक्रम में व्यवस्थित करें।

1. पैराग्राफ
2. वाक्य
3. अक्षर
4. वाक्यांश
5. शब्द

- Ans
- 1. 5,3,1,2,4
 - 2. 3,5,1,2,4
 - 3. 1,2,3,4,5
 - 4. 3,5,4,2,1

Question ID : 8161613073

Status : Answered

Chosen Option : 4

Q.9 एक निश्चित कूट भाषा में RDHKLP को QCJMKO के रूप में लिखा जाता है। उसी कूटभाषा में ROHINY को कैसे लिखा जाएगा?

- Ans
- 1. QNJKCX
 - 2. QNIJMX
 - 3. QNJKMX
 - 4. QNJLNX

Question ID : 8161613074

Status : Answered

Chosen Option : 3

Q.10 उस संख्या का चयन करें जो निम्नलिखित श्रेणी में प्रश्न चिह्न (?) के स्थान पर आएगी।

1, 2, 4, 7, 13, 24, 44, ?

- Ans
- 1. 81
 - 2. 73
 - 3. 63
 - 4. 112

Question ID : 8161613069

Status : Answered

Chosen Option : 1

Q.11 दिए गए प्रश्न आकृति में कागज को मोड़ने का क्रम और मोड़े गए कागज को काटने की विधि दर्शाई गई है। उस उत्तर आकृति का चयन करें जो कागज को पुनः खोलने पर दिखाई देगी।



Ans

✓ 1.



✗ 2.



✗ 3.



✗ 4.



Question ID : 8161613088

Status : Answered

Chosen Option : 1

Q.12 उस अक्षर की पहचान करें जो निम्न श्रेणी से संबंधित नहीं है।

I, L, O, S, U, X

Ans

✗ 1. X

✗ 2. L

✓ 3. S

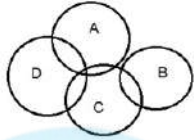
✗ 4. O

Question ID : 8161613081

Status : Answered

Chosen Option : 3

Q.13 दिए गए वेन आरेख में विभिन्न भागों द्वारा विभिन्न खिलाड़ियों के वर्गों को दर्शाया गया है। 'A' टेनिस के खिलाड़ियों को दर्शाता है, 'B' बैडमिंटन के खिलाड़ियों को दर्शाता है, 'C' हॉकी के खिलाड़ियों को दर्शाता है और 'D' फुटबाल के खिलाड़ियों को दर्शाता है। कौन सा विकल्प सभी प्रकार के खेलों के खिलाड़ियों को निरूपित करता है?



- Ans
- 1. B
 - 2. D
 - 3. C
 - 4. A

Question ID : 8161613090

Status : Answered

Chosen Option : 3

Q.14 उस विकल्प का चयन करें जो तीसरे पद से उसी प्रकार संबंधित हो जिस प्रकार दूसरा पद पहले पद से संबंधित है।

BUS : AWP :: CAR : _____

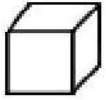
- Ans
- 1. BCO
 - 2. CAB
 - 3. BUD
 - 4. BCD

Question ID : 8161613082

Status : Answered

Chosen Option : 1

Q.15 उस उत्तर आकृति का चयन करें जिसमें प्रश्न आकृति अंतर्निहित है। (घुमाने की अनुमति नहीं है)



Ans

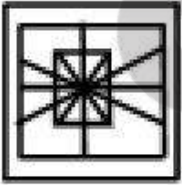
✗ 1.



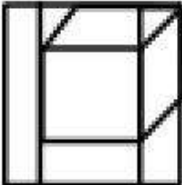
✗ 2.



✗ 3.



✓ 4.



Question ID : 8161613087

Status : Answered

Chosen Option : 4

Q.16 नीचे दिए गए कथनों और निष्कर्षों को ध्यानपूर्वक पढ़ें। यह मानते हुए कि कथनों में दी गई जानकारी सत्य है, भले ही यह आम तौर पर स्थापित तथ्यों से भिन्न प्रतीत होती हो, यह निर्णय करें कि दिए गए निष्कर्षों में से कौन सा/से निष्कर्ष, कथनों का तार्किक रूप से अनुसरण करता/करते है/हैं।

कथन:

1. कुछ केले आम हैं।
2. कुछ आम बिल्लियाँ हैं।

निष्कर्ष:

- I. सभी बिल्लियाँ केले हैं।
- II. कुछ बिल्लियाँ आम हैं।

Ans

1. न तो निष्कर्ष I और न ही II अनुसरण करता है।
2. केवल निष्कर्ष I अनुसरण करता है।
3. निष्कर्ष I और II दोनों अनुसरण करते हैं।
4. केवल निष्कर्ष II अनुसरण करता है।

Question ID : 8161613083

Status : Answered

Chosen Option : 4

Q.17 उन अक्षरों के संयोजन का चयन करें जो दी गई श्रृंखला के रिक्त स्थान में बाएं से दाएं क्रमिक रूप से रखे जाने पर श्रृंखला को पूरा करेंगे।

_om_onm_mnon_omn_n

Ans

1. mnomo
2. moomm
3. nmomn
4. nnmno

Question ID : 8161613076

Status : Answered

Chosen Option : 1

Q.18 अंकित मूल्य पर 25% की छूट देने के बाद, एक लैपटॉप ₹22,500 में बेचा जाता है। इसका अंकित मूल्य क्या है?

Ans

1. ₹30,000
2. ₹36,500
3. ₹32,000
4. ₹29,000

Question ID : 8161613066

Status : Answered

Chosen Option : 1

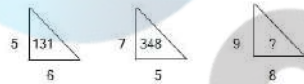
Q.19 निम्नलिखित श्रृंखला में प्रश्न चिह्न (?) के स्थान पर आने वाली संख्या का चयन करें।

4, 5, 9, 18, 34, 59, ?, 144, 208, 289

- Ans
- 1. 89
 - 2. 95
 - 3. 88
 - 4. 90

Question ID : 8161613072
Status : Answered
Chosen Option : 2

Q.20 दिए गए पैटर्न का ध्यानपूर्वक अध्ययन करें और उस संख्या का चयन करें जो इसमें प्रश्न चिह्न (?) के स्थान पर आएगी।



- Ans
- 1. 737
 - 2. 729
 - 3. 521
 - 4. 396

Question ID : 8161613070
Status : Answered
Chosen Option : 1

Q.21 उस विकल्प का चयन करें जिसका तीसरे पद से वही संबंध है जो दूसरे पद का पहले पद से है।

PTR : R38 :: IMK : ?

- Ans
- 1. M20
 - 2. K20
 - 3. K24
 - 4. M24

Question ID : 8161613077
Status : Answered
Chosen Option : 3

Q.22 एक तस्वीर की ओर इशारा करते हुए, मोहन ने कहा, "जो व्यक्ति तस्वीर में मेरी माँ के साथ खड़ा है, वह मेरे पिता का इकलौता पुत्र है"। उस व्यक्ति का मोहन से क्या संबंध है?

Ans 1. चचेरा/ममेरा/मौसेरा/फुफेरा भाई

2. पिता

3. भतीजा/भांजा

4. स्वयं मोहन

Question ID : 8161613079

Status : Answered

Chosen Option : 4

Q.23 उस संख्या का चयन करें जो निम्नलिखित श्रेणी में प्रश्न चिह्न (?) के स्थान पर आएगी।

7, 16, 24, 31, 37, ?

Ans 1. 45

2. 58

3. 39

4. 42

Question ID : 8161613071

Status : Answered

Chosen Option : 4

Q.24 एक निश्चित कूट भाषा में, 458 को 'she is good' के रूप में लिखा जाता है, 742 को 'that is cow' के रूप में लिखा जाता है और 841 को 'good is bad' के रूप में लिखा जाता है। उसी भाषा में कौन सी संख्या 'bad' शब्द को दर्शाती है?

Ans 1. 2

2. 1

3. 4

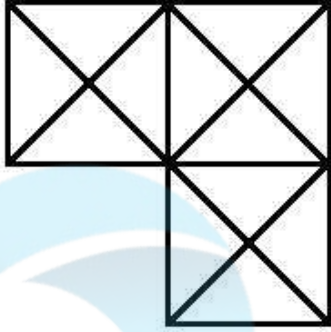
4. 8

Question ID : 8161613075

Status : Answered

Chosen Option : 2

Q.25 दी गई आकृति में कितने त्रिभुज हैं?



- Ans
- 1. 18
 - 2. 37
 - 3. 30
 - 4. 29

Question ID : 8161613086
Status : Answered
Chosen Option : 4

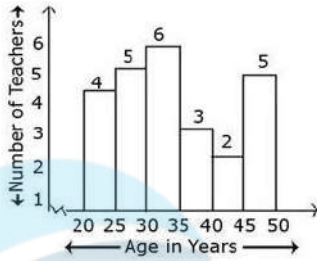
Section : Quantitative Aptitude(Basic Arithmetic Skill)

Q.1 यदि $\sin\theta + \operatorname{cosec}\theta = 2$, तो $\sin^2\theta + \operatorname{cosec}^2\theta$ का मान ज्ञात करें।

- Ans
- 1. 1
 - 2. 2
 - 3. 8
 - 4. 4

Question ID : 8161613111
Status : Answered
Chosen Option : 2

Q.2 निम्न ग्राफ का अध्ययन करें और ग्राफ के आधार पर दिए गए प्रश्न का उत्तर दें।



45 वर्ष से कम आयु वाले शिक्षकों की संख्या, कुल शिक्षकों की संख्या की कितनी प्रतिशत है?

- Ans
- 1. 30%
 - 2. 8%
 - 3. 80%
 - 4. 60%

Question ID : 8161613113

Status : Answered

Chosen Option : 3

Q.3 किसी खिलाड़ी का 15 पारियों का एक निश्चित औसत है। 16वीं पारी में वह 120 रन बनाता है, जिससे उसका औसत 6 रन बढ़ जाता है। नया औसत ज्ञात करें।

- Ans
- 1. 30
 - 2. 24
 - 3. 8
 - 4. 20

Question ID : 8161613094

Status : Answered

Chosen Option : 1

Q.4 दिया गया है कि $2^{20} + 1$, किसी पूर्ण संख्या से पूर्णतः विभाज्य है। निम्न में से कौन सी संख्या उसी संख्या से पूर्णतः विभाज्य होगी?

- Ans
- 1. $2^{15} + 1$
 - 2. 5×2^{30}
 - 3. $2^{90} + 1$
 - 4. $2^{60} + 1$

Question ID : 8161613107

Status : Answered

Chosen Option : 4

Q.5 $10 - [121 \div (11 \times 11) - (-4) - \{3 - (8 - 1)\}]$ का मान ज्ञात करें।

- Ans
- 1. 0
 - 2. 1
 - 3. 19
 - 4. -1

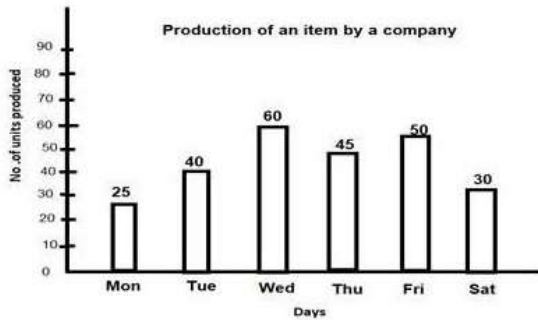
Question ID : 8161613108
Status : Answered
Chosen Option : 2

Q.6 $2x - 3y$ इनमें से किसका गुणखंड (factor) है?

- Ans
- 1. $4x^2 + 2x - 3y + 9y^2 - 12xy$
 - 2. $8x^3 + 27y^3$
 - 3. $4x^2 + 2x - 3y + 36y^2 + 12xy$
 - 4. $4x^2 + 9y^2 + 12xy$

Question ID : 8161613106
Status : Answered
Chosen Option : 1

Q.7 निम्न ग्राफ का अध्ययन करें और ग्राफ के आधार पर दिए गए प्रश्न का उत्तर दें।



शुक्रवार से शनिवार तक उत्पादन में कितने प्रतिशत की गिरावट दर्ज की गई?

- Ans
- 1. 10%
 - 2. 20%
 - 3. 40%
 - 4. $66\frac{2}{3}\%$

Question ID : 8161613114
Status : Answered
Chosen Option : 3

Q.8 किसी वर्गाकार पार्क का क्षेत्रफल $16x^2 + 8x + 1$ वर्ग इकाई है। पार्क की लंबाई ज्ञात करें।

- Ans
- 1. $(4x + 1)^2$ इकाई
 - 2. $4x$ इकाई
 - 3. $(4x + 1)$ इकाई
 - 4. $(4x - 1)$ इकाई

Question ID : 8161613104

Status : Answered

Chosen Option : 3

Q.9 एक मोबाइल फोन क्रमशः 30% और 10% की दो क्रमिक छूट देने के बाद ₹31,500 में बेचा जाता है। मोबाइल का अंकित मूल्य ज्ञात करें।

- Ans
- 1. ₹50,000
 - 2. ₹35,000
 - 3. ₹52,500
 - 4. ₹55,000

Question ID : 8161613095

Status : Answered

Chosen Option : 1

Q.10 दो रेलगाड़ियां स्टेशन A और B, जिनके बीच की दूरी 1800 km है, से एक साथ क्रमशः 44 km/h और 46 km/h की औसत चाल से एक दूसरे की ओर चलना शुरू करती हैं। वे रेलगाड़ियां कहाँ पर एक-दूसरे से मिलेंगी?

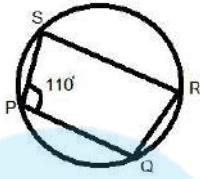
- Ans
- 1. स्टेशन B से 880 km
 - 2. स्टेशन A से 920 km
 - 3. स्टेशन A से 880 km
 - 4. स्टेशन B से 900 km

Question ID : 8161613092

Status : Answered

Chosen Option : 3

Q.11 दी गई आकृति में, PQRS, एक चक्रीय चतुर्भुज है। यदि PQ, SR के समानांतर हैं, तो कोण PQR का माप ज्ञात करें।



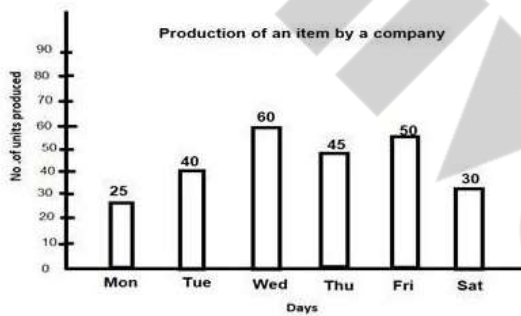
- Ans
- 1. 80°
 - 2. 100°
 - 3. 70°
 - 4. 110°

Question ID : 8161613100

Status : Answered

Chosen Option : 4

Q.12 निम्न ग्राफ का अध्ययन करें और ग्राफ के आधार पर दिए गए प्रश्न का उत्तर दें।



किस दिन का उत्पादन, कुल उत्पादन का $\frac{1}{5}$ था?

- Ans
- 1. मंगलवार
 - 2. शुक्रवार
 - 3. गुरुवार
 - 4. बुधवार

Question ID : 8161613115

Status : Answered

Chosen Option : 2

Q.13 10 cm त्रिज्या वाले वृत्त में, PQ और RS क्रमशः 16 cm और 12 cm लंबाई वाली दो समांतर जीवारें हैं। यदि वे केंद्र से विपरीत दो स्थानों पर स्थित हों, तो जीवाओं के बीच की दूरी ज्ञात करें।

- Ans
- 1. 8 cm
 - 2. 14 cm
 - 3. 2 cm
 - 4. 6 cm

Question ID : 8161613101
Status : Answered
Chosen Option : 2

Q.14 सलमा, कोई वस्तु खरीदती है और फिर इसे ₹810 में बेचती है। यदि उसे 10% की हानि होती है, तो 4% का लाभ प्राप्त करने के लिए उसे वस्तु को किस मूल्य पर बेचना चाहिए?

- Ans
- 1. ₹900
 - 2. ₹729
 - 3. ₹864
 - 4. ₹936

Question ID : 8161613097
Status : Answered
Chosen Option : 4

Q.15 किसी टैंक का आयतन 72 घन मीटर है। इसमें 60 लीटर प्रति मिनट की दर से पानी भरा जाता है। टैंक को भरने में लगने वाला समय ज्ञात करें।

- Ans
- 1. 20 घंटे
 - 2. 12 घंटे
 - 3. 6 घंटे
 - 4. 10 घंटे

Question ID : 8161613093
Status : Answered
Chosen Option : 1

Q.16 A और B अकेले-अकेले किसी दीवार का निर्माण क्रमशः 12 और 16 दिन में कर सकते हैं। A से शुरू करके, यदि वे बारी-बारी से प्रत्येक दिन कार्य करते हैं, तो कितने दिनों में दीवार का निर्माण पूरा हो जाएगा?

- Ans
- 1. $12\frac{2}{3}$ दिन
 - 2. $13\frac{2}{3}$ दिन
 - 3. $6\frac{3}{4}$ दिन
 - 4. $7\frac{2}{3}$ दिन

Question ID : 8161613091
Status : Answered
Chosen Option : 2

Q.17 यदि $\tan 4A = \cot(A - 20^\circ)$, $0^\circ < \theta < 90^\circ$ है, तो A का मान ज्ञात करें।

- Ans
- 1. 22°
 - 2. 80°
 - 3. 5°
 - 4. 14°

Question ID : 8161613110
Status : Answered
Chosen Option : 1

Q.18 ₹320 की राशि कितनी अवधि में बढ़कर ₹405 हो जाएगी, यदि व्याज की गणना 12.5% वार्षिक चक्रवृद्धि के आधार पर की जाती हो?

- Ans
- 1. $2\frac{1}{2}$ वर्ष
 - 2. 2 वर्ष
 - 3. $1\frac{1}{2}$ वर्ष
 - 4. 1 वर्ष

Question ID : 8161613099
Status : Answered
Chosen Option : 2

Q.19 8, 13, 26 और 40 में से प्रत्येक संख्या में कौन सी संख्या को जोड़ा जाना चाहिए ताकि इस क्रम में प्राप्त संख्याएं समानुपात में हों?

- Ans
- 1. 2
 - 2. 1
 - 3. 4
 - 4. 3

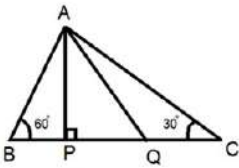
Question ID : 8161613098
Status : Answered
Chosen Option : 1

Q.20 $\sin 20^\circ \cos 70^\circ + \sin 70^\circ \cos 20^\circ$ का मान ज्ञात करें।

- Ans
- 1. 0
 - 2. 1
 - 3. 2
 - 4. $\frac{1}{\sqrt{2}}$

Question ID : 8161613109
Status : Answered
Chosen Option : 2

Q.21 दी गई आकृति में AP, BC के अभिलंबवत है और AQ कोण A का समद्विभाजक (bisector) है। कोण PQA का माप ज्ञात करें।



- Ans
- 1. 30°
 - 2. 60°
 - 3. 50°
 - 4. 75°

Question ID : 8161613103

Status : Answered

Chosen Option : 4

Q.22 दो टंकियों A और B में पानी की मात्रा का अनुपात 6 : 5 है। टैंक A के पानी की मात्रा में 30% की वृद्धि कि जाती है। टैंक B के पानी की मात्रा में कितने प्रतिशत वृद्धि की जानी चाहिए कि दोनों टंकियों में पानी की मात्रा समान हो जाए?

- Ans
- 1. 15%
 - 2. 18%
 - 3. 30%
 - 4. 56%

Question ID : 8161613096

Status : Answered

Chosen Option : 4

Q.23 $(ax + by)$ इनमें से किसका गुणनखंड (factor) है?

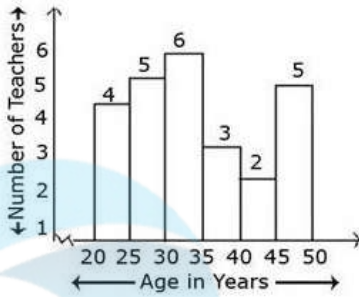
- Ans
- 1. $a^2x^2 + 2abxy + b^2y^2$
 - 2. $a^2x^2 + 2ab + b^2y^2$
 - 3. $a^2x^2 + 2ab - b^2y^2$
 - 4. $a^2x^3 + 2abx + b^2y^2x$

Question ID : 8161613105

Status : Answered

Chosen Option : 1

Q.24 निम्न ग्राफ का अध्ययन करें और ग्राफ के आधार पर दिए गए प्रश्न का उत्तर दें।



कितने शिक्षकों की आयु 45 वर्ष या उससे अधिक लेकिन 50 वर्ष से कम है?

- Ans
- 1. 3
 - 2. 6
 - 3. 5
 - 4. 2

Question ID : 8161613112
Status : Answered
Chosen Option : 3

Q.25 किसी त्रिभुज के कोणों का अनुपात 3 : 4 : 8 है। यह एक _____ त्रिभुज है।

- Ans
- 1. अधिक कोण
 - 2. न्यून कोण
 - 3. समकोण
 - 4. समद्विबाहु

Question ID : 8161613102
Status : Answered
Chosen Option : 1

Section : General Awareness

Q.1 थायमिन की कमी से _____ होता है।

- Ans
- 1. स्कर्वी
 - 2. पेलाग्रा
 - 3. रिकेट्स
 - 4. बेरीबेरी

Question ID : 8161613126
Status : Answered
Chosen Option : 4

Q.2 सूर्यमुखी के सौर ट्रैकिंग (सूर्य की दिशा में विचलन) को _____ कहा जाता है।

- Ans
- 1. स्पर्शानुवर्तन (Thigmotropism)
 - 2. सूर्यानुवर्तन (Heliotropism)
 - 3. जलानुवर्तन (Hydrotropism)
 - 4. प्रकाशानुवर्तन (Phototropism)

Question ID : 8161613127
Status : Answered
Chosen Option : 2

Q.3 फरवरी 2020 तक की स्थिति के अनुसार, गोवा के राज्यपाल कौन थे?

- Ans
- 1. श्रीपद येस्सो नाईक
 - 2. प्रमोद सावंत
 - 3. भगत सिंह कोश्यारी
 - 4. सत्यपाल मलिक

Question ID : 8161613121
Status : Answered
Chosen Option : 3

Q.4 इनमें से किस भारतीय क्रिकेटर ने एक विश्व कप में सर्वाधिक रन बनाए हैं?

- Ans
- 1. कपिल देव
 - 2. सचिन तेंदुलकर
 - 3. राहुल द्रविड़
 - 4. रोहित शर्मा

Question ID : 8161613139
Status : Answered
Chosen Option : 4

Q.5 भारत में पिन कोड (पोस्टल इंडेक्स कोड) कब शुरू किया गया था?

- Ans
- 1. 1949
 - 2. 1963
 - 3. 1969
 - 4. 1972

Question ID : 8161613130
Status : Answered
Chosen Option : 3

Q.6 चंद्रमा, _____ पिंड का उदाहरण है।

- Ans
- 1. पारभासी
 - 2. अदीप्तमान
 - 3. पारदर्शी
 - 4. दीप्तीमान

Question ID : 8161613125
Status : Answered
Chosen Option : 2

Q.7 वह प्रक्रिया जो पृथ्वी की ऊपरी सतह के भागों को खिसकाती, उभारती या निर्मित करती है, क्या कहलाती है?

- Ans
- 1. पटल विरूपण (डाइएस्ट्रॉफिज़्म)
 - 2. अनाच्छादन (डिन्यूडेशन)
 - 3. अपक्षयण (वेदरिंग)
 - 4. ज्वालामुखीयता (वॉल्कैनिज़्म)

Question ID : 8161613129
Status : Answered
Chosen Option : 2

Q.8 'आय और रोज़गार सिद्धांत' अर्थशास्त्र की किस शाखा का दूसरा नाम है?

- Ans
- 1. वृहत् अर्थशास्त्र (मैक्रोइकोनॉमिक्स)
 - 2. सार्वजनिक वित्त
 - 3. सूक्ष्म अर्थशास्त्र (माइक्रोइकोनॉमिक्स)
 - 4. अंतरराष्ट्रीय अर्थशास्त्र

Question ID : 8161613123
Status : Answered
Chosen Option : 3

Q.9 अंतरराष्ट्रीय टेस्ट क्रिकेट में कितने भारतीय गेंदबाजों ने हैट्रिक लगाई है?

- Ans
- 1. दो
 - 2. एक
 - 3. तीन
 - 4. चार

Question ID : 8161613138
Status : Answered
Chosen Option : 3

Q.10 निम्नलिखित में से किस प्रतीक का उपयोग माइक्रोसॉफ्ट एक्सेल शीट (Microsoft Excel sheet) में सूत्र (formula) से पहले किया जाना चाहिए?

- Ans
- 1. =
 - 2. \$
 - 3. &
 - 4. @

Question ID : 8161613116
Status : Answered
Chosen Option : 4

Q.11 बेसिक (BASIC) कंप्यूटर भाषा के संदर्भ में, BASIC का पूर्ण रूप क्या होता है?

- Ans
- 1. बिगनर्स ऑल-परपज सिस्टमेटिक इंस्ट्रक्शन कोड (Beginner's All-purpose Systematic Instruction Code)
 - 2. बिगनर्स ऑल-परपज सिंबॉलिक इनपुट कोड (Beginner's All-purpose Symbolic Input Code)
 - 3. बिगनर्स ऑल-परपज सिंबॉलिक इनपुट-आउटपुट कोड (Beginner's All-purpose Symbolic Input-output Code)
 - 4. बिगनर्स ऑल-परपज सिंबॉलिक इंस्ट्रक्शन कोड (Beginner's All-purpose Symbolic Instruction Code)

Question ID : 8161613117
Status : Not Answered
Chosen Option : --

Q.12 भारतीय संविधान के भाग IV A (अनुच्छेद 51A) में कितने मौलिक कर्तव्य निर्धारित किए गए हैं?

- Ans
- 1. 9
 - 2. 11
 - 3. 10
 - 4. 12

Question ID : 8161613136
Status : Answered
Chosen Option : 2

Q.13 वर्ष 2019 के 'आई.डब्ल्यू.जी.ए (IWGA) एथलीट ऑफ़ द ईयर' के लिए नामांकित होने वाले एकमात्र भारतीय कौन हैं?

- Ans
- 1. विराट कोहली
 - 2. अमिय कुमार मलिक
 - 3. मिताली सिंह
 - 4. रानी रामपाल

Question ID : 8161613140
Status : Answered
Chosen Option : 1

Q.14 अंग्रेजी में अनुवादित, इंडियन नेशनल आर्मी (INA) का आदर्श वाक्य (motto) _____ था।

- Ans 1. एकता, विश्वास, बलिदान
 2. करो या मरो
 3. एकता और अनुशासन
 4. स्वयं से पहले सेवा

Question ID : 8161613133
Status : Answered
Chosen Option : 4

Q.15 निम्नलिखित में से किस तेल कंपनी ने दिसंबर 2019 में ओडिशा के बलांगीर जिले में एल.पी.जी (LPG) बॉटलिंग प्लांट की शुरुआत की थी?

- Ans 1. इंडियन ऑयल कॉर्पोरेशन लिमिटेड
 2. रिलायंस इंडस्ट्रीज लिमिटेड
 3. भारत पेट्रोलियम कॉर्पोरेशन लिमिटेड
 4. हिंदुस्तान पेट्रोलियम कॉर्पोरेशन लिमिटेड

Question ID : 8161613124
Status : Not Answered
Chosen Option : --

Q.16 सतलुज नदी किस दर्रे से होकर भारत में प्रवेश करती है?

- Ans 1. नाथुला
 2. शिपकी ला
 3. लिपुलेख
 4. ज़ोजी ला

Question ID : 8161613128
Status : Answered
Chosen Option : 4

Q.17 'मालविकाग्निमित्रम् (Malavikagnimitram)' के लेखक कौन हैं?

- Ans 1. वाग्भट
 2. कालिदास
 3. व्यास
 4. कौटिल्य

Question ID : 8161613119
Status : Answered
Chosen Option : 2

Q.18 नवंबर 2019 में, निम्नलिखित में से किस शहर में 'इंडिया इंटरनेशनल साइंस फेस्टिवल (IISF)' का आयोजन किया गया था?

- Ans
- 1. बेंगलुरु
 - 2. कोलकाता
 - 3. तिरुवनंतपुरम
 - 4. नई दिल्ली

Question ID : 8161613122
Status : Answered
Chosen Option : 4

Q.19 ग्रीनपीस द्वारा अगस्त, 2019 में जारी किये गए रिपोर्ट के अनुसार, भारत निम्नलिखित में से किस प्रदूषक (गैस) का सबसे अधिक उत्सर्जक है?

- Ans
- 1. सल्फर डाइऑक्साइड
 - 2. अमोनिया
 - 3. कार्बन मोनोऑक्साइड
 - 4. नाइट्रोजन डाइऑक्साइड

Question ID : 8161613120
Status : Not Answered
Chosen Option : --

Q.20 पुस्तक 'ब्रिजिटल नेशन – सॉल्विंग टेक्नोलॉजीज़ पीपल प्रॉब्लम (Bridgital Nation – Solving Technology's People Problem)' के लेखक कौन है?

- Ans
- 1. रतन टाटा
 - 2. एन चंद्रशेखरन
 - 3. नारायण मूर्ति
 - 4. नंदन नीलेकणि

Question ID : 8161613134
Status : Not Answered
Chosen Option : --

Q.21 निम्नलिखित में से कौन प्रसिद्ध तबला वादक हैं/थे?

- Ans
- 1. अल्ला रक्खा
 - 2. हरिप्रसाद चौरसिया
 - 3. भीमसेन जोशी
 - 4. टी.एन. कृष्णन

Question ID : 8161613135
Status : Answered
Chosen Option : 1

Q.22 स्लेट, _____ शैल का एक प्रकार है।

- Ans
- 1. अवसादी
 - 2. ज्वालामुखीय
 - 3. आग्नेय
 - 4. कार्यांतरित

Question ID : 8161613131
Status : Answered
Chosen Option : 3

Q.23 'मटकी (Matki)' निम्नलिखित में से किस राज्य का लोकप्रिय लोक नृत्य है?

- Ans
- 1. मध्य प्रदेश
 - 2. बिहार
 - 3. असम
 - 4. राजस्थान

Question ID : 8161613118
Status : Answered
Chosen Option : 4

Q.24 पुस्तक 'हुमायूं -नामा' किसने लिखी थी?

- Ans
- 1. अकबर
 - 2. गुलबदन बेगम
 - 3. बाबर
 - 4. हुमायूं

Question ID : 8161613132
Status : Answered
Chosen Option : 2

Q.25 भारतीय संविधान का कौन-सा अनुच्छेद, भारतीय राष्ट्रपति को संसद के अवकाश के समय अध्यादेश लागू करने का अधिकार देता है?

- Ans
- 1. अनुच्छेद 312
 - 2. अनुच्छेद 123
 - 3. अनुच्छेद 213
 - 4. अनुच्छेद 232

Question ID : 8161613137
Status : Not Answered
Chosen Option : --

Roll Number	
Candidate Name	
Venue Name	
Exam Date	16/10/2020
Exam Time	4:00 PM - 5:00 PM
Subject	CHSL Tier 1

Section : English Language (Basic Knowledge)

Q.1 Select the correct indirect form of the given sentence.

Rama said to me, "I need your help for my new assignment."

- Ans
- 1. Rama says that she needs my help for the new assignment.
 - 2. Rama said that she was needing my help for her new assignment.
 - 3. Rama told me that she needed my help for her new assignment.
 - 4. Rama said to me I need your help for my new assignment.

Question ID : 424429810

Status : Answered

Chosen Option : 3

Q.2 Select the most appropriate option to substitute the underlined segment in the given sentence. If there is no need to substitute it, select 'No improvement'.

The new product will be arrive on supermarket shelves only next year.

- Ans
- 1. will arriving on
 - 2. will arrive on
 - 3. will arrived on
 - 4. No improvement

Question ID : 424429822

Status : Answered

Chosen Option : 4

Q.3 Select the word which means the same as the group of words given.

An imagined society where everything is perfect and everyone is happy

- Ans
- 1. Evangelist
 - 2. Hypocrite
 - 3. Responsible
 - 4. Utopia

Question ID : 424429829

Status : Answered

Chosen Option : 1

Q.4 Select the correct passive form of the given sentence.

My mother is watching a new serial about the life of Dr. Ambedkar.

- Ans
- 1. A new serial about the life of Dr. Ambedkar was being watched by my mother.
 - 2. A new serial about the life of Dr. Ambedkar will be watched by my mother.
 - 3. A new serial about the life of Dr. Ambedkar is being watched by my mother.
 - 4. A new serial about the life of Dr. Ambedkar is watched by my mother.

Question ID : 424429809

Status : Answered

Chosen Option : 1

Comprehension:

In the following passage, some words have been deleted. Fill in the blanks with the help of the alternatives given. Select the most appropriate option for each blank.

Recently, I visited an orphanage for differently abled (1)_____ in Delhi. The courteous staff (2)_____ me feel at home and allowed me to interact (3)_____ with the children. I was told beforehand that I could carry food packets and items of daily use like stationery, blankets, and clothes (4)_____ the children, who were in the age group of five to 13. The children were a cheerful lot, the smiles on (5)_____ faces reflecting the joy within on receiving gifts.

SubQuestion No : 5

Q.5 Select the most appropriate option for blank number 1.

- Ans
- 1. child
 - 2. children
 - 3. child's
 - 4. children's

Question ID : 424429814

Status : Answered

Chosen Option : 2

Comprehension:

In the following passage, some words have been deleted. Fill in the blanks with the help of the alternatives given. Select the most appropriate option for each blank.

Recently, I visited an orphanage for differently abled (1)_____ in Delhi. The courteous staff (2)_____ me feel at home and allowed me to interact (3)_____ with the children. I was told beforehand that I could carry food packets and items of daily use like stationery, blankets, and clothes (4)_____ the children, who were in the age group of five to 13. The children were a cheerful lot, the smiles on (5)_____ faces reflecting the joy within on receiving gifts.

SubQuestion No : 6

Q.6 Select the most appropriate option for blank number 2.

- Ans
- 1. was made
 - 2. made
 - 3. makes
 - 4. make

Question ID : 424429815

Status : Answered

Chosen Option : 4

Comprehension:

In the following passage, some words have been deleted. Fill in the blanks with the help of the alternatives given. Select the most appropriate option for each blank.

Recently, I visited an orphanage for differently abled (1)_____ in Delhi. The courteous staff (2)_____ me feel at home and allowed me to interact (3)_____ with the children. I was told beforehand that I could carry food packets and items of daily use like stationery, blankets, and clothes (4)_____ the children, who were in the age group of five to 13. The children were a cheerful lot, the smiles on (5)_____ faces reflecting the joy within on receiving gifts.

SubQuestion No : 7

Q.7 Select the most appropriate option for blank number 3.

- Ans
- 1. truly
 - 2. freely
 - 3. clearly
 - 4. heartily

Question ID : 424429816

Status : Answered

Chosen Option : 4

Comprehension:

In the following passage, some words have been deleted. Fill in the blanks with the help of the alternatives given. Select the most appropriate option for each blank.

Recently, I visited an orphanage for differently abled (1)_____ in Delhi. The courteous staff (2)_____ me feel at home and allowed me to interact (3)_____ with the children. I was told beforehand that I could carry food packets and items of daily use like stationery, blankets, and clothes (4)_____ the children, who were in the age group of five to 13. The children were a cheerful lot, the smiles on (5)_____ faces reflecting the joy within on receiving gifts.

SubQuestion No : 8

Q.8 Select the most appropriate option for blank number 4.

- Ans
- 1. of
 - 2. with
 - 3. by
 - 4. for

Question ID : 424429817

Status : Answered

Chosen Option : 4

Comprehension:

In the following passage, some words have been deleted. Fill in the blanks with the help of the alternatives given. Select the most appropriate option for each blank.

Recently, I visited an orphanage for differently abled (1)_____ in Delhi. The courteous staff (2)_____ me feel at home and allowed me to interact (3)_____ with the children. I was told beforehand that I could carry food packets and items of daily use like stationery, blankets, and clothes (4)_____ the children, who were in the age group of five to 13. The children were a cheerful lot, the smiles on (5)_____ faces reflecting the joy within on receiving gifts.

SubQuestion No : 9

Q.9 Select the most appropriate option for blank number 5.

- Ans
- 1. their
 - 2. that
 - 3. those
 - 4. them

Question ID : 424429818

Status : Answered

Chosen Option : 1

Q.10 Select the most appropriate meaning of the given idiom.

Plain as day

- Ans
- 1. Very interesting to know
 - 2. Visible only in broad daylight
 - 3. Very obvious and easy to understand
 - 4. Very simple and easy to do

Question ID : 424429825

Status : Answered

Chosen Option : 3

Q.11 Select the INCORRECTLY spelt word.

- Ans
- 1. Practice
 - 2. Mileage
 - 3. Changable
 - 4. Arrangement

Question ID : 424429827

Status : Answered

Chosen Option : 3

Q.12 Select the most appropriate synonym of the given word.

IDLENESS

- Ans
- 1. Industry
 - 2. Cheerfulness
 - 3. Energy
 - 4. Lethargy

Question ID : 424429831
Status : Answered
Chosen Option : 4

Q.13 Select the most appropriate synonym of the given word.

REPROACH

- Ans
- 1. Indulge
 - 2. Berate
 - 3. Train
 - 4. Supervise

Question ID : 424429832
Status : Answered
Chosen Option : 2

Q.14 In the given sentence, identify the segment which contains a grammatical error.

We can see much changes in Government schools these days.

- Ans
- 1. these days
 - 2. much changes
 - 3. We can see
 - 4. in Government schools

Question ID : 424429811
Status : Answered
Chosen Option : 2

Q.15 Select the most appropriate word to fill in the blank.

Parents who are very _____ later repent giving their children too much freedom.

- Ans
- 1. different
 - 2. strict
 - 3. permissive
 - 4. overbearing

Question ID : 424429834
Status : Answered
Chosen Option : 3

Q.16 Given below are four jumbled sentences. Out of the given options pick the one that gives their correct order.

A. Soon, the idea took its final shape and she started selling barfis under the brand name Harbhajan's and the tagline "You'll remember your childhood".

B. That's when Raveena suggested that she should start selling her signature 'Besan ki Barfi'.

C. Today Harbhajan Kaur is truly living by these words as she now sells tasty barfi and makes good money.

D. It all started in 2016, when 94 year old Harbhajan's daughter asked her if she had any regrets in life, to which she expressed that she never earned a penny for herself.

- Ans
- 1. CBAD
 - 2. DCAB
 - 3. BCDA
 - 4. DBAC

Question ID : 424429819

Status : Answered

Chosen Option : 4

Q.17 Select the most appropriate option to substitute the underlined segment in the given sentence. If there is no need to substitute it, select 'No improvement'.

After walking a few steps in the forest, our guide sensing some sort of movement in the foliage behind us.

- Ans
- 1. had been senses
 - 2. sensed
 - 3. was sensed
 - 4. No improvement

Question ID : 424429821

Status : Answered

Chosen Option : 3

Q.18 Select the most appropriate meaning of the given idiom.

Get something off your chest

- Ans
- 1. Express something that has been worrying you, and you want to say
 - 2. Remove something from you as it is troubling you a lot
 - 3. Have difficulty in doing something that is quite easy
 - 4. Tell people some good news that you know and you want to share

Question ID : 424429826

Status : Answered

Chosen Option : 2

Q.19 Select the most appropriate ANTONYM of the given word.

TESTIMONY

- Ans
- 1. Difficulty
 - 2. Approval
 - 3. Disproof
 - 4. Witness

Question ID : 424429824
Status : Answered
Chosen Option : 3

Q.20 In the given sentence, identify the segment which contains a grammatical error.

I think Virat Kohli will remain the captain of the Indian team in a year 2020.

- Ans
- 1. in a year 2020
 - 2. of the Indian team
 - 3. the captain
 - 4. will remain

Question ID : 424429812
Status : Answered
Chosen Option : 1

Q.21 Select the most appropriate ANTONYM of the given word.

SPIRITUAL

- Ans
- 1. Righteous
 - 2. Pious
 - 3. Physical
 - 4. Ghostly

Question ID : 424429823
Status : Answered
Chosen Option : 3

Q.22 Given below are four jumbled sentences. Out of the given options pick the one that gives their correct order.

- A. Einstein had a deep distaste for enforced learning, and was known to skip many of his college lectures.
- B. Einstein was also severely critical of the exam-based education system.
- C. The great physicist Galileo too said, "You cannot teach anybody anything. You can only help them discover it within themselves."
- D. He often felt that formal education interfered with his natural desire to learn and explore.

- Ans
- 1. CABD
 - 2. DABC
 - 3. ADBC
 - 4. ACDB

Question ID : 424429820
Status : Answered
Chosen Option : 1

Q.23 Select the word which means the same as the group of words given.

Incapable of making mistakes

- Ans
- 1. Infallible
 - 2. Negligible
 - 3. Inevitable
 - 4. Ineligible

Question ID : 424429830
Status : Answered
Chosen Option : 4

Q.24 Select the most appropriate word to fill in the blank.

It is said that children who learn to use their body, mind and emotions for their own wellbeing, work _____ the wellbeing of others.

- Ans
- 1. into
 - 2. towards
 - 3. within
 - 4. forwards

Question ID : 424429833
Status : Answered
Chosen Option : 4

Q.25 Select the INCORRECTLY spelt word.

- Ans
- 1. Alligator
 - 2. Alimony
 - 3. Judicious
 - 4. Privilage

Question ID : 424429828
Status : Answered
Chosen Option : 4

Section : General Intelligence

Q.1 चार अक्षर-समूह दिए गए हैं, जिनमें से तीन किसी न किसी प्रकार से समान हैं जब कि एक असंगत है। उस असंगत अक्षर-समूह का चयन करें।

- Ans
- 1. ABCD
 - 2. LMNO
 - 3. IJKL
 - 4. WXYZ

Question ID : 424429850
Status : Answered
Chosen Option : 3

Q.2 उस समुच्चय का चयन करें, जिसमें दी गई संख्याओं का आपस में वही संबंध है, जो नीचे दिए गए समुच्चय की संख्याओं का है।

(10, 50, 1250)

- Ans 1. (4, 8, 32)
 2. (9, 45, 945)
 3. (2, 10, 125)
 4. (4, 20, 300)

Question ID : 424429839
Status : Answered
Chosen Option : 3

Q.3 एक निश्चित कूट-भाषा में, SCIENCE को TFNLWNR के रूप में लिखा जाता है। ARTS को उसी कूट-भाषा में कैसे लिखा जाएगा?

- Ans 1. BUYZ
 2. TSRA
 3. BTYZ
 4. BTYA

Question ID : 424429843
Status : Answered
Chosen Option : 1

Q.4 उस समुच्चय का चयन करें, जिसमें दी गई संख्याओं का आपस में वही संबंध है, जो नीचे दिए गए समुच्चय की संख्याओं का है।

(2, 6, 42)

- Ans 1. (1, 2, 6)
 2. (9, 13, 43)
 3. (4, 8, 39)
 4. (4, 12, 86)

Question ID : 424429838
Status : Answered
Chosen Option : 4

Q.5 अमन के पास कुल ₹1,080 हैं जिनमें एक, पाँच, दस और बीस रुपये वाले बैंक नोट बराबर संख्या में हैं। अमन के पास कुल कितने बैंक नोट हैं?

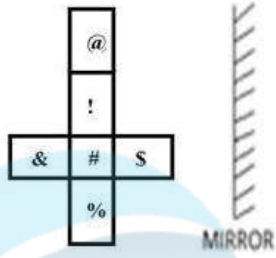
- Ans
- 1. 105
 - 2. 100
 - 3. 90
 - 4. 120

Question ID : 424429835

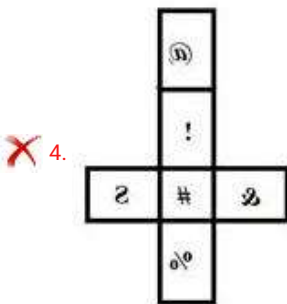
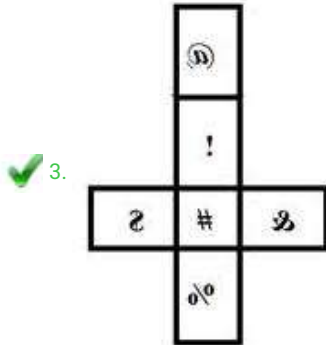
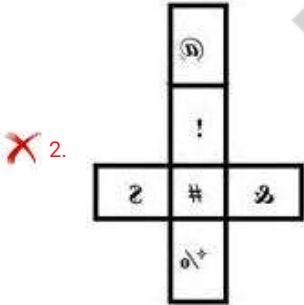
Status : **Not Answered**

Chosen Option : --

Q.6 निम्नलिखित में से कौन सा विकल्प दी गई आकृति का सही दर्पण प्रतिबिंब है?



Ans

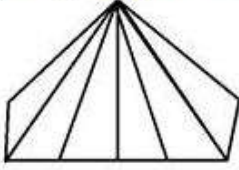


Question ID : 424429858

Status : Answered

Chosen Option : 2

Q.7 दी गई आकृति में कितने त्रिभुज निहित हैं?



- Ans
- 1. 11
 - 2. 12
 - 3. 13
 - 4. 10

Question ID : 424429855
Status : Answered
Chosen Option : 1

Q.8 एक निश्चित कूट-भाषा में, SKILL को 57 के रूप में कूटबद्ध किया गया है और LOVE को 40 के रूप में कूटबद्ध किया गया है। उसी कूट-भाषा में LIE को कैसे कूटबद्ध किया जाएगा?

- Ans
- 1. 17
 - 2. 26
 - 3. 20
 - 4. 22

Question ID : 424429844
Status : Not Answered
Chosen Option : --

Q.9 निम्नलिखित शब्दों को एक तार्किक और सार्थक क्रम में व्यवस्थित करें।

1. पत्र
2. डाकिया
3. वितरण
4. पत्र-पेटिका
5. डाकखाना

- Ans
- 1. 1, 4, 5, 2, 3
 - 2. 3, 1, 2, 5, 4
 - 3. 3, 2, 1, 5, 4
 - 4. 5, 4, 3, 1, 2

Question ID : 424429842
Status : Answered
Chosen Option : 1

Q.10 अक्षरों के उस संयोजन का चयन करें जिसके अक्षर निम्नलिखित अक्षर-श्रृंखला में दिए गए रिक्त स्थानों में क्रमिक रूप से रखे जाने पर श्रृंखला को पूरा करेंगे।

bc _ eaa_ _cde_ _abc_ _ea_ _cdee

- Ans
- 1. aacdebceacdeabc
 - 2. aacdebceaabccde
 - 3. abceacdeabcacde
 - 4. aacdebceabceacd

Question ID : 424429847

Status : Not Answered

Chosen Option : --

Q.11 नीचे दी गई श्रृंखला में अगले क्रम में आने वाली विकल्प-आकृति का चयन करें।



Ans

- 1.
- 2.
- 3.
- 4.

Question ID : 424429854

Status : Answered

Chosen Option : 3

Q.12 उस विकल्प का चयन करें जिस में नीचे दी गई आकृति अंतर्निहित है (घुमाने की अनुमति नहीं है)।



Ans



Question ID : 424429856

Status : Answered

Chosen Option : 2

Q.13 निम्नलिखित श्रृंखला में प्रश्न-चिह्न (?) का स्थान ले सकने वाले अक्षर-समूह का चयन करें।

IHUW : HFRS :: LMQT : ?

Ans

1. LNMK

2. KKNP

3. LKPN

4. LMNO

Question ID : 424429851

Status : Answered

Chosen Option : 2

Q.14 उस विकल्प का चयन करें जिसका तीसरी संख्या से वही संबंध है, जो दूसरी संख्या का पहली संख्या से है।

9 : 72 :: 5 : ?

Ans

1. 25

2. 35

3. 39

4. 20

Question ID : 424429837

Status : Answered

Chosen Option : 4

Q.15 नीचे चार संख्याएँ दी गई हैं, जिनमें से तीन संख्याएँ आपस में किसी न किसी प्रकार से संबंध रखती हैं जब कि चौथी संख्या अन्य से अलग है। अन्य से अलग संख्या का चयन करें।

- Ans
- 1. 393
 - 2. 384
 - 3. 441
 - 4. 600

Question ID : 424429841

Status : Answered

Chosen Option : 4

Q.16 दिए गए कथनों और निष्कर्षों को ध्यान से पढ़ें। यह मानते हुए कि कथनों में दी गई जानकारी सत्य है, भले ही वह सामान्य रूप से ज्ञात तथ्यों से भिन्न प्रतीत होती हो, यह निर्णय करें कि दिए गए निष्कर्षों में से कौन सा/से निष्कर्ष कथनों का तार्किक रूप से अनुसरण करता/करते है/हैं।

कथन:

1. कुछ केले हरे हैं।
2. कुछ हरे पीले हैं।

निष्कर्ष:

- I. कुछ केले पीले हैं।
- II. कुछ पीले केले हैं।
- III. सभी पीले केले हैं।
- IV. कुछ हरे केले हैं।

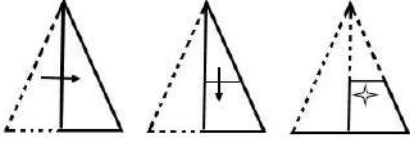
- Ans
- 1. केवल निष्कर्ष I, II और IV अनुसरण करते हैं।
 - 2. केवल निष्कर्ष I और IV अनुसरण करते हैं।
 - 3. केवल निष्कर्ष II और IV अनुसरण करते हैं।
 - 4. केवल निष्कर्ष IV अनुसरण करता है।

Question ID : 424429852

Status : Answered

Chosen Option : 4

Q.17 नीचे दी गई आकृतियों में एक कागज़ को मोड़ने का क्रम और मोड़े गए कागज़ को काटने की विधि दर्शाई गई है। कागज़ को खोलने पर यह कैसा दिखाई देगा?



Ans

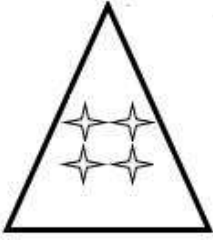
✗ 1.




✗ 2.



✓ 3.



✗ 4.



Question ID : 424429857

Status : Answered

Chosen Option : 3

Q.18 उस शब्द-युग्म का चयन करें जिसके दो शब्दों के बीच वही संबंध है जो निम्नलिखित शब्द-युग्म के दो शब्दों के बीच है।
कोच : खिलाड़ी

Ans

✓ 1. शिक्षक : विद्यार्थी

✗ 2. टीम : अभ्यास

✗ 3. कप्तान : टीम

✗ 4. अंपायर : क्रिकेट

Question ID : 424429849

Status : Answered

Chosen Option : 1

Q.19 दिए गए समीकरण को संतुलित करने के लिए किन दो संख्याओं को आपस में बदलना होगा?

$$6 + 28 \div 4 - 2 \times 17 = 12$$

- Ans
- 1. 6 और 4
 - 2. 28 और 2
 - 3. 17 और 6
 - 4. 17 और 4

Question ID : 424429836
Status : Answered
Chosen Option : 3

Q.20 'पेड़' का 'आम' से वही संबंध है जो 'बेल' का '_____ ' से है।

- Ans
- 1. अंगूर
 - 2. संतरा
 - 3. केला
 - 4. अमरूद

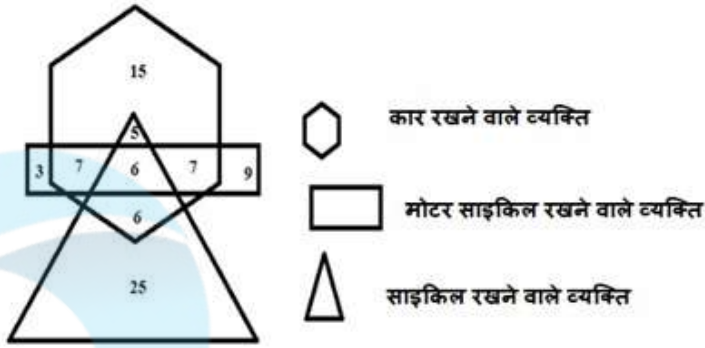
Question ID : 424429846
Status : Answered
Chosen Option : 1

Q.21 दो सहोदर A और B हैं, जिनमें से एक भाई है और दूसरी बहन है। B, X का पुत्र है। X, Y का पति और O का भाई है। A का O से क्या संबंध है?

- Ans
- 1. चचेरा/फुफेरा/ममेरा/मौसेरा भाई या बहन
 - 2. पोती/नातिन
 - 3. भांजी/भतीजी
 - 4. भतीजा/भांजा

Question ID : 424429848
Status : Not Answered
Chosen Option : --

Q.22 नीचे दिए गए आरेख का अध्ययन करें।



कितने व्यक्तियों के पास केवल मोटरसाइकिल है?

- Ans
- 1. 9
 - 2. 3
 - 3. 32
 - 4. 12

Question ID : 424429859
Status : Not Answered
Chosen Option : --

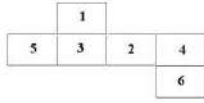
Q.23 उस संख्या का चयन करें जो नीचे दी गई श्रृंखला में प्रश्न-चिह्न (?) के स्थान पर आ सकती है।

5, 3, 3, 5, 15, ?

- Ans
- 1. 45
 - 2. 39
 - 3. 69
 - 4. 59

Question ID : 424429840
Status : Not Answered
Chosen Option : --

Q.24 यदि निम्नलिखित आकृति को एक घन का रूप देने के लिए मोड़ा जाता है, तो संख्या '1' वाले फलक के ठीक विपरीत फलक पर कौन सी संख्या होगी?



- Ans
- 1. 4
 - 2. 6
 - 3. 5
 - 4. 1

Question ID : 424429853
Status : Answered
Chosen Option : 2

Q.25 उस विकल्प का चयन करें जिसका तीसरे अक्षर-समूह से वही संबंध है जो संबंध दूसरे अक्षर-समूह का पहले अक्षर-समूह से है।

BLISS : STNLF :: STOP : _____

- Ans
- 1. TQST
 - 2. TTRR
 - 3. BLSQ
 - 4. TTSQ

Question ID : 424429845
Status : Not Answered
Chosen Option : --

Section : Quantitative Aptitude(Basic Arithmetic Skill)

Q.1 $(9 + 3 - 16 \div 4 + 10) + \{(3 + 5 \times 2 \div 10)\} \times (18 - 4 \text{ of } 5)$ का मान क्या होगा?

- Ans
- 1. 10
 - 2. 15
 - 3. 5
 - 4. 8

Question ID : 424429877
Status : Not Answered
Chosen Option : --

Q.2 एक व्यक्ति बिंदु A से बिंदु B की दूरी 15 km/h की चाल से तथा बिंदु B से बिंदु A की दूरी 30 km/h की चाल से तय करता है। यदि उसे यात्रा पूरी करने में 3 घंटे लगते हैं, तो बिंदु A से बिंदु B की दूरी कितनी है?

- Ans
- 1. 25 km
 - 2. 30 km
 - 3. 10 km
 - 4. 15 km

Question ID : 424429861
Status : Answered
Chosen Option : 4

Q.3 एक त्रिभुज के तीन कोणों का अनुपात 1 : 3 : 5 है। सबसे बड़े कोण की माप क्या होगी?

- Ans
- 1. 80°
 - 2. 120°
 - 3. 60°
 - 4. 100°

Question ID : 424429871
Status : Answered
Chosen Option : 1

Q.4 यदि किसी भिन्न के अंश में 15% की वृद्धि की जाती है और हर में 20% की कमी की जाती है, तो इस प्रकार प्राप्त भिन्न $\frac{17}{65}$ होता है। मूल भिन्न क्या है?

- Ans
- 1. $\frac{272}{1495}$
 - 2. $\frac{267}{1495}$
 - 3. $\frac{281}{1495}$
 - 4. $\frac{278}{1495}$

Question ID : 424429865
Status : Not Answered
Chosen Option : --

Q.5 $\cot 35^\circ \cot 40^\circ \cot 45^\circ \cot 50^\circ \cot 55^\circ$ का मान ज्ञात करें।

- Ans
- 1. 1
 - 2. 2
 - 3. 0
 - 4. -1

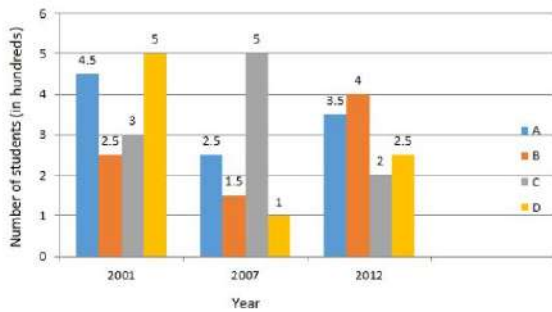
Question ID : 424429878
Status : Answered
Chosen Option : 3

Q.6 यदि एक धन पूर्णांक 'n' 3, 5 और 7 से विभाज्य है, तो इन सभी संख्याओं से विभाजित होने वाला अगला बड़ा पूर्णांक क्या होगा?

- Ans
- 1. $n + 105$
 - 2. $n + 35$
 - 3. $n + 110$
 - 4. $n + 21$

Question ID : 424429876
Status : Answered
Chosen Option : 4

Q.7 नीचे दिए गए बार ग्राफ में उन छात्रों की संख्या (सैकड़ों में) दर्शाई गई है, जिन्होंने एक महाविद्यालय में 3 वर्षों में विभिन्न पाठ्यक्रमों A, B, C और D में प्रवेश लिया है। ग्राफ का अध्ययन करें और दिए गए प्रश्न का उत्तर दें।



वर्ष 2007 में, चारों पाठ्यक्रमों में छात्रों की औसत संख्या (सैकड़ों में) कितनी है?

- Ans
- 1. 2.2
 - 2. 2.5
 - 3. 1.5
 - 4. 2.7

Question ID : 424429881
Status : Not Answered
Chosen Option : --

Q.8 एक वृत्त की त्रिज्या 15 cm और उसकी एक जीवा की लंबाई 20 cm है। वृत्त के केंद्र से जीवा की दूरी क्या होगी?

- Ans
- 1. $5\sqrt{5}$ cm
 - 2. $5\sqrt{3}$ cm
 - 3. $3\sqrt{3}$ cm
 - 4. $5\sqrt{2}$ cm

Question ID : 424429870
Status : Answered
Chosen Option : 3

Q.9 15% छूट वाली एक सेल (sale) में, एक पुस्तक का मूल्य ₹2,150 है। इस पुस्तक का अंकित मूल्य क्या होगा? (दशमलव के दो स्थान तक सही)

- Ans
- 1. ₹1,527.00
 - 2. ₹2,500.00
 - 3. ₹2,250.50
 - 4. ₹2,529.41

Question ID : 424429864
Status : Answered
Chosen Option : 3

Q.10 यदि दो संकेंद्री वृत्तों की त्रिज्याएं क्रमशः 13 cm और 12 cm हैं, तो छोटे वृत्त को स्पर्श करने वाले बड़े वृत्त की जीवा की लंबाई कितनी होगी?

- Ans
- 1. 10 cm
 - 2. 15 cm
 - 3. 25 cm
 - 4. 35 cm

Question ID : 424429872
Status : Answered
Chosen Option : 2

Q.11 यदि $x + y = 4$ और $x^3 + y^3 = 12$ है, तो $x^4 + y^4$ का मान क्या होगा?

Ans

1. $\frac{146}{7}$

2. $\frac{146}{3}$

3. $\frac{146}{9}$

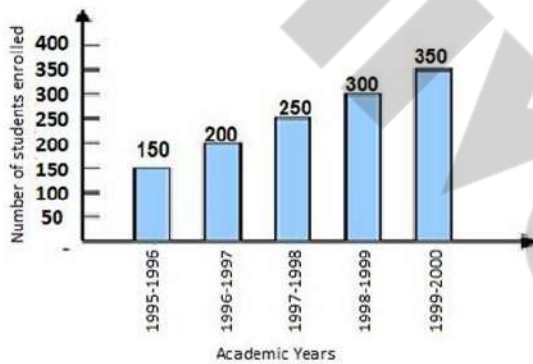
4. $\frac{146}{5}$

Question ID : 424429874

Status : Answered

Chosen Option : 2

Q.12 ग्राफ को ध्यान से देखें और दिए गए प्रश्न का उत्तर दें।



1995 - 1996 के दौरान हुए नामांकन और 1998 - 1999 के दौरान हुए नामांकन के बीच अनुपात क्या है?

Ans

1. 1 : 3

2. 3 : 1

3. 1 : 2

4. 2 : 1

Question ID : 424429884

Status : Not Answered

Chosen Option : --

Q.13 उस वृत्त का क्षेत्रफल क्या होगा, जिसकी त्रिज्या $\sqrt{5}$ cm है?

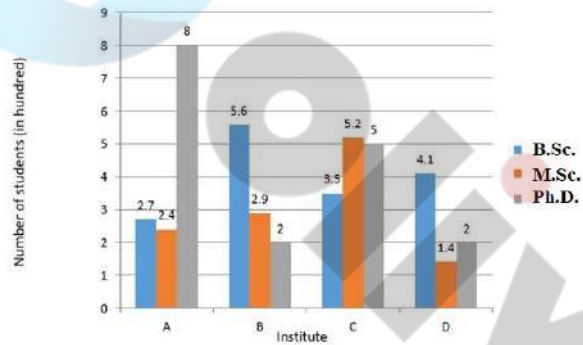
- Ans
- 1. 3π cm²
 - 2. 5π cm²
 - 3. 2π cm²
 - 4. π cm²

Question ID : 424429869

Status : Answered

Chosen Option : 2

Q.14 नीचे दिए गए बार ग्राफ में चार अलग-अलग संस्थानों में तीन अलग-अलग पाठ्यक्रमों में छात्रों की संख्या (सैकड़ों में) दर्शाई गई है। ग्राफ का अध्ययन करें और दिए गए प्रश्न का उत्तर दें।



सभी संस्थानों में M.Sc. पाठ्यक्रम में छात्रों की कुल संख्या (सैकड़ों में) कितनी है?

- Ans
- 1. 11.9
 - 2. 10.8
 - 3. 11.5
 - 4. 10.5

Question ID : 424429883

Status : Not Answered

Chosen Option : --

Q.15 33 पुस्तकों का क्रय मूल्य उतना ही है, जितना 'x' पुस्तकों का विक्रय मूल्य है। यदि लाभ 10% है, तो 'x' का मान क्या होगा?

- Ans
- 1. 30
 - 2. 20
 - 3. 40
 - 4. 10

Question ID : 424429866

Status : Answered

Chosen Option : 1

Q.16 कोई राशि साधारण ब्याज की किस दर पर 12 वर्षों में दोगुनी हो जाएगी?

- Ans
- 1. 8%
 - 2. $8\frac{1}{3}\%$
 - 3. $7\frac{4}{5}\%$
 - 4. $7\frac{1}{2}\%$

Question ID : 424429868
Status : Answered
Chosen Option : 2

Q.17 $4\sqrt{3}$ cm भुजा वाले एक समबाहु त्रिभुज का क्षेत्रफल क्या होगा?

- Ans
- 1. $16\sqrt{3}$ cm²
 - 2. $12\sqrt{3}$ cm²
 - 3. $20\sqrt{3}$ cm²
 - 4. $15\sqrt{3}$ cm²

Question ID : 424429862
Status : Answered
Chosen Option : 1

Q.18 A अकेले एक काम को 3 दिन में और B अकेले उसी काम को 6 दिन में पूरा कर सकता है।
A और B यदि साथ मिलकर काम करें तो इस काम को कितने दिन में पूरा कर लेंगे?

- Ans
- 1. 3
 - 2. 2
 - 3. 1
 - 4. 6

Question ID : 424429860
Status : Not Answered
Chosen Option : --

Q.19 यदि $a : b = 3 : \sqrt{5}$ है, तो $(2a + b) : (3a - 2b)$ का मान क्या होगा?

- Ans
- 1. $\frac{1}{61} (64 + 21\sqrt{5})$
 - 2. $\frac{1}{63} (64 + 21\sqrt{5})$
 - 3. $\frac{1}{64} (64 + 21\sqrt{5})$
 - 4. $\frac{1}{62} (64 + 21\sqrt{5})$

Question ID : 424429867

Status : Not Answered

Chosen Option : --

Q.20 यदि $2\sin^2 x = 2 - 3\sin x$ है, तो x का मान क्या होगा?

- Ans
- 1. $\frac{\pi}{4}$
 - 2. $\frac{\pi}{6}$
 - 3. $\frac{\pi}{2}$
 - 4. $\frac{\pi}{3}$

Question ID : 424429880

Status : Answered

Chosen Option : 3

Q.21 यदि $x - y = 13$ और $xy = 25$ है, तो $x^2 - y^2$ का मान क्या होगा?

- Ans
- 1. $13\sqrt{210}$
 - 2. $13\sqrt{240}$
 - 3. $13\sqrt{229}$
 - 4. $13\sqrt{269}$

Question ID : 424429873

Status : Answered

Chosen Option : 2

Q.22 एक ट्रेन द्वारा $(x+1)$ घंटे में तय की गई दूरी (x^3+1) km है। ट्रेन की चाल ज्ञात करें।

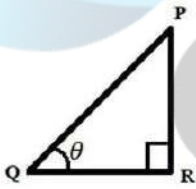
- Ans
- 1. $(x^3 - 1)$ km/h
 - 2. $(x^2 - x + 1)$ km/h
 - 3. $(x^2 + x + 1)$ km/h
 - 4. $(x + 1)$ km/h

Question ID : 424429875

Status : Not Answered

Chosen Option : --

Q.23 दी गई आकृति में, यदि $PQ = 13$ cm और $PR = 12$ cm है, तो $\sin\theta + \tan\theta$ का मान क्या होगा?



- Ans
- 1. $\frac{213}{5}$
 - 2. $\frac{216}{13}$
 - 3. $\frac{218}{5}$
 - 4. $\frac{216}{65}$

Question ID : 424429879

Status : Answered

Chosen Option : 2

Q.24 तीन संख्याओं के एक समुच्चय में, पहली दो संख्याओं का औसत 7, अंतिम दो संख्याओं का औसत 10 तथा पहली और अंतिम संख्याओं का औसत 14 है। इन तीनों संख्याओं का औसत क्या होगा?

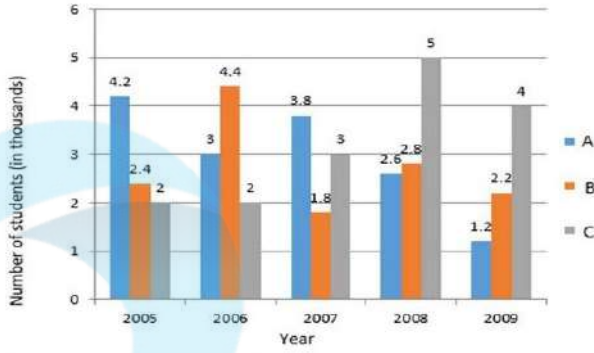
- Ans
- 1. $25/4$
 - 2. $31/3$
 - 3. $37/3$
 - 4. $29/4$

Question ID : 424429863

Status : Not Answered

Chosen Option : --

Q.25 नीचे दिए गए बार ग्राफ में उन छात्रों की संख्या (हजारों में) दर्शाई गई है, जिन्होंने एक विश्वविद्यालय में 5 वर्षों में तीन विभिन्न पाठ्यक्रमों में प्रवेश लिया है। ग्राफ का अध्ययन करें और दिए गए प्रश्न का उत्तर दें।



वर्ष 2007 में पाठ्यक्रम A में प्रवेश लेने वाले छात्रों और वर्ष 2009 में पाठ्यक्रम C में प्रवेश लेने वाले छात्रों के बीच अनुपात क्या है?

Ans

1. $\frac{23}{20}$
 2. $\frac{19}{20}$
 3. $\frac{9}{20}$
 4. $\frac{21}{20}$

Question ID : 424429882

Status : Not Answered

Chosen Option : --

Section : General Awareness

Q.1 निम्नलिखित में से किस राज्य से होकर कर्क रेखा गुज़रती है?

Ans

1. असम
 2. नागालैंड
 3. मिज़ोरम
 4. मणिपुर

Question ID : 424429899

Status : Answered

Chosen Option : 3

Q.2 2019 में किस स्टेडियम का नाम बदलकर अरुण जेटली स्टेडियम कर दिया गया?

- Ans
- 1. वानखेड़े स्टेडियम
 - 2. फ़िरोज़ शाह कोटला ग्राउंड
 - 3. ईडन गार्डेन्स
 - 4. ग्रीन पार्क

Question ID : 424429909
Status : Answered
Chosen Option : 2

Q.3 जनवरी 2020 में, भारतीय रिज़र्व बैंक ने दृष्टिबाधित लोगों को नए मुद्रा नोटों की पहचान करने में सहायता करने के लिए किस संप्रयोग (एप्लिकेशन) का शुभारंभ किया था?

- Ans
- 1. एम.ए.एन.आई.
 - 2. डी.आर.आई.
 - 3. एन.ई.एफ.टी.
 - 4. ओ.एल.टी.ए.एस.

Question ID : 424429892
Status : Answered
Chosen Option : 2

Q.4 निम्नलिखित में से किसने साहित्य के लिए 'जेसीबी (JCB) पुरस्कार 2019' प्राप्त किया था?

- Ans
- 1. शांता गोखले
 - 2. अक्किताम अच्युतन नंबूथिरी
 - 3. माधुरी विजय
 - 4. मनु एस. पिल्लई

Question ID : 424429903
Status : Not Answered
Chosen Option : --

Q.5 विष्णु के पाँचवें अवतार को _____ रूप में जाना जाता है।

- Ans
- 1. नृसिंह/नरसिंह
 - 2. वामन
 - 3. कृष्ण
 - 4. वराह

Question ID : 424429888
Status : Answered
Chosen Option : 3

Q.6 'पिकलीहल' और 'उटनूर' महत्वपूर्ण _____ स्थल हैं।

- Ans
- 1. पुरापाषाणीय
 - 2. नवपाषाणीय
 - 3. एकाश्मक
 - 4. महापाषाणीय

Question ID : 424429901
Status : Answered
Chosen Option : 2

Q.7 अगस्त 2019 में, भारत को अपनी पहली 3D स्मार्ट यातायात संकेत प्रणाली (ट्रैफ़िक सिग्नल सिस्टम) मिली। इस प्रणाली को _____ के छात्रों द्वारा अभिकल्पित किया गया था।

- Ans
- 1. आई.आई.टी.-मुंबई
 - 2. आई.आई.एस.सी.-बैंगलोर
 - 3. चितकारा विश्वविद्यालय
 - 4. आई.के. गुजराल पंजाब तकनीकी विश्वविद्यालय

Question ID : 424429890
Status : Answered
Chosen Option : 2

Q.8 भूमि का वह भाग जो लगभग चारों ओर से पानी से घिरा होता है लेकिन एक ओर से मुख्य भूमि से जुड़ा होता है, _____ कहलाता है।

- Ans
- 1. थलसंधि (Isthmus)
 - 2. द्वीप (Island)
 - 3. जलडमरूमध्य (Strait)
 - 4. प्रायद्वीप (Peninsula)

Question ID : 424429898
Status : Answered
Chosen Option : 4

Q.9 जनवरी 2020 में, निम्नलिखित में से किस को ऑल इंडिया काउंसिल ऑफ़ स्पोर्ट्स (AICS) में पर्याप्त तौर पर "सक्रिय" ("एक्टिव") न होने पर निष्कासित किया गया था?

- Ans
- 1. के. श्रीकांत
 - 2. विश्वनाथन आनंद
 - 3. हरभजन सिंह
 - 4. पुलेला गोपीचंद

Question ID : 424429907
Status : Answered
Chosen Option : 1

Q.10 'ल्यूकोपेनिया' _____ है।

- Ans
- 1. लाल रक्त कोशिकाओं में असामान्य कमी
 - 2. लाल रक्त कोशिकाओं में असामान्य वृद्धि
 - 3. श्वेत रक्त कोशिकाओं में असामान्य कमी
 - 4. श्वेत रक्त कोशिकाओं में असामान्य वृद्धि

Question ID : 424429896
Status : Answered
Chosen Option : 4

Q.11 निम्नलिखित में से क्या एक केंद्रीय आर्थिक समस्या नहीं है, जिसे उत्पादन संभावना वक्र (PPC) द्वारा हल किया जाता है?

- Ans
- 1. संसाधनों का पूर्ण उपयोग
 - 2. सतत उपभोग
 - 3. आर्थिक दक्षता
 - 4. आर्थिक विकास

Question ID : 424429893
Status : Answered
Chosen Option : 1

Q.12 इनमें से कौन 2019 में चुने गए सबसे युवा संसद सदस्य थे?

- Ans
- 1. मिमी चक्रवर्ती
 - 2. चंद्राणी मुर्मू
 - 3. नुसरत जहाँ
 - 4. तेजस्वी सूर्या

Question ID : 424429891
Status : Answered
Chosen Option : 2

Q.13 'रिसेट: रिगेनिंग इंडियाज़ इकोनॉमी लेगसी (Reset: Regaining India's Economic Legacy)' पुस्तक के लेखक कौन हैं?

- Ans
- 1. रघुराम राजन
 - 2. सुकेतु मेहता
 - 3. सुब्रमण्यम स्वामी
 - 4. अभिजीत बनर्जी

Question ID : 424429904
Status : Answered
Chosen Option : 4

Q.14 किस वंश की राजधानी दक्षिण भारत में नहीं थी?

- Ans
- 1. चोल
 - 2. चेर
 - 3. पाल
 - 4. पल्लव

Question ID : 424429902
Status : Answered
Chosen Option : 1

Q.15 इनमें से कौन भारत के पहले रक्षा प्रमुख (Chief of Defence Staff) हैं?

- Ans
- 1. जनरल बिपिन रावत
 - 2. जनरल विजय कुमार सिंह
 - 3. जनरल मनोज मुकुंद नरवणे
 - 4. जनरल अर्जुन सिंह

Question ID : 424429889
Status : Answered
Chosen Option : 1

Q.16 _____, कंप्यूटर नेटवर्क में केंद्रीय सर्वर है, जो संबद्ध उपयोगकर्ताओं को सर्वर की भंडारण क्षमता का उपागम करने देता है।

- Ans
- 1. वेब सर्वर
 - 2. प्रिंट सर्वर
 - 3. एप्लिकेशन सर्वर
 - 4. फ़ाइल सर्वर

Question ID : 424429885
Status : Not Answered
Chosen Option : --

Q.17 अनानास एक _____ पौधा है।

- Ans
- 1. समोद्भिद (mesophyte)
 - 2. आर्द्रतोद्भिद (hygrophyte)
 - 3. जलोद्भिद (hydrophyte)
 - 4. मरूद्भिद (Xerophyte)

Question ID : 424429895
Status : Not Answered
Chosen Option : --

Q.18 तीसरी पीढ़ी (थर्ड जेनरेशन) के कंप्यूटरों में _____ का प्रयोग होता था।

- Ans
- 1. वी.एल.एस.आई. तकनीक (VLSI technique)
 - 2. निर्वात नलिकाओं (vacuum tubes)
 - 3. एकीकृत परिपथ (integrated circuits)
 - 4. प्रथनक (transistors)

Question ID : 424429886
Status : Not Answered
Chosen Option : --

Q.19 निम्नलिखित में से कौन सा कथन राज्यसभा के संबंध में सही नहीं है?

- Ans
- 1. यह धन विधेयक में संशोधन कर सकता है।
 - 2. इसके बारह सदस्यों को राष्ट्रपति द्वारा नामित किया जाता है।
 - 3. इसके पास ऐसे शक्तियां होती हैं जो संघ के विरुद्ध राज्यों के अधिकारों की रक्षा करती हैं।
 - 4. यह भारत की संसद का उच्च सदन है।

Question ID : 424429906
Status : Not Answered
Chosen Option : --

Q.20 भारत का 'राष्ट्रीय खेल दिवस' किस खिलाड़ी की जयंती के दिन मनाया जाता है?

- Ans
- 1. कपिल देव
 - 2. सैयद अब्दुल रहीम
 - 3. ध्यानचंद
 - 4. मिल्खा सिंह

Question ID : 424429908
Status : Not Answered
Chosen Option : --

Q.21 निम्नलिखित में से कौन-सी लक्षद्वीप की लोकप्रिय नृत्य शैली है?

- Ans
- 1. कोली
 - 2. कोल्कली
 - 3. कुचिपुड़ी
 - 4. कथक

Question ID : 424429887
Status : Not Answered
Chosen Option : --

Q.22 1° अक्षांश लगभग _____ km के बराबर होता है।

- Ans
- 1. 133
 - 2. 111
 - 3. 145
 - 4. 122

Question ID : 424429900
Status : Not Answered
Chosen Option : --

Q.23 भारत के संविधान की आठवीं अनुसूची के अनुसार, कितनी भाषाओं को अनुसूचित भाषा कहा जाता है?

- Ans
- 1. 14
 - 2. 18
 - 3. 22
 - 4. 20

Question ID : 424429905
Status : Not Answered
Chosen Option : --

Q.24 स्वपोषी (ऑटोट्रोफ़िक) जीवों की कार्बन और ऊर्जा संबंधी आवश्यकताएँ _____ की प्रक्रिया द्वारा पूरी होती हैं।

- Ans
- 1. जैव संश्लेषण (बायोसिंथेसिस)
 - 2. प्रकाशस्वपोषी (फ़ोटोऑटोट्रोफ़िस)
 - 3. प्रकाश संश्लेषण (फ़ोटोसिंथेसिस)
 - 4. शीत निष्क्रियता (हाइबरनेशन)

Question ID : 424429894
Status : Not Answered
Chosen Option : --

Q.25 निम्नलिखित में से किस भू-पट्टिका (प्लेट) की 2.5 cm /year से कम गति की मंदतम दर है?

- Ans
- 1. उत्तरी ध्रुवीय पर्वत पृष्ठ (आर्कटिक रिज)
 - 2. पूर्वी प्रशांत विस्तार (राइज़)
 - 3. उत्तर अमेरिकी भू-पट्टिका (प्लेट)
 - 4. मध्य अटलांटिक पर्वत पृष्ठ (रिज)

Question ID : 424429897
Status : Not Answered
Chosen Option : --

Roll Number	
Candidate Name	
Venue Nam	
	17/03/2020
	10:00 AM - 11:00 AM
	CHSL Tier 1

Section : English Language (Basic Knowledge)

Q.1 Select the word with the incorrect spelling.

- Ans
- 1. Quantity
 - 2. Argument
 - 3. Aisle
 - 4. Quarrell

Question ID : 8161611286
Status : Answered
Chosen Option : 4

Q.2 Select the most appropriate synonym of the given word.

TRUST (n)

- Ans
- 1. Safety
 - 2. Ability
 - 3. Belief
 - 4. Welfare

Question ID : 8161611290
Status : Answered
Chosen Option : 3

Q.3 Select the most appropriate option to fill in the blank.

Several environmentalists from the city conducted a meet to discuss issues related to the _____ pollution levels created by the growing number of pharmaceutical companies.

- Ans
- 1. rise in
 - 2. raise in
 - 3. raising of
 - 4. rising from

Question ID : 8161611293
Status : Answered
Chosen Option : 2

Q.4 Select the most appropriate ANTONYM of the given word.

EXTENSIVE

- Ans 1. Intricate
 2. Intensive
 3. Elaborate
 4. Lengthy

Question ID : 8161611282
Status : Answered
Chosen Option : 2

Comprehension:

In the following passage some words have been deleted. Fill in the blanks with the help of the alternatives given. Select the most appropriate option for each blank.

One of the most fascinating archaeological sites in Maharashtra, the Ellora Caves, date back (1)_____ about 1,500 years ago, and (2)_____ the epitome of Indian rock-cut architecture. (3)_____ 34 caves are actually Buddhist, Hindu and Jain religious monuments (4)_____ in the rock. They were given the (5)_____ of World Heritage Site in 1983. Created between the 6th and 10th century, the 12 Buddhist, 17 Hindu and 5 Jain caves carved in proximity at Ellora are proof of the religious harmony prevalent during this period of Indian history.

SubQuestion No : 5

Q.5 Select the most appropriate option to fill in blank No.1.

- Ans 1. in
 2. to
 3. for
 4. at

Question ID : 8161611273
Status : Answered
Chosen Option : 1

Comprehension:

In the following passage some words have been deleted. Fill in the blanks with the help of the alternatives given. Select the most appropriate option for each blank.

One of the most fascinating archaeological sites in Maharashtra, the Ellora Caves, date back (1)_____ about 1,500 years ago, and (2)_____ the epitome of Indian rock-cut architecture. (3)_____ 34 caves are actually Buddhist, Hindu and Jain religious monuments (4)_____ in the rock. They were given the (5)_____ of World Heritage Site in 1983. Created between the 6th and 10th century, the 12 Buddhist, 17 Hindu and 5 Jain caves carved in proximity at Ellora are proof of the religious harmony prevalent during this period of Indian history.

SubQuestion No : 6

Q.6 Select the most appropriate option to fill in blank No.2.

- Ans 1. are
 2. be
 3. were
 4. is

Question ID : 8161611274
Status : Answered
Chosen Option : 4

Comprehension:

In the following passage some words have been deleted. Fill in the blanks with the help of the alternatives given. Select the most appropriate option for each blank.

One of the most fascinating archaeological sites in Maharashtra, the Ellora Caves, date back (1)_____ about 1,500 years ago, and (2)_____ the epitome of Indian rock-cut architecture. (3)_____ 34 caves are actually Buddhist, Hindu and Jain religious monuments (4)_____ in the rock. They were given the (5)_____ of World Heritage Site in 1983. Created between the 6th and 10th century, the 12 Buddhist, 17 Hindu and 5 Jain caves carved in proximity at Ellora are proof of the religious harmony prevalent during this period of Indian history.

SubQuestion No : 7

Q.7 Select the most appropriate option to fill in blank No.3.

- Ans
- 1. Many
 - 2. Few
 - 3. An
 - 4. The

Question ID : 8161611275

Status : Answered

Chosen Option : 4

Comprehension:

In the following passage some words have been deleted. Fill in the blanks with the help of the alternatives given. Select the most appropriate option for each blank.

One of the most fascinating archaeological sites in Maharashtra, the Ellora Caves, date back (1)_____ about 1,500 years ago, and (2)_____ the epitome of Indian rock-cut architecture. (3)_____ 34 caves are actually Buddhist, Hindu and Jain religious monuments (4)_____ in the rock. They were given the (5)_____ of World Heritage Site in 1983. Created between the 6th and 10th century, the 12 Buddhist, 17 Hindu and 5 Jain caves carved in proximity at Ellora are proof of the religious harmony prevalent during this period of Indian history.

SubQuestion No : 8

Q.8 Select the most appropriate option to fill in blank No.4.

- Ans
- 1. created
 - 2. constructed
 - 3. erected
 - 4. carved

Question ID : 8161611276

Status : Answered

Chosen Option : 1

Comprehension:

In the following passage some words have been deleted. Fill in the blanks with the help of the alternatives given. Select the most appropriate option for each blank.

One of the most fascinating archaeological sites in Maharashtra, the Ellora Caves, date back (1)_____ about 1,500 years ago, and (2)_____ the epitome of Indian rock-cut architecture. (3)_____ 34 caves are actually Buddhist, Hindu and Jain religious monuments (4)_____ in the rock. They were given the (5)_____ of World Heritage Site in 1983. Created between the 6th and 10th century, the 12 Buddhist, 17 Hindu and 5 Jain caves carved in proximity at Ellora are proof of the religious harmony prevalent during this period of Indian history.

SubQuestion No : 9

Q.9 Select the most appropriate option to fill in blank No.5.

- Ans
- 1. status
 - 2. symbol
 - 3. function
 - 4. role

Question ID : 8161611277
Status : Answered
Chosen Option : 1

Q.10 Select the most appropriate meaning of the underlined idiom in the given sentence.

A lot of work has gone on behind the scenes for the special event which is being planned next week.

- Ans
- 1. To complete the arrangements
 - 2. In the theatre
 - 3. For spreading the news
 - 4. Unknown to everyone

Question ID : 8161611285
Status : Answered
Chosen Option : 4

Q.11 Select the wrongly spelt word.

- Ans
- 1. Experiment
 - 2. Extinct
 - 3. Extempore
 - 4. Expidition

Question ID : 8161611287
Status : Answered
Chosen Option : 4

Q.12 Select the most appropriate ANTONYM of the given word.

ABBREVIATE

- Ans 1. Expand
 2. Dispute
 3. Oppose
 4. Challenge

Question ID : 8161611283
Status : Answered
Chosen Option : 1

Q.13 Select the word which means the same as the group of words given.

Close fitting cover for a sword or knife

- Ans 1. Shield
 2. Guard
 3. Screen
 4. Sheath

Question ID : 8161611288
Status : Answered
Chosen Option : 4

Q.14 Select the most appropriate synonym of the given word.

ALLURING

- Ans 1. Deceitful
 2. Distracting
 3. Attractive
 4. Cheating

Question ID : 8161611291
Status : Answered
Chosen Option : 3

Q.15 Select the option that is the passive form of the sentence.

The sub-committee is presenting its report in a week's time.

- Ans 1. The report of the sub-committee had been presented in a week's time.
 2. The report of the sub-committee is presenting in a week's time.
 3. The report of the sub-committee is being presented in a week's time.
 4. The report of the sub-committee has been presented in a week's time.

Question ID : 8161611268
Status : Answered
Chosen Option : 3

Q.16 Given below are four jumbled sentences. Select the option that gives their correct order.

- A. "It is mine. I saw it first," claimed one cat.
- B. Suddenly they spotted a loaf of bread lying beneath a tree.
- C. Once upon a time, two cats were passing through a street.
- D. Both pounced upon it and caught the loaf at the same time.

- Ans
- 1. DBCA
 - 2. ADBC
 - 3. CBDA
 - 4. BADC

Question ID : 8161611278
Status : Answered
Chosen Option : 3

Q.17 Select the alternative that will improve the underlined part of the sentence. In case there is no improvement select 'No improvement'.

Harry and Meghan have decided to work and become financially independent.

- Ans
- 1. No improvement
 - 2. have decided to work and became
 - 3. have decide to work and become
 - 4. has decided to work and become

Question ID : 8161611281
Status : Answered
Chosen Option : 1

Q.18 Select the option that is the direct form of the sentence.

The doctor advised Jaya to put the eye drops into her eyes four times a day from the next day.

- Ans
- 1. The doctor advised Jaya, "From tomorrow put the eye drops into your eyes four times a day."
 - 2. The doctor had advised Jaya, "From the next day you put the eye drops into your eyes four times a day."
 - 3. The doctor advised Jaya, "From tomorrow put the eye drops into her eyes four times a day."
 - 4. The doctor advises Jaya, "From the next day put the eye drops into your eyes four times a day."

Question ID : 8161611269
Status : Answered
Chosen Option : 1

Q.19 Select the word which means the same as the group of words given.

A large natural or artificial lake used as a source of water supply

- Ans
- 1. Pool
 - 2. Pond
 - 3. Creek
 - 4. Reservoir

Question ID : 8161611289
Status : Answered
Chosen Option : 4

Q.20 Select the alternative that will improve the underlined part of the sentence. In case there is no improvement select 'No improvement'.

I had no informations about the bank strike so I went there yesterday.

- Ans
- 1. not got informations about
 - 2. no informations concerning
 - 3. no information about
 - 4. No improvement

Question ID : 8161611280
Status : Answered
Chosen Option : 3

Q.21 Select the segment in the sentence, which contains the grammatical error.

They had to wait for the luggages to be put into the cab before they themselves got into it.

- Ans
- 1. before they themselves got into it
 - 2. for the luggages
 - 3. They had to wait
 - 4. to be put into the cab

Question ID : 8161611271
Status : Answered
Chosen Option : 2

Q.22 Select the segment in the sentence, which contains the grammatical error.

Did you know whether we can exchange the dress if my sister doesn't like it?

- Ans
- 1. doesn't like it
 - 2. we can exchange the dress
 - 3. Did you know whether
 - 4. if my sister

Question ID : 8161611270
Status : Answered
Chosen Option : 1

Q.23 Given below are four jumbled sentences. Select the option that gives their correct order.

- A. Ibn Al-Haitham wrote a book in seven volumes namely 'Kitāb al-Manāzir' also known as 'The Book of Optics.'
- B. However, during the medieval period, the notable work of an Arab writer and scientist, Ibn Al-Haitham revolutionised the concept of physics.
- C. During the ancient period, the development of Physics took place simultaneously with the development of astronomy.
- D. In this book, Ibn Al-Haitham disproved the ancient Greek concept of vision and introduced a new theory.

- Ans
- 1. ACBD
 - 2. ADBC
 - 3. CBAD
 - 4. BCDA

Question ID : 8161611279
Status : Answered
Chosen Option : 2

Q.24 Select the most appropriate option to fill in the blank.

Astronomy enthusiasts and sky gazers will be able to watch six eclipses in 2020, but only three of them are expected to be _____ in India.

- Ans
- 1. revealed
 - 2. evident
 - 3. exposed
 - 4. visible

Question ID : 8161611292
Status : Answered
Chosen Option : 4

Q.25 Select the most appropriate meaning of the underlined idiom.

Hats off to someone

- Ans
- 1. Give hats to
 - 2. Make new hats for
 - 3. Announce a prize for
 - 4. Congratulations to

Question ID : 8161611284
Status : Answered
Chosen Option : 3

Q.1 किसी निश्चित कूट भाषा में, RUMMY को QVLNX लिखा जाता है। उसी कूट भाषा में CHESS को क्या लिखा जाएगा?

- Ans
- 1. BIFRT
 - 2. BGDTR
 - 3. BIDTR
 - 4. BGFTR

Question ID : 8161611302
Status : Answered
Chosen Option : 3

Q.2 चार संख्याएँ दी गई हैं, जिनमें से तीन किसी प्रकार से संगत हैं और एक असंगत है। उस असंगत संख्या का चयन करें।

- Ans
- 1. 256
 - 2. 81
 - 3. 676
 - 4. 144

Question ID : 8161611300
Status : Answered
Chosen Option : 1

Q.3 कागज के एक टुकड़े को मोड़ने का क्रम और मोड़े गए कागज को काटने की विधि प्रश्न आकृतियों में दर्शायी गई है। कागज को पुनः खोलने पर यह कैसा दिखेगा?

प्रश्न आकृति:



Ans


✓ 1.




✗ 2.



✗ 3.



✗ 4.



Question ID : 8161611316

Status : Answered

Chosen Option : 1

Q.4 चार शब्द दिए गए हैं, जिनमें से तीन किसी प्रकार से संगत हैं और एक असंगत है। उस असंगत शब्द का चयन करें।

Ans

✗ 1. काँव-काँव

✗ 2. चीख

✗ 3. कलरव

✓ 4. बछेड़ा

Question ID : 8161611310

Status : Answered

Chosen Option : 2

Q.5 दर्पण को PQ रेखा पर रखे जाने पर दी गई आकृति के सही दर्पण छवि का चयन करें।

प्रश्न आकृति:



Ans

✗ 1.



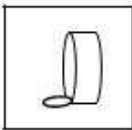
✗ 2.



✗ 3.



✓ 4.



Question ID : 8161611317

Status : Answered

Chosen Option : 4

Q.6 उस संख्या का चयन करें, जो निम्नलिखित श्रेणी में प्रश्नवाचक चिह्न (?) के स्थान पर आ सकती है।

213, 217, 233, 269, ?

Ans

✓ 1. 333

✗ 2. 296

✗ 3. 312

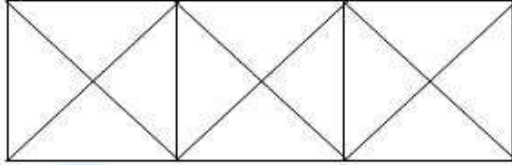
✗ 4. 428

Question ID : 8161611301

Status : Answered

Chosen Option : 1

Q.7 दी गई आकृति में त्रिभुजों की संख्या ज्ञात करें।



- Ans
- 1. 46
 - 2. 28
 - 3. 18
 - 4. 24

Question ID : 8161611314

Status : Answered

Chosen Option : 2

Q.8 उस विकल्प का चयन करें जिसका तीसरे शब्द से वही संबंध है, जो संबंध दूसरे शब्द का पहले शब्द से है।

किसान : खेत :: कलाकार : ?

- Ans
- 1. अभिनेता
 - 2. ऐक्शन
 - 3. थिएटर
 - 4. नायक

Question ID : 8161611308

Status : Answered

Chosen Option : 3

Q.9 यदि '#' का अर्थ '-' है, '&' का अर्थ '+' है, '@' का अर्थ 'x' और '+' का अर्थ '+' है, तो $15 @ 2 \div 900 \& 30 \# 10 = ?$

- Ans
- 1. 310
 - 2. 600
 - 3. 21
 - 4. 50

Question ID : 8161611295

Status : Answered

Chosen Option : 4

Q.10 उस विकल्प का चयन करें, जिसमें दी गई प्रश्न-आकृति अंतर्निहित है। (घुमाने की अनुमति नहीं है)

प्रश्न आकृति:



Ans

✗ 1.



✗ 2.



✓ 3.



✗ 4.



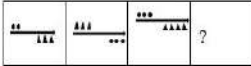
Question ID : 8161611315

Status : Answered

Chosen Option : 3

Q.11 उस आकृति का चयन करें, जो नीचे दी गई आकृति-श्रृंखला में प्रश्नवाचक चिह्न (?) के स्थान पर आ सकती है।

प्रश्न आकृति:

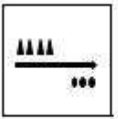


Ans

✗ 1.



✗ 2.



✓ 3.



✗ 4.



Question ID : 8161611313

Status : Answered

Chosen Option : 3

Q.12 उस विकल्प का चयन करें, जिसका तीसरी संख्या से वही संबंध है जो संबंध दूसरी संख्या का पहली संख्या से है।

27 : 125 :: 343 : ?

- Ans
- 1. 1000
 - 2. 729
 - 3. 1343
 - 4. 512

Question ID : 8161611296

Status : Answered

Chosen Option : 2

Q.13 उस विकल्प का चयन करें, जिसका तीसरे पद से वही संबंध है, जो संबंध दूसरे पद का पहले पद से है।

CAG : GEK :: HEL : ?

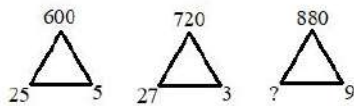
- Ans
- 1. GAC
 - 2. INP
 - 3. LIP
 - 4. LEP

Question ID : 8161611305

Status : Answered

Chosen Option : 3

Q.14 उस संख्या का चयन करें, जो दिए गए पैटर्न में प्रश्नवाचक चिह्न (?) के स्थान पर आ सकती है।



- Ans
- 1. 31
 - 2. 23
 - 3. 17
 - 4. 21

Question ID : 8161611298

Status : Answered

Chosen Option : 1

Q.15 उस विकल्प का चयन करें, जो निम्नलिखित श्रेणी से संबंधित नहीं है।

EC, H, HF, N, KI, U

- Ans 1. U
 2. HF
 3. EC
 4. N

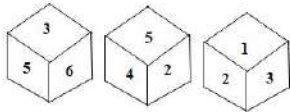
Question ID : 8161611309
Status : Answered
Chosen Option : 1

Q.16 P, Q का भाई है। R, Q की पुत्री है। S, P की बहन है। Q, S की बहन है। T, R का भाई है। T का मामा कौन है?

- Ans 1. C
 2. P
 3. Q
 4. S

Question ID : 8161611307
Status : Answered
Chosen Option : 2

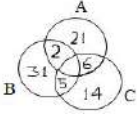
Q.17 एक ही पासे की तीन विभिन्न स्थितियाँ को दर्शाया गया है। उस संख्या का चयन करें, जो संख्या 5 अंकित फलक के विपरीत फलक पर होगी।



- Ans 1. 4
 2. 1
 3. 6
 4. 3

Question ID : 8161611312
Status : Answered
Chosen Option : 2

Q.18 दिए गए वेन आरेख में, A, आमों को दर्शाता है, B, केलों को दर्शाता है, C, सेबों को दर्शाता है, और प्रत्येक खंड में विद्यमान संख्याएँ उन व्यक्तियों की संख्या को दर्शाती हैं जो उन फलों को पसंद करते हैं। कितने लोगों को केवल केले पसंद हैं?



- Ans
- 1. 31
 - 2. 7
 - 3. 38
 - 4. 33

Question ID : 8161611318

Status : Answered

Chosen Option : 1

Q.19 यदि 683 को FOX, 654 को FIN और 4581 को NIOC के रूप में कूटबद्ध किया जाता है, तो 654513 को किस रूप में कूटबद्ध किया जाएगा?

- Ans
- 1. FIXICN
 - 2. FINNCX
 - 3. FNINXC
 - 4. FINICX

Question ID : 8161611303

Status : Answered

Chosen Option : 4

Q.20 दी गई श्रृंखला को पूरा करने के लिए सही अक्षर-समूह का चयन करें।

_bac_ac_acb__ba

- Ans
- 1. c, a, b, b, c
 - 2. a, b, b, a, c
 - 3. a, c, c, b, b
 - 4. c, b, b, a, c

Question ID : 8161611304

Status : Answered

Chosen Option : 4

Q.21 उस अक्षर का चयन करें, जो निम्नलिखित श्रृंखला में प्रश्नवाचक चिह्न (?) के स्थान पर आ सकता है।

A, C, E, D, C, E, G, F, ?

- Ans
- 1. E
 - 2. D
 - 3. C
 - 4. H

Question ID : 8161611306
Status : Answered
Chosen Option : 1

Q.22 उस संख्या का चयन करें, जो नीचे दिए गए पैटर्न में प्रश्नवाचक चिह्न (?) के स्थान पर आ सकती है।

10 17 8
5 3 15
6 14 ?
42 68 92

- Ans
- 1. 46
 - 2. 23
 - 3. 10
 - 4. 25

Question ID : 8161611297
Status : Answered
Chosen Option : 2

Q.23 उस संख्या का चयन करें, जो निम्नलिखित श्रेणी में प्रश्नवाचक चिह्न (?) के स्थान पर आ सकती है।

126, 217, 344, ?

- Ans
- 1. 512
 - 2. 729
 - 3. 513
 - 4. 521

Question ID : 8161611299
Status : Answered
Chosen Option : 3

Q.24 दिए गए कथनों और निष्कर्षों को ध्यानपूर्वक पढ़ें। यह मानते हुए कि कथनों में दी गई जानकारी सही है, भले ही यह सामान्य रूप से ज्ञात तथ्यों से भिन्न प्रतीत होती हो, निर्णय करें कि दिए गए निष्कर्षों में से कौन सा/से निष्कर्ष तर्कसंगत रूप से इन कथनों का अनुसरण करता/करते है/हैं।

कथन:

सभी लकड़ियाँ, जड़ें हैं।

सभी फल, जड़ें हैं।

कोई भी लकड़ी, फल नहीं है।

निष्कर्ष:

(I) कुछ जड़ें फल हैं।

(II) सभी जड़ें लकड़ियाँ हैं।

Ans 1. न तो निष्कर्ष I न ही II अनुसरण करता है।

2. केवल निष्कर्ष II अनुसरण करता है।

3. निष्कर्ष I और II दोनों अनुसरण करते हैं।

4. केवल निष्कर्ष I अनुसरण करता है।

Question ID : 8161611311

Status : Answered

Chosen Option : 4

Q.25 दिए गए चार समीकरणों में से, पहले तीन किसी निश्चित प्रणाली के आधार पर हल किये गए हैं। उसी प्रणाली के आधार पर, हल न किए गए चौथे समीकरण के लिए सही उत्तर ज्ञात करें।

$$6 * 5 = 91$$

$$8 * 7 = 169$$

$$10 * 7 = 211$$

$$22 * 5 = ?$$

Ans 1. 331

2. 993

3. 845

4. 678

Question ID : 8161611294

Status : Answered

Chosen Option : 1

Section : Quantitative Aptitude(Basic Arithmetic Skill)

Q.1 सचिन की आय, दिलीप की आय से 25% अधिक है। दिलीप की आय, सचिन की आय से कितने प्रतिशत कम है?

Ans 1. 22%

2. 18%

3. 15%

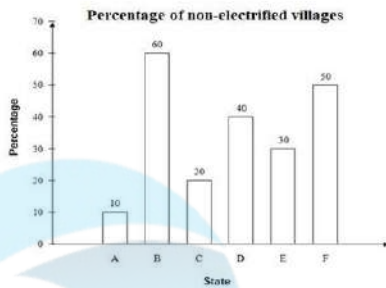
4. 20%

Question ID : 8161611324

Status : Answered

Chosen Option : 4

Q.2 The given bar graph represents the Percentage of non-electrified villages in 6 states A, B, C, D, E and F. Study the graph and answer the question that follows.



How many states have at most 30% or less non-electrified villages?

- Ans
- 1. 3
 - 2. 4
 - 3. 1
 - 4. 2

Question ID : 8161611340
Status : Answered
Chosen Option : 1

Q.3 सोहन एक प्लॉट को 15% की हानि पर ₹2,55,000 में बेचता है। 10% लाभ कमाने के लिए उसे इस प्लॉट को कितने मूल्य में बेचना चाहिए था?

- Ans
- 1. ₹3,33,300
 - 2. ₹3,33,000
 - 3. ₹3,00,000
 - 4. ₹3,30,000

Question ID : 8161611325
Status : Answered
Chosen Option : 4

Q.4 यदि $\sec^2 x - 3\sec x + 2 = 0$ है, तो $x(0 < x < 90^\circ)$ का मान क्या होगा?

- Ans
- 1. 60°
 - 2. 30°
 - 3. 15°
 - 4. 45°

Question ID : 8161611339
Status : Answered
Chosen Option : 1

Q.5 वृत्त के केंद्र से, 24 cm लंबाई वाली जीवा पर 5 cm लंबाई वाला एक लंब खींचा जाता है। वृत्त का व्यास ज्ञात कीजिए।

- Ans
- 1. 13 cm
 - 2. 32 cm
 - 3. 26 cm
 - 4. 30 cm

Question ID : 8161611328
Status : Answered
Chosen Option : 3

Q.6 यदि $x + y = 4$, $xy = 2$, $y + z = 5$, $yz = 3$, $z + x = 6$ और $zx = 4$ है, तो $x^2 + y^2 + z^2 - 3xy$ का मान ज्ञात करें।

- Ans
- 1. 150.75
 - 2. 152.75
 - 3. 151.75
 - 4. 153.75

Question ID : 8161611334
Status : Answered
Chosen Option : 2

Q.7 एक धनराशि पर 8 वर्षों और 10 वर्षों का साधारण ब्याज का अंतर ₹200 है। अगर ब्याज की दर 10% वार्षिक है, तो मूलधन कितना है?

- Ans
- 1. ₹1,200
 - 2. ₹1,400
 - 3. ₹1,600
 - 4. ₹1,000

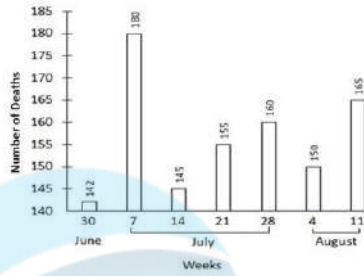
Question ID : 8161611327
Status : Answered
Chosen Option : 4

Q.8 $\frac{(132 + 12 \times x - 3 \times 3)}{(3^2 - 6 \times 4 + x^2)} = 1$ में x , ($x < 10$) की जगह पर क्या आएगा?

- Ans
- 1. 1
 - 2. 3
 - 3. 4
 - 4. 2

Question ID : 8161611336
Status : Answered
Chosen Option : 1

Q.9 दिए गए बार ग्राफ में वर्ष 1992 में वर्षा ऋतु के दौरान हुई सड़क दुर्घटनाओं से होने वाली मौतों की संख्या दर्शायी गई है। ग्राफ का ध्यानपूर्वक अध्ययन करें और दिए गए प्रश्न का उत्तर दें।



कौन-से दो क्रमिक सप्ताहों के बीच मौतों की संख्या में सबसे अधिक वृद्धि हुई थी?

- Ans
- 1. 30 जून से 7 जुलाई
 - 2. 4 अगस्त से 11 अगस्त
 - 3. 14 जुलाई से 21 जुलाई
 - 4. 21 जुलाई से 28 जुलाई

Question ID : 8161611342

Status : Answered

Chosen Option : 1

Q.10 निम्न में से कौन-सी संख्या $7^{81} + 7^{82} + 7^{83}$ को पूर्णतः विभाजित कर देगी?

- Ans
- 1. 389
 - 2. 387
 - 3. 397
 - 4. 399

Question ID : 8161611335

Status : Answered

Chosen Option : 4

Q.11 $\frac{\cos 30^\circ - \sin 30^\circ}{\sin 60^\circ + \cos 60^\circ}$ का मान ज्ञात करें।

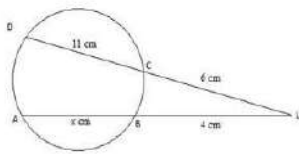
- Ans
- 1. $1 - \sqrt{3}$
 - 2. $2 + \sqrt{3}$
 - 3. $1 + \sqrt{3}$
 - 4. $2 - \sqrt{3}$

Question ID : 8161611337

Status : Answered

Chosen Option : 4

Q.12 दी गई आकृति में, जीवाएं AB और CD एक-दूसरे को बिंदु L पर प्रतिच्छेदित करती हैं। AB की लंबाई ज्ञात करें।



- Ans
- 1. 23.5 cm
 - 2. 21.5 cm
 - 3. 24.5 cm
 - 4. 22.5 cm

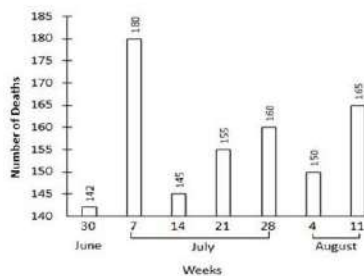
Question ID : 8161611329
Status : Answered
Chosen Option : 2

Q.13 यदि $a^3 + b^3 = 20$ और $a + b = 5$, तो $a^4 + b^4$ का मान ज्ञात करें।

- Ans
- 1. 24
 - 2. 23
 - 3. 26
 - 4. 25

Question ID : 8161611333
Status : Answered
Chosen Option : 2

Q.14 दिए गए बार ग्राफ में वर्ष 1992 में वर्षा ऋतु के दौरान हुई सड़क दुर्घटनाओं से होने वाली मौतों की संख्या दर्शायी गई है। ग्राफ का ध्यानपूर्वक अध्ययन करें और दिए गए प्रश्न का उत्तर दें।



कौन-से दो क्रमिक सप्ताहों के बीच मौतों की संख्या में सबसे अधिक गिरावट आई थी?

- Ans
- 1. 28 जुलाई से 4 अगस्त
 - 2. 7 जुलाई से 14 जुलाई
 - 3. 21 जुलाई से 28 जुलाई
 - 4. 30 जून से 7 जुलाई

Question ID : 8161611341
Status : Answered
Chosen Option : 2

Q.15 एक आदमी 20 km/h की चाल से X से Y स्थान पर जाता है, लेकिन Y से X स्थान पर 25 km/h की चाल से वापस आता है। उसकी औसत चाल ज्ञात करें।

Ans

1. $25\frac{2}{9}$ km/h

2. $22\frac{2}{9}$ km/h

3. $24\frac{2}{9}$ km/h

4. $23\frac{2}{9}$ km/h

Question ID : 8161611320

Status : Answered

Chosen Option : 2

Q.16 4 : 7 के प्रत्येक पद में कितना जोड़ा जाए कि यह 2 : 3 हो जाए?

Ans

1. 4

2. 2

3. 3

4. 1

Question ID : 8161611326

Status : Answered

Chosen Option : 2

Q.17 X और Y एक साथ मिलकर किसी काम को 15 दिन में पूरा कर सकते हैं, जबकि Y अकेले इस काम को 40 दिनों में पूरा कर सकता है। X को अकेले यह काम करने में कितने दिन लगेंगे?

Ans

1. 25 दिन

2. 23 दिन

3. 26 दिन

4. 24 दिन

Question ID : 8161611319

Status : Answered

Chosen Option : 4

Q.18 यदि $\operatorname{cosec}\theta + \cot\theta = 2$ है, तो $\sin\theta$ का मान ज्ञात करें।

Ans

1. $\frac{4}{5}$

2. $\frac{3}{5}$

3. $\frac{2}{5}$

4. $\frac{3}{4}$

Question ID : 8161611338

Status : Answered

Chosen Option : 1

Q.19 दो संख्याओं के बीच का अंतर 43 और उनका गुणनफल 50 है। उनके वर्गों का योग ज्ञात कीजिए।

Ans

1. 1947

2. 1949

3. 1948

4. 1946

Question ID : 8161611332

Status : Answered

Chosen Option : 2

Q.20 एक त्रिभुज की दो भुजाओं की लंबाई 3 cm और 8 cm है। यदि तीसरी भुजा की लंबाई 'x' cm हो, तो निम्न में से कौन-सा विकल्प सही है?

Ans

1. $0 < x < 11$

2. $x > 11$

3. $5 < x < 11$

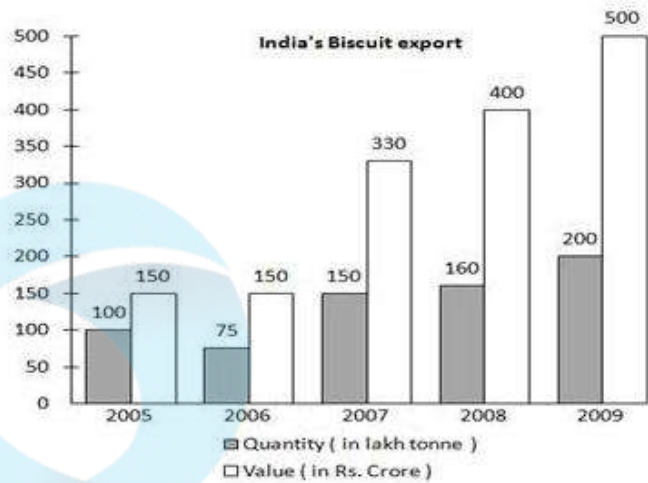
4. $5 < x$

Question ID : 8161611330

Status : Answered

Chosen Option : 3

Q.21 Study the following graph and answer the question.



In which year was the value per tonne the minimum?

- Ans
- 1. 2005
 - 2. 2007
 - 3. 2006
 - 4. 2009

Question ID : 8161611343

Status : Answered

Chosen Option : 1

Q.22 The perimeter of a rectangle is 50 cm. Its area and length are in the ratio of 5 : 1. Find the length of the rectangle.

- Ans
- 1. 18 cm
 - 2. 22 cm
 - 3. 20 cm
 - 4. 15 cm

Question ID : 8161611321

Status : Answered

Chosen Option : 3

Q.23 यदि $\triangle ABC$ की भुजा BC का मध्य बिंदु M हो, और $\triangle ABM$ का क्षेत्रफल 18 cm^2 हो, तो $\triangle ABC$ का क्षेत्रफल ज्ञात करें।

- Ans
- 1. 30 cm^2
 - 2. 36 cm^2
 - 3. 34 cm^2
 - 4. 32 cm^2

Question ID : 8161611331

Status : Answered

Chosen Option : 2

Q.24 एक दुकानदार अपने सामानों पर क्रय मूल्य से 30% अधिक मूल्य अंकित करता है। फिर वह इन सामानों को 35% की छूट पर बेचता है। उसका हानि प्रतिशत ज्ञात करें।

- Ans
- 1. 15.5%
 - 2. 17.5%
 - 3. 16.5%
 - 4. 18.5%

Question ID : 8161611323
Status : Answered
Chosen Option : 1

Q.25 एक बल्लेबाज अपनी 11वीं पारी में 77 रन बनाता है, जिससे उसका औसत स्कोर 3 बढ़ जाता है। 11वीं पारी के बाद उसका औसत स्कोर क्या है?

- Ans
- 1. 47
 - 2. 46
 - 3. 49
 - 4. 48

Question ID : 8161611322
Status : Answered
Chosen Option : 1

Section : General Awareness

Q.1 शेरशाह सूरी का मकबरा कहां स्थित है?

- Ans
- 1. सासाराम
 - 2. दिल्ली
 - 3. रोहतासगढ़
 - 4. चौसा

Question ID : 8161611360
Status : Answered
Chosen Option : 1

Q.2 यूनिसेफ (UNICEF) की स्थापना किस वर्ष हुई थी?

- Ans
- 1. 1948
 - 2. 1949
 - 3. 1945
 - 4. 1946

Question ID : 8161611361
Status : Answered
Chosen Option : 4

Q.3 सचिन तेंदुलकर ने अपने ___ मैच में अपना पहला एकदिवसीय अंतर्राष्ट्रीय (ODI) शतक बनाया था।

- Ans
- 1. 77वें
 - 2. 79वें
 - 3. 78वें
 - 4. 76वें

Question ID : 8161611366
Status : Answered
Chosen Option : 2

Q.4 कंप्यूटर शब्दावली में 'निबल' (Nibble) को _____ भी कहा जाता है।

- Ans
- 1. आधा बिट (Half bit)
 - 2. बाइट
 - 3. आधा बाइट (Half byte)
 - 4. बिट

Question ID : 8161611345
Status : Answered
Chosen Option : 2

Q.5 'मेखला चादर' (Mekhela Chador) _____ राज्य का पारंपरिक परिधान है।

- Ans
- 1. त्रिपुरा
 - 2. असम
 - 3. पश्चिम बंगाल
 - 4. ओडिशा

Question ID : 8161611347
Status : Answered
Chosen Option : 1

Q.6 निम्न में से कौन ट्विटर के सह-संस्थापक हैं?

- Ans
- 1. बिल गेट्स
 - 2. टिम बर्नर्स ली
 - 3. जैक डॉर्सी
 - 4. नारायण मूर्ति

Question ID : 8161611344
Status : Answered
Chosen Option : 3

Q.7 जुलाई 2019 में प्रक्षेपित चंद्रयान-2 नामक अंतरिक्ष यान का वज़न कितना था?

- Ans 1. 3.8 टन
 2. 4.3 टन
 3. 3.3 टन
 4. 2.9 टन

Question ID : 8161611350
Status : Answered
Chosen Option : 2

Q.8 जनवरी 2020 तक की स्थिति के अनुसार, 800 मीटर और 1500 मीटर दोनों स्प्रिंट स्पर्धाओं में राष्ट्रीय रिकॉर्ड किसके नाम था?

- Ans 1. अविनाश सेबल
 2. जीन्सन जॉनसन
 3. मोहम्मद अनास
 4. अय्यसामी धरुण

Question ID : 8161611367
Status : Answered
Chosen Option : 3

Q.9 निम्नलिखित में से कौन-सी पेंशन योजना, मई 2017 में भारत सरकार द्वारा विशेष रूप से वरिष्ठ नागरिकों के लिए शुरू की गई?

- Ans 1. PMMVY (पी.एम.एम.वी.वाई)
 2. PMGSY (पी.एम.जी.एस.वाई)
 3. PMVVY (पी.एम.वी.वी.वाई)
 4. PMGAY (पी.एम.जी.ए.वाई)

Question ID : 8161611352
Status : Answered
Chosen Option : 2

Q.10 निम्नलिखित में से वह कौन-सा विटामिन है जो जल में घुलनशील है?

- Ans 1. विटामिन K
 2. विटामिन C
 3. विटामिन A
 4. विटामिन D

Question ID : 8161611355
Status : Answered
Chosen Option : 2

Q.11 निम्नलिखित में से कौन सा मंदिर, चोल साम्राज्य का एक उदाहरण है?

- Ans
- 1. विरुपाक्ष मंदिर
 - 2. बादामी गुफा मंदिर
 - 3. चेन्नाकेशव मन्दिर
 - 4. ऐरावतेश्वर मंदिर

Question ID : 8161611346
Status : Answered
Chosen Option : 1

Q.12 जनवरी 2020 तक की स्थिति के अनुसार, बी.सी.सी.आई (BCCI) के अध्यक्ष कौन थे?

- Ans
- 1. हर्षा भोगले
 - 2. सौरव गांगुली
 - 3. सुनील गावस्कर
 - 4. रवि शास्त्री

Question ID : 8161611348
Status : Answered
Chosen Option : 2

Q.13 निम्नलिखित में से कौन-सा राज्य भारतीय संविधान की छठी अनुसूची में शामिल है?

- Ans
- 1. मणिपुर
 - 2. नागालैंड
 - 3. मिज़ोरम
 - 4. अरुणाचल प्रदेश

Question ID : 8161611365
Status : Answered
Chosen Option : 2

Q.14 'अंतरराष्ट्रीय ओजोन दिवस' कब मनाया जाता है?

- Ans
- 1. 16 सितंबर
 - 2. 2 अक्टूबर
 - 3. 9 अगस्त
 - 4. 31 अक्टूबर

Question ID : 8161611349
Status : Answered
Chosen Option : 1

Q.15 _____ वह नली है, जो मूत्र को किडनी से मूत्राशय तक ले जाती है।

- Ans
- 1. मूत्रमार्ग (Urethra)
 - 2. मूत्रवाहिनी (Ureter)
 - 3. महाधमनी (Aorta)
 - 4. रंध्र-संकोचक पेशी (Sphincter)

Question ID : 8161611353
Status : Answered
Chosen Option : 2

Q.16 कशाभ (Flagella) बाल जैसी संरचनाएं (Hair-like Structures) हैं, जो निम्नलिखित में से किस जीव में चालन उपांगों के रूप में कार्य करते हैं?

- Ans
- 1. विषाणु
 - 2. जीवाणु
 - 3. अमीबा
 - 4. पैरामिसियम

Question ID : 8161611354
Status : Answered
Chosen Option : 2

Q.17 निम्नलिखित में से किसे 2019 में पद्म भूषण से सम्मानित किया गया?

- Ans
- 1. भूपेन हजारिका
 - 2. विराट कोहली
 - 3. मोहनलाल विश्वनाथन
 - 4. सुनील छेत्री

Question ID : 8161611363
Status : Answered
Chosen Option : 4

Q.18 इनमें से कौन-सा विश्व का सबसे बड़ा नदी द्वीप है?

- Ans
- 1. भवानी द्वीप
 - 2. अगत्ती द्वीप
 - 3. श्रीरंगम द्वीप
 - 4. माजुली द्वीप

Question ID : 8161611356
Status : Answered
Chosen Option : 4

Q.19 शरावती नदी से निम्नलिखित में से कौन सा झरना निकलता है?

- Ans
- 1. सूचिपारा
 - 2. होगेनक्कल
 - 3. जेरसप्पा
 - 4. अधिरापल्ली

Question ID : 8161611358
Status : Answered
Chosen Option : 3

Q.20 लेटेराइट मिट्टी में _____ प्रचुर मात्रा में पाया जाता है।

- Ans
- 1. फास्फोरस
 - 2. पोटैशियम
 - 3. कैल्शियम कार्बोनेट
 - 4. आयरन ऑक्साइड

Question ID : 8161611357
Status : Answered
Chosen Option : 3

Q.21 फरवरी 2020 की स्थिति के अनुसार, लोकसभा में कितने सदस्य उत्तर प्रदेश राज्य का प्रतिनिधित्व करते हैं?

- Ans
- 1. 80
 - 2. 39
 - 3. 48
 - 4. 62

Question ID : 8161611364
Status : Answered
Chosen Option : 1

Q.22 जनवरी 2020 तक की स्थिति के अनुसार, भारत के सबसे युवा शतरंज ग्रैंडमास्टर का खिताब किसके नाम था?

- Ans
- 1. परिमार्जन नेगी
 - 2. रमेशबाबू प्रद्यनानंदा (Rameshbabu Praggnanandhaa)
 - 3. विश्वनाथन आनंद
 - 4. डी गुकेश

Question ID : 8161611368
Status : Answered
Chosen Option : 4

Q.23 जनवरी 2020 तक की स्थिति के अनुसार, YES बैंक के प्रबंध निदेशक (managing director) कौन हैं?

- Ans
- 1. रवनीत गिल
 - 2. आदित्य पुरी
 - 3. अमिताभ चौधरी
 - 4. अरुंधति भट्टाचार्य

Question ID : 8161611351
Status : Answered
Chosen Option : 3

Q.24 'केरला: गॉड्स ओन कंट्री' पुस्तक के लेखक/लेखिका कौन हैं?

- Ans
- 1. सुधा मूर्ति
 - 2. जीत थाइल
 - 3. तकशि शिवशंकर पिल्लै
 - 4. शशि थरूर

Question ID : 8161611362
Status : Answered
Chosen Option : 4

Q.25 भारतीय रेलवे-रेल कोच फैक्टरी किस शहर में स्थित है?

- Ans
- 1. कपूरथला
 - 2. चेन्नई
 - 3. चित्तूरंजन
 - 4. बेंगलुरु

Question ID : 8161611359
Status : Answered
Chosen Option : 1

Roll Number	
Candidate Name	
Venue Name	
Exam Date	17/03/2020
Exam Time	1:00 PM - 2:00 PM
Subject	CHSL Tier 1

Section : English Language (Basic Knowledge)

Q.1 Select the option that is the passive form of the sentence.

We have chosen the colour of the new car we want to buy.

- Ans
- 1. The colour of the new car we want to buy is being chosen by us.
 - 2. The colour of the new car we want to buy had been chosen.
 - 3. The colour of the new car we want to buy has been chosen by us.
 - 4. The colour of the new car we want to buy can be chosen by us.

Question ID : 8161611156

Status : Answered

Chosen Option : 3

Q.2 Given below are four jumbled sentences. Select the option that gives their correct order.

- A. From the outer entrance itself he had noticed that there was no one inside.
- B. It was quite dark by the time Raman turned into the lane and reached the temple.
- C. On entering the main temple, he prostrated before the goddess, got up and then sat directly in front of the idol.
- D. However, an oil lamp which was burning before the idol of Kaali Ma lit up the place and he could go up the steps.

- Ans
- 1. DBCA
 - 2. BADC
 - 3. CABD
 - 4. ABDC

Question ID : 8161611166

Status : Answered

Chosen Option : 2

Q.3 Select the most appropriate antonym of the given word.

MEDDLE (v)

- Ans
- 1. Fortify
 - 2. Prize
 - 3. Support
 - 4. Ignore

Question ID : 8161611170

Status : Not Answered

Chosen Option : --

Q.4 Select the most appropriate option to fill in the blank.

The strong Indian batting line-up will _____ a big worry for the visiting cricket team.

- Ans
- 1. put
 - 2. place
 - 3. pick
 - 4. pose

Question ID : **8161611180**
Status : **Answered**
Chosen Option : **2**

Comprehension:

In the following passage some words have been deleted. Fill in the blanks with the help of the alternatives given. Select the most appropriate option for each blank.

The flight was packed. There were (1)_____ parents with small children. Specifically, a three-year-old boy (2)_____ the row in front of me (3)_____ announcing his presence by letting (4)_____ ear-piercing shrieks every 45 seconds. I settled (5)_____, hoping the kid would calm down.

SubQuestion No : 5

Q.5 Select the most appropriate option to fill in blank No.1.

- Ans
- 1. any
 - 2. all
 - 3. several
 - 4. most

Question ID : **8161611161**
Status : **Answered**
Chosen Option : **2**

Comprehension:

In the following passage some words have been deleted. Fill in the blanks with the help of the alternatives given. Select the most appropriate option for each blank.

The flight was packed. There were (1)_____ parents with small children. Specifically, a three-year-old boy (2)_____ the row in front of me (3)_____ announcing his presence by letting (4)_____ ear-piercing shrieks every 45 seconds. I settled (5)_____, hoping the kid would calm down.

SubQuestion No : 6

Q.6 Select the most appropriate option to fill in blank No.2.

- Ans
- 1. at
 - 2. inside
 - 3. over
 - 4. in

Question ID : **8161611162**
Status : **Answered**
Chosen Option : **2**

Comprehension:

In the following passage some words have been deleted. Fill in the blanks with the help of the alternatives given. Select the most appropriate option for each blank.

The flight was packed. There were (1)_____ parents with small children. Specifically, a three-year-old boy (2)_____ the row in front of me (3)_____ announcing his presence by letting (4)_____ ear-piercing shrieks every 45 seconds. I settled (5)_____, hoping the kid would calm down.

SubQuestion No : 7

Q.7 Select the most appropriate option to fill in blank No.3.

- Ans
- 1. were
 - 2. are
 - 3. was
 - 4. had

Question ID : 8161611163

Status : Answered

Chosen Option : 1

Comprehension:

In the following passage some words have been deleted. Fill in the blanks with the help of the alternatives given. Select the most appropriate option for each blank.

The flight was packed. There were (1)_____ parents with small children. Specifically, a three-year-old boy (2)_____ the row in front of me (3)_____ announcing his presence by letting (4)_____ ear-piercing shrieks every 45 seconds. I settled (5)_____, hoping the kid would calm down.

SubQuestion No : 8

Q.8 Select the most appropriate option to fill in blank No.4.

- Ans
- 1. leave
 - 2. across
 - 3. away
 - 4. loose

Question ID : 8161611164

Status : Answered

Chosen Option : 4

Comprehension:

In the following passage some words have been deleted. Fill in the blanks with the help of the alternatives given. Select the most appropriate option for each blank.

The flight was packed. There were (1)_____ parents with small children. Specifically, a three-year-old boy (2)_____ the row in front of me (3)_____ announcing his presence by letting (4)_____ ear-piercing shrieks every 45 seconds. I settled (5)_____, hoping the kid would calm down.

SubQuestion No : 9

Q.9 Select the most appropriate option to fill in blank No.5.

- Ans
- 1. up
 - 2. on
 - 3. out
 - 4. down

Question ID : 8161611165
Status : Answered
Chosen Option : 1

Q.10 Select the most appropriate meaning of the underlined idiom in the given sentence.

We enjoyed watching the film because it was a down-to-earth depiction of modern life.

- Ans
- 1. pleasing and entertaining
 - 2. practical and direct
 - 3. fanciful and dreamlike
 - 4. short and meaningful

Question ID : 8161611172
Status : Answered
Chosen Option : 1

Q.11 Select the most appropriate synonym of the given word.

COVE

- Ans
- 1. Crater
 - 2. Pit
 - 3. Hollow
 - 4. Bay

Question ID : 8161611178
Status : Answered
Chosen Option : 2

Q.12 Select the most appropriate antonym of the given word.

RUEFUL

- Ans
- 1. Regretful
 - 2. Joyful
 - 3. Spicy
 - 4. Fragrant

Question ID : 8161611171
Status : Answered
Chosen Option : 2

Q.13 Select the most appropriate option to fill in the blank.

The minister said, "Anyone using drones will have to register them on an ____ portal."

- Ans
- 1. airport
 - 2. airline
 - 3. aeroplane
 - 4. aviation

Question ID : 8161611181
Status : Answered
Chosen Option : 3

Q.14 Select the word which means the same as the group of words given.

A vertical passageway into a mine

- Ans
- 1. Lobby
 - 2. Shaft
 - 3. Canal
 - 4. Aisle

Question ID : 8161611177
Status : Answered
Chosen Option : 3

Q.15 Select the most appropriate synonym of the given word.

SURGE

- Ans
- 1. Rush
 - 2. Smooth
 - 3. Hygienic
 - 4. Clean

Question ID : 8161611179
Status : Not Answered
Chosen Option : --

Q.16 Select the segment in the sentence, which contains a grammatical error.

This furnitures has been taken on hire for the function in the college.

- Ans 1. This furnitures has
 2. in the college
 3. been taken
 4. on hire for the function

Question ID : 8161611158
Status : Answered
Chosen Option : 1

Q.17 Given below are four jumbled sentences. Select the option that gives their correct order.

- A. A common sight now is that on the roads of Yangon antiquated cars move alongside shiny new vehicles.
B. A newly-built highway connects Mandalay to the city of Rangoon, now called Yangon.
C. Similarly, hurriedly constructed glass-fronted buildings stand next to old colonial structures.
D. Yangon is fairly typical of any developing city in Asia, standing as it does at the crossroads of modernisation.

- Ans 1. BDAC
 2. ADCB
 3. CDBA
 4. DABC

Question ID : 8161611167
Status : Answered
Chosen Option : 1

Q.18 Select the option that is the direct form of the sentence.

Dhiraj said that he had been to Goa the previous year also.

- Ans 1. Dhiraj said, "He has been to Goa the previous year also."
 2. Dhiraj said, "I have been to Goa last year also."
 3. Dhiraj told, "I went to Goa the last year also."
 4. Dhiraj said, "I had been to Goa the previous year also."

Question ID : 8161611157
Status : Answered
Chosen Option : 3

Q.19 Select the word with the correct spelling.

- Ans 1. Vizibility
 2. Certainty
 3. Piety
 4. Notoreity

Question ID : 8161611174
Status : Answered
Chosen Option : 2

Q.20 Select the most appropriate meaning of the underlined idiom in the given sentence.

His guide asked him to pull up his socks if he wanted a good rank.

- Ans
- 1. dress more carefully and neatly
 - 2. make a greater effort to improve
 - 3. take care to be more formal
 - 4. give attention to his appearance also

Question ID : 8161611173
Status : Not Answered
Chosen Option : --

Q.21 Select the segment in the sentence, which contains a grammatical error.

Plenty of people likes to celebrate New Year's eve with their family and friends.

- Ans
- 1. likes to celebrate
 - 2. Plenty of people
 - 3. New Year's eve with
 - 4. their family and friends

Question ID : 8161611159
Status : Not Answered
Chosen Option : --

Q.22 Select the alternative that will improve the underlined part of the sentence. In case there is no improvement select 'No improvement'.

Sidharth want to become a football player but needs to practice more rigorously.

- Ans
- 1. No improvement
 - 2. wants to become
 - 3. wanted becoming
 - 4. is wanting to become

Question ID : 8161611169
Status : Not Answered
Chosen Option : --

Q.23 Select the alternative that will improve the underlined part of the sentence. In case there is no improvement select 'No improvement'.

I have prepared well for the exam and am ready to answer any question.

- Ans
- 1. preparing
 - 2. may prepare
 - 3. will prepared
 - 4. No improvement

Question ID : 8161611168
Status : Not Answered
Chosen Option : --

Q.24 Select the word with the correct spelling.

- Ans
- 1. Inseckts
 - 2. Contemptuous
 - 3. Aggresive
 - 4. Biscits

Question ID : 8161611175
Status : Not Answered
Chosen Option : --

Q.25 Select the word which means the same as the group of words given.

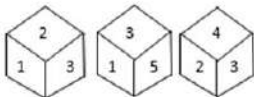
Government by a king or a queen

- Ans
- 1. Oligarchy
 - 2. Monarchy
 - 3. Plutocracy
 - 4. Aristocracy

Question ID : 8161611176
Status : Not Answered
Chosen Option : --

Section : General Intelligence

Q.1 एक ही पासे की तीन अलग-अलग स्थितियां दर्शायी गई हैं। उस संख्या का चयन करें, जो संख्या 3 अंकित फलक के विपरीत फलक पर होगी।



- Ans
- 1. 1
 - 2. 4
 - 3. 6
 - 4. 5

Question ID : 8161611200
Status : Answered
Chosen Option : 3

Q.2 प्रश्न आकृति में दिए गए पैटर्न का ध्यानपूर्वक अध्ययन करें और दी गई उत्तर आकृतियों में से उस विकल्प का चयन करें, जो इस में प्रश्नवाचक चिह्न (?) के स्थान पर आ सकता है।

प्रश्न आकृति:

+	+	≠
≠	≠	≠
+	≠	?

उत्तर आकृतियाँ:

+	≠	≠	+
A	B	C	D

- Ans
- 1. D
 - 2. B
 - 3. C
 - 4. A

Question ID : 8161611201

Status : Answered

Chosen Option : 3

Q.3 उस विकल्प का चयन करें, जिसका तीसरे शब्द से वही संबंध है, जो संबंध दूसरे शब्द का पहले शब्द से है।

ऊर्जा : जूल :: शक्ति : ?

- Ans
- 1. ऊर्जा
 - 2. वाट
 - 3. कार्य
 - 4. न्यूटन

Question ID : 8161611196

Status : Answered


Chosen Option : 2

Q.4 दर्पण को PQ रेखा पर रखे जाने पर, जैसा कि प्रश्न आकृति में दर्शाया गया है, उत्तर आकृतियों में से सही दर्पण छवि का चयन करें।

प्रश्न आकृति:



Ans



Question ID : 8161611205

Status : Answered

Chosen Option : 2

Q.5 उस विकल्प का चयन करें, जो निम्नलिखित श्रेणी से संबंधित नहीं है।

QP, JK, ON, LM, NO

Ans 1. LM

2. NO

3. JK

4. ON

Question ID : 8161611197

Status : Answered

Chosen Option : 2

Q.6 उस संख्या का चयन करें, जो निम्नलिखित श्रेणी में अगले स्थान पर आएगी।

7, 11, 13, 17, 23, 37, ?

Ans 1. 41

2. 25

3. 33

4. 27

Question ID : 8161611189

Status : Answered

Chosen Option : 1

Q.7 उत्तर आकृतियों में से उस विकल्प का चयन करें, जिसमें दी गई प्रश्न आकृति अंतर्निहित है।

प्रश्न आकृति:



Ans

✓ 1.



✗ 2.



✗ 3.



✗ 4.

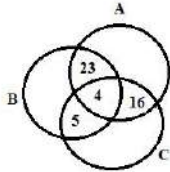


Question ID : 8161611203

Status : Answered

Chosen Option : 1

Q.8 दिए गए वेन आरेख में, वृत्त A पुस्तकों को दर्शाता है, वृत्त B कलमों को दर्शाता है और वृत्त C पेंसिलों को दर्शाता है। कौन सी संख्या केवल पुस्तकों और पेंसिलों को दर्शाती है?



Ans

✗ 1.

23

✗ 2.

20

✓ 3.

16

✗ 4.

5

Question ID : 8161611206

Status : Answered

Chosen Option : 3

Q.9 दिए गए कथनों और निष्कर्षों को ध्यानपूर्वक पढ़ें। यह मानते हुए कि कथनों में दी गई जानकारी सही है, भले ही यह सामान्य रूप से ज्ञात तथ्यों से भिन्न प्रतीत होती हो, निर्णय करें कि दिए गए निष्कर्षों में से कौन सा/से निष्कर्ष तर्कसंगत रूप से इन कथनों का अनुसरण करता/करते है/हैं।

कथन:

1. कुछ कलम, स्याही हैं।
2. कुछ कागज, स्याही हैं।

निष्कर्ष:

- I. सभी स्याहियाँ कलम हैं।
- II. कुछ कलम कागज हैं।

Ans

1. या तो निष्कर्ष I या II अनुसरण करता है।
2. निष्कर्ष I और II दोनों अनुसरण करते हैं।
3. केवल निष्कर्ष II अनुसरण करता है।
4. केवल निष्कर्ष I अनुसरण करता है।

Question ID : 8161611199

Status : Answered

Chosen Option : 3

Q.10 उस विकल्प का चयन करें, जिसका तीसरी संख्या से वही संबंध है, जो संबंध दूसरी संख्या का पहली संख्या से है।

13 : 17 :: 73 : ?

Ans

1. 79
2. 99
3. 78
4. 81

Question ID : 8161611184

Status : Answered

Chosen Option : 1

Q.11 चार संख्याएँ दी गई हैं, जिनमें से तीन किसी प्रकार से संगत हैं और एक असंगत है। उस असंगत संख्या का चयन करें।

Ans

1. 122
2. 226
3. 170
4. 256

Question ID : 8161611188

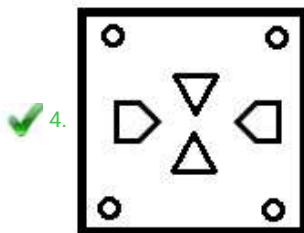
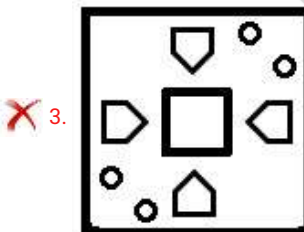
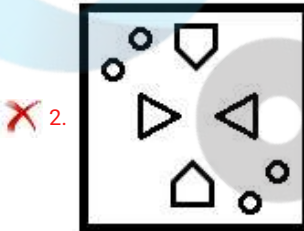
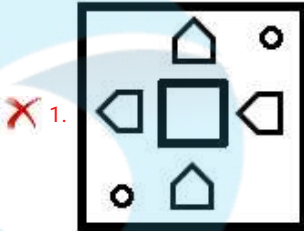
Status : Answered

Chosen Option : 4

Q.12 कागज़ के एक टुकड़े को मोड़ने का क्रम और मोड़े गए कागज़ को काटने की विधि दर्शायी गई है। उस विकल्प का चयन करें, जो यह दर्शाता हो कि पुनः खोलने पर कागज़ कैसा दिखेगा?



Ans



Question ID : 8161611204

Status : Answered

Chosen Option : 3

Q.13 उस अक्षर का चयन करें, जो निम्नलिखित श्रृंखला में अगले स्थान पर आएगा।

L, M, K, N, J, O, ?

Ans ✗ 1. P

✗ 2. R

✗ 3. H

✓ 4. I

Question ID : 8161611194

Status : Answered

Chosen Option : 4

Q.14 उस संख्या का चयन करें, जो निम्नलिखित श्रेणी में प्रश्नवाचक चिह्न (?) के स्थान पर आ सकती है।

2, 10, 26, ?, 82

- Ans
- 1. 46
 - 2. 65
 - 3. 58
 - 4. 50

Question ID : 8161611187
Status : Answered
Chosen Option : 4

Q.15 दिए गए पैटर्न का सावधानीपूर्वक अध्ययन करें, और उस संख्या का चयन करें, जो इसमें प्रश्नवाचक चिह्न (?) के स्थान पर आ सकती है।

13 19 71 9 128 32
4 10 ?

- Ans
- 1. 16
 - 2. 12
 - 3. 26
 - 4. 20

Question ID : 8161611185
Status : Answered
Chosen Option : 4

Q.16 उस विकल्प का चयन करें, जिसका तीसरे पद से वही संबंध है, जो संबंध दूसरे पद का पहले पद से है।

AB : C :: HJ : ?

- Ans
- 1. I
 - 2. R
 - 3. K
 - 4. Q

Question ID : 8161611193
Status : Answered
Chosen Option : 1

Q.17 चार शब्द दिए गए हैं, जिनमें से तीन किसी प्रकार से संगत हैं और एक असंगत है। उस असंगत शब्द का चयन करें।

- Ans
- 1. गंगटोक
 - 2. देहरादून
 - 3. लद्दाख
 - 4. शिमला

Question ID : 8161611198
Status : Answered
Chosen Option : 3

Q.18 दिए गए पैटर्न का सावधानीपूर्वक अध्ययन करें, और उस संख्या का चयन करें, जो इसमें प्रश्नवाचक चिह्न (?) के स्थान पर आ सकती है।

5 6 4 26

7 6 5 37

4 8 10 ?

- Ans
- 1. 49
 - 2. 22
 - 3. 17
 - 4. 65

Question ID : 8161611186

Status : **Not Attempted and Marked For Review**

Chosen Option : --

Q.19 दी गई श्रृंखला को पूरा करने के लिए सही अक्षर-समूह का चयन करें।

abb_baa_a_bad_aba

- Ans
- 1. ccac
 - 2. aabb
 - 3. abba
 - 4. abab

Question ID : 8161611192

Status : **Not Attempted and Marked For Review**

Chosen Option : --

Q.20 5 वर्ष पहले आरव की माँ की आयु, आरव की आयु की तिगुनी थी। 5 वर्ष बाद उसकी आयु आरव की आयु की दोगुनी हो जाएगी। आरव की वर्तमान आयु कितनी है?

- Ans
- 1. 15 वर्ष
 - 2. 25 वर्ष
 - 3. 10 वर्ष
 - 4. 20 वर्ष

Question ID : 8161611182

Status : **Answered**

Chosen Option : 1

Q.21 दिए गए समीकरण को संतुलित करने के लिए, किन दो चिहनों या संख्याओं को परस्पर बदला जाना चाहिए?

$$(18 \div 9) + 9 \times 8 = 24$$

Ans 1. \times, \div

2. 18, 8

3. $+, \div$

4. $+, \times$

Question ID : 8161611183

Status : Answered

Chosen Option : 3

Q.22 एक निश्चित कूट भाषा में, OPERATION को PNFPRJMM लिखा जाता है। इसी कूट भाषा में ACCIDENT को क्या लिखा जाएगा?

Ans 1. BADGECRO

2. BADGEFOR

3. BADGECOR

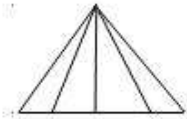
4. ABDGECOR

Question ID : 8161611190

Status : Answered

Chosen Option : 3

Q.23 दी गई आकृति में त्रिभुजों की संख्या ज्ञात करें।



Ans 1. 7

2. 13

3. 8

4. 10

Question ID : 8161611202

Status : Answered

Chosen Option : 4

Q.24 यदि 3129 को CCI के रूप में कूटबद्ध किया जाता है और 5674 को EMD के रूप में कूटबद्ध किया जाता है, तो 6878 को किस रूप में कूटबद्ध किया जाएगा?

Ans 1. FHO

2. GOI

3. FOH

4. NGH

Question ID : 8161611191

Status : Answered

Chosen Option : 3

Q.25 A + B का अर्थ है 'A, B का पिता है';
A - B का अर्थ है 'A, B की पत्नी है'
A x B का अर्थ है 'A, B की बेटी है',
A ÷ B का अर्थ है 'A, B का पुत्र है'
यदि J x K + L ÷ M है, तो M, J से कैसे संबंधित है?

- Ans
- 1. बहन
 - 2. भाई
 - 3. माँ
 - 4. पिता

Question ID : 8161611195
Status : Answered
Chosen Option : 3

Section : Quantitative Aptitude(Basic Arithmetic Skill)

Q.1 निम्न में से कौन-सी संख्या 4 द्वारा विभाज्य है?

- Ans
- 1. 897654
 - 2. 267834
 - 3. 954782
 - 4. 674536

Question ID : 8161611223
Status : Answered
Chosen Option : 4

Q.2 P और Q एक काम को क्रमशः 10 और 5 दिन में पूरा कर सकते हैं। Q ने 2 दिन तक इस पर काम करने के बाद इसे छोड़ दिया। बाकी बचे कार्य को P अकेले कितने दिन में पूरा कर पाएगा?

- Ans
- 1. 6 दिन
 - 2. 4 दिन
 - 3. 8 दिन
 - 4. 10 दिन

Question ID : 8161611207
Status : Answered
Chosen Option : 2

Q.3 यदि $\operatorname{cosec} A = \frac{25}{7}$, तो $\tan A$ का मान क्या होगा?

- Ans
- 1. $\frac{24}{25}$
 - 2. $\frac{7}{25}$
 - 3. $\frac{7}{24}$
 - 4. $\frac{25}{24}$

Question ID : 8161611225
Status : Answered
Chosen Option : 3

Q.4 उस वृत्त की परिधि ज्ञात करें, जिसका व्यास 12 इंच है।

- Ans
- 1. 90.2348 cm
 - 2. 95.7072 cm
 - 3. 88.1876 cm
 - 4. 87.4672 cm

Question ID : 8161611216
Status : Answered
Chosen Option : 2

Q.5 एक व्यक्ति ने ₹37 में 2 सेब और 3 कीवी खरीदा। यदि वह ₹67 में 4 सेब और 5 कीवी खरीदे, तो 1 सेब और 1 कीवी का कुल मूल्य कितना होगा?

- Ans
- 1. ₹20
 - 2. ₹18
 - 3. ₹15
 - 4. ₹28

Question ID : 8161611221
Status : Answered
Chosen Option : 3

Q.6 यदि 25 वस्तुओं का क्रय मूल्य, 35 वस्तुओं के विक्रय मूल्य के बराबर हो, तो लाभ/हानि प्रतिशत ज्ञात करें।

- Ans
- 1. लाभ - 18.93%
 - 2. हानि - 28.57%
 - 3. लाभ - 28.57%
 - 4. हानि - 18.93%

Question ID : 8161611213
Status : Answered
Chosen Option : 2

Q.7 एक रेलवे लाइन पर 5 स्टेशन पड़ते हैं। रेलवे अधिकारियों के लिए आवश्यक विभिन्न यात्रा टिकटों की संख्या कितनी होगी?

- Ans
- 1. 20
 - 2. 30
 - 3. 25
 - 4. 35

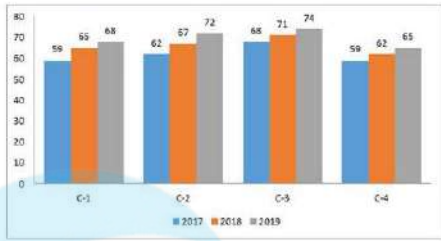
Question ID : 8161611222
Status : Marked For Review
Chosen Option : 3

Q.8 यदि एक घोड़ा 15 km/hr की चाल से दौड़े, तो उसे 175 m भुजा वाले वर्गाकार मैदान का एक चक्कर पूरा करने में कितना समय लगेगा?

- Ans
- 1. 180 सेकंड
 - 2. 155 सेकंड
 - 3. 175 सेकंड
 - 4. 168 सेकंड

Question ID : 8161611208
Status : Answered
Chosen Option : 4

Q.9 दिया गया चार्ट वर्ष 2017, 2018 और 2019 में C-1, C-2, C-3 और C-4 नामक कंपनियों द्वारा निर्मित मोबाइलों की संख्या (हजारों में) को दर्शाता है।



कंपनी C-1 द्वारा निर्मित कुल मोबाइलों की संख्या का, कंपनी C-4 द्वारा निर्मित कुल मोबाइलों की संख्या से अनुपात ज्ञात करें।

- Ans
- 1. 14 : 21
 - 2. 11 : 13
 - 3. 27 : 35
 - 4. 32 : 31

Question ID : 8161611230

Status : Answered

Chosen Option : 4

Q.10 लता ने एक बैंक में ₹35,000 की राशि 11% की वार्षिक साधारण ब्याज दर पर जमा की। एक वर्ष के बाद उसे कितना ब्याज मिलेगा?

- Ans
- 1. ₹3,850
 - 2. ₹3,370
 - 3. ₹3,500
 - 4. ₹3,220

Question ID : 8161611215

Status : Answered

Chosen Option : 1

Q.11 $(1, -2)$ केंद्र और 4 cm त्रिज्या वाले वृत्त का समीकरण क्या होगा?

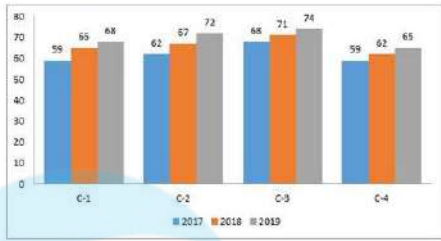
- Ans
- 1. $x^2 + y^2 - 2x + 4y = 16$
 - 2. $x^2 + y^2 + 2x - 4y = 11$
 - 3. $x^2 + y^2 - 2x + 4y = 11$
 - 4. $x^2 + y^2 + 2x - 4y = 16$

Question ID : 8161611217

Status : Answered

Chosen Option : 3

Q.12 दिया गया चार्ट वर्ष 2017, 2018 और 2019 में C-1, C-2, C-3 और C-4 नामक कंपनियों द्वारा निर्मित मोबाइलों की संख्या (हजारों में) को दर्शाता है।



सभी वर्षों में किस कंपनी द्वारा सर्वाधिक संख्या में मोबाइलों का निर्माण किया गया?

- Ans
- 1. C-1
 - 2. C-3
 - 3. C-2
 - 4. C-4

Question ID : 8161611228

Status : Answered

Chosen Option : 2

Q.13 एक दुकानदार ने ₹28 प्रति पेन के मूल्य पर थोक में पेन खरीदे। उसने उन पेनों को ₹40 प्रति पेन के मूल्य पर बेचा। उसका लाभ प्रतिशत ज्ञात करें।

- Ans
- 1. 38.75%
 - 2. 48.12%
 - 3. 28.40%
 - 4. 42.85%

Question ID : 8161611211

Status : Answered

Chosen Option : 4

Q.14 उस त्रिभुज को समकोण त्रिभुज नहीं कहा जा सकता है, जिसकी भुजाओं की माप _____ हो?

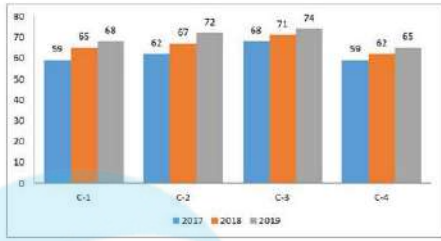
- Ans
- 1. 6 cm, 8 cm और 10 cm
 - 2. 3 cm, 4 cm और 5 cm
 - 3. 5 cm, 7 cm और 9 cm
 - 4. 5 cm, 12 cm और 13 cm

Question ID : 8161611218

Status : Answered

Chosen Option : 3

Q.15 दिया गया चार्ट वर्ष 2017, 2018 और 2019 में C-1, C-2, C-3 और C-4 नामक कंपनियों द्वारा निर्मित मोबाइलों की संख्या (हजारों में) को दर्शाता है।



2017 से 2018 के दौरान, किस कंपनी के उत्पादन में सबसे अधिक वृद्धि दर्ज की गई?

- Ans
- 1. C-1
 - 2. C-2
 - 3. C-3
 - 4. C-4

Question ID : 8161611231

Status : Answered

Chosen Option : 1

Q.16 7.5 cm त्रिज्या वाले गोले का आयतन (cm^3 में) ज्ञात करें।

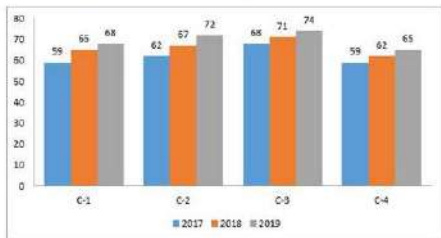
- Ans
- 1. 1985.23
 - 2. 1683.25
 - 3. 1767.85
 - 4. 1489.12

Question ID : 8161611209

Status : Answered

Chosen Option : 1

Q.17 दिया गया चार्ट वर्ष 2017, 2018 और 2019 में C-1, C-2, C-3 और C-4 नामक कंपनियों द्वारा निर्मित मोबाइलों की संख्या (हजारों में) को दर्शाता है।



सभी वर्षों में, किस कंपनी द्वारा सबसे कम संख्या में मोबाइलों का निर्माण किया गया?

- Ans
- 1. C-1
 - 2. C-4
 - 3. C-3
 - 4. C-2

Question ID : 8161611229

Status : Answered

Chosen Option : 2

Q.18 तीन वस्तुओं का औसत मूल्य ₹14,265 है। यदि उनके मूल्य 7 : 9 : 11 के अनुपात में हों, तो सबसे महंगी वस्तु का मूल्य क्या होगा?

- Ans
- 1. ₹14,875
 - 2. ₹17,435
 - 3. ₹16,235
 - 4. ₹19,875

Question ID : 8161611210

Status : Answered

Chosen Option : 2

Q.19 एक आयत की लंबाई और चौड़ाई का अनुपात 5 : 3 है। यदि लंबाई, चौड़ाई से 8 m अधिक है, तो आयत का क्षेत्रफल ज्ञात करें।

- Ans
- 1. 400 m²
 - 2. 240 m²
 - 3. 360 m²
 - 4. 380 m²

Question ID : 8161611219

Status : Answered

Chosen Option : 2

Q.20 $(\sin \theta + \cos \theta)^2 = 2$, $0^\circ < \theta < 90^\circ$, तो θ का मान ज्ञात करें।

- Ans
- 1. π
 - 2. 0
 - 3. $\frac{\pi}{2}$
 - 4. $\frac{\pi}{4}$

Question ID : 8161611227

Status : Answered

Chosen Option : 4

Q.21 यदि एक संख्या के $\frac{1}{4}$ (one-fourth) का $\frac{1}{5}$ (one-fifth) 35 है, तो उस संख्या का $\frac{7}{8}$ (seven-eighth) कितना होगा?

- Ans
- 1. 624.5
 - 2. 723.5
 - 3. 715
 - 4. 612.5

Question ID : 8161611224

Status : Answered

Chosen Option : 4

Q.22 एक कार द्वारा 3 घंटे में 105 km की दूरी तय की गई, जबकि एक ट्रेन द्वारा 4 घंटे में 252 km की दूरी तय की गई। कार की चाल का, ट्रेन की चाल से अनुपात ज्ञात करें।

- Ans
- 1. 9 : 11
 - 2. 2 : 7
 - 3. 5 : 9
 - 4. 3 : 5

Question ID : 8161611214
Status : Answered
Chosen Option : 3

Q.23 यदि एक संख्या को 3 से विभाजित किया जाता है, तो शेषफल 2 बचता है। यदि इस संख्या में 5 जोड़कर इसे 3 से विभाजित किया जाए, तो शेषफल कितना बचेगा?

- Ans
- 1. 0
 - 2. 3
 - 3. 1
 - 4. 2

Question ID : 8161611220
Status : Answered
Chosen Option : 3

Q.24 एक कुर्सी को ₹785 में खरीदा गया और उसे 22% के लाभ पर बेच दिया गया। कुर्सी के विक्रय मूल्य की गणना करें।

- Ans
- 1. ₹987.4
 - 2. ₹957.7
 - 3. ₹857.9
 - 4. ₹768.3

Question ID : 8161611212
Status : Answered
Chosen Option : 2

Q.25 $\cos 225^\circ$ का मान ज्ञात करें।

- Ans
- 1. 0.7071
 - 2. -0.866
 - 3. 0.866
 - 4. -0.7071

Question ID : 8161611226
Status : Answered
Chosen Option : 4

Q.1 जनवरी 2020 में, किस देश ने सूखे के कारण ऊँटों को मारने का आदेश दिया है?

- Ans
- 1. संयुक्त अरब अमीरात
 - 2. अफ्रीका
 - 3. भारत
 - 4. ऑस्ट्रेलिया

Question ID : 8161611236
Status : Answered
Chosen Option : 1

Q.2 कुमाऊँ हिमालय निम्नलिखित में से किन दो नदियों के बीच स्थित है?

- Ans
- 1. सतलुज-काली
 - 2. सिंधु-सतलुज
 - 3. तीस्ता-दिहांग
 - 4. काली-तीस्ता

Question ID : 8161611245
Status : Answered
Chosen Option : 4

Q.3 भारत में किसके सुझावों पर, सरकार द्वारा कृषि फसलों का न्यूनतम समर्थन मूल्य (MSP) निर्धारित किया जाता है?

- Ans
- 1. कृषि लागत और मूल्य आयोग (CACF)
 - 2. भारतीय रिज़र्व बैंक
 - 3. भारतीय खाद्य निगम (FCI)
 - 4. नाबार्ड (NABARD)

Question ID : 8161611239
Status : Not Answered
Chosen Option : --

Q.4 भारत के राष्ट्रीय प्रतीक पर उल्लिखित 'सत्यमेव जयते' शब्द किस उपनिषद से लिए गए हैं?

- Ans
- 1. केन (केनोपनिषद)
 - 2. मुंडक (मुंडकोपनिषद)
 - 3. कठ (कठोपनिषद)
 - 4. प्रश्न (प्रश्नोपनिषद)

Question ID : 8161611234
Status : Answered
Chosen Option : 2

Q.5 12वीं पंचवर्षीय योजना की अवधि कब से कब तक थी?

- Ans 1. 2012-2017
 2. 2007-2012
 3. 2002-2007
 4. 1997-2002

Question ID : 8161611240
Status : Answered
Chosen Option : 1

Q.6 'कर्मयोद्धा ग्रंथ' निम्नलिखित में से किसके जीवन पर लिखा गया है?

- Ans 1. मनमोहन सिंह
 2. सुभाष चंद्र बोस
 3. नरेंद्र मोदी
 4. महात्मा गांधी

Question ID : 8161611237
Status : Answered
Chosen Option : 3

Q.7 हीराकुंड बाँध किस राज्य में स्थित है?

- Ans 1. ओडिशा
 2. महाराष्ट्र
 3. कर्नाटक
 4. राजस्थान

Question ID : 8161611244
Status : Answered
Chosen Option : 1

Q.8 केंद्र शासित प्रदेश लद्दाख में कितने जिले हैं?

- Ans 1. 1
 2. 3
 3. 4
 4. 2

Question ID : 8161611246
Status : Answered
Chosen Option : 2

Q.9 विटामिन B कॉम्प्लेक्स में कितने विटामिन्स होते हैं?

- Ans
- 1. 1.5
 - 2. 2.8
 - 3. 3.6
 - 4. 4.7

Question ID : 8161611241
Status : Answered
Chosen Option : 3

Q.10 भारतीय सुधार संघ का निर्माण कब किया गया था?

- Ans
- 1. 1865
 - 2. 1870
 - 3. 1860
 - 4. 1885

Question ID : 8161611249
Status : Not Answered
Chosen Option : --

Q.11 निम्नलिखित में से किस को नए झारखंड विधानसभा अध्यक्ष के रूप में चुना गया है?

- Ans
- 1. सी.पी. सिंह
 - 2. रवीन्द्र नाथ महतो
 - 3. इंदर सिंह नामधारी
 - 4. आलमगीर आलम

Question ID : 8161611238
Status : Answered
Chosen Option : 1

Q.12 कर्णम मल्लेश्वरी को पद्मश्री कब मिला था?

- Ans
- 1. 1994
 - 2. 1999
 - 3. 2000
 - 4. 1995

Question ID : 8161611256
Status : Not Answered
Chosen Option : --

Q.13 निम्नलिखित में से g का मान क्या है? (g का अर्थ पृथ्वी की गुरुत्वाकर्षण शक्ति के कारण उत्पन्न त्वरण है।)

- Ans
- 1. 7.8 m/s²
 - 2. 9.8 m/s²
 - 3. 5.2 m/s²
 - 4. 6.7 m/s²

Question ID : 8161611243
Status : Answered
Chosen Option : 2

Q.14 भारत के राष्ट्रपति भवन का निर्माण किस वर्ष पूरा हुआ था?

- Ans
- 1. 1959
 - 2. 1949
 - 3. 1929
 - 4. 1953

Question ID : 8161611235
Status : Answered
Chosen Option : 3

Q.15 तांबे का परमाणु क्रमांक क्या है?

- Ans
- 1. 28
 - 2. 23
 - 3. 29
 - 4. 25

Question ID : 8161611242
Status : Answered
Chosen Option : 3

Q.16 'एन ईरा ऑफ़ डार्कनेस (An era of Darkness)' नामक पुस्तक किसने लिखी है?

- Ans
- 1. शशि थरूर
 - 2. ममांग दाई
 - 3. जेरी पिंटो
 - 4. अनीस सलीम

Question ID : 8161611251
Status : Answered
Chosen Option : 1

Q.17 नोबेल शांति पुरस्कार 2019 के विजेता अबी अहमद अली का संबंध किस देश से है?

- Ans 1. इथियोपिया
 2. ब्राज़ील
 3. संयुक्त अरब अमीरात
 4. पाकिस्तान

Question ID : 8161611250
Status : Answered
Chosen Option : 1

Q.18 भारत ने किस देश के साथ पंचशील संधि पर हस्ताक्षर किए थे?

- Ans 1. चीन
 2. नेपाल
 3. बांग्लादेश
 4. पाकिस्तान

Question ID : 8161611253
Status : Not Answered
Chosen Option : --

Q.19 प्रतिवर्ष सुल्तान अजलान शाह कप कहाँ आयोजित किया जाता है?

- Ans 1. जर्मनी
 2. भारत
 3. दक्षिण कोरिया
 4. मलेशिया

Question ID : 8161611254
Status : Answered
Chosen Option : 4

Q.20 पहला माइक्रोप्रोसेसर 4004 किस कंपनी द्वारा बनाया गया था?

- Ans 1. एनओशियन प्राइवेट कंपनी (ENOcean Private Company)
 2. इंटेल् कॉर्पोरेशन (INTEL Corporation)
 3. पीएलएक्स डिवाइसेज़ (PLX Devices)
 4. एनवीडिया कॉर्पोरेशन (NVIDIA Corporation)

Question ID : 8161611233
Status : Not Answered
Chosen Option : --

Q.21 प्रिंटिंग से पहले पेज का पूर्वावलोकन (preview) करने के लिए, किस शॉर्टकट कुंजी का उपयोग किया जाता है?

- Ans
- 1. CTRL + F6
 - 2. CTRL + F2
 - 3. CTRL + F10
 - 4. CTRL + F5

Question ID : 8161611232
Status : Not Answered
Chosen Option : --

Q.22 2008 में, पुलेला गोपीचंद बैडमिंटन अकादमी की स्थापना कहाँ की गई थी?

- Ans
- 1. नई दिल्ली
 - 2. हैदराबाद
 - 3. बेंगलूर
 - 4. मुंबई

Question ID : 8161611255
Status : Answered
Chosen Option : 1

Q.23 मौलिक अधिकारों की सूची से संपत्ति के अधिकार को कब हटाया गया था?

- Ans
- 1. 1975
 - 2. 1978
 - 3. 1977
 - 4. 1980

Question ID : 8161611252
Status : Answered
Chosen Option : 1

Q.24 दक्षिण-पश्चिम रेलवे का मुख्यालय कहाँ स्थित है?

- Ans
- 1. चेन्नई
 - 2. हुबली
 - 3. कोलकाता
 - 4. सिकंदराबाद

Question ID : 8161611247
Status : Answered
Chosen Option : 4

Q.25 पाल राजवंश का संस्थापक कौन था?

- Ans
- 1. धर्मपाल
 - 2. महिपाल
 - 3. गोपाल
 - 4. रामपाल

Question ID : 8161611248

Status : Answered

Chosen Option : 1

OnlineGurukul

Roll Number	
Candidate Name	
Venue Name	
Exam Date	17/03/2020
Exam Time	4:00 PM - 5:00 PM
Subject	CHSL Tier 1

Section : English Language (Basic Knowledge)

Q.1 Select the segment in the sentence, which contains the grammatical error.

We were busy at the work and went for lunch only at 2.30 pm.

- Ans 1. at the work
 2. only at 2.30 pm
 3. and went for lunch
 4. We were busy

Question ID : 8161611484
Status : Answered
Chosen Option : 3

Q.2 Select the word which means the same as the group of words given.

A place where wild animals live

- Ans 1. Cage
 2. Kennel
 3. Lair
 4. Hutch

Question ID : 8161611501
Status : Answered
Chosen Option : 1

Q.3 Select the alternative that will improve the underlined part of the sentence. In case there is no improvement select 'No improvement'.

There was no sign of recognition on his face when they met after ten years.

- Ans 1. no sign for recognition
 2. no sign to recognise
 3. No improvement
 4. no any sign of recognition

Question ID : 8161611493
Status : Answered
Chosen Option : 4

Q.4 Select the word which means the same as the group of words given.

A solution or remedy for all difficulties or diseases

- Ans**
- 1. Therapy
 - 2. Treatment
 - 3. Medicine
 - 4. Panacea

Question ID : **8161611502**
Status : **Answered**
Chosen Option : **4**

Comprehension:

In the following passage some words have been deleted. Fill in the blanks with the help of the alternatives given. Select the most appropriate option for each blank.

Valley of Flowers National Park, an Indian national park located in North Chamoli in the state of Uttarakhand, is known for its meadows of endemic alpine flowers and variety of flora. (1)_____ richly diverse area is also home (2)_____ rare and endangered animals, including the Asiatic black bear, snow leopard, musk deer, brown bear, red fox, and blue sheep. Birds (3)_____ in the park include the Himalayan monal pheasant and other (4)_____ altitude birds. At 3352 to 3658 meters above sea level, the gentle (5)_____ of the Valley of Flowers National Park complements the rugged mountain wilderness of Nanda Devi National Park to the east.

SubQuestion No : 5

Q.5 Select the most appropriate option to fill in blank No.1.

- Ans**
- 1. This
 - 2. These
 - 3. Which
 - 4. That

Question ID : **8161611486**
Status : **Answered**
Chosen Option : **2**

Comprehension:

In the following passage some words have been deleted. Fill in the blanks with the help of the alternatives given. Select the most appropriate option for each blank.

Valley of Flowers National Park, an Indian national park located in North Chamoli in the state of Uttarakhand, is known for its meadows of endemic alpine flowers and variety of flora.

(1)_____ richly diverse area is also home (2)_____ rare and endangered animals, including the Asiatic black bear, snow leopard, musk deer, brown bear, red fox, and blue sheep. Birds (3)_____ in the park include the Himalayan monal pheasant and other (4)_____ altitude birds. At 3352 to 3658 meters above sea level, the gentle (5)_____ of the Valley of Flowers National Park complements the rugged mountain wilderness of Nanda Devi National Park to the east.

SubQuestion No : 6

Q.6 Select the most appropriate option to fill in blank No.2.

- Ans
- 1. of
 - 2. in
 - 3. with
 - 4. to

Question ID : 8161611487

Status : Answered

Chosen Option : 1

Comprehension:

In the following passage some words have been deleted. Fill in the blanks with the help of the alternatives given. Select the most appropriate option for each blank.

Valley of Flowers National Park, an Indian national park located in North Chamoli in the state of Uttarakhand, is known for its meadows of endemic alpine flowers and variety of flora.

(1)_____ richly diverse area is also home (2)_____ rare and endangered animals, including the Asiatic black bear, snow leopard, musk deer, brown bear, red fox, and blue sheep. Birds (3)_____ in the park include the Himalayan monal pheasant and other (4)_____ altitude birds. At 3352 to 3658 meters above sea level, the gentle (5)_____ of the Valley of Flowers National Park complements the rugged mountain wilderness of Nanda Devi National Park to the east.

SubQuestion No : 7

Q.7 Select the most appropriate option to fill in blank No.3.

- Ans
- 1. are found
 - 2. finding
 - 3. find
 - 4. found

Question ID : 8161611488

Status : Answered

Chosen Option : 1

Comprehension:

In the following passage some words have been deleted. Fill in the blanks with the help of the alternatives given. Select the most appropriate option for each blank.

Valley of Flowers National Park, an Indian national park located in North Chamoli in the state of Uttarakhand, is known for its meadows of endemic alpine flowers and variety of flora.

(1)_____ richly diverse area is also home (2)_____ rare and endangered animals, including the Asiatic black bear, snow leopard, musk deer, brown bear, red fox, and blue sheep. Birds (3)_____ in the park include the Himalayan monal pheasant and other (4)_____ altitude birds. At 3352 to 3658 meters above sea level, the gentle (5)_____ of the Valley of Flowers National Park complements the rugged mountain wilderness of Nanda Devi National Park to the east.

SubQuestion No : 8

Q.8 Select the most appropriate option to fill in blank No.4.

- Ans
- 1. flight
 - 2. far
 - 3. soaring
 - 4. high

Question ID : 8161611489

Status : Answered

Chosen Option : 4

Comprehension:

In the following passage some words have been deleted. Fill in the blanks with the help of the alternatives given. Select the most appropriate option for each blank.

Valley of Flowers National Park, an Indian national park located in North Chamoli in the state of Uttarakhand, is known for its meadows of endemic alpine flowers and variety of flora.

(1)_____ richly diverse area is also home (2)_____ rare and endangered animals, including the Asiatic black bear, snow leopard, musk deer, brown bear, red fox, and blue sheep. Birds (3)_____ in the park include the Himalayan monal pheasant and other (4)_____ altitude birds. At 3352 to 3658 meters above sea level, the gentle (5)_____ of the Valley of Flowers National Park complements the rugged mountain wilderness of Nanda Devi National Park to the east.

SubQuestion No : 9

Q.9 Select the most appropriate option to fill in blank No.5.

- Ans
- 1. scene
 - 2. shore
 - 3. movement
 - 4. landscape

Question ID : 8161611490

Status : Answered

Chosen Option : 1

Q.10 Given below are four jumbled sentences. Select the option that gives their correct order.

- A. Problems in absorption of vitamins is the main cause of vitamin deficiency.
- B. This is the reason why people with metabolic disorders such as obesity, often suffer from vitamin deficiency.
- C. Hence, digestion and the absorption mechanism in the body is very important.
- D. Vitamin deficiency is not just caused by lack of vitamins in the diet.

- Ans
- 1. ACBD
 - 2. BCAD
 - 3. CBDA
 - 4. DABC

Question ID : 8161611492
Status : Answered
Chosen Option : 1

Q.11 Select the most appropriate option to fill in the blank.

Madhuri is bringing _____ her sister's daughter after the death of the child's parents.

- Ans
- 1. over
 - 2. in
 - 3. out
 - 4. up

Question ID : 8161611505
Status : Answered
Chosen Option : 2

Q.12 Select the most appropriate ANTONYM of the given word.

EXHALE

- Ans
- 1. Inspire
 - 2. Inhale
 - 3. Expel
 - 4. Respite

Question ID : 8161611495
Status : Answered
Chosen Option : 2

Q.13 Select the most appropriate option to fill in the blank.

By accelerating digitisation and leveraging next generation technologies, the life insurance sector can double its _____ to Rupees 70 lakh crores, a study said.

- Ans
- 1. funding
 - 2. policies
 - 3. assets
 - 4. reports

Question ID : 8161611506
Status : Answered
Chosen Option : 3

Q.14 Given below are four jumbled sentences. Select the option that gives their correct order.

- A. Just before the sacrifice, however, he noticed that one of the king's fingers was missing.
- B. Once when travelling across a forest, the king was captured by a powerful tribe.
- C. Since it was not acceptable to sacrifice an incomplete person to God, the king was released.
- D. The tribal priest decided to sacrifice the king to their God.

- Ans
- 1. CDBA
 - 2. DACB
 - 3. BDAC
 - 4. ADBC

Question ID : 8161611491
Status : Answered
Chosen Option : 2

Q.15 Select the option that is the passive form of the sentence.

Jiya wrote the research paper with the help of her tutor.

- Ans
- 1. The research paper was written by Jiya with the help of her tutor.
 - 2. The research paper was wrote by Jiya with the help of the tutor.
 - 3. The research paper can be written by the tutor with the help of Jiya.
 - 4. The research paper is being written by Jiya with the help of her tutor.

Question ID : 8161611481
Status : Answered
Chosen Option : 1

Q.16 Select the most appropriate synonym of the given word.

OCCUR

- Ans
- 1. Hasten
 - 2. Hamper
 - 3. Happen
 - 4. Hinder

Question ID : 8161611503
Status : Answered
Chosen Option : 3

Q.17 Select the most appropriate meaning of the underlined idiom in the given sentence.

When they read about the proposed strike of buses they said, "We'll cross that bridge when we come to it."

- Ans
- 1. Prevent them
 - 2. Solve the problem
 - 3. Cancel our plans
 - 4. Call them for talks

Question ID : 8161611497
Status : Answered
Chosen Option : 2

Q.18 Select the most appropriate synonym of the given word.

RESILIENT

- Ans
- 1. Lazy
 - 2. Furious
 - 3. Supple
 - 4. Baseless

Question ID : 8161611504
Status : Answered
Chosen Option : 2

Q.19 Select the alternative that will improve the underlined part of the sentence. In case there is no improvement select 'No improvement'.

Carrots and sweet potatoes were airdrop for animals starving during the tragic bushfires in Australia.

- Ans
- 1. No improvement
 - 2. are airdropped for animals starved
 - 3. were airdropped for animals starving
 - 4. will be airdropping for animals starving

Question ID : 8161611494
Status : Answered
Chosen Option : 3

Q.20 Select the most appropriate meaning of the idiom.

Back in saddle

- Ans
- 1. Learn how to ride
 - 2. Put a new saddle
 - 3. Resume duty
 - 4. Teach someone riding

Question ID : 8161611498
Status : Answered
Chosen Option : 3

Q.21 Select the option that is the direct form of the sentence.

Experts said that several steps were being taken to promote foreign trade as it constituted 45% of the country's economy.

- Ans 1. Experts said, "Several steps are being taken to promote foreign trade as it constitutes 45% of the country's economy".
2. Experts are saying, "Several steps were taken to promote foreign trade as it constituted 45% of the country's economy".
3. Experts said, "Several steps should be taken to promote foreign trade as they constitute 45% of the country's economy".
4. Experts said, "Several steps had been taken for promoting foreign trade as it constitute 45% of the country's economy".

Question ID : 8161611482
Status : Answered
Chosen Option : 1

Q.22 Select the segment in the sentence, which contains the grammatical error.

No matter what that the mother did the baby didn't stop crying.

- Ans 1. what that
2. the baby didn't stop crying
3. the mother did
4. No matter

Question ID : 8161611483
Status : Answered
Chosen Option : 3

Q.23 Select the word with the incorrect spelling

- Ans 1. Denounce
2. Systemetic
3. Combination
4. Ascertain

Question ID : 8161611500
Status : Answered
Chosen Option : 2

Q.24 Select the word with the correct spelling.

- Ans 1. Capricious
2. Avalaunche
3. Complasant
4. Ecstacy

Question ID : 8161611499
Status : Answered
Chosen Option : 1

Q.25 Select the most appropriate ANTONYM of the given word.

PRIM

- Ans
- 1. Principle
 - 2. Dishevelled
 - 3. Intellectual
 - 4. Mature

Question ID : 8161611496
Status : Answered
Chosen Option : 2

Section : General Intelligence

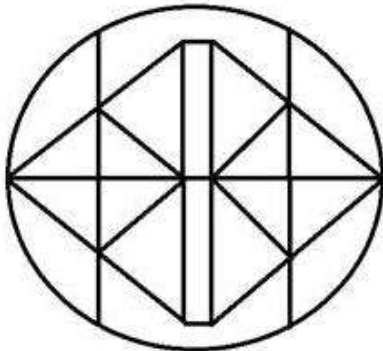
Q.1 Select the option that is related to the third word in the same way as the second word is related to the first word.

Butter : Milk :: Oil : ?

- Ans
- 1. Seed
 - 2. Root
 - 3. Tree
 - 4. Oil factory

Question ID : 8161611521
Status : Answered
Chosen Option : 1

Q.2 दी गई आकृति में कितने त्रिभुज हैं?



- Ans
- 1. 24
 - 2. 28
 - 3. 22
 - 4. 26

Question ID : 8161611525
Status : Not Answered
Chosen Option : --

Q.3 उस संख्या का चयन करें, जो इस श्रेणी में प्रश्न-चिह्न (?) के स्थान पर आ सकती है।

25, 5, 49, 10, 81, 20, 121, ?

- Ans
- 1. 30
 - 2. 35
 - 3. 25
 - 4. 40

Question ID : 8161611514
Status : Answered
Chosen Option : 4

Q.4 चार संख्याएँ दी गई हैं, जिनमें से तीन किसी न किसी तरह से संगत हैं और एक असंगत है। असंगत संख्या का चयन करें।

- Ans
- 1. 12326
 - 2. 52477
 - 3. 14978
 - 4. 11982

Question ID : 8161611513
Status : Answered
Chosen Option : 1

Q.5 अक्षरों के उस संयोजन का चयन करें, जिसे अक्षर श्रृंखला में रिक्त स्थानों पर क्रमिक रूप से भरे जाने पर श्रृंखला पूरी हो जाएगी।

rtx_sx_z_bxy_ _yz

- Ans
- 1. yyrsx
 - 2. sysyx
 - 3. yxyrs
 - 4. yyrxs

Question ID : 8161611517
Status : Answered
Chosen Option : 4

Q.6 उस विकल्प का चयन करें, जिसका तीसरी संख्या से वही संबंध है, जो दूसरी संख्या का पहली संख्या से है।

19 : 23 :: 97 : ?

- Ans
- 1. 77
 - 2. 91
 - 3. 101
 - 4. 94

Question ID : 8161611509
Status : Answered
Chosen Option : 3

Q.7 निम्नलिखित श्रृंखला में प्रश्न-चिह्न (?) के स्थान पर आने वाले अक्षर का चयन करें।

L, M, O, K, R, I, U, ?

Ans 1. G

2. R

3. I

4. P

Question ID : 8161611519

Status : Answered

Chosen Option : 1

Q.8 निम्नलिखित श्रृंखला में प्रश्न-चिह्न (?) के स्थान पर आने वाले अक्षर का चयन करें।

BYT, WUQ, RQN, MMK, ?

Ans 1. HJI

2. HIH

3. IHJ

4. GIH

Question ID : 8161611520

Status : Answered

Chosen Option : 2

Q.9 यदि एक दर्पण को प्रश्न आकृति में PQ रेखा पर रखा जाए, तो दी हुई कौन-सी उत्तर आकृति, प्रश्न आकृति की सही दर्पण छवि होगी?

प्रश्न आकृति:



Ans

1.

2.

3.

4.

Question ID : 8161611530

Status : Answered

Chosen Option : 3

Q.10 दिए गए पैटर्न का सावधानीपूर्वक अध्ययन करें, और उस संख्या का चयन करें, जो प्रश्न-चिह्न (?) के स्थान पर आ सकती है।

9	14	7
130	135	168
13	9	?

- Ans
- 1. 15
 - 2. 11
 - 3. 21
 - 4. 19

Question ID : 8161611511
Status : Answered
Chosen Option : 2

Q.11 उस विकल्प का चयन करें, जिसका तीसरे पद से वही संबंध है, जो दूसरे पद का पहले पद से है।

H18J : J22L :: P34R : ?

- Ans
- 1. R36T
 - 2. R36S
 - 3. T38V
 - 4. R38T

Question ID : 8161611518
Status : Answered
Chosen Option : 4

Q.12 उस संख्या का चयन करें, जो निम्नलिखित श्रेणी में प्रश्न-चिह्न (?) के स्थान पर आ सकती है।

10, 26, 50, 82, ?

- Ans
- 1. 101
 - 2. 122
 - 3. 121
 - 4. 169

Question ID : 8161611512
Status : Answered
Chosen Option : 2

Q.13 उस अक्षर-समूह का चयन करें, जो निम्नलिखित श्रेणी से संबंधित नहीं है।

DE, GH, JK, NM, PQ

- Ans
- 1. NM
 - 2. GH
 - 3. JK
 - 4. PQ

Question ID : 8161611522
Status : Answered
Chosen Option : 4

Q.14 Select the pair of words from the given options that shares a similar relationship as

Ship : Sailor

- Ans
- 1. Laboratory: Scientist
 - 2. Advocate: Office
 - 3. Jail: Judge
 - 4. Doctor: Engineer

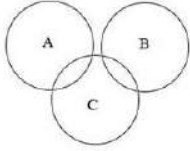
Question ID : 8161611523
Status : Answered
Chosen Option : 1

Q.15 किसी निश्चित कूट भाषा में 214673 को SEARCH और 73456 को CHAIR और 961473 को PREACH लिखा जाता है। उसी भाषा में 734673 को क्या लिखा जाएगा?

- Ans
- 1. CHARCH
 - 2. CARRCH
 - 3. CHARH
 - 4. RHACRH

Question ID : 8161611516
Status : Answered
Chosen Option : 1

Q.16 दिए गए वेन आरेख में, A को दूध पसंद है, B को ब्रेड पसंद है और C को गोश्त पसंद है। किसे सभी ती गड़े खादय वस्तुएं पसंद हैं?



- Ans
- 1. केवल B को
 - 2. B और C दोनों को
 - 3. A और B दोनों को
 - 4. केवल C को

Question ID : 8161611531
Status : Answered
Chosen Option : 4

Q.17 दिए गए पैटर्न का सावधानीपूर्वक अध्ययन करें, और उस संख्या का चयन करें, जो प्रश्न-चिह्न (?) के स्थान पर आ सकती है।

13	108	26	55	?	157
11		9		14	

- Ans
- 1. 32
 - 2. 39
 - 3. 72
 - 4. 52

Question ID : 8161611510
Status : Answered
Chosen Option : 2

Q.18 उत्तर आकृतियों में से उस आकृति का चयन करें, जिसे प्रश्न आकृति के रिक्त स्थान पर रखने से पैटर्न पूरा हो जाएगा।

प्रश्न आकृति:



- Ans
- 1.
 - 2.
 - 3.
 - 4.

Question ID : 8161611526
Status : Answered
Chosen Option : 1

Q.19 दिए गए कथन और निष्कर्ष को ध्यान से पढ़ें। यह मानते हुए कि कथनों में दी गई जानकारी सही है, भले ही वह आम तौर पर स्थापित तथ्यों से भिन्न दिखाई देती हो, तय कीजिए कि कौन सा/से निष्कर्ष तर्कसंगत रूप से इन कथनों का अनुसरण करता/करते है/हैं।

कथन:

1. कुछ बिल्लियां, कुत्ते हैं।
2. कुछ पेड़, कुत्ते हैं।

निष्कर्ष:

- I. कुछ कुत्ते बिल्लियां है।
- II. कुछ बिल्लियां पेड़ हैं।

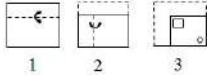
- Ans
1. या तो निष्कर्ष I या II अनुसरण करता है।
 2. केवल निष्कर्ष I अनुसरण करता है।
 3. दोनों निष्कर्ष I और II अनुसरण करते हैं।
 4. केवल निष्कर्ष II अनुसरण करता है।

Question ID : 8161611524

Status : Answered

Chosen Option : 2

Q.20 नीचे दी गई प्रश्न आकृति में कागज के एक टुकड़े को मोड़ने का क्रम और काटने की विधि दी गई है। उत्तर आकृतियों में से उस विकल्प का चयन करें, जो यह दर्शाता हो कि कागज खोलने पर कैसा दिखाई देगा?



- Ans
- 1.
 - 2.
 - 3.
 - 4.

Question ID : 8161611529

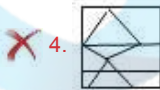
Status : Answered

Chosen Option : 1

Q.21 दिए गए विकल्पों में से उस आकृति का चयन करें, जिसमें दी गई प्रश्न आकृति अंतर्निहित है।
(घुमाने की अनुमति नहीं है)

A

Ans



Question ID : 8161611528
Status : Answered
Chosen Option : 3

Q.22 किसी निश्चित कूट भाषा में, OPERATION को POFQBSJNO लिखा जाता है। उसी भाषा में INVISIBLE को क्या लिखा जाएगा?

Ans

1. HNWHTHCKF

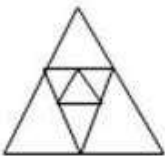
2. JMUHTHCKD

3. JMWHTHCID

4. JMWHTHCKF

Question ID : 8161611515
Status : Answered
Chosen Option : 4

Q.23 दी गई आकृति में त्रिभुजों की संख्या ज्ञात कीजिए।



Ans

1. 7

2. 9

3. 17

4. 13

Question ID : 8161611527
Status : Answered
Chosen Option : 2

Q.24 एक माँ, उसकी बेटी और उसके बेटे की आयु का योग 96 वर्ष है। 5 वर्ष बाद उनकी आयु का योग क्या होगा?

- Ans
- 1. 101
 - 2. 111
 - 3. 110
 - 4. 105

Question ID : 8161611507
Status : Answered
Chosen Option : 1

Q.25 दिए गए समीकरण को संतुलित करने के लिए, किन दो चिहनों को आपस में बदलना होगा?

$$(72 \div 18) + 30 \times 8 - 4 = 20$$

- Ans
- 1. + और ×
 - 2. × और ÷
 - 3. + और ÷
 - 4. + और -

Question ID : 8161611508
Status : Not Answered
Chosen Option : --

Section : Quantitative Aptitude(Basic Arithmetic Skill)

Q.1 राम ने एक बैंक में ₹8,000 की राशि बचत खाते में जमा की जिसपर उसे 6.5% की दर से ब्याज प्राप्त होता है, ब्याज की गणना मासिक तौर पर की जाती है। 18वें महीने के अंत में उसे कितनी राशि प्राप्त होगी?

- Ans
- 1. ₹8790.54
 - 2. ₹8907.56
 - 3. ₹8788.98
 - 4. ₹8816.97

Question ID : 8161611540
Status : Answered
Chosen Option : 4

Q.2 किसी संख्या और उस संख्या के एक तिहाई के बीच का अंतर 228 है। उस संख्या का 20% ज्ञात करें।

- Ans
- 1. 72.5
 - 2. 68.4
 - 3. 58.9
 - 4. 61.8

Question ID : 8161611537
Status : Not Answered
Chosen Option : --

Q.3 यदि दो संख्याओं के बीच का अंतर 6 है और उनके वर्गों के बीच का अंतर 60 है, तो उनके घनों का योगफल ज्ञात करें।

- Ans
- 1. 945
 - 2. 678
 - 3. 894
 - 4. 520

Question ID : 8161611546
Status : Not Answered
Chosen Option : --

Q.4 निम्न में से कौन-सी संख्या 9 से विभाज्य है?

- Ans
- 1. 346217
 - 2. 594327
 - 3. 897342
 - 4. 734895

Question ID : 8161611548
Status : Answered
Chosen Option : 3

Q.5 एक उत्पाद, जिसका MRP, ₹978 है, थोक दुकानदार द्वारा ₹925 में बेचा गया। उसके द्वारा दी गई छूट का प्रतिशत ज्ञात करें।

- Ans
- 1. 6.5%
 - 2. 9.2%
 - 3. 7.8%
 - 4. 5.4%

Question ID : 8161611536
Status : Answered
Chosen Option : 4

Q.6 यदि $\sin \theta = \frac{4}{5}$, तो $\sin 3\theta$ का मान ज्ञात करें।

- Ans
- 1. $\frac{64}{125}$
 - 2. $\frac{32}{45}$
 - 3. $\frac{12}{25}$
 - 4. $\frac{44}{125}$

Question ID : 8161611551

Status : Answered

Chosen Option : 1

Q.7 दिया गया चार्ट कक्षा 4, कक्षा 5, कक्षा 6 और कक्षा 7 के उन छात्रों की संख्या को दर्शाता है, जिन्होंने अंतिम परीक्षा में प्रथम श्रेणी, द्वितीय श्रेणी प्राप्त किया है और जो अनुत्तीर्ण रहे।



किस कक्षा में उत्तीर्ण हुए छात्रों की संख्या सबसे अधिक है?

- Ans
- 1. कक्षा 7
 - 2. कक्षा 5
 - 3. कक्षा 6
 - 4. कक्षा 4

Question ID : 8161611553

Status : Answered

Chosen Option : 4

Q.8 5 cm, 6 cm और 7 cm भुजा वाले त्रिभुज का क्षेत्रफल ज्ञात करें।

- Ans
- 1. 14.6969 cm²
 - 2. 16.4545 cm²
 - 3. 12.8484 cm²
 - 4. 10.9797 cm²

Question ID : 8161611544

Status : Answered

Chosen Option : 3

Q.9 एक आयत की लंबाई और चौड़ाई का अनुपात 3 : 2 है। यदि इसका परिमाप 730 cm है, तो आयत का क्षेत्रफल ज्ञात करें।

- Ans
- 1. 28,976 cm²
 - 2. 24,452 cm²
 - 3. 31,974 cm²
 - 4. 20,567 cm²

Question ID : 8161611534
Status : Answered
Chosen Option : 3

Q.10 स्मिथ और अजित किसी कार्य को क्रमशः 12 दिन और 18 दिन में पूरा कर सकते हैं। यदि वे एक साथ मिलकर 4 दिन तक कार्य करते हैं, तो अभी कार्य का कितना भाग शेष है?

- Ans
- 1. $\frac{1}{9}$
 - 2. $\frac{5}{9}$
 - 3. $\frac{4}{9}$
 - 4. $\frac{2}{9}$

Question ID : 8161611532
Status : Answered
Chosen Option : 3

Q.11 वृत्त के केंद्र से 5 cm की दूरी पर 24 cm लंबी एक जीवा स्थिति है। इसका क्षेत्रफल ज्ञात करें।

- Ans
- 1. 531.14 cm²
 - 2. 389.28 cm²
 - 3. 480.67 cm²
 - 4. 120 cm²

Question ID : 8161611542
Status : Answered
Chosen Option : 3

Q.12 उत्पत्ति केंद्र (centre of origin) और 6 cm त्रिज्या वाले वृत्त का समीकरण क्या है?

- Ans
- 1. $x^2 + y^2 - x - y = 36$
 - 2. $x^2 + y^2 - 36 = 0$
 - 3. $x^2 + y^2 - y = 36$
 - 4. $x^2 + y^2 - x = 36$

Question ID : 8161611541

Status : Answered

Chosen Option : 3

Q.13 किसी कॉलेज में 16 छात्रों की औसत आयु 20 वर्ष है। उनमें से 5 छात्रों की औसत आयु 20 वर्ष तथा अन्य 10 छात्रों की औसत आयु 20.4 वर्ष है। कॉलेज के 16वें छात्र की आयु ज्ञात करें।

- Ans
- 1. 20
 - 2. 24
 - 3. 16
 - 4. 22

Question ID : 8161611535

Status : Answered

Chosen Option : 2

Q.14 ₹600 में किसी वस्तु को बेचने पर, एक दुकानदार को 20% का लाभ होता है। 20% की हानि के लिए उसे उस वस्तु को किस मूल्य पर बेचना चाहिए?

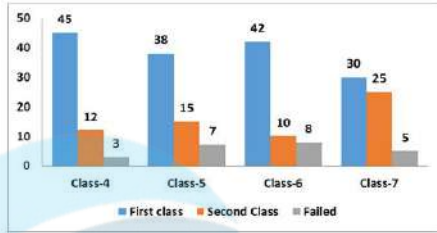
- Ans
- 1. ₹600
 - 2. ₹500
 - 3. ₹300
 - 4. ₹400

Question ID : 8161611538

Status : Not Attempted and Marked For Review

Chosen Option : --

Q.15 दिया गया चार्ट कक्षा 4, कक्षा 5, कक्षा 6 और कक्षा 7 के उन छात्रों की संख्या को दर्शाता है, जिन्होंने अंतिम परीक्षा में प्रथम श्रेणी, द्वितीय श्रेणी प्राप्त किया है और जो अनुत्तीर्ण रहे।



किस कक्षा में उत्तीर्ण हुए छात्रों की संख्या सबसे कम है?

- Ans
- 1. कक्षा 5
 - 2. कक्षा 7
 - 3. कक्षा 6
 - 4. कक्षा 4

Question ID : 8161611554

Status : Not Answered

Chosen Option : --

Q.16 एक कमरे में मेज और कुर्सियों का अनुपात 7 : 9 है। यदि कमरे में 560 मेज और कुर्सियां हैं, तो कुर्सियों की संख्या ज्ञात करें।

- Ans
- 1. 315
 - 2. 463
 - 3. 397
 - 4. 489

Question ID : 8161611539

Status : Answered

Chosen Option : 3

Q.17 यदि $2 \sin^2 x - 1 = 0$ है, तो x का मान ज्ञात करें।

- Ans
- 1. $\frac{\pi}{4}$
 - 2. π
 - 3. 0
 - 4. $\frac{\pi}{2}$

Question ID : 8161611552

Status : Answered

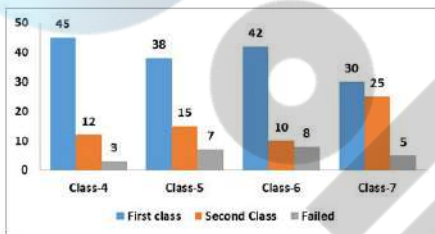
Chosen Option : 3

Q.18 11760 के $\frac{1}{3}$ के $\frac{3}{8}$ का $\frac{1}{5}$ ज्ञात करें।

- Ans
- 1. 598
 - 2. 467
 - 3. 645
 - 4. 294

Question ID : 8161611549
Status : Not Answered
Chosen Option : --

Q.19 दिया गया चार्ट कक्षा 4, कक्षा 5, कक्षा 6 और कक्षा 7 के उन छात्रों की संख्या को दर्शाता है, जिन्होंने अंतिम परीक्षा में प्रथम श्रेणी, द्वितीय श्रेणी प्राप्त किया है और जो अनुत्तीर्ण रहे।



कक्षा 4 का उत्तीर्ण प्रतिशत क्या है?

- Ans
- 1. 95%
 - 2. 94.66%
 - 3. 91.23%
 - 4. 90.45%

Question ID : 8161611556
Status : Answered
Chosen Option : 2

Q.20 यदि $\cot \theta = \frac{80}{39}$, तो $\operatorname{cosec} \theta$ का मान ज्ञात करें।

- Ans
- 1. $\frac{89}{39}$
 - 2. $\frac{89}{80}$
 - 3. $\frac{39}{80}$
 - 4. $\frac{39}{89}$

Question ID : 8161611550
Status : Not Answered
Chosen Option : --

Q.21 दो संख्याओं का योगफल 59 है और उनका गुणनफल 840 है। उनके वर्गों का योगफल ज्ञात करें।

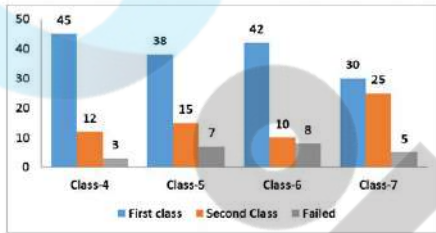
- Ans
- 1. 1754
 - 2. 1801
 - 3. 2961
 - 4. 1875

Question ID : 8161611545

Status : Not Answered

Chosen Option : --

Q.22 दिया गया चार्ट कक्षा 4, कक्षा 5, कक्षा 6 और कक्षा 7 के उन छात्रों की संख्या को दर्शाता है, जिन्होंने अंतिम परीक्षा में प्रथम श्रेणी, द्वितीय श्रेणी प्राप्त किया है और जो अनुत्तीर्ण रहे।



कक्षा 6 का उत्तीर्ण प्रतिशत क्या है?

- Ans
- 1. 90.12%
 - 2. 87.83%
 - 3. 89.96%
 - 4. 86.66%

Question ID : 8161611555

Status : Answered

Chosen Option : 1

Q.23 यदि $x = 1 + \sqrt{2}$ है, तो $\sqrt{x} + \left(\frac{1}{\sqrt{x}}\right)$ का मान ज्ञात करें।

- Ans
- 1. 1.9876
 - 2. 1.9996
 - 3. 2.1973
 - 4. 2.1014

Question ID : 8161611547

Status : Not Answered

Chosen Option : --

Q.24 दो कारें एक स्थान से एक ही समय में एक दूसरे से समकोण पर चलना शुरू करती हैं। उनकी चाल क्रमशः 54 km/hr और 72 km/hr है। 20 सेकंड के बाद उनके बीच की दूरी कितनी होगी?

- Ans
- 1. 500 m
 - 2. 720 m
 - 3. 540 m
 - 4. 480 m

Question ID : 8161611533
Status : Not Answered
Chosen Option : --

Q.25 यदि समबाहु त्रिभुज की ऊंचाई 12 cm है, तो त्रिभुज का क्षेत्रफल ज्ञात करें।

- Ans
- 1. 89.567 cm²
 - 2. 96.897 cm²
 - 3. 67.9843 cm²
 - 4. 83.1384 cm²

Question ID : 8161611543
Status : Answered
Chosen Option : 2

Section : General Awareness

Q.1 मुस्लिम लीग की स्थापना कब की गई थी?

- Ans
- 1. 1901
 - 2. 1906
 - 3. 1903
 - 4. 1905

Question ID : 8161611573
Status : Answered
Chosen Option : 2

Q.2 लिनक्स (Linux) एक _____ है।

- Ans
- 1. उच्च स्तरीय भाषा (high level language)
 - 2. ऑपरेटिंग सिस्टम (operating system)
 - 3. इंटरप्रेटर (Interpreter)
 - 4. असेम्बली भाषा (assembly language)

Question ID : 8161611558
Status : Answered
Chosen Option : 2

Q.3 किस देश द्वारा 'विज़डन क्रिकेटर्स अल्मनाक' प्रकाशित किया जाता है, जिसे अक्सर 'क्रिकेट के बाइबिल' के रूप में जाना जाता है?

- Ans
- 1. न्यू जीलैंड
 - 2. दक्षिण अफ्रीका
 - 3. यूनाइटेड किंगडम
 - 4. ऑस्ट्रेलिया

Question ID : 8161611580
Status : Answered
Chosen Option : 4

Q.4 गुरुत्वीय तरंगों का पता लगाने के लिए सर्वप्रथम किस उपकरण का उपयोग किया गया था?

- Ans
- 1. GIGO
 - 2. TRIGO
 - 3. LIGO
 - 4. WIGO

Question ID : 8161611567
Status : Answered
Chosen Option : 1

Q.5 जयपुर के हवा महल की बाहरी दीवारों पर कितनी खिड़कियाँ हैं?

- Ans
- 1. 964
 - 2. 973
 - 3. 965
 - 4. 953

Question ID : 8161611560
Status : Answered
Chosen Option : 3

Q.6 भारत के संविधान में मौलिक कर्तव्यों की अवधारणा किस देश से ली गई थी?

- Ans
- 1. यूनिवर्स ऑफ सोवियत सोशलिस्ट रिपब्लिक (USSR)
 - 2. संयुक्त राष्ट्र अमेरिका (USA)
 - 3. जर्मनी
 - 4. ऑस्ट्रेलिया

Question ID : 8161611577
Status : Answered
Chosen Option : 2

Q.7 खाशाबा दादासाहेब जाधव किस खेल से संबंधित थे?

- Ans
- 1. भारोत्तोलन
 - 2. जिम्नास्टिक
 - 3. निशानेबाज़ी (शूटिंग)
 - 4. कुश्ती

Question ID : 8161611581
Status : Answered
Chosen Option : 4

Q.8 Which tissue has heavily thickened lignified walls?

- Ans
- 1. Collenchyma
 - 2. Parenchyma
 - 3. Aerenchyma
 - 4. Sclerenchyma

Question ID : 8161611566
Status : Answered
Chosen Option : 4

Q.9 दिसंबर 2019 में, किस पूर्व भारतीय प्रधानमंत्री के नाम पर 'रोहतांग सुरंग' का नाम रखा गया?

- Ans
- 1. अटल बिहारी वाजपेयी
 - 2. जवाहर लाल नेहरू
 - 3. राजीव गांधी
 - 4. लाल बहादुर शास्त्री

Question ID : 8161611563
Status : Answered
Chosen Option : 1

Q.10 इब्राहिम लोधी दिल्ली का सुल्तान कब बना था?

- Ans
- 1. 1517
 - 2. 1526
 - 3. 1516
 - 4. 1527

Question ID : 8161611574
Status : Answered
Chosen Option : 1

Q.11 विश्व स्तनपान रुझान पहल (WBTi) द्वारा किए गए एक नए सर्वेक्षण के अनुसार, स्तनपान की दर में 97 देशों में से पहले स्थान पर कौन सा देश था?

- Ans
- 1. जापान
 - 2. श्रीलंका
 - 3. भारत
 - 4. चीन

Question ID : 8161611561
Status : Not Answered
Chosen Option : --

Q.12 2019 में साहित्य का नोबेल पुरस्कार किस को प्राप्त हुआ था?

- Ans
- 1. ओल्गा टोकारजुक
 - 2. बॉब डिलन
 - 3. पीटर हैंडके
 - 4. काजुओ इशियुरो

Question ID : 8161611576
Status : Answered
Chosen Option : 3

Q.13 भारत के मुख्य चुनाव आयुक्त का कार्यकाल कितने समय का होता है?

- Ans
- 1. 6 वर्ष या 65 वर्ष की आयु तक, जो भी पहले हो।
 - 2. 3 वर्ष या 65 वर्ष की आयु तक, जो भी पहले हो।
 - 3. 5 वर्ष या 65 वर्ष की आयु तक, जो भी पहले हो।
 - 4. 4 वर्ष या 65 वर्ष की आयु तक, जो भी पहले हो।

Question ID : 8161611578
Status : Answered
Chosen Option : 1

Q.14 भारत में पहले क्षेत्रीय ग्रामीण बैंक की स्थापना किस वर्ष की गई थी?

- Ans
- 1. 1982
 - 2. 1980
 - 3. 1991
 - 4. 1975

Question ID : 8161611565
Status : Answered
Chosen Option : 4

Q.15 Python is a _____.

- Ans
- 1. machine language
 - 2. low level language
 - 3. assembly language
 - 4. high level language

Question ID : 8161611557
Status : Answered
Chosen Option : 1

Q.16 बांग्लादेश, भूटान, भारत और नेपाल (BBIN), इन चार सार्क (SAARC) देशों के उप-समूह के बीच यात्री, कार्मिक और कार्गो वाहन यातायात के विनियमन के लिए, किस वर्ष ऐतिहासिक मोटर वाहन समझौते (MVA) पर हस्ताक्षर किए गए थे?

- Ans
- 1. 2015
 - 2. 2010
 - 3. 2013
 - 4. 2012

Question ID : 8161611572
Status : Answered
Chosen Option : 1

Q.17 भारत के नौगम्य (navigable) अंतरदेशीय जलमार्ग की अनुमानित लंबाई कितनी है?

- Ans
- 1. 16,400 km
 - 2. 12,800 km
 - 3. 15,600 km
 - 4. 14,500 km

Question ID : 8161611570
Status : Answered
Chosen Option : 3

Q.18 मिस वर्ल्ड 2019 सौंदर्य प्रतियोगिता (Miss World 2019 beauty pageant) किसने जीता?

- Ans
- 1. टोनी-ऐन सिंह
 - 2. सुमन राव
 - 3. वानेसा पोंस डी लियोन
 - 4. मानुषी छिल्लर

Question ID : 8161611575
Status : Answered
Chosen Option : 1

Q.19 The term 'white revolution' is related with:

- Ans 1. milk
 2. fish
 3. egg
 4. crops

Question ID : 8161611564
Status : Answered
Chosen Option : 1

Q.20 पहले राष्ट्रमंडल खेलों (कॉमनवेल्थ गेम्स) का आयोजन कब किया गया था?

- Ans 1. 1935
 2. 1920
 3. 1925
 4. 1930

Question ID : 8161611579
Status : Answered
Chosen Option : 4

Q.21 अटल भूजल योजना (ABY) _____ से संबंधित है।

- Ans 1. भूजल
 2. जैविक खेती
 3. रोजगार
 4. जलवायु परिवर्तन

Question ID : 8161611562
Status : Not Answered
Chosen Option : --

Q.22 In which state is the Bankapura Peacock Sanctuary situated?

- Ans 1. Karnataka
 2. Madhya Pradesh
 3. Rajasthan
 4. Maharashtra

Question ID : 8161611571
Status : Not Answered
Chosen Option : --

Q.23 निज़ाम सागर बाँध निम्नलिखित में से किस राज्य में स्थित है?

- Ans
- 1. पश्चिम बंगाल
 - 2. आंध्र प्रदेश
 - 3. कर्नाटक
 - 4. तेलंगाना

Question ID : 8161611569
Status : Answered
Chosen Option : 1

Q.24 ढिमसा किस राज्य का अधिकारिक लोक नृत्य है?

- Ans
- 1. कर्नाटक
 - 2. राजस्थान
 - 3. महाराष्ट्र
 - 4. आंध्र प्रदेश

Question ID : 8161611559
Status : Answered
Chosen Option : 1

Q.25 निम्नलिखित में से कौन सा समभारिक युग्म का एक उदाहरण है?

- Ans
- 1. हाइड्रोजन और हीलियम
 - 2. कैल्शियम और आर्गन
 - 3. क्लोरीन और ऑक्सीजन
 - 4. ऑक्सीजन और कार्बन

Question ID : 8161611568
Status : Answered
Chosen Option : 1

Roll Number	
Candidate Name	
Venue Name	
Exam Date	18/03/2020
Exam Time	10:00 AM - 11:00 AM
Subject	CHSL Tier 1

Section : English Language (Basic Knowledge)

Q.1 Select the wrongly spelt word.

- Ans
- 1. Valediction
 - 2. Selection
 - 3. Conviction
 - 4. Defenition

Question ID : 42442919
Status : Answered
Chosen Option : 4

Q.2 Select the most appropriate meaning of the given idiom.

Vanish into the air

- Ans
- 1. Perpetually postpone
 - 2. Totally dilute
 - 3. Completely disappear
 - 4. Permanently mix

Question ID : 42442918
Status : Answered
Chosen Option : 3

Q.3 Select the correct indirect form of the given sentence.

Shanti asked me, "Why did you keep this smartphone in the bin?"

- Ans
- 1. Shanti asked me why I was keeping that smartphone in the bin.
 - 2. Shanti asked me why I had been keeping that smartphone in the bin.
 - 3. Shanti asked me why I kept that smartphone in the bin.
 - 4. Shanti asked me why I had kept that smartphone in the bin.

Question ID : 4244292
Status : Answered
Chosen Option : 1

Q.4 Select the correct passive form of the given sentence.

The students have performed a new version of Shakespeare's 'Macbeth'.

- Ans
- 1. Shakespeare's 'Macbeth' has been performed by the new version of the students.
 - 2. A new version of Shakespeare's 'Macbeth' have been performed by the students.
 - 3. A new version of Shakespeare's 'Macbeth' has been performed by the students.
 - 4. Shakespeare's 'Macbeth' have been performed by the new version of the students.

Question ID : 4244291
Status : Answered
Chosen Option : 4

Comprehension:

In the following passage some words have been deleted. Fill in the blanks with the help of the alternatives given. Select the most appropriate option for each blank.

The internet is fast becoming trusted by (1)_____ children and adults as reliable and accurate (2)_____ of information. Through the internet children now have (3)_____ to an almost endless supply of information and opportunity for (4)_____. However, there can be real risks and dangers for an (5)_____ child.

SubQuestion No : 5

Q.5 Select the most appropriate option for blank No. 1.

- Ans
- 1. both
 - 2. not only
 - 3. neither
 - 4. often

Question ID : 4244296
Status : Not Answered
Chosen Option : --

Comprehension:

In the following passage some words have been deleted. Fill in the blanks with the help of the alternatives given. Select the most appropriate option for each blank.

The internet is fast becoming trusted by (1)_____ children and adults as reliable and accurate (2)_____ of information. Through the internet children now have (3)_____ to an almost endless supply of information and opportunity for (4)_____. However, there can be real risks and dangers for an (5)_____ child.

SubQuestion No : 6

Q.6 Select the most appropriate option for blank No. 2.

- Ans
- 1. source
 - 2. deposit
 - 3. collection
 - 4. piece

Question ID : 4244297
Status : Answered
Chosen Option : 1

Comprehension:

In the following passage some words have been deleted. Fill in the blanks with the help of the alternatives given. Select the most appropriate option for each blank.

The internet is fast becoming trusted by (1)_____ children and adults as reliable and accurate (2)_____ of information. Through the internet children now have (3)_____ to an almost endless supply of information and opportunity for (4)_____. However, there can be real risks and dangers for an (5)_____ child.

SubQuestion No : 7

Q.7 Select the most appropriate option for blank No. 3.

- Ans
- 1. access
 - 2. easiness
 - 3. gathering
 - 4. ability

Question ID : 4244298
Status : Answered
Chosen Option : 1

Comprehension:

In the following passage some words have been deleted. Fill in the blanks with the help of the alternatives given. Select the most appropriate option for each blank.

The internet is fast becoming trusted by (1)_____ children and adults as reliable and accurate (2)_____ of information. Through the internet children now have (3)_____ to an almost endless supply of information and opportunity for (4)_____. However, there can be real risks and dangers for an (5)_____ child.

SubQuestion No : 8

Q.8 Select the most appropriate option for blank No. 4.

- Ans
- 1. consultation
 - 2. intimation
 - 3. deliberation
 - 4. interaction

Question ID : 4244299
Status : Answered
Chosen Option : 2

Comprehension:

In the following passage some words have been deleted. Fill in the blanks with the help of the alternatives given. Select the most appropriate option for each blank.

The internet is fast becoming trusted by (1)_____ children and adults as reliable and accurate (2)_____ of information. Through the internet children now have (3)_____ to an almost endless supply of information and opportunity for (4)_____. However, there can be real risks and dangers for an (5)_____ child.

SubQuestion No : 9

Q.9 Select the most appropriate option for blank No. 5.

- Ans
- 1. unauthorised
 - 2. undeveloped
 - 3. unparalleled
 - 4. unsupervised

Question ID : 42442910
Status : Answered
Chosen Option : 1

Q.10 In the sentence identify the segment which contains the grammatical error.

Thomas is a man of word who have been paying back the borrowed money in instalments.

- Ans
- 1. who have been paying back
 - 2. in instalments
 - 3. Thomas is a man of word
 - 4. the borrowed money

Question ID : 4244293
Status : Answered
Chosen Option : 1

Q.11 Select the word which means the same as the group of words given.

Something which is considered to be very important

- Ans
- 1. Scanty
 - 2. Cardinal
 - 3. Supplementary
 - 4. Meagre

Question ID : 42442921
Status : Not Answered
Chosen Option : --

Q.12 In the sentence identify the segment which contains the grammatical error.

Though she was able to finish the work on time, she couldn't do that out in fear.

- Ans
- 1. she couldn't do that
 - 2. Though she was able to
 - 3. finish the work on time,
 - 4. out in fear

Question ID : 4244294
Status : Not Answered
Chosen Option : --

Q.13 Select the most appropriate word to fill in the blank.

I had a broken bone in the hand which the doctor called a _____ and suggested immediate surgery.

- Ans
- 1. contamination
 - 2. infection
 - 3. wound
 - 4. fracture

Question ID : 4244295
Status : Not Answered
Chosen Option : --

Q.14 Select the most appropriate option to substitute the underlined segment in the given sentence. If there is no need to substitute it, select 'No improvement'.

As of you are here with me, who cares about the outcome of the issue.

- Ans
- 1. So long
 - 2. As long as
 - 3. As long to
 - 4. No improvement

Question ID : 42442914
Status : Not Answered
Chosen Option : --

Q.15 Select the most appropriate ANTONYM of the given word.

OBSCURE

- Ans
- 1. Uncertain
 - 2. Ambiguous
 - 3. Vague
 - 4. Clear

Question ID : 42442915
Status : Not Answered
Chosen Option : --

Q.16 Select the word which means the same as the group of words given.

A person who is neither well experienced nor professional

- Ans
- 1. Veteran
 - 2. Expert
 - 3. Amateur
 - 4. Proficient

Question ID : 42442922
Status : Not Answered
Chosen Option : --

Q.17 Select the most appropriate option to substitute the underlined segment in the given sentence. If there is no need to substitute it, select 'No improvement'.

Before it was modified, the Law provided with the owner could take possession of the goods at any time.

- Ans
- 1. provided that
 - 2. provided on
 - 3. No improvement
 - 4. provided as

Question ID : 42442913
Status : Not Answered
Chosen Option : --

Q.18 Select the most appropriate word to fill in the blank.

She has shown a great interest towards space science, since her early childhood and a passion to _____ the outer space.

- Ans
- 1. elicit
 - 2. entertain
 - 3. explore
 - 4. enlighten

Question ID : 42442926
Status : Not Answered
Chosen Option : --

Q.19 Given below are four jumbled sentences. Out of the given options select the one that gives their correct order.

- A. In the evening, Tejaswini would sing songs praising the Lord.
- B. She would go to the Lord's temple twice a day.
- C. Tejaswini was known in the village for her devotion to the Lord.
- D. In the morning, she would take with her a pot of milk and a bunch of flowers as offering.

- Ans
- 1. ACDB
 - 2. DCAB
 - 3. CADB
 - 4. CBDA

Question ID : 42442911
Status : Not Answered
Chosen Option : --

Q.20 Given below are four jumbled sentences. Out of the given options select the one that gives their correct order.

- A. One day, a strange crow from the west, landed on one of the branches.
- B. There was a large mango tree deep inside a thick forest.
- C. The branches were full of leaves, which crackled when the storm blew.
- D. Its branches spread in all directions, lobbing a large shadow on the ground.

- Ans
- 1. CDBA
 - 2. BCAD
 - 3. BDCA
 - 4. ACDB

Question ID : 42442912
Status : Not Answered
Chosen Option : --

Q.21 Select the wrongly spelt word.

- Ans
- 1. Conjugate
 - 2. Corporate
 - 3. Collaborate
 - 4. Comemorate

Question ID : 42442920
Status : Not Answered
Chosen Option : --

Q.22 Select the most appropriate synonym of the given word.

CHOOSY

- Ans
- 1. Productive
 - 2. Frank
 - 3. Selective
 - 4. Tricky

Question ID : 42442923
Status : Not Answered
Chosen Option : --

Q.23 Select the most appropriate meaning of the given idiom.

Take one's hat off to someone

- Ans
- 1. Show admiration
 - 2. Indicate disapproval
 - 3. Express anger
 - 4. Display humility

Question ID : 42442917
Status : Not Answered
Chosen Option : --

Q.24 Select the most appropriate synonym of the given word.

JOVIAL

- Ans
- 1. Jeering
 - 2. Joyous
 - 3. Judgmental
 - 4. Jealous

Question ID : 42442924
Status : Not Answered
Chosen Option : --

Q.25 Select the most appropriate ANTONYM of the given word.

EARTHLY

- Ans
- 1. Temporal
 - 2. Celestial
 - 3. Temperamental
 - 4. Peripheral

Question ID : 42442916
Status : Not Answered
Chosen Option : --

Section : General Intelligence

Q.1 दिए गए समीकरण को संतुलित करने के लिए किन दो गणितीय चिह्नों को आपस में बदलना होगा?
 $4 + 6 + 9 - 48 \times 8 = 27$

- Ans
- 1. + और -
 - 2. ÷ और +
 - 3. ÷ और ×
 - 4. + और ×

Question ID : 42442928
Status : Answered
Chosen Option : 3

Q.2 दर्पण को दाईं ओर रखे जाने पर दी गई अक्षरांकीय आकृति की सही दर्पण छवि कौन सी होगी?

AHTOITG46Q34

Ans

1. 4E094GLIOHTV

2. 4E094GLIOLHV

3. 4EQ94OTIOTHA

4. 4EQ94GITOTHA

Question ID : 42442950

Status : Answered

Chosen Option : 3

Q.3 A और B किसी काम को क्रमशः 30 दिन और 18 दिन में पूरा कर सकते हैं। A अकेले काम करना शुरू करता है, 6 दिन बाद B उसके साथ जुड़ता है जो काम खत्म होने तक A के साथ काम करता है। बताएं की कुल कितने दिनों में काम पूरा होगा?

Ans

1. 9

2. 15

3. 12


4. 17

Question ID : 42442933

Status : Answered

Chosen Option : 2

Q.4 उस विकल्प-आकृति का चयन करें, जो निम्नलिखित श्रृंखला में अगले स्थान पर आएगी।



Ans



Question ID : 42442946

Status : Answered

Chosen Option : 4

Q.5 दिए गए समीकरण को संतुलित करने के लिए किन दो गणितीय चिहनों और संख्याओं को आपस में बदलना होगा?

$$16 \times 18 + 2 - 14 + 3 = 38$$

Ans

✗ 1. 14 और 18, + और -

✗ 2. 16 और 14, - और ×

✗ 3. 16 और 3, - और ÷

✓ 4. 14 और 18, + और ×

Question ID : 42442931

Status : Not Answered

Chosen Option : --

Q.6 उस विकल्प का चयन करें, जिसका तीसरे अक्षर-समूह से वही संबंध है, जो संबंध दूसरे अक्षर-समूह का पहले अक्षर-समूह से है।

INTEX : EINTX :: SMALL : ?

Ans

✗ 1. ALMLV

✗ 2. LLAMV

✓ 3. ALLMS

✗ 4. AJKLM

Question ID : 42442937

Status : Answered

Chosen Option : 3

Q.7 चार अक्षर-युग्म दिए गए हैं, जिसमें से तीन किसी न किसी प्रकार संगत हैं और एक असंगत है। उस असंगत अक्षर-युग्म का चयन करें।

- Ans
- 1. US
 - 2. BE
 - 3. AY
 - 4. OM

Question ID : 42442942
Status : Answered
Chosen Option : 2

Q.8 किसी निश्चित कूट भाषा में, MUSIC को 60 और TUNE को 56 लिखा जाता है। उसी भाषा में LYRIC को क्या लिखा जाएगा?

- Ans
- 1. 62
 - 2. 65
 - 3. 67
 - 4. 63

Question ID : 42442936
Status : Answered
Chosen Option : 1

Q.9 उस विकल्प का चयन करें, जिसमें शब्दों के बीच वही संबंध है, जो संबंध दिए गए शब्द-युग्म के शब्दों के बीच है।
कुर्सी : फर्नीचर

- Ans
- 1. साइकिल : यात्रा
 - 2. आसन (सीट) : आवरण (कवर)
 - 3. लिखने का कागज : लेखन सामग्री (स्टेशनरी)
 - 4. पेंसिल : लकड़ी

Question ID : 42442941
Status : Answered
Chosen Option : 3

Q.10 उस विकल्प का चयन करें, जिसका तीसरी संख्या से वही संबंध है, जो संबंध दूसरी संख्या का पहली संख्या से है।
9 : 121 :: 7 : ?

- Ans
- 1. 102
 - 2. 105
 - 3. 79
 - 4. 81

Question ID : 42442929
Status : Answered
Chosen Option : 4

Q.11 किसी निश्चित कूट भाषा में, 'APRICOT' को 'GLXRIKZ' लिखा जाता है। उसी भाषा में 'ORANGE' को क्या लिखा जाएगा?

- Ans
- 1. VTNZHM
 - 2. VTMZIL
 - 3. LIZMTV
 - 4. LHZMSV

Question ID : 42442943

Status : Answered

Chosen Option : 2

Q.12 निम्नलिखित शब्दों को एक तार्किक और अर्थपूर्ण क्रम में व्यवस्थित करें।

1. पत्र
2. उपग्रह
3. टेलीफोन
4. स्मार्टफोन

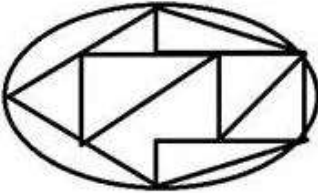
- Ans
- 1. 3, 1, 2, 4
 - 2. 1, 3, 4, 2
 - 3. 4, 3, 1, 2
 - 4. 3, 2, 1, 4

Question ID : 42442934

Status : Answered

Chosen Option : 2

Q.13 दी गई आकृति में कितने त्रिभुज हैं?



- Ans
- 1. 13
 - 2. 10
 - 3. 12
 - 4. 8

Question ID : 42442947

Status : Answered

Chosen Option : 4

Q.14 शीला ने यह कहते हुए राहुल का परिचय करवाया, "उसकी बहन मेरी माँ की एकमात्र बेटी है"। राहुल और शीला दोनों में परस्पर क्या संबंध है?

Ans

- ✓ 1. भाई - बहन
- ✗ 2. चाचा - भतीजी/ मामा - भांजी
- ✗ 3. बेटा-माँ
- ✗ 4. चचेरे/ममेरे/फुफेरे भाई बहन

Question ID : 42442940

Status : Answered

Chosen Option : 1

Q.15 किसी निश्चित कूट भाषा में, PAGER को MIDOO लिखा जाता है। उसी भाषा में ANGEL को क्या लिखा जाएगा?

Ans

- ✗ 1. AOIDK
- ✗ 2. ILVDN
- ✓ 3. IKDOI
- ✗ 4. AVIDI

Question ID : 42442935

Status : Not Answered

Chosen Option : --

Q.16 दिए गए कथनों और निष्कर्षों को ध्यान से पढ़ें। यह मानते हुए कि कथनों में दी गई जानकारी सही है, भले ही वह आम तौर पर स्थापित तथ्यों से भिन्न दिखाई देती हो, यह निर्णय लें कि कौन सा/से निष्कर्ष तर्कसंगत रूप से इन कथनों का अनुसरण करता/करते है/हैं।

कथन:

- 1. सभी दरवाजे, शिक्षक हैं।
- 2. सभी शिक्षक, प्याले हैं।

निष्कर्ष:

- I. सभी प्याले, दरवाजे हैं।
- II. सभी दरवाजे, प्याले हैं।
- III. सभी शिक्षक, दरवाजे हैं।
- IV. कुछ प्याले, शिक्षक हैं।

Ans

- ✗ 1. केवल निष्कर्ष I और निष्कर्ष II अनुसरण करते हैं।
- ✗ 2. केवल निष्कर्ष I और निष्कर्ष III अनुसरण करते हैं।
- ✗ 3. केवल निष्कर्ष I अनुसरण करता है।
- ✓ 4. केवल निष्कर्ष II और निष्कर्ष IV अनुसरण करते हैं।

Question ID : 42442944

Status : Answered

Chosen Option : 4

Q.17 शूभ 10 वर्ष की आयु का एक लड़का है। यदि उसकी माँ उससे 20 वर्ष बड़ी हैं और उसके पिता से 6 वर्ष छोटी हैं, तो उसके पिता की आयु कितनी है?

- Ans
- 1. 34 वर्ष
 - 2. 30 वर्ष
 - 3. 26 वर्ष
 - 4. 36 वर्ष

Question ID : 42442927
 Status : Answered
 Chosen Option : 4

Q.18 अक्षरों के उस संयोजन का चयन करें, जिसे निम्नलिखित अक्षर श्रृंखला में रिक्त स्थानों पर क्रमिक रूप से भरे जाने पर श्रृंखला पूरी हो जाएगी।

ab _ _ cba _ _ dd _ _ abcd _ baa _ _ cba

- Ans
- 1. cddabccbadcbcd
 - 2. abeaacdecdeecdd
 - 3. acbdecdeaacecdd
 - 4. abbaacdecdecdd

Question ID : 42442939
 Status : Answered
 Chosen Option : 1

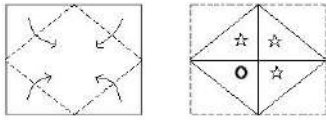
Q.19 उस विकल्प का चयन करें, जिसमें दी गई आकृति अंतर्निहित है। (घुमाने की अनुमति नहीं है)



- Ans
- 1.
 - 2.
 - 3.
 - 4.

Question ID : 42442948
 Status : Answered
 Chosen Option : 1

Q.20 एक काराज को मोड़ा और काटा गया है, जैसा कि नीचे दी गई आकृतियों में दर्शाया गया है। यह काराज खोले जाने पर कैसा दिखाई देगा?

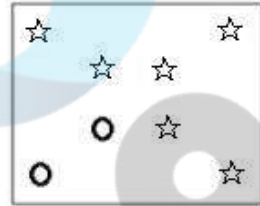


Ans


✗ 1.



✓ 2.



✗ 3.



✗ 4.



Question ID : 42442949
Status : Answered
Chosen Option : 2

Q.21 उस संख्या का चयन करें जो निम्नलिखित श्रेणी में प्रश्न चिह्न (?) के स्थान पर आ सके।
2, 8, 15, 24, 36, 52, ?

Ans

✗ 1. 78

✓ 2. 73

✗ 3. 83

✗ 4. 63

Question ID : 42442932
Status : Answered
Chosen Option : 2

Q.22 अक्षरों के उस समूह का चयन करें, जिसे अक्षर श्रृंखला में रिक्त स्थानों पर क्रमिक रूप से भरे जाने पर श्रृंखला पूरी हो जाएगी।

e _ geef _ gg _ ee _ f _ ggg

- Ans
- 1. f, f, f, f, f
 - 2. f, g, f, g, g
 - 3. g, f, e, f, f
 - 4. f, f, e, f, f

Question ID : 42442938
Status : Answered
Chosen Option : 3

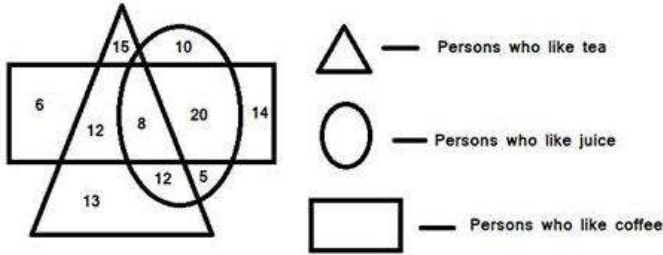
Q.23 उस समुच्चय का चयन करें, जिसमें संख्याओं के बीच वही संबंध है, जो संबंध दिए गए समुच्चय की संख्याओं के बीच है।

(2, 6, 32)

- Ans
- 1. (9, 13, 43)
 - 2. (4, 8, 34)
 - 3. (4, 12, 36)
 - 4. (8, 18, 80)

Question ID : 42442930
Status : Not Answered
Chosen Option : --

Q.24 नीचे दर्शाए गए आरेख का अध्ययन करें और दिए गए प्रश्न का उत्तर दें।

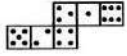


कितने लोग चाय और कॉफी दोनों पसंद करते हैं लेकिन जूस पसंद नहीं करते?

- Ans
- 1. 20
 - 2. 8
 - 3. 12
 - 4. 22

Question ID : 42442951
Status : Answered
Chosen Option : 3

Q.25 यदि नीचे दी गई आकृति को एक घन का रूप देने के लिए मोड़ा जाता है, तो 2 बिंदु दर्शा रहे फलक के विपरीत फलक पर कितने बिंदु होंगे?



- Ans
- 1. 4
 - 2. 6
 - 3. 3
 - 4. 1

Question ID : 42442945
Status : Answered
Chosen Option : 4

Section : Quantitative Aptitude(Basic Arithmetic Skill)

Q.1 यदि $\frac{3x\sqrt{y}+2y\sqrt{x}}{3x\sqrt{y}-2y\sqrt{x}} - \frac{3x\sqrt{y}-2y\sqrt{x}}{3x\sqrt{y}+2y\sqrt{x}}$ का मान $\sqrt{x}\sqrt{y}$ के मान के बराबर है, तो x और y के बीच निम्न में से कौन सा

संबंध सही है?

- Ans
- 1. $9x+4y=36$
 - 2. $9x+4y=24$
 - 3. $9x-4y=36$
 - 4. $9x-4y=24$

Question ID : 42442966
Status : Not Answered
Chosen Option : --

Q.2 यदि एक त्रिभुज की एक भुजा 7 है, इसका परिमाप 18 के बराबर है, और क्षेत्रफल $\sqrt{108}$ के बराबर है, तो अन्य दो भुजाओं के मान ज्ञात कीजिए।

- Ans
- 1. 3 और 8
 - 2. 7 और 4
 - 3. 3.5 और 7.5
 - 4. 6 और 5

Question ID : 42442963
Status : Not Answered
Chosen Option : --

Q.3

यदि $\tan a = \frac{2}{\sqrt{13}}$ है, तो $\frac{\operatorname{cosec}^2 a + 2\sec^2 a}{\operatorname{cosec}^2 a - 3\sec^2 a}$ का मान ज्ञात कीजिए।

Ans

1. 21
 2. 14
 3. 32
 4. 16

Question ID : 42442970

Status : Not Answered

Chosen Option : --

Q.4

यदि $\left[\left[\left(\frac{2}{3} \right)^{2x+3} \right]^{\frac{-3}{4}} \right] = \left[\left[\left(\frac{2}{3} \right)^{3x-7} \right]^{\frac{-6}{5}} \right]$ है, तो $\sqrt{2-42x}$ का मान ज्ञात कीजिए।

Ans

1. 5
 2. 3
 3. 4
 4. 6

Question ID : 42442967

Status : Not Answered

Chosen Option : --

Q.5

निम्न में से कौन-सी संख्या 2, 5 और 10 से विभाज्य है?

Ans

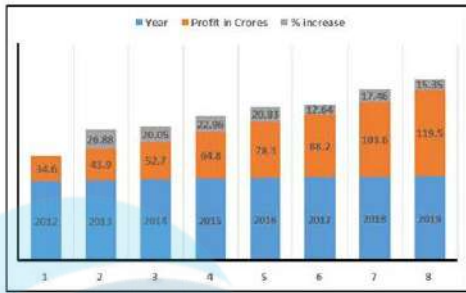
1. 149
 2. 7,20,345
 3. 19,400
 4. 1,25,372

Question ID : 42442968

Status : Answered

Chosen Option : 3

Q.6 नीचे दिया गया ग्राफ वर्ष 2012 से 2019 तक के वर्षों में एक कंपनी द्वारा अर्जित लाभ (करोड़ ₹ में) दर्शाता है।



पिछले वर्ष की तुलना में लाभ में प्रतिशत वृद्धि, किस वर्ष सर्वाधिक है?

- Ans
- 1. 2013
 - 2. 2018
 - 3. 2017
 - 4. 2015

Question ID : 42442976

Status : Answered

Chosen Option : 2

Q.7 एक व्यक्ति ने किसी कीमत पर 40 वस्तुएं खरीदीं। उसने कुछ वस्तुओं को 30% के लाभ पर, 26 वस्तुओं के क्रय मूल्य के बराबर मूल्य पर बेच दिया। शेष वस्तुओं को 18% के लाभ पर बेचा गया। कुल लाभ प्रतिशत क्या है?

- Ans
- 1. 28%
 - 2. 25%
 - 3. 24%
 - 4. 27%

Question ID : 42442958

Status : Not Answered

Chosen Option : --

Q.8 एक आदमी के पास ₹10,000 है। उसने इसका एक हिस्सा 15% साधारण ब्याज पर और शेष 10% साधारण ब्याज पर उधार दिया। 5 वर्षों के बाद उसे ब्याज के रूप में ₹6,500 की प्राप्ति हुई। उसके द्वारा उधार दी गई धनराशियों के बीच अंतर क्या है?

- Ans
- 1. ₹1,750
 - 2. ₹1,500
 - 3. ₹2,500
 - 4. ₹2,000

Question ID : 42442960

Status : Answered

Chosen Option : 2

Q.9 यदि 240 का a%, c है और a का c%, 117.6 है, तो a + c का मान ज्ञात कीजिए।

- Ans
- 1. 260
 - 2. 196
 - 3. 238
 - 4. 144

Question ID : 42442957
Status : Answered
Chosen Option : 2

Q.10 यदि $\frac{4}{1+\sqrt{2}+\sqrt{3}} = a + b\sqrt{2} + c\sqrt{3} - d\sqrt{6}$ है, जहाँ a, b, c, d प्राकृतिक संख्याएँ हैं, तो a + b + c + d का मान ज्ञात कीजिए।

- Ans
- 1. 4
 - 2. 1
 - 3. 2
 - 4. 0

Question ID : 42442965
Status : Not Answered
Chosen Option : --

Q.11 25 पुरुष एक कार्य को 16 दिनों में पूरा कर सकते हैं। काम शुरू करने के चार दिन बाद, समान क्षमता वाले 5 और पुरुष उनके साथ जुड़ गए। शेष कार्य को पूरा करने के लिए सभी को कितने दिनों की आवश्यकता होगी?

- Ans
- 1. 15 दिन
 - 2. 18 दिन
 - 3. 10 दिन
 - 4. 12 दिन

Question ID : 42442952
Status : Answered
Chosen Option : 3

Q.12 रवि सुबह 8:20 बजे अपने घर से अपने स्कूल के लिए साइकिल से चलना शुरू करता है। यदि वह अपनी साइकिल 10 km/h की चाल से चलाता है, तो वह स्कूल के लिए निर्धारित समय से 8 मिनट की देरी से पहुँचता है, और यदि वह अपनी साइकिल 16 km/h की चाल से चलाता है, तो वह स्कूल के लिए निर्धारित समय से 10 मिनट पहले स्कूल पहुँच जाता है। स्कूल शुरू होने का निर्धारित समय क्या है?

- Ans
- 1. 8:50 a.m.
 - 2. 9:40 a.m.
 - 3. 8:40 a.m.
 - 4. 9:00 a.m.

Question ID : 42442953
Status : Answered
Chosen Option : 4

Q.13 $\left(\frac{2}{5} \text{ or } 6\frac{1}{4} - \frac{3}{7}\right) \text{ or } 1\frac{2}{7}$ को $1\frac{1}{4}$ से विभाजित करने पर प्राप्त संख्या का वर्ग x है। तो $81x$ का मान ज्ञात कीजिए।

- Ans
- 1. 4
 - 2. 16
 - 3. 36
 - 4. 9

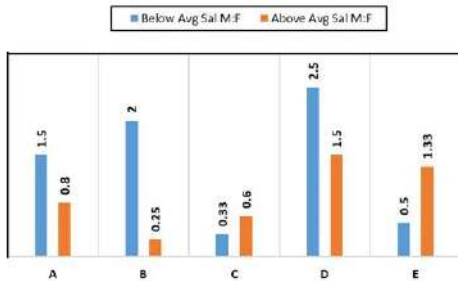
Question ID : 42442969
Status : Answered
Chosen Option : 3

Q.14 दूध और पानी के 56 लीटर के मिश्रण में, दूध और पानी का अनुपात 5 : 2 है। दूध और पानी के अनुपात को 7 : 2 करने के लिए, मिश्रण में कुछ मात्रा में दूध मिलाया जाना है। नए मिश्रण में मौजूद दूध की मात्रा क्या होगी?

- Ans
- 1. 16 लीटर
 - 2. 48 लीटर
 - 3. 40 लीटर
 - 4. 56 लीटर

Question ID : 42442959
Status : Answered
Chosen Option : 4

Q.15 नीचे दिया गया ग्राफ पांच कंपनियों A, B, C, D और E के पुरुष और महिला कर्मचारियों का अनुपात, उनके औसत वेतन से अधिक या कम के आधार पर दर्शाता है।



यदि कंपनी D में, औसत वेतन से अधिक प्राप्त करने वाले कर्मचारियों का प्रतिशत 16% है जो कि 80 के बराबर है, तो औसत वेतन से कम वेतन पाने वाले कर्मचारियों की संख्या ज्ञात कीजिए।

- Ans
- 1. 300
 - 2. 470
 - 3. 420
 - 4. 520

Question ID : 42442973
Status : Not Answered
Chosen Option : --

Q.16 कई छात्रों ने एक परीक्षा दी। उत्तर पत्रिका में एक वृत्ति थी, जिसने 48 छात्रों के अंकों को प्रभावित किया और उनके औसत अंक 78 से घटकर 66 हो गए। शेष छात्रों के औसत में 3.5 अंक की वृद्धि हुई। इससे सभी छात्रों के औसत में 4.5 अंक की कमी हुई। परीक्षा में शामिल होने वाले छात्रों की संख्या क्या है?

- Ans
- 1. 96
 - 2. 84
 - 3. 93
 - 4. 100

Question ID : 42442955
Status : Not Answered
Chosen Option : --

Q.17 $\frac{1-\tan A}{1+\tan A} = \frac{\tan 3^\circ \tan 15^\circ \tan 30^\circ \tan 75^\circ \tan 87^\circ}{\tan 27^\circ \tan 39^\circ \tan 51^\circ \tan 60^\circ \tan 63^\circ}$ है, तो $\cot A$ का मान ज्ञात कीजिए।

- Ans
- 1. 1
 - 2. 3
 - 3. 4
 - 4. 2

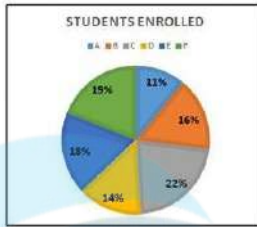
Question ID : 42442972
Status : Not Answered
Chosen Option : --

Q.18 यदि एक आयत की लंबाई 12% बढ़ा दी जाती है और चौड़ाई 8% कम की जाती है, तो क्षेत्रफल पर पड़ने वाला शुद्ध प्रभाव क्या होगा?

- Ans
- 1. 3.04% की कमी
 - 2. 2.6% की कमी
 - 3. 3.04% की वृद्धि
 - 4. 2.6% की वृद्धि

Question ID : 42442954
Status : Answered
Chosen Option : 3

Q.19 दिया गया पाई चार्ट एक शहर में कॉलेज A, B, C, D, E और F में नामांकित छात्रों के प्रतिशत को दर्शाता है, और तालिका कॉलेज में लड़कों और लड़कियों के अनुपात को दर्शाती है।



A	9 : 4
B	5 : 9
C	3 : 4
D	7 : 2
E	1 : 4
F	3 : 2

उक्त जानकारी के आधार पर, यदि छात्रों की कुल संख्या 9800 है, तो कॉलेज B में लड़कियों की संख्या ज्ञात कीजिए।

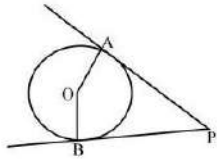
- Ans
- 1. 280
 - 2. 560
 - 3. 504
 - 4. 1008

Question ID : 42442974

Status : Not Answered

Chosen Option : --

Q.20



PA और PB किसी वृत्त की स्पर्शरेखाएं हैं और O उस वृत्त का केंद्र है। त्रिज्या 5 cm और PO की लंबाई 13 cm है। यदि त्रिभुज PAB का क्षेत्रफल M है, तो $\sqrt{\frac{M}{15}}$ का मान ज्ञात कीजिए।

- Ans
- 1. $\sqrt{\frac{12}{13}}$
 - 2. $\sqrt{\frac{24}{13}}$
 - 3. $\frac{12}{13}$
 - 4. $\frac{24}{13}$

Question ID : 42442964

Status : Not Answered

Chosen Option : --

Q.21 एक दुकानदार किसी वस्तु को खरीदते समय लागत मूल्य का 12%, कर के रूप में चुकाता है जिसकी लागत ₹500 है। वह अंकित मूल्य पर 16% की छूट देने के बाद 20% का लाभ अर्जित करना चाहता है। तो, अंकित मूल्य क्या होना चाहिए?

- Ans
- 1. ₹800
 - 2. ₹960
 - 3. ₹840
 - 4. ₹780

Question ID : 42442956

Status : Not Answered

Chosen Option : --

Q.22 यदि $a \sin A + b \cos A = c$ है, तो $a \cos A - b \sin A$ का मान क्या है?

- Ans
- 1. $\sqrt{a^2 - b^2 - c^2}$
 - 2. $\sqrt{a^2 - b^2 + c^2}$
 - 3. $\sqrt{a^2 + b^2 - c^2}$
 - 4. $\sqrt{a^2 + b^2 + c^2}$

Question ID : 42442971

Status : Not Answered

Chosen Option : --

Q.23 एक बिंदु P से एक वृत्त की ओर एक छेदक खींचा जाता है ताकि वह पहले वृत्त से A पर मिले, फिर केंद्र से होकर जाए, और B पर वृत्त से बाहर निकल जाए। यदि P से वृत्त की स्पर्शरेखा की लंबाई 12 cm है, और वृत्त की त्रिज्या 5 cm है, तो P से A की दूरी क्या है?

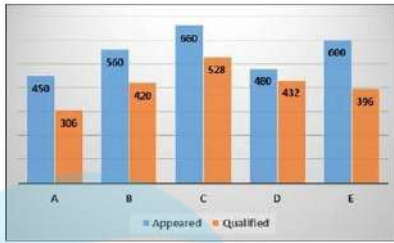
- Ans
- 1. 10 cm
 - 2. 8 cm
 - 3. 18 cm
 - 4. 12 cm

Question ID : 42442961

Status : Not Answered

Chosen Option : --

Q.24 नीचे दिया गया आरेख, कॉलेज A, B, C, D, E से एक प्रतिस्पर्धी परीक्षा के लिए उपस्थित और उत्तीर्ण होने वाले उम्मीदवारों की संख्याओं के आंकड़े दर्शाता है।



दी गई जानकारी के आधार पर, कॉलेज B और D से उत्तीर्ण होने वाले छात्रों के प्रतिशत के बीच संख्यात्मक अंतर ज्ञात कीजिए।

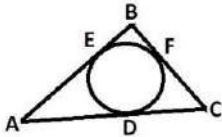
- Ans
1. 18
 2. 15
 3. 20
 4. 12

Question ID : 42442975

Status : Not Answered

Chosen Option : --

Q.25



त्रिभुज ABC में एक अंतःवृत्त खींचा गया है जिसकी भुजाएं $AB = 10$, $BC = 8$, $CA = 12$ इकाई के रूप में दी गई हैं जैसा कि चित्र में दर्शाया गया है। $AD \times BF$ का मान ज्ञात कीजिए।

- Ans
1. 15 इकाई
 2. 18 इकाई
 3. 21 इकाई
 4. 16 इकाई

Question ID : 42442962

Status : Not Answered

Chosen Option : --

Q.1 निम्नलिखित में से किस योजना के तहत भारत सरकार ने लघु इकाईयों के विकास और पुनर्वित्त संबंधी गतिविधियों के लिए एक नई संस्था की स्थापना की है?

- Ans
- 1. प्रधानमंत्री मनरेगा (MNREGA) योजना
 - 2. प्रधानमंत्री मुद्रा (MUDRA) योजना
 - 3. प्रधानमंत्री सड़क योजना
 - 4. प्रधानमंत्री योजना

Question ID : 42442985
Status : Answered
Chosen Option : 2

Q.2 भारतीय संविधान सभा की प्रारूप समिति के अध्यक्ष कौन थे?

- Ans
- 1. राजेन्द्र प्रसाद
 - 2. सरदार वल्लभभाई पटेल
 - 3. बी.आर. अंबेडकर
 - 4. जवाहर लाल नेहरू

Question ID : 42442993
Status : Answered
Chosen Option : 3

Q.3 निम्नलिखित में से कौन-सी बीमारी प्रोटोजोआ (protozoa) के कारण होती है?

- Ans
- 1. चेचक
 - 2. रेबीज
 - 3. एड्स
 - 4. काला अजार

Question ID : 42442987
Status : Answered
Chosen Option : 4

Q.4 निम्नलिखित में से किसे 'दादा साहब फाल्के पुरस्कार 2019' दिया गया?

- Ans
- 1. अनुपम खेर
 - 2. अमिताभ बच्चन
 - 3. दिलीप कुमार
 - 4. कबीर बेदी

Question ID : 42442995
Status : Answered
Chosen Option : 2

Q.5 आई.सी.सी. की 'सर गारफील्ड सोबर्स ट्रॉफी 2019' किसने जीती?

- Ans
- 1. विराट कोहली
 - 2. केन विलियमसन
 - 3. बेन स्टोक्स
 - 4. रोहित शर्मा

Question ID : 42442996
Status : Answered
Chosen Option : 3

Q.6 'गुरुपर्व' सिख समुदाय का सबसे महत्वपूर्ण और पवित्र त्योहार है। हिंदू कैलेंडर के अनुसार इसे निम्नलिखित में से किस महीने में मनाया जाता है?

- Ans
- 1. वैशाख
 - 2. ज्येष्ठ
 - 3. कार्तिक
 - 4. श्रावण

Question ID : 42442979
Status : Answered
Chosen Option : 4

Q.7 'कथकली' नृत्य ललित कला के _____ प्रारूपों का लयबद्ध संयोजन है।

- Ans
- 1. पांच
 - 2. सात
 - 3. छह
 - 4. चार

Question ID : 42442980
Status : Answered
Chosen Option : 2

Q.8 कंप्यूटर डेटा स्टोरेज (भंडारण) के मेमोरी साइज़ के संदर्भ में, एक गीगाबाइट में कितने मेगाबाइट होते हैं?

- Ans
- 1. 1012 MB
 - 2. 64 MB
 - 3. 32 MB
 - 4. 1024 MB

Question ID : 42442977
Status : Answered
Chosen Option : 4

Q.9 निम्नलिखित में से किस वैज्ञानिक ने डायनामाइट का आविष्कार किया था?

- Ans
- 1. बेंजामिन फ्रैंकलिन
 - 2. रुडॉल्फ डीज़ल
 - 3. थॉमस ऐल्वा एडीसन
 - 4. अल्फ्रेड नोबेल

Question ID : 42442986
Status : Answered
Chosen Option : 4

Q.10 विशेष रूप से निर्मित टैंकों और तालाबों में मछली प्रजनन को _____ के नाम से जाना जाता है।

- Ans
- 1. विटीकल्चर
 - 2. होरीकल्चर
 - 3. पिंसीकल्चर
 - 4. एग्रिकल्चर

Question ID : 42442990
Status : Answered
Chosen Option : 3

Q.11 दिन में दो बार समुद्र के पानी के लयबद्ध उतार-चढ़ाव को _____ कहा जाता है।

- Ans
- 1. धारा
 - 2. सुनामी
 - 3. लहर
 - 4. ज्वार

Question ID : 42442989
Status : Answered
Chosen Option : 3

Q.12 निम्नलिखित में से किस वैज्ञानिक को सैद्धांतिक भौतिकी में अपने कार्यों के लिए और विशेष रूप से प्रकाश-विद्युत प्रभाव के नियम (the Law of the Photoelectric Effect) की खोज के लिए नोबेल पुरस्कार दिया गया था?

- Ans
- 1. निकोला टेस्ला
 - 2. थॉमस एडीसन
 - 3. अल्बर्ट आइंस्टीन
 - 4. अर्नेस्ट रदरफोर्ड

Question ID : 42442988
Status : Answered
Chosen Option : 3

Q.13 अगस्त 2019 में आयोजित 'डूरंड कप' का 129वां संस्करण निम्नलिखित में से किस टीम ने जीता?

- Ans
- 1. मोहन बागान
 - 2. मोहम्मडन स्पोर्टिंग क्लब
 - 3. गोकुलम केरल
 - 4. पूर्वी बंगाल

Question ID : 424429100
Status : Answered
Chosen Option : 3

Q.14 हार्ड डिस्क किस प्रकार के डेटा भंडारण उपकरण (डेटा स्टोरेज डिवाइस) का उदाहरण है?

- Ans
- 1. प्रारंभिक भंडारण (Primary Storage)
 - 2. तृतीयक भंडारण (Tertiary Storage)
 - 3. ऑफ़लाइन भंडारण (Offline Storage)
 - 4. द्वितीयक भंडारण (Secondary Storage)

Question ID : 42442978
Status : Not Answered
Chosen Option : --

Q.15 निम्नलिखित कथनों में से कौन-सा सही है?

- Ans
- 1. राज्यपाल के पास मृत्युदंड को निलंबित करने, हटाने या रोकने की कोई शक्ति नहीं है।
 - 2. कोर्ट मार्शल के माध्यम से दिया गया दंड या दंडादेश के संबंध में राष्ट्रपति के पास क्षमादान देने की शक्ति नहीं है।
 - 3. राज्यपाल के पास मृत्युदंड के मामले में क्षमादान की शक्ति होती है।
 - 4. कोर्ट मार्शल के माध्यम से दिया गया दंड या दंडादेश के संबंध में राज्यपाल के पास क्षमादान देने की शक्ति नहीं है।

Question ID : 42442998
Status : Answered
Chosen Option : 4

Q.16 'खेलो इंडिया यूथ गेम्स' के तीसरे संस्करण की मेजबानी निम्नलिखित में से किस शहर ने की थी?

- Ans
- 1. पणजी
 - 2. गुवाहाटी
 - 3. पटना
 - 4. कटक

Question ID : 42442982
Status : Answered
Chosen Option : 2

Q.17 'महिला विश्व रैपिड शतरंज चैम्पियनशिप 2019' किसने जीती?

- Ans
- 1. सोपिको खुखशविली (Sopiko Khukhashvili)
 - 2. हम्पी कोनेरु (Humpy Koneru)
 - 3. लेई तिगजी (Lei Tingjie)
 - 4. हरिका द्रोणवल्ली (Harika Dronavalli)

Question ID : 42442999
Status : Answered
Chosen Option : 2

Q.18 जनवरी 2020 में भारतीय रिजर्व बैंक (आर.बी.आई.) के उप-गवर्नर के रूप में निम्नलिखित में से किसे नियुक्त किया गया?

- Ans
- 1. विरल आचार्य
 - 2. बी.पी. कानूनगो
 - 3. माइकल देवव्रत पात्रा
 - 4. एन.एस. विश्वनाथन

Question ID : 42442981
Status : Answered
Chosen Option : 3

Q.19 'एशियाई एथलेटिक्स चैम्पियनशिप' के 23वें संस्करण में पदक तालिका में भारत का कौन-सा स्थान था?

- Ans
- 1. चौथा
 - 2. पांचवां
 - 3. पहला
 - 4. तीसरा

Question ID : 424429101
Status : Answered
Chosen Option : 1

Q.20 निम्नलिखित में से किस अनुच्छेद के तहत भारतीय संविधान में वित्तीय आपातकाल का प्रावधान किया गया है?

- Ans
- 1. अनुच्छेद 365
 - 2. अनुच्छेद 356
 - 3. अनुच्छेद 330
 - 4. अनुच्छेद 360

Question ID : 42442997
Status : Answered
Chosen Option : 2

Q.21 निम्नलिखित में से किसने 1 जनवरी 2020 को भारत के पहले चीफ ऑफ डिफेंस स्टाफ (सी.डी.एस.) के तौर पर कार्यभार संभाला है?

- Ans
- 1. नौसेना प्रमुख एडमिरल करमबीर सिंह
 - 2. जनरल बिपिन रावत
 - 3. जनरल मनोज मुकुंद नरवणे
 - 4. एयर चीफ मार्शल राकेश कुमार सिंह भदौरिया

Question ID : 42442983
Status : Answered
Chosen Option : 2

Q.22 निम्नलिखित में से किस वर्ष में भारत, ब्रिटिश राज के सीधे नियंत्रण में आ गया था?

- Ans
- 1. 1878
 - 2. 1868
 - 3. 1888
 - 4. 1858

Question ID : 42442994
Status : Answered
Chosen Option : 4

Q.23 विश्व में सबसे बड़े यूरेनियम भंडार में से एक माना जाने वाला तुम्मलपल्ले, निम्नलिखित में से किस राज्य में स्थित है?

- Ans
- 1. तमिलनाडु
 - 2. आंध्र प्रदेश
 - 3. तेलंगाना
 - 4. कर्नाटक

Question ID : 42442991
Status : Answered
Chosen Option : 4

Q.24 भारत में निम्नलिखित में से कौन-सी क्रेडिट रेटिंग एजेंसी नहीं है?

- Ans
- 1. क्रिसिल (CRISIL)
 - 2. आर.बी.आई. (RBI)
 - 3. इकरा (ICRA)
 - 4. केयर (CARE)

Question ID : 42442984
Status : Not Answered
Chosen Option : --

Q.25 विश्व का सबसे बड़ा यूरेनियम उत्पादक देश कौन-सा है?

- Ans
- 1. उज़्बेकिस्तान
 - 2. कज़ाकिस्तान
 - 3. अमेरिका
 - 4. भारत

Question ID : 42442992

Status : Answered

Chosen Option : 3

OnlineGorakhs

Roll Number	
Candidate Name	
Venue Name	
Exam Date	18/03/2020
Exam Time	1:00 PM - 2:00 PM
Subject	CHSL Tier 1

Section : English Language (Basic Knowledge)

Q.1 Select the alternative that will improve the underlined part of the sentence. In case there is no improvement select 'No improvement'.

Priya has been working in this school from June 2017 .

- Ans
- 1. for June 2017
 - 2. No improvement
 - 3. on June 2017
 - 4. since June 2017

Question ID : 8161611381
Status : Answered
Chosen Option : 4

Q.2 Select the most appropriate ANTONYM of the given word.

VERSATILE

- Ans
- 1. Insincere
 - 2. Truthful
 - 3. Honest
 - 4. Inflexible

Question ID : 8161611384
Status : Answered
Chosen Option : 1

Q.3 Select the most appropriate meaning of the idiom.

Touch all bases

- Ans
- 1. Imagine you are flying
 - 2. Force someone to do something
 - 3. Include everything
 - 4. Stretch your hands high

Question ID : 8161611386
Status : Answered
Chosen Option : 3

Q.4 Select the most appropriate synonym of the given word.

KIT

- Ans** 1. Equipment
 2. Information
 3. Particle
 4. Element

Question ID : 8161611391
Status : Answered
Chosen Option : 2

Comprehension:

In the following passage some words have been deleted. Fill in the blanks with the help of the alternatives given. Select the most appropriate option for each blank.

The Great Stupa at Sanchi is one of the oldest stone structures in India. It was originally commissioned (1)_____ Emperor Ashoka in the 3rd century BCE. Its nucleus (2)_____ a simple hemispherical brick structure built (3)_____ the relics of the Buddha. It was crowned by the chhatri, a parasol-like (4)_____ symbolising high rank, which was (5)_____ to honour and shelter the relics.

SubQuestion No : 5

Q.5 Select the most appropriate option to fill in blank No.1.

- Ans** 1. with
 2. to
 3. by
 4. from

Question ID : 8161611374
Status : Answered
Chosen Option : 3

Comprehension:

In the following passage some words have been deleted. Fill in the blanks with the help of the alternatives given. Select the most appropriate option for each blank.

The Great Stupa at Sanchi is one of the oldest stone structures in India. It was originally commissioned (1)_____ Emperor Ashoka in the 3rd century BCE. Its nucleus (2)_____ a simple hemispherical brick structure built (3)_____ the relics of the Buddha. It was crowned by the chhatri, a parasol-like (4)_____ symbolising high rank, which was (5)_____ to honour and shelter the relics.

SubQuestion No : 6

Q.6 Select the most appropriate option to fill in blank No.2.

- Ans** 1. gave
 2. was
 3. were
 4. kept

Question ID : 8161611375
Status : Answered
Chosen Option : 4

Comprehension:

In the following passage some words have been deleted. Fill in the blanks with the help of the alternatives given. Select the most appropriate option for each blank.

The Great Stupa at Sanchi is one of the oldest stone structures in India. It was originally commissioned (1)_____ Emperor Ashoka in the 3rd century BCE. Its nucleus (2)_____ a simple hemispherical brick structure built (3)_____ the relics of the Buddha. It was crowned by the chhatri, a parasol-like (4)_____ symbolising high rank, which was (5)_____ to honour and shelter the relics.

SubQuestion No : 7

Q.7 Select the most appropriate option to fill in blank No.3.

- Ans
- 1. into
 - 2. aside
 - 3. over
 - 4. about

Question ID : 8161611376

Status : Answered

Chosen Option : 4

Comprehension:

In the following passage some words have been deleted. Fill in the blanks with the help of the alternatives given. Select the most appropriate option for each blank.

The Great Stupa at Sanchi is one of the oldest stone structures in India. It was originally commissioned (1)_____ Emperor Ashoka in the 3rd century BCE. Its nucleus (2)_____ a simple hemispherical brick structure built (3)_____ the relics of the Buddha. It was crowned by the chhatri, a parasol-like (4)_____ symbolising high rank, which was (5)_____ to honour and shelter the relics.

SubQuestion No : 8

Q.8 Select the most appropriate option to fill in blank No.4.

- Ans
- 1. conduit
 - 2. wall
 - 3. structure
 - 4. bridge

Question ID : 8161611377

Status : Answered

Chosen Option : 3

Comprehension:

In the following passage some words have been deleted. Fill in the blanks with the help of the alternatives given. Select the most appropriate option for each blank.

The Great Stupa at Sanchi is one of the oldest stone structures in India. It was originally commissioned (1)_____ Emperor Ashoka in the 3rd century BCE. Its nucleus (2)_____ a simple hemispherical brick structure built (3)_____ the relics of the Buddha. It was crowned by the chhatri, a parasol-like (4)_____ symbolising high rank, which was (5)_____ to honour and shelter the relics.

SubQuestion No : 9

Q.9 Select the most appropriate option to fill in blank No.5.

- Ans
- 1. intended
 - 2. outlined
 - 3. informed
 - 4. predicted

Question ID : 8161611378

Status : Answered

Chosen Option : 4

Q.10 Select the most appropriate option to fill in the blank.

The reporter asked the politician, "As a woman leader, what are some of the major _____ that you face?"

- Ans
- 1. crunches
 - 2. contests
 - 3. crashes
 - 4. challenges

Question ID : 8161611393
Status : Answered
Chosen Option : 4

Q.11 Select the word which means the same as the group of words given.

Person or thing that is the centre of attention

- Ans
- 1. Organiser
 - 2. Cynosure
 - 3. Politician
 - 4. Leader

Question ID : 8161611390
Status : Answered
Chosen Option : 2

Q.12 Select the word which means the same as the group of words given.

Small room where dishes are washed

- Ans
- 1. Larder
 - 2. Scullery
 - 3. Pantry
 - 4. Ante-room

Question ID : 8161611389
Status : Answered
Chosen Option : 2

Q.13 Select the most appropriate option to fill in the blank.

Earthquake inspection _____ that the two ancient buildings that remained intact after the Hiroshima bombing in Tokyo would not withstand a strong tremor.

- Ans
- 1. resumed
 - 2. retracted
 - 3. redirected
 - 4. revealed

Question ID : 8161611394
Status : Answered
Chosen Option : 2

Q.14 Select the option that is the passive form of the sentence.

The batsman had hit the ball towards the boundary.

- Ans
- 1. The ball is hit towards the boundary by the batsman.
 - 2. The ball is being hit towards the boundary by the batsman.
 - 3. The ball was hit towards the boundary by the batsman.
 - 4. The ball had been hit towards the boundary by the batsman.

Question ID : 8161611369
Status : Answered
Chosen Option : 4

Q.15 Select the word with the INCORRECT spelling.

- Ans
- 1. Medetative
 - 2. Appended
 - 3. Apprehensive
 - 4. Pensive

Question ID : 8161611387
Status : Answered
Chosen Option : 1

Q.16 Select the option that is the direct form of the sentence.

Kirti asked me if I had watched the movie on television the previous night.

- Ans
- 1. Kirti asked me, "Had you watched the movie on television last night?"
 - 2. Kirti asked me, "Did I watched the movie on television last night?"
 - 3. Kirti asked me, "Did you watch the movie on television last night?"
 - 4. Kirti asked me, "You had watched the movie on television last night?"

Question ID : 8161611370
Status : Answered
Chosen Option : 2

Q.17 Given below are four jumbled sentences. Pick the option that gives their correct order.

- A. Waqar instead gave it to Afridi, who went on to score a 37-ball century, the fastest ODI century.
- B. That was when his teammate Waqar Younis handed him over a bat that belonged to Sachin Tendulkar.
- C. When Shahid Afridi had flown in to join the Pakistan team 1996, he did not even have a proper bat to play with.
- D. Sachin had earlier gifted Waqar his bat to take to Sialkot, Pakistan's world famous sports goods manufacturing capital and get a custom-made one replicated there.

- Ans
- 1. CBDA
 - 2. DCAB
 - 3. ACBD
 - 4. BADC

Question ID : 8161611380
Status : Answered
Chosen Option : 2

Q.18 Given below are four jumbled sentences. Pick the option that gives their correct order.

- A. Mulla Nasruddin opened a hair-cutting salon and was ready to welcome his customers.
 B. "Mulla," he said sheepishly, "my new wife is coming home today."
 C. "Just take out all the grey strands from my beard and make me look very young."
 D. Being the first day, a lot of people came and among them was a man in his early fifties with a flowing beard.

- Ans 1. DBCA
 2. CDAB
 3. ADBC
 4. BDAC

Question ID : 8161611379
 Status : Answered
 Chosen Option : 3

Q.19 Select the most appropriate meaning of the underlined idiom in the given sentence.

The police was able to find the guilty but the big fish escaped.

- Ans 1. main leaders
 2. large-sized ones
 3. tall people
 4. plump men

Question ID : 8161611385
 Status : Answered
 Chosen Option : 1

Q.20 Select the most appropriate synonym of the given word.

ANODYNE

- Ans 1. Harmful
 2. Benign
 3. Gigantic
 4. Hostile

Question ID : 8161611392
 Status : Answered
 Chosen Option : 1

Q.21 Identify the segment in the sentence, which contains the grammatical error.

It is difficult to make out that they are twins because they do not resemble to each other.

- Ans 1. resemble to each other
 2. It is difficult to make out
 3. because they do not
 4. that they are twins

Question ID : 8161611372
 Status : Answered
 Chosen Option : 4

Q.22 Select the word with the correct spelling.

- Ans 1. Impresionable
 2. Propencity
 3. Impeccable
 4. Suceptible

Question ID : 8161611388
 Status : Not Answered
 Chosen Option : --

Q.23 Select the segment in the sentence, which contains the grammatical error.

Oh dear! The audio in one of the channel on television is not clear at all.

- Ans 1. is not clear at all
 2. Oh dear! The audio
 3. in one of the channel
 4. on television

Question ID : 8161611371
 Status : Not Answered
 Chosen Option : --

Q.24 Select the most appropriate ANTONYM of the given word.

NEBULOUS

- Ans 1. Common
 2. Clear
 3. Mutual
 4. Familiar

Question ID : 8161611383
 Status : Answered
 Chosen Option : 2

Q.25 Select the alternative that will improve the underlined part of the sentence. In case there is no improvement select 'No improvement'.

The struggle for climate change must be prioritised given that our population is increasing and not decreasing.

- Ans 1. is prioritising
 2. No improvement
 3. may have prioritised
 4. could prioritise

Question ID : 8161611382
 Status : Answered
 Chosen Option : 4

Q.1 दिए गए चार अक्षर-समूहों में से तीन किसी प्रकार संगत हैं और एक असंगत है। उस असंगत अक्षर-समूह का चयन करें।

- Ans
- 1. CDJK
 - 2. OPTU
 - 3. ABHI
 - 4. LMST

Question ID : 8161611410
Status : Answered
Chosen Option : 2

Q.2 एक पाउंड लगभग 0.453 kg के बराबर होता है। जेनिफर ने 4.409 पाउंड शरीफे खरीदे। उसने कितने किलोग्राम (लगभग) शरीफे खरीदे?

- Ans
- 1. 1
 - 2. 2
 - 3. 2.5
 - 4. 1.5

Question ID : 8161611395
Status : Answered
Chosen Option : 2

Q.3 B की कोई बहन नहीं है। A, B की भाभी है। D, B का एकमात्र भाई है, जबकि B अविवाहित है। F, D का ससुर है। K, F की पत्नी है। K का A से क्या संबंध है?

- Ans
- 1. सास
 - 2. माँ
 - 3. पुत्री
 - 4. बहन

Question ID : 8161611408
Status : Answered
Chosen Option : 2

Q.4 अक्षरों के उस संयोजन का चयन करें जिसके अक्षर दी गई अक्षर-श्रृंखला के रिक्त स्थानों पर क्रमिक रूप से रखे जाने पर श्रृंखला को पूरा करेंगे।

cc_e_gccdeff__cd__fgc

- Ans
- 1. ffceefde
 - 2. eececfce
 - 3. dffgccef
 - 4. cffeccef

Question ID : 8161611407
Status : Answered
Chosen Option : 3

Q.5 दिए गए पैटर्न का ध्यानपूर्वक अध्ययन करें और उस संख्या का चयन करें जो प्रश्न-चिह्न के स्थान पर आएगी।

15	18	?
5 6	4 9	6 7

- Ans
- 1. 21
 - 2. 22
 - 3. 23
 - 4. 15

Question ID : 8161611398
 Status : Answered
 Chosen Option : 1

Q.6 उन गणितीय चिह्नों के संयोजन का चयन करें जिन्हें Y के स्थान पर रखने पर समीकरण संतुलित हो जाएगा।

18 Y 2 Y 3 Y 3 Y 9

- Ans
- 1. $\times, \div, +, =$
 - 2. $\div, \times, =, \times$
 - 3. $\times, =, -, \div$
 - 4. $\div, \times, =, -$

Question ID : 8161611396
 Status : Answered
 Chosen Option : 2

Q.7 उस आकृति का चयन करें जो आकृति-श्रृंखला में प्रश्न-चिह्न (?) के स्थान पर आएगी।

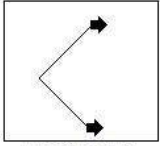


FIGURE 1

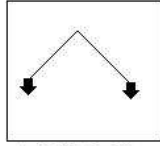


FIGURE 2

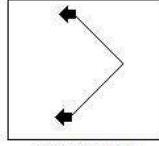


FIGURE 3


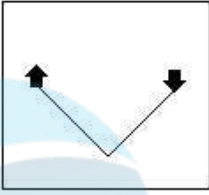


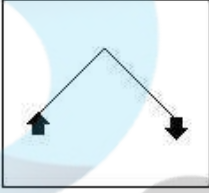
FIGURE 4

Ans

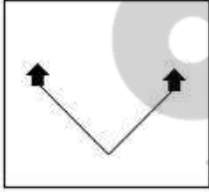
✗ 1.



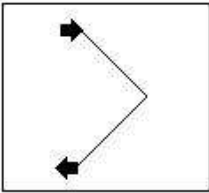
✗ 2.



✓ 3.



✗ 4.

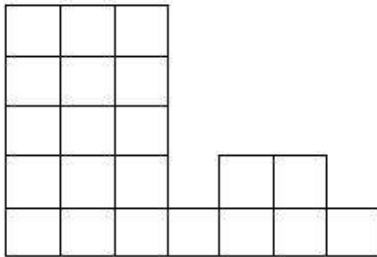


Question ID : 8161611414

Status : Answered

Chosen Option : 3

Q.8 दिए गए चित्र में कितने वर्ग निहित हैं?



Ans

✗ 1. 36

✓ 2. 33

✗ 3. 25

✗ 4. 42

Question ID : 8161611415

Status : Not Answered

Chosen Option : --

Q.9 चार संख्याएँ दी गई हैं, जिनमें से तीन किसी न किसी तरह से संगत हैं और एक असंगत है। असंगत संख्या का चयन करें।

- Ans
- 1. 2628
 - 2. 1568
 - 3. 1432
 - 4. 2514

Question ID : 8161611401

Status : Not Answered

Chosen Option : --

Q.10 किसी कूट भाषा में, 'SURGEON' को "5-3-6-17-19-9-10" लिखा जाता है। उसी भाषा में 'DENTIST' को क्या लिखा जाएगा?

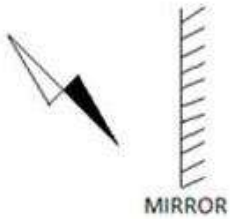
- Ans
- 1. 23-22-13-7-18-8-7
 - 2. 19-18-10-4-15-5-4
 - 3. 20-19-10-4-15-6-5
 - 4. 20-19-10-4-15-5-4

Question ID : 8161611402

Status : Answered

Chosen Option : 4

Q.11 दी गई आकृति के सही दर्पण छवि का चयन करें।



- Ans
- 1.
 - 2.
 - 3.
 - 4.

Question ID : 8161611418

Status : Answered

Chosen Option : 4

Q.12 उस संख्या का चयन करें जो निम्नलिखित श्रेणी में प्रश्न-चिह्न (?) के स्थान पर आएगी।

8, 13, 23, 43, ? , 163, 323

- Ans
- 1. 83
 - 2. 79
 - 3. 93
 - 4. 63

Question ID : 8161611400
Status : Answered
Chosen Option : 1

Q.13 दिए गए चार शब्दों में तीन किसी प्रकार संगत हैं और एक असंगत है। उस असंगत शब्द का चयन करें।

- Ans
- 1. गोशाला
 - 2. बछिया
 - 3. घोसला
 - 4. मधुमक्खी का छत्ता

Question ID : 8161611411
Status : Answered
Chosen Option : 2

Q.14 उस विकल्प का चयन करें जिसका तीसरे अक्षर-समूह से वही संबंध है जो दूसरे अक्षर-समूह का पहले अक्षर-समूह से है।

GROW : IMRS :: PEST : ?

- Ans
- 1. ODQP
 - 2. THVW
 - 3. SZWQ
 - 4. RZVP

Question ID : 8161611405
Status : Answered
Chosen Option : 4

Q.15 उस विकल्प का चयन करें जिसका तीसरे शब्द से वही संबंध है जो दूसरे शब्द का पहले शब्द से है।

व्यायाम : जिमखाना :: मुक्केबाजी : ?

- Ans
- 1. ट्रैक
 - 2. कोर्ट
 - 3. रिंग
 - 4. रिक

Question ID : 8161611406
Status : Answered
Chosen Option : 3

Q.16 उस विकल्प का चयन करें जिसमें संख्याओं के बीच वही संबंध है जो दिए गए समुच्चय की संख्याओं में है।

(36, 10, 16)

- Ans
- 1. (21, 5, 28)
 - 2. (13, 5, 8)
 - 3. (81, 11, 4)
 - 4. (24, 9, 18)

Question ID : 8161611399

Status : Not Answered

Chosen Option : --

Q.17 उस विकल्प का चयन करें जिसमें दी गई प्रश्न आकृति अंतर्निहित है
(घुमाने की अनुमति नहीं है)



Ans

- 1.
- 2.
- 3.
- 4.

Question ID : 8161611416

Status : Answered

Chosen Option : 4

Q.18 उस वेन आरेख का चयन करें जो दिए गए वर्गों के बीच संबंध को सबसे अच्छी तरह से दर्शाता है।

कछुआ, स्तनधारी, उभयचर

Ans

- 1.
- 2.
- 3.
- 4.

Question ID : 8161611419

Status : Answered

Chosen Option : 2

Q.19 नीचे दिए गए कथनों और निष्कर्षों को ध्यानपूर्वक पढ़ें। यह मानते हुए कि कथनों में दी गई जानकारी सत्य है, भले ही यह आम तौर पर स्थापित तथ्यों से भिन्न प्रतीत होती हो, यह निर्णय करें कि दिए गए निष्कर्षों में से कौन सा/से निष्कर्ष कथनों का तार्किक रूप से अनुसरण करता/करते है/हैं।

कथन:

1. कोई कप किताब नहीं है।
2. सेब कप है।

निष्कर्ष:

- I. सेब किताब नहीं है।
- II. सेब किताब हो सकता है या नहीं हो सकता है।

Ans

- ✓ 1. केवल निष्कर्ष I अनुसरण करता है।
- ✗ 2. केवल निष्कर्ष II अनुसरण करता है।
- ✗ 3. निष्कर्ष I या II में से कोई भी अनुसरण नहीं करता है।
- ✗ 4. निष्कर्ष I और II दोनों अनुसरण करते हैं।

Question ID : 8161611412

Status : Answered

Chosen Option : 4

Q.20 उस विकल्प का चयन करें जिसमें संख्याओं के बीच परस्पर वही संबंध है जो दिए गए संख्या-युग्म की संख्याओं के बीच है।

23 : 120

Ans

- ✗ 1. 18 : 90
- ✓ 2. 45 : 230
- ✗ 3. 63 : 316
- ✗ 4. 54 : 250

Question ID : 8161611397

Status : Answered

Chosen Option : 2

Q.21 किसी कूट भाषा में, STAR को 55 के रूप में कोड किया जाता है और CUT को 42 के रूप में कोड किया जाता है। उसी भाषा में PEN को क्या कोड किया जाएगा?

Ans

- ✗ 1. 68
- ✓ 2. 51
- ✗ 3. 63
- ✗ 4. 55

Question ID : 8161611404

Status : Not Answered

Chosen Option : --

Q.22 किसी कूट भाषा में, 'MARINE' को 'IRMVEQ' लिखा जाता है। उसी भाषा में 'BEAUTY' को क्या लिखा जाएगा?

Ans

- ✗ 1. CDOPLY
- ✗ 2. CIGZYD
- ✗ 3. CJHZE
- ✓ 4. CXYEIF

Question ID : 8161611403

Status : Answered

Chosen Option : 4

Q.23 उस विकल्प का चयन करें, जिसका तीसरे शब्द से वही संबंध है, जो दूसरे शब्द का पहले शब्द से है।

नियमित : आकस्मिक :: वास्तविक : ?

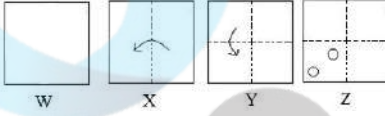
- Ans
1. प्रमाण योग्य
 2. यथार्थ
 3. कल्पित
 4. प्रमाणित

Question ID : 8161611409

Status : Answered

Chosen Option : 3

Q.24 दिए गए चित्र में कागज़ को मोड़ने का क्रम और मोड़े गए कागज़ को काटने की विधि दर्शाई गई है। कागज़ को पुनः खोलने पर यह कैसा दिखाई देगा?



Ans

- 1.
- 2.
- 3.
- 4.

Question ID : 8161611417

Status : Answered

Chosen Option : 1

Q.25 एक ही पासे की तीन अलग-अलग स्थितियाँ दर्शाई गई हैं। उस संख्या का चयन करें जो संख्या 1 वाले फलक के विपरीत फलक पर होगी?



- Ans
- 1. 3
 - 2. 4
 - 3. 5
 - 4. 6

Question ID : 8161611413
Status : Answered
Chosen Option : 3

Section : Quantitative Aptitude(Basic Arithmetic Skill)

Q.1 किसी संस्थान में छात्रों और छात्राओं की संख्या का योगफल 100 है। यदि छात्रों की संख्या x है, तो छात्राओं की संख्या कुल छात्रों की संख्या का $x\%$ होती है। छात्रों की संख्या ज्ञात करें।

- Ans
- 1. 65
 - 2. 45
 - 3. 50
 - 4. 60

Question ID : 8161611425
Status : Answered
Chosen Option : 3

Q.2 एक व्यक्ति 700 m की दूरी 6 मिनट में तय करता है। km/h में उसकी चाल ज्ञात करें।

- Ans
- 1. 4.23 km/h
 - 2. 6 km/h
 - 3. 3.45 km/h
 - 4. 7 km/h

Question ID : 8161611421
Status : Answered
Chosen Option : 4

Q.3 $\sqrt{30 + \sqrt{30 + \sqrt{30 + \sqrt{30 + \dots}}}}$ का मान ज्ञात करें।

- Ans
- 1. 4
 - 2. 5
 - 3. 6
 - 4. 3

Question ID : 8161611435
Status : Answered
Chosen Option : 3

Q.4 यदि धन पूर्णांक n को 7 से विभाजित किया जाता है, तो शेषफल 2 प्राप्त होता है। विकल्पों में से किस संख्या को 7 से विभाजित करने पर शेषफल 0 प्राप्त होगा?

- Ans
- 1. $n + 5$
 - 2. $n + 2$
 - 3. $n + 3$
 - 4. $n + 1$

Question ID : 8161611436
Status : Answered
Chosen Option : 1

Q.5 $\sin(60 + \theta) - \cos(30 - \theta)$ का मान ज्ञात करें।

- Ans
- 1. 1
 - 2. $\frac{1}{2}$
 - 3. 0
 - 4. -1

Question ID : 8161611438
Status : Answered
Chosen Option : 3

Q.6 P, Q से तीन गुना तेज कार्य कर सकता है। स्वतंत्र रूप से कार्य करते हुए, Q किसी कार्य को 24 दिन में पूरा कर सकता है। P और Q एक साथ मिलकर उसी कार्य को कितने दिन में पूरा कर सकते हैं?

- Ans
- 1. 8
 - 2. 6
 - 3. 4
 - 4. 5

Question ID : 8161611420
Status : Answered
Chosen Option : 2

Q.7 दो वृत्त एक दूसरे को बाह्य रूप से स्पर्श करते हैं। उनके केंद्रों के बीच की दूरी 8 cm है। यदि एक वृत्त की त्रिज्या 3 cm है, तो दूसरे वृत्त की त्रिज्या ज्ञात करें।

- Ans
- 1. 4 cm
 - 2. 5 cm
 - 3. 3 cm
 - 4. 6 cm

Question ID : 8161611429
Status : Answered
Chosen Option : 2

Q.8 ₹600 मूल्य वाले दस्ताने के एक दर्जन जोड़े 10% की छूट पर उपलब्ध हैं। जात करें कि ₹270 में कितने जोड़े दस्ताने खरीदे जा सकते हैं।

- Ans
- 1. छह
 - 2. चार
 - 3. सात
 - 4. पांच

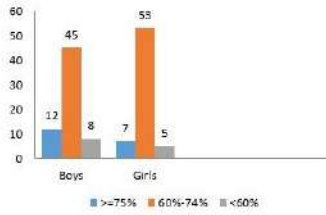
Question ID : 8161611424
Status : Answered
Chosen Option : 1

Q.9 किसी कार के पहिये का व्यास 210 cm है। कार की चाल 120 km/h रखने के लिए पहिये को प्रति मिनट कितने चक्कर लगाना चाहिए?

- Ans
- 1. 245
 - 2. 326.42
 - 3. 303.03
 - 4. 289

Question ID : 8161611430
Status : Not Answered
Chosen Option : --

Q.10 दिया गया बार चार्ट किसी कक्षा के उन छात्रों की संख्या को दर्शाता है, जिन्होंने इन तीन श्रेणियों में अंक प्राप्त किए हैं: $\geq 75\%$, 60%-74% और $< 60\%$ ।



दी गई जानकारी से, जात करें कि कितने प्रतिशत लड़कों को डिस्टिंक्शन (distinction) मिला है।

- Ans
- 1. 13.98%
 - 2. 18.46%
 - 3. 16.78%
 - 4. 15.29%

Question ID : 8161611442
Status : Answered
Chosen Option : 2

Q.11 चार क्रमागत सम संख्याओं का औसत 27 है। इसमें किस संख्या को जोड़ने से औसत 28 हो जाएगा?

- Ans
- 1. 30
 - 2. 32
 - 3. 29
 - 4. 33

Question ID : 8161611423
Status : Answered
Chosen Option : 1

Q.12 समद्विबाहु त्रिभुज का परिमाण 125 cm है। यदि आधार 33 cm है, तो समान भुजाओं की लंबाई ज्ञात करें।

- Ans
- 1. 34 cm
 - 2. 32 cm
 - 3. 46 cm
 - 4. 42 cm

Question ID : 8161611431
Status : Answered
Chosen Option : 3

Q.13 यदि 400 का $30\% + 70$ का $x\% = 536$ का 25% है। तो x का मान ज्ञात करें।

- Ans
- 1. 30
 - 2. 10
 - 3. 20
 - 4. 40

Question ID : 8161611437
Status : Answered
Chosen Option : 3

Q.14 यदि 8% ब्याज की दर पर चार वर्ष में वर्तमान राशि ₹87,750 हो जाती है, तो मूल राशि ज्ञात करें।

- Ans
- 1. ₹78,456.34
 - 2. ₹69,345.6
 - 3. ₹66,477.2
 - 4. ₹56,896.98

Question ID : 8161611428
Status : Answered
Chosen Option : 3

Q.15 5 cm और 12 cm भुजा वाले समकोण त्रिभुज का परिमाण ज्ञात करें।

- Ans
- 1. 17 cm
 - 2. 18 cm
 - 3. 30 cm
 - 4. 25 cm

Question ID : 8161611432
Status : Answered
Chosen Option : 3

Q.16 एक पुस्तक का बिक्री कर सहित विक्रय मूल्य ₹956.34 है। बिक्री कर की दर 10% है। यदि दुकानदार को 15% का लाभ होता है, तो पुस्तक का क्रय मूल्य ज्ञात करें।

- Ans
- 1. ₹756
 - 2. ₹845.98
 - 3. ₹836
 - 4. ₹797.34

Question ID : 8161611426

Status : Answered

Chosen Option : 1

Q.17 यदि $\sin x = -\frac{1}{2}$ है, x का मान ज्ञात करें।

- Ans
- 1. $\frac{7\pi}{6}$
 - 2. $\frac{13\pi}{6}$
 - 3. $\frac{5\pi}{6}$
 - 4. $\frac{\pi}{6}$

Question ID : 8161611440

Status : Answered

Chosen Option : 1

Q.18 यदि $p + \left(\frac{1}{p}\right) = 2$ है, तो $p \times p \times p$ का मान ज्ञात करें।

- Ans
- 1. 4
 - 2. 1
 - 3. 8
 - 4. 2

Question ID : 8161611433

Status : Answered

Chosen Option : 2

Q.19 यदि $a + b + c + d = 2$ है, तो $(1 + a)(1 + b)(1 + c)(1 + d)$ का अधिकतम मान _____ है।

Ans

1. $\frac{54}{13}$
 2. $\frac{63}{22}$
 3. $\frac{81}{16}$
 4. $\frac{91}{9}$

Question ID : 8161611434

Status : Answered

Chosen Option : 3

Q.20 यदि $\sin\theta - \cos\theta = \frac{1}{29}$ है, तो $\sin\theta + \cos\theta$ का मान ज्ञात करें।

Ans

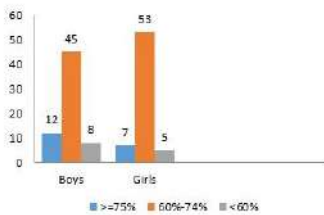
1. $\frac{2}{29}$
 2. $\frac{22}{29}$
 3. $\frac{42}{29}$
 4. $\frac{41}{29}$

Question ID : 8161611439

Status : Not Answered

Chosen Option : --

Q.21 दिया गया बार चार्ट किसी कक्षा के उन छात्रों की संख्या को दर्शाता है, जिन्होंने इन तीन श्रेणियों में अंक प्राप्त किए हैं: $\geq 75\%$, $60\%-74\%$ और $< 60\%$ ।



दी गई जानकारी से जात करें कि कितनी प्रतिशत लड़कियाँ को डिस्टिन्क्शन (distinction) मिला है।

Ans

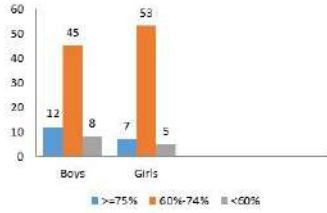
1. 14.28%
 2. 18.49%
 3. 17.86%
 4. 10.76%

Question ID : 8161611443

Status : Answered

Chosen Option : 4

Q.22 दिया गया बार चार्ट किसी कक्षा के उन छात्रों की संख्या को दर्शाता है, जिन्होंने इन तीन श्रेणियों में अंक प्राप्त किए हैं: $\geq 75\%$, $60\%-74\%$ और $<60\%$ ।



60% से 74% तक अंक प्राप्त करने वाले लड़कों और लड़कियों का प्रतिशत अनुपात ज्ञात करें।

- Ans
- 1. 67.54 : 87.45
 - 2. 64.12 : 88.23
 - 3. 69.23 : 81.53
 - 4. 62.78 : 82.67

Question ID : 8161611444

Status : Not Answered

Chosen Option : --

Q.23 दो व्यक्ति P और Q की आय का अनुपात 5 : 6 है। यदि उनमें से प्रत्येक प्रति माह ₹200 की बचत करता है, तो उनके व्यय का अनुपात 3 : 4 है। Q की आय ज्ञात करें।

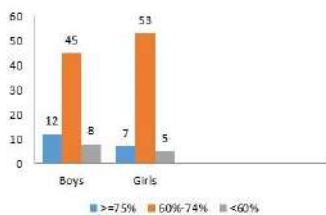
- Ans
- 1. ₹740
 - 2. ₹800
 - 3. ₹600
 - 4. ₹750

Question ID : 8161611427

Status : Answered

Chosen Option : 3

Q.24 दिया गया बार चार्ट किसी कक्षा के उन छात्रों की संख्या को दर्शाता है, जिन्होंने इन तीन श्रेणियों में अंक प्राप्त किए हैं: $\geq 75\%$, $60\%-74\%$ और $<60\%$ ।



लड़के	12	45	8
लड़कियाँ	7	53	5

लड़कियों और लड़कों की कुल संख्या ज्ञात करें।

- Ans
- 1. 130
 - 2. 120
 - 3. 140
 - 4. 110

Question ID : 8161611441

Status : Answered

Chosen Option : 1

Q.25 यदि आयत के परिमाण और लंबाई का अनुपात 6 : 1 है और आयत का क्षेत्रफल 288 cm^2 है, तो आयत की लंबाई ज्ञात करें।

- Ans
- 1. 8 cm
 - 2. 10 cm
 - 3. 12 cm
 - 4. 9 cm

Question ID : 8161611422
Status : Answered
Chosen Option : 3

Section : General Awareness

Q.1 निम्नलिखित में से किसने, ICC का 'ODI क्रिकेटर ऑफ द ईयर 2019' पुरस्कार जीता?

- Ans
- 1. डेविड वार्नर
 - 2. स्टीवन स्मिथ
 - 3. केन विलियमसन
 - 4. रोहित शर्मा

Question ID : 8161611464
Status : Answered
Chosen Option : 4

Q.2 निम्नलिखित में से कौन-सी नदी बंगाल की खाड़ी में गिरती है?

- Ans
- 1. सतलुज
 - 2. कृष्णा
 - 3. ब्यास
 - 4. रावी

Question ID : 8161611459
Status : Answered
Chosen Option : 2

Q.3 जनवरी 2020 में, किस देश ने अनजाने में यूक्रेनी 'बोइंग 737-800' यात्री विमान को मार गिराया था?

- Ans
- 1. सीरिया
 - 2. ईरान
 - 3. सऊदी अरब
 - 4. इराक

Question ID : 8161611449
Status : Answered
Chosen Option : 1

Q.4 जनवरी 2020 में, बेंगलुरु में आयोजित 107वीं भारतीय विज्ञान कांग्रेस का मुख्य विषय क्या था?

- Ans
- 1. विज्ञान और प्रौद्योगिकी: शहरी विकास
 - 2. विज्ञान और प्रौद्योगिकी: नवीकरणीय ऊर्जा विकास
 - 3. विज्ञान और प्रौद्योगिकी: ग्रामीण विकास
 - 4. विज्ञान और प्रौद्योगिकी: जल संसाधन विकास

Question ID : 8161611451
Status : Answered
Chosen Option : 2

Q.5 अंतरराष्ट्रीय शूटिंग स्पोर्ट फेडरेशन (ISSF) की समग्र रैंकिंग के अनुसार, 2019 की समाप्ति तक विश्व में शीर्ष शूटिंग राष्ट्र की जगह पर कौन सा देश है?

- Ans
- 1. रूस
 - 2. चीन
 - 3. संयुक्त राज्य अमेरिका
 - 4. भारत

Question ID : 8161611469

Status : Not Answered

Chosen Option : --

Q.6 निम्नलिखित में से किस राज्य के प्रतिनिधि लोकसभा में सबसे अधिक है?

- Ans
- 1. तमिलनाडु
 - 2. आंध्र प्रदेश
 - 3. उत्तर प्रदेश
 - 4. राजस्थान

Question ID : 8161611465

Status : Answered

Chosen Option : 3

Q.7 भारत के राष्ट्रपति के महाभियोग की प्रक्रिया, निम्नलिखित में से किसमें शुरू की जा सकती है?

- Ans
- 1. राज्यसभा में, लेकिन लोकसभा में नहीं
 - 2. लोकसभा, राज्यसभा या किसी भी राज्य विधान सभा में
 - 3. लोकसभा में, लेकिन राज्यसभा में नहीं
 - 4. संसद के दोनों सदनों में

Question ID : 8161611466

Status : Answered

Chosen Option : 4

Q.8 निम्नलिखित में से कौन-सी फसल, खरीफ की फसल का उदाहरण है?

- Ans
- 1. चना
 - 2. मटर
 - 3. गेहूँ
 - 4. कपास

Question ID : 8161611456

Status : Answered

Chosen Option : 4

Q.9 अक्टूबर 2019 में राष्ट्रीय सुरक्षा गार्ड (NSG) के महानिदेशक के पद पर किसे नियुक्त किया गया है?

- Ans
- 1. बी.पी.एस.यादव
 - 2. अनूप कुमार सिंह
 - 3. उत्कर्ष जैन
 - 4. अवधेश प्रताप सिंह

Question ID : 8161611461

Status : Answered

Chosen Option : 2

Q.10 निम्नलिखित में से किस देश ने जनवरी 2020 में, इनाॅगरल ATP कप टेनिस टूर्नामेंट जीता था?

- Ans
- 1. जर्मनी
 - 2. सर्बिया
 - 3. स्पेन
 - 4. स्विजरलैंड

Question ID : 8161611468
Status : Answered
Chosen Option : 2

Q.11 किस राज्य में फोडोंग बौद्ध मठ स्थित है?

- Ans
- 1. उत्तर प्रदेश
 - 2. अरुणाचल प्रदेश
 - 3. बिहार
 - 4. सिक्किम

Question ID : 8161611448
Status : Answered
Chosen Option : 3

Q.12 सामान्य सर्दी और इन्फ्लुएंजा (फ्लू) के लिए कौन सा सूक्ष्मजीव जिम्मेदार है?

- Ans
- 1. विषाणु (वायरस)
 - 2. प्रोटोजोआ
 - 3. जीवाणु
 - 4. कवक

Question ID : 8161611454
Status : Answered
Chosen Option : 1

Q.13 निम्नलिखित में से कौन-सा एक इनपुट डिवाइस है, जो डिस्प्ले स्क्रीन पर आब्टेक्ट्स का चयन करने के लिए प्रकाश-संवेदी डिटेक्टर (light-sensitive detector) का उपयोग करता है?

- Ans
- 1. ऑप्टिकल मार्क रिकॉग्निशन (OMR)
 - 2. बार कोड रीडर (Bar code reader)
 - 3. लाइट पेन (Light pen)
 - 4. मैग्नेटिक इंक कैरेक्टर रिकॉग्निशन (MICR)

Question ID : 8161611446
Status : Not Answered
Chosen Option : --

Q.14 निम्नलिखित में से कौन-सी पर्वत श्रृंखला भारत में सबसे पुरानी है?

- Ans
- 1. पूर्वी घाट
 - 2. अरावली की पहाड़ियाँ
 - 3. हिमालय
 - 4. पश्चिमी घाट

Question ID : 8161611458
Status : Answered
Chosen Option : 2

Q.15 तेलंगाना किस वर्ष में भारत का 29वां राज्य बना?

- Ans
- 1. 2004
 - 2. 2014
 - 3. 2002
 - 4. 2011

Question ID : 8161611457
Status : Answered
Chosen Option : 2

Q.16 निम्नलिखित में से किसे, टाइम मैगज़ीन द्वारा 'पर्सन ऑफ द ईयर 2019' चुना गया?

- Ans
- 1. मलाला युसुफ़ज़ई
 - 2. डोनाल्ड ट्रम्प
 - 3. ग्रेटा थनबर्ग
 - 4. नरेंद्र मोदी

Question ID : 8161611463
Status : Answered
Chosen Option : 2

Q.17 ICC ODI क्रिकेट विश्व कप 2019 के सेमीफाइनल में, भारत को किसने हराया था?

- Ans
- 1. ऑस्ट्रेलिया
 - 2. इंग्लैंड
 - 3. दक्षिण अफ्रीका
 - 4. न्यूज़ीलैंड

Question ID : 8161611467
Status : Answered
Chosen Option : 4

Q.18 2019 का नोबेल शांति पुरस्कार इथियोपिया के प्रधानमंत्री अबी अहमद अली को विशेष रूप से _____ के साथ सीमा विवाद को सुलझाने के लिए उनके प्रयासों के लिए दिया गया है।

- Ans
- 1. सोमालिया
 - 2. सूडान
 - 3. केन्या
 - 4. इरिट्रिया

Question ID : 8161611450
Status : Not Answered
Chosen Option : --

Q.19 जुलाई 1947 में, जब ब्रिटिश संसद द्वारा भारत के लिए स्वतंत्रता विधेयक पारित किया गया था, उस समय ब्रिटेन (UK) के प्रधानमंत्री कौन थे?

- Ans
- 1. विसटन चर्चिल
 - 2. क्लिमेंट एटली
 - 3. नेविल चेम्बरलेन
 - 4. रैमसे मैकडोनाल्ड

Question ID : 8161611462
Status : Answered
Chosen Option : 2

Q.20 सांभर झील के बारे में निम्नलिखित में से कौन-सा कथन सही है?

- Ans
- 1. यह भारत की सबसे ऊँची झील है।
 - 2. इसका निर्माण धूमकेतु के अतिवेग संघट्टन (हाइपरवेलोसिटी प्रभाव) के कारण हुआ था।
 - 3. यह भारत की सबसे बड़ी अंतःस्थलीय खारे पानी की झील है।
 - 4. यह अरब सागर में गिरती है।

Question ID : 8161611460

Status : Answered

Chosen Option : 2

Q.21 निम्नलिखित में से किस गतिविधि को अर्थव्यवस्था के द्वितीयक क्षेत्र के एक भाग के रूप में वर्गीकृत किया जा सकता है?

- Ans
- 1. कानूनी परामर्श
 - 2. चाय बागान
 - 3. फार्म उपकरण विनिर्माण
 - 4. बैंकिंग

Question ID : 8161611452

Status : Not Answered

Chosen Option : --

Q.22 दुमहल लोक नृत्य, किस राज्य / केंद्रशासित प्रदेश से जुड़ा हुआ है?

- Ans
- 1. हरियाणा
 - 2. अंडमान व निकोबार द्वीप समूह
 - 3. जम्मू और कश्मीर
 - 4. अरुणाचल प्रदेश

Question ID : 8161611447

Status : Answered

Chosen Option : 2

Q.23 भूकंप तरंगों को जिस उपकरण (यंत्र) द्वारा रिकॉर्ड किया जाता है, उसे क्या कहते हैं?

- Ans
- 1. भूकंप-सूचक यंत्र (सीस्मोग्राफ)
 - 2. स्पीडोमीटर
 - 3. रिक्टर पैमाना
 - 4. ओडोमीटर

Question ID : 8161611455

Status : Answered

Chosen Option : 1

Q.24 सेंट्रल प्रोसेसिंग यूनिट (CPU) की गति को _____ में मापा जाता है, जो CPU साइकिल को दर्शाता है।

- Ans
- 1. गीगाबाइट (GB)
 - 2. किलोबाइट (KB)
 - 3. हर्ट्ज़ (Hz)
 - 4. टेराबाइट (TB)

Question ID : 8161611445

Status : Not Answered

Chosen Option : --

Q.25 निम्नलिखित में से किस वित्तीय संस्थान का राष्ट्रीयकरण 1949 में किया गया था?

- Ans
- 1. SIDBI (एस.आई.डी.बी.आई)
 - 2. PNB (पी.एन.बी)
 - 3. IFCI (आई.एफ.सी.आई)
 - 4. RBI (आर.बी.आई)

Question ID : 8161611453

Status : Not Answered

Chosen Option : --



Roll Number	
Candidate Name	
Venue Name	
Exam Date	18/03/2020
Exam Time	4:00 PM - 5:00 PM
Subject	CHSL Tier 1

Section : English Language (Basic Knowledge)

Q.1 Select the word which means the same as the group of words given.

A person who speaks always in praise of himself

- Ans
- 1. Conventionalist
 - 2. Evangelist
 - 3. Egotist
 - 4. Nationalist

Question ID : 8161611614
Status : Answered
Chosen Option : 3

Q.2 Select the most appropriate meaning of the given idiom.

Cut to the chase

- Ans
- 1. Talking about the important point and leaving out the detail
 - 2. Cutting long pieces and spoiling the dish cooked
 - 3. Sleeping long hours and spoiling the health
 - 4. Stopping unexpectedly and missing the chase

Question ID : 8161611610
Status : Answered
Chosen Option : 1

Q.3 In the sentence identify the segment which contains the grammatical error.

The simplest way to get proper recognition are through doing things with dedication and sincerity.

- Ans
- 1. are through doing things
 - 2. The simplest way
 - 3. to get proper recognition
 - 4. with dictation and sincerity

Question ID : 8161611595
Status : Answered
Chosen Option : 1

Q.4 Select the most appropriate synonym of the given word.

EXPLICIT

- Ans 1. Lucid
 2. Compatible
 3. Unintelligible
 4. Equivocal

Question ID : **8161611616**
Status : **Answered**
Chosen Option : **1**

Comprehension:

In the following passage some words have been deleted. Fill in the blanks with the help of the alternatives given. Select the most appropriate option for each blank.

Everyone wants to be happy. I also want to be happy (1)_____ that's when I am at my best. I know that happiness comes from (2)_____ me, not from outside. The (3)_____ tools I will have to learn to use here will only work if I understand that I'm in (4)_____ of my thoughts, actions and emotions and if I'm willing to do some simple exercises on a (5)_____ basis.

SubQuestion No : 5

Q.5 Select the most appropriate option for blank No. 1.

- Ans 1. until
 2. nevertheless
 3. unless
 4. because

Question ID : **8161611598**
Status : **Answered**
Chosen Option : **1**

Comprehension:

In the following passage some words have been deleted. Fill in the blanks with the help of the alternatives given. Select the most appropriate option for each blank.

Everyone wants to be happy. I also want to be happy (1)_____ that's when I am at my best. I know that happiness comes from (2)_____ me, not from outside. The (3)_____ tools I will have to learn to use here will only work if I understand that I'm in (4)_____ of my thoughts, actions and emotions and if I'm willing to do some simple exercises on a (5)_____ basis.

SubQuestion No : 6

Q.6 Select the most appropriate option for blank No. 2.

- Ans 1. around
 2. for
 3. within
 4. on

Question ID : **8161611599**
Status : **Answered**
Chosen Option : **3**

Comprehension:

In the following passage some words have been deleted. Fill in the blanks with the help of the alternatives given. Select the most appropriate option for each blank.

Everyone wants to be happy. I also want to be happy (1)_____ that's when I am at my best. I know that happiness comes from (2)_____ me, not from outside. The (3)_____ tools I will have to learn to use here will only work if I understand that I'm in (4)_____ of my thoughts, actions and emotions and if I'm willing to do some simple exercises on a (5)_____ basis.

SubQuestion No : 7

Q.7 Select the most appropriate option for blank No. 3.

- Ans
- 1. affective
 - 2. powerful
 - 3. effortless
 - 4. stable

Question ID : 8161611600

Status : Answered

Chosen Option : 2

Comprehension:

In the following passage some words have been deleted. Fill in the blanks with the help of the alternatives given. Select the most appropriate option for each blank.

Everyone wants to be happy. I also want to be happy (1)_____ that's when I am at my best. I know that happiness comes from (2)_____ me, not from outside. The (3)_____ tools I will have to learn to use here will only work if I understand that I'm in (4)_____ of my thoughts, actions and emotions and if I'm willing to do some simple exercises on a (5)_____ basis.

SubQuestion No : 8

Q.8 Select the most appropriate option for blank No. 4.

- Ans
- 1. custody
 - 2. charge
 - 3. structure
 - 4. frame

Question ID : 8161611601

Status : Answered

Chosen Option : 2

Comprehension:

In the following passage some words have been deleted. Fill in the blanks with the help of the alternatives given. Select the most appropriate option for each blank.

Everyone wants to be happy. I also want to be happy (1)_____ that's when I am at my best. I know that happiness comes from (2)_____ me, not from outside. The (3)_____ tools I will have to learn to use here will only work if I understand that I'm in (4)_____ of my thoughts, actions and emotions and if I'm willing to do some simple exercises on a (5)_____ basis.

SubQuestion No : 9

Q.9 Select the most appropriate option for blank No. 5.

- Ans 1. regular
 2. stimulant
 3. legal
 4. temporary

Question ID : 8161611602
Status : Answered
Chosen Option : 1

Q.10 Select the most appropriate meaning of the given idiom.

Keep a civil tongue

- Ans 1. Maintain silence when needed
 2. Argue with soft words
 3. Express dissent mildly
 4. Speak with great politeness

Question ID : 8161611609
Status : Answered
Chosen Option : 4

Q.11 In the sentence identify the segment which contains the grammatical error.

The man with a lost eye have been accused for murder of two girls in his neighbourhood.

- Ans 1. have been accused for
 2. in his neighbourhood
 3. murder of two girls
 4. The man with a lost eye

Question ID : 8161611596
Status : Answered
Chosen Option : 1

Q.12 Select the word which means the same as the group of words given.

Painless death given to patients to relieve suffering.

- Ans
- 1. Euphemism
 - 2. Euthanasia
 - 3. Euphoria
 - 4. Euphorbia

Question ID : 8161611613
Status : Answered
Chosen Option : 2

Q.13 Select the most appropriate synonym of the given word.

INSTIGATE

- Ans
- 1. Instill
 - 2. Stagnate
 - 3. Kindle
 - 4. Imbibe

Question ID : 8161611615
Status : Answered
Chosen Option : 3

Q.14 Select the most appropriate ANTONYM of the given word.

PLACATE

- Ans
- 1. Appease
 - 2. Conciliate
 - 3. Propitiate
 - 4. Enrage

Question ID : 8161611608
Status : Answered
Chosen Option : 4

Q.15 Select the wrongly spelt word.

- Ans
- 1. Homoepathy
 - 2. Naturopathy
 - 3. Allopathy
 - 4. Telepathy

Question ID : 8161611612
Status : Answered
Chosen Option : 1

Q.16 Select the most appropriate word to fill in the blank.

People readily accept any _____ of their leaders if supported by the media.

- Ans
- 1. dispute
 - 2. compromise
 - 3. argument
 - 4. concession

Question ID : 8161611617
Status : Answered
Chosen Option : 3

Q.17 Select the most appropriate ANTONYM of the given word.

CLOUDY

- Ans
- 1. Transparent
 - 2. Indefinite
 - 3. Murky
 - 4. Vague

Question ID : 8161611607
Status : Answered
Chosen Option : 1

Q.18 Given below are four jumbled sentences. Out of the given options select the one that gives their correct order.

- A. When Franco was young; he would stay at sea all night.
- B. Every morning, he would arrive with a big catch of fresh fish and sell it in the market.
- C. Franco was a fisherman who lived on the beach.
- D. He had been fishing for as long as he could remember.

- Ans
- 1. CBDA
 - 2. CDBA
 - 3. DCAB
 - 4. CDAB

Question ID : 8161611604
Status : Answered
Chosen Option : 4

Q.19 Select the most appropriate word to fill in the blank.

Success is the _____ of taking risks, everybody knows.

- Ans
- 1. by-product
 - 2. burden
 - 3. pressure
 - 4. tension

Question ID : 8161611618
Status : Answered
Chosen Option : 1

Q.20 Select the most appropriate option to substitute the underlined segment in the given sentence. If there is no need to substitute it, select 'No improvement'.

As long as they are here, Hari won't attend the training.

- Ans
- 1. So long so
 - 2. As long that
 - 3. No improvement
 - 4. So far as

Question ID : 8161611606
Status : Answered
Chosen Option : 3

Q.21 Select the correct indirect form of the given sentence.

The storekeeper asked the security, "Did you see the torch I kept here?"

- Ans
- 1. The storekeeper asked the security whether he had seen the torch he had kept there.
 - 2. The storekeeper asked the security whether he saw the torch he had kept there.
 - 3. The storekeeper asked the security if he saw the torch he kept there.
 - 4. The storekeeper asked the security if had he seen the torch he kept there.

Question ID : 8161611594
Status : Answered
Chosen Option : 1

Q.22 Select the wrongly spelt word.

- Ans
- 1. Envioronment
 - 2. Solvent
 - 3. Residual
 - 4. Pollutant

Question ID : 8161611611
Status : Answered
Chosen Option : 1

Q.23 Given below are four jumbled sentences. Out of the given options select the one that gives their correct order.

- A. Though John found none, he was not ready to give in.
- B. He continued the search till noon.
- C. John wanted to have a big well dug.
- D. He searched around for workers who would do the job for him without pay.

- Ans
- 1. CADB
 - 2. DCAB
 - 3. CDAB
 - 4. CDBA

Question ID : 8161611603
Status : Answered
Chosen Option : 3

Q.24 Select the correct passive form of the given sentence.

Sheetal might have misplaced Mohan's wallet in their rush.

- Ans
- 1. Mohan's wallet may have been misplaced by Sheetal in their rush.
 - 2. Mohan's wallet might have been misplaced by Sheetal in their rush.
 - 3. Mohan's wallet may be misplaced by Sheetal in their rush.
 - 4. Mohan's wallet might be misplaced by Sheetal in their rush.

Question ID : 8161611593
Status : Answered
Chosen Option : 2

Q.25 Select the most appropriate option to substitute the underlined segment in the given sentence. If there is no need to substitute it, select 'No improvement'.

Lot of times she advised him for not being lazy for completing such a tough task.

- Ans
- 1. No improvement
 - 2. Much of time
 - 3. A lot of times
 - 4. A lot of time

Question ID : 8161611605
Status : Answered
Chosen Option : 1

Section : General Intelligence

Q.1 यदि A, B की बहन है, C, D के पिता हैं, L, D का चाचा है और B, L की बहन है, तो A का D से क्या संबंध है?

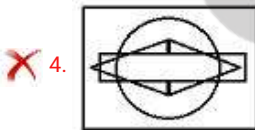
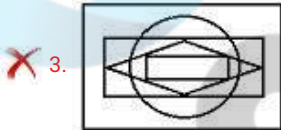
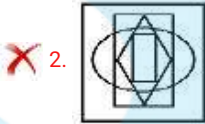
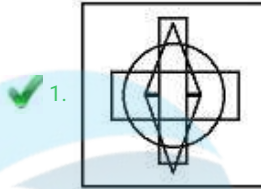
- Ans
- 1. दादी
 - 2. माँ
 - 3. बहन
 - 4. बुआ

Question ID : 8161611632
Status : Answered
Chosen Option : 4

Q.2 उस विकल्प का चयन करें, जिसमें दी गई आकृति अंतर्निहित है। (घुमाने की अनुमति नहीं है)



Ans



Question ID : 8161611640

Status : Answered

Chosen Option : 1

Q.3 Four words have been given, out of which three are alike in some manner and one is different. Select the odd one.

Ans

✓ 1. Stag

✗ 2. Larva

✗ 3. Nymph

✗ 4. Foal

Question ID : 8161611635

Status : Answered

Chosen Option : 2

Q.4 दिए गए कथनों और निष्कर्षों को ध्यानपूर्वक पढ़ें। यह मानते हुए कि कथनों में दी गई जानकारी सही है, भले ही यह सामान्य रूप से ज्ञात तथ्यों से भिन्न प्रतीत हो, निर्णय लें कि दिए गए निष्कर्षों में से कौन से निष्कर्ष कथनों का तार्किक रूप से अनुसरण करते हैं।

कथन:

1. कुछ बन्स टार्ट हैं।
2. सभी टार्ट पेस्ट्री हैं।
3. सभी पेस्ट्री ब्रेड हैं।

निष्कर्ष:

- I. कुछ ब्रेड बन्स हैं।
- II. कुछ पेस्ट्री बन्स हैं।
- III. कुछ टार्ट बन्स हैं।
- IV. कुछ बन्स ब्रेड हैं।

Ans

- ✗ 1. केवल निष्कर्ष II और III अनुसरण करते हैं।
- ✓ 2. सभी निष्कर्ष अनुसरण करते हैं।
- ✗ 3. केवल निष्कर्ष I और IV अनुसरण करते हैं।
- ✗ 4. केवल निष्कर्ष I और II अनुसरण करते हैं।

Question ID : 8161611636


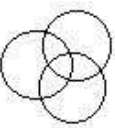
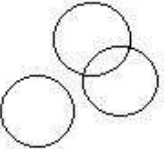

Status : Answered

Chosen Option : 2

Q.5 उस वेन आरेख का चयन करें, जो निम्नलिखित वर्गों के बीच संबंधों को सबसे अच्छी तरह दर्शाता है।

गिटार, यंच, तापमापी

Ans

- ✗ 1. 
- ✗ 2. 
- ✗ 3. 
- ✓ 4. 

Question ID : 8161611643

Status : Answered

Chosen Option : 4

Q.6 उस संख्या का चयन करें, जो निम्नलिखित श्रेणी में प्रश्नवाचक चिह्न (?) के स्थान पर हो सकती है।

2, 7, 23, 72, 220, ?

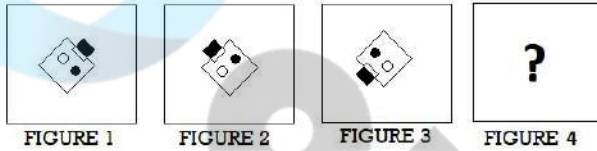
- Ans
- 1. 472
 - 2. 500
 - 3. 600
 - 4. 665

Question ID : 8161611624

Status : Answered

Chosen Option : 4

Q.7 उस विकल्प-आकृति का चयन करें, जो निम्न श्रृंखला में प्रश्नवाचक चिह्न (?) के स्थान पर आ सकती है।



Ans

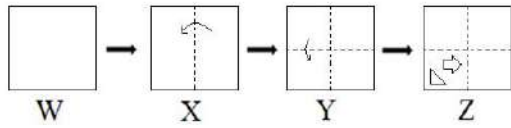
- 1.
- 2.
- 3.
- 4.

Question ID : 8161611638

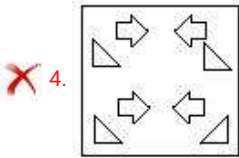
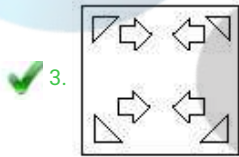
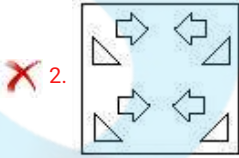
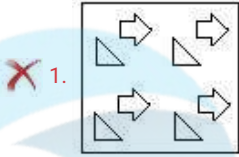
Status : Answered

Chosen Option : 1

Q.8 नीचे दी गई आकृतियों में कागज को मोड़ने का क्रम और मुड़े हुए कागज को काटने की विधि दर्शायी गई है। कागज को पुनः खोलने पर यह कैसा दिखाई देगा?



Ans



Question ID : 8161611641

Status : Answered

Chosen Option : 3

Q.9 चार संख्या-युग्म दिए गए हैं, जिनमें से तीन किसी प्रकार से संगत हैं और एक असंगत है। उस असंगत संख्या-युग्म का चयन करें।

- Ans
- ✗ 1. 198 : 981
- ✗ 2. 132 : 321
- ✓ 3. 246 : 426
- ✗ 4. 954 : 549

Question ID : 8161611625

Status : Answered

Chosen Option : 3

Q.10 दिए गए पैटर्न का ध्यानपूर्वक अध्ययन करें, और उस संख्या का चयन करें, जो इसमें प्रश्नवाचक चिह्न (?) के स्थान पर हो सकती है।

26 25 ?
4 6 7 1 5 3

- Ans
- 1. 19
 - 2. 17
 - 3. 22
 - 4. 24

Question ID : 8161611623
Status : Not Answered
Chosen Option : --

Q.11 एक निश्चित कूट भाषा में, 'JACKET' को 'MEHQLB' लिखा जाता है। इसी कूट भाषा में 'BLAZER' को कैसे लिखा जाएगा?

- Ans
- 1. EPFFLZ
 - 2. DOEFLZ
 - 3. EQFGLY
 - 4. DQPGLY

Question ID : 8161611627
Status : Answered
Chosen Option : 1

Q.12 उस विकल्प का चयन करें, जिसमें शब्दों के बीच वही संबंध है, जो संबंध दिए गए शब्द-युग्म के शब्दों के बीच है।
गाय : गोशाला

- Ans
- 1. उल्लू : खलिहान
 - 2. चूहा : कृतक
 - 3. हिरण : मादा हिरण
 - 4. भिक्षुणी : भिक्षु

Question ID : 8161611633
Status : Answered
Chosen Option : 1

Q.13 उस विकल्प का चयन करें, जो तीसरे शब्द से उसी प्रकार संबंधित है, जिस प्रकार दूसरा शब्द पहले शब्द से संबंधित है।

सुई : सिलाई :: बरमा : ?

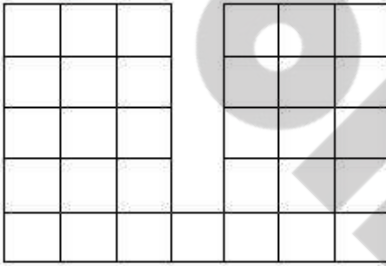
- Ans
- 1. खोदना
 - 2. देखना
 - 3. खिलाना
 - 4. वेधन

Question ID : 8161611630

Status : Answered

Chosen Option : 1

Q.14 नीचे दी गई आकृति में कितने वर्ग हैं?



- Ans
- 1. 53
 - 2. 48
 - 3. 60
 - 4. 39

Question ID : 8161611639

Status : Not Answered

Chosen Option : --

Q.15 चार दोस्तों A, B, C और D की आयु का योग 70 वर्ष है। 5 वर्ष बाद उनकी आयु का योग क्या होगा?

- Ans
- 1. 75
 - 2. 65
 - 3. 85
 - 4. 90

Question ID : 8161611619

Status : Answered

Chosen Option : 4

Q.16 उस विकल्प का चयन करें, जिसमें संख्याओं के बीच वही संबंध है, जो दिए गए संख्या-युग्म की संख्याओं के बीच है।

50 : 357

- Ans
- 1. 18 : 133
 - 2. 15 : 115
 - 3. 20 : 153
 - 4. 17 : 136

Question ID : 8161611621

Status : Answered

Chosen Option : 1

Q.17 उस विकल्प का चयन करें, जो तीसरे अक्षर-समूह से उसी प्रकार संबंधित है, जिस प्रकार दूसरा अक्षर-समूह पहले अक्षर-समूह से संबंधित है।

CELH : GANF :: BUPO : ?

- Ans
- 1. DYXH
 - 2. FQRM
 - 3. HUML
 - 4. XYNQ

Question ID : 8161611629

Status : Answered

Chosen Option : 2

Q.18 एक पासे के छह फलकों को A, B, C, D, E और F अक्षरों द्वारा चिह्नित किया गया है। यदि A, फलक B, C और E का आसन्न है, तो निम्नलिखित में से कौन सा कथन सत्य है?

- Ans
- 1. D, F का आसन्न है।
 - 2. A, D का आसन्न है।
 - 3. A, F का आसन्न है।
 - 4. B, E का आसन्न है।

Question ID : 8161611637

Status : Not Attempted and Marked For Review

Chosen Option : --

Q.19 एक निश्चित कूट भाषा में, SUM को 62 के रूप में कूटबद्ध किया जाता है और POT को 66 के रूप में कूटबद्ध किया जाता है। इसी भाषा में HULK को किस रूप में कूटबद्ध किया जाएगा?

- Ans
- 1. 130
 - 2. 132
 - 3. 120
 - 4. 112

Question ID : 8161611628

Status : Not Answered

Chosen Option : --

Q.20 अक्षरों के उस संयोजन का चयन करें, जो दी गई अक्षर-श्रृंखला के रिक्त स्थानों में क्रमानुसार रखे जाने पर श्रृंखला को पूर्ण करेगा।

_ _ m _ o z n z _ _ n o _ _ z z m

- Ans
- 1. znznmzn
 - 2. nznznzn
 - 3. zznznzm
 - 4. zznzmzn

Question ID : 8161611631
Status : Answered
Chosen Option : 4

Q.21 'A' के स्थानों पर आने वाले गणितीय चिहनों के सही संयोजन का चयन करें और दिए गए समीकरण को संतुलित करें।

16 A 8 A 6 A 3 A 4

- Ans
- 1. $\times, =, -, \div$
 - 2. $\div, \times, =, -$
 - 3. $\div, \times, =, \times$
 - 4. $\times, \div, +, =$

Question ID : 8161611620
Status : Answered
Chosen Option : 3

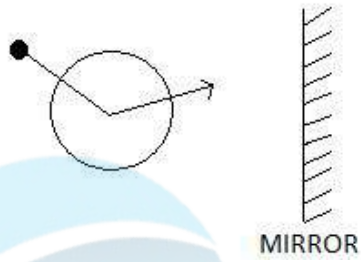
Q.22 उस विकल्प का चयन करें, जिसमें संख्याओं के बीच वही संबंध है, जो दिए गए समुच्चय की संख्याओं के बीच है।

(12, 96, 8)

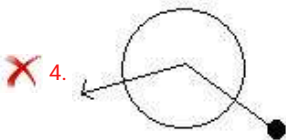
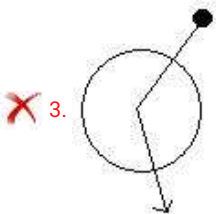
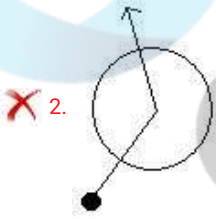
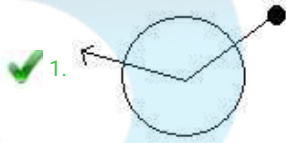
- Ans
- 1. (8, 40, 6)
 - 2. (7, 63, 9)
 - 3. (13, 39, 4)
 - 4. (15, 50, 5)

Question ID : 8161611622
Status : Answered
Chosen Option : 2

Q.23 दी गई आकृति के सही दर्पण छवि का चयन करें।



Ans



Question ID : 8161611642

Status : Answered

Chosen Option : 1

Q.24 चार अक्षर-समूह दिए गए हैं, जिनमें से तीन किसी प्रकार से संगत हैं और एक असंगत है। उस असंगत अक्षर-समूह का चयन करें।

Ans

✓ 1. LMH

✗ 2. UVS

✗ 3. HIF

✗ 4. YZW

Question ID : 8161611634

Status : Answered

Chosen Option : 1

Q.25 दिए गए शब्दों को तार्किक और अर्थसंगत क्रम में व्यवस्थित करें।

1. सूर्य

2. क्षुद्रग्रह

3. ग्रह

4. आकाशगंगा

Ans 1. 4, 1, 3, 2

2. 4, 1, 3, 2

3. 2, 3, 4, 1

4. 3, 1, 4, 2

Question ID : 8161611626

Status : Answered

Chosen Option : 1

Section : Quantitative Aptitude(Basic Arithmetic Skill)

Q.1 दो संख्याएँ, तीसरी संख्या से क्रमशः 25% और 60% अधिक हैं। इन दोनों संख्याओं का अनुपात क्या होगा?

Ans 1. 21 : 31

2. 25 : 32

3. 20 : 35

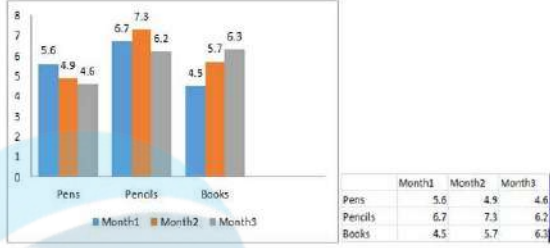
4. 20 : 30

Question ID : 8161611651

Status : Answered

Chosen Option : 2

Q.2 निम्न चार्ट में माह 1, माह 2 और माह 3 में पेनों, पेंसिलों और पुस्तकों की बिक्री (हजारों में) को दर्शाया गया है। चार्ट के आधार पर दिए गए प्रश्न का उत्तर दें।



किस महीने में सबसे ज्यादा बिक्री हुई है?

- Ans
- 1. महीना 1
 - 2. महीना 3
 - 3. महीना 1 और महीना 3
 - 4. महीना 2

Question ID : 8161611666
Status : Answered
Chosen Option : 4

Q.3 42 m और 26 m व्यास वाले दो छोटे वृत्ताकार मैदानों को एक बड़े वृत्ताकार मैदान द्वारा प्रतिस्थापित किया जाना है। यदि नए मैदान का क्षेत्रफल भी दोनों छोटे मैदानों के क्षेत्रफल के बराबर ही हो, तो नए मैदान की विज्या क्या होगी?

- Ans
- 1. 25.01 m
 - 2. 24.69 m
 - 3. 25 m
 - 4. 23 m

Question ID : 8161611654
Status : Answered
Chosen Option : 2

Q.4 एक समद्विबाहु समकोण त्रिभुज में, परिमाण 30 m है। इसका क्षेत्रफल (लगभग) ज्ञात करें।

- Ans
- 1. 37.86 m²
 - 2. 38.63 m²
 - 3. 40 m²
 - 4. 39.60 m²

Question ID : 8161611656
Status : Not Answered
Chosen Option : --

Q.5 एक ट्रेन यदि 54 km/h की औसत चाल से चलती है, तो एक निश्चित दूरी को 30 मिनट में तय कर लेती है। यदि उसे यह दूरी 20 मिनट में तय करनी हो, तो उसकी चाल कितनी होनी चाहिए?

- Ans
- 1. 81 km/h
 - 2. इनमें से कोई नहीं
 - 3. 75 km/h
 - 4. 60 km/h

Question ID : 8161611645
Status : Answered
Chosen Option : 1

Q.6 $1 + 3 + 5 + 7 + \dots (2n - 1)$ का मान क्या होगा?

- Ans
- 1. $(2n - 1) \times (2n - 1)$
 - 2. $n \times n$
 - 3. $\frac{n}{2}$
 - 4. $\frac{n(n + 1)}{2}$

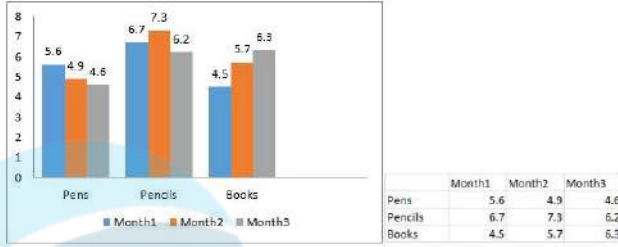
Question ID : 8161611661
Status : Answered
Chosen Option : 2

Q.7 एक आयताकार भूखंड की लंबाई इसकी चौड़ाई की पांच गुना है। यदि इस आयताकार भूखंड का क्षेत्रफल 2000 m^2 है, तो इस आयताकार भूखंड की चौड़ाई क्या होगी?

- Ans
- 1. 20 m
 - 2. 30 m
 - 3. 40 m
 - 4. 10 m

Question ID : 8161611646
Status : Answered
Chosen Option : 1

Q.8 निम्न चार्ट में माह 1, माह 2 और माह 3 में पेनों, पेंसिलों और पुस्तकों की बिक्री (हजारों में) को दर्शाया गया है। चार्ट के आधार पर दिए गए प्रश्न का उत्तर दें।



किस उत्पाद की बिक्री का प्रतिशत, किस महीने में (सभी महीनों को मिलाकर) सबसे अधिक है?

- Ans
- 1. पेंसिलें; महीना 2
 - 2. पेंसिलें; महीना 3
 - 3. पेन; महीना 1
 - 4. पुस्तकें; महीना 3

Question ID : 8161611668

Status : Answered

Chosen Option : 1

Q.9 P एक काम को 10 दिन में और Q उसी काम को 15 दिन में कर सकता है। यदि उन दोनों ने 3 दिन तक साथ-साथ काम किया, तो काम का कितना भाग शेष बचेगा?

- Ans
- 1. $\frac{4}{3}$
 - 2. $\frac{2}{3}$
 - 3. $\frac{1}{2}$
 - 4. $\frac{1}{3}$

Question ID : 8161611644

Status : Answered

Chosen Option : 3

Q.10 एक वृक्ष की छाया इसकी लंबाई की $\frac{1}{\sqrt{3}}$ गुनी है। उन्नयन कोण ज्ञात करें।

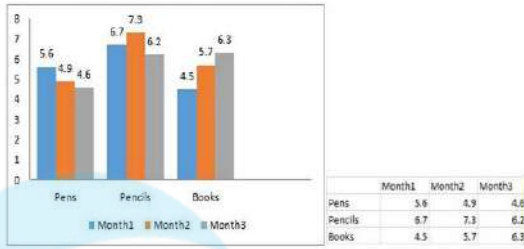
- Ans
- 1. 45°
 - 2. 90°
 - 3. 60°
 - 4. 30°

Question ID : 8161611663

Status : Answered

Chosen Option : 3

Q.11 निम्न चार्ट में माह 1, माह 2 और माह 3 में पेनों, पेंसिलों और पुस्तकों की बिक्री (हजारों में) को दर्शाया गया है। चार्ट के आधार पर दिए गए प्रश्न का उत्तर दें।



इन सभी 3 महीनों में किस उत्पाद की बिक्री सबसे अधिक रही?

- Ans
- 1. पुस्तक
 - 2. पेंसिल
 - 3. पेन और पुस्तक
 - 4. पेन

Question ID : 8161611665

Status : Answered

Chosen Option : 2

Q.12 एक व्यक्ति 5% वार्षिक साधारण ब्याज दर पर 3 वर्षों के लिए ₹7,000 का कर्ज लेता है। वह तुरंत इस राशि को 3 वर्षों के लिए एक दूसरे व्यक्ति को $6\frac{1}{3}\%$ वार्षिक ब्याज दर पर उधार दे देता है। इस लेन-देन में उसे प्रति वर्ष होने वाले लाभ की गणना करें।

- Ans
- 1. ₹90
 - 2. ₹93.33
 - 3. ₹92
 - 4. ₹95.33

Question ID : 8161611652

Status : Answered

Chosen Option : 2

Q.13 The average salary of a person for the months of February, March, April and May is ₹12,000, and that for the months March, April, May and June is ₹3,000. If his salary for the month of June is ₹8,000, then what is his salary for the month of February?

- Ans
- 1. ₹4,500
 - 2. ₹4,000
 - 3. ₹5,000
 - 4. ₹5,500

Question ID : 8161611647

Status : Answered

Chosen Option : 1

Q.14 25%, 15% और 10% की क्रमिक छूट _____ एकल छूट के बराबर होगी।

- Ans
- 1. 40.2%
 - 2. 30%
 - 3. 42.6%
 - 4. 25%

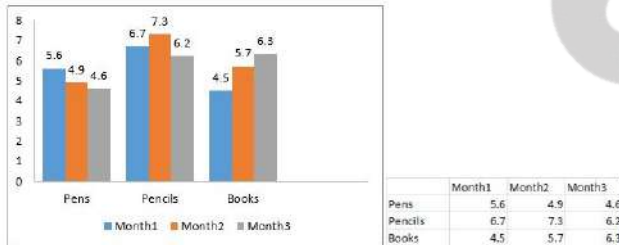
Question ID : 8161611648
Status : Answered
Chosen Option : 3

Q.15 यदि $2(a^2 + b^2) = (a + b)^2$ है, तो _____।

- Ans
- 1. $a = -b$
 - 2. $b = 2a$
 - 3. $a = 2b$
 - 4. $a = b$

Question ID : 8161611657
Status : Answered
Chosen Option : 4

Q.16 निम्न चार्ट में माह 1, माह 2 और माह 3 में पेनों, पेंसिलों और पुस्तकों की बिक्री (हजारों में) को दर्शाया गया है। चार्ट के आधार पर दिए गए प्रश्न का उत्तर दें।



3 महीनों में बेचे गए पेनों की औसत संख्या क्या है?

- Ans
- 1. 3987
 - 2. 5432
 - 3. 5033
 - 4. 4935

Question ID : 8161611667
Status : Answered
Chosen Option : 3

Q.17 यदि $21\sqrt{x} + 20\sqrt{x} = 29\sqrt{x}$ है, तो x का मान ज्ञात करें।

- Ans
- 1. 3
 - 2. 2
 - 3. 4
 - 4. 0

Question ID : 8161611659
Status : Answered
Chosen Option : 3

Q.18 समान केंद्र P वाले दो वृत्तों की त्रिज्याएं 7.5 cm और 4.4 cm हैं। बड़े वृत्त के बिंदु A से छोटे वृत्त के बिंदु B को स्पर्श करते हुए एक स्पर्शरेखा खींची जाती है। AC का मान (cm में लगभग) ज्ञात करें।

- Ans
- 1. 13 cm
 - 2. 14.27 cm
 - 3. 12.14 cm
 - 4. 14 cm

Question ID : 8161611653
Status : Answered
Chosen Option : 3

Q.19 एक दुकानदार अपने उत्पादों पर क्रय मूल्य से 35% अधिक अंकित करके अपने ग्राहकों को उनके बिलों पर 15% की छूट देता है। उसे कितने प्रतिशत का लाभ हो रहा है?

- Ans
- 1. 14.75
 - 2. 14
 - 3. 14.25
 - 4. 14.10

Question ID : 8161611650
Status : Answered
Chosen Option : 1

Q.20 यदि $x^3 + y^3 = 16$ और $x + y = 4$ है, तो $x^4 + y^4$ का मान ज्ञात करें।

- Ans
- 1. 36
 - 2. 28
 - 3. 32
 - 4. 26

Question ID : 8161611658
Status : Answered
Chosen Option : 3

Q.21 एक समद्विबाहु त्रिभुज का परिमाप 90 cm है। यदि इसका आधार 26 cm हो, तो समान भुजाओं की लंबाई ज्ञात करें।

- Ans
- 1. 42 cm
 - 2. 30 cm
 - 3. 32 cm
 - 4. 40 cm

Question ID : 8161611655
Status : Answered
Chosen Option : 3

Q.22 एक चुनाव में, उम्मीदवार X को कुल वैध मतों के 70% मत मिले। यदि कुल मतों के 20% मतों को अवैध घोषित कर दिया गया हो और मतों की कुल संख्या 640000 हो, तो इस उम्मीदवार के पक्ष में पड़े वैध मतों की गणना करें।

- Ans
- 1. 358400
 - 2. 400000
 - 3. 450000
 - 4. 358000

Question ID : 8161611649
Status : Answered
Chosen Option : 1

Q.23 यदि $\cos x = \frac{3}{5}$ है, तो $\sin x - \sin^3 x$ का मान ज्ञात करें।

- Ans
- 1. 0.358
 - 2. 0.476
 - 3. 0.389
 - 4. 0.288

Question ID : 8161611664
Status : Answered
Chosen Option : 4

Q.24 निम्न में से कौन सी संख्या 3 से विभाज्य है?

- Ans
- 1. 6342589
 - 2. 2362735
 - 3. 4539763
 - 4. 3745932

Question ID : 8161611660
Status : Answered
Chosen Option : 4

Q.25 यदि $\sin\theta = 0.96$, तो $\cot\theta$ का मान ज्ञात करें।

- Ans
- 1. 0.4876
 - 2. 0.2916
 - 3. 0.4563
 - 4. 0.3456

Question ID : 8161611662
Status : Answered
Chosen Option : 2

Section : General Awareness

Q.1 निम्नलिखित में से वह कौन-सी भारत की शीर्ष बैंकिंग संस्था है, जो मौद्रिक नीति को नियंत्रित करती है?

- Ans
- 1. भारतीय रिज़र्व बैंक
 - 2. भारतीय स्टेट बैंक
 - 3. बैंक ऑफ़ इंडिया
 - 4. एक्सिस बैंक

Question ID : 8161611676
Status : Answered
Chosen Option : 1

Q.2 पाब्लो पिकासो, क्लाउड मोनेट, सल्वाडोर डाली, विन्सेंट वान गॉग अपने _____ के लिए प्रसिद्ध थे।

- Ans
- 1. पाश्चात्य संगीत
 - 2. बैले प्रदर्शन
 - 3. सामाजिक कार्य
 - 4. कलाकृति

Question ID : 8161611688
Status : Answered
Chosen Option : 4

Q.3 फसली त्योहार संक्रांति, हिंदू कैलेंडर के माघ महीने में मनाया जाता है और भारत के विभिन्न हिस्सों में इसे अलग-अलग नामों से जाना जाता है। इसे गुजरात में क्या कहा जाता है?

- Ans
- 1. लोहड़ी
 - 2. पान संक्रांति
 - 3. माघी
 - 4. उत्तरायण

Question ID : 8161611672
Status : Answered
Chosen Option : 4

Q.4 संस्थापक और उनके द्वारा स्थापित सामाजिक/सामाजिक-धार्मिक संगठन के उचित मिलान वाले विकल्प की पहचान करें।

- Ans
- 1. स्वामी विवेकानंद - रामकृष्ण मिशन
 - 2. राम कृष्ण परमहंस - रामकृष्ण मिशन
 - 3. राजा राम मोहन राय - आर्य समाज
 - 4. दयानंद सरस्वती - ब्रह्म समाज

Question ID : 8161611686
Status : Answered
Chosen Option : 1

Q.5 Identify the INCORRECT statement about Public Distribution System (PDS) in India.

- Ans
- 1. Those living below poverty line get food grains at subsidised prices.
 - 2. From 1997, PDS became TPDS for targeted consumers.
 - 3. PDS was envisaged in 1967 as a price support programme to help consumers.
 - 4. PDS has been abandoned in the country since 2007.

Question ID : 8161611677
Status : Not Answered
Chosen Option : --

Q.6 निम्नलिखित में से ऊष्मागतिकी (थर्मोडायनामिक) तापमान की SI इकाई क्या है?

- Ans
- 1. फ़ारेनहाइट
 - 2. रेडियन
 - 3. सेल्सियस
 - 4. केल्विन

Question ID : 8161611678
Status : Answered
Chosen Option : 4

Q.7 इनमें से किस भारतीय राज्य में सूर्योदय सबसे पहले होता है?

- Ans
- 1. पश्चिम बंगाल
 - 2. ओडिशा
 - 3. मेघालय
 - 4. अरुणाचल प्रदेश

Question ID : 8161611684
Status : Answered
Chosen Option : 4

Q.8 किस वर्ष लॉर्ड कर्जन ने बंगाल विभाजन का आदेश दिया था?

- Ans 1. 1905
 2. 1945
 3. 1930
 4. 1915

Question ID : 8161611685
Status : Answered
Chosen Option : 1

Q.9 2018 में 'ICC क्रिकेटर ऑफ द ईयर', 'ICC टेस्ट प्लेयर ऑफ द ईयर' और 'ICC ODI प्लेयर ऑफ द ईयर' का खिताब किसने जीता?

- Ans 1. विराट कोहली
 2. शिखर धवन
 3. रोहित शर्मा
 4. ऋषभ पंत

Question ID : 8161611691
Status : Answered
Chosen Option : 1

Q.10 एसिड अटैक पीड़िता की कहानी पर आधारित फिल्म 'छपाक' के निर्माता का नाम बताइए।

- Ans 1. रानी मुखर्जी
 2. दीपिका पादुकोण
 3. मेघना गुलज़ार
 4. यश चोपड़ा

Question ID : 8161611673
Status : Answered
Chosen Option : 3

Q.11 भारत में 'राष्ट्रपिता' के रूप में किसे जाना जाता है?

- Ans 1. मोहनदास करमचन्द गांधी
 2. भीम राव अंबेडकर
 3. स्वामी विवेकानंद
 4. महादेव गोविंद रानाडे

Question ID : 8161611687
Status : Answered
Chosen Option : 1

Q.12 समुद्री जल में प्रचुर मात्रा में पाए जाने वाले नमक का रासायनिक नाम क्या है?

- Ans
- 1. सोडियम एसीटेट
 - 2. सोडियम टारट्रेट
 - 3. सोडियम क्लोराइड
 - 4. सोडियम नाइट्राइट

Question ID : 8161611681
Status : Answered
Chosen Option : 3

Q.13 भारत में किसी राज्य की सरकार का प्रमुख कौन होता है?

- Ans
- 1. राज्यपाल
 - 2. विधानसभा अध्यक्ष
 - 3. मुख्यमंत्री
 - 4. प्रधानमंत्री

Question ID : 8161611690
Status : Answered
Chosen Option : 3

Q.14 भारत का मृदा सर्वेक्षण किस वर्ष में मृदाओं के वैज्ञानिक सर्वेक्षण करने के लिए स्थापित किया गया था?

- Ans
- 1. 1950
 - 2. 1962
 - 3. 1956
 - 4. 1947

Question ID : 8161611683
Status : Answered
Chosen Option : 3

Q.15 शर्करा बनाने के लिए पादप कोशिका का कौन-सा भाग सूर्य का प्रकाश ग्रहण करता है?

- Ans
- 1. क्लोरोप्लास्ट (Chloroplast)
 - 2. ल्यूकोप्लास्ट (Leucoplast)
 - 3. क्रोमोप्लास्ट (Chromoplast)
 - 4. स्टार्च ग्रेन (Starch grain)

Question ID : 8161611679
Status : Answered
Chosen Option : 1

Q.16 भारतीय प्रधानमंत्री ने कब देश को 'खुले में शौच से मुक्त' घोषित किया?

- Ans
- 1. 67वें गणतंत्र दिवस पर
 - 2. महात्मा गांधी की 70वीं पुण्यतिथि पर
 - 3. महात्मा गांधी की 150वीं जयंती पर
 - 4. 72वें स्वतंत्रता दिवस पर

Question ID : 8161611674
Status : Not Answered
Chosen Option : --

Q.17 कंप्यूटर के किस यूनिट को कंप्यूटर का मस्तिष्क माना जाता है?

- Ans
- 1. मेमोरी यूनिट
 - 2. आउटपुट यूनिट
 - 3. सीपीयू
 - 4. इनपुट यूनिट

Question ID : 8161611669
Status : Answered
Chosen Option : 3

Q.18 स्वतंत्र भारत के प्रथम शिक्षा मंत्री _____ थे।

- Ans
- 1. प्रणब मुखर्जी
 - 2. अबुल कलाम आज़ाद
 - 3. त्रिगुणा सेन
 - 4. इंदिरा गांधी

Question ID : 8161611689
Status : Answered
Chosen Option : 2

Q.19 स्मृति मंधाना निम्नलिखित में से किस खेल से संबंधित हैं?

- Ans
- 1. टेबल टेनिस
 - 2. क्रिकेट
 - 3. लान टेनिस
 - 4. हॉकी

Question ID : 8161611692
Status : Answered
Chosen Option : 2

Q.20 प्यादे का उपयोग करते हुए एक बेहतरीन चाल के माध्यम से, हिमल गुसाईं ने ग्रेंडमास्टर एन.आर. विशाख को मात दी। हम किस खेल की बात कर रहे हैं?

- Ans
- 1. शूटिंग
 - 2. कैरम
 - 3. शतरंज
 - 4. टेबल टेनिस

Question ID : 8161611693
Status : Answered
Chosen Option : 3

Q.21 भारत के किस भाग में जैन धर्म के दिलवाड़ा मंदिर स्थित हैं?

- Ans
- 1. माउंट आबू
 - 2. जयपुर
 - 3. भुवनेश्वर
 - 4. इंदौर

Question ID : 8161611671
Status : Answered
Chosen Option : 1

Q.22 किसी द्रव का pH मान 7 पाया गया। संभवतः यह कौन-सा द्रव है?

- Ans
- 1. जल
 - 2. सेलाइन
 - 3. अम्ल
 - 4. क्षार

Question ID : 8161611680
Status : Answered
Chosen Option : 1

Q.23 तमिलनाडु में कुडनकुलम परमाणु ऊर्जा संयंत्र _____के सहयोग से स्थापित किया गया है।

- Ans
- 1. संयुक्त राष्ट्र (US)
 - 2. ऑस्ट्रेलिया
 - 3. फ्रांस
 - 4. रूस

Question ID : 8161611675
Status : Answered
Chosen Option : 1

Q.24 माउंट एवरेस्ट पर चढ़ाई करने के लिए, पर्वतारोहियों को _____ जाने की आवश्यकता होती है।

- Ans
- 1. अफ़ग़ानिस्तान
 - 2. भूटान
 - 3. नेपाल
 - 4. म्यांमार

Question ID : 8161611682
Status : Answered
Chosen Option : 3

Q.25 निम्नलिखित में से कौन-सा विकल्प (कंप्यूटिंग के संदर्भ में) सर्वोत्तम ढंग से फ़ायरवॉल को परिभाषित करता है?

- Ans
- 1. यह एक हार्डवेयर डिवाइस है।
 - 2. यह एक सॉफ्टवेयर का नाम है।
 - 3. यह नियमों के सेट के आधार पर नेटवर्क ट्रांसमिशन को अनुमति देने या अस्वीकार करने के लिए सॉफ्टवेयर और हार्डवेयर डिवाइसों दोनों का एक संयोजन है।
 - 4. यह किसी भी और प्रत्येक नेटवर्क ट्रांसमिशन की अनुमति देने के लिए सॉफ्टवेयर और हार्डवेयर-आधारित डिवाइसों का एक संयोजन है।

Question ID : 8161611670
Status : Answered
Chosen Option : 3

Roll Number	
Candidate Name	
Venue Name	
Exam Date	19/03/2020
Exam Time	10:00 AM - 11:00 AM
Subject	CHSL Tier 1

Section : English Language (Basic Knowledge)

Q.1 Select the most appropriate option to substitute the underlined segment in the given sentence. If there is no need to substitute it, select 'No improvement'.

As many as I care for her, I still have to disagree with her on this topic.

- Ans 1. As much as
 2. As long to
 3. As high as
 4. No improvement

Question ID : 8161611718
Status : Answered
Chosen Option : 1

Q.2 In the sentence identify the segment which contains the grammatical error.

The invited guests preferred orange juice than hot coffee or chilled grapes.

- Ans 1. preferred orange juice
 2. or chilled grapes
 3. than hot coffee
 4. The invited guests

Question ID : 8161611708
Status : Answered
Chosen Option : 3

Q.3 Select the correct passive form of the given sentence.

The coach received the members of the team with great excitement.

- Ans 1. The members of the team were received by the coach with great excitement.
 2. The members of the team had been received by the coach with great excitement.
 3. The members of the team was received by the coach with great excitement.
 4. The members of the team could be received by the coach with great excitement.

Question ID : 8161611705
Status : Answered
Chosen Option : 1

Q.4 Given below are four jumbled sentences. Out of the given options select the one that gives their correct order.

- A. Anush was very afraid of stray dogs.
- B. Anush's mother saw the dog chasing her son.
- C. One evening, when a street dog barked at him, Anush turned and started running.
- D. The dog ran after him barking loudly and fiercely.

- Ans
- 1. DCAB
 - 2. ADBC
 - 3. ABCD
 - 4. ACDB

Question ID : 8161611715

Status : Answered

Chosen Option : 4

Comprehension:

In the following passage some words have been deleted. Fill in the blanks with the help of the alternatives given. Select the most appropriate option for each blank.

Families, particularly those with children and who have the means, are opting to (1)_____ from Delhi driven by the increasing air pollution and (2)_____ impact on health. Delhi's Air Quality Index had (3)_____ a three-year-low this year, post-Diwali, creating a (4)_____ polluted atmosphere which led to (5)_____ problems in many, forcing people to wear masks outdoors and install air purifiers at home.

SubQuestion No : 5

Q.5 Select the most appropriate option for blank No. 1.

- Ans
- 1. relocate
 - 2. reinstate
 - 3. reschedule
 - 4. restart

Question ID : 8161611710

Status : Answered

Chosen Option : 1

Comprehension:

In the following passage some words have been deleted. Fill in the blanks with the help of the alternatives given. Select the most appropriate option for each blank.

Families, particularly those with children and who have the means, are opting to (1)_____ from Delhi driven by the increasing air pollution and (2)_____ impact on health. Delhi's Air Quality Index had (3)_____ a three-year-low this year, post-Diwali, creating a (4)_____ polluted atmosphere which led to (5)_____ problems in many, forcing people to wear masks outdoors and install air purifiers at home.

SubQuestion No : 6

Q.6 Select the most appropriate option for blank No. 2.

- Ans
- 1. their
 - 2. its
 - 3. it's
 - 4. their's

Question ID : 8161611711

Status : Answered

Chosen Option : 2

Comprehension:

In the following passage some words have been deleted. Fill in the blanks with the help of the alternatives given. Select the most appropriate option for each blank.

Families, particularly those with children and who have the means, are opting to (1)_____ from Delhi driven by the increasing air pollution and (2)_____ impact on health. Delhi's Air Quality Index had (3)_____ a three-year-low this year, post-Diwali, creating a (4)_____ polluted atmosphere which led to (5)_____ problems in many, forcing people to wear masks outdoors and install air purifiers at home.

SubQuestion No : 7

Q.7 Select the most appropriate option for blank No. 3.

- Ans
- 1. hit
 - 2. bagged
 - 3. produced
 - 4. leaped

Question ID : 8161611712

Status : Answered

Chosen Option : 4

Comprehension:

In the following passage some words have been deleted. Fill in the blanks with the help of the alternatives given. Select the most appropriate option for each blank.

Families, particularly those with children and who have the means, are opting to (1)_____ from Delhi driven by the increasing air pollution and (2)_____ impact on health. Delhi's Air Quality Index had (3)_____ a three-year-low this year, post-Diwali, creating a (4)_____ polluted atmosphere which led to (5)_____ problems in many, forcing people to wear masks outdoors and install air purifiers at home.

SubQuestion No : 8

Q.8 Select the most appropriate option for blank No. 4.

- Ans
- 1. separate
 - 2. severely
 - 3. conditionally
 - 4. dissatisfied

Question ID : 8161611713

Status : Answered

Chosen Option : 2

Comprehension:

In the following passage some words have been deleted. Fill in the blanks with the help of the alternatives given. Select the most appropriate option for each blank.

Families, particularly those with children and who have the means, are opting to (1)_____ from Delhi driven by the increasing air pollution and (2)_____ impact on health. Delhi's Air Quality Index had (3)_____ a three-year-low this year, post-Diwali, creating a (4)_____ polluted atmosphere which led to (5)_____ problems in many, forcing people to wear masks outdoors and install air purifiers at home.

SubQuestion No : 9

Q.9 Select the most appropriate option for blank No. 5.

- Ans
- 1. abdominal
 - 2. brain
 - 3. renal
 - 4. respiratory

Question ID : 8161611714

Status : Answered

Chosen Option : 4

Q.10 In the sentence identify the segment which contains the grammatical error.

Everyone are very well equipped with his own weapons.

- Ans
- 1. Everyone are
 - 2. very well equipped
 - 3. own weapons
 - 4. with his

Question ID : 8161611707

Status : Answered

Chosen Option : 1

Q.11 Select the most appropriate word to fill in the blank.

The _____ part of this issue is that the investigation officer himself turned out to be the culprit.

- Ans
- 1. major
 - 2. real
 - 3. funniest
 - 4. primary

Question ID : 8161611730

Status : Answered

Chosen Option : 3

Q.12 Select the word which means the same as the group of words given.

Things which are of the same kind and of the same dimensions

- Ans
- 1. Homogenous
 - 2. Homophony
 - 3. Homosexual
 - 4. Homonymous

Question ID : 8161611725
Status : Answered
Chosen Option : 1

Q.13 Select the wrongly spelt word.

- Ans
- 1. Simulation
 - 2. Synthetic
 - 3. Simultaneoues
 - 4. Stylistics

Question ID : 8161611724
Status : Answered
Chosen Option : 3

Q.14 Select the most appropriate synonym of the given word.

ADJUSTMENT

- Ans
- 1. Cooperating
 - 2. Balancing
 - 3. Compromising
 - 4. Coordinating

Question ID : 8161611728
Status : Answered
Chosen Option : 3

Q.15 Select the most appropriate ANTONYM of the given word.

PLAUSIBLE

- Ans
- 1. Unlikely
 - 2. Feasible
 - 3. Unmanageable
 - 4. Fantastic

Question ID : 8161611720
Status : Answered
Chosen Option : 1

Q.16 Select the most appropriate word to fill in the blank.

There was a huge _____ in the stomach.

- Ans 1. tumour
 2. tuber
 3. tremor
 4. treasure

Question ID : 8161611729
Status : Answered
Chosen Option : 1

Q.17 Select the most appropriate meaning of the given idiom.

Made out of whole cloth

- Ans 1. Entirely false and fabricated
 2. Entirely fabricated though believable
 3. Entirely true and convincing
 4. Entirely false though convincing

Question ID : 8161611722
Status : Answered
Chosen Option : 4

Q.18 Select the synonym of the given word.

QUARRELSOME

- Ans 1. Pragmatic
 2. Querulous
 3. Ambiguous
 4. Opaque

Question ID : 8161611727
Status : Answered
Chosen Option : 3

Q.19 Given below are four jumbled sentences. Out of the given options select the one that gives their correct order.

- A. Navin and Jathin gathered a group of young men and trained them in fighting.
B. They wanted to build their own village where people could live without fear.
C. They lived in a jungle hideout on the banks of a river in the village.
D. Navin and Jathin were brothers and brave fighters.

- Ans 1. DCAB
 2. DCBA
 3. DBAC
 4. DBCA

Question ID : 8161611716
Status : Answered
Chosen Option : 2

Q.20 Select the most appropriate option to substitute the underlined segment in the given sentence. If there is no need to substitute it, select 'No improvement'.

So much as you are their class teacher, you are responsible for their performance in the examination.

- Ans
- 1. In as much as
 - 2. No improvement
 - 3. As long as
 - 4. As much to

Question ID : 8161611717
Status : Answered
Chosen Option : 3

Q.21 Select the most appropriate ANTONYM of the given word.

CASUAL

- Ans
- 1. Planned
 - 2. Immature
 - 3. Inspirational
 - 4. Informal

Question ID : 8161611719
Status : Answered
Chosen Option : 1

Q.22 Select the most appropriate meaning of the given idiom.

Every cloud has a silver lining

- Ans
- 1. Something irritating is there in any joyous situation
 - 2. Something disheartening is there in any happy situation
 - 3. Something interesting is there in any colourful situation
 - 4. Something promising is there in any difficult situation

Question ID : 8161611721
Status : Answered
Chosen Option : 4

Q.23 Select the word which means the same as the group of words given.

A song or music in praise of God

- Ans
- 1. Hymn
 - 2. Epic
 - 3. Elegy
 - 4. Ode

Question ID : 8161611726
Status : Answered
Chosen Option : 3

Q.24 Select the correct indirect form of the given sentence.

The traveller inquired, "Will there be a shelter for strangers?"

- Ans
- 1. The traveller inquired if would there be a shelter for strangers.
 - 2. The traveller inquired whether will there be a shelter for strangers.
 - 3. The traveller inquired if there would be a shelter for strangers.
 - 4. The traveller inquired if there will be a shelter for strangers.

Question ID : 8161611706
Status : Answered
Chosen Option : 3

Q.25 Select the wrongly spelt word.

- Ans
- 1. Molestation
 - 2. Combination
 - 3. Navigetion
 - 4. Condonation

Question ID : 8161611723
Status : Answered
Chosen Option : 3

Section : General Intelligence

Q.1 दिए गए कथनों और निष्कर्षों को ध्यानपूर्वक पढ़ें। यह मानते हुए कि कथनों में दी गई जानकारी सही है, भले ही वह आम तौर पर स्थापित तथ्यों से भिन्न प्रतीत होती है, निर्णय करें कि कौन सा/से निष्कर्ष तर्कसंगत रूप से इन कथनों का अनुसरण करता/करते हैं/हैं।

कथन:

- 1. सभी आदमी, जानवर हैं।
- 2. कोई भी आदमी, पक्षी नहीं है।

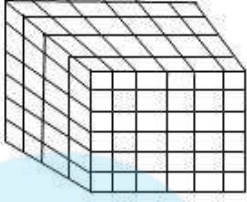
निष्कर्ष:

- I. सभी जानवर पक्षी हैं।
- II. सभी जानवर आदमी हैं।

- Ans
- 1. केवल निष्कर्ष II अनुसरण करता है।
 - 2. केवल निष्कर्ष I अनुसरण करता है।
 - 3. ना तो निष्कर्ष I न ही II अनुसरण करता है।
 - 4. निष्कर्ष I और II दोनों अनुसरण करते हैं।

Question ID : 8161611748
Status : Answered
Chosen Option : 3

Q.2 दी गई आकृति में कितने घन हैं?



- Ans
- 1. 72
 - 2. 84
 - 3. 144
 - 4. 180

Question ID : 8161611749

Status : Answered

Chosen Option : 3

Q.3 एक निश्चित कूट भाषा में, JONAIL को IRMDHO लिखा जाता है। उसी भाषा में PLMUTG को क्या लिखा जाएगा?

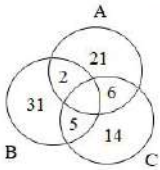
- Ans
- 1. OPLXSJ
 - 2. OOLXRK
 - 3. OOLXSJ
 - 4. OOLYTJ

Question ID : 8161611739

Status : Answered

Chosen Option : 3

Q.4 In the given Venn diagram, 'A' denotes 'likes teaching', 'B' denotes 'likes cooking', and 'C' denotes 'likes playing'. How many persons like only teaching and playing but NOT cooking?



- Ans
- 1. 23
 - 2. 48
 - 3. 41
 - 4. 29

Question ID : 8161611755

Status : Answered

Chosen Option : 3

Q.5 निम्नलिखित श्रृंखला में प्रश्न-चिह्न (?) के स्थान पर आने वाले अक्षर का चयन करें।

C, E, G, F, E, G, I, H ?

- Ans
- 1. E
 - 2. J
 - 3. G
 - 4. I

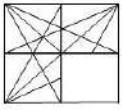
Question ID : 8161611743

Status : Answered

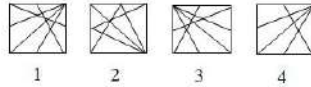
Chosen Option : 3

Q.6 उत्तर आकृतियों में से उस आकृति का चयन करें, जिसे प्रश्न आकृति के खाली स्थान में रखने पर पैटर्न पूरा हो जाएगा।

प्रश्न आकृति:



उत्तर आकृतियाँ:



- Ans
- 1. 2
 - 2. 4
 - 3. 3
 - 4. 1

Question ID : 8161611750

Status : Answered

Chosen Option : 1

Q.7 यदि '#' का मतलब '-' है, '&' का मतलब '+', '@' का मतलब 'x', और '=' का मतलब '=' है, तो निम्नलिखित का व्यंजक मान क्या होगा?

15 @ 2 ÷ 900 & 10 # 50

- Ans
- 1. 70
 - 2. 290
 - 3. 21
 - 4. 50

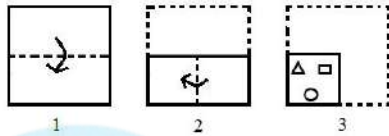
Question ID : 8161611732

Status : Answered

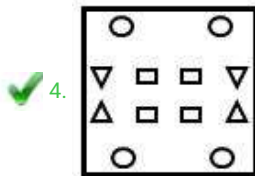
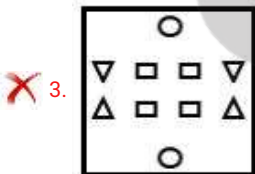
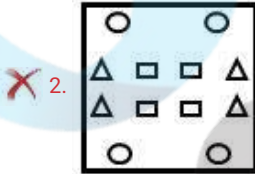
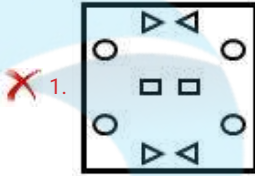
Chosen Option : 1

Q.8 नीचे दी गई आकृतियों में कागज के एक टुकड़े को मोड़ने का क्रम और काटने की विधि दर्शायी गई है। उत्तर आकृतियों से उस विकल्प का चयन करें जो कागज को पुनः खोलने पर उससे निकलता सदाश हो?

प्रश्न आकृति:



Ans

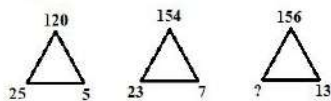


Question ID : 8161611753

Status : Answered

Chosen Option : 4

Q.9 दिए गए पैटर्न का ध्यानपूर्वक अध्ययन करें, और उस संख्या का चयन करें, जो प्रश्न चिह्न (?) के स्थान पर आ सकती है।



Ans

✗ 1. 21

✗ 2. 23

✗ 3. 11

✓ 4. 13

Question ID : 8161611735

Status : Answered

Chosen Option : 4

Q.10 एक निश्चित कूट भाषा में, 21683 को UFHC और 15654 को OFED लिखा जाता है। उसी भाषा में 15236 को क्या लिखा जाएगा?

- Ans
- 1. FAEBC
 - 2. OBCF
 - 3. AEFOF
 - 4. FOX

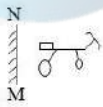
Question ID : 8161611740

Status : Answered

Chosen Option : 2

Q.11 यदि एक दर्पण को प्रश्न आकृति में MN रेखा पर रखा जाए, तो कौन-सी उत्तर आकृति प्रश्न आकृति का सही दर्पण प्रतिबिंब होगी?

प्रश्न आकृति:



- Ans
- 1.
 - 2.
 - 3.
 - 4.

Question ID : 8161611754

Status : Answered

Chosen Option : 4

Q.12 उस अक्षर-समूह का चयन करें, जो निम्नलिखित श्रेणी से संबंधित नहीं है।

DEC, HIG, LKM, PQO, TUS

- Ans
- 1. TUS
 - 2. LKM
 - 3. PQO
 - 4. HIG

Question ID : 8161611747

Status : Answered

Chosen Option : 2

Q.13 चार संख्याएँ दी गई हैं, जिनमें से तीन किसी प्रकार से संगत हैं और एक असंगत है। असंगत संख्या का चयन करें।

- Ans 1. 196
 2. 224
 3. 528
 4. 360

Question ID : 8161611737
Status : Answered
Chosen Option : 1

Q.14 उस विकल्प का चयन करें, जिसका तीसरे शब्द से वही संबंध है, जो दूसरे शब्द का पहले शब्द से है।

मुक्केबाजी : रिंग :: दौड़ : ?

- Ans 1. ट्रैक
 2. मैदान
 3. अखाड़ा
 4. कोर्ट

Question ID : 8161611745
Status : Answered
Chosen Option : 1

Q.15 उत्तर आकृतियों में से उस आकृति का चयन करें, जिसमें दी गई प्रश्न आकृति अंतर्निहित है। (घुमाने की अनुमति नहीं है)

प्रश्न आकृति:



- Ans 1.
- 2.
- 3.
- 4.

Question ID : 8161611752
Status : Answered
Chosen Option : 4

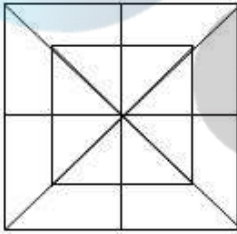
Q.16 अक्षरों के उस संयोजन का चयन करें, जिसे अक्षर श्रृंखला में रिक्त स्थानों पर क्रमिक रूप से भरे जाने पर श्रृंखला पूरी हो जाएगी।

mn_pmno__nopm_op

- Ans
- 1. opmn
 - 2. oomn
 - 3. mpmo
 - 4. oppn

Question ID : 8161611741
Status : Answered
Chosen Option : 1

Q.17 दी गई आकृति में कितने त्रिभुज हैं?



- Ans
- 1. 16
 - 2. 64
 - 3. 46
 - 4. 32

Question ID : 8161611751
Status : Answered
Chosen Option : 4

Q.18 प्रश्न-चिह्न (?) के स्थान पर आने वाली संख्या का चयन करें।

C10G, H20L, L17E, L?Q

- Ans
- 1. 25
 - 2. 29
 - 3. 19
 - 4. 30

Question ID : 8161611742
Status : Answered
Chosen Option : 2

Q.19 एक संख्या और उसके व्युत्क्रम का योग $\frac{17}{4}$ है। संख्याएं ज्ञात करें।

Ans 1. 4 और $\frac{1}{2}$

2. 4 और $\frac{1}{4}$

3. 5 और $\frac{1}{5}$

4. 3 और $\frac{1}{3}$

Question ID : 8161611731

Status : Answered

Chosen Option : 2

Q.20 निम्नलिखित श्रेणी में प्रश्न-चिह्न (?) के स्थान पर आने वाली संख्या का चयन करें।

211, 215, 231, 267, ?

Ans 1. 331

2. 296

3. 312

4. 421

Question ID : 8161611738

Status : Answered

Chosen Option : 1

Q.21 उस अक्षर/अक्षर-समूह का चयन करें, जो निम्नलिखित श्रेणी से संबंधित नहीं है।

EC, G, HF, M, KI, T

Ans 1. M

2. HF

3. T

4. EC

Question ID : 8161611746

Status : Answered

Chosen Option : 3

Q.22 उस विकल्प का चयन करें, जिसका तीसरी संख्या से वही संबंध है, जो दूसरी संख्या का पहली संख्या से है।

2197 : 12167 :: 343 : ?

Ans 1. 1000

2. 4913

3. 729

4. 515

Question ID : 8161611733

Status : Not Answered

Chosen Option : --

Q.23 X, Y की बहन है। Y, M की पुत्री है। M, P की माँ है। P, Y का भाई है। T, X की माँ का भाई है। T का M से क्या संबंध है?

Ans 1. भाई

2. पति

3. पुत्र

4. पिता

Question ID : 8161611744

Status : Answered

Chosen Option : 3

Q.24 निम्नलिखित श्रेणी में प्रश्न-चिह्न (?) के स्थान पर आने वाली संख्या का चयन करें।

30, 130, 350, ?

Ans 1. 738

2. 64

3. 1350

4. 729

Question ID : 8161611736

Status : Answered

Chosen Option : 1

Q.25 दिए गए पैटर्न का ध्यानपूर्वक अध्ययन करें, और उस संख्या का चयन करें, जो प्रश्नचिह्न (?) के स्थान पर आ सकती है।

11 17 8
5 3 15
3 7 ?
361 729 1225

- Ans
- 1. 22
 - 2. 25
 - 3. 12
 - 4. 21

Question ID : 8161611734
Status : Answered
Chosen Option : 3

Section : Quantitative Aptitude(Basic Arithmetic Skill)

Q.1 65 पुरुषों वाले समूह की औसत आयु 32 वर्ष है। यदि 5 पुरुष और इस समूह में शामिल होते हैं, तो 70 पुरुषों की औसत आयु 34 वर्ष हो जाती है। तो बाद में जुड़ने वाले 5 पुरुषों की औसत आयु (वर्षों में) ज्ञात करें।

- Ans
- 1. 65
 - 2. 60
 - 3. 55
 - 4. 50

Question ID : 8161611759
Status : Answered
Chosen Option : 2

Q.2 किसी ऐसे बिंदु से, स्पर्शरेखा-युग्म AB और AC को खींचा जाता है, जो 6 cm त्रिज्या वाले वृत्त के केंद्र O से 10 cm की दूरी पर है, तो चतुर्भुज ABOC का क्षेत्रफल cm^2 में ज्ञात करें।

- Ans
- 1. 52
 - 2. 72
 - 3. 48
 - 4. 60

Question ID : 8161611766
Status : Answered
Chosen Option : 3

Q.3 किसी बाह्य बिंदु से वृत्त पर खींची गई स्पर्शरेखाओं की लंबाई _____ होती है।

- Ans
- 1. बराबर नहीं
 - 2. समानांतर
 - 3. लंबवत
 - 4. बराबर

Question ID : 8161611765
Status : Answered
Chosen Option : 4

Q.4 धारा की दिशा में एक मोटरबोट 2 घंटे में 24 km और धारा के विपरीत 1 घंटे में 10 km जाती है। किलोमीटर प्रति घंटे में मोटरबोट की चाल ज्ञात करें।

- Ans
- 1. 11
 - 2. 14
 - 3. 10
 - 4. 12

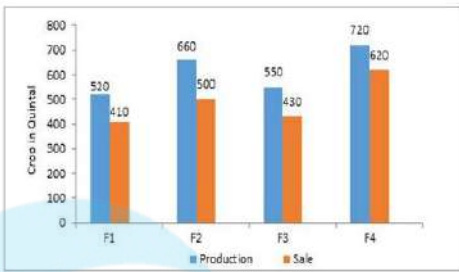
Question ID : 8161611757
Status : Answered
Chosen Option : 1

Q.5 एक पुस्तक का अंकित मूल्य ₹900 है। 10% की दो क्रमागत छूट देने के बाद पुस्तक का विक्रय मूल्य ज्ञात करें।

- Ans
- 1. ₹820
 - 2. ₹729
 - 3. ₹749
 - 4. ₹800

Question ID : 8161611760
Status : Answered
Chosen Option : 2

Q.6 The given bar graph represents the production and sales of a certain crop in quintals by the farmers F1, F2, F3 and F4.



What is the ratio between the total sales and total production by all farmers?

- Ans
- 1. 3 : 4
 - 2. 6 : 7
 - 3. 4 : 5
 - 4. 5 : 6

Question ID : 8161611778

Status : Answered

Chosen Option : 3

Q.7 3800 के $\frac{25}{9}$ के 15% के 18% का मान ज्ञात करें।

- Ans
- 1. 583
 - 2. 385
 - 3. 582
 - 4. 285

Question ID : 8161611761

Status : Answered

Chosen Option : 4

Q.8 यदि $\sin x = \frac{3}{5}$, $0 \leq x \leq 90^\circ$ है, तो $\cot x \cdot \sec x$ का मान ज्ञात करें।

- Ans
- 1. $\frac{4}{5}$
 - 2. $\frac{3}{5}$
 - 3. $\frac{5}{3}$
 - 4. $\frac{3}{4}$

Question ID : 8161611776

Status : Answered

Chosen Option : 3

Q.9 यदि $x : y = 3 : 2$ और $x + y = 90$ है, तो $(x - y)$ का मान ज्ञात कीजिए।

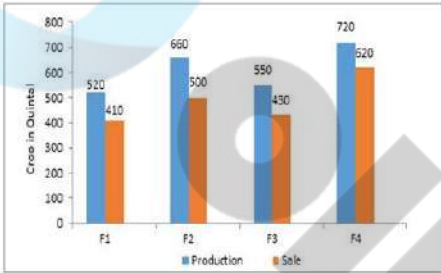
- Ans
- 1. 14
 - 2. 12
 - 3. 18
 - 4. 16

Question ID : 8161611763

Status : Answered

Chosen Option : 3

Q.10 दिया गया बार ग्राफ किसानों F1, F2, F3 और F4 द्वारा किए जाने वाले किसी निश्चित फसल के उत्पादन और की जाने वाली बिक्री को कुंतलों में दर्शाता है।



सभी किसानों द्वारा बेची गई फसल का औसत कुंतलों में ज्ञात कीजिए।

- Ans
- 1. 490
 - 2. 530
 - 3. 470
 - 4. 510

Question ID : 8161611777

Status : Answered

Chosen Option : 1

Q.11 निम्न में से कौन-सी संख्या 7 और 11 दोनों से विभाज्य है?

- Ans
- 1. 16,324
 - 2. 16,425
 - 3. 12,235
 - 4. 16,257

Question ID : 8161611772

Status : Answered

Chosen Option : 1

Q.12 एक वृत्ताकार शंकु की त्रिज्या R है और इसकी ऊंचाई H है। शंकु का आयतन ज्ञात करें।

Ans

1. $\frac{2}{3\pi R^2 H}$

2. $\frac{\pi R^2 H}{3}$

3. $\pi R H^2$

4. $\pi R^2 H$

Question ID : 8161611758

Status : Answered

Chosen Option : 2

Q.13 $\triangle ABC$ में, DE, BC के समांतर हैं, AD = 3 cm, AE = 4 cm और AC = 10 cm है, तो सेंटीमीटर में BD का मान ज्ञात करें।

Ans

1. 5.5

2. 3.5

3. 7.5

4. 4.5

Question ID : 8161611768

Status : Answered

Chosen Option : 4

Q.14 $[(a^2 - b^2)^2 + (b^2 - c^2)^2 + (c^2 - a^2)^2] \div [(a - b)^2 + (b - c)^2 + (c - a)^2]$ का मान किसके बराबर है?

(दिया हुआ है $a \neq b \neq c$)

Ans

1. $(a + b)(b + c)(c + a)$

2. $(a^2 + b^2)(b^2 + c^2)(c^2 + a^2)$

3. $(a - b)(b - c)(c - a)$

4. $(a^2 - b^2)(b^2 - c^2)(c^2 - a^2)$

Question ID : 8161611771

Status : Not Answered

Chosen Option : --

Q.15 यदि $\triangle ABC$, $\angle ABC = 90^\circ$ वाला एक समकोण त्रिभुज है और AC = 10 cm, BC = 8 cm है, तो AB की लंबाई ज्ञात करें।

Ans

1. 12 cm

2. 6 cm

3. 18 cm

4. 2 cm

Question ID : 8161611767

Status : Answered

Chosen Option : 2

Q.16 $8 - [8 - (5 + 8) - \{8 - (8 - 5 + 8)\} + 10]$ का मान ज्ञात करें।

- Ans
- 1. 5
 - 2. 20
 - 3. 0
 - 4. 10

Question ID : 8161611773

Status : Answered

Chosen Option : 3

Q.17 यदि $\frac{\sin x + \cos x}{\sin x - \cos x} = \frac{6}{5}$, तो $\frac{\tan^2 x + 1}{\tan^2 x - 1}$ का मान ज्ञात करें।

- Ans
- 1. $\frac{61}{60}$
 - 2. $\frac{60}{61}$
 - 3. $\frac{35}{61}$
 - 4. $\frac{61}{35}$

Question ID : 8161611775

Status : Answered

Chosen Option : 1

Q.18 $\frac{\sin 30^\circ \cos 60^\circ + \cos 45^\circ \sin 45^\circ}{\tan 60^\circ \cot 30^\circ}$ का मान ज्ञात करें।

- Ans
- 1. $\frac{1}{\sqrt{3}}$
 - 2. 2
 - 3. $\sqrt{3}$
 - 4. $\frac{1}{4}$

Question ID : 8161611774

Status : Answered

Chosen Option : 4

Q.19 यदि $kx^3 + 4x^2 + 3x - 4$ और $x^3 - 4x + k$ को $(x - 3)$ से विभाजित किया जाता है, तो समान शेषफल बचता है, k का मान ज्ञात करें।

- Ans
- 1. 1
 - 2. 0
 - 3. -1
 - 4. 2

Question ID : 8161611770
Status : Answered
Chosen Option : 3

Q.20 रवि एक कुर्सी मोहन को 10% के लाभ पर बेचता है और मोहन इसे गोविंद को 20% के लाभ पर बेचता है। यदि गोविंद इसके लिए ₹1,320 का भुगतान करता है, तो रवि के लिए क्रय मूल्य ज्ञात करें।

- Ans
- 1. ₹800
 - 2. ₹1,000
 - 3. ₹980
 - 4. ₹900

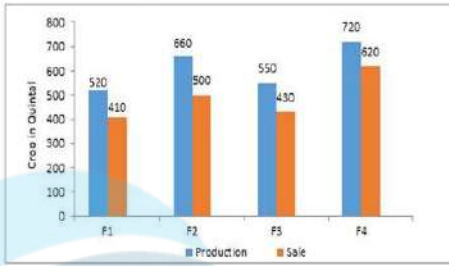
Question ID : 8161611762
Status : Answered
Chosen Option : 2

Q.21 यदि $a = 2b$ है, तो $\frac{a+b}{a-b}$ का मान ज्ञात करें।

- Ans
- 1. 6
 - 2. 5
 - 3. 4
 - 4. 3

Question ID : 8161611769
Status : Answered
Chosen Option : 4

Q.22 दिया गया बार ग्राफ किसानों F1, F2, F3 और F4 द्वारा किए जाने वाले किसी निश्चित फसल के उत्पादन और की जाने वाली बिक्री को कुंतलों में दर्शाता है।



किसान F2 द्वारा उत्पादन के संदर्भ में, किसान F1 का उत्पादन कितना प्रतिशत कम है?

- Ans
- 1. $24\frac{7}{33}\%$
 - 2. $21\frac{7}{33}\%$
 - 3. $22\frac{7}{33}\%$
 - 4. $23\frac{7}{33}\%$

Question ID : 8161611779

Status : Answered

Chosen Option : 2

Q.23 एक निश्चित समय में, कोई धनराशि स्वयं की पांच गुनी हो जाती है। यदि ब्याज दर 16% p.a. है, तो वह निश्चित समय (वर्षों में) जात करें।

- Ans
- 1. 30
 - 2. 38
 - 3. 32
 - 4. 25

Question ID : 8161611764

Status : Answered

Chosen Option : 4

Q.24 रवि, मोहन और गोविंद किसी कार्य को क्रमशः 12 दिन, 10 दिन और 15 दिन में पूरा कर सकते हैं। रवि, मोहन और गोविंद एक साथ मिलकर उसी कार्य को कितने दिन में पूरा कर सकते हैं?

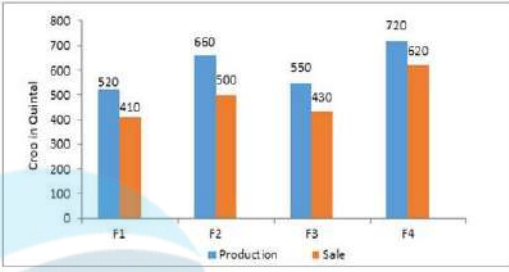
- Ans
- 1. 2
 - 2. 4
 - 3. 6
 - 4. 8

Question ID : 8161611756

Status : Answered

Chosen Option : 2

Q.25 दिया गया बार ग्राफ किसानों F1, F2, F3 और F4 द्वारा किए जाने वाले किसी निश्चित फसल के उत्पादन और की जाने वाली बिक्री को कुंतलों में दर्शाता है।



किस किसान ने उत्पादन के संदर्भ में बिक्री का उच्चतम प्रतिशत दर्ज किया?

- Ans
- 1. F1
 - 2. F3
 - 3. F2
 - 4. F4

Question ID : 8161611780

Status : Answered

Chosen Option : 4

Section : General Awareness

Q.1 मिश्रित अर्थव्यवस्था क्या होती है?

- Ans
- 1. पारंपरिक और आधुनिक उद्योगों का सह-अस्तित्व
 - 2. घरेलू और विदेशी निवेशों की उपस्थिति
 - 3. संसाधन आवंटन, वाणिज्य और व्यापार की एक बाज़ार प्रणाली, जिसमें सरकारी हस्तक्षेप से मुक्त बाज़ार सह-अस्तित्व में होते हैं
 - 4. निर्वाह और व्यावसायिक कृषि की उपस्थिति

Question ID : 8161611789

Status : Answered

Chosen Option : 1

Q.2 बाइलाकुप्पे मठ (नामद्रोलिंग), भारत के किस राज्य में स्थित है?

- Ans
- 1. अरुणाचल प्रदेश
 - 2. कर्नाटक
 - 3. हिमाचल प्रदेश
 - 4. महाराष्ट्र

Question ID : 8161611783

Status : Answered

Chosen Option : 1

Q.3 भारत को कितने भूकंप क्षेत्रों (सीस्मिक ज़ोन्स) में विभाजित किया गया है?

- Ans 1. 4
 2. 6
 3. 5
 4. 2

Question ID : 8161611793
Status : Not Answered
Chosen Option : --

Q.4 चेन्नूस (Chenchus) अनुसूचित जनजाति, भारत के किस राज्य से संबंधित है?

- Ans 1. नागालैंड
 2. तेलंगाना
 3. केरल
 4. पश्चिम बंगाल

Question ID : 8161611784
Status : Not Answered
Chosen Option : --

Q.5 घास के खुले मैदान वेल्ड्स कहाँ पाए जाते हैं?

- Ans 1. ऑस्ट्रेलिया
 2. अफ्रीका
 3. एशिया
 4. अमेरिका

Question ID : 8161611796
Status : Answered
Chosen Option : 2

Q.6 प्रथम शीतकालीन पैरालम्पिक्स खेल कहाँ आयोजित किए गए थे?

- Ans 1. रूस
 2. इटली
 3. स्वीडन
 4. कोरिया

Question ID : 8161611803
Status : Not Answered
Chosen Option : --

Q.7 किस महिला अंतरिक्ष यात्री ने एक महिला द्वारा सर्वाधिक समय तक अंतरिक्ष यान में अकेले रहने का रिकॉर्ड बनाया है?

- Ans
- 1. जेसिका मीर
 - 2. पैगी व्हिट्सन
 - 3. क्रिस्टीना कोच
 - 4. सुनीता विलियम्स

Question ID : 8161611785
Status : Answered
Chosen Option : 3

Q.8 राष्ट्रपति की मृत्यु के कारण उत्पन्न हुई आकस्मिक रिक्तता के दौरान राष्ट्रपति के रूप में कौन कार्य करता है?

- Ans
- 1. लोकसभा अध्यक्ष
 - 2. भारत के मुख्य न्यायाधीश
 - 3. उप-राष्ट्रपति
 - 4. नामित लोकसभा सदस्य

Question ID : 8161611801
Status : Answered
Chosen Option : 3

Q.9 शुजा-उद-दौला और शाह आलम ने रॉबर्ट क्लाइव के साथ इलाहाबाद की संधि पर कब हस्ताक्षर किए थे?

- Ans
- 1. 1764
 - 2. 1766
 - 3. 1765
 - 4. 1767

Question ID : 8161611797
Status : Answered
Chosen Option : 1

Q.10 कंप्यूटिंग के क्षेत्र में, VRML का अर्थ क्या होता है?

- Ans
- 1. विजुअल रिएलिटी मशीन लैंग्वेज (Visual Reality Machine Language)
 - 2. वर्चुअल रिएलिटी मशीन लैंग्वेज (Virtual Reality Machine Language)
 - 3. विजुअल रिएलिटी मार्क अप लैंग्वेज (Visual Reality Mark Up Language)
 - 4. वर्चुअल रिएलिटी मार्क अप लैंग्वेज (Virtual Reality Mark Up Language)

Question ID : 8161611781
Status : Answered
Chosen Option : 4

Q.11 किस देश ने दिसंबर 2019 में, देश का तीसरा सबसे बड़ा रॉकेट वाहक 'लॉन्ग मार्च -5' प्रक्षेपित किया था?

- Ans
- 1. रूस
 - 2. अमेरिका
 - 3. चीन
 - 4. भारत

Question ID : 8161611787
Status : Answered
Chosen Option : 4

Q.12 बैठने की क्षमता के आधार पर, विश्व का सबसे बड़ा हॉकी स्टेडियम किस देश में स्थित है?

- Ans
- 1. भारत
 - 2. नीदरलैंड
 - 3. पाकिस्तान
 - 4. ऑस्ट्रेलिया

Question ID : 8161611805
Status : Answered
Chosen Option : 2

Q.13 चंद्रमा की त्रिज्या कितनी है?

- Ans
- 1. 1.78×10^6 m
 - 2. 1.74×10^5 m
 - 3. 1.79×10^6 m
 - 4. 1.74×10^6 m

Question ID : 8161611792
Status : Answered
Chosen Option : 2

Q.14 वायसराय की कार्यकारी परिषद में सम्मिलित होने वाला प्रथम भारतीय कौन था?

- Ans
- 1. तेज बहादुर सप्रू
 - 2. पी.एस. शिवस्वामी अय्यर
 - 3. सैयद अली ईमान
 - 4. सत्येंद्र प्रसाद सिन्हा

Question ID : 8161611798
Status : Answered
Chosen Option : 2

Q.15 समुद्र तल पर सामान्य वायुदाब कितना होता है?

- Ans 1. 1013.25 मिलीबार
 2. 1100.12 मिलीबार
 3. 985.14 मिलीबार
 4. 886.13 मिलीबार

Question ID : 8161611795
Status : Answered
Chosen Option : 1

Q.16 तीसरी पीढ़ी (generation) के कंप्यूटरों में किस तकनीक का उपयोग किया जाता है?

- Ans 1. एकीकृत परिपथ (Integrated circuits)
 2. ट्रांज़िस्टर (Transistors)
 3. माइक्रोप्रोसेसर (Microprocessors)
 4. वैक्यूम ट्यूब (Vacuum tubes)

Question ID : 8161611782
Status : Not Answered
Chosen Option : --

Q.17 ब्यूटेन (Butane) गैस का रासायनिक सूत्र क्या है?

- Ans 1. C_4H_6
 2. C_5H_{10}
 3. C_4H_{10}
 4. C_4H_8

Question ID : 8161611790
Status : Answered
Chosen Option : 3

Q.18 दक्षिण एशियाई साहित्य 2019 के लिए डीएससी (DSC) पुरस्कार के/की विजेता कौन हैं?

- Ans 1. रस्किन बॉन्ड
 2. चेतन भगत
 3. अमिताभ बागची
 4. अरुंधति राय

Question ID : 8161611800
Status : Answered
Chosen Option : 3

Q.19 भारत के प्रथम मुख्य चुनाव आयुक्त कौन थे?

- Ans
- 1. मिहिर सेन
 - 2. सुकुमार सेन
 - 3. ओम प्रकाश रावत
 - 4. कल्याण सुंदरम

Question ID : 8161611802
Status : Answered
Chosen Option : 2

Q.20 टेनिस में, एक वर्ष में कितने ग्रैंड स्लैम टूर्नामेंट खेले जाते हैं?

- Ans
- 1. 4
 - 2. 3
 - 3. 5
 - 4. 6

Question ID : 8161611804
Status : Answered
Chosen Option : 1

Q.21 कौन सा क्षेत्र भू-पर्पटी (क्रस्ट) और आच्छादन (मैंटल) को पृथक करता है?

- Ans
- 1. मोहो (Moho)
 - 2. समताप मण्डल (Stratosphere)
 - 3. स्थलमंडल (Lithosphere)
 - 4. दुर्बलता मंडल (Asthenosphere)

Question ID : 8161611794
Status : Answered
Chosen Option : 1

Q.22 किस देश ने गांधी नागरिकता शिक्षा पुरस्कार स्थापित करने की घोषणा की है?

- Ans
- 1. पुर्तगाल
 - 2. जर्मनी
 - 3. दक्षिण अफ्रीका
 - 4. भारत

Question ID : 8161611799
Status : Answered
Chosen Option : 2

Q.23 किस संघ में जीवों के संयुक्त (खंडों में जुड़े) पैर होते हैं?

- Ans
- 1. मोलस्का (Mollusca)
 - 2. सूत्रकृमि (Nematoda)
 - 3. शूलचर्म (Echinodermata)
 - 4. सन्धिपाद (Arthropoda)

Question ID : 8161611791
Status : Not Answered
Chosen Option : --

Q.24 भारत में दूसरी पंचवर्षीय योजना की अवधि क्या थी?

- Ans
- 1. 1961-66
 - 2. 1951-56
 - 3. 1969-74
 - 4. 1956-61

Question ID : 8161611788
Status : Answered
Chosen Option : 4

Q.25 महिला विश्व रैपिड शतरंज चैम्पियनशिप 2019 किसने जीती?

- Ans
- 1. एकातेरिना अतालिक
 - 2. हम्पी कोनेरु
 - 3. लेई तिगजी
 - 4. जू वेंजुन

Question ID : 8161611786
Status : Answered
Chosen Option : 2

Roll Number	
Candidate Name	
Venue Name	
Exam Date	19/03/2020
Exam Time	1:00 PM - 2:00 PM
Subject	CHSL Tier 1

Section : English Language (Basic Knowledge)

Q.1 Select the most appropriate ANTONYM of the given word.

TAME

- Ans 1. Control
 2. Upset
 3. Restrain
 4. Sanctify

Question ID : 8161611820
Status : Answered
Chosen Option : 4

Q.2 Select the most appropriate meaning of the given idiom.

Reinventing the wheel

- Ans 1. Disturbing the system which has already been in use
 2. Examining circumstances that have already been understood
 3. Wasting one's time for things that have already been satisfactorily done
 4. Analysing various factors of happenings

Question ID : 8161611823
Status : Answered
Chosen Option : 3

Q.3 Select the most appropriate synonym of the given word.

TARNISH

- Ans 1. Heighten
 2. Decorate
 3. Damage
 4. Appease

Question ID : 8161611829
Status : Answered
Chosen Option : 2

Q.4 Select the correct indirect form of the given sentence.

Nakul asked her, "How do you know that Rahul has told it to him?"

- Ans
- 1. Nakul asked her how she knew that Rahul has told that to him.
 - 2. Nakul asked her how she knew that Rahul had told that to him.
 - 3. Nakul asked her that how she knows that Rahul had told that to him.
 - 4. Nakul asked her that how she has known that Rahul has told that to him.

Question ID : **8161611807**

Status : **Answered**

Chosen Option : **2**

Comprehension:

In the following passage some words have been deleted. Fill in the blanks with the help of the alternatives given. Select the most appropriate option for each blank.

Forest fire always (1)_____ by one of two reasons – naturally caused or human-caused. Natural fire is generally (2)_____ by lightning, with a very small percentage (3)_____ by spontaneous combustion of dry fuel such as sawdust and leaves. (4)_____, human-caused fire can happen (5)_____ any number of reasons.

SubQuestion No : 5

Q.5 Select the most appropriate option for blank No. 1.

- Ans
- 1. takes up
 - 2. happens
 - 3. creates
 - 4. causes

Question ID : **8161611811**

Status : **Answered**

Chosen Option : **4**

Comprehension:

In the following passage some words have been deleted. Fill in the blanks with the help of the alternatives given. Select the most appropriate option for each blank.

Forest fire always (1)_____ by one of two reasons – naturally caused or human-caused. Natural fire is generally (2)_____ by lightning, with a very small percentage (3)_____ by spontaneous combustion of dry fuel such as sawdust and leaves. (4)_____, human-caused fire can happen (5)_____ any number of reasons.

SubQuestion No : 6

Q.6 Select the most appropriate option for blank No. 2.

- Ans
- 1. troubled
 - 2. reasoned
 - 3. begun
 - 4. caused

Question ID : **8161611812**

Status : **Answered**

Chosen Option : **3**

Comprehension:

In the following passage some words have been deleted. Fill in the blanks with the help of the alternatives given. Select the most appropriate option for each blank.

Forest fire always (1)_____ by one of two reasons – naturally caused or human-caused. Natural fire is generally (2)_____ by lightning, with a very small percentage (3)_____ by spontaneous combustion of dry fuel such as sawdust and leaves. (4)_____, human-caused fire can happen (5)_____ any number of reasons.

SubQuestion No : 7

Q.7 Select the most appropriate option for blank No. 3.

- Ans 1. contributed
 2. achieved
 3. attained
 4. gathered

Question ID : 8161611813
Status : Answered
Chosen Option : 1

Comprehension:

In the following passage some words have been deleted. Fill in the blanks with the help of the alternatives given. Select the most appropriate option for each blank.

Forest fire always (1)_____ by one of two reasons – naturally caused or human-caused. Natural fire is generally (2)_____ by lightning, with a very small percentage (3)_____ by spontaneous combustion of dry fuel such as sawdust and leaves. (4)_____, human-caused fire can happen (5)_____ any number of reasons.

SubQuestion No : 8

Q.8 Select the most appropriate option for blank No. 4.

- Ans 1. Unless
 2. On the other hand
 3. At the outset
 4. Consequently

Question ID : 8161611814
Status : Answered
Chosen Option : 3

Comprehension:

In the following passage some words have been deleted. Fill in the blanks with the help of the alternatives given. Select the most appropriate option for each blank.

Forest fire always (1)_____ by one of two reasons – naturally caused or human-caused. Natural fire is generally (2)_____ by lightning, with a very small percentage (3)_____ by spontaneous combustion of dry fuel such as sawdust and leaves. (4)_____, human-caused fire can happen (5)_____ any number of reasons.

SubQuestion No : 9

Q.9 Select the most appropriate option for blank No. 5.

- Ans
- 1. hence forth
 - 2. because
 - 3. since
 - 4. due to

Question ID : 8161611815
Status : Answered
Chosen Option : 4

Q.10 In the sentence identify the segment which contains the grammatical error.

Some of the issues discussed on the media nowadays has no relevance to the nation-building process.

- Ans
- 1. on the media nowadays
 - 2. to the nation-building process
 - 3. Some of the issues discussed
 - 4. has no relevance

Question ID : 8161611809
Status : Answered
Chosen Option : 4

Q.11 Select the most appropriate option to substitute the underlined segment in the given sentence. If there is no need to substitute it, select 'No improvement'.

The selection to the police department raised him as high to a kite.

- Ans
- 1. as high as
 - 2. so high so
 - 3. No improvement
 - 4. so high to

Question ID : 8161611819
Status : Answered
Chosen Option : 1

Q.12 Select the most appropriate ANTONYM of the given word.

DISPUTE

- Ans 1. Concede
 2. Quarrel
 3. Strengthen
 4. Impute

Question ID : 8161611821
Status : Answered
Chosen Option : 1

Q.13 Select the most appropriate meaning of the given idiom.

Falling head over heels

- Ans 1. Feeling deep sympathy to the needy
 2. Finding fault with others
 3. Falling deeply in love with someone
 4. Fixing models without proper analysis

Question ID : 8161611822
Status : Answered
Chosen Option : 3

Q.14 Select the most appropriate synonym of the given word.

PLEASANT

- Ans 1. Tedious
 2. Tiresome
 3. Refreshing
 4. Exasperating

Question ID : 8161611828
Status : Answered
Chosen Option : 3

Q.15 Select the most appropriate option to substitute the underlined segment in the given sentence. If there is no need to substitute it, select 'No improvement'.

She is tender-hearted by nature and I have found her eyes moist many a times over the sad face of any children.

- Ans 1. many a time
 2. No improvement
 3. many time
 4. so many a times

Question ID : 8161611818
Status : Answered
Chosen Option : 1

Q.16 Given below are four jumbled sentences. Out of the given options pick the one that gives their correct order.

- A. The driver had a cloudy look and drove off without taking him.
- B. He asked a taxi driver to take him to the shopping mall.
- C. He told the driver that he could pay the fare by card, not in cash.
- D. He arrived on the outskirts of a city.

- Ans
- 1. CDBA
 - 2. DBCA
 - 3. ACDB
 - 4. DCAB

Question ID : 8161611817
Status : Answered
Chosen Option : 2

Q.17 Select the wrongly spelt word.

- Ans
- 1. Compromize
 - 2. Sympathize
 - 3. Scrutinize
 - 4. Colonize

Question ID : 8161611824
Status : Answered
Chosen Option : 2

Q.18 In the sentence identify the segment which contains the grammatical error.

Cats cannot be blamed for its behaviour to their masters as they are tamed so.

- Ans
- 1. to their masters
 - 2. Cats cannot be blamed
 - 3. for its behaviour
 - 4. as they are tamed so

Question ID : 8161611808
Status : Answered
Chosen Option : 1

Q.19 Given below are four jumbled sentences. Out of the given options pick the one that gives their correct order.

- A. He was on a pilgrimage to Jerusalem.
- B. The villagers were kind though doubtful.
- C. They offered him some food to eat and a room to stay.
- D. One night, he took rest in a village unfamiliar on the way.

- Ans
- 1. DCAB
 - 2. CADB
 - 3. ADBC
 - 4. CDBA

Question ID : 8161611816
Status : Answered
Chosen Option : 1

Q.20 Select the word which means the same as the group of words given.

A person living in the same age with another

- Ans
- 1. Confidant
 - 2. Collaborator
 - 3. Partner
 - 4. Contemporary

Question ID : 8161611826
Status : Answered
Chosen Option : 4

Q.21 Select the wrongly spelt word.

- Ans
- 1. Tolerate
 - 2. Temperate
 - 3. Accomodate
 - 4. Promulgate

Question ID : 8161611825
Status : Answered
Chosen Option : 3

Q.22 Select the most appropriate word to fill in the blank.

Unnecessary suspicion and lack of trust against the others are caused by _____.

- Ans
- 1. impartiality
 - 2. contentment
 - 3. prejudice
 - 4. empathy

Question ID : 8161611831
Status : Answered
Chosen Option : 2

Q.23 Select the word which means the same as the group of words given.

A situation requiring a choice between equally undesirable alternatives or confusions

- Ans
- 1. Sophistication
 - 2. Complication
 - 3. Instability
 - 4. Dilemma

Question ID : 8161611827
Status : Answered
Chosen Option : 4

Q.24 Select the most appropriate word to fill in the blank.

Children need special care and _____ from the side of their parents for making them emotionally strong.

- Ans
- 1. compromise
 - 2. suspicion
 - 3. attention
 - 4. reflection

Question ID : 8161611830
Status : Answered
Chosen Option : 3

Q.25 Select the correct passive form of the given sentence.

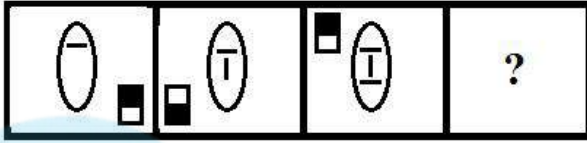
This android can perform all the programmes perfectly well.

- Ans
- 1. All the programmes can have been performed perfectly well by this android.
 - 2. All the programmes could have been performed perfectly well by this android.
 - 3. All the programmes can be performed perfectly well by this android.
 - 4. All the programmes could be performed perfectly well by this android.

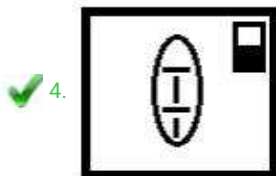
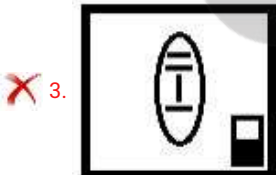
Question ID : 8161611806
Status : Answered
Chosen Option : 3

Section : General Intelligence

Q.1 उस आकृति का चयन करें जो निम्न आकृति-श्रृंखला में अगले स्थान पर आएगी।



Ans



Question ID : 8161611851

Status : Answered

Chosen Option : 4

Q.2 उस विकल्प का चयन करें जिसका तीसरी संख्या से वही संबंध है जो दूसरी संख्या का पहली संख्या से है।

3 : 67 :: 6 : ?

Ans ✗ 1. 42

✗ 2. 55

✗ 3. 222

✓ 4. 349

Question ID : 8161611834

Status : Answered

Chosen Option : 4

Q.3 गगन ने अमित की तस्वीर की ओर इशारा करते हुए कहा, 'उसकी बहन की मां का पति, मेरी बेटी की मां के पति का पिता है।' अमित का गगन से क्या संबंध है?

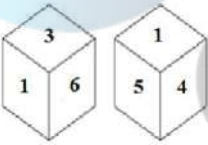
- Ans
- 1. भतीजा
 - 2. मामा
 - 3. भाई
 - 4. पिता

Question ID : 8161611845

Status : Answered

Chosen Option : 3

Q.4 एक ही पासे की दो अलग-अलग स्थितियों को नीचे दर्शाया गया है, जिसके छह फलकों पर 1 से 6 तक संख्याएं मुद्रित हैं। संख्या 1 वाले फलक के विपरीत फलक पर कौन सी संख्या होगी?



- Ans
- 1. 3
 - 2. 5
 - 3. 2
 - 4. 4

Question ID : 8161611850

Status : Answered

Chosen Option : 3

Q.5 उस विकल्प आकृति का चयन करें जिसमें आकृति X, उसके एक हिस्से के रूप में अन्तर्निहित है। (घुमाने की अनुमति नहीं है)



Figure X

Ans

✓ 1.



✗ 2.



✗ 3.



✗ 4.

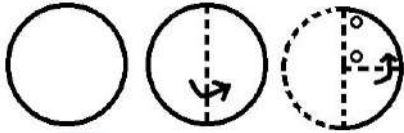


Question ID : 8161611853

Status : Answered

Chosen Option : 1

Q.6 निम्नलिखित आकृतियों में कागज के एक टुकड़े को मोड़ने का क्रम और मुड़े हुए कागज को काटे जाने की विधि दर्शाई गई है। पुनः खोले जाने पर यह कागज कैसा दिखाई देगा?



Ans

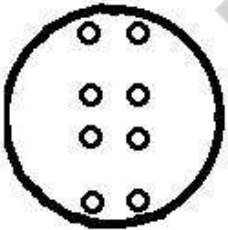
X 1.



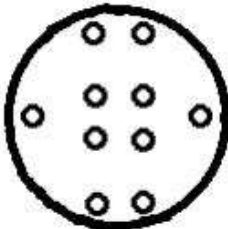
X 2.



✓ 3.



X 4.



Question ID : 8161611854

Status : Answered

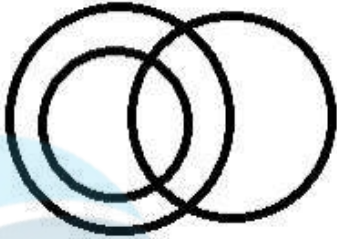
Chosen Option : 3

Q.7 उस वेन आरेख का चयन करें जो दिए वर्गों के बीच के संबंध को सर्वोत्तम ढंग से निरूपित करता है।

नवजात शिशु, पुरुष, पिता

Ans

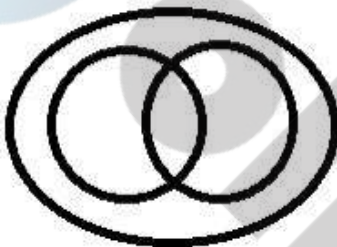
✗ 1.



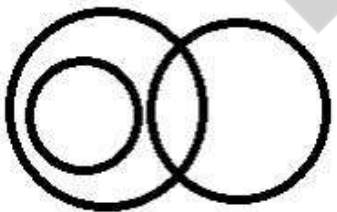
✗ 2.



✗ 3.



✓ 4.



Question ID : 8161611856

Status : Answered

Chosen Option : 4

Q.8 उस विकल्प का चयन करें जिसमें समुच्चय की संख्याओं के मध्य वही संबंध है जो दिए गए समुच्चय की संख्याओं के मध्य है।

(52, 48, 64)

Ans

✗ 1. (70, 62, 441)

✗ 2. (82, 78, 81)

✓ 3. (92, 90, 8)

✗ 4. (61, 55, 36)

Question ID : 8161611835

Status : Answered

Chosen Option : 3

Q.9 68 छात्रों के एक बैच में, 23 छात्र दो में से किसी भी खेल यानी क्रिकेट और स्क्वैश में भाग नहीं लेते हैं। 17 छात्र केवल क्रिकेट में भाग लेते हैं, 24 छात्र क्रिकेट और स्क्वैश में भाग लेते हैं। केवल स्क्वैश में कितने छात्र भाग लेते हैं?

- Ans
- 1. 4
 - 2. 20
 - 3. 28
 - 4. 21

Question ID : 8161611832
Status : Answered
Chosen Option : 1

Q.10 एक निश्चित कूट भाषा में, 'sky is blue' को '815' लिखा जाता है; 'blue and red' को '725' लिखा जाता है; 'Ram likes red' को '203' लिखा जाता है; 'Sita and Ram' को '379' लिखा जाता है। उसी कूट भाषा में 'Ram likes blue' को क्या लिखा जाएगा?

- Ans
- 1. 257
 - 2. 512
 - 3. 503
 - 4. 573

Question ID : 8161611838
Status : Answered
Chosen Option : 3

Q.11 उस विकल्प का चयन करें जिसका तीसरे अक्षर-समूह से वही संबंध है जो दूसरे अक्षर-समूह का पहले अक्षर-समूह से है।

NR : MI :: BK : ?

- Ans
- 1. YP
 - 2. YU
 - 3. XM
 - 4. OP

Question ID : 8161611842
Status : Answered
Chosen Option : 1

Q.12 उस विकल्प का चयन करें जो निम्न शब्दों के तार्किक और अर्थपूर्ण क्रम को दर्शाता है।

1. माउन्ट आबू
2. विश्व
3. भारत
4. राजस्थान
5. नक्की झील

- Ans
- 1. 1, 5, 3, 4, 2
 - 2. 5, 1, 2, 3, 4
 - 3. 5, 1, 4, 3, 2
 - 4. 5, 1, 4, 2, 3

Question ID : 8161611839

Status : Answered

Chosen Option : 3

Q.13 निम्नलिखित चार शब्दों में से तीन एक निश्चित तरीके से संगत हैं, जबकि एक असंगत है। असंगत शब्द का चयन करें।

- Ans
- 1. यूरोप
 - 2. दक्षिण अफ्रीका
 - 3. अफ्रीका
 - 4. उत्तर अमेरिका

Question ID : 8161611848

Status : Answered

Chosen Option : 1

Q.14 उस विकल्प का चयन करें जिसका तीसरे शब्द से वही संबंध है जो दूसरे शब्द का पहले शब्द से है।

दस्ताने : हाथ :: जूते : ?

- Ans
- 1. घुटना
 - 2. पैर
 - 3. मोची
 - 4. चमड़ा

Question ID : 8161611843

Status : Answered

Chosen Option : 2

Q.15 उस संख्या का चयन करें जो निम्नलिखित श्रेणी में प्रश्न चिन्ह (?) के स्थान पर आ सकती है।

50, 49, 53, 44, 60, 35, ?

- Ans
- 1. 104
 - 2. 70
 - 3. 71
 - 4. 117

Question ID : 8161611837

Status : Answered

Chosen Option : 3

Q.16 उस शब्द-युग्म का चयन करें जिसमें शब्दों के मध्य वही संबंध है, जो निम्नलिखित शब्द-युग्म के शब्दों के मध्य है।

मधुमेह : रोग

- Ans
- 1. बोतल : पानी
 - 2. फसल : किसान
 - 3. कार्यालय : कर्मचारी
 - 4. ग्रीष्म : ऋतु

Question ID : 8161611846

Status : Answered

Chosen Option : 4

Q.17 दिए गए समीकरण को संतुलित करने के लिए कौन से दो चिन्हों और दो संख्याओं को आपस में बदल देना चाहिए?

$$16 + 8 \times 25 - 15 + 5 = 138$$

- Ans
- 1. \times और $+$; 8 और 25
 - 2. \div और $-$; 15 और 5
 - 3. \times और $-$; 8 और 25
 - 4. \times और $+$; 15 और 25

Question ID : 8161611833

Status : Answered

Chosen Option : 4

Q.18 दिए गए कथनों और निष्कर्षों को ध्यान से पढ़ें। यह मानते हुए कि कथनों में दी गई जानकारी सही है, भले ही वह आम तौर पर स्थापित तथ्यों से भिन्न दिखाई देती है, तब कीजिए कि कौन सा/से निष्कर्ष तर्कसंगत रूप से इन कथनों का अनुसरण करता/करते है/हैं।

कथन:

कोई प्लास्टिक लोहा नहीं है।

सभी स्टील लोहा है।

निष्कर्ष:

I. कुछ प्लास्टिक स्टील है।

II. कुछ लोहा स्टील है।

III. कोई भी स्टील प्लास्टिक नहीं है।

Ans

1. केवल निष्कर्ष II अनुसरण करता है।
2. केवल निष्कर्ष II और III अनुसरण करते हैं।
3. केवल निष्कर्ष I और III अनुसरण करते हैं।
4. केवल निष्कर्ष I और II अनुसरण करते हैं।

Question ID : 8161611849

Status : Answered

Chosen Option : 1

Q.19 अक्षरों के उस संयोजन का चयन करें जो निम्न अक्षर श्रृंखला के रिक्त स्थानों में क्रमिक रूप से रखे जाने पर श्रृंखला को पूरा करेगा।

K _ _ M K X Z _ K X _ M K _ Z M

Ans

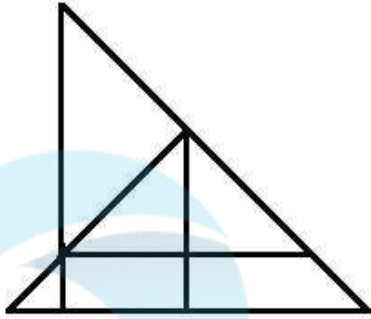
1. XZMZX
2. XZMZX
3. XXMKX
4. MZMZX

Question ID : 8161611844

Status : Answered

Chosen Option : 2

Q.20 निम्न आकृति में कितने त्रिभुज हैं?



- Ans
- 1. 11
 - 2. 8
 - 3. 10
 - 4. 9

Question ID : 8161611852
Status : Answered
Chosen Option : 3

Q.21 एक निश्चित कूट भाषा में, 'WORKSHOP' को '231518118191211' लिखा जाता है। उसी कूट भाषा में 'NOVEMBER' को क्या लिखा जाएगा?

- Ans
- 1. 11151251422227
 - 2. 13172251325229
 - 3. 14152251425229
 - 4. 14142251424228

Question ID : 8161611841
Status : Answered
Chosen Option : 3

Q.22 एक निश्चित कूट भाषा में, 'STAFF' को 'RTSUZBEGEG' लिखा जाता है। उसी कूट भाषा में 'ORDER' को क्या लिखा जाएगा?

- Ans
- 1. NQRSCFDFRS
 - 2. OPQTCEDFQS
 - 3. NPQSCEGFQT
 - 4. NPQSCEDFQS

Question ID : 8161611840
Status : Answered
Chosen Option : 4

Q.23 उस विकल्प का चयन करें जिसमें समुच्चय की संख्याओं के मध्य वही संबंध है जो दिए गए समुच्चय की संख्याओं के मध्य है।

(11, 17, 204)

- Ans
- 1. (24, 13, 225)
 - 2. (9, 13, 147)
 - 3. (12, 21, 273)
 - 4. (22, 14, 318)

Question ID : 8161611836
Status : Answered
Chosen Option : 2

Q.24 जब एक उर्ध्वाधर दर्पण दिए गए अक्षर-समूह के दाईं ओर रखा गया हो, तब अक्षर-समूह के बनने वाले सही प्रतिबिंब का चयन करें।

F G E R M

- Ans
- 1. **M R E G F**
 - 2. **M R E G F**
 - 3. **M R E G F**
 - 4. **M R E G F**

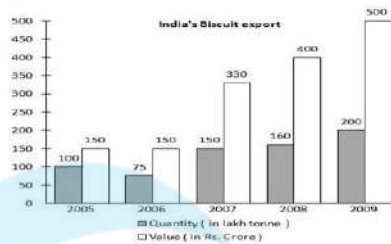
Question ID : 8161611855
Status : Answered
Chosen Option : 2

Q.25 निम्नलिखित चार अक्षर-समूहों में से तीन एक निश्चित तरीके से संगत हैं, जबकि एक असंगत है। असंगत अक्षर-समूह का चयन करें।

- Ans
- 1. AEIM
 - 2. RVZD
 - 3. SVZD
 - 4. CGKO

Question ID : 8161611847
Status : Answered
Chosen Option : 3

Q.1 निम्न बार ग्राफ में पांच साल की अवधि में भारत के बिस्किट निर्यात को दर्शाया गया है। ग्राफ का अध्ययन करें और दिए गए प्रश्न का उत्तर दें।



किन दो वर्षों में प्रति टन मूल्य बराबर था?

- Ans
- 1. 2008 और 2009
 - 2. 2006 और 2007
 - 3. 2005 और 2006
 - 4. 2007 और 2008

Question ID : 8161611881

Status : Answered

Chosen Option : 1

Q.2 एक महिला ₹1,000/दिन कमाती है। कुछ हफ्तों के बाद, वह ₹1,160/दिन कमाती है। उसकी कमाई में कितने प्रतिशत की वृद्धि हुई?

- Ans
- 1. 18%
 - 2. 15%
 - 3. 16%
 - 4. 17%

Question ID : 8161611862

Status : Answered

Chosen Option : 3

Q.3 एक समद्विबाहु समकोण त्रिभुज का क्षेत्रफल 121 cm^2 है। इसके कर्ण की लंबाई ज्ञात करें।

- Ans
- 1. 21 cm
 - 2. 20 cm
 - 3. 23 cm
 - 4. 22 cm

Question ID : 8161611859

Status : Answered

Chosen Option : 4

Q.4 यदि $2x = \sin \theta$ और $\frac{2}{x} = \cos \theta$ है, तो $4\left(x^2 + \frac{1}{x^2}\right)$ का मान ज्ञात करें।

- Ans
- 1. 1
 - 2. 2
 - 3. 4
 - 4. 0

Question ID : 8161611877

Status : Answered

Chosen Option : 1

Q.5 क्रमशः 20 cm और 5 cm विज्याओं के दो वृत्त हैं, जो एक दूसरे को बिंदु P पर बाह्य रूप से स्पर्श करते हैं। AB, क्रमशः R और S केंद्रों वाले उन दो वृत्तों की सीधी उभयनिष्ठ स्पर्श रेखा है। AB की लंबाई कितनी होगी?

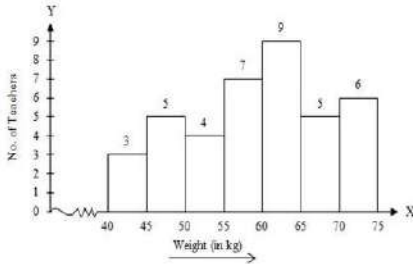
- Ans
- 1. 10 cm
 - 2. 20 cm
 - 3. 5 cm
 - 4. 15 cm

Question ID : 8161611867

Status : Answered

Chosen Option : 4

Q.6 निम्न बार-ग्राफ में विभिन्न भार-समूहों में शिक्षकों की संख्या को दर्शाया गया है। ग्राफ का अध्ययन करें और दिए गए प्रश्न का उत्तर दें।



निम्न में से किस भार-समूह में शिक्षकों की संख्या अधिकतम है?

- Ans
- 1. 45 - 50
 - 2. 65 - 70
 - 3. 60 - 65
 - 4. 40 - 45

Question ID : 8161611878

Status : Answered

Chosen Option : 3

Q.7 निम्न बार ग्राफ में पांच साल की अवधि में भारत के बिस्किट निर्यात को दर्शाया गया है। ग्राफ का अध्ययन करें और दिए गए प्रश्न का उत्तर दें।



2005 में किए गए निर्यात की तुलना में, 2006 में निर्यात की मात्रा में कितने प्रतिशत की गिरावट दर्ज की गई?

- Ans
- 1. 50%
 - 2. 100%
 - 3. 25%
 - 4. 75%

Question ID : 8161611879

Status : Answered

Chosen Option : 3

Q.8 सुरेश ने राकेश को साधारण ब्याज पर 5 वर्ष के लिए कुछ पैसे उधार दिए। अवधि के अंत में राकेश ने सुरेश को धनराशि का 9/8 भुगतान कर दिया। वार्षिक साधारण ब्याज की दर ज्ञात करें।

- Ans
- 1. 3.5% वार्षिक
 - 2. 2.5% वार्षिक
 - 3. 2% वार्षिक
 - 4. 3% वार्षिक

Question ID : 8161611865

Status : Answered

Chosen Option : 2

Q.9 एक कार 5 घंटे में 150 km की दूरी तय करती है। यदि यह अपनी सामान्य चाल की एक-तिहाई चाल से चलती है, तो उसे समान दूरी तय करने में कितना और समय लगेगा?

- Ans
- 1. 8 घंटे
 - 2. 10 घंटे
 - 3. 14 घंटे
 - 4. 12 घंटे

Question ID : 8161611858

Status : Answered

Chosen Option : 2

Q.10 यदि $2\cot\theta = 3$ है, तो $\frac{\sqrt{13} \cos\theta - 3\tan\theta}{3\tan\theta + \sqrt{13} \sin\theta}$ का मान क्या होगा?

- Ans
- 1. $\frac{1}{5}$
 - 2. $\frac{2}{3}$
 - 3. $\frac{3}{4}$
 - 4. $\frac{1}{4}$

Question ID : 8161611876
Status : Answered
Chosen Option : 4

Q.11 समीकरण $25 - [16 - \{14 - (18 - 8 + 3)\}]$ का मान ज्ञात करें।

- Ans
- 1. 15
 - 2. 16
 - 3. 17
 - 4. 14

Question ID : 8161611874
Status : Answered
Chosen Option : 2

Q.12 यदि $a - b = 18$ और $a^3 - b^3 = 324$ है, तो ab का मान ज्ञात करें।

- Ans
- 1. -104
 - 2. -102
 - 3. 105
 - 4. 103

Question ID : 8161611870
Status : Answered
Chosen Option : 2

Q.13 भाग संबंधी एक प्रश्न में, भाजक भागफल का 6 गुना और शेषफल का 3 गुना है। यदि शेषफल 40 है, तो भाज्य ज्ञात करें।

- Ans
- 1. 2455
 - 2. 2440
 - 3. 2450
 - 4. 2445

Question ID : 8161611873
Status : Answered
Chosen Option : 2

Q.14 उस वृत्त के चतुर्थांश का क्षेत्रफल ज्ञात करें, जिसकी परिधि 22 cm है।

- Ans
- 1. 38.5 cm^2
 - 2. 10 cm^2
 - 3. 3.5 cm^2
 - 4. 9.625 cm^2

Question ID : 8161611871
Status : Answered
Chosen Option : 4

Q.15 40 संख्याओं का औसत 36 है। पहली 25 संख्याओं का औसत 31 एवं अंतिम 16 संख्याओं का औसत 43 है। 25वीं संख्या ज्ञात कीजिए।

- Ans
- 1. 23
 - 2. 24
 - 3. 22
 - 4. 21

Question ID : 8161611860
Status : Answered
Chosen Option : 1

Q.16 अनुपात 16 : 19 के प्रत्येक पद में से कितना घटाया जाए, कि यह अनुपात 7 : 6 हो जाए?

- Ans
- 1. 36
 - 2. 37
 - 3. 35
 - 4. 34

Question ID : 8161611864
Status : Answered
Chosen Option : 2

Q.17 यदि $x^4 + \frac{1}{x^4} = 14159$ है, तो $x + \frac{1}{x}$ का मान ज्ञात करें।

- Ans
- 1. 9
 - 2. 10
 - 3. 11
 - 4. 12

Question ID : 8161611872
Status : Answered
Chosen Option : 3

Q.18 $\triangle ABC$ की तीन माध्यिकाएँ AX, BY और CZ बिंदु L पर एक दूसरे को प्रतिच्छेदित करती हैं। यदि $\triangle ABC$ का क्षेत्रफल 30 cm^2 है, तो चतुर्भुज BXLZ का क्षेत्रफल कितना होगा?

- Ans
- 1. 14 cm^2
 - 2. 10 cm^2
 - 3. 16 cm^2
 - 4. 12 cm^2

Question ID : 8161611869
Status : Answered
Chosen Option : 2

Q.19 4 cm की दो बराबर त्रिज्याओं वाले वृत्त के केंद्रों के बीच की दूरी 17 cm है। अनुप्रस्थ स्पर्शरेखा की लंबाई ज्ञात करें।

- Ans
- 1. 14 cm
 - 2. 15 cm
 - 3. 16 cm
 - 4. 19 cm

Question ID : 8161611866
Status : Answered
Chosen Option : 2

Q.20 यदि $X = \tan 40^\circ$ है, तो $2 \tan 50^\circ$ का मान ज्ञात करें।

Ans

- ✓ 1. $\frac{2}{X}$
- ✗ 2. $2X$
- ✗ 3. $\frac{1}{X}$
- ✗ 4. $\frac{1}{2X}$

Question ID : 8161611875

Status : Answered

Chosen Option : 1

Q.21 एक पुस्तक का अंकित मूल्य ₹150 है। यदि इसे 30% और 40% की दो क्रमिक छूट पर बेचा जाता है, तो इसका विक्रय मूल्य ज्ञात कीजिए।

Ans

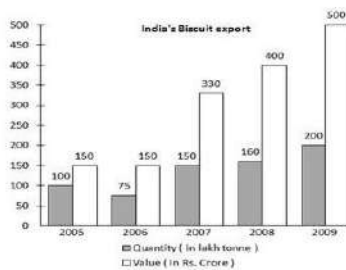
- ✗ 1. ₹64
- ✓ 2. ₹63
- ✗ 3. ₹65
- ✗ 4. ₹66

Question ID : 8161611861

Status : Answered

Chosen Option : 2

Q.22 निम्न बार ग्राफ में पांच साल की अवधि में भारत के बिस्किट निर्यात को दर्शाया गया है। ग्राफ का अध्ययन करें और दिए गए प्रश्न का उत्तर दें।



किस वर्ष, इसके पूर्व वर्ष की तुलना में निर्यात में प्रतिशत वृद्धि अधिकतम थी?

Ans

- ✓ 1. 2007
- ✗ 2. 2006
- ✗ 3. 2008
- ✗ 4. 2009

Question ID : 8161611880

Status : Answered

Chosen Option : 4

Q.23 यदि L, ΔXYZ का परिकेंद्र है और कोण X का माप 40° है, तो $\angle YZL$ का मान कितना होगा?

- Ans
- 1. 70°
 - 2. 40°
 - 3. 50°
 - 4. 60°

Question ID : 8161611868

Status : Answered

Chosen Option : 1

Q.24 एक आदमी ने अपनी बाइक 25% लाभ पर ₹25,000 में बेच दी। अगर उसे 15% की हानि उठानी होती, तो वह इसे किस मूल्य पर बेचता?

- Ans
- 1. ₹18,000
 - 2. ₹16,000
 - 3. ₹17,000
 - 4. ₹19,000

Question ID : 8161611863

Status : Answered

Chosen Option : 3

Q.25 कमल और अनिल क्रमशः 8 दिन और 14 दिन में एक तालाब खोद सकते हैं। यदि खुदाई का कुल खर्च ₹4,400 है, तो अनिल कितना पैसा कमाएगा?

- Ans
- 1. ₹1300
 - 2. ₹1500
 - 3. ₹1400
 - 4. ₹1600

Question ID : 8161611857

Status : Answered

Chosen Option : 4

Section : General Awareness

Q.1 व्हाट्सऐप (WhatsApp) को कब शुरू किया गया था?

- Ans
- 1. 2008
 - 2. 2009
 - 3. 2010
 - 4. 2007

Question ID : 8161611883

Status : Answered

Chosen Option : 2

Q.2 हिंदी में 2019 का साहित्य अकादमी पुरस्कार किसने जीता?

- Ans
- 1. चित्रा मुद्गल
 - 2. नासिरा शर्मा
 - 3. रमेश कुंतल मेघ
 - 4. नंद किशोर आचार्य

Question ID : 8161611900
Status : Answered
Chosen Option : 4

Q.3 जी.एस.टी.(GST) संविधान के किस संशोधन अधिनियम द्वारा प्रस्तुत किया गया था?

- Ans
- 1. 106
 - 2. 101
 - 3. 107
 - 4. 102

Question ID : 8161611889
Status : Answered
Chosen Option : 1

Q.4 विलहम कॉनरैड रॉटजन ने किस की खोज की थी?

- Ans
- 1. उष्मागतिकी
 - 2. एक्स-रे
 - 3. विद्युत आवेश का संरक्षण
 - 4. विद्युत बल

Question ID : 8161611891
Status : Answered
Chosen Option : 2

Q.5 अंतरराष्ट्रीय योग दिवस 2019 का विषय क्या था?

- Ans
- 1. स्वास्थ्य के लिए योग
 - 2. युवाओं को जोड़ें (Connect the Youth)
 - 3. शांति के लिए योग
 - 4. क्लाइमेट ऐक्शन (Climate Action) के लिए योग

Question ID : 8161611886
Status : Answered
Chosen Option : 1

Q.6 लिपुलेख दर्रा भारत के किस राज्य में स्थित है?

- Ans
- 1. असम
 - 2. जम्मू और कश्मीर
 - 3. हिमाचल प्रदेश
 - 4. उत्तराखंड

Question ID : 8161611895
Status : Answered
Chosen Option : 2

Q.7 निम्नलिखित में से बौद्ध धर्म की पवित्र पुस्तक कौन सी है?

- Ans
- 1. त्रिपिटक
 - 2. कल्प सूत्र
 - 3. तोरा
 - 4. द अवेस्ता

Question ID : 8161611898
Status : Answered
Chosen Option : 1

Q.8 साल्सेट द्वीप भारत के किस राज्य में स्थित है?

- Ans
- 1. केरल
 - 2. महाराष्ट्र
 - 3. तमिलनाडु
 - 4. आंध्र प्रदेश

Question ID : 8161611896
Status : Answered
Chosen Option : 1

Q.9 लीथियम का परमाणु भार क्या है?

- Ans
- 1. 9.012 amu, g/mol
 - 2. 6.941 amu, g/mol
 - 3. 10.811 amu, g/mol
 - 4. 4.003 amu, g/mol

Question ID : 8161611893
Status : Answered
Chosen Option : 2

Q.10 हेल्प (help) खोलने के लिए किस फ़ंक्शन की (function key) का उपयोग किया जाता है?

- Ans
- 1. F2
 - 2. F3
 - 3. F4
 - 4. F1

Question ID : 8161611882
Status : Answered
Chosen Option : 1

Q.11 सर्वश्रेष्ठ पिक्चर - ड्रामा के लिए, 2020 का गोल्डन ग्लोब पुरस्कार किस फ़िल्म ने जीता?

- Ans
- 1. जोकर
 - 2. मैरिज स्टोरी
 - 3. 1917
 - 4. द आइरिशमैन

Question ID : 8161611887
Status : Answered
Chosen Option : 3

Q.12 विवेकानंद रॉक मेमोरियल भारत के किस राज्य में स्थित है?

- Ans
- 1. महाराष्ट्र
 - 2. तमिलनाडु
 - 3. आंध्र प्रदेश
 - 4. केरल

Question ID : 8161611885
Status : Answered
Chosen Option : 1

Q.13 तिब्बत में ब्रह्मपुत्र नदी को किस नाम से जाना जाता है?

- Ans
- 1. त्संगपो
 - 2. लोहित
 - 3. दिबंग
 - 4. दिहांग

Question ID : 8161611894
Status : Answered
Chosen Option : 4

Q.14 शोर मंदिर भारत के किस राज्य में स्थित है?

- Ans
- 1. ओडिशा
 - 2. तमिलनाडु
 - 3. केरल
 - 4. महाराष्ट्र

Question ID : 8161611899
Status : Answered
Chosen Option : 1

Q.15 प्रोकेरियोटिक कोशिकाएँ निम्नलिखित में से किस प्राणी जगत में पाई जाती हैं?

- Ans
- 1. कवक
 - 2. एनिमेलिया
 - 3. प्रोटिस्टा
 - 4. मोनेरा

Question ID : 8161611892
Status : Answered
Chosen Option : 2

Q.16 जीतू राय किस खेल से संबंधित हैं?

- Ans
- 1. कुश्ती
 - 2. भारोत्तोलन
 - 3. मुक्केबाज़ी
 - 4. निशानेबाज़ी (शूटिंग)

Question ID : 8161611904
Status : Answered
Chosen Option : 1

Q.17 राजस्थान में कितने लोक सभा निर्वाचन-क्षेत्र हैं?

- Ans
- 1. 28
 - 2. 25
 - 3. 30
 - 4. 20

Question ID : 8161611902
Status : Answered
Chosen Option : 2

Q.18 2019 के ICC क्रिकेट विश्व कप में उप विजेता निम्नलिखित में से कौन सा देश था?

- Ans 1. न्यू झीलैंड
 2. ऑस्ट्रेलिया
 3. भारत
 4. इंग्लैंड

Question ID : 8161611906
Status : Answered
Chosen Option : 3

Q.19 जनवरी 2020 में, किस राज्य ने साइबर सुरक्षित महिला अभियान आरंभ किया?

- Ans 1. कर्नाटक
 2. महाराष्ट्र
 3. तमिलनाडु
 4. केरल

Question ID : 8161611888
Status : Answered
Chosen Option : 1

Q.20 रोबर्स कप कब आरंभ हुआ था?

- Ans 1. 1931
 2. 1891
 3. 1952
 4. 1981

Question ID : 8161611905
Status : Answered
Chosen Option : 1

Q.21 दूधसागर झरना कहाँ स्थित है?

- Ans 1. महाराष्ट्र
 2. कर्नाटक
 3. केरल
 4. गोवा

Question ID : 8161611897
Status : Answered
Chosen Option : 2

Q.22 लावणी किस राज्य का लोक संगीत है?

- Ans 1. महाराष्ट्र
 2. कर्नाटक
 3. ओडिशा
 4. केरल

Question ID : 8161611884
Status : Answered
Chosen Option : 1

Q.23 भारत के/की 13वें/वीं राष्ट्रपति कौन हैं/थे/थीं?

- Ans 1. प्रतिभा पाटिल
 2. प्रणब मुखर्जी
 3. ए.पी.जे. अब्दुल कलाम
 4. राम नाथ कोविंद

Question ID : 8161611903
Status : Answered
Chosen Option : 2

Q.24 2019 में कितने लोगों को पद्म विभूषण पुरस्कार प्रदान किया गया?

- Ans 1. 4
 2. 2
 3. 5
 4. 3

Question ID : 8161611901
Status : Answered
Chosen Option : 3

Q.25 राष्ट्रीय कृषि और ग्रामीण विकास बैंक (NABARD) की स्थापना कब की गई थी?

- Ans 1. 1991
 2. 1975
 3. 1982
 4. 1987

Question ID : 8161611890
Status : Answered
Chosen Option : 3

Roll Number	
Candidate Name	
Venue Name	
Exam Date	19/03/2020
Exam Time	4:00 PM - 5:00 PM
Subject	CHSL Tier 1

Section : English Language (Basic Knowledge)

Q.1 In the sentence identify the segment which contains the grammatical error.

The manager was referring about the previous instances of loss to the employees during his address.

- Ans
- 1. the previous instances
 - 2. of loss to the employees
 - 3. during his address
 - 4. The manager was referring about

Question ID : 8161611921
Status : Answered
Chosen Option : 2

Q.2 Select the most appropriate synonym of the given word.

PENURY

- Ans
- 1. Poverty
 - 2. Compatibility
 - 3. Temporality
 - 4. Readability

Question ID : 8161611941
Status : Not Answered
Chosen Option : --

Q.3 Select the wrongly spelt word.

- Ans
- 1. Eradication
 - 2. Manipulation
 - 3. Menifestation
 - 4. Regularization

Question ID : 8161611936
Status : Answered
Chosen Option : 2

Q.4 Select the most appropriate word to fill in the blank.

Although they searched for an hour, they were not able to find the _____ easily.

- Ans
- 1. location
 - 2. whereabouts
 - 3. space
 - 4. meeting

Question ID : **8161611943**
Status : **Answered**
Chosen Option : **1**

Comprehension:

In the following passage some words have been deleted. Fill in the blanks with the help of the alternatives given. Select the most appropriate option for each blank.

Art is the use of (1)____, skill and imagination to create something that's beautiful or emotionally (2)____. This definition needs to be expanded. If you (3)____ a little deeper, you'll see that any skill can be considered an art, (4)____ if you exercise a little (5)____ and creativity in the process.

SubQuestion No : 5

Q.5 Select the most appropriate option for blank No. 1.

- Ans
- 1. creativity
 - 2. destruction
 - 3. intoxication
 - 4. emotion

Question ID : **8161611923**
Status : **Answered**
Chosen Option : **1**

Comprehension:

In the following passage some words have been deleted. Fill in the blanks with the help of the alternatives given. Select the most appropriate option for each blank.

Art is the use of (1)____, skill and imagination to create something that's beautiful or emotionally (2)____. This definition needs to be expanded. If you (3)____ a little deeper, you'll see that any skill can be considered an art, (4)____ if you exercise a little (5)____ and creativity in the process.

SubQuestion No : 6

Q.6 Select the most appropriate option for blank No. 2.

- Ans
- 1. imaginative
 - 2. tempting
 - 3. creative
 - 4. comforting

Question ID : **8161611924**
Status : **Not Answered**
Chosen Option : **--**

Comprehension:

In the following passage some words have been deleted. Fill in the blanks with the help of the alternatives given. Select the most appropriate option for each blank.

Art is the use of (1)____, skill and imagination to create something that's beautiful or emotionally (2)____. This definition needs to be expanded. If you (3)____ a little deeper, you'll see that any skill can be considered an art, (4)____ if you exercise a little (5)____ and creativity in the process.

SubQuestion No : 7

Q.7 Select the most appropriate option for blank No. 3.

- Ans 1. dig
 2. look
 3. play
 4. move

Question ID : 8161611925
Status : Answered
Chosen Option : 2

Comprehension:

In the following passage some words have been deleted. Fill in the blanks with the help of the alternatives given. Select the most appropriate option for each blank.

Art is the use of (1)____, skill and imagination to create something that's beautiful or emotionally (2)____. This definition needs to be expanded. If you (3)____ a little deeper, you'll see that any skill can be considered an art, (4)____ if you exercise a little (5)____ and creativity in the process.

SubQuestion No : 8

Q.8 Select the most appropriate option for blank No. 4.

- Ans 1. commonly
 2. at the outset
 3. particularly
 4. generally

Question ID : 8161611926
Status : Not Answered
Chosen Option : --

Comprehension:

In the following passage some words have been deleted. Fill in the blanks with the help of the alternatives given. Select the most appropriate option for each blank.

Art is the use of (1)____, skill and imagination to create something that's beautiful or emotionally (2)____. This definition needs to be expanded. If you (3)____ a little deeper, you'll see that any skill can be considered an art, (4)____ if you exercise a little (5)____ and creativity in the process.

SubQuestion No : 9

Q.9 Select the most appropriate option for blank No. 5.

- Ans
- 1. desire
 - 2. dream
 - 3. hope
 - 4. imagination

Question ID : **8161611927**
Status : **Answered**
Chosen Option : **3**

Q.10 Select the wrongly spelt word.

- Ans
- 1. Palliative
 - 2. Representative
 - 3. Lucretive
 - 4. Productive

Question ID : **8161611937**
Status : **Not Answered**
Chosen Option : --

Q.11 Select the word which means the same as the group of words given.

Condition of sleep during certain parts of the year

- Ans
- 1. Somnambulism
 - 2. Constipation
 - 3. Dehydration
 - 4. Hibernation

Question ID : **8161611939**
Status : **Answered**
Chosen Option : **1**

Q.12 Select the most appropriate word to fill in the blank.

The wall fell down with a big _____.

- Ans
- 1. bang
 - 2. murmur
 - 3. hiss
 - 4. screech

Question ID : 8161611942
Status : Answered
Chosen Option : 2

Q.13 Select the most appropriate option to substitute the underlined segment in the given sentence. If there is no need to substitute it, select 'No improvement'.

As long to funding is not made available, our construction dreams have been deferred.

- Ans
- 1. As high as
 - 2. In as much as
 - 3. No improvement
 - 4. So long as

Question ID : 8161611931
Status : Not Answered
Chosen Option : --

Q.14 Select the most appropriate meaning of the given idiom.

Neither fish nor fowl

- Ans
- 1. Something which can neither be purchased nor be grown
 - 2. Something which can neither be supplied easily nor be made available readily
 - 3. Something which can neither be categorized easily nor be accepted befittingly
 - 4. Something which can neither be eaten nor be preserved

Question ID : 8161611935
Status : Answered
Chosen Option : 3

Q.15 Select the most appropriate option to substitute the underlined segment in the given sentence. If there is no need to substitute it, select 'No improvement'.

Prithvi likes baseball as long as she likes cricket.

- Ans
- 1. as many as
 - 2. No improvement
 - 3. so long as
 - 4. as much as

Question ID : 8161611930
Status : Answered
Chosen Option : 4

Q.16 Select the most appropriate ANTONYM of the given word.

UNWORTHY

- Ans
- 1. Trustworthy
 - 2. Helpful
 - 3. Unskilled
 - 4. Deserving

Question ID : 8161611932
Status : Answered
Chosen Option : 1

Q.17 Select the correct indirect form of the given sentence.

The lion asked the lioness, "Where will you hide yourself, until I return?"

- Ans
- 1. The lion asked the lioness where she would hide herself, until he returned.
 - 2. The lion asked the lioness where she will hide herself, until he returns.
 - 3. The lion asked the lioness where would she hide herself, until he returned.
 - 4. The lion asked the lioness whether she would hide herself, until he returned.

Question ID : 8161611919
Status : Answered
Chosen Option : 4

Q.18 In the sentence identify the segment which contains the grammatical error.

One of the reason behind malnutrition is the improper way of food intake.

- Ans
- 1. One of the reason
 - 2. behind malnutrition
 - 3. of food intake
 - 4. is the improper way

Question ID : 8161611920
Status : Not Answered
Chosen Option : --

Q.19 Given below are four jumbled sentences. Out of the given options select the one that gives their correct order.

- A. Their classmate, Koushal, hardly studied and spent much of his time wasting on prattles.
- B. He made himself busy by collecting old pens and used papers in order to avoid studies.
- C. Poonam, the class teacher, was very much loved and respected by her students.
- D. Three of them were very intelligent and spent most of their time studying with Poonam.

- Ans
- 1. CDBA
 - 2. CDAB
 - 3. DCAB
 - 4. CADB

Question ID : 8161611928
Status : Answered
Chosen Option : 1

Q.20 Given below are four jumbled sentences. Out of the given options select the one that gives their correct order.

- A. The boat floated down the river and reached the other bank.
- B. Thinking that she was dead, her friends secretly took her and abandoned her in a boat.
- C. The people on the bank took her to a hospital and saved her.
- D. Smelling a flower given by the magician, Shweta fell down unconscious.

Ans 1. DBAC

2. DABC

3. ACDB

4. BCAD

Question ID : 8161611929

Status : Not Answered

Chosen Option : --

Q.21 Select the correct passive form of the given sentence.

The Inspector had already proved the case before the investigation team took charge of it.

Ans 1. The case had already been proved by the Inspector before the investigation team took charge of it.

2. The investigation team took charge of the case but the Inspector had already proved before it.

3. The case was already proved by the Inspector before the investigation team took charge of it.

4. The case had already proved by the Inspector before the investigation team took charge of it.

Question ID : 8161611918

Status : Answered

Chosen Option : 4

Q.22 Select the most appropriate meaning of the given idiom.

In a fog

Ans 1. Trapped in foggy weather

2. Confused and dazed

3. Disturbed and unhappy

4. Sightless and blind

Question ID : 8161611934

Status : Answered

Chosen Option : 2

Q.23 Select the most appropriate ANTONYM of the given word.

MAESTRO

- Ans
- 1. Teacher
 - 2. Connoisseur
 - 3. Enthusiast
 - 4. Amateur

Question ID : 8161611933
Status : Not Answered
Chosen Option : --

Q.24 Select the most appropriate synonym of the given word.

FESTIVITY

- Ans
- 1. Celebration
 - 2. Foundation
 - 3. Calibration
 - 4. Botheration

Question ID : 8161611940
Status : Answered
Chosen Option : 1

Q.25 Select the word which means the same as the group of words given.

A person who studies the structure of the earth

- Ans
- 1. Geographer
 - 2. Gemologist
 - 3. Gynaecologist
 - 4. Geologist

Question ID : 8161611938
Status : Answered
Chosen Option : 4

Section : General Intelligence

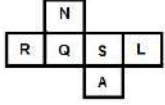
Q.1 अक्षरों के उस संयोजन का चयन करें जिसके अक्षर दी गई अक्षर-श्रृंखला के रिक्त स्थानों में क्रमानुसार रखे जाने पर श्रृंखला को पूरा करेंगे।

U _ D _ U P _ M _ P D M U _ D M

- Ans
- 1. PMUPD
 - 2. UMDUD
 - 3. MPUDU
 - 4. PMDUP

Question ID : 8161611956
Status : Not Answered
Chosen Option : --

Q.2 दी गई शीट को मोड़कर एक घन बनाया गया है। इस प्रकार बनाए हुए घन में 'L' अक्षर वाले फलक के विपरीत फलक पर कौन सा अक्षर होगा?



- Ans
- 1. Q
 - 2. R
 - 3. N
 - 4. S

Question ID : 8161611962

Status : Answered

Chosen Option : 1

Q.3 उस सही विकल्प का चुनाव करें जो निम्नलिखित शब्दों को एक तार्किक और अर्थपूर्ण क्रम में व्यवस्थित करता हो।

1. पुरस्कार
2. प्रतियोगिता
3. निर्णायकों द्वारा मूल्यांकन
4. विजेता
5. प्रतिभागी

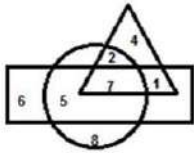
- Ans
- 1. 5, 2, 3, 4, 1
 - 2. 5, 2, 4, 3, 1
 - 3. 1, 2, 3, 5, 4
 - 4. 5, 3, 2, 1, 4

Question ID : 8161611951

Status : Answered

Chosen Option : 1

Q.4 दिए गए वेन आरेख में 'वृत्त' 'खिलाड़ियों' का प्रतिनिधित्व करता है, 'त्रिभुज' 'स्नातकों' का प्रतिनिधित्व करता है और 'आयत' 'प्रबंधकों' का प्रतिनिधित्व करता है। कौन सी संख्या उस क्षेत्र को दर्शाती है, जो ऐसे स्नातक खिलाड़ियों का प्रतिनिधित्व करता है जो प्रबंधक नहीं हैं?



- Ans
- 1. 1
 - 2. 5
 - 3. 7
 - 4. 2

Question ID : 8161611968

Status : Answered

Chosen Option : 4

Q.5 उस विकल्प का चयन करें जो तीसरे अक्षर-समूह से उसी प्रकार संबंधित है जिस प्रकार दूसरा अक्षर-समूह पहले अक्षर-समूह से संबंधित है।

UBQ : XET :: NKE : ?

- Ans
- 1. PNH
 - 2. QMH
 - 3. QNG
 - 4. QNH

Question ID : 8161611954
Status : Answered
Chosen Option : 4

Q.6 उस संख्या का चयन करें जो निम्नलिखित श्रेणी में प्रश्न-चिह्न (?) का स्थान ले सकती है।

19, 20, 24, 51, 67, ?

- Ans
- 1. 192
 - 2. 191
 - 3. 190
 - 4. 195

Question ID : 8161611949
Status : Not Attempted and Marked For Review
Chosen Option : --

Q.7 एक निश्चित कूट भाषा में, 'SHARP' को '73' लिखा जाता है। उसी भाषा में 'AUDIT' क्या लिखा जाएगा?

- Ans
- 1. 80
 - 2. 76
 - 3. 72
 - 4. 84

Question ID : 8161611953
Status : Answered
Chosen Option : 2

Q.8 उस विकल्प का चयन करें जिसमें समुच्चय की संख्याओं के बीच वही संबंध है जो संबंध दिए गए समुच्चय की संख्याओं के बीच है।

(14, 24, 84)

- Ans
- 1. (12, 60, 186)
 - 2. (18, 30, 135)
 - 3. (16, 20, 160)
 - 4. (22, 34, 176)

Question ID : 8161611947

Status : **Not Attempted and Marked For Review**

Chosen Option : --

Q.9 दी गई आकृति के दाईं ओर एक ऊर्ध्वाधर दर्पण रखे जाने पर बनने वाले दर्पण-प्रतिबिंब का चयन करें।



Ans

- 1.
- 2.
- 3.
- 4.

Question ID : 8161611967

Status : **Not Answered**

Chosen Option : --

Q.10 उस विकल्प का चयन करें जिसका तीसरे शब्द से वही संबंध है जो दूसरे शब्द का पहले शब्द से है।

पेंटिंग : कलर :: होमवर्क : ?

- Ans
- 1. नोटबुक
 - 2. शिक्षक
 - 3. विद्यालय
 - 4. स्याही

Question ID : 8161611955

Status : **Answered**

Chosen Option : 4

Q.11 उस विकल्प का चयन करें जिसमें समुच्चय की संख्याओं के बीच वही संबंध है जो संबंध दिए गए समुच्चय की संख्याओं के बीच है।

(11, 15, 400)

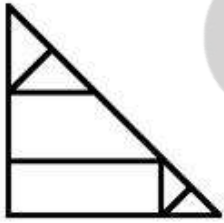
- Ans
- 1. (10, 12, 244)
 - 2. (20, 22, 870)
 - 3. (12, 17, 493)
 - 4. (18, 24, 786)

Question ID : 8161611948

Status : Answered

Chosen Option : 2

Q.12 नीचे दी गई आकृति में कितने त्रिभुज हैं?



- Ans
- 1. 7
 - 2. 10
 - 3. 8
 - 4. 9

Question ID : 8161611964

Status : Answered

Chosen Option : 1

Q.13 नीचे दर्शाई गई आकृतियों में किसी कागज को मोड़ने के क्रम और मोड़े गए कागज को काटने की विधि को दर्शाया गया है। खोले जाने पर यह कागज कैसा दिखाई देगा?



Ans

- 1.
- 2.
- 3.
- 4.

Question ID : 8161611966

Status : Answered

Chosen Option : 3

Q.14 एक निश्चित कूट भाषा में, 'WARDEN' को 'SJIWFB' लिखा जाता है। उस भाषा में 'OFFICE' को क्या लिखा जाएगा?

Ans

1. JHNNKT
2. JHOKKU
3. KHNJJT
4. JGNNKS

Question ID : 8161611952

Status : Answered

Chosen Option : 2

Q.15 एक कक्षा में, प्रत्येक विद्यार्थी ने तीन रचनात्मक गतिविधियों जैसे लोकगीत, कथक और क्विज प्रतियोगिता में से किसी एक में भाग लिया। कुल विद्यार्थियों में से 22% ने लोकगीत में भाग लिया। शेष विद्यार्थियों में से 25% ने कथक में भाग लिया। बाद में बचे विद्यार्थियों ने क्विज प्रतियोगिता में भाग लिया। क्विज प्रतियोगिता में कितने प्रतिशत विद्यार्थियों ने भाग लिया?

Ans

1. 58.5%
2. 30.6%
3. 41.5%
4. 53%

Question ID : 8161611944

Status : Answered

Chosen Option : 4

Q.16 चार शब्द दिए गए हैं जिनमें से तीन किसी न किसी प्रकार संगत हैं और एक असंगत है। उस असंगत शब्द का चयन करें।

- Ans
- 1. सेकंड
 - 2. घंटा
 - 3. मिनट
 - 4. समय

Question ID : 8161611960

Status : Answered

Chosen Option : 4

Q.17 हिम्मत, कविता के पति हैं। शारदा, रवि की बेटी है जिसकी पत्नी केतकी है। कविता, शारदा की बहन है। रवि का हिम्मत से क्या संबंध है?

- Ans
- 1. पिता
 - 2. भाई
 - 3. ससुर
 - 4. चाचा

Question ID : 8161611957

Status : Not Attempted and Marked For Review

Chosen Option : --

Q.18 दिए गए कथनों और निष्कर्षों को ध्यानपूर्वक पढ़ें। यह मानते हुए कि कथनों में दी गयी जानकारी सत्य है, भले ही यह आम तौर पर स्थापित तथ्यों से भिन्न दिखाई देती है, यह निर्णय लें कि दिए गए निष्कर्षों में से कौन सा/से निष्कर्ष कथनों का तार्किक रूप से अनुसरण करता/करते है/हैं।

कथन:

सभी स्पीकर, यंत्र हैं।

सभी यंत्र, तार हैं।

निष्कर्ष:

- I. कुछ तार, यंत्र हैं।
- II. कोई भी स्पीकर, तार नहीं है।
- III. कुछ स्पीकर, तार नहीं हैं।

- Ans
- 1. निष्कर्ष I और III दोनों अनुसरण करते हैं।
 - 2. केवल निष्कर्ष III अनुसरण करता है।
 - 3. निष्कर्ष I, II और III सभी अनुसरण करते हैं।
 - 4. केवल निष्कर्ष I अनुसरण करता है।

Question ID : 8161611961

Status : Not Answered

Chosen Option : --

Q.19 उस विकल्प का चयन करें जो तीसरी संख्या से उसी प्रकार संबंधित है जिस प्रकार दूसरी संख्या पहली संख्या से और छठी संख्या पाँचवीं संख्या से संबंधित है।

27 : 6 :: 8 : ? :: 64 : 8

- Ans
- 1. 3
 - 2. 4
 - 3. 1
 - 4. 2

Question ID : 8161611946
Status : Answered
Chosen Option : 3

Q.20 निम्नलिखित समीकरण में चिह्न (*) के स्थान पर रखे जाने और समीकरण को संतुलित करने वाले गणितीय चिहनों के सही संयोजन का चयन करें।

15 * 4 + 26 * 2 * 7 + 66

- Ans
- 1. ×, +, -, ÷, =
 - 2. +, ×, -, ÷, =
 - 3. +, ×, ÷, -, =
 - 4. ×, +, ÷, -, =

Question ID : 8161611945
Status : Answered
Chosen Option : 3

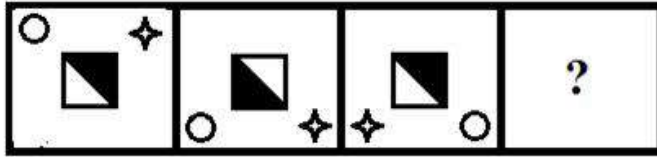
Q.21 उस शब्द-युग्म का चयन करें जिसके दोनों शब्दों के बीच वही संबंध है, जो संबंध दिए गए शब्द-युग्म के दोनों शब्दों के बीच है।

प्रवेश-पत्र : परीक्षा

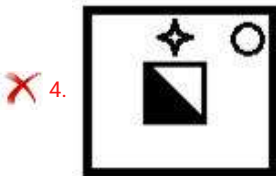
- Ans
- 1. टिकट : रेल-यात्रा
 - 2. यात्री : बस स्टैंड
 - 3. मौसम : जाड़ा
 - 4. होटल : रसोइया

Question ID : 8161611958
Status : Answered
Chosen Option : 1

Q.22 उस आकृति का चयन करें जो दी गई श्रृंखला में अगले क्रम पर आएगी।



Ans



Question ID : 8161611963

Status : Answered

Chosen Option : 1

Q.23 चार अक्षर-समूह दिए गए हैं जिनमें से तीन किसी न किसी प्रकार संगत हैं और एक असंगत है। उस असंगत अक्षर-समूह का चयन करें।

Ans ✗ 1. ZBDF

✗ 2. SUWY

✗ 3. LNPR

✓ 4. YACF

Question ID : 8161611959

Status : Answered

Chosen Option : 3

Q.24 चार संख्या-युग्म दिए गए हैं, जिनमें से तीन किसी न किसी प्रकार संगत हैं और एक असंगत है। उस असंगत संख्या-युग्म का चयन करें।

- Ans
- 1. 11 : 122
 - 2. 13 : 175
 - 3. 4 : 17
 - 4. 5 : 26

Question ID : 8161611950
Status : Answered
Chosen Option : 2

Q.25 उस विकल्प का चुनाव करें जिसमें दी गई आकृति X अंतर्निहित है। (घुमाने की अनुमति नहीं है)



Figure X

Ans

- 1.
- 2.
- 3.
- 4.

Question ID : 8161611965
Status : Not Answered
Chosen Option : --

Q.1 किसी आयताकार मैदान की प्रत्येक भुजा में 10% की वृद्धि की जाती है। मैदान के क्षेत्रफल में हुई प्रतिशत वृद्धि ज्ञात कीजिए।

- Ans
- 1. 21%
 - 2. 10%
 - 3. 15%
 - 4. 18%

Question ID : 8161611974
Status : Answered
Chosen Option : 1

Q.2 $\triangle ABC$ में, $AB = AC$, और $\angle BAC = 50^\circ$ है, तो क्रमशः $\angle ABC$ और $\angle BCA$ का मान ज्ञात करें।

- Ans
- 1. 50° और 55°
 - 2. 70° और 75°
 - 3. 55° और 55°
 - 4. 65° और 65°

Question ID : 8161611980
Status : Answered
Chosen Option : 4

Q.3 $\frac{\sqrt{\operatorname{cosec}x-1}}{\sqrt{\operatorname{cosec}x+1}}$, का मान ज्ञात करें।

- Ans
- 1. $\tan x + \sec x$
 - 2. $\tan x - \sec x$
 - 3. $\sec x \cdot \tan x$
 - 4. $\sec x - \tan x$

Question ID : 8161611988
Status : Not Answered
Chosen Option : --

Q.4 दिया गया पाई चार्ट किसी छात्र द्वारा परीक्षा में प्राप्त अंकों को (डिग्री में) दर्शाता है। पाई चार्ट को ध्यान से देखें और दिए गए प्रश्न का उत्तर दें।

Mark obtained in examination



यदि कुल पूर्णांक 720 है, तो गणित के प्राप्तांक ज्ञात करें।

- Ans
- 1. 120
 - 2. 140
 - 3. 80
 - 4. 160

Question ID : 8161611990
Status : Answered
Chosen Option : 4

Q.5 ब्याज की गणना वार्षिक और अर्धवार्षिक चक्रवृद्धि आधार पर करते हुए, ₹8,000 की राशि पर 10% वार्षिक ब्याज की दर से 1 वर्ष के चक्रवृद्धि ब्याजों के बीच का अंतर ज्ञात करें।

- Ans
- 1. ₹10
 - 2. ₹40
 - 3. ₹20
 - 4. ₹30

Question ID : 8161611977
Status : Answered
Chosen Option : 3

Q.6 मोहन स्कूटर से किसी यात्रा को 5 घंटे में पूरी करता है। वह यात्रा का पहला आधा भाग 30 km/h और यात्रा का दूसरा आधा भाग 20 km/h की चाल से तय करता है। उसके द्वारा तय की गई दूरी ज्ञात करें।

- Ans
- 1. 100 km
 - 2. 130 km
 - 3. 140 km
 - 4. 120 km

Question ID : 8161611970
Status : Answered
Chosen Option : 4

Q.7 यदि $x - \frac{1}{x} = 13$ है, तो $x^2 + \frac{1}{x^2}$ का मान ज्ञात करें।

- Ans
- 1. 167
 - 2. 171
 - 3. 165
 - 4. 169

Question ID : 8161611982

Status : Answered

Chosen Option : 1

Q.8 ₹1,260 की राशि को रवि और मोहन के बीच वितरित किया जाता है। यदि रवि और मोहन के हिस्सों का अनुपात 5 : 4 है, तो क्रमशः रवि और मोहन का हिस्सा ज्ञात करें।

- Ans
- 1. ₹700 और ₹560
 - 2. ₹800 और ₹460
 - 3. ₹680 और ₹580
 - 4. ₹750 और ₹510

Question ID : 8161611976

Status : Answered

Chosen Option : 1

Q.9 किसी खिलौने का अंकित मूल्य ₹450 है। अंकित मूल्य पर एक निश्चित छूट के बाद, खिलौने का विक्रय मूल्य ₹405 है। छूट की दर ज्ञात करें।

- Ans
- 1. 15%
 - 2. 8%
 - 3. 10%
 - 4. 12%

Question ID : 8161611973

Status : Answered

Chosen Option : 3

Q.10 सोहन एक पुराना स्कूटर खरीदता है, और इसे ₹28,000 में बेचता है, और इस तरह उसे क्रय मूल्य पर 12% का लाभ होता है। स्कूटर का क्रय मूल्य ज्ञात करें।

- Ans
- 1. ₹25,000
 - 2. ₹27,000
 - 3. ₹26,000
 - 4. ₹30,000

Question ID : 8161611975

Status : Answered

Chosen Option : 1

Q.11 दिया गया पाई चार्ट किसी छात्र द्वारा परीक्षा में प्राप्त अंकों को (डिग्री में) दर्शाता है। पाई चार्ट को ध्यान से देखें और दिए गए प्रश्न का उत्तर दें।

Mark obtained in examination



यदि कुल पूर्णांक 720 है, तो रसायन विज्ञान, जीव विज्ञान व गणित के कुल प्राप्तांक, कुल पूर्णांकों के कितने प्रतिशत हैं?

- Ans
- 1. 40%
 - 2. 30%
 - 3. 60%
 - 4. 50%


Question ID : 8161611991

Status : Answered

Chosen Option : 1

Q.12 दिया गया पाई चार्ट किसी छात्र द्वारा परीक्षा में प्राप्त अंकों को (डिग्री में) दर्शाता है। पाई चार्ट को ध्यान से देखें और दिए गए प्रश्न का उत्तर दें।

Mark obtained in examination



यदि कुल पूर्णांक 720 है, तो भौतिक विज्ञान, गणित व शारीरिक शिक्षा के कुल प्राप्तांकों और रसायन विज्ञान, जीव विज्ञान व अंग्रेजी के कुल प्राप्तांकों के बीच अंतर ज्ञात कीजिए।

- Ans
- 1. 110
 - 2. 90
 - 3. 80
 - 4. 100

Question ID : 8161611993

Status : Answered

Chosen Option : 3

Q.13 ○ केंद्र वाले एक वृत्त में, AB जीवा है और AB पर कोई बिंदु C इस प्रकार है कि OC, AB के लंबवत है। यदि जीवा की लंबाई 16 cm और OC = 6 cm है, तो वृत्त की त्रिज्या ज्ञात करें।

- Ans
- 1. 10 cm
 - 2. 6 cm
 - 3. 12 cm
 - 4. 8 cm

Question ID : 8161611979
Status : Not Answered
Chosen Option : --

Q.14 यदि $x^3 - 6x^2 + ax + b, (x^2 - 3x + 2)$ द्वारा विभाज्य है, तो a और b का मान ज्ञात करें।

- Ans
- 1. $a = -6$ और $b = -11$
 - 2. $a = -11$ और $b = 6$
 - 3. $a = 6$ और $b = 11$
 - 4. $a = 11$ और $b = -6$

Question ID : 8161611983
Status : Answered
Chosen Option : 1

Q.15 रवि किसी कार्य को 6 दिन में पूरा कर सकता है और मोहन उसी कार्य को 9 दिन में पूरा कर सकता है। रवि और मोहन एक साथ मिलकर उसी कार्य को कितने दिन में पूरा कर सकते हैं?

- Ans
- 1. $3\frac{2}{5}$ दिन
 - 2. 9 दिन
 - 3. 15 दिन
 - 4. $3\frac{3}{5}$ दिन

Question ID : 8161611969
Status : Answered
Chosen Option : 4

Q.16 त्रिभुज के किसी एक बाह्य कोण का माप, अंतःसम्मुख कोणों में से एक के माप का दोगुना है और अन्य अंतःसम्मुख कोण का माप 60° है। त्रिभुज, _____ है।

Ans

- 1. विषमबाहु त्रिभुज
- 2. समकोण त्रिभुज
- 3. समबाहु त्रिभुज
- 4. समद्विबाहु त्रिभुज


Question ID : 8161611981

Status : Not Answered

Chosen Option : --

Q.17 दिया गया पाई चार्ट किसी छात्र द्वारा परीक्षा में प्राप्त अंकों को (डिग्री में) दर्शाता है। पाई चार्ट को ध्यान से देखें और दिए गए प्रश्न का उत्तर दें।

Mark obtained in examination



यदि कुल पूर्णांक 720 है, तो अंग्रेजी के प्राप्तांक, गणित के प्राप्तांकों के कितने प्रतिशत हैं?

Ans

- 1. 60%
- 2. 75%
- 3. 55%
- 4. 50%

Question ID : 8161611992

Status : Answered

Chosen Option : 2

Q.18 यदि $x \sin 30^\circ \cos 60^\circ = \sin 45^\circ \cos 45^\circ$, तो x का मान ज्ञात करें।

Ans

- 1. 2
- 2. 0
- 3. 3
- 4. 1

Question ID : 8161611989

Status : Answered

Chosen Option : 3

Q.19 यदि $A = \frac{x-1}{x+1}$ है, तो $A - \frac{1}{A}$ का मान ज्ञात करें।

Ans 1. $\frac{-4(2x-1)}{x^2-1}$

2. $\frac{-4x}{x^2-1}$

3. $\frac{x^2-1}{-4(2x-1)}$

4. $\frac{x^2-1}{-4(2x+1)}$

Question ID : 8161611984

Status : Not Answered

Chosen Option : --

Q.20 $\frac{\cos 29^\circ \operatorname{cosec} 61^\circ \tan 45^\circ + 2 \sin 35^\circ \sec 55^\circ}{3 \sin^2 42^\circ + 3 \sin^2 48^\circ}$ का मान ज्ञात करें।

Ans 1. 3

2. 1

3. 0

4. 2

Question ID : 8161611987

Status : Not Answered

Chosen Option : --

Q.21 एक कार 15 km, 20 km, 30 km और 12 km की दूरी क्रमशः 20 km/h, 30 km/h, 40 km/h और 30 km/h की चाल से तय करती है। कुल यात्रा में कार की औसत चाल ज्ञात करें।

Ans 1. 88 km/h

2. 40 km/h

3. 30 km/h

4. 60 km/h

Question ID : 8161611972

Status : Not Attempted and Marked For Review

Chosen Option : --

Q.22 एक घन का आयतन 343 cm^3 है। उस घन की कोर (edge) की लंबाई ज्ञात करें।

- Ans
- 1. 7 cm
 - 2. 6 cm
 - 3. 5 cm
 - 4. 4 cm

Question ID : 8161611971
Status : Answered
Chosen Option : 1

Q.23 $7 + [44 \div 4 + \{9 \times 2 - 14 \div 7\} + 5 \times 2]$ का मान ज्ञात करें।

- Ans
- 1. 67
 - 2. 44
 - 3. 55
 - 4. 33

Question ID : 8161611986
Status : Answered
Chosen Option : 2

Q.24 इनमें से कौन सी संख्या 9 और 11 दोनों से विभाज्य है?

- Ans
- 1. 10,098
 - 2. 10,108
 - 3. 10,087
 - 4. 10,089

Question ID : 8161611985
Status : Answered
Chosen Option : 1

Q.25 यदि किसी वृत्त की दो त्रिज्याओं के बीच का कोण 130° है, तो इन त्रिज्याओं के अंत में खींची गई स्पर्शरेखाओं के बीच का कोण (अंश में) ज्ञात करें।

- Ans
- 1. 90°
 - 2. 40°
 - 3. 50°
 - 4. 70°

Question ID : 8161611978
Status : Not Answered
Chosen Option : --

Q.1 मैग्नस कार्लसन किस खेल से संबंधित हैं?

- Ans 1. शतरंज
 2. स्क्वैश
 3. बैडमिंटन
 4. लॉन टेनिस

Question ID : 8161612018
Status : Not Answered
Chosen Option : --

Q.2 सागा दावा किस राज्य का त्योहार है?

- Ans 1. सिक्किम
 2. त्रिपुरा
 3. असम
 4. मणिपुर

Question ID : 8161611996
Status : Answered
Chosen Option : 3

Q.3 दिसंबर 2019 में भारतीय थल सेना के नए सेना प्रमुख कौन थे?

- Ans 1. देवराज अनबू
 2. मनोज मुकुंद नरवणे
 3. बिक्रम सिंह
 4. बिपिन रावत

Question ID : 8161611998
Status : Answered
Chosen Option : 2

Q.4 भारत के कृषि क्षेत्र में, सामान्यतः किस प्रकार की बेरोज़गारी पाई जाती है?

- Ans 1. प्रतिरोधात्मक बेरोज़गारी
 2. प्रच्छन्न बेरोज़गारी
 3. स्वैच्छिक बेरोज़गारी
 4. संरचनात्मक बेरोज़गारी

Question ID : 8161612002
Status : Answered
Chosen Option : 3

Q.5 कितने भारतीय राज्यों की सीमाएँ, भूटान की सीमा से लगती हैं?

- Ans
- 1. 2
 - 2. 3
 - 3. 4
 - 4. 5

Question ID : 8161612009
Status : Answered
Chosen Option : 2

Q.6 कंप्यूटिंग के क्षेत्र में, VGA का क्या अर्थ है?

- Ans
- 1. विजुअल ग्राफिक्स ऑडियो (Visual Graphics Audio)
 - 2. विजुअल ग्राफिक्स ऐरे (Visual Graphics Array)
 - 3. वीडियो ग्राफिक्स ऐरे (Video Graphics Array)
 - 4. वीडियो ग्राफिक्स ऑडियो (Video Graphics Audio)

Question ID : 8161611994
Status : Answered
Chosen Option : 2

Q.7 44वाँ संविधान संशोधन अधिनियम कब लागू किया गया?

- Ans
- 1. 1972
 - 2. 1976
 - 3. 1975
 - 4. 1978

Question ID : 8161612015
Status : Answered
Chosen Option : 2

Q.8 चाँदी का आपेक्षिक घनत्व कितना होता है?

- Ans
- 1. 10.8
 - 2. 10.4
 - 3. 7.2
 - 4. 9.5

Question ID : 8161612005
Status : Not Answered
Chosen Option : --

Q.9 भारत के नीति आयोग द्वारा जारी, सतत विकास लक्ष्यों की सूची 2019-20 में, किस राज्य को प्रथम स्थान प्राप्त हुआ ?

- Ans
- 1. केरल
 - 2. हिमाचल प्रदेश
 - 3. तमिलनाडु
 - 4. आंध्र प्रदेश

Question ID : 8161612000
Status : Answered
Chosen Option : 1

Q.10 1975-1977 के आपात्काल के दौरान, भारत के राष्ट्रपति कौन थे?

- Ans
- 1. वराहगिरी वेंकट गिरी
 - 2. ज्ञानी जैल सिंह
 - 3. आर. वेंकटरमन
 - 4. फ़ख़रुद्दीन अली अहमद

Question ID : 8161612014
Status : Not Answered
Chosen Option : --

Q.11 निम्नलिखित में से किस प्रकार के जीवों में खुला परिसंचरण तंत्र होता है?

- Ans
- 1. एनीलिड्स (Annelida)
 - 2. सूत्रकृमि (Nematoda)
 - 3. मोलस्का
 - 4. पक्षी

Question ID : 8161612003
Status : Answered
Chosen Option : 1

Q.12 उस्ताद अल्लादिया ख़ान, हिंदुस्तानी संगीत के किस घराने से संबंधित हैं?

- Ans
- 1. ग्वालियर घराना
 - 2. बनारस घराना
 - 3. आगरा घराना
 - 4. जयपुर घराना

Question ID : 8161611997
Status : Not Answered
Chosen Option : --

Q.13 प्रोटीन्स कितने अमीनो एसिड्स से मिलकर बनते हैं?

- Ans
- 1. 5
 - 2. 15
 - 3. 20
 - 4. 10

Question ID : 8161612004
Status : Answered
Chosen Option : 3

Q.14 सार्क (SAARC) का सचिवालय कब स्थापित किया गया था?

- Ans
- 1. 1986
 - 2. 1985
 - 3. 1987
 - 4. 1984

Question ID : 8161612001
Status : Not Answered
Chosen Option : --

Q.15 अंतरराष्ट्रीय हॉकी महासंघ द्वारा किसे 'मेंस प्लेयर ऑफ़ द इयर 2019' घोषित किया गया है?

- Ans
- 1. अरन ज़ाल्वेस्की
 - 2. मनप्रीत सिंह
 - 3. आर्थर वैन डोरेन
 - 4. लुकास विला

Question ID : 8161611999
Status : Not Answered
Chosen Option : --

Q.16 प्रसिद्ध पुस्तक 'द गॉड ऑफ़ स्मॉल थिंग्स (The God of Small Things)' किसने लिखी है?

- Ans
- 1. अरुंधति राय
 - 2. चेतन भगत
 - 3. रस्किन बॉन्ड
 - 4. किरण देसाई

Question ID : 8161612013
Status : Answered
Chosen Option : 4

Q.17 2019 में, नर्तकी नटराज को कौन सा पुरस्कार प्रदान किया गया था?

- Ans
- 1. पद्मविभूषण
 - 2. भारत रत्न
 - 3. पद्मश्री
 - 4. पद्मभूषण

Question ID : 8161612012
Status : Not Answered
Chosen Option : --

Q.18 वर्ष 2011 जनगणना के अनुसार, केरल में लिंगानुपात क्या है?

- Ans
- 1. 1084
 - 2. 1064
 - 3. 1044
 - 4. 1024

Question ID : 8161612007
Status : Answered
Chosen Option : 4

Q.19 टिहरी बाँध की ऊँचाई कितनी है?

- Ans
- 1. 250.5 m
 - 2. 280.5 m
 - 3. 260.5 m
 - 4. 270.5 m

Question ID : 8161612006
Status : Not Answered
Chosen Option : --

Q.20 अमृतसर संधि पर हस्ताक्षर कब किए गए थे?

- Ans
- 1. 1824
 - 2. 1809
 - 3. 1819
 - 4. 1825

Question ID : 8161612011
Status : Not Answered
Chosen Option : --

Q.21 निम्नलिखित में से किसे राजीव गांधी खेल रत्न पुरस्कार 2019 मिला?

- Ans
- 1. सानिया मिर्ज़ा
 - 2. विराट कोहली
 - 3. दीपा मलिक
 - 4. पी.वी. सिंधु

Question ID : 8161612016
Status : Answered
Chosen Option : 2

Q.22 एपल (Apple) द्वारा सफ़ारी (Safari) पहली बार कब जारी किया गया था?

- Ans
- 1. 1998
 - 2. 2001
 - 3. 2003
 - 4. 2002

Question ID : 8161611995
Status : Not Answered
Chosen Option : --

Q.23 रैले आयोग (1902) को _____ में सुधारों की संस्तुति करने के लिए नियुक्त किया गया था।

- Ans
- 1. प्रारूप प्रबंधन
 - 2. न्यायिक व्यवस्था
 - 3. पुलिस व्यवस्था
 - 4. शिक्षा व्यवस्था

Question ID : 8161612010
Status : Answered
Chosen Option : 1

Q.24 दाचीगाम राष्ट्रीय उद्यान, भारत के किस राज्य में स्थित है?

- Ans
- 1. उत्तराखंड
 - 2. पश्चिम बंगाल
 - 3. जम्मू और कश्मीर
 - 4. हिमाचल प्रदेश

Question ID : 8161612008
Status : Answered
Chosen Option : 2

Q.25 ईडन गार्डन स्टेडियम, कोलकाता की स्थापना कब हुई थी?

Ans 1. 1885

2. 1875

3. 1864

4. 1854

Question ID : 8161612017

Status : Not Answered

Chosen Option : --

OnlineGuru

Roll Number	
Candidate Name	
Venue Name	
Exam Date	19/10/2020
Exam Time	1:00 PM - 2:00 PM
Subject	CHSL Tier 1

Section : English Language (Basic Knowledge)

Q.1 Select the correct indirect form of the given sentence.

Mother said to Kavya, "Switch off the light before you go to sleep."

- Ans 1. Mother told Kavya to switch off the light before she went to sleep.
2. Mother told Kavya to switch off the light before she goes to sleep.
3. Mother told Kavya to switch off the light before you go to sleep.
4. Mother told Kavya to switch off the light before she is going to sleep.

Question ID : 4244291012
Status : Answered
Chosen Option : 3

Q.2 Select the word which means the same as the group of words given.

A period of one thousand years

- Ans 1. Decade
2. Millennium
3. Centenary
4. Century

Question ID : 4244291032
Status : Answered
Chosen Option : 4

Q.3 Select the most appropriate ANTONYM of the given word.

SACRED

- Ans 1. Pious
2. Profane
3. Solemn
4. Divine

Question ID : 4244291026
Status : Answered
Chosen Option : 2

Q.4 Select the most appropriate meaning of the given idiom.

Look before you leap

- Ans
- 1. Prepare yourself before jumping
 - 2. Think carefully of the consequences
 - 3. Pull someone out from a disaster
 - 4. Caution others before taking a step

Question ID : 4244291028

Status : Answered

Chosen Option : 2

Comprehension:

In the following passage, some words have been deleted. Fill in the blanks with the help of the alternatives given. Select the most appropriate option for each blank.

Roman civilization emerged around the sixth century BC. At the height of (1)_____ power, the Roman Empire ruled over a huge chunk of (2)_____, and all the present-day Mediterranean countries (3)_____ part of ancient Rome. Early Rome was (4)_____ by kings, but later, the people took control over their own city and ruled (5)_____. They introduced a council known as the Senate which ruled over them. From this point, Rome was referred to as the Roman Republic.

SubQuestion No : 5

Q.5 Select the most appropriate option for blank number 1.

- Ans
- 1. their
 - 2. its
 - 3. his
 - 4. one's

Question ID : 4244291016

Status : Answered

Chosen Option : 1

Comprehension:

In the following passage, some words have been deleted. Fill in the blanks with the help of the alternatives given. Select the most appropriate option for each blank.

Roman civilization emerged around the sixth century BC. At the height of (1)_____ power, the Roman Empire ruled over a huge chunk of (2)_____, and all the present-day Mediterranean countries (3)_____ part of ancient Rome. Early Rome was (4)_____ by kings, but later, the people took control over their own city and ruled (5)_____. They introduced a council known as the Senate which ruled over them. From this point, Rome was referred to as the Roman Republic.

SubQuestion No : 6

Q.6 Select the most appropriate option for blank number 2.

- Ans
- 1. sea
 - 2. islands
 - 3. country
 - 4. land

Question ID : 4244291017

Status : Answered

Chosen Option : 4

Comprehension:

In the following passage, some words have been deleted. Fill in the blanks with the help of the alternatives given. Select the most appropriate option for each blank.

Roman civilization emerged around the sixth century BC. At the height of (1)_____ power, the Roman Empire ruled over a huge chunk of (2)_____, and all the present-day Mediterranean countries (3)_____ part of ancient Rome. Early Rome was (4)_____ by kings, but later, the people took control over their own city and ruled (5)_____. They introduced a council known as the Senate which ruled over them. From this point, Rome was referred to as the Roman Republic.

SubQuestion No : 7

Q.7 Select the most appropriate option for blank number 3.

- Ans
- 1. have
 - 2. are
 - 3. were
 - 4. had

Question ID : 4244291018

Status : Answered

Chosen Option : 4

Comprehension:

In the following passage, some words have been deleted. Fill in the blanks with the help of the alternatives given. Select the most appropriate option for each blank.

Roman civilization emerged around the sixth century BC. At the height of (1)_____ power, the Roman Empire ruled over a huge chunk of (2)_____, and all the present-day Mediterranean countries (3)_____ part of ancient Rome. Early Rome was (4)_____ by kings, but later, the people took control over their own city and ruled (5)_____. They introduced a council known as the Senate which ruled over them. From this point, Rome was referred to as the Roman Republic.

SubQuestion No : 8

Q.8 Select the most appropriate option for blank number 4.

- Ans
- 1. controlled
 - 2. regulated
 - 3. governed
 - 4. conducted

Question ID : 4244291019

Status : Answered

Chosen Option : 1

Comprehension:

In the following passage, some words have been deleted. Fill in the blanks with the help of the alternatives given. Select the most appropriate option for each blank.

Roman civilization emerged around the sixth century BC. At the height of (1)_____ power, the Roman Empire ruled over a huge chunk of (2)_____, and all the present-day Mediterranean countries (3)_____ part of ancient Rome. Early Rome was (4)_____ by kings, but later, the people took control over their own city and ruled (5)_____. They introduced a council known as the Senate which ruled over them. From this point, Rome was referred to as the Roman Republic.

SubQuestion No : 9

Q.9 Select the most appropriate option for blank number 5.

- Ans
- 1. themselves
 - 2. ourselves
 - 3. himself
 - 4. yourself

Question ID : 4244291020
Status : Answered
Chosen Option : 1

Q.10 Select the INCORRECTLY spelt word.

- Ans
- 1. Advantageous
 - 2. Tedious
 - 3. Victorious
 - 4. Rebelleous

Question ID : 4244291030
Status : Answered
Chosen Option : 4

Q.11 In the given sentence, identify the segment which contains a grammatical error.

Everyone are asking for passes to the music festival at Nehru Park.

- Ans
- 1. at Nehru Park.
 - 2. for passes
 - 3. to the music festival
 - 4. Everyone are asking

Question ID : 4244291013
Status : Answered
Chosen Option : 2

Q.12 Select the INCORRECTLY spelt word.

- Ans
- 1. Irritable
 - 2. Irrilegious
 - 3. Irrigate
 - 4. Irrelevant

Question ID : 4244291029
Status : Answered
Chosen Option : 2

Q.13 Select the most appropriate synonym of the given word.

AFFLUENT

- Ans
- 1. Destitute
 - 2. Proficient
 - 3. Wealthy
 - 4. Impoverished

Question ID : 4244291034
Status : Answered
Chosen Option : 1

Q.14 Select the most appropriate word to fill in the blank.

Several villages in Kashmir have been _____ due to heavy snowfall.

- Ans
- 1. confined
 - 2. isolated
 - 3. engaged
 - 4. divided

Question ID : 4244291036
Status : Answered
Chosen Option : 3

Q.15 Select the word which means the same as the group of words given.

A plantation of grapes

- Ans
- 1. Nursery
 - 2. Orchard
 - 3. Vineyard
 - 4. Grove

Question ID : 4244291031
Status : Answered
Chosen Option : 2

Q.16 Given below are four jumbled sentences. Out of the given options pick the one that gives their correct order.

- A. When he returned, there was more than just his dog waiting for him.
- B. A koala had joined the dog in the car's more comfortable climate.
- C. A winemaker in South Australia left his air-conditioned car open to help keep his dog cool in the heat.
- D. Although the human struggled a while to make the koala leave, it did leave his car eventually.

- Ans
- 1. CBAD
 - 2. BCDA
 - 3. CABD
 - 4. BACD

Question ID : 4244291022
Status : Answered
Chosen Option : 2

Q.17 Select the correct passive form of the given sentence.

He spent a lot of money on movies.

- Ans
- 1. A lot of money is spent by him on movies.
 - 2. A lot of money had been spent by him on movies.
 - 3. A lot of money was being spent by him on movies.
 - 4. A lot of money was spent by him on movies.

Question ID : 4244291011
Status : Answered
Chosen Option : 2

Q.18 Select the most appropriate meaning of the given idiom.

Chill out

- Ans
- 1. To calm down
 - 2. To be angry
 - 3. To be nervous
 - 4. To fight

Question ID : 4244291027
Status : Answered
Chosen Option : 1

Q.19 Select the most appropriate word to fill in the blank.

The important _____ is where to arrange the funds from.

- Ans
- 1. solution
 - 2. issue
 - 3. view
 - 4. result

Question ID : 4244291035
Status : Answered
Chosen Option : 2

Q.20 Select the most appropriate synonym of the given word.

MOROSE

- Ans
- 1. Sullen
 - 2. Cheerful
 - 3. Optimistic
 - 4. Friendly

Question ID : 4244291033
Status : Answered
Chosen Option : 3

Q.21 Select the most appropriate option to substitute the underlined segment in the given sentence. If there is no need to substitute it, select 'No improvement'.

The house has a garden in front, is it?

- Ans
- 1. No improvement
 - 2. does it
 - 3. hasn't it
 - 4. isn't it

Question ID : 4244291024
Status : Answered
Chosen Option : 3

Q.22 Select the most appropriate option to substitute the underlined segment in the given sentence. If there is no need to substitute it, select 'No improvement'.

Many attempts has been made to climb the Everest before Tenzing and Hillary succeeded.

- Ans
- 1. have been made
 - 2. had been made
 - 3. was made
 - 4. No improvement

Question ID : 4244291023
Status : Answered
Chosen Option : 1

Q.23 Given below are four jumbled sentences. Out of the given options pick the one that gives their correct order.

- A. People in a small Chinese town were shocked to see a wild elephant wandering in their town.
- B. The elephant eventually left the town.
- C. Authorities followed the large mammal's every movement.
- D. But the locals will probably never forget this special visit.

- Ans
- 1. ABDC
 - 2. CABD
 - 3. BDAC
 - 4. ACBD

Question ID : 4244291021
Status : Answered
Chosen Option : 4

Q.24 Select the most appropriate ANTONYM of the given word.

PERISH

- Ans
- 1. Vanish
 - 2. Wither
 - 3. Grow
 - 4. Crumble

Question ID : 4244291025
Status : Answered
Chosen Option : 1

Q.25 In the given sentence, identify the segment which contains a grammatical error.

All these boys have come to college without few knowledge of English.

- Ans
- 1. All these boys
 - 2. without few knowledge
 - 3. have come to college
 - 4. of English

Question ID : 4244291014
Status : Answered
Chosen Option : 2

Q.1 'Advocate' is related to 'Client' in the same way as 'Doctor' is related to '_____'.
www.HaryanaJobs.in

- Ans
- 1. Treatment
 - 2. Patient
 - 3. Disease
 - 4. Nurse

Question ID : 4244291048
Status : Answered
Chosen Option : 2

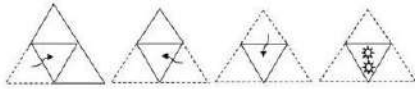
Q.2 उस संख्या का चयन करें जो निम्न श्रेणी में प्रश्नवाचक चिन्ह (?) के स्थान पर आ सकती है।

80, 79, 75, 66, ? , 25

- Ans
- 1. 50
 - 2. 54
 - 3. 57
 - 4. 46

Question ID : 4244291042
Status : Answered
Chosen Option : 1

Q.3 निम्न आकृतियों में एक कागज़ को मोड़ने का क्रम और मुड़े हुए कागज़ को काटने की विधि दर्शाई गई है। कागज़ को पुनः खोलने पर यह कैसा दिखाई देगा?

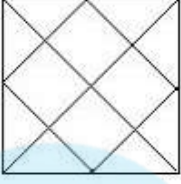


Ans

- 1.
- 2.
- 3.
- 4.

Question ID : 4244291059
Status : Answered
Chosen Option : 1

Q.4 नीचे दी गई आकृति में कुल कितने त्रिभुज निहित हैं?



- Ans
- 1. 20
 - 2. 22
 - 3. 18
 - 4. 16

Question ID : 4244291057
Status : Answered
Chosen Option : 4

Q.5 उस विकल्प का चयन करें जिसमें संख्याओं के मध्य वही संबंध है, जो संख्याओं के दिए गए समुच्चय की संख्याओं के मध्य है।

(26, 144, 18)

- Ans
- 1. (18, 120, 13)
 - 2. (28, 190, 16)
 - 3. (21, 108, 12)
 - 4. (32, 196, 24)

Question ID : 4244291041
Status : Not Answered
Chosen Option : -

Q.6 एक लड़के से परिचय कराते हुए रितिका ने कहा 'यह मेरे पिता के इकलौते पुत्र का पुत्र है।' तो रितिका का उस लड़के की माँ से क्या संबंध है?

- Ans
- 1. बुआ
 - 2. मौसेरी बहन
 - 3. ननद
 - 4. बहन

Question ID : 4244291050
Status : Answered
Chosen Option : 1

Q.7 उस विकल्प का चयन करें जो तीसरे पद से उसी प्रकार संबंधित हो जिस प्रकार दूसरा पद पहले पद से संबंधित है।

MAKE : AEKM :: JUST : _____

- Ans
- ✓ 1. JSTU
 - ✗ 2. UJTS
 - ✗ 3. UTJS
 - ✗ 4. UTSS

Question ID : 4244291053

Status : Answered

Chosen Option : 3

Q.8 उस विकल्प का चयन करें जिस में दिया गया चित्र अन्तर्निहित है। (घुमाने की अनुमति नहीं है)



Ans

- ✗ 1.
- ✓ 2.
- ✗ 3.
- ✗ 4.

Question ID : 4244291058

Status : Answered

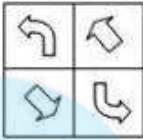
Chosen Option : 2

Q.9 यदि दर्पण को चित्र के दाईं ओर रखा गया हो, तो दिए गए चित्र के सही दर्पण प्रतिबिम्ब का चयन करें।



Ans

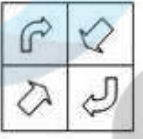
✗ 1.



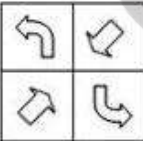
✗ 2.



✗ 3.



✓ 4.



Question ID : 4244291060

Status : Answered

Chosen Option : 4

Q.10 एक निश्चित कूटभाषा में COBBLER को 130 के रूप में कूटबद्ध किया जाता है और TABLE को 93 के रूप में कूटबद्ध किया जाता है, तो इसी भाषा में ALMIRAH को किस रूप में कूटबद्ध किया जाएगा?

Ans

✗ 1. 127

✓ 2. 125

✗ 3. 123

✗ 4. 129

Question ID : 4244291046

Status : Not Answered

Chosen Option : -

Q.11 रेलगाड़ी 'A', 80 km/h की चाल से चलती है और सुबह 11.00 बजे 'X' स्टेशन से चलना आरंभ करती है। रेलगाड़ी 'B' उसी दिन सुबह 11:15 बजे 'X' स्टेशन से उसी दिशा में चलना आरंभ करती है। 60 km की दूरी पर स्थित स्टेशन 'Y' पर, रेलगाड़ी 'A' से मिलने के लिए रेलगाड़ी 'B' की चाल क्या होनी चाहिए?

- Ans
- 1. 120 km/h
 - 2. 110 km/h
 - 3. 125 km/h
 - 4. 115 km/h

Question ID : 4244291037
Status : Not Answered
Chosen Option : -

Q.12 एक निश्चित कूट भाषा में GOGGLE को IMIENC लिखा जाता है। तो उसी कूटभाषा में PENCIL को क्या लिखा जाएगा?

- Ans
- 1. RCPAKJ
 - 2. RGPEKN
 - 3. NCLAGJ
 - 4. NGLEGN

Question ID : 4244291045
Status : Answered
Chosen Option : 1

Q.13 निम्नलिखित श्रृंखला में प्रश्न चिह्न (?) का स्थान ले सकने वाली संख्या का चयन करें।
1, 27, 125, 343, 729, ?

- Ans
- 1. 1029
 - 2. 1244
 - 3. 1525
 - 4. 1331

Question ID : 4244291043
Status : Answered
Chosen Option : 4

Q.14 निम्नलिखित नामों को तार्किक और अर्थपूर्ण क्रम में व्यवस्थित करें।

1. मोजे
2. गले की टाई
3. पट्टा
4. चश्मा
5. बाजूबंद

- Ans
- 1. 4-2-3-5-1
 - 2. 4-2-5-3-1
 - 3. 4-3-2-5-1
 - 4. 4-2-3-1-5

Question ID : 4244291044

Status : Answered

Chosen Option : 2

Q.15 निम्नलिखित समीकरण को संतुलित करने के लिए कितने दो संख्याओं को आपस में बदलना चाहिए?

$$36 \div 6 - 15 \times 2 + 48 = 14$$

- Ans
- 1. 36 और 48
 - 2. 48 और 15
 - 3. 2 और 6
 - 4. 6 और 14

Question ID : 4244291038

Status : Answered

Chosen Option : 1

Q.16 नीचे दिए गए कथनों और निष्कर्षों को ध्यानपूर्वक पढ़ें। यह मानते हुए कि कथन में दी गई जानकारी सही है, भले ही यह सामान्य रूप से ज्ञात तथ्यों से भिन्न प्रतीत होती हो, यह निर्धारित करें कि दिए गए निष्कर्षों में से कौन सा/से, कथनों का तार्किक रूप से अनुसरण करता है/करते हैं।

कथन:

1. कुछ पेड़ सिल्वर ओक हैं।
2. कुछ सिल्वर ओक लंबी वस्तुएँ हैं।

निष्कर्ष:

- I. कुछ लंबी वस्तुएँ सिल्वर ओक हैं।
- II. सभी लंबी वस्तुएँ पेड़ हैं।

Ans

1. केवल निष्कर्ष II अनुसरण करता है।
2. केवल निष्कर्ष I अनुसरण करता है।
3. निष्कर्ष I और II अनुसरण करते हैं।
4. न तो निष्कर्ष I और न ही निष्कर्ष II अनुसरण करता है।

Question ID : 4244291054

Status : Answered

Chosen Option : 2

Q.17 उस विकल्प का चयन करें जिसमें संख्याओं के बीच वही संबंध है जो दिए गए संख्या-युग्म की संख्याओं के बीच में है।

512 : 64

Ans

1. 1000 : 81
2. 1331 : 121
3. 1728 : 121
4. 1331 : 144

Question ID : 4244291039

Status : Answered

Chosen Option : 2

Q.18 उस वेन आरेख का चयन करें जो दिए गए वर्गों के बीच के संबंध को सर्वोत्तम ढंग से दर्शाता है।

पिता, पुरुष, भाई

Ans



Question ID : 4244291061

Status : Answered

Chosen Option : 4

Q.19 यदि किसी कोडित भाषा में 'ORAL' को '1518112' लिखा जाता है, तो उसी कोडित भाषा में 'WRITTEN' को इस प्रकार से लिखा जाएगा:

Ans

✗ 1. 231892020614

✓ 2. 231892020514

✗ 3. 221792020514

✗ 4. 221891919514

Question ID : 4244291049

Status : Answered

Chosen Option : 2

Q.20 उस विकल्प का चयन करें जिसमें संख्याओं के मध्य वही संबंध है, जो संख्याओं के दिए गए समुच्चय की संख्याओं के मध्य है।

(31, 18, 7)

Ans

✓ 1. (90, 54, 12)

✗ 2. (70, 38, 20)

✗ 3. (72, 34, 15)

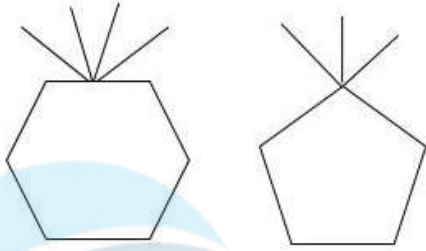
✗ 4. (64, 50, 40)

Question ID : 4244291040

Status : Not Answered

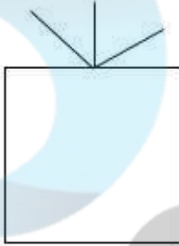
Chosen Option : -

Q.21 उस विकल्प का चयन करें जो निम्न श्रेणी में अगले स्थान पर आयेगा।

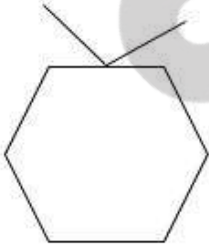


Ans

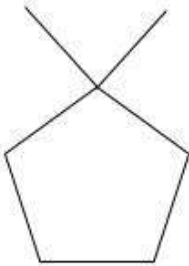
1.



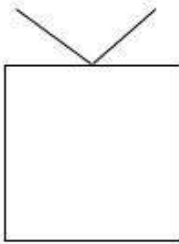
2.



3.



4.



Question ID : 4244291056

Status : Answered

Chosen Option : 4

Q.22 चार अक्षर-समूह दिए गए हैं, जिन में से तीन किसी प्रकार समान हैं और एक असंगत है। उस असंगत अक्षर-समूह का चयन करें।

- Ans
- 1. KMOQS
 - 2. PRTVX
 - 3. FHJLN
 - 4. SQOMK

Question ID : 4244291052

Status : Answered

Chosen Option : 4

Q.23 एक ही पासे की तीन अलग-अलग स्थितियां दर्शायी गई हैं। उस संख्या का चयन करें जो पासे के '5' अंकित फलक के विपरीत फलक पर होगी।



- Ans
- 1. 4
 - 2. 3
 - 3. 2
 - 4. 6

Question ID : 4244291055

Status : Answered

Chosen Option : 4

Q.24 उस विकल्प का चयन करें जिसमें शब्दों के बीच वही संबंध है जो दिए गए शब्द-युग्म के शब्दों के बीच है।

फोबिया : भय

- Ans
- 1. डेंगू : मच्छर
 - 2. अमनेसिया : भूलना
 - 3. डिस्लेक्सिया : विकलांगता
 - 4. खांसी : संक्रमण

Question ID : 4244291051

Status : Answered

Chosen Option : 3

Q.25 उस विकल्प का चयन करें जिसका तीसरे अक्षर-समूह से वही संबंध है जो दूसरे अक्षर-समूह का पहले अक्षर-समूह से है।

JAPAN : NAQAJ :: INDIA : ?

- Ans
- 1. AIENI
 - 2. AIDNI
 - 3. NIEAI
 - 4. DNIAI

Question ID : 4244291047

Status : Answered

Chosen Option : 1

Section : Quantitative Aptitude(Basic Arithmetic Skill)

Q.1 यदि $a + 3b = 12$ और $ab = 9$ है, तो $(a - 3b)$ का मान ज्ञात करें।

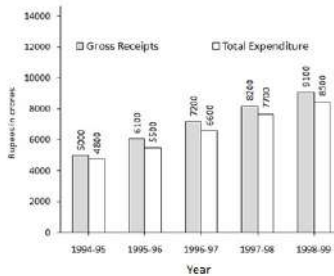
- Ans
- 1. 9
 - 2. 6
 - 3. 8
 - 4. 4

Question ID : 4244291075

Status : Answered

Chosen Option : 2

Q.2 दिए गए बार ग्राफ में, कुल व्यय (total expenditure) और कंपनी के सकल प्राप्तियाँ (gross receipts) (₹ करोड़ में) को दर्शाया है। ग्राफ का अध्ययन करें और दिए गए प्रश्न का उत्तर दें।



1994-95 की तुलना में, 1996-97 में सकल प्राप्तियों (gross receipts) में प्रतिशत वृद्धि कितनी है?

- Ans
- 1. 44%
 - 2. 41%
 - 3. 42%
 - 4. 43%

Question ID : 4244291085

Status : Answered

Chosen Option : 1

Q.3 कुकर का अंकित मूल्य ₹2,000 है, और इस पर क्रमशः 30%, 20% और 10% की छूट दी जाती है। कुकर का विक्रय मूल्य ज्ञात करें।

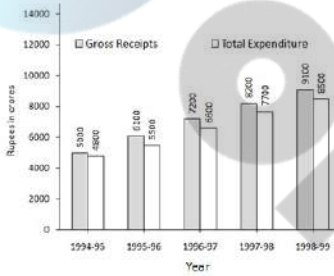
- Ans
- 1. ₹1,002
 - 2. ₹1,006
 - 3. ₹1,004
 - 4. ₹1,008

Question ID : 4244291066

Status : Answered

Chosen Option : 4

Q.4 दिए गए बार ग्राफ में, कुल व्यय (total expenditure) और कंपनी के सकल प्राप्त (gross receipts) (₹ करोड़ में) को दर्शाया है। ग्राफ का अध्ययन करें और दिए गए प्रश्न का उत्तर दें।



कंपनी का 1998-99 में कुल व्यय (total expenditure), उसके 1994-95 में हुए कुल व्यय से कितना अधिक है (₹ करोड़ में)?

- Ans
- 1. 3700
 - 2. 3800
 - 3. 5500
 - 4. 4800

Question ID : 4244291083

Status : Answered

Chosen Option : 1

Q.5 किसी राशि पर 8% वार्षिक दर से 4 वर्ष तथा 8 वर्ष में प्राप्त साधारण ब्याज का योग ₹960 है। वह राशि है:

- Ans
- 1. ₹1100
 - 2. ₹800
 - 3. ₹900
 - 4. ₹1000

Question ID : 4244291070

Status : Not Answered

Chosen Option : -

Q.6 यदि $\operatorname{cosec}^2 x - 2 = 0$ है, तो $x(0 < x < 90^\circ)$ का मान ज्ञात करें।

- Ans
- 1. 60°
 - 2. 30°
 - 3. 15°
 - 4. 45°

Question ID : 4244291082
Status : Answered
Chosen Option : 1

Q.7 24 संख्याओं का औसत 26 है। पहली 15 संख्याओं का औसत 23 है और अंतिम 8 संख्याओं का औसत 33 है। 16वीं संख्या ज्ञात करें।

- Ans
- 1. 15
 - 2. 16
 - 3. 17
 - 4. 18

Question ID : 4244291065
Status : Answered
Chosen Option : 1

Q.8 यदि $29^{41} + 37^{41}$ को 33 से विभाजित किया जाता है, तो प्राप्त होने वाला शेषफल ज्ञात करें।

- Ans
- 1. 3
 - 2. 1
 - 3. 0
 - 4. 2

Question ID : 4244291078
Status : Answered
Chosen Option : 4

Q.9 एक पहिये का व्यास 49 cm है। इसे 770 m की दूरी तय करने में लगने वाले चक्करों (revolution) की संख्या ज्ञात करें।

- Ans
- 1. 500
 - 2. 600
 - 3. 400
 - 4. 700

Question ID : 4244291072
Status : Not Answered
Chosen Option : -

Q.10 मोहन 12 km/h, 18 km/h और 24 km/h की चाल से तीन समान दूरियों को तय करता है। यदि उसे इसमें कुल 13 घंटे लगते हैं, तो उसके द्वारा तय की गई कुल दूरी कितनी है?

- Ans
- 1. 216 km
 - 2. 218 km
 - 3. 214 km
 - 4. 212 km

Question ID : 4244291063
Status : Answered
Chosen Option : 1

Q.11 समबाहु ΔXYZ का केन्द्रक L है। यदि $XY = 12$ cm है, तो XL की लंबाई (cm में) है:

- Ans
- 1. $4\sqrt{3}$
 - 2. $2\sqrt{3}$
 - 3. $5\sqrt{3}$
 - 4. $3\sqrt{3}$

Question ID : 4244291073
Status : Not Answered
Chosen Option : -

Q.12 A, B, C तीन बिंदु इस प्रकार स्थित हैं कि $AB = 4$ cm, $BC = 6$ cm और $AC = 10$ cm है। बिंदु A, B, C से होकर गुजरने वाले वृत्तों की संख्या बताइए।

- Ans
- 1. 1
 - 2. 2
 - 3. 3
 - 4. 0

Question ID : 4244291071
Status : Answered
Chosen Option : 1

Q.13 एक समचतुर्भुज की भुजाओं के वर्गों का योग 900 m^2 है। समचतुर्भुज की भुजा की लंबाई क्या है?

- Ans
- 1. 14 m
 - 2. 17 m
 - 3. 16 m
 - 4. 15 m

Question ID : 4244291064
Status : Not Answered
Chosen Option : -

Q.14 $309 \div \left[\left(\frac{3}{2} \right) \text{ of } (25 + 35) - 12 \frac{3}{4} \right]$ का मान ज्ञात करें।

- Ans
- 1. 4
 - 2. 12
 - 3. 8
 - 4. 16

Question ID : 4244291079
Status : Not Answered
Chosen Option : -

Q.15 यदि $0 < \theta < 90^\circ$, $3b \operatorname{cosec} \theta = a \operatorname{sec} \theta$ और $3a \operatorname{sec} \theta - b \operatorname{cosec} \theta = 8$ है, तो $9b^2 + a^2$ का मान ज्ञात करें।

- Ans
- 1. 6
 - 2. 8
 - 3. 7
 - 4. 9

Question ID : 4244291081
Status : Not Answered
Chosen Option : -

Q.16 यदि $a^2 + \frac{2}{a^2} = 16$ है, तो $\frac{72a^2}{a^4 + 2 + 8a^2}$ का मान ज्ञात करें।

- Ans
- 1. 2
 - 2. 1
 - 3. 4
 - 4. 3

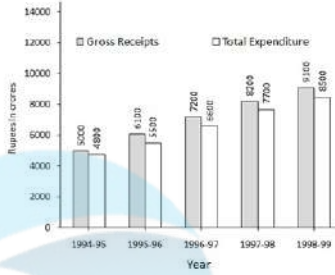
Question ID : 4244291076
Status : Answered
Chosen Option : 4

Q.17 5 घंटे प्रति दिन कार्य करने वाले 10 पुरुष ₹300 कमाते हैं। 10 घंटे प्रति दिन कार्य करने वाले 15 पुरुष कितना कमाएंगे?

- Ans
- 1. ₹600
 - 2. ₹900
 - 3. ₹650
 - 4. ₹800

Question ID : 4244291062
Status : Answered
Chosen Option : 2

Q.18 दिए गए बार ग्राफ में, कुल व्यय (total expenditure) और कंपनी के सकल प्राप्त (gross receipts) (₹ करोड़ में) को दर्शाया है। ग्राफ का अध्ययन करें और दिए गए प्रश्न का उत्तर दें।



यदि लाभ = सकल प्राप्त (gross receipts) - कुल व्यय (total expenditure) है, तो 1997-98 में प्राप्त लाभ, सकल प्राप्त का कितने प्रतिशत है? (दशमलव के एक स्थान तक सही)

- Ans
- 1. 3.9%
 - 2. 6.1%
 - 3. 5.4%
 - 4. 4.8%

Question ID : 4244291084

Status : Answered

Chosen Option : 2

Q.19 $\triangle LMN$ की भुजा MN , बिंदु X तक बढ़ाई गई है। यदि $\angle LNX = 117^\circ$ और $\angle M = \frac{1}{2} \angle L$ है, तो $\angle L$ का मान ज्ञात करें।

- Ans
- 1. 78°
 - 2. 75°
 - 3. 76°
 - 4. 77°

Question ID : 4244291074

Status : Answered

Chosen Option : 1

Q.20 यदि $1 + 9r^2 + 81r^4 = 256$ और $1 + 3r + 9r^2 = 32$ है, तो $1 - 3r + 9r^2$ का मान ज्ञात करें।

- Ans
- 1. 16
 - 2. 8
 - 3. 4
 - 4. 12

Question ID : 4244291077

Status : Not Answered

Chosen Option : -

Q.21 अनिल ₹8 में 6 की दर पर कुछ वस्तुएं खरीदता है और उन्हें ₹12 में 10 की दर पर बेचता है। उसका प्रतिशत लाभ या हानि क्या होगी?

- Ans
- 1. 10% हानि
 - 2. 8% हानि
 - 3. 8% लाभ
 - 4. 10% लाभ

Question ID : 4244291068

Status : Answered

Chosen Option : 1

Q.22 $\sin 60^\circ \cos 30^\circ - \cos 60^\circ \sin 30^\circ$ का मान ज्ञात करें।

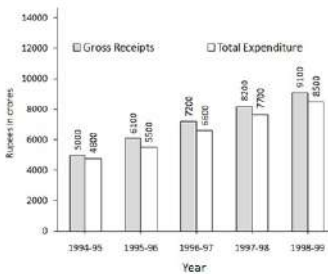
- Ans
- 1. $\frac{1}{\sqrt{2}}$
 - 2. $\frac{\sqrt{3}}{2}$
 - 3. $\frac{1}{2}$
 - 4. 1

Question ID : 4244291080

Status : Answered

Chosen Option : 3

Q.23 दिए गए बार ग्राफ में, कुल व्यय (total expenditure) और कंपनी के सकल प्राप्ति (gross receipts) (₹ करोड़ में) को दर्शाया है। ग्राफ का अध्ययन करें और दिए गए प्रश्न का उत्तर दें।



20% का लाभ अर्जित करने के लिए, 1995-96 में सकल प्राप्ति (gross receipts) (करोड़ ₹ में) क्या होनी चाहिए, यदि कुल व्यय (total expenditure) पहले जितना ही रहा हो?

- Ans
- 1. 6875
 - 2. 6445
 - 3. 7565
 - 4. 5776

Question ID : 4244291086

Status : Not Answered

Chosen Option : -

Q.24 किसी वस्तु का अंकित मूल्य, उसके क्रय मूल्य से 20% अधिक है। इसे कितने प्रतिशत कम मूल्य पर बेचा जाए जिससे कोई लाभ अथवा हानि न हो?

- Ans
- 1. $14\frac{1}{3}\%$
 - 2. $14\frac{2}{3}\%$
 - 3. $16\frac{2}{3}\%$
 - 4. $16\frac{1}{3}\%$

Question ID : 4244291067
Status : Answered
Chosen Option : 3

Q.25 यदि $a : b = 3 : 4$ है, तो $(7a - 4b) : (8a + 4b)$ का मान ज्ञात करें।

- Ans
- 1. 2 : 3
 - 2. 3 : 8
 - 3. 2 : 5
 - 4. 1 : 8

Question ID : 4244291069
Status : Answered
Chosen Option : 4

Section : General Awareness

Q.1 किस देश की टीम को, भारतीय अंडर-15 टीम ने कल्याणी स्टेडियम, पश्चिम बंगाल में आयोजित SAFF (साउथ एशियन फुटबॉल फेडरेशन) U-15 चैम्पियनशिप 2019 के फाइनल में, 7-0 के स्कोर से हरा दिया था?

- Ans
- 1. श्रीलंका
 - 2. उज़्बेकिस्तान
 - 3. नेपाल
 - 4. तुर्कमेनिस्तान

Question ID : 4244291111
Status : Answered
Chosen Option : 2

Q.2 प्रत्येक वर्ष मनाए जाने वाले, प्रसिद्ध गौरा-गौरी पूजा का आनंद लेने के लिए, आप किस राज्य में जाएंगे?

- Ans
- 1. राजस्थान
 - 2. छत्तीसगढ़
 - 3. उत्तराखंड
 - 4. गुजरात

Question ID : 4244291089
Status : Answered
Chosen Option : 4

Q.3 हड़प्पा सभ्यता की खोज सर्वप्रथम किस वर्ष में हुई थी?

- Ans
- 1. 1926 में
 - 2. 1932 में
 - 3. 1921 में
 - 4. 1905 में

Question ID : 4244291103
Status : Answered
Chosen Option : 1

Q.4 MS Office सॉफ्टवेयर में, किसी लाइन या टेक्स्ट को पेज के बीच में लाने (central alignment) के लिए किस शॉर्टकट की (Key) का उपयोग किया जाता है?

- Ans
- 1. Ctrl+A
 - 2. Ctrl+C
 - 3. Ctrl+G
 - 4. Ctrl+E

Question ID : 4244291087
Status : Answered
Chosen Option : 3

Q.5 निम्नलिखित में से किस मंत्रालय द्वारा अंगीकार और ई-कोर्स नाम के दो अभियान शुरू किए गए?

- Ans
- 1. महिला एवं बाल विकास मंत्रालय
 - 2. मानव संसाधन विकास मंत्रालय
 - 3. गृह मंत्रालय
 - 4. आवासन और शहरी कार्य मंत्रालय

Question ID : 4244291093
Status : Answered
Chosen Option : 2

Q.6 6 जनवरी, 2020 को भारत-ओमान द्विपक्षीय नौसेना अभ्यास "नसीम-अल-बहर" में भाग लेने के लिए ओमान के कितने जहाज गोवा पहुंचे थे?

- Ans
- 1. 3
 - 2. 4
 - 3. 1
 - 4. 2

Question ID : 4244291092
Status : Answered
Chosen Option : 1

Q.7 इनमें से कौन-सा एक ऑपरेटिंग सिस्टम (Operating System) नहीं है?

- Ans
- 1. यूनिक्स (Unix)
 - 2. मैक ओएस (Mac OS)
 - 3. एसक्यूएल (SQL)
 - 4. लिनक्स (Linux)

Question ID : 4244291088
Status : Answered
Chosen Option : 3

Q.8 निम्नलिखित में से वे कौन प्रतिष्ठित व्यक्ति हैं, जिन्हें वर्ष 2019 में माननीय राष्ट्रपति के द्वारा भारत रत्न से सम्मानित नहीं किया गया?

- Ans
- 1. भूपेंद्र कुमार हजारिका
 - 2. सचिन तेंदुलकर
 - 3. नानाजी देशमुख
 - 4. प्रणब मुखर्जी

Question ID : 4244291106
Status : Answered
Chosen Option : 2

Q.9 10-22 जनवरी, 2020 के दौरान खेलो इंडिया यूथ गेम्स कहाँ आयोजित किए गए थे?

- Ans
- 1. नई दिल्ली
 - 2. नागपुर
 - 3. गुवाहाटी
 - 4. भुवनेश्वर

Question ID : 4244291109
Status : Answered
Chosen Option : 3

Q.10 भारत के किस राज्य में बोमडि-ला दर्रा स्थित है?

- Ans
- 1. सिक्किम
 - 2. हिमाचल प्रदेश
 - 3. अरुणाचल प्रदेश
 - 4. असम

Question ID : 4244291100
Status : Answered
Chosen Option : 3

Q.11 भारत के वित्त आयोग के 15वें अध्यक्ष कौन हैं?

- Ans 1. एन.के. सिंह
 2. विजय एल. केलकर
 3. वाय. वी. रेड्डी
 4. सी. रंगराजन

Question ID : 4244291108
Status : Answered
Chosen Option : 3

Q.12 किस राज्य ने अरुणाचल प्रदेश में आयोजित 25वीं सीनियर महिला एनएफसी (NFC) 2019-20 का फाइनल जीता?

- Ans 1. ओडिशा
 2. मणिपुर
 3. तमिलनाडु
 4. अरुणाचल प्रदेश

Question ID : 4244291110
Status : Answered
Chosen Option : 3

Q.13 अल्फ्रेड वेगेनर द्वारा वर्णित महाद्वीपीय खिसकाव से पहले एकल महाद्वीपीय द्रव्यमान को घेरने वाले विशाल-महासागर का क्या नाम था?

- Ans 1. पिग्मेलियन
 2. पनामा
 3. पैजेया
 4. पैथालासा

Question ID : 4244291099
Status : Answered
Chosen Option : 1

Q.14 'सैला' नृत्य की उत्पत्ति किस राज्य में हुई थी? नृत्य फ़सल कटाई की ऋतु के बाद लड़कों द्वारा प्रदर्शित किया जाता है।

- Ans 1. झारखंड
 2. छत्तीसगढ़
 3. बिहार
 4. ओडिशा

Question ID : 4244291090
Status : Answered
Chosen Option : 4

Q.15 मोटर वाहन (संशोधन) विधेयक 2019 के अनुसार, हिट एंड रन केस में अगर पीड़ित की मृत्यु हो जाती है, तो प्रस्तावित न्यूनतम मुआवज़ा कितना है?

- Ans 1. 2,00,000
 2. 1,50,000
 3. 50,000
 4. 1,00,000

Question ID : 4244291094
Status : Answered
Chosen Option : 2

Q.16 निम्नलिखित में से कौन-सा अनुच्छेद, शिक्षा के मौलिक अधिकार के रूप में 6 से 14 वर्ष की आयु वर्ग वाले सभी बच्चों के लिए मुफ्त और अनिवार्य शिक्षा प्रदान करना सुनिश्चित करता है?

- Ans 1. 21A
 2. 14
 3. 18A
 4. 20A

Question ID : 4244291107
Status : Answered
Chosen Option : 1

Q.17 वेलंचली (लिटोरल) वन में कौन-से वृक्ष पाए जाते हैं?

- Ans 1. चिनार
 2. सुंदरी
 3. आबनूस
 4. सरो (साइप्रेस)

Question ID : 4244291102
Status : Answered
Chosen Option : 3

Q.18 वायुमंडल की किस परत (मंडल) के ऊपर बाह्यमंडल (एक्सोस्फियर) है?

- Ans 1. मध्यमंडल (मेज़ोस्फियर)
 2. समताप मंडल (स्ट्रेटोस्फियर)
 3. तापमंडल (थर्मोस्फियर)
 4. क्षोभमंडल (ट्रोपोस्फियर)

Question ID : 4244291101
Status : Answered
Chosen Option : 1

Q.19 13 अगस्त को GTAC, नीलामी केंद्र पर असम के डीकॉम टी एस्टेट (Dikom Tea Estate of Assam) द्वारा अपनी 'गोल्डन बटरफ्लाई' चाय को किस कीमत पर बेचा गया था?

- Ans
- 1. Rs 50,000/ kg
 - 2. Rs 75,000/kg
 - 3. Rs 1,00,000/ kg
 - 4. Rs 25,000/ kg

Question ID : 4244291095
Status : Not Answered
Chosen Option : -

Q.20 क्लोरोफ्लोरोकार्बन्स (CFCs) जैसे कृत्रिम रसायनों को किस पर्यावरणीय परिघटना से संबद्ध किया गया है?

- Ans
- 1. लहर प्रसार से
 - 2. ओज़ोन के क्रमिक ह्रास से
 - 3. विद्युतचुंबकीय व्यवधान से
 - 4. ज्वारीय प्रवाह से

Question ID : 4244291097
Status : Answered
Chosen Option : 2

Q.21 वे पांच समूह कौन-से हैं, जिनमें पादपों (पौधों) को विभाजित किया गया है?

- Ans
- 1. ऐनेलिडा, ब्रायोफाइट्स, टेरिडोफाइट्स, जिम्नोस्पर्म और एंजियोस्पर्म
 - 2. मोलस्का, ब्रायोफाइट्स, टेरिडोफाइट्स, जिम्नोस्पर्म और एंजियोस्पर्म
 - 3. थैलोफाइट्स, ब्रायोफाइट्स, टेरिडोफाइट्स, जिम्नोस्पर्म और एंजियोस्पर्म
 - 4. आर्थोपोडा, ब्रायोफाइट्स, टेरिडोफाइट्स, जिम्नोस्पर्म और एंजियोस्पर्म

Question ID : 4244291098
Status : Answered
Chosen Option : 2

Q.22 मैसूर साम्राज्य और ब्रिटिश ईस्ट इंडिया कंपनी के बीच दूसरा एंग्लो-मैसूर युद्ध कब लड़ा गया था?

- Ans
- 1. 1780-1784
 - 2. 1769-1775
 - 3. 1785-1789
 - 4. 1766-1769

Question ID : 4244291104
Status : Not Answered
Chosen Option : -

Q.23 द्रोणाचार्य पुरस्कार किस वर्ष आरंभ किया गया था?

- Ans
- 1. 1978 में
 - 2. 1997 में
 - 3. 1991 में
 - 4. 1985 में

Question ID : 4244291105
Status : Not Answered
Chosen Option : -

Q.24 7 जनवरी 2020 को आयोजित दूसरे राष्ट्रीय जीएसटी (GST) सम्मेलन के साथ ही केंद्रीय और राज्य आयुक्तों के अध्यक्ष कौन थे/थीं? इस सम्मेलन का आयोजन वस्तु और सेवा कर को सुव्यवस्थित करने के लिए किया गया था।

- Ans
- 1. निर्मला सीतारमण
 - 2. अजय भूषण पांडेय
 - 3. अमित शाह
 - 4. अनुराग ठाकुर

Question ID : 4244291091
Status : Not Answered
Chosen Option : -

Q.25 इनमें से कौन-सा मानव शरीर का उत्सर्जक अंग (excretory organ) है?

- Ans
- 1. त्वचा
 - 2. मस्तिष्क
 - 3. हृदय
 - 4. मांसपेशियां

Question ID : 4244291096
Status : Not Answered
Chosen Option : -

Roll Number	
Candidate Name	
Venue Name	
Exam Date	19/10/2020
Exam Time	1:00 PM - 2:00 PM
Subject	CHSL Tier 1

Section : English Language (Basic Knowledge)

Q.1 Select the word which means the same as the group of words given.

A period of one thousand years

- Ans
- 1. Century
 - 2. Centenary
 - 3. Decade
 - 4. Millennium

Question ID : 4244291032
Status : Answered
Chosen Option : 4

Q.2 Select the most appropriate meaning of the given idiom.

Look before you leap

- Ans
- 1. Think carefully of the consequences
 - 2. Caution others before taking a step
 - 3. Prepare yourself before jumping
 - 4. Pull someone out from a disaster

Question ID : 4244291028
Status : Answered
Chosen Option : 3

Q.3 Select the most appropriate ANTONYM of the given word.

SACRED

- Ans
- 1. Solemn
 - 2. Divine
 - 3. Profane
 - 4. Pious

Question ID : 4244291026
Status : Answered
Chosen Option : 1

Q.4 Select the correct indirect form of the given sentence.

Mother said to Kavya, "Switch off the light before you go to sleep."

- Ans
- 1. Mother told Kavya to switch off the light before she goes to sleep.
 - 2. Mother told Kavya to switch off the light before she went to sleep.
 - 3. Mother told Kavya to switch off the light before you go to sleep.
 - 4. Mother told Kavya to switch off the light before she is going to sleep.

Question ID : 4244291012
Status : Answered
Chosen Option : 2

Comprehension:

In the following passage, some words have been deleted. Fill in the blanks with the help of the alternatives given. Select the most appropriate option for each blank.

Roman civilization emerged around the sixth century BC. At the height of (1)_____ power, the Roman Empire ruled over a huge chunk of (2)_____, and all the present-day Mediterranean countries (3)_____ part of ancient Rome. Early Rome was (4)_____ by kings, but later, the people took control over their own city and ruled (5)_____. They introduced a council known as the Senate which ruled over them. From this point, Rome was referred to as the Roman Republic.

SubQuestion No : 5

Q.5 Select the most appropriate option for blank number 1.

- Ans
- 1. their
 - 2. his
 - 3. one's
 - 4. its

Question ID : 4244291016
Status : Answered
Chosen Option : 4

Comprehension:

In the following passage, some words have been deleted. Fill in the blanks with the help of the alternatives given. Select the most appropriate option for each blank.

Roman civilization emerged around the sixth century BC. At the height of (1)_____ power, the Roman Empire ruled over a huge chunk of (2)_____, and all the present-day Mediterranean countries (3)_____ part of ancient Rome. Early Rome was (4)_____ by kings, but later, the people took control over their own city and ruled (5)_____. They introduced a council known as the Senate which ruled over them. From this point, Rome was referred to as the Roman Republic.

SubQuestion No : 6

Q.6 Select the most appropriate option for blank number 2.

- Ans
- 1. sea
 - 2. country
 - 3. islands
 - 4. land

Question ID : 4244291017
Status : Answered
Chosen Option : 3

Comprehension:

In the following passage, some words have been deleted. Fill in the blanks with the help of the alternatives given. Select the most appropriate option for each blank.

Roman civilization emerged around the sixth century BC. At the height of (1)_____ power, the Roman Empire ruled over a huge chunk of (2)_____, and all the present-day Mediterranean countries (3)_____ part of ancient Rome. Early Rome was (4)_____ by kings, but later, the people took control over their own city and ruled (5)_____. They introduced a council known as the Senate which ruled over them. From this point, Rome was referred to as the Roman Republic.

SubQuestion No : 7

Q.7 Select the most appropriate option for blank number 3.

Ans

- 1. are
- 2. had
- 3. have
- 4. were

Question ID : 4244291018

Status : Answered

Chosen Option : 4

Comprehension:

In the following passage, some words have been deleted. Fill in the blanks with the help of the alternatives given. Select the most appropriate option for each blank.

Roman civilization emerged around the sixth century BC. At the height of (1)_____ power, the Roman Empire ruled over a huge chunk of (2)_____, and all the present-day Mediterranean countries (3)_____ part of ancient Rome. Early Rome was (4)_____ by kings, but later, the people took control over their own city and ruled (5)_____. They introduced a council known as the Senate which ruled over them. From this point, Rome was referred to as the Roman Republic.

SubQuestion No : 8

Q.8 Select the most appropriate option for blank number 4.

Ans

- 1. controlled
- 2. conducted
- 3. regulated
- 4. governed

Question ID : 4244291019

Status : Answered

Chosen Option : 4

Comprehension:

In the following passage, some words have been deleted. Fill in the blanks with the help of the alternatives given. Select the most appropriate option for each blank.

Roman civilization emerged around the sixth century BC. At the height of (1)_____ power, the Roman Empire ruled over a huge chunk of (2)_____, and all the present-day Mediterranean countries (3)_____ part of ancient Rome. Early Rome was (4)_____ by kings, but later, the people took control over their own city and ruled (5)_____. They introduced a council known as the Senate which ruled over them. From this point, Rome was referred to as the Roman Republic.

SubQuestion No : 9

Q.9 Select the most appropriate option for blank number 5.

- Ans 1. themselves
 2. himself
 3. yourself
 4. ourselves

Question ID : 4244291020
Status : Answered
Chosen Option : 1

Q.10 In the given sentence, identify the segment which contains a grammatical error.

All these boys have come to college without few knowledge of English.

- Ans 1. without few knowledge
 2. All these boys
 3. have come to college
 4. of English

Question ID : 4244291014
Status : Answered
Chosen Option : 3

Q.11 In the given sentence, identify the segment which contains a grammatical error.

Everyone are asking for passes to the music festival at Nehru Park.

- Ans 1. for passes
 2. to the music festival
 3. Everyone are asking
 4. at Nehru Park.

Question ID : 4244291013
Status : Answered
Chosen Option : 3

Q.12 Select the most appropriate option to substitute the underlined segment in the given sentence. If there is no need to substitute it, select 'No improvement'.

Many attempts has been made to climb the Everest before Tenzing and Hillary succeeded.

- Ans
- 1. had been made
 - 2. No improvement
 - 3. was made
 - 4. have been made

Question ID : 4244291023
Status : Answered
Chosen Option : 1

Q.13 Select the correct passive form of the given sentence.

He spent a lot of money on movies.

- Ans
- 1. A lot of money was being spent by him on movies.
 - 2. A lot of money is spent by him on movies.
 - 3. A lot of money was spent by him on movies.
 - 4. A lot of money had been spent by him on movies.

Question ID : 4244291011
Status : Answered
Chosen Option : 3

Q.14 Given below are four jumbled sentences. Out of the given options pick the one that gives their correct order.

- A. When he returned, there was more than just his dog waiting for him.
- B. A koala had joined the dog in the car's more comfortable climate.
- C. A winemaker in South Australia left his air-conditioned car open to help keep his dog cool in the heat.
- D. Although the human struggled a while to make the koala leave, it did leave his car eventually.

- Ans
- 1. CBAD
 - 2. BCDA
 - 3. BACD
 - 4. CABD

Question ID : 4244291022
Status : Answered
Chosen Option : 4

Q.15 Select the INCORRECTLY spelt word.

- Ans
- 1. Advantageous
 - 2. Victorious
 - 3. Tedious
 - 4. Rebelleous

Question ID : 4244291030
Status : Not Attempted and Marked For Review
Chosen Option : --

Q.16 Select the most appropriate word to fill in the blank.

Several villages in Kashmir have been _____ due to heavy snowfall.

- Ans
- 1. engaged
 - 2. divided
 - 3. confined
 - 4. isolated

Question ID : 4244291036

Status : Not Answered

Chosen Option : --

Q.17 Given below are four jumbled sentences. Out of the given options pick the one that gives their correct order.

- A. People in a small Chinese town were shocked to see a wild elephant wandering in their town.
- B. The elephant eventually left the town.
- C. Authorities followed the large mammal's every movement.
- D. But the locals will probably never forget this special visit.

- Ans
- 1. BDAC
 - 2. ABDC
 - 3. CABD
 - 4. ACBD

Question ID : 4244291021

Status : Answered

Chosen Option : 2

Q.18 Select the INCORRECTLY spelt word.

- Ans
- 1. Irrelevant
 - 2. Irrigate
 - 3. Irritable
 - 4. Irrilegious

Question ID : 4244291029

Status : Not Answered

Chosen Option : --

Q.19 Select the most appropriate meaning of the given idiom.

Chill out

- Ans
- 1. To calm down
 - 2. To be nervous
 - 3. To be angry
 - 4. To fight

Question ID : 4244291027

Status : Marked For Review

Chosen Option : 1

Q.20 Select the most appropriate ANTONYM of the given word.

PERISH

- Ans
- 1. Vanish
 - 2. Grow
 - 3. Crumble
 - 4. Wither

Question ID : 4244291025
Status : Not Answered
Chosen Option : --

Q.21 Select the most appropriate synonym of the given word.

MOROSE

- Ans
- 1. Cheerful
 - 2. Sullen
 - 3. Friendly
 - 4. Optimistic

Question ID : 4244291033
Status : Answered
Chosen Option : 3

Q.22 Select the most appropriate synonym of the given word.

AFFLUENT

- Ans
- 1. Impoverished
 - 2. Destitute
 - 3. Proficient
 - 4. Wealthy

Question ID : 4244291034
Status : Answered
Chosen Option : 4

Q.23 Select the most appropriate word to fill in the blank.

The important _____ is where to arrange the funds from.

- Ans
- 1. view
 - 2. result
 - 3. issue
 - 4. solution

Question ID : 4244291035
Status : Answered
Chosen Option : 3

Q.24 Select the word which means the same as the group of words given.

A plantation of grapes

- Ans 1. Vineyard
 2. Nursery
 3. Orchard
 4. Grove

Question ID : 4244291031
Status : Answered
Chosen Option : 4

Q.25 Select the most appropriate option to substitute the underlined segment in the given sentence. If there is no need to substitute it, select 'No improvement'.

The house has a garden in front, is it?




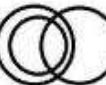
- Ans 1. does it
 2. isn't it
 3. No improvement
 4. hasn't it

Question ID : 4244291024
Status : Answered
Chosen Option : 4

Section : General Intelligence

Q.1 उस वेन आरेख का चयन करें जो दिए गए वर्गों के बीच के संबंध को सर्वोत्तम ढंग से दर्शाता है।

पिता, पुरुष, भाई

- Ans 1. 
 2. 
 3. 
 4. 

Question ID : 4244291061
Status : Answered
Chosen Option : 1

Q.2 'अधिवक्ता' का 'मुवक्किल' से वही संबंध है जो 'चिकित्सक' का '_____ ' से है।

- Ans
- 1. परिचारिका
 - 2. रोग
 - 3. उपचार
 - 4. रोगी

Question ID : 4244291048
Status : Answered
Chosen Option : 4

Q.3 उस विकल्प का चयन करें जिसका तीसरे अक्षर-समूह से वही संबंध है जो दूसरे अक्षर-समूह का पहले अक्षर-समूह से है।

JAPAN : NAQAJ :: INDIA : ?

- Ans
- 1. AIENI
 - 2. AIDNI
 - 3. NIEAI
 - 4. DNIAI

Question ID : 4244291047
Status : Answered
Chosen Option : 1

Q.4 उस संख्या का चयन करें जो निम्न श्रेणी में प्रश्नवाचक चिन्ह (?) के स्थान पर आ सकती है।

80, 79, 75, 66, ? , 25

- Ans
- 1. 57
 - 2. 46
 - 3. 50
 - 4. 54

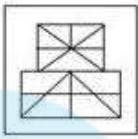
Question ID : 4244291042
Status : Answered
Chosen Option : 3

Q.5 उस विकल्प का चयन करें जिस में दिया गया चित्र अन्तर्निहित है। (घुमाने की अनुमति नहीं है)



Ans

✗ 1.



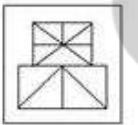
✓ 2.



✗ 3.



✗ 4.



Question ID : 4244291058

Status : Answered

Chosen Option : 2

Q.6 उस विकल्प का चयन करें जो तीसरे पद से उसी प्रकार संबंधित हो जिस प्रकार दूसरा पद पहले पद से संबंधित है।

MAKE : AEKM :: JUST : _____

Ans

✗ 1. UTJS

✓ 2. JSTU

✗ 3. UJTS

✗ 4. UTSS

Question ID : 4244291053

Status : Answered

Chosen Option : 1

Q.7 चार अक्षर-समूह दिए गए हैं, जिन में से तीन किसी प्रकार समान हैं और एक असंगत है। उस असंगत अक्षर-समूह का चयन करें।

Ans

✗ 1. PRTVX

✗ 2. KMOQS

✓ 3. SQOMK

✗ 4. FHJLN

Question ID : 4244291052

Status : Answered

Chosen Option : 3


Q.8 उस विकल्प का चयन करें जिसमें संख्याओं के मध्य वही संबंध है, जो संख्याओं के दिए गए समुच्चय की संख्याओं के मध्य है।

(26, 144, 18)

- Ans
- 1. (32, 196, 24)
 - 2. (18, 120, 13)
 - 3. (28, 190, 16)
 - 4. (21, 108, 12)

Question ID : 4244291041
Status : Answered
Chosen Option : 4

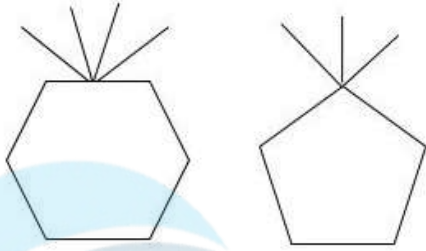
Q.9 नीचे दी गई आकृति में कुल कितने त्रिभुज निहित हैं?



- Ans
- 1. 16
 - 2. 18
 - 3. 22
 - 4. 20

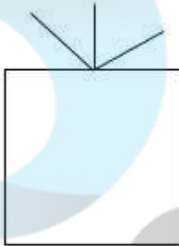
Question ID : 4244291057
Status : Answered
Chosen Option : 4

Q.10 उस विकल्प का चयन करें जो निम्न श्रेणी में अगले स्थान पर आयेगा।

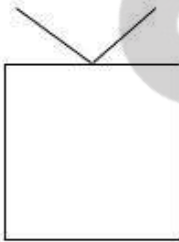


Ans

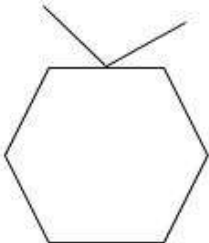
1.



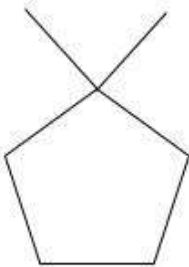
2.



3.



4.

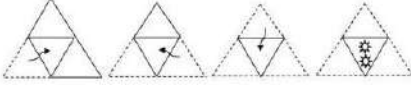


Question ID : 4244291056

Status : Answered

Chosen Option : 2

Q.11 निम्न आकृतियों में एक कागज़ को मोड़ने का क्रम और मुड़े हुए कागज़ को काटने की विधि दर्शाई गई है। कागज़ को पुनः खोलने पर यह कैसा दिखाई देगा?



Ans

✗ 1.



✗ 2.



✗ 3.



✓ 4.



Question ID : 4244291059

Status : Answered

Chosen Option : 1

Q.12 एक लड़के से परिचय कराते हुए रितिका ने कहा 'यह मेरे पिता के इकलौते पुत्र का पुत्र है।' तो रितिका का उस लड़के की माँ से क्या संबंध है?

Ans

✗ 1. बहन

✗ 2. मौसेरी बहन

✗ 3. बुआ

✓ 4. ननद

Question ID : 4244291050

Status : Answered

Chosen Option : 3

Q.13 यदि किसी कोडित भाषा में 'ORAL' को '1518112' लिखा जाता है, तो उसी कोडित भाषा में 'WRITTEN' को इस प्रकार से लिखा जाएगा:

Ans

✗ 1. 231892020614

✗ 2. 221891919514

✗ 3. 221792020514

✓ 4. 231892020514

Question ID : 4244291049

Status : Answered

Chosen Option : 4

Q.14 उस विकल्प का चयन करें जिसमें संख्याओं के बीच वही संबंध है जो दिए गए संख्या-युग्म की संख्याओं के बीच में है।

512 : 64

- Ans
- 1. 1728 : 121
 - 2. 1331 : 144
 - 3. 1000 : 81
 - 4. 1331 : 121

Question ID : 4244291039

Status : Answered

Chosen Option : 4

Q.15 निम्नलिखित श्रृंखला में प्रश्न चिह्न (?) का स्थान ले सकने वाली संख्या का चयन करें।

1, 27, 125, 343, 729, ?

- Ans
- 1. 1525
 - 2. 1244
 - 3. 1029
 - 4. 1331

Question ID : 4244291043

Status : Answered

Chosen Option : 4

Q.16 नीचे दिए गए कथनों और निष्कर्षों को ध्यानपूर्वक पढ़ें। यह मानते हुए कि कथन में दी गई जानकारी सही है, भले ही यह सामान्य रूप से ज्ञात तथ्यों से भिन्न प्रतीत होती हो, यह निर्धारित करें कि दिए गए निष्कर्षों में से कौन सा/से, कथनों का तार्किक रूप से अनुसरण करता है/करते हैं।

कथन:

1. कुछ पेड़ सिल्वर ओक हैं।
2. कुछ सिल्वर ओक लंबी वस्तुएँ हैं।

निष्कर्ष:

- I. कुछ लंबी वस्तुएँ सिल्वर ओक हैं।
- II. सभी लंबी वस्तुएँ पेड़ हैं।

- Ans
- 1. निष्कर्ष I और II अनुसरण करते हैं।
 - 2. केवल निष्कर्ष II अनुसरण करता है।
 - 3. केवल निष्कर्ष I अनुसरण करता है।
 - 4. न तो निष्कर्ष I और नही निष्कर्ष II अनुसरण करता है।

Question ID : 4244291054

Status : Answered

Chosen Option : 3

Q.17 उस विकल्प का चयन करें जिसमें शब्दों के बीच वही संबंध है जो दिए गए शब्द-युग्म के शब्दों के बीच है।

फोबिया : भय

Ans

- ✓ 1. अमनेसिया : भूलना
✗ 2. डिस्लेक्सिया : विकलांगता
✗ 3. डेंगू : मच्छर
✗ 4. खांसी : संक्रमण

Question ID : 4244291051

Status : Answered

Chosen Option : 1

Q.18 यदि दर्पण को चित्र के दाईं ओर रखा गया हो, तो दिए गए चित्र के सही दर्पण प्रतिबिम्ब का चयन करें।



Ans

- ✗ 1.
- ✓ 2.
- ✗ 3.
- ✗ 4.

Question ID : 4244291060

Status : Answered

Chosen Option : 2

Q.19 एक निश्चित कूटभाषा में COBBLER को 130 के रूप में कूटबद्ध किया जाता है और TABLE को 93 के रूप में कूटबद्ध किया जाता है, तो इसी भाषा में ALMIRAH को किस रूप में कूटबद्ध किया जाएगा?

- Ans
- 1. 123
 - 2. 127
 - 3. 129
 - 4. 125

Question ID : 4244291046
Status : Answered
Chosen Option : 3

Q.20 एक ही पासे की तीन अलग-अलग स्थितियां दर्शायी गई हैं। उस संख्या का चयन करें जो पासे के '5' अंकित फलक के विपरीत फलक पर होगी।



- Ans
- 1. 6
 - 2. 3
 - 3. 4
 - 4. 2

Question ID : 4244291055
Status : Answered
Chosen Option : 1

Q.21 उस विकल्प का चयन करें जिसमें संख्याओं के मध्य वही संबंध है, जो संख्याओं के दिए गए समुच्चय की संख्याओं के मध्य है।

(31, 18, 7)

- Ans
- 1. (72, 34, 15)
 - 2. (90, 54, 12)
 - 3. (70, 38, 20)
 - 4. (64, 50, 40)

Question ID : 4244291040
Status : Answered
Chosen Option : 1

Q.22 रेलगाड़ी 'A', 80 km/h की चाल से चलती है और सुबह 11.00 बजे 'X' स्टेशन से चलना आरंभ करती है। रेलगाड़ी 'B' उसी दिन सुबह 11:15 बजे 'X' स्टेशन से उसी दिशा में चलना आरंभ करती है। 60 km की दूरी पर स्थित स्टेशन 'Y' पर, रेलगाड़ी 'A' से मिलने के लिए रेलगाड़ी 'B' की चाल क्या होनी चाहिए?

- Ans
- 1. 125 km/h
 - 2. 115 km/h
 - 3. 110 km/h
 - 4. 120 km/h

Question ID : 4244291037
Status : Answered
Chosen Option : 4

Q.23 निम्नलिखित नामों को तार्किक और अर्थपूर्ण क्रम में व्यवस्थित करें।

1. मोजे
2. गले की टाई
3. पट्टा
4. चश्मा
5. बाजूबंद

- Ans
- 1. 4-2-3-5-1
 - 2. 4-3-2-5-1
 - 3. 4-2-3-1-5
 - 4. 4-2-5-3-1

Question ID : 4244291044
Status : Not Answered
Chosen Option : --

Q.24 एक निश्चित कूट भाषा में GOGGLE को IMIENC लिखा जाता है। तो उसी कूटभाषा में PENCIL को क्या लिखा जाएगा?

- Ans
- 1. RCPAKJ
 - 2. RGPEKN
 - 3. NCLAGJ
 - 4. NGLEGN

Question ID : 4244291045
Status : Answered
Chosen Option : 1

Q.25 निम्नलिखित समीकरण को संतुलित करने के लिए किन दो संख्याओं को आपस में बदलना चाहिए?

$$36 \div 6 - 15 \times 2 + 48 = 14$$

- Ans
- 1. 48 और 15
 - 2. 2 और 6
 - 3. 36 और 48
 - 4. 6 और 14

Question ID : 4244291038
Status : Answered
Chosen Option : 3

Section : Quantitative Aptitude(Basic Arithmetic Skill)

Q.1 किसी वस्तु का अंकित मूल्य, उसके क्रय मूल्य से 20% अधिक है। इसे कितने प्रतिशत कम मूल्य पर बेचा जाए जिससे कोई लाभ अथवा हानि न हो?

- Ans
- 1. $14\frac{1}{3}\%$
 - 2. $16\frac{1}{3}\%$
 - 3. $16\frac{2}{3}\%$
 - 4. $14\frac{2}{3}\%$

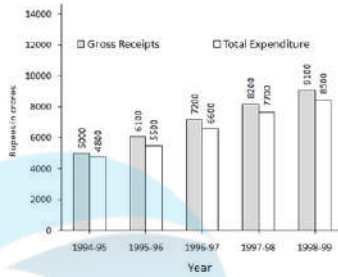
Question ID : 4244291067
Status : Answered
Chosen Option : 3

Q.2 $\triangle LMN$ की भुजा MN, बिंदु X तक बढ़ाई गई है। यदि $\angle LNX = 117^\circ$ और $\angle M = \frac{1}{2} \angle L$ है, तो $\angle L$ का मान ज्ञात करें।

- Ans
- 1. 77°
 - 2. 76°
 - 3. 75°
 - 4. 78°

Question ID : 4244291074
Status : Answered
Chosen Option : 4

Q.3 दिए गए बार ग्राफ में, कुल व्यय (total expenditure) और कंपनी के सकल प्राप्ति (gross receipts) (₹ करोड़ में) को दर्शाया है। ग्राफ का अध्ययन करें और दिए गए प्रश्न का उत्तर दें।



1994-95 की तुलना में, 1996-97 में सकल प्राप्तियों (gross receipts) में प्रतिशत वृद्धि कितनी है?

- Ans
- 1. 44%
 - 2. 41%
 - 3. 43%
 - 4. 42%

Question ID : 4244291085

Status : Answered

Chosen Option : 1

Q.4 यदि $29^{41} + 37^{41}$ को 33 से विभाजित किया जाता है, तो प्राप्त होने वाला शेषफल ज्ञात करें।

- Ans
- 1. 3
 - 2. 2
 - 3. 1
 - 4. 0

Question ID : 4244291078

Status : Answered

Chosen Option : 4

Q.5 यदि $\operatorname{cosec}^2 x - 2 = 0$ है, तो $x(0 < x < 90^\circ)$ का मान ज्ञात करें।

- Ans
- 1. 15°
 - 2. 45°
 - 3. 60°
 - 4. 30°

Question ID : 4244291082

Status : Answered

Chosen Option : 2

Q.6 A, B, C तीन बिंदु इस प्रकार स्थित हैं कि $AB = 4 \text{ cm}$, $BC = 6 \text{ cm}$ और $AC = 10 \text{ cm}$ है। बिंदु A, B, C से होकर गुजरने वाले वृत्तों की संख्या बताइए।

- Ans
- 1. 1
 - 2. 3
 - 3. 0
 - 4. 2

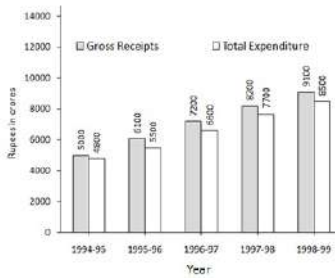
Question ID : 4244291071
Status : Answered
Chosen Option : 1

Q.7 यदि $a + 3b = 12$ और $ab = 9$ है, तो $(a - 3b)$ का मान ज्ञात करें।

- Ans
- 1. 8
 - 2. 6
 - 3. 9
 - 4. 4

Question ID : 4244291075
Status : Answered
Chosen Option : 2

Q.8 दिए गए बार ग्राफ में, कुल व्यय (total expenditure) और कंपनी के सकल प्राप्त (gross receipts) (₹ करोड़ में) को दर्शाया है। ग्राफ का अध्ययन करें और दिए गए प्रश्न का उत्तर दें।



कंपनी का 1998-99 में कुल व्यय (total expenditure), उसके 1994-95 में हुए कुल व्यय से कितना अधिक है (₹ करोड़ में)?

- Ans
- 1. 4800
 - 2. 3700
 - 3. 3800
 - 4. 5500

Question ID : 4244291083
Status : Answered
Chosen Option : 1

Q.9 यदि $0 < \theta < 90^\circ$, $3b \operatorname{cosec}\theta = a \sec\theta$ और $3a \sec\theta - b \operatorname{cosec}\theta = 8$ है, तो $9b^2 + a^2$ का मान ज्ञात करें।

- Ans
- 1. 9
 - 2. 8
 - 3. 7
 - 4. 6

Question ID : 4244291081

Status : Not Attempted and Marked For Review

Chosen Option : --

Q.10 $309 \div \left[\left(\frac{3}{2} \right) \text{ of } (25 + 35) - 12 \frac{3}{4} \right]$ का मान ज्ञात करें।

- Ans
- 1. 8
 - 2. 16
 - 3. 4
 - 4. 12

Question ID : 4244291079

Status : Answered

Chosen Option : 3

Q.11 एक समचतुर्भुज की भुजाओं के वर्गों का योग 900 m^2 है। समचतुर्भुज की भुजा की लंबाई क्या है?

- Ans
- 1. 14 m
 - 2. 16 m
 - 3. 15 m
 - 4. 17 m

Question ID : 4244291064

Status : Answered

Chosen Option : 3

Q.12 कुकर का अंकित मूल्य ₹2,000 है, और इस पर क्रमशः 30%, 20% और 10% की छूट दी जाती है। कुकर का विक्रय मूल्य ज्ञात करें।

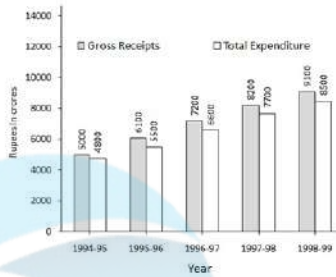
- Ans
- 1. ₹1,004
 - 2. ₹1,006
 - 3. ₹1,002
 - 4. ₹1,008

Question ID : 4244291066

Status : Answered

Chosen Option : 4

Q.13 दिए गए बार ग्राफ में, कुल व्यय (total expenditure) और कंपनी के सकल प्राप्त (gross receipts) (₹ करोड़ में) को दर्शाया है। ग्राफ का अध्ययन करें और दिए गए प्रश्न का उत्तर दें।



यदि लाभ = सकल प्राप्त (gross receipts) - कुल व्यय (total expenditure) है, तो 1997-98 में प्राप्त लाभ, सकल प्राप्त का कितने प्रतिशत है? (दशमलव के एक स्थान तक सही)

- Ans 1. 6.1%
 2. 5.4%
 3. 3.9%
 4. 4.8%

Question ID : 4244291084

Status : Answered

Chosen Option : 1

Q.14 यदि $1 + 9r^2 + 81r^4 = 256$ और $1 + 3r + 9r^2 = 32$ है, तो $1 - 3r + 9r^2$ का मान ज्ञात करें।

- Ans 1. 4
 2. 12
 3. 8
 4. 16

Question ID : 4244291077

Status : Answered

Chosen Option : 3

Q.15 समबाहु ΔXYZ का केन्द्रक L है। यदि $XY = 12$ cm है, तो XL की लंबाई (cm में) है:

- Ans 1. $4\sqrt{3}$
 2. $3\sqrt{3}$
 3. $2\sqrt{3}$
 4. $5\sqrt{3}$

Question ID : 4244291073

Status : Answered

Chosen Option : 1

Q.16 24 संख्याओं का औसत 26 है। पहली 15 संख्याओं का औसत 23 है और अंतिम 8 संख्याओं का औसत 33 है। 16वीं संख्या ज्ञात करें।

- Ans 1. 15
 2. 17
 3. 16
 4. 18

Question ID : 4244291065
Status : Answered
Chosen Option : 1

Q.17 5 घंटे प्रति दिन कार्य करने वाले 10 पुरुष ₹300 कमाते हैं। 10 घंटे प्रति दिन कार्य करने वाले 15 पुरुष कितना कमाएंगे?

- Ans 1. ₹800
 2. ₹600
 3. ₹900
 4. ₹650

Question ID : 4244291062
Status : Answered
Chosen Option : 3

Q.18 किसी राशि पर 8% वार्षिक दर से 4 वर्ष तथा 8 वर्ष में प्राप्त साधारण ब्याज का योग ₹960 है। वह राशि है:

- Ans 1. ₹1000
 2. ₹800
 3. ₹1100
 4. ₹900

Question ID : 4244291070
Status : Answered
Chosen Option : 1

Q.19 मोहन 12 km/h, 18 km/h और 24 km/h की चाल से तीन समान दूरियों को तय करता है। यदि उसे इसमें कुल 13 घंटे लगते हैं, तो उसके द्वारा तय की गई कुल दूरी कितनी है?

- Ans 1. 216 km
 2. 212 km
 3. 214 km
 4. 218 km

Question ID : 4244291063
Status : Answered
Chosen Option : 1

Q.20 यदि $a^2 + \frac{2}{a^2} = 16$ है, तो $\frac{72a^2}{a^4 + 2 + 8a^2}$ का मान ज्ञात करें।

- Ans
- 1. 2
 - 2. 3
 - 3. 1
 - 4. 4

Question ID : 4244291076
Status : Answered
Chosen Option : 2

Q.21 अनिल ₹8 में 6 की दर पर कुछ वस्तुएं खरीदता है और उन्हें ₹12 में 10 की दर पर बेचता है। उसका प्रतिशत लाभ या हानि क्या होगी?

- Ans
- 1. 10% हानि
 - 2. 8% हानि
 - 3. 10% लाभ
 - 4. 8% लाभ

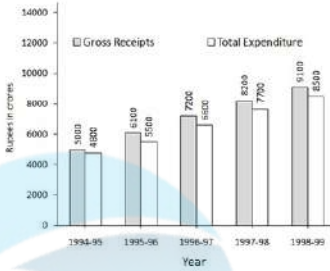
Question ID : 4244291068
Status : Answered
Chosen Option : 1

Q.22 $\sin 60^\circ \cos 30^\circ - \cos 60^\circ \sin 30^\circ$ का मान ज्ञात करें।

- Ans
- 1. $\frac{1}{2}$
 - 2. $\frac{1}{\sqrt{2}}$
 - 3. $\frac{\sqrt{3}}{2}$
 - 4. 1

Question ID : 4244291080
Status : Answered
Chosen Option : 1

Q.23 दिए गए बार ग्राफ में, कुल व्यय (total expenditure) और कंपनी के सकल प्राप्त (gross receipts) (₹ करोड़ में) को दर्शाया है। ग्राफ का अध्ययन करें और दिए गए प्रश्न का उत्तर दें।



20% का लाभ अर्जित करने के लिए, 1995-96 में सकल प्राप्तियाँ (gross receipts) (करोड़ ₹ में) क्या होनी चाहिए, यदि कुल व्यय (total expenditure) पहले जितना ही रहा हो?

- Ans
- 1. 6445
 - 2. 7565
 - 3. 5776
 - 4. 6875

Question ID : 4244291086

Status : Answered

Chosen Option : 2

Q.24 एक पहिये का व्यास 49 cm है। इसे 770 m की दूरी तय करने में लगने वाले चक्करों (revolution) की संख्या ज्ञात करें।

- Ans
- 1. 500
 - 2. 400
 - 3. 600
 - 4. 700

Question ID : 4244291072

Status : Answered

Chosen Option : 1

Q.25 यदि $a : b = 3 : 4$ है, तो $(7a - 4b) : (8a + 4b)$ का मान ज्ञात करें।

- Ans
- 1. 1 : 8
 - 2. 2 : 5
 - 3. 3 : 8
 - 4. 2 : 3

Question ID : 4244291069

Status : Answered

Chosen Option : 1

Q.1 किस राज्य ने अरुणाचल प्रदेश में आयोजित 25वीं सीनियर महिला एनएफसी (NFC) 2019-20 का फाइनल जीता?

- Ans
- 1. तमिलनाडु
 - 2. मणिपुर
 - 3. ओडिशा
 - 4. अरुणाचल प्रदेश

Question ID : 4244291110
Status : Not Answered
Chosen Option : --

Q.2 मैसूर साम्राज्य और ब्रिटिश ईस्ट इंडिया कंपनी के बीच दूसरा एंग्लो-मैसूर युद्ध कब लड़ा गया था?

- Ans
- 1. 1780-1784
 - 2. 1766-1769
 - 3. 1769-1775
 - 4. 1785-1789

Question ID : 4244291104
Status : Answered
Chosen Option : 3

Q.3 किस देश की टीम को, भारतीय अंडर-15 टीम ने कल्याणी स्टेडियम, पश्चिम बंगाल में आयोजित SAFF (साउथ एशियन फुटबॉल फेडरेशन) U-15 चैम्पियनशिप 2019 के फाइनल में, 7-0 के स्कोर से हरा दिया था?

- Ans
- 1. तुर्कमेनिस्तान
 - 2. नेपाल
 - 3. श्रीलंका
 - 4. उज्बेकिस्तान

Question ID : 4244291111
Status : Not Answered
Chosen Option : --

Q.4 MS Office सॉफ्टवेयर में, किसी लाइन या टेक्स्ट को पेज के बीच में लाने (central alignment) के लिए किस शॉर्टकट की (Key) का उपयोग किया जाता है?

- Ans
- 1. Ctrl+C
 - 2. Ctrl+A
 - 3. Ctrl+E
 - 4. Ctrl+G

Question ID : 4244291087
Status : Answered
Chosen Option : 3

Q.5 7 जनवरी 2020 को आयोजित दूसरे राष्ट्रीय जीएसटी (GST) सम्मेलन के साथ ही केंद्रीय और राज्य आयुक्तों के अध्यक्ष कौन थे/थीं? इस सम्मेलन का आयोजन वस्तु और सेवा कर को सुव्यवस्थित करने के लिए किया गया था।

- Ans
- 1. अनुराग ठाकुर
 - 2. अजय भूषण पांडेय
 - 3. अमित शाह
 - 4. निर्मला सीतारमण

Question ID : 4244291091
Status : Answered
Chosen Option : 4

Q.6 भारत के वित्त आयोग के 15वें अध्यक्ष कौन हैं?

- Ans
- 1. विजय एल. केलकर
 - 2. सी. रंगराजन
 - 3. एन.के. सिंह
 - 4. वाय. वी. रेड्डी

Question ID : 4244291108
Status : Answered
Chosen Option : 3

Q.7 द्रोणाचार्य पुरस्कार किस वर्ष आरंभ किया गया था?

- Ans
- 1. 1997 में
 - 2. 1991 में
 - 3. 1978 में
 - 4. 1985 में

Question ID : 4244291105
Status : Answered
Chosen Option : 2

Q.8 13 अगस्त को GTAC, नीलामी केंद्र पर असम के डीकॉम टी एस्टेट (Dikom Tea Estate of Assam) द्वारा अपनी 'गोल्डन बटरफ्लाई' चाय को किस कीमत पर बेचा गया था?

- Ans
- 1. Rs 25,000/ kg
 - 2. Rs 75,000/kg
 - 3. Rs 1,00,000/ kg
 - 4. Rs 50,000/ kg

Question ID : 4244291095
Status : Not Answered
Chosen Option : --

Q.9 10-22 जनवरी, 2020 के दौरान खेलो इंडिया यूथ गेम्स कहाँ आयोजित किए गए थे?

- Ans
- 1. नागपुर
 - 2. गुवाहाटी
 - 3. नई दिल्ली
 - 4. भुवनेश्वर

Question ID : 4244291109
Status : Answered
Chosen Option : 2

Q.10 वायुमंडल की किस परत (मंडल) के ऊपर बाह्यमंडल (एक्सोस्फियर) है?

- Ans
- 1. समताप मंडल (स्ट्रेटोस्फियर)
 - 2. क्षोभमंडल (ट्रोपोस्फियर)
 - 3. मध्यमंडल (मेज़ोस्फियर)
 - 4. तापमंडल (थर्मोस्फियर)

Question ID : 4244291101
Status : Answered
Chosen Option : 2

Q.11 निम्नलिखित में से कौन-सा अनुच्छेद, शिक्षा के मौलिक अधिकार के रूप में 6 से 14 वर्ष की आयु वर्ग वाले सभी बच्चों के लिए मुफ्त और अनिवार्य शिक्षा प्रदान करना सुनिश्चित करता है?

- Ans
- 1. 14
 - 2. 21A
 - 3. 20A
 - 4. 18A

Question ID : 4244291107
Status : Answered
Chosen Option : 1

Q.12 निम्नलिखित में से वे कौन प्रतिष्ठित व्यक्ति हैं, जिन्हें वर्ष 2019 में माननीय राष्ट्रपति के द्वारा भारत रत्न से सम्मानित नहीं किया गया?

- Ans
- 1. सचिन तेंदुलकर
 - 2. नानाजी देशमुख
 - 3. प्रणब मुखर्जी
 - 4. भूपेंद्र कुमार हजारिका

Question ID : 4244291106
Status : Answered
Chosen Option : 2

Q.13 'सैला' नृत्य की उत्पत्ति किस राज्य में हुई थी? नृत्य फ़सल कटाई की ऋतु के बाद लड़कों द्वारा प्रदर्शित किया जाता है।

- Ans
- 1. बिहार
 - 2. ओडिशा
 - 3. छत्तीसगढ़
 - 4. झारखंड

Question ID : 4244291090
Status : Answered
Chosen Option : 3

Q.14 वे पांच समूह कौन-से हैं, जिनमें पादपों (पौधों) को विभाजित किया गया है?

- Ans
- 1. थैलोफाइट्स, ब्रायोफाइट्स, टेरिडोफाइट्स, जिम्नोस्पर्म और एंजियोस्पर्म
 - 2. आर्थोपोडा, ब्रायोफाइट्स, टेरिडोफाइट्स, जिम्नोस्पर्म और एंजियोस्पर्म
 - 3. मोलस्का, ब्रायोफाइट्स, टेरिडोफाइट्स, जिम्नोस्पर्म और एंजियोस्पर्म
 - 4. ऐनेलिडा, ब्रायोफाइट्स, टेरिडोफाइट्स, जिम्नोस्पर्म और एंजियोस्पर्म

Question ID : 4244291098
Status : Not Answered
Chosen Option : --

Q.15 वेलांचली (लिटोरल) वन में कौन-से वृक्ष पाए जाते हैं?

- Ans
- 1. सरो (साइप्रेस)
 - 2. चिनार
 - 3. आबनूस
 - 4. सुंदरी

Question ID : 4244291102
Status : Not Answered
Chosen Option : --

Q.16 इनमें से कौन-सा मानव शरीर का उत्सर्जक अंग (excretory organ) है?

- Ans
- 1. मस्तिष्क
 - 2. मांसपेशियां
 - 3. त्वचा
 - 4. हृदय

Question ID : 4244291096
Status : Answered
Chosen Option : 3

Q.17 निम्नलिखित में से किस मंत्रालय द्वारा अंगीकार और ई-कोर्स नाम के दो अभियान शुरू किए गए?

- Ans
- 1. महिला एवं बाल विकास मंत्रालय
 - 2. आवासन और शहरी कार्य मंत्रालय
 - 3. गृह मंत्रालय
 - 4. मानव संसाधन विकास मंत्रालय

Question ID : 4244291093
Status : Answered
Chosen Option : 4

Q.18 6 जनवरी, 2020 को भारत-ओमान द्विपक्षीय नौसेना अभ्यास "नसीम-अल-बहर" में भाग लेने के लिए ओमान के कितने जहाज गोवा पहुंचे थे?

- Ans
- 1. 3
 - 2. 4
 - 3. 2
 - 4. 1

Question ID : 4244291092
Status : Not Answered
Chosen Option : --

Q.19 हड़प्पा सभ्यता की खोज सर्वप्रथम किस वर्ष में हुई थी?

- Ans
- 1. 1905 में
 - 2. 1932 में
 - 3. 1926 में
 - 4. 1921 में

Question ID : 4244291103
Status : Not Answered
Chosen Option : --

Q.20 मोटर वाहन (संशोधन) विधेयक 2019 के अनुसार, हिट एंड रन केस में अगर पीड़ित की मृत्यु हो जाती है, तो प्रस्तावित न्यूनतम मुआवज़ा कितना है?

- Ans
- 1. 50,000
 - 2. 1,50,000
 - 3. 2,00,000
 - 4. 1,00,000

Question ID : 4244291094
Status : Answered
Chosen Option : 3

Q.21 इनमें से कौन-सा एक ऑपरेटिंग सिस्टम (Operating System) नहीं है?

- Ans
- 1. लिनक्स (Linux)
 - 2. मैक ओएस (Mac OS)
 - 3. यूनिक्स (Unix)
 - 4. एसक्यूएल (SQL)

Question ID : 4244291088
Status : Not Answered
Chosen Option : --

Q.22 भारत के किस राज्य में बामडि-ला दर्रा स्थित है?

- Ans
- 1. हिमाचल प्रदेश
 - 2. अरुणाचल प्रदेश
 - 3. सिक्किम
 - 4. असम

Question ID : 4244291100
Status : Answered
Chosen Option : 2

Q.23 प्रत्येक वर्ष मनाए जाने वाले, प्रसिद्ध गौरा-गौरी पूजा का आनंद लेने के लिए, आप किस राज्य में जाएंगे?

- Ans
- 1. छत्तीसगढ़
 - 2. राजस्थान
 - 3. गुजरात
 - 4. उत्तराखंड

Question ID : 4244291089
Status : Answered
Chosen Option : 4

Q.24 क्लोरोफ्लोरोकार्बन्स (CFCs) जैसे कृत्रिम रसायनों को किस पर्यावरणीय परिघटना से संबद्ध किया गया है?

- Ans
- 1. विद्युतचुंबकीय व्यवधान से
 - 2. लहर प्रसार से
 - 3. ओज़ोन के क्रमिक ह्रास से
 - 4. ज्वारीय प्रवाह से

Question ID : 4244291097
Status : Answered
Chosen Option : 3

Q.25 अल्फ्रेड वेगेनर द्वारा वर्णित महाद्वीपीय खिसकाव से पहले एकल महाद्वीपीय द्रव्यमान को घेरने वाले विशाल-महासागर का क्या नाम था?

Ans

- 1. पनामा
- 2. पैंजेया
- 3. पैंथालासा
- 4. पिग्मैलियन

Question ID : 4244291099

Status : Not Answered

Chosen Option : --

OnlineGuru

Roll Number	
Candidate Name	
Venue Name	
Exam Date	19/10/2020
Exam Time	4:00 PM - 5:00 PM
Subject	CHSL Tier 1

Section : English Language (Basic Knowledge)

Q.1 In the given sentence identify the segment which contains a grammatical error.

There are some members who haven't paid his subscription yet.

- Ans
- 1. who haven't paid
 - 2. his subscription yet
 - 3. some members
 - 4. There are

Question ID : 4244291115
Status : Answered
Chosen Option : 1

Q.2 Select the most appropriate ANTONYM of the given word.

REVERED

- Ans
- 1. Cherished
 - 2. Valued
 - 3. Esteemed
 - 4. Despised

Question ID : 4244291127
Status : Answered
Chosen Option : 4

Q.3 Four jumbled sentences are given. Select the option that gives their correct order.

- A. Put equal quantities of water and milk in a sauce pan and keep it on the flame.
- B. Now put some ginger, tea powder and sugar as per taste and boil it for a couple of minutes.
- C. Tea is one of the most common Asian drinks and is very simple to make.
- D. Turn off the flame, strain it into a cup and serve it hot.

- Ans
- 1. CABD
 - 2. BCAD
 - 3. ABCD
 - 4. CBAD

Question ID : 4244291122
Status : Answered
Chosen Option : 4

Q.4 Four jumbled sentences are given. Select the option that gives their correct order.

- A. The middle sun was the one we usually see every day, but the ones on either side were the sun's smaller reflections.
- B. It looked like there were three suns in the sky.
- C. A local meteorological centre explained that reflection is caused by sunshine high in the sky and light passing through snow crystals in the air.
- D. A rare celestial phenomenon appeared in Mongolia.

- Ans
- 1. DBAC
 - 2. ADBC
 - 3. DBCA
 - 4. ACBD

Question ID : 4244291123

Status : Answered

Chosen Option : 1

Comprehension:

In the following passage some words have been deleted. Fill in the blanks with the help of the alternatives given. Select the most appropriate option for each blank.

The Ken Gharial Sanctuary is a wildlife sanctuary near Panna in Madhya Pradesh. It is part (1)_____ the Gharial Conservation association where captive bred gharials (2)_____ released to help regenerate the gharial ecosystem. (3)_____ is located at the Ken River, north of Panna National Park. Here you can also (4)_____ the majestic Ranah Falls on the Ken River. The Sanctuary is (5)_____ for visitors during monsoon season.

SubQuestion No : 5

Q.5 Select the most appropriate option for blank number 1.

- Ans
- 1. with
 - 2. of
 - 3. in
 - 4. at

Question ID : 4244291117

Status : Answered

Chosen Option : 3

Comprehension:

In the following passage some words have been deleted. Fill in the blanks with the help of the alternatives given. Select the most appropriate option for each blank.

The Ken Gharial Sanctuary is a wildlife sanctuary near Panna in Madhya Pradesh. It is part (1)_____ the Gharial Conservation association where captive bred gharials (2)_____ released to help regenerate the gharial ecosystem. (3)_____ is located at the Ken River, north of Panna National Park. Here you can also (4)_____ the majestic Ranah Falls on the Ken River. The Sanctuary is (5)_____ for visitors during monsoon season.

SubQuestion No : 6

Q.6 Select the most appropriate option for blank number 2.

- Ans
- 1. had
 - 2. are
 - 3. is
 - 4. was

Question ID : 4244291118

Status : Answered

Chosen Option : 2

Comprehension:

In the following passage some words have been deleted. Fill in the blanks with the help of the alternatives given. Select the most appropriate option for each blank.

The Ken Gharial Sanctuary is a wildlife sanctuary near Panna in Madhya Pradesh. It is part (1)_____ the Gharial Conservation association where captive bred gharials (2)_____ released to help regenerate the gharial ecosystem. (3)_____ is located at the Ken River, north of Panna National Park. Here you can also (4)_____ the majestic Raneh Falls on the Ken River. The Sanctuary is (5)_____ for visitors during monsoon season.

SubQuestion No : 7

Q.7 Select the most appropriate option for blank number 3.

- Ans
- 1. That
 - 2. It
 - 3. These
 - 4. This

Question ID : 4244291119

Status : Answered

Chosen Option : 2

Comprehension:

In the following passage some words have been deleted. Fill in the blanks with the help of the alternatives given. Select the most appropriate option for each blank.

The Ken Gharial Sanctuary is a wildlife sanctuary near Panna in Madhya Pradesh. It is part (1)_____ the Gharial Conservation association where captive bred gharials (2)_____ released to help regenerate the gharial ecosystem. (3)_____ is located at the Ken River, north of Panna National Park. Here you can also (4)_____ the majestic Raneh Falls on the Ken River. The Sanctuary is (5)_____ for visitors during monsoon season.

SubQuestion No : 8

Q.8 Select the most appropriate option for blank number 4.

- Ans
- 1. look
 - 2. see
 - 3. climb
 - 4. regard

Question ID : 4244291120

Status : Answered

Chosen Option : 1

Comprehension:

In the following passage some words have been deleted. Fill in the blanks with the help of the alternatives given. Select the most appropriate option for each blank.

The Ken Gharial Sanctuary is a wildlife sanctuary near Panna in Madhya Pradesh. It is part (1)_____ the Gharial Conservation association where captive bred gharials (2)_____ released to help regenerate the gharial ecosystem. (3)_____ is located at the Ken River, north of Panna National Park. Here you can also (4)_____ the majestic Raneh Falls on the Ken River. The Sanctuary is (5)_____ for visitors during monsoon season.

SubQuestion No : 9

Q.9 Select the most appropriate option for blank number 5.

- Ans
- 1. locked
 - 2. closed
 - 3. finished
 - 4. banned

Question ID : 4244291121

Status : Answered

Chosen Option : 3

Q.10 Select the most appropriate meaning of the given idiom.

Cool it

- Ans
- 1. To be angry
 - 2. To be nervous
 - 3. To relax
 - 4. To wait

Question ID : 4244291128

Status : Answered

Chosen Option : 3

Q.11 Select the word which means the same as the group of words given.

A garden with fruit trees

- Ans
- 1. Vineyard
 - 2. Orchard
 - 3. Grove
 - 4. Nursery

Question ID : 4244291132

Status : Answered

Chosen Option : 1

Q.12 Select the INCORRECTLY spelt word.

- Ans
- 1. Irregular
 - 2. Irradicate
 - 3. Irreverent
 - 4. Irrational

Question ID : 4244291130

Status : Answered

Chosen Option : 3

Q.13 Select the most appropriate ANTONYM of the given word.

DECAY

- Ans
- 1. Decline
 - 2. Rotting
 - 3. Corrosion
 - 4. Growth

Question ID : 4244291126

Status : Answered

Chosen Option : 3

Q.14 Select the most appropriate word to fill in the blank in the given sentence.

Our professor speaks English with a _____ Oriya accent.

- Ans
- 1. widespread
 - 2. vague
 - 3. pronounced
 - 4. remarkable

Question ID : 4244291136
Status : Answered
Chosen Option : 1

Q.15 In the given sentence identify the segment which contains a grammatical error.

Someone have walked away with my umbrella.

- Ans
- 1. away with
 - 2. Someone
 - 3. have walked
 - 4. my umbrella

Question ID : 4244291114
Status : Answered
Chosen Option : 3

Q.16 Select the correct passive form of the given sentence.

For reaching the station, they hired an auto.

- Ans
- 1. For reaching the station, an auto had been hired by them.
 - 2. For reaching the station, an auto was hired by them.
 - 3. For reaching the station, an auto is hired by them.
 - 4. For reaching the station, an auto was being hired by them.

Question ID : 4244291112
Status : Answered
Chosen Option : 2

Q.17 Select the most appropriate meaning of the given idiom.

Go off at a tangent

- Ans
- 1. Go on at great length
 - 2. Change the subject immediately
 - 3. Become boisterous
 - 4. Forget things in between

Question ID : 4244291129
Status : Answered
Chosen Option : 4

Q.18 Select the most appropriate option to substitute the underlined segment in the given sentence. If there is no need to substitute it, select 'No improvement'.

Avika understands French, does she?

- Ans
- 1. is she
 - 2. No improvement
 - 3. doesn't she
 - 4. isn't it

Question ID : 4244291125
Status : Answered
Chosen Option : 3

Q.19 Select the most appropriate option to substitute the underlined segment in the given sentence. If there is no need to substitute it, select 'No improvement'.

All the shops and restaurants have been closed during the bandh last Saturday.

- Ans
- 1. No improvement
 - 2. are being closed
 - 3. were closed
 - 4. has been closed

Question ID : 4244291124
Status : Answered
Chosen Option : 3

Q.20 Select the word which means the same as the group of words given.

A small compartment in an aircraft for the pilot

- Ans
- 1. Canopy
 - 2. Chassis
 - 3. Cockpit
 - 4. Fuselage

Question ID : 4244291133
Status : Answered
Chosen Option : 3

Q.21 Select the most appropriate synonym of the given word.

GLUM

- Ans
- 1. Afraid
 - 2. Dismal
 - 3. Bright
 - 4. Nervous

Question ID : 4244291134
Status : Answered
Chosen Option : 3

Q.22 Select the most appropriate word to fill in the blank in the given sentence.

When he came back home safe that night, everybody _____ a sigh of relief.

- Ans
- 1. inhaled
 - 2. exhaled
 - 3. heaved
 - 4. raised

Question ID : 4244291137
Status : Answered
Chosen Option : 3

Q.23 Select the INCORRECTLY spelt word.

- Ans
- 1. Vicious
 - 2. Obvious
 - 3. Deliceous
 - 4. Courageous

Question ID : 4244291131
Status : Answered
Chosen Option : 4

Q.24 Select the most appropriate synonym of the given word.

OPULENT

- Ans
- 1. Sumptuous
 - 2. Poor
 - 3. Economical
 - 4. Depressed

Question ID : 4244291135
Status : Answered
Chosen Option : 1

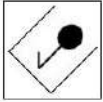
Q.25 Select the correct indirect form of the given sentence.

Mother said to Avika, "Finish these sums before you go to the park."

- Ans
- 1. Mother told Avika to finish those sums before she went to the park.
 - 2. Mother told Avika to finish these sums before you go to the park.
 - 3. Mother told Avika to finish those sums before she goes to the park.
 - 4. Mother told Avika to finish those sums before she was going to the park.

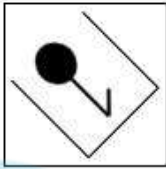
Question ID : 4244291113
Status : Answered
Chosen Option : 1

Q.1 यदि दर्पण को आकृति के दाईं ओर रखा गया हो, तो दी गई आकृति के सही दर्पण प्रतिबिम्ब का चयन करें।



Ans

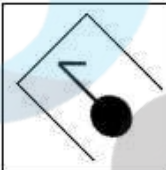
✓ 1.



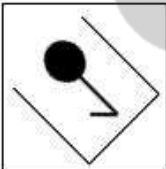
✗ 2.



✗ 3.



✗ 4.



Question ID : 4244291161

Status : Answered

Chosen Option : 1

Q.2 उस विकल्प का चयन करें जिसमें संख्याओं के बीच वही संबंध है जो दिए गए संख्या-युग्म की संख्याओं के बीच है।

132 : 12

Ans ✗ 1. 240 : 15

✗ 2. 224 : 15

✗ 3. 169 : 13

✓ 4. 182 : 14

Question ID : 4244291140

Status : Answered

Chosen Option : 1

Q.3 दिए गए कथनों और निष्कर्षों को ध्यान से पढ़ें। आपको दिए गए कथनों की जानकारी को सही मान कर चलना है, भले ही वह सामान्य ज्ञात तथ्यों से भिन्न प्रतीत होती हो, फिर निर्णय कीजिए कि कौन सा/से निष्कर्ष दिए गए कथनों का ताकिक रूप से अनुसरण करता है/करते हैं।

कथन:

सभी कारें आम हैं।
सभी बसें आम हैं।
कुछ सेब बसें हैं।

निष्कर्ष:

- I. कुछ कारें बसें हैं।
- II. कुछ आम कारें हैं।
- III. कुछ आम सेब हैं।

Ans

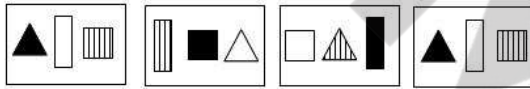
1. केवल निष्कर्ष II और III अनुसरण करते हैं।
2. केवल निष्कर्ष I और III अनुसरण करते हैं।
3. केवल निष्कर्ष I और II अनुसरण करते हैं।
4. केवल निष्कर्ष I अनुसरण करता है।

Question ID : 4244291154

Status : Answered

Chosen Option : 1

Q.4 उस विकल्प आकृति का चयन करें जो नीचे दी गई श्रृंखला में अगले स्थान पर आएगी।



Ans

- 1.
- 2.
- 3.
- 4.

Question ID : 4244291157

Status : Answered

Chosen Option : 3

Q.5 निम्नलिखित शब्दों को तार्किक और अर्थपूर्ण क्रम में व्यवस्थित करें।

1. सी.एफ.एल. बल्ब
2. बल्ब
3. लालटेन
4. मिट्टी का दीपक
5. एल.ई.डी. बल्ब

- Ans
- 1. 3-4-1-2-5
 - 2. 4-3-1-2-5
 - 3. 3-4-2-1-5
 - 4. 4-3-2-1-5

Question ID : 4244291145

Status : Answered

Chosen Option : 4

Q.6 एक निश्चित कूट भाषा में, एक अक्षर को अंग्रेजी वर्णमाला के विपरीत क्रम से उसी स्थान वाले अक्षर से कूटबद्ध किया जाता है। तो इसी कूट भाषा में MANGO शब्द को किस रूप में कूटबद्ध किया जाएगा?

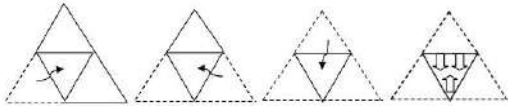
- Ans
- 1. NMZTL
 - 2. MNZLT
 - 3. NZMTL
 - 4. NMZLT

Question ID : 4244291152

Status : Answered

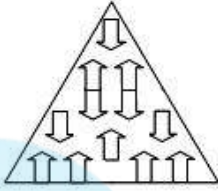
Chosen Option : 3

Q.7 नीचे दी गई आकृतियों में एक कागज को मोड़ने का क्रम और मोड़े गए कागज को काटने की विधि दर्शाई गई है। कागज को खोलने पर यह कैसा दिखाई देगा?



Ans

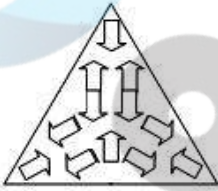
✗ 1.



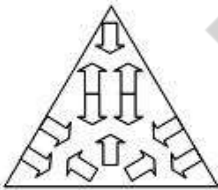
✗ 2.



✗ 3.



✓ 4.



Question ID : 4244291160

Status : Answered

Chosen Option : 4

Q.8 निम्नलिखित श्रृंखला में प्रश्न-चिह्न (?) का स्थान ले सकने वाले अक्षर-समूह का चयन करें।

STRAIN : TRAIN :: STABLE : ?

Ans

✗ 1. ABLE

✗ 2. LABLE

✗ 3. BALES

✓ 4. TABLE

Question ID : 4244291150

Status : Answered

Chosen Option : 4

Q.9 एक निश्चित कूट भाषा में CLOTH को LCPHT लिखा जाता है। इसी कूट भाषा में GARMENT को क्या लिखा जाएगा?

Ans

✗ 1. AGTNMRE

✓ 2. RAGNTNE

✗ 3. RAGMTNE

✗ 4. AGMRTNE

Question ID : 4244291146

Status : Answered

Chosen Option : 2

Q.10 निम्नलिखित समीकरण में किन दो संख्याओं को आपस में बदल देने पर समीकरण संतुलित हो जाएगा।

$$12 \times 2 + 8 - 48 \div 6 = 20$$

- Ans
- 1. 2 और 6
 - 2. 6 और 8
 - 3. 8 और 12
 - 4. 12 और 48

Question ID : 4244291139

Status : Answered

Chosen Option : 3

Q.11 चार अक्षर-समूह दिए गए हैं, जिनमें से तीन किसी प्रकार समान हैं और एक असंगत है। उस असंगत अक्षर-समूह का चयन करें।

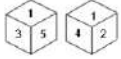
- Ans
- 1. UQNLK
 - 2. WSPNM
 - 3. ROLIF
 - 4. TPMKJ

Question ID : 4244291153

Status : Answered

Chosen Option : 3

Q.12 एक ही पासे की दो अलग-अलग स्थितियां दर्शायी गई हैं। उस संख्या का चयन करें जो पासे के '3' अंकित फलक के विपरीत फलक पर होगी।



- Ans
- 1. 4
 - 2. 6
 - 3. 3
 - 4. 2

Question ID : 4244291156

Status : Answered

Chosen Option : 1

Q.13 'रक्त-अल्पता' का 'रक्त' से वही संबंध है जो 'हेपेटाइटिस' का '_____ ' से है।

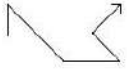
- Ans
- 1. विषाणु जनित
 - 2. यकृत
 - 3. विष
 - 4. सूजन

Question ID : 4244291149

Status : Answered

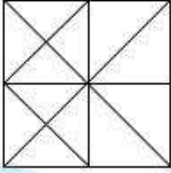
Chosen Option : 1

Q.14 उस विकल्प का चयन करें जिसमें दिया गया चित्र अन्तर्निहित है। (घुमाने की अनुमति नहीं है)

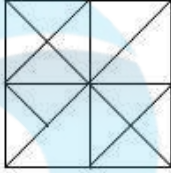


Ans

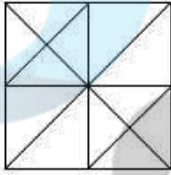
1.



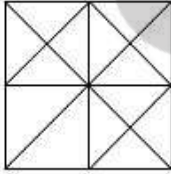
2.



3.



4.



Question ID : 4244291159

Status : Answered

Chosen Option : 4

Q.15 उस अक्षर-समूह का चयन करें जो निम्नलिखित श्रेणी में प्रश्नवाचक चिह्न (?) के स्थान पर आएगा।

DFH, FHJ, ? , JLN, LNP

Ans

1. HJK

2. HJL

3. HJM

4. HKL

www.HaryanaJobs.in

Question ID : 4244291151

Status : Answered

Chosen Option : 2

Q.16 यदि Rat को 93 के रूप में कूटबद्ध किया गया है और Rabbit को 25 के रूप में कूटबद्ध किया गया है, तो Horse को किस रूप में कूटबद्ध किया जाएगा?

Ans

1. 65

2. 70

3. 56

4. 07

Question ID : 4244291147

Status : Not Answered

Chosen Option : --

Q.17 दिए गए कथनों और निष्कर्षों को ध्यान से पढ़ें। आपको दिए गए कथनों की जानकारी को सही मान कर चलना है, भले ही वह सामान्य ज्ञात तथ्यों से भिन्न प्रतीत होती हो, फिर निर्णय कीजिए कि कौन सा/से निष्कर्ष दिए गए कथनों का ताकिक रूप से अनुसरण करता है/करते हैं।

कथन:

1. सभी कटोरे तश्तरियाँ हैं।
2. कोई भी तश्तरी प्याला नहीं है।

निष्कर्ष:

- I. केवल कुछ कटोरे ही प्याले हैं।
- II. कोई भी कटोरा प्याला नहीं है।

Ans

1. केवल निष्कर्ष II अनुसरण करता है।
2. निष्कर्ष I और II अनुसरण करते हैं।
3. न तो निष्कर्ष I और न ही निष्कर्ष II अनुसरण करता है।
4. केवल निष्कर्ष I अनुसरण करता है।

Question ID : 4244291155

Status : Answered

Chosen Option : 1

Q.18 दी गई आकृति की उस सही दर्पण छवि का चयन करें जो दर्पण को आकृति के दाईं ओर रखे जाने पर बनती है।

GKM#\$%NG24

Ans

1. GKM#\$%NG24
2. 4ZGN%\$#WKG
3. GKM#\$%NG24
4. GKM#\$%NG24

Question ID : 4244291162

Status : Answered

Chosen Option : 3

Q.19 राम, श्याम और आदिल की कुल उम्र 60 वर्ष है। चार वर्ष पहले उनकी कुल उम्र कितनी थी?

Ans

1. 46 वर्ष
2. 50 वर्ष
3. 36 वर्ष
4. 48 वर्ष

Question ID : 4244291144

Status : Answered

Chosen Option : 4

Q.20 उस विकल्प का चयन करें जिसमें संख्याओं के मध्य वही संबंध है, जो दी गई संख्याओं के समुच्चय की संख्याओं के मध्य है।

(5, 8, 39)

Ans 1. (13, 16, 88)

2. (6, 8, 44)

3. (11, 14, 74)

4. (9, 12, 63)

Question ID : 4244291142

Status : Answered

Chosen Option : 4

Q.21 उस विकल्प का चयन करें जिसका तीसरे अक्षर-समूह से वही संबंध है जो दूसरे अक्षर-समूह का पहले अक्षर-समूह से है।

RAMP : IZNK :: CEILING : ?

Ans 1. XVTRPNL

2. WUQNQLS

3. XVRORMT

4. YWSPSNU

Question ID : 4244291148

Status : Answered

Chosen Option : 3

Q.22 उस संख्या का चयन करें जो निम्नलिखित श्रृंखला में प्रश्न-चिह्न (?) के स्थान पर आ सकती है।

2, 10, 26, 50, 82, ?

Ans 1. 120

2. 122

3. 124

4. 114

Question ID : 4244291143

Status : Answered

Chosen Option : 2

Q.23 निम्नलिखित समीकरण को संतुलित करने के लिए किन दो संख्याओं को आपस में बदलना होगा?

$$8 \times \left(\frac{4}{3}\right) + 9 - 5 = 10$$

Ans 1. 8, 4

2. 4, 3

3. 9, 3

4. 5, 3

Question ID : 4244291141

Status : Answered

Chosen Option : 2

Q.24 एक विद्यालय में शिक्षक और विद्यार्थियों की कुल संख्या 946 है। यदि विद्यालय में प्रत्येक 42 विद्यार्थियों पर 1 शिक्षक है तो विद्यालय में शिक्षकों की कुल संख्या कितनी है?

- Ans
- 1. 22
 - 2. 23
 - 3. 20
 - 4. 21

Question ID : 4244291138

Status : Answered

Chosen Option : 1

Q.25 $3'' \times 3'' \times 3''$ इंच आकार वाले एक घन के सभी छह पृष्ठों को रंगा गया और इसके बाद इसे 1 इंच आकार वाले 27 घनों में काटा गया है। ऐसे कितने छोटे घन हैं जिनके केवल दो पृष्ठ रंगे होंगे?



- Ans
- 1. 10
 - 2. 12
 - 3. 8
 - 4. 6

Question ID : 4244291158

Status : Answered

Chosen Option : 3

Section : Quantitative Aptitude(Basic Arithmetic Skill)

Q.1 एक आदमी बैंक से 11% वार्षिक साधारण ब्याज की दर पर ऋण लिया। तीन वर्षों बाद, उसे केवल इस अवधि के लिए ब्याज के रूप में ₹9,570 चुकाने पड़े। उसके द्वारा ऋण के रूप में ली गई मूल धनराशि ज्ञात कीजिए।

- Ans
- 1. ₹26,545
 - 2. ₹29,000
 - 3. ₹27,685
 - 4. ₹25,000

Question ID : 4244291171

Status : Answered

Chosen Option : 2

Q.2 निम्न दंड आलेख, वर्ष 2017, 2018 और 2019 में कारखानों F1, F2, F3 और F4 द्वारा की गई मोटर बाइकों की बिक्री (हजार में) को दर्शाता है।



सभी वर्षों में F1 द्वारा की गई कुल बिक्री और F4 द्वारा की गई कुल बिक्री के बीच क्या अनुपात है?

- Ans
- 1. 9 : 11
 - 2. 11 : 10
 - 3. 10 : 9
 - 4. 3 : 7

Question ID : 4244291187

Status : Answered

Chosen Option : 2

Q.3 पिता और पुत्र की वर्तमान आयु (वर्ष में) का अनुपात 15 : 8 है। छः वर्ष पहले, उनकी आयु का अनुपात 13 : 6 था। पिता की वर्तमान आयु ज्ञात कीजिए।

- Ans
- 1. 65 वर्ष
 - 2. 45 वर्ष
 - 3. 78 वर्ष
 - 4. 58 वर्ष

Question ID : 4244291176

Status : Answered

Chosen Option : 2

Q.4 396258N को 8 से विभाज्य बनाने के लिए N का मान क्या होना चाहिए?

- Ans
- 1. 8
 - 2. 4
 - 3. 2
 - 4. 6

Question ID : 4244291179

Status : Answered

Chosen Option : 2

Q.5 68, निम्न में से किस संख्या का 25% है?

- Ans
- 1. 272
 - 2. 204
 - 3. 285
 - 4. 136

Question ID : 4244291168

Status : Answered

Chosen Option : 1

Q.6 एक त्रिभुज के तीनों कोणों की माप का अनुपात 3 : 2 : 1 है। त्रिभुज, _____ है।

Ans

- 1. समबाहु त्रिभुज
- 2. समकोण त्रिभुज
- 3. न्यूनकोण त्रिभुज
- 4. अधिककोण त्रिभुज

Question ID : 4244291174

Status : Answered

Chosen Option : 2

Q.7 निम्न दंड आलेख, वर्ष 2017, 2018 और 2019 में कारखानों F1, F2, F3 और F4 द्वारा की गई मोटर बाइकों की बिक्री (हजार में) को दर्शाता है।



2018 से 2019 तक, किस कारखाने के बिक्रय प्रतिशत में सबसे अधिक वृद्धि देखी गई?

Ans

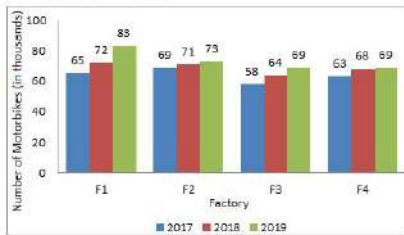
- 1. F2
- 2. F3
- 3. F1
- 4. F4

Question ID : 4244291186

Status : Answered

Chosen Option : 3

Q.8 निम्न दंड आलेख, वर्ष 2017, 2018 और 2019 में कारखानों F1, F2, F3 और F4 द्वारा की गई मोटर बाइकों की बिक्री (हजार में) को दर्शाता है।



सभी वर्षों में किस कारखाने द्वारा की गई बिक्री सबसे अधिक है?

Ans

- 1. F4
- 2. F2
- 3. F3
- 4. F1

Question ID : 4244291184

Status : Answered

Chosen Option : 4

Q.9 एक कारखाने में पुरुषों और महिलाओं की संख्याओं का अनुपात 14 : 19 है। यदि कारखाने में कुल कर्मियों की संख्या 2145 हो, तो कारखाने में महिला कर्मियों की संख्या ज्ञात कीजिए।

- Ans
- 1. 1976
 - 2. 1367
 - 3. 1235
 - 4. 1645

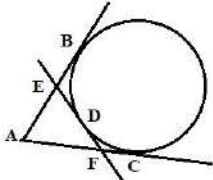
Question ID : 4244291170
Status : Answered
Chosen Option : 3

Q.10 $1\frac{3}{4} - [3\frac{1}{8} \div \{6 - (2\frac{3}{4} - \frac{11}{12})\}]$ का मान ज्ञात करें।

- Ans
- 1. 1
 - 2. 0
 - 3. 3
 - 4. 2

Question ID : 4244291180
Status : Answered
Chosen Option : 1

Q.11 दिए गए चित्र में, AB, AC और EF एक वृत्त की स्पर्शरेखाएँ हैं। यदि AC = 15 cm और DE = 3 cm है, तो AE की लंबाई क्या होगी?



- Ans
- 1. 9 cm
 - 2. 24 cm
 - 3. 18 cm
 - 4. 12 cm

Question ID : 4244291172
Status : Answered
Chosen Option : 4

Q.12 निम्न दंड आलेख, वर्ष 2017, 2018 और 2019 में कारखानों F1, F2, F3 और F4 द्वारा की गई मोटर बाइकों की बिक्री (हजार में) को दर्शाता है।



सभी वर्षों में किस कारखाने द्वारा की गई बिक्री सबसे कम है?

- Ans
- 1. F1
 - 2. F2
 - 3. F3
 - 4. F4

Question ID : 4244291185

Status : Answered

Chosen Option : 3

Q.13 एक त्रिभुज की तीन भुजाओं की लंबाई 6 cm, 10 cm और x cm है। x का न्यूनतम पूर्णांक मान ज्ञात कीजिए।

- Ans
- 1. 5
 - 2. 3
 - 3. 2
 - 4. 1

Question ID : 4244291175

Status : Answered

Chosen Option : 1

Q.14 यदि एक दुकानदार ₹3,685 अंकित मूल्य वाली एक वस्तु को ₹2,845 में बेच रहा है, तो इस वस्तु पर कितने प्रतिशत की छूट दे रहा है?

- Ans
- 1. 29.52%
 - 2. 34.87%
 - 3. 26.59%
 - 4. 22.795%

Question ID : 4244291167

Status : Answered

Chosen Option : 4

Q.15 एक पुस्तकालय में रविवार को औसतन 265 तथा अन्य दिनों में औसतन 130 दर्शक आते हैं। सोमवार से शुरू होने वाले 30 दिन के एक महीने में प्रति दिन आने वाले दर्शकों की औसत संख्या क्या होगी?

- Ans
- 1. 165
 - 2. 135
 - 3. 129
 - 4. 148

Question ID : 4244291166

Status : Answered

Chosen Option : 4

Q.16 यदि $\sec A = \frac{5}{3}$ है, तो $\cot A$ का मान ज्ञात कीजिए।

- Ans
- 1. $\frac{3}{4}$
 - 2. $\frac{3}{5}$
 - 3. $\frac{4}{5}$
 - 4. $\frac{4}{3}$

Question ID : 4244291181
Status : Answered
Chosen Option : 1

Q.17 प्रेम ने ₹3,200 में एक पुराना प्रिंटर खरीदा और ₹600 उसकी मरम्मत में खर्च किए। उसने इसे ₹4,280 में बेच दिया।
उसका लाभ प्रतिशत किस के निकटतम है? (दशमलव के दो स्थानों तक सही)

- Ans
- 1. 12.63%
 - 2. 18.45%
 - 3. 15.78%
 - 4. 16.92%

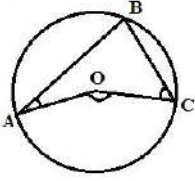
Question ID : 4244291169
Status : Answered
Chosen Option : 1

Q.18 $\sin^4\theta + \cos^4\theta + 2\sin^2\theta \cos^2\theta$ का मान ज्ञात कीजिए।

- Ans
- 1. 2
 - 2. 0
 - 3. 1
 - 4. 4

Question ID : 4244291183
Status : Answered
Chosen Option : 3

Q.19 दिए गए चित्र में, वृत्त का केंद्र O है। यदि $\angle BAO = 30^\circ$ और $\angle BCO = 50^\circ$ है, तो $\angle AOC$ की माप बताइए।



- Ans
- 1. 80°
 - 2. 60°
 - 3. 160°
 - 4. 40°

Question ID : 4244291173

Status : Answered

Chosen Option : 1

Q.20 यदि एक कुत्ता 6 km/hr की चाल से दौड़ता है, तो उसे 75 m भुजा वाले एक वर्गाकार मैदान का चक्कर लगाने में कितना समय (मिनटों में) लगेगा?

- Ans
- 1. 2.5
 - 2. 3
 - 3. 3.6
 - 4. 1.8

Question ID : 4244291164

Status : Answered

Chosen Option : 3

Q.21 बिंदु (3, -5) और प्रवणता 2 पर एक सरल रेखा का समीकरण ज्ञात कीजिए।

- Ans
- 1. $3x - 5y - 2 = 0$
 - 2. $5x - 2y + 3 = 0$
 - 3. $2x - y - 11 = 0$
 - 4. $3x - 2y - 5 = 0$

Question ID : 4244291178

Status : Not Answered

Chosen Option : --

Q.22 आमिर और अकबर एक कार्य क्रमशः 30 और 15 दिनों में पूरा कर सकते हैं। अकबर ने 8 दिन तक इस पर काम करने के बाद कार्य छोड़ दिया। बाकी बचे कार्य को आमिर अकेले कितने दिनों में पूरा कर सकता है?

- Ans
- 1. 14 दिन
 - 2. 17 दिन
 - 3. 16 दिन
 - 4. 15 दिन

Question ID : 4244291163

Status : Answered

Chosen Option : 1

Q.23 यदि $\cos A = 2 \sin A$, तो $\operatorname{cosec} A$ का मान बताइए।

- Ans
- 1. $\frac{1}{2}$
 - 2. $\sqrt{5}$
 - 3. 2
 - 4. $\frac{1}{\sqrt{5}}$

Question ID : 4244291182
Status : Answered
Chosen Option : 2

Q.24 यदि $x + \frac{1}{x} = 4$ है, तो $x^4 + \frac{1}{x^4}$ का मान ज्ञात कीजिए।

- Ans
- 1. 162
 - 2. 136
 - 3. 128
 - 4. 194

Question ID : 4244291177
Status : Answered
Chosen Option : 4

Q.25 एक आयत जिसकी भुजाओं की लंबाई 24 cm और 7 cm है, उस पर एक वृत्त खींचा गया है। इस वृत्त का क्षेत्रफल ज्ञात कीजिए। ($\pi = 3.14$ लीजिए)

- Ans
- 1. 490.625 cm²
 - 2. 478.967 cm²
 - 3. 420.545 cm²
 - 4. 397.982 cm²

Question ID : 4244291165
Status : Answered
Chosen Option : 1

Section : General Awareness

Q.1 अर्थशास्त्र की किस शाखा के तहत मजदूरी, किराया, ब्याज और लाभ की अवधारणाओं का अध्ययन किया जाता है?

- Ans
- 1. स्वास्थ्य अर्थशास्त्र
 - 2. व्यष्टि अर्थशास्त्र
 - 3. समष्टि अर्थशास्त्र
 - 4. अर्थमिति

Question ID : 4244291195
Status : Answered
Chosen Option : 3

Q.2 किस/किन वैज्ञानिक/वैज्ञानिकों ने सापेक्षता का सिद्धांत (theory of relativity) प्रतिपादित किया?

- Ans
- 1. अल्बर्ट आइंस्टाइन
 - 2. चार्ल्स डार्विन
 - 3. वॉट्सन और क्रिक
 - 4. जॉन डाल्टन

Question ID : 4244291197

Status : Answered

Chosen Option : 1

Q.3 स्पोर्ट्स और गेम्स में सर्वश्रेष्ठ कोच को कौन-सा पुरस्कार दिया जाता है?

- Ans
- 1. द्रोणाचार्य पुरस्कार
 - 2. ध्यानचंद पुरस्कार
 - 3. अर्जुन पुरस्कार
 - 4. राजीव गांधी खेल रत्न पुरस्कार

Question ID : 4244291210

Status : Answered

Chosen Option : 1

Q.4 टीपू सुल्तान के शासन-काल में, उनके राज्य मैसूर की राजधानी क्या थी?

- Ans
- 1. बेंगलोर
 - 2. मदुरै
 - 3. बीदर
 - 4. श्रीरंगपट्टनम

Question ID : 4244291205

Status : Answered

Chosen Option : 4

Q.5 निम्नलिखित में से किस खिलाड़ी को 'राजीव गांधी खेल रत्न' पुरस्कार से सम्मानित किया गया और उन्होंने किस खेल में उत्कृष्ट प्रदर्शन किया?

- Ans
- 1. रंजन सोढ़ी - भारोत्तोलन
 - 2. सानिया मिर्जा - टेबल टेनिस
 - 3. योगेश्वर दत्त - मुक्केबाज़ी
 - 4. गगन नारंग - निशानेबाज़ी

Question ID : 4244291212

Status : Answered

Chosen Option : 2

Q.6 अंटार्कटिका के उस पहले अनुसंधान केंद्र का नाम बताइए, जो भारत सरकार द्वारा निर्मित है?

- Ans
- 1. भारती
 - 2. वैशाली
 - 3. मैत्री
 - 4. दक्षिण गंगोत्री

Question ID : 4244291201

Status : Answered

Chosen Option : 1

Q.7 चार-धाम राजमार्ग परियोजना यमुनोत्री, गंगोत्री, केदारनाथ और बद्रीनाथ इन चार पवित्र स्थलों को जोड़ेगी। ये सभी धर्म स्थल किस भारतीय राज्य में स्थित हैं?

- Ans
- 1. उत्तराखंड
 - 2. उत्तर प्रदेश
 - 3. मध्य प्रदेश
 - 4. झारखंड

Question ID : 4244291193
Status : Answered
Chosen Option : 1

Q.8 निम्नलिखित में से किस पर्वतीय पर्यटन-स्थल (हिल स्टेशन) पर सर्दियों में आने वाले पर्यटक इग्लू में रहने का अनुभव ले सकते हैं?

- Ans
- 1. कश्मीर
 - 2. शिमला
 - 3. नैनीताल
 - 4. मनाली

Question ID : 4244291192
Status : Answered
Chosen Option : 4

Q.9 उस विकल्प का चयन करें, जिसमें कंपनी और उसके संस्थापक का सही मिलान किया गया हो?

- Ans
- 1. रिलायंस - मुकेश अंबानी
 - 2. आई.टी.सी (ITC) - जी.डी. बिड़ला
 - 3. विप्रो - मोहम्मद हाशिम प्रेमजी
 - 4. इन्फोसिस - अजीम प्रेमजी

Question ID : 4244291196
Status : Answered
Chosen Option : 1

Q.10 स्वतंत्र भारत के प्रथम राष्ट्रपति कौन थे?

- Ans
- 1. राजेन्द्र प्रसाद
 - 2. राम नाथ कोविंद
 - 3. सर्वपल्ली राधाकृष्णन
 - 4. प्रणब मुखर्जी

Question ID : 4244291208
Status : Answered
Chosen Option : 1

Q.11 भारत, चीन और जापान विश्व के किस महाद्वीप के अंतर्गत आते हैं?

- Ans
- 1. यूरोप
 - 2. अंटार्कटिका
 - 3. अफ्रीका
 - 4. एशिया

Question ID : 4244291200
Status : Answered
Chosen Option : 4

Q.12 किस भारतीय अंग्रेजी लेखक को 'ज्ञानपीठ पुरस्कार 2019' से सम्मानित किया गया?

- Ans
- 1. अरुंधति रॉय
 - 2. झुम्पा लाहिड़ी
 - 3. नीरद चौधरी
 - 4. अमिताव घोष

Question ID : 4244291207

Status : Answered

Chosen Option : 1

Q.13 कार्बनिक यौगिक _____ तत्व के यौगिक होते हैं।

- Ans
- 1. सिलिकॉन
 - 2. कार्बन
 - 3. नाइट्रोजन
 - 4. लेड (सीसा)

Question ID : 4244291198

Status : Answered

Chosen Option : 2

Q.14 नोवाक जोकोविच ने रफ़ाएल नडाल को हराकर अपने देश को 'ATP कप' जितवाया। ये दोनों खिलाड़ी किस खेल में उत्कृष्ट प्रदर्शन करते हैं?

- Ans
- 1. बैडमिंटन
 - 2. लॉन टेनिस
 - 3. स्ववैश
 - 4. टेबल टेनिस

Question ID : 4244291194

Status : Answered

Chosen Option : 1

Q.15 किस देश को 'विश्व का कॉफी बाउल' कहा जाता है?

- Ans
- 1. मेक्सिको
 - 2. भारत
 - 3. सर्बिया
 - 4. ब्राज़ील

Question ID : 4244291202

Status : Answered

Chosen Option : 4

Q.16 निम्नलिखित में से किस भारतीय शास्त्रीय नर्तकी का उसकी नृत्य-शैली के साथ सटीक रूप से मिलान नहीं किया गया है?

- Ans
- 1. शाश्वती सेन - भरतनाट्यम
 - 2. माधवी मुद्गल - ओडिसी नृत्य
 - 3. नंदिनी सिंह - कथक
 - 4. राधा रेड्डी - कुचिपुड़ी

Question ID : 4244291191

Status : Not Answered

Chosen Option : --

Q.17 निम्नलिखित में से कौन-सी संक्षिप्त भारतीय सिविल सेवा की श्रेणियों के संबंध में सही नहीं है?

- Ans
- 1. आई.पी.एस (IPS)
 - 2. आई.ए.एस (IAS)
 - 3. आई.सी.एस (ICS)
 - 4. आई.एफ.एस (IFS)

Question ID : 4244291209

Status : Answered

Chosen Option : 3

Q.18 निम्नलिखित में से क्या एक पोर्टेबल डिवाइस नहीं है?

- Ans
- 1. आईपॉड (iPod)
 - 2. लैपटॉप
 - 3. थंब ड्राइव्स (Thumb drives)
 - 4. डेस्कटॉप कंप्यूटर

Question ID : 4244291189

Status : Answered

Chosen Option : 4

Q.19 जेफ बेज़ोस निम्नलिखित में से किसके CEO (मुख्य कार्यकारी अधिकारी) हैं?

- Ans
- 1. स्नेपडील (Snapdeal)
 - 2. अमेज़न (Amazon)
 - 3. मित्रा (Myntra)
 - 4. फ्लिपकार्ट (Flipkart)

Question ID : 4244291206

Status : Answered

Chosen Option : 2

Q.20 निम्नलिखित में से कौन-सा अंग, आहार नली (एलीमेंट्री कैनाल) का भाग नहीं है?

- Ans
- 1. बृहदान्त्र और मलाशय
 - 2. मुख गुहा और ग्रासनली
 - 3. यकृत और अग्न्याशय
 - 4. आमाशय और आंत्र

Question ID : 4244291199

Status : Answered

Chosen Option : 4

Q.21 विनेश फोगाट एक श्रेष्ठ भारतीय _____ हैं।

- Ans
- 1. सुमो पहलवान
 - 2. धावक
 - 3. पहलवान
 - 4. मुक्केबाज

Question ID : 4244291211

Status : Answered

Chosen Option : 3

Q.22 लघु ज्वार-भाटा (नीप टाइड) कब आता है?

- Ans
- 1. जब सूर्य और चंद्रमा पृथ्वी के समकोण पर होते हैं।
 - 2. जब सूर्य चंद्रमा के गुरुत्व खिंचाव को कम करता है।
 - 3. जब पृथ्वी और चंद्रमा एक सीधी रेखा में होते हैं।
 - 4. जब सूर्य आंशिक रूप से पृथ्वी के खिंचाव को संकुचित करता है।

Question ID : 4244291203

Status : Not Answered

Chosen Option : --

Q.23 निम्नलिखित में से क्या कंप्यूटर का एक इनपुट डिवाइस है?

- Ans
- 1. मॉनिटर
 - 2. स्पीकर
 - 3. स्कैनर
 - 4. प्रिंटर

Question ID : 4244291188

Status : Answered

Chosen Option : 3

Q.24 'दिल्ली चलो' और 'तुम मुझे खून दो और मैं तुम्हें आजादी दूंगा' के नारे किसने दिए?

- Ans
- 1. सुभाष चंद्र बोस
 - 2. मोहनदास करमचन्द गांधी
 - 3. जवाहर लाल नेहरू
 - 4. सरदार वल्लभ भाई पटेल

Question ID : 4244291204

Status : Answered

Chosen Option : 1

Q.25 भारत में निम्नलिखित में से कौन सी जगह आप मुगल सम्राट हुमायूँ के पुस्तकालय को देखने के लिए जाएँगे?

- Ans
- 1. नई दिल्ली
 - 2. आगरा
 - 3. अलीगढ़
 - 4. औरंगाबाद

Question ID : 4244291190

Status : Not Answered

Chosen Option : --

Roll Number	
Candidate Name	
Venue Name	
Exam Date	20/10/2020
Exam Time	10:00 AM - 11:00 AM
Subject	CHSL Tier 1

Section : English Language (Basic Knowledge)

Q.1 Select the most appropriate word to fill in the blank in the given sentence.

Order was quickly _____ in the area after the scuffle between the two groups.

- Ans
- 1. recovered
 - 2. rebuilt
 - 3. repaired
 - 4. restored

Question ID : 4244291239
Status : Answered
Chosen Option : 1

Q.2 Select the correct passive form of the given sentence.

Gulliver easily pulled all the warships of the enemy after him.

- Ans
- 1. All the warships of the enemy had been easily pulled by Gulliver after him.
 - 2. All the warships of Gulliver were easily pulled by the enemy after him.
 - 3. All the warships of the enemy were easily pulled by Gulliver after him.
 - 4. All the warships of the enemy were being easily pulled by Gulliver after him.

Question ID : 4244291214
Status : Answered
Chosen Option : 3

Q.3 Select the most appropriate ANTONYM of the given word.

CANDID

- Ans
- 1. Genuine
 - 2. Frank
 - 3. Truthful
 - 4. Devious

Question ID : 4244291228
Status : Answered
Chosen Option : 4

Q.4 Select the INCORRECTLY spelt word.

- Ans
- 1. Gallop
 - 2. Gallary
 - 3. Galley
 - 4. Gallant

Question ID : 4244291232
Status : Answered
Chosen Option : 2

Comprehension:

In the following passage some words have been deleted. Fill in the blanks with the help of the alternatives given. Select the most appropriate option for each blank.

During organised tours, tourists can visit a former Nazi compound 40 kilometres (1)_____ Berlin called the 'Forbidden City'. Twenty thousand people (2)_____ here every year to learn about Nazi military history. The Nazis (3)_____ militarily active at the compound, (4)_____ was kept secret in a forest and behind a fence. The Nazis (5)_____ much of World War II from here.

SubQuestion No : 5

Q.5 Select the most appropriate option for blank number 1.

- Ans
- 1. into
 - 2. in
 - 3. at
 - 4. from

Question ID : 4244291219
Status : Answered
Chosen Option : 4

Comprehension:

In the following passage some words have been deleted. Fill in the blanks with the help of the alternatives given. Select the most appropriate option for each blank.

During organised tours, tourists can visit a former Nazi compound 40 kilometres (1)_____ Berlin called the 'Forbidden City'. Twenty thousand people (2)_____ here every year to learn about Nazi military history. The Nazis (3)_____ militarily active at the compound, (4)_____ was kept secret in a forest and behind a fence. The Nazis (5)_____ much of World War II from here.

SubQuestion No : 6

Q.6 Select the most appropriate option for blank number 2.

- Ans
- 1. roam
 - 2. visit
 - 3. watch
 - 4. call

Question ID : 4244291220
Status : Answered
Chosen Option : 2

Comprehension:

In the following passage some words have been deleted. Fill in the blanks with the help of the alternatives given. Select the most appropriate option for each blank.

During organised tours, tourists can visit a former Nazi compound 40 kilometres (1)_____ Berlin called the 'Forbidden City'. Twenty thousand people (2)_____ here every year to learn about Nazi military history. The Nazis (3)_____ militarily active at the compound, (4)_____ was kept secret in a forest and behind a fence. The Nazis (5)_____ much of World War II from here.

SubQuestion No : 7

Q.7 Select the most appropriate option for blank number 3.

Ans

1. are

2. was

3. were

4. had

Question ID : 4244291221

Status : Answered

Chosen Option : 3

Comprehension:

In the following passage some words have been deleted. Fill in the blanks with the help of the alternatives given. Select the most appropriate option for each blank.

During organised tours, tourists can visit a former Nazi compound 40 kilometres (1)_____ Berlin called the 'Forbidden City'. Twenty thousand people (2)_____ here every year to learn about Nazi military history. The Nazis (3)_____ militarily active at the compound, (4)_____ was kept secret in a forest and behind a fence. The Nazis (5)_____ much of World War II from here.

SubQuestion No : 8

Q.8 Select the most appropriate option for blank number 4.

Ans

1. what

2. whom

3. who

4. which

Question ID : 4244291222

Status : Answered

Chosen Option : 3

Comprehension:

In the following passage some words have been deleted. Fill in the blanks with the help of the alternatives given. Select the most appropriate option for each blank.

During organised tours, tourists can visit a former Nazi compound 40 kilometres (1)_____ Berlin called the 'Forbidden City'. Twenty thousand people (2)_____ here every year to learn about Nazi military history. The Nazis (3)_____ militarily active at the compound, (4)_____ was kept secret in a forest and behind a fence. The Nazis (5)_____ much of World War II from here.

SubQuestion No : 9

Q.9 Select the most appropriate option for blank number 5.

- Ans
- 1. started
 - 2. fought
 - 3. carried
 - 4. planned

Question ID : 4244291223

Status : Answered

Chosen Option : 2

Q.10 Select the correct indirect form of the given sentence.

I said to Kirti, "These plants will take about two months to flower."

- Ans
- 1. I told Kirti that those plants will be taking about two months to flower.
 - 2. I told Kirti that these plants will take about two months to flower.
 - 3. I told Kirti that those plants would take about two months to flower.
 - 4. I told Kirti that those plants take about two months to flower.

Question ID : 4244291215

Status : Answered

Chosen Option : 3

Q.11 In the given sentence identify the segment which contains a grammatical error.

When the boys were playing the match, it suddenly starts raining.

- Ans
- 1. When the boys
 - 2. starts raining
 - 3. were playing the match
 - 4. it suddenly

Question ID : 4244291217

Status : Answered

Chosen Option : 4

Q.12 Select the word which means the same as the group of words given.

Flesh eating animal

- Ans
- 1. Insectivore
 - 2. Herbivore
 - 3. Carnivore
 - 4. Omnivore

Question ID : 4244291234
Status : Answered
Chosen Option : 3

Q.13 Select the most appropriate meaning of the given idiom.

Look after

- Ans
- 1. Take care of
 - 2. Resemble
 - 3. Search for
 - 4. Scold

Question ID : 4244291230
Status : Answered
Chosen Option : 1

Q.14 Select the most appropriate option to substitute the underlined segment in the given sentence. If there is no need to substitute it, select 'No improvement'.

While my parents talked to the visitor, I made tea in the kitchen.

- Ans
- 1. parents have talked
 - 2. No improvement
 - 3. parents were talking
 - 4. parents are talking

Question ID : 4244291227
Status : Answered
Chosen Option : 3

Q.15 Select the INCORRECTLY spelt word.

- Ans
- 1. Ambiteous
 - 2. Gorgeous
 - 3. Serious
 - 4. Curious

Question ID : 4244291233
Status : Answered
Chosen Option : 1

Q.16 Select the most appropriate synonym of the given word.

RECONCILE

- Ans
- 1. Agitate
 - 2. Refuse
 - 3. Scatter
 - 4. Resolve

Question ID : 4244291237
Status : Answered
Chosen Option : 4

Q.17 Select the most appropriate word to fill in the blank in the given sentence.

He _____ his studies even after leaving college and finally got a Ph.D. degree.

- Ans
- 1. sought
 - 2. persisted
 - 3. pursued
 - 4. carried

Question ID : 4244291238
Status : Answered
Chosen Option : 2

Q.18 Given below are four jumbled sentences. Out of the given options pick the one that gives their correct order.

- A. In December 2019, Typhoon Kammuri came to the Philippines.
- B. They closed schools and evacuated hundreds of thousands of people from their homes.
- C. Officials closed the international airport in the capital city of Manila for 12 hours.
- D. It flooded streets and damaged many houses and power lines.

- Ans
- 1. CBAD
 - 2. ADCB
 - 3. ABCD
 - 4. CBDA

Question ID : 4244291225
Status : Answered
Chosen Option : 2

Q.19 In the given sentence identify the segment which contains a grammatical error.

The publics are not satisfied with the new act.

- Ans
- 1. not satisfied
 - 2. The publics are
 - 3. new act
 - 4. with the

Question ID : 4244291216
Status : Answered
Chosen Option : 2

Q.20 Select the most appropriate meaning of the given idiom.

Make a beeline

- Ans
- 1. Be crazy
 - 2. Go straight to
 - 3. Remain busy
 - 4. Stand in a queue

Question ID : 4244291231
Status : Answered
Chosen Option : 2

Q.21 Select the most appropriate option to substitute the underlined segment in the given sentence. If there is no need to substitute it, select 'No improvement'.

After switching off the light, he went off to sleep.

- Ans
- 1. being switched off the light
 - 2. he has switched off the light
 - 3. No improvement
 - 4. switching off a light

Question ID : 4244291226
Status : Answered
Chosen Option : 2

Q.22 Select the most appropriate synonym of the given word.

SALVAGE

- Ans
- 1. Lose
 - 2. Hurt
 - 3. Waste
 - 4. Save

Question ID : 4244291236
Status : Not Answered
Chosen Option : --

Q.23 Select the most appropriate ANTONYM of the given word.

CONVENIENCE

- Ans
- 1. Enjoyment
 - 2. Satisfaction
 - 3. Assistance
 - 4. Hindrance

Question ID : 4244291229
Status : Answered
Chosen Option : 4

Q.24 Given below are four jumbled sentences. Out of the given options pick the one that gives their correct order.

- A. The cable was thick as pack-thread, and the bars were the size of knitting needles.
- B. Then I made fifty hooks by twisting three bars together at a time.
- C. I ordered a great quantity of strong cable and bars of iron.
- D. I twisted the cables together and made fifty strong cords.

- Ans
- 1. CABD
 - 2. CADB
 - 3. ABDC
 - 4. ADCB

Question ID : 4244291224
Status : Answered
Chosen Option : 2

Q.25 Select the word which means the same as the group of words given.

A ruler with total power over a country, typically one who has obtained control by force

- Ans
- 1. Traitor
 - 2. Dictator
 - 3. Democrat
 - 4. Protector

Question ID : 4244291235
Status : Answered
Chosen Option : 2

Section : General Intelligence

Q.1 A और B, C के भाई हैं। B, D और E का पुत्र है। D, F की पुत्री है। P, E का ससुर है। Q, F का पुत्र है। A का P से क्या संबंध है?

- Ans
- 1. पुत्र
 - 2. नाती
 - 3. पुत्री
 - 4. पिता

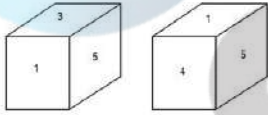
Question ID : 4244291253
Status : Answered
Chosen Option : 2

Q.2 चार संख्या त्रय (number triad) दी गई हैं, जिनमें से तीन किसी न किसी तरह से संगत हैं और एक असंगत है। असंगत संख्या त्रय (number triad) का चयन करें।

- Ans
- 1. (326, 654, 981)
 - 2. (291, 438, 657)
 - 3. (192, 384, 576)
 - 4. (273, 546, 819)

Question ID : 4244291243
Status : Answered
Chosen Option : 1

Q.3 एक ही पासे की दो भिन्न-भिन्न स्थितियों को दर्शाया गया है। उस संख्या का चयन करें, जो संख्या 4 वाले फलक के विपरीत फलक पर होगी।



- Ans
- 1. 1
 - 2. 3
 - 3. 6
 - 4. 2

Question ID : 4244291258
Status : Answered
Chosen Option : 2

Q.4 चार अक्षर-समूह दिए गए हैं, जिनमें से तीन किसी न किसी तरह से संगत हैं और एक असंगत है। असंगत अक्षर-समूह का चयन करें।

- Ans
- 1. FX
 - 2. DP
 - 3. CK
 - 4. ET

Question ID : 4244291255
Status : Answered
Chosen Option : 3

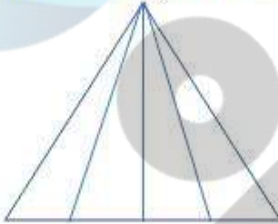
Q.5 दिए गए पैटर्न का ध्यानपूर्वक अध्ययन करें और उस संख्या का चयन करें जिससे प्रश्न चिह्न (?) को बदला जा सकता है।

4 (15) 1; 7 (22) 3; ? (57) 4

- Ans
- 1. 14
 - 2. 16
 - 3. 12
 - 4. 11

Question ID : 4244291247
Status : Not Answered
Chosen Option : --

Q.6 निम्नलिखित आकृति में त्रिभुजों की संख्या ज्ञात करें।



- Ans
- 1. 8
 - 2. 10
 - 3. 12
 - 4. 14

Question ID : 4244291260
Status : Answered
Chosen Option : 1

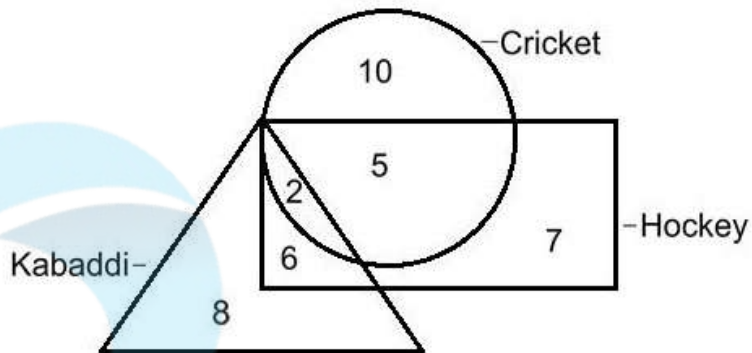
Q.7 निम्नलिखित श्रेणी में प्रश्न-चिह्न (?) के स्थान पर आने वाली संख्या का चयन करें।

6, 10, 18, 34, ?

- Ans
- 1. 68
 - 2. 70
 - 3. 66
 - 4. 64

Question ID : 4244291245
Status : Answered
Chosen Option : 3

Q.8 निम्नलिखित आरेख को ध्यान से देखें और दिए गए प्रश्न का उत्तर दें।
उन छात्रों की संख्या ज्ञात करें, जो तीन में से कोई दो खेल खेलते हैं।



- Ans
- 1. 9
 - 2. 15
 - 3. 13
 - 4. 11

Question ID : 4244291264
Status : Answered
Chosen Option : 4

Q.9 आकृति के दाईं ओर दर्पण रखे जाने पर दी गई आकृति का सही दर्पण प्रतिबिंब कौन सा होगा?

SEA

Ans

✗ 1.

AE2

✗ 2.

SEV

✓ 3.

2EA

✗ 4.

AES

Question ID : 4244291263

Status : Answered

Chosen Option : 3

Q.10 निम्नलिखित में से कौन-सा विकल्प निम्नलिखित गुण वाले संख्या त्रय(number triad) का उदाहरण नहीं है?

1. तीसरी संख्या के अंकों का योगफल पहली संख्या के अंकों के योगफल का दोगुना होता है।

2. दूसरी संख्या के अंकों का योगफल पहली संख्या के अंकों के योगफल का तीन गुना होता है।

Ans

✓ 1.

(200, 600, 300)

✗ 2.

(111, 207, 222)

✗ 3.

(201, 702, 303)

✗ 4.

(400, 660, 800)

Question ID : 4244291244

Status : Answered

Chosen Option : 1

Q.11 किसी निश्चित कूट भाषा में, VICTORY को XGERQPA लिखा जाता है। उसी भाषा में KINDLE को क्या लिखा जाएगा?

- Ans
- 1. IKLFJG
 - 2. MGPBNC
 - 3. SOWNEQ
 - 4. BEDRVH

Question ID : 4244291248
Status : Answered
Chosen Option : 2

Q.12 आकृति के दाईं ओर दर्पण रखे जाने पर दी गई आकृति का सही दर्पण प्रतिबिंब कौन सा होगा?



Ans

- 1.
- 2.
- 3.
- 4.

Question ID : 4244291259
Status : Answered
Chosen Option : 2

Q.13 किसी निश्चित कूट भाषा में, PARK को 6739, ROAD को 3574, POND को 6584 और LANE को 2781 लिखा जाता है। उसी भाषा में LORD को क्या लिखा जाएगा?

- Ans
- 1. 7432
 - 2. 5213
 - 3. 2534
 - 4. 5304

Question ID : 4244291249
Status : Answered
Chosen Option : 3

Q.14 उस विकल्प का चयन करें, जिसका तीसरे शब्द से वही संबंध है, जो दूसरे शब्द का पहले शब्द से है।
मलेरिया : परजीवी :: पेट का अल्सर : ?

- Ans
- 1. बैक्टीरिया
 - 2. प्रोटोजोआ
 - 3. कीट
 - 4. परजीवी

Question ID : 4244291254
Status : Answered
Chosen Option : 1

Q.15 चार शब्द दिए गए हैं, जिनमें से तीन किसी न किसी तरह से संगत हैं और एक असंगत है। असंगत शब्द का चयन करें।

- Ans
- 1. फ्लोरीन
 - 2. आयरन
 - 3. आयोडीन
 - 4. ब्रोमीन

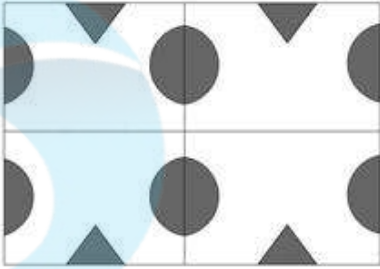
Question ID : 4244291256
Status : Answered
Chosen Option : 4

Q.16 नीचे दी गई आकृतियों में कागज के एक टुकड़े को मोड़ने का क्रम और काटने की विधि दर्शाई गई है। यह कागज खोलने पर कैसा दिखाई देगा?



Ans

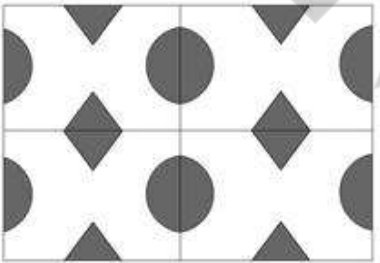
✗ 1.



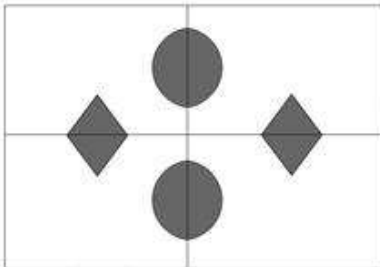
✗ 2.



✓ 3.



✗ 4.



Question ID : 4244291262

Status : Answered

Chosen Option : 3

Q.17 जो संबंध 'निकट दृष्टि दोष' का 'आंख' से है, वही 'पायरिया' का ' _____ ' से है।

- Ans
- 1. मसूड़े
 - 2. फेफड़ा
 - 3. अमाशय
 - 4. मस्तिष्क

Question ID : 4244291251
Status : Answered
Chosen Option : 1

Q.18 चिह्न '+' और 'x' और संख्या '4' और '8' को आपस में बदलने पर प्राप्त होने वाले संतुलित समीकरण का चयन करें।

- Ans
- 1. $12 \times 4 + 8 = 34$
 - 2. $6 + 8 \times 4 = 38$
 - 3. $2 \times 4 + 8 = 34$
 - 4. $4 + 8 \times 2 = 32$

Question ID : 4244291241
Status : Answered
Chosen Option : 3

Q.19 वह संख्या ज्ञात करें, जो निम्नलिखित श्रेणी से संबंधित नहीं है।

1, 4, 9, 15, 25, 36

- Ans
- 1. 15
 - 2. 4
 - 3. 9
 - 4. 25

Question ID : 4244291246
Status : Answered
Chosen Option : 1

Q.20 दिए गए कथनों और निष्कर्षों को ध्यान से पढ़ें। यह मानते हुए कि कथनों में दी गई जानकारी सही है, भले ही वह आम तौर पर स्थापित तथ्यों से भिन्न दिखाई देती है, तब कीजिए कि कौन सा/से निष्कर्ष तर्कसंगत रूप से इन कथनों का अनुसरण करता है/करते हैं।

कथन:

1. अधिकांश शिक्षक महिलाएं हैं।
2. कुछ महिलाएं प्रबंधक हैं।

निष्कर्ष:

- I. कुछ प्रबंधक महिलाएं हैं।
- II. कुछ शिक्षक प्रबंधक हैं।

Ans

1.

ना तो निष्कर्ष I अनुसरण करता है और ना ही II अनुसरण करता है।

2. केवल निष्कर्ष II अनुसरण करता है।

3. केवल निष्कर्ष I अनुसरण करता है।

4. निष्कर्ष I और II दोनों अनुसरण करते हैं।

Question ID : 4244291257

Status : Answered

Chosen Option : 3

Q.21 उस अक्षर-समूह का चयन करें, जो निम्नलिखित श्रेणी में प्रश्न चिह्न (?) के स्थान पर आ सकता है।

BDF, DHL, FLR, ?

Ans

1. IQY

2. HPY

3. HOX

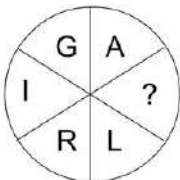
4. HPX

Question ID : 4244291252

Status : Answered

Chosen Option : 4

Q.22 दिए गए पैटर्न का ध्यानपूर्वक अध्ययन करें और उस अक्षर का चयन करें, जो इसमें प्रश्न चिह्न (?) के स्थान पर आ सकता है।



Ans

1. J

2. S

3. R

4. K

Question ID : 4244291250

Status : Answered

Chosen Option : 1

Q.23 1 से 100 तक सभी प्राकृतिक संख्याओं को लिखते समय, हम कितनी बार 6 लिखते हैं?

- Ans
- 1. 19
 - 2. 20
 - 3. 18
 - 4. 21

Question ID : 4244291240
Status : Answered
Chosen Option : 2


Q.24 उस विकल्प का चयन करें, जिसका तीसरी संख्या से वही संबंध है जो दूसरी संख्या का पहली संख्या से है।

29 : 838 :: 14 : ?

- Ans
- 1. 196
 - 2. 199
 - 3. 193
 - 4. 195

Question ID : 4244291242
Status : Answered
Chosen Option : 3

Q.25 उस विकल्प का चयन करें, जिसमें दी गई आकृति अंतर्निहित (embedded) है। (घुमाने की अनुमति नहीं है)



Ans

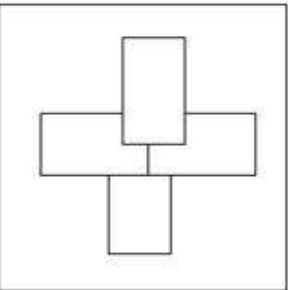
✗ 1.



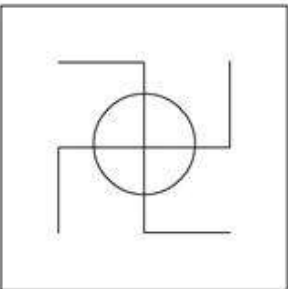
✓ 2.



✗ 3.



✗ 4.



Question ID : 4244291261

Status : Answered

Chosen Option : 2

Q.1 राहुल और मिथुन 30 km की दूरी तय करते हैं। उनकी चालों का योग 70 km/h है और इस दूरी को तय करने में दोनों के द्वारा लिया गया कुल समय 2 घंटा 6 मिनट है। उनकी चालों के बीच अंतर है:

- Ans
- 1. 30 km/h
 - 2. 20 km/h
 - 3. 35 km/h
 - 4. 25 km/h

Question ID : 4244291274
Status : Answered
Chosen Option : 2

Q.2 दो धनात्मक संख्याओं का अंतर 1020 है। यदि बड़ी संख्या का 7.6% छोटी संख्या का 12.4% है, तो दोनों संख्याओं का योगफल _____ के बराबर होगा।

- Ans
- 1. 4520
 - 2. 3250
 - 3. 3520
 - 4. 4250

Question ID : 4244291269
Status : Not Answered
Chosen Option : --

Q.3 A और B एक साथ मिलकर किसी कार्य को 15 दिन में पूरा कर सकते हैं। B और C एक साथ मिलकर उसी कार्य को 24 दिन में पूरा कर सकते हैं। यदि A, के काम करने की कुशलता C से दुगुनी है, तो B अकेले उस कार्य को कितने दिन में पूरा कर सकता है?

- Ans
- 1. 60 दिन
 - 2. 52 दिन
 - 3. 45 दिन
 - 4. 40 दिन

Question ID : 4244291273
Status : Answered
Chosen Option : 1

Q.4 जब 2 अंकों की संख्याओं में से एक संख्या के अंकों को परस्पर बदल दिया जाता है, तो 2 अंकों वाली नई संख्याओं का औसत 6 कम हो जाता है। उस संख्या के अंकों के बीच अंतर ज्ञात करें।

- Ans
- 1. 4
 - 2. 2
 - 3. 6
 - 4. 8

Question ID : 4244291267
Status : Not Answered
Chosen Option : --

Q.5 मालती ने 10% GST सहित ₹8,800 में TV खरीदा। TV की मूल लागत ज्ञात करें।

- Ans
- 1. ₹8,800
 - 2. ₹7,920
 - 3. ₹8,000
 - 4. ₹9,600

Question ID : 4244291268

Status : Answered

Chosen Option : 3

Q.6 यदि $\sqrt{3} \cos \theta = \sin \theta$ है, तो $\frac{4 \sin^2 \theta - 5 \cos \theta}{3 \cos \theta + 1}$ का मान ज्ञात करें।

- Ans
- 1. $\frac{1}{4}$
 - 2. 5
 - 3. $\frac{2}{5}$
 - 4. $\frac{1}{5}$

Question ID : 4244291284

Status : Answered

Chosen Option : 4

Q.7 यदि $p + \frac{1}{p} = 112$ है, तो $(p - 112)^{15} + \frac{1}{p^{15}}$ का मान ज्ञात करें।

- Ans
- 1. 0
 - 2. 1
 - 3. 10
 - 4. 15

Question ID : 4244291276

Status : Answered

Chosen Option : 1

Q.8 एक वस्तु 12% की हानि पर बेची गई। यदि यह ₹630 अधिक में बेची जाती, तो 6% का लाभ होता। वस्तु का क्रय मूल्य ज्ञात करें।

- Ans
- ✓ 1. ₹3,500
 - ✗ 2. ₹2,800
 - ✗ 3. ₹2,500
 - ✗ 4. ₹3,000

Question ID : 4244291270

Status : Answered

Chosen Option : 1

Q.9 यदि किसी निश्चित धन-राशि पर 10% प्रति वर्ष की दर से तीन वर्ष में चक्रवृद्धि ब्याज और साधारण ब्याज के बीच अंतर ₹558 है, तो धन-राशि ज्ञात करें।

- Ans
- ✗ 1. ₹15,000
 - ✓ 2. ₹18,000
 - ✗ 3. ₹16,000
 - ✗ 4. ₹18,500

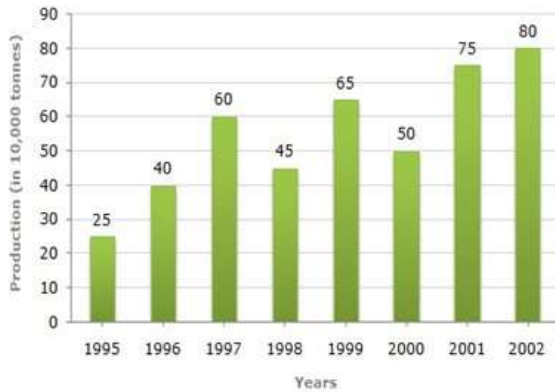
Question ID : 4244291272

Status : Answered

Chosen Option : 2

Q.10 दिए गए बार चार्ट का अध्ययन करें और दिये गए प्रश्न का उत्तर दें।

एक कंपनी द्वारा विभिन्न वर्षों में उर्वरकों का उत्पादन (10,000 टन में)



1998 से 1999 तक उर्वरकों के उत्पादन में अनुमानित प्रतिशत वृद्धि ज्ञात करें।

- Ans
- ✗ 1. 50%
 - ✓ 2. 44.4%
 - ✗ 3. 40%
 - ✗ 4. 48.4%

Question ID : 4244291288

Status : Answered

Chosen Option : 2

Q.11 विपिन और दिनेश के वेतनों का अनुपात 5 : 8 है। यदि प्रत्येक के वेतन में ₹4,800 की वृद्धि होती है, तो नया अनुपात 7 : 10 हो जाता है। विपिन का वेतन ज्ञात करें।

- Ans
- 1. ₹12,000
 - 2. ₹10,000
 - 3. ₹13,000
 - 4. ₹12,500

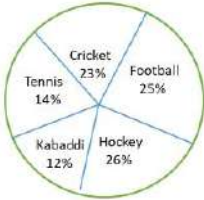
Question ID : 4244291271
Status : Answered
Chosen Option : 1

Q.12 यदि $x \sin^3 \theta + y \cos^3 \theta = \sin \theta \cos \theta$ और $x \sin \theta = y \cos \theta$ है, तो $x^2 + y^2$ का मान ज्ञात करें।

- Ans
- 1. 2
 - 2. 4
 - 3. 0
 - 4. 1

Question ID : 4244291283
Status : Answered
Chosen Option : 3

Q.13 दिया गया पाई-चार्ट पाँच विभिन्न खेलों में नामांकित विद्यार्थियों के प्रतिशत को निरूपित करता है। विद्यार्थियों की कुल संख्या 2800 है।



यदि क्रिकेट खेलने वाले 24 विद्यार्थियों को कबड्डी में स्थानांतरित कर दिया जाता है, तो क्रिकेट और कबड्डी में विद्यार्थियों की संख्या का नया अनुपात ज्ञात करें।

- Ans
- 1. 31 : 16
 - 2. 31 : 18
 - 3. 30 : 17
 - 4. 30 : 13

Question ID : 4244291287
Status : Not Attempted and Marked For Review
Chosen Option : --

Q.14 $\triangle ABC$, एक समकोण त्रिभुज है, जिसमें कोण A समकोण है। इसमें एक अंतःवृत्त खींचा गया है। समकोण बनाने वाली दो भुजाओं की लम्बाइयां 48 cm और 14 cm हैं। अंतःवृत्त की त्रिज्या है:

- Ans
- 1. 5 cm
 - 2. 8 cm
 - 3. 4 cm
 - 4. 6 cm

Question ID : 4244291279
Status : Answered
Chosen Option : 4

Q.15 एक समद्विबाहु त्रिभुज ABC में, जिसमें $AB = AC$ और AD, BC पर लंबवत् है, यदि $AD = 6$ cm, और $\triangle ABC$ का परिमाप 36 cm है, तो $\triangle ABC$ का क्षेत्रफल ज्ञात करें।

- Ans
- 1. 48 cm^2
 - 2. 45 cm^2
 - 3. 54 cm^2
 - 4. 64 cm^2

Question ID : 4244291282
Status : Answered
Chosen Option : 1

Q.16 यदि $\cos 3\theta = \sin(\theta - 34^\circ)$ है, तो न्यून कोण के रूप में θ का मान ज्ञात करें।

- Ans
- 1. 31°
 - 2. 34°
 - 3. 17°
 - 4. 56°

Question ID : 4244291285
Status : Answered
Chosen Option : 1

Q.17 यदि $\frac{4}{3}\left(x^2 + \frac{1}{x^2}\right) = 110\frac{2}{3}$ है, तो $\frac{1}{9}\left(x^3 - \frac{1}{x^3}\right)$ का मान ज्ञात करें, जहाँ $x > 0$ है।

- Ans
- 1. 74
 - 2. 85
 - 3. 84
 - 4. 76

Question ID : 4244291277
Status : Not Attempted and Marked For Review
Chosen Option : --

Q.18 10 cm त्रिज्या वाले वृत्त के केंद्र O से 26 cm की दूरी पर एक बिंदु A स्थित है। AP और AQ, वृत्त पर स्थित दो संपर्क बिंदुओं P और Q पर स्पर्श रेखाएँ हैं। यदि एक स्पर्श रेखा BC बिंदु R पर खींची जाती है, जो AP को B पर और AQ को C पर प्रतिच्छेदित करने के लिए लघु चाप PQ पर स्थित है, तो $\triangle ABC$ का परिमाण ज्ञात करें।

- Ans
- 1. 42 cm
 - 2. 40 cm
 - 3. 46 cm
 - 4. 48 cm

Question ID : 4244291280

Status : Answered

Chosen Option : 4

Q.19 यदि 4M37094267N, 8 और 11 दोनों से विभाज्य है, जहाँ M और N एकल अंक पूर्णांक हैं, तो M और N का मान ज्ञात करें।

- Ans
- 1. M = 2, N = 5
 - 2. M = 5, N = 4
 - 3. M = 5, N = 2
 - 4. M = 5, N = 6

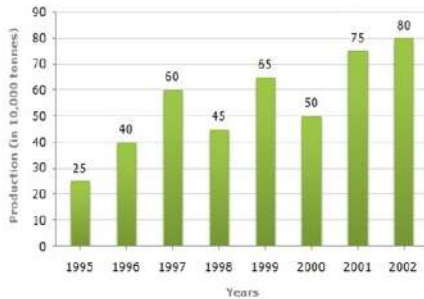
Question ID : 4244291265

Status : Answered

Chosen Option : 3

Q.20 दिए गए बार चार्ट का अध्ययन करें और दिये गए प्रश्न का उत्तर दें।

एक कंपनी द्वारा विभिन्न वर्षों में उर्वरकों का उत्पादन (10,000 टन में)



2000 और 2001 में औसत उत्पादन निम्नलिखित में से किस वर्ष-युग्म के औसत उत्पादन से कम था?

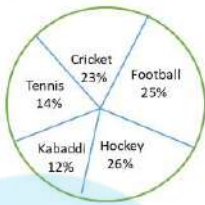
- Ans
- 1. 2001 और 2002
 - 2. 1997 और 1998
 - 3. 1996 और 1997
 - 4. 1999 और 2000

Question ID : 4244291289

Status : Answered

Chosen Option : 1

Q.21 दिया गया पाई-चार्ट पाँच विभिन्न खेलों में नामांकित विद्यार्थियों के प्रतिशत को निरूपित करता है। विद्यार्थियों की कुल संख्या 2800 है।



हॉकी और टेनिस दोनों ही में नामांकित विद्यार्थियों की औसत संख्या ज्ञात करें।

- Ans
- 1. 560
 - 2. 540
 - 3. 460
 - 4. 580

Question ID : 4244291286
Status : Answered
Chosen Option : 1

Q.22 $[7 + 7 \times (7 + 7 \div 7)] + 7 \div 7$ का मूल्यांकन करें।

- Ans
- 1. 10
 - 2. 5
 - 3. 64
 - 4. 63

Question ID : 4244291266
Status : Answered
Chosen Option : 3

Q.23 If 3.96 cubic dm of lead is to be drawn in to a cylindrical wire of diameter 0.6 cm, then the length of the wire (in metres), is:

- Ans
- 1. 140 m
 - 2. 120 m
 - 3. 130 m
 - 4. 125 m

Question ID : 4244291275
Status : Not Attempted and Marked For Review
Chosen Option : --

Q.24 यदि $x^3 + y^3 = 16$ और $x + y = 4$ है, तो $x^4 + y^4$ का मान ज्ञात करें।

- Ans
- 1. 30
 - 2. 64
 - 3. 32
 - 4. 48

Question ID : 4244291278
Status : Answered
Chosen Option : 3

Q.25 दो समबाहु त्रिभुज ABC और BDE इस प्रकार हैं कि D, BC का मध्य-बिंदु है। यदि त्रिभुज ABC का क्षेत्रफल 136 cm^2 है, तो त्रिभुज BDE का क्षेत्रफल _____ के बराबर होगा।

- Ans
- 1. 36 cm^2
 - 2. 38 cm^2
 - 3. 24 cm^2
 - 4. 34 cm^2

Question ID : 4244291281
Status : Answered
Chosen Option : 4

Section : General Awareness

Q.1 निम्नलिखित में से किसने 2019 में विश्व बैडमिंटन चैम्पियनशिप का खिताब जीता?

- Ans
- 1. ताई त्जु यिंग
 - 2. नोजोमी ओकुहारा
 - 3. कैरोलिना मासिन
 - 4. पी.वी. सिंधु

Question ID : 4244291294
Status : Answered
Chosen Option : 4

Q.2 निम्नलिखित में से कौन सा बैक्टीरिया समूह है जो मानव आंतों में पाया जाता है, जिसकी पानी में उपस्थिति रोग उत्पन्न करने वाले सूक्ष्मजीवों द्वारा संदूषण को इंगित करती है?

- Ans
- 1. स्ट्रेप्टोकोकस
 - 2. कॉलिफॉर्म
 - 3. स्फ़ीडोमोनास
 - 4. क्लॉस्ट्रीडियम

Question ID : 4244291300
Status : Answered
Chosen Option : 1

Q.3 निम्नलिखित में से किसने भारतीय संविधान के अनुच्छेद 370 का प्रारूप तैयार किया था?

- Ans
- 1. भीम राव अंबेडकर
 - 2. रघुबर दास
 - 3. जवाहरलाल नेहरू
 - 4. गोपालस्वामी अयंगर

Question ID : 4244291296
Status : Answered
Chosen Option : 2

Q.4 तेनजिंग नोर्गे राष्ट्रीय साहसिक पुरस्कार से सम्मानित होने वाली पहली आई.पी.एस (IPS) अधिकारी कौन हैं?

- Ans
- 1. अपर्णा कुमार
 - 2. आर. श्रीलेखा
 - 3. रूपा मोदगिल
 - 4. संजुक्ता पराशर

Question ID : 4244291313
Status : Answered
Chosen Option : 1

Q.5 मानव विकास रिपोर्ट पहली बार कब प्रकाशित हुई थी?

- Ans
- 1. 1990
 - 2. 1980
 - 3. 1981
 - 4. 2000

Question ID : 4244291297
Status : Answered
Chosen Option : 2

Q.6 भारत में विद्यालय जाने वाले बच्चों के लिए 'मध्याह्न भोजन योजना' आरंभ करने वाला पहला राज्य कौन सा था?

- Ans
- 1. महाराष्ट्र
 - 2. गुजरात
 - 3. तमिलनाडु
 - 4. केरल

Question ID : 4244291312
Status : Answered
Chosen Option : 3

Q.7 निम्नलिखित में से किसने ओलंपिक का नीति-वाक्य प्रस्तावित किया था?

- Ans
- 1. हिरोहितो
 - 2. डिडोन
 - 3. पियरे डे कोबर्टिन
 - 4. मून जे-इन

Question ID : 4244291314
Status : Answered
Chosen Option : 3

Q.8 पूर्व वित्त मंत्री अरुण जेटली का निधन 2019 के किस महीने में हुआ था?

- Ans
- 1. मई
 - 2. अगस्त
 - 3. जून
 - 4. अक्टूबर

Question ID : 4244291295
Status : Answered
Chosen Option : 4

Q.9 निम्नलिखित में से संविधान का कौन-सा अनुच्छेद, नए राज्यों के गठन से संबंधित है?

- Ans
- 1. अनुच्छेद 4
 - 2. अनुच्छेद 3
 - 3. अनुच्छेद 5
 - 4. अनुच्छेद 2

Question ID : 4244291311
Status : Answered
Chosen Option : 4

Q.10 संयुक्त राज्य अमेरिका (USA) के किसी राज्य के गवर्नर बनने वाले पहले भारतीय अमेरिकी कौन हैं?

- Ans
- 1. बिल क्लिंटन
 - 2. जॉन टायलर
 - 3. शंकर कुरुप
 - 4. बाॅबी जिंदल

Question ID : 4244291308
Status : Answered
Chosen Option : 3

Q.11 'खुआंग' किस राज्य का पारंपरिक संगीत वाद्य-यंत्र है?

- Ans
- 1. झारखंड
 - 2. असम
 - 3. पश्चिम बंगाल
 - 4. मिज़ोरम

Question ID : 4244291293
Status : Not Answered
Chosen Option : --

Q.12 निम्नलिखित में से कौन सॉफ्टकॉपी डिवाइस नहीं है?

- Ans
- 1. मॉनीटर
 - 2. प्लॉटर
 - 3. प्रोजेक्टर
 - 4. स्पीकर

Question ID : 4244291291
Status : Answered
Chosen Option : 2

Q.13 निम्नलिखित में से सिंधु घाटी सभ्यता का कौन-सा स्थल, सिंधु नदी के तट पर स्थित नहीं है?

- Ans
- 1. कोट-डिजी
 - 2. मोहनजोदड़ो
 - 3. रोपड़
 - 4. चनहुदड़ों

Question ID : 4244291306
Status : Answered
Chosen Option : 1

Q.14 निम्नलिखित में से कौन-सी इकाई ऊष्मागतिक तापक्रम का मूल एस.आई (SI) मात्रक है?

- Ans
- 1. कैंडेला
 - 2. मोल
 - 3. मीटर
 - 4. केल्विन

Question ID : 4244291299
Status : Answered
Chosen Option : 1

Q.15 'बेन-हर : ए टेल ऑफ द क्राइस्ट' के लेखक कौन है?

- Ans
- 1. लुइस कैरल
 - 2. जूल्स वर्न
 - 3. बेन जॉन्सन
 - 4. ल्यू वालेस

Question ID : 4244291309
Status : Not Answered
Chosen Option : --

Q.16 कृष्णा नदी का उद्गम स्थल कौन-सा है?

- Ans
- 1. मुलताई
 - 2. अमरकंटक
 - 3. ताला (Tala)
 - 4. महाबलेश्वर

Question ID : 4244291303
Status : Answered
Chosen Option : 2

Q.17 किस राज्य की सीमा म्यांमार से नहीं लगती है?

- Ans
- 1. सिक्किम
 - 2. मणिपुर
 - 3. मिज़ोरम
 - 4. अरुणाचल प्रदेश

Question ID : 4244291302
Status : Answered
Chosen Option : 1

Q.18 अंतर्राष्ट्रीय जैव विविधता दिवस कब मनाया जाता है?

- Ans
- 1. 22 जून
 - 2. 17 मई
 - 3. 22 मई
 - 4. 20 मई

Question ID : 4244291305
Status : Answered
Chosen Option : 3

Q.19 किसने वर्धा योजना या बुनियादी शिक्षा को प्रस्तावित किया था?

- Ans 1. महात्मा गांधी
 2. बाल गंगाधर तिलक
 3. जवाहरलाल नेहरू
 4. सरदार वल्लभभाई पटेल

Question ID : 4244291307
Status : Answered
Chosen Option : 2

Q.20 ट्रांज़िस्टर का संबंध कंप्यूटर की किस पीढ़ी से है?

- Ans 1. पहली
 2. चौथी
 3. दूसरी
 4. तीसरी

Question ID : 4244291290
Status : Answered
Chosen Option : 3

Q.21 भारत के संविधान का कौन सा अनुच्छेद 'अंतरराष्ट्रीय शांति और सुरक्षा को बढ़ावा' पर राज्य नीति के निदेशात्मक सिद्धांत व्यक्त करता है?

- Ans 1. अनुच्छेद 62
 2. अनुच्छेद 49
 3. अनुच्छेद 51
 4. अनुच्छेद 69

Question ID : 4244291310
Status : Answered
Chosen Option : 3

Q.22 स्वर्ण क्रांति (गोल्डेन रिवोल्यूशन) किस क्षेत्र से संबंधित है?

- Ans 1. अंडे
 2. फल
 3. तिलहन
 4. मछली

Question ID : 4244291304
Status : Answered
Chosen Option : 3

Q.23 पासी कोंगकी किस राज्य का लोकनृत्य है?

- Ans
- 1. हरियाणा
 - 2. गोवा
 - 3. अरुणाचल प्रदेश
 - 4. केरल

Question ID : 4244291292
Status : Not Answered
Chosen Option : --

Q.24 अप्रैल 2017 से प्रभावी नई डब्ल्यू.पी.आई (WPI) श्रृंखला का आधार वर्ष निम्नलिखित में से कौन-सा है?

- Ans
- 1. 2011-12
 - 2. 2012-13
 - 3. 2013-14
 - 4. 2010-11

Question ID : 4244291298
Status : Not Answered
Chosen Option : --

Q.25 निम्नलिखित में से कौन सा अवलोकन यह निर्धारित करने में सहायता नहीं करता है कि कोई रासायनिक प्रतिक्रिया हुई है या नहीं?

- Ans
- 1. किसी गैस की उत्पत्ति
 - 2. रंग में परिवर्तन
 - 3. अवस्था में परिवर्तन
 - 4. ऊँचाई में परिवर्तन

Question ID : 4244291301
Status : Answered
Chosen Option : 2

Roll Number	
Candidate Name	
Venue Name	
Exam Date	20/10/2020
Exam Time	1:00 PM - 2:00 PM
Subject	CHSL Tier 1

Section : English Language (Basic Knowledge)

Q.1 Select the most appropriate option to fill in the blank in the given sentence.

We must not take the future for granted; rather, we should enjoy the ____ joys of our humdrum lives.

- Ans
- 1. future
 - 2. average
 - 3. everyday
 - 4. habitual

Question ID : 4244291339
Status : Answered
Chosen Option : 3

Q.2 Select the INCORRECTLY spelt word.

- Ans
- 1. Recurrent
 - 2. Unpretentious
 - 3. Dilemma
 - 4. Excellence

Question ID : 4244291334
Status : Answered
Chosen Option : 2

Q.3 Select the word which means the same as the group of words given.

A type of magic in which spirits, especially evil ones, are used to make things happen

- Ans
- 1. Chemistry
 - 2. Alchemy
 - 3. Mimicry
 - 4. Sorcery

Question ID : 4244291335
Status : Answered
Chosen Option : 4

Q.4 Identify the segment in the given sentence which contains the grammatical error.

Soni take her daughter to the park in the evening in a stroller.

- Ans
- 1. Soni take her daughter
 - 2. to the park
 - 3. in a stroller
 - 4. in the evening

Question ID : 4244291317
Status : Answered
Chosen Option : 1

Comprehension:

In the following passage some words have been deleted. Fill in the blanks with the help of the alternatives given. Select the most appropriate option for each blank.

One of the reasons we fail to talk convincingly about climate change is that we present it as something "out there". We (1)_____ to make it clear (2)_____ it's linked to (3)_____ daily decisions, such as walking (4)_____ driving, and not talk about it in (5)_____ of abstractions.

SubQuestion No : 5

Q.5 Select the most appropriate option to fill in blank number 1.

- Ans
- 1. need
 - 2. keep
 - 3. know
 - 4. use

Question ID : 4244291320
Status : Answered
Chosen Option : 1

Comprehension:

In the following passage some words have been deleted. Fill in the blanks with the help of the alternatives given. Select the most appropriate option for each blank.

One of the reasons we fail to talk convincingly about climate change is that we present it as something "out there". We (1)_____ to make it clear (2)_____ it's linked to (3)_____ daily decisions, such as walking (4)_____ driving, and not talk about it in (5)_____ of abstractions.

SubQuestion No : 6

Q.6 Select the most appropriate option to fill in blank number 2.

- Ans
- 1. if
 - 2. that
 - 3. then
 - 4. so

Question ID : 4244291321
Status : Answered
Chosen Option : 2

Comprehension:

In the following passage some words have been deleted. Fill in the blanks with the help of the alternatives given. Select the most appropriate option for each blank.

One of the reasons we fail to talk convincingly about climate change is that we present it as something "out there". We (1)_____ to make it clear (2)_____ it's linked to (3)_____ daily decisions, such as walking (4)_____ driving, and not talk about it in (5)_____ of abstractions.

SubQuestion No : 7

Q.7 Select the most appropriate option to fill in blank number 3.

- Ans 1. our
 2. their
 3. those
 4. much

Question ID : 4244291322

Status : Answered

Chosen Option : 1

Comprehension:

In the following passage some words have been deleted. Fill in the blanks with the help of the alternatives given. Select the most appropriate option for each blank.

One of the reasons we fail to talk convincingly about climate change is that we present it as something "out there". We (1)_____ to make it clear (2)_____ it's linked to (3)_____ daily decisions, such as walking (4)_____ driving, and not talk about it in (5)_____ of abstractions.

SubQuestion No : 8

Q.8 Select the most appropriate option to fill in blank number 4.

- Ans 1. or
 2. also
 3. before
 4. never

Question ID : 4244291323

Status : Answered

Chosen Option : 1

Comprehension:

In the following passage some words have been deleted. Fill in the blanks with the help of the alternatives given. Select the most appropriate option for each blank.

One of the reasons we fail to talk convincingly about climate change is that we present it as something "out there". We (1)_____ to make it clear (2)_____ it's linked to (3)_____ daily decisions, such as walking (4)_____ driving, and not talk about it in (5)_____ of abstractions.

SubQuestion No : 9

Q.9 Select the most appropriate option to fill in blank number 5.

- Ans 1. words
 2. things
 3. terms
 4. voices

Question ID : 4244291324

Status : Answered

Chosen Option : 3

Q.10 Identify the segment in the given sentence which contains the grammatical error.

The wedding reception will be hosted in Mumbai at a late date.

- Ans
- 1. in Mumbai
 - 2. The wedding reception
 - 3. at a late date
 - 4. will be hosted

Question ID : 4244291318
Status : Answered
Chosen Option : 3

Q.11 Given below are four jumbled sentences. Select the option that gives their correct order.

- A. The father then wanted his son to pick him up at four in the afternoon so that they could go home together.
- B. A teenager had just passed his driving test and was eager to drive his father's car.
- C. He asked his son to drop him at a place that was some 18 miles from home before he took the car for servicing.
- D. His father agreed.

- Ans
- 1. BDCA
 - 2. CBAD
 - 3. BCAD
 - 4. ADBC

Question ID : 4244291325
Status : Answered
Chosen Option : 1

Q.12 Select the most appropriate meaning of the underlined idiom in the given sentence.

Ashutosh kept a stiff upper lip even when he was reprimanded in the presence of clients.

- Ans
- 1. behaved insolently
 - 2. started sniggering
 - 3. kept shouting
 - 4. remained expressionless

Question ID : 4244291332
Status : Answered
Chosen Option : 4

Q.13 Select the most appropriate option to fill in the blank in the given sentence.

A literature festival on the beach: With waves crashing on the beach, the Kerala Literature Festival got _____ in Kozhikode with a range of panel discussions in English and Malayalam.

- Ans
- 1. apart
 - 2. wayward
 - 3. underway
 - 4. away

Question ID : 4244291340
Status : Answered
Chosen Option : 3

Q.14 Select the most appropriate synonym of the given word.

ACCRUE

- Ans
- 1. Spread
 - 2. Variety
 - 3. Collect
 - 4. Range

Question ID : 4244291338
Status : Answered
Chosen Option : 1

Q.15 Select the most appropriate ANTONYM of the given word.

APEX

- Ans
- 1. Asset
 - 2. Base
 - 3. Force
 - 4. Pinnacle

Question ID : 4244291329
Status : Answered
Chosen Option : 2

Q.16 Select the most appropriate option to substitute the underlined segment in the given sentence. If there is no need to substitute it, select No improvement.

The book's page seem to have been torn by someone.

- Ans
- 1. No improvement
 - 2. The book's page seems
 - 3. The page of the book was seems
 - 4. The page of the book has seem

Question ID : 4244291327
Status : Answered
Chosen Option : 3

Q.17 Select the correctly spelt word.

- Ans
- 1. Exquiste
 - 2. Requirement
 - 3. Acquaintance
 - 4. Squirrell

Question ID : 4244291333
Status : Answered
Chosen Option : 3

Q.18 Select the word which means the same as the group of words given.

A deep fissure in the earth's surface

- Ans
- 1. Chasm
 - 2. Earthquake
 - 3. Tremor
 - 4. Volcano

Question ID : 4244291336
Status : Answered
Chosen Option : 1

Q.19 Select the most appropriate option to substitute the underlined segment in the given sentence. If there is no need to substitute it, select No improvement.

Have you got confirmation of the receipt of the donation?

- Ans
- 1. Have you get confirmation
 - 2. Did you got confirmation
 - 3. Has you got confirmations
 - 4. No improvement

Question ID : 4244291328
Status : Answered
Chosen Option : 4

Q.20 Select the most appropriate synonym of the given word.

MOTIF

- Ans
- 1. Creation
 - 2. Reason
 - 3. Purpose
 - 4. Design

Question ID : 4244291337
Status : Answered
Chosen Option : 4

Q.21 Select the option that is the passive form of the given sentence.

This book explores the secret of leading a long and meaningful life.

- Ans
- 1. The secret of leading a long and meaningful life was being explored by this book.
 - 2. The secret of leading a long and meaningful life is explored in this book.
 - 3. The secret of leading a long and meaningful life have been explored by this book.
 - 4. The secret of leading a long and meaningful life had been explored by this book.

Question ID : 4244291315
Status : Answered
Chosen Option : 2

Q.22 Select the most appropriate ANTONYM of the given word.

EXPUNGE

- Ans
- 1. Deplete
 - 2. Exhaust
 - 3. Insert
 - 4. Remove

Question ID : 4244291330
Status : Answered
Chosen Option : 3

Q.23 Given below are four jumbled sentences. Select the option that gives their correct order.

- A. In reality, however, we exist in compartments, separated by walls of caste, religion, and geography.
- B. But we find that ignorance levels are growing as well because the rate at which we are accumulating information is not commensurate with the rate at which our awareness is growing.
- C. Technologically we live in a borderless world.
- D. Another paradox is that we take pride in describing ourselves as a knowledge-based society.

- Ans
- 1. CBAD
 - 2. ABDC
 - 3. CADB
 - 4. BADC

Question ID : 4244291326
Status : Answered
Chosen Option : 3

Q.24 Select the option that is the direct form of the given sentence.

Explaining her work she said that she made films for posterity to remember.

- Ans
- 1. Explaining her work, she said, "I will make the films that will remember posterity."
 - 2. Explaining her work, she said, "She makes films for posterity to remember."
 - 3. Explaining her work, she said, "She made films for posterity to remember."
 - 4. Explaining her work, she said, "I make films for posterity to remember."

Question ID : 4244291316
Status : Answered
Chosen Option : 4

Q.25 Select the most appropriate meaning of the underlined idiom in the given sentence.

Have you heard the news that Hema is looking for greener pastures?

- Ans
- 1. has been transferred
 - 2. exploring new opportunities
 - 3. was feeling rejected
 - 4. has been fired

Question ID : 4244291331
Status : Answered
Chosen Option : 2

Section : General Intelligence

Q.1 उस विकल्प का चयन करें जिसमें शब्दों का आपस में वही संबंध है जो दिए गए शब्द-युग्म के शब्दों के बीच है।
दूरी : किलोमीटर

- Ans
- 1. आयतन : लीटर
 - 2. बुशेल : मक्का
 - 3. ख्याति : टेलीविज़न
 - 4. भार : पैमाना

Question ID : 4244291355
Status : Answered
Chosen Option : 1

Q.2 दी गई आकृति में वर्गों की संख्या बताइए।



- Ans
- 1. 12
 - 2. 13
 - 3. 17
 - 4. 16

Question ID : 4244291361
Status : Answered
Chosen Option : 4

Q.3 निम्नलिखित शब्दों के सही क्रम का चयन कीजिए (किसी फूल के भीतर से बाहर के प्रजनन तंत्र पर आधारित)।

1. अंडाशय
2. बतिकाग्र
3. बीजांड
4. पंखुड़ी

- Ans
- 1. 3, 2, 1, 4
 - 2. 3, 1, 2, 4
 - 3. 4, 3, 2, 1
 - 4. 2, 1, 3, 4

Question ID : 4244291348
Status : Answered
Chosen Option : 2

Q.4 एक निश्चित कूट भाषा में 'DEAF' को 'HJGM' लिखा जाता है। उसी भाषा में 'CALM' को क्या लिखा जाएगा?

- Ans
- 1. G F R T
 - 2. E B X Y
 - 3. G C Y Z
 - 4. F B X Y

Question ID : 4244291349
Status : Answered
Chosen Option : 1

Q.5 दिए गए कथनों को ध्यान से पढ़ें। कथनों में दी गई जानकारी को सही मानते हुए बताइए कि इन कथनों के आधार पर कौन सा निष्कर्ष सही है।

कथन :

1. राम सोमवार को गणित की कक्षा में जाता है।
2. वह शुक्रवार को साहित्य की कक्षा में जाता है।
3. वह जिस दिन इतिहास की कक्षा में जाता है उससे ठीक पहले वाले दिन वह गिटार की कक्षा में जाता है।
4. वह साहित्य की कक्षा में जाने से 2 दिन पहले इतिहास की कक्षा में जाता है।

Ans

1. राम इतिहास की कक्षा में शनिवार को जाता है।
2. राम मंगलवार को गिटार की कक्षा में जाता है।
3. राम रविवार को गिटार की कक्षा में जाता है।
4. राम शनिवार को गिटार की कक्षा में जाता है।

Question ID : 4244291358

Status : Answered

Chosen Option : 2

Q.6 चार शब्द दिए गए हैं, जिनमें से तीन किसी न किसी तरह से संगत हैं और एक असंगत है। उस असंगत शब्द का चयन करें।

Ans

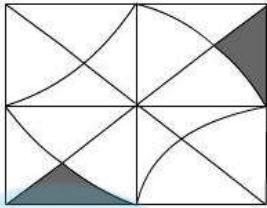
1. कोयला
2. प्राकृतिक गैस
3. नाभिकीय ईंधन
4. जैवभार

Question ID : 4244291357

Status : Answered

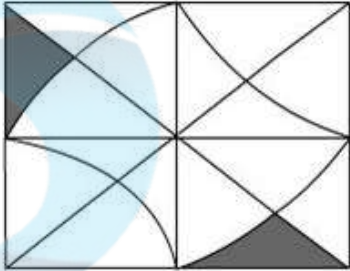
Chosen Option : 4

Q.7 दी गई आकृति के दाईं ओर दर्पण रखे जाने पर, उसका सही प्रतिबिंब कौन सा होगा?

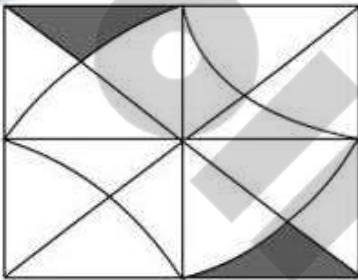


Ans

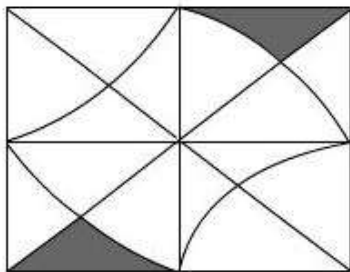
✓ 1.



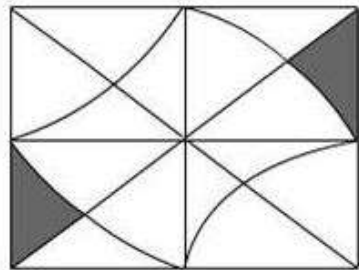
✗ 2.



✗ 3.



✗ 4.




Question ID : 4244291364
Status : Answered
Chosen Option : 1

Q.8 उस वेन आरेख का चयन कीजिए जो दिए गए वर्गों के मध्य संबंधों का सर्वश्रेष्ठ निरूपण करता है।

भौतिक विज्ञान, विज्ञान, जीवविज्ञान, जंतुविज्ञान

Ans

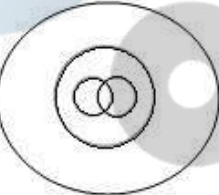
✗ 1.



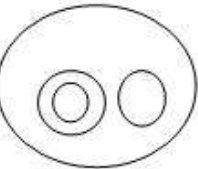
✗ 2.



✗ 3.



✓ 4.



Question ID : 4244291365

Status : Answered

Chosen Option : 4

Q.9 संख्याओं के चार समुच्चय दिए गए हैं, जिनमें से तीन किसी न किसी तरह से समान हैं और एक असंगत है। उस असंगत समुच्चय का चयन करें।

Ans

✗ 1.

(71, 108, 182)

✗ 2.

(35, 81, 173)

✓ 3.

(84, 116, 181)

✗ 4.

(44, 89, 179)

Question ID : 4244291345

Status : Not Answered

Chosen Option : --

Q.10 उस विकल्प का चयन कीजिए जिसमें दी गई आकृति अंतर्निहित है। (घुमाने की अनुमति नहीं है)



Ans

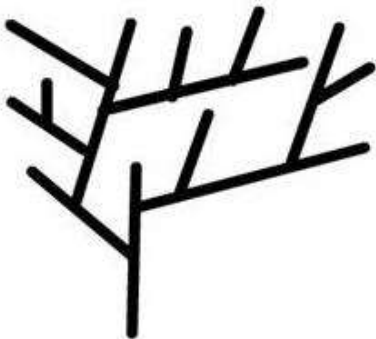
1.



2.



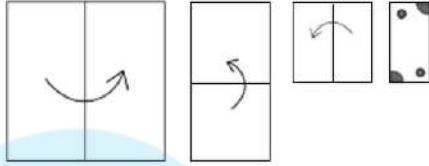
3.



4.

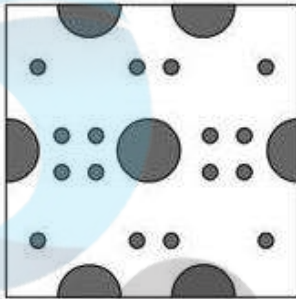


Q.11 नीचे दी गई आकृतियों में कागज के एक टुकड़े को मोड़ने का क्रम और काटने का तरीका दिखाया गया है। यह कागज खोलने पर कैसा दिखाई देगा?




Ans


✓ 1.



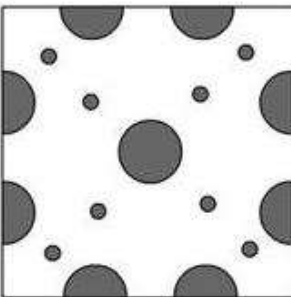
✗ 2.



✗ 3.



✗ 4.



Question ID : 4244291363
Status : Answered
Chosen Option : 1

Q.12 उस संख्या को पहचानें जो निम्नलिखित श्रेणी से संबंधित नहीं है।

81, 54, 36, 27, 22

- Ans
- 1. 27
 - 2. 22
 - 3. 54
 - 4. 36

Question ID : 4244291347
Status : Answered
Chosen Option : 2

Q.13 उस विकल्प आकृति का चयन कीजिए जो निम्न श्रृंखला में प्रश्नवाचक चिह्न के स्थान पर आ सकती है।

●○ ●○○ ●○○○○ ●○○○○○ ???

- Ans
- 1. ●○○○○○●○○●
 - 2. ●○○○○○●○○●●
 - 3. ●○○○○●○○○○●
 - 4. ●○○○○●○○○

Question ID : 4244291360
Status : Answered
Chosen Option : 3

Q.14 एक कंपनी में कोई व्यक्ति ₹6,000 प्रतिमाह के वेतन पर नियोजित है। वह पूरे वर्ष के दौरान 15 दिनों के लिए कार्य से अनुपस्थित रहा। यदि उसके वेतन में से हर अवकाश के लिए ₹200 की कटौती होती है, तो बताइए कि वह वर्ष के अंत में कुल कितना धन अर्जित करेगा?

- Ans
- 1. ₹69,000
 - 2. ₹72,000
 - 3. ₹75,000
 - 4. ₹70,000

Question ID : 4244291341
Status : Answered
Chosen Option : 1

Q.15 एक निश्चित कूट भाषा में 'BOOK' को 139 और 'PEN' को 302 लिखा जाता है। उसी भाषा में 'COPY' को क्या लिखा जाएगा?

- Ans
- 1. 279
 - 2. 167
 - 3. 2547
 - 4. 2822

Question ID : 4244291350

Status : Not Attempted and Marked For Review

Chosen Option : --

Q.16 निम्नलिखित श्रेणी में प्रश्न-चिह्न (?) के स्थान पर आनेवाली संख्या का चयन करें।

2, 3, 6, 15, ?, 157.5, 630

- Ans
- 1. 45
 - 2. 54
 - 3. 48
 - 4. 49

Question ID : 4244291346

Status : Answered

Chosen Option : 1

Q.17 उस विकल्प का चयन करें जिसका तीसरी संख्या से वही संबंध है जो दूसरी संख्या का पहली संख्या से है।

132 : 156 :: 462 : ?

- Ans
- 1. 506
 - 2. 505
 - 3. 503
 - 4. 484

Question ID : 4244291343

Status : Answered

Chosen Option : 1

Q.18 उस विकल्प का चयन करें, जिसका तीसरे शब्द से वही संबंध है, जो दूसरे शब्द का पहले शब्द से है।

सबसे लंबा दिन : जून :: सबसे छोटा दिन : ?

- Ans
- 1. फरवरी
 - 2. नवंबर
 - 3. जनवरी
 - 4. दिसंबर

Question ID : 4244291352

Status : Answered

Chosen Option : 4

Q.19 उस विकल्प का चयन करें जिसका तीसरी संख्या से वही संबंध है जो दूसरी संख्या का पहली संख्या से है।

14 : 182 :: 22 : ?

- Ans
- 1. 482
 - 2. 244
 - 3. 462
 - 4. 444

Question ID : 4244291344
Status : Answered
Chosen Option : 3

Q.20 चार अक्षर-समूह दिए गए हैं, जिनमें से तीन किसी न किसी तरह से संगत हैं और एक असंगत है। उस असंगत अक्षर-समूह का चयन कीजिए।

- Ans
- 1. DCEBF
 - 2. RQSPT
 - 3. TUSVR
 - 4. HGIFJ

Question ID : 4244291356
Status : Answered
Chosen Option : 3

Q.21 G, S के दादाजी हैं। B के केवल दो पुत्र हैं, E और F। G के केवल, A और B पुत्र हैं। S का पिता कौन है?

- Ans
- 1. B
 - 2. F
 - 3. E
 - 4. A

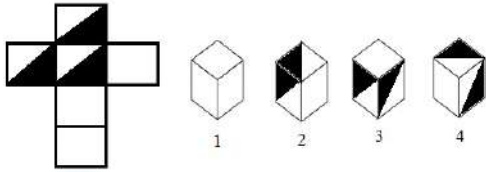
Question ID : 4244291354
Status : Answered
Chosen Option : 4

Q.22 एक कूट भाषा में 'MENTION' को 'NEITNOM' लिखा जाता है। उसी भाषा में 'PATTERN' को क्या लिखा जाएगा?

- Ans
- 1. RESWNDU
 - 2. NAETTRP
 - 3. DOEECTS
 - 4. LSOIANN

Question ID : 4244291351
Status : Answered
Chosen Option : 2

Q.23 उस आकृति (1 से 4 आकृतियों में से) का चयन कीजिए जिसे दी गई शीट को रेखाओं पर मोड़कर बनाया जा सकता है।



- Ans
- 1. केवल आकृतियां 1 और 2
 - 2. केवल आकृति 4
 - 3. केवल आकृतियां 3 और 4
 - 4. केवल आकृति 2

Question ID : 4244291359

Status : Not Attempted and Marked For Review

Chosen Option : --

Q.24 निम्नलिखित समीकरण में 'a + b' का मान कितना होगा?

$$[4(3 + \{9 \times 6 \div 3 + \{12 \div (1 \div 1 \times 3)\})] = 5^a \times 2^b$$

- Ans
- 1. 7
 - 2. 4
 - 3. 6
 - 4. 5

Question ID : 4244291342

Status : Answered

Chosen Option : 2

Q.25 अक्षरों के उस संयोजन का चयन करें जिसे दी गई अक्षर-श्रृंखला में क्रमिक रूप से रखने पर श्रृंखला पूरी हो जाएगी।

a b b _ b _ _ b a b _ _ b a b b b b _ _

- Ans
- 1. a b b a a b b
 - 2. a b b a a a b
 - 3. b a b b a a b
 - 4. a b b a b a b

Question ID : 4244291353

Status : Answered

Chosen Option : 3

Q.1

$\frac{4}{5} \div 3\frac{1}{4}$ of $\frac{8}{13} - \frac{\frac{1}{5} - \frac{1}{8}}{\frac{1}{5} + \frac{1}{8}} \times 5\frac{1}{5} + \frac{5}{6}$ का मान है:

Ans

1. $\frac{2}{15}$

2. $\frac{1}{30}$

3. $\frac{1}{15}$

4. $\frac{7}{30}$

Question ID : 4244291383

Status : Answered

Chosen Option : 2

Q.2

एक व्यक्ति ने 5 घंटे में 35 km की दूरी तय की। कुछ दूरी 4 km/h की चाल से पैदल और बाकी की दूरी साइकिल से 9 km/h की चाल से तय की। पैदल तय की गई दूरी है:

Ans

1. 10 km

2. 8 km

3. 12 km

4. 15 km

Question ID : 4244291367

Status : Answered

Chosen Option : 2

Q.3

यदि $\sin(A + B) = \cos(A - B) = \frac{\sqrt{3}}{2}$ तथा A और B न्यून कोण हैं, तो कोण A और B का माप (अंश में) ज्ञात करें।

Ans

1. A = 45 और B = 45

2. A = 45 और B = 15

3. A = 60 और B = 30

4. A = 15 और B = 45

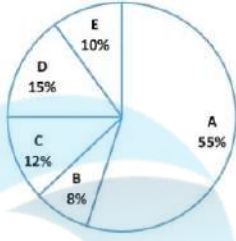
Question ID : 4244291386

Status : Answered

Chosen Option : 2

Q.4 निम्नलिखित पाई-आरेख का अध्ययन करें और दिए गए प्रश्न का उत्तर दें।

पाई-आरेख वर्ष 2018 में किसी कंपनी का बजट व्यय (प्रतिशत वितरण) विभिन्न मर्दानों A, B, C, D और E पर दर्शाता है।



यदि वर्ष 2018 में A पर ₹165 करोड़ खर्च किए गए, तो उस वर्ष हुआ कुल खर्च (करोड़ ₹ में) कितना होगा?

- Ans
- 1. ₹320
 - 2. ₹400
 - 3. ₹350
 - 4. ₹300

Question ID : 4244291388

Status : Answered

Chosen Option : 4

Q.5 अमित ने एक वस्तु ₹7,000 में बेची और इस सोदे में उसे हानि हुई। यदि उसने इसे ₹8,750 में बेचा होता, तो उसे हानि की राशि के तीन-चौथाई के बराबर लाभ हुआ होता। 10% लाभ प्राप्त करने के लिए उसे इस वस्तु को किस मूल्य पर बेचना चाहिए?

- Ans
- 1. ₹8,400
 - 2. ₹7,800
 - 3. ₹8,000
 - 4. ₹8,800

Question ID : 4244291372

Status : Answered

Chosen Option : 4

Q.6 रविंदर एक मेडिकल इंश्योरेंस पॉलिसी में ₹3,750 का निवेश करता है, जो कि उसके मासिक वेतन का 15% है। इसके बाद वह अपने मासिक वेतन का 25% और 8% क्रमशः एक बाल शिक्षा पॉलिसी, और म्यूचुअल फंड में निवेश करता है। उसके पास बची कुल राशि है:

- Ans
- 1. ₹8,000
 - 2. ₹13,000
 - 3. ₹15,000
 - 4. ₹12,000

Question ID : 4244291371

Status : Answered

Chosen Option : 2

Q.7 चार क्रमागत विषम प्राकृत संख्याओं का औसत, तीन क्रमागत प्राकृत सम संख्याओं के औसत से आठ कम है। यदि इन तीन सम संख्याओं का योग ऊपर दी गई चार विषम संख्याओं के योग के बराबर है, तो आरंभिक चार विषम संख्याओं का औसत है:

- Ans
- 1. 32
 - 2. 24
 - 3. 18
 - 4. 36

Question ID : 4244291369
Status : Answered
Chosen Option : 2

Q.8 यदि $x + \frac{4}{x} - 4 = 0$ है, तो $x^2 - 4$ का मान निम्नलिखित में से क्या होगा?

- Ans
- 1. 2
 - 2. 4
 - 3. 0
 - 4. 1

Question ID : 4244291379
Status : Answered
Chosen Option : 3

Q.9 यदि θ एक धनात्मक न्यून कोण है और $\tan 2\theta \tan 3\theta = 1$ है, तो θ का मान है:

- Ans
- 1. 36°
 - 2. 60°
 - 3. 45°
 - 4. 18°

Question ID : 4244291384
Status : Answered
Chosen Option : 4

Q.10

यदि $\cot\theta = \frac{3}{\sqrt{5}}$, $0^\circ < \theta < 90^\circ$ है, तो $\frac{6\sec^2\theta - \frac{5}{3}\operatorname{cosec}^2\theta}{\frac{3}{5}\sec^2\theta + \frac{4}{3}\operatorname{cosec}^2\theta}$ का मान है:

Ans

1. $\frac{1}{3}$
 2. 1
 3. $\frac{1}{2}$
 4. $\frac{2}{3}$

Question ID : 4244291385

Status : Answered

Chosen Option : 2

Q.11 A और B मिलकर काम करते हुए किसी काम का 30%, 6 दिन में पूरा कर सकते हैं। B अकेले उसी काम को 25 दिन में पूरा कर सकता है। उसी काम को अकेले पूरा करने में A को कितने दिन लगेंगे?

Ans

1. 100 दिन
 2. 75 दिन
 3. 80 दिन
 4. 60 दिन

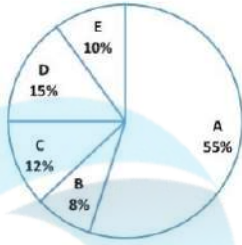
Question ID : 4244291366

Status : Answered

Chosen Option : 1

Q.12 निम्नलिखित पाई-आरेख का अध्ययन करें और दिए गए प्रश्न का उत्तर दें।

पाई-आरेख वर्ष 2018 में किसी कंपनी का बजट व्यय (प्रतिशत वितरण) विभिन्न मर्दों A, B, C, D और E पर दर्शाता है।



मद D पर हुए व्यय को निरूपित करने वाले त्रिज्याखंड का केन्द्रीय कोण है:

- Ans
- 1. 52°
 - 2. 54°
 - 3. 56°
 - 4. 45°

Question ID : 4244291387

Status : Answered

Chosen Option : 2

Q.13

यदि $x = 3 + 2\sqrt{2}$ है, तो $x^2 + \frac{1}{x^2}$ का मान है:

- Ans
- 1. 34
 - 2. 36
 - 3. 32
 - 4. 30

Question ID : 4244291380

Status : Answered

Chosen Option : 1

Q.14 दो संकेंद्रित वृत्त एक वलय बनाते हैं। वलय की अंतः और बाह्य परिधि क्रमशः 22 cm और 44 cm है। वलय की

चौड़ाई है: ($\pi = \frac{22}{7}$ लीजिए)

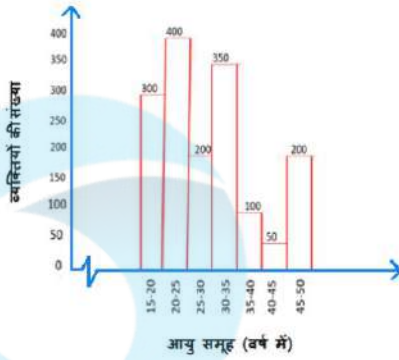
- Ans
- 1. 1.5 cm
 - 2. 2.5 cm
 - 3. 3 cm
 - 4. 3.5 cm

Question ID : 4244291368

Status : Answered

Chosen Option : 4

- Q.15 निम्नलिखित आयतचित्र का अध्ययन करें और दिए गए प्रश्न का उत्तर दें।
 एक सप्ताह में एक पुस्तकालय में जाने वाले विभिन्न आयु वर्ग के व्यक्तियों की संख्या का अध्ययन किया गया, जो आयतचित्र में दर्शाया गया है। आयतचित्र का अध्ययन करें और नीचे दिए गए प्रश्न का उत्तर दें।



पूरे सप्ताह में पुस्तकालय में आने वाले कुल व्यक्तियों की संख्या के कितने प्रतिशत व्यक्ति आयुवर्ग 25-30 वर्ष के थे?

- Ans
- 1. 12.5%
 - 2. 10.5%
 - 3. 12%
 - 4. 15%

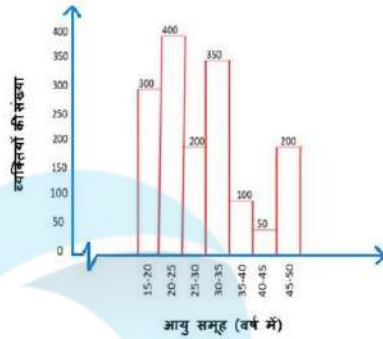
Question ID : 4244291390
 Status : Answered
 Chosen Option : 1

- Q.16 संख्या A का 50%, दूसरी संख्या B में जोड़ने पर B, 25% बढ़ जाती है। संख्या A और B में अनुपात है:

- Ans
- 1. 3 : 2
 - 2. 3 : 4
 - 3. 1 : 2
 - 4. 2 : 3

Question ID : 4244291373
 Status : Answered
 Chosen Option : 3

Q.17 एक सप्ताह में एक पुस्तकालय में जाने वाले विभिन्न आयु वर्ग के व्यक्तियों की संख्या का अध्ययन किया गया, जो आयतचित्र में दिया गया है। आयतचित्र का अध्ययन करें और नीचे दिए गए प्रश्न का उत्तर दें।



वर्ष 15-20 और वर्ष 20-25 आयु समूह के व्यक्तियों की कुल संख्या का, वर्ष 30-35 और वर्ष 35-40 आयु समूह के व्यक्तियों की कुल संख्या से अनुपात क्या है?

- Ans
- 1. 15 : 19
 - 2. 14 : 9
 - 3. 14 : 17
 - 4. 13 : 9

Question ID : 4244291389

Status : Answered

Chosen Option : 2

Q.18 यदि स्पर्श रेखाएँ PA और PB, एक बाह्य बिंदु P से केंद्र O वाले एक वृत्त पर इस प्रकार खींची गई कि $\angle APB = 70^\circ$ है, तो $\angle OAB$ _____ के बराबर है।

- Ans
- 1. 30°
 - 2. 35°
 - 3. 40°
 - 4. 25°

Question ID : 4244291376

Status : Answered

Chosen Option : 2

Q.19 साधारण ब्याज पर 5 वर्षों में किसी राशि में 60% की वृद्धि होती है। उसी ब्याज दर पर दो वर्षों में ₹6,250 की एक राशि पर चक्रवृद्धि ब्याज कितना होगा यदि ब्याज वार्षिक संयोजित होता है?

- Ans
- 1. ₹1,480
 - 2. ₹1,560
 - 3. ₹1,500
 - 4. ₹1,590

Question ID : 4244291374

Status : Answered

Chosen Option : 3

Q.20 $\triangle ABC$ में, D, BC पर एक बिंदु है। यदि $\frac{AB}{AC} = \frac{BD}{DC}$, $\angle B = 75^\circ$ और $\angle C = 45^\circ$ हैं, तो $\angle BAD$ बराबर है:

- Ans
- 1. 45°
 - 2. 30°
 - 3. 60°
 - 4. 50°

Question ID : 4244291377

Status : Answered

Chosen Option : 2

Q.21 यदि $x + \frac{1}{x} = 5$, $x \neq 0$ है, तो $\frac{x^4 + \frac{1}{x^2}}{x^2 - 3x + 1}$ का मान है:

- Ans
- 1. 65
 - 2. 60
 - 3. 50
 - 4. 55

Question ID : 4244291381

Status : Answered

Chosen Option : 4

Q.22 $\triangle ABC$ में, E और D, भुजाओं AB और AC पर बिंदु इस प्रकार हैं कि $\angle ABC = \angle ADE$ है। यदि $AE = 6$ cm, $AD = 4$ cm और $EB = 4$ cm है, तो DC की लंबाई है:

- Ans
- 1. 9.5 cm
 - 2. 11 cm
 - 3. 10 cm
 - 4. 8 cm

Question ID : 4244291378

Status : Answered

Chosen Option : 2

Q.23 यदि 8- अंकीय संख्या 43A5325B, 8 और 9 से विभाज्य है, तो A और B का योग बराबर है:

- Ans
- 1. 15
 - 2. 14
 - 3. 12
 - 4. 18

Question ID : 4244291382

Status : Answered

Chosen Option : 2

Q.24 A, B और C किसी वृत्त पर तीन बिंदु हैं। यदि $AB = AC = 7\sqrt{2}$ cm और $\angle BAC = 90^\circ$, तो त्रिज्या बराबर है:

- Ans
- 1. 7 cm
 - 2. 6 cm
 - 3. 14 cm
 - 4. $7\sqrt{2}$ cm

Question ID : 4244291375
Status : Answered
Chosen Option : 1

Q.25 एक व्यापारी अपने माल पर मूल्य इस प्रकार से अंकित करता है कि इस मूल्य पर 15% बढ़ा देने के बाद भी, उसे 27.5% का लाभ प्राप्त होता है। यदि माल का क्रय मूल्य ₹200 है, तो उसका अंकित मूल्य है:

- Ans
- 1. ₹300
 - 2. ₹250
 - 3. ₹350
 - 4. ₹400

Question ID : 4244291370
Status : Answered
Chosen Option : 1

Section : General Awareness

Q.1 निम्नलिखित में से किस नृत्य शैली को 'लद्दाख के शाही नृत्य' के रूप में भी जाना जाता है?

- Ans
- 1. जबरो नृत्य
 - 2. याक नृत्य
 - 3. शॉडोल नृत्य
 - 4. कोशन नृत्य

Question ID : 4244291393
Status : Not Answered
Chosen Option : --

Q.2 'ए शॉट एट हिस्ट्री: माई ऑब्सेसिव जर्नी टू ओलंपिक गोल्ड (A Shot At History: My Obsessive Journey to Olympic Gold)' किस भारतीय निशानेबाज की आत्मकथा है?

- Ans
- 1. राज्यवर्धन सिंह राठौर
 - 2. जीतू राय
 - 3. गगन नारंग
 - 4. अभिनव बिंद्रा

Question ID : 4244291409
Status : Marked For Review
Chosen Option : 4

Q.3 अकबर के शासनकाल में किस पुस्तक का अनुवाद 'द रज़मनामा' (युद्ध की पुस्तक) के रूप में किया गया था?

- Ans
- 1. महाभारत
 - 2. रामायण
 - 3. अकबर नामा
 - 4. बाबर नामा

Question ID : 4244291407
Status : Answered
Chosen Option : 1

Q.4 अक्टूबर 2019 में, भारतीय टीम के किस पूर्व क्रिकेटर और कप्तान को औपचारिक रूप से बीसीसीआई (BCCI) के अध्यक्ष के रूप में चुना गया था?

- Ans
- 1. कपिल देव
 - 2. सुनील गावस्कर
 - 3. रवि शास्त्री
 - 4. सौरव गांगुली

Question ID : 4244291413
Status : Answered
Chosen Option : 4

Q.5 निम्नलिखित में से कौन-सा पर्वत भारत में लद्दाख के सियाचिन क्षेत्र के पास स्थित है?

- Ans
- 1. K12 पर्वत
 - 2. कंचनजंघा पर्वत
 - 3. काब्रु पर्वत
 - 4. किरात चूली पर्वत

Question ID : 4244291403
Status : Not Answered
Chosen Option : --

Q.6 कंप्यूटर के संदर्भ में WORM किसका संक्षिप्त रूप है?

- Ans
- 1. राइट वन्स, रीड मेनी (Write Once, Read Many)
 - 2. वर्ड ऑन, रैम मेमोरी (Word On, RAM Memory)
 - 3. वर्ड ऑप्टिकल, रिकग्निशन मॉलवेयर (Word Optical, Recognition Malware)
 - 4. वायरलेस ऑपरेंटिंग, रीड मोड्यूल (Wireless Operating, Read Module)

Question ID : 4244291391
Status : Not Answered
Chosen Option : --

Q.7 निम्नलिखित में से कौन-सा दर उत्तर में नीलगिरि और दक्षिण में अन्नामलाई पहाड़ियों के बीच स्थित है?

- Ans
- 1. अगहिल दर्रा
 - 2. रोहतांग दर्रा
 - 3. पालघाट दर्रा
 - 4. काराकोरम दर्रा

Question ID : 4244291405

Status : Answered

Chosen Option : 1

Q.8 जनवरी 2020 में जारी विश्व स्वर्ण परिषद (World Gold Council) की रिपोर्ट के अनुसार, भारतीय रिजर्व बैंक (RBI) को दुनिया के केंद्रीय बैंकों के बीच विदेशों में सोना खरीदने के संबंध में _____ स्थान मिला था।

- Ans
- 1. दसवां
 - 2. छठा
 - 3. सातवां
 - 4. पांचवां

Question ID : 4244291399

Status : Not Answered

Chosen Option : --

Q.9 जनवरी 2020 में जारी कार्बन डिस्क्लोजर प्रोजेक्ट (CDP) वार्षिक रिपोर्ट के अनुसार, विज्ञान आधारित लक्ष्यों के लिए कॉर्पोरेट प्रतिबद्धताओं में भारत का कौन सा स्थान था?

- Ans
- 1. पांचवां
 - 2. दसवां
 - 3. छठा
 - 4. आठवां

Question ID : 4244291396

Status : Not Answered

Chosen Option : --

Q.10 जनवरी 2020 तक की स्थिति के अनुसार, एकीकृत भुगतान अन्तरापृष्ठ (UPI) का उपयोग करते हुए फंड ट्रांसफर (निधि अंतरण) की उच्च सीमा कितनी है?

- Ans
- 1. ₹2 लाख
 - 2. ₹90,000
 - 3. ₹1 लाख
 - 4. ₹50,000

Question ID : 4244291398

Status : Answered

Chosen Option : 3

Q.11 निम्नलिखित में से किस आंदोलन की शुरुआत महात्मा गांधी द्वारा 1930 में की गई थी?

- Ans
- 1. असहयोग आंदोलन
 - 2. सविनय अवज्ञा आंदोलन
 - 3. भारत छोड़ो आंदोलन
 - 4. खिलाफत आंदोलन

Question ID : 4244291408

Status : Answered

Chosen Option : 1

Q.12 एशिया का सबसे बड़ा नागरिक विमानन कार्यक्रम 'विंग्स इंडिया', मार्च 2020 में बेगमपेट हवाई अड्डा, हैदराबाद में आयोजित किया गया था। इस आयोजन की विषय-वस्तु क्या थी?

- Ans
- 1. फ्लाईंग फॉर ऑल (Flying for All)
 - 2. वूमैन टू फ्लाई (Women to Fly)
 - 3. फ्लाईंग एवरीवन (Flying Everyone)
 - 4. बॉर्न टू फ्लाई (Born to Fly)

Question ID : 4244291397

Status : Not Answered

Chosen Option : --

Q.13 'मनी बिल' की परिभाषा भारतीय संविधान के किस अनुच्छेद में दी गई है?

- Ans
- 1. अनुच्छेद 33
 - 2. अनुच्छेद 44
 - 3. अनुच्छेद 93
 - 4. अनुच्छेद 110

Question ID : 4244291411

Status : Answered

Chosen Option : 4

Q.14 2019 में 'BWF पैरा-बैडमिंटन वर्ल्ड चैंपियनशिप' के महिला एकल SL3 इवेंट में गोल्ड हासिल करके किसने इतिहास बनाया?

- Ans
- 1. सुजिरत पुक्खम
 - 2. पारुल दलसुखभाई परमार
 - 3. मानसी जोशी
 - 4. सरीना सातोमी

Question ID : 4244291414

Status : Not Answered

Chosen Option : --

Q.15 ओडिशा के मुख्यमंत्री नवीन पटनायक ने राष्ट्रीय जनजातीय शिल्प मेला-2019 का उद्घाटन कहाँ किया था?

- Ans
- 1. कटक
 - 2. पुरी
 - 3. भुवनेश्वर
 - 4. कोणार्क

Question ID : 4244291392
Status : Not Answered
Chosen Option : --

Q.16 'भारतीय अंतरराष्ट्रीय विज्ञान महोत्सव (IISF) 2019' के 5वें संस्करण का आयोजन किस शहर में हुआ था?

- Ans
- 1. कोलकाता
 - 2. दिल्ली
 - 3. चंडीगढ़
 - 4. हैदराबाद

Question ID : 4244291395
Status : Not Answered
Chosen Option : --

Q.17 शोरा (सॉल्टपीटर) का रासायनिक सूत्र क्या है?

- Ans
- 1. KCl
 - 2. KAl_2O_3
 - 3. KNO_3
 - 4. $KCl.MgCl_2$

Question ID : 4244291400
Status : Answered
Chosen Option : 3

Q.18 इनमें से किस नदी के किनारे, प्रसिद्ध सांस्कृतिक स्थल रानी-की-वाव (रानी का सीढ़ीदार कुआँ) स्थित है?

- Ans
- 1. महानदी
 - 2. यमुना नदी
 - 3. सरस्वती नदी
 - 4. हुगली नदी

Question ID : 4244291394
Status : Answered
Chosen Option : 4

Q.19 निम्नलिखित में से कौन-सी नदी, पाँचवीं सबसे बड़ी नदी होने के साथ पश्चिम में बहने वाली सबसे बड़ी नदी भी है?

- Ans
- 1. गोदावरी नदी
 - 2. अरवरी नदी
 - 3. नर्मदा नदी
 - 4. सुवर्णरेखा नदी

Question ID : 4244291404
Status : Answered
Chosen Option : 3

Q.20 नवंबर 2019 में, किस भारतीय एथलीट को 'टाइम 100 नेक्स्ट' में सूचीबद्ध किया गया था, जो उन 100 उभरते सितारों को उजागर करता है, जो व्यवसाय, मनोरंजन, खेल, राजनीति, आदि के भविष्य को आकार दे रहे हैं?

- Ans
- 1. हिमा दास
 - 2. अंजू बॉबी जॉर्ज
 - 3. पीवी सिंधु
 - 4. दुती चंद

Question ID : 4244291415
Status : Answered
Chosen Option : 4

Q.21 तेलंगाना के मुख्यमंत्री कार्यालय में नियुक्त होने वाले/वाली भारत के/की सबसे युवा आईएएस (IAS) अधिकारी कौन हैं? उन्हें 'द पीपल्स ऑफिसर' के नाम से भी जाना जाता है।

- Ans
- 1. अमृतेश औरंगाबादकर
 - 2. स्वाति मीना नाइक
 - 3. अंसार अहमद शेख
 - 4. स्मिता सभरवाल

Question ID : 4244291412
Status : Not Answered
Chosen Option : --

Q.22 2019 में, किस देश ने भारतीय प्रधानमंत्री नरेंद्र मोदी को अपने सर्वोच्च नागरिक सम्मान 'जायद पदक (Zayed Medal)' से सम्मानित किया था?

- Ans
- 1. इज़राइल
 - 2. पुर्तगाल
 - 3. भूटान
 - 4. संयुक्त अरब अमीरात

Question ID : 4244291410
Status : Answered
Chosen Option : 4

Q.23 वैज्ञानिकों के योगदान के संदर्भ में, जिसके लिए उन्हें नोबेल पुरस्कार से सम्मानित किया जाता है, निम्नलिखित में से कौन सा युग्म सही नहीं है?

- Ans 1. क्वांटम (प्रमात्रा) यांत्रिकी - गैलीलियो गैलिली
2. ज़ेमान प्रभाव - हेन्रिक लारेंज़
3. एक्स-रे विवर्तन - माक्स वान लो
4. प्रकाश प्रकीर्णन - सी.वी. रमन

Question ID : 4244291401
Status : Answered
Chosen Option : 1

Q.24 1918 में इनमें से किस वैज्ञानिक को 'एनर्जी क्वांट' की खोज करने के लिए भौतिकी में नोबेल पुरस्कार से सम्मानित किया गया था?

- Ans 1. मैक्स कार्ल अन्स्ट लुडविग प्लांक
2. वर्नर हाइज़नबर्ग
3. जेम्स चैडविक
4. लुई द ब्रॉई

Question ID : 4244291402
Status : Answered
Chosen Option : 1

Q.25 उत्तर भारत में वह कौन-सा वन्यजीव अभयारण्य त्रि-राज्य संरक्षित क्षेत्र है, जो गंभीर रूप से विलुप्तप्राय घड़ियाल, रेड-क्राउंड रूफ़ेड टर्टल (Red-crowned roofed turtle) और विलुप्तप्राय गंगा नदी की डॉल्फिन के लिए भी प्रसिद्ध है?

- Ans 1. राष्ट्रीय चंबल अभयारण्य
2. चिन्नार वन्यजीव अभयारण्य
3. भद्रा वन्यजीव अभयारण्य
4. डंडेली वन्यजीव अभयारण्य

Question ID : 4244291406
Status : Not Answered
Chosen Option : --

Roll Number	
Candidate Name	
Venue Name	
Exam Date	20/10/2020
Exam Time	4:00 PM - 5:00 PM
Subject	CHSL Tier 1

Section : English Language (Basic Knowledge)

Q.1 Identify the segment which contains a grammatical error.

The old woman in our locality is knowing for her hot temper.

- Ans
- 1. is knowing for
 - 2. her hot temper
 - 3. The old woman
 - 4. In our locality

Question ID : 8161613446
Status : Answered
Chosen Option : 1

Q.2 Given below are four sentences in a jumbled order. Out of the given options pick the one that gives their correct order.

- A. Add the product to your shopping cart.
- B. Select the brand you like.
- C. Enter the card details and buy the product online.
- D. Look for the product you want to purchase.

- Ans
- 1. ABCD
 - 2. DACB
 - 3. BCDA
 - 4. DBAC

Question ID : 8161613454
Status : Answered
Chosen Option : 4

Q.3 Select the correct antonym for the given word.

Formidable

- Ans
- 1. Appalling
 - 2. Dangerous
 - 3. Trivial
 - 4. Scary

Question ID : 8161613459
Status : Answered
Chosen Option : 3

Q.4 Select the most appropriate synonym of the given word.

Delinquent

- Ans
- 1. Rewarding
 - 2. Despairing
 - 3. Charming
 - 4. Offending

Question ID : 8161613466

Status : Not Answered

Chosen Option : --

Comprehension:

In the following passage some words have been deleted. Fill in the blanks with the help of the alternatives given. Select the most appropriate option for each blank.

The two men bowed to one (1)_____ and parted. Tom found himself in a difficult (2)_____. He was going to (3)_____ three duels in a (4)_____ of three hours. "Even if I am killed, it will be a (5)_____ death," he thought.

SubQuestion No : 5

Q.5 Select the most appropriate option to fill in the blank no.1

- Ans
- 1. another
 - 2. each
 - 3. other
 - 4. self

Question ID : 8161613449

Status : Answered

Chosen Option : 4

Comprehension:

In the following passage some words have been deleted. Fill in the blanks with the help of the alternatives given. Select the most appropriate option for each blank.

The two men bowed to one (1)_____ and parted. Tom found himself in a difficult (2)_____. He was going to (3)_____ three duels in a (4)_____ of three hours. "Even if I am killed, it will be a (5)_____ death," he thought.

SubQuestion No : 6

Q.6 Select the most appropriate option to fill in the blank no.2

- Ans
- 1. station
 - 2. situation
 - 3. relation
 - 4. location

Question ID : 8161613450

Status : Answered

Chosen Option : 2

Comprehension:

In the following passage some words have been deleted. Fill in the blanks with the help of the alternatives given. Select the most appropriate option for each blank.

The two men bowed to one (1)_____ and parted. Tom found himself in a difficult (2)_____. He was going to (3)_____ three duels in a (4)_____ of three hours. "Even if I am killed, it will be a (5)_____ death," he thought.

SubQuestion No : 7

Q.7 Select the most appropriate option to fill in the blank no.3

- Ans
- 1. participate
 - 2. think
 - 3. figure
 - 4. fight

Question ID : 8161613451
Status : Answered
Chosen Option : 1

Comprehension:

In the following passage some words have been deleted. Fill in the blanks with the help of the alternatives given. Select the most appropriate option for each blank.

The two men bowed to one (1)_____ and parted. Tom found himself in a difficult (2)_____. He was going to (3)_____ three duels in a (4)_____ of three hours. "Even if I am killed, it will be a (5)_____ death," he thought.

SubQuestion No : 8

Q.8 Select the most appropriate option to fill in the blank no.4

- Ans
- 1. time
 - 2. difference
 - 3. place
 - 4. matter

Question ID : 8161613452
Status : Answered
Chosen Option : 3

Comprehension:

In the following passage some words have been deleted. Fill in the blanks with the help of the alternatives given. Select the most appropriate option for each blank.

The two men bowed to one (1)_____ and parted. Tom found himself in a difficult (2)_____. He was going to (3)_____ three duels in a (4)_____ of three hours. "Even if I am killed, it will be a (5)_____ death," he thought.

SubQuestion No : 9

Q.9 Select the most appropriate option to fill in the blank no.5

- Ans
- 1. laborious
 - 2. glorious
 - 3. spurious
 - 4. curious

Question ID : 8161613453
Status : Answered
Chosen Option : 2

Q.10 Select the most appropriate word to fill in the blank.

The government enterprises were privatized as they were ____ heavy losses on a daily basis.

- Ans
- 1. containing
 - 2. earning
 - 3. incurring
 - 4. demanding

Question ID : 8161613468
Status : Not Answered
Chosen Option : --

Q.11 Select the most appropriate synonym of the given word.

Prodigious

- Ans
- 1. Immense
 - 2. Unimportant
 - 3. Proud
 - 4. Exciting

Question ID : 8161613467
Status : Not Answered
Chosen Option : --

Q.12 Select the correct passive form of the given sentence.

The police arrested the thieves yesterday.

- Ans
- 1. The thieves have been arrested yesterday by the police.
 - 2. The thieves were arrested yesterday by the police.
 - 3. The thieves were being arrested yesterday by the police.
 - 4. The thieves had been arrested yesterday by the police.

Question ID : 8161613444
Status : Answered
Chosen Option : 2

Q.13 Select the most appropriate meaning of the given idiom.

To cost an arm and a leg

- Ans
- 1. Not readily available
 - 2. To give away an arm and a leg
 - 3. Very expensive
 - 4. Easily affordable

Question ID : 8161613460
Status : Answered
Chosen Option : 3

Q.14 In the sentence identify the segment which contains the grammatical error.

When Harry come back home, he saw blood everywhere.

- Ans
- 1. When Harry
 - 2. blood everywhere
 - 3. come back home
 - 4. he saw

Question ID : 8161613447
Status : Answered
Chosen Option : 3

Q.15 Select the most appropriate word to fill in the blank.

The yoga instructor was _____ at the student's flexibility.

- Ans
- 1. ridiculed
 - 2. amazed
 - 3. disturbed
 - 4. angry

Question ID : 8161613469
Status : Answered
Chosen Option : 4

Q.16 Select the most appropriate meaning of the given idiom.

Flying off the handle

- Ans
- 1. Suddenly becoming enraged
 - 2. Day dreaming
 - 3. Having lofty ideas
 - 4. Flying away, being launched from a handle

Question ID : 8161613461
Status : Not Attempted and Marked For Review
Chosen Option : --

Q.17 Select the wrongly spelt word.

- Ans
- 1. Conveyance
 - 2. Conviencing
 - 3. Commemorate
 - 4. Concussion

Question ID : 8161613462
Status : Answered
Chosen Option : 1

Q.18 Select the correct indirect form of the given sentence.

Peter said, "He broke his glasses."

- Ans
- 1. Peter said that he break his glasses.
 - 2. Peter said that he had broken his glasses.
 - 3. Peter said that he is breaking his glasses.
 - 4. Peter said that he is going to break his glasses.

Question ID : 8161613445
Status : Answered
Chosen Option : 2

Q.19 Select the word which means the same as the group of words given.

Something like an opening, particularly one in the body such as a nostril

- Ans
- 1. Obscure
 - 2. Oblique
 - 3. Orifice
 - 4. Obtuse

Question ID : 8161613465
Status : Not Attempted and Marked For Review
Chosen Option : --

Q.20 Select the wrongly spelt word.

- Ans
- 1. Video
 - 2. Voluntary
 - 3. Voracious
 - 4. Valour

Question ID : 8161613463
Status : Answered
Chosen Option : 3

Q.21 Select the word which means the same as the group of words given.

Something that is extremely unpleasant

- Ans
- 1. Heightened
 - 2. Humane
 - 3. Humorous
 - 4. Horrendous

Question ID : 8161613464
Status : Answered
Chosen Option : 3

Q.22 Select the correct antonym for the given word.

Identical

- Ans
- 1. Corresponding
 - 2. Different
 - 3. Similar
 - 4. Indistinguishable

Question ID : 8161613458
Status : Not Answered
Chosen Option : --

Q.23 Select the most appropriate option to substitute the underlined segment in the given sentence. If there is no need to substitute it, select No improvement.

The Dean said, "You can have neither jam nor butter, but not both."

- Ans
- 1. No improvement.
 - 2. jam and butter
 - 3. no jam or butter
 - 4. either jam or butter

Question ID : 8161613456
Status : Not Answered
Chosen Option : --

Q.24 Given below are four sentences in a jumbled order. Out of the given options pick the one that gives their correct order.

- A. The police suspected the man to be a thief.
- B. Then the trial began in the court.
- C. He was soon arrested by the police.
- D. The thief was sentenced to two years' imprisonment.

- Ans
- 1. BCDA
 - 2. ACBD
 - 3. BACD
 - 4. DCAB

Question ID : 8161613455
Status : Answered
Chosen Option : 4

Q.25 Select the most appropriate option to substitute the underlined segment in the given sentence. If there is no need to substitute it, select No improvement.

Tons of sheep were grazing in the field.

- Ans
- 1. Numerous sheeps
 - 2. A flock of sheep
 - 3. No improvement.
 - 4. Many sheeps

Question ID : 8161613457
Status : Answered
Chosen Option : 2

Q.1 उस अक्षर-समूह का चयन करें जिसका तीसरे अक्षर-समूह से वही संबंध है जो दूसरे अक्षर-समूह का पहले अक्षर-समूह से है।

CDE : XWV :: HIJ : ?

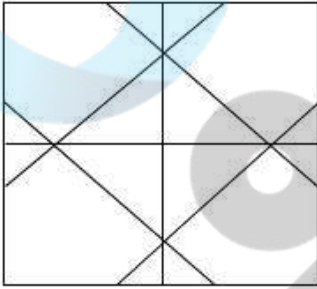
- Ans
- 1. PON
 - 2. SRQ
 - 3. QRS
 - 4. NOP

Question ID : 8161613480

Status : Answered

Chosen Option : 2

Q.2 दी गई आकृति में कितने त्रिभुज हैं?



- Ans
- 1. 24
 - 2. 28
 - 3. 16
 - 4. 20

Question ID : 8161613490

Status : Not Answered

Chosen Option : --

Q.3 उस विकल्प का चयन करें जिसमें शब्दों का आपस में वही संबंध है जो दिए गए शब्द-युग्म के शब्दों के बीच है।
मुख्य न्यायाधीश : राष्ट्रपति

- Ans
- 1. चीफ ऑफ आर्मी स्टाफ : प्रधानमंत्री
 - 2. नगर आयुक्त (म्युनिसिपल कमिशनर) : राज्य सरकार
 - 3. नगरसेवक : मेयर
 - 4. मुख्य मंत्री : कैबिनेट मंत्री

Question ID : 8161613484

Status : Answered

Chosen Option : 3

Q.4 उस विकल्प का चयन कीजिए, जिसका तीसरी संख्या से वही संबंध है जो दूसरी संख्या का पहली संख्या से है।

36 : 27 :: 16 : ?

- Ans
- 1. 125
 - 2. 8
 - 3. 124
 - 4. 64

Question ID : 8161613472

Status : Answered

Chosen Option : 2

Q.5 अक्षरों के उस संयोजन का चयन करें जिसे दी गई अक्षर-श्रृंखला में क्रमिक रूप से रखने पर श्रृंखला पूरी हो जाएगी।

ac_b_ac_aa_d_a_cd_

- Ans
- 1. bcdabcdaba
 - 2. acbdcdabc
 - 3. dadbcababa
 - 4. cbdcabada

Question ID : 8161613482

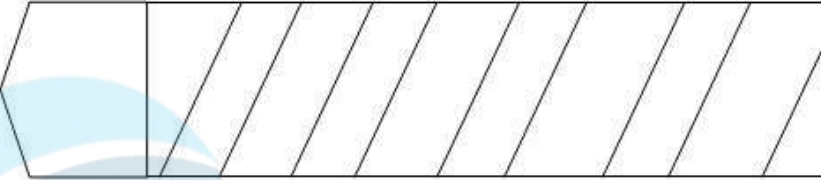
Status : Answered

Chosen Option : 4


Q.6 उस विकल्प का चयन करें जिसमें दी गई आकृति अंतर्निहित है। (घुमाने की अनुमति नहीं है)



Ans 1.



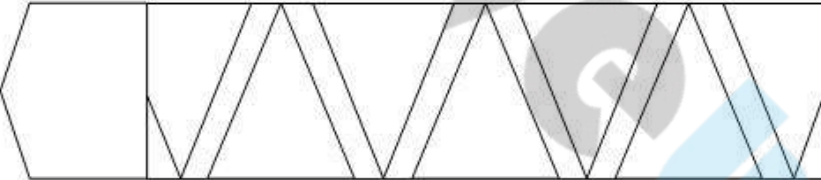
2.



3.



4.



Question ID : 8161613491
Status : Answered
Chosen Option : 4

Q.7 उस संख्या का चयन करें जो निम्नलिखित श्रेणी में प्रश्नचिह्न (?) के स्थान पर आ सकती है।

-13, 16, -20, 25, -31, ?

Ans 1. -38

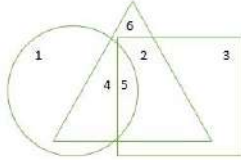
2. 48

3. -48

4. 38

Question ID : 8161613475
Status : Answered
Chosen Option : 4

Q.8 नीचे दिए गए वेन आरेख में, 'वृत्त' लड़कों का प्रतिनिधित्व करता है; 'त्रिभुज' विवाहित का प्रतिनिधित्व करता है, और 'वर्ग' उन व्यक्तियों का प्रतिनिधित्व करता है जिनके पास पालतू जानवर हैं। तो उस क्षेत्र का चयन करें जो उन लड़कों का प्रतिनिधित्व करता है जो विवाहित हैं लेकिन जिनके पास पालतू जानवर नहीं हैं।



- Ans
- 1. 5
 - 2. 4
 - 3. 6
 - 4. 2

Question ID : 8161613494

Status : Answered

Chosen Option : 2

Q.9 नीचे चार शब्द दिए गए हैं, जिनमें से तीन किसी न किसी तरह से समान हैं और एक असंगत है। उस असंगत शब्द का चयन कीजिए।

कबड्डी, वॉलीबॉल, फुटबॉल, हॉकी

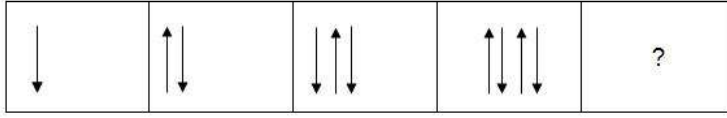
- Ans
- 1. कबड्डी
 - 2. वॉलीबॉल
 - 3. फुटबॉल
 - 4. हॉकी

Question ID : 8161613486

Status : Answered

Chosen Option : 1

Q.10 निम्नलिखित श्रृंखला में प्रश्न-चिह्न (?) के स्थान पर आने वाली आकृति का चयन करें।



Ans

- 1.
- 2.
- 3.
- 4.

Question ID : 8161613489

Status : Answered

Chosen Option : 3

Q.11 श्रद्धा ने शरायु से कहा, 'आपकी सास मेरे पिता की, जो की ज्येष्ठ सतान है, उनकी मां है, लेकिन आपके पति मेरे पिता नहीं हैं।' शरायु का श्रद्धा से क्या संबंध है?

Ans

1. भांजी/भतीजी
2. मां
3. चाची
4. पुत्री

Question ID : 8161613483

Status : Not Attempted and Marked For Review

Chosen Option : --

Q.12 उस विकल्प का चयन कीजिए जिसमें संख्याओं का आपस में वही संबंध है जो नीचे दिए गए समुच्चय की संख्याओं के बीच है।

(13, 133, 6)

Ans

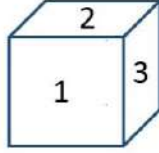
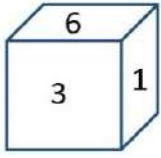
1. (9, 65, 4)
2. (3, 4, 2)
3. (11, 122, 2)
4. (10, 8, 6)

Question ID : 8161613474

Status : Answered

Chosen Option : 1

Q.13 एक ही पासे की दो भिन्न-भिन्न स्थितियां दर्शायी गई हैं। उस संख्या का चयन करें, जो '6' वाले फलक के विपरीत फलक पर होगी।



- Ans
- 1. 1
 - 2. 4
 - 3. 5
 - 4. 2

Question ID : 8161613488

Status : Answered

Chosen Option : 4

Q.14 यदि '+' का अर्थ गुणा है, 'x' का अर्थ भाग है, '-' का अर्थ घटाना है और '=' का अर्थ जोड़ है, तो निम्नलिखित व्यंजक का मान बताइए।

$$48 \div 12 \times 3 - 6 + 3$$

- Ans
- 1. 150
 - 2. 62
 - 3. 30
 - 4. 9

Question ID : 8161613471

Status : Answered

Chosen Option : 2

Q.15 चार अक्षर-समूह दिए गए हैं, जिनमें से तीन किसी न किसी तरह से संगत हैं और एक असंगत है। उस असंगत अक्षर-समूह का चयन कीजिए।

CEW, DFU, HJR, KMO

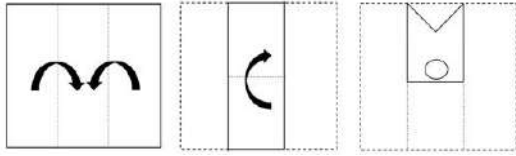
- Ans
- 1. HJR
 - 2. CEW
 - 3. KMO
 - 4. DFU

Question ID : 8161613485

Status : Answered

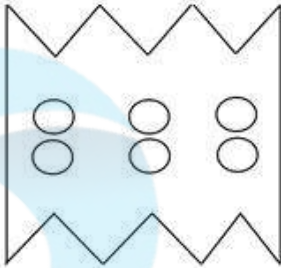
Chosen Option : 4

Q.16 नीचे दी गई आकृतियों में कागज के एक टुकड़े को मोड़ने का क्रम और काटने के ढंग दिखाए गए हैं। यह कागज खोलने पर कैसा दिखाई देगा?



Ans

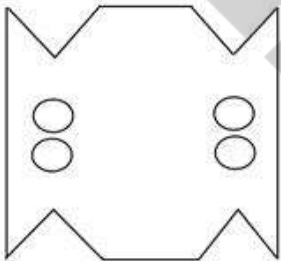
✓ 1.



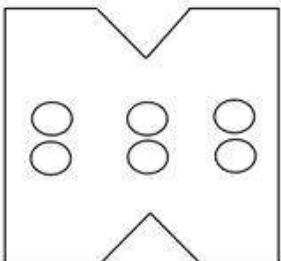
✗ 2.



✗ 3.



✗ 4.



Question ID : 8161613492

Status : Answered

Chosen Option : 1

Q.17 विकल्पों में से दी गई आकृति का सही दर्पण प्रतिबिंब का चयन करें।



Ans

✓ 1.



✗ 2.



✗ 3.



✗ 4.



Question ID : 8161613493

Status : Answered

Chosen Option : 1

Q.18 एक निश्चित कूट भाषा में, 'Wand' को '240153' और 'Curd' को '420193' लिखा जाता है। उसी भाषा में 'East' को क्या लिखा जाएगा?

- Ans
- 1. 612120
 - 2. 421821
 - 3. 602019
 - 4. 421719

Question ID : 8161613479
Status : Answered
Chosen Option : 3

Q.19 उस विकल्प का चयन कीजिए, जिसमें संख्याओं का आपस में वही संबंध है जो नीचे दिए गए समुच्चय की संख्याओं के बीच है।

(23, 59, 18)

- Ans
- 1. (43, 59, 67)
 - 2. (9, 92, 24)
 - 3. (71, 83, 21)
 - 4. (24, 68, 46)

Question ID : 8161613473
Status : Answered
Chosen Option : 3

Q.20 एक निश्चित कूट भाषा में, 'salute' को 'iuamet' लिखा जाता है। उसी भाषा में 'mango' को क्या लिखा जाएगा?

- Ans
- 1. uhpen
 - 2. phobn
 - 3. uhoen
 - 4. uhobn

Question ID : 8161613478
Status : Not Attempted and Marked For Review
Chosen Option : --

Q.21 नीचे चार संख्याएँ दी गई हैं, जिनमें से तीन किसी न किसी तरह से संगत हैं और एक असंगत है। उस असंगत संख्या का चयन करें।

132, 17523, 3164, 2685

- Ans
- 1. 2685
 - 2. 17523
 - 3. 3164
 - 4. 132

Question ID : 8161613476
Status : Not Attempted and Marked For Review
Chosen Option : --

Q.22 उस विकल्प का चयन करें जो शब्दों को तार्किक क्रम में दर्शाता है।

- Ans
- 1. चील - सांप - मूंगफली - चूहा
 - 2. चूहा - सांप - मूंगफली - चील
 - 3. चूहा - मूंगफली - चील - सांप
 - 4. मूंगफली - चूहा - सांप - चील

Question ID : 8161613477

Status : Answered

Chosen Option : 4

Q.23 एक पाइप रिसावरहित टंकी को 24 घंटे में पूरी तरह से भर सकता है। समान आकार की टंकी के मध्य बिंदु पर रिसाव होने पर आधी टंकी 36 घंटों में खाली हो जाती है। दी गई पाइप से इस टंकी को भरने में कितना समय लगेगा?

- Ans
- 1. 30 घंटे
 - 2. 14.4 घंटे
 - 3. 18 घंटे
 - 4. 72 घंटे

Question ID : 8161613470

Status : Answered

Chosen Option : 1

Q.24 दिए गए कथनों और निष्कर्षों को ध्यान से पढ़ें। यह मानते हुए कि कथनों में दी गई जानकारी सही है, भले ही वह आमतौर पर स्थापित तथ्यों से भिन्न दिखाई देती है, तय कीजिए कि कौनसा/से निष्कर्ष तर्कसंगत रूप से इन कथनों का अनुसरण करता/करते हैं/हैं।

कथन :

1. सभी कामगार ईमानदार हैं।
2. मेरे कुछ मित्र कामगार हैं।
3. मेरे सभी मित्र ईमानदार हैं।

निष्कर्ष :

- I. मेरे सभी मित्र कामगार हैं।
- II. सभी कामगार मेरे मित्र हैं।
- III. मेरे सभी गैर-कामगार मित्र ईमानदार हैं।

- Ans
- 1. केवल निष्कर्ष II अनुसरण करता है।
 - 2. केवल निष्कर्ष III अनुसरण करता है।
 - 3. केवल निष्कर्ष I और II अनुसरण करते हैं।
 - 4. केवल निष्कर्ष I और III अनुसरण करते हैं।

Question ID : 8161613487

Status : Answered

Chosen Option : 2

Q.25 उस विकल्प का चयन करें जिसका तीसरे शब्द से वही संबंध है जो दूसरे शब्द का पहले शब्द से है।

भारत : दिल्ली :: झारखंड : ?

- Ans
- 1. रांची
 - 2. भुवनेश्वर
 - 3. दिसपुर
 - 4. भोपाल

Question ID : 8161613481

Status : Answered

Chosen Option : 1

Section : Quantitative Aptitude(Basic Arithmetic Skill)

Q.1 श्रेणी बढ़ा 5%, 10%, 15% और 20% के समतुल्य एकल बढ़ा है:

- Ans
- 1. 43.86%
 - 2. 41.86%
 - 3. 42.86%
 - 4. 40.86%

Question ID : 8161613499

Status : Answered

Chosen Option : 2

Q.2 गौरव 14% वार्षिक दर से साधारण ब्याज पर संदीप से ₹1,500 उधार लेता है। 1 वर्ष बाद, ऋण चुकाने के लिए गौरव द्वारा संदीप को कितनी धनराशि देनी होगी?

- Ans
- 1. ₹1,715
 - 2. ₹1,700
 - 3. ₹1,710
 - 4. ₹1,705

Question ID : 8161613503

Status : Answered

Chosen Option : 3

Q.3 यदि $a + 2b = 10$ और $2ab = 9$ हो, तो $|a - 2b|$ _____ के बराबर है।

- Ans
- 1. 2
 - 2. 8
 - 3. 4
 - 4. 6

Question ID : 8161613508

Status : Not Attempted and Marked For Review

Chosen Option : --

Q.4 $-77 + 800 \div [83 - \{8 \times 9 + (18 - 3 \times 5)\}]$ का मान है:

- Ans
- 1. 25
 - 2. 24
 - 3. 26
 - 4. 23

Question ID : 8161613512
Status : Answered
Chosen Option : 4

Q.5 $\sin^2 38^\circ - \cos^2 52^\circ$ का मान है:

- Ans
- 1. $\frac{1}{\sqrt{2}}$
 - 2. $\sqrt{2}$
 - 3. 0
 - 4. 1

Question ID : 8161613513
Status : Answered
Chosen Option : 3

Q.6 एक आदमी और उसके बेटे की औसत आयु 60 वर्ष है। उनकी आयु का अनुपात क्रमशः 13 : 7 है। बेटे की आयु कितनी है?

- Ans
- 1. 41 वर्ष
 - 2. 43 वर्ष
 - 3. 40 वर्ष
 - 4. 42 वर्ष

Question ID : 8161613498
Status : Not Attempted and Marked For Review
Chosen Option : --

Q.7 यदि $(a + 3b) : (2a + 4b) = 3 : 5$ हो, तो $(a - b) : (a + b)$ _____ के बराबर है।

- Ans
- 1. 3 : 2
 - 2. 2 : 1
 - 3. 1 : 2
 - 4. 2 : 3

Question ID : 8161613502
Status : Answered
Chosen Option : 3

Q.8 यदि $4x^2 + y^2 = 40$ और $xy = 6, (x > 0, y > 0)$ हो, तो $2x + y$ का मान है:

- Ans
- 1. 16
 - 2. 8
 - 3. 24
 - 4. 4

Question ID : 8161613509

Status : Answered

Chosen Option : 2

Q.9 दिए गए दंड आरेख का अध्ययन करें और पूछे गए प्रश्न का उत्तर दें।



पिछले वर्ष की तुलना में, किस वर्ष हीरे के निर्यात में अधिकतम प्रतिशत वृद्धि हुई थी?

- Ans
- 1. 2012
 - 2. 2014
 - 3. 2009
 - 4. 2010

Question ID : 8161613519

Status : Not Attempted and Marked For Review

Chosen Option : --

Q.10 केंद्र P और Q वाले दो वृत्तों की त्रिज्याएँ क्रमशः 7 cm और 3 cm हैं, जो बिंदु A पर एक दूसरे को बाह्यतः स्पर्श करते हैं। BC एक उभयनिष्ठ अनुस्पर्श रेखा (direct common tangent) है, जहाँ B और C क्रमशः वृत्तों पर बिंदु हैं। BC की लम्बाई है:

- Ans
- 1. $3\sqrt{21}$ cm
 - 2. $2\sqrt{21}$ cm
 - 3. $\sqrt{21}$ cm
 - 4. $4\sqrt{21}$ cm

Question ID : 8161613505

Status : Answered

Chosen Option : 2

Q.11 एक व्यक्ति ने 60 पुस्तकें, जिनका मूल्य ₹60 प्रति पुस्तक है, खरीदी। उन पुस्तकों में से 50 पुस्तकें उसने 4% हानि पर बेच दी। पूरे लेनदेन में 5% लाभ प्राप्त करने के लिए, उसे शेष पुस्तकों को कितने प्रतिशत लाभ पर बेचना चाहिए?

- Ans
- 1. 30%
 - 2. 50%
 - 3. 40%
 - 4. 60%

Question ID : 8161613501
Status : Answered
Chosen Option : 2

Q.12 यदि $\sec B + \tan B = r$ है, तो $\sec B - \tan B$ का मान _____ के बराबर है।

- Ans
- 1. $\frac{1}{r}$
 - 2. 0
 - 3. r^2
 - 4. $-r$

Question ID : 8161613515
Status : Answered
Chosen Option : 1

Q.13 ΔRST की भुजा ST को P तक बढ़ाया गया है। यदि $\angle RTP = 115^\circ$ और $\angle S = \frac{2}{3}\angle R$ है, तो $\angle R$ की माप है:

- Ans
- 1. 66°
 - 2. 68°
 - 3. 67°
 - 4. 69°

Question ID : 8161613506
Status : Answered
Chosen Option : 4

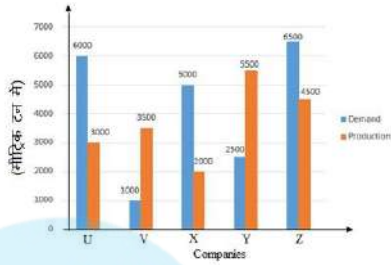
Q.14 रिचा म्यूचुअल फंड में ₹5,59,968 की धनराशि निवेश करती है, जो उसकी वार्षिक आय का 19% है। उसकी मासिक आय कितनी है?

- Ans
- 1. ₹4,45,600
 - 2. ₹1,45,600
 - 3. ₹2,45,600
 - 4. ₹3,45,600

Question ID : 8161613500
Status : Not Answered
Chosen Option : --

Q.15 दिए गए आलेख का अध्ययन करें और प्रश्न का उत्तर दें।

निम्न चार्ट पांच कंपनियों (Companies) U, V, X, Y और Z के लिए किसी वस्तु की मांग और उत्पादन (मीट्रिक टन में) को दर्शाता है।



यदि कंपनी U के लिए वस्तु की मांग (Demand) का $p\%$, कंपनी Z के लिए उस वस्तु के उत्पादन (production) के बराबर है, तो p का मान क्या होगा?

- Ans
- 1. 75
 - 2. 55
 - 3. 65
 - 4. 85

Question ID : 8161613516

Status : Not Answered

Chosen Option : --

Q.16 केंद्र O वाले एक वृत्त के बिंदु A पर स्पर्शरेखा वृत्त के व्यास PQ को (बढ़ाने पर) बिंदु B पर प्रतिच्छेदित करती है। यदि $\angle BAP = 125^\circ$ है, तो $\angle AQP$ _____ के बराबर है।

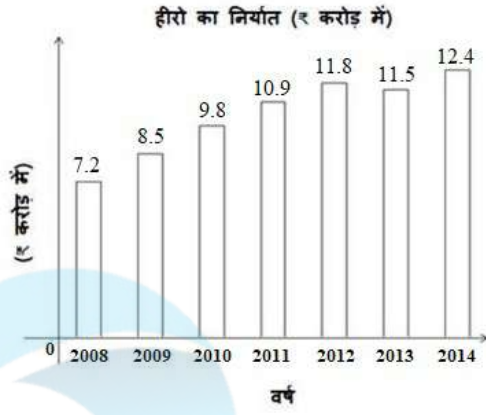
- Ans
- 1. 55°
 - 2. 45°
 - 3. 50°
 - 4. 60°

Question ID : 8161613504

Status : Not Answered

Chosen Option : --

Q.17 दिए गए दंड आरेख का अध्ययन करें और प्रश्न का उत्तर दें।



निम्न में से किन दो वर्षों में, हीरो का औसत निर्यात ₹12 करोड़ के निकटतम था?

- Ans
- 1. 2012 और 2013
 - 2. 2011 और 2012
 - 3. 2013 और 2014
 - 4. 2010 और 2011

Question ID : 8161613518

Status : Not Answered

Chosen Option : --

Q.18 $2^{25} + 2^{26} + 2^{27}$ निम्नलिखित में से किस से विभाज्य है?

- Ans
- 1. 5
 - 2. 7
 - 3. 9
 - 4. 6

Question ID : 8161613511

Status : Answered

Chosen Option : 2

Q.19 यदि $x^3 + 27y^3 + 64z^3 = 36xyz$ हो, तो x, y और z में संबंध है:

- Ans
- 1. $x + 3y + 4z = 0$
 - 2. $x - 3y + 4z = 0$
 - 3. $x + 3y = 4z$
 - 4. $x + y + z = 0$

Question ID : 8161613510

Status : Answered

Chosen Option : 1

Q.20 यदि $\cot A = \tan(2A - 45^\circ)$ है, A एक न्यून कोण है, तो $\tan A$ _____ के बराबर है।

- Ans
- 1. $\sqrt{3}$
 - 2. 0
 - 3. $\frac{1}{2}$
 - 4. 1

Question ID : 8161613514

Status : Answered

Chosen Option : 4

Q.21 एक समबाहु त्रिभुज ΔPQR का केंद्रक L है। यदि $PQ = 18$ cm है, तो PL की लंबाई कितनी होगी?

- Ans
- 1. $5\sqrt{3}$ cm
 - 2. $3\sqrt{3}$ cm
 - 3. $4\sqrt{3}$ cm
 - 4. $6\sqrt{3}$ cm

Question ID : 8161613507

Status : Answered

Chosen Option : 2

Q.22 यदि श्याम 30 km/h की चाल से दौड़ता है, तो 500 m की दूरी तय करने में उसे कितने मिनट लगेंगे?

- Ans
- 1. 1
 - 2. $2\frac{1}{2}$
 - 3. $1\frac{1}{2}$
 - 4. 2

Question ID : 8161613496

Status : Answered

Chosen Option : 1

Q.23 एंटनी और विकास एक काम को एक साथ मिलकर 20 दिनों में पूरा कर सकते हैं और इसी काम को अकेले विकास 25 दिनों में पूरा कर सकता है। एंटनी को अकेले इस काम को पूरा करने में कितने दिन लग सकते हैं?

- Ans
- 1. 80 दिन
 - 2. 90 दिन
 - 3. 110 दिन
 - 4. 100 दिन

Question ID : 8161613495

Status : Answered

Chosen Option : 4

Q.24 एक आयत की चौड़ाई और परिमाण का अनुपात 1 : 8 है और आयत का क्षेत्रफल 363 cm^2 है, तो आयत की चौड़ाई कितनी होगी।

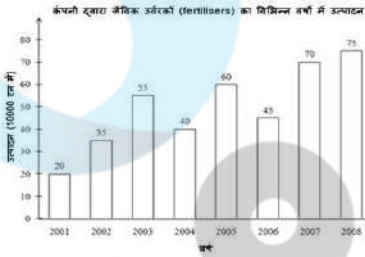
- Ans
- 1. 13 cm
 - 2. 12 cm
 - 3. 11 cm
 - 4. 10 cm

Question ID : 8161613497

Status : Not Answered

Chosen Option : --

Q.25 दिए गए दंड आरेख का अध्ययन करें और प्रश्न का उत्तर दें।



कंपनी द्वारा जैविक उर्वरकों का वर्ष 2005, 2006 और 2008 के कुल उत्पादन का वर्ष 2001, 2002, 2003 और 2004 के कुल उत्पादन से अनुपात है:

- Ans
- 1. 3 : 4
 - 2. 5 : 6
 - 3. 4 : 3
 - 4. 6 : 5

Question ID : 8161613517

Status : Not Answered

Chosen Option : --

Section : General Awareness

Q.1 अप्रैल 2020 तक की स्थिति के अनुसार, _____ महिलाओं के टेस्ट क्रिकेट के इतिहास में, किसी भी महिला क्रिकेटर द्वारा सबसे अधिक गेंद फेंकने की रिकॉर्डधारक हैं।

- Ans
- 1. डायना एडुल्जी
 - 2. अंजुम चोपड़ा
 - 3. मिताली राज
 - 4. हरमनप्रीत कौर

Question ID : 8161613543

Status : Not Attempted and Marked For Review

Chosen Option : --

Q.2 वाणिज्यिक वाहन ब्रांड अशोक लेलैंड ने, नवंबर 2019 में, निम्नलिखित में से किस बैंक के साथ 2 साल की अवधि हेतु वाहन ऋण के लिए एक करार किया है?

- Ans
- 1. भारतीय स्टेट बैंक
 - 2. पंजाब नेशनल बैंक
 - 3. एच.डी.एफ.सी. (HDFC) बैंक
 - 4. आई.सी.आई.सी.आई. (ICICI) बैंक

Question ID : 8161613527

Status : **Not Attempted and Marked For Review**

Chosen Option : --

Q.3 _____ पर्व असम के अहोम (Ahom) लोगों द्वारा प्रति वर्ष 31 जनवरी को स्वर्गवासी लोगों की स्मृति में मनाया जाता है।

- Ans
- 1. लाम्प्रा पूजा (Lampra Puja)
 - 2. अशोकाष्टमी (Ashokastami)
 - 3. तीर्थमुख (TirthaMukh)
 - 4. मे-डाम-मे-फी (Me-Dam-Me-Phi)

Question ID : 8161613523

Status : **Not Attempted and Marked For Review**

Chosen Option : --

Q.4 यादगीर, बीदर और गदग जिले _____ राज्य में स्थित हैं।

- Ans
- 1. केरल
 - 2. कर्नाटक
 - 3. आंध्र प्रदेश
 - 4. तमिलनाडु

Question ID : 8161613533

Status : **Not Answered**

Chosen Option : --

Q.5 मई 2020 में, भारत सरकार ने राज्य सरकारों के लिए शुद्ध उधार सीमा को बढ़ा कर सकल राज्य घरेलू उत्पाद (GSDP) का _____ % कर दिया है।

- Ans
- 1. 3
 - 2. 7
 - 3. 5
 - 4. 10

Question ID : 8161613528

Status : **Not Answered**

Chosen Option : --

Q.6 _____ एक पारंपरिक भारतीय खेल है, जिसमें एथलीट विभिन्न प्रकार की जिम्नास्टिक गतिविधियां करते हैं और एक ऊर्ध्वाधर लकड़ी के खंभे पर विभिन्न मुद्राएं दर्शाते हैं।

- Ans
- 1. नादान पंथु काली (Nadan Panthu Kali)
 - 2. यूबी लक्पी (Yubi Lakpi)
 - 3. मलखंब (Mallakhamb)
 - 4. कलारिपयाट्टु (Kalaripayattu)

Question ID : 8161613542
Status : Not Answered
Chosen Option : --

Q.7 सिनो-आर्ट्रियलनोड (sino-atrialnode) _____ में स्थित होता है।

- Ans
- 1. मूत्राशय
 - 2. आमाशय
 - 3. मस्तिष्क
 - 4. हृदय

Question ID : 8161613531
Status : Answered
Chosen Option : 2

Q.8 निम्नलिखित में से कौन सा स्थल, जून 2020 तक की स्थिति के अनुसार संयुक्त राष्ट्र संघ के विश्व धरोहर स्थलों की सूची में शामिल नहीं है?

- Ans
- 1. एलोरा की गुफाएं
 - 2. अजंता की गुफाएं
 - 3. कार्ले की गुफाएं
 - 4. एलीफेंटा की गुफाएं

Question ID : 8161613522
Status : Answered
Chosen Option : 3

Q.9 अवसाद एक _____ विकार है।

- Ans
- 1. सोमैटोफॉर्म (somatoform)
 - 2. विसंबंधकारी (dissociative)
 - 3. मनोभाजित (schizophrenic)
 - 4. मनोदशा (mood) संबंधी

Question ID : 8161613529
Status : Answered
Chosen Option : 4

Q.10 बांधवगढ़ टाइगर रिज़र्व _____ राज्य में स्थित है।

- Ans
- 1. राजस्थान
 - 2. आंध्र प्रदेश
 - 3. मध्य प्रदेश
 - 4. उत्तराखंड

Question ID : 8161613532
Status : Answered
Chosen Option : 3

Q.11 भारत सरकार ने 1948 में 'ऑपरेशन पोलो' कोडनेम के तहत _____ को अपने अधिकार में लिया था।

- Ans
- 1. मैसूर
 - 2. हैदराबाद
 - 3. ग्वालियर
 - 4. बड़ौदा

Question ID : 8161613540
Status : Answered
Chosen Option : 1

Q.12 _____ में हरकत एक पेशीय पाद (muscular foot) की सहायता से होती है।

- Ans
- 1. समुद्री अर्चिन
 - 2. केंचुआ
 - 3. घोंघे
 - 4. जेलिफ़िश

Question ID : 8161613530
Status : Not Answered
Chosen Option : --

Q.13 स्वच्छ सर्वेक्षण 2019 में निम्नलिखित में से किस राज्य को सबसे स्वच्छ राज्य घोषित किया गया था?

- Ans
- 1. उत्तराखंड
 - 2. महाराष्ट्र
 - 3. छत्तीसगढ़
 - 4. झारखंड

Question ID : 8161613524
Status : Answered
Chosen Option : 3

Q.14 निम्नलिखित में से किस राज्य में, भारत के सर्वाधिक समृद्ध मोनेज़ाइट (monazite) भंडारों में से एक मौजूद है?

- Ans
- 1. राजस्थान
 - 2. केरल
 - 3. गुजरात
 - 4. झारखंड

Question ID : 8161613535
Status : Answered
Chosen Option : 4

Q.15 2020 में अंतर्राष्ट्रीय नर्स दिवस का विषय (थीम) क्या था?

- Ans
- 1. विश्व स्वास्थ्य के लिए नर्सिंग (Nursing the World to Health)
 - 2. स्वास्थ्य एक मानवाधिकार है (Health is a Human Right)
 - 3. सभी के लिए स्वास्थ्य (Health for All)
 - 4. सतत विकास लक्ष्यों को प्राप्त करना (Achieving the Sustainable Development Goals)

Question ID : 8161613525
Status : Answered
Chosen Option : 3

Q.16 भारत के पहले चीफ ऑफ डिफेंस स्टाफ (Chief of Defence Staff) कौन थे?

- Ans
- 1. अजीत डोभाल
 - 2. बिपिन रावत
 - 3. सैम मानेकशॉ
 - 4. गोपाल गुरुनाथ बेवूर

Question ID : 8161613539

Status : Answered

Chosen Option : 2

Q.17 ऑटोमेटिकली प्रोग्रामेबल टूल (APT) का विकास किसने किया?

- Ans
- 1. जोनाथन फ्लेचर
 - 2. गैरी किल्डल
 - 3. राल्फ एच. बेयर
 - 4. डगलस टी. रॉस

Question ID : 8161613521

Status : Not Answered

Chosen Option : --

Q.18 1 पेटाबाइट (PB) = 1024 _____।

- Ans
- 1. गीगाबाइट्स (GB)
 - 2. ज़ेटाबाइट्स (ZB)
 - 3. टेराबाइट्स (TB)
 - 4. एक्साबाइट्स (EB)

Question ID : 8161613520

Status : Not Attempted and Marked For Review

Chosen Option : --

Q.19 निम्नलिखित में से कौन सा एक स्थलीय प्राकृतिक आपदा का उदाहरण है?

- Ans
- 1. भूस्खलन
 - 2. हिमझंझावत
 - 3. बवंडर
 - 4. आंधी-तूफान

Question ID : 8161613534

Status : Answered

Chosen Option : 1

Q.20 प्राचीन भारत के राजाओं की प्रशंसा में रचित शिलालेखों को _____ के रूप में जाना जाता है।

- Ans
- 1. त्रिपिटकों
 - 2. जातकों
 - 3. सूत्रों
 - 4. प्रशस्तियों

Question ID : 8161613537

Status : Answered

Chosen Option : 1

Q.21 'एफ.आइ.आर आपके द्वार (FIR Aapke Dwar)', एक ऐसा कार्यक्रम है जिसके तहत पुलिस अधिकारी पीड़ितों के घर जाकर प्रथम सूचना रिपोर्ट (FIR) दर्ज करेंगे, इसे मई 2020 में _____ राज्य में शुरू किया गया था।

- Ans
- 1. मध्य प्रदेश
 - 2. बिहार
 - 3. उत्तर प्रदेश
 - 4. महाराष्ट्र

Question ID : 8161613526

Status : Not Attempted and Marked For Review

Chosen Option : --

Q.22 _____ महात्मा गांधी और मोहम्मद अली जिन्ना दोनों के गुरु थे।

- Ans
- 1. रविंद्रनाथ टैगोर
 - 2. बाल गंगाधर तिलक
 - 3. गोपाल कृष्ण गोखले
 - 4. लाला लाजपत राय

Question ID : 8161613536

Status : Answered

Chosen Option : 3

Q.23 भारत के प्रथम पिछड़ा वर्ग आयोग का नेतृत्व _____ ने किया था।

- Ans
- 1. लोकमान्य तिलक
 - 2. नानाजी देशमुख
 - 3. काका कालेलकर
 - 4. गोपाल कृष्ण गोखले

Question ID : 8161613541

Status : Answered

Chosen Option : 1

Q.24 _____ के महाराजा भारतीय क्रिकेट कंट्रोल बोर्ड (BCCI) के अध्यक्ष के रूप में सेवा करने वाले पहले भारतीय क्रिकेटर थे।

- Ans
- 1. रीवा
 - 2. बड़ौदा
 - 3. मैसूर
 - 4. विजयनगरम

Question ID : 8161613544

Status : Not Answered

Chosen Option : --

Q.25 विश्व स्वास्थ्य संगठन में सार्वजनिक स्वास्थ्य अनुभाग के पहले मुख्य वैज्ञानिक का नाम बताइए।

- Ans
- 1. डॉ. माइकल रयान (Dr. Michael Ryan)
 - 2. डॉ. हर्षवर्धन (Dr. Harsh Vardhan)
 - 3. डॉ. सौम्या स्वामिनाथन (Dr. Soumya Swaminathan)
 - 4. डॉ. ज़ैशुसआना जकाब (Dr. Zsuzsanna Jakab)

Question ID : 8161613538

Status : Not Answered

Chosen Option : --

Roll Number	
Candidate Name	
Venue Name	
Exam Date	21/10/2020
Exam Time	10:00 AM - 11:00 AM
Subject	CHSL Tier 1

Section : English Language (Basic Knowledge)

Q.1 Select the most appropriate word(s) to fill in the blank:

My family is my priority but there were times when I had to _____ because of work pressures.

- Ans 1. pull away
 2. look into
 3. put off
 4. sit in

Question ID : 8161613165
Status : Answered
Chosen Option : 1

Q.2 Select the most appropriate meaning of the given idiom:

Sleep on it

- Ans 1. To make a wrong decision
 2. To prefer to sleep than take action
 3. To wait before making a decision
 4. To make a decision immediately

Question ID : 8161613158
Status : Not Answered
Chosen Option : --

Q.3 Select the most appropriate synonym of the given word:

Fraudulent

- Ans 1. Repellent
 2. Deceitful
 3. Prevalent
 4. Genuine

Question ID : 8161613163
Status : Not Answered
Chosen Option : --

Q.4 Select the word which means the same as the group of words given:

Satisfied, with no desire to change or improve

- Ans
- 1. Adolescent
 - 2. Complacent
 - 3. Beneficent
 - 4. Innocent

Question ID : **8161613161**
Status : **Answered**
Chosen Option : **3**

Comprehension:

In the following passage some words have been deleted. Fill in the blanks with the help of the alternatives given. Select the most appropriate option for each blank.

One day Willy stumbled upon a novel in a (1)_____ bookshop-a Perry Mason book written by Erle Stanley Gardner. He (2)_____ the book simply because the title of the book cover looked (3)_____. Although it was an unabridged book Willy was able (4)_____ it with sufficient comprehension. This was partly because the novel contained (5)_____ written in simple, conversational language.

SubQuestion No : 5

Q.5 Select the most appropriate option for blank No. 1.

- Ans
- 1. local
 - 2. locals
 - 3. location
 - 4. localize

Question ID : **8161613146**
Status : **Answered**
Chosen Option : **1**

Comprehension:

In the following passage some words have been deleted. Fill in the blanks with the help of the alternatives given. Select the most appropriate option for each blank.

One day Willy stumbled upon a novel in a (1)_____ bookshop-a Perry Mason book written by Erle Stanley Gardner. He (2)_____ the book simply because the title of the book cover looked (3)_____. Although it was an unabridged book Willy was able (4)_____ it with sufficient comprehension. This was partly because the novel contained (5)_____ written in simple, conversational language.

SubQuestion No : 6

Q.6 Select the most appropriate option for blank No. 2.

- Ans
- 1. picked on
 - 2. picked at
 - 3. picked in
 - 4. picked up

Question ID : **8161613147**
Status : **Answered**
Chosen Option : **4**

Comprehension:

In the following passage some words have been deleted. Fill in the blanks with the help of the alternatives given. Select the most appropriate option for each blank.

One day Willy stumbled upon a novel in a (1)_____ bookshop-a Perry Mason book written by Erle Stanley Gardner. He (2)_____ the book simply because the title of the book cover looked (3)_____. Although it was an unabridged book Willy was able (4)_____ it with sufficient comprehension. This was partly because the novel contained (5)_____ written in simple, conversational language.

SubQuestion No : 7

Q.7 Select the most appropriate option for blank No. 3.

- Ans
- 1. attractive
 - 2. attracted
 - 3. attract
 - 4. attraction

Question ID : 8161613148

Status : Answered

Chosen Option : 1

Comprehension:

In the following passage some words have been deleted. Fill in the blanks with the help of the alternatives given. Select the most appropriate option for each blank.

One day Willy stumbled upon a novel in a (1)_____ bookshop-a Perry Mason book written by Erle Stanley Gardner. He (2)_____ the book simply because the title of the book cover looked (3)_____. Although it was an unabridged book Willy was able (4)_____ it with sufficient comprehension. This was partly because the novel contained (5)_____ written in simple, conversational language.

SubQuestion No : 8

Q.8 Select the most appropriate option for blank No. 4.

- Ans
- 1. reading
 - 2. to reading
 - 3. to read
 - 4. read

Question ID : 8161613149

Status : Answered

Chosen Option : 3

Comprehension:

In the following passage some words have been deleted. Fill in the blanks with the help of the alternatives given. Select the most appropriate option for each blank.

One day Willy stumbled upon a novel in a (1)_____ bookshop-a Perry Mason book written by Erle Stanley Gardner. He (2)_____ the book simply because the title of the book cover looked (3)_____. Although it was an unabridged book Willy was able (4)_____ it with sufficient comprehension. This was partly because the novel contained (5)_____ written in simple, conversational language.

SubQuestion No : 9

Q.9 Select the most appropriate option for blank No.5.

- Ans
- 1. monologues
 - 2. prologue
 - 3. epilogue
 - 4. dialogues

Question ID : 8161613150

Status : Answered

Chosen Option : 3

Q.10 Given below are four jumbled sentences. Pick the option that gives their correct order.

- A. Since then, Pathak has performed in several plays and films.
- B. While studying there, he saw 'Equus,' a play that changed his life forever.
- C. Vinay Pathak was pursuing MBA in New York.
- D. He decided to change tracks and study drama.

- Ans
- 1. DCAB
 - 2. BACD
 - 3. CBDA
 - 4. CADB

Question ID : 8161613151

Status : Answered

Chosen Option : 4

Q.11 Select the most appropriate synonym of the given word:

Indomitable

- Ans
- 1. Accessible
 - 2. Invincible
 - 3. Justifiable
 - 4. Changeable

Question ID : 8161613164

Status : Not Answered

Chosen Option : --

Q.12 Select the word which means the same as the group of words given:

To make perfect or complete

- Ans
- 1. Department
 - 2. Attainment
 - 3. Impediment
 - 4. Complement

Question ID : 8161613162
Status : Answered
Chosen Option : 4

Q.13 Select the correct Indirect form of the given sentence.

"It is a fact that kids model parental behaviour," said the researcher.

- Ans
- 1. The researcher said that it is a fact that kids model parental behaviour.
 - 2. The researcher has been saying that kids model parental behaviour.
 - 3. The researcher has said that it is a fact that kids have modeled parental behaviour.
 - 4. The researcher says that it is a fact that kids model parental behaviour.

Question ID : 8161613142
Status : Answered
Chosen Option : 1

Q.14 Given below are four jumbled sentences. Pick the option that gives their correct order.

- A. It is played by turning around while reciting a rhyme.
- B. The circling motion is like that of a Sufi dervish.
- C. Fahim Irshad has made a film called 'Aani Maani'.
- D. The movie title is based on a game popular among little children in Uttar Pradesh.

- Ans
- 1. CDAB
 - 2. BDCA
 - 3. CBAD
 - 4. ACDB

Question ID : 8161613152
Status : Answered
Chosen Option : 1

Q.15 In the sentence identify the segment which contains the grammatical error.

According to a recent study, drinking green tea thrice a week is associated with a longest and healthy life.

- Ans
- 1. a longest and healthy life
 - 2. According to a recent study
 - 3. is associated with
 - 4. drinking green tea thrice a week

Question ID : 8161613143
Status : Answered
Chosen Option : 2

Q.16 In the sentence identify the segment which contains the grammatical error.

People with full time sedentary jobs who commuting long distances, may have sleep problems due to lack of exercise.

- Ans
- 1. may have sleep problems
 - 2. People with full time sedentary jobs
 - 3. due to lack of exercise
 - 4. who commuting long distances

Question ID : 8161613144
Status : Answered
Chosen Option : 2

Q.17 Select the correct passive form of the given sentence.

Dr. Verma advised patients to try out a new medicine for migraine.

- Ans
- 1. Patients were advised to try out a new medicine for migraine by Dr. Verma.
 - 2. Patients have been advised to try out a new medicine for migraine by Dr. Verma.
 - 3. The old patients had been advised to try out a new medicine for migraine by Dr. Verma.
 - 4. The patients were being advised to try out a new medicine for migraine by Dr. Verma.

Question ID : 8161613141
Status : Answered
Chosen Option : 1

Q.18 Select the most appropriate meaning of the given idiom:

Keep your shirt on

- Ans
- 1. To remain cool
 - 2. To celebrate
 - 3. To keep busy
 - 4. To work hard

Question ID : 8161613157
Status : Answered
Chosen Option : 3

Q.19 Select the most appropriate option to substitute the underlined segment in the given sentence. If there is no need to substitute it, select No improvement.

I like the place which I live but it would be wonderful to live in the mountains.

- Ans
- 1. where
 - 2. No Improvement
 - 3. who
 - 4. when

Question ID : 8161613153
Status : Answered
Chosen Option : 1

Q.20 Select the wrongly spelt word.

- Ans
- 1. Transparent
 - 2. Deterent
 - 3. Different
 - 4. Irreverent

Question ID : 8161613160
Status : Not Answered
Chosen Option : --

Q.21 Select the wrongly spelt word.

- Ans
- 1. Courteous
 - 2. Circueteous
 - 3. Momentous
 - 4. Delicious

Question ID : 8161613159
Status : Answered
Chosen Option : 2

Q.22 Select the most appropriate antonym of the given word:

CAUSTIC

- Ans
- 1. Sarcastic
 - 2. Kind
 - 3. Scary
 - 4. Bitter

Question ID : 8161613156
Status : Answered
Chosen Option : 4

Q.23 Select the most appropriate antonym of the given word:

BUOYANT

- Ans
- 1. Neutral
 - 2. Bouncy
 - 3. Gloomy
 - 4. Cheerful

Question ID : 8161613155
Status : Not Answered
Chosen Option : --

Q.24 Select the most appropriate word to fill in the blank.

Shivangini, the 12 year old archer who _____ an injury has been successfully operated by a team of doctors at A.I.I.M.S.

- Ans
- 1. pertained
 - 2. maintained
 - 3. ordained
 - 4. sustained

Question ID : 8161613166

Status : Answered

Chosen Option : 1

Q.25 Select the most appropriate option to substitute the underlined segment in the given sentence. If there is no need to substitute it, select No improvement.

The film by itself was good but the bit long than I had expected.

- Ans
- 1. a bit long
 - 2. the bit longer
 - 3. a bit longer
 - 4. No Improvement

Question ID : 8161613154

Status : Answered

Chosen Option : 2

Section : General Intelligence

Q.1 एक कंपनी में तीन विभाग हैं- IT, HR और हेल्पडेस्क। IT विभाग में 125 कर्मचारी हैं और HR विभाग में कर्मचारियों की संख्या IT के कुल कर्मचारियों का 1/5 भाग है। हेल्पडेस्क विभाग में IT और HR में काम कर रहे कुल कर्मचारियों से 20 कर्मचारी कम हैं। तीनों विभागों में काम करने वाले कर्मचारियों की कुल संख्या क्या है?

- Ans
- 1. 280
 - 2. 180
 - 3. 170
 - 4. 150

Question ID : 8161613167

Status : Answered

Chosen Option : 1

Q.2 दिए गए चार अक्षर-समूहों में से तीन किसी न किसी प्रकार संगत हैं और एक असंगत है। उस असंगत अक्षर-समूह का चयन करें।

- Ans
- 1. CGKO
 - 2. EIMQ
 - 3. BFJN
 - 4. DHLN

Question ID : 8161613182

Status : Answered

Chosen Option : 4

Q.3 उस सही विकल्प का चयन करें जो निम्नलिखित शब्दों को एक तार्किक और अर्थपूर्ण क्रम में व्यवस्थित करता है।

1. गेहूँ का पौधा
2. रोटी
3. बीज
4. आटा

- Ans
- ✓ 1. 3, 1, 4, 2
 - ✗ 2. 1, 3, 4, 2
 - ✗ 3. 1, 2, 4, 3
 - ✗ 4. 2, 1, 3, 4

Question ID : 8161613174



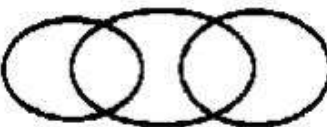

Status : Answered

Chosen Option : 1

Q.4 उस वेन आरेख का चयन करें जो दिए गए वर्गों के बीच संबंधों को सर्वोत्तम ढंग से दर्शाता है।

देवनागरी, हिंदी, संस्कृत

Ans

- ✗ 1. 
- ✗ 2. 
- ✗ 3. 
- ✓ 4. 

Question ID : 8161613191

Status : Answered

Chosen Option : 1

Q.5 उस विकल्प का चयन करें जिसका तीसरी संख्या से वही संबंध है जो दूसरी संख्या का पहली संख्या से है।

6 : 252 :: 5 : ?

Ans 1. 150

2. 25

3. 125

4. 100

Question ID : 8161613169

Status : Answered

Chosen Option : 1

Q.6 उस पद का चयन करें जिसे निम्नलिखित श्रेणी में प्रश्नचिह्न (?) के स्थान पर रखा जा सकता है।

BK, FJ, JI, NH, ?, VF

Ans 1. SE

2. RG

3. RE

4. SG

Question ID : 8161613175

Status : Answered

Chosen Option : 2

Q.7 नीचे चार शब्द दिए गए हैं, जिनमें से तीन किसी न किसी प्रकार संगत हैं और एक असंगत है। उस असंगत शब्द का चयन करें।

Ans 1. मटर

2. गाजर

3. आलू

4. मूली

Question ID : 8161613181

Status : Answered

Chosen Option : 1

Q.8 निम्नलिखित समीकरण को संतुलित करने के लिए किन दो चिहनों को आपस में बदलना होगा?

$$5 \times 4 + 12 - 3 \div 6 = 18$$

Ans 1. \div और \times

2. \times और $+$

3. \div और $-$

4. $+$ और $-$

Question ID : 8161613168

Status : Answered

Chosen Option : 3

Q.9 निम्नलिखित श्रेणी में अगले क्रम पर आने वाले पद का चयन करें।

EB, HC, KD, NE, QF, ?

Ans 1. TG

2. SG

3. UH

4. VH

Question ID : 8161613177

Status : Answered

Chosen Option : 1

Q.10 एक ही पासे की तीन अलग-अलग स्थितियाँ दर्शाई गई हैं। उस अक्षर का चयन करें जो 'f' वाले फलक के विपरीत फलक पर होगा।



Ans 1. g

2. d

3. h

4. a

Question ID : 8161613185

Status : Answered

Chosen Option : 4

Q.11 उस विकल्प का चयन करें जिसका तीसरे पद से वही संबंध है जो दूसरे पद का पहले पद से है।

जूता : चमड़ा : : कागज : ?

Ans

- 1. मुद्रक
- 2. प्लास्टिक
- 3. पुस्तक
- 4. लकड़ी

Question ID : 8161613178

Status : Answered

Chosen Option : 4

Q.12 दिए गए कथनों और निष्कर्षों को ध्यान से पढ़ें। यह मानते हुए कि कथनों में दी गई जानकारी सही है, भले ही वह आम तौर पर स्थापित तथ्यों से भिन्न दिखाई देती है, तय कीजिए कि कौन सा/से निष्कर्ष तर्कसंगत रूप से इन कथनों का अनुसरण करता/करते हैं/हैं।

कथन:

- I. सभी कीबोर्ड माउस हैं।
- II. कुछ माउस प्रिंटर हैं।

निष्कर्ष:

- 1. कोई प्रिंटर कीबोर्ड नहीं है।
- 2. कुछ प्रिंटर माउस हैं।
- 3. सभी प्रिंटर माउस हैं।
- 4. कोई कीबोर्ड प्रिंटर नहीं है।

Ans

- 1. केवल निष्कर्ष 1 अनुसरण करता है।
- 2. केवल निष्कर्ष 3 अनुसरण करता है।
- 3. केवल निष्कर्ष 4 अनुसरण करता है।
- 4. केवल निष्कर्ष 2 अनुसरण करता है।

Question ID : 8161613184

Status : Answered

Chosen Option : 4

Q.13 उस संख्या का चयन करें जो निम्नलिखित श्रेणी में अगले क्रम पर आएगी।

386, 401, 417, 434, ?

Ans

- 1. 552
- 2. 351
- 3. 452
- 4. 451

Question ID : 8161613172

Status : Answered

Chosen Option : 3

Q.14 उन अक्षरों का चयन करें जो निम्नलिखित श्रेणी में आए प्रश्न-चिहनों (?) के स्थान पर क्रमशः आएँगे।

AG, GL, MQ, S?, ?A

- Ans
- ✓ 1. V और Y
 - ✗ 2. U और Y
 - ✗ 3. V और Z
 - ✗ 4. T और Y

Question ID : 8161613179

Status : Answered

Chosen Option : 1

Q.15 दिए गए चार शब्दों में से तीन किसी न किसी प्रकार संगत हैं और एक असंगत है। उस असंगत शब्द का चयन करें।

- Ans
- ✓ 1. पास्कल
 - ✗ 2. सेल्सियस
 - ✗ 3. फारेनहाइट
 - ✗ 4. केल्विन

Question ID : 8161613183

Status : Answered

Chosen Option : 1

Q.16 चार संख्या-युग्म दिए गए हैं जिन में से तीन किसी न किसी प्रकार संगत हैं और एक असंगत है। उस असंगत संख्या-युग्म का चयन करें।

- Ans
- ✗ 1. 132 : 11
 - ✗ 2. 182 : 13
 - ✓ 3. 309 : 17
 - ✗ 4. 156 : 12

Question ID : 8161613173

Status : Answered

Chosen Option : 3

Q.17 उस संख्या का चयन करें जिसे निम्नलिखित श्रेणी में प्रश्न-चिह्न (?) के स्थान पर रखा जा सकता है।

0, 2, 10, 30, ?, 130, 222

- Ans
- ✗ 1. 72
 - ✓ 2. 68
 - ✗ 3. 60
 - ✗ 4. 64

Question ID : 8161613176

Status : Answered

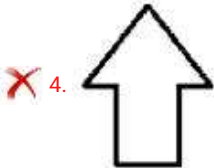

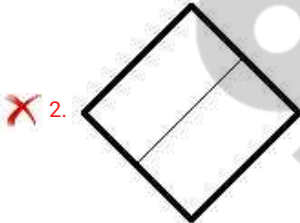
Chosen Option : 2

Q.18 उस विकल्प का चयन करें जो दिए गए चित्र में अंतर्निहित है।

(घुमाने की अनुमति नहीं)



Ans




Question ID : 8161613188

Status : Answered

Chosen Option : 1

Q.19 उस विकल्प-आकृति का चयन करें जो दी गई आकृति-श्रृंखला में रिक्त स्थान पर रखने पर उसे पूरा करेगी।



Ans

✓ 1.



✗ 2.



✗ 3.



✗ 4.

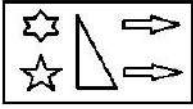


Question ID : 8161613186

Status : Answered

Chosen Option : 1

Q.20 दी गई आकृति की उस सही दर्पण-छवि का चुनाव करें जो आकृति के दाईं ओर दर्पण रखे जाने पर बनेगी?

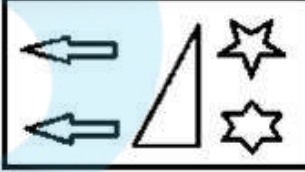


Ans

✗ 1.



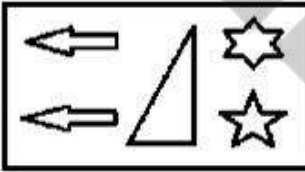
✗ 2.



✗ 3.



✓ 4.



Question ID : 8161613190

Status : Answered

Chosen Option : 4

Q.21 जय, उस गीतांजलि के पति हैं जो दीपाली की बहन हैं। दीपाली विजय की पुत्री है। सरिता रोहित की सास हैं। हरीश चंद्र जय के पिता हैं और सरिता विजय की पत्नी हैं। विजय और सरिता की केवल दो पुत्रियाँ हैं। रोहित का विजय से क्या संबंध है?

Ans

✗ 1. भाई

✗ 2. पिता

✗ 3. पुत्र

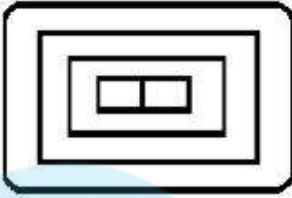
✓ 4. दामाद

Question ID : 8161613180

Status : Not Answered

Chosen Option : --

Q.22 नीचे दी गई आकृति में आयतों की संख्या बताएं।



- Ans
- 1. 3
 - 2. 4
 - 3. 6
 - 4. 5

Question ID : 8161613187
Status : Answered
Chosen Option : 3

Q.23 दिए गए पैटर्न का ध्यानपूर्वक अध्ययन करें और उस संख्या का चयन करें जो इसमें प्रश्न-चिह्न (?) के स्थान पर रखी जा सकती है।

9, 12, 48

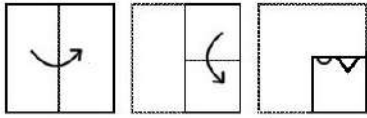
17, 20, 80

33, 36, ?

- Ans
- 1. 144
 - 2. 118
 - 3. 120
 - 4. 110

Question ID : 8161613171
Status : Answered
Chosen Option : 1

Q.24 दी गई आकृतियों में कागज को मोड़ने और मोड़े गए कागज को काटने का तरीका दर्शाया गया है। कागज को खोलने पर यह कैसा दिखाई देगा?



Ans

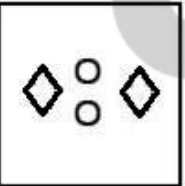
1.



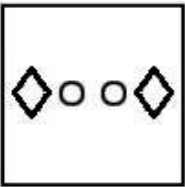
2.



3.



4.



Question ID : 8161613189

Status : Answered

Chosen Option : 4

Q.25 दिए गए पैटर्न का ध्यानपूर्वक अध्ययन करें और उस संख्या का चयन करें जो इस में प्रश्न-चिह्न (?) के स्थान पर रखी जा सकती है।

2 10 18

3 30 84

4 68 ?

Ans

1. 512

2. 260

3. 264

4. 256

Question ID : 8161613170

Status : Not Answered


Chosen Option : --

Q.1 $\frac{1}{5} + \frac{1}{5} \times \frac{1}{5}$
 $\frac{1}{5} + \frac{1}{5}$ of $\frac{1}{5}$ - $4\frac{1}{5} \div 105$ का मान निम्नलिखित में से कितना होगा?

- Ans
- 1. 10
 - 2. 2
 - 3. 5
 - 4. 0

Question ID : 8161613209
Status : Answered
Chosen Option : 4

Q.2 निम्न पाई-चार्ट छह अलग-अलग विषयों को पढ़ाने वाले शिक्षकों के प्रतिशत के अनुसार वितरण को दर्शाता है। पाई-चार्ट का अध्ययन करें और प्रश्न का उत्तर दें।



शिक्षकों की कुल संख्या = 1650

भौतिकी (Physics) और गणित (Maths) पढ़ाने वाले शिक्षकों की कुल संख्या तथा रसायन विज्ञान (Chemistry) और जीव विज्ञान (biology) पढ़ाने वाले शिक्षकों की कुल संख्या में अंतर है:

- Ans
- 1. 76
 - 2. 66
 - 3. 60
 - 4. 68

Question ID : 8161613216
Status : Answered
Chosen Option : 2

Q.3 एक पुस्तक के अंकित मूल्य पर 30% की छूट मिलने से अरुण को ₹60 मूल्य का एक पेन मुफ्त मिलता है। पुस्तक के लिए अरुण ने कितना भुगतान किया?

- Ans
- 1. ₹130
 - 2. ₹160
 - 3. ₹150
 - 4. ₹140

Question ID : 8161613196
Status : Answered
Chosen Option : 4

Q.4 $\triangle ABC$ में $\angle ABC = 6 \angle ACB$ और $\angle BAC = 5 \angle ACB$ है, यदि $AB = 7$ cm और $AC = 25$ cm है, तो BC की लंबाई है:


- Ans
- 1. 12 cm
 - 2. 24 cm
 - 3. 26 cm
 - 4. 32 cm

Question ID : 8161613204

Status : Answered

Chosen Option : 2

Q.5 निम्न पाई-चाटें छह अलग-अलग विषयों को पढ़ाने वाले शिक्षकों के प्रतिशत के अनुसार वितरण को दर्शाता है। पाई-चाटें का अध्ययन करें और प्रश्न का उत्तर दें।



शिक्षकों की कुल संख्या = 1650

अंग्रेजी (English), गणित (Maths) और भौतिकी (Physics) पढ़ाने वाले शिक्षकों की कुल संख्या कितनी है?

- Ans
- 1. 957
 - 2. 857
 - 3. 975
 - 4. 950

Question ID : 8161613215

Status : Answered

Chosen Option : 1

Q.6 A और B की वर्तमान आयु में 1 : 3 का अनुपात है। 10 वर्ष के बाद, उनकी आयु में 2 : 5 का अनुपात होगा। B की वर्तमान आयु है:

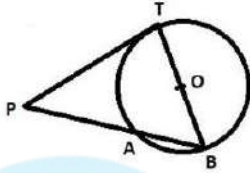
- Ans
- 1. 90 वर्ष
 - 2. 85 वर्ष
 - 3. 70 वर्ष
 - 4. 80 वर्ष

Question ID : 8161613199

Status : Answered

Chosen Option : 1

Q.7 आकृति में TB एक जीवा है जो वृत्त के केन्द्र O से गुजरती है। वृत्त के बिंदु T पर PT एक स्पर्शरेखा है। यदि $PT = 10$ cm, $PA = 5$ cm और $AB = x$ cm है, तो वृत्त की त्रिज्या है:



- Ans
- 1. $6\sqrt{5}$ cm
 - 2. $3\sqrt{5}$ cm
 - 3. $10\sqrt{3}$ cm
 - 4. $5\sqrt{3}$ cm

Question ID : 8161613202

Status : Not Answered

Chosen Option : --

Q.8 यदि $x = \sqrt[3]{5} + 2$ है, तो $x^3 = 6x^2 + 12x - 12$ का मान है:

- Ans
- 1. 0
 - 2. 2
 - 3. 1
 - 4. -1

Question ID : 8161613205

Status : Answered

Chosen Option : 1

Q.9 यदि $x\left(5 - \frac{2}{x}\right) = \frac{5}{x}$ है, तो $x^2 + \frac{1}{x^2}$ का मान है:

- Ans
- 1. $2\frac{4}{25}$
 - 2. $\frac{4}{25}$
 - 3. $2\frac{3}{25}$
 - 4. $2\frac{1}{25}$

Question ID : 8161613206

Status : Answered

Chosen Option : 1

Q.10 यदि $\sin 7x = \cos 11x$, $0^\circ < x < 90^\circ$ है, तो $\tan 9x$ का मान है:

Ans

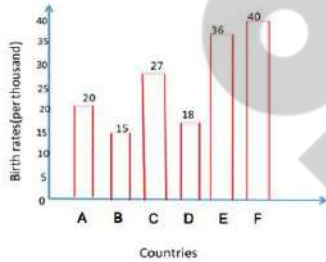
- 1. $\frac{\sqrt{3}}{2}$
- 2. 1
- 3. $\sqrt{3}$
- 4. $\frac{1}{\sqrt{3}}$

Question ID : 8161613210

Status : Answered

Chosen Option : 2

Q.11 निम्नलिखित दंड आरेख (बार चार्ट) छह विभिन्न देशों की जन्म दर (प्रति हजार) दर्शाता है। दंड आरेख (बार चार्ट) का अध्ययन करें और नीचे दिए गए प्रश्न का उत्तर दें।



किस देश की जन्म दर (birth rate) देश (Country) D की तुलना में ठीक 50% अधिक है?

Ans

- 1. देश E
- 2. देश A
- 3. देश F
- 4. देश C

Question ID : 8161613213

Status : Answered

Chosen Option : 4

Q.12 यदि $\frac{\cos A}{\operatorname{cosec} A + 1} + \frac{\cos A}{\operatorname{cosec} A - 1} = 2$, $0^\circ \leq A \leq 90^\circ$ है, तो A का मान बताइए।

Ans

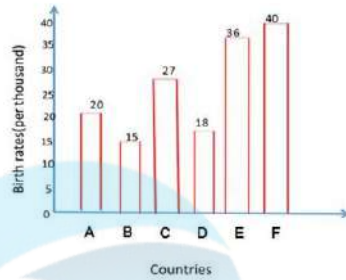
- 1. 45°
- 2. 90°
- 3. 30°
- 4. 60°

Question ID : 8161613212

Status : Answered

Chosen Option : 1

Q.13 निम्नलिखित दंड आरेख (बार चार्ट) छह विभिन्न देशों की जन्म दर (प्रति हजार) दर्शाता है। दंड आरेख (बार चार्ट) का अध्ययन करें और नीचे दिए गए प्रश्न का उत्तर दें।



देश (Country) E की जन्म दर (birth rate), देश A की जन्म दर का कितना प्रतिशत है?

- Ans
- 1. 160%
 - 2. 150%
 - 3. 180%
 - 4. 120%

Question ID : 8161613214

Status : Answered

Chosen Option : 3

Q.14 यदि $\frac{\sin \theta + \cos \theta}{\sin \theta - \cos \theta} = 3$ है और θ एक न्यून कोण है, तो $\frac{3 \sin \theta + 4 \cos \theta}{8 \cos \theta - 3 \sin \theta}$ का मान है:

- Ans
- 1. 2
 - 2. 5
 - 3. 10
 - 4. $\frac{1}{2}$

Question ID : 8161613211

Status : Answered

Chosen Option : 2

Q.15 साधारण ब्याज पर, और ब्याज की समान दर पर एक धनराशि 5 वर्षों में ₹7,500 और 7 वर्षों में ₹8,500 हो जाती है। ब्याज की वार्षिक दर है:

- Ans
- 1. 12%
 - 2. 8%
 - 3. 10%
 - 4. 9%

Question ID : 8161613200

Status : Answered

Chosen Option : 3

Q.16 A, किसी काम को 15 दिन में पूरा कर सकता है और B इसी काम को 10 दिन में पूरा कर सकता है। यदि वे 4 दिन तक एक साथ मिलकर काम करते हैं, तो काम का कितना भाग बचा हुआ है?

Ans

1. $\frac{1}{3}$
2. $\frac{2}{3}$
3. $\frac{1}{4}$
4. $\frac{3}{4}$

Question ID : 8161613192

Status : Answered

Chosen Option : 1

Q.17 एक आयत का परिमाण 80 cm है और इसका क्षेत्रफल 375 cm^2 है। आयत की लंबाई और चौड़ाई में क्या अंतर है?

Ans

1. 20 cm
2. 10 cm
3. 16 cm
4. 12 cm

Question ID : 8161613194

Status : Answered

Chosen Option : 2

Q.18 A, B और C का औसत 18 है तथा C, D और E का औसत 12 तथा E और F का औसत 6.5 तथा E और C का औसत 3.5 है। A, B, C, D, E और F का औसत क्या है?

Ans

1. 24
2. 16
3. 22
4. 18

Question ID : 8161613195

Status : Not Answered

Chosen Option : --

Q.19 एक ट्रेन 12 मिनट में 12 km की दूरी तय करती है। यदि इसकी गति 5 km/h कम हो जाए, तो इसे 22 km की दूरी तय करने में कितना समय लगेगा?

- Ans
- 1. 24 मिनट
 - 2. 22 मिनट
 - 3. 18 मिनट
 - 4. 20 मिनट

Question ID : 8161613193

Status : Answered

Chosen Option : 1

Q.20 यदि 8-अंकीय संख्या 4432A43B, 9 और 5 से विभाज्य है, तो A और B का योग है:

- Ans
- 1. 8
 - 2. 7
 - 3. 5
 - 4. 12

Question ID : 8161613208

Status : Answered

Chosen Option : 2

Q.21 जब किसी वस्तु को ₹720 में बेचा जाता है तो $x\%$ लाभ प्राप्त होता है। जब उसी वस्तु को ₹750 में बेचा जाता है तो $(x+5)\%$ लाभ प्राप्त होता है। x का मान है:

- Ans
- 1. 20
 - 2. 18
 - 3. 25
 - 4. 15

Question ID : 8161613198

Status : Not Answered

Chosen Option : --

Q.22 बाला ने अपने वेतन का 10% पी.एम. केयर फंड में दान देने का निर्णय लिया। जिस दिन दान देना था उसने उस दिन अपना विचार बदल दिया और ₹1,800 का दान दिया, जो कि उसके द्वारा पहले तय की गई दान राशि का 60% था। उसका वेतन कितना है?

- Ans
- 1. ₹36,000
 - 2. ₹32,000
 - 3. ₹30,000
 - 4. ₹40,000

Question ID : 8161613197

Status : Answered

Chosen Option : 3

Q.23 यदि $a^2 + \frac{1}{a^2} = 98$, $a > 0$ है, तो $a^3 + \frac{1}{a^3}$ का मान है:

- Ans
- 1. 950
 - 2. 960
 - 3. 870
 - 4. 970

Question ID : 8161613207
Status : Answered
Chosen Option : 4

Q.24 AB एक वृत्त का व्यास है। A पर खींची गई एक स्पर्श रेखा पर C एक बिंदु है। यदि AB = 24 cm और AC = 7 cm है, तो BC की लंबाई है:

- Ans
- 1. 15 cm
 - 2. 50 cm
 - 3. 26 cm
 - 4. 25 cm

Question ID : 8161613201
Status : Answered
Chosen Option : 4

Q.25 $\triangle ABC$ एक समद्विबाहु त्रिभुज है जिसमें AB = AC = 13 cm है। AD, A से BC पर इस प्रकार खींची गई माध्यिका है कि AD = 12 cm है। BC की लंबाई है:

- Ans
- 1. 10 cm
 - 2. 6 cm
 - 3. 5 cm
 - 4. 7.5 cm

Question ID : 8161613203
Status : Answered
Chosen Option : 1

Section : General Awareness

Q.1 पहला इलेक्ट्रॉनिक न्यूमेरिकल इंटिग्रेटर एंड कंप्यूटर, पहला प्रोग्रामेबल जनरल पर्पज इलेक्ट्रॉनिक डिजिटल कंप्यूटर, निम्नलिखित में से किस देश में विकसित किया गया था?

- Ans
- 1. चीन
 - 2. यूनाइटेड किंगडम
 - 3. जापान
 - 4. संयुक्त राज्य अमेरिका

Question ID : 8161613218
Status : Answered
Chosen Option : 1

Q.2 रामकृष्ण मिशन के संस्थापक कौन थे?

- Ans
- 1. स्वामी दयानंद
 - 2. देबेंद्रनाथ टैगोर
 - 3. स्वामी विवेकानंद
 - 4. आत्माराम पांडुरंग

Question ID : 8161613234
Status : Answered
Chosen Option : 3

Q.3 निम्नलिखित में से कौन सी एक अदिश राशि नहीं है?

- Ans
- 1. तापमान
 - 2. आयतन
 - 3. समय
 - 4. बलाघूर्ण

Question ID : 8161613226
Status : Answered
Chosen Option : 4

Q.4 निम्नलिखित में से किस भारतीय प्रौद्योगिकी संस्थान ने फ़ीनिक्स मेडिकल सिस्टम्स के सहयोग से देश की पहली स्वदेशी तौर पर अभिकल्पित व्हीलचेयर लॉन्च की थी?

- Ans
- 1. आई.आई.टी. बॉम्बे
 - 2. आई.आई.टी. खड़गपुर
 - 3. आई.आई.टी. मद्रास
 - 4. आई.आई.टी. दिल्ली

Question ID : 8161613223
Status : Answered
Chosen Option : 1

Q.5 'कॉमेडी' की विषय-वस्तु पर आधारित 5वें अंतरराष्ट्रीय फ़िल्म महोत्सव का आयोजन संस्कृति और पर्यटन विभाग द्वारा प्रयास प्रोडक्शन (मुंबई) के सहयोग से किस शहर में किया गया था?

- Ans
- 1. खजुराहो
 - 2. गुरुग्राम
 - 3. पुरी
 - 4. मुंबई

Question ID : 8161613222
Status : Answered
Chosen Option : 1

Q.6 14 जनवरी 2020 को, दक्षिण-मध्य रेलवे ने किस भारतीय बैंक के साथ 585 रेलवे स्टेशनों पर डोर-स्टेप बैंकिंग लागू करने के लिए एक समझौता ज्ञापन (MoU) पर हस्ताक्षर किए हैं?

- Ans
- 1. भारतीय स्टेट बैंक
 - 2. एच.डी.एफ.सी. (HDFC)
 - 3. पंजाब नेशनल बैंक
 - 4. सिंडीकेट बैंक

Question ID : 8161613225
Status : Answered
Chosen Option : 4

Q.7 निम्नलिखित में से किसे वर्ष 2019 के प्रतिष्ठित 27वें एकलव्य पुरस्कार से सम्मानित किया गया था?

- Ans
- 1. स्नेहा सोरेन (Sneha Soren)
 - 2. सरस्वती राउत (Saraswati Rout)
 - 3. पूर्णिमा हेम्ब्रम (Purnima Hembram)
 - 4. झिल्ली दलाबेहरा (Jhilli Dalabehera)

Question ID : 8161613241
Status : Not Answered
Chosen Option : --

Q.8 कंप्यूटिंग के क्षेत्र में HLL (एच.एल.एल.) का क्या अर्थ होता है?

- Ans
- 1. Hyper Level Language (हाइपर लेवल लैंग्वेज)
 - 2. High Level Language (हाई लेवल लैंग्वेज)
 - 3. High Low Language (हाई लो लैंग्वेज)
 - 4. High Level List (हाई लेवल लिस्ट)

Question ID : 8161613217
Status : Answered
Chosen Option : 1

Q.9 निम्नलिखित में से किस पहलवान ने 2019 में बुडापेस्ट में आयोजित यू.डब्ल्यू.डब्ल्यू. (UWW) अंडर-23 विश्व चैंपियनशिप के फाइनल में जापान के हारुना ओकुनो से पराजित होकर भारत के लिए दूसरा रजत पदक जीता था?

- Ans
- 1. विनेश फोगाट
 - 2. कविता देवी
 - 3. साक्षी मलिक
 - 4. पूजा गहलोट

Question ID : 8161613239
Status : Answered
Chosen Option : 1

Q.10 राष्ट्रीय राजमार्ग 18 निम्नलिखित में से किस राज्य में से होकर नहीं गुज़रता है?

- Ans 1. बिहार
 2. पश्चिम बंगाल
 3. झारखंड
 4. ओडिशा

Question ID : 8161613231
Status : Answered
Chosen Option : 4

Q.11 नवंबर 2019 में, निम्नलिखित में से किसे उनके उपन्यास 'स्वप्नप्रवाश' के लिए 2018 के लिए 28वें बिहारी पुरस्कार से सम्मानित किया गया था?

- Ans 1. उषा किरण खान
 2. सुरेश कृष्ण
 3. प्रभात रंजन
 4. मनीषा कुलश्रेष्ठ

Question ID : 8161613236
Status : Answered
Chosen Option : 4

Q.12 निम्नलिखित में से कौन सा एक तारामंडल नहीं है?

- Ans 1. रोमन गृह-देवी (Vesta)
 2. कन्या (Virgo)
 3. सप्तर्षिमंडल (Ursa Major)
 4. जलव्याल (Hydra)

Question ID : 8161613230
Status : Answered
Chosen Option : 4

Q.13 'लूर नृत्य' एक पारंपरिक लोक नृत्य है, जिसे _____ राज्य में केवल महिलाओं द्वारा प्रदर्शित किया जाता है।

- Ans 1. मध्य प्रदेश
 2. हरियाणा
 3. राजस्थान
 4. पंजाब

Question ID : 8161613220
Status : Answered
Chosen Option : 2

Q.14 निम्नलिखित में से किस राज्य ने स्वच्छ सर्वेक्षण ग्रामीण पुरस्कार, 2019 में शीर्ष स्थान प्राप्त किया है?

- Ans
- 1. सिक्किम
 - 2. उत्तर प्रदेश
 - 3. मध्य प्रदेश
 - 4. तमिलनाडु

Question ID : 8161613221
Status : Answered
Chosen Option : 3

Q.15 Maps showing natural feature of the earth such as mountains, plateaus, rivers, plains, oceans, etc. are known as _____.

- Ans
- 1. Relief Map
 - 2. Political map
 - 3. Topographic Map
 - 4. Thematic Map

Question ID : 8161613229
Status : Answered
Chosen Option : 3

Q.16 निम्नलिखित में से कौन सा एककोशिकीय नहीं है?

- Ans
- 1. अमीबा
 - 2. स्पाइरोगाइरा
 - 3. प्लाज़्मोडियम
 - 4. पैरामीशियम

Question ID : 8161613228
Status : Answered
Chosen Option : 2

Q.17 बाबर ने वर्ष 1528 में चंदेरी में निम्नलिखित में से किसे पराजित किया था?

- Ans
- 1. इब्राहिम लोदी
 - 2. मेदिनी राय
 - 3. मुहम्मद लोधी
 - 4. बप्पा रावल

Question ID : 8161613233
Status : Answered
Chosen Option : 2

Q.18 निम्नलिखित में से कौन, कांग्रेस सोशलिस्ट पार्टी के संस्थापकों में से एक था?

- Ans 1. राम मनोहर लोहिया
 2. एस.के. पाटिल
 3. सी. नटराजन अन्नादुरै
 4. अतुल्य घोष

Question ID : 8161613238
Status : Answered
Chosen Option : 4

Q.19 एक उभयनिष्ठ केंद्र से समान यात्रा समय पर स्थित स्थानों को जोड़ने वाली रेखाओं को किस नाम से जाना जाता है?

- Ans 1. समलवण रेखा (isohalines)
 2. समकालिक रेखा (isochrones)
 3. समविसंगति रेखा (isonomal)
 4. समतड़ित झंझा रेखा (isobronts)

Question ID : 8161613232
Status : Answered
Chosen Option : 2

Q.20 निम्नलिखित में से किस विषाणु से इंप्लुएंज़ा रोग होता है?

- Ans 1. मिकसोवायरस
 2. रुबेला वायरस
 3. वेरिसेला वायरस
 4. पोलियोवायरस

Question ID : 8161613227
Status : Answered
Chosen Option : 1

Q.21 भारत में जन्मे किस व्यवसायी ने फ्रॉच्यून्स बिज़नेसपर्सन ऑफ़ द ईयर, 2019 सूची में शीर्ष स्थान प्राप्त किया है?

- Ans 1. चंदा कोचर
 2. सुंदर पिचाई
 3. इंद्रा नूई
 4. सत्य नडेला

Question ID : 8161613224
Status : Answered
Chosen Option : 2

Q.22 निम्नलिखित में से किसे, इतालवी गोल्डन सैंड आर्ट अवॉर्ड, 2019 से सम्मानित किया गया था?

- Ans
- 1. नितीश भारती
 - 2. विनय शेटी
 - 3. सर्वम पटेल
 - 4. सुदर्शन पटनायक

Question ID : 8161613235
Status : Not Answered
Chosen Option : --

Q.23 निम्नलिखित में से कौन सा/सी क्रिकेटर अंतरराष्ट्रीय क्रिकेट में अर्धशतक बनाने वाला/वाली सबसे कम उम्र का/की भारतीय क्रिकेटर बन गया/गई है?

- Ans
- 1. शेफाली वर्मा
 - 2. अमिता शर्मा
 - 3. विराट कोहली
 - 4. हार्दिक पांड्या

Question ID : 8161613240
Status : Answered
Chosen Option : 1

Q.24 भारतीय संविधान के किस अनुच्छेद के तहत भारतीय नागरिकों को छह मौलिक स्वतंत्रताओं के अधिकार की गारंटी प्रदान की गई है?

- Ans
- 1. अनुच्छेद 31
 - 2. अनुच्छेद 26
 - 3. अनुच्छेद 1
 - 4. अनुच्छेद 19

Question ID : 8161613237
Status : Answered
Chosen Option : 2

Q.25 नवंबर 2019 में, इंडिया-इंटरनेशनल चेरी ब्लॉसम फ़ेस्टिवल, 2019 का चौथा संस्करण निम्नलिखित में से किस शहर में आयोजित किया गया था?

- Ans
- 1. इंप्राल
 - 2. शिलॉन्ग (शिलांग)
 - 3. दार्जीलिंग
 - 4. धर्मशाला

Question ID : 8161613219
Status : Answered
Chosen Option : 2

Roll Number	
Candidate Name	
Venue Name	
Exam Date	21/10/2020
Exam Time	1:00 PM - 2:00 PM
Subject	CHSL Tier 1

Section : English Language (Basic Knowledge)

Q.1 Select the **INCORRECTLY** spelt word.

- Ans
- 1. Preamble
 - 2. Miscellaneous
 - 3. Deviation
 - 4. Pnemonia

Question ID : 8161613261
 Status : Answered
 Chosen Option : 1

Q.2 Select the most appropriate word to fill in the blank.

The police used tear gas to _____ the crowd.

- Ans
- 1. attack
 - 2. disperse
 - 3. disburse
 - 4. collect

Question ID : 8161613266
 Status : Answered
 Chosen Option : 2

Q.3 Select the word that means the same as the given group of words.

A person weak and disabled by illness

- Ans
- 1. Invalid
 - 2. Petitioner
 - 3. Activist
 - 4. Athlete

Question ID : 8161613262
 Status : Not Answered
 Chosen Option : --

Q.4 Select the most appropriate meaning of the given idiom.

Take something with a pinch of salt

- Ans 1. To take long to understand what is being said
 2. To believe only part of something
 3. To consider everyone a liar
 4. To think of oneself as always right

Question ID : 8161613259

Status : Not Answered

Chosen Option : --

Comprehension:

In the following passage some words have been deleted. Fill in the blanks with the help of the alternatives given. Select the most appropriate option for each blank.

All her life Ms. Foster had a great fear of missing a train, a plane, a boat or (1)_____ a theatre curtain. In other respects, she was not a (2)_____ nervous woman. But the mere thought of (3)_____ on occasions like these would throw her (4)_____ such a nervous state that a tiny muscle in the corner of her left eye would (5)_____ twitch .This would disappear once she had boarded the plane etc.

SubQuestion No : 5

Q.5 Select the most appropriate option for blank No. 1.

- Ans 1. extremely
 2. quite
 3. even
 4. hardly

Question ID : 8161613247

Status : Answered

Chosen Option : 4

Comprehension:

In the following passage some words have been deleted. Fill in the blanks with the help of the alternatives given. Select the most appropriate option for each blank.

All her life Ms. Foster had a great fear of missing a train, a plane, a boat or (1)_____ a theatre curtain. In other respects, she was not a (2)_____ nervous woman. But the mere thought of (3)_____ on occasions like these would throw her (4)_____ such a nervous state that a tiny muscle in the corner of her left eye would (5)_____ twitch .This would disappear once she had boarded the plane etc.

SubQuestion No : 6

Q.6 Select the most appropriate option for blank No. 2.

- Ans 1. usual
 2. particular
 3. general
 4. particularly

Question ID : 8161613248

Status : Not Answered

Chosen Option : --

Comprehension:

In the following passage some words have been deleted. Fill in the blanks with the help of the alternatives given. Select the most appropriate option for each blank.

All her life Ms. Foster had a great fear of missing a train, a plane, a boat or (1)_____ a theatre curtain. In other respects, she was not a (2)_____ nervous woman. But the mere thought of (3)_____ on occasions like these would throw her (4)_____ such a nervous state that a tiny muscle in the corner of her left eye would (5)_____ twitch .This would disappear once she had boarded the plane etc.

SubQuestion No : 7

Q.7 Select the most appropriate option for blank No. 3.

- Ans
- 1. be later
 - 2. be late
 - 3. being late
 - 4. being later

Question ID : 8161613249

Status : Answered

Chosen Option : 1

Comprehension:

In the following passage some words have been deleted. Fill in the blanks with the help of the alternatives given. Select the most appropriate option for each blank.

All her life Ms. Foster had a great fear of missing a train, a plane, a boat or (1)_____ a theatre curtain. In other respects, she was not a (2)_____ nervous woman. But the mere thought of (3)_____ on occasions like these would throw her (4)_____ such a nervous state that a tiny muscle in the corner of her left eye would (5)_____ twitch .This would disappear once she had boarded the plane etc.

SubQuestion No : 8

Q.8 Select the most appropriate option for blank No. 4.

- Ans
- 1. in
 - 2. into
 - 3. up
 - 4. away

Question ID : 8161613250

Status : Answered

Chosen Option : 1

Comprehension:

In the following passage some words have been deleted. Fill in the blanks with the help of the alternatives given. Select the most appropriate option for each blank.

All her life Ms. Foster had a great fear of missing a train, a plane, a boat or (1)_____ a theatre curtain. In other respects, she was not a (2)_____ nervous woman. But the mere thought of (3)_____ on occasions like these would throw her (4)_____ such a nervous state that a tiny muscle in the corner of her left eye would (5)_____ twitch .This would disappear once she had boarded the plane etc.

SubQuestion No : 9

Q.9 Select the most appropriate option for blank No. 5.

- Ans
- 1. begin over
 - 2. begun over
 - 3. begun to
 - 4. begin to

Question ID : 8161613251

Status : Not Answered

Chosen Option : --

Q.10 Select the most appropriate option to substitute the underlined segment in the given sentence. If there is no need to substitute it, select 'No improvement'.

The Delhi Birla International School alumnus occupy leading positions in different areas of profession and service.

- Ans
- 1. alumnus occupies
 - 2. alumni occupy
 - 3. No improvement
 - 4. alumnus occupying

Question ID : 8161613255
Status : Not Answered
Chosen Option : --

Q.11 Select the most appropriate ANTONYM of the given word.

PROLIFIC

- Ans
- 1. Abundant
 - 2. Unproductive
 - 3. Several
 - 4. Rich

Question ID : 8161613256
Status : Not Answered
Chosen Option : --

Q.12 Select the most appropriate meaning of the given idiom.

Full of sound and fury

- Ans
- 1. Merely loud and angry words but ineffective
 - 2. A fiery and effective speaker
 - 3. Someone who gets angry very quickly
 - 4. An angry and unruly mob

Question ID : 8161613258
Status : Not Answered
Chosen Option : --

Q.13 Select the most appropriate ANTONYM of the given word.

PACIFIST

- Ans
- 1. Orator
 - 2. Peace-maker
 - 3. Warmonger
 - 4. Nihilist

Question ID : 8161613257
Status : Not Answered
Chosen Option : --

Q.14 Given below are four jumbled sentences. Pick the option that gives their correct order.

- A. The Emperor would view the comic acts from the jharokha, a special window of his palace.
- B. On the festival of Holi, the Emperor was entertained with mimicry, impersonation and play-acting.
- C. Bahadur Shah Jafar's life and times are described in a book called 'City of my heart.'
- D. Finally, the most talented of the performers would be generously awarded by the king.

- Ans
- 1. CBAD
 - 2. DACB
 - 3. ADBC
 - 4. CDBA

Question ID : 8161613252
Status : Answered
Chosen Option : 3

Q.15 In the sentence identify the segment which contains the grammatical error.

Subhash Gidwani is selling dolls, which are type of Madhya Pradesh's village culture, at the Annual Dastakar Bazaar, held in January every year in Delhi.

- Ans
- 1. Subhash Gidwani is selling dolls
 - 2. held in January every year in Delhi
 - 3. which are type of Madhya Pradesh's village culture
 - 4. in the annual Dastakar Bazaar

Question ID : 8161613244
Status : Not Answered
Chosen Option : --

Q.16 Select the most appropriate synonym of the given word.

CONGENIAL

- Ans
- 1. Aloof
 - 2. Bombastic
 - 3. Compatible
 - 4. Servile

Question ID : 8161613265
Status : Not Answered
Chosen Option : --

Q.17 Select the most appropriate word to fill in the blank.

Ritu is an _____ reader. I always find her with a book.

- Ans
- 1. irritated
 - 2. avid
 - 3. erratic
 - 4. inattentive

Question ID : 8161613267
Status : Not Answered
Chosen Option : --

Q.18 Select the most appropriate option to substitute the underlined segment in the given sentence. If there is no need to substitute it, select 'No improvement'.

For the last two years Shweta has being diligently working with Rohingya refugees to create colourful table mats using their local weaving techniques.

- Ans
- 1. have been
 - 2. have being
 - 3. has been
 - 4. No improvement

Question ID : 8161613254
Status : Answered
Chosen Option : 1

Q.19 Select the INCORRECTLY spelt word.

- Ans
- 1. Resultant
 - 2. Constraint
 - 3. Expanse
 - 4. Conscentious

Question ID : 8161613260
Status : Answered
Chosen Option : 1

Q.20 Select the correct indirect form of given sentence.

The foreigner said to the farmer, "Can you tell me the way to the nearest hotel?"

- Ans
- 1. The foreigner suggested the farmer if he could tell him the way to the nearest hotel.
 - 2. The foreigner exclaimed with the farmer if he could tell him the way to the nearest hotel.
 - 3. The foreigner told the farmer if he could tell him the way to the nearest hotel.
 - 4. The foreigner enquired of the farmer if he could tell him the way to the nearest hotel.

Question ID : 8161613243
Status : Not Answered
Chosen Option : --

Q.21 Select the correct passive form of the given sentence.

Chhattisgarh organised the first ever 'All India Folk Dance Festival' in January 2020.

- Ans
- 1. The first ever 'All India Folk Dance Festival' will be organised by the Chhattisgarh State in January 2020.
 - 2. The first ever 'All India Folk Dance Festival' was being organised by the Chhattisgarh State in January 2020.
 - 3. The first ever 'All India Folk Dance Festival' was organised by the Chhattisgarh State in January 2020.
 - 4. The first ever 'All India Folk Dance Festival' had been organised by the Chhattisgarh State in January 2020.

Question ID : 8161613242
Status : Answered
Chosen Option : 3

Q.22 Select the most appropriate synonym of the given word.

PEDIGREE

- Ans
- 1. Mongrel
 - 2. Illegitimate
 - 3. Lineage
 - 4. Forbidden

Question ID : 8161613264
 Status : Not Answered
 Chosen Option : --

Q.23 In the sentence identify the segment which contains the grammatical error.

You must make a choice immediately because there is few time left.

- Ans
- 1. because there is
 - 2. a choice immediately
 - 3. You must make
 - 4. few time left

Question ID : 8161613245
 Status : Not Answered
 Chosen Option : --

Q.24 Select the word that means the same as the given group of words.

Happening every two years

- Ans
- 1. Biannual
 - 2. Centennial
 - 3. Biennial
 - 4. Triennial

Question ID : 8161613263
 Status : Not Answered
 Chosen Option : --

Q.25 Given below are four jumbled sentences. Pick the option that gives their correct order.

- A. Finally, she takes the decision to go searching for livelihood in the nearby town.
- B. They are: Lakua and his wife, Nathuni.
- C. The latter, burdened with a paralytic husband and two children, battles to survive.
- D. The film 'Wayfarers' narrates the journey of a poor couple in Jharkhand.

- Ans
- 1. DBAC
 - 2. BACD
 - 3. CDAB
 - 4. DBCA

Question ID : 8161613253
 Status : Answered
 Chosen Option : 4

Q.1 चार शब्द दिए गए हैं, जिनमें से तीन किसी न किसी प्रकार समान हैं, और एक असंगत है। उस असंगत शब्द का चयन करें।

- Ans
- 1. लंदन
 - 2. पेरिस
 - 3. मापुतो
 - 4. इस्तांबुल

Question ID : 8161613284

Status : Answered

Chosen Option : 4

Q.2 निम्नलिखित आकृति श्रृंखला में प्रश्नचिह्न (?) का स्थान ले सकने वाली संख्या का चयन करें।



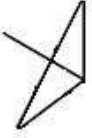
- Ans
- 1. 241
 - 2. 425
 - 3. 210
 - 4. 225

Question ID : 8161613271

Status : Answered

Chosen Option : 2

Q.3 उस विकल्प का चयन करें जिसमें दी गई आकृति अंतर्निहित है।
(घुमाने की अनुमति नहीं है)



Ans

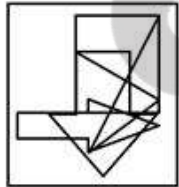
✗ 1.



✗ 2.



✓ 3.



✗ 4.



Question ID : 8161613289

Status : Answered

Chosen Option : 3

Q.4 उस विकल्प का चयन करें जिसमें संख्याओं के बीच परस्पर वही संबंध है, जो संबंध दिए गए संख्या-युग्म की संख्याओं के बीच है।

4 : 25

Ans ✗ 1. 12 : 120

✗ 2. 11 : 170

✗ 3. 6 : 36

✓ 4. 6 : 49

Question ID : 8161613270

Status : Answered

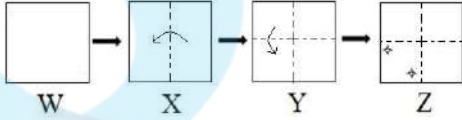
Chosen Option : 4

Q.5 चार संख्याएँ दी गई हैं, जिन में से तीन किसी प्रकार समान हैं और एक असंगत है। उस असंगत संख्या का चयन करें।

- Ans 1. 676
 2. 216
 3. 125
 4. 729

Question ID : 8161613274
 Status : Answered
 Chosen Option : 1

Q.6 एक कागज़ को मोड़ने और मुड़े हुए कागज़ को काटने का तरीका निम्नलिखित आकृतियों में दिखाया गया है। खोले जाने पर यह कागज़ कैसा दिखाई देगा?



Ans

- 1.
- 2.
- 3.
- 4.

Question ID : 8161613290
 Status : Answered
 Chosen Option : 3

Q.7 उस विकल्प का चयन करें जिसका तीसरे अक्षर-समूह से वही संबंध है, जो दूसरे अक्षर-समूह का पहले अक्षर-समूह से है।

COAT : APZV :: ROAD : ?

- Ans 1. TNCC
 2. PQZF
 3. SPBE
 4. PPZF

Question ID : 8161613278
 Status : Answered
 Chosen Option : 4

Q.8 उस वेन आरेख का चयन करें जो निम्नलिखित वर्गों के बीच संबंध को सर्वोत्तम ढंग से दर्शाता है।

दिरहम, यू.एस.डॉलर, मुद्रा

Ans



Question ID : 8161613292

Status : Answered

Chosen Option : 3

Q.9 उस संख्या का चयन करें जो निम्नलिखित श्रृंखला में प्रश्न-चिह्न (?) के स्थान पर आएगी।

6, 7, 16, 51, 208, ?

Ans

✗ 1. 1250

✗ 2. 2570

✗ 3. 2000

✓ 4. 1045

Question ID : 8161613273

Status : Answered

Chosen Option : 4

Q.10 एक निश्चित कूट भाषा में, 'TELEVISION' को 'OPJTJWFMFU' लिखा जाता है। उसी भाषा में 'REMOTE' को किस प्रकार लिखा जाएगा?

Ans

✗ 1. PUPFNS

✗ 2. ETOMER

✗ 3. SFNPUF

✓ 4. FUPNFS

Question ID : 8161613277

Status : Not Answered

Chosen Option : --

Q.11 यहाँ एक ही पासे की दो विभिन्न स्थितियाँ दर्शाई गई हैं। उस अक्षर का चयन करें, जो 'C' दर्शाने वाले फलक के विपरीत फलक पर होगा।



- Ans
- 1. E
 - 2. F
 - 3. B
 - 4. A

Question ID : 8161613286
Status : Answered
Chosen Option : 2

Q.12 निम्नलिखित समीकरण को संतुलित करने के लिए 'A' के स्थानों पर क्रमानुसार आनेवाले गणितीय चिह्नों के सही संयोजन का चयन करें।

40 A 2 A 2 A 3 A 4 A 15

- Ans
- 1. $\div, \times, =, \times$
 - 2. $\times, \div, +, =$
 - 3. $\div, \times, =, -$
 - 4. $\times, =, -, \div$

Question ID : 8161613269
Status : Answered
Chosen Option : 1

Q.13 एक लड़के का परिचय देते हुए, मैंने कहा, "उसकी माँ मेरी सास की इकलौती बेटी है। मैं उस लड़के से किस प्रकार से संबंधित हूँ?"

- Ans
- 1. बहनोई
 - 2. पिता
 - 3. भतीजा
 - 4. भाई

Question ID : 8161613281
Status : Answered
Chosen Option : 2

Q.14 उस विकल्प का चयन करें जिसका तीसरे शब्द से वही संबंध है जो दूसरे शब्द का पहले शब्द से है।
समय : सेकंड :: लंबाई : ?

- Ans
- 1. दूरी
 - 2. मीटर
 - 3. मापन नियम
 - 4. लंबा

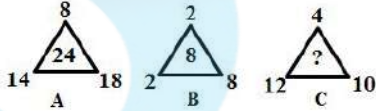
Question ID : 8161613279
Status : Answered
Chosen Option : 2

Q.15 TQUS', 'UPVR' से उसी प्रकार से संबंधित है जिस प्रकार 'FIRE' _____ से संबंधित है।

- Ans 1. GHSD
 2. GIRF
 3. GHRD
 4. GIRG

Question ID : 8161613282
 Status : Answered
 Chosen Option : 1

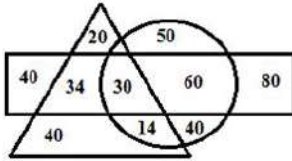
Q.16 निम्नलिखित आकृति श्रृंखला में प्रश्नचिह्न (?) का स्थान ले सकने वाली संख्या का चयन करें।



- Ans 1. 6
 2. 22
 3. 18
 4. 2

Question ID : 8161613272
 Status : Answered
 Chosen Option : 4

Q.17 दिए गए वेन आरेख का ध्यानपूर्वक अध्ययन करें और निम्नलिखित प्रश्न का उत्तर दें।



- = बाइक का उपयोग करनेवाले व्यक्ति
 = कार का उपयोग करनेवाले व्यक्ति
 = साइकिल का उपयोग करनेवाले व्यक्ति

कितने व्यक्ति ऐसे हैं जो साइकिल और बाइक दोनों का उपयोग करते हैं लेकिन कार का नहीं?

- Ans 1. 40
 2. 14
 3. 30
 4. 34

Question ID : 8161613287
 Status : Answered
 Chosen Option : 4

Q.18 एक निश्चित कूटभाषा में, 'TRAFFIC' को 'VTCHHKE' लिखा जाता है। उसी भाषा में 'POLICE' को किस प्रकार लिखा जाएगा?

- Ans
- 1. RMJGEC
 - 2. RQNKEG
 - 3. RMNGEC
 - 4. ONKHBD

Question ID : 8161613276
Status : Answered
Chosen Option : 2

Q.19 दी गई आकृति के सही दर्पण-प्रतिबिंब का चयन करें.



Ans

- 1.
- 2.
- 3.
- 4.

Question ID : 8161613291
Status : Answered
Chosen Option : 1

Q.20 अक्षरों के उस संयोजन का चयन करें जिसके अक्षरों को दी गई अक्षर-श्रृंखला के रिक्त स्थानों में क्रमानुसार रखे जाने पर वे श्रृंखला को पूरा करेंगे।

dabx _ dab _ _ d _ b _ xdab _ x _

- Ans
- 1. dxadadd
 - 2. axdaxxd
 - 3. xxcbxad
 - 4. xxxaxxd

Question ID : 8161613280
Status : Answered
Chosen Option : 1

Q.21 दिए गए कथनों और निष्कर्षों को ध्यानपूर्वक पढ़ें। यह मानते हुए कि कथनों में दी गई जानकारी सत्य है, भले ही यह आमतौर पर स्थापित तथ्यों से भिन्न दिखाई देती है, यह निर्णय करें कि दिए गए निष्कर्षों में से कौन सा/से निष्कर्ष कथनों का तार्किक रूप से अनुसरण करता/करते हैं/हैं।

कथन:

1. सभी मॉल राजा हैं।
2. कोई भी राजा हीटर नहीं है।

निष्कर्ष:

- I. कोई भी मॉल हीटर नहीं है।
- II. सभी राजा मॉल हैं।

- Ans**
1. केवल निष्कर्ष II अनुसरण करता है।
2. न तो निष्कर्ष I न ही निष्कर्ष II अनुसरण करता है।
3. केवल निष्कर्ष I अनुसरण करता है।
4. या तो निष्कर्ष I या निष्कर्ष II अनुसरण करता है।

Question ID : 8161613285

Status : Answered

Chosen Option : 3

Q.22 एक महीने के अंदर प्याज का मूल्य ₹70 प्रति किलोग्राम से बढ़कर ₹120 प्रति किलोग्राम हो गया। प्याज का मूल्य कितने प्रतिशत (अनुमानित) बढ़ा?

- Ans**
1. 71.5%
2. 65%
3. 80%
4. 75.2%

Question ID : 8161613268

Status : Answered

Chosen Option : 1

Q.23 चार अक्षर-समूह दिए गए हैं, जिनमें से तीन किसी न किसी प्रकार समान हैं, और एक असंगत है। उस असंगत अक्षर-समूह का चयन करें।

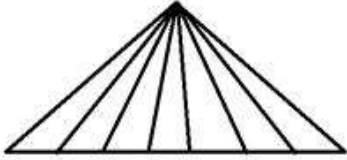
- Ans**
1. HJSQ
2. MONL
3. NOPE
4. BEYV

Question ID : 8161613283

Status : Answered

Chosen Option : 1

Q.24 दी गई आकृति में कितने त्रिभुज हैं?



- Ans
- 1. 24
 - 2. 28
 - 3. 20
 - 4. 14

Question ID : 8161613288

Status : Answered

Chosen Option : 2

Q.25 दिए गए शब्दों को एक तार्किक और अर्थपूर्ण क्रम में व्यवस्थित करें।

1. पृथ्वी
2. शनि
3. बृहस्पति
4. बुध
5. शुक्र
6. मंगल

- Ans
- 1. 4, 5, 1, 6, 3, 2
 - 2. 5, 4, 3, 2, 1, 6
 - 3. 6, 3, 4, 1, 2, 5
 - 4. 3, 1, 4, 2, 5, 6

Question ID : 8161613275

Status : Answered

Chosen Option : 1

Section : Quantitative Aptitude(Basic Arithmetic Skill)

Q.1 यदि $\sqrt{x} = \sqrt{3} - \sqrt{5}$ है, तो $x^2 - 16x + 6$ का मान है:

- Ans
- 1. -2
 - 2. 2
 - 3. 0
 - 4. 4

Question ID : 8161613307

Status : Answered

Chosen Option : 3

Q.2 यदि $a^3 + b^3 = 62$ और $a + b = 2$ है, तो ab का मान है:

- Ans
- 1. 6
 - 2. 9
 - 3. -9
 - 4. -6

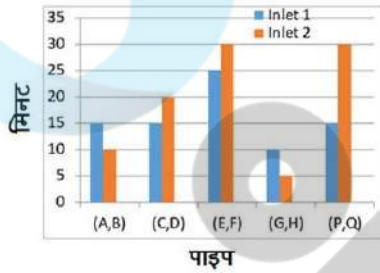
Question ID : 8161613306

Status : Not Answered

Chosen Option : --

Q.3 निम्न आरेख का अध्ययन कीजिए और दिए गए प्रश्न का उत्तर दीजिए।

आरेख, पाइपों (A, B), (C, D), (E, F), (G, H) और (P, Q) द्वारा किसी टैंक को भरने में लगने वाले समय (मिनट में) को दर्शाता है।



दो पाइप P और Q टैंक को भरने वाले पाइप हैं। यदि उन्हें बारी बारी से एक-एक मिनट के लिए खोला जाता है और पाइप P को पहले खोला जाता है, तो कितने मिनट में टैंक भर जाएगा?

- Ans
- 1. 16 मिनट
 - 2. 20 मिनट
 - 3. 18 मिनट
 - 4. 30 मिनट

Question ID : 8161613314

Status : Answered

Chosen Option : 2

Q.4 यदि $\sin(A - B) = \frac{1}{2}$ और $\cos(A + B) = \frac{1}{2}$ है, जहां $A > B > 0^\circ$ और $A + B$ एक न्यून कोण है, तो A का मान है:

- Ans
- 1. 60°
 - 2. 30°
 - 3. 45°
 - 4. 15°

Question ID : 8161613313

Status : Answered

Chosen Option : 2

Q.5 150 व्यक्तियों के समूह में, $\frac{2}{5}$ पुरुष हैं, $\frac{1}{3}$ महिला और शेष बच्चे हैं। महिलाओं की औसत आयु पुरुषों के औसत आयु का $\frac{4}{5}$ है। बच्चों की औसत आयु पुरुषों के औसत आयु का $\frac{1}{5}$ है। यदि पुरुषों की औसत आयु 50 वर्ष है, तो समूह के सभी व्यक्तियों की औसत आयु है:

- Ans
- 1. 28 वर्ष
 - 2. 32 वर्ष
 - 3. 36 वर्ष
 - 4. 35 वर्ष

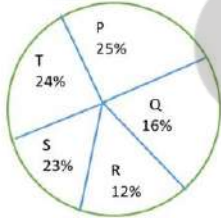
Question ID : 8161613296

Status : Not Answered

Chosen Option : --

Q.6 पाई-आरेख, पांच विभिन्न विद्यालयों P, Q, R, S और T में छात्रों की संख्या के प्रतिशत-अनुसार (percentage-wise) वितरण को दर्शाता है। सभी पांच विद्यालयों के छात्रों की कुल मिलाकर संख्या 10,500 है।

पाई-आरेख का अध्ययन करें और प्रश्न का उत्तर दें।



विद्यालय T और R के संगत केंद्रीय कोणों (central angles) में अंतर है:

- Ans
- 1. 43.2°
 - 2. 34.5°
 - 3. 42.8°
 - 4. 44°

Question ID : 8161613316

Status : Answered

Chosen Option : 4

Q.7 26 गैदों को ₹1,350 में बेचने पर, आठ गैदों के क्रय मूल्य के बराबर हानि होती है। एक गैद का क्रय मूल्य है:

- Ans
- 1. ₹75
 - 2. ₹70
 - 3. ₹65
 - 4. ₹60

Question ID : 8161613299

Status : Not Answered

Chosen Option : --

Q.8 13 cm की समान त्रिज्या वाले दो वृत्त एक दूसरे को बिंदु A और B पर प्रतिच्छेदित करते हैं। यदि AB = 10 cm है, तो उनके केंद्रों के बीच की दूरी है:

- Ans
- 1. 24 cm
 - 2. 12 cm
 - 3. 26 cm
 - 4. 18 cm

Question ID : 8161613303
Status : Answered
Chosen Option : 3

Q.9 किसी वस्तु का अंकित मूल्य इसके क्रय मूल्य से 25% अधिक है। यदि अंकित मूल्य पर 10% का बड़ा दिया जाता है, तो लाभ प्रतिशत क्या है?

- Ans
- 1. 10%
 - 2. 12%
 - 3. 11.5%
 - 4. 12.5%

Question ID : 8161613297
Status : Answered
Chosen Option : 4

Q.10 यदि रबर के मूल्य में 25% की कमी होती है, तो एक व्यक्ति ₹2 में तीन और रबर खरीद सकता है। ₹2 में कितने रबर प्रारंभिक मूल्य पर खरीदे जा सकते हैं?

- Ans
- 1. 12
 - 2. 10
 - 3. 9
 - 4. 8

Question ID : 8161613298
Status : Answered
Chosen Option : 3

Q.11 16 और 24 का तृतीयानुपाती (third proportional) है:

- Ans
- 1. 32
 - 2. 28
 - 3. 34
 - 4. 36

Question ID : 8161613300
Status : Answered
Chosen Option : 4

Q.12 $\triangle ABC$ में, $\angle BAC = 90^\circ$ है और AD, BC पर लंब है जहाँ D, BC पर एक बिन्दु है। यदि $BD = 4$ cm और $CD = 5$ cm है, तो AD की लंबाई है:

- Ans
- 1. $2\sqrt{5}$ cm
 - 2. 4.5 cm
 - 3. $5\sqrt{2}$ cm
 - 4. 6 cm

Question ID : 8161613305

Status : Answered

Chosen Option : 1

Q.13 A, B से दुगुना कार्यदक्ष है और वे दोनों एक साथ मिलकर किसी कार्य को 22 दिन में पूरा करते हैं। अकेले A, उसी कार्य को कितने दिनों में पूरा करेगा?

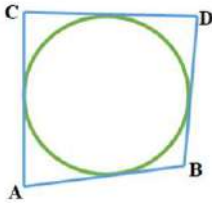
- Ans
- 1. 30 दिन
 - 2. 44 दिन
 - 3. 11 दिन
 - 4. 33 दिन

Question ID : 8161613293

Status : Answered

Chosen Option : 3

Q.14 आकृति में एक वृत्त, चतुर्भुज ABCD के सभी चार भुजाओं को स्पर्श करता है, जिसकी भुजाएँ $AB = 6.5$ cm, $BC = 5.4$ cm और $CD = 5.3$ cm हैं। AD की लंबाई है:



- Ans
- 1. 6.2 cm
 - 2. 4.6 cm
 - 3. 5.8 cm
 - 4. 6.4 cm

Question ID : 8161613302

Status : Not Answered

Chosen Option : --

Q.15 कोई राशि साधारण ब्याज की किसी निश्चित वार्षिक दर पर 8 वर्ष में दोगुनी हो जाती है। वही राशि, साधारण ब्याज से उसी ब्याज दर पर कितने वर्ष में 4 गुनी हो जाएगी?

- Ans
- 1. 24 वर्ष
 - 2. 20 वर्ष
 - 3. 30 वर्ष
 - 4. 25 वर्ष

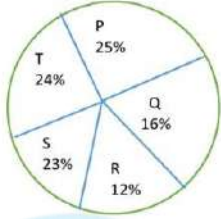
Question ID : 8161613301

Status : Answered

Chosen Option : 1

Q.16 पाई-आरेख पांच विभिन्न विद्यालयों P, Q, R, S और T में छात्रों की संख्या के प्रतिशत- अनुसार (percentage-wise) वितरण को दर्शाता है। सभी पांच विद्यालयों के छात्रों की कुल मिलाकर संख्या 10,500 है।

पाई-आरेख का अध्ययन करें और प्रश्न का उत्तर दें।



विद्यालय R में छात्रों की संख्या, विद्यालय Q और T में मिलाकर छात्रों की कुल संख्या का कितना प्रतिशत है?

- Ans
- 1. 30%
 - 2. 35%
 - 3. 40%
 - 4. 25%

Question ID : 8161613317

Status : Not Answered

Chosen Option : --

Q.17 किसी रेलगाड़ी की चाल, किसी कार की चाल का 220% है। कार, 950 km की दूरी 19 घंटे में तय करती है। $3\frac{1}{2}$ घंटे में रेलगाड़ी कितनी दूरी तय करेगी?

- Ans
- 1. 385 km
 - 2. 375 km
 - 3. 285 km
 - 4. 380 km

Question ID : 8161613294

Status : Not Answered

Chosen Option : --

Q.18 $\frac{33}{40} + \frac{1}{5} \left[\frac{4}{5} - \frac{1}{5} \times \left(\frac{7}{8} - \frac{5}{4} \right) \right]$ का मान है:

- Ans
- 1. 0
 - 2. 10
 - 3. 5
 - 4. 1

Question ID : 8161613310

Status : Not Answered

Chosen Option : --

Q.19 यदि $\frac{\sec \theta + \tan \theta}{\sec \theta - \tan \theta} = 5$ और θ एक न्यून कोण है, तो $\frac{3 \cos^2 \theta + 1}{3 \cos^2 \theta - 1}$ का मान है:

- Ans
- 1. 1
 - 2. 4
 - 3. 3
 - 4. 2

Question ID : 8161613312

Status : Not Answered

Chosen Option : --

Q.20 यदि $\sin(\theta + 30^\circ) = \frac{3}{\sqrt{12}}$ है, तो θ का मान है:

- Ans
- 1. 45°
 - 2. 30°
 - 3. 15°
 - 4. 60°

Question ID : 8161613311

Status : Not Answered

Chosen Option : --

Q.21 जब किसी संख्या को 14 से विभाजित किया जाता है, तो शेषफल 9 प्राप्त होता है। यदि उसी संख्या के वर्ग को 14 से विभाजित किया जाए, तो शेषफल होगा:

- Ans
- 1. 11
 - 2. 9
 - 3. 8
 - 4. 10

Question ID : 8161613309

Status : Not Answered

Chosen Option : --

Q.22 किसी घनाभ के तीन आसन्न फलकों के क्षेत्रफल 30 cm^2 , 20 cm^2 और 24 cm^2 हैं। घनाभ का आयतन है:

- Ans
- 1. 200 cm^3
 - 2. 150 cm^3
 - 3. 120 cm^3
 - 4. 180 cm^3

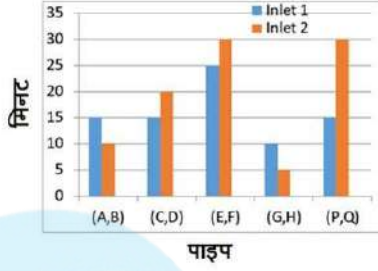
Question ID : 8161613295

Status : Not Answered

Chosen Option : --

Q.23 निम्न आरेख का अध्ययन करें कीजिए और दिए गए प्रश्न का उत्तर दीजिए।

आरेख, पाइपों (A, B), (C, D), (E, F), (G, H) और (P, Q) द्वारा किसी टैंक को भरने में लगने वाले समय (मिनट में) को दर्शाता है।



खाली टैंक को पूरा भरने में कितने मिनट लगेंगे यदि उसे आधे समय तक पाइप D अकेला भरता है और फिर अन्य आधे समय तक पाइप C और D एक साथ मिलकर भरते हैं?

- Ans
- 1. 15 मिनट
 - 2. 18 मिनट
 - 3. 10 मिनट
 - 4. 12 मिनट

Question ID : 8161613315

Status : Not Answered

Chosen Option : --

Q.24 यदि $x = \frac{\sqrt{3}}{2}$ है, तो $\frac{\sqrt{1+x} + \sqrt{1-x}}{\sqrt{1+x} - \sqrt{1-x}}$ का मान होगा:

- Ans
- 1. $\sqrt{2}$
 - 2. 2
 - 3. 3
 - 4. $\sqrt{3}$

Question ID : 8161613308

Status : Not Answered

Chosen Option : --

Q.25 त्रिभुज ABC की भुजा BC को बिंदु D तक बढ़ाया गया है। यदि $\angle ACD = 132^\circ$ और $\angle B = \frac{4}{7}\angle A$ है, तो $\angle A$ की माप _____ होगी।

- Ans
- 1. 80°
 - 2. 60°
 - 3. 84°
 - 4. 50°

Question ID : 8161613304

Status : Not Answered

Chosen Option : --

Q.1 हर्ट्ज़ (Hz) में ध्वनि की किस विशेषता को मापा जाता है?

- Ans
- 1. ध्वनि की तीव्रता
 - 2. ध्वनि का तरंग दैर्घ्य
 - 3. ध्वनि की प्रबलता
 - 4. ध्वनि की आवृत्ति

Question ID : 8161613327

Status : Answered

Chosen Option : 4

Q.2 निम्नलिखित में से कौन मंगल कक्षित्र (ऑर्बिटर) मिशन (MOM) के उप संचालन निदेशकों में से एक है?

- Ans
- 1. मीनल रोहित
 - 2. सीता सोमसुंदरम
 - 3. नंदिनी हरिनाथ
 - 4. मौमिता दत्ता

Question ID : 8161613336

Status : Not Answered

Chosen Option : --

Q.3 मानव विकास भारत सूचकांक 2019 में किस देश को पहला स्थान मिला है?

- Ans
- 1. जर्मनी
 - 2. आयरलैंड
 - 3. स्विट्ज़रलैंड
 - 4. नॉर्वे

Question ID : 8161613325

Status : Answered

Chosen Option : 4

Q.4 निम्नलिखित में से किसे 'बाल्टीमोर बुलेट' का उपनाम दिया गया है?

- Ans
- 1. माइकल फेल्स (Michael Phelps)
 - 2. टॉम जगर (Tom Jager)
 - 3. इआन थोर्प (Ian Thorpe)
 - 4. मैट बायोन्डी (Matt Biondi)

Question ID : 8161613341

Status : Not Answered

Chosen Option : --

Q.5 निम्नलिखित में से कौन 1857 में अंग्रेजों के खिलाफ विद्रोह में इलाहाबाद (अब प्रयागराज) के एक नेता थे?

- Ans
- 1. मौलवी लियाकत अली
 - 2. खान बहादुर खान
 - 3. तात्या टोपे
 - 4. रानी लक्ष्मी बाई

Question ID : 8161613335

Status : Answered

Chosen Option : 2

Q.6 जनवरी 2020 में, मुंबई ट्रांस-हार्बर लिंक (MTHL) के पहले चरण का उद्घाटन/ लॉन्च निम्नलिखित में से किसने किया था?

- Ans
- 1. राज ठाकरे
 - 2. उद्धव ठाकरे
 - 3. आदित्य ठाकरे
 - 4. बाल ठाकरे

Question ID : 8161613324
Status : Answered
Chosen Option : 2

Q.7 पहली बारकोड प्रणाली (Bar Code System) किसके द्वारा विकसित की गई थी?

- Ans
- 1. जॉन बार्जर (John Barger)
 - 2. नॉर्मन जोसेफ वुडलैंड (Norman Joseph Woodland)
 - 3. जॉन मैकार्थी (John Mc Carthy)
 - 4. डेविड ब्रेडली (David Bradley)

Question ID : 8161613319
Status : Not Answered
Chosen Option : --

Q.8 ट्रैकबॉल (Trackball) निम्नलिखित में से कौन सा उपकरण है?

- Ans
- 1. टचपैड
 - 2. आउटपुट डिवाइस
 - 3. इनपुट डिवाइस
 - 4. बारकोड रीडर

Question ID : 8161613318
Status : Answered
Chosen Option : 3

Q.9 हॉर्नबिल महोत्सव किस राज्य में मनाया जाता है?

- Ans
- 1. मेघालय
 - 2. असम
 - 3. नागालैंड
 - 4. अरुणाचल प्रदेश

Question ID : 8161613320
Status : Answered
Chosen Option : 3

Q.10 2019 में, अंतर्राष्ट्रीय हॉकी महासंघ (FIH) का 'प्लेयर ऑफ द ईयर' पुरस्कार किसने जीता है?

- Ans
- 1. ध्यान चंद
 - 2. दिलीप तिकी
 - 3. परगट सिंह
 - 4. मनप्रीत सिंह

Question ID : 8161613342
Status : Answered
Chosen Option : 4

Q.11 नीति (NITI) आयोग किस वर्ष अस्तित्व में आया?

- Ans
- 1. 2016
 - 2. 2014
 - 3. 2015
 - 4. 2013

Question ID : 8161613326

Status : Answered

Chosen Option : 3

Q.12 अक्टूबर 2019 में, विश्व नगर दिवस (World Cities Day) 2019 के अवसर पर, यूनेस्को (UNESCO) ने अपने 'क्रिएटिव सिटीज' के नेटवर्क में किन दो भारतीय शहरों को शामिल किया है?

- Ans
- 1. दिल्ली और मुंबई
 - 2. हैदराबाद और मुंबई
 - 3. जोधपुर और कोलकाता
 - 4. पुणे और हैदराबाद

Question ID : 8161613323

Status : Answered

Chosen Option : 2

Q.13 कर्क रेखा निम्नलिखित में से किस भारतीय राज्य से होकर नहीं गुजरती है?

- Ans
- 1. मध्य प्रदेश
 - 2. पश्चिम बंगाल
 - 3. गुजरात
 - 4. आंध्र प्रदेश

Question ID : 8161613330

Status : Answered

Chosen Option : 4

Q.14 आर्द्रता के स्तर को मापने के लिए किस उपकरण का उपयोग किया जाता है?

- Ans
- 1. हाइड्रोमीटर (Hydrometer)
 - 2. हाइग्रोमीटर (Hygrometer)
 - 3. गैल्वानोमीटर (Galvanometer)
 - 4. फैथोमीटर (Fathometer)

Question ID : 8161613328

Status : Answered

Chosen Option : 2

Q.15 नवंबर 2019 में, नई दिल्ली में आयोजित "आदि महोत्सव" नामक राष्ट्रीय जनजातीय समारोह का उद्घाटन किसने किया था?

- Ans
- 1. अमित शाह
 - 2. नरेंद्र मोदी
 - 3. एन. सीतारमण
 - 4. स्मृति ईरानी

Question ID : 8161613322

Status : Answered

Chosen Option : 2

Q.16 कुल कितने वेदांग हैं?

- Ans 1. दो
 2. छह
 3. पांच
 4. दस

Question ID : 8161613334
 Status : Answered
 Chosen Option : 4

Q.17 निम्नलिखित में से कौन सी झील एशिया की दूसरी सबसे बड़ी कृत्रिम झील है?

- Ans 1. राजस्थान में टेबर झील
 2. ओडिशा में चिल्का झील
 3. आंध्र प्रदेश में कोल्लेरू झील
 4. असम में चंदुबी झील

Question ID : 8161613331
 Status : Answered
 Chosen Option : 3

Q.18 पुस्तक 'द जजमेंट: इनसाइड स्टोरी ऑफ इमरजेंसी इन इंडिया (The Judgement: Inside Story of the Emergency in India)' के लेखक कौन हैं?

- Ans 1. इंदिरा गांधी
 2. के.एम. मुंशी
 3. जवाहरलाल नेहरू
 4. कुलदीप नैयर

Question ID : 8161613337
 Status : Answered
 Chosen Option : 1

Q.19 कौन सा देश वर्ष 2019 का आईसीसी (ICC) क्रिकेट विश्व कप चैंपियन बना?

- Ans 1. इंग्लैंड
 2. पाकिस्तान
 3. ऑस्ट्रेलिया
 4. भारत

Question ID : 8161613340
 Status : Answered
 Chosen Option : 1

Q.20 भारत में दो सदनों वाली पहली निर्वाचित संसद किस वर्ष अस्तित्व में आई थी?

- Ans 1. 1953
 2. 1952
 3. 1954
 4. 1955

Question ID : 8161613339
 Status : Not Answered
 Chosen Option : --

Q.21 'मॉनसून' शब्द _____ से लिया गया है।

- Ans
- 1. लैटिन शब्द
 - 2. इतालवी शब्द
 - 3. अरबी शब्द
 - 4. ग्रीक शब्द

Question ID : 8161613333

Status : Answered

Chosen Option : 4

Q.22 निम्नलिखित में से मार्शल आर्ट की कौन-सी शैली केरल से संबंधित है?

- Ans
- 1. गतका
 - 2. सिलम्बम
 - 3. पाइक अखाड़ा
 - 4. कलारीपयट्टु

Question ID : 8161613321

Status : Answered

Chosen Option : 3

Q.23 तेलंगाना किस वर्ष भारत का 29वां राज्य बना?

- Ans
- 1. 2015
 - 2. 2016
 - 3. 2017
 - 4. 2014

Question ID : 8161613338

Status : Answered

Chosen Option : 4

Q.24 वाल्टर हंट ने निम्नलिखित में से किसका आविष्कार किया था?

- Ans
- 1. स्कूटर
 - 2. समुद्री जहाज
 - 3. सेप्टी पिन
 - 4. सेप्टी लैम्प

Question ID : 8161613329

Status : Not Answered

Chosen Option : --

Q.25 बोमडिला दर्रा किस राज्य में स्थित है?

- Ans
- 1. हिमाचल प्रदेश
 - 2. नागालैंड
 - 3. सिक्किम
 - 4. अरुणाचल प्रदेश

Question ID : 8161613332

Status : Answered

Chosen Option : 4

Roll Number	
Candidate Name	
Venue Name	
Exam Date	21/10/2020
Exam Time	4:00 PM - 5:00 PM
Subject	CHSL Tier 1

Section : English Language (Basic Knowledge)

Q.1 Select the most appropriate word to fill in the blank:

As part of the _____ Classical Indian Music Festival leading vocalists and instrumentalist are taking the stage this evening.

- Ans
- 1. postponed
 - 2. foregone
 - 3. ongoing
 - 4. onset

Question ID : 4244291541
Status : Answered
Chosen Option : 3

Q.2 Select the most appropriate meaning of the given idiom:

Under the weather

- Ans
- 1. To feel wronged by friends
 - 2. To face bad weather conditions
 - 3. To be in low spirits
 - 4. Feel strong and energetic

Question ID : 4244291533
Status : Not Answered
Chosen Option : --

Q.3 Select the most appropriate synonym of the given word:

ALTRUIST

- Ans
- 1. Philanthropist
 - 2. Nutritionist
 - 3. Impressionist
 - 4. Individualist

Question ID : 4244291540
Status : Answered
Chosen Option : 1

Q.4 Select the correct Indirect form of the given sentence.

“Let’s sit out in the sun,” Anya said.

- Ans
- 1. Anya was suggesting that we sit out in the sun.
 - 2. Anya had suggested that we sit out in the sun.
 - 3. Anya suggested that we sit out in the sun.
 - 4. Anya is suggesting that we sit out in the sun.

Question ID : 4244291518

Status : Answered

Chosen Option : 3

Comprehension:

In the following passage some words have been deleted. Fill in the blanks with the help of the alternatives given. Select the most appropriate option for each blank.

Jonas Karlsson and Ruth Osborne are two chefs who (1)_____ about promoting zero waste in cooking, whether it is (2)_____ restaurants or at home. It means using every part of a food (3)_____. So for example, you needn’t peel carrots. You can (4)_____ scrub off the surface lightly and cook them You can also find ways (5)_____ and recycle by- products like using coffee grounds to make biscuits.

SubQuestion No : 5

Q.5 Select the most appropriate option for blank No. 1.

- Ans
- 1. were passionate
 - 2. was passionate
 - 3. are passionate
 - 4. are passionately

Question ID : 4244291522

Status : Answered

Chosen Option : 1

Comprehension:

In the following passage some words have been deleted. Fill in the blanks with the help of the alternatives given. Select the most appropriate option for each blank.

Jonas Karlsson and Ruth Osborne are two chefs who (1)_____ about promoting zero waste in cooking, whether it is (2)_____ restaurants or at home. It means using every part of a food (3)_____. So for example, you needn’t peel carrots. You can (4)_____ scrub off the surface lightly and cook them You can also find ways (5)_____ and recycle by- products like using coffee grounds to make biscuits.

SubQuestion No : 6

Q.6 Select the most appropriate option for blank No. 2.

- Ans
- 1. in
 - 2. on
 - 3. into
 - 4. upon

Question ID : 4244291523

Status : Answered

Chosen Option : 1

Comprehension:

In the following passage some words have been deleted. Fill in the blanks with the help of the alternatives given. Select the most appropriate option for each blank.

Jonas Karlsson and Ruth Osborne are two chefs who (1)_____ about promoting zero waste in cooking, whether it is (2)_____ restaurants or at home. It means using every part of a food (3)_____. So for example, you needn't peel carrots. You can (4)_____ scrub off the surface lightly and cook them You can also find ways (5)_____ and recycle by- products like using coffee grounds to make biscuits.

SubQuestion No : 7

Q.7 Select the most appropriate option for blank No. 3.

- Ans 1. product
 2. producer
 3. productive
 4. production

Question ID : 4244291524

Status : Answered

Chosen Option : 4

Comprehension:

In the following passage some words have been deleted. Fill in the blanks with the help of the alternatives given. Select the most appropriate option for each blank.

Jonas Karlsson and Ruth Osborne are two chefs who (1)_____ about promoting zero waste in cooking, whether it is (2)_____ restaurants or at home. It means using every part of a food (3)_____. So for example, you needn't peel carrots. You can (4)_____ scrub off the surface lightly and cook them You can also find ways (5)_____ and recycle by- products like using coffee grounds to make biscuits.

SubQuestion No : 8

Q.8 Select the most appropriate option for blank No. 4.

- Ans 1. never
 2. just
 3. rarely
 4. seldom

Question ID : 4244291525

Status : Not Answered

Chosen Option : --

Comprehension:

In the following passage some words have been deleted. Fill in the blanks with the help of the alternatives given. Select the most appropriate option for each blank.

Jonas Karlsson and Ruth Osborne are two chefs who (1)_____ about promoting zero waste in cooking, whether it is (2)_____ restaurants or at home. It means using every part of a food (3)_____. So for example, you needn't peel carrots. You can (4)_____ scrub off the surface lightly and cook them You can also find ways (5)_____ and recycle by- products like using coffee grounds to make biscuits.

SubQuestion No : 9

Q.9 Select the most appropriate option for blank No. 5.

- Ans 1. to reused
 2. to redo
 3. to reuse
 4. to redone

Question ID : 4244291526

Status : Answered

Chosen Option : 1

Q.10 Select the most appropriate word to fill in the blank.

Prince Harry and his wife, Megan Markle announced their decision to _____ from their role as senior royals by leaving United Kingdom and limiting their royal commitments.

- Ans
- 1. step in
 - 2. step up
 - 3. step back
 - 4. step on

Question ID : 4244291542
 Status : Answered
 Chosen Option : 2

Q.11 Select the most appropriate option to substitute the underlined segment in the given sentence. If there is no need to substitute it, select No improvement.

I think you'd better paid online immediately as you may not get time to visit the bank later on during the day.

- Ans
- 1. No Improvement
 - 2. you'd better paying
 - 3. you'd better pay
 - 4. you'd have better pay

Question ID : 4244291529
 Status : Not Answered
 Chosen Option : --

Q.12 Select the most appropriate synonym of the given word:

HAUGHTY

- Ans
- 1. Talkative
 - 2. Humble
 - 3. Arrogant
 - 4. Quiet

Question ID : 4244291539
 Status : Not Answered
 Chosen Option : --

Q.13 Given below are four jumbled sentences. Pick the option that gives their correct order.

- A. At the onset of his journey, his mother guides him how to survive and navigate the world.
- B. 'Silo's Journey' is a film made by a wildlife film director.
- C. It follows the journey of a young reindeer's first year at close range.
- D. Sharing this journey is his friend-a curious red-haired squirrel.

- Ans
- 1. CABD
 - 2. DABC
 - 3. BDCA
 - 4. BCAD

Question ID : 4244291527
 Status : Answered
 Chosen Option : 4

Q.14 Select the correct passive form of the given sentence.

The vet told me to put eye drops and ointment in my pet's eyes.

- Ans
- 1. I was being told by the vet to put eye drops and ointment in my pet's eyes.
 - 2. I had been told by the vet to put eye drops and ointment in my pet's eyes.
 - 3. I am being told by the vet to put eye drops and ointment in my pet's eyes.
 - 4. I was told by the vet to put eye drops and ointment in my pet's eyes.

Question ID : 4244291517
Status : Answered
Chosen Option : 1

Q.15 Select the word which means the same as the group of words given:

Making one feel very sad

- Ans
- 1. Heart-wrenching
 - 2. Heart-stopping
 - 3. Heart-to-heart
 - 4. Heart-searching

Question ID : 4244291538
Status : Answered
Chosen Option : 4

Q.16 Select the most appropriate meaning of the given idiom:

The straw that broke the camel's back

- Ans
- 1. To show strength and continue without a fuss
 - 2. To undertake a difficult journey across a desert
 - 3. To be the last in a series of events leading one to feel that it is intolerable
 - 4. To make a wish for an escape from existing conditions

Question ID : 4244291534
Status : Not Answered
Chosen Option : --

Q.17 In the sentence identify the segment which contains the grammatical error.

Firecrackers have seized by the government went off while being defused on the banks of the river Ganga, in a town in West Bengal.

- Ans
- 1. while being defused
 - 2. Firecrackers have seized by the government
 - 3. in a town in West Bengal
 - 4. on the banks of the river Ganga

Question ID : 4244291519
Status : Answered
Chosen Option : 1

Q.18 Given below are four jumbled sentences. Pick the option that gives their correct order.

- A. Soon a special friendship develops between the two girls in war torn Syria.
 B. While at her grandmother's place, Suzan meets Rana, a Syrian girl, who lives in a nearby refugee camp.
 C. 'Summer with Rana' is a film by Sanne Vogel, who began her film career as early as 17.
 D. Her film revolves around Suzan, the young girl who is spending her summer holiday with her grandmother, while her mother has gone to Syria, as a war reporter.

- Ans 1. ADBC
 2. CDBA
 3. BDAC
 4. CADB

Question ID : 4244291528
 Status : Answered
 Chosen Option : 2

Q.19 Select the wrongly spelt word.

- Ans 1. Privilige
 2. Truism
 3. Gait
 4. Mileage

Question ID : 4244291536
 Status : Answered
 Chosen Option : 2

Q.20 Select the most appropriate option to substitute the underlined segment in the given sentence. If there is no need to substitute it, select No improvement .

It is evident from current research that young adults is more like to develop an interest in spoken English if there is a change in methodology.

- Ans 1. are more likely
 2. are more like
 3. No Improvement
 4. is more likely

Question ID : 4244291530
 Status : Answered
 Chosen Option : 1

Q.21 In the sentence identify the segment which contains the grammatical error.

A 12 year old archer was airlifted to Delhi when he met with an accident while practice for the Khelo India Games in Guwahati.

- Ans 1. was airlifted to Delhi
 2. when he met with an accident
 3. while practice for the Khelo India Games
 4. A 12 year old archer

Question ID : 4244291520
 Status : Answered
 Chosen Option : 1

Q.22 Select the wrongly spelt word.

- Ans 1. Accidentally
 2. Diferently
 3. Evidently
 4. Prudently

Question ID : 4244291535
Status : Answered
Chosen Option : 2

Q.23 Select the most appropriate antonym of the given word:

CONTEMPLATE

- Ans 1. Deify
 2. Ignore
 3. Meditate
 4. Conceive

Question ID : 4244291531
Status : Answered
Chosen Option : 3

Q.24 Select the most appropriate antonym of the given word:

COARSE

- Ans 1. Common
 2. Vulgar
 3. Refined
 4. Colourful

Question ID : 4244291532
Status : Not Answered
Chosen Option : --

Q.25 Select the word which means the same as the group of words given:

A part of the city especially the slum area

- Ans 1. Suburb
 2. Metropolis
 3. Colony
 4. Ghetto

Question ID : 4244291537
Status : Answered
Chosen Option : 1

Q.1 उस विकल्प का चयन करें, जो तीसरे शब्द से उसी प्रकार से संबंधित है, जिस प्रकार से दूसरा शब्द, पहले शब्द से संबंधित है।

रेल : रेगिस्तान :: पानी : ?

- Ans
- 1. भूमि
 - 2. बर्फ
 - 3. महासागर
 - 4. वाष्प

Question ID : 4244291557
Status : Answered
Chosen Option : 3

Q.2 यदि SMART शब्द को 191311820 के रूप में कोडित किया गया है, तो FUNNY शब्द को किस प्रकार से कोडित किया जाएगा?

- Ans
- 1. 620131325
 - 2. 622131325
 - 3. 621131325
 - 4. 621141425

Question ID : 4244291550
Status : Answered
Chosen Option : 3

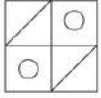
Q.3 उस संख्या की पहचान करें जो निम्न श्रेणी से संबंधित नहीं है।

17, 19, 23, 30, 47, 79

- Ans
- 1. 23
 - 2. 47
 - 3. 79
 - 4. 30

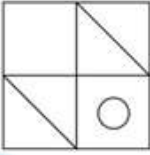
Question ID : 4244291548
Status : Answered
Chosen Option : 4

Q.4 दी गई आकृति के सही दर्पण प्रतिबिंब का चयन करें जब दर्पण को आकृति के दाईं ओर रखा गया हो।

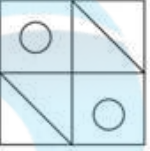


Ans

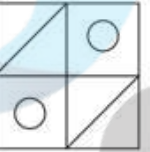
✗ 1.



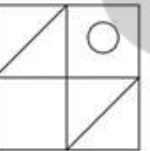
✓ 2.



✗ 3.



✗ 4.



Question ID : 4244291566

Status : Answered

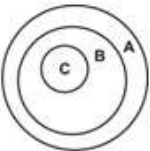
Chosen Option : 2

Q.5 उस वैन आरेख का चयन करें जो निम्न वर्गों के बीच संबंधों को सर्वात्तम ढंग से निरूपित करता है।

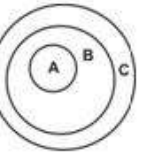
(A) चतुर्भुज, (B) आयत, (C) वर्ग

Ans

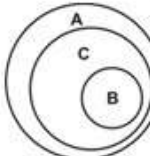
✓ 1.



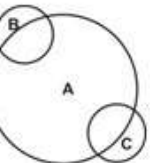
✗ 2.



✗ 3.



✗ 4.



Question ID : 4244291567

Status : Answered

Chosen Option : 1

Q.6 Select the option that is related to the third word in the same way as the second word is related to the first word.

Angioplasty : Heart :: Dialysis : ?

- Ans
- 1. Rib-cage
 - 2. Kidney
 - 3. Brain
 - 4. Lungs

Question ID : 4244291554

Status : Answered

Chosen Option : 2

Q.7 4 cm आकार वाले एक घन के सभी छः पृष्ठों पर हरा रंग लगाया गया है। इसे 1 cm आकार वाले छोटे घनों में काटा जाता है। ऐसे घनों की संख्या कितनी होगी, जिनके 3 पृष्ठ हरे होंगे?

- Ans
- 1. 16
 - 2. 4
 - 3. 8
 - 4. 12

Question ID : 4244291561

Status : Answered

Chosen Option : 1

Q.8 निम्न में से कौन सा विकल्प गणितीय संक्रियाएं बदले जाने पर समीकरण को सही करेगा?

$$2 \div 3 - 5 \times 3 + 3 = 16$$

- Ans
- 1. $\div \rightarrow +, - \rightarrow \times, \times \rightarrow -, + \rightarrow \div$
 - 2. $\div \rightarrow \times, - \rightarrow \div, \times \rightarrow +, + \rightarrow -$
 - 3. $\div \rightarrow -, - \rightarrow \div, \times \rightarrow +, + \rightarrow \div$
 - 4. $\div \rightarrow \times, - \rightarrow +, \times \rightarrow \div, + \rightarrow -$

Question ID : 4244291544

Status : Answered

Chosen Option : 1

Q.9 रेहान की ओर इशारा करते हुए रखसाना ने कहा, "उसके दादा की पुत्र वधू मेरी पुत्री की दादी है।" रखसाना का रेहान से क्या संबंध है?

- Ans
- 1. मां
 - 2. बहन
 - 3. पुत्री
 - 4. पत्नी

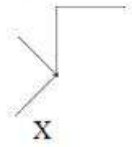
Question ID : 4244291556

Status : Answered

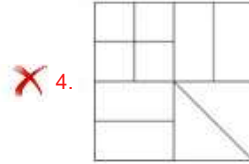
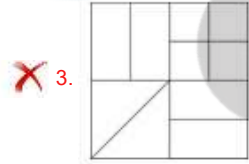
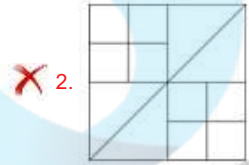
Chosen Option : 1

Q.10 उस विकल्प का चयन करें जिस में दी गई आकृति (X) अंतर्निहित है।

(घुमाने की अनुमति नहीं है)



Ans



Question ID : 4244291564

Status : Answered

Chosen Option : 4

Q.11 यदि '+' का अर्थ 'x' है, '-' का अर्थ '+' है, 'x' का अर्थ '+' है और '+' का अर्थ '-' है, तो निम्नलिखित समीकरण का मान ज्ञात करें?

$$24 \times 4 + 12 - 14 + 10$$

Ans ✗ 1. 84

✗ 2. 82

✗ 3. 90

✓ 4. 76

Question ID : 4244291549

Status : Answered

Chosen Option : 4

Q.12 उस विकल्प का चयन करें जिसका तीसरे अक्षर-समूह से वही संबंध है जो दूसरे अक्षर-समूह का पहले अक्षर-समूह से है।

HEAVY : ICBTZ :: LIGHT : ?

- Ans
- 1. GMFHU
 - 2. FUGHM
 - 3. MGHFU
 - 4. HGMUFH

Question ID : 4244291553

Status : Answered

Chosen Option : 3

Q.13 माहिरा ने ₹42 में कुछ इरेजर और कुछ पेन खरीदे। प्रत्येक इरेजर की कीमत ₹5 और प्रत्येक पेन की कीमत ₹9 है। उसने कितने इरेजर खरीदे?

- Ans
- 1. 7
 - 2. 3
 - 3. 6
 - 4. 8

Question ID : 4244291543

Status : Answered

Chosen Option : 2

Q.14 उस विकल्प का चयन करें जिस में संख्याओं के मध्य वही संबंध है जो नीचे दिए गए समुच्चय की संख्याओं के मध्य है।

(12, 27, 9)

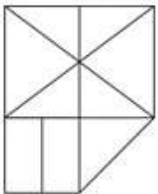
- Ans
- 1. (5, 18, 8)
 - 2. (15, 52, 13)
 - 3. (11, 21, 7)
 - 4. (14, 21, 6)

Question ID : 4244291547

Status : Answered

Chosen Option : 3

Q.15 दी गई आकृति में कितने त्रिभुज हैं?



- Ans
- 1. 13
 - 2. 12
 - 3. 14
 - 4. 7

Question ID : 4244291563

Status : Answered

Chosen Option : 3

Q.16 एक निश्चित कूटभाषा में, 'TIGER' को 'YMJGS' के रूप में लिखा जाता है। उसी भाषा में 'PANDA' को कैसे लिखा जाएगा?

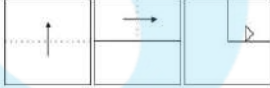
- Ans
- 1. USIFC
 - 2. EQUFB
 - 3. UFSIF
 - 4. UEQFB

Question ID : 4244291551

Status : Answered

Chosen Option : 4

Q.17 कागज के एक टुकड़े को मोड़ने और मोड़े गए कागज को काटने की विधि निम्न चित्रों में दर्शायी गई है। कागज को खोलने पर यह किस प्रकार दिखाई देगा?



Ans

- 1.
- 2.
- 3.
- 4.

Question ID : 4244291565

Status : Answered

Chosen Option : 1

Q.18 चार अक्षर-समूह दिए गए हैं, जिन में से तीन किसी प्रकार समान हैं और एक असंगत है। उस असंगत अक्षर-समूह का चयन करें।

- Ans
- 1. CXGTIR
 - 2. BYIRJQ
 - 3. FUEVHS
 - 4. JPLNDW

Question ID : 4244291558

Status : Answered

Chosen Option : 4

Q.19 दिए गए कथनों और निष्कर्षों को ध्यानपूर्वक पढ़ें। कथनों में दी गई सूचना को सत्य मानते हुए, भले ही वह सामान्य ज्ञान तथ्यों से भिन्न प्रतीत होती हो, यह निर्णय करें कि दिए गए निष्कर्षों में से कौन सा/से निष्कर्ष तर्कसंगत रूप से कथनों का अनुसरण करता है/करते हैं।

कथन:

- (1) सभी बिल्लियाँ जानवर हैं।
- (2) कुछ जानवर कुत्ते हैं।

निष्कर्ष:

- (i) सभी कुत्ते जानवर हैं।
- (ii) सभी जानवर बिल्लियाँ हैं।

Ans

✓ 1.

न तो निष्कर्ष (i) अनुसरण करता है और न ही (ii) अनुसरण करता है।

- ✗ 2. निष्कर्ष (i) और (ii) दोनों अनुसरण करते हैं।
- ✗ 3. केवल निष्कर्ष (ii) अनुसरण करता है।
- ✗ 4. केवल निष्कर्ष (i) अनुसरण करता है।

Question ID : 4244291560

Status : Answered

Chosen Option : 1

Q.20 एक निश्चित कूट में, यदि BRDKE को AQCJD के रूप में लिखा जाता है, तो उसी कूट में SLEEP को किस प्रकार से लिखा जाएगा?

Ans

- ✗ 1. PJDDQ
- ✗ 2. PNDDO
- ✗ 3. RJDDN
- ✓ 4. RKDDO

Question ID : 4244291552

Status : Answered

Chosen Option : 4

Q.21 चार शब्द दिए गए हैं, जिन में से तीन किसी प्रकार से समान हैं और एक असंगत है। उस असंगत का चयन करें।

Ans

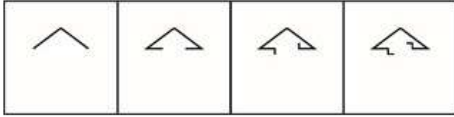
- ✓ 1. बच्चे
- ✗ 2. शरारती
- ✗ 3. निष्ठावान
- ✗ 4. रचनात्मक

Question ID : 4244291559

Status : Answered

Chosen Option : 4

Q.22 उस आकृति का चयन करें जो निम्न आकृति-श्रेणी में अगले स्थान पर आएगी।



Ans

✓ 1.



✗ 2.



✗ 3.



✗ 4.



Question ID : 4244291562

Status : Answered

Chosen Option : 2

Q.23 Select the option in which the numbers are related in the same way as are the numbers in the following set.

(7, 46, 340)

Ans

✗ 1.

(4, 28, 68)

✗ 2.

(5, 22, 130)

✓ 3.

(15, 222, 3372)

✗ 4.

(8, 68, 500)

Question ID : 4244291546

Status : Answered

Chosen Option : 1

Q.24 Select the combination of letters that when sequentially placed in the blanks of the given series will complete the series.

PA _ A _ AP _ P _ Y _ PA _ AY _

Ans

✓ 1.

PYAAAPA

✗ 2.

YAPPAPA

✗ 3.

AYAPAPP

✗ 4.

AYPPAAA

Question ID : 4244291555

Status : Answered

Chosen Option : 3

Q.25 किसी संख्या के दो अंकों का योग 5 है। यदि हम उस संख्या में 9 जोड़ देते हैं तो 50 का अंक प्राप्त होता है। वह संख्या ज्ञात करें?

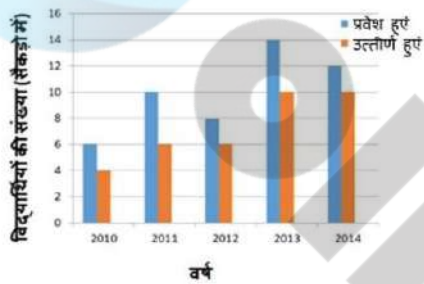
- Ans
- 1. 32
 - 2. 14
 - 3. 23
 - 4. 41

Question ID : 4244291545
Status : Not Answered
Chosen Option : --

Section : Quantitative Aptitude(Basic Arithmetic Skill)

Q.1 दंड आरेख वर्ष 2010 से 2014 के दौरान एक कॉलेज में प्रति वर्ष प्रवेश लेने वाले और उत्तीर्ण होने वाले छात्रों की संख्या (सैकड़ों में) दर्शाता है।

निम्न दंड आरेख का अध्ययन करें और दिए गए प्रश्न का उत्तर दें।



निम्नलिखित में से किस वर्ष के दौरान, विद्यार्थियों का उत्तीर्ण प्रतिशत 80 और 85 के बीच था?

- Ans
- 1. 2013
 - 2. 2012
 - 3. 2011
 - 4. 2014

Question ID : 4244291592
Status : Not Answered
Chosen Option : --

Q.2 If $4a + \frac{1}{5a} = 4$, then the value of $25a^2 + \frac{1}{16a^2}$ is:

- Ans
- 1. $\frac{43}{2}$
 - 2. $\frac{55}{2}$
 - 3. $\frac{45}{4}$
 - 4. $\frac{45}{2}$

Question ID : 4244291582
Status : Answered
Chosen Option : 4

Q.3 The value of $75\frac{3}{5} + \left[15 + 3 \text{ of } 5 + 7 + \frac{1}{14} - \left(78 + 3\frac{1}{3} \right) \right]$ is:

- Ans
- 1. 0
 - 2. 1
 - 3. 2
 - 4. 5

Question ID : 4244291585
Status : Not Answered
Chosen Option : --

Q.4 The elimination of θ from $x \cos \theta - y \sin \theta = 2$ and $x \sin \theta + y \cos \theta = 4$ will give:

- Ans
- 1. $x^2 + y^2 = 20$
 - 2. $3x^2 - y^2 = 20$
 - 3. $3x^2 + y^2 = 20$
 - 4. $x^2 - y^2 = 20$

Question ID : 4244291588
Status : Answered
Chosen Option : 1

Q.5 A, B और C का औसत भार 55 kg है। C का भार A से 10 kg और B से 5 kg अधिक है। यदि D का भार C से 19 kg अधिक हो, तो A, B, C और D का औसत भार है:

- Ans
- 1. 61 kg
 - 2. 58 kg
 - 3. 62 kg
 - 4. 60 kg

Question ID : 4244291571
Status : Not Answered
Chosen Option : --

Q.6 26 cm व्यास के एक वृत्त में 10 cm लंबी एक जीवा खींची जाती है। केंद्र से जीवा की लंबवत दूरी कितनी होगी:

- Ans
- 1. 7 cm
 - 2. 12 cm
 - 3. 5 cm
 - 4. 8 cm

Question ID : 4244291577
Status : Answered
Chosen Option : 2

Q.7 यदि $\alpha + \beta = 90^\circ$ और $\alpha = 2\beta$ है, तो $\cos^2\alpha + \sin^2\beta$ का मान है:

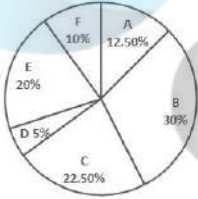
- Ans
- 1. 1
 - 2. $\frac{1}{3}$
 - 3. $\frac{1}{5}$
 - 4. $\frac{1}{2}$

Question ID : 4244291586

Status : Answered

Chosen Option : 1

Q.8 यह पाई-आरेख छह देशों A, B, C, D, E और F का वार्षिक कार उत्पादन (प्रतिशत अनुसार) दर्शाता है। निम्न पाई आरेख का अध्ययन करें और दिए गए प्रश्न का उत्तर दें।



कारों का कुल उत्पादन = 40,00,000

यदि इन छह देशों द्वारा उत्पादित कारों में से 45% डीजल कारें और बाकी पेट्रोल कारें हैं, तो कितनी पेट्रोल कारों का उत्पादन किया गया?

- Ans
- 1. 24 लाख
 - 2. 22 लाख
 - 3. 25 लाख
 - 4. 20 लाख

Question ID : 4244291590

Status : Not Answered

Chosen Option : --

Q.9 एक व्यक्ति 12 km/h की गति से चल रहा है। प्रत्येक km के बाद, वह 3 मिनट विश्राम करता है। उसे 6 km की दूरी तय करने में कितना समय लगेगा?

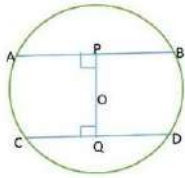
- Ans
- 1. 45 मिनट
 - 2. 42 मिनट
 - 3. 40 मिनट
 - 4. 48 मिनट

Question ID : 4244291569

Status : Answered

Chosen Option : 4

Q.10 आकृति में, 29 cm त्रिज्या वाले वृत्त का केन्द्र O है। $OT \perp AB, OQ \perp CD$ और AB, CD के समांतर हैं। यदि $AB = 40$ cm और $CD = 42$ cm हैं, तो PQ की लम्बाई है:



- Ans
- 1. 20 cm
 - 2. 32 cm
 - 3. 21 cm
 - 4. 41 cm

Question ID : 4244291578

Status : Not Answered

Chosen Option : --

Q.11 If $a + \frac{1}{a} + 2 = 0$, then the value of $a^{15} - \frac{1}{a^{100}}$ is:

- Ans
- 1. 1
 - 2. 0
 - 3. 2
 - 4. -2

Question ID : 4244291581

Status : Answered

Chosen Option : 4

Q.12 If $\sec \theta + \tan \theta = 2 + \sqrt{5}$ and θ is an acute angle, then the value of $\sin \theta$ is:

- Ans
- 1. $\frac{3}{5}$
 - 2. $\frac{2\sqrt{5}}{5}$
 - 3. $\frac{1}{5}$
 - 4. $\frac{\sqrt{5}}{5}$

Question ID : 4244291587

Status : Answered

Chosen Option : 1

Q.13 किसी वस्तु को ₹8,800 में बेचने पर होने वाला लाभ इसी वस्तु को ₹7,200 में बेचने पर होने वाली हानि की राशि के बराबर है। यदि इसे ₹9,800 में बेचा जाए तो लाभ प्रतिशत कितना होगा?

- Ans
- 1. 20%
 - 2. 18%
 - 3. 25%
 - 4. 15%

Question ID : 4244291574

Status : Not Answered

Chosen Option : --

Q.14 एक दुकानदार के पास निश्चित संख्या में सेब हैं जिनमें से 10% सेब सड़े हुए पाए गए। वह शेष अच्छे सेबों में से 85% को बेच देता है और अभी भी उसके पास 405 अच्छे सेब बच जाते हैं। प्रारंभ में उसके पास कितने सेब थे?

- Ans
- 1. 3000
 - 2. 3500
 - 3. 2500
 - 4. 2000

Question ID : 4244291573

Status : Answered

Chosen Option : 2

Q.15 यदि $x\%$ वार्षिक ब्याज दर से ₹1,400 की राशि पर 4 वर्ष का साधारण ब्याज और उसी राशि पर उसी दर से दो वर्ष के साधारण ब्याज का योग ₹672 है, तो x का मान है।

- Ans
- 1. 6%
 - 2. 9%
 - 3. 8%
 - 4. 10%

Question ID : 4244291576

Status : Not Answered

Chosen Option : --

Q.16 $2^{18} - 1$ is divisible by:

- Ans
- 1. 17
 - 2. 7
 - 3. 13
 - 4. 11

Question ID : 4244291584

Status : Answered

Chosen Option : 1

Q.17 A और B एक काम को 12 दिन में पूरा कर सकते हैं, B और C इसे 15 दिन में पूरा कर सकते हैं और C और A इसे 20 दिन में पूरा कर सकते हैं। यदि A, B और C एक साथ मिलकर काम करते हैं तो उन्हें इस काम को पूरा करने में कितने दिन लगेंगे?

- Ans
- 1. 14 दिन
 - 2. 10 दिन
 - 3. 5 दिन
 - 4. 12 दिन

Question ID : 4244291568
Status : Answered
Chosen Option : 3

Q.18 यदि अंकित मूल्य ₹6,000 वाली एक डाइनिंग टेबल एक ग्राहक को ₹5,520 में बेची गई, तो टेबल के अंकित मूल्य पर दी गई छूट की दर है:

- Ans
- 1. 6%
 - 2. 8%
 - 3. 5%
 - 4. 7%

Question ID : 4244291572
Status : Answered
Chosen Option : 2

Q.19 8 पेनों और 3 पेंसिलों का मूल्य 3 पेनों और 9 पेंसिलों के मूल्य के बराबर है। एक पेन के मूल्य और एक पेंसिल के मूल्य के बीच अनुपात क्या है?

- Ans
- 1. 5 : 4
 - 2. 6 : 5
 - 3. 3 : 2
 - 4. 6 : 7

Question ID : 4244291575
Status : Not Answered
Chosen Option : --

Q.20 If $x + \frac{1}{x} = \sqrt{3}$, then the value of $x^{18} + x^{12} + x^6 + 1$ is:

- Ans
- 1. 1
 - 2. 3
 - 3. 0
 - 4. 2

Question ID : 4244291583
Status : Answered
Chosen Option : 3

Q.21 एक आयत की लंबाई और परिमाप का अनुपात 2 : 7 है। आयत की लंबाई और चौड़ाई का अनुपात क्या है?

- Ans
- 1. 5 : 4
 - 2. 4 : 3
 - 3. 4 : 5
 - 4. 5 : 3

Question ID : 4244291570

Status : Answered

Chosen Option : 2

Q.22 In a ΔABC , $\angle A = 90^\circ$, if BM and CN are two medians, $\frac{BM^2 + CN^2}{BC^2}$ is equal to:

- Ans
- 1. $\frac{3}{5}$
 - 2. $\frac{3}{4}$
 - 3. $\frac{4}{5}$
 - 4. $\frac{5}{4}$

Question ID : 4244291580

Status : Not Answered

Chosen Option : --

Q.23 ΔABC में $AB = AC$ है। यदि $\angle A$, त्रिभुज के शेष दो कोणों के योग का दो गुना है, तो $\frac{1}{2} \angle A$ की माप है:

- Ans
- 1. 70°
 - 2. 30°
 - 3. 60°
 - 4. 80°

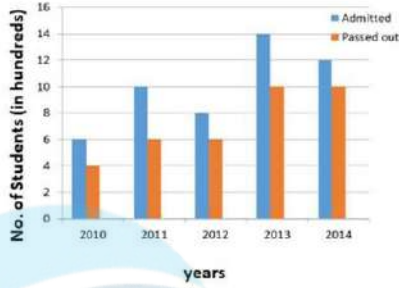
Question ID : 4244291579

Status : Answered

Chosen Option : 4

Q.24 The bar graph shows the number of students (in hundreds) admitted and passed out per year in a college during the years 2010 to 2014.

Study the bar-graph and answer the question.



The ratio of the number of students admitted in the year 2012 to the average number of students passed out in the years 2013 and 2014 is:

- Ans**
- 1. 3 : 5
 - 2. 2 : 5
 - 3. 4 : 7
 - 4. 4 : 5

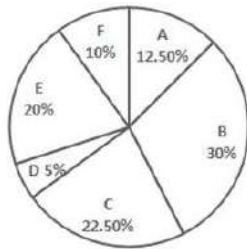
Question ID : 4244291591

Status : Not Answered

Chosen Option : --

Q.25 The pie-chart shows the annual car production (percentage wise) of six countries A, B, C, D, E and F.

Study the pie chart and answer the question.



Total number of cars produced = 40,00,000

The number of cars produced by country B is what percent more than that produced by country E?

- Ans**
- 1. 40%
 - 2. 50%
 - 3. 60%
 - 4. 25%

Question ID : 4244291589

Status : Not Answered

Chosen Option : --

Q.1 किस वर्ष भाखड़ा-नांगल बाँध की 50वीं वर्षगांठ मनाने के लिए, भारत सरकार द्वारा एक स्मारक डाक टिकट जारी करने की स्वीकृति दी गई?

- Ans
- 1. 2010
 - 2. 2015
 - 3. 2016
 - 4. 2013

Question ID : 4244291608
Status : Not Answered
Chosen Option : --

Q.2 स्वास्थ्य एवं परिवार कल्याण के केंद्रीय मंत्री द्वारा नवंबर 2019 में, निमोनिया के कारण होने वाली बाल मृत्यु दर को कम करने के लिए एक अभियान शुरू किया गया था। इस अभियान का नाम क्या है?

- Ans
- 1. जीवन (JEEVAN)
 - 2. सांस (SAANS)
 - 3. बचपन (BACHPAN)
 - 4. मुस्कान (MUSKAN)

Question ID : 4244291598
Status : Answered
Chosen Option : 2

Q.3 राष्ट्रीय सुरक्षा के हवाई यातायात और रेडार को नियंत्रित करने के लिए, किस प्रकार के कंप्यूटरों का उपयोग किया जाता है?

- Ans
- 1. डिजिटल कंप्यूटर (Digital computers)
 - 2. हाइब्रिड कंप्यूटर (Hybrid computers)
 - 3. एनालॉग कंप्यूटर (Analogue computers)
 - 4. पर्सनल कंप्यूटर (Personal computers)

Question ID : 4244291594
Status : Answered
Chosen Option : 3

Q.4 किस वर्ष पानीपत के युद्ध में बाबर ने दिल्ली के सुल्तान, इब्राहिम लोदी को हराकर दिल्ली और आगरा पर कब्जा किया था?

- Ans
- 1. 1526
 - 2. 1494
 - 3. 1543
 - 4. 1530

Question ID : 4244291610
Status : Answered
Chosen Option : 1

Q.5 डाईक्लोरोडाईफ्लोरोमीथेन का रासायनिक सूत्र क्या होता है?

- Ans
- 1. $C_2HCl_2F_3$
 - 2. CCl_2F_2
 - 3. $CHClF_2$
 - 4. CH_2FCF_3

Question ID : 4244291602
Status : Answered
Chosen Option : 4

Q.6 कांशीराम द्वारा बहुजन समाज पार्टी की स्थापना, किसकी जयंती पर की गई थी?

- Ans
- 1. पेरियार रामासामी
 - 2. बी.आर. अम्बेडकर
 - 3. वामन चिंधुजी मेश्राम
 - 4. ज्योतिराव फुले

Question ID : 4244291613

Status : Answered

Chosen Option : 4

Q.7 19 जनवरी 2020 को भारत द्वारा आंध्र प्रदेश के तट पर एक परमाणु-सक्षम K-4 बैलिस्टिक मिसाइल का सफल परीक्षण किया गया था। इस मिसाइल की मारक क्षमता (स्ट्राइक रेंज) कितनी है?

- Ans
- 1. 5,000 km
 - 2. 3,500 km
 - 3. 1,000 km
 - 4. 700 km

Question ID : 4244291599

Status : Not Answered

Chosen Option : --

Q.8 1880 में प्राचीन स्मारकों के कंप्यूटर (संग्रहाध्यक्ष) के रूप में किसे नियुक्त किया गया था?

- Ans
- 1. एच.एच. कोल (HH Cole)
 - 2. जॉन मार्शल
 - 3. जेम्स फर्ग्यूसन
 - 4. अलेक्जेंडर कनिंघम

Question ID : 4244291609

Status : Answered

Chosen Option : 2

Q.9 माउंट गॉडविन ऑस्टेन को K2 पर्वत के नाम से भी जाना जाता है। इसकी ऊंचाई कितनी है?

- Ans
- 1. 8481 m
 - 2. 8511 m
 - 3. 8091 m
 - 4. 8611 m

Question ID : 4244291606

Status : Answered

Chosen Option : 4

Q.10 भारत में 'रामनाथ गोयनका एक्सिलेंस इन जर्नलिज्म' पुरस्कार का गठन (प्रारंभ) किस वर्ष किया गया था?

- Ans
- 1. 2006
 - 2. 2007
 - 3. 2008
 - 4. 2010

Question ID : 4244291611

Status : Not Answered

Chosen Option : --

Q.11 एका रेजिया (अम्लराज) सान्द्र हाइड्रोक्लोरिक अम्ल (concentrated hydrochloric acid) और सान्द्र नाइट्रिक अम्ल (concentrated nitric acid) का एक ताजा तैयार किया गया मिश्रण है। इस मिश्रण का अनुपात क्या है?

- Ans
- 1. 2 : 3
 - 2. 2 : 2
 - 3. 2 : 1
 - 4. 3 : 1

Question ID : 4244291603
Status : Answered
Chosen Option : 4

Q.12 प्रत्येक वर्ष मार्च माह में किस राज्य में 'चापचार कुट' त्योहार मनाया जाता है?

- Ans
- 1. नागालैंड
 - 2. मिजोरम
 - 3. उत्तराखंड
 - 4. ओडिशा

Question ID : 4244291596
Status : Not Answered
Chosen Option : --

Q.13 भारत के उष्णकटिबंधीय पर्णपाती वनों में पाए जाने वाले पेड़ों की सबसे प्रमुख प्रजाति, निम्नलिखित में से कौन-सी है?

- Ans
- 1. सागौन का पेड़
 - 2. देवदार का पेड़
 - 3. नारियल का पेड़
 - 4. रबर का पेड़

Question ID : 4244291607
Status : Answered
Chosen Option : 1

Q.14 भारत के संविधान के किस अनुच्छेद में उल्लिखित है कि किसी भी नागरिक के साथ उसके धर्म, वंश, जाति, लिंग या जन्म स्थान के आधार पर भेदभाव नहीं किया जा सकता है?

- Ans
- 1. अनुच्छेद 39
 - 2. अनुच्छेद 23
 - 3. अनुच्छेद 15
 - 4. अनुच्छेद 45

Question ID : 4244291614
Status : Answered
Chosen Option : 3

Q.15 निम्नलिखित में से कौन-सा कोशिका अंगक (cell organelles) पुटिकाओं (वेसिकल) के भंडारण, संशोधन और पैकेजिंग के लिए जिम्मेदार है?

- Ans
- 1. अन्तः प्रद्रव्यी जालिका (Endoplasmic reticulum)
 - 2. गॉल्जीकाय (Golgi apparatus)
 - 3. लवक (Plastids)
 - 4. सूत्रकणिका (Mitochondria)

Question ID : 4244291604

Status : Answered

Chosen Option : 1

Q.16 मुंबई का कौन-सा क्रिकेटर लिस्ट A क्रिकेट में दोहरा शतक जड़ने वाला, विश्व का सबसे युवा बल्लेबाज बन गया?

- Ans
- 1. यशस्वी जायसवाल
 - 2. भूपेन लालवानी
 - 3. हार्दिक तमोर
 - 4. पृथ्वी शॉ

Question ID : 4244291617

Status : Answered

Chosen Option : 4

Q.17 काजीरंगा राष्ट्रीय उद्यान को किस वर्ष आरक्षित वन घोषित किया गया था?

- Ans
- 1. 1940
 - 2. 1908
 - 3. 1925
 - 4. 1900

Question ID : 4244291605

Status : Answered

Chosen Option : 1

Q.18 जनवरी 2020 तक की स्थिति के अनुसार, UNESCO (यूनेस्को) की विश्व धरोहर सूची में भारत की कितनी सांस्कृतिक सम्पत्तियों को जगह दी गई है?

- Ans
- 1. 25
 - 2. 35
 - 3. 30
 - 4. 31

Question ID : 4244291595

Status : Answered

Chosen Option : 2

Q.19 किस लेखक को उसके लघु कथा संग्रह 'चेकबुक' के लिए, '29वें सरस्वती सम्मान' से सम्मानित किया गया?

- Ans
- 1. वासुदेव मोही
 - 2. पद्मा सचदेव
 - 3. विश्वनाथ प्रसाद तिवारी
 - 4. अमिताभ बागची

Question ID : 4244291612

Status : Answered

Chosen Option : 1

Q.20 20 जनवरी 2020 को विश्व आर्थिक मंच (वर्ल्ड इकॉनॉमिक फोरम) द्वारा जारी किए गए सामाजिक गतिशीलता सूचकांक के अनुसार, भारत किस स्थान पर है?

- Ans
- 1. 76वें
 - 2. 82वें
 - 3. 55वें
 - 4. 40वें

Question ID : 4244291601
Status : Answered
Chosen Option : 1

Q.21 किस भारतीय शहर में '11वां परमाणु ऊर्जा सम्मेलन (NEC)-2019' आयोजित किया गया था?

- Ans
- 1. चेन्नई
 - 2. बेंगलुरु
 - 3. नई दिल्ली
 - 4. पुणे

Question ID : 4244291597
Status : Answered
Chosen Option : 2

Q.22 14वीं एशियाई निशानेबाजी चैम्पियनशिप में भारत किस स्थान पर था?

- Ans
- 1. दूसरे
 - 2. चौथे
 - 3. सातवें
 - 4. पांचवें

Question ID : 4244291615
Status : Answered
Chosen Option : 3

Q.23 एशियाई कुश्ती चैम्पियनशिप 2019 में, भारत की ओर से पहला स्वर्ण पदक किसने जीता था?

- Ans
- 1. गुरप्रीत सिंह
 - 2. सुनील कुमार
 - 3. बजरंग पुनिया
 - 4. ज्ञानेंदर

Question ID : 4244291616
Status : Answered
Chosen Option : 3

Q.24 माइक्रोसॉफ्ट ऑफिस (Microsoft Office) 2016 में, डिज़ाइन टैब खोलने के लिए, किस शॉर्टकट की (shortcut key) का उपयोग किया जाता है?

- Ans
- 1. Alt + G
 - 2. Ctrl + A
 - 3. Ctrl + K
 - 4. Shift + F3

Question ID : 4244291593
Status : Not Answered
Chosen Option : --

Q.25 अप्रैल 2019 तक की स्थिति के अनुसार, कितने देश अंतरराष्ट्रीय वित्त निगम (IFC) के सदस्य थे?

Ans 1. 185

2. 190

3. 196

4. 180

Question ID : 4244291600

Status : Not Answered

Chosen Option : --



Roll Number	
Candidate Name	
Venue Name	
Exam Date	26/10/2020
Exam Time	10:00 AM - 11:00 AM
Subject	CHSL Tier 1

Section : English Language (Basic Knowledge)

Q.1 Select the word which means the same as the groups of words given.

A remedy for all diseases

- Ans
- 1. Tablet
 - 2. Syrup
 - 3. Panacea
 - 4. Nectar

Question ID : 8161613364
Status : Answered
Chosen Option : 3

Q.2 Select the wrongly spelt word.

- Ans
- 1. Profuse
 - 2. Protrude
 - 3. Profesional
 - 4. Professor

Question ID : 8161613361
Status : Answered
Chosen Option : 3

Q.3 Select the most appropriate synonym of the given word.

Enunciate

- Ans
- 1. Confine
 - 2. Create
 - 3. Articulate
 - 4. Engage

Question ID : 8161613366
Status : Not Answered
Chosen Option : --

Q.4 Select the antonym of the given word.

Ascend

- Ans
- 1. Rise
 - 2. Climb
 - 3. Descend
 - 4. Fall

Question ID : 8161613358

Status : Answered

Chosen Option : 3

Comprehension:

In the following passage some words have been deleted. Fill in blanks with the alternatives given. Select the most appropriate option for each blank.

Trees help man in three ways, by supplying wood etc., by providing shade and by helping to resist drought and flood, of (1)_____ the last is the most important. Man, (2)_____, has brought on his own ruin, by mass deforestation. History shows that great empires built on depletion of forest reserves, have toppled being unable to cope (3)_____ floods and food-shortage. Though the Government can make laws (4)_____ denudation of forests, it is difficult to prevent it unless people are educated enough to realize its (5)_____ consequences.

SubQuestion No : 5

Q.5 Select the most appropriate option for blank no. 1.

- Ans
- 1. what
 - 2. whose
 - 3. whom
 - 4. which

Question ID : 8161613348

Status : Not Answered

Chosen Option : --

Comprehension:

In the following passage some words have been deleted. Fill in blanks with the alternatives given. Select the most appropriate option for each blank.

Trees help man in three ways, by supplying wood etc., by providing shade and by helping to resist drought and flood, of (1)_____ the last is the most important. Man, (2)_____, has brought on his own ruin, by mass deforestation. History shows that great empires built on depletion of forest reserves, have toppled being unable to cope (3)_____ floods and food-shortage. Though the Government can make laws (4)_____ denudation of forests, it is difficult to prevent it unless people are educated enough to realize its (5)_____ consequences.

SubQuestion No : 6

Q.6 Select the most appropriate option for blank no. 2

- Ans
- 1. whoever
 - 2. whenever
 - 3. wherever
 - 4. however

Question ID : 8161613349

Status : Not Answered

Chosen Option : --

Comprehension:

In the following passage some words have been deleted. Fill in blanks with the alternatives given. Select the most appropriate option for each blank.

Trees help man in three ways, by supplying wood etc., by providing shade and by helping to resist drought and flood, of (1)_____ the last is the most important. Man, (2)_____, has brought on his own ruin, by mass deforestation. History shows that great empires built on depletion of forest reserves, have toppled being unable to cope (3)_____ floods and food-shortage. Though the Government can make laws (4)_____ denudation of forests, it is difficult to prevent it unless people are educated enough to realize its (5)_____ consequences.

SubQuestion No : 7

Q.7 Select the most appropriate option for blank no. 3

- Ans
- 1. in
 - 2. of
 - 3. by
 - 4. with

Question ID : 8161613350

Status : **Not Answered**

Chosen Option : --

Comprehension:

In the following passage some words have been deleted. Fill in blanks with the alternatives given. Select the most appropriate option for each blank.

Trees help man in three ways, by supplying wood etc., by providing shade and by helping to resist drought and flood, of (1)_____ the last is the most important. Man, (2)_____, has brought on his own ruin, by mass deforestation. History shows that great empires built on depletion of forest reserves, have toppled being unable to cope (3)_____ floods and food-shortage. Though the Government can make laws (4)_____ denudation of forests, it is difficult to prevent it unless people are educated enough to realize its (5)_____ consequences.

SubQuestion No : 8

Q.8 Select the most appropriate option for blank no. 4

- Ans
- 1. have prohibited
 - 2. prohibiting
 - 3. prohibited
 - 4. prohibits

Question ID : 8161613351

Status : **Not Answered**

Chosen Option : --

Comprehension:

In the following passage some words have been deleted. Fill in blanks with the alternatives given. Select the most appropriate option for each blank.

Trees help man in three ways, by supplying wood etc., by providing shade and by helping to resist drought and flood, of (1)_____ the last is the most important. Man, (2)_____, has brought on his own ruin, by mass deforestation. History shows that great empires built on depletion of forest reserves, have toppled being unable to cope (3)_____ floods and food-shortage. Though the Government can make laws (4)_____ denudation of forests, it is difficult to prevent it unless people are educated enough to realize its (5)_____ consequences.

SubQuestion No : 9

Q.9 Select the most appropriate option for blank no. 5

- Ans
- 1. large
 - 2. big
 - 3. small
 - 4. grave

Question ID : 8161613352

Status : **Not Answered**

Chosen Option : --

Q.10 Select the most appropriate option to substitute the underlined segment in the given sentence.

All the employees of the nationalized banks are in strike.

- Ans
- 1. by
 - 2. with
 - 3. for
 - 4. on

Question ID : 8161613355

Status : **Answered**

Chosen Option : 4

Q.11 Select the correct indirect form of the given sentence.

Gary said, "I have finally cleared my exams with distinction!"

- Ans
- 1. Gary told that he have cleared his exams with distinction.
 - 2. Gary said that he has finally cleared his exams with distinction.
 - 3. Gary exclaimed that he cleared his exams with distinction.
 - 4. Gary exclaimed that he had finally cleared his exams with distinction.

Question ID : 8161613344

Status : **Answered**

Chosen Option : 4

Q.12 Select the wrongly spelt word.

- Ans
- 1. Flower
 - 2. Flour
 - 3. Flevor
 - 4. Floor

Question ID : 8161613362
Status : Answered
Chosen Option : 3

Q.13 Select the word which means the same as the groups of words given.

The life history of a person written by himself.

- Ans
- 1. Travelogue
 - 2. Essay
 - 3. Biography
 - 4. Autobiography

Question ID : 8161613363
Status : Answered
Chosen Option : 4

Q.14 Select the correct antonym for the given word.

Harsh

- Ans
- 1. Tough
 - 2. Grave
 - 3. Gentle
 - 4. Bitter

Question ID : 8161613357
Status : Answered
Chosen Option : 3

Q.15 Select the most appropriate word to fill in the blank.

The sales team _____ the engineers for the organization's failure to bag the mega deal.

- Ans
- 1. liked
 - 2. blamed
 - 3. appreciated
 - 4. praised

Question ID : 8161613367
Status : Answered
Chosen Option : 2

Q.16 Select the most appropriate meaning of the given idiom.

She declared that it was the last straw and fled.

- Ans
- 1. the situation had become unbearable
 - 2. it was the last time she would use a straw
 - 3. the situation was improving
 - 4. it was last time she would hold a straw

Question ID : 8161613359
Status : Not Answered
Chosen Option : --

Q.17 Select the most appropriate word to fill in the blank.

Janki burnt her boats with her previous supervisor by _____ him in public.

- Ans
- 1. flaunting
 - 2. criticizing
 - 3. applauding
 - 4. appreciating

Question ID : 8161613368
Status : Not Attempted and Marked For Review
Chosen Option : --

Q.18 Given below are four jumbled sentences. Out of the given options pick the one that gives their correct order.

- A. One of the twins was driving better than the other.
- B. Mahesh kept comparing them every day.
- C. After two months of driving daily, finally both the twins were at par.
- D. Mahesh was teaching the twins how to drive.

- Ans
- 1. DCBA
 - 2. DABC
 - 3. CDAB
 - 4. ABCD

Question ID : 8161613354
Status : Marked For Review
Chosen Option : 2

Q.19 Select the correct passive form of the given sentence?

Who killed Ravana?

- Ans
- 1. By whom was Ravana killed?
 - 2. Ravana is killed by whom?
 - 3. By whom Ravana was killed?
 - 4. Ravana was killed by whom?

Question ID : 8161613343
Status : Answered
Chosen Option : 1

Q.20 Select the most appropriate synonym of the given word.

Assemble

- Ans
- 1. Disband
 - 2. Detach
 - 3. Address
 - 4. Amass

Question ID : 8161613365
Status : Not Answered
Chosen Option : --

Q.21 Select the most appropriate meaning of the given idiom.

Upset someone's applecart

- Ans
- 1. Upsetting someone by dropping the apples
 - 2. Making someone angry by ruining business
 - 3. Doing something that fails someone's plan
 - 4. Spoiling the apples in someone's cart

Question ID : 8161613360
Status : Answered
Chosen Option : 3

Q.22 In the sentence identify the segment which contains a grammatical error.

Samurai Jack drawn his sword to exact revenge on his superiors.

- Ans
- 1. to exact revenge
 - 2. on his superiors
 - 3. Samurai Jack drawn
 - 4. his sword to

Question ID : 8161613346
Status : Marked For Review
Chosen Option : 3

Q.23 Given below are four jumbled sentences. Out of the given options pick the one that gives their correct order.

- A. He commanded that Birbal should leave his kingdom.
- B. Birbal left, and started working on a farm in an unknown village.
- C. Once upon a time, Akbar the great, became very angry with his minister, Birbal.
- D. As months passed, Akbar started to miss his favourite minister.

- Ans
- 1. DCBA
 - 2. ABCD
 - 3. CABD
 - 4. DCAB

Question ID : 8161613353
Status : Marked For Review
Chosen Option : 3

Q.24 In the sentence identify the segment which contains a grammatical error.

Queen Elizabeth got marrying to Philip, former Prince of Greece and Denmark.

- Ans
- 1. marrying to Philip
 - 2. Greece and Denmark
 - 3. Queen Elizabeth got
 - 4. former Prince of

Question ID : 8161613345
Status : Marked For Review
Chosen Option : 1

Q.25 Select the most appropriate option to substitute the underlined segment in the given sentence. If there is no need to substitute it, select No improvement.

The director wanted Aziz to play the role of the doctor as well also that of the apprentice.

- Ans
- 1. and also of
 - 2. No improvement.
 - 3. as well as
 - 4. as well

Question ID : 8161613356
Status : Marked For Review
Chosen Option : 3

Section : General Intelligence

Q.1 Which two signs should be interchanged to balance the given equation?

$$4 \times 3 + 10 - 2 \div 7 = 10$$

- Ans
- 1. \times and $+$
 - 2. \div and \times
 - 3. \div and $-$
 - 4. $+$ and $-$

Question ID : 8161613370
Status : Answered
Chosen Option : 3

Q.2 Read the given statements and conclusions carefully. Assuming that the information given in the statements is true, even if it appears to be at variance with commonly known facts, decide which of the given conclusion/s logically follow(s) from the statements.

Statements:

1. All scanners are mouse.
2. Some mouse are printers.

Conclusions:

- I. No printer is a scanner.
- II. Some printers are mouse.
- III. No printer is a mouse.
- IV. No scanner is a printer.

- Ans**
- 1. Only conclusion II follows
 - 2. Only conclusion I follows
 - 3. Only conclusion III follows
 - 4. Only conclusion IV follows

Question ID : 8161613386

Status : Answered

Chosen Option : 1

Q.3 Select the term that will come next in the following series.

YF, WJ, UN, SR, QV, ?

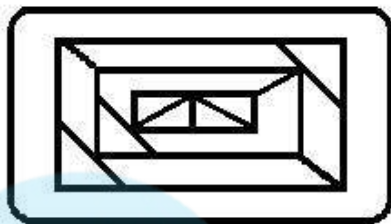
- Ans**
- 1. PX
 - 2. OY
 - 3. OZ
 - 4. PZ

Question ID : 8161613379

Status : Answered

Chosen Option : 3

Q.4 Find the number of triangles in the given figure.



- Ans
- 1. 6
 - 2. 9
 - 3. 8
 - 4. 7

Question ID : 8161613389
Status : **Marked For Review**
Chosen Option : 3

Q.5 Four words have been given, out of which three are alike in some manner and one is different. Select the odd one.

- Ans
- 1. Decibelmeter
 - 2. Udometer
 - 3. Ombrometer
 - 4. Pluviometer

Question ID : 8161613385
Status : **Not Answered**
Chosen Option : --

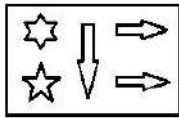
Q.6 Select the letters that can replace the question marks (?) in the following series respectively.

ZKA, CHX, FEU, ?BR, L?O

- Ans
- 1. D and Y
 - 2. J and Z
 - 3. H and Z
 - 4. I and Y

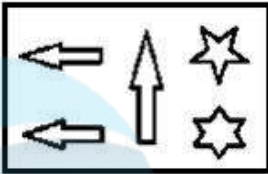
Question ID : 8161613381
Status : **Answered**
Chosen Option : 4

Q.7 Select the correct mirror image of the given figure when a mirror is placed on the right of the figure.

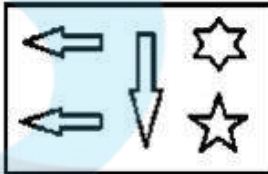


Ans

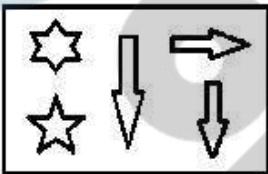
✗ 1.



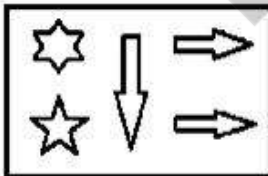
✓ 2.



✗ 3.



✗ 4.



Question ID : 8161613392

Status : Answered

Chosen Option : 2

Q.8 Four letter-clusters have been given, out of which three are alike in some manner and one is different. Select the odd one.

Ans

✗ 1. FILO

✗ 2. EHKN

✗ 3. ADGJ

✓ 4. CFIM

Question ID : 8161613384

Status : Answered

Chosen Option : 4

Q.9 Study the given pattern carefully and select the number that can replace the question mark (?) in it.

116	160	?
3	8	13
7	4	2

- Ans**
- 1. 168
 - 2. 130
 - 3. 204
 - 4. 241

Question ID : **8161613373**
Status : **Not Answered**
Chosen Option : --

Q.10 In a certain language code, 'SMART' is written as AMRST. How will 'DESIGN' be written as in that language?

- Ans**
- 1. EIADGS
 - 2. DEIGNS
 - 3. DAISGN
 - 4. SGITMD

Question ID : **8161613377**
Status : **Not Answered**
Chosen Option : --

Q.11 Four word-pairs have been given, out of which three are alike in some manner and one is different. Select the odd one.

- Ans**
- 1. Intact : Unflawed
 - 2. Bright : Luminous
 - 3. Pure : Perfect
 - 4. Entire : Partial

Question ID : **8161613383**
Status : **Answered**
Chosen Option : **4**

Q.12 Select the option in which figure given below is embedded. (Rotation is not allowed).



Ans



1.



2.



3.



4.



Question ID : 8161613390

Status : Answered

Chosen Option : 1

Q.13 Select the correct option from the given options that arranges the following words in a logical and meaningful sequence.

1. Disease

2. Medicine

3. Junk Food

4. Healthy

Ans



1. 1, 2, 4, 3



2. 4, 3, 2, 1



3. 3, 1, 2, 4



4. 2, 1, 3, 4

Question ID : 8161613376

Status : Answered

Chosen Option : 3

Q.14 Select the Venn diagram that best represents the relationship between the following classes.

Solar System, Earth, Jupiter

Ans



Question ID : 8161613393

Status : Answered

Chosen Option : 3

Q.15 Select the option that is related to the third term in the same way as the second term is related to the first term

Belt : Leather :: Bread : ?

Ans

1. Flour

2. Cake

3. Wood

4. Sandwich

Question ID : 8161613380

Status : Answered

Chosen Option : 1

Q.16 Study the given pattern carefully and select the number that can replace the question mark (?) in it.

3	30	84
2	10	18
4	?	260

Ans

1. 64

2. 60

3. 16


4. 68

Question ID : 8161613372


Status : Not Answered

Chosen Option : --

Q.17 Select the option that will fill in the blank and complete the given series.



Ans



Question ID : 8161613388

Status : Answered

Chosen Option : 3

Q.18 In a certain code language, GOLF is written as 60 and START is written as 117. How will NEST be written as in that language?

Ans 1. 21

2. 78

3. 58

4. 87

Question ID : 8161613378

Status : Answered

Chosen Option : 4

Q.19 Four number-pairs have been given below, out of which three are alike in some manner and one is different. Select the odd one from the options.

156 : 12

210 : 14

276 : 16

240 : 15

- Ans**
- 1. 210 : 14
 - 2. 276 : 16
 - 3. 156 : 12
 - 4. 240 : 15

Question ID : 8161613375
Status : Answered
Chosen Option : 2

Q.20 Select the number that will come next in the following series.

487, 502, 518, 535, ?

- Ans**
- 1. 451
 - 2. 653
 - 3. 552
 - 4. 553

Question ID : 8161613374
Status : Answered
Chosen Option : 4

Q.21 Select the option that is related to the third number in the same way as the second number is related to the first number.

7 : 42 :: 18 : ?

- Ans**
- 1. 304
 - 2. 308
 - 3. 306
 - 4. 302

Question ID : 8161613371
Status : Answered
Chosen Option : 3

Q.22 Deepali is daughter of Vijay, who is married to Sunita. If Deepali is the wife of Mohit, then how is Mohit related to Vijay?

- Ans**
- 1. Brother
 - 2. Father
 - 3. Son
 - 4. Son-in-law

Question ID : 8161613382
Status : Answered
Chosen Option : 4

Q.23 The sequence of folding a piece of paper and the manner in which the folded paper has been cut is shown in the following figures. How would this paper look when unfolded?



Ans

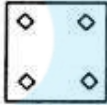
1.



2.



3.



4.



Question ID : 8161613391
Status : Answered
Chosen Option : 2

Q.24 3 friends A, B and C are working in a company. The salary of A is ₹45,000 per month. C's monthly salary is $\frac{3}{5}$ th of B's monthly salary. B's monthly salary is double of A's monthly salary. What is the total salary of A, B and C per month?

Ans

1. ₹1,90,000

2. ₹1,79,000

3. ₹1,80,000

4. ₹1,89,000

Question ID : 8161613369
Status : Answered
Chosen Option : 4

Q.25 Three different positions of the same dice are shown. Select the letter that will be on the face opposite to the one having 's'.



Ans

1. a

2. f

3. e

4. d

Question ID : 8161613387
Status : Answered
Chosen Option : 3

Q.1 If a number is divided by 899, the remainder is 63. If the same number is divided by 29, the remainder will be:

- Ans
- 1. 10
 - 2. 2
 - 3. 4
 - 4. 5

Question ID : 8161613410
Status : Answered
Chosen Option : 4

Q.2 The difference between the largest and the smallest angles of a triangle whose angles are in the ratio of 4 : 3 : 8, is:

- Ans
- 1. 50°
 - 2. 60°
 - 3. 40°
 - 4. 30°

Question ID : 8161613405
Status : Answered
Chosen Option : 2

Q.3 A train takes 45 minutes to cover a certain distance at a speed of 80 km/h. If the speed is increased by 125%, then how long will it take the train to cover $\frac{8}{5}$ of the same distance?

- Ans
- 1. 25 minutes
 - 2. 30 minutes
 - 3. 32 minutes
 - 4. 28 minutes

Question ID : 8161613395
Status : Not Answered
Chosen Option : --

Q.4 AB is a diameter of a circle with centre O, and P is a point on the circle. If $\angle POA = 130^\circ$, then $\angle PBO$ is equal to:

- Ans
- 1. 60°
 - 2. 55°
 - 3. 65°
 - 4. 45°

Question ID : 8161613403
Status : Answered
Chosen Option : 3

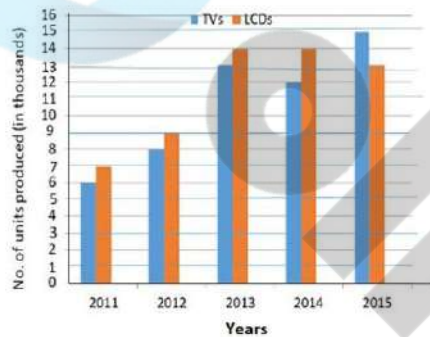
Q.5 A reduction of 20% in the price of sugar enables a purchaser to obtain 4 kg more for ₹160. The original price of sugar per kg is:

- Ans
- 1. ₹12
 - 2. ₹10
 - 3. ₹14
 - 4. ₹15

Question ID : 8161613399
Status : Answered
Chosen Option : 2

Q.6 Study the following bar diagram and answer the question that follows.

The production (in thousands) of electronic items (TV and LCD) in a factory during the period from 2011 to 2015.



The difference between the average production of LCDs and that of TVs from 2011 to 2013 is:

- Ans
- 1. 1200
 - 2. 1000
 - 3. 900
 - 4. 800

Question ID : 8161613416
Status : Answered
Chosen Option : 2

Q.7 The value of $2\frac{1}{36} \div \frac{5}{9}$ of $\left(5\frac{1}{10} + 2\frac{1}{5}\right) + \frac{2}{5} \div 3\frac{1}{5}$ is:

- Ans
- 1. $\frac{3}{7}$
 - 2. $\frac{5}{12}$
 - 3. $\frac{3}{8}$
 - 4. $\frac{5}{8}$

Question ID : 8161613411
Status : Not Attempted and Marked For Review
Chosen Option : --

Q.8 If the compound interest on a certain sum of money for 2 years at 5% p.a. is ₹328, then the sum is equal to:

- Ans
- 1. ₹3,600
 - 2. ₹3,500
 - 3. ₹3,000
 - 4. ₹3,200

Question ID : 8161613402

Status : Answered

Chosen Option : 4

Q.9 An article is sold at a profit of 30%. If both cost price and selling price of the article are decreased by ₹100, the profit now would be 45%. The original cost price of the article is:

- Ans
- 1. ₹400
 - 2. ₹250
 - 3. ₹300
 - 4. ₹500

Question ID : 8161613400

Status : Answered

Chosen Option : 3

Q.10 If 40 is added to a list of natural numbers, the average is increased by 4. When 30 is added to the new list, the average of the numbers in the new list is increased by 1. How many numbers were in the original list?

- Ans
- 1. 4
 - 2. 5
 - 3. 8
 - 4. 6

Question ID : 8161613397

Status : Not Answered

Chosen Option : --

Q.11 If $\tan\theta + \cot\theta = 2$ and θ is acute, then the value of $\tan^{100}\theta + \cot^{100}\theta$ is equal to:

- Ans
- 1. 2
 - 2. $\sqrt{3}$
 - 3. 1
 - 4. 0

Question ID : 8161613412

Status : Answered

Chosen Option : 1

Q.12 If $a^2 + b^2 + 2b + 4a + 5 = 0$, then the value of $\frac{2a-3b}{2a+3b}$ is equal to:

- Ans
- 1. $\frac{1}{7}$
 - 2. $\frac{2}{7}$
 - 3. $\frac{3}{7}$
 - 4. $\frac{2}{5}$

Question ID : 8161613408
Status : Not Answered
Chosen Option : --

Q.13 If $2a + \frac{1}{a} = 4$, then the value of $a^2 + \frac{1}{4a^2}$ is:

- Ans
- 1. 3
 - 2. 4
 - 3. 5
 - 4. 12

Question ID : 8161613407
Status : Answered
Chosen Option : 1

Q.14 An article is listed at ₹8,500 and the discount offered is 12%. What additional discount (percent) must be given to bring the selling price to ₹6,358?

- Ans
- 1. 9%
 - 2. 20%
 - 3. 15%
 - 4. 10%

Question ID : 8161613398
Status : Not Answered
Chosen Option : --

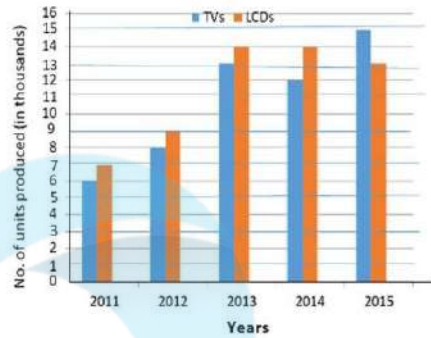
Q.15 What is the value of $a^3 + b^3 + c^3 - 3abc$, when $a = 225, b = 226, \text{ and } c = 227$?

- Ans
- 1. 2034
 - 2. 2340
 - 3. 2304
 - 4. 2430

Question ID : 8161613409
Status : Answered
Chosen Option : 1

Q.16 Study the following bar diagram and answer the question that follows.

The production (in thousands) of electronic items (TV and LCD) in a factory during the period 2011 to 2015.



The ratio of the total production of LCDs in the year 2012 and 2014 to the total production of TVs in the year 2012 and 2014 is:

- Ans
- 1. 23 : 20
 - 2. 19 : 21
 - 3. 23 : 25
 - 4. 21 : 25

Question ID : 8161613415
Status : Answered
Chosen Option : 1

Q.17 In a ΔABC , $2 \angle ABC = 9 \angle ACB$ and $2 \angle BAC = 7 \angle ACB$. If $AB = 8$ cm, $AC = 17$ cm, then the length of BC is:

- Ans
- 1. 8 cm
 - 2. 25 cm
 - 3. 15 cm
 - 4. 9 cm

Question ID : 8161613406
Status : Marked For Review
Chosen Option : 3

Q.18 The following pie-chart shows the monthly expenditure incurred by a family on various items, and their savings. Study the chart and answer the question that follows.



If the monthly income is ₹64,800, then the yearly savings are:

- Ans
- 1. ₹70,500
 - 2. ₹75,000
 - 3. ₹72,500
 - 4. ₹75,600

Question ID : 8161613417

Status : Not Answered

Chosen Option : --

Q.19 A and B can do a work in 15 days and 10 days respectively. They begin the work together but B leaves after two days. Now A completes the remaining work. The total number of days needed for the completion of the work is:

- Ans
- 1. 15 days
 - 2. 18 days
 - 3. 12 days
 - 4. 10 days

Question ID : 8161613394

Status : Answered

Chosen Option : 3

Q.20 If A is an acute angle and $\cot A + \operatorname{cosec} A = 3$, then the value of $\cos A$ is equal to:

- Ans
- 1. $\frac{4}{5}$
 - 2. $\frac{2}{5}$
 - 3. $\frac{1}{5}$
 - 4. $\frac{3}{5}$

Question ID : 8161613413

Status : Answered

Chosen Option : 1

Q.21 If $\operatorname{cosec}\theta = \frac{13}{12}$, then the value of $\frac{2\sin\theta - 3\cos\theta}{4\sin\theta - 9\cos\theta}$ is:

- Ans
- 1. 2
 - 2. 4
 - 3. 1
 - 4. 3

Question ID : 8161613414
Status : Answered
Chosen Option : 4

Q.22 The total surface area of a solid cube is 2400 cm^2 . The volume of the cube is:

- Ans
- 1. 6000 cm^3
 - 2. 8200 cm^3
 - 3. 8400 cm^3
 - 4. 8000 cm^3

Question ID : 8161613396
Status : Not Answered
Chosen Option : --

Q.23 The following pie-chart shows the monthly expenditure incurred by a family on various items, and their savings. Study the chart and answer the question that follows.



If the expenditure on education is ₹2,700 more than that on housing, then the total expenditure on food and clothing is:

- Ans
- 1. ₹27,540
 - 2. ₹27,450
 - 3. ₹25,740
 - 4. ₹25,400

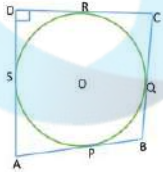
Question ID : 8161613418
Status : Not Answered
Chosen Option : --

Q.24 Two numbers A and B are, respectively, 80% and 20% more than a third number C. The ratio of the numbers A to B is:

- Ans
- 1. 5 : 4
 - 2. 4 : 5
 - 3. 3 : 2
 - 4. 3 : 4

Question ID : 8161613401
Status : Answered
Chosen Option : 3

Q.25 ABCD is a quadrilateral such that $\angle D = 90^\circ$. A circle with centre O touches the sides AB, BC, CD and DA at P, Q, R and S, respectively. If BC = 40 cm, BP = 28 cm and CD = 25 cm, then what is the radius of the circle?



- Ans
- 1. 12 cm
 - 2. 13 cm
 - 3. 5 cm
 - 4. 8 cm

Question ID : 8161613404
Status : Not Answered
Chosen Option : --

Section : General Awareness

Q.1 At one stage in the Vedic Age, the king was called 'gopati' which meant '_____':

- Ans
- 1. lord of the universe
 - 2. lord of the people
 - 3. lord of land
 - 4. lord of cattle

Question ID : 8161613435
Status : Answered
Chosen Option : 4

Q.2 _____ is the oldest hockey tournament in India.

- Ans
- 1. Beighton Cup
 - 2. Bombay Gold Cup
 - 3. Obaidullah Khan Gold Cup
 - 4. MCC Murugappa Gold Cup

Question ID : 8161613442
Status : Not Answered
Chosen Option : --

Q.3 DefExpo-2020, a flagship biennial event of the Ministry of Defence, Government of India, was held in _____ from 5th to 9th February, 2020.

- Ans
- 1. Prayagraj
 - 2. Lucknow
 - 3. Kanpur
 - 4. Noida

Question ID : 8161613425
Status : Not Answered
Chosen Option : --

Q.4 _____ is famous for Muga silk.

- Ans
- 1. Nagaland
 - 2. Assam
 - 3. Odisha
 - 4. Manipur

Question ID : 8161613432
Status : Not Answered
Chosen Option : --

Q.5 Vyommitra is_____.

- Ans
- 1. a humanoid built by Indian Space Research Organization (ISRO)
 - 2. the first banking robot in India
 - 3. a humanoid robot introduced to assist teachers at schools in India
 - 4. a chatbot developed by Indian Railways Catering and Tourism Corporation (IRCTC)

Question ID : 8161613424
Status : Answered
Chosen Option : 1

Q.6 In Vienna, there's a statue of Indian hockey player _____ holding four hockey sticks in four hands.

- Ans
- 1. Dhyan Chand
 - 2. Dhanraj Pillay
 - 3. Udham Singh Kular
 - 4. Bharat Kumar Chettri

Question ID : 8161613443
Status : Answered
Chosen Option : 1

Q.7 Which of the following tiger reserves is NOT located in Karnataka?

- Ans
- 1. Bhadra
 - 2. Pench
 - 3. Dandeli-Anshi
 - 4. Nagarhole

Question ID : 8161613433
Status : Not Answered
Chosen Option : --

Q.8 _____ is also known as the 'All India War Memorial'.

- Ans
- 1. India Gate
 - 2. Gateway of India
 - 3. Raj Ghat
 - 4. Victory at Sea Memorial

Question ID : 8161613421
Status : Answered
Chosen Option : 4

Q.9 Which of the following is a vertebrate?

- Ans
- 1. Snake
 - 2. Roundworm
 - 3. Millipede
 - 4. Earthworm

Question ID : 8161613428
Status : Answered
Chosen Option : 3

Q.10 Prithviraj Chauhan defeated Muhammad Ghori in a battle in the year _____ but lost to him the following year.

- Ans
- 1. 1176
 - 2. 1191
 - 3. 1163
 - 4. 1182

Question ID : 8161613436
Status : Answered
Chosen Option : 2

Q.11 Who was appointed as the Chief of the Indian Research and Analysis Wing (RAW) in June 2019?

- Ans
- 1. Arvind Kumar
 - 2. Rajiv Jain
 - 3. Samant Goel
 - 4. Anil Dhasmana

Question ID : 8161613423
Status : Answered
Chosen Option : 2

Q.12 The traditional rod puppet of Bihar is known as _____.

- Ans
- 1. Bommalattam
 - 2. Sakhi Kundhei
 - 3. Yampuri
 - 4. Malasutri Bhaulya

Question ID : 8161613422
Status : Not Answered
Chosen Option : --

Q.13 In April 2020, Facebook—an American social media and technology company —announced its plan to buy _____% equity stake in Reliance Jio.

- Ans
- 1. 20.0
 - 2. 2.99
 - 3. 9.99
 - 4. 1.99

Question ID : 8161613426
Status : Answered
Chosen Option : 3

Q.14 Who was the Director-General of the World Health Organisation in April 2020?

- Ans
- 1. Roberto Azevêdo
 - 2. Zsuzsanna Jakab
 - 3. Tedros Adhanom Ghebreyesus
 - 4. Bernhard Schwartländer

Question ID : 8161613437
Status : Answered
Chosen Option : 1

Q.15 The world wide web was invented in the year _____.

- Ans
- 1. 1985
 - 2. 1989
 - 3. 1987
 - 4. 1982

Question ID : 8161613419
Status : Not Answered
Chosen Option : --

Q.16 Which of the following is NOT a feature of the Indian Federal System?

- Ans
- 1. Written Constitution
 - 2. Independent judiciary to settle disputes
 - 3. Single-tier government
 - 4. Division of powers between the Centre and the States

Question ID : 8161613440
Status : Answered
Chosen Option : 3

Q.17 Which of the following Indian-origin UK politicians was previously Chief Secretary to the Treasury before being appointed Chancellor of the Exchequer (United Kingdom) on 13 February 2020?

- Ans
- 1. Rishi Sunak
 - 2. Gagan Mohindra
 - 3. Navendu Mishra
 - 4. Sajid Javid

Question ID : 8161613438
Status : Not Answered
Chosen Option : --

Q.18 The Jharia and Chandrapura coal fields are located in the state of _____.

- Ans
- 1. Jharkhand
 - 2. Uttarakhand
 - 3. Nagaland
 - 4. Gujarat

Question ID : 8161613431
Status : Not Attempted and Marked For Review
Chosen Option : --

Q.19 NPK is a:

- Ans 1. Fertilizer used for increasing fertility of soil
 2. Medicine used to control pests
 3. Brand of sprinkler for irrigation
 4. Sanitizer used to clean dusty leaves

Question ID : 8161613430
Status : Not Answered
Chosen Option : --

Q.20 The Great Leap Forward (GLF) was a campaign initiated in _____ in 1958 aimed at industrialising the country on a massive scale.

- Ans 1. India
 2. Bangladesh
 3. China
 4. Sri Lanka

Question ID : 8161613427
Status : Not Answered
Chosen Option : --

Q.21 'Tenpins' refers to the game of _____.

- Ans 1. baseball
 2. basketball
 3. billiards
 4. bowling

Question ID : 8161613441
Status : Not Answered
Chosen Option : --

Q.22 Name the holy city recognized as the birthplace of the first and fourth Jain Tirthankaras.

- Ans 1. Varanasi
 2. Dwaraka
 3. Ayodhya
 4. Gaya

Question ID : 8161613434
Status : Answered
Chosen Option : 1

Q.23 _____ was a web browser developed by the National Centre for Supercomputing Application (NCSA).

- Ans
- 1. Opera
 - 2. Mosaic
 - 3. Navigator
 - 4. Safari

Question ID : 8161613420
Status : Not Answered
Chosen Option : --

Q.24 Union Legislature alone can make laws on matters related to _____.

- Ans
- 1. public health
 - 2. police
 - 3. railways
 - 4. local self-government

Question ID : 8161613439
Status : Answered
Chosen Option : 3

Q.25 _____ is the inflammatory compound in pepper spray.

- Ans
- 1. quercetin
 - 2. curcumin
 - 3. gingerol
 - 4. capsaicin

Question ID : 8161613429
Status : Not Answered
Chosen Option : --

Roll Number	
Candidate Name	
Venue Name	
Exam Date	26/10/2020
Exam Time	1:00 PM - 2:00 PM
Subject	CHSL Tier 1

Section : English Language (Basic Knowledge)

Q.1 Select the most appropriate meaning of the given idiom.

Come hell or high water

- Ans
- 1. Not ready to go on adventures
 - 2. Tired of all kinds of dangers
 - 3. In spite of any obstacles
 - 4. Afraid of the challenges

Question ID : 8161612553
Status : Answered
Chosen Option : 4

Q.2 Select the wrongly spelt word.

- Ans
- 1. Migrant
 - 2. Precedent
 - 3. Permanant
 - 4. Adamant

Question ID : 8161612555
Status : Answered
Chosen Option : 2

Q.3 Select the word which means the same as the group of words given.

Something that is expressed in a confusing way

- Ans
- 1. Eccentric
 - 2. Inaudible
 - 3. Gullible
 - 4. Incoherent

Question ID : 8161612557
Status : Answered
Chosen Option : 3

Q.4 Select the correct indirect form of the given sentence.

Rama said to me, "I need your help for my new assignment."

- Ans
- 1. Rama says to me that she needs my help for her new assignment.
 - 2. Rama said to me that she is needing my help for her new assignment.
 - 3. Rama said to me she needs your help for the new assignment.
 - 4. Rama told me that she needed my help for her new assignment.

Question ID : 8161612545

Status : Answered

Chosen Option : 4

Comprehension:

In the following passage some words have been deleted. Fill in the blanks with the help of the alternatives given. Select the most appropriate option for each blank.

I remember watching a TV series on bringing up children that showed parents being obsessed (1)_____ their children's performance in school exams. The series highlighted how parents often give (2)_____ higher importance to their children's academic performance than their aptitudes. So many parents push and goad their children to study hard and score (3)_____ possible in their exams. They believe that academic (4)_____ guarantees a successful career and they want their children to be the next 'Albert Einstein' not knowing that Einstein (5)_____ was a rebel and didn't follow any of his parents' plans for him.

SubQuestion No : 5

Q.5 Select the most appropriate option for blank No. 1.

- Ans
- 1. of
 - 2. in
 - 3. about
 - 4. to

Question ID : 8161612540

Status : Answered

Chosen Option : 1

Comprehension:

In the following passage some words have been deleted. Fill in the blanks with the help of the alternatives given. Select the most appropriate option for each blank.

I remember watching a TV series on bringing up children that showed parents being obsessed (1)_____ their children's performance in school exams. The series highlighted how parents often give (2)_____ higher importance to their children's academic performance than their aptitudes. So many parents push and goad their children to study hard and score (3)_____ possible in their exams. They believe that academic (4)_____ guarantees a successful career and they want their children to be the next 'Albert Einstein' not knowing that Einstein (5)_____ was a rebel and didn't follow any of his parents' plans for him.

SubQuestion No : 6

Q.6 Select the most appropriate option for blank No. 2.

- Ans
- 1. completely
 - 2. fully
 - 3. significantly
 - 4. largely

Question ID : 8161612541

Status : Not Answered

Chosen Option : --

Comprehension:

In the following passage some words have been deleted. Fill in the blanks with the help of the alternatives given. Select the most appropriate option for each blank.

I remember watching a TV series on bringing up children that showed parents being obsessed (1)_____ their children's performance in school exams. The series highlighted how parents often give (2)_____ higher importance to their children's academic performance than their aptitudes. So many parents push and goad their children to study hard and score (3)_____ possible in their exams. They believe that academic (4)_____ guarantees a successful career and they want their children to be the next 'Albert Einstein' not knowing that Einstein (5)_____ was a rebel and didn't follow any of his parents' plans for him.

SubQuestion No : 7

Q.7 Select the most appropriate option for blank No. 3.

- Ans
- 1. as higher as
 - 2. as good as
 - 3. as high as
 - 4. as better as

Question ID : 8161612542

Status : Answered

Chosen Option : 2

Comprehension:

In the following passage some words have been deleted. Fill in the blanks with the help of the alternatives given. Select the most appropriate option for each blank.

I remember watching a TV series on bringing up children that showed parents being obsessed (1)_____ their children's performance in school exams. The series highlighted how parents often give (2)_____ higher importance to their children's academic performance than their aptitudes. So many parents push and goad their children to study hard and score (3)_____ possible in their exams. They believe that academic (4)_____ guarantees a successful career and they want their children to be the next 'Albert Einstein' not knowing that Einstein (5)_____ was a rebel and didn't follow any of his parents' plans for him.

SubQuestion No : 8

Q.8 Select the most appropriate option for blank No. 4.

- Ans
- 1. direction
 - 2. realization
 - 3. performance
 - 4. completion

Question ID : 8161612543

Status : Answered

Chosen Option : 3

Comprehension:

In the following passage some words have been deleted. Fill in the blanks with the help of the alternatives given. Select the most appropriate option for each blank.

I remember watching a TV series on bringing up children that showed parents being obsessed (1)_____ their children's performance in school exams. The series highlighted how parents often give (2)_____ higher importance to their children's academic performance than their aptitudes. So many parents push and goad their children to study hard and score (3)_____ possible in their exams. They believe that academic (4)_____ guarantees a successful career and they want their children to be the next 'Albert Einstein' not knowing that Einstein (5)_____ was a rebel and didn't follow any of his parents' plans for him.

SubQuestion No : 9

Q.9 Select the most appropriate option for blank No. 5.

- Ans 1. himself
 2. oneseif
 3. themselves
 4. itself

Question ID : 8161612544
Status : Answered
Chosen Option : 1

Q.10 Select the most appropriate word to fill in the blank.

When I first met my neighbours I took an _____ liking to them.

- Ans 1. instant
 2. instantly
 3. instance
 4. instaneously

Question ID : 8161612559
Status : Answered
Chosen Option : 4

Q.11 Select the most appropriate ANTONYM of the given word.

Invincible

- Ans 1. Secure
 2. Supreme
 3. Unstoppable
 4. Vulnerable

Question ID : 8161612537
Status : Answered
Chosen Option : 1

Q.12 Select the most appropriate ANTONYM of the given word.

Deport

- Ans
- 1. Transport
 - 2. Permit
 - 3. Expel
 - 4. Conduct

Question ID : 8161612551
Status : Answered
Chosen Option : 4

Q.13 Select the most appropriate option to substitute the underlined segment in the given sentence. If there is no need to substitute it, select 'No improvement'.

When the actress comes to know that she was declared winner of the best actress award, her joy knew no bounds.

- Ans
- 1. No improvement
 - 2. came to know
 - 3. was come to know
 - 4. was knowing

Question ID : 8161612549
Status : Answered
Chosen Option : 2

Q.14 Select the word which means the same as the group of words given.

Covered with a material or substance in order to stop heat, sound etc. From entering or escaping

- Ans
- 1. Hydrated
 - 2. Insulated
 - 3. Assimilated
 - 4. Calibrated

Question ID : 8161612556
Status : Answered
Chosen Option : 1

Q.15 Select the most appropriate word to fill in the blank.

Even though we found ourselves in a _____ situation during our climb, we decided not to give up the expedition.

- Ans
- 1. precarious
 - 2. pleasant
 - 3. permissive
 - 4. plausible

Question ID : 8161612560
Status : Answered
Chosen Option : 2

Q.16 In the sentence identify the segment which contains the grammatical error.

The country has the lowest per capita income and needs to create jobs to the youth.

- Ans
- 1. needs to create
 - 2. the lowest per capita income
 - 3. the country has
 - 4. jobs to the youth

Question ID : 8161612536
Status : Answered
Chosen Option : 1

Q.17 Given below are four jumbled sentences. Out of the given options select the one that gives their correct order.

- A. He went into a part of the city I had never seen before and walked around a few alleys.
- B. At one point I distinctly saw him turn around, as if to make sure no one was following him; then he darted away.
- C. From my conversation with the cook I had learned that Ram Parshad had started to head out of the house at the same time every evening.
- D. One day I followed at a distance to know where he went every day.

- Ans
- 1. ABCD
 - 2. DBAC
 - 3. CABD
 - 4. CDAB

Question ID : 8161612548
Status : Not Answered
Chosen Option : --

Q.18 Select the most appropriate option to substitute the underlined segment in the given sentence. If there is no need to substitute it, select No improvement.

There is a lot of confusion among students due to recent changes in the examination pattern.

- Ans
- 1. allot of
 - 2. a lots of
 - 3. No improvement
 - 4. the lots of

Question ID : 8161612550
Status : Answered
Chosen Option : 3

Q.19 Select the correct passive form of the given sentence.

Savita will deliver a speech on the occasion of Ambedkar Jayanti.

- Ans
- 1. On the occasion of Ambedkar Jayanti a speech is being delivered by Savita.
 - 2. On the occasion of Ambedkar Jayanti a speech was delivered by Savita.
 - 3. On the occasion of Ambedkar Jayanti a speech will be delivered by Savita.
 - 4. On the occasion of Ambedkar Jayanti a speech is to be delivered by Savita.

Question ID : 8161612535
Status : Answered
Chosen Option : 3

Q.20 Select the wrongly spelt word.

- Ans
- 1. Advisible
 - 2. Invisible
 - 3. Capable
 - 4. Irritable

Question ID : 8161612554
Status : Answered
Chosen Option : 1

Q.21 Select the most appropriate synonym of the given word.

Reproach

- Ans
- 1. Indulge
 - 2. Berate
 - 3. Supervise
 - 4. Train

Question ID : 8161612538
Status : Answered
Chosen Option : 1

Q.22 Given below are four jumbled sentences. Out of the given options select the one that gives their correct order.

A. You can also wear a hat to cover your hair and scalp to protect them from toxic particles that could be harmful.

B. Therefore,when you are exposed to bad quality air, try and wear full sleeved clothes to cover as much of your skin as possible.

C. All the above precautions could save you from serious skin diseases.

D. Air pollution plays a major role in skin and hair related problems for which you need to take precautions.

- Ans
- 1. CADB
 - 2. BACD
 - 3. DBAC
 - 4. DCAB

Question ID : 8161612547

Status : Not Answered

Chosen Option : --

Q.23 Select the most appropriate synonym of the given word.

Idleness

- Ans
- 1. Energy
 - 2. Industry
 - 3. Cheerfulness
 - 4. Lethargy

Question ID : 8161612558

Status : Answered

Chosen Option : 3

Q.24 In the sentence identify the segment which contains the grammatical error.

I declined the lunch offer by Suresh, not because I do not want to go, but because I had no time.

- Ans
- 1. by Suresh, not because
 - 2. but because I had no time
 - 3. I do not want to go
 - 4. I declined the lunch offer

Question ID : 8161612546

Status : Answered

Chosen Option : 2

Q.25 Select the most appropriate meaning of the given idiom.

Out of bounds

- Ans 1. Forbidden
 2. Within limits
 3. Tied up
 4. Limitless

Question ID : 8161612552
Status : Answered
Chosen Option : 2

Section : General Intelligence

Q.1 If A is the brother of B, C is the father of D, F is the daughter of E, L is the brother of D's father, B is the sister of L and E is the wife of C, then how is F related to A?

- Ans 1. Aunt
 2. Daughter in law
 3. Sister
 4. Niece

Question ID : 8161613569
Status : Not Answered
Chosen Option : --


Q.2 Select the letter-number clusters that will replace the blank spaces to complete the series.

A27Z, C5B, E9D, ____, ____

- Ans 1. G13F, I17H
 2. G13F, J18H
 3. G13F, I17J
 4. G12E, I17H

Question ID : 8161613567
Status : Answered
Chosen Option : 1

Q.3 Four different positions of the same dice are shown. Select the letter that will be on the face opposite to the one having B.



- Ans
- 1. E
 - 2. A
 - 3. C
 - 4. D

Question ID : 8161613574
Status : Answered
Chosen Option : 1

Q.4 Four words have been given, out of which three are alike in some manner and one is different. Select the one that is different.

- Ans
- 1. Angle
 - 2. Hectare
 - 3. Meter
 - 4. Volt

Question ID : 8161613572
Status : Answered
Chosen Option : 4

Q.5 Select the number-pair in which the two numbers are related in the same way as are the two numbers of the given number-pair.

31 : 250

- Ans
- 1. 75 : 614
 - 2. 81 : 657
 - 3. 54 : 434
 - 4. 40 : 320

Question ID : 8161613558
Status : Answered
Chosen Option : 3

Q.6 In a certain code language, if 'STUDENT' is written as 'URWBGLV' then how would 'COMPUTER' be coded as in the same code language?

- Ans
- 1. AQKRSVCT
 - 2. EMONWRGP
 - 3. AQKRWRGP
 - 4. EMNOWRGU

Question ID : 8161613565
Status : Answered
Chosen Option : 2

Q.7 Select the figure that will come next in the following figure series.

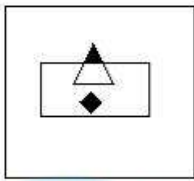


FIGURE 1

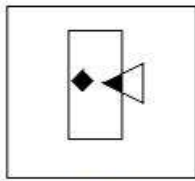


FIGURE 2

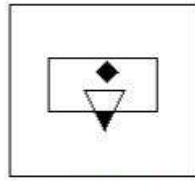


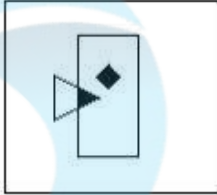
FIGURE 3



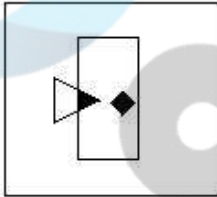
FIGURE 4

Ans

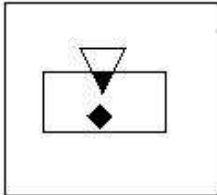
1.



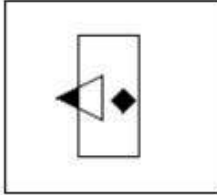
2.



3.



4.



Question ID : 8161613575

Status : Answered

Chosen Option : 2

Q.8 Study the given pattern carefully and select the number that can replace the question mark (?) in it.



Ans

1. 15

2. 35

3. 16

4. 24

Question ID : 8161613560

Status : Answered

Chosen Option : 3

Q.9 उस शब्द-युग्म का चयन करें, जिस में शब्दों के बीच वही संबंध है, जो संबंध दिए गए शब्द-युग्म के शब्दों के बीच है।

तीव्र : धीमा

- Ans
- 1. बासी : ताज़ा
 - 2. रिक्त : खाली
 - 3. सुधारना : मरम्मत करना
 - 4. प्रतिबंध : निषेध

Question ID : 8161613570

Status : Answered

Chosen Option : 4

Q.10 Rahul invests his savings, which is ₹25,000, in his bank that pays 7 per cent annual interest. How much will he earn by way of interest in one year?

- Ans
- 1. ₹1,500
 - 2. ₹1,800
 - 3. ₹1,750
 - 4. ₹1,675

Question ID : 8161613556

Status : Answered

Chosen Option : 3

Q.11 Select the combination of letters that when sequentially placed from left to right in the gaps of the given letter series will complete the series.

c _ cce _ fcdc _ _ ef _ _ cc _ e _

- Ans
- 1. ecdefcde
 - 2. eecdeefc
 - 3. dececdef
 - 4. fcfeefcd

Question ID : 8161613568

Status : Not Answered

Chosen Option : --

Q.12 Select the option in which the number set shares the same relationship as that shared by the given number set.

(2, 4, 8)

- Ans
- 1. 5, 21, 80
 - 2. 6, 17, 54
 - 3. 4, 16, 64
 - 4. 5, 25, 625

Question ID : 8161613559

Status : Answered

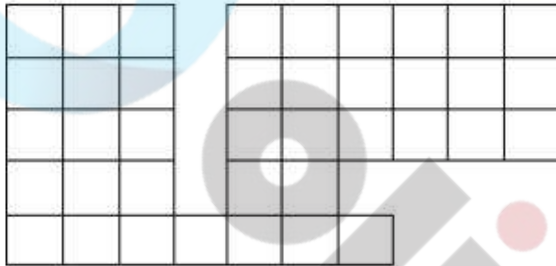
Chosen Option : 3

Q.13 Four letter-clusters have been given, out of which three are alike in some manner and one is different. Select the one that is different.

- Ans**
- 1. TVX
 - 2. JLN
 - 3. NOQ
 - 4. CEG

Question ID : 8161613571
Status : Answered
Chosen Option : 2

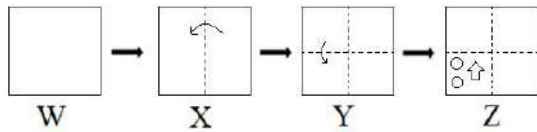
Q.14 How many squares are there in the following figure?



- Ans**
- 1. 66
 - 2. 71
 - 3. 76
 - 4. 57

Question ID : 8161613576
Status : Not Answered
Chosen Option : --

Q.15 The sequence of folding a piece of paper and the manner in which the folded paper has been cut is shown in the following figures. How would this paper look when unfolded?



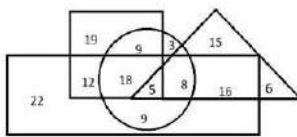
Ans

- ✓ 1.
- ✗ 2.
- ✗ 3.
- ✗ 4.

Question ID : 8161613578
 Status : Answered
 Chosen Option : 1

Q.16 In the given Venn diagram, the 'Triangle' represents 'females', 'Circle' represents 'graduates'; the 'Rectangle' represents 'Employed' and the 'Square' represents 'Youth(under 30years)'. The numbers given in the diagram represents number of persons of that particular category.

How many female graduates who are under 30 years are employed?



- ✗ 1. 7
- ✗ 2. 12
- ✗ 3. 9
- ✓ 4. 5

Question ID : 8161613580
 Status : Not Answered
 Chosen Option : --

Q.17 Arrange the following words in a logical and meaningful order

1. Bicycle

2. Car

3. Train

4. Bus

5. Motorcycle

- Ans
- 1. 1, 2, 5, 4, 3
 - 2. 1, 5, 2, 4, 3
 - 3. 1, 3, 5, 2, 4
 - 4. 2, 5, 1, 3, 4

Question ID : 8161613563

Status : Answered

Chosen Option : 2

Q.18 In a certain code language, if 'BREEZE' is written as 'ZOAZIX', then how will 'FROTHY' be written as in that language?

- Ans
- 1. DOJNAQ
 - 2. DOLPCS
 - 3. DOKOBR
 - 4. DKOPHG

Question ID : 8161613564

Status : Not Answered

Chosen Option : --

Q.19 Four numbers have been given, out of which three are alike in some manner and one is different. Select the one that is different.

- Ans
- 1. 360
 - 2. 231
 - 3. 340
 - 4. 123

Question ID : 8161613562

Status : Answered

Chosen Option : 3

Q.20 Select the number that can replace the question mark (?) in the following series.

6, 12, ?, 144, 720, 4320

- Ans
- 1. 72
 - 2. 40
 - 3. 36
 - 4. 24

Question ID : 8161613561
Status : Answered
Chosen Option : 3

Q.21 Select the option in which the given figure is embedded. (Rotation is not allowed)



Ans

- 1.
- 2.
- 3.
- 4.

Question ID : 8161613577
Status : Answered
Chosen Option : 3

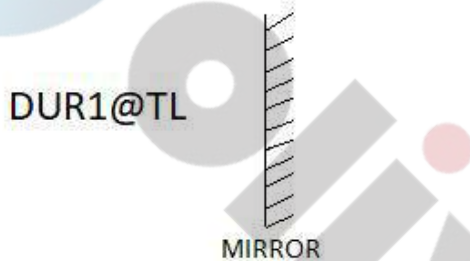
Q.22 If '+' means 'divided by', '-' means 'add', 'X' means 'minus' and '*' means 'multiplied by', what will be the approximate value of the following expression?

$$[[((11 \times 2) - (2 \div 3)) + (3 - 2)] \div 2$$

- Ans
- 1. 4
 - 2. 5
 - 3. 6
 - 4. 3

Question ID : 8161613557
Status : Not Answered
Chosen Option : --

Q.23 Select the mirror image of the given figure.



- Ans
- 1. DUBT@TL
 - 2. JI@IRUD
 - 3. TL@R1@TL
 - 4. TL@RI@TL

Question ID : 8161613579
Status : Answered
Chosen Option : 2

Q.24 Read the given statements and conclusions carefully. Assuming that the information given in the statements is true, even if it appears to be at variance with commonly known facts, decide which of the given conclusions logically follow(s) from the statements.

Statements:

1. All eggs are needles.
2. All grapes are needles.

Conclusions:

- I. Some needles are eggs.
- II. Some grapes are eggs.

- Ans
- 1. Both conclusions I and II follow
 - 2. Neither conclusions I nor II follows
 - 3. Either conclusions I or II follows
 - 4. Only conclusion I follows

Question ID : 8161613573
Status : Answered
Chosen Option : 1

Q.25 Select the option that is related to the third letter-cluster in the same way as the second letter-cluster is related to the first letter-cluster.

STAR : PRWU :: TRZP : ?

- Ans
- 1. STWY
 - 2. QPVS
 - 3. POUR
 - 4. RQWT

Question ID : 8161613566
Status : Answered
Chosen Option : 2

Section : Quantitative Aptitude(Basic Arithmetic Skill)

Q.1 The perimeter of a rectangular field is 32 metres and its sides are in the ratio 5 : 3. Then the sides of the field are:

- Ans
- 1. 10 m and 6 m
 - 2. 9 m and 7 m
 - 3. 12 m and 10 m
 - 4. 5 m and 3 m

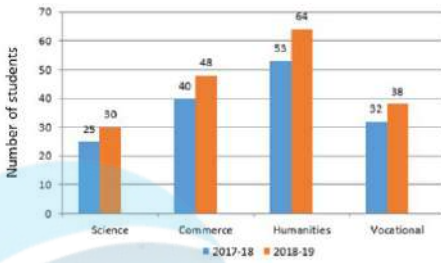
Question ID : 8161613588
Status : Answered
Chosen Option : 1

Q.2 If $\sin(2x - 45^\circ) = \cos x$ and angle x and $(2x - 45^\circ)$ (in degrees) are acute angles, then the value of $\cot x$ is:

- Ans
- 1. 0
 - 2. $\frac{1}{2}$
 - 3. 1
 - 4. $\frac{1}{\sqrt{2}}$

Question ID : 8161613601
Status : Not Answered
Chosen Option : --

Q.3 The given bar graph represents the number of students who appeared in the board examination in session 2017-18 and 2018-19. Study the graph and answer the question that follows.



The difference between the average number of students of Science and Humanities streams in 2017-2018 and that in Commerce and Vocational in 2018-19, is:

- Ans**
- 1. 8
 - 2. 6
 - 3. 4
 - 4. 2

Question ID : 8161613604
Status : Answered
Chosen Option : 1

Q.4 Anu purchased a car and then sold it. If the ratio of the cost price and selling price is 10 : 11, then the profit percentage is:

- Ans**
- 1. 15%
 - 2. 18%
 - 3. 10%
 - 4. 20%

Question ID : 8161613587
Status : Answered
Chosen Option : 3

Q.5 Ravi and Mohan together can complete a task in 3 days. Ravi alone can complete the same task in 7 days. How many days will Mohan alone take to complete the same task?

- Ans**
- 1. $5\frac{1}{4}$ days
 - 2. $4\frac{1}{5}$ days
 - 3. 10 days
 - 4. 4 days

Question ID : 8161613581
Status : Answered
Chosen Option : 1

Q.6 The income of Renu is 10% less than the income of Sudha, and the income of Sudha is 10% more than ₹3,000. The income of Renu is:

- Ans
- 1. ₹3,300
 - 2. ₹3,070
 - 3. ₹2,700
 - 4. ₹2,970

Question ID : 8161613586
Status : Not Answered
Chosen Option : --

Q.7 If $A = \frac{1+2x}{1-2x}$ and $B = \frac{1-2x}{1+2x}$, then the value of $\frac{A+B}{A-B}$ is:

- Ans
- 1. $x + \frac{1}{4x}$
 - 2. $x - \frac{1}{4x}$
 - 3. $\frac{1}{4x} - x$
 - 4. $x^2 + \frac{1}{4x^2}$

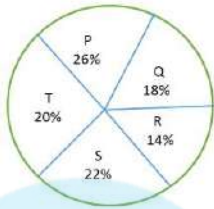
Question ID : 8161613596
Status : Not Answered
Chosen Option : --

Q.8 The difference between the compound interest and the simple interest on a sum of ₹8,000 for 2 years at the rate of 5% p.a. is:

- Ans
- 1. ₹10
 - 2. ₹30
 - 3. ₹40
 - 4. ₹20

Question ID : 8161613589
Status : Answered
Chosen Option : 4

- Q.9** The following pie-chart shows the percentage-wise distribution of the number of students in five different schools P, Q, R, S and T. The total number of students in all five schools together is 8400.



Find the average number of students in schools R and S together.

- Ans**
- 1. 1510
 - 2. 1612
 - 3. 1512
 - 4. 1620

Question ID : 8161613602
Status : Answered
Chosen Option : 3

- Q.10** The marked price of a book is ₹540. After 10% discount on the marked price, the selling price of the book is:

- Ans**
- 1. ₹386
 - 2. ₹590
 - 3. ₹486
 - 4. ₹530

Question ID : 8161613585
Status : Answered
Chosen Option : 3

- Q.11** In a circle centred at O, AB is a chord and C is any point on AB such that OC is perpendicular to AB. If the radius of the circle is 10 cm and OC = 6 cm, then the length of the chord is:

- Ans**
- 1. 8 cm
 - 2. 12 cm
 - 3. 4 cm
 - 4. 16 cm

Question ID : 8161613591
Status : Answered
Chosen Option : 1

Q.12 $\frac{\sec\theta + \tan\theta}{\sec\theta - \tan\theta}$ is equal to:

Ans

1. $\frac{1}{\sec\theta - \tan\theta}$

2. $\frac{1}{\sec\theta + \tan\theta}$

3. $(\sec\theta + \tan\theta)^2$

4. $(\sec\theta - \tan\theta)^2$

Question ID : 8161613600

Status : Not Answered

Chosen Option : --

Q.13 Abhi finishes a journey by car in 9 hours. He travels the first half of the journey at a speed of 40 km/h and the second half of the journey at a speed of 50 km/h. The total distance covered is:

Ans

1. 350 km

2. 450 km

3. 400 km

4. 300 km

Question ID : 8161613582

Status : Answered

Chosen Option : 2

Q.14 If the number 62783xy is divisible by both 8 and 5, then the smallest possible value of x and y is:

Ans

1. $x = 2, y = 2$

2. $x = 6, y = 0$

3. $x = 2, y = 0$

4. $x = 2, y = 5$

Question ID : 8161613597

Status : Answered

Chosen Option : 3

Q.15 The value of $[(3 + 5 - 4) + (17 - 3 \times 4)] + [4 \div 2 - 16 \div 4 + 3]$ is:

Ans

1. 16

2. 10

3. 12

4. 14

Question ID : 8161613598

Status : Answered

Chosen Option : 2

Q.16 If $\triangle ABC$ is an isosceles triangle with $AB = AC$ and $\angle ABC$ is 65° , then $\angle BCA$ and $\angle BAC$ are, respectively:

- Ans
- 1. 65° and 50°
 - 2. 75° and 70°
 - 3. 50° and 65°
 - 4. 70° and 75°

Question ID : 8161613592

Status : Answered

Chosen Option : 1

Q.17 If the edge of a cube be 7 cm, then the volume of the cube is:

- Ans
- 1. 321 cm^3
 - 2. 343 cm^3
 - 3. 433 cm^3
 - 4. 243 cm^3

Question ID : 8161613583

Status : Answered

Chosen Option : 2

Q.18 The average of the ages of Sonu, Hari and Govind is 30 years. If their ages are in the ratio of 4 : 5 : 6, respectively, then the difference between the ages of Sonu and Govind is:

- Ans
- 1. 18 years
 - 2. 21 years
 - 3. 15 years
 - 4. 12 years

Question ID : 8161613584

Status : Answered

Chosen Option : 4

Q.19 If $x^3 + 2x^2 - ax - b$ is exactly divisible by $(x^2 - 1)$, then the values of a and b are:

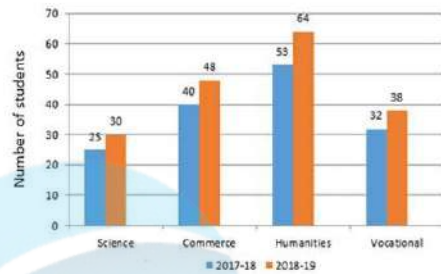
- Ans
- 1. $a = -1$ and $b = 2$
 - 2. $a = 1$ and $b = -2$
 - 3. $a = 1$ and $b = 2$
 - 4. $a = 2$ and $b = 2$

Question ID : 8161613595

Status : Not Answered

Chosen Option : --

Q.20 The given bar graph represents the number of students who appeared in the board examination in session 2017-18 and 2018-19. Study the graph and answer the question that follows.



What is the ratio of the total number of students appeared in examination in 2017-18 and 2018-19?

- Ans**
- 1. 5 : 6
 - 2. 6 : 5
 - 3. 3 : 4
 - 4. 4 : 5

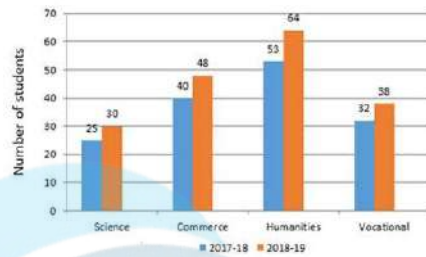
Question ID : 8161613603
Status : Answered
Chosen Option : 1

Q.21 In an equilateral $\triangle ABC$, the medians AD , BE and CF intersect to each other at point G . If the area of quadrilateral $BDGF$ is $12\sqrt{3}$ cm^2 , then the side of $\triangle ABC$ is:

- Ans**
- 1. $10\sqrt{3}$ cm
 - 2. 10 cm
 - 3. $12\sqrt{3}$ cm
 - 4. 12 cm

Question ID : 8161613593
Status : Not Answered
Chosen Option : --

Q.22 The given bar graph represents the number of students who appeared in the board examination in session 2017-18 and 2018-19. Study the graph and answer the question that follows.



What percentage is the total number of students who appeared in 2017-18 is less than the total number of students who appeared in 2018-19? (correct to one decimal place)

- Ans
- 1. 15%
 - 2. 20.5%
 - 3. 12%
 - 4. 16.7%

Question ID : **8161613605**
 Status : **Not Answered**
 Chosen Option : --

Q.23 The value of $\frac{\sin 23^\circ \cos 67^\circ \tan 45^\circ + \cos 23^\circ \sin 67^\circ \cos 45^\circ}{2 \sin 45^\circ \cos 45^\circ}$ is:

- Ans
- 1. 0
 - 2. 2
 - 3. 1
 - 4. $\frac{1}{\sqrt{2}}$

Question ID : **8161613599**
 Status : **Not Answered**
 Chosen Option : --

Q.24 In a circle centred at O, a tangent AP is drawn from an external point A. If OA = 13 cm and OP = 5 cm, then the length of tangent AP is:

- Ans
- 1. 10 cm
 - 2. 8 cm
 - 3. 18 cm
 - 4. 12 cm

Question ID : **8161613590**
 Status : **Answered**
 Chosen Option : 4

Q.25 If $x + \frac{1}{x} = 5$, then the value of $x^2 + \frac{1}{x^2}$ is:

- Ans
- 1. 23
 - 2. 25
 - 3. 29
 - 4. 27

Question ID : 8161613594
Status : Answered
Chosen Option : 4

Section : General Awareness

Q.1 Who was the chairman of the Economic Programme Committee (EPC) that was formed by All India Congress Committee in 1947?

- Ans
- 1. Purshotamdas Thakurdas
 - 2. Jawaharlal Nehru
 - 3. Dadabhai Naorji
 - 4. Subhash Chandra Bose

Question ID : 8161612619
Status : Answered
Chosen Option : 3

Q.2 Which festival is also known as 'Mahakumbh of the East'?

- Ans
- 1. Hornbill Festival
 - 2. Moatsu Mong
 - 3. Ambubachi Mela
 - 4. Bihu Festival

Question ID : 8161612613
Status : Answered
Chosen Option : 1

Q.3 Which of the following Indian actresses was honored with UNICEF's Danny Kaye Humanitarian Award in December 2019?

- Ans
- 1. Deepika Padukone
 - 2. Priyanka Chopra
 - 3. Aishwarya Rai Bachchan
 - 4. Dia Mirza

Question ID : 8161612630
Status : Answered
Chosen Option : 2

Q.4 On 10th December 2019, which of the following states received the 'World Habitat Award'?

- Ans
- 1. Rajasthan
 - 2. Tripura
 - 3. Chhattisgarh
 - 4. Odisha

Question ID : 8161612615
Status : Answered
Chosen Option : 3

Q.5 Who won the Women's 'Leading Cricketer of Year' award for 2018?

- Ans
- 1. Jhulan Goswami
 - 2. Smriti Mandhana
 - 3. Harmanpreet Kaur
 - 4. Mithali Raj

Question ID : 8161612635
Status : Answered
Chosen Option : 3

Q.6 In which year was the new Indian Rupee symbol officially adopted by the Government of India?

- Ans
- 1. 2012
 - 2. 2009
 - 3. 2010
 - 4. 2011

Question ID : 8161612618
Status : Answered
Chosen Option : 3

Q.7 Which Indian Forest Service (IFS) officer was selected for the Asia Environmental Enforcement award by the United Nations Environment Programme in October 2019?

- Ans
- 1. Ramesh Pandey
 - 2. Sanjiv Chaturvedi
 - 3. Fateh Singh Rathore
 - 4. Hemendra Singh Panwar

Question ID : 8161612617
Status : Answered
Chosen Option : 2

Q.8 In which year was the Rigveda manuscript included in the UNESCO's Memory of the World Register?

- Ans
- 1. 2005
 - 2. 2006
 - 3. 2004
 - 4. 2007

Question ID : **8161612614**
Status : **Answered**
Chosen Option : **3**

Q.9 Who defeated Ibrahim Lodi in the first Battle of Panipat?

- Ans
- 1. Sher Shah
 - 2. Mohammad Ghori
 - 3. Babur
 - 4. Akbar

Question ID : **8161612627**
Status : **Answered**
Chosen Option : **3**

Q.10 Which of the following planets is known as a gas giant?

- Ans
- 1. Earth
 - 2. Mercury
 - 3. Venus
 - 4. Jupiter

Question ID : **8161612623**
Status : **Answered**
Chosen Option : **4**

Q.11 How many function keys are present on a standard PC keyboard?

- Ans
- 1. 10
 - 2. 9
 - 3. 12
 - 4. 15

Question ID : **8161612611**
Status : **Answered**
Chosen Option : **1**

Q.12 Who was appointed as the first-ever Chief of Defense Staff (CDS) by the Union Cabinet in December 2019?

- Ans
- 1. General Manoj Mukund Naravane
 - 2. General Vijay Kumar Singh
 - 3. General Bikram Singh
 - 4. General Bipin Rawat

Question ID : **8161612616**
Status : **Answered**
Chosen Option : **1**

Q.13 Which scientist won the Nobel Prize in 1915 for describing the nature of the structure of chlorophyll in plants and also noted magnesium as the central element in its structure?

- Ans
- 1. James Watson
 - 2. Werner Heisenberg
 - 3. Hermann Muller
 - 4. Richard Willstätter

Question ID : **8161612622**
Status : **Answered**
Chosen Option : **3**

Q.14 Which Nobel laureate wrote the book 'India: A Million Mutinies Now'?

- Ans
- 1. Vidiadhar Surajprasad Naipaul
 - 2. Olga Tokarczuk
 - 3. Peter Handke
 - 4. Patrick Modiano

Question ID : **8161612629**
Status : **Answered**
Chosen Option : **1**

Q.15 Which governor general introduced the policy of Subsidiary Alliance, under which the Indian ruler agreed to keep British forces in his territory?

- Ans
- 1. Lord Wellesley
 - 2. Lord Cornwallis
 - 3. Lord William Bentick
 - 4. Lord Mayo

Question ID : **8161612628**
Status : **Answered**
Chosen Option : **1**

Q.16 Superconductivity was discovered by _____, who was also awarded the Noble Prize for Physics in 1913.

Ans 1. Robert Bunsen

2. Johannes Diderik van der Waals

3. Heike Kamerlingh Onnes

4. Gustav Kirchhoff

Question ID : 8161612621
Status : Answered
Chosen Option : 4

Q.17 Who was elected as the protem Speaker of the 17th Lok Sabha?

Ans 1. Somnath Chatterjee

2. Om Birla

3. Virendra Kumar

4. Sumitra Mahajan

Question ID : 8161612631
Status : Answered
Chosen Option : 2

Q.18 Which of the following instruments is used for the measurement of direct beam solar irradiance?

Ans 1. Optometer

2. Chronometer

3. Pyrheliometer

4. Refractometer

Question ID : 8161612625
Status : Answered
Chosen Option : 3

Q.19 Which of the following disciplines studies human populations mostly with respect to their size, their structure and their development?

Ans 1. Geomorphology

2. Anthropology

3. Sociology

4. Demography

Question ID : 8161612626
Status : Answered
Chosen Option : 2

Q.20 What is the pH of rain water during acid rain?

- Ans
- 1. More than 5.6
 - 2. Between 6 to 8.5
 - 3. Equal to 5.6
 - 4. Less than 5.6

Question ID : 8161612620
Status : Answered
Chosen Option : 2

Q.21 Which of the following pairs is NOT matched correctly?

- Ans
- 1. Alt + E – Edit options in current program
 - 2. Alt + Shift + D – Insert the current date
 - 3. Ctrl + K – Cut selected text
 - 4. Ctrl + A – Select all text

Question ID : 8161612612
Status : Answered
Chosen Option : 3

Q.22 How many times has Viswanathan Anand won the World Chess Champion title as of January 2020?

- Ans
- 1. 9
 - 2. 8
 - 3. 5
 - 4. 7

Question ID : 8161612633
Status : Answered
Chosen Option : 3

Q.23 The ideals of Liberty, Equality and Fraternity (contained in the Preamble of the Constitution of India) are borrowed from the constitution of which country?

- Ans
- 1. Australia
 - 2. Canada
 - 3. Germany
 - 4. France

Question ID : 8161612632
Status : Answered
Chosen Option : 4

Q.24 Which of the following is a breed of sheep?

Ans 1. Barbari

2. Jamunapari

3. Mecheri

4. Beetal

Question ID : 8161612624

Status : Answered

Chosen Option : 2

Q.25 Who became the first gymnast to receive the Rajiv Gandhi Khel Ratna Award?

Ans 1. Anant Ram

2. Aruna Reddy

3. Ashish Kumar

4. Dipa Karmakar

Question ID : 8161612634

Status : Answered

Chosen Option : 4

Roll Number	
Candidate Name	
Venue Name	
Exam Date	26/10/2020
Exam Time	4:00 PM - 5:00 PM
Subject	CHSL Tier 1

Section : English Language (Basic Knowledge)

Q.1 Given below are four jumbled sentences. Pick the option that gives their correct order.

- A. He decides to leave home and sets out to find him with the help of his best friend called Sungreen.
- B. It narrates the story of a young and sensitive boy in a tough world.
- C. 'A Boy and Sungreen' is a film by the Chinese filmmaker, Ahn-Ju-Young.
- D. When he finds that his supposedly dead father is alive he decides to act.

- Ans
- 1. DBCA
 - 2. CBDA
 - 3. CABD
 - 4. ABDC

Question ID : 4244291427
Status : Answered
Chosen Option : 2

Q.2 Select the INCORRECTLY spelt word.

- Ans
- 1. Liason
 - 2. Magisterial
 - 3. Maintain
 - 4. Jurist

Question ID : 4244291434
Status : Answered
Chosen Option : 3

Q.3 Select the most appropriate ANTONYM of the given word.

OUTSPOKEN

- Ans
- 1. Ambivalent
 - 2. Candid
 - 3. Equivocal
 - 4. Secretive

Question ID : 4244291430
Status : Answered
Chosen Option : 4

Q.4 Select the correct passive form of the given sentence.

Did you inform him about the ticket cancellation?

- Ans
- 1. Was he informed about the ticket cancellation by you?
 - 2. Will he be informed about the ticket cancellation by you?
 - 3. Is he being informed about the ticket cancellation by you?
 - 4. Was he being informed about the ticket cancellation by you?

Question ID : 4244291416
Status : Answered
Chosen Option : 1

Comprehension:

In the following passage some words have been deleted. Fill in the blanks with the help of the alternatives given.

Studies have shown that there is no standard advice one can (1)_____ to parents. Some guidelines however, may (2)_____. The first one is that children are all different and there is no one way (3)_____ bringing them up. Each child should be treated as (4)_____ individual. The second is that heredity is important, both for intelligence and (5)_____.

SubQuestion No : 5

Q.5 Select the most appropriate option for blank No. 1.

- Ans
- 1. giving
 - 2. give
 - 3. given
 - 4. gave

Question ID : 4244291421
Status : Answered
Chosen Option : 2

Comprehension:

In the following passage some words have been deleted. Fill in the blanks with the help of the alternatives given.

Studies have shown that there is no standard advice one can (1)_____ to parents. Some guidelines however, may (2)_____. The first one is that children are all different and there is no one way (3)_____ bringing them up. Each child should be treated as (4)_____ individual. The second is that heredity is important, both for intelligence and (5)_____.

SubQuestion No : 6

Q.6 Select the most appropriate option for blank No. 2.

- Ans
- 1. was provided
 - 2. be provided
 - 3. is provide
 - 4. being provided

Question ID : 4244291422
Status : Answered
Chosen Option : 2

Comprehension:

In the following passage some words have been deleted. Fill in the blanks with the help of the alternatives given.

Studies have shown that there is no standard advice one can (1)_____ to parents. Some guidelines however, may (2)_____. The first one is that children are all different and there is no one way (3)_____ bringing them up. Each child should be treated as (4)_____ individual. The second is that heredity is important, both for intelligence and (5)_____.

SubQuestion No : 7

Q.7 Select the most appropriate option for blank No. 3.

Ans

1. by

2. of

3. from

4. off

Question ID : 4244291423

Status : Answered

Chosen Option : 2

Comprehension:

In the following passage some words have been deleted. Fill in the blanks with the help of the alternatives given.

Studies have shown that there is no standard advice one can (1)_____ to parents. Some guidelines however, may (2)_____. The first one is that children are all different and there is no one way (3)_____ bringing them up. Each child should be treated as (4)_____ individual. The second is that heredity is important, both for intelligence and (5)_____.

SubQuestion No : 8

Q.8 Select the most appropriate option for blank No. 4.

Ans

1. an

2. many

3. a

4. that

Question ID : 4244291424

Status : Answered

Chosen Option : 1

Comprehension:

In the following passage some words have been deleted. Fill in the blanks with the help of the alternatives given.

Studies have shown that there is no standard advice one can (1)_____ to parents. Some guidelines however, may (2)_____. The first one is that children are all different and there is no one way (3)_____ bringing them up. Each child should be treated as (4)_____ individual. The second is that heredity is important, both for intelligence and (5)_____.

SubQuestion No : 9

Q.9 Select the most appropriate option for blank No.5.

- Ans
- 1. personal
 - 2. personnel
 - 3. personality
 - 4. personalise

Question ID : 4244291425
Status : Answered
Chosen Option : 3

Q.10 Select the correct Indirect form of the given sentence.

The minister said, "It is tragic that the Australian bush fires have claimed the lives of so many helpless animals."

- Ans
- 1. The minister said that it was tragic that the Australian bush fires had claimed the lives of so many helpless animals.
 - 2. The minister said that it was tragic that the Australian bush fires claimed the lives of so many helpless animals.
 - 3. The minister said that it was tragic that the Australian bush fires were claiming the lives of so many helpless animals.
 - 4. The minister said that it was tragic that the Australian bush fires have been claiming the lives of so many helpless animals.

Question ID : 4244291417
Status : Answered
Chosen Option : 1

Q.11 Select the most appropriate word to fill in the blank.

In our metro cities the contrast between the high rise buildings with the slums behind is _____.

- Ans
- 1. comforting
 - 2. interesting
 - 3. laudable
 - 4. appalling

Question ID : 4244291440
Status : Answered
Chosen Option : 1

Q.12 Select the most appropriate meaning of the given idiom.

Keep up appearances

- Ans
- 1. To pretend to be happier or richer so as to conceal the real situation
 - 2. To spend a lot of time on appearances so as to lead the fashion world
 - 3. To deliberately appear shabby and not care to impress people
 - 4. To waste a lot of money on mindless shopping and not bother about the consequences

Question ID : 4244291432

Status : Answered

Chosen Option : 1

Q.13 Select the most appropriate option to substitute the underlined segment in the given sentence. If there is no need to substitute it, select 'No improvement'.

The week-long Theatre Festival has begun with a wonderful lines of plays.

- Ans
- 1. No improvement
 - 2. lined up
 - 3. lines up
 - 4. line up

Question ID : 4244291428

Status : Answered

Chosen Option : 2

Q.14 In the sentence identify the segment which contains the grammatical error.

Mani Kaul begun his career as an actor and a director of short films before doing his debut feature film, 'Uski Roti.'

- Ans
- 1. debut feature film, 'Uski Roti.'
 - 2. begun his career as an actor
 - 3. a director of short films
 - 4. before doing his

Question ID : 4244291419

Status : Answered

Chosen Option : 2

Q.15 Select the most appropriate meaning of the given idiom.

In the blink of an eye

- Ans
- 1. Something that is not real
 - 2. Within a very short period of time
 - 3. Within a very long period of time
 - 4. Something that is unavoidable

Question ID : 4244291433

Status : Answered

Chosen Option : 2

Q.16 Select the most appropriate option to substitute the underlined segment in the given sentence. If there is no need to substitute it, select 'No improvement'.

Some people believe that 2020 is going to be a very significant year in our history.

- Ans 1. No improvement
 2. will going
 3. were going
 4. are going

Question ID : 4244291429
Status : Answered
Chosen Option : 1

Q.17 Select the most appropriate word to fill in the blank.

The politician was responsible for ____ violence in the university.

- Ans 1. inciting
 2. winning
 3. losing
 4. preparing

Question ID : 4244291441
Status : Answered
Chosen Option : 1

Q.18 Select the INCORRECTLY spelt word.

- Ans 1. Syllabi
 2. Aggravate
 3. Zoologist
 4. Luxurient

Question ID : 4244291435
Status : Answered
Chosen Option : 1

Q.19 Select the most appropriate ANTONYM of the given word.

COMPATRIOT

- Ans 1. Brethren
 2. Countryman
 3. Outsider
 4. Insider

Question ID : 4244291431
Status : Answered
Chosen Option : 1

Q.20 Select the word that means the same as the given group of words.

Unable to think clearly because of a mental illness

- Ans
- 1. Deranged
 - 2. Eccentric
 - 3. Whimsical
 - 4. Balanced

Question ID : 4244291436
Status : Answered
Chosen Option : 3

Q.21 Given below are four jumbled sentences. Pick the option that gives their correct order.

- A. He would be accompanied by fifty or sixty torchbearers.
- B. When dawn broke the Emperor would alight, say his prayers and return by 8 a.m.
- C. They would all head towards the river Jamuna.
- D. During the winter months the Badshah Bahadur Shah Jafar would set off on his horse at 3 a.m.

- Ans
- 1. DCBA
 - 2. CBAD
 - 3. BACD
 - 4. DACB

Question ID : 4244291426
Status : Answered
Chosen Option : 4

Q.22 In the sentence identify the segment which contains the grammatical error.

Often hailed as one of the greatest industry leaders of India, Ratan Tata take across the reins of the company, leading from the front.

- Ans
- 1. leading from the front
 - 2. Often hailed as one of
 - 3. the greatest industry leaders from India,
 - 4. Ratan Tata take across the reins of the company

Question ID : 4244291418
Status : Answered
Chosen Option : 4

Q.23 Select the most appropriate synonym of the given word.

DETERIORATE

- Ans
- 1. Enliven
 - 2. Worsen
 - 3. Fasten
 - 4. Improve

Question ID : 4244291438
Status : Answered
Chosen Option : 2

Q.24 Select the most appropriate synonym of the given word.

DESPONDENT

- Ans
- 1. Energetic
 - 2. Neutral
 - 3. Cheerful
 - 4. Depressed

Question ID : 4244291439
Status : Answered
Chosen Option : 4

Q.25 Select the word that means the same as the given group of words.

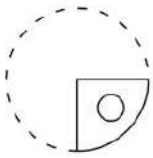
A person working on a trial period

- Ans
- 1. Probationer
 - 2. Petitioner
 - 3. Practitioner
 - 4. Professional

Question ID : 4244291437
Status : Answered
Chosen Option : 3

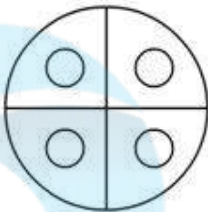
Section : General Intelligence

Q.1 A paper is folded and cut as shown in the following figure. How will this paper look when unfolded?



Ans

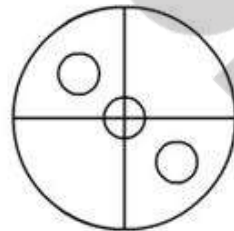
✓ 1.



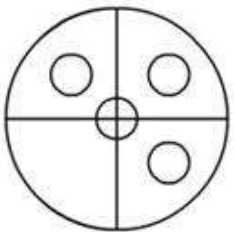
✗ 2.



✗ 3.



✗ 4.



Question ID : 4244291464

Status : Answered

Chosen Option : 1

Q.2 In a certain code language, PERNMETER is coded as 152785352, AREA is coded as 4254, and METAL is coded as 85349. How will LANE be coded as in that language?

Ans ✗ 1. 8451

✓ 2. 9475

✗ 3. 5214

✗ 4. 3245

Question ID : 4244291451

Status : Answered

Chosen Option : 2

Q.3 'Movie' is related to 'Actor' in the same way as 'Magazine' is related to '_____'.
Ans

- 1. Singer
- 2. Publisher
- 3. Writer
- 4. Seller

Question ID : 4244291453
Status : Answered
Chosen Option : 3

Q.4 In a certain code language, 'QUESTION' is written as 'PTDRSHNM'. How will 'ANSWER' be written as in that language?
Ans

- 1. NRVDQ
- 2. YLQUCP
- 3. YMRVDQ
- 4. ZMRVDQ

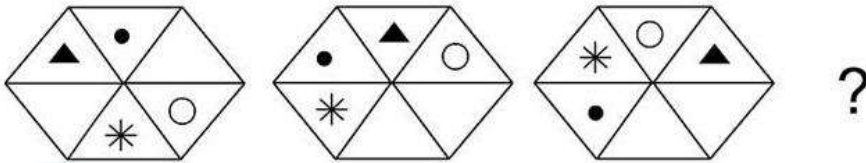
Question ID : 4244291450
Status : Answered
Chosen Option : 4

Q.5 Four letter-clusters have been given, out of which three are alike in some manner and one is different. Select the odd letter-cluster.
Ans

- 1. GIK
- 2. TUV
- 3. BDF
- 4. NPR

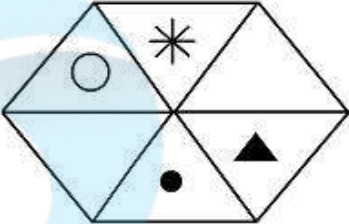
Question ID : 4244291457
Status : Answered
Chosen Option : 2

Q.6 Select the option figure that can replace the question mark (?) in the following series.

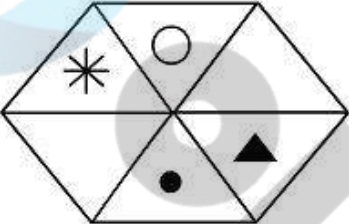


Ans

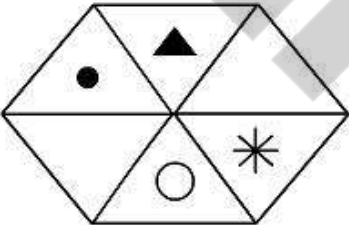
✓ 1.



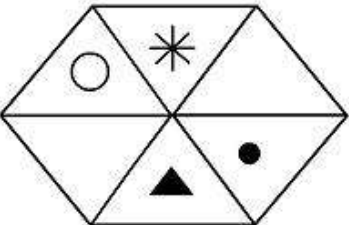
✗ 2.



✗ 3.



✗ 4.



Question ID : 4244291461

Status : Answered

Chosen Option : 1

Q.7 Which of the given options is NOT an example of a number triad with the following properties?

1. The second number is the square of the first number.
2. The third number is the cube of the first number.

- Ans**
- 1. (11, 121, 1341)
 - 2. (17, 289, 4913)
 - 3. (13, 169, 2197)
 - 4. (12, 144, 1728)

Question ID : 4244291446
Status : Answered
Chosen Option : 3

Q.8 Seeing a portrait, Rucha asked Seema, "Whose portrait is this?". Seema replied, "Her son is the father of my daughter".
Whose portrait is it?

- Ans**
- 1. Seema
 - 2. Seema's mother-in-law
 - 3. Seema's sister
 - 4. Seema's mother

Question ID : 4244291455
Status : Answered
Chosen Option : 2

Q.9 Observe the following pattern and answer the given question.

U
S T
R Q P
L M N O
K J I H G
A B C D E F

Select the option that is related to the third letter-pair in the same way as the second letter-pair is related to the first letter-pair.

LB : KJ :: ND : ?

- Ans**
- 1. DE
 - 2. QP
 - 3. IH
 - 4. HI

Question ID : 4244291452
Status : Answered
Chosen Option : 3

Q.10 Select the option that is related to the third number in the same way as the second number is related to the first number.

23 : 110 :: 17 : ?

- Ans**
- 1. 70
 - 2. 85
 - 3. 90
 - 4. 80

Question ID : 4244291444
Status : Answered
Chosen Option : 4

Q.11 Select the option that is related to the fourth term in the same way as the first term is related to the second term.

World Environment Day : 5 June :: ? : 20 August

- Ans**
- 1. Renewable Energy Day
 - 2. International Women's Day
 - 3. World AIDS Day
 - 4. World Water Day

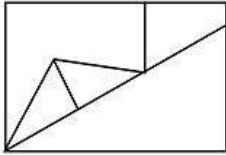
Question ID : 4244291456
Status : Answered
Chosen Option : 1

Q.12 Four number triads have been given, out of which three are alike in some manner and one is different. Select the number triad that is different from the rest.

- Ans**
- 1. (192, 384, 576)
 - 2. (352, 436, 646)
 - 3. (219, 438, 657)
 - 4. (327, 654, 981)

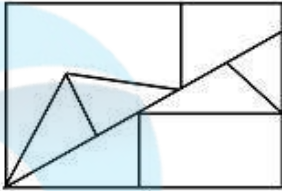
Question ID : 4244291445
Status : Not Answered
Chosen Option : --

Q.13 Select the option in which the given figure is embedded. (Rotation is not allowed)

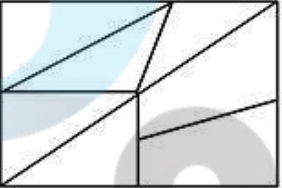


Ans

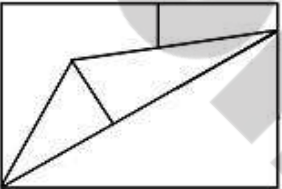
✓ 1.



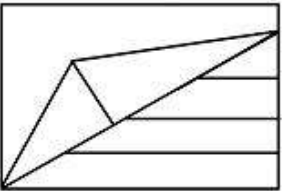
✗ 2.



✗ 3.



✗ 4.

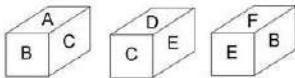


Question ID : 4244291463

Status : Answered

Chosen Option : 1

Q.14 Three different positions of a dice are shown. Select the letter that will be on the face opposite to the one having 'A'.



Ans ✓ 1. E

✗ 2. F

✗ 3. D

✗ 4. C

Question ID : 4244291460

Status : Answered

Chosen Option : 1

Q.15 Select the combination of letters that when sequentially placed in the blanks of the given letter series will complete the series.

ab__bb__aa_ba__ab__

- Ans**
- 1. ababbaab
 - 2. aaabbbab
 - 3. babaabaa
 - 4. bbaabbaa

Question ID : 4244291454

Status : **Answered**

Chosen Option : 3

Q.16 Four words have been given, out of which three are alike in some manner and one is different. Select the odd one.

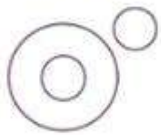
- Ans**
- 1. April
 - 2. June
 - 3. March
 - 4. May

Question ID : 4244291458

Status : **Not Answered**

Chosen Option : --

Q.17 Select the correct option that represents the given Venn diagram.



- Ans**
- 1. School, Class, Students
 - 2. Ocean, River, Lake
 - 3. Whole numbers, Even numbers, Odd numbers
 - 4. Maharashtra, Mumbai, Delhi

Question ID : 4244291466

Status : **Answered**

Chosen Option : 4

Q.18 Which two numbers need to be interchanged to make the following equation correct?

$$8 \times \frac{3}{4} + 5 - 9 = 10$$

- Ans
- 1. 4 and 8
 - 2. 3 and 9
 - 3. 5 and 9
 - 4. 3 and 4

Question ID : 4244291443
Status : Answered
Chosen Option : 3

Q.19 Select the number that can replace the question mark (?) in the following series.

1, 4, 3, 9, 5, ?, 7, 25

- Ans
- 1. 12
 - 2. 18
 - 3. 14
 - 4. 16

Question ID : 4244291447
Status : Answered
Chosen Option : 4

Q.20 Read the given statements and conclusions carefully. Assuming that the information given in the statements is true, even if it appears to be at variance with commonly known facts, decide which of the given conclusions logically follow(s) from the statements.

Statements:

1. All singers are honest.
2. Some players are singers.

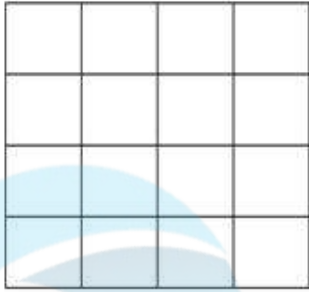
Conclusions:

- I. All players are honest.
- II. Some players are honest.

- Ans
- 1. Neither conclusion I nor II follows.
 - 2. Both conclusions I and II follow.
 - 3. Only conclusion II follows.
 - 4. Only conclusion I follows.

Question ID : 4244291459
Status : Answered
Chosen Option : 1

Q.21 Find the number of squares in the following figure.



- Ans
- 1. 30
 - 2. 28
 - 3. 24
 - 4. 32

Question ID : 4244291462
Status : Answered
Chosen Option : 1

Q.22 After three years, the total age of a mother and son will be 50. The mother's age was 30 before three years. What is her son's present age?

- Ans
- 1. 6 years
 - 2. 12 years
 - 3. 8 years
 - 4. 11 years

Question ID : 4244291442
Status : Answered
Chosen Option : 4

Q.23 Select the correct mirror image of the given figure when the mirror is placed to the right side of the figure.

FAt

Ans

✗ 1.

ƎVƒ

✓ 2.

tA7

✗ 3.

tA7

✗ 4.

tAF

Question ID : 4244291465

Status : Answered

Chosen Option : 2

Q.24 Complete the following series by replacing the question mark (?) in the given series.

AA, BD, GK, ?

Ans

✗ 1.

OU

✓ 2.

PV

✗ 3.

PU

✗ 4.

OV

Question ID : 4244291449

Status : Answered

Chosen Option : 2

Q.25 Identify the number that does NOT belong to the following series.

2, 4, 8, 14, 20, 32

- Ans
- 1. 32
 - 2. 14
 - 3. 8
 - 4. 20

Question ID : 4244291448
Status : Answered
Chosen Option : 4

Section : Quantitative Aptitude(Basic Arithmetic Skill)

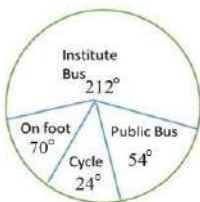
Q.1 If $x = 3 + 2\sqrt{2}$, then the value of $\sqrt{x} - \frac{1}{\sqrt{x}}$ is:

- Ans
- 1. 2
 - 2. 1
 - 3. 0
 - 4. 3

Question ID : 4244291481
Status : Answered
Chosen Option : 3

Q.2 Study the pie-chart and answer the question.

In an institute, there are 900 students who use different modes of transport for to and from travel. The given pie diagram represents the requisite data.



The number of students who do NOT use the institute bus is:

- Ans
- 1. 420
 - 2. 370
 - 3. 360
 - 4. 350

Question ID : 4244291488
Status : Answered
Chosen Option : 2

Q.3 The divisor is 24 times the quotient and 8 times the remainder. If the quotient is 18, then the dividend is:

- Ans
- 1. 7830
 - 2. 7630
 - 3. 7840
 - 4. 7450

Question ID : 4244291483
Status : Not Answered
Chosen Option : --

Q.4 If $\cos 27^\circ = x$, then the value of $\tan 63^\circ$ is:

- Ans
- 1. $\frac{\sqrt{1+x^2}}{x}$
 - 2. $\frac{x}{\sqrt{1+x^2}}$
 - 3. $\frac{\sqrt{1-x^2}}{x}$
 - 4. $\frac{x}{\sqrt{1-x^2}}$

Question ID : 4244291485
Status : Answered
Chosen Option : 3

Q.5 If the diagonal of a cube is $\sqrt{27}$ cm, then its volume is:

- Ans
- 1. 27 cm^3
 - 2. 32 cm^3
 - 3. 30 cm^3
 - 4. 25 cm^3

Question ID : 4244291469
Status : Answered
Chosen Option : 1

Q.6 The profit made by selling an article for ₹13,400 is equal to the amount of loss incurred on selling the same article at ₹11,600. What will be the profit (in ₹) if it is sold for ₹14,750?

- Ans
- 1. 2,000
 - 2. 2,520
 - 3. 2,500
 - 4. 2,250

Question ID : 4244291473
Status : Answered
Chosen Option : 4

Q.7 If $a = \frac{2+\sqrt{3}}{2-\sqrt{3}}$ and $b = \frac{2-\sqrt{3}}{2+\sqrt{3}}$, then the value of $a^2 + b^2 + ab$ is:

- Ans
- 1. 195
 - 2. 185
 - 3. 196
 - 4. 186

Question ID : 4244291482
Status : Answered
Chosen Option : 1

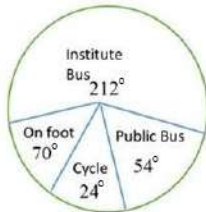
Q.8 The ages of Fatima and Ahmed are in the ratio 3 : 8. The sum of their present ages is 44 years. The difference of their ages is:

- Ans
- 1. 30 years
 - 2. 11 years
 - 3. 24 years
 - 4. 20 years

Question ID : 4244291474
Status : Answered
Chosen Option : 4

Q.9 Study the pie-chart and answer the question.

In an institute, there are 900 students who use different modes of transport for to and from travel. The given pie diagram represents the requisite data.



The number of students who travel on foot is:

- Ans
- 1. 175
 - 2. 150
 - 3. 225
 - 4. 180

Question ID : 4244291489
Status : Answered
Chosen Option : 1

Q.10 If x, y are acute angles, where $0 < x + y < 90^\circ$ and $\sin(3x - 40^\circ) = \cos(3y + 40^\circ)$, then the value of $\tan(x + y)$ is equal to:

Ans

1. $\frac{1}{\sqrt{2}}$

2. $\frac{1}{\sqrt{3}}$

3. $\sqrt{3}$

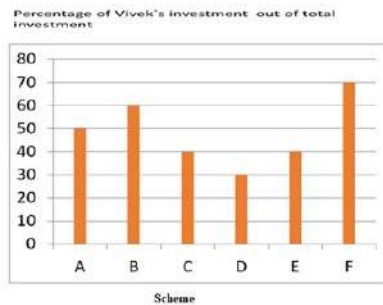
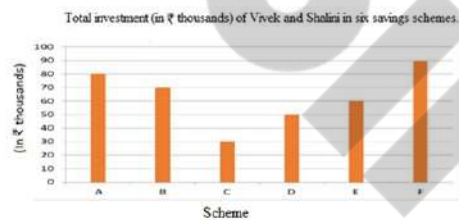
4. $\frac{1}{3}$

Question ID : 4244291487

Status : Answered

Chosen Option : 2

Q.11 Study the following graph and answer the question given below.



What is the ratio of the total amount invested by Vivek in schemes A and C together to the total amount invested by Shalini in schemes A and C together?

1. 23 : 25

2. 25 : 29

3. 23 : 27

4. 26 : 29

Question ID : 4244291491

Status : Not Answered

Chosen Option : --

Q.12

If $a + b + c = 0$, then $\left(\frac{2a^2}{3bc} + \frac{2b^2}{3ca} + \frac{2c^2}{3ab}\right)$ is equal to:

- Ans
- 1. 3
 - 2. 4
 - 3. 1
 - 4. 2

Question ID : 4244291480

Status : Answered

Chosen Option : 4

Q.13

Two tangents PA and PB are drawn from an external point P to a circle with centre O at the points A and B respectively on it, such that $\angle APB = 120^\circ$ and $AP = 12.5$ cm. The length of OP is:

- Ans
- 1. 24 cm
 - 2. 25 cm
 - 3. 26 cm
 - 4. 20 cm

Question ID : 4244291476

Status : Answered

Chosen Option : 2

Q.14

What sum of money at compound interest will amount to ₹4,630.08 in three years if the rate of interest is 4% for the first year, 5% for the second year and 6% for the third year?

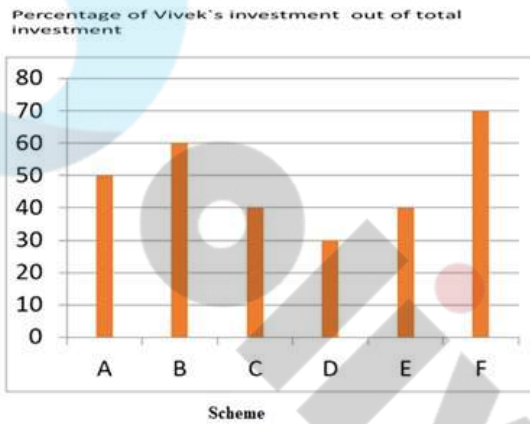
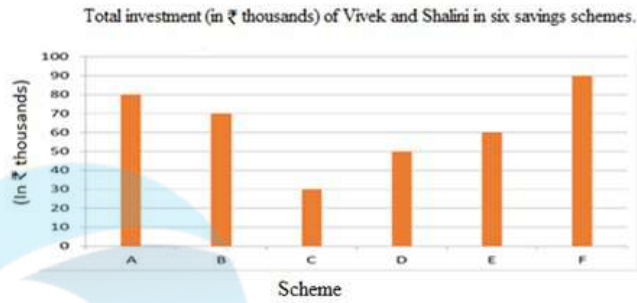
- Ans
- 1. ₹4,500
 - 2. ₹4,800
 - 3. ₹4,000
 - 4. ₹3,500

Question ID : 4244291475

Status : Not Answered

Chosen Option : --

Q.15 Study the following graphs and answer the question given below.



What is the average amount invested by Vivek in savings schemes A, B, C and D?

- Ans
- 1. ₹27,200
 - 2. ₹28,500
 - 3. ₹27,250
 - 4. ₹27,000

Question ID : 4244291490
Status : Not Answered
Chosen Option : --

Q.16 The difference between two positive numbers is equal to 30% of the greater number. If the smaller number is 28, then the sum of both the numbers is:

- Ans
- 1. 72
 - 2. 65
 - 3. 68
 - 4. 64

Question ID : 4244291472
Status : Answered
Chosen Option : 3

Q.17

The value of $3\frac{1}{3} - \left[\frac{9}{4} + \left\{ \frac{5}{4} - \frac{1}{13} \times \left(\frac{5}{2} - \frac{1}{3} \right) \right\} \right]$ is:

- Ans
- 1. 10
 - 2. 0
 - 3. 5
 - 4. 1

Question ID : 4244291484

Status : Not Answered

Chosen Option : --

Q.18 A circle inscribed in a triangle ABC touches its sides AB, BC and AC at the points D, E and F, respectively. If AB = 18 cm, BC = 15 cm and AC = 13 cm, then the value of AD + BE + CF is:

- Ans
- 1. 25 cm
 - 2. 33 cm
 - 3. 23 cm
 - 4. 20 cm

Question ID : 4244291477

Status : Not Answered

Chosen Option : --

Q.19

If $\tan \theta = \frac{2}{\sqrt{11}}$, $0 < \theta < 90^\circ$, then the value of $\frac{2 \operatorname{cosec}^2 \theta - 3 \sec^2 \theta}{3 \operatorname{cosec}^2 \theta + 4 \sec^2 \theta}$ is equal to:

- Ans
- 1. $\frac{11}{45}$
 - 2. $\frac{11}{49}$
 - 3. $\frac{13}{49}$
 - 4. $\frac{10}{49}$

Question ID : 4244291486

Status : Not Answered

Chosen Option : --

Q.20 In an isosceles triangle ABC, $AB = AC$ and AD is perpendicular to BC at D. If $AD = 8$ cm and perimeter of $\triangle ABC$ is 64 cm, then the area of $\triangle ABC$ is:

- Ans**
- 1. 130 cm^2
 - 2. 124 cm^2
 - 3. 120 cm^2
 - 4. 125 cm^2

Question ID : 4244291479
Status : Answered
Chosen Option : 3

Q.21 A and B working together can do 45% of the work in 9 days. A alone can do the work in 30 days. How many days will B alone take to do the same work?

- Ans**
- 1. 60 days
 - 2. 70 days
 - 3. 48 days
 - 4. 50 days

Question ID : 4244291467
Status : Answered
Chosen Option : 1

Q.22 The average weight of P, Q and R is 62 kg. The weight of R is 12 kg more than P and 9 kg more than Q. What is the average weight of P, Q, R and S if weight of S is 15 kg less than R?

- Ans**
- 1. 58 kg
 - 2. 62 kg
 - 3. 64 kg
 - 4. 60 kg

Question ID : 4244291470
Status : Not Answered
Chosen Option : --

Q.23 A car moves a distance of 600 km with uniform speed. The number of hours taken for the journey is $\frac{2}{3}$ of the number representing speed in km/h. The time taken to cover the distance is:

- Ans**
- 1. 15 hours
 - 2. 18 hours
 - 3. 24 hours
 - 4. 20 hours

Question ID : 4244291468
Status : Answered
Chosen Option : 1

Q.24 The exterior angle of a triangle is 115° and the corresponding interior opposite angles are in the ratio 2 : 3. The measure of greatest angle of the triangle is:

- Ans
- 1. 70°
 - 2. 65°
 - 3. 69°
 - 4. 79°

Question ID : 4244291478
Status : Answered
Chosen Option : 3

Q.25 The difference between the selling prices obtained after a single discount of 45% and two successive discounts of 30% and 15% on the marked price ₹12,000 of an article is:

- Ans
- 1. ₹440
 - 2. ₹560
 - 3. ₹520
 - 4. ₹540

Question ID : 4244291471
Status : Not Answered
Chosen Option : --

Section : General Awareness

Q.1 Who has created LISP, the Programming Language for Artificial Intelligence?

- Ans
- 1. Grace Hopper
 - 2. John McCarthy
 - 3. Charles Bachman
 - 4. Leslie Lamport

Question ID : 4244291492
Status : Not Answered
Chosen Option : --

Q.2 Who is the first Indian male cricketer to play 100 matches of T-20 format?

- Ans
- 1. Yuzvendra Chahal
 - 2. K. L. Rahul
 - 3. Rohit Sharma
 - 4. Virat Kohli

Question ID : 4244291515
Status : Answered
Chosen Option : 3

Q.3 In which year were the first modern Summer Olympic games held?

- Ans
- 1. 1897
 - 2. 1898
 - 3. 1896
 - 4. 1894

Question ID : 4244291516
Status : Answered
Chosen Option : 3

Q.4 Which of the following is NOT a metamorphic rock?

- Ans
- 1. Marble
 - 2. Sandstone
 - 3. Quartzite
 - 4. Diamond

Question ID : 4244291504
Status : Answered
Chosen Option : 2

Q.5 Who is the Minister of Youth Affairs and Sports as of February 2020?

- Ans
- 1. Kiren Rijju
 - 2. Anup Sridhar
 - 3. Radheshyam Julaniya
 - 4. M S Gill

Question ID : 4244291514
Status : Answered
Chosen Option : 1

Q.6 Who is the current (23rd) Chief Election Commissioner of India?

- Ans
- 1. Kalyan Sundaram
 - 2. Ashok Lavasa
 - 3. Sushil Chandra
 - 4. Sunil Arora

Question ID : 4244291513
Status : Answered
Chosen Option : 4

Q.7 Which article of the Indian Constitution prohibits trafficking in human beings and forced labour?

- Ans
- 1. Article 25
 - 2. Article 23
 - 3. Article 13
 - 4. Article 5

Question ID : 4244291512
Status : Answered
Chosen Option : 2

Q.8 All parallel circles from the Equator to the poles are known as_____

- Ans
- 1. Parallels of Latitude
 - 2. Arctic Circle
 - 3. Tropic of Cancer
 - 4. Antarctic Circle

Question ID : 4244291507
Status : Answered
Chosen Option : 3

Q.9 Which among the following is a western coast island?

- Ans
- 1. Pamban
 - 2. Elephanta
 - 3. Parikud
 - 4. Sriharikota

Question ID : 4244291506
Status : Answered
Chosen Option : 1

Q.10 Who was the winner of the Dadasaheb Phalke Award which was presented in 2019?

- Ans
- 1. Manoj Kumar
 - 2. Shashi Kapoor
 - 3. Vinod Khanna
 - 4. Amitabh Bachchan

Question ID : 4244291511
Status : Answered
Chosen Option : 4

Q.11 Which of the following is a dance form of Meghalaya?

- Ans 1. Laho
 2. Cheraw
 3. Dalkhai
 4. Rangma

Question ID : 4244291494
Status : Answered
Chosen Option : 2

Q.12 Where is the Baglihar Dam located?

- Ans 1. Gujarat
 2. Himachal Pradesh
 3. Jammu & Kashmir
 4. Telangana

Question ID : 4244291505
Status : Answered
Chosen Option : 3

Q.13 Which of the following is the allotropic form of carbon?

- Ans 1. Coal
 2. Graphite
 3. Charcoal
 4. Lamp black

Question ID : 4244291503
Status : Answered
Chosen Option : 2

Q.14 What is the Rigvedic name of the river Ravi?

- Ans 1. Vitasa
 2. Asikini
 3. Shutudri
 4. Parushni

Question ID : 4244291508
Status : Answered
Chosen Option : 4

Q.15 Who is the Miss Universe crown winner for the year 2019?

- Ans
- 1. Catriona Gray
 - 2. Sofia Aragon
 - 3. Zozibini Tunzi
 - 4. Madison Anderson

Question ID : 4244291510
Status : Answered
Chosen Option : 3

Q.16 Who won the Women US Open title of 2019?

- Ans
- 1. Bianca Andreescu
 - 2. Caroline Wozniacki
 - 3. Ashleigh Barty
 - 4. Sloane Stephens

Question ID : 4244291496
Status : Answered
Chosen Option : 1

Q.17 What was the name of the oldest female black rhino which died in 2019?

- Ans
- 1. Fausta
 - 2. Anes
 - 3. Suidae
 - 4. Canidae

Question ID : 4244291498
Status : Not Answered
Chosen Option : --

Q.18 Hydrochloric acid is secreted in which part of our digestive system?

- Ans
- 1. Mouth
 - 2. Stomach
 - 3. Liver
 - 4. Small intestine

Question ID : 4244291502
Status : Answered
Chosen Option : 2

Q.19 At which place was the Saffron Mission initiated in 2010?

- Ans
- 1. Andhra Pradesh
 - 2. Karnataka
 - 3. Jammu and Kashmir
 - 4. Haryana

Question ID : 4244291499
Status : Answered
Chosen Option : 3

Q.20 Who was the Mughal Emperor at the time of Battle of Plassey?

- Ans
- 1. Alamgir II
 - 2. Siraj- Ud- Daulah
 - 3. Mir Quasim
 - 4. Shah Alam II

Question ID : 4244291509
Status : Answered
Chosen Option : 2

Q.21 'Kalamezhuthu' is a ritual art form found in:

- Ans
- 1. Maharashtra
 - 2. Kerala
 - 3. Karnataka
 - 4. Tamil Nadu

Question ID : 4244291495
Status : Answered
Chosen Option : 4

Q.22 When was the National Stock Exchange of India established?

- Ans
- 1. 1991
 - 2. 1994
 - 3. 1993
 - 4. 1992

Question ID : 4244291500
Status : Answered
Chosen Option : 3

Q.23 A computer on the Internet that uses HTTP protocol is known as:

- Ans
- 1. LAN
 - 2. Web Server
 - 3. WAP
 - 4. WLAN

Question ID : 4244291493
Status : Answered
Chosen Option : 2

Q.24 Who has created a record for longest single spaceflight in 2019?

- Ans
- 1. Nick Hague
 - 2. Anne Mc Clam
 - 3. Jessica Meir
 - 4. Christina Koch

Question ID : 4244291497
Status : Answered
Chosen Option : 1

Q.25 Which is the rarest element?

- Ans
- 1. Astatine
 - 2. Radon
 - 3. Uranium
 - 4. Lithium

Question ID : 4244291501
Status : Answered
Chosen Option : 1