

Combined Higher Secondary Level Examination 2024 Tier II

Exam Date	18/11/2024
Exam Time	9:00 AM - 12:00 PM
Subject	CHSL 2024 Tier II

Section : Module I Mathematical Abilities

Q.1	एक दूध विक्रेता के पास 75 लीटर गाय का दूध, 45 लीटर टॉड दूध और 30 लीटर फुल क्रीम दूध है। इन्हें अलग-अलग ट्रे में इस प्रकार रखना चाहिए कि प्रत्येक ट्रे में समान मात्रा में दूध हो और एक ट्रे में दो प्रकार का दूध नहीं मिलाना चाहिए। सारा दूध रखने के लिए कम से कम कितनी ट्रे की आवश्यकता होगी?
Ans	<input checked="" type="checkbox"/> 1. 15
	<input checked="" type="checkbox"/> 2. 20
	<input checked="" type="checkbox"/> 3. 10
	<input checked="" type="checkbox"/> 4. 25

Question ID :	630680769069
Option 1 ID :	6306803014292
Option 2 ID :	6306803014294
Option 3 ID :	6306803014293
Option 4 ID :	6306803014295
Status :	Answered
Chosen Option :	3

Q.2	समान विकर्णों और समान विपरीत भुजाओं वाला चतुर्भुज सदैव एक _____ होता है।
Ans	<input checked="" type="checkbox"/> 1. पतंगाकार
	<input checked="" type="checkbox"/> 2. आयत
	<input checked="" type="checkbox"/> 3. समलंब
	<input checked="" type="checkbox"/> 4. समचतुर्भुज

Question ID :	630680297308
Option 1 ID :	6306801156699
Option 2 ID :	6306801156700
Option 3 ID :	6306801156702
Option 4 ID :	6306801156701
Status :	Answered
Chosen Option :	2

Q.3	एक त्रिभुज PQR में, अंतःकेंद्र A है और $\angle QAR = 116^\circ$ है। $\angle QPR$ की माप ज्ञात कीजिए।
Ans	<input checked="" type="checkbox"/> 1. 26°
	<input checked="" type="checkbox"/> 2. 54°
	<input checked="" type="checkbox"/> 3. 52°
	<input checked="" type="checkbox"/> 4. 27°

Question ID :	630680354948
Option 1 ID :	6306801381865
Option 2 ID :	6306801381868
Option 3 ID :	6306801381866
Option 4 ID :	6306801381867
Status :	Answered
Chosen Option :	3

Q.4	2400 m की दौड़ में तरुण, हरि को 60 सेकंड की शुरुआती बढ़त देता है और फिर भी उसे 40 सेकंड से हरा देता है। यदि हरि की चाल 6 m/s है, तो तरुण की चाल ज्ञात कीजिए।
Ans	<input checked="" type="checkbox"/> 1. 8.5 m/s
	<input checked="" type="checkbox"/> 2. 7 m/s
	<input checked="" type="checkbox"/> 3. 7.5 m/s
	<input checked="" type="checkbox"/> 4. 8 m/s

Question ID :	630680553718
Option 1 ID :	6306802164770
Option 2 ID :	6306802164767
Option 3 ID :	6306802164768
Option 4 ID :	6306802164769
Status :	Answered
Chosen Option :	4

Q.5	एक वस्तु का अंकित मूल्य ₹2,800 है। इसे 15%, 8% और 5% की तीन क्रमिक छूटों पर बेचा जाता है। वस्तु का विक्रय मूल्य (₹ में) ज्ञात कीजिए।
Ans	<input checked="" type="checkbox"/> 1. 1,997.26
	<input checked="" type="checkbox"/> 2. 2,080.12
	<input checked="" type="checkbox"/> 3. 1,890.20
	<input checked="" type="checkbox"/> 4. 1,923.56

Question ID :	630680526249
Option 1 ID :	6306802057074
Option 2 ID :	6306802057075
Option 3 ID :	6306802057072
Option 4 ID :	6306802057073
Status :	Answered
Chosen Option :	2

Q.6	ABCD एक समलंब है जिसमें AB, CD के समानांतर है, तथा E एवं F उन भुजाओं AD और BC के मध्य बिंदु हैं, जो समानांतर भुजाएँ नहीं हैं। यदि EF, AB के समानांतर है, AB = 28 cm और CD = 18 cm है, तो EF (cm में) ज्ञात कीजिए।
Ans	<input checked="" type="checkbox"/> 1. 5
	<input checked="" type="checkbox"/> 2. 23
	<input checked="" type="checkbox"/> 3. 10
	<input checked="" type="checkbox"/> 4. 46

Question ID :	630680354945
Option 1 ID :	6306801381855
Option 2 ID :	6306801381856
Option 3 ID :	6306801381854
Option 4 ID :	6306801381853
Status :	Answered
Chosen Option :	2

Q.7	$3(\sec^2 A - 1)(\operatorname{cosec} A - 1)(\operatorname{cosec} A + 1) + 4(\operatorname{cosec}^2 A - \cot^2 A)$ का मान ज्ञात कीजिए।
Ans	<input checked="" type="checkbox"/> 1. 10
	<input checked="" type="checkbox"/> 2. 12
	<input checked="" type="checkbox"/> 3. 3
	<input checked="" type="checkbox"/> 4. 7

Question ID :	630680530975
Option 1 ID :	6306802075715
Option 2 ID :	6306802075716
Option 3 ID :	6306802075713
Option 4 ID :	6306802075714
Status :	Answered
Chosen Option :	4

Q.8	$5 + 24 \times 8 \div 8 \text{ of } 8 - 8 \div 8 \times 4 \text{ of } 4$ का मान ज्ञात कीजिए।
Ans	<input checked="" type="checkbox"/> 1. -9
	<input checked="" type="checkbox"/> 2. 8
	<input checked="" type="checkbox"/> 3. -8
	<input checked="" type="checkbox"/> 4. 9

Question ID :	630680543677
Option 1 ID :	6306802125512
Option 2 ID :	6306802125510
Option 3 ID :	6306802125509
Option 4 ID :	6306802125511
Status :	Answered
Chosen Option :	3

Q.9	पाँच पूर्णांकों का औसत 48 है। प्रथम चार पूर्णांकों का औसत, पाँचवें पूर्णांक का 50% है। पाँचवें पूर्णांक ज्ञात कीजिए।
Ans	✓ 1. 80
	✗ 2. 78
	✗ 3. 74
	✗ 4. 82

Question ID :	630680103705
Option 1 ID :	630680403053
Option 2 ID :	630680403052
Option 3 ID :	630680403051
Option 4 ID :	630680403054
Status :	Answered
Chosen Option :	1

Q.10	एक कंपनी में कार्य करने वाले वाणिज्य, विज्ञान और कला स्नातकोत्तरों की संख्या क्रमशः 40, 80 और 60 है। यदि इन आँकड़ों को पाई चार्ट द्वारा दर्शाया जाता है, तो वाणिज्य स्नातकोत्तर के लिए संगत कोण क्या है?
Ans	✗ 1. 50°
	✗ 2. 60°
	✓ 3. 80°
	✗ 4. 70°

Question ID :	630680373100
Option 1 ID :	6306801453671
Option 2 ID :	6306801453672
Option 3 ID :	6306801453674
Option 4 ID :	6306801453673
Status :	Answered
Chosen Option :	3

Q.11	तीन संख्याओं का अनुपात 5 : 7 : 9 है और उनका लघुत्तम समापवर्त्य (LCM) 1260 है। सबसे बड़ी और सबसे छोटी संख्या के बीच का अंतर कितना है?
Ans	✓ 1. 16
	✗ 2. 24
	✗ 3. 20
	✗ 4. 32

Question ID :	630680468820
Option 1 ID :	6306801831059
Option 2 ID :	6306801831061
Option 3 ID :	6306801831060
Option 4 ID :	6306801831062
Status :	Answered
Chosen Option :	1

Q.12	दो गोलों की त्रिज्याएँ 4 : 5 के अनुपात में हैं। उनका आयतन किस अनुपात में होगा?
Ans	<input type="checkbox"/> 1. 16 : 25
	<input type="checkbox"/> 2. 4 : 5
	<input type="checkbox"/> 3. 125 : 64
	<input checked="" type="checkbox"/> 4. 64 : 125

Question ID :	63068061512
Option 1 ID :	630680237406
Option 2 ID :	630680237407
Option 3 ID :	630680237408
Option 4 ID :	630680237409
Status :	Answered
Chosen Option :	4

Q.13	यदि एक व्यक्ति की आयु उसके तीन बच्चों की आयु के योग की चार गुना है, और 6 वर्ष बाद उसकी आयु उसके तीनों बच्चों की आयु के योग की दोगुनी हो जाएगी, तो उस व्यक्ति की वर्तमान आयु कितनी है?
Ans	<input type="checkbox"/> 1. 56 वर्ष
	<input checked="" type="checkbox"/> 2. 60 वर्ष
	<input type="checkbox"/> 3. 45 वर्ष
	<input type="checkbox"/> 4. 30 वर्ष

Question ID :	630680373692
Option 1 ID :	6306801456041
Option 2 ID :	6306801456042
Option 3 ID :	6306801456040
Option 4 ID :	6306801456039
Status :	Answered
Chosen Option :	2

Q.14	यदि किसी राशि में साधारण ब्याज पर 4 वर्ष में 40% की वृद्धि होती है, तो समान ब्याज दर पर 4 वर्ष बाद ₹80,000 पर चक्रवृद्धि ब्याज क्या होगा?
Ans	<input type="checkbox"/> 1. ₹29,728
	<input type="checkbox"/> 2. ₹39,724
	<input type="checkbox"/> 3. ₹17,128
	<input checked="" type="checkbox"/> 4. ₹37,128

Question ID :	630680285387
Option 1 ID :	6306801109524
Option 2 ID :	6306801109525
Option 3 ID :	6306801109526
Option 4 ID :	6306801109523
Status :	Answered
Chosen Option :	4

Q.15 एक बेलन की त्रिज्या $\frac{8}{\pi}$ सेमी है और इसका आयतन 448 cm^3 है। बेलन की ऊंचाई कितनी है (मान लीजिए $\pi = \frac{22}{7}$)?

Ans 1. 23 सेमी

2. 21 सेमी

3. 24 सेमी

4. 22 सेमी

Question ID : 63068056825

Option 1 ID : 630680219231

Option 2 ID : 630680219233

Option 3 ID : 630680219230

Option 4 ID : 630680219232

Status : Answered

Chosen Option : 4

Q.16 5% वार्षिक साधारण ब्याज दर से एक राशि 6 वर्षों में ₹4,160 हो जाती है। राशि ज्ञात कीजिए।

Ans 1. ₹3,200

2. ₹2,900

3. ₹2,800

4. ₹3,100

Question ID : 630680116185

Option 1 ID : 630680450071

Option 2 ID : 630680450072

Option 3 ID : 630680450073

Option 4 ID : 630680450070

Status : Answered

Chosen Option : 1

Q.17 एक घन का पृष्ठीय क्षेत्रफल 1728 cm^2 है। इसका आयतन ज्ञात कीजिए।

Ans 1. $3456\sqrt{2} \text{ cm}^3$

2. $4356\sqrt{2} \text{ cm}^3$

3. $5436\sqrt{2} \text{ cm}^3$

4. $6453\sqrt{2} \text{ cm}^3$

Question ID : 630680531604

Option 1 ID : 6306802078211

Option 2 ID : 6306802078209

Option 3 ID : 6306802078210

Option 4 ID : 6306802078212

Status : Answered

Chosen Option : 1

Q.18 एक खिलौना बनाने के लिए, एक बेलन के एक सिरे पर एक अर्धगोला जुड़ा हुआ है और बेलन के दूसरे सिरे पर एक शंकु जुड़ा हुआ है। बेलन, शंकु और अर्धगोले की उभयनिष्ठ त्रिज्या 4.2 cm है। बेलन की ऊँचाई और शंकु की ऊँचाई 7 cm है। खिलौने का आयतन (cm³ में) ज्ञात कीजिए। ($\pi = \frac{22}{7}$ का उपयोग कीजिए)

- Ans
- 1. 863.25
 - 2. 358.8
 - 3. 672.672
 - 4. 762.255

Question ID : 630680285428

Option 1 ID : 6306801109681

Option 2 ID : 6306801109680

Option 3 ID : 6306801109682

Option 4 ID : 6306801109679

Status : Answered

Chosen Option : 3

Q.19 $(\sin^6 A + \cos^6 A + 3\sin^2 A \cos^2 A) - (\sin^4 A - \cos^4 A + 1) \operatorname{cosec}^2 A$ का मान ज्ञात कीजिए।

- Ans
- 1. -3
 - 2. 3
 - 3. -1
 - 4. 0

Question ID : 630680531000

Option 1 ID : 6306802075813

Option 2 ID : 6306802075816

Option 3 ID : 6306802075814

Option 4 ID : 6306802075815

Status : Answered

Chosen Option : 3

Q.20 संदीप एक ओवरकोट को ₹8,540 में बेचकर 22% लाभ अर्जित करता है। ओवरकोट का क्रय मूल्य ज्ञात कीजिए।

- Ans
- 1. ₹6,500
 - 2. ₹7,000
 - 3. ₹7,500
 - 4. ₹6,000

Question ID : 630680531164

Option 1 ID : 6306802076470

Option 2 ID : 6306802076471

Option 3 ID : 6306802076472

Option 4 ID : 6306802076469

Status : Answered

Chosen Option : 2

Q.21	पहले तीन वर्षों के दौरान एक इलेक्ट्रॉनिक मशीन के मूल्य में 5%, 10% और 15% की कमी हुई। तीन वर्ष बाद मशीन का मूल्य कितना होगा, यदि प्रारंभ में मशीन का मूल्य ₹8,000 था?
Ans	<input type="checkbox"/> 1. ₹ 5,000
	<input type="checkbox"/> 2. ₹ 6,721
	<input type="checkbox"/> 3. ₹ 7,000
	<input checked="" type="checkbox"/> 4. ₹ 5,814


Question ID :	630680769067
Option 1 ID :	6306803014284
Option 2 ID :	6306803014287
Option 3 ID :	6306803014285
Option 4 ID :	6306803014286
Status :	Answered
Chosen Option :	4


Q.22	$(2z - 5y)^2 + (5z + 2y)^2 - 25z^2$ का मान क्या होगा?
Ans	<input type="checkbox"/> 1. $29y^2 - 4z^2$
	<input type="checkbox"/> 2. $19y^2 - 4z^2$
	<input type="checkbox"/> 3. $19y^2 + 4z^2$
	<input checked="" type="checkbox"/> 4. $29y^2 + 4z^2$


Question ID :	630680768734
Option 1 ID :	6306803012914
Option 2 ID :	6306803012915
Option 3 ID :	6306803012912
Option 4 ID :	6306803012913
Status :	Answered
Chosen Option :	4

Q.23 एक पासे को दो बार फेंका जाता है और एक सिक्के को तीन बार उछाला जाता है। पासे पर प्रत्येक बार 5 आने और सिक्के पर प्रत्येक बार चित आने की प्रायिकता ज्ञात कीजिए।

Ans  1. $\frac{1}{100}$

 2. $\frac{1}{288}$

 3. $\frac{1}{200}$

 4. $\frac{1}{50}$

Question ID : 630680296761

Option 1 ID : 6306801154696

Option 2 ID : 6306801154697

Option 3 ID : 6306801154698

Option 4 ID : 6306801154695

Status : Answered

Chosen Option : 2

Q.24 एक संख्या 37 को दो भागों में इस प्रकार विभाजित किया जाता है कि एक भाग का 5 गुना और दूसरे भाग का 11 गुना मिलाकर 227 के बराबर है। छोटी संख्या के 9 गुने का मान ज्ञात कीजिए।

Ans  1. 63

 2. 60

 3. 61

 4. 62

Question ID : 630680531012

Option 1 ID : 6306802075857

Option 2 ID : 6306802075860

Option 3 ID : 6306802075859

Option 4 ID : 6306802075858

Status : Answered

Chosen Option : 1

Q.25	यदि निम्नलिखित प्रेक्षणों 46, 48, 63, 76, 88, 41, 35, 55, 90, 56, 92 में, 88 को 93 से और 41 को 47 से प्रतिस्थापित किया जाए, तो नई माधिका और पिछली माधिका के बीच अंतर कितना होगा?
Ans	<input type="checkbox"/> 1. 3
	<input checked="" type="checkbox"/> 2. 0
	<input type="checkbox"/> 3. 2
	<input type="checkbox"/> 4. 1

Question ID :	630680354924
Option 1 ID :	6306801381772
Option 2 ID :	6306801381769
Option 3 ID :	6306801381771
Option 4 ID :	6306801381770
Status :	Answered
Chosen Option :	2

Q.26	11 परिणामों का औसत 59 है और पहले 10 परिणामों का औसत 58 है। 11वाँ परिणाम क्या है?
Ans	<input type="checkbox"/> 1. 68
	<input type="checkbox"/> 2. 58
	<input checked="" type="checkbox"/> 3. 69
	<input type="checkbox"/> 4. 59

Question ID :	630680657247
Option 1 ID :	6306802572933
Option 2 ID :	6306802572932
Option 3 ID :	6306802572930
Option 4 ID :	6306802572931
Status :	Answered
Chosen Option :	3

Q.27	एक परिवार में 7 चचेरे भाइयों का भार (kg में) 54, 62, 65, 70, 60, 59, 55 है। माधिका भार (median weight) ज्ञात कीजिए।
Ans	<input type="checkbox"/> 1. 70 kg
	<input checked="" type="checkbox"/> 2. 60 kg
	<input type="checkbox"/> 3. 61 kg
	<input type="checkbox"/> 4. 61.5 kg

Question ID :	630680544798
Option 1 ID :	6306802129954
Option 2 ID :	6306802129957
Option 3 ID :	6306802129955
Option 4 ID :	6306802129956
Status :	Answered
Chosen Option :	2

Q.28	A, B और C ने साथ मिलकर एक व्यवसाय शुरू किया जिसमें A ने 12 महीने के लिए ₹7,000 का निवेश किया, B ने 10 महीने के लिए ₹8,000 का निवेश किया और C ने 6 महीने के लिए ₹12,000 का निवेश किया। A कार्यकारी सदस्य था जिसके लिए उसे अपने पारिश्रमिक के रूप में लाभ का 20% प्राप्त हुआ। एक वर्ष के अंत में अर्जित कुल लाभ ₹14,750 था। इस लाभ में C का हिस्सा (₹ में) कितना है?
Ans	<input type="radio"/> 1. 2,950
	<input type="radio"/> 2. 4,000
	<input type="radio"/> 3. 4,200
	<input checked="" type="radio"/> 4. 3,600

Question ID :	630680447688
Option 1 ID :	6306801748006
Option 2 ID :	6306801748008
Option 3 ID :	6306801748005
Option 4 ID :	6306801748007
Status :	Answered
Chosen Option :	4

Q.29	रत्नेश और विनीत बारी-बारी से एक दिन छोड़कर काम करते हैं और रत्नेश पहले दिन काम शुरू करता है। संपूर्ण काम $54\frac{3}{4}$ दिनों में पूरा हो जाता है। यदि रत्नेश अकेले उस काम को 48 दिनों में पूरा कर सकता है, तो विनीत अकेले उस काम को कितने दिनों में पूरा कर सकता है?
Ans	<input type="radio"/> 1. 60
	<input checked="" type="radio"/> 2. 64
	<input type="radio"/> 3. 66
	<input type="radio"/> 4. 62

Question ID :	630680216708
Option 1 ID :	630680840795
Option 2 ID :	630680840797
Option 3 ID :	630680840798
Option 4 ID :	630680840796
Status :	Answered
Chosen Option :	2

Q.30	11 परिणामों का औसत 60 है और पहले 10 परिणामों का औसत 59 है। 11वाँ परिणाम क्या है?
Ans	<input type="radio"/> 1. 69
	<input checked="" type="radio"/> 2. 70
	<input type="radio"/> 3. 60
	<input type="radio"/> 4. 59

Question ID :	630680657248
Option 1 ID :	6306802572937
Option 2 ID :	6306802572934
Option 3 ID :	6306802572935
Option 4 ID :	6306802572936
Status :	Answered
Chosen Option :	2

Q.1 इस प्रश्न में, एक कथन के बाद I और II से क्रमांकित दो कार्यवाहियाँ दी गई हैं। आपको कथन में दी गई सभी जानकारी को सत्य मानना है और कथन में दी गई सभी जानकारी के आधार पर तय करना है कि दी गई कार्यवाहियों में से किसका/किनका तार्किक रूप से अनुसरण किया जाना चाहिए।

कथन :

प्रिंसिपल की बार-बार चेतावनी देने के बावजूद, स्कूल में एक बच्चा मोबाइल फोन छुपाए हुए पकड़ा गया।

कार्यवाहियाँ:

I) बच्चे से मोबाइल फोन छीन लिया जाना चाहिए और माता-पिता को स्कूल में बुलाया जाना चाहिए।

II) इस गलती के लिए बच्चे को दंडित किया जाना चाहिए।

- Ans**
1. केवल (II) का अनुसरण किया जाना चाहिए।
2. न तो (I) और न ही (II) का अनुसरण किया जाना चाहिए।
3. केवल (I) का अनुसरण किया जाना चाहिए।
4. दोनों (I) और (II) का अनुसरण किया जाना चाहिए।

Question ID : 630680401348

Option 1 ID : 6306801565194

Option 2 ID : 6306801565195

Option 3 ID : 6306801565193

Option 4 ID : 6306801565196

Status : Answered

Chosen Option : 4

Q.2 R, O, W, D और C से अंग्रेजी के कितने ऐसे अर्थपूर्ण शब्द बनाए जा सकते हैं, जिनमें प्रत्येक शब्द में प्रत्येक अक्षर का अनिवार्य रूप से लेकिन केवल एक बार उपयोग किया जाए?

- Ans**
1. दो
2. एक
3. दो से अधिक
4. एक भी नहीं

Question ID : 630680329065

Option 1 ID : 6306801280099

Option 2 ID : 6306801280098

Option 3 ID : 6306801280100

Option 4 ID : 6306801280097

Status : Answered

Chosen Option : 2

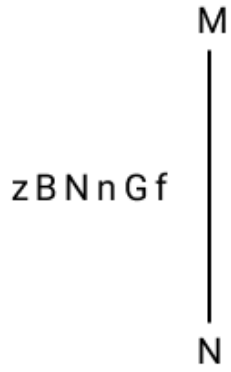
Q.3	एक निश्चित कूट भाषा में, 'DARK' को '3284' के रूप में कूटबद्ध किया जाता है और 'RAKE' को '6438' के रूप में कूटबद्ध किया जाता है। उस भाषा में 'E' के लिए कूट क्या है?
Ans	✓ 1. 6
	✗ 2. 3
	✗ 3. 4
	✗ 4. 8

Question ID :	630680557124
Option 1 ID :	6306802177452
Option 2 ID :	6306802177451
Option 3 ID :	6306802177453
Option 4 ID :	6306802177454
Status :	Answered
Chosen Option :	1

Q.4	उस सेट का चयन कीजिए, जिसमें संख्याएं ठीक उसी प्रकार संबंधित हैं, जिस प्रकार निम्नलिखित सेटों की संख्याएं संबंधित हैं। (नोट: संख्याओं को उनके घटक अंकों में तोड़े बिना पूर्ण संख्याओं पर संक्रियाएँ की जानी चाहिए। उदाहरण के लिए 13 को लीजिए - 13 पर संक्रियाएं, जैसे कि 13 में जोड़ना/घटाना/गुणा करना आदि, की जा सकती हैं। 13 को 1 और 3 में तोड़ने और फिर 1 और 3 पर गणितीय संक्रियाएँ करने की अनुमति नहीं है।) (19, 9, 173) (6, 17, 104)
Ans	✗ 1. (8, 12, 94)
	✗ 2. (7, 15, 105)
	✗ 3. (14, 4, 62)
	✓ 4. (11, 4, 46)

Question ID :	630680555989
Option 1 ID :	6306802173332
Option 2 ID :	6306802173333
Option 3 ID :	6306802173334
Option 4 ID :	6306802173335
Status :	Answered
Chosen Option :	4

Q.5 दर्पण को नीचे दर्शाए अनुसार MN पर रखे जाने पर दी गई आकृति के सही दर्पण प्रतिबिंब का चयन कीजिए।



Ans 1. zBNnGf

2. fGnNBz

3. fGnNBz

4. zBNnGf

Question ID : 630680555733

Option 1 ID : 6306802172371

Option 2 ID : 6306802172368

Option 3 ID : 6306802172369

Option 4 ID : 6306802172370

Status : Answered

Chosen Option : 3

Q.6 Y, P, R और A से अंग्रेजी के कितने ऐसे अर्थपूर्ण शब्द बनाए जा सकते हैं, जिनमें प्रत्येक शब्द में प्रत्येक अक्षर का अनिवार्य रूप से लेकिन केवल एक बार उपयोग किया जाए?

Ans 1. एक भी नहीं

2. दो

3. एक

4. दो से अधिक

Question ID : 630680329064

Option 1 ID : 6306801280093

Option 2 ID : 6306801280095

Option 3 ID : 6306801280094

Option 4 ID : 6306801280096

Status : Answered

Chosen Option : 3

Q.7	एक निश्चित कूट भाषा में, 'PAID' को '3274' के रूप में कूटबद्ध किया जाता है और 'APED' को '6437' के रूप में कूटबद्ध किया जाता है। उस भाषा में 'E' के लिए कूट क्या है?
Ans	<input checked="" type="checkbox"/> 1. 3
	<input checked="" type="checkbox"/> 2. 6
	<input checked="" type="checkbox"/> 3. 4
	<input checked="" type="checkbox"/> 4. 7

Question ID :	630680557126
Option 1 ID :	6306802177460
Option 2 ID :	6306802177459
Option 3 ID :	6306802177462
Option 4 ID :	6306802177461
Status :	Answered
Chosen Option :	2

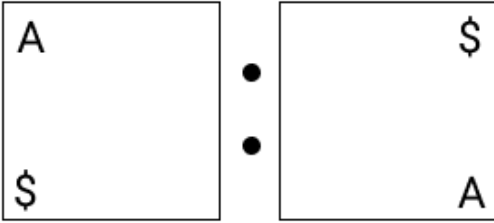
Q.8	चार आकृति युग्म दिए गए हैं, जिनमें से तीन किसी निश्चित प्रकार से समान हैं और इस प्रकार एक समूह बनाते हैं। वह आकृति युग्म कौन-सा है, जो उस समूह से संबंधित नहीं है?
Ans	<div style="display: flex; align-items: center;"> <div style="margin-right: 10px;"><input checked="" type="checkbox"/> 1.</div> <div style="display: flex; gap: 10px;"> <div style="border: 1px solid black; width: 100px; height: 100px; position: relative;"> <div style="position: absolute; top: 5px; right: 5px; width: 20px; height: 20px; border: 1px solid black;"></div> </div> <div style="font-size: 20px;">•</div> <div style="border: 1px solid black; width: 100px; height: 100px; position: relative;"> <div style="position: absolute; bottom: 5px; left: 5px; width: 30px; height: 20px; border: 1px solid black;"></div> <div style="position: absolute; bottom: 5px; left: 35px; height: 20px; border: 1px solid black;"></div> <div style="position: absolute; bottom: 5px; left: 65px; height: 20px; border: 1px solid black;"></div> </div> </div> </div> <div style="display: flex; align-items: center; margin-top: 10px;"> <div style="margin-right: 10px;"><input checked="" type="checkbox"/> 2.</div> <div style="display: flex; gap: 10px;"> <div style="border: 1px solid black; width: 100px; height: 100px; position: relative;"> <div style="position: absolute; top: 50%; left: 50%; transform: translate(-50%, -50%); font-size: 20px;">→</div> </div> <div style="font-size: 20px;">•</div> <div style="border: 1px solid black; width: 100px; height: 100px; position: relative;"> <div style="position: absolute; top: 50%; left: 50%; transform: translate(-50%, -50%); font-size: 20px;">→</div> <div style="position: absolute; top: 50%; left: 50%; transform: translate(-50%, -50%); font-size: 20px;">→</div> <div style="position: absolute; top: 50%; left: 50%; transform: translate(-50%, -50%); font-size: 20px;">→</div> </div> </div> </div> <div style="display: flex; align-items: center; margin-top: 10px;"> <div style="margin-right: 10px;"><input checked="" type="checkbox"/> 3.</div> <div style="display: flex; gap: 10px;"> <div style="border: 1px solid black; width: 100px; height: 100px; position: relative;"> <div style="position: absolute; top: 5%; left: 50%; transform: translate(-50%, 50%); font-size: 20px;">—</div> </div> <div style="font-size: 20px;">•</div> <div style="border: 1px solid black; width: 100px; height: 100px; position: relative;"> <div style="position: absolute; bottom: 5%; left: 50%; transform: translate(-50%, 50%); font-size: 20px;">≡</div> </div> </div> </div> <div style="display: flex; align-items: center; margin-top: 10px;"> <div style="margin-right: 10px;"><input checked="" type="checkbox"/> 4.</div> <div style="display: flex; gap: 10px;"> <div style="border: 1px solid black; width: 100px; height: 100px; position: relative;"> <div style="position: absolute; top: 5%; right: 5%; font-size: 20px;">C</div> </div> <div style="font-size: 20px;">•</div> <div style="border: 1px solid black; width: 100px; height: 100px; position: relative;"> <div style="position: absolute; bottom: 5%; left: 5%; font-size: 20px;">CC</div> </div> </div> </div>

Question ID :	630680570858
Option 1 ID :	6306802232496
Option 2 ID :	6306802232494
Option 3 ID :	6306802232493
Option 4 ID :	6306802232495
Status :	Answered
Chosen Option :	4

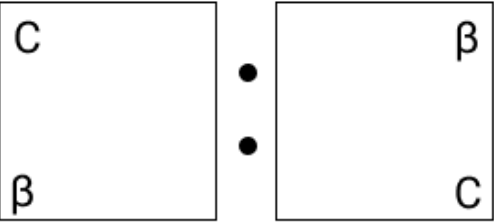
Q.9 चार आकृति युग्म दिए गए हैं, जिनमें से तीन किसी निश्चित प्रकार से समान हैं और इस प्रकार एक समूह बनाते हैं। वह आकृति युग्म कौन-सा है, जो उस समूह से संबंधित नहीं है?

Ans

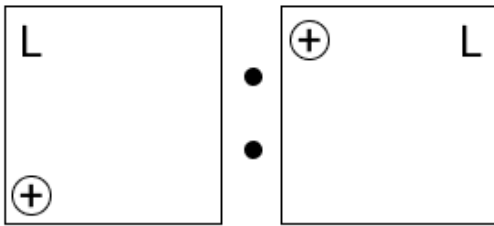
✗ 1.



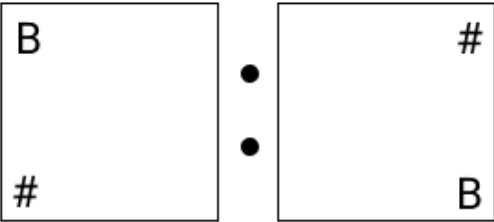
✗ 2.



✓ 3.



✗ 4.



Question ID : 630680570852

Option 1 ID : 6306802232469

Option 2 ID : 6306802232471

Option 3 ID : 6306802232472

Option 4 ID : 6306802232470

Status : Answered

Chosen Option : 3

Q.10 कुछ व्यक्ति उत्तर की ओर मुख करके एक पंक्ति में बैठे हैं। 'T', 'U' के ठीक दाएं बैठा है। 'Y', 'U' के बाएं से पाँचवें स्थान पर बैठा है। 'T' और 'P' दोनों का निकटतम पड़ोसी 'Z' है। 'V', 'T' के बाएं से पाँचवें स्थान पर बैठा है। 'O' किसी एक छोर पर बैठा है, तथा 'O' और 'Y' के बीच में केवल एक व्यक्ति बैठा है। यदि पंक्ति में कोई अन्य व्यक्ति नहीं बैठा है, तो पंक्ति में बैठे व्यक्तियों की कुल संख्या कितनी है?

Ans 1. 11

2. 13

3. 14

4. 12

Question ID : 630680401308

Option 1 ID : 6306801565033

Option 2 ID : 6306801565035

Option 3 ID : 6306801565036

Option 4 ID : 6306801565034

Status : Answered

Chosen Option : 1

Q.11 उस सेट का चयन कीजिए, जिसमें संख्याएं ठीक उसी प्रकार संबंधित हैं, जिस प्रकार निम्नलिखित सेटों की संख्याएं संबंधित हैं।

(नोट: संख्याओं को उनके घटक अंकों में तोड़े बिना पूर्ण संख्याओं पर संक्रियाएँ की जानी चाहिए। उदाहरण के लिए 13 को लीजिए - 13 पर संक्रियाएं, जैसे कि 13 में जोड़ना/घटाना/गुणा करना आदि, की जा सकती हैं। 13 को 1 और 3 में तोड़ने और फिर 1 और 3 पर गणितीय संक्रियाएँ करने की अनुमति नहीं है।)

(7, 11, 33)
(14, 18, 54)

Ans 1. (5, 9, 36)

2. (12, 16, 48)

3. (18, 21, 63)

4. (16, 20, 40)

Question ID : 630680555991

Option 1 ID : 6306802173341

Option 2 ID : 6306802173340

Option 3 ID : 6306802173343

Option 4 ID : 6306802173342

Status : Answered

Chosen Option : 2

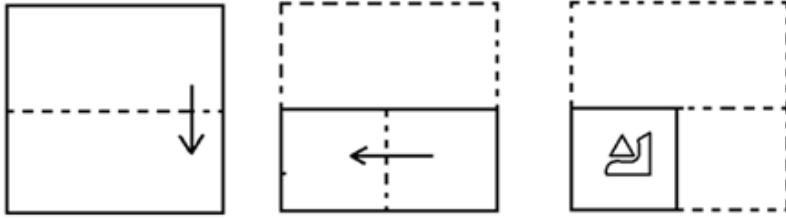
Q.12	प्रत्येक शब्द में प्रत्येक अक्षर का केवल एक बार उपयोग करते हुए A, E, D और N में से सभी अक्षरों का उपयोग करके चार अक्षर वाले कितने अर्थपूर्ण अंग्रेजी शब्द बनाए जा सकते हैं?
Ans	<input checked="" type="checkbox"/> 1. 0
	<input checked="" type="checkbox"/> 2. 2
	<input checked="" type="checkbox"/> 3. 3
	<input checked="" type="checkbox"/> 4. 1

Question ID :	630680615745
Option 1 ID :	6306802409650
Option 2 ID :	6306802409652
Option 3 ID :	6306802409653
Option 4 ID :	6306802409651
Status :	Answered
Chosen Option :	1

Q.13	इस प्रश्न में, एक कथन के बाद I और II से क्रमांकित दो निष्कर्ष दिए गए हैं। दिए गए कथन के आधार पर निर्णय कीजिए कि दोनों में से कौन-सा/कौन-से निष्कर्ष सत्य है/हैं। कथन: $M < N \leq O = S > T \geq W \geq Z$ निष्कर्ष: I. $M \leq T$ II. $N < Z$
Ans	<input checked="" type="checkbox"/> 1. निष्कर्ष I और निष्कर्ष II, दोनों सत्य हैं
	<input checked="" type="checkbox"/> 2. केवल निष्कर्ष I सत्य है
	<input checked="" type="checkbox"/> 3. केवल निष्कर्ष II सत्य है
	<input checked="" type="checkbox"/> 4. न तो निष्कर्ष I और न ही निष्कर्ष II सत्य है

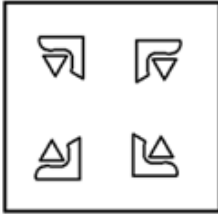
Question ID :	630680164120
Option 1 ID :	630680635615
Option 2 ID :	630680635612
Option 3 ID :	630680635613
Option 4 ID :	630680635614
Status :	Answered
Chosen Option :	4

Q.14 एक कागज को मोड़ने का क्रम और मोड़े गए कागज को काटने का तरीका नीचे दर्शाया गया है। उस विकल्प आकृति का चयन कीजिए जो कागज के खुले रूप से (unfolded form) सबसे अधिक मिलती जुलती हो।

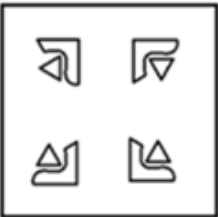


Ans

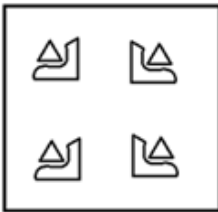
✓ 1.



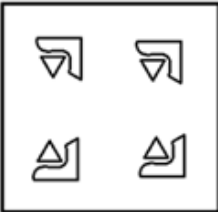
✗ 2.



✗ 3.



✗ 4.



Question ID : 630680468000

Option 1 ID : 6306801827903

Option 2 ID : 6306801827905

Option 3 ID : 6306801827902

Option 4 ID : 6306801827904

Status : Answered

Chosen Option : 1

Q.15 दो कथन, I और II दिए गए हैं। ये कथन स्वतंत्र कारण हो सकते हैं या स्वतंत्र कारणों के प्रभाव या उभयनिष्ठ कारण हो सकते हैं। एक कथन, दूसरे कथन का प्रभाव हो सकता है। दोनों कथनों को पढ़िए और सही विकल्प का चयन कीजिए।

I. बालासोर में कल के लिए निर्धारित की गई सभी स्नातक परीक्षाएँ विश्वविद्यालय द्वारा स्थगित कर दी गई हैं। नई तारीखों की घोषणा अगले सप्ताह के शुरुआत में की जाएगी।

II. बालासोर में कल तेज हवाओं और अत्यधिक भारी बारिश की संभावना है क्योंकि सायक्लोन के दोपहर 3 बजे तक धरती से टकराने की संभावना है।

Ans 1. I और II दोनों स्वतंत्र कारणों के प्रभाव हैं

2. I कारण है और II इसका संभावित प्रभाव है

3. II कारण है और I इसका संभावित प्रभाव है

4. I और II दोनों स्वतंत्र कारण हैं

Question ID : 630680306825

Option 1 ID : 6306801193592

Option 2 ID : 6306801193589

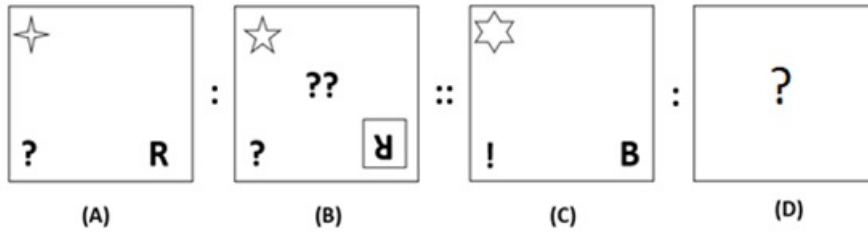
Option 3 ID : 6306801193590

Option 4 ID : 6306801193591

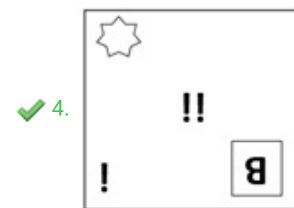
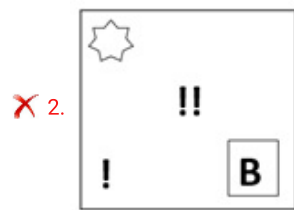
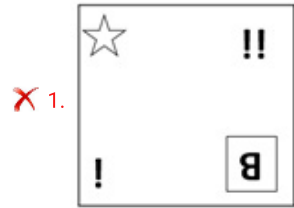
Status : Answered

Chosen Option : 3

Q.16 उस विकल्प का चयन कीजिए जो आकृति C से ठीक उसी प्रकार संबंधित है, जिस प्रकार आकृति B आकृति A से संबंधित है।



Ans



Question ID :	630680309955
Option 1 ID :	6306801205966
Option 2 ID :	6306801205968
Option 3 ID :	6306801205965
Option 4 ID :	6306801205967
Status :	Answered
Chosen Option :	4

Q.17	उस सही विकल्प का चयन कीजिए, जो निम्नलिखित शब्दों की व्यवस्था को तार्किक और सार्थक क्रम में दर्शाता है। 1. षट्भुज (Hexagon) 2. त्रिभुज (Triangle) 3. पंचभुज (Pentagon) 4. वर्ग (Square) 5. अष्टभुज (Octagon)
Ans	<input checked="" type="checkbox"/> 1. 3, 1, 5, 2, 4
	<input checked="" type="checkbox"/> 2. 2, 4, 3, 1, 5
	<input checked="" type="checkbox"/> 3. 1, 4, 3, 5, 2
	<input checked="" type="checkbox"/> 4. 2, 1, 3, 4, 5

Question ID :	630680567079
Option 1 ID :	6306802217279
Option 2 ID :	6306802217277
Option 3 ID :	6306802217278
Option 4 ID :	6306802217280
Status :	Answered
Chosen Option :	2

Q.18	89, किसी निश्चित तर्क का अनुसरण करते हुए, 78 से संबंधित है। 97, उसी तर्क का अनुसरण करते हुए, 86 से संबंधित है। उसी तर्क का अनुसरण करते हुए, 72, निम्नलिखित में से किससे संबंधित है? (नोट: संख्याओं को उनके घटक अंकों में तोड़े बिना पूर्ण संख्याओं पर संक्रियाएँ की जानी चाहिए। उदाहरण के लिए 13 को लीजिए - 13 पर संक्रियाएं, जैसे कि 13 में जोड़ना/घटाना/गुणा करना आदि, की जा सकती हैं। 13 को 1 और 3 में तोड़ने और फिर 1 और 3 पर गणितीय संक्रियाएँ करने की अनुमति नहीं है।)
Ans	<input checked="" type="checkbox"/> 1. 68
	<input checked="" type="checkbox"/> 2. 59
	<input checked="" type="checkbox"/> 3. 66
	<input checked="" type="checkbox"/> 4. 61

Question ID :	630680555995
Option 1 ID :	6306802173359
Option 2 ID :	6306802173358
Option 3 ID :	6306802173357
Option 4 ID :	6306802173356
Status :	Answered
Chosen Option :	4

Q.19 निम्नलिखित में से कौन-सा अक्षर-समूह # और % के स्थान पर आना चाहिए ताकि :: के बाएँ ओर के अक्षर-समूह युग्म के बीच जिस पैटर्न और संबंध का अनुसरण किया गया है, उसी पैटर्न और संबंध का अनुसरण :: के दाएँ ओर के अक्षर-समूह युग्म में किया जाता हो?

: VXB :: ACG : %

Ans 1. # - GIM, % - KMQ

2. # - HDN, % - BDH

3. # - UVN, % - KMQ

4. # - UWA, % - BDH

Question ID : 630680557129

Option 1 ID : 6306802177472

Option 2 ID : 6306802177473

Option 3 ID : 6306802177474

Option 4 ID : 6306802177471

Status : Answered

Chosen Option : 4

Q.20 निम्नलिखित चार संख्या त्रिकों में से तीन संख्या त्रिक किसी निश्चित प्रकार से समान हैं और इस प्रकार एक समूह बनाते हैं। वह संख्या त्रिक कौन-सा है, जो उस समूह से संबंधित नहीं है?

(ध्यान दें: संख्याओं को उनके घटक अंकों में अलग-अलग किए बिना पूर्ण संख्याओं पर संक्रियाएं की जानी चाहिए। उदाहरण के लिए संख्या 13 - संख्या 13 पर संक्रियाएं जैसे 13 को जोड़ना/घटाना/गुणा करना आदि किया जा सकता है। 13 को 1 और 3 में अलग-अलग करने की और फिर 1 और 3 पर गणितीय संक्रियाएं करने की अनुमति नहीं है।)

Ans 1. 31 - 46 - 41

2. 17 - 32 - 26

3. 24 - 39 - 33

4. 29 - 44 - 38

Question ID : 630680556022

Option 1 ID : 6306802173465

Option 2 ID : 6306802173464

Option 3 ID : 6306802173466

Option 4 ID : 6306802173467

Status : Answered

Chosen Option : 1

Q.21 निम्नलिखित चार शब्द युग्मों में से तीन शब्द युग्म किसी प्रकार से एक समान हैं और इस प्रकार एक समूह बनाते हैं। कौन-सा शब्द युग्म उस समूह से संबंधित नहीं है?

(शब्दों को अर्थपूर्ण हिंदी शब्द माना जाना चाहिए और इन्हें शब्द में अक्षरों की संख्या/व्यंजनों/स्वरों की संख्या के आधार पर समूहीकृत नहीं किया जाना चाहिए।)

Ans 1. अँगूठी - वृत्त

2. जन्मदिन की टोपी - शंकु

3. टेलीविजन - त्रिभुज

4. गेंद - गोला

Question ID : 630680557135

Option 1 ID : 6306802177496

Option 2 ID : 6306802177497

Option 3 ID : 6306802177495

Option 4 ID : 6306802177498

Status : Answered

Chosen Option : 3

Q.22 दिए गए कथनों और निष्कर्षों को ध्यानपूर्वक पढ़िए। यह मानते हुए कि कथनों में दी गई जानकारी सत्य है, चाहे वह सामान्यतः ज्ञात तथ्यों से भिन्न प्रतीत होती हो और निर्णय लीजिए कि दिए गए निष्कर्षों में से कौन-सा/कौन-से निष्कर्ष कथनों का तार्किक रूप से अनुसरण करता है/करते हैं।

कथन:

कुछ चावल, सफेद है।

कुछ चावल, भूरे है।

कोई सफेद, गेहूँ नहीं है।

निष्कर्ष:

I) कुछ गेहूँ, भूरे हैं।

II) कुछ चावल, गेहूँ नहीं है।

III) कुछ भूरे, सफेद नहीं है।

Ans 1. केवल II और III

2. केवल I और III

3. केवल II

4. केवल III

Question ID : 630680194948

Option 1 ID : 630680756281

Option 2 ID : 630680756282

Option 3 ID : 630680756283

Option 4 ID : 630680756284

Status : Answered

Chosen Option : 3

Q.23 दिए गए कथनों और निष्कर्षों को ध्यानपूर्वक पढ़िए। यह मानते हुए कि कथनों में दी गई जानकारी सत्य है, चाहे वह सामान्यतः ज्ञात तथ्यों से भिन्न प्रतीत होती हो और निर्णय लीजिए कि दिए गए निष्कर्षों में से कौन-सा/कौन-से निष्कर्ष कथनों का तार्किक रूप से अनुसरण करता है/करते हैं।

कथन:

कुछ क्रेयॉन, रंग है।
कोई रंग, पानी नहीं है।
कुछ पानी, तरल है।

निष्कर्ष:

I) कुछ क्रेयॉन, तरल है।
II) कुछ क्रेयॉन, पानी नहीं है।
III) कुछ तरल, रंग नहीं है।

Ans 1. केवल II

2. केवल I और III

3. केवल II और III

4. केवल III

Question ID : 630680194947

Option 1 ID : 630680756279

Option 2 ID : 630680756277

Option 3 ID : 630680756278

Option 4 ID : 630680756280

Status : Answered

Chosen Option : 3

Q.24 दो कथन, I और II दिए गए हैं। ये कथन स्वतंत्र कारण हो सकते हैं या स्वतंत्र कारणों के प्रभाव या उभयनिष्ठ कारण हो सकते हैं। एक कथन, दूसरे कथन का प्रभाव हो सकता है। दोनों कथनों को पढ़िए और सही विकल्प का चयन कीजिए।

I) तरोताजा और स्वादिष्ट सलाद में प्रति-ऑक्सीकारक (antioxidants), विटामिन- A, विटामिन- C, फोलेट, कैल्शियम, फाइबर और फाइटोन्यूट्रिएंट (phytonutrients) भरपूर मात्रा में पाए जाते हैं, जो स्वास्थ्य के लिए अच्छे होते हैं।

II) स्वस्थ जीवन के लिए हमें अपने दिन की शुरुआत सलाद खाकर करना एक बहुत ही अच्छा उपाय है।

Ans 1. I और II दोनों स्वतंत्र कारणों के प्रभाव हैं

2. I और II दोनों स्वतंत्र कारण हैं

3. II कारण है और I इसका संभावित प्रभाव है

4. I कारण है और II इसका संभावित प्रभाव है

Question ID : 630680387981

Option 1 ID : 6306801512541

Option 2 ID : 6306801512540

Option 3 ID : 6306801512539

Option 4 ID : 6306801512538

Status : Answered

Chosen Option : 4

Q.25 विकल्पों में से उस आकृति का चयन कीजिए जो प्रश्न चिह्न (?) के स्थान पर आकर दी गई शृंखला को पूरा कर सकती है।

1	16	169	1691	?
---	----	-----	------	---

Ans

✓ 1.



✗ 2.



✗ 3.



✗ 4.



Question ID : 630680370582

Option 1 ID : 6306801443684

Option 2 ID : 6306801443683

Option 3 ID : 6306801443685

Option 4 ID : 6306801443682

Status : Answered

Chosen Option : 1

Q.26	यदि संख्या 23584617 में प्रत्येक विषम अंक में 2 जोड़ा जाए और प्रत्येक सम अंक में से 1 घटाया जाए, तो इस प्रकार बनी नई संख्या में कितने अंक एक से अधिक बार आएंगे?
Ans	✓ 1. तीन
	✗ 2. दो
	✗ 3. एक
	✗ 4. कोई भी नहीं

Question ID :	630680375591
Option 1 ID :	6306801463522
Option 2 ID :	6306801463521
Option 3 ID :	6306801463520
Option 4 ID :	6306801463519
Status :	Answered
Chosen Option :	1

Q.27	MNQP अंग्रेजी वर्णानुक्रम के आधार पर एक निश्चित तरीके से STWV से संबंधित है। उसी तरह ABED, GHKJ से संबंधित है। इसी तर्क का पालन करते हुए IJML निम्नलिखित में से किससे संबंधित है?
Ans	✗ 1. PORS
	✗ 2. OPRS
	✓ 3. OPSR
	✗ 4. ROPS

Question ID :	63068083300
Option 1 ID :	630680323050
Option 2 ID :	630680323049
Option 3 ID :	630680323048
Option 4 ID :	630680323051
Status :	Answered
Chosen Option :	3

Q.28	निम्नलिखित चार संख्या त्रिकों में से तीन संख्या त्रिक किसी निश्चित प्रकार से समान हैं और इस प्रकार एक समूह बनाते हैं। वह संख्या त्रिक कौन-सा है, जो उस समूह से संबंधित नहीं है? (ध्यान दें: संख्याओं को उनके घटक अंकों में अलग-अलग किए बिना पूर्ण संख्याओं पर संक्रियाएं की जानी चाहिए। उदाहरण के लिए संख्या 13 - संख्या 13 पर संक्रियाएं जैसे 13 को जोड़ना/घटाना/गुणा करना आदि किया जा सकता है। 13 को 1 और 3 में अलग-अलग करने की और फिर 1 और 3 पर गणितीय संक्रियाएं करने की अनुमति नहीं है।)
Ans	✗ 1. 112 - 103 - 94
	✗ 2. 94 - 85 - 76
	✓ 3. 76 - 67 - 54
	✗ 4. 87 - 78 - 69

Question ID :	630680556021
Option 1 ID :	6306802173462
Option 2 ID :	6306802173461
Option 3 ID :	6306802173463
Option 4 ID :	6306802173460
Status :	Answered
Chosen Option :	3

Q.29 अक्षरों के उस संयोजन का चयन कीजिए जिसे दी गई श्रृंखला के रिक्त स्थानों में क्रमिक रूप से रखने पर श्रृंखला पूरी हो जाएगी।
REMRRE_R_EEMRRE_M_

Ans 1. REME

2. MRME

3. MREM

4. EMER

Question ID : 630680520497

Option 1 ID : 6306802034415

Option 2 ID : 6306802034416

Option 3 ID : 6306802034413

Option 4 ID : 6306802034414

Status : Answered

Chosen Option : 3

Q.30 यदि निम्नलिखित समीकरण में '+' और '-' को आपस में बदल दिया जाए और '×' और '÷' को आपस में बदल दिया जाए, तो इसमें प्रश्न-चिह्न (?) के स्थान पर क्या आएगा?
 $21 - 7 \div 144 \times 3 + 18 = ?$

Ans 1. 323

2. 330

3. 339

4. 342

Question ID : 630680375897

Option 1 ID : 6306801464660

Option 2 ID : 6306801464659

Option 3 ID : 6306801464661

Option 4 ID : 6306801464662

Status : Answered

Chosen Option : 3

Section : Module I English Language and Comprehension

Q.1 Select the most appropriate option to fill in the blank.
The rising rate of inflation is making life very hard for _____ poor.

Ans 1. its

2. the

3. some

4. all

Question ID : 630680146285

Option 1 ID : 630680566033

Option 2 ID : 630680566030

Option 3 ID : 630680566031

Option 4 ID : 630680566032

Status : Answered

Chosen Option : 2

Q.2	Rearrange the jumbled words and choose the alternative that correctly matches the given sentence. The youth _____ now-a-days. life / of / today / a / leading / are / miserable
Ans	<input type="checkbox"/> 1. today are leading of a miserable life
	<input checked="" type="checkbox"/> 2. of today are leading a miserable life
	<input type="checkbox"/> 3. are today leading of a miserable life
	<input type="checkbox"/> 4. today are leading a miserable life of

Question ID :	630680123901
Option 1 ID :	630680480467
Option 2 ID :	630680480466
Option 3 ID :	630680480469
Option 4 ID :	630680480468
Status :	Answered
Chosen Option :	2

Q.3	Select the most appropriate article(s) to fill in the blanks. I was in _____ state of unconsciousness for about half _____ hour.
Ans	<input type="checkbox"/> 1. a ; No article
	<input type="checkbox"/> 2. the ; a
	<input checked="" type="checkbox"/> 3. a ; an
	<input type="checkbox"/> 4. No article ; an

Question ID :	630680144484
Option 1 ID :	630680559005
Option 2 ID :	630680559003
Option 3 ID :	630680559004
Option 4 ID :	630680559002
Status :	Answered
Chosen Option :	3

Q.4	Select the option that expresses the given sentence in passive voice. The new sunshades have protected our windows during the rainy season.
Ans	<input type="checkbox"/> 1. Our windows are being protected by the new windows during the rainy season.
	<input type="checkbox"/> 2. Our sunshades have been protected by the new windows during the rainy season.
	<input checked="" type="checkbox"/> 3. Our windows have been protected by the new sunshades during the rainy season.
	<input type="checkbox"/> 4. Our windows are being protected by the new sunshades during the rainy season.

Question ID :	630680133595
Option 1 ID :	630680517341
Option 2 ID :	630680517340
Option 3 ID :	630680517338
Option 4 ID :	630680517339
Status :	Answered
Chosen Option :	3

Q.5	Select the most appropriate synonym of the given word. Abolish
Ans	<input type="checkbox"/> 1. Worship
	<input checked="" type="checkbox"/> 2. Cancel
	<input type="checkbox"/> 3. Assist
	<input type="checkbox"/> 4. Subside

Question ID :	630680123837
Option 1 ID :	630680480219
Option 2 ID :	630680480218
Option 3 ID :	630680480220
Option 4 ID :	630680480221
Status :	Answered
Chosen Option :	2

Q.6	Replace the underlined word in the given sentence with its correctly spelt version. I have been <u>morning</u> the death of my pet dog.
Ans	<input type="checkbox"/> 1. moruning
	<input checked="" type="checkbox"/> 2. mourning
	<input type="checkbox"/> 3. murning
	<input type="checkbox"/> 4. merning

Question ID :	630680123960
Option 1 ID :	630680480698
Option 2 ID :	630680480701
Option 3 ID :	630680480699
Option 4 ID :	630680480700
Status :	Answered
Chosen Option :	2

Q.7	The following sentence has been split into four segments. Identify the segment that contains a grammatical error. The Supreme Court set away / the verdict of the High Court / and agreed to hear the plea / of the complainant.
Ans	<input checked="" type="checkbox"/> 1. The Supreme Court set away
	<input type="checkbox"/> 2. of the complainant
	<input type="checkbox"/> 3. the verdict of the High Court
	<input type="checkbox"/> 4. and agreed to hear the plea

Question ID :	630680146317
Option 1 ID :	630680566158
Option 2 ID :	630680566161
Option 3 ID :	630680566159
Option 4 ID :	630680566160
Status :	Answered
Chosen Option :	3

Q.8	Rearrange the jumbled words and choose the alternative that correctly matches the given sentence. I missed the _____ for the next. usually / hour / which / for / board / had / wait / an / bus / I / and / to
Ans	<input type="checkbox"/> 1. hour and had to wait for an bus which I usually board
	<input checked="" type="checkbox"/> 2. bus which I usually board and had to wait for an hour
	<input type="checkbox"/> 3. bus I usually board which had to wait for an hour and
	<input type="checkbox"/> 4. bus which I board and had to wait for an usually hour

Question ID :	630680123907
Option 1 ID :	630680480492
Option 2 ID :	630680480491
Option 3 ID :	630680480493
Option 4 ID :	630680480490
Status :	Answered
Chosen Option :	2

Q.9	Select the most appropriate option that can substitute the underlined segment in the given sentence. Harish is <u>clever than</u> wise.
Ans	<input type="checkbox"/> 1. more cleverer than
	<input type="checkbox"/> 2. cleverest than
	<input checked="" type="checkbox"/> 3. more clever than
	<input type="checkbox"/> 4. clever as

Question ID :	630680129269
Option 1 ID :	630680500704
Option 2 ID :	630680500705
Option 3 ID :	630680500703
Option 4 ID :	630680500702
Status :	Answered
Chosen Option :	3

Q.10	Rearrange the jumbled words and choose the alternative that correctly matches the given sentence. The people of _____ to survive. are / this / island / commodities / deprived / essential / needed / remote / of
Ans	<input type="checkbox"/> 1. this island are deprived of essential commodities needed remote
	<input type="checkbox"/> 2. remote island are deprived of essential commodities needed this
	<input checked="" type="checkbox"/> 3. this remote island are deprived of essential commodities needed
	<input type="checkbox"/> 4. this remote island are needed essential commodities deprived of

Question ID :	630680123906
Option 1 ID :	630680480489
Option 2 ID :	630680480487
Option 3 ID :	630680480488
Option 4 ID :	630680480486
Status :	Answered
Chosen Option :	3

Q.11	Select the most appropriate ANTONYM of the underlined word to fill in the blank. <u>Allies</u> have always come to his rescue in spite of his _____ attempts to defame him.
Ans	<input checked="" type="checkbox"/> 1. fellows'
	<input checked="" type="checkbox"/> 2. scholars'
	<input checked="" type="checkbox"/> 3. buddies'
	<input checked="" type="checkbox"/> 4. enemies'

Question ID :	630680156748
Option 1 ID :	630680606635
Option 2 ID :	630680606632
Option 3 ID :	630680606634
Option 4 ID :	630680606633
Status :	Answered
Chosen Option :	4

Q.12	<p>Sentences of a paragraph are given below. While the first and the last sentences (S1 and S6) are in the correct order, the sentences in between are jumbled up. Arrange the sentences in the correct order to form a meaningful and coherent paragraph.</p> <p>S1. CV Raman's story begins in a village near Tiruchirapalli (known in his days as Trichinopoly) in southern India.</p> <p>P. When he was four years old, Raman's family moved to Vishakapatnam.</p> <p>Q. He was born on 8 November 1888, the second child of R Chandrashekara Iyer and Parvati Ammal.</p> <p>R. Chandrasekara Iyer was an athletic man and he took active interest in sports.</p> <p>S. His father took up a job there, as a lecturer in Mrs. AV Narsimha Rao College, where he taught physics, mathematics and physical geography.</p> <p>S6. His young son Raman was not physically very strong, but was very intelligent and he preferred to read books and work at his studies.</p>
Ans	<input checked="" type="checkbox"/> 1. PQSR
	<input checked="" type="checkbox"/> 2. QPRS
	<input checked="" type="checkbox"/> 3. SRPQ
	<input checked="" type="checkbox"/> 4. QPSR

Question ID :	630680123831
Option 1 ID :	630680480194
Option 2 ID :	630680480197
Option 3 ID :	630680480196
Option 4 ID :	630680480195
Status :	Answered
Chosen Option :	4

Q.13	Select the most appropriate meaning of the given idiom. Call it a day
Ans	✓ 1. Stop working on something
	✗ 2. Name a particular day
	✗ 3. Begin with an assignment
	✗ 4. Involve many people for a simple job

Question ID :	630680129526
Option 1 ID :	630680501723
Option 2 ID :	630680501722
Option 3 ID :	630680501724
Option 4 ID :	630680501725
Status :	Answered
Chosen Option :	1

Q.14	Select the most appropriate adverb to fill in the blank. _____, I'm going to walk my dog.
Ans	✗ 1. Rarely
	✓ 2. Now
	✗ 3. Already
	✗ 4. Annually

Question ID :	630680119671
Option 1 ID :	630680463766
Option 2 ID :	630680463767
Option 3 ID :	630680463769
Option 4 ID :	630680463768
Status :	Answered
Chosen Option :	2

Q.15	Select the option that expresses the given sentence in indirect speech. The patient says, "I am fine."
Ans	✗ 1. The patient says that he was fine.
	✓ 2. The patient says that he is fine.
	✗ 3. The patient says that he would be fine.
	✗ 4. The patient says that he will be fine.

Question ID :	630680156582
Option 1 ID :	630680605986
Option 2 ID :	630680605985
Option 3 ID :	630680605987
Option 4 ID :	630680605984
Status :	Answered
Chosen Option :	2

Q.16 Select the most appropriate phrasal verb that can substitute the underlined segment in the given sentence.

The firefighters tried their best to extinguish the fire.

- Ans
- 1. put in
 - 2. put on
 - 3. put out
 - 4. put off

Question ID : 630680126880

Option 1 ID : 630680492037

Option 2 ID : 630680492034

Option 3 ID : 630680492036

Option 4 ID : 630680492035

Status : Answered

Chosen Option : 3

Q.17 Complete the sentence by choosing an appropriate word from the given options.

He has not _____ returned the money.

- Ans
- 1. only
 - 2. too
 - 3. still
 - 4. yet

Question ID : 630680120435

Option 1 ID : 630680466771

Option 2 ID : 630680466773

Option 3 ID : 630680466770

Option 4 ID : 630680466772

Status : Answered

Chosen Option : 3

Q.18 Select the option that expresses the given sentence in passive voice.
Doctors saved many lives during the pandemic.

- Ans
- 1. Many lives were being saved by doctors during the pandemic.
 - 2. Many lives have been saved by doctors during the pandemic.
 - 3. Many lives are saved by doctors during the pandemic.
 - 4. Many lives were saved by doctors during the pandemic.

Question ID : 630680156606

Option 1 ID : 630680606081

Option 2 ID : 630680606080

Option 3 ID : 630680606082

Option 4 ID : 630680606083

Status : Answered

Chosen Option : 4

Q.19 Select the most appropriate option that can substitute the underlined segment in the given sentence.

Research in Social Sciences is plagued nowadays on gloomy definitions and measurements.

Ans 1. nowadays onto gloomy definitions

2. nowadays by gloomy definitions

3. nowadays amid gloomy definitions

4. nowadays during gloomy definitions

Question ID : 630680147436

Option 1 ID : 630680570529

Option 2 ID : 630680570527

Option 3 ID : 630680570526

Option 4 ID : 630680570528

Status : Answered

Chosen Option : 2

Q.20 Select the most appropriate option to fill in the blanks.
It's funny how every time he fails to apply the _____ and _____ the glass.

Ans 1. brakes; brakes

2. breaks; brakes

3. brakes; breaks

4. breaks; breaks

Question ID : 630680184934

Option 1 ID : 630680716687

Option 2 ID : 630680716685

Option 3 ID : 630680716686

Option 4 ID : 630680716688

Status : Answered

Chosen Option : 3

Q.21 Select the INCORRECTLY spelt word.

Ans 1. Instinctual

2. Initiative

3. Implusive

4. Intuition

Question ID : 630680130692

Option 1 ID : 630680506062

Option 2 ID : 630680506065

Option 3 ID : 630680506064

Option 4 ID : 630680506063

Status : Answered

Chosen Option : 3

Q.22	Select the most appropriate option to fill in the blank. His family lives _____ Mahu in Madhya Pradesh.
Ans	<input type="checkbox"/> 1. by
	<input type="checkbox"/> 2. of
	<input checked="" type="checkbox"/> 3. at
	<input type="checkbox"/> 4. on

Question ID :	630680120853
Option 1 ID :	630680468387
Option 2 ID :	630680468389
Option 3 ID :	630680468386
Option 4 ID :	630680468388
Status :	Answered
Chosen Option :	3

Q.23	In the following sentence, a few of the spellings are incorrect. Find out the sentence with correctly spelt words from the given options. He is wimsical by natur. No one can seek an explanation from him for his absurd attitude towards others.
Ans	<input type="checkbox"/> 1. He is whimsical by nature. No one can seek an explanation from him for his absurd attitude towards others.
	<input type="checkbox"/> 2. He is whimsical by natur. No one can seek an explanation from him for his absurd attitude towards others.
	<input checked="" type="checkbox"/> 3. He is whimsical by nature. No one can seek an explanation from him for his absurd attitude towards others.
	<input type="checkbox"/> 4. He is wimsical by nature. No one can seek an explanation from him for his absurd attitude towards others.

Question ID :	630680121912
Option 1 ID :	630680472593
Option 2 ID :	630680472590
Option 3 ID :	630680472591
Option 4 ID :	630680472592
Status :	Answered
Chosen Option :	3

Q.24	Select the option that expresses the given sentence in direct speech. He will say that he is okay.
Ans	<input type="checkbox"/> 1. He would say, "I am okay."
	<input type="checkbox"/> 2. He will say, "I was okay."
	<input type="checkbox"/> 3. He will say, "I am always okay."
	<input checked="" type="checkbox"/> 4. He will say, "I am okay."

Question ID :	630680156590
Option 1 ID :	630680606016
Option 2 ID :	630680606018
Option 3 ID :	630680606017
Option 4 ID :	630680606019
Status :	Answered
Chosen Option :	4

Q.25 Select the option that expresses the given sentence in passive voice.

I remember my mother taking me to the stadium.

- Ans
- 1. My mother remembered me taken to the stadium.
 - 2. I was remembered being taken to the stadium by my mother.
 - 3. I was taken to the stadium by mother that I remembered.
 - 4. I remember being taken to the stadium by my mother.

Question ID : 630680126832

Option 1 ID : 630680491846

Option 2 ID : 630680491849

Option 3 ID : 630680491847

Option 4 ID : 630680491848

Status : Answered

Chosen Option : 4

Q.26 Select the most appropriate synonym of the given word.

Dingy

- Ans
- 1. Dreary
 - 2. Sterile
 - 3. Bright
 - 4. Pure

Question ID : 630680274317

Option 1 ID : 6306801065779

Option 2 ID : 6306801065781

Option 3 ID : 6306801065780

Option 4 ID : 6306801065782

Status : Not Answered

Chosen Option : --

Q.27 Select the most appropriate synonym of the underlined word in the given sentence.

Huxley was an exponent of Darwin's theory of evolution.

- Ans
- 1. Terminate
 - 2. Cease
 - 3. Proponent
 - 4. Conclude

Question ID : 630680131743

Option 1 ID : 630680510184

Option 2 ID : 630680510183

Option 3 ID : 630680510182

Option 4 ID : 630680510185

Status : Answered

Chosen Option : 3

Q.28	Select the option that expresses the given sentence in indirect speech. He always says to me, "I am perturbed."
Ans	<input checked="" type="checkbox"/> 1. He always tells me that he is mostly perturbed.
	<input checked="" type="checkbox"/> 2. He always tells me that he is perturbed by change.
	<input checked="" type="checkbox"/> 3. He always tells me that he is going to be perturbed.
	<input checked="" type="checkbox"/> 4. He always tells me that he is perturbed.

Question ID :	630680156583
Option 1 ID :	630680605989
Option 2 ID :	630680605991
Option 3 ID :	630680605988
Option 4 ID :	630680605990
Status :	Answered
Chosen Option :	4

Comprehension:
In the following passage, some words have been deleted. Read the passage carefully and select the most appropriate option to fill in each blank. During active sleep, the body is still, (1)_____ the brain is active. The eyes dart back and forth behind closed lids, blood pressure (2)_____ and the breathing pattern speeds up. An EEG of someone during rapid eye movement sleep looks almost the same as the EEG of a person in the waking state, although one is still asleep and the body is still immobile. Rapid eye movement sleep plays a vital role in harmonising the experiences we have in the world outside. An EEG of someone during rapid eye movement sleep looks almost the same as the EEG of a person in the (3)_____ state, although one is still asleep and the body is still (4)_____. Rapid eye movement during sleep plays a vital role in harmonising the experiences we have in the world outside.

SubQuestion No : 29	
Q.29	Select the most appropriate option to fill in blank number 1.
Ans	<input checked="" type="checkbox"/> 1. so
	<input checked="" type="checkbox"/> 2. therefore
	<input checked="" type="checkbox"/> 3. neither
	<input checked="" type="checkbox"/> 4. but

Question ID :	630680396468
Option 1 ID :	6306801545973
Option 2 ID :	6306801545971
Option 3 ID :	6306801545972
Option 4 ID :	6306801545974
Status :	Answered
Chosen Option :	4

Comprehension:

In the following passage, some words have been deleted. Read the passage carefully and select the most appropriate option to fill in each blank.

During active sleep, the body is still, (1)_____ the brain is active. The eyes dart back and forth behind closed lids, blood pressure (2)_____ and the breathing pattern speeds up. An EEG of someone during rapid eye movement sleep looks almost the same as the EEG of a person in the waking state, although one is still asleep and the body is still immobile. Rapid eye movement sleep plays a vital role in harmonising the experiences we have in the world outside. An EEG of someone during rapid eye movement sleep looks almost the same as the EEG of a person in the (3)_____ state, although one is still asleep and the body is still (4)_____. Rapid eye movement during sleep plays a vital role in harmonising the experiences we have in the world outside.

SubQuestion No : 30**Q.30** Select the most appropriate option to fill in blank number 2.Ans 1. beeps 2. increases 3. stables 4. relaxes

Question ID : 630680396469

Option 1 ID : 6306801545977

Option 2 ID : 6306801545978

Option 3 ID : 6306801545975

Option 4 ID : 6306801545976

Status : Answered

Chosen Option : 2

Comprehension:

In the following passage, some words have been deleted. Read the passage carefully and select the most appropriate option to fill in each blank.

During active sleep, the body is still, (1)_____ the brain is active. The eyes dart back and forth behind closed lids, blood pressure (2)_____ and the breathing pattern speeds up. An EEG of someone during rapid eye movement sleep looks almost the same as the EEG of a person in the waking state, although one is still asleep and the body is still immobile. Rapid eye movement sleep plays a vital role in harmonising the experiences we have in the world outside. An EEG of someone during rapid eye movement sleep looks almost the same as the EEG of a person in the (3)_____ state, although one is still asleep and the body is still (4)_____. Rapid eye movement during sleep plays a vital role in harmonising the experiences we have in the world outside.

SubQuestion No : 31**Q.31** Select the most appropriate option to fill in blank number 3.Ans 1. standing 2. waking 3. sleeping 4. eating

Question ID : 630680396470

Option 1 ID : 6306801545981

Option 2 ID : 6306801545980

Option 3 ID : 6306801545979

Option 4 ID : 6306801545982

Status : Answered

Chosen Option : 2

Comprehension:

In the following passage, some words have been deleted. Read the passage carefully and select the most appropriate option to fill in each blank.

During active sleep, the body is still, (1)_____ the brain is active. The eyes dart back and forth behind closed lids, blood pressure (2)_____ and the breathing pattern speeds up. An EEG of someone during rapid eye movement sleep looks almost the same as the EEG of a person in the waking state, although one is still asleep and the body is still immobile. Rapid eye movement sleep plays a vital role in harmonising the experiences we have in the world outside. An EEG of someone during rapid eye movement sleep looks almost the same as the EEG of a person in the (3)_____ state, although one is still asleep and the body is still (4)_____. Rapid eye movement during sleep plays a vital role in harmonising the experiences we have in the world outside.

SubQuestion No : 32

Q.32 Select the most appropriate option to fill in blank number 4.

Ans 1. performing

2. active

3. conscious

4. immobile

Question ID : **630680396471**

Option 1 ID : **6306801545986**

Option 2 ID : **6306801545983**

Option 3 ID : **6306801545985**

Option 4 ID : **6306801545984**

Status : **Answered**

Chosen Option : **2**

Comprehension:

Read the given passage and answer the question that follows.

As a result of increasing population and expansion of residential areas, forest lands are being encroached. This is not all; even the wildlife is under extreme threat. As our fauna is facing a dearth of adequate shelter in forests, they are heading towards towns and hence get killed by hunters. Consequently, many animal species have either become extinct or are on the verge of extinction. The Black Buck is almost endangered and found only in two countries, Nepal and India. In India, this antelope is found in many national parks like Guindy National Park, Point Calimere and Vellandu sanctuaries of Tamil Nadu, Rollapadu of Andhra Pradesh, few parts of Rajasthan and Haryana. As far as their habitat is concerned, they live in open grasslands, dry areas or thinly populated areas and near water resources. They live in the desert areas of Rajasthan and coastal areas because they cannot sustain cold climate. They are the fastest running animals on this planet. Further, this animal is active during the day, but slows down in its activities after mid-day. They are social beings. Hence, they move with their herds, which can vary from 3 to 23 mates. They cohabit twice in a year and give birth twice in a year.

Prior to independence, this antelope was extensively hunted which affected their population so much that this species has reached the stage of extinction in many parts of the country. Poachers kill them mainly for material gain. Its skin has an enormous value in the market. In order to protect this species, the IUCN has declared this species nearly threatened. Hence, under Schedule I of the Wildlife Protection Act of 1972, numerous stern measures have been taken. To specify a few, Kaimur Wildlife Sanctuary (Bihar), Gir Forest National Park, Velavadar Wildlife Sanctuary (Gujarat), National Chambal Sanctuary, etc. Despite these acts, hunting is adversely affecting our wildlife. There are some solutions to this problem but the best one is to boycott the products made from endangered species at an international level. This seems to be effective but will it prevent animal hunting? That's a question.

SubQuestion No : 33

Q.33 The Black Buck is killed because of hunters' _____.

Ans 1. personal gratification

2. fun

3. need

4. material gain

Question ID : **630680399393**

Option 1 ID : **6306801557496**

Option 2 ID : **6306801557498**

Option 3 ID : **6306801557495**

Option 4 ID : **6306801557497**

Status : **Answered**

Chosen Option : **4**

Comprehension:

Read the given passage and answer the question that follows.

As a result of increasing population and expansion of residential areas, forest lands are being encroached. This is not all; even the wildlife is under extreme threat. As our fauna is facing a dearth of adequate shelter in forests, they are heading towards towns and hence get killed by hunters. Consequently, many animal species have either become extinct or are on the verge of extinction. The Black Buck is almost endangered and found only in two countries, Nepal and India. In India, this antelope is found in many national parks like Guindy National Park, Point Calimere and Vellandu sanctuaries of Tamil Nadu, Rollapadu of Andhra Pradesh, few parts of Rajasthan and Haryana. As far as their habitat is concerned, they live in open grasslands, dry areas or thinly populated areas and near water resources. They live in the desert areas of Rajasthan and coastal areas because they cannot sustain cold climate. They are the fastest running animals on this planet. Further, this animal is active during the day, but slows down in its activities after mid-day. They are social beings. Hence, they move with their herds, which can vary from 3 to 23 mates. They cohabit twice in a year and give birth twice in a year.

Prior to independence, this antelope was extensively hunted which affected their population so much that this species has reached the stage of extinction in many parts of the country. Poachers kill them mainly for material gain. Its skin has an enormous value in the market. In order to protect this species, the IUCN has declared this species nearly threatened. Hence, under Schedule I of the Wildlife Protection Act of 1972, numerous stern measures have been taken. To specify a few, Kaimur Wildlife Sanctuary (Bihar), Gir Forest National Park, Velavadar Wildlife Sanctuary (Gujarat), National Chambal Sanctuary, etc. Despite these acts, hunting is adversely affecting our wildlife. There are some solutions to this problem but the best one is to boycott the products made from endangered species at an international level. This seems to be effective but will it prevent animal hunting? That's a question.

SubQuestion No : 34

Q.34 What is the author's tone in this passage?

Ans 1. Concerned

2. Agitated

3. Revengeful

4. Impressed

Question ID : **630680399395**

Option 1 ID : **6306801557503**

Option 2 ID : **6306801557504**

Option 3 ID : **6306801557506**

Option 4 ID : **6306801557505**

Status : **Answered**

Chosen Option : **1**

Comprehension:

Read the given passage and answer the question that follows.

As a result of increasing population and expansion of residential areas, forest lands are being encroached. This is not all; even the wildlife is under extreme threat. As our fauna is facing a dearth of adequate shelter in forests, they are heading towards towns and hence get killed by hunters. Consequently, many animal species have either become extinct or are on the verge of extinction. The Black Buck is almost endangered and found only in two countries, Nepal and India. In India, this antelope is found in many national parks like Guindy National Park, Point Calimere and Vellandu sanctuaries of Tamil Nadu, Rollapadu of Andhra Pradesh, few parts of Rajasthan and Haryana. As far as their habitat is concerned, they live in open grasslands, dry areas or thinly populated areas and near water resources. They live in the desert areas of Rajasthan and coastal areas because they cannot sustain cold climate. They are the fastest running animals on this planet. Further, this animal is active during the day, but slows down in its activities after mid-day. They are social beings. Hence, they move with their herds, which can vary from 3 to 23 mates. They cohabit twice in a year and give birth twice in a year.

Prior to independence, this antelope was extensively hunted which affected their population so much that this species has reached the stage of extinction in many parts of the country. Poachers kill them mainly for material gain. Its skin has an enormous value in the market. In order to protect this species, the IUCN has declared this species nearly threatened. Hence, under Schedule I of the Wildlife Protection Act of 1972, numerous stern measures have been taken. To specify a few, Kaimur Wildlife Sanctuary (Bihar), Gir Forest National Park, Velavadar Wildlife Sanctuary (Gujarat), National Chambal Sanctuary, etc. Despite these acts, hunting is adversely affecting our wildlife. There are some solutions to this problem but the best one is to boycott the products made from endangered species at an international level. This seems to be effective but will it prevent animal hunting? That's a question.

SubQuestion No : 35

Q.35 What is the theme of this passage?

Ans ✓ 1. Endangered species

✗ 2. Forests and their uses

✗ 3. Over-population

✗ 4. Land encroachment

Question ID : 630680399392

Option 1 ID : 6306801557492

Option 2 ID : 6306801557493

Option 3 ID : 6306801557491

Option 4 ID : 6306801557494

Status : Answered

Chosen Option : 1

Comprehension:

Read the given passage and answer the question that follows.

As a result of increasing population and expansion of residential areas, forest lands are being encroached. This is not all; even the wildlife is under extreme threat. As our fauna is facing a dearth of adequate shelter in forests, they are heading towards towns and hence get killed by hunters. Consequently, many animal species have either become extinct or are on the verge of extinction. The Black Buck is almost endangered and found only in two countries, Nepal and India. In India, this antelope is found in many national parks like Guindy National Park, Point Calimere and Vellandu sanctuaries of Tamil Nadu, Rollapadu of Andhra Pradesh, few parts of Rajasthan and Haryana. As far as their habitat is concerned, they live in open grasslands, dry areas or thinly populated areas and near water resources. They live in the desert areas of Rajasthan and coastal areas because they cannot sustain cold climate. They are the fastest running animals on this planet. Further, this animal is active during the day, but slows down in its activities after mid-day. They are social beings. Hence, they move with their herds, which can vary from 3 to 23 mates. They cohabit twice in a year and give birth twice in a year.

Prior to independence, this antelope was extensively hunted which affected their population so much that this species has reached the stage of extinction in many parts of the country. Poachers kill them mainly for material gain. Its skin has an enormous value in the market. In order to protect this species, the IUCN has declared this species nearly threatened. Hence, under Schedule I of the Wildlife Protection Act of 1972, numerous stern measures have been taken. To specify a few, Kaimur Wildlife Sanctuary (Bihar), Gir Forest National Park, Velavadar Wildlife Sanctuary (Gujarat), National Chambal Sanctuary, etc. Despite these acts, hunting is adversely affecting our wildlife. There are some solutions to this problem but the best one is to boycott the products made from endangered species at an international level. This seems to be effective but will it prevent animal hunting? That's a question.

SubQuestion No : 36

Q.36 Choose the word which closely means 'adversely'.

Ans 1. Distressing

2. Scarcely

3. Digressing

4. Detrimentally

Question ID : **630680399394**

Option 1 ID : **6306801557502**

Option 2 ID : **6306801557500**

Option 3 ID : **6306801557501**

Option 4 ID : **6306801557499**

Status : **Answered**

Chosen Option : **4**

Comprehension:

Read the given passage and answer the question that follows.

Lena was an avid explorer. She had a deep fascination for the mysteries hidden within the dense forests. One day, while wandering through a secluded forest, she stumbled upon an ancient-looking map half-buried in the undergrowth. The map depicted a trail that led to a legendary waterfall rumoured to possess magical properties. Driven by her curiosity, Lena decided to follow the trail.

As she walked deeper into the forest, the atmosphere grew more enchanting. Sunlight filtered through the thick canopy, casting dappled patterns on the ground. The sound of rustling leaves and distant bird calls created a symphony of nature around her. Guided by the map's markings, Lena navigated through challenging terrains and crossed a narrow rope bridge suspended over a crystal-clear stream.

Finally, after hours of journeying, Lena arrived at the foot of the legendary waterfall. Its cascading waters sparkled like diamonds in the sunlight, and a gentle mist enveloped the surroundings. Lena felt a sense of wonder and tranquillity as she dipped her hand in the cool waters, as if the legends were coming alive. She sat by the waterfall, captivated by its beauty, pondering the ancient stories that had led her here.

SubQuestion No : 37

Q.37 Select the most appropriate **ANTONYM** of the underlined word in the given sentence.
What surrounded Lena as she journeyed through the forest?

Ans 1. Bolt

2. Created

3. Freed

4. Girded

Question ID : 630680395349

Option 1 ID : 6306801541596

Option 2 ID : 6306801541599

Option 3 ID : 6306801541598

Option 4 ID : 6306801541597

Status : Answered

Chosen Option : 3

Comprehension:

Read the given passage and answer the question that follows.

Lena was an avid explorer. She had a deep fascination for the mysteries hidden within the dense forests. One day, while wandering through a secluded forest, she stumbled upon an ancient-looking map half-buried in the undergrowth. The map depicted a trail that led to a legendary waterfall rumoured to possess magical properties. Driven by her curiosity, Lena decided to follow the trail.

As she walked deeper into the forest, the atmosphere grew more enchanting. Sunlight filtered through the thick canopy, casting dappled patterns on the ground. The sound of rustling leaves and distant bird calls created a symphony of nature around her. Guided by the map's markings, Lena navigated through challenging terrains and crossed a narrow rope bridge suspended over a crystal-clear stream.

Finally, after hours of journeying, Lena arrived at the foot of the legendary waterfall. Its cascading waters sparkled like diamonds in the sunlight, and a gentle mist enveloped the surroundings. Lena felt a sense of wonder and tranquillity as she dipped her hand in the cool waters, as if the legends were coming alive. She sat by the waterfall, captivated by its beauty, pondering the ancient stories that had led her here.

SubQuestion No : 38**Q.38** What intrigued Lena's curiosity in the forest?**Ans** 1. She discovered an old book. 2. She found a hidden cave. 3. She stumbled upon an ancient map. 4. She heard whispers in the wind.Question ID : **630680395346**Option 1 ID : **6306801541585**Option 2 ID : **6306801541584**Option 3 ID : **6306801541586**Option 4 ID : **6306801541587**Status : **Answered**Chosen Option : **3**

Comprehension:

Read the given passage and answer the question that follows.

Lena was an avid explorer. She had a deep fascination for the mysteries hidden within the dense forests. One day, while wandering through a secluded forest, she stumbled upon an ancient-looking map half-buried in the undergrowth. The map depicted a trail that led to a legendary waterfall rumoured to possess magical properties. Driven by her curiosity, Lena decided to follow the trail.

As she walked deeper into the forest, the atmosphere grew more enchanting. Sunlight filtered through the thick canopy, casting dappled patterns on the ground. The sound of rustling leaves and distant bird calls created a symphony of nature around her. Guided by the map's markings, Lena navigated through challenging terrains and crossed a narrow rope bridge suspended over a crystal-clear stream.

Finally, after hours of journeying, Lena arrived at the foot of the legendary waterfall. Its cascading waters sparkled like diamonds in the sunlight, and a gentle mist enveloped the surroundings. Lena felt a sense of wonder and tranquillity as she dipped her hand in the cool waters, as if the legends were coming alive. She sat by the waterfall, captivated by its beauty, pondering the ancient stories that had led her here.

SubQuestion No : 39**Q.39** Where did Lena find the map?**Ans** 1. In a bookstore in town 2. Half-buried in the undergrowth 3. Buried in the sand 4. Underneath a bridge

Question ID : 630680395347

Option 1 ID : 6306801541588

Option 2 ID : 6306801541591

Option 3 ID : 6306801541590

Option 4 ID : 6306801541589

Status : Answered

Chosen Option : 2

Comprehension:

Read the given passage and answer the question that follows.

Lena was an avid explorer. She had a deep fascination for the mysteries hidden within the dense forests. One day, while wandering through a secluded forest, she stumbled upon an ancient-looking map half-buried in the undergrowth. The map depicted a trail that led to a legendary waterfall rumoured to possess magical properties. Driven by her curiosity, Lena decided to follow the trail.

As she walked deeper into the forest, the atmosphere grew more enchanting. Sunlight filtered through the thick canopy, casting dappled patterns on the ground. The sound of rustling leaves and distant bird calls created a symphony of nature around her. Guided by the map's markings, Lena navigated through challenging terrains and crossed a narrow rope bridge suspended over a crystal-clear stream.

Finally, after hours of journeying, Lena arrived at the foot of the legendary waterfall. Its cascading waters sparkled like diamonds in the sunlight, and a gentle mist enveloped the surroundings. Lena felt a sense of wonder and tranquillity as she dipped her hand in the cool waters, as if the legends were coming alive. She sat by the waterfall, captivated by its beauty, pondering the ancient stories that had led her here.

SubQuestion No : 40

Q.40 Select the correct spelling of the underlined word in the given sentence.
What was Lena's reason for following the trial on the map?

Ans 1. Trale

2. Treil

3. Triall

4. Trail

Question ID : 630680395348

Option 1 ID : 6306801541593

Option 2 ID : 6306801541595

Option 3 ID : 6306801541594

Option 4 ID : 6306801541592

Status : Answered

Chosen Option : 4

Section : Module II General Awareness

Q.1 दही का pH मान _____ होता है।

Ans 1. दूध के pH मान से अधिक

2. 7 से अधिक

3. दूध के pH मान से कम

4. लगभग 7

Question ID : 630680309363

Option 1 ID : 6306801203609

Option 2 ID : 6306801203612

Option 3 ID : 6306801203610

Option 4 ID : 6306801203611

Status : Answered

Chosen Option : 3

Q.2	केंद्रीय सतर्कता आयोग ने निम्नलिखित में से किस विषय (theme) के साथ सतर्कता जागरूकता सप्ताह 2022 मनाया?
Ans	<input checked="" type="checkbox"/> 1. स्वतंत्र भारत @75: सत्यनिष्ठा से आत्मनिर्भरता
	<input checked="" type="checkbox"/> 2. सतर्क भारत, समृद्ध भारत
	<input checked="" type="checkbox"/> 3. सत्यनिष्ठा, जीवन जीने का एक तरीका
	<input checked="" type="checkbox"/> 4. विकसित राष्ट्र के लिए भ्रष्टाचार मुक्त भारत

Question ID :	630680269940
Option 1 ID :	6306801049012
Option 2 ID :	6306801049013
Option 3 ID :	6306801049014
Option 4 ID :	6306801049011
Status :	Answered
Chosen Option :	2

Q.3	निम्नलिखित में से किसने 1893 में शिकागो में आयोजित अखिल विश्व धार्मिक सम्मेलन (धर्म संसद) में भाग लिया था?
Ans	<input checked="" type="checkbox"/> 1. स्वामी विवेकानंद
	<input checked="" type="checkbox"/> 2. राजा राम मोहन राय
	<input checked="" type="checkbox"/> 3. स्वामी दयानंद
	<input checked="" type="checkbox"/> 4. स्वामी सहजानंद

Question ID :	630680282916
Option 1 ID :	6306801099798
Option 2 ID :	6306801099795
Option 3 ID :	6306801099797
Option 4 ID :	6306801099796
Status :	Answered
Chosen Option :	1

Q.4	निम्नलिखित में से कौन-सी भारत के संविधान के तहत प्रदान किए गए मौलिक कर्तव्यों की विशेषता नहीं है?
Ans	<input checked="" type="checkbox"/> 1. कर्तव्यों का उद्देश्य देश को सुरक्षित रखना है
	<input checked="" type="checkbox"/> 2. कर्तव्य तत्कालीन यूएसएसआर (USSR) से प्रेरित हैं
	<input checked="" type="checkbox"/> 3. कर्तव्य प्रकृति में गैर-न्यायसंगत होते हैं
	<input checked="" type="checkbox"/> 4. कर्तव्य, विधि द्वारा प्रवर्तनीय हैं

Question ID :	630680287349
Option 1 ID :	6306801117304
Option 2 ID :	6306801117305
Option 3 ID :	6306801117306
Option 4 ID :	6306801117303
Status :	Answered
Chosen Option :	4

Q.5	केंद्रक के अलावा कोशिका का वह भाग जिसमें डीएनए और राइबोसोम होते हैं और इस प्रकार अपना प्रोटीन स्वयं बना सकते हैं, को _____ के रूप में जाना जाता है।
Ans	<input checked="" type="checkbox"/> 1. अन्तः प्रद्व्ययी जालिका <input checked="" type="checkbox"/> 2. राइबोसोम <input checked="" type="checkbox"/> 3. माइटोकॉन्ड्रिया <input checked="" type="checkbox"/> 4. गॉल्जीकाय

Question ID :	630680560992
Option 1 ID :	6306802192974
Option 2 ID :	6306802192976
Option 3 ID :	6306802192973
Option 4 ID :	6306802192975
Status :	Answered
Chosen Option :	3

Q.6	भारत के दक्षिण से उत्तर वाले निम्नलिखित पठारों और पर्वतमालाओं के सही क्रम का चयन कीजिए।
Ans	<input checked="" type="checkbox"/> 1. दक्कन का पठार, सतपुड़ा पर्वतमाला, विंध्य पर्वतमाला और मालवा का पठार <input checked="" type="checkbox"/> 2. मालवा का पठार, विंध्य पर्वतमाला, सतपुड़ा पर्वतमाला और दक्कन का पठार <input checked="" type="checkbox"/> 3. दक्कन का पठार, विंध्य पर्वतमाला, सतपुड़ा पर्वतमाला और मालवा का पठार <input checked="" type="checkbox"/> 4. मालवा का पठार, सतपुड़ा पर्वतमाला, विंध्य पर्वतमाला और दक्कन का पठार

Question ID :	630680309369
Option 1 ID :	6306801203635
Option 2 ID :	6306801203636
Option 3 ID :	6306801203633
Option 4 ID :	6306801203634
Status :	Answered
Chosen Option :	2

Q.7	निम्नलिखित सूक्ष्मवित्त (microfinance) अवधारणाओं को उनके विवरण के साथ सुमेलित कीजिए।	
	सूची I (अवधारणाएँ)	सूची II (विवरण)
	(a) सूक्ष्म ऋण (Microcredit)	(i) कम आय वाले व्यक्तियों के लिए डिज़ाइन किए गए छोटे, प्रायः सहकर्मी-निगरानी (peer-monitored) वाले बचत उत्पाद
	(b) सूक्ष्म बचत (Microsavings)	(ii) कम आय वाली आबादी के लिए विशिष्ट जोखिमों (specific perils) के विरुद्ध वित्तीय सुरक्षा
	(c) सूक्ष्म बीमा (Microinsurance)	(iii) ऋण चुकौती की गारंटी के रूप में समूह उत्तरदायित्व का उपयोग
	(d) सामाजिक ऋणाधार (Social Collateral)	(iv) पारंपरिक बैंक ऋण के लिए अर्हता प्राप्त न कर पाने वाले बहुत गरीब उद्यमियों को प्रदान किए जाने वाले छोटे ऋण
Ans	<p><input checked="" type="checkbox"/> 1. a-(i), b-(ii), c-(iii), d-(iv)</p> <p><input checked="" type="checkbox"/> 2. a-(iii), b-(iv), c-(i), d-(ii)</p> <p><input checked="" type="checkbox"/> 3. a-(iv), b-(i), c-(ii), d-(iii)</p> <p><input checked="" type="checkbox"/> 4. a-(ii), b-(iii), c-(i), d-(iv)</p>	

Question ID :	630680564440
Option 1 ID :	6306802206662
Option 2 ID :	6306802206661
Option 3 ID :	6306802206659
Option 4 ID :	6306802206660
Status :	Answered
Chosen Option :	3

Q.8	निम्नलिखित में से कौन-सा कर्तव्य भारतीय संविधान में 10वें मौलिक कर्तव्य के रूप में निर्दिष्ट है?
Ans	<p><input checked="" type="checkbox"/> 1. व्यक्तिगत और सामूहिक गतिविधि के सभी क्षेत्रों में उत्कृष्टता की दिशा में प्रयास करना</p> <p><input checked="" type="checkbox"/> 2. उन महान आदर्शों को संजोना और उनका पालन करना जिन्होंने स्वतंत्रता के लिए हमारे राष्ट्रीय संघर्ष को प्रेरित किया</p> <p><input checked="" type="checkbox"/> 3. छह से चौदह वर्ष की आयु के अपने बच्चे या जो भी स्थिति हो, को शिक्षा के अवसर प्रदान करना</p> <p><input checked="" type="checkbox"/> 4. वैज्ञानिक दृष्टिकोण, मानवतावाद तथा जिज्ञासा एवं सुधार की भावना का विकास करना</p>

Question ID :	630680275852
Option 1 ID :	6306801071922
Option 2 ID :	6306801071920
Option 3 ID :	6306801071921
Option 4 ID :	6306801071919
Status :	Not Answered
Chosen Option :	--

Q.9	2021 में, केंद्रीय मंत्री जितेंद्र सिंह ने बेहतर मौसम पूर्वानुमान प्रदान करने के लिए एक्स-बैंड डॉपलर वेदर रडार (X-band Doppler Weather Radar) का उद्घाटन किया। इसका उद्घाटन कहाँ किया गया था?
Ans	<input type="checkbox"/> 1. लद्दाख
	<input checked="" type="checkbox"/> 2. जम्मू
	<input type="checkbox"/> 3. चंडीगढ़
	<input type="checkbox"/> 4. पुदुचेरी

Question ID :	630680115313
Option 1 ID :	630680446604
Option 2 ID :	630680446603
Option 3 ID :	630680446602
Option 4 ID :	630680446605
Status :	Answered
Chosen Option :	1

Q.10	उष्ण कटिबंधीय क्षेत्र (torrid zone) _____ के बीच स्थित है।
Ans	<input type="checkbox"/> 1. उत्तरी ध्रुव और उत्तरध्रुवीय वृत्त
	<input type="checkbox"/> 2. दक्षिण ध्रुव वृत्त और मकर रेखा
	<input checked="" type="checkbox"/> 3. कर्क रेखा और मकर रेखा
	<input type="checkbox"/> 4. उत्तरध्रुवीय वृत्त और कर्क रेखा

Question ID :	630680565159
Option 1 ID :	6306802209612
Option 2 ID :	6306802209611
Option 3 ID :	6306802209609
Option 4 ID :	6306802209610
Status :	Answered
Chosen Option :	3

Q.11	ठीक 12 g कार्बन-12 में परमाणुओं की संख्या क्या कहलाती है?
Ans	<input type="checkbox"/> 1. प्लैंक का स्थिरांक
	<input type="checkbox"/> 2. फैराडे का स्थिरांक
	<input checked="" type="checkbox"/> 3. अवोगाद्रो का स्थिरांक
	<input type="checkbox"/> 4. रिडबर्ग का स्थिरांक

Question ID :	63068098948
Option 1 ID :	630680384496
Option 2 ID :	630680384498
Option 3 ID :	630680384497
Option 4 ID :	630680384499
Status :	Answered
Chosen Option :	3

- Q.12 मुद्रा के कार्यों के संबंध में निम्नलिखित में से कौन-सा/से कथन सत्य है/हैं?
- लेखा (account) की एक इकाई के रूप में मुद्रा का अर्थ है कि यह वस्तुओं, सेवाओं और अन्य लेनदेन के बाजार मूल्य के माप की एक मानक संख्यात्मक इकाई है।
 - आस्थगित भुगतान (deferred payment) के मानक के रूप में मुद्रा एक महत्वपूर्ण कार्य नहीं है क्योंकि आधुनिक अर्थव्यवस्थाएं भविष्य के भुगतान के लिए शायद ही कभी मुद्रा का उपयोग करती हैं।

Ans 1. केवल 1

2. न तो 1 और न ही 2

3. 1 और 2 दोनों

4. केवल 2

Question ID : 630680564435

Option 1 ID : 6306802206639

Option 2 ID : 6306802206642

Option 3 ID : 6306802206641

Option 4 ID : 6306802206640

Status : Answered

Chosen Option : 1

Q.13 भारत में जनगणना कार्य कितने चरणों में होता है?

Ans 1. तीन

2. एक

3. चार

4. दो

Question ID : 630680663955

Option 1 ID : 6306802599461

Option 2 ID : 6306802599459

Option 3 ID : 6306802599462

Option 4 ID : 6306802599460

Status : Marked For Review

Chosen Option : 1

Q.14 भारत के सर्वोच्च न्यायालय के क्षेत्राधिकार के संबंध में निम्नलिखित में से कौन-सा कथन सही है?

Ans 1. भारत के संविधान का अनुच्छेद 30 सर्वोच्च न्यायालय को व्यापक मूल क्षेत्राधिकार देता है।

2. सर्वोच्च न्यायालय के मूल क्षेत्राधिकार का उपयोग उच्च न्यायालय द्वारा दिए गए प्रमाण पत्र द्वारा किया जा सकता है।

3. मूल क्षेत्राधिकार भारत सरकार और एक या अधिक राज्यों के बीच किसी भी विवाद तक विस्तृत होता है।

4. सर्वोच्च न्यायालय के पास भारत की सभी अदालतों और न्यायाधिकरणों पर बहुत व्यापक सलाहकार क्षेत्राधिकार है।

Question ID : 630680615326

Option 1 ID : 6306802407979

Option 2 ID : 6306802407980

Option 3 ID : 6306802407978

Option 4 ID : 6306802407981

Status : Answered

Chosen Option : 3

Q.15	भ्रष्टाचार के बारे में जागरूकता बढ़ाने और भ्रष्टाचार से निपटने के नए तरीके खोजने के लिए 2021 में अंतर्राष्ट्रीय भ्रष्टाचार निरोध दिवस (एक वार्षिक कार्यक्रम) कब मनाया गया था?
Ans	<input checked="" type="checkbox"/> 1. 16 जनवरी को
	<input checked="" type="checkbox"/> 2. 19 अगस्त को
	<input checked="" type="checkbox"/> 3. 9 दिसंबर को
	<input checked="" type="checkbox"/> 4. 4 फरवरी को

Question ID :	630680112125
Option 1 ID :	630680434227
Option 2 ID :	630680434229
Option 3 ID :	630680434226
Option 4 ID :	630680434228
Status :	Not Answered
Chosen Option :	--

Q.16	नटराज किस हिंदू देवता की नृत्य आकृति का प्रतिनिधित्व करते हैं?
Ans	<input checked="" type="checkbox"/> 1. शिव
	<input checked="" type="checkbox"/> 2. कार्तिकेय
	<input checked="" type="checkbox"/> 3. गणेश
	<input checked="" type="checkbox"/> 4. विष्णु

Question ID :	630680309304
Option 1 ID :	6306801203376
Option 2 ID :	6306801203374
Option 3 ID :	6306801203373
Option 4 ID :	6306801203375
Status :	Answered
Chosen Option :	1

Q.17	बासी और गीली ब्रेड के ऊपर रुई जैसी संवृद्धि (cottony growth) को क्या कहते हैं?
Ans	<input checked="" type="checkbox"/> 1. शैवाल (Algae)
	<input checked="" type="checkbox"/> 2. कवक (Fungi)
	<input checked="" type="checkbox"/> 3. लाइकेन (Lichens)
	<input checked="" type="checkbox"/> 4. जीवाणु (Bacteria)

Question ID :	630680561034
Option 1 ID :	6306802193082
Option 2 ID :	6306802193083
Option 3 ID :	6306802193084
Option 4 ID :	6306802193081
Status :	Answered
Chosen Option :	2

Q.18 1905 में प्रसिद्ध समीकरण $E = mc^2$ का प्रतिपादन किसने किया था?

Ans 1. आइजैक न्यूटन

2. वर्नर हाइजेनबर्ग

3. अल्बर्ट आइंस्टीन

4. अर्नेस्ट रदरफोर्ड

Question ID : 63068094239

Option 1 ID : 630680365652

Option 2 ID : 630680365654

Option 3 ID : 630680365651

Option 4 ID : 630680365653

Status : Answered

Chosen Option : 3

Q.19 निम्नलिखित को सुमेलित कीजिए।



Ans 1. 1-c, 2-b, 3-a

2. 1-b, 2-c, 3-a

3. 1-a, 2-b, 3-c

4. 1-a, 2-c, 3-b

Question ID : 630680310802

Option 1 ID : 6306801209337

Option 2 ID : 6306801209340

Option 3 ID : 6306801209338

Option 4 ID : 6306801209339

Status : Answered

Chosen Option : 2

Q.20	पर्वतीय (orographic) वर्षा के संबंध में निम्नलिखित में से कौन-सा कथन सत्य है?
Ans	<p>✓ 1. इस प्रकार की वर्षा तब होती है जब गर्म और आर्द्र हवा किसी पर्वत श्रृंखला से टकराती है।</p> <p>✗ 2. यह वर्षा भारी वर्षा होती है लेकिन कम अवधि की होती है, अत्यधिक स्थानीयकृत होती है और इसमें न्यूनतम बादल होते हैं।</p> <p>✗ 3. इस प्रकार की वर्षा को हवाओं के मौसमी उत्क्रमण से पहचाना जाता है जो समुद्री नमी ले जाती है।</p> <p>✗ 4. यह मुख्य रूप से गर्मियों के दौरान होती है और कांगो बेसिन में भूमध्यरेखीय निर्वातमंडल (डोलोड्रम) पर आम है।</p>

Question ID :	63068094178
Option 1 ID :	630680365407
Option 2 ID :	630680365408
Option 3 ID :	630680365410
Option 4 ID :	630680365409
Status :	Answered
Chosen Option :	1

Section : Module I Computer Knowledge Module

Q.1	DMA स्थानांतरण के प्रारंभ होने के बाद CPU का क्या कार्य है?
Ans	<p>✗ 1. यह स्थानांतरित किए गए प्रत्येक बाइट को सक्रिय रूप से प्रबंधित करता है।</p> <p>✗ 2. DMA स्थानांतरण पूरा होने तक यह निष्क्रिय रहता है।</p> <p>✗ 3. यह संपूर्ण डेटा स्थानांतरण में भूमिका निभाता है।</p> <p>✓ 4. जब तक स्थानांतरण का कार्य, DMA नियंत्रक द्वारा नियंत्रित किया जाता है, तब तक यह अन्य कार्य करने के लिए स्वतंत्र होता है।</p>

Question ID :	6306801147339
Option 1 ID :	6306804509485
Option 2 ID :	6306804509486
Option 3 ID :	6306804509488
Option 4 ID :	6306804509487
Status :	Not Answered
Chosen Option :	--

Q.2	व्यापक डेटा संग्रह के प्रबंधन और प्रश्नों (queries) को निष्पादित करने के लिए किस एप्लीकेशन सॉफ्टवेयर का उपयोग किया जाता है?
Ans	<p>✗ 1. एंटीवायरस सॉफ्टवेयर</p> <p>✗ 2. वर्ड प्रोसेसिंग सॉफ्टवेयर</p> <p>✗ 3. पेंट</p> <p>✓ 4. डेटाबेस मैनेजमेंट सिस्टम सॉफ्टवेयर</p>

Question ID :	6306801147343
Option 1 ID :	6306804509503
Option 2 ID :	6306804509501
Option 3 ID :	6306804550266
Option 4 ID :	6306804509502
Status :	Answered
Chosen Option :	4

Q.3	सिमेट्रिक एन्क्रिप्शन (symmetric encryption) में, डेटा को एन्क्रिप्ट और डिक्लिप्ट करने के लिए कितनी कुंजियों (keys) का उपयोग किया जाता है?
Ans	<input checked="" type="checkbox"/> 1. तीन कुंजी <input checked="" type="checkbox"/> 2. दो कुंजी <input checked="" type="checkbox"/> 3. एक कुंजी <input checked="" type="checkbox"/> 4. एक भी कुंजी नहीं

Question ID :	6306801148919
Option 1 ID :	6306804515742
Option 2 ID :	6306804515741
Option 3 ID :	6306804515740
Option 4 ID :	6306804515743
Status :	Not Answered
Chosen Option :	--

Q.4	निम्नलिखित में से कौन-सा विकल्प, ब्रॉडबैंड और डायल-अप इंटरनेट कनेक्शन के बीच प्राथमिक अंतर का सबसे अच्छा वर्णन करता है?
Ans	<input checked="" type="checkbox"/> 1. डायल-अप एक टेलीफोन लाइन का उपयोग करता है, जबकि ब्रॉडबैंड हायर स्पीड (higher speeds) के लिए विभिन्न तकनीकों का उपयोग करता है। <input checked="" type="checkbox"/> 2. डायल-अप के लिए केबल कनेक्शन की आवश्यकता होती है, जबकि ब्रॉडबैंड के लिए नहीं होती। <input checked="" type="checkbox"/> 3. ब्रॉडबैंड केवल शहरी क्षेत्रों में उपलब्ध है, जबकि डायल-अप प्रत्येक क्षेत्र में उपलब्ध है। <input checked="" type="checkbox"/> 4. ब्रॉडबैंड, डायल-अप से धीमा होता है।

Question ID :	6306801148419
Option 1 ID :	6306804513755
Option 2 ID :	6306804513757
Option 3 ID :	6306804513756
Option 4 ID :	6306804513754
Status :	Answered
Chosen Option :	1

Q.5	Ctrl + V शॉर्टकट कुंजी का क्या कार्य है?
Ans	<input checked="" type="checkbox"/> 1. कॉपी किए गए कंटेंट को पेस्ट करना <input checked="" type="checkbox"/> 2. डॉक्यूमेंट को सेव करना <input checked="" type="checkbox"/> 3. सेलेक्ट किए गए कंटेंट को कट (cut) करना <input checked="" type="checkbox"/> 4. किसी डॉक्यूमेंट में टेक्स्ट को खोजना

Question ID :	6306801147368
Option 1 ID :	6306804509599
Option 2 ID :	6306804509597
Option 3 ID :	6306804509596
Option 4 ID :	6306804509598
Status :	Answered
Chosen Option :	1

Q.6	एमाज़ोन (Amazon) किस प्रकार के ई-कॉमर्स मॉडल का उदाहरण है?
Ans	<input type="checkbox"/> 1. B2B (व्यवसाय से व्यवसाय)
	<input type="checkbox"/> 2. C2B (उपभोक्ता से व्यवसाय)
	<input type="checkbox"/> 3. C2C (उपभोक्ता से उपभोक्ता)
	<input checked="" type="checkbox"/> 4. B2C (व्यवसाय से उपभोक्ता)

Question ID :	6306801160842
Option 1 ID :	6306804562779
Option 2 ID :	6306804562782
Option 3 ID :	6306804562780
Option 4 ID :	6306804562781
Status :	Answered
Chosen Option :	4

Q.7	निम्नलिखित में से कौन-सा प्रोटोकॉल सामान्यतः WAN में डेटा एनकैप्सुलेशन (data encapsulation) के लिए उपयोग किया जाता है?
Ans	<input type="checkbox"/> 1. ईथरनेट (Ethernet)
	<input type="checkbox"/> 2. टीसीपी/आईपी (TCP/IP)
	<input type="checkbox"/> 3. वाई-फाई (Wi-Fi)
	<input checked="" type="checkbox"/> 4. हाई-लेवल डेटा लिंक कंट्रोल (High-Level Data Link Control)

Question ID :	6306801158369
Option 1 ID :	6306804552782
Option 2 ID :	6306804552781
Option 3 ID :	6306804552784
Option 4 ID :	6306804552783
Status :	Answered
Chosen Option :	2

Q.8	QR कोड में QR का पूर्ण रूप क्या है?
Ans	<input checked="" type="checkbox"/> 1. Quick Response (क्विक रिस्पान्स)
	<input type="checkbox"/> 2. Quick Resolution (क्विक रेजोल्यूशन)
	<input type="checkbox"/> 3. Query Response (क्वेरी रिस्पान्स)
	<input type="checkbox"/> 4. Quantum Read (क्वांटम रीड)

Question ID :	6306801161059
Option 1 ID :	6306804563640
Option 2 ID :	6306804563639
Option 3 ID :	6306804563641
Option 4 ID :	6306804563642
Status :	Answered
Chosen Option :	1

Q.9	कंप्यूटर सिस्टम में ROM का एक अनिवार्य कार्य निम्नलिखित में से कौन-सा है?
Ans	<input checked="" type="checkbox"/> 1. गणनाएं करना
	<input checked="" type="checkbox"/> 2. बूट-अप प्रक्रियाओं के लिए डेटा को स्थायी रूप से संग्रहित करना
	<input checked="" type="checkbox"/> 3. उपयोगकर्ता द्वारा बनाई गई फ़ाइलों को संग्रहित करना
	<input checked="" type="checkbox"/> 4. डेटा को अस्थायी रूप से संग्रहित करना

Question ID :	6306801147330
Option 1 ID :	6306804509451
Option 2 ID :	6306804509450
Option 3 ID :	6306804509452
Option 4 ID :	6306804509449
Status :	Answered
Chosen Option :	2

Q.10	किस ब्राउज़र एक्सटेंशन का उपयोग संपूर्ण वेब पेज को ऑफ़लाइन उपयोग हेतु डाउनलोड करने के लिए किया जा सकता है?
Ans	<input checked="" type="checkbox"/> 1. वेब स्कैपबुक (Web ScrapBook)
	<input checked="" type="checkbox"/> 2. एडब्लॉक (AdBlock)
	<input checked="" type="checkbox"/> 3. इवरनोट (Evernote)
	<input checked="" type="checkbox"/> 4. ग्रामरली (Grammarly)

Question ID :	6306801149589
Option 1 ID :	6306804518394
Option 2 ID :	6306804518393
Option 3 ID :	6306804518396
Option 4 ID :	6306804518395
Status :	Answered
Chosen Option :	1

Q.11	एमएस वर्ड 2019 में डॉक्यूमेंट सेव ऐज (Save as) के लिए कीबोर्ड शॉर्टकट _____ है।
Ans	<input checked="" type="checkbox"/> 1. F10
	<input checked="" type="checkbox"/> 2. F11
	<input checked="" type="checkbox"/> 3. F12
	<input checked="" type="checkbox"/> 4. F9

Question ID :	6306801157811
Option 1 ID :	6306804550385
Option 2 ID :	6306804550387
Option 3 ID :	6306804550386
Option 4 ID :	6306804550384
Status :	Answered
Chosen Option :	3

Q.12	निम्नलिखित में से किसे चार्ल्स बैबेज (Charles Babbage) द्वारा डिज़ाइन किया गया पहला मैकेनिकल कंप्यूटर माना जाता है?
Ans	<input type="checkbox"/> 1. युनीवैक (UNIVAC)
	<input type="checkbox"/> 2. अबेकस (Abacus)
	<input checked="" type="checkbox"/> 3. एनालिटिकल इंजन (Analytical Engine)
	<input type="checkbox"/> 4. ऐनिएक (ENIAC)

Question ID :	6306801152355
Option 1 ID :	6306804529396
Option 2 ID :	6306804529394
Option 3 ID :	6306804529395
Option 4 ID :	6306804529393
Status :	Answered
Chosen Option :	2

Q.13	त्वरित संदेश भेजने (instant messaging) में गलतफहमियों को कम करने के लिए स्माइली या इमोजी का उपयोग कैसे किया जा सकता है?
Ans	<input type="checkbox"/> 1. गलत अर्थ निकाले जा सकने वाले शब्दों को बदलकर
	<input checked="" type="checkbox"/> 2. प्रेषक के लहजे या भावनात्मक इरादे को स्पष्ट करके
	<input type="checkbox"/> 3. प्रतिक्रिया देने की आवश्यकता को समाप्त करके
	<input type="checkbox"/> 4. संदेश के कंटेंट को छोटा करके

Question ID :	6306801160832
Option 1 ID :	6306804562741
Option 2 ID :	6306804562740
Option 3 ID :	6306804562742
Option 4 ID :	6306804562739
Status :	Answered
Chosen Option :	2

Q.14	विंडोज़ ओएस (Windows OS) में किसी फ़ाइल या फ़ोल्डर का नाम बदलने के लिए सामान्यतः निम्नलिखित में से कौन-सा कीबोर्ड शॉर्टकट उपयोग किया जाता है?
Ans	<input type="checkbox"/> 1. Ctrl + R
	<input checked="" type="checkbox"/> 2. F2
	<input type="checkbox"/> 3. Alt + Enter
	<input type="checkbox"/> 4. Ctrl + F5

Question ID :	6306801150227
Option 1 ID :	6306804520943
Option 2 ID :	6306804520944
Option 3 ID :	6306804540988
Option 4 ID :	6306804520945
Status :	Answered
Chosen Option :	2

Q.15	प्रिंट डायलॉग में कौन-सा ऑप्शन आपको वेब पेज को प्रिंट करने के बजाय डिजिटल फ़ाइल के रूप में सेव करने की सुविधा देता है?
Ans	<input checked="" type="checkbox"/> 1. सेलेक्ट प्रिंटर (Select printer)
	<input checked="" type="checkbox"/> 2. प्रिंट प्रीव्यू (Print preview)
	<input checked="" type="checkbox"/> 3. प्रिंट टू फाइल (Print to file)
	<input checked="" type="checkbox"/> 4. सेव ऐज़ पीडीएफ (Save as PDF)

Question ID :	6306801149600
Option 1 ID :	6306804518440
Option 2 ID :	6306804518439
Option 3 ID :	6306804518437
Option 4 ID :	6306804518438
Status :	Answered
Chosen Option :	4