

Sub Inspector in Delhi Police and Central Armed Police Forces Examination 2024 Paper I Exam

Roll Number	
Candidate Name	
Venue Name	
Exam Date	27/06/2024
Exam Time	4:00 PM - 6:00 PM
Subject	SICPO Paper I 2024

Section : General Intelligence and Reasoning

Q.1 उस विकल्प का चयन कीजिए, जो पाँचवें अक्षर-समूह से उसी प्रकार संबंधित है, जिस प्रकार दूसरा अक्षर-समूह, पहले अक्षर-समूह से संबंधित है और चौथा अक्षर-समूह, तीसरे अक्षर-समूह से संबंधित है।
ISLAND : ANDISL :: EITHER : HEREIT :: IMPACT : ?

- Ans
- 1. TCAPMI
 - 2. IPMCTA
 - 3. ACTIMP
 - 4. ICAPMT

Question ID : 630680416503
Option 1 ID : 6306801624776
Option 2 ID : 6306801624778
Option 3 ID : 6306801624775
Option 4 ID : 6306801624777

Status : Answered

Chosen Option : 3

Q.2 यदि 'P' का अर्थ '+' है, 'Q' का अर्थ 'x' है, 'R' का अर्थ '-' है और S का अर्थ = है, तो निम्नलिखित समीकरण में प्रश्न चिन्ह (?) के स्थान पर क्या आएगा?

[(18 S 5) Q 4] P 2 R 22 Q 3 S 24 R 9 = ?

- Ans
- 1. 77
 - 2. 63
 - 3. 89
 - 4. 82

Question ID : 630680411677
Option 1 ID : 6306801605544
Option 2 ID : 6306801605543
Option 3 ID : 6306801605546
Option 4 ID : 6306801605545

Status : Answered

Chosen Option : 1

Q.3 निम्नलिखित समीकरण में '?' के स्थान पर क्या आएगा, यदि '+' और '-' को आपस में बदल दिया जाए तथा 'x' और '÷' को भी आपस में बदल दिया जाए?
 $154 \times 11 - 24 \div 3 + 19 = ?$

- Ans
- 1. 71
 - 2. 62
 - 3. 67
 - 4. 54

Question ID : 630680343180
Option 1 ID : 6306801335095
Option 2 ID : 6306801335096
Option 3 ID : 6306801335093
Option 4 ID : 6306801335094
Status : Answered
Chosen Option : 3

Q.4 उस समुच्चय का चयन करें जिसकी संख्याएँ उसी तरह से संबंधित हैं जिस तरह निम्नलिखित समुच्चयों की संख्याएँ संबंधित हैं।

(नोट: संख्याओं को उसके घटक अंकों में तोड़े बिना, पूर्ण संख्याओं पर संक्रियाएँ की जानी चाहिए। उदाहरण के लिए संख्या 13 को लें - 13 पर संक्रियाएँ, जैसे कि 13 में जोड़ना/घटाना/गुणा करना आदि, की जा सकती हैं। 13 को 1 और 3 में तोड़ने और फिर 1 और 3 पर गणितीय संक्रियाएँ करने की अनुमति नहीं है)

(14, 28, 84)
(17, 34, 102)

- Ans
- 1. (21, 42, 136)
 - 2. (21, 42, 126)
 - 3. (20, 41, 126)
 - 4. (20, 41, 136)

Question ID : 630680344666
Option 1 ID : 6306801340975
Option 2 ID : 6306801340974
Option 3 ID : 6306801340976
Option 4 ID : 6306801340973
Status : Answered
Chosen Option : 2

Q.5 दिए गए संख्या-युग्मों में, पहली संख्या पर कुछ गणितीय संक्रियाओं को लागू करके दूसरी संख्या प्राप्त की जाती है। ऐसे संख्या-युग्म का चयन कीजिए, जिसमें संख्याएँ ठीक उसी प्रकार संबंधित हैं, जैसे दिए गए संख्या-युग्मों की संख्याएँ संबंधित हैं।

(नोट: संख्याओं को उनके घटक अंकों में तोड़े बिना संक्रियाएँ पूर्ण संख्याओं पर की जानी चाहिए। उदाहरण के लिए, 13 को लीजिए - 13 पर संक्रियाएँ जैसे कि 13 में जोड़ना/घटाना/गुणा करना आदि की जा सकती हैं। 13 को 1 और 3 में तोड़ना तथा फिर 1 और 3 पर गणितीय संक्रियाएँ करना अनुमत्य नहीं है।)

(45, 88)
(26, 50)

- Ans
- 1. (15, 32)
 - 2. (22, 42)
 - 3. (21, 41)
 - 4. (18, 36)

Question ID : 630680337273
Option 1 ID : 6306801311815
Option 2 ID : 6306801311814
Option 3 ID : 6306801311816
Option 4 ID : 6306801311813
Status : Answered
Chosen Option : 2

Q.6 अजय बिंदु A से गाड़ी चलाना शुरू करता है और दक्षिण की ओर 20 km गाड़ी चलाता है। फिर वह बाएँ मुड़ता है, 5 km गाड़ी चलाता है, बाएँ मुड़ता है और 30 km गाड़ी चलाता है। फिर वह दाएँ मुड़ता है और 8 km गाड़ी चलाता है। अंतिम बार वह दाएँ मुड़ता है, 10 km गाड़ी चलाता है और बिंदु Q पर रुकता है। अब बिंदु A पर दोबारा पहुँचने के लिए उसे कितनी दूरी (न्यूनतम दूरी) और किस दिशा की ओर गाड़ी चलानी चाहिए? (सभी मोड़ केवल 90° वाले मोड़ हैं।)

- Ans
- 1. पूर्व की ओर 13 km
 - 2. पश्चिम की ओर 13 km
 - 3. पश्चिम की ओर 5 km
 - 4. पश्चिम की ओर 8 km

Question ID : 630680416082

Option 1 ID : 6306801623094

Option 2 ID : 6306801623093

Option 3 ID : 6306801623091

Option 4 ID : 6306801623092

Status : Answered

Chosen Option : 2

Q.7 यदि + और - को आपस में बदल दिया जाए, साथ ही 8 और 6 को भी आपस में बदल दिया जाए, तो प्रश्नवाचक चिह्न (?) के स्थान पर क्या आएगा?
 $8 - 6 + 10 = ?$

- Ans
- 1. 6
 - 2. 4
 - 3. 7
 - 4. 5

Question ID : 630680411791

Option 1 ID : 6306801606000

Option 2 ID : 6306801606001

Option 3 ID : 6306801606002

Option 4 ID : 6306801605999

Status : Answered

Chosen Option : 2

Q.8 निम्नलिखित में से कौन-सी संख्या दी गई श्रृंखला में प्रश्न चिह्न (?) को प्रतिस्थापित करेगी?
324, 722, 1200, ?, 2420

- Ans
- 1. 1632
 - 2. 1736
 - 3. 1764
 - 4. 1634

Question ID : 630680412019

Option 1 ID : 6306801606912

Option 2 ID : 6306801606911

Option 3 ID : 6306801606914

Option 4 ID : 6306801606913

Status : Not Answered

Chosen Option : --

Q.9 अदिति अपने घर से निकलती है और 38 m पश्चिम की ओर चलती है और फिर दाएँ मुड़ती है और 19 m चलती है। अब वह दाएँ मुड़ती है और 25 m चलती है। फिर वह बाएँ मुड़ती है और 21 m चलती है। वह फिर से बाएँ मुड़ती है और 38 m चलती है। वह अंतिम बाएँ मुड़ती है और स्थान X पर रुकने के लिए 25 m चलती है। वह उस खंभे से कितनी दूरी पर है जो उसके घर से 15 m उत्तर में है? (मान लीजिए कि सभी मोड़ केवल 90 डिग्री के मोड़ हैं।)

- Ans
- 1. 49 m
 - 2. 38 m
 - 3. 57 m
 - 4. 51 m

Question ID : 630680416276
Option 1 ID : 6306801623869
Option 2 ID : 6306801623867
Option 3 ID : 6306801623870
Option 4 ID : 6306801623868
Status : Not Answered
Chosen Option : --

Q.10 एक कूट भाषा में 'ROAD' को 'QKZZ' के रूप में लिखा जाता है और 'BAND' को 'AWMZ' के रूप में लिखा जाता है। इसी कूट भाषा में 'TASK' को कैसे लिखा जाएगा?

- Ans
- 1. SRGW
 - 2. GRSW
 - 3. SWRG
 - 4. RSWG

Question ID : 630680416686
Option 1 ID : 6306801625507
Option 2 ID : 6306801625508
Option 3 ID : 6306801625509
Option 4 ID : 6306801625510
Status : Answered
Chosen Option : 3

Q.11 उस समुच्चय का चयन करें जिसकी संख्याएं उसी तरह से संबंधित हैं जिस तरह निम्नलिखित समुच्चयों की संख्याएं संबंधित हैं।

(नोट: संख्याओं को उसके घटक अंकों में तोड़े बिना, पूर्ण संख्याओं पर संक्रियाएं की जानी चाहिए। उदाहरण के लिए संख्या 13 को लें - 13 पर संक्रियाएं, जैसे कि 13 में जोड़ना/घटाना/गुणा करना आदि, की जा सकती हैं। 13 को 1 और 3 में तोड़ने और फिर 1 और 3 पर गणितीय संक्रियाएं करने की अनुमति नहीं है।)

(288, 144, 24)
(432, 216, 36)

- Ans
- 1. (504, 250, 42)
 - 2. (504, 252, 42)
 - 3. (504, 252, 44)
 - 4. (506, 252, 42)

Question ID : 630680344674
Option 1 ID : 6306801341006
Option 2 ID : 6306801341008
Option 3 ID : 6306801341005
Option 4 ID : 6306801341007
Status : Answered
Chosen Option : 2

Q.12 अंग्रेजी वर्णमाला क्रम पर आधारित, निम्नलिखित चार अक्षर-समूहों में से तीन किसी निश्चित तरीके से समान हैं और इस प्रकार एक समूह बनाते हैं। किस अक्षर-समूह का संबंध उस समूह से नहीं है? (नोट: असंगत अक्षर-समूह, व्यंजनों/स्वरों की संख्या या इस अक्षर-समूह में उनकी स्थिति पर आधारित नहीं है।)

- Ans
- 1. DGI
 - 2. ORT
 - 3. FIK
 - 4. JMP

Question ID : 630680416089
Option 1 ID : 6306801623119
Option 2 ID : 6306801623122
Option 3 ID : 6306801623120
Option 4 ID : 6306801623121

Status : Answered
Chosen Option : 4

Q.13 उस विकल्प का चयन करें जो पांचवें अक्षर-समूह से उसी प्रकार संबंधित है जिस प्रकार दूसरा अक्षर-समूह पहले अक्षर-समूह से संबंधित है और चौथा अक्षर-समूह तीसरे अक्षर-समूह से संबंधित है।

JOCK : GLZH :: HURT : EROQ :: SPIN : ?

- Ans
- 1. PNEL
 - 2. QNFK
 - 3. QMEK
 - 4. PMFK

Question ID : 630680416491
Option 1 ID : 6306801624728
Option 2 ID : 6306801624729
Option 3 ID : 6306801624727
Option 4 ID : 6306801624730

Status : Answered
Chosen Option : 4

Q.14 एक कूट भाषा में, 'POET' को '14-13-3-18' और 'SOON' को '17-13-13-12' के रूप में कूटबद्ध किया जाता है। उसी भाषा में 'WRITE' को कैसे कूटबद्ध किया जाएगा?

- Ans
- 1. 19-16-7-18-5
 - 2. 19-16-5-18-3
 - 3. 21-16-7-9-3
 - 4. 21-16-7-18-3

Question ID : 630680302862
Option 1 ID : 6306801178112
Option 2 ID : 6306801178113
Option 3 ID : 6306801178111
Option 4 ID : 6306801178110

Status : Answered
Chosen Option : 4

Q.15 यदि 'P' का अर्थ '+' है, 'Q' का अर्थ '×' है, 'R' का अर्थ '+' है और S का अर्थ '-' है, तो निम्नलिखित समीकरण में प्रश्न चिन्ह (?) के स्थान पर क्या आएगा?

$$(121 S 46) R 19 Q 5 R 126 P 6 S 38 = ?$$

Ans 1. 159

2. 139

3. 153

4. 144

Question ID : 630680411674

Option 1 ID : 6306801605532

Option 2 ID : 6306801605534

Option 3 ID : 6306801605531

Option 4 ID : 6306801605533

Status : Answered

Chosen Option : 3

Q.16 A, B, C, D, E और F एक परिवार के छह सदस्य हैं। परिवार में माता-पिता, उनके बच्चे और पोते-पोतियाँ हैं। A, C का पुत्र है और E, A की पुत्री है। D, F की पुत्री है जो E की माता है। निम्नलिखित में से कौन-सा युग्म माता-पिता के पोते-पोतियों का है?

Ans 1. A, E

2. A, D

3. D, E

4. C, E

Question ID : 630680102737

Option 1 ID : 630680399207

Option 2 ID : 630680399208

Option 3 ID : 630680399210


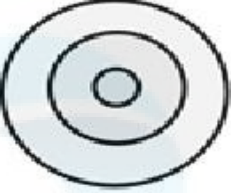
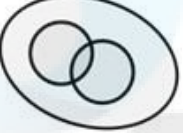
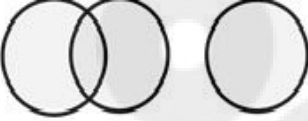
Option 4 ID : 630680399209

Status : Answered

Chosen Option : 3

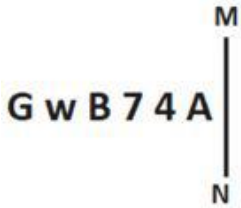
Q.17 उस वेन आरेख का चयन करें जो निम्नलिखित वर्गों के बीच के संबंध को सर्वोत्तम रूप से दर्शाता है।
भारत, तमिलनाडु, चेन्नई

Ans


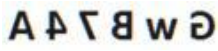
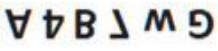

- ✗ 1. 
- ✓ 2. 
- ✗ 3. 
- ✗ 4. 

Question ID : 630680417337
Option 1 ID : 6306801628112
Option 2 ID : 6306801628111
Option 3 ID : 6306801628113
Option 4 ID : 6306801628114
Status : Answered
Chosen Option : 2

Q.18 जब दर्पण को नीचे दर्शाए गए अनुसार MN पर रखा जाता है तो दी गई आकृति के सही दर्पण प्रतिबिंब का चयन कीजिए।



Ans

- ✗ 1. 
- ✓ 2. 
- ✗ 3. 
- ✗ 4. 

Question ID : 630680356641
Option 1 ID : 6306801388566
Option 2 ID : 6306801388568
Option 3 ID : 6306801388567
Option 4 ID : 6306801388565
Status : Answered
Chosen Option : 2

Q.19 यदि 'A' का अर्थ '+' है, 'B' का अर्थ '×' है, 'C' का अर्थ '+' है और 'D' का अर्थ '-' है, तो निम्नलिखित समीकरण में प्रश्न चिह्न (?) के स्थान पर क्या आएगा?
905 B 2 C 47 D 903 A 3 = ?

Ans ✓ 1. 1556

✗ 2. 1655

✗ 3. 1165

✗ 4. 1155

Question ID : 630680411708

Option 1 ID : 6306801605667

Option 2 ID : 6306801605668

Option 3 ID : 6306801605670

Option 4 ID : 6306801605669

Status : Answered

Chosen Option : 1

Q.20 उस समुच्चय का चयन करें जिसकी संख्याएं उसी तरह से संबंधित हैं जिस तरह निम्नलिखित समुच्चयों की संख्याएं संबंधित हैं।

(नोट: संख्याओं को उसके घटक अंकों में तोड़े बिना, पूर्ण संख्याओं पर संक्रियाएं की जानी चाहिए। उदाहरण के लिए संख्या 13 को लें - 13 पर संक्रियाएं, जैसे कि 13 में जोड़ना/घटाना/गुणा करना आदि, की जा सकती हैं। 13 को 1 और 3 में तोड़ने और फिर 1 और 3 पर गणितीय संक्रियाएं करने की अनुमति नहीं है)
(16, 4, 20)
(28, 7, 35)

Ans ✗ 1. (50, 13, 65)

✗ 2. (50, 13, 60)

✗ 3. (52, 13, 60)

✓ 4. (52, 13, 65)

Question ID : 630680294012

Option 1 ID : 6306801143862

Option 2 ID : 6306801143860

Option 3 ID : 6306801143861

Option 4 ID : 6306801143863

Status : Answered

Chosen Option : 4

Q.21 यदि 'P' का अर्थ '+' है, 'Q' का अर्थ '×' है, 'R' का अर्थ '+' है और S का अर्थ '-' है, तो निम्नलिखित समीकरण में प्रश्न चिह्न (?) के स्थान पर क्या आएगा?

45 R (26 Q 2) P 4 R 19 S 32 = ?

Ans ✗ 1. 40

✓ 2. 45

✗ 3. 35

✗ 4. 50

Question ID : 630680411680

Option 1 ID : 6306801605556

Option 2 ID : 6306801605557

Option 3 ID : 6306801605555

Option 4 ID : 6306801605558

Status : Answered

Chosen Option : 2

Q.22 एक कूट भाषा में, 'BASIC' को 101 के रूप में कूटबद्ध किया जाता है और 'MAGIC' को 102 के रूप में कूटबद्ध किया जाता है। उसी भाषा में 'LIGHT' को किस प्रकार कूटबद्ध किया जाएगा?

- Ans
- 1. 86
 - 2. 85
 - 3. 82
 - 4. 79

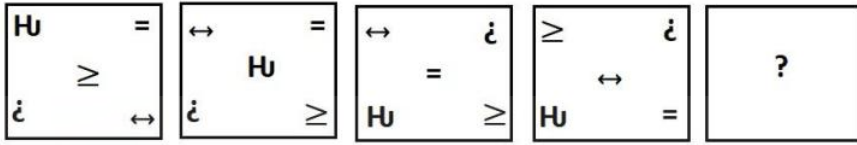
Question ID : 630680416660
Option 1 ID : 6306801625406
Option 2 ID : 6306801625405
Option 3 ID : 6306801625404
Option 4 ID : 6306801625403
Status : Answered
Chosen Option : 4

Q.23 एक कूट भाषा में, 'PIG' को 29 के रूप में कूटबद्ध किया जाता है और 'COW' को 38 के रूप में कूटबद्ध किया जाता है। उसी भाषा में 'CAMEL' को किस प्रकार कूटबद्ध किया जाएगा?

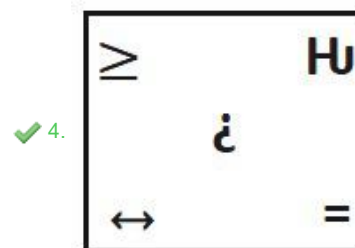
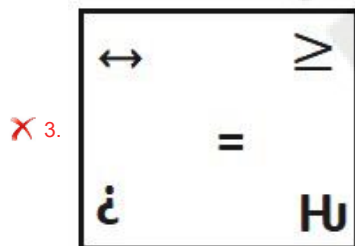
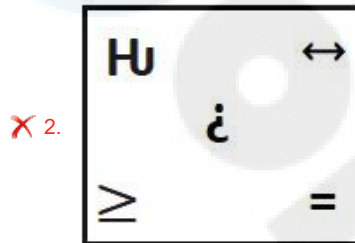
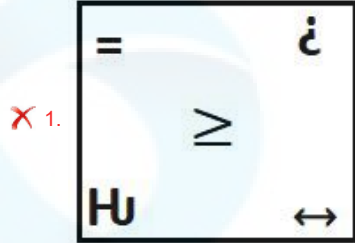
- Ans
- 1. 31
 - 2. 27
 - 3. 29
 - 4. 22

Question ID : 630680416662
Option 1 ID : 6306801625414
Option 2 ID : 6306801625412
Option 3 ID : 6306801625413
Option 4 ID : 6306801625411
Status : Answered
Chosen Option : 1

Q.24 दिए गए विकल्पों में से उस आकृति का चयन कीजिए, जो निम्नलिखित श्रृंखला में प्रश्न चिह्न (?) को तार्किक रूप से प्रतिस्थापित कर सकती है।



Ans



Question ID : 630680867761

Option 1 ID : 6306803398688

Option 2 ID : 6306803398690

Option 3 ID : 6306803398689

Option 4 ID : 6306803398691

Status : Answered

Chosen Option : 4

Q.25 कौनसा अक्षर-समूह दी गई श्रृंखला को पूरा करेगा?
FPW, FPPPPWW, FFFFPPPPWWWW, _____

- Ans 1. FFFFFFFFFPPPPPPWWWW
2. FFFFFFFFFPPPPPPWWWWW
3. FFFFFFFFFPPPPPPWWWW
4. FFFFFFFFFPPPPPPPPWWWWW

Question ID : 630680416700
Option 1 ID : 6306801625564
Option 2 ID : 6306801625565
Option 3 ID : 6306801625563
Option 4 ID : 6306801625566
Status : Answered
Chosen Option : 4

Q.26 उस विकल्प का चयन करें, जो दिए गए शब्दों के उस सही क्रम को दर्शाता है, जिसमें वे अंग्रेज़ी शब्दकोश में दिखाई देंगे।

1. Dermatology
2. Derogation
3. Derivative
4. Derailed
5. Dermestid
6. Deregulation

- Ans 1. 4, 3, 2, 1, 5, 6
2. 4, 6, 3, 2, 1, 5
3. 4, 6, 1, 5, 3, 2
4. 4, 6, 3, 1, 5, 2

Question ID : 630680417409
Option 1 ID : 6306801628402
Option 2 ID : 6306801628399
Option 3 ID : 6306801628401
Option 4 ID : 6306801628400
Status : Answered
Chosen Option : 4

Q.27 निम्नलिखित में से कौन-सी संख्या दी गई श्रृंखला में प्रश्न चिह्न (?) को प्रतिस्थापित करेगी?
29, 30, 26, 35, 19, ?

- Ans 1. 42
2. 44
3. 43
4. 41

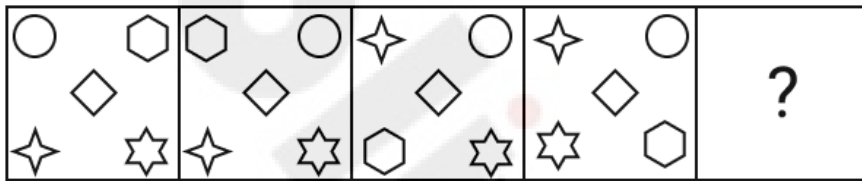
Question ID : 630680411771
Option 1 ID : 6306801605920
Option 2 ID : 6306801605922
Option 3 ID : 6306801605921
Option 4 ID : 6306801605919
Status : Answered
Chosen Option : 2

Q.28 निम्नलिखित में से कौन-सा पद दी गई श्रृंखला में प्रश्न-चिह्न (?) को प्रतिस्थापित करेगा?
CJS, DKT, ELU, ?

- Ans 1. DRT
 2. DHB
 3. FMV
 4. DLO

Question ID : 630680417065
 Option 1 ID : 6306801627023
 Option 2 ID : 6306801627025
 Option 3 ID : 6306801627024
 Option 4 ID : 6306801627026
 Status : Answered
 Chosen Option : 3

Q.29 उस विकल्प आकृति की पहचान कीजिए जिसे प्रश्न चिह्न (?) के स्थान पर रखने पर श्रृंखला तार्किक रूप से पूरी हो जाएगी।



Ans

- 1.
- 2.
- 3.
- 4.

Question ID : 630680867766
 Option 1 ID : 6306803398708
 Option 2 ID : 6306803398711
 Option 3 ID : 6306803398709
 Option 4 ID : 6306803398710
 Status : Answered
 Chosen Option : 4

Q.30 एक निश्चित कूट भाषा में 'MAP' को '102' और 'ROT' को '56' के रूप में लिखा जाता है। उस भाषा में 'SEC' कैसे लिखा जाएगा?

Ans 1. 112

2. 84

3. 98

4. 108

Question ID : 630680416590

Option 1 ID : 6306801625125

Option 2 ID : 6306801625123

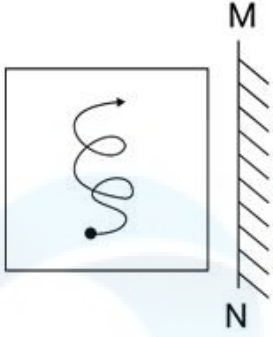
Option 3 ID : 6306801625126

Option 4 ID : 6306801625124

Status : Answered

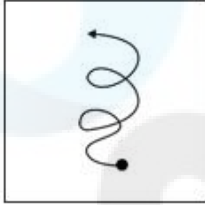
Chosen Option : 4

Q.31 जब दर्पण को नीचे दर्शाए गए अनुसार MN रेखा पर रखा जाता है तो दी गई आकृति के सही दर्पण प्रतिबिंब का चयन कीजिए।

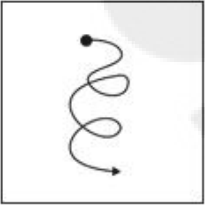


Ans

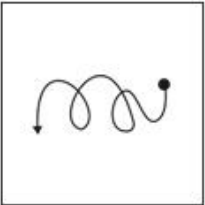
✓ 1.



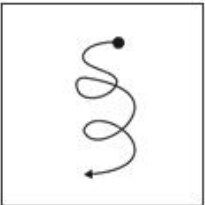
✗ 2.



✗ 3.



✗ 4.



Question ID : 630680296905

Option 1 ID : 6306801155265

Option 2 ID : 6306801155263

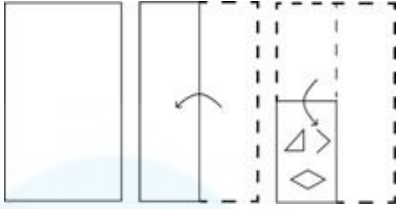
Option 3 ID : 6306801155266

Option 4 ID : 6306801155264

Status : Answered

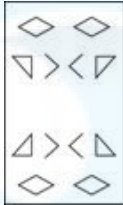
Chosen Option : 1

Q.32 निम्नलिखित आकृतियों में एक कागज़ को मोड़ने का क्रम और मुड़े हुए कागज़ को काटने का तरीका दर्शाया गया है। खोले जाने पर यह कागज़ कैसा दिखाई देगा?



Ans

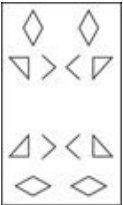
✓ 1.



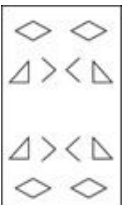
✗ 2.



✗ 3.



✗ 4.



Question ID : 630680344226

Option 1 ID : 6306801339219

Option 2 ID : 6306801339220

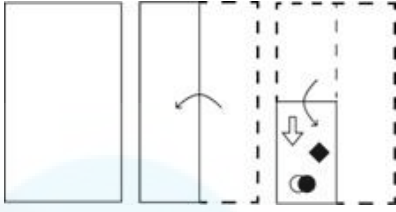
Option 3 ID : 6306801339218

Option 4 ID : 6306801339217

Status : Answered

Chosen Option : 1

Q.33 निम्नलिखित आकृतियों में एक कागज़ को मोड़ने का क्रम और मुड़े हुए कागज़ को काटने का तरीका दर्शाया गया है। खोले जाने पर यह कागज़ कैसा दिखाई देगा?



Ans

- ✗ 1.
- ✗ 2.
- ✗ 3.
- ✓ 4.

Question ID : 630680344222
 Option 1 ID : 6306801339202
 Option 2 ID : 6306801339201
 Option 3 ID : 6306801339204
 Option 4 ID : 6306801339203
 Status : Answered
 Chosen Option : 4

Q.34 निम्नलिखित में से कौन-सा अक्षर समूह प्रश्न-चिह्न (?) का स्थान लेगा और दी गई श्रृंखला को पूरा करेगा?
 TDQR, SFNV, ?, QJHD, PLEH

- Ans ✗ 1. IDBZ
 ✗ 2. FJCQ
 ✗ 3. RGJZ
 ✓ 4. RHKZ

Question ID : 630680417191
 Option 1 ID : 6306801627527
 Option 2 ID : 6306801627529
 Option 3 ID : 6306801627528
 Option 4 ID : 6306801627530
 Status : Answered
 Chosen Option : 4

Q.35 गणितीय चिह्नों का निम्नलिखित में से कौन-सा परस्पर विनिमय दिए गए समीकरण को सही (संतुलित) कर देगा?

$$56 \div 8 - 14 \times 2 + 12 = 23$$

Ans 1. + और

2. - और +

3. - और

4. + और

Question ID : 630680411963

Option 1 ID : 6306801606690

Option 2 ID : 6306801606688

Option 3 ID : 6306801606689

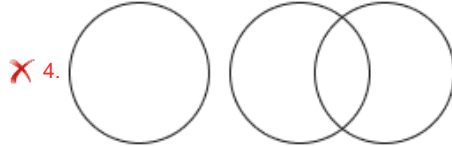
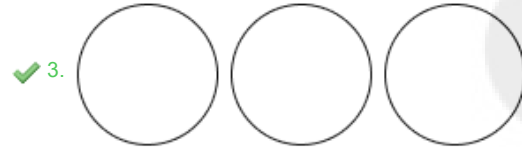
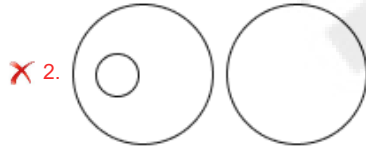
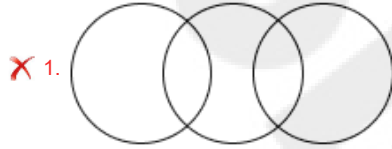
Option 4 ID : 6306801606687

Status : Answered

Chosen Option : 2

Q.36 उस वेन आरेख का चयन कीजिए जो निम्नलिखित वर्गों के बीच संबंध को सर्वोत्तम रूप से दर्शाता है।
मैकेनिक, चपरासी, वकील

Ans



Question ID : 630680869737

Option 1 ID : 6306803406315

Option 2 ID : 6306803406316

Option 3 ID : 6306803406317

Option 4 ID : 6306803406314

Status : Answered

Chosen Option : 3

Q.37 दो कथन दिए गए हैं, जिनके बाद दो निष्कर्ष I और II दिए गए हैं। कथनों को सत्य मानते हुए, भले ही वे सामान्य रूप से ज्ञात तथ्यों से भिन्न प्रतीत होते हों, निर्धारित करें कि कौन-सा/से निष्कर्ष कथनों का तार्किक रूप से अनुसरण करता है/करते हैं।

कथन:

सभी पंख सफेद हैं।

कोई सफेद छड़ी नहीं है।

निष्कर्ष:

I. कुछ पंख छड़ी हैं।

II. कोई छड़ी सफेद नहीं है।

- Ans
- 1. न तो निष्कर्ष I अनुसरण करता है और न ही II अनुसरण करता है
 - 2. निष्कर्ष I और II दोनों अनुसरण करते हैं
 - 3. केवल निष्कर्ष II अनुसरण करता है
 - 4. केवल निष्कर्ष I अनुसरण करता है

Question ID : 630680417101

Option 1 ID : 6306801627170

Option 2 ID : 6306801627169

Option 3 ID : 6306801627168

Option 4 ID : 6306801627167

Status : Answered

Chosen Option : 3

Q.38 P, Q, R, S, T और U एक वृत्ताकार मेज के चारों ओर केंद्र की ओर मुख करके बैठे हैं। T और R के बीच केवल एक व्यक्ति बैठा है। केवल एक व्यक्ति R और U के बीच बैठा है। U और Q के बीच केवल दो व्यक्ति बैठे हैं। S, T के ठीक बाएं बैठा है। P के बाएं से दूसरे स्थान पर कौन बैठा है?

- Ans
- 1. S
 - 2. R
 - 3. U
 - 4. Q

Question ID : 630680416853

Option 1 ID : 6306801626176

Option 2 ID : 6306801626175

Option 3 ID : 6306801626177

Option 4 ID : 6306801626178

Status : Answered

Chosen Option : 4

Q.39 एक निश्चित कूट भाषा में, 'FOX' को '14' के रूप में कूटबद्ध किया जाता है और 'GOAT' को '21' के रूप में कूटबद्ध किया जाता है। उसी भाषा में 'TOMMY' को किस प्रकार कूटबद्ध किया जाएगा?

- Ans
- 1. 45
 - 2. 35
 - 3. 25
 - 4. 30

Question ID : 630680312596

Option 1 ID : 6306801216268

Option 2 ID : 6306801216266

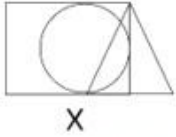
Option 3 ID : 6306801216265

Option 4 ID : 6306801216267

Status : Not Answered

Chosen Option : --

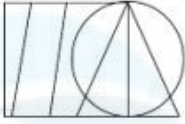
Q.40 उस विकल्प का चयन कीजिए, जिसमें दी गई आकृति (X) उसके भाग के रूप में सन्नहित है। (घूर्णन की अनुमति नहीं है।)



X

Ans

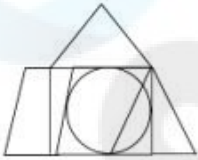
✗ 1.



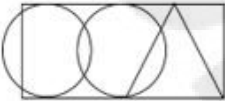
✗ 2.



✓ 3.



✗ 4.



Question ID : 630680305493

Option 1 ID : 6306801188352

Option 2 ID : 6306801188350

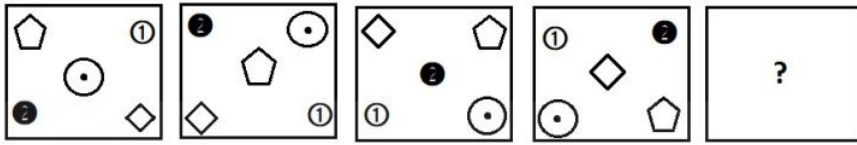
Option 3 ID : 6306801188349

Option 4 ID : 6306801188351

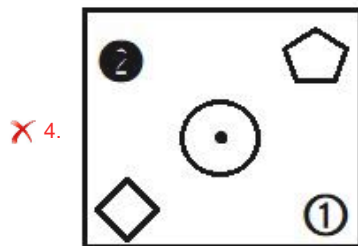
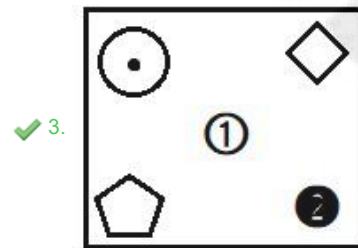
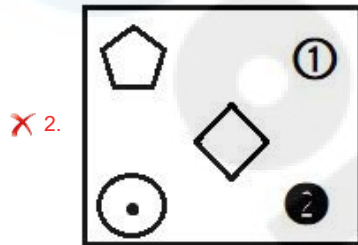
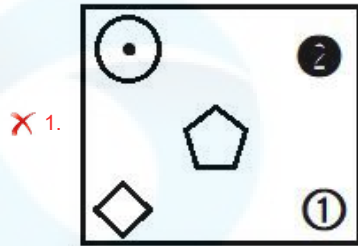
Status : Answered

Chosen Option : 3

Q.41 दिए गए विकल्पों में से उस आकृति का चयन कीजिए, जो निम्नलिखित श्रृंखला में प्रश्न चिह्न (?) को तार्किक रूप से प्रतिस्थापित कर सकती है।



Ans



Question ID : 630680867759

Option 1 ID : 6306803398681

Option 2 ID : 6306803398682

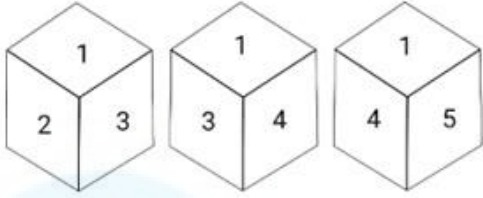
Option 3 ID : 6306803398683

Option 4 ID : 6306803398680

Status : Answered

Chosen Option : 3

Q.42 एक ही पासे की तीन अलग-अलग स्थितियाँ दिखाई गई हैं। '2' दर्शाने वाले फलक के विपरीत फलक पर संख्या ज्ञात कीजिए।



- Ans
- 1. 6
 - 2. 1
 - 3. 4
 - 4. 5

Question ID : 630680321647

Option 1 ID : 6306801251285

Option 2 ID : 6306801251286

Option 3 ID : 6306801251287

Option 4 ID : 6306801251288

Status : Answered

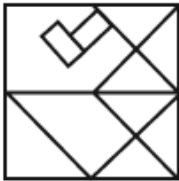
Chosen Option : 3

Q.43 उस विकल्प आकृति का चयन कीजिए जिसमें दी गई आकृति उसके एक भाग के रूप में अंतर्निहित हो (घुमाने की अनुमति नहीं है)।



Ans

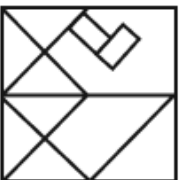
1.



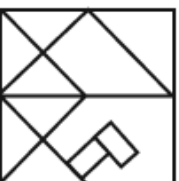
2.



3.



4.



Question ID : 630680867780

Option 1 ID : 6306803398765

Option 2 ID : 6306803398766

Option 3 ID : 6306803398767

Option 4 ID : 6306803398764

Status : Answered

Chosen Option : 1

Q.44 उस समुच्चय का चयन करें जिसकी संख्याएं उसी तरह से संबंधित हैं जिस तरह निम्नलिखित समुच्चयों की संख्याएं संबंधित हैं।

(नोट: संख्याओं को उसके घटक अंकों में तोड़े बिना, पूर्ण संख्याओं पर संक्रियाएं की जानी चाहिए। उदाहरण के लिए संख्या 13 को लें - 13 पर संक्रियाएं, जैसे कि 13 में जोड़ना/घटाना/गुणा करना आदि, की जा सकती हैं। 13 को 1 और 3 में तोड़ने और फिर 1 और 3 पर गणितीय संक्रियाएं करने की अनुमति नहीं है।)

(21, 3, 15)

(49, 7, 35)

- Ans
- 1. (85, 13, 60)
 - 2. (84, 12, 62)
 - 3. (85, 12, 60)
 - 4. (84, 12, 60)

Question ID : 630680344668
Option 1 ID : 6306801340982
Option 2 ID : 6306801340981
Option 3 ID : 6306801340984
Option 4 ID : 6306801340983
Status : Answered
Chosen Option : 4

Q.45 उस विकल्प का चयन कीजिए, जो दिए गए शब्दों के सही क्रम को निरूपित करता है, जैसे कि वे अंग्रेजी शब्दकोश में दिखाई देते हैं।

1. Temperament
2. Tenure
3. Tenant
4. Tender
5. Temptation
6. Temperature

- Ans
- 1. 1, 6, 5, 2, 4, 3
 - 2. 1, 6, 5, 3, 4, 2
 - 3. 1, 6, 5, 2, 3, 4
 - 4. 1, 6, 5, 3, 2, 4

Question ID : 630680417391
Option 1 ID : 6306801628329
Option 2 ID : 6306801628327
Option 3 ID : 6306801628330
Option 4 ID : 6306801628328
Status : Answered
Chosen Option : 2

Q.46 दिए गए विकल्पों में से उस संख्या का चयन करें जो निम्नलिखित श्रृंखला में प्रश्न चिह्न (?) के स्थान पर आ सकती है।

115, 140, 160, 175, 185, ?

- Ans
- 1. 192
 - 2. 193
 - 3. 195
 - 4. 190

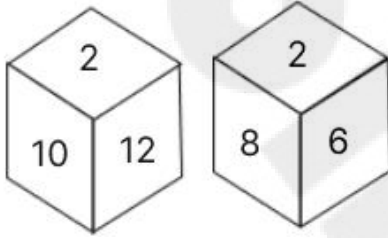
Question ID : 630680411930
Option 1 ID : 6306801606556
Option 2 ID : 6306801606558
Option 3 ID : 6306801606555
Option 4 ID : 6306801606557
Status : Answered
Chosen Option : 4

Q.47 निम्नलिखित में से कौन-सी संख्या दी गई श्रृंखला में प्रश्न चिह्न (?) को प्रतिस्थापित करेगी?
12, 13, 30, 99, 412, ?

- Ans 1. 2065
 2. 2055
 3. 2085
 4. 2075

Question ID : 630680411773
Option 1 ID : 6306801605928
Option 2 ID : 6306801605927
Option 3 ID : 6306801605930
Option 4 ID : 6306801605929
Status : Answered
Chosen Option : 3

Q.48 एक पासे के फलकों पर 2, 4, 6, 8, 10 और 12 संख्याएँ अंकित हैं। उसी पासे की दो स्थितियाँ नीचे दी गई हैं। 4 वाले फलक के विपरीत कौन-सा फलक है?



- Ans 1. 6
 2. 10
 3. 2
 4. 12

Question ID : 630680867790
Option 1 ID : 6306803398807
Option 2 ID : 6306803398804
Option 3 ID : 6306803398806
Option 4 ID : 6306803398805
Status : Answered
Chosen Option : 3

Q.49 एक निश्चित कूट भाषा में,
'A + B' का अर्थ है 'A, B की माता है'
'A - B' का अर्थ है 'A, B का पति है'
'A x B' का अर्थ है 'B, A की बहन है'
'A ÷ B' का अर्थ है 'A, B का पिता है'
उपर्युक्त के आधार पर, यदि 'D ÷ E - C + A x B' है, तो B किस प्रकार E से संबंधित है?

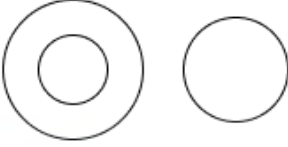
- Ans 1. माता
 2. पुत्र
 3. पुत्री
 4. पत्नी

Question ID : 630680296563
Option 1 ID : 6306801153906
Option 2 ID : 6306801153903
Option 3 ID : 6306801153904
Option 4 ID : 6306801153905
Status : Answered
Chosen Option : 3

Q.50 उस वेन आरेख का चयन कीजिए जो निम्नलिखित वर्गों के बीच संबंध को सर्वोत्तम रूप से दर्शाता है।
मनुष्य, चित्रकार, पुरुष

Ans

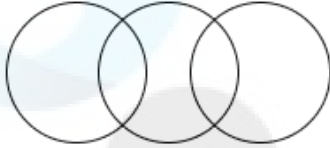
✗ 1.



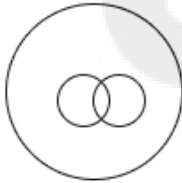
✗ 2.



✗ 3.



✓ 4.



Question ID : 630680869733

Option 1 ID : 6306803406301

Option 2 ID : 6306803406300

Option 3 ID : 6306803406298

Option 4 ID : 6306803406299

Status : Answered

Chosen Option : 4

Section : General Knowledge and General Awareness

Q.1 पादप कोशिका में उपस्थित उस कोशिकांग की पहचान कीजिए जो जंतु कोशिका में नहीं होता है।

Ans

✗ 1. स्यूरॉन

✗ 2. कोशिका द्रव्य

✓ 3. प्लास्टिड

✗ 4. केंद्रक

Question ID : 630680407488

Option 1 ID : 6306801588892

Option 2 ID : 6306801588893

Option 3 ID : 6306801588891

Option 4 ID : 6306801588890

Status : Answered

Chosen Option : 3

Q.2 निम्नलिखित में से किस अधिनियम में कलकत्ता के स्थान पर दिल्ली को ब्रिटिश भारत की राजधानी घोषित किया गया था?

- Ans 1. मॉर्ले-मिंटो अधिनियम, 1909 (Morley - Minto Act, 1909)
 2. मॉटेगू-चेम्सफोर्ड अधिनियम, 1919 (Montagu Chelmsford Act, 1919)
 3. भारत सरकार अधिनियम, 1858 (Government of India Act, 1858)
 4. भारत सरकार अधिनियम, 1935 (Government of India Act, 1935)

Question ID : 630680127635
Option 1 ID : 630680494797
Option 2 ID : 630680494796
Option 3 ID : 630680494799
Option 4 ID : 630680494798
Status : Answered
Chosen Option : 1

Q.3 निम्नलिखित में से कौन-सा/से कथन प्रकाश वर्ष के संदर्भ में सत्य है/हैं?

1. प्रकाश वर्ष, दूरी की इकाई है।
2. प्रकाश, समय की इकाई है।
3. प्रकाश वर्ष वह दूरी है, जो प्रकाश, एक पृथ्वी वर्ष में तय करता है।
4. प्रकाश वर्ष प्रकाश की तीव्रता का माप है।

- Ans 1. केवल 1 और 3 सही हैं
 2. केवल 2 सही है
 3. केवल 1 सही है
 4. केवल 1 और 2 सही हैं

Question ID : 630680100677
Option 1 ID : 630680391407
Option 2 ID : 630680391406
Option 3 ID : 630680391404
Option 4 ID : 630680391405
Status : Answered
Chosen Option : 1

Q.4 भारत सरकार के कृषि सांख्यिकी एक झलक 2022 के अनुसार, किस राज्य में गन्ने का सबसे अधिक उत्पादन दर्ज किया गया?

- Ans 1. गुजरात
 2. उत्तर प्रदेश
 3. महाराष्ट्र
 4. कर्नाटक

Question ID : 630680409639
Option 1 ID : 6306801597388
Option 2 ID : 6306801597385
Option 3 ID : 6306801597387
Option 4 ID : 6306801597386
Status : Answered
Chosen Option : 2

Q.5 निम्नलिखित में से कौन-सी नदी दक्षिण से चंबल नदी से मिलती है?

- Ans
- 1. कोसी
 - 2. गंगा
 - 3. तीस्ता
 - 4. यमुना

Question ID : 630680701445

Option 1 ID : 6306802747714

Option 2 ID : 6306802747713

Option 3 ID : 6306802747715

Option 4 ID : 6306802747716

Status : Answered

Chosen Option : 1

Q.6 भारतीय विमानपत्तन प्राधिकरण के अनुसार, 2022 तक की स्थिति के अनुसार भारत में अंतर्राष्ट्रीय हवाई अड्डों की कुल संख्या कितनी है?

- Ans
- 1. 14
 - 2. 17
 - 3. 16
 - 4. 13

Question ID : 630680701462

Option 1 ID : 6306802747782

Option 2 ID : 6306802747784

Option 3 ID : 6306802747783

Option 4 ID : 6306802747781

Status : Answered

Chosen Option : 4

Q.7 भारत के सर्वोच्च न्यायालय के क्षेत्राधिकार के संबंध में निम्नलिखित में से कौन सा कथन सही है?

- A. मूल क्षेत्राधिकार भारत सरकार और एक या अधिक राज्यों के बीच या भारत सरकार और किसी राज्य या राज्यों और दूसरी तरफ एक या अधिक राज्यों के बीच या दो या अधिक राज्यों के बीच किसी भी विवाद तक विस्तृत है।
- B. अपीलीय अधिकार क्षेत्र का विस्तार तब होता है जब संघ और कुछ राज्य विवाद के एक तरफ होते हैं और कुछ अन्य राज्य दूसरी तरफ होते हैं।
- C. संविधान के अनुच्छेद 129 और 142 के तहत, सर्वोच्च न्यायालय में अदालत की अवमानना के लिए दंडित करने की शक्ति निहित है।
- D. अभी तक, सर्वोच्च न्यायालय में अंतर्राष्ट्रीय वाणिज्यिक मध्यस्थता शुरू नहीं की जा सकती है।

- Ans
- 1. A और C केवल
 - 2. A, B, C और D
 - 3. B और D केवल
 - 4. A और B केवल

Question ID : 630680408317

Option 1 ID : 6306801592164

Option 2 ID : 6306801592163

Option 3 ID : 6306801592165

Option 4 ID : 6306801592166

Status : Answered

Chosen Option : 1

Q.8 कथकली नृत्य के कलाकारों के लिए कितने प्रकार के श्रृंगार (वेषम) का उपयोग किया जाता है?

- Ans 1. 5
 2. 7
 3. 11
 4. 9

Question ID : 630680305964
Option 1 ID : 6306801190209
Option 2 ID : 6306801190210
Option 3 ID : 6306801190212
Option 4 ID : 6306801190211
Status : Not Answered
Chosen Option : --

Q.9 गुड फ्राइडे किससे संबंधित है?

- Ans 1. सिखों
 2. जैन
 3. ईसाइयों
 4. हिंदुओं

Question ID : 630680409206
Option 1 ID : 6306801595653
Option 2 ID : 6306801595654
Option 3 ID : 6306801595656
Option 4 ID : 6306801595655
Status : Answered
Chosen Option : 3

Q.10 निम्नलिखित में से कौन सा कार्बनिक यौगिक एक बेन्जीनॉइड है?

- Ans 1. ऐसिटैल्डिहाइड
 2. हेक्सेन
 3. ऐनिलीन
 4. प्रोपेन

Question ID : 630680210479
Option 1 ID : 630680816075
Option 2 ID : 630680816077
Option 3 ID : 630680816078
Option 4 ID : 630680816076
Status : Answered
Chosen Option : 1

Q.11 1800 में, निम्नलिखित भौतिक विज्ञानियों में से किसने, आधुनिक बैटरी के पूर्वगामी वोल्टाइक पाइल का आविष्कार किया था?

- Ans 1. एलेसेंड्रो वोल्टा (Alessandro Volta)
 2. हैंस क्रिश्चियन ओर्स्टेड (Hans Christian Oersted)
 3. जॉर्ज साइमन (George Simon)
 4. आंद्रे-मैरी एम्पीयर (Andre-Marie Ampere)

Question ID : 63068070367
Option 1 ID : 630680272097
Option 2 ID : 630680272096
Option 3 ID : 630680272095
Option 4 ID : 630680272094
Status : Not Answered
Chosen Option : --

Q.12 भारतीय संविधान के किस अनुच्छेद में राज्यसभा के सभापति और उपसभापति और लोकसभा के अध्यक्ष और उपाध्यक्ष के वेतन और भत्तों का उल्लेख है?

- Ans
- 1. अनुच्छेद 95
 - 2. अनुच्छेद 94
 - 3. अनुच्छेद 97
 - 4. अनुच्छेद 92

Question ID : 630680408226
Option 1 ID : 6306801591802
Option 2 ID : 6306801591801
Option 3 ID : 6306801591799
Option 4 ID : 6306801591800
Status : Not Answered
Chosen Option : --

Q.13 भारतीय संविधान के निम्नलिखित में से किस अनुच्छेद में उल्लेख है कि भारत के उपराष्ट्रपति राज्य सभा के पदेन सभापति होंगे?

- Ans
- 1. अनुच्छेद 92
 - 2. अनुच्छेद 89
 - 3. अनुच्छेद 91
 - 4. अनुच्छेद 90

Question ID : 630680408227
Option 1 ID : 6306801591804
Option 2 ID : 6306801591803
Option 3 ID : 6306801591805
Option 4 ID : 6306801591806
Status : Not Answered
Chosen Option : --

Q.14 गर्मी के मौसम में आने वाले स्थानीय तूफानों के संदर्भ में नोर'वेस्टर्स (Nor'Westers) क्या हैं:

- Ans
- 1. दिल्ली और पटना के बीच उच्च तीव्रता के साथ पंजाब से बिहार तक उत्तरी मैदानी इलाकों में चलने वाली गर्म, शुष्क और दमनकारी हवाएँ
 - 2. बंगाल और असम में शाम के समय चलने वाली भयानक आँधियाँ
 - 3. केरल में कॉफ़ी के फूलों को ब्लो करने (खिलाने) वाली नजदीकी हवा
 - 4. मानसून से पहले की बारिश, जो केरल और कर्नाटक के तटीय क्षेत्रों में होने वाली एक सामान्य घटना है

Question ID : 63068076867
Option 1 ID : 630680297567
Option 2 ID : 630680297566
Option 3 ID : 630680297568
Option 4 ID : 630680297565
Status : Answered
Chosen Option : 4

Q.15 उदारीकरण के भाग के रूप में उद्योगों के प्रगतिशील डिलाइसेंसिंग के साथ निम्नलिखित में से किस उद्योग को लाइसेंस की आवश्यकता से हटा दिया गया है?

- Ans
- 1. तंबाकू के सिगार और सिगरेट, और निर्मित तंबाकू के विकल्प
 - 2. कोयला और लिग्नाइट
 - 3. खतरनाक रसायन
 - 4. औद्योगिक विस्फोटक

Question ID : 630680407169
Option 1 ID : 6306801587618
Option 2 ID : 6306801587621
Option 3 ID : 6306801587619
Option 4 ID : 6306801587620
Status : Answered
Chosen Option : 1

Q.16 किसके शासनकाल में मुगल साम्राज्य ने अपनी सबसे बड़ी क्षेत्रीय सीमाएँ प्राप्त की?

- Ans
- 1. शाहजहाँ
 - 2. अकबर
 - 3. औरंगजेब
 - 4. बहादुर शाह द्वितीय

Question ID : 630680198454
Option 1 ID : 630680769775
Option 2 ID : 630680769776
Option 3 ID : 630680769777
Option 4 ID : 630680769778
Status : Answered
Chosen Option : 4

Q.17 निम्नलिखित में से किस संगीतकार ने अनूप राग विलास नामक पुस्तक लिखी है?

- Ans
- 1. पंडित दिनकर केकिनी
 - 2. पंडित जसराज
 - 3. पंडित कुमार गंधर्व
 - 4. पंडित बिरजू महाराज

Question ID : 630680409248
Option 1 ID : 6306801595822
Option 2 ID : 6306801595824
Option 3 ID : 6306801595823
Option 4 ID : 6306801595821
Status : Not Answered
Chosen Option : --

Q.18 निम्नलिखित में से कौन-सा बल केवल किसी वस्तु के संपर्क में आने पर ही लगाया जा सकता है?

- Ans
- 1. स्थिरवैद्युत बल
 - 2. चुंबकीय बल
 - 3. गुरुत्वाकर्षण बल
 - 4. घर्षण बल

Question ID : 63068052306
Option 1 ID : 630680201326
Option 2 ID : 630680201328
Option 3 ID : 630680201329
Option 4 ID : 630680201327
Status : Answered
Chosen Option : 4

Q.19 57वें ज्ञानपीठ पुरस्कार से सम्मानित दामोदर माऊजो, मुख्य रूप से एक _____ लेखक हैं।

- Ans
- 1. ओडिया
 - 2. बंगाली
 - 3. मैथिली
 - 4. कोंकणी

Question ID : 630680701410
Option 1 ID : 6306802747577
Option 2 ID : 6306802747579
Option 3 ID : 6306802747580
Option 4 ID : 6306802747578
Status : Answered
Chosen Option : 1

Q.20 मुद्रा (MUDRA) ऋण योजना के तहत कितनी श्रेणियों में ऋण दिया जाता है?

- Ans
- 1. 1
 - 2. 2
 - 3. 3
 - 4. 4

Question ID : 630680407150
Option 1 ID : 6306801587542
Option 2 ID : 6306801587543
Option 3 ID : 6306801587544
Option 4 ID : 6306801587545
Status : Answered
Chosen Option : 3

Q.21 सूत्री विभाजन (Mitosis) की चौथी अवस्था क्या है जिसमें गैर-काइनेटोकोर तर्कुतंतु कोशिका को लंबी करती हैं और बढ़ाती हैं?

- Ans
- 1. पश्चावस्था (Anaphase)
 - 2. अंत्यावस्था (Telophase)
 - 3. पूर्ववस्था (Prophase)
 - 4. मध्यावस्था (Metaphase)

Question ID : 630680407477
Option 1 ID : 6306801588846
Option 2 ID : 6306801588848
Option 3 ID : 6306801588847
Option 4 ID : 6306801588849
Status : Answered
Chosen Option : 2

Q.22 गोगा नवमी, जो नाग देवता, गोगाजी को समर्पित है, मुख्य रूप से भारतीय राज्य _____ में मनाई जाती है।

- Ans
- 1. राजस्थान
 - 2. ओडिशा
 - 3. कर्नाटक
 - 4. आंध्र प्रदेश

Question ID : 630680410365
Option 1 ID : 6306801600193
Option 2 ID : 6306801600191
Option 3 ID : 6306801600192
Option 4 ID : 6306801600194
Status : Answered
Chosen Option : 1

Q.23 भारत में राज्य नीति के निर्देशक सिद्धांत किस देश के संविधान से लिए गए हैं?

- Ans
- 1. सोवियत संघ (USSR)
 - 2. संयुक्त राज्य (The US)
 - 3. आयरलैंड (Ireland)
 - 4. ब्रिटेन (Britain)

Question ID : 630680408283

Option 1 ID : 6306801592029

Option 2 ID : 6306801592028

Option 3 ID : 6306801592030

Option 4 ID : 6306801592027

Status : Answered

Chosen Option : 3

Q.24 उन तटों का चयन कीजिए जो अरब सागर के किनारों से सटे हुए हैं।

- a. उत्तरी सरकार
- b. मालाबार
- c. कोंकण
- d. कोरोमंडल

- Ans
- 1. a, b और c
 - 2. b, c और d
 - 3. केवल a और c
 - 4. केवल b और c

Question ID : 630680407382

Option 1 ID : 6306801588466

Option 2 ID : 6306801588467

Option 3 ID : 6306801588469

Option 4 ID : 6306801588468

Status : Answered

Chosen Option : 4

Q.25 नेशनल आर्केस्ट्रा ऑफ इंडिया के संस्थापक पंडित रविशंकर एक _____ वादक थे।

- Ans
- 1. सरोद
 - 2. सारंगी
 - 3. सितार
 - 4. बांसुरी

Question ID : 630680409247

Option 1 ID : 6306801595820

Option 2 ID : 6306801595818

Option 3 ID : 6306801595819

Option 4 ID : 6306801595817

Status : Answered

Chosen Option : 3

Q.26 एपिलिपेटिक, मेटालिपेटिक और हाइपोलिपेटिक जल स्तर किसके उदाहरण हैं?

- Ans 1. एक झील के विशिष्ट तापीय स्तरीकरण के
 2. भूमिगत जल की विभिन्न परतों के
 3. विभिन्न पारिस्थितिक चरणों के
 4. कठोर चट्टान की विशिष्ट परतों के

Question ID : 630680407538
Option 1 ID : 6306801589092
Option 2 ID : 6306801589090
Option 3 ID : 6306801589091
Option 4 ID : 6306801589093
Status : Answered
Chosen Option : 2

Q.27 गोबिंद चंद्र पाल को वर्ष 2022 के लिए संगीत नाटक अकादमी अमृत पुरस्कार से सम्मानित किया गया है। उन्होंने निम्नलिखित में किस क्षेत्र में योगदान दिया है?

- Ans 1. रंगमंच (अभिनय)
 2. कठपुतली
 3. ओडिसी नृत्य (गोटीपुआ)
 4. नृत्य (कथक)

Question ID : 630680409355
Option 1 ID : 6306801596251
Option 2 ID : 6306801596252
Option 3 ID : 6306801596250
Option 4 ID : 6306801596249
Status : Not Answered
Chosen Option : --

Q.28 छह पीढ़ियों से 'कथकली' से जुड़े प्रसिद्ध कवंगल परिवार के प्रतिष्ठित और अनुभवी वंशज निम्नलिखित में से कौन है?

- Ans 1. चतुर्नी पणिककर
 2. मीनाक्षी सुंदरम पिल्लई
 3. पद्मा सुब्रमण्यम
 4. अम्मानूर माधव चक्यार

Question ID : 630680306007
Option 1 ID : 6306801190384
Option 2 ID : 6306801190381
Option 3 ID : 6306801190383
Option 4 ID : 6306801190382
Status : Answered
Chosen Option : 3

Q.29 _____ के कारण प्रत्येक योजना में लक्ष्यों का चयन किया गया है।

- Ans 1. असीमित संसाधन
 2. विकल्पों की सीमा
 3. संसाधनों की सीमा
 4. असीमित जनशक्ति

Question ID : 630680407123
Option 1 ID : 6306801587434
Option 2 ID : 6306801587435
Option 3 ID : 6306801587436
Option 4 ID : 6306801587437
Status : Answered
Chosen Option : 3

Q.30 किस वर्ष मूल सूची में चार नए निर्देशक सिद्धांत जोड़े गए?

- Ans 1. 1977
 2. 1976
 3. 1975
 4. 1980

Question ID : 630680305536
Option 1 ID : 6306801188519
Option 2 ID : 6306801188518
Option 3 ID : 6306801188517
Option 4 ID : 6306801188520
Status : Answered
Chosen Option : 2

Q.31 कौन सा एक अभिन्न मेम्ब्रेन प्रोटीन है जो टेट्रामर बनाता है और सेल्युलर मेम्ब्रेन में जल और कुछ छोटे, अपरिवर्तित विलेयों के विसरण को सुविधाजनक बनाता है?

- Ans 1. एक्वापोरिन्स (Aquaporins)
 2. म्यूकिन्स (Mucins)
 3. इम्युनोग्लोबुलिन (Immunoglobulins)
 4. ट्रांसफेरिन (Transferrin)

Question ID : 630680407440
Option 1 ID : 6306801588698
Option 2 ID : 6306801588700
Option 3 ID : 6306801588699
Option 4 ID : 6306801588701
Status : Not Answered
Chosen Option : --

Q.32 15वां पुरुष हॉकी विश्व कप-2023 का खिताब किस देश ने जीता है?

- Ans 1. जर्मनी
 2. बेल्जियम
 3. भारत
 4. पाकिस्तान

Question ID : 630680306028
Option 1 ID : 6306801190466
Option 2 ID : 6306801190465
Option 3 ID : 6306801190467
Option 4 ID : 6306801190468
Status : Answered
Chosen Option : 3

Q.33 वैश्विक भुखमरी सूचकांक 2022 के अनुसार, 121 देशों में से पड़ोसी देश बांग्लादेश का कौन-सा स्थान है?

- Ans 1. 107वाँ
 2. 99वाँ
 3. 84वाँ
 4. 109वाँ

Question ID : 630680327664
Option 1 ID : 6306801274653
Option 2 ID : 6306801274655
Option 3 ID : 6306801274656
Option 4 ID : 6306801274654
Status : Answered
Chosen Option : 4

Q.34 वन्स अपॉन ए लाइफ: बर्न्ट करी एंड ब्लडी रैग्स (Once Upon a Life: Burnt Curry and Bloody Rags) किसका संस्मरण है?

- Ans
- 1. इस्टराइन कीर (Easterine Kire)
 - 2. पेट्रीसिया मुकीम (Patricia Mukim)
 - 3. तेमसुला आओ (Temsula Ao)
 - 4. जेनिस परिएट (Janice Pariat)

Question ID : 630680409384
Option 1 ID : 6306801596366
Option 2 ID : 6306801596365
Option 3 ID : 6306801596368
Option 4 ID : 6306801596367
Status : Not Answered
Chosen Option : --

Q.35 1596 में, किसने अपनी कृति थिसॉरस ज्योग्राफिकस में यह उल्लेख किया है कि पृथ्वी के महाद्वीप हमेशा अपनी वर्तमान स्थिति में स्थित नहीं थे?

- Ans
- 1. डैन पीटर मैकेंजी
 - 2. अब्राहम ऑर्टलियस
 - 3. जॉर्जस कुवियर
 - 4. लुइस अगासिज़

Question ID : 630680407451
Option 1 ID : 6306801588745
Option 2 ID : 6306801588744
Option 3 ID : 6306801588743
Option 4 ID : 6306801588742
Status : Not Answered
Chosen Option : --

Q.36 निम्नलिखित में से कौन-सा शहर पांड्य साम्राज्य का बंदरगाह था?

- Ans
- 1. विरुधुनगर
 - 2. तेन्कासी
 - 3. कोरकाई
 - 4. डिंडिगुल

Question ID : 630680412348
Option 1 ID : 6306801608216
Option 2 ID : 6306801608217
Option 3 ID : 6306801608215
Option 4 ID : 6306801608218
Status : Not Answered
Chosen Option : --

Q.37 निम्नलिखित में से कौन-सा विकल्प सही ढंग से सुमेलित है?

- Ans
- 1. सुल्तान खान - सारंगी
 - 2. हरिप्रसाद चौरसिया - सरोद
 - 3. जाकिर हुसैन - सितार
 - 4. बिस्मिल्ला खाँ - तबला

Question ID : 630680409332
Option 1 ID : 6306801596159
Option 2 ID : 6306801596160
Option 3 ID : 6306801596158
Option 4 ID : 6306801596157
Status : Answered
Chosen Option : 1

Q.38 निजाम-उल-मुल्क ने 1724 में किस राज्य की स्थापना की थी?

- Ans
- 1. अवध
 - 2. मैसूर
 - 3. बंगाल
 - 4. हैदराबाद

Question ID : 630680309321
Option 1 ID : 6306801203441
Option 2 ID : 6306801203444
Option 3 ID : 6306801203443
Option 4 ID : 6306801203442
Status : Answered
Chosen Option : 4

Q.39 भारत के, निम्नलिखित में से कौन-से राज्य में प्रारंभिक वर्षा, मानसून की अरब सागर शाखा के द्वारा होती है?

- Ans
- 1. मिज़ोरम
 - 2. केरल
 - 3. असम
 - 4. तमिलनाडु

Question ID : 630680409668
Option 1 ID : 6306801597504
Option 2 ID : 6306801597502
Option 3 ID : 6306801597501
Option 4 ID : 6306801597503
Status : Answered
Chosen Option : 2

Q.40 बहमनी साम्राज्य के अधीन, प्रांतों को _____ द्वारा प्रशासित किया जाता था।

- Ans
- 1. अमीर
 - 2. खलीसा
 - 3. तरफदार
 - 4. अफाकी

Question ID : 630680412506
Option 1 ID : 6306801608848
Option 2 ID : 6306801608849
Option 3 ID : 6306801608847
Option 4 ID : 6306801608850
Status : Answered
Chosen Option : 1

Q.41 भारत की जनगणना 2011 के अनुसार, देश की जनसंख्या में 'अन्य धर्मों और मतों' का कितना प्रतिशत हिस्सा है?

- Ans
- 1. 1.7
 - 2. 0.7
 - 3. 2.3
 - 4. 0.4

Question ID : 630680409713
Option 1 ID : 6306801597683
Option 2 ID : 6306801597681
Option 3 ID : 6306801597682
Option 4 ID : 6306801597684
Status : Not Answered
Chosen Option : --

Q.42 निम्नलिखित में से कौन-सा चयनात्मक उधार-पत्र (selective credit instrument) है?

- Ans
- 1. परिवर्तनीय आरक्षित अनुपात
 - 2. सी.आर.आर. (CRR)
 - 3. क्रेडिट राशनिंग
 - 4. बैंक दर

Question ID : 630680407196

Option 1 ID : 6306801587726

Option 2 ID : 6306801587729

Option 3 ID : 6306801587727

Option 4 ID : 6306801587728

Status : Answered

Chosen Option : 4

Q.43 2026 के शीतकालीन ओलंपिक _____ में आयोजित किए जाएंगे।

- Ans
- 1. अमेरिका
 - 2. इटली
 - 3. यूके
 - 4. जापान

Question ID : 63068094661

Option 1 ID : 630680367339

Option 2 ID : 630680367341

Option 3 ID : 630680367340

Option 4 ID : 630680367342

Status : Answered

Chosen Option : 2

Q.44 ब्रिटिश भारत के निम्नलिखित गवर्नर-जनरलों में से कौन स्वतंत्र प्रेस के पक्ष में था और उसने 1823 के प्रेस विनियमों को निरस्त कर दिया था?

- Ans
- 1. लॉर्ड मेटकाफ़ (Lord Metcalfe)
 - 2. लॉर्ड रिपन (Lord Ripon)
 - 3. लॉर्ड लिटन (Lord Lytton)
 - 4. लॉर्ड एलेनबरो (Lord Ellenborough)

Question ID : 630680412398

Option 1 ID : 6306801608415

Option 2 ID : 6306801608416

Option 3 ID : 6306801608417

Option 4 ID : 6306801608418

Status : Answered

Chosen Option : 2

- Q.45 निम्नलिखित में से सही कथन/कथनों का चयन कीजिए।
i. दसवीं योजना अवधि में, भारतीय अर्थव्यवस्था 7.7 % प्रति वर्ष की दर से बढ़ी।
ii. ग्यारहवीं पंचवर्षीय योजना के लिए लक्षित वृद्धि 9% प्रति वर्ष थी।
iii. नौवीं योजना अवधि में, भारत ने 7.5% प्रति वर्ष की वृद्धि दर्ज की।

- Ans 1. ii और iii
 2. i और ii
 3. i और iii
 4. केवल iii

Question ID : 630680701668
Option 1 ID : 6306802748618
Option 2 ID : 6306802748617
Option 3 ID : 6306802748619
Option 4 ID : 6306802748620
Status : Not Answered
Chosen Option : --

- Q.46 भारतीय संविधान के किस अनुच्छेद में उपाधियों के उन्मूलन का उल्लेख है?

- Ans 1. अनुच्छेद 13
 2. अनुच्छेद 24
 3. अनुच्छेद 18
 4. अनुच्छेद 23

Question ID : 630680339462
Option 1 ID : 6306801320417
Option 2 ID : 6306801320419
Option 3 ID : 6306801320418
Option 4 ID : 6306801320420
Status : Answered
Chosen Option : 3

- Q.47 कथक के बनारस घराने का प्रतिनिधित्व करने वाली अनुभवी नर्तक कमलिनी अस्थाना और नलिनी अस्थाना को वर्ष 2022 में निम्नलिखित में से किस पुरस्कार से सम्मानित किया गया?

- Ans 1. पद्म भूषण
 2. संगीत नाटक अकादमी
 3. पद्म श्री
 4. पद्म विभूषण

Question ID : 630680309161
Option 1 ID : 6306801202822
Option 2 ID : 6306801202821
Option 3 ID : 6306801202824
Option 4 ID : 6306801202823
Status : Answered
Chosen Option : 3

Q.48 निम्नलिखित में से किसे बीसीसीआई (BCCI) का 36वां अध्यक्ष चुना गया है?

- Ans 1. रॉजर बिन्नी
 2. अनिल कुंबले
 3. सौरव गांगुली
 4. चेतन शर्मा

Question ID : 630680192739
Option 1 ID : 630680747501
Option 2 ID : 630680747504
Option 3 ID : 630680747502
Option 4 ID : 630680747503
Status : Answered
Chosen Option : 1

Q.49 विद्युत परिपथ में प्रतिरोध को बदलने के लिए प्रयुक्त उपकरण की पहचान कीजिए।

- Ans 1. धारा नियंत्रक (Rheostat)
 2. ऐमीटर (Ammeter)
 3. विद्युत चालक (Conductor)
 4. वाल्टमीटर (Voltmeter)

Question ID : 63068099060
Option 1 ID : 630680384944
Option 2 ID : 630680384945
Option 3 ID : 630680384947
Option 4 ID : 630680384946
Status : Answered
Chosen Option : 4

Q.50 निम्नलिखित में से कौन-सा देश विश्व बैडमिंटन चैम्पियनशिप इवेंट 2026 की मेजबानी करेगा?

- Ans 1. भारत
 2. जापान
 3. चीन
 4. इंडोनेशिया

Question ID : 63068077627
Option 1 ID : 630680300605
Option 2 ID : 630680300606
Option 3 ID : 630680300607
Option 4 ID : 630680300608
Status : Not Answered
Chosen Option : --

Q.1 निम्नलिखित व्यंजक को सरल कीजिए:

$$\frac{(525 + 175)^2 - (525 - 175)^2}{(525 \times 175)}$$

Ans 1. 2

2. 4

3. 350

4. 700

Question ID : 630680413601

Option 1 ID : 6306801613231

Option 2 ID : 6306801613228

Option 3 ID : 6306801613229

Option 4 ID : 6306801613230

Status : Answered

Chosen Option : 2

Q.2 $x = \sin A + \cos A$; $y = \sec A + \operatorname{cosec} A$ होने पर निम्नलिखित में से कौन-सा विकल्प सत्य होगा?

Ans 1. $y - 2x = x^2 y$

2. $y(1 - 2x^2) = x$

3. $y + 2x = x^2 y$

4. $y(1 + x^2) = 2x$

Question ID : 630680183250

Option 1 ID : 630680710069

Option 2 ID : 630680710072

Option 3 ID : 630680710071

Option 4 ID : 630680710070

Status : Answered

Chosen Option : 3

Q.3 एक पंसारी ने ₹700 में 10 kg चावल खरीदा। वह परिवहन पर कुछ राशि व्यय करता है और फिर इसे ₹1,400 में बेच देता है। यदि पंसारी द्वारा अर्जित लाभ प्रतिशत 30% है, तो वह परिवहन पर कितनी राशि (₹ में) व्यय करता है? (निकटतम पूर्णांक तक पूर्णांकित कीजिए)

Ans 1. 377

2. 350

3. 380

4. 300

Question ID : 630680869697

Option 1 ID : 6306803406156

Option 2 ID : 6306803406155

Option 3 ID : 6306803406157

Option 4 ID : 6306803406154

Status : Answered

Chosen Option : 1

Q.4 18 कर्मचारी एक कार्य को 96 दिनों में पूरा कर सकते हैं। वे एक साथ काम करना शुरू करते हैं और 26 दिनों के बाद 10 और कर्मचारी उनके साथ जुड़ जाते हैं। कार्य को कुल मिलाकर कितने दिनों में पूरा किया जाएगा?

- Ans
- 1. 72
 - 2. 70
 - 3. 71
 - 4. 69

Question ID : 630680428445
Option 1 ID : 6306801671826
Option 2 ID : 6306801671825
Option 3 ID : 6306801671827
Option 4 ID : 6306801671824
Status : Answered
Chosen Option : 3

Q.5 यदि A का 40% = B का 60% = C का $\frac{1}{6}$ है, तो A:B:C का अनुपात ज्ञात करें।

- Ans
- 1. 10:15:36
 - 2. 15:10:36
 - 3. 36:10:15
 - 4. 15:10:18

Question ID : 630680429146
Option 1 ID : 6306801674630
Option 2 ID : 6306801674629
Option 3 ID : 6306801674628
Option 4 ID : 6306801674631
Status : Answered
Chosen Option : 2

Q.6 एक बेईमान डीलर अपने सामान को क्रय मूल्य पर 20% हानि पर बेचता है लेकिन एक दोषपूर्ण वजन का उपयोग करता है जिसका वजन 25% कम होता है। उसका लाभ या हानि प्रतिशत (दो दशमलव स्थानों तक पूर्णांकित) ज्ञात कीजिए।

- Ans
- 1. 3.33%, हानि
 - 2. 6.67%, हानि
 - 3. 6.67%, लाभ
 - 4. 3.33%, लाभ

Question ID : 630680429104
Option 1 ID : 6306801674462
Option 2 ID : 6306801674460
Option 3 ID : 6306801674461
Option 4 ID : 6306801674463
Status : Answered
Chosen Option : 3

Q.7 यदि दो गोलों के पृष्ठीय क्षेत्रफल 9:49 के अनुपात में हैं, तो उनके आयतन का अनुपात ज्ञात करें (जहाँ $\pi = \frac{22}{7}$)।

- Ans 1. 27 : 343
 2. 16 : 216
 3. 49 : 363
 4. 25 : 512

Question ID : 630680421615
Option 1 ID : 6306801644924
Option 2 ID : 6306801644923
Option 3 ID : 6306801644926
Option 4 ID : 6306801644925
Status : Answered
Chosen Option : 1

Q.8 मिश्र धातु A और B में, लोड और टिन का अनुपात क्रमशः 5 : 3 और 3 : 1 है। एक नई मिश्र धातु बनाने के लिए, 80 kg मिश्र धातु A और 100 kg मिश्र धातु B को एक साथ मिलाया जाता है। नई मिश्र धातु में टिन की मात्रा (kg में) कितनी होगी?

- Ans 1. 90
 2. 55
 3. 68
 4. 81.3

Question ID : 630680869682
Option 1 ID : 6306803406096
Option 2 ID : 6306803406095
Option 3 ID : 6306803406097
Option 4 ID : 6306803406094
Status : Answered
Chosen Option : 2

Q.9 धातु की एक आयताकार शीट 60 cm x 25 cm है। 5 cm भुजा वाले समान वर्गों को कोनों से काट दिया जाता है और शेष को मोड़कर एक खुला आयताकार बक्सा बनाया जाता है। बक्से का आयतन ज्ञात कीजिए।

- Ans 1. 5750 cm³
 2. 2750 cm³
 3. 3750 cm³
 4. 4750 cm³

Question ID : 630680421559
Option 1 ID : 6306801644701
Option 2 ID : 6306801644700
Option 3 ID : 6306801644702
Option 4 ID : 6306801644699
Status : Not Answered
Chosen Option : --

Q.10 यदि $x + \frac{1}{x} = 2$ है, तो $(x^4 + \frac{4}{(x)^4})(x^3 - \frac{4}{x^3})$ का मान ज्ञात करें।

- Ans 1. 10
 2. -15
 3. 15
 4. -10

Question ID : 630680413572
Option 1 ID : 6306801613113
Option 2 ID : 6306801613114
Option 3 ID : 6306801613115
Option 4 ID : 6306801613112
Status : Answered
Chosen Option : 2

Q.11 एक व्यक्ति ने साधारण ब्याज पर कुछ धनराशि बैंक में जमा की। 20 वर्षों के बाद, धनराशि जमा की गई धनराशि से नौ गुना हो गई। यदि ब्याज दर समान रहे तो कितने वर्षों में धनराशि 13 गुना हो जाएगी?

- Ans 1. 23
 2. 25
 3. 28
 4. 30

Question ID : 630680427953
Option 1 ID : 6306801669858
Option 2 ID : 6306801669856
Option 3 ID : 6306801669859
Option 4 ID : 6306801669857
Status : Answered
Chosen Option : 4

Q.12 एक जल निकासी टाइल 42 cm लंबा एक बेलनाकार खोल है। आंतरिक और बाह्य व्यास क्रमशः 8 cm और 14 cm है। टाइल के लिए आवश्यक मिट्टी का आयतन (cm^3 में) कितना है? ($\pi = \frac{22}{7}$ का उपयोग कीजिए।)

- Ans 1. 4881
 2. 4125
 3. 5241
 4. 4356

Question ID : 630680421353
Option 1 ID : 6306801643876
Option 2 ID : 6306801643878
Option 3 ID : 6306801643875
Option 4 ID : 6306801643877
Status : Answered
Chosen Option : 4

Q.13 मीतू एक काम को 12 घंटे में पूरा कर सकती है, इसी काम को टीटू और सीटू एक साथ मिलकर 2 घंटे में कर सकते हैं, तथा मीतू और सीटू एक साथ मिलकर 3 घंटे में कर सकते हैं। टीटू को अकेले इस काम को पूरा करने में कितना समय लगेगा?

- Ans
- 1. 7 घंटे
 - 2. 8 घंटे
 - 3. 6 घंटे
 - 4. 4 घंटे

Question ID : 630680869702
Option 1 ID : 6306803406177
Option 2 ID : 6306803406175
Option 3 ID : 6306803406174
Option 4 ID : 6306803406176
Status : Answered
Chosen Option : 4

Q.14 एक व्यक्ति 12 km/h की चाल से कुछ दूरी तय करता है और 8 km/h की चाल से वापस आता है। यदि उसके द्वारा लिया गया कुल समय 3 घंटे और 45 मिनट है, तो तय की गई कुल दूरी (km में) ज्ञात करें।

- Ans
- 1. 24
 - 2. 32
 - 3. 42
 - 4. 36

Question ID : 630680869703
Option 1 ID : 6306803406178
Option 2 ID : 6306803406179
Option 3 ID : 6306803406181
Option 4 ID : 6306803406180
Status : Answered
Chosen Option : 4

Q.15 शांत जल में एक व्यक्ति की चाल, धारा की चाल से 4 km/h अधिक है। यदि वह व्यक्ति धारा की अनुकूल दिशा में 45 km और धारा की प्रतिकूल दिशा में 35 km की दूरी तय करने में कुल 10 घंटे लेता है, तो शांत जल में व्यक्ति की चाल कितनी है?

- Ans
- 1. 15 km/h
 - 2. 20 km/h
 - 3. 18 km/h
 - 4. 22 km/h

Question ID : 630680428839
Option 1 ID : 6306801673401
Option 2 ID : 6306801673400
Option 3 ID : 6306801673403
Option 4 ID : 6306801673402
Status : Not Answered
Chosen Option : --

Q.16 एक ट्रेन 35 मिनट में 56 km की दूरी तय करती है। उसी गति से यात्रा करते हुए, ट्रेन कितने सेकंड में 720 मीटर की दूरी तय करेगी?

- Ans 1. 27
 2. 32
 3. 30
 4. 24

Question ID : 630680428439
Option 1 ID : 6306801671803
Option 2 ID : 6306801671800
Option 3 ID : 6306801671801
Option 4 ID : 6306801671802
Status : Answered
Chosen Option : 1

Q.17 $35 - [30 + \{10 + (12 - 10 - 4)\}]$ को सरल कीजिए।

- Ans 1. 3
 2. -3
 3. 2
 4. -2

Question ID : 630680428128
Option 1 ID : 6306801670556
Option 2 ID : 6306801670557
Option 3 ID : 6306801670559
Option 4 ID : 6306801670558
Status : Answered
Chosen Option : 2

Q.18 A और B के अंकों का अनुपात 3 : 4 है और B और C के अंकों का अनुपात 4 : 5 है। यदि C और A के अंकों के बीच का अंतर 30 है, तो B को कितने अंक प्राप्त हुए?

- Ans 1. 64
 2. 60
 3. 52
 4. 56

Question ID : 630680428949
Option 1 ID : 6306801673840
Option 2 ID : 6306801673843
Option 3 ID : 6306801673841
Option 4 ID : 6306801673842
Status : Answered
Chosen Option : 2

Q.19 $22 \times 10 \div 5 \times 2 + 12$ को सरल कीजिए।

- Ans 1. 101
 2. 100
 3. 102
 4. 103

Question ID : 630680428122
Option 1 ID : 6306801670532
Option 2 ID : 6306801670533
Option 3 ID : 6306801670535
Option 4 ID : 6306801670534
Status : Answered
Chosen Option : 2

Q.20 $9 \times 9 + 9 \div 9 - 9 \times 9 + 9 + 9 \times 9 - 9 - 9 \times 9$ का मान ज्ञात कीजिए।

- Ans
- 1. 81
 - 2. 9
 - 3. 0
 - 4. 1

Question ID : 630680428264
Option 1 ID : 6306801671103
Option 2 ID : 6306801671102
Option 3 ID : 6306801671100
Option 4 ID : 6306801671101
Status : Answered
Chosen Option : 4

Q.21 $\triangle ABC$ में, कोण $BAC = 30^\circ$ और कोण $BCA = 60^\circ$ है। यदि $AC = 13$ cm और $AB = 12$ cm है, तो BC निम्न में से किसके बराबर है?

- Ans
- 1. 4 cm
 - 2. 7 cm
 - 3. 6 cm
 - 4. 5 cm

Question ID : 630680421458
Option 1 ID : 6306801644295
Option 2 ID : 6306801644298
Option 3 ID : 6306801644297
Option 4 ID : 6306801644296
Status : Answered
Chosen Option : 4

Q.22

$1 + \frac{1}{1 + \frac{1}{5 + \frac{1}{2 + \frac{1}{3}}}}$ का मान कितना होगा?

- Ans
- 1. $1 \frac{13}{45}$
 - 2. $2 \frac{11}{45}$
 - 3. $2 \frac{17}{45}$
 - 4. $1 \frac{38}{45}$

Question ID : 630680428271
Option 1 ID : 6306801671130
Option 2 ID : 6306801671129
Option 3 ID : 6306801671131
Option 4 ID : 6306801671128
Status : Answered
Chosen Option : 4

Q.23 ΔXYZ और ΔLMN दो समरूप त्रिभुज हैं। यदि (ΔXYZ) का क्षेत्रफल = 16 cm^2 , (ΔLMN) का क्षेत्रफल = 25 cm^2 और $YZ = 2.4 \text{ cm}$ है, तो MN का माप क्या है?

- Ans
- 1. 4 cm
 - 2. 2 cm
 - 3. 1 cm
 - 4. 3 cm

Question ID : 630680421430
Option 1 ID : 6306801644186
Option 2 ID : 6306801644184
Option 3 ID : 6306801644183
Option 4 ID : 6306801644185
Status : Answered
Chosen Option : 4

Q.24 दी गई तालिका का अध्ययन करें और नीचे दिए गए प्रश्न का उत्तर दें।
तालिका शैक्षणिक वर्ष 2022-2023 के दौरान भारत के विभिन्न शहरों A, B, C, D और E में विभिन्न पाठ्यक्रमों में विद्यार्थियों की संख्या दर्शाती है।

शहर	एमबीए	विज्ञान	इंजीनियरिंग	आयुर्विज्ञान	एमसीए	कुल
A	1200	2560	4520	1100	960	10340
B	1350	2650	5100	1050	850	11000
C	1250	2640	4580	1120	750	10340
D	1960	1250	3500	1850	1600	10160
E	1200	2100	3500	1960	1540	10300
कुल	6960	11200	21200	7080	5700	

शैक्षणिक वर्ष 2022-2023 के दौरान सभी शहरों में मिलाकर विज्ञान पाठ्यक्रम में विद्यार्थियों की औसत संख्या कितनी थी?

- Ans
- 1. 2220
 - 2. 2200
 - 3. 2250
 - 4. 2240

Question ID : 630680428328
Option 1 ID : 6306801671357
Option 2 ID : 6306801671356
Option 3 ID : 6306801671359
Option 4 ID : 6306801671358
Status : Answered
Chosen Option : 4

Q.25 किसी उत्पाद को अंकित मूल्य पर 10% की व्यापारिक छूट देकर बेचा जाता है। 10% की नकद छूट देने के बाद, उत्पाद को ₹7,290 में बेचा गया। अंकित मूल्य (₹ में) क्या है?

- Ans
- 1. 8,510
 - 2. 8,900
 - 3. 8,720
 - 4. 9,000

Question ID : 630680428604
Option 1 ID : 6306801672460
Option 2 ID : 6306801672462
Option 3 ID : 6306801672461
Option 4 ID : 6306801672463
Status : Answered
Chosen Option : 4

Q.26 R घर से 30 मिनट में कार्यालय पहुंचता है और 20 मिनट में वापस आता है। घर से उसके कार्यालय की दूरी 12.5 km है। बताइए कि घर से कार्यालय तक जाने और फिर घर वापस आने में उसकी औसत चाल (km/h में) क्या है?

Ans 1. 25

2. 30

3. 20

4. 60

Question ID : 630680428719

Option 1 ID : 6306801672921

Option 2 ID : 6306801672922

Option 3 ID : 6306801672920

Option 4 ID : 6306801672923

Status : Answered

Chosen Option : 2

Q.27 दी गई तालिका का अध्ययन करें और नीचे दिए गए प्रश्न का उत्तर दें। तालिका शैक्षणिक वर्ष 2022-2023 के दौरान भारत के विभिन्न शहरों A, B, C, D और E में विभिन्न पाठ्यक्रमों में विद्यार्थियों की संख्या दर्शाती है।

शहर	एमबीए	विज्ञान	इंजीनियरिंग	आयुर्विज्ञान	एमसीए	कुल
A	1200	2560	4520	1100	960	10340
B	1350	2650	5100	1050	850	11000
C	1250	2640	4580	1120	750	10340
D	1960	1250	3500	1850	1600	10160
E	1200	2100	3500	1960	1540	10300
कुल	6960	11200	21200	7080	5700	

सभी शहरों में कुल मिलाकर विज्ञान के विद्यार्थियों और सभी शहरों में कुल मिलाकर एमबीए के विद्यार्थियों के बीच कितना अंतर है?

Ans 1. 4340

2. 4540

3. 4240

4. 4440

Question ID : 630680428327

Option 1 ID : 6306801671354

Option 2 ID : 6306801671352

Option 3 ID : 6306801671355

Option 4 ID : 6306801671353

Status : Answered

Chosen Option : 3

Q.28 28 cm व्यास वाले एक गोले का पृष्ठीय क्षेत्रफल (cm² में) ज्ञात कीजिए। ($\pi = \frac{22}{7}$ उपयोग करें)

Ans 1. 2856

2. 1724

3. 2464

4. 1731

Question ID : 630680421556

Option 1 ID : 6306801644689

Option 2 ID : 6306801644687

Option 3 ID : 6306801644688

Option 4 ID : 6306801644690

Status : Answered

Chosen Option : 3

Q.29 निम्नलिखित तालिका चार कॉलेजों में शिक्षकों (पुरुष और महिला) की संख्या और उनमें प्रशिक्षित शिक्षकों का प्रतिशत दर्शाती है।

कॉलेज	पुरुष		महिला	
	शिक्षकों की संख्या	प्रशिक्षित शिक्षकों का %	शिक्षकों की संख्या	प्रशिक्षित शिक्षकों का %
A	225	44	175	40
B	250	30	128	25
C	290	55	100	45
D	350	60	150	30

कॉलेज A में गैर-प्रशिक्षित पुरुष शिक्षकों और कॉलेज B में गैर-प्रशिक्षित महिला शिक्षकों की कुल संख्या कितनी है?

- Ans
- 1. 224
 - 2. 222
 - 3. 228
 - 4. 230

Question ID : 630680357953
Option 1 ID : 6306801393803
Option 2 ID : 6306801393804
Option 3 ID : 6306801393802
Option 4 ID : 6306801393801
Status : Answered
Chosen Option : 2

Q.30 $5 + [6 + (3 + 5) \div 2] \div 2$ का मान निम्न में से किसके बराबर होगा?

- Ans
- 1. 8
 - 2. 14
 - 3. 10
 - 4. 12

Question ID : 630680428247
Option 1 ID : 6306801671035
Option 2 ID : 6306801671032
Option 3 ID : 6306801671034
Option 4 ID : 6306801671033
Status : Answered
Chosen Option : 3

Q.31 यदि एक गोले की त्रिज्या में 40% की वृद्धि कर दी जाती है, तो इसके पृष्ठीय क्षेत्रफल में प्रतिशत वृद्धि की गणना करें।

- Ans
- 1. 92%
 - 2. 96%
 - 3. 85%
 - 4. 88%

Question ID : 630680421631
Option 1 ID : 6306801644989
Option 2 ID : 6306801644990
Option 3 ID : 6306801644987
Option 4 ID : 6306801644988
Status : Answered
Chosen Option : 2

Q.32 यदि 24 व्यक्ति 25 दिनों में 90 समान दीवारें बना सकते हैं, तो ऐसी 162 दीवारों को बनाने में 27 व्यक्तियों को और कितने दिन लगेंगे?

- Ans
- 1. 14
 - 2. 13
 - 3. 16
 - 4. 15

Question ID : 630680428432
Option 1 ID : 6306801671772
Option 2 ID : 6306801671773
Option 3 ID : 6306801671775
Option 4 ID : 6306801671774
Status : Answered
Chosen Option : 4

Q.33 यदि $\tan \theta = \frac{3}{10}$ है, तो $\frac{(1+\sin \theta)(1-\sin \theta)}{(1+\cos \theta)(1-\cos \theta)}$ का मान ज्ञात कीजिए।

- Ans
- 1. $\frac{100}{3}$
 - 2. $\frac{50}{3}$
 - 3. $\frac{100}{9}$
 - 4. $\frac{100}{7}$

Question ID : 630680421361
Option 1 ID : 6306801643907
Option 2 ID : 6306801643910
Option 3 ID : 6306801643908
Option 4 ID : 6306801643909
Status : Answered
Chosen Option : 3

Q.34 निम्नलिखित को सरल कीजिए।

$$\frac{92736}{(274+830) \text{ of } \frac{7}{4}} + 513$$

- Ans
- 1. 574
 - 2. 546
 - 3. 526
 - 4. 561

Question ID : 630680427967
Option 1 ID : 6306801669912
Option 2 ID : 6306801669914
Option 3 ID : 6306801669915
Option 4 ID : 6306801669913

Status : Answered

Chosen Option : 4

Q.35 एक स्टोर में, ₹82,500 अंकित मूल्य वाली एक वस्तु बढ़ाकृत मूल्य पर ₹79,200 में उपलब्ध है। उस वस्तु पर कितने प्रतिशत की छूट दी गई है?

- Ans
- 1. 3%
 - 2. 4%
 - 3. 1%
 - 4. 2%

Question ID : 630680428065
Option 1 ID : 6306801670306
Option 2 ID : 6306801670307
Option 3 ID : 6306801670304
Option 4 ID : 6306801670305

Status : Answered

Chosen Option : 2

Q.36 दो उम्मीदवारों के बीच एक चुनाव में 10% मतदाताओं ने वोट नहीं डाले और 75 वोट अमान्य पाए गए। विजेता को अपेक्षित कुल वोटों के 50% वोट मिले और वह 170 वोटों से जीत गया। मतदाता सूची में कितने मतदाताओं का नाम दर्ज है?

- Ans
- 1. 850
 - 2. 855
 - 3. 950
 - 4. 800

Question ID : 630680428871
Option 1 ID : 6306801673528
Option 2 ID : 6306801673531
Option 3 ID : 6306801673529
Option 4 ID : 6306801673530

Status : Answered

Chosen Option : 2

Q.37 $(4^2)^2 + 4 \times 4 \div 4 - 4$ का मान ज्ञात कीजिए।

- Ans
- 1. 4^2
 - 2. 4^4
 - 3. 4^3
 - 4. 4^0

Question ID : 630680428203

Option 1 ID : 6306801670856

Option 2 ID : 6306801670857

Option 3 ID : 6306801670858

Option 4 ID : 6306801670859

Status : Answered

Chosen Option : 2

Q.38 यदि $16x^4 + \frac{1}{16x^4} = 14159$ है, तो $2x + \frac{1}{2x}$ का मान ज्ञात कीजिए।

- Ans
- 1. 9
 - 2. 15
 - 3. 12
 - 4. 11

Question ID : 630680413511

Option 1 ID : 6306801612868

Option 2 ID : 6306801612871

Option 3 ID : 6306801612870

Option 4 ID : 6306801612869

Status : Answered

Chosen Option : 4

Q.39 त्रिभुज DEF एक समबाहु त्रिभुज है जिसकी भुजा की लंबाई 12 cm है। यदि बिंदु G, भुजा DE का मध्य-बिंदु है, तो भुजा FG की लंबाई (cm में) क्या है?

- Ans
- 1. $6\sqrt{3}$
 - 2. $3\sqrt{6}$
 - 3. 12
 - 4. 6

Question ID : 630680421465

Option 1 ID : 6306801644324

Option 2 ID : 6306801644325

Option 3 ID : 6306801644323

Option 4 ID : 6306801644326

Status : Answered

Chosen Option : 1

Q.40 दी गई तालिका का अध्ययन करें और नीचे दिए गए प्रश्न का उत्तर दें।
तालिका एक कंपनी द्वारा वर्ष 1989 से 1994 तक पाँच प्रकार की कारों P, Q, R, S और T के उत्पादन को दर्शाती है।

कार के प्रकार	1989	1990	1991	1992	1993	1994	कुल
P	8	20	16	17	21	6	88
Q	16	10	14	12	12	14	78
R	21	17	16	15	13	8	90
S	4	6	10	16	20	31	87
T	25	18	19	30	14	27	133
कुल	74	71	75	90	80	86	476

किस वर्ष में P और Q प्रकार की कारों का कुल उत्पादन R और S प्रकार की कारों के कुल उत्पादन के बराबर था?

- Ans
- 1. 1991
 - 2. 1989
 - 3. 1993
 - 4. 1992

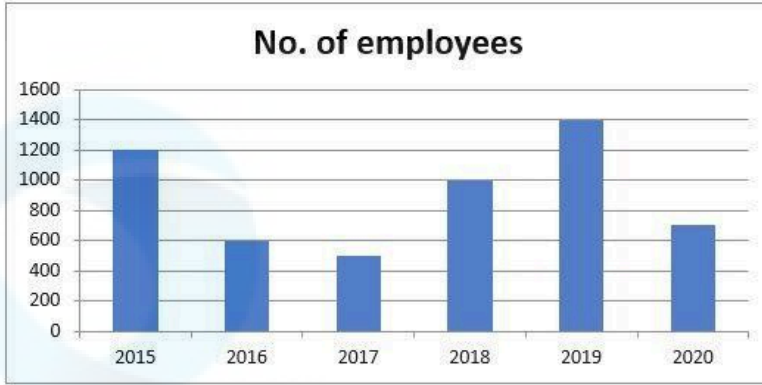
Question ID : 630680428330
Option 1 ID : 6306801671365
Option 2 ID : 6306801671364
Option 3 ID : 6306801671367
Option 4 ID : 6306801671366
Status : Answered
Chosen Option : 3

Q.41 यदि 35 cm और 25 cm त्रिज्या वाले दो वृत्त एक-दूसरे को बाह्य रूप से स्पर्श करते हैं, तो उभयनिष्ठ स्पर्शरेखा की लंबाई (cm में) क्या है? (2 दशमलव स्थानों तक पूर्णांकित)

- Ans
- 1. 59.16
 - 2. 60.00
 - 3. 45.29
 - 4. 52.25

Question ID : 630680421369
Option 1 ID : 6306801643942
Option 2 ID : 6306801643940
Option 3 ID : 6306801643941
Option 4 ID : 6306801643939
Status : Answered
Chosen Option : 1

Q.42 निम्नलिखित बार-ग्राफ विभिन्न वर्षों में किसी विशेष विभाग के कर्मचारियों की भर्ती को दर्शाता है।



No. of employees - कर्मचारियों की संख्या

2017 से 2018 तक कर्मचारियों की भर्ती में प्रतिशत वृद्धि कितनी है?

- Ans
- 1. 100%
 - 2. 150%
 - 3. 130%
 - 4. 120%

Question ID : 630680357955

Option 1 ID : 6306801393809

Option 2 ID : 6306801393810

Option 3 ID : 6306801393812

Option 4 ID : 6306801393811

Status : Answered

Chosen Option : 1

Q.43 यदि $\tan\theta = 7/24$ है, तो $(\cos^2\theta - \sin^2\theta)$ का मान ज्ञात कीजिए।

- Ans
- 1. $\frac{520}{625}$
 - 2. 1
 - 3. $\frac{527}{625}$
 - 4. $\frac{576}{550}$

Question ID : 630680869590

Option 1 ID : 6306803405744

Option 2 ID : 6306803405742

Option 3 ID : 6306803405743

Option 4 ID : 6306803405745

Status : Answered

Chosen Option : 3

Q.44 $[(38 - (-6)) \times \{9 - (8 - 1)\}] \div [4 \times \{6 + (-4)\}]$ को सरल कीजिए।

- Ans 1. 11
 2. 14
 3. 22
 4. 18

Question ID : 630680428120

Option 1 ID : 6306801670524

Option 2 ID : 6306801670526

Option 3 ID : 6306801670525

Option 4 ID : 6306801670527

Status : Answered

Chosen Option : 1

Q.45

$(19 \sin \theta + 6 \cot \theta \sin \theta)$. का अधिकतम मान ज्ञात कीजिए।

- Ans 1. $\sqrt{197}$
 2. $\sqrt{497}$
 3. $\sqrt{397}$
 4. $\sqrt{297}$

Question ID : 630680421363

Option 1 ID : 6306801643917

Option 2 ID : 6306801643918

Option 3 ID : 6306801643915

Option 4 ID : 6306801643916

Status : Answered

Chosen Option : 3

Q.46 निम्न तालिका छह अलग-अलग वर्षों के दौरान पांच अलग-अलग कंपनियों में शामिल होने वाले वितरण भागीदारों (हजारों में) की संख्या दर्शाती है।

वर्ष	कंपनियां				
	एमेज़न	क्लिफ़ार्ट	ट्विगी	टोमेटो	पित्रा
2016	2.4	4.5	1.2	0.9	4.2
2017	1.8	5.4	1.5	1.2	5.6
2018	3.2	7.2	2.4	2.1	6.3
2019	3.9	5.6	2.8	2.7	6.5
2020	4.2	6.4	3.2	3.3	7.0
2021	5.0	7.2	3.6	3.6	7.2

यदि एमेज़न डिलीवरी भागीदारों को औसतन ₹21,000 का वेतन देने का फैसला करता है और 2022 में उसी के लिए ₹13.44 करोड़ आवंटित करता है, तो 2021 से 2022 तक डिलीवरी भागीदारों की संख्या में होने वाली प्रतिशत वृद्धि ज्ञात कीजिए।

- Ans
- 1. 22.5%
 - 2. 20%
 - 3. 28%
 - 4. 25%

Question ID : 630680429267

Option 1 ID : 6306801675113

Option 2 ID : 6306801675112

Option 3 ID : 6306801675115

Option 4 ID : 6306801675114

Status : Not Answered

Chosen Option : --

Q.47 $\frac{1}{4} + \frac{2}{5} \div \left[\left(2\frac{1}{5} - 2 \right) \times 5 \right] - \frac{2}{3}$ of $\frac{3}{5}$ का मान ज्ञात कीजिए।

- Ans
- 1. $\frac{1}{4}$
 - 2. $\frac{2}{3}$
 - 3. $\frac{3}{5}$
 - 4. $\frac{5}{6}$

Question ID : 630680285354

Option 1 ID : 6306801109393

Option 2 ID : 6306801109394

Option 3 ID : 6306801109391

Option 4 ID : 6306801109392

Status : Answered

Chosen Option : 1

Q.48 In an election, A received 27% of the votes and B received 125,982 votes. 19% did not cast their votes. Find the number of votes received by A.

- Ans
- 1. 57,827
 - 2. 1,88,973
 - 3. 62,991
 - 4. 44,327

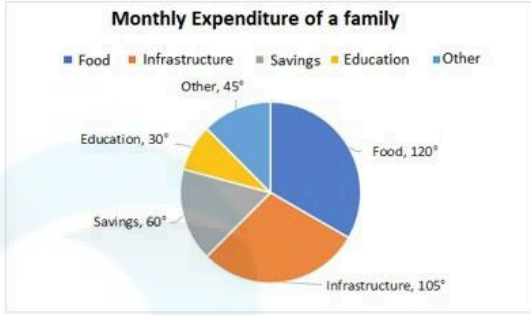
Question ID : 630680428145
Option 1 ID : 6306801670627
Option 2 ID : 6306801670624
Option 3 ID : 6306801670626
Option 4 ID : 6306801670625
Status : Answered
Chosen Option : 3

Q.49 एक कश्बे की जनसंख्या में प्रति वर्ष 8% की वृद्धि होती है। यदि इसकी वर्तमान जनसंख्या 1,42,560 है, तो एक वर्ष पूर्व जनसंख्या कितनी थी?

- Ans
- 1. 1,31,000
 - 2. 1,34,000
 - 3. 1,33,000
 - 4. 1,32,000

Question ID : 630680120225
Option 1 ID : 630680465934
Option 2 ID : 630680465937
Option 3 ID : 630680465935
Option 4 ID : 630680465936
Status : Answered
Chosen Option : 4

Q.50 एक परिवार की एक महीने में विभिन्न मदों में की गई बचत और व्यय को दिए गए पाई चार्ट में दर्शाया गया है। यह परिवार हर महीने ₹8,000 की बचत करता है।



Monthly Expenditure of a family = एक परिवार का मासिक व्यय

Food : भोजन Infrastructure : आधारभूत संरचना Savings : बचत

Education : शिक्षा Other : अन्य

परिवार का कुल मासिक व्यय (₹ में) ज्ञात कीजिए।

- Ans
- 1. 35000
 - 2. 30000
 - 3. 25000
 - 4. 40000

Question ID : 630680176355

Option 1 ID : 630680683649

Option 2 ID : 630680683650

Option 3 ID : 630680683651

Option 4 ID : 630680683648

Status : Answered

Chosen Option : 4

Section : English Comprehension

Q.1 Select the most appropriate idiom for the given situation focusing on the underlined words.

I invited them to my anniversary dinner but they had other plans, so they decided to politely decline with the implication that they may come at a later date.

- Ans
- 1. Took it with a grain of salt
 - 2. To take a rain check
 - 3. To spoil a moment
 - 4. Call it a day

Question ID : 630680517363

Option 1 ID : 6306802021849

Option 2 ID : 6306802021850

Option 3 ID : 6306802021848

Option 4 ID : 6306802021851

Status : Answered

Chosen Option : 4

Q.2 Select the option that can be used as a one-word substitute for the underlined words.
He was promoted to a higher position in the first year due to his careful nature and hard-working efforts.

- Ans** 1. diligence
 2. business mindedness
 3. extraordinary
 4. elegance

Question ID : 630680414578
Option 1 ID : 6306801617063
Option 2 ID : 6306801617064
Option 3 ID : 6306801617066
Option 4 ID : 6306801617065
Status : Answered
Chosen Option : 1

Q.3 Select the option that can be used as a one-word substitute for the given group of words.
A lively, cheerful outgoing person.

- Ans** 1. Ambivert
 2. Introvert
 3. Orator
 4. Extrovert

Question ID : 630680414531
Option 1 ID : 6306801616886
Option 2 ID : 6306801616884
Option 3 ID : 6306801616885
Option 4 ID : 6306801616883
Status : Answered
Chosen Option : 4

Q.4 Select the option that can be used as a one-word substitute for the given group of words.

Weak and cowardly

- Ans** 1. Meek
 2. Pusillanimous
 3. Anxious
 4. Timid

Question ID : 630680176617
Option 1 ID : 630680684688
Option 2 ID : 630680684690
Option 3 ID : 630680684689
Option 4 ID : 630680684691
Status : Answered
Chosen Option : 4

Q.5 Select the most appropriate idiom that can substitute the underlined segment in the given sentence.

The players like the coach because he is honest, realistic and practical in dealing with them.

- Ans
- 1. by and large
 - 2. sick and tired
 - 3. far and wide
 - 4. down to earth

Question ID : 630680435642
Option 1 ID : 6306801700498
Option 2 ID : 6306801700497
Option 3 ID : 6306801700500
Option 4 ID : 6306801700499
Status : Answered
Chosen Option : 4

Q.6 Select the most appropriate idiom that can substitute the underlined segment in the given sentence and complete the sentence correctly.

It is important to take this opportunity to make a name for yourself – beat around the bush.

- Ans
- 1. bare the foot
 - 2. strike while the iron is hot
 - 3. pass with flying colours
 - 4. fight tooth and claw

Question ID : 630680517345
Option 1 ID : 6306802021777
Option 2 ID : 6306802021778
Option 3 ID : 6306802021779
Option 4 ID : 6306802021776
Status : Not Answered
Chosen Option : --

Q.7 The following sentence has been divided into parts. One of them contains an error. Select the part that contains the error from the given options.
Mr. Vinu / has never / slept in / a igloo.

- Ans
- 1. a igloo
 - 2. slept in
 - 3. has never
 - 4. Mr. Vinu

Question ID : 630680184892
Option 1 ID : 630680716532
Option 2 ID : 630680716531
Option 3 ID : 630680716530
Option 4 ID : 630680716529
Status : Answered
Chosen Option : 1

Q.8 Select the most appropriate option that can substitute the underlined segment in the given sentence.

No sooner had she finished her breakfast that she had received a phone call from her boss, informing her that she needed to come to work immediately.

- Ans
- 1. than she received
 - 2. that she receives
 - 3. that she received
 - 4. than she receives

Question ID : 630680414517
Option 1 ID : 6306801616828
Option 2 ID : 6306801616830
Option 3 ID : 6306801616829
Option 4 ID : 6306801616827
Status : Answered
Chosen Option : 1

Q.9 Select the word from the sentence below, which is an antonym for the word 'advance'.

Clive is a travel blogger who believes that with even an elementary or intermediate Knowledge of the local language, you can enjoy your travel more.

- Ans
- 1. Destination
 - 2. knowledge
 - 3. Believes
 - 4. Elementary

Question ID : 630680517334
Option 1 ID : 6306802021735
Option 2 ID : 6306802021734
Option 3 ID : 6306802021732
Option 4 ID : 6306802021733
Status : Answered
Chosen Option : 1

Q.10 Select the most appropriate idiom that can substitute the underlined segment in the given sentence.

Popular cosmetics brands in India are very expensive.

- Ans
- 1. take it with a pinch of salt
 - 2. up in arms
 - 3. cost an arm and a leg
 - 4. flog a dead horse

Question ID : 630680517318
Option 1 ID : 6306802021668
Option 2 ID : 6306802021671
Option 3 ID : 6306802021669
Option 4 ID : 6306802021670
Status : Answered
Chosen Option : 3

Q.11 Underlined word in the sentence is not spelt correctly. Identify the correct spelling from the options given below.

Raman had been living a reklusive life since he had lost his job.

- Ans
- 1. Reslusive
 - 2. Reclusive
 - 3. Reclusive
 - 4. Reclucive

Question ID : 630680409865
Option 1 ID : 6306801598290
Option 2 ID : 6306801598292
Option 3 ID : 6306801598291
Option 4 ID : 6306801598289
Status : Answered
Chosen Option : 2

Q.12 Select the most appropriate option that can substitute the underlined words in the given sentence.

Though very informative, Shweta's article was mercilessly rejected of the editor.

- Ans
- 1. was mercilessly rejected of
 - 2. was mercilessly rejected by
 - 3. was mercilessly rejected each
 - 4. was mercilessly rejected on

Question ID : 630680182093
Option 1 ID : 630680705596
Option 2 ID : 630680705595
Option 3 ID : 630680705597
Option 4 ID : 630680705594
Status : Answered
Chosen Option : 2

Q.13 What is the most appropriate ANTONYM of the word 'fluctuate'?

- Ans
- 1. Deflect
 - 2. Stabilise
 - 3. Vacillate
 - 4. Fickle

Question ID : 630680409895
Option 1 ID : 6306801598411
Option 2 ID : 6306801598409
Option 3 ID : 6306801598412
Option 4 ID : 6306801598410
Status : Answered
Chosen Option : 2

Q.14 Select the most appropriate option that can substitute the underlined segment in the given sentence.

Last night, I failed to sleep because of some familiar issues that couldn't be avoided.

- Ans
- 1. incapable
 - 2. unthinkable
 - 3. unsolvable
 - 4. inevitable

Question ID : 630680414575
Option 1 ID : 6306801617054
Option 2 ID : 6306801617052
Option 3 ID : 6306801617051
Option 4 ID : 6306801617053
Status : Answered
Chosen Option : 4

Q.15 Identify the most appropriate antonym of the given word.

Rapid

- Ans
- 1. smart
 - 2. active
 - 3. slow
 - 4. lately

Question ID : 630680517350
Option 1 ID : 6306802021799
Option 2 ID : 6306802021798
Option 3 ID : 6306802021797
Option 4 ID : 6306802021796
Status : Answered
Chosen Option : 3

Q.16 Select the most appropriate idiom to fill in the blank.

When I went to Egypt and lost my wallet and passport, I was _____.

- Ans
- 1. putting my nose to the grindstone
 - 2. working my fingers to the bone
 - 3. up in a creek without a paddle
 - 4. rolling up my sleeves

Question ID : 630680445913
Option 1 ID : 6306801740992
Option 2 ID : 6306801740993
Option 3 ID : 6306801740995
Option 4 ID : 6306801740994
Status : Answered
Chosen Option : 3

Q.17 Select the INCORRECTLY spelt word.

- Ans 1. Mystery
 2. Bicycle
 3. Justice
 4. Academy

Question ID : 630680517477
Option 1 ID : 6306802022304
Option 2 ID : 6306802022306
Option 3 ID : 6306802022305
Option 4 ID : 6306802022307
Status : Answered
Chosen Option : 2

Q.18 Select the most appropriate meaning of the given idiom.
Gift of the gab

- Ans 1. A talent for speaking
 2. A gift for a person named Gab
 3. A talent for singing
 4. A talent for lying

Question ID : 630680167283
Option 1 ID : 630680647905
Option 2 ID : 630680647904
Option 3 ID : 630680647907
Option 4 ID : 630680647906
Status : Answered
Chosen Option : 1

Q.19 Select the option that can be used as a one-word substitute for the given group of words.

A lover of mankind

- Ans 1. Recluse
 2. Philanthropist
 3. Cynic
 4. Psychiatrist

Question ID : 630680414800
Option 1 ID : 6306801617943
Option 2 ID : 6306801617946
Option 3 ID : 6306801617945
Option 4 ID : 6306801617944
Status : Answered
Chosen Option : 2

Q.20 Parts of the following sentence have been given as options. Select the option that contains an error.
My neighbours were serious injured in the car accident.

- Ans 1. serious injured
 2. the car accident
 3. in
 4. My neighbours were

Question ID : 630680154843
Option 1 ID : 630680599169
Option 2 ID : 630680599171
Option 3 ID : 630680599170
Option 4 ID : 630680599168
Status : Answered
Chosen Option : 1

Q.21 Parts of the given sentence have been underlined. One of them contains an error. Select the option that has the segment with a grammatical error.
The art historian argued that the painting's value has been greatly underestimated, and that its unique style and technique deserved recognition from the art community and the public alike.

- Ans 1. has been greatly underestimated
 2. and the public alike
 3. recognition from the art community
 4. its unique style and technique

Question ID : 630680415364
Option 1 ID : 6306801620203
Option 2 ID : 6306801620206
Option 3 ID : 6306801620205
Option 4 ID : 6306801620204
Status : Answered
Chosen Option : 3

Q.22 Select the most appropriate ANTONYM of the given word.

Confound

- Ans 1. Discern
 2. Suppress
 3. Assure
 4. Expire

Question ID : 630680435583
Option 1 ID : 6306801700265
Option 2 ID : 6306801700266
Option 3 ID : 6306801700268
Option 4 ID : 6306801700267
Status : Answered
Chosen Option : 2

Q.23 Select the most appropriate option that can substitute the underlined segment in the given sentence. If there is no need to substitute it, select 'No substitution'.
If I was very rich, I would spend all my time and money for the poor.

- Ans
- 1. If I were very rich
 - 2. No substitution
 - 3. If I have much riches
 - 4. If I am very rich

Question ID : 630680414537
Option 1 ID : 6306801616908
Option 2 ID : 6306801616910
Option 3 ID : 6306801616909
Option 4 ID : 6306801616907
Status : Answered
Chosen Option : 1

Q.24 Select the INCORRECTLY spelt word.

- Ans
- 1. Perseverance
 - 2. Hierarchy
 - 3. Knowledgeable
 - 4. Neccessity

Question ID : 630680410008
Option 1 ID : 6306801598864
Option 2 ID : 6306801598861
Option 3 ID : 6306801598862
Option 4 ID : 6306801598863
Status : Answered
Chosen Option : 4

Q.25 Select the most appropriate segment to substitute the underlined words in the given sentence.

After he leave, we discussed his suggestion.

- Ans
- 1. he had left
 - 2. he will be leaving
 - 3. he was leaving
 - 4. he has left

Question ID : 630680436024
Option 1 ID : 6306801702039
Option 2 ID : 6306801702040
Option 3 ID : 6306801702038
Option 4 ID : 6306801702037
Status : Answered
Chosen Option : 1

Q.26 Select the option that can be used as a one-word substitute for the given group of words.

An area/place in which dead bodies are buried

- Ans 1. Clementi
 2. Cemetery
 3. Mansion
 4. Demise

Question ID : 630680414623
Option 1 ID : 6306801617236
Option 2 ID : 6306801617235
Option 3 ID : 6306801617238
Option 4 ID : 6306801617237
Status : Answered
Chosen Option : 2

Q.27 The following sentence has been split into four segments. Identify the segment that contains a spelling error.

The dried raisons / have an intoxicating /effect on humans as / well as flora and fauna.

- Ans 1. The dried raisons
 2. well as flora and fauna.
 3. have an intoxicating
 4. effect on humans as

Question ID : 630680518782
Option 1 ID : 6306802027624
Option 2 ID : 6306802027627
Option 3 ID : 6306802027625
Option 4 ID : 6306802027626
Status : Answered
Chosen Option : 1

Q.28 Select the most appropriate synonym of the given word.

Mourn

- Ans 1. Dread
 2. Amuse
 3. Grieve
 4. Approve

Question ID : 630680310013
Option 1 ID : 6306801206200
Option 2 ID : 6306801206198
Option 3 ID : 6306801206197
Option 4 ID : 6306801206199
Status : Answered
Chosen Option : 3

Q.29 Select the most appropriate meaning of the given idiom.
To leave no stone unturned

- Ans
- 1. To treat someone/something as if of no importance
 - 2. To do everything possible to achieve something
 - 3. To control a person completely
 - 4. To win everything that is available

Question ID : 630680195032
Option 1 ID : 630680756620
Option 2 ID : 630680756618
Option 3 ID : 630680756617
Option 4 ID : 630680756619
Status : Answered
Chosen Option : 2

Q.30 Select the INCORRECTLY spelt word in the given sentence.
Every season the river overflows its banks and when it goes down it leaves silt for crops to be gruw n.

- Ans
- 1. Silt
 - 2. Gruwn
 - 3. Season
 - 4. Overflows

Question ID : 630680396918
Option 1 ID : 6306801547742
Option 2 ID : 6306801547741
Option 3 ID : 6306801547740
Option 4 ID : 6306801547743
Status : Answered
Chosen Option : 2

Q.31 Select the most appropriate ANTONYM of the given word.
Oral

- Ans
- 1. Dejected
 - 2. Verbal
 - 3. Obligatory
 - 4. Inscribed

Question ID : 630680295215
Option 1 ID : 6306801148587
Option 2 ID : 6306801148584
Option 3 ID : 6306801148586
Option 4 ID : 6306801148585
Status : Answered
Chosen Option : 4

Q.32 Select the option that rectifies the spelling error in the given sentence.
The phone rang, but nobody awnsered.

- Ans
- 1. answord
 - 2. awmsered
 - 3. answered
 - 4. ansvered

Question ID : 630680517473
Option 1 ID : 6306802022290
Option 2 ID : 6306802022289
Option 3 ID : 6306802022291
Option 4 ID : 6306802022288
Status : Answered
Chosen Option : 3

Q.33 Select the most appropriate ANTONYM of the given word.

Convalesce

- Ans
- 1. Corrupt
 - 2. Collapse
 - 3. Confront
 - 4. Conceal

Question ID : 630680435591
Option 1 ID : 6306801700297
Option 2 ID : 6306801700299
Option 3 ID : 6306801700298
Option 4 ID : 6306801700300
Status : Answered
Chosen Option : 1

Q.34 The following sentence has been divided into four segments. Identify the segment that has a grammatical error.

I am working with him since 2002, / but even today / I am unable / to understand his motives.

- Ans
- 1. but even today
 - 2. I am working with him since 2002,
 - 3. I am unable
 - 4. to understand his motives.

Question ID : 630680191737
Option 1 ID : 630680743558
Option 2 ID : 630680743557
Option 3 ID : 630680743559
Option 4 ID : 630680743560
Status : Answered
Chosen Option : 2

Q.35 Select the word from the sentence below, which is an antonym for the word 'resolve'
My cousin Nisha's curiosity about life will never be satisfied because no one knows all the answers to all her questions.

- Ans
- 1. Satisfied
 - 2. About
 - 3. Questions
 - 4. Knows

Question ID : 630680517333
Option 1 ID : 6306802021729
Option 2 ID : 6306802021728
Option 3 ID : 6306802021731
Option 4 ID : 6306802021730
Status : Answered
Chosen Option : 3

Q.36 Select the most appropriate idiomatic expression that can substitute the underlined segment in the given sentence.

He is very strict with his students but good-natured.

- Ans
- 1. his eyes are bigger than his stomach
 - 2. his heart misses a beat
 - 3. he has a big mouth
 - 4. his heart is in the right place

Question ID : 630680166223
Option 1 ID : 630680643866
Option 2 ID : 630680643865
Option 3 ID : 630680643867
Option 4 ID : 630680643864
Status : Answered
Chosen Option : 4

Q.37 Select the most appropriate idiom to fill in the blank.

John was always _____ about becoming a millionaire without doing any hard work.

- Ans
- 1. a storm in a tea cup
 - 2. building castles in the air
 - 3. eating like a horse
 - 4. having an ace up his sleeve

Question ID : 630680517407
Option 1 ID : 6306802022027
Option 2 ID : 6306802022024
Option 3 ID : 6306802022025
Option 4 ID : 6306802022026
Status : Answered
Chosen Option : 2

Q.38 Select the option that will improve the underlined part of the given sentence.
My friend vanished when the goons came to fight with me.

- Ans
- 1. attacked when the thugs arrived
 - 2. mobilised when the thugs arrived
 - 3. disappeared when the thugs arrived
 - 4. condemned when the thugs arrived

Question ID : 630680414504
Option 1 ID : 6306801616776
Option 2 ID : 6306801616778
Option 3 ID : 6306801616775
Option 4 ID : 6306801616777
Status : Answered
Chosen Option : 3

Q.39 Select the most appropriate synonym of the underlined word in the given sentence.
The environmental organisation issued a statement to condemn the deforestation happening in the protected area.

- Ans
- 1. Persuade
 - 2. Compel
 - 3. Foster
 - 4. Censure

Question ID : 630680383231
Option 1 ID : 6306801493833
Option 2 ID : 6306801493832
Option 3 ID : 6306801493831
Option 4 ID : 6306801493834
Status : Answered
Chosen Option : 4

Q.40 Parts of the following sentences have been given as options. Select the option that contains a grammatical error.

Ms. Malathi is living lonely in an apartment.

- Ans
- 1. Ms. Malathi
 - 2. an apartment
 - 3. is living
 - 4. lonely in

Question ID : 630680146964
Option 1 ID : 630680568694
Option 2 ID : 630680568697
Option 3 ID : 630680568695
Option 4 ID : 630680568696
Status : Answered
Chosen Option : 3

Comprehension:

In the following passage, some words have been deleted. Read the passage carefully and select the most appropriate option to fill in each blank.

Why do people yawn? No one seems to know the exact (1)_____. Some people believe that we yawn (2)_____ we do not have enough oxygen in our bodies. In (3)_____ words, we yawn to breathe in (4)_____ oxygen. People also believe that yawning is associated (5)_____ boredom.

SubQuestion No : 41

Q.41 Select the correct option to fill blank 1.

- Ans
- 1. reality
 - 2. explanation
 - 3. reason
 - 4. basis

Question ID : 630680514988

Option 1 ID : 6306802012530

Option 2 ID : 6306802012531

Option 3 ID : 6306802012529

Option 4 ID : 6306802012532

Status : Answered

Chosen Option : 3

Comprehension:

In the following passage, some words have been deleted. Read the passage carefully and select the most appropriate option to fill in each blank.

Why do people yawn? No one seems to know the exact (1)_____. Some people believe that we yawn (2)_____ we do not have enough oxygen in our bodies. In (3)_____ words, we yawn to breathe in (4)_____ oxygen. People also believe that yawning is associated (5)_____ boredom.

SubQuestion No : 42

Q.42 Select the correct option to fill blank 2.

- Ans
- 1. when
 - 2. why
 - 3. while
 - 4. as

Question ID : 630680514989

Option 1 ID : 6306802012535

Option 2 ID : 6306802012536

Option 3 ID : 6306802012534

Option 4 ID : 6306802012533

Status : Answered

Chosen Option : 1

Comprehension:

In the following passage, some words have been deleted. Read the passage carefully and select the most appropriate option to fill in each blank.

Why do people yawn? No one seems to know the exact (1)_____. Some people believe that we yawn (2)_____ we do not have enough oxygen in our bodies. In (3)_____ words, we yawn to breathe in (4)_____ oxygen. People also believe that yawning is associated (5)_____ boredom.

SubQuestion No : 43

Q.43 Select the correct option to fill blank 3.

- Ans 1. some
 2. other
 3. rather
 4. new

Question ID : 630680514990
Option 1 ID : 6306802012540
Option 2 ID : 6306802012539
Option 3 ID : 6306802012537
Option 4 ID : 6306802012538
Status : Answered
Chosen Option : 2

Comprehension:

In the following passage, some words have been deleted. Read the passage carefully and select the most appropriate option to fill in each blank.

Why do people yawn? No one seems to know the exact (1)_____. Some people believe that we yawn (2)_____ we do not have enough oxygen in our bodies. In (3)_____ words, we yawn to breathe in (4)_____ oxygen. People also believe that yawning is associated (5)_____ boredom.

SubQuestion No : 44

Q.44 Select the correct option to fill blank 4.

- Ans 1. much
 2. less
 3. more
 4. little

Question ID : 630680514991
Option 1 ID : 6306802012542
Option 2 ID : 6306802012541
Option 3 ID : 6306802012543
Option 4 ID : 6306802012544
Status : Answered
Chosen Option : 4

Comprehension:

In the following passage, some words have been deleted. Read the passage carefully and select the most appropriate option to fill in each blank.

Why do people yawn? No one seems to know the exact (1) _____. Some people believe that we yawn (2) _____ we do not have enough oxygen in our bodies. In (3) _____ words, we yawn to breathe in (4) _____ oxygen. People also believe that yawning is associated (5) _____ boredom.

SubQuestion No : 45**Q.45 Select the correct option to fill blank 5.****Ans** 1. in 2. with 3. on 4. by

Question ID : 630680514992

Option 1 ID : 6306802012545

Option 2 ID : 6306802012548

Option 3 ID : 6306802012546

Option 4 ID : 6306802012547

Status : Answered

Chosen Option : 2

Comprehension:

Read the given passage and answer the questions that follow.

Ahoy there, matey! Today, we're going to talk about something near and dear to my heart: pirates. You know, those swashbuckling scallywags who pillage and plunder on the high seas. Now, when you think of pirates, you might picture them as these tough, intimidating figures. But let me tell you, there's a lot more to these buccaneers than meets the eye. For one thing, have you ever noticed that pirates seem to have an unusual fondness for parrots? I mean, come on. They're birds. What use could a pirate possibly have for a bird? And then there's the whole eyepatch thing. Yes, pirates are known for wearing eyepatches, but did you ever stop to wonder why? Some people think it's because they lost an eye in battle, but the real reason is much simpler: it's so they can switch the patch from eye to eye and maintain night vision in both eyes. Genius, right? But my favourite pirate quirk has got to be their love of treasure. I mean, who doesn't love a good treasure hunt? But the way pirates go about it is just hilarious. They'll spend months, even years, searching for that one elusive chest of gold, only to bury it on some deserted island and forget where they put it. It's like they're playing an eternal game of hide-and-seek with themselves. And let's not forget about their vocabulary. Pirates have a whole language all their own, full of terms like 'shiver me timbers', 'avast', and 'yo-ho-ho'. I mean, what does any of that even mean? It's like they're speaking a different language entirely. So, there you have it, folks. Pirates might be fierce, but they're also pretty darn funny. Who knows? Maybe we could all learn a thing or two from these salty dogs.

SubQuestion No : 46**Q.46 Which of the following would be the most appropriate title for this passage?****Ans** 1. The Humorous Quirks of Pirates 2. The Mysterious Language of Pirates 3. The Fierce and Intimidating Pirate Culture 4. The Serious World of Pirates

Question ID : 630680406895

Option 1 ID : 6306801586633

Option 2 ID : 6306801586632

Option 3 ID : 6306801586631

Option 4 ID : 6306801586630

Status : Answered

Chosen Option : 1

Comprehension:

Read the given passage and answer the questions that follow.

Ahoy there, matey! Today, we're going to talk about something near and dear to my heart: pirates. You know, those swashbuckling scallywags who pillage and plunder on the high seas. Now, when you think of pirates, you might picture them as these tough, intimidating figures. But let me tell you, there's a lot more to these buccaneers than meets the eye. For one thing, have you ever noticed that pirates seem to have an unusual fondness for parrots? I mean, come on. They're birds. What use could a pirate possibly have for a bird?

And then there's the whole eyepatch thing. Yes, pirates are known for wearing eyepatches, but did you ever stop to wonder why? Some people think it's because they lost an eye in battle, but the real reason is much simpler: it's so they can switch the patch from eye to eye and maintain night vision in both eyes. Genius, right?

But my favourite pirate quirk has got to be their love of treasure. I mean, who doesn't love a good treasure hunt? But the way pirates go about it is just hilarious. They'll spend months, even years, searching for that one elusive chest of gold, only to bury it on some deserted island and forget where they put it. It's like they're playing an eternal game of hide-and-seek with themselves.

And let's not forget about their vocabulary. Pirates have a whole language all their own, full of terms like 'shiver me timbers', 'avast', and 'yo-ho-ho'. I mean, what does any of that even mean? It's like they're speaking a different language entirely.

So, there you have it, folks. Pirates might be fierce, but they're also pretty darn funny. Who knows? Maybe we could all learn a thing or two from these salty dogs.

SubQuestion No : 47

Q.47 Which of the following options best describes the tone of the passage?

- Ans 1. Angry
 2. Serious
 3. Sarcastic
 4. Humorous

Question ID : 630680406892

Option 1 ID : 6306801586621

Option 2 ID : 6306801586618

Option 3 ID : 6306801586619

Option 4 ID : 6306801586620

Status : Answered

Chosen Option : 4

Comprehension:

Read the given passage and answer the questions that follow.

Ahoy there, matey! Today, we're going to talk about something near and dear to my heart: pirates. You know, those swashbuckling scallywags who pillage and plunder on the high seas. Now, when you think of pirates, you might picture them as these tough, intimidating figures. But let me tell you, there's a lot more to these buccaneers than meets the eye. For one thing, have you ever noticed that pirates seem to have an unusual fondness for parrots? I mean, come on. They're birds. What use could a pirate possibly have for a bird?

And then there's the whole eyepatch thing. Yes, pirates are known for wearing eyepatches, but did you ever stop to wonder why? Some people think it's because they lost an eye in battle, but the real reason is much simpler: it's so they can switch the patch from eye to eye and maintain night vision in both eyes. Genius, right?

But my favourite pirate quirk has got to be their love of treasure. I mean, who doesn't love a good treasure hunt? But the way pirates go about it is just hilarious. They'll spend months, even years, searching for that one elusive chest of gold, only to bury it on some deserted island and forget where they put it. It's like they're playing an eternal game of hide-and-seek with themselves.

And let's not forget about their vocabulary. Pirates have a whole language all their own, full of terms like 'shiver me timbers', 'avast', and 'yo-ho-ho'. I mean, what does any of that even mean? It's like they're speaking a different language entirely.

So, there you have it, folks. Pirates might be fierce, but they're also pretty darn funny. Who knows? Maybe we could all learn a thing or two from these salty dogs.

SubQuestion No : 48**Q.48 Why do pirates wear eyepatches?**

- Ans
- 1. Because they lost an eye in battle
 - 2. To intimidate their enemies
 - 3. To cover up an embarrassing birthmark
 - 4. To maintain night vision in both eyes

Question ID : 630680406891

Option 1 ID : 6306801586616

Option 2 ID : 6306801586614

Option 3 ID : 6306801586617

Option 4 ID : 6306801586615

Status : Answered

Chosen Option : 1

Comprehension:

Read the given passage and answer the questions that follow.

Ahoy there, matey! Today, we're going to talk about something near and dear to my heart: pirates. You know, those swashbuckling scallywags who pillage and plunder on the high seas. Now, when you think of pirates, you might picture them as these tough, intimidating figures. But let me tell you, there's a lot more to these buccaneers than meets the eye. For one thing, have you ever noticed that pirates seem to have an unusual fondness for parrots? I mean, come on. They're birds. What use could a pirate possibly have for a bird?

And then there's the whole eyepatch thing. Yes, pirates are known for wearing eyepatches, but did you ever stop to wonder why? Some people think it's because they lost an eye in battle, but the real reason is much simpler: it's so they can switch the patch from eye to eye and maintain night vision in both eyes. Genius, right?

But my favourite pirate quirk has got to be their love of treasure. I mean, who doesn't love a good treasure hunt? But the way pirates go about it is just hilarious. They'll spend months, even years, searching for that one elusive chest of gold, only to bury it on some deserted island and forget where they put it. It's like they're playing an eternal game of hide-and-seek with themselves.

And let's not forget about their vocabulary. Pirates have a whole language all their own, full of terms like 'shiver me timbers', 'avast', and 'yo-ho-ho'. I mean, what does any of that even mean? It's like they're speaking a different language entirely.

So, there you have it, folks. Pirates might be fierce, but they're also pretty darn funny. Who knows? Maybe we could all learn a thing or two from these salty dogs.

SubQuestion No : 49**Q.49 What is a common phrase used in pirate language?****Ans** ✓ 1. Shiver me timbers

✗ 2. Howdy, partner!

✗ 3. Yo, dude!

✗ 4. Greetings, friend!

Question ID : 630680406894

Option 1 ID : 6306801586626

Option 2 ID : 6306801586628

Option 3 ID : 6306801586629

Option 4 ID : 6306801586627

Status : Answered

Chosen Option : 1

Comprehension:

Read the given passage and answer the questions that follow.

Ahoy there, matey! Today, we're going to talk about something near and dear to my heart: pirates. You know, those swashbuckling scallywags who pillage and plunder on the high seas. Now, when you think of pirates, you might picture them as these tough, intimidating figures. But let me tell you, there's a lot more to these buccaneers than meets the eye. For one thing, have you ever noticed that pirates seem to have an unusual fondness for parrots? I mean, come on. They're birds. What use could a pirate possibly have for a bird?

And then there's the whole eyepatch thing. Yes, pirates are known for wearing eyepatches, but did you ever stop to wonder why? Some people think it's because they lost an eye in battle, but the real reason is much simpler: it's so they can switch the patch from eye to eye and maintain night vision in both eyes. Genius, right?

But my favourite pirate quirk has got to be their love of treasure. I mean, who doesn't love a good treasure hunt? But the way pirates go about it is just hilarious. They'll spend months, even years, searching for that one elusive chest of gold, only to bury it on some deserted island and forget where they put it. It's like they're playing an eternal game of hide-and-seek with themselves.

And let's not forget about their vocabulary. Pirates have a whole language all their own, full of terms like 'shiver me timbers', 'avast', and 'yo-ho-ho'. I mean, what does any of that even mean? It's like they're speaking a different language entirely.

So, there you have it, folks. Pirates might be fierce, but they're also pretty darn funny. Who knows? Maybe we could all learn a thing or two from these salty dogs.

SubQuestion No : 50

Q.50 What is one of the pirate quirks mentioned in the passage?

- Ans
- 1. Their fondness for cats
 - 2. Their love of gardening
 - 3. Their love for basketball
 - 4. Their tendency to forget where they buried their treasure

Question ID : 630680406893

Option 1 ID : 6306801586623

Option 2 ID : 6306801586625

Option 3 ID : 6306801586622

Option 4 ID : 6306801586624

Status : Answered

Chosen Option : 4