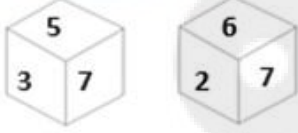


Sub Inspector in Delhi Police and Central Armed Police Forces Examination 2024 Paper I Exam

Roll Number	
Candidate Name	
Venue Name	
Exam Date	27/06/2024
Exam Time	9:00 AM - 11:00 AM
Subject	SICPO Paper I 2024

Section : General Intelligence and Reasoning

Q.1 एक पासे के फलकों पर संख्याएं 2, 3, 5, 6, 7 और 8 हैं। नीचे एक ही पासे की दो अलग-अलग स्थितियां दी गई हैं। उस संख्या का चयन करें जो 8 वाले फलक के विपरीत फलक पर होगी।



- Ans
- 1. 2
 - 2. 3
 - 3. 7
 - 4. 6

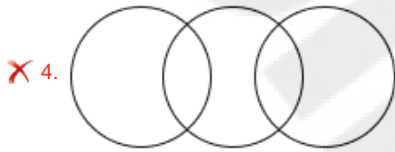
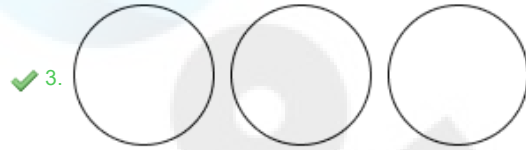
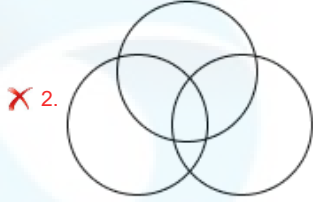
Question ID : 630680329091
Option 1 ID : 6306801280187
Option 2 ID : 6306801280186
Option 3 ID : 6306801280185
Option 4 ID : 6306801280188

Status : Answered

Chosen Option : 3

Q.2 उस वेन-आरेख का चयन कीजिए, जो निम्नलिखित वर्गों के बीच के संबंध को सर्वोत्तम रूप से दर्शाता है।
केले, सेब, अंगूर

Ans



Question ID : 630680869730

Option 1 ID : 6306803406289

Option 2 ID : 6306803406288

Option 3 ID : 6306803406287

Option 4 ID : 6306803406286

Status : Answered

Chosen Option : 3

Q.3 एक निश्चित तर्क का अनुसरण करते हुए 15, 45 से संबंधित है। उसी तर्क का अनुसरण करते हुए, 25, 125 से संबंधित है। उसी तर्क का उपयोग करते हुए निम्नलिखित में से कौन सी संख्या 80 से संबंधित है?

Ans ✓ 1. 20

✗ 2. 18

✗ 3. 21

✗ 4. 22

Question ID : 63068063339

Option 1 ID : 630680244523

Option 2 ID : 630680244522

Option 3 ID : 630680244525

Option 4 ID : 630680244524

Status : Answered

Chosen Option : 1

Q.4 निम्नलिखित में से कौन-सी संख्या दी गई श्रृंखला में प्रश्न चिह्न (?) को प्रतिस्थापित करेगी?
7, 16, 43, 124, 367, ?

- Ans 1. 1066
 2. 1096
 3. 1076
 4. 1086

Question ID : 630680411772
Option 1 ID : 6306801605923
Option 2 ID : 6306801605926
Option 3 ID : 6306801605924
Option 4 ID : 6306801605925
Status : Answered
Chosen Option : 2

Q.5 गणितीय चिह्नों के उस सही संयोजन का चयन कीजिए जिसे * चिह्नों के स्थान पर रखने पर समीकरण संतुष्ट हो जाएगा।

$$13 * 7 * 12 * 4 * 15 * 65$$

- Ans 1. -, +, +, ×, =
 2. +, +, ×, +, =
 3. +, +, +, ×, =
 4. +, ×, +, ×, =

Question ID : 630680412005
Option 1 ID : 6306801606858
Option 2 ID : 6306801606855
Option 3 ID : 6306801606856
Option 4 ID : 6306801606857
Status : Answered
Chosen Option : 3

Q.6 यदि + का अर्थ - है, - का अर्थ × है, × का अर्थ ÷ है, ÷ का अर्थ + है, तो दिए गए समीकरण में प्रश्न-चिह्न (?) के स्थान पर क्या आएगा?
 $22 \times 11 - 450 \div 50 + 500 = ?$

- Ans 1. 550
 2. 450
 3. 350
 4. 650

Question ID : 630680154560
Option 1 ID : 630680598045
Option 2 ID : 630680598044
Option 3 ID : 630680598046
Option 4 ID : 630680598047
Status : Answered
Chosen Option : 2

Q.7 एक कूट भाषा में 'LAND' को 'IWKZ' के रूप में लिखा जाता है और 'GOLD' को 'DKIZ' के रूप में लिखा जाता है। इसी कूट भाषा में 'TEAM' को कैसे लिखा जाएगा?

- Ans
- 1. JXQB
 - 2. XJQB
 - 3. QAXI
 - 4. QXJB

Question ID : 630680416687
Option 1 ID : 6306801625514
Option 2 ID : 6306801625513
Option 3 ID : 6306801625512
Option 4 ID : 6306801625511
Status : Answered
Chosen Option : 3

Q.8 निम्नलिखित में से कौन-सी संख्याएं दी गई श्रृंखला में प्रश्न चिह्न (?) के स्थान पर आएंगी?
1, 6, 15, 28, ?, ?, 91

- Ans
- 1. 40, 60
 - 2. 45, 66
 - 3. 44, 54
 - 4. 42, 54

Question ID : 630680411873
Option 1 ID : 6306801606328
Option 2 ID : 6306801606329
Option 3 ID : 6306801606327
Option 4 ID : 6306801606330
Status : Answered
Chosen Option : 2

Q.9 जब दर्पण को नीचे दर्शाए गए अनुसार MN पर रखा जाता है तो दी गई आकृति के सही दर्पण प्रतिबिंब का चयन कीजिए।



- Ans
- 1. f e A 2 7 L
 - 2. f e A 2 7 L
 - 3. f e A 2 7 L
 - 4. f e A 2 7 L

Question ID : 630680356647
Option 1 ID : 6306801388589
Option 2 ID : 6306801388590
Option 3 ID : 6306801388591
Option 4 ID : 6306801388592
Status : Answered
Chosen Option : 4

Q.10 एक शादी के रिसेप्शन में, एक व्यक्ति ने दूल्हे की ओर इशारा किया और दूल्हे को अपने दादा के पुत्र के पुत्र का भाई बताया। दूल्हा उस आदमी का क्या लगता है?

- Ans
- 1. पिता
 - 2. चाचा
 - 3. साला/जीजा
 - 4. भाई

Question ID : 630680102736
Option 1 ID : 630680399206
Option 2 ID : 630680399203
Option 3 ID : 630680399205
Option 4 ID : 630680399204
Status : Answered
Chosen Option : 4

Q.11 उस विकल्प का चयन करें जो पांचवें अक्षर-समूह से उसी प्रकार संबंधित है जिस प्रकार दूसरा अक्षर-समूह पहले अक्षर-समूह से संबंधित है और चौथा अक्षर-समूह तीसरे अक्षर-समूह से संबंधित है।

CARS : HFWX :: BOAT: GTFY :: FUSE : ?

- Ans
- 1. LAXJ
 - 2. KZXJ
 - 3. KZWI
 - 4. LAYK

Question ID : 630680416492
Option 1 ID : 6306801624734
Option 2 ID : 6306801624732
Option 3 ID : 6306801624733
Option 4 ID : 6306801624731
Status : Answered
Chosen Option : 2

Q.12 एक निश्चित कूट भाषा में,

A+B का अर्थ है 'A, B के भाई की पत्नी है',
A-B का अर्थ है 'A, B की बहन है',
A × B का अर्थ है 'A, B की पत्नी है',
A ÷ B का अर्थ है 'A, B की पुत्री है'।

उपरोक्त के आधार पर, यदि 'G + K - L ÷ M × Q' है तो G, Q से किस प्रकार संबंधित है?

- Ans
- 1. बहन
 - 2. साली
 - 3. पुत्रवधू
 - 4. पुत्री

Question ID : 630680224967
Option 1 ID : 630680872577
Option 2 ID : 630680872578
Option 3 ID : 630680872576
Option 4 ID : 630680872575
Status : Answered
Chosen Option : 3

Q.13 निम्नलिखित समीकरण को सही करने (संतुलित करने) के लिए किन दो गणितीय चिह्नों को आपस में बदलना होगा?

$$2 + 10 \times 12 - 4 \div 24 = 8$$

- Ans
- 1. - और +
 - 2. + और +
 - 3. + और -
 - 4. x और +

Question ID : 630680411793

Option 1 ID : 6306801606008

Option 2 ID : 6306801606010

Option 3 ID : 6306801606007

Option 4 ID : 6306801606009

Status : Answered

Chosen Option : 3

Q.14 दी गई श्रृंखला को पूरा करने के लिए कौन सा अक्षर समूह प्रश्न चिह्न (?) के स्थान पर आ सकता है?
FDKI, GCMG, ?, IAQC

- Ans
- 1. HBNF
 - 2. HBLE
 - 3. HBPF
 - 4. HBOE

Question ID : 630680416307

Option 1 ID : 6306801623993

Option 2 ID : 6306801623992

Option 3 ID : 6306801623994

Option 4 ID : 6306801623991

Status : Answered

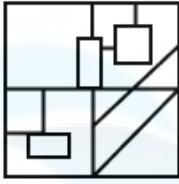
Chosen Option : 4

Q.15 विकल्प वाली उस आकृति का चयन कीजिए जिसमें दी गई आकृति, उसके एक भाग के रूप में अंतर्निहित हो (घुमाने की अनुमति नहीं है)।

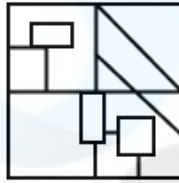


Ans

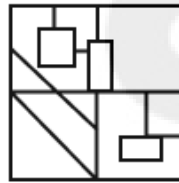
✗ 1.



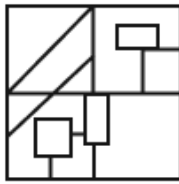
✓ 2.



✗ 3.



✗ 4.



Question ID : 630680867778

Option 1 ID : 6306803398758

Option 2 ID : 6306803398757

Option 3 ID : 6306803398759

Option 4 ID : 6306803398756

Status : Answered

Chosen Option : 2

Q.16 छह विद्यार्थी - अमन, बाँबी, चिंटू, गीता, प्रणय और राम - एक गोल मेज के परितः केंद्र की ओर अभिमुख होकर बैठे हैं।

राम, गीता के दायें से दूसरे स्थान पर बैठा है।

गीता और बाँबी का निकटतम पड़ोसी प्रणय है।

अमन, गीता के दायें से तीसरे स्थान पर बैठा है।

निम्नलिखित में से कौन राम और बाँबी दोनों का निकटतम पड़ोसी है?

Ans ✗ 1. गीता

✓ 2. अमन

✗ 3. प्रणय

✗ 4. चिंटू

Question ID : 630680416859

Option 1 ID : 6306801626202

Option 2 ID : 6306801626199

Option 3 ID : 6306801626201

Option 4 ID : 6306801626200

Status : Answered

Chosen Option : 2

Q.17 एक कूट भाषा में 'RACE' को 'VWGA' के रूप में लिखा जाता है और 'BANK' को 'FWRG' के रूप में लिखा जाता है। इसी कूट भाषा में 'STEM' को कैसे लिखा जाएगा?

- Ans
- 1. WIIP
 - 2. WIPI
 - 3. WPPI
 - 4. IIWP

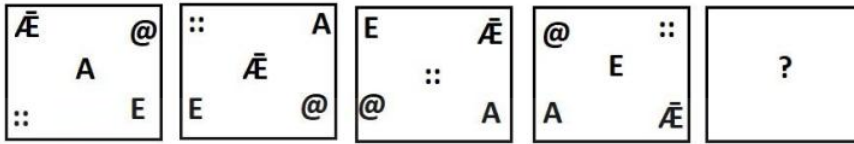
Question ID : 630680416682
Option 1 ID : 6306801625493
Option 2 ID : 6306801625494
Option 3 ID : 6306801625491
Option 4 ID : 6306801625492
Status : Answered
Chosen Option : 3

Q.18 दिए गए विकल्पों में से उस संख्या का चयन करें जो निम्नलिखित श्रृंखला में प्रश्न चिह्न (?) के स्थान पर आ सकती है।
25, 40, 70, 115, 175, ?

- Ans
- 1. 225
 - 2. 250
 - 3. 200
 - 4. 275


Question ID : 630680411925
Option 1 ID : 6306801606537
Option 2 ID : 6306801606536
Option 3 ID : 6306801606535
Option 4 ID : 6306801606538
Status : Answered
Chosen Option : 2

Q.19 दिए गए विकल्पों में से उस आकृति का चयन कीजिए, जो निम्नलिखित श्रृंखला में प्रश्न चिह्न (?) को तार्किक रूप से प्रतिस्थापित कर सकती है।

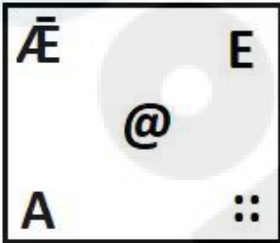


Ans


✗ 1.




✗ 2.



✗ 3.



✓ 4.



Question ID : 630680867763

Option 1 ID : 6306803398699

Option 2 ID : 6306803398696

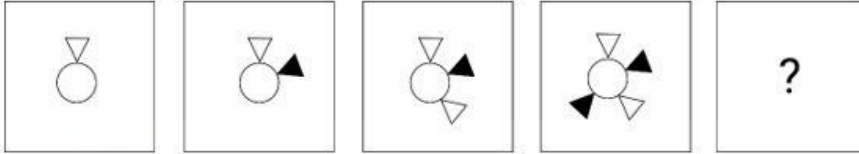
Option 3 ID : 6306803398698

Option 4 ID : 6306803398697

Status : Answered

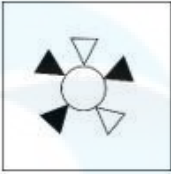
Chosen Option : 4

Q.20 दिए गए विकल्पों में से उस आकृति की पहचान कीजिए, जिसे '?' के स्थान पर रखने पर श्रृंखला तार्किक रूप से पूर्ण हो जाएगी।

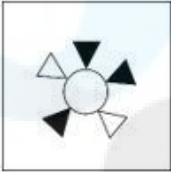


Ans

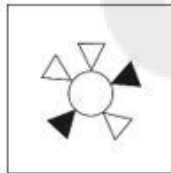
✗ 1.



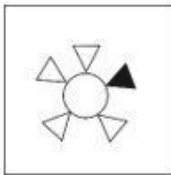
✗ 2.



✓ 3.



✗ 4.



Question ID : 630680366161

Option 1 ID : 6306801426169

Option 2 ID : 6306801426170

Option 3 ID : 6306801426171

Option 4 ID : 6306801426172

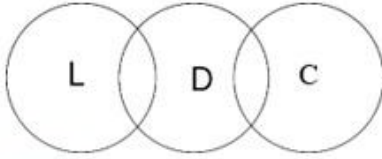
Status : Answered

Chosen Option : 3

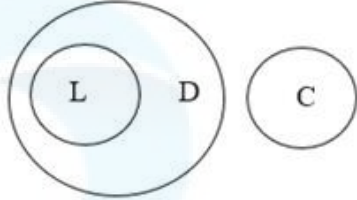
Q.21 उस वेन आरेख का चयन कीजिए जो निम्नलिखित वर्गों के बीच संबंध को सर्वोत्तम रूप से दर्शाता है।
कुत्ता, बिल्ली, लैब्राडोर

Ans

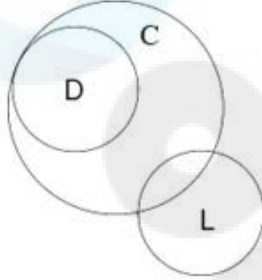
✗ 1.



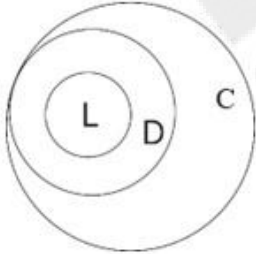
✓ 2.



✗ 3.



✗ 4.



Question ID : 630680416275

Option 1 ID : 6306801623866

Option 2 ID : 6306801623863

Option 3 ID : 6306801623865

Option 4 ID : 6306801623864

Status : Answered

Chosen Option : 2

Q.22 अंग्रेजी वर्णमाला क्रम पर आधारित, निम्नलिखित चार अक्षर-समूहों में से तीन किसी निश्चित तरीके से समान हैं और इस प्रकार एक समूह बनाते हैं। किस अक्षर-समूह का संबंध उस समूह से नहीं है? (नोट: असंगत अक्षर-समूह, व्यंजनों/स्वरों की संख्या या इस अक्षर-समूह में उनकी स्थिति पर आधारित नहीं है।)

Ans ✓ 1. SPU

✗ 2. PMS

✗ 3. URX

✗ 4. JGM

Question ID : 630680416086

Option 1 ID : 6306801623108

Option 2 ID : 6306801623109

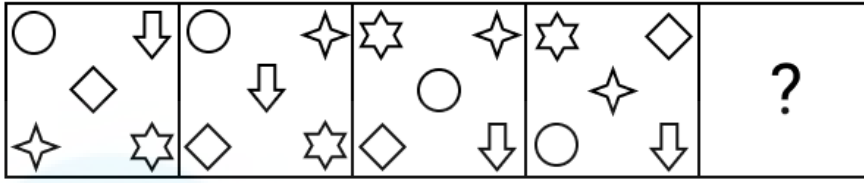
Option 3 ID : 6306801623107

Option 4 ID : 6306801623110

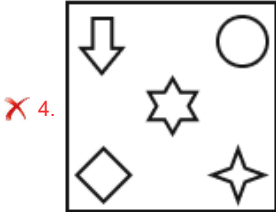
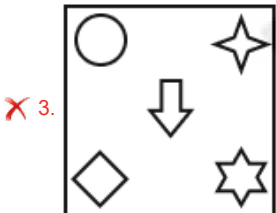
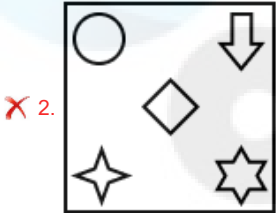
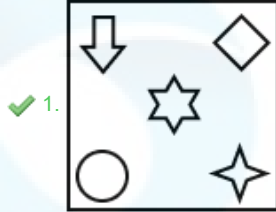
Status : Answered

Chosen Option : 1

Q.23 उस विकल्प आकृति की पहचान कीजिए जिसे प्रश्न चिह्न (?) के स्थान पर रखने पर शृंखला तार्किक रूप से पूरी हो जाएगी।



Ans



Question ID : 630680867765

Option 1 ID : 6306803398706

Option 2 ID : 6306803398704

Option 3 ID : 6306803398705

Option 4 ID : 6306803398707

Status : Answered

Chosen Option : 1

Q.24 उस विकल्प का चयन कीजिए, जो पाँचवें अक्षर-समूह से उसी प्रकार संबंधित है, जिस प्रकार दूसरा अक्षर-समूह, पहले अक्षर-समूह से संबंधित है और चौथा अक्षर-समूह, तीसरे अक्षर-समूह से संबंधित है।
.ABUSE : ASUBE :: BEGIN : BIGEN :: OTHER : ?

Ans ✗ 1. OHTER

✗ 2. OTHRE

✓ 3. OEHTR

✗ 4. ORTHE

Question ID : 630680416505

Option 1 ID : 6306801624783

Option 2 ID : 6306801624786

Option 3 ID : 6306801624784

Option 4 ID : 6306801624785

Status : Answered

Chosen Option : 3

Q.25 दिए गए समीकरण को सही बनाने के लिए कौन से दो चिह्नों को परस्पर बदलना चाहिए?
 $10 \div 63 \times 7 + 90 - 80 = 100$

- Ans
- ✓ 1. \times और $+$
 - ✗ 2. $-$ और $+$
 - ✗ 3. \times और $-$
 - ✗ 4. $+$ और $-$

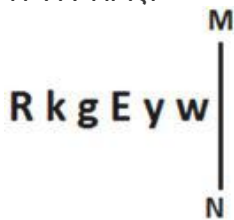
Question ID : 630680411802
Option 1 ID : 6306801606045
Option 2 ID : 6306801606044
Option 3 ID : 6306801606046
Option 4 ID : 6306801606043
Status : Answered
Chosen Option : 1

Q.26 निम्नलिखित संख्या श्रृंखला में प्रश्नवाचक चिन्ह (?) के स्थान पर आने वाली संख्या का चयन करें।
1, 1, 2, 3, 5, 8, 13, ?

- Ans
- ✗ 1. 24
 - ✗ 2. 20
 - ✓ 3. 21
 - ✗ 4. 22

Question ID : 630680412012
Option 1 ID : 6306801606885
Option 2 ID : 6306801606884
Option 3 ID : 6306801606886
Option 4 ID : 6306801606883
Status : Answered
Chosen Option : 2

Q.27 जब दर्पण को नीचे दर्शाए गए अनुसार MN पर रखा जाता है तो दी गई आकृति के सही दर्पण प्रतिबिंब का चयन कीजिए।



- Ans
- ✓ 1. w y E g k R
 - ✗ 2. w y E g k R
 - ✗ 3. w y E g k R
 - ✗ 4. y w E g k R

Question ID : 630680356637
Option 1 ID : 6306801388550
Option 2 ID : 6306801388551
Option 3 ID : 6306801388549
Option 4 ID : 6306801388552
Status : Answered
Chosen Option : 1

Q.28 निम्नलिखित में से कौन-सा अक्षर समूह प्रश्न-चिह्न (?) का स्थान लेगा और दी गई श्रृंखला को पूरा करेगा?
HEWC, KIRI, ?, QQHU, TUCA

- Ans 1. PRZO
 2. NMMO
 3. NBTO
 4. JLSO

Question ID : 630680417185
Option 1 ID : 6306801627503
Option 2 ID : 6306801627504
Option 3 ID : 6306801627506
Option 4 ID : 6306801627505

Status : Answered

Chosen Option : 2

Q.29 सैली एक मिनी स्कूल बस चलाती है। वह स्कूल गेट से शुरू करती है और अपनी पहली सवारी लेने के लिए 7 km उत्तर की ओर बस चलाती है। फिर वह दाएं मुड़ती है और रास्ते में बच्चों को लेने के लिए 10 km बस चलाती है। वह दुबारा दाएं मुड़ती है और 5 km बस चलाती है। फिर वह स्कूल लौटने के लिए अंतिम बार दाएं मुड़ती है। पुनः स्कूल गेट पर वापस पहुँचने के लिए सैली को कितनी दूर तक बस चलानी पड़ेगी?

- Ans 1. 12 km
 2. 22 km
 3. 10 km
 4. 17 km

Question ID : 630680122717
Option 1 ID : 630680475781
Option 2 ID : 630680475779
Option 3 ID : 630680475778
Option 4 ID : 630680475780

Status : Answered

Chosen Option : 2

Q.30 निम्नलिखित में से कौन-सा पद दी गई श्रृंखला में प्रश्न-चिह्न (?) को प्रतिस्थापित करेगा?
CHO, DIP, EJQ, ?

- Ans 1. FKR
 2. HMR
 3. EJL
 4. DIL

Question ID : 630680417067
Option 1 ID : 6306801627033
Option 2 ID : 6306801627034
Option 3 ID : 6306801627032
Option 4 ID : 6306801627031

Status : Answered

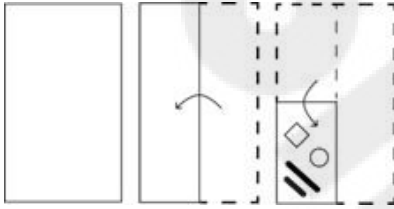
Chosen Option : 1

Q.31 एक निश्चित कूट भाषा में, 'FIND' को 'CLFB' और 'HOW' को 'VME' के रूप में लिखा जाता है। उसी भाषा में 'WILL' कैसे लिखा जाएगा?

- Ans
- 1. KSFJ
 - 2. SJFK
 - 3. SFJK
 - 4. KJFS

Question ID : 630680312597
 Option 1 ID : 6306801216269
 Option 2 ID : 6306801216271
 Option 3 ID : 6306801216270
 Option 4 ID : 6306801216272
 Status : Answered
 Chosen Option : 4

Q.32 निम्नलिखित आकृतियों में एक कागज़ को मोड़ने का क्रम और मुड़े हुए कागज़ को काटने का तरीका दर्शाया गया है। खोले जाने पर यह कागज़ कैसा दिखाई देगा?



Ans

- 1.
- 2.
- 3.
- 4.

Question ID : 630680344225
 Option 1 ID : 6306801339213
 Option 2 ID : 6306801339216
 Option 3 ID : 6306801339215
 Option 4 ID : 6306801339214
 Status : Answered
 Chosen Option : 1

Q.33 एक कूट भाषा में, 'DINESH' को 12-27-42-15-57-24 के रूप में कूटबद्ध किया जाता है और 'VIRAT' को 66-27-54-3-60 के रूप में कूटबद्ध किया जाता है। उसी भाषा में 'GAUTAM' को किस प्रकार कूटबद्ध किया जाएगा?

- Ans
- 1. 24-7-61-34-5-31
 - 2. 29-9-55-47-8-28
 - 3. 21-3-63-60-3-39
 - 4. 26-7-25-67-4-37

Question ID : 630680416665
 Option 1 ID : 6306801625425
 Option 2 ID : 6306801625426
 Option 3 ID : 6306801625424
 Option 4 ID : 6306801625423

Status : Answered
 Chosen Option : 3

Q.34 विकल्प वाली उस आकृति का चयन कीजिए जिसमें दी गई आकृति, उसके एक भाग के रूप में अंतर्निहित हो (घुमाने की अनुमति नहीं है)।



Ans

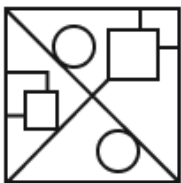
1.



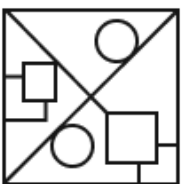
2.



3.



4.



Question ID : 630680867777
 Option 1 ID : 6306803398755
 Option 2 ID : 6306803398753
 Option 3 ID : 6306803398752
 Option 4 ID : 6306803398754

Status : Answered
 Chosen Option : 1

Q.35 उस समुच्चय का चयन करें जिसकी संख्याएं उसी तरह से संबंधित हैं जिस तरह निम्नलिखित समुच्चयों की संख्याएं संबंधित हैं।

(नोट: संख्याओं को उसके घटक अंकों में तोड़े बिना, पूर्ण संख्याओं पर संक्रियाएं की जानी चाहिए। उदाहरण के लिए संख्या 13 को लें - 13 पर संक्रियाएं, जैसे कि 13 में जोड़ना/घटाना/गुणा करना आदि, की जा सकती हैं। 13 को 1 और 3 में तोड़ने और फिर 1 और 3 पर गणितीय संक्रियाएं करने की अनुमति नहीं है।)

(12, 36, 6)
(18, 54, 9)

- Ans 1. (26, 84, 14)
 2. (28, 84, 16)
 3. (28, 86, 14)
 4. (28, 84, 14)

Question ID : 630680344670
Option 1 ID : 6306801340989
Option 2 ID : 6306801340992
Option 3 ID : 6306801340991
Option 4 ID : 6306801340990
Status : Answered
Chosen Option : 4

Q.36 गणितीय चिह्नों के उस सही संयोजन का चयन कीजिए जिसे * चिह्नों के स्थान पर रखने पर समीकरण संतुष्ट हो जाएगा।

$$10 * 2 * 1 * 8 * 11 * 8$$

- Ans 1. +, -, ×, +, =
 2. +, -, -, +, =
 3. +, -, ×, +, =
 4. +, -, ×, -, =

Question ID : 630680412006
Option 1 ID : 6306801606859
Option 2 ID : 6306801606861
Option 3 ID : 6306801606860
Option 4 ID : 6306801606862
Status : Answered
Chosen Option : 1

Q.37 यदि '+' और '×' को आपस में बदल दिया जाए और '-' और '÷' को आपस में बदल दिया जाए, तो निम्नलिखित समीकरण में प्रश्नचिह्न (?) के स्थान पर क्या आएगा?
 $14 - 7 \times 10 \div 1 + 7 = ?$

- Ans 1. 5
 2. 77
 3. 45
 4. 26

Question ID : 630680162515
Option 1 ID : 630680629359
Option 2 ID : 630680629357
Option 3 ID : 630680629356
Option 4 ID : 630680629358
Status : Answered
Chosen Option : 1

Q.38 उस समुच्चय का चयन करें जिसमें दी गई संख्याएँ आपस में उसी प्रकार संबंधित हैं, जिस प्रकार प्रश्न में दिए गए समुच्चय की संख्याएँ आपस में संबंधित हैं।
(ध्यान दें: संख्याओं को उनके घटक अंकों में तोड़े बिना, पूर्ण संख्याओं पर गणितीय संक्रियाएँ की जानी चाहिए। जैसे, 13 के मामले में - 13 पर की जाने वाली विभिन्न गणितीय संक्रियाएँ जैसे 13 में जोड़ना / घटाना / गुणा करना आदि 13 पर की जा सकती हैं। लेकिन 13 को 1 और 3 में तोड़ने और फिर 1 और 3 पर गणितीय संक्रियाएँ करने की अनुमति नहीं है।)
(9, 36, 12)
(12, 48, 16)

Ans ✓ 1. (21, 84, 28)

✗ 2. (21, 84, 24)

✗ 3. (21, 81, 28)

✗ 4. (21, 81, 24)

Question ID : 630680294009

Option 1 ID : 6306801143850

Option 2 ID : 6306801143849

Option 3 ID : 6306801143848

Option 4 ID : 6306801143851

Status : Answered

Chosen Option : 1

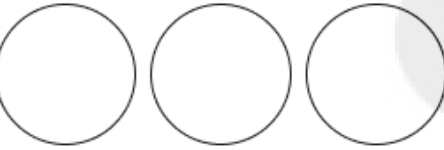
Q.39 उस वेन-आरेख का चयन कीजिए, जो निम्नलिखित वर्गों के बीच के संबंध को सर्वोत्तम रूप से दर्शाता है।
आलू, सब्जियाँ, अंगूर

Ans

✗ 1.



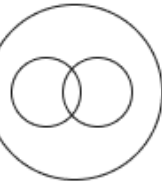
✗ 2.



✓ 3.



✗ 4.



Question ID : 630680869728

Option 1 ID : 6306803406281

Option 2 ID : 6306803406280

Option 3 ID : 6306803406278

Option 4 ID : 6306803406279

Status : Answered

Chosen Option : 3

Q.40 प्रीति, बिंदु A से शुरू करती है और 7 km दक्षिण की ओर ड्राइव करती है। यहाँ से, वह बाएँ मुड़ती है और 9 km ड्राइव करती है। फिर वह अंतिम बार बाएँ मुड़ती है और बिंदु B तक पहुँचने के लिए 7 km ड्राइव करती है। प्रीति को बिंदु B से बिंदु A तक पहुँचने के लिए कितनी दूर ड्राइव करनी चाहिए?

Ans 1. 7 km

2. 6 km

3. 8 km

4. 9 km

Question ID : 630680416343

Option 1 ID : 6306801624136

Option 2 ID : 6306801624138

Option 3 ID : 6306801624137

Option 4 ID : 6306801624135

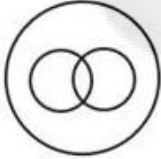
Status : Answered

Chosen Option : 4

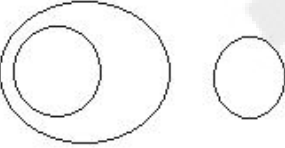
Q.41 उस वेन आरेख का चयन कीजिये जो निम्नलिखित वर्गों के बीच के संबंध को सर्वश्रेष्ठ रूप से दर्शाता है।
'चीता, पक्षी, चील

Ans

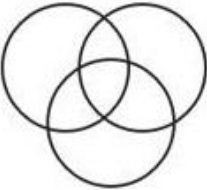
1.



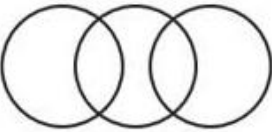
2.



3.



4.



Question ID : 630680417386

Option 1 ID : 6306801628309

Option 2 ID : 6306801628310

Option 3 ID : 6306801628307

Option 4 ID : 6306801628308

Status : Answered

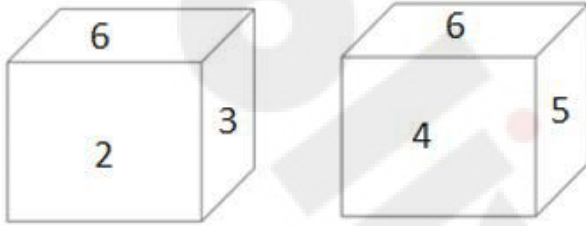
Chosen Option : 2

Q.42 एक कूट भाषा में 'CUTE' को 'FQWA' के रूप में लिखा जाता है और 'BLUE' को 'EHXA' के रूप में लिखा जाता है। इसी कूट भाषा में 'VOTE' को कैसे लिखा जाएगा?

- Ans 1. YKWA
 2. YKAW
 3. AYWK
 4. YWAK

Question ID : 630680416680
Option 1 ID : 6306801625485
Option 2 ID : 6306801625484
Option 3 ID : 6306801625483
Option 4 ID : 6306801625486
Status : Answered
Chosen Option : 1

Q.43 एक ही पासे की दो अलग-अलग स्थितियाँ नीचे दर्शाई गई हैं। 1 दर्शाने वाले फलक के विपरीत फलक पर कौन-सी संख्या होगी?



- Ans 1. 4
 2. 3
 3. 6
 4. 2

Question ID : 630680313788
Option 1 ID : 6306801220993
Option 2 ID : 6306801220995
Option 3 ID : 6306801220996
Option 4 ID : 6306801220994
Status : Answered
Chosen Option : 3

Q.44 एक निश्चित कूट भाषा में, 'DICE' को 'EKFI' और 'PLAN' को 'QNDR' के रूप में लिखा जाता है। भाषा में 'LUDO' को कैसे लिखा जाएगा?

- Ans 1. NWES
 2. MXES
 3. NXES
 4. MWGS

Question ID : 630680312594
Option 1 ID : 6306801216258
Option 2 ID : 6306801216260
Option 3 ID : 6306801216257
Option 4 ID : 6306801216259
Status : Answered
Chosen Option : 4

Q.45 उस विकल्प का चयन कीजिए जो दिए गए शब्दों को उस सही क्रम को दर्शाता है जिस क्रम में वे अंग्रेजी शब्दकोश में दिखाई देते हैं।

- 1- Literacy
- 2- Literature
- 3- Litany
- 4- Listen
- 5- Lithograph

Ans 1. 4, 1, 3, 5, 2
 2. 3, 4, 1, 2, 5
 3. 4, 3, 1, 2, 5
 4. 1, 4, 3, 2, 5

Question ID : 630680417212
Option 1 ID : 6306801627613
Option 2 ID : 6306801627611
Option 3 ID : 6306801627612
Option 4 ID : 6306801627614
Status : Answered
Chosen Option : 3

Q.46 उस समुच्चय का चयन करें जिसमें दी गई संख्याएँ आपस में उसी प्रकार संबंधित हैं, जिस प्रकार प्रश्न में दिए गए समुच्चय की संख्याएँ आपस में संबंधित हैं।
(ध्यान दें: संख्याओं को उनके घटक अंकों में तोड़े बिना, पूर्ण संख्याओं पर गणितीय संक्रियाएँ की जानी चाहिए। जैसे, 13 के मामले में - 13 पर की जाने वाली विभिन्न गणितीय संक्रियाएँ जैसे 13 में जोड़ना / घटाना / गुणा करना आदि 13 पर की जा सकती हैं। लेकिन 13 को 1 और 3 में तोड़ने और फिर 1 और 3 पर गणितीय संक्रियाएँ करने की अनुमति नहीं है।)
(247, 349)
(261, 363)

Ans 1. (294, 396)
 2. (253, 358)
 3. (282, 382)
 4. (265, 369)

Question ID : 630680340898
Option 1 ID : 6306801326035
Option 2 ID : 6306801326034
Option 3 ID : 6306801326036
Option 4 ID : 6306801326033
Status : Answered
Chosen Option : 1

Q.47 एक निश्चित तर्क का अनुसरण करते हुए 12, 40 से संबंधित है। उसी तर्क का अनुसरण करते हुए, 9, 31 से संबंधित है। उसी तर्क का उपयोग करते हुए, 16 निम्न में से किससे संबंधित है?

Ans 1. 52
 2. 51
 3. 63
 4. 61

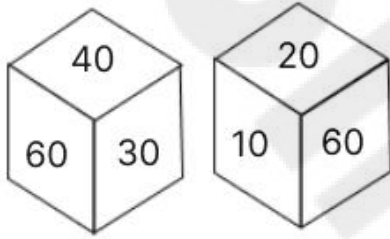
Question ID : 630680113358
Option 1 ID : 630680438992
Option 2 ID : 630680438993
Option 3 ID : 630680438990
Option 4 ID : 630680438991
Status : Answered
Chosen Option : 1

Q.48 उन गणितीय चिह्नों के सही संयोजन का चयन करें जिन्हें नीचे दिए गए रिक्त स्थानों में क्रमिक रूप से बाएँ से दाएँ रखने पर दिया गया समीकरण संतुलित हो जाएगा।
 $6_2_0_8 = 20$

- Ans
- 1. -, x, +
 - 2. +, x, +
 - 3. +, +, x
 - 4. x, +, +

Question ID : 63068041788
Option 1 ID : 6306801605990
Option 2 ID : 6306801605989
Option 3 ID : 6306801605988
Option 4 ID : 6306801605987
Status : Answered
Chosen Option : 4

Q.49 एक पासे के फलकों पर 10, 20, 30, 40, 50 और 60 संख्याएँ अंकित हैं। उसी पासे की दो स्थितियाँ नीचे दी गई हैं। 50 वाले फलक के विपरीत कौन-सा फलक है?



- Ans
- 1. 10
 - 2. 30
 - 3. 40
 - 4. 60

Question ID : 630680867788
Option 1 ID : 6306803398796
Option 2 ID : 6306803398797
Option 3 ID : 6306803398798
Option 4 ID : 6306803398799
Status : Answered
Chosen Option : 4

Q.50 उस विकल्प का चयन कीजिए, जो दिए गए शब्दों के सही क्रम को निरूपित करता है, जैसे कि वे अंग्रेजी शब्दकोश में दिखाई देते हैं।

1. Consistence
2. Conscience
3. Conflagration
4. Consequence
5. Considerable
6. Consignment

- Ans
- 1. 4, 3, 2, 5, 6, 1
 - 2. 3, 4, 2, 5, 6, 1
 - 3. 4, 2, 3, 5, 1, 6
 - 4. 3, 2, 4, 5, 6, 1

Question ID : 630680417396
Option 1 ID : 6306801628347
Option 2 ID : 6306801628348
Option 3 ID : 6306801628350
Option 4 ID : 6306801628349
Status : Answered
Chosen Option : 4

Q.1 'द गाइड (The Guide)' पुस्तक के लेखक निम्नलिखित में से कौन हैं?

- Ans 1. विक्रम चंद्रा
 2. आरके नारायण
 3. रोहिंटन मिस्त्री
 4. शशि थरूर

Question ID : 630680437989
Option 1 ID : 6306801709776
Option 2 ID : 6306801709778
Option 3 ID : 6306801709777
Option 4 ID : 6306801709779
Status : Answered
Chosen Option : 2

Q.2 अनाज में कौन-सा प्रोटीन पाया जाता है?

- Ans 1. आर्जिनिन
 2. गम प्रोटीन
 3. ग्लूटेन
 4. डेल्टा प्रोटीन

Question ID : 630680407532
Option 1 ID : 6306801589066
Option 2 ID : 6306801589067
Option 3 ID : 6306801589068
Option 4 ID : 6306801589069
Status : Answered
Chosen Option : 3

Q.3 प्रसिद्ध संगीतकार भूपेन हजारिका को निम्नलिखित में से किस वर्ष भारत रत्न से सम्मानित किया गया था?

- Ans 1. 2017
 2. 2011
 3. 2015
 4. 2019

Question ID : 630680409275
Option 1 ID : 6306801595930
Option 2 ID : 6306801595932
Option 3 ID : 6306801595929
Option 4 ID : 6306801595931
Status : Answered
Chosen Option : 4

Q.4 निम्नलिखित में से कौन सा कारक किसी स्थान की जलवायु को नियंत्रित नहीं करता है?

- Ans
- 1. सागर की लहरें
 - 2. दो शहरों के बीच की दूरी
 - 3. उच्चावच आकृतियां
 - 4. अक्षांश

Question ID : 63068074791

Option 1 ID : 630680289319

Option 2 ID : 630680289321

Option 3 ID : 630680289320

Option 4 ID : 630680289322

Status : Answered

Chosen Option : 4

Q.5 संरचनात्मक सूत्र $\text{CH}_3 - \text{CH}_2 - \text{CH}_2 - \text{CH}_2 - \text{CH}_2 - \text{CH}_3$ के साथ हाइड्रोकार्बन के नाम का चयन करें।

- Ans
- 1. 2-मिथाइलपेंटेन
 - 2. 2,2-डाइमिथाइलब्यूटेन
 - 3. 3-मिथाइल हेक्सेन
 - 4. एन-हेक्सेन

Question ID : 63068074770

Option 1 ID : 630680289238

Option 2 ID : 630680289236

Option 3 ID : 630680289237

Option 4 ID : 630680289235

Status : Marked For Review

Chosen Option : 2

Q.6 बैड मैन (Bad Man) किस अभिनेता की आत्मकथा है?

- Ans
- 1. आशीष विद्यार्थी
 - 2. रज़ा मुराद
 - 3. अमरीश पुरी
 - 4. गुलशन ग्रोवर

Question ID : 630680409379

Option 1 ID : 6306801596348

Option 2 ID : 6306801596346

Option 3 ID : 6306801596345

Option 4 ID : 6306801596347

Status : Answered

Chosen Option : 3

Q.7 निम्नलिखित में से कौन-सा विरामावस्था में जड़त्व का उदाहरण नहीं है?

- Ans
- 1. कपड़े को झाड़ते समय धूल के कणों का नीचे गिरना
 - 2. वाहन के अचानक चल पड़ने पर पीछे की ओर गिरना
 - 3. किसी वाहन में अचानक ब्रेक लगाना
 - 4. झटकों के कारण पत्तियों/फलों का टूट जाना

Question ID : 63068070366

Option 1 ID : 630680272090

Option 2 ID : 630680272092

Option 3 ID : 630680272093

Option 4 ID : 630680272091

Status : Marked For Review

Chosen Option : 3

Q.8 बैगा समुदाय के आदिवासी नर्तक _____ को 2022 में पद्म श्री पुरस्कार मिला।

- Ans
- 1. अर्जुन सिंह धुर्वे
 - 2. एस बालेश भजंत्री
 - 3. लौरम्बम बिनो देवी
 - 4. श्याममणि देवी

Question ID : 630680309160
Option 1 ID : 6306801202817
Option 2 ID : 6306801202820
Option 3 ID : 6306801202819
Option 4 ID : 6306801202818
Status : Marked For Review
Chosen Option : 1

Q.9 उस्ताद असद अली खान _____ के उस्तादों में से एक थे।

- Ans
- 1. तानपुरा
 - 2. मृदंगम
 - 3. सारंगी
 - 4. रुद्र वीणा

Question ID : 630680409261
Option 1 ID : 6306801595873
Option 2 ID : 6306801595875
Option 3 ID : 6306801595876
Option 4 ID : 6306801595874
Status : Marked For Review
Chosen Option : 3

Q.10 मणिपुरी नृत्य में लास्य और तांडव तत्वों के अनुरूप दो मुख्य भाग कौन-से हैं?

- Ans
- 1. जागोई और चोलोम
 - 2. भंगी और स्त्री
 - 3. वीरा और टोडा
 - 4. वर्णम और परण

Question ID : 630680322567
Option 1 ID : 6306801254910
Option 2 ID : 6306801254911
Option 3 ID : 6306801254909
Option 4 ID : 6306801254912
Status : Answered
Chosen Option : 1

Q.11 निम्नलिखित में से कौन-सा पर्वत शिखर काराकोरम रेंज में स्थित है?

- Ans
- 1. नंदा देवी
 - 2. त्रिशूल
 - 3. K2
 - 4. कामेट

Question ID : 630680409688
Option 1 ID : 6306801597581
Option 2 ID : 6306801597584
Option 3 ID : 6306801597582
Option 4 ID : 6306801597583
Status : Marked For Review
Chosen Option : 3

Q.12 निम्नलिखित में से कौन महाराष्ट्र में विधवा पुनर्विवाह के प्रवर्तक थे और उन्होंने अपनी पत्नी के साथ पूना में लड़कियों का एक स्कूल भी खोला था?

- Ans
- 1. बी.आर. अंबेडकर
 - 2. ज्योतिराव गोविंदराव फुले
 - 3. महात्मा गांधी
 - 4. गोपाल हरि देशमुख लोकहितवादी

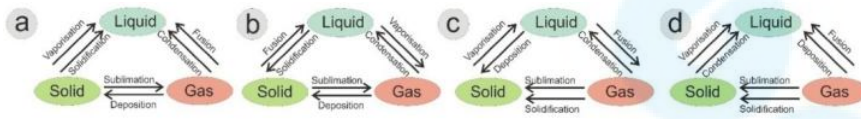
Question ID : 630680412419
Option 1 ID : 6306801608501
Option 2 ID : 6306801608500
Option 3 ID : 6306801608499
Option 4 ID : 6306801608502
Status : Answered
Chosen Option : 2

Q.13 जिन शैलेंद्र राजाओं का भारतीय शासकों के साथ नजदीकी संपर्क था, वे निम्नलिखित में से किस धर्म के अनुयायी थे?

- Ans
- 1. शैव धर्म (Shaivism)
 - 2. बौद्ध धर्म (Buddhism)
 - 3. वैष्णव धर्म (Vaishnavism)
 - 4. जैन धर्म (Jainism)

Question ID : 630680412510
Option 1 ID : 6306801608863
Option 2 ID : 6306801608865
Option 3 ID : 6306801608864
Option 4 ID : 6306801608866
Status : Marked For Review
Chosen Option : 1

Q.14 निम्नांकित में से कौन सी आकृति पदार्थ की तीन अवस्थाओं के अंतर-रूपांतरण को सटीक रूप से दर्शाती है?



Solid = ठोस, Liquid = तरल, Gas = गैस

Vaporisation = वाष्पीकरण, Solidification = पिंडीकरण, Fusion = संलयन, Condensation = संघनन, Sublimation = उर्ध्वपातन, Deposition = निक्षेपण

- Ans
- 1. c
 - 2. a
 - 3. d
 - 4. b

Question ID : 630680210468
Option 1 ID : 630680816033
Option 2 ID : 630680816031
Option 3 ID : 630680816034
Option 4 ID : 630680816032
Status : Answered
Chosen Option : 2

Q.15 वास्को डी गामा, जिसने यूरोप से भारत तक के समुद्री मार्ग की खोज की, किस देश के थे?

- Ans 1. पुर्तगाल
 2. स्पेन
 3. इंग्लैंड
 4. जर्मनी

Question ID : 630680309327
Option 1 ID : 6306801203466
Option 2 ID : 6306801203467
Option 3 ID : 6306801203468
Option 4 ID : 6306801203465
Status : Answered
Chosen Option : 1

Q.16 भारत के पूर्वी घाट की औसत ऊँचाई कितनी है?

- Ans 1. 600 मीटर
 2. 900 मीटर
 3. 200 मीटर
 4. 400 मीटर

Question ID : 630680701450
Option 1 ID : 6306802747736
Option 2 ID : 6306802747735
Option 3 ID : 6306802747733
Option 4 ID : 6306802747734
Status : Not Answered
Chosen Option : --

Q.17 सुकन्या समृद्धि खाता योजना के तहत एक वित्तीय वर्ष में न्यूनतम कितनी धनराशि जमा करने की आवश्यकता है?

- Ans 1. ₹100
 2. ₹200
 3. ₹250
 4. ₹150

Question ID : 630680407166
Option 1 ID : 6306801587606
Option 2 ID : 6306801587608
Option 3 ID : 6306801587609
Option 4 ID : 6306801587607
Status : Marked For Review
Chosen Option : 1

Q.18 किस चक्र में तलछटी और गैसीय चक्र होते हैं?

- Ans 1. जैव-गैसीय चक्र
 2. जैव-भू चक्र
 3. जैव-रासायनिक चक्र
 4. जैव-भू-रासायनिक चक्र

Question ID : 630680407492
Option 1 ID : 6306801588909
Option 2 ID : 6306801588907
Option 3 ID : 6306801588906
Option 4 ID : 6306801588908
Status : Marked For Review
Chosen Option : 1

Q.19 निम्नलिखित में से कौन-सा कार्यक्रम दसवीं पंचवर्षीय योजना का भाग नहीं है?

- Ans
- 1. राष्ट्रीय बागवानी मिशन
 - 2. सूक्ष्म सिंचाई कार्यक्रम
 - 3. जूट प्रौद्योगिकी मिशन
 - 4. सूखा प्रवण क्षेत्र कार्यक्रम

Question ID : 630680701669

Option 1 ID : 6306802748621

Option 2 ID : 6306802748622

Option 3 ID : 6306802748623

Option 4 ID : 6306802748624

Status : Answered

Chosen Option : 4

Q.20 हिंदू कैलेंडर के अनुसार, दिवाली निम्नलिखित में से किस महीने में आती है?

- Ans
- 1. माघ
 - 2. कार्तिक
 - 3. अश्विन
 - 4. चैत्र

Question ID : 630680409207

Option 1 ID : 6306801595659

Option 2 ID : 6306801595657

Option 3 ID : 6306801595658

Option 4 ID : 6306801595660

Status : Answered

Chosen Option : 2

Q.21 MUDRA योजना में M का क्या अर्थ है?

- Ans
- 1. Micro (माइक्रो)
 - 2. Major (मेजर)
 - 3. Macro (मैक्रो)
 - 4. Money (मनी)

Question ID : 630680407152

Option 1 ID : 6306801587552

Option 2 ID : 6306801587550

Option 3 ID : 6306801587551

Option 4 ID : 6306801587553

Status : Marked For Review

Chosen Option : 1

Q.22 निम्नलिखित आंदोलनों को उनके संबंधित संस्थापकों के साथ सुमेलित करें:

a. फराएजी आंदोलन	I. रायबरेली के सैय्यद अहमद
b. मोहम्मडन लिटरेरी सोसाइटी	II. सर सैय्यद अहमद खान
c. इंडियन पैट्रियोटिक एसोसिएशन	III. नवाब अब्दुल लतीफ
d. वहाबी आंदोलन	IV. हाजी शरियातुल्ला

- Ans
- 1. a - III, b - IV, c - II, d - I
 - 2. a - I, b - II, c - III, d - IV
 - 3. a - II, b - I, c - IV, D - III
 - 4. a - IV, b - III, c - II, d - I

Question ID : 630680127655

Option 1 ID : 630680494879

Option 2 ID : 630680494877

Option 3 ID : 630680494878

Option 4 ID : 630680494876

Status : Not Answered

Chosen Option : --

Q.23 भारतीय संविधान के किस अनुच्छेद में उल्लेख है कि, जहाँ एक ही व्यक्ति को दो या दो से अधिक राज्यों के राज्यपाल के रूप में नियुक्त किया जाता है, उसे देय परिलब्धियाँ और भत्ते उन राज्यों के बीच आवंटित किए जाएंगे?

- Ans
- 1. अनुच्छेद 160
 - 2. अनुच्छेद 155
 - 3. अनुच्छेद 157
 - 4. अनुच्छेद 158

Question ID : 630680408222

Option 1 ID : 6306801591783

Option 2 ID : 6306801591784

Option 3 ID : 6306801591785

Option 4 ID : 6306801591786

Status : Marked For Review

Chosen Option : 1

Q.24 भारत में स्वयं सहायता समूह - बैंक सहबद्धता कार्यक्रम (SHG-BLP) किस वर्ष शुरू किया गया था?

- Ans
- 1. 1992 में
 - 2. 1984 में
 - 3. 2000 में
 - 4. 1996 में

Question ID : 630680407193

Option 1 ID : 6306801587715

Option 2 ID : 6306801587714

Option 3 ID : 6306801587717

Option 4 ID : 6306801587716

Status : Marked For Review

Chosen Option : 4

Q.25 सेल्यूकस प्रथम द्वारा चंद्रगुप्त मौर्य के दरबार में निम्नलिखित में से कौन-सा दूत भेजा गया था?

- Ans 1. अल-बरूनी
 2. मेगस्थनीज़
 3. फ़ाह्यान
 4. डाइमाचस

Question ID : 630680412352

Option 1 ID : 6306801608231

Option 2 ID : 6306801608233

Option 3 ID : 6306801608234

Option 4 ID : 6306801608232

Status : Answered

Chosen Option : 2

Q.26 भारत की 2011 की जनगणना के अनुसार, निम्नलिखित में से किस राज्य की साक्षरता दर सबसे कम है?

- Ans 1. ओडिशा
 2. झारखंड
 3. बिहार
 4. तमिलनाडु

Question ID : 630680869487

Option 1 ID : 6306803405381

Option 2 ID : 6306803405382

Option 3 ID : 6306803405383

Option 4 ID : 6306803405384

Status : Answered

Chosen Option : 3

Q.27 निम्नलिखित बाँधों को उन नदियों के साथ सुमेलित कीजिए जिन पर वे बने हुए हैं।

- | | |
|--------------------------|------------------|
| a. हीराकुड बांध | (i) चंबल नदी |
| b. नागार्जुन सागर बांध | (ii) नर्मदा नदी |
| c. सरदार सरोवर बांध | (iii) कृष्णा नदी |
| d. टिहरी बांध | (iv) महानदी |
| e. राणा प्रताप सागर बांध | (v) भागीरथी नदी |

- Ans 1. a-iii, b-iv, c-ii, d-v, e-i
 2. a-iv, b-iii, c-ii, d-v, e-i
 3. a-iv, b-iii, c-ii, d-i, e-v
 4. a-i, b-iii, c-ii, d-v, e-iv

Question ID : 630680407377

Option 1 ID : 6306801588447

Option 2 ID : 6306801588448

Option 3 ID : 6306801588449

Option 4 ID : 6306801588446

Status : Answered

Chosen Option : 2

Q.28 जनसंख्या घनत्व के घटक के संबंध में निम्नलिखित में से कौन-सा एक राज्य असंगत है?

- Ans 1. अरुणाचल प्रदेश
 2. उत्तर प्रदेश
 3. तमिलनाडु
 4. बिहार

Question ID : 630680409711
Option 1 ID : 6306801597673
Option 2 ID : 6306801597676
Option 3 ID : 6306801597675
Option 4 ID : 6306801597674
Status : Answered
Chosen Option : 1

Q.29 दक्षिणी आंध्र प्रदेश का कौन सा जीवमंडल प्रसिद्ध लाल चंदन और स्लेंडर लोरिस सहित कई स्थानिक प्रजातियों का घर है?

- Ans 1. अगस्त्यमलाई
 2. शेषचलम
 3. पचमढ़ी
 4. शीत मरूस्थल

Question ID : 630680407523
Option 1 ID : 6306801589030
Option 2 ID : 6306801589031
Option 3 ID : 6306801589033
Option 4 ID : 6306801589032
Status : Answered
Chosen Option : 1

Q.30 निम्नलिखित में से किस खेल में 'ड्रिबलिंग' (Dribbling) शब्द का प्रयोग किया जाता है?

- Ans 1. बास्केटबॉल
 2. क्रिकेट
 3. वालीबॉल
 4. बेसबॉल

Question ID : 630680176981
Option 1 ID : 6306806886128
Option 2 ID : 6306806886130
Option 3 ID : 6306806886129
Option 4 ID : 6306806886131
Status : Marked For Review
Chosen Option : 1

Q.31 निम्नलिखित में से कौन-सा नृत्य उड़िया संस्कृति का हिस्सा नहीं है?

- Ans 1. पाइका
 2. दलखाई
 3. कथकली
 4. गोटीपुआ

Question ID : 630680306004
Option 1 ID : 6306801190371
Option 2 ID : 6306801190369
Option 3 ID : 6306801190370
Option 4 ID : 6306801190372
Status : Answered
Chosen Option : 3

Q.32 निम्नलिखित में से कौन-सा पंचवर्षीय योजनाओं के चार प्राथमिक स्पष्ट लक्ष्यों में से एक नहीं है?

- Ans 1. आत्मनिर्भरता
 2. शिक्षा
 3. विकास
 4. समता

Question ID : 630680407130
Option 1 ID : 6306801587465
Option 2 ID : 6306801587462
Option 3 ID : 6306801587463
Option 4 ID : 6306801587464
Status : Answered
Chosen Option : 4

Q.33 भारत के उत्तरी राज्यों में खरीफ़ फ़सल के मौसम में उगाई जाने वाली फ़सल की पहचान कीजिए।

- Ans 1. चना
 2. सरसों
 3. चावल
 4. जौ

Question ID : 630680409706
Option 1 ID : 6306801597653
Option 2 ID : 6306801597654
Option 3 ID : 6306801597655
Option 4 ID : 6306801597656
Status : Answered
Chosen Option : 4

Q.34 भारत सरकार द्वारा जैव-विविधता अधिनियम 2002 पारित किया गया था। यह भारत के संविधान में राज्यों के नीति-निर्देशक सिद्धांतों के किस अनुच्छेद के आदर्शों के अनुरूप है?

- Ans 1. अनुच्छेद 49
 2. अनुच्छेद 48
 3. अनुच्छेद 48 A
 4. अनुच्छेद 47

Question ID : 630680270451
Option 1 ID : 6306801050993
Option 2 ID : 6306801050991
Option 3 ID : 6306801050992
Option 4 ID : 6306801050990
Status : Answered
Chosen Option : 2

Q.35 भारतीय संविधान के अनुच्छेद _____ के अनुसार मंत्रिपरिषद सामूहिक रूप से लोकसभा के प्रति उत्तरदायी होता है।

- Ans 1. 75(3)
 2. 72(1)
 3. 73(2)
 4. 74(1)

Question ID : 630680408325
Option 1 ID : 6306801592196
Option 2 ID : 6306801592198
Option 3 ID : 6306801592197
Option 4 ID : 6306801592195
Status : Marked For Review
Chosen Option : 1

Q.36 दशहरा, हिंदू पंचांग के _____ मास में मनाया जाता है।

- Ans
- 1. आषाढ़
 - 2. चैत्र
 - 3. कार्तिक
 - 4. अश्विन

Question ID : 630680410358

Option 1 ID : 6306801600166

Option 2 ID : 6306801600165

Option 3 ID : 6306801600164

Option 4 ID : 6306801600163

Status : Answered

Chosen Option : 3

Q.37 2023 में खेलो इंडिया यूथ गेम्स के 5वें संस्करण में 5,000 से अधिक एथलीटों ने _____ खेलों में 1,936 पदकों के लिए प्रतिस्पर्धा की।

- Ans
- 1. 26
 - 2. 25
 - 3. 24
 - 4. 27

Question ID : 630680306027

Option 1 ID : 6306801190462

Option 2 ID : 6306801190463

Option 3 ID : 6306801190464

Option 4 ID : 6306801190461

Status : Marked For Review

Chosen Option : 1

Q.38 भारतीय संविधान का कौन-सा अनुच्छेद मौलिक कर्तव्यों से संबंधित है?

- Ans
- 1. अनुच्छेद 51-A
 - 2. अनुच्छेद 52-A
 - 3. अनुच्छेद 53-A
 - 4. अनुच्छेद 50-A

Question ID : 630680305532

Option 1 ID : 6306801188502

Option 2 ID : 6306801188503

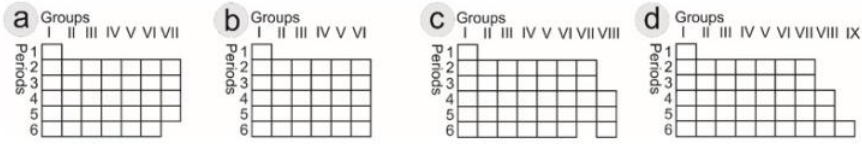
Option 3 ID : 6306801188504

Option 4 ID : 6306801188501

Status : Answered

Chosen Option : 1

Q.39 निम्नांकित में से कौन सी आकृति मेंडेलीव की उस आवर्त सारणी का निरूपण करती है जो 1872 में एक जर्मन जर्नल में प्रकाशित हुई थी?



Groups = समूह, Periods = आवर्त

- Ans
- 1. a
 - 2. d
 - 3. c
 - 4. b

Question ID : 630680210475

Option 1 ID : 630680816059

Option 2 ID : 630680816062

Option 3 ID : 630680816061

Option 4 ID : 630680816060

Status : Marked For Review

Chosen Option : 1

Q.40 कॉमनवेल्थ फेंसिंग चैंपियनशिप 2022 की मेजबानी किसके द्वारा की गई?

- Ans
- 1. कनाडा
 - 2. भारत
 - 3. ऑस्ट्रेलिया
 - 4. यूनाइटेड किंगडम

Question ID : 630680177039

Option 1 ID : 630680686363

Option 2 ID : 630680686361

Option 3 ID : 630680686362

Option 4 ID : 630680686360

Status : Answered

Chosen Option : 4

Q.41 केंद्र सरकार ने वर्ष _____ में राष्ट्रीय वायु खेल नीति (National Air Sports Policy) शुरू की।

- Ans
- 1. 2021
 - 2. 2020
 - 3. 2022
 - 4. 2019

Question ID : 630680192740

Option 1 ID : 630680747507

Option 2 ID : 630680747506

Option 3 ID : 630680747508

Option 4 ID : 630680747505

Status : Marked For Review

Chosen Option : 1

Q.42 कौन-सी परिघटना पिंडन के विपरीत है?

- Ans 1. संलयन
 2. वाष्पन
 3. संघनन
 4. ऊर्ध्वपातन

Question ID : 630680309357
Option 1 ID : 6306801203585
Option 2 ID : 6306801203588
Option 3 ID : 6306801203587
Option 4 ID : 6306801203586
Status : Answered
Chosen Option : 4

Q.43 निम्नलिखित में से कौन-सा भारतीय नागरिक का मौलिक कर्तव्य नहीं है?

- Ans 1. अपनी समग्र संस्कृति की समृद्ध विरासत को महत्व देना और संरक्षित करना
 2. सार्वजनिक संपत्ति की रक्षा करना और हिंसा का त्याग करना
 3. सार्वजनिक चुनाव में मतदान करना
 4. भारत की संप्रभुता, एकता और अखंडता को बनाए रखना और उसकी रक्षा करना

Question ID : 630680408294
Option 1 ID : 6306801592072
Option 2 ID : 6306801592074
Option 3 ID : 6306801592073
Option 4 ID : 6306801592071
Status : Answered
Chosen Option : 3

Q.44 राष्ट्रीय राजमार्ग प्राधिकरण (NHAI) द्वारा निर्मित स्वर्णिम चतुर्भुज की कुल लंबाई कितनी है?

- Ans 1. 5978 km
 2. 5846 km
 3. 4658 km
 4. 5790 km

Question ID : 630680409696
Option 1 ID : 6306801597613
Option 2 ID : 6306801597614
Option 3 ID : 6306801597616
Option 4 ID : 6306801597615
Status : Marked For Review
Chosen Option : 2

Q.45 चित्रा विश्वेश्वरन निम्नलिखित में से किस नृत्य शैली की प्रसिद्ध नृत्यांगना हैं?

- Ans 1. सत्रिया
 2. भरतनाट्यम
 3. कत्थकली
 4. कुचिपुड़ी

Question ID : 630680216134
Option 1 ID : 630680838513
Option 2 ID : 630680838514
Option 3 ID : 630680838512
Option 4 ID : 630680838511
Status : Answered
Chosen Option : 2

Q.46 श्यामामणि देवी को _____ संगीत में उनके योगदान के लिए 2022 में पद्म श्री पुरस्कार से सम्मानित किया गया था।

- Ans
- 1. तामिल
 - 2. मलयाली
 - 3. ओडिसी
 - 4. गुजराती

Question ID : 630680409331
Option 1 ID : 6306801596155
Option 2 ID : 6306801596154
Option 3 ID : 6306801596153
Option 4 ID : 6306801596156
Status : Answered
Chosen Option : 3

Q.47 भारत के वित्त आयोग का उल्लेख किस अनुच्छेद में दिया गया है?

- Ans
- 1. अनुच्छेद 375
 - 2. अनुच्छेद 280
 - 3. अनुच्छेद 370
 - 4. अनुच्छेद 292

Question ID : 630680408214
Option 1 ID : 6306801591753
Option 2 ID : 6306801591751
Option 3 ID : 6306801591752
Option 4 ID : 6306801591754
Status : Answered
Chosen Option : 2

Q.48 गतिशील जीवाणु कोशिकाओं की कोशिका भित्ति में पाए जाने वाले पतले तंतुमय विस्तार (filamentous extensions) क्या कहलाते हैं?

- Ans
- 1. पिली (Pili)
 - 2. फिमब्री (Fimbriae)
 - 3. कशाभिका (Flagella)
 - 4. लामेली (Lamellae)

Question ID : 630680407489
Option 1 ID : 6306801588894
Option 2 ID : 6306801588895
Option 3 ID : 6306801588897
Option 4 ID : 6306801588896
Status : Marked For Review
Chosen Option : 3

Q.49 निम्नलिखित में से कौन स्वस्थ भोजन के लिए इंडियन फूड गाइड पिरामिड में शामिल नहीं है?

- Ans
- 1. दूध, मांस और उत्पाद
 - 2. वसा और शर्करा
 - 3. दालें और फलियाँ
 - 4. मादक पेय

Question ID : 630680407503
Option 1 ID : 6306801588950
Option 2 ID : 6306801588952
Option 3 ID : 6306801588951
Option 4 ID : 6306801588953
Status : Answered
Chosen Option : 4

Q.50 कथासरित्सागर, एक साहित्यिक कृति मूल रूप से निम्नलिखित में से किस भाषा में रची गई थी?

- Ans
- 1. प्राकृत
 - 2. तमिल
 - 3. संस्कृत
 - 4. पाली

Question ID : 630680198446

Option 1 ID : 630680769743

Option 2 ID : 630680769746

Option 3 ID : 630680769744

Option 4 ID : 630680769745

Status : Answered

Chosen Option : 1

Section : Quantitative Aptitude

Q.1 $24 \div (3 - 8 \times 3 + 27) + 3$ का मान ज्ञात कीजिए।

- Ans
- 1. $\frac{3}{2}$
 - 2. 7
 - 3. $\frac{6}{5}$
 - 4. $\frac{1}{2}$

Question ID : 630680428106

Option 1 ID : 6306801670468

Option 2 ID : 6306801670470

Option 3 ID : 6306801670471

Option 4 ID : 6306801670469

Status : Answered

Chosen Option : 2

Q.2 एक कार एक घंटे के पहले एक चौथाई भाग में 20 km, दूसरे एक चौथाई भाग में 25 km और तीसरे एक चौथाई भाग में 15 km की दूरी तय करती है। पूरी यात्रा के दौरान कार की औसत चाल (km/h में) क्या है?

- Ans
- 1. 65
 - 2. 75
 - 3. 80
 - 4. 70

Question ID : 630680428614

Option 1 ID : 6306801672500

Option 2 ID : 6306801672502

Option 3 ID : 6306801672503

Option 4 ID : 6306801672501

Status : Answered

Chosen Option : 3

Q.3

यदि $\tan(t) + \cot(t) = 1$, तो व्यंजक $\frac{1}{\sin(t) + \cos(t)}$ का एक मान _____ है।

Ans

✓ 1. $\frac{1}{\sqrt{3}}$

✗ 2. $\sqrt{3}$

✗ 3. $\frac{2}{\sqrt{3}}$

✗ 4. $\frac{\sqrt{3}}{2}$

Question ID : 630680285510

Option 1 ID : 6306801110007

Option 2 ID : 6306801110009

Option 3 ID : 6306801110008

Option 4 ID : 6306801110010

Status : Marked For Review

Chosen Option : 1

Q.4 दो उम्मीदवारों के बीच एक चुनाव में, एक को कुल वैध मतों का 60% प्राप्त हुआ। 25% मत अवैध थे। यदि कुल मतों की संख्या 15,000 थी, तो दूसरे उम्मीदवार को मिले वैध मतों की संख्या ज्ञात करें।

Ans

✓ 1. 4,500

✗ 2. 5,000

✗ 3. 6,750

✗ 4. 5,550

Question ID : 630680429147

Option 1 ID : 6306801674633

Option 2 ID : 6306801674634

Option 3 ID : 6306801674632

Option 4 ID : 6306801674635

Status : Answered

Chosen Option : 1

Q.5 यदि $x + y + z = 1$, $xy + yz + zx = -1$ और $xyz = -1$ है, तो $(x^3 + y^3 + z^3)$

का मान ज्ञात कीजिए।

Ans

✗ 1. 3

✗ 2. 0

✗ 3. 2

✓ 4. 1

Question ID : 630680413468

Option 1 ID : 6306801612697

Option 2 ID : 6306801612696

Option 3 ID : 6306801612698

Option 4 ID : 6306801612699

Status : Marked For Review

Chosen Option : 2

Q.6 रनिता की साप्ताहिक आय का 57% भास्कर की साप्ताहिक आय के 76% के बराबर है। यदि रनिता की साप्ताहिक आय ₹400 कम कर दी जाती, जबकि भास्कर की साप्ताहिक आय अपरिवर्तित रहती, तो रनिता और भास्कर की साप्ताहिक आय का अनुपात क्रमशः 6 : 5 है। भास्कर की साप्ताहिक आय (₹ में) क्या है?

Ans 1. 3000

2. 4000

3. 3200

4. 2800

Question ID : 630680428912

Option 1 ID : 6306801673692

Option 2 ID : 6306801673694

Option 3 ID : 6306801673693

Option 4 ID : 6306801673695

Status : Answered

Chosen Option : 1

Q.7 $35 - [28 - (60 \div 4 + 26 \div 13)]$ का मान निम्न में से किसके बराबर

होगा?

Ans 1. 26

2. 22

3. 27

4. 24

Question ID : 630680428243

Option 1 ID : 6306801671017

Option 2 ID : 6306801671018

Option 3 ID : 6306801671019

Option 4 ID : 6306801671016

Status : Answered

Chosen Option : 4

Q.8 दी गई तालिका का अध्ययन करें और नीचे दिए गए प्रश्न का उत्तर दें।
तालिका 6 अलग-अलग स्कूलों की 6 अलग-अलग कक्षाओं में पढ़ने वाले विद्यार्थियों की संख्या दर्शाती है।

स्कूल	V	VI	VII	VIII	IX	X
P	152	160	145	156	147	144
Q	148	166	150	155	157	143
R	161	152	140	145	143	165
S	159	142	149	140	142	168
T	147	144	158	163	154	150
U	150	160	162	160	161	140
कुल	917	924	904	919	904	910

स्कूल P से कक्षा X में पढ़ने वाले विद्यार्थियों की संख्या, सभी स्कूलों से मिलाकर कक्षा X में पढ़ने वाले विद्यार्थियों की कुल संख्या का लगभग कितना प्रतिशत है?

- Ans
- 1. 8%
 - 2. 32%
 - 3. 24%
 - 4. 16%

Question ID : 630680428323
Option 1 ID : 6306801671336
Option 2 ID : 6306801671339
Option 3 ID : 6306801671338
Option 4 ID : 6306801671337
Status : Answered
Chosen Option : 4

Q.9 एक ट्रेन 80 km/h की चाल से 60 km, 90 km/h की चाल से 100 km और 120 km/h की चाल से अन्य 140 km की दूरी तय करती है। पूरी यात्रा के लिए औसत चाल ज्ञात कीजिए। (निकटतम पूर्णांक तक पूर्णांकित कीजिए।)

- Ans
- 1. 105 km/h
 - 2. 90 km/h
 - 3. 115 km/h
 - 4. 99 km/h

Question ID : 630680869709
Option 1 ID : 6306803406202
Option 2 ID : 6306803406203
Option 3 ID : 6306803406204
Option 4 ID : 6306803406205
Status : Answered
Chosen Option : 4

Q.10

$[18 - 3 \times \{3 - 3 \times (3 \div \frac{1}{3} - 3) + 3 \div \frac{1}{3} + 3\} - 4 \times 2]$ का मान ज्ञात कीजिए।

- Ans
- 1. 18
 - 2. 15
 - 3. 19
 - 4. 12

Question ID : 630680428034
Option 1 ID : 6306801670181
Option 2 ID : 6306801670182
Option 3 ID : 6306801670180
Option 4 ID : 6306801670183
Status : Marked For Review
Chosen Option : 2

Q.11 एसिड और जल के 12 लीटर विलयन में 30% एसिड है। 20% एसिड वाला विलयन प्राप्त करने के लिए कितना जल (लीटर में) मिलाना होगा?

- Ans
- 1. 6
 - 2. 4
 - 3. 3
 - 4. 5

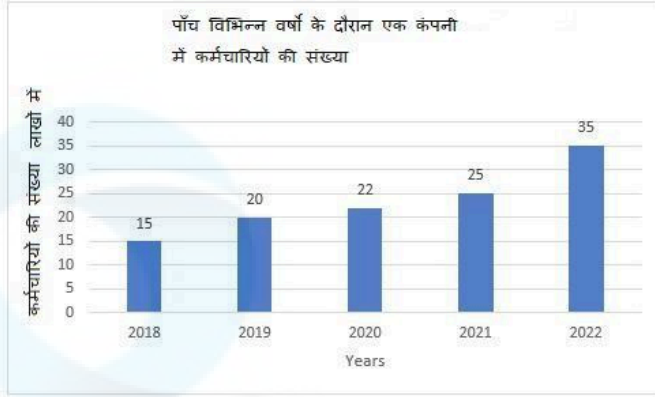
Question ID : 630680869683
Option 1 ID : 6306803406100
Option 2 ID : 6306803406098
Option 3 ID : 6306803406101
Option 4 ID : 6306803406099
Status : Answered
Chosen Option : 1

Q.12 A अकेले किसी कार्य को 200 दिनों में पूरा कर सकता है, जबकि B उसी कार्य को अकेले 100 दिनों में पूरा कर सकता है। प्रत्येक तीन-दिवसीय चक्र में पहले दिन A और B दोनों काम करते हैं, दूसरे दिन केवल A काम करता है और तीसरे दिन केवल B काम करता है। यह चक्र, कार्य पूरा होने तक जारी रहता है। दोनों मिलकर कार्य को पूरा करने में कितने दिन लेते हैं?

- Ans
- 1. $100\frac{1}{2}$
 - 2. $99\frac{2}{3}$
 - 3. 100
 - 4. $100\frac{1}{3}$

Question ID : 630680428434
Option 1 ID : 6306801671781
Option 2 ID : 6306801671780
Option 3 ID : 6306801671782
Option 4 ID : 6306801671783
Status : Answered
Chosen Option : 2

- Q.13 दिए गए आरेख का अध्ययन करके निम्नलिखित प्रश्न का उत्तर दीजिए।
निम्न दंड आरेख पाँच विभिन्न वर्षों के दौरान एक कंपनी में कर्मचारियों की संख्या (लाखों में) दर्शाता है।



वर्ष 2019 की तुलना में वर्ष 2022 में कर्मचारियों की संख्या में कितने प्रतिशत की वृद्धि हुई थी?

- Ans
- 1. 70%
 - 2. 25%
 - 3. 20%
 - 4. 75%

Question ID : 630680344611

Option 1 ID : 6306801340754

Option 2 ID : 6306801340755

Option 3 ID : 6306801340756

Option 4 ID : 6306801340753

Status : Answered

Chosen Option : 4

- Q.14 दो संख्याएँ 3 : 7 के अनुपात में हैं। यदि प्रत्येक में से 11 घटा दिया जाए, तो संख्याओं के बीच का अनुपात 7 : 20 हो जाता है। छोटी संख्या ज्ञात कीजिए।

- Ans
- 1. 39
 - 2. 21
 - 3. 36
 - 4. 27

Question ID : 630680869679

Option 1 ID : 6306803406085

Option 2 ID : 6306803406082

Option 3 ID : 6306803406084

Option 4 ID : 6306803406083

Status : Answered

Chosen Option : 1

Q.15 A किसी काम को 20 दिन में और B उसी काम 30 दिन में कर सकता है। यदि वे 2 दिन तक मिलकर इस काम को करते हैं, तो कितना काम शेष रह जाएगा?

- Ans
- 1. $\frac{5}{7}$
 - 2. $\frac{5}{6}$
 - 3. $\frac{3}{5}$
 - 4. $\frac{5}{8}$

Question ID : 630680869687

Option 1 ID : 6306803406116

Option 2 ID : 6306803406115

Option 3 ID : 6306803406114

Option 4 ID : 6306803406117

Status : Answered

Chosen Option : 2

Q.16 एक शंक्वाकार तंबू बनाने में कितने मीटर कपड़े की आवश्यकता होगी, जिसके आधार की त्रिज्या 21 मीटर और ऊँचाई 28 मीटर है। कपड़े की चौड़ाई 5 मीटर है।

(जहाँ $\pi = \frac{22}{7}$)

- Ans
- 1. 470
 - 2. 462
 - 3. 456
 - 4. 478

Question ID : 630680421569

Option 1 ID : 6306801644739

Option 2 ID : 6306801644741

Option 3 ID : 6306801644740

Option 4 ID : 6306801644742

Status : Marked For Review

Chosen Option : 2

Q.17 निम्न तालिका एक परीक्षा में गणित और विज्ञान में विद्यार्थियों द्वारा प्राप्त अंकों के आधार पर 100 विद्यार्थियों के वर्गीकरण को दर्शाती है।

विषय	100 में से प्राप्त अंक				
	80 और इससे अधिक	60 और इससे अधिक	40 और इससे अधिक	20 और इससे अधिक	0 और इससे अधिक
गणित	12	35	80	94	100
विज्ञान	16	43	76	88	100
औसत (कुल योग)	14	39	78	91	100

विज्ञान में कट-ऑफ अंकों के रूप में 60 अंक के साथ उत्तीर्ण होने वाले विद्यार्थियों और कुल योग में कट-ऑफ अंकों के रूप में 60 अंक के साथ उत्तीर्ण होने वाले विद्यार्थियों की संख्या के बीच का अंतर कितना है?

- Ans 1.4
 2.3
 3.5
 4.6

Question ID : 630680428285
Option 1 ID : 6306801671185
Option 2 ID : 6306801671184
Option 3 ID : 6306801671186
Option 4 ID : 6306801671187
Status : Answered
Chosen Option : 1

Q.18 $\triangle ABC$ में, AD , $\angle A$ का आंतरिक द्विभाजक (internal bisector) है, जो भुजा BC से D पर मिलता है। यदि $BD = 5$ cm, $BC = 7.5$ cm, तो $AB : AC$ क्या है?

- Ans 1.3 : 1
 2.1 : 3
 3.2 : 1
 4.1 : 2

Question ID : 630680421464
Option 1 ID : 6306801644322
Option 2 ID : 6306801644321
Option 3 ID : 6306801644320
Option 4 ID : 6306801644319
Status : Not Answered
Chosen Option : --

Q.19

सरल कीजिए: $(1 + \tan^2 A) + (1 + \frac{1}{\tan^2 A})$

Ans

✗ 1. $\frac{1}{\cot^2 A - \tan^4 A}$

✓ 2. $\frac{1}{\sin^2 A - \sin^4 A}$

✗ 3. $\frac{1}{\sin^2 A - \cos^4 A}$

✗ 4. $\frac{1}{\cos^2 A - \sin^4 A}$

Question ID : 630680387094

Option 1 ID : 6306801509088

Option 2 ID : 6306801509089

Option 3 ID : 6306801509087

Option 4 ID : 6306801509086

Status : Marked For Review

Chosen Option : 1

Q.20

दी गई तालिका (चित्रआलेख) का अध्ययन कीजिए और नीचे दिए गए प्रश्न का उत्तर दीजिए।

तालिका (चित्रआलेख) एक स्कूल में स्काउट्स की संख्या दर्शाती है।

Class / Number of Scouts	☺ = 15 scouts
IV	☺☺☺☺☺☺
V	☺☺
VI	☺☺☺☺☺☺☺☺
VII	☺☺☺☺
VIII	☺☺☺

Class/Number of Scouts - कक्षा/स्काउट्स की संख्या

15 scouts - 15 स्काउट्स

कक्षा VI से VIII तक में स्काउट्स की कुल संख्या कितनी है?

Ans ✗ 1. 200

✓ 2. 225

✗ 3. 195

✗ 4. 320

Question ID : 630680428752

Option 1 ID : 6306801673053

Option 2 ID : 6306801673052

Option 3 ID : 6306801673055

Option 4 ID : 6306801673054

Status : Answered

Chosen Option : 2

Q.21 यदि एक गोले की त्रिज्या 2.1 cm है, तो गोले का आयतन ज्ञात करें।

- Ans
- 1. 38.808 cm³
 - 2. 36.808 cm³
 - 3. 36.088 cm³
 - 4. 38.088 cm³

Question ID : 63068078471

Option 1 ID : 630680303936

Option 2 ID : 630680303933

Option 3 ID : 630680303934

Option 4 ID : 630680303935

Status : Answered

Chosen Option : 1

Q.22 10%, 20% और 20% की क्रमागत छूट के समतुल्य एकल छूट की दर प्रतिशत ज्ञात कीजिए।

- Ans
- 1. 42.4%
 - 2. 50%
 - 3. 40%
 - 4. 54.6%

Question ID : 630680428563

Option 1 ID : 6306801672298

Option 2 ID : 6306801672296

Option 3 ID : 6306801672299

Option 4 ID : 6306801672297

Status : Answered

Chosen Option : 1

Q.23 $3\frac{2}{3} \div 2\frac{1}{5} \times \frac{1}{4} \times \left(1 + \frac{3}{1-\frac{2}{3}}\right)$ का मान ज्ञात कीजिए।

- Ans
- 1. $1\frac{3}{4}$
 - 2. $3\frac{1}{2}$
 - 3. $2\frac{1}{4}$
 - 4. $2\frac{1}{2}$

Question ID : 630680428083

Option 1 ID : 6306801670378

Option 2 ID : 6306801670377

Option 3 ID : 6306801670379

Option 4 ID : 6306801670376

Status : Answered

Chosen Option : 4

Q.24 एक दुकानदार अपने ग्राहकों को छूट की 3 योजनाएँ प्रदान करता है। निम्नलिखित में से किस योजना से न्यूनतम छूट प्रतिशत प्राप्त होगा?

- A) 24% और 27% की दो क्रमिक छूट।
B) 5 खरीदें, तीन मुफ्त पाएं।
C) 6 खरीदें और 10 पाएं।

Ans 1. A

2. A और C दोनों

3. B

4. C

Question ID : 630680428011

Option 1 ID : 6306801670088

Option 2 ID : 6306801670091

Option 3 ID : 6306801670089

Option 4 ID : 6306801670090

Status : Answered

Chosen Option : 3

Q.25 एक बाह्य बिंदु A से, केंद्र O वाले वृत्त पर स्पर्श रेखाएँ AP और AQ खींची जाती हैं। यदि $\angle APQ = 40^\circ$ है, तो $\angle POQ$ ज्ञात कीजिए।

Ans 1. 80°

2. 60°

3. 100°

4. 110°

Question ID : 630680421373

Option 1 ID : 6306801643957

Option 2 ID : 6306801643955

Option 3 ID : 6306801643958

Option 4 ID : 6306801643956

Status : Marked For Review

Chosen Option : 3

Q.26 4, a और 16a का चतुर्थानुपाती 81 है। a का मान क्या है?

Ans 1. $\frac{5}{2}$

2. $\frac{13}{2}$

3. $\frac{11}{2}$

4. $\frac{9}{2}$

Question ID : 630680428947

Option 1 ID : 6306801673835

Option 2 ID : 6306801673833

Option 3 ID : 6306801673832

Option 4 ID : 6306801673834

Status : Answered

Chosen Option : 4

Q.27 7 km/h की गति से भाग रहे एक चोर का पीछा एक पुलिसकर्मी करता है, जिसकी गति 12 km/h है। यदि चोर पुलिस वाले से 280 मीटर आगे है, तो पुलिसकर्मी को चोर को पकड़ने में कितना समय लगेगा?

- Ans
- 1. $4\frac{9}{25}$ minutes
 - 2. $3\frac{9}{25}$ minutes
 - 3. $3\frac{1}{25}$ minutes
 - 4. $3\frac{2}{25}$ minutes

Question ID : 630680428378

Option 1 ID : 6306801671559

Option 2 ID : 6306801671556

Option 3 ID : 6306801671557

Option 4 ID : 6306801671558

Status : Marked For Review

Chosen Option : 3

Q.28 एक अर्धगोलाकार कटोरे की किनारी 88 cm है। इसे भरा हुआ मानते हुए, इससे कितने लोगों को अर्धगोलाकार गिलासों में परोसा जा सकता है, यदि गिलास के शीर्ष का व्यास 7 cm है? (जहाँ $\pi = \frac{22}{7}$)

- Ans
- 1. 74
 - 2. 64
 - 3. 70
 - 4. 68

Question ID : 630680421613

Option 1 ID : 6306801644918

Option 2 ID : 6306801644917

Option 3 ID : 6306801644916

Option 4 ID : 6306801644915

Status : Marked For Review

Chosen Option : 3

Q.29 $\frac{(143 + 13 \times x - 3 \times 3)}{(6^2 - 7 \times 5 + x^2)} = 1$ को संतुष्ट करने वाला x का संभव मान क्या होगा?

- Ans
- 1. 4
 - 2. 2
 - 3. 1
 - 4. 3

Question ID : 630680104323

Option 1 ID : 630680405510

Option 2 ID : 630680405508

Option 3 ID : 630680405507

Option 4 ID : 630680405509

Status : Answered

Chosen Option : 3

Q.30 Study the given bar-graph and answer the question that follows.

The bar-graph gives the sales and profit (both in ₹ cr.) of company Z across four years.



What was the approximate percentage profit margin on revenue of company Z in 2016?

- Ans
- ✓ 1. 41.18%
 - ✗ 2. 54.64%
 - ✗ 3. 60%
 - ✗ 4. 70%

Question ID : 630680387893

Option 1 ID : 6306801512194

Option 2 ID : 6306801512195

Option 3 ID : 6306801512197

Option 4 ID : 6306801512196

Status : Answered

Chosen Option : 1

Q.31 दो संख्याओं x और y (जहां x, y से बड़ी है) का योग उनके अंतर के चार गुने के बराबर है। $\frac{5xy}{3(x^2 - y^2)}$ का मान ज्ञात करें।

- Ans
- ✓ 1. $\frac{25}{16}$
 - ✗ 2. 16
 - ✗ 3. $2\frac{3}{16}$
 - ✗ 4. 25

Question ID : 630680413586

Option 1 ID : 6306801613170

Option 2 ID : 6306801613168

Option 3 ID : 6306801613171

Option 4 ID : 6306801613169

Status : Not Answered

Chosen Option : --

Q.32 एक शंकु का कुल पृष्ठीय क्षेत्रफल कितना है, जिसकी त्रिज्या $\frac{r}{4}$ है और तिर्यक ऊंचाई $4l$ है?

- Ans
- 1. $4\pi r(l + r)$
 - 2. $\pi r \left(1 + \frac{r}{4}\right)$
 - 3. $\pi r \left(1 + \frac{r}{16}\right)$
 - 4. $8\pi r(l + r)$

Question ID : 630680421563

Option 1 ID : 6306801644717

Option 2 ID : 6306801644716

Option 3 ID : 6306801644715

Option 4 ID : 6306801644718

Status : Answered

Chosen Option : 2

Q.33 $\triangle ABC$ में, AB पर एक बिंदु P इस प्रकार है कि $PB : AP = 3 : 4$ है और PQ, AC के समांतर है। यदि AR और QS, PC के लंबवत हैं और $QS = 9$ cm है, तो AR की लंबाई (cm में) कितनी है?

- Ans
- 1. 14
 - 2. 28
 - 3. 35
 - 4. 21

Question ID : 630680421386

Option 1 ID : 6306801644009

Option 2 ID : 6306801644008

Option 3 ID : 6306801644010

Option 4 ID : 6306801644007

Status : Marked For Review

Chosen Option : 2

Q.34 दिए गए व्यंजक को सरल कीजिए।

$$25 \div 5 \times 7 \text{ of } (5 + 7) - 13(6 \times 4)$$

- Ans
- 1. 112
 - 2. 108
 - 3. 138
 - 4. 126

Question ID : 630680428051

Option 1 ID : 6306801670250

Option 2 ID : 6306801670251

Option 3 ID : 6306801670248

Option 4 ID : 6306801670249

Status : Answered

Chosen Option : 2

Q.35 $12 + 24 \div 2 - 7 \times 30 \div 6 + (5 + 4) \times 8 + 8 \div 8 - 8$ का मान ज्ञात कीजिए।

- Ans
- 1. 58
 - 2. 45
 - 3. 85
 - 4. 54

Question ID : 630680428029

Option 1 ID : 6306801670162

Option 2 ID : 6306801670160

Option 3 ID : 6306801670163

Option 4 ID : 6306801670161

Status : Answered

Chosen Option : 4

Q.36 रमन्ना ने एक उत्पाद के निर्माण के लिए एक निश्चित कीमत पर कच्चा माल खरीदा। हालांकि, कामगारों की कमी के कारण, 22.5% कच्चे माल का उपयोग नहीं किया जा सका और वह खराब हो गया। उपयोग किए गए कच्चे माल की लागत का 80% निर्माण लागत के रूप में जोड़ा गया था। यदि रमन्ना 20% की छूट देने के बाद 20% का समग्र लाभ अर्जित करने के लिए अपना उत्पाद बेच सकता है, तो उत्पाद का अंकित मूल्य, खरीदे गए कच्चे माल की कुल लागत का कितना गुना था?

- Ans
- 1. 2.44 गुना
 - 2. 2.40 गुना
 - 3. 2.43 गुना
 - 4. 2.42 गुना

Question ID : 630680321431

Option 1 ID : 6306801250436

Option 2 ID : 6306801250433

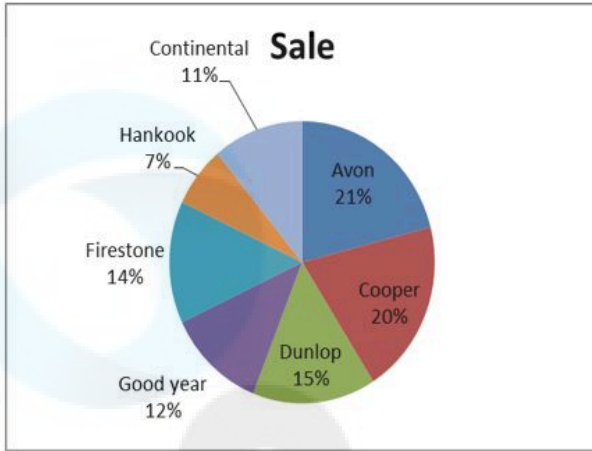
Option 3 ID : 6306801250435

Option 4 ID : 6306801250434

Status : Not Answered

Chosen Option : --

Q.37 एक निश्चित कारखाने द्वारा एक वर्ष में उत्पादित विभिन्न ब्रांडों के टायरों की संख्या का प्रतिशत वितरण दिए गए पाई-चार्ट में दिखाया गया है। बेचे गए टायरों की कुल संख्या 1350 है।



Sale-बिक्री

Continental-कंतिनेन्टल

Hankook-हैंकूक

Firestone-फायरस्टोन

Good year-गुड ईयर

Dunlop-डनलप

Cooper-कूपर

Avon-एवन

एक साथ बेचे गए एवन और फायरस्टोन टायरों की औसत संख्या और एक साथ बेचे गए गुड ईयर और डनलप टायरों की औसत संख्या के बीच क्या अंतर है?

- Ans
- 1. 55
 - 2. 54
 - 3. 46
 - 4. 45

Question ID : 630680358070

Option 1 ID : 6306801394272

Option 2 ID : 6306801394271

Option 3 ID : 6306801394270

Option 4 ID : 6306801394269

Status : Answered

Chosen Option : 2

Q.38 एक पुरुष नदी के पानी में 1 km की दूरी तय करना चाहता है। शांत जल में इस दूरी को तय करने में उसे 12 मिनट लेकिन बहती नदी में 13 मिनट लगते हैं। नदी के बहते पानी की चाल ज्ञात करें।

- Ans
- 1. $\frac{7}{12}$ km/h
 - 2. 22 km/h
 - 3. $\frac{5}{13}$ km/h
 - 4. 25 km/h

Question ID : 630680428813

Option 1 ID : 6306801673297

Option 2 ID : 6306801673298

Option 3 ID : 6306801673296

Option 4 ID : 6306801673299

Status : Marked For Review

Chosen Option : 1

Q.39 36 वस्तुओं का क्रय मूल्य N वस्तुओं के विक्रय मूल्य के बराबर है। यदि लाभ 20% है, तो N का मान ज्ञात कीजिए।

- Ans
- 1. 42
 - 2. 40
 - 3. 25
 - 4. 30

Question ID : 630680429106

Option 1 ID : 6306801674468

Option 2 ID : 6306801674470

Option 3 ID : 6306801674469

Option 4 ID : 6306801674471

Status : Answered

Chosen Option : 4

Q.40 नीचे दिए गए आँकड़ों का अध्ययन कीजिए और निम्नलिखित प्रश्न का उत्तर दीजिए:

भागीदार	वर्तमान % शेयर
सिंह	10
पांडे	5
अनिल	15
सुनील	25
वर्मा	30
राजेश	15

यदि कंपनी ने अपने 6 भागीदारों के बीच 8 लाख शेयर जारी किए हैं और यदि वर्मा, पांडे को अपने 10000 शेयर बेचने की पेशकश करता है, तो पांडे के पास कितने शेयर हो जाएंगे?

- Ans
- 1. 30000
 - 2. 20000
 - 3. 50000
 - 4. 40000

Question ID : 630680428296
Option 1 ID : 6306801671229
Option 2 ID : 6306801671228
Option 3 ID : 6306801671231
Option 4 ID : 6306801671230
Status : Answered
Chosen Option : 3

Q.41 एक चुनाव में, मतदाता सूची में शामिल 12% मतदाताओं ने अपना वोट नहीं डाला, जबकि 84 मतदाताओं ने अपने मतपत्र खाली डाले। केवल दो उम्मीदवार, रामाज्ञा और श्रवण थे। विजेता रामाज्ञा को सूची के सभी मतदाताओं में से 54% का समर्थन प्राप्त हुआ। उसे अपने प्रतिद्वंद्वी श्रवण से 1456 वोट अधिक मिले। सूची में मतदाताओं की कुल संख्या ज्ञात कीजिए।

- Ans
- 1. 7860
 - 2. 6860
 - 3. 5690
 - 4. 6670

Question ID : 630680428163
Option 1 ID : 6306801670699
Option 2 ID : 6306801670698
Option 3 ID : 6306801670696
Option 4 ID : 6306801670697
Status : Not Answered
Chosen Option : --

Q.42 एक धनराशि चक्रवृद्धि ब्याज पर 4 वर्ष में दोगुनी हो जाती है। समान ब्याज दर पर कितने वर्षों में धनराशि 8 गुना हो जाएगी?

- Ans
- 1. 15
 - 2. 10
 - 3. 8
 - 4. 12

Question ID : 630680109042
Option 1 ID : 630680423031
Option 2 ID : 630680423029
Option 3 ID : 630680423028
Option 4 ID : 630680423030
Status : Answered
Chosen Option : 4

Q.43 यदि $\cot\theta = 28/45$ है, तो $(\sin\theta - \cos\theta)$ का मान ज्ञात कीजिए।

- Ans
- 1. $7/53$
 - 2. $45/28$
 - 3. $17/53$
 - 4. $28/53$

Question ID : 630680869655
Option 1 ID : 6306803405991
Option 2 ID : 6306803405993
Option 3 ID : 6306803405990
Option 4 ID : 6306803405992
Status : Marked For Review
Chosen Option : 2

Q.44 निम्नलिखित व्यंजक $3\frac{1}{5}$ of $2\frac{3}{4} \div \frac{11}{3} + (2\frac{1}{5} \div 1\frac{2}{5}$ of $1\frac{3}{7} - 2\frac{1}{3}$) को सरल कीजिए।

- Ans
- 1. $2\frac{1}{6}$
 - 2. $3\frac{1}{6}$
 - 3. $4\frac{1}{6}$
 - 4. $1\frac{1}{6}$

Question ID : 630680428224
Option 1 ID : 6306801670940
Option 2 ID : 6306801670941
Option 3 ID : 6306801670943
Option 4 ID : 6306801670942
Status : Not Answered
Chosen Option : --

Q.45 $52 - [18 \div 3 + 3 + (18 - 11) \text{ of } 4]$ का मान निम्न में से किसके बराबर होगा?

- Ans 1. 22
 2. 18
 3. 21
 4. 15

Question ID : 630680428240
Option 1 ID : 6306801671007
Option 2 ID : 6306801671005
Option 3 ID : 6306801671004
Option 4 ID : 6306801671006
Status : Answered
Chosen Option : 4

Q.46 एक व्यक्ति ने 6% वार्षिक दर से ₹ 1,760 और 9% वार्षिक दर से ₹ 2,240 समान अवधि के लिए साधारण ब्याज पर उधार लिए। उसे ब्याज के रूप में कुल मिलाकर ₹ 1,536 चुकाने पड़े। समय (वर्ष में) ज्ञात कीजिए।

- Ans 1. 4
 2. 2
 3. 3
 4. 5

Question ID : 630680427981
Option 1 ID : 6306801669969
Option 2 ID : 6306801669971
Option 3 ID : 6306801669970
Option 4 ID : 6306801669968
Status : Answered
Chosen Option : 4

Q.47 किसी वृत्त के चाप पर बनी जीवा की लंबाई वृत्त की त्रिज्या के बराबर है। यदि वृत्त की त्रिज्या 21 इकाई है तो चाप की लंबाई _____ (इकाई में) है। ($\pi = \frac{22}{7}$ मानिए)

- Ans 1. 24
 2. 22
 3. 21
 4. 20

Question ID : 630680421418
Option 1 ID : 6306801644138
Option 2 ID : 6306801644136
Option 3 ID : 6306801644137
Option 4 ID : 6306801644135
Status : Answered
Chosen Option : 3

Q.48 यदि दो संख्याओं x और y का योग 12 है और उनका गुणनफल 27 है, तो उनके घनों का योग ज्ञात करें।

- Ans 1. 756
 2. 576
 3. 657
 4. 765

Question ID : 630680413575
Option 1 ID : 6306801613126
Option 2 ID : 6306801613125
Option 3 ID : 6306801613124
Option 4 ID : 6306801613127
Status : Answered
Chosen Option : 1

Q.49 एक समांतर चतुर्भुज का आधार उसकी ऊंचाई का दोगुना है। यदि समांतर चतुर्भुज का क्षेत्रफल 338 cm^2 है, तो इसकी ऊंचाई (cm में) ज्ञात करें।

- Ans 1. 11
 2. 13
 3. 14
 4. 12

Question ID : 630680421633
Option 1 ID : 6306801644995
Option 2 ID : 6306801644997
Option 3 ID : 6306801644998
Option 4 ID : 6306801644996
Status : Answered
Chosen Option : 2

Q.50 यदि $\sec 6A = \operatorname{cosec} (A - 29^\circ)$ है, जहां $2A$ न्यून कोण है, तो $\angle A = ___^\circ$ होगा।

- Ans 1. 21
 2. 18
 3. 17
 4. 19

Question ID : 630680869587
Option 1 ID : 6306803405733
Option 2 ID : 6306803405731
Option 3 ID : 6306803405732
Option 4 ID : 6306803405730
Status : Not Answered
Chosen Option : --

Q.1 Select the most appropriate option that can substitute the underlined segment in the given sentence.

My friends are on a trip to the world.

- Ans
- 1. within the world
 - 2. in the world
 - 3. around the world
 - 4. by the world

Question ID : 630680414558
Option 1 ID : 6306801616991
Option 2 ID : 6306801616993
Option 3 ID : 6306801616994
Option 4 ID : 6306801616992
Status : Answered
Chosen Option : 3

Q.2 Select the most appropriate segment to substitute the underlined words in the given sentence.

Youth is the time when the seeds of character is sown.

- Ans
- 1. the seeds of character are sown
 - 2. the seeds of character were sown
 - 3. the seeds of character had been sown
 - 4. the seeds of character will have been sowing

Question ID : 630680436022
Option 1 ID : 6306801702030
Option 2 ID : 6306801702029
Option 3 ID : 6306801702031
Option 4 ID : 6306801702032
Status : Answered
Chosen Option : 2

Q.3 Identify the most appropriate meaning of the given idiom.

Bread and butter

- Ans
- 1. Money making
 - 2. Means of livelihood
 - 3. The breakfast
 - 4. Comfortable living

Question ID : 630680517290
Option 1 ID : 6306802021558
Option 2 ID : 6306802021559
Option 3 ID : 6306802021556
Option 4 ID : 6306802021557
Status : Answered
Chosen Option : 4

Q.4 Select the most appropriate option that can substitute the underlined segment in the given sentence.

The Government must strive to provide a/an fair and square deal to the citizen of its country.

Ans ✓ 1. honest and straightforward

✗ 2. forward and backward

✗ 3. violent and immoral

✗ 4. exclusive and unreal

Question ID : 630680167658

Option 1 ID : 630680649263

Option 2 ID : 630680649261

Option 3 ID : 630680649260

Option 4 ID : 630680649262

Status : Answered

Chosen Option : 1

Q.5 Parts of the following sentence have been given as options. Select the option that contains an error.

We were grateful for a book they gave us.

Ans ✗ 1. We were

✗ 2. grateful for

✗ 3. they gave us

✓ 4. a book

Question ID : 630680154823

Option 1 ID : 630680599088

Option 2 ID : 630680599089

Option 3 ID : 630680599091

Option 4 ID : 630680599090

Status : Marked For Review

Chosen Option : 1

Q.6 Select the INCORRECTLY spelt word.

Ans ✗ 1. Weekend

✗ 2. Journey

✗ 3. Dessert

✓ 4. Mountan

Question ID : 630680517476

Option 1 ID : 6306802022301

Option 2 ID : 6306802022300

Option 3 ID : 6306802022303

Option 4 ID : 6306802022302

Status : Answered

Chosen Option : 1

Q.7 Select the word from the sentence below, which is an antonym for the word 'uniformity'

A great variety of birds is found in the sanctuaries of India.

- Ans
- 1. Sanctuaries
 - 2. Found
 - 3. Variety
 - 4. Great

Question ID : 630680517332
Option 1 ID : 6306802021725
Option 2 ID : 6306802021726
Option 3 ID : 6306802021727
Option 4 ID : 6306802021724
Status : Marked For Review
Chosen Option : 3

Q.8 Select the word which means the same as the group of words underlined in the given sentence.

These glass windows are so old and one can't even see through them, they need to be replaced.

- Ans
- 1. Transparent
 - 2. Opaque
 - 3. Black
 - 4. Dirty

Question ID : 630680414822
Option 1 ID : 6306801618033
Option 2 ID : 6306801618032
Option 3 ID : 6306801618031
Option 4 ID : 6306801618034
Status : Answered
Chosen Option : 2

Q.9 Select the sentence that uses the given idiom correctly.

Skating on thin ice

- Ans
- 1. He was on thin ice after making a controversial statement.
 - 2. She was on thin ice while trying to balance on a tightrope.
 - 3. They were on thin ice due to the icy conditions on the road.
 - 4. They were on thin ice when they skated on the frozen lake.

Question ID : 630680517392
Option 1 ID : 6306802021965
Option 2 ID : 6306802021966
Option 3 ID : 6306802021967
Option 4 ID : 6306802021964
Status : Answered
Chosen Option : 1

Q.10 Select the most appropriate meaning of the given idiom.
Yeoman's service

- Ans** 1. A thankless and tedious job
 2. Excellent work done
 3. Working under a cruel master
 4. Fraudulent service

Question ID : **630680175899**
Option 1 ID : **630680681860**
Option 2 ID : **630680681863**
Option 3 ID : **630680681862**
Option 4 ID : **630680681861**
Status : **Answered**
Chosen Option : **2**

Q.11 Select the INCORRECTLY spelt word.

- Ans** 1. Argument
 2. Occured
 3. Equally
 4. Unwilling

Question ID : **630680517490**
Option 1 ID : **6306802022359**
Option 2 ID : **6306802022358**
Option 3 ID : **6306802022357**
Option 4 ID : **6306802022356**
Status : **Marked For Review**
Chosen Option : **3**

Q.12 Select the most appropriate ANTONYM of the underlined word.

The repetitive and monotonous task of data entry made the work seem incredibly long and tedious.

- Ans** 1. Precarious
 2. Interesting
 3. Pious
 4. Threatening

Question ID : **630680435601**
Option 1 ID : **6306801700340**
Option 2 ID : **6306801700337**
Option 3 ID : **6306801700339**
Option 4 ID : **6306801700338**
Status : **Answered**
Chosen Option : **2**

Q.13 Select the most appropriate synonym of the underlined word in the following sentence.

He behaved ruthlessly with his junior, to say the least.

- Ans
- 1. Weirdly
 - 2. Unexpectedly
 - 3. Inhumanly
 - 4. Politely

Question ID : 630680375458
Option 1 ID : 6306801462991
Option 2 ID : 6306801462994
Option 3 ID : 6306801462992
Option 4 ID : 6306801462993
Status : Marked For Review
Chosen Option : 1

Q.14 Select the most appropriate option that can substitute the underlined segment in the given sentence.

Shakespeare is great than any other English poet.

- Ans
- 1. is greatest than
 - 2. is greater than
 - 3. was great than
 - 4. was greater than

Question ID : 630680414583
Option 1 ID : 6306801617084
Option 2 ID : 6306801617085
Option 3 ID : 6306801617083
Option 4 ID : 6306801617086
Status : Answered
Chosen Option : 2

Q.15 Select the most appropriate ANTONYM of the underlined word in the given sentence.

The speaker delivered a profound speech that left the audience deeply moved.

- Ans
- 1. Deep
 - 2. Shallow
 - 3. Occult
 - 4. Inventive

Question ID : 630680517232
Option 1 ID : 6306802021324
Option 2 ID : 6306802021325
Option 3 ID : 6306802021326
Option 4 ID : 6306802021327
Status : Answered
Chosen Option : 3

Q.16 Select the option that can be used as a one-word substitute for the given group of words.

A woman having more than one husband at the same time

- Ans 1. Polyandry
 2. Polymathy
 3. Endogamy
 4. Monogamy

Question ID : 630680414514

Option 1 ID : 6306801616815

Option 2 ID : 6306801616816

Option 3 ID : 6306801616818

Option 4 ID : 6306801616817

Status : Answered

Chosen Option : 1

Q.17 Identify the most appropriate antonym of the given word.

Freezing

- Ans 1. brisk
 2. gnawing
 3. summery
 4. tropical

Question ID : 630680517351

Option 1 ID : 6306802021801

Option 2 ID : 6306802021800

Option 3 ID : 6306802021803

Option 4 ID : 6306802021802

Status : Answered

Chosen Option : 2

Q.18 Select the most appropriate option that can substitute the underlined segment in the given sentence.

I prefer walking than riding.

- Ans 1. walking with riding
 2. walking to riding
 3. walking from riding
 4. walking above riding

Question ID : 630680436028

Option 1 ID : 6306801702056

Option 2 ID : 6306801702055

Option 3 ID : 6306801702053

Option 4 ID : 6306801702054

Status : Answered

Chosen Option : 4

Q.19 Parts of the following sentence have been given as options. Select the option that contains a spelling error.
Joe was so tired that he could scarely stand.

- Ans
- 1. so tired that
 - 2. he could
 - 3. scarely stand.
 - 4. Joe was

Question ID : 630680518792
Option 1 ID : 6306802027665
Option 2 ID : 6306802027666
Option 3 ID : 6306802027667
Option 4 ID : 6306802027664
Status : Answered
Chosen Option : 3

Q.20 Select the most appropriate idiom for the underlined part in the given sentence:
Sohan was very much perplexed to find that his younger brother Mohan had taken poison.

- Ans
- 1. At any rate
 - 2. At his disposal
 - 3. At his wit's end
 - 4. At logger heads

Question ID : 630680517331
Option 1 ID : 6306802021721
Option 2 ID : 6306802021722
Option 3 ID : 6306802021720
Option 4 ID : 6306802021723
Status : Answered
Chosen Option : 3

Q.21 Parts of the following sentence have been given as options. Select the option that contains an error.
Can we go visit a Statue of Liberty on our trip to the United States?

- Ans
- 1. on our trip to
 - 2. visit a Statue of Liberty
 - 3. the United States?
 - 4. Can we go

Question ID : 630680415277
Option 1 ID : 6306801619857
Option 2 ID : 6306801619856
Option 3 ID : 6306801619858
Option 4 ID : 6306801619855
Status : Marked For Review
Chosen Option : 4

Q.22 Select the most appropriate ANTONYM of the given word from the following sentence.

Confusing

The stars twinkled in the dark sky, guiding travellers on their journey.

- Ans
- 1. Twinkled
 - 2. Travellers
 - 3. Guiding
 - 4. Journey

Question ID : 630680517404
Option 1 ID : 6306802022012
Option 2 ID : 6306802022014
Option 3 ID : 6306802022013
Option 4 ID : 6306802022015
Status : Answered
Chosen Option : 3

Q.23 Select the most appropriate synonym of the given word.
Reckon

- Ans
- 1. Assess
 - 2. Imagine
 - 3. Merit
 - 4. Count

Question ID : 630680295221
Option 1 ID : 6306801148608
Option 2 ID : 6306801148611
Option 3 ID : 6306801148609
Option 4 ID : 6306801148610
Status : Answered
Chosen Option : 2

Q.24 Select the most appropriate ANTONYM of the highlighted word
The worker is known to exert himself a lot.

- Ans
- 1. relax
 - 2. emerge
 - 3. crouch
 - 4. stress

Question ID : 630680410030
Option 1 ID : 6306801598952
Option 2 ID : 6306801598949
Option 3 ID : 6306801598950
Option 4 ID : 6306801598951
Status : Answered
Chosen Option : 1

Q.25 The following sentence has been divided into four segments. Identify the segment that has a grammatical error.
When he resigned, / the company offered him / a huge sum of money but / he refused to agree to it.

- Ans**
- 1. he refused to agree to it.
 - 2. the company offered him
 - 3. a huge sum of money but
 - 4. When he resigned,

Question ID : 630680191724
Option 1 ID : 630680743508
Option 2 ID : 630680743506
Option 3 ID : 630680743507
Option 4 ID : 630680743505
Status : Answered
Chosen Option : 3

Q.26 Select the most appropriate meaning of the given idiom.

Be in seventh heaven

- Ans**
- 1. To be in a state of extreme happiness
 - 2. To be ignored
 - 3. To start performing better
 - 4. To avoid talking about what's important

Question ID : 630680517410
Option 1 ID : 6306802022039
Option 2 ID : 6306802022038
Option 3 ID : 6306802022037
Option 4 ID : 6306802022036
Status : Answered
Chosen Option : 1

Q.27 Select the most appropriate option to substitute the underlined segment in the given sentence.

An awkward neither grammatically accurate sentence is the result of centre implanting.

- Ans**
- 1. awkward unless grammatically
 - 2. awkward but grammatically
 - 3. awkward either grammatically
 - 4. awkward beyond grammatically

Question ID : 630680414522
Option 1 ID : 6306801616847
Option 2 ID : 6306801616850
Option 3 ID : 6306801616849
Option 4 ID : 6306801616848
Status : Answered
Chosen Option : 2

Q.28 Select the most suitable expression that can substitute the underlined part of the sentence without any change in meaning.

Planning to go for a movie just before the final-year examination is nothing but skating on thin ice.

- Ans**
- 1. being in a risky situation
 - 2. going to hill stations
 - 3. enjoying the moment
 - 4. doing hard work

Question ID : 630680517588
Option 1 ID : 6306802022748
Option 2 ID : 6306802022749
Option 3 ID : 6306802022751
Option 4 ID : 6306802022750
Status : Answered
Chosen Option : 1

Q.29 Select the most appropriate meaning of the given phrase.

Hit the sack

- Ans**
- 1. Cracking the exams
 - 2. Making money quickly
 - 3. Going to sleep
 - 4. Running on the beach

Question ID : 630680300659
Option 1 ID : 6306801169460
Option 2 ID : 6306801169461
Option 3 ID : 6306801169459
Option 4 ID : 6306801169462
Status : Answered
Chosen Option : 3

Q.30 Select the option that can be used as a one-word substitute for the given group of words.

Attempting to impress by affecting greater importance or merit than is actually possessed

- Ans**
- 1. Airy
 - 2. Imperious
 - 3. Glorious
 - 4. Pretentious

Question ID : 630680414909
Option 1 ID : 6306801618379
Option 2 ID : 6306801618380
Option 3 ID : 6306801618382
Option 4 ID : 6306801618381
Status : Answered
Chosen Option : 4

Q.31 Select the word which means the same as the group of words given.

A society or company provides these convenient features

- Ans 1. Amenities
 2. System
 3. Equipment
 4. Facilitate

Question ID : 630680414696
Option 1 ID : 6306801617527
Option 2 ID : 6306801617530
Option 3 ID : 6306801617529
Option 4 ID : 6306801617528
Status : Answered
Chosen Option : 4

Q.32 Select the most appropriate meaning of the given idiom.
By leaps and bounds

- Ans 1. Normally
 2. Slowly
 3. Unknowingly
 4. Rapidly

Question ID : 630680517342
Option 1 ID : 6306802021765
Option 2 ID : 6306802021764
Option 3 ID : 6306802021767
Option 4 ID : 6306802021766
Status : Answered
Chosen Option : 4

Q.33 Select the option that is similar in meaning to the underlined word in the following sentence.

A good critic should also be a person of great candour.

- Ans 1. will
 2. power
 3. resolution
 4. honesty

Question ID : 630680213116
Option 1 ID : 630680826511
Option 2 ID : 630680826512
Option 3 ID : 630680826514
Option 4 ID : 630680826513
Status : Answered
Chosen Option : 4

Q.34 The following sentence has been divided into four segments. One of them contains an error. Select the segment that contains the error from the given options.
I am understanding;/ you like her/ because she has /a generous nature.

- Ans
- 1. because she has
 - 2. you like her
 - 3. I am understanding;
 - 4. a generous nature

Question ID : 630680156638
Option 1 ID : 630680606210
Option 2 ID : 630680606209
Option 3 ID : 630680606208
Option 4 ID : 630680606211
Status : Answered
Chosen Option : 3

Q.35 In the following sentence, four words are underlined, out of which one word is MISSPELT. Select the MISSPELT word.

The shedule followed by my sister ultimately leads to stress and other adverse effects.

- Ans
- 1. adverse
 - 2. shedule
 - 3. followed
 - 4. ultimately

Question ID : 630680410012
Option 1 ID : 6306801598880
Option 2 ID : 6306801598877
Option 3 ID : 6306801598878
Option 4 ID : 6306801598879
Status : Answered
Chosen Option : 2

Q.36 Three segments of the following sentence have been underlined and given as options. One of them may contain an error. Select the option that contains the error. If you don't find any error, mark 'No error' as your answer.

Since his son has not yet completed the age of eighteen, he was reluctant to fulfil his son's demand of getting a motorbike.

- Ans
- 1. he was reluctant
 - 2. of getting a motorbike
 - 3. No error
 - 4. to fulfil his son's demand

Question ID : 630680130710
Option 1 ID : 630680506134
Option 2 ID : 630680506136
Option 3 ID : 630680506137
Option 4 ID : 630680506135
Status : Answered
Chosen Option : 3

Q.37 Select the option that can be used as a one-word substitute for the given group of words.

A professional rider in horse races

- Ans**
- 1. Southpaw
 - 2. Stuntman
 - 3. Jockey
 - 4. Batsman

Question ID : 630680414802
Option 1 ID : 6306801617951
Option 2 ID : 6306801617954
Option 3 ID : 6306801617952
Option 4 ID : 6306801617953
Status : Answered
Chosen Option : 3

Q.38 Select the INCORRECTLY spelt word.

- Ans**
- 1. occasion
 - 2. etiquette
 - 3. rationalisation
 - 4. elopement

Question ID : 630680409921
Option 1 ID : 6306801598514
Option 2 ID : 6306801598513
Option 3 ID : 6306801598516
Option 4 ID : 6306801598515
Status : Answered
Chosen Option : 4

Q.39 The following sentence has been split into four segments. Identify the segment that contains a spelling error.
The precarious case of juvenile / delinquency against him / was dismissed by the / jury in the first hearing.

- Ans**
- 1. delinquency against him
 - 2. was dismissed by the
 - 3. jury in the first hearing.
 - 4. The precarious case of juvenile

Question ID : 630680518781
Option 1 ID : 6306802027621
Option 2 ID : 6306802027622
Option 3 ID : 6306802027623
Option 4 ID : 6306802027620
Status : Answered
Chosen Option : 2

Q.40 Select the most appropriate segment to substitute the underlined words in the given sentence.

The referee declared that the participant who will score the highest points in the tally will take away the cash prize of ₹50 lakh.

- Ans
- 1. who could score the highest point
 - 2. who settles scores the highest point
 - 3. who scores the highest point
 - 4. who can score the highest point

Question ID : 630680435975

Option 1 ID : 6306801701857

Option 2 ID : 6306801701860

Option 3 ID : 6306801701858

Option 4 ID : 6306801701859

Status : Answered

Chosen Option : 1

Comprehension:

In the following passage, some words have been deleted. Read the passage carefully and select the most appropriate option to fill in each blank.

Superheroes are fictional characters with 1) _____ powers who use their powers to fight crime and protect the public. Some popular superheroes include Superman, Batman, Spider-Man and Wonder Woman. Superheroes often have backstories that 2) _____ how they have gained their powers, 3) _____ being born with special powers, being bitten by a radioactive spider or being exposed to cosmic radiation. They usually have a specific outfit or clothing that they wear to hide their identity and protect 4) _____ while fighting crime. Superheroes have been a staple of popular culture 5) _____ decades, appearing in comics, movies, television shows, and video games.

SubQuestion No : 41

Q.41 Select the most appropriate option to fill in blank no. 1.

- Ans
- 1. pragmatic
 - 2. familiar
 - 3. hereditary
 - 4. extraordinary

Question ID : 630680515067

Option 1 ID : 6306802012795

Option 2 ID : 6306802012793

Option 3 ID : 6306802012796

Option 4 ID : 6306802012794

Status : Answered

Chosen Option : 4

Comprehension:

In the following passage, some words have been deleted. Read the passage carefully and select the most appropriate option to fill in each blank.

Superheroes are fictional characters with 1) _____ powers who use their powers to fight crime and protect the public. Some popular superheroes include Superman, Batman, Spider-Man and Wonder Woman. Superheroes often have backstories that 2) _____ how they have gained their powers, 3) _____ being born with special powers, being bitten by a radioactive spider or being exposed to cosmic radiation. They usually have a specific outfit or clothing that they wear to hide their identity and protect 4) _____ while fighting crime. Superheroes have been a staple of popular culture 5) _____ decades, appearing in comics, movies, television shows, and video games.

SubQuestion No : 42

Q.42 Select the most appropriate option to fill in blank no. 2.

- Ans
- 1. had explain
 - 2. explain
 - 3. explaining
 - 4. was explain

Question ID : 630680515068

Option 1 ID : 6306802012798

Option 2 ID : 6306802012797

Option 3 ID : 6306802012800

Option 4 ID : 6306802012799

Status : Answered

Chosen Option : 2

Comprehension:

In the following passage, some words have been deleted. Read the passage carefully and select the most appropriate option to fill in each blank.

Superheroes are fictional characters with 1) _____ powers who use their powers to fight crime and protect the public. Some popular superheroes include Superman, Batman, Spider-Man and Wonder Woman. Superheroes often have backstories that 2) _____ how they have gained their powers, 3) _____ being born with special powers, being bitten by a radioactive spider or being exposed to cosmic radiation. They usually have a specific outfit or clothing that they wear to hide their identity and protect 4) _____ while fighting crime. Superheroes have been a staple of popular culture 5) _____ decades, appearing in comics, movies, television shows, and video games.

SubQuestion No : 43

Q.43 Select the most appropriate option to fill in blank no. 3.

- Ans
- 1. instead
 - 2. therefore
 - 3. such as
 - 4. subsequently

Question ID : 630680515069

Option 1 ID : 6306802012801

Option 2 ID : 6306802012802

Option 3 ID : 6306802012803

Option 4 ID : 6306802012804

Status : Answered

Chosen Option : 1

Comprehension:

In the following passage, some words have been deleted. Read the passage carefully and select the most appropriate option to fill in each blank.

Superheroes are fictional characters with 1) _____ powers who use their powers to fight crime and protect the public. Some popular superheroes include Superman, Batman, Spider-Man and Wonder Woman. Superheroes often have backstories that 2) _____ how they have gained their powers, 3) _____ being born with special powers, being bitten by a radioactive spider or being exposed to cosmic radiation. They usually have a specific outfit or clothing that they wear to hide their identity and protect 4) _____ while fighting crime. Superheroes have been a staple of popular culture 5) _____ decades, appearing in comics, movies, television shows, and video games.

SubQuestion No : 44

Q.44 Select the most appropriate option to fill in blank no. 4.

- Ans
- 1. himself
 - 2. herself
 - 3. themselves
 - 4. ourselves

Question ID : 630680515070
Option 1 ID : 6306802012806
Option 2 ID : 6306802012805
Option 3 ID : 6306802012808
Option 4 ID : 6306802012807
Status : Answered
Chosen Option : 3

Comprehension:

In the following passage, some words have been deleted. Read the passage carefully and select the most appropriate option to fill in each blank.

Superheroes are fictional characters with 1) _____ powers who use their powers to fight crime and protect the public. Some popular superheroes include Superman, Batman, Spider-Man and Wonder Woman. Superheroes often have backstories that 2) _____ how they have gained their powers, 3) _____ being born with special powers, being bitten by a radioactive spider or being exposed to cosmic radiation. They usually have a specific outfit or clothing that they wear to hide their identity and protect 4) _____ while fighting crime. Superheroes have been a staple of popular culture 5) _____ decades, appearing in comics, movies, television shows, and video games.

SubQuestion No : 45

Q.45 Select the most appropriate option to fill in blank no. 5.

- Ans
- 1. above
 - 2. under
 - 3. on
 - 4. for

Question ID : 630680515071
Option 1 ID : 6306802012810
Option 2 ID : 6306802012812
Option 3 ID : 6306802012809
Option 4 ID : 6306802012811
Status : Answered
Chosen Option : 4

Comprehension:

Read the passage given below and answer the questions that follow:

There are no ancient nations anywhere in the world. All nations are modern. Ancient Greece, ancient Egypt, ancient India – all of them may have had great civilizations whose architecture, art, and literature are objects of admiration. But they are not nations. To realize this truth, you will have to forget for the time being the history you were taught at school. Because it is that history, drilled into your heads from the time you were children, and constantly renewed by national festivals and ceremonies, the speeches of your leaders, and novels, films, and television serials, that make it seem obvious to you that your nation is ancient. In actual fact, it is not true. Your nation is not – indeed no nation on earth is – ancient. Only modern people can imagine that way.

SubQuestion No : 46

Q.46 Find out the correct antonym of the following word: realize

- Ans
- 1. Understand
 - 2. Comprehend
 - 3. Misunderstand
 - 4. Grasp

Question ID : **630680406682**
Option 1 ID : **6306801585921**
Option 2 ID : **6306801585918**
Option 3 ID : **6306801585920**
Option 4 ID : **6306801585919**
Status : **Answered**
Chosen Option : **3**

Comprehension:

Read the passage given below and answer the questions that follow:

There are no ancient nations anywhere in the world. All nations are modern. Ancient Greece, ancient Egypt, ancient India – all of them may have had great civilizations whose architecture, art, and literature are objects of admiration. But they are not nations. To realize this truth, you will have to forget for the time being the history you were taught at school. Because it is that history, drilled into your heads from the time you were children, and constantly renewed by national festivals and ceremonies, the speeches of your leaders, and novels, films, and television serials, that make it seem obvious to you that your nation is ancient. In actual fact, it is not true. Your nation is not – indeed no nation on earth is – ancient. Only modern people can imagine that way.

SubQuestion No : 47

Q.47 What does the expression “drill into your heads” mean?

- Ans
- 1. make someone learn or understand something by repeating it
 - 2. threaten someone repeatedly drill machine
 - 3. force someone to move his/her head in a particular direction
 - 4. repeatedly question someone regarding a certain issue

Question ID : **630680406684**
Option 1 ID : **6306801585929**
Option 2 ID : **6306801585927**
Option 3 ID : **6306801585926**
Option 4 ID : **6306801585928**
Status : **Answered**
Chosen Option : **1**

Comprehension:

Read the passage given below and answer the questions that follow:

There are no ancient nations anywhere in the world. All nations are modern. Ancient Greece, ancient Egypt, ancient India – all of them may have had great civilizations whose architecture, art, and literature are objects of admiration. But they are not nations. To realize this truth, you will have to forget for the time being the history you were taught at school. Because it is that history, drilled into your heads from the time you were children, and constantly renewed by national festivals and ceremonies, the speeches of your leaders, and novels, films, and television serials, that make it seem obvious to you that your nation is ancient. In actual fact, it is not true. Your nation is not – indeed no nation on earth is – ancient. Only modern people can imagine that way.

SubQuestion No : 48

Q.48 Find out the correct synonym of the following word: Obvious

- Ans
- 1. ambiguous
 - 2. doubtful
 - 3. dubious
 - 4. clear

Question ID : 630680406681

Option 1 ID : 6306801585915

Option 2 ID : 6306801585916

Option 3 ID : 6306801585917

Option 4 ID : 6306801585914

Status : Answered

Chosen Option : 4

Comprehension:

Read the passage given below and answer the questions that follow:

There are no ancient nations anywhere in the world. All nations are modern. Ancient Greece, ancient Egypt, ancient India – all of them may have had great civilizations whose architecture, art, and literature are objects of admiration. But they are not nations. To realize this truth, you will have to forget for the time being the history you were taught at school. Because it is that history, drilled into your heads from the time you were children, and constantly renewed by national festivals and ceremonies, the speeches of your leaders, and novels, films, and television serials, that make it seem obvious to you that your nation is ancient. In actual fact, it is not true. Your nation is not – indeed no nation on earth is – ancient. Only modern people can imagine that way.

SubQuestion No : 49

Q.49 Why does the author of the passage ask us to forget the history that we were taught at school?

- Ans
- 1. because the history book taught us that there are no ancient nations in the world
 - 2. because the history book taught us that our nation is ancient
 - 3. because only the modern people can imagine that way
 - 4. because the history book asks us to celebrate festivals which make us believe that our nation is modern

Question ID : 630680406683

Option 1 ID : 6306801585923

Option 2 ID : 6306801585922

Option 3 ID : 6306801585924

Option 4 ID : 6306801585925

Status : Answered

Chosen Option : 4

Comprehension:

Read the passage given below and answer the questions that follow:

There are no ancient nations anywhere in the world. All nations are modern. Ancient Greece, ancient Egypt, ancient India – all of them may have had great civilizations whose architecture, art, and literature are objects of admiration. But they are not nations. To realize this truth, you will have to forget for the time being the history you were taught at school. Because it is that history, drilled into your heads from the time you were children, and constantly renewed by national festivals and ceremonies, the speeches of your leaders, and novels, films, and television serials, that make it seem obvious to you that your nation is ancient. In actual fact, it is not true. Your nation is not – indeed no nation on earth is – ancient. Only modern people can imagine that way.

SubQuestion No : 50

Q.50 Which of the following statements is correct?

- Ans** 1. History books should be read again and again because they celebrate ancient nations.
2. Novels, films and speeches of leaders celebrate the modernity of nations
3. Ancient India is an ancient civilization but not an ancient nation.
4. Only modern people can imagine the existence of ancient nations.

Question ID : **630680406685**

Option 1 ID : **6306801585930**

Option 2 ID : **6306801585933**

Option 3 ID : **6306801585932**

Option 4 ID : **6306801585931**

Status : **Answered**

Chosen Option : **2**