

**Sub Inspector in Delhi Police and Central Armed Police Forces Examination 2024 Paper I Exam**

Roll Number	
Candidate Name	
Venue Name	
Exam Date	28/06/2024
Exam Time	9:00 AM - 11:00 AM
Subject	SICPO Paper I 2024

Section : General Intelligence and Reasoning

Q.1 उस विकल्प का चयन कीजिए जो दिए गए शब्दों को उस सही क्रम को दर्शाता है जिस क्रम में वे अंग्रेजी शब्दकोश में दिखाई देते हैं।

- 1- Kibble
- 2- Kennel
- 3- Kettle
- 4- Kicker
- 5- Kernel

- Ans
- 1. 5, 2, 3, 1, 4
  - 2. 5, 3, 2, 1, 4
  - 3. 2, 3, 5, 4, 1
  - 4. 2, 5, 3, 1, 4

Question ID : 630680417217  
Option 1 ID : 6306801627633  
Option 2 ID : 6306801627631  
Option 3 ID : 6306801627632  
Option 4 ID : 6306801627634

Status : Answered

Chosen Option : 4

Q.2 एक कूट भाषा में 'GAME' को 'KCQG' के रूप में लिखा जाता है और 'FARM' को 'JCVO' के रूप में लिखा जाता है। इसी कूट भाषा में 'TOWN' को कैसे लिखा जाएगा?

- Ans
- 1. AXQP
  - 2. PAXQ
  - 3. XAPQ
  - 4. XQAP

Question ID : 630680416690  
Option 1 ID : 6306801625525  
Option 2 ID : 6306801625526  
Option 3 ID : 6306801625524  
Option 4 ID : 6306801625523

Status : Answered

Chosen Option : 4

Q.3 गणितीय चिह्नों का निम्नलिखित में से कौन-सा परस्पर विनिमय दिए गए समीकरण को सही (संतुलित) कर देगा?

$$10 + 23 - 3 \times 63 \div 7 = 70$$

Ans  1. - और  $\times$

2. + और  $\times$

3. - और +

4. + और  $\times$

Question ID : 630680411962

Option 1 ID : 6306801606685

Option 2 ID : 6306801606686

Option 3 ID : 6306801606684

Option 4 ID : 6306801606683

Status : Answered

Chosen Option : 1

Q.4 एक निश्चित कूट भाषा में 'stay for diner' को 'px rn tf' लिखा जाता है और 'dinner is ready' को 'sq mv rn' लिखा जाता है। दी गई भाषा में 'dinner' को कैसे लिखा जाएगा?

Ans  1. m

2. sq

3. px

4. tf

Question ID : 630680305477

Option 1 ID : 6306801188287

Option 2 ID : 6306801188285

Option 3 ID : 6306801188286

Option 4 ID : 6306801188288

Status : Answered

Chosen Option : 1

Q.5 निम्नलिखित समीकरण को सही करने (संतुलित करने) के लिए किन दो गणितीय चिह्नों को आपस में बदलना होगा?

$$9 + 6 \times 3 - 9 \div 1 = 10$$

Ans  1.  $\div$  और -

2.  $\times$  और +

3.  $\div$  और +

4. - और +

Question ID : 630680411794

Option 1 ID : 6306801606013

Option 2 ID : 6306801606012

Option 3 ID : 6306801606011

Option 4 ID : 6306801606014

Status : Answered

Chosen Option : 1

Q.6 दो कथनों के बाद I, II और III से अंकित तीन निष्कर्ष दिए गए हैं। कथनों को सत्य मानते हुए, भले ही वे सामान्यतः ज्ञात तथ्यों से भिन्न प्रतीत होते हों, निर्णय लें कि कौन-सा/कौन-से निष्कर्ष कथनों का तार्किक रूप से अनुसरण करता है/करते हैं।

कथन:

सभी नीले लाल हैं।

सभी हरे नीले हैं।

निष्कर्ष:

I. कोई लाल नीला नहीं है।

II. कोई नीला हरा नहीं है।

III. कोई हरा लाल नहीं है।

- Ans
- 1. II और III दोनों निष्कर्ष अनुसरण करते हैं।
  - 2. I और III दोनों निष्कर्ष अनुसरण करते हैं।
  - 3. I और II दोनों निष्कर्ष अनुसरण करते हैं।
  - 4. कोई भी निष्कर्ष अनुसरण नहीं करता है।

Question ID : 630680417243

Option 1 ID : 6306801627737

Option 2 ID : 6306801627736

Option 3 ID : 6306801627735

Option 4 ID : 6306801627738

Status : Answered

Chosen Option : 4

Q.7 यदि + का अर्थ - है, - का अर्थ  $\times$  है,  $\times$  का अर्थ  $\div$  है,  $\div$  का अर्थ + है, तो निम्नलिखित व्यंजक का मान क्या होगा?

$$145 \div 96 \times 12 + 13 = ?$$

- Ans
- 1. 170
  - 2. 185
  - 3. 120
  - 4. 140

Question ID : 630680411775

Option 1 ID : 6306801605935

Option 2 ID : 6306801605937

Option 3 ID : 6306801605936

Option 4 ID : 6306801605938

Status : Answered

Chosen Option : 4

Q.8 एक निश्चित कूट भाषा में,

A + B का अर्थ है 'A, B की मां है'

A - B का अर्थ है 'A, B का भाई है'

A  $\times$  B का अर्थ है 'A, B की पत्नी है'

A  $\div$  B का अर्थ है 'A, B का पिता है'

उपर्युक्त के आधार पर, यदि 'A  $\div$  B - C + D - E  $\times$  F' है, तो A का E से क्या संबंध है?

- Ans
- 1. पिता
  - 2. दादा
  - 3. भाई
  - 4. नाना

Question ID : 630680284954

Option 1 ID : 6306801107818

Option 2 ID : 6306801107816

Option 3 ID : 6306801107815

Option 4 ID : 6306801107817

Status : Answered

Chosen Option : 4

Q.9 उस विकल्प का चयन कीजिए, जो तीसरे पद से उसी प्रकार संबंधित है, जिस प्रकार दूसरा पद पहले पद से और छठा पद पाँचवें पद से संबंधित है।  
29 : 61 :: 47 : ? :: 15 : 33

- Ans  1. 108  
 2. 89  
 3. 76  
 4. 97

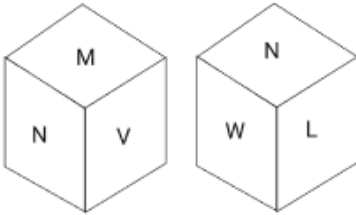
Question ID : 630680107256  
Option 1 ID : 630680416411  
Option 2 ID : 630680416409  
Option 3 ID : 630680416408  
Option 4 ID : 630680416410  
Status : Answered  
Chosen Option : 4

Q.10 उस विकल्प का चयन कीजिए, जो पाँचवें अक्षर-समूह से उसी प्रकार संबंधित है, जिस प्रकार दूसरा अक्षर-समूह, पहले अक्षर-समूह से संबंधित है और चौथा अक्षर-समूह, तीसरे अक्षर-समूह से संबंधित है।  
MAILED : DELMAI :: FABRIC : CIRFAB :: JACKET : ?

- Ans  1. TEKJAC  
 2. TEKCAJ  
 3. JKTACE  
 4. JEKCAT

Question ID : 630680416504  
Option 1 ID : 6306801624779  
Option 2 ID : 6306801624781  
Option 3 ID : 6306801624782  
Option 4 ID : 6306801624780  
Status : Answered  
Chosen Option : 1

Q.11 एक पासे के फलकों को L, M, N, V, W और X अक्षरों से नामित किया गया है। उसी पासे की दो स्थितियाँ नीचे दी गई हैं। X वाले फलक के विपरीत कौन-सा फलक होगा?



- Ans  1. L  
 2. M  
 3. W  
 4. N

Question ID : 630680867792  
Option 1 ID : 6306803398813  
Option 2 ID : 6306803398812  
Option 3 ID : 6306803398815  
Option 4 ID : 6306803398814  
Status : Answered  
Chosen Option : 4

Q.12 दिए गए विकल्पों में से उस संख्या का चयन करें जो निम्नलिखित श्रृंखला में प्रश्न चिह्न (?) के स्थान पर आ सकती है।  
38, 40, 42, 42, 46, 44, ?

- Ans  1. 52  
 2. 48  
 3. 54  
 4. 50

Question ID : 630680411926  
Option 1 ID : 6306801606540  
Option 2 ID : 6306801606539  
Option 3 ID : 6306801606542  
Option 4 ID : 6306801606541  
Status : Answered  
Chosen Option : 4

Q.13 निम्नलिखित में से कौन-सी संख्या दी गई श्रृंखला में प्रश्नवाचक चिह्न (?) का स्थान लेगी?  
5      8      13      ?      29      40

- Ans  1. 18  
 2. 20  
 3. 25  
 4. 30

Question ID : 630680412013  
Option 1 ID : 6306801606890  
Option 2 ID : 6306801606889  
Option 3 ID : 6306801606887  
Option 4 ID : 6306801606888  
Status : Answered  
Chosen Option : 2

Q.14 विकल्पों में से उस आकृति की पहचान करें, जिसे प्रश्न-चिह्न (?) के स्थान पर रखे जाने पर श्रृंखला तार्किक रूप से पूर्ण हो जाएगी।

\$ 9	% 6	\$ 0	% 6	0 6	\$ 9	6 0	9 6	\$ 9	% 0	?
% 0	6 9	9 6	\$ 9	\$ 6	% 0					

Ans

✗ 1.

9 6	\$
0 %	

✓ 2.

9 6	\$
% 0	

✗ 3.

9 6	%
\$ 0	

✗ 4.

\$ 9	%
0 6	

Question ID : 630680867769  
 Option 1 ID : 6306803398720  
 Option 2 ID : 6306803398723  
 Option 3 ID : 6306803398721  
 Option 4 ID : 6306803398722

Status : Answered

Chosen Option : 2

Q.15 यदि 'A' का अर्थ '+' है, 'B' का अर्थ 'x' है, 'C' का अर्थ '+' है और 'D' का अर्थ '-' है, तो निम्नलिखित समीकरण में प्रश्न चिह्न (?) के स्थान पर क्या आएगा?  
 455 A 5 D 17 C 36 B 4 = ?

Ans ✓ 1. 218

✗ 2. 214

✗ 3. 220

✗ 4. 216

Question ID : 630680411711  
 Option 1 ID : 6306801605681  
 Option 2 ID : 6306801605679  
 Option 3 ID : 6306801605682  
 Option 4 ID : 6306801605680

Status : Answered

Chosen Option : 1

Q.16 छ: मित्र - A,B, C, D, E और F - किसी वृत्ताकार मेज के परितः मेज के केंद्राभिमुख होकर बैठे हैं। D और C, A के ठीक समीपस्थ हैं। B, A के दाएँ से दूसरा है। F, E के ठीक समीपस्थ और D के बाएँ से चौथा है। E की स्थिति कहाँ है?

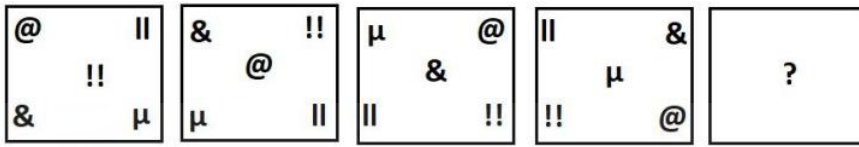
- Ans  1. C के ठीक बाएँ
2. A के बाएँ से तीसरा
3. D और F के ठीक पास
4. A के दाएँ से दूसरा

Question ID : 630680417261  
Option 1 ID : 6306801627810  
Option 2 ID : 6306801627809  
Option 3 ID : 6306801627808  
Option 4 ID : 6306801627807

Status : Answered

Chosen Option : 1

Q.17 दिए गए विकल्पों में से उस आकृति का चयन कीजिए, जो निम्नलिखित श्रृंखला में प्रश्न चिह्न (?) को तार्किक रूप से प्रतिस्थापित कर सकती है।



Ans

✗ 1.




✗ 2.



✗ 3.



✓ 4.



Question ID : 630680867754

Option 1 ID : 6306803398663

Option 2 ID : 6306803398660

Option 3 ID : 6306803398662

Option 4 ID : 6306803398661

Status : Answered

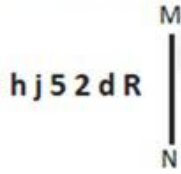
Chosen Option : 4

Q.18 एक निश्चित कूट भाषा में 'FLY' को '38' और 'NUT' को '26' के रूप में लिखा जाता है। उस भाषा में 'GOD' कैसे लिखा जाएगा?

- Ans  1. 34  
 2. 55  
 3. 28  
 4. 46

Question ID : 630680416588  
Option 1 ID : 6306801625115  
Option 2 ID : 6306801625117  
Option 3 ID : 6306801625116  
Option 4 ID : 6306801625118  
Status : Answered  
Chosen Option : 2

Q.19 जब दर्पण को MN पर रखा जाता हो तो दी गई आकृति के सही दर्पण प्रतिबिंब का चयन कीजिए।



- Ans  1. R b 2 2 j d  
 2. R b 5 2 j d  
 3. R p 5 2 j d  
 4. R b 5 5 j d

Question ID : 630680325842  
Option 1 ID : 6306801267561  
Option 2 ID : 6306801267563  
Option 3 ID : 6306801267562  
Option 4 ID : 6306801267564  
Status : Answered  
Chosen Option : 2

Q.20 उस समुच्चय का चयन करें जिसकी संख्याएं उसी तरह से संबंधित हैं जिस तरह निम्नलिखित समुच्चयों की संख्याएं संबंधित हैं।

(नोट: संख्याओं को उसके घटक अंकों में तोड़े बिना, पूर्ण संख्याओं पर संक्रियाएं की जानी चाहिए। उदाहरण के लिए संख्या 13 को लें - 13 पर संक्रियाएं, जैसे कि 13 में जोड़ना/घटाना/गुणा करना आदि, की जा सकती हैं। 13 को 1 और 3 में तोड़ने और फिर 1 और 3 पर गणितीय संक्रियाएं करने की अनुमति नहीं है)

(21, 105, 35)  
(27, 135, 45)

- Ans  1. (39, 185, 65)  
 2. (39, 195, 65)  
 3. (39, 195, 55)  
 4. (37, 195, 65)

Question ID : 630680344672  
Option 1 ID : 6306801340999  
Option 2 ID : 6306801340997  
Option 3 ID : 6306801341000  
Option 4 ID : 6306801340998  
Status : Answered  
Chosen Option : 2

Q.21 यदि 'P' का अर्थ '+' है, 'Q' का अर्थ 'x' है, 'R' का अर्थ '-' है और S का अर्थ = है, तो निम्नलिखित समीकरण में प्रश्न चिन्ह (?) के स्थान पर क्या आएगा?

$$174 P 2 S 45 R (16 P 4) Q 5 S 26 = ?$$

Ans  1. 36

2. 32

3. 48

4. 44

Question ID : 630680411671

Option 1 ID : 6306801605522

Option 2 ID : 6306801605520

Option 3 ID : 6306801605519

Option 4 ID : 6306801605521

Status : Answered

Chosen Option : 1

Q.22 Select the option that is related to the third word in the same way as the second word is related to the first word.

(The words must be considered as meaningful English words and must not be related to each other based on the number of letters/number of consonants/ vowels in the word.)

Episode : Series :: Chapter : ?

Ans  1. Book

2. Author

3. Page

4. Drama

Question ID : 630680416415

Option 1 ID : 6306801624424

Option 2 ID : 6306801624423

Option 3 ID : 6306801624426

Option 4 ID : 6306801624425

Status : Answered

Chosen Option : 1

Q.23 एक निश्चित तर्क का अनुसरण करते हुए 3, 2 से संबंधित है। उसी तर्क का अनुसरण करते हुए, 9, 6 से संबंधित है। उसी तर्क का उपयोग करते हुए निम्नलिखित में से कौन सी संख्या 12 से संबंधित है?

Ans  1. 20

2. 16

3. 14

4. 18

Question ID : 63068063338

Option 1 ID : 630680244521

Option 2 ID : 630680244519

Option 3 ID : 630680244518

Option 4 ID : 630680244520

Status : Answered

Chosen Option : 4

Q.24 उस समुच्चय का चयन करें जिसकी संख्याएं उसी तरह से संबंधित हैं जिस तरह निम्नलिखित समुच्चयों की संख्याएं संबंधित हैं।  
(नोट: संख्याओं को उसके घटक अंकों में तोड़े बिना, पूर्ण संख्याओं पर संक्रियाएं की जानी चाहिए।  
उदाहरण के लिए संख्या 13 को लें - 13 पर संक्रियाएं, जैसे कि 13 में जोड़ना/घटाना/गुणा करना आदि, की जा सकती है। 13 को 1 और 3 में तोड़ने और फिर 1 और 3 पर गणितीय संक्रियाएं करने की अनुमति नहीं है)  
(4, 12, 48)  
(9, 27, 108)

- Ans  1. (13, 36, 156)  
 2. (13, 39, 156)  
 3. (13, 39, 146)  
 4. (13, 36, 146)

Question ID : 630680294008  
Option 1 ID : 6306801143844  
Option 2 ID : 6306801143845  
Option 3 ID : 6306801143846  
Option 4 ID : 6306801143847  
Status : Answered  
Chosen Option : 2

Q.25 निम्नलिखित में से कौन-सी संख्या दी गई श्रृंखला में प्रश्न चिह्न (?) को प्रतिस्थापित करेगी?  
9, 20, 42, 86, 174, ?

- Ans  1. 380  
 2. 350  
 3. 370  
 4. 360

Question ID : 630680411774  
Option 1 ID : 6306801605934  
Option 2 ID : 6306801605931  
Option 3 ID : 6306801605933  
Option 4 ID : 6306801605932  
Status : Answered  
Chosen Option : 2

Q.26 यदि 'A' का अर्थ '+' है, 'B' का अर्थ '-' है, 'C' का अर्थ '×' है और D का अर्थ '÷' है, तो निम्नलिखित समीकरण में प्रश्न चिह्न (?) के स्थान पर क्या आएगा?

29 A 37 B 14 C 3 A (84 D 4) A 46 = ?

- Ans  1. 78  
 2. 83  
 3. 91  
 4. 97

Question ID : 630680411675  
Option 1 ID : 6306801605535  
Option 2 ID : 6306801605536  
Option 3 ID : 6306801605538  
Option 4 ID : 6306801605537  
Status : Answered  
Chosen Option : 3

Q.27 निम्नलिखित विकल्पों में से कौन सी संख्या दी गई श्रृंखला में प्रश्न चिह्न (?) के स्थान पर आएगी?  
55, 62, ?, 72, 75, 82

- Ans  1. 65  
 2. 68  
 3. 71  
 4. 69

Question ID : 630680411951  
Option 1 ID : 6306801606641  
Option 2 ID : 6306801606639  
Option 3 ID : 6306801606640  
Option 4 ID : 6306801606642  
Status : Answered  
Chosen Option : 1

Q.28 यदि + का अर्थ - है, - का अर्थ  $\times$  है,  $\times$  का अर्थ  $\div$  है,  $\div$  का अर्थ + है, तो दिए गए समीकरण में प्रश्न-चिह्न (?) के स्थान पर क्या आएगा?  
 $180 \times 60 - 30 \div 30 + 20 = ?$

- Ans  1. 160  
 2. 100  
 3. 199  
 4. 200

Question ID : 630680154559  
Option 1 ID : 630680598041  
Option 2 ID : 630680598040  
Option 3 ID : 630680598042  
Option 4 ID : 630680598043  
Status : Answered  
Chosen Option : 2

Q.29 निम्नलिखित में से कौन-सा अक्षर समूह प्रश्न-चिह्न (?) का स्थान लेगा और दी गई श्रृंखला को पूरा करेगा?  
WTNM, SYHT, ?, KIVH, GNPO

- Ans  1. HREK  
 2. UIDS  
 3. OFHA  
 4. ODBA

Question ID : 630680417193  
Option 1 ID : 6306801627536  
Option 2 ID : 6306801627535  
Option 3 ID : 6306801627537  
Option 4 ID : 6306801627538  
Status : Answered  
Chosen Option : 4

Q.30 दिए गए संख्या-युग्मों में, पहली संख्या पर कुछ गणितीय संक्रियाओं को लागू करके दूसरी संख्या प्राप्त की जाती है। ऐसे संख्या-युग्म का चयन कीजिए, जिसमें संख्याएँ ठीक उसी प्रकार संबंधित हैं, जैसे दिए गए संख्या-युग्मों की संख्याएँ संबंधित हैं।  
(नोट: संख्याओं को उनके घटक अंकों में तोड़े बिना संक्रियाएँ पूर्ण संख्याओं पर की जानी चाहिए। उदाहरण के लिए, 13 को लीजिए - 13 पर संक्रियाएँ जैसे कि 13 में जोड़ना/घटाना/गुणा करना आदि की जा सकती हैं। 13 को 1 और 3 में तोड़ना तथा फिर 1 और 3 पर गणितीय संक्रियाएँ करना अनुमत्य नहीं है।)  
(19, 200)  
(15, 160)

- Ans  1. (23, 300)  
 2. (25, 250)  
 3. (22, 230)  
 4. (18, 200)

Question ID : 630680337274  
Option 1 ID : 6306801311820  
Option 2 ID : 6306801311818  
Option 3 ID : 6306801311817  
Option 4 ID : 6306801311819

Status : Answered

Chosen Option : 3

Q.31 एक निश्चित कूट भाषा में 'CITY' को '241872' के रूप में लिखा जाता है और 'DRUG' को '239620' के रूप में लिखा जाता है। उसी भाषा में 'GOLF' को किस प्रकार लिखा जाएगा?

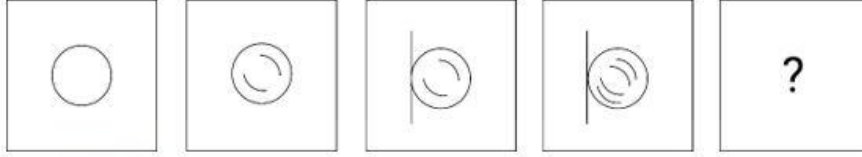
- Ans  1. 18151215  
 2. 20121521  
 3. 7121521  
 4. 7151212

Question ID : 630680416610  
Option 1 ID : 6306801625203  
Option 2 ID : 6306801625206  
Option 3 ID : 6306801625205  
Option 4 ID : 6306801625204

Status : Not Answered

Chosen Option : --

Q.32 दिए गए विकल्पों में से उस आकृति की पहचान कीजिए, जिसे '?' के स्थान पर रखने पर शृंखला तार्किक रूप से पूर्ण हो जाएगी।



Ans

- ✓ 1.
- ✗ 2.
- ✗ 3.
- ✗ 4.

Question ID : 630680366162

Option 1 ID : 6306801426175

Option 2 ID : 6306801426174

Option 3 ID : 6306801426176

Option 4 ID : 6306801426173

Status : Answered

Chosen Option : 1

Q.33 निम्नलिखित में से कौन-सा पद दी गई शृंखला में प्रश्न-चिह्न (?) को प्रतिस्थापित करेगा?  
HMW, INX, JOY, ?

- Ans ✗ 1. DHM
- ✗ 2. DJB
- ✓ 3. KPZ
- ✗ 4. EHM

Question ID : 630680417062

Option 1 ID : 6306801627011

Option 2 ID : 6306801627012

Option 3 ID : 6306801627013

Option 4 ID : 6306801627014

Status : Answered

Chosen Option : 3

Q.34 वाणी, बिंदु A से शुरू करती है और 6 km पश्चिम की ओर ड्राइव करती है। फिर वह बाएँ मुड़ती है और 8 km ड्राइव करती है। फिर वह बाएँ मुड़ती है और बिंदु B तक पहुँचने के लिए 6 km ड्राइव करती है। बिंदु A के संदर्भ में बिंदु B किस दिशा में है?

- Ans  1. दक्षिण  
 2. उत्तर  
 3. दक्षिण-पूर्व  
 4. दक्षिण-पश्चिम

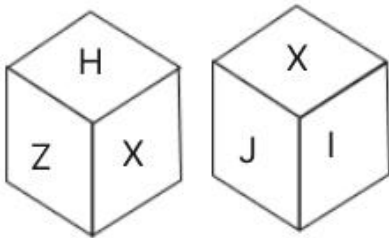
Question ID : 630680416344  
Option 1 ID : 6306801624140  
Option 2 ID : 6306801624139  
Option 3 ID : 6306801624141  
Option 4 ID : 6306801624142  
Status : Answered  
Chosen Option : 4

Q.35 एक निश्चित कूट भाषा में 'JAM' को '24' और 'GEL' को '24' के रूप में लिखा जाता है। उस भाषा में 'LAW' कैसे लिखा जाएगा?

- Ans  1. 28  
 2. 36  
 3. 32  
 4. 24

Question ID : 630680416591  
Option 1 ID : 6306801625127  
Option 2 ID : 6306801625128  
Option 3 ID : 6306801625130  
Option 4 ID : 6306801625129  
Status : Answered  
Chosen Option : 2

Q.36 एक पासे के फलकों का नाम अक्षर H, I, J, X, Y और Z से रखा गया है। एक ही पासे की दो स्थितियाँ नीचे दी गई हैं। कौन-सा फलक, फलक Y के विपरीत है?



- Ans  1. Z  
 2. J  
 3. X  
 4. H

Question ID : 630680867782  
Option 1 ID : 6306803398773  
Option 2 ID : 6306803398775  
Option 3 ID : 6306803398772  
Option 4 ID : 6306803398774  
Status : Answered  
Chosen Option : 3

Q.37 उस विकल्प का चयन कीजिए, जो दिए गए शब्दों के सही क्रम को निरूपित करता है, जैसे कि वे अंग्रेजी शब्दकोश में दिखाई देते हैं।

1. Infant
2. Indolent
3. Inert
4. Infamous
5. Inefficient
6. Ineffable

Ans  1. 5, 4, 3, 2, 1, 6

2. 2, 6, 5, 3, 4, 1

3. 2, 5, 6, 1, 4, 3

4. 5, 3, 4, 6, 2, 1

Question ID : 630680417394

Option 1 ID : 6306801628341

Option 2 ID : 6306801628339

Option 3 ID : 6306801628340

Option 4 ID : 6306801628342

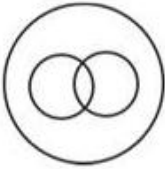
Status : Answered

Chosen Option : 2

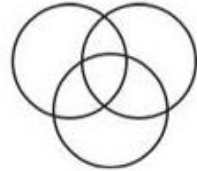
Q.38 उस वेन आरेख का चयन कीजिये जो निम्नलिखित वर्गों के बीच के संबंध को सर्वश्रेष्ठ रूप से दर्शाता है।  
माँ, महिला, पति

Ans

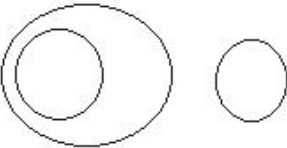
1.




2.



3.



4.



Question ID : 630680417385

Option 1 ID : 6306801628304

Option 2 ID : 6306801628306

Option 3 ID : 6306801628303

Option 4 ID : 6306801628305

Status : Answered

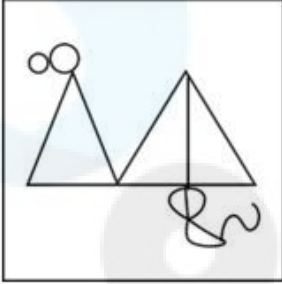
Chosen Option : 3

Q.39 उस विकल्प आकृति का चयन करें जिसमें नीचे दी गई आकृति उसके एक भाग के रूप में सन्नहित है।  
(घुमाने की अनुमति नहीं है।)



Ans

✗ 1.



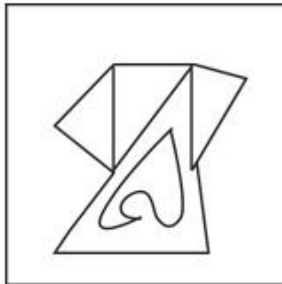
✗ 2.



✗ 3.



✓ 4.



Question ID : 630680367563

Option 1 ID : 6306801431704

Option 2 ID : 6306801431703

Option 3 ID : 6306801431701

Option 4 ID : 6306801431702

Status : Answered

Chosen Option : 4

Q.40 अंग्रेजी वर्णमाला क्रम पर आधारित, निम्नलिखित चार अक्षर-समूहों में से तीन किसी निश्चित तरीके से समान हैं और इस प्रकार एक समूह बनाते हैं। किस अक्षर-समूह का संबंध उस समूह से नहीं है? (नोट: असंगत अक्षर-समूह, व्यंजनों/स्वरों की संख्या या इस अक्षर-समूह में उनकी स्थिति पर आधारित नहीं है।)

Ans  1. NUR

2. LSP

3. JQM

4. OVS

Question ID : 630680416094

Option 1 ID : 6306801623140

Option 2 ID : 6306801623141

Option 3 ID : 6306801623142

Option 4 ID : 6306801623139

Status : Answered

Chosen Option : 3

Q.41 दो कथन और उनके बाद दो निष्कर्ष I और II दिए गए हैं। कथनों को सत्य मानते हुए, भले ही वे सामान्य रूप से ज्ञात तथ्यों से भिन्न प्रतीत होते हों, निर्णय लें कि कौन सा/से निष्कर्ष कथनों का तार्किक रूप से अनुसरण करता है/करते हैं।

कथन:

1) सभी खेल, टूर्नामेंट हैं।

2) कुछ टूर्नामेंट, मैच हैं।

निष्कर्ष:

I. सभी खेल, मैच हैं।

II. कोई खेल, टूर्नामेंट नहीं है।

Ans  1. न तो निष्कर्ष I अनुसरण करता है और न ही II अनुसरण करता है

2. केवल निष्कर्ष II अनुसरण करता है

3. निष्कर्ष I और II दोनों अनुसरण करते हैं

4. केवल निष्कर्ष I अनुसरण करता है

Question ID : 630680416931

Option 1 ID : 6306801626489

Option 2 ID : 6306801626488

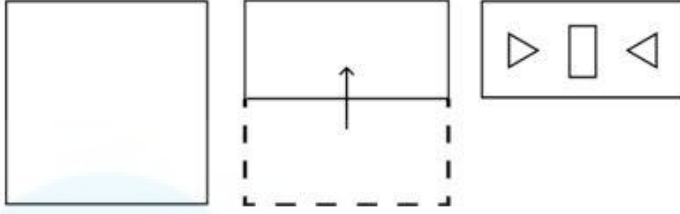
Option 3 ID : 6306801626490

Option 4 ID : 6306801626487

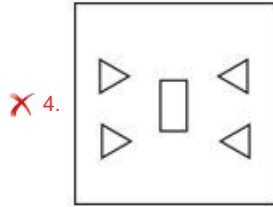
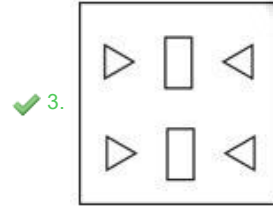
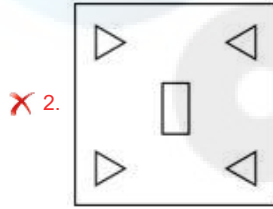
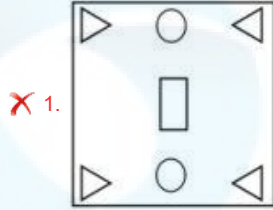
Status : Answered

Chosen Option : 1

Q.42 कागज की एक शीट को बिंदीदार रेखा के साथ-साथ दर्शाई गई दिशाओं के अनुदिश क्रमिक रूप से मोड़ा जाता है और फिर अंत में छेद किया जाता है। खोलने पर यह कागज कैसा दिखेगा?



Ans



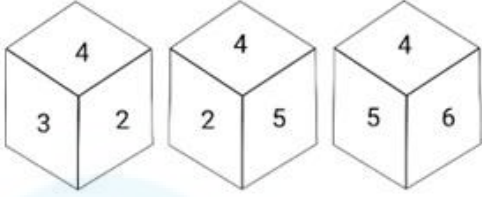
Question ID : 630680332542  
 Option 1 ID : 6306801293606  
 Option 2 ID : 6306801293605  
 Option 3 ID : 6306801293607  
 Option 4 ID : 6306801293608  
 Status : Answered  
 Chosen Option : 3

Q.43 एक कूट भाषा में, 'PEN' को '70' और 'NEST' को '116' के रूप में कूटबद्ध किया जाता है। उसी भाषा में 'PEON' को कैसे कूटबद्ध किया जाएगा?

- Ans
- ✗ 1. 99
  - ✗ 2. 162
  - ✓ 3. 100
  - ✗ 4. 46

Question ID : 630680302860  
 Option 1 ID : 6306801178103  
 Option 2 ID : 6306801178102  
 Option 3 ID : 6306801178105  
 Option 4 ID : 6306801178104  
 Status : Answered  
 Chosen Option : 3

Q.44 एक ही पासे की तीन अलग-अलग स्थितियां दर्शाई गई हैं। '6' दर्शाने वाले फलक के विपरीत वाले फलक पर कौन-सी संख्या होगी?



- Ans
- 1. 4
  - 2. 3
  - 3. 2
  - 4. 1

Question ID : 630680367565  
 Option 1 ID : 6306801431712  
 Option 2 ID : 6306801431709  
 Option 3 ID : 6306801431711  
 Option 4 ID : 6306801431710  
 Status : Answered  
 Chosen Option : 3

Q.45 सुनील बिंदु A से पश्चिम की ओर 5 km ड्राइव करता है। फिर वह बाएं मुड़ता है और 6 km ड्राइव करता है। वह फिर से बाएं मुड़ता है और 11 km ड्राइव करता है। फिर वह बाएं मुड़ता है और 6 km ड्राइव करता है। अंत में वह दाएं मुड़ता है और बिंदु B पर पहुँचने के लिए 6 km ड्राइव करता है। बिंदु A पर लौटने के लिए उसे कितना और किस दिशा में ड्राइव करना होगा? (सभी मोड़ केवल 90° के मोड़ हैं।)

- Ans
- 1. पश्चिम दिशा में 12 km
  - 2. पूर्व दिशा में 10 km
  - 3. पश्चिम दिशा में 10 km
  - 4. पूर्व दिशा में 14 km

Question ID : 630680163321  
 Option 1 ID : 630680632470  
 Option 2 ID : 630680632468  
 Option 3 ID : 630680632469  
 Option 4 ID : 630680632471  
 Status : Answered  
 Chosen Option : 2

Q.46 दो कथन दिए गए हैं, जिसके बाद दो निष्कर्ष I और II दिए गए हैं। कथनों को सत्य मानते हुए, भले ही वे सामान्य रूप से ज्ञात तथ्यों से भिन्न प्रतीत होते हों, निर्धारित कीजिए कि कौन-सा निष्कर्ष कथनों का तार्किक रूप से अनुसरण करता है?

कथन:  
 सभी सड़क मार्ग हैं।  
 सभी मार्ग पुल हैं।  
 निष्कर्ष:  
 I. कुछ मार्ग सड़क हैं।  
 II. सभी सड़क पुल हैं।

- Ans
- 1. न तो निष्कर्ष I और न ही II अनुसरण करता है
  - 2. केवल निष्कर्ष II अनुसरण करता है
  - 3. केवल निष्कर्ष I अनुसरण करता है
  - 4. निष्कर्ष I और II दोनों अनुसरण करते हैं

Question ID : 630680417006  
 Option 1 ID : 6306801626790  
 Option 2 ID : 6306801626788  
 Option 3 ID : 6306801626787  
 Option 4 ID : 6306801626789  
 Status : Answered  
 Chosen Option : 4

Q.47 किसी निश्चित कूट भाषा में,  
 'A x B' का अर्थ है कि 'A, B का पुत्र है',  
 'A - B' का अर्थ है कि 'A, B का भाई है',  
 'A + B' का अर्थ है कि 'A, B की पत्नी है',  
 'A % B' का अर्थ है कि 'A, B का पिता है'.  
 यदि 'M x N + P % S - T' है, तो M का T से क्या संबंध है?

- Ans
- 1. पिता
  - 2. मामा
  - 3. भाई
  - 4. पति

Question ID : 630680869744  
 Option 1 ID : 6306803406342  
 Option 2 ID : 6306803406345  
 Option 3 ID : 6306803406344  
 Option 4 ID : 6306803406343  
 Status : Answered  
 Chosen Option : 3

Q.48 जब दर्पण को नीचे दर्शाए गए अनुसार MN पर रखा जाता है तो दी गई आकृति के सही दर्पण प्रतिबिंब का चयन कीजिए।



- Ans
- 1. 7D9pεT
  - 2. 7D9pεT
  - 3. 7D9pεT
  - 4. 7D9pεT

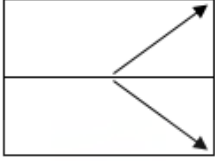
Question ID : 630680356640  
 Option 1 ID : 6306801388563  
 Option 2 ID : 6306801388564  
 Option 3 ID : 6306801388562  
 Option 4 ID : 6306801388561  
 Status : Answered  
 Chosen Option : 1

Q.49 कौनसा अक्षर-समूह दी गई श्रृंखला को पूरा करेगा?  
 DHMX, GJKU, \_\_\_\_\_, MNGO

- Ans
- 1. IMIS
  - 2. IMIR
  - 3. JLIS
  - 4. JLIR

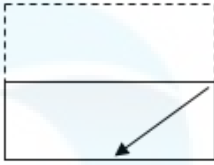
Question ID : 630680416699  
 Option 1 ID : 6306801625562  
 Option 2 ID : 6306801625561  
 Option 3 ID : 6306801625560  
 Option 4 ID : 6306801625559  
 Status : Answered  
 Chosen Option : 4

Q.50 एक पैटर्न वाली एक पारदर्शी शीट नीचे दी गई है। उस विकल्प का चयन कीजिए जो उस पैटर्न को दर्शाता है जो दी गई पारदर्शी शीट को मध्य क्षैतिज रेखा पर मोड़ने पर दिखाई देगा।

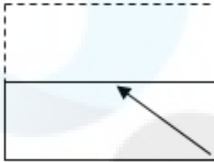


Ans

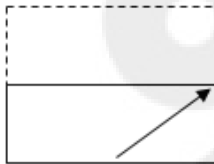
✗ 1.



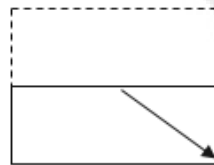
✗ 2.



✗ 3.



✓ 4.



Question ID : 630680389401

Option 1 ID : 6306801518064

Option 2 ID : 6306801518063

Option 3 ID : 6306801518065

Option 4 ID : 6306801518062

Status : Answered

Chosen Option : 4

Section : General Knowledge and General Awareness

Q.1 आधुनिक ओलम्पिक में पहली बार महिलाओं ने किस वर्ष भाग लिया था?

Ans ✗ 1. 1916 में

✗ 2. 1896 में

✓ 3. 1900 में

✗ 4. 1904 में

Question ID : 630680162960

Option 1 ID : 630680631070

Option 2 ID : 630680631069

Option 3 ID : 630680631068

Option 4 ID : 630680631071

Status : Not Answered

Chosen Option : --

Q.2 सियाराम तिवारी निम्नलिखित में से किस संगीत घराने से संबंधित हैं?

- Ans
- 1. किराना
  - 2. डगरी
  - 3. बेतिया
  - 4. दरभंगा

Question ID : 630680409334

Option 1 ID : 6306801596165

Option 2 ID : 6306801596166

Option 3 ID : 6306801596168

Option 4 ID : 6306801596167

Status : Not Answered

Chosen Option : --

Q.3 Eutrophication can be defined as:

- Ans
- 1. the gradual increase in the concentration of phosphorus, nitrogen, and other plant nutrients in an grassland ecosystem
  - 2. the gradual increase in the concentration of phosphorus, nitrogen, and other plant nutrients in desert areas
  - 3. the gradual decrease in the concentration of phosphorus, nitrogen, and other plant nutrients in an aging aquatic ecosystem such as a lake
  - 4. the gradual increase in the concentration of phosphorus, nitrogen, and other plant nutrients in an aging aquatic ecosystem such as a lake

Question ID : 630680407540

Option 1 ID : 6306801589100

Option 2 ID : 6306801589101

Option 3 ID : 6306801589098

Option 4 ID : 6306801589099

Status : Marked For Review

Chosen Option : 4

Q.4 सलाल हाइड्रोइलेक्ट्रिक पावर स्टेशन, भारत के, निम्नलिखित में से कौन-से केंद्र शासित प्रदेश में स्थित है?

- Ans
- 1. जम्मू और कश्मीर
  - 2. लद्दाख
  - 3. चंडीगढ़
  - 4. लक्षद्वीप

Question ID : 630680409705

Option 1 ID : 6306801597652

Option 2 ID : 6306801597649

Option 3 ID : 6306801597651

Option 4 ID : 6306801597650

Status : Not Answered

Chosen Option : --

Q.5 लॉर्ड डलहौजी ने ब्रिटिश भारत में रेलवे लाइन किस वर्ष शुरू की थी?

- Ans
- 1. 1861
  - 2. 1870
  - 3. 1853
  - 4. 1849

Question ID : 630680412400  
Option 1 ID : 6306801608425  
Option 2 ID : 6306801608426  
Option 3 ID : 6306801608424  
Option 4 ID : 6306801608423  
Status : Answered  
Chosen Option : 3

Q.6 उस पदार्थ की पहचान करें जो कार्बन का अपरूप नहीं है।

- Ans
- 1. हीरा
  - 2. ग्रेफाइट
  - 3. फास्फोरस
  - 4. बकमिनस्टरफुलरीन

Question ID : 63068099065  
Option 1 ID : 630680384966  
Option 2 ID : 630680384964  
Option 3 ID : 630680384967  
Option 4 ID : 630680384965  
Status : Answered  
Chosen Option : 3

Q.7 नेशनल बोर्ड फॉर वर्कर्स एजुकेशन एंड डेवलपमेंट (National Board for Workers Education and Development) की स्थापना किस वर्ष की गई थी?

- Ans
- 1. 1948
  - 2. 1968
  - 3. 1978
  - 4. 1958

Question ID : 630680115724  
Option 1 ID : 630680448234  
Option 2 ID : 630680448236  
Option 3 ID : 630680448237  
Option 4 ID : 630680448235  
Status : Not Answered  
Chosen Option : --

Q.8 दंतिवर्मन या दंतिदुर्ग निम्नलिखित में से किस राजवंश के संस्थापक थे?

- Ans
- 1. राष्ट्रकूट
  - 2. चेर
  - 3. प्रतिहार
  - 4. पाल

Question ID : 630680198445  
Option 1 ID : 630680769739  
Option 2 ID : 630680769742  
Option 3 ID : 630680769740  
Option 4 ID : 630680769741  
Status : Answered  
Chosen Option : 1

Q.9 निम्नलिखित में से किन तरीकों से किसानों को अधिक उपज देने वाली किस्म के बीजों का इस्तेमाल शुरू करने के लिए प्रोत्साहित किया गया?

- Ans
- 1. खाद्यान्नों की खेती के लिए किसानों को नकद में आर्थिक सहायता दी गई।
  - 2. सरकार ने बीज और अन्य निविष्टियां बाजार में प्रचलित कीमतों की तुलना में कम कीमतों पर प्रदान किए।
  - 3. खेतिहर मजदूरों को सीधे सरकार द्वारा मजदूरी का भुगतान किया जाता था।
  - 4. किसानों के बच्चों को सरकारी कॉलेजों और विश्वविद्यालयों में मुफ्त शिक्षा दी जाती थी।

Question ID : 630680407186  
Option 1 ID : 6306801587687  
Option 2 ID : 6306801587686  
Option 3 ID : 6306801587689  
Option 4 ID : 6306801587688  
Status : Answered  
Chosen Option : 2

Q.10 उस भौतिक अभिलक्षण का क्या नाम है जो भारत में लघु हिमालय और शिवालिक के बीच स्थित अनुदैर्घ्य घाटी है?

- Ans
- 1. भाबर
  - 2. तराई
  - 3. दोआब
  - 4. ड्यून्स

Question ID : 630680701451  
Option 1 ID : 6306802747738  
Option 2 ID : 6306802747737  
Option 3 ID : 6306802747740  
Option 4 ID : 6306802747739  
Status : Answered  
Chosen Option : 2

Q.11 दिसंबर 1886 में कलकत्ता में आयोजित भारतीय राष्ट्रीय कांग्रेस के दूसरे अधिवेशन का अध्यक्ष निम्नलिखित में से कौन बना?

- Ans
- 1. पी आनंद चार्लू (P Ananda Charlu)
  - 2. विलियम वेडरबर्न (William Wedderburn)
  - 3. बदरुद्दीन तैयबजी (Badruddin Tyabji)
  - 4. दादा भाई नौरोजी (Dadabhai Nauroji)

Question ID : 630680127646  
Option 1 ID : 630680494842  
Option 2 ID : 630680494843  
Option 3 ID : 630680494840  
Option 4 ID : 630680494841  
Status : Not Answered  
Chosen Option : --

Q.12 विदेशी निवेश बोर्ड की स्थापना किस वर्ष हुई थी?

- Ans
- 1. 1991
  - 2. 1965
  - 3. 1960
  - 4. 1968

Question ID : 630680407165  
Option 1 ID : 6306801587605  
Option 2 ID : 6306801587603  
Option 3 ID : 6306801587602  
Option 4 ID : 6306801587604  
Status : Not Answered  
Chosen Option : --

Q.13 निम्नलिखित में से कौन-सा बैंक भारत की बैंकिंग और मौद्रिक प्रणाली का प्रभारी है?

- Ans
- 1. आर.बी.आई. (RBI)
  - 2. बी.ओ.बी. (BOB)
  - 3. एस.बी.आई. (SBI)
  - 4. यूनियन बैंक

Question ID : 630680407198  
Option 1 ID : 6306801587734  
Option 2 ID : 6306801587736  
Option 3 ID : 6306801587735  
Option 4 ID : 6306801587737  
Status : Answered  
Chosen Option : 1

Q.14 भारतीय संविधान के किस अनुच्छेद में राज्य विधानमंडल में राज्य के महाधिवक्ता के बोलने के अधिकार के बारे में उल्लेख है?

- Ans
- 1. अनुच्छेद 181
  - 2. अनुच्छेद 183
  - 3. अनुच्छेद 179
  - 4. अनुच्छेद 177

Question ID : 630680408217  
Option 1 ID : 6306801591765  
Option 2 ID : 6306801591766  
Option 3 ID : 6306801591764  
Option 4 ID : 6306801591763  
Status : Not Attempted and Marked For Review  
Chosen Option : --

Q.15 कौन-सी नदी उत्तर में वुलर झील में और फिर बारामूला में बहती है?

- Ans
- 1. ब्यास
  - 2. रावी
  - 3. झेलम
  - 4. सतलुज

Question ID : 630680407450  
Option 1 ID : 6306801588738  
Option 2 ID : 6306801588740  
Option 3 ID : 6306801588739  
Option 4 ID : 6306801588741  
Status : Marked For Review  
Chosen Option : 1

Q.16 विश्व एथलेटिक्स अंडर -20 चैम्पियनशिप-2021 का आयोजन 18 से 22 अगस्त 2021 तक \_\_\_\_\_ में किया गया था।

- Ans
- 1. अर्जेंटीना
  - 2. केन्या
  - 3. ब्राजील
  - 4. दक्षिण अफ्रीका

Question ID : 630680112170

Option 1 ID : 630680434409

Option 2 ID : 630680434406

Option 3 ID : 630680434408

Option 4 ID : 630680434407

Status : Not Attempted and Marked For Review

Chosen Option : --

Q.17 जल में घुलनशील क्षार क्या कहलाते हैं?

- Ans
- 1. अल्कली
  - 2. एल्कीन
  - 3. अम्ल
  - 4. ऐल्केन

Question ID : 630680407493

Option 1 ID : 6306801588913

Option 2 ID : 6306801588911

Option 3 ID : 6306801588910

Option 4 ID : 6306801588912

Status : Answered

Chosen Option : 1

Q.18 रमजान के महीने के बाद कौन-सा त्योहार मनाया जाता है?

- Ans
- 1. जमात उल विदा
  - 2. मिलाद उन नबी
  - 3. ईद उल फितर
  - 4. मुहर्रम

Question ID : 630680409205

Option 1 ID : 6306801595650

Option 2 ID : 6306801595651

Option 3 ID : 6306801595649

Option 4 ID : 6306801595652

Status : Answered

Chosen Option : 3

Q.19 निम्नलिखित में से कौन ओडिसी नृत्यांगना नहीं हैं?

- Ans
- 1. अनीता रत्नम
  - 2. कुमकुम मोहंती
  - 3. प्रोतिमा बेदी
  - 4. सोनल मानसिंह

Question ID : 630680216133

Option 1 ID : 630680838509

Option 2 ID : 630680838507

Option 3 ID : 630680838508

Option 4 ID : 630680838510

Status : Marked For Review

Chosen Option : 1

Q.20 पं. जवाहर लाल नेहरू द्वारा उद्देश्य संकल्प प्रस्ताव ('The Objective Resolution') कब पेश किया गया था?

- Ans
- 1. 15 अगस्त 1947
  - 2. 16 नवंबर 1948
  - 3. 13 दिसंबर 1946
  - 4. 17 नवंबर 1946

Question ID : 630680408206  
Option 1 ID : 6306801591721  
Option 2 ID : 6306801591722  
Option 3 ID : 6306801591719  
Option 4 ID : 6306801591720  
Status : Marked For Review  
Chosen Option : 4

Q.21 दीवान-ए कोही, मुहम्मद बिन तुगलक द्वारा शुरू किया गया \_\_\_\_\_ का विभाग था।

- Ans
- 1. कृषि
  - 2. बाजार
  - 3. दान
  - 4. सैन्य

Question ID : 630680412507  
Option 1 ID : 6306801608851  
Option 2 ID : 6306801608854  
Option 3 ID : 6306801608853  
Option 4 ID : 6306801608852  
Status : Marked For Review  
Chosen Option : 1

Q.22 वन्यजीव (संरक्षण) अधिनियम, 1972 की निम्नलिखित में से किस अनुसूची में भारत की सबसे आम जंगली बिल्ली फीलिस चाउस सूचीबद्ध है?

- Ans
- 1. अनुसूची III
  - 2. अनुसूची I
  - 3. अनुसूची II
  - 4. अनुसूची IV

Question ID : 630680407524  
Option 1 ID : 6306801589036  
Option 2 ID : 6306801589035  
Option 3 ID : 6306801589034  
Option 4 ID : 6306801589037  
Status : Answered  
Chosen Option : 2

Q.23 निम्नलिखित में से कौन मुख्य रूप से भरतनाट्यम नृत्य के/की प्रतिपादक थे/थीं?

- Ans
- 1. गुरु बिपिन सिंह
  - 2. पंडित बिरजू महाराज
  - 3. रुक्मिणी देवी अरुंडेल
  - 4. केलुचरण महापात्र

Question ID : 630680409354  
Option 1 ID : 6306801596248  
Option 2 ID : 6306801596246  
Option 3 ID : 6306801596245  
Option 4 ID : 6306801596247  
Status : Answered  
Chosen Option : 3

Q.24 1993 में ए सूटेबल बॉय (A suitable Boy) पुस्तक \_\_\_\_\_ द्वारा लिखी गई थी।

- Ans
- 1. डेविड डेविडर
  - 2. विक्रम सेठ
  - 3. किरण देसाई
  - 4. अरुंधति रॉय

Question ID : 630680701391  
Option 1 ID : 6306802747504  
Option 2 ID : 6306802747503  
Option 3 ID : 6306802747501  
Option 4 ID : 6306802747502  
Status : Answered  
Chosen Option : 2

Q.25 निम्नलिखित में से कौन-सी नदी मानसरोवर के निकट 'राक्षसताल उत्तर-पश्चिमी सिरे' से निकलती है?

- Ans
- 1. सतलज नदी
  - 2. रावी नदी
  - 3. नर्मदा नदी
  - 4. ताप्ती नदी

Question ID : 63068076889  
Option 1 ID : 630680297653  
Option 2 ID : 630680297654  
Option 3 ID : 630680297656  
Option 4 ID : 630680297655  
Status : Answered  
Chosen Option : 1

Q.26 2019 में किस असमिया पार्श्व गायक को भारत रत्न से सम्मानित किया गया था?

- Ans
- 1. किशोर कुमार
  - 2. लकी अली
  - 3. भूपेन हजारिका
  - 4. उषा मंगेशकर

Question ID : 630680415792  
Option 1 ID : 6306801621926  
Option 2 ID : 6306801621923  
Option 3 ID : 6306801621924  
Option 4 ID : 6306801621925  
Status : Answered  
Chosen Option : 3

Q.27 भारत सरकार ने हाल ही में राजीव गांधी खेल रत्न पुरस्कार का नाम बदलकर ध्यान चंद खेल रत्न पुरस्कार कर दिया, ध्यानचंद ने भारतीय सेना में एक ----- के रूप में अपनी सेवाएं दी थीं?

- Ans
- 1. फील्ड मार्शल
  - 2. मेजर
  - 3. जनरल
  - 4. मेजर जनरल

Question ID : 63068056636  
Option 1 ID : 630680218480  
Option 2 ID : 630680218478  
Option 3 ID : 630680218481  
Option 4 ID : 630680218479  
Status : Answered  
Chosen Option : 4

Q.28 अनलेडीलाइक (Unladylike) किसका संस्मरण है?

- Ans
- 1. ऐश्वर्या मोहनराज
  - 2. सुप्रिया जोशी
  - 3. राधिका वाज़
  - 4. अदिति मित्तल

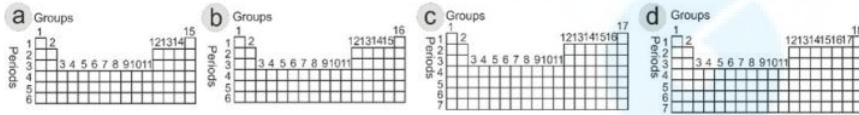
Question ID : 630680409383  
Option 1 ID : 6306801596364  
Option 2 ID : 6306801596363  
Option 3 ID : 6306801596361  
Option 4 ID : 6306801596362  
Status : Not Answered  
Chosen Option : --

Q.29 कोजागिरी पूर्णिमा एक त्यौहार है जो मुख्य रूप से \_\_\_\_\_ में आश्विन माह की पूर्णिमा के दिन मनाया जाता है।

- Ans
- 1. महाराष्ट्र
  - 2. बिहार
  - 3. केरल
  - 4. आंध्र प्रदेश

Question ID : 630680410359  
Option 1 ID : 6306801600170  
Option 2 ID : 6306801600168  
Option 3 ID : 6306801600167  
Option 4 ID : 6306801600169  
Status : Not Attempted and Marked For Review  
Chosen Option : --

Q.30 निम्नांकित में से कौन सी आकृति आधुनिक आवर्त सारणी को दर्शाती है?



Groups = समूह, Periods = आवर्त

- Ans
- 1. b
  - 2. a
  - 3. d
  - 4. c

Question ID : 630680210476  
Option 1 ID : 630680816064  
Option 2 ID : 630680816063  
Option 3 ID : 630680816066  
Option 4 ID : 630680816065  
Status : Answered  
Chosen Option : 3

Q.31 मध्य प्रदेश के एक 'राई' नर्तक राम सहाय पांडे को 2022 में निम्नलिखित में से किस पुरस्कार से सम्मानित किया गया?

- Ans
- 1. सरस्वती सम्मान
  - 2. अर्जुन पुरस्कार
  - 3. पद्म श्री
  - 4. द्रोणाचार्य पुरस्कार

Question ID : 630680309157  
Option 1 ID : 6306801202806  
Option 2 ID : 6306801202807  
Option 3 ID : 6306801202805  
Option 4 ID : 6306801202808  
Status : Answered  
Chosen Option : 1

Q.32 यदि राष्ट्रपति, राज्यपाल की रिपोर्ट से संतुष्ट है, तो वह अनुच्छेद 356 के तहत राष्ट्रपति शासन की घोषणा कर सकता है, लेकिन ऐसी उद्घोषणा (proclamation) प्रारंभ में \_\_\_\_\_ की अवधि के लिए होती है।

- Ans
- 1. छः महीने
  - 2. तीन महीने
  - 3. एक महीने
  - 4. दो महीने

Question ID : 630680408320  
Option 1 ID : 6306801592178  
Option 2 ID : 6306801592177  
Option 3 ID : 6306801592175  
Option 4 ID : 6306801592176  
Status : Answered  
Chosen Option : 1

Q.33 भोजन के एक गतिशील स्रोत की पहचान कीजिए।

- Ans
- 1. हिरन
  - 2. मरी हुई गाय
  - 3. झाड़ी
  - 4. घास

Question ID : 630680407497  
Option 1 ID : 6306801588927  
Option 2 ID : 6306801588929  
Option 3 ID : 6306801588926  
Option 4 ID : 6306801588928  
Status : Answered  
Chosen Option : 1

Q.34 विकास के उच्च स्तर पर, अर्थव्यवस्था का कौन-सा क्षेत्र जीडीपी (GDP) में कम योगदान देता है?

- Ans  1. कृषि क्षेत्र  
 2. औद्योगिक क्षेत्र  
 3. सेवा क्षेत्र  
 4. सेवा और कृषि दोनों क्षेत्र

Question ID : 630680407121  
Option 1 ID : 6306801587428  
Option 2 ID : 6306801587427  
Option 3 ID : 6306801587426  
Option 4 ID : 6306801587429  
Status : Answered  
Chosen Option : 1

Q.35 शास्त्रीय संगीत के लिए कालिदास सम्मान 2022 किसे दिया गया?

- Ans  1. पंडित वेंकटेश कुमार  
 2. सेम्नगुडी श्रीनिवास अय्यर  
 3. मल्लिकार्जुन मंसूर  
 4. के.जी. सुब्रमण्यन

Question ID : 630680411451  
Option 1 ID : 6306801604641  
Option 2 ID : 6306801604642  
Option 3 ID : 6306801604643  
Option 4 ID : 6306801604640  
Status : Not Answered  
Chosen Option : --

Q.36 निम्नलिखित में से कौन-सा विकल्प, विधान सभा की सदस्यता के लिए योग्यता नहीं है?

- Ans  1. 25 वर्ष की आयु प्राप्त कर ली हो  
 2. किसी लाभ के पद पर न हो  
 3. राजनीति का ज्ञान हो  
 4. भारत का नागरिक हो

Question ID : 630680408210  
Option 1 ID : 6306801591737  
Option 2 ID : 6306801591736  
Option 3 ID : 6306801591738  
Option 4 ID : 6306801591735  
Status : Answered  
Chosen Option : 3

Q.37 गंगा घाटी में द्वितीय नगरीकरण का आरंभ कब हुआ था?

- Ans  1. छठी शताब्दी ईसा पूर्व  
 2. तीसरी शताब्दी ईसा पूर्व  
 3. पाँचवीं शताब्दी ईसा पूर्व  
 4. दूसरी शताब्दी ईसा पूर्व

Question ID : 630680412357  
Option 1 ID : 6306801608253  
Option 2 ID : 6306801608251  
Option 3 ID : 6306801608254  
Option 4 ID : 6306801608252  
Status : Answered  
Chosen Option : 1

Q.38 आरबीआई द्वारा बांडों की बिक्री से मुद्रा आपूर्ति पर क्या प्रभाव होगा?

- Ans  1. घटेगी  
 2. बढ़ेगी  
 3. उतार चढ़ाव होगा  
 4. बांड बिक्री और मुद्रा आपूर्ति के बीच कोई संबंध नहीं है

Question ID : 630680407144  
Option 1 ID : 6306801587519  
Option 2 ID : 6306801587518  
Option 3 ID : 6306801587520  
Option 4 ID : 6306801587521  
Status : Answered  
Chosen Option : 1

Q.39 निम्नलिखित में से भौतिकविदों और उनके योगदान/अविष्कार का कौन-सा युग्म गलत है?

- Ans  1. गैलीलियो गैलीली - प्रकाश का तरंग सिद्धांत  
 2. अल्बर्ट आइंस्टीन - फोटोइलेक्ट्रिक प्रभाव की व्याख्या  
 3. माइकल फैराडे - विद्युत चुम्बकीय प्रेरण के नियम  
 4. हेनरिक रुडोल्फ हर्ट्ज़ - विद्युत चुम्बकीय तरंगों की उत्पत्ति

Question ID : 63068061708  
Option 1 ID : 630680238151  
Option 2 ID : 630680238152  
Option 3 ID : 630680238150  
Option 4 ID : 630680238153  
Status : Answered  
Chosen Option : 1

Q.40 भारत के, निम्नलिखित में से कौन-से राज्य/केंद्र शासित प्रदेश में सर्वाधिक औसत वार्षिक वर्षा होती है?

- Ans  1. राजस्थान  
 2. दिल्ली  
 3. लद्दाख  
 4. मेघालय

Question ID : 630680409669  
Option 1 ID : 6306801597505  
Option 2 ID : 6306801597508  
Option 3 ID : 6306801597507  
Option 4 ID : 6306801597506  
Status : Answered  
Chosen Option : 4

Q.41 निम्नलिखित में से कौन-सी भारतीय संविधान की मूलभूत विशेषता नहीं है?

- Ans  1. सबसे लंबा लिखित संविधान  
 2. कठोरता और लचीलेपन का मिश्रण  
 3. एक स्रोत से लिया गया  
 4. संसदीय प्रणाली

Question ID : 630680408295  
Option 1 ID : 6306801592075  
Option 2 ID : 6306801592077  
Option 3 ID : 6306801592076  
Option 4 ID : 6306801592078  
Status : Answered  
Chosen Option : 3

Q.42 बैरा सिउल बांध निम्नलिखित में से किस जिले में स्थित है?

- Ans
- 1. मंडी
  - 2. बिलासपुर
  - 3. चंबा
  - 4. किन्नौर

Question ID : 630680409698  
Option 1 ID : 6306801597621  
Option 2 ID : 6306801597622  
Option 3 ID : 6306801597623  
Option 4 ID : 6306801597624  
Status : Not Answered  
Chosen Option : --

Q.43 Veteran Kathak Dancer Aditi Mangaldas bagged the \_\_\_\_\_ .

- Ans
- 1. Padma Bhushan Award 2022
  - 2. Bharat Ratna Award 2022
  - 3. Mahari Award 2022
  - 4. Padma Vibhushan Award 2022

Question ID : 630680409352  
Option 1 ID : 6306801596237  
Option 2 ID : 6306801596239  
Option 3 ID : 6306801596240  
Option 4 ID : 6306801596238  
Status : Answered  
Chosen Option : 4

Q.44 निम्नलिखित में से किसने गुलामगिरी लिखी थी?

- Ans
- 1. ज्योतिबा फुले
  - 2. महात्मा गांधी
  - 3. बी.आर. अंबेडकर
  - 4. बाल गंगाधर तिलक

Question ID : 630680339404  
Option 1 ID : 6306801320186  
Option 2 ID : 6306801320187  
Option 3 ID : 6306801320185  
Option 4 ID : 6306801320188  
Status : Answered  
Chosen Option : 1

Q.45 स्तरित बालू और ग्रेवल की एक लंबी, विसर्पी कटक को किस रूप में जाना जाता है?

- Ans
- 1. मोरेन
  - 2. एक्विफायर
  - 3. एस्कर
  - 4. इरेटिक

Question ID : 630680199628  
Option 1 ID : 630680774119  
Option 2 ID : 630680774120  
Option 3 ID : 630680774122  
Option 4 ID : 630680774121  
Status : Not Answered  
Chosen Option : --

Q.46 इलेक्ट्रॉन, प्रोटॉन और न्यूट्रॉन के आवेश के चिह्न क्रमशः \_\_\_\_\_ होते हैं।

- Ans
- 1. ऋणात्मक, उदासीन और धनात्मक
  - 2. ऋणात्मक, धनात्मक और उदासीन
  - 3. धनात्मक, ऋणात्मक और उदासीन
  - 4. उदासीन, धनात्मक और ऋणात्मक

Question ID : 630680357729  
Option 1 ID : 6306801392906  
Option 2 ID : 6306801392908  
Option 3 ID : 6306801392905  
Option 4 ID : 6306801392907  
Status : Answered  
Chosen Option : 2

Q.47 जनगणना 2011 के अनुसार, निम्नलिखित में से कौन-सी भाषा भारत में सबसे कम जनसंख्या द्वारा बोली जाती है?

- Ans
- 1. कोंकणी
  - 2. संस्कृत
  - 3. डोगरी
  - 4. असमिया

Question ID : 630680409701  
Option 1 ID : 6306801597634  
Option 2 ID : 6306801597635  
Option 3 ID : 6306801597636  
Option 4 ID : 6306801597633  
Status : Answered  
Chosen Option : 2

Q.48 m-डाइक्लोरोबेंजीन का IUPAC नाम निम्नलिखित में से कौन-सा है?

- Ans
- 1. 2,3-डाइक्लोरोबेंजीन
  - 2. 3,4-डाइक्लोरोबेंजीन
  - 3. 1,2-डाइक्लोरोबेंजीन
  - 4. 1,3-डाइक्लोरोबेंजीन

Question ID : 63068052310  
Option 1 ID : 630680201344  
Option 2 ID : 630680201345  
Option 3 ID : 630680201342  
Option 4 ID : 630680201343  
Status : Answered  
Chosen Option : 4

Q.49 भारतीय संविधान के किस अनुच्छेद में उल्लेख है कि राज्य कृषि और पशुपालन को आधुनिक और वैज्ञानिक आधार पर संगठित करने का प्रयास करेगा?

- Ans
- 1. अनुच्छेद 43
  - 2. अनुच्छेद 46
  - 3. अनुच्छेद 42
  - 4. अनुच्छेद 48

Question ID : 630680408247  
Option 1 ID : 6306801591883  
Option 2 ID : 6306801591885  
Option 3 ID : 6306801591884  
Option 4 ID : 6306801591886  
Status : Answered  
Chosen Option : 4

Q.50 बास्केटबॉल में, जब एक रेफरी यह निर्धारित करने के लिए गेंद को सेंटर सर्कल में ऊपर फेंकता है कि किस टीम को गेंद प्राप्त होती है उसे \_\_\_\_\_ कहा जाता है।

- Ans
- 1. डंक बॉल
  - 2. हुक बॉल
  - 3. जम्प बॉल
  - 4. हाई बॉल

Question ID : 630680303675  
Option 1 ID : 6306801181271  
Option 2 ID : 6306801181272  
Option 3 ID : 6306801181269  
Option 4 ID : 6306801181270  
Status : Answered  
Chosen Option : 4

Section : Quantitative Aptitude

Q.1 एक त्रिभुज के कोणों का अनुपात 1:2:3 है, तो संगत भुजाओं का अनुपात ज्ञात कीजिए।

- Ans
- 1. 1 : 2 :  $\sqrt{3}$
  - 2. 1 : 2 : 3
  - 3. 1 :  $\sqrt{2}$  : 3
  - 4. 1 :  $\sqrt{3}$  : 2

Question ID : 630680421530  
Option 1 ID : 6306801644586  
Option 2 ID : 6306801644583  
Option 3 ID : 6306801644584  
Option 4 ID : 6306801644585  
Status : Answered  
Chosen Option : 4

Q.2 एक शंकु के आधार की त्रिज्या और ऊंचाई क्रमशः 5 cm और 6 cm है, जबकि एक बेलन के आधार की त्रिज्या और ऊंचाई क्रमशः 2.5 cm और 3 cm है। शंकु के आयतन और बेलन के आयतन का अनुपात ज्ञात करें। (जहाँ  $\pi = \frac{22}{7}$ )

- Ans
- 1. 8 : 3
  - 2. 9 : 4
  - 3. 8 : 5
  - 4. 3 : 5

Question ID : 630680421609  
Option 1 ID : 6306801644900  
Option 2 ID : 6306801644901  
Option 3 ID : 6306801644899  
Option 4 ID : 6306801644902  
Status : Answered  
Chosen Option : 1

Q.3  $\frac{\cos 13^\circ + \sin 13^\circ}{\cos 13^\circ - \sin 13^\circ}$  को हल कीजिए।

- Ans
- 1.  $\cos 26^\circ$
  - 2.  $\tan 32^\circ$
  - 3.  $\tan 58^\circ$
  - 4.  $\cot 58^\circ$

Question ID : 630680383492  
Option 1 ID : 6306801494866  
Option 2 ID : 6306801494863  
Option 3 ID : 6306801494864  
Option 4 ID : 6306801494865  
Status : Answered  
Chosen Option : 4

Q.4 निम्न तालिका 5 वर्षों में एक कंपनी का सकल कारोबार (करोड़ में) दर्शाती है।

वर्ष	सकल कारोबार
2016	12
2017	18
2018	25
2019	25
2020	30

2020 का सकल कारोबार, 2018 के सकल कारोबार से कितने प्रतिशत अधिक है?

- Ans
- 1. 20%
  - 2. 5%
  - 3. 13%
  - 4. 25%

Question ID : 630680394811  
Option 1 ID : 6306801539530  
Option 2 ID : 6306801539532  
Option 3 ID : 6306801539533  
Option 4 ID : 6306801539531  
Status : Answered  
Chosen Option : 1

Q.5  $64 \div [44 - (8 \text{ of } 3 - 16) \div 4 \times 20]$  का मान निम्न में से किसके बराबर

होगा?

- Ans
- 1. 18
  - 2. 16
  - 3. 15
  - 4. 12

Question ID : 630680428241  
Option 1 ID : 6306801671011  
Option 2 ID : 6306801671009  
Option 3 ID : 6306801671010  
Option 4 ID : 6306801671008  
Status : Answered  
Chosen Option : 2

Q.6 एक खुदरा विक्रेता अपने सामान का मूल्य 130% बढ़ाकर अंकित करता है और 25% की छूट देता है। यदि क्रय मूल्य ₹ 1,600 है, तो विक्रय मूल्य (₹ में) क्या होगा?

- Ans
- 1. 3680
  - 2. 1765
  - 3. 2760
  - 4. 1980

Question ID : 630680427983

Option 1 ID : 6306801669979

Option 2 ID : 6306801669976

Option 3 ID : 6306801669978

Option 4 ID : 6306801669977

Status : Answered

Chosen Option : 3

Q.7  $5\frac{1}{4} - \left[ 3\frac{1}{2} - \left\{ \frac{5}{6} - \left( \frac{3}{5} \times \frac{1}{10} \div \frac{4}{15} \right) \right\} \right]$  का मान कितना होगा?

- Ans
- 1.  $1\frac{97}{120}$
  - 2.  $2\frac{47}{120}$
  - 3.  $2\frac{43}{120}$
  - 4.  $1\frac{81}{120}$

Question ID : 630680428267

Option 1 ID : 6306801671115

Option 2 ID : 6306801671113

Option 3 ID : 6306801671114

Option 4 ID : 6306801671112

Status : Answered

Chosen Option : 3

Q.8 एक दुकानदार ₹50 में 10 संतरे की दर से संतरे खरीदता है और उन्हें ₹74 में 12 संतरे की दर से बेचता है। उसका लाभ या हानि प्रतिशत ज्ञात कीजिए।

- Ans
- 1.  $23\frac{1}{3}\%$  लाभ
  - 2.  $25\frac{1}{3}\%$  हानि
  - 3. 30% हानि
  - 4. 25% लाभ

Question ID : 630680429112

Option 1 ID : 6306801674492

Option 2 ID : 6306801674494

Option 3 ID : 6306801674495

Option 4 ID : 6306801674493

Status : Answered

Chosen Option : 1

Q.9 यदि  $x = 110$ ,  $y = 111$ ,  $z = 112$  है, तो  $x^3 + y^3 + z^3 - 3xyz$  का मान ज्ञात कीजिए।

- Ans  1. 995  
 2. 991  
 3. 999  
 4. 997

Question ID : 630680413510  
Option 1 ID : 6306801612865  
Option 2 ID : 6306801612864  
Option 3 ID : 6306801612867  
Option 4 ID : 6306801612866  
Status : Answered  
Chosen Option : 3

Q.10 निम्नलिखित तालिका में विभिन्न खेलों को खेलने वाले विभिन्न स्कूलों के विद्यार्थियों की संख्या की जानकारी दी गई है: (एक विद्यार्थी केवल एक खेल खेलता है)

खेल/स्कूल	A	B	C	D	E
क्रिकेट	100	150	200	300	200
टेनिस	200	220	210	210	230
फुटबॉल	150	170	130	150	150
बास्केट बॉल	180	170	150	130	120
बैडमिंटन	100	150	120	130	150

सभी स्कूलों से क्रिकेट खेलने वाले विद्यार्थियों की कुल संख्या और सभी स्कूलों से टेनिस खेलने वाले विद्यार्थियों की कुल संख्या के बीच का अंतर ज्ञात कीजिए।

- Ans  1. 150  
 2. 100  
 3. 120  
 4. 80

Question ID : 630680428299  
Option 1 ID : 6306801671243  
Option 2 ID : 6306801671241  
Option 3 ID : 6306801671242  
Option 4 ID : 6306801671240  
Status : Answered  
Chosen Option : 3

Q.11 एक निश्चित धनराशि चक्रवृद्धि ब्याज पर 5 वर्षों में तीन गुना हो जाती है। उसे 9 गुना होने में कितने वर्ष लगेंगे?

- Ans  1. 8 वर्ष  
 2. 10 वर्ष  
 3. 15 वर्ष  
 4. 25 वर्ष

Question ID : 63068076114  
Option 1 ID : 630680294562  
Option 2 ID : 630680294564  
Option 3 ID : 630680294563  
Option 4 ID : 630680294561  
Status : Answered  
Chosen Option : 2

Q.12  $29 - [(48 \div 12) + 2 \times (8 \div 4 + 4)]$  का मान निम्न में से किसके बराबर होगा?

- Ans  1. 13  
 2. 15  
 3. 21  
 4. 19

Question ID : 630680428244  
Option 1 ID : 6306801671020  
Option 2 ID : 6306801671022  
Option 3 ID : 6306801671021  
Option 4 ID : 6306801671023  
Status : Answered  
Chosen Option : 1

Q.13 यदि  $\frac{(\sec A + \tan A)}{\sec A - \tan A} = 2 \frac{51}{79}$  है, तो  $\sin A$  का मान कितना होगा?

- Ans  1.  $\frac{61}{169}$   
 2.  $\frac{77}{144}$   
 3.  $\frac{87}{169}$   
 4.  $\frac{65}{144}$

Question ID : 630680344635  
Option 1 ID : 6306801340849  
Option 2 ID : 6306801340851  
Option 3 ID : 6306801340852  
Option 4 ID : 6306801340850  
Status : Answered  
Chosen Option : 4

Q.14

$1 - \frac{1}{1 + \frac{1}{2 - \frac{1}{2 + \frac{1}{3}}}}$  का मान कितना होगा?

Ans

1.  $\frac{3}{11}$

2.  $\frac{3}{16}$

3.  $\frac{7}{15}$

4.  $\frac{7}{18}$

Question ID : 630680428270

Option 1 ID : 6306801671127

Option 2 ID : 6306801671124

Option 3 ID : 6306801671125

Option 4 ID : 6306801671126

Status : Answered

Chosen Option : 4

Q.15 दो उम्मीदवारों के बीच एक चुनाव में, 35% मत प्राप्त करने वाला उम्मीदवार 15,900 मतों से हार जाता है। डाले गए मतों की कुल संख्या ज्ञात करें।

Ans  1. 45,000

2. 53,000

3. 43,000

4. 35,000

Question ID : 630680429148

Option 1 ID : 6306801674636

Option 2 ID : 6306801674638

Option 3 ID : 6306801674639

Option 4 ID : 6306801674637

Status : Answered

Chosen Option : 2

Q.16 एक नाविक धारा के अनुकूल 10 मिनट में 2 km और धारा के प्रतिकूल 2 घंटे में 12 km नाव चलाता है। धारा की चाल ज्ञात कीजिए।

Ans  1. 3 km/h

2. 3.5 km/h

3. 4 km/h

4. 2.5 km/h

Question ID : 630680869704

Option 1 ID : 6306803406183

Option 2 ID : 6306803406182

Option 3 ID : 6306803406185

Option 4 ID : 6306803406184

Status : Answered

Chosen Option : 1

Q.17 14 cm व्यास वाले एक गोलाकार बर्तन को पेंट करने की लागत ₹21,560 है। प्रति वर्ग सेंटीमीटर पेंटिंग की लागत (₹ में) क्या है? ( $\pi = \frac{22}{7}$  उपयोग करें)

- Ans
- 1. 28
  - 2. 30
  - 3. 32
  - 4. 35

Question ID : 630680421555

Option 1 ID : 6306801644683

Option 2 ID : 6306801644684

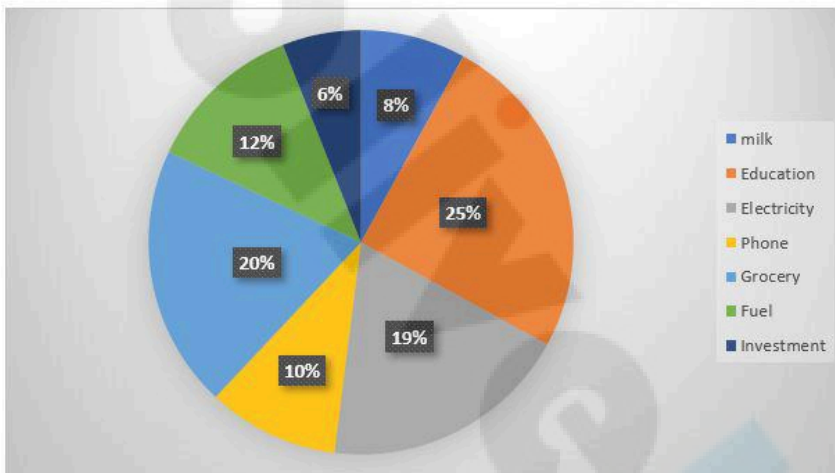
Option 3 ID : 6306801644685

Option 4 ID : 6306801644686

Status : Answered

Chosen Option : 4

Q.18 दिया गया पाई चार्ट एक परिवार द्वारा उनके मासिक खर्चों के लिए अनुमानित बजट को दर्शाता है। मासिक खर्च = ₹58,000.



Milk-दूध, Education-शिक्षा, Electricity-बिजली, Phone-फोन, Grocery-किराना, Fuel-ईंधन, Investment-निवेश

यदि परिवार ने वास्तव में किराने और बिजली दोनों पर ₹18,875 खर्च किए हैं, तो किराना एवं बिजली के लिए बजट राशि तथा किराना एवं बिजली पर खर्च की गई राशि के बीच अंतर ज्ञात कीजिए।

- Ans
- 1. ₹4,573
  - 2. ₹4,375
  - 3. ₹3,745
  - 4. ₹3,547

Question ID : 630680381359

Option 1 ID : 6306801486390

Option 2 ID : 6306801486387

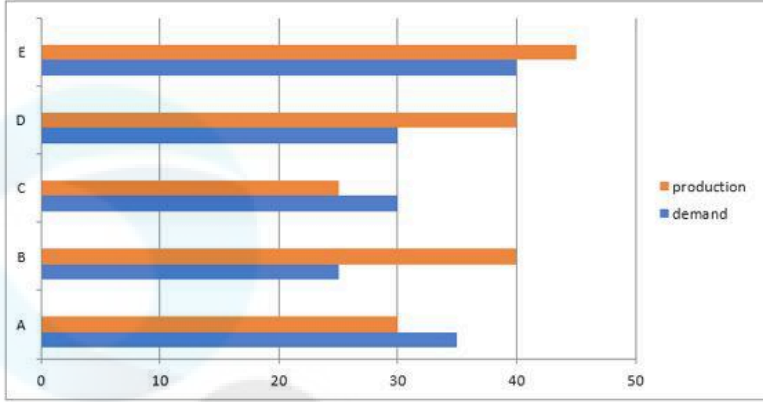
Option 3 ID : 6306801486388

Option 4 ID : 6306801486389

Status : Answered

Chosen Option : 3

- Q.19 निम्नांकित बार ग्राफ 5 कंपनियों A, B, C, D और E की मांग और उत्पादन (सैकड़ों में) को प्रदर्शित करता है। X-अक्ष मांग और उत्पादन (सैकड़ों में) को प्रदर्शित करता है और Y-अक्ष कंपनियों को प्रदर्शित करता है। बार ग्राफ का ध्यानपूर्वक अध्ययन कीजिए और निम्नलिखित प्रश्न का उत्तर दीजिए



production = उत्पादन

demand = मांग

पांचों कंपनियों की औसत मांग और औसत उत्पादन के बीच अंतर ज्ञात कीजिए।

- Ans
- ✓ 1. 400
  - ✗ 2. 1000
  - ✗ 3. 2000
  - ✗ 4. 500

Question ID : 630680387132

Option 1 ID : 6306801509240

Option 2 ID : 6306801509239

Option 3 ID : 6306801509241

Option 4 ID : 6306801509238

Status : Answered

Chosen Option : 1

- Q.20 यदि  $a + 2b + 3c = 0$  है, तो  $(a^3 + 8b^3 + 27c^3)$  का मान क्या है?

- Ans
- ✗ 1. 0
  - ✗ 2.  $12abc$
  - ✓ 3.  $18abc$
  - ✗ 4.  $6abc$

Question ID : 630680413561

Option 1 ID : 6306801613071

Option 2 ID : 6306801613069

Option 3 ID : 6306801613068

Option 4 ID : 6306801613070

Status : Answered

Chosen Option : 3

Q.21  $60^\circ$  के द्रीय कोण वाले 21 cm त्रिज्या के एक वृत्त के त्रिज्यखंड का क्षेत्रफल ( $\text{cm}^2$  में) ज्ञात कीजिए। [ $\pi = \frac{22}{7}$  लीजिए।]

Ans  1. 231

2. 245

3. 289

4. 302

Question ID : 630680421368

Option 1 ID : 6306801643935

Option 2 ID : 6306801643936

Option 3 ID : 6306801643937

Option 4 ID : 6306801643938

Status : Answered

Chosen Option : 1

Q.22 यदि  $x [-5 \{-4 \{-a\}\}] + 6 [-3 \{-3 \{-a\}\}] = 6a$  है, तो  $x$  का मान ज्ञात कीजिए।

Ans  1. 2

2. -3

3. -1

4. 0

Question ID : 630680428052

Option 1 ID : 6306801670253

Option 2 ID : 6306801670252

Option 3 ID : 6306801670254

Option 4 ID : 6306801670255

Status : Answered

Chosen Option : 2

Q.23 A और B मिलकर किसी कार्य को 25 दिनों में पूरा कर सकते हैं, B और C मिलकर उसी कार्य को 36 दिनों में पूरा कर सकते हैं, जबकि C और A मिलकर उसी कार्य को 30 दिनों में पूरा कर सकते हैं। यदि A, B, C और D मिलकर इस कार्य को 18 दिनों में पूरा कर सकते हैं, तो D अकेला इस कार्य को कितने दिनों में पूरा कर सकता है?

Ans  1. 225

2. 200

3. 210

4. 180

Question ID : 630680428435

Option 1 ID : 6306801671785

Option 2 ID : 6306801671786

Option 3 ID : 6306801671784

Option 4 ID : 6306801671787

Status : Answered

Chosen Option : 2

Q.24 एक नाव धारा के प्रतिकूल 24 km की दूरी और धारा के अनुकूल 36 km की दूरी 10 घंटे में तय करती है, और धारा के प्रतिकूल 36 km की दूरी और धारा के अनुकूल 24 km की दूरी 12 घंटे में तय करती है। धारा की चाल ज्ञात करें।

- Ans
- 1.  $\frac{33 \text{ km}}{13 \text{ h}}$
  - 2.  $\frac{24 \text{ km}}{7 \text{ h}}$
  - 3.  $\frac{26 \text{ km}}{9 \text{ h}}$
  - 4.  $\frac{25 \text{ km}}{8 \text{ h}}$

Question ID : 630680428811

Option 1 ID : 6306801673289

Option 2 ID : 6306801673290

Option 3 ID : 6306801673288

Option 4 ID : 6306801673291

Status : Not Answered

Chosen Option : --

Q.25 सरल कीजिए।

$$1898 \div \left[ \frac{13}{4} \times (35 + 45) - \frac{91}{4} \right]$$

- Ans
- 1. 12
  - 2. 4
  - 3. 16
  - 4. 8

Question ID : 630680428071

Option 1 ID : 6306801670330

Option 2 ID : 6306801670328

Option 3 ID : 6306801670331

Option 4 ID : 6306801670329

Status : Answered

Chosen Option : 4

Q.26 भवानी अपनी आय का 68% खर्च करती है। उसकी आय में 15% की वृद्धि होती है और उसके व्यय में 10% की वृद्धि होती है। उसकी बचत में कितने प्रतिशत की वृद्धि हुई? (दो दशमलव अंकों तक ज्ञात कीजिए)

- Ans
- 1. 25.62%
  - 2. 24.80%
  - 3. 28.42%
  - 4. 20.57%

Question ID : 630680488633

Option 1 ID : 6306801908551

Option 2 ID : 6306801908553

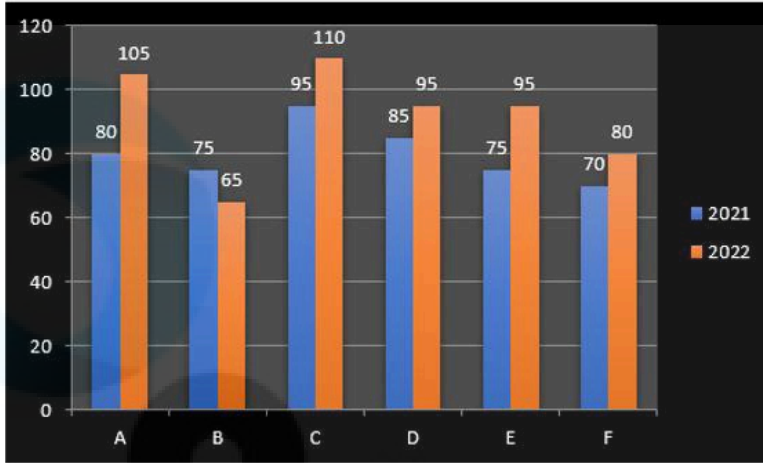
Option 3 ID : 6306801908552

Option 4 ID : 6306801908554

Status : Answered

Chosen Option : 1

Q.27 निम्नलिखित दंड आरेख दो क्रमागत वर्षों 2021 और 2022 के दौरान एक प्रकाशन कंपनी की छह शाखाओं (A, B, C, D, E और F) से पत्रिकाओं की बिक्री (हजारों में) को दर्शाता है।



दोनों वर्षों के लिए शाखा C की कुल बिक्री, दोनों वर्षों के लिए शाखा F की कुल बिक्री का कितना प्रतिशत है? (अपने उत्तर को दशमलव के दो स्थानों तक पूर्णांकित कीजिए)

- Ans  1. 73.17%  
 2. 65.21%  
 3. 85.25%  
 4. 53.25%

Question ID : 630680344795  
 Option 1 ID : 6306801341491  
 Option 2 ID : 6306801341490  
 Option 3 ID : 6306801341492  
 Option 4 ID : 6306801341489

Status : Answered

Chosen Option : 1

Q.28 एक घन की भुजा की लंबाई 8 cm है। घन का आयतन ज्ञात करें।

- Ans  1. 564 cm<sup>3</sup>  
 2. 664 cm<sup>3</sup>  
 3. 612 cm<sup>3</sup>  
 4. 512 cm<sup>3</sup>

Question ID : 630680421560  
 Option 1 ID : 6306801644704  
 Option 2 ID : 6306801644706  
 Option 3 ID : 6306801644705  
 Option 4 ID : 6306801644703

Status : Answered

Chosen Option : 4

Q.29 जब संख्या 13 को 75 और 12 के माध्यानुपाती से घटाया जाता है, तो प्राप्त प्राकृतिक संख्या ज्ञात कीजिए।

- Ans
- 1. 27
  - 2. 30
  - 3. 14
  - 4. 17

Question ID : 630680428857  
Option 1 ID : 6306801673472  
Option 2 ID : 6306801673474  
Option 3 ID : 6306801673473  
Option 4 ID : 6306801673475  
Status : Answered  
Chosen Option : 4

Q.30 एक संख्या पहले 10% घटाई जाती है, फिर 30% बढ़ाई जाती है और फिर 20% घटाई जाती है। संख्या में शुद्ध कमी प्रतिशत कितना है?

- Ans
- 1.  $5\frac{3}{5}\%$
  - 2.  $6\frac{2}{5}\%$
  - 3.  $4\frac{1}{5}\%$
  - 4.  $3\frac{4}{5}\%$

Question ID : 630680428143  
Option 1 ID : 6306801670616  
Option 2 ID : 6306801670617  
Option 3 ID : 6306801670618  
Option 4 ID : 6306801670619  
Status : Answered  
Chosen Option : 2

Q.31  $\frac{1 - \cot^2 \theta}{\tan^2 \theta - 1}$  का मान ज्ञात कीजिए।

- Ans
- 1.  $\cot \theta$
  - 2.  $\cot^2 \theta$
  - 3.  $\tan \theta$
  - 4.  $\tan^2 \theta$

Question ID : 630680869583  
Option 1 ID : 6306803405717  
Option 2 ID : 6306803405716  
Option 3 ID : 6306803405715  
Option 4 ID : 6306803405714  
Status : Answered  
Chosen Option : 2

- Q.32 निम्नलिखित में से कौन सा/से कथन सही है/हैं?  
A. एक त्रिभुज में सभी कोण  $60^\circ$  से कम हो सकते हैं।  
B. एक त्रिभुज में एक अधिक कोण हो सकता है।  
C. एक त्रिभुज में दो समकोण हो सकते हैं।  
D. एक त्रिभुज में दो न्यून कोण हो सकते हैं।

Ans  1. B  
 2. A  
 3. B और D  
 4. A और C

Question ID : 630680421461  
Option 1 ID : 6306801644309  
Option 2 ID : 6306801644307  
Option 3 ID : 6306801644310  
Option 4 ID : 6306801644308  
Status : Answered  
Chosen Option : 3

- Q.33 किसी त्रिभुज के तीन कोणों में से एक कोण सबसे छोटे कोण का दो गुना है और दूसरा कोण सबसे छोटे कोण का तीन गुना है। सबसे छोटे कोण का मान ज्ञात करें।

Ans  1.  $45^\circ$   
 2.  $30^\circ$   
 3.  $65^\circ$   
 4.  $60^\circ$

Question ID : 630680421466  
Option 1 ID : 6306801644330  
Option 2 ID : 6306801644327  
Option 3 ID : 6306801644329  
Option 4 ID : 6306801644328  
Status : Answered  
Chosen Option : 2

- Q.34 किसी वस्तु के लागत मूल्य में 7.5% की कमी होने पर एक दुकानदार ₹7,400 की राशि से पहले की खरीदी जाने वाली वस्तु की तुलना में 15 kg अधिक वस्तु खरीद सकता है। वस्तु के कटौती से पूर्व के क्रय मूल्य पर 32.5% का लाभ प्राप्त करने के लिए, वस्तु को किस मूल्य (₹ में) प्रति kg पर बेचना होगा?

Ans  1. 52  
 2. 54  
 3. 53  
 4. 51

Question ID : 630680321428  
Option 1 ID : 6306801250423  
Option 2 ID : 6306801250422  
Option 3 ID : 6306801250421  
Option 4 ID : 6306801250424  
Status : Answered  
Chosen Option : 3

Q.35 एक अर्धगोलीय कटोरे की त्रिज्या 9 cm है। कटोरे की क्षमता (आयतन) ज्ञात कीजिए। ( $\pi = \frac{22}{7}$  लें)

- Ans
- 1. 1428.78 cm<sup>3</sup>
  - 2. 1527.43 cm<sup>3</sup>
  - 3. 1625.37 cm<sup>3</sup>
  - 4. 1821.47 cm<sup>3</sup>

Question ID : 630680421606  
Option 1 ID : 6306801644889  
Option 2 ID : 6306801644890  
Option 3 ID : 6306801644887  
Option 4 ID : 6306801644888  
Status : Answered  
Chosen Option : 2

Q.36  $20 \div 5$  of  $4 \times 8 + 6 \div 24$  of  $3 \times 48 - 6 \div 18 \times 9$  को सरल कीजिए।

- Ans
- 1. 1.125
  - 2. 6
  - 3. 4
  - 4. 9

Question ID : 630680444362  
Option 1 ID : 6306801756555  
Option 2 ID : 6306801756558  
Option 3 ID : 6306801756557  
Option 4 ID : 6306801756556  
Status : Answered  
Chosen Option : 4

Q.37 कितने वर्षों के लिए ₹2,500 का निवेश 12% वार्षिक साधारण ब्याज की दर से किया जाए, कि मिश्रधन ₹4,900 के बराबर हो जाए?

- Ans
- 1. 2
  - 2. 4
  - 3. 8
  - 4. 6

Question ID : 630680428063  
Option 1 ID : 6306801670296  
Option 2 ID : 6306801670297  
Option 3 ID : 6306801670299  
Option 4 ID : 6306801670298  
Status : Answered  
Chosen Option : 3

Q.38 यदि ग्राहक द्वारा खरीदे गए विभिन्न उत्पादों का कुल विक्रय मूल्य ₹3,000 से कम है, तो एक विक्रेता 12% की छूट प्रदान करता है, और यदि सभी उत्पादों का कुल विक्रय मूल्य ₹3,000 से अधिक है, तो 15% की छूट प्रदान करता है। आनंद को ₹900 मूल्य की एक शर्ट 9% का मार्जिन अर्जित करने के बाद बेची गई और साथ ही ₹1,900 क्रय मूल्य वाली एक जैकेट भी उसे 6% के मार्जिन के बाद बेची गई। बिल के निपटान के लिए आनंद को कितना (₹ में) भुगतान करना होगा?

- Ans
- 1. 2,645.60
  - 2. 3,005.40
  - 3. 2,635.60
  - 4. 2,953.60

Question ID : 630680428562  
Option 1 ID : 6306801672292  
Option 2 ID : 6306801672295  
Option 3 ID : 6306801672293  
Option 4 ID : 6306801672294  
Status : Answered  
Chosen Option : 3

Q.39 S अपनी कार चलाता है और 90 मिनट में 37 km और 500 m की दूरी तय करता है। तो बताइए कि उसकी औसत चाल (km/h में) क्या है?

- Ans
- 1. 20
  - 2. 40
  - 3. 25
  - 4. 22.5

Question ID : 630680428720  
Option 1 ID : 6306801672925  
Option 2 ID : 6306801672927  
Option 3 ID : 6306801672924  
Option 4 ID : 6306801672926  
Status : Answered  
Chosen Option : 3

Q.40 संस्कृत के एक कक्षा पाठ में अन्वेषा के अंक गलती से 66 के बजाय 99 दर्ज कर दिए गए थे। यदि कक्षा में 55 छात्र हैं, तो इस टाइपिंग त्रुटि के कारण संस्कृत में कक्षा के औसत अंकों में कितनी वृद्धि हुई है?

- Ans
- 1. 0.2
  - 2. 0.8
  - 3. 0.4
  - 4. 0.6

Question ID : 630680869675  
Option 1 ID : 6306803406066  
Option 2 ID : 6306803406069  
Option 3 ID : 6306803406067  
Option 4 ID : 6306803406068  
Status : Answered  
Chosen Option : 4

Q.41 A के लिए समीकरण हल (डिग्री में) कीजिए:

$$2 \cos^2 A + 3 \cos A - 2 = 0, \quad 0 < A < 90^\circ$$

- Ans
- 1.  $80^\circ$
  - 2.  $45^\circ$
  - 3.  $30^\circ$
  - 4.  $60^\circ$

Question ID : 630680421421  
Option 1 ID : 6306801644150  
Option 2 ID : 6306801644148  
Option 3 ID : 6306801644147  
Option 4 ID : 6306801644149  
Status : Answered  
Chosen Option : 4

Q.42 दी गई तालिका का अध्ययन कीजिए और नीचे दिए गए प्रश्न का उत्तर दीजिए।

तालिकाएँ चार अलग-अलग शहरों से एक प्रवेश परीक्षा में उपस्थित हुए उम्मीदवारों की संख्या (लाख में) तथा उसमें उत्तीर्ण और अनुत्तीर्ण हुए उम्मीदवारों का अनुपात दर्शाती हैं।

शहर	P	Q	R	S
उम्मीदवारों की संख्या	1.10	2.26	2.12	1.46

शहर के भीतर उत्तीर्ण और अनुत्तीर्ण हुए उम्मीदवारों का अनुपात:

शहर	उत्तीर्ण	अनुत्तीर्ण
P	6	5
Q	3	7
R	5	7
S	3	5

शहर Q से परीक्षा में उत्तीर्ण हुए उम्मीदवारों की संख्या, सभी शहरों से एक साथ उपस्थित हुए उम्मीदवारों की कुल संख्या का कितने प्रतिशत है (दो दशमलव स्थान तक पूर्णांकित)?

- Ans
- 1. 11.25%
  - 2. 9.77%
  - 3. 10.70%
  - 4. 12.93%

Question ID : 630680428317  
Option 1 ID : 6306801671313  
Option 2 ID : 6306801671315  
Option 3 ID : 6306801671314  
Option 4 ID : 6306801671312  
Status : Answered  
Chosen Option : 2

Q.43 निम्नलिखित व्यंजक को सरल कीजिए:

$$\frac{3.2 \times 3.2 - 0.2 \times 0.2}{0.2 \times 0.2 - 2 \times 0.2 \times 3.2 + 3.2 \times 3.2}$$

Ans

1.  $\frac{11}{15}$

2.  $\frac{13}{15}$

3.  $\frac{19}{15}$

4.  $\frac{17}{15}$

Question ID : 630680413599

Option 1 ID : 6306801613222

Option 2 ID : 6306801613221

Option 3 ID : 6306801613223

Option 4 ID : 6306801613220

Status : Answered

Chosen Option : 4

Q.44 जीवन, प्रवीण और कानन के बीच ₹17,600 की राशि इस प्रकार विभाजित की गई कि जीवन और प्रवीण को प्राप्त राशि का अनुपात 5 : 8 था, जबकि प्रवीण और कानन द्वारा प्राप्त राशि का अनुपात 3 : 2 था। जीवन को उसके हिस्से के रूप में कितनी राशि प्राप्त हुई?

Ans  1. ₹4,800

2. ₹4,900

3. ₹4,750

4. ₹4,850

Question ID : 630680428448

Option 1 ID : 6306801671837

Option 2 ID : 6306801671839

Option 3 ID : 6306801671836

Option 4 ID : 6306801671838

Status : Answered

Chosen Option : 1

Q.45  $[25 - (-4)\{9 - (6 - 2)\}] \div [3 \times \{6 + (-3) \times (-3)\}]$  को सरल कीजिए।

Ans  1. 6

2. 4

3. 1

4. 2

Question ID : 630680428119

Option 1 ID : 6306801670523

Option 2 ID : 6306801670522

Option 3 ID : 6306801670521

Option 4 ID : 6306801670520

Status : Answered

Chosen Option : 3

Q.46 230 m और 270 m लंबी दो रेलगाड़ियाँ क्रमशः 42 km/h और 48 km/h की चाल से विपरीत दिशाओं में चल रही हैं। वे एक दूसरे को \_\_\_\_\_ में पार करेंगी।

Ans  1. 20 सेकंड

2. 30 सेकंड

3. 22 सेकंड

4. 25 सेकंड

Question ID : 630680428465

Option 1 ID : 6306801671906

Option 2 ID : 6306801671907

Option 3 ID : 6306801671905

Option 4 ID : 6306801671904

Status : Answered

Chosen Option : 1

Q.47 निम्न तालिका एक परीक्षा में गणित और विज्ञान में विद्यार्थियों द्वारा प्राप्त अंकों के आधार पर 100 विद्यार्थियों के वर्गीकरण को दर्शाती है।

विषय	100 में से प्राप्त अंक				
	80 और इससे अधिक	60 और इससे अधिक	40 और इससे अधिक	20 और इससे अधिक	0 और इससे अधिक
गणित	12	35	80	94	100
विज्ञान	16	43	76	88	100
औसत (कुल योग)	14	39	78	91	100

कुल योग के रूप में 40% से कम अंक प्राप्त करने वाले विद्यार्थियों की संख्या ज्ञात करें।

Ans  1. 24

2. 28

3. 26

4. 22

Question ID : 630680428284

Option 1 ID : 6306801671181

Option 2 ID : 6306801671183

Option 3 ID : 6306801671182

Option 4 ID : 6306801671180

Status : Answered

Chosen Option : 4

Q.48 5 cm त्रिज्या वाला एक लड्डू एक दुकानदार का है। उसी एक ही लड्डू से 2.5 cm त्रिज्या के कितने लड्डू बनाए जा सकते हैं?

Ans  1. 8

2. 2

3. 6

4. 4

Question ID : 63068076287

Option 1 ID : 630680295256

Option 2 ID : 630680295253

Option 3 ID : 630680295255

Option 4 ID : 630680295254

Status : Answered

Chosen Option : 1

Q.49  $\{[(82 + 48 \div 8 \times 3) + 5 \times 6] - 7.5 \times 2\}$  का मान ज्ञात कीजिए।

- Ans  1. 115  
 2. 125  
 3. 121  
 4. 130

Question ID : 630680428104  
Option 1 ID : 6306801670461  
Option 2 ID : 6306801670463  
Option 3 ID : 6306801670462  
Option 4 ID : 6306801670460  
Status : Answered  
Chosen Option : 1

Q.50 रवि और संजू एकसाथ मिलकर किसी कार्य को 2 दिन में कर सकते हैं, संजू और महेश इसे 4 दिन में कर सकते हैं, जबकि रवि और महेश इसे 2 दिन में कर सकते हैं। रवि को उसी कार्य को अकेले करने में कितने दिन लगेंगे?

- Ans  1.  $\frac{8}{3}$  दिन  
 2.  $\frac{5}{3}$  दिन  
 3. 9 दिन  
 4. 4 दिन

Question ID : 630680869700  
Option 1 ID : 6306803406168  
Option 2 ID : 6306803406166  
Option 3 ID : 6306803406167  
Option 4 ID : 6306803406169  
Status : Answered  
Chosen Option : 1

Section : English Comprehension

Q.1 Select the option that expresses the meaning of the underlined segment.  
The regulation bans any direct or indirect promotion through radio or television of supernatural practices.

- Ans  1. Evident  
 2. Occult  
 3. Obtuse  
 4. Questionable

Question ID : 630680377989  
Option 1 ID : 6306801473018  
Option 2 ID : 6306801473016  
Option 3 ID : 6306801473017  
Option 4 ID : 6306801473015  
Status : Answered  
Chosen Option : 2

Q.2 Select the INCORRECTLY spelt word.

- Ans  1. Campaign  
 2. Programe  
 3. Pilgrimage  
 4. Unexpected

Question ID : 630680517488  
Option 1 ID : 6306802022349  
Option 2 ID : 6306802022348  
Option 3 ID : 6306802022351  
Option 4 ID : 6306802022350  
Status : Marked For Review  
Chosen Option : 3

Q.3 Which of the following words has a similar meaning to the underlined word?  
Numerous tremors without any tectonic plate movement have baffled geologists.

- Ans  1. Perplexed  
 2. Irritated  
 3. Amused  
 4. Angered

Question ID : 630680360071  
Option 1 ID : 6306801402230  
Option 2 ID : 6306801402231  
Option 3 ID : 6306801402232  
Option 4 ID : 6306801402229  
Status : Answered  
Chosen Option : 3

Q.4 Select the most appropriate synonym of the given word.  
Dainty

- Ans  1. Vulgar  
 2. Sable  
 3. Elegant  
 4. Fine

Question ID : 630680295222  
Option 1 ID : 6306801148613  
Option 2 ID : 6306801148614  
Option 3 ID : 6306801148612  
Option 4 ID : 6306801148615  
Status : Answered  
Chosen Option : 1

**Q.5** The following sentence has been divided into parts. One of them contains an error.  
Select the part that contains the error from the given options.  
Mr. Thomas / is going / to buy / horse.

- Ans  1. is going  
 2. horse  
 3. to buy  
 4. Mr. Thomas

Question ID : 630680184895  
Option 1 ID : 630680716542  
Option 2 ID : 630680716544  
Option 3 ID : 630680716543  
Option 4 ID : 630680716541  
Status : Answered  
Chosen Option : 2

**Q.6** Select the most appropriate option to fill in the blank.  
Mihir's ability to think outside \_\_\_\_\_ always gives our team the upper hand  
when tackling complex problems.

- Ans  1. the bowl  
 2. the room  
 3. the cupboard  
 4. the box

Question ID : 630680517319  
Option 1 ID : 6306802021674  
Option 2 ID : 6306802021675  
Option 3 ID : 6306802021672  
Option 4 ID : 6306802021673  
Status : Answered  
Chosen Option : 4

**Q.7** Select the option that can be used as a one-word substitute for the underlined group  
of words.

There was a huge fire for celebration on the occasion of Diwali.

- Ans  1. Lohri  
 2. Flash  
 3. Firecracker  
 4. Bonfire

Question ID : 630680414819  
Option 1 ID : 6306801618022  
Option 2 ID : 6306801618021  
Option 3 ID : 6306801618020  
Option 4 ID : 6306801618019  
Status : Answered  
Chosen Option : 4

Q.8 The following sentence has been split into four segments. Identify the segment that contains a grammatical error.

If I have recovered from fever, / I will start going / for swimming classes / from tomorrow.

- Ans
- 1. for swimming classes
  - 2. I will start going
  - 3. from tomorrow
  - 4. If I have recovered from fever

Question ID : 630680172390

Option 1 ID : 630680667986

Option 2 ID : 630680667985

Option 3 ID : 630680667987

Option 4 ID : 630680667984

Status : Answered

Chosen Option : 4

Q.9 Select the most appropriate ANTONYM of the underlined word in the given sentence. The beauty of cherry blossoms is ephemeral, as the delicate pink petals bloom for only a short period.

- Ans
- 1. Permanent
  - 2. Unwavering
  - 3. Transient
  - 4. Uniform

Question ID : 630680517233

Option 1 ID : 6306802021330

Option 2 ID : 6306802021329

Option 3 ID : 6306802021331

Option 4 ID : 6306802021328

Status : Answered

Chosen Option : 1

Q.10 Select the most appropriate idiom that can substitute the underlined words in the given sentence.

It's Christmas and everything looks so beautiful. It makes me believe that life is wonderful and pleasant.

- Ans
- 1. I'm changing my tune
  - 2. I'm facing the music
  - 3. life is a bowl of cherries
  - 4. I'm up in the air

Question ID : 630680183589

Option 1 ID : 630680711366

Option 2 ID : 630680711368

Option 3 ID : 630680711365

Option 4 ID : 630680711367

Status : Answered

Chosen Option : 3

Q.11 Select the most appropriate option to substitute the underlined segment in the given sentence.

Rajan's caused extremely painful headaches.

- Ans  1. excruciating  
 2. extreme  
 3. horrible  
 4. devastating

Question ID : 630680403933  
Option 1 ID : 6306801575219  
Option 2 ID : 6306801575218  
Option 3 ID : 6306801575221  
Option 4 ID : 6306801575220  
Status : Marked For Review  
Chosen Option : 1

Q.12 Select the INCORRECTLY spelt word.

- Ans  1. dictionary  
 2. directory  
 3. granary  
 4. chancellor

Question ID : 630680409920  
Option 1 ID : 6306801598509  
Option 2 ID : 6306801598510  
Option 3 ID : 6306801598512  
Option 4 ID : 6306801598511  
Status : Answered  
Chosen Option : 4

Q.13 Select the most appropriate option that can substitute the underlined words in the given sentence.

My son will carry out my business in my absence.

- Ans  1. carry at  
 2. carry for  
 3. carry in  
 4. carry on

Question ID : 630680451978  
Option 1 ID : 6306801764989  
Option 2 ID : 6306801764988  
Option 3 ID : 6306801764987  
Option 4 ID : 6306801764986  
Status : Answered  
Chosen Option : 4

**Q.14** Select the option that can be used as a one-word substitute for the given group of words.

**A film shown during the day, especially in the afternoon**

**Ans** ✓ 1. Matinee

✗ 2. Dramatics

✗ 3. Cinema

✗ 4. Theatre

Question ID : 630680172794

Option 1 ID : 630680669569

Option 2 ID : 630680669568

Option 3 ID : 630680669570

Option 4 ID : 630680669571

Status : Answered

Chosen Option : 1

**Q.15** Select the option that can be used as a one-word substitute for the given group of words.

**A list of books**

**Ans** ✗ 1. Lexicon

✓ 2. Catalogue

✗ 3. Manuscript

✗ 4. Bibliography

Question ID : 630680414827

Option 1 ID : 6306801618054

Option 2 ID : 6306801618053

Option 3 ID : 6306801618051

Option 4 ID : 6306801618052

Status : Answered

Chosen Option : 4

**Q.16** Select the most appropriate synonym of the given word.  
**Filthy**

**Ans** ✗ 1. Shiny

✗ 2. Visual

✓ 3. Dirty

✗ 4. Tidy

Question ID : 630680204305

Option 1 ID : 630680792304

Option 2 ID : 630680792303

Option 3 ID : 630680792305

Option 4 ID : 630680792306

Status : Answered

Chosen Option : 3

**Q.17** In question four alternatives are given for the underlined Idiom/Phrase in the sentence. Choose the alternative which best expresses the meaning of the Idiom/Phrase. In life, there will be many situations where you have to choose between the devil and the deep blue sea.

- Ans**
- 1. To choose wisely
  - 2. To be in dilemma to choose
  - 3. To be in the deep sea
  - 4. To be in a good condition

Question ID : 630680517295  
Option 1 ID : 6306802021578  
Option 2 ID : 6306802021579  
Option 3 ID : 6306802021576  
Option 4 ID : 6306802021577  
Status : Answered  
Chosen Option : 2

**Q.18** Select the most appropriate option to substitute the underlined segment in the given sentence. The manager, decided at last to bring the stenographer to book for her illegal money transactions after trying to ignore it several times.

- Ans**
- 1. bring her for a detailed investigation
  - 2. place her in a safe supportive position
  - 3. take her into great confidence
  - 4. make her accountable for her conduct

Question ID : 630680295289  
Option 1 ID : 6306801148883  
Option 2 ID : 6306801148882  
Option 3 ID : 6306801148880  
Option 4 ID : 6306801148881  
Status : Answered  
Chosen Option : 4

**Q.19** Which is the right set of ANTONYMS from the options for 'Confidential'?

- Ans**
- 1. Public, Concealed
  - 2. Hushed, Common
  - 3. Offstage, Sneaking
  - 4. Familiar, Revealed

Question ID : 630680517276  
Option 1 ID : 6306802021501  
Option 2 ID : 6306802021503  
Option 3 ID : 6306802021500  
Option 4 ID : 6306802021502  
Status : Answered  
Chosen Option : 4

**Q.20** The following sentence has been divided into four segments. One of them contains an error. Select the segment that contains the error from the given options.  
Last night I dreamed that / I am looking for the/ abominable snowman high / up in the Himalayas.

- Ans**
- 1. abominable snowman high
  - 2. I am looking for the
  - 3. up in the Himalayas
  - 4. Last night I dreamed that

Question ID : 630680156646  
Option 1 ID : 630680606242  
Option 2 ID : 630680606241  
Option 3 ID : 630680606243  
Option 4 ID : 630680606240  
Status : Answered  
Chosen Option : 2

**Q.21** The following sentence has been divided into parts. One of them may contain an error. Select the part that contains the error from the given options. If you don't find any error, mark 'No error' as your answer.  
By the time I reaching / the metro station, / the train had departed.

- Ans**
- 1. the train had departed
  - 2. By the time I reaching
  - 3. no error
  - 4. the metro station

Question ID : 630680156567  
Option 1 ID : 630680605926  
Option 2 ID : 630680605924  
Option 3 ID : 630680605927  
Option 4 ID : 630680605925  
Status : Answered  
Chosen Option : 2

**Q.22** Select the option that can be used as a one-word substitute for the given group of words.  
The study of Man

- Ans**
- 1. Biology
  - 2. Autobiography
  - 3. Anthropology
  - 4. Biography

Question ID : 630680295229  
Option 1 ID : 6306801148640  
Option 2 ID : 6306801148641  
Option 3 ID : 6306801148642  
Option 4 ID : 6306801148643  
Status : Answered  
Chosen Option : 3

**Q.23** Select the most appropriate idiom that can substitute the underlined segment in the given sentence.

I don't know which career he will choose. He delays making strong decisions.

- Ans
- 1. turns a blind eye
  - 2. sits on the fence
  - 3. is as clean as a whistle
  - 4. spills the beans

Question ID : 630680435645  
Option 1 ID : 6306801700509  
Option 2 ID : 6306801700511  
Option 3 ID : 6306801700510  
Option 4 ID : 6306801700512  
Status : Answered  
Chosen Option : 2

**Q.24** Select the most appropriate option that can substitute the underlined segment in the given sentence.

The company plans to expand its business to the international market.

- Ans
- 1. to contract
  - 2. to limit
  - 3. to reduce
  - 4. to increase

Question ID : 630680414497  
Option 1 ID : 6306801616749  
Option 2 ID : 6306801616747  
Option 3 ID : 6306801616748  
Option 4 ID : 6306801616750  
Status : Answered  
Chosen Option : 4

**Q.25** Parts of the following sentence have been given as options. Select the option that contains an error.

My father is comparatively better today.

- Ans
- 1. comparatively better
  - 2. is
  - 3. My father
  - 4. today.

Question ID : 630680415248  
Option 1 ID : 6306801619741  
Option 2 ID : 6306801619740  
Option 3 ID : 6306801619739  
Option 4 ID : 6306801619742  
Status : Answered  
Chosen Option : 1

**Q.26** Select the most appropriate option to substitute the underlined part of the following sentence.  
Mathew decided to complete the marathon to prove that he is still fit as a fiddle in his eighties.

- Ans  1. proud and unreliable  
 2. a fit and energetic person  
 3. an owner of a fit horse  
 4. a man of great qualities

Question ID : 630680297863  
Option 1 ID : 6306801158852  
Option 2 ID : 6306801158853  
Option 3 ID : 6306801158854  
Option 4 ID : 6306801158851  
Status : Answered  
Chosen Option : 2

**Q.27** Select the most appropriate option to substitute the underlined segment in the given sentence.

It is a fact that the same judgement can often be taken by more than one way.

- Ans  1. be taken for more than  
 2. be taken of more than  
 3. be taken in more than  
 4. be taken on more than

Question ID : 630680414523  
Option 1 ID : 6306801616851  
Option 2 ID : 6306801616852  
Option 3 ID : 6306801616854  
Option 4 ID : 6306801616853  
Status : Marked For Review  
Chosen Option : 3

**Q.28** Choose the INCORRECTLY spelt word in the given sentence.  
It may seem pretentious to say so but I cannot live without my essential articles.

- Ans  1. pretentious  
 2. articles  
 3. essential  
 4. cannot

Question ID : 630680409875  
Option 1 ID : 6306801598329  
Option 2 ID : 6306801598332  
Option 3 ID : 6306801598331  
Option 4 ID : 6306801598330  
Status : Answered  
Chosen Option : 1

**Q.29** Select the option that can be used as a one-word substitute for the italicised segment in the given sentence.

Tin is *easy to shape in any desired form*.

- Ans
- 1. rigid
  - 2. immutable
  - 3. gullible
  - 4. malleable

Question ID : 630680414731  
Option 1 ID : 6306801617670  
Option 2 ID : 6306801617668  
Option 3 ID : 6306801617669  
Option 4 ID : 6306801617667  
Status : Answered  
Chosen Option : 4

**Q.30** Select the most appropriate segment to substitute the underlined words in the given sentence.

He always used to say that he was not a beggar by choice and if someone could employ him, he would like to eat.

- Ans
- 1. linger at work
  - 2. love to work
  - 3. live to work
  - 4. listen to me

Question ID : 630680435036  
Option 1 ID : 6306801698061  
Option 2 ID : 6306801698062  
Option 3 ID : 6306801698059  
Option 4 ID : 6306801698060  
Status : Answered  
Chosen Option : 2

**Q.31** Select the most appropriate meaning of the given idiom.  
Beat around the bush.

- Ans
- 1. To go around the bush.
  - 2. To live around the bush.
  - 3. To talk about something important.
  - 4. To avoid talking about what is important.

Question ID : 630680517320  
Option 1 ID : 6306802021678  
Option 2 ID : 6306802021679  
Option 3 ID : 6306802021676  
Option 4 ID : 6306802021677  
Status : Answered  
Chosen Option : 4

**Q.32** Identify the INCORRECTLY spelt word in the given sentence and select the option that rectifies the spelling error.  
The idea is to encourage tourism and allow visitors to enjoy the spectacular Rockies, but to ensure that it is done in hermony with the environment.

- Ans
- 1. Touresm
  - 2. Encaourage
  - 3. Enssure
  - 4. Harmony

Question ID : 630680517486  
Option 1 ID : 6306802022343  
Option 2 ID : 6306802022340  
Option 3 ID : 6306802022342  
Option 4 ID : 6306802022341  
Status : Answered  
Chosen Option : 4

**Q.33** Select the most appropriate idiom that can substitute the underlined segment in the given sentence.  
We need to make sure that criminals like these get more from the authorities than a very mild punishment.

- Ans
- 1. a taste of their own medicine
  - 2. a slap on the wrist
  - 3. an axe to grind
  - 4. a blessing in disguise

Question ID : 630680701372  
Option 1 ID : 6306802747423  
Option 2 ID : 6306802747422  
Option 3 ID : 6306802747421  
Option 4 ID : 6306802747424  
Status : Answered  
Chosen Option : 2

**Q.34** Select the most appropriate synonym of the given word.  
Pacify

- Ans
- 1. Soothe
  - 2. Rebuke
  - 3. Strengthen
  - 4. Blame

Question ID : 630680204301  
Option 1 ID : 630680792289  
Option 2 ID : 630680792287  
Option 3 ID : 630680792288  
Option 4 ID : 630680792290  
Status : Answered  
Chosen Option : 1

**Q.35** Select the sentence that has the correct use of words and spellings from the options given below.

- Ans  1. The skilled surgeon delicately performed the intrecate procedure, saving the patient's life with his steady hands and unwavering focus.
2. The skiled surgeon delicatly performed the intricate procedure, saving the patient's life with his stedy hands and unwavering focus.
3. The skilled surgeon delicately performed the intricate procedure, saving the patient's life with his steady hands and unwavering focus.
4. The skilled surgeon delicatly performed the intricate procedure, saving the patient's life with his stedy hands and unwavering focus.

Question ID : 630680410005

Option 1 ID : 6306801598851

Option 2 ID : 6306801598849

Option 3 ID : 6306801598852

Option 4 ID : 6306801598850

Status : Answered

Chosen Option : 3

**Q.36** Select the option that can be used as a one-word substitute for the given group of words.

The period of time in a person's life when they are developing into an adult

- Ans  1. Adultery
2. Adolescence
3. Teenage
4. Childhood

Question ID : 630680414825

Option 1 ID : 6306801618043

Option 2 ID : 6306801618044

Option 3 ID : 6306801618046

Option 4 ID : 6306801618045

Status : Answered

Chosen Option : 2

**Q.37** Select the most appropriate meaning of the underlined idiom.

Despite multiple obstacles, she continued with her endeavour, demonstrating that she has nerves of steel.

- Ans  1. Extraordinary beauty
2. An absence of fear or anxiety
3. The capacity to maintain composure when stressed
4. Relentless determination

Question ID : 630680517389

Option 1 ID : 6306802021955

Option 2 ID : 6306802021953

Option 3 ID : 6306802021954

Option 4 ID : 6306802021952

Status : Answered

Chosen Option : 4

**Q.38** Select the most appropriate ANTONYM of the underlined word.  
Indians tend to be quite conservative in most aspects of life, particularly in rural areas.

- Ans
- 1. Authentic
  - 2. Liberal
  - 3. Determined
  - 4. Fantastic

Question ID : 630680517280  
Option 1 ID : 6306802021518  
Option 2 ID : 6306802021517  
Option 3 ID : 6306802021516  
Option 4 ID : 6306802021519  
Status : Answered  
Chosen Option : 2

**Q.39** Select the correctly spelt word.

- Ans
- 1. dictionary
  - 2. machinary
  - 3. directory
  - 4. dispensery

Question ID : 630680518786  
Option 1 ID : 6306802027641  
Option 2 ID : 6306802027640  
Option 3 ID : 6306802027642  
Option 4 ID : 6306802027643  
Status : Answered  
Chosen Option : 3

**Q.40** Select the most appropriate synonym of the given word.  
Voracious

- Ans
- 1. Greedy
  - 2. Appreciate
  - 3. Quenched
  - 4. Compensated

Question ID : 630680295957  
Option 1 ID : 6306801151543  
Option 2 ID : 6306801151542  
Option 3 ID : 6306801151540  
Option 4 ID : 6306801151541  
Status : Answered  
Chosen Option : 1

**Comprehension:**

In the following passage, some words have been deleted. Read the passage carefully and select the most appropriate option to fill in each blank.

"Can I come along with you on your fishing trip, please?" asked Millie. Her two elder brothers (1)\_\_\_\_\_ at her scornfully. "Fishing is a man's (2) \_\_\_\_\_," said her older brother, Derek. "Girls are not (3) \_\_\_\_\_ at fishing." (4) \_\_\_\_\_ a while, however, Millie managed to persuade her brothers to take her (5) \_\_\_\_\_. When they reached the fishing pond, the two brothers wandered off by themselves.

**SubQuestion No : 41**

**Q.41 Select the correct option to fill blank 1.**

- Ans**     1. looked  
 2. saw  
 3. watched  
 4. observed

Question ID : 630680515012  
Option 1 ID : 6306802012610  
Option 2 ID : 6306802012609  
Option 3 ID : 6306802012611  
Option 4 ID : 6306802012612  
Status : Answered  
Chosen Option : 1

**Comprehension:**

In the following passage, some words have been deleted. Read the passage carefully and select the most appropriate option to fill in each blank.

"Can I come along with you on your fishing trip, please?" asked Millie. Her two elder brothers (1)\_\_\_\_\_ at her scornfully. "Fishing is a man's (2) \_\_\_\_\_," said her older brother, Derek. "Girls are not (3) \_\_\_\_\_ at fishing." (4) \_\_\_\_\_ a while, however, Millie managed to persuade her brothers to take her (5) \_\_\_\_\_. When they reached the fishing pond, the two brothers wandered off by themselves.

**SubQuestion No : 42**

**Q.42 Select the correct option to fill blank 2.**

- Ans**     1. sport  
 2. competition  
 3. matches  
 4. gaming

Question ID : 630680515013  
Option 1 ID : 6306802012614  
Option 2 ID : 6306802012616  
Option 3 ID : 6306802012615  
Option 4 ID : 6306802012613  
Status : Answered  
Chosen Option : 1

**Comprehension:**

In the following passage, some words have been deleted. Read the passage carefully and select the most appropriate option to fill in each blank.

"Can I come along with you on your fishing trip, please?" asked Millie. Her two elder brothers (1)\_\_\_\_\_ at her scornfully. "Fishing is a man's (2) \_\_\_\_\_," said her older brother, Derek. "Girls are not (3) \_\_\_\_\_ at fishing." (4) \_\_\_\_\_ a while, however, Millie managed to persuade her brothers to take her (5) \_\_\_\_\_. When they reached the fishing pond, the two brothers wandered off by themselves.

**SubQuestion No : 43**

**Q.43 Select the correct option to fill blank 3.**

- Ans**     1. good  
 2. acceptable  
 3. sound  
 4. likeable

Question ID : 630680515014

Option 1 ID : 6306802012618

Option 2 ID : 6306802012619

Option 3 ID : 6306802012620

Option 4 ID : 6306802012617

Status : **Answered**

Chosen Option : 1

**Comprehension:**

In the following passage, some words have been deleted. Read the passage carefully and select the most appropriate option to fill in each blank.

"Can I come along with you on your fishing trip, please?" asked Millie. Her two elder brothers (1)\_\_\_\_\_ at her scornfully. "Fishing is a man's (2) \_\_\_\_\_," said her older brother, Derek. "Girls are not (3) \_\_\_\_\_ at fishing." (4) \_\_\_\_\_ a while, however, Millie managed to persuade her brothers to take her (5) \_\_\_\_\_. When they reached the fishing pond, the two brothers wandered off by themselves.

**SubQuestion No : 44**

**Q.44 Select the correct option to fill blank 4.**

- Ans**     1. After  
 2. Before  
 3. Nearly  
 4. Then

Question ID : 630680515015

Option 1 ID : 6306802012623

Option 2 ID : 6306802012621

Option 3 ID : 6306802012624

Option 4 ID : 6306802012622

Status : **Answered**

Chosen Option : 1

**Comprehension:**

In the following passage, some words have been deleted. Read the passage carefully and select the most appropriate option to fill in each blank.

"Can I come along with you on your fishing trip, please?" asked Millie. Her two elder brothers (1) \_\_\_\_\_ at her scornfully. "Fishing is a man's (2) \_\_\_\_\_," said her older brother, Derek. "Girls are not (3) \_\_\_\_\_ at fishing." (4) \_\_\_\_\_ a while, however, Millie managed to persuade her brothers to take her (5) \_\_\_\_\_. When they reached the fishing pond, the two brothers wandered off by themselves.

**SubQuestion No : 45**

**Q.45** Select the correct option to fill blank 5.

- Ans
- 1. within
  - 2. among them
  - 3. with them
  - 4. along

Question ID : 630680515016

Option 1 ID : 6306802012627

Option 2 ID : 6306802012626

Option 3 ID : 6306802012628

Option 4 ID : 6306802012625

Status : Answered

Chosen Option : 3

**Comprehension:**

Read the given passage and answer the questions that follow.

New media is a catch-all term used for various kinds of electronic communications that are conceivable due to innovation in computer technology. In contrast to 'old' media, which includes newspapers, magazines, books, television and other such non-interactive media, new media comprises websites, online video/audio streams, emails, online social platforms, online communities, online forums, blogs, internet telephony, web advertisements, online education and much more. It is not very easy to draw a line between the new and old media because the so-called old media has found new ways of representation in digital forms, leaving behind its conventional methods of representation. New media is considered to be the multimedia and digital form of communication happening via desktop and laptop computers as well as phones, tablets and other devices. New media has introduced user interaction, rather than simply consuming media. New media can be customised to users' preferences and it can be selectively linked from one form of content to another.

**SubQuestion No : 46**

**Q.46** How does the passage distinguish new media from old media?

- Ans
- 1. New media increases screen time and could be addictive and unhealthy, unlike old media.
  - 2. New media is fast and digitally based, whereas old media has never been beyond the conventional methods of representation.
  - 3. New media includes user interaction, whereas, through old media, we only consume information.
  - 4. New media caters to a larger audience and is more popular than old media.

Question ID : 630680320654

Option 1 ID : 6306801247357

Option 2 ID : 6306801247359

Option 3 ID : 6306801247358

Option 4 ID : 6306801247360

Status : Answered

Chosen Option : 2

**Comprehension:**

Read the given passage and answer the questions that follow.

New media is a catch-all term used for various kinds of electronic communications that are conceivable due to innovation in computer technology. In contrast to 'old' media, which includes newspapers, magazines, books, television and other such non-interactive media, new media comprises websites, online video/audio streams, emails, online social platforms, online communities, online forums, blogs, internet telephony, web advertisements, online education and much more. It is not very easy to draw a line between the new and old media because the so-called old media has found new ways of representation in digital forms, leaving behind its conventional methods of representation. New media is considered to be the multimedia and digital form of communication happening via desktop and laptop computers as well as phones, tablets and other devices. New media has introduced user interaction, rather than simply consuming media. New media can be customised to users' preferences and it can be selectively linked from one form of content to another.

**SubQuestion No : 47**

**Q.47** Select the most appropriate synonym of the word 'Customise'.

**Ans** ✓ 1. Personalise

✗ 2. Ritualised

✗ 3. Generalise

✗ 4. Realise

Question ID : 630680320652

Option 1 ID : 6306801247351

Option 2 ID : 6306801247349

Option 3 ID : 6306801247352

Option 4 ID : 6306801247350

Status : Answered

Chosen Option : 1

**Comprehension:**

Read the given passage and answer the questions that follow.

New media is a catch-all term used for various kinds of electronic communications that are conceivable due to innovation in computer technology. In contrast to 'old' media, which includes newspapers, magazines, books, television and other such non-interactive media, new media comprises websites, online video/audio streams, emails, online social platforms, online communities, online forums, blogs, internet telephony, web advertisements, online education and much more. It is not very easy to draw a line between the new and old media because the so-called old media has found new ways of representation in digital forms, leaving behind its conventional methods of representation. New media is considered to be the multimedia and digital form of communication happening via desktop and laptop computers as well as phones, tablets and other devices. New media has introduced user interaction, rather than simply consuming media. New media can be customised to users' preferences and it can be selectively linked from one form of content to another.

**SubQuestion No : 48**

**Q.48** Which of the following is NOT a type/kind of new media?

**Ans** ✗ 1. Emails

✓ 2. Television

✗ 3. Online video streams

✗ 4. Web advertisements

Question ID : 630680320651

Option 1 ID : 6306801247347

Option 2 ID : 6306801247348

Option 3 ID : 6306801247345

Option 4 ID : 6306801247346

Status : Answered

Chosen Option : 2

**Comprehension:**

Read the given passage and answer the questions that follow.

New media is a catch-all term used for various kinds of electronic communications that are conceivable due to innovation in computer technology. In contrast to 'old' media, which includes newspapers, magazines, books, television and other such non-interactive media, new media comprises websites, online video/audio streams, emails, online social platforms, online communities, online forums, blogs, internet telephony, web advertisements, online education and much more. It is not very easy to draw a line between the new and old media because the so-called old media has found new ways of representation in digital forms, leaving behind its conventional methods of representation. New media is considered to be the multimedia and digital form of communication happening via desktop and laptop computers as well as phones, tablets and other devices. New media has introduced user interaction, rather than simply consuming media. New media can be customised to users' preferences and it can be selectively linked from one form of content to another.

**SubQuestion No : 49**

**Q.49 Why is it not easy to draw a line between old media and new media?**

- Ans**
- 1. Because old media has found new ways of representation in digital forms
  - 2. Because new media can be customised to users' preferences
  - 3. Because both include various kinds of medium
  - 4. Because new media is considered to be the multimedia and digital form of communication

Question ID : **630680320655**

Option 1 ID : **6306801247363**

Option 2 ID : **6306801247361**

Option 3 ID : **6306801247362**

Option 4 ID : **6306801247364**

Status : **Answered**

Chosen Option : **1**

**Comprehension:**

Read the given passage and answer the questions that follow.

New media is a catch-all term used for various kinds of electronic communications that are conceivable due to innovation in computer technology. In contrast to 'old' media, which includes newspapers, magazines, books, television and other such non-interactive media, new media comprises websites, online video/audio streams, emails, online social platforms, online communities, online forums, blogs, internet telephony, web advertisements, online education and much more. It is not very easy to draw a line between the new and old media because the so-called old media has found new ways of representation in digital forms, leaving behind its conventional methods of representation. New media is considered to be the multimedia and digital form of communication happening via desktop and laptop computers as well as phones, tablets and other devices. New media has introduced user interaction, rather than simply consuming media. New media can be customised to users' preferences and it can be selectively linked from one form of content to another.

**SubQuestion No : 50**

**Q.50 What does the term 'Catch-all' mean?**

- Ans**
- 1. A category that includes all the sources of entertainment
  - 2. A category which includes many different things
  - 3. A category that includes all the sources of information
  - 4. A category which includes all the types of media

Question ID : **630680320653**

Option 1 ID : **6306801247355**

Option 2 ID : **6306801247354**

Option 3 ID : **6306801247356**

Option 4 ID : **6306801247353**

Status : **Answered**

Chosen Option : **3**