

Sub Inspector in Delhi Police and Central Armed Police Forces Examination 2024 Paper I Exam

Roll Number	
Candidate Name	
Venue Name	
Exam Date	29/06/2024
Exam Time	12:30 PM - 2:30 PM
Subject	SICPO Paper I 2024

Section : General Intelligence and Reasoning

Q.1 एक निश्चित कूट भाषा में, 'FROM' को 'HSNK' लिखा जाता है और 'WAKE' को 'YBJC' लिखा जाता है। दी गई भाषा में 'JUMP' को किस प्रकार लिखा जाएगा?

- Ans
- 1. MULM
 - 2. LTKN
 - 3. LVLN
 - 4. MTKN

Question ID : 630680313752
Option 1 ID : 6306801220852
Option 2 ID : 6306801220849
Option 3 ID : 6306801220850
Option 4 ID : 6306801220851
Status : Answered
Chosen Option : 3

Q.2 दिए गए विकल्पों में से उस संख्या का चयन करें जो निम्नलिखित श्रृंखला में प्रश्न चिह्न (?) के स्थान पर आ सकती है।
228, 209, 192, 179, 168, ?

- Ans
- 1. 160
 - 2. 162
 - 3. 161
 - 4. 165

Question ID : 630680411931
Option 1 ID : 6306801606562
Option 2 ID : 6306801606559
Option 3 ID : 6306801606560
Option 4 ID : 6306801606561
Status : Answered
Chosen Option : 3

Q.3 यदि 'A' का अर्थ '+' है, 'B' का अर्थ '-' है, 'C' का अर्थ 'x' है और 'D' का अर्थ '÷' है, तो निम्नलिखित समीकरण में प्रश्न-चिह्न (?) के स्थान पर क्या आएगा?
80 B 12 C 5 A 27 D 9 = ?

Ans 1. 19

2. 23

3. 25

4. 27

Question ID : 630680411666

Option 1 ID : 6306801605499

Option 2 ID : 6306801605500

Option 3 ID : 6306801605501

Option 4 ID : 6306801605502

Status : Answered

Chosen Option : 2

Q.4 एक कूट भाषा में 'CRAB' को 'YTWD' के रूप में लिखा जाता है और 'CALM' को 'YCHO' के रूप में लिखा जाता है। इसी कूट भाषा में 'ZOOM' को कैसे लिखा जाएगा?

Ans 1. KVOQ

2. KOVQ

3. VKOQ

4. VQKO

Question ID : 630680416677

Option 1 ID : 6306801625474

Option 2 ID : 6306801625472

Option 3 ID : 6306801625471

Option 4 ID : 6306801625473

Status : Not Answered

Chosen Option : --

Q.5 उस विकल्प का चयन कीजिए, जो दिए गए शब्दों के सही क्रम को निरूपित करता है, जैसे कि वे अंग्रेजी शब्दकोश में दिखाई देते हैं।

1. Unfaithful
2. Unfamiliar
3. Uneasiness
4. Undone
5. Understand
6. Undetermined

Ans 1. 5, 6, 4, 2, 1, 3

2. 5, 6, 4, 3, 1, 2

3. 5, 6, 1, 2, 4, 3

4. 5, 6, 4, 3, 2, 1

Question ID : 630680417390

Option 1 ID : 6306801628324

Option 2 ID : 6306801628325

Option 3 ID : 6306801628326

Option 4 ID : 6306801628323

Status : Answered

Chosen Option : 2

Q.6 दो कथनों के बाद I और II से संख्यांकित दो निष्कर्ष दिए गए हैं। कथनों को सत्य मानते हुए, भले ही वे सामान्य रूप से ज्ञात तथ्यों से भिन्न प्रतीत होते हों, तय करें कि दिए गए निष्कर्षों में से कौन सा/से निष्कर्ष कथनों का तार्किक रूप से अनुसरण करता है/करते हैं।

कथन:

कोई प्लेट, प्याला नहीं है।

सभी प्लेट, गिलास हैं।

निष्कर्ष:

I. कोई गिलास, प्लेट नहीं है।

II. कुछ गिलास, प्याले हैं।

Ans 1. न तो निष्कर्ष I और न ही II अनुसरण करता है

2. या तो निष्कर्ष I या II अनुसरण करता है

3. केवल निष्कर्ष I अनुसरण करता है

4. केवल निष्कर्ष II अनुसरण करता है

Question ID : 630680416891

Option 1 ID : 6306801626330

Option 2 ID : 6306801626329

Option 3 ID : 6306801626327

Option 4 ID : 6306801626328

Status : Answered

Chosen Option : 1

Q.7 उस समुच्चय का चयन करें जिसकी संख्याएं उसी तरह से संबंधित हैं जिस तरह निम्नलिखित समुच्चयों की संख्याएं संबंधित हैं।

(नोट: संख्याओं को उसके घटक अंकों में तोड़े बिना, पूर्ण संख्याओं पर संक्रियाएं की जानी चाहिए।

उदाहरण के लिए संख्या 13 को लें - 13 पर संक्रियाएं, जैसे कि 13 में जोड़ना/घटाना/गुणा करना आदि, की जा सकती हैं। 13 को 1 और 3 में तोड़ने और फिर 1 और 3 पर गणितीय संक्रियाएं करने की अनुमति नहीं है)

(21, 63, 378)

(23, 69, 414)

Ans 1. (26, 81, 486)

2. (27, 81, 486)

3. (27, 80, 486)

4. (27, 81, 476)

Question ID : 630680344669

Option 1 ID : 6306801340988

Option 2 ID : 6306801340987

Option 3 ID : 6306801340986

Option 4 ID : 6306801340985

Status : Answered

Chosen Option : 2

Q.8 एक कूट भाषा में, 'COOL' को '180' के रूप में कूटबद्ध किया जाता है और 'MAN' को '84' के रूप में कूटबद्ध किया जाता है। उसी भाषा में 'QUIET' को कैसे कूटबद्ध किया जाएगा?

Ans 1. 56

2. 284

3. 360

4. 36

Question ID : 630680302859

Option 1 ID : 6306801178098

Option 2 ID : 6306801178101

Option 3 ID : 6306801178099

Option 4 ID : 6306801178100

Status : Answered

Chosen Option : 3

Q.9 उस विकल्प का चयन कीजिए जो पांचवें पद से उसी प्रकार संबंधित है जिस प्रकार दूसरा पद पहले पद से और चौथा पद तीसरे पद से संबंधित है।
DRIVE : RDEVI :: STOCK : TSKCO :: MOULD : ?

- Ans 1. OMLUD
 2. OMULD
 3. OMDLU
 4. MODLU

Question ID : 630680416788
Option 1 ID : 6306801625918
Option 2 ID : 6306801625915
Option 3 ID : 6306801625916
Option 4 ID : 6306801625917
Status : Answered
Chosen Option : 3

Q.10 एक निश्चित कूट भाषा में,
A + B का अर्थ है 'A, B की मां है'
A - B का अर्थ है 'A, B का भाई है'
A × B का अर्थ है 'A, B की पत्नी है'
A ÷ B का अर्थ है 'A, B का पिता है'
उपर्युक्त के आधार पर, यदि 'P - Q + R - S ÷ T × U' है, तो T का Q से क्या संबंध है?

- Ans 1. साली
 2. नातिन
 3. पोती
 4. बहन

Question ID : 630680284953
Option 1 ID : 6306801107811
Option 2 ID : 6306801107813
Option 3 ID : 6306801107812
Option 4 ID : 6306801107814
Status : Answered
Chosen Option : 3

Q.11 निम्नलिखित में से कौन-सी संख्या, दी गई श्रृंखला में प्रश्न चिह्न (?) के स्थान पर आएगी?
101, 103, 107, 109, ?, 127, 131, 137

- Ans 1. 123
 2. 125
 3. 113
 4. 111

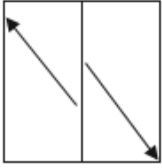
Question ID : 630680411869
Option 1 ID : 6306801606312
Option 2 ID : 6306801606311
Option 3 ID : 6306801606314
Option 4 ID : 6306801606313
Status : Not Answered
Chosen Option : --

Q.12 यदि '+' और '-' को आपस में बदल दिया जाए और 'x' और '+' को आपस में बदल दिया जाए, तो निम्नलिखित समीकरण में प्रश्न चिह्न (?) के स्थान पर क्या आएगा?
 $76 \div 6 + 18 \times 6 - 49 = ?$

- Ans
- 1. 596
 - 2. 524
 - 3. 502
 - 4. 569

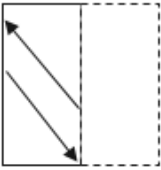
Question ID : 630680411739
Option 1 ID : 6306801605791
Option 2 ID : 6306801605793
Option 3 ID : 6306801605792
Option 4 ID : 6306801605794
Status : Answered
Chosen Option : 3

Q.13 एक पैटर्न वाली एक पारदर्शी शीट नीचे दी गई है। उस विकल्प का चयन कीजिए जो उस पैटर्न को दर्शाता है जो दी गई पारदर्शी शीट को मध्य उर्ध्वाधर रेखा पर मोड़ने पर दिखाई देगा।

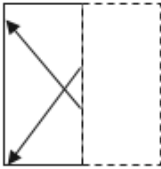


Ans

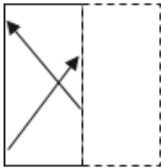
1.



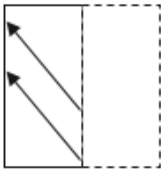
2.



3.



4.



Question ID : 630680389402
Option 1 ID : 6306801518068
Option 2 ID : 6306801518066
Option 3 ID : 6306801518069
Option 4 ID : 6306801518067
Status : Answered
Chosen Option : 2

Q.14 यदि + का अर्थ - है, - का अर्थ ÷ है, × का अर्थ + है और ÷ का अर्थ × है, तो निम्नलिखित व्यंजक का मान क्या होगा?

$$16 \times 9 + 5 \div 4 - 2 = ?$$

Ans 1. 15

2. 40

3. 35

4. 20

Question ID : 630680411961

Option 1 ID : 6306801606680

Option 2 ID : 6306801606679

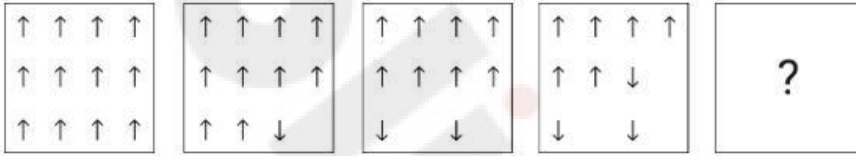
Option 3 ID : 6306801606681

Option 4 ID : 6306801606682

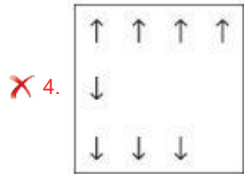
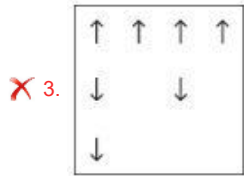
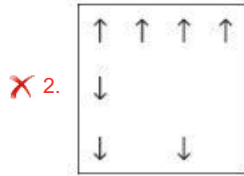
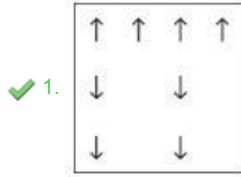
Status : Answered

Chosen Option : 1

Q.15 दिए गए विकल्पों में से उस आकृति की पहचान कीजिए, जिसे '?' के स्थान पर रखने पर शृंखला तार्किक रूप से पूर्ण हो जाएगी।



Ans



Question ID : 630680366163

Option 1 ID : 6306801426177

Option 2 ID : 6306801426179

Option 3 ID : 6306801426178

Option 4 ID : 6306801426180

Status : Answered

Chosen Option : 1

Q.16 विकल्पों में से उस आकृति की पहचान करें, जिसे प्रश्न-चिह्न (?) के स्थान पर रखे जाने पर शृंखला तार्किक रूप से पूर्ण हो जाएगी।

1	8	8	0	0	2	2	7	
	0		2		7		1	?
7	2	1	7	8	1	0	8	

Ans

✗ 1.

1	8
	0
7	2

✓ 2.

7	1
	8
2	0

✗ 3.

7	1
	8
0	2

✗ 4.

7	0
	1
2	8

Question ID : 630680867773

Option 1 ID : 6306803398738

Option 2 ID : 6306803398736

Option 3 ID : 6306803398737

Option 4 ID : 6306803398739

Status : Answered

Chosen Option : 2

Q.17 एक निश्चित कूट भाषा में 'BEDROOM' को '28' और 'MOON' को '16' के रूप में लिखा जाता है। उस भाषा में 'CHAIN' कैसे लिखा जाएगा?

Ans ✗ 1. 26

✗ 2. 24

✓ 3. 20

✗ 4. 23

Question ID : 630680416592

Option 1 ID : 6306801625134

Option 2 ID : 6306801625132

Option 3 ID : 6306801625133

Option 4 ID : 6306801625131

Status : Answered

Chosen Option : 3

Q.18 निम्नलिखित में से कौन-सी संख्या दी गई श्रृंखला में प्रश्नवाचक चिह्न (?) का स्थान लेगी?

8 9 13 22 ?

Ans 1. 32

2. 42

3. 48

4. 38

Question ID : 630680412014

Option 1 ID : 6306801606893

Option 2 ID : 6306801606892

Option 3 ID : 6306801606891

Option 4 ID : 6306801606894

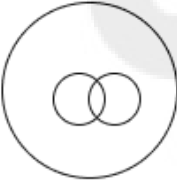
Status : Answered

Chosen Option : 4

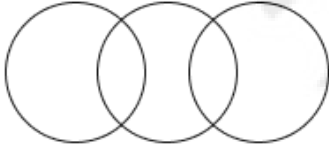
Q.19 उस वेन आरेख का चयन कीजिए जो निम्नलिखित वर्गों के बीच संबंध को सर्वोत्तम रूप से दर्शाता है।
जानवर, शेर, सियार

Ans

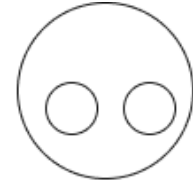
1.



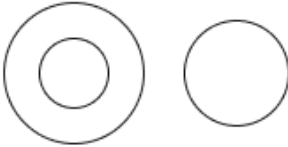
2.



3.



4.



Question ID : 630680869732

Option 1 ID : 6306803406296

Option 2 ID : 6306803406295

Option 3 ID : 6306803406294

Option 4 ID : 6306803406297

Status : Answered

Chosen Option : 3

Q.20 उस समुच्चय का चयन करें जिसमें दी गई संख्याएँ आपस में उसी प्रकार संबंधित हैं, जिस प्रकार प्रश्न में दिए गए समुच्चय की संख्याएँ आपस में संबंधित हैं।
(ध्यान दें: संख्याओं को उनके घटक अंकों में तोड़े बिना, पूर्ण संख्याओं पर गणितीय संक्रियाएँ की जानी चाहिए। जैसे, 13 के मामले में - 13 पर की जाने वाली विभिन्न गणितीय संक्रियाएँ जैसे 13 में जोड़ना / घटाना / गुणा करना आदि 13 पर की जा सकती हैं। लेकिन 13 को 1 और 3 में तोड़ने और फिर 1 और 3 पर गणितीय संक्रियाएँ करने की अनुमति नहीं है।)
(18, 3, 9)
(36, 6, 18)

- Ans
- 1. (78, 14, 39)
 - 2. (72, 13, 36)
 - 3. (72, 14, 39)
 - 4. (78, 13, 39)

Question ID : 630680294011

Option 1 ID : 6306801143859

Option 2 ID : 6306801143857

Option 3 ID : 6306801143856

Option 4 ID : 6306801143858

Status : Answered

Chosen Option : 4

Q.21 निम्नलिखित समीकरण में '?' के स्थान पर क्या आएगा, यदि '+' और '-' को आपस में बदल दिया जाए तथा 'x' और '÷' को भी आपस में बदल दिया जाए?
 $11 \div 12 - 78 \times 6 + 54 = ?$

- Ans
- 1. 91
 - 2. 104
 - 3. 86
 - 4. 99

Question ID : 630680343177

Option 1 ID : 6306801335081

Option 2 ID : 6306801335082

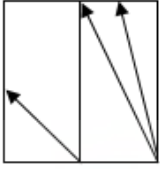
Option 3 ID : 6306801335083

Option 4 ID : 6306801335084

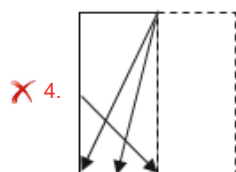
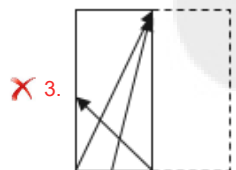
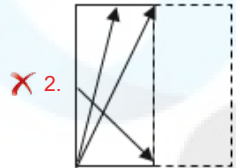
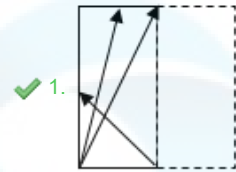
Status : Answered

Chosen Option : 1

Q.22 एक पैटर्न वाली एक पारदर्शी शीट नीचे दी गई है। उस विकल्प का चयन कीजिए जो उस पैटर्न को दर्शाता है जो दी गई पारदर्शी शीट को मध्य उर्ध्वाधर रेखा पर मोड़ने पर दिखाई देगा।



Ans



Question ID : 630680389406

Option 1 ID : 6306801518084

Option 2 ID : 6306801518085

Option 3 ID : 6306801518082

Option 4 ID : 6306801518083

Status : Answered

Chosen Option : 1

Q.23 निम्नलिखित में से कौन-सा पद दी गई श्रृंखला में प्रश्न-चिह्न (?) का स्थान लेगा?

GXMA, IVOY, KTQW, MRSU, ?

Ans ✗ 1. OPVS

✓ 2. OPUS

✗ 3. OQVS

✗ 4. OQUT

Question ID : 630680417046

Option 1 ID : 6306801626947

Option 2 ID : 6306801626949

Option 3 ID : 6306801626950

Option 4 ID : 6306801626948

Status : Answered

Chosen Option : 2

Q.24 यदि 'A' का अर्थ '+' है, 'B' का अर्थ 'x' है, 'C' का अर्थ '-' है और 'D' का अर्थ '-' है, तो निम्नलिखित समीकरण में प्रश्न-चिह्न (?) के स्थान पर क्या आएगा?
96 A 4 D 5 B 7 C 20 = ?

Ans 1.2

2.4

3.7

4.9

Question ID : 630680411670

Option 1 ID : 6306801605515

Option 2 ID : 6306801605517

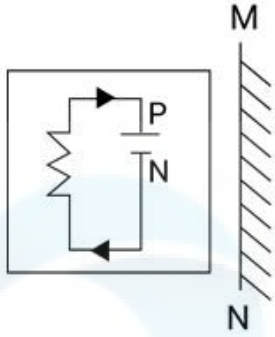
Option 3 ID : 6306801605516

Option 4 ID : 6306801605518

Status : Answered

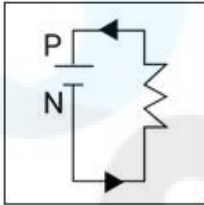
Chosen Option : 4

Q.25 जब दर्पण को नीचे दर्शाए गए अनुसार MN रेखा पर रखा जाता है तो दी गई आकृति के सही दर्पण प्रतिबिंब का चयन कीजिए।

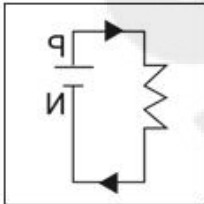


Ans

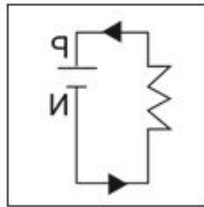
✗ 1.



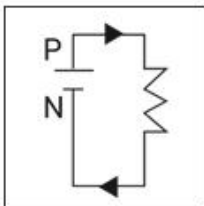
✗ 2.



✓ 3.



✗ 4.



Question ID : 630680296901

Option 1 ID : 6306801155247

Option 2 ID : 6306801155250

Option 3 ID : 6306801155249

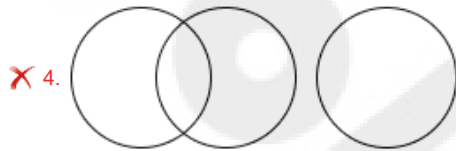
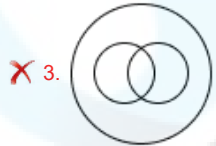
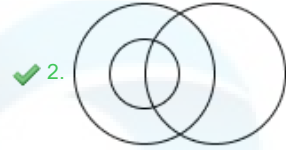
Option 4 ID : 6306801155248

Status : Answered

Chosen Option : 3

Q.26 उस वेन आरेख का चयन कीजिए जो निम्नलिखित वर्गों के बीच संबंध को सर्वोत्तम रूप से दर्शाता है।
महिला, माँ, अभिनेता

Ans



Question ID : 630680869739

Option 1 ID : 6306803406324

Option 2 ID : 6306803406325

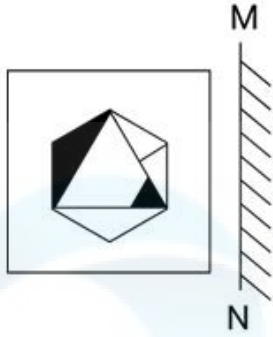
Option 3 ID : 6306803406323

Option 4 ID : 6306803406322

Status : Answered

Chosen Option : 2

Q.27 जब दर्पण को नीचे दर्शाए गए अनुसार MN रेखा पर रखा जाता है तो दी गई आकृति के सही दर्पण प्रतिबिंब का चयन कीजिए।

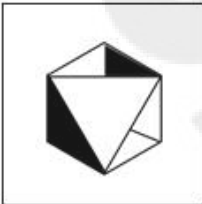


Ans


✗ 1.



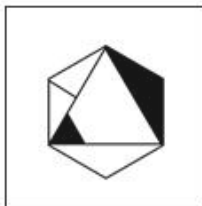
✗ 2.



✗ 3.



✓ 4.



Question ID : 630680296906

Option 1 ID : 6306801155269

Option 2 ID : 6306801155267

Option 3 ID : 6306801155270

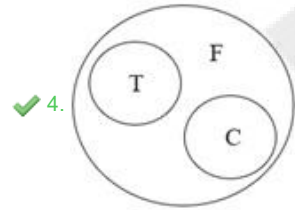
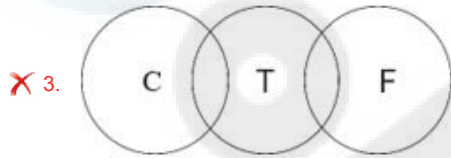
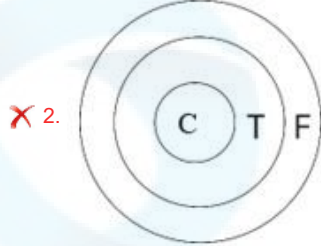
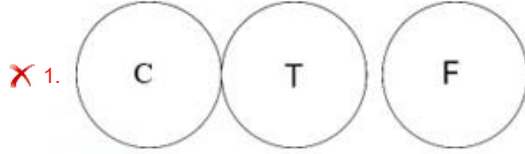
Option 4 ID : 6306801155268

Status : Answered

Chosen Option : 4

Q.28 उस वेन आरेख का चयन कीजिए जो निम्नलिखित वर्गों के बीच संबंध को सर्वोत्तम रूप से दर्शाता है।
फर्नीचर, कुर्सी, मेज

Ans



Question ID : 630680416274

Option 1 ID : 6306801623862

Option 2 ID : 6306801623860

Option 3 ID : 6306801623861

Option 4 ID : 6306801623859

Status : Answered

Chosen Option : 4

Q.29 बिंदु B, बिंदु A से 35 m पूर्व में है। बिंदु C, बिंदु A से 26 m उत्तर में है। बिंदु C, बिंदु D से 15 m पश्चिम में है। बिंदु E, बिंदु D से 13 m दक्षिण में है। बिंदु F, बिंदु E से 20 m पूर्व में है। बिंदु F से बिंदु B किस दिशा में है?

Ans

✓ 1. दक्षिण

✗ 2. दक्षिण-पूर्व

✗ 3. पश्चिम

✗ 4. उत्तर-पश्चिम

Question ID : 630680416357

Option 1 ID : 6306801624192

Option 2 ID : 6306801624193

Option 3 ID : 6306801624194

Option 4 ID : 6306801624191

Status : Answered

Chosen Option : 1

Q.30 निम्नलिखित में से कौन-सा पद दी गई श्रृंखला में प्रश्न-चिह्न (?) का स्थान लेगा?

NBRY, PZSX, ?, TVUV, VTVU

- Ans 1. RYTW
 2. SXTW
 3. SYTW
 4. RXTW

Question ID : 630680417047

Option 1 ID : 6306801626951

Option 2 ID : 6306801626953

Option 3 ID : 6306801626954

Option 4 ID : 6306801626952

Status : Answered

Chosen Option : 4

Q.31 उस विकल्प का चयन करें जो तीसरे शब्द से उसी प्रकार संबंधित है जिस प्रकार दूसरा शब्द पहले शब्द से संबंधित है। (शब्दों को अर्थपूर्ण/हिन्दी शब्दों के रूप में माना जाना चाहिए और इन्हें शब्द में अक्षरों की संख्या/व्यंजनों की संख्या/स्वरों की संख्या के आधार पर एक-दूसरे से संबद्ध नहीं किया जाना चाहिए।)
कंकोलॉजी : शैल :: पैलेओटोलॉजी : ?

- Ans 1. जीवाश्म
 2. मृदा
 3. ग्रह
 4. धातु

Question ID : 630680416725

Option 1 ID : 6306801625666

Option 2 ID : 6306801625663

Option 3 ID : 6306801625665

Option 4 ID : 6306801625664

Status : Answered

Chosen Option : 2

Q.32 A, B, C, D, E और F एक वृत्ताकार मेज के चारों ओर केंद्र की ओर मुख करके बैठे हैं। A और F के बीच केवल दो व्यक्ति बैठे हैं। F और E के बीच केवल एक व्यक्ति बैठा है। C, D के ठीक बाएं बैठा है। C, A का निकटतम पड़ोसी नहीं है। F के ठीक बाएं कौन बैठा है?

- Ans 1. B
 2. A
 3. E
 4. D

Question ID : 630680416854

Option 1 ID : 6306801626180

Option 2 ID : 6306801626179

Option 3 ID : 6306801626181

Option 4 ID : 6306801626182

Status : Answered

Chosen Option : 1

Q.33 दिए गए समीकरण को सही बनाने के लिए कौन से दो चिह्नों को परस्पर बदलना चाहिए?

$$7 \div 255 + 5 \times 3 - 20 = 140$$

- Ans
- 1. + और -
 - 2. - और +
 - 3. \times और +
 - 4. + और +

Question ID : 630680411798

Option 1 ID : 6306801606028

Option 2 ID : 6306801606027

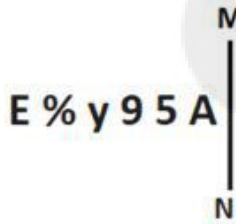
Option 3 ID : 6306801606029

Option 4 ID : 6306801606030

Status : Answered

Chosen Option : 4

Q.34 जब दर्पण को नीचे दर्शाए गए अनुसार MN पर रखा जाता है तो दी गई आकृति के सही दर्पण प्रतिबिंब का चयन कीजिए।



- Ans
- 1. $\nabla \text{ s e y } \% \text{ 3}$
 - 2. $\text{A z e y } \% \text{ 3}$
 - 3. $\nabla \text{ z e y } \% \text{ E}$
 - 4. $\nabla \text{ s 6 y } \% \text{ E}$

Question ID : 630680356644

Option 1 ID : 6306801388578

Option 2 ID : 6306801388577

Option 3 ID : 6306801388580

Option 4 ID : 6306801388579

Status : Answered

Chosen Option : 2

Q.35 एक निश्चित कूट भाषा में,

'A x B' का अर्थ है कि 'A, B का पुत्र है',

'A - B' का अर्थ है कि 'A, B का भाई है',

'A + B' का अर्थ है कि 'A, B की पत्नी है',

'A % B' का अर्थ है कि 'A, B का पिता है'।

यदि 'M + N - P x S % T' है तो M का T से क्या संबंध है?

- Ans
- 1. मामा की पुत्री
 - 2. चाचा की पुत्रवधू
 - 3. साली
 - 4. भाभी

Question ID : 630680869741

Option 1 ID : 6306803406332

Option 2 ID : 6306803406330

Option 3 ID : 6306803406331

Option 4 ID : 6306803406333

Status : Answered

Chosen Option : 4

Q.36 यदि + और - को आपस में बदल दिया जाए, तो प्रश्नवाचक चिह्न (?) के स्थान पर क्या आएगा?

$$8 - 3 \times 4 + 16 \div 2 = ?$$

- Ans
- 1. 14
 - 2. 10
 - 3. 12
 - 4. 11

Question ID : 630680411790
Option 1 ID : 6306801605997
Option 2 ID : 6306801605995
Option 3 ID : 6306801605996
Option 4 ID : 6306801605998

Status : Answered

Chosen Option : 3

Q.37 एक निश्चित तर्क का अनुसरण करते हुए 9, 90 से संबंधित है। उसी तर्क का अनुसरण करते हुए, 12, 156 से संबंधित है। उसी तर्क का उपयोग करते हुए निम्नलिखित में से कौन सी संख्या 72 से संबंधित है?

- Ans
- 1. 8
 - 2. 7
 - 3. 9
 - 4. 6

Question ID : 63068063340
Option 1 ID : 630680244528
Option 2 ID : 630680244527
Option 3 ID : 630680244529
Option 4 ID : 630680244526

Status : Answered

Chosen Option : 1

Q.38 उस विकल्प का चयन करें, जो दिए गए शब्दों के उस सही क्रम को दर्शाता है, जिसमें वे अंग्रेज़ी शब्दकोश में दिखाई देंगे।

1. Purposively
2. Pursuit
3. Purgatory
4. Purify
5. Purports
6. Purchased

- Ans
- 1. 4, 5, 6, 3, 1, 2
 - 2. 6, 3, 4, 5, 1, 2
 - 3. 6, 3, 1, 5, 4, 2
 - 4. 4, 5, 3, 1, 6, 2

Question ID : 630680417406
Option 1 ID : 6306801628387
Option 2 ID : 6306801628388
Option 3 ID : 6306801628389
Option 4 ID : 6306801628390

Status : Answered

Chosen Option : 2

Q.39 दी गई श्रृंखला को पूरा करने के लिए कौन सा अक्षर समूह प्रश्न चिह्न (?) के स्थान पर आ सकता है?
UBIG, PDKL, ?, FHOV, AJQA

- Ans 1. JEMQ
 2. KFMQ
 3. KEMR
 4. LEMR

Question ID : 630680416308
Option 1 ID : 6306801623998
Option 2 ID : 6306801623997
Option 3 ID : 6306801623995
Option 4 ID : 6306801623996
Status : Answered
Chosen Option : 2

Q.40 एक कूट भाषा में 'BEST' को 'GKXZ' के रूप में लिखा जाता है और 'EDGE' को 'JJLK' के रूप में लिखा जाता है। इसी कूट भाषा में 'WIND' को कैसे लिखा जाएगा?

- Ans 1. BSJO
 2. JSOB
 3. SJBO
 4. BOSJ

Question ID : 630680416692
Option 1 ID : 6306801625534
Option 2 ID : 6306801625532
Option 3 ID : 6306801625531
Option 4 ID : 6306801625533
Status : Answered
Chosen Option : 4

Q.41 दिए गए विकल्पों में से उस आकृति का चयन कीजिए, जो निम्नलिखित श्रृंखला में प्रश्न चिह्न (?) को तार्किक रूप से प्रतिस्थापित कर सकती है।

q c α % a	% α q a c	a q % c α	c % a α q	?
---------------------------	---------------------------	---------------------------	---------------------------	---

Ans

✗ 1.

% q α c a

✗ 2.

α a q % c

✓ 3.

α a c q %

✗ 4.

c α % a q

Question ID : 630680867755

Option 1 ID : 6306803398666

Option 2 ID : 6306803398667

Option 3 ID : 6306803398664

Option 4 ID : 6306803398665

Status : Answered

Chosen Option : 3

Q.42 उस समुच्चय का चयन करें जिसमें दी गई संख्याएँ आपस में उसी प्रकार संबंधित हैं, जिस प्रकार प्रश्न में दिए गए समुच्चय की संख्याएँ आपस में संबंधित हैं।
(ध्यान दें: संख्याओं को उनके घटक अंकों में तोड़े बिना, पूर्ण संख्याओं पर गणितीय संक्रियाएँ की जानी चाहिए। जैसे, 13 के मामले में - 13 पर की जाने वाली विभिन्न गणितीय संक्रियाएँ जैसे 13 में जोड़ना / घटाना / गुणा करना आदि 13 पर की जा सकती हैं। लेकिन 13 को 1 और 3 में तोड़ने और फिर 1 और 3 पर गणितीय संक्रियाएँ करने की अनुमति नहीं है।)
(16, 20, 80)
(12, 16, 64)

- Ans
- 1. (11, 15, 70)
 - 2. (19, 23, 82)
 - 3. (18, 22, 88)
 - 4. (20, 25, 100)

Question ID : 630680340903
Option 1 ID : 6306801326053
Option 2 ID : 6306801326055
Option 3 ID : 6306801326056
Option 4 ID : 6306801326054
Status : Answered
Chosen Option : 3

Q.43 मुकेश अपने कार्यालय से सीधे 12 km चला। फिर वह 45° दाएँ मुड़ता है और 8 km चलता है। यहाँ से वह बाएँ मुड़ता है और 7 km चलता है और अंत में बाएँ मुड़कर 11 km चलता है। यदि वह अंत में उत्तर-पश्चिम की ओर जा रहा था, तो उसने अपने कार्यालय से किस दिशा में चलना शुरू किया?

- Ans
- 1. उत्तर
 - 2. पश्चिम
 - 3. दक्षिण
 - 4. पूर्व

Question ID : 630680113411
Option 1 ID : 630680439187
Option 2 ID : 630680439188
Option 3 ID : 630680439189
Option 4 ID : 630680439186
Status : Answered
Chosen Option : 4

Q.44 उस समुच्चय का चयन करें जिसकी संख्याएँ उसी तरह से संबंधित हैं जिस तरह निम्नलिखित समुच्चयों की संख्याएँ संबंधित हैं।

(नोट: संख्याओं को उसके घटक अंकों में तोड़े बिना, पूर्ण संख्याओं पर संक्रियाएँ की जानी चाहिए। उदाहरण के लिए संख्या 13 को लें - 13 पर संक्रियाएँ, जैसे कि 13 में जोड़ना/घटाना/गुणा करना आदि, की जा सकती हैं। 13 को 1 और 3 में तोड़ने और फिर 1 और 3 पर गणितीय संक्रियाएँ करने की अनुमति नहीं है।)

(84, 28, 4)
(147, 49, 7)

- Ans
- 1. (231, 77, 11)
 - 2. (241, 77, 11)
 - 3. (231, 77, 13)
 - 4. (231, 67, 11)

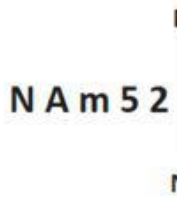
Question ID : 630680344678
Option 1 ID : 6306801341023
Option 2 ID : 6306801341024
Option 3 ID : 6306801341021
Option 4 ID : 6306801341022
Status : Answered
Chosen Option : 1

Q.45 एक निश्चित कूट भाषा में 'SING' को '22121710' और 'FOUR' को '9182421' के रूप में लिखा जाता है। उस भाषा में 'BEAN' कैसे लिखा जाएगा?

- Ans
- 1. 57413
 - 2. 58417
 - 3. 68418
 - 4. 69516

Question ID : 630680416594
Option 1 ID : 6306801625139
Option 2 ID : 6306801625142
Option 3 ID : 6306801625140
Option 4 ID : 6306801625141
Status : Answered
Chosen Option : 2

Q.46 जब दर्पण को नीचे दर्शाए गए अनुसार MN पर रखा जाता है तो दी गई आकृति के सही दर्पण प्रतिबिंब का चयन कीजिए।



- Ans
- 1. 5 2 m A N
 - 2. 2 m A N
 - 3. 2 m A N
 - 4. 2 5 m A N

Question ID : 630680356650
Option 1 ID : 6306801388604
Option 2 ID : 6306801388601
Option 3 ID : 6306801388602
Option 4 ID : 6306801388603
Status : Answered
Chosen Option : 2

Q.47 अंग्रेजी वर्णमाला क्रम पर आधारित, निम्नलिखित चार अक्षर-समूहों में से तीन किसी निश्चित तरीके से समान हैं और इस प्रकार एक समूह बनाते हैं। किस अक्षर-समूह का संबंध उस समूह से नहीं है? (नोट: असंगत अक्षर-समूह, व्यंजनों/स्वरों की संख्या या इस अक्षर-समूह में उनकी स्थिति पर आधारित नहीं है।)

- Ans
- 1. QUS
 - 2. OSP
 - 3. SWT
 - 4. UYV

Question ID : 630680416091
Option 1 ID : 6306801623129
Option 2 ID : 6306801623130
Option 3 ID : 6306801623128
Option 4 ID : 6306801623127
Status : Answered
Chosen Option : 1

Q.48 निम्नलिखित विकल्पों में से कौन सी संख्या दी गई श्रृंखला में प्रश्न चिह्न (?) के स्थान पर आएगी?
46, ?, 81, 100, 120, 141

Ans 1. 59

2. 66

3. 61

4. 63

Question ID : 630680411953

Option 1 ID : 6306801606648

Option 2 ID : 6306801606649

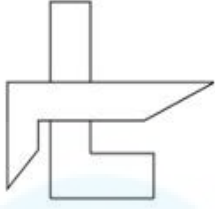
Option 3 ID : 6306801606647

Option 4 ID : 6306801606650

Status : Answered

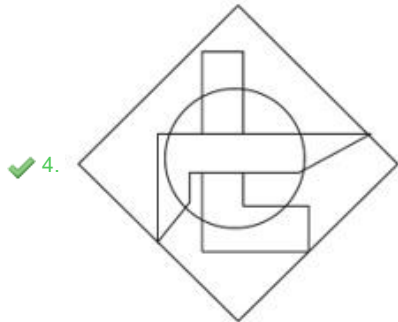
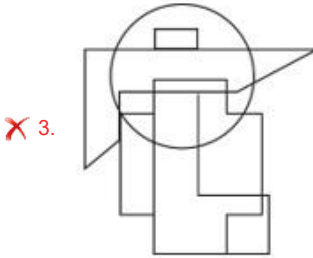
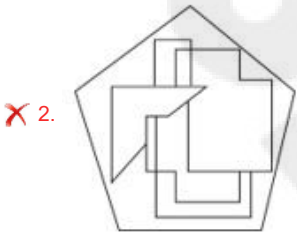
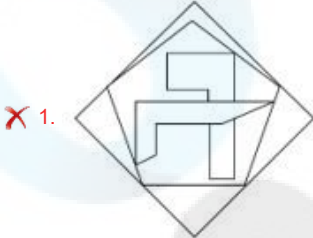
Chosen Option : 4

Q.49 उस विकल्प का चयन कीजिए, जिसमें दी गई आकृति (X) उसके भाग के रूप में सन्नहित है। (घूर्णन की अनुमति नहीं है।)



X

Ans



Question ID : 630680305496

Option 1 ID : 6306801188364

Option 2 ID : 6306801188363

Option 3 ID : 6306801188362

Option 4 ID : 6306801188361

Status : Answered

Chosen Option : 4

Q.50 नीचे एक ही पासे की तीन अलग-अलग स्थितियाँ दर्शाई गई हैं। संख्या '1' दर्शाने वाले फलक के विपरीत फलक की संख्या ज्ञात कीजिए।



Ans ✓ 1. 2

✗ 2. 3

✗ 3. 5

✗ 4. 6

Question ID : 630680318733

Option 1 ID : 6306801239937

Option 2 ID : 6306801239940

Option 3 ID : 6306801239938

Option 4 ID : 6306801239939

Status : Answered

Chosen Option : 1

Section : General Knowledge and General Awareness

Q.1 यो-यो के रिलीज़ होने से पहले उसमें किस प्रकार की ऊर्जा होती है?

Ans ✗ 1. रासायनिक ऊर्जा

✗ 2. गतिज ऊर्जा

✗ 3. प्रकाश ऊर्जा

✓ 4. स्थितिज ऊर्जा

Question ID : 63068076931

Option 1 ID : 630680297823

Option 2 ID : 630680297821

Option 3 ID : 630680297824

Option 4 ID : 630680297822

Status : Not Answered

Chosen Option : --

Q.2 निम्नलिखित में से कौन-से एक गायक नहीं हैं?

Ans ✗ 1. पं. कुमार गंधर्व

✗ 2. पं. भीमसेन जोशी

✗ 3. गंगूबाई हंगल

✓ 4. पं. शिव कुमार शर्मा

Question ID : 630680409335

Option 1 ID : 6306801596172

Option 2 ID : 6306801596169

Option 3 ID : 6306801596170

Option 4 ID : 6306801596171

Status : Answered

Chosen Option : 1

Q.3 संगीत मजूमदार को निम्नलिखित में से किस भारतीय शास्त्रीय नृत्य में उनके योगदान के लिए कासा डे ला, स्पेन द्वारा सम्मानित किया गया था?

- Ans 1. कथक
 2. भरतनाट्यम
 3. मोहिनीअट्टम
 4. कुचिपुडी

Question ID : 630680409344
Option 1 ID : 6306801596207
Option 2 ID : 6306801596205
Option 3 ID : 6306801596206
Option 4 ID : 6306801596208
Status : Not Answered
Chosen Option : --

Q.4 मोहन वीणा वादक पंडित विश्व मोहन भट्ट ने वर्ष _____ में ग्रैमी पुरस्कार जीता था।

- Ans 1. 1996
 2. 1990
 3. 1994
 4. 1992

Question ID : 630680409260
Option 1 ID : 6306801595872
Option 2 ID : 6306801595869
Option 3 ID : 6306801595871
Option 4 ID : 6306801595870
Status : Answered
Chosen Option : 4

Q.5 निम्नलिखित में से कौन-सा खाद्य पदार्थ रक्तचाप बढ़ा सकता है?

- Ans 1. प्रोटीन से भरपूर भोजन
 2. कम नमक और कम चीनी वाला भोजन
 3. फाइबर से भरपूर भोजन
 4. नमक, चीनी और संतृप्त या ट्रांस वसा से भरपूर भोजन

Question ID : 630680102292
Option 1 ID : 630680397452
Option 2 ID : 630680397454
Option 3 ID : 630680397453
Option 4 ID : 630680397451
Status : Answered
Chosen Option : 4

Q.6 उत्तराखंड के किस जिले की दूधटोली पर्वतमाला में से रामगंगा नदी निकलती है?

- Ans 1. अल्मोड़ा
 2. चमोली
 3. चम्पावत
 4. पौड़ी गढ़वाल

Question ID : 630680407448
Option 1 ID : 6306801588732
Option 2 ID : 6306801588730
Option 3 ID : 6306801588733
Option 4 ID : 6306801588731
Status : Answered
Chosen Option : 4

Q.7 भारत की वर्ष 2011 की जनगणना के अनुसार किस केंद्र शासित प्रदेश की साक्षरता दर सबसे कम है?

- Ans 1. दादरा और नगर हवेली
 2. लक्षद्वीप
 3. दिल्ली
 4. अंडमान निकोबार द्वीप समूह

Question ID : 630680112002

Option 1 ID : 630680433735

Option 2 ID : 630680433734

Option 3 ID : 630680433737

Option 4 ID : 630680433736

Status : Answered

Chosen Option : 1

Q.8 नृत्य और संगीत के क्षेत्र में निम्नलिखित में से कौन सा पुरस्कार नहीं दिया जाता है?

- Ans 1. महरी पुरस्कार
 2. कालिदास सम्मान
 3. द्रोणाचार्य पुरस्कार
 4. संगीत नाटक अकादमी पुरस्कार

Question ID : 630680305931

Option 1 ID : 6306801190079

Option 2 ID : 6306801190077

Option 3 ID : 6306801190080

Option 4 ID : 6306801190078

Status : Answered

Chosen Option : 3

Q.9 निम्नलिखित में से कौन-से कथन भारतीय संविधान के संदर्भ में सही हैं?

- सरकार के तीन प्रमुख अंग होते हैं, जिनके नाम विधायिका, कार्यपालिका और न्यायपालिका हैं।
- शक्तियों के बजाय कार्यों का पृथक्करण किया जाता है।
- सरकार के सभी अंग स्वतंत्र होते हैं।

- Ans 1. केवल 1 और 2
 2. 1, 2 और 3
 3. केवल 2 और 3
 4. केवल 1 और 3

Question ID : 630680296974

Option 1 ID : 6306801155459

Option 2 ID : 6306801155462

Option 3 ID : 6306801155461

Option 4 ID : 6306801155460

Status : Answered

Chosen Option : 2

Q.10 सोडियम सल्फेट और बेरियम क्लोराइड की अभिक्रिया में बनने वाले श्वेत अवक्षेप का नाम लिखिए।

- Ans
- 1. सोडियम क्लोराइड
 - 2. बेरियम सल्फेट
 - 3. सोडियम ऑक्साइड
 - 4. बेरियम हाइड्रोजेनक्साइड

Question ID : 630680310223
Option 1 ID : 6306801207021
Option 2 ID : 6306801207024
Option 3 ID : 6306801207022
Option 4 ID : 6306801207023
Status : Answered
Chosen Option : 1

Q.11 _____ को आमतौर पर ग्रीक अक्षर ρ (rho) द्वारा दर्शाया जाता है।

- Ans
- 1. विद्युत प्रतिरोधकता
 - 2. आवेशों का प्रवाह
 - 3. विद्युत चालकता
 - 4. धारा

Question ID : 63068099061
Option 1 ID : 630680384951
Option 2 ID : 630680384950
Option 3 ID : 630680384949
Option 4 ID : 630680384948
Status : Answered
Chosen Option : 1

Q.12 पिछले चार वर्षों की अवधि में क्रीडा और खेलों में उत्कृष्ट प्रदर्शन के लिए और नेतृत्व, खेल कौशल और अनुशासन की भावना दिखाने के लिए _____ दिए जाते हैं।

- Ans
- 1. मौलाना अबुल कलाम आज़ाद (MAKA) ट्रॉफी
 - 2. द्रोणाचार्य पुरस्कार
 - 3. अर्जुन पुरस्कार
 - 4. राष्ट्रीय खेल प्रोत्साहन पुरस्कार

Question ID : 630680303674
Option 1 ID : 6306801181268
Option 2 ID : 6306801181266
Option 3 ID : 6306801181265
Option 4 ID : 6306801181267
Status : Answered
Chosen Option : 3

Q.13 निम्नलिखित में से किस शास्त्रीय नृत्य की शुरुआत वैष्णव संत श्रीमंत शंकरदेव ने की थी?

- Ans
- 1. ओडिसी
 - 2. मणिपुरी
 - 3. सत्तिया
 - 4. कथक

Question ID : 630680309145
Option 1 ID : 6306801202758
Option 2 ID : 6306801202757
Option 3 ID : 6306801202760
Option 4 ID : 6306801202759
Status : Answered
Chosen Option : 3

Q.14 वर्ष 2011 की जनगणना के अनुसार भारत की साक्षरता दर क्या है?

- Ans
- 1. 16.68%
 - 2. 82.14%
 - 3. 72.98%
 - 4. 65.46%

Question ID : 630680409709

Option 1 ID : 6306801597668

Option 2 ID : 6306801597665

Option 3 ID : 6306801597666

Option 4 ID : 6306801597667

Status : Answered

Chosen Option : 3

Q.15 कौन-सा विटामिन लाल रक्त कोशिकाओं के निर्माण, तंत्रिकीय कार्य-प्रणाली और डीएनए संश्लेषण से जुड़ा हुआ है?

- Ans
- 1. विटामिन K
 - 2. विटामिन B7
 - 3. विटामिन E
 - 4. विटामिन B12

Question ID : 630680407470

Option 1 ID : 6306801588821

Option 2 ID : 6306801588820

Option 3 ID : 6306801588818

Option 4 ID : 6306801588819

Status : Answered

Chosen Option : 1

Q.16 बुद्ध खान दिल्ली घराने के एक _____ वादक थे।

- Ans
- 1. बांसुरी
 - 2. सारंगी
 - 3. संतूर
 - 4. सरोद

Question ID : 630680409249

Option 1 ID : 6306801595826

Option 2 ID : 6306801595828

Option 3 ID : 6306801595827

Option 4 ID : 6306801595825

Status : Answered

Chosen Option : 2

Q.17 भूकंप के बारे में दिए गए सत्य या असत्य कथनों की पहचान कीजिए।

कथन 1: जब कोर पर प्रतिबल, घर्षण से आगे बढ़ जाता है, तो भूकंप होता है जो तरंगों में ऐसी ऊर्जा छोड़ता है जो भू-पर्पटी से गुजरती है और ऐसे कंपन का कारण बनती है जिसे हम महसूस करते हैं।
कथन 2: भूकंप की पूर्वकंप के रूप पहचान तब तक नहीं की जा सकती जब तक कि उसी क्षेत्र में बड़ा भूकंप न आ जाए।

- Ans
- 1. केवल कथन 2 सत्य है
 - 2. केवल कथन 1 सत्य है
 - 3. कथन 1 और 2 दोनों असत्य हैं
 - 4. कथन 1 और 2 दोनों सत्य हैं

Question ID : 630680407482

Option 1 ID : 6306801588867

Option 2 ID : 6306801588866

Option 3 ID : 6306801588869

Option 4 ID : 6306801588868

Status : Not Answered

Chosen Option : --

Q.18 लहसुन किसका अच्छा स्रोत है?

- Ans
- 1. मैंगनीज और सेलेनियम
 - 2. मैग्नीशियम और एल्यूमीनियम
 - 3. लोहा और तांबा
 - 4. जिंक और कोबाल्ट

Question ID : 630680407535

Option 1 ID : 6306801589079

Option 2 ID : 6306801589078

Option 3 ID : 6306801589080

Option 4 ID : 6306801589081

Status : Not Answered

Chosen Option : --

Q.19 अलॉन्ग द रेड रिवर: ए मेमॉयर (Along The Red River: A Memoir) निम्नलिखित में से किसके जीवन के बारे में लिखी गई पुस्तक है।

- Ans
- 1. मित्रा फुकन (Mitra Phukan)
 - 2. निरुपमा बोरगोहेन (Nirupama Borgohain)
 - 3. सबिता गोस्वामी (Sabita Goswami)
 - 4. पुष्पलता दास (Pushpalata Das)

Question ID : 630680409381

Option 1 ID : 6306801596356

Option 2 ID : 6306801596355

Option 3 ID : 6306801596354

Option 4 ID : 6306801596353

Status : Not Answered

Chosen Option : --

Q.20 निम्नलिखित में से कौन-सा नेता चंपारण में किसानों की दुर्दशा देखने के लिए महात्मा गांधी को आमंत्रित करने लखनऊ गया था?

- Ans
- 1. हसन मोहानी
 - 2. राजेन्द्र प्रसाद
 - 3. राज कुमार शुक्ला
 - 4. जे.बी. कृपलानी

Question ID : 630680412423
Option 1 ID : 6306801608518
Option 2 ID : 6306801608516
Option 3 ID : 6306801608517
Option 4 ID : 6306801608515
Status : Not Answered
Chosen Option : --

Q.21 मुगल काल में लड़ी गई निम्नलिखित लड़ाइयों को सही कालानुक्रम में व्यवस्थित कीजिए।

- a. खानवा का युद्ध
- b. पानीपत का प्रथम युद्ध
- c. घाघरा का युद्ध
- d. चौसा का युद्ध

- Ans
- 1. b, a, c, d
 - 2. d, a, b, c
 - 3. c, a, d, b
 - 4. a, c, b, d

Question ID : 630680184289
Option 1 ID : 630680714165
Option 2 ID : 630680714168
Option 3 ID : 630680714167
Option 4 ID : 630680714166
Status : Answered
Chosen Option : 1

Q.22 आरबीआई अधिनियम, आरबीआई मौद्रिक नीति समिति (MPC) में कितने सदस्यों के लिए प्रावधान करता है?

- Ans
- 1. 6
 - 2. 8
 - 3. 4
 - 4. 5

Question ID : 630680407149
Option 1 ID : 6306801587540
Option 2 ID : 6306801587541
Option 3 ID : 6306801587538
Option 4 ID : 6306801587539
Status : Answered
Chosen Option : 4

Q.23 1991 में आर्थिक सुधारों के लिए निम्नलिखित में से कौन-सा कारक नहीं था?

- Ans
- 1. अर्थव्यवस्था में मुद्रास्फीति थी।
 - 2. देश के राजकोषीय घाटे में वृद्धि हुई थी।
 - 3. भारत के विदेशी भंडार में गिरावट आई थी।
 - 4. अर्थव्यवस्था में मंदी थी।

Question ID : 630680407176

Option 1 ID : 6306801587647

Option 2 ID : 6306801587648

Option 3 ID : 6306801587649

Option 4 ID : 6306801587646

Status : Not Answered

Chosen Option : --

Q.24 2022 तक प्राप्त जानकारी के अनुसार, निम्नलिखित में से कौन-सा भारत का सबसे लंबा राष्ट्रीय जलमार्ग है?

- Ans
- 1. कोट्टापूरम-कोल्लम खंड
 - 2. गोदावरी-कृष्णा खंड
 - 3. इलाहबाद-हल्दिया खंड
 - 4. सदिया-धुबरी खंड

Question ID : 630680409695

Option 1 ID : 6306801597612

Option 2 ID : 6306801597610

Option 3 ID : 6306801597609

Option 4 ID : 6306801597611

Status : Not Answered

Chosen Option : --

Q.25 स्थलमंडल, वायुमंडल और जलमंडल के माध्यम से जल के निरंतर संचलन के लिए एक शब्द _____ है।

- Ans
- 1. जल परिसंचरण
 - 2. जलीय चक्र
 - 3. तरलस्थैतिक साम्यावस्था
 - 4. जल साम्यावस्था चक्र

Question ID : 630680210495

Option 1 ID : 630680816139

Option 2 ID : 630680816140

Option 3 ID : 630680816141

Option 4 ID : 630680816142

Status : Answered

Chosen Option : 1

Q.26 भारत में समुद्री परिवहन के लिए कितने प्रमुख बंदरगाह हैं?

- Ans
- 1. 13
 - 2. 21
 - 3. 18
 - 4. 15

Question ID : 630680409728

Option 1 ID : 6306801597741

Option 2 ID : 6306801597744

Option 3 ID : 6306801597743

Option 4 ID : 6306801597742

Status : Answered

Chosen Option : 1

Q.27 निम्नलिखित में से कौन-सी नदी भूमध्य रेखा के दक्षिण से निकलती है और उत्तर-पूर्वी अफ्रीका से होकर भूमध्य सागर में गिरती है?

- Ans
- 1. कांगो नदी
 - 2. एमेज़न नदी
 - 3. नील नदी
 - 4. लीना नदी

Question ID : 63068076888
Option 1 ID : 630680297652
Option 2 ID : 630680297650
Option 3 ID : 630680297649
Option 4 ID : 630680297651
Status : Not Answered
Chosen Option : --

Q.28 भारतीय संविधान के किस अनुच्छेद में राज्य विधानमंडल की सदस्यता के लिए योग्यता का उल्लेख है?

- Ans
- 1. अनुच्छेद 180
 - 2. अनुच्छेद 171
 - 3. अनुच्छेद 173
 - 4. अनुच्छेद 179

Question ID : 630680408218
Option 1 ID : 6306801591770
Option 2 ID : 6306801591768
Option 3 ID : 6306801591767
Option 4 ID : 6306801591769
Status : Not Answered
Chosen Option : --

Q.29 भारत के संविधान का अनुच्छेद 50 _____ को संदर्भित करता है।

- Ans
- 1. राज्यपाल की नियुक्ति
 - 2. प्रारंभिक शिक्षा के अधिकार
 - 3. न्यायपालिका के कार्यपालिका से पृथक्करण
 - 4. सीटों के आरक्षण

Question ID : 630680408207
Option 1 ID : 6306801591725
Option 2 ID : 6306801591724
Option 3 ID : 6306801591726
Option 4 ID : 6306801591723
Status : Answered
Chosen Option : 3

Q.30 पर्वतीय वनों (Montane forests) में, निम्नलिखित में से किस प्रकार की वन्यजीव प्रजातियां पाई जाती हैं?

- Ans
- 1. बिच्छू
 - 2. स्लॉथ
 - 3. याक
 - 4. घोंघा

Question ID : 630680869488
Option 1 ID : 6306803405387
Option 2 ID : 6306803405386
Option 3 ID : 6306803405385
Option 4 ID : 6306803405388
Status : Not Answered
Chosen Option : --

Q.31 विकास, जैसा कि पंचवर्षीय योजनाओं में परिकल्पना की गई है, का तात्पर्य है:

- Ans
- 1. देश में समता की स्थिति में सुधार
 - 2. देश में शिक्षा एवं प्राथमिक स्वास्थ्य के स्तर में सुधार
 - 3. देश के भीतर वस्तुओं और सेवाओं के उत्पादन की क्षमता में वृद्धि
 - 4. अपनी भौगोलिक सीमाओं के भीतर, अपनी आवश्यकता की सभी वस्तुओं और सेवाओं के उत्पादन में आत्मनिर्भरता

Question ID : 630680407129
Option 1 ID : 6306801587458
Option 2 ID : 6306801587460
Option 3 ID : 6306801587459
Option 4 ID : 6306801587461
Status : Answered
Chosen Option : 4

Q.32 कौन-सा त्योहार भगवान कृष्ण के जन्म के रूप में मनाया जाता है?

- Ans
- 1. जनमाष्टमी
 - 2. गणेश चतुर्थी
 - 3. नवरात्रि
 - 4. दिवाली

Question ID : 630680409210
Option 1 ID : 6306801595671
Option 2 ID : 6306801595670
Option 3 ID : 6306801595669
Option 4 ID : 6306801595672
Status : Answered
Chosen Option : 1

Q.33 मान्यखेट या मालखेड निम्नलिखित में से किस साम्राज्य की राजधानी थी?

- Ans
- 1. शक
 - 2. कुषाण
 - 3. सातवाहन
 - 4. राष्ट्रकुट

Question ID : 630680412513
Option 1 ID : 6306801608877
Option 2 ID : 6306801608875
Option 3 ID : 6306801608878
Option 4 ID : 6306801608876
Status : Answered
Chosen Option : 4

Q.34 बेरिलियम में उपस्थित प्रोटॉनों की संख्या कितनी है?

- Ans
- 1. 1
 - 2. 3
 - 3. 2
 - 4. 4

Question ID : 630680133821
Option 1 ID : 630680518225
Option 2 ID : 630680518224
Option 3 ID : 630680518222
Option 4 ID : 630680518223
Status : Not Answered
Chosen Option : --

Q.35 1936 में गोदान पुस्तक _____ द्वारा लिखी गई थी।

- Ans
- 1. महात्मा गाँधी
 - 2. मुल्क राज आनंद
 - 3. मुंशी प्रेमचंद
 - 4. जवाहरलाल नेहरू

Question ID : 630680701389

Option 1 ID : 6306802747495

Option 2 ID : 6306802747494

Option 3 ID : 6306802747493

Option 4 ID : 6306802747496

Status : Answered

Chosen Option : 3

Q.36 रस के संबंध में दिए गए कथनों के आधार पर सही विकल्प का चयन करें।
कथन I: यह एक कलात्मक प्रस्तुति का आनंद लेने के दौरान प्राप्त होने वाला सौंदर्यपरक अनुभव है।
कथन II: यह दर्शक या सौंदर्यप्रेमी में मानवीय भावनाओं के निर्माण से संबंधित है।

- Ans
- 1. न तो कथन I और न ही कथन II सत्य है।
 - 2. केवल कथन I सत्य है।
 - 3. कथन I और कथन II, दोनों सत्य हैं।
 - 4. केवल कथन II सत्य है।

Question ID : 630680409181

Option 1 ID : 6306801595556

Option 2 ID : 6306801595553

Option 3 ID : 6306801595555

Option 4 ID : 6306801595554

Status : Not Answered

Chosen Option : --

Q.37 यदि कर योग्य आधार में वृद्धि के साथ कर की दर घट जाती है, तो इस प्रकार के कराधान को _____ कहा जाता है।

- Ans
- 1. प्रतिगामी (regressive)
 - 2. हासमान आरोही (degressive)
 - 3. वर्धमान (increasing)
 - 4. प्रगामी (progressive)

Question ID : 630680407140

Option 1 ID : 6306801587502

Option 2 ID : 6306801587503

Option 3 ID : 6306801587505

Option 4 ID : 6306801587504

Status : Answered

Chosen Option : 2

Q.38 भारतीय संविधान के अनुसार, देश के लिए कानून और नीतियाँ बनाने की शक्ति किसके पास होती है?

- Ans
- 1. राजनीतिक दलों
 - 2. राजनीतिक दबाव समूह
 - 3. संसद
 - 4. प्रधानमंत्री

Question ID : 630680408296
Option 1 ID : 6306801592080
Option 2 ID : 6306801592079
Option 3 ID : 6306801592081
Option 4 ID : 6306801592082
Status : Answered
Chosen Option : 3

Q.39 भारत सरकार में भारतीयों की भागीदारी का विस्तार करने के लिए यूनाइटेड किंगडम की संसद द्वारा पारित भारत सरकार अधिनियम 1919 के तहत राज्य परिषद में कितने सदस्य (निर्वाचित और मनोनीत) थे?

- Ans
- 1. 60
 - 2. 50
 - 3. 75
 - 4. 70

Question ID : 630680118821
Option 1 ID : 630680460387
Option 2 ID : 630680460386
Option 3 ID : 630680460389
Option 4 ID : 630680460388
Status : Answered
Chosen Option : 3

Q.40 निम्नलिखित में से किसने मानवीय और सामाजिक कार्य करने के लिए रामकृष्ण मिशन की स्थापना की?

- Ans
- 1. देवेन्द्रनाथ टैगोर
 - 2. ईश्वर चंद्र विद्यासागर
 - 3. अरबिंदो घोष
 - 4. स्वामी विवेकानंद

Question ID : 630680326446
Option 1 ID : 6306801269875
Option 2 ID : 6306801269873
Option 3 ID : 6306801269874
Option 4 ID : 6306801269876
Status : Answered
Chosen Option : 4

Q.41 कौन-सी तरंग ध्वनि तरंग की गति के समानांतर दोलन करती है?

- Ans
- 1. अनुदैर्घ्य तरंग
 - 2. अनुप्रस्थ तरंग
 - 3. यांत्रिक तरंग
 - 4. विद्युत चुम्बकीय तरंग

Question ID : 63068076938
Option 1 ID : 630680297852
Option 2 ID : 630680297851
Option 3 ID : 630680297850
Option 4 ID : 630680297849
Status : Not Answered
Chosen Option : --

Q.42 अशोक ने अपने पुत्र महेंद्र और पुत्री संघमित्रा को धम्म का प्रचार करने के लिए निम्नलिखित में से किस देश में भेजा था?

- Ans
- 1. बर्मा
 - 2. अफ़ग़ानिस्तान
 - 3. श्रीलंका
 - 4. चीन

Question ID : 630680412353
Option 1 ID : 6306801608235
Option 2 ID : 6306801608237
Option 3 ID : 6306801608238
Option 4 ID : 6306801608236
Status : Not Answered
Chosen Option : --

Q.43 निम्नलिखित में से किसे भारत में हरित क्रांति में उनके योगदान के लिए भारत रत्न से सम्मानित किया गया था?

- Ans
- 1. ए.पी.जे. अब्दुल कलाम
 - 2. गोविंद बल्लभ पंत
 - 3. पी.वी. काणे
 - 4. सी. सुब्रमण्यम

Question ID : 630680407187
Option 1 ID : 6306801587692
Option 2 ID : 6306801587690
Option 3 ID : 6306801587693
Option 4 ID : 6306801587691
Status : Answered
Chosen Option : 2

Q.44 अंतर्राष्ट्रीय ओलंपिक समिति की स्थापना वर्ष _____ में हुई थी।

- Ans
- 1. 1890
 - 2. 1892
 - 3. 1894
 - 4. 1896

Question ID : 630680192730
Option 1 ID : 630680747465
Option 2 ID : 630680747466
Option 3 ID : 630680747467
Option 4 ID : 630680747468
Status : Answered
Chosen Option : 2

Q.45 भारतीय संविधान के अनुसार राज्य में मंत्रिपरिषद की न्यूनतम संख्या _____ है।

- Ans
- 1. 13 व्यक्ति
 - 2. 12 व्यक्ति
 - 3. 14 व्यक्ति
 - 4. 15 व्यक्ति

Question ID : 630680408323
Option 1 ID : 6306801592188
Option 2 ID : 6306801592187
Option 3 ID : 6306801592189
Option 4 ID : 6306801592190
Status : Answered
Chosen Option : 2

Q.46 निम्नलिखित में से कौन टोक्यो ओलंपिक-2020 में, एकल ओलंपिक में सात पदक जीतने वाली पहली महिला तैराक थी?

- Ans 1. एमा मैकियन (Emma McKeon)
 2. रेगन स्मिथ (Regan Smith)
 3. मैरी हन्ना (Mary Hanna)
 4. काइली मास (Kylie Masse)

Question ID : 630680192722
Option 1 ID : 630680747433
Option 2 ID : 630680747436
Option 3 ID : 630680747434
Option 4 ID : 630680747435
Status : Not Answered
Chosen Option : --

Q.47 _____ पहले तेज गेंदबाज थे, जो भारतीय टेस्ट टीम के कप्तान थे।

- Ans 1. जहीर खान
 2. जसप्रीत बुमराह
 3. जवागल श्रीनाथ
 4. कपिल देव

Question ID : 630680177038
Option 1 ID : 630680686358
Option 2 ID : 630680686357
Option 3 ID : 630680686359
Option 4 ID : 630680686356
Status : Answered
Chosen Option : 2

Q.48 हिंदू पंचाग के चैत्र मास के पहले दिन, उगादी मुख्य रूप से निम्नलिखित में से किस राज्य में मनाया जाता है?

- Ans 1. उत्तराखंड
 2. ओडिशा
 3. कर्नाटक
 4. असम

Question ID : 630680410362
Option 1 ID : 6306801600182
Option 2 ID : 6306801600179
Option 3 ID : 6306801600180
Option 4 ID : 6306801600181
Status : Answered
Chosen Option : 2

Q.49 भारतीय संविधान का कौन-सा अनुच्छेद संघीय कार्यपालिका से संबंधित है?

- Ans 1. अनुच्छेद 80 से 86
 2. अनुच्छेद 52 से 78
 3. अनुच्छेद 38 से 50
 4. अनुच्छेद 112 से 118

Question ID : 630680408213
Option 1 ID : 6306801591748
Option 2 ID : 6306801591749
Option 3 ID : 6306801591747
Option 4 ID : 6306801591750
Status : Answered
Chosen Option : 1

Q.50 निम्नलिखित में से कौन-सी घटना, भारत में मानसून से संबंधित नहीं है?

- Ans
- 1. अरब सागर शाखा
 - 2. बादल फटना
 - 3. पश्चिमी विक्षोभ
 - 4. वर्षा अंतराल

Question ID : 630680409671

Option 1 ID : 6306801597514

Option 2 ID : 6306801597513

Option 3 ID : 6306801597516

Option 4 ID : 6306801597515

Status : Not Answered

Chosen Option : --

Section : Quantitative Aptitude

Q.1 एक आदमी 48 km नाव चलाता है और 48 घंटे में वापस आता है। वह धारा के अनुकूल 4 km की दूरी उतने ही समय में तय कर सकता है जितने समय में धारा के विपरीत 3 km की दूरी तय करता है। धारा की चाल (km/h में) ज्ञात करें।

- Ans
- 1. $\frac{7}{24}$
 - 2. $\frac{3}{29}$
 - 3. $\frac{7}{21}$
 - 4. $\frac{5}{21}$

Question ID : 630680428812

Option 1 ID : 6306801673293

Option 2 ID : 6306801673295

Option 3 ID : 6306801673292

Option 4 ID : 6306801673294

Status : Answered

Chosen Option : 1

Q.2 3 इकाई त्रिज्या वाली धातु की गेंद को पिघलाकर 27 समान पासे और 1 इकाई त्रिज्या की एक गेंद बनाई जाती है। पासे की भुजा कितनी है?

- Ans
- 1. 1.6 इकाई
 - 2. 1.4 इकाई
 - 3. 1.5 इकाई
 - 4. 1.7 इकाई

Question ID : 63068076302

Option 1 ID : 630680295309

Option 2 ID : 630680295312

Option 3 ID : 630680295310

Option 4 ID : 630680295311

Status : Not Answered

Chosen Option : --

Q.3 निम्नलिखित व्यंजक का मान ज्ञात कीजिए।

$$(1 + \tan \theta + \sec \theta) \times (1 + \cot \theta - \operatorname{cosec} \theta)$$

- Ans
- 1. 1
 - 2. $\tan \theta$
 - 3. $\cos \theta \sin \theta$
 - 4. 2

Question ID : 630680349843
Option 1 ID : 6306801361663
Option 2 ID : 6306801361662
Option 3 ID : 6306801361661
Option 4 ID : 6306801361664
Status : Answered
Chosen Option : 4

Q.4 दो स्टेशनों A और B के बीच की दूरी 800 km है। एक ट्रेन A से B तक की दूरी 90 km/h की चाल से तय करती है और 65 km/h की एकसमान चाल से A पर वापस आती है। पूरी यात्रा के दौरान ट्रेन की औसत चाल (km/h में) कितनी थी?

- Ans
- 1. 75.48
 - 2. 80.50
 - 3. 70.45
 - 4. 82.36

Question ID : 630680428645
Option 1 ID : 6306801672625
Option 2 ID : 6306801672624
Option 3 ID : 6306801672626
Option 4 ID : 6306801672627
Status : Not Answered
Chosen Option : --

Q.5 एक त्रिभुज का क्षेत्रफल 486 cm^2 है और इसकी भुजाएँ 3:4:5 के अनुपात में हैं। त्रिभुज की परिधि ज्ञात करें।

- Ans
- 1. 308 cm
 - 2. 108 cm
 - 3. 218 cm
 - 4. 105 cm

Question ID : 630680421616
Option 1 ID : 6306801644930
Option 2 ID : 6306801644927
Option 3 ID : 6306801644928
Option 4 ID : 6306801644929
Status : Answered
Chosen Option : 2

Q.6 एक व्यापारी अपने सामान पर 40% की छूट देता है। इसके अलावा, वह उस सामान पर 20% की अतिरिक्त छूट देता है। इन दो क्रमिक छूटों के समतुल्य एकल छूट ज्ञात कीजिए।

- Ans
- 1. 50%
 - 2. 30%
 - 3. 60%
 - 4. 52%

Question ID : 630680428577

Option 1 ID : 6306801672355

Option 2 ID : 6306801672354

Option 3 ID : 6306801672352

Option 4 ID : 6306801672353

Status : Answered

Chosen Option : 4

Q.7

यदि $x + \frac{1}{1 + \frac{1}{3 + \frac{1}{2}}} = 1$ है, तो x का मान कितना होगा?

- Ans
- 1. $\frac{7}{9}$
 - 2. $\frac{3}{7}$
 - 3. $\frac{2}{9}$
 - 4. $\frac{1}{7}$

Question ID : 630680428268

Option 1 ID : 6306801671119

Option 2 ID : 6306801671118

Option 3 ID : 6306801671116

Option 4 ID : 6306801671117

Status : Answered

Chosen Option : 3

Q.8 छेदक रेखा CD वृत्त को E पर प्रतिच्छेदित करती है और CF वृत्त पर F पर स्पर्शरेखा है। यदि छेदक रेखा CD की लंबाई 20 cm है और स्पर्शरेखा CF की लंबाई 15 cm है, तो जीवा DE की लंबाई ज्ञात कीजिए।

- Ans
- 1. 3.75 cm
 - 2. 11.25 cm
 - 3. 8.75 cm
 - 4. 9.25 cm

Question ID : 630680421379

Option 1 ID : 6306801643981

Option 2 ID : 6306801643980

Option 3 ID : 6306801643979

Option 4 ID : 6306801643982

Status : Answered

Chosen Option : 3

Q.9 दी गई तालिका का अध्ययन करें और निम्नलिखित प्रश्न का उत्तर दें।
तालिका में 1989 से 1994 तक एक कंपनी द्वारा पांच विभिन्न प्रकार की कारों के उत्पादन को दर्शाया गया है।

Year → Type ↓	1989	1990	1991	1992	1993	1994	Total
P	8	20	16	17	21	6	88
Q	16	10	14	12	12	14	78
R	21	17	16	15	13	8	90
S	4	6	10	16	20	31	87
T	25	18	19	30	14	27	133
Total	74	71	75	90	80	86	476

1993 में सभी प्रकार की कारों के कुल उत्पादन का 25% भाग किस प्रकार की कार का था?
Year - वर्ष Type - प्रकार Total - कुल

- Ans
- 1. Q
 - 2. S
 - 3. P
 - 4. R

Question ID : 630680428278
Option 1 ID : 6306801671157
Option 2 ID : 6306801671159
Option 3 ID : 6306801671156
Option 4 ID : 6306801671158
Status : Answered
Chosen Option : 2

Q.10 $\frac{1}{2^2} + \frac{1}{2^3} \div \left(\frac{1}{2} + \frac{1}{2} \div 1\right) + 3\frac{1}{3} \div \frac{5}{2} \times \frac{3}{4} \div 6\frac{2}{3} \times \frac{7}{6}$ is:

का मान क्या है?

- Ans
- 1. $\frac{11}{30}$
 - 2. $\frac{21}{20}$
 - 3. $\frac{11}{20}$
 - 4. $\frac{7}{40}$

Question ID : 630680427960
Option 1 ID : 6306801669886
Option 2 ID : 6306801669887
Option 3 ID : 6306801669884
Option 4 ID : 6306801669885
Status : Not Answered
Chosen Option : --

Q.11 निम्नलिखित तालिका वर्ष 2016 - 2020 के दौरान एक गाँव में पुरुषों, महिलाओं, शिक्षित पुरुषों और शिक्षित महिलाओं की संख्या प्रदर्शित करती है। तालिका का ध्यानपूर्वक अध्ययन करें और प्रश्न का उत्तर दें।

वर्ष	2016	2017	2018	2019	2020
पुरुष	1050	1200	1250	1300	1400
महिला	900	1000	1020	1100	1200
शिक्षित पुरुष	850	1000	1100	1150	1200
शिक्षित महिला	600	820	950	980	1000

सभी वर्षों में शिक्षित महिलाओं की कुल संख्या का कुल महिलाओं की संख्या से प्रतिशत ज्ञात कीजिए। (2 दशमलव स्थानों तक)

- Ans
- 1. 0.8623
 - 2. 0.8923
 - 3. 0.8333
 - 4. 0.9233

Question ID : 630680869712
Option 1 ID : 6306803406216
Option 2 ID : 6306803406217
Option 3 ID : 6306803406215
Option 4 ID : 6306803406214
Status : Answered
Chosen Option : 3

Q.12 निम्नलिखित तालिका मुंबई, राजस्थान, उत्तर प्रदेश और उत्तराखंड स्टॉक एक्सचेंजों में क्रय-विक्रय (ट्रेड) किए गए शेयरों को दर्शाती है।

कंपनी का नाम	मुंबई		उत्तराखंड		राजस्थान		उत्तर प्रदेश	
	उच्च	दर	उच्च	दर	उच्च	दर	उच्च	दर
आटा टी	540	395	450	4255	320	510	440	310
कोलगेट	34	57	60	42	25	60	20	70
जंबुजा सीमेंट	150	155	120	125	160	135	145	170

जंबुजा सीमेंट के लिए, शेयर की उच्च दर और निम्न दर का अनुपात किस स्टॉक एक्सचेंज में अधिकतम है?

- Ans
- 1. उत्तर प्रदेश
 - 2. उत्तराखंड
 - 3. मुंबई
 - 4. राजस्थान

Question ID : 630680429252
Option 1 ID : 6306801675055
Option 2 ID : 6306801675053
Option 3 ID : 6306801675052
Option 4 ID : 6306801675054
Status : Answered
Chosen Option : 2

Q.13 उस वृत्त के वृत्तखंड का क्षेत्रफल कितना है जिसकी त्रिज्या 35 cm है और जिसकी चाप वृत्त के केंद्र पर 72° का कोण अंतरित करती है?

$$\left(\pi = \frac{22}{7}\right)$$

- Ans
- 1. 610 cm^2
 - 2. 770 cm^2
 - 3. 810 cm^2
 - 4. 970 cm^2

Question ID : 630680421441

Option 1 ID : 6306801644228

Option 2 ID : 6306801644229

Option 3 ID : 6306801644227

Option 4 ID : 6306801644230

Status : Answered

Chosen Option : 2

Q.14 निम्न तालिका पाँच वर्षों में एक कंपनी का सकल टर्नओवर (करोड़ों में) दर्शाती है:

वर्ष	सकल टर्नओवर
2015	13
2016	20
2017	15
2018	23
2019	25

2017 का सकल टर्नओवर. 2019 के सकल टर्नओवर का कितना प्रतिशत है?

- Ans
- 1. 6
 - 2. 16
 - 3. 60
 - 4. 0.06

Question ID : 630680349028

Option 1 ID : 6306801358403

Option 2 ID : 6306801358402

Option 3 ID : 6306801358401

Option 4 ID : 6306801358404

Status : Answered

Chosen Option : 3

Q.15 एक इलेक्ट्रॉनिक स्टोर में, एक इमर्शन रॉड का अंकित मूल्य ₹900 है। स्टोर इसकी बिक्री पर 12% की छूट प्रदान करता है। ग्राहक इसे इलेक्ट्रॉनिक स्टोर से किस कीमत पर (₹ में) खरीद सकता है?

Ans ✓ 1. 792

✗ 2. 787

✗ 3. 782

✗ 4. 797

Question ID : 630680869673

Option 1 ID : 6306803406060

Option 2 ID : 6306803406059

Option 3 ID : 6306803406058

Option 4 ID : 6306803406061

Status : Answered

Chosen Option : 1

Q.16 $\frac{7 + 8 \times 8 \div 8 \text{ of } 8 + 8 \div 8 \times 5}{4 \div 4 \text{ of } 4 + 4 \times 4 \div 4 - 4 \div 4}$ का मान ज्ञात कीजिए।

Ans ✗ 1. 3

✓ 2. 4

✗ 3. 2

✗ 4. 1

Question ID : 630680428082

Option 1 ID : 6306801670374

Option 2 ID : 6306801670375

Option 3 ID : 6306801670373

Option 4 ID : 6306801670372

Status : Answered

Chosen Option : 2

Q.17 $(12 + 18) \div 2 - 11 + 16 \times 4 - 28 + 13(-18 + 15)$ का मान ज्ञात कीजिए।

Ans ✓ 1. 1

✗ 2. 0

✗ 3. 2

✗ 4. 3

Question ID : 630680428204

Option 1 ID : 6306801670861

Option 2 ID : 6306801670860

Option 3 ID : 6306801670862

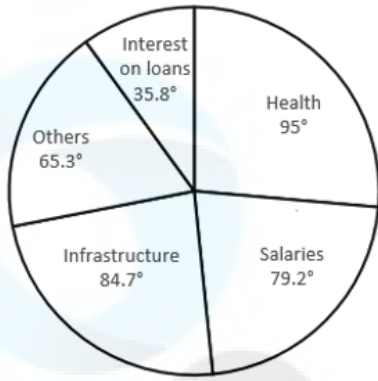
Option 4 ID : 6306801670863

Status : Answered

Chosen Option : 1

Q.18 दिए गए पाई-ग्राफ का अध्ययन कीजिए और निम्नलिखित प्रश्न का उत्तर दीजिए।

इस पाई-आरेख में किसी निश्चित कंपनी में, वार्षिक बजट के विभिन्न क्षेत्रों के लिए ₹7,200 करोड़ का आवंटन दर्शाया गया है।



Interest on loans- ऋण पर ब्याज, others- अन्य, Health- स्वास्थ्य, Infrastructure- इंफ्रास्ट्रक्चर, Salaries- वेतन

इंफ्रास्ट्रक्चर पर व्यय (₹ में) _____ है।

- Ans
- ✓ 1. ₹1,694 crores
 - ✗ 2. ₹6,098 crores
 - ✗ 3. ₹1,649 crores
 - ✗ 4. ₹6,089 crores

Question ID : 630680387894
Option 1 ID : 6306801512201
Option 2 ID : 6306801512198
Option 3 ID : 6306801512199
Option 4 ID : 6306801512200
Status : Answered
Chosen Option : 1

Q.19 राजन और रजत किसी कार्य को क्रमशः 64 दिन और 48 दिन में पूरा कर सकते हैं। रजत से शुरू करते हुए, दोनों एकांतर दिनों में बारी-बारी से कार्य करते हैं। कार्य कितने दिनों में पूरा होगा?

- Ans
- ✗ 1. $55\frac{3}{4}$
 - ✗ 2. 54
 - ✗ 3. 55
 - ✓ 4. $54\frac{3}{4}$

Question ID : 630680428409
Option 1 ID : 6306801671683
Option 2 ID : 6306801671680
Option 3 ID : 6306801671682
Option 4 ID : 6306801671681
Status : Answered
Chosen Option : 3

Q.20 63 - [15 + {17 - (9 - 7 + 1)}] को सरल कीजिए।

Ans ✓ 1. 34

✗ 2. 44

✗ 3. 40

✗ 4. 30

Question ID : 630680428123

Option 1 ID : 6306801670538

Option 2 ID : 6306801670539

Option 3 ID : 6306801670536

Option 4 ID : 6306801670537

Status : Answered

Chosen Option : 1

Q.21 दी गई तालिका का अध्ययन कीजिए और नीचे दिए गए प्रश्न का उत्तर दीजिए।

तालिका तीन अलग-अलग केंद्रों A, B, C पर मतदाताओं की संख्या दर्शाती है।

केंद्र	पंजीकृत मतदाताओं की कुल संख्या	मतदान करने वाले लोगों का प्रतिशत (पंजीकृत मतदाताओं की कुल संख्या में से)
A	4600	78
B	5400	70
C	6500	85

केंद्र B पर मतदान नहीं करने वालों की संख्या, केंद्र C पर मतदान नहीं करने वालों की संख्या से कितने प्रतिशत अधिक है?

Ans ✓ 1. $66\frac{2}{13}\%$

✗ 2. $66\frac{3}{13}\%$

✗ 3. $66\frac{1}{13}\%$

✗ 4. $66\frac{5}{13}\%$

Question ID : 630680428313

Option 1 ID : 6306801671298

Option 2 ID : 6306801671297

Option 3 ID : 6306801671296

Option 4 ID : 6306801671299

Status : Answered

Chosen Option : 1

Q.22 $\frac{\tan 71^\circ + \tan 19^\circ}{1 - \tan 71^\circ \tan 19^\circ}$ को सरल कीजिए।

Ans 1. 0

2. $\sqrt{3}$

3. 1

4. Not defined

Question ID : 630680869598

Option 1 ID : 6306803405774

Option 2 ID : 6306803405776

Option 3 ID : 6306803405775

Option 4 ID : 6306803405777

Status : Answered

Chosen Option : 4

Q.23 दी गई तालिका का अध्ययन करें और निम्नलिखित प्रश्न का उत्तर दें।
तालिका में 1985 से 1989 तक पांच अलग-अलग कारखानों (P, Q, R, S और T) में स्कूटरों का वार्षिक उत्पादन (हजार में) दर्शाया गया है।

Yearly production (in thousands) of scooters in different factories.

Factory	1985	1986	1987	1988	1989
P	20	15	24	13	17
Q	16	23	41	20	15
R	14	21	30	16	12
S	25	17	15	12	22
T	40	32	39	41	35
Total	115	108	149	102	101

1985 में फैक्ट्री P और फैक्ट्री T द्वारा स्कूटरों के उत्पादन का अनुपात क्या है?

Yearly production (in thousands) of scooters in different factories - अलग-अलग कारखानों में स्कूटर का वार्षिक उत्पादन (हजार में) factory - कारखाना Total - कुल

Ans 1. 2 : 3

2. 1 : 2

3. 3 : 2

4. 2 : 1

Question ID : 630680428274

Option 1 ID : 6306801671142

Option 2 ID : 6306801671140

Option 3 ID : 6306801671143

Option 4 ID : 6306801671141

Status : Answered

Chosen Option : 2

Q.24

$\frac{(275 \times 275 \times 275 + 725 \times 725 \times 725)}{(275 \times 275 + 725 \times 725 - 725 \times 275)} \times \frac{(275 \times 275 \times 275 - 725 \times 725 \times 725)}{(275 \times 275 + 725 \times 725 + 725 \times 275)}$ का मान ज्ञात करें।

- Ans
- 1. 45000
 - 2. -450000
 - 3. 450000
 - 4. -45000

Question ID : 630680107182

Option 1 ID : 630680416113

Option 2 ID : 630680416112

Option 3 ID : 630680416115

Option 4 ID : 630680416114

Status : Answered

Chosen Option : 2

Q.25 एक घनाभ के आयतन में कुल प्रतिशत परिवर्तन क्या है, यदि इसकी लंबाई और चौड़ाई में क्रमशः 15% और 25% की कमी की जाती है, जबकि इसकी ऊँचाई में 60% की वृद्धि की जाती है?

- Ans
- 1. 5% की वृद्धि
 - 2. 5% की कमी
 - 3. 2% की वृद्धि
 - 4. 2% की कमी

Question ID : 630680428905

Option 1 ID : 6306801673667

Option 2 ID : 6306801673665

Option 3 ID : 6306801673664

Option 4 ID : 6306801673666

Status : Answered

Chosen Option : 3

Q.26 पानी और जूस को 9 : 7 के अनुपात में मिलाकर एक पेय बनाया जाता है। यदि 160 लीटर पेय में x लीटर पानी और 2x लीटर जूस मिलाया जाता है, तो नया अनुपात 13 : 15 हो जाता है। पेय की मात्रा (लीटर में) ज्ञात करें।

- Ans
- 1. 240
 - 2. 280
 - 3. 300
 - 4. 260

Question ID : 630680422102

Option 1 ID : 6306801646843

Option 2 ID : 6306801646844

Option 3 ID : 6306801646845

Option 4 ID : 6306801646846

Status : Answered

Chosen Option : 1

Q.27 निम्नलिखित को सरल कीजिए।

$$27 \div 4 \text{ of } 6 \times [16 \div 8 \times (12 - 8)] - (14 \div 7 \times 28)$$

- Ans 1. -47
 2. -51
 3. 27
 4. 62

Question ID : 630680427989
Option 1 ID : 6306801670000
Option 2 ID : 6306801670002
Option 3 ID : 6306801670003
Option 4 ID : 6306801670001
Status : Answered
Chosen Option : 1

Q.28 स्वाति ₹40,000 कमाती है, जिसमें से वह 25% बचाती है। वह शेष राशि भोजन और शिक्षा पर 3 : 2 के अनुपात में खर्च करती है। उसकी कुल आय में शिक्षा पर किए गए व्यय का प्रतिशत कितना है?

- Ans 1. 20%
 2. 40%
 3. 30%
 4. 60%

Question ID : 630680429160
Option 1 ID : 6306801674684
Option 2 ID : 6306801674686
Option 3 ID : 6306801674685
Option 4 ID : 6306801674687
Status : Answered
Chosen Option : 3

Q.29 एक कक्षा के 18 विद्यार्थियों ने एक प्रश्नोत्तरी में भाग लिया। यदि लड़कियों की संख्या, लड़कों की संख्या से 8 अधिक है, तो लड़कों और लड़कियों की संख्या का गुणनफल ज्ञात करें।

- Ans 1. 63
 2. 65
 3. 56
 4. 36

Question ID : 630680413578
Option 1 ID : 6306801613139
Option 2 ID : 6306801613137
Option 3 ID : 6306801613136
Option 4 ID : 6306801613138
Status : Answered
Chosen Option : 2

Q.30 एक शहर की जनसंख्या में प्रति वर्ष 20% की वृद्धि होती है। यदि उसकी वर्तमान जनसंख्या 80 लाख हो, तो 3 वर्ष पूर्व की, और 2 वर्ष पूर्व की जनसंख्या के बीच का अंतर ज्ञात कीजिए।

- Ans
- 1. 65592.6
 - 2. 85592.6
 - 3. 75592.6
 - 4. 925925.93

Question ID : 630680107409
Option 1 ID : 630680417001
Option 2 ID : 630680417002
Option 3 ID : 630680417000
Option 4 ID : 630680417003
Status : Answered
Chosen Option : 4

Q.31 यदि $x^2 + 4y^2 + 2x + 1 = 0$ है, तो $x^{39} + y^{36}$ का मूल्य ज्ञात कीजिए।

- Ans
- 1. 1
 - 2. 2
 - 3. -2
 - 4. -1

Question ID : 630680413585
Option 1 ID : 6306801613164
Option 2 ID : 6306801613166
Option 3 ID : 6306801613167
Option 4 ID : 6306801613165
Status : Answered
Chosen Option : 4

Q.32 234 m लंबी एक ट्रेन विपरीत दिशा में 9 km/h की चाल से चल रहे एक व्यक्ति को 6 सेकंड में पार कर जाती है। ट्रेन समान दिशा में 23.4 km/h की चाल से चल रहे एक अन्य व्यक्ति को कितने समय में (सेकंड में) पार कर लेगी?

- Ans
- 1. 8.4
 - 2. 8
 - 3. 7.2
 - 4. 7.8

Question ID : 630680869708
Option 1 ID : 6306803406199
Option 2 ID : 6306803406198
Option 3 ID : 6306803406200
Option 4 ID : 6306803406201
Status : Not Answered
Chosen Option : --

Q.33 एक छात्रावास में एक महीने के लिए 300 विद्यार्थियों के लिए भोजन की व्यवस्था थी। 20 दिनों के बाद 50 विद्यार्थियों ने छात्रावास छोड़ दिया। बचा हुआ खाना कब तक चलेगा? (1 महीना = 30 दिन)

- Ans 1. 12 दिन
 2. 16 दिन
 3. 10 दिन
 4. 14 दिन

Question ID : 630680428856
Option 1 ID : 6306801673470
Option 2 ID : 6306801673471
Option 3 ID : 6306801673468
Option 4 ID : 6306801673469
Status : Answered
Chosen Option : 1

Q.34 एक त्रिभुज की अंतःत्रिज्या 8 cm है, और इसकी भुजाओं की लंबाइयों का योग 125 cm है। त्रिभुज का क्षेत्रफल (cm^2 में) क्या है?

- Ans 1. 250
 2. 500
 3. 480
 4. 1000

Question ID : 630680421364
Option 1 ID : 6306801643922
Option 2 ID : 6306801643920
Option 3 ID : 6306801643921
Option 4 ID : 6306801643919
Status : Not Answered
Chosen Option : --

Q.35 एक बेईमान विक्रेता क्रय मूल्य पर 10% हानि पर एक वस्तु बेचता है लेकिन 50 g के स्थान पर 40 g का बॉट उपयोग करता है। उसके लाभ प्रतिशत की गणना करें।

- Ans 1. 10.0%
 2. 18.4%
 3. 11.5%
 4. 12.5%

Question ID : 630680429116
Option 1 ID : 6306801674511
Option 2 ID : 6306801674509
Option 3 ID : 6306801674508
Option 4 ID : 6306801674510
Status : Answered
Chosen Option : 4

Q.36 $264 \div 8 - 1 - 32 \times 2 + 80 \div 5 \times 40 \div 20$ का मान ज्ञात कीजिए।

- Ans
- 1. 1
 - 2. 2
 - 3. 0
 - 4. 3

Question ID : 630680428205

Option 1 ID : 6306801670866

Option 2 ID : 6306801670865

Option 3 ID : 6306801670867

Option 4 ID : 6306801670864

Status : Answered

Chosen Option : 3

Q.37 2 cm, 5 cm, 7 cm और 8 cm लंबाई वाले रेखाखंडों में से किन्हीं तीन रेखाखंडों को लेने पर, बनने वाले त्रिभुजों की संख्या _____ होगी।

- Ans
- 1. 2
 - 2. 4
 - 3. 3
 - 4. 1

Question ID : 630680421454

Option 1 ID : 6306801644280

Option 2 ID : 6306801644282

Option 3 ID : 6306801644281

Option 4 ID : 6306801644279

Status : Answered

Chosen Option : 3

Q.38 राकेश की तुलना में सपना दोगुनी कुशल है। यदि वे दोनों एक परियोजना पर एक साथ कार्य करते हैं और इसे 48 दिन में पूरा करते हैं, तो सपना अकेले उस परियोजना को कितने दिन में पूरा कर सकती है?

- Ans
- 1. 52
 - 2. 68
 - 3. $69 \frac{1}{2}$
 - 4. 72

Question ID : 630680869711

Option 1 ID : 6306803406213

Option 2 ID : 6306803406210

Option 3 ID : 6306803406212

Option 4 ID : 6306803406211

Status : Answered

Chosen Option : 4

Q.39 एक आयताकार लॉन की चौड़ाई 8% कम की जाती है और इसकी लंबाई में 15% की वृद्धि की जाती है। लॉन के क्षेत्रफल में प्रतिशत परिवर्तन ज्ञात कीजिए।

- Ans
- 1. 5.8% की कमी
 - 2. 5.8% की वृद्धि
 - 3. 8.5% की कमी
 - 4. 8.5% की वृद्धि

Question ID : 630680428146
Option 1 ID : 6306801670630
Option 2 ID : 6306801670628
Option 3 ID : 6306801670631
Option 4 ID : 6306801670629
Status : Answered
Chosen Option : 2

Q.40 धारा की दिशा में यात्रा करते समय एक नाव की गति 33 km/h है, जबकि धारा के प्रतिकूल दिशा में यात्रा करते समय यह 27 km/h है। शांत जल में नाव की गति क्या है?

- Ans
- 1. 12 km/h
 - 2. 60 km/h
 - 3. 30 km/h
 - 4. 6 km/h

Question ID : 630680428377
Option 1 ID : 6306801671552
Option 2 ID : 6306801671554
Option 3 ID : 6306801671555
Option 4 ID : 6306801671553
Status : Answered
Chosen Option : 3

Q.41 यदि $\sin(x+y) = \cos\{3(x+y)\}$ है, तो $\cot\{2(x+y)\}$ का मान _____ होगा।

- Ans
- 1. 1
 - 2. -1
 - 3. 2
 - 4. -2

Question ID : 630680869589
Option 1 ID : 6306803405740
Option 2 ID : 6306803405739
Option 3 ID : 6306803405738
Option 4 ID : 6306803405741
Status : Answered
Chosen Option : 1

Q.42 यदि $a + b + c = 13$ और $ab + bc + ca = 22$ है, तो $a^3 + b^3 + c^3 - 3abc$ का मान _____ है।

- Ans
- 1. 1911
 - 2. 1225
 - 3. 1339
 - 4. 1625

Question ID : 630680413554
Option 1 ID : 6306801613043
Option 2 ID : 6306801613041
Option 3 ID : 6306801613040
Option 4 ID : 6306801613042
Status : Answered
Chosen Option : 3

Q.43 दिए गए व्यंजक को सरल कीजिए।
 $12.3 - [7 + 0.8 \text{ of } (5.6 - 3.8 \times 1.03)]$

- Ans
- 1. 3.9512
 - 2. 7.8539
 - 3. 5.2314
 - 4. 1.2368

Question ID : 630680428050
Option 1 ID : 6306801670246
Option 2 ID : 6306801670244
Option 3 ID : 6306801670245
Option 4 ID : 6306801670247
Status : Answered
Chosen Option : 1

Q.44 18 cm त्रिज्या वाले एक अर्धगोले का आयतन (cm^3 में) ज्ञात कीजिए। ($\pi = \frac{22}{7}$ उपयोग करें) (दशमलव के दो स्थानों तक पूर्णांकित)

- Ans
- 1. 18750.23
 - 2. 12219.43
 - 3. 11250.25
 - 4. 12200.43

Question ID : 630680421554
Option 1 ID : 6306801644679
Option 2 ID : 6306801644681
Option 3 ID : 6306801644680
Option 4 ID : 6306801644682
Status : Answered
Chosen Option : 4

Q.45 एक बेलन की ऊंचाई 8 cm है और इसके आधार का क्षेत्रफल 20 cm² है। इसका आयतन ज्ञात करें।

- Ans
- 1. 80 cm³
 - 2. 180 cm³
 - 3. 160 cm³
 - 4. 100 cm³

Question ID : 630680421561
Option 1 ID : 6306801644708
Option 2 ID : 6306801644710
Option 3 ID : 6306801644709
Option 4 ID : 6306801644707
Status : Answered
Chosen Option : 3

Q.46 यदि एक निश्चित धनराशि पर 20 महीने के लिए 19.2% की वार्षिक दर से प्राप्त साधारण ब्याज, उसी राशि पर 15 महीने के लिए 11.2% की वार्षिक दर से प्राप्त साधारण ब्याज से ₹2,920 अधिक है, तो धनराशि (₹ में, निकटतम सेकड़े तक पूर्णांकित) कितनी है?

- Ans
- 1. 16,620
 - 2. 12,660
 - 3. 16,660
 - 4. 16,200

Question ID : 630680428009
Option 1 ID : 6306801670082
Option 2 ID : 6306801670083
Option 3 ID : 6306801670081
Option 4 ID : 6306801670080
Status : Answered
Chosen Option : 4

Q.47 $\frac{2\cos 15^\circ \sin 15^\circ}{\cos^2 15^\circ - \sin^2 15^\circ}$ का मान ज्ञात कीजिए।

- Ans
- 1. $\sqrt{3}$
 - 2. $\frac{1}{\sqrt{3}}$
 - 3. ∞
 - 4. $\frac{\sqrt{5}-1}{\sqrt{5}+1}$

Question ID : 630680869597
Option 1 ID : 6306803405770
Option 2 ID : 6306803405772
Option 3 ID : 6306803405773
Option 4 ID : 6306803405771
Status : Answered
Chosen Option : 2

Q.48 एक व्यक्ति ने ₹11,520 में दो भैंसों खरीदीं। एक भैंस को 15% की हानि पर बेचा और दूसरी भैंस को 19% के लाभ पर बेचा। यदि दोनों भैंसों का विक्रय मूल्य बराबर है, तो पहली भैंस का क्रय मूल्य ज्ञात कीजिए।

- Ans
- 1. ₹6,700
 - 2. ₹6,720
 - 3. ₹6,710
 - 4. ₹6,715

Question ID : 630680869695
Option 1 ID : 6306803406147
Option 2 ID : 6306803406149
Option 3 ID : 6306803406146
Option 4 ID : 6306803406148
Status : Answered
Chosen Option : 2

Q.49 11 m लंबे, 7 m चौड़े और 4 m ऊंचे घनाभ का पृष्ठीय क्षेत्रफल (m² में) ज्ञात करें।

- Ans
- 1. 289
 - 2. 298
 - 3. 320
 - 4. 249

Question ID : 630680421627
Option 1 ID : 6306801644972
Option 2 ID : 6306801644973
Option 3 ID : 6306801644974
Option 4 ID : 6306801644971
Status : Answered
Chosen Option : 2

Q.50 यदि $\frac{5x+3y}{5x-3y} = \frac{7}{3}$ है, तो x : y का मान ज्ञात कीजिए।

- Ans
- 1. 3 : 2
 - 2. 3 : 5
 - 3. 2 : 3
 - 4. 5 : 3

Question ID : 630680428418
Option 1 ID : 6306801671718
Option 2 ID : 6306801671716
Option 3 ID : 6306801671717
Option 4 ID : 6306801671719
Status : Answered
Chosen Option : 1

Q.1 Select the INCORRECTLY spelt word.

- Ans
- 1. Pluckiness
 - 2. Accumulation
 - 3. Exestenalism
 - 4. Assimilation

Question ID : 630680409900
Option 1 ID : 6306801598432
Option 2 ID : 6306801598429
Option 3 ID : 6306801598431
Option 4 ID : 6306801598430
Status : Answered
Chosen Option : 3

Q.2 Select the most appropriate ANTONYM of the underlined word in the following sentence.

The teacher praised the student for his diligent work and consistent effort.

- Ans
- 1. squander
 - 2. lazy
 - 3. persistent
 - 4. frazzle

Question ID : 630680517377
Option 1 ID : 6306802021904
Option 2 ID : 6306802021907
Option 3 ID : 6306802021906
Option 4 ID : 6306802021905
Status : Answered
Chosen Option : 2

Q.3 The following sentence has been split into four segments. Identify the segment that contains a grammatical/spelling error.

The sons of the old farmer / fell off after their father / breathed his last / in the village.

- Ans
- 1. fell off after their father
 - 2. The sons of the old farmer
 - 3. breathed his last
 - 4. in the village.

Question ID : 630680415351
Option 1 ID : 6306801620152
Option 2 ID : 6306801620151
Option 3 ID : 6306801620153
Option 4 ID : 6306801620154
Status : Answered
Chosen Option : 1

Q.4 Select the most appropriate ANTONYM of the given word.
Pitiable

- Ans
- 1. Eradicate
 - 2. Aggregate
 - 3. Pleasant
 - 4. Grievous

Question ID : 630680295216
Option 1 ID : 6306801148590
Option 2 ID : 6306801148589
Option 3 ID : 6306801148591
Option 4 ID : 6306801148588
Status : Answered
Chosen Option : 3

Q.5 Select the option that can be used as a one-word substitute for the given group of words.
Madness or obsession with males

- Ans
- 1. Loquacious
 - 2. Polygamy
 - 3. Andromania
 - 4. Misandrist

Question ID : 630680414926
Option 1 ID : 6306801618450
Option 2 ID : 6306801618448
Option 3 ID : 6306801618447
Option 4 ID : 6306801618449
Status : Answered
Chosen Option : 3

Q.6 Select the most appropriate ANTONYM of the given word.
Quaint

- Ans
- 1. Distinct
 - 2. Ordinary
 - 3. Brisk
 - 4. Ridiculous

Question ID : 630680297870
Option 1 ID : 6306801158882
Option 2 ID : 6306801158881
Option 3 ID : 6306801158880
Option 4 ID : 6306801158879
Status : Answered
Chosen Option : 2

Q.7 Select the most appropriate option that can substitute the underlined segment in the given sentence.

Before she began, she asked the teacher whether she write with a pen or a pencil.

- Ans
- 1. she can write
 - 2. she should write
 - 3. she did write.
 - 4. she wrote

Question ID : 630680436031
Option 1 ID : 6306801702063
Option 2 ID : 6306801702062
Option 3 ID : 6306801702064
Option 4 ID : 6306801702061
Status : Answered
Chosen Option : 2

Q.8 Select the most appropriate option with correct usage of the preposition to substitute the underlined segment in the given sentence.

The core part in Artificial Intelligence (AI) is knowledge engineering, machine learning, machine perception, and robotics.

- Ans
- 1. The core part from Artificial Intelligence
 - 2. The core part of Artificial Intelligence
 - 3. The core part on Artificial Intelligence
 - 4. The core part with Artificial Intelligence

Question ID : 630680206721
Option 1 ID : 630680801485
Option 2 ID : 630680801486
Option 3 ID : 630680801483
Option 4 ID : 630680801484
Status : Answered
Chosen Option : 2

Q.9 Identify from the given options the word which is similar in meaning to the following word.

Efface

- Ans
- 1. Makeup
 - 2. Hidden
 - 3. Daily
 - 4. Destroy

Question ID : 630680360067
Option 1 ID : 6306801402215
Option 2 ID : 6306801402216
Option 3 ID : 6306801402214
Option 4 ID : 6306801402213
Status : Answered
Chosen Option : 4

Q.10 Select the option that can be used as a one-word substitute for the given group of words.

One who does not express himself freely.

- Ans
- 1. Outgoing
 - 2. Approachable
 - 3. Introvert
 - 4. Immodest

Question ID : 630680414791
Option 1 ID : 6306801617909
Option 2 ID : 6306801617910
Option 3 ID : 6306801617907
Option 4 ID : 6306801617908
Status : Answered
Chosen Option : 3

Q.11 Select the most appropriate meaning of the given idiom.
The best of both worlds

- Ans
- 1. Do a perfectly good job
 - 2. Good in every way
 - 3. Stay strong in a difficult situation
 - 4. Everyone gets a chance

Question ID : 630680517357
Option 1 ID : 6306802021827
Option 2 ID : 6306802021824
Option 3 ID : 6306802021825
Option 4 ID : 6306802021826
Status : Answered
Chosen Option : 2

Q.12 Select the most appropriate ANTONYM of the underlined word.
The artist's abstract painting was enigmatic to the viewers.

- Ans
- 1. Instigating
 - 2. Clear
 - 3. Thrilling
 - 4. Mysterious

Question ID : 630680396864
Option 1 ID : 6306801547526
Option 2 ID : 6306801547525
Option 3 ID : 6306801547527
Option 4 ID : 6306801547524
Status : Answered
Chosen Option : 2

Q.13 Select the most appropriate idiom that can substitute the underlined words in the given sentence.

I have been living without a lot of money since I lost my job.

- Ans
- 1. keeping my chin up
 - 2. living hand to mouth
 - 3. as genuine as a three-dollar bill
 - 4. receiving a kickback

Question ID : 630680183590
Option 1 ID : 630680711372
Option 2 ID : 630680711370
Option 3 ID : 630680711371
Option 4 ID : 630680711369
Status : Answered
Chosen Option : 2

Q.14 Select the INCORRECTLY spelt word in the given sentence.

Mount Vesuvius is a volcano that erapts hot ashes which fall from the sky like a blizzard.

- Ans
- 1. Volcano
 - 2. Ashes
 - 3. Erapts
 - 4. Blizzard

Question ID : 630680396920
Option 1 ID : 6306801547748
Option 2 ID : 6306801547750
Option 3 ID : 6306801547749
Option 4 ID : 6306801547751
Status : Answered
Chosen Option : 4

Q.15 Select the most appropriate meaning of the given idiom.

Bite the bullet

- Ans
- 1. To face a difficult situation
 - 2. To eat something unpleasant
 - 3. To help someone achieve their goals
 - 4. To avoid a situation

Question ID : 630680517281
Option 1 ID : 6306802021521
Option 2 ID : 6306802021522
Option 3 ID : 6306802021523
Option 4 ID : 6306802021520
Status : Answered
Chosen Option : 1

Q.16 The given sentence is divided into four segments. Identify the segment that contains a grammatical error.

Had you been / working regularly, / you had completed / the project yesterday.

- Ans
- 1. Had you been
 - 2. working regularly
 - 3. you had completed
 - 4. the project yesterday

Question ID : 630680157020
Option 1 ID : 630680607632
Option 2 ID : 630680607633
Option 3 ID : 630680607634
Option 4 ID : 630680607635
Status : Answered
Chosen Option : 3

Q.17 Select the most appropriate synonym of the underlined word.

I was astonished to know the truth.

- Ans
- 1. Blindsided
 - 2. Stunned
 - 3. Awesome
 - 4. Sickened

Question ID : 630680297282
Option 1 ID : 6306801156598
Option 2 ID : 6306801156597
Option 3 ID : 6306801156596
Option 4 ID : 6306801156595
Status : Answered
Chosen Option : 2

Q.18 Select the most appropriate ANTONYM of the given word.
Suspend

- Ans
- 1. Project
 - 2. Terminate
 - 3. Extend
 - 4. Resume

Question ID : 630680517316
Option 1 ID : 6306802021663
Option 2 ID : 6306802021660
Option 3 ID : 6306802021662
Option 4 ID : 6306802021661
Status : Answered
Chosen Option : 4

Q.19 Select the most appropriate option that can substitute the underlined word in the given idiom.

At the last hour

- Ans
- 1. half
 - 2. twelfth
 - 3. eleventh
 - 4. sixth

Question ID : 630680441961
Option 1 ID : 6306801725452
Option 2 ID : 6306801725451
Option 3 ID : 6306801725450
Option 4 ID : 6306801725453
Status : Answered
Chosen Option : 3

Q.20 Select the phrase/idiom that will improve the underlined part of the given sentence.
When our principal said she was leaving the company, I played out the opportunity to fill the job.

- Ans
- 1. ran to the opportunity
 - 2. jumped at the opportunity
 - 3. glided at the opportunity
 - 4. started at the opportunity

Question ID : 630680175905
Option 1 ID : 630680681884
Option 2 ID : 630680681886
Option 3 ID : 630680681887
Option 4 ID : 630680681885
Status : Answered
Chosen Option : 1

Q.21 Select the most appropriate meaning of the given idiom.

A vicious cycle

- Ans
- 1. a situation in which one problem causes another one, making the first one easy to solve.
 - 2. a situation in which one problem creates another one, making the original problem easy to forget.
 - 3. a situation in which one problem causes another one, making the original problem impossible to solve.
 - 4. a situation in which several problems merge and become one extremely complex problem.

Question ID : 630680517347
Option 1 ID : 6306802021786
Option 2 ID : 6306802021784
Option 3 ID : 6306802021785
Option 4 ID : 6306802021787
Status : Answered
Chosen Option : 4

Q.22 Select the option that can be used as a one-word substitute for the given group of words.

A mythological animal with one horn on its forehead

- Ans
- 1. Unicameral
 - 2. Unicorn
 - 3. Unific
 - 4. Unipod

Question ID : 630680414811
Option 1 ID : 6306801617989
Option 2 ID : 6306801617990
Option 3 ID : 6306801617987
Option 4 ID : 6306801617988
Status : Answered
Chosen Option : 2

Q.23 Select the most appropriate meaning of the given idiom.

Through thick and thin

- Ans
- 1. Always supporting someone even if there are problems or difficulties
 - 2. Never giving up a friendship
 - 3. Sometimes thin, sometimes thick
 - 4. Never giving up on a goal

Question ID : 630680517379
Option 1 ID : 6306802021913
Option 2 ID : 6306802021915
Option 3 ID : 6306802021912
Option 4 ID : 6306802021914
Status : Answered
Chosen Option : 1

Q.24 Underlined word in the sentence is not spelt correctly. Identify the correct spelling from the options given below.

The boys seem irresponsibly insaucient about bullying the juniors.

- Ans
- 1. Insuociant
 - 2. Insouceant
 - 3. Insouciant
 - 4. Insouciant

Question ID : 630680409868
Option 1 ID : 6306801598302
Option 2 ID : 6306801598303
Option 3 ID : 6306801598301
Option 4 ID : 6306801598304
Status : Answered
Chosen Option : 3

Q.25 Identify the INCORRECTLY spelt word in the given sentence and select the option that rectifies the spelling error.

Thousands of years ago, great masters of Ayurveda, notably Sushrut and Charaka, discussed in detail the use of spices for culinary and medical purpose.

- Ans
- 1. Notably
 - 2. Parpose
 - 3. Discused
 - 4. Cullinary

Question ID : 630680517485
Option 1 ID : 6306802022336
Option 2 ID : 6306802022339
Option 3 ID : 6306802022337
Option 4 ID : 6306802022338
Status : Answered
Chosen Option : 1

Q.26 Select the most appropriate segment to substitute the underlined words in the given sentence.

Mr. Patel is likely to win the elections in the sweeping majority.

- Ans
- 1. elections at a sweeping majority
 - 2. elections of a sweeping majority
 - 3. elections on a sweeping majority
 - 4. elections by a sweeping majority

Question ID : 630680435974
Option 1 ID : 6306801701856
Option 2 ID : 6306801701854
Option 3 ID : 6306801701855
Option 4 ID : 6306801701853
Status : Answered
Chosen Option : 4

Q.27 Select the sentence that has the correct use of words and spellings from the options given below.

- Ans
- 1. The professional athlete pushed her body to the limit, surpassing all expectations and acheiving a new personal record.
 - 2. The profesional athlete pushed her body to the limit, surpassing all expectations and acheiving a new personal record.
 - 3. The professional athlete pushed her body to the limit, surpassing all expectations and achieving a new personal record.
 - 4. The profesional athlete pushed her body to the limit, surpassing all expectasions and achieving a new personal record.

Question ID : 630680410006
Option 1 ID : 6306801598856
Option 2 ID : 6306801598853
Option 3 ID : 6306801598854
Option 4 ID : 6306801598855
Status : Answered
Chosen Option : 3

Q.28 Select the most appropriate segment to substitute the underlined words in the given sentence.

The Sumo wrestler seemed to be incapable in being tired.

- Ans
- 1. incapable to being tired
 - 2. incapable of being tired
 - 3. incapable by being tired
 - 4. incapable from being tired

Question ID : 630680436020
Option 1 ID : 6306801702024
Option 2 ID : 6306801702021
Option 3 ID : 6306801702022
Option 4 ID : 6306801702023
Status : Answered
Chosen Option : 2

Q.29 Select the most appropriate meaning of the idiom in the given sentence.
She's feeling under the weather today.

- Ans
- 1. She's feeling adventurous and ready for a challenge.
 - 2. She's feeling worried about something.
 - 3. She's not feeling well or is a bit sick.
 - 4. She's feeling happy and energetic.

Question ID : 630680517346
Option 1 ID : 6306802021783
Option 2 ID : 6306802021782
Option 3 ID : 6306802021781
Option 4 ID : 6306802021780
Status : Answered
Chosen Option : 3

Q.30 Parts of the following sentence have been given as options. Select the option that contains an error.
There are four tributaries of Ganga and it is ranked as the fifth most polluted river of the world.

- Ans
- 1. There are four tributaries
 - 2. most polluted river of the world.
 - 3. is ranked as the fifth
 - 4. of Ganga and it

Question ID : 630680192255
Option 1 ID : 630680745621
Option 2 ID : 630680745624
Option 3 ID : 630680745623
Option 4 ID : 630680745622
Status : Answered
Chosen Option : 3

Q.31 Select the most appropriate meaning of the given idiom.
Beat around the bush

- Ans
- 1. To avoid talking about what is important
 - 2. To await an explanation
 - 3. To do something without any hesitation
 - 4. To take on a task that is way too big

Question ID : 630680192449
Option 1 ID : 630680746387
Option 2 ID : 630680746385
Option 3 ID : 630680746386
Option 4 ID : 630680746388
Status : Answered
Chosen Option : 1

Q.32 Select the word which means the same as the group of words underlined in the given sentence.

Today, a man who betrayed his own country in exchange for money was the topic of every news report.

- Ans
- 1. Conman
 - 2. Traitor
 - 3. Gangster
 - 4. Terrorist

Question ID : 630680414823
Option 1 ID : 6306801618037
Option 2 ID : 6306801618035
Option 3 ID : 6306801618038
Option 4 ID : 6306801618036
Status : Answered
Chosen Option : 2

Q.33 Select the most appropriate option that can substitute the underlined segment in the given sentence. If no substitution is required, select 'No substitution'.
Not a word didn't they speak to the others about the sad turn of events.

- Ans
- 1. No substitution
 - 2. do they speak
 - 3. had they speak
 - 4. did they speak

Question ID : 630680414506
Option 1 ID : 6306801616786
Option 2 ID : 6306801616784
Option 3 ID : 6306801616785
Option 4 ID : 6306801616783
Status : Answered
Chosen Option : 4

Q.34 The following sentence has been divided into parts. One of them may contain an error. Select the part that contains the error from the given options. If you don't find any error, mark 'No error' as your answer.
I had done / my cooking when / Vishnu came to see me.

- Ans
- 1. Vishnu came to see me
 - 2. I had done
 - 3. my cooking when
 - 4. No error

Question ID : 630680184891
Option 1 ID : 630680716527
Option 2 ID : 630680716525
Option 3 ID : 630680716526
Option 4 ID : 630680716528
Status : Answered
Chosen Option : 4

Q.35 Select the most appropriate option to substitute the underlined segment in the given sentence.

The veteran footballer was expected for reach here by 10 o'clock, the notice said.

- Ans
- 1. expected on reach here
 - 2. expected of reach here
 - 3. expected to reach here
 - 4. expected by reach here

Question ID : 630680414524
Option 1 ID : 6306801616858
Option 2 ID : 6306801616855
Option 3 ID : 6306801616857
Option 4 ID : 6306801616856
Status : Answered
Chosen Option : 3

Q.36 Select the most appropriate option that can substitute the underlined words in the given sentence.

The road is too busy for elderly people that they cannot cross safely.

- Ans
- 1. to cross safely.
 - 2. that it is difficult to cross.
 - 3. that it cannot be crossed properly.
 - 4. that it is impossible for them to cross.

Question ID : 630680443861
Option 1 ID : 6306801732764
Option 2 ID : 6306801732765
Option 3 ID : 6306801732766
Option 4 ID : 6306801732767
Status : Answered
Chosen Option : 1

Q.37 Select the most appropriate option that can substitute the underlined segment in the given sentence.

Ratul's capability of being able to speak two languages is apt for this post.

- Ans
- 1. bidialectical
 - 2. bicultural
 - 3. bilingual
 - 4. lingual

Question ID : 630680414912
Option 1 ID : 6306801618393
Option 2 ID : 6306801618392
Option 3 ID : 6306801618391
Option 4 ID : 6306801618394
Status : Answered
Chosen Option : 3

Q.38 Rectify the sentence by selecting the correct spelling of the underlined word from the options.

The baby smiled and laughed at the pickaboo game.

- Ans
- 1. peakaboo
 - 2. pekaboo
 - 3. pikaboo
 - 4. peekaboo

Question ID : 630680517496
Option 1 ID : 6306802022382
Option 2 ID : 6306802022383
Option 3 ID : 6306802022380
Option 4 ID : 6306802022381
Status : Answered
Chosen Option : 4

Q.39 Select the most appropriate ANTONYM of the given word.

Languid

- Ans
- 1. Lazy
 - 2. Exceptional
 - 3. Loyal
 - 4. Energetic

Question ID : 630680436156
Option 1 ID : 6306801702565
Option 2 ID : 6306801702566
Option 3 ID : 6306801702568
Option 4 ID : 6306801702567
Status : Answered
Chosen Option : 4

Q.40 Select the most appropriate synonym of the underlined word.

I will strive to win the race.

- Ans
- 1. Assume
 - 2. Attempt
 - 3. trouble
 - 4. Support

Question ID : 630680297283

Option 1 ID : 6306801156601

Option 2 ID : 6306801156602

Option 3 ID : 6306801156599

Option 4 ID : 6306801156600

Status : Answered

Chosen Option : 2

Comprehension:

In the following passage, some words have been deleted. Read the passage carefully and select the most appropriate option to fill in each blank.

Childhood is an important phase in a person's life. Children are free from worries, tensions and stresses so they lead a very (1)_____ life. This is the only reason they create golden and beautiful memories during this period which are (2)_____ in their adulthood. It is the responsibility of parents and guardians to shape the future of a child as he is very (3)_____ and can drift in any direction. If they have made any mistakes, we should (4)_____ them instead of misbehaving with them. How we have behaved with them will be (5)_____ on their minds which will reflect in later stages.

SubQuestion No : 41

Q.41 Select the most appropriate option to fill in blank No. 1.

- Ans
- 1. stressful
 - 2. cautious
 - 3. carefree
 - 4. careful

Question ID : 630680515018

Option 1 ID : 6306802012631

Option 2 ID : 6306802012632

Option 3 ID : 6306802012630

Option 4 ID : 6306802012629

Status : Answered

Chosen Option : 3

Comprehension:

In the following passage, some words have been deleted. Read the passage carefully and select the most appropriate option to fill in each blank.
Childhood is an important phase in a person's life. Children are free from worries, tensions and stresses so they lead a very (1)_____ life. This is the only reason they create golden and beautiful memories during this period which are (2)_____ in their adulthood. It is the responsibility of parents and guardians to shape the future of a child as he is very (3)_____ and can drift in any direction. If they have made any mistakes, we should (4)_____ them instead of misbehaving with them. How we have behaved with them will be (5)_____ on their minds which will reflect in later stages.

SubQuestion No : 42

Q.42 Select the most appropriate option to fill in blank No. 2.

- Ans
- 1. neglected
 - 2. dumped
 - 3. blocked
 - 4. cherished

Question ID : 630680515019
Option 1 ID : 6306802012633
Option 2 ID : 6306802012636
Option 3 ID : 6306802012635
Option 4 ID : 6306802012634

Status : Answered

Chosen Option : 4

Comprehension:

In the following passage, some words have been deleted. Read the passage carefully and select the most appropriate option to fill in each blank.
Childhood is an important phase in a person's life. Children are free from worries, tensions and stresses so they lead a very (1)_____ life. This is the only reason they create golden and beautiful memories during this period which are (2)_____ in their adulthood. It is the responsibility of parents and guardians to shape the future of a child as he is very (3)_____ and can drift in any direction. If they have made any mistakes, we should (4)_____ them instead of misbehaving with them. How we have behaved with them will be (5)_____ on their minds which will reflect in later stages.

SubQuestion No : 43

Q.43 Select the most appropriate option to fill in blank No. 3.

- Ans
- 1. crafty
 - 2. mature
 - 3. innocent
 - 4. guilty

Question ID : 630680515020
Option 1 ID : 6306802012639
Option 2 ID : 6306802012640
Option 3 ID : 6306802012637
Option 4 ID : 6306802012638

Status : Answered

Chosen Option : 3

Comprehension:

In the following passage, some words have been deleted. Read the passage carefully and select the most appropriate option to fill in each blank.
Childhood is an important phase in a person's life. Children are free from worries, tensions and stresses so they lead a very (1)_____ life. This is the only reason they create golden and beautiful memories during this period which are (2)_____ in their adulthood. It is the responsibility of parents and guardians to shape the future of a child as he is very (3)_____ and can drift in any direction. If they have made any mistakes, we should (4)_____ them instead of misbehaving with them. How we have behaved with them will be (5)_____ on their minds which will reflect in later stages.

SubQuestion No : 44

Q.44 Select the most appropriate option to fill in blank No. 4.

- Ans
- 1. damage
 - 2. design
 - 3. create
 - 4. rectify

Question ID : 630680515021
Option 1 ID : 6306802012641
Option 2 ID : 6306802012642
Option 3 ID : 6306802012643
Option 4 ID : 6306802012644

Status : Answered

Chosen Option : 4

Comprehension:

In the following passage, some words have been deleted. Read the passage carefully and select the most appropriate option to fill in each blank.
Childhood is an important phase in a person's life. Children are free from worries, tensions and stresses so they lead a very (1)_____ life. This is the only reason they create golden and beautiful memories during this period which are (2)_____ in their adulthood. It is the responsibility of parents and guardians to shape the future of a child as he is very (3)_____ and can drift in any direction. If they have made any mistakes, we should (4)_____ them instead of misbehaving with them. How we have behaved with them will be (5)_____ on their minds which will reflect in later stages.

SubQuestion No : 45

Q.45 Select the most appropriate option to fill in blank No. 5.

- Ans
- 1. coloured
 - 2. published
 - 3. imprinted
 - 4. bleached

Question ID : 630680515022
Option 1 ID : 6306802012647
Option 2 ID : 6306802012648
Option 3 ID : 6306802012646
Option 4 ID : 6306802012645

Status : Answered

Chosen Option : 3

Comprehension:

Read the given passage and answer the questions that follow.

Have you ever taken the time to stop and consider the dirt under your feet? Leonardo da Vinci said, "We know more about the movement of celestial bodies than about the soil underfoot." Yet, our very survival as humans – and life on this planet – is intimately linked with the health of a thin layer of soil enveloping the earth.

Soil provides society with essential food, feed, fibre and raw materials, as well as being home to a quarter of the earth's biodiversity. Soils are also the largest organic carbon reservoir on Earth and although highly dynamic, are very fragile. Chop a forest down and it might grow back in 50 years, but lose 10 cm of soil and get ready to wait 1,000 years to get it back.

Without soil, our planet would be unrecognisable to us, and more like the barren and inhospitable surface of the Moon or Mars.

Until recently, we did not even know how deep the soil is below our feet. Like the best mysteries, a bit of digging is required for soils to be fully understood and for their history to be laid bare.

When they are visible, a range of questions arise. What does the variation in colour with depth mean? How much carbon is stored? Is the soil dense or light, damaged or healthy?

Answering these questions is important, but presents a significant challenge and may require years of training.

SubQuestion No : 46

Q.46 Select the most suitable word from the passage which means 'difficult to stay or live in'.

- Ans**
- 1. Dense
 - 2. Barren
 - 3. Essential
 - 4. Inhospitable

Question ID : 630680406917

Option 1 ID : 6306801586705

Option 2 ID : 6306801586703

Option 3 ID : 6306801586702

Option 4 ID : 6306801586704

Status : Answered

Chosen Option : 4

Comprehension:

Read the given passage and answer the questions that follow.

Have you ever taken the time to stop and consider the dirt under your feet? Leonardo da Vinci said, "We know more about the movement of celestial bodies than about the soil underfoot."

Yet, our very survival as humans – and life on this planet – is intimately linked with the health of a thin layer of soil enveloping the earth.

Soil provides society with essential food, feed, fibre and raw materials, as well as being home to a quarter of the earth's biodiversity. Soils are also the largest organic carbon reservoir on Earth and although highly dynamic, are very fragile. Chop a forest down and it might grow back in 50 years, but lose 10 cm of soil and get ready to wait 1,000 years to get it back.

Without soil, our planet would be unrecognisable to us, and more like the barren and inhospitable surface of the Moon or Mars.

Until recently, we did not even know how deep the soil is below our feet. Like the best mysteries, a bit of digging is required for soils to be fully understood and for their history to be laid bare.

When they are visible, a range of questions arise. What does the variation in colour with depth mean? How much carbon is stored? Is the soil dense or light, damaged or healthy?

Answering these questions is important, but presents a significant challenge and may require years of training.

SubQuestion No : 47

Q.47 Mankind's survival, according to the passage, solely depends on _____ .

- Ans**
- 1. reproduction
 - 2. celestial bodies
 - 3. soil
 - 4. inventions

Question ID : 630680406915

Option 1 ID : 6306801586695

Option 2 ID : 6306801586694

Option 3 ID : 6306801586697

Option 4 ID : 6306801586696

Status : Answered

Chosen Option : 3

Comprehension:

Read the given passage and answer the questions that follow.

Have you ever taken the time to stop and consider the dirt under your feet? Leonardo da Vinci said, "We know more about the movement of celestial bodies than about the soil underfoot."

Yet, our very survival as humans – and life on this planet – is intimately linked with the health of a thin layer of soil enveloping the earth.

Soil provides society with essential food, feed, fibre and raw materials, as well as being home to a quarter of the earth's biodiversity. Soils are also the largest organic carbon reservoir on Earth and although highly dynamic, are very fragile. Chop a forest down and it might grow back in 50 years, but lose 10 cm of soil and get ready to wait 1,000 years to get it back.

Without soil, our planet would be unrecognisable to us, and more like the barren and inhospitable surface of the Moon or Mars.

Until recently, we did not even know how deep the soil is below our feet. Like the best mysteries, a bit of digging is required for soils to be fully understood and for their history to be laid bare.

When they are visible, a range of questions arise. What does the variation in colour with depth mean? How much carbon is stored? Is the soil dense or light, damaged or healthy?

Answering these questions is important, but presents a significant challenge and may require years of training.

SubQuestion No : 48

Q.48 What is the tone of the speaker?

- Ans**
- 1. Sarcastic
 - 2. Alarming
 - 3. Dogmatic
 - 4. Derisive

Question ID : 630680406918

Option 1 ID : 6306801586707

Option 2 ID : 6306801586709

Option 3 ID : 6306801586708

Option 4 ID : 6306801586706

Status : Answered

Chosen Option : 2

Comprehension:

Read the given passage and answer the questions that follow.

Have you ever taken the time to stop and consider the dirt under your feet? Leonardo da Vinci said, "We know more about the movement of celestial bodies than about the soil underfoot."

Yet, our very survival as humans – and life on this planet – is intimately linked with the health of a thin layer of soil enveloping the earth.

Soil provides society with essential food, feed, fibre and raw materials, as well as being home to a quarter of the earth's biodiversity. Soils are also the largest organic carbon reservoir on Earth and although highly dynamic, are very fragile. Chop a forest down and it might grow back in 50 years, but lose 10 cm of soil and get ready to wait 1,000 years to get it back.

Without soil, our planet would be unrecognisable to us, and more like the barren and inhospitable surface of the Moon or Mars.

Until recently, we did not even know how deep the soil is below our feet. Like the best mysteries, a bit of digging is required for soils to be fully understood and for their history to be laid bare.

When they are visible, a range of questions arise. What does the variation in colour with depth mean? How much carbon is stored? Is the soil dense or light, damaged or healthy?

Answering these questions is important, but presents a significant challenge and may require years of training.

SubQuestion No : 49

Q.49 How many years are required to renew the loss of 10 cm of soil?

- Ans
- 1. 100
 - 2. 1,00,000
 - 3. 1,000
 - 4. 10,000

Question ID : **630680406916**
Option 1 ID : **6306801586700**
Option 2 ID : **6306801586701**
Option 3 ID : **6306801586699**
Option 4 ID : **6306801586698**

Status : **Answered**

Chosen Option : **3**

Comprehension:

Read the given passage and answer the questions that follow.

Have you ever taken the time to stop and consider the dirt under your feet? Leonardo da Vinci said, "We know more about the movement of celestial bodies than about the soil underfoot."

Yet, our very survival as humans – and life on this planet – is intimately linked with the health of a thin layer of soil enveloping the earth.

Soil provides society with essential food, feed, fibre and raw materials, as well as being home to a quarter of the earth's biodiversity. Soils are also the largest organic carbon reservoir on Earth and although highly dynamic, are very fragile. Chop a forest down and it might grow back in 50 years, but lose 10 cm of soil and get ready to wait 1,000 years to get it back.

Without soil, our planet would be unrecognisable to us, and more like the barren and inhospitable surface of the Moon or Mars.

Until recently, we did not even know how deep the soil is below our feet. Like the best mysteries, a bit of digging is required for soils to be fully understood and for their history to be laid bare.

When they are visible, a range of questions arise. What does the variation in colour with depth mean? How much carbon is stored? Is the soil dense or light, damaged or healthy?

Answering these questions is important, but presents a significant challenge and may require years of training.

SubQuestion No : 50

Q.50 Identify the most suitable title for the given passage.

- Ans
- 1. **Mysteries Under Man's Feet**
 - 2. **Necessity of Mining**
 - 3. **Moon and Mars Expedition**
 - 4. **The Uninhabitable Universe**

Question ID : **630680406919**
Option 1 ID : **6306801586712**
Option 2 ID : **6306801586710**
Option 3 ID : **6306801586711**
Option 4 ID : **6306801586713**

Status : **Answered**

Chosen Option : **1**

Online
Google
Part