

Sub Inspector in Delhi Police and Central Armed Police Forces Examination 2024 Paper I Exam

Roll Number	
Candidate Name	
Venue Name	
Exam Date	29/06/2024
Exam Time	4:00 PM - 6:00 PM
Subject	SICPO Paper I 2024

Section : General Intelligence and Reasoning

Q.1 एक निश्चित तर्क का अनुसरण करते हुए 24, 8 से संबंधित है। उसी तर्क का अनुसरण करते हुए, 54, 20 से संबंधित है। उसी तर्क का उपयोग करते हुए निम्नलिखित में से कौन सी संख्या 18 से संबंधित है?

- Ans 1. 63
 2. 26
 3. 42
 4. 12

Question ID : 63068063335
Option 1 ID : 630680244507
Option 2 ID : 630680244506
Option 3 ID : 630680244508
Option 4 ID : 630680244509
Status : Answered
Chosen Option : 1

Q.2 यदि 'I' का अर्थ 'x' है, 'J' का अर्थ '+' है, 'K' का अर्थ '-' है और L का अर्थ - है, तो निम्नलिखित समीकरण में प्रश्न चिन्ह (?) के स्थान पर क्या आएगा?

(40 J 32 K 4) I 5 L 155 J 7 I 9 = ?

- Ans 1. 156
 2. 148
 3. 134
 4. 126

Question ID : 630680411676
Option 1 ID : 6306801605542
Option 2 ID : 6306801605541
Option 3 ID : 6306801605540
Option 4 ID : 6306801605539
Status : Answered
Chosen Option : 2

Q.3 दिए गए विकल्पों में से उस आकृति की पहचान कीजिए, जिसे '?' के स्थान पर रखने पर शृंखला तार्किक रूप से पूर्ण हो जाएगी।

M ↑	M ↑	M ↑	W ↑	?
↑ A	↑ V	↓ V	↓ V	

Ans

- 1.

M ↑
↓ V
- 2.

W ↓
↓ V
- 3.

W ↓
↑ V
- 4.

W ↑
↓ V

Question ID : 630680366164
Option 1 ID : 6306801426182
Option 2 ID : 6306801426184
Option 3 ID : 6306801426183
Option 4 ID : 6306801426181
Status : Answered
Chosen Option : 3

Q.4 दो कथन दिए गए हैं, जिसके बाद तीन निष्कर्ष I, II और III दिए गए हैं। कथनों को सत्य मानते हुए, भले ही वे सामान्य रूप से ज्ञात तथ्यों से भिन्न प्रतीत होते हों, निर्णय लीजिए कि कौन सा/से निष्कर्ष कथनों का तार्किक रूप से अनुसरण करता है/करते हैं।

कथन:

सभी स्कैनर प्रिंटर हैं।
कुछ स्कैनर कॉपियर हैं।

निष्कर्ष:

- I. कुछ प्रिंटर कॉपियर हैं।
- II. कोई कॉपियर प्रिंटर नहीं है।
- III. कुछ प्रिंटर स्कैनर हैं।

- Ans
- 1. केवल निष्कर्ष I और II अनुसरण करते हैं
 - 2. केवल निष्कर्ष I और III अनुसरण करते हैं
 - 3. केवल निष्कर्ष II और III अनुसरण करते हैं
 - 4. सभी निष्कर्ष अनुसरण करते हैं

Question ID : 630680417314

Option 1 ID : 6306801628019

Option 2 ID : 6306801628020

Option 3 ID : 6306801628021

Option 4 ID : 6306801628022

Status : Answered

Chosen Option : 2

Q.5 उस समुच्चय का चयन करें जिसमें दी गई संख्याएँ आपस में उसी प्रकार संबंधित हैं, जिस प्रकार प्रश्न में दिए गए समुच्चय की संख्याएँ आपस में संबंधित हैं।
(ध्यान दें: संख्याओं को उनके घटक अंकों में तोड़े बिना, पूर्ण संख्याओं पर गणितीय संक्रियाएँ की जानी चाहिए। जैसे, 13 के मामले में - 13 पर की जाने वाली विभिन्न गणितीय संक्रियाएँ जैसे 13 में जोड़ना / घटाना / गुणा करना आदि 13 पर की जा सकती हैं। लेकिन 13 को 1 और 3 में तोड़ने और फिर 1 और 3 पर गणितीय संक्रियाएँ करने की अनुमति नहीं है।)

(599, 236, 363)

(481, 145, 336)

- Ans
- 1. (641, 314, 327)
 - 2. (426, 159, 287)
 - 3. (612, 278, 344)
 - 4. (547, 217, 310)

Question ID : 630680340902

Option 1 ID : 6306801326051

Option 2 ID : 6306801326050

Option 3 ID : 6306801326049

Option 4 ID : 6306801326052

Status : Answered

Chosen Option : 1

Q.6 एक कूट भाषा में, 'KIRAT' को 50-40-85-0-95 के रूप में कूटबद्ध किया जाता है और 'WASIM' को 110-0-90-40-60 के रूप में कूटबद्ध किया जाता है। उसी भाषा में 'MRINAL' को किस प्रकार कूटबद्ध किया जाएगा?

- Ans
- 1. 55-60-45-65-0-85
 - 2. 60-85-40-65-0-55
 - 3. 75-50-60-55-0-65
 - 4. 85-40-50-75-0-65

Question ID : 630680416664

Option 1 ID : 6306801625419

Option 2 ID : 6306801625422

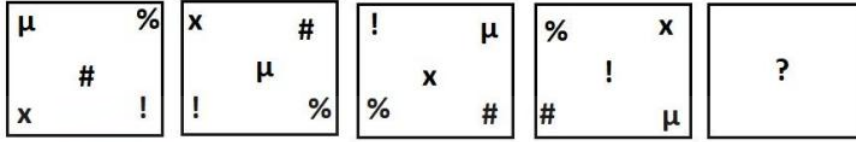
Option 3 ID : 6306801625421

Option 4 ID : 6306801625420

Status : Answered


Chosen Option : 2

Q.7 दिए गए विकल्पों में से उस आकृति का चयन कीजिए, जो निम्नलिखित श्रृंखला में प्रश्न चिह्न (?) को तार्किक रूप से प्रतिस्थापित कर सकती है।



Ans

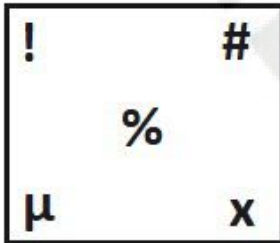
✓ 1.




✗ 2.



✗ 3.



✗ 4.



Question ID : 630680867756

Option 1 ID : 6306803398671

Option 2 ID : 6306803398670

Option 3 ID : 6306803398668

Option 4 ID : 6306803398669

Status : Answered

Chosen Option : 1

Q.8 उस विकल्प का चयन करें, जो पाँचवें अक्षर-समूह से उसी प्रकार संबंधित है, जिस प्रकार दूसरा अक्षर-समूह पहले अक्षर-समूह से और चौथा अक्षर-समूह तीसरे अक्षर-समूह से संबंधित है।
ABIDE : GFKDC :: CHARM : OTCJE :: BLOOM : ?

- Ans 1. OPQND
 2. OQQND
 3. OQQDN
 4. DNQQO

Question ID : 630680416477
Option 1 ID : 6306801624672
Option 2 ID : 6306801624673
Option 3 ID : 6306801624671
Option 4 ID : 6306801624674
Status : Answered
Chosen Option : 2


Q.9 गणितीय चिह्नों का निम्नलिखित में से कौन-सा परस्पर विनिमय दिए गए समीकरण को सही (संतुलित) कर देगा?

$$3 - 15 + 10 \div 2 \times 7 = 43$$

- Ans 1. + और ×
 2. - और ×
 3. - और +
 4. + और ×

Question ID : 630680411966
Option 1 ID : 6306801606699
Option 2 ID : 6306801606701
Option 3 ID : 6306801606700
Option 4 ID : 6306801606702
Status : Answered
Chosen Option : 2

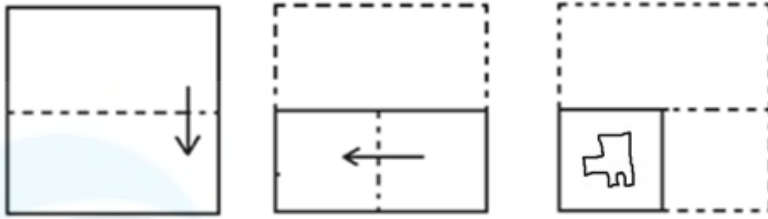
Q.10 जब दर्पण को नीचे दर्शाए गए अनुसार MN पर रखा जाता है तो दी गई आकृति के सही दर्पण प्रतिबिंब का चयन कीजिए।



- Ans 1. K w s R Y h
 2. h Y R a w K
 3. h Y R a w K
 4. h Y R a w K


Question ID : 630680356642
Option 1 ID : 6306801388571
Option 2 ID : 6306801388570
Option 3 ID : 6306801388572
Option 4 ID : 6306801388569
Status : Answered
Chosen Option : 1

Q.11 कागज़ के एक टुकड़े को मोड़ने का क्रम और मोड़े गए कागज़ को काटने का तरीका नीचे दर्शाया गया है। उस आकृति का चयन कीजिए जो कागज़ के खुले हुए रूप से सबसे अधिक मिलती-जुलती हो।




Ans

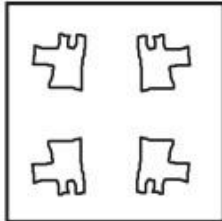
✗ 1.




✗ 2.



✓ 3.



✗ 4.



Question ID : 630680329011

Option 1 ID : 6306801280000

Option 2 ID : 6306801279999

Option 3 ID : 6306801279997

Option 4 ID : 6306801279998

Status : Answered

Chosen Option : 3

Q.12 यदि + का अर्थ - है, - का अर्थ \times है, \times का अर्थ \div है, \div का अर्थ + है, तो दिए गए समीकरण में प्रश्न-चिह्न (?) के स्थान पर क्या आएगा?

$$60 + 378 \times 18 \div 23 - 2 = ?$$

Ans 1. 57

2. 58

3. 75

4. 85

Question ID : 630680155121

Option 1 ID : 630680600239

Option 2 ID : 630680600238

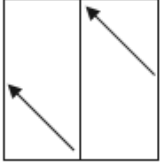
Option 3 ID : 630680600236

Option 4 ID : 630680600237

Status : Answered

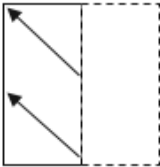
Chosen Option : 4

Q.13 एक पैटर्न वाली एक पारदर्शी शीट नीचे दी गई है। उस विकल्प का चयन कीजिए जो उस पैटर्न को दर्शाता है जो दी गई पारदर्शी शीट को मध्य उर्ध्वाधर रेखा पर मोड़ने पर दिखाई देगा।

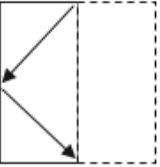


Ans

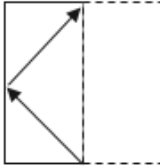
1.



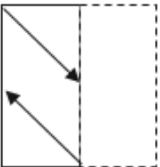
2.



3.



4.



Question ID : 630680389405

Option 1 ID : 6306801518081

Option 2 ID : 6306801518080

Option 3 ID : 6306801518079

Option 4 ID : 6306801518078

Status : Answered

Chosen Option : 3

Q.14 निम्नलिखित में से कौन सा अक्षर-समूह दी गई श्रृंखला में प्रश्नवाचक चिन्ह (?) को प्रतिस्थापित करेगा?
aaabccccccc, aaabbcccc, aaabbbbcc, ?

- Ans 1. aaabbbbbbbcc
 2. aaabbbbbbbcc
 3. aaabbbbbbcc
 4. aabbbbbbbcc

Question ID : 630680416696
Option 1 ID : 6306801625550
Option 2 ID : 6306801625548
Option 3 ID : 6306801625547
Option 4 ID : 6306801625549
Status : Answered
Chosen Option : 1

Q.15 यदि + का अर्थ - है, - का अर्थ \times है, \times का अर्थ \div है, \div का अर्थ + है, तो दिए गए समीकरण में प्रश्न-चिह्न (?) के स्थान पर क्या आएगा?
 $180 \times 60 - 33 \div 1 + 50 = ?$

- Ans 1. 50
 2. 40
 3. 51
 4. 55

Question ID : 630680154563
Option 1 ID : 630680598056
Option 2 ID : 630680598059
Option 3 ID : 630680598057
Option 4 ID : 630680598058
Status : Answered
Chosen Option : 1

Q.16 एक निश्चित कूट भाषा में 'bring the bag' को 'nd sm pf' लिखा जाता है और 'bags of gold' को 'rg tx sm' लिखा जाता है। दी गई भाषा में 'bags' को किस प्रकार लिखा गया है?

- Ans 1. pf
 2. sm
 3. nd
 4. rg

Question ID : 630680305481
Option 1 ID : 6306801188302
Option 2 ID : 6306801188304
Option 3 ID : 6306801188303
Option 4 ID : 6306801188301
Status : Answered
Chosen Option : 2

Q.17 उस विकल्प का चयन कीजिए जो दिए गए शब्दों को उस सही क्रम को दर्शाता है जिस क्रम में वे अंग्रेजी शब्दकोश में दिखाई देते हैं।

- 1- Junction
- 2- Jupiter
- 3- Jungle
- 4- Jump
- 5- Juncture

- Ans
- 1. 1, 5, 4, 2, 3
 - 2. 1, 5, 3, 2, 4
 - 3. 4, 5, 1, 3, 2
 - 4. 4, 1, 5, 3, 2

Question ID : 630680417213

Option 1 ID : 6306801627615

Option 2 ID : 6306801627618

Option 3 ID : 6306801627616

Option 4 ID : 6306801627617

Status : Answered

Chosen Option : 4

Q.18 अजय बिंदु A से गाड़ी चलाना शुरू करता है और उत्तर की ओर 10 km गाड़ी चलाता है। फिर वह दाएँ मुड़ता है, 3 km गाड़ी चलाता है, दाएँ मुड़ता है और 15 km गाड़ी चलाता है। फिर वह दाएँ मुड़ता है और 8 km गाड़ी चलाता है। वह अंतिम बार दाएँ मुड़ता है, 5 km गाड़ी चलाता है और बिंदु P पर रुकता है। बिंदु A पर फिर से पहुँचने के लिए उसे कितनी दूर (न्यूनतम दूरी) और किस दिशा में गाड़ी चलानी चाहिए? (सभी मोड़ केवल 90° वाले मोड़ हैं।)

- Ans
- 1. पश्चिम की ओर 5 km
 - 2. पश्चिम की ओर 3 km
 - 3. पूर्व की ओर 5 km
 - 4. पूर्व की ओर 3 km

Question ID : 630680416083

Option 1 ID : 6306801623096

Option 2 ID : 6306801623098

Option 3 ID : 6306801623095

Option 4 ID : 6306801623097

Status : Answered

Chosen Option : 3

Q.19 छह विद्यार्थी - P, Q, R, S, T और U - एक गोल मेज के परितः केंद्र की ओर अभिमुख होकर बैठे हैं।

Q, U के बायें से दूसरे स्थान पर बैठा है।

T, P के दायें से तीसरे स्थान पर बैठा है।

Q और U का निकटतम पड़ोसी P है।

S, U का पड़ोसी नहीं है।

निम्नलिखित में से कौन U और T दोनों का पड़ोसी है?

- Ans
- 1. P
 - 2. R
 - 3. S
 - 4. Q

Question ID : 630680416858

Option 1 ID : 6306801626195

Option 2 ID : 6306801626197

Option 3 ID : 6306801626198

Option 4 ID : 6306801626196

Status : Answered

Chosen Option : 2

Q.20 यदि + का अर्थ - है, - का अर्थ \times है, \times का अर्थ \div है, \div का अर्थ + है, तो दिए गए समीकरण में प्रश्न-चिह्न (?) के स्थान पर क्या आएगा?
 $99 \times 33 - 70 \div 90 + 100 = ?$

- Ans 1. 201
 2. 100
 3. 300
 4. 200

Question ID : 630680154561
Option 1 ID : 630680598051
Option 2 ID : 630680598050
Option 3 ID : 630680598049
Option 4 ID : 630680598048
Status : Answered
Chosen Option : 4

Q.21 नीचे दो कथन और दो निष्कर्ष दिए गए हैं। कथनों को सत्य मानें, भले ही वे सर्वज्ञात तथ्यों से भिन्न हों और निर्णय लें कि कौन-सा/से निष्कर्ष दिए गए कथनों का अनुसरण करता है / करते हैं।

कथन:

सभी प्लास्टिक फाइबर हैं।

कुछ फाइबर चमड़े हैं।

निष्कर्ष:

I. कुछ प्लास्टिक चमड़े हैं।

II. कुछ फाइबर प्लास्टिक हैं।

- Ans 1. केवल निष्कर्ष I अनुसरण करता है
 2. दोनों निष्कर्ष अनुसरण करते हैं
 3. केवल निष्कर्ष II अनुसरण करता है
 4. न तो निष्कर्ष I अनुसरण करता है और न ही II अनुसरण करता है

Question ID : 630680417369
Option 1 ID : 6306801628239
Option 2 ID : 6306801628241
Option 3 ID : 6306801628240
Option 4 ID : 6306801628242
Status : Answered
Chosen Option : 3

Q.22 एक निश्चित कूट भाषा में 'BYE' को '32' और 'ANGER' को '45' के रूप में लिखा जाता है। उस भाषा में 'LOVE' कैसे लिखा जाएगा?

- Ans 1. 39
 2. 37
 3. 46
 4. 54

Question ID : 630680416589
Option 1 ID : 6306801625120
Option 2 ID : 6306801625121
Option 3 ID : 6306801625122
Option 4 ID : 6306801625119
Status : Answered
Chosen Option : 4

Q.23 निम्नलिखित में से कौन-सा अक्षर समूह प्रश्न-चिह्न (?) का स्थान लेगा और दी गई श्रृंखला को पूरा करेगा?
TEKS, YLBD, ?, IZJZ, NGAK

- Ans
- 1. FGCW
 - 2. JKDO
 - 3. DXTO
 - 4. DSSO

Question ID : 630680417186
Option 1 ID : 6306801627507
Option 2 ID : 6306801627509
Option 3 ID : 6306801627510
Option 4 ID : 6306801627508
Status : Answered
Chosen Option : 4

Q.24 एक निश्चित कूट भाषा में,
'A x B' का अर्थ है कि 'A, B का पुत्र है',
'A - B' का अर्थ है कि 'A, B का भाई है',
'A + B' का अर्थ है कि 'A, B की पत्नी है',
'A % B' का अर्थ है कि 'A, B का पिता है'।
यदि 'M x N % P - S + T' है तो M का T से क्या संबंध है?

- Ans
- 1. भाभी का नाना
 - 2. साला
 - 3. पत्नी का नाना
 - 4. ससुर का मामा

Question ID : 630680869743
Option 1 ID : 6306803406339
Option 2 ID : 6306803406340
Option 3 ID : 6306803406338
Option 4 ID : 6306803406341
Status : Answered
Chosen Option : 2

Q.25 निम्नलिखित में से कौन-सा पद दी गई श्रृंखला में प्रश्न-चिह्न (?) को प्रतिस्थापित करेगा?
DIQ, EJR, FKS, ?

- Ans
- 1. GLT
 - 2. DKO
 - 3. DLS
 - 4. ETH

Question ID : 630680417066
Option 1 ID : 6306801627030
Option 2 ID : 6306801627028
Option 3 ID : 6306801627029
Option 4 ID : 6306801627027
Status : Answered
Chosen Option : 1

Q.26 एक निश्चित कूट भाषा में 'NODE' को '6297' के रूप में कूटबद्ध किया गया है और 'BONE' को '9716' के रूप में कूटबद्ध किया गया है। उसी भाषा में 'D' के लिए कूट क्या है?

- Ans
- 1. 6
 - 2. 7
 - 3. 2
 - 4. 1

Question ID : 630680327784

Option 1 ID : 6306801275107

Option 2 ID : 6306801275108

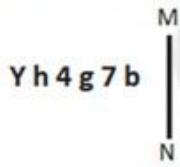
Option 3 ID : 6306801275106

Option 4 ID : 6306801275105

Status : Answered

Chosen Option : 3

Q.27 जब दर्पण को MN पर रखा जाता हो तो दी गई आकृति के सही दर्पण प्रतिबिंब का चयन कीजिए।



- Ans
- 1. d 7 g 4 h Y
 - 2. Y h 4 g 7 b
 - 3. Y h 4 g 7 b
 - 4. d 7 g 4 h Y

Question ID : 630680325841

Option 1 ID : 6306801267560

Option 2 ID : 6306801267558

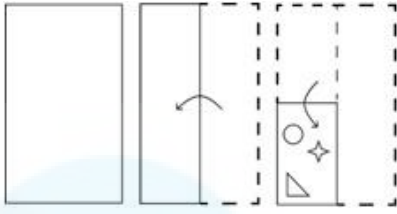
Option 3 ID : 6306801267559

Option 4 ID : 6306801267557

Status : Answered

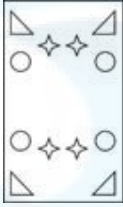
Chosen Option : 1

Q.28 निम्नलिखित आकृतियों में एक कागज़ को मोड़ने का क्रम और मुड़े हुए कागज़ को काटने का तरीका दर्शाया गया है। खोले जाने पर यह कागज़ कैसा दिखाई देगा?




Ans

✗ 1.




✗ 2.



✓ 3.



✗ 4.



Question ID : 630680344220
 Option 1 ID : 6306801339194
 Option 2 ID : 6306801339196
 Option 3 ID : 6306801339195
 Option 4 ID : 6306801339193
 Status : Answered
 Chosen Option : 3

Q.29 एक निश्चित तर्क का अनुसरण करते हुए 824, 329 से संबंधित है। उसी तर्क का अनुसरण करते हुए, 271, 505 से संबंधित है। उसी तर्क का उपयोग करते हुए निम्नलिखित में से कौन सी संख्या 408 से संबंधित है?

Ans ✗ 1. 612

✗ 2. 434

✓ 3. 822

✗ 4. 325

Question ID : 63068063334
 Option 1 ID : 630680244503
 Option 2 ID : 630680244504
 Option 3 ID : 630680244505
 Option 4 ID : 630680244502
 Status : Not Attempted and Marked For Review
 Chosen Option : --

Q.30 दिए गए समीकरण को सही बनाने के लिए कौन से दो चिह्नों को परस्पर बदलना चाहिए?
 $30 + 3 \times 990 - 11 \div 63 = 237$

- Ans
- 1. + और -
 - 2. - और \times
 - 3. + और -
 - 4. \times और +

Question ID : 630680411800
Option 1 ID : 6306801606036
Option 2 ID : 6306801606037
Option 3 ID : 6306801606035
Option 4 ID : 6306801606038
Status : Answered
Chosen Option : 3

Q.31 निम्नलिखित में से कौन-सी संख्या दी गई श्रृंखला में प्रश्नवाचक चिह्न (?) का स्थान लेगी?

167 117 ? 47 27

- Ans
- 1. 107
 - 2. 37
 - 3. 87
 - 4. 77

Question ID : 630680412015
Option 1 ID : 6306801606896
Option 2 ID : 6306801606897
Option 3 ID : 6306801606898
Option 4 ID : 6306801606895
Status : Answered
Chosen Option : 4

Q.32 दिए गए विकल्पों में से उस संख्या का चयन करें जो निम्नलिखित श्रृंखला में प्रश्न चिह्न (?) के स्थान पर आ सकती है।
22, 27, 37, 52, 72, ?

- Ans
- 1. 95
 - 2. 92
 - 3. 100
 - 4. 97

Question ID : 630680411934
Option 1 ID : 6306801606571
Option 2 ID : 6306801606572
Option 3 ID : 6306801606574
Option 4 ID : 6306801606573
Status : Answered
Chosen Option : 4

Q.33 विकल्पों में दी गई उस आकृति को पहचानिए, जिसे (?) के स्थान पर रखने पर श्रृंखला तार्किक रूप से पूर्ण हो जाएगी।

Y A	X Y	K X	D K	
X	K	D	A	?
K D	D A	A Y	Y X	

Ans

✗ 1.

Y A
X
K D

✓ 2.

A D
Y
X K

✗ 3.

A D
Y
K X

✗ 4.

A X
K
D Y

Question ID : 630680867774
 Option 1 ID : 6306803398743
 Option 2 ID : 6306803398741
 Option 3 ID : 6306803398740
 Option 4 ID : 6306803398742
 Status : Answered
 Chosen Option : 2

Q.34 एक कूट भाषा में, 'SERIES' को 87 के रूप में कूटबद्ध किया जाता है और 'DISMAY' को 91 के रूप में कूटबद्ध किया जाता है। उसी भाषा में 'SPRINT' को किस प्रकार कूटबद्ध किया जाएगा?

- Ans
- ✗ 1. 71
 - ✓ 2. 66
 - ✗ 3. 57
 - ✗ 4. 52

Question ID : 630680416659
 Option 1 ID : 6306801625402
 Option 2 ID : 6306801625401
 Option 3 ID : 6306801625400
 Option 4 ID : 6306801625399
 Status : Not Attempted and Marked For Review
 Chosen Option : --

Q.35 यदि + और - को आपस में बदल दिया जाए, साथ ही 8 और 16 को भी आपस में बदल दिया जाए, तो प्रश्नवाचक चिह्न (?) के स्थान पर क्या आएगा?
 $3 \times 6 + 16 - 8 \div 2 = ?$

Ans 1. 18

2. 19

3. 20

4. 17

Question ID : 630680411789

Option 1 ID : 6306801605992

Option 2 ID : 6306801605993

Option 3 ID : 6306801605991

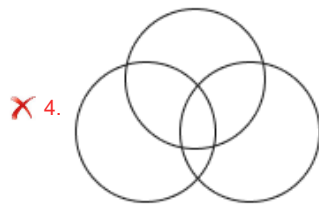
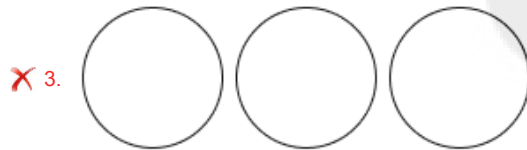
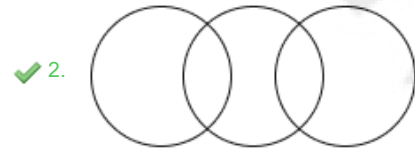
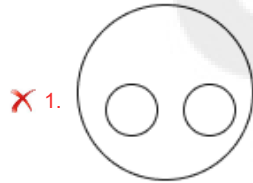
Option 4 ID : 6306801605994

Status : Answered

Chosen Option : 1

Q.36 उस वेन आरेख का चयन कीजिए जो निम्नलिखित वर्गों के बीच संबंध को सर्वोत्तम रूप से दर्शाता है।
चित्रकार, पुरुष, महिलाएँ

Ans



Question ID : 630680869734

Option 1 ID : 6306803406303

Option 2 ID : 6306803406305

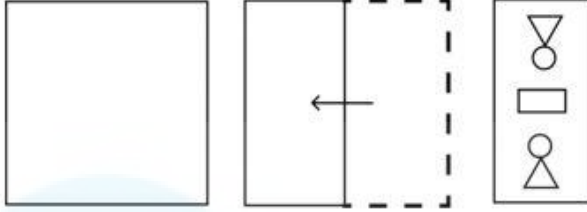
Option 3 ID : 6306803406302

Option 4 ID : 6306803406304

Status : Answered

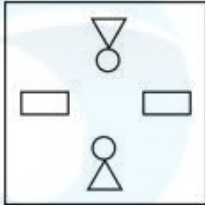
Chosen Option : 2

Q.37 कागज की एक शीट को बिंदीदार रेखा के साथ-साथ दर्शाई गई दिशाओं के अनुदिश क्रमिक रूप से मोड़ा जाता है और फिर अंत में छेद किया जाता है। खोलने पर यह कागज कैसा दिखेगा?

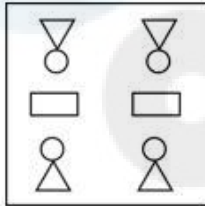


Ans

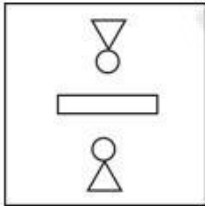
✗ 1.



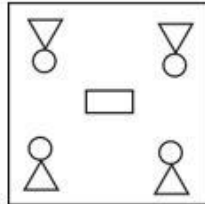
✓ 2.



✗ 3.



✗ 4.



Question ID : 630680332544

Option 1 ID : 6306801293613

Option 2 ID : 6306801293616

Option 3 ID : 6306801293614

Option 4 ID : 6306801293615

Status : Answered

Chosen Option : 2

Q.38 उस विकल्प का चयन कीजिए, जिसमें संख्याएं वही संबंध साझा करती हैं, जो संख्याओं के दिए गए युग्म द्वारा साझा किया जाता है।
50 - 130

Ans ✓ 1. 60 - 120

✗ 2. 30 - 80

✗ 3. 35 - 120

✗ 4. 75 - 110

Question ID : 630680107235

Option 1 ID : 630680416326

Option 2 ID : 630680416324

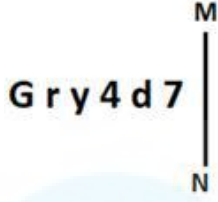
Option 3 ID : 630680416325

Option 4 ID : 630680416327

Status : Not Attempted and Marked For Review

Chosen Option : --

Q.39 जब दर्पण को नीचे दर्शाए गए अनुसार MN पर रखा जाता है तो दी गई आकृति के सही दर्पण प्रतिबिंब का चयन कीजिए।



- Ans
- 1. 74dy1@
 - 2. LbAy1G
 - 3. 7bAy1@
 - 4. L4yA1@

Question ID : 630680356643

Option 1 ID : 6306801388575

Option 2 ID : 6306801388573

Option 3 ID : 6306801388574

Option 4 ID : 6306801388576

Status : Answered

Chosen Option : 3

Q.40 कियारा बिंदु A से झाड़व करना आरंभ करती है, जो बिंदु Z के उत्तर में 5 km पर है। बिंदु A से, वह पूर्व की ओर मुड़ती है और 8 km झाड़व करती है। फिर वह दाएं मुड़ती है और 9 km झाड़व करती है। अंत में, वह दाएं मुड़ती है और 15 km झाड़व करके बिंदु B पर रुक जाती है। बिंदु Z के संदर्भ में बिंदु B किस दिशा में है?

- Ans
- 1. उत्तर-पूर्व
 - 2. उत्तर-पश्चिम
 - 3. दक्षिण
 - 4. दक्षिण-पश्चिम

Question ID : 630680416310

Option 1 ID : 6306801624004

Option 2 ID : 6306801624003

Option 3 ID : 6306801624005

Option 4 ID : 6306801624006

Status : Answered

Chosen Option : 4

Q.41 अंग्रेजी वर्णमाला क्रम पर आधारित, निम्नलिखित चार अक्षर-समूहों में से तीन किसी निश्चित तरीके से समान हैं और इस प्रकार एक समूह बनाते हैं। किस अक्षर-समूह का संबंध उस समूह से नहीं है? (नोट: असंगत अक्षर-समूह, व्यंजनों/स्वरो की संख्या या इस अक्षर-समूह में उनकी स्थिति पर आधारित नहीं है।)

- Ans
- 1. IFM
 - 2. TQX
 - 3. GDK
 - 4. OLR

Question ID : 630680416085

Option 1 ID : 6306801623104

Option 2 ID : 6306801623106

Option 3 ID : 6306801623103

Option 4 ID : 6306801623105

Status : Answered

Chosen Option : 4

Q.42 उस विकल्प का चयन कीजिए जो दिए गए शब्दों के उस सही क्रम को दर्शाता है, जिस क्रम में वे अंग्रेजी शब्दकोश में दिखाई देते हैं।

1. Larkiness
2. Larcenist
3. Larceners
4. Lariated
5. Laryngal
6. Largely

- Ans
- 1. 3, 2, 4, 1, 6, 5
 - 2. 3, 2, 1, 6, 4, 5
 - 3. 3, 2, 6, 4, 1, 5
 - 4. 3, 2, 1, 4, 6, 5

Question ID : 630680417425

Option 1 ID : 6306801628463

Option 2 ID : 6306801628466

Option 3 ID : 6306801628465

Option 4 ID : 6306801628464

Status : Answered

Chosen Option : 3

Q.43 दो कथन दिए गए हैं, जिनके बाद दो निष्कर्ष I और II दिए गए हैं। कथनों को सत्य मानते हुए, भले ही वे सामान्य रूप से ज्ञात तथ्यों से भिन्न प्रतीत होते हों, निर्धारित करें कि कौन-सा/से निष्कर्ष कथनों का तार्किक रूप से अनुसरण करता है/करते हैं।

कथन:

सभी कैरम लूडो हैं।

सभी लूडो स्क्रैबल हैं।

निष्कर्ष:

I. कुछ कैरम स्क्रैबल नहीं हैं।

II. कुछ स्क्रैबल कैरम हैं।

- Ans
- 1. केवल निष्कर्ष II अनुसरण करता है
 - 2. निष्कर्ष I और II दोनों अनुसरण करते हैं
 - 3. केवल निष्कर्ष I अनुसरण करता है
 - 4. न तो निष्कर्ष I अनुसरण करता है और न ही II अनुसरण करता है

Question ID : 630680417100

Option 1 ID : 6306801627164

Option 2 ID : 6306801627165

Option 3 ID : 6306801627163

Option 4 ID : 6306801627166

Status : Answered

Chosen Option : 1

Q.44 एक कूट भाषा में 'TREE' को 'WSHF' के रूप में लिखा जाता है और 'BALL' को 'EBOM' के रूप में लिखा जाता है। इसी कूट भाषा में 'WALL' को कैसे लिखा जाएगा?

- Ans
- 1. ZOMB
 - 2. MOZB
 - 3. ZBOM
 - 4. OZBM

Question ID : 630680416691

Option 1 ID : 6306801625527

Option 2 ID : 6306801625529

Option 3 ID : 6306801625530

Option 4 ID : 6306801625528

Status : Answered

Chosen Option : 3

Q.45 उस विकल्प का चयन करें, जो पाँचवें अक्षर-समूह से उसी प्रकार संबंधित है, जिस प्रकार दूसरा अक्षर-समूह पहले अक्षर-समूह से और चौथा अक्षर-समूह तीसरे अक्षर-समूह से संबंधित है।
DIETY : CJFSX :: GRACE : FQBBF :: GLORY : ?

- Ans
- 1. FKPSX
 - 2. FKMQX
 - 3. FKPQX
 - 4. FKRQX

Question ID : 630680416475
Option 1 ID : 6306801624666
Option 2 ID : 6306801624664
Option 3 ID : 6306801624665
Option 4 ID : 6306801624663
Status : Answered
Chosen Option : 3

Q.46 उस समुच्चय का चयन करें जिसकी संख्याएं उसी तरह से संबंधित हैं जिस तरह निम्नलिखित समुच्चयों की संख्याएं संबंधित हैं।

(नोट: संख्याओं को उसके घटक अंकों में तोड़े बिना, पूर्ण संख्याओं पर संक्रियाएं की जानी चाहिए। उदाहरण के लिए संख्या 13 को लें - 13 पर संक्रियाएं, जैसे कि 13 में जोड़ना/घटाना/गुणा करना आदि, की जा सकती हैं। 13 को 1 और 3 में तोड़ने और फिर 1 और 3 पर गणितीय संक्रियाएं करने की अनुमति नहीं है)

(112, 56, 8)
(196, 98, 14)

- Ans
- 1. (294, 147, 21)
 - 2. (294, 149, 21)
 - 3. (292, 147, 21)
 - 4. (294, 147, 19)

Question ID : 630680344677
Option 1 ID : 6306801341020
Option 2 ID : 6306801341019
Option 3 ID : 6306801341017
Option 4 ID : 6306801341018
Status : Answered
Chosen Option : 1

Q.47 निम्नलिखित में से कौन-सी संख्या दी गई श्रृंखला में प्रश्न चिह्न (?) को प्रतिस्थापित करेगी?
10, 50, 250, 1250, 6250, ?

- Ans
- 1. 91250
 - 2. 21250
 - 3. 31250
 - 4. 61250

Question ID : 630680411769
Option 1 ID : 6306801605911
Option 2 ID : 6306801605914
Option 3 ID : 6306801605913
Option 4 ID : 6306801605912
Status : Answered
Chosen Option : 3

Q.48 दिए गए विकल्पों में से उस संख्या का चयन कीजिए जो निम्नलिखित श्रृंखला में प्रश्न चिह्न (?) के स्थान पर आ सकती है।
53, 62, 77, 98, ?

Ans 1. 121

2. 123

3. 125

4. 122

Question ID : 630680411913

Option 1 ID : 6306801606487

Option 2 ID : 6306801606489


Option 3 ID : 6306801606490

Option 4 ID : 6306801606488

Status : Answered

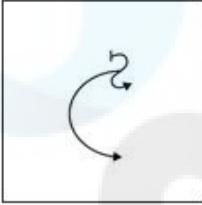
Chosen Option : 3

Q.49 जब दर्पण को नीचे दर्शाए गए अनुसार MN रेखा पर रखा जाता है तो दी गई आकृति के सही दर्पण प्रतिबिंब का चयन कीजिए।

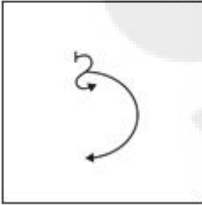


Ans

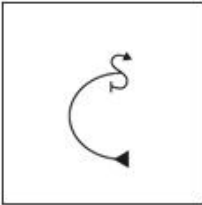
✗ 1.



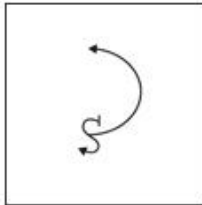
✗ 2.



✗ 3.



✓ 4.



Question ID : 630680296903

Option 1 ID : 6306801155255

Option 2 ID : 6306801155256

Option 3 ID : 6306801155258

Option 4 ID : 6306801155257

Status : Answered

Chosen Option : 4

Q.50 एक निश्चित कूट भाषा में,
A + B का अर्थ है 'A, B की मां है'
A - B का अर्थ है 'A, B का भाई है'
A × B का अर्थ है 'A, B की पत्नी है'
A ÷ B का अर्थ है 'A, B का पिता है'
उपर्युक्त के आधार पर, यदि 'U - P × Q ÷ R + S - T' है, तो R का U से क्या संबंध है?

- Ans
- 1. साली
 - 2. भांजी
 - 3. बहन
 - 4. पुत्री

Question ID : 630680284952
Option 1 ID : 6306801107808
Option 2 ID : 6306801107809
Option 3 ID : 6306801107807
Option 4 ID : 6306801107810
Status : Answered
Chosen Option : 2

Section : General Knowledge and General Awareness

Q.1 दिसंबर 2022 तक की प्राप्त जानकारी के अनुसार भारत के किस राज्य की सरकार द्वारा कला के क्षेत्र में 'कालिदास सम्मान' पुरस्कार दिया गया है?

- Ans
- 1. तमिलनाडु
 - 2. मध्य प्रदेश
 - 3. तेलंगाना
 - 4. राजस्थान

Question ID : 630680176371
Option 1 ID : 630680683712
Option 2 ID : 630680683711
Option 3 ID : 630680683713
Option 4 ID : 630680683710
Status : Answered
Chosen Option : 2

Q.2 निम्नलिखित भरतनाट्यम नर्तकियों में से किसे तिरुमाला तिरुपति देवस्थानम मंदिर द्वारा अस्थाना नर्तकी (निवासी नर्तकी) की उपाधि से सम्मानित किया गया था?

- Ans
- 1. पद्मा सुब्रमण्यम
 - 2. रीता गांगुली
 - 3. इंद्राणी रहमान
 - 4. यामिनी कृष्णमूर्ति

Question ID : 630680309164
Option 1 ID : 6306801202834
Option 2 ID : 6306801202835
Option 3 ID : 6306801202836
Option 4 ID : 6306801202833
Status : Answered
Chosen Option : 4

Q.3 भारतीय संविधान का कौन-सा अनुच्छेद भारत सरकार के वार्षिक वित्तीय विवरण से संबंधित है?

- Ans
- 1. अनुच्छेद 120
 - 2. अनुच्छेद 112
 - 3. अनुच्छेद 110
 - 4. अनुच्छेद 116

Question ID : 630680408224
Option 1 ID : 6306801591794
Option 2 ID : 6306801591792
Option 3 ID : 6306801591791
Option 4 ID : 6306801591793
Status : Answered
Chosen Option : 2

Q.4 Special Drawing Rights are also known as _____.

- Ans
- 1. Golden Papers
 - 2. Gold Papers
 - 3. Paper Gold
 - 4. International Reserves Money

Question ID : 630680407167
Option 1 ID : 6306801587610
Option 2 ID : 6306801587611
Option 3 ID : 6306801587613
Option 4 ID : 6306801587612
Status : Answered
Chosen Option : 1

Q.5 चाणक्याज चैंट (Chanakya's Chant) पुस्तक निम्नलिखित में से किसने लिखी?

- Ans
- 1. अश्विन सांघी
 - 2. अमीश त्रिपाठी
 - 3. समित बसु
 - 4. नोवोनील चक्रवर्ती

Question ID : 630680409377
Option 1 ID : 6306801596338
Option 2 ID : 6306801596337
Option 3 ID : 6306801596340
Option 4 ID : 6306801596339
Status : Not Attempted and Marked For Review
Chosen Option : --

Q.6 निम्नलिखित में से कौन-सा क्रांतिकारी अनुशीलन समिति से जुड़ा था?

- Ans
- 1. राजगुरु
 - 2. भगत सिंह
 - 3. सुखदेव
 - 4. जतीन्द्र मोहन सेनगुप्ता

Question ID : 630680412422
Option 1 ID : 6306801608512
Option 2 ID : 6306801608511
Option 3 ID : 6306801608513
Option 4 ID : 6306801608514
Status : Answered
Chosen Option : 4

Q.7 पुलकेशन II, निम्नलिखित में से किस राजवंश से संबंधित था?

- Ans 1. चालुक्य
 2. पांड्य
 3. राष्ट्रकूट
 4. चेर

Question ID : 630680412346
Option 1 ID : 6306801608209
Option 2 ID : 6306801608208
Option 3 ID : 6306801608207
Option 4 ID : 6306801608210
Status : Answered
Chosen Option : 1

Q.8 खजुराहो में कंदरिया महादेव मंदिर निम्नलिखित में से किस राजवंश के समय में बनाया गया था?

- Ans 1. राष्ट्रकूट
 2. चंदेल
 3. सोलंकी
 4. चेर

Question ID : 630680412511
Option 1 ID : 6306801608868
Option 2 ID : 6306801608870
Option 3 ID : 6306801608867
Option 4 ID : 6306801608869
Status : Answered
Chosen Option : 2

Q.9 निम्नलिखित में से किस वैज्ञानिक ने तत्वों को त्रिक में वर्गीकृत किया?

- Ans 1. दिमित्री मेंडेलीव (Dimitri Mendeleev)
 2. जोहान वोल्फगैंग डोबेरेनर (Johann Wolfgang Dobereiner)
 3. हेनरी मोसले (Henry Moseley)
 4. जॉन न्यूलैंड्स (John Newlands)

Question ID : 63068052335
Option 1 ID : 630680201444
Option 2 ID : 630680201442
Option 3 ID : 630680201445
Option 4 ID : 630680201443
Status : Answered
Chosen Option : 2

Q.10 ब्यूटेन का रासायनिक सूत्र क्या होता है?

- Ans 1. C_4H_8
 2. C_4H_{10}
 3. C_2H_{10}
 4. C_2H_6

Question ID : 630680134924
Option 1 ID : 630680522515
Option 2 ID : 630680522514
Option 3 ID : 630680522516
Option 4 ID : 630680522517
Status : Answered
Chosen Option : 4

Q.11 वर्ष 2011-12 में, भारतीय कार्यबल का कितना प्रतिशत द्वितीयक क्षेत्र में लगा हुआ था?

- Ans
- 1. 30.0%
 - 2. 24.3%
 - 3. 60.4%
 - 4. 15.8%

Question ID : 630680115727

Option 1 ID : 630680448249

Option 2 ID : 630680448248

Option 3 ID : 630680448246

Option 4 ID : 630680448247

Status : Answered

Chosen Option : 4

Q.12 धर्मपाल को बिहार में भागलपुर के पास निम्नलिखित में से किस विश्वविद्यालय की स्थापना के लिए जाना जाता है?

- Ans
- 1. नालंदा
 - 2. विक्रमशिला
 - 3. वल्लभी
 - 4. तक्षशिला

Question ID : 630680412514

Option 1 ID : 6306801608880

Option 2 ID : 6306801608881

Option 3 ID : 6306801608882

Option 4 ID : 6306801608879

Status : Answered

Chosen Option : 2

Q.13 भारत में, निम्नलिखित में से किसे इस्पात नगरी (steel city) कहा जाता है?

- Ans
- 1. पटना
 - 2. जमशेदपुर
 - 3. मुंबई
 - 4. रांची

Question ID : 630680701463

Option 1 ID : 6306802747785

Option 2 ID : 6306802747786

Option 3 ID : 6306802747787

Option 4 ID : 6306802747788

Status : Answered

Chosen Option : 2

Q.14 भारतीय संविधान के अनुसार राज्यपालों की विशेष शक्तियों के संबंध में निम्नलिखित में से कौन सा कथन सही है?

- A. नागालैंड के राज्यपाल के पास राज्य में कानून व्यवस्था से संबंधित विशेष जिम्मेदारी होगी।
B. मणिपुर के राज्यपाल राज्य में पहाड़ी क्षेत्रों के प्रशासन पर राष्ट्रपति को एक विशेष वार्षिक रिपोर्ट प्रस्तुत करेंगे।
C. सिक्किम के राज्यपाल के पास शांति व्यवस्था और विभिन्न वर्गों की सामाजिक और आर्थिक उन्नति सुनिश्चित करने के लिए समान व्यवस्था के लिए विशेष जिम्मेदारी होगी।
D. अरुणाचल प्रदेश के राज्यपाल की अरुणाचल प्रदेश राज्य में कानून और व्यवस्था के संबंध में विशेष जिम्मेदारी होगी।

- Ans 1. B, C और D केवल
 2. A, B और C केवल
 3. A, B, C और D
 4. A, C और D केवल

Question ID : 630680408316
Option 1 ID : 6306801592161
Option 2 ID : 6306801592160
Option 3 ID : 6306801592159
Option 4 ID : 6306801592162
Status : Answered
Chosen Option : 2

Q.15 Which of the following was widely considered as the 'heaven born service' for Indians during British rule?

- Ans 1. The Indian Civil Service or ICS
 2. The British Indian Army
 3. The Indian Judicial Service
 4. Military service on the Burma front

Question ID : 630680147264
Option 1 ID : 630680569846
Option 2 ID : 630680569847
Option 3 ID : 630680569849
Option 4 ID : 630680569848
Status : Answered
Chosen Option : 1

Q.16 विशाल भारतीय मरुस्थल/थार मरुस्थल निम्नलिखित में से किस पर्वत श्रृंखला के पश्चिमी किनारे पर स्थित है?

- Ans 1. अरावली पर्वतमाला
 2. पूर्वी घाट
 3. विंध्य पर्वतमाला
 4. सतपुड़ा पर्वतमाला

Question ID : 630680701449
Option 1 ID : 6306802747730
Option 2 ID : 6306802747732
Option 3 ID : 6306802747731
Option 4 ID : 6306802747729
Status : Answered
Chosen Option : 1

Q.17 अंतर्राष्ट्रीय सेना खेल (International Army Games) - 2021, 22 अगस्त से 4 सितंबर तक निम्नलिखित में से किस देश में आयोजित किए गए थे?

- Ans
- 1. उज़्बेकिस्तान
 - 2. रूस
 - 3. बेलारूस
 - 4. भारत

Question ID : 630680115910

Option 1 ID : 630680448972

Option 2 ID : 630680448970

Option 3 ID : 630680448971

Option 4 ID : 630680448973

Status : Not Attempted and Marked For Review

Chosen Option : --

Q.18 निम्नलिखित में से किसने एक सिद्धांत की खोज की, जो बताता है कि किसी वस्तु पर उत्प्लावन बल वस्तु द्वारा विस्थापित द्रव के भार के बराबर होता है?

- Ans
- 1. आइज़ैक न्यूटन
 - 2. आर्किमिडीज
 - 3. नील्स बोहर
 - 4. गैलीलियो गैलीली

Question ID : 63068076935

Option 1 ID : 630680297837

Option 2 ID : 630680297839

Option 3 ID : 630680297840

Option 4 ID : 630680297838

Status : Answered

Chosen Option : 2

Q.19 निम्नलिखित में से कौन-सा कथन हरित क्रांति के सन्दर्भ में सत्य नहीं है?

- Ans
- 1. खेती अधिक विस्तृत प्रकृति की हो गई।
 - 2. प्रकृति में खेती अधिक सघन हो गई।
 - 3. इसके दूसरे चरण में, भारत के शुष्क और अर्ध-शुष्क क्षेत्रों में सूखी से गीली (सिंचित) खेती की ओर बदलाव हुआ।
 - 4. इसके दूसरे चरण में, फसल पद्धति और उगाई जाने वाली फसलों के प्रकार में बदलाव हुआ।

Question ID : 630680407124

Option 1 ID : 6306801587441

Option 2 ID : 6306801587440

Option 3 ID : 6306801587439

Option 4 ID : 6306801587438

Status : Answered

Chosen Option : 1

Q.20 भारत की प्रसिद्ध गायिका बेगम अख्तर निम्नलिखित में से किस विधा के लिए जानी जाती हैं?

- Ans
- 1. सूफी संगीत
 - 2. लोक संगीत
 - 3. कर्नाटक संगीत
 - 4. गज़ल संगीत

Question ID : 630680409264
Option 1 ID : 6306801595888
Option 2 ID : 6306801595887
Option 3 ID : 6306801595886
Option 4 ID : 6306801595885
Status : Answered
Chosen Option : 4

Q.21 निम्नलिखित में से कौन-सा विकल्प सही सुमेलित नहीं है?

- Ans
- 1. वुलर झील - जम्मू और कश्मीर
 - 2. चिल्का झील - ओडिशा
 - 3. वेंबनाड झील - केरल
 - 4. सरदार सरोवर झील - कर्नाटक

Question ID : 630680407481
Option 1 ID : 6306801588865
Option 2 ID : 6306801588862
Option 3 ID : 6306801588863
Option 4 ID : 6306801588864
Status : Answered
Chosen Option : 4

Q.22 Identify the structure that controls the size of the pupil.

- Ans
- 1. Vitreous humour
 - 2. Cornea
 - 3. Iris
 - 4. Ciliary muscles

Question ID : 63068074764
Option 1 ID : 630680289214
Option 2 ID : 630680289213
Option 3 ID : 630680289212
Option 4 ID : 630680289211
Status : Answered
Chosen Option : 4

Q.23 Who among of the following is the author of the book Making India Awesome?

- Ans
- 1. Vikram Seth
 - 2. Aravind Adiga
 - 3. Siddhartha Mukherjee
 - 4. Chetan Bhagat

Question ID : 630680701387
Option 1 ID : 6306802747487
Option 2 ID : 6306802747485
Option 3 ID : 6306802747486
Option 4 ID : 6306802747488
Status : Answered
Chosen Option : 1

Q.24 एक मानक टेबल टेनिस गेंद का आकार क्या होता है?

- Ans
- 1. 42 mm
 - 2. 41 mm
 - 3. 39 mm
 - 4. 40 mm

Question ID : 630680303676
Option 1 ID : 6306801181276
Option 2 ID : 6306801181275
Option 3 ID : 6306801181273
Option 4 ID : 6306801181274
Status : Answered
Chosen Option : 2

Q.25 If the value/percentage of the cash reserve ratio falls, then the value of money multiplier _____.

- Ans
- 1. remains stable
 - 2. None of the above
 - 3. rises
 - 4. falls

Question ID : 630680407147
Option 1 ID : 6306801587532
Option 2 ID : 6306801587533
Option 3 ID : 6306801587531
Option 4 ID : 6306801587530
Status : Answered
Chosen Option : 3

Q.26 नवरात्रि और दुर्गा पूजा के अंत में कौन-सा त्योहार आता है?

- Ans
- 1. पोंगल
 - 2. होली
 - 3. दशहरा
 - 4. क्रिसमस

Question ID : 630680409209
Option 1 ID : 6306801595668
Option 2 ID : 6306801595666
Option 3 ID : 6306801595665
Option 4 ID : 6306801595667
Status : Answered
Chosen Option : 3

Q.27 दीपा करथा _____ नृत्य से संबंधित है।

- Ans
- 1. मणिपुरी
 - 2. कथक
 - 3. ओडिसी
 - 4. सत्रिया

Question ID : 630680216132
Option 1 ID : 630680838503
Option 2 ID : 630680838505
Option 3 ID : 630680838506
Option 4 ID : 630680838504
Status : Answered
Chosen Option : 3

Q.28 जनगणना 2011 के अनुसार भारत में ग्रामीण जनसंख्या का प्रतिशत कितना है?

- Ans
- 1. 65.2%
 - 2. 59.3%
 - 3. 52.4%
 - 4. 68.8%

Question ID : 630680409702
Option 1 ID : 6306801597639
Option 2 ID : 6306801597638
Option 3 ID : 6306801597637
Option 4 ID : 6306801597640
Status : Answered
Chosen Option : 4

Q.29 भारत में कृषि कैलेंडर के संदर्भ में 'औस', 'अमन' और 'बोरो' शब्द क्या दर्शाते हैं?

- Ans
- 1. गुजरात में पारंपरिक कुओं के प्रकार
 - 2. असम में फसल उत्सव के प्रकार
 - 3. गंगा के मैदानों में जलोढ़ मृदा के प्रकार
 - 4. पश्चिम बंगाल में चावल की बुआई के मौसम के प्रकार

Question ID : 630680409636
Option 1 ID : 6306801597376
Option 2 ID : 6306801597375
Option 3 ID : 6306801597373
Option 4 ID : 6306801597374
Status : Answered
Chosen Option : 4

Q.30 Identify the organism that shows bioluminescence.

- Ans
- 1. Liver fluke
 - 2. Fasciola
 - 3. Ctenoplana
 - 4. Tapeworm

Question ID : 630680407491
Option 1 ID : 6306801588902
Option 2 ID : 6306801588905
Option 3 ID : 6306801588903
Option 4 ID : 6306801588904
Status : Not Attempted and Marked For Review
Chosen Option : --

Q.31 राज्य नीति के निर्देशक सिद्धांत किस अनुच्छेद के अंतर्गत आते हैं?

- Ans
- 1. अनुच्छेद 12-35
 - 2. अनुच्छेद 34-50
 - 3. अनुच्छेद 14-35
 - 4. अनुच्छेद 36-51

Question ID : 630680408282
Option 1 ID : 6306801592024
Option 2 ID : 6306801592026
Option 3 ID : 6306801592023
Option 4 ID : 6306801592025
Status : Answered
Chosen Option : 4

Q.32 वॉलीबॉल नेट पर प्रयुक्त एंटीना का रंग कैसा होता है?

- Ans
- 1. हरा और सफेद
 - 2. काला और सफेद
 - 3. लाल और सफेद
 - 4. पीला और काला

Question ID : 630680123988

Option 1 ID : 630680480813

Option 2 ID : 630680480810

Option 3 ID : 630680480811

Option 4 ID : 630680480812

Status : Not Attempted and
Marked For Review

Chosen Option : --

Q.33 भारतीय संविधान का कौन-सा अनुच्छेद यह प्रावधान करता है कि राज्य के राज्यपाल को किसी विधेयक को राष्ट्रपति के विचारार्थ आरक्षित करने का अधिकार है?

- Ans
- 1. अनुच्छेद 190
 - 2. अनुच्छेद 181
 - 3. अनुच्छेद 267
 - 4. अनुच्छेद 200

Question ID : 630680408196

Option 1 ID : 6306801591681

Option 2 ID : 6306801591679

Option 3 ID : 6306801591682

Option 4 ID : 6306801591680

Status : Answered

Chosen Option : 3

Q.34 स्तंभ A को स्तंभ B के साथ मिलाएं।

स्तंभ-A	स्तंभ-B
i. नींबू	a. टार्टरिक अम्ल
ii. दूध	b. साइट्रिक अम्ल
iii. सिरका	c. लैक्टिक अम्ल
iv. इमली	d. एसीटिक अम्ल

- Ans
- 1. i-b, ii-a, iii-c, iv-d
 - 2. i-b, ii-c, iii-d, iv-a
 - 3. i-a, ii-b, iii-c, iv-d
 - 4. i-d, ii-c, iii-b, iv-a

Question ID : 630680407528

Option 1 ID : 6306801589052

Option 2 ID : 6306801589051

Option 3 ID : 6306801589050

Option 4 ID : 6306801589053

Status : Answered

Chosen Option : 4

Q.35 डाल्टन के अनुसार, निम्नांकित में से कौन सी आकृति फास्फोरस तत्व का निरूपण करती है?



Ans 1. c

2. a

3. b

4. d

Question ID : 630680210469

Option 1 ID : 630680816037

Option 2 ID : 630680816035

Option 3 ID : 630680816036

Option 4 ID : 630680816038

Status : Answered

Chosen Option : 3

Q.36 42वें संविधान संशोधन अधिनियम, 1976 द्वारा कितने मौलिक कर्तव्य जोड़े गए?

Ans 1. 12

2. 14

3. 10

4. 8

Question ID : 630680282973

Option 1 ID : 6306801100024

Option 2 ID : 6306801100026

Option 3 ID : 6306801100023

Option 4 ID : 6306801100025

Status : Answered

Chosen Option : 3

Q.37 Which instrument was used to measure economic growth during the planning era?

Ans 1. National Income

2. Per Capita Gross Domestic Product

3. Per Capita Income

4. Gross Domestic Product

Question ID : 630680407119

Option 1 ID : 6306801587418

Option 2 ID : 6306801587420

Option 3 ID : 6306801587419

Option 4 ID : 6306801587421

Status : Answered

Chosen Option : 1

Q.38 निम्नलिखित में से कौन-सा कारक एक बैंक को अन्य वित्तीय संस्थानों से अलग करता है?

- Ans
- 1. ऋण और उधार स्वीकार करना
 - 2. जमा स्वीकार करना
 - 3. दीर्घकालीन ऋण प्रदान करना
 - 4. ऋण देना

Question ID : 630680407199
Option 1 ID : 6306801587741
Option 2 ID : 6306801587739
Option 3 ID : 6306801587738
Option 4 ID : 6306801587740
Status : Answered
Chosen Option : 2

Q.39 निम्नलिखित में से किसने पश्चिमी शिक्षा के प्रसार के लिए अलीगढ़ में मोहम्मडन एंग्लो-ओरिएंटल कॉलेज की स्थापना की थी?

- Ans
- 1. सय्यद अमीर अली
 - 2. मौलाना अबुल कलाम आजाद
 - 3. बदरुद्दीन तैयबजी
 - 4. सर सैयद अहमद खान

Question ID : 630680326311
Option 1 ID : 6306801269336
Option 2 ID : 6306801269333
Option 3 ID : 6306801269334
Option 4 ID : 6306801269335
Status : Answered
Chosen Option : 4

Q.40 अम्ल और पानी को मिलाने का सही तरीका क्या है?

- Ans
- 1. मिलाने से पहले पानी को गर्म करना चाहिए।
 - 2. पानी को अम्ल में मिलाया जाना चाहिए।
 - 3. मिलाने से पहले अम्ल को गर्म करना चाहिए।
 - 4. अम्ल को धीरे-धीरे पानी में मिलाना चाहिए।

Question ID : 630680407494
Option 1 ID : 6306801588914
Option 2 ID : 6306801588915
Option 3 ID : 6306801588917
Option 4 ID : 6306801588916
Status : Not Attempted and Marked For Review
Chosen Option : --

Q.41 निम्नलिखित में से कौन वर्ष 2001 में लता मंगेशकर के साथ भारत रत्न का सह-विजेता था?

- Ans
- 1. बिस्मिल्लाह खान
 - 2. रविशंकर
 - 3. भीमसेन जोशी
 - 4. आशा भोसले

Question ID : 630680415793
Option 1 ID : 6306801621931
Option 2 ID : 6306801621934
Option 3 ID : 6306801621932
Option 4 ID : 6306801621933
Status : Answered
Chosen Option : 1

Q.42 विश्व स्तर पर उपलब्ध कुल जल मात्रा में से कितने प्रतिशत जल मीठे पानी के संसाधनों से प्राप्त होता है?

- Ans
- 1. 3.5%
 - 2. 2.5%
 - 3. 4.5%
 - 4. 0.5%

Question ID : 63068099084
Option 1 ID : 630680385041
Option 2 ID : 630680385043
Option 3 ID : 630680385042
Option 4 ID : 630680385040
Status : Answered
Chosen Option : 4

Q.43 द फोर्टी मिनट्स रागा _____ द्वारा रचित एक एल्बम है।

- Ans
- 1. अली अकबर खान
 - 2. हरिप्रसाद चौरसिया
 - 3. भीमसेन जोशी
 - 4. अमजद अली खान

Question ID : 630680409337
Option 1 ID : 6306801596178
Option 2 ID : 6306801596177
Option 3 ID : 6306801596180
Option 4 ID : 6306801596179
Status : Not Attempted and Marked For Review
Chosen Option : --

Q.44 लक्ष्य सेन का जन्म _____ में हुआ था।

- Ans
- 1. उत्तराखंड
 - 2. उत्तर प्रदेश
 - 3. तेलंगाना
 - 4. हिमाचल प्रदेश

Question ID : 630680396989
Option 1 ID : 6306801548012
Option 2 ID : 6306801548013
Option 3 ID : 6306801548015
Option 4 ID : 6306801548014
Status : Not Attempted and Marked For Review
Chosen Option : --

Q.45 पश्चिमी घाट के संबंध में सही कथनों का चयन कीजिए।

- पश्चिमी घाट की ऊँचाई उत्तर से दक्षिण की ओर उत्तरोत्तर बढ़ती जाती है।
- महेंद्रगिरि पश्चिमी घाट की सबसे ऊँची चोटी है।
- पश्चिमी घाट पूर्वी घाट से ऊँचे हैं।
- पश्चिमी घाट की ऊँचाई उत्तर से दक्षिण की ओर उत्तरोत्तर घटती जाती है।

- Ans
- 1. a और c
 - 2. b, c और d
 - 3. a और b
 - 4. केवल c और d

Question ID : 630680407383

Option 1 ID : 6306801588470

Option 2 ID : 6306801588473

Option 3 ID : 6306801588471

Option 4 ID : 6306801588472

Status : Answered

Chosen Option : 4

Q.46 Which of the following organisms can initiate ecological succession even in bare rocks?

- Ans
- 1. Aspergillums
 - 2. Lily
 - 3. Orchids
 - 4. Lichens

Question ID : 630680407539

Option 1 ID : 6306801589097

Option 2 ID : 6306801589096

Option 3 ID : 6306801589095

Option 4 ID : 6306801589094

Status : Answered

Chosen Option : 1

Q.47 निम्नलिखित में से हिंदू कैलेंडर के किस महीने में होली का त्योहार मनाया जाता है?

- Ans
- 1. आषाढ़
 - 2. माघ
 - 3. फाल्गुन
 - 4. श्रावण

Question ID : 630680410355

Option 1 ID : 6306801600152

Option 2 ID : 6306801600154

Option 3 ID : 6306801600153

Option 4 ID : 6306801600151

Status : Answered

Chosen Option : 3

Q.48 सीमित सरकार की अवधारणा नागरिकों के _____ की सत्तारूढ़ सरकारों से रक्षा करने के लिए एक प्रमुख प्रयास है।

- Ans
- 1. शक्ति का विभाजन
 - 2. मौलिक अधिकार
 - 3. नियंत्रण और संतुलन
 - 4. मौलिक कर्तव्यों

Question ID : 630680282968

Option 1 ID : 6306801100005

Option 2 ID : 6306801100006

Option 3 ID : 6306801100004

Option 4 ID : 6306801100003

Status : Not Attempted and Marked For Review

Chosen Option : --

Q.49 भारत के निम्नलिखित में से किस भाग में कांटेदार वन और गुल्म वन पाए जाते हैं?

- Ans
- 1. दक्षिण-पश्चिमी भारत
 - 2. उत्तर-पूर्वी भारत
 - 3. उत्तर-पश्चिमी भारत
 - 4. दक्षिण-पूर्वी भारत

Question ID : 630680409685

Option 1 ID : 6306801597570

Option 2 ID : 6306801597569

Option 3 ID : 6306801597571

Option 4 ID : 6306801597572

Status : Answered

Chosen Option : 3

Q.50 निम्नलिखित में से किसे संगीत नाटक अकादमी पुरस्कार (मणिपुरी नृत्य में उनके योगदान के लिए) से सम्मानित किया गया था?

- Ans
- 1. उर्मिला नागर
 - 2. कलावती देवी
 - 3. मल्लिका साराभाई
 - 4. निर्मला रामचंद्रन

Question ID : 630680409343

Option 1 ID : 6306801596201

Option 2 ID : 6306801596202

Option 3 ID : 6306801596204

Option 4 ID : 6306801596203

Status : Answered

Chosen Option : 2

Q.1 एक मिठाई में एक तिहाई चीनी है। यदि चीनी की कीमत अब पिछले कीमत की $\frac{7}{6}$ है, तो मिठाई की लागत में प्रभावी प्रतिशत वृद्धि कितनी है?

- Ans
- 1. $\frac{200}{9}\%$
 - 2. $\frac{100}{3}\%$
 - 3. $\frac{100}{9}\%$
 - 4. $\frac{100}{18}\%$

Question ID : 630680428881

Option 1 ID : 6306801673571

Option 2 ID : 6306801673570

Option 3 ID : 6306801673569

Option 4 ID : 6306801673568

Status : Answered

Chosen Option : 2

Q.2

यदि $\cos A = \frac{4}{5}$ है, तो $(8 + \sin A)(3 - \tan A)$ का मान ज्ञात कीजिए।

- Ans
- 1. $\frac{373}{20}$
 - 2. $\frac{381}{20}$
 - 3. $\frac{387}{20}$
 - 4. $\frac{367}{20}$

Question ID : 630680421362

Option 1 ID : 6306801643914

Option 2 ID : 6306801643912

Option 3 ID : 6306801643913

Option 4 ID : 6306801643911

Status : Answered

Chosen Option : 3

Q.3 यदि एक कार 60 km/h की चाल से चलती है और एक निश्चित दूरी तय करने में 180 मिनट का समय लेती है, तो समान दूरी को 40 km की चाल से तय करने में उसे कितना समय लगेगा?

Ans 1. 4 घंटे 30 मिनट

2. 3 घंटे 45 मिनट

3. 3 घंटे 15 मिनट

4. 3 घंटे

Question ID : 630680428425

Option 1 ID : 6306801671746

Option 2 ID : 6306801671745

Option 3 ID : 6306801671747

Option 4 ID : 6306801671744

Status : Answered

Chosen Option : 1

Q.4 एक छात्र साइकिल से अपने स्कूल जाता है। उसके घर से स्कूल की दूरी 5 km है और वह इस दूरी को 1 घंटे में तय करता है। जाते समय वह दो बार 5-5 मिनट के लिए रुकता है। उसकी औसत चाल (km/h में) ज्ञात कीजिए।

Ans 1. 5.5

2. 6

3. 4.5

4. 6.5

Question ID : 630680428583

Option 1 ID : 6306801672376

Option 2 ID : 6306801672379

Option 3 ID : 6306801672378

Option 4 ID : 6306801672377

Status : Answered

Chosen Option : 3

Q.5 $15 - 16 \div [4 + (5 + 7) \div 3]$ का मान निम्न में से किसके बराबर होगा?

Ans 1. 17

2. 13

3. 11

4. 18

Question ID : 630680428245

Option 1 ID : 6306801671026

Option 2 ID : 6306801671027

Option 3 ID : 6306801671024

Option 4 ID : 6306801671025

Status : Answered

Chosen Option : 2

Q.6 एक समबाहु त्रिभुज की एक भुजा की लंबाई 18 cm है। त्रिभुज के परिवृत्त और अंतःवृत्त के बीच स्थित क्षेत्र का क्षेत्रफल (cm^2 में) कितना है? [$\pi = \frac{22}{7}$ का उपयोग कीजिए]

- Ans
- 1. $254\frac{3}{7}$
 - 2. $254\frac{1}{7}$
 - 3. $254\frac{4}{7}$
 - 4. $254\frac{2}{7}$

Question ID : 630680421408
Option 1 ID : 6306801644096
Option 2 ID : 6306801644098
Option 3 ID : 6306801644095
Option 4 ID : 6306801644097
Status : Not Attempted and Marked For Review
Chosen Option : --

Q.7 निम्नलिखित को सरल कीजिए।

$$8.16 \times 5.35 + 17.9 - 19.5 \text{ of } \frac{1}{15} + \frac{1}{5}$$

- Ans
- 1. 57.426
 - 2. 70.225
 - 3. 60.456
 - 4. 65.234

Question ID : 630680427970
Option 1 ID : 6306801669927
Option 2 ID : 6306801669924
Option 3 ID : 6306801669926
Option 4 ID : 6306801669925
Status : Answered
Chosen Option : 4

Q.8 सुमित और राजीव, मिलकर काम करते हुए, किसी काम को 20 घंटे में कर सकते हैं जबकि सुमित अकेले उसी काम को 25 घंटे में कर सकता है। राजीव अकेले उस काम को कितने घंटे में पूरा कर सकता है?

- Ans
- 1. 90
 - 2. 100
 - 3. 70
 - 4. 80

Question ID : 630680869688
Option 1 ID : 6306803406120
Option 2 ID : 6306803406121
Option 3 ID : 6306803406118
Option 4 ID : 6306803406119
Status : Answered
Chosen Option : 2

Q.9 $\frac{61 + \frac{2}{5} \times 75 + 6 - \left(3 \times 6 + \frac{1}{2}\right) \times \frac{1}{6}}{5 + \frac{2}{3} \times (58 - 37)}$ is:

का मान क्या है?

- Ans 1. 3
 2. 11
 3. 19
 4. 57

Question ID : 630680427959
Option 1 ID : 6306801669881
Option 2 ID : 6306801669883
Option 3 ID : 6306801669882
Option 4 ID : 6306801669880
Status : Answered
Chosen Option : 1

Q.10 $45 \div 5 \times 5 + 10 - 5$ को सरल कीजिए।

- Ans 1. 50
 2. 40
 3. 60
 4. 30

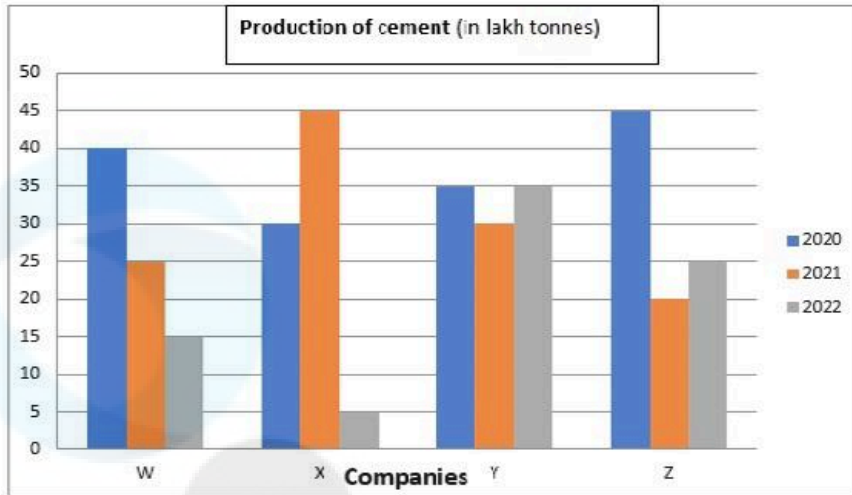
Question ID : 630680428125
Option 1 ID : 6306801670547
Option 2 ID : 6306801670546
Option 3 ID : 6306801670545
Option 4 ID : 6306801670544
Status : Answered
Chosen Option : 1

Q.11 $\sin^2 15^\circ + \sin^2 25^\circ + \sin^2 35^\circ + \sin^2 45^\circ + \sin^2 55^\circ + \sin^2 65^\circ + \sin^2 75^\circ$ का मान ज्ञात कीजिए।

- Ans 1. $\frac{7}{3}$
 2. 4
 3. 7
 4. $\frac{7}{2}$

Question ID : 630680869585
Option 1 ID : 6306803405725
Option 2 ID : 6306803405723
Option 3 ID : 6306803405722
Option 4 ID : 6306803405724
Status : Answered
Chosen Option : 4

Q.12 नीचे दिया गया दंड आरेख पिछले कुछ वर्षों में चार कंपनियों - w, x, Y और Z - के सीमेंट के उत्पादन (लाख टन में) को दर्शाता है।



सीमेंट का उत्पादन (लाख टन में)
कंपनी

2020 में कंपनी X द्वारा सीमेंट का उत्पादन और 2022 में कंपनी Z द्वारा सीमेंट का उत्पादन कुल मिलाकर 2021 में कंपनी w द्वारा उत्पादन का कितना प्रतिशत है?

- Ans
- 1. 180
 - 2. 220
 - 3. 250
 - 4. 275

Question ID : 630680388972
Option 1 ID : 6306801516350
Option 2 ID : 6306801516351
Option 3 ID : 6306801516352
Option 4 ID : 6306801516353

Status : Answered

Chosen Option : 2

Q.13 दिए गए व्यंजक को सरल कीजिए।

$$55\frac{1}{3} \div \left[3\frac{1}{5} + \left\{ 2\frac{1}{2} - \left(2\frac{1}{3} + \frac{3}{5} \right) \right\} \right]$$

- Ans
- 1. 20
 - 2. 35
 - 3. 15
 - 4. 25

Question ID : 630680428049
Option 1 ID : 6306801670241
Option 2 ID : 6306801670243
Option 3 ID : 6306801670240
Option 4 ID : 6306801670242

Status : Answered

Chosen Option : 1

Q.14 $250 + [100 - \{50 - (30 + 15)\}]$ को सरल कीजिए।

- Ans 1. 345
 2. 280
 3. 360
 4. 255

Question ID : 630680428127

Option 1 ID : 6306801670552

Option 2 ID : 6306801670555

Option 3 ID : 6306801670553

Option 4 ID : 6306801670554

Status : Answered

Chosen Option : 1

Q.15 110 m और 140 m की लंबाई वाले दो ट्रेन क्रमशः P और Q विपरीत दिशाओं में समानांतर पटरियों पर चल रही हैं। ट्रेन P, 70 km/h की चाल से चल रही है और ट्रेन Q को पार करने में 5 सेकंड का समय लेती है। ट्रेन Q की चाल ज्ञात कीजिए।

- Ans 1. 120 km/h
 2. 90 km/h
 3. 100 km/h
 4. 110 km/h

Question ID : 630680869710

Option 1 ID : 6306803406209

Option 2 ID : 6306803406206

Option 3 ID : 6306803406207

Option 4 ID : 6306803406208

Status : Answered

Chosen Option : 4

Q.16 यदि $x^2 - 6x - 1 = 0$, तो $x^2 + \frac{1}{x^2} - 8$ का मान ज्ञात करें।

- Ans 1. 28
 2. 30
 3. 32
 4. 34

Question ID : 630680413568

Option 1 ID : 6306801613096

Option 2 ID : 6306801613097

Option 3 ID : 6306801613098

Option 4 ID : 6306801613099

Status : Answered

Chosen Option : 2

Q.17 एक वृत्त में जीवा AB और CD एक दूसरे को बिंदु L पर (आंतरिक रूप से) काटती हैं। यदि AL = 8 cm, LB = 6 cm और LD = 5 cm है, तो CL का मान ज्ञात कीजिए।

- Ans 1. 9.6 cm
 2. 7.6 cm
 3. 8.6 cm
 4. 10.6 cm

Question ID : 630680421429
Option 1 ID : 6306801644181
Option 2 ID : 6306801644179
Option 3 ID : 6306801644180
Option 4 ID : 6306801644182
Status : Answered
Chosen Option : 1

Q.18 यदि $a = (\sqrt{2} - 1)^{\frac{1}{3}}$ है, तो $(a - \frac{1}{a})^3 + 3(a - \frac{1}{a})$ का मान ज्ञात कीजिए।

- Ans 1. -2
 2. $\sqrt{2}$
 3. 2
 4. $-\sqrt{2}$

Question ID : 630680413467
Option 1 ID : 6306801612693
Option 2 ID : 6306801612694
Option 3 ID : 6306801612692
Option 4 ID : 6306801612695
Status : Answered
Chosen Option : 1

Q.19 निम्नलिखित तालिका में चार गाँवों P, Q, R और S में हुए पंचायत के चुनावों की जानकारी दी गई है।

गाँव	कुल मत (हजार में)	डाले गए मत (% में)	वैध मत (% में)
P	40	80	90
Q	50	90	80
R	60	75	80
S	80	80	85

गाँव P के अवैध मतों और गाँव S के अवैध मतों का अनुपात ज्ञात कीजिए।

- Ans 1. 1:2
 2. 1:3
 3. 3:4
 4. 2:3

Question ID : 630680428301
Option 1 ID : 6306801671248
Option 2 ID : 6306801671250
Option 3 ID : 6306801671249
Option 4 ID : 6306801671251
Status : Not Attempted and Marked For Review
Chosen Option : --

Q.20 दूध और जल के मिश्रण में दूध की मात्रा मिश्रण के आयतन का $\frac{4}{5}$ है। 5 लीटर मिश्रण में 1 लीटर दूध मिलाने के बाद, मिश्रण में जल का प्रतिशत कितना होगा?

- Ans
- 1. $\frac{100}{6}\%$
 - 2. 17.5%
 - 3. $\frac{200}{6}\%$
 - 4. 15%

Question ID : 630680428886

Option 1 ID : 6306801673588

Option 2 ID : 6306801673590

Option 3 ID : 6306801673591

Option 4 ID : 6306801673589

Status : Answered

Chosen Option : 1

Q.21 एक विक्रेता एक वस्तु पर ₹500 का मूल्य अंकित करता है और उसे 25% की छूट पर बेचता है। वह ₹65 का उपहार भी देता है। यदि वह फिर भी 24% लाभ कमाता है, तो वस्तु का लागत मूल्य / क्रय मूल्य (₹ में) ज्ञात करें।

- Ans
- 1. 320
 - 2. 250
 - 3. 270
 - 4. 280

Question ID : 630680428663

Option 1 ID : 6306801672699

Option 2 ID : 6306801672696

Option 3 ID : 6306801672697

Option 4 ID : 6306801672698

Status : Answered

Chosen Option : 2

Q.22 एक दुकानदार डेयरी उत्पादों पर 10% की छूट देता है और फिर भी 20% लाभ कमाता है। ₹420 के अंकित मूल्य वाले डेयरी उत्पाद की दुकानदार के लिए वास्तविक कीमत (₹ में) कितनी है?

- Ans
- 1. 325
 - 2. 340
 - 3. 315
 - 4. 350

Question ID : 630680428024

Option 1 ID : 6306801670141

Option 2 ID : 6306801670142

Option 3 ID : 6306801670140

Option 4 ID : 6306801670143

Status : Answered

Chosen Option : 3

Q.23 एक दुकानदार ने ₹2,800 प्रत्येक घड़ी के हिसाब से 3 कलाई घड़ियाँ बेचीं। यदि उसने ये घड़ियाँ क्रमशः 40%, 25% और 12% लाभ पर बेची हैं, तो उसका कुल लाभ प्रतिशत ज्ञात करें (दशमलव के बाद दो स्थानों तक गणना करें)।

- Ans 1. 0.2455
 2. 0.2463
 3. 0.2419
 4. 0.2475

Question ID : 630680869693

Option 1 ID : 6306803406139

Option 2 ID : 6306803406140

Option 3 ID : 6306803406138

Option 4 ID : 6306803406141

Status : Not Attempted and
Marked For Review

Chosen Option : --

Q.24 एक व्यक्ति अपने घर से प्रदर्शनी मैदान तक एक ऑटो से 30 km/h की गति से कुछ दूरी तय करता है और 50 km/h की गति से कैब से लौटता है। उसकी औसत गति (km/h में) क्या है?

- Ans 1. 28
 2. 37.5
 3. 40
 4. 38

Question ID : 630680428373

Option 1 ID : 6306801671538

Option 2 ID : 6306801671539

Option 3 ID : 6306801671536

Option 4 ID : 6306801671537

Status : Answered

Chosen Option : 2

Q.25 यदि किसी घनाभ की लंबाई और चौड़ाई में क्रमशः 6% और 8% की वृद्धि की जाती है, तो इसके आयतन में प्रतिशत वृद्धि (दो दशमलव स्थान तक पूर्णांकित) है:

- Ans 1. 12.96%
 2. 13.96%
 3. 14.48%
 4. 11.48%

Question ID : 630680421565

Option 1 ID : 6306801644724

Option 2 ID : 6306801644725

Option 3 ID : 6306801644726

Option 4 ID : 6306801644723

Status : Answered

Chosen Option : 3

Q.26 यदि एक गोले की त्रिज्या में 20% की वृद्धि कर दी जाती है, तो इसके आयतन में प्रतिशत वृद्धि की गणना करें।

- Ans
- 1. 70.6%
 - 2. 68.5%
 - 3. 72.8%
 - 4. 75.5%

Question ID : 630680421632

Option 1 ID : 6306801644993

Option 2 ID : 6306801644994

Option 3 ID : 6306801644992

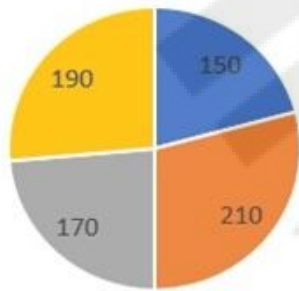
Option 4 ID : 6306801644991

Status : Answered

Chosen Option : 3

Q.27 निम्नलिखित पाई चार्ट एक वर्ष के दौरान एक शहर में रिलीज़ हुई फिल्मों के आँकड़ों को दर्शाता है।

Movies Released



■ Jan-Mar ■ Apr-Jun ■ Jul-Sep ■ Oct-Dec

Movies released = रिलीज़ हुई फिल्मों

Jan-Mar = जनवरी-मार्च

Apr-Jun = अप्रैल-जून

Jul-Sep = जुलाई-सितंबर

Oct-Dec = अक्टूबर-दिसंबर

जनवरी-मार्च और जुलाई-सितंबर द्वारा बनाया गया संयुक्त कोण, अप्रैल-जून और अक्टूबर-दिसंबर द्वारा बनाए गए संयुक्त कोण से _____ है।

- Ans
- 1. 40° अधिक
 - 2. 40° कम
 - 3. 80° कम
 - 4. 80° अधिक

Question ID : 630680387914

Option 1 ID : 6306801512278

Option 2 ID : 6306801512279

Option 3 ID : 6306801512280

Option 4 ID : 6306801512281

Status : Answered

Chosen Option : 2

Q.28 एक व्यक्ति ने साधारण ब्याज की समान दर पर 3 वर्ष के लिए ₹29,000 और 5 वर्ष के लिए ₹45,000 उधार लिए। यदि उसने ब्याज के रूप में कुल ₹62,400 का भुगतान किया, तो ब्याज दर कितनी थी?

- Ans 1. 20%
 2. 18%
 3. 27%
 4. 25%

Question ID : 630680427954
Option 1 ID : 6306801669860
Option 2 ID : 6306801669862
Option 3 ID : 6306801669863
Option 4 ID : 6306801669861
Status : Answered
Chosen Option : 1

Q.29 दी गई तालिका का अध्ययन करें और निम्नलिखित प्रश्न का उत्तर दें।
तालिका में 1989 से 1994 तक एक कंपनी द्वारा पांच विभिन्न प्रकार की कारों के उत्पादन को दर्शाया गया है।

Year → Type ↓	1989	1990	1991	1992	1993	1994	Total
P	8	20	16	17	21	6	88
Q	16	10	14	12	12	14	78
R	21	17	16	15	13	8	90
S	4	6	10	16	20	31	87
T	25	18	19	30	14	27	133
Total	74	71	75	90	80	86	476

किस वर्ष में सभी प्रकार की कारों का उत्पादन उस अवधि के दौरान हुए कुल उत्पादन के औसत के लगभग बराबर था?
Year - वर्ष Type - प्रकार Total - कुल

- Ans 1. 1990
 2. 1991
 3. 1993
 4. 1992

Question ID : 630680428279
Option 1 ID : 6306801671160
Option 2 ID : 6306801671161
Option 3 ID : 6306801671163
Option 4 ID : 6306801671162
Status : Not Attempted and Marked For Review
Chosen Option : --

Q.30 $[16 \div 2 - 7 \times 15 \div 3 + \{(1 + 4) \times 5\} + 4 \times 3 - 10]$ का मान ज्ञात कीजिए।

- Ans 1. 4
 2. 2
 3. -2
 4. 0

Question ID : 630680428033
Option 1 ID : 6306801670179
Option 2 ID : 6306801670178
Option 3 ID : 6306801670176
Option 4 ID : 6306801670177
Status : Answered
Chosen Option : 4

Q.31 $\frac{[(\sin x + \sin y)(\sin y - \sin x)]}{[(\cos x + \cos y)(\cos y - \cos x)]}$ का मान क्या है?

- Ans 1. -1
 2. 0
 3. 2
 4. 1

Question ID : 630680869596
Option 1 ID : 6306803405769
Option 2 ID : 6306803405768
Option 3 ID : 6306803405766
Option 4 ID : 6306803405767
Status : Answered
Chosen Option : 4

Q.32 एक चुनाव में कुल मतदाताओं में से 95% ने मतदान किया। इस चुनाव में केवल दो उम्मीदवार A और B थे। विजेता A ने कुल मतों का 75% मत प्राप्त करके अपने प्रतिद्वंद्वी B को 5500 मतों से हरा दिया। चुनाव में मतदाताओं की कुल संख्या ज्ञात करें।

- Ans 1. 12,000
 2. 13,000
 3. 11,000
 4. 10,000

Question ID : 630680428182
Option 1 ID : 6306801670773
Option 2 ID : 6306801670772
Option 3 ID : 6306801670774
Option 4 ID : 6306801670775
Status : Answered
Chosen Option : 3

Q.33 कागज के दो आयताकार शीटों से, जिनमें से प्रत्येक 60 cm × 36 cm के हैं, से एक शीट को उसकी लंबाई के अनुदिश और दूसरे शीट को उसकी चौड़ाई के अनुदिश मोड़कर दो लंब वृत्तीय बेलन बनाए जाते हैं। इस प्रकार बने दोनों बेलनों के आयतन का अनुपात ज्ञात करें।

- Ans 1. 5 : 6
 2. 5 : 3
 3. 8 : 3
 4. 7 : 4

Question ID : 630680421610
Option 1 ID : 6306801644906
Option 2 ID : 6306801644905
Option 3 ID : 6306801644904
Option 4 ID : 6306801644903
Status : Answered
Chosen Option : 2

Q.34 एक ΔPQR की भुजा PR को S तक इस प्रकार बढ़ाया जाता है ताकि $QR = RS$ हो। यदि $\angle PRQ = 86^\circ$ है, तो $\angle PSQ$ का मान ज्ञात कीजिए।

- Ans
- 1. 54°
 - 2. 86°
 - 3. 43°
 - 4. 94°

Question ID : 630680421457

Option 1 ID : 6306801644294

Option 2 ID : 6306801644293

Option 3 ID : 6306801644292

Option 4 ID : 6306801644291

Status : Answered

Chosen Option : 3

Q.35 एक वृत्त का क्षेत्रफल 256π वर्ग cm है। इसकी सबसे लंबी जीवा की लंबाई (cm में) कितनी होगी?

- Ans
- 1. 32
 - 2. 36
 - 3. 34
 - 4. 16

Question ID : 630680103396

Option 1 ID : 630680401827

Option 2 ID : 630680401828

Option 3 ID : 630680401830

Option 4 ID : 630680401829

Status : Answered

Chosen Option : 1

Q.36 रमेश ने दीवाली की खरीदारी पर ₹30,000 और टी.वी. सेट खरीदने पर ₹45,000 खर्च किए और शेष 40% राशि उसके पास नकद के रूप में थी। कुल राशि (₹ में) कितनी थी?

- Ans
- 1. 1,22,000
 - 2. 1,35,000
 - 3. 1,25,000
 - 4. 1,10,000

Question ID : 630680429125

Option 1 ID : 6306801674545

Option 2 ID : 6306801674546

Option 3 ID : 6306801674547

Option 4 ID : 6306801674544

Status : Answered

Chosen Option : 3

Q.37 दिए गए व्यंजक को सरल कीजिए।

$$\frac{53 - \frac{2}{7} \text{ of } 63 - 9}{72 - \frac{2}{5} \text{ of } (96 - 31)}$$

Ans

1. $\frac{7}{23}$

2. $\frac{26}{23}$

3. $\frac{11}{23}$

4. $\frac{13}{23}$

Question ID : 630680428046

Option 1 ID : 6306801670230

Option 2 ID : 6306801670231

Option 3 ID : 6306801670228

Option 4 ID : 6306801670229

Status : Answered

Chosen Option : 4

Q.38 एक शंकु की तिर्यक ऊंचाई और ऊंचाई का अनुपात 4 : 3 है। यदि शंकु का वक्र पृष्ठीय क्षेत्रफल $4\sqrt{7}\pi$ वर्ग इकाई है, तो शंकु की त्रिज्या _____ इकाई है।

Ans

1. $\frac{\sqrt{7}}{7}$

2. $7\sqrt{7}$

3. $\sqrt{7}$

4. 7

Question ID : 630680421575

Option 1 ID : 6306801644766

Option 2 ID : 6306801644764

Option 3 ID : 6306801644765

Option 4 ID : 6306801644763

Status : Not Attempted and Marked For Review

Chosen Option : --

Q.39 यदि 12 व्यक्ति 540 समान पुस्तकों को 10 दिनों में मुद्रित कर सकते हैं, तो 8 दिनों में ऐसी 720 पुस्तकों को मुद्रित करने के लिए कितने और व्यक्तियों की आवश्यकता होगी?

Ans

1. 8

2. 6

3. 12

4. 4

Question ID : 630680428433

Option 1 ID : 6306801671777

Option 2 ID : 6306801671778

Option 3 ID : 6306801671776

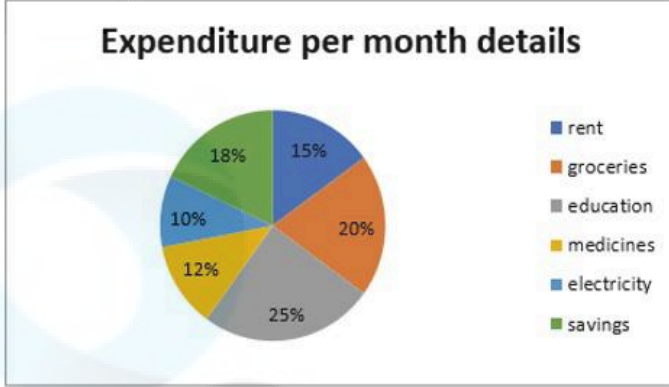
Option 4 ID : 6306801671779

Status : Answered

Chosen Option : 1

Q.40

निम्नांकित पाई-चार्ट एक परिवार के प्रति माह खर्च के विवरण को प्रदर्शित करता है। पाई-चार्ट का ध्यानपूर्वक अध्ययन कीजिए और निम्नलिखित प्रश्न का उत्तर दीजिए।



Expenditure per month details = प्रति माह व्यय का विवरण

rent = किराया

groceries = किराना

education = शिक्षा

medicines : दवाई

electricity = बिजली

savings = बचत

किराया, दवाइयों और बिजली पर एक साथ मिलकर कुल व्यय, किराने का सामान और शिक्षा पर एक साथ मिलकर कुल व्यय का कितना प्रतिशत है?

- Ans
- 1. 80.22%
 - 2. 82.22%
 - 3. 70.82%
 - 4. 76.52%

Question ID : 630680387134

Option 1 ID : 6306801509248

Option 2 ID : 6306801509247

Option 3 ID : 6306801509246

Option 4 ID : 6306801509249

Status : Answered

Chosen Option : 2

Q.41 $\frac{17}{\sec^2 \theta} + 10 \sin^2 \theta + \frac{7}{1 + \cot^2 \theta}$ का मान क्या होगा?

Ans 1. 20

2. 17

3. 19

4. 34

Question ID : 630680194661

Option 1 ID : 630680755172

Option 2 ID : 630680755171

Option 3 ID : 630680755170

Option 4 ID : 630680755169

Status : Answered

Chosen Option : 2

Q.42 एक विषमबाहु त्रिभुज ABC की दो भुजाओं की माप क्रमशः 3.8 cm और 6 cm हैं। निम्नलिखित में से कौन-सी इसकी तीसरी भुजा की माप (cm में) नहीं हो सकती है?

Ans 1. 2.4

2. 2.2

3. 2.7

4. 3.0

Question ID : 630680421462

Option 1 ID : 6306801644311

Option 2 ID : 6306801644313

Option 3 ID : 6306801644314

Option 4 ID : 6306801644312

Status : Answered

Chosen Option : 2

Q.43 एक बेईमान डीलर अपने उत्पादों को क्रय मूल्य पर 24% हानि पर बेचने का दावा करता है लेकिन 200 g वजन के बजाय 100 g वजन का उपयोग करता है। उसका लाभ प्रतिशत ज्ञात कीजिए।

Ans 1. 40%

2. 52%

3. 55%

4. 48%

Question ID : 630680429103

Option 1 ID : 6306801674457

Option 2 ID : 6306801674458

Option 3 ID : 6306801674459

Option 4 ID : 6306801674456

Status : Answered

Chosen Option : 2

Q.44 नीचे दी गई तालिका में वर्ष 2016-2020 के दौरान शोरूमों द्वारा बेचे गए मोबाइल फोन की संख्या दर्शाई गई है।

वर्ष/शोरूम	P	Q	R	S	T	U
2016	220	230	250	280	240	260
2017	310	300	320	340	330	350
2018	400	380	410	420	440	430
2019	450	350	380	420	410	430
2020	420	430	410	440	400	420

वर्ष 2020 में सभी शोरूमों द्वारा बेचे गए मोबाइल फोन की औसत संख्या कितनी होगी?

- Ans
- 1. 410
 - 2. 420
 - 3. 415
 - 4. 405

Question ID : 630680428300
Option 1 ID : 6306801671245
Option 2 ID : 6306801671247
Option 3 ID : 6306801671246
Option 4 ID : 6306801671244
Status : Answered
Chosen Option : 2

Q.45 यदि $2a + 2b + c = 0$ है, तो $\frac{4a^2 + 4b^2 + 4c^2}{5c^2 - 8ab}$ का मान ज्ञात करें।

- Ans
- 1. -1
 - 2. $2\sqrt{3}$
 - 3. $-2\sqrt{3}$
 - 4. 1

Question ID : 630680413583
Option 1 ID : 6306801613157
Option 2 ID : 6306801613158
Option 3 ID : 6306801613159
Option 4 ID : 6306801613156
Status : Answered
Chosen Option : 1

Q.46 एक नाव की गति और धारा की गति का अनुपात 35 : 8 है। नाव धारा के अनुकूल 5 घंटे 10 मिनट में जाती है। नाव को वापस आने में कितना समय लगेगा?

- Ans
- 1. 8 घंटे 13 मिनट 48 सेकंड
 - 2. 6 घंटे 45 मिनट 10 सेकंड
 - 3. 9 घंटे 30 मिनट 49 सेकंड
 - 4. 5 घंटे 15 मिनट 58 सेकंड

Question ID : 630680428845
Option 1 ID : 6306801673426
Option 2 ID : 6306801673425
Option 3 ID : 6306801673427
Option 4 ID : 6306801673424
Status : Not Attempted and Marked For Review
Chosen Option : --

Q.47 एक मिश्र धातु में धातु A, B और C का अनुपात 2 : 3 : 1 है और दूसरी मिश्रधातु में धातु B, C और D का अनुपात 5 : 4 : 3 है। यदि दोनों मिश्र धातुओं के बराबर वजन को एक साथ मिलाकर एक तीसरी मिश्रधातु बनाई जाती है, तो नई मिश्रधातु में धातु B का कितना भाग होगा?

- Ans
- 1. $\frac{1}{8}$
 - 2. $\frac{1}{6}$
 - 3. $\frac{3}{24}$
 - 4. $\frac{11}{24}$

Question ID : 630680422103

Option 1 ID : 6306801646847

Option 2 ID : 6306801646848

Option 3 ID : 6306801646849

Option 4 ID : 6306801646850

Status : Not Attempted and Marked For Review

Chosen Option : --

Q.48 निम्नलिखित व्यंजक $3\frac{1}{7} \div 1\frac{4}{7} + 3 \text{ of } 2\frac{2}{3} + 2.5 \times 2.4 \div 3\frac{1}{3} - 4 \text{ of } 3$ को सरल कीजिए।

- Ans
- 1. $-\frac{1}{5}$
 - 2. $-\frac{4}{5}$
 - 3. $-\frac{3}{5}$
 - 4. $-\frac{2}{5}$

Question ID : 630680428222

Option 1 ID : 6306801670932

Option 2 ID : 6306801670935

Option 3 ID : 6306801670934

Option 4 ID : 6306801670933

Status : Answered

Chosen Option : 1

Q.49 निम्न तालिका से माध्य ज्ञात कीजिए (दशमलव के दो स्थानों तक पूर्णांकित)।

स्कोर	बारम्बारता
15	2
18	3
21	4
22	1
19	5
23	1
24	2

- Ans 1. 18.44
 2. 20.82
 3. 19.78
 4. 17.56

Question ID : 630680395099

Option 1 ID : 6306801540666

Option 2 ID : 6306801540667

Option 3 ID : 6306801540664

Option 4 ID : 6306801540665

Status : Not Attempted and
Marked For Review

Chosen Option : --

Q.50 किसी शहर की जनसंख्या 15000 है। यदि जनसंख्या में पहले वर्ष में 15%, दूसरे वर्ष में 25% की वृद्धि होती हो और तीसरे वर्ष में प्रदूषणवश जनसंख्या 6% घट जाती हो, तो 3 वर्षों के बाद इसकी जनसंख्या कितनी (पूर्णांकित संख्या में उत्तर दीजिए) होगी?

- Ans 1. 28269
 2. 15269
 3. 20269
 4. 25269

Question ID : 630680107410

Option 1 ID : 630680417007

Option 2 ID : 630680417004

Option 3 ID : 630680417005

Option 4 ID : 630680417006

Status : Answered

Chosen Option : 3

Q.1 Select the most appropriate ANTONYM of the underlined word from the given options.
The new government allowed all the corrupt ministers to feel the sufficiency of money by banning the specific currency.

- Ans
- 1. Enough
 - 2. Plenty
 - 3. Dearth
 - 4. Indeficiency

Question ID : 630680517277
Option 1 ID : 6306802021505
Option 2 ID : 6306802021506
Option 3 ID : 6306802021507
Option 4 ID : 6306802021504
Status : Answered
Chosen Option : 3

Q.2 Select the most appropriate option to substitute the underlined part of the given sentence.
All the kith and kin of my deceased landlady were present to attend her funeral.

- Ans
- 1. blood relatives
 - 2. secret enemies
 - 3. office colleagues
 - 4. special students

Question ID : 630680193202
Option 1 ID : 630680749346
Option 2 ID : 630680749348
Option 3 ID : 630680749347
Option 4 ID : 630680749345
Status : Answered
Chosen Option : 1

Q.3 Select the option that can be used as a one-word substitute for the given group of words.

Modesty or shyness resulting from a lack of self-confidence

- Ans
- 1. Determination
 - 2. Assurance
 - 3. Conviction
 - 4. Diffidence

Question ID : 630680414826
Option 1 ID : 6306801618047
Option 2 ID : 6306801618049
Option 3 ID : 6306801618048
Option 4 ID : 6306801618050
Status : Answered
Chosen Option : 4

Q.4 Select the option that will improve the underlined part of the given sentence. In case no improvement is needed, select 'No improvement required'.
What flavour ice cream do you want?

- Ans
- 1. flavours ice cream
 - 2. No improvement required
 - 3. flavour of ice cream
 - 4. ice cream flavoured

Question ID : 630680414928
Option 1 ID : 6306801618455
Option 2 ID : 6306801618458
Option 3 ID : 6306801618456
Option 4 ID : 6306801618457
Status : Answered
Chosen Option : 3

Q.5 Three segments of the following sentence have been underlined and given as options. One of them may contain an error. Select the option that contains the error. If you don't find any error, mark 'No error' as your answer.

Although there is no proven data, the Centre for Policy Research estimate that India has the largest stock of iron ore in the world.

- Ans
- 1. No error
 - 2. Although there is no proven data,
 - 3. Centre for Policy Research estimate
 - 4. India has the largest stock

Question ID : 630680130711
Option 1 ID : 630680506141
Option 2 ID : 630680506138
Option 3 ID : 630680506139
Option 4 ID : 630680506140
Status : Answered
Chosen Option : 2

Q.6 Select the most appropriate option that can substitute the highlighted words in the given sentence.

The serenity of the river was a sight to behold.

- Ans
- 1. inviting for boating
 - 2. confusing for all
 - 3. ready to be sold
 - 4. pleasant to see

Question ID : 630680701378
Option 1 ID : 6306802747447
Option 2 ID : 6306802747448
Option 3 ID : 6306802747445
Option 4 ID : 6306802747446
Status : Answered
Chosen Option : 4

Q.7 Select the most appropriate synonym of the word in brackets to fill in the blank.
Her million-dollar wedding was a _____ display of wealth. (pompous)

- Ans 1. pretentious
 2. outrageous
 3. prestigious
 4. mock

Question ID : 630680196549
Option 1 ID : 630680762498
Option 2 ID : 630680762496
Option 3 ID : 630680762495
Option 4 ID : 630680762497
Status : Answered
Chosen Option : 1

Q.8 Parts of the following sentences have been given as options. Select the option that contains a grammatical error.

Mr. Prabhakar was first man to arrive at the venue.

- Ans 1. Mr. Prabhakar
 2. was first man
 3. to arrive
 4. at the venue

Question ID : 630680146946
Option 1 ID : 630680568622
Option 2 ID : 630680568623
Option 3 ID : 630680568624
Option 4 ID : 630680568625
Status : Answered
Chosen Option : 4

Q.9 Select the most appropriate option to substitute the underlined segment in the given sentence to make it a meaningful sentence. If no substitution is required, select 'No substitution'.

The quality of students of an educational institute is of great importance and a crucial starting point.

- Ans 1. The quality of students in an educational institute is of great importance and is a crucial start point.
 2. No substitution
 3. The quality of students in an educational institute is in great importance and a crucial starting point.
 4. The quality of students in an educational institute is of great importance and a crucial starting point.

Question ID : 630680414796
Option 1 ID : 6306801617928
Option 2 ID : 6306801617930
Option 3 ID : 6306801617927
Option 4 ID : 6306801617929
Status : Not Attempted and Marked For Review
Chosen Option : --

Q.10 Parts of the following sentence have been given as options. Select the option that contains a spelling error.
Grievances cannot be redressed unless they are known.

- Ans
- 1. unless they
 - 2. are known.
 - 3. Grievances cannot
 - 4. be redressed

Question ID : 630680518793
Option 1 ID : 6306802027670
Option 2 ID : 6306802027671
Option 3 ID : 6306802027668
Option 4 ID : 6306802027669
Status : Answered
Chosen Option : 4

Q.11 Parts of the following sentence have been given as options. Select the option that contains an error.
For the past / three years, / my uncle is /away from home.

- Ans
- 1. For the past
 - 2. three years,
 - 3. away from home.
 - 4. my uncle is

Question ID : 630680415312
Option 1 ID : 6306801619995
Option 2 ID : 6306801619996
Option 3 ID : 6306801619998
Option 4 ID : 6306801619997
Status : Answered
Chosen Option : 4

Q.12 Choose the most appropriate meaning of the given idiom.

Back to back

- Ans
- 1. Present and discuss the details of something.
 - 2. Something follows immediately after something else.
 - 3. Try to get something.
 - 4. Do something very fast or with great energy.

Question ID : 630680517531
Option 1 ID : 6306802022523
Option 2 ID : 6306802022520
Option 3 ID : 6306802022522
Option 4 ID : 6306802022521
Status : Answered
Chosen Option : 4

Q.13 Select the most appropriate meaning of the given idiom.

Spill the beans

- Ans 1. To expose a secret
 2. To have happy period of your life
 3. To have an excuse
 4. To be in a state of shock

Question ID : 630680517589
Option 1 ID : 6306802022753
Option 2 ID : 6306802022755
Option 3 ID : 6306802022752
Option 4 ID : 6306802022754
Status : Answered
Chosen Option : 1

Q.14 Select the option that rectifies the spelling error in the given sentence.
She is going to resiev a package in the mail today.

- Ans 1. receive
 2. resieve
 3. recieve
 4. reseive

Question ID : 630680517475
Option 1 ID : 6306802022296
Option 2 ID : 6306802022299
Option 3 ID : 6306802022298
Option 4 ID : 6306802022297
Status : Answered
Chosen Option : 1

Q.15 Select the word from the sentence below, which is an antonym for the word 'dishearten'
Many of the world's greatest art pieces are encouraged by kings and are inspired by nature and society.

- Ans 1. Greatest
 2. Encouraged
 3. Inspired
 4. Pieces

Question ID : 630680517335
Option 1 ID : 6306802021738
Option 2 ID : 6306802021737
Option 3 ID : 6306802021739
Option 4 ID : 6306802021736
Status : Answered
Chosen Option : 2

Q.16 Select the INCORRECTLY spelt word.

- Ans 1. Interference
 2. Interogative
 3. Auditions
 4. Greengrocers

Question ID : 630680517528
Option 1 ID : 6306802022508
Option 2 ID : 6306802022509
Option 3 ID : 6306802022510
Option 4 ID : 6306802022511
Status : Answered
Chosen Option : 1

Q.17 In the question four alternatives are given for the underlined word in the sentence. Choose the alternative which best expresses the opposite meaning of the word. We embraced each other overjoyed at our success, then I took photograph of Tenzing holding aloft the flags of Great Britain, Nepal, the United Nations and India.”

- Ans 1. Limited
 2. Contained
 3. Cradled
 4. Junked

Question ID : 630680517302
Option 1 ID : 6306802021606
Option 2 ID : 6306802021607
Option 3 ID : 6306802021604
Option 4 ID : 6306802021605
Status : Answered
Chosen Option : 3

Q.18 Select the most appropriate synonym of the given word.
Destitute

- Ans 1. Corrupt
 2. Broke
 3. Broken
 4. Firm

Question ID : 630680383229
Option 1 ID : 6306801493824
Option 2 ID : 6306801493826
Option 3 ID : 6306801493825
Option 4 ID : 6306801493823
Status : Answered
Chosen Option : 4

Q.19 Select the INCORRECTLY spelt word.

Ans 1. assasination

2. buoyant

3. schedule

4. obscurity

Question ID : 630680409922

Option 1 ID : 6306801598520

Option 2 ID : 6306801598519

Option 3 ID : 6306801598517

Option 4 ID : 6306801598518

Status : Answered

Chosen Option : 4

Q.20 The following sentence has been divided into parts. One of them contains an error.

Select the part that contains the error from the given options.

Mr. Raghav / brushes his / teeth four / times the day.

Ans 1. times the day

2. brushes his

3. teeth four

4. Mr. Raghav

Question ID : 630680184893

Option 1 ID : 630680716536

Option 2 ID : 630680716534

Option 3 ID : 630680716535

Option 4 ID : 630680716533

Status : Answered

Chosen Option : 3

Q.21 Select the most appropriate synonym of the given word.

Prudent

Ans 1. Diffident

2. Doubtful

3. Judicious

4. Precious

Question ID : 630680204306

Option 1 ID : 630680792307

Option 2 ID : 630680792309

Option 3 ID : 630680792308

Option 4 ID : 630680792310

Status : Answered

Chosen Option : 1

Q.22 Select the most appropriate meaning of the given idiom.

Up the ante

- Ans 1. Expensive
 2. Cost cutting
 3. Increase demands
 4. Mediocre

Question ID : 630680310088

Option 1 ID : 6306801206495

Option 2 ID : 6306801206493

Option 3 ID : 6306801206494

Option 4 ID : 6306801206496

Status : Not Attempted and
Marked For Review

Chosen Option : --

Q.23 Select the most appropriate ANTONYM of the underlined word in the given sentence.

Her sarcastic comment earned a few chuckles from the audience, who understood the irony in her words.

- Ans 1. Humorous
 2. Unsavoury
 3. Courteous
 4. Sardonic

Question ID : 630680396969

Option 1 ID : 6306801547941

Option 2 ID : 6306801547940

Option 3 ID : 6306801547942

Option 4 ID : 6306801547943

Status : Answered

Chosen Option : 3

Q.24 In the following sentence, four words are underlined, out of which one word is MISSPELT. Select the MISSPELT word.

Everyone admired her because of her charesma, but she was a narcissist full of self-admiration and treachery.

- Ans 1. treachery
 2. narcissist
 3. self-admiration
 4. charesma

Question ID : 630680410013

Option 1 ID : 6306801598884

Option 2 ID : 6306801598882

Option 3 ID : 6306801598883

Option 4 ID : 6306801598881

Status : Answered

Chosen Option : 4

Q.25 Select the most appropriate option to fill in the blank and make the sentence the meaningful.

Rathna is known for _____ tears.

- Ans
- 1. animal's
 - 2. student's
 - 3. babies'
 - 4. crocodile

Question ID : 630680517340

Option 1 ID : 6306802021758

Option 2 ID : 6306802021759

Option 3 ID : 6306802021757

Option 4 ID : 6306802021756

Status : Answered

Chosen Option : 4

Q.26 Select the most appropriate option that can substitute the underlined segment in the given sentence. If there is no need to substitute it, select 'No substitution'.

He is feeding a male dog and female dog

- Ans
- 1. a male dog and lady dog
 - 2. a dog and puppy
 - 3. a dog and a bitch
 - 4. No substitution

Question ID : 630680414536

Option 1 ID : 6306801616905

Option 2 ID : 6306801616904

Option 3 ID : 6306801616903

Option 4 ID : 6306801616906

Status : Answered

Chosen Option : 4

Q.27 Select the most appropriate ANTONYM of the underlined word in the following sentence.

The woman in the crowd broke down in hysterics.

- Ans
- 1. Cray
 - 2. Calm
 - 3. Aghast
 - 4. Insanity

Question ID : 630680309991

Option 1 ID : 6306801206112

Option 2 ID : 6306801206111

Option 3 ID : 6306801206110

Option 4 ID : 6306801206109

Status : Answered

Chosen Option : 2

Q.28 Select the most appropriate option that can substitute the underlined segment in the given sentence.

She asked me where my hometown is and where I worked.

- Ans
- 1. hometown would be
 - 2. hometown were
 - 3. hometown was
 - 4. hometown has been

Question ID : 630680414557

Option 1 ID : 6306801616990

Option 2 ID : 6306801616989

Option 3 ID : 6306801616987

Option 4 ID : 6306801616988

Status : Answered

Chosen Option : 3

Q.29 The following sentence has been split into four segments. Identify the segment that contains a grammatical error.

Raveena has made / up her mind to / carried minimum / luggage with her.

- Ans
- 1. carried minimum
 - 2. luggage with her.
 - 3. Raveena has made
 - 4. up her mind to

Question ID : 630680295883

Option 1 ID : 6306801151246

Option 2 ID : 6306801151247

Option 3 ID : 6306801151244

Option 4 ID : 6306801151245

Status : Answered

Chosen Option : 1

Q.30 Select the INCORRECTLY spelt word.

- Ans
- 1. Matriculation
 - 2. Prohibition
 - 3. Admission
 - 4. Humorous

Question ID : 630680454145

Option 1 ID : 6306801773517

Option 2 ID : 6306801773516

Option 3 ID : 6306801773515

Option 4 ID : 6306801773518

Status : Answered

Chosen Option : 3

Q.31 Select the most appropriate meaning of the underlined segment in the following sentence.

Don't you think that the cat's in the cradle? You never make time for me.

- Ans
- 1. Newly married life
 - 2. Busy in your work
 - 3. Busy in minting money
 - 4. Complicated relationship

Question ID : 630680300660
Option 1 ID : 6306801169466
Option 2 ID : 6306801169464
Option 3 ID : 6306801169465
Option 4 ID : 6306801169463
Status : Answered
Chosen Option : 4

Q.32 Select the option that is similar in meaning to the underlined word in the following sentence.

Chameleon usually disguises itself to avoid predators.

- Ans
- 1. swaps
 - 2. camouflages
 - 3. changes
 - 4. transposes

Question ID : 630680213115
Option 1 ID : 630680826507
Option 2 ID : 630680826508
Option 3 ID : 630680826509
Option 4 ID : 630680826510
Status : Answered
Chosen Option : 2

Q.33 Select the most appropriate option that can substitute the underlined segment in the given sentence. If there is no need to substitute it, select 'No substitution'.
Inspite mother's milk is vital to a child's health, a number of FMCG companies wrongly advertise artificially prepared infant formulas as being the best for the child.

- Ans
- 1. No substitution
 - 2. Mother's milk
 - 3. Despite mother's milk
 - 4. Though mother's milk

Question ID : 630680414519
Option 1 ID : 6306801616838
Option 2 ID : 6306801616837
Option 3 ID : 6306801616835
Option 4 ID : 6306801616836
Status : Answered
Chosen Option : 2

Q.34 Select the most appropriate option that can substitute the underlined words in the given sentence.
My grandmother helps us in all the problems. She has a remedy for all the diseases.

- Ans
- 1. Heretic
 - 2. Panacea
 - 3. 'Service'
 - 4. Fanatic

Question ID : 630680212288
Option 1 ID : 630680823297
Option 2 ID : 630680823298
Option 3 ID : 630680823296
Option 4 ID : 630680823295
Status : Answered
Chosen Option : 2

Q.35 Select the option that can be used as a one-word substitute for the given group of words.
A person who is a lover of women.

- Ans
- 1. Philologist
 - 2. Misogynist
 - 3. Monogamist
 - 4. Philogynist

Question ID : 630680414528
Option 1 ID : 6306801616871
Option 2 ID : 6306801616872
Option 3 ID : 6306801616874
Option 4 ID : 6306801616873
Status : Answered
Chosen Option : 2

Q.36 Select the option that can be used as a one-word substitute for the given group of words.

A person who is critical of the motives of others

- Ans
- 1. Chauffeur
 - 2. Cynic
 - 3. Interviewer
 - 4. Curator

Question ID : 630680414828
Option 1 ID : 6306801618056
Option 2 ID : 6306801618058
Option 3 ID : 6306801618055
Option 4 ID : 6306801618057
Status : Answered
Chosen Option : 2

Q.37 Select the most appropriate idiom to fill in the blank.

The team always _____ to come up with unique advertisements for all its clients.

- Ans
- 1. throw caution to the winds
 - 2. take a back seat
 - 3. thinks outside the box
 - 4. turn the tables

Question ID : 630680517591
Option 1 ID : 6306802022762
Option 2 ID : 6306802022761
Option 3 ID : 6306802022760
Option 4 ID : 6306802022763
Status : Answered
Chosen Option : 3

Q.38 Select the most appropriate option that can substitute the underlined words in the given sentence.

Ice melts fastly, in the sun.

- Ans
- 1. melt fast
 - 2. melts fastest
 - 3. melts fast
 - 4. melt fastly

Question ID : 630680446720
Option 1 ID : 6306801744175
Option 2 ID : 6306801744177
Option 3 ID : 6306801744174
Option 4 ID : 6306801744176
Status : Answered
Chosen Option : 3

Q.39 Select the most appropriate idiom that can substitute the underlined segment in the given sentence.

I sometimes accept excess work to please my manager, so I take more responsibilities than one can manage.

- Ans
- 1. get a taste of my own medicine
 - 2. burn my boats
 - 3. hear it straight from the horse's mouth
 - 4. bite off more than I can chew

Question ID : 630680517406
Option 1 ID : 6306802022021
Option 2 ID : 6306802022023
Option 3 ID : 6306802022020
Option 4 ID : 6306802022022
Status : Answered
Chosen Option : 4

Q.40 Select the most appropriate meaning of the given idiom.

Make waves

- Ans**
- 1. To take it easy
 - 2. To give up
 - 3. To have patience
 - 4. To cause difficulty

Question ID : 630680517411

Option 1 ID : 6306802022043

Option 2 ID : 6306802022040

Option 3 ID : 6306802022041

Option 4 ID : 6306802022042

Status : Answered

Chosen Option : 4

Comprehension:

In the following passage, some words have been deleted. Read the passage carefully and select the most appropriate option to fill in each blank.

Literature is a reflection of society and often (1)_____ insight into the human experience. Through various forms like novels, poems, and plays, literature allows us to (2)_____ different emotions and perspectives. It can serve as a (3)_____ for social issues, shedding light on topics that need attention. Reading literature not only enhances our language skills but also (4)_____ empathy by helping us understand the feelings of characters. In a rapidly changing world, literature (5)_____ a timeless portal to diverse worlds and cultures.

SubQuestion No : 41

Q.41 Select the most appropriate option to fill in blank number 1.

- Ans**
- 1. denies
 - 2. suggests
 - 3. offers
 - 4. garnersprovides

Question ID : 630680515042

Option 1 ID : 6306802012712

Option 2 ID : 6306802012710

Option 3 ID : 6306802012709

Option 4 ID : 6306802012711

Status : Answered

Chosen Option : 2

Comprehension:

In the following passage, some words have been deleted. Read the passage carefully and select the most appropriate option to fill in each blank.

Literature is a reflection of society and often (1)_____ insight into the human experience. Through various forms like novels, poems, and plays, literature allows us to (2)_____ different emotions and perspectives. It can serve as a (3)_____ for social issues, shedding light on topics that need attention. Reading literature not only enhances our language skills but also (4)_____ empathy by helping us understand the feelings of characters. In a rapidly changing world, literature (5)_____ a timeless portal to diverse worlds and cultures.

SubQuestion No : 42

Q.42 Select the most appropriate option to fill in blank number 2.

- Ans
- 1. exclaim
 - 2. explain
 - 3. explore
 - 4. exploit

Question ID : 630680515043

Option 1 ID : 6306802012716

Option 2 ID : 6306802012715

Option 3 ID : 6306802012713

Option 4 ID : 6306802012714

Status : Answered

Chosen Option : 2

Comprehension:

In the following passage, some words have been deleted. Read the passage carefully and select the most appropriate option to fill in each blank.

Literature is a reflection of society and often (1)_____ insight into the human experience. Through various forms like novels, poems, and plays, literature allows us to (2)_____ different emotions and perspectives. It can serve as a (3)_____ for social issues, shedding light on topics that need attention. Reading literature not only enhances our language skills but also (4)_____ empathy by helping us understand the feelings of characters. In a rapidly changing world, literature (5)_____ a timeless portal to diverse worlds and cultures.

SubQuestion No : 43

Q.43 Select the most appropriate option to fill in blank number 3.

- Ans
- 1. platform
 - 2. planking
 - 3. plank
 - 4. planks

Question ID : 630680515044

Option 1 ID : 6306802012717

Option 2 ID : 6306802012719

Option 3 ID : 6306802012718

Option 4 ID : 6306802012720

Status : Answered

Chosen Option : 1

Comprehension:

In the following passage, some words have been deleted. Read the passage carefully and select the most appropriate option to fill in each blank.

Literature is a reflection of society and often (1)_____ insight into the human experience. Through various forms like novels, poems, and plays, literature allows us to (2)_____ different emotions and perspectives. It can serve as a (3)_____ for social issues, shedding light on topics that need attention. Reading literature not only enhances our language skills but also (4)_____ empathy by helping us understand the feelings of characters. In a rapidly changing world, literature (5)_____ a timeless portal to diverse worlds and cultures.

SubQuestion No : 44

Q.44 Select the most appropriate option to fill in blank number 4.

- Ans
- 1. provokes
 - 2. cultivates
 - 3. avoids
 - 4. withers

Question ID : 630680515045

Option 1 ID : 6306802012724

Option 2 ID : 6306802012721

Option 3 ID : 6306802012722

Option 4 ID : 6306802012723

Status : Answered

Chosen Option : 1

Comprehension:

In the following passage, some words have been deleted. Read the passage carefully and select the most appropriate option to fill in each blank.

Literature is a reflection of society and often (1)_____ insight into the human experience. Through various forms like novels, poems, and plays, literature allows us to (2)_____ different emotions and perspectives. It can serve as a (3)_____ for social issues, shedding light on topics that need attention. Reading literature not only enhances our language skills but also (4)_____ empathy by helping us understand the feelings of characters. In a rapidly changing world, literature (5)_____ a timeless portal to diverse worlds and cultures.

SubQuestion No : 45

Q.45 Select the most appropriate option to fill in blank number 5.

- Ans
- 1. become
 - 2. becomes
 - 3. becoming
 - 4. became

Question ID : 630680515046

Option 1 ID : 6306802012728

Option 2 ID : 6306802012725

Option 3 ID : 6306802012727

Option 4 ID : 6306802012726

Status : Answered

Chosen Option : 2

Comprehension:

Read the given passage and answer the questions that follow.

Several major airlines have pledged to reach net-zero carbon emissions by mid-century to fight climate change. It's an ambitious goal that will require an enormous ramp-up in sustainable aviation fuels, but that alone won't be enough, the latest research shows.

The idea of jetliners running solely on fuel made from used cooking oil from restaurants or corn stalks might seem futuristic, but it's not that far away.

Airlines are already experimenting with sustainable aviation fuels, including biofuels made from agriculture residues, trees, corn and used cooking oil, and synthetic fuels made with captured carbon and green hydrogen.

United Airlines, which has been using a blend of used oil or waste fat and fossil fuels on some flights from Los Angeles and Amsterdam, recently announced plans to power 50,000 flights a year between its Chicago and Denver hubs using ethanol-based sustainable aviation fuels by 2028. The airline also launched a US\$100 million fund on 21 February 2023, with Air Canada, Boeing, GE Aerospace, JPMorgan Chase and Honeywell to invest in sustainable aviation fuel start-ups to expand the industry.

SubQuestion No : 46

Q.46 Biofuels are not made from _____ .

- Ans** 1. coal
 2. trees
 3. cooking oil
 4. agricultural residue

Question ID : **630680406880**
Option 1 ID : **6306801586579**
Option 2 ID : **6306801586581**
Option 3 ID : **6306801586578**
Option 4 ID : **6306801586580**
Status : **Answered**
Chosen Option : **1**

Comprehension:

Read the given passage and answer the questions that follow.

Several major airlines have pledged to reach net-zero carbon emissions by mid-century to fight climate change. It's an ambitious goal that will require an enormous ramp-up in sustainable aviation fuels, but that alone won't be enough, the latest research shows.

The idea of jetliners running solely on fuel made from used cooking oil from restaurants or corn stalks might seem futuristic, but it's not that far away.

Airlines are already experimenting with sustainable aviation fuels, including biofuels made from agriculture residues, trees, corn and used cooking oil, and synthetic fuels made with captured carbon and green hydrogen.

United Airlines, which has been using a blend of used oil or waste fat and fossil fuels on some flights from Los Angeles and Amsterdam, recently announced plans to power 50,000 flights a year between its Chicago and Denver hubs using ethanol-based sustainable aviation fuels by 2028. The airline also launched a US\$100 million fund on 21 February 2023, with Air Canada, Boeing, GE Aerospace, JPMorgan Chase and Honeywell to invest in sustainable aviation fuel start-ups to expand the industry.

SubQuestion No : 47

Q.47 Why have major airline companies pledged to reach net-zero carbon emissions by mid-century?

- Ans** 1. To create better revenue
 2. To fight climate change
 3. To reduce traffic jam
 4. To moderate expenditure

Question ID : **630680406879**
Option 1 ID : **6306801586575**
Option 2 ID : **6306801586577**
Option 3 ID : **6306801586574**
Option 4 ID : **6306801586576**
Status : **Answered**
Chosen Option : **2**

Comprehension:

Read the given passage and answer the questions that follow.

Several major airlines have pledged to reach net-zero carbon emissions by mid-century to fight climate change. It's an ambitious goal that will require an enormous ramp-up in sustainable aviation fuels, but that alone won't be enough, the latest research shows.

The idea of jetliners running solely on fuel made from used cooking oil from restaurants or corn stalks might seem futuristic, but it's not that far away.

Airlines are already experimenting with sustainable aviation fuels, including biofuels made from agriculture residues, trees, corn and used cooking oil, and synthetic fuels made with captured carbon and green hydrogen.

United Airlines, which has been using a blend of used oil or waste fat and fossil fuels on some flights from Los Angeles and Amsterdam, recently announced plans to power 50,000 flights a year between its Chicago and Denver hubs using ethanol-based sustainable aviation fuels by 2028. The airline also launched a US\$100 million fund on 21 February 2023, with Air Canada, Boeing, GE Aerospace, JPMorgan Chase and Honeywell to invest in sustainable aviation fuel start-ups to expand the industry.

SubQuestion No : 48

Q.48 Select the most suitable word from the passage which means 'empirical'.

- Ans
- 1. Latest
 - 2. Sustained
 - 3. Enormous
 - 4. Ambitious

Question ID : **630680406881**
Option 1 ID : **6306801586585**
Option 2 ID : **6306801586584**
Option 3 ID : **6306801586583**
Option 4 ID : **6306801586582**
Status : **Answered**
Chosen Option : **4**

Comprehension:

Read the given passage and answer the questions that follow.

Several major airlines have pledged to reach net-zero carbon emissions by mid-century to fight climate change. It's an ambitious goal that will require an enormous ramp-up in sustainable aviation fuels, but that alone won't be enough, the latest research shows.

The idea of jetliners running solely on fuel made from used cooking oil from restaurants or corn stalks might seem futuristic, but it's not that far away.

Airlines are already experimenting with sustainable aviation fuels, including biofuels made from agriculture residues, trees, corn and used cooking oil, and synthetic fuels made with captured carbon and green hydrogen.

United Airlines, which has been using a blend of used oil or waste fat and fossil fuels on some flights from Los Angeles and Amsterdam, recently announced plans to power 50,000 flights a year between its Chicago and Denver hubs using ethanol-based sustainable aviation fuels by 2028. The airline also launched a US\$100 million fund on 21 February 2023, with Air Canada, Boeing, GE Aerospace, JPMorgan Chase and Honeywell to invest in sustainable aviation fuel start-ups to expand the industry.

SubQuestion No : 49

Q.49 What is the tone of the speaker?

- Ans
- 1. Hopeful
 - 2. Casual
 - 3. Worried
 - 4. Depressing

Question ID : **630680406882**
Option 1 ID : **6306801586589**
Option 2 ID : **6306801586586**
Option 3 ID : **6306801586587**
Option 4 ID : **6306801586588**
Status : **Answered**
Chosen Option : **3**

Comprehension:

Read the given passage and answer the questions that follow.

Several major airlines have pledged to reach net-zero carbon emissions by mid-century to fight climate change. It's an ambitious goal that will require an enormous ramp-up in sustainable aviation fuels, but that alone won't be enough, the latest research shows.

The idea of jetliners running solely on fuel made from used cooking oil from restaurants or corn stalks might seem futuristic, but it's not that far away.

Airlines are already experimenting with sustainable aviation fuels, including biofuels made from agriculture residues, trees, corn and used cooking oil, and synthetic fuels made with captured carbon and green hydrogen.

United Airlines, which has been using a blend of used oil or waste fat and fossil fuels on some flights from Los Angeles and Amsterdam, recently announced plans to power 50,000 flights a year between its Chicago and Denver hubs using ethanol-based sustainable aviation fuels by 2028. The airline also launched a US\$100 million fund on 21 February 2023, with Air Canada, Boeing, GE Aerospace, JPMorgan Chase and Honeywell to invest in sustainable aviation fuel start-ups to expand the industry.

SubQuestion No : 50

Q.50 Identify the most suitable title for the passage.

- Ans**
- 1. Success Story of Airline Companies
 - 2. Threats of Climate Changes
 - 3. One Good Turn from the Aviation Industry
 - 4. Biofuels Vs Synthetic Fuels

Question ID : **630680406883**

Option 1 ID : **6306801586590**

Option 2 ID : **6306801586593**

Option 3 ID : **6306801586592**

Option 4 ID : **6306801586591**

Status : **Answered**

Chosen Option : **3**