

**Sub Inspector in Delhi Police and Central Armed Police Forces Examination 2023  
Paper I**

Roll Number	
Candidate Name	
Venue Name	
Exam Date	03/10/2023
Exam Time	9:00 AM - 11:00 AM
Subject	SICPO Paper I 2023

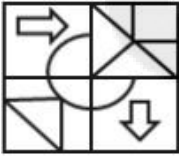
Section : General Intelligence and Reasoning

Q.1 उस विकल्प का चयन कीजिए जिसमें दी गई आकृति सन्निहित है (घुमाने की अनुमति नहीं है)।

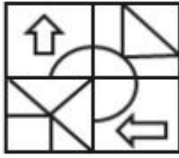


Ans

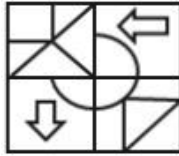
✗ 1.



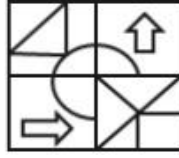
✗ 2.



✗ 3.



✓ 4.



Question ID : 264330126081

Option 1 ID : 264330493998

Option 2 ID : 264330493997

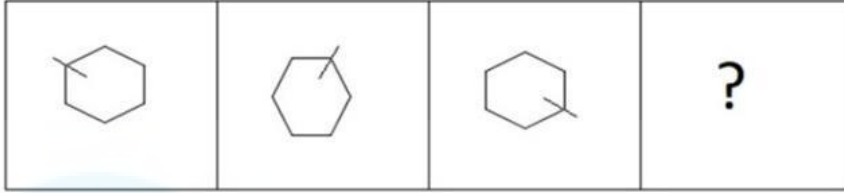
Option 3 ID : 264330493996

Option 4 ID : 264330493999

Status : Answered

Chosen Option : 4

Q.2 निम्नलिखित आकृति श्रृंखला में आगे आने वाली आकृति का चयन करें।

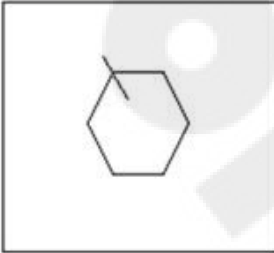


Ans

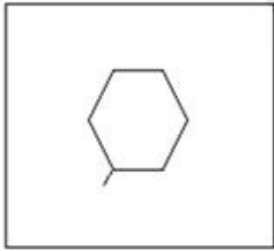
✗ 1.



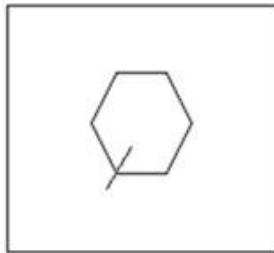
✗ 2.



✗ 3.



✓ 4.



Question ID : 26433087076

Option 1 ID : 264330341947

Option 2 ID : 264330341948

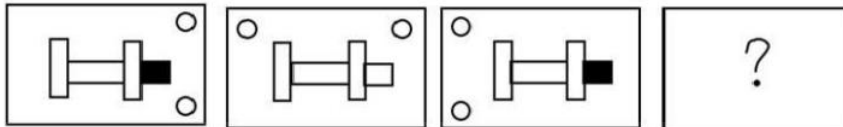
Option 3 ID : 264330341946

Option 4 ID : 264330341945

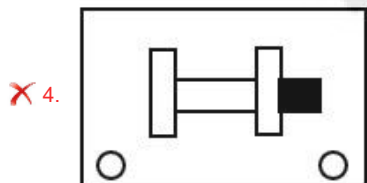
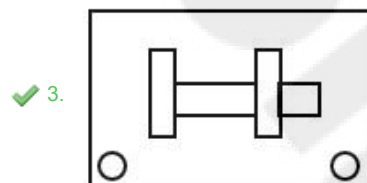
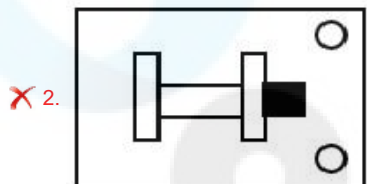
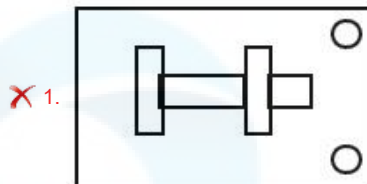
Status : Answered

Chosen Option : 4

Q.3 उस आकृति का चयन करें जो निम्न आकृति-शृंखला में प्रश्नचिह्न (?) के स्थान पर आएगी।



Ans



Question ID : 26433065985  
 Option 1 ID : 264330258486  
 Option 2 ID : 264330258487  
 Option 3 ID : 264330258484  
 Option 4 ID : 264330258485

Status : Answered

Chosen Option : 3

Q.4 यदि '+' का अर्थ '×' है, '×' का अर्थ '-' है, '-' का अर्थ '÷' है और '÷' का अर्थ '+' है, तो दिए गए समीकरण में प्रश्नवाचक चिह्न (?) के स्थान पर क्या आएगा?  
 $250 - 10 + 10 \times 5 \div 2 = ?$

Ans ✗ 1. 167

✓ 2. 247

✗ 3. 320

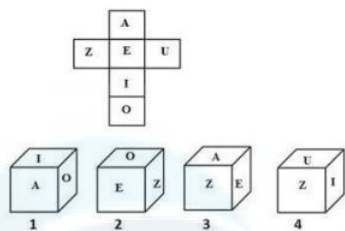
✗ 4. 234

Question ID : 264330114250  
 Option 1 ID : 264330449086  
 Option 2 ID : 264330449087  
 Option 3 ID : 264330449088  
 Option 4 ID : 264330449085

Status : Answered

Chosen Option : 2

Q.5 यदि दी गई शीट को मोड़कर एक घन बनाया जाए, तो निम्न में से कौन सी आकृति/आकृतियां बनना संभव है?  
(अक्षर केवल घनों के फलकों को इंगित करने के लिए दिए गए हैं)



- Ans
- 1. केवल 1, 2 और 4
  - 2. केवल 1 और 2
  - 3. केवल 3
  - 4. केवल 2 और 3

Question ID : 26433065678

Option 1 ID : 264330257275

Option 2 ID : 264330257272

Option 3 ID : 264330257274

Option 4 ID : 264330257273

Status : Answered

Chosen Option : 3

Q.6 यदि '+' का अर्थ '-', '-' का अर्थ '+', 'x' का अर्थ '-' और '÷' का अर्थ 'x' है, तो निम्नलिखित व्यंजक का मान क्या होगा?

$$[(14 \times 6) - (4 \div 3)] + (6 - 4) \div 3$$

- Ans
- 1. 1
  - 2. 9
  - 3. 3
  - 4. 6

Question ID : 264330129643

Option 1 ID : 264330507938

Option 2 ID : 264330507941

Option 3 ID : 264330507939

Option 4 ID : 264330507940

Status : Answered

Chosen Option : 4

Q.7 यदि '+' का अर्थ '-', '-' का अर्थ 'x', 'x' का अर्थ '÷', '÷' का अर्थ '+' हो, तो निम्नलिखित समीकरण में प्रश्न चिह्न (?) के स्थान पर क्या आएगा?  
 $137 \div 56 \times 7 - 6 + 31 = ?$

- Ans
- 1. 149
  - 2. 154
  - 3. 145
  - 4. 163

Question ID : 264330126058

Option 1 ID : 264330493905

Option 2 ID : 264330493907

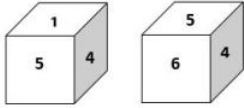
Option 3 ID : 264330493904

Option 4 ID : 264330493906

Status : Answered

Chosen Option : 2

**Q.8** एक ही पासे की दो अलग-अलग स्थितियाँ दिखाई गई हैं, जिनमें छः फलकों को 1 से 6 तक संख्यांकित किया गया है। उस संख्या का चयन करें, जो '1' को दर्शाने वाले फलक के विपरीत फलक पर होगी।



**Ans**  1. 4

2. 6

3. 3

4. 5

Question ID : 26433058063

Option 1 ID : 264330227237

Option 2 ID : 264330227239

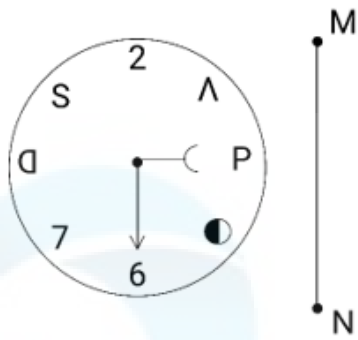
Option 3 ID : 264330227236

Option 4 ID : 264330227238

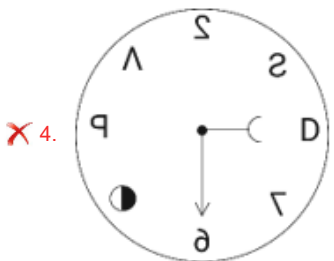
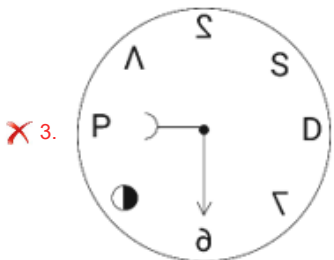
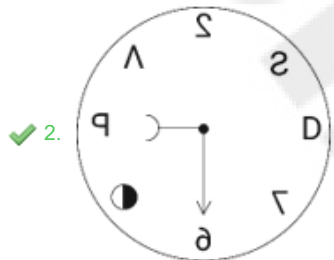
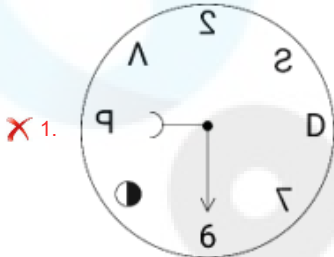
Status : Answered

Chosen Option : 2

Q.9 यदि दर्पण को नीचे दिखाए गए अनुसार रेखा MN पर रखा गया हो, तो दी गई आकृति के सही दर्पण प्रतिबिम्ब का चयन कीजिए।



Ans



Question ID : 264330170165

Option 1 ID : 264330667337

Option 2 ID : 264330667338

Option 3 ID : 264330667335

Option 4 ID : 264330667336

Status : Answered

Chosen Option : 2

Q.10 निम्नलिखित में से कौन-सी संख्या दी गई श्रृंखला में प्रश्न-चिह्न (?) का स्थान लेगी?  
-1/729, -1/81, -1/9, ?

- Ans
- 1. 1
  - 2. -1/3
  - 3. -1
  - 4. 1/3

Question ID : 26433092495  
Option 1 ID : 264330363269  
Option 2 ID : 264330363271  
Option 3 ID : 264330363270  
Option 4 ID : 264330363272  
Status : Answered  
Chosen Option : 3

Q.11 रोहित, बिंदु A से उत्तर की ओर 3 km ड्राइव करता है। वह बाएं मुड़ता है, और 4 km ड्राइव करता है। वह फिर से बाएं मुड़ता है, और 6 km ड्राइव करता है। अंत में, वह बाएं मुड़ता है, और बिंदु B तक पहुँचने के लिए 4 km ड्राइव करता है। फिर से बिंदु A पर पहुँचने के लिए उसे कितनी दूर और किस दिशा में ड्राइव करना चाहिए?

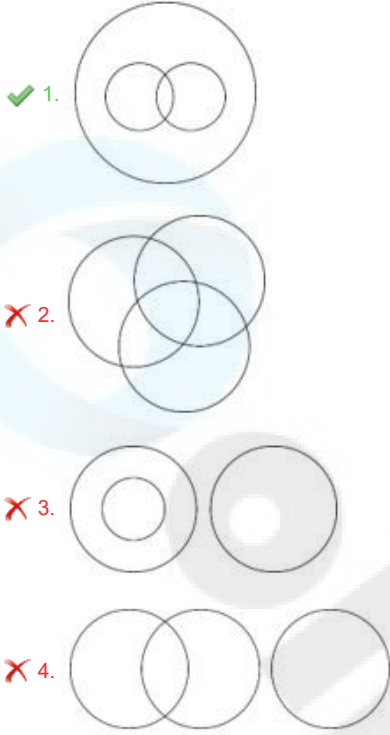
- Ans
- 1. 3 km उत्तर की ओर
  - 2. 4 km दक्षिण की ओर
  - 3. 3 km पूर्व की ओर
  - 4. 2 km पश्चिम की ओर

Question ID : 26433068272  
Option 1 ID : 264330267601  
Option 2 ID : 264330267600  
Option 3 ID : 264330267603  
Option 4 ID : 264330267602  
Status : Answered  
Chosen Option : 1

Q.12 उस वेन आरेख का चयन करें, जो निम्नलिखित वर्गों के बीच के संबंध को सर्वोत्तम ढंग से दर्शाता है।

विद्युत उपकरण, रेफ्रिजरेटर, फ्रीजर

Ans



Question ID : 264330132924

Option 1 ID : 264330520755

Option 2 ID : 264330520757

Option 3 ID : 264330520758

Option 4 ID : 264330520756

Status : Answered

Chosen Option : 1

Q.13 एक निश्चित कूट भाषा में "VATT" को "65" और "STOLK" को "79" के रूप में कूटबद्ध किया जाता है। उसी कूट भाषा में "GENEROUS" को किस प्रकार कूटबद्ध किया जाएगा?

Ans ✓ 1. 106

✗ 2. 216

✗ 3. 116

✗ 4. 204

Question ID : 26433079048

Option 1 ID : 264330310197

Option 2 ID : 264330310199

Option 3 ID : 264330310198

Option 4 ID : 264330310196

Status : Answered

Chosen Option : 1

Q.14 यदि निम्नलिखित आकृति श्रृंखला को जारी रखा जाए, तो दिए गए विकल्पों में से कौन-सी आकृति प्रश्नवाचक चिन्ह (?) को प्रतिस्थापित करेगी?

BLAST	LBPTS	SLBPT	LSCTP	?
-------	-------	-------	-------	---

Ans

✗ 1.

SCTPL

✗ 2.

SLDPT

✗ 3.

PLTSC

✓ 4.

PLSCT

Question ID : 264330145482

Option 1 ID : 264330570183

Option 2 ID : 264330570185

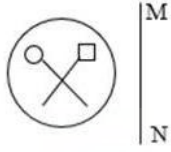
Option 3 ID : 264330570186

Option 4 ID : 264330570184

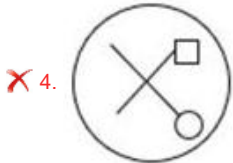
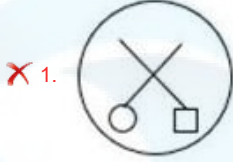
Status : Not Answered

Chosen Option : --

Q.15 जब दर्पण को रेखा MN पर रखा जाता है, तो दी गई आकृति का सही दर्पण प्रतिबिंब ज्ञात कीजिए।



Ans



Question ID : 26433056630

Option 1 ID : 264330221504

Option 2 ID : 264330221505

Option 3 ID : 264330221506

Option 4 ID : 264330221507

Status : Answered

Chosen Option : 2

Q.16 उस विकल्प का चयन करें, जो तीसरे शब्द से उसी प्रकार संबंधित है, जिस प्रकार दूसरा शब्द पहले शब्द से संबंधित है। (शब्दों को अर्थपूर्ण शब्दों के रूप में माना जाना चाहिए, और इनको शब्द में अक्षरों की संख्या/व्यंजनों/स्वरों की संख्या के आधार पर एक-दूसरे से संबंधित नहीं किया जाना चाहिए।)  
तितली (Butterfly) : इल्ली (Caterpillar) :: कीट (Insect) : ?

Ans ✗ 1. रोगाणु (Microbes)

✗ 2. निम्फ (Nymph)

✓ 3. लार्वा (Larva)

✗ 4. सिग्नेट (Cygnet)

Question ID : 26433091602

Option 1 ID : 264330359776

Option 2 ID : 264330359774

Option 3 ID : 264330359773

Option 4 ID : 264330359775

Status : Answered

Chosen Option : 3

Q.17 यदि A का अर्थ '+' है, B का अर्थ 'x' है, C का अर्थ '-' है, और D का अर्थ '÷' है, तो निम्नलिखित समीकरण में '?' के स्थान पर क्या आएगा?  
 $2 B \div D \times 2 = 4 B \times 2 D \div 8$

- Ans
- 1. 8
  - 2. 30
  - 3. 16
  - 4. 12

Question ID : 26433067669  
Option 1 ID : 264330265190  
Option 2 ID : 264330265189  
Option 3 ID : 264330265191  
Option 4 ID : 264330265188  
Status : Answered  
Chosen Option : 3

Q.18 सात व्यक्ति A, B, C, D, E, F और G उत्तर की ओर मुख करके एक सीधी पंक्ति में बैठे हैं (उनका इसी क्रम में होना अनिवार्य नहीं है)। D के बाईं ओर केवल 1 व्यक्ति बैठा है। A, D के ठीक बगल में बैठा है। F और D के बीच में केवल 2 व्यक्ति बैठे हैं। C और G के बीच में केवल 3 व्यक्ति बैठे हैं। B, G के ठीक बगल में नहीं है। E और A के बीच में केवल 2 व्यक्ति बैठे हैं। पंक्ति के बिल्कुल दाएं सिरे पर कौन बैठा है?

- Ans
- 1. A
  - 2. B
  - 3. C
  - 4. G

Question ID : 264330145408  
Option 1 ID : 264330569887  
Option 2 ID : 264330569890  
Option 3 ID : 264330569888  
Option 4 ID : 264330569889  
Status : Answered  
Chosen Option : 3

Q.19 निम्नलिखित में से कौन-सा पद दी गई श्रृंखला में प्रश्नवाचक चिह्न (?) का स्थान लेगा?

ABEG FFHI KJKK PNNM ?

- Ans
- 1. UROQ
  - 2. VRQO
  - 3. RUQO
  - 4. URQO

Question ID : 26433085320  
Option 1 ID : 264330334981  
Option 2 ID : 264330334984  
Option 3 ID : 264330334983  
Option 4 ID : 264330334982  
Status : Answered  
Chosen Option : 4

Q.20 विकल्पों में से दिए गए अक्षर-समूहों में से कौन सा, प्रश्नवाचक चिह्न (?) के स्थान पर आकर दी गई श्रृंखला को पूर्ण करेगा?

ELSV, FJVR, GHYN, ?, IDEF

Ans  1. GHFJ

2. HFBJ

3. HFJB

4. HBJF

Question ID : 264330145423

Option 1 ID : 264330569950

Option 2 ID : 264330569947

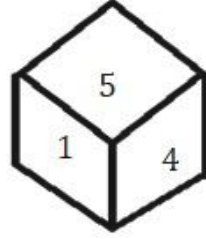
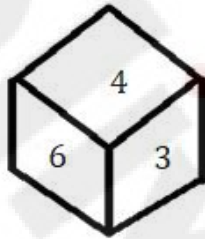
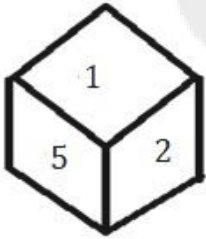
Option 3 ID : 264330569948

Option 4 ID : 264330569949

Status : Answered

Chosen Option : 2

Q.21 एक ही पासे की तीन अलग-अलग स्थितियाँ दर्शाई गई हैं। '4' दर्शाने वाले फलक के विपरीत फलक पर कौन-सी संख्या होगी?



Ans  1. 3

2. 6

3. 1

4. 2

Question ID : 264330108967

Option 1 ID : 264330428147

Option 2 ID : 264330428148

Option 3 ID : 264330428145

Option 4 ID : 264330428146

Status : Answered

Chosen Option : 4

Q.22 किसी निश्चित कूट भाषा में, 'GAME' को '8426' के रूप में कूटबद्ध किया जाता है, और 'MUST' को '7853' के रूप में कूटबद्ध किया जाता है। दी गई उस कूट भाषा में 'M' के लिए कूट क्या है?

Ans  1. 7

2. 3

3. 2

4. 8

Question ID : 264330169655

Option 1 ID : 264330665321

Option 2 ID : 264330665322

Option 3 ID : 264330665320

Option 4 ID : 264330665319

Status : Answered

Chosen Option : 4

Q.23 उस समुच्चय का चयन कीजिए जिसमें संख्याएँ उसी प्रकार संबंधित हैं जिस प्रकार निम्नलिखित समुच्चयों की संख्याएँ संबंधित हैं।

(नोट: संख्याओं को उसके घटक अंकों में विभाजित किए बिना, पूर्ण संख्याओं पर संक्रियाएँ की जानी चाहिए। उदाहरण के लिए 13 - इसमें 13 पर जोड़ने / घटाने / गुणा करने आदि जैसी संक्रियाओं को 13 में किया जा सकता है। 13 को 1 और 3 में विभाजित करने और फिर 1 और 3 पर गणितीय संक्रियाएँ करने की अनुमति नहीं है)

(7, 35, 42), (4, 20, 24)

- Ans  1. (6, 36, 48)  
 2. (8, 56, 72)  
 3. (9, 45, 54)  
 4. (12, 60, 48)

Question ID : 264330145301  
Option 1 ID : 264330569461  
Option 2 ID : 264330569462  
Option 3 ID : 264330569459  
Option 4 ID : 264330569460  
Status : Answered  
Chosen Option : 3

Q.24 एक निश्चित कूट भाषा में, 'FLORA' को 'WQOLC' और 'MONEY' को 'PNPYE' के रूप में लिखा जाता है। उसी कूट भाषा में 'GOING' को किस प्रकार लिखा जाएगा?

- Ans  1. RHKSR  
 2. VBUDP  
 3. VNUPW  
 4. RMWEH

Question ID : 26433074757  
Option 1 ID : 264330293117  
Option 2 ID : 264330293116  
Option 3 ID : 264330293118  
Option 4 ID : 264330293119  
Status : Answered  
Chosen Option : 3

Q.25 उस समुच्चय का चयन कीजिए जिसमें संख्याएँ उसी प्रकार संबंधित हैं जिस प्रकार निम्नलिखित समुच्चयों की संख्याएँ संबंधित हैं।

(नोट: संख्याओं को उसके घटक अंकों में विभाजित किए बिना, पूर्ण संख्याओं पर संक्रियाएँ की जानी चाहिए। उदाहरण के लिए 13 - इसमें 13 पर जोड़ने / घटाने / गुणा करने आदि जैसी संक्रियाओं को 13 में किया जा सकता है। 13 को 1 और 3 में विभाजित करने और फिर 1 और 3 पर गणितीय संक्रियाएँ करने की अनुमति नहीं है)

(264, 462), (132, 330)

- Ans  1. (211, 340)  
 2. (282, 496)  
 3. (188, 378)  
 4. (386, 584)

Question ID : 264330145296  
Option 1 ID : 264330569440  
Option 2 ID : 264330569441  
Option 3 ID : 264330569439  
Option 4 ID : 264330569442  
Status : Answered  
Chosen Option : 4

Q.26 एक निश्चित कूट भाषा में, 'FRIEND' को 'IIFDME' और 'DEMAND' को 'MVDDMA' के रूप में लिखा जाता है। उसी कूट भाषा में 'GROUND' को किस प्रकार लिखा जाएगा?

- Ans  1. OIGDMU  
 2. OFTSBU  
 3. DOTENC  
 4. PPKRYS

Question ID : 26433074762  
Option 1 ID : 264330293137  
Option 2 ID : 264330293136  
Option 3 ID : 264330293138  
Option 4 ID : 264330293139  
Status : Answered  
Chosen Option : 1

Q.27 उस सही विकल्प का चयन कीजिए, जो दिए गए शब्दों के उसी क्रम में व्यवस्थापन को दर्शाता है, जिस क्रम में वे अंग्रेजी शब्दकोश में मौजूद होते हैं।

1. Desire
2. Destination
3. Descend
4. Destructive
5. Desolate
6. Desperate

- Ans  1. 3, 1, 2, 6, 5, 4  
 2. 3, 1, 5, 6, 4, 2  
 3. 3, 1, 5, 6, 2, 4  
 4. 3, 1, 6, 5, 2, 4

Question ID : 264330145377  
Option 1 ID : 264330569763  
Option 2 ID : 264330569766  
Option 3 ID : 264330569765  
Option 4 ID : 264330569764  
Status : Answered  
Chosen Option : 3

Q.28 यदि A का अर्थ '+' है, B का अर्थ 'x' है, C का अर्थ '-' है, और D का अर्थ '÷' है, तो निम्नलिखित समीकरण में '?' के स्थान पर क्या आएगा?  
 $7 A 3 B 24 D 2 = 20 B ? A 3$

- Ans  1. 7  
 2. 14  
 3. 20  
 4. 2

Question ID : 26433067663  
Option 1 ID : 264330265165  
Option 2 ID : 264330265166  
Option 3 ID : 264330265164  
Option 4 ID : 264330265167  
Status : Answered  
Chosen Option : 4

Q.29 निम्नलिखित चार अक्षर-समूहों में से तीन किसी निश्चित तरीके से संगत हैं, और एक असंगत है। असंगत का चयन कीजिए।

- Ans  1. KLNP  
 2. SRPH  
 3. WVTD  
 4. JIGQ

Question ID : 26433068792  
Option 1 ID : 264330269682  
Option 2 ID : 264330269680  
Option 3 ID : 264330269681  
Option 4 ID : 264330269683  
Status : Answered  
Chosen Option : 1

Q.30 उस विकल्प का चयन करें, जो पांचवें अक्षर-समूह से उसी प्रकार संबंधित है, जिस प्रकार दूसरा अक्षर-समूह पहले अक्षर-समूह से संबंधित है, और चौथा अक्षर-समूह तीसरे अक्षर-समूह से संबंधित है।

TEMPLE : SCJLGY :: CHURCH : BFRNXB :: MOSQUE : ?

- Ans  1. LMPYMP  
 2. LMPMPY  
 3. LMPYPM  
 4. LPYMPM

Question ID : 264330145394  
Option 1 ID : 264330569834  
Option 2 ID : 264330569832  
Option 3 ID : 264330569831  
Option 4 ID : 264330569833  
Status : Answered  
Chosen Option : 2

Q.31 छह मित्र एक वृत्ताकार स्थिति में बैठे हुए हैं। वे सभी केंद्र की ओर मुख करके बैठे हैं। कनक, सोना के दाईं ओर तीसरे स्थान पर है। कपिल, मणि के ठीक बगल में है। गोल्डी, मणि के दाईं ओर दूसरे स्थान पर बैठी है। सोना, कपिल और सुरेश के ठीक बगल में है। गोल्डी के दाईं ओर ठीक बगल में कौन बैठा है?

- Ans  1. कपिल  
 2. सोना  
 3. कनक  
 4. सुरेश

Question ID : 264330145405  
Option 1 ID : 264330569876  
Option 2 ID : 264330569877  
Option 3 ID : 264330569875  
Option 4 ID : 264330569878  
Status : Answered  
Chosen Option : 4




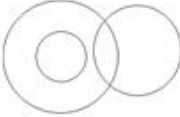
Q.32 "A = B" का अर्थ है कि "A, B का पिता है"।  
"A \$ B" का अर्थ है कि "A, B की बहन है"।  
"A \* B" का अर्थ है कि "A, B की माता है"।  
"A ? B" का अर्थ है कि "A, B का पुत्र है"।  
यदि M ? C \$ J \* Z है, तो J का M से क्या संबंध है?

- Ans  1. मौसी  
 2. बहन  
 3. भाई  
 4. नानी

Question ID : 264330145385  
Option 1 ID : 264330569798  
Option 2 ID : 264330569795  
Option 3 ID : 264330569796  
Option 4 ID : 264330569797  
Status : Answered  
Chosen Option : 1

Q.33 उस वेन आरेख का चयन करें, जो निम्नलिखित वर्गों के बीच के संबंध को सर्वोत्तम ढंग से दर्शाता है।

पेंसिल, रबड़, शार्पनर

- Ans  1.   
 2.   
 3.   
 4. 

Question ID : 264330145357  
Option 1 ID : 264330569683  
Option 2 ID : 264330569686  
Option 3 ID : 264330569684  
Option 4 ID : 264330569685  
Status : Answered  
Chosen Option : 2

Q.34 एक निश्चित कूट भाषा में "COURT" को OCRTR के रूप में कूटबद्ध किया जाता है, और "JUDGE" को UJAEG के रूप में कूटबद्ध किया जाता है। उसी कूट भाषा में "ORDER" को किस प्रकार कूटबद्ध किया जाएगा?

- Ans  1. LDRRE  
 2. REARO  
 3. ROARE  
 4. ROBRE

Question ID : 264330132206  
Option 1 ID : 264330517919  
Option 2 ID : 264330517920  
Option 3 ID : 264330517921  
Option 4 ID : 264330517922  
Status : Answered  
Chosen Option : 3

Q.35 दो कथन दिए गए हैं, जिसके बाद दो निष्कर्ष I और II दिए गए हैं। कथनों को सत्य मानते हुए, भले ही वे सामान्य रूप से ज्ञात तथ्यों से भिन्न प्रतीत होते हों, निर्णय लें कि कौन-से निष्कर्ष कथनों का तार्किक रूप से पालन करते हैं?

कथन:

सभी फूल पेड़ हैं।

सभी पत्ते फूल हैं।

निष्कर्ष:

I) सभी पेड़ फूल हैं।

II) सभी पत्ते पेड़ हैं।

Ans  1. केवल निष्कर्ष II पालन करता है।

2. निष्कर्ष I और II दोनों पालन करते हैं।

3. केवल निष्कर्ष I पालन करता है।

4. न तो निष्कर्ष I और न ही निष्कर्ष II पालन करता है।

Question ID : 26433067706

Option 1 ID : 264330265337

Option 2 ID : 264330265338

Option 3 ID : 264330265336

Option 4 ID : 264330265339

Status : Answered

Chosen Option : 1

Q.36 यदि A का अर्थ '+' है, B का अर्थ 'x' है, C का अर्थ '-' है और D का अर्थ '÷' है, तो निम्नलिखित व्यंजक का मान क्या होगा?

39 D 13 B 2 C 6 A 8

Ans  1. 9

2. 12

3. 10

4. 8

Question ID : 26433068700

Option 1 ID : 264330269315

Option 2 ID : 264330269312

Option 3 ID : 264330269314

Option 4 ID : 264330269313

Status : Answered

Chosen Option : 4

Q.37 कौन-सा अक्षर-समूह प्रश्नचिह्न (?) के स्थान पर आकर दी गई श्रृंखला को पूर्ण करेगा?  
MKPN, LMOP, ?, JQMT, ISLV

Ans  1. KOLT

2. KNMR

3. KONR

4. KNNQ

Question ID : 26433076662

Option 1 ID : 264330300715

Option 2 ID : 264330300712

Option 3 ID : 264330300713

Option 4 ID : 264330300714

Status : Answered

Chosen Option : 3

Q.38 यदि A का अर्थ '+' हो, B का अर्थ 'x' हो, C का अर्थ '-' हो और D का अर्थ '=' हो, तो निम्नलिखित समीकरण का मान कितना होगा?  
96 D 3 B 8 C 25 A 14 = ?

Ans  1. 217

2. 245

3. 234

4. 254

Question ID : 264330129781

Option 1 ID : 264330508356

Option 2 ID : 264330508355

Option 3 ID : 264330508358

Option 4 ID : 264330508357

Status : Answered

Chosen Option : 2

Q.39 उस विकल्प का चयन कीजिए, जो दिए गए शब्दों के उस सही क्रम को दर्शाता है, जिस क्रम में वे अंग्रेजी शब्दकोश में मौजूद होते हैं।

1.Lollipop

2.Loincloth

3.Longways

4.Logician

5.Lonely

Ans  1. 3, 2, 1, 5, 4

2. 4, 2, 1, 5, 3

3. 4, 3, 1, 5, 2

4. 3, 4, 1, 5, 2

Question ID : 26433067241

Option 1 ID : 264330263479

Option 2 ID : 264330263478

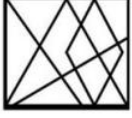
Option 3 ID : 264330263477

Option 4 ID : 264330263476

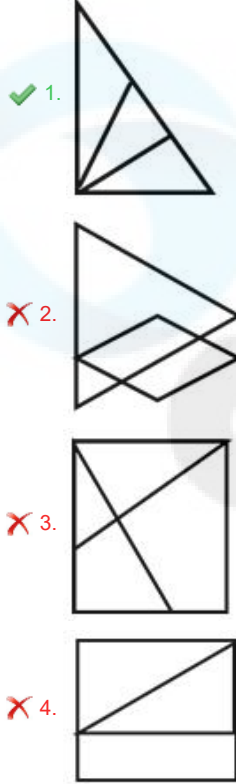
Status : Answered

Chosen Option : 2

Q.40 उस विकल्प का चयन कीजिए जो दी गई आकृति में इसके भाग के रूप में अंतर्निहित है (आकृति को घूमने की अनुमति नहीं है)।



Ans



Question ID : 264330145467

Option 1 ID : 264330570125

Option 2 ID : 264330570126

Option 3 ID : 264330570124

Option 4 ID : 264330570123

Status : Answered

Chosen Option : 1

Q.41 उस समुच्चय का चयन कीजिए जिसमें संख्याएँ आपस में उसी प्रकार संबंधित हैं जिस प्रकार निम्नलिखित समुच्चयों की संख्याएँ आपस में संबंधित हैं। (नोट: संख्याओं को उसके घटक अंकों में विभाजित किए बिना, पूर्ण संख्याओं पर गणितीय संक्रियाएं की जानी चाहिए। उदाहरण के लिए 13 - गणितीय संक्रियाएं जैसे कि जोड़ना/घटाना/गुणा करना इत्यादि 13 में किया जा सकता है। 13 को 1 और 3 में विभाजित करना और फिर 1 और 3 पर गणितीय संक्रियाएँ करने की अनुमति नहीं है।)  
(7, 91, 98)  
(4, 52, 56)

Ans ✗ 1. (3, 36, 42)

✓ 2. (12, 156, 168)

✗ 3. (5, 25, 60)

✗ 4. (8, 80, 96)

Question ID : 26433057449

Option 1 ID : 264330224781

Option 2 ID : 264330224782

Option 3 ID : 264330224780

Option 4 ID : 264330224783

Status : Answered

Chosen Option : 2

Q.42 दो कथन दिए गए हैं, जिसके बाद दो निष्कर्ष I और II दिए गए हैं। कथनों को सत्य मानते हुए, भले ही वे सामान्य रूप से ज्ञात तथ्यों से भिन्न प्रतीत होते हों, निर्धारित करें कि कौन-से निष्कर्ष कथनों का तार्किक रूप से पालन करते हैं?

कथन:

सभी पौधे सब्जियाँ हैं।

कुछ पौधे जहरीले हैं।

निष्कर्ष:

I. सभी सब्जियाँ जहरीली हैं।

II. कुछ सब्जियाँ पौधे हैं।

Ans  1. केवल निष्कर्ष II पालन करता है

2. केवल निष्कर्ष I पालन करता है

3. न तो निष्कर्ष I और न ही निष्कर्ष II पालन करता है

4. निष्कर्ष I और II दोनों पालन करते हैं

Question ID : 26433056711

Option 1 ID : 264330221829

Option 2 ID : 264330221828

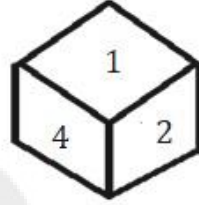
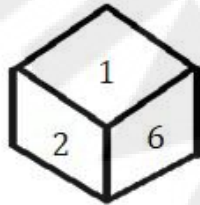
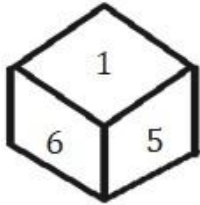
Option 3 ID : 264330221831

Option 4 ID : 264330221830

Status : Answered

Chosen Option : 1

Q.43 एक ही पासे की तीन अलग-अलग स्थितियाँ दर्शाई गई हैं। '1' दर्शाने वाले फलक के विपरीत फलक पर कौन-सी संख्या होगी?



Ans  1. 4

2. 6

3. 3

4. 2

Question ID : 264330108971

Option 1 ID : 264330428164

Option 2 ID : 264330428161

Option 3 ID : 264330428163

Option 4 ID : 264330428162

Status : Answered

Chosen Option : 3

Q.44 उस विकल्प का चयन कीजिए, जो उन अक्षरों को निरूपित करता है, जिन्हें निम्न रिक्त स्थानों में बाएं से दाएं रखे जाने पर, वे अक्षर श्रृंखला को पूरा कर देंगे।

Ans  1. PSJK

2. PRKL

3. WYRS

4. FHAB

Question ID : 264330180750

Option 1 ID : 264330708969

Option 2 ID : 264330708967

Option 3 ID : 264330708970

Option 4 ID : 264330708968

Status : Answered

Chosen Option : 1

Q.45 L, Q की पत्नी है। P, M की माता है। J, L का पिता है। M, H की बहन है। J, H का पति है। P का L से क्या संबंध है?

- Ans
- 1. भांजा
  - 2. बहनोई
  - 3. नानी
  - 4. मौसी

Question ID : 264330126021  
Option 1 ID : 264330493759  
Option 2 ID : 264330493758  
Option 3 ID : 264330493757  
Option 4 ID : 264330493756  
Status : Answered  
Chosen Option : 3

Q.46 निम्नलिखित में से कौन-सी संख्या दी गई श्रृंखला में प्रश्न-चिह्न (?) का स्थान लेगी?

35, ?, 40, 47, 45, 53

- Ans
- 1. 41
  - 2. 37
  - 3. 42
  - 4. 43

Question ID : 26433091009  
Option 1 ID : 264330357447  
Option 2 ID : 264330357446  
Option 3 ID : 264330357445  
Option 4 ID : 264330357448  
Status : Answered  
Chosen Option : 1

Q.47 निम्नलिखित में से कौन-सी संख्या दी गई श्रृंखला में प्रश्नवाचक चिह्न (?) का स्थान लेगी?  
115, 130, 122, 137, 129, ?

- Ans
- 1. 150
  - 2. 148
  - 3. 142
  - 4. 144

Question ID : 26433057327  
Option 1 ID : 264330224295  
Option 2 ID : 264330224294  
Option 3 ID : 264330224292  
Option 4 ID : 264330224293  
Status : Answered  
Chosen Option : 4

Q.48 उस समुच्चय का चयन कीजिए जिसमें संख्याएँ एक-दूसरे से उसी प्रकार संबंधित हैं जिस प्रकार निम्नलिखित समुच्चय की संख्याएँ आपस में संबंधित हैं।

(नोट: संख्याओं को उसके घटक अंकों में विभाजित किए बिना, पूर्ण संख्याओं पर गणितीय संक्रियाएं की जानी चाहिए। उदाहरण के लिए 13 - संख्या 13 पर गणितीय संक्रियाएं जैसे कि जोड़ना / घटाना / गुणा करना आदि को 13 से किया जा सकता है। 13 को 1 और 3 में तोड़ना और फिर 1 और 3 पर गणितीय संक्रियाएँ करने की अनुमति नहीं है।)

(6, 2, 96)  
(5, 6, 240)

- Ans  1. (12,3,45)  
 2. (4,1,6)  
 3. (1,2,16)  
 4. (8,3,28)

Question ID : 264330145319

Option 1 ID : 264330569531

Option 2 ID : 264330569533

Option 3 ID : 264330569534

Option 4 ID : 264330569532

Status : Answered

Chosen Option : 3

Q.49 दिए गए पैटर्न का ध्यानपूर्वक अध्ययन कीजिए और उस संख्या का चयन कीजिए, जो उसमें प्रश्न-चिह्न (?) को प्रतिस्थापित कर सके।

पहली पंक्ति: 19, 6, 37

दूसरी पंक्ति: 21, 8, 45

तीसरी पंक्ति: 72, 14, ?

(नोट: संख्याओं को उसके घटक अंकों में विभाजित किए बिना, पूर्ण संख्याओं पर गणितीय संक्रियाएं की जानी चाहिए। उदाहरण के लिए 13 - गणितीय संक्रियाएं जैसे कि जोड़ना/घटाना/गुणा करना इत्यादि 13 में किया जा सकता है। 13 को 1 और 3 में विभाजित करना और फिर 1 और 3 पर गणितीय संक्रियाएँ करने की अनुमति नहीं है।)

- Ans  1. 114  
 2. 144  
 3. 124  
 4. 134

Question ID : 26433068248

Option 1 ID : 264330267506

Option 2 ID : 264330267507

Option 3 ID : 264330267505

Option 4 ID : 264330267504

Status : Answered

Chosen Option : 1

Q.50 एक व्यक्ति बिंदु Z से चलना शुरू करता है, और दक्षिण की ओर 7 km चलता है। वह दाएं मुड़ता है, और 5 km चलता है, दाएं मुड़ता है, और 3 km चलता है, फिर दाएं मुड़ता है, और 1 km चलता है। फिर वह बाएं मुड़ता है, और बिंदु X पर पहुंचने के लिए 4 km चलता है। बिंदु Z पर पहुंचने के लिए अब उसे कितना और किस दिशा में चलना होगा?

- Ans  1. 4 km पूर्व  
 2. 4 km दक्षिण  
 3. 4 km पश्चिम  
 4. 6 km पूर्व

Question ID : 26433081451

Option 1 ID : 264330319639

Option 2 ID : 264330319638

Option 3 ID : 264330319637

Option 4 ID : 264330319640

Status : Answered

Chosen Option : 1

Q.1 किस जर्मन रसायनज्ञ ने सर्वप्रथम परमाणु भार की तुलना में खींचे गए परमाणु आयतन की आवर्तिता का ग्राफीय निरूपण प्रदर्शित किया था?

- Ans
- 1. जॉन न्यूलैंड्स (John Newlands)
  - 2. विलियम रामसे (William Ramsay)
  - 3. लोथर मेयर (Lothar Meyer)
  - 4. ग्लेन टी. सीबोर्ग (Glenn T Seaborg)

Question ID : 264330110063  
Option 1 ID : 264330432530  
Option 2 ID : 264330432531  
Option 3 ID : 264330432532  
Option 4 ID : 264330432529  
Status : Answered  
Chosen Option : 2

Q.2 निम्नलिखित में से किसे आर्थिक विकास का एक अच्छा संकेतक माना जाता है?

- Ans
- 1. अंतरराष्ट्रीय व्यापार में स्थिर वृद्धि
  - 2. जनसंख्या में स्थिर वृद्धि
  - 3. सकल घरेलू उत्पाद (GDP) में स्थिर वृद्धि
  - 4. ऋण में स्थिर वृद्धि

Question ID : 26433054585  
Option 1 ID : 264330213327  
Option 2 ID : 264330213324  
Option 3 ID : 264330213325  
Option 4 ID : 264330213326  
Status : Answered  
Chosen Option : 3

Q.3 पद्म श्री, पद्म भूषण और पद्म विभूषण पुरस्कार से सम्मानित, डॉ. तीजन बाई, निम्नलिखित में से किस कला शैली में उनके योगदान के लिए विश्वप्रसिद्ध हैं?

- Ans
- 1. राउत नाच
  - 2. गेंडी
  - 3. पंडवानी
  - 4. झिरलिटि

Question ID : 264330145167  
Option 1 ID : 264330568926  
Option 2 ID : 264330568925  
Option 3 ID : 264330568924  
Option 4 ID : 264330568923  
Status : Answered  
Chosen Option : 3

Q.4 खरीफ फसलों के लिए, उच्च आर्द्रता और \_\_\_\_\_ cm से अधिक वार्षिक वर्षा के साथ खेती के लिए आवश्यक तापमान 25 डिग्री सेल्सियस से अधिक होता है।

- Ans
- 1. 35
  - 2. 16
  - 3. 100
  - 4. 50

Question ID : 264330163197  
Option 1 ID : 264330640101  
Option 2 ID : 264330640099  
Option 3 ID : 264330640102  
Option 4 ID : 264330640100  
Status : Answered  
Chosen Option : 3

Q.5 चाहमान (चौहान) वंश के किस शासक ने अजमेर को अपनी राजधानी बनाया?

- Ans
- 1. अणोरिज
  - 2. पृथ्वीराज III
  - 3. पृथ्वीराज II
  - 4. अजयराज

Question ID : 264330109001  
Option 1 ID : 264330428281  
Option 2 ID : 264330428284  
Option 3 ID : 264330428283  
Option 4 ID : 264330428282  
Status : Answered  
Chosen Option : 4

Q.6 आरुषि मुद्गल को \_\_\_\_\_ नृत्य के लिए गुरु केलुचरण महापात्र युवा प्रतिभा सम्मान, 2021 से सम्मानित किया गया।

- Ans
- 1. ओडिसी
  - 2. मोहिनीअट्टम
  - 3. कथक
  - 4. कुचिपुड़ी

Question ID : 26433054500  
Option 1 ID : 264330212986  
Option 2 ID : 264330212985  
Option 3 ID : 264330212987  
Option 4 ID : 264330212984  
Status : Answered  
Chosen Option : 1

Q.7 निम्नलिखित में से किस भारतीय लेखक ने 'माई स्टोरी' नामक आत्मकथा लिखी है?

- Ans
- 1. किरण देसाई
  - 2. कमला दास
  - 3. शोभा डे
  - 4. अरुंधति रॉय

Question ID : 26433071471  
Option 1 ID : 264330280311  
Option 2 ID : 264330280308  
Option 3 ID : 264330280309  
Option 4 ID : 264330280310  
Status : Answered  
Chosen Option : 1

Q.8 तीसरे गोलमेज सम्मेलन में प्रतिनिधियों के विचार-विमर्श किस वर्ष के आखिरी महीनों में हुए थे?

- Ans
- 1. 1930
  - 2. 1929
  - 3. 1931
  - 4. 1932

Question ID : 264330112181

Option 1 ID : 264330440809

Option 2 ID : 264330440810

Option 3 ID : 264330440812

Option 4 ID : 264330440811

Status : Answered

Chosen Option : 4

Q.9 सामान्य तापमान और वायुमंडलीय दाब पर, \_\_\_\_\_ का घनत्व  $1.87 \text{ kg/m}^3$  होता है, जो वायु से 1.5 गुना भारी होता है, और यह  $31^\circ\text{C}$  के क्रांतिक तापमान से नीचे द्रव अवस्था में मौजूद होता है।

- Ans
- 1. नाइट्रोजन
  - 2. कार्बन डाईऑक्साइड
  - 3. हाइड्रोजन
  - 4. लीथियम

Question ID : 264330110060

Option 1 ID : 264330432518

Option 2 ID : 264330432517

Option 3 ID : 264330432519

Option 4 ID : 264330432520

Status : Answered

Chosen Option : 4

Q.10 वल्लभभाई पटेल और \_\_\_\_\_ ने खेड़ा में गांधी जी के गांवों के दौरे की व्यवस्था करके तथा किसानों को सरकार के खिलाफ मजबूती से खड़े होने के लिए प्रोत्साहित करके गांधी जी की सहायता की।

- Ans
- 1. इंदुलाल याग्निक
  - 2. मोहम्मद अली जिन्ना
  - 3. जमनालाल बजाज
  - 4. मोतीलाल नेहरू

Question ID : 264330165396

Option 1 ID : 264330648665

Option 2 ID : 264330648664

Option 3 ID : 264330648666

Option 4 ID : 264330648663

Status : Answered

Chosen Option : 3

Q.11 राष्ट्रीय महिला आयोग की स्थापना निम्नलिखित में से किस अधिनियम के तहत की गई थी?

- Ans
- 1. राष्ट्रीय महिला आयोग अधिनियम, 1988
  - 2. राष्ट्रीय महिला आयोग अधिनियम, 1989
  - 3. राष्ट्रीय महिला आयोग अधिनियम, 1987
  - 4. राष्ट्रीय महिला आयोग अधिनियम, 1990

Question ID : 264330145264

Option 1 ID : 264330569312

Option 2 ID : 264330569313

Option 3 ID : 264330569311

Option 4 ID : 264330569314

Status : Answered

Chosen Option : 4

Q.12 निम्नलिखित में से कौन सा घुड़सवारी प्रतियोगिता नहीं है?

- Ans
- 1. वॉल्टिंग (Vaulting)
  - 2. स्प्रिंट (Sprint)
  - 3. ड्रेसेज (Dressage)
  - 4. शो जंपिंग (Show jumping)

Question ID : 26433089944  
Option 1 ID : 264330353254  
Option 2 ID : 264330353256  
Option 3 ID : 264330353253  
Option 4 ID : 264330353255  
Status : Not Answered  
Chosen Option : --

Q.13 समुद्र के सबसे उथले हिस्से, महाद्वीपीय शेल्फ की औसत ढाल \_\_\_\_\_ होती है।

- Ans
- 1. 5° या उससे भी कम
  - 2. 8° या उससे भी कम
  - 3. 1° या उससे भी कम
  - 4. 2° या उससे भी कम

Question ID : 26433055832  
Option 1 ID : 264330218314  
Option 2 ID : 264330218315  
Option 3 ID : 264330218312  
Option 4 ID : 264330218313  
Status : Answered  
Chosen Option : 1

Q.14 निम्नलिखित में से किसने चेन्नई में कलाक्षेत्र फाउंडेशन की स्थापना की, जो ललित कलाओं के अध्ययन और प्रदर्शन के लिए एक महत्वपूर्ण केंद्र है?

- Ans
- 1. मृणालिनी साराभाई (Mrinalini Sarabhai)
  - 2. रुक्मिणी देवी अरुंडेले (Rukmini Devi Arundale)
  - 3. अलार्मेल वल्ली (Alarmel Valli)
  - 4. यामिनी कृष्णमूर्ति (Yamini Krishnamurthy)

Question ID : 26433054507  
Option 1 ID : 264330213014  
Option 2 ID : 264330213015  
Option 3 ID : 264330213012  
Option 4 ID : 264330213013  
Status : Answered  
Chosen Option : 3

Q.15 12वीं शताब्दी के भारतीय राजा पृथ्वीराज चौहान के जीवन पर लिखित महाकाव्य पृथ्वीराज रासो की रचना \_\_\_\_\_ ने की थी।

- Ans
- 1. भारवि
  - 2. अश्वघोष
  - 3. बाणभट्ट
  - 4. चंदबरदाई

Question ID : 26433071390  
Option 1 ID : 264330279985  
Option 2 ID : 264330279984  
Option 3 ID : 264330279986  
Option 4 ID : 264330279987  
Status : Answered  
Chosen Option : 4

Q.16 निम्नलिखित पुस्तकों में से कौन-सी पूर्व अमेरिकी राष्ट्रपति बिल क्लिंटन की आत्मकथा है?

- Ans
- 1. माई कंट्री माई लाइफ
  - 2. बिकमिंग
  - 3. माइ लाइफ
  - 4. लॉन्ग वॉक टू फ्रीडम

Question ID : 264330145176  
Option 1 ID : 264330568962  
Option 2 ID : 264330568959  
Option 3 ID : 264330568960  
Option 4 ID : 264330568961  
Status : Answered  
Chosen Option : 2

Q.17 निम्नलिखित में से किसे आपातकाल के दौरान असाधारण शक्तियाँ प्रदान की गई हैं?

- Ans
- 1. मुख्य न्यायाधीश
  - 2. राष्ट्रपति
  - 3. प्रधानमंत्री
  - 4. राज्यपाल

Question ID : 264330118528  
Option 1 ID : 264330465515  
Option 2 ID : 264330465514  
Option 3 ID : 264330465513  
Option 4 ID : 264330465516  
Status : Answered  
Chosen Option : 2

Q.18 भारतीय अर्थव्यवस्था ने हरित क्रांति की सफलता का अनुभव कितने चरणों में किया?

- Ans
- 1. पांच
  - 2. तीन
  - 3. चार
  - 4. दो

Question ID : 264330145245  
Option 1 ID : 264330569238  
Option 2 ID : 264330569236  
Option 3 ID : 264330569237  
Option 4 ID : 264330569235  
Status : Answered  
Chosen Option : 4

Q.19 कालबैसाखी क्या है?

- Ans
- 1. शीत लहर और वर्षा
  - 2. गरम हवाएं और लू
  - 3. मानसून से पहले की वर्षा और तड़ित् झंझावात
  - 4. हिमपात और ओलावृष्टि

Question ID : 264330119786  
Option 1 ID : 264330469419  
Option 2 ID : 264330469422  
Option 3 ID : 264330469420  
Option 4 ID : 264330469421  
Status : Answered  
Chosen Option : 1

Q.20 भारत में \_\_\_\_\_ से कम के सभी ऋणों को सूक्ष्म ऋण (micro loans) माना जाता है।

- Ans  1. एक लाख रुपए  
 2. दो लाख रुपए  
 3. चार लाख रुपए  
 4. तीन लाख रुपए

Question ID : 264330145237  
Option 1 ID : 264330569203  
Option 2 ID : 264330569204  
Option 3 ID : 264330569206  
Option 4 ID : 264330569205  
Status : Answered  
Chosen Option : 4

Q.21 वॉलीबॉल खेल में, प्रत्येक टीम में कितने खिलाड़ी होते हैं?

- Ans  1. 6  
 2. 7  
 3. 8  
 4. 5

Question ID : 264330109851  
Option 1 ID : 264330431682  
Option 2 ID : 264330431683  
Option 3 ID : 264330431684  
Option 4 ID : 264330431681  
Status : Answered  
Chosen Option : 2

Q.22 नागालैंड का मोत्सु त्यौहार (Moatsu festival) निम्नलिखित में से किस जनजाति द्वारा मनाया जाता है?

- Ans  1. आओ जनजाति (Ao tribe)  
 2. मुण्डा जनजाति (Munda tribe)  
 3. बोडो जनजाति (Bodo tribe)  
 4. भील जनजाति (Bhil tribe)

Question ID : 264330164802  
Option 1 ID : 264330646335  
Option 2 ID : 264330646338  
Option 3 ID : 264330646336  
Option 4 ID : 264330646337  
Status : Answered  
Chosen Option : 3

Q.23 वैश्विक भुखमरी सूचकांक (Global Hunger Index) 2022 के अनुसार, इनमें से कौन-सा एकमात्र पड़ोसी देश 121 देशों में से 109 रैंक के साथ भारत से पीछे है?

- Ans  1. पाकिस्तान  
 2. नेपाल  
 3. बांग्लादेश  
 4. अफ़ग़ानिस्तान

Question ID : 264330157103  
Option 1 ID : 264330615785  
Option 2 ID : 264330615784  
Option 3 ID : 264330615783  
Option 4 ID : 264330615786  
Status : Answered  
Chosen Option : 4

Q.24 भारत में, औद्योगिक क्षेत्र के विनियमन को लागू करने के लिए निम्नलिखित में से कौन-सा नियामक तंत्र अस्तित्व में नहीं था?

Ans  1. औद्योगिक लाइसेंसिंग, जिसके तहत प्रत्येक उद्यमी को कोई फर्म शुरू करने, फर्म को बंद करने या उत्पादित किए जा सकने वाले माल/वस्तुओं की मात्रा तय करने के लिए सरकारी अधिकारियों से अनुमति लेनी पड़ती थी।

2. सभी उद्योगों में निजी क्षेत्र को अनुमति दी गई थी।

3. कुछ माल/वस्तुओं का उत्पादन केवल लघु उद्योगों में ही किया जा सकता था।

4. चुनिंदा औद्योगिक उत्पादों के मूल्य निर्धारण और वितरण पर नियंत्रण।

Question ID : 26433064577

Option 1 ID : 264330252900

Option 2 ID : 264330252901

Option 3 ID : 264330252902

Option 4 ID : 264330252903

Status : Answered

Chosen Option : 1

Q.25 मेथिल एथिल कीटोन (Methyl ethyl ketone) को \_\_\_\_\_ के नाम से भी जाना जाता है।

Ans  1. प्रोपेनोन

2. मेथिल पेंटानोन

3. 2-ब्यूटेनोन

4. 2-ब्यूटेनॉल

Question ID : 264330131776

Option 1 ID : 264330516203

Option 2 ID : 264330516206

Option 3 ID : 264330516205

Option 4 ID : 264330516204

Status : Not Answered

Chosen Option : --

Q.26 नवंबर 2020 में, \_\_\_\_\_ ने विश्व का अब तक का सबसे तेज पियानो वादक होने का रिकॉर्ड बनाया।

Ans  1. गौरी मिश्रा

2. अनिश्रीनिवासन

3. लिडियन नादस्वरम

4. शिखा चौरसिया

Question ID : 264330145151

Option 1 ID : 264330568859

Option 2 ID : 264330568861

Option 3 ID : 264330568862

Option 4 ID : 264330568860

Status : Answered

Chosen Option : 1

Q.27 प्रसिद्ध संगीतकार तानसेन, प्रायः किस शासक के दरबार में गाया करते थे?

- Ans
- 1. फिरोज शाह तुगलक
  - 2. अलाउद्दीन खिलजी
  - 3. शेर शाह सूरी
  - 4. अकबर

Question ID : 26433074852

Option 1 ID : 264330293498

Option 2 ID : 264330293496

Option 3 ID : 264330293499

Option 4 ID : 264330293497

Status : Answered

Chosen Option : 4

Q.28 ध्रुवसेन द्वितीय, निम्नलिखित में से किस शासक राजवंश से संबंधित है?

- Ans
- 1. वाकाटक
  - 2. पुष्यभूति
  - 3. मौखरि
  - 4. मैत्रक

Question ID : 264330165568

Option 1 ID : 264330649354

Option 2 ID : 264330649353

Option 3 ID : 264330649352

Option 4 ID : 264330649351

Status : Answered

Chosen Option : 3

Q.29 प्रथम राष्ट्रमंडल खेलों का आयोजन निम्नलिखित में से किस वर्ष किया गया था?

- Ans
- 1. 1920
  - 2. 1922
  - 3. 1930
  - 4. 1926

Question ID : 264330118888

Option 1 ID : 264330466207

Option 2 ID : 264330466208

Option 3 ID : 264330466210

Option 4 ID : 264330466209

Status : Answered

Chosen Option : 3

Q.30 मामल्लपुरम का तटीय मंदिर (Shore temple of Mamallapuram) किसके द्वारा बनवाया गया था?

- Ans
- 1. पल्लव
  - 2. नाग
  - 3. चोल
  - 4. चालुक्य

Question ID : 264330164857

Option 1 ID : 264330646557

Option 2 ID : 264330646555

Option 3 ID : 264330646556

Option 4 ID : 264330646558

Status : Not Answered

Chosen Option : --

Q.31 p-ब्लॉक के तत्वों के बारे में दिए गए सही या गलत कथनों की पहचान कीजिए।  
कथन A: p-ब्लॉक तत्वों में, अंतिम इलेक्ट्रॉन वाह्यतम p कक्षक में प्रवेश करता है।  
कथन B: अधातुएं और उपधातुएं केवल आवर्त सारणी के p-ब्लॉक में मौजूद होती हैं।

- Ans
- 1. कथन A और B दोनों गलत हैं
  - 2. केवल कथन A सही है
  - 3. केवल कथन B सही है
  - 4. कथन A और B दोनों सही हैं

Question ID : 264330137995  
Option 1 ID : 264330540588  
Option 2 ID : 264330540587  
Option 3 ID : 264330540589  
Option 4 ID : 264330540590  
Status : Not Answered  
Chosen Option : --

Q.32 भूटिया नृत्य (Bhutia dance) निम्नलिखित में से किस राज्य में किया जाता है?

- Ans
- 1. नागालैंड
  - 2. ओडिशा
  - 3. सिक्किम
  - 4. पश्चिम बंगाल

Question ID : 264330164793  
Option 1 ID : 264330646301  
Option 2 ID : 264330646302  
Option 3 ID : 264330646299  
Option 4 ID : 264330646300  
Status : Answered  
Chosen Option : 1

Q.33 भारतीय उपमहाद्वीप की जलवायु के संबंध में निम्नलिखित में से कौन से कथन सही हैं?

- A. उत्तर भारत की जलवायु वर्ष भर एक समान रहती है।  
B. हिमालय, मध्य एशिया से आने वाली अत्यधिक ठंडी हवाओं से उपमहाद्वीप की रक्षा करता है।

- Ans
- 1. कथन A और B दोनों गलत हैं
  - 2. केवल कथन A सही है
  - 3. केवल कथन B सही है
  - 4. कथन A और B दोनों सही हैं

Question ID : 264330121168  
Option 1 ID : 264330474877  
Option 2 ID : 264330474875  
Option 3 ID : 264330474878  
Option 4 ID : 264330474876  
Status : Answered  
Chosen Option : 3

Q.34 बैक्टीरिया के संबंध में PPLO का पूर्ण रूप क्या है?

- Ans
- 1. Pneumonia Platelet Like Organisms (निमोनिया प्लेटलेट लाइक ऑर्गेनिज़्म)
  - 2. Pleuro Pneumonia Like Organisms (प्लुरो निमोनिया लाइक ऑर्गेनिज़्म )
  - 3. Platelet Prone Like Organisms (प्लेटलेट प्रोन लाइक ऑर्गेनिज़्म)
  - 4. Pleuro Platelet Like Organisms (प्लुरो प्लेटलेट लाइक ऑर्गेनिज़्म )

Question ID : 264330145218

Option 1 ID : 264330569130

Option 2 ID : 264330569127

Option 3 ID : 264330569128

Option 4 ID : 264330569129

Status : Answered

Chosen Option : 4

Q.35 ब्रायोफाइटा (गैर-संवहनी पौधों) और फर्न में शुक्राणु कोशिकाओं का निर्माण और उन्हें होल्ड करने वाली संरचना क्या कहलाती है?

- Ans
- 1. मेगास्पोरेंजिया (megasporangia)
  - 2. एंथेरिडियम (antheridium)
  - 3. आर्कगोनियम (archegonium)
  - 4. प्रोटोनिमा (protonema)

Question ID : 264330145205

Option 1 ID : 264330569075

Option 2 ID : 264330569077

Option 3 ID : 264330569076

Option 4 ID : 264330569078

Status : Answered

Chosen Option : 1

Q.36 राजकोषीय क्षेत्र में सरकार की प्राथमिकताओं तथा उससे संबंधित नीतियों एवं विचलनों का उल्लेख बजट दस्तावेज के किस भाग में किया जाता है?

- Ans
- 1. राजकोषीय नीति कार्ययोजना विवरण
  - 2. मध्यावधिक राजकोषीय नीति विवरण
  - 3. विनियोग विधेयक
  - 4. वृहद आर्थिक रूपरेखा विवरण

Question ID : 264330141437

Option 1 ID : 264330554084

Option 2 ID : 264330554083

Option 3 ID : 264330554086

Option 4 ID : 264330554085

Status : Not Answered

Chosen Option : --

Q.37 भारत ने किस पड़ोसी देश के साथ 1996 में गंगा जल को साझा करने (बँटवारे) और इसके प्रवाह को बढ़ाने के लिए फरक्का संधि पर हस्ताक्षर किए थे?

- Ans
- 1. नेपाल
  - 2. बांग्लादेश
  - 3. अफगानिस्तान
  - 4. भूटान

Question ID : 264330111362  
Option 1 ID : 264330437535  
Option 2 ID : 264330437534  
Option 3 ID : 264330437533  
Option 4 ID : 264330437536  
Status : Answered  
Chosen Option : 2

Q.38 2020 ओलंपिक खेलों में सुपर हेवीवेट बॉक्सिंग स्पर्धा में भाग लेने वाले/वाली प्रथम भारतीय कौन थीं/थीं?

- Ans
- 1. अमित पंघाल
  - 2. सतीश कुमार
  - 3. मनीष हर्षित
  - 4. साक्षी चौधरी

Question ID : 26433096226  
Option 1 ID : 264330377657  
Option 2 ID : 264330377658  
Option 3 ID : 264330377659  
Option 4 ID : 264330377660  
Status : Answered  
Chosen Option : 3

Q.39 साओ जोआओ त्यौहार (Sao Joao festival) मुख्य रूप से निम्नलिखित में से किस भारतीय राज्य में कैथोलिक ईसाइयों द्वारा मनाया जाता है?

- Ans
- 1. असम
  - 2. मणिपुर
  - 3. नागालैंड
  - 4. गोवा

Question ID : 26433064692  
Option 1 ID : 264330253361  
Option 2 ID : 264330253362  
Option 3 ID : 264330253363  
Option 4 ID : 264330253360  
Status : Answered  
Chosen Option : 4

Q.40 निम्नलिखित में से कौन-सा कार्बनिक यौगिकों के परिवार से संबंधित नहीं है?

- Ans
- 1. नोनेन (Nonane)
  - 2. डेकेन (Decane)
  - 3. अमोनिया (Ammonia)
  - 4. फ्यूरान (Furan)

Question ID : 264330131690  
Option 1 ID : 264330515859  
Option 2 ID : 264330515861  
Option 3 ID : 264330515860  
Option 4 ID : 264330515862  
Status : Answered  
Chosen Option : 3

Q.41 17वीं लोकसभा में पंजाब से कितने सांसद (Members of Parliament) चुने गए?

- Ans
- 1. 15
  - 2. 14
  - 3. 13
  - 4. 17

Question ID : 264330114610  
Option 1 ID : 264330450527  
Option 2 ID : 264330450526  
Option 3 ID : 264330450525  
Option 4 ID : 264330450528  
Status : Not Answered  
Chosen Option : --

Q.42 ज्योतिराव गोविंदराव फुले ने 1873 में मूर्तिपूजा और जाति व्यवस्था के खिलाफ लड़ने के लिए निम्नलिखित में से किसकी स्थापना की थी?

- Ans
- 1. आर्य समाज
  - 2. श्री नारायण गुरु धर्म परिपालन (SNDP) आंदोलन
  - 3. सत्यशोधक समाज
  - 4. यंग बंगाल आंदोलन

Question ID : 26433099177  
Option 1 ID : 264330389323  
Option 2 ID : 264330389321  
Option 3 ID : 264330389324  
Option 4 ID : 264330389322  
Status : Answered  
Chosen Option : 3

Q.43 भारत के वित्त आयोग के पहले अध्यक्ष (chairman) कौन थे?

- Ans
- 1. केसी नियोगी
  - 2. अशोक कुमार चंदा
  - 3. पीवी राजमन्नार
  - 4. के संथानम

Question ID : 264330133074  
Option 1 ID : 264330521347  
Option 2 ID : 264330521349  
Option 3 ID : 264330521350  
Option 4 ID : 264330521348  
Status : Answered  
Chosen Option : 1

Q.44 सौरमंडल के निर्माण (formation) और निरूपण (evaluation) की व्याख्या करने के लिए सर्वाधिक व्यापक रूप से स्वीकृत मॉडल कौन-सा है?

- Ans
- 1. सौर परिकल्पना (Solar hypothesis)
  - 2. निहारिका परिकल्पना (Nebular hypothesis)
  - 3. क्लाउड परिकल्पना (Cloud hypothesis)
  - 4. गैसीय परिकल्पना (Gas hypothesis)

Question ID : 264330113348  
Option 1 ID : 264330445479  
Option 2 ID : 264330445478  
Option 3 ID : 264330445477  
Option 4 ID : 264330445480  
Status : Answered  
Chosen Option : 2

Q.45 भारतीय संविधान का कौन सा भाग मूल अधिकारों से संबंधित है?

- Ans
- 1. भाग V
  - 2. भाग II
  - 3. भाग III
  - 4. भाग IV

Question ID : 264330111518  
Option 1 ID : 264330438160  
Option 2 ID : 264330438157  
Option 3 ID : 264330438158  
Option 4 ID : 264330438159  
Status : Answered  
Chosen Option : 3

Q.46 निम्नलिखित में से किस शैवाल को केल्व (kelp) भी कहा जाता है, और यह गहरे समुद्र में पाया जाता है?

- Ans
- 1. फ्यूकस (Fucus)
  - 2. नॉस्टॉक (Nostoc)
  - 3. क्लैमाइडोमोना (Chlamydomona)
  - 4. लैमिनारिया (Lamania)

Question ID : 26433089669  
Option 1 ID : 264330352177  
Option 2 ID : 264330352179  
Option 3 ID : 264330352180  
Option 4 ID : 264330352178  
Status : Answered  
Chosen Option : 1

Q.47 पौधों में रंध्रों (stomata) की स्थिति की पहचान कीजिए।

- Ans
- 1. तने की नोक पर
  - 2. पत्तियों की सतह पर
  - 3. जड़ों के भीतर
  - 4. पुष्प के भीतर

Question ID : 26433064754  
Option 1 ID : 264330253610  
Option 2 ID : 264330253609  
Option 3 ID : 264330253608  
Option 4 ID : 264330253611  
Status : Answered  
Chosen Option : 2

Q.48 विश्व स्तर पर कितने नियंत्रण हैं, जो किसी विशेष क्षेत्र की जलवायु को प्रभावित करते हैं?

- Ans
- 1. 5
  - 2. 6
  - 3. 8
  - 4. 3

Question ID : 264330163229  
Option 1 ID : 264330640228  
Option 2 ID : 264330640229  
Option 3 ID : 264330640230  
Option 4 ID : 264330640227  
Status : Answered  
Chosen Option : 2

Q.49 अटल सुरंग किन दो स्थानों को जोड़ती है?

- Ans  1. शिमला और नैनीताल  
 2. मनाली और लाहौल-स्पीति घाटी  
 3. शिमला और मंसूरी  
 4. मनाली और नैनीताल

Question ID : 264330112690  
Option 1 ID : 264330442848  
Option 2 ID : 264330442845  
Option 3 ID : 264330442847  
Option 4 ID : 264330442846  
Status : Answered  
Chosen Option : 2

Q.50 निम्नलिखित में से कौन सा कथन भारतीय संविधान में मूल कर्तव्यों के संबंध में सही नहीं है?

- Ans  1. इन्हें उन महान आदर्शों को संजोने और उनका पालन करने के लिए बनाया गया है, जिन्होंने स्वतंत्रता के लिए हमारे राष्ट्रीय संघर्ष को प्रेरित किया।  
 2. वे हमारी मिश्रित संस्कृति की समृद्ध विरासत को महत्व देने और संरक्षित करने के लिए बने हैं।  
 3. इन्हें न्यायोचित प्रकृति का बनाया गया है।  
 4. इन्हें वैज्ञानिक सोच, मानवतावाद और अन्वेषण एवं सुधार की भावना विकसित करने के लिए बनाया गया है।

Question ID : 264330113382  
Option 1 ID : 264330445615  
Option 2 ID : 264330445614  
Option 3 ID : 264330445613  
Option 4 ID : 264330445616  
Status : Answered  
Chosen Option : 2

Section : Quantitative Aptitude

Q.1 एक व्यक्ति एक 900 मीटर लंबी सड़क को 6 मिनट में पार करता है। व्यक्ति की चाल km/h में ज्ञात कीजिए।

- Ans  1. 9  
 2. 10  
 3. 5  
 4. 8

Question ID : 264330103677  
Option 1 ID : 264330407013  
Option 2 ID : 264330407016  
Option 3 ID : 264330407015  
Option 4 ID : 264330407014  
Status : Answered  
Chosen Option : 1

Q.2 उस त्रिभुज का क्षेत्रफल कितना होगा, जिसकी भुजाओं की लंबाइयां 12 cm, 13 cm और 5 cm है?

- Ans  1.  $30 \text{ cm}^2$   
 2.  $15 \text{ cm}^2$   
 3.  $40 \text{ cm}^2$   
 4.  $70 \text{ cm}^2$

Question ID : 264330106081

Option 1 ID : 264330416627

Option 2 ID : 264330416625

Option 3 ID : 264330416626

Option 4 ID : 264330416628

Status : Answered

Chosen Option : 1

Q.3 दिए गए दंड आरेख का अध्ययन करें और निम्नलिखित प्रश्न का उत्तर दें।  
नीचे दिए गए दंड आरेख में एक स्कूल के वर्ष 2008, 2009 और 2010 के उच्च माध्यमिक -विद्यार्थियों को दिखाया गया है।



वर्ष 2010 में द्वितीय श्रेणी में उत्तीर्ण होने वाले विद्यार्थियों का प्रतिशत कितना था?  
Number of students - विद्यार्थियों की संख्या 1st division - प्रथम श्रेणी 2nd division - द्वितीय श्रेणी 3rd division - तृतीय श्रेणी  
Fail - अनुत्तीर्ण

- Ans  1. 30%  
 2. 32%  
 3. 25%  
 4. 28%

Question ID : 264330163475

Option 1 ID : 264330641161

Option 2 ID : 264330641162

Option 3 ID : 264330641159

Option 4 ID : 264330641160

Status : Not Answered

Chosen Option : --

Q.4 दिए गए डेटा का अध्ययन कीजिए और नीचे दिए गए प्रश्न का उत्तर दीजिए।

डेटा, यूएसए (USA) में वर्ष 2020, 2021, 2022 में सिविल सेवा (CS) और इंजीनियरिंग सेवा (ES) परीक्षाओं के लिए उपस्थित होने वाले उम्मीदवारों की संख्या (हजार में) दर्शाता है।

वर्ष	सिविल सेवा		इंजीनियरिंग सेवा	
	उपस्थित हुए उम्मीदवारों की कुल संख्या	कुल उपस्थित हुए उम्मीदवारों में से स्नातक (% में)	उपस्थित हुए उम्मीदवारों की कुल संख्या	कुल उपस्थित हुए उम्मीदवारों में से स्नातक (% में)
2020	75	60	89	57
2021	110	64	118	65
2022	120	80	135	78

वर्ष 2022 में CS और ES दोनों के लिए उपस्थित हुए स्नातकों की कुल संख्या कितनी है?

- Ans
- 1. 2,01,200
  - 2. 2,01,000
  - 3. 2,01,100
  - 4. 2,01,300

Question ID : 264330158260

Option 1 ID : 264330620401

Option 2 ID : 264330620399

Option 3 ID : 264330620400

Option 4 ID : 264330620402

Status : Not Answered

Chosen Option : --

Q.5 यदि 3 बकरियां या 5 भेड़ें एक खेत को 54 दिनों में चर सकती हैं, तो 6 बकरियां और 8 भेड़ें उसी खेत को कितने दिनों में चर सकती हैं?

- Ans
- 1. 10
  - 2. 12
  - 3. 15
  - 4. 8

Question ID : 264330102379

Option 1 ID : 264330401982

Option 2 ID : 264330401983

Option 3 ID : 264330401984

Option 4 ID : 264330401981

Status : Answered

Chosen Option : 2

Q.6 निम्न तालिका चार अलग-अलग क्षेत्रों की जनसंख्या और उनमें से पुरुषों, महिलाओं एवं बच्चों का प्रतिशत दर्शाती है।

क्षेत्र	जनसंख्या	पुरुष	महिलाएं	बच्चे
P	10,000	40%	40%	20%
Q	20,000	30%	40%	30%
R	16,000	50%	30%	20%
S	18,000	45%	35%	20%

क्षेत्र P और Q मिलाकर बच्चों की कुल संख्या कितनी है?

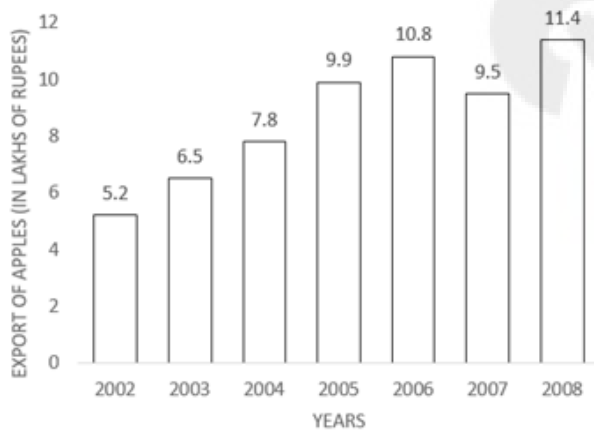
- Ans
- 1. 9000
  - 2. 8000
  - 3. 6000
  - 4. 7000

Question ID : 264330167249  
 Option 1 ID : 264330655994  
 Option 2 ID : 264330655993  
 Option 3 ID : 264330655991  
 Option 4 ID : 264330655992

Status : Answered

Chosen Option : 2

Q.7 दिए गए ग्राफ का ध्यानपूर्वक अध्ययन कीजिए, और निम्नलिखित प्रश्न का उत्तर दीजिए।



Export of Apples (in lakhs of Rupees) = सेब का निर्यात (लाख रूपये में)

Years = वर्ष

किस वर्ष सेब के निर्यात में पिछले वर्ष सेब के निर्यात की तुलना में अधिकतम प्रतिशत वृद्धि हुई?

- Ans
- 1. 2008
  - 2. 2006
  - 3. 2003
  - 4. 2005

Question ID : 264330165428  
 Option 1 ID : 264330648792  
 Option 2 ID : 264330648793  
 Option 3 ID : 264330648791  
 Option 4 ID : 264330648794

Status : Answered

Chosen Option : 4

Q.8

यदि  $\tan A = \frac{4}{3}$ ,  $0 \leq A \leq 90^\circ$  है, तो  $\sin A$  का मान क्या होगा?

Ans

1.  $\frac{3}{4}$

2.  $\frac{3}{5}$

3.  $\frac{4}{5}$

4. 1

Question ID : 264330157755

Option 1 ID : 264330618381

Option 2 ID : 264330618380

Option 3 ID : 264330618379

Option 4 ID : 264330618382

Status : Not Answered

Chosen Option : --

Q.9 एक टूरिस्ट वैन देहरादून से मसूरी तक 35 km की दूरी 36 km/h की औसत चाल से तय करती है, और 60 km/h की चाल से वापस आती है। इस पूरी यात्रा के लिए टूरिस्ट वैन की लगभग औसत चाल (km/h में) कितनी है?

Ans  1. 50

2. 48

3. 42

4. 45

Question ID : 264330108981

Option 1 ID : 264330428203

Option 2 ID : 264330428201

Option 3 ID : 264330428204

Option 4 ID : 264330428202

Status : Answered

Chosen Option : 4

Q.10 यदि एक ट्रक 1 km के लिए 30 km/h की स्थिर चाल से चलता है, और अगले 1 km के लिए 45 km/h की स्थिर चाल से चलता है। ट्रक की औसत चाल ज्ञात कीजिए।

Ans  1. 32 km/h

2. 38 km/h

3. 34 km/h

4. 36 km/h

Question ID : 264330104412

Option 1 ID : 264330409949

Option 2 ID : 264330409952

Option 3 ID : 264330409950

Option 4 ID : 264330409951

Status : Answered

Chosen Option : 4

Q.11 किसी संख्या में पहले 10% की वृद्धि की जाती है, और फिर 20% की वृद्धि की जाती है। इस प्रकार प्राप्त संख्या में अब 12% की कमी की जाती है। मूल संख्या में निवल वृद्धि या कमी का प्रतिशत कितना है?

- Ans
- 1. 12.12% वृद्धि
  - 2. 11.11% कमी
  - 3. 16.16% वृद्धि
  - 4. 14.14% कमी

Question ID : 264330158379  
Option 1 ID : 264330620875  
Option 2 ID : 264330620876  
Option 3 ID : 264330620878  
Option 4 ID : 264330620877  
Status : Answered  
Chosen Option : 2

Q.12 13 cm और 15 cm त्रिज्या वाले दो वृत्त, बिंदुओं A और B पर एक-दूसरे को प्रतिच्छेदित करते हैं। यदि उभयनिष्ठ जीवा की लंबाई 12 cm हो, तो उनके केंद्रों के बीच की दूरी कितनी है?

- Ans
- 1.  $\sqrt{145} + \sqrt{169}$
  - 2.  $\sqrt{145} + \sqrt{184}$
  - 3.  $\sqrt{131} + \sqrt{181}$
  - 4.  $\sqrt{133} + \sqrt{189}$

Question ID : 264330168751  
Option 1 ID : 264330661815  
Option 2 ID : 264330661818  
Option 3 ID : 264330661816  
Option 4 ID : 264330661817  
Status : Not Answered  
Chosen Option : --

Q.13 एक व्यक्ति अपने वेतन का 72% खर्च कर देता है, और प्रति महीने ₹5,740 की बचत करता है। उसके वार्षिक वेतन का 10% कितना (₹में) होगा?

- Ans
- 1. ₹20500
  - 2. ₹28400
  - 3. ₹21600
  - 4. ₹24600

Question ID : 264330145060  
Option 1 ID : 264330568495  
Option 2 ID : 264330568497  
Option 3 ID : 264330568496  
Option 4 ID : 264330568498  
Status : Answered  
Chosen Option : 4

Q.14 A, B और C एक कार्य को क्रमशः 20 दिन, 30 दिन और 60 दिन में पूरा कर सकते हैं। यदि A प्रतिदिन कार्य करता है, और प्रत्येक तीसरे दिन B और C भी A के साथ कार्य करते हैं, तो कार्य कितने दिनों में पूरा हो जाएगा?

Ans  1. 15

2. 12

3. 21

4. 18

Question ID : 26433082412

Option 1 ID : 264330323482

Option 2 ID : 264330323481

Option 3 ID : 264330323484

Option 4 ID : 264330323483

Status : Answered

Chosen Option : 1

Q.15 यदि दो संख्याओं का गुणनफल 726 है, और उनका महत्तम समापवर्तक (HCF) 11 है, तो उनका लघुत्तम समापवर्तक (LCM) क्या होगा?

Ans  1. 76

2. 66

3. 68

4. 58

Question ID : 264330145032

Option 1 ID : 264330568383

Option 2 ID : 264330568384

Option 3 ID : 264330568386

Option 4 ID : 264330568385

Status : Answered

Chosen Option : 2

Q.16 15, 24, 35 और 54 का लघुत्तम समापवर्तक (LCM) ज्ञात कीजिए।

Ans  1. 5670

2. 7650

3. 6570

4. 7560

Question ID : 26433073065

Option 1 ID : 264330286454

Option 2 ID : 264330286452

Option 3 ID : 264330286455

Option 4 ID : 264330286453

Status : Answered

Chosen Option : 4

Q.17 यदि  $\theta$  एक न्यून कोण है, और  $\sin \theta + \operatorname{cosec} \theta = 2$  है, तो  $\sin^5 \theta + \operatorname{cosec}^5 \theta$  का मान ज्ञात कीजिए।

Ans  1. 4

2. 2

3. 10

4. 5

Question ID : 264330145132

Option 1 ID : 264330568784

Option 2 ID : 264330568783

Option 3 ID : 264330568786

Option 4 ID : 264330568785

Status : Not Answered

Chosen Option : --

Q.18 चार अंकों की वह बड़ी से बड़ी संख्या ज्ञात कीजिए, जो 17 और 36 से पूर्णतः विभाज्य है।

Ans  1. 7956

2. 9180

3. 9792

4. 8568

Question ID : 26433091502

Option 1 ID : 264330359376

Option 2 ID : 264330359374

Option 3 ID : 264330359375

Option 4 ID : 264330359373

Status : Answered

Chosen Option : 3

Q.19 यदि किसी समानुपात के पहले तीन पद 42, 36 और 35 हैं, तो चौथा पद क्या होगा?

Ans  1. 30

2. 32

3. 27

4. 28

Question ID : 264330145045

Option 1 ID : 264330568436

Option 2 ID : 264330568435

Option 3 ID : 264330568438

Option 4 ID : 264330568437

Status : Answered

Chosen Option : 1

Q.20 दो संख्याएं 5 : 3 के अनुपात में हैं, और इन दोनों संख्याओं के बीच का अंतर 34 है। दोनों संख्याओं में से छोटी संख्या ज्ञात करें।

Ans  1. 34

2. 68

3. 85

4. 51

Question ID : 264330104188

Option 1 ID : 264330409055

Option 2 ID : 264330409056

Option 3 ID : 264330409054

Option 4 ID : 264330409053

Status : Answered

Chosen Option : 4

Q.21 एक वस्तु के मूल्य में 70% की वृद्धि की जाती है, और फिर इस अंकित मूल्य पर 5% और 20% की योजनागत छूट प्रदान की जाती है। यदि मूल्य का भुगतान नकद में किया जाता है, और 20% की अतिरिक्त छूट दी जाती है, तो उसका प्रतिशत लाभ कितना होगा?

- Ans
- 1. 3.25%
  - 2. 2.25%
  - 3. 3.36%
  - 4. 4.36%

Question ID : 264330104401  
Option 1 ID : 264330409906  
Option 2 ID : 264330409905  
Option 3 ID : 264330409907  
Option 4 ID : 264330409908  
Status : Answered  
Chosen Option : 4

Q.22  $(\tan^2 \theta + \tan^4 \theta)$  का मान ज्ञात कीजिए।

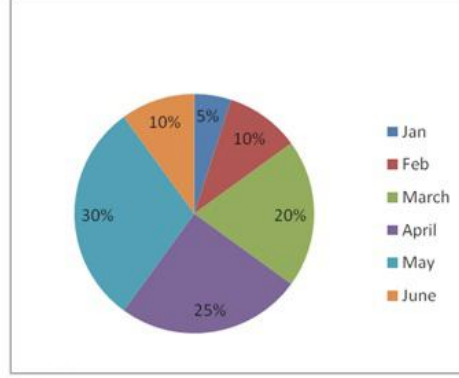
- Ans
- 1.  $\sec^2 \theta - \sec^4 \theta$
  - 2.  $\sec^4 \theta - \sec^2 \theta$
  - 3.  $\sec^4 \theta + \sec^2 \theta$
  - 4.  $\cot^2 \theta - \tan^2 \theta$

Question ID : 264330130397  
Option 1 ID : 264330510699  
Option 2 ID : 264330510701  
Option 3 ID : 264330510700  
Option 4 ID : 264330510702  
Status : Not Answered  
Chosen Option : --

Q.23 दार्जिलिंग में दो देशों A और B से पर्यटक आते हैं। वर्ष के पहले छह महीनों में पर्यटकों के आगमन का प्रतिशत-वार वितरण नीचे दिया गया है।

पर्यटकों की कुल संख्या = 60000

माह	अनुपात (A : B)
जनवरी	5:7
फरवरी	6:7
मार्च	3:2
अप्रैल	8:7
मई	4:5
जून	3:4



Jan = जनवरी Feb = फरवरी March = मार्च April = अप्रैल May = मई  
June = जून

मार्च और अप्रैल माह के दौरान देश A से आने वाले पर्यटकों की संख्या का अनुपात ज्ञात कीजिए।

- Ans
- 1. 4:7
  - 2. 7:10
  - 3. 3:7
  - 4. 9:10

Question ID : 264330158398

Option 1 ID : 264330620954

Option 2 ID : 264330620952

Option 3 ID : 264330620953

Option 4 ID : 264330620951

Status : Answered

Chosen Option : 4

Q.24 निम्न आँकड़े एक राज्य की एक निश्चित 4-वर्षीय योजना (2018-2022) में वर्ष-वार परिव्यय (लाख रुपये में) प्रदान करते हैं।

वर्ष	स्वास्थ्य	आवास	परिवहन	शिक्षा
2018-2019	6200	6500	7100	8000
2019-2020	7000	6600	7200	8100
2020-2021	7300	6800	7400	8200
2021-2022	7400	7000	7500	8400

शिक्षा परिव्यय में 2018-2019 की तुलना में 2020-2021 के दौरान प्रतिशत वृद्धि कितनी थी?

Ans  1. 3.2%

2. 2.5%

3. 2.8%

4. 2.0%

Question ID : 264330167248

Option 1 ID : 264330655990

Option 2 ID : 264330655988

Option 3 ID : 264330655989

Option 4 ID : 264330655987

Status : Answered

Chosen Option : 2

Q.25 यदि  $\cos \theta - \sin \theta = \sqrt{2} \sin \theta$  है, तो  $(\cos \theta + \sin \theta)$  का मान ज्ञात कीजिए।

Ans  1.  $-\sqrt{2} \sin \theta$

2.  $\sqrt{2} \tan \theta$

3.  $\sqrt{2} \cos \theta$

4.  $-\sqrt{2} \cos \theta$

Question ID : 264330158303

Option 1 ID : 264330620573

Option 2 ID : 264330620574

Option 3 ID : 264330620571

Option 4 ID : 264330620572

Status : Not Answered

Chosen Option : --

Q.26 यदि किसी समकोण त्रिभुज का कर्ण 29 cm है, और अन्य दो भुजाओं का योग 41 cm हो, तो अन्य दो भुजाओं के बीच का अंतर ज्ञात कीजिए।

- Ans
- 1. 2 cm
  - 2. 5 cm
  - 3. 1 cm
  - 4. 10 cm

Question ID : 264330165659  
Option 1 ID : 264330649717  
Option 2 ID : 264330649716  
Option 3 ID : 264330649718  
Option 4 ID : 264330649715  
Status : Not Answered  
Chosen Option : --

Q.27 एक बेईमान डीलर अपने सामान को 22% हानि पर बेचने की घोषणा करता है, लेकिन 35% हल्के बाटों का उपयोग करता है। उसके लाभ या हानि का प्रतिशत ज्ञात कीजिए।

- Ans
- 1. 13% हानि
  - 2. 13% लाभ
  - 3. 20% हानि
  - 4. 20% लाभ

Question ID : 264330131522  
Option 1 ID : 264330515194  
Option 2 ID : 264330515191  
Option 3 ID : 264330515192  
Option 4 ID : 264330515193  
Status : Answered  
Chosen Option : 4

Q.28 किसी शहर की जनसंख्या 3,52,314 है। यह प्रति वर्ष 15% वार्षिक दर से बढ़ती है। 2 वर्ष पूर्व इसकी जनसंख्या ज्ञात करें।

- Ans
- 1. 2,56,400
  - 2. 2,66,400
  - 3. 3,06,360
  - 4. 3,02,400

Question ID : 264330103387  
Option 1 ID : 264330405853  
Option 2 ID : 264330405855  
Option 3 ID : 264330405854  
Option 4 ID : 264330405856  
Status : Answered  
Chosen Option : 3

Q.29 ₹3,800 के अंकित मूल्य वाली एक वस्तु को  $y\%$  की छूट देने के बाद ₹3,496 में बेचा गया।  $y$  का मान क्या था?

- Ans  1.8%  
 2.7%  
 3.85%  
 4.75%

Question ID : 264330131158  
Option 1 ID : 264330513745  
Option 2 ID : 264330513743  
Option 3 ID : 264330513746  
Option 4 ID : 264330513744  
Status : Answered  
Chosen Option : 1

Q.30 दो संख्याएं 3 : 4 के अनुपात में हैं। उनके महत्तम समापवर्तक (HCF) और लघुत्तम समापवर्तक (LCM) का गुणनफल 2700 है। उन संख्याओं का योगफल ज्ञात कीजिए।

- Ans  1.45  
 2.60  
 3.105  
 4.15

Question ID : 26433063995  
Option 1 ID : 264330250574  
Option 2 ID : 264330250575  
Option 3 ID : 264330250572  
Option 4 ID : 264330250573  
Status : Answered  
Chosen Option : 3

Q.31 यदि  $\frac{x}{y} + \frac{y}{x} = 1$  और  $x + y = 2$  है, तो  $x^3 + y^3$  का मान क्या होगा?

- Ans  1.2  
 2.0  
 3.3  
 4.1

Question ID : 264330157775  
Option 1 ID : 264330618461  
Option 2 ID : 264330618459  
Option 3 ID : 264330618462  
Option 4 ID : 264330618460  
Status : Answered  
Chosen Option : 2

Q.32 45 cm ऊंचे एक ठोस लंब-वृत्तीय शंकु के छिन्नक के सिरों की त्रिज्याएं 28 cm और 7 cm हैं। यदि इस छिन्नक को पिघलाकर एक ठोस लंब-वृत्तीय बेलन बनाया जाता है, जिसके आधार की त्रिज्या और ऊंचाई का अनुपात 3 : 5 है, तो इस बेलन का वक्र पृष्ठीय क्षेत्रफल (cm<sup>2</sup> में) ज्ञात करें। [ $\pi = \frac{22}{7}$  का प्रयोग करें।]

- Ans
- 1. 4640
  - 2. 4580
  - 3. 4620
  - 4. 4610

Question ID : 264330122878  
Option 1 ID : 264330481579  
Option 2 ID : 264330481581  
Option 3 ID : 264330481582  
Option 4 ID : 264330481580  
Status : Not Answered  
Chosen Option : --

Q.33 यदि एक शंकु की ऊंचाई 7 cm है, और इसके वृत्ताकार आधार का व्यास 12 cm है, तो इसका आयतन क्या होगा? (निकटतम पूर्णांक तक)

- Ans
- 1. 264 cm<sup>3</sup>
  - 2. 284 cm<sup>3</sup>
  - 3. 274 cm<sup>3</sup>
  - 4. 254 cm<sup>3</sup>

Question ID : 264330103751  
Option 1 ID : 264330407310  
Option 2 ID : 264330407312  
Option 3 ID : 264330407311  
Option 4 ID : 264330407309  
Status : Answered  
Chosen Option : 1

Q.34 दो संख्याओं के महत्तम समापवर्तक (HCF) और लघुत्तम समापवर्त्य (LCM) क्रमशः 5 और 175 है। यदि दोनों संख्याओं का अनुपात 5 : 7 है, तो दोनों संख्याओं में से बड़ी संख्या \_\_\_\_\_ है।

- Ans
- 1. 25
  - 2. 75
  - 3. 35
  - 4. 45

Question ID : 264330102313  
Option 1 ID : 264330401717  
Option 2 ID : 264330401720  
Option 3 ID : 264330401718  
Option 4 ID : 264330401719  
Status : Answered  
Chosen Option : 3

Q.35 PQR, एक वृत्त के अंतर्गत खींचा गया (inscribed) एक समबाहु त्रिभुज है। S, चाप QR पर स्थित कोई बिंदु है।  $\angle PSQ$  का मान ज्ञात कीजिए।

- Ans
- 1.  $15^\circ$
  - 2.  $30^\circ$
  - 3.  $60^\circ$
  - 4.  $20^\circ$

Question ID : 264330165662  
Option 1 ID : 264330649730  
Option 2 ID : 264330649727  
Option 3 ID : 264330649728  
Option 4 ID : 264330649729  
Status : Not Answered  
Chosen Option : --

Q.36 राजेश ने ₹10,000 की राशि को विभाजित करके क्रमशः 8% और 10% की साधारण ब्याज दरों पर दो अलग-अलग निवेश योजनाओं, A और B में निवेश किया। यदि 2 वर्षों में अर्जित कुल ब्याज ₹1,680 है, तो योजना A में निवेश की गई राशि ज्ञात कीजिए।

- Ans
- 1. ₹4,000
  - 2. ₹8,000
  - 3. ₹6,000
  - 4. ₹2,000

Question ID : 264330104395  
Option 1 ID : 264330409882  
Option 2 ID : 264330409884  
Option 3 ID : 264330409883  
Option 4 ID : 264330409881  
Status : Answered  
Chosen Option : 2

Q.37 एक त्रिभुज की भुजाएं 5 : 12 : 13 के अनुपात हैं, और इसका परिमाप 90 cm है। इसका क्षेत्रफल ( $\text{cm}^2$  में) ज्ञात कीजिए।

- Ans
- 1. 150
  - 2. 60
  - 3. 270
  - 4. 30

Question ID : 264330145113  
Option 1 ID : 264330568707  
Option 2 ID : 264330568710  
Option 3 ID : 264330568709  
Option 4 ID : 264330568708  
Status : Answered  
Chosen Option : 3

Q.38 दो बेलनों की त्रिज्याओं का अनुपात 4 : 5 है, और उनकी ऊंचाइयों का अनुपात 5 : 2 है। उनके आयतनों का अनुपात क्या है?

- Ans
- 1. 2 : 1
  - 2. 9 : 4
  - 3. 9 : 7
  - 4. 8 : 5

Question ID : 264330145138

Option 1 ID : 264330568809

Option 2 ID : 264330568807

Option 3 ID : 264330568810

Option 4 ID : 264330568808

Status : Answered

Chosen Option : 4

Q.39 एक व्यक्ति 40 km दौड़ता है। पहले 10 km में उसके द्वारा लिया गया समय, दूसरे 10 km में उसके द्वारा लिए गए समय से दोगुना है। तीसरे 10 km में लिया गया समय, चौथे 10 km में लिए गए समय का आधा है, और चौथे 10 km में लिया गया समय, पहले 10 km में लिए गए समय के बराबर है। यदि पहले 10 km में उसकी चाल 40 km/h है, तो 40 km के लिए उसकी औसत चाल कितनी होगी?

- Ans
- 1.  $\frac{70}{3}$  km/h
  - 2. 40 km/h
  - 3.  $\frac{160}{3}$  km/h
  - 4. 50 km/h

Question ID : 26433081725

Option 1 ID : 264330320734

Option 2 ID : 264330320735

Option 3 ID : 264330320736

Option 4 ID : 264330320733

Status : Answered

Chosen Option : 3

Q.40 जोनाथन ने 3 वर्ष पहले वार्षिक चक्रवृद्धि आधार पर गणनीय 10% वार्षिक ब्याज की दर पर एक राशि 5 वर्षों के लिए उधार ली, इस अवधि के अंत में भुगतान की जाने वाली राशि ₹1,61,051 थी। हालांकि, कोई पूर्वभुगतान दंड (प्री-पेमेंट पेनल्टी) नहीं था, और जोनाथन को अभी कुछ बोनस भुगतान प्राप्त हुआ, जिससे उसने अपना ऋण चुकाने का फैसला किया है। जोनाथन को अभी कितना भुगतान करना होगा?

- Ans
- 1. ₹1,33,200
  - 2. ₹1,33,000
  - 3. ₹1,32,900
  - 4. ₹1,33,100

Question ID : 264330145054

Option 1 ID : 264330568474

Option 2 ID : 264330568471

Option 3 ID : 264330568472

Option 4 ID : 264330568473

Status : Not Answered

Chosen Option : --

Q.41  $11 \times 11 + 11 \div 11 - 11 \times 11 + 11 + 11 \times 11 - 11 - 11 \times 11$  का मान क्या है?

- Ans
- 1. 0
  - 2. 121
  - 3. 11
  - 4. 1

Question ID : 26433072965

Option 1 ID : 264330286052

Option 2 ID : 264330286055

Option 3 ID : 264330286054

Option 4 ID : 264330286053

Status : Answered

Chosen Option : 4

Q.42 दो त्रिभुजों के क्षेत्रफलों का अनुपात 4 : 3 है, और उनकी ऊँचाइयों का अनुपात 6 : 5 है। उनके आधारों का अनुपात ज्ञात कीजिए।

- Ans
- 1. 9 : 10
  - 2. 6 : 5
  - 3. 5 : 6
  - 4. 10 : 9

Question ID : 264330157742

Option 1 ID : 264330618328

Option 2 ID : 264330618329

Option 3 ID : 264330618330

Option 4 ID : 264330618327

Status : Answered

Chosen Option : 1

Q.43 पहली कमीज को दूसरी कमीज के विक्रय मूल्य के दोगुने पर बेचा जाता है। पहली कमीज को 8% लाभ पर, और दूसरी कमीज को 3% हानि पर बेचा जाता है। कमीजों पर कुल प्रतिशत लाभ कितना है (दो दशमलव स्थान तक पूर्णांकित)?

- Ans
- 1. 4.86%
  - 2. 4.07%
  - 3. 4.60%
  - 4. 3.86%

Question ID : 264330102065

Option 1 ID : 264330400768

Option 2 ID : 264330400767


Option 3 ID : 264330400766

Option 4 ID : 264330400765

Status : Answered

Chosen Option : 3

Q.44 निम्न पाई-चार्ट राम द्वारा पांच अलग-अलग विषयों में प्राप्त अंकों का (प्रतिशत में) बंटन दर्शाता है।



Social = समाज-शास्त्र

Hindi = हिन्दी

English = अंग्रेजी

Maths = गणित

Science = विज्ञान

गणित के केंद्रीय कोण और विज्ञान के केंद्रीय कोण का अनुपात क्या है?

Ans  1. 3 : 5

2. 2 : 3

3. 5 : 2

4. 4 : 3

Question ID : 264330158623

Option 1 ID : 264330621852

Option 2 ID : 264330621853

Option 3 ID : 264330621854

Option 4 ID : 264330621851

Status : Not Answered

Chosen Option : --

Q.45 दिए गए डेटा का अध्ययन कीजिए और नीचे दिए गए प्रश्न का उत्तर दीजिए।

तालिका चार अलग-अलग शहरों से एक प्रवेश परीक्षा में उपस्थित होने वाले उम्मीदवारों की संख्या (लाख में) और उसमें उत्तीर्ण और अनुत्तीर्ण हुए उम्मीदवारों का अनुपात दर्शाती है।

शहर	A	B	C	D
उम्मीदवारों की संख्या	2.15	1.14	1.56	2.35

शहर के भीतर उत्तीर्ण और अनुत्तीर्ण हुए उम्मीदवारों का अनुपात

शहर	उत्तीर्ण	अनुत्तीर्ण
A	4	2
B	5	3
C	6	4
D	4	6

शहर D में अनुत्तीर्ण हुए उम्मीदवारों की संख्या (लाख में) कितनी है?

- Ans
- 1. 1.70
  - 2. 1.41
  - 3. 1.25
  - 4. 1.85

Question ID : 264330158258

Option 1 ID : 264330620392

Option 2 ID : 264330620393

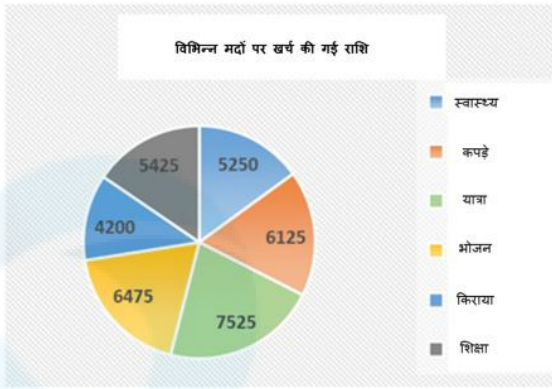
Option 3 ID : 264330620394

Option 4 ID : 264330620391

Status : Not Answered

Chosen Option : --

Q.46 दिए गए पाई चार्ट में शिक्षा पर खर्च किए गए व्यय का संगत केंद्रीय कोण क्या है?



- Ans
- ✓ 1.  $55.8^\circ$
  - ✗ 2.  $52^\circ$
  - ✗ 3.  $42^\circ$
  - ✗ 4.  $55.2^\circ$

Question ID : 26433081650  
Option 1 ID : 264330320435  
Option 2 ID : 264330320433  
Option 3 ID : 264330320436  
Option 4 ID : 264330320434  
Status : Not Answered

Chosen Option : --

Q.47 यदि  $a + b = 10$  और  $ab = 6$ , तो  $a^3 + b^3$  का मान क्या होगा?

- Ans
- ✓ 1. 820
  - ✗ 2. 800
  - ✗ 3. 840
  - ✗ 4. 860

Question ID : 264330157766  
Option 1 ID : 264330618425  
Option 2 ID : 264330618426  
Option 3 ID : 264330618424  
Option 4 ID : 264330618423  
Status : Not Answered

Chosen Option : --

Q.48 P, Q और R, जब अलग-अलग कार्य करते हैं, तो किसी कार्य को क्रमशः 36 दिन, 48 दिन और 144 दिन में पूरा कर सकते हैं। P, Q और R एकसाथ मिलकर कार्य करना शुरू करते हैं। P कार्य पूरा होने से 12 दिन पहले कार्य छोड़ देता है, और Q कार्य पूरा होने से 8 दिन पहले कार्य छोड़ देता है। R कार्य के आरंभ से अंत तक कार्य करता है। कार्य पूरा करने में लगने वाले दिनों की कुल संख्या ज्ञात करें।

- Ans
- ✗ 1. 24
  - ✓ 2. 27
  - ✗ 3. 25
  - ✗ 4. 30

Question ID : 264330114534  
Option 1 ID : 264330450221  
Option 2 ID : 264330450223  
Option 3 ID : 264330450222  
Option 4 ID : 264330450224  
Status : Not Answered

Chosen Option : --

Q.49 माना, शांत जल में नाव की चाल 17 km/h और धारा की चाल 5 km/h है। नाव को धारा की दिशा में 110 km जाने में कितना समय लगता है?

- Ans  1. 5 घंटे  
 2. 5.5 घंटे  
 3. 4.5 घंटे  
 4. 6 घंटे

Question ID : 264330145028  
Option 1 ID : 264330568369  
Option 2 ID : 264330568370  
Option 3 ID : 264330568367  
Option 4 ID : 264330568368  
Status : Answered  
Chosen Option : 1

Q.50  $\frac{0.04}{0.05}$  of  $\left(3\frac{1}{3} - 2\frac{1}{2}\right) + \frac{1}{2}$  of  $1\frac{1}{4}$  का मान ज्ञात कीजिए।

- Ans  1. 5  
 2. 0.3  
 3. 3  
 4. 0.03

Question ID : 26433063988  
Option 1 ID : 264330250547  
Option 2 ID : 264330250544  
Option 3 ID : 264330250545  
Option 4 ID : 264330250546  
Status : Not Answered  
Chosen Option : --

Section : English Comprehension

Q.1 Select the most appropriate meaning of the given idiom.

An arm and a leg

- Ans  1. To ask for too much  
 2. To be lost and bewildered  
 3. A large amount of money  
 4. Everything is ready

Question ID : 26433092076  
Option 1 ID : 264330361626  
Option 2 ID : 264330361628  
Option 3 ID : 264330361627  
Option 4 ID : 264330361625  
Status : Answered  
Chosen Option : 2

**Q.2** Parts of the following sentence have been given as options. One of them may contain an error. Select the part that contains the error from the given options. If you don't find any error, mark 'No error' as your answer.

We feed the horse oats for a week because it had eaten all the hay.

- Ans
- 1. it had eaten all the hay
  - 2. We feed the horse oats
  - 3. for a week because
  - 4. No error

Question ID : 26433090495  
Option 1 ID : 264330355431  
Option 2 ID : 264330355429  
Option 3 ID : 264330355430  
Option 4 ID : 264330355432  
Status : Answered  
Chosen Option : 1

**Q.3** Select the INCORRECTLY spelt word.

- Ans
- 1. Interrogate
  - 2. Assasinate
  - 3. Alienate
  - 4. Deserve

Question ID : 26433089088  
Option 1 ID : 264330349875  
Option 2 ID : 264330349874  
Option 3 ID : 264330349876  
Option 4 ID : 264330349873  
Status : Answered  
Chosen Option : 3

**Q.4** Select the most appropriate meaning of the underlined idiom.  
We dodged a bullet when we didn't fall for the agents' words.

- Ans
- 1. To give something a try
  - 2. To be out of your comfort zone
  - 3. To narrowly avoid situation
  - 4. To start performing better

Question ID : 264330120619  
Option 1 ID : 264330472715  
Option 2 ID : 264330472718  
Option 3 ID : 264330472717  
Option 4 ID : 264330472716  
Status : Answered  
Chosen Option : 2

Q.5 Select the INCORRECTLY spelt word.

- Ans
- 1. Unveil
  - 2. Serene
  - 3. Comparision
  - 4. Triumph

Question ID : 26433091837  
Option 1 ID : 264330360687  
Option 2 ID : 264330360685  
Option 3 ID : 264330360688  
Option 4 ID : 264330360686  
Status : Answered  
Chosen Option : 3

Q.6 Select the most appropriate synonym of the given word.  
Abandon

- Ans
- 1. Perish
  - 2. Retain
  - 3. Prolong
  - 4. Desert

Question ID : 264330117331  
Option 1 ID : 264330461380  
Option 2 ID : 264330461378  
Option 3 ID : 264330461377  
Option 4 ID : 264330461379  
Status : Answered  
Chosen Option : 2

Q.7 Select the most appropriate idiomatic expression that can substitute the underlined segment in the given sentence.  
Both Nitin and Uday are of the same interests.

- Ans
- 1. blowing smoke without fire
  - 2. different kettles of fish
  - 3. birds of the same feather
  - 4. under the weather

Question ID : 264330134223  
Option 1 ID : 264330525887  
Option 2 ID : 264330525889  
Option 3 ID : 264330525888  
Option 4 ID : 264330525890  
Status : Answered  
Chosen Option : 1

**Q.8** Select the most appropriate meaning of the underlined idiom.  
More people in Turkey are on the breadline now than thirty years ago.

- Ans** ✓ 1. Be very poor  
✗ 2. Earn a lot of money  
✗ 3. Be very expensive  
✗ 4. Are well educated

Question ID : 264330132898  
Option 1 ID : 264330520654  
Option 2 ID : 264330520653  
Option 3 ID : 264330520651  
Option 4 ID : 264330520652  
Status : Answered  
Chosen Option : 3

**Q.9** Select the most appropriate synonym of the given word.

**Haphazard**

- Ans** ✓ 1. Random  
✗ 2. Confident  
✗ 3. Sociable  
✗ 4. Aggressive

Question ID : 264330163333  
Option 1 ID : 264330640634  
Option 2 ID : 264330640631  
Option 3 ID : 264330640633  
Option 4 ID : 264330640632  
Status : Answered  
Chosen Option : 4

**Q.10** Select the option that can be used as a one-word substitute for the given group of words.

**Fear of water**

- Ans** ✗ 1. Botanophobia  
✗ 2. Bibliophobia  
✗ 3. Microphobia  
✓ 4. Hydrophobia

Question ID : 26433088755  
Option 1 ID : 264330348576  
Option 2 ID : 264330348575  
Option 3 ID : 264330348573  
Option 4 ID : 264330348574  
Status : Answered  
Chosen Option : 4

Q.11 Select the INCORRECTLY spelt word.

- Ans
- 1. Accomplish
  - 2. Allure
  - 3. Agregate
  - 4. Adjacent

Question ID : 264330122278  
Option 1 ID : 264330479241  
Option 2 ID : 264330479242  
Option 3 ID : 264330479239  
Option 4 ID : 264330479240  
Status : Answered  
Chosen Option : 4

Q.12 Select the most appropriate meaning of the given idiom.  
The best of both worlds

- Ans
- 1. Better to show than tell
  - 2. An ideal situation
  - 3. Good things come after bad things
  - 4. Make people comfortable

Question ID : 264330163403  
Option 1 ID : 264330640893  
Option 2 ID : 264330640891  
Option 3 ID : 264330640894  
Option 4 ID : 264330640892  
Status : Answered  
Chosen Option : 2

Q.13 Select the most appropriate synonym of the given word.  
Justifiable

- Ans
- 1. Neutral
  - 2. Maintainable
  - 3. Indefensible
  - 4. Reasonable

Question ID : 264330164162  
Option 1 ID : 264330643902  
Option 2 ID : 264330643901  
Option 3 ID : 264330643899  
Option 4 ID : 264330643900  
Status : Answered  
Chosen Option : 3

Q.14 Select the most appropriate meaning of the given idiom.

Left out in the cold

- Ans
- 1. To serve stale and cold food
  - 2. To leave in hurry
  - 3. To bear extreme weather condition
  - 4. To be ignored

Question ID : 264330163406  
Option 1 ID : 264330640906  
Option 2 ID : 264330640904  
Option 3 ID : 264330640905  
Option 4 ID : 264330640903  
Status : Answered  
Chosen Option : 2

Q.15 Select the most appropriate meaning of the given idiom.

A leopard can't change his spots

- Ans
- 1. You cannot change who you are
  - 2. A visual presentation is far more descriptive than words
  - 3. Something good that isn't recognised at first
  - 4. Someone who is cherished above all others

Question ID : 264330163402  
Option 1 ID : 264330640890  
Option 2 ID : 264330640887  
Option 3 ID : 264330640888  
Option 4 ID : 264330640889  
Status : Answered  
Chosen Option : 4

Q.16 The following sentence has been split into four segments. Identify the segment that contains a grammatical error.  
They will not attend / the event / as they're going / away at end of April.

- Ans
- 1. They will not attend
  - 2. the event
  - 3. away at end of April.
  - 4. as they're going

Question ID : 264330120573  
Option 1 ID : 264330472537  
Option 2 ID : 264330472538  
Option 3 ID : 264330472536  
Option 4 ID : 264330472535  
Status : Answered  
Chosen Option : 4

Q.17 Select the option that can be used as a one-word substitute for the underlined group of words.

Ms. Scarlet was indifferent to pain and pleasure, she never complained.

- Ans
- 1. Hypocrite
  - 2. Versatile
  - 3. Stoic
  - 4. Amateur

Question ID : 26433088836  
Option 1 ID : 264330348897  
Option 2 ID : 264330348900  
Option 3 ID : 264330348899  
Option 4 ID : 264330348898  
Status : Answered  
Chosen Option : 2

Q.18 Select the INCORRECTLY spelt word from the underlined words in the following sentence.

This was a blatent disregard to the advisory by the host against it and in violation of norms of the meeting.

- Ans
- 1. blatent
  - 2. advisory
  - 3. disregard
  - 4. violation

Question ID : 264330141156  
Option 1 ID : 264330552967  
Option 2 ID : 264330552969  
Option 3 ID : 264330552968  
Option 4 ID : 264330552970  
Status : Answered  
Chosen Option : 4

Q.19 You are preparing a speech for the upcoming function. Select a synonym for the highlighted word to make it better.

Despite the advancement in technology many rural areas in developing countries still lack access to basic necessities.

- Ans
- 1. Avenue
  - 2. Apathy
  - 3. Desist
  - 4. Disguise

Question ID : 264330122810  
Option 1 ID : 264330481308  
Option 2 ID : 264330481309  
Option 3 ID : 264330481310  
Option 4 ID : 264330481307  
Status : Answered  
Chosen Option : 1

**Q.20** Select the most appropriate ANTONYM of the given word.  
Damp

- Ans  1. Soaked  
 2. Tropical  
 3. Arid  
 4. Misty

Question ID : 264330165261  
Option 1 ID : 264330648137  
Option 2 ID : 264330648135  
Option 3 ID : 264330648136  
Option 4 ID : 264330648138  
Status : Answered  
Chosen Option : 2

**Q.21** Select the most appropriate one-word substitution of the given group of words.

A person engaged in or trained for spaceflight.

- Ans  1. Astute  
 2. Astronaut  
 3. Astronomer  
 4. Atrocious

Question ID : 26433090849  
Option 1 ID : 264330356806  
Option 2 ID : 264330356807  
Option 3 ID : 264330356808  
Option 4 ID : 264330356805  
Status : Answered  
Chosen Option : 3

**Q.22** Select the most appropriate ANTONYM of the word 'moving' in the given sentence and choose the correct option.

The old grandfather clock chimed loudly, marking the passage of time with its steady tick-tock.

- Ans  1. Marking  
 2. Steady  
 3. Passage  
 4. Chimed

Question ID : 264330163539  
Option 1 ID : 264330641412  
Option 2 ID : 264330641414  
Option 3 ID : 264330641413  
Option 4 ID : 264330641411  
Status : Answered  
Chosen Option : 4

Q.23 Select the word which means the same as the group of words underlined in the given sentence.

The pandemic deeply affected small business owners, as they have no means of livelihood left.

- Ans  1. Pauper  
 2. Mason  
 3. Unemployed  
 4. Worker

Question ID : 26433089713  
Option 1 ID : 264330352348  
Option 2 ID : 264330352345  
Option 3 ID : 264330352347  
Option 4 ID : 264330352346  
Status : Answered  
Chosen Option : 3

Q.24 Select the option that can be used as a one-word substitute for the underlined group of words.

How did you become interested in learning the art of producing beautiful handwriting?

- Ans  1. Graphology  
 2. Calligraphy  
 3. Demography  
 4. Lexicography

Question ID : 26433088833  
Option 1 ID : 264330348888  
Option 2 ID : 264330348886  
Option 3 ID : 264330348887  
Option 4 ID : 264330348885  
Status : Answered  
Chosen Option : 3

Q.25 Select the most appropriate option that can substitute the underlined segment in the given sentence. If there is no need to substitute it, select 'No substitution required'.  
Her paintings are way better then her sketches.

- Ans  1. No substitution required  
 2. off  
 3. than  
 4. more

Question ID : 26433070772  
Option 1 ID : 264330277547  
Option 2 ID : 264330277544  
Option 3 ID : 264330277546  
Option 4 ID : 264330277545  
Status : Answered  
Chosen Option : 3

Q.26 Select the most appropriate ANTONYM of the given word.

Catastrophic

- Ans
- 1. Calamity
  - 2. Fortuitous
  - 3. Sabotage
  - 4. Fiasco

Question ID : 264330163359  
Option 1 ID : 264330640727  
Option 2 ID : 264330640729  
Option 3 ID : 264330640728  
Option 4 ID : 264330640730  
Status : Answered  
Chosen Option : 2

Q.27 Select the most appropriate meaning of the underlined idiom.

Students often burn the midnight oil to qualify for competitive examinations.

- Ans
- 1. put the things on fire at night
  - 2. sleep well
  - 3. work until late at night
  - 4. want to be at a place full of light

Question ID : 26433099087  
Option 1 ID : 264330388981  
Option 2 ID : 264330388982  
Option 3 ID : 264330388983  
Option 4 ID : 264330388984  
Status : Answered  
Chosen Option : 1

Q.28 Select the most appropriate synonym of the given word.

Dreadful

- Ans
- 1. Terrible
  - 2. Feeble
  - 3. Auspicious
  - 4. Propitious

Question ID : 264330120533  
Option 1 ID : 264330472382  
Option 2 ID : 264330472381  
Option 3 ID : 264330472380  
Option 4 ID : 264330472379  
Status : Answered  
Chosen Option : 4

**Q.29** The following sentence has been split into four segments. Identify the segment that contains a grammatical error.

She will have participate / in the dance competition / by the time her father / returns from the tour.

- Ans**
- 1. returns from the tour
  - 2. She will have participate
  - 3. in the dance competition
  - 4. by the time her father

Question ID : 264330145281  
Option 1 ID : 264330569381  
Option 2 ID : 264330569380  
Option 3 ID : 264330569379  
Option 4 ID : 264330569382  
Status : Answered  
Chosen Option : 1

**Q.30** Select the most appropriate one-word substitution of the given group of words.

A notice of the death of a person, often with a biographical sketch, as in a newspaper.

- Ans**
- 1. Elegy
  - 2. Advertisement
  - 3. Oblivion
  - 4. Obituary

Question ID : 26433090852  
Option 1 ID : 264330356820  
Option 2 ID : 264330356818  
Option 3 ID : 264330356817  
Option 4 ID : 264330356819  
Status : Answered  
Chosen Option : 4

**Q.31** Select the most appropriate synonym of the given word.

Site

- Ans**
- 1. Location
  - 2. Lap
  - 3. Globe
  - 4. Pull

Question ID : 26433063165  
Option 1 ID : 264330247324  
Option 2 ID : 264330247327  
Option 3 ID : 264330247325  
Option 4 ID : 264330247326  
Status : Answered  
Chosen Option : 3

**Q.32** Select the option that can substitute the bracketed word segment correctly and complete the following sentence meaningfully.  
Lots of kids (was visualised) crossing the road when the bus arrived.

- Ans  1. were seen  
 2. have been seen  
 3. was seen  
 4. are seen

Question ID : 264330134148  
Option 1 ID : 264330525617  
Option 2 ID : 264330525618  
Option 3 ID : 264330525615  
Option 4 ID : 264330525616  
Status : Answered  
Chosen Option : 1

**Q.33** Parts of the following sentence have been given as options. Select the option that contains an error.  
The dancers swayed dainty on the stage last night.

- Ans  1. swayed dainty  
 2. The dancers  
 3. on the stage  
 4. last night

Question ID : 264330134122  
Option 1 ID : 264330525512  
Option 2 ID : 264330525511  
Option 3 ID : 264330525513  
Option 4 ID : 264330525514  
Status : Answered  
Chosen Option : 3

**Q.34** Select the most appropriate phrasal verb to fill in the blank.  
Arunima \_\_\_\_\_ a lot during her vacation time.

- Ans  1. gets about  
 2. gets after  
 3. gets along  
 4. gets on

Question ID : 26433084918  
Option 1 ID : 264330333394  
Option 2 ID : 264330333395  
Option 3 ID : 264330333393  
Option 4 ID : 264330333396  
Status : Answered  
Chosen Option : 1

Q.35 Select the most appropriate ANTONYM for the highlighted word.  
The negligent attitude of the cops was criticised.

- Ans
- 1. reluctant
  - 2. amplify
  - 3. attentive
  - 4. bored

Question ID : 264330120738  
Option 1 ID : 264330473167  
Option 2 ID : 264330473170  
Option 3 ID : 264330473169  
Option 4 ID : 264330473168  
Status : Answered  
Chosen Option : 2

Q.36 The following sentence has been split into four segments. Identify the segment that contains a spelling error.  
He wrote his dairy / in code / so that nobody / could understand it.

- Ans
- 1. so that nobody
  - 2. in code
  - 3. He wrote his dairy
  - 4. could understand it

Question ID : 264330123023  
Option 1 ID : 264330482157  
Option 2 ID : 264330482156  
Option 3 ID : 264330482155  
Option 4 ID : 264330482158  
Status : Answered  
Chosen Option : 3

Q.37 Select the option that will improve the underlined part of the given sentence.  
The use of chemicals, insecticides and pesticides began after the Green Revolution.

- Ans
- 1. The usage of chemicals, insecticides and pesticides
  - 2. A practice of chemicals, insecticides and pesticides
  - 3. Consumption of chemicals, insecticides and pesticides
  - 4. The custom of chemicals, insecticides and pesticides

Question ID : 264330145288  
Option 1 ID : 264330569410  
Option 2 ID : 264330569407  
Option 3 ID : 264330569409  
Option 4 ID : 264330569408  
Status : Answered  
Chosen Option : 3

**Q.38** Select the option that can be used as a one-word substitute for the given group of words.

**Working or operating quickly and effectively in an organised way**

- Ans**  1. Efficient  
 2. Excellent  
 3. Effusive  
 4. Extensive

Question ID : 26433099604  
Option 1 ID : 264330391031  
Option 2 ID : 264330391032  
Option 3 ID : 264330391029  
Option 4 ID : 264330391030  
Status : Answered  
Chosen Option : 4

**Q.39** Select the most appropriate meaning of the given idiom.  
**Bend over backwards**

- Ans**  1. Working hard to try to impress  
 2. Using wrongful means  
 3. Going backward  
 4. Working slowly and lazily

Question ID : 26433096216  
Option 1 ID : 264330377620  
Option 2 ID : 264330377618  
Option 3 ID : 264330377617  
Option 4 ID : 264330377619  
Status : Answered  
Chosen Option : 1

**Q.40** Select the most appropriate meaning of the underlined idiom in the given sentence.  
**I hate to get off on the wrong foot.**

- Ans**  1. To start a relationship or activity badly  
 2. To start something with an injury on the wrong foot  
 3. To start something with neutral factors  
 4. To start something with positive factors

Question ID : 26433089397  
Option 1 ID : 264330351090  
Option 2 ID : 264330351092  
Option 3 ID : 264330351091  
Option 4 ID : 264330351089  
Status : Answered  
Chosen Option : 3

**Comprehension:**

In the following passage some words have been deleted. Read the passage carefully and select the most appropriate option for each blank.

The Amazon rainforest is an awe-inspiring natural wonder that (1)\_\_\_\_\_ across several South American countries, including Brazil, Peru, Colombia, and Ecuador. Covering an (2)\_\_\_\_\_ area of 5.5 million square kilometres, it is the largest tropical rainforest on Earth. The Amazon jungle is (3)\_\_\_\_\_ for its remarkable biodiversity, harbouring an astonishing array of plant and animal species that are still being discovered and studied. The dense vegetation of the jungle creates a (4)\_\_\_\_\_ and complex ecosystem, supporting countless species and providing crucial ecosystem services such as carbon sequestration and climate regulation. It is also home to (5)\_\_\_\_\_ communities that have thrived within its rich confines for centuries, preserving their traditions and deep connection to the land.

**SubQuestion No : 41**

**Q.41** Select the most appropriate option to fill in blank number 1.

- Ans  1. lengths  
 2. spans  
 3. amounts  
 4. reaches

Question ID : 264330164254

Option 1 ID : 264330644246

Option 2 ID : 264330644244

Option 3 ID : 264330644243

Option 4 ID : 264330644245

Status : Answered

Chosen Option : 2

**Comprehension:**

In the following passage some words have been deleted. Read the passage carefully and select the most appropriate option for each blank.

The Amazon rainforest is an awe-inspiring natural wonder that (1)\_\_\_\_\_ across several South American countries, including Brazil, Peru, Colombia, and Ecuador. Covering an (2)\_\_\_\_\_ area of 5.5 million square kilometres, it is the largest tropical rainforest on Earth. The Amazon jungle is (3)\_\_\_\_\_ for its remarkable biodiversity, harbouring an astonishing array of plant and animal species that are still being discovered and studied. The dense vegetation of the jungle creates a (4)\_\_\_\_\_ and complex ecosystem, supporting countless species and providing crucial ecosystem services such as carbon sequestration and climate regulation. It is also home to (5)\_\_\_\_\_ communities that have thrived within its rich confines for centuries, preserving their traditions and deep connection to the land.

**SubQuestion No : 42**

**Q.42** Select the most appropriate option to fill in blank number 2.

- Ans  1. estimated  
 2. gauged  
 3. rated  
 4. evaluated

Question ID : 264330164255

Option 1 ID : 264330644248

Option 2 ID : 264330644247

Option 3 ID : 264330644250

Option 4 ID : 264330644249

Status : Answered

Chosen Option : 3

**Comprehension:**

In the following passage some words have been deleted. Read the passage carefully and select the most appropriate option for each blank.

The Amazon rainforest is an awe-inspiring natural wonder that (1)\_\_\_\_\_ across several South American countries, including Brazil, Peru, Colombia, and Ecuador. Covering an (2)\_\_\_\_\_ area of 5.5 million square kilometres, it is the largest tropical rainforest on Earth. The Amazon jungle is (3)\_\_\_\_\_ for its remarkable biodiversity, harbouring an astonishing array of plant and animal species that are still being discovered and studied. The dense vegetation of the jungle creates a (4)\_\_\_\_\_ and complex ecosystem, supporting countless species and providing crucial ecosystem services such as carbon sequestration and climate regulation. It is also home to (5)\_\_\_\_\_ communities that have thrived within its rich confines for centuries, preserving their traditions and deep connection to the land.

**SubQuestion No : 43**

**Q.43** Select the most appropriate option to fill in blank number 3.

- Ans  1. great  
 2. acclaimed  
 3. pre-eminent  
 4. renowned

Question ID : 264330164256

Option 1 ID : 264330644251

Option 2 ID : 264330644252

Option 3 ID : 264330644254

Option 4 ID : 264330644253

Status : Answered

Chosen Option : 1

**Comprehension:**

In the following passage some words have been deleted. Read the passage carefully and select the most appropriate option for each blank.

The Amazon rainforest is an awe-inspiring natural wonder that (1)\_\_\_\_\_ across several South American countries, including Brazil, Peru, Colombia, and Ecuador. Covering an (2)\_\_\_\_\_ area of 5.5 million square kilometres, it is the largest tropical rainforest on Earth. The Amazon jungle is (3)\_\_\_\_\_ for its remarkable biodiversity, harbouring an astonishing array of plant and animal species that are still being discovered and studied. The dense vegetation of the jungle creates a (4)\_\_\_\_\_ and complex ecosystem, supporting countless species and providing crucial ecosystem services such as carbon sequestration and climate regulation. It is also home to (5)\_\_\_\_\_ communities that have thrived within its rich confines for centuries, preserving their traditions and deep connection to the land.

**SubQuestion No : 44**

**Q.44** Select the most appropriate option to fill in blank number 4.

- Ans  1. spirited  
 2. lavish  
 3. vigour  
 4. vibrant

Question ID : 264330164257

Option 1 ID : 264330644256

Option 2 ID : 264330644257

Option 3 ID : 264330644258

Option 4 ID : 264330644255

Status : Answered

Chosen Option : 2

**Comprehension:**

In the following passage some words have been deleted. Read the passage carefully and select the most appropriate option for each blank.

The Amazon rainforest is an awe-inspiring natural wonder that (1) \_\_\_\_\_ across several South American countries, including Brazil, Peru, Colombia, and Ecuador. Covering an (2) \_\_\_\_\_ area of 5.5 million square kilometres, it is the largest tropical rainforest on Earth. The Amazon jungle is (3) \_\_\_\_\_ for its remarkable biodiversity, harbouring an astonishing array of plant and animal species that are still being discovered and studied. The dense vegetation of the jungle creates a (4) \_\_\_\_\_ and complex ecosystem, supporting countless species and providing crucial ecosystem services such as carbon sequestration and climate regulation. It is also home to (5) \_\_\_\_\_ communities that have thrived within its rich confines for centuries, preserving their traditions and deep connection to the land.

**SubQuestion No : 45**

**Q.45** Select the most appropriate option to fill in blank number 5.

- Ans**
- 1. late
  - 2. organic
  - 3. indigenous
  - 4. ancient

Question ID : 264330164258

Option 1 ID : 264330644260

Option 2 ID : 264330644259

Option 3 ID : 264330644262

Option 4 ID : 264330644261

Status : Answered

Chosen Option : 1

**Comprehension:**

Read the given passage and answer the question that follows.

We started our research into organisational and personal excellence by studying a slightly different topic. We figured that if we could learn why certain people were more effective than others, then we could learn exactly what they did, clone it and pass it on to others. We asked people to identify who they thought were their most effective colleagues. In fact, over the past twenty-five years, we have asked over twenty thousand people to identify the individuals in their organisations who could really get things done. We wanted to find those who were not just influential but who were far more influential than the rest.

**SubQuestion No : 46**

**Q.46** Select the statement that most appropriately sums up the passage given.

- Ans**
- 1. Some people are more effective and more influential than others to get things done.
  - 2. Some people cannot be identified due to their most effective ways in 25 years.
  - 3. Research grants in an organisation should be increased for personal excellence.
  - 4. It takes 25 years of research to make people more effective and influential.

Question ID : 264330164708

Option 1 ID : 264330645989

Option 2 ID : 264330645988

Option 3 ID : 264330645987

Option 4 ID : 264330645990

Status : Answered

Chosen Option : 3

**Comprehension:**

Read the given passage and answer the question that follows.

We started our research into organisational and personal excellence by studying a slightly different topic. We figured that if we could learn why certain people were more effective than others, then we could learn exactly what they did, clone it and pass it on to others. We asked people to identify who they thought were their most effective colleagues. In fact, over the past twenty-five years, we have asked over twenty thousand people to identify the individuals in their organisations who could really get things done. We wanted to find those who were not just influential but who were far more influential than the rest.

**SubQuestion No : 47**

**Q.47 Which real life situation can be the most appropriate to be inferred from the passage?**

- Ans  1. Jassie is an efficient employee whose work ethics can be a case study to learn more about organisational and personal excellence.
2. If we do something wrong to decent people, the same comes to haunt us even after many years.
3. People nowadays do not have patience and want quick success and does not matter what path they choose to obtain their targets.
4. Inflation has direct influence on the morals and ethics of an individual.

Question ID : 264330164710

Option 1 ID : 264330645997

Option 2 ID : 264330645995

Option 3 ID : 264330645998

Option 4 ID : 264330645996

Status : Answered

Chosen Option : 2

**Comprehension:**

Read the given passage and answer the question that follows.

We started our research into organisational and personal excellence by studying a slightly different topic. We figured that if we could learn why certain people were more effective than others, then we could learn exactly what they did, clone it and pass it on to others. We asked people to identify who they thought were their most effective colleagues. In fact, over the past twenty-five years, we have asked over twenty thousand people to identify the individuals in their organisations who could really get things done. We wanted to find those who were not just influential but who were far more influential than the rest.

**SubQuestion No : 48**

**Q.48 Select the most suitable structure for the above passage.**

- Ans  1. Pragmatic
2. Compare and contrast
3. Chronological
4. Cause and Effect

Question ID : 264330164709

Option 1 ID : 264330645994

Option 2 ID : 264330645992

Option 3 ID : 264330645991

Option 4 ID : 264330645993

Status : Answered

Chosen Option : 2

**Comprehension:**

Read the given passage and answer the question that follows.

We started our research into organisational and personal excellence by studying a slightly different topic. We figured that if we could learn why certain people were more effective than others, then we could learn exactly what they did, clone it and pass it on to others. We asked people to identify who they thought were their most effective colleagues. In fact, over the past twenty-five years, we have asked over twenty thousand people to identify the individuals in their organisations who could really get things done. We wanted to find those who were not just influential but who were far more influential than the rest.

**SubQuestion No : 49**

**Q.49 Select the most appropriate title to the given passage.**

- Ans
- 1. Learn, Clone and Pass
  - 2. Different Topics
  - 3. Research Grants in Organisations
  - 4. Most Effective Colleagues

Question ID : 264330164707

Option 1 ID : 264330645984

Option 2 ID : 264330645986

Option 3 ID : 264330645985

Option 4 ID : 264330645983

Status : Answered

Chosen Option : 1

**Comprehension:**

Read the given passage and answer the question that follows.

We started our research into organisational and personal excellence by studying a slightly different topic. We figured that if we could learn why certain people were more effective than others, then we could learn exactly what they did, clone it and pass it on to others. We asked people to identify who they thought were their most effective colleagues. In fact, over the past twenty-five years, we have asked over twenty thousand people to identify the individuals in their organisations who could really get things done. We wanted to find those who were not just influential but who were far more influential than the rest.

**SubQuestion No : 50**

**Q.50 Select the most appropriate ANTONYM of the given word.**

**Effective**

- Ans
- 1. Courteous
  - 2. Fruitless
  - 3. Harmonious
  - 4. Deniable

Question ID : 264330164711

Option 1 ID : 264330646002

Option 2 ID : 264330646000

Option 3 ID : 264330645999

Option 4 ID : 264330646001

Status : Answered

Chosen Option : 2