

**Sub Inspector in Delhi Police and Central Armed Police Forces Examination 2023
Paper I**

Roll Number	
Candidate Name	
Venue Name	
Exam Date	04/10/2023
Exam Time	12:30 PM - 2:30 PM
Subject	SICPO Paper I 2023

Section : General Intelligence and Reasoning

Q.1 निम्नलिखित में से कौन-सी संख्या दी गई श्रृंखला में प्रश्न-चिह्न (?) का स्थान लेगी?

$\frac{1}{121}, \frac{1}{11}, 1, ?, 121$

- Ans
- 1. 1
 - 2. 12
 - 3. 21
 - 4. 11

Question ID : 26433092491

Option 1 ID : 264330363253

Option 2 ID : 264330363256

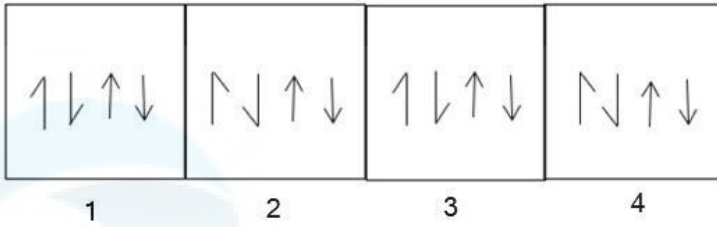
Option 3 ID : 264330363255

Option 4 ID : 264330363254

Status : Answered

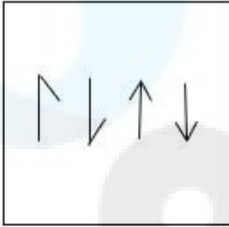
Chosen Option : 4

Q.2 निम्नलिखित में से कौन-सी आकृति दी गई श्रृंखला में 5वें स्थान पर रखे जाने पर पहली चार आकृतियों द्वारा निर्मित श्रृंखला को जारी रखेगी?

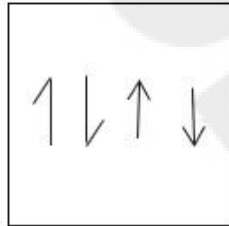


Ans

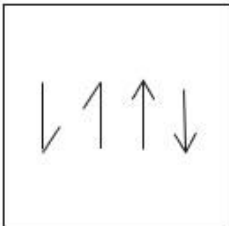
✗ 1.



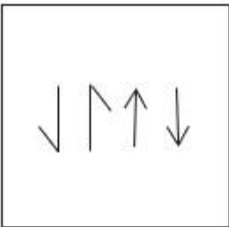
✓ 2.



✗ 3.



✗ 4.



Question ID : 26433087305

Option 1 ID : 264330342857

Option 2 ID : 264330342858

Option 3 ID : 264330342860

Option 4 ID : 264330342859

Status : Answered

Chosen Option : 2

Q.3 एक निश्चित कूट भाषा में, 'PAINT' को 'ODYTN' और 'BRUSH' को 'CMMOZ' के रूप में लिखा जाता है। उसी कूट भाषा में 'HOUSE' को किस प्रकार लिखा जाएगा?

- Ans 1. WPMOC
 2. PHYWS
 3. PBOMS
 4. WDNOS

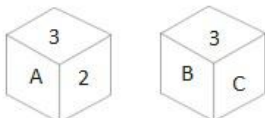
Question ID : 26433074758
Option 1 ID : 264330293120
Option 2 ID : 264330293121
Option 3 ID : 264330293123
Option 4 ID : 264330293122
Status : Not Answered
Chosen Option : --

Q.4 यदि '+' का अर्थ 'x', '-' का अर्थ '÷', 'x' का अर्थ '+' और '÷' का अर्थ '-' है, तो निम्नलिखित व्यंजक का मान क्या होगा?
 $42 \times 168 - 8 \div 4 + 3 = ?$

- Ans 1. 51
 2. 45
 3. 62
 4. 56

Question ID : 264330101246
Option 1 ID : 264330397529
Option 2 ID : 264330397530
Option 3 ID : 264330397532
Option 4 ID : 264330397531
Status : Answered
Chosen Option : 1

Q.5 एक पासे के अलग-अलग फलकों पर छह अक्षर/अंक A, B, C, 1, 2 और 3 लिखे गए हैं। इस पासे की दो स्थितियां दी गई आकृति में दिखाई गई हैं। A अक्षर वाले फलक के विपरीत फलक पर कौन-सा अक्षर/अंक है?



- Ans 1. B
 2. C
 3. 2
 4. 1

Question ID : 264330109200
Option 1 ID : 264330429078
Option 2 ID : 264330429079
Option 3 ID : 264330429080
Option 4 ID : 264330429077
Status : Answered
Chosen Option : 1

Q.6 उस समुच्चय का चयन कीजिए जिसमें संख्याएँ आपस में उसी प्रकार संबंधित हैं जिस प्रकार निम्नलिखित समुच्चयों की संख्याएँ आपस में संबंधित हैं। (नोट: संख्याओं को उसके घटक अंकों में विभाजित किए बिना, पूर्ण संख्याओं पर गणितीय संक्रियाएँ की जानी चाहिए। उदाहरण के लिए 13 - गणितीय संक्रियाएँ जैसे कि जोड़ना/घटाना/गुणा करना इत्यादि 13 में किया जा सकता है। 13 को 1 और 3 में विभाजित करना और फिर 1 और 3 पर गणितीय संक्रियाएँ करने की अनुमति नहीं है।)
(7, 2, 70)
(6, 4, 120)

Ans 1. (3, 8, 120)

2. (11, 6, 143)

3. (13, 4, 208)

4. (5, 9, 270)

Question ID : 26433057454

Option 1 ID : 264330224801

Option 2 ID : 264330224802

Option 3 ID : 264330224803

Option 4 ID : 264330224800

Status : Answered

Chosen Option : 1

Q.7 दो कथन दिए गए हैं, जिसके बाद दो निष्कर्ष I और II दिए गए हैं। कथनों को सत्य मानते हुए, भले ही वे सामान्य रूप से ज्ञात तथ्यों से भिन्न प्रतीत होते हों, निर्णय लें कि कौन-से निष्कर्ष कथनों का तार्किक रूप से पालन करते हैं?

कथन:

कुछ सेब संतरे हैं।

सभी संतरे फल हैं।

निष्कर्ष:

I) सभी सेब फल हैं।

II) कुछ फल संतरे हैं।

Ans 1. केवल निष्कर्ष II पालन करता है।

2. न तो निष्कर्ष I और न ही निष्कर्ष II पालन करता है।

3. निष्कर्ष I और II दोनों पालन करते हैं।

4. केवल निष्कर्ष I पालन करता है।

Question ID : 26433067702

Option 1 ID : 264330265321

Option 2 ID : 264330265323

Option 3 ID : 264330265322

Option 4 ID : 264330265320

Status : Answered

Chosen Option : 1

Q.8 दो कथन दिए गए हैं, जिसके बाद दो निष्कर्ष I और II दिए गए हैं। कथनों को सत्य मानते हुए, भले ही वे सामान्य रूप से ज्ञात तथ्यों से भिन्न प्रतीत होते हों, निर्धारित करें कि कौन-से निष्कर्ष कथनों का तार्किक रूप से पालन करते हैं?

कथन:

कुछ मूवी ड्रामा हैं।

कुछ ड्रामा फिक्शन हैं।

निष्कर्ष:

I. कुछ मूवी फिक्शन हैं।

II. सभी फिक्शन मूवी हैं।

- Ans
- 1. केवल निष्कर्ष I पालन करता है
 - 2. केवल निष्कर्ष II पालन करता है
 - 3. न तो निष्कर्ष I और न ही निष्कर्ष II पालन करता है
 - 4. निष्कर्ष I और II दोनों पालन करते हैं

Question ID : 26433056712

Option 1 ID : 264330221832

Option 2 ID : 264330221833

Option 3 ID : 264330221835

Option 4 ID : 264330221834

Status : Answered

Chosen Option : 3

Q.9 एक निश्चित कूट भाषा में, "SUGAR" को 81 और "FILL" को 51 के रूप में कूटबद्ध किया जाता है। उसी कूट भाषा में "CREAM" को किस प्रकार कूटबद्ध किया जाएगा?

- Ans
- 1. 57
 - 2. 55
 - 3. 52
 - 4. 60

Question ID : 26433074709

Option 1 ID : 264330292926

Option 2 ID : 264330292925

Option 3 ID : 264330292924

Option 4 ID : 264330292927

Status : Answered

Chosen Option : 2

Q.10 निम्नलिखित में से कौन-सी संख्या दी गई श्रृंखला में प्रश्न-चिह्न (?) को प्रतिस्थापित करेगी?
76, 99, 135, 185, 250, ?

- Ans
- 1. 315
 - 2. 331
 - 3. 330
 - 4. 328

Question ID : 26433069398

Option 1 ID : 264330272105

Option 2 ID : 264330272107

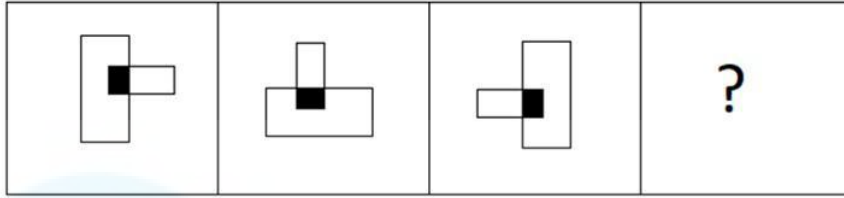
Option 3 ID : 264330272106

Option 4 ID : 264330272104

Status : Answered

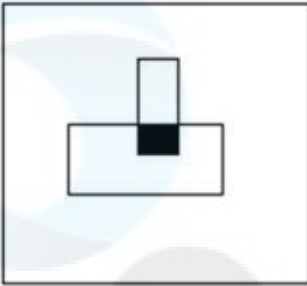
Chosen Option : 2

Q.11 निम्नलिखित आकृति श्रृंखला में आगे आने वाली आकृति का चयन करें।

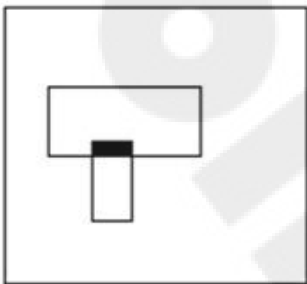


Ans

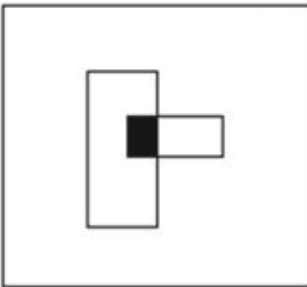
✗ 1.



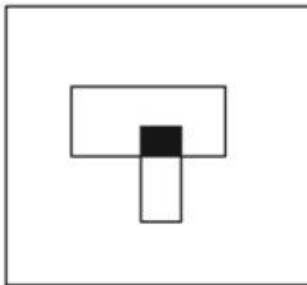
✗ 2.



✗ 3.



✓ 4.



Question ID : 26433087070

Option 1 ID : 264330341921

Option 2 ID : 264330341922

Option 3 ID : 264330341923

Option 4 ID : 264330341924

Status : Answered

Chosen Option : 4

Q.12 उस विकल्प आकृति का चयन करें जिसमें उसके भाग के रूप में दी गई आकृति सन्निहित है (आकृति को घुमाने की अनुमति नहीं है)।



Ans

✓ 1.



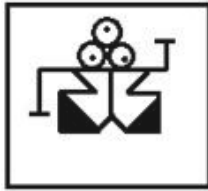
✗ 2.



✗ 3.



✗ 4.



Question ID : 264330117425

Option 1 ID : 264330461744

Option 2 ID : 264330461741

Option 3 ID : 264330461743

Option 4 ID : 264330461742

Status : Answered

Chosen Option : 1

Q.13 A @ B का अर्थ है "A, B का पति है"
A & B का अर्थ है "A, B की माता है"
A # B का अर्थ है "A, B की पुत्री है"
यदि Z # L @ P & K @ J # X है, तो K का Z से क्या संबंध है?

Ans ✓ 1. भाई

✗ 2. माता

✗ 3. भाभी

✗ 4. बहन

Question ID : 264330126025

Option 1 ID : 264330493774

Option 2 ID : 264330493775

Option 3 ID : 264330493773

Option 4 ID : 264330493772

Status : Answered

Chosen Option : 1

Q.14 उस विकल्प का चयन कीजिए, जो दिए गए शब्दों के उस सही क्रम को दर्शाता है, जिस क्रम में वे अंग्रेजी शब्दकोश में मौजूद होते हैं।

- 1.Wrist
- 2.Wrangle
- 3.Workable
- 4.Wrongful
- 5.Woodland

Ans 1. 3, 2, 5, 1, 4
 2. 5, 3, 2, 1, 4
 3. 3, 5, 2, 1, 4
 4. 5, 2, 3, 1, 4

Question ID : 26433067245
Option 1 ID : 264330263492
Option 2 ID : 264330263494
Option 3 ID : 264330263493
Option 4 ID : 264330263495
Status : Answered
Chosen Option : 2

Q.15 मनोहर पश्चिम की ओर X km साइकिल चलाता है, और फिर दाएं मुड़ता है, और अपने कार्यालय पहुँचने के लिए Y km साइकिल चलाता है। अब प्रारंभिक बिंदु और उसके कार्यालय के बीच की न्यूनतम दूरी 13 km है। X और Y का मान क्रमशः (km में) कितना हो सकता है?

Ans 1. 8 और 5
 2. 12 और 5
 3. 6 और 7
 4. 11 और 6

Question ID : 264330129770
Option 1 ID : 264330508312
Option 2 ID : 264330508314
Option 3 ID : 264330508311
Option 4 ID : 264330508313
Status : Answered
Chosen Option : 2

Q.16 कौन-सा अक्षर-समूह प्रश्नचिह्न (?) के स्थान पर आकर दी गई श्रृंखला को पूर्ण करेगा?
AXFN, GCJQ, MHNT, ?, YRVZ

Ans 1. SMRW
 2. SWMR
 3. RLQV
 4. QRLV

Question ID : 26433076666
Option 1 ID : 264330300731
Option 2 ID : 264330300729
Option 3 ID : 264330300730
Option 4 ID : 264330300728
Status : Answered
Chosen Option : 1

Q.17 उस विकल्प का चयन करें, जो तीसरे शब्द से उसी प्रकार संबंधित है, जिस प्रकार दूसरा शब्द पहले शब्द से संबंधित है। (शब्दों को अर्थपूर्ण शब्दों के रूप में माना जाना चाहिए, और इन्हें शब्द में अक्षरों की संख्या/व्यंजनों की संख्या/स्वरों की संख्या के आधार पर एक-दूसरे से संबद्ध नहीं किया जाना चाहिए।)
कलाकार (Artist) : पेंट करना (Painting) :: मीची (Cobbler) : ?

- Ans
- 1. कपड़े सिलना (Stitching clothes)
 - 2. विद्युतीय मरम्मत कार्य करना (Fixes electricity)
 - 3. जूतों की मरम्मत करना (Fixing shoes)
 - 4. लकड़ी संबंधी मरम्मत कार्य करना (Wooden repair work)

Question ID : 26433087295
Option 1 ID : 264330342817
Option 2 ID : 264330342820
Option 3 ID : 264330342818
Option 4 ID : 264330342819
Status : Answered
Chosen Option : 3

Q.18 यदि '+' का अर्थ '-', '-' का अर्थ 'x', 'x' का अर्थ '+', '+ का अर्थ '+' हो, तो निम्नलिखित समीकरण में प्रश्न चिह्न (?) के स्थान पर क्या आएगा?
 $23 - 5 \div 240 \times 8 + 14 = ?$

- Ans
- 1. 145
 - 2. 119
 - 3. 131
 - 4. 124

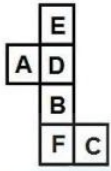
Question ID : 264330126057
Option 1 ID : 264330493903
Option 2 ID : 264330493900
Option 3 ID : 264330493901
Option 4 ID : 264330493902
Status : Answered
Chosen Option : 3

Q.19 उस विकल्प का चयन कीजिये जो तीसरे पद से उसी प्रकार संबंधित है जैसे दूसरा पद पहले पद से और छठा पद पांचवें पद से संबंधित है।
 $16 : 106 :: 11 : ? :: 10 : 22$

- Ans
- 1. 42
 - 2. 40
 - 3. 36
 - 4. 31

Question ID : 26433079160
Option 1 ID : 264330310644
Option 2 ID : 264330310645
Option 3 ID : 264330310646
Option 4 ID : 264330310647
Status : Answered
Chosen Option : 4

Q.20 दी गई शीट को मोड़कर एक घन बनाया जाता है। निर्मित घन में 'F' वाले फलक के विपरीत फलक पर कौन-सा अक्षर होगा?



- Ans
- 1. E
 - 2. B
 - 3. D
 - 4. A

Question ID : 26433065671
Option 1 ID : 264330257244
Option 2 ID : 264330257246
Option 3 ID : 264330257245
Option 4 ID : 264330257247

Status : Answered

Chosen Option : 3

Q.21 यदि निम्नलिखित आकृति श्रृंखला को जारी रखा जाए, तो दिए गए विकल्पों में से कौन-सी आकृति प्रश्नवाचक चिन्ह (?) को प्रतिस्थापित करेगी?

U	T	C	-	←	C	↑	∩	
↓	∩	←	D	D	-	∩	∩	?

Ans

✗ 1.

∩	∩
↑	∩

✗ 2.

∩	∩
∩	↑

✗ 3.

U	T
↓	∩

✓ 4.

∩	↑
∩	∩

Question ID : 264330145479

Option 1 ID : 264330570171

Option 2 ID : 264330570173

Option 3 ID : 264330570172

Option 4 ID : 264330570174

Status : Answered

Chosen Option : 4

Q.22 उस सही विकल्प का चयन कीजिए, जो दिए गए शब्दों के उसी क्रम में व्यवस्थापन को दर्शाता है, जिस क्रम में वे अंग्रेजी शब्दकोश में मौजूद होते हैं।

1. Doctor
2. Doctorate
3. Docile
4. Documentary
5. Dock
6. Doctrine

Ans 1. 3, 4, 5, 1, 2, 6,
 2. 3, 5, 2, 1, 6, 4
 3. 3, 5, 1, 2, 6, 4
 4. 3, 5, 1, 6, 2, 4

Question ID : 264330145375

Option 1 ID : 264330569756

Option 2 ID : 264330569757

Option 3 ID : 264330569755

Option 4 ID : 264330569758

Status : Answered

Chosen Option : 3

Q.23 एक निश्चित कूट भाषा में "ACTOR" को ROYCA के रूप में कूटबद्ध किया जाता है, और "NURSE" को ESWUN के रूप में कूटबद्ध किया जाता है। उसी कूट भाषा में "JUDGE" को किस प्रकार कूटबद्ध किया जाएगा?

Ans 1. EGUIJ
 2. GEIUJ
 3. EGJUI
 4. EGIUJ

Question ID : 264330132201

Option 1 ID : 264330517899

Option 2 ID : 264330517900

Option 3 ID : 264330517902

Option 4 ID : 264330517901

Status : Answered

Chosen Option : 4

Q.24 उस विकल्प का चयन करें, जो उन अक्षरों को निरूपित करता है, जिन्हें नीचे दिए गए रिक्त स्थानों में क्रमिक रूप से बाएं से दाएं रखे जाने पर दी गई अक्षर श्रृंखला पूरी हो जाएगी।
F _ _ Y _ _ K B _ O F _ B Y _

Ans 1. KBOFYKO
 2. OFKBOYK
 3. YOKBFOK
 4. BYOKFOK

Question ID : 26433086955

Option 1 ID : 264330341464

Option 2 ID : 264330341462

Option 3 ID : 264330341463

Option 4 ID : 264330341461

Status : Answered

Chosen Option : 1

Q.25 छह व्यक्ति एक वृत्ताकार मेज के परितः केंद्र की ओर मुख करके बैठे हैं। P, Q के बाईं ओर दूसरे स्थान पर बैठा है। S, Q और U दोनों के ठीक बगल में है। T, R के बाईं ओर दूसरे स्थान पर बैठा है। P और U, दोनों के ठीक बगल में कौन बैठा है?

Ans 1. T

2. Q

3. R

4. S

Question ID : 26433068169

Option 1 ID : 264330267188

Option 2 ID : 264330267191

Option 3 ID : 264330267189

Option 4 ID : 264330267190

Status : Answered

Chosen Option : 3

Q.26 दिए गए समीकरण को सही बनाने के लिए किन दो गणितीय चिह्न को आपस में बदला जाना चाहिए?

$$15 \times 3 \div 15 - (45 \times 3) - 10 + (13 \div 2) = 76$$

Ans 1. + और +

2. ÷ और ×

3. × और +

4. × और -

Question ID : 264330145314

Option 1 ID : 264330569511

Option 2 ID : 264330569512

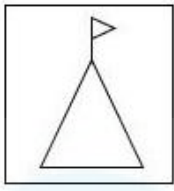
Option 3 ID : 264330569514

Option 4 ID : 264330569513

Status : Answered

Chosen Option : 2

Q.27 जब दर्पण को रेखा MN पर रखा जाता है, तो दी गई आकृति का सही दर्पण प्रतिबिंब ज्ञात कीजिए।

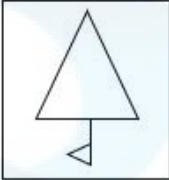


M

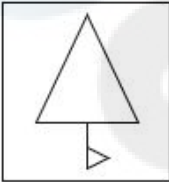
N

Ans

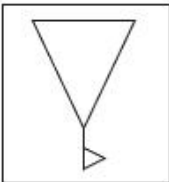
✗ 1.



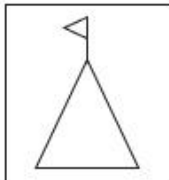
✗ 2.



✗ 3.



✓ 4.



Question ID : 26433056623

Option 1 ID : 264330221476

Option 2 ID : 264330221477

Option 3 ID : 264330221478

Option 4 ID : 264330221479

Status : Answered

Chosen Option : 4

Q.28 नीचे दिए गए चार अक्षर-समूहों में से तीन किसी प्रकार से आपस में संबंधित हैं और कोई एक उनसे असंगत है। असंगत अक्षर-समूह का चयन कीजिए।

Ans ✓ 1. XOTP

✗ 2. UQYR

✗ 3. NJRK

✗ 4. GCKD

Question ID : 264330180754

Option 1 ID : 264330708983

Option 2 ID : 264330708985

Option 3 ID : 264330708984

Option 4 ID : 264330708986

Status : Answered

Chosen Option : 1

Q.29 आंटी ग्लोरिया अपने घर से निकलती है, और पूर्व की ओर 65 m चलती है। वह बाएं मुड़ती है, और 28 m चलती है। वह फिर से बाएं मुड़ती है, और एक सार्वजनिक पुस्तकालय तक पहुंचने के लिए 110 m चलती है। आंटी ग्लोरिया के घर से पुस्तकालय कितनी दूर (न्यूनतम दूरी) और किस दिशा में है?

Ans 1. 53 m, उत्तर-पश्चिम

2. 48 m, उत्तर-पूर्व

3. 53 m, उत्तर-पूर्व

4. 48 m, उत्तर-पश्चिम

Question ID : 26433057306

Option 1 ID : 264330224210

Option 2 ID : 264330224211

Option 3 ID : 264330224208

Option 4 ID : 264330224209

Status : Answered

Chosen Option : 1

Q.30 'F \$ G' का अर्थ है कि 'F, G की माता है'
'F # G' का अर्थ है कि 'F, G का पिता है'
'F @ G' का अर्थ है कि 'F, G का पति है'
'F % G' का अर्थ है कि 'F, G की पुत्री है'
यदि J @ C \$ B # R है, तो J का R से क्या संबंध है?

Ans 1. बुआ

2. दादा

3. मामा

4. पिता

Question ID : 264330145392

Option 1 ID : 264330569826

Option 2 ID : 264330569824

Option 3 ID : 264330569823

Option 4 ID : 264330569825

Status : Answered

Chosen Option : 2

Q.31 उस विकल्प का चयन करें, जो पांचवें अक्षर-समूह से उसी प्रकार संबंधित है, जिस प्रकार दूसरा अक्षर-समूह पहले अक्षर-समूह से संबंधित है, और चौथा अक्षर-समूह तीसरे अक्षर-समूह से संबंधित है।

INDIA : FKAFX :: ESTONIA : BPQLKFX :: MALAYSIA : ?

Ans 1. JXIXFXVP

2. JXVPFXXI

3. JPFXXIXV

4. JXIXVPFX

Question ID : 264330145395

Option 1 ID : 264330569837

Option 2 ID : 264330569835

Option 3 ID : 264330569836

Option 4 ID : 264330569838

Status : Answered

Chosen Option : 4

Q.32 छः विद्यार्थी प्रतीक, समीर, कबीर, जिया, जोसेफ, किरण एक वृत्ताकार मेज के परितः केंद्र की ओर मुख करके बैठे हैं (उनका इसी क्रम में होना अनिवार्य नहीं है)। प्रतीक, समीर और कबीर दोनों के ठीक बगल में है। जिया, समीर के दाईं ओर दूसरे स्थान पर बैठी है। किरण, कबीर के बाईं ओर तीसरे स्थान पर बैठी है। जोसेफ, जिया और कबीर दोनों के ठीक बगल में है। जिया के ठीक बगल में कौन है?

- Ans
- 1. कबीर
 - 2. समीर
 - 3. किरण
 - 4. प्रतीक

Question ID : 26433082279

Option 1 ID : 264330322949

Option 2 ID : 264330322952

Option 3 ID : 264330322951

Option 4 ID : 264330322950

Status : Answered

Chosen Option : 3

Q.33 दो कथन दिए गए हैं, जिसके बाद दो निष्कर्ष I और II दिए गए हैं। कथनों को सत्य मानते हुए, भले ही वे सामान्य रूप से ज्ञात तथ्यों से भिन्न प्रतीत होते हों, निर्धारित करें कि कौन-से निष्कर्ष कथनों का तार्किक रूप से पालन करते हैं?

कथन:

कुछ नदियां महासागर हैं।
सभी महासागर समुद्र-तट हैं।

निष्कर्ष:

- I. कुछ नदियां समुद्र-तट हैं।
- II. सभी महासागर नदियां हैं।

- Ans
- 1. निष्कर्ष I और II दोनों पालन करते हैं
 - 2. न तो निष्कर्ष I और न ही निष्कर्ष II पालन करता है
 - 3. केवल निष्कर्ष II पालन करता है
 - 4. केवल निष्कर्ष I पालन करता है

Question ID : 26433056709

Option 1 ID : 264330221822

Option 2 ID : 264330221823

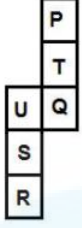
Option 3 ID : 264330221821

Option 4 ID : 264330221820

Status : Answered

Chosen Option : 4

Q.34 दी गई शीट को मोड़कर एक घन बनाया जाता है। निर्मित घन में विपरीत फलकों पर अक्षरों का कौन-सा युग्म होगा?



- Ans
- ✓ 1. T और S
 - ✗ 2. U और T
 - ✗ 3. P और U
 - ✗ 4. R और P

Question ID : 26433065669
Option 1 ID : 264330257238
Option 2 ID : 264330257237
Option 3 ID : 264330257236
Option 4 ID : 264330257239
Status : Answered
Chosen Option : 1

Q.35 दो कथनों के बाद दो निष्कर्ष I और II दिए गए हैं। कथनों को सत्य मानते हुए, भले ही वे सामान्य रूप से ज्ञात तथ्यों से भिन्न प्रतीत होते हों, यह निर्णय लीजिए कि कौन-से निष्कर्ष कथनों का तार्किक रूप से पालन करते हैं?

कथन:

सभी चाय जूस हैं।

सभी जूस कॉकटेल हैं।

निष्कर्ष:

I. सभी चाय कॉकटेल हैं।

II. सभी कॉकटेल निश्चित रूप से जूस हैं।

- Ans
- ✗ 1. केवल निष्कर्ष II पालन करता है
 - ✓ 2. केवल निष्कर्ष I पालन करता है
 - ✗ 3. निष्कर्ष I और II दोनों पालन करते हैं
 - ✗ 4. न तो निष्कर्ष I और न ही निष्कर्ष II पालन करता है

Question ID : 26433058039
Option 1 ID : 264330227141
Option 2 ID : 264330227140
Option 3 ID : 264330227142
Option 4 ID : 264330227143
Status : Answered
Chosen Option : 2

Q.36 निम्नलिखित में से कौन-सा अक्षर-समूह दी गई श्रृंखला में प्रश्न चिह्न (?) के स्थान पर आकर श्रृंखला को पूर्ण करेगा?

PJVG, VBZB, BTDW, HLHR, ?

- Ans
- ✓ 1. NDLM
 - ✗ 2. MDLM
 - ✗ 3. NDLN
 - ✗ 4. MDLN

Question ID : 26433040789
Option 1 ID : 264330159634
Option 2 ID : 264330159632
Option 3 ID : 264330159633
Option 4 ID : 264330159631
Status : Answered
Chosen Option : 1

Q.37 यदि A का अर्थ '+' हो, B का अर्थ 'x' हो, C का अर्थ '-' हो और D का अर्थ '÷' हो, तो निम्नलिखित समीकरण का मान कितना होगा?
21 B 14 C 154 D 14 A 42 = ?

- Ans 1. 342
 2. 352
 3. 325
 4. 357

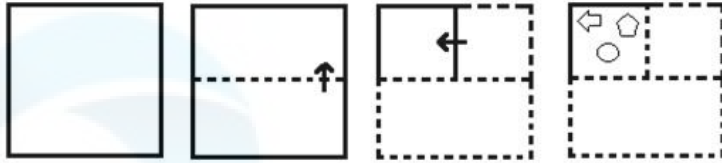
Question ID : 264330129786
Option 1 ID : 264330508375
Option 2 ID : 264330508378
Option 3 ID : 264330508376
Option 4 ID : 264330508377
Status : Answered
Chosen Option : 3

Q.38 यदि A का अर्थ '+' है, B का अर्थ 'x' है, C का अर्थ '-' है और D का अर्थ '÷' है, तो निम्नलिखित व्यंजक का मान क्या होगा?
89 A 94 C 35 D 8 B 8 = ?

- Ans 1. 148
 2. 169
 3. 135
 4. 189

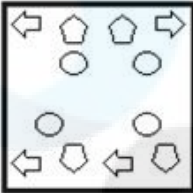
Question ID : 26433085363
Option 1 ID : 264330335156
Option 2 ID : 264330335153
Option 3 ID : 264330335155
Option 4 ID : 264330335154
Status : Answered
Chosen Option : 1

Q.39 निम्नलिखित आकृतियों में कागज के एक टुकड़े को मोड़ने का क्रम और मुड़े हुए कागज को काटने का तरीका दर्शाया गया है। कागज की तह खुलने पर यह कैसा दिखाई देगा?

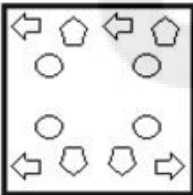


Ans

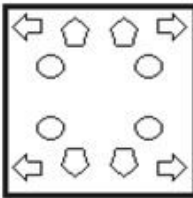
✗ 1.



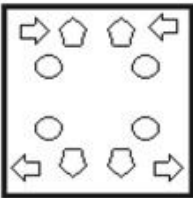
✗ 2.



✓ 3.



✗ 4.



Question ID : 26433074792

Option 1 ID : 264330293258

Option 2 ID : 264330293257

Option 3 ID : 264330293256

Option 4 ID : 264330293259

Status : Answered

Chosen Option : 3

Q.40 यदि A का अर्थ '+' है, B का अर्थ 'x' है, C का अर्थ '-' है, और D का अर्थ '÷' है, तो निम्नलिखित समीकरण में '?' के स्थान पर क्या आएगा?
 $56 D 8 B 7 = ? B 7$

Ans 1. 12

2. 8

3. 7

4. 9

Question ID : 26433067665

Option 1 ID : 264330265173

Option 2 ID : 264330265172

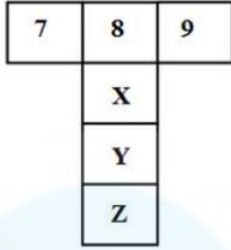
Option 3 ID : 264330265174

Option 4 ID : 264330265175

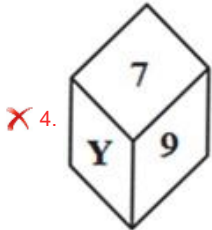
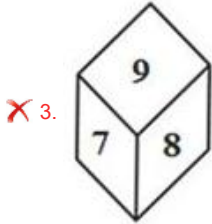
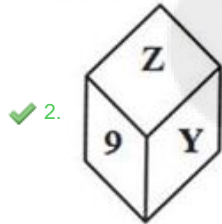
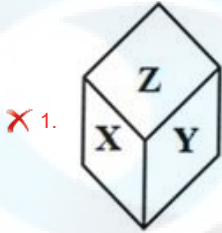
Status : Answered

Chosen Option : 3

Q.41 यदि दी गई शीट को मोड़कर एक घन का आकार दिया जाता है, तो विकल्पों में से कौन-सी आकृति संभव है?



Ans



Question ID : 26433059911

Option 1 ID : 264330234477

Option 2 ID : 264330234479

Option 3 ID : 264330234476

Option 4 ID : 264330234478

Status : Answered

Chosen Option : 2

Q.42 निम्नांकित में से कौन-सी संख्या दी गई श्रृंखला में प्रश्न चिह्न (?) के स्थान पर आएगी?

4, 11, 19, 31, 52, 89, ?

Ans 1. 151

2. 105

3. 150

4. 115

Question ID : 26433059922

Option 1 ID : 264330234521

Option 2 ID : 264330234522

Option 3 ID : 264330234523

Option 4 ID : 264330234520

Status : Answered

Chosen Option : 1

Q.43 निम्नलिखित में से कौन-सी संख्या दी गई श्रृंखला में प्रश्न-चिह्न (?) का स्थान लेगी?

134, 129, 122, ?, 102, 89

Ans 1. 111

2. 117

3. 113

4. 115

Question ID : 26433091010

Option 1 ID : 264330357452

Option 2 ID : 264330357450

Option 3 ID : 264330357449

Option 4 ID : 264330357451

Status : Answered

Chosen Option : 3

Q.44 यदि A का अर्थ '+' हो, B का अर्थ '×' हो, C का अर्थ '-' हो और D का अर्थ '÷' हो, तो निम्नलिखित समीकरण का मान कितना होगा?
22 B 7 C 288 D 12 A 27 = ?

Ans 1. 103

2. 160

3. 130

4. 157

Question ID : 264330129782

Option 1 ID : 264330508359

Option 2 ID : 264330508362

Option 3 ID : 264330508360

Option 4 ID : 264330508361

Status : Answered

Chosen Option : 4

Q.45 अंग्रेजी वर्णमाला क्रम में स्थिति के आधार पर, निम्नलिखित में से तीन अक्षर-समूह किसी न किसी तरह से संगत हैं, और एक असंगत है। असंगत अक्षर-समूह का चयन करें।

- Ans
- 1. SWYX
 - 2. LOQP
 - 3. PTVU
 - 4. RVXW

Question ID : 264330145353
Option 1 ID : 264330569667
Option 2 ID : 264330569669
Option 3 ID : 264330569668
Option 4 ID : 264330569670
Status : Answered
Chosen Option : 2

Q.46 उस विकल्प का चयन करें जो चौथे पद से उसी प्रकार संबंधित है जिस प्रकार पहला पद, दूसरे पद से संबंधित है और पांचवां पद, छठे पद से संबंधित है।
12 : 64 :: ? : 116 :: 32 : 144

- Ans
- 1. 25
 - 2. 35
 - 3. 14
 - 4. 46

Question ID : 26433079359
Option 1 ID : 264330311427
Option 2 ID : 264330311425
Option 3 ID : 264330311424
Option 4 ID : 264330311426
Status : Answered
Chosen Option : 1

Q.47 दर्पण को चित्र में दिखाए अनुसार MN पर रखे जाने पर दी गई आकृति के सही दर्पण प्रतिबिम्ब का चयन करें।



- Ans
- 1. 8BEYTK@8
 - 2. 8&TK&8
 - 3. 8BEYTK&8
 - 4. 8@TKYE8

Question ID : 26433085395
Option 1 ID : 264330335282
Option 2 ID : 264330335281
Option 3 ID : 264330335284
Option 4 ID : 264330335283
Status : Answered
Chosen Option : 4

Q.48 एक निश्चित कूट भाषा में, "ALIVE" को 64 और "HALL" को 45 के रूप में कूटबद्ध किया जाता है। उसी कूट भाषा में "MOVIE" को किस प्रकार कूटबद्ध किया जाएगा?

Ans 1. 71

2. 79

3. 58

4. 80

Question ID : 26433074710
Option 1 ID : 264330292929
Option 2 ID : 264330292930
Option 3 ID : 264330292931
Option 4 ID : 264330292928
Status : Answered
Chosen Option : 2

Q.49 किसी निश्चित कूट भाषा में, "EARS" को "4268" के रूप में कूटबद्ध किया जाता है, और "NICE" को "9723" के रूप में कूटबद्ध किया जाता है। दी गई उस कूट भाषा में "E" के लिए कूट क्या है?

Ans 1. 9

2. 4

3. 2

4. 3

Question ID : 264330169653
Option 1 ID : 264330665314
Option 2 ID : 264330665311
Option 3 ID : 264330665313
Option 4 ID : 264330665312
Status : Answered
Chosen Option : 3

Q.50 उस समुच्चय का चयन कीजिए जिसमें संख्याएँ एक-दूसरे से उसी प्रकार संबंधित हैं जिस प्रकार निम्नलिखित समुच्चय की संख्याएँ आपस में संबंधित हैं।

(नोट: संख्याओं को उसके घटक अंकों में विभाजित किए बिना, पूर्ण संख्याओं पर गणितीय संक्रियाएं की जानी चाहिए। उदाहरण के लिए 13 - संख्या 13 पर गणितीय संक्रियाएं जैसे कि जोड़ना / घटाना / गुणा करना आदि को 13 से किया जा सकता है। 13 को 1 और 3 में तोड़ना और फिर 1 और 3 पर गणितीय संक्रियाएँ करने की अनुमति नहीं है)

(9, 1, 19)

(5, 2, 14)

Ans 1. (4,7,37)

2. (3,2,10)

3. (3,5,56)

4. (2,5,12)

Question ID : 264330145321
Option 1 ID : 264330569540
Option 2 ID : 264330569541
Option 3 ID : 264330569539
Option 4 ID : 264330569542
Status : Answered
Chosen Option : 2

Q.1 भारतीय संविधान का निम्नलिखित में से कौन सा अनुच्छेद संसद को सशस्त्र बलों, अर्ध-सैन्य बलों, पुलिस बलों, खुफिया एजेंसियों और समान बलों के सदस्यों के मूल अधिकारों को निर्बंधित या निराकृत करने का अधिकार देता है?

Ans 1. अनुच्छेद 35

2. अनुच्छेद 31

3. अनुच्छेद 33

4. अनुच्छेद 37

Question ID : 264330113391

Option 1 ID : 264330445651

Option 2 ID : 264330445649

Option 3 ID : 264330445652

Option 4 ID : 264330445650

Status : Answered

Chosen Option : 4

Q.2 कोशिका चक्र के किस चरण के दौरान उपापचय परिवर्तन, समसूत्रण (mitosis) और कोशिकाद्रव्य विभाजन (cytokinesis) के लिए आवश्यक कोशिकाद्रव्यिक सामग्री को एकत्र करते हैं?

Ans 1. G2 चरण

2. M चरण

3. S चरण

4. G1 चरण

Question ID : 264330145197

Option 1 ID : 264330569045

Option 2 ID : 264330569046

Option 3 ID : 264330569043

Option 4 ID : 264330569044

Status : Not Answered

Chosen Option : --

Q.3 विजयनगर राज्य की स्थापना 1336 में _____ द्वारा की गई थी।

Ans 1. हरिहर और बुक्का

2. कृष्णदेवराय

3. देवराय द्वितीय

4. वेंकट द्वितीय

Question ID : 264330106565

Option 1 ID : 264330418561

Option 2 ID : 264330418562

Option 3 ID : 264330418564

Option 4 ID : 264330418563

Status : Answered

Chosen Option : 1

Q.4 73वें संविधान संशोधन की मुख्य विशेषताओं के बारे में निम्नलिखित में से कौन-सा गलत है?

- Ans
- 1. इस अधिनियम के जरिए भारतीय संविधान में ग्यारहवीं अनुसूची जोड़ी गयी है।
 - 2. इसमें पंचायतों के 29 कार्यात्मक विषय हैं, और इनका संबंध अनुच्छेद 243 से 243 (O) तक है।
 - 3. इस अधिनियम का संबंध भारतीय संविधान के भाग III से है।
 - 4. यह अधिनियम पंचायती राज संस्थाओं को संवैधानिक दर्जा प्रदान करता है।

Question ID : 264330145272
Option 1 ID : 264330569344
Option 2 ID : 264330569345
Option 3 ID : 264330569343
Option 4 ID : 264330569346
Status : Answered
Chosen Option : 3

Q.5 वडाली ब्रदर्स _____ गायक हैं।

- Ans
- 1. पांडवानी
 - 2. भाटियाली
 - 3. लावणी
 - 4. सूफी

Question ID : 264330145157
Option 1 ID : 264330568885
Option 2 ID : 264330568886
Option 3 ID : 264330568883
Option 4 ID : 264330568884
Status : Not Answered
Chosen Option : --

Q.6 हरिप्रिया नंबूद्री किस भारतीय शास्त्रीय नृत्य की प्रतिपादक (exponent) हैं?

- Ans
- 1. ओडिसी
 - 2. भरतनाट्यम्
 - 3. कुचिपुड़ी
 - 4. कथकली

Question ID : 26433086721
Option 1 ID : 264330340527
Option 2 ID : 264330340525
Option 3 ID : 264330340528
Option 4 ID : 264330340526
Status : Not Answered
Chosen Option : --

Q.7 Expenditure of the government on health facilities, education and fixed-asset acquisition is termed as _____.

- Ans
- 1. capital expenditure
 - 2. non-plan revenue expenditure
 - 3. revenue expenditure
 - 4. plan expenditure

Question ID : 264330141435
Option 1 ID : 264330554077
Option 2 ID : 264330554078
Option 3 ID : 264330554075
Option 4 ID : 264330554076
Status : Answered
Chosen Option : 1

Q.8 निम्नलिखित में से कौन-सा मिलान गलत है?

- Ans
- 1. दाब - पास्कल
 - 2. किया गया कार्य - जूल
 - 3. आयतन - मीटर
 - 4. बल - न्यूटन

Question ID : 264330131764
Option 1 ID : 264330516158
Option 2 ID : 264330516155
Option 3 ID : 264330516157
Option 4 ID : 264330516156
Status : Answered
Chosen Option : 3

Q.9 2011 की जनगणना के अनुसार, भारत में ग्रामीण साक्षरता दर कितनी थी?

- Ans
- 1. 67.77%
 - 2. 69.00%
 - 3. 66.77%
 - 4. 67.00%

Question ID : 264330110657
Option 1 ID : 264330434908
Option 2 ID : 264330434907
Option 3 ID : 264330434905
Option 4 ID : 264330434906
Status : Not Answered
Chosen Option : --

Q.10 निम्नलिखित में से कौन-सा नीतिगत उपाय, उदारीकरण की दिशा में एक कदम है?

- Ans
- 1. टैरिफ बढ़ाना
 - 2. पूंजी संचय पर सीमाएं आरोपित करना
 - 3. अधिकांश वस्तुओं/माल के आयात के लिए लाइसेंस समाप्त करना
 - 4. बैंक आरक्षित निधियों के लिए आवश्यकताओं और ब्याज दरों पर प्रतिबंधों को बढ़ाना

Question ID : 26433064579
Option 1 ID : 264330252910
Option 2 ID : 264330252908
Option 3 ID : 264330252909
Option 4 ID : 264330252911
Status : Answered
Chosen Option : 2

Q.11 निम्नलिखित में से कौन-सा विनिर्माण गतिविधि का उदाहरण नहीं है?

- Ans
- 1. लकड़ी से बना कागज़
 - 2. गन्ने से बनी चीनी
 - 3. ऋण और इक्विटी फंडों को मिलाकर बनाया गया म्यूचुअल फंड उत्पाद
 - 4. कपास से बना सूत

Question ID : 264330168856
Option 1 ID : 264330662235
Option 2 ID : 264330662236
Option 3 ID : 264330662237
Option 4 ID : 264330662238
Status : Answered
Chosen Option : 3

Q.12 स्विट्जरलैंड में आयोजित प्रतिष्ठित ज्यूरिख डायमंड लीग फाइनल 2022 जीतने वाले पहले भारतीय कौन बने?

- Ans
- 1. रमेशबाबू प्रज्ञानानंद (Rameshbabu Praggnanandhaa)
 - 2. पीवी सिंधु
 - 3. मैरी कॉम (Mary Kom)
 - 4. नीरज चोपड़ा

Question ID : 264330119248
Option 1 ID : 264330467279
Option 2 ID : 264330467281
Option 3 ID : 264330467280
Option 4 ID : 264330467282
Status : Answered
Chosen Option : 4

Q.13 हड़प्पा सभ्यता का मोहनजोदड़ो स्थल किस नदी के तट पर स्थित है?

- Ans
- 1. घाघरा नदी
 - 2. ब्यास नदी
 - 3. झेलम नदी
 - 4. सिन्धु नदी

Question ID : 264330164839
Option 1 ID : 264330646483
Option 2 ID : 264330646486
Option 3 ID : 264330646485
Option 4 ID : 264330646484
Status : Answered
Chosen Option : 4

Q.14 निम्नलिखित में से कौन-सी भारत के प्रथम राष्ट्रपति डॉ. राजेन्द्र प्रसाद की आत्मकथा है?

- Ans
- 1. आत्मकथा
 - 2. आत्मवृत्तांत
 - 3. माई कंट्री माई लाइफ
 - 4. ए शॉट एट हिस्ट्री

Question ID : 264330145182
Option 1 ID : 264330568983
Option 2 ID : 264330568986
Option 3 ID : 264330568985
Option 4 ID : 264330568984
Status : Answered
Chosen Option : 3

Q.15 पंचवर्षीय योजनाओं में से एक के दौरान, निम्नलिखित में से किस राजनेता ने 'गरीबी हटाओ' का नारा दिया था?

- Ans
- 1. इंदिरा गांधी
 - 2. मोरारजी देसाई
 - 3. ज्ञानी जैल सिंह
 - 4. चरण सिंह

Question ID : 264330145248
Option 1 ID : 264330569248
Option 2 ID : 264330569247
Option 3 ID : 264330569249
Option 4 ID : 264330569250
Status : Answered
Chosen Option : 1

Q.16 भारत की जनगणना 2011 के अनुसार, भारत में तीसरी सर्वाधिक बोली जाने वाली भाषा की पहचान कीजिए।

- Ans
- 1. तमिल
 - 2. मराठी
 - 3. बंगाली
 - 4. हिंदी

Question ID : 264330166809
Option 1 ID : 264330654272
Option 2 ID : 264330654273
Option 3 ID : 264330654271
Option 4 ID : 264330654274
Status : Not Answered
Chosen Option : --

Q.17 प्रोटीन की संरचना की व्याख्या किसने की?

- Ans
- 1. आर.एफ.रोज (RF Rose)
 - 2. पॉलिंग और कोरी (Pauling and Corey)
 - 3. एमिल फिशर (Emil Fischer)
 - 4. जॉनसन और क्रिस्टी (Johnson and Cristae)

Question ID : 26433086616
Option 1 ID : 264330340106
Option 2 ID : 264330340108
Option 3 ID : 264330340105
Option 4 ID : 264330340107
Status : Answered
Chosen Option : 1

Q.18 आम्र बौछार/आम्र वर्षा (Mango showers) क्या है?

- Ans
- 1. चक्रवात
 - 2. जेट प्रवाह
 - 3. पूर्व-मानसूनी वर्षा
 - 4. तूफान

Question ID : 264330169988
Option 1 ID : 264330666628
Option 2 ID : 264330666629
Option 3 ID : 264330666627
Option 4 ID : 264330666630
Status : Answered
Chosen Option : 3

Q.19 उत्तर पश्चिमी यूरोप, उत्तरी अमेरिका के पश्चिमी तट, कैलिफोर्निया के उत्तर, दक्षिणी चिली, दक्षिण-पूर्वी ऑस्ट्रेलिया और न्यूजीलैंड में किस प्रकार की जलवायु पाई जाती है?

- Ans
- 1. उष्णकटिबंधीय आर्द्र और शुष्क जलवायु (Tropical wet and dry climate)
 - 2. शीत बर्फाली वन जलवायु (Cold snow forest climate)
 - 3. उपोष्णकटिबंधीय स्टेपी जलवायु (Subtropical steppe climate)
 - 4. समुद्री पश्चिमी तट जलवायु (Marine west coast climate)

Question ID : 264330145190
Option 1 ID : 264330569018
Option 2 ID : 264330569016
Option 3 ID : 264330569017
Option 4 ID : 264330569015
Status : Not Answered
Chosen Option : --

Q.20 गंगा के मैदान में बाढ़ द्वारा जमा किया गया नया जलोढ़ निम्न में से कौन-सा है?

- Ans
- 1. कछार
 - 2. रेगुर
 - 3. खादर
 - 4. भांगर

Question ID : 264330119789
Option 1 ID : 264330469431
Option 2 ID : 264330469433
Option 3 ID : 264330469432
Option 4 ID : 264330469434
Status : Answered
Chosen Option : 3

Q.21 लाल रक्त कणिकाओं का व्यास कितना होता है?

- Ans
- 1. 2.0 μm
 - 2. 40.0 μm
 - 3. 4.0 μm
 - 4. 7.5 μm

Question ID : 264330145215
Option 1 ID : 264330569115
Option 2 ID : 264330569117
Option 3 ID : 264330569118
Option 4 ID : 264330569116
Status : Not Answered
Chosen Option : --

Q.22 निम्नलिखित में से किस खेल के शीर्ष राष्ट्रीय शासी निकाय का मुख्यालय नई दिल्ली में नहीं है?

- Ans
- 1. हॉकी इंडिया (Hockey India)
 - 2. बैडमिंटन एसोसिएशन ऑफ इंडिया (Badminton Association of India)
 - 3. भारतीय वॉलीबॉल संघ (Volleyball Federation of India)
 - 4. भारतीय एथलीट संघ (Athletes Federation of India)

Question ID : 26433092331
Option 1 ID : 264330362622
Option 2 ID : 264330362624
Option 3 ID : 264330362621
Option 4 ID : 264330362623
Status : Not Answered
Chosen Option : --

Q.23 उस विसंगति तत्व (anomaly element) की पहचान कीजिए, जो समूह 1 और समूह 17 दोनों से संबंधित हो।

- Ans
- 1. नाइट्रोजन
 - 2. हाइड्रोजन
 - 3. क्लोरीन
 - 4. ऑक्सीजन

Question ID : 264330134866
Option 1 ID : 264330528401
Option 2 ID : 264330528399
Option 3 ID : 264330528402
Option 4 ID : 264330528400
Status : Answered
Chosen Option : 2

Q.24 प्रतिनिधि सरकार के लिए गठबंधन में काम करने के लिए कांग्रेस और मुस्लिम लीग द्वारा _____ में लखनऊ समझौते पर हस्ताक्षर किए गए थे।

Ans 1. 1914

2. 1916

3. 1918

4. 1920

Question ID : 264330112346

Option 1 ID : 264330441469

Option 2 ID : 264330441470

Option 3 ID : 264330441471

Option 4 ID : 264330441472

Status : Answered

Chosen Option : 2

Q.25 निम्नलिखित में से किस मौर्य राजा ने कलिंग युद्ध के बाद बौद्ध धर्म और उसके अहिंसा के सिद्धांत को अपना लिया था?

Ans 1. अशोक

2. दशरथ

3. बिंदुसार

4. चन्द्रगुप्त मौर्य

Question ID : 264330165559

Option 1 ID : 264330649317

Option 2 ID : 264330649318

Option 3 ID : 264330649316

Option 4 ID : 264330649315

Status : Answered

Chosen Option : 1

Q.26 आयनन ऊर्जा के बारे में दिए गए सही या गलत कथनों की पहचान कीजिए।

कथन A: किसी परमाणु की आयनन ऊर्जा, ऊर्जा की वह मात्रा है, जो गैस प्रावस्था में परमाणुओं के एक मोल से एक इलेक्ट्रॉन को निकालने के लिए आवश्यक होती है।

कथन B: आयनन ऊर्जा, समूहों में शीर्ष से नीचे की ओर जाने पर बढ़ती है, और आवर्त में बाएँ से दाएँ जाने पर घटती है।

Ans 1. केवल कथन A सही है

2. कथन A और B दोनों गलत हैं

3. कथन A और B दोनों सही हैं

4. केवल कथन B सही है

Question ID : 264330137996

Option 1 ID : 264330540591

Option 2 ID : 264330540592

Option 3 ID : 264330540594

Option 4 ID : 264330540593

Status : Not Answered

Chosen Option : --

Q.27 जवाहरलाल नेहरू के अधीन भारत की राष्ट्रीय अंतरिम सरकार का गठन कब किया गया था?

- Ans
- 1. 2 सितंबर 1945
 - 2. 20 सितंबर 1946
 - 3. 2 सितंबर 1946
 - 4. 2 सितंबर 1947

Question ID : 264330106613
Option 1 ID : 264330418753
Option 2 ID : 264330418755
Option 3 ID : 264330418756
Option 4 ID : 264330418754
Status : Answered
Chosen Option : 3

Q.28 भारत का शास्त्रीय नृत्य मोहिनीअट्टम निम्नलिखित में से किस राज्य से संबंधित है?

- Ans
- 1. आंध्र प्रदेश
 - 2. केरल
 - 3. मणिपुर
 - 4. उत्तर प्रदेश

Question ID : 26433094863
Option 1 ID : 264330372274
Option 2 ID : 264330372276
Option 3 ID : 264330372275
Option 4 ID : 264330372273
Status : Answered
Chosen Option : 2

Q.29 निम्नलिखित में से कौन सी एक बंगाली अनपढ़ महिला की आत्मकथा है, जिसने उस समय पवित्र ग्रंथों को पढ़ने के लिए गुप्त रूप से साक्षरता कौशल हासिल किए थे, जब लड़कियों और महिलाओं को शिक्षा से वंचित रखा गया था, और केवल घर के कामों के लिए उपयुक्त समझा जाता था?

- Ans
- 1. लक्ष्मीबाई तिलक द्वारा लिखित स्मृतिचित्र (Smritichitre by Lakshmbai Tilak)
 - 2. कमला दास द्वारा लिखित एंते कथा (Ente Katha by Kamala Das)
 - 3. बेबी कांबले द्वारा लिखित जीना अमुचा (Jina Amucha by Baby Kamble)
 - 4. रससुंदरी देवी द्वारा लिखित अमार जीबन (Amar Jiban by Rassundari Devi)

Question ID : 26433071427
Option 1 ID : 264330280132
Option 2 ID : 264330280133
Option 3 ID : 264330280135
Option 4 ID : 264330280134
Status : Not Answered
Chosen Option : --

Q.30 भारतीय संविधान के निम्नलिखित में से किस अनुच्छेद यह प्रावधान है कि राज्यपाल मुख्यमंत्री की नियुक्ति करता है, और बाद में मुख्यमंत्री राज्यपाल से मंत्रियों की नियुक्ति की अनुशंसा करता है?

- Ans
- 1. अनुच्छेद 165
 - 2. अनुच्छेद 164
 - 3. अनुच्छेद 167
 - 4. अनुच्छेद 163

Question ID : 264330113440
Option 1 ID : 264330445847
Option 2 ID : 264330445848
Option 3 ID : 264330445846
Option 4 ID : 264330445845
Status : Answered
Chosen Option : 1

Q.31 गोपिका वर्मा ने 2019 में निम्नलिखित में से किस नृत्य शैली में संगीत नाटक अकादमी पुरस्कार जीता?

- Ans
- 1. कथक
 - 2. भरतनाट्यम्
 - 3. कुचिपुड़ी
 - 4. मोहिनीअट्टम

Question ID : 264330145155
Option 1 ID : 264330568876
Option 2 ID : 264330568877
Option 3 ID : 264330568875
Option 4 ID : 264330568878
Status : Not Answered
Chosen Option : --

Q.32 Which part of the Indian Constitution deals with directive principles of state policy?

- Ans
- 1. Part IV
 - 2. Part V
 - 3. Part VII
 - 4. Part VI

Question ID : 264330111527
Option 1 ID : 264330438193
Option 2 ID : 264330438194
Option 3 ID : 264330438196
Option 4 ID : 264330438195
Status : Answered
Chosen Option : 1

Q.33 बोरॉन परिवार के किस तत्व का कथनांक उच्च होता है, जो इसे उन तापमानों को रिकॉर्ड करने के लिए आदर्श बनाता है, जिन पर अन्यथा थर्मामीटर वाष्पीकृत हो जाएगा?

- Ans
- 1. थैलियम
 - 2. इंडियम
 - 3. गैलियम
 - 4. एल्यूमिनियम

Question ID : 264330110058
Option 1 ID : 264330432509
Option 2 ID : 264330432511
Option 3 ID : 264330432510
Option 4 ID : 264330432512
Status : Not Answered
Chosen Option : --

Q.34 1983 में इसरो (ISRO) द्वारा लांच किए गए भूस्थिर उपग्रह का नाम क्या है, जो उच्च शक्ति टीवी प्रसारण और दूरसंचार राष्ट्रीय कवरेज ट्रांसपोंडर प्रदान करता है?

- Ans
- 1. RISAT-1
 - 2. GSAT-7
 - 3. भास्कर-1
 - 4. इनसैट-1B

Question ID : 264330111325
Option 1 ID : 264330437386
Option 2 ID : 264330437385
Option 3 ID : 264330437387
Option 4 ID : 264330437388
Status : Answered
Chosen Option : 4

Q.35 यूरोपीय लोग केवल व्यापार की मानसिकता से भारत आए थे। यह प्रवृत्ति निम्नलिखित में से किस यूरोपीय राष्ट्र द्वारा आरंभ की गई थी?

- Ans
- 1. पुर्तगाली
 - 2. डच
 - 3. ब्रिटेन
 - 4. फ्रेंच

Question ID : 264330165386
Option 1 ID : 264330648625
Option 2 ID : 264330648624
Option 3 ID : 264330648626
Option 4 ID : 264330648623
Status : Answered
Chosen Option : 1

Q.36 उस विशाल महामहाद्वीप का क्या नाम है, जो 200 मिलियन वर्ष पहले अस्तित्व में था, जब सभी महाद्वीप एक साथ थे?

- Ans
- 1. पैजिया
 - 2. भारत
 - 3. एशिया
 - 4. अमेरिका

Question ID : 26433064468
Option 1 ID : 264330252467
Option 2 ID : 264330252465
Option 3 ID : 264330252464
Option 4 ID : 264330252466
Status : Answered
Chosen Option : 1

Q.37 विश्व एथलेटिक्स चैम्पियनशिप 2022 में भारत ने कितने पदक जीते?

- Ans
- 1. 3
 - 2. 1
 - 3. 4
 - 4. 2

Question ID : 264330109685
Option 1 ID : 264330431019
Option 2 ID : 264330431017
Option 3 ID : 264330431020
Option 4 ID : 264330431018
Status : Answered
Chosen Option : 2

Q.38 निम्नलिखित में से कौन-सा कर समानुपातिक (proportional) प्रकृति का होता है?

- Ans
- 1. पूंजी लाभ कर
 - 2. आयकर
 - 3. वस्तु एवं सेवा कर
 - 4. निगम कर

Question ID : 264330145241
Option 1 ID : 264330569222
Option 2 ID : 264330569221
Option 3 ID : 264330569220
Option 4 ID : 264330569219
Status : Not Answered
Chosen Option : --

Q.39 निम्नलिखित में से कौन-सा, विटामिन D का सबसे महत्वपूर्ण स्वास्थ्य लाभ है?

- Ans
- 1. किशोर आयु के बाद तीव्र वृद्धि
 - 2. हृदय की धड़कन में वृद्धि करना
 - 3. अस्थियों और मांसपेशियों को मजबूत बनाना
 - 4. रक्तचाप कम करना

Question ID : 26433066708
Option 1 ID : 264330261356
Option 2 ID : 264330261359
Option 3 ID : 264330261357
Option 4 ID : 264330261358
Status : Answered
Chosen Option : 3

Q.40 दक्षिण भारत का निम्नलिखित में से कौन सा सांस्कृतिक उत्सव राजा महाबली की लोककथाओं से जुड़ा है?

- Ans
- 1. पोंगल
 - 2. उगादी
 - 3. गुड़ी पड़वा
 - 4. ओणम

Question ID : 264330145144
Option 1 ID : 264330568831
Option 2 ID : 264330568834
Option 3 ID : 264330568833
Option 4 ID : 264330568832
Status : Answered
Chosen Option : 1

Q.41 मोहिनीअट्टम निम्नलिखित में से किस राज्य से संबंधित है?

- Ans 1. छत्तीसगढ़
 2. केरल
 3. झारखंड
 4. कर्नाटक

Question ID : 264330164789

Option 1 ID : 264330646285

Option 2 ID : 264330646283

Option 3 ID : 264330646284

Option 4 ID : 264330646286

Status : Answered

Chosen Option : 2

Q.42 भारतीय संविधान का कौन-सा अनुच्छेद राज्य के अधीन नियोजन के मामले में सभी नागरिकों के लिए समान अवसर प्रदान करता है?

- Ans 1. अनुच्छेद 18
 2. अनुच्छेद 15
 3. अनुच्छेद 16
 4. अनुच्छेद 17

Question ID : 264330114489

Option 1 ID : 264330450044

Option 2 ID : 264330450041

Option 3 ID : 264330450042

Option 4 ID : 264330450043

Status : Answered

Chosen Option : 3

Q.43 भारत के निम्नलिखित में से किस स्थान पर दिन और रात्रि के तापमान में अधिकतम अंतर हो सकता है?

- Ans 1. जैसलमेर
 2. तिरुवनंतपुरम
 3. पोर्ट ब्लेयर
 4. कन्याकुमारी

Question ID : 264330169312

Option 1 ID : 264330664027

Option 2 ID : 264330664028

Option 3 ID : 264330664029

Option 4 ID : 264330664030

Status : Answered

Chosen Option : 1

Q.44 भारत के राष्ट्रपति, संसद सदस्यों की निर्हता के प्रश्न पर _____ के परामर्श से निर्णय लेते हैं।

- Ans 1. उप राष्ट्रपति
 2. संसद
 3. भारत के उच्चतम न्यायालय
 4. भारत के निर्वाचन आयोग

Question ID : 264330130470

Option 1 ID : 264330510992

Option 2 ID : 264330510991

Option 3 ID : 264330510993

Option 4 ID : 264330510994

Status : Answered

Chosen Option : 2

Q.45 तैमूर का दिल्ली पर आक्रमण किस वर्ष में हुआ था?

- Ans
- 1. 1221 में
 - 2. 1492 में
 - 3. 1526 में
 - 4. 1398 में

Question ID : 264330109005

Option 1 ID : 264330428297

Option 2 ID : 264330428300

Option 3 ID : 264330428299

Option 4 ID : 264330428298

Status : Answered

Chosen Option : 1

Q.46 मध्यकालीन भारत की भक्ति परंपरा से संबंधित वह राजपूत राजकुमारी निम्नलिखित में से कौन थी, जिसके गीत भगवान श्री कृष्ण को समर्पित थे?

- Ans
- 1. मीराबाई
 - 2. मुद्दुपलानी
 - 3. अक्का महादेवी
 - 4. लाल देद

Question ID : 26433074821

Option 1 ID : 264330293373

Option 2 ID : 264330293375

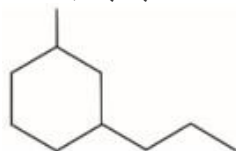
Option 3 ID : 264330293374

Option 4 ID : 264330293372

Status : Answered

Chosen Option : 1

Q.47 चित्र में दर्शाए गए कार्बनिक यौगिक का IUPAC नाम क्या है?



- Ans
- 1. 1-मेथिल-2-प्रोपिलसाइक्लोहेक्सेन
 - 2. 1-मेथिल-1-प्रोपिलसाइक्लोहेक्सेन
 - 3. 1-मेथिल-4-प्रोपिलसाइक्लोहेक्सेन
 - 4. 1-मेथिल-3-प्रोपिलसाइक्लोहेक्सेन

Question ID : 264330131672

Option 1 ID : 264330515788

Option 2 ID : 264330515787

Option 3 ID : 264330515790

Option 4 ID : 264330515789

Status : Answered

Chosen Option : 4

Q.48 फीफा महिला विश्व कप (FIFA Women's World Cup) 2023 की मेजबानी _____ द्वारा की जाएगी।

- Ans 1. ऑस्ट्रेलिया और न्यूज़ीलैंड (Australia and New Zealand)
 2. फ्रांस और जर्मनी (France and Germany)
 3. यूएसए और कनाडा (USA and Canada)
 4. ब्राज़ील और अर्जेंटीना (Brazil and Argentina)

Question ID : 264330109845
Option 1 ID : 264330431659
Option 2 ID : 264330431657
Option 3 ID : 264330431660
Option 4 ID : 264330431658
Status : Answered
Chosen Option : 1

Q.49 Which of the following government departments is associated with infrastructure development in India?

- Ans 1. Division of Economic Agenda
 2. Division of Electricity Agenda
 3. Department of Energy Affairs
 4. Department of Economic Affairs

Question ID : 264330163203
Option 1 ID : 264330640124
Option 2 ID : 264330640126
Option 3 ID : 264330640123
Option 4 ID : 264330640125
Status : Answered
Chosen Option : 4

Q.50 रोंगकर उत्सव निम्नलिखित में से किस जनजाति द्वारा मनाया जाता है?

- Ans 1. आओ
 2. गोंड
 3. कार्बी
 4. भील

Question ID : 264330164804
Option 1 ID : 264330646343
Option 2 ID : 264330646345
Option 3 ID : 264330646344
Option 4 ID : 264330646346
Status : Not Answered
Chosen Option : --

Section : Quantitative Aptitude

Q.1 दो संख्याओं का लघुत्तम समापवर्त्य (LCM) 660 है, और महत्तम समापवर्तक (HCF) 5 है। यदि इनमें से एक संख्या 55 है, तो दूसरी संख्या ज्ञात कीजिए।

Ans ✓ 1. 60

✗ 2. 12

✗ 3. 275

✗ 4. 110

Question ID : 264330102312

Option 1 ID : 264330401715

Option 2 ID : 264330401713

Option 3 ID : 264330401714

Option 4 ID : 264330401716

Status : Answered

Chosen Option : 1

Q.2 यदि $\sec A - \tan A = p$ है, तो $\sec A$ का मान ज्ञात कीजिए।

Ans

✗ 1. $\frac{p^2 - 1}{p^2 + 1}$

✓ 2. $\frac{p^2 + 1}{2p}$

✗ 3. $\frac{p^2 + 1}{p}$

✗ 4. $\frac{p^2 + 1}{p^2 - 1}$

Question ID : 264330157747

Option 1 ID : 264330618350

Option 2 ID : 264330618347

Option 3 ID : 264330618348

Option 4 ID : 264330618349

Status : Answered

Chosen Option : 2

Q.3 निम्नलिखित व्यंजक का मान क्या होगा?

$$\frac{(3.254 \times 3.254 \times 3.254) - (0.746 \times 0.746 \times 0.746)}{(3.254 \times 3.254) + (0.746 \times 0.746) + (3.254 \times 0.746)}$$

Ans ✗ 1. 2.146

✗ 2. 3.156

✓ 3. 2.508

✗ 4. 4.508

Question ID : 264330157769

Option 1 ID : 264330618438

Option 2 ID : 264330618437

Option 3 ID : 264330618435

Option 4 ID : 264330618436

Status : Answered

Chosen Option : 3

Q.4 वह छोटी से छोटी प्राकृत संख्या कौन-सी है जो 96, 108 और 144 में से प्रत्येक से पूरी तरह से विभाज्य है?

Ans 1. 864

2. 1728

3. 2592

4. 1296

Question ID : 264330103227

Option 1 ID : 264330405215

Option 2 ID : 264330405216

Option 3 ID : 264330405214

Option 4 ID : 264330405213

Status : Answered

Chosen Option : 4

Q.5 नीचे दी गई तालिका 2001 से 2005 के दौरान दो कंपनियों P और Q द्वारा किए गए जूट के कपड़े के उत्पादन (लाख मीटर में) को दर्शाती है।

वर्ष	कंपनी P	कंपनी Q
2001	100	96
2002	120	130
2003	108	100
2004	190	180
2005	240	275

किस/किन वर्ष/वर्षों में, कंपनी Q ने, कंपनी P की तुलना में, अधिक कपड़े का उत्पादन किया?

Ans 1. 2005

2. 2002

3. 2003, 2005

4. 2002, 2005

Question ID : 264330165072

Option 1 ID : 264330647417

Option 2 ID : 264330647415

Option 3 ID : 264330647418

Option 4 ID : 264330647416

Status : Answered

Chosen Option : 4

Q.6

$\sqrt{\frac{1 - \tan A}{1 + \tan A}}$ का मान ज्ञात कीजिए।

Ans

✓ 1. $\sqrt{\frac{1 - \sin 2A}{\cos 2A}}$

✗ 2. $\sqrt{\frac{1 - \sin A}{\cos A}}$

✗ 3. $\sqrt{\frac{1 + \sin A}{\cos A}}$

✗ 4. $\sqrt{\frac{1 + \sin 2A}{\cos 2A}}$

Question ID : 264330131547

Option 1 ID : 264330515292

Option 2 ID : 264330515293

Option 3 ID : 264330515294

Option 4 ID : 264330515291

Status : Answered

Chosen Option : 1

Q.7 एक आयताकार मैदान का क्षेत्रफल 480 m^2 है। यदि इसकी लंबाई, चौड़ाई से 20% अधिक हो, तो आयताकार मैदान की लंबाई ज्ञात कीजिए।

Ans ✗ 1. 30 m

✓ 2. 24 m

✗ 3. 27 m

✗ 4. 20 m

Question ID : 264330165653

Option 1 ID : 264330649691

Option 2 ID : 264330649693

Option 3 ID : 264330649692

Option 4 ID : 264330649694

Status : Answered

Chosen Option : 2

Q.8 दी गई तालिका का अध्ययन कीजिए और नीचे दिए गए प्रश्न का उत्तर दीजिए।

तालिका उन लोगों की संख्या दर्शाती है जिन्होंने संगीत की अपनी पसंदीदा शैली के बारे में एक सर्वेक्षण में प्रतिक्रिया दी है।

आयु	18-20	21-30	31+
शास्त्रीय	8	5	15
पॉप	5	11	10
हिप-हॉप	6	9	8
रॉक	9	7	13
कुल	28	32	46

सर्वेक्षण किए गए कुल लोगों के कितने प्रतिशत ने संकेत दिया है कि उनकी पसंदीदा शैली रॉक संगीत है (दो दशमलव स्थान तक पूर्णांकित)?

- Ans
- 1. 29.65%
 - 2. 18.25%
 - 3. 22.35%
 - 4. 27.36%

Question ID : 264330158262
Option 1 ID : 264330620410
Option 2 ID : 264330620407
Option 3 ID : 264330620408
Option 4 ID : 264330620409
Status : Answered
Chosen Option : 4

Q.9 निम्नलिखित का मान ज्ञात कीजिए।

$$19 \div 5(27 - \overline{15 - 21}) + 37$$

- Ans
- 1. $\frac{6124}{165}$
 - 2. $\frac{6142}{165}$
 - 3. $\frac{37}{165}$
 - 4. $\frac{19}{165}$

Question ID : 26433073053
Option 1 ID : 264330286406
Option 2 ID : 264330286404
Option 3 ID : 264330286407
Option 4 ID : 264330286405
Status : Marked For Review
Chosen Option : 2

Q.10 एक विक्रेता ने एक मेज के क्रय मूल्य में 35% लाभ जोड़ने के बाद उसका विक्रय मूल्य ₹5,670 अंकित किया। चूँकि इस मूल्य स्तर पर बिक्री बहुत कम थी, इसलिए उसने मेज को 12% लाभ पर बेचने का फैसला किया। नया विक्रय मूल्य (₹में) ज्ञात कीजिए।

- Ans
- 1. 4,810
 - 2. 4,750
 - 3. 4,608
 - 4. 4,704

Question ID : 264330131519
Option 1 ID : 264330515179
Option 2 ID : 264330515180
Option 3 ID : 264330515182
Option 4 ID : 264330515181
Status : Answered
Chosen Option : 4

Q.11 बादाम के मूल्य में 10% की वृद्धि होने पर, बादाम की खपत में कितने प्रतिशत की कमी की जानी चाहिए, ताकि उस पर होने वाला खर्च पूर्ववत् ही रहे?

- Ans
- 1. $8\frac{1}{11}\%$
 - 2. $5\frac{3}{11}\%$
 - 3. $10\frac{3}{11}\%$
 - 4. $9\frac{1}{11}\%$

Question ID : 264330145038
Option 1 ID : 264330568407
Option 2 ID : 264330568410
Option 3 ID : 264330568409
Option 4 ID : 264330568408
Status : Answered
Chosen Option : 4

Q.12 तीन कारों को समान दूरी तय करने में लगने वाले समय का अनुपात 12 : 15 : 10 है। तीनों कारों की चालों का अनुपात ज्ञात करें।

- Ans
- 1. 4 : 5 : 6
 - 2. 5 : 6 : 4
 - 3. 5 : 4 : 6
 - 4. 4 : 6 : 5

Question ID : 264330103971
Option 1 ID : 264330408186
Option 2 ID : 264330408188
Option 3 ID : 264330408185
Option 4 ID : 264330408187
Status : Answered
Chosen Option : 3

Q.13 दो शंकुओं की ऊंचाई 7:5 के अनुपात में है और उनके व्यास का अनुपात 10:21 है। उनके आयतन का अनुपात ज्ञात करें। (जहाँ $\pi = \frac{22}{7}$)।

- Ans
- 1. 26:47
 - 2. 17:21
 - 3. 14:19
 - 4. 20:63

Question ID : 264330104376
Option 1 ID : 264330409808
Option 2 ID : 264330409805
Option 3 ID : 264330409807
Option 4 ID : 264330409806
Status : Answered
Chosen Option : 4

Q.14 रमेश ने एक बैंक से साधारण ब्याज की एक निश्चित दर पर ₹15,000 उधार लिए। उसने 5 वर्षों के बाद ₹6,000 (मूलधन है, लेकिन ब्याज नहीं होगा) चुकाए, और इसके बाद 5 और वर्षों के बाद उसने ₹18,600 का भुगतान किया, और अपना खाते का निपटान किया, तो साधारण ब्याज की वार्षिक दर ज्ञात कीजिए।

- Ans
- 1. 12%
 - 2. 8%
 - 3. 10%
 - 4. 6%

Question ID : 264330169924
Option 1 ID : 264330666374
Option 2 ID : 264330666372
Option 3 ID : 264330666373
Option 4 ID : 264330666371
Status : Marked For Review
Chosen Option : 2

Q.15 एक व्यक्ति के पास लोहे की तीन छड़ें हैं, जिनकी लंबाइयां क्रमशः 20, 30 और 40 मीटर हैं। वह तीनों छड़ों में से प्रत्येक से समान लंबाई के टुकड़े काटना चाहता है। यदि वह बिना किसी अपव्यय के टुकड़े काटता है, तो कुल टुकड़ों की न्यूनतम संख्या कितनी है?

- Ans
- 1. 8
 - 2. 11
 - 3. 9
 - 4. 10

Question ID : 26433063434
Option 1 ID : 264330248391
Option 2 ID : 264330248390
Option 3 ID : 264330248388
Option 4 ID : 264330248389
Status : Answered
Chosen Option : 3

Q.16 एक कार, 5 घंटे की अपनी पूरी यात्रा के दौरान, पहले 45 मिनट एक निश्चित चाल से, अगले 75 मिनट 85 km/h की चाल से, और अंतिम 3 घंटे 70 km/h की चाल से तय करती है। अपनी पूरी यात्रा के दौरान, कार की औसत चाल 73 km/h पाई जाती है। पहले 45 मिनट के दौरान कार की चाल (km/h में) ज्ञात करें।

Ans 1. 72

2. 65

3. 68

4. 62

Question ID : 264330103989

Option 1 ID : 264330408259

Option 2 ID : 264330408258

Option 3 ID : 264330408257

Option 4 ID : 264330408260

Status : Not Answered

Chosen Option : --

Q.17 0.3, 0.8 और 0.108 का चतुर्थानुपाती (fourth proportional) क्या होगा?

Ans 1. 0.124

2. 0.482

3. 0.144

4. 0.288

Question ID : 264330145036

Option 1 ID : 264330568401

Option 2 ID : 264330568402

Option 3 ID : 264330568399

Option 4 ID : 264330568400

Status : Answered

Chosen Option : 4

Q.18 पीटर ने 10% वार्षिक साधारण ब्याज देने वाली एक योजना में एक निश्चित राशि का निवेश किया, जबकि रेचल ने वार्षिक चक्रवृद्धि आधार पर गणनीय 10% वार्षिक ब्याज दर वाली एक योजना में पीटर से आधी राशि का निवेश किया। पीटर ने 2 वर्ष के लिए निवेश किया, तथा रेचल ने 3 वर्ष के लिए निवेश किया। यदि उनके द्वारा अर्जित ब्याजों में ₹897 का अंतर था, तो रेचल ने कितनी राशि का निवेश किया था?

Ans 1. ₹12,900

2. ₹12,960

3. ₹13,100

4. ₹13,000

Question ID : 264330145053

Option 1 ID : 264330568468

Option 2 ID : 264330568467

Option 3 ID : 264330568469

Option 4 ID : 264330568470

Status : Not Answered

Chosen Option : --

Q.19 200 m और 250 m लंबी दो ट्रेनें समानांतर रेल पटरियों पर क्रमशः 68 km/h और 50 km/h की चाल से चल रही हैं। यदि वे एक ही दिशा में चल रही हैं, तो वे एक दूसरे को कितने समय में (सेकंड में) पार करेंगी?

Ans 1. 75

2. 90

3. 80

4. 85

Question ID : 26433082986

Option 1 ID : 264330325777

Option 2 ID : 264330325780

Option 3 ID : 264330325778

Option 4 ID : 264330325779

Status : Answered

Chosen Option : 2

Q.20 दो संख्याओं का लघुत्तम समापवर्त्य (LCM) और महत्तम समापवर्तक (HCF) 1105 और 5 है। यदि लघुत्तम समापवर्त्य (LCM) पहली संख्या का 17 गुना है, तो दोनों संख्याएं ज्ञात कीजिए।

Ans 1. 65 और 85

2. 60 और 80

3. 55 और 85

4. 65 और 75

Question ID : 26433065039

Option 1 ID : 264330254748

Option 2 ID : 264330254751

Option 3 ID : 264330254750

Option 4 ID : 264330254749

Status : Answered

Chosen Option : 1

Q.21 निम्न तालिका गरीबी रेखा से नीचे के चार शहरों की प्रतिशत जनसंख्या और पुरुषों एवं महिलाओं का अनुपात दर्शाती है:

शहर	गरीबी रेखा से नीचे वाली जनसंख्या का प्रतिशत	गरीबी रेखा से नीचे	गरीबी रेखा से ऊपर
		पुरुष: महिला	पुरुष: महिला
A	10	1 : 3	3 : 2
B	15	3 : 4	1 : 2
C	20	2 : 3	5 : 3
D	25	4 : 5	5 : 4

यदि शहर C की कुल जनसंख्या 8000 है, तो राज्य C में गरीबी रेखा से ऊपर वाली महिलाओं की संख्या कितनी है?

Ans 1. 2600

2. 2400

3. 2200

4. 2000

Question ID : 264330167244

Option 1 ID : 264330655974

Option 2 ID : 264330655973

Option 3 ID : 264330655972

Option 4 ID : 264330655971

Status : Answered

Chosen Option : 2

Q.22 एक ट्रेन दो स्टेशनों के बीच 540 km की दूरी 240 मिनट में तय करती है। यह 90 km/h की चाल से 5 घंटे में एक अन्य स्टेशन तक की यात्रा तय करती है। ट्रेन की औसत चाल (km/h में) कितनी है?

Ans 1. 100

2. 110

3. 120

4. 112

Question ID : 264330106345

Option 1 ID : 264330417682

Option 2 ID : 264330417684

Option 3 ID : 264330417683

Option 4 ID : 264330417681

Status : Not Answered

Chosen Option : --

Q.23 एक कार्यालय में, 75 कर्मचारी एक परियोजना को 60 दिनों में पूरा कर सकते हैं। कुछ दिनों के बाद, 15 कर्मचारियों ने कार्य छोड़ दिया, और परियोजना 65 दिनों में पूर्ण हुई। 15 कर्मचारियों ने कितने दिनों के बाद कार्य छोड़ दिया था?

Ans ✓ 1. 40

✗ 2. 30

✗ 3. 50

✗ 4. 45

Question ID : 264330118107

Option 1 ID : 264330464243

Option 2 ID : 264330464246


Option 3 ID : 264330464245

Option 4 ID : 264330464244

Status : Not Answered

Chosen Option : --

Q.24 निम्नांकित पाई-चार्ट एक परीक्षा में विभिन्न विषयों में अनुत्तीर्ण छात्रों की संख्या को दर्शाता है। चार्ट का अवलोकन कीजिए, और निम्नलिखित प्रश्न का उत्तर दीजिए। अनुत्तीर्ण होने वाले छात्रों की कुल संख्या 350 है।



Social = सामाजिक

English = अंग्रेजी

Hindi = हिंदी

Mathematics = गणित

Physics = भौतिकविज्ञान

Chemistry = रसायनविज्ञान

गणित में अनुत्तीर्ण छात्रों की संख्या, अन्य सभी विषयों में अनुत्तीर्ण छात्रों की संख्या से कितनी कम है?

Ans ✗ 1. 190

✗ 2. 95

✗ 3. 256

✓ 4. 161

Question ID : 264330165435

Option 1 ID : 264330648822

Option 2 ID : 264330648819

Option 3 ID : 264330648821

Option 4 ID : 264330648820

Status : Answered

Chosen Option : 4

Q.25 अक्षिता और रैना एक किताब टाइप कर रहे हैं, लेकिन उनके पास कार्य करने के लिए केवल एक लैपटॉप है। उन्होंने तय किया कि वे बारी-बारी से कार्य करेंगे, जैसे कि अक्षिता पहले दिन कार्य करती है, रैना दूसरे दिन कार्य करती है, अक्षिता तीसरे दिन और इसी तरह आगे कार्य चलता रहता है। अक्षिता अकेले इस टाइपिंग कार्य को 16 दिनों में पूरा कर सकती है, जबकि रैना को अकेले पूरी किताब का कार्य करने के लिए 24 दिन लगेंगे। यदि वे बारी-बारी से कार्य करती हैं, तो उन्हें टाइपिंग का कार्य पूरा करने में कितने दिन लगेंगे?

Ans 1. 17

2. 19

3. 15

4. 18

Question ID : 26433082512

Option 1 ID : 264330323881

Option 2 ID : 264330323884

Option 3 ID : 264330323883

Option 4 ID : 264330323882

Status : Not Answered

Chosen Option : --

Q.26 उस त्रिभुज का क्षेत्रफल ज्ञात कीजिए, जिसकी दो भुजाओं की लंबाइयां 4 cm और 5 cm हैं, और उनके बीच का कोण 45° है।

Ans 1. $6\sqrt{2} \text{ cm}^2$

2. $7\sqrt{2} \text{ cm}^2$

3. $5\sqrt{2} \text{ cm}^2$

4. $4\sqrt{2} \text{ cm}^2$

Question ID : 264330103632

Option 1 ID : 264330406834

Option 2 ID : 264330406833

Option 3 ID : 264330406835

Option 4 ID : 264330406836

Status : Answered

Chosen Option : 3

Q.27 निम्न तालिका चार अलग-अलग वर्षों में चार अलग-अलग स्टोर द्वारा बेचे गए मोबाइल फोन की संख्या को दर्शाती है।

स्टोर	2012	2013	2014	2015
P	178	183	205	225
Q	133	198	220	235
R	284	250	220	198
S	225	243	199	205

2013 में स्टोर Q द्वारा बेचे गए मोबाइल फोन की संख्या, और 2015 में स्टोर S द्वारा बेचे गए मोबाइल फोन की संख्या के बीच का अंतर ज्ञात करें।

- Ans
- 1. 10
 - 2. 12
 - 3. 8
 - 4. 7

Question ID : 264330158616

Option 1 ID : 264330621823

Option 2 ID : 264330621825

Option 3 ID : 264330621826

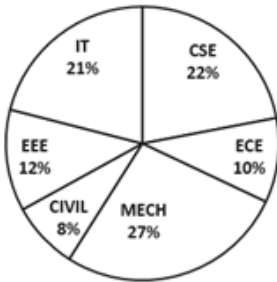
Option 4 ID : 264330621824

Status : Answered

Chosen Option : 4

Q.28 नीचे दिए गए पाई-चार्ट का अध्ययन कीजिए, और निम्नलिखित प्रश्न का उत्तर दीजिए।
बीटेक में विशेषज्ञता के संदर्भ में छात्रों का प्रतिशत-वार विवरण

TOTAL NUMBER OF STUDENTS = 6700



Total Number of Students = छात्रों की कुल संख्या
CSE, ECE और CIVIL में विशेषज्ञता रखने वाले छात्रों की कुल संख्या कितनी है?

- Ans
- 1. 2840
 - 2. 2680
 - 3. 2480
 - 4. 2860

Question ID : 264330165433

Option 1 ID : 264330648814

Option 2 ID : 264330648813

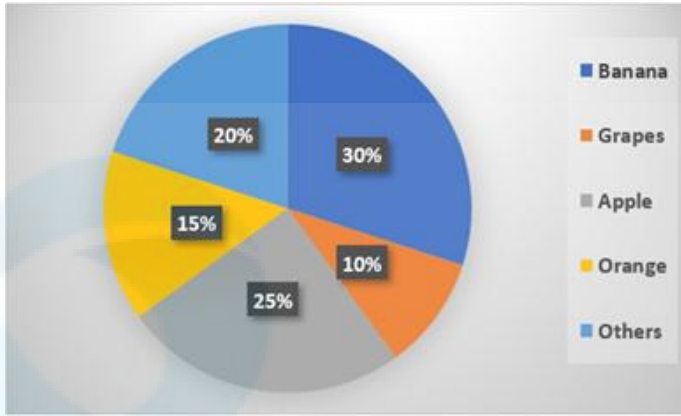
Option 3 ID : 264330648811

Option 4 ID : 264330648812

Status : Answered

Chosen Option : 2

Q.29 दिए गए पाई-चार्ट का अध्ययन करें, और निम्नलिखित प्रश्न का उत्तर दें।
निम्न पाई-चार्ट एक दुकान में एक दिन में विभिन्न फलों की बिक्री को दर्शाता है।



Banana = केला, Grapes = अंगूर, Apple = सेब, Orange = संतरा, Others = अन्य
यदि एक दिन में कुल 1200 kg फल बेचे गए, तो बेचे गए केलों की मात्रा (kg में) की गणना कीजिए।

- Ans
- 1. 260
 - 2. 330
 - 3. 290
 - 4. 360

Question ID : 264330157737

Option 1 ID : 264330618307

Option 2 ID : 264330618309

Option 3 ID : 264330618308

Option 4 ID : 264330618310

Status : Answered

Chosen Option : 4

Q.30 $\frac{(157 \times 157) + (157 \times 133) + (133 \times 133)}{(157 \times 157 \times 157) - (133 \times 133 \times 133)}$ का मान क्या होगा?

- Ans
- 1. 24
 - 2. 290
 - 3. $\frac{1}{24}$
 - 4. $\frac{1}{290}$

Question ID : 264330157765

Option 1 ID : 264330618419

Option 2 ID : 264330618421

Option 3 ID : 264330618420

Option 4 ID : 264330618422

Status : Answered

Chosen Option : 1

Q.31 ΔPQR में, $\angle P:\angle Q:\angle R=3:4:8$ है। त्रिभुज की सबसे छोटी भुजा और सबसे बड़ी भुजा क्रमशः _____ हैं।

Ans 1. QR और PQ

2. QR और PR

3. PQ और PR

4. PQ और QR

Question ID : 264330158284

Option 1 ID : 264330620497

Option 2 ID : 264330620498

Option 3 ID : 264330620496

Option 4 ID : 264330620495

Status : Answered

Chosen Option : 1

Q.32 यदि किसी गोले का व्यास घटाकर आधा कर दिया जाए, तो उसके आयतन पर क्या प्रभाव पड़ेगा?

Ans 1. पूर्व आयतन से $\frac{1}{8}$ घट जाएगा

2. पूर्व आयतन से $\frac{1}{8}$ बढ़ जाएगा

3. पूर्व आयतन से $\frac{1}{4}$ घट जाएगा

4. पूर्व आयतन से $\frac{1}{4}$ बढ़ जाएगा

Question ID : 264330145110

Option 1 ID : 264330568696

Option 2 ID : 264330568698

Option 3 ID : 264330568697

Option 4 ID : 264330568695

Status : Answered

Chosen Option : 1

Q.33 यदि एक दुकानदार अपने ग्राहकों को 10% की छूट देता है, और फिर भी 30% का लाभ कमाता है, तो उस वस्तु का अंकित मूल्य ज्ञात करें, जिसका क्रय मूल्य ₹450 है।

Ans 1. ₹750

2. ₹650

3. ₹500

4. ₹700

Question ID : 264330104506

Option 1 ID : 264330410328

Option 2 ID : 264330410326

Option 3 ID : 264330410325

Option 4 ID : 264330410327

Status : Answered

Chosen Option : 2

Q.34 टॉम किसी कार्य को 7 दिनों में कर सकता है, जबकि जय उसी कार्य को 14 दिनों में कर सकता है। यदि दोनों एक साथ कार्य करते हैं, तो वे कार्य को पूरा करने में कितना समय लेंगे?

Ans

✗ 1. $2\frac{2}{3}$ दिन

✓ 2. $4\frac{2}{3}$ दिन

✗ 3. $7\frac{2}{3}$ दिन

✗ 4. $5\frac{2}{3}$ दिन

Question ID : 264330102373

Option 1 ID : 264330401959

Option 2 ID : 264330401958

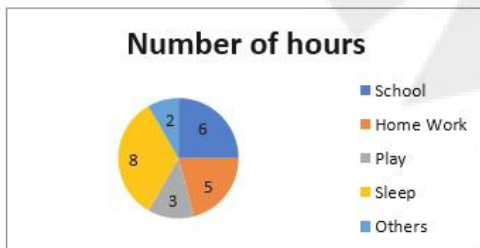
Option 3 ID : 264330401960

Option 4 ID : 264330401957

Status : Answered

Chosen Option : 2

Q.35 निम्न पाई चार्ट में एक छात्र द्वारा विभिन्न गतिविधियों में बिताए गए घंटों की संख्या को दिखाया गया है:



घंटों की संख्या

- स्कूल
- गृहकार्य
- खेलना
- सोना
- अन्य

सोने के समय का संगत केंद्रीय कोण, पूरे केंद्रीय कोण का कितना प्रतिशत है?

Ans ✗ 1. 66.66%

✗ 2. 55%

✓ 3. 33.33%

✗ 4. 50%

Question ID : 264330145081

Option 1 ID : 264330568580

Option 2 ID : 264330568582

Option 3 ID : 264330568579

Option 4 ID : 264330568581

Status : Answered

Chosen Option : 3

Q.36 36 cm व्यास वाले एक अर्धगोलाकार कंटेनर में द्रव रूप में एक दवा तैयार की जाती है। जब कंटेनर दवा से पूरा भरा होता है, तो दवा को 6 cm व्यास और 6 cm ऊंचाई वाली छोटी बेलनाकार बोतलों में स्थानांतरित किया जाता है। कंटेनर को खाली करने के लिए ऐसी कितनी बोतलों की आवश्यकता होगी?

Ans 1. 72

2. 75

3. 70

4. 76

Question ID : 264330145118

Option 1 ID : 264330568728

Option 2 ID : 264330568729

Option 3 ID : 264330568727

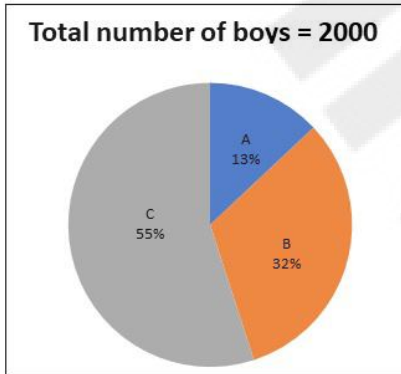
Option 4 ID : 264330568730

Status : Answered

Chosen Option : 1

Q.37 दिए गए पाई-चार्ट का अध्ययन कीजिए और निम्नलिखित प्रश्न का उत्तर दीजिए।

पाई-चार्ट, विभिन्न स्कूलों (A, B, C) के प्ले ग्रुप में पढ़ने वाले लड़कों की संख्या को दर्शाता है।



Total Number of boys = 2000 , लड़कों की कुल संख्या = 2000

स्कूल A और C में पढ़ने वाले लड़कों की औसत संख्या कितनी है?

Ans 1. 560

2. 740

3. 920

4. 680

Question ID : 264330158278

Option 1 ID : 264330620474

Option 2 ID : 264330620472

Option 3 ID : 264330620471

Option 4 ID : 264330620473

Status : Answered

Chosen Option : 4

Q.38 In a circle centred at O, PQ is a tangent at P. Furthermore, AB is the chord of the circle and is extended to Q. If PQ = 12 cm and QB = 8 cm, then the length of AB is equal to:

- Ans
- 1. 8 cm
 - 2. 4 cm
 - 3. 20 cm
 - 4. 10 cm

Question ID : 264330165494

Option 1 ID : 264330649056

Option 2 ID : 264330649055

Option 3 ID : 264330649058

Option 4 ID : 264330649057

Status : Answered

Chosen Option : 4

Q.39 1000 km की दूरी तय करने के बाद, पटरियों की मरम्मत की वजह से एक ट्रेन धीमी हो गई। इस यात्रा के लिए इसकी औसत चाल में 75 km/h की कमी हो जाती है, और यात्रा का समय 3 घंटे बढ़ जाता है। यात्रा की मूल अवधि कितनी है?

- Ans
- 1. 6.5 घंटे
 - 2. 5 घंटे
 - 3. 5.5 घंटे
 - 4. 6 घंटे

Question ID : 264330104389

Option 1 ID : 264330409857

Option 2 ID : 264330409858

Option 3 ID : 264330409860

Option 4 ID : 264330409859

Status : Not Answered

Chosen Option : --

Q.40 ₹700 पर 35% की एकल छूट, और समान राशि पर 18% और 12% की दो क्रमिक छूटों के बीच का अंतर ज्ञात कीजिए (दशमलव के दो स्थानों तक पूर्णांकित करें)।

- Ans
- 1. ₹52.10
 - 2. ₹50.12
 - 3. ₹49.80
 - 4. ₹51.20

Question ID : 264330165523

Option 1 ID : 264330649172

Option 2 ID : 264330649173

Option 3 ID : 264330649174

Option 4 ID : 264330649171

Status : Answered

Chosen Option : 2

Q.41 3888 और 3969 का महत्तम समापवर्तक (HCF) ज्ञात कीजिए।

- Ans 1. 83
 2. 81
 3. 73
 4. 71

Question ID : 264330145042
Option 1 ID : 264330568425
Option 2 ID : 264330568423
Option 3 ID : 264330568426
Option 4 ID : 264330568424
Status : Answered
Chosen Option : 2

Q.42 तीन विक्रेताओं से गुज़रने वाली एक ज़मीन का मूल्य में कुल मिलाकर 65% की वृद्धि होती है। पहले और दूसरे विक्रेता ने क्रमशः 20% और 25% लाभ अर्जित किया। तीसरे विक्रेता द्वारा अर्जित प्रतिशत लाभ ज्ञात कीजिए।

- Ans 1. 10%
 2. 20%
 3. 25%
 4. 15%

Question ID : 264330102343
Option 1 ID : 264330401838
Option 2 ID : 264330401837
Option 3 ID : 264330401840
Option 4 ID : 264330401839
Status : Not Answered
Chosen Option : --

Q.43 एक संख्या में पहले 28% की कमी की जाती है, और फिर 28% की वृद्धि की जाती है। इस प्रकार प्राप्त संख्या, मूल संख्या से 784 कम है। मूल संख्या ज्ञात करें।

- Ans 1. 15000
 2. 1500
 3. 1000
 4. 10000

Question ID : 264330103389
Option 1 ID : 264330405863
Option 2 ID : 264330405864
Option 3 ID : 264330405862
Option 4 ID : 264330405861
Status : Answered
Chosen Option : 4

Q.44 यदि $7 \sin^2 A + 3 \cos^2 A = 4$ है, तो $\cot A$ का मान ज्ञात कीजिए।

Ans

✗ 1. $\frac{1}{\sqrt{3}}$

✓ 2. $\sqrt{3}$

✗ 3. $\frac{1}{\sqrt{2}}$

✗ 4. $\sqrt{2}$

Question ID : 264330158421

Option 1 ID : 264330621044

Option 2 ID : 264330621043

Option 3 ID : 264330621046

Option 4 ID : 264330621045

Status : Answered

Chosen Option : 2

Q.45 धारा की विपरीत दिशा में एक नाव की चाल 8 km/h है, और धारा की दिशा में उस नाव की चाल 15 km/h है। शांत जल में नाव की चाल और धारा की चाल (km/h में) क्रमशः ज्ञात कीजिए।

Ans

✓ 1. 11.5 और 3.5

✗ 2. 3 और 11

✗ 3. 3.5 और 11.5

✗ 4. 11 और 3

Question ID : 264330119531

Option 1 ID : 264330468407

Option 2 ID : 264330468410

Option 3 ID : 264330468408

Option 4 ID : 264330468409

Status : Answered

Chosen Option : 1

Q.46 $2(\sin 1^\circ \times \sec 89^\circ) + 3(\cos 11^\circ \times \operatorname{cosec} 79^\circ) + 5(\tan 21^\circ \times \tan 69^\circ) = ?$

Ans

✓ 1. 10

✗ 2. 12

✗ 3. 11

✗ 4. 20

Question ID : 264330145124

Option 1 ID : 264330568754

Option 2 ID : 264330568751

Option 3 ID : 264330568753

Option 4 ID : 264330568752

Status : Answered

Chosen Option : 1

Q.47 एक स्टॉक का मूल्य पहले वर्ष में 30% बढ़ जाती है, और दूसरे वर्ष में 20% घट जाती है। यदि एक निवेशक ने ₹1,000 में उस स्टॉक के 100 शेयर खरीदे, तो 2 वर्ष बाद निवेश का अंतिम मूल्य कितना होगा?

- Ans 1. ₹960
 2. ₹1,040
 3. ₹1,020
 4. ₹1,400

Question ID : 264330157709
Option 1 ID : 264330618198
Option 2 ID : 264330618197
Option 3 ID : 264330618195
Option 4 ID : 264330618196
Status : Answered
Chosen Option : 2

Q.48 त्रिभुज ABC में, यदि $\angle B = 90^\circ$, $\angle C = 45^\circ$ और $AC = 4 \text{ cm}$ है, तो BC का मान _____ है।

- Ans 1. $2\sqrt{2} \text{ cm}$
 2. $4\sqrt{2} \text{ cm}$
 3. $\sqrt{2} \text{ cm}$
 4. 4 cm

Question ID : 264330157741
Option 1 ID : 264330618324
Option 2 ID : 264330618323
Option 3 ID : 264330618326
Option 4 ID : 264330618325
Status : Answered
Chosen Option : 1

Q.49 मान लीजिए ABC और PQR दो सर्वांगसम त्रिभुज इस प्रकार हैं कि $\angle A = \angle P = 90^\circ$ है। यदि $BC = 17 \text{ cm}$, $PR = 8 \text{ cm}$ है, तो AB का मान (cm में) ज्ञात कीजिए।

- Ans 1. 12
 2. 15
 3. 14
 4. 9

Question ID : 264330157743
Option 1 ID : 264330618332
Option 2 ID : 264330618334
Option 3 ID : 264330618333
Option 4 ID : 264330618331
Status : Answered
Chosen Option : 2

Q.50 240, 280 और 560 का महत्तम समापवर्तक (HCF) ज्ञात कीजिए।

- Ans 1. 30
 2. 40
 3. 10
 4. 20

Question ID : 26433065034
Option 1 ID : 264330254731
Option 2 ID : 264330254728
Option 3 ID : 264330254730
Option 4 ID : 264330254729
Status : Answered
Chosen Option : 2

Section : English Comprehension

Q.1 Choose the most appropriate meaning of the underlined phrase.
What we need is skilled and energetic planning and elbow grease.

- Ans 1. Hard work that one puts into removing grease
 2. Hard work that one puts into doing something
 3. The grease that is earned through labour
 4. Hard work that one puts into cleaning one's elbow

Question ID : 264330137457
Option 1 ID : 264330538451
Option 2 ID : 264330538454
Option 3 ID : 264330538453
Option 4 ID : 264330538452
Status : Answered
Chosen Option : 2

Q.2 Select the most appropriate ANTONYM of the given word.

Abhor

- Ans 1. Occupy
 2. Love
 3. Danger
 4. Despise

Question ID : 264330163376
Option 1 ID : 264330640794
Option 2 ID : 264330640793
Option 3 ID : 264330640792
Option 4 ID : 264330640791
Status : Answered
Chosen Option : 2

Q.3 Select the INCORRECTLY spelt word from the underlined words in the following sentence.

Communities must build their resileince, including adopting appropriate technologies while making the most of traditional knowledge, and diversifying their livelihoods to cope with current and future climate stress.

Ans 1. livelihoods

2. resileince

3. diversifying

4. appropriate

Question ID : 264330141159

Option 1 ID : 264330552982

Option 2 ID : 264330552979

Option 3 ID : 264330552981

Option 4 ID : 264330552980

Status : Answered

Chosen Option : 2

Q.4 Select the most appropriate idiom for the given situation.

He started with an online company and became a millionaire. Then, he sold it and invested in the share market and earned more money. Now, he has invested in the transportation industry and is generating huge wealth. What does he have?

Ans 1. Rule of thumb

2. Sticky fingers

3. As genuine as a three-dollar bill

4. Midas touch

Question ID : 26433093038

Option 1 ID : 264330365408

Option 2 ID : 264330365405

Option 3 ID : 264330365406

Option 4 ID : 264330365407

Status : Answered

Chosen Option : 4

Q.5 The following sentence has been divided into parts. One of them may contain an error. Select the part that contains the error from the given options. If you don't find any error, mark 'No error' as your answer.

There was no other book / in the English language / which is as interesting as this one.

Ans 1. No error

2. which is as interesting as this one

3. There was no other book

4. in the English language

Question ID : 264330120599

Option 1 ID : 264330472638

Option 2 ID : 264330472637

Option 3 ID : 264330472635

Option 4 ID : 264330472636

Status : Answered

Chosen Option : 4

Q.6 Select the most appropriate ANTONYM of the given word.

Bombastic

- Ans 1. Rhythmic
 2. Plain
 3. Sarcastic
 4. Essential

Question ID : 264330163399
Option 1 ID : 264330640878
Option 2 ID : 264330640875
Option 3 ID : 264330640876
Option 4 ID : 264330640877
Status : Answered
Chosen Option : 1

Q.7 Select the most appropriate synonym of the given word.

Aggravate

- Ans 1. Enhance
 2. Satisfy
 3. Annoy
 4. Mitigate

Question ID : 264330163332
Option 1 ID : 264330640629
Option 2 ID : 264330640627
Option 3 ID : 264330640630
Option 4 ID : 264330640628
Status : Answered
Chosen Option : 1

Q.8 Select the most appropriate meaning of the given idiom.

Part and parcel

- Ans 1. A payment system for parcels
 2. Basic or essential element
 3. Agreement with someone
 4. Passing blame to someone else

Question ID : 26433091884
Option 1 ID : 264330360873
Option 2 ID : 264330360876
Option 3 ID : 264330360875
Option 4 ID : 264330360874
Status : Answered
Chosen Option : 2

Q.9 Identify from the given options the word most similar in meaning to the underlined word according to its meaning in the following sentence.
He is a person who holds old fashioned opinions.

- Ans
- 1. senior citizen
 - 2. ancient
 - 3. antique
 - 4. obsolete

Question ID : 264330101442
Option 1 ID : 264330398280
Option 2 ID : 264330398277
Option 3 ID : 264330398278
Option 4 ID : 264330398279
Status : Answered
Chosen Option : 4

Q.10 Select the option that can be used as a one-word substitute for the given group of words.

To have a strong emotional effect on.

- Ans
- 1. To smother
 - 2. To yield
 - 3. To forfeit
 - 4. To overwhelm

Question ID : 26433088971
Option 1 ID : 264330349421
Option 2 ID : 264330349422
Option 3 ID : 264330349424
Option 4 ID : 264330349423
Status : Answered
Chosen Option : 4

Q.11 Parts of the following sentence have been given as options. One of them may contain an error. Select the part that contains the error from the given options. If you don't find any error, mark 'No error' as your answer.
Anant was telling a story about his most recent exploits when a tree branch break the living room window.

- Ans
- 1. Anant was telling a story
 - 2. No error
 - 3. when a tree branch break the living room window
 - 4. about his most recent exploits

Question ID : 26433092136
Option 1 ID : 264330361857
Option 2 ID : 264330361860
Option 3 ID : 264330361859
Option 4 ID : 264330361858
Status : Answered
Chosen Option : 3

Q.12 Select the most appropriate meaning of the underlined idiom.
The office management was in dire straits after the financial crash.

- Ans
- 1. Being direct or fair
 - 2. To walk on already trodden paths
 - 3. To be extremely happy
 - 4. In a very bad situation

Question ID : 264330120620
Option 1 ID : 264330472720
Option 2 ID : 264330472722
Option 3 ID : 264330472721
Option 4 ID : 264330472719
Status : Answered
Chosen Option : 4

Q.13 Select the most appropriate idiom to fill in the blank.

There are others waiting to grab an opportunity; if you don't act fast, you are going to _____.

- Ans
- 1. miss the boat
 - 2. a full boat
 - 3. push the boat out
 - 4. be in the same boat

Question ID : 264330163335
Option 1 ID : 264330640641
Option 2 ID : 264330640642
Option 3 ID : 264330640640
Option 4 ID : 264330640639
Status : Answered
Chosen Option : 1

Q.14 Select the option that can be used as a one-word substitute for the given group of words.

A disease prevalent in a community or a specific region at a specific time, affecting a large area.

- Ans
- 1. Endemic
 - 2. Epidemic
 - 3. Pandemic
 - 4. Eradicate

Question ID : 26433088805
Option 1 ID : 264330348773
Option 2 ID : 264330348775
Option 3 ID : 264330348774
Option 4 ID : 264330348776
Status : Answered
Chosen Option : 3

Q.15 Select the most appropriate ANTONYM of the given word.

Apex

- Ans 1. Farthest
 2. Watchful
 3. Bottom
 4. Pinnacle

Question ID : 264330163397
Option 1 ID : 264330640868
Option 2 ID : 264330640870
Option 3 ID : 264330640869
Option 4 ID : 264330640867
Status : Answered
Chosen Option : 3

Q.16 Select the most appropriate ANTONYM of the given word.
Transparent

- Ans 1. Linger
 2. Crossover
 3. Opaque
 4. Oppress

Question ID : 264330164277
Option 1 ID : 264330644332
Option 2 ID : 264330644333
Option 3 ID : 264330644334
Option 4 ID : 264330644331
Status : Answered
Chosen Option : 3

Q.17 The following sentence has been split into four segments. Identify the segment that contains a grammatical error.

The university has putting off / the semester examination / for the second time now / due to technical issues.

- Ans 1. The university has putting off
 2. due to technical issues
 3. the semester examination
 4. for the second time now

Question ID : 264330145278
Option 1 ID : 264330569367
Option 2 ID : 264330569370
Option 3 ID : 264330569368
Option 4 ID : 264330569369
Status : Answered
Chosen Option : 1

Q.18 Select the most appropriate idiom to substitute the underlined segment in the given sentence.
My final round of Spell Bee Competition is coming up and to win this event, I need to study hard from today.

- Ans
- 1. pour my heart out
 - 2. burn the books
 - 3. cut to the chase
 - 4. hit the books

Question ID : 264330135908
Option 1 ID : 264330532490
Option 2 ID : 264330532487
Option 3 ID : 264330532489
Option 4 ID : 264330532488
Status : Answered
Chosen Option : 4

Q.19 Select the most appropriate option that can substitute the underlined words in the given sentence.

Kiran's teacher was doubtful on her success.

- Ans
- 1. doubtful beyond
 - 2. doubtful off
 - 3. doubtful in
 - 4. doubtful of

Question ID : 26433099936
Option 1 ID : 264330392319
Option 2 ID : 264330392320
Option 3 ID : 264330392318
Option 4 ID : 264330392317
Status : Answered
Chosen Option : 3

Q.20 Select the correct option to substitute the underlined segment in the given sentence. If no substitution is required, select 'No substitution'.

Her smile is similar to her mother.

- Ans
- 1. her mother's
 - 2. No substitution
 - 3. mother
 - 4. the mother

Question ID : 26433090821
Option 1 ID : 264330356705
Option 2 ID : 264330356708
Option 3 ID : 264330356707
Option 4 ID : 264330356706
Status : Answered
Chosen Option : 1

Q.21 The following sentence has been split into four segments. Identify the segment that contains a grammatical error.

Mr. Khanna and family / have visit / Manali during / the summer vacation.

- Ans**
- 1. Manali during
 - 2. the summer vacation.
 - 3. Mr. Khanna and family
 - 4. have visit

Question ID : 26433059759
Option 1 ID : 264330233870
Option 2 ID : 264330233871
Option 3 ID : 264330233868
Option 4 ID : 264330233869
Status : Answered
Chosen Option : 4

Q.22 Select the INCORRECTLY spelt word.

- Ans**
- 1. Agreeable
 - 2. Formulae
 - 3. Occassion
 - 4. Waitress

Question ID : 264330163411
Option 1 ID : 264330640925
Option 2 ID : 264330640926
Option 3 ID : 264330640924
Option 4 ID : 264330640923
Status : Answered
Chosen Option : 4

Q.23 Select the option that can be used as a one-word substitute for the given group of words.

Very attractive and easy to feel love for

- Ans**
- 1. Adorable
 - 2. Laudable
 - 3. Mysterious
 - 4. Flamboyant

Question ID : 26433088194
Option 1 ID : 264330346371
Option 2 ID : 264330346370
Option 3 ID : 264330346372
Option 4 ID : 264330346369
Status : Answered
Chosen Option : 1

Q.24 Select the option that can be used as a one-word substitute for the given group of words.

An animal or a person that eats all types of food, especially plants and meat

- Ans 1. Omnivore
 2. Herbivore
 3. Vegetarian
 4. Carnivore

Question ID : 26433088198

Option 1 ID : 264330346386

Option 2 ID : 264330346388

Option 3 ID : 264330346385

Option 4 ID : 264330346387

Status : Answered

Chosen Option : 1

Q.25 Select the most appropriate option that can substitute the underlined word in the given sentence.

The Board of Film Analysts vituperated the novice Indonesian film-maker and cancelled its nomination for the 'Golden Globe Award'.

- Ans 1. recognised and praised the talent of
 2. dealt in a delicate and polite manner
 3. lamented the untimely death of
 4. censured with harsh and abusive language

Question ID : 26433070504

Option 1 ID : 264330276492

Option 2 ID : 264330276495

Option 3 ID : 264330276493

Option 4 ID : 264330276494

Status : Answered

Chosen Option : 1

Q.26 Select the most appropriate synonym of the given word.

Robe

- Ans 1. Mishap
 2. Success
 3. Cloak
 4. Robbery

Question ID : 264330163358

Option 1 ID : 264330640725

Option 2 ID : 264330640726

Option 3 ID : 264330640724

Option 4 ID : 264330640723

Status : Answered

Chosen Option : 4

Q.27 Select the INCORRECTLY spelt word.

- Ans 1. Nasal
 2. Councel
 3. Embezzlement
 4. Puzzled

Question ID : 26433089104
Option 1 ID : 264330349935
Option 2 ID : 264330349936
Option 3 ID : 264330349933
Option 4 ID : 264330349934
Status : Answered
Chosen Option : 2

Q.28 Select the option that can be used as a one-word substitute for the given group of words.

Lasting for a very short time

- Ans 1. Eternal
 2. Blasphemy
 3. Chronology
 4. Ephemeral

Question ID : 26433091809
Option 1 ID : 264330360575
Option 2 ID : 264330360573
Option 3 ID : 264330360574
Option 4 ID : 264330360576
Status : Answered
Chosen Option : 4

Q.29 Select the most appropriate meaning of the given idiom.
A snowball effect

- Ans 1. Slow movement
 2. Trick someone completely
 3. Cold and uncomfortable
 4. An accelerating growth of magnitude

Question ID : 264330117376
Option 1 ID : 264330461546
Option 2 ID : 264330461547
Option 3 ID : 264330461545
Option 4 ID : 264330461548
Status : Answered
Chosen Option : 1

Q.30 Select the correct spelling for the INCORRECTLY spelt word in the given sentence.

The Eustachian tube and vestibular complex in the middle and inner ear, respectively, have an important role to play.

- Ans
- 1. vestibular
 - 2. respictevely
 - 3. imporent
 - 4. midle

Question ID : 26433090499
Option 1 ID : 264330355445
Option 2 ID : 264330355447
Option 3 ID : 264330355448
Option 4 ID : 264330355446
Status : Answered
Chosen Option : 1

Q.31 Some words in the following sentence have been underlined and given as options. Select the option that contains a spelling error.

Roshni does a fabulouous job at her company and has been offered a promotion.

- Ans
- 1. fabulouous
 - 2. company
 - 3. offered
 - 4. promotion

Question ID : 264330121268
Option 1 ID : 264330475275
Option 2 ID : 264330475276
Option 3 ID : 264330475277
Option 4 ID : 264330475278
Status : Answered
Chosen Option : 1

Q.32 Select the most appropriate option that can substitute the underlined segment in the given sentence. If there is no need to substitute it, select 'No substitution required'. Harry is the one sitting on the corner.

- Ans
- 1. No substitution required
 - 2. onto
 - 3. upon
 - 4. in

Question ID : 26433070769
Option 1 ID : 264330277535
Option 2 ID : 264330277534
Option 3 ID : 264330277533
Option 4 ID : 264330277532
Status : Answered
Chosen Option : 4

Q.33 Select the most appropriate ANTONYM of the given word.

Inquisitive

- Ans 1. Uninterested
 2. Indolent
 3. Careful
 4. Dull

Question ID : 264330120606
Option 1 ID : 264330472663
Option 2 ID : 264330472665
Option 3 ID : 264330472666
Option 4 ID : 264330472664
Status : Answered
Chosen Option : 1

Q.34 Choose the idiom that can best substitute the underlined part of the given sentence.

Shelley ignored her father's wish of studying arts and instead took admission in commerce.

- Ans 1. Bid defiance to
 2. Big fish
 3. Blew over
 4. Beyond the pale

Question ID : 26433094748
Option 1 ID : 264330371828
Option 2 ID : 264330371825
Option 3 ID : 264330371827
Option 4 ID : 264330371826
Status : Answered
Chosen Option : 4

Q.35 The following sentence has been split into four segments. Identify the segment that contains a grammatical error.

I have never / come to / such a kind person / like my friend.

- Ans 1. come to
 2. such a kind person
 3. like my friend
 4. I have never

Question ID : 26433070491
Option 1 ID : 264330276441
Option 2 ID : 264330276442
Option 3 ID : 264330276443
Option 4 ID : 264330276440
Status : Answered
Chosen Option : 4

Q.36 Select the option that can be used as a one-word substitute for the underlined words.

He was not willing to attend the technical session of the conference.

- Ans
- 1. curious
 - 2. comprehensive
 - 3. dejecting
 - 4. reluctant

Question ID : 26433099922
Option 1 ID : 264330392272
Option 2 ID : 264330392271
Option 3 ID : 264330392269
Option 4 ID : 264330392270
Status : Answered
Chosen Option : 4

Q.37 Select the most appropriate meaning of the underlined word.
Ram was abandoned by his parents at a very early age.

- Ans
- 1. Disgraced
 - 2. Hated
 - 3. Loved
 - 4. Left

Question ID : 264330121035
Option 1 ID : 264330474350
Option 2 ID : 264330474348
Option 3 ID : 264330474349
Option 4 ID : 264330474347
Status : Answered
Chosen Option : 4

Q.38 Select the most appropriate idiom that can substitute the underlined segment in the given sentence.
Do you believe that you have a possibility of getting that job?

- Ans
- 1. snow job
 - 2. spill the beans
 - 3. shoot the breeze
 - 4. stand a chance

Question ID : 264330117475
Option 1 ID : 264330461932
Option 2 ID : 264330461931
Option 3 ID : 264330461929
Option 4 ID : 264330461930
Status : Answered
Chosen Option : 4

Q.39 Select the most appropriate meaning of the given idiom.

Get your act together

- Ans** ✓ 1. To organise yourself so that you can do something properly
✗ 2. To understand something complicated
✗ 3. To get the conversation going
✗ 4. To ruin one's plans

Question ID : 264330163401
Option 1 ID : 264330640885
Option 2 ID : 264330640884
Option 3 ID : 264330640886
Option 4 ID : 264330640883
Status : Answered
Chosen Option : 1

Q.40 Select the most appropriate meaning of the underlined word.
He uses one of the finest ingredients in his cooking.

- Ans** ✗ 1. Preparations
✓ 2. Components
✗ 3. Culinary
✗ 4. Mixtures

Question ID : 264330121040
Option 1 ID : 264330474369
Option 2 ID : 264330474367
Option 3 ID : 264330474370
Option 4 ID : 264330474368
Status : Answered
Chosen Option : 2

Comprehension:

In the following passage some words have been deleted. Read the passage carefully and select the most appropriate option to fill in each blank.

Among the largest species of cats in the world, tigers are powerful hunters with (1) _____ teeth, strong jaws and agile bodies. They range across Asia from Russia all the way to Sumatra and mainland Southeast Asia. Researchers still have much to learn (2) _____ these beautiful, endangered (3) _____.

There is currently one recognized species of tiger, *Panthera tigris*. Scientists have further (4) _____ the tiger into nine subspecies: the extinct Bali, Caspian and Javan subspecies, and the living Malayan, Sumatran, South China, Indochinese, Bengal and Amur (or Siberian) subspecies. Of these six subspecies, AZA-accredited zoos currently manage three: Amur, Malayan, and Sumatran. The Smithsonian's National Zoo and Conservation Biology Institute is home to Sumatran and Amur tigers; Sumatran tigers are (5) _____ as Critically Endangered on the International Union for Conservation of Nature's Red List, and Amur tigers have been classified as Endangered.

SubQuestion No : 41

Q.41 Select the most appropriate option to fill blank number 1.

- Ans** ✗ 1. Long
✗ 2. Small
✗ 3. Blunt
✓ 4. Sharp

Question ID : 264330163389
Option 1 ID : 264330640837
Option 2 ID : 264330640835
Option 3 ID : 264330640836
Option 4 ID : 264330640838
Status : Answered
Chosen Option : 4

Comprehension:

In the following passage some words have been deleted. Read the passage carefully and select the most appropriate option to fill in each blank.

Among the largest species of cats in the world, tigers are powerful hunters with (1) _____ teeth, strong jaws and agile bodies. They range across Asia from Russia all the way to Sumatra and mainland Southeast Asia. Researchers still have much to learn (2) _____ these beautiful, endangered (3) _____.

There is currently one recognized species of tiger, *Panthera tigris*. Scientists have further (4) _____ the tiger into nine subspecies: the extinct Bali, Caspian and Javan subspecies, and the living Malayan, Sumatran, South China, Indochinese, Bengal and Amur (or Siberian) subspecies. Of these six subspecies, AZA-accredited zoos currently manage three: Amur, Malayan, and Sumatran. The Smithsonian's National Zoo and Conservation Biology Institute is home to Sumatran and Amur tigers; Sumatran tigers are (5) _____ as Critically Endangered on the International Union for Conservation of Nature's Red List, and Amur tigers have been classified as Endangered.

SubQuestion No : 42

Q.42 Select the most appropriate option to fill blank number 2.

- Ans
- 1. With
 - 2. Along
 - 3. Into
 - 4. About

Question ID : 264330163390
Option 1 ID : 264330640839
Option 2 ID : 264330640840
Option 3 ID : 264330640842
Option 4 ID : 264330640841
Status : Answered
Chosen Option : 4

Comprehension:

In the following passage some words have been deleted. Read the passage carefully and select the most appropriate option to fill in each blank.

Among the largest species of cats in the world, tigers are powerful hunters with (1) _____ teeth, strong jaws and agile bodies. They range across Asia from Russia all the way to Sumatra and mainland Southeast Asia. Researchers still have much to learn (2) _____ these beautiful, endangered (3) _____.

There is currently one recognized species of tiger, *Panthera tigris*. Scientists have further (4) _____ the tiger into nine subspecies: the extinct Bali, Caspian and Javan subspecies, and the living Malayan, Sumatran, South China, Indochinese, Bengal and Amur (or Siberian) subspecies. Of these six subspecies, AZA-accredited zoos currently manage three: Amur, Malayan, and Sumatran. The Smithsonian's National Zoo and Conservation Biology Institute is home to Sumatran and Amur tigers; Sumatran tigers are (5) _____ as Critically Endangered on the International Union for Conservation of Nature's Red List, and Amur tigers have been classified as Endangered.

SubQuestion No : 43

Q.43 Select the most appropriate option to fill blank number 3.

- Ans
- 1. Cats
 - 2. Dogs
 - 3. Rabbits
 - 4. Elephants

Question ID : 264330163391
Option 1 ID : 264330640843
Option 2 ID : 264330640844
Option 3 ID : 264330640845
Option 4 ID : 264330640846
Status : Answered
Chosen Option : 1

Comprehension:

In the following passage some words have been deleted. Read the passage carefully and select the most appropriate option to fill in each blank.

Among the largest species of cats in the world, tigers are powerful hunters with (1) _____ teeth, strong jaws and agile bodies. They range across Asia from Russia all the way to Sumatra and mainland Southeast Asia. Researchers still have much to learn (2) _____ these beautiful, endangered (3) _____.

There is currently one recognized species of tiger, *Panthera tigris*. Scientists have further (4) _____ the tiger into nine subspecies: the extinct Bali, Caspian and Javan subspecies, and the living Malayan, Sumatran, South China, Indochinese, Bengal and Amur (or Siberian) subspecies. Of these six subspecies, AZA-accredited zoos currently manage three: Amur, Malayan, and Sumatran. The Smithsonian's National Zoo and Conservation Biology Institute is home to Sumatran and Amur tigers; Sumatran tigers are (5) _____ as Critically Endangered on the International Union for Conservation of Nature's Red List, and Amur tigers have been classified as Endangered.

SubQuestion No : 44

Q.44 Select the most appropriate option to fill blank number 4.

- Ans 1. Classified
 2. Restricted
 3. Declared
 4. Generalized

Question ID : 264330163392
Option 1 ID : 264330640847
Option 2 ID : 264330640848
Option 3 ID : 264330640849
Option 4 ID : 264330640850
Status : Answered
Chosen Option : 1

Comprehension:

In the following passage some words have been deleted. Read the passage carefully and select the most appropriate option to fill in each blank.

Among the largest species of cats in the world, tigers are powerful hunters with (1) _____ teeth, strong jaws and agile bodies. They range across Asia from Russia all the way to Sumatra and mainland Southeast Asia. Researchers still have much to learn (2) _____ these beautiful, endangered (3) _____.

There is currently one recognized species of tiger, *Panthera tigris*. Scientists have further (4) _____ the tiger into nine subspecies: the extinct Bali, Caspian and Javan subspecies, and the living Malayan, Sumatran, South China, Indochinese, Bengal and Amur (or Siberian) subspecies. Of these six subspecies, AZA-accredited zoos currently manage three: Amur, Malayan, and Sumatran. The Smithsonian's National Zoo and Conservation Biology Institute is home to Sumatran and Amur tigers; Sumatran tigers are (5) _____ as Critically Endangered on the International Union for Conservation of Nature's Red List, and Amur tigers have been classified as Endangered.

SubQuestion No : 45

Q.45 Select the most appropriate option to fill blank number 5.

- Ans 1. Detailed
 2. Numerated
 3. Listed
 4. Recorded

Question ID : 264330163393
Option 1 ID : 264330640853
Option 2 ID : 264330640854
Option 3 ID : 264330640852
Option 4 ID : 264330640851
Status : Answered
Chosen Option : 4

Comprehension:

Read the given passage and answer the questions that follow.

What if globally designed products could radically change how we work, produce and consume? Several examples across continents show the way we are producing and consuming goods could be improved by relying on globally shared digital resources, such as design, knowledge and software.

Imagine a prosthetic hand designed by geographically dispersed communities of scientists, designers and enthusiasts in a collaborative manner via the web. All knowledge and software related to the hand is shared globally as a digital commons.

People from all over the world who are connected online and have access to local manufacturing machines (from 3D printing and CNC machines to low-tech crafts and tools) can, ideally with the help of an expert, manufacture a customised hand. This is the case of the Open Bionics project, which produces designs for robotic and bionic devices.

There are no patent costs to pay for. Less transportation of materials is needed, since a considerable part of the manufacturing takes place locally; maintenance is easier, products are designed to last as long as possible, and costs are thus much lower.

SubQuestion No : 46

Q.46 Which of the following is NOT a globally shared digital resource?

- Ans** 1. Automobile
 2. Design
 3. Knowledge
 4. Software

Question ID : 264330136478

Option 1 ID : 264330534661

Option 2 ID : 264330534660

Option 3 ID : 264330534659

Option 4 ID : 264330534662

Status : Answered

Chosen Option : 1

Comprehension:

Read the given passage and answer the questions that follow.

What if globally designed products could radically change how we work, produce and consume? Several examples across continents show the way we are producing and consuming goods could be improved by relying on globally shared digital resources, such as design, knowledge and software.

Imagine a prosthetic hand designed by geographically dispersed communities of scientists, designers and enthusiasts in a collaborative manner via the web. All knowledge and software related to the hand is shared globally as a digital commons.

People from all over the world who are connected online and have access to local manufacturing machines (from 3D printing and CNC machines to low-tech crafts and tools) can, ideally with the help of an expert, manufacture a customised hand. This is the case of the Open Bionics project, which produces designs for robotic and bionic devices.

There are no patent costs to pay for. Less transportation of materials is needed, since a considerable part of the manufacturing takes place locally; maintenance is easier, products are designed to last as long as possible, and costs are thus much lower.

SubQuestion No : 47

Q.47 Select the most suitable word from the passage which means 'scattered'.

- Ans** 1. Shared
 2. Collaborative
 3. Customised
 4. Dispersed

Question ID : 264330136480

Option 1 ID : 264330534667

Option 2 ID : 264330534669

Option 3 ID : 264330534670

Option 4 ID : 264330534668

Status : Answered

Chosen Option : 2

Comprehension:

Read the given passage and answer the questions that follow.

What if globally designed products could radically change how we work, produce and consume? Several examples across continents show the way we are producing and consuming goods could be improved by relying on globally shared digital resources, such as design, knowledge and software.

Imagine a prosthetic hand designed by geographically dispersed communities of scientists, designers and enthusiasts in a collaborative manner via the web. All knowledge and software related to the hand is shared globally as a digital commons.

People from all over the world who are connected online and have access to local manufacturing machines (from 3D printing and CNC machines to low-tech crafts and tools) can, ideally with the help of an expert, manufacture a customised hand. This is the case of the Open Bionics project, which produces designs for robotic and bionic devices.

There are no patent costs to pay for. Less transportation of materials is needed, since a considerable part of the manufacturing takes place locally; maintenance is easier, products are designed to last as long as possible, and costs are thus much lower.

SubQuestion No : 48**Q.48 What is the tone of the author?**

- Ans 1. Speculative
 2. Caustic
 3. Acerbic
 4. Belligerent

Question ID : 264330136481

Option 1 ID : 264330534674

Option 2 ID : 264330534673

Option 3 ID : 264330534671

Option 4 ID : 264330534672

Status : Answered

Chosen Option : 1

Comprehension:

Read the given passage and answer the questions that follow.

What if globally designed products could radically change how we work, produce and consume? Several examples across continents show the way we are producing and consuming goods could be improved by relying on globally shared digital resources, such as design, knowledge and software.

Imagine a prosthetic hand designed by geographically dispersed communities of scientists, designers and enthusiasts in a collaborative manner via the web. All knowledge and software related to the hand is shared globally as a digital commons.

People from all over the world who are connected online and have access to local manufacturing machines (from 3D printing and CNC machines to low-tech crafts and tools) can, ideally with the help of an expert, manufacture a customised hand. This is the case of the Open Bionics project, which produces designs for robotic and bionic devices.

There are no patent costs to pay for. Less transportation of materials is needed, since a considerable part of the manufacturing takes place locally; maintenance is easier, products are designed to last as long as possible, and costs are thus much lower.

SubQuestion No : 49**Q.49 What is the term used in the passage for globally shared digital things?**

- Ans 1. Digital information
 2. Digital world
 3. Digital commons
 4. Digital resources

Question ID : 264330136479

Option 1 ID : 264330534664

Option 2 ID : 264330534665

Option 3 ID : 264330534666

Option 4 ID : 264330534663

Status : Answered

Chosen Option : 4

Comprehension:

Read the given passage and answer the questions that follow.

What if globally designed products could radically change how we work, produce and consume? Several examples across continents show the way we are producing and consuming goods could be improved by relying on globally shared digital resources, such as design, knowledge and software.

Imagine a prosthetic hand designed by geographically dispersed communities of scientists, designers and enthusiasts in a collaborative manner via the web. All knowledge and software related to the hand is shared globally as a digital commons.

People from all over the world who are connected online and have access to local manufacturing machines (from 3D printing and CNC machines to low-tech crafts and tools) can, ideally with the help of an expert, manufacture a customised hand. This is the case of the Open Bionics project, which produces designs for robotic and bionic devices.

There are no patent costs to pay for. Less transportation of materials is needed, since a considerable part of the manufacturing takes place locally; maintenance is easier, products are designed to last as long as possible, and costs are thus much lower.

SubQuestion No : 50

Q.50 Identify the most suitable title for the given passage.

- Ans
- 1. Knowledge Explosion
 - 2. Shared Information
 - 3. Customised Hand
 - 4. Digital Globalisation

Question ID : 264330136482

Option 1 ID : 264330534678

Option 2 ID : 264330534675

Option 3 ID : 264330534676

Option 4 ID : 264330534677

Status : Answered

Chosen Option : 3