

Sub Inspector in Delhi Police and Central Armed Police Forces Examination 2023 Paper I

Roll Number	
Candidate Name	
Venue Name	
Exam Date	04/10/2023
Exam Time	4:00 PM - 6:00 PM
Subject	SICPO Paper I 2023

Section : General Intelligence and Reasoning

Q.1 छः विद्यार्थी श्री, दयाल, शारदा, तृप्ति, सृष्टि और मंजू एक वृत्ताकार मेज के परितः केंद्र की ओर मुख करके बैठे हैं (उनका इसी क्रम में होना अनिवार्य नहीं है)। श्री, दयाल और तृप्ति दोनों के ठीक बगल में है। मंजू, दयाल के दाईं ओर दूसरे स्थान पर बैठी है। सृष्टि, मंजू और तृप्ति दोनों के ठीक बगल में है। शारदा के ठीक बगल में कौन है?

- Ans
- 1. सृष्टि
 - 2. तृप्ति
 - 3. श्री
 - 4. दयाल

Question ID : 26433082278

Option 1 ID : 264330322948

Option 2 ID : 264330322947

Option 3 ID : 264330322945

Option 4 ID : 264330322946

Status : Answered

Chosen Option : 4

Q.2 यदि A का अर्थ '+' हो, B का अर्थ '×' हो, C का अर्थ '-' हो और D का अर्थ '÷' हो, तो निम्नलिखित समीकरण का मान कितना होगा?
16 B 5 A 112 D 8 C 32 = ?

- Ans
- 1. 57
 - 2. 65
 - 3. 72
 - 4. 62

Question ID : 264330129783

Option 1 ID : 264330508363

Option 2 ID : 264330508364

Option 3 ID : 264330508365

Option 4 ID : 264330508366

Status : Answered

Chosen Option : 4

Q.3 एक निश्चित कूट भाषा में, 'ACTION' को 'TXANLI' और 'DEBATE' को 'BVDEGA' के रूप में लिखा जाता है। उसी कूट भाषा में 'CHANGE' को किस प्रकार लिखा जाएगा?

- Ans
- 1. BJDLER
 - 2. ATHFN
 - 3. HRPEIU
 - 4. ASCETN

Question ID : 26433074764
Option 1 ID : 264330293147
Option 2 ID : 264330293144
Option 3 ID : 264330293145
Option 4 ID : 264330293146
Status : Not Answered
Chosen Option : --

Q.4 नीचे तीन कथन और उसके बाद I, II और III क्रमांक वाले तीन निष्कर्ष दिए गए हैं। यह मानते हुए कि कथनों में दी गई जानकारी सत्य है, भले ही ये कथन सामान्य रूप से ज्ञात तथ्यों से भिन्न प्रतीत होते हों, यह निर्णय कीजिए कि कौन से निष्कर्ष इन कथनों का तार्किक रूप से पालन करते हैं?

कथन:
सभी मैदान पहाड़ हैं।
कोई समुद्र पहाड़ नहीं है।
कुछ घाटियां समुद्र हैं।

निष्कर्ष:
I. कुछ घाटियां मैदान हैं।
II. कोई घाटी पहाड़ नहीं है।
III. कोई समुद्र मैदान नहीं है।

- Ans
- 1. केवल निष्कर्ष II पालन करता है।
 - 2. केवल निष्कर्ष I पालन करता है।
 - 3. निष्कर्ष I और II दोनों पालन करते हैं।
 - 4. केवल निष्कर्ष III पालन करता है।

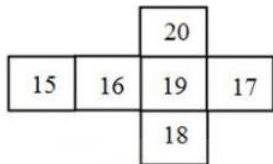
Question ID : 264330145340
Option 1 ID : 264330569617
Option 2 ID : 264330569618
Option 3 ID : 264330569615
Option 4 ID : 264330569616
Status : Answered
Chosen Option : 4

Q.5 उस विकल्प का चयन करें जो चौथे पद से उसी प्रकार संबंधित है जिस प्रकार पहला पद, दूसरे पद से संबंधित है और पांचवां पद, छठे पद से संबंधित है।
5 : 24 :: ? : 143 :: 4 : 15

- Ans
- 1. 7
 - 2. 12
 - 3. 11
 - 4. 8

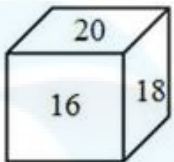
Question ID : 26433079355
Option 1 ID : 264330311408
Option 2 ID : 264330311410
Option 3 ID : 264330311411
Option 4 ID : 264330311409
Status : Answered
Chosen Option : 2

Q.6 यदि दी गई शीट को मोड़कर एक घन का आकार दिया जाता है, तो विकल्पों में से कौन-सी आकृति संभव है?

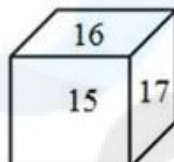


Ans

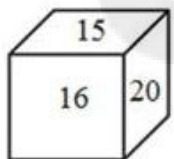
✗ 1.



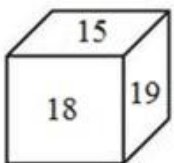
✗ 2.



✓ 3.



✗ 4.



Question ID : 26433059913

Option 1 ID : 264330234484

Option 2 ID : 264330234485

Option 3 ID : 264330234486

Option 4 ID : 264330234487

Status : Answered

Chosen Option : 3

Q.7 एक निश्चित कूट भाषा में "GBTA" को "24" के रूप में कूटबद्ध किया जाता है, और "ZWQVI" को "30" के रूप में कूटबद्ध किया जाता है। उसी कूट भाषा में "DLUCPR" को किस प्रकार कूटबद्ध किया जाएगा?

Ans ✗ 1. 28

✗ 2. 24

✗ 3. 30

✓ 4. 36

Question ID : 264330132245

Option 1 ID : 264330518075

Option 2 ID : 264330518076

Option 3 ID : 264330518077

Option 4 ID : 264330518078

Status : Answered

Chosen Option : 4

Q.8 "P \$ Q" का अर्थ है "P, Q की पुत्री है"
"P ? Q" का अर्थ है "P, Q का पुत्र है"
"P * Q" का अर्थ है "P, Q की बहन है"
"P = Q" का अर्थ है "P, Q का पिता है"
यदि 'D \$ G * U ? F' है, तो G का F से क्या संबंध है?

- Ans 1. पुत्री
 2. मौसी
 3. भाई
 4. बुआ

Question ID : 26433090231
Option 1 ID : 264330354403
Option 2 ID : 264330354401
Option 3 ID : 264330354404
Option 4 ID : 264330354402
Status : Answered
Chosen Option : 1

Q.9 उस विकल्प आकृति का चयन करें जिसमें उसके भाग के रूप में दी गई आकृति सन्निहित है (आकृति को घुमाने की अनुमति नहीं है)।



Ans

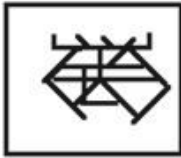
1.



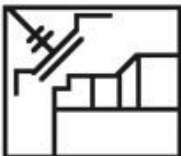
2.



3.



4.



Question ID : 264330117423
Option 1 ID : 264330461734
Option 2 ID : 264330461735
Option 3 ID : 264330461733
Option 4 ID : 264330461736
Status : Answered
Chosen Option : 3

Q.10 उस विकल्प का चयन कीजिए, जो दिए गए शब्दों के उस सही क्रम को दर्शाता है, जिस क्रम में वे अंग्रेजी शब्दकोश में मौजूद होते हैं।

- 1.Puritan
- 2.Purpose
- 3.Purge
- 4.Purgatory
- 5.Purify

Ans 1. 3, 4, 5, 1, 2
 2. 4, 3, 5, 1, 2
 3. 5, 4, 3, 1, 2
 4. 4, 5, 3, 1, 2

Question ID : 26433067242

Option 1 ID : 264330263483

Option 2 ID : 264330263481

Option 3 ID : 264330263480

Option 4 ID : 264330263482

Status : Answered

Chosen Option : 2

Q.11 यदि '+' का अर्थ '-' है, '-' का अर्थ 'x' है, 'x' का अर्थ '÷' है और '÷' का अर्थ '+' है, तो निम्नलिखित समीकरण में '?' के स्थान पर क्या आएगा?
 $83 \div 12 - 65 \times 13 + 47 = ?$

Ans 1. 96
 2. 92
 3. 79
 4. 108

Question ID : 264330101151

Option 1 ID : 264330397151

Option 2 ID : 264330397149

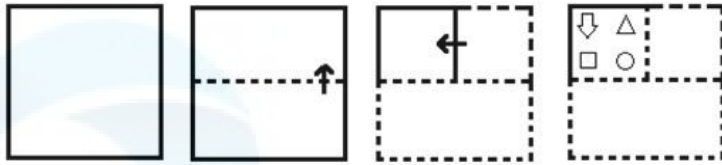
Option 3 ID : 264330397152

Option 4 ID : 264330397150

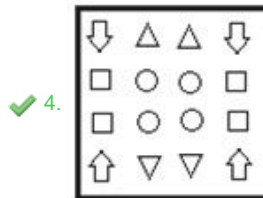
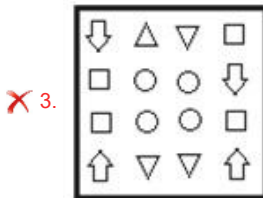
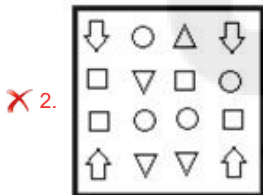
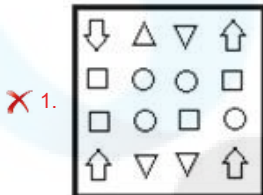
Status : Answered

Chosen Option : 1

Q.12 निम्नलिखित आकृतियों में कागज के एक टुकड़े को मोड़ने का क्रम और मुड़े हुए कागज को काटने का तरीका दर्शाया गया है। कागज की तह खुलने पर यह कैसा दिखाई देगा?



Ans



Question ID : 26433074794

Option 1 ID : 264330293265

Option 2 ID : 264330293264

Option 3 ID : 264330293267

Option 4 ID : 264330293266

Status : Answered

Chosen Option : 4

Q.13 उस समुच्चय का चयन कीजिए जिसमें संख्याएँ एक-दूसरे से उसी प्रकार संबंधित हैं जिस प्रकार निम्नलिखित समुच्चय की संख्याएँ आपस में संबंधित हैं।

(नोट: संख्याओं को उसके घटक अंकों में विभाजित किए बिना, पूर्ण संख्याओं पर गणितीय संक्रियाएं की जानी चाहिए। उदाहरण के लिए 13 - संख्या 13 पर गणितीय संक्रियाएं जैसे कि जोड़ना / घटाना / गुणा करना आदि को 13 से किया जा सकता है। 13 को 1 और 3 में तोड़ना और फिर 1 और 3 पर गणितीय संक्रियाएँ करने की अनुमति नहीं है)

(1, 16, 3)
(21, 529, 2)

- Ans 1. (5, 189, 8)
 2. (7, 364, 12)
 3. (11, 429, 2)
 4. (8, 100, 2)

Question ID : 264330145317

Option 1 ID : 264330569524

Option 2 ID : 264330569525

Option 3 ID : 264330569526

Option 4 ID : 264330569523

Status : Answered

Chosen Option : 4

Q.14 दिए गए विकल्पों में से उस आकृति का चयन करें, जो निम्नलिखित शृंखला में प्रश्नचिह्न (?) को प्रतिस्थापित करेगी।

$\begin{matrix} \times & 0 & \times \\ \times & & \times \\ \times & & \times \\ \times & & \times \end{matrix}$	$\begin{matrix} \times & 0 & \times \\ \times & 0 & \times \\ \times & & \times \\ \times & & \times \end{matrix}$	$\begin{matrix} \times & 0 & \times \\ \times & 0 & \times \\ \times & 0 & \times \\ \times & & \times \end{matrix}$	$\begin{matrix} \times & 0 & \times \\ \times & 0 & \times \\ \times & 0 & \times \\ \times & 0 & \times \end{matrix}$?
--	--	--	--	---

Ans

1. $\begin{matrix} \times & 0 \\ \times & 0 \\ \times & 0 \\ \times & \\ \times & \end{matrix}$
2. $\begin{matrix} \times & 0 \\ \times & 0 \\ \times & 0 \\ \times & 0 \\ \times & 0 \end{matrix}$
3. $\begin{matrix} \times & 0 \\ \times & 0 \\ \times & 0 \\ \times & 0 \end{matrix}$
4. $\begin{matrix} \times & 0 \\ \times & 0 \\ \times & 0 \\ \times & 0 \\ \times & 0 \\ \times & 0 \end{matrix}$

Question ID : 26433087153

Option 1 ID : 264330342250

Option 2 ID : 264330342249

Option 3 ID : 264330342251

Option 4 ID : 264330342252

Status : Answered

Chosen Option : 2

Q.15 सात छात्र A, B, C, D, E, F और G किसी वृत्ताकार मेज के परितः केंद्र की ओर मुख करके बैठे हैं। C, E और F के ठीक बगल में है। D, C के बाईं ओर तीसरे स्थान पर, और A के दाईं ओर ठीक बगल में है। A, E के दाईं ओर दूसरे स्थान पर बैठा है। B, E और A दोनों के ठीक बगल में है। G, F के बाईं ओर ठीक बगल में है। C और G दोनों के ठीक बगल में कौन है?

- Ans
- 1. A
 - 2. D
 - 3. E
 - 4. F

Question ID : 264330145421

Option 1 ID : 264330569940

Option 2 ID : 264330569942

Option 3 ID : 264330569941

Option 4 ID : 264330569939

Status : Not Attempted and Marked For Review

Chosen Option : --

Q.16 दो कथन दिए गए हैं, जिसके बाद दो निष्कर्ष I और II दिए गए हैं। कथनों को सत्य मानते हुए, भले ही वे सामान्य रूप से ज्ञात तथ्यों से भिन्न प्रतीत होते हों, निर्णय लें कि कौन-से निष्कर्ष कथनों का तार्किक रूप से पालन करते हैं?

कथन:

सभी बच्चे, छोटे हैं।

कुछ मज़ाकिया, बच्चे हैं।

निष्कर्ष:

I) कुछ मज़ाकिया, छोटे हैं।

II) कुछ छोटे, बच्चे हैं।

- Ans
- 1. केवल निष्कर्ष II पालन करता है।
 - 2. केवल निष्कर्ष I पालन करता है।
 - 3. निष्कर्ष I और II दोनों पालन करते हैं।
 - 4. न तो निष्कर्ष I और न ही निष्कर्ष II पालन करता है।

Question ID : 26433067703

Option 1 ID : 264330265325

Option 2 ID : 264330265324

Option 3 ID : 264330265326

Option 4 ID : 264330265327

Status : Answered

Chosen Option : 3

Q.17 एक निश्चित कूट भाषा में, 'HUSTLE' को 'SFHEOT' और 'BRIGHT' को 'IBTSG' के रूप में लिखा जाता है। उसी कूट भाषा में 'TUNNEL' को किस प्रकार लिखा जाएगा?

- Ans
- 1. RNLPED
 - 2. NGTYPN
 - 3. NRTPEN
 - 4. NFTLVN

Question ID : 26433074761

Option 1 ID : 264330293135

Option 2 ID : 264330293132

Option 3 ID : 264330293134

Option 4 ID : 264330293133

Status : Answered

Chosen Option : 4

Q.18 निम्नलिखित में से तीन अक्षर-समूह किसी न किसी तरह से संगत हैं, और एक असंगत है। असंगत अक्षर समूह का चयन करें।

- Ans 1. DYUR
 2. QLHE
 3. JEAX
 4. WDXC

Question ID : 264330145346
Option 1 ID : 264330569640
Option 2 ID : 264330569642
Option 3 ID : 264330569641
Option 4 ID : 264330569639
Status : Answered
Chosen Option : 4

Q.19 उस विकल्प का चयन कीजिए, जो उन अक्षरों को निरूपित करता है, जिन्हें निम्न रिक्त स्थानों में बाएं से दाएं रखे जाने पर, वे अक्षर श्रृंखला को पूरा कर देंगे।

P _ RR _ PQ _ _ S _ QR _ SP _ RRS

- Ans 1. RQPQRSQ
 2. QSRRPRQ
 3. SQRRQPR
 4. SQQRRPQ

Question ID : 264330180746
Option 1 ID : 264330708954
Option 2 ID : 264330708952
Option 3 ID : 264330708951
Option 4 ID : 264330708953
Status : Answered
Chosen Option : 2

Q.20 यदि '+' का अर्थ '-' है, '-' का अर्थ 'x' है, 'x' का अर्थ '÷' है और '÷' का अर्थ '+' है, तो निम्नलिखित समीकरण में '?' के स्थान पर क्या आएगा?
 $121 \times 11 \div 28 - 3 + 46 = ?$

- Ans 1. 71
 2. 43
 3. 49
 4. 65

Question ID : 264330101148
Option 1 ID : 264330397139
Option 2 ID : 264330397137
Option 3 ID : 264330397140
Option 4 ID : 264330397138
Status : Answered
Chosen Option : 3

Q.21 निम्नलिखित में से कौन-सा पद दी गई श्रृंखला में प्रश्नवाचक चिह्न (?) का स्थान लेगा?

LDEA NGIF ? RMQP TPUU

Ans 1. PJMK

2. PMIK

3. PIMK

4. PMJK

Question ID : 26433085319

Option 1 ID : 264330334978

Option 2 ID : 264330334979

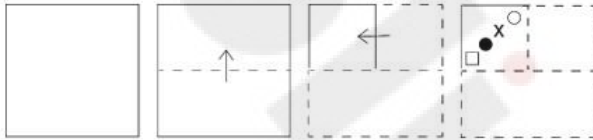
Option 3 ID : 264330334977

Option 4 ID : 264330334980

Status : Answered

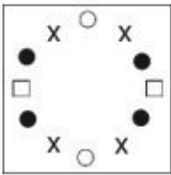
Chosen Option : 1

Q.22 एक कागज को नीचे दिखाए गए अनुसार मोड़ा और काटा जाता है। खोले जाने पर यह कैसा दिखाई देगा?

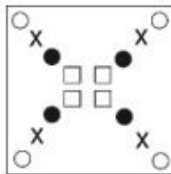


Ans

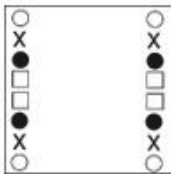
1.



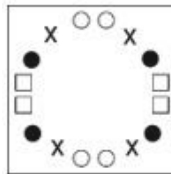
2.



3.



4.



Question ID : 264330103007

Option 1 ID : 264330404420

Option 2 ID : 264330404418

Option 3 ID : 264330404419

Option 4 ID : 264330404417

Status : Answered

Chosen Option : 4

Q.23 एक निश्चित कूट भाषा में "COACH" को XAOHC के रूप में कूटबद्ध किया जाता है, और "BERTH" को WREHT के रूप में कूटबद्ध किया जाता है। उसी कूट भाषा में "TRAIN" को किस प्रकार कूटबद्ध किया जाएगा?

- Ans
- 1. PARIN
 - 2. ONIAR
 - 3. PARNI
 - 4. OARNI

Question ID : 264330132209
Option 1 ID : 264330517933
Option 2 ID : 264330517932
Option 3 ID : 264330517931
Option 4 ID : 264330517934
Status : Answered
Chosen Option : 3

Q.24 उस विकल्प का चयन कीजिए, जो उन अक्षरों को निरूपित करता है, जिन्हें क्रमिक रूप से नीचे दिए गए रिक्त स्थानों में रखे जाने पर वे अक्षर-श्रृंखला को पूर्ण करेंगे।
P _ _ O N _ L B _ N P L _ O _ P L _ _ N

- Ans
- 1. LBPBONBO
 - 2. LBPOBNBO
 - 3. LPBOBNNO
 - 4. LBPOBBNO

Question ID : 26433068924
Option 1 ID : 264330270211
Option 2 ID : 264330270210
Option 3 ID : 264330270209
Option 4 ID : 264330270208
Status : Answered
Chosen Option : 2

Q.25 उस विकल्प का चयन करें, जो तीसरे शब्द से उसी प्रकार संबंधित है, जिस प्रकार दूसरा शब्द पहले शब्द से संबंधित है। (शब्दों को अर्थपूर्ण शब्दों के रूप में माना जाना चाहिए, और इनको शब्द में अक्षरों की संख्या/व्यंजनों/स्वरों की संख्या के आधार पर एक-दूसरे से संबंधित नहीं किया जाना चाहिए।)
व्हेल (Whale) : स्तनपायी (Mammal) :: मगरमच्छ (Crocodile) : ?

- Ans
- 1. समुद्र (Sea)
 - 2. कृतक (Rodent)
 - 3. सरीसृप (Reptile)
 - 4. उभयचर (Amphibian)

Question ID : 26433091600
Option 1 ID : 264330359768
Option 2 ID : 264330359766
Option 3 ID : 264330359767
Option 4 ID : 264330359765
Status : Answered
Chosen Option : 3

Q.26 इस प्रश्न में, तीन कथन और उसके बाद दो निष्कर्ष I और II दिए गए हैं। कथनों को सत्य मानते हुए, भले ही वे सामान्यतः ज्ञात तथ्यों से भिन्न प्रतीत होते हों, निर्णय लें कि कौन-से निष्कर्ष तार्किक रूप से कथनों का पालन करते हैं?

कथन:

- I. कुछ कमरे, पिंजरे हैं।
- II. कुछ पिंजरे, बाड़े हैं।
- III. सभी बाड़े, घर हैं।

निष्कर्ष:

- I. कुछ घर, पिंजरे हैं।
- II. सभी कमरे, बाड़े हैं।

- Ans
- 1. न तो निष्कर्ष I और न ही निष्कर्ष II पालन करता है
 - 2. दोनों निष्कर्ष I और II पालन करते हैं
 - 3. केवल निष्कर्ष I पालन करता है
 - 4. केवल निष्कर्ष II पालन करता है

Question ID : 264330104077

Option 1 ID : 264330408612

Option 2 ID : 264330408611

Option 3 ID : 264330408609

Option 4 ID : 264330408610

Status : Answered

Chosen Option : 3

Q.27 निम्नलिखित में से कौन-सी संख्या दी गई श्रृंखला में प्रश्न चिह्न (?) के स्थान पर आएगी?
261, 232, 203, ?, 145, 116

- Ans
- 1. 186
 - 2. 192
 - 3. 174
 - 4. 188

Question ID : 26433067625

Option 1 ID : 264330265012

Option 2 ID : 264330265014

Option 3 ID : 264330265013

Option 4 ID : 264330265015

Status : Answered

Chosen Option : 3

Q.28 X अपने घर से पूर्व की ओर 200 कदम दौड़ता है, और फिर एक मठ तक पहुंचने के लिए अपनी दाईं ओर मुड़कर 30 कदम दौड़ता है। फिर वह अपनी दाईं ओर 30 कदम दौड़ता है, और एक बिंदु W पर पहुंचता है। वहां से वह फिर से अपनी दाईं ओर मुड़ता है, और 30 कदम दौड़ता है। वहां से अपनी दाईं ओर मुड़कर वह 130 कदम दौड़ता है। फिर वह अपनी बाईं ओर मुड़ता है, और एक बेकरी तक पहुंचने के लिए 10 कदम दौड़ता है। X के घर के सापेक्ष बेकरी किस दिशा में है?

- Ans
- 1. उत्तर-पूर्व
 - 2. पूर्व
 - 3. उत्तर
 - 4. दक्षिण-पूर्व

Question ID : 26433057309

Option 1 ID : 264330224222

Option 2 ID : 264330224221

Option 3 ID : 264330224220

Option 4 ID : 264330224223

Status : Not Attempted and Marked For Review

Chosen Option : --

Q.29 निम्नलिखित में से कौन सी संख्या दी गई श्रेणी में प्रश्नचिह्न (?) के स्थान पर आएगी?
112, 129, 150, 175, 204, ?

- Ans 1. 245
 2. 240
 3. 234
 4. 237

Question ID : 26433067867
Option 1 ID : 264330265983
Option 2 ID : 264330265980
Option 3 ID : 264330265981
Option 4 ID : 264330265982
Status : Answered
Chosen Option : 4

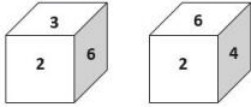
Q.30 निम्नलिखित में से कौन-सी संख्या दी गई श्रृंखला में प्रश्न चिह्न (?) को प्रतिस्थापित करेगी?

3, 5, 7, 12, 37, 69, 357, ?

- Ans 1. 645
 2. 665
 3. 656
 4. 654

Question ID : 264330145294
Option 1 ID : 264330569433
Option 2 ID : 264330569431
Option 3 ID : 264330569432
Option 4 ID : 264330569434
Status : Not Answered
Chosen Option : --

Q.31 एक ही पासे की दो अलग-अलग स्थितियाँ दिखाई गई हैं, जिनमें छः फलकों को 1 से 6 तक संख्यांकित किया गया है। उस संख्या का चयन करें, जो '4' को दर्शाने वाले फलक के विपरीत फलक पर होगी।



- Ans 1. 1
 2. 3
 3. 6
 4. 5

Question ID : 26433058065
Option 1 ID : 264330227245
Option 2 ID : 264330227246
Option 3 ID : 264330227247
Option 4 ID : 264330227244
Status : Answered
Chosen Option : 2

Q.32 उस विकल्प का चयन कीजिए, जो तीसरे शब्द से उसी प्रकार संबंधित है, जिस प्रकार दूसरा शब्द पहले शब्द से संबंधित है। (शब्दों को अर्थपूर्ण शब्दों के रूप में माना जाना चाहिए, और वह शब्द में अक्षरों की संख्या/व्यंजनों/स्वरों की संख्या के आधार पर एक-दूसरे से संबंधित नहीं होना चाहिए।)

आह (Alas) : शोक (woe) :: सुंदरता (Beauty) : ?

- Ans
- 1. असुरूपता (Inelegance)
 - 2. आकर्षण (Charm)
 - 3. मिटाना (Expunge)
 - 4. असभ्यता (Crudeness)

Question ID : 264330145403

Option 1 ID : 264330569867

Option 2 ID : 264330569868

Option 3 ID : 264330569870

Option 4 ID : 264330569869

Status : Answered

Chosen Option : 2

Q.33 नीचे दिए गए चार अक्षर-समूहों में से तीन किसी प्रकार से आपस में संबंधित हैं और कोई एक उनसे असंगत है। असंगत अक्षर-समूह का चयन कीजिए।

- Ans
- 1. NJPM
 - 2. VRWU
 - 3. LHMK
 - 4. EAFD

Question ID : 264330180755

Option 1 ID : 264330708990

Option 2 ID : 264330708989

Option 3 ID : 264330708988

Option 4 ID : 264330708987

Status : Answered

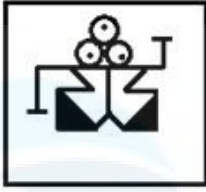
Chosen Option : 1

Q.34 उस विकल्प आकृति का चयन करें जिसमें उसके भाग के रूप में दी गई आकृति सन्निहित है (आकृति को घुमाने की अनुमति नहीं है)।



Ans


✓ 1.



✗ 2.



✗ 3.



✗ 4.



Question ID : 264330117426

Option 1 ID : 264330461746

Option 2 ID : 264330461745

Option 3 ID : 264330461747

Option 4 ID : 264330461748

Status : Answered

Chosen Option : 1

Q.35 यदि '+' का अर्थ 'भाग देना' है, '-' का अर्थ 'जोड़ना' है, 'x' का अर्थ 'घटाना' है और '÷' का अर्थ 'गुणा करना' है, तो निम्नलिखित व्यंजक का मान क्या होगा?

$$[(23 \times 15) - (2 \div 2)] + (2 - 4) \div 2$$

Ans ✗ 1.6

✗ 2.8

✓ 3.4

✗ 4.2

Question ID : 264330130376

Option 1 ID : 264330510617

Option 2 ID : 264330510618

Option 3 ID : 264330510616

Option 4 ID : 264330510615


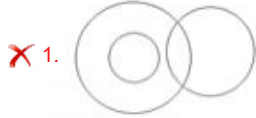
Status : Answered

Chosen Option : 3

Q.36 उस वेन आरेख का चयन करें, जो निम्नलिखित वर्गों के बीच के संबंध को सर्वोत्तम ढंग से दर्शाता है।

चम्मच, सूप, चावल

Ans



Question ID : 264330145360

Option 1 ID : 264330569698

Option 2 ID : 264330569696

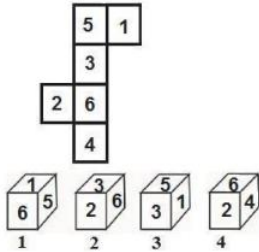
Option 3 ID : 264330569695

Option 4 ID : 264330569697

Status : Answered

Chosen Option : 3

Q.37 यदि दी गई शीट को मोड़कर एक घन बनाया जाए, तो निम्न में से कौन सी आकृति/आकृतियां बनना संभव है?
(संख्या केवल घनों के फलकों को इंगित करने के लिए दी गई हैं)



Ans ✗ 1. केवल 1, 2 और 3

✗ 2. केवल 2 और 3

✓ 3. केवल 2, 3 और 4

✗ 4. 1, 2, 3 और 4 सभी

Question ID : 26433065673

Option 1 ID : 264330257253

Option 2 ID : 264330257254

Option 3 ID : 264330257255

Option 4 ID : 264330257252

Status : Answered

Chosen Option : 4

Q.38 उस समुच्चय का चयन कीजिए जिसमें संख्याएँ आपस में उसी प्रकार संबंधित हैं जिस प्रकार निम्नलिखित समुच्चयों की संख्याएँ आपस में संबंधित हैं। (नोट: संख्याओं को उसके घटक अंकों में विभाजित किए बिना, पूर्ण संख्याओं पर गणितीय संक्रियाएं की जानी चाहिए। उदाहरण के लिए 13 - गणितीय संक्रियाएं जैसे कि जोड़ना/घटाना/गुणा करना इत्यादि 13 में किया जा सकता है। 13 को 1 और 3 में विभाजित करना और फिर 1 और 3 पर गणितीय संक्रियाएँ करने की अनुमति नहीं है।)

(13, 18, 21)
(11, 25, 8)

- Ans 1. (8, 16, 23)
 2. (4, 12, 24)
 3. (6, 10, 12)
 4. (14, 33, 9)

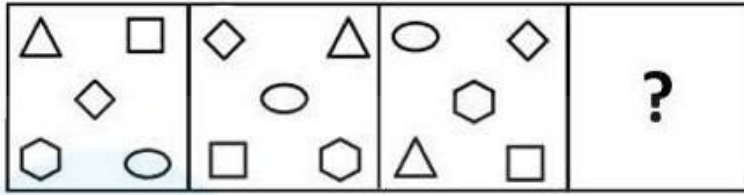
Question ID : 26433057438
Option 1 ID : 264330224738
Option 2 ID : 264330224737
Option 3 ID : 264330224739
Option 4 ID : 264330224736
Status : Not Answered
Chosen Option : --

Q.39 A @ B का अर्थ है "A, B का पति है"
A & B का अर्थ है "A, B की माता है"
A # B का अर्थ है "A, B की पुत्री है"
यदि L @ M & K @ J # P है, तो J का L से क्या संबंध है?

- Ans 1. पुत्र
 2. दामाद
 3. पुत्रवधू
 4. माता

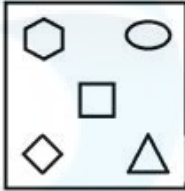
Question ID : 264330126022
Option 1 ID : 264330493761
Option 2 ID : 264330493760
Option 3 ID : 264330493762
Option 4 ID : 264330493763
Status : Answered
Chosen Option : 3

Q.40 उत्तर आकृतियों में से उस उपयुक्त आकृति का चयन कीजिए जो प्रश्नवाचक चिह्न (?) को प्रतिस्थापित कर सके।

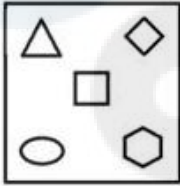


Ans

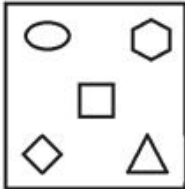
✓ 1.



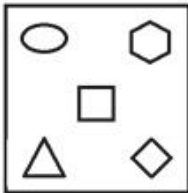
✗ 2.



✗ 3.



✗ 4.



Question ID : 26433066046

Option 1 ID : 264330258729

Option 2 ID : 264330258731

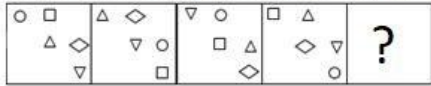
Option 3 ID : 264330258728

Option 4 ID : 264330258730

Status : Answered

Chosen Option : 1

Q.41 वह आकृति चुनें, जो नीचे दी गई आकृति श्रृंखला में प्रश्न चिह्न (?) के स्थान पर आएगी।

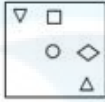


Ans

✗ 1.



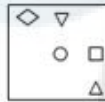
✗ 2.



✗ 3.



✓ 4.



Question ID : 264330145491

Option 1 ID : 264330570221

Option 2 ID : 264330570222

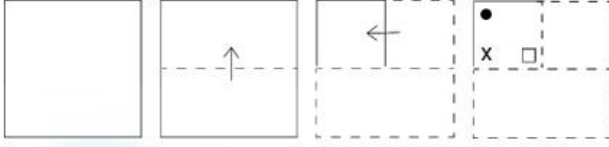
Option 3 ID : 264330570219

Option 4 ID : 264330570220

Status : Answered

Chosen Option : 4

Q.42 एक कागज को नीचे दिखाए गए अनुसार मोड़ा और काटा जाता है। खोले जाने पर यह कैसा दिखाई देगा?



Ans

- ✓ 1.
- ✗ 2.
- ✗ 3.
- ✗ 4.

Question ID : 264330103005

Option 1 ID : 264330404412

Option 2 ID : 264330404409

Option 3 ID : 264330404411

Option 4 ID : 264330404410

Status : Answered

Chosen Option : 1

Q.43 उस सही विकल्प का चयन कीजिए, जो दिए गए शब्दों के उसी क्रम में व्यवस्थापन को दर्शाता है, जिस क्रम में वे अंग्रेजी शब्दकोश में मौजूद होते हैं।

1. Stoop
2. Stoke
3. Storage
4. Stock
5. Storey
6. Stomach

Ans ✗ 1. 4, 2, 6, 3, 1, 5

✓ 2. 4, 2, 6, 1, 3, 5

✗ 3. 2, 4, 6, 1, 3, 5

✗ 4. 2, 4, 6, 3, 1, 5

Question ID : 264330145380

Option 1 ID : 264330569776

Option 2 ID : 264330569777

Option 3 ID : 264330569778

Option 4 ID : 264330569775

Status : Answered

Chosen Option : 2

Q.44 एक निश्चित कूट भाषा में, "HORSE" को 75 और "MOVE" को 63 के रूप में कूटबद्ध किया जाता है। उसी कूट भाषा में "RACE" को किस प्रकार कूटबद्ध किया जाएगा?

- Ans 1. 35
 2. 48
 3. 32
 4. 46

Question ID : 26433074708
Option 1 ID : 264330292921
Option 2 ID : 264330292923
Option 3 ID : 264330292920
Option 4 ID : 264330292922
Status : Not Answered
Chosen Option : --

Q.45 यदि '+' का अर्थ '-', '-' का अर्थ 'x', 'x' का अर्थ '+', '+' का अर्थ '÷' हो, तो निम्नलिखित समीकरण में प्रश्न चिह्न (?) के स्थान पर क्या आएगा?
 $14 - 7 \div 42 \times 6 + 33 = ?$

- Ans 1. 68
 2. 84
 3. 56
 4. 72

Question ID : 264330126056
Option 1 ID : 264330493898
Option 2 ID : 264330493896
Option 3 ID : 264330493897
Option 4 ID : 264330493899
Status : Answered
Chosen Option : 4

Q.46 सोना प्रतिदिन पार्क में टहलने जाती है। एक सुबह, वह अपने घर से टहलना आरंभ करती है, और उत्तर की ओर 40 km चलती है। फिर वह दाईं ओर मुड़ती है, और 60 km चलती है। वह फिर से दाईं ओर मुड़ती है, और 40 km चलती है। अंत में, वह बाईं ओर मुड़ती है, और 60 km चलती है। वह अपने घर से किस दिशा में और कितनी दूरी पर है?

- Ans 1. पश्चिम, 120 km
 2. पश्चिम, 60 km
 3. पूर्व, 90 km
 4. पूर्व, 120 km

Question ID : 26433097223
Option 1 ID : 264330381591
Option 2 ID : 264330381589
Option 3 ID : 264330381590
Option 4 ID : 264330381592
Status : Answered
Chosen Option : 4

Q.47 उस विकल्प का चयन करें जो चौथे पद से उसी प्रकार संबंधित है जिस प्रकार पहला पद, दूसरे पद से संबंधित है और पांचवां पद, छठे पद से संबंधित है।
2 : 26 :: ? : 152 :: 27 : 1026

- Ans 1. 13
 2. 6
 3. 24
 4. 8

Question ID : 26433079358
Option 1 ID : 264330311420
Option 2 ID : 264330311421
Option 3 ID : 264330311423
Option 4 ID : 264330311422
Status : Answered
Chosen Option : 2

Q.48 निम्नलिखित में से कौन-सी संख्या दी गई श्रृंखला में प्रश्नवाचक चिह्न (?) का स्थान लेगी?

38, 57, 40, 59, 42, ?

- Ans 1. 61
 2. 59
 3. 62
 4. 60

Question ID : 26433057339
Option 1 ID : 264330224342
Option 2 ID : 264330224340
Option 3 ID : 264330224343
Option 4 ID : 264330224341
Status : Answered
Chosen Option : 1

Q.49 यदि '+' का अर्थ '-', '-' का अर्थ 'x', 'x' का अर्थ '=' और '=' का अर्थ '+' है, तो दिए गए समीकरण में (?) के स्थान पर क्या आएगा?
 $30 + 5 - 2 \times 10 \div 2 = ?$

- Ans 1. 50
 2. 60
 3. 31
 4. 80

Question ID : 264330106671
Option 1 ID : 264330418985
Option 2 ID : 264330418987
Option 3 ID : 264330418986
Option 4 ID : 264330418988
Status : Answered
Chosen Option : 3

Q.50 दिए गए समीकरण को सही बनाने के लिए किन दो चिह्नों को आपस में बदला जाना चाहिए?
 $31 \div 48 \times 7 - 322 + 23 = 353$

- Ans
- 1. - और ×
 - 2. + और -
 - 3. × और +
 - 4. + और +

Question ID : 264330129527
Option 1 ID : 264330507477
Option 2 ID : 264330507474
Option 3 ID : 264330507476
Option 4 ID : 264330507475
Status : Answered
Chosen Option : 4

Section : General Knowledge and General Awareness

Q.1 निम्नलिखित में से कौन सा राज्य 2023 पुरुष हॉकी विश्व कप की मेजबानी करेगा?

- Ans
- 1. छत्तीसगढ़
 - 2. ओडिशा
 - 3. महाराष्ट्र
 - 4. झारखंड

Question ID : 264330109848
Option 1 ID : 264330431672
Option 2 ID : 264330431669
Option 3 ID : 264330431670
Option 4 ID : 264330431671
Status : Answered
Chosen Option : 2

Q.2 निम्नलिखित में से किस कर का भुगतान करने का दायित्व और वास्तविक भार, दो अलग-अलग व्यक्तियों पर होता है?

- Ans
- 1. पूंजी लाभ कर
 - 2. आयकर
 - 3. वस्तु एवं सेवा कर
 - 4. निगम कर

Question ID : 264330145240
Option 1 ID : 264330569216
Option 2 ID : 264330569218
Option 3 ID : 264330569217
Option 4 ID : 264330569215
Status : Answered
Chosen Option : 3

Q.3 भारत के प्रमुख जूट उत्पादक राज्यों के समूह की पहचान करें।

- Ans
- 1. केरल, तमिलनाडु, तेलंगाना, मध्य प्रदेश
 - 2. राजस्थान, महाराष्ट्र, कर्नाटक, गुजरात
 - 3. पश्चिम बंगाल, बिहार, असम, उड़ीसा
 - 4. पंजाब, हरियाणा, उत्तराखंड, हिमाचल प्रदेश

Question ID : 264330113263

Option 1 ID : 264330445140

Option 2 ID : 264330445138

Option 3 ID : 264330445137

Option 4 ID : 264330445139

Status : Answered

Chosen Option : 3

Q.4 किस मणिपुरी नृत्य विशेषज्ञ ने इंफाल में महिलाओं के लिए गोविंदजी नर्तनालय नृत्य विद्यालय की स्थापना की थी?

- Ans
- 1. गुरु बिपिन सिंह (Guru Bipin Singh)
 - 2. राजकुमार सिंहजीत सिंह (Rajkumar Singhajit Singh)
 - 3. फांजौबम इबोटन सिंह (Phanjoubam Iboton Singh)
 - 4. गुरु अमुबी (Guru Amubi)

Question ID : 26433054508

Option 1 ID : 264330213016

Option 2 ID : 264330213017

Option 3 ID : 264330213019

Option 4 ID : 264330213018

Status : Answered

Chosen Option : 1

Q.5 वर्तमान में पृथ्वी की आयु _____ मानी जाती है।

- Ans
- 1. 4 अरब वर्ष
 - 2. 3.5 अरब वर्ष
 - 3. 4.5 अरब वर्ष
 - 4. 5 अरब वर्ष

Question ID : 26433064466

Option 1 ID : 264330252458

Option 2 ID : 264330252459

Option 3 ID : 264330252457

Option 4 ID : 264330252456

Status : Answered

Chosen Option : 1

Q.6 बिष्णु राभा पुरस्कार, 2019 प्रख्यात _____ नृत्य प्रतिपादक (exponent) कुमारी लैतोंजम एबाम्पिसोक देवी (Kumari Laitonjam Ebampisok Devi) को प्रदान किया गया।

- Ans
- 1. ओडिसी
 - 2. मणिपुरी
 - 3. कथकली
 - 4. कुचिपुड़ी

Question ID : 26433054503

Option 1 ID : 264330212999

Option 2 ID : 264330212996

Option 3 ID : 264330212997

Option 4 ID : 264330212998

Status : Answered

Chosen Option : 2

Q.7 पद्म भूषण पुरस्कार से सम्मानित कुमुदिनी लाखिया निम्नलिखित में से किस नृत्य शैली के लिए प्रसिद्ध हैं?

- Ans
- 1. ओडिसी
 - 2. कुचिपुड़ी
 - 3. कथक
 - 4. भरतनाट्यम्

Question ID : 264330145166
Option 1 ID : 264330568922
Option 2 ID : 264330568921
Option 3 ID : 264330568920
Option 4 ID : 264330568919
Status : Answered
Chosen Option : 3

Q.8 निम्नलिखित में से किस अधिकार को 44वें संविधान संशोधन अधिनियम द्वारा मूल अधिकारों की सूची से हटा दिया गया था?

- Ans
- 1. संपत्ति का अधिकार
 - 2. समानता का अधिकार
 - 3. स्वतंत्रता का अधिकार
 - 4. धार्मिक स्वतंत्रता का अधिकार

Question ID : 264330111521
Option 1 ID : 264330438172
Option 2 ID : 264330438169
Option 3 ID : 264330438170
Option 4 ID : 264330438171
Status : Answered
Chosen Option : 1

Q.9 निम्न में से कौन सा सुमेलित नहीं है?

- Ans
- 1. चालकत्व - सीमेंस
 - 2. संधारित्र - डाइन
 - 3. वोल्टेज - वोल्ट
 - 4. प्रतिरोध - ओम

Question ID : 264330111864
Option 1 ID : 264330439542
Option 2 ID : 264330439544
Option 3 ID : 264330439543
Option 4 ID : 264330439541
Status : Answered
Chosen Option : 1

Q.10 मुहम्मद बिन तुगलक के सिंहासन का उत्तराधिकारी निम्नलिखित में से कौन था?

- Ans
- 1. नसीरुद्दीन महमूद शाह तुगलक
 - 2. अबू बक्र शाह तुगलक
 - 3. गयासुद्दीन तुगलक शाह द्वितीय
 - 4. फिरोज शाह तुगलक

Question ID : 26433071394
Option 1 ID : 264330280003
Option 2 ID : 264330280000
Option 3 ID : 264330280002
Option 4 ID : 264330280001
Status : Answered
Chosen Option : 4

Q.11 प्रसिद्ध संगीतकार तानसेन के गुरु कौन थे?

- Ans 1. स्वामी हरिदास
 2. सूरदास
 3. रविदास
 4. कालिदास

Question ID : 26433074861
Option 1 ID : 264330293535
Option 2 ID : 264330293532
Option 3 ID : 264330293533
Option 4 ID : 264330293534
Status : Answered
Chosen Option : 1

Q.12 अचार ज्यादा दिन तक क्यों टिका रहता है?

- Ans 1. अचार में नमक की मात्रा अधिक होने पर जीवाणु और कवक कोशिकाएँ प्लास्मोलाइज़ हो जाती हैं।
 2. अचार में जलांश अचार को खराब होने से बचाती है।
 3. अचार में फायदेमंद जीवाणु ही पनप सकते हैं।
 4. अचार को निर्वात में तैयार किया जाता है ताकि उसमें हानिकारक जीवाणु न पनप सकें।

Question ID : 26433089677
Option 1 ID : 264330352212
Option 2 ID : 264330352210
Option 3 ID : 264330352209
Option 4 ID : 264330352211
Status : Answered
Chosen Option : 1

Q.13 उस वर्णक की पहचान कीजिए, जो रक्त को उसका रंग देता है।

- Ans 1. क्लोरोफिल
 2. हीमोग्लोबिन
 3. फेरिटिन
 4. ज़ैथोफिल

Question ID : 26433064753
Option 1 ID : 264330253605
Option 2 ID : 264330253607
Option 3 ID : 264330253606
Option 4 ID : 264330253604
Status : Answered
Chosen Option : 2

Q.14 निम्नलिखित में से किस वर्ष को यूएन (UN) द्वारा अंतर्राष्ट्रीय सूक्ष्म ऋण वर्ष (international year of micro credit) घोषित किया गया था?

- Ans 1. 2002
 2. 2004
 3. 2008
 4. 2005

Question ID : 264330141450
Option 1 ID : 264330554135
Option 2 ID : 264330554136
Option 3 ID : 264330554138
Option 4 ID : 264330554137
Status : Not Answered
Chosen Option : --

Q.15 इंडो-ग्रीक के संबंध में निम्नलिखित कथनों पर विचार करें।

1. सबसे प्रसिद्ध इंडो-ग्रीक शासक मिनांडर था।
2. मिनांडर की पहचान प्रसिद्ध बौद्ध ग्रन्थ मिलिन्दपन्ह में वर्णित राजा मिलिंद के साथ की गई है।
3. मिलिन्दपन्ह में दार्शनिक प्रश्न हैं, जो मिलिंद ने आम्रपाली से पूछे थे।
4. उत्तरों से प्रभावित होकर राजा मिलिंद ने बौद्ध धर्म को अपना धर्म मान लिया। उपर्युक्त में से कौन-से कथन सही हैं।

- Ans
- 1. केवल 1, 2 और 3
 - 2. केवल 3, 2 और 4
 - 3. केवल 1, 3 और 4
 - 4. केवल 1, 2 और 4

Question ID : 264330123784

Option 1 ID : 264330485074

Option 2 ID : 264330485073

Option 3 ID : 264330485075

Option 4 ID : 264330485072

Status : Not Answered

Chosen Option : --

Q.16 मुख्य नहर के जल स्तर के नीचे की कृषि भूमि, _____ का निर्माण करती है।

- Ans
- 1. वारबंदी (warebandi)
 - 2. कमांड क्षेत्र (command area)
 - 3. प्रवाह प्रणाली (flow system)
 - 4. लिफ्ट प्रणाली (lift system)

Question ID : 264330163192

Option 1 ID : 264330640080

Option 2 ID : 264330640079

Option 3 ID : 264330640081

Option 4 ID : 264330640082

Status : Not Answered

Chosen Option : --

Q.17 आकाशगंगाओं के बीच की दूरी के संबंध में कौन सा रुझान (trend) पाया गया है?

- Ans
- 1. स्थिर
 - 2. बढ़ते क्रम में
 - 3. घटते क्रम में
 - 4. अनुनमेय

Question ID : 264330113349

Option 1 ID : 264330445483

Option 2 ID : 264330445481

Option 3 ID : 264330445482

Option 4 ID : 264330445484

Status : Not Answered

Chosen Option : --

Q.18 भारतीय संविधान का कौन-सा अनुच्छेद यह शर्त निर्धारित करता है कि राष्ट्रपति, एक बार चुने जाने के बाद, संसद या राज्य विधानमंडल के किसी भी सदन का सदस्य नहीं होगा?

- Ans
- 1. अनुच्छेद 79
 - 2. अनुच्छेद 80
 - 3. अनुच्छेद 59
 - 4. अनुच्छेद 62

Question ID : 264330114495
Option 1 ID : 264330450067
Option 2 ID : 264330450068
Option 3 ID : 264330450065
Option 4 ID : 264330450066
Status : Answered
Chosen Option : 3

Q.19 2011 की जनगणना के अनुसार, कोई भी व्यक्ति, जिसकी आयु _____ वर्ष या उससे अधिक है, और जो लिख या पढ़ सकता है, साक्षर माना जाता है।

- Ans
- 1. दस
 - 2. बारह
 - 3. छः
 - 4. सात

Question ID : 264330110656
Option 1 ID : 264330434901
Option 2 ID : 264330434904
Option 3 ID : 264330434903
Option 4 ID : 264330434902
Status : Not Answered
Chosen Option : --

Q.20 सूची I का सूची II से मिलान करें।

सूची I

- a) दूसरी पंचवर्षीय योजना
- b) पांचवीं पंचवर्षीय योजना
- c) आठवीं पंचवर्षीय योजना

सूची II

- i) 1974-1979
- ii) 1956-1961
- iii) 1992-1997

- Ans
- 1. a-i, b-ii, c-iii
 - 2. a-iii, b-i, c-ii
 - 3. a-i, b-iii, c-ii
 - 4. a-ii, b-i, c-iii

Question ID : 264330141495
Option 1 ID : 264330554315
Option 2 ID : 264330554317
Option 3 ID : 264330554318
Option 4 ID : 264330554316
Status : Answered
Chosen Option : 4

Q.21 भारत के संविधान का कौन-सा अनुच्छेद बलात् श्रम (forced labour) को प्रतिषिद्ध करता है?

- Ans
- 1. अनुच्छेद 22
 - 2. अनुच्छेद 20
 - 3. अनुच्छेद 21
 - 4. अनुच्छेद 23

Question ID : 264330130680
Option 1 ID : 264330511833
Option 2 ID : 264330511831
Option 3 ID : 264330511832
Option 4 ID : 264330511834
Status : Answered
Chosen Option : 4

Q.22 बाबर के चार पुत्रों में सबसे बड़ा कौन था?

- Ans
- 1. हिन्दाल
 - 2. अस्करी
 - 3. कामरान
 - 4. हुमायूं

Question ID : 264330109024
Option 1 ID : 264330428375
Option 2 ID : 264330428374
Option 3 ID : 264330428373
Option 4 ID : 264330428376
Status : Answered
Chosen Option : 4

Q.23 निम्नलिखित में से कौन 'प्रार्थना सभा' से संबंधित नहीं था?

- Ans
- 1. आत्माराम पांडुरंग
 - 2. गोविन्द रानाडे
 - 3. आर.जी. भंडारकर
 - 4. मोतीलाल नेहरू

Question ID : 264330165393
Option 1 ID : 264330648653
Option 2 ID : 264330648651
Option 3 ID : 264330648654
Option 4 ID : 264330648652
Status : Answered
Chosen Option : 4

Q.24 निम्नलिखित में से कौन-सी अंतर्राष्ट्रीय टेनिस खिलाड़ी आन्द्रे अगासी (Andre Agassi) की आत्मकथा है?

- Ans
- 1. बिकमिंग
 - 2. मी
 - 3. टू मैनी रीज़न्स टू लिव
 - 4. ओपन : एन ऑटोबायोग्राफी

Question ID : 264330145178
Option 1 ID : 264330568967
Option 2 ID : 264330568970
Option 3 ID : 264330568968
Option 4 ID : 264330568969
Status : Not Answered
Chosen Option : --

Q.25 प्रथम पंचवर्षीय योजना कब समाप्त हुई?

- Ans
- 1. जनवरी 1956
 - 2. फरवरी 1956
 - 3. मार्च 1956
 - 4. दिसंबर 1955

Question ID : 264330145250
Option 1 ID : 264330569256
Option 2 ID : 264330569257
Option 3 ID : 264330569258
Option 4 ID : 264330569255
Status : Answered
Chosen Option : 3

Q.26 निम्नलिखित में से कौन सी पुस्तक बुकर पुरस्कार विजेता किरण देसाई द्वारा लिखी गई है?

- Ans
- 1. ए फाइन बैलेंस
 - 2. द इनहेरिटेन्स ऑफ लॉस
 - 3. शांताराम
 - 4. द इयर ऑफ रनवेज़

Question ID : 26433071482
Option 1 ID : 264330280353
Option 2 ID : 264330280355
Option 3 ID : 264330280354
Option 4 ID : 264330280352
Status : Answered
Chosen Option : 2

Q.27 अर्नस्ट हेकेल (Ernst Haeckel) ने जीवित रूपों की इकाई का वर्णन करने के लिए 'इकोलॉजी (ecology)' शब्द किस वर्ष में पेश किया था?

- Ans
- 1. 1884
 - 2. 1888
 - 3. 1887
 - 4. 1866

Question ID : 264330145194
Option 1 ID : 264330569031
Option 2 ID : 264330569034
Option 3 ID : 264330569033
Option 4 ID : 264330569032
Status : Not Answered
Chosen Option : --

Q.28 प्रसिद्ध वादक पंडित राम नारायण निम्नलिखित में से किस वाद्य यंत्र को बजाने के लिए जाने जाते हैं?

- Ans
- 1. सारंगी
 - 2. घटम्
 - 3. सरोद
 - 4. वीणा

Question ID : 264330145168
Option 1 ID : 264330568928
Option 2 ID : 264330568930
Option 3 ID : 264330568927
Option 4 ID : 264330568929
Status : Answered
Chosen Option : 2

Q.29 निम्नलिखित में से कौन-से विकल्प में समांगी मिश्रण हैं?

- Ans
- 1. विलयन, कोलॉइड , निलंबन, दूध, दूधपेस्ट, लवणीय जल, पीतल
 - 2. कोलॉइड, निलंबन, दूध, दूधपेस्ट
 - 3. विलयन, लवणीय जल, पीतल
 - 4. विलयन, कोलॉइड , दूध, दूधपेस्ट, लवणीय जल, पीतल

Question ID : 264330169308
Option 1 ID : 264330664011
Option 2 ID : 264330664014
Option 3 ID : 264330664013
Option 4 ID : 264330664012
Status : Not Answered
Chosen Option : --

Q.30 कुचिपुड़ी की उत्पत्ति निम्नलिखित में से किस राज्य में हुई?

- Ans
- 1. तमिलनाडु
 - 2. केरल
 - 3. गुजरात
 - 4. आंध्र प्रदेश

Question ID : 264330164791
Option 1 ID : 264330646293
Option 2 ID : 264330646294
Option 3 ID : 264330646291
Option 4 ID : 264330646292
Status : Answered
Chosen Option : 4

Q.31 भारत के संविधान की किस अनुसूची में दल-बदल के आधार पर विधायक की निरर्हता के प्रावधान हैं?

- Ans
- 1. अनुसूची-X
 - 2. अनुसूची-XI
 - 3. अनुसूची-IX
 - 4. अनुसूची-VIII

Question ID : 264330130474
Option 1 ID : 264330511008
Option 2 ID : 264330511009
Option 3 ID : 264330511007
Option 4 ID : 264330511010
Status : Answered
Chosen Option : 1

Q.32 निम्नलिखित में से किसे भारत के भूआकृतिक विभाजन के तहत समूहीकृत नहीं किया जा सकता है?

- Ans
- 1. अप्लेशियन पर्वत
 - 2. हिमालय
 - 3. द्वीप
 - 4. भारतीय मरूस्थल

Question ID : 264330163235
Option 1 ID : 264330640251
Option 2 ID : 264330640252
Option 3 ID : 264330640253
Option 4 ID : 264330640254
Status : Not Answered
Chosen Option : --

Q.33 फुटबॉल में, जब किसी खिलाड़ी ने फाउल किया होता है, तब विपक्षी खिलाड़ी को एक किक पारितोषिक स्वरूप प्रदान की जाती है। उस किक को क्या कहते हैं?

- Ans
- 1. फ्री किक
 - 2. बाईसाइकिल किक
 - 3. वाइड किक
 - 4. गोल किक

Question ID : 26433092339
Option 1 ID : 264330362655
Option 2 ID : 264330362656
Option 3 ID : 264330362653
Option 4 ID : 264330362654
Status : Answered
Chosen Option : 1

Q.34 निम्नलिखित में से कौन-सा एक प्राथमिक एरिलऐमीन (arylamine) है, जिसमें बेंजीन हाइड्रोजन में से किसी एक के स्थान पर एक एमिनो क्रियात्मक समूह (amino functional group) प्रतिस्थापित हो जाता है?

- Ans
- 1. पिरिडीन (Pyridine)
 - 2. टोल्यूडीन (Toluidine)
 - 3. क्विनोलिन (Quinoline)
 - 4. एनिलीन (Aniline)

Question ID : 264330110055
Option 1 ID : 264330432497
Option 2 ID : 264330432499
Option 3 ID : 264330432498
Option 4 ID : 264330432500
Status : Not Answered
Chosen Option : --

Q.35 दक्कन के पठार (Deccan Plateau) की काली मिट्टी में निम्नलिखित में से किस खनिज की कमी है?

- Ans
- 1. चूना
 - 2. फॉस्फोरस
 - 3. पोटैश
 - 4. आयरन

Question ID : 264330119790
Option 1 ID : 264330469438
Option 2 ID : 264330469435
Option 3 ID : 264330469436
Option 4 ID : 264330469437
Status : Not Answered
Chosen Option : --

Q.36 निम्नलिखित में से किस राज्य ने जनजातियों के बीच अंतःक्रियता (interaction) को प्रोत्साहित करने और राज्य की सांस्कृतिक विरासत के संवर्धन हेतु हॉर्नबिल महोत्सव की शुरुआत की?

- Ans
- 1. असम
 - 2. छत्तीसगढ़
 - 3. नागालैंड
 - 4. पश्चिम बंगाल

Question ID : 26433054216
Option 1 ID : 264330211850
Option 2 ID : 264330211848
Option 3 ID : 264330211849
Option 4 ID : 264330211851
Status : Answered
Chosen Option : 3

Q.37 चापचर कुट त्यौहार मुख्य रूप से _____ में मनाया जाता है।

- Ans
- 1. मेघालय
 - 2. मणिपुर
 - 3. मिजोरम
 - 4. नागालैंड

Question ID : 264330164807
Option 1 ID : 264330646355
Option 2 ID : 264330646358
Option 3 ID : 264330646356
Option 4 ID : 264330646357
Status : Answered
Chosen Option : 3

Q.38 किस वैज्ञानिक ने एक अकार्बनिक यौगिक, अमोनियम साइनेट से एक कार्बनिक यौगिक, यूरिया का संश्लेषण किया?

- Ans
- 1. एफ. वोहलर (F Wohler)
 - 2. बर्थेलोट (Berthelot)
 - 3. कोल्बे (Kolbe)
 - 4. बर्जीलियस (Berzelius)

Question ID : 264330145224
Option 1 ID : 264330569152
Option 2 ID : 264330569151
Option 3 ID : 264330569153
Option 4 ID : 264330569154
Status : Not Answered
Chosen Option : --

Q.39 मंदिर और उसकी स्थिति वाले राज्य के सही संयोजन का चयन कीजिए।

- Ans
- 1. महाकालेश्वर ज्योतिर्लिंग-उत्तराखंड
 - 2. सोमनाथ ज्योतिर्लिंग मंदिर-महाराष्ट्र
 - 3. कामाख्या मंदिर-असम
 - 4. जगन्नाथ मंदिर-पश्चिम बंगाल

Question ID : 264330141822
Option 1 ID : 264330555608
Option 2 ID : 264330555610
Option 3 ID : 264330555607
Option 4 ID : 264330555609
Status : Answered
Chosen Option : 3

Q.40 संविधान का कौन-सा अनुच्छेद स्पष्ट करता है कि 'आरक्षण (reservation)' जैसी नीतियाँ समानता के अधिकार का उल्लंघन नहीं है?

- Ans
- 1. अनुच्छेद 15 (2)
 - 2. अनुच्छेद 14 (1)
 - 3. अनुच्छेद 21
 - 4. अनुच्छेद 16 (4)

Question ID : 264330116396
Option 1 ID : 264330457670
Option 2 ID : 264330457669
Option 3 ID : 264330457672
Option 4 ID : 264330457671
Status : Not Answered
Chosen Option : --

Q.41 भारत के संविधान के अनुच्छेद 361 के अनुसार, निम्नलिखित में से कौन अपने पद की शक्तियों के प्रयोग और कर्तव्यों के पालन के लिए किसी भी अदालत के प्रति उत्तरदाई नहीं होगा?

- Ans
- 1. मुख्यमंत्री
 - 2. प्रधानमंत्री
 - 3. सचिव
 - 4. राज्यपाल

Question ID : 264330145271
Option 1 ID : 264330569340
Option 2 ID : 264330569339
Option 3 ID : 264330569342
Option 4 ID : 264330569341
Status : Answered
Chosen Option : 4

Q.42 वर्ल्ड वेटलिफ्टिंग फेडरेशन द्वारा लंदन, यू.के. में पहली विश्व भारोत्तोलन चैंपियनशिप (World Weightlifting Championship) कब आयोजित की गई थी?

- Ans
- 1. मार्च 2000
 - 2. मार्च 1991
 - 3. मार्च 1895
 - 4. मार्च 1891

Question ID : 26433059423
Option 1 ID : 264330232561
Option 2 ID : 264330232560
Option 3 ID : 264330232562
Option 4 ID : 264330232563
Status : Not Answered
Chosen Option : --

Q.43 क्रिकेट में एक ओवर में कितनी गेंदें होती हैं?

- Ans 1. 5
 2. 6
 3. 4
 4. 7

Question ID : 264330118905
Option 1 ID : 264330466276
Option 2 ID : 264330466277
Option 3 ID : 264330466275
Option 4 ID : 264330466278
Status : Answered
Chosen Option : 2

Q.44 एल्डिहाइड समूह का रासायनिक सूत्र क्या है?

- Ans 1. -COOH
 2. -OH
 3. -CH₂O
 4. -CHO

Question ID : 264330145223
Option 1 ID : 264330569149
Option 2 ID : 264330569148
Option 3 ID : 264330569150
Option 4 ID : 264330569147
Status : Answered
Chosen Option : 4

Q.45 1773 के रेगुलेटिंग एक्ट के तहत, किंग-इन-काउंसिल ने निम्नलिखित में से किस स्थान पर सर्वोच्च न्यायालय की स्थापना की?

- Ans 1. मद्रास
 2. बॉम्बे
 3. दिल्ली
 4. कलकत्ता

Question ID : 26433099166
Option 1 ID : 264330389280
Option 2 ID : 264330389278
Option 3 ID : 264330389277
Option 4 ID : 264330389279
Status : Answered
Chosen Option : 4

Q.46 लैंडहोल्डर्स सोसाइटी (Landholder's Society) की स्थापना किस वर्ग के हितों की देखभाल के लिए की गई थी?

- Ans 1. किसान
 2. जमींदार
 3. श्रमिक
 4. व्यापारी

Question ID : 264330112182
Option 1 ID : 264330440815
Option 2 ID : 264330440814
Option 3 ID : 264330440813
Option 4 ID : 264330440816
Status : Answered
Chosen Option : 2

Q.47 1950 के दशक के मध्य में सर्वप्रथम बार किसने राइबोसोम (ribosomes) का अवलोकन किया, और उन्हें कोशिकाद्रव्य में छोटे कणों के रूप में वर्णित किया, जो अधिमाम्य रूप से अन्तर्द्रव्यी जालिका झिल्ली (endoplasmic reticulum membrane) से जुड़े थे?

- Ans
- 1. कार्ल जीस (Carl Zeiss)
 - 2. अल्बर्ट कोलिकर (Albert Kolliker)
 - 3. जॉर्ज ई. पलाडे (George E Palade)
 - 4. अर्न्स्ट अब्बे (Ernst Abbe)

Question ID : 264330145198
Option 1 ID : 264330569048
Option 2 ID : 264330569050
Option 3 ID : 264330569049
Option 4 ID : 264330569047
Status : Not Answered
Chosen Option : --

Q.48 निम्नलिखित में से गलत कथन का चयन कीजिए।

- Ans
- 1. तमिलनाडु तट जैसे कुछ हिस्सों में अधिकांश वर्षा अक्टूबर और नवंबर के दौरान होती है।
 - 2. देश के अधिकांश भागों में जून से सितम्बर तक वर्षा होती है।
 - 3. उत्तरी मैदानी भागों में सामान्यतः पूर्व से पश्चिम की ओर वर्षा में वृद्धि होती है।
 - 4. मेघालय में 400 cm से अधिक वार्षिक वर्षा होती है।

Question ID : 264330169313
Option 1 ID : 264330664033
Option 2 ID : 264330664032
Option 3 ID : 264330664034
Option 4 ID : 264330664031
Status : Not Answered
Chosen Option : --

Q.49 कायाकल्य और शहरी परिवर्तन के लिए अटल मिशन (AMRUT) योजना के तहत कितने शहर शामिल हैं?

- Ans
- 1. 500
 - 2. 200
 - 3. 400
 - 4. 300

Question ID : 26433064567
Option 1 ID : 264330252860
Option 2 ID : 264330252863
Option 3 ID : 264330252861
Option 4 ID : 264330252862
Status : Not Answered
Chosen Option : --

Q.50 प्रधान मंत्री रोजगार सृजन कार्यक्रम (PMEGP) कब शुरू किया गया था?

- Ans
- 1. 2009
 - 2. 2012
 - 3. 2006
 - 4. 2008

Question ID : 264330157101
Option 1 ID : 264330615775
Option 2 ID : 264330615778
Option 3 ID : 264330615776
Option 4 ID : 264330615777
Status : Not Answered
Chosen Option : --

Section : Quantitative Aptitude

Q.1 AB एक वृत्त की जीवा है, जिसकी त्रिज्या 1.7 cm है। यदि वृत्त के केंद्र से इस जीवा AB की दूरी 0.8 cm है, तो जीवा AB की लंबाई (cm में) कितनी है?

- Ans
- 1. 1
 - 2. 2
 - 3. 4
 - 4. 3

Question ID : 264330165692
Option 1 ID : 264330649847
Option 2 ID : 264330649848
Option 3 ID : 264330649850
Option 4 ID : 264330649849
Status : Answered
Chosen Option : 4

Q.2 ΔPQR में, $\angle P=90^\circ$, $\angle R=47^\circ$ और $PS \perp QR$ हैं। $\angle QPS$ का मान ज्ञात कीजिए।

- Ans
- 1. 47°
 - 2. 40°
 - 3. 43°
 - 4. 45°

Question ID : 264330158285
Option 1 ID : 264330620502
Option 2 ID : 264330620499
Option 3 ID : 264330620500
Option 4 ID : 264330620501
Status : Answered
Chosen Option : 1

Q.3 एक वस्तु पर, ₹26,000 के अंकित मूल्य पर 18% की छूट है। अतिरिक्त सीजन छूट देने के बाद, वस्तु ₹16,000 में बेची जाती है। सीजन छूट का मान दो दशमलव स्थानों तक ज्ञात कीजिए।

- Ans
- 1. 24.65%
 - 2. 24.95%
 - 3. 35.25%
 - 4. 22.45%

Question ID : 264330104407

Option 1 ID : 264330409930

Option 2 ID : 264330409931

Option 3 ID : 264330409932

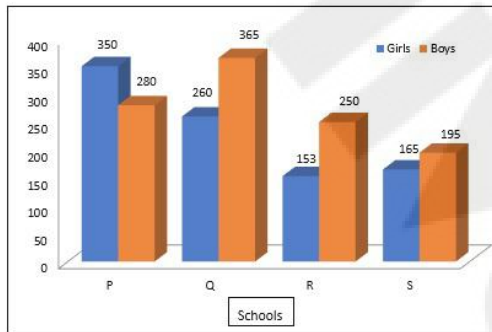
Option 4 ID : 264330409929

Status : Answered

Chosen Option : 3

Q.4 दिए गए आलेख का अध्ययन कीजिए और नीचे दिए गए प्रश्न का उत्तर दीजिए।

आलेख, चार अलग-अलग स्कूलों में कक्षा 5 में पढ़ने वाले लड़कों और लड़कियों की संख्या से संबंधित डेटा दिखाता है।



Girl = लड़कियां, Boys = लड़कें, Schools = स्कूल

स्कूल P और Q में एकसाथ मिलाकर पढ़ने वाले लड़कों की कुल संख्या और उन्हीं स्कूलों में एकसाथ मिलाकर पढ़ने वाली लड़कियों की कुल संख्या के बीच कितना अंतर है?

- Ans
- 1. 35
 - 2. 45
 - 3. 38
 - 4. 40

Question ID : 264330158275

Option 1 ID : 264330620459

Option 2 ID : 264330620462

Option 3 ID : 264330620460

Option 4 ID : 264330620461

Status : Answered

Chosen Option : 1

Q.5 यदि एक लंब वृत्तीय शंकु की आधार त्रिज्या और ऊंचाई में 10% की वृद्धि की जाती है, तो इसके आयतन में होने वाली प्रतिशत वृद्धि ज्ञात कीजिए।

- Ans
- ✓ 1. 33.1%
 - ✗ 2. 22.1%
 - ✗ 3. 30.2%
 - ✗ 4. 20.2%

Question ID : 264330103640

Option 1 ID : 264330406868

Option 2 ID : 264330406866

Option 3 ID : 264330406867

Option 4 ID : 264330406865

Status : Answered

Chosen Option : 1

Q.6 यदि $\cos A = \frac{1}{11}$ है, तो $\cot A$ का मान ज्ञात कीजिए।

- Ans
- ✓ 1. $\frac{1}{2\sqrt{30}}$
 - ✗ 2. $2\sqrt{30}$
 - ✗ 3. $\frac{11}{2\sqrt{30}}$
 - ✗ 4. $\frac{2\sqrt{30}}{11}$

Question ID : 264330158291

Option 1 ID : 264330620524

Option 2 ID : 264330620525

Option 3 ID : 264330620523

Option 4 ID : 264330620526

Status : Answered

Chosen Option : 1

Q.7 जिमी को 88 km की दूरी 16 घंटे में पूरी करनी है। यदि वह आधी यात्रा $\frac{3}{4}$ समय में तय करती है, तो शेष दूरी को शेष समय में तय करने के लिए उसकी चाल क्या होनी चाहिए?

- Ans
- ✗ 1. 10 km/h
 - ✗ 2. 12 km/h
 - ✓ 3. 11 km/h
 - ✗ 4. 13 km/h

Question ID : 26433082849

Option 1 ID : 264330325230

Option 2 ID : 264330325231

Option 3 ID : 264330325229

Option 4 ID : 264330325232

Status : Answered

Chosen Option : 3

Q.8 वह छोटी से छोटी संख्या ज्ञात कीजिए, जिसे 4, 9, 12 और 15 से विभाजित करने पर प्रत्येक स्थिति में शेषफल 3 प्राप्त होता है।

Ans 1. 183

2. 180

3. 360

4. 193

Question ID : 26433063994

Option 1 ID : 264330250570

Option 2 ID : 264330250571

Option 3 ID : 264330250569

Option 4 ID : 264330250568

Status : Answered

Chosen Option : 2

Q.9 $16\operatorname{cosec}^2\theta + 25\sin^2\theta$ का न्यूनतम मान ज्ञात कीजिए।

Ans 1. 42

2. 38

3. 40

4. 35

Question ID : 264330145125

Option 1 ID : 264330568758

Option 2 ID : 264330568756

Option 3 ID : 264330568757

Option 4 ID : 264330568755

Status : Not Answered

Chosen Option : --

Q.10 36 समान रूप से दक्ष कर्मचारी 48 दिनों में 25 एक जैसी दीवारों को पेंट कर सकते हैं। ऐसे 45 कर्मचारी कितने दिनों में ऐसी 60 दीवारों को पेंट कर सकते हैं?

Ans 1. 92.36

2. 91.96

3. 91.16

4. 92.16

Question ID : 264330103289

Option 1 ID : 264330405463

Option 2 ID : 264330405461

Option 3 ID : 264330405462

Option 4 ID : 264330405464

Status : Answered

Chosen Option : 4

Q.11 किसी व्यक्ति का मासिक वेतन ₹50,000 है। वह अपने वेतन का 40% घरेलू खर्च पर, 25% किराए पर, और 15% परिवहन पर खर्च करता है, और शेष राशि की बचत करता है। उसकी वार्षिक बचत कितनी है?

- Ans
- 1. ₹1,10,000
 - 2. ₹1,20,000
 - 3. ₹1,00,000
 - 4. ₹90,000

Question ID : 264330157713
Option 1 ID : 264330618213
Option 2 ID : 264330618214
Option 3 ID : 264330618212
Option 4 ID : 264330618211
Status : Answered
Chosen Option : 2

Q.12 यदि 45 और 55 के महत्तम समापवर्तक (HCF) को $55 \times 5 + 45m$ के रूप में व्यक्त किया जा सकता है, तो m का मान क्या है?

- Ans
- 1. -5
 - 2. -6
 - 3. 6
 - 4. 5

Question ID : 26433074253
Option 1 ID : 264330291132
Option 2 ID : 264330291134
Option 3 ID : 264330291135
Option 4 ID : 264330291133
Status : Answered
Chosen Option : 2

Q.13 त्रिभुज LMN में, OP, भुजा MN के समानांतर खींचा गया एक रेखाखंड है। OP, भुजाओं LM और LN को क्रमशः O और P पर प्रतिच्छेदित करता है। यदि LM = 15 cm, OM = 4 cm और PN = 5 cm है, तो भुजा LN की लंबाई (cm में) कितनी है?

- Ans
- 1. 18.75
 - 2. 22.75
 - 3. 16.25
 - 4. 20.25

Question ID : 264330165690
Option 1 ID : 264330649840
Option 2 ID : 264330649842
Option 3 ID : 264330649839
Option 4 ID : 264330649841
Status : Answered
Chosen Option : 1

Q.14 12, 18 और 27 का लघुत्तम समापवर्त्य क्या है?

- Ans
- 1. 27
 - 2. 216
 - 3. 54
 - 4. 108

Question ID : 26433066158

Option 1 ID : 264330259165

Option 2 ID : 264330259167

Option 3 ID : 264330259164

Option 4 ID : 264330259166

Status : Answered

Chosen Option : 4

Q.15 दालों का क्रय मूल्य, विक्रय मूल्य से 12% कम है। एक खराब तौल मशीन का उपयोग करके दुकानदार 25% लाभ अर्जित करने में सक्षम है। दोषपूर्ण मशीन वास्तविक वजन की तुलना में कितने प्रतिशत अधिक वजन दिखाती है (निकटतम पूर्णांक तक पूर्णांकित)?

- Ans
- 1. 10%
 - 2. 13%
 - 3. 15%
 - 4. 14%

Question ID : 264330102068

Option 1 ID : 264330400777

Option 2 ID : 264330400779

Option 3 ID : 264330400780

Option 4 ID : 264330400778

Status : Answered

Chosen Option : 1

Q.16 विजय 42 m कपड़ा बेचकर 7 m कपड़े के विक्रय मूल्य के बराबर लाभ प्राप्त करता है। प्रतिशत लाभ ज्ञात कीजिए।

- Ans
- 1. 25%
 - 2. 15%
 - 3. 20%
 - 4. 30%

Question ID : 264330131518

Option 1 ID : 264330515177

Option 2 ID : 264330515175

Option 3 ID : 264330515176

Option 4 ID : 264330515178

Status : Answered

Chosen Option : 3

Q.17 यदि $\operatorname{cosec} A + \cot A = 3$, जहाँ $0 \leq A \leq 90^\circ$ है, तो $\cos A$ का मान क्या होगा?

Ans

1. $\frac{3}{4}$

2. $\frac{3}{5}$

3. $\frac{2}{5}$

4. $\frac{4}{5}$

Question ID : 264330157759

Option 1 ID : 264330618397

Option 2 ID : 264330618395

Option 3 ID : 264330618398

Option 4 ID : 264330618396

Status : Answered

Chosen Option : 4

Q.18 यदि किसी वृत्त का परिमाप 13.2 cm है, तो वृत्त की त्रिज्या _____ है।

$(\pi = \frac{22}{7} \text{ लीजिए})$

Ans 1. 2.1 cm

2. 6.6 cm

3. 4.2 cm

4. 3.3 cm

Question ID : 264330165443

Option 1 ID : 264330648852

Option 2 ID : 264330648853

Option 3 ID : 264330648851

Option 4 ID : 264330648854

Status : Answered

Chosen Option : 1

Q.19 x^3y और xy^3 का मध्यानुपाती (mean proportion) ज्ञात कीजिए।

Ans 1. xy

2. x^3y^3

3. x^4y^4

4. x^2y^2

Question ID : 264330145074

Option 1 ID : 264330568551

Option 2 ID : 264330568553

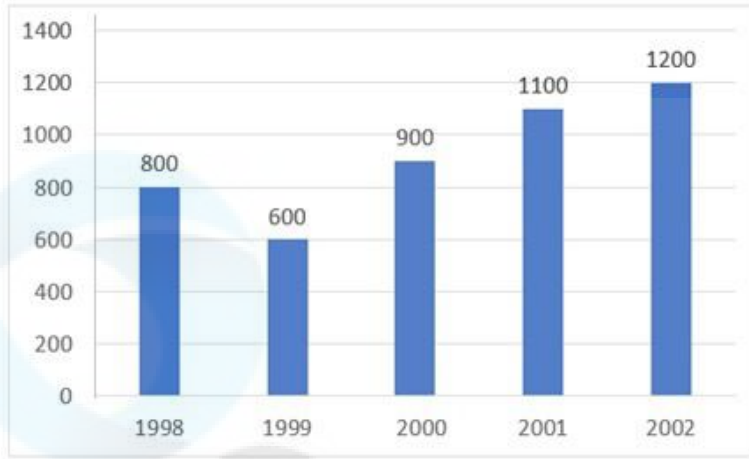
Option 3 ID : 264330568554

Option 4 ID : 264330568552

Status : Answered

Chosen Option : 4

Q.20 दिए गए बार-ग्राफ का अध्ययन कीजिए, और दिए गए प्रश्न का उत्तर दीजिए।
निम्न बार-ग्राफ 1998 से 2002 तक किसी कारखाने में उत्पादित साइकिलों की संख्या को दर्शाता है।



1998-2002 के दौरान कारखाने में प्रति वर्ष उत्पादित साइकिलों की औसत संख्या कितनी थी?

- Ans
- 1. 940
 - 2. 880
 - 3. 920
 - 4. 960

Question ID : 264330157734

Option 1 ID : 264330618296

Option 2 ID : 264330618298

Option 3 ID : 264330618297

Option 4 ID : 264330618295

Status : Answered

Chosen Option : 3

Q.21

$\sqrt{\frac{1 + \sin A}{1 - \sin A}}$ का मान क्या होगा?

- Ans
- 1. $\sec A - \tan A$
 - 2. $\operatorname{cosec} A + \cot A$
 - 3. $\sec A + \tan A$
 - 4. $\operatorname{cosec} A - \cot A$

Question ID : 264330157754

Option 1 ID : 264330618376

Option 2 ID : 264330618377

Option 3 ID : 264330618375

Option 4 ID : 264330618378

Status : Answered

Chosen Option : 3

Q.22 350m लंबी एक मालगाड़ी 1250m लंबी सुरंग को 80 सेकंड में पार करती है। मालगाड़ी की चाल कितनी है?

- Ans 1. 64 km/h
 2. 78 km/h
 3. 72 km/h
 4. 56 km/h

Question ID : 264330145068

Option 1 ID : 264330568529

Option 2 ID : 264330568530

Option 3 ID : 264330568528

Option 4 ID : 264330568527

Status : Answered

Chosen Option : 3

Q.23 दी गई तालिका का अध्ययन करें, और नीचे दिए गए प्रश्न का उत्तर दें।
निम्न तालिका पाँच अलग-अलग संस्थाओं A, B, C, D और E में विभिन्न विभागों में कर्मचारियों की संख्या को दर्शाती है।

विभाग ↓ संस्था →	A	B	C	D	E
एचआर	1050	1015	976	888	1004
वित्त	1017	960	786	1025	963
विपणन	1382	1384	1275	1300	1290
उत्पादन	1542	1545	4550	1570	1580
लेखा	786	745	801	800	735
विधि	48	54	36	30	53
कुल	5825	5703	5424	5613	5625

प्रत्येक संस्था में किस विभाग में कर्मचारियों की संख्या न्यूनतम है?

- Ans 1. लेखा
 2. विधि
 3. विपणन
 4. उत्पादन

Question ID : 264330157722

Option 1 ID : 264330618249

Option 2 ID : 264330618250

Option 3 ID : 264330618247

Option 4 ID : 264330618248

Status : Answered

Chosen Option : 2

Q.24 संजय और रोहन एक कार्य को क्रमशः 8 दिन और 12 दिन में पूरा कर सकते हैं। संजय से आरंभ करके, वे बारी-बारी से एक-एक दिन छोड़कर कार्य करते हैं। कार्य कितने दिनों में पूरा होगा?

- Ans
- ✓ 1. $9\frac{1}{2}$
 - ✗ 2. $9\frac{1}{3}$
 - ✗ 3. $8\frac{1}{2}$
 - ✗ 4. $9\frac{2}{3}$

Question ID : 26433087393
Option 1 ID : 264330343209
Option 2 ID : 264330343210
Option 3 ID : 264330343212
Option 4 ID : 264330343211
Status : Answered
Chosen Option : 1

Q.25 वह छोटी से छोटी पूर्ण वर्ग संख्या कौन-सी है, जो 4, 6, 9, 12 और 15 से पूर्णतः विभाज्य है?

- Ans
- ✗ 1. 784
 - ✗ 2. 961
 - ✓ 3. 900
 - ✗ 4. 841

Question ID : 26433073067
Option 1 ID : 264330286463
Option 2 ID : 264330286462
Option 3 ID : 264330286461
Option 4 ID : 264330286460
Status : Answered
Chosen Option : 3

Q.26 दो उम्मीदवारों के बीच हुए एक चुनाव में जीतने और हारने वाले उम्मीदवारों के बीच 2,500 मतों का अंतर था। जीतने वाले उम्मीदवार को 75% मत मिले। चुनाव में अमान्य मतों की संख्या शून्य थी। हारने वाले उम्मीदवार को मिले मतों की कुल संख्या कितनी थी?

- Ans
- ✗ 1. 3750
 - ✓ 2. 1250
 - ✗ 3. 1875
 - ✗ 4. 5000

Question ID : 264330145061
Option 1 ID : 264330568501
Option 2 ID : 264330568499
Option 3 ID : 264330568500
Option 4 ID : 264330568502
Status : Answered
Chosen Option : 2

Q.27 दो उम्मीदवारों के बीच हुए एक चुनाव में, 30% मतदाताओं ने मतदान नहीं किया। डाले गए मतों में से 20% मत अमान्य पाए गए। जीतने वाले उम्मीदवार को वैध मतों के 64% मत प्राप्त हुए, और वह 3136 मतों के साथ बहुमत से विजयी हुआ। मतदाता सूची में नामांकित मतदाताओं की संख्या ज्ञात करें।

- Ans
- 1. 30000
 - 2. 25000
 - 3. 24000
 - 4. 20000

Question ID : 264330103392
Option 1 ID : 264330405876
Option 2 ID : 264330405874
Option 3 ID : 264330405875
Option 4 ID : 264330405873
Status : Not Answered
Chosen Option : --

Q.28 चक्रवृद्धि ब्याज पर दी गई एक राशि, 2 वर्षों में ₹1,200 और 3 वर्षों में ₹1,260 हो जाती है, जबकि ब्याज की गणना वार्षिक चक्रवृद्धि आधार पर की जाती है। चक्रवृद्धि ब्याज की वार्षिक दर कितनी है?

- Ans
- 1. 4%
 - 2. 3%
 - 3. 5%
 - 4. 6%

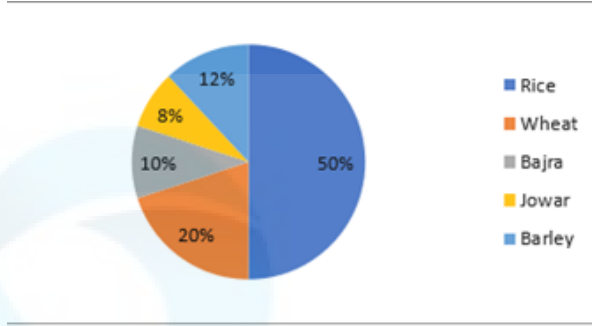
Question ID : 264330145059
Option 1 ID : 264330568492
Option 2 ID : 264330568491
Option 3 ID : 264330568493
Option 4 ID : 264330568494
Status : Answered
Chosen Option : 3

Q.29 एक अर्धगोले का व्यास, 4 cm लंबाई और 3 cm चौड़ाई वाले आयत के विकर्ण के बराबर है। अर्धगोले का संपूर्ण पृष्ठीय क्षेत्रफल (cm^2 में) ज्ञात कीजिए।

- Ans
- 1. $\frac{50\pi}{4}$
 - 2. $\frac{75\pi}{4}$
 - 3. 25π
 - 4. $\frac{25\pi}{4}$

Question ID : 264330145108
Option 1 ID : 264330568689
Option 2 ID : 264330568688
Option 3 ID : 264330568690
Option 4 ID : 264330568687
Status : Answered
Chosen Option : 2

Q.30 दिया गया पाई चार्ट विभिन्न खाद्य फसलों के अंतर्गत भूमि के वितरण को दर्शाता है। इन खाद्य फसलों पर निवेश किया गया व्यय ₹25,000 प्रति वर्ष है। पाई चार्ट का ध्यानपूर्वक अध्ययन कीजिए, और निम्नलिखित प्रश्न का उत्तर दीजिए।



Rice = चावल

Wheat = गेहूँ

Bajra = बाजरा

Jowar = ज्वार

Barley = जौ

चावल और जौ में निवेश किया गया व्यय, गेहूँ और बाजरा में निवेश किए गए व्यय के कितने प्रतिशत के बराबर है (दशमलव के 2 स्थानों तक पूर्णांकित कीजिए)?

- Ans
- ✓ 1. 206.66%
 - ✗ 2. 206.55%
 - ✗ 3. 260.66%
 - ✗ 4. 260.55%

Question ID : 264330165410

Option 1 ID : 264330648722

Option 2 ID : 264330648720

Option 3 ID : 264330648721

Option 4 ID : 264330648719

Status : Answered

Chosen Option : 1

Q.31 दो पाइप एक टंकी को क्रमशः 12 घंटे और 16 घंटे में भर सकते हैं। पाइपों को एक साथ खोल दिया जाता है, और यह पाया जाता है कि टंकी की तली में एक रिसाव के कारण, टंकी को भरने में 90 मिनट अधिक लगते हैं। इस रिसाव द्वारा पूरी तरह से भरे टैंक को खाली करने में कितना समय लगेगा?

- Ans
- ✗ 1. $39\frac{13}{49}$ h
 - ✓ 2. $38\frac{10}{49}$ h
 - ✗ 3. $36\frac{29}{49}$ h
 - ✗ 4. $37\frac{15}{49}$ h

Question ID : 264330122993

Option 1 ID : 264330482037

Option 2 ID : 264330482036

Option 3 ID : 264330482038

Option 4 ID : 264330482035

Status : Not Answered

Chosen Option : --

Q.32 एक वाहन अपनी सामान्य चाल से एक चौथाई चाल से चल रहा है, और उसे अपने गंतव्य तक पहुंचने में 45 मिनट का अतिरिक्त समय लगता है। उसी दूरी को तय करने हेतु इसका सामान्य समय _____ है।

- Ans
- 1. 10 मिनट
 - 2. 20 मिनट
 - 3. 15 मिनट
 - 4. 30 मिनट

Question ID : 264330103740

Option 1 ID : 264330407265

Option 2 ID : 264330407267

Option 3 ID : 264330407266

Option 4 ID : 264330407268

Status : Answered

Chosen Option : 3

Q.33 निम्नलिखित बार ग्राफ में 4 वर्षों में तीन ब्रांडों (P, Q, R) के दूध उत्पादन (मिलियन टन में) का विवरण दर्शाया गया है:



Milk production (in tons) = दूध उत्पादन (टन में) Brand P = ब्रांड P

Brand Q = ब्रांड Q Brand R = ब्रांड R

4 वर्षों की अवधि में प्रति वर्ष दूध का औसत उत्पादन (मिलियन टन में) कितना था?

- Ans
- 1. 70
 - 2. 50
 - 3. 30
 - 4. 90

Question ID : 264330158396

Option 1 ID : 264330620945

Option 2 ID : 264330620944

Option 3 ID : 264330620943

Option 4 ID : 264330620946

Status : Answered

Chosen Option : 4

Q.34 यदि $1\frac{1}{3} \div \frac{2}{5} \times \frac{x}{5} = 1\frac{1}{4} \times \frac{2}{3} \div \frac{1}{6}$, तो x का मान _____ होगा।

- Ans 1. 7.0
 2. 7.5
 3. 5.5
 4. 15

Question ID : 26433063986
Option 1 ID : 264330250539
Option 2 ID : 264330250536
Option 3 ID : 264330250538
Option 4 ID : 264330250537
Status : Answered
Chosen Option : 2

Q.35 दी गई तालिका का अध्ययन कीजिए और नीचे दिए गए प्रश्न का उत्तर दीजिए।
तालिका गरीबी रेखा से नीचे चार राज्यों की प्रतिशत जनसंख्या तथा पुरुष और महिला का अनुपात दर्शाती है।

राज्य	गरीबी रेखा से नीचे जनसंख्या का प्रतिशत	पुरुष और महिला का अनुपात	
		गरीबी रेखा से नीचे	गरीबी रेखा से ऊपर
		पुरुष : महिला	पुरुष : महिला
P	28	3 : 2	7 : 3
Q	15	4 : 7	6 : 5
R	24	5 : 3	3 : 3
S	13	2 : 5	1 : 3

यदि राज्य R की कुल जनसंख्या 26,000 है, तो राज्य R में गरीबी रेखा से ऊपर महिलाओं की संख्या कितनी है?

- Ans 1. 9,780
 2. 9,560
 3. 9,950
 4. 9,880

Question ID : 264330158261
Option 1 ID : 264330620404
Option 2 ID : 264330620403
Option 3 ID : 264330620406
Option 4 ID : 264330620405
Status : Not Answered
Chosen Option : --

Q.36 दो मिश्रणों A और B की संरचनाएं इस प्रकार हैं:
मिश्रण A में कॉपर और टिन का अनुपात 1 : 2 है
मिश्रण B में कॉपर और टिन का अनुपात 1 : 3 है
यदि मिश्रण A और B की समान मात्राओं का उपयोग करके मिश्रण C बनाया जाता है, तो मिश्रण C में कॉपर और टिन का अनुपात ज्ञात करें।

- Ans
- 1. 7:12
 - 2. 2:5
 - 3. 7:17
 - 4. 1:5

Question ID : 264330104187
Option 1 ID : 264330409051
Option 2 ID : 264330409050
Option 3 ID : 264330409052
Option 4 ID : 264330409049
Status : Not Answered
Chosen Option : --

Q.37 व्यास 2 cm और लंबाई 45 cm वाली किसी बेलनाकार धातु की छड़ को पिघलाया जाता है, और इससे एकसमान मोटाई और 5 m लंबाई वाले तार के रूप में रूपांतरित किया जाता है। तार का व्यास ज्ञात कीजिए।

- Ans
- 1. 2 mm
 - 2. 6 mm
 - 3. 3 mm
 - 4. 5 mm

Question ID : 264330123006
Option 1 ID : 264330482090
Option 2 ID : 264330482089
Option 3 ID : 264330482087
Option 4 ID : 264330482088
Status : Answered
Chosen Option : 2

Q.38 यदि दो संख्याओं का महत्तम समापवर्तक (HCF) 12 है, और उनका अनुपात 13 : 15 है, तो उन संख्याओं का लघुत्तम समापवर्तक (LCM) ज्ञात कीजिए।

- Ans
- 1. 2340
 - 2. 1780
 - 3. 1890
 - 4. 2450

Question ID : 26433071295
Option 1 ID : 264330279605
Option 2 ID : 264330279604
Option 3 ID : 264330279606
Option 4 ID : 264330279607
Status : Answered
Chosen Option : 1

Q.39 कंचन ने साधारण ब्याज की समान दर पर 2 वर्ष के लिए ₹10,000, और 4 वर्ष के लिए ₹5,000 उधार दिए। यदि कंचन को प्राप्त कुल ब्याज ₹2,000 है, तो ब्याज की दर कितनी थी?

- Ans
- 1. 2%
 - 2. 4%
 - 3. 5%
 - 4. 3%

Question ID : 264330165672
Option 1 ID : 264330649767
Option 2 ID : 264330649769
Option 3 ID : 264330649770
Option 4 ID : 264330649768
Status : Answered
Chosen Option : 3

Q.40 यदि एक गोले का आयतन 38808 cm^3 है, तो इसका पृष्ठीय क्षेत्रफल कितना है?

- Ans
- 1. 5574 cm^2
 - 2. 5544 cm^2
 - 3. 5554 cm^2
 - 4. 5564 cm^2

Question ID : 264330145135
Option 1 ID : 264330568798
Option 2 ID : 264330568795
Option 3 ID : 264330568796
Option 4 ID : 264330568797
Status : Answered
Chosen Option : 2

Q.41 उस समचतुर्भुज का क्षेत्रफल क्या होगा, जिसकी एक भुजा का माप 17 cm और एक विकर्ण का माप 16 cm है?

- Ans
- 1. 180 cm^2
 - 2. 210 cm^2
 - 3. 240 cm^2
 - 4. 280 cm^2

Question ID : 264330106083
Option 1 ID : 264330416633
Option 2 ID : 264330416636
Option 3 ID : 264330416635
Option 4 ID : 264330416634
Status : Not Answered
Chosen Option : --

Q.42 निम्नलिखित व्यंजक का मान क्या होगा?

$$(1 + x)^3 + (1 - x)^3 + (-2)^3$$

- Ans
- 1. $-3(1-x^2)$
 - 2. $3(1-x^2)$
 - 3. $6(1-x^2)$
 - 4. $-6(1-x^2)$

Question ID : 264330157763
Option 1 ID : 264330618414
Option 2 ID : 264330618413
Option 3 ID : 264330618411
Option 4 ID : 264330618412
Status : Not Answered
Chosen Option : --

Q.43 नीचे दी गई तालिका में सरकार द्वारा 4 अलग-अलग वर्षों में लगाए गए पेड़ों की संख्या को दर्शाया गया है।

वर्ष	नीम	बलूत	सनोबर
2019	2000	3000	4000
2020	3000	4000	5000
2021	5000	6000	7000
2022	7000	8000	9000

वर्ष 2021 में लगाए गए नीम के पेड़ों की संख्या और वर्ष 2022 में लगाए गए सनोबर के पेड़ों की संख्या का अनुपात ज्ञात कीजिए।

- Ans
- 1. 5:8
 - 2. 3:7
 - 3. 3:8
 - 4. 5:9

Question ID : 264330158385
Option 1 ID : 264330620899
Option 2 ID : 264330620901
Option 3 ID : 264330620900
Option 4 ID : 264330620902
Status : Answered
Chosen Option : 4

Q.44 49 विद्यार्थियों का औसत वजन 53 kg है। जब एक नए विद्यार्थी को कक्षा में प्रवेश दिया जाता है, तो इस औसत में 500 g की कमी होती है। नए विद्यार्थी का वजन ज्ञात कीजिए।

- Ans
- 1. 48 kg
 - 2. 18 kg
 - 3. 38 kg
 - 4. 28 kg

Question ID : 264330104284
Option 1 ID : 264330409440
Option 2 ID : 264330409437
Option 3 ID : 264330409439
Option 4 ID : 264330409438
Status : Not Answered
Chosen Option : --

Q.45 निम्नलिखित में से किस संख्या को 6, 8 और 9 से विभाजित किए जाने पर 6, 8 और 9 के महत्तम समापवर्तक के बराबर शेषफल प्राप्त होता है?

- Ans 1. 291
 2. 506
 3. 433
 4. 575

Question ID : 26433066165
Option 1 ID : 264330259195
Option 2 ID : 264330259193
Option 3 ID : 264330259192
Option 4 ID : 264330259194
Status : Not Answered
Chosen Option : --

Q.46 एक मेगास्टोर में, निम्नलिखित डेटा दिए गए वर्षों के दौरान खरीदी गई इकाइयों को दर्शाता है। 2015 से 2020 तक खरीदी गई कुल इकाइयों (तीनों उत्पादों में) में प्रतिशत वृद्धि कितनी है?

वर्ष	चाय	काँफी	कोल्ड ड्रिंक
2015	650	450	1008
2016	730	402	1092
2017	710	354	770
2018	570	438	812
2019	820	390	1043
2020	830	501	1330

- Ans 1. 22.75 प्रतिशत
 2. 21.68 प्रतिशत
 3. 25.76 प्रतिशत
 4. 26.23 प्रतिशत

Question ID : 26433081647
Option 1 ID : 264330320424
Option 2 ID : 264330320423
Option 3 ID : 264330320422
Option 4 ID : 264330320421
Status : Not Answered
Chosen Option : --

Q.47 एक औसत परिवार का मासिक बजट निम्न तालिका में दिया गया है।

वर्ग	भोजन	वस्त्र	किराया	बचत
राशि	8000	2000	6000	4000

वस्त्रों पर खर्च किए गए मासिक बजट का प्रतिशत _____ है।

- Ans
- 1. 8%
 - 2. 10%
 - 3. 12%
 - 4. 4%

Question ID : 264330167239
Option 1 ID : 264330655953
Option 2 ID : 264330655952
Option 3 ID : 264330655954
Option 4 ID : 264330655951
Status : Not Answered
Chosen Option : --

Q.48 A, B और C का औसत वजन 77 kg है। यदि A और B का औसत वजन 68 kg है, तथा B और C का औसत वजन 83 kg है, तो B का वजन (kg में) कितना होगा?

- Ans
- 1. 71
 - 2. 74
 - 3. 73
 - 4. 67

Question ID : 264330170130
Option 1 ID : 264330667197
Option 2 ID : 264330667198
Option 3 ID : 264330667196
Option 4 ID : 264330667195
Status : Not Answered
Chosen Option : --

Q.49 रमेश एक सोफा सेट के अंकित मूल्य पर 25% की छूट के साथ पंद्रह प्रतिशत की अतिरिक्त छूट देता है। यदि सोफा सेट का विक्रय मूल्य ₹12,750 है, तो उस सोफा सेट का अंकित मूल्य ज्ञात कीजिए।

- Ans
- 1. ₹23,000
 - 2. ₹20,000
 - 3. ₹22,000
 - 4. ₹24,000

Question ID : 264330165522
Option 1 ID : 264330649169
Option 2 ID : 264330649167
Option 3 ID : 264330649168
Option 4 ID : 264330649170
Status : Not Answered
Chosen Option : --

Q.50 $\frac{a^2 - (b - c)^2}{(a + c)^2 - b^2} + \frac{b^2 - (a - c)^2}{(a + b)^2 - c^2} + \frac{c^2 - (a - b)^2}{(b + c)^2 - a^2}$ का मान क्या होगा?

Ans 1. 1

2. -1

3. 2

4. 3

Question ID : 264330157772

Option 1 ID : 264330618448

Option 2 ID : 264330618447

Option 3 ID : 264330618449

Option 4 ID : 264330618450

Status : Not Answered

Chosen Option : --

Section : English Comprehension

Q.1 Select the most appropriate option that can substitute the underlined segment in the given sentence.
Malati has a difficult job, but she does it good.

Ans 1. well

2. best

3. nice

4. better

Question ID : 264330120553

Option 1 ID : 264330472456

Option 2 ID : 264330472458

Option 3 ID : 264330472455

Option 4 ID : 264330472457

Status : Answered

Chosen Option : 2

Q.2 Select the most appropriate option that can substitute the underlined segment in the given sentence. If there is no need to substitute it, select 'No substitution required'.
He travelled the whole world, but found piece at home.

Ans 1. peach

2. No substitution required

3. peace

4. prize

Question ID : 26433070773

Option 1 ID : 264330277550

Option 2 ID : 264330277551

Option 3 ID : 264330277549

Option 4 ID : 264330277548

Status : Answered

Chosen Option : 3

Q.3 Select the most appropriate option to substitute the underlined segment in the given sentence.

At some point in the past, there were rows of temporary shops that used to display various cooking utensils.

- Ans
- 1. In the past few years
 - 2. Long ago
 - 3. One upon a time
 - 4. Before now

Question ID : 26433070646
Option 1 ID : 264330277045
Option 2 ID : 264330277047
Option 3 ID : 264330277046
Option 4 ID : 264330277044
Status : Answered
Chosen Option : 1

Q.4 You are preparing a speech for an upcoming function. Select a synonym for the highlighted word to make it better.

Sexual assault is a severe and pervasive issue that can have a significant impact on a victim's life.

- Ans
- 1. Equatorial
 - 2. Longitudinal
 - 3. Retrospective
 - 4. Widespread

Question ID : 264330121905
Option 1 ID : 264330477778
Option 2 ID : 264330477777
Option 3 ID : 264330477776
Option 4 ID : 264330477775
Status : Answered
Chosen Option : 1

Q.5 Select the most appropriate meaning of the highlighted idiom in the given sentence.

Nancy held a grudge against her teacher for a long time, but she finally decided to let bygones be bygones.

- Ans
- 1. Ignore the past
 - 2. Flatter someone
 - 3. Take revenge
 - 4. Change the past

Question ID : 264330108899
Option 1 ID : 264330427874
Option 2 ID : 264330427876
Option 3 ID : 264330427873
Option 4 ID : 264330427875
Status : Answered
Chosen Option : 4

Q.6 Select the most appropriate meaning of the given word.

Trousseau

- Ans**
- 1. Single leg side of a trouser
 - 2. Being true to oneself
 - 3. The clothes, linen, and other belongings collected by a bride for her marriage
 - 4. A large cabinet full of expensive clothes

Question ID : 26433073743

Option 1 ID : 264330289113

Option 2 ID : 264330289112

Option 3 ID : 264330289114

Option 4 ID : 264330289115

Status : Not Answered

Chosen Option : --

Q.7 Select the INCORRECTLY spelt word from the underlined words in the following sentence.

As affidevit is a statement or declaration in writing an oath or affirmation, sworn before a person having authority to administer oath.

- Ans**
- 1. affidevit
 - 2. administer
 - 3. authority
 - 4. affirmation

Question ID : 264330141155

Option 1 ID : 264330552963

Option 2 ID : 264330552966

Option 3 ID : 264330552965

Option 4 ID : 264330552964

Status : Answered

Chosen Option : 1

Q.8 Select the most appropriate meaning of the underlined idiom in the following sentence.

Rahim had to eat a humble pie in starting a row with his neighbour over a trifle.

- Ans**
- 1. To take simple food
 - 2. To be punished for doing something wrong
 - 3. To remain without food
 - 4. To feel sorry and apologise for a mistake

Question ID : 264330157063

Option 1 ID : 264330615624

Option 2 ID : 264330615626

Option 3 ID : 264330615625

Option 4 ID : 264330615623

Status : Answered

Chosen Option : 4

Q.9 Select the option that can be used as a one-word substitute for the given group of words.
A collection of historical documents or records providing information about a place, institution, or group of people

- Ans
- 1. Apostate
 - 2. Museum
 - 3. Archive
 - 4. Asylum

Question ID : 264330164298
Option 1 ID : 264330644409
Option 2 ID : 264330644410
Option 3 ID : 264330644407
Option 4 ID : 264330644408
Status : Answered
Chosen Option : 3

Q.10 Select the most appropriate meaning of the underlined idiom.
He ate the whole bunch of grapes under the nose of all of us.

- Ans
- 1. In full view of somebody
 - 2. Sharing equally
 - 3. Secretly
 - 4. After much persuasion

Question ID : 264330122978
Option 1 ID : 264330481977
Option 2 ID : 264330481976
Option 3 ID : 264330481975
Option 4 ID : 264330481978
Status : Answered
Chosen Option : 3

Q.11 Select the most appropriate meaning of the given idiom.
To burn the midnight oil

- Ans
- 1. To be relaxed and calm
 - 2. To stay up late working or studying
 - 3. To waste time
 - 4. To overthink

Question ID : 264330139773
Option 1 ID : 264330547507
Option 2 ID : 264330547508
Option 3 ID : 264330547509
Option 4 ID : 264330547510
Status : Answered
Chosen Option : 2

Q.12 Select the most appropriate synonym of the given word.
Faithful

- Ans 1. Daring
 2. Cheerful
 3. Unfaithful
 4. Loyal

Question ID : 264330164163
Option 1 ID : 264330643903
Option 2 ID : 264330643906
Option 3 ID : 264330643904
Option 4 ID : 264330643905
Status : Answered
Chosen Option : 4

Q.13 The following sentence has been split into four segments. Identify the segment that contains a grammatical error.

It is take / a couple of minutes / for the computer / to boot up.

- Ans 1. It is take
 2. for the computer
 3. to boot up
 4. a couple of minutes

Question ID : 264330145277
Option 1 ID : 264330569363
Option 2 ID : 264330569365
Option 3 ID : 264330569366
Option 4 ID : 264330569364
Status : Answered
Chosen Option : 4

Q.14 Select the most appropriate option that can substitute the underlined segment in the given sentence.

She was yearning for a trip to the mountains.

- Ans 1. deeply repenting
 2. saving money for
 3. leaving for
 4. keenly desiring

Question ID : 26433099881
Option 1 ID : 264330392115
Option 2 ID : 264330392116
Option 3 ID : 264330392113
Option 4 ID : 264330392114
Status : Answered
Chosen Option : 2

Q.15 Select the most appropriate synonym of the given word.

Extravagance

- Ans 1. Simplicity
 2. Self-indulgence
 3. Love
 4. Fortune

Question ID : 264330163371
Option 1 ID : 264330640773
Option 2 ID : 264330640771
Option 3 ID : 264330640774
Option 4 ID : 264330640772
Status : Answered
Chosen Option : 2

Q.16 Select the most appropriate synonym of the given word.

Cruise

- Ans 1. Fall
 2. Voyage
 3. Bounce
 4. Distance

Question ID : 264330163369
Option 1 ID : 264330640765
Option 2 ID : 264330640766
Option 3 ID : 264330640764
Option 4 ID : 264330640763
Status : Not Answered
Chosen Option : --

Q.17 The following sentence has been divided into parts. One of them may contain an error. Select the part that contains the error from the given options. If you don't find any error, mark 'No error' as your answer.

I was wish / to meet her / on her birthday.

- Ans 1. on her birthday
 2. to meet her
 3. No error
 4. I was wish

Question ID : 26433073521
Option 1 ID : 264330288234
Option 2 ID : 264330288233
Option 3 ID : 264330288235
Option 4 ID : 264330288232
Status : Answered
Chosen Option : 4

Q.18 Select the option that can be used as a one-word substitute for the given group of words.

A structure in the garden where climbing plants can grow and people can walk under

- Ans
- 1. Treehouse
 - 2. Tomb
 - 3. Outhouse
 - 4. Pergola

Question ID : 26433088896
Option 1 ID : 264330349131
Option 2 ID : 264330349132
Option 3 ID : 264330349130
Option 4 ID : 264330349129
Status : Not Answered
Chosen Option : --

Q.19 Select the INCORRECTLY spelt word.

- Ans
- 1. Achieve
 - 2. Amicable
 - 3. Braed
 - 4. Isle

Question ID : 264330163410
Option 1 ID : 264330640920
Option 2 ID : 264330640919
Option 3 ID : 264330640922
Option 4 ID : 264330640921
Status : Answered
Chosen Option : 3

Q.20 Select the INCORRECTLY spelt word in the given sentence.

The Egyptian Pharaohs were the Kings of ancient Egypt and were considered as the literal embodiment of God himself.

- Ans
- 1. literal
 - 2. ancient
 - 3. embodiment
 - 4. pharaohs

Question ID : 26433089738
Option 1 ID : 264330352446
Option 2 ID : 264330352448
Option 3 ID : 264330352445
Option 4 ID : 264330352447
Status : Answered
Chosen Option : 4

Q.21 Select the most appropriate idiom for the given situation focusing on the underlined segment.

The modern era statistics data provides useful advantage to the players at competent level.

- Ans**
- 1. Cost an arm and a leg
 - 2. Put something on ice
 - 3. Grist to the mill
 - 4. Play it by ear

Question ID : 264330163409
Option 1 ID : 264330640917
Option 2 ID : 264330640916
Option 3 ID : 264330640915
Option 4 ID : 264330640918
Status : Answered
Chosen Option : 3

Q.22 Select the option that will improve the underlined part of the given sentence.

Farmers have harvested wheat by using whatever labour that was available to them.

- Ans**
- 1. by using dispersed labour
 - 2. by using amalgamated labour
 - 3. by using limited labour
 - 4. by using united labour

Question ID : 264330145291
Option 1 ID : 264330569422
Option 2 ID : 264330569420
Option 3 ID : 264330569421
Option 4 ID : 264330569419
Status : Answered
Chosen Option : 3

Q.23 Choose the option which means the same as the underlined segment.

The boss wanted to finish the case before the arrival of the Inspection team.

- Ans**
- 1. be over a barrel
 - 2. be over one's head
 - 3. be over and done with
 - 4. be over and over

Question ID : 264330120535
Option 1 ID : 264330472390
Option 2 ID : 264330472388
Option 3 ID : 264330472389
Option 4 ID : 264330472387
Status : Answered
Chosen Option : 2

Q.24 Select the most appropriate meaning of the given idiom.

Step up to the plate

- Ans 1. Take control of a situation
 2. Think about a crisis
 3. Plan for better performance
 4. Implement a plan

Question ID : 26433099939
Option 1 ID : 264330392332
Option 2 ID : 264330392331
Option 3 ID : 264330392330
Option 4 ID : 264330392329
Status : Not Answered
Chosen Option : --

Q.25 Select the most appropriate option that can substitute the underlined segment in the given sentence.

Naina is leaving and I am think to apply for her job.

- Ans 1. thinking on applying
 2. thinking in applying
 3. thinking about applying
 4. thinking about apply

Question ID : 264330108915
Option 1 ID : 264330427939
Option 2 ID : 264330427938
Option 3 ID : 264330427940
Option 4 ID : 264330427937
Status : Answered
Chosen Option : 3

Q.26 Select the most appropriate ANTONYM of the given word.
Malice

- Ans 1. Torsion
 2. Kindness
 3. Haughtiness
 4. Tremor

Question ID : 26433097019
Option 1 ID : 264330380812
Option 2 ID : 264330380810
Option 3 ID : 264330380809
Option 4 ID : 264330380811
Status : Answered
Chosen Option : 2

Q.27 Select the option that can be used as a one-word substitute for the given group of words.

Extremely beautiful, elaborate or impressive

- Ans
- 1. Deficient
 - 2. Transient
 - 3. Proficient
 - 4. Magnificent

Question ID : 26433089338
Option 1 ID : 264330350853
Option 2 ID : 264330350856
Option 3 ID : 264330350854
Option 4 ID : 264330350855
Status : Answered
Chosen Option : 4

Q.28 The following sentence has been split into four segments. Identify the segment that contains a grammatical error.

We have being / arranged the stay / for the guests at / a hillside resort.

- Ans
- 1. for the guests at
 - 2. We have being
 - 3. a hillside resort
 - 4. arranged the stay

Question ID : 26433091957
Option 1 ID : 264330361167
Option 2 ID : 264330361165
Option 3 ID : 264330361168
Option 4 ID : 264330361166
Status : Answered
Chosen Option : 4

Q.29 The following sentence has been divided into parts. One of them may contain an error. Select the part that contains the error from the given options. If you don't find any error, mark 'No error' as your answer.
We should / not make an noise / in the class.

- Ans
- 1. in the class
 - 2. not make an noise
 - 3. We should
 - 4. No error

Question ID : 264330117174
Option 1 ID : 264330460763
Option 2 ID : 264330460762
Option 3 ID : 264330460761
Option 4 ID : 264330460764
Status : Answered
Chosen Option : 2

Q.30 Select the most appropriate ANTONYM for the highlighted word.
The malice he developed for all caused a lot of damage.

- Ans 1. sympathy
 2. avarice
 3. oppression
 4. grace

Question ID : 264330120741
Option 1 ID : 264330473180
Option 2 ID : 264330473179
Option 3 ID : 264330473182
Option 4 ID : 264330473181
Status : Answered
Chosen Option : 1

Q.31 Identify the ANTONYM of the following word in the given sentence.
Languid
The animated infantry was marching forward for another rehearsal.

- Ans 1. animated
 2. infantry
 3. forward
 4. rehearsal

Question ID : 264330167910
Option 1 ID : 264330658559
Option 2 ID : 264330658561
Option 3 ID : 264330658560
Option 4 ID : 264330658562
Status : Not Answered
Chosen Option : --

Q.32 Select the most appropriate synonym of the given word.

Antique

- Ans 1. New
 2. Gothic
 3. Ancient
 4. Modern

Question ID : 264330163355
Option 1 ID : 264330640714
Option 2 ID : 264330640712
Option 3 ID : 264330640713
Option 4 ID : 264330640711
Status : Answered
Chosen Option : 3

Q.33 Select the most appropriate synonym of the given word.
Fierce

- Ans 1. Lavish
 2. Furious
 3. Strange
 4. Lame

Question ID : 264330117153
Option 1 ID : 264330460680
Option 2 ID : 264330460678
Option 3 ID : 264330460679
Option 4 ID : 264330460677
Status : Not Answered
Chosen Option : --

Q.34 Select the option that can be used as a one-word substitute for the underlined group of words.

Since God is an all-powerful creator, he has absolute control over those whom he has created.

- Ans 1. Incurrible
 2. Omniscient
 3. Omnipotent
 4. Voracious

Question ID : 26433088835
Option 1 ID : 264330348894
Option 2 ID : 264330348896
Option 3 ID : 264330348893
Option 4 ID : 264330348895
Status : Answered
Chosen Option : 3

Q.35 Select the most appropriate synonym of the underlined word.
It was inevitable that the team management would sack him after his rude behaviour.

- Ans 1. impassionate
 2. unavoidable
 3. measurable
 4. amiable

Question ID : 264330120616
Option 1 ID : 264330472706
Option 2 ID : 264330472705
Option 3 ID : 264330472704
Option 4 ID : 264330472703
Status : Answered
Chosen Option : 2

Q.36 Select the most appropriate meaning of the given idiom.
Steer clear of

- Ans 1. Avoid someone or something because it is dangerous for you
 2. Show someone how to do a job or activity
 3. Be kind and empathetic to someone
 4. Loose temper and react furiously to someone

Question ID : 264330135998
Option 1 ID : 264330532832
Option 2 ID : 264330532831
Option 3 ID : 264330532834
Option 4 ID : 264330532833
Status : Answered
Chosen Option : 1

Q.37 Select the INCORRECTLY spelt word.

- Ans 1. Preferred
 2. Reversed
 3. Answered
 4. Reference

Question ID : 264330163412
Option 1 ID : 264330640928
Option 2 ID : 264330640929
Option 3 ID : 264330640930
Option 4 ID : 264330640927
Status : Answered
Chosen Option : 1

Q.38 Select the most appropriate idiom for the given situation.
You wanted to speak but you controlled yourself and became patient. What have you done?

- Ans 1. Pin drop silence
 2. Herculean task
 3. Held your horses
 4. Dragged your feet

Question ID : 264330100296
Option 1 ID : 264330393749
Option 2 ID : 264330393751
Option 3 ID : 264330393750
Option 4 ID : 264330393752
Status : Answered
Chosen Option : 3

Q.39 Select the most appropriate meaning of the underlined idiom.
Yamini is a great singer. She will make it big one day.

- Ans
- 1. Become financially sound
 - 2. Succeed and become famous
 - 3. Educated and rich
 - 4. Migrate and settle

Question ID : 264330132897
Option 1 ID : 264330520648
Option 2 ID : 264330520649
Option 3 ID : 264330520647
Option 4 ID : 264330520650
Status : Answered
Chosen Option : 2

Q.40 Select the INCORRECTLY spelt word.

- Ans
- 1. Abdact
 - 2. Advise
 - 3. Adjourn
 - 4. Addict

Question ID : 26433089398
Option 1 ID : 264330351093
Option 2 ID : 264330351096
Option 3 ID : 264330351095
Option 4 ID : 264330351094
Status : Answered
Chosen Option : 4

Comprehension:

In the following passage, some words have been deleted. Read the passage carefully and select the most appropriate option to fill in each blank.

Discrimination refers to the inequitable or (1)_____ treatment of individuals or collectives on the basis of attributes such as ethnicity, sex, age and sexual orientation. Studies have indicated that the perception of discrimination can (2)_____ a series of stress-induced alterations in an individual's mental, physiological and behavioural responses. The experience of stress is known to elicit unfavourable emotional reactions, including but not limited to (3)_____, despair and resentment. Furthermore, anxiety has been linked to a rise in health-compromising behaviours such as smoking, drinking and (4)_____ drug use, while simultaneously causing a (5)_____ in health-promoting activities such as quality sleep and vigorous exercise.

SubQuestion No : 41

Q.41 Select the most appropriate option to fill in blank no. 1.

- Ans
- 1. pathetic
 - 2. tragic
 - 3. systematic
 - 4. biased

Question ID : 264330163437
Option 1 ID : 264330641019
Option 2 ID : 264330641022
Option 3 ID : 264330641021
Option 4 ID : 264330641020
Status : Answered
Chosen Option : 4

Comprehension:

In the following passage, some words have been deleted. Read the passage carefully and select the most appropriate option to fill in each blank.

Discrimination refers to the inequitable or (1)_____ treatment of individuals or collectives on the basis of attributes such as ethnicity, sex, age and sexual orientation. Studies have indicated that the perception of discrimination can (2)_____ a series of stress-induced alterations in an individual's mental, physiological and behavioural responses. The experience of stress is known to elicit unfavourable emotional reactions, including but not limited to (3)_____, despair and resentment. Furthermore, anxiety has been linked to a rise in health-compromising behaviours such as smoking, drinking and (4)_____ drug use, while simultaneously causing a (5)_____ in health-promoting activities such as quality sleep and vigorous exercise.

SubQuestion No : 42

Q.42 Select the most appropriate option to fill in blank no. 2.

- Ans 1. trigger
 2. inspire
 3. motivate
 4. support

Question ID : 264330163438

Option 1 ID : 264330641023

Option 2 ID : 264330641025

Option 3 ID : 264330641024

Option 4 ID : 264330641026

Status : Answered

Chosen Option : 1

Comprehension:

In the following passage, some words have been deleted. Read the passage carefully and select the most appropriate option to fill in each blank.

Discrimination refers to the inequitable or (1)_____ treatment of individuals or collectives on the basis of attributes such as ethnicity, sex, age and sexual orientation. Studies have indicated that the perception of discrimination can (2)_____ a series of stress-induced alterations in an individual's mental, physiological and behavioural responses. The experience of stress is known to elicit unfavourable emotional reactions, including but not limited to (3)_____, despair and resentment. Furthermore, anxiety has been linked to a rise in health-compromising behaviours such as smoking, drinking and (4)_____ drug use, while simultaneously causing a (5)_____ in health-promoting activities such as quality sleep and vigorous exercise.

SubQuestion No : 43

Q.43 Select the most appropriate option to fill in blank no. 3.

- Ans 1. anxiety
 2. deafness
 3. death
 4. impairment

Question ID : 264330163439

Option 1 ID : 264330641030

Option 2 ID : 264330641027

Option 3 ID : 264330641029

Option 4 ID : 264330641028

Status : Answered

Chosen Option : 3

Comprehension:

In the following passage, some words have been deleted. Read the passage carefully and select the most appropriate option to fill in each blank.

Discrimination refers to the inequitable or (1) _____ treatment of individuals or collectives on the basis of attributes such as ethnicity, sex, age and sexual orientation. Studies have indicated that the perception of discrimination can (2) _____ a series of stress-induced alterations in an individual's mental, physiological and behavioural responses. The experience of stress is known to elicit unfavourable emotional reactions, including but not limited to (3) _____, despair and resentment. Furthermore, anxiety has been linked to a rise in health-compromising behaviours such as smoking, drinking and (4) _____ drug use, while simultaneously causing a (5) _____ in health-promoting activities such as quality sleep and vigorous exercise.

SubQuestion No : 44

Q.44 Select the most appropriate option to fill in blank no. 4.

- Ans 1. illicit
 2. legitimate
 3. mandatory
 4. prescribed

Question ID : 264330163440

Option 1 ID : 264330641032

Option 2 ID : 264330641031

Option 3 ID : 264330641034

Option 4 ID : 264330641033

Status : Answered

Chosen Option : 1

Comprehension:

In the following passage, some words have been deleted. Read the passage carefully and select the most appropriate option to fill in each blank.

Discrimination refers to the inequitable or (1) _____ treatment of individuals or collectives on the basis of attributes such as ethnicity, sex, age and sexual orientation. Studies have indicated that the perception of discrimination can (2) _____ a series of stress-induced alterations in an individual's mental, physiological and behavioural responses. The experience of stress is known to elicit unfavourable emotional reactions, including but not limited to (3) _____, despair and resentment. Furthermore, anxiety has been linked to a rise in health-compromising behaviours such as smoking, drinking and (4) _____ drug use, while simultaneously causing a (5) _____ in health-promoting activities such as quality sleep and vigorous exercise.

SubQuestion No : 45

Q.45 Select the most appropriate option to fill in blank no. 5.

- Ans 1. decline
 2. upheaval
 3. unfruitful
 4. rise

Question ID : 264330163441

Option 1 ID : 264330641036

Option 2 ID : 264330641037

Option 3 ID : 264330641038

Option 4 ID : 264330641035

Status : Answered

Chosen Option : 1

Comprehension:

Read the given passage carefully and answer the questions that follow.

The world of social media is a strange and wondrous place. It's a world where you can connect with people from all over the globe, share your thoughts and opinions, and maybe even go viral if you're lucky. But let's be real, it's also a world filled with endless cat videos, oversharing, and drama.

One of the most interesting things about social media is the way it's changed the way we communicate. We've gone from long, thoughtful emails to quick, abbreviated messages with emojis and acronyms. And don't even get me started on the whole hashtag phenomenon. It's like we're all speaking a different language now.

But there are also some downsides to this constant connection. It's easy to get sucked into the world of social media and forget about the real world around us. We're so busy scrolling through our feeds that we forget to enjoy the little moments in life. And let's not forget about the pressure to present the perfect life online. It's like we're all in a competition to see who can be the most popular, the most successful, the most enviable.

Despite all of this, I have to admit, I'm still a fan of social media. It's a great way to stay connected with friends and family, and I've even made some new friends through various online communities. Plus, let's face it, sometimes you just need a good laugh at a ridiculous meme.

SubQuestion No : 46

Q.46 Which of the following would be the most appropriate title for this passage?

- Ans
- 1. The Dark Side of Social Media
 - 2. Mastering the Art of Social Media
 - 3. The Benefits of Social Media
 - 4. The Joys and Sorrows of Social Media

Question ID : 264330165127

Option 1 ID : 264330647620

Option 2 ID : 264330647621

Option 3 ID : 264330647619

Option 4 ID : 264330647622

Status : Answered

Chosen Option : 4

Comprehension:

Read the given passage carefully and answer the questions that follow.

The world of social media is a strange and wondrous place. It's a world where you can connect with people from all over the globe, share your thoughts and opinions, and maybe even go viral if you're lucky. But let's be real, it's also a world filled with endless cat videos, oversharing, and drama.

One of the most interesting things about social media is the way it's changed the way we communicate. We've gone from long, thoughtful emails to quick, abbreviated messages with emojis and acronyms. And don't even get me started on the whole hashtag phenomenon. It's like we're all speaking a different language now.

But there are also some downsides to this constant connection. It's easy to get sucked into the world of social media and forget about the real world around us. We're so busy scrolling through our feeds that we forget to enjoy the little moments in life. And let's not forget about the pressure to present the perfect life online. It's like we're all in a competition to see who can be the most popular, the most successful, the most enviable.

Despite all of this, I have to admit, I'm still a fan of social media. It's a great way to stay connected with friends and family, and I've even made some new friends through various online communities. Plus, let's face it, sometimes you just need a good laugh at a ridiculous meme.

SubQuestion No : 47

Q.47 What is the theme of the passage?

- Ans
- 1. The positive and negative effects of social media.
 - 2. The dangers of spending too much time online.
 - 3. The importance of social media for businesses.
 - 4. The history of social media.

Question ID : 264330165129

Option 1 ID : 264330647627

Option 2 ID : 264330647629

Option 3 ID : 264330647628

Option 4 ID : 264330647630

Status : Answered

Chosen Option : 1

Comprehension:

Read the given passage carefully and answer the questions that follow.

The world of social media is a strange and wondrous place. It's a world where you can connect with people from all over the globe, share your thoughts and opinions, and maybe even go viral if you're lucky. But let's be real, it's also a world filled with endless cat videos, oversharing, and drama.

One of the most interesting things about social media is the way it's changed the way we communicate. We've gone from long, thoughtful emails to quick, abbreviated messages with emojis and acronyms. And don't even get me started on the whole hashtag phenomenon. It's like we're all speaking a different language now.

But there are also some downsides to this constant connection. It's easy to get sucked into the world of social media and forget about the real world around us. We're so busy scrolling through our feeds that we forget to enjoy the little moments in life. And let's not forget about the pressure to present the perfect life online. It's like we're all in a competition to see who can be the most popular, the most successful, the most enviable.

Despite all of this, I have to admit, I'm still a fan of social media. It's a great way to stay connected with friends and family, and I've even made some new friends through various online communities. Plus, let's face it, sometimes you just need a good laugh at a ridiculous meme.

SubQuestion No : 48

Q.48 What is the ANTONYM of the word 'perfect', as used in the passage?

- Ans
- 1. Limited
 - 2. Troublesome
 - 3. Unsatisfactory
 - 4. Laughable

Question ID : 264330165131

Option 1 ID : 264330647635

Option 2 ID : 264330647636

Option 3 ID : 264330647637

Option 4 ID : 264330647638

Status : Answered

Chosen Option : 2

Comprehension:

Read the given passage carefully and answer the questions that follow.

The world of social media is a strange and wondrous place. It's a world where you can connect with people from all over the globe, share your thoughts and opinions, and maybe even go viral if you're lucky. But let's be real, it's also a world filled with endless cat videos, oversharing, and drama.

One of the most interesting things about social media is the way it's changed the way we communicate. We've gone from long, thoughtful emails to quick, abbreviated messages with emojis and acronyms. And don't even get me started on the whole hashtag phenomenon. It's like we're all speaking a different language now.

But there are also some downsides to this constant connection. It's easy to get sucked into the world of social media and forget about the real world around us. We're so busy scrolling through our feeds that we forget to enjoy the little moments in life. And let's not forget about the pressure to present the perfect life online. It's like we're all in a competition to see who can be the most popular, the most successful, the most enviable.

Despite all of this, I have to admit, I'm still a fan of social media. It's a great way to stay connected with friends and family, and I've even made some new friends through various online communities. Plus, let's face it, sometimes you just need a good laugh at a ridiculous meme.

SubQuestion No : 49

Q.49 What is one of the downsides of social media mentioned in the passage?

- Ans
- 1. It can lead to pressure to present a perfect life online.
 - 2. It's a great way to stay connected with friends and family.
 - 3. It encourages people to enjoy the little moments in life.
 - 4. It can help connect with people all over the globe.

Question ID : 264330165128

Option 1 ID : 264330647625

Option 2 ID : 264330647623

Option 3 ID : 264330647626

Option 4 ID : 264330647624

Status : Answered

Chosen Option : 3

Comprehension:

Read the given passage carefully and answer the questions that follow.

The world of social media is a strange and wondrous place. It's a world where you can connect with people from all over the globe, share your thoughts and opinions, and maybe even go viral if you're lucky. But let's be real, it's also a world filled with endless cat videos, oversharing, and drama.

One of the most interesting things about social media is the way it's changed the way we communicate. We've gone from long, thoughtful emails to quick, abbreviated messages with emojis and acronyms. And don't even get me started on the whole hashtag phenomenon. It's like we're all speaking a different language now.

But there are also some downsides to this constant connection. It's easy to get sucked into the world of social media and forget about the real world around us. We're so busy scrolling through our feeds that we forget to enjoy the little moments in life. And let's not forget about the pressure to present the perfect life online. It's like we're all in a competition to see who can be the most popular, the most successful, the most enviable.

Despite all of this, I have to admit, I'm still a fan of social media. It's a great way to stay connected with friends and family, and I've even made some new friends through various online communities. Plus, let's face it, sometimes you just need a good laugh at a ridiculous meme.

SubQuestion No : 50

Q.50 Which of the following is NOT mentioned as a way social media has changed the way we communicate?

Ans ✓ 1. Video conferencing for more meaningful conversations.

✗ 2. Quick, abbreviated messages with emojis and acronyms.

✗ 3. Connecting with people from all over the world.

✗ 4. The use of hashtags.

Question ID : 264330165130

Option 1 ID : 264330647633

Option 2 ID : 264330647631

Option 3 ID : 264330647634

Option 4 ID : 264330647632

Status : Answered

Chosen Option : 1