

Sub Inspector in Delhi Police and Central Armed Police Forces Examination 2023 Paper I

Roll Number	
Candidate Name	
Venue Name	
Exam Date	04/10/2023
Exam Time	9:00 AM - 11:00 AM
Subject	SICPO Paper I 2023

Section : General Intelligence and Reasoning

Q.1 दिए गए विकल्पों में से उस आकृति का चयन करें, जो निम्नलिखित श्रृंखला में प्रश्नचिह्न (?) को प्रतिस्थापित करेगी।



Ans

✗ 1.



✗ 2.



✓ 3.



✗ 4.



Question ID : 26433087166

Option 1 ID : 264330342303

Option 2 ID : 264330342302

Option 3 ID : 264330342304

Option 4 ID : 264330342301

Status : Answered

Chosen Option : 3

Q.2 नीचे दिए गए चार अक्षर-समूहों में से तीन किसी प्रकार से आपस में संबंधित हैं और कोई एक उनसे असंगत है। असंगत अक्षर-समूह का चयन कीजिए।

- Ans 1. ZSNK
 2. WNDD
 3. VOJG
 4. TMHE

Question ID : 264330180757
Option 1 ID : 264330708995
Option 2 ID : 264330708997
Option 3 ID : 264330708998
Option 4 ID : 264330708996
Status : Answered
Chosen Option : 2

Q.3 "D @ G" का अर्थ है - "D, G का पिता है",
"D # G" का अर्थ है - "D, G की पुत्री है",
"D * G" का अर्थ है - "D, G की माता है", और
"D - G" का अर्थ है - "D, G का पति है"।
यदि A - Q * B @ R है, तो A का R से क्या संबंध है?

- Ans 1. पिता
 2. दादा
 3. पुत्र
 4. पति

Question ID : 264330126661
Option 1 ID : 264330496319
Option 2 ID : 264330496318
Option 3 ID : 264330496317
Option 4 ID : 264330496316
Status : Answered
Chosen Option : 2

Q.4 निम्नलिखित में से कौन-सी संख्या दी गई श्रृंखला में प्रश्नवाचक चिह्न (?) का स्थान लेगी?
25, 26, 28, 32, 40, ?

- Ans 1. 58
 2. 56
 3. 52
 4. 50

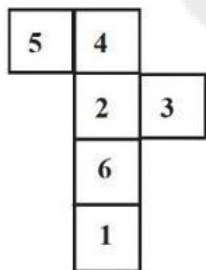
Question ID : 26433057326
Option 1 ID : 264330224291
Option 2 ID : 264330224290
Option 3 ID : 264330224288
Option 4 ID : 264330224289
Status : Answered
Chosen Option : 2

Q.5 निम्नलिखित में से कौन-सा अक्षर-समूह दी गई श्रृंखला में प्रश्न चिह्न (?) के स्थान पर आकर श्रृंखला को पूर्ण करेगा?
GOWB, MVEK, SCMT, ?, EQCL

- Ans 1. YJUC
 2. YKUC
 3. YKCU
 4. YJCU

Question ID : 26433040788
Option 1 ID : 264330159629
Option 2 ID : 264330159630
Option 3 ID : 264330159628
Option 4 ID : 264330159627
Status : Answered
Chosen Option : 1

Q.6 यदि दी गई शीट को मोड़कर एक घन बनाया जाए, तो निर्मित घन में संख्या '1' वाले फ़लक के विपरीत फ़लक पर कौन सी संख्या होगी?



- Ans 1. 2
 2. 4
 3. 5
 4. 3

Question ID : 26433065676
Option 1 ID : 264330257266
Option 2 ID : 264330257265
Option 3 ID : 264330257264
Option 4 ID : 264330257267
Status : Answered
Chosen Option : 1

Q.7 यदि '+' का अर्थ 'x' है, 'x' का अर्थ '-' है, '-' का अर्थ '÷' है और '÷' का अर्थ '+' है, तो दिए गए समीकरण में प्रश्नवाचक चिह्न (?) के स्थान पर क्या आएगा?
 $9 + 3 \div 2 \times 135 - 15 = ?$

- Ans 1. 22
 2. 20
 3. 25
 4. 18.5

Question ID : 264330114255
Option 1 ID : 264330449107
Option 2 ID : 264330449105
Option 3 ID : 264330449108
Option 4 ID : 264330449106
Status : Answered
Chosen Option : 2

Q.8 छह मित्र एक वृत्ताकार स्थिति में बैठे हुए हैं। वे सभी केंद्र की ओर मुख करके बैठे हैं। कनक, सोना के दाईं ओर तीसरे स्थान पर बैठी है। कपिल, मणि के ठीक बगल में है। गोल्डी, मणि के दाईं ओर दूसरे स्थान पर है। सोना, कपिल और सुरेश के ठीक बगल में है। कनक के बाईं ओर दूसरे स्थान पर कौन बैठा है?

- Ans
- 1. सुरेश
 - 2. गोल्डी
 - 3. कपिल
 - 4. मणि

Question ID : 264330145406

Option 1 ID : 264330569879

Option 2 ID : 264330569882

Option 3 ID : 264330569880

Option 4 ID : 264330569881

Status : Answered

Chosen Option : 3

Q.9 उस विकल्प का चयन करें, जो तीसरे शब्द से उसी प्रकार संबंधित है, जिस प्रकार दूसरा शब्द पहले शब्द से संबंधित है। (शब्दों को अर्थपूर्ण शब्दों के रूप में माना जाना चाहिए, और इनको शब्द में अक्षरों की संख्या/व्यंजनों/स्वरों की संख्या के आधार पर एक-दूसरे से संबंधित नहीं किया जाना चाहिए।)
कुश्ती (Wrestling) : अखाड़ा (Arena) :: आइस-स्केटिंग (Ice-Skating) : ?

- Ans
- 1. बर्फ का मैदान (Rink)
 - 2. ट्रैक (Track)
 - 3. मैदान (Ground)
 - 4. स्टेडियम (Stadium)

Question ID : 26433091601

Option 1 ID : 264330359770

Option 2 ID : 264330359771

Option 3 ID : 264330359769

Option 4 ID : 264330359772

Status : Answered

Chosen Option : 1

Q.10 दो कथन दिए गए हैं, जिसके बाद दो निष्कर्ष I और II दिए गए हैं। कथनों को सत्य मानते हुए, भले ही वे सामान्य रूप से ज्ञात तथ्यों से भिन्न प्रतीत होते हों, निर्णय लें कि कौन-से निष्कर्ष कथनों का तार्किक रूप से पालन करते हैं?

कथन:

सभी कार वाहन हैं।

सभी वाहन ट्रक हैं।

निष्कर्ष:

I) सभी कार ट्रक हैं।

II) सभी ट्रक वाहन हैं।

- Ans
- 1. निष्कर्ष I और II दोनों पालन करते हैं।
 - 2. न तो निष्कर्ष I और न ही निष्कर्ष II पालन करता है।
 - 3. केवल निष्कर्ष I पालन करता है।
 - 4. केवल निष्कर्ष II पालन करता है।

Question ID : 26433067701

Option 1 ID : 264330265318

Option 2 ID : 264330265319

Option 3 ID : 264330265316

Option 4 ID : 264330265317

Status : Answered

Chosen Option : 3

Q.11 B, E के पश्चिम में है। A, B के उत्तर-पश्चिम में है। F, B के उत्तर-पूर्व में है। D, F के दक्षिण-पूर्व में इस प्रकार है कि F, E के उत्तर-पश्चिम में है, और D, E के दक्षिण-पूर्व में भी है। यदि C, E के दक्षिण-पश्चिम में है, तो E के सापेक्ष A की स्थिति क्या है? (सभी स्थितियों को ग्रिड पैटर्न में व्यवस्थित किया गया है)

Ans ✓ 1. उत्तर-पश्चिम

✗ 2. दक्षिण-पश्चिम

✗ 3. उत्तर-पूर्व

✗ 4. दक्षिण-पूर्व

Question ID : 26433068364

Option 1 ID : 264330267969

Option 2 ID : 264330267970

Option 3 ID : 264330267971

Option 4 ID : 264330267968

Status : Answered

Chosen Option : 1

Q.12 उस सही विकल्प का चयन कीजिए, जो दिए गए शब्दों के उसी क्रम में व्यवस्थापन को दर्शाता है, जिस क्रम में वे अंग्रेजी शब्दकोश में मौजूद होते हैं।

1. Realistic

2. Readily

3. Reach

4. Really

5. Reactor

6. Realize

Ans ✓ 1. 3, 5, 2, 1, 6, 4

✗ 2. 3, 5, 6, 1, 2, 4

✗ 3. 3, 5, 1, 2, 6, 4

✗ 4. 3, 2, 6, 1, 5, 4

Question ID : 264330145383

Option 1 ID : 264330569787

Option 2 ID : 264330569788

Option 3 ID : 264330569790

Option 4 ID : 264330569789

Status : Answered

Chosen Option : 1

Q.13 उस विकल्प आकृति का चयन कीजिए जो दी गई आकृति में उसके एक भाग के रूप में अंतर्निहित है
(आकृति को घमाने की अनुमति नहीं है)।



Ans

✗ 1.



✓ 2.



✗ 3.



✗ 4.



Question ID : 264330145463

Option 1 ID : 264330570110

Option 2 ID : 264330570109

Option 3 ID : 264330570107

Option 4 ID : 264330570108

Status : Answered

Chosen Option : 2

Q.14 निम्नलिखित में से कौन सी संख्या दी गई श्रेणी में प्रश्नचिह्न (?) के स्थान पर आएगी?
239, 274, 309, 354, 399, 454, ?

Ans ✗ 1. 474

✗ 2. 499

✓ 3. 509

✗ 4. 539

Question ID : 26433067874

Option 1 ID : 264330266009

Option 2 ID : 264330266011

Option 3 ID : 264330266010

Option 4 ID : 264330266008

Status : Answered

Chosen Option : 3

Q.15 "A ? B" का अर्थ है कि "A, B का पुत्र है"।
"A \$ B" का अर्थ है कि "A, B की पुत्री है"।
"A * B" का अर्थ है कि "A, B का भाई है"।
"A = B" का अर्थ है कि "A, B का पिता है"।
यदि $H \$ Q * Y * N$ है, तो Y का H से क्या संबंध है?

- Ans 1. पिता
 2. चाचा/ताऊ
 3. दादा
 4. भाई

Question ID : 264330145388
Option 1 ID : 264330569807
Option 2 ID : 264330569810
Option 3 ID : 264330569808
Option 4 ID : 264330569809
Status : Answered
Chosen Option : 2

Q.16 किसी निश्चित कूट भाषा में, 'LIFE' को '9351' के रूप में कूटबद्ध किया जाता है, और 'NEAR' को '4692' के रूप में कूटबद्ध किया जाता है। दी गई उस कूट भाषा में 'E' के लिए कूट क्या है?

- Ans 1. 1
 2. 3
 3. 4
 4. 9

Question ID : 264330169657
Option 1 ID : 264330665330
Option 2 ID : 264330665329
Option 3 ID : 264330665328
Option 4 ID : 264330665327
Status : Answered
Chosen Option : 4

Q.17 उस समुच्चय का चयन कीजिए जिसमें संख्याएँ उसी प्रकार संबंधित हैं जिस प्रकार निम्नलिखित समुच्चयों की संख्याएँ संबंधित हैं।

(नोट: संख्याओं को उसके घटक अंकों में विभाजित किए बिना, पूर्ण संख्याओं पर संक्रियाएँ की जानी चाहिए। उदाहरण के लिए 13 - इसमें 13 पर जोड़ने / घटाने / गुणा करने आदि जैसी संक्रियाओं को 13 में किया जा सकता है। 13 को 1 और 3 में विभाजित करने और फिर 1 और 3 पर गणितीय संक्रियाएँ करने की अनुमति नहीं है)

(329, 145, 184), (567, 221, 346)

- Ans 1. (464, 264, 206)
 2. (308, 205, 192)
 3. (676, 225, 451)
 4. (506, 302, 224)

Question ID : 264330145297
Option 1 ID : 264330569444
Option 2 ID : 264330569446
Option 3 ID : 264330569443
Option 4 ID : 264330569445
Status : Answered
Chosen Option : 3

Q.18 यदि A, B, C, D और E क्रमशः +, -, ×, ÷ और = को निरूपित करते हैं, तो निम्नलिखित में से कौन-सा विकल्प सही है?

Ans ✓ 1. 4A9C6D2E40B9

✗ 2. 4A9C6D2E40A9

✗ 3. 4A9E6D2C40B9

✗ 4. 4A9C6D2B40E9

Question ID : 26433057353

Option 1 ID : 264330224399

Option 2 ID : 264330224396

Option 3 ID : 264330224398

Option 4 ID : 264330224397

Status : Not Answered

Chosen Option : --

Q.19 निम्नलिखित में से तीन अक्षर-समूह किसी न किसी तरह से संगत हैं, और एक असंगत है। असंगत अक्षर समूह का चयन करें।

Ans ✗ 1. SVXY

✗ 2. NQST

✗ 3. PSUV

✓ 4. GTHS

Question ID : 264330145349

Option 1 ID : 264330569651

Option 2 ID : 264330569653

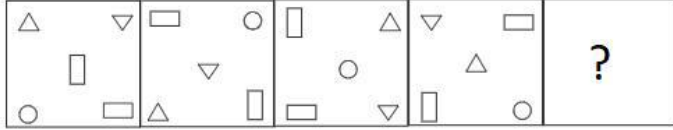
Option 3 ID : 264330569652

Option 4 ID : 264330569654

Status : Answered

Chosen Option : 4

Q.20 वह आकृति चुनें, जो नीचे दी गई आकृति श्रृंखला में प्रश्न चिह्न (?) के स्थान पर आएगी।



Ans

- ✗ 1.
- ✗ 2.
- ✗ 3.
- ✓ 4.

Question ID : 264330145493

Option 1 ID : 264330570228

Option 2 ID : 264330570230

Option 3 ID : 264330570229

Option 4 ID : 264330570227

Status : Answered

Chosen Option : 4

Q.21 यदि '+' का अर्थ '-' है, '-' का अर्थ 'x' है, 'x' का अर्थ '÷' है और '÷' का अर्थ '+' है, तो निम्नलिखित समीकरण में '?' के स्थान पर क्या आएगा?

$$36 - 5 \div 240 \times 6 + 17 = ?$$

- Ans ✗ 1. 218
- ✗ 2. 237
- ✓ 3. 203
- ✗ 4. 221

Question ID : 264330101144

Option 1 ID : 264330397122

Option 2 ID : 264330397123

Option 3 ID : 264330397124

Option 4 ID : 264330397121

Status : Answered

Chosen Option : 3

Q.22 दर्पण को चित्र में दिखाए अनुसार MN पर रखे जाने पर दी गई आकृति के सही दर्पण प्रतिबिम्ब का चयन करें।



Ans 1. X H G H X B K \$ e G H X

2. R H G R B K \$ e G H R

3. X H G H X B K \$ e G H X

4. B K \$ e G H R R H G R

Question ID : 26433085400

Option 1 ID : 264330335303

Option 2 ID : 264330335304

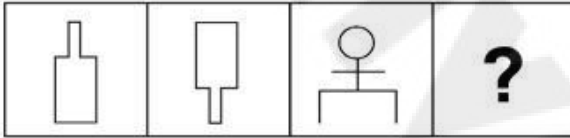
Option 3 ID : 264330335301

Option 4 ID : 264330335302

Status : Answered

Chosen Option : 1

Q.23 उस आकृति का चयन कीजिये जो निम्न श्रृंखला में प्रश्नवाचक चिह्न (?) के स्थान पर आएगी।



Ans 1.

2.

3.

4.

Question ID : 26433082667

Option 1 ID : 264330324504

Option 2 ID : 264330324503

Option 3 ID : 264330324502

Option 4 ID : 264330324501

Status : Answered

Chosen Option : 3

Q.24 दिए गए अक्षर-समूहों में से कौन-सा, दी गई श्रृंखला में प्रश्न-चिह्न (?) के स्थान पर आकर श्रृंखला को पूर्ण करेगा?

VQSN, ?, ROOL, PNMK, NMKJ

- Ans
- 1. PQMN
 - 2. PTMQ
 - 3. TQRN
 - 4. TPQM

Question ID : 264330180760

Option 1 ID : 264330709010

Option 2 ID : 264330709008

Option 3 ID : 264330709007

Option 4 ID : 264330709009

Status : Answered

Chosen Option : 4

Q.25 दिए गए समीकरण को सही बनाने के लिए किन दो चिह्नों को आपस में बदला जाना चाहिए?

$114 \div 85 + 5 \times 4 - 33 = 149$

- Ans
- 1. - और +
 - 2. + और ×
 - 3. ÷ और -
 - 4. + और +

Question ID : 264330129523

Option 1 ID : 264330507460

Option 2 ID : 264330507461

Option 3 ID : 264330507458

Option 4 ID : 264330507459

Status : Answered

Chosen Option : 4

Q.26 नीचे दो कथन और दो निष्कर्ष दिए गए हैं। कथनों को सत्य मानते हुए, भले ही वे सामान्य रूप से ज्ञात तथ्यों से भिन्न प्रतीत होते हों, निर्धारित करें कि कौन-से निष्कर्ष दिए गए कथनों का तार्किक रूप से पालन करते हैं?

कथन:

कुछ चूहे चटाई हैं।

सभी चटाई चींटियां हैं।

निष्कर्ष:

I. कुछ चूहे चींटियां हैं।

II. कुछ चींटियां चटाई हैं।

- Ans
- 1. दोनों निष्कर्ष पालन करते हैं
 - 2. केवल निष्कर्ष I पालन करता है
 - 3. केवल निष्कर्ष II पालन करता है
 - 4. न तो निष्कर्ष I और न ही निष्कर्ष II पालन करता है

Question ID : 26433056645

Option 1 ID : 264330221566

Option 2 ID : 264330221564

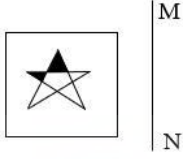
Option 3 ID : 264330221565

Option 4 ID : 264330221567

Status : Answered

Chosen Option : 1

Q.27 जब दर्पण को रेखा MN पर रखा जाता है, तो दी गई आकृति का सही दर्पण प्रतिबिंब ज्ञात कीजिए।



Ans

✗ 1.



✗ 2.



✓ 3.



✗ 4.



Question ID : 26433056625

Option 1 ID : 264330221487

Option 2 ID : 264330221484

Option 3 ID : 264330221486

Option 4 ID : 264330221485

Status : Answered

Chosen Option : 3

Q.28 नीचे तीन कथन और उसके बाद I, II और III क्रमांक वाले तीन निष्कर्ष दिए गए हैं। यह मानते हुए कि कथनों में दी गई जानकारी सत्य है, भले ही ये कथन सामान्य रूप से ज्ञात तथ्यों से भिन्न प्रतीत होते हों, यह निर्णय कीजिए कि कौन से निष्कर्ष इन कथनों का तार्किक रूप से पालन करते हैं?

कथन:

कुछ हाथी मछलियां हैं।
कोई मछली बाघ नहीं है।
सभी हिरण बाघ हैं।

निष्कर्ष:

I. कुछ हाथी हिरण हैं।
II. कोई हाथी बाघ नहीं है।
III. कोई हिरण मछली नहीं है।

Ans

✓ 1. केवल निष्कर्ष III पालन करता है।

✗ 2. केवल निष्कर्ष II पालन करता है।

✗ 3. निष्कर्ष I और II दोनों पालन करते हैं।

✗ 4. निष्कर्ष I और III दोनों पालन करते हैं।

Question ID : 264330145343

Option 1 ID : 264330569630

Option 2 ID : 264330569629

Option 3 ID : 264330569627

Option 4 ID : 264330569628

Status : Answered

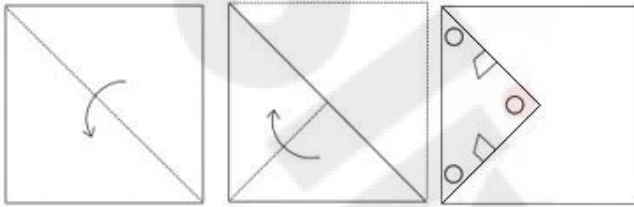
Chosen Option : 1

Q.29 यदि '+' का अर्थ '-', '-' का अर्थ 'x', 'x' का अर्थ '+', '+' का अर्थ '÷' हो, तो निम्नलिखित समीकरण में प्रश्न चिह्न (?) के स्थान पर क्या आएगा?
 $124 \times 4 \div 13 - 3 + 36 = ?$

- Ans 1. 45
 2. 42
 3. 34
 4. 31

Question ID : 264330126059
 Option 1 ID : 264330493908
 Option 2 ID : 264330493910
 Option 3 ID : 264330493911
 Option 4 ID : 264330493909
 Status : Answered
 Chosen Option : 3

Q.30 नीचे आकृति में दिखाए गए अनुसार एक कागज को मोड़ा और काटा जाता है। खोले जाने पर यह कैसा दिखेगा?



Ans

- 1.
- 2.
- 3.
- 4.

Question ID : 26433040795
 Option 1 ID : 264330159655
 Option 2 ID : 264330159657
 Option 3 ID : 264330159658
 Option 4 ID : 264330159656
 Status : Answered
 Chosen Option : 1

Q.31 एक निश्चित कूट भाषा में, "good morning" को "mu du" के रूप में कूटबद्ध किया जाता है, "early morning tea" को "du tu se" के रूप में कूटबद्ध किया जाता है, और "tea is early" को "se re tu" के रूप में कूटबद्ध किया जाता है। शब्द "is" के लिए कूट क्या होगा?

Ans 1. mu

2. du

3. tu

4. re

Question ID : 26433074766

Option 1 ID : 264330293154

Option 2 ID : 264330293152

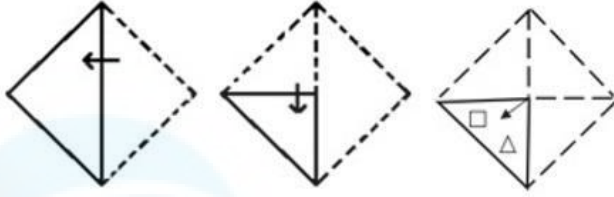
Option 3 ID : 264330293155

Option 4 ID : 264330293153

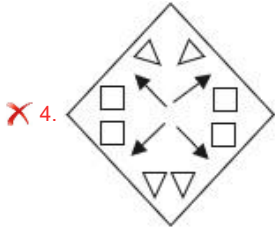
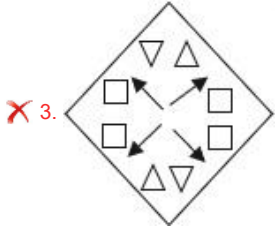
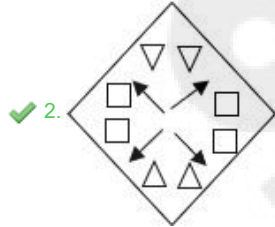
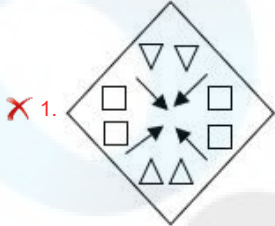
Status : Answered

Chosen Option : 4

Q.32 एक कागज को नीचे दिखाए अनुसार मोड़ा और काटा जाता है। कागज को खोले जाने पर यह कैसा दिखाई देगा?



Ans



Question ID : 26433068732

Option 1 ID : 264330269443

Option 2 ID : 264330269442

Option 3 ID : 264330269441

Option 4 ID : 264330269440

Status : Answered

Chosen Option : 2

Q.33 निम्नलिखित में से कौन-सी संख्या दी गई श्रृंखला में प्रश्न-चिह्न (?) को प्रतिस्थापित करेगी?
352, 326, 284, 225, 148, ?

- Ans 1. 50
 2. 52
 3. 54
 4. 71

Question ID : 26433069399
Option 1 ID : 264330272111
Option 2 ID : 264330272108
Option 3 ID : 264330272110
Option 4 ID : 264330272109
Status : Answered
Chosen Option : 2

Q.34 इस प्रश्न में, तीन कथन और उसके बाद दो निष्कर्ष I और II दिए गए हैं। कथनों को सत्य मानते हुए, भले ही वे सामान्यतः ज्ञात तथ्यों से भिन्न प्रतीत होते हों, निर्णय लें कि कौन-से निष्कर्ष तार्किक रूप से कथनों का पालन करते हैं?

- कथन:
I. सभी बिल्डिंग, टॉवर हैं।
II. कोई टॉवर, दुकान नहीं है।
III. कुछ दुकानें, कार्यालय हैं।
निष्कर्ष:
I. कुछ कार्यालय, टॉवर हैं।
II. कोई बिल्डिंग, दुकान नहीं है।

- Ans 1. केवल निष्कर्ष I पालन करता है
 2. न तो निष्कर्ष I और न ही निष्कर्ष II पालन करता है
 3. केवल निष्कर्ष II पालन करता है
 4. दोनों निष्कर्ष I और II पालन करते हैं

Question ID : 264330104078
Option 1 ID : 264330408613
Option 2 ID : 264330408616
Option 3 ID : 264330408614
Option 4 ID : 264330408615
Status : Answered
Chosen Option : 3

Q.35 उस विकल्प का चयन कीजिए, जो दिए गए शब्दों के उस सही क्रम को दर्शाता है, जिस क्रम में वे अंग्रेजी शब्दकोश में मौजूद होते हैं।

- 1.Voice
2.Vocalist
3.Vivisection
4.Void
5.Vogue

- Ans 1. 3, 2, 5, 1, 4
 2. 5, 2, 3, 1, 4
 3. 2, 3, 5, 1, 4
 4. 4, 2, 3, 1, 5

Question ID : 26433067244
Option 1 ID : 264330263489
Option 2 ID : 264330263488
Option 3 ID : 264330263490
Option 4 ID : 264330263491
Status : Answered
Chosen Option : 1

Q.36 एक निश्चित कूट भाषा में "ASIA" को " ZHRZ" और "IRELAND" को "RIVOZMW" के रूप में कूटबद्ध किया जाता है। उसी कूट भाषा में "NORWAY" को किस प्रकार कूटबद्ध किया जाएगा?

- Ans
- 1. MJIDZB
 - 2. NJIDZB
 - 3. NLISZB
 - 4. MLIDZB

Question ID : 26433079050
Option 1 ID : 264330310206
Option 2 ID : 264330310204
Option 3 ID : 264330310207
Option 4 ID : 264330310205
Status : Answered
Chosen Option : 4

Q.37 उस समुच्चय का चयन करें जिसमें संख्याएँ उसी प्रकार संबंधित हैं, जिस प्रकार दिए गए समुच्चय की संख्याएँ हैं।
(नोट: गणितीय संक्रियाएँ संख्याओं को उसके घटक अंकों में विभाजित किए बिना, पूर्ण संख्याओं पर की जानी चाहिए। उदाहरण के लिए 13 – 13 पर गणितीय संक्रियाएँ जैसे कि जोड़ना / घटाना / गुणा करना आदि की जा सकती हैं। 13 को 1 और 3 के रूप में अलग करने और फिर 1 और 3 पर गणितीय संक्रियाएँ करने की अनुमति नहीं है।)
(13, 14, 54)
(15, 18, 66)

- Ans
- 1. (11, 13, 52)
 - 2. (15, 17, 66)
 - 3. (13, 19, 64)
 - 4. (12, 34, 90)

Question ID : 26433069109
Option 1 ID : 264330270951
Option 2 ID : 264330270950
Option 3 ID : 264330270948
Option 4 ID : 264330270949
Status : Answered
Chosen Option : 3

Q.38 सात व्यक्ति A, B, C, D, E, F और G उत्तर की ओर मुख करके एक सीधी पंक्ति में बैठे हैं (उनका इसी क्रम में होना अनिवार्य नहीं है)। D की दाईं ओर केवल 2 व्यक्ति बैठे हैं। G, D के ठीक बगल में बैठा है। A और G के बीच में केवल 3 व्यक्ति बैठे हैं। B और C के बीच में केवल 2 व्यक्ति बैठे हैं। E, C के ठीक बगल में नहीं है। F, G के दाईं ओर ठीक बगल में बैठा है।
E और D के बीच में कितने व्यक्ति बैठे हैं?

- Ans
- 1. 0
 - 2. 2
 - 3. 3
 - 4. 1

Question ID : 264330145409
Option 1 ID : 264330569891
Option 2 ID : 264330569893
Option 3 ID : 264330569894
Option 4 ID : 264330569892
Status : Answered
Chosen Option : 4

Q.39 उस समुच्चय का चयन कीजिए जिसमें संख्याएँ एक-दूसरे से उसी प्रकार संबंधित हैं जिस प्रकार निम्नलिखित समुच्चय की संख्याएँ आपस में संबंधित हैं।

(नोट: संख्याओं को उसके घटक अंकों में विभाजित किए बिना, पूर्ण संख्याओं पर गणितीय संक्रियाएं की जानी चाहिए। उदाहरण के लिए 13 - संख्या 13 पर गणितीय संक्रियाएं जैसे कि जोड़ना / घटाना / गुणा करना आदि को 13 से किया जा सकता है। 13 को 1 और 3 में तोड़ना और फिर 1 और 3 पर गणितीय संक्रियाएँ करने की अनुमति नहीं है।)

(21, 5, 120)
(2, 7, 8)

- Ans 1. (3,4,10)
 2. (2,6,21)
 3. (4,7,34)
 4. (3,4,16)

Question ID : 264330145329

Option 1 ID : 264330569573

Option 2 ID : 264330569574

Option 3 ID : 264330569572

Option 4 ID : 264330569571

Status : Answered

Chosen Option : 1

Q.40 उस विकल्प का चयन कीजिए, जो तीसरे शब्द से उसी प्रकार संबंधित है, जिस प्रकार दूसरा शब्द पहले शब्द से संबंधित है। (शब्दों को अर्थपूर्ण शब्दों के रूप में माना जाना चाहिए, और वह शब्द में अक्षरों की संख्या/व्यंजनो/स्वरो की संख्या के आधार पर एक-दूसरे से संबंधित नहीं होना चाहिए।)

व्युत्पन्न होना (Derive) : निष्कर्ष निकालना (Infer) :: गुहार लगाना (Urge) : ?

- Ans 1. विरोध करना (Protest)
 2. आग्रह करना (Exhort)
 3. बाधा डालना (Hinder)
 4. दोष लगाना (Censure)

Question ID : 264330145398

Option 1 ID : 264330569848

Option 2 ID : 264330569849

Option 3 ID : 264330569850

Option 4 ID : 264330569847

Status : Answered

Chosen Option : 2

Q.41 दिए गए विकल्पों में से वह संख्या चुनिए, जो निम्नलिखित श्रृंखला में प्रश्न-चिह्न (?) को प्रतिस्थापित कर सके।

61, 95, 138, 197, 279, ?

- Ans 1. 391
 2. 397
 3. 395
 4. 389

Question ID : 26433057050

Option 1 ID : 264330223184

Option 2 ID : 264330223186

Option 3 ID : 264330223187

Option 4 ID : 264330223185

Status : Answered

Chosen Option : 1

Q.42 उस विकल्प का चयन करें, जो उन अक्षरों को निरूपित करता है, जिन्हें नीचे दिए गए रिक्त स्थानों में क्रमिक रूप से बाएं से दाएं रखे जाने पर दी गई अक्षर श्रृंखला पूरी हो जाएगी।
P _ _ H _ _ CE _ ZP _ EH _

- Ans
- 1. HZCZPEC
 - 2. ZCHPZCE
 - 3. EPZCHEC
 - 4. CEZPHCZ

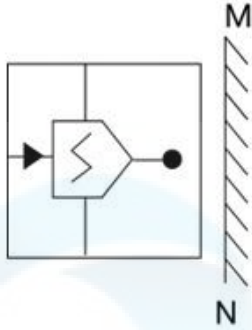
Question ID : 26433086954
Option 1 ID : 264330341459
Option 2 ID : 264330341457
Option 3 ID : 264330341460
Option 4 ID : 264330341458
Status : Answered
Chosen Option : 4

Q.43 एक व्यक्ति पार्क में उत्तर की ओर अभिमुख होकर खड़ा है। वह बायीं ओर 90° मुड़ता है और 40 Km चलता है। वह फिर से दाहिनी ओर 90° मुड़ता है और 50 Km चलता है। वह फिर से 90° दाहिनी ओर मुड़ता है और 60 Km चलता है। अंत में, वह दायीं ओर 90° मुड़ता है और 50 Km चलता है। वह आरंभिक बिंदु से कितनी दूरी पर है?

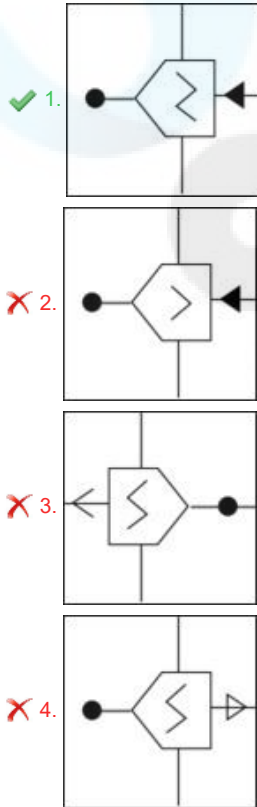
- Ans
- 1. 40 km
 - 2. 50 km
 - 3. 60 km
 - 4. 20 km

Question ID : 26433093124
Option 1 ID : 264330365749
Option 2 ID : 264330365750
Option 3 ID : 264330365752
Option 4 ID : 264330365751
Status : Answered
Chosen Option : 4

Q.44 दर्पण को नीचे चित्र के अनुसार 'MN' पर रखे जाने पर दिए गए संयोजन के सही दर्पण प्रतिबिंब का चयन करें।



Ans



Question ID : 264330130776

Option 1 ID : 264330512217

Option 2 ID : 264330512218

Option 3 ID : 264330512216

Option 4 ID : 264330512215

Status : Answered

Chosen Option : 1

Q.45 यदि A का अर्थ '+' है, B का अर्थ 'x' है, C का अर्थ '-' है, और D का अर्थ '÷' है, तो निम्नलिखित समीकरण में '?' के स्थान पर क्या आएगा?

$$145 A 27 D 3 B ? = 163$$

Ans 1. 1

2. 3

3. 2

4. 6

Question ID : 26433067673

Option 1 ID : 264330265204

Option 2 ID : 264330265207

Option 3 ID : 264330265206

Option 4 ID : 264330265205

Status : Answered

Chosen Option : 3

Q.46 एक निश्चित कूट भाषा में "TRAUMA" को "36" और "STIL" को "24" के रूप में कूटबद्ध किया जाता है। उसी कूट भाषा में "OBEIDEINT" को किस प्रकार कूटबद्ध किया जाएगा?

Ans 1. 72

2. 54

3. 44

4. 84

Question ID : 26433079049

Option 1 ID : 264330310202

Option 2 ID : 264330310201

Option 3 ID : 264330310200

Option 4 ID : 264330310203

Status : Not Answered

Chosen Option : --

Q.47 यदि '+' का अर्थ '-', '-' का अर्थ 'x', 'x' का अर्थ '+', '+' का अर्थ '+' हो, तो निम्नलिखित समीकरण में प्रश्न चिह्न (?) के स्थान पर क्या आएगा?
 $61 \div 9 \times 3 - 8 + 5 = ?$

Ans 1. 72

2. 75

3. 89

4. 80

Question ID : 264330126055

Option 1 ID : 264330493892

Option 2 ID : 264330493895

Option 3 ID : 264330493893

Option 4 ID : 264330493894

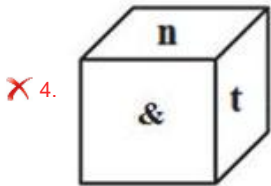
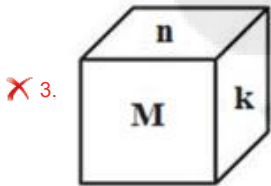
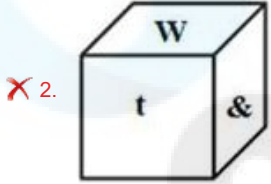
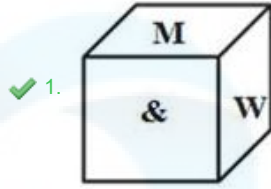
Status : Answered

Chosen Option : 4

Q.48 यदि दी गई शीट को मोड़कर एक घन का आकार दिया जाता है, तो विकल्पों में से कौन-सी आकृति संभव नहीं है?

&			
W	t	n	k
M			

Ans



Question ID : 26433059914

Option 1 ID : 264330234488

Option 2 ID : 264330234489

Option 3 ID : 264330234490

Option 4 ID : 264330234491

Status : Answered

Chosen Option : 1

Q.49 उस विकल्प का चयन कीजिये जो तीसरे पद से उसी प्रकार संबंधित है जैसे दूसरा पद पहले पद से और छठा पद पांचवें पद से संबंधित है।

142 : 108 :: 185 : ? :: 169 : 135

Ans ✗ 1. 162

✓ 2. 151

✗ 3. 148

✗ 4. 157

Question ID : 26433079157

Option 1 ID : 264330310634

Option 2 ID : 264330310633

Option 3 ID : 264330310632

Option 4 ID : 264330310635

Status : Answered

Chosen Option : 2

Q.50 किसी निश्चित कूट भाषा में, 'FIRE' को '7391' के रूप में कूटबद्ध किया जाता है, और 'AGED' को '8247' के रूप में कूटबद्ध किया जाता है। दी गई उस कूट भाषा में 'E' के लिए कूट क्या है?

- Ans
- 1. 3
 - 2. 2
 - 3. 7
 - 4. 4

Question ID : 264330169658
Option 1 ID : 264330665331
Option 2 ID : 264330665333
Option 3 ID : 264330665332
Option 4 ID : 264330665334
Status : Answered
Chosen Option : 3

Section : General Knowledge and General Awareness

Q.1 बीटिंग रिट्रीट (Beating Retreat) समारोह निम्नलिखित में से किस स्थान पर आयोजित किया जाता है?

- Ans
- 1. चाँदनी चौक
 - 2. इंडिया गेट
 - 3. विजय चौक
 - 4. कर्नाट प्लेस

Question ID : 264330164811
Option 1 ID : 264330646374
Option 2 ID : 264330646371
Option 3 ID : 264330646372
Option 4 ID : 264330646373
Status : Answered
Chosen Option : 2

Q.2 जून _____ में, भारतीय रिज़र्व बैंक ने 'माइक्रोफाइनेंस के विनियमन पर परामर्शी दस्तावेज (Consultative Document on Regulation of Microfinance)' प्रकाशित किया था।

- Ans
- 1. 2019
 - 2. 2021
 - 3. 2020
 - 4. 2022

Question ID : 264330145233
Option 1 ID : 264330569187
Option 2 ID : 264330569189
Option 3 ID : 264330569188
Option 4 ID : 264330569190
Status : Not Answered
Chosen Option : --

Q.3 कौन-सी पवनें एशियाई महाद्वीप में हिमालय के उत्तरी अक्षांशों पर तिब्बती उच्चभूमि के लगभग समानांतर में चलती हैं?

- Ans
- 1. उत्तर पश्चिमी पवनें
 - 2. जेट धाराएँ
 - 3. व्यापारिक पवनें
 - 4. दक्षिण पश्चिम पवनें

Question ID : 26433064771
Option 1 ID : 264330253676
Option 2 ID : 264330253677
Option 3 ID : 264330253679
Option 4 ID : 264330253678
Status : Answered
Chosen Option : 1

Q.4 भारत के स्वास्थ्य एवं परिवार कल्याण मंत्रालय ने किशोर लड़कियों और लड़कों (56% लड़कियों और 30% लड़कों) में रक्ताल्पता के उच्च प्रसार और घटनाओं (high prevalence and incidence) की चुनौती से निपटने के लिए साप्ताहिक आयरन और फोलिक एसिड सप्लीमेंटेशन (WIFS) कार्यक्रम किस वर्ष में शुरू किया था?

- Ans
- 1. 2011
 - 2. 2013
 - 3. 2014
 - 4. 2012

Question ID : 264330145199
Option 1 ID : 264330569051
Option 2 ID : 264330569053
Option 3 ID : 264330569054
Option 4 ID : 264330569052
Status : Not Answered
Chosen Option : --

Q.5 पूर्व की ओर बहने वाली किस नदी की द्रोणी (river basin) झारखंड, छत्तीसगढ़ और उड़ीसा राज्यों को कवर करती है, और इसका जलग्रहण क्षेत्र 39,033 sq km है?

- Ans
- 1. ब्राह्मणी
 - 2. शारदा
 - 3. नागावली
 - 4. बैतरणी

Question ID : 264330131027
Option 1 ID : 264330513220
Option 2 ID : 264330513221
Option 3 ID : 264330513219
Option 4 ID : 264330513222
Status : Answered
Chosen Option : 4

Q.6 भारतीय संविधान को अंगीकृत किए जाने के समय इसमें कितने मूल अधिकार थे?

- Ans 1. सात
 2. पाँच
 3. छह
 4. आठ

Question ID : 264330111502
Option 1 ID : 264330438095
Option 2 ID : 264330438093
Option 3 ID : 264330438094
Option 4 ID : 264330438096
Status : Answered
Chosen Option : 1

Q.7 भारतीय मानसून के संबंध में निम्नलिखित में से कौन-सा कथन सत्य नहीं है?

- Ans 1. मानसूनी वर्षा जेट प्रवाह से प्रभावित होती है
 2. हिमालय मानसूनी वर्षा में महत्वपूर्ण भूमिका निभाता है
 3. मानसूनी वर्षा देश की उच्चावच विशेषताओं (relief features) से प्रभावित नहीं होती है
 4. मानसूनी वर्षा भारतीय कृषि की जीवन रेखा है

Question ID : 264330169989
Option 1 ID : 264330666632
Option 2 ID : 264330666634
Option 3 ID : 264330666633
Option 4 ID : 264330666631
Status : Answered
Chosen Option : 3

Q.8 निम्नलिखित में से कौन 1946 में कांग्रेस द्वारा गठित अंतरिम सरकार के उपाध्यक्ष थे?

- Ans 1. बलदेव सिंह
 2. वल्लभभाई पटेल
 3. जॉन मथाई
 4. जवाहर लाल नेहरू

Question ID : 264330112356
Option 1 ID : 264330441511
Option 2 ID : 264330441509
Option 3 ID : 264330441512
Option 4 ID : 264330441510
Status : Answered
Chosen Option : 3

Q.9 तारककेंद्र (centriole) का मुख्य कार्य क्या है?

- Ans 1. पादप कोशिका में दृढ़ता बनाए रखना
 2. गुणन के लिए पादप कोशिका की मदद करना
 3. जंतु कोशिका में कोशिका विभाजन में मदद करना
 4. जीवाणु कोशिका में खनिज संरचना को बनाए रखना

Question ID : 26433082209
Option 1 ID : 264330322671
Option 2 ID : 264330322672
Option 3 ID : 264330322669
Option 4 ID : 264330322670
Status : Not Answered
Chosen Option : --

Q.10 1957 में, किसने उस मॉडल को पुनर्परिभाषित किया, जिस मॉडल ने इलेक्ट्रॉन-युग्म स्थिरवैद्युत प्रतिकर्षण की सीमा के आधार पर अलग-अलग अणुओं के आकार को पूर्वानुमानित किया था?

- Ans
- 1. मार्केट और पॉलिंग (Marcet and Pauling)
 - 2. न्योहोम और गिलेस्पी (Nyholm and Gillespie)
 - 3. हाइटलर और लन्डन (Heitler and London)
 - 4. स्टौडिंजर और पेरी (Staudinger and Perey)

Question ID : 264330165460

Option 1 ID : 264330648921

Option 2 ID : 264330648922

Option 3 ID : 264330648920

Option 4 ID : 264330648919

Status : Not Answered

Chosen Option : --

Q.11 "ऑन राइटिंग: ए मेमॉयर ऑफ द क्राफ्ट (On Writing: A Memoir of the Craft)" पुस्तक के लेखक कौन हैं?

- Ans
- 1. एफ स्कॉट फिट्जगेराल्ड (F Scott Fitzgerald)
 - 2. क्लाइव स्टेपल्स लुईस (Clive Staples Lewis)
 - 3. अर्नेस्ट हेमिंग्वे (Ernest Hemingway)
 - 4. स्टीफ़न किंग (Stephen King)

Question ID : 26433071470

Option 1 ID : 264330280307

Option 2 ID : 264330280304

Option 3 ID : 264330280306

Option 4 ID : 264330280305

Status : Not Answered

Chosen Option : --

Q.12 भारत में ब्रिटिश शासन के दौरान, निम्नलिखित में से किस गवर्नर जनरल ने विलय नीति 'व्यपगत का सिद्धांतया हड़प नीति' तैयार किया था?

- Ans
- 1. लॉर्ड डलहौजी (Lord Dalhousie)
 - 2. लॉर्ड कॉर्नवालिस (Lord Cornwallis)
 - 3. वारेन हेस्टिंग्स (Warren Hastings)
 - 4. लॉर्ड कैनिंग (Lord Canning)

Question ID : 264330165380

Option 1 ID : 264330648600

Option 2 ID : 264330648602

Option 3 ID : 264330648599

Option 4 ID : 264330648601

Status : Answered

Chosen Option : 1

Q.13 भारत में श्रम बल सांख्यिकी (labour force statistics) प्रदान करने वाले व्यापक घरेलू सर्वेक्षण का नाम क्या है, जो पहली बार 1955 में आयोजित किया गया था?

- Ans
- 1. क्षेत्र फ्रेम स्थापना सर्वेक्षण (AFES)
 - 2. रोजगार-बेरोजगारी सर्वेक्षण (EUS)
 - 3. आवधिक श्रम बल सर्वेक्षण (PLFS)
 - 4. तिमाही रोजगार सर्वेक्षण (QES)

Question ID : 264330111360
Option 1 ID : 264330437525
Option 2 ID : 264330437528
Option 3 ID : 264330437526
Option 4 ID : 264330437527
Status : Not Answered
Chosen Option : --

Q.14 असद अली खान निम्नलिखित में से किस भारतीय वाद्य-यंत्र को बजाने के लिए जाने जाते थे?

- Ans
- 1. वायलिन
 - 2. सितार
 - 3. रुद्र वीणा
 - 4. तबला

Question ID : 26433074819
Option 1 ID : 264330293365
Option 2 ID : 264330293366
Option 3 ID : 264330293367
Option 4 ID : 264330293364
Status : Not Answered
Chosen Option : --

Q.15 1772 में डेनियल रदरफोर्ड ने किस गंधहीन, रंगहीन, स्वादहीन और रासायनिक रूप से अक्रिय गैस का आविष्कार किया था, और उसी समय सी.डब्ल्यू. शीले (CW Scheele) और एच. कैवेंडिश (H Cavendish) ने इसे स्वतंत्र रूप से पृथक किया था?

- Ans
- 1. आर्गन
 - 2. ऑक्सीजन
 - 3. फ्लोरीन
 - 4. नाइट्रोजन

Question ID : 264330110057
Option 1 ID : 264330432508
Option 2 ID : 264330432507
Option 3 ID : 264330432506
Option 4 ID : 264330432505
Status : Not Answered
Chosen Option : --

Q.16 निम्नलिखित में से कौन मुगल सम्राट शाहजहाँ के सिंहासन का उत्तराधिकारी था?

- Ans
- 1. शाह शुजा
 - 2. दारा शिकोह
 - 3. औरंगज़ेब
 - 4. मुराद बख्श

Question ID : 26433054201
Option 1 ID : 264330211789
Option 2 ID : 264330211790
Option 3 ID : 264330211791
Option 4 ID : 264330211788
Status : Answered
Chosen Option : 3

Q.17 _____ 2005 is referred to as the 'Right to Work' as it guaranteed 100 days of employment in a year by the Indian Government to people who are in need of and who are able to do work.

- Ans
- 1. Mohan Gandhi Regional Guarantee Act
 - 2. Mahatma Gandhi National Rural Employment Guarantee Act
 - 3. Mahatma Gandhi Regional Employment Guarantee Act
 - 4. Mahatma Gandhi Rural Employment Act

Question ID : 264330163259
Option 1 ID : 264330640348
Option 2 ID : 264330640347
Option 3 ID : 264330640350
Option 4 ID : 264330640349
Status : Answered
Chosen Option : 2

Q.18 मूल कर्तव्य संविधान के किस भाग में जोड़े गए हैं?

- Ans
- 1. भाग I-A
 - 2. भाग III-B
 - 3. भाग II-B
 - 4. भाग IV-A

Question ID : 264330116390
Option 1 ID : 264330457645
Option 2 ID : 264330457647
Option 3 ID : 264330457646
Option 4 ID : 264330457648
Status : Answered
Chosen Option : 4

Q.19 कौन-से बंदरगाह भारत के पश्चिमी तट पर स्थित हैं?

- Ans
- 1. कंडला बंदरगाह, मोरमुगाओ बंदरगाह, चेन्नई बंदरगाह
 - 2. कंडला बंदरगाह, मोरमुगाओ बंदरगाह, कोलकाता बंदरगाह
 - 3. कंडला बंदरगाह, हल्दिया बंदरगाह, कोच्चि बंदरगाह
 - 4. कंडला बंदरगाह, मोरमुगाओ बंदरगाह, कोच्चि बंदरगाह

Question ID : 264330132716
Option 1 ID : 264330519962
Option 2 ID : 264330519961
Option 3 ID : 264330519960
Option 4 ID : 264330519959
Status : Answered
Chosen Option : 4

Q.20 ऋणों और अग्रिमों, उधारराशियों की वसूली _____ का एक उदाहरण है।

- Ans
- 1. गैर-कर प्राप्तियों (non-tax receipts)
 - 2. राजस्व प्राप्तियों (revenue receipts)
 - 3. कर प्राप्तियों (tax receipts)
 - 4. पूंजीगत प्राप्तियों (capital receipts)

Question ID : 264330141433
Option 1 ID : 264330554070
Option 2 ID : 264330554067
Option 3 ID : 264330554069
Option 4 ID : 264330554068
Status : Answered
Chosen Option : 2

Q.21 निम्नलिखित में से किस प्रक्रिया में एक ठोस पदार्थ को गर्म करके वाष्पीकृत किया जाता है, और उसकी वाष्प को ठंडी सतह पर वापस ठोस के रूप में संघनित किया जाता है?

- Ans
- 1. आसवन
 - 2. वर्णलेखन (क्रोमैटोग्राफी)
 - 3. ऊर्ध्वपातन
 - 4. निस्संदन

Question ID : 264330145220
Option 1 ID : 264330569136
Option 2 ID : 264330569137
Option 3 ID : 264330569135
Option 4 ID : 264330569138
Status : Answered
Chosen Option : 3

Q.22 थुल्लल नृत्य (Thullal dance) की उत्पत्ति निम्नलिखित में से किस राज्य में हुई?

- Ans
- 1. उत्तराखंड
 - 2. मणिपुर
 - 3. केरल
 - 4. गुजरात

Question ID : 264330164795
Option 1 ID : 264330646307
Option 2 ID : 264330646310
Option 3 ID : 264330646308
Option 4 ID : 264330646309
Status : Answered
Chosen Option : 3

Q.23 पुरुषों के लिए कबड्डी के मैदान की विमाएं (लंबाई-चौड़ाई) क्या होती हैं?

- Ans
- 1. 14 m × 10 m
 - 2. 12.50 m × 10 m
 - 3. 13 m × 10 m
 - 4. 14 m × 8 m

Question ID : 264330118471
Option 1 ID : 264330465288
Option 2 ID : 264330465285
Option 3 ID : 264330465286
Option 4 ID : 264330465287
Status : Not Answered
Chosen Option : --

Q.24 भारतीय भौतिक विज्ञानी सत्येंद्र नाथ बोस द्वारा दिए गए क्वांटम फॉर्मूलेशन के आधार पर अल्बर्ट आइंस्टीन ने किस वर्ष में पदार्थ की एक नई अवस्था, बोस-आइंस्टीन कंडेन्सेट (BEC) का अनुमान लगाया था?

Ans 1. 1924

2. 1919

3. 1935

4. 1930

Question ID : 264330145219

Option 1 ID : 264330569132

Option 2 ID : 264330569131

Option 3 ID : 264330569134

Option 4 ID : 264330569133

Status : Not Answered

Chosen Option : --

Q.25 RIDF (आरआईडीएफ) का पूर्ण रूप क्या है?

Ans 1. Rural Infrastructure Development Forum (रूरल इंफ्रास्ट्रक्चर डेवलपमेंट फोरम)

2. Road Infrastructure Development Fund (रोड इंफ्रास्ट्रक्चर डेवलपमेंट फंड)

3. Rural Infrastructure Development Fund (रूरल इंफ्रास्ट्रक्चर डेवलपमेंट फंड)

4. Rural Industries Development Fund (रूरल इंडस्ट्रीज़ डेवलपमेंट फंड)

Question ID : 264330112515

Option 1 ID : 264330442146

Option 2 ID : 264330442145

Option 3 ID : 264330442148

Option 4 ID : 264330442147

Status : Answered

Chosen Option : 1

Q.26 कितने ग्रह स्थलीय ग्रह (terrestrial planets) हैं?

Ans 1. 3

2. 5

3. 6

4. 4

Question ID : 264330113351

Option 1 ID : 264330445489

Option 2 ID : 264330445491

Option 3 ID : 264330445492

Option 4 ID : 264330445490

Status : Answered

Chosen Option : 4

Q.27 निम्नलिखित में से किसने लोक और आदिवासी नृत्य के साथ भारतीय शास्त्रीय नृत्य में यूरोपीय रंगमंच तकनीकों (European theatrical techniques) का उपयोग किया?

- Ans
- 1. केलूचरण महापात्र
 - 2. बिरजू महाराज
 - 3. गुरु बिपिन सिंह
 - 4. उदय शंकर

Question ID : 264330145163
Option 1 ID : 264330568907
Option 2 ID : 264330568908
Option 3 ID : 264330568910
Option 4 ID : 264330568909
Status : Answered
Chosen Option : 3

Q.28 राज्य सभा का पदेन सभापति कौन होता है?

- Ans
- 1. राष्ट्रपति
 - 2. प्रधान मंत्री
 - 3. उप राष्ट्रपति
 - 4. भारत के महान्यायवादी

Question ID : 264330113417
Option 1 ID : 264330445753
Option 2 ID : 264330445754
Option 3 ID : 264330445755
Option 4 ID : 264330445756
Status : Answered
Chosen Option : 3

Q.29 बोनालू उत्सव (Bonalu festival) निम्नलिखित में से किस राज्य में मनाया जाता है?

- Ans
- 1. झारखंड
 - 2. गुजरात
 - 3. तेलंगाना
 - 4. उत्तर प्रदेश

Question ID : 26433064691
Option 1 ID : 264330253356
Option 2 ID : 264330253359
Option 3 ID : 264330253357
Option 4 ID : 264330253358
Status : Answered
Chosen Option : 3

Q.30 निम्नलिखित में से किसने एक अभियान की रूपरेखा तैयार की जिसे 'रॉलेट सत्याग्रह' के नाम से जाना गया?

- Ans
- 1. फिरोज शाह मेहता
 - 2. बाल गंगाधर तिलक
 - 3. महादेव गोविंद रानाडे
 - 4. महात्मा गांधी

Question ID : 264330106610
Option 1 ID : 264330418744
Option 2 ID : 264330418741
Option 3 ID : 264330418742
Option 4 ID : 264330418743
Status : Answered
Chosen Option : 3

Q.31 सोपारकर और उनकी विश्वव्यापी पहल 'डांस फॉर ए कॉज' का लोगो _____ सरकार द्वारा जारी एक आधिकारिक डाक टिकट पर मुद्रित किया जा रहा है।

- Ans
- 1. नेपाल
 - 2. श्रीलंका
 - 3. बांग्लादेश
 - 4. भूटान

Question ID : 26433054506
Option 1 ID : 264330213008
Option 2 ID : 264330213011
Option 3 ID : 264330213010
Option 4 ID : 264330213009
Status : Not Answered
Chosen Option : --

Q.32 दिए गए कथनों को पढ़िए और सही विकल्प का चयन कीजिए।

- i) राज्यपाल, राज्य सरकार का वास्तविक प्रमुख (Real Head) होता है।
- ii) मुख्यमंत्री, राज्य सरकार के कानूनों और नीतियों को बनाने में महत्वपूर्ण भूमिका निभाता है।
- iii) राज्य के राज्यपाल की नियुक्ति राष्ट्रपति द्वारा की जाती है।

- Ans
- 1. केवल i
 - 2. केवल ii
 - 3. i और ii, दोनों
 - 4. ii और iii, दोनों

Question ID : 264330158695
Option 1 ID : 264330622139
Option 2 ID : 264330622140
Option 3 ID : 264330622141
Option 4 ID : 264330622142
Status : Answered
Chosen Option : 4

Q.33 'ए ग्रेन ऑफ सैंड इन दि ऑवरग्लास ऑफ टाइम (A Grain Of Sand In The Hourglass of Time)' किस भारतीय राजनेता की आत्मकथा है?

- Ans
- 1. मनमोहन सिंह
 - 2. आई के गुजराल
 - 3. अर्जुन सिंह
 - 4. एल के आडवाणी

Question ID : 264330145177
Option 1 ID : 264330568966
Option 2 ID : 264330568965
Option 3 ID : 264330568964
Option 4 ID : 264330568963
Status : Not Answered
Chosen Option : --

Q.34 निम्नलिखित में से किस मामले में उच्चतम न्यायालय ने संविधान के 'आधारभूत संरचना (basic structure)' को स्थापित करते हुए कहा कि राज्य-व्यवस्था (polity) की लोकतांत्रिक प्रकृति 'आधारभूत संरचना (basic structure)' का अनिवार्य घटक है?

- Ans
- 1. ए. के. गोपालन बनाम मद्रास राज्य
 - 2. सज्जन सिंह बनाम राजस्थान राज्य
 - 3. केशवानंद भारती बनाम केरल राज्य
 - 4. रोमेश थापर बनाम मद्रास राज्य

Question ID : 264330145273
Option 1 ID : 264330569348
Option 2 ID : 264330569350
Option 3 ID : 264330569347
Option 4 ID : 264330569349
Status : Answered
Chosen Option : 3

Q.35 दूसरी पंचवर्षीय योजना में भारतीय अर्थव्यवस्था की लक्षित वृद्धि दर क्या थी?

- Ans
- 1. 5.4%
 - 2. 2.8%
 - 3. 6.7%
 - 4. 4.5%

Question ID : 264330145230
Option 1 ID : 264330569178
Option 2 ID : 264330569175
Option 3 ID : 264330569176
Option 4 ID : 264330569177
Status : Answered
Chosen Option : 4

Q.36 लिंथोई चनंबम (Linthoi Chanambam) निम्नलिखित में से किस खेल से संबंधित है?

- Ans
- 1. क्रिकेट
 - 2. शतरंज
 - 3. जूडो
 - 4. बैडमिंटन

Question ID : 264330109688
Option 1 ID : 264330431030
Option 2 ID : 264330431032
Option 3 ID : 264330431029
Option 4 ID : 264330431031
Status : Answered
Chosen Option : 3

Q.37 प्रधानमंत्री सूक्ष्म खाद्य प्रसंस्करण उद्योग उन्नयन योजना के तहत एक स्वयं-सहायता समूह को सहायता के रूप में 'सीड कैपिटल (प्रारंभिक पूंजी)' के रूप में कितनी राशि प्रदान की जाती है?

- Ans
- 1. ₹30,000
 - 2. ₹40,000
 - 3. ₹20,000
 - 4. ₹50,000

Question ID : 26433064563
Option 1 ID : 264330252845
Option 2 ID : 264330252846
Option 3 ID : 264330252844
Option 4 ID : 264330252847
Status : Answered
Chosen Option : 4

Q.38 किस यौगिक की संरचना में 4-कार्बन अणुओं से युक्त एक संतृप्त लघु-श्रृंखला वसा अम्ल शामिल होता है, जो सामान्यतः पशु वसा और वनस्पति तेलों में ईस्टरीफाइड (esterified) रूप में पाया जाता है?

- Ans
- 1. प्रोपियोनिक अम्ल (Propionic acid)
 - 2. लैक्टिक अम्ल (Lactic acid)
 - 3. सक्सिनिक अम्ल (Succinic acid)
 - 4. ब्यूटाइरिक अम्ल (Butyric acid)

Question ID : 264330110056
Option 1 ID : 264330432502
Option 2 ID : 264330432504
Option 3 ID : 264330432501
Option 4 ID : 264330432503
Status : Not Answered
Chosen Option : --

Q.39 करेवा निर्माण (Karewa formations) _____ में पाए जाते हैं।

- Ans
- 1. कश्मीर हिमालय
 - 2. उत्तर पूर्वी पहाड़ियों
 - 3. तराई क्षेत्र
 - 4. उत्तरांचल हिमालय

Question ID : 264330119795
Option 1 ID : 264330469455
Option 2 ID : 264330469458
Option 3 ID : 264330469457
Option 4 ID : 264330469456
Status : Not Answered
Chosen Option : --

Q.40 1950 में भारतीय संविधान द्वारा मूल रूप से कितने मूल अधिकार प्रदान किए गए थे?

- Ans
- 1. नौ
 - 2. पांच
 - 3. सात
 - 4. छह

Question ID : 264330113393
Option 1 ID : 264330445659
Option 2 ID : 264330445660
Option 3 ID : 264330445658
Option 4 ID : 264330445657
Status : Answered
Chosen Option : 3

Q.41 भारत में पंचवर्षीय योजनाओं में न केवल योजना के पाँच वर्षों में प्राप्त किए जाने वाले विशिष्ट उद्देश्य निर्धारित किए गए, बल्कि यह भी निर्धारित किया गया कि 20 वर्षों की अवधि में क्या हासिल किया जाना है। इस दीर्घकालिक योजना को _____ कहा जाता है।

- Ans
- 1. सतत योजना (perpetual plan)
 - 2. परिप्रेक्ष्य योजना (perspective plan)
 - 3. बीस-वर्षीय योजना
 - 4. दो-दशकीय योजना

Question ID : 264330168853
Option 1 ID : 264330662226
Option 2 ID : 264330662225
Option 3 ID : 264330662223
Option 4 ID : 264330662224
Status : Answered
Chosen Option : 2

Q.42 निम्नलिखित में से किस बहमनी सुल्तान ने अपनी राजधानी गुलबर्गा से बीदर स्थानांतरित की थी?

- Ans
- 1. मुज़ाहिद शाह
 - 2. अहमद शाह
 - 3. फिरोज शाह
 - 4. हुमायूँ

Question ID : 264330109015
Option 1 ID : 264330428338
Option 2 ID : 264330428339
Option 3 ID : 264330428337
Option 4 ID : 264330428340
Status : Answered
Chosen Option : 2

Q.43 आप उन दवाओं को क्या कहते हैं, जो ग्राही साइट (receptor site) से जुड़ती हैं, और इसकी प्राकृतिक कार्यप्रणाली को नियंत्रित करती हैं?

- Ans
- 1. अवसादक (Depressants)
 - 2. एंटागोनिस्ट (Antagonist)
 - 3. एगोनिस्ट (Agonist)
 - 4. प्रति-अवसादक (Antidepressants)

Question ID : 264330145208
Option 1 ID : 264330569087
Option 2 ID : 264330569088
Option 3 ID : 264330569089
Option 4 ID : 264330569090
Status : Not Answered
Chosen Option : --

Q.44 संगीत के दिग्गज तानसेन, अकबर से पूर्व निम्नलिखित में से किस दरबार में दरबारी गायक थे?

- Ans
- 1. गांधार
 - 2. मगध
 - 3. रीवा
 - 4. बनारस

Question ID : 264330145170
Option 1 ID : 264330568938
Option 2 ID : 264330568935
Option 3 ID : 264330568936
Option 4 ID : 264330568937
Status : Not Answered
Chosen Option : --

Q.45 निम्नलिखित में से किसने बुद्ध की जीवनी, बुद्धचरित्र लिखी थी?

- Ans
- 1. वसुमित्र
 - 2. अश्वघोष
 - 3. चरक
 - 4. नागार्जुन

Question ID : 264330165578
Option 1 ID : 264330649391
Option 2 ID : 264330649393
Option 3 ID : 264330649394
Option 4 ID : 264330649392
Status : Answered
Chosen Option : 2

Q.46 कोशिका में भरे हुए तरल मैट्रिक्स (fluid matrix) को क्या कहा जाता है?

- Ans
- 1. गॉल्जी काय
 - 2. प्लाज्मिड
 - 3. राइबोसोम
 - 4. कोशिका द्रव्य

Question ID : 26433064758
Option 1 ID : 264330253625
Option 2 ID : 264330253627
Option 3 ID : 264330253624
Option 4 ID : 264330253626
Status : Answered
Chosen Option : 4

Q.47 ऐहोल में रावण फाड़ी गुफा (Ravana Phadi cave) और दुर्गा मंदिर (Durga Temple) किस राजवंश की स्थापत्य शैली को चित्रित करते हैं?

- Ans
- 1. विजयनगर
 - 2. पल्लव
 - 3. चालुक्य
 - 4. होयसल

Question ID : 264330141826
Option 1 ID : 264330555626
Option 2 ID : 264330555625
Option 3 ID : 264330555623
Option 4 ID : 264330555624
Status : Not Answered
Chosen Option : --

Q.48 2015 में, प्रख्यात नृत्यांगना (danseuse) और _____ प्रतिपादक (exponent) पद्मा सुब्रह्मण्यम को राज्य पर्यटन विभाग द्वारा स्थापित केरल के प्रतिष्ठित कोरियोग्राफी पुरस्कार 'निशागंधी पुरस्कार (Nishagandhi Puraskaram)' के लिए चुना गया था।

Ans ✓ 1. भरतनाट्यम्

✗ 2. कथकली

✗ 3. कुचिपुड़ी

✗ 4. सत्रीया

Question ID : 26433054509

Option 1 ID : 264330213022

Option 2 ID : 264330213021

Option 3 ID : 264330213020

Option 4 ID : 264330213023

Status : Answered

Chosen Option : 3

Q.49 ओलंपिक शीतकालीन खेल 2026 _____ में खेले जाएंगे।

Ans ✗ 1. ब्रिस्बेन (Brisbane)

✓ 2. मिलानो कॉर्टिना (Milano Cortina)

✗ 3. लॉस एंजेल्स (Los Angeles)

✗ 4. पेरिस (Paris)

Question ID : 264330109850

Option 1 ID : 264330431680

Option 2 ID : 264330431678

Option 3 ID : 264330431679

Option 4 ID : 264330431677

Status : Answered

Chosen Option : 4

Q.50 निम्न में से कौन अंतरराष्ट्रीय ओलंपिक समिति (IOC) के प्रथम अध्यक्ष थे?

Ans ✗ 1. लॉर्ड किलेनिन (Lord Killanin)

✗ 2. पियरे, बैरन डे कोबेर्टिन (Pierre, Baron de Coubertin)

✗ 3. एवरी ब्रूंडेज (Avery Brundage)

✓ 4. डेमेट्रियोस विकेलस (Demetrius Vikelas)

Question ID : 26433059387

Option 1 ID : 264330232417

Option 2 ID : 264330232416

Option 3 ID : 264330232419

Option 4 ID : 264330232418

Status : Not Answered

Chosen Option : --

Q.1 दी गई तालिका का अध्ययन करें, और नीचे दिए गए प्रश्न का उत्तर दें।
निम्न तालिका 6 अलग-अलग स्कूलों की 6 अलग-अलग कक्षाओं में पढ़ने वाले विद्यार्थियों की संख्या को दर्शाती है।

स्कूल	V	VI	VII	VIII	IX	X
P	152	160	145	156	147	144
Q	148	166	150	155	157	143
R	161	152	140	145	143	165
S	159	142	149	140	142	168
T	147	144	158	163	154	150
U	150	160	162	160	160	140
कुल	917	924	904	919	903	910

सभी स्कूलों में मिलाकर किस कक्षा में विद्यार्थियों की संख्या सर्वाधिक है?

- Ans 1. X
 2. VI
 3. V
 4. VII

Question ID : 264330157724

Option 1 ID : 264330618258

Option 2 ID : 264330618256

Option 3 ID : 264330618255

Option 4 ID : 264330618257

Status : Answered

Chosen Option : 2

Q.2 दी गई तालिका 2022 - 2023 के दौरान 4 स्कूलों के विद्यार्थियों की संख्या को दर्शाती है।

स्कूल	विद्यार्थियों की कुल संख्या	लड़के	लड़कियाँ
A	2060	1339	721
B	1880	1034	846
C	2200	990	1210
D	1680	924	756

स्कूल B में लड़कियों का प्रतिशत कितना है?

- Ans 1. 55%
 2. 65%
 3. 60%
 4. 45%

Question ID : 264330165489

Option 1 ID : 264330649036

Option 2 ID : 264330649038

Option 3 ID : 264330649037

Option 4 ID : 264330649035

Status : Answered

Chosen Option : 4

Q.3 अवि ने भार्गव को एक घर 10% के लाभ पर बेचा, और भार्गव ने इसे चेतन को 20% के लाभ पर बेच दिया। यदि चेतन ने इसके लिए ₹2,64,00,000 का भुगतान किया, तो अवि ने इसे किस मूल्य पर खरीदा होगा?

- Ans
- 1. ₹2,30,00,000
 - 2. ₹1,75,00,000
 - 3. ₹2,00,00,000
 - 4. ₹2,50,00,000

Question ID : 264330126573

Option 1 ID : 264330495966

Option 2 ID : 264330495965

Option 3 ID : 264330495967

Option 4 ID : 264330495964

Status : Answered

Chosen Option : 3

Q.4 एक इनलेट पाइप एक खाली टैंक को 3.6 घंटे में भर सकता है, जबकि एक आउटलेट पाइप पूरी तरह से भरे टैंक को 6.3 घंटे में खाली कर सकता है। यदि टैंक खाली होने पर दोनों पाइप एक साथ खोले जाते हैं, तो टैंक कितने घंटे में पूरी तरह से भर जाएगा?

- Ans
- 1. 8.1
 - 2. 8.7
 - 3. 8.4
 - 4. 9.0

Question ID : 264330103286

Option 1 ID : 264330405449

Option 2 ID : 264330405451

Option 3 ID : 264330405450

Option 4 ID : 264330405452

Status : Answered

Chosen Option : 3

Q.5 जब A अकेले किसी कार्य को करता है, तो उसे A और B द्वारा एक साथ मिलकर उस कार्य को करने में लगने वाले समय से 25 दिन अधिक लगते हैं। दूसरी ओर, B को अकेले उसी कार्य को करने में A और B द्वारा एक साथ मिलकर उसी कार्य को करने में लगने वाले समय से 16 दिन अधिक लगते हैं। A और B एक साथ मिलकर कार्य करते हुए उस कार्य को कितने दिनों में पूरा करेंगे?

- Ans
- 1. 23
 - 2. 20
 - 3. 22
 - 4. 24

Question ID : 264330131527

Option 1 ID : 264330515212

Option 2 ID : 264330515214

Option 3 ID : 264330515213

Option 4 ID : 264330515211

Status : Answered

Chosen Option : 2

Q.6 PQR एक त्रिभुज है। अंतः कोण $\angle Q$ और बाह्य कोण $\angle R$ के समद्विभाजक परस्पर S पर प्रतिच्छेदित करते हैं। यदि $\angle QSR = 40^\circ$ है, तो $\angle P$ का मान ज्ञात कीजिए।

Ans 1. 40°

2. 80°

3. 60°

4. 30°

Question ID : 264330165660

Option 1 ID : 264330649720

Option 2 ID : 264330649722

Option 3 ID : 264330649721

Option 4 ID : 264330649719

Status : Answered

Chosen Option : 2

Q.7 यदि हवा भरने के कारण एक अर्धगोलाकार गुब्बारे की त्रिज्या 4 cm से बढ़कर 7 cm हो जाती है, तो नए गुब्बारे के पृष्ठीय क्षेत्रफल और मूल गुब्बारे के पृष्ठीय क्षेत्रफल का अनुपात ज्ञात कीजिए।

Ans 1. 49 : 16

2. 16 : 21

3. 20 : 49

4. 21 : 12

Question ID : 264330103638

Option 1 ID : 264330406857

Option 2 ID : 264330406860

Option 3 ID : 264330406859

Option 4 ID : 264330406858

Status : Answered

Chosen Option : 1

Q.8

निम्न का मान ज्ञात कीजिए। $5\frac{1}{3} - \left\{ 4\frac{1}{3} + \left(3\frac{1}{3} \div 2\frac{1}{3} - \frac{1}{3} \right) \right\}$

Ans 1. $\frac{2}{3}$

2. $-\frac{2}{3}$

3. $\frac{1}{3}$

4. $-\frac{1}{3}$

Question ID : 26433074218

Option 1 ID : 264330290993

Option 2 ID : 264330290992

Option 3 ID : 264330290995

Option 4 ID : 264330290994

Status : Answered

Chosen Option : 2

Q.9 एक नाव धारा की दिशा में 72 km की दूरी 6 घंटे में तय करती है, जबकि धारा की विपरीत दिशा में इतनी ही दूरी तय करने में उसे 12 घंटे लगते हैं। शांत जल में नाव की चाल ज्ञात कीजिए।

- Ans
- 1. 8 km/h
 - 2. 10 km/h
 - 3. 9 km/h
 - 4. 6 km/h

Question ID : 264330145097
Option 1 ID : 264330568643
Option 2 ID : 264330568645
Option 3 ID : 264330568646
Option 4 ID : 264330568644
Status : Answered
Chosen Option : 3

Q.10 एक गोले का आयतन 130977 cm^3 दिया गया है। इसका पृष्ठीय क्षेत्रफल (cm^2 में) कितना होगा?

- Ans
- 1. 16847
 - 2. 14274
 - 3. 17424
 - 4. 12474

Question ID : 264330145111
Option 1 ID : 264330568701
Option 2 ID : 264330568699
Option 3 ID : 264330568700
Option 4 ID : 264330568702
Status : Answered
Chosen Option : 4

Q.11 $\frac{1 - \frac{3}{7} \div \frac{9}{49} \times \frac{3}{14}}{1 + \frac{3}{5} \div \frac{1}{25} \times \frac{1}{30}}$ का मान ज्ञात कीजिए।

- Ans
- 1. $\frac{1}{3}$
 - 2. $\frac{1}{7}$
 - 3. $\frac{1}{5}$
 - 4. $\frac{1}{6}$

Question ID : 26433074445
Option 1 ID : 264330291871
Option 2 ID : 264330291869
Option 3 ID : 264330291868
Option 4 ID : 264330291870
Status : Answered
Chosen Option : 1

Q.12 दो संख्याओं का गुणनफल 20000 है। यदि उनका लघुत्तम समापवर्त्य (LCM) 800 है, तो उनका महत्तम समापवर्तक (HCF) क्या है?

Ans 1. 30

2. 25

3. 35

4. 20

Question ID : 26433073069

Option 1 ID : 264330286469

Option 2 ID : 264330286470

Option 3 ID : 264330286471

Option 4 ID : 264330286468

Status : Answered

Chosen Option : 2

Q.13 एक वृत्त की त्रिज्या 1.75 cm है। वृत्त की परिधि ज्ञात कीजिए।

($\pi = \frac{22}{7}$ लीजिए)

Ans 1. 11 cm

2. 9.63 cm

3. 22 cm

4. 5.5 cm

Question ID : 264330165442

Option 1 ID : 264330648847

Option 2 ID : 264330648850

Option 3 ID : 264330648849

Option 4 ID : 264330648848

Status : Answered

Chosen Option : 1

Q.14 $(\frac{1}{4}) \times (\frac{1}{9}) \times (\frac{1}{25}) \times (\frac{1}{49}) \div (\frac{36}{121})$ का वर्गमूल _____ है।

Ans 1. $\frac{1}{1260}$

2. $\frac{1260}{11}$

3. $\frac{11}{1260}$

4. $\frac{11}{12.60}$

Question ID : 26433063987

Option 1 ID : 264330250541

Option 2 ID : 264330250542

Option 3 ID : 264330250540

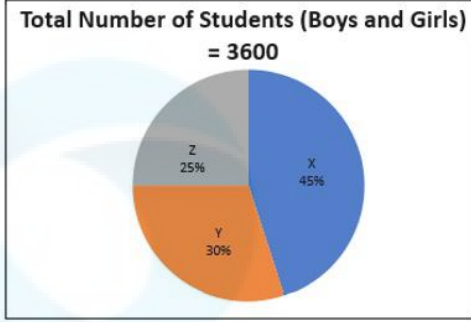
Option 4 ID : 264330250543

Status : Answered

Chosen Option : 3

Q.15 दिए गए पाई-चार्ट का अध्ययन कीजिए और निम्नलिखित प्रश्न का उत्तर दीजिए।

पाई-चार्ट, वर्ष 2022 में विभिन्न स्कूलों (X, Y, Z) के कक्षा 10 में पढ़ने वाले छात्रों (लड़के और लड़कियां) की संख्या को दर्शाता है।



Total Number of Students (Boys and Girls) = 3600 , छात्रों की कुल संख्या (लड़कें और लड़कियां) = 3600

स्कूल Y और Z में एक साथ मिलाकर छात्रों (लड़कों और लड़कियों) की कुल संख्या और स्कूल X और Y में एक साथ मिलाकर छात्रों (लड़कों और लड़कियों) की कुल संख्या के बीच कितना अंतर है?

- Ans 1. 720
 2. 840
 3. 820
 4. 780

Question ID : 264330158277
Option 1 ID : 264330620470
Option 2 ID : 264330620467
Option 3 ID : 264330620468
Option 4 ID : 264330620469

Status : Not Answered

Chosen Option : --

Q.16 दो संख्याएं 12 : 7 के अनुपात में हैं। यदि उनका महत्तम समापवर्तक (HCF) 25 है, तो संख्याएं ज्ञात कीजिए।

- Ans 1. 175, 120
 2. 300, 175
 3. 300, 50
 4. 225, 135

Question ID : 264330102309
Option 1 ID : 264330401702
Option 2 ID : 264330401704
Option 3 ID : 264330401703
Option 4 ID : 264330401701

Status : Answered

Chosen Option : 2

Q.17 यदि $x^4 + y^4 = x^2y^2$ है, तो $x^6 + y^6$ का मान क्या होगा?

- Ans
- 1. 1
 - 2. 3
 - 3. 2
 - 4. 0

Question ID : 264330157762
Option 1 ID : 264330618408
Option 2 ID : 264330618410
Option 3 ID : 264330618409
Option 4 ID : 264330618407
Status : Not Answered
Chosen Option : --

Q.18 यदि $a + \frac{1}{a} = 3$ है, तो $a^4 + \frac{1}{a^4}$ का मान क्या होगा?

- Ans
- 1. 48
 - 2. 81
 - 3. 47
 - 4. 27

Question ID : 264330157776
Option 1 ID : 264330618464
Option 2 ID : 264330618463
Option 3 ID : 264330618465
Option 4 ID : 264330618466
Status : Answered
Chosen Option : 3

Q.19 यदि $k(\tan 45^\circ \sin 60^\circ) = \cos 60^\circ \cot 30^\circ$ है, तो k का मान क्या है?

- Ans
- 1. $\sqrt{3}$
 - 2. 1
 - 3. $\frac{1}{\sqrt{3}}$
 - 4. 2

Question ID : 264330157746
Option 1 ID : 264330618344
Option 2 ID : 264330618343
Option 3 ID : 264330618345
Option 4 ID : 264330618346
Status : Answered
Chosen Option : 2

Q.20 निम्न तालिका चार अलग-अलग शहरों हैदराबाद, मुंबई, चेन्नई और पुणे की मोबाइल-व्यसनी जनसंख्या और उनके बीच पुरुषों एवं महिलाओं का अनुपात दर्शाती है।

शहर	मोबाइल-व्यसनी जनसंख्या	पुरुष : महिला
हैदराबाद	2,20,000	7 : 8
मुंबई	3,50,000	12 : 13
चेन्नई	2,00,000	11 : 9
पुणे	1,50,000	9 : 11

चेन्नई में व्यसनी पुरुषों की कुल संख्या ज्ञात करें।

- Ans
- 1. 1,00,000
 - 2. 80,000
 - 3. 1,20,000
 - 4. 1,10,000

Question ID : 264330167242
 Option 1 ID : 264330655963
 Option 2 ID : 264330655966
 Option 3 ID : 264330655965
 Option 4 ID : 264330655964
 Status : Answered
 Chosen Option : 4

Q.21 $\frac{\cos 37^\circ}{\sin 53^\circ} - \cos 47^\circ \operatorname{cosec} 43^\circ$ का मान ज्ञात कीजिए।

- Ans
- 1. 0
 - 2. -1
 - 3. 1
 - 4. 2

Question ID : 264330158293
 Option 1 ID : 264330620533
 Option 2 ID : 264330620534
 Option 3 ID : 264330620532
 Option 4 ID : 264330620531
 Status : Answered
 Chosen Option : 1

Q.22 एक धनराशि को अर्ध-वार्षिक चक्रवृद्धि आधार पर गणनीय 10% वार्षिक ब्याज दर पर 18 महीने के लिए निवेश किया गया। यदि परिपक्वता पर देय राशि ₹64,827 थी, तो निवेश की गई राशि ज्ञात कीजिए।

- Ans
- 1. ₹55,600
 - 2. ₹56,000
 - 3. ₹56,800
 - 4. ₹56,500

Question ID : 264330145055
 Option 1 ID : 264330568476
 Option 2 ID : 264330568475
 Option 3 ID : 264330568478
 Option 4 ID : 264330568477
 Status : Not Answered
 Chosen Option : --

Q.23 एक इंसपेक्टर, एक चोर से 288 मीटर पीछे है। इंसपेक्टर एक मिनट में 42 मीटर दौड़ता है, और चोर एक मिनट में 30 मीटर दौड़ता है। इंसपेक्टर कितने समय में चोर को पकड़ लेगा?

Ans 1. 24 मिनट

2. 21 मिनट

3. 20 मिनट

4. 19 मिनट

Question ID : 264330145067

Option 1 ID : 264330568526

Option 2 ID : 264330568524

Option 3 ID : 264330568525

Option 4 ID : 264330568523

Status : Answered

Chosen Option : 1

Q.24 E, F, G और H, किसी वृत्त की परिधि पर स्थित चार बिंदु हैं। यदि $\angle FGH = 57^\circ$ है, तो $\angle HEF$ का माप कितना होगा?

Ans 1. 93°

2. 33°

3. 143°

4. 123°

Question ID : 264330165694

Option 1 ID : 264330649856

Option 2 ID : 264330649855

Option 3 ID : 264330649858

Option 4 ID : 264330649857

Status : Answered

Chosen Option : 4

Q.25 नीचे दी गई तालिका परिवहन के विभिन्न साधनों द्वारा स्कूल आने वाले विद्यार्थियों की संख्या को दर्शाती है:

परिवहन के साधन	स्कूल बस	साइकिल	पैदल	अन्य वाहन
लड़कों की संख्या	80	280	130	200
लड़कियों की संख्या	140	190	90	250

विद्यार्थियों की अधिकतम संख्या द्वारा परिवहन के किस साधन का उपयोग किया जाता है?

Ans 1. अन्य वाहन

2. साइकिल

3. पैदल

4. स्कूल बस

Question ID : 264330165073

Option 1 ID : 264330647422

Option 2 ID : 264330647420

Option 3 ID : 264330647421

Option 4 ID : 264330647419

Status : Answered

Chosen Option : 1

Q.26 32 और 162 का मध्यानुपाती (mean proportion) ज्ञात करें।

Ans 1. 97

2. 72

3. 65

4. 99

Question ID : 264330103970

Option 1 ID : 264330408181

Option 2 ID : 264330408183

Option 3 ID : 264330408182

Option 4 ID : 264330408184

Status : Answered

Chosen Option : 2

Q.27 एक पंसारी को ₹12 प्रति kg और ₹25 प्रति kg के मूल्य वाले गेहूँ को किस अनुपात में मिलाना चाहिए, ताकि प्राप्त मिश्रण का मूल्य ₹20 प्रति kg हो?

Ans 1. 5 : 8

2. 3 : 5

3. 5 : 7

4. 8 : 3

Question ID : 264330104488

Option 1 ID : 264330410254

Option 2 ID : 264330410253

Option 3 ID : 264330410256

Option 4 ID : 264330410255

Status : Answered

Chosen Option : 1

Q.28 ΔABC में, $\angle B = 90^\circ$ और $AB : BC = 1 : 2$ है। $\cos A + \tan C$ का मान _____ है।

Ans 1. $\frac{2+\sqrt{5}}{2\sqrt{5}}$

2. $\frac{1+\sqrt{5}}{2\sqrt{5}}$

3. $\frac{5+\sqrt{5}}{2\sqrt{5}}$

4. $\frac{2\sqrt{5}}{2+\sqrt{5}}$

Question ID : 264330145131

Option 1 ID : 264330568782

Option 2 ID : 264330568781

Option 3 ID : 264330568780

Option 4 ID : 264330568779

Status : Answered

Chosen Option : 1

Q.29 A और B, ₹36,000 में एक प्रोजेक्ट को पूरा करने की जिम्मेदारी लेते हैं। A अकेला उस कार्य को 25 दिनों में कर सकता है। उन्होंने 5 दिनों तक एक साथ कार्य किया। अगले पांच दिनों तक, B ने अकेले कार्य किया। उसके बाद, A ने B को हटाकर स्वयं शेष कार्य को 5 दिनों में पूरा किया। आय में A का हिस्सा कितना है?

- Ans
- 1. ₹14,600
 - 2. ₹21,400
 - 3. ₹14,400
 - 4. ₹21,600

Question ID : 26433087395
Option 1 ID : 264330343219
Option 2 ID : 264330343220
Option 3 ID : 264330343217
Option 4 ID : 264330343218
Status : Not Answered
Chosen Option : --

Q.30 दो उम्मीदवारों के बीच हुए एक चुनाव में, 80% मतदाताओं ने मतदान किया, जिनमें से 5% मत अमान्य घोषित कर दिए गए। एक उम्मीदवार को 9500 मत मिले, जो वैध मतों के 80% के बराबर थे। उस चुनाव में नामांकित मतदाताओं की कुल संख्या ज्ञात कीजिए।

- Ans
- 1. 16100
 - 2. 15625
 - 3. 15100
 - 4. 14780

Question ID : 264330158382
Option 1 ID : 264330620890
Option 2 ID : 264330620889
Option 3 ID : 264330620888
Option 4 ID : 264330620887
Status : Answered
Chosen Option : 2

Q.31 आनंदी ने एक इलेक्ट्रॉनिक स्टोर से Rs.4,400 में एक स्मार्ट घड़ी खरीदी। चूंकि उसके पास कम पैसे थे, उसने डाउन पेमेंट के लिए Rs.2,000 का भुगतान किया, और दुकानदार ने उसे 1 महीने के बाद Rs.2,440 का भुगतान करने का विकल्प दिया। इस किश्त विकल्प में दुकानदार किस दर से साधारण ब्याज वसूल करेगा?

- Ans
- 1. 10%
 - 2. 20%
 - 3. 15%
 - 4. 22%

Question ID : 26433063338
Option 1 ID : 264330248006
Option 2 ID : 264330248005
Option 3 ID : 264330248004
Option 4 ID : 264330248007
Status : Not Answered
Chosen Option : --

Q.32 शांत जल में एक नाव की चाल 6 km/h है, और धारा की चाल 2.5 km/h है। एक व्यक्ति नाव से 59.5 किलोमीटर की दूरी पर स्थित एक स्थान पर जाता है, और प्रारंभिक बिंदु पर वापस आता है। उसके द्वारा लिया गया कुल समय कितना होगा?

Ans 1. 16 घंटे

2. 24 घंटे

3. 22 घंटे

4. 18 घंटे

Question ID : 264330103627

Option 1 ID : 264330406813

Option 2 ID : 264330406816

Option 3 ID : 264330406815

Option 4 ID : 264330406814

Status : Answered

Chosen Option : 2

Q.33 निम्न में से कौन-सा $\frac{1}{5}\%$ के समतुल्य भिन्न है?

Ans 1. $\frac{1}{200}$

2. $\frac{1}{125}$

3. $\frac{1}{500}$

4. $\frac{1}{40}$

Question ID : 264330145076

Option 1 ID : 264330568561

Option 2 ID : 264330568560

Option 3 ID : 264330568562

Option 4 ID : 264330568559

Status : Answered

Chosen Option : 3

Q.34 एक वर्गाकार-आधार वाले एक समकोणीय पिरामिड का संपूर्ण पृष्ठीय क्षेत्रफल 1536 m^2 है, जिसमें से 37.5% पिरामिड के आधार का क्षेत्रफल है। इस पिरामिड का आयतन (m^3 में) ज्ञात करें।

Ans 1. 3048

2. 3108

3. 3144

4. 3072

Question ID : 264330122882

Option 1 ID : 264330481596

Option 2 ID : 264330481595

Option 3 ID : 264330481597

Option 4 ID : 264330481598

Status : Not Answered

Chosen Option : --

Q.35 एक लम्ब वृत्तीय शंकु के आधार की त्रिज्या 5 cm है। उसकी तिर्यक् ऊंचाई 13 cm है। उसका आयतन (cm^3 में, 1 दशमलव स्थान तक पूर्णांकित) ज्ञात कीजिए। ($\pi = \frac{22}{7}$ लें)

- Ans 1. 314.3
 2. 323.4
 3. 328.6
 4. 340.5

Question ID : 264330145116
Option 1 ID : 264330568722
Option 2 ID : 264330568721
Option 3 ID : 264330568720
Option 4 ID : 264330568719
Status : Answered
Chosen Option : 1

Q.36 उस गोले का कुल पृष्ठीय क्षेत्रफल ज्ञात कीजिए जिसका आयतन $\frac{256}{3} \pi \text{ cm}^3$ है।

- Ans 1. $38 \pi \text{ cm}^2$
 2. $56 \pi \text{ cm}^2$
 3. $48 \pi \text{ cm}^2$
 4. $64 \pi \text{ cm}^2$

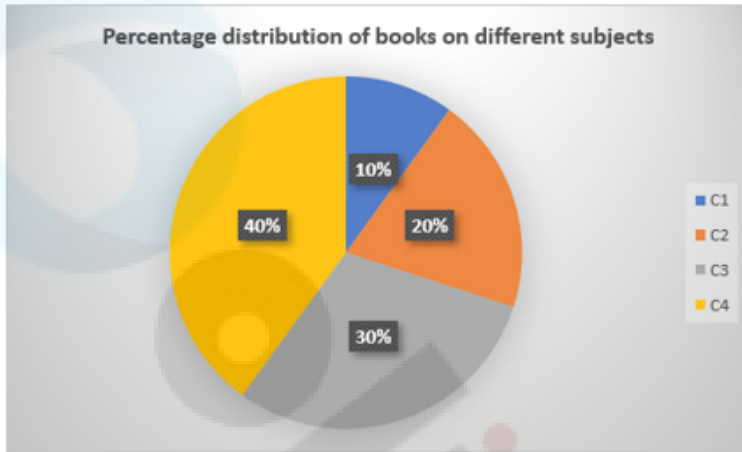
Question ID : 264330103635
Option 1 ID : 264330406848
Option 2 ID : 264330406846
Option 3 ID : 264330406847
Option 4 ID : 264330406845
Status : Answered
Chosen Option : 4

Q.37 माना C एक वृत्त है, जिसका केंद्र O और त्रिज्या 5 cm है। माना कि PQ इस वृत्त की एक स्पर्शरेखा है, और A इसका स्पर्श बिंदु है। माना B, PQ पर इस प्रकार स्थित एक अन्य बिंदु है कि AB की लंबाई 12 cm है। यदि O और B को मिलाने वाली रेखा वृत्त को R पर काटती है, तो BR की लंबाई (cm में) ज्ञात कीजिए।

- Ans 1. 6
 2. 2
 3. 8
 4. 13

Question ID : 264330165413
Option 1 ID : 264330648734
Option 2 ID : 264330648731
Option 3 ID : 264330648733
Option 4 ID : 264330648732
Status : Answered
Chosen Option : 4

Q.38 दिए गए ग्राफ का अध्ययन कीजिए और निम्नलिखित प्रश्न का उत्तर दीजिए।
दिया गया ग्राफ किसी व्यक्ति के पुस्तकालय में विभिन्न विषयों से संबंधित पुस्तकों का प्रतिशत दर्शाता है।



Percentage distribution of books on different subjects = विभिन्न विषयों से संबंधित पुस्तकों का प्रतिशत वितरण

यदि पुस्तकों की कुल संख्या 60 है, तो विषय C1 की पुस्तकों की संख्या का, प्रति विषय पुस्तकों की औसत संख्या से अनुपात कितना है?

- Ans
- 1. 2 : 3
 - 2. 3 : 7
 - 3. 3 : 5
 - 4. 2 : 5

Question ID : 264330157066

Option 1 ID : 264330615636

Option 2 ID : 264330615638

Option 3 ID : 264330615637

Option 4 ID : 264330615635

Status : Not Answered

Chosen Option : --

Q.39 तीन लड़कों की औसत आयु 25 वर्ष है, और उनकी आयु का अनुपात 3 : 5 : 7 है। सबसे छोटे लड़के की आयु ज्ञात कीजिए।

- Ans 1. 15 वर्ष
 2. 21 वर्ष
 3. 12 वर्ष
 4. 24 वर्ष

Question ID : 264330145048
Option 1 ID : 264330568448
Option 2 ID : 264330568449
Option 3 ID : 264330568447
Option 4 ID : 264330568450
Status : Answered
Chosen Option : 1

Q.40 एक व्यापारी अपने माल को क्रय मूल्य से 10% हानि पर बेचता है, लेकिन 25% कम वजन के बांट (वजन) का उपयोग करता है। उसका प्रतिशत लाभ कितना होगा?

- Ans 1. 25%
 2. 20%
 3. 35%
 4. 15%

Question ID : 264330102345
Option 1 ID : 264330401848
Option 2 ID : 264330401845
Option 3 ID : 264330401847
Option 4 ID : 264330401846
Status : Answered
Chosen Option : 2

Q.41 दी गई तालिका का अध्ययन कीजिए, और नीचे दिए गए प्रश्न का उत्तर दीजिए।
निम्न तालिका में दिया गया डेटा दिसंबर 2022 महीने के लिए है।

कंपनी	कर्मचारियों की कुल संख्या	महिला कर्मचारियों की संख्या
P	4560	2210
Q	4258	1650
R	3052	1280
S	4350	1920

कंपनी P में पुरुष कर्मचारियों की संख्या, और कंपनी R में पुरुष कर्मचारियों की संख्या के बीच का अंतर कितना है?

- Ans 1. 605
 2. 578
 3. 580
 4. 592

Question ID : 264330165502
Option 1 ID : 264330649090
Option 2 ID : 264330649087
Option 3 ID : 264330649088
Option 4 ID : 264330649089
Status : Answered
Chosen Option : 2

Q.42 20% का कमीशन काटने के बाद, एक डीवीडी सेट का क्रय मूल्य ₹9,080 होता है। इसका अंकित मूल्य क्या है?

- Ans 1. ₹11,350
 2. ₹10,100
 3. ₹11,200
 4. ₹10,000

Question ID : 264330130930
Option 1 ID : 264330512834
Option 2 ID : 264330512833
Option 3 ID : 264330512832
Option 4 ID : 264330512831
Status : Answered
Chosen Option : 1

Q.43 नीचे दिए गए पाई चार्ट 1 में किसी खिलाड़ी द्वारा वर्ष 2019-2020 के दौरान 6 अलग-अलग देशों के विरुद्ध बनाए गए रनों को दर्शाया गया है। पाई चार्ट 2 में उसी खिलाड़ी द्वारा वर्ष 2020-2021 के दौरान उन्हीं 6 देशों के विरुद्ध बनाए गए रनों को दर्शाया गया है।



Total runs scored during 2019-20 = वर्ष 2019-20 के दौरान बनाए गए कुल रन
New Zealand = न्यूजीलैंड
Australia = ऑस्ट्रेलिया
England = इंग्लैंड
South Africa = दक्षिण अफ्रीका
Pakistan = पाकिस्तान
Sri Lanka = श्रीलंका

Total runs scored during 2020-21 = वर्ष 2020-21 के दौरान बनाए गए कुल रन
New Zealand = न्यूजीलैंड
Australia = ऑस्ट्रेलिया
England = इंग्लैंड
South Africa = दक्षिण अफ्रीका
Pakistan = पाकिस्तान
Sri Lanka = श्रीलंका

वर्ष 2019-2020 के दौरान न्यूजीलैंड और पाकिस्तान के विरुद्ध बनाए गए कुल रनों और वर्ष 2020-2021 के दौरान श्रीलंका और पाकिस्तान के विरुद्ध बनाए गए कुल रनों के बीच में अंतर ज्ञात कीजिए।

- Ans 1. 500
 2. 600
 3. 650
 4. 550

Question ID : 264330158400
Option 1 ID : 264330620960
Option 2 ID : 264330620961
Option 3 ID : 264330620962
Option 4 ID : 264330620959
Status : Not Answered
Chosen Option : --

Q.44 माना m और n का महत्तम समापवर्तक (HCF) 'a' है, और $n = ab$ है, तो m और n के लघुत्तम समापवर्तक (LCM) को निम्न में से किसके द्वारा दर्शाया जाएगा?

- Ans
- 1. ab
 - 2. am
 - 3. mn
 - 4. bm

Question ID : 264330145031

Option 1 ID : 264330568381

Option 2 ID : 264330568379

Option 3 ID : 264330568382

Option 4 ID : 264330568380

Status : Not Answered

Chosen Option : --

Q.45 राखी ने एक टोकरी, एक पर्स और एक बेल्ट खरीदा। उसने टोकरी, पर्स और बेल्ट के क्रमशः ₹80, ₹150 और ₹350 के अंकित मूल्यों पर क्रमशः 5%, 8% और 10% की छूट प्राप्त की। उसने कुल कितनी राशि (₹में) का भुगतान किया?

- Ans
- 1. 529
 - 2. 580
 - 3. 51
 - 4. 519

Question ID : 264330105972

Option 1 ID : 264330416192

Option 2 ID : 264330416189

Option 3 ID : 264330416190

Option 4 ID : 264330416191

Status : Answered

Chosen Option : 1

Q.46

$1\frac{2}{5} - \left[3\frac{3}{4} \div \left\{ 1\frac{1}{4} \div \frac{1}{2} \left(1\frac{1}{2} \times 3\frac{1}{3} \div 1\frac{1}{3} \right) \right\} \right]$ का मान कितना होगा?

- Ans
- 1. 0
 - 2. 3
 - 3. 2
 - 4. 1

Question ID : 264330165154

Option 1 ID : 264330647717

Option 2 ID : 264330647718

Option 3 ID : 264330647715

Option 4 ID : 264330647716

Status : Not Answered

Chosen Option : --

Q.47 एक दुकानदार की 4 क्रमागत दिनों की बिक्री ₹5,445, ₹5,937, ₹5,865 और ₹6,562 है। यदि उसकी 5 दिनों की औसत बिक्री ₹6,050 हो, तो उसकी पांचवें दिन की बिक्री ज्ञात कीजिए।

- Ans
- 1. ₹6,231
 - 2. ₹6,341
 - 3. ₹6,131
 - 4. ₹6,441

Question ID : 264330165479
Option 1 ID : 264330648996
Option 2 ID : 264330648997
Option 3 ID : 264330648995
Option 4 ID : 264330648998
Status : Answered
Chosen Option : 4

Q.48 एक कंपनी द्वारा विगत कुछ वर्षों में निर्मित बैटरियों की बिक्री (लाख में) दी गई तालिका में दर्शाई गई है।

YEAR	TYPES OF BATTERIES					
	4AH	7AH	32AH	35AH	55AH	Total
1992	75	144	114	102	108	543
1993	90	126	102	84	126	528
1994	96	114	75	105	135	525
1995	105	90	150	90	75	510
1996	90	75	135	75	90	465
1997	105	60	165	45	120	495
1998	115	85	160	100	145	605

पिछले सात वर्ष में किस प्रकार की बैटरी की कुल बिक्री सबसे अधिक थी?

- Ans
- 1. 35 AH
 - 2. 55 AH
 - 3. 32 AH
 - 4. 4 AH

Question ID : 264330145025
Option 1 ID : 264330568357
Option 2 ID : 264330568358
Option 3 ID : 264330568356
Option 4 ID : 264330568355
Status : Not Answered
Chosen Option : --

Q.49 यदि $\sin A + \sin^2 A = 1$ है, तो $\cos^4 A + \cos^6 A$ का मान क्या होगा?

- Ans
- 1. 0
 - 2. 1
 - 3. $\sin A$
 - 4. $\cos A$

Question ID : 264330157757
Option 1 ID : 264330618390
Option 2 ID : 264330618389
Option 3 ID : 264330618387
Option 4 ID : 264330618388
Status : Answered
Chosen Option : 3

Q.50 एक कंपनी तीन प्रकार के बक्सों का निर्माण करती है - प्लास्टिक, लकड़ी और काँच। प्लास्टिक, लकड़ी और काँच के बक्सों की संख्या का अनुपात 2 : 3 : 5 है। लकड़ी और काँच के बक्सों की संख्याओं के बीच का अंतर 144 है। यदि प्लास्टिक के बक्सों की संख्या में 25% की वृद्धि की जाए, तो अब प्लास्टिक के बक्सों की संख्या कितनी होगी?

- Ans
- 1. 360
 - 2. 144
 - 3. 216
 - 4. 180

Question ID : 264330103318

Option 1 ID : 264330405580

Option 2 ID : 264330405577

Option 3 ID : 264330405579

Option 4 ID : 264330405578

Status : Answered

Chosen Option : 4

Section : English Comprehension

Q.1 Select the most appropriate meaning of the underlined idiom.
You must lie in the bed you have made.

- Ans
- 1. Sleep on the bed you made yourself
 - 2. Face the unpleasant consequences of your own acts
 - 3. Be contended always
 - 4. Sleep in your own bed

Question ID : 26433098330

Option 1 ID : 264330385974

Option 2 ID : 264330385975

Option 3 ID : 264330385976

Option 4 ID : 264330385973

Status : Answered

Chosen Option : 4

Q.2 Select the most appropriate ANTONYM of the given word.
Vague

- Ans
- 1. Dwarf
 - 2. Elegant
 - 3. Definite
 - 4. Regal

Question ID : 264330164276

Option 1 ID : 264330644328

Option 2 ID : 264330644329

Option 3 ID : 264330644327

Option 4 ID : 264330644330

Status : Answered

Chosen Option : 3

Q.3 Select the most appropriate ANTONYM of the given word.

Demolish

- Ans
- 1. Inferior
 - 2. Annihilate
 - 3. Unmethodical
 - 4. Fabricate

Question ID : 264330163373

Option 1 ID : 264330640780

Option 2 ID : 264330640781

Option 3 ID : 264330640782

Option 4 ID : 264330640779

Status : Answered

Chosen Option : 4

Q.4 The following sentence has been split into four segments. Identify the segment that contains a grammatical error.

“You look so young! / When did you completed your graduation?” / asked Rekha / to her neighbour.

- Ans
- 1. asked Rekha
 - 2. You look so young!
 - 3. to her neighbour
 - 4. When did you completed your graduation?

Question ID : 264330139157

Option 1 ID : 264330545205

Option 2 ID : 264330545203

Option 3 ID : 264330545206

Option 4 ID : 264330545204

Status : Answered

Chosen Option : 4

Q.5 Select the sentence that has a spelling error.

A- Keeping cities clean and free of germs is particularly essential for keeping their residents healthy.

B- Our health depends not just on our nutrition and personal hygeine but also on how we clean our cities and surroundings.

C- The spread of various diseases is intricately linked to the deteriorating state of public health condition.

D- The good news is that waste management, to keep cities clean, is now getting attention through the Swachh Bharat Mission.

- Ans
- 1. Our health depends not just on our nutrition and personal hygeine but also on how we clean our cities and surroundings.
 - 2. The good news is that waste management, to keep cities clean, is now getting attention through the Swachh Bharat Mission.
 - 3. The spread of various diseases is intricately linked to the deteriorating state of public health condition.
 - 4. Keeping cities clean and free of germs is particularly essential for keeping their residents healthy.

Question ID : 264330141564

Option 1 ID : 264330554592

Option 2 ID : 264330554594

Option 3 ID : 264330554593

Option 4 ID : 264330554591

Status : Not Attempted and Marked For Review

Chosen Option : --

Q.6 Select the most appropriate ANTONYM of the given word.

Defunct

- Ans** 1. Stoicism
 2. Redundant
 3. Convoluted
 4. Extant

Question ID : 264330163400
Option 1 ID : 264330640881
Option 2 ID : 264330640879
Option 3 ID : 264330640880
Option 4 ID : 264330640882
Status : Answered
Chosen Option : 4

Q.7 Select the most appropriate synonym of the given word.

Behold

- Ans** 1. Fortunate
 2. Look
 3. Predict
 4. Burden

Question ID : 264330163370
Option 1 ID : 264330640768
Option 2 ID : 264330640769
Option 3 ID : 264330640767
Option 4 ID : 264330640770
Status : Answered
Chosen Option : 1

Q.8 Select the most appropriate meaning of the given idiom.
Burn one's bridges

- Ans** 1. Attack on one's enemy
 2. Having an overnight success
 3. Working very hard
 4. Impossible to return to an earlier state

Question ID : 264330135902
Option 1 ID : 264330532465
Option 2 ID : 264330532466
Option 3 ID : 264330532464
Option 4 ID : 264330532463
Status : Answered
Chosen Option : 4

Q.9 Select the most appropriate idiom to fill in the blank.

The company had some initial problems, but now it is _____.

- Ans
- 1. flying high
 - 2. flying a kite
 - 3. flying like a rock
 - 4. flying the nest

Question ID : 264330163338
Option 1 ID : 264330640652
Option 2 ID : 264330640651
Option 3 ID : 264330640654
Option 4 ID : 264330640653
Status : Answered
Chosen Option : 1

Q.10 Select the most appropriate option that can substitute the underlined word in the given sentence.

The new professor is liked by his students for his amiable approach.

- Ans
- 1. strict
 - 2. simple
 - 3. academic
 - 4. friendly

Question ID : 264330117217
Option 1 ID : 264330460929
Option 2 ID : 264330460932
Option 3 ID : 264330460931
Option 4 ID : 264330460930
Status : Answered
Chosen Option : 4

Q.11 The following sentence has been divided into parts. One of them may contain an error.

Select the part that contains the error from the given options. If you don't find any error, mark 'No error' as your answer.

Neem tastes / a little bitterly, / but is very useful.

- Ans
- 1. Neem tastes
 - 2. but is very useful
 - 3. No error
 - 4. a little bitterly

Question ID : 264330117146
Option 1 ID : 264330460653
Option 2 ID : 264330460655
Option 3 ID : 264330460656
Option 4 ID : 264330460654
Status : Answered
Chosen Option : 2

Q.12 Parts of the following sentence have been given as options. Select the option that contains an error.
Rani was extreme upset with her results this year.

- Ans
- 1. this year
 - 2. Rani was
 - 3. extreme upset
 - 4. with her results

Question ID : 264330134123
Option 1 ID : 264330525518
Option 2 ID : 264330525515
Option 3 ID : 264330525516
Option 4 ID : 264330525517
Status : Answered
Chosen Option : 3

Q.13 Select the most appropriate meaning of the underlined idiom that can be substituted in the following sentence.

Right now, my hands are full.

- Ans
- 1. My hands are swollen
 - 2. My hands are filled up
 - 3. I'm very tired
 - 4. I'm very busy

Question ID : 26433094758
Option 1 ID : 264330371866
Option 2 ID : 264330371865
Option 3 ID : 264330371868
Option 4 ID : 264330371867
Status : Answered
Chosen Option : 4

Q.14 Select the option that will improve the underlined part of the given sentence.
The village Seoni is located 113 km away from the capital city of MP, Bhopal.

- Ans
- 1. adjacent from city capital of MP, Bhopal
 - 2. proximate from capital of MP, Bhopal
 - 3. near from the city capital of MP, Bhopal
 - 4. far from the capital city of MP, Bhopal

Question ID : 264330145290
Option 1 ID : 264330569415
Option 2 ID : 264330569417
Option 3 ID : 264330569416
Option 4 ID : 264330569418
Status : Answered
Chosen Option : 4

Q.15 Select the most appropriate meaning of the given idiom.
Open your heart

- Ans** 1. Immediately think of something
 2. Could do something very easily
 3. Feel relieved because the stress is removed
 4. Share your deepest feelings

Question ID : 264330135999
Option 1 ID : 264330532838
Option 2 ID : 264330532837
Option 3 ID : 264330532836
Option 4 ID : 264330532835
Status : Answered
Chosen Option : 4

Q.16 Select the option that can be used as a one-word substitute for the given group of words.

A place where coins are made

- Ans** 1. Mint
 2. Post Office
 3. Trough
 4. Grove

Question ID : 26433088757
Option 1 ID : 264330348584
Option 2 ID : 264330348583
Option 3 ID : 264330348582
Option 4 ID : 264330348581
Status : Answered
Chosen Option : 1

Q.17 Select the most appropriate synonym of the given word.

Spontaneous

- Ans** 1. Acquisitive
 2. Instinctive
 3. Exhaustive
 4. Attractive

Question ID : 264330163330
Option 1 ID : 264330640620
Option 2 ID : 264330640619
Option 3 ID : 264330640621
Option 4 ID : 264330640622
Status : Answered
Chosen Option : 1

Q.18 The following sentence has been split into four segments. Identify the segment that contains a grammatical error.

The postman / delivers the letters / through hand, / door to door.

- Ans** 1. through hand
 2. delivers the letters
 3. door to door
 4. The postman

Question ID : 264330145282
Option 1 ID : 264330569385
Option 2 ID : 264330569384
Option 3 ID : 264330569386
Option 4 ID : 264330569383
Status : Answered
Chosen Option : 1

Q.19 Select the option that can be used as a one-word substitute for the given group of words.

An ability to do several things at the same time.

- Ans** 1. Indictment
 2. Blasphemy
 3. Unitasking
 4. Multitasking

Question ID : 26433088967
Option 1 ID : 264330349408
Option 2 ID : 264330349407
Option 3 ID : 264330349405
Option 4 ID : 264330349406
Status : Answered
Chosen Option : 4

Q.20 Select the correct spelling of the incorrectly spelt word.

Diplomats believe that buraucratic delays are inevitable.

- Ans** 1. burocratic
 2. beleave
 3. bureaucratic
 4. inivitable

Question ID : 26433088980
Option 1 ID : 264330349457
Option 2 ID : 264330349460
Option 3 ID : 264330349459
Option 4 ID : 264330349458
Status : Answered
Chosen Option : 3

Q.21 Select the most appropriate ANTONYM of the given word.
Credit

- Ans 1. Impute
 2. Debit
 3. Install
 4. Litigate

Question ID : 26433096221
Option 1 ID : 264330377638
Option 2 ID : 264330377637
Option 3 ID : 264330377639
Option 4 ID : 264330377640
Status : Answered
Chosen Option : 2

Q.22 You are preparing a speech for the upcoming function. Select a synonym for the highlighted word to make it better.
The education system must evolve to keep pace with the rapid changes in the job market.

- Ans 1. Demolish
 2. Censor
 3. Emanate
 4. Conceal

Question ID : 264330121903
Option 1 ID : 264330477767
Option 2 ID : 264330477770
Option 3 ID : 264330477768
Option 4 ID : 264330477769
Status : Answered
Chosen Option : 3

Q.23 Select the option that can be used as a one-word substitute for the given group of words.

The compulsion to tell lies

- Ans 1. Nymphomania
 2. Pyromania
 3. Mythomania
 4. Megalomania

Question ID : 26433088995
Option 1 ID : 264330349520
Option 2 ID : 264330349519
Option 3 ID : 264330349518
Option 4 ID : 264330349517
Status : Answered
Chosen Option : 3

Q.24 Select the option that can be used as a one-word substitute for the given group of words.

A person who does not eat any animal product

- Ans
- 1. Vegetarian
 - 2. Veggie
 - 3. Vegan
 - 4. Non-vegetarian

Question ID : 26433088897
Option 1 ID : 264330349133
Option 2 ID : 264330349136
Option 3 ID : 264330349135
Option 4 ID : 264330349134
Status : Answered
Chosen Option : 3

Q.25 Select the option that can be used as a one-word substitute for the given group of words.

Someone who pretends to have certain moral standards while secretly that person practices those very moral lapses.

- Ans
- 1. Hypocrite
 - 2. Spy
 - 3. Sinner
 - 4. Actor

Question ID : 26433088806
Option 1 ID : 264330348779
Option 2 ID : 264330348780
Option 3 ID : 264330348778
Option 4 ID : 264330348777
Status : Answered
Chosen Option : 1

Q.26 Select the most appropriate option that can substitute the underlined segment in the given sentence.

A gust of wind came abruptly and our sand castle topped.

- Ans
- 1. turned up
 - 2. tumbled down
 - 3. ran after
 - 4. blew out

Question ID : 26433099884
Option 1 ID : 264330392128
Option 2 ID : 264330392127
Option 3 ID : 264330392126
Option 4 ID : 264330392125
Status : Answered
Chosen Option : 4

Q.27 Some words in the following sentence have been underlined and given as options.
Select the option that contains a spelling error.
The rolling waves on the beach were so trainquil and soothing.

- Ans
- 1. rolling
 - 2. beach
 - 3. soothing
 - 4. trainquil

Question ID : 264330121270
Option 1 ID : 264330475283
Option 2 ID : 264330475284
Option 3 ID : 264330475286
Option 4 ID : 264330475285
Status : Answered
Chosen Option : 4

Q.28 Parts of the following sentence have been given as options. One of them may contain an error. Select the part that contains the error from the given options. If you don't find any error, mark 'No error' as your answer.

Luckily, I managed to get a room in the college hostel, and I move in there.

- Ans
- 1. in the college hostel
 - 2. and I move in there
 - 3. Luckily, I managed to get a room
 - 4. No error

Question ID : 26433090493
Option 1 ID : 264330355422
Option 2 ID : 264330355423
Option 3 ID : 264330355421
Option 4 ID : 264330355424
Status : Answered
Chosen Option : 2

Q.29 Select the most appropriate ANTONYM of the given word.
Brave

- Ans
- 1. Elegant
 - 2. Cowardly
 - 3. Cordial
 - 4. Courageous

Question ID : 264330164167
Option 1 ID : 264330643922
Option 2 ID : 264330643921
Option 3 ID : 264330643919
Option 4 ID : 264330643920
Status : Answered
Chosen Option : 2

Q.30 Select the most appropriate idiomatic expression to fill in the blank.

Our Director took a meeting and asked us to express our views on _____ of the new HR policy.

- Ans 1. the pros and cons
 2. the hook
 3. the ups and downs
 4. the bandwagon

Question ID : 26433092080
Option 1 ID : 264330361641
Option 2 ID : 264330361643
Option 3 ID : 264330361642
Option 4 ID : 264330361644
Status : Answered
Chosen Option : 1

Q.31 Select the most appropriate meaning of the underlined idiom.

We've sent a very strong protest letter. That should make them sit up and take notice.

- Ans 1. Consider
 2. Follow
 3. Observe
 4. Attend

Question ID : 26433099070
Option 1 ID : 264330388914
Option 2 ID : 264330388916
Option 3 ID : 264330388913
Option 4 ID : 264330388915
Status : Answered
Chosen Option : 1

Q.32 Select the INCORRECTLY spelt word.

- Ans 1. Caricature
 2. Cumbersome
 3. Click
 4. Cumulative

Question ID : 26433089392
Option 1 ID : 264330351070
Option 2 ID : 264330351071
Option 3 ID : 264330351072
Option 4 ID : 264330351069
Status : Answered
Chosen Option : 1

Q.33 Select the option that can be used as a one-word substitute for the given group of words.

Spoken or done without any previous thought or preparation

- Ans
- 1. Initiative
 - 2. Extempore
 - 3. Maiden
 - 4. Inaugural

Question ID : 26433088197
Option 1 ID : 264330346383
Option 2 ID : 264330346384
Option 3 ID : 264330346382
Option 4 ID : 264330346381
Status : Answered
Chosen Option : 2

Q.34 Select the option that can be used as a one-word substitute for the given group of words.

Something of monstrous size or power

- Ans
- 1. Behemoth
 - 2. Bulk
 - 3. Amazon
 - 4. Heavyweight

Question ID : 26433088439
Option 1 ID : 264330347343
Option 2 ID : 264330347342
Option 3 ID : 264330347341
Option 4 ID : 264330347344
Status : Answered
Chosen Option : 2

Q.35 Select the most appropriate idiom that can substitute the underlined segment in the given sentence.

He got a burst of energy and started digging again.

- Ans
- 1. second wind
 - 2. a fancy of someone
 - 3. took bull by the horns
 - 4. heart on the sleeve

Question ID : 264330117164
Option 1 ID : 264330460721
Option 2 ID : 264330460724
Option 3 ID : 264330460723
Option 4 ID : 264330460722
Status : Answered
Chosen Option : 1

Q.36 Select the most appropriate idiomatic expression to substitute for the underlined segment in the given sentence.

I had to work late in the night for nearly three months to write my first book.

- Ans
- 1. to look through coloured glasses
 - 2. to burn the midnight oil
 - 3. to blow a fuse
 - 4. to take a back seat

Question ID : 26433092082
Option 1 ID : 264330361651
Option 2 ID : 264330361652
Option 3 ID : 264330361649
Option 4 ID : 264330361650
Status : Answered
Chosen Option : 2

Q.37 Select the most appropriate one-word substitution of the given group of words.

A list of source materials that are used or consulted in the preparation of a work or that are referred to in the text.

- Ans
- 1. Bibliography
 - 2. Bibliomemoir
 - 3. Bibliophile
 - 4. Bibliotheca

Question ID : 26433090850
Option 1 ID : 264330356810
Option 2 ID : 264330356811
Option 3 ID : 264330356809
Option 4 ID : 264330356812
Status : Answered
Chosen Option : 1

Q.38 Select the most appropriate meaning of the given idiom.
Boil the ocean

- Ans
- 1. Try to do something impossible
 - 2. Something very big
 - 3. Something which gets hot gradually
 - 4. To make someone very angry

Question ID : 264330135901
Option 1 ID : 264330532462
Option 2 ID : 264330532460
Option 3 ID : 264330532461
Option 4 ID : 264330532459
Status : Answered
Chosen Option : 1

Q.39 Select the most appropriate ANTONYM of the word 'hinderance' in the given sentence and choose the correct option.

The refreshing breeze blew through the open window, bringing relief from the summer heat.

- Ans 1. Relief
 2. Bringing
 3. Blew
 4. Refreshing

Question ID : 264330163537
Option 1 ID : 264330641406
Option 2 ID : 264330641405
Option 3 ID : 264330641404
Option 4 ID : 264330641403
Status : Answered
Chosen Option : 1

Q.40 Four words have been underlined in the given sentence of which one word has a spelling error. Identify the incorrectly spelt word.
The tiger thrshed (A) against his chains (B) in the cage at the circus (C) but nobody paid him any heed (D).

- Ans 1. circus
 2. thrshed
 3. chains
 4. heed

Question ID : 264330122806
Option 1 ID : 264330481293
Option 2 ID : 264330481291
Option 3 ID : 264330481292
Option 4 ID : 264330481294
Status : Answered
Chosen Option : 2

Comprehension:

In the following passage, some words have been deleted. Read the passage carefully and select the most appropriate option to fill in each blank.

It is said that everyone lives (1)_____ selling something. What you can (2)_____ from this statement is that teachers live by selling knowledge, philosophers live by selling wisdom and priests earn their living by selling spiritual comfort. Though it may be possible to measure the value of material goods in terms of money, it is extremely difficult to (3)_____ the true value of the services which people perform for us. There are times when we would (4)_____ give everything we possess to save our lives, yet we might grudge paying a surgeon a high fee for offering us precisely the same service. The (5)_____ of society are such that skills have to be paid for in the same way that goods are paid for at a shop.

SubQuestion No : 41

Q.41 Select the most appropriate option to fill in blank number 1.

- Ans 1. by
 2. of
 3. into
 4. over

Question ID : 264330163286
Option 1 ID : 264330640448
Option 2 ID : 264330640450
Option 3 ID : 264330640447
Option 4 ID : 264330640449
Status : Answered
Chosen Option : 1

Comprehension:

In the following passage, some words have been deleted. Read the passage carefully and select the most appropriate option to fill in each blank.

It is said that everyone lives (1)_____ selling something. What you can (2)_____ from this statement is that teachers live by selling knowledge, philosophers live by selling wisdom and priests earn their living by selling spiritual comfort. Though it may be possible to measure the value of material goods in terms of money, it is extremely difficult to (3)_____ the true value of the services which people perform for us. There are times when we would (4)_____ give everything we possess to save our lives, yet we might grudge paying a surgeon a high fee for offering us precisely the same service. The (5)_____ of society are such that skills have to be paid for in the same way that goods are paid for at a shop.

SubQuestion No : 42

Q.42 Select the most appropriate option to fill in blank number 2.

- Ans 1. derive
 2. choose
 3. revive
 4. separate

Question ID : 264330163287

Option 1 ID : 264330640453

Option 2 ID : 264330640452

Option 3 ID : 264330640451

Option 4 ID : 264330640454

Status : Answered

Chosen Option : 2

Comprehension:

In the following passage, some words have been deleted. Read the passage carefully and select the most appropriate option to fill in each blank.

It is said that everyone lives (1)_____ selling something. What you can (2)_____ from this statement is that teachers live by selling knowledge, philosophers live by selling wisdom and priests earn their living by selling spiritual comfort. Though it may be possible to measure the value of material goods in terms of money, it is extremely difficult to (3)_____ the true value of the services which people perform for us. There are times when we would (4)_____ give everything we possess to save our lives, yet we might grudge paying a surgeon a high fee for offering us precisely the same service. The (5)_____ of society are such that skills have to be paid for in the same way that goods are paid for at a shop.

SubQuestion No : 43

Q.43 Select the most appropriate option to fill in blank number 3.

- Ans 1. extort
 2. conceal
 3. mock
 4. estimate

Question ID : 264330163288

Option 1 ID : 264330640456

Option 2 ID : 264330640455

Option 3 ID : 264330640457

Option 4 ID : 264330640458

Status : Answered

Chosen Option : 4

Comprehension:

In the following passage, some words have been deleted. Read the passage carefully and select the most appropriate option to fill in each blank.

It is said that everyone lives (1) _____ selling something. What you can (2) _____ from this statement is that teachers live by selling knowledge, philosophers live by selling wisdom and priests earn their living by selling spiritual comfort. Though it may be possible to measure the value of material goods in terms of money, it is extremely difficult to (3) _____ the true value of the services which people perform for us. There are times when we would (4) _____ give everything we possess to save our lives, yet we might grudge paying a surgeon a high fee for offering us precisely the same service. The (5) _____ of society are such that skills have to be paid for in the same way that goods are paid for at a shop.

SubQuestion No : 44

Q.44 Select the most appropriate option to fill in blank number 4.

- Ans
- 1. thoroughly
 - 2. perfectly
 - 3. thoughtfully
 - 4. willingly

Question ID : 264330163289

Option 1 ID : 264330640460

Option 2 ID : 264330640461

Option 3 ID : 264330640462

Option 4 ID : 264330640459

Status : Answered

Chosen Option : 2

Comprehension:

In the following passage, some words have been deleted. Read the passage carefully and select the most appropriate option to fill in each blank.

It is said that everyone lives (1) _____ selling something. What you can (2) _____ from this statement is that teachers live by selling knowledge, philosophers live by selling wisdom and priests earn their living by selling spiritual comfort. Though it may be possible to measure the value of material goods in terms of money, it is extremely difficult to (3) _____ the true value of the services which people perform for us. There are times when we would (4) _____ give everything we possess to save our lives, yet we might grudge paying a surgeon a high fee for offering us precisely the same service. The (5) _____ of society are such that skills have to be paid for in the same way that goods are paid for at a shop.

SubQuestion No : 45

Q.45 Select the most appropriate option to fill in blank number 5.

- Ans
- 1. obstacles
 - 2. connections
 - 3. interferences
 - 4. conditions

Question ID : 264330163290

Option 1 ID : 264330640466

Option 2 ID : 264330640464

Option 3 ID : 264330640463

Option 4 ID : 264330640465

Status : Answered

Chosen Option : 4

Comprehension:

Read the given passage carefully and answer the questions that follow.

As a society, we have come a long way in terms of progress and development. We have eradicated diseases, explored space, and created technological wonders that were once thought impossible. Yet, there is still one issue that continues to plague us: stupidity. Yes, stupidity. The thing that seems to be contagious and has been spreading faster than the common cold. It's everywhere you look - on social media, in politics, in the workplace. You can't escape it.

It's as if we've all collectively decided that intelligence and common sense are no longer important. Why bother using your brain when you can just rely on your gut feelings and conspiracy theories?

Take politics, for example. It used to be that politicians were expected to be knowledgeable and well-informed about the issues they were dealing with. Now, it seems that all you need is a catchy slogan and some empty promises to win an election.

And don't even get me started on social media. It's a breeding ground for stupidity. People will believe anything they read as long as it confirms their preconceived biases. And don't even think about trying to present them with actual facts and evidence. That's just a waste of time. But it's not just individuals who are to blame for this epidemic of stupidity. Our education system is failing us as well. We're teaching our kids how to pass tests instead of how to think critically and solve problems. It's no wonder we have a generation of adults who can't even find their way around a basic math problem.

Of course, there are some who would argue that stupidity is just a different way of thinking. That it's a valid perspective that deserves to be respected. To those people, I say this: if you want to be stupid, go ahead. Just don't expect the rest of us to respect your opinions when they're based on nothing but ignorance and misinformation.

It's time for us to take a stand against stupidity. We need to start valuing intelligence and critical thinking again. We need to hold our leaders accountable for their actions and demand that they be knowledgeable and well-informed. We need to teach our children how to think, not just how to memorise.

It won't be easy, but it's a fight worth fighting. Because if we don't, we'll be stuck in a world where stupidity reigns supreme, and there's no telling what kind of damage that could do. So let's all do our part and start using our brains again. It's time to put an end to the epidemic of stupidity once and for all.

SubQuestion No : 46

Q.46 What is the tone of the passage?

- Ans** 1. Sarcastic
 2. Joyful
 3. Serious
 4. Melancholic

Question ID : 264330165139

Option 1 ID : 264330647660

Option 2 ID : 264330647659

Option 3 ID : 264330647661

Option 4 ID : 264330647662

Status : Answered

Chosen Option : 1

Comprehension:

Read the given passage carefully and answer the questions that follow.

As a society, we have come a long way in terms of progress and development. We have eradicated diseases, explored space, and created technological wonders that were once thought impossible. Yet, there is still one issue that continues to plague us: stupidity. Yes, stupidity. The thing that seems to be contagious and has been spreading faster than the common cold. It's everywhere you look - on social media, in politics, in the workplace. You can't escape it.

It's as if we've all collectively decided that intelligence and common sense are no longer important. Why bother using your brain when you can just rely on your gut feelings and conspiracy theories?

Take politics, for example. It used to be that politicians were expected to be knowledgeable and well-informed about the issues they were dealing with. Now, it seems that all you need is a catchy slogan and some empty promises to win an election.

And don't even get me started on social media. It's a breeding ground for stupidity. People will believe anything they read as long as it confirms their preconceived biases. And don't even think about trying to present them with actual facts and evidence. That's just a waste of time. But it's not just individuals who are to blame for this epidemic of stupidity. Our education system is failing us as well. We're teaching our kids how to pass tests instead of how to think critically and solve problems. It's no wonder we have a generation of adults who can't even find their way around a basic math problem.

Of course, there are some who would argue that stupidity is just a different way of thinking. That it's a valid perspective that deserves to be respected. To those people, I say this: if you want to be stupid, go ahead. Just don't expect the rest of us to respect your opinions when they're based on nothing but ignorance and misinformation.

It's time for us to take a stand against stupidity. We need to start valuing intelligence and critical thinking again. We need to hold our leaders accountable for their actions and demand that they be knowledgeable and well-informed. We need to teach our children how to think, not just how to memorise.

It won't be easy, but it's a fight worth fighting. Because if we don't, we'll be stuck in a world where stupidity reigns supreme, and there's no telling what kind of damage that could do. So let's all do our part and start using our brains again. It's time to put an end to the epidemic of stupidity once and for all.

SubQuestion No : 47

Q.47 Which of the following techniques has been used by the author of the passage to convey the message?

- Ans 1. Humour and exaggeration
 2. Examples and anecdotes
 3. Factual and chronological account
 4. Parody and mimicry

Question ID : 264330165143

Option 1 ID : 264330647676

Option 2 ID : 264330647677

Option 3 ID : 264330647675

Option 4 ID : 264330647678

Status : Answered

Chosen Option : 2

Comprehension:

Read the given passage carefully and answer the questions that follow.

As a society, we have come a long way in terms of progress and development. We have eradicated diseases, explored space, and created technological wonders that were once thought impossible. Yet, there is still one issue that continues to plague us: stupidity. Yes, stupidity. The thing that seems to be contagious and has been spreading faster than the common cold. It's everywhere you look - on social media, in politics, in the workplace. You can't escape it.

It's as if we've all collectively decided that intelligence and common sense are no longer important. Why bother using your brain when you can just rely on your gut feelings and conspiracy theories?

Take politics, for example. It used to be that politicians were expected to be knowledgeable and well-informed about the issues they were dealing with. Now, it seems that all you need is a catchy slogan and some empty promises to win an election.

And don't even get me started on social media. It's a breeding ground for stupidity. People will believe anything they read as long as it confirms their preconceived biases. And don't even think about trying to present them with actual facts and evidence. That's just a waste of time. But it's not just individuals who are to blame for this epidemic of stupidity. Our education system is failing us as well. We're teaching our kids how to pass tests instead of how to think critically and solve problems. It's no wonder we have a generation of adults who can't even find their way around a basic math problem.

Of course, there are some who would argue that stupidity is just a different way of thinking. That it's a valid perspective that deserves to be respected. To those people, I say this: if you want to be stupid, go ahead. Just don't expect the rest of us to respect your opinions when they're based on nothing but ignorance and misinformation.

It's time for us to take a stand against stupidity. We need to start valuing intelligence and critical thinking again. We need to hold our leaders accountable for their actions and demand that they be knowledgeable and well-informed. We need to teach our children how to think, not just how to memorise.

It won't be easy, but it's a fight worth fighting. Because if we don't, we'll be stuck in a world where stupidity reigns supreme, and there's no telling what kind of damage that could do. So let's all do our part and start using our brains again. It's time to put an end to the epidemic of stupidity once and for all.

SubQuestion No : 48

Q.48 According to the passage, what is the solution to the issue of stupidity in society?

- Ans
- 1. Teaching students how to pass tests
 - 2. Electing politicians with catchy slogans
 - 3. Encouraging critical thinking and problem-solving skills
 - 4. Embracing ignorance and misinformation

Question ID : 264330165142

Option 1 ID : 264330647673

Option 2 ID : 264330647674

Option 3 ID : 264330647672

Option 4 ID : 264330647671

Status : Answered

Chosen Option : 3

Comprehension:

Read the given passage carefully and answer the questions that follow.

As a society, we have come a long way in terms of progress and development. We have eradicated diseases, explored space, and created technological wonders that were once thought impossible. Yet, there is still one issue that continues to plague us: stupidity. Yes, stupidity. The thing that seems to be contagious and has been spreading faster than the common cold. It's everywhere you look - on social media, in politics, in the workplace. You can't escape it.

It's as if we've all collectively decided that intelligence and common sense are no longer important. Why bother using your brain when you can just rely on your gut feelings and conspiracy theories?

Take politics, for example. It used to be that politicians were expected to be knowledgeable and well-informed about the issues they were dealing with. Now, it seems that all you need is a catchy slogan and some empty promises to win an election.

And don't even get me started on social media. It's a breeding ground for stupidity. People will believe anything they read as long as it confirms their preconceived biases. And don't even think about trying to present them with actual facts and evidence. That's just a waste of time. But it's not just individuals who are to blame for this epidemic of stupidity. Our education system is failing us as well. We're teaching our kids how to pass tests instead of how to think critically and solve problems. It's no wonder we have a generation of adults who can't even find their way around a basic math problem.

Of course, there are some who would argue that stupidity is just a different way of thinking. That it's a valid perspective that deserves to be respected. To those people, I say this: if you want to be stupid, go ahead. Just don't expect the rest of us to respect your opinions when they're based on nothing but ignorance and misinformation.

It's time for us to take a stand against stupidity. We need to start valuing intelligence and critical thinking again. We need to hold our leaders accountable for their actions and demand that they be knowledgeable and well-informed. We need to teach our children how to think, not just how to memorise.

It won't be easy, but it's a fight worth fighting. Because if we don't, we'll be stuck in a world where stupidity reigns supreme, and there's no telling what kind of damage that could do. So let's all do our part and start using our brains again. It's time to put an end to the epidemic of stupidity once and for all.

SubQuestion No : 49

Q.49 According to the author of the passage, who among the following is NOT responsible for the spread of stupidity?

- Ans
- 1. Politicians
 - 2. Education system
 - 3. Individuals
 - 4. Children

Question ID : 264330165140

Option 1 ID : 264330647664

Option 2 ID : 264330647665

Option 3 ID : 264330647663

Option 4 ID : 264330647666

Status : Answered

Chosen Option : 4

Comprehension:

Read the given passage carefully and answer the questions that follow.

As a society, we have come a long way in terms of progress and development. We have eradicated diseases, explored space, and created technological wonders that were once thought impossible. Yet, there is still one issue that continues to plague us: stupidity. Yes, stupidity. The thing that seems to be contagious and has been spreading faster than the common cold. It's everywhere you look - on social media, in politics, in the workplace. You can't escape it.

It's as if we've all collectively decided that intelligence and common sense are no longer important. Why bother using your brain when you can just rely on your gut feelings and conspiracy theories?

Take politics, for example. It used to be that politicians were expected to be knowledgeable and well-informed about the issues they were dealing with. Now, it seems that all you need is a catchy slogan and some empty promises to win an election.

And don't even get me started on social media. It's a breeding ground for stupidity. People will believe anything they read as long as it confirms their preconceived biases. And don't even think about trying to present them with actual facts and evidence. That's just a waste of time. But it's not just individuals who are to blame for this epidemic of stupidity. Our education system is failing us as well. We're teaching our kids how to pass tests instead of how to think critically and solve problems. It's no wonder we have a generation of adults who can't even find their way around a basic math problem.

Of course, there are some who would argue that stupidity is just a different way of thinking. That it's a valid perspective that deserves to be respected. To those people, I say this: if you want to be stupid, go ahead. Just don't expect the rest of us to respect your opinions when they're based on nothing but ignorance and misinformation.

It's time for us to take a stand against stupidity. We need to start valuing intelligence and critical thinking again. We need to hold our leaders accountable for their actions and demand that they be knowledgeable and well-informed. We need to teach our children how to think, not just how to memorise.

It won't be easy, but it's a fight worth fighting. Because if we don't, we'll be stuck in a world where stupidity reigns supreme, and there's no telling what kind of damage that could do. So let's all do our part and start using our brains again. It's time to put an end to the epidemic of stupidity once and for all.

SubQuestion No : 50

Q.50 What could be a suitable title for the passage?

- Ans
- 1. The Evils of Social Media
 - 2. The Benefits of Stupidity
 - 3. The Joy of Living in a World of Ignorance
 - 4. The Importance of Critical Thinking

Question ID : 264330165141

Option 1 ID : 264330647667

Option 2 ID : 264330647668

Option 3 ID : 264330647670

Option 4 ID : 264330647669

Status : Answered

Chosen Option : 4