

## Sub Inspector in Delhi Police and Central Armed Police Forces Examination 2023 Paper I

Roll Number	
Candidate Name	
Venue Name	
Exam Date	05/10/2023
Exam Time	4:00 PM - 6:00 PM
Subject	SICPO Paper I 2023

Section : General Intelligence and Reasoning

Q.1 उस विकल्प का चयन करें, जो तीसरे शब्द से उसी प्रकार संबंधित है, जिस प्रकार दूसरा शब्द पहले शब्द से संबंधित है। (शब्दों को अर्थपूर्ण शब्दों के रूप में माना जाना चाहिए, और इन्हें शब्द में अक्षरों की संख्या/व्यंजनों की संख्या/स्वरों की संख्या के आधार पर एक-दूसरे से संबद्ध नहीं किया जाना चाहिए।)  
दाब (Pressure) : बैरोमीटर (Barometer) :: विद्युत (Electricity) : ?

- Ans
- 1. मल्टीमीटर (Multimeter)
  - 2. बोलोमीटर (Bolometer)
  - 3. साइक्लोट्रॉन (Cyclotron)
  - 4. ऑडियोमीटर (Audiometer)

Question ID : 26433087296

Option 1 ID : 264330342824

Option 2 ID : 264330342823

Option 3 ID : 264330342821

Option 4 ID : 264330342822

Status : Marked For Review

Chosen Option : 1

Q.2 एक निश्चित कूट भाषा में "PIN" को 9 के रूप में कूटबद्ध किया जाता है, और "CHARGER" को 49 के रूप में कूटबद्ध किया जाता है। उसी कूट भाषा में "CABLE" को किस प्रकार कूटबद्ध किया जाएगा?

- Ans
- 1. 36
  - 2. 18
  - 3. 27
  - 4. 25

Question ID : 264330132204

Option 1 ID : 264330517914

Option 2 ID : 264330517913

Option 3 ID : 264330517912

Option 4 ID : 264330517911

Status : Answered

Chosen Option : 4

Q.3 Q, S के पूर्व में है। E, S के दक्षिण में है। P, Q के उत्तर-पूर्व में, और T के उत्तर में है। यदि T, Q के दक्षिण-पूर्व में है, तो T के सापेक्ष S की स्थिति क्या है? (सभी स्थितियों को ग्रिड पैटर्न में व्यवस्थित किया गया है)

Ans  1. उत्तर-पश्चिम

2. दक्षिण-पश्चिम

3. दक्षिण-पूर्व

4. पश्चिम

Question ID : 26433089523

Option 1 ID : 264330351593

Option 2 ID : 264330351595

Option 3 ID : 264330351596

Option 4 ID : 264330351594

Status : Marked For Review

Chosen Option : 3

Q.4 एक निश्चित कूट भाषा में "MOBILE" को "NQEMQK" लिखा जाता है, और "BISHOP" को "CKVLTV" लिखा जाता है। उसी कूट भाषा में "CHARGE" को किस प्रकार लिखा जाएगा?

Ans  1. DJDVLK

2. DJDWLK

3. DJEVLJ

4. DJDVKL

Question ID : 26433070269

Option 1 ID : 264330275554

Option 2 ID : 264330275555

Option 3 ID : 264330275553

Option 4 ID : 264330275552

Status : Answered

Chosen Option : 1

Q.5 स्टैनली स्थान A से साइकिल चलाना शुरू करता है। वह पश्चिम की ओर X km साइकिल चलाता है, और फिर दाएं मुड़ता है, और 3 km साइकिल चलाता है। वह फिर से दाएं मुड़ता है, और X+1 km साइकिल चलाता है। वह फिर से दाएं मुड़ता है, और 2X+1 km साइकिल चलाता है। वह अंतिम बार दाएं मुड़ता है, और 1 km साइकिल चलाकर स्थान B पर रुकता है। स्थान B, स्थान A से 6 km दक्षिण में है। X का मान क्या है?

Ans  1. 9

2. 3

3. 5

4. 4

Question ID : 26433097236

Option 1 ID : 264330381644

Option 2 ID : 264330381641

Option 3 ID : 264330381642

Option 4 ID : 264330381643

Status : Not Answered

Chosen Option : --

Q.6 उस विकल्प का चयन कीजिए, जो दिए गए शब्दों के उस सही क्रम को दर्शाता है, जिस क्रम में वे अंग्रेजी शब्दकोश में मौजूद होते हैं।

1. Brochure
2. Brine
3. Bright
4. Brief
5. Brocade

Ans  1. 1, 2, 3, 4, 5  
 2. 3, 2, 5, 4, 1  
 3. 1, 2, 3, 5, 4  
 4. 4, 3, 2, 5, 1

Question ID : 26433067247  
Option 1 ID : 264330263500  
Option 2 ID : 264330263501  
Option 3 ID : 264330263502  
Option 4 ID : 264330263503  
Status : Answered  
Chosen Option : 4

Q.7 दिए गए समीकरण को सही बनाने के लिए किन दो गणितीय चिह्न को आपस में बदला जाना चाहिए?

$$(45 \times 2) \div 15 - (6 \times 3) + 10 - (63 \div 21) = 17$$

Ans  1.  $\div$  और  $\times$   
 2.  $-$  और  $+$   
 3.  $\times$  और  $-$   
 4.  $\div$  और  $+$

Question ID : 264330145313  
Option 1 ID : 264330569508  
Option 2 ID : 264330569510  
Option 3 ID : 264330569509  
Option 4 ID : 264330569507  
Status : Answered  
Chosen Option : 2

Q.8 यदि A का अर्थ '+' हो, B का अर्थ ' $\times$ ' हो, C का अर्थ '-' हो और D का अर्थ ' $\div$ ' हो, तो निम्नलिखित समीकरण का मान कितना होगा?  
11 B 12 C 144 D 24 A 57 = ?

Ans  1. 180  
 2. 183  
 3. 160  
 4. 186

Question ID : 264330129780  
Option 1 ID : 264330508351  
Option 2 ID : 264330508352  
Option 3 ID : 264330508353  
Option 4 ID : 264330508354  
Status : Answered  
Chosen Option : 2

Q.9 चार अक्षर-समूह दिये गए हैं जिनमें से तीन किसी प्रकार से आपस में संबंधित हैं जबकि कोई एक उनसे असंगत है। असंगत अक्षर-समूह का चयन कीजिए।

- Ans
- 1. SRWX
  - 2. POTU
  - 3. DBGH
  - 4. HGLM

Question ID : 264330180751

Option 1 ID : 264330708974

Option 2 ID : 264330708973

Option 3 ID : 264330708971

Option 4 ID : 264330708972

Status : Marked For Review

Chosen Option : 3

Q.10 उस विकल्प का चयन कीजिए जिसमें दी गई आकृति सन्निहित है (घुमाने की अनुमति नहीं है)।



Ans

- 1.
- 2.
- 3.
- 4.

Question ID : 264330126080

Option 1 ID : 264330493994

Option 2 ID : 264330493992

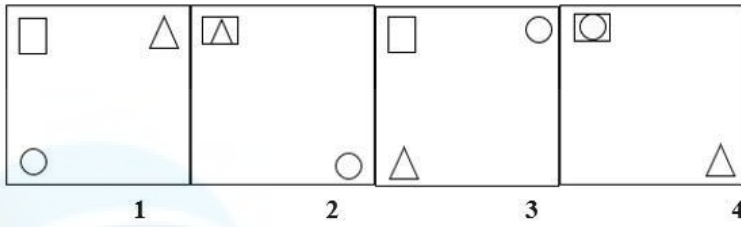
Option 3 ID : 264330493993

Option 4 ID : 264330493995

Status : Answered

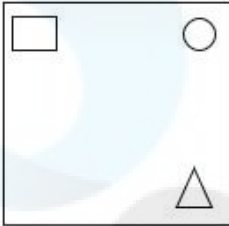
Chosen Option : 3

Q.11 निम्नलिखित में से कौन-सी आकृति दी गई श्रृंखला में 5वें स्थान पर रखे जाने पर पहली चार आकृतियों द्वारा निर्मित श्रृंखला को जारी रखेगी?

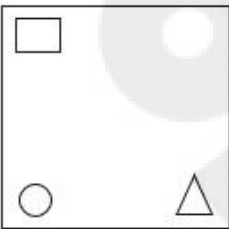


Ans

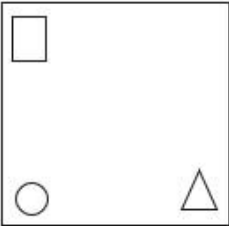
✗ 1.



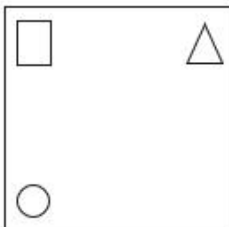
✗ 2.



✗ 3.



✓ 4.



Question ID : 26433087304

Option 1 ID : 264330342855

Option 2 ID : 264330342853

Option 3 ID : 264330342854

Option 4 ID : 264330342856

Status : Answered

Chosen Option : 4

Q.12 उस विकल्प का चयन कीजिए, जो तीसरे शब्द से उसी प्रकार संबंधित है, जिस प्रकार दूसरा शब्द पहले शब्द से संबंधित है। (शब्दों को अर्थपूर्ण शब्दों के रूप में माना जाना चाहिए, और वह शब्द में अक्षरों की संख्या/व्यंजनों/स्वरों की संख्या के आधार पर एक-दूसरे से संबंधित नहीं होना चाहिए।)

केंद्र (Centre) : केंद्रबिंदु (Focus) :: मुहल्ले का पादरी (Vicar) : ?

- Ans
- 1. इमारत (Building)
  - 2. धर्माचार्य (Priest)
  - 3. पहेली (Riddle)
  - 4. जीवन (Life)

Question ID : 264330145397

Option 1 ID : 264330569844

Option 2 ID : 264330569845

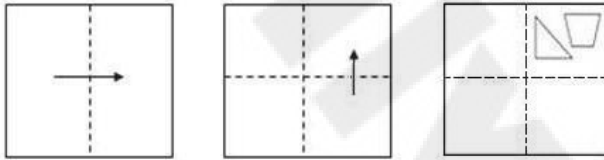
Option 3 ID : 264330569843

Option 4 ID : 264330569846

Status : Answered

Chosen Option : 2

Q.13 एक कागज को नीचे दिखाए गए अनुसार मोड़ा और काटा जाता है। खोले जाने पर यह कैसा दिखाई देगा?



Ans

- 1.
- 2.
- 3.
- 4.

Question ID : 26433091688

Option 1 ID : 264330360118

Option 2 ID : 264330360119

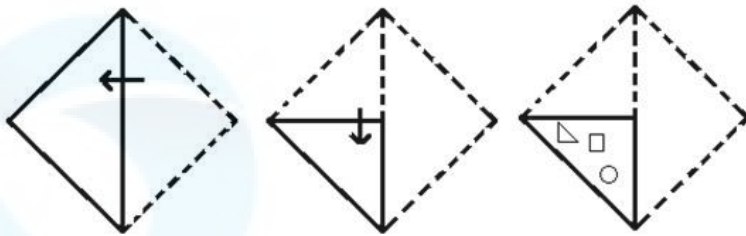
Option 3 ID : 264330360117

Option 4 ID : 264330360120

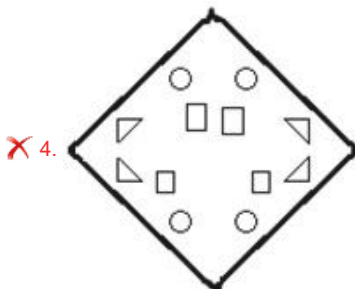
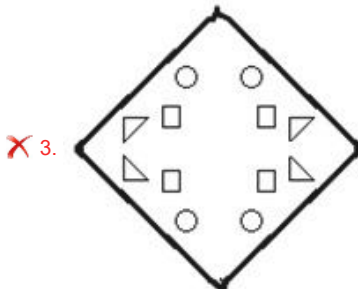
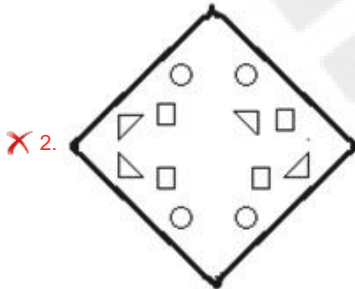
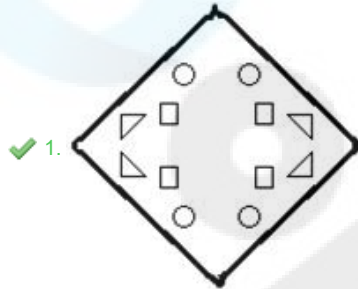
Status : Answered

Chosen Option : 1

Q.14 निम्नलिखित आकृतियों में कागज के एक टुकड़े को मोड़ने का क्रम और मुड़े हुए कागज को काटने का तरीका दर्शाया गया है। कागज की तह खुलने पर यह कैसा दिखाई देगा?



Ans



Question ID : 26433074791  
 Option 1 ID : 264330293253  
 Option 2 ID : 264330293255  
 Option 3 ID : 264330293254  
 Option 4 ID : 264330293252

Status : Answered

Chosen Option : 1

Q.15 "T + U" का अर्थ है कि "T, U की माता है"।  
"T - U" का अर्थ है कि "T, U का पिता है"।  
"T \$ U" का अर्थ है कि "T, U का पति है"।  
"T # U" का अर्थ है कि "T, U की पुत्री है"।  
यदि A # C \$ V + X है, तो A का X से क्या संबंध है?

- Ans
- 1. भाई
  - 2. पिता
  - 3. पुत्री
  - 4. बहन

Question ID : 264330145387  
Option 1 ID : 264330569803  
Option 2 ID : 264330569806  
Option 3 ID : 264330569805  
Option 4 ID : 264330569804  
Status : Marked For Review  
Chosen Option : 4

Q.16 दिए गए समीकरण को सही बनाने के लिए किन दो चिह्नों को आपस में बदला जाना चाहिए?  
 $42 \div 7 + 11 \times 87 - 12 = 141$

- Ans
- 1. - और  $\times$
  - 2.  $\div$  और -
  - 3. + और +
  - 4.  $\times$  और +

Question ID : 264330129526  
Option 1 ID : 264330507473  
Option 2 ID : 264330507470  
Option 3 ID : 264330507471  
Option 4 ID : 264330507472  
Status : Answered  
Chosen Option : 4

Q.17 सात व्यक्ति A, B, C, D, E, F और G उत्तर की ओर मुख करके एक सीधी पंक्ति में बैठे हैं। D के दाईं ओर केवल 2 व्यक्ति बैठे हैं। G, D के ठीक बगल में बैठा है। A और G के बीच में केवल 3 व्यक्ति बैठे हैं। B और C के बीच में केवल 2 व्यक्ति बैठे हैं। E, C के ठीक बगल में नहीं है। F, G के दाईं ओर ठीक बगल में बैठा है।  
A के बाईं ओर ठीक बगल में कौन बैठा हुआ है?

- Ans
- 1. B
  - 2. C
  - 3. E
  - 4. D

Question ID : 264330145410  
Option 1 ID : 264330569895  
Option 2 ID : 264330569896  
Option 3 ID : 264330569897  
Option 4 ID : 264330569898  
Status : Answered  
Chosen Option : 2

Q.18 यदि M का अर्थ '→' है, N का अर्थ '←' है, O का अर्थ '×' है, और P का अर्थ '+' है तो निम्नलिखित समीकरण में '?' के स्थान पर क्या आएगा?

$$21 O 5 P 69 N 3 P \sqrt{225} M 88 = ?$$

- Ans
- ✓ 1. 55
  - ✗ 2. 50
  - ✗ 3. 61
  - ✗ 4. 65

Question ID : 26433057620  
Option 1 ID : 264330225466  
Option 2 ID : 264330225465  
Option 3 ID : 264330225467  
Option 4 ID : 264330225464

Status : Answered

Chosen Option : 1

Q.19 दो कथन दिए गए हैं, जिसके बाद दो निष्कर्ष I और II दिए गए हैं। कथनों को सत्य मानते हुए, भले ही वे सामान्य रूप से ज्ञात तथ्यों से भिन्न प्रतीत होते हों, निर्णय लें कि कौन-से निष्कर्ष कथनों का तार्किक रूप से पालन करते हैं?

कथन:

सभी नदियाँ झीलें हैं।

कुछ समुद्र नदियाँ हैं।

निष्कर्ष:

I) कुछ समुद्र झीलें हैं।

II) सभी झीलें नदियाँ हैं।

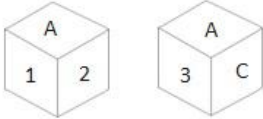
- Ans
- ✗ 1. न तो निष्कर्ष I और न ही निष्कर्ष II पालन करता है।
  - ✗ 2. निष्कर्ष I और II दोनों पालन करते हैं।
  - ✗ 3. केवल निष्कर्ष II पालन करता है।
  - ✓ 4. केवल निष्कर्ष I पालन करता है।

Question ID : 26433067708  
Option 1 ID : 264330265347  
Option 2 ID : 264330265346  
Option 3 ID : 264330265345  
Option 4 ID : 264330265344

Status : Answered

Chosen Option : 4

Q.20 एक पासे के अलग-अलग फलकों पर छह अक्षर/अंक A, B, C, 1, 2 और 3 लिखे गए हैं। इस पासे की दो स्थितियाँ दी गई आकृति में दिखाई गई हैं। 3 अंक वाले फलक के विपरीत फलक पर कौन-सा अक्षर/अंक है?



- Ans
- ✗ 1. B
  - ✓ 2. 1
  - ✗ 3. 2
  - ✗ 4. C

Question ID : 264330109199  
Option 1 ID : 264330429075  
Option 2 ID : 264330429073  
Option 3 ID : 264330429074  
Option 4 ID : 264330429076

Status : Answered

Chosen Option : 2

Q.21 उस विकल्प आकृति का चयन करें जिसमें उसके भाग के रूप में दी गई आकृति सन्निहित है (आकृति को घुमाने की अनुमति नहीं है)।

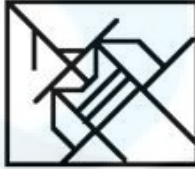


Ans

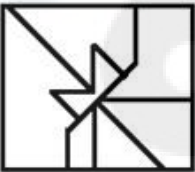
✗ 1.



✓ 2.



✗ 3.



✗ 4.



Question ID : 264330117424

Option 1 ID : 264330461738

Option 2 ID : 264330461739

Option 3 ID : 264330461737

Option 4 ID : 264330461740

Status : Answered

Chosen Option : 2

Q.22 दिए गए अक्षर-समूहों में से कौन-सा, दी गई श्रृंखला में प्रश्न-चिह्न (?) के स्थान पर आकर श्रृंखला को पूर्ण करेगा?

BRCQ, EPFO, ?, KLLK, NJOI

Ans ✗ 1. HINO

✗ 2. GINO

✗ 3. GNMI

✓ 4. HNIM

Question ID : 264330180761

Option 1 ID : 264330709011

Option 2 ID : 264330709013

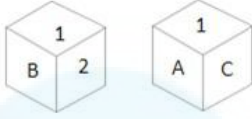
Option 3 ID : 264330709014

Option 4 ID : 264330709012

Status : Answered

Chosen Option : 4

Q.23 एक पासे के अलग-अलग फलकों पर छह अक्षर/अंक A, B, C, 1, 2 और 3 लिखे गए हैं। इस पासे की दो स्थितियां दी गई आकृति में दिखाई गई हैं। C अक्षर वाले फलक के विपरीत फलक पर कौन-सा अक्षर/अंक है?



- Ans
- 1. A
  - 2. B
  - 3. 2
  - 4. 3

Question ID : 264330109198

Option 1 ID : 264330429072

Option 2 ID : 264330429070

Option 3 ID : 264330429071

Option 4 ID : 264330429069

Status : Answered

Chosen Option : 3

Q.24 यदि '+' का अर्थ '-' है, '-' का अर्थ 'x' है, 'x' का अर्थ '+' है और '-' का अर्थ '+' है, तो निम्नलिखित समीकरण में '?' के स्थान पर क्या आएगा?

$$79 \div 64 \times 8 - 7 + 12 = ?$$

- Ans
- 1. 123
  - 2. 117
  - 3. 147
  - 4. 138

Question ID : 264330101147

Option 1 ID : 264330397135

Option 2 ID : 264330397136

Option 3 ID : 264330397133

Option 4 ID : 264330397134

Status : Answered

Chosen Option : 1

Q.25 उस समुच्चय का चयन कीजिए जिसमें संख्याएँ एक-दूसरे से उसी प्रकार संबंधित हैं जिस प्रकार निम्नलिखित समुच्चय की संख्याएँ आपस में संबंधित हैं।

(नोट: संख्याओं को उसके घटक अंकों में विभाजित किए बिना, पूर्ण संख्याओं पर गणितीय संक्रियाएं की जानी चाहिए। उदाहरण के लिए 13 - संख्या 13 पर गणितीय संक्रियाएं जैसे कि जोड़ना / घटाना / गुणा करना आदि को 13 से किया जा सकता है। 13 को 1 और 3 में तोड़ना और फिर 1 और 3 पर गणितीय संक्रियाएँ करने की अनुमति नहीं है)

(5, 4, 2)  
(9, 9, 3)

- Ans
- 1. (5,2,6)
  - 2. (24,43,34)
  - 3. (17,6,5)
  - 4. (21,39,1)

Question ID : 264330145333

Option 1 ID : 264330569588

Option 2 ID : 264330569589

Option 3 ID : 264330569587

Option 4 ID : 264330569590

Status : Not Answered

Chosen Option : --

Q.26 निम्नलिखित चार अक्षर-समूहों में से तीन किसी निश्चित तरीके से संगत हैं, और एक असंगत है। असंगत का चयन कीजिए।

- Ans  1. CEAX  
 2. GIET  
 3. SQUH  
 4. MOKN

Question ID : 26433068791  
Option 1 ID : 264330269676  
Option 2 ID : 264330269678  
Option 3 ID : 264330269677  
Option 4 ID : 264330269679  
Status : Answered  
Chosen Option : 3

Q.27 निम्नलिखित में से कौन-सी संख्या दी गई श्रृंखला में प्रश्न चिह्न (?) के स्थान पर आएगी?  
270, 241, 212, ?, 154, 125

- Ans  1. 198  
 2. 192  
 3. 183  
 4. 186

Question ID : 26433067626  
Option 1 ID : 264330265016  
Option 2 ID : 264330265017  
Option 3 ID : 264330265019  
Option 4 ID : 264330265018  
Status : Answered  
Chosen Option : 3

Q.28 दिए गए समीकरण को सही बनाने के लिए किन दो चिह्नों को आपस में बदला जाना चाहिए?  
 $39 \div 3 - 11 + 57 \times 29 = 171$

- Ans  1. - और  $\times$   
 2. + और -  
 3. + और +  
 4. - और +

Question ID : 264330129524  
Option 1 ID : 264330507465  
Option 2 ID : 264330507462  
Option 3 ID : 264330507463  
Option 4 ID : 264330507464  
Status : Answered  
Chosen Option : 1

Q.29 दी गई श्रृंखला को पूर्ण करने के लिए कौन-सा अक्षर-समूह प्रश्न-चिह्न (?) के स्थान पर आएगा?  
FOHV, CKER, ?, WCYJ, TYVF

- Ans
- 1. AFCP
  - 2. XHBM
  - 3. AHCO
  - 4. ZGBN

Question ID : 26433086264  
Option 1 ID : 264330338750  
Option 2 ID : 264330338749  
Option 3 ID : 264330338752  
Option 4 ID : 264330338751  
Status : Answered  
Chosen Option : 4

Q.30 एक निश्चित कूट भाषा में, "Live long" को "mu ae" के रूप में कूटबद्ध किया जाता है, "Road is long" को "ae si du" के रूप में कूटबद्ध किया जाता है, और "Game is live" को "si mu zt" के रूप में कूटबद्ध किया जाता है। शब्द "Game" के लिए कूट क्या होगा?

- Ans
- 1. zt
  - 2. mu
  - 3. ae
  - 4. si

Question ID : 26433074769  
Option 1 ID : 264330293165  
Option 2 ID : 264330293167  
Option 3 ID : 264330293166  
Option 4 ID : 264330293164  
Status : Answered  
Chosen Option : 1

Q.31 निम्नलिखित में से कौन-सी संख्या दी गई श्रृंखला में प्रश्नवाचक चिह्न (?) का स्थान लेगी?  
5, 20, 60, 240, 720, ?

- Ans
- 1. 2880
  - 2. 2675
  - 3. 2580
  - 4. 2160

Question ID : 26433057344  
Option 1 ID : 264330224362  
Option 2 ID : 264330224360  
Option 3 ID : 264330224361  
Option 4 ID : 264330224363  
Status : Answered  
Chosen Option : 1

Q.32 यदि निम्नलिखित आकृति श्रृंखला को जारी रखा जाए, तो दिए गए विकल्पों में से कौन-सी आकृति प्रश्नवाचक चिन्ह (?) को प्रतिस्थापित करेगी?

D	2	☆	D	A	☆	2	A	?
	→		↗		↑		↖	
☆	A	A	2	2	D	D	☆	

Ans

✗ 1.

D	2		
			↙
☆	A		

✗ 2.

D	2		
			←
A			☆

✗ 3.

D	2		
			→
☆			A

✓ 4.

D	2		
			←
☆			A

Question ID : 264330145483

Option 1 ID : 264330570188

Option 2 ID : 264330570189

Option 3 ID : 264330570190

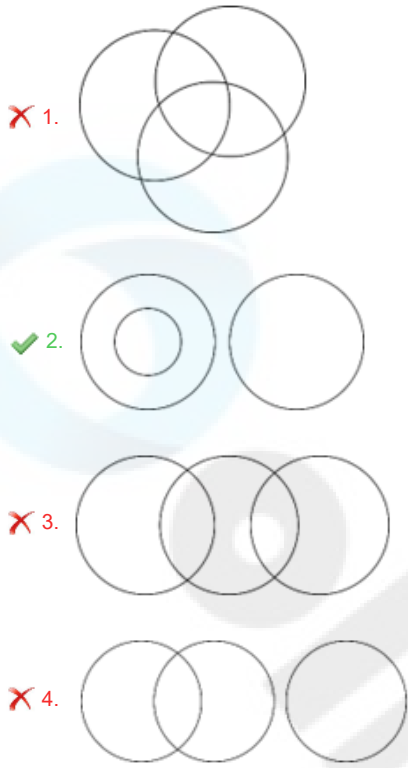
Option 4 ID : 264330570187

Status : Answered

Chosen Option : 4

Q.33 उस वेन आरेख का चयन करें, जो निम्नलिखित वर्गों के बीच के संबंध को सर्वोत्तम ढंग से दर्शाता है।  
कपड़े, जूते, शर्ट

Ans



Question ID : 264330132029

Option 1 ID : 264330517213

Option 2 ID : 264330517214

Option 3 ID : 264330517212

Option 4 ID : 264330517211

Status : Answered

Chosen Option : 2

Q.34 एक निश्चित कूट भाषा में "SPAM" को "36" और "JUG" को "27" के रूप में कूटबद्ध किया जाता है।  
उसी कूट भाषा में "FROCK" को किस प्रकार कूटबद्ध किया जाएगा?

Ans ✓ 1. 45

✗ 2. 72

✗ 3. 48

✗ 4. 90

Question ID : 26433079046

Option 1 ID : 264330310191

Option 2 ID : 264330310189

Option 3 ID : 264330310190

Option 4 ID : 264330310188

Status : Answered

Chosen Option : 1

Q.35 दिए गए विकल्पों में से वह संख्या चुनिए, जो निम्नलिखित श्रृंखला में प्रश्न-चिह्न (?) को प्रतिस्थापित कर सके।

144, 171, 200, ?, 264

Ans  1. 231

2. 240

3. 256

4. 225

Question ID : 26433074540

Option 1 ID : 264330292250

Option 2 ID : 264330292251

Option 3 ID : 264330292249

Option 4 ID : 264330292248

Status : Answered

Chosen Option : 1

Q.36 Q + J का अर्थ है "Q, J का पति है"  
Q - J का अर्थ है "Q, J का पिता है"  
Q × J का अर्थ है "Q, J की माता है"  
Q \* J का अर्थ है "Q, J की पुत्री है"

यदि  $D * V + B * U$  है तो, D का U से क्या संबंध है?

Ans  1. भाई

2. बहन

3. पुत्री

4. माता

Question ID : 264330130334

Option 1 ID : 264330510447

Option 2 ID : 264330510448

Option 3 ID : 264330510449

Option 4 ID : 264330510450

Status : Marked For Review

Chosen Option : 2

Q.37 उस समुच्चय का चयन कीजिए जिसमें संख्याएँ आपस में उसी प्रकार संबंधित हैं जिस प्रकार निम्नलिखित समुच्चयों की संख्याएँ आपस में संबंधित हैं।

(नोट: संख्याओं को उसके घटक अंकों में विभाजित किए बिना, पूर्ण संख्याओं पर गणितीय संक्रियाएँ की जानी चाहिए। उदाहरण के लिए 13 - गणितीय संक्रियाएँ जैसे कि जोड़ना/घटाना/गुणा करना इत्यादि 13 में किया जा सकता है। 13 को 1 और 3 में विभाजित करना और फिर 1 और 3 पर गणितीय संक्रियाएँ करने की अनुमति नहीं है।)

(53, 36, 25)

(71, 54, 43)

Ans  1. (32, 14, 7)

2. (66, 53, 41)

3. (99, 82, 71)

4. (41, 23, 18)

Question ID : 26433057459

Option 1 ID : 264330224823

Option 2 ID : 264330224820

Option 3 ID : 264330224822

Option 4 ID : 264330224821

Status : Answered

Chosen Option : 3

Q.38 उस समुच्चय का चयन कीजिए जिसमें संख्याएँ उसी प्रकार संबंधित हैं जिस प्रकार निम्नलिखित समुच्चयों की संख्याएँ संबंधित हैं।

(नोट: संख्याओं को उसके घटक अंकों में विभाजित किए बिना, पूर्ण संख्याओं पर संक्रियाएँ की जानी चाहिए। उदाहरण के लिए 13 - इसमें 13 पर जोड़ने / घटाने / गुणा करने आदि जैसी संक्रियाओं को 13 में किया जा सकता है। 13 को 1 और 3 में विभाजित करने और फिर 1 और 3 पर गणितीय संक्रियाएँ करने की अनुमति नहीं है।)

(112, 327, 215), (98, 254, 156)

Ans  1. (105, 347, 322)

2. (126, 268, 142)

3. (108, 209, 184)

4. (281, 490, 309)

Question ID : 264330145298

Option 1 ID : 264330569447

Option 2 ID : 264330569450

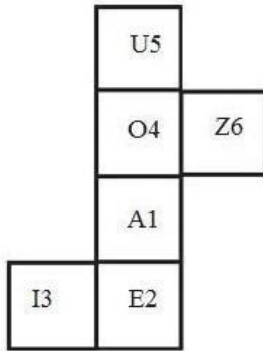
Option 3 ID : 264330569448

Option 4 ID : 264330569449

Status : Answered

Chosen Option : 2

Q.39 यदि दी गई शीट को मोड़कर एक घन बनाया जाए, तो निर्मित घन में अक्षर-संख्या 'A1' वाले फलक के विपरीत फलक पर कौन सी अक्षर-संख्या होगी? (एलिमेंट केवल फलकों को इंगित करने के लिए दिखाए गए हैं।)



Ans  1. E2

2. U5

3. I3

4. O4

Question ID : 26433065674

Option 1 ID : 264330257258

Option 2 ID : 264330257257

Option 3 ID : 264330257259

Option 4 ID : 264330257256

Status : Answered

Chosen Option : 2

Q.40 उस विकल्प का चयन करें, जो उन अक्षरों को निरूपित करता है, जिन्हें क्रमिक रूप से नीचे दिए गए रिक्त स्थानों में रखे जाने पर वे अक्षर-श्रृंखला को पूर्ण करेंगे।  
a, b, a, b, b, \_, a, b, a, b, \_, a, a, b, a, b, b, \_





- Ans
- 1. b, a, b
  - 2. b, b, b
  - 3. a, b, a
  - 4. a, a, a

Question ID : 264330106617  
Option 1 ID : 264330418772  
Option 2 ID : 264330418770  
Option 3 ID : 264330418769  
Option 4 ID : 264330418771  
Status : Answered  
Chosen Option : 3

Q.41 उस वेन आरेख का चयन करें, जो निम्नलिखित वर्गों के बीच के संबंध को सर्वोत्तम ढंग से दर्शाता है।

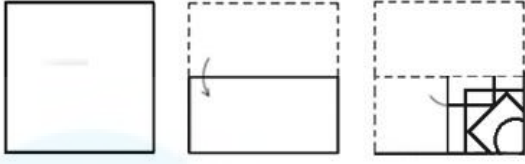
जानवर, जंगल, जंगली जानवर

Ans

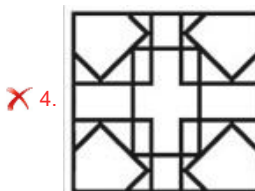
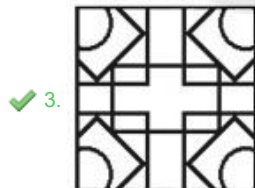
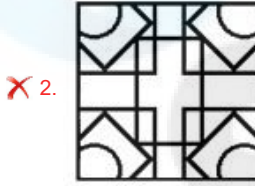
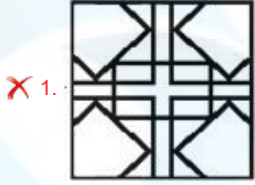
- 1. 
- 2. 
- 3. 
- 4. 

Question ID : 264330145359  
Option 1 ID : 264330569691  
Option 2 ID : 264330569694  
Option 3 ID : 264330569692  
Option 4 ID : 264330569693  
Status : Marked For Review  
Chosen Option : 3

Q.42 नीचे आकृति में दिखाए गए अनुसार एक कागज को मोड़ा और काटा जाता है।  
खोले जाने पर यह कैसा दिखेगा?



Ans



Question ID : 26433040798  
Option 1 ID : 264330159670  
Option 2 ID : 264330159668  
Option 3 ID : 264330159667  
Option 4 ID : 264330159669  
Status : Answered  
Chosen Option : 3

Q.43 छः विद्यार्थी मीरा, जिज्ञासा, तरुण, नैना, शांभवी और अवनी एक वृत्ताकार मेज के परितः केंद्र की ओर मुख करके बैठे हैं (उनका इसी क्रम में होना अनिवार्य नहीं है)। शांभवी, जिज्ञासा और अवनी दोनों के ठीक बगल में है। तरुण, जिज्ञासा के बाईं ओर तीसरे स्थान पर बैठा है। मीरा, अवनी के दाईं ओर दूसरे स्थान पर बैठी है।  
जिज्ञासा के बाईं ओर दूसरे स्थान पर कौन बैठा/बैठी है?

- Ans
- ✓ 1. मीरा
  - ✗ 2. अवनी
  - ✗ 3. नैना
  - ✗ 4. तरुण

Question ID : 26433082277  
Option 1 ID : 264330322943  
Option 2 ID : 264330322941  
Option 3 ID : 264330322944  
Option 4 ID : 264330322942  
Status : Answered  
Chosen Option : 1

Q.44 दो कथनों के बाद तीन निष्कर्ष I, II और III दिए गए हैं। कथनों को सत्य मानते हुए, भले ही वे सामान्य रूप से ज्ञात तथ्यों से भिन्न प्रतीत होते हों, यह निर्णय लीजिए कि कौन-से निष्कर्ष कथनों का तार्किक रूप से पालन करते हैं?

कथन:

सभी चाबियां ताले हैं।

कोई दरवाजा ताला नहीं है।

निष्कर्ष:

I. कुछ ताले दरवाजे हैं।

II. कुछ ताले चाबियां हैं।

III. कोई भी चाबी दरवाजा नहीं है।

- Ans
- 1. निष्कर्ष I और II दोनों पालन करते हैं।
  - 2. निष्कर्ष I, II और III पालन करते हैं।
  - 3. निष्कर्ष II और III दोनों पालन करते हैं।
  - 4. निष्कर्ष I और III दोनों पालन करते हैं।

Question ID : 26433056067

Option 1 ID : 264330219252

Option 2 ID : 264330219255

Option 3 ID : 264330219254

Option 4 ID : 264330219253

Status : Answered

Chosen Option : 3

Q.45 उस विकल्प का चयन कीजिये जो तीसरे पद से उसी प्रकार संबंधित है जैसे दूसरा पद पहले पद से और छठा पद पांचवें पद से संबंधित है।  
25 : 18 :: 37 : ? :: 49 : 36

- Ans
- 1. 27
  - 2. 29
  - 3. 32
  - 4. 30

Question ID : 26433079159

Option 1 ID : 264330310641

Option 2 ID : 264330310643

Option 3 ID : 264330310640

Option 4 ID : 264330310642

Status : Answered

Chosen Option : 1

Q.46 निम्नलिखित में से कौन-सी संख्या दी गई श्रृंखला में प्रश्न-चिह्न (?) का स्थान लेगी?

69, 65, 67, 63, ?, 61

- Ans
- 1. 65
  - 2. 64
  - 3. 60
  - 4. 62

Question ID : 26433091008

Option 1 ID : 264330357444

Option 2 ID : 264330357443

Option 3 ID : 264330357442

Option 4 ID : 264330357441

Status : Answered

Chosen Option : 1

Q.47 एक निश्चित कूट भाषा में "BLOCK" को LBCON के रूप में कूटबद्ध किया जाता है, और "CABIN" को ACIBQ के रूप में कूटबद्ध किया जाता है। उसी कूट भाषा में "SUITE" को किस प्रकार कूटबद्ध किया जाएगा?

- Ans
- 1. USHTI
  - 2. UTSEH
  - 3. ETHUS
  - 4. USTIH

Question ID : 264330132205  
Option 1 ID : 264330517917  
Option 2 ID : 264330517918  
Option 3 ID : 264330517915  
Option 4 ID : 264330517916  
Status : Answered  
Chosen Option : 4

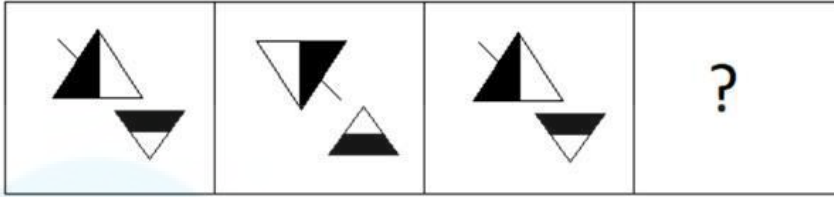
Q.48 उस सही विकल्प का चयन कीजिए, जो दिए गए शब्दों के उसी क्रम में व्यवस्थापन को दर्शाता है, जिस क्रम में वे अंग्रेजी शब्दकोश में मौजूद होते हैं।

1. Warehouse
2. Warden
3. Warship
4. Wardrobe
5. Warrant
6. Warfare

- Ans
- 1. 2, 4, 6, 5, 1, 3
  - 2. 4, 2, 1, 6, 5, 3
  - 3. 2, 4, 1, 5, 6, 3
  - 4. 2, 4, 1, 6, 5, 3

Question ID : 264330145381  
Option 1 ID : 264330569779  
Option 2 ID : 264330569781  
Option 3 ID : 264330569782  
Option 4 ID : 264330569780  
Status : Answered  
Chosen Option : 4

Q.49 निम्नलिखित आकृति श्रृंखला में आगे आने वाली आकृति का चयन करें।

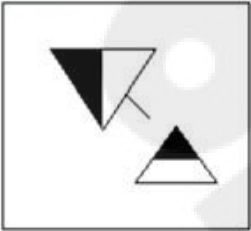


Ans

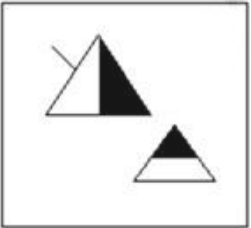
✓ 1.



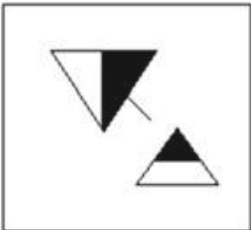
✗ 2.



✗ 3.



✗ 4.



Question ID : 26433087083

Option 1 ID : 264330341974

Option 2 ID : 264330341975

Option 3 ID : 264330341976

Option 4 ID : 264330341973

Status : Marked For Review

Chosen Option : 1

Q.50 यदि '+' का अर्थ '-', '-' का अर्थ 'x', 'x' का अर्थ '+', '+' का अर्थ '+' हो, तो निम्नलिखित समीकरण में प्रश्न चिह्न (?) के स्थान पर क्या आएगा?  
 $39 \times 3 - 11 \div 57 + 29 = ?$

- Ans
- 1. 185
  - 2. 190
  - 3. 163
  - 4. 171

Question ID : 264330126060  
Option 1 ID : 264330493914  
Option 2 ID : 264330493915  
Option 3 ID : 264330493912  
Option 4 ID : 264330493913  
Status : Answered  
Chosen Option : 4

Section : General Knowledge and General Awareness

Q.1 मणिपुरी शास्त्रीय नृत्य के मर्दाना पहलू (masculine aspect) को किसके रूप में जाना जाता है?

- Ans
- 1. परेंग (Parang)
  - 2. रास (Ras)
  - 3. चोलोम (Choloms)
  - 4. माईबा (Maiba)

Question ID : 26433092386  
Option 1 ID : 264330362835  
Option 2 ID : 264330362834  
Option 3 ID : 264330362833  
Option 4 ID : 264330362836  
Status : Answered  
Chosen Option : 3

Q.2 भारतीय संविधान के किन अनुच्छेदों में मूल अधिकारों का वर्णन है?

- Ans
- 1. अनुच्छेद 5 से 11
  - 2. अनुच्छेद 12 से 35
  - 3. अनुच्छेद 36 से 51
  - 4. अनुच्छेद 52 से 62

Question ID : 264330111520  
Option 1 ID : 264330438165  
Option 2 ID : 264330438166  
Option 3 ID : 264330438167  
Option 4 ID : 264330438168  
Status : Answered  
Chosen Option : 2

Q.3 पश्चिमी घाट में स्थानांतरी कृषि (shifting agriculture) को \_\_\_\_\_ के नाम से जाना जाता है।

- Ans
- 1. कोमन
  - 2. दहिया
  - 3. वाल्ट्रे
  - 4. कुमारी

Question ID : 264330113261  
Option 1 ID : 264330445129  
Option 2 ID : 264330445131  
Option 3 ID : 264330445132  
Option 4 ID : 264330445130  
Status : Answered  
Chosen Option : 2

Q.4 निम्नलिखित में से किस वर्ष से राजपथ को गणतंत्र दिवस परेड के लिए एक स्थायी स्थल बनाने का निर्णय लिया गया था?

- Ans
- 1. 1958
  - 2. 1951
  - 3. 1955
  - 4. 1959

Question ID : 264330145139  
Option 1 ID : 264330568812  
Option 2 ID : 264330568813  
Option 3 ID : 264330568811  
Option 4 ID : 264330568814  
Status : Answered  
Chosen Option : 2

Q.5 थियोसोफिकल सोसायटी के संस्थापक कौन थे/थें?

- Ans
- 1. एच.पी. ब्लावात्स्की और कर्नल ओल्कोट
  - 2. मैडम भीकाजी कामा
  - 3. एनी बेसेंट
  - 4. चार्ल्स डब्ल्यू. लीडबीटर और एमिली लुट्यन्स

Question ID : 26433099178  
Option 1 ID : 264330389328  
Option 2 ID : 264330389327  
Option 3 ID : 264330389325  
Option 4 ID : 264330389326  
Status : Answered  
Chosen Option : 3

Q.6 घनकांत बोरा बोरबायन (Ghanakanta Bora Borbayan) को निम्नलिखित में से किस क्षेत्र में उनके योगदान के लिए पद्म श्री पुरस्कार से सम्मानित किया गया है?

- Ans
- 1. बागुरुम्बा
  - 2. भोरताल
  - 3. सत्रीया
  - 4. छऊ

Question ID : 264330145161  
Option 1 ID : 264330568899  
Option 2 ID : 264330568900  
Option 3 ID : 264330568901  
Option 4 ID : 264330568902  
Status : Not Answered  
Chosen Option : --

Q.7 स्मार्ट सिटी मिशन के शुभारंभ के समय, इस योजना के तहत कितने शहरों को शामिल करने का प्रस्ताव था?

- Ans  1. 100  
 2. 75  
 3. 50  
 4. 25

Question ID : 26433064565  
Option 1 ID : 264330252855  
Option 2 ID : 264330252854  
Option 3 ID : 264330252853  
Option 4 ID : 264330252852  
Status : Answered  
Chosen Option : 1

Q.8 ठुमरी संगीत निम्नलिखित में से किस नृत्य शैली से संबंधित है?

- Ans  1. सत्रीया  
 2. कथक  
 3. भरतनाट्यम्  
 4. कथकली

Question ID : 26433064645  
Option 1 ID : 264330253174  
Option 2 ID : 264330253175  
Option 3 ID : 264330253172  
Option 4 ID : 264330253173  
Status : Not Answered  
Chosen Option : --

Q.9 18वीं शताब्दी में सात वर्षों का युद्ध ब्रिटेन और \_\_\_\_\_ के बीच लड़ा गया था।

- Ans  1. स्पेन  
 2. फ्रांस  
 3. पुर्तगाल  
 4. जर्मनी

Question ID : 264330165387  
Option 1 ID : 264330648630  
Option 2 ID : 264330648628  
Option 3 ID : 264330648629  
Option 4 ID : 264330648627  
Status : Answered  
Chosen Option : 2

Q.10 आप उस ग्लाइकोकैलिक्स (Glycocalyx) को क्या कहेंगे, जो एक ढीली आच्छद प्रकार की है?

- Ans  1. कैप्सूल (Capsule)  
 2. नलिका (Tubules)  
 3. अवपंक परत (Slime layer)  
 4. मीसोसोम (Mesosomes)

Question ID : 264330145212  
Option 1 ID : 264330569104  
Option 2 ID : 264330569106  
Option 3 ID : 264330569103  
Option 4 ID : 264330569105  
Status : Not Answered  
Chosen Option : --

Q.11 भारतीय संविधान का कौन-सा अनुच्छेद राज्य विधानमंडल के संबंध में मंत्रियों के अधिकारों को संदर्भित करता है?

- Ans
- 1. अनुच्छेद 177
  - 2. अनुच्छेद 175
  - 3. अनुच्छेद 176
  - 4. अनुच्छेद 178

Question ID : 264330114503  
Option 1 ID : 264330450099  
Option 2 ID : 264330450097  
Option 3 ID : 264330450098  
Option 4 ID : 264330450100  
Status : Not Answered  
Chosen Option : --

Q.12 भारत की जनगणना 2011 के अनुसार, निम्नलिखित राज्यों में से किस राज्य की कुल जनसंख्या में हिंदू जनसंख्या का प्रतिशत सर्वाधिक है?

- Ans
- 1. हरियाणा
  - 2. उत्तर प्रदेश
  - 3. हिमाचल प्रदेश
  - 4. मध्य प्रदेश

Question ID : 264330166808  
Option 1 ID : 264330654269  
Option 2 ID : 264330654268  
Option 3 ID : 264330654267  
Option 4 ID : 264330654270  
Status : Answered  
Chosen Option : 3

Q.13 1928 में निष्पादित कौन-सा समीकरण एक सापेक्ष गति पर गतिमान इलेक्ट्रॉन के व्यवहार का वर्णन करने के लिए क्वान्टम सिद्धांत और विशिष्ट आपेक्षिकता को संयोजित करता है?

- Ans
- 1. हेल्महोल्त्ज़ समीकरण (Helmholtz equation)
  - 2. डायराक समीकरण (Dirac equation)
  - 3. बरनौली समीकरण (Bernoulli's equation)
  - 4. लोरेन्ज़ समीकरण (Lorentz equation)

Question ID : 264330141666  
Option 1 ID : 264330554986  
Option 2 ID : 264330554984  
Option 3 ID : 264330554985  
Option 4 ID : 264330554983  
Status : Not Answered  
Chosen Option : --

Q.14 रासायनिक सूत्र  $C_6H_4(OH)_2$  वाले बेंजीनडियोल (benzenediol) के 1,3-आइसोमर (या मेटा-आइसोमर) का नाम क्या है?

- Ans
- 1. कैटेकोल (Catechol)
  - 2. रेसोर्सिनॉल (Resorcinol)
  - 3. ग्लिसरॉल (Glycerol)
  - 4. m-क्रिसोल (m-Cresol)

Question ID : 264330110054

Option 1 ID : 264330432494

Option 2 ID : 264330432495

Option 3 ID : 264330432493

Option 4 ID : 264330432496

Status : Not Answered

Chosen Option : --

Q.15 निम्नलिखित में से कौन-सा एक अप्रत्यक्ष कर है?

- Ans
- 1. मृत्यु शुल्क
  - 2. ब्याज कर
  - 3. पूंजी लाभ कर
  - 4. वस्तु एवं सेवा कर

Question ID : 264330145244

Option 1 ID : 264330569233

Option 2 ID : 264330569232

Option 3 ID : 264330569231

Option 4 ID : 264330569234

Status : Answered

Chosen Option : 4

Q.16 लावणी निम्नलिखित में से किस राज्य का पारंपरिक नृत्य है?

- Ans
- 1. महाराष्ट्र
  - 2. उत्तर प्रदेश
  - 3. मध्य प्रदेश
  - 4. हिमाचल प्रदेश

Question ID : 264330164796

Option 1 ID : 264330646312

Option 2 ID : 264330646311

Option 3 ID : 264330646313

Option 4 ID : 264330646314

Status : Answered

Chosen Option : 1

Q.17 बॉल बैडमिंटन के खेल में गेंद का रंग क्या होना चाहिए?

- Ans
- 1. लाल
  - 2. पीला
  - 3. गुलाबी
  - 4. हरा

Question ID : 26433059449

Option 1 ID : 264330232665

Option 2 ID : 264330232667

Option 3 ID : 264330232664

Option 4 ID : 264330232666

Status : Marked For Review

Chosen Option : 4

Q.18 भारत में स्थित एक प्रसिद्ध मीनार और उसके निर्माण वर्ष के गलत युग्म का चयन कीजिए।

- Ans
- 1. चार मीनार-1664 ई.
  - 2. शहीद मीनार-1828 ई.
  - 3. चांद मीनार-1435 ई.
  - 4. झूलता मीनार-1452 ई.

Question ID : 264330141821  
Option 1 ID : 264330555604  
Option 2 ID : 264330555606  
Option 3 ID : 264330555603  
Option 4 ID : 264330555605  
Status : Not Answered  
Chosen Option : --

Q.19 हॉकी की गेंद का मानक वजन कितना होता है?

- Ans
- 1. 160 gm - 156 gm
  - 2. 162 gm - 156 gm
  - 3. 163 gm - 156 gm
  - 4. 161 gm - 156 gm

Question ID : 264330118470  
Option 1 ID : 264330465281  
Option 2 ID : 264330465283  
Option 3 ID : 264330465284  
Option 4 ID : 264330465282  
Status : Not Answered  
Chosen Option : --

Q.20 शस्त्र अधिनियम \_\_\_\_\_ में पारित किया गया था, जिसने भारतीयों को उचित लाइसेंस के बिना हथियार रखने से रोका था।

- Ans
- 1. 1897
  - 2. 1878
  - 3. 1912
  - 4. 1909

Question ID : 264330112335  
Option 1 ID : 264330441427  
Option 2 ID : 264330441425  
Option 3 ID : 264330441426  
Option 4 ID : 264330441428  
Status : Not Answered  
Chosen Option : --

Q.21 दिहांग और लोहित निम्नलिखित में से किस क्षेत्र की नदियाँ हैं?

- Ans
- 1. सिक्किम और मणिपुर
  - 2. जम्मू कश्मीर
  - 3. पंजाब और हिमाचल
  - 4. अरुणाचल प्रदेश और असम

Question ID : 264330119796  
Option 1 ID : 264330469462  
Option 2 ID : 264330469460  
Option 3 ID : 264330469459  
Option 4 ID : 264330469461  
Status : Answered  
Chosen Option : 4

Q.22 पृथ्वी के इतिहास के कितने प्रतिशत समय तक पृथ्वी पर जीव (Living organisms) मौजूद रहे हैं?

Ans  1. 80%

2. 40%

3. 20%

4. 60%

Question ID : 26433064467

Option 1 ID : 264330252460

Option 2 ID : 264330252462

Option 3 ID : 264330252463

Option 4 ID : 264330252461

Status : Not Answered

Chosen Option : --

Q.23 निम्नलिखित में से किस वैज्ञानिक ने अष्टक सिद्धांत (Law of Octaves) प्रदान किया?

Ans  1. मैरी क्यूरी

2. माइकल फैराडे

3. गैलीलियो गैलिली

4. जॉन न्यूलैंड्स

Question ID : 264330131108

Option 1 ID : 264330513546

Option 2 ID : 264330513545

Option 3 ID : 264330513544

Option 4 ID : 264330513543

Status : Answered

Chosen Option : 4

Q.24 निम्नलिखित में से कौन बहमनी सुल्तान क्रूरता के लिए विख्यात था और इसलिए उसे 'ज़ालिम' की उपाधि मिली?

Ans  1. मुजाहिद शाह

2. हुमायूँ

3. फिरोज शाह

4. अहमद शाह

Question ID : 264330109014

Option 1 ID : 264330428336

Option 2 ID : 264330428334

Option 3 ID : 264330428335

Option 4 ID : 264330428333

Status : Not Answered

Chosen Option : --

Q.25 भारत ने किस पंचवर्षीय योजना से अपनी औद्योगीकरण की यात्रा की शुरुआत की थी?

- Ans
- 1. चौथी पंचवर्षीय योजना
  - 2. दूसरी पंचवर्षीय योजना
  - 3. तीसरी पंचवर्षीय योजना
  - 4. पांचवी पंचवर्षीय योजना

Question ID : 264330145231  
Option 1 ID : 264330569181  
Option 2 ID : 264330569182  
Option 3 ID : 264330569180  
Option 4 ID : 264330569179  
Status : Answered  
Chosen Option : 2

Q.26 भारतीय संविधान के किस अनुच्छेद में उल्लेख है कि भारत के राज्यक्षेत्र के सभी प्राधिकारी - दीवानी (सिविल) और न्यायिक (ज्यूडिशियल) - उच्चतम न्यायालय की सहायता में कार्य करेंगे?

- Ans
- 1. अनुच्छेद 141
  - 2. अनुच्छेद 143
  - 3. अनुच्छेद 144
  - 4. अनुच्छेद 142

Question ID : 264330164950  
Option 1 ID : 264330646927  
Option 2 ID : 264330646929  
Option 3 ID : 264330646930  
Option 4 ID : 264330646928  
Status : Not Answered  
Chosen Option : --

Q.27 हरित क्रांति के संबंध में निम्नलिखित में से कौन से कथन सही हैं?

- I. हरित क्रांति की शुरुआत 1960 के दशक में हुई।
- II. बीज की उच्च-उपज वाली किस्मों (HYV) ने हरित क्रांति को सफल बनाया।
- III. मवेशियों का व्यापक उपयोग भी हरित क्रांति का एक घटक था।

- Ans
- 1. केवल II
  - 2. केवल II और III
  - 3. केवल I
  - 4. केवल I और II

Question ID : 264330141499  
Option 1 ID : 264330554332  
Option 2 ID : 264330554333  
Option 3 ID : 264330554331  
Option 4 ID : 264330554334  
Status : Not Answered  
Chosen Option : --

Q.28 'ड्रिबल (Dribble)' शब्द आम तौर पर \_\_\_\_\_ से संबंधित है।

- Ans
- 1. टेनिस
  - 2. बेसबॉल
  - 3. क्रिकेट
  - 4. बास्केटबॉल

Question ID : 264330109729  
Option 1 ID : 264330431196  
Option 2 ID : 264330431193  
Option 3 ID : 264330431195  
Option 4 ID : 264330431194  
Status : Not Answered  
Chosen Option : --

Q.29 भारत में सल्तनत काल के निम्नलिखित शास्त्रीय कवियों में से किसने कव्वाली को लोकप्रिय बनाया था, जो संगीत की एक ऐसी शैली है, जिसका नाम अरबी शब्द 'कौल (qaul)' से लिया गया है, जिसका अर्थ है 'बोलना'?

- Ans
- 1. निज़ामुद्दीन औलिया
  - 2. शम्सुद्दीन मुहम्मद हाफिज
  - 3. अमीर खुसरो
  - 4. जलाल-उद्-दीन मुहम्मद रूमी

Question ID : 26433074824  
Option 1 ID : 264330293385  
Option 2 ID : 264330293387  
Option 3 ID : 264330293384  
Option 4 ID : 264330293386  
Status : Answered  
Chosen Option : 1

Q.30 निम्नलिखित पुस्तकों में से कौन-सी भारतीय राजनेता एल के आडवाणी की आत्मकथा है?

- Ans
- 1. विक्स ऑफ फायर : एन ऑटोबायोग्राफी
  - 2. इन पर्स्यूट ऑफ जस्टिस : एन ऑटोबायोग्राफी
  - 3. माई कंट्री माई लाइफ
  - 4. माय टाइम्स : एन ऑटोबायोग्राफी

Question ID : 264330145179  
Option 1 ID : 264330568974  
Option 2 ID : 264330568973  
Option 3 ID : 264330568972  
Option 4 ID : 264330568971  
Status : Answered  
Chosen Option : 4

Q.31 नीरुस्वामी पिल्लई और राजारतनम पिल्लई किस वाद्य-यंत्र के प्रतिपादक (exponents) हैं?

- Ans
- 1. सारंगी
  - 2. मृदंगम
  - 3. मैन्डोलिन
  - 4. नादस्वरन

Question ID : 264330145152  
Option 1 ID : 264330568866  
Option 2 ID : 264330568864  
Option 3 ID : 264330568865  
Option 4 ID : 264330568863  
Status : Not Answered  
Chosen Option : --

Q.32 'महाद्वीपीयता (continentality)' से संबंधित सही कथनों का चयन कीजिए।

- a. समुद्र जलवायु पर मध्यम प्रभाव डालता है।
- b. जैसे-जैसे समुद्र से दूरी बढ़ती है, लोगों को चरम मौसम स्थितियों का अनुभव होता है।
- c. जैसे-जैसे कोई पृथ्वी की सतह से अधिक ऊँचाई वाले स्थानों की ओर जाता है, वायुमंडल कम सघन होता जाता है, और तापमान कम होता जाता है।

- Ans
- 1. a और b
  - 2. केवल c
  - 3. b और c
  - 4. a और c

Question ID : 264330169314

Option 1 ID : 264330664036

Option 2 ID : 264330664035

Option 3 ID : 264330664037

Option 4 ID : 264330664038

Status : Not Answered

Chosen Option : --

Q.33 दिल्ली के निम्नलिखित में से किस सुल्तान को सुल्तान बनने से पहले अमीर-ए-तुलुक (मास्टर ऑफ़ सेरेमनीज़) नियुक्त किया गया था?

- Ans
- 1. मुहम्मद बिन तुगलक
  - 2. बलबन
  - 3. इल्तुतमिश
  - 4. अलाउद्दीन खिलजी

Question ID : 264330165362

Option 1 ID : 264330648527

Option 2 ID : 264330648528

Option 3 ID : 264330648530

Option 4 ID : 264330648529

Status : Answered

Chosen Option : 3

Q.34 कोपेन के वर्गीकरण के अनुसार, किन क्षेत्रों में कम अवधि के ग्रीष्मकाल के साथ ठंडी आर्द्र शीत ऋतु (cold humid winter) होती है?

- Ans
- 1. पश्चिमी राजस्थान
  - 2. गोवा के दक्षिण में
  - 3. अरुणाचल प्रदेश
  - 4. उत्तरी मध्य प्रदेश

Question ID : 264330145192

Option 1 ID : 264330569023

Option 2 ID : 264330569025

Option 3 ID : 264330569024

Option 4 ID : 264330569026

Status : Answered

Chosen Option : 3

Q.35 निम्नलिखित में से किस राज्य में एक वर्ष में ऑस, बोरो और अमन, धान की फसलें उगाई जाती हैं?

- Ans
- 1. पंजाब
  - 2. हरियाणा
  - 3. ओडिशा
  - 4. उत्तराखंड

Question ID : 264330163196

Option 1 ID : 264330640096

Option 2 ID : 264330640097

Option 3 ID : 264330640095

Option 4 ID : 264330640098

Status : Answered

Chosen Option : 3

Q.36 निम्नलिखित में से कौन सा आयरन की कमी से होने वाली रक्ताल्पता/एनीमिया (IDA) का प्रकटीकरण नहीं है?

- Ans
- 1. नरम तालु (Soft palate)
  - 2. अंधापन (Blindness)
  - 3. आँखों की नेत्रश्लेष्मला (conjunctiva) का पीलापन
  - 4. सामान्य पांडुता (General pallor)

Question ID : 26433086903

Option 1 ID : 264330341255

Option 2 ID : 264330341256

Option 3 ID : 264330341254

Option 4 ID : 264330341253

Status : Answered

Chosen Option : 2

Q.37 1932 में पॉज़िट्रॉन की खोज किसने की, जो एक ऐसा एक कण है, जिसे 'धनात्मक आवेश धारण किए होने के रूप में वर्णित किया गया है, परंतु उसके द्रव्यमान का परिमाण उसी कोटि का है, जो सामान्यतः एक मुक्त ऋणात्मक इलेक्ट्रॉन का होता है'?

- Ans
- 1. कार्ल एंडरसन
  - 2. अर्नेस्ट रदरफोर्ड
  - 3. नील्स बोर
  - 4. पॉल डिराक

Question ID : 26433055070

Option 1 ID : 264330215266

Option 2 ID : 264330215265

Option 3 ID : 264330215267

Option 4 ID : 264330215264

Status : Answered

Chosen Option : 3

Q.38 निम्नलिखित में से कौन-सा अधिकार 14 वर्ष से कम आयु के बच्चों को खतरनाक कार्यों में नियोजित करने पर रोक लगाता है?

- Ans
- 1. संवैधानिक उपचारों का अधिकार
  - 2. स्वतंत्रता का अधिकार
  - 3. शोषण के विरुद्ध अधिकार
  - 4. समानता का अधिकार

Question ID : 264330116399  
Option 1 ID : 264330457683  
Option 2 ID : 264330457682  
Option 3 ID : 264330457681  
Option 4 ID : 264330457684  
Status : Answered  
Chosen Option : 3

Q.39 कम से कम 3 महीने तक आहार में पर्याप्त विटामिन-सी नहीं लेने के कारण कौन-सी बीमारी होती है, जिसमें कमजोरी, रक्ताल्पता, मसूड़ों की बीमारी और त्वचा संबंधी समस्याएं होती हैं?

- Ans
- 1. बेरीबेरी
  - 2. पेलाग्रा
  - 3. स्कर्वी
  - 4. रिकेट्स

Question ID : 264330145200  
Option 1 ID : 264330569057  
Option 2 ID : 264330569056  
Option 3 ID : 264330569055  
Option 4 ID : 264330569058  
Status : Answered  
Chosen Option : 3

Q.40 2011 की जनगणना के अनुसार, किस राज्य की साक्षरता दर सबसे कम दर्ज की गई?

- Ans
- 1. झारखंड
  - 2. आंध्र प्रदेश
  - 3. बिहार
  - 4. अरुणाचल प्रदेश

Question ID : 264330110658  
Option 1 ID : 264330434910  
Option 2 ID : 264330434912  
Option 3 ID : 264330434911  
Option 4 ID : 264330434909  
Status : Answered  
Chosen Option : 3

Q.41 निम्नलिखित में से किस मौर्य राजा ने श्रवणबेलगोला में आमरण अनशन किया और उसकी मृत्यु हो गई थी?

- Ans  1. चन्द्रगुप्त मौर्य  
 2. अशोक  
 3. बिंदुसार  
 4. दशरथ

Question ID : 264330165560  
Option 1 ID : 264330649319  
Option 2 ID : 264330649321  
Option 3 ID : 264330649320  
Option 4 ID : 264330649322  
Status : Answered  
Chosen Option : 1

Q.42 भारत के संविधान का निम्नलिखित में से कौन सा अनुच्छेद, संघ और राज्यों के लिए लोक सेवा आयोगों की स्थापना का प्रावधान करता है?

- Ans  1. अनुच्छेद 318  
 2. अनुच्छेद 316  
 3. अनुच्छेद 317  
 4. अनुच्छेद 315

Question ID : 264330145262  
Option 1 ID : 264330569306  
Option 2 ID : 264330569304  
Option 3 ID : 264330569305  
Option 4 ID : 264330569303  
Status : Answered  
Chosen Option : 4

Q.43 किसी वस्तु को किसी अक्ष के परितः घुमाने वाले बल के माप को क्या कहा जाता है?

- Ans  1. शक्ति  
 2. अभिकेंद्र बल  
 3. जड़त्व आघूर्ण  
 4. बलाघूर्ण

Question ID : 264330111861  
Option 1 ID : 264330439530  
Option 2 ID : 264330439531  
Option 3 ID : 264330439532  
Option 4 ID : 264330439529  
Status : Marked For Review  
Chosen Option : 2

Q.44 निम्नलिखित में से कौन-सा जीव संघ एपिकॉम्प्लेक्सा (Apicomplexa) से संबंधित है?

- Ans  1. फ़ाइसिलिया (Physalia)  
 2. हाइड्रा (Hydra)  
 3. प्लाज्मोडियम (Plasmodium)  
 4. स्पंज (Sponge)

Question ID : 26433082204  
Option 1 ID : 264330322649  
Option 2 ID : 264330322650  
Option 3 ID : 264330322652  
Option 4 ID : 264330322651  
Status : Answered  
Chosen Option : 2

Q.45 नई दिल्ली में गणतंत्र दिवस परेड के दौरान सलामी कौन लेता है?

- Ans
- 1. राष्ट्रपति
  - 2. राज्यपाल
  - 3. मुख्य न्यायाधीश
  - 4. प्रधानमंत्री

Question ID : 264330164810  
Option 1 ID : 264330646368  
Option 2 ID : 264330646369  
Option 3 ID : 264330646370  
Option 4 ID : 264330646367  
Status : Answered  
Chosen Option : 4

Q.46 बॉल बैडमिंटन में, खिलाड़ी प्रत्येक गेम में किसी भी साइड द्वारा पहले \_\_\_\_\_ के अतिरिक्त अन्य सभी स्कोर करने पर अपने छोर बदल लेते हैं।

- Ans
- 1. 11
  - 2. 27
  - 3. 18
  - 4. 9

Question ID : 26433059450  
Option 1 ID : 264330232669  
Option 2 ID : 264330232671  
Option 3 ID : 264330232670  
Option 4 ID : 264330232668  
Status : Answered  
Chosen Option : 4

Q.47 भारतीय संविधान की द्विसदनात्मक विधायिका (bicameral legislature) क्या है?

- Ans
- 1. यह तीन सदनों वाला विधायी निकाय है।
  - 2. यह दो सदनों वाला विधायी निकाय है।
  - 3. यह एक सदन वाला विधायी निकाय है।
  - 4. यह चार सदनों वाला विधायी निकाय है।

Question ID : 264330118527  
Option 1 ID : 264330465511  
Option 2 ID : 264330465510  
Option 3 ID : 264330465509  
Option 4 ID : 264330465512  
Status : Marked For Review  
Chosen Option : 2

Q.48 देश की जीडीपी (GDP) वृद्धि, बाह्य शेष (external balance) और राजकोषीय शेष (fiscal balance) का आकलन, बजट दस्तावेज के किस भाग में प्रस्तुत किया जाता है?

- Ans
- 1. वृहद आर्थिक रूपरेखा विवरण
  - 2. विनियोग विधेयक
  - 3. राजकोषीय नीति कार्ययोजना विवरण
  - 4. मध्यावधिक राजकोषीय नीति विवरण

Question ID : 264330141436  
Option 1 ID : 264330554081  
Option 2 ID : 264330554082  
Option 3 ID : 264330554080  
Option 4 ID : 264330554079  
Status : Not Answered  
Chosen Option : --

Q.49 "द सोल ऑफ ए बटरफ्लाई: रिफ्लेक्शंस ऑन लाइफ्स जर्नी (The Soul of a Butterfly: Reflections on Life's Journey)" पुस्तक के लेखक कौन हैं?

- Ans  1. मोहम्मद अली  
 2. यूजीन जे बुलार्ड  
 3. जेक लामोट्टा  
 4. रॉबर्टो ड्यूरान

Question ID : 26433071469  
Option 1 ID : 264330280300  
Option 2 ID : 264330280303  
Option 3 ID : 264330280302  
Option 4 ID : 264330280301  
Status : Not Answered  
Chosen Option : --

Q.50 \_\_\_\_\_ नदी में उपयोग करने योग्य जल भंडारण क्षमता सबसे कम है।

- Ans  1. गंगा  
 2. कृष्णा  
 3. ब्रह्मपुत्र  
 4. गोदावरी

Question ID : 264330163238  
Option 1 ID : 264330640264  
Option 2 ID : 264330640265  
Option 3 ID : 264330640266  
Option 4 ID : 264330640263  
Status : Not Answered  
Chosen Option : --

Section : Quantitative Aptitude

Q.1 एक व्यक्ति एक निश्चित दूरी को बाइक से तय करता है। यदि वह उस दूरी का 25% भाग 25 km/h की चाल से, उस दूरी का 50% भाग 50 km/h की चाल से, और शेष दूरी 12.5 km/h की चाल से तय करता है, तो पूरी यात्रा के दौरान उसकी औसत चाल ज्ञात कीजिए।

- Ans  1. 35 km/h  
 2. 30 km/h  
 3. 25 km/h  
 4. 20 km/h

Question ID : 26433063952  
Option 1 ID : 264330250403  
Option 2 ID : 264330250402  
Option 3 ID : 264330250401  
Option 4 ID : 264330250400  
Status : Answered  
Chosen Option : 2

Q.2 एक दुकानदार ने एक वस्तु पर ₹15,000 मूल्य अंकित किया, और उस पर 5%, 10% और 20% की क्रमिक छूटें दी गईं। विक्रय मूल्य कितना होगा?

- Ans
- 1. ₹13,520
  - 2. ₹11,520
  - 3. ₹9,850
  - 4. ₹10,260

Question ID : 264330104400

Option 1 ID : 264330409904

Option 2 ID : 264330409901

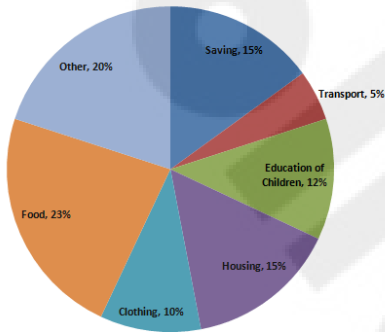
Option 3 ID : 264330409903

Option 4 ID : 264330409902

Status : Answered

Chosen Option : 4

Q.3 दिए गए पाई-चार्ट का अध्ययन करें और निम्नलिखित प्रश्न का उत्तर दें।  
पाई-चार्ट में वर्ष 2021 के दौरान विभिन्न मदों में एक परिवार द्वारा किए गए खर्च और उनकी बचत को दर्शाया गया है।



यदि वर्ष की कुल आय ₹1,00,000 थी, तो आवास और परिवहन के बीच खर्चों में अंतर (₹ में) कितना था?

Food - भोजन Clothing - वस्त्र Housing - आवास Education of children - बच्चों की शिक्षा Saving - बचत Other - अन्य  
Transport - परिवहन

- Ans
- 1. 10,500
  - 2. 9,000
  - 3. 10,000
  - 4. 9,500

Question ID : 264330163476

Option 1 ID : 264330641166

Option 2 ID : 264330641163

Option 3 ID : 264330641165

Option 4 ID : 264330641164

Status : Answered

Chosen Option : 3

Q.4 दो प्रतिच्छेदी वृत्तों की उभयनिष्ठ जीवा की लंबाई 24 cm है। यदि वृत्तों के व्यास 30 cm और 26 cm हैं, तो केंद्रों के बीच की दूरी (cm में) \_\_\_\_\_ होगी।

- Ans
- 1. 14 cm
  - 2. 16 cm
  - 3. 12 cm
  - 4. 18 cm

Question ID : 264330170155

Option 1 ID : 264330667298

Option 2 ID : 264330667296

Option 3 ID : 264330667295

Option 4 ID : 264330667297

Status : Answered

Chosen Option : 1

Q.5 दिए गए व्यंजक का मान क्या होगा?

$$(x - 2y)(y - 3x) + (x + y)(x - y) + (x - 3y)(2x + y)$$

- Ans
- 1.  $2y(x + 3y)$
  - 2.  $2x(x + 3y)$
  - 3.  $2y(x - 3y)$
  - 4.  $2x(x - 3y)$

Question ID : 264330157774

Option 1 ID : 264330618458

Option 2 ID : 264330618457

Option 3 ID : 264330618456

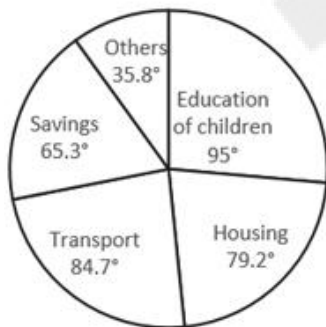
Option 4 ID : 264330618455

Status : Answered

Chosen Option : 4

Q.6 दिए गए पाई-चार्ट का ध्यानपूर्वक अध्ययन कीजिए, और निम्नलिखित प्रश्न का उत्तर दीजिए।  
एक महीने में एक परिवार के व्यय का डिग्री-वार विवरण

Total Amount Spent In a  
Month = ₹56800.



Total Amount Spent in a Month = एक महीने में खर्च की गई कुल राशि

Others = अन्य

Education of Children = बच्चों की शिक्षा

Housing = आवास

Transport = परिवहन

Savings = बचत

परिवार द्वारा आवास पर कितनी राशि खर्च की गई है?

- Ans
- 1. ₹11,814
  - 2. ₹6,248
  - 3. ₹12,496
  - 4. ₹10,615

Question ID : 264330165434

Option 1 ID : 264330648815

Option 2 ID : 264330648818

Option 3 ID : 264330648816

Option 4 ID : 264330648817

Status : Answered

Chosen Option : 3

Q.7 आयुष एक राशि का 25% बीमा पॉलिसी पर, 26% भोजन पर, 23% बच्चों की शिक्षा पर, और 19% मनोरंजन पर खर्च करता है। वह शेष ₹26,600 बैंक में जमा करता है। वह भोजन और मनोरंजन पर कुल-मिलाकर कुल कितनी राशि (₹में) खर्च करता है?

Ans ✓ 1. 1,71,000

✗ 2. 1,95,000

✗ 3. 1,83,000

✗ 4. 1,62,000

Question ID : 264330158256

Option 1 ID : 264330620385

Option 2 ID : 264330620383

Option 3 ID : 264330620384

Option 4 ID : 264330620386

Status : Answered

Chosen Option : 1

Q.8 एक वस्तु 25% की छूट पर बेची जाती है, और नकद भुगतान पर 28% की अतिरिक्त छूट अनुमत्य है। यदि रामेंद्र ने ₹10,800 नकद देकर वह वस्तु खरीदी, तो उस वस्तु का अंकित मूल्य कितना था?

Ans ✓ 1. ₹20,000

✗ 2. ₹20,800

✗ 3. ₹18,000

✗ 4. ₹19,800

Question ID : 264330165524

Option 1 ID : 264330649177

Option 2 ID : 264330649178

Option 3 ID : 264330649175

Option 4 ID : 264330649176

Status : Answered

Chosen Option : 1

Q.9 निम्नलिखित व्यंजक का मान क्या होगा?

$$b + 2a - [(3b + a) - (2a + b) + 2a] - a$$

Ans ✗ 1. b

✓ 2. - b

✗ 3. - a

✗ 4. a

Question ID : 264330157761

Option 1 ID : 264330618403

Option 2 ID : 264330618404

Option 3 ID : 264330618406

Option 4 ID : 264330618405

Status : Answered

Chosen Option : 2

Q.10 यदि  $\sin\theta + \cos\theta = \sqrt{2} \cos\theta$  है, तो  $\frac{\sin\theta - \cos\theta}{\sin\theta}$  ज्ञात कीजिए।

- Ans
- ✓ 1.  $-\sqrt{2}$
  - ✗ 2. 1
  - ✗ 3. -1
  - ✗ 4.  $\sqrt{2}$

Question ID : 264330158420  
Option 1 ID : 264330621042  
Option 2 ID : 264330621039  
Option 3 ID : 264330621040  
Option 4 ID : 264330621041  
Status : Answered  
Chosen Option : 1

Q.11 यदि दो संख्याओं का योग 60 है, और उनके महत्तम समापवर्तक (HCF) और लघुत्तम समापवर्त्य (LCM) क्रमशः 5 और 60 हैं, तो संख्याओं के व्युत्क्रमों का योग क्या होगा?

- Ans
- ✗ 1.  $\frac{1}{11}$
  - ✗ 2.  $\frac{1}{4}$
  - ✗ 3.  $\frac{1}{6}$
  - ✓ 4.  $\frac{1}{5}$

Question ID : 26433096373  
Option 1 ID : 264330378232  
Option 2 ID : 264330378229  
Option 3 ID : 264330378231  
Option 4 ID : 264330378230  
Status : Answered  
Chosen Option : 4

Q.12 एक व्यक्ति की मासिक आय और व्यय का अनुपात 7 : 3 है। यदि उसका व्यय ₹5,400 है, तो उसकी मासिक आय ज्ञात कीजिए।

- Ans
- ✓ 1. ₹12,600
  - ✗ 2. ₹13,300
  - ✗ 3. ₹11,500
  - ✗ 4. ₹10,400

Question ID : 264330145070  
Option 1 ID : 264330568537  
Option 2 ID : 264330568538  
Option 3 ID : 264330568536  
Option 4 ID : 264330568535  
Status : Answered  
Chosen Option : 1

Q.13 8, 12 और 18 का लघुत्तम समापवर्त्य (LCM) ज्ञात कीजिए।

- Ans  1. 36  
 2. 72  
 3. 24  
 4. 80

Question ID : 264330145079  
Option 1 ID : 264330568572  
Option 2 ID : 264330568573  
Option 3 ID : 264330568571  
Option 4 ID : 264330568574  
Status : Answered  
Chosen Option : 2

Q.14  $2\tan^2 45^\circ + \cos^2 30^\circ - \sin^2 60^\circ$  का मान क्या होगा?

- Ans  1. -2  
 2. 1  
 3. -1  
 4. 2

Question ID : 264330157752  
Option 1 ID : 264330618370  
Option 2 ID : 264330618367  
Option 3 ID : 264330618369  
Option 4 ID : 264330618368  
Status : Answered  
Chosen Option : 4

Q.15 एक वॉशिंग मशीन का मूल्य 3 वर्ष में ₹40,960 से घट कर ₹21,970 हो गया। मूल्यहास की वार्षिक दर ज्ञात कीजिए।

- Ans  1. 25%  
 2. 18.75%  
 3. 16.25%  
 4. 20%

Question ID : 264330145063  
Option 1 ID : 264330568507  
Option 2 ID : 264330568509  
Option 3 ID : 264330568508  
Option 4 ID : 264330568510  
Status : Answered  
Chosen Option : 2

Q.16 प्लास्टिक से बनी एक खोखली बेलनाकार नली 3 cm मोटी है। यदि इसका बाह्य व्यास 20 cm और ट्यूब की लंबाई 49 cm है, तो प्लास्टिक का आयतन ज्ञात कीजिए।

- Ans  1.  $7644 \text{ cm}^3$   
 2.  $7238 \text{ cm}^3$   
 3.  $7546 \text{ cm}^3$   
 4.  $7854 \text{ cm}^3$

Question ID : 264330103644  
Option 1 ID : 264330406884  
Option 2 ID : 264330406882  
Option 3 ID : 264330406881  
Option 4 ID : 264330406883  
Status : Answered  
Chosen Option : 3

Q.17 चार अंकों की वह बड़ी से बड़ी संख्या ज्ञात कीजिए, जो 15, 25, 40 और 75 से विभाज्य है।

- Ans
- 1. 9200
  - 2. 9500
  - 3. 9600
  - 4. 9000

Question ID : 264330145051  
Option 1 ID : 264330568460  
Option 2 ID : 264330568462  
Option 3 ID : 264330568461  
Option 4 ID : 264330568459  
Status : Answered  
Chosen Option : 3

Q.18 दो संख्याओं का महत्तम समापवर्तक (HCF) और लघुत्तम समापवर्त्य (LCM) क्रमशः 9 और 126 है। यदि संख्याओं का अनुपात 2 : 7 है तो बड़ी संख्या ज्ञात कीजिए।

- Ans
- 1. 21
  - 2. 63
  - 3. 77
  - 4. 42

Question ID : 26433063284  
Option 1 ID : 264330247788  
Option 2 ID : 264330247789  
Option 3 ID : 264330247791  
Option 4 ID : 264330247790  
Status : Answered  
Chosen Option : 2

Q.19 किसी वृत्त की जीवा, उसकी त्रिज्या के बराबर है। वृत्त के लघु चाप और दीर्घ चाप पर इस जीवा द्वारा अंतरित कोणों के बीच का अंतर ज्ञात कीजिए।

- Ans
- 1.  $120^\circ$
  - 2.  $60^\circ$
  - 3.  $30^\circ$
  - 4.  $150^\circ$

Question ID : 264330165539  
Option 1 ID : 264330649236  
Option 2 ID : 264330649237  
Option 3 ID : 264330649235  
Option 4 ID : 264330649238  
Status : Answered  
Chosen Option : 3

Q.20 दी गई तालिका का अध्ययन करें और नीचे दिए गए प्रश्न का उत्तर दें।

बच्चों की संख्या	परिवारों की संख्या
0	4
1	22
2	15
3	6
4	2

प्रति परिवार बच्चों की औसत संख्या क्या है?

- Ans
- 1. 1.72
  - 2. 1.47
  - 3. 1.23
  - 4. 1.59

Question ID : 264330145023

Option 1 ID : 264330568350

Option 2 ID : 264330568348

Option 3 ID : 264330568347

Option 4 ID : 264330568349

Status : Answered

Chosen Option : 4

Q.21 धातु की एक गोलाकार गेंद की त्रिज्या 3 cm है। यदि धातु की इस गेंद को पिघलाया जाता है, और इसकी त्रिज्या के आधे के बराबर त्रिज्या वाले x अर्धगोलों के रूप में पुनः ढाला जाता है, तो x का मान ज्ञात कीजिए।

- Ans
- 1. 14
  - 2. 16
  - 3. 15
  - 4. 13

Question ID : 264330103636

Option 1 ID : 264330406850

Option 2 ID : 264330406852

Option 3 ID : 264330406851

Option 4 ID : 264330406849

Status : Marked For Review

Chosen Option : 2

Q.22 दी गई तालिका का अध्ययन करें, और नीचे दिए गए प्रश्न का उत्तर दें।  
निम्न तालिका शैक्षणिक वर्ष 2022-2023 के दौरान भारत के विभिन्न शहरों A, B, C, D और E में विभिन्न पाठ्यक्रमों में विद्यार्थियों की संख्या को दर्शाती है।

शहर	एमबीए	विज्ञान	इंजीनियरिंग	आयुर्विज्ञान	एमसीए	कुल
A	1200	2560	4520	1100	960	10340
B	1350	2650	5100	1050	850	11000
C	1250	2640	4580	1120	750	10340
D	1960	1250	3500	1850	1600	10160
E	1200	2100	3500	960	540	8300

शैक्षणिक वर्ष 2022-2023 के दौरान किस शहर में विद्यार्थियों की संख्या सर्वाधिक थी?

- Ans
- 1. D
  - 2. A
  - 3. C
  - 4. B

Question ID : 264330157714  
Option 1 ID : 264330618218  
Option 2 ID : 264330618215  
Option 3 ID : 264330618217  
Option 4 ID : 264330618216  
Status : Answered  
Chosen Option : 4

Q.23 पाँच अंकों की वह छोटी से छोटी संख्या कौन-सी है, जो 9, 12, 15, 25 और 27 से पूर्णतः विभाज्य है?

- Ans
- 1. 10800
  - 2. 10700
  - 3. 10250
  - 4. 10600

Question ID : 26433064889  
Option 1 ID : 264330254149  
Option 2 ID : 264330254150  
Option 3 ID : 264330254151  
Option 4 ID : 264330254148  
Status : Answered  
Chosen Option : 1

Q.24 एक दुकानदार चीनी को ₹40/kg की दर से बेचता है, जिसे उसने ₹36/kg की दर से खरीदा था। उसकी तौल मशीन खराब है, और बेचते समय उसका वजन मात्र 800 gm तौलती है। उसका प्रतिशत लाभ (2 दशमलव स्थानों तक) \_\_\_\_\_ है।

- Ans
- 1. 38.89%
  - 2. 37.58%
  - 3. 40%
  - 4. 39.28%

Question ID : 26433099045  
Option 1 ID : 264330388819  
Option 2 ID : 264330388820  
Option 3 ID : 264330388817  
Option 4 ID : 264330388818  
Status : Answered  
Chosen Option : 1

Q.25 720 विद्यार्थियों वाले एक स्कूल में, लड़कों और लड़कियों का अनुपात 3 : 5 है। यदि 18 नई लड़कियों को स्कूल में प्रवेश दिया जाता है, तो कितने नए लड़कों को स्कूल में प्रवेश दिया जाना चाहिए, जिससे लड़कों और लड़कियों का अनुपात बदलकर 2 : 3 हो जाए।

Ans  1. 38

2. 42

3. 50

4. 44

Question ID : 264330145047

Option 1 ID : 264330568444

Option 2 ID : 264330568443

Option 3 ID : 264330568446

Option 4 ID : 264330568445

Status : Answered

Chosen Option : 2

Q.26 1200 m की दौड़ में, राकेश 36 सेकंड में, और राजेश 40 सेकंड में अंतिम बिंदु तक पहुंचता है। राकेश, राजेश को कितनी दूरी से हराता है?

Ans  1. 130 m

2. 120 m

3. 150 m

4. 140 m

Question ID : 264330145065

Option 1 ID : 264330568516

Option 2 ID : 264330568515

Option 3 ID : 264330568518

Option 4 ID : 264330568517

Status : Answered

Chosen Option : 2

Q.27 22, 66 और 11 का चतुर्थानुपाती (fourth proportional) ज्ञात कीजिए।

Ans  1. 17

2. 23

3. 39

4. 33

Question ID : 264330104221

Option 1 ID : 264330409187

Option 2 ID : 264330409186

Option 3 ID : 264330409185

Option 4 ID : 264330409188

Status : Answered

Chosen Option : 4

Q.28  $\Delta PQR$ , Q पर इस प्रकार समकोण है, कि  $PQ=(x-y)$ ,  $QR=x$  और  $PR=(x+y)$  हैं। S, QR पर इस प्रकार स्थित एक बिंदु है कि  $QS=PQ$  है। x और y के किसी भी मान के लिए अनुपात QS:SR क्या होगा?

Ans  1. 1 : 2

2. 1 : 3

3. 3 : 1

4. 2 : 1

Question ID : 264330158286

Option 1 ID : 264330620506

Option 2 ID : 264330620504

Option 3 ID : 264330620503

Option 4 ID : 264330620505

Status : Answered

Chosen Option : 3

Q.29 A, B और C एक कार्य क्रमशः 11 दिन, 20 दिन और 55 दिन में पूरा कर सकते हैं। यदि B से शुरू करते हुए, एक-एक दिन छोड़कर बारी बारी से B और C द्वारा A की सहायता की जाती है, तो कार्य कितना जल्दी पूरा किया जा सकता है?

Ans  1. 8 दिन

2.  $9\frac{1}{2}$  दिन

3. 9 दिन

4.  $8\frac{1}{2}$  दिन

Question ID : 26433082415

Option 1 ID : 264330323493

Option 2 ID : 264330323496

Option 3 ID : 264330323495

Option 4 ID : 264330323494

Status : Answered

Chosen Option : 2

Q.30 6 cm व्यास के गोलाकार आकृति वाले कुछ बर्फ के टुकड़ों को एक बेलनाकार कंटेनर में डाला जाता है, कंटेनर में कुछ जूस भरा हुआ है, और बर्फ के टुकड़े इसमें पूरी तरह से डूब जाते हैं। यदि कंटेनर का व्यास 18 cm है, और जूस का स्तर 40 cm बढ़ जाता है, तो कंटेनर में कितने बर्फ के टुकड़े डाले गए हैं?

Ans  1. 95

2. 85

3. 80

4. 90

Question ID : 264330145119

Option 1 ID : 264330568734

Option 2 ID : 264330568733

Option 3 ID : 264330568731

Option 4 ID : 264330568732

Status : Answered

Chosen Option : 4

Q.31 यदि  $\frac{2 \sin A - \cos A}{\sin A + \cos A} = 1$  है, तो  $\cot A$  का मान क्या होगा?

- Ans
- 1.  $\frac{1}{3}$
  - 2. 1
  - 3.  $\frac{1}{2}$
  - 4. 2

Question ID : 264330157750

Option 1 ID : 264330618362

Option 2 ID : 264330618359

Option 3 ID : 264330618361

Option 4 ID : 264330618360

Status : Answered

Chosen Option : 3

Q.32 यदि एक शंकु की तिर्यक ऊंचाई 29 cm और ऊंचाई 20 cm है, तो इसके संपूर्ण पृष्ठीय क्षेत्रफल और आयतन के परिमाणों का अनुपात ज्ञात कीजिए।

- Ans
- 1. 3 : 14
  - 2. 5 : 14
  - 3. 3 : 7
  - 4. 7 : 15

Question ID : 264330145106

Option 1 ID : 264330568679

Option 2 ID : 264330568682

Option 3 ID : 264330568681

Option 4 ID : 264330568680

Status : Answered

Chosen Option : 2

Q.33 राकेश 50 संकाय सदस्यों वाले एक कोचिंग संस्थान को संचालित करता है। 35 संकाय सदस्यों का औसत मासिक वेतन ₹37,500 है। यदि सभी 50 संकाय सदस्यों का औसत मासिक वेतन ₹30,000 पाया गया हो, तो अन्य 15 संकाय सदस्यों का औसत मासिक वेतन (₹में) कितना होगा?

- Ans
- 1. 12,500
  - 2. 13,000
  - 3. 13,500
  - 4. 12,000

Question ID : 264330165667

Option 1 ID : 264330649748

Option 2 ID : 264330649749

Option 3 ID : 264330649750

Option 4 ID : 264330649747

Status : Answered

Chosen Option : 1

Q.34 दी गई तालिका का अध्ययन कीजिए और नीचे दिए गए प्रश्न का उत्तर दीजिए।

तालिका तीन वर्षों के दौरान तीन संगठनों में कर्मचारियों की संख्या दर्शाती है।

संगठन \ वर्ष	2018	2019	2020
P	75	69	85
Q	96	81	74
R	85	63	90

2019 में संगठन P और R में एकसाथ मिलाकर कर्मचारियों की कुल संख्या और 2020 में संगठन Q और R में एकसाथ मिलाकर कर्मचारियों की कुल संख्या के बीच क्रमशः अनुपात क्या है?

- Ans
- 1. 41 : 31
  - 2. 33 : 23
  - 3. 33 : 41
  - 4. 23 : 41

Question ID : 264330158264  
Option 1 ID : 264330620417  
Option 2 ID : 264330620416  
Option 3 ID : 264330620418  
Option 4 ID : 264330620415  
Status : Answered  
Chosen Option : 3

Q.35 मुंबई की एक तेज़ लोकल 150 km की यात्रा के लिए एक धीमी लोकल की तुलना में 45 मिनट कम समय लेती है। यदि तेज़ लोकल की चाल, धीमी लोकल की चाल से 10 km/h अधिक है, तो धीमी लोकल ट्रेन की चाल (km/h में) ज्ञात करें।

- Ans
- 1. 40
  - 2. 30
  - 3. 35
  - 4. 45

Question ID : 264330103988  
Option 1 ID : 264330408255  
Option 2 ID : 264330408253  
Option 3 ID : 264330408254  
Option 4 ID : 264330408256  
Status : Answered  
Chosen Option : 1

Q.36 यदि  $\cot^2\theta = 1 - e^2$  है, तो  $\operatorname{cosec}\theta + \cot^3\theta \sec\theta$  का मान \_\_\_\_\_ है।

- Ans
- ✓ 1.  $(2 - e^2)^{\frac{3}{2}}$
  - ✗ 2.  $(1 - e^2)^{\frac{3}{2}}$
  - ✗ 3.  $(1 - e^2)$
  - ✗ 4.  $(2 - e^2)^{\frac{1}{2}}$

Question ID : 264330145133

Option 1 ID : 264330568788

Option 2 ID : 264330568787

Option 3 ID : 264330568790

Option 4 ID : 264330568789

Status : Answered

Chosen Option : 1

Q.37 अंकिता ने तीन खिलौने बेचे। पहला खिलौना 25% के लाभ पर ₹1,500 में बेचा गया; दूसरा खिलौना 50% की हानि पर ₹2,800 में बेचा गया, और तीसरा खिलौना 25% के लाभ पर ₹3,500 में बेचा गया। उसका कुल प्रतिशत लाभ या हानि ज्ञात कीजिए।

- Ans
- ✗ 1. 15.25% हानि
  - ✗ 2. 18.75% लाभ
  - ✗ 3. 15.25% लाभ
  - ✓ 4. 18.75% हानि

Question ID : 264330131457

Option 1 ID : 264330514932

Option 2 ID : 264330514933

Option 3 ID : 264330514931

Option 4 ID : 264330514934

Status : Answered

Chosen Option : 4

Q.38 8 cm, 9 cm और 12 cm भुजाओं वाले  $\triangle ABC$  में, सबसे बड़े कोण का कोण समद्विभाजक सम्मुख भुजाओं को दो खंडों में विभाजित करता है। छोटे खंड की लंबाई कितनी होगी?

- Ans
- ✗ 1.  $4\frac{11}{17}$  cm
  - ✗ 2.  $3\frac{9}{17}$  cm
  - ✓ 3.  $5\frac{11}{17}$  cm
  - ✗ 4.  $6\frac{13}{17}$  cm

Question ID : 264330170152

Option 1 ID : 264330667286

Option 2 ID : 264330667285

Option 3 ID : 264330667283

Option 4 ID : 264330667284

Status : Answered

Chosen Option : 3

Q.39 यदि अरुण किसी कार्य का  $\frac{2}{3}$  भाग 12 दिनों में पूरा कर सकता है, तो वह उसी कार्य का  $\frac{1}{6}$  भाग कितने दिनों में पूरा करेगा?

- Ans
- 1. 5
  - 2. 4
  - 3. 3
  - 4. 2

Question ID : 264330101377  
Option 1 ID : 264330398054  
Option 2 ID : 264330398055  
Option 3 ID : 264330398056  
Option 4 ID : 264330398053  
Status : Answered  
Chosen Option : 3

Q.40 यदि रवि की आय का 30%, सुरेश की आय के 40% के बराबर है, तो रवि की आय का 50%, सुरेश की आय के कितने प्रतिशत के बराबर होगा?

- Ans
- 1.  $66\frac{2}{3}\%$
  - 2.  $66\frac{1}{3}\%$
  - 3.  $33\frac{1}{3}\%$
  - 4.  $33\frac{2}{3}\%$

Question ID : 264330103394  
Option 1 ID : 264330405881  
Option 2 ID : 264330405882  
Option 3 ID : 264330405883  
Option 4 ID : 264330405884  
Status : Answered  
Chosen Option : 3

Q.41 निम्न तालिका किसी कंपनी द्वारा पिछले कुछ वर्षों में बेची गई विभिन्न प्रकार की बैटरियों की संख्या प्रदान करती है (संख्या सैकड़ा में)।

वर्ष/ बैटरी का प्रकार	7AH	32AH	35AH	55AH
2018	20	30	40	50
2019	40	35	45	45
2020	50	40	40	40
2021	40	50	50	45
2022	45	45	35	55

2021 और 2022 में बेची गई 7AH बैटरियों की संख्या में कितना अंतर है?

- Ans
- 1. 700
  - 2. 300
  - 3. 200
  - 4. 500

Question ID : 264330167252

Option 1 ID : 264330656006

Option 2 ID : 264330656004

Option 3 ID : 264330656003

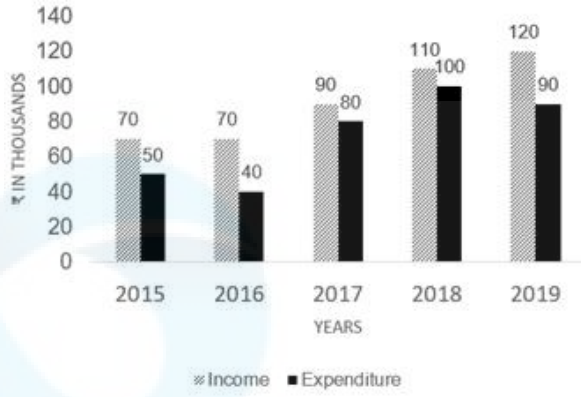
Option 4 ID : 264330656005

Status : Answered

Chosen Option : 4

Q.42 दिया गया ग्राफ एक परिवार की आय (income) और व्यय (Expenditure) को दर्शाता है।

दिए गए ग्राफ का अध्ययन कीजिए, और निम्नलिखित प्रश्न का उत्तर दीजिए।



2017 से 2018 तक परिवार का व्यय \_\_\_\_\_ बढ़ गया।

- Ans
- 1. 25%
  - 2. 20%
  - 3. 11%
  - 4. 22%

Question ID : 264330165431  
Option 1 ID : 264330648803  
Option 2 ID : 264330648806  
Option 3 ID : 264330648805  
Option 4 ID : 264330648804

Status : Answered

Chosen Option : 1

Q.43 दो संख्याओं का लघुत्तम समापवर्त्य (LCM), उनके महत्तम समापवर्तक (HCF) का पांच गुना है। यदि दोनों संख्याओं का गुणनफल 20480 है, तो उनका महत्तम समापवर्तक (HCF) और लघुत्तम समापवर्त्य (LCM) क्रमशः ज्ञात कीजिए।

- Ans
- 1. 48 और 240
  - 2. 64 और 320
  - 3. 46 और 230
  - 4. 56 और 280

Question ID : 26433065040  
Option 1 ID : 264330254754  
Option 2 ID : 264330254752  
Option 3 ID : 264330254753  
Option 4 ID : 264330254755

Status : Answered

Chosen Option : 2

Q.44 A और B समान रूप से कार्यकुशल हैं, और प्रत्येक अकेले किसी कार्य को 36 दिन में पूरा कर सकता है, यदि किसी ने कोई अवकाश न लिया हो। A और B ने इस कार्य पर एकसाथ मिलकर कार्य करना शुरू किया, लेकिन A ने हर पांच दिन कार्य करने के बाद एक दिन का अवकाश लिया, जबकि B ने हर सात दिन कार्य करने के बाद एक दिन का अवकाश लिया। यदि दोनों ने 1 जुलाई 2021 को कार्य शुरू किया था, तो कार्य किस तिथि को पूरा हुआ?

- Ans
- 1. 19 जुलाई 2021
  - 2. 20 जुलाई 2021
  - 3. 22 जुलाई 2021
  - 4. 21 जुलाई 2021

Question ID : 264330114532

Option 1 ID : 264330450215

Option 2 ID : 264330450213

Option 3 ID : 264330450216

Option 4 ID : 264330450214

Status : Answered

Chosen Option : 1

Q.45 एक स्टोर में, अरुण के पास मोबाइल फोन खरीदने के लिए दो विकल्प हैं, या तो वह Rs.2,500 की पूरी राशि का भुगतान कर सकता है, या वह एक किश्त योजना यानी Rs.520 की डाउन पेमेंट, और चार समान किश्तों में मोबाइल खरीद सकता है, जिसमें 25% वार्षिक की दर से साधारण ब्याज वसूल किया जा रहा है। अरुण किश्त योजना पर एक मोबाइल फोन खरीदता है। अरुण की मासिक किश्त कितनी है?

- Ans
- 1. Rs.510
  - 2. Rs.550
  - 3. Rs.520
  - 4. Rs.530

Question ID : 26433063339

Option 1 ID : 264330248011

Option 2 ID : 264330248009

Option 3 ID : 264330248010

Option 4 ID : 264330248008

Status : Not Answered

Chosen Option : --

Q.46 32 cm व्यास वाले एक ठोस धातु के गोले से बनाई जा सकने वाली ऐसी गेंदों की संख्या ज्ञात कीजिए, जिनमें से प्रत्येक का व्यास 4 cm हो।

- Ans
- 1. 1024
  - 2. 64
  - 3. 256
  - 4. 512

Question ID : 264330165654

Option 1 ID : 264330649698

Option 2 ID : 264330649695

Option 3 ID : 264330649697

Option 4 ID : 264330649696

Status : Answered

Chosen Option : 4

Q.47 प्रथम छह अभाज्य संख्याओं का औसत ज्ञात करें।

- Ans
- 1.  $6\frac{1}{3}$
  - 2.  $6\frac{2}{3}$
  - 3.  $6\frac{5}{6}$
  - 4.  $6\frac{1}{6}$

Question ID : 264330104485

Option 1 ID : 264330410242

Option 2 ID : 264330410244

Option 3 ID : 264330410243

Option 4 ID : 264330410241

Status : Answered

Chosen Option : 3

Q.48 125, 250 और 750 का महत्तम समापवर्तक (HCF) ज्ञात कीजिए।

- Ans
- 1. 125
  - 2. 75
  - 3. 25
  - 4. 50

Question ID : 26433065033

Option 1 ID : 264330254727

Option 2 ID : 264330254726

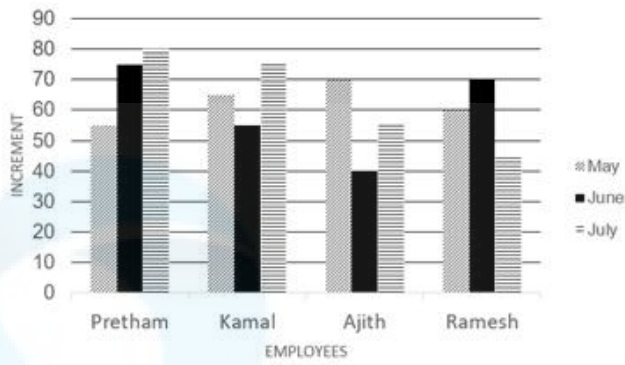
Option 3 ID : 264330254724

Option 4 ID : 264330254725

Status : Answered

Chosen Option : 1

Q.49 दिए गए बार ग्राफ का ध्यानपूर्वक अध्ययन कीजिए, और निम्नलिखित प्रश्न का उत्तर दीजिए। चार कर्मचारियों की मई, जून और जुलाई महीनों में हुई वेतन-वृद्धि (₹में)।



Increment = वेतन-वृद्धि

Employee = कर्मचारी

May = मई

June = जून

July = जुलाई

तीन महीनों में कमल की कुल औसत वेतन-वृद्धि कितनी है?

- Ans
- 1. ₹75
  - 2. ₹70
  - 3. ₹65
  - 4. ₹60

Question ID : 264330165427

Option 1 ID : 264330648789

Option 2 ID : 264330648790

Option 3 ID : 264330648787

Option 4 ID : 264330648788

Status : Not Answered

Chosen Option : --

Q.50 निम्न तालिका वर्ष 2022 में 4 अलग-अलग महीनों में 5 दुकानों द्वारा बेचे गए स्कूटरों की संख्या दर्शाती है।

माह/ दुकान	A	B	C	D	E
जनवरी	212	168	173	182	190
फरवरी	312	250	212	175	182
मार्च	280	275	265	255	245
अप्रैल	270	280	290	305	275

जनवरी में दुकान A और B द्वारा कुल मिलाकर बेचे गए स्कूटरों की कुल संख्या और मार्च में दुकान D और E द्वारा कुल मिलाकर बेचे गए स्कूटरों की कुल संख्या के बीच का अनुपात ज्ञात करें?

- Ans
- 1. 18 : 23
  - 2. 17 : 25
  - 3. 19 : 25
  - 4. 20 : 23

Question ID : 264330167250  
Option 1 ID : 264330655997  
Option 2 ID : 264330655998  
Option 3 ID : 264330655995  
Option 4 ID : 264330655996  
Status : Not Answered  
Chosen Option : --

Section : English Comprehension

Q.1 Select the most appropriate ANTONYM of the underlined word in the given sentence.

All members of the association adhere to a strict code of practice.

- Ans
- 1. observe
  - 2. comply
  - 3. cling
  - 4. flout

Question ID : 264330117116  
Option 1 ID : 264330460534  
Option 2 ID : 264330460533  
Option 3 ID : 264330460536  
Option 4 ID : 264330460535  
Status : Answered  
Chosen Option : 1

**Q.2** Some words in the following sentences have been underlined and given as options.  
Select the option that contains a spelling error.  
Why is everyone so dressed up? What's the occaseon? Is it a wedding?

- Ans
- 1. wedding
  - 2. occaseon
  - 3. everyone
  - 4. dressed

Question ID : 264330121269  
Option 1 ID : 264330475282  
Option 2 ID : 264330475281  
Option 3 ID : 264330475279  
Option 4 ID : 264330475280  
Status : Answered  
Chosen Option : 2

**Q.3** Select the most appropriate ANTONYM for the highlighted word.  
She has a penchant for art and craft.

- Ans
- 1. fear
  - 2. joy
  - 3. anxiety
  - 4. hatred

Question ID : 264330120739  
Option 1 ID : 264330473174  
Option 2 ID : 264330473172  
Option 3 ID : 264330473173  
Option 4 ID : 264330473171  
Status : Answered  
Chosen Option : 4

**Q.4** Select the most appropriate option that can substitute the underlined segment in the given sentence.  
I like all games instead of cricket.

- Ans
- 1. except
  - 2. exclude
  - 3. object
  - 4. rather

Question ID : 26433098974  
Option 1 ID : 264330388547  
Option 2 ID : 264330388545  
Option 3 ID : 264330388546  
Option 4 ID : 264330388548  
Status : Answered  
Chosen Option : 1

**Q.5** Select the correct spelling of the incorrectly spelt word.

He had a round face made jovial by bright, almost boyish eyes and eyebrows  
ridiculously small for a man his size.

- Ans
- 1. jouvial
  - 2. ridiculously
  - 3. ridicolusly
  - 4. juvial

Question ID : 26433088981  
Option 1 ID : 264330349462  
Option 2 ID : 264330349461  
Option 3 ID : 264330349463  
Option 4 ID : 264330349464  
Status : Answered  
Chosen Option : 1

**Q.6** Select the most appropriate ANTONYM of the given word.  
Superb

- Ans
- 1. Infallible
  - 2. Incorrigible
  - 3. Splendid
  - 4. Inferior

Question ID : 264330164275  
Option 1 ID : 264330644325  
Option 2 ID : 264330644324  
Option 3 ID : 264330644323  
Option 4 ID : 264330644326  
Status : Answered  
Chosen Option : 3

**Q.7** Select the most appropriate ANTONYM of the given word.

Redemption

- Ans
- 1. Blasphemy
  - 2. Salvation
  - 3. Corrugation
  - 4. Conjunction

Question ID : 264330163398  
Option 1 ID : 264330640872  
Option 2 ID : 264330640871  
Option 3 ID : 264330640873  
Option 4 ID : 264330640874  
Status : Answered  
Chosen Option : 4

**Q.8** Select the most appropriate option that can substitute the underlined segment in the given sentence. If there is no need to substitute it, select 'No substitution required'.  
It was a quite afternoon, so Dan decided to take a nap.

- Ans**
- 1. an quiet
  - 2. No substitution required
  - 3. an quite
  - 4. a quiet

Question ID : 26433070770  
Option 1 ID : 264330277538  
Option 2 ID : 264330277539  
Option 3 ID : 264330277536  
Option 4 ID : 264330277537  
Status : Answered  
Chosen Option : 1

**Q.9** Select the most appropriate phrasal verb to fill in the blank.  
It took seven years for Harish to \_\_\_\_\_ his migraine.

- Ans**
- 1. shake down
  - 2. shake out
  - 3. shake off
  - 4. shake up

Question ID : 26433084920  
Option 1 ID : 264330333403  
Option 2 ID : 264330333401  
Option 3 ID : 264330333402  
Option 4 ID : 264330333404  
Status : Not Answered  
Chosen Option : --

**Q.10** Select the most appropriate meaning of the given idiom.  
Spill the beans

- Ans**
- 1. To make anything visible
  - 2. To ruin someone's plan
  - 3. To talk randomly
  - 4. To reveal secret information

Question ID : 264330117235  
Option 1 ID : 264330460998  
Option 2 ID : 264330460999  
Option 3 ID : 264330460997  
Option 4 ID : 264330461000  
Status : Answered  
Chosen Option : 4

Q.11 Select the most appropriate option that can substitute the underlined segment in the given sentence.

The team leader tried to remain positive or optimistic in the situation, even though they were facing tough competition and limited resources.

- Ans
- 1. to put a brave face on
  - 2. to put on a strong exterior
  - 3. to put a strong hand forward
  - 4. to put a strong desire in front of

Question ID : 264330139271

Option 1 ID : 264330545602

Option 2 ID : 264330545601

Option 3 ID : 264330545600

Option 4 ID : 264330545599

Status : Marked For Review

Chosen Option : 1

Q.12 Select the sentence that has a spelling error.

A- One has to understand the rudimentary fact that intelligence and intellect are at two opposite poles.

B- An intellectual person may have all the knowledge of the world but won't know how to give it a shape.

C- Knowledge will plague the individual if he does not have the intelligence to express it.

D- Without basic intelligence, an individual is trapped within himself manifesting conflicts and ignorance in the external world.

- Ans
- 1. An intellectual person may have all the knowledge of the world but won't know how to give it a shape.
  - 2. Knowledge will plague the individual if he does not have the intelligence to express it.
  - 3. One has to understand the rudimentary fact that intelligence and intellect are at two opposite poles.
  - 4. Without basic intelligence, an individual is trapped within himself, manifesting conflicts and ignorance in the external world.

Question ID : 264330141562

Option 1 ID : 264330554584

Option 2 ID : 264330554585

Option 3 ID : 264330554583

Option 4 ID : 264330554586

Status : Answered

Chosen Option : 3

Q.13 Select the most appropriate idiom for the underlined word segment.

He seems to be undecided about whether to move to another city for better prospects.

- Ans
- 1. Counting down the days
  - 2. Sitting on the fence
  - 3. Running out of steam
  - 4. Bouncing off the walls

Question ID : 264330167999

Option 1 ID : 264330658887

Option 2 ID : 264330658889

Option 3 ID : 264330658890

Option 4 ID : 264330658888

Status : Answered

Chosen Option : 2

**Q.14** Select the most appropriate idiom to fill in the blank.  
I have all the technical and communication skills necessary to crack any interview; it will be \_\_\_\_\_.

- Ans
- 1. a storm in a tea cup
  - 2. a chip on my shoulder
  - 3. a hard nut to crack
  - 4. a piece of cake for me

Question ID : 264330134220  
Option 1 ID : 264330525878  
Option 2 ID : 264330525876  
Option 3 ID : 264330525875  
Option 4 ID : 264330525877  
Status : Answered  
Chosen Option : 4

**Q.15** Select the most appropriate meaning of the highlighted idiom in the given sentence.

She said she liked my hair, but it turned out to be a left handed compliment.

- Ans
- 1. A joke
  - 2. A praise
  - 3. A flattery
  - 4. An insult

Question ID : 264330108898  
Option 1 ID : 264330427870  
Option 2 ID : 264330427869  
Option 3 ID : 264330427871  
Option 4 ID : 264330427872  
Status : Marked For Review  
Chosen Option : 4

**Q.16** The following sentence has been divided into parts. One of them may contain an error. Select the part that contains the error from the given options. If you don't find any error, mark 'No error' as your answer.

(1) He could / (2) be pass his exams / (3) if he studied harder. / (4) No error

- Ans
- 1. 4
  - 2. 2
  - 3. 1
  - 4. 3

Question ID : 264330164351  
Option 1 ID : 264330644618  
Option 2 ID : 264330644616  
Option 3 ID : 264330644615  
Option 4 ID : 264330644617  
Status : Marked For Review  
Chosen Option : 4

Q.17 Replace the underlined segment with the most appropriate idiom/phrase from the following options.

This is the critical point of the issue. One should always be focused on it.

- Ans
- 1. The crux of the matter
  - 2. Don't cry over spilt milk
  - 3. A black sheep
  - 4. Chip off the old block

Question ID : 26433091834  
Option 1 ID : 264330360676  
Option 2 ID : 264330360674  
Option 3 ID : 264330360675  
Option 4 ID : 264330360673  
Status : Answered  
Chosen Option : 1

Q.18 Select the option that will improve the underlined part of the given sentence.  
People say different things at different times.

- Ans
- 1. says delectable things at different times
  - 2. says whimsical things at different times
  - 3. should say fanciful things at different times
  - 4. say diverse things at different times

Question ID : 264330145289  
Option 1 ID : 264330569412  
Option 2 ID : 264330569411  
Option 3 ID : 264330569413  
Option 4 ID : 264330569414  
Status : Marked For Review  
Chosen Option : 4

Q.19 Select the correct spelling of the incorrectly spelt word.

They were more often abnoxious than not, impatient with me because my services had been essentially imposed upon them.

- Ans
- 1. obnoxious
  - 2. impatint
  - 3. servises
  - 4. essentialy

Question ID : 26433088984  
Option 1 ID : 264330349475  
Option 2 ID : 264330349473  
Option 3 ID : 264330349474  
Option 4 ID : 264330349476  
Status : Answered  
Chosen Option : 1

**Q.20** Select the most appropriate option that can substitute the underlined segment in the given sentence.

Health insurance are important today since anyone can face a medical emergency without warning.

- Ans**
- 1. was important
  - 2. will be important
  - 3. is important
  - 4. has been important

Question ID : 26433081324  
Option 1 ID : 264330319143  
Option 2 ID : 264330319141  
Option 3 ID : 264330319142  
Option 4 ID : 264330319144  
Status : Answered  
Chosen Option : 2

**Q.21** Select the option that can be used as a one-word substitute for the given group of words.

An act of exchanging information

- Ans**
- 1. Communication
  - 2. Touch
  - 3. Collaboration
  - 4. Hold

Question ID : 26433088440  
Option 1 ID : 264330347345  
Option 2 ID : 264330347347  
Option 3 ID : 264330347348  
Option 4 ID : 264330347346  
Status : Marked For Review  
Chosen Option : 1

**Q.22** Select the most appropriate option that can substitute the underlined segment in the given sentence.

The concert was filled with rapt teenage listeners.

- Ans**
- 1. truly energetic
  - 2. boldly dressed
  - 3. really fashionable
  - 4. fully attentive

Question ID : 26433099880  
Option 1 ID : 264330392110  
Option 2 ID : 264330392112  
Option 3 ID : 264330392109  
Option 4 ID : 264330392111  
Status : Answered  
Chosen Option : 4

Q.23 Select the most appropriate ANTONYM of the given word.

Decline

- Ans
- 1. Demonstrate
  - 2. Escape
  - 3. Ascend
  - 4. Traverse

Question ID : 26433099652  
Option 1 ID : 264330391213  
Option 2 ID : 264330391214  
Option 3 ID : 264330391216  
Option 4 ID : 264330391215

Status : Answered

Chosen Option : 3

Q.24 Select the option that can be used as a one-word substitute for the given group of words.

To restrain or compel a person to do something by force.

- Ans
- 1. Casualty
  - 2. Convoy
  - 3. Coerce
  - 4. Consensus

Question ID : 26433088803  
Option 1 ID : 264330348766  
Option 2 ID : 264330348765  
Option 3 ID : 264330348768  
Option 4 ID : 264330348767

Status : Marked For Review

Chosen Option : 2

Q.25 Select the most appropriate meaning of the given idiom.

Bite the bullet

- Ans
- 1. Decide to do the inevitable which you were avoiding
  - 2. To bite something very hard
  - 3. Decide to take the easier way out
  - 4. Decide to do what is good

Question ID : 264330163380  
Option 1 ID : 264330640809  
Option 2 ID : 264330640807  
Option 3 ID : 264330640810  
Option 4 ID : 264330640808

Status : Answered

Chosen Option : 1

**Q.26** Select the word segment that substitutes (replaces) the bracketed word segment correctly and completes the sentence meaningfully:  
Unless you (do will not prepare) well you will not perform well.

- Ans
- 1. will prepare
  - 2. will do not prepare
  - 3. would not prepare
  - 4. prepare

Question ID : 26433088800  
Option 1 ID : 264330348755  
Option 2 ID : 264330348753  
Option 3 ID : 264330348756  
Option 4 ID : 264330348754  
Status : Answered  
Chosen Option : 4

**Q.27** Select the most appropriate ANTONYM of the given word.  
Magnificent

- Ans
- 1. Peaceful
  - 2. Quiet
  - 3. Modest
  - 4. Impressive

Question ID : 264330164171  
Option 1 ID : 264330643937  
Option 2 ID : 264330643938  
Option 3 ID : 264330643935  
Option 4 ID : 264330643936  
Status : Marked For Review  
Chosen Option : 3

**Q.28** Choose the most appropriate meaning of the underlined phrase.  
He was carried off his feet when he was declared to have won the prize.

- Ans
- 1. Became delirious
  - 2. Danced on his toes
  - 3. Was dizzy
  - 4. Was wild with excitement

Question ID : 264330137452  
Option 1 ID : 264330538434  
Option 2 ID : 264330538431  
Option 3 ID : 264330538433  
Option 4 ID : 264330538432  
Status : Answered  
Chosen Option : 3

**Q.29** Select the option that can be used as a one-word substitute for the given group of words.

Requiring exceptional skill or caution in performance or handling

- Ans  1. Sustainable  
 2. Tricky  
 3. Abstract  
 4. Blunt

Question ID : 26433088447  
Option 1 ID : 264330347375  
Option 2 ID : 264330347374  
Option 3 ID : 264330347373  
Option 4 ID : 264330347376  
Status : Marked For Review  
Chosen Option : 4

**Q.30** Select the most appropriate synonym of the given word.

Desolate

- Ans  1. Fortunate  
 2. Sturdy  
 3. Depressive  
 4. Hopeful

Question ID : 264330163331  
Option 1 ID : 264330640623  
Option 2 ID : 264330640626  
Option 3 ID : 264330640625  
Option 4 ID : 264330640624  
Status : Marked For Review  
Chosen Option : 3

**Q.31** Select the most appropriate meaning of the given idiom.

Spill the beans

- Ans  1. To be very expensive  
 2. Give away a secret  
 3. Sound familiar  
 4. Fail to make an impact

Question ID : 26433091830  
Option 1 ID : 264330360660  
Option 2 ID : 264330360658  
Option 3 ID : 264330360659  
Option 4 ID : 264330360657  
Status : Answered  
Chosen Option : 2

Q.32 Select the most appropriate ANTONYM of the given word.  
Together

- Ans  1. Apart  
 2. United  
 3. Engulf  
 4. Freight

Question ID : 264330164274  
Option 1 ID : 264330644320  
Option 2 ID : 264330644319  
Option 3 ID : 264330644321  
Option 4 ID : 264330644322  
Status : Answered  
Chosen Option : 1

Q.33 Select the most appropriate synonym of the underlined word.  
Improved rail transport is essential for business.

- Ans  1. Technical  
 2. Crucial  
 3. Trivial  
 4. Recommended

Question ID : 264330117332  
Option 1 ID : 264330461382  
Option 2 ID : 264330461383  
Option 3 ID : 264330461384  
Option 4 ID : 264330461381  
Status : Marked For Review  
Chosen Option : 2

Q.34 Select the most appropriate option to fill in the blank.  
This is not \_\_\_\_\_ exhaustive list of words.

- Ans  1. No word required  
 2. an  
 3. a  
 4. many

Question ID : 264330145275  
Option 1 ID : 264330569358  
Option 2 ID : 264330569357  
Option 3 ID : 264330569356  
Option 4 ID : 264330569355  
Status : Answered  
Chosen Option : 2

Q.35 Parts of the following sentence have been underlined and given as options. Select the option that contains an error.

Have they been work in that particular shop for several years?

- Ans
- 1. been
  - 2. work
  - 3. Have
  - 4. for

Question ID : 26433089373  
Option 1 ID : 264330350994  
Option 2 ID : 264330350995  
Option 3 ID : 264330350993  
Option 4 ID : 264330350996  
Status : Answered  
Chosen Option : 2

Q.36 The following sentence has been split into four segments. Identify the segment that contains a grammatical error.

Roger went / to an United Kingdom / with his wife / to celebrate Christmas.

- Ans
- 1. to an United Kingdom
  - 2. Roger went
  - 3. with his wife
  - 4. to celebrate Christmas

Question ID : 264330120603  
Option 1 ID : 264330472652  
Option 2 ID : 264330472651  
Option 3 ID : 264330472653  
Option 4 ID : 264330472654  
Status : Answered  
Chosen Option : 1

Q.37 Select the most appropriate option that can substitute the underlined word which has been incorrectly spelt.  
They have begun to study in sepparate rooms.

- Ans
- 1. saperate
  - 2. separate
  - 3. seprate
  - 4. saporate

Question ID : 264330123043  
Option 1 ID : 264330482238  
Option 2 ID : 264330482236  
Option 3 ID : 264330482235  
Option 4 ID : 264330482237  
Status : Marked For Review  
Chosen Option : 2

**Q.38** Select the most appropriate ANTONYM of the given word.  
Resolute

- Ans  1. Steadfast  
 2. Brave  
 3. Wavering  
 4. Serious

Question ID : 26433098994  
Option 1 ID : 264330388617  
Option 2 ID : 264330388619  
Option 3 ID : 264330388618  
Option 4 ID : 264330388620  
Status : Answered  
Chosen Option : 3

**Q.39** The following sentence has been split into four segments. Identify the segment that contains a grammatical error.

I have a dog and a cow. / A dog is black / but the cow is / black and white.

- Ans  1. I have a dog and a cow  
 2. black and white  
 3. but the cow is  
 4. A dog is black

Question ID : 264330120602  
Option 1 ID : 264330472647  
Option 2 ID : 264330472650  
Option 3 ID : 264330472649  
Option 4 ID : 264330472648  
Status : Answered  
Chosen Option : 4

**Q.40** Select the most appropriate meaning of the underlined idiom that can be substituted in the following sentence.

The new routine will suit you to a T.

- Ans  1. a little bit  
 2. nicely  
 3. very poorly  
 4. exactly

Question ID : 26433094760  
Option 1 ID : 264330371876  
Option 2 ID : 264330371873  
Option 3 ID : 264330371875  
Option 4 ID : 264330371874  
Status : Answered  
Chosen Option : 4

**Comprehension:**

In the following passage some words have been deleted. Read the passage carefully and select the most appropriate option to fill in each blank.

Rabindranath Tagore founded a small school at Santiniketan in 1901 and Kala Bhavan, an art school, in 1919 which (1)\_\_\_\_\_ became a part of the Visvabharati University founded in 1921. Located in an (2)\_\_\_\_\_ village some distance from the city of Calcutta, Kala Bhavan presented an alternative methodology of art training, in which studio based practice was (3)\_\_\_\_\_ in favour of learning through observation and living as a part of nature. The natural surroundings with the (4)\_\_\_\_\_ of bare red earth dotted with trees, the colours of the changing seasons, the animals and birds (5)\_\_\_\_\_ inspiration to students.

**SubQuestion No : 41**

**Q.41** Select the most appropriate option to fill in blank no. 1.

- Ans
- 1. faster
  - 2. better
  - 3. slower
  - 4. later

Question ID : 264330164177

Option 1 ID : 264330643958

Option 2 ID : 264330643957

Option 3 ID : 264330643956

Option 4 ID : 264330643955

Status : Answered

Chosen Option : 4

**Comprehension:**

In the following passage some words have been deleted. Read the passage carefully and select the most appropriate option to fill in each blank.

Rabindranath Tagore founded a small school at Santiniketan in 1901 and Kala Bhavan, an art school, in 1919 which (1)\_\_\_\_\_ became a part of the Visvabharati University founded in 1921. Located in an (2)\_\_\_\_\_ village some distance from the city of Calcutta, Kala Bhavan presented an alternative methodology of art training, in which studio based practice was (3)\_\_\_\_\_ in favour of learning through observation and living as a part of nature. The natural surroundings with the (4)\_\_\_\_\_ of bare red earth dotted with trees, the colours of the changing seasons, the animals and birds (5)\_\_\_\_\_ inspiration to students.

**SubQuestion No : 42**

**Q.42** Select the most appropriate option to fill in blank no. 2.

- Ans
- 1. reliable
  - 2. normal
  - 3. idyllic
  - 4. magical

Question ID : 264330164178

Option 1 ID : 264330643962

Option 2 ID : 264330643959

Option 3 ID : 264330643961

Option 4 ID : 264330643960

Status : Marked For Review

Chosen Option : 3

**Comprehension:**

In the following passage some words have been deleted. Read the passage carefully and select the most appropriate option to fill in each blank.

Rabindranath Tagore founded a small school at Santiniketan in 1901 and Kala Bhavan, an art school, in 1919 which (1)\_\_\_\_\_ became a part of the Visvabharati University founded in 1921. Located in an (2)\_\_\_\_\_ village some distance from the city of Calcutta, Kala Bhavan presented an alternative methodology of art training, in which studio based practice was (3)\_\_\_\_\_ in favour of learning through observation and living as a part of nature. The natural surroundings with the (4)\_\_\_\_\_ of bare red earth dotted with trees, the colours of the changing seasons, the animals and birds (5)\_\_\_\_\_ inspiration to students.

**SubQuestion No : 43**

**Q.43** Select the most appropriate option to fill in blank no. 3.

- Ans
- 1. aspired
  - 2. accepted
  - 3. investigated
  - 4. rejected

Question ID : 264330164179

Option 1 ID : 264330643966

Option 2 ID : 264330643963

Option 3 ID : 264330643965

Option 4 ID : 264330643964

Status : **Marked For Review**

Chosen Option : 2

**Comprehension:**

In the following passage some words have been deleted. Read the passage carefully and select the most appropriate option to fill in each blank.

Rabindranath Tagore founded a small school at Santiniketan in 1901 and Kala Bhavan, an art school, in 1919 which (1)\_\_\_\_\_ became a part of the Visvabharati University founded in 1921. Located in an (2)\_\_\_\_\_ village some distance from the city of Calcutta, Kala Bhavan presented an alternative methodology of art training, in which studio based practice was (3)\_\_\_\_\_ in favour of learning through observation and living as a part of nature. The natural surroundings with the (4)\_\_\_\_\_ of bare red earth dotted with trees, the colours of the changing seasons, the animals and birds (5)\_\_\_\_\_ inspiration to students.

**SubQuestion No : 44**

**Q.44** Select the most appropriate option to fill in blank no. 4.

- Ans
- 1. murk
  - 2. haze
  - 3. vistas
  - 4. band

Question ID : 264330164180

Option 1 ID : 264330643969

Option 2 ID : 264330643968

Option 3 ID : 264330643970

Option 4 ID : 264330643967

Status : **Not Answered**

Chosen Option : --

**Comprehension:**

In the following passage some words have been deleted. Read the passage carefully and select the most appropriate option to fill in each blank.

Rabindranath Tagore founded a small school at Santiniketan in 1901 and Kala Bhavan, an art school, in 1919 which (1)\_\_\_\_\_ became a part of the Visvabharati University founded in 1921. Located in an (2)\_\_\_\_\_ village some distance from the city of Calcutta, Kala Bhavan presented an alternative methodology of art training, in which studio based practice was (3)\_\_\_\_\_ in favour of learning through observation and living as a part of nature. The natural surroundings with the (4)\_\_\_\_\_ of bare red earth dotted with trees, the colours of the changing seasons, the animals and birds (5)\_\_\_\_\_ inspiration to students.

**SubQuestion No : 45**

**Q.45** Select the most appropriate option to fill in blank no. 5.

- Ans  1. groomed  
 2. provided  
 3. refused  
 4. agreed

Question ID : 264330164181

Option 1 ID : 264330643972

Option 2 ID : 264330643973

Option 3 ID : 264330643971

Option 4 ID : 264330643974

Status : **Marked For Review**

Chosen Option : 2

**Comprehension:**

Read the given passage carefully and answer the questions that follow.

Mountains occupy about a quarter of the Earth's land, harbour most of its biodiversity hotspots and supply fresh water to an estimated half of humanity. Present on every continent, mountains include a multitude of ecosystems holding many unique species such as snow leopards and mountain gorillas. They are also home to great cultural diversity among people adapted to the challenges of mountain life. Their special traditions and breath-taking scenery attract ever-growing numbers of tourists.

Mountain regions are particularly sensitive to degradation from both human pressures and climate change. Steep slopes mean the clearing of forest for farming, settlements or infrastructure can cause serious soil erosion as well as the loss of habitat. Erosion and pollution harm the quality of water flowing downstream. Climate change threatens the quantity and timing of water supplies to farms, cities, industry and power stations. Fast-rising temperatures are forcing mountain species, ecosystems and the people that depend on them to adapt or migrate.

**SubQuestion No : 46**

**Q.46** What is the ANTONYM for the word 'diversity' from the passage?

- Ans  1. Block  
 2. Uniformity  
 3. Heritage  
 4. Dilemma

Question ID : 264330164691

Option 1 ID : 264330645930

Option 2 ID : 264330645927

Option 3 ID : 264330645928

Option 4 ID : 264330645929

Status : **Marked For Review**

Chosen Option : 3

**Comprehension:**

Read the given passage carefully and answer the questions that follow.

Mountains occupy about a quarter of the Earth's land, harbour most of its biodiversity hotspots and supply fresh water to an estimated half of humanity. Present on every continent, mountains include a multitude of ecosystems holding many unique species such as snow leopards and mountain gorillas. They are also home to great cultural diversity among people adapted to the challenges of mountain life. Their special traditions and breath-taking scenery attract ever-growing numbers of tourists.

Mountain regions are particularly sensitive to degradation from both human pressures and climate change. Steep slopes mean the clearing of forest for farming, settlements or infrastructure can cause serious soil erosion as well as the loss of habitat. Erosion and pollution harm the quality of water flowing downstream. Climate change threatens the quantity and timing of water supplies to farms, cities, industry and power stations. Fast-rising temperatures are forcing mountain species, ecosystems and the people that depend on them to adapt or migrate.

**SubQuestion No : 47**

**Q.47** What is the **ANTONYM** for the word 'migrate' from the passage?

- Ans  1. Die  
 2. Stay  
 3. Assume  
 4. Run

Question ID : 264330164693

Option 1 ID : 264330645937

Option 2 ID : 264330645935

Option 3 ID : 264330645938

Option 4 ID : 264330645936

Status : Answered

Chosen Option : 2

**Comprehension:**

Read the given passage carefully and answer the questions that follow.

Mountains occupy about a quarter of the Earth's land, harbour most of its biodiversity hotspots and supply fresh water to an estimated half of humanity. Present on every continent, mountains include a multitude of ecosystems holding many unique species such as snow leopards and mountain gorillas. They are also home to great cultural diversity among people adapted to the challenges of mountain life. Their special traditions and breath-taking scenery attract ever-growing numbers of tourists.

Mountain regions are particularly sensitive to degradation from both human pressures and climate change. Steep slopes mean the clearing of forest for farming, settlements or infrastructure can cause serious soil erosion as well as the loss of habitat. Erosion and pollution harm the quality of water flowing downstream. Climate change threatens the quantity and timing of water supplies to farms, cities, industry and power stations. Fast-rising temperatures are forcing mountain species, ecosystems and the people that depend on them to adapt or migrate.

**SubQuestion No : 48**

**Q.48** Which of the following represents the structure of the passage?

- Ans  1. Compare and contrast  
 2. Definition  
 3. Chronological  
 4. Cause-effect

Question ID : 264330164692

Option 1 ID : 264330645933

Option 2 ID : 264330645932

Option 3 ID : 264330645934

Option 4 ID : 264330645931

Status : Answered

Chosen Option : 4

**Comprehension:**

Read the given passage carefully and answer the questions that follow.

Mountains occupy about a quarter of the Earth's land, harbour most of its biodiversity hotspots and supply fresh water to an estimated half of humanity. Present on every continent, mountains include a multitude of ecosystems holding many unique species such as snow leopards and mountain gorillas. They are also home to great cultural diversity among people adapted to the challenges of mountain life. Their special traditions and breath-taking scenery attract ever-growing numbers of tourists.

Mountain regions are particularly sensitive to degradation from both human pressures and climate change. Steep slopes mean the clearing of forest for farming, settlements or infrastructure can cause serious soil erosion as well as the loss of habitat. Erosion and pollution harm the quality of water flowing downstream. Climate change threatens the quantity and timing of water supplies to farms, cities, industry and power stations. Fast-rising temperatures are forcing mountain species, ecosystems and the people that depend on them to adapt or migrate.

**SubQuestion No : 49**

**Q.49 Which of the following most accurately states the central idea of the passage?**

- Ans
- 1. Pollution
  - 2. Climate change
  - 3. Mountain ecosystem
  - 4. Biodegradation

Question ID : 264330164689

Option 1 ID : 264330645919

Option 2 ID : 264330645920

Option 3 ID : 264330645922

Option 4 ID : 264330645921

Status : Answered

Chosen Option : 3

**Comprehension:**

Read the given passage carefully and answer the questions that follow.

Mountains occupy about a quarter of the Earth's land, harbour most of its biodiversity hotspots and supply fresh water to an estimated half of humanity. Present on every continent, mountains include a multitude of ecosystems holding many unique species such as snow leopards and mountain gorillas. They are also home to great cultural diversity among people adapted to the challenges of mountain life. Their special traditions and breath-taking scenery attract ever-growing numbers of tourists.

Mountain regions are particularly sensitive to degradation from both human pressures and climate change. Steep slopes mean the clearing of forest for farming, settlements or infrastructure can cause serious soil erosion as well as the loss of habitat. Erosion and pollution harm the quality of water flowing downstream. Climate change threatens the quantity and timing of water supplies to farms, cities, industry and power stations. Fast-rising temperatures are forcing mountain species, ecosystems and the people that depend on them to adapt or migrate.

**SubQuestion No : 50**

**Q.50 Which is the best description of the tone of the passage?**

- Ans
- 1. Biased
  - 2. Humanistic
  - 3. Laudatory
  - 4. Emotional

Question ID : 264330164690

Option 1 ID : 264330645924

Option 2 ID : 264330645926

Option 3 ID : 264330645923

Option 4 ID : 264330645925

Status : Marked For Review

Chosen Option : 2